

第一部分 数量关系

一、数字推理。给你一个数列，其中缺少一项，要求你仔细观察数列的排列规律，然后从四个备选项中选择你认为最合理的一项，来填补空缺项，使之符合原数列的排列规律。

1. 2134, 1342, 3421, ().
A. 4321 B. 4213 C. 2413 D. 2314
2. 1, 5, 11, 19, 28, ()
A. 30 B. 34 C. 36 D. 38
3. 6, 9, 11, 8, 16, 7, 21, ().
A. 6 B. 10 C. 24 D. 26
4. 4, 2, 8, 16, ().
A. 32 B. 46 C. 120 D. 128
5. 11, 21, 32, 56, ().
A. 68 B. 1130 C. 1660 D. 1880

二、数学运算。在这部分试题中，每道试题呈现一段表述数字关系的文字要求你迅速、准确地计算出答案。

请开始答题

6. 现有A、B两种不同浓度的酒精。若从A中取出1800g, B中取出500g混合而成的酒精浓度为5%；若从A中取1000g, B中取1500g混合而成的酒精浓度为8%，则A、B两种酒精的浓度大约为()。
A. 6%, 7% B. 5%, 6% C. 6%, 10% D. 3%, 11%
7. 某班级在一次考试中，参加语文考试的有52人，参加数学考试的有49人，参加英语考试的有58人，三种考试都参加的共15人，参加其中两种的共21人，三科都不参加的共4人，该班级一共有()人。
A. 110 B. 111 C. 112 D. 113
8. 任何资源都是有限的，其增长速度也是一定的。某个海岛，其岛上的资源可供3千人生活45年，或者供2千人生活90年。为了使岛上的人能够持续地生存下去，则该岛最多能够养活()人。
A. 1000 B. 950 C. 900 D. 850

9. 某中学高二年级有6个理科班, 共有3名生物教师任教, 如果其中一名教师教3个班, 一名教师教2个班, 一名教师教1个班, 那么共有()种分配方法。

A18 B. 24 C120 D. 360

10. 某学校去年招收了800名学生, 今年招收的男学生人数比去年减少了5%, 女学生人数比去年增加了5%, 招收学生总人数比去年增加了4人。今年招收的男学生人数是()人。

A. 360 B. 355 C345 D342

11. 75岁的陈大爷给儿子打电话, 但一时忘记了手机号码的最后一位数字, 他就随意拨号, 那么拨号不超过5次接通手机的概率是()。

A80% B60% C. 40% D20%

12. 有一种装白酒的瓶身为圆柱形, 容积为580毫升。正放时白酒高12cm, 倒放时空余部分的高为3cm。则瓶内现有白酒有()毫升。

A. 464 8386 C. 483 D543

13. 叶主任上午7点半开车离家去政府办公厅开会, 如果车速每小时为50公里, 他会迟到15分钟; 如果车速为每小时60公里, 他会提前10分钟。那么会议开始的时间为()。

A8: 45 89:35 C. 9: 45 D10:05

14. 四位厨师聚餐时各做了一道拿手菜。现在要求每个人去品尝一道菜, 但不能尝自己做的那道菜。则共有()种不同的尝法。

A9 B. 10 C11 D12

15. 在平面直角坐标系中, 如果点P(3a-9, 1-a)在第三象限内, 且横坐标纵坐标都是整数, 则点P的坐标是()。

A. (-1, 3) B(-3, 1) C(-3, 2) D. (-2, -3)

第二部分 言语理解与表达

(共30题)

本部分包括理解与表达两方面的内容。请根据题目要求, 在四个选项中选出一个最恰当的答案,

请开始答题

16. 从1949年新中国成立时5亿人口3亿多文盲的教育弱国, 到高等教育毛入学

率达30%、规模世界第一的教育大国，更多平民子弟得圆大学梦，更多高校与祖国同行、以科教济世，其中的快速发展与巨大成就，绝对不宜以“外国月亮才圆”的心态一味_____。

填入划横线部分最恰当的一项是()。

A狂妄自大B妄自菲薄C目空一世D自命不凡

17. 这种绝对平均主义虽然充满着诱人的理想色彩，又有反对封建农奴制的革命性质，但归根到底，是不可能实现的_____。

填入划横线部分最恰当的一项是()。

A. 虚无缥缈B过眼云烟c空中楼阁D. 无源之水

18. 国有资产本为全民所有，但如果管理不善、监督缺失，很容易为经营者控制，“官仓老鼠大如斗，见人开仓亦不走”，啃噬国有资产的硕鼠之所以_____，一个重要的原因是国有资产的产权管理还不够明晰。所以十八届三中全会提出的“完善国有资产管理体制，以管资本为主加强国有资产监管，改革国有资本授权经营体制”，可谓_____。私人的财产必须秋毫无犯，公家的财产更不能_____，各种产权都应该得到完整的保护，只有产权保护制度装上了“铁齿铜牙”，“官仓老鼠”才会无所遁形。

依次填入划横线部分最恰当的一项是()。

A明火执仗一针见血奢侈浪费

B贪赃枉法针砭时弊损公肥私

C肆无忌惮割中要害顺手牵羊

D招摇过市一语中的随心所欲

19. 腐败一日不除，反腐一日不止。如果说党风廉政建设和反腐败斗争永远在路上，那么零容忍便是贯穿这场远征的主线和基调。无论是从党心民心所向，还是依法治国、依规治党的要求，抑或是当前依然严峻复杂的形势看，“上无禁区、下无死角”的零容忍反腐常态都将_____地继续下去。未来谁都不应_____，再干那贪腐的蠢事，否则必将从短暂的迷梦中惊醒过来，悔之已晚。

依次填入划横线部分最恰当的一项是()。

A. 毫无悬念心存侥幸 B义无反顾心存幻想

C. 一如既往财迷心窍 D毫无疑义心存芥蒂

20. 据国外媒体——，植物长期以来一直被认为只会保持____。但事实证明，它们一直在“说话”。

依次填入划横线部分最恰当的一项是()。

- A. 透露 缄默 B. 报道 沉默
C. 揭露 沉寂 D. 报告 安静

21. 医患关系恶化，医生“高危”，患者痛苦。解除信任危机，好态度是一副良药。耐心和理解，是彼此信任的____；冷摸和怀疑，是滋生纠纷的____。虽初互不相识，到后来成为朋友甚至亲人，靠的是一个真诚的微笑、一句真挚的问候、声真切叮咛，好态度可迅速拉近彼此心灵的距离，让医患关系步入良性循环。

依次填入划横线部分最恰当的一项是()。

- A. 前提 根源 B. 条件 源泉
C. 基础 温床 D. 关键 焦点

22. ①作为一种尚在实验室的全新网络技术和产品，其未来潜力也不应被____高估。

②针对如今垃圾短信____的现象，电信专家表示，想要治理垃圾短信，关键在于从法律和制度上进行规范，对违规行为给予严惩。

依次填入各句划横线部分最恰当的一项是()。

- A. 过于洋溢 B. 过分洋溢
C. 过分泛滥 D. 过于泛滥

23. ①全球新经济增长点的坚实度和影响力有待_____。

②现代多元文化影响之下，戏曲面临着____挑战，而创新正是当代戏曲把握机遇、走出困境、再创辉煌的关键，也是虽为艰难的课题。

依次填入各句划横线部分最恰当的一项是()。

- A. 观察 严峻 B. 观察 严厉
C. 考察 严峻 D. 考察 严厉

24. ①近年来，随着网络的迅猛发展，____一于网络平台的刷民舆论、网络话语权已经形成了“第五种权力”。

②培养孩子时，不要代替他决定要学些什么，应让孩子广泛地接触事物，在此基础上发现他的兴趣或特长，____加以引导，使他在这方面能取得突出的成绩。

③在浩瀚的书海中汲取丰硕的养分，用渊博的知识搭建心灵的小屋，然后让自己平凡的心灵在那里经历蜕变的过程，等他破茧而出的时候，就能 梦想的华丽篇章。

填入各句划横线部分最恰当的一项是()。

- A 依靠从而揭穿 B 依托进而揭开
C 依从从而揭露 D 依赖进而揭示

25. 面向未来的教育要培养学生“从做中学”，将儿童从传统的书本背诵中___出来。现实社会过于复杂，学校必须将其___；现实社会系统庞杂，学校必须组织而使之条理化；现实社会良莠不齐，学校必须对其过滤和___；现实社会有着很多的矛盾和偏见，学校必须在众多不同中寻求平衡。教育的目的就是经验的重组和改造。

依次填入划横线部分最恰当的一项是()。

- A 解放简化优选 B 解救剪辑优化
C 解脱剪接升华 D 拯救简洁净化

26. 我们的国家要求我们不能___，而只能过刻苦勤奋的生活。迫在眉睫的21世纪将决定许多国家的命运。假如我们只是一味地___，贪图享乐，苟且偷安，假如我们面临激烈的竞争考验时不是冒着牺牲个人名利的风险去赢得胜利，而是的话，那么，更勇敢坚强的民族就会超越我们，得以领先世界。

依次填入划横线部分最恰当的一项是()。

- A. 好吃懒做 冷眼旁观 惊慌失措
B. 见利忘义 漠不关心 胆小如鼠
C. 好高骛远 固步自封 空言虚语
D. 好逸恶劳 袖手旁观 落荒而逃

27. 广大青年要从现在做起，从自己做起，勤学、修德、明辨、笃实，使社会主义核心价值观成为自己的基本___，并身体力行大力将其___到全社会去，努力在实现中国梦的伟大实践中___自己的精彩人生。

依次填入划横线部分最恰当的一项是()。

- A 规划发展创新 B 保证推广创新

C保障发展创造 D遵循推广创造

28. ①___6月30日, 全市累计收购小麦2175万吨。

②在一款被看作集团进行未来战略布局的新游戏中, 巨人网络的创始人史玉柱___了一名跟随他创业的老将“小刀”担纲制作人。

③尽管卖场里到处贴满r宣传海报, 但是消费者的___却比较冷淡。

依次填入各句划横线部分母恰当的一项是()。

- A. 截止启用反应 B截至起用反应
c. 截止起用反映 D截至启用反映

29. ①针对这次事件, 新华社___发表声明。

②他就是这部影片中男主角的___

③他和李教授素未谋面, 还要请刘老师___一下。

依次填入各甸划横线部分最恰当的一项是()。

- A受权原型引见 B授权原形引荐
c授权原型引见 D受权原形引荐

30. 我一直认为, 摄影, 是一门制造感伤的艺术。胶片上的溴化银, 所感受下的画面, 尽管只是一瞬间的事, 可立刻就成为已经消逝的过去, 成为永远也不会再来一次的历史。人, 不可能第二次重涉第一次过的河。所以, ___。

填入划横线部分的句子塌恰当的一项是()。

- A越是发黄褪色的照片, 也就越多感伤意味
B摄影是一门写实的艺术
c取景器里的人、事总能让人怦然心动
D无论拍摄者、被拍摄者所亲历的瞬间都一击不回

31. 自由的精神就是, 自我怀疑而不___; 自由的精神就是, 尽力去理解别人的思想; 自由的精神就是, 兼顾别人的利益与自己的利益, 不带偏见; 自由的精神要求人们牢记, 即使是一只坠地的麻雀, 也不能对其___; 自由的精神, 也就是基督的精神, 他在将近两千年之前, 就教给人类至今尚未领会, 却也未曾遗忘的一课: 或许有那么一个王国, 那里的人们对最伟大者和晟渺小者, 都___。

依次填入划横线部分最恰当的一项是()。

- A妄自菲薄熟视无睹天公地道

B妄自尊大视若无睹平等相待

C唯我独尊视而不见一视同仁

D自高自大见利忘义等量齐观

32. 企业员工工作效率、工作热情的提高所创造的价值远远高于有形资产。当前, 中国企业家对自身和员工健康的忽视, 已成为经济实体“木桶”的短板。而对日益全球化的跨国激烈竞争, 中国企业不能输在最大的资本——“人”的管理上, 健康福利机制的建立急需和国际接轨。在做好日常健康促进和管理的同时, 加强“心理体检”和对高危群体的健康干预, 营造有利于人和谐可持续发展的氛围。

这段话中, 作者最主要想表达的观点是()。

A企业员工的身心健康对于企业的发展起着至关重要的作用

B面对全球化的激烈竞争, 中国企业已输在对“人”的管理上

C企业家应重视员工的身心健康, 多给予员工“正能量”

D只要建立与国际接轨的健康福利机制, 中国企业就能对员工进行有效管理

33. 为获得真正的教养可以走不同的道路。最重要的途径之一, 就是研读世界文学, 就是逐渐地熟悉掌握各国的作家和思想家的作品, 咀及他们在作品中留给我们的思想、经验、象征、幻象和理想的巨大财富。世界文学的辉煌殿堂对每一位有志者都敞开着, 谁也不必对它收藏之丰富望洋兴叹, 因为问题不在于数量。有的人一生中只读过十来本书, 却仍然不失为真正的读书人。还有人见书便生吞下去, 对什么都能说上几句, 然而一切努力全都白费。因为教养得有一个可教养的客体作前提, 那就是个性或人格。没有这个前提, 教养在一定意义上便落了空, 纵然能积累某些知识, 却不会产生爱和生命, 没有爱的阅读, 没有敬重的知识, 没有心的教养, 是戕害性灵的最严重的罪过之一。

这段话要表达的主要观点是()。

A获得教养的重要途径是研读世界文学

B通过研读世界文学获得教养必须要以个性和人格为前提

C通过研读世界文学获得教养关键在于阅读的数量

D通过研读世界文学获得教养关键在于阅读作品的质量

34. 中国人千百年来讲道德, 却讲错了道德, 只讲到独善其身的“乡愿”道德, 却没讲到兼善天下的“狂狷”道德。结果是, 中国思想中的“虽千万人, 吾往矣”

的理论谁都会说，却很少人敢做，因为一做就倒霉。孔夫子攻击“乡愿”，但是千百年下来，人人是“乡愿”，并且以“乡愿”身份，骂“虽千万人，吾往矣”的少数人“人格有问题”。我们不要忘记：检定人格的第一标准，是看一个人有没有特立独行的、大无畏的、“虽千万人，吾往矣”的“大人格”，而不是看他有没有匹夫匹妇的“小人格”。不确认出这种检定标准，中国人的道德不会有进步，中国人将永远在滑头的道德水平上做小市民，中国人永远不会做大丈夫

这段文字意在强调（ ）。

- A. 检定人格的第一标准是看一个人有没有特立独行的“大人格”
- B. 中国人千百年来所讲的只是独善其身的槽头的“乡愿”道德
- C. 中国人千百年来缺乏的是“虽千万人，昔往矣”的“大人格”
- D. 只有确认检定人格的正确标准才能使中国人的道德产生进步

35. 新《消法》第四十六条规定，消费者向有关行政部门投诉的，该部门应当自收到投诉之日起七个工作日内，予以处理并告知消费者。这就要求基层工商部门的消费维权机构要规范消费者投诉举报处理程序，在法定期限内，对投诉、举报分别启动相对应的程序，并将处理结果及时告知投诉举报人。告知方式无论是电话告知、口头告知还是书面信函告知，都要有具体规范，告知的文书格式也要统一。

这段文字主要想表达的观点是（ ）

- A. 基层消费维权机构应在规范化上下功夫
- B. 基层消费维权机构应严格遵守新《消法》出台的新规定
- C. 基层消费维权机构应将处理结果及时告知消费者
- D. 基层消费维权机构应统一告知处理结果的文书格式

36. 不靠谱的专家仍然有市场，除了人们对专家的迷信之外，还在于我们人性的弱点：对确定性的追求。由于未来充满不确定性，而普通人内心深处又充满了对不确定性及风险的恐惧，希望得到关于未来的明确答案，专家的出现正好满足了这一点。越是自信地给出肯定性判断的“刺猬”型专家，即使他的预测再错，也受到大众欢迎；而一些很谨慎、不敢给出非此即彼判断的“狐狸”式专家，尽管他可能根理性，但现实中却反而不受待见。

这段文字旨在说明（ ）。

- A 在现实生活中“刺猬”型的专家比“狐狸”式的专家更受欢迎
- B “刺猬”型专家虽水平不高但在现实中却受到大众欢迎的原因
- C. 在现实生活中不靠谱的专家却仍然具有一定市场的基本原因
- D. 人们需要专家是因为专家能够为人们的不确定性未来指明方向

37. 在某些城市的娱乐场所，甚至大排档，会有模仿迈克尔·杰克逊太空步的表演，模仿者举手投足尽盟做到惟妙惟肖。似乎，这位巨星对中国的影响已经进入到社会的每一个角落。实际上，我们只是把他特有的标志符号当成一种噱头表演罢了，廉价而无趣。

对这段文字的主旨概括最准确的是 ()。

- A 我们并非真正了解迈克尔·蠢克逊的音乐及表演
- B 迈克尔·杰克逊在中国的知名度很高
- c 中国人并非真正喜爱迈克尔·杰克逊
- D 中国对西方世界的文化的了解仅止于皮毛

38. 除非你知道成功的目的何在，否则成功本身只能令你失去快乐。亚里士多德说：“人们将幸福作为终极目标来追求，而不是作为达到其他目的的手段。”仔细想一想，我们应当幸福地工作，而不是为了得到幸福而工作。你应当选择能够充分发挥自己潜力的工作和职业道路，只要能发挥你所长，无论你是小职员还是董事长都能得到快乐平...满足。

这段话意在说明 ()。

- A 成功会令人失去快乐
- B 我们应当为了享受而'工作
- C 我们应当发挥自己的长处
- D 我们应当享受工作

39. 改革开放以来，我国在原来的计划经济体制下开辟出市场经济的新天地。但计划经济和市场经济的双重存在，使得粗放的经济增长方式一直在延续，并形成了权力寻租的大环境，滋生了大量的腐败现象。转变增长模式，依靠提高效率实现经济增长和经济发展，存在着政府仍然在资源配置中扮演主导的角色、GDP崇拜等体制性障碍。为了建立现代市场经济，面对越来越严峻的挑战，必须全面推进改革，通过市场化的经济体制改革和法制化、民主化的政治体制改革，建立包容性的经济体制和政治体制。

这段文字的关键词是 ()。

- A 改革开放增长模式经济体制
- B 计划经济市场经济全面改革
- C 权力寻租资源配置体制障碍
- D 市场经济经济增长体制改革

40. 据悉,今年武汉市各大拍卖公司的秋拍藏品征集中,送拍齐白石作品的藏家展多,最高的拍卖公司曾征集到30余幅,但最终能留下来的仅3幅,淘汰率远远超出其他藏品。齐白石作品近年来拍卖价格颇高,而且作品成交价相差也很大,价格高的拍卖成交价过亿元,低的只有上百万元。拍卖界资深人士介绍,齐白石作品存世量很大,近五六年来快速上涨也让不少人看到了出手的时机,自然也引来了浑水摸鱼的“问题作品”。

这段文字意在说明()。

- A 拍卖市场的升温搅热了藏品市场
- B. 齐白石作品易被“浑水摸鱼”
- C. “问题作品”的存在扰乱了拍卖市场的秩序
- D 齐白石的作品深受收藏爱好者的欢迎

41. 随着技术的不断研发和升级换代,网络的运用功能越来越多,且覆盖面越来越广,从而促使网络从以往单一的新闻功能、信息功能运用日益拓展为通信功能、资讯功能、综合服务功能和其他社会功能的全面应用,网络正在从媒体化加速向社会化和体系化转变。网络发展中呈现庞大的舆论生态市场、虚拟社会与现实社会之间的信息落差、网络晶格日益强烈和凸显、网络治理法规建设日益紧迫等新特点。

最适合做这段文字标题的是()。

- A 网络功能运用日趋广泛
- B 网络发展速度日新月异
- c 网络发展的许多新功能
- D 当前网络发展的新特点

42. 大多数环境学论著认为,人类大量排放二氧化碳等温室气体,导致全球气温上升,而全球变暖将使地球两极的冰川融化,海平面上升,进而给人类的生存造成威胁。但是,荷兰学者克罗宁博格所著的《人类尺度:万年后的地球》一书中的观点,似乎可让人稍稍缓解一下在气候变暖问题上的紧张感。

作者接下来最可能讲述的内容是()。

- A. 全球气候变暖的现状
- B. 全球气候变暖带来的利益
- c. 荷兰学者克罗宁博格的事迹介绍
- D 《人类尺度：一万年后的地球》书中的观点

43. 将下列几个句子组成语意连贯的语段，排序最恰当的一项是()。

- ①可见它是华夏文明的早期屏障，早得与神话分不清界线。
- ②当时整个地球还人迹稀少，哒哒的马蹄声显得空廓而响亮。
- ③莫高窟对面，是三危山。
- ④《山海经》记：“舜逐三苗于三危”。
- ⑤那场战斗怎么个打法，现在已很难想象，但浩浩荡荡的中原大军总该是来过的。
- ⑥让这么一座三危山来做莫高窟的映壁，气概之大，人力莫及，只能是造化的安排。

- A. ④①⑤②⑥③ B④③⑤①②⑥
- C. ③④⑤①⑥② D③④①⑤②⑥

44. 将下列几个句子组成谱意连贯的语段，排序最恰当的一项是()。

- ①古人云：“毋私小惠而伤大体，毋借公论以快私情。”
- ②有的人一时看不破真相，便可能自觉或不自觉地因小恩小惠而付出了“公论”的代价。
- ③人们应该记住古希腊哲学家德谟克利特在《古希腊罗马哲学》中说的一句话：“一篇美好的言辞并不能抹煞一种坏的行为，而一种好的行为也不会为诽谤所玷污。”
- ④所谓公论，即是公众舆论，也就是广大民众的舆论。
- ⑤小恩小惠往往只是些许甜头，甚至是个空心汤圆
- ⑥应该指出，听“民声”应是大众之音，要防止以小众之声冒充“大众”

- A. ①②③④⑤⑥ B③②④⑤⑥①
- C. ⑥①⑤④③② D⑥①④⑤②③

45. 将下列几个句子组成谱意连贯的语段，排序最恰当的一项是()。

- ①任何心理活动，任何创作，也许都具有“一次性”。

- ②揣度别人是很困难的。子非鱼，安知鱼之乐？
- ③作者的回顾，事后的创作谈，能在多大程度上与实际创作情状复合，是值得怀疑的。
- ④甚至揣度自己也未见得容易多少。
- ⑤人不能把脚两次伸进同一条河里。
- ⑥比方说这篇小说写过这么久了，尽管我现在能尽力回忆当时写作的心境，但时过境迁，当时的心境是绝对不可能再完整准确地重现了。

排列组合最连贯的是（ ）。

- A. ③⑥⑤②④①
- B. ⑤①⑥③②④
- C. ①⑥③⑤②④
- D. ②④⑥③⑤①

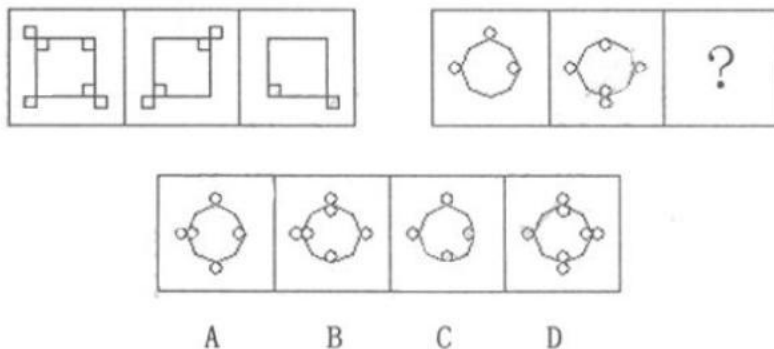
第三部分 判断推理

(共 20 题)


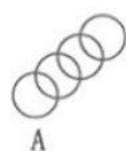
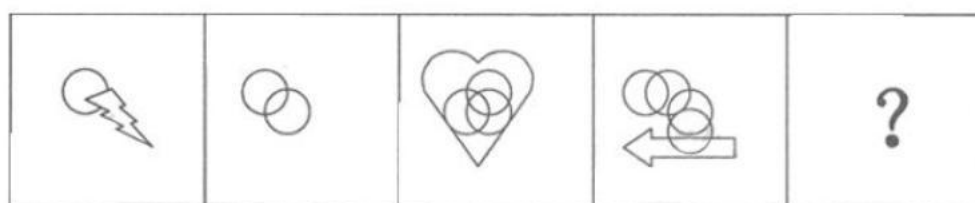
一、图形推理。请按每道题的答题要求作答。

请开始答题：

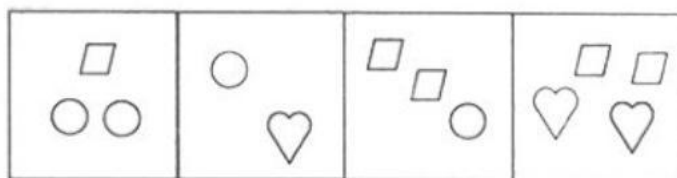

46. 请根据所给图形的既有规律，选出一个最合理的答案。（ ）



47. 请根据所给图形的既有规律，选出一个最合理的答案。（ ）



48. 请根据所给图形的既有规律，选出一个最合理的答案。（ ）



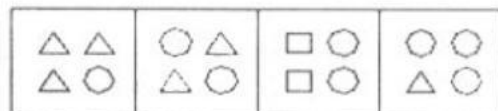
A

B

C

D

49. 请根据所给图形的既有规律，选出一个最合理的答案。（ ）



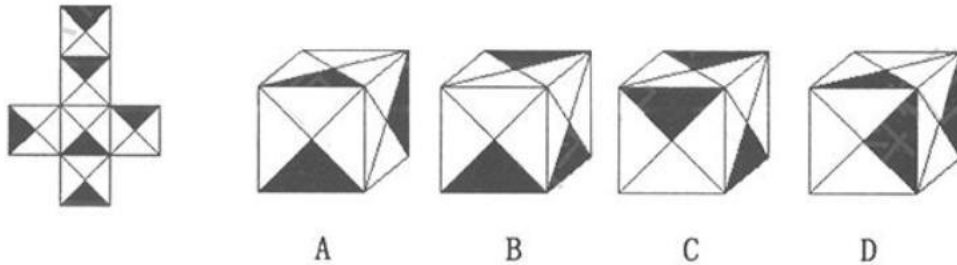
A

B

C

D

50. 请根据所给图形的既有规律，选出一个最合理的答案。（ ）



二、定义判断。每道题先给出定义，然后列出四种情况，要求你严格依据定义从中选出一个最符合或最不符合该定义的答案。注意：假设这个定义是正确不容置疑的。

请开始答题

51. 社会化是人们形成社会认可的社会行为模式和对社会环境中的各种刺激给予合适稳定反应的过程。法律社会化是指个体形成某一特定社会要求的法律观念和遵守法律行为的过程。

根据上述定义，下列属于法律社会化的是（ ）。

A. 某市公务员局组织全市公务员参加“国家公务员法颁布实施10周年知识竞赛”活动

B. 某省国税局监察室组织中层干部到反腐倡廉展览馆参观，开展重塑人生观、价值观的教育活动

C. 某中学组织全校大部分教职员工到市中级人民法院参加旁听了该校所发生的踩踏事故案的庭审

D. 小申的父母晟喜欢看中央电视台的法律大讲堂电视节目，小申不知不觉也爱上了这个节目

52. 描述性知识是个人能用言语进行直接陈述的知识，主要用来回答事物是什么、为什么和怎么样的问题，可用来区别和辨别事物。而操作性知识是个体难以清楚陈述、只能借助于某种作业形式间接推测其存在的知识，要用来解决做什么和怎么做的问题。

根据上述定义，下列属于操作性知识的是（ ）。

- A 行政诉讼法 B 普通心理学
C 宏观经济学 D 外国文学史

53. 内稳态机制是生物控制自身的体内环境使其保持相对稳定, 是进化发展过程中形成的一种更进步的机制, 它或多或少能够减少生物对外界条件的依赖性。具有内稳态机制的生物借助于内环境的稳定而相对独立于外界条件, 大大提高了生物对生态因子的耐受范围。

根据上述定义, 下列不属于内稳态机制的是 ()。

- A. 天气炎热时, 狗常常伸出舌头大口喘气以释放热量
B. 婴幼儿睡眠时间比较长, 每天至少要睡十多个小时
C. 运动员为提高比赛成绩, 常要进行大量超常规训练
D. 为了维持生存和身体健康, 每天都要吃饭和休息

54. 跛足策略, 是指个体为了回避或降低因不佳表现所带来的负面影响而采取的任何能够将失败原因外化的行动和选择。根据上述定义, 下列属于跛足策略的是 ()。

- A. 小明在考试前一晚通宵打游戏, 结果考试没有及格, 他对小强说: “如果我昨晚认真复习了一定能超过你。”
B. 向不及格的小华在这次考试中得了优秀, 小丽想: “他肯定很早就开始复习了。”

C 小王一直在努力工作, 但项目还是没能如期上交, 感到很沮丧

D 平时很和气的的小李今天对谁都不理不睬, 同事们猜测是因为他被领导批评了

55. 社会心理学研究往往要采用一些手段控制情境或被试者, 固此要特别注意欺骗、恫吓等不良身心刺激所产生的后果, 应尽力避免对被试者的身心健康造成损害。社会心理学研究的伦理原则就是为避免在研究过程中出现以上这些问题而应遵循的伦理道德规则。

根据上述定义, 下列不属于社会心理学研究的伦理原则的是 ()

- A 研究者不得和被试者建立研究工作以外的其他关系
B. 研究者在具体的研究中必须采取保护被试者的措施
C 对被试者所提供的资料应加以保密, 被试者有退出的自由
D 研究者不得向被试者说明研究计划的主要部分和研究目的

三、类比推理。每道题先结出一组相关的词,要求你在四个备选项中找出组与之在逻辑关系上最为贴近、相似或匹配的词。请开始答题

56. 农药: 污染(

- A 太阳: 温度 B 运动: 健康
C 噩耗: 悲痛 D 电脑: 辐射

57. 教师: 教室: 教育()

- A 经理: 市场: 经商 B 军队: 国家: 保卫
C 公务员: 机关: 执法 D 演员: 舞台: 表演

58. ()对于纠纷相当于垄断对于()

- A. 调解市场 B 经济价格
C. 磋商议会 D. 劳动权力

59. 决策: 执行()

- A 组织: 监督 B 总结: 改进
C 计划: 实施 D 合同: 制定

60. 妻子: 母亲: 社会角色

- A 水: 冰: 液体 B 父亲: 儿子: 家庭
C. 冰糖: 砂糖: 糖精 D. 石墨: 金刚石: 化学物质

四、逻辑判断。每道题给出一段陈述,这段陈述被假设是正确的,不容置疑的。要求你根据这段陈述,选择一个答案。注意正确的答案应与所给的陈述相符合,不需要任何附加说明即可以从陈述中直接推出。

请开始答题

61. 下面是2015年5月25日W、M、K、Q四个城市的天气预报:四城市中有三种天气情况,暴雨、沙尘暴、雾霾。W市和K市的天气一样,M市和Q市当天没有雾霾。

根据以上条件,以下哪项不可能为真()。

- A. W市雾霾 B. M市沙尘暴
C. K市暴雨 D. Q市暴雨

62. 以往,人们一直认为朋友多了路好走,但在科学家看来,在许多情况下却是朋友多了路难走。

以下哪项如果为真，最能质疑科学家的观点？()

- A 当一个人的朋友过多时，比较容易产生孤独感
- B. 孟母三迁是为了防止孩子交友不慎而多次搬家
- C. 鲁迅在总结交友经验时认为人生得一知己足矣
- D 交友所获得的情感满足常与付出的成本差不多

63. 甲、乙、丙、丁四人分别来自不同的城市，这四个城市为广州、北京、上海、深圳。甲说：“我是广州人。”乙说：“我是上海人。”丙说：“我是深圳人。”丁说：“我不是深圳人。”这四人中只有一人说的是假话。那么可以推断出()。

- A 如果乙说的是假话，则可推出四人来自哪里
- B. 如果丙说的是假话，则可以推出四人来自哪里
- C. 如果丁说的是假话，则可以推出四人来自哪里
- D 无论谁说的是假话，都可以推出四人来自哪里

64. 小李为了图便宜花了30块钱买了一双跑步鞋，不到一个月鞋子就开裂了；不久，他用市价的一半买了个名牌包，结果发现是仿制品。于是他得出结论，便宜无好货。小李得出结论的思维方法，与下列()最为类似，

- A 小菁是英语老师，她批阅了每一篇英语作文，得出结论，金班同学的英语水平有待提高
- B 小兵检验一批电器，第一件合格，第二件是次品，于是得出结论，这批产品不全合格
- C. 这次试验失败的原因或是设备故障，或是操作失误，调查小组已经找到设备故障的证据，于是得出结论，可以排除操作失误的原因
- D 小王的弟弟是左撇子，很调皮；小王邻居家的男孩也是左撇子，也很调皮。小王因此得出结论，左撇子都很调皮

65. 甲、乙、丙三人在玩骰子游戏，骰子有六面，每面分别是一、二、三、四、五、六点，他们规定：如果出现一、三点面，甲赢；如果出现二、四点面，乙赢；如果出现五、六点面，丙赢。甲说：“如果再少一点我也不会赢。”乙说：“如果再少一点的话我就赢了。”丙说：“如果再多一点也是我赢。”那么，现在出现的点数是()。

A三点 B五点 C四点 D二点

第四部分 常识判断

(共20题)

一、单项选择题(每题的四个备选项中只有一个最符合题意+请选出你认为最恰当的选项)

请开始答题

66. 为呼应近年全球面临的政治、经济、社会以及科技的“重大改变”，国际局势日益的“错综复杂、脆弱不稳”，2015年1月21日召开的达沃斯年会以“全球新格局”为主题，中心议题转变为()。

- A. 债务危机风险 B. 地缘政治风险
C. 财政危机风险 D. 国家安全风险

67. 习近平主席在阐述党和国家的重要问题或者是重要讲话上经常引用儒家、法家、墨家的经典语句，下列名言出现的先后顺序是()。

- ①临渊羡鱼，不如追而结网 ②空谈误国，实干兴邦
③宰相必起于州部，猛将必发于卒伍

A. ①③② B. ①②③ C. ③②① D. ③①②

68. 当前我国所推进的机关事业单位养老保险制度改革，是要建立城镇职工统一的养老保险制度，改革的思路是“一个统一、五个同步”，从制度上化解()。

- A. “利益固化”问题 B. “二元结构”矛盾
C. “歧视性”问题 D. “双轨制”矛盾

69. 海洋是各国经贸文化交流的天然纽带，2013年10月习近平总书记在访问东盟国家时提出要建设21世纪海上丝绸之路，将串起连通东盟、南亚、西亚、北非、欧洲等各大经济板块的市场链，如果从泉州出发到达埃及的航梅路线依次经过的大洋与海峡是()。

- A. 南海—马六甲海峡—孟加拉湾—印度洋—阿拉伯海—红海
B. 南海—孟加拉湾—印度洋—马六甲海峡—阿拉伯海—地中海
C. 南海—印度洋—孟加拉湾—马六甲海峡—红海—阿拉伯海
D. 南海—马六甲海峡—印度洋—孟加拉湾—阿拉伯海—红海

70. 下列说法中不符合“宪法，就是一张写着人民权利的纸”的内涵的是()。

- A-一切权利属于人民
- B. 宪法是人民意志的体现
- C遵守宪法和法律, 是公民的一项基本义务
- D. 发展基层民主, 保障人们享有更多更切实的民主权利

71. 颜料三原色是指()。

- A红、黑、白 B红、黄、蓝
- C黑、白、黄 D. 红、黄、绿

72. 回归线, 是太阳每年在地球上直射来回移动的分界线。其中, 地球上的南北回归线是()。

- A热带与温带的分界线 B低纬与高纬的分界线
- C温带与寒带的分界线 D极昼与极夜的分界线

73. 梅雨是指中国长江中下游地区、台湾、日本中南部、韩国南部等地, 每年()之间持续天阴有雨的气候现象。

- A. 3月中旬至5月上半月 B6月中下旬至7月上半月
- C7月下旬至8月上半月 D8月中下旬至10月中旬

74. 在清朝(), 清廷颁布谕旨: “著即自丙午科为始, 所有乡会试一律停止, 各省岁科考试亦即停止。”在中国实行了1300年的科举制最终作废。

- A嘉庆年间B康熙年间C乾隆年间D光绪年间

75. CPI是一个反映居民家庭一般所购买的消费商品和服务()变动情况的宏观经济指标。

- A数量 B质量水平c价格水平D. 范围

二、多项选择题(在每题列出的四个备选项中, 有二个或以上符合题目要求的, 请选出你认为最恰当的答案)

76. 党的十八大以来, 党中央从坚持和发展中国特色社会主义全局出发, 提出并形成的战略布局是()。

- A全面建成小康社会 B全面深化改革
- C. 全面依法治国 D全面从严治党

77. 下列关于地球自转说法中, 正确的有()。

- A地球自转产生了昼夜交替现象和时差

B地球自转使在同一纬度地区，东边的地点比西边先看到日出

C地球自转导致r昔夜长短的变化和四季的形成

D地球的自转导致地球成为两极稍扁、赤道略鼓的椭球体

78. 下列古诗中蕴含着对母亲的深情厚谊的有()。

A谁言寸草心，报得三春晖

B. 露从今夜白，月是故乡明

C惨惨柴门风雪夜，此时有子不如无

D呜呼余心诚岂弟，愿往教诲究终始

79. 下列说法正确的有()。

A尼泊尔是世界上高峰垃多的国家

B世界上稀土矿、煤矿最丰富的国家是中国

C. 中国与俄罗斯的国界是世界最长的不设防国界

D美国是世界上玉米、大豆、棉花产量和出口量最多的国家

80. 下列说法正确的有()。

A莎士比亚是文艺复兴时期伟大的剧作家和诗人

B《鲁滨逊漂流记》是英国作家丹尼尔·笛福的代表作

C小说《唐璜》通过青年贵族唐璜的种种经历，抨击了欧洲反动的封建势力

D. 长篇小说《j卫·科波菲尔》是英国作家狄更斯的作品

81. 李清照，号易安居士，济南章丘人。宋代女词人，婉约派代表，其后期作品凄凉悲痛。下列诗句出自李清照笔下的有()。

A大江东去，浪淘尽，千古风流人物

B. 此情无计可消除，才下眉头，却上心头

C寻寻觅觅，冷冷清清，凄凄惨惨戚戚

D天生我材必有用，千金散尽还复来

82. 市场经济体制存在的问题和缺陷包括()。

A企业之间的竞争是有限的，一些实力雄厚的大公司可能会垄断一个行业

B权力和财富可能会被不平等地分配，从而造成贫富两极分化严重

C. 企业或个人追求利益昂大化目标，有时与社会公共利益相矛盾

D对社会有利、对企业无利的公共产品得不到满足

83. ()是政府改善收入分配的两个最重要的手段。

A税收 B. 转移支付 C价格管制D. 重新分配产权

84. 下列属于我国公民的基本权利的有()。

A平等权 B政治权利和自由

C维护国家安全、荣誉和利益D宗教信仰自由

85. 下列自然灾害及其可能的成因搭配正确的有()。

A地震—地壳运动 B. 海啸—海底滑坡

C台风—反气旋 D山洪—暴雨

第五部分 资料分析

(共15题)

所给出的文字、图、表或综合资料均有若干问题要你回答，你应根据资料提供的信息进行分析、比较、计算和判断处理。

请开始答题

一、根据以下文字资料，回答86-90题。

自2009年起，由天猫发起的11.11“光棍节”促销，到2014年已是第6个年头。“双十一”淘宝销售额：2009年5200万元，2010年936亿元，2011年336亿元，2012年191亿元，2013年35019亿元。2014年11月11日凌晨，天猫平台“双十一”正式开启，在第2分53秒，交易额突破10亿元。第一分钟交易额达到5451万，其中68%来自无线端。天猫“双十一”购物狂欢节开场38分钟28秒之后，交易额冲到了100亿元，其中无线端占比455%。2014淘宝“双十一”最终销售额比预计的673亿元相差100亿。

资料显示，2013年淘宝“取十一”交易额突破1亿只用了55秒：达到10亿用了6分7秒：50亿用了38分钟；凌晨5：49阿里当日交易额突破100亿；13：39达200亿元；17：31突破250亿。

86. 2009年到2014年，“双十一”淘宝销售总额为()亿元

A. 68467 B. 105767

C. 115767 D125767

87. 2014年“双十一”淘宝销售额比2009年的增加了()。

A. 99.90% B10919.23%

C. 129323. %D. 110092. 3%

88. 自2009年以来，“双十一”淘宝销售额增长率最大的一年是()。

- A. 2010年 B2011年
C2012年 D2014年

89. 2014年“双十一”淘宝销售额达到100亿所用的时间比2013年达到相同销售额少()。

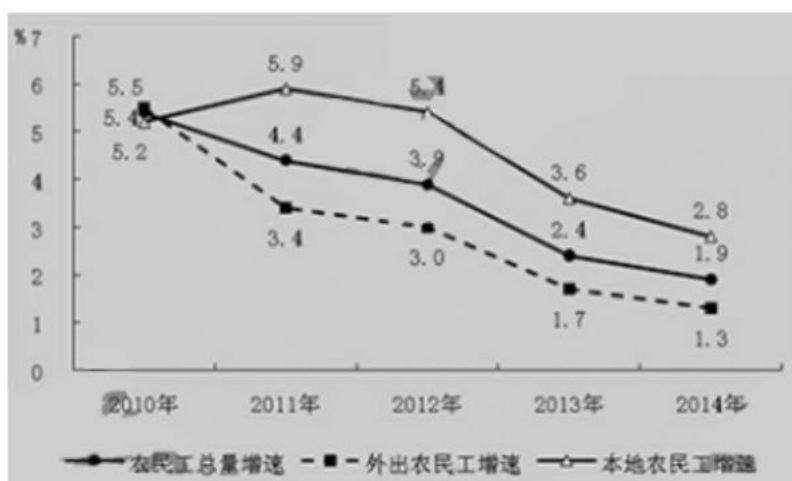
- A6小时59分 B5小时10分钟32秒
C28秒 D1小时28秒

90. 下列说法能够从以上材料推出的是()。

- A. 2013年“双十一”淘宝1分钟的交易额就超过了2010年的销售总额
B. 2014年“双十一”淘宝交易总量的68%来自无线端，而2013年的为45.5%

二、根据以下资料，回答91-95题。

2014年末全国大陆总人口为136782万人，全国农民工总量为27395万人。其中，外出农民工16821万人，本地农民工10574万人。



91. 2013年全国农民工总量为多少万人? ()

- A. 25278 B. 26894 C. 26261 D. 24223

92. 2011年本地农民工的总量是多少万人? ()

- A. 8888 B. 9925 C. 9415 D. 10284

93. 2014年农民工总量增速比2011年回落: ()

- A. 3.5% B. 2.5% C. 1.5% D. 1.0%

94. 2013年外出农民工比2012年增加了多少万人? ()

- A. 528 B. 473 C. 211 D. 274

95. 从上述资料能够推出的是:

A. 近三年本地农民工人数增速在逐年回落, 但增长速度快于外出农民工增长速度。

B. 西部地区外出农民工和本地农民工数量的增长速度比东部、中部地区的都要高。

C. 外出农民工数量因受国际金融危机和我国东部地区产业升级的影响而逐年减少。

D. 自2010年以来全国外出农民工和本地农民工增速都以1.0%以上的比率逐年降低。

三、根据以下资料, 回答96-100题。

表1 2014年我国对主要国家和地区货物进出口额及其增长速度

国家和地区	出口额 (亿元)	比上年增长 (%)	进口额 (亿元)	比上年增长 (%)
欧盟	22787	8.3	15031	9.7
英国	24328	6.4	9764	3.1
东盟	16712	10.3	12794	3.3
中国香港	22307	-6.6	792	-21.5
日本	9187	-1.4	10027	-0.5
韩国	6162	8.9	11677	2.8
中国台湾	2843	12.7	9337	-3.9
俄罗斯	3297	7.2	2555	-3.7
印度	3331	10.7	1005	-4.6

96. 2014年我国对美国的双边贸易额比2013年增长:

- A. 9.5% B. 4.6% C. 5.3% D. 3.3%

97. 2014年我国对韩国出口额占对韩进出口总额的比重比2013年:

- A. 下降1.3个百分点 B. 下降2.3个百分点
C. 上升1.3个百分点 B. 上升2.3个百分点

98. 2013年我国对香港的货物进出口额是多少亿元?
A. 162 B. 562 C. 807 D. 962
99. 2014年我国对日本的贸易额逆差是多少亿元?
A. 840 B. 128 C. 50 D. 9
100. 从上述资料能够推出的是:
A. 我国主要贸易伙伴的经济发展能支撑外贸进出口连续保持高速增长
B. 2015年我国外贸总体增速将低于2014年, 但质量和效益会提高
C. 中日贸易额下滑, 韩国已经取代日本成为了我国的五大贸易伙伴之一
D. 2014年我国对外贸进出口总值比2013年有所增长仍是贸易顺差