

2017 年国家公务员考试华图教育 《行政职业能力测验》模拟考试

重要提示

为维护您的个人权益,确保公务员考试的公平公正,请您协助我们监督考试实施工作。

本场考试规定:监考老师要向本考场全体考生展示题本密封情况,并邀请 2 名考生代表验封签字后,方能开启试卷袋。

二〇一六年

条形码
粘贴处

请将此条形码揭下,
贴在答题卡指定位置

说 明

这项测验共有五个部分,135 道题,总时限为 120 分钟。各部分不分别计时,但都给出了参考时限,供你参考以分配时间。

请在机读答题卡上严格按照要求填写好自己的姓名、报考部门,涂写准考证号。

请仔细阅读下面的注意事项,这对你获得成功非常重要:

1. 题目应在答题卡上作答,不要在题本上作任何记号。
2. 监考人员宣布考试开始时,你才可以开始答题。
3. 监考人员宣布考试结束时,你应立即放下铅笔,将试题本、答案卡和草稿纸都留在桌上,然后离开。

如果你违反了以上任何一项要求,都将影响你的成绩。

4. 在这项测验中,可能有一些试题较难,因此你不要在一道题上思考时间太久,遇到不会答的题目,可先跳过去,如果有时间再去思考。否则,你可能没有时间完成后面的题目。

5. 试题答错不倒扣分。

6. 特别提醒你注意,涂写答案时一定要认准题号。严禁折叠答题卡!

**停! 请不要往下翻! 听候监考老师的指示。
否则,会影响你的成绩。**

2017 年度考试录用公务员 《行政职业能力测验》试卷

第一部分 常识判断

(共 20 题,参考时限 15 分钟)

根据题目要求,在四个选项中选出一个最恰当的答案。

请开始答题:

- 2016 年 7 月 26 日中央政治局会议上,习近平强调要推动我国经济发展必须要继续坚定不移地推进供给侧结构性改革。加强供给侧结构性改革,要着力提高供给体系质量和效率。下列不属于供给侧结构性改革措施的是()?
 - 加大对基础教育、职业教育和专科教育的投入力度,举行大范围的全员培训
 - 中央银行降低存款准备金率,降低银行利率,刺激消费
 - 政府简化企业项目立项审批流程,明确各类收费标准,降低企业的成本
 - 《商业银行理财业务监督管理办法》中规定商业银行不得发行分级理财产品
- “一带一路”是指“丝绸之路经济带”和“21 世纪海上丝绸之路”的简称。它将充分依靠中国与有关国家既有的双多边机制,借助既有的、行之有效的区域合作平台。“一带一路”战略是目前中国最高的国家级顶层战略。我国古代丝绸之路始于汉朝,对世界文明的发展有重要促进作用,下列不是从陆上丝绸之路传播出去的有()?
 - 丝绸和养蚕缫丝技术
 - 铸铁术和铁器
 - 造纸术
 - 烟草
- 下列关于粮食的说法中不正确的是()?
 - 中国是世界上水稻栽培历史最悠久的国家,据浙江余姚河姆渡发掘考证,早在六七千年以前这里就已种植水稻
 - 1973 年,袁隆平产出世界上首例杂交水稻,因此被称为杂交水稻之父
 - 世界上产量最大的粮食作物是小麦
 - 美国孟山都公司是转基因(GE)种子的领先生产商
- 关于奥运会下列说法正确的是()?
 - 奥林匹克会旗是顾拜旦构思设计而成,其中绿色代表美洲
 - 2016 年第 32 届夏季奥运会在巴西里约热内卢举办
 - 巴西里约热内卢是第一个举办奥运会的西班牙语城市
 - 2016 年里约奥运会和残奥会的口号是“一个新世界”
- 下列关于咖啡的说法正确的是()?
 - 猫屎咖啡是经过麝香猫的消化道发酵而排泄出的咖啡豆制成的

13. 下列做法中不符合《立法法》规定的是()?
- A. 安徽省人民代表大会常务委员会制定的地方性法规经全国人民代表大会常务委员会批准后生效
 - B. 教育部制定的部门规章只需要报国务院备案
 - C. 甘孜藏族自治州人大制定的自治条例经四川省人大常委会报国务院和全国人大常委会备案
 - D. 深圳当地的地方性法规与现行法律出现冲突,需经全国人大常委会裁决来决定适用
14. 网络时代,人们用“颜值”一词来表示人物容颜英俊或靓丽的数值,用来评价人物容貌。用“颜值高”“颜值爆表”来形容美女帅哥。我国古代也有很多“颜值高”的美男,下列成语或典故中,与高颜值无关的是()?
- A. 阳春白雪、曲高和寡
 - B. 掷果盈车
 - C. 南橘北枳
 - D. 《兰陵王入阵曲》
15. 小明说的以下话中,正确的是()?
- A. 文昌鱼和武昌鱼一样都是美味的鱼
 - B. 草履虫是一种身体很小的昆虫
 - C. 鸳鸯和天鹅都是爱情的象征,这两种动物同属一个科
 - D. 苔藓和蘑菇一样,都是菌类的一种
16. 下列电视剧情节在历史中可能出现的是()?
- A. 《半月传》中半月给他弟弟用隶书写信
 - B. 《三国演义》中张飞在点菜时要求多放辣椒
 - C. 《大明宫词》中太平公主举办宴会用葡萄酒招待客人
 - D. 《汉武帝大帝》中卫青与平阳公主经常逛夜市
17. 下列关于月球车的说法不正确的是()?
- A. 月球车的主要任务是能够在月球表面行驶并进行月球探测、考察、收集和分析样品
 - B. 世界上第一辆月球车是 1970 年前苏联发射的无人驾驶的“月球车”1 号
 - C. 中国的第一辆月球车“玉兔”于 2016 年建军节停止工作
 - D. 月球车实质上是一个智能机器人,需要具备独立处理各种环境的能力
18. 下列诗词中,是描写少女妆容的诗句是()?
- A. 山是眉峰聚,水是眼波横
 - B. 当窗理云鬓,对镜贴花黄
 - C. 去年今日此门中,人面桃花相映红
 - D. 欲把西湖比西子,淡妆浓抹总相宜
19. 中国人民银行根据经济的运行情况适时上调金融机构人民币存贷款基准利率,这种政策属于()。
- A. 紧缩性财政政策
 - B. 紧缩性货币政策
 - C. 扩张性财政政策
 - D. 扩张性货币政策
20. 历史上曾出现众多以少胜多的战役,下列战役按照历史顺序排列正确的是()?
- ①官渡之战
 - ②巨鹿之战
 - ③淝水之战
 - ④赤壁之战

⑤彭城之战

A. ②⑤③①④

B. ③②④①⑤

C. ②⑤①④③

D. ⑤②①③④

※※※第一部分结束,请继续做第二部分! ※※※

第二部分 言语理解与表达

(共40题,参考时限35分钟)

本部分包括表达与理解两方面的内容。请根据题目要求,在四个选项中选出一个最恰当的答案。

请开始答题:

21. 快与慢,都源自利益。强行收取所谓的高昂“进山费”,发不义之财,是把过往人员当成唐僧肉,要想从此过、留下买路钱,俨然一副占山为王、车匪路霸的_____思维。而决定整改,同样与利益有关,面对舆论监督,如果_____,或将被追责。

依次填入横线处的词语,最恰当的一组是()。

A. 牟利 置之度外

B. 牟利 置若罔闻

C. 谋利 充耳不闻

D. 谋利 视而不见

22. 她遇到一个变迁的时代,在她书的内容简介中可以看到这样的关键词。中国在不断地发展,社会问题也突显出来,作为一个有良知的记者,便站出来勇敢发声。前段时间,我在微信上看到这样的信息“6个新闻研究生,仅1个人做记者”,突然觉得一个女主持人在一个岗位上坚持了19年,这样的坚持让人佩服。敬一丹觉得成功的奥秘是“迟钝成全了她”,在我看来当初的迟钝,经过长时间的_____,也_____出了美丽的花朵,芬芳了许多普通的老百姓。

依次填入横线处的词语,最恰当的一组是()。

A. 磨练 绽放

B. 锻炼 开放

C. 努力 怒放

D. 坚持 盛放

23. 诗歌对情绪也产生了两方面的作用:其一,引发心理共鸣。“读了之后你会发现,啊,原来我内心的感受古人也体会过,我并不孤独,这种心心相通的连接感让人们相互扶持。”其二,提高自身感受的敏锐度。“随着社会节奏加快,人们往往无暇_____自己的内心。而读古诗的过程让人静下来,知道自己的感受并_____他人的感受。”宋振韶说,“提升觉察力和洞察力,才能知道这些情绪产生的原因,才更有可能管理好情绪。”

依次填入横线处的词语,最恰当的一组是()。

A. 体验 体察

B. 顾及 体验

C. 关照 体味

D. 关心 观察

量,并被少数人或公司所控制,那么,就算取消了“份子钱”,有限的出租车牌照,可能依旧需要高价来“竞得”。对于出租车司机来说,这仍然不是真正的_____。

依次填入横线处的词语,最恰当的一组是()。

- A. 依附 目标 好处
B. 弱势 利好 减负
C. 劣势 政策 实惠
D. 依靠 工作 帮助

29. 在理想的图景里,微信朋友圈是一个小型的熟人社会,是一个区别于家庭生活和工作场所的“第三空间”,是一个发展非功利性社会关系的场域。然而,在现实生活中,微信朋友圈却频频上演“变形记”。不论是代购广告,还是拉票,抑或“微信乞丐”,微信朋友圈犹如一个网络公地,不可避免会遭遇过度开发和利用,甚至_____。

依次填入横线处的词语,最恰当的一组是()。

- A. 饮鸩止渴
B. 竭泽而渔
C. 缘木求鱼
D. 挥霍无度

30. “兵头将尾”,是对机关里处级干部的形象说法。千千万万的处长们,在党政事务中发挥着_____的关键作用,他们_____,无私奉献,是我们事业的重要骨干力量。然而,一段时间以来,个别单位所谓的“处长政治”,专权霸道、壅塞政令,竟成了改革发展路上的绊脚石,令人深思。

依次填入横线处的词语,最恰当的一组是()。

- A. 中流砥柱 任劳任怨
B. 承上启下 兢兢业业
C. 承前启后 谨小慎微
D. 继往开来 小心翼翼

31. 添加剂合法是有前提的,那就是商家要诚信经营,要在使用添加剂时“添加”自己的道德和良知。否则,合法的添加剂就有可能成为一些无德商家从事非法_____的“工具”。鉴于此,有关部门不能放松对防腐剂等食品添加剂的监管,严格控制用量和用途,决不能让其成为合法的“毒品”,去_____消费者的身体。

依次填入横线处的词语,最恰当的一组是()。

- A. 勾当 摧残
B. 手段 损伤
C. 行为 伤害
D. 行径 毒害

32. 习近平主席抵达美国进行国事访问的前一天,多名奥巴马政府高官发声,表示美中关系是当今世界最重要的双边关系,强调此访是一次“关键访问”,两国领导人将进行“坦诚和全面”的讨论,美方拒绝“美中冲突不可避免”的论调,美中合作可“成就非凡事业”。赖斯最后强调,未来,稳定、富有成效和有弹性的中美关系仍将位于美国对外政策的“中心位置”,美国领导人必须维持与中国的_____,同时允许健康_____。

依次填入横线处的词语,最恰当的一组是()。

- A. 合作 竞争
B. 友好 发展
C. 利益 竞争
D. 发展 合作

33. 《生态文明体制改革总体方案》分为十个部分,共 56 条,明确生态文明体制改革的指导思想是,坚持节约资源和保护环境基本国策,坚持节约优先、保护优先、自然恢复为主方针,立足我国社会主义初级阶段的基本国情和新的阶段性特征,以建设美丽中国为目标,以正确处理人与自然关系为核心,以解决生态环境领域突出问题为导向,_____国家生态安全,_____环境质量,_____资源利用效率,推动形成人与自然和谐发展的现代化建

设新格局。

依次填入横线处的词语,最恰当的一组是()。

- A. 提高 保证 改善
B. 保障 改善 提高
C. 维护 保障 促进
D. 促进 提高 改善

34. 乡村教师“招不来、留不住”的难题,可谓由来已久。究其原因,一方面是因为乡村教师职业待遇有限,微薄的收入不足以回报艰辛的付出;另一方面,“农村生活”本身缺乏足够的吸引力,“进城去”仍然是许多教师终极的职业追求。恰是鉴于此,不少地方开始努力提升乡村教师待遇。可即便这样,还是无法彻底逆转师资的持续流失——在如此背景下,“引导新教师下乡”,无疑是立竿见影的_____。

依次填入横线处的词语,最恰当的一组是()。

- A. 权宜之计
B. 长久之计
C. 缓兵之计
D. 百年大计

35. 铁窗中,几位官员把自己的贪腐之路总结为从节日收礼开始,笔者认为,这是找准了腐败的诱因。所谓,“温水煮青蛙”,千里之堤溃于蚁穴。分析一些领导干部最终道德滑落、精神颓废、陷于腐败泥淖的_____之轨迹,无一不是从最初的小打小闹、先拒后收受红包或信封开始,最终经不起名利场和物质的诱惑。正因为没有_____,收送成习惯,一旦掌握一定的权力后,便会演变成权利的交易。个别领导干部甚至习以为常,每到节假日就会有一种渴望,等着下属、老板等来送礼。

依次填入横线处的词语,最恰当的一组是()。

- A. 堕落 防微杜渐
B. 行为 谨小慎微
C. 贪魔 洁身自好
D. 行动 防患未然

36. 史上“最贵合影”诞生在第八届中美互联网论坛。“最贵合影”因互联网而生,因互联网而“贵”。没有互联网,就没有“最贵合影”。互联网代表了先进的生产力,已经成为人类社会快速发展的重要推动力。“最贵合影”_____是人类生产力发展史上的“最贵”,_____必将指引着人类迈向更先进的生产力,这是这张合影更大意义上的“贵”。

依次填入横线处的词语,最恰当的一组是()。

- A. 虽然 但是
B. 不仅 也
C. 即使 也
D. 与其说 不如说

37. 流量不清零,千呼万唤始出来。据报道,移动、电信、联通三大运营商将从10月1日开始推出“当月流量不清零”的举措。虽然让公众等待了许久,但是迈出这一步确实不容易,首先值得肯定与_____。对于正在_____开展的国企改革来说,此举可谓回应了社会关切,一定程度维护了公众的利益。

依次填入横线处的词语,最恰当的一组是()。

- A. 认可 方兴未艾
B. 鼓励 如火如荼
C. 赞扬 大行其道
D. 表扬 风风火火

38. 学校给学生购置的一批桌椅存在质量问题,厂家提供了不合格产品,诚然有过错,但校方处理此事如此拖沓,如果学生身体受到了伤害,那么校方同样_____。不合格产品真正的受害者实际上是学生,校方有责任保障学生在校学习时的身体健康,一副“我也是受害者”的无辜表情显然解决不了学生健康安全正在被侵害的事实。

通过这段文字,可以看出作者的态度()。

- A. 赞同中国社会习惯的明哲保身
- B. 认为沉默久了就会养成习惯
- C. 认为沉默未必是金
- D. 认为历史上很多悲剧源于集体沉默

43. “2015·北京人权论坛”16日在京开幕。国家主席习近平发来贺信,强调实现人民充分有人权是人类社会的共同奋斗目标。要加强不同文明交流互鉴,促进各国人权交流合作,推动各国人权事业更好发展。习近平在贺信中指出,在中国人民抗日战争暨世界反法西斯战争胜利70周年之际,本届“北京人权论坛”以“和平与发展:世界反法西斯战争的胜利与人权进步”为主题,有利于推动各方对保障人类和平权、发展权的深入思考。

该段文字作为一则报纸上的新闻,最适合做该段文字题目的是()。

- A. “北京人权论坛”16日在京开幕
- B. 习近平致信祝贺北京人权论坛开幕
- C. 和平与发展
- D. 世界反法西斯战争的胜利与人权进步

44. 人类精神创造的历史表明,孤独更重要的价值在于孕育、唤醒和激发了精神的创造力。我们难以断定,这一点是否对所有的人都适用,抑或仅仅适用于那些有创造天赋的人。我们至少应该相信,凡正常人皆有创造力的潜质,仅仅在于量的大小而已。

文中“这一点”指代的是()。

- A. 人类精神创造
- B. 难以断定的观点
- C. 孤独的价值所在
- D. 孤独能激发精神的创造力

45. 美学家们给美所下的定义很少是哲学性质的,而往往是几何学的,心理学的,或者社会学的。真正的美逃避定义,存在于几何学、心理学、社会学的解释皆无能为力的地方。艺术天才们不是用言辞、而是用自己的作品给美下定义,这些作品有力地改变和更新着人们对于美的理解。

最适合做该段文字标题的是()。

- A. 美逃避定义
- B. 真正的美
- C. 美的理解
- D. 艺术天才

46. 新的学年开始,不少孩子上一年级了,班主任大多会在微信上拉个家长群,几乎所有父母都积极参加,多的可以达到80多人,与老师的沟通显得非常便捷了。中国有悠久的教育传统,哪怕有的老师难堪其任,被写进《笑林广记》之类的书籍大加揶揄,但总的来说,家长对老师一向高度信任,多视为再生父母一般。现代教育不太强调延续这一传统,而是更加技术化、规范化、标准化。不过须知,老师本人也是活生生的人,也需要被发自内心地尊重,而不仅仅被当成拥有某种技能的“匠人”,为此,必须减掉那些基于“监视劳动”为目的的负担,使之轻装上阵,才能让他们尽量发挥教育主动性,而不是被动应付。

这段文字旨在说明()。

- A. 请给中小学教师减减负
- B. 要让老师发挥教育主动性
- C. 应该增进家长与老师的沟通
- D. 老师也需要被尊重

47. 女白领“卖晚安”事件,最值得放大的细节显然有两个。一个是这位女白领超强的创意感。在如此物质化的年代,只要有着创意,即便是内心最隐秘的需求,亦能与商业挂起钩来;另一个则是“卖晚安”生意背后的心理。“卖晚安”生意能够一做几年,证明的是,在城市中确实有着相当的潜在需求。买“晚安”送给自己,说明内心是孤独的;买“晚安”送给恋人,说明他们渴望浪漫;买“晚安”送给朋友,说明觉得友谊弥足珍贵。买“晚安”背后,是都市人共同的乡愁。其实,如此仪式感完全可以自己来完成,细腻亦可自我赋予。关键的是,我们要重新回到情感表达的初心,构建起足够柔软的内心。

这段文字作者想表达的观点是()。

- A. 创意在如此物质化年代的重要性
- B. 有些事情需要自己来完成
- C. 我们需要回归到内心深处
- D. 细腻的情感可以自我赋予

48. ①阅读对写作当然有影响,但对我而言,这种影响是会随机被消解的

②我们去阅读的目的只是朝内去发现自己,只是为了被唤醒,一旦被唤醒了,他的重要工作就是写书了

③而一个没有被唤醒的作家,读一辈子书,也永远是一个被影响的作家

④我很少把一篇作品完整地读完,好多都是读一半就放下了,因为读一半也就知道了

⑤一个写作者在他开始写作之前,其实已经储备了当一个作家所有的东西

⑥这些东西像一座金山一样隐藏在他的心灵中

将以上 6 个句子重新排列,排序正确的是()。

- A. ①④⑥⑤③②
- B. ①⑥⑤③④②
- C. ④②⑥①⑤③
- D. ④①⑤⑥②③

49. 作家歌德曾说,文学写作应“少写些”,其意就是文艺创作要“放慢脚步”,因为只有_____ ,只有慢工才能出精品。

填入划横线部分最恰当的一项是()。

- A. 只要功夫深,铁杵磨成针
- B. 只有慢工才能出细活
- C. 欲速则不达
- D. 细节决定成败

50. 实事求是地说,在现代社会里,知识的碎片化与公共生活的萎缩,是造成虚无感、倦怠感的主要原因,这一结果具有普遍性,只是在知识分子聚焦的高校表现得更为明显罢了。

_____ ,因为一个崛起中的大国不能以山寨的模式去构建自己的精神世界,更不能满足于庸俗、功利的物质主义。琐碎、乏味的生活虽然看似无害,却极有可能导致庸俗的趣味、市侩的道德与创新的萎缩,从长远来看,它将最终威胁社会的长期繁荣。

填入划横线部分最恰当的一项是()。

- A. 但是对于这样一种自然的现象,社会却不能抱以自然而然的态度
- B. 这种倦怠不仅是高校老师中常见的现象,而且也不一定比其他的职业更加严重
- C. 青年教师的收入窘迫是一个不争的事实
- D. 在待遇问题很难得到明显改善的大前提下,要缓解教师的倦怠情绪

51. “萌文化”只能算是流行文化的一种有意义的新形式,它为现有的僵化体系提供了一种清新的选择,也赋予了消费者更加强大也更加多元的力量。但在某种程度上,“萌文化”其实是在以将对象“宠物化”的方式去逃避真实的矛盾,从而也就逃避了艺术创作的批判性价值旨归。所以说,情到深处自然萌,讲求的就是彼时彼地的独特心境。文化终究要进步,人也终究要成长。把对“萌”的情结视为对本真性情的回归,要比将“萌”改造为普遍性的文化形式更有意义。

对上文内容描述最恰当的是()。

- A. “萌文化”是一种有意义的文化新形式
 - B. “萌文化”其实是一种逃避真实矛盾的文化
 - C. “萌文化”讲求的是彼时彼地的独特心境
 - D. “萌文化”是对本真性情的回归
52. 可以说,把李嘉诚撤资放置于法治化、国际化的营商环境视角下考察,这种铿锵有力的声音,比追着人家屁股后面指手画脚更加务实、理性。从这个意义上说,我们不能漠视李嘉诚撤资一事,而需要自动开启自检程序,通过这个大企业家的撤资,检测一下整体营商环境的法治化、国际化程度,进而有针对性地继续推进改革深化。当人们已经习惯多年的经济高速增长,经济稍一放缓,所有人的心理就需要重新调适,而李嘉诚恰于此时撤资,不会不刺激到公众微妙又脆弱的心理。其实,没必要揪着李嘉诚的跑与不跑,我们欢迎企业“来”,也尊重企业“跑”的权利,但更要创造一个让企业“不想跑、不愿跑、舍不得跑”的市场环境。

这段文字作者意在阐释()。

- A. 不必太关心李嘉诚撤资一事
 - B. 我们需要开启自检程序
 - C. 对于国家的经济增速,应该有心理调适
 - D. 应该给企业营造一个更好的市场环境
53. 一切关于东西方文化之优劣的谈论都是非文化、伪文化性质的。民族文化与其说是一个文化概念,不如说是一个政治概念。在我眼里,只存在一个统一的世界文化宝库,凡是进入这个宝库的文化财富在本质上是没有任何国籍的。无论东方还是西方,文化中最有价值的东西必定是共通的,是属于全人类的。那些仅仅属于东方或者仅仅属于西方的东西,哪怕是好东西,至多也只有次要的价值。

这段文字主要表达的观点是()。

- A. 最好的文化没有国籍
 - B. 一切关于文化优劣之分的都是非文化的
 - C. 文化是共通的
 - D. 民族文化是一个政治概念
54. 现代文明社会的标志之一是关心儿童,这种关心体现在福利、教育等多方面特殊的优待上,但最起码的要求是给儿童提供一个相对安全的生存环境。当然,我知道,就我们的国情而言,要达到这最起码的要求亦非易事,有待于整个社会状况的改善。但是,我们至少应该也可以从立法执法上着手,对于残害儿童的犯罪行为从严惩处,对于伤害儿童的责任事故从严追究。这至少能够给人们一种信心,相信孩子的安全是确实受到了法律的保护

的。倘若一个社会连这样的信心也不能给人们,人们又怎会对这个社会有信心呢?

这段文字的主旨是()。

- A. 应该从法制层面入手,给儿童提供一个安全的环境
- B. 现代文明社会的标志是要给人们以信心
- C. 应该对伤害儿童的事故从严追究
- D. 要对儿童关心体现在福利、教育等多方面

55. 对于 A 股,罗杰斯颇有自信地认为,“上证指数早晚会涨回 5000 点,甚至更高。”并重申自己的观点,“如果再跌我会再买,市场恐慌的时候恰恰是买入的时候。”“尽管现在遇到了一些挫折,但我不认为中国出现了衰退。”这个时候,国内外各路资本纷纷展开了对当前市场的审视和反思,股灾带给我们的除了一时的痛楚之外,更多的应是经验和收获,能认清这点,重拾信心就不会遥远。投资和其他工作一样,要想成功,不是一鼓作气的短跑就能到达终点,巴菲特的经历告诉世人,他能有今天的成功,不是靠捉住了几轮牛市,不少靠数学模型、天衣无缝的技术分析。只有坚持不懈地长跑才能达到理想的境界。

这段文字想要表达的观点是()。

- A. A 股回到 5000 点是迟早的事
- B. 要想成功就要坚持不懈的“长跑”
- C. 我们应该在灾难过后学到经验
- D. 看准时机很重要

56. 上班时必须佩戴 GPS,用来监管工作。此举这一管理“创新”一个重要背景便是当下“智慧环卫”的趋势。所谓智慧环卫,其实是依托物联网技术与移动互联网技术,对环卫管理所涉及到的人、车、物、事进行全过程实时管理,合理设计规划环卫管理模式,最终为了“用数字评估和推动垃圾分类管理实效。”不难发现,单纯对环卫工实施的“定位”管理,其实与智慧环卫并没有多大关系,不过是一种管理上的“偷懒”和对概念的偷换与异化。现在各行各业,似乎都在强调借助技术更新来提升管理效率,而越是这样,越要警惕技术与机器对于人的尊严、温情与人性的剥夺。

这段文字作者意在表明()。

- A. 需要技术更新提升管理效率
- B. 技术管理也应有人性考量
- C. 管理“创新”是现代企业的趋势
- D. 节省管理成本的管理方式

57. 对此,天津的冯先生有不同看法,他认为孩子是有差异的,只要不对孩子构成歧视和心理上影响,承认个体差异地分重点班、特长班,对孩子发展是有好处的。说起自己女儿所在的重点初中学校,冯先生很感谢老师负责的态度。老师发现冯先生女儿有写作天分,并一直鼓励和引导,让她从刚开始的性格内向逐渐变得开朗自信。冯先生说,这和学校的定位关系很大,“如果学校就是一个让孩子拼成绩升学的地方,分重点校重点班就会让孩子围着分数残酷竞争;如果定位在培养人才上,根据每个学生情况,发挥特长,弥补短板,就要支持。如果是‘大锅饭’,我的孩子很可能没人管没人问。”

对这段话理解正确的是()。

- A. 冯先生认为分重点班、特长班对孩子发展是有好处的

- B. 重点班老师更负责任
- C. 分班可能会对孩子们因材施教
- D. 分班与否与学校定位有很大关系

58. 如果一个人有自己的心灵追求,又在世界上闯荡了一番,有了相当的人生阅历,_____。世界无限广阔,诱惑永无止境,然而,属于每一个人的现实可能性终究是有限的。你不妨对一切可能性保持着开放的心态,因为那是人生魅力的源泉,但同时你也要早一些在世界之海上抛下自己的锚,找到最适合自己的领域。一个人不论伟大还是平凡,只要他顺应自己的天性,找到了自己真正喜欢做的事,并且一心把自己喜欢做的事做得尽善尽美,他在这世界上就有了牢不可破的家园。

填入划横线部分最恰当的一项是()。

- A. 就有足够的清醒来面对形形色色的机会的诱惑
- B. 那么,他就会逐渐认识到自己在这个世界上的位置
- C. 也会有足够的勇气去承受外界的压力
- D. 这样的一个人必能获得生活的充实和心灵的宁静

59. 从现在看来,戏剧是最好和观众交流的一种艺术。戏剧反映了人生。人生从戏剧中得到洗涤,得到“卡塔西斯”。“卡塔西斯”这个词,有的翻译成进化,有的翻译成宣泄,我父亲(古希腊文学翻译家罗念生)翻译的时候用了一个词,叫陶冶。我以为,任何一个词都不足以表达“卡塔西斯”。我的意思是把这三个意思搁置在一起。通过戏剧,宣泄了情感;跟戏中的人物学习,戏剧讽刺的对象太糟糕了,我们不要像他一样,这就得到了思想的进化。情感宣泄了,思想进化了,就能够陶冶每个人的情操。所以,宣泄、进化、陶冶,就是戏剧的作用。这一点,古希腊戏剧给我们做了很好的典范。

文段中的“这一点”指代的是()。

- A. 人生从戏剧中得到洗涤,得到“卡塔西斯”
- B. 戏剧反映人生
- C. 所以,宣泄、进化、陶冶,就是戏剧的作用
- D. 戏剧是最好和观众交流的一种艺术

60. 作家富豪榜高调宣布:“教科书让鲁迅黯然离去,作家榜请鲁迅满血归来”。这对于阅读生活、阅读出版的文化导向,对于文化经典的坚守,对于文学界倡导和坚持鲁迅精神,都很有意义和价值。我们必须看到,这几年,在语文教育中,甚至在文化图书出版中,一度流行着质疑经典的种种浮浅的观念,甚至存在着一种“去鲁迅化”的文化思潮。“去鲁迅化”实质上是人文理想教育的缺失,是我们精神追求的一种退化和矮化,是文化的悲哀和民族的悲哀。

通过文段可以看出作者对作家富豪榜做法的态度是()。

- A. 无所谓
- B. 赞同
- C. 反对
- D. 质疑

※※※第二部分结束,请继续做第三部分! ※※※

第三部分 数量关系

(共 15 题,参考时限 15 分钟)

在这部分试题中,每道试题呈现一段表述数学关系的文字,要求你迅速、准确地计算出答案。

请开始答题:

61. 三国杀标准版中共有 4 种势力:魏、蜀、吴、群。四种势力分别有 7、7、8、3 张武将牌。问至少抽出多少张武将牌,才能保证一定有 5 张武将牌的势力相同? ()
- A. 6
B. 8
C. 13
D. 16
62. 将 12 节相同的甘蔗分给 5 小朋友,其中两个小朋友表现优异,要求至少获得 3 节甘蔗;其他小朋友每人至少分得一节甘蔗。问一共有多少种不同的分配方法? ()
- A. 70
B. 56
C. 35
D. 21
63. 某师资中心对教师进行一次调查。在接受调查的教师中,具有数量关系教学资格的有 89 人,具有言语理解教学资格的有 47 人,具有判断推理教学资格的有 63 人,其中一部分人具有两门科目教学资格,一部分人具有三项科目教学资格,则该师资中心至多有多少名教师? ()
- A. 199
B. 196
C. 194
D. 192
64. 某学习辅导机构开设了大小两种班型。大班型每班 12 人,每人 500 元;小班型每班 7 人,每人 800 元。已知该机构共计招生 64 人,且大小班级都恰好满员。则该机构开设学习班总计收入为()万元。
- A. 4.48
B. 4.16
C. 4.04
D. 3.84
65. 某年一位网友发现自己出生的年份与自己的年龄之和为 2016,则该年为哪一年()。
- A. 2013 年
B. 2014 年
C. 2015 年
D. 2016 年
66. 奇葩说决赛,双方第一轮发言结束后,大紧队与肉松队现场支持得票数比为 1:2。经过第二轮精彩辩论后,大紧队拉票成功,增加了 80 票,此时大紧队的得票数是肉松队的 $\frac{7}{8}$ 。问大紧队至少还需拉回多少张票才能获胜? ()
- A. 18
B. 19
C. 20
D. 21
67. 单位组织晚会,共有 6 个歌唱类节目和 3 个互动环节。现要求歌唱类节目必须打头,结尾必须有互动环节,并且互动环节不能连续安排。问有多少种不同的安排方式? ()
- A. 43200
B. 2160

C. 720

D. 60

68. 将一片西瓜田等分成三份,由甲、乙、丙三组农民进行收获。当甲完成了自己任务的 90% 之时,乙完成了任务的一半,丙完成了任务的 40%。此时在三组农民之间进行人数分配,最终三块瓜田同时完成任务,则丙组加入了现有农民人数的()。

A. 125%

B. 100%

C. 80%

D. 50%

69. $\underbrace{999\cdots999}_{2016\text{个}}$ 除以 7 的余数是多少? ()

A. 0

B. 1

C. 2

D. 3

70. 现有甲、乙、丙三种溶液分别为 10 克、20 克和 30 克。取出 2.5 克的甲溶液、5 克的乙溶液和 7.5 克的丙溶液,放入一个烧杯中,再加入 15 克水,烧杯中溶液的浓度变为 5%。问如果将甲、乙、丙剩余的溶液全部放入另一个烧杯,则混合溶液的浓度为()。

A. 5%

B. 10%

C. 15%

D. 20%

71. 五个连续的百位数,最小的数能被 1 整除,第二小的数能被 2 整除,以此类推。则这五个百位数之和至少为()。

A. 121

B. 240

C. 600

D. 615

72. 将 15 个相同的苹果分给 3 个小朋友,若每人每天至多吃一个,每天至多只有 1 个小朋友选择不吃,则吃完这些苹果共有多少种不同的方法? ()

A. 16

B. 21

C. 28

D. 37

73. 甲乙从 AB 两地同时出发,甲每分钟走 60 米,乙每分钟走 70 米,两人在 C 点相遇;若甲提前 4 分钟出发,乙每分钟多走 20 米,则两人仍在 C 点相遇。问 AB 两地之间距离为多少米? ()

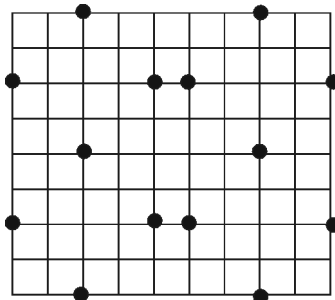
A. 2700

B. 2340

C. 2000

D. 1260

74. 在一张 9×8 的方格纸上,小方格的面积均为 1 平方厘米。图中分布着若干黑点,从中任取三个黑点组成一个三角形,三角形最大面积为()平方厘米。



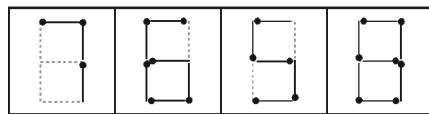
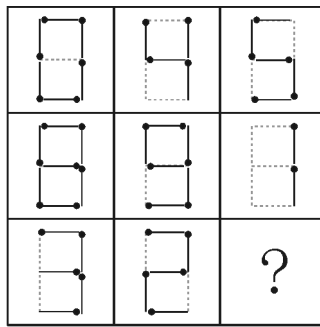
A. 32

B. 30

C. 28

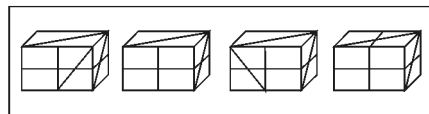
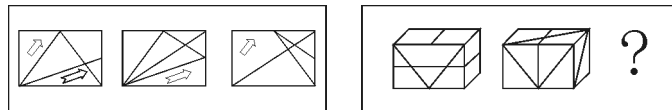
D. 27

78. 从所给的四个选项中,选择最合适的一个填入问号处,使之呈现一定的规律性:



A B C D

79. 从所给的四个选项中,选择最合适的一个填入问号处,使之呈现一定的规律性:



A B C D

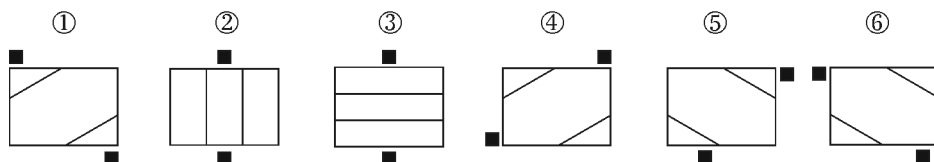
80. 从所给的四个选项中,选择最合适的一个填入问号处,使之呈现一定的规律性:



A B C D

以下 81—85 题,每个题目包含六个图形,请把此六个图形分为两类,使得每一类图形都有各自的共同特征或规律。

81. 把下面的六个图形分为两类,使每一类图形都有各自的共同特征或规律,分类正确的一项是()。



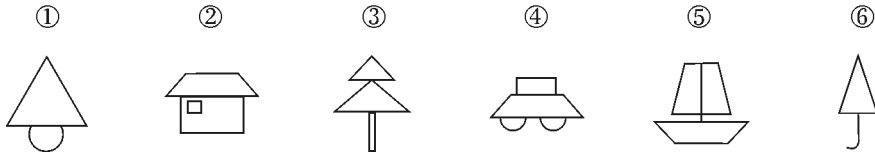
A. ①③⑤,②④⑥

B. ①④⑤,②③⑥

C. ①②④,③⑤⑥

D. ①④⑥,②③⑤

82. 把下面的六个图形分为两类,使每一类图形都有各自的共同特征或规律,分类正确的一项是()。



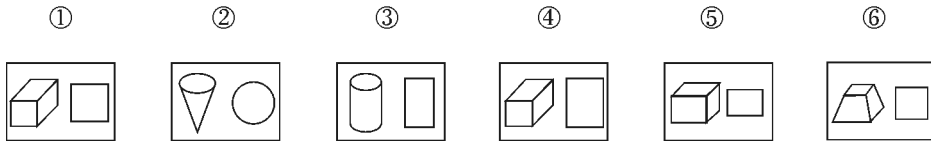
A. ①②⑥,③④⑤

B. ①⑤⑥,②③④

C. ①③④,②⑤⑥

D. ①③⑥,②④⑤

83. 把下面的六个图形分为两类,使每一类图形都有各自的共同特征或规律,分类正确的一项是()。



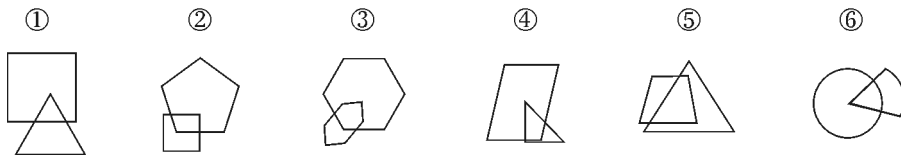
A. ①③⑤,②④⑥

B. ①②⑤,③④⑥

C. ①③④,②⑤⑥

D. ①③⑥,②④⑤

84. 把下面的六个图形分为两类,使每一类图形都有各自的共同特征或规律,分类正确的一项是()。



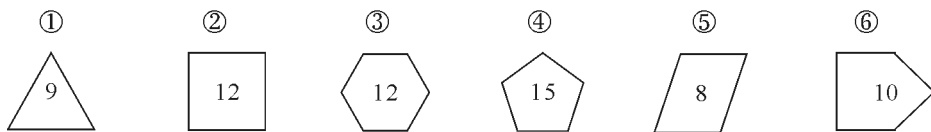
A. ①②⑥,③④⑤

B. ①④⑤,②③⑥

C. ①③⑥,②④⑤

D. ①②⑤,③④⑥

85. 把下面的六个图形分为两类,使每一类图形都有各自的共同特征或规律,分类正确的一项是()。



A. ①②⑥,③④⑤

B. ①②④,③⑤⑥

C. ①②③,④⑤⑥

D. ①③④,②⑤⑥

二、定义判断。每道题先给出一个定义,然后列出四种情况,要求你严格依据定义,从四个备选项中选出一个最符合或最不符合该定义的答案。注意:假设这个定义是正确的,不容置疑的。

请开始答题:

86. 妄想是一种病理性的歪曲信念,是病态的推理和判断,它具有以下特征:(1)信念的内容与

事实不符,没有客观现实基础,但患者坚信不疑;(2)妄想内容均涉及患者本人,总是与个人的利害有关;(3)妄想具有个人独特性;(4)妄想的内容因文化背景和个人经历而有差异,但常有浓厚的时代色彩。

下列所描述的症状可以被判断为妄想的一项是()。

- A. 小王最近总是反复思考“先有蛋,还是先有鸡”这个问题,虽然自己也知道没有必要,可就是无法把这个问题从脑子里清除掉
- B. 丽丽最近感到身边的事物和环境发生了变化,变得不真实,周围好像舞台布景,树木、房屋好像纸糊的一样,毫无生气
- C. 老张最近总是在家中听到有人在门口骂他,尽管老伴告诉他说自己什么都没听到
- D. 因为自己的腹部有一块椭圆形的胎记,小李认为自己是拥有超能力外星人的后代,尽管听到的人都觉得这是无稽之谈,可他自己却深信不疑

87. 被害人承诺,是指权利人同意或者要求损害其某种合法权益的行为。该行为表明权利人自愿放弃该种合法权益,从而也就免除了行为人的法律责任,而不存在犯罪的问题。

根据上述定义,下列属于被害人承诺的是()。

- A. 王某自幼生活在贫困家庭,甲征得王某父母的同意,将王某卖给富贵人家
- B. 在李某家发生火灾之际,乙独自闯入李某的住宅搬出贵重物品,事后取得李某的同意
- C. 张某的妻子丙为了让张某戒掉网瘾,将其反锁在没有电脑的房间一星期
- D. 蔡某同意丁砍掉自己的一个小手指,而丁砍掉了蔡某的大拇指

88. 混淆行为是指经营者在市场经营活动中,以种种不实手法对自己的商品或服务作虚假表示、说明或承诺,或不当利用他人的智力劳动成果推销自己的商品或服务,使用户或者消费者产生误解,扰乱市场秩序、损害同业竞争者的利益或者消费者利益的行为。

根据上述定义,下列不属于混淆行为的是()。

- A. 商品经营者对某知名产品存在的质量和功效而自己的产品并不存在的质量和功效做引人误解的虚假宣传
- B. 在商品上伪造或者冒用认证标志、名优标志等质量标志,伪造产地,对商品质量作引人误解的虚假表示
- C. 擅自使用与知名商品相似的包装
- D. 假冒竞争者的注册商标

89. 留面子效应,是指人们拒绝了一个较大的要求后,对较小要求接受的可能性增加的现象。为了更好地使人接受要求,提高人的接受可能性的最好办法,就是先提出一个较大的要求,遭到拒绝以后,再提出自己真正的要求,对方答应的可能性就会大大增加。

根据上述定义,下列各项不属于留面子效应的是()。

- A. 人事部要求员工每天都要穿工装,大家得知后怨声载道。后来又改说每周最后一个工作日可以不穿,员工们就同意了
- B. 刘明想要一部数码相机,但是他问妈妈是否能给他买一台笔记本电脑,遭到拒绝后,刘明才说想要数码相机,妈妈答应他考虑一下
- C. 老板对小张要求下个月的订单要翻一番,小张面露难色,老板又说那一定要保证不低于上个月的数量,小张立即表示没问题
- D. 徐峰和张丽为了工作上的一个问题吵得不可开交,徐峰有把握自己是对的,但是他却

主动承认是自己弄错了,张丽听了也赶紧道歉

90. “自我障碍策略”是一种故意的自作自受,指人们预期到自己可能失败时,往往就会做出一系列导向失败的行为,使用这种策略主要是为了在失败的时候,可以将失败的原因归结于外界因素,而不是自我能力的缺乏。

根据上述定义,下列各项体现了自我障碍策略的是()。

- A. 李浩是个性格比较内向的男生,从小就不善言辞,当妈妈让他去相亲时,他觉得肯定会失败,后来果然失败了
 - B. 王琦要参加一场重要的网球比赛,因为对手比较强大,他在上场前一天对家人说:如果明天不下雨,我就能赢
 - C. 白宇平时不好好学习,他觉得期末考试肯定考不好,于是在考试前淋雨发烧了,回家后他说是因为生病所以没考好
 - D. 吴非没有好好准备第二天的知识竞赛,他对同学说自己肯定没戏了,但是第二天他却意外地夺得了一等奖
91. 逆向思维也叫求异思维,它是对司空见惯的似乎已成定论的事物或观点反过来思考的一种思维方式。敢于“反其道而思之”,让思维向对立面的方向发展,从问题的相反面深入地进行探索,树立新思想,创立新形象。当大家都朝着一个固定的思维方向思考问题时,而你却独自朝相反的方向思索,这样的思维方式就叫逆向思维。

根据以上定义,下列各项未体现逆向思维的是()。

- A. 司马光砸缸
 - B. 乌鸦喝水
 - C. 猴子捞月
 - D. 以毒攻毒
92. 女性文学是诞生于一定的社会历史条件下,以五四新文化运动为开端,具有现代人文精神内涵,以女性为经验主体、思维主体、审美主体和言说主体的文学,是女作家基于性别主体意识、性别视角表现的关注女性命运、女性情感、女性生命的文学,以表现包括女性生存在内的、具有人类普遍意义的文本。

根据上述定义,以下各项属于女性文学的是()。

- A. 李清照《声声慢》
 - B. 冰心《寄小读者》
 - C. 徐志摩《沙扬娜拉》
 - D. 林白《一个人的战争》
93. 灰色腐败是一种用公款违规消费以及利用职权收受不在刑法处罚范围之内的礼品、礼金等的行为。

根据上述定义,下列属于灰色腐败的是()。

- A. 某市政府官员在办公用品采购招标过程中收取价值 10 万元的购物卡
 - B. 某区政府领导利用职务之便将自己的弟弟安插进来吃闲饭
 - C. 某公司经理订购了一批劣质月饼作为员工礼品,事后得到供货商所送礼金 1000 元
 - D. 某县政府极其隆重地接待了外商考察团,接待费用总计 5 万元
94. 亲属选择是指一个种群中,有利于种群遗传上相关的个体(亲属)的选择,而这一选择往往对于作出选择的个体无益甚至有害。

根据上述定义,下列属于亲属选择的是()。

- A. 土拨鼠遭遇掠食者时,冒着被捕食的危险高声喊叫,帮助族群中其他土拨鼠逃脱
- B. 某地区树皮被烟尘熏成黑色,灰色的甲壳虫比黑色的甲壳虫更易被鸟类捕食,于是黑

色基因逐渐成为这种甲壳虫的主流基因

- C. 某种鸟类为了培育优秀的后代,故意不给刚孵出的小鸟喂食,使其自相残杀,最后选择存活下来的较为强壮的小鸟抚养
- D. 某种蚂蚁不辞辛劳地抚养一种蝴蝶幼虫,而蝴蝶幼虫的分泌物是这种蚂蚁的食物
95. 效度即有效性或准确度,它是指测量工具或手段能够准确测出所需测量的事物的程度,或者说能够准确、真实地度量事物属性的程度。效度是指所测量到的结果反映所想要考察内容的程度,测量结果与要考察的内容越吻合,则效度越高;反之,则效度越低。
- 根据上述定义,以下测验效度上存在严重问题的是? ()
- A. 用英文智商测验量表对本地大学生的智商进行测量
- B. 用去年的高考语文试卷作为本次语文考试的试卷
- C. 将学生容易出错的物理题集合在一起作为本次物理考试的题目
- D. 将数学教材的课后练习题作为考试题目进行数学测验

三、类比推理。每道题先给出一组相关的词,要求你在四个备选项中找出一组与之在逻辑关系上最为贴近、相似或匹配的词。

请开始答题:

96. 草原 : 风吹草低见牛羊
- A. 沙漠 : 大漠孤烟直
- B. 大海 : 天涯共此时
- C. 月亮 : 千里共婵娟
- D. 长江 : 奔流到海不复回
97. 玫瑰 : 爱情
- A. 郁金香 : 纯洁
- B. 兰花 : 高洁
- C. 曼陀罗 : 艳丽
- D. 荷花 : 神秘
98. 中国 : 朝鲜
- A. 美国 : 加拿大
- B. 英国 : 挪威
- C. 德国 : 波兰
- D. 印度 : 巴基斯坦
99. 狮子 : 骨骼
- A. 蝙蝠 : 羽毛
- B. 海豚 : 鱼鳞
- C. 书 : 序
- D. 孔雀 : 尾巴
100. 暴雨 : 洪水
- A. 地震 : 海啸
- B. 狂风 : 龙卷风
- C. 台风 : 飓风
- D. 沙漠 : 流沙
101. 泥巴 : 砖头
- A. 树浆 : 纸张
- B. 肌肉 : 人体
- C. 稻谷 : 米饭
- D. 铅笔 : 笔芯
102. 尺子 : 米
- A. 量角器 : 度
- B. 天平 : 砝码
- C. 能量 : 焦耳
- D. 烧杯 : 毫升

103. 丛林：探险：野兽
- A. 实验：科研：显微镜
B. 市场：交易：骗局
C. 书店：书本：读者
D. 舞台：表演：观众
104. 导航仪：指南针：导向
- A. 救济：捐款：贫困
B. 信件：手机：通讯
C. 飞机：汽车：运输
D. 电视：广播：媒体
105. 护士 对于 ()，相当于 () 对于 罪犯
- A. 医生：法官
B. 医院：监狱
C. 打针：盗窃
D. 病人：警察

四、逻辑判断。每道题给出一段陈述，这段陈述被假设是正确的，不容置疑的。要求你根据这段陈述，选择一个答案。注意：正确的答案应与所给的陈述相符合，不需要任何附加说明即可以从陈述中直接推出。

请开始答题：

106. 大海、高峰、王昊准备去爬山。天气预报说，今天可能下雨。围绕天气预报，三个人争论起来。
- 大海：“今天可能下雨，那并不排斥今天也可能不下雨，我们还是去爬山吧。”
- 高峰：“今天可能下雨，那就表明今天要下雨，我们还是不去爬山了吧。”
- 王昊：“今天可能下雨，只是表明今天不下雨不具有必然性，去不去爬山由你们决定。”
- 关于三人对天气预报的理解，以下说法正确的是()。
- A. 大海正确，高峰和王昊不正确
B. 高峰正确，大海和王昊不正确
C. 王昊正确，大海和高峰不正确
D. 大海和王昊正确，高峰不正确
107. 一份关于酸雨的报告总结道：“俄罗斯的大多数森林没有被酸雨损害。”这份报告的批评者坚持认为这一结论必须改变为：“俄罗斯的大多数森林没有显示出明显的被酸雨损害的症状，如不正常的落叶、生长速度的减慢或者更高的死亡率。”
- 下面哪项如果正确，为批评者坚持要改变报告结论提供了逻辑上最强有力的正当理由？()
- A. 俄罗斯的一些森林正在被酸雨损害
B. 报告没有把酸雨对俄罗斯森林的损害与酸雨对其他国家森林的损害进行比较
C. 酸雨可能正在造成症状尚不明显的损害
D. 酸雨造成的损害程度在不同森林之间具有差异性
108. 某餐厅发生一起谋杀案，经调查：
- 第一，谋杀或者用的是叉，或者用的是刀，二者必居其一。
- 第二，谋杀时间或者在午夜 12 点，或者在凌晨 4 点。
- 第三，谋杀者或者是甲，或者是乙，二者必居其一。

如果以上断定是真的,那么以下哪项也一定是真的? ()

- (1)死者不是甲用叉在午夜 12 点谋杀的,因此,死者是乙用刀子凌晨 4 点谋杀的。
- (2)死者是甲用叉在凌晨 4 点谋杀的,因此,死者不是乙用叉在凌晨 4 点谋杀的。
- (3)谋杀的时间是午夜 12 点,但不是甲用叉子谋杀的,因此一定是乙用刀子谋杀的。

- A. 仅(1)
- B. 仅(2)
- C. 仅(3)
- D. (2)和(3)

109.某国政府决策者面临的一个头痛的问题就是所谓的“别在我家门口”综合症。例如,尽管民意测验一次又一次地显示公众大多数都赞成建造新的监狱,但是,当决策者正式宣布计划要在某地建造一新的监狱时,总遭到附近居民的抗议,并且抗议者往往总有办法使计划搁浅。

以下哪项可例证上面所说的“别在我家门口”综合症? ()

- A. 某家长主张感染了艾滋病毒的孩子不能允许入公共学校。当知道一个感染了艾滋病毒的孩子进入了他的孩子的学校,他立即办理了自己孩子的退学手续
- B. 某政客主张所有政府官员必须履行个人财产公开登记,他自己递交了一份虚假的财产登记表
- C. 某汽车商主张国际汽车自由贸易,以有利于各国经济,但要求本国政府限制外国制造的汽车进口
- D. 某教授主张宗教团体有义务从事慈善事业,但自己拒绝捐款资助索马里饥民

110.大学图书管理员:三年以前,非学生读者使用本图书馆是免费的。后来,因为我们的预算减少了,所以我们要求他们每年支付 100 美元的费用。然而,仍然约有 150 名非学生读者使用了图书馆而没有缴费。因此,如果我们雇用一名警卫来辨认非学生读者并令其缴费,那么我们就可以获得经济收益。

下列哪一项对于评价图书管理员的结论是最为重要的? ()

- A. 每年使用图书馆的学生人数
- B. 今年图书馆的预算
- C. 三年前图书馆的预算降低了多少
- D. 图书馆雇用一名警卫每年的成本是多少

111.需要一种特殊棉纱带的唯一目的是把某些外科伤口包扎 10 天——这些伤口需要包扎的最多天数。邦替是这种棉纱带的一个新品牌。邦替的销售人员声称邦替会有助于伤口愈合,因为邦替的粘附能力是现在使用的棉纱带的 2 倍。

下面哪种说法,如果正确,会对邦替的销售人员的声称提出最严重的质疑? ()

- A. 大多数外科伤口大约需要 10 天愈合
- B. 现在使用的棉纱带的粘附能力远超过包扎伤口 10 天所需的足够的粘附能力
- C. 邦替和现在使用的棉纱带都不能很好地粘附未经洁净的皮肤
- D. 邦替对已涂有一种特别化学药剂的皮肤的粘附能力仅为现在使用的棉纱带对那种皮肤的粘附能力的一半好

112.最高法院再也来不及处理那些它同意审理的数目庞大的案件了。最高法院每年计划听取 160 个小时口头申诉,然而明年有 108 个小时被今年剩下的案子占去了。当然不能要求最高法院再增加本已令它难以负荷的时间了,解决这个问题的最合理的长远办法便是让法

院不用听取许多案件的口头申诉而直接作出裁决。通过这种办法,最高法院便会大大地增加它每年处理的案件数目。

下面哪项如果正确,最能反驳上面提出的解决办法的可行性? ()

- A. 大多数权威人士都认为 160 个小时的口头申诉是法院每年能处理的最大数目
- B. 即使在现在,最高法院对一小部分案件没有听取口头申诉就作出了裁决
- C. 最高法院每年花在听取口头申诉上的时间只是它审理案件所需时间的一小部分
- D. 在很多案件里,听取口头申诉拖延一整年对当事人来说所需费用是极其高昂的

113. 长期以来床上抽烟是家庭火灾的主要原因。尽管在过去的 20 年中,抽烟的人数显著下降,但是死于家庭火灾的人数并没有相应的下降。

在过去的 20 年中,下面的陈述如果正确,除了哪一项之外都有助于解释上面论述中的明显的分歧? ()

- A. 由床上抽烟引起的火灾通常发生于房主入睡以后
- B. 在床上抽烟的人倾向于是抽烟抽得多的人,他们与那些不在床上抽烟的人相比更不可能把烟戒掉
- C. 死于厨房发生的家庭火灾的人数在增加
- D. 由于人口密度在增加,导致现在一次家庭火灾所造成的死亡人数比前 20 年的多

114. 甲、乙、丙三人讨论“不劳动者不得食”这一原则所包含的意义。

甲说:“不劳动者不得食,意味着得食者可以不劳动。”

乙说:“不劳动者不得食,意味着得食者必须是劳动者。”

丙说:“不劳动者不得食,意味着得食者可能是劳动者。”

以下哪项结论是正确的? ()

- A. 甲的意见正确,乙和丙的意见不正确
- B. 乙和丙的意见正确,甲的意见不正确
- C. 甲和丙的意见正确,乙的意见不正确
- D. 乙的意见正确,甲和丙的意见不正确

115. 近年来,多所高校共同联合自主招生,反映了我国高等教育基本供求关系的重大转变,即学校试图选择最好的,或者说最适合自己的学生。近几年的自主招生竞争虽然主要发生在“尖子”考生和知名大学中,但随着高等教育“大众化”的进一步发展,也必然波及其他高校。

在这种高等教育“大众化”的形势下,我们可以推出()。

- A. 由于高考报名人数连年下降,录取率提高,招生竞争的现象将会逐渐消失
- B. 随考生竞争加剧,普通高校也会慢慢采取自主招生或类似方式选择生源
- C. 只要生源够优秀,他是可以通过自主招生选择自己希望去学校的
- D. 在这种情况下,这种招生策略有可能会引起民办高校的效仿

※※※第四部分结束,请继续做第五部分! ※※※

第五部分 资料分析

(共 20 题,参考时限 20 分钟)

所给出的图、表、文字或综合性资料均有若干个问题要你回答。你应根据资料提供的信息进行分析、比较、计算和判断处理。

请开始答题:

一、根据以下材料,回答 116—120 题。

据对全国规模以上文化及相关产业 4.8 万家企业调查,2016 年上半年,上述企业实现营业收入 36168 亿元,比上年同期增长 7.9%。

文化及相关产业 10 个行业的营业收入均实现增长,文化服务业快速增长。其中,实现两位数以上增长的行业分别是:以“互联网+”为主要形式的文化信息传输服务业营业收入为 2502 亿元、增长 29.7%,文化艺术服务业 125 亿元、增长 19.8%,文化休闲娱乐服务业 496 亿元、增长 17.8%,广播电影电视服务业 712 亿元、增长 16.4%,文化创意和设计服务业 4341 亿元、增长 11.1%。

分区域看,东部地区规模以上文化及相关产业企业实现的营业收入为 27122 亿元,占全国的 75.0%,中部、西部和东北地区分别为 6019 亿元、2554 亿元和 473 亿元,占全国的比重分别为 16.6%、7.1%和 1.3%。从增长速度看,中部地区增长 12.0%、西部地区增长 9.9%,均高于东部地区 7.1%的增速,而东北地区继续下降,降幅为 7.0%。

116.2016 年上半年,全国平均每家文化企业月均营业收入约为:()

- A. 2153.2 万元
- B. 1255.8 万元
- C. 6028.0 万元
- D. 7535.0 万元

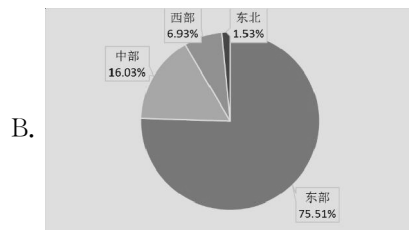
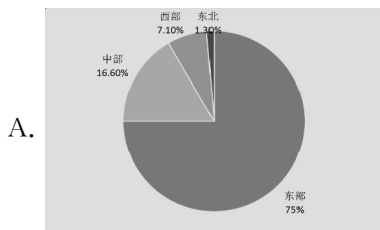
117.2016 年上半年,我国规模以上文化及相关产业的行业中,实现两位数以上增长的行业有()个。

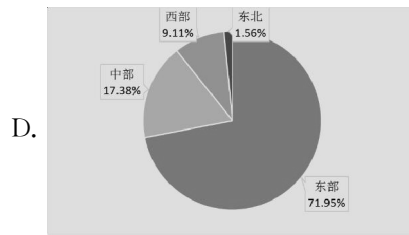
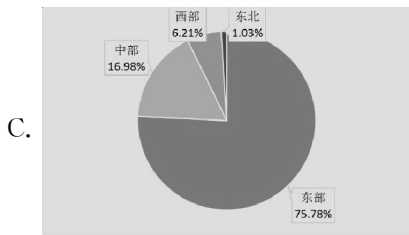
- A. 10 个
- B. 8 个
- C. 5 个
- D. 4 个

118.2015 年上半年,文化创意和设计服务业营业收入约()亿元。

- A. 3910
- B. 4818
- C. 421
- D. 375

119.以下图中,哪一个可以表示 2015 年上半年各区域在全国规模以上文化及相关产业企业实现营业收入的比重()





120. 根据材料, 以下说法正确的是()

- A. 2016 年, 全国规模以上文化及相关产业 4.8 万家企业, 实现营业收入为 72336 亿元
- B. 2016 年上半年, 文化及相关产业 10 个行业中, 实现两位数以上增长的行业占一半以上
- C. 与 2015 年上半年相比, 文化艺术服务业营业收入约增加了 21 万元
- D. 与 2015 年同期相比, 2016 年上半年, 以“互联网+”为主要形式的文化信息传输服务业营业收入增量约为 560 亿元

二、根据以下材料, 回答 121—125 题。

表 2016 年 2 季度和上半年 GDP 初步核算数据

	绝对额(亿元)		比上年同期增长(%)	
	第 2 季度	上半年	第 2 季度	上半年
GDP	179927	340637	6.7	6.7
第一产业	13294	22097	3.1	3.1
第二产业	73268	134250	6.3	6.1
第三产业	93365	184290	7.5	7.5
农林牧渔业	13779	22932	3.3	3.2
工业	61146	114943	6.0	5.9
建筑业	12426	19878	7.3	7.5
批发和零售业	17048	33341	6.5	6.2
交通运输、仓储和邮政业	8286	15537	5.7	4.6
住宿和餐饮业	3038	6151	6.8	6.9
金融业	15428	31219	5.3	6.7
房地产业	11674	22493	8.8	9.0
其他服务业	37101	74142	9.0	8.9

121. 2016 年第 1 季度, 第二产业绝对额比上年同期增长约()。

- A. 6.3%
- B. 6.1%
- C. 6.2%
- D. 5.9%

122. 2015 年上半年, 交通运输、仓储和邮政业绝对额约()亿元。

- A. 14637
- B. 15079
- C. 14864
- D. 15537

C. 3102

D. 3564

127.与上年同期相比,2016年上半年下列文化及相关产业行业实现营业收入增长最多的行业是()

A. 文化艺术服务业

B. 文化休闲娱乐服务业

C. 广播电影电视服务业

D. 文化创意和设计服务业

128.与上年同期相比,2016年上半年我国各区域规模以上文化及相关产业企业实现的营业收入占全国比重上升的有几个()

A. 1

B. 2

C. 3

D. 4

129.2015年上半年,东部地区规模以上文化及相关产业企业实现的营业收入占全国的比重为()

A. 1.3%

B. 1.5%

C. 74.9%

D. 75.5%

130.根据上述材料,下列表述错误的是()

A. 与上年同期相比,2016年上半年文化创意和设计服务业营业收入约增长了434亿元。

B. 2016年上半年,文化及相关产业10个行业中平均每个月营业收入超过400亿元的行业有5个。

C. 2016年上半年,文化及相关产业10个行业占全国规模以上文化及相关产业比重排名第五的是文化创意和设计服务业。

D. 2016年上半年,我国各区域规模以上文化及相关产业企业实现的营业收入增长最多的地区是东部地区。

四、根据以下材料,回答131—135题。

2014年货物进出口总额264334亿元,比上年增长2.3%。其中,出口143912亿元,增长4.9%;进口120423亿元,下降0.6%。

2010—2014年货物进出口总额

