

## “三支一扶”历年真题

### 公共基础知识

(共 30 题, 满分 30 分)

- 1、热力学第一定律又称为 ( )
  - A. 热传递定律
  - B. 分子运动论
  - C. 能量守恒定律
  - D. 牛顿力学第一定律
- 2、《窦娥冤》的作者是 ( )
  - A. 关汉卿
  - B. 王实甫
  - C. 汤显祖
  - D. 洪昇
- 3、相对论的提出者是 ( )
  - A. 霍金
  - B. 爱因斯坦
  - C. 牛顿
  - D. 居里夫人
- 4、我国是一个由 ( ) 个民族组成的多民族国家。
  - A. 55
  - B. 57
  - C. 57
  - D. 58
- 5、在公民享有宪法基本权利体系中, 最基本的权利是 ( )。
  - A. 经济社会权利
  - B. 人身自由
  - C. 选举权被选举权
  - D. 言论自由
- 6、事业单位是由国家机关举办, 以 ( ) 为目的。
  - A. 行政管理
  - B. 生产经营
  - C. 社会公益
  - D. 公共管理
- 7、行政机关违法实施行政许可的, 给当事人的合法权益造成损害的, 应当依照 ( ) 的规定, 予以赔偿。
  - A. 国家赔偿法
  - B. 民法通则
  - C. 行政诉讼法
  - D. 公共管理
- 8、( ) 是衡量国家经济发展成果和水平的重要综合性指标。
  - A. 居民收入
  - B. 民法通则
  - C. 居民居住水平
  - D. 居民消费水平
- 9、在 excel 表格中, A1=3, A2=7, A3=5, 在 B1 中输入 “=AVERAGE(A1: A5)”, 确定后 B1 的值是 ( )。
  - A. 20
  - B. 5
  - C. 4
  - D. #VALUE
- 10、关于工伤保险, 下列说法错误的是 ( )
  - A. 职工醉酒导致自己在工作中死亡的, 应认定为工伤
  - B. 工伤职工拒绝治疗的, 停止享受工伤保险待遇
  - C. 职工应当参加工伤保险, 由用人单位缴纳工伤保险费, 职工不缴纳工伤保险费
  - D. 职工所在用人单位未依法缴纳工伤保险费, 发生工伤事故的, 由用人单位支付工伤保险待

遇

- 11、《战国策》是继《国语》之后又一部（ ）史书  
A. 语录体 B. 编年体 C. 国别体 D. 传记体
- 12、多数汽车的前窗都是倾斜的，最主要是为了：（ ）  
A. 避免因反光而影响驾驶员视线  
B. 减少空气阻力  
C. 结构合理，视野开阔，承受冲击能力强  
D. 便于雨水流走
- 13、投资于股票、债券以及储蓄所得的股息红利和利息收入属于（ ）  
A. 劳动收入 B. 资本收入 C. 资产收入 D. 经营收入
- 14、两千多年前，中国先秦思想家孔子提出了“君子和而不同”的思想，和谐而又不千篇一律，不同而又不相互冲突，不同意相辅相成，这就要求我们（ ）  
A. 在对立中把握统一，在同一中把握对立  
B. 在矛盾激化时代把握对立，在矛盾缓和时代把握统一  
C. 一切从实际出发，具体问题具体分析  
D. 看问题抓主要矛盾
- 15、（ ）距今约 170 万年，发现于云南，是我国境内已知最早的人类。  
A. 蓝田人 B. 北京人 C. 山顶洞人 D. 元谋人
- 16、国力即一个国家的力量，首先是指（ ）实力，它是国力中最基本的部分也是最具有决定性意义的部分。  
A. 国防 B. 安全 C. 政治 D. 经济
- 17、社会主义市场经济理论认为，计划经济和市场经济属于（ ）  
A. 不同的经济制度范畴 B. 不同的资源配置方式  
C. 不同的生产关系范畴 D. 不同的经济增长方式
- 18、《老残游记》、《西游记》、《聊斋志异》、《儒林外史》四部作品的作者依次是（ ）。  
A. 高鹗 吴敬梓 蒲松龄 吴承恩 B. 刘鹗 吴承恩 蒲松龄 吴敬梓  
C. 刘鹗 吴承恩 章炳麟 吴敬梓 D. 高鹗 吴敬梓 章炳麟 吴承恩
- 19、全面依法治国，必须是（ ）  
A. 坚持人民当家作主 B. 坚持民主协商  
C. 坚持党的领导 D. 坚持人民民主专政
- 20、当红、橙、黄、绿、蓝、靛、紫七种光同时聚集在某一点时，是什么颜色？  
A. 黄 B. 绿 C. 红 D. 无色
- 21、“他说你行，你不行也行；他说你不行，你行也不行”，在哲学上属于（ ）。

- A. 辩证唯物主义  
B. 唯物辩证法  
C. 客观唯心主义  
D. 主观唯心主义
- 22、航天飞机以很高的速度绕地球飞行,宇航员能够离开航天飞机在太空中行走而不被甩掉的原因是( )。
- A. 宇航员用一根绳子与航天飞机相连  
B. 这种传闻是错误的,人不可能在太空行走  
C. 他们身上都背着一个火箭助推器,使他们的速度与航天飞机同步  
D. 太空中没有阻力,他们在太空中仍然保持着与航天飞机相同的速度
- 23、战国时期中国思想界出现了“百家争鸣”的景象,其根本原因是( )
- A. 战国时期的思想家思想比较活跃,善于思考  
B. 战国时期社会出现大变革,为“百家争鸣”现象的产生提供了条件  
C. 王室衰微,思想控制不力  
D. 封建政府的大力提倡
- 24、“金无足赤,人无完人”体现在人员甄选生的原则是( )。
- A. 用人所长原则 B. 民主集中原则 C. 因事择人原则 D. 德才兼备原则
- 25、我国的军事战略方针是( )
- A. 被动防御 B. 积极防御 C. 主动进攻 D. 全面打击
- 26、“有一百个读者,就有一百个哈姆雷特”,这说明( )。
- A. 人们对同一客观事物的认识不可能达成一致  
B. 人对同一事物的认识具有正确和错误的区别  
C. 由于诸多原因,人们对同一事物的认识会有所不同  
D. 人们对作品的认识与对客观事物的认识有差异
- 27、权力说到底( )
- A. 上级赋予的 B. 人大赋予的 C. 人民赋予的 D. 正当赋予的
- 28、庄子的“是亦彼也,彼亦是也”的主张是一种( )的观点。
- A. 普遍联系 B. 变化发展 C. 相对主义 D. 绝对主义
- 29、坚持社会主义市场经济的改革方向,使( )对资源配置起决定性作用。
- A. 企业 B. 政府 C. 国家 D. 市场
- 30、“从群众中来,到群众中去”的工作方法和领导方法同辩证唯物主义认识的哪个原理完全一致?( )
- A. 从感性认识上升到理性认识

- B. 从实践到认识，从认识到实践
- C. 从理性认识回到实践
- D. 从认识到实践，从实践到认识

## 职业能力测验

### (共 70 题，满分 70 分)

#### 一、数学运算（共 10 题，每题 1 分）

31、某单位举行的纪念抗日战争胜利 70 周年知识竞赛中，男选手的平均得分为 84 分，女选手的平均得分为 79 分，全部选手的平局得分为 72 分，已知全部选手人数在 40-60 人之间，则全部选手人数为（ ）人。

- A、48    B、54    C、56    D、40

32、某市居民用电实行分段式收费，以人为单位设定了相同的基准用电度数，家庭人均用电量超过基准用电度数的部分按照基准电费的两倍收取电费。某月，A 家庭 5 口人用电 250 度，电费 175 元；B 家庭 3 口人用电 320 度，电费 275 元。该市居民每人的基准用电为（ ）度。

- A. 50    B. 35    C. 30    D. 25

33、小李乘公共汽车去某地，当行至一半路程时，他把座位让给一位老人后一直站着，离终点还有 1.5 千米时，他又坐下。在这次乘车过程中，他站的路程是坐的路程的三分之一，则小李这次乘车全程为（ ）。

- A. 6    B. 9    C. 12    D. 15

34、某工程由小张、小王两人合作刚好可在规定的时间内完成。如果小张的工作效率提高 20%，那么两人只需用规定时间的  $\frac{9}{10}$  就可完成工程；如果小王的工作效率降低 25%，那么两人就需延迟 2.5 小时完成工程。问规定的时间是（ ）小时。

- A. 20    B. 24    C. 26    D. 30

35、在自然数 1-50 中，将所有不能被 3 整除的数相加，所得的和是（ ）。

- A. 865    B. 866    C. 867    D. 868

36、某人月初用一笔人民币投资股票，由于行情较好，他的资金每月都增加  $\frac{1}{3}$ 。即使他每月末取出 1000 元用于日常开销，他的资金仍然在 3 个月后增长了一倍。问他开始时投资了多少人民币？

- A、9900 元    B、9000 元    C、12000 元    D、11100 元

37、毕业之前某学校对学生的职业生涯规划做调查,在参加调查的同学中,准备考研与考公务员的人数比为 5:4,准备考雅思出国与考人力资源师的人数比为 25:9,准备准备考研与考人力资源师的人数比为 10:3,如果准备考雅思出国的有 50 人,那么准备考研的有( )人。

- A. 25                      B. 48                      C. 60                      D. 63

38、一次运动会上,18 名游泳运动员中,有 8 名参加了仰泳,有 10 名参加了蛙泳,有 12 名参加了自由泳,有 4 名既参加仰泳又参加蛙泳,有 6 名既参加蛙泳又参加自由泳,有 5 名既参加仰泳又参加自由泳,有 2 名这 3 个项目都参加,这 18 名游泳运动员中,只参加 1 个项目的人有( )。

- A. 5 名                      B. 6 名                      C. 7 名                      D. 4 名

39、有 7 件产品,其中有 3 件是次品。每次抽查一件产品(不放回),能够恰好在第四次找出 3 件次品的概率为( )。

- A.  $9/56$                       B.  $3/35$                       C.  $3/28$                       D.  $1/7$

40、六个碗中各放一个小球,每次从任意的两个碗中各取 1 个小球放入到一个碗中,这样要做( )次,才能把所有的小球都集中到一个碗里。

- A. 3                              B. 4                              C. 5                              D. 6

## 二、言语理解与表达(共 30 题,每题 1 分)

### 选词填空

41、在过去六十年中,现代中国的建设走过一条\_\_\_\_\_的道路,经历过无数艰辛、动荡、摇摆与反复,既有山重水复之\_\_\_\_\_ ,也有柳暗花明之转机。

填入横线部分最恰当的一项是:

- A. 循环往复 迷惘                      B. 迂回曲折 困惑  
C. 艰难险阻 迷惑                      D. 跌宕起伏 困难

42、我无法不老,但我还有可能年轻。我不敢对我们过于庞大的文化有什么祝祈,却希望自己笔下的文字能有一种\_\_\_\_\_后的回味,焦灼后的会心,冥思后的放松,苍老后的年轻。

当然,希望也只是希望罢了,何况这实在已是一种\_\_\_\_\_。

依次填入划横线部分最恰当的一项是:

- A. 苦涩 奢望 B. 辛酸 奢求 C. 历练 幻想 D. 风雨 梦境

43、毫无疑问,在今日武断批判中医的人中,不乏以“科学”代言人自居者,将各种自己不懂的知识系统一棍子打死,归入\_\_\_\_.这种态度不能不使人怀疑其言论与知识的讨论无关,

另有用意,不过,在抗拒这种学霸的同时,我们也不必要陷入相反的\_\_\_\_。坦率地说,身为一个“中医”,我以为目前的中医面临的最大危机不是外来的,而是内在的。中医落到今天这个地步,一定程度上可谓是\_\_\_\_\_。

填入横线部分最恰当的一项是( )。

- A. 邪说 境地 罪有应得
- B. 异端 泥淖 咎由自取
- C. 异己 泥潭 责无旁贷
- D. 异类 困境 作茧自缚

44、在那场惨烈的战争中,中国人民抗日战争开始时间最早、持续时间最长。面对侵略者,中华儿女\_\_\_\_、浴血奋战,彻底打败了日本军国主义侵略者,捍卫了中华民族 5000 多年发展的文明成果,捍卫了人类和平事业,\_\_\_\_\_了战争史上的奇观、中华民族的壮举。

- A、不屈不挠 铸就

45、战争是一面镜子,能够让人更好认识和平的\_\_\_\_。今天,和平与发展已经成为时代主题,但世界仍很不太平,战争的达摩克利斯之剑依然悬在人类头上。我们要\_\_\_\_,坚定维护和平的决心。

- A. 宝贵 励精图治 B. 珍贵 以史为鉴 C. 重要 发奋图强 D. 幸福 继往开来

46、比较而言,先行发达者一般具有更易得、更开阔的发展\_\_\_\_,以 19 世纪的英国为例,在开创性地实现机械化大生产之后,英国作为当时最大的工业制品供给国和原棉进口国,一方面能够享受全球各地\_\_\_\_\_供给而来的优质原材料,另一方面能够享受向全球各地源源不断地出口工业制成品的比较优势,取而代之的美国也是如此。

- A. 思路 络绎不绝 B. 优势 陆陆续续 C. 空间 源源不断 D. 契机 滔滔不绝

47、青春是一首歌,她\_\_\_\_\_着我们年轻的心弦;青春是一团火,她\_\_\_\_\_了我们沸腾的热血;青春是一面旗帜,她\_\_\_\_\_着我们勇敢前行;青春是一本教科书,她\_\_\_\_\_着我们的智慧和心灵。

- A、弹奏 染红 呼唤 启发 B、摇动 烧开 招呼 引导
- C、拨动 点燃 召唤 启发 D、吟唱 燃烧 呼喊 教导

48、从\_\_\_\_\_到质疑唏嘘,从“待价而沽”到“折价而售”。“海归”们不再是所谓的“天之骄子”。当求职简历\_\_\_\_\_,当残酷的现实远不及当初设想的蓝图那么美好,他们开始反思当初的留学是否值得。填入划横线部分最恰当的一项是( )。

- A.众星拱月 石沉大海 B.步月登云 泥牛入海
- C.坚定不移 杳无音信 D.春风得意 如石投水

49、要想走近历史的“原生态”,首要的是要深入发掘一手的可靠的原始史料,要真正读懂历史文本,在史学分析时也应重视解释、追寻研究对象的原貌。尽可能地不作\_\_\_\_\_

的评论，不带任何偏见。

填入横线部分最恰当的一项是：

- A. 陈词滥调      B. 夸夸其谈      C. 不着边际      D. 信口开河

50、思想史研究在很长时间里，变得相当狭窄和单一，近来这种状况有一些变化的\_\_\_\_\_，其实，学科界限的打破是一种必然的趋势。在这种趋势下的思想史研究不能\_\_\_\_\_。

填入划横线部分最恰当的一项是（ ）。

- A. 痕迹 刻舟求剑      B. 苗头 南辕北辙      C. 迹象 画地为牢      D. 呼声 闭门造车

51、阅读习惯与阅读兴趣关系密切，二者相辅相成。良好的阅读习惯以阅读兴趣为基础，为\_\_\_\_\_；阅读兴趣又在良好阅读习惯的长期\_\_\_\_\_下，不断强化，得以巩固。

填入划横线部分最恰当的一项是（ ）。

- A. 目标 推动      B. 核心 影响      C. 动力 引导      D. 源泉 培养

52、胡同大多形成于 13 世纪的元朝，胡同从诞生之日起，就与北京城建立了一种天然的联系，胡同也就\_\_\_\_\_地成为北京城的标志。一条条横平竖直、纵横交错的胡同不仅仅是老北京城市的命脉，同时也是普通百姓生活的场所，蕴含了北京悠久的历史和文化，形成了与这座城市\_\_\_\_\_的胡同文化。

依次填入划横线处最恰当的一项是（ ）。

- A 理所当然 交相辉映      B 顺理成章 水乳交融  
C 顺其自然 唇齿相依      D 名正言顺 天人合一

53、填入划横线部分最恰当的一项是（ ）

(1) 寺院内存现的山门、钟鼓楼、大雄宝殿、藏经楼等历史建筑，由于在\_\_\_\_\_兴教寺历史兴衰方面也具有\_\_\_\_\_价值，因此予以保留。

(2) 为动员更多优秀青年参与选拔，空军今年\_\_\_\_\_开展“走进学校、走近学生”面对面宣传活动，共有近万名应届女高中生参与招飞选拔。

- A、展现 历史 持续      B、反映 见证 持续  
C、展现 历史 继续      D、反映 见证 继续

54、下列句子中，语义明确，没有语病的一项是（ ）

- A. 俗话说：“上有天堂，下有苏杭。”的确如此，而且春天的西湖是最美丽的季节。  
B. 现在，电子计算机已经广泛应用到各行各业，这就要求我们必须尽快提高和造就一大批专业技术人才。  
C. 人们的悲哀在于，应该珍惜的时候不懂得珍惜，而懂得珍惜的时候却失去了珍惜的机会。  
D. 投资环境的好坏，服务质量的优劣，政府公务人员素质的高低，这些都是地区经济健康发展的重要保证。



55、判断下列句子使用的修辞手法，正确的一项是：

- ①月下观景，雾中看花，不是别有一番情趣在心头吗？
  - ②读好文章如饮醇酒，其味无穷。
  - ③头顶盘着大辫子，顶得学生制帽的顶上高高耸起，形成一座富士山。
  - ④许多马克思主义的学者也是言必称希腊。对于自己的祖宗，则对不住，忘记了。
- A. 反问 夸张 比喻 借代  
B. 设问 比喻 夸张 比喻  
C. 反问 比喻 夸张 借代  
D. 设问 夸张 比喻 象征

### 片段阅读

56、在马克思的《资本论》中，一共提到 680 多个人物，其中只有一个是中国人，叫王茂荫（1798-1865，安徽人，1832 年考中进士步入仕途。他的货币观点及钞币发行方案最为引人注目，著有《王侍郎奏议》传世。马克思《资本论》第一卷第一篇第三章在谈到货币或商品流通、论述“强制流通的国家纸币”问题时，以第八十三条大段注释的方式专门提到了中国理财官王茂荫及其“主张暗将官票宝钞改为可兑现的钞票”的观点。

最适合做本段文字标题的是（ ）

- A. 中国的王茂荫与马克思的《资本论》
- B. 《资本论》中惟一提到的中国人
- C. 中国清代的理财官王茂荫
- D. 中国封建社会货币理论的最高成就者

57、要想使中小股东的合法权益真正得到有效保护，完善投资者保护方面的立法并加强执法力度仅仅是其中的一方面，更重要的是，必须要在国有上市公司中尽快引入市值考核机制，将国有大股东利益与广大中小股东利益有机统一在一起。这段文字表达的主要观点是（ ）

- A. 必须保护中小股东的合法权益
- B. 必须尽快引入市值考核机制，有机统一大中小股东利益
- C. 在投资者保护方面，需要完善立法并加强执法力度
- D. 中小股东的合法权益根本得不到有效保护

58、手机垃圾短信息有“骚扰型”，多为恶作剧、“黄段子”、小道消息；有“陷阱型”，多是骗取用户钱财；有广告短信。短信业务的确给运营商们带来了丰厚的利润，但有些短信正成为一种“信息公害”，让人不堪其扰。一些急于开发新客户的新企业群发不少短信广告，绝大多数的垃圾短信制造者是运营商、“三无”产品经营者、诈骗者。现在应尽快完善相关监管法规，先管住短信服务提供者，垃圾短信这颗毒瘤，迟早是会被根除的。最适合做本



段文字标题的是( )。

- A. 垃圾短信成为信息公害
- B. 垃圾短信为何屡禁不止
- C. 法律监管垃圾短信尚未到位
- D. 切实治理垃圾短信

59、马克思恩格斯指出：“我们首先应当确定一切人类生存的第一个前提，也就是一切历史的第一个前提，这个前提就是：人们为了能够‘创造历史’，必须能够生活。但是为了生活，首先就需要衣、食、住以及其他东西。因此第一个历史活动就是满足这些需要的资料，即生产物质生活本身。”人类的精神文明不是纯粹与物质无关的活动，精神文明的发展需要一定的物质条件，这些物质条件正是物质文明提供的。

最能准确复述这段话主要意思的是( )

- A. 物质文明为精神文明提供物质条件
- B. 物质资料的生产是人类的第一个历史任务
- C. 精神文明决定物质文明
- D. 物质资料的生产是人类生存的首要条件

60、. 中国资源价格主要存在两大方面的问题，一是资源价格基本上是政府定价或政府指导价，只反映了资源开发成本，没有全面覆盖环境破坏成本和安全生产成本，资源税也很低。更重要的是没能真实反映市场供求关系资源稀缺程度，致使资源价格偏低；二是资源性产品之间比价关系不合理。最能准确复述这段话的主要意思的是( )

- A. 中国资源价格没有真实反映市场供求关系和资源稀缺程度
- B. 中国资源性产品之间比价关系不合理
- C. 中国资源价格基本上是政府定价或政府指导价
- D. 中国资源价格存在着盲目定价和比价关系不合理的问题

61、由于近年来黄河水资源过度开发利用，1972 年以来，黄河有 21 个年份出现断流；1997 年，黄河断流 226 天，断流河段一直延伸到开封，长达 704 公里。一方面黄河“闹水荒”，另一方面流域内用水有增无减。专家预计，到 2010 年，遇到正常来水年份，黄河用水缺口将达 40 亿立方米；遇到缺水年份，黄河用水缺口将达 100 亿立方米，黄河支持流域社会经济发展的功能已到极限。

这段文字意在说明

- A . 黄河水资源利用已突破河流承载的期限。
- B . 开发利用黄河水资源已造成河经常年干涸断流
- C . 黄河“生命”将很快终结
- D . 黄河自身平衡的“生态水量”已一去不复返

62、去年下半年,由中国逻辑学会等单位组织的全国报刊逻辑语言应用病例有奖征集活动,对4种中央级报纸和24种省级报纸进行检查。经专家认定,平均每种报纸有错5.8处。这些错误有概念不清、判断失当、推理错误等,如说“国庆节”是“祖国的生日”,以为“三甲”就是“前三名”,将“没有根据的传言”称作“空穴来风”,以及“近500多人、减少了两倍、一直以来”之类的可笑说法层出不穷。

这段文字主要说明( )。

- A. 作者、编辑等人员的语文修养亟待提高
- B. 必须高度重视语文与逻辑应用问题
- C. 报刊语文与逻辑应用中泥沙俱下,鱼龙混杂,来不及消化、修理、规范
- D. 在语文与逻辑应用中要消灭由粗心造成的“硬伤”,减少常识性错误

63、中国中古政治制度有秦汉与隋唐两大典型,其组织与运用截然不同,然秦汉型如何一变为隋唐型,则由魏晋南北朝三百数十年间政治社会情势之积渐演变有以致之,非出某一人物之特意革创者。故魏晋南北朝时代之制度,其本身虽不成一典型,然欲观秦汉制度如何没落,隋唐制度如何新生,则必当于此一纷乱时代求之。这段文字意在说明:

- A. 研究魏晋南北朝历史的意义重大
- B. 中国中古政治制度发展脉络较为模糊
- C. 魏晋南北朝是秦汉与隋唐的过渡时期
- D. 政治制度的沿革不以人的意志为转移

64、先秦诸子百家中,儒家和道家是影响最大的两家,而儒家和道家重视中国传统文化的两条主线。《论语》和《老子》分别是儒家和道家思想的主要代表作,把儒家和道家思想的源头抓住了,就比较容易把握中国传统文化的来龙去脉,还可以避免对中国传统文化的单向理解,易于进行儒道两家思想的比较。

这段文字意在说明( )

- A. 要弘扬中国的传统文化,首先就要读懂《论语》和《老子》
- B. 《论语》和《老子》对中国的政治产生了广泛和深远影响
- C. 在中华传统文化中最典型的原作是《论语》和《老子》
- D. 熟读《论语》和《老子》,就因为传播中国文化打好基础

65、①因为每一个人都渴望实现自己的梦想,个人梦想的实现是建立在国家

②其实,换一个角度,中国梦与我们每个人息息相关

③它使人联想到民族奋进,滚滚大潮,气势磅礴般的宏伟蓝图

④所以,我们每一天向着自己的梦想出发也是在缔造者中华民族的复兴之梦

⑤“中国梦”即中华民族的复兴之梦。是十三亿中华儿女共同拥有的伟大梦想。

语句排列顺序正确的是( )

A. ⑤④③②① B. ③⑤①④② C. ②①④⑤③ D. ⑤③②①④

66、美国一项最新调查发现，儿童每天喝碳酸饮料越多，就更容易出现攻击性、注意力不集中以及不合群等行为问题，其中每喝 4 杯或 4 杯以上的儿童，破坏别人东西、与人吵架或殴打别人的可能性是不喝碳酸饮料儿童的两倍。下列说法与文意相符的一项是

- A、碳酸饮料对成年人的行为不会产生任何影响
- B、只要限制孩子喝碳酸饮料就能减少其攻击性
- C、常喝碳酸饮料的儿童可能比较好斗
- D、碳酸饮料是导致儿童不良行为的最主要原因。

67、①因为细胞这种旺盛的生长过程如不加抑制地发展下去，细胞病变生成肿瘤的可能性极大

②当人体处于生长发育期时，体内细胞生长迅速

③但是，衰老程序一旦启动就不可逆转

④但这一细胞迅速生长的过程同时也给人体带来了危险

⑤这一在人类年轻时启动的保护程序，最终发展成了人类的死亡程序

⑥为了避免这种危险，人体就会启动衰老程序。通过一些功能基因降低细胞增殖能力  
排列组合最连贯的是( )。

- A. ⑤②①⑥③④
- B. ②④④⑥③⑤
- C. ②⑥①④③⑤
- D. ⑤⑥②③①④

68、西方模式的契约由来已久，是一种刚性的经济契约。管理思想家杏尔斯·汉迪认为，西方契约问题很多，而“中国式契约”可以创造信任、让步、发展的“双赢局面”。“中国式契约”特指那种充满人情味的非正式的心理契约，是人情和法律的妥协，是熟人之间一种动态的、心照不宣的口头约定。但随着经济发展，口头承诺可信度受到挑战。随着经济发展，中国式契约的最大挑战在于：

- A、中国式契约简便灵活，适用广泛，但可信度不高
- B、中国式契约不受法律的强制约束，也没有法律作保障
- C、中国式契约要双方诚信，一旦毁约后果无法挽回
- D、中国式契约双方要妥协互利，要确保双?前景

69、“诚”在中国儒哲学中具有十分重要的地位。它既是天道的范畴，又是人道的范畴。从天道理方面来说，“诚”是宇宙的本体、属性和功能，是宇宙的生命和动力。孟子说：“至诚而不动者，未之有也；不诚未有能动者也。”从人道方面来说，“诚”是道德生活的准则和至上的价值目标。荀子指出：“夫诚者，君子之所守也，而政事之本也。”儒家把“诚”

提高到政事的高度来认识, 其政治伦理在当代也具有警世作用。“诚”又有真诚、信诚、立诚与精诚之分, 下列表现属于“精诚”的是()。

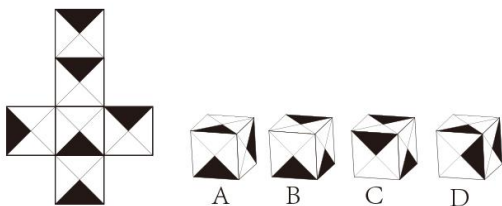
- A. 大公无私、情动于衷
- B. 坚持不懈、不断进取
- C. 不计利害、不绕弯子
- D. 信守诺言、说话算数

70、美国麻省理工学院气象学家洛伦兹为了预报天气, 用计算机求解仿真地球大气的 13 个方程式。为了更细致地考察结果, 他把一个中间解取出, 提高精度再送回。而当他喝了杯咖啡以后, 回来再看时竟大吃一惊: 本来很小的差异, 结果却偏离了十万八千里! 而计算机并没有毛病, 于是, 洛伦兹认定, 他发现了一种新的现象——“对初始值的极端不稳定性”, 即“混沌”, 又称“蝴蝶效应”, 亚洲蝴蝶拍拍翅膀, 将使美洲几个月后出现比狂风还厉害的龙卷风! 对于“蝴蝶效应”的理解, 不正确的是()。

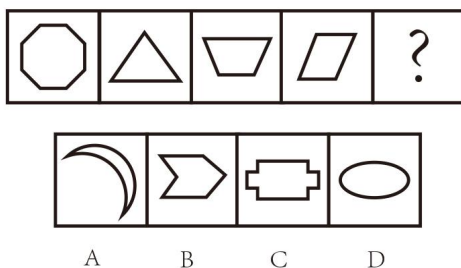
- A. “混沌”的特点是: 横跨各个专业, 渗透各个领域。所以, 希望“科学的”掌握一切、预测一切只是人类的美好愿望
- B. “混沌”意味着混乱, 混沌系统对外界的刺激反应, 会比非混沌系统慢
- C. 看似一些极微小的事情却有可能造成集体内部的分崩离析, 因此要防微杜渐
- D. “混沌”无处不在, 但人类仍可以在一定程度上认识自然

第三部分 判断推理 (共 20 题, 每题 1 分)

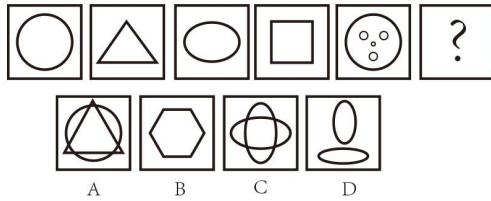
71、




72、



73、



74、



75、公约，指一定范围或行业的社会组织和成员(国家、集体、社会成员或他们的代表)，在自觉自愿的基础上，经过充分酝酿、讨论、协商而制定的共同遵守的协议。下列不属于公约的一项是：

- A.每天到公园晨读的人协商一致，达成一项约定，大家互监督遵守
- B.全国商业企业联合开展百城万店无假货活动，提出不卖假的约定
- C.1982 年联合国通过的《海洋法公约》
- D.《中华人民共和国合伙企业法》

76、折扣：也叫商业让利，是指在商品购销活动中卖方在所成交的价款或数量上给买方以一定比例的减让，而返还给对方的一种交易上的优惠。

根据上述定义，下列属于折扣的是：

- A.某辅导机构的考研辅导班，获赠一套辅导资料
- B.为中标，乙公司给招标单位负责人往返云南机票一张
- C.华联商场春季买 100 送 50 活动
- D.小李购买了一批办公用品，网店店主给了小李 100 元代金券，可在下次购物时使用

77、融资租赁，是指出租人购买租赁物件，并租给承租人使用，承租人则分期向出租人支付租金，在租赁期内租赁物件的所有权属于出租人所有，承租人拥有租赁物件的使用权；在租赁期满后，承租人有购买租赁资产的选择权，所订立的购买价款预计将远低于行使选择权时租赁资产的公允价值，因而在租赁开始日就可以合理确定承租人将会行使这种选择权，即使承租人不行使这种选择权，资产的所有权不转移，但租赁期占租赁资产使用寿命的大部分。

下列选项中属于融资租赁的是（ ）。

- A. 投资者向宏屹公司购买一定份额的奶牛租赁产品，然后将奶牛出租给宏屹公司经营，宏屹公司按照合同每年向投资者支付固定的租金，到期后无条件返还本金
- B. 甲公司在 2000 年 1 月 1 日将一套闲置不用的设备出租给乙公司，租期 2 年，租金为 24000 元。合同约定，2000 年 1 月 1 日，乙公司先支付一年的租金 12000 元，2001 年 1 月 1 日，支付余下的当年租金 12000 元
- C. 光明乳业租赁了 IBM 总价值上千万元的两台 S85 高端服务器和一台 SHARK 存储设备，租期为三年。三年以后，双方再商定光明乳业是继续租还是根据当时的市场行情买断剩下的“壳”
- D. 某航空公司拟以租赁方式引进(增加)一架同型客机，飞机现行市价为 4000 万美元，租期 10 年，租赁期满后，公司支付 120 万美元的残值后，飞机所有权归航空公司所有

78、羊群效应：一般用以比喻人都有一种从众心理，从众心理很容易导致盲从，而盲从往往陷入骗局或遭到失败。根据该定义，下列不属于羊群效应的是（ ）。

- A. 股市里，大部分散户追涨时信心百倍蜂拥而至，大盘跳水时，纷纷恐慌出逃
- B. 由于职场竞争越来越激烈，大家都说公务员是个稳定的职业，于是大批高校毕业生甚至已经有了工作的年轻人纷纷报考公务员
- C. 班主任老师和数学老师在考试前告诉学生这次考试很难，结果大部分同学在考试中表现失常
- D. 平时无人问津的衣服款式或颜色，一旦被媒体宣传为本年度流行款式或颜色，大家就会抢购

79、群体，通常指的是相对于个体的各种社会成员的聚合，实际上就是一种人的集合体。可分为正式群体、非正式群体和准群体。准群体是指没有组织结构，人与人之间有某种联系，有一定程度的共同关注点，有可能在某些时候形成集团，但目前还没有组织起来的人群。以下属于准群体的是( )。

- A. 某地，某大姓家族举行大型宴会祭祖，在宴会上很多人都互相不认识
- B. 在网络某社区，一些从未谋面的户外运动爱好者商议去某地登上
- C. 国庆期间，十余万名来自各地的游客到颐和园游览参观
- D. 某部官兵在训练途中看到有汽车遭遇泥石流，迅速组织救援

80、对抗，在生态学中指生活在一起的两种不同种类的生物，一方或双方遭受损害的关系。对抗通常是不同生物为占据同一生态位而产生的结果。可分为侵害、抗生和竞争，一种生物受益而另一种生物遭受损害的属于侵害；一种生物遭受损害而另一种生物不受影响的属于抗生；两种生物相互施加不利影响属于竞争。以下属于竞争的是（ ）。

- A. 小菜蛾的天敌蜂把卵产在小菜蛾的幼虫体内。当蜂卵孵化成幼蜂时，幼蜂便会吃掉小菜



蛾的幼虫

- B. 有种鸟儿常在鳄鱼身上寻找寄生虫，而由于掠食者不敢在鳄鱼身边攻击这些鸟类，使得鸟儿更安全
- C. 池塘中如果蝌蚪的密度过大，蝌蚪会分泌一种毒物，限制其他蝌蚪的生长发育，甚至增加其死亡率
- D. 萝卜蚜和桃蚜混合饲养达一定密度时，产蚜量均显著下降，但桃蚜产蚜量显著高于萝卜蚜

81、美国扁桃仁于上世纪 70 年代出口到我国，当时被误译为“美国大杏仁”。这种误译大多数消费者根本不知道扁桃仁、杏仁是两种完全不同的产品。对此，我国林业专家一再努力澄清，但学界的的声音很难传达到相关企业和民众中，因此，必须制定林果的统一标准，这样才能还相关产品以本来面目。

以下哪项是上述论证的假设？

- A. 美国扁桃仁和中国大杏仁的外形很相似。
- B. 进口商品名称的误译会扰乱我国企业正常对外贸易活动。
- C. 我国相关工业和大众并不认可我国林果专家意见。
- D. 长期以来，我国没有林果的统一标准。

82、有些阔叶树是常绿植物，因此，所有阔叶树都不生长在寒带地区。以下哪项如果为真，最能反驳上述结论（ ）

- A. 寒带的某些地区不生长阔叶树
- B. 有些阔叶树不生长在寒带地区
- C. 常绿植物都不生长在寒带地区
- D. 常绿植物都生长在寒带地区

83、在乌克兰局势协调小组明斯克会谈前夕，“顿涅茨克人民共和国”和“卢甘斯克人民”在乌克兰局势协调小组明斯克会谈前夕，“顿涅茨克人民共和国”和“卢甘斯克人民共和国”发言人宣布了自己的谈判立场：如果乌克兰当局不承认其领土和俄语的特殊地位，并且不停止其在东南部的军事行动，就无法解决冲突。此外两个“共和国”还坚持要求赦免所有民兵武装参与者和政治犯。有乌克兰观察人士评论说：难道我们承认了这两个所谓“共和国”的特殊地位，赦免了民兵武装，就能够解决冲突吗？

乌克兰观察人士的评论最适合用来反驳以下哪项（ ）

- A. 即使乌克兰当局承认两个“共和国”领土和俄语的特殊地位，并且赦免所有民兵武装参与者和政治犯，也可能还是无法解决冲突。
- B. 即使解决了冲突，也不一定是因为乌克兰当局承认两个“共和国”领土和俄语的特殊地位。
- C. 如果要解决冲突，乌克兰当局就必须承认两个“共和国”领土和俄语的特殊地位，并且赦



免所有民兵武装参与者和政治犯。

D.只要乌克兰当局承认两个“共和国”领土和俄语的特殊地位,并且赦免所有民兵武装参与者和政治犯,就能够解决冲突。

84、王刚一定是一名高校教师,因为他不仅拥有名校的博士学位,而且在海外某研究机构有超过一年的研究经历。以下哪项能够保证上述论断的正确?

A.除非是高校教师,否则不能既拥有名校的博士学位,又在海外研究机构有超过一年的研究经历。

B.近年来,高校教师都要求有海外研究经历。

C.有的中学教师也拥有博士学位和海外研究经历。

D.除非是博士,并且有海外超过一年的研究经历,否则不能成为高校教师。

85、挣更多的钱能让人更快乐,至少在某种程度上是这样的。但是新的研究表明,反过来也是如此,快乐的人能挣更多的钱。伦敦大学的研究人员在对一万多名美国人进行研究后发现,那些情绪积极、在成长过程中对生活感到更满意的人,在达到 29 岁的年龄时其收入也较高。以下哪项最能对上述研究结论提出质疑?

A.在比较富裕的家庭中成长起来的年轻人对生活大都持消极态度。

B.除了情绪,专业化程度和工作能力也会直接影响收入水平。

C.对生活感到更满意的年轻人大多出生于比较富裕的家庭,而且都具有良好的职业背景。

D.应该比较一下被调查对象的职业分布情况。

86、经过多轮淘汰赛后,甲乙丙丁四名选手争夺最后的排名.分析家预测: I 第一名或者是甲,或者是乙; II 如果丙不是第一名,丁也不是第一名; III 甲不是第一名.赛后人们发现

经过多轮淘汰赛后,甲乙丙丁四名选手争夺最后的排名.分析家预测:

I 第一名或者是甲,或者是乙;

II 如果丙不是第一名,丁也不是第一名;

III 甲不是第一名.

赛后人们发现,分析家的预测中,只有一句是对的.第一名到底是谁呢?

A 甲. B 乙. C 丙. D 丁.

87、马:马蹄( )

A、山:山洼 B、手:手套

C、树:树林 D、海:海豹

88、军装:士兵( )

A、套装:女人 B、服装:场合

C、警服:警察 D、制服:邮递员

- 89、开关：灯（ ）  
A、钥匙：锁      B、插头：电脑  
C、阳光：草地      D、线：风筝

- 90、黄山：中国（ ）  
A、油菜：蔬菜      B、长江：河流  
C、动物：手臂      D、膝盖：动物

#### 第四部分 资料分析（共 10 题，每题 1 分）

##### 根据以下材料，回答下列各题：

2013 年 11 月 28 日国家统计局发布的工业企业财务数据显示，1-10 月份，全国规模以上工业企业实现利润总额 46263.2 亿元，比去年同期增长 13.7%，增速比 1-9 月份提高 0.2 个百分点；实现主营活动利润 46884.2 亿元，增长 5.4%，增速提高 0.1 个百分点。其中，10 月份，实现利润总额 5810.4 亿元，比去年同期增长 15.1%，增速比 9 月份回落 3.3 个百分点，比 1-9 月份增速高 1.6 个百分点；实现主营活动利润 5669 亿元，增长 6%，增速比 9 月份回落 1.5 个百分点，比 1-9 月份高 0.7 个百分点。

1-10 月份，41 个大类工业行业中，35 个行业利润总额同比增长，石油加工、炼焦和核燃料加工业由亏转盈，煤炭开采和洗选、石油和天然气开采、有色金属矿采选、其他采矿和废弃资源综合利用 5 个行业实现利润同比下降。

新增利润最多的 5 个行业是：电力、热力生产和供应业利润总额同比增加 1066.5 亿元，汽车制造业增加 725.3 亿元，石油加工、炼焦和核燃料加工业增加 536.5 亿元，非金属矿物制品业增加 492.5 亿元，黑色金属冶炼和压延加工业增加 421 亿元。5 个行业利润新增额占规模以上工业企业的 58.1%。

91、2013 年 11 至 10 月份全国规模以上工业企业实现利润，总额比去年同期增长（ ）亿元。

- A.4870      B.5574      C.4250      D.5125

92、2012 年 10 月份实现利润总比在 1-10 月利润总额的比重为（ ）

- A.14.7%      B.9%      C.12.4%      D.10.1%。

93、全国规模以上工业企业自 2012 年 1-9 月实现利润总额为( )亿元。

- A. 35641      B.34878      C.40453      D.41216

94、根据新中利润比较，从大到小排序正确的是( )

- A.电力、热电生产和供应业-煤炭开采和洗选-非金属矿物制品业  
B.有色金属矿采选-石油和天然气开采-非金属矿物制品业

C.汽车制造业-非金属矿物制品业-废弃资源综合利用

D.炼焦和核燃料加工业-煤炭开采和洗选-废弃资源综合利用

95、根据上述材料，以下说法正确的是 ( )

A.2013 年 10 月份实现利润总额少于 9 月份实现利润总额

B.2012 年 10 月份实现主营利润至少 5500 亿元

C.2013 年石油加工，煤焦和核燃料加工业，相比去年同期呈负增长趋势。

D.2013 年新增利润最多的 5 个行业利润新增额，占规模以上工业企业的一半

**根据以下材料，回答下列各题：**

2013 年 10 月份，社会消费品零售总额 21491 亿元，同比名义增长 13.3%（扣除价格因素实际增长 11.2%，以下除特殊说明外均为名义增长）。其中，限额以上企业（单位）消费品零售额 10579 亿元，增长 12.4%。1-10 月份，社会消费品零售总额 190308 亿元，同比增长 13.0%。



按经营单位所在地分，10 月份，城镇消费品零售额 18634 亿元，同比增长 13.1%；乡村消费品零售额 2858 亿元，增长 14.6%。1-10 月份，城镇消费品零售额 164433 亿元，同比增长 12.7%；乡村消费品零售额 25876 亿元，增长 14.5%。

按消费形态分，10 月份，餐饮收入 2422 亿元，同比增长 9.5%；商品零售 19070 亿元，增长 13.8%。1-10 月份，餐饮收入 20599 亿元，同比增长 9.0%；商品零售 169709 亿元，增长 13.5%。

在商品零售中，10 月份，限额以上企业（单位）商品零售额 9825 亿元，增长 13.5%。1-10 月份，限额以上企业（单位）商品零售额 88563 亿元，增长 12.3%。

- 96、2013 年 10 月社会消费品零售总额实际增长额为（ ）亿元  
A.2165      B.2686      C.1953      D.2001
- 97、2011 年 10 月社会消费品零售总额为（ ）亿元。  
A.19537      B.18968      C.17909      D.16566
- 98、2013 年 10 月份限额以下企业（单位）消费品零售额 10913 亿元，同比增长（ ）  
A、12.9%      B、11.2%      C、15.5%      D、14.2%
- 99、以下几个数据中，最大的是（ ）  
A、2013 年 10 月城镇消费品零售总额占 1-10 月份消费品零售总额的比重  
B、2012 年 10 月城镇消费品零售总额占 1-10 月份消费品零售总额的比重  
C、2013 年 10 月乡村消费品零售总额占 1-10 月份消费品零售总额的比重  
D、2012 年 10 月乡村消费品零售总额占 1-10 月份消费品零售总额的比重
- 100、以下描述正确的有（ ）个  
①按经营单位所在地分，2013 年 1-10 月份乡村消费品零售总额  
②社会消费品零售总额除 2012 年 12 月-2013 年 1 月是下降的趋势以外，整体为上升趋势  
③2012 年商品零售超过餐饮收入的 8 倍  
④2013 年 1-10 月份，限额以上企业（单位）商品零售额增长不满 10000 亿元  
A、0 个      B、1 个      C、2 个      D、3 个

更多问题请咨询华小图（微信号：lnhtkf）