

2017 年文广局密卷

第一部分 公共基础知识

1. 向国内外宣布重要事项或者法定事项时使用（ ）。
 - A. 公告
 - B. 通告
 - C. 通报
 - D. 决定
2. 决定政府机构设置和规模的因素是（ ）。
 - A. 全国人大
 - B. 政府职能
 - C. 中国共产党中央委员会
 - D. 全国政协
3. 财政部就财政收支和财务活动对其他国家行政机密的监督是（ ）。
 - A. 一般监督
 - B. 专门监督
 - C. 职能监督
 - D. 主管监督
4. 下列规范性法律文件中，其作用主要在于执行社会公共事务的是（ ）。
 - A. 《中华人民共和国刑法》
 - B. 《中华人民共和国合同法》
 - C. 《中华人民共和国民法通则》
 - D. 《中华人民共和国环境保护法》
5. 将法律文件按照一定的目的或标准，作出系统排列，汇编成册，称为（ ）。
 - A. 法律整理
 - B. 法律汇编
 - C. 法律编纂
 - D. 法律制定
6. 法律的实施可以分为执法、司法、守法和法律监督等几个环节。其中，执法的主体是（ ）。

- A. 国家权力机关
- B. 国家检察机关
- C. 国家审判机关
- D. 国家行政机关
7. 法律的制定包括准备阶段、确立阶段和完备阶段。下列选项中处于法律完备阶段的是 ()。
- A. 《中华人民共和国物权法》立法动议的形成
- B. 《中华人民共和国物权法实施细则》的制定颁布
- C. 《中华人民共和国物权法(草案)》的起草
- D. 《中华人民共和国物权法(草案)》的起草征询有关单位和个人的意见
8. 按照制定和实施法律的主体不同, 法可划分为国际法和国内法。下列属于国际法的是 ()。
- A. 《中华人民共和国引渡法》
- B. 《联合国国际货物销售公约》
- C. 《中华人民共和国对外贸易法》
- D. 《中华人民共和国外国人出入境管理法》
9. 法律的规定得到具体实施后, 对普通人将来的行为会产生影响。这表明法律具有 ()。
- A. 教育作用
- B. 预测作用
- C. 评价作用
- D. 强制作用
10. 有些自然科学家没有学过辩证唯物主义哲学, 却取得了很大的成就, 其中原因在于 ()。
- A. 科学研究同唯物主义和辩证法不一定有必然联系
- B. 科学研究同唯物主义和辩证法没有什么联系
- C. 科学研究自发地倾向于唯物主义和辩证法
- D. 科学研究自觉地贯穿着唯物主义和辩证法
11. 关于马克思主义的革命性, 错误的说法是 ()。
- A. 它主张对以往的一切哲学进行彻底的否定
- B. 它坚持新陈代谢是宇宙间不可抗拒的普遍规律

- C. 它自身并不是一个绝对真理的封闭体系, 而是一个随着实践的发展而不断自我更新完善和发展的生机勃勃的开放体系
- D. 它并没有结束真理, 而是开辟了不断认识和掌握真理的道路
12. 在国际国内严重政治风波考验面前邓小平提出的解放思想、实事求是的宣言书是 ()。
- A. 《善于利用时机解决发展问题》
- B. 《解放思想, 实事求是, 团结一致向前看》
- C. 《思想更解放一些, 改革的步子更快一些》
- D. 邓小平南方谈话
13. 近年来, 某地的洪水泛滥越来越严重, 对民生危害越来越大。造成洪水泛滥的原因之一是人类活动增多所造成的地球环境破坏, 从哲学上看 ()。
- A. 事物之间存在着因果联系
- B. 改造自然与人类活动存在着矛盾的关系
- C. 人类活动必将引起自然灾害的出现
- D. 洪水与自然灾害之间存在本质的联系
14. 美国次贷款危机中“次”是指 ()。
- A. 贷款人的第二贷款
- B. 贷款人的收入较低, 信用等级较低
- C. 贷款机构的实力和规模较小
- D. 贷款机构的信用等级较低
15. 以下说法不正确的是 ()。
- A. 魏晋南北朝分裂的三百年是我国民族大融合的重要时期
- B. 杜甫的诗歌记录了唐朝由盛转衰的过程
- C. 吴三桂“冲冠一怒为红颜”, 引清兵入关, 推翻明朝
- D. 孙中山先生的革命思想经历了从学习西方到联俄联共的变化
16. 下列做法在日常生活中可行的是 ()。
- A. 医用酒精和工业酒精的主要成分相同, 都可用于伤口消毒
- B. 喝牛奶、豆浆等富含蛋白质的食品可有效缓解重金属中毒现象
- C. 由于淀粉有遇碘变蓝的特性, 可利用淀粉检验加碘食盐的真假
- D. 低血糖症状出现时, 吃馒头要比喝葡萄糖水见效快

17. 以下不可能成为非物质文化遗产的是 ()。
- A. 针灸
 - B. 济公的传说
 - C. 绍兴黄酒的酿制
 - D. 青岛“啤酒节”
18. DNA 双螺旋结构是谁提出来的? ()。
- A. 孟德尔
 - B. 达尔文
 - C. 沃森和克里克
 - D. 巴甫洛夫
19. 把长江分为上游、中游、下游的两个城市是 ()。
- A. 重庆、湖口
 - B. 宜昌、湖口
 - C. 宜昌、九江
 - D. 重庆、九江
20. 关于我国的气候特点, 下列表述正确的是 ()。
- A. 夏季炎热干燥, 冬季温和湿润
 - B. 东南沿海为季风气候, 西北为温带大陆性气候中的温带季风和温带沙漠气候
 - C. 气温的日较差和年较差小, 春季升温慢, 秋季降温也慢, 一般秋温高于春温
 - D. 显著的季风特色, 明显的大陆性气候和多样的气候类型
21. 三省六部制标志着中国封建政治制度的成熟, 其创立者是 ()。
- A. 秦始皇
 - B. 汉武帝
 - C. 隋文帝
 - D. 唐太宗
22. 西汉初期, 经济萧条, 到处都是一片荒凉景象。汉高祖及其后的汉文帝、汉景帝等, 吸取秦灭的教训, 减轻农民的徭役和劳役等负担, 注重发展农业生产。文景时期, 提倡节俭, 重视“以德化民”, 社会比较安定, 经济得到发展。历来被视为封建社会的“盛世”, 史称()。
- A. 文景之治

- B. 贞观之治
C. 开元之治
D. 开皇之治
23. 最早侵占中国领土的西方殖民地国家是 ()。
- A. 葡萄牙
B. 荷兰
C. 英国
D. 日本
24. 我国右史上曾有一些人因参与处理中央政权与少数民族政权的关系而知名, 下列对应不正确的是 ()。
- A. 霍去病——匈奴
B. 岳飞——女真
C. 文天祥——蒙古
D. 于谦——鲜卑
25. 下列关于我国古代监察制度说法错误的是 ()。
- A. 秦朝设置了御史府作为中央最高检察机关 B. 监察制度的主要目的是防止官员侵害百姓
C. 监察体系相对独立, 确保检查权独立运行 D. 检察权来源于皇权, 代表君主个人的意志
26. 下列影视剧情景设计符合历史常识的是 ()。
- A. 燕子丹与荆轲分坐八仙桌两侧, 秉烛夜谈, 谋划赴咸阳刺杀秦王计划
B. 毛泽东与李宗仁幽默地说: 德邻先生, 你这次归国, 是误上了贼船啊
C. 魏征劝谏李世民时, 说道: 陛下当先天下之忧而忧, 后天下之乐而乐
D. 越王勾践兵败后给吴王差夫当奴仆, 以红薯充饥, 每晚则睡在柴垛上
27. 下列诗句反映的历史事件, 按时间先后排序正确的是 ()。
- ①北师覆没威海卫, 签订条约在马关
②鸦片带来民族难, 销烟虎门海滩前
③武装起义占三镇, 武昌汉口和汉阳
- A. ①③②
B. ②③①
C. ①②③

- D. ②①③
28. 下列关于中国近代史上的事件表述不正确的是 ()。
- A. 北洋水师是 19 世纪末中国建立的第一支近代海军舰队
 - B. 第五次反“围剿”失败后, 中国工农红军开始长征
 - C. 中国人民解放军第二炮兵组建于 20 世纪 60 年代中期
 - D. 日军在东北发动的“七七事变”标志着全面侵华战争的开始
29. 我国教育近代化之先河开启于哪一时期?
- A. 洋务运动时期
 - B. 戊戌变法时期
 - C. 辛亥革命时期
 - D. 南京临时政府时期
30. 鉴于台湾在国防上的重要地位, 中法战争结束后, 清政府决定在台湾正式设立行省, () 为台湾省第一任巡抚。
- A. 刘铭传
 - B. 左宗棠
 - C. 关天培
 - D. 冯子材
31. 新民主主义革命最基本的动力是 ()。
- A. 无产阶级
 - B. 农民
 - C. 民族资产阶级
 - D. 小资产阶级
32. 社会主义文化建设的方针是 ()。
- A. 古为今用, 洋为中用
 - B. 推陈出新, 博采众
 - C. 吐故纳新, 革故鼎新
 - D. 百花齐放, 百家争鸣
33. 1987 年, 中国共产党第十三次全国代表大会正式提出了党在社会主义初级阶段的路线, 简要概况为 ()。

- A. “一化三改”
- B. 改革开放
- C. “一个中心两个基本点”
- D. 四项基本原则
34. 过渡时期总路线的核心是 ()。
- A. 一化三改
- B. 实现社会主义工业化
- C. 社会主义改造
- D. 农业社会主义改造
35. 我国进入社会主义初级阶段的标志是 ()。
- A. 1956 年三大社会主义改造完成
- B. 新中国的建立
- C. 改革开放
- D. 三反五反的完成
36. 1930 年 5 月, 毛泽东的《反对本本主义》()。
- A. 论证了土地革命、武装斗争、根据地建设三者的关系
- B. 孕育了实事求是、群众路线、独立自主三个方面的关系
- C. 提出了实现马克思主义中国化的历史任务
- D. 阐述了马克思主义与中国实际相结合的原则
37. 党的中央领导真正认识到马克思主义中国化的重要性是在 1935 年遵义会议以后, 而就全党来讲, 则是在 () 以后。
- A. 抗战胜利
- B. 党的七大
- C. 延安整风
- D. 党的七届三中全会
38. 新民主主义革命时期, () 以后, 党的理论和实践逐步走上了正确的道路。
- A. 延安整风
- B. 遵义会议
- C. 党的七大

- D. 党的六届六中全会
39. 毛泽东思想的精髓是 ()。
- A. 独立自主
 - B. 群众路线
 - C. 实事求是
 - D. 武装斗争
40. 2013 年 4 月 19 日中共中央政治局决定从今年下半年开始,用一年左右的时间在全党自上而下分批开展党的群众路线教育实践活动,中共中央开展党的群众路线教育实践活动的哲学依据是 ()。
- A. 群众路线是党的生命线和根本工作路线
 - B. 是否站在广大人民的立场上,是判断马克思主义政党的试金石
 - C. 人民群众是社会历史的主体
 - D. 实践是检验认识真理性的主要标准
41. 实现“十三五”时期发展目标,破解发展难题,厚植发展优势,必须牢固树立并切实贯彻 ()、协调、绿色、开放、共享的发展理念。
- A. 和谐
 - B. 全面
 - C. 创新
 - D. 法制
42. “十三五”规划提出,坚持发展是第一要务,牢固树立和贯彻落实创新、协调、绿色、开放、共享的发展理念,以 () 为中心,以 () 为主线,扩大有效供给,满足有效需求。
- A. 提高发展质量和效益;供给侧结构性改革
 - B. 坚持全面从严治党;坚持全面深化改革
 - C. 坚持创新发展理念;坚持协调发展理念
 - D. 坚持党的领导;坚持全面深化改革
43. “十三五”规划提出了推动区域协调发展的政策导向,以区域发展总体战略为基础,以 () 为引领,形成沿海沿江沿线经济带为主的纵向横向的经济轴带。
- A. 东部率先发展、中部崛起、西部大开发

- B. 东北老工业基地复兴、京津冀协同发展、长江经济带发展
- C. 京津冀协同发展、长江经济带发展、北部湾经济带发展
- D. “一带一路”建设、京津冀协同发展、长江经济带发展
44. 2016年10月24日至27日, () 在北京举行。
- A. 十八届五中全会
- B. 十八届六中全会
- C. 十八大
- D. 十二届全国人大四次会议
45. 十八届六中全会提出, () 是中国共产党人的精神支柱和政治灵魂, 也是保持党的团结统一的思想基础。
- A. 共产主义远大理想和中国特色社会主义共同理想
- B. 全面建成小康社会
- C. 中华民族伟大复兴的中国梦
- D. 建成富强民主文明和谐的社会主义现代化国家
46. 注办由什么人签注 ()。
- A. 领导人
- B. 拟办人
- C. 批办人
- D. 承办人
47. 含有重要的国家秘密, 泄露会使国家的安全和利益遭受严重损失的文件, 称为 ()。
- A. 内部文件
- B. 秘密文件
- C. 机密文件
- D. 绝密文件
48. 用强制力推行以规定各种行为规范的文件, 称为 ()。
- A. 领导指导性文件
- B. 规范性文件
- C. 公布性文件
- D. 陈述呈请性文件

49. 用于对某一项行政工作作比较具体的规定的文件, 称为 ()。

- A. 条例
- B. 规定
- C. 办法
- D. 决定

50. 用于对重要事项或重大行动作出安排的文件, 称为 ()。

- A. 条例
- B. 决定
- C. 指示
- D. 命令

第二部分 行政能力测验

一、言语理解与表达

言语理解与表达

51. 对互联网企业来讲, 从用户那里收集到的信息主要包括消费习惯、行为特征、个人数据等。企业可以通过收集这些信息去开展大数据分析, 进一步挖掘用户的潜在消费能力和更_____的价值, 从而为用户提供更具_____的服务。

依次填入划横线部分最恰当的一项是 ()。

- A. 市场化 独创性
- B. 多元化 针对性
- C. 智能化 实用性
- D. 规模化 多样性

52. 在人类文明史上, 古埃及人和两河流域的苏美尔人, 都曾创造过古老的文字。然而, 随着时间的流逝, 这些文字早已消亡。时至今日, _____的古老文字, 唯有中国人创立的汉字。作为伟大的汉文化的载体和媒介, 汉字依然_____, 堪称当今世界上最有生命力的文字之一。

依次填入划横线部分最恰当的一项是 ()。

- A. 硕果仅存 长盛不衰

- B. 凤毛麟角 源远流长
- C. 出类拔萃 博大精深
- D. 鹤立鸡群 方兴未艾

53. 研究表明, 大脑具有自我修复的潜能, 继续_____这方面的研究, 可有望最终确认哪些信号可用来促进神经源性反应的_____, 而以_____神经发生现象为目标, 或可成为一种促进神经元再生的有效治疗方法。

依次填入划横线部分最恰当的一项是 ()。

- A. 增强 强化 加强
- B. 强化 加强 增强
- C. 加强 增强 强化
- D. 增强 加强 强化

54. 黄河下游原来是绕山东丘陵之南注入黄海的。后来, 由于中游的黄土高原不断_____, 下游的广大平原又不断沉降, 黄土不断受到侵蚀, _____泥沙滚滚流入黄河。到了下游, 水中的泥沙逐渐淤积, 河床不断抬高, 遇到汛期, 便会漫溢泛滥, 出现改道的现象。

依次填入划横线部分最恰当的一项是 ()。

- A. 降低 含有
- B. 抬升 挟带
- C. 下降 大量
- D. 升高 掺杂

55. 地球村内, 防疫无国界, 需要吸取教训、分享经验、共同御敌。抗击疫情, 这是“我们”的战争, 在_____的全球网络中, 置身事外的“我”无法取胜, 只有身处命运共同体的“我们”, 才能有效_____不断发起“军备竞赛”的病菌株。

依次填入划横线部分最恰当的一项是 ()。

- A. 唇齿相依 对抗
- B. 休戚相关 对付
- C. 变幻莫测 抵抗
- D. 瞬息万变 抵挡

56. . 随着科技的发展, 众多学者的研究在越来越深入的同时, 视角也越来越窄。许多人

一辈子的研究范围只限于某一专题，甚至某一个研究点，真是_____，见一斑而不见全豹。

填入划横线部分最恰当的一项是（ ）。

- A. 目无全牛
- B. 目光如豆
- C. 目光如炬
- D. 远见明察

57. 社会性的焦虑特属于某些社会或时代，它是一种_____的心神不安和精神不定，是一种弥漫于社会不同阶层的焦虑。它不会轻易消退，不容易通过心理的调适而化解，人们所焦虑的对象或有不同，但在其性质和内容上又存在着一些共性。就如贫困者或忧虑自己生存缺乏保障，而富有者也可能忧虑自己财产缺乏保障。两者虽然不可_____，而忧虑则同。

依次填入划横线部分最恰当的一项是（ ）。

- A. 特有 混为一谈
- B. 广泛 等量齐观
- C. 普遍 相提并论
- D. 固有 同日而语

58. 与形象相比，声音更是一种让人甚感扑朔迷离的东西。记得几年前一次上课，我突然感觉好像被自己营造的诗意场景带入了云端。那一瞬间，我忘掉了自己，教室里的同学似乎也变得_____。华光普照的水光潋滟之间，似乎只有声音的涟漪在教室上空_____，其他一切不见。这是一种袅袅上升的声音，是一种与一切物质现象相剥离的明朗或华美。

依次填入划横线部分最恰当的一项是（ ）。

- A. 虚置 飘扬
- B. 空幻 飘舞
- C. 虚无 飘荡
- D. 虚幻 缥缈

59. 近年来，男护士在医院中的比例越来越高，他们帮助女护士_____了不少繁重的工作，也为患者家属减轻了不少_____。现在医院的男护士在普通病房工作的比较少，一般都是在手术室和重症监护室_____比较耗费体力的工作。

依次填入划横线部分最恰当的一项是（ ）。

- A. 担负 分担 负担
- B. 担负 负担 分担
- C. 分担 担负 负担

D. 分担 负担 担负

60. 高油价时代，如何节油成为车主们关注的焦点，于是各种节能产品_____，汽油清净剂、节油贴、节油丸、省油精等_____。

依次填入划横线部分最恰当的一项是()。

- A. 应运而生 层出不穷
- B. 供不应求 五花八门
- C. 应接不暇 举不胜举
- D. 琳琅满目 屡见不鲜

61. 找出介词误用的一句话：()

- A. 他的心事被孙吉人说破了
- B. 姑娘头一埋，腰一，也朝山顶跑去
- C. 今日的北大荒，正在向着社会主义现代化农业的道路上阔步前进
- D. 自从有了这辆车，他的生活越来越起劲了

62. 请把句子中有歧义的句子找出来()

- A、老李或是演员，或是导演
- B、小王去找小赵，两人恰恰在北京路相遇了，他说：“你来得正好呢！”
- C、方方虽然嘴上硬，可心里知道自己理屈。
- D、鸟类的迁徙，往往是由于外界的各种环境的变化而引起的。

63. 在日益开放的市场经济活动中，无论是来自城市还是来自农村的市场参与者，都被抛进不断更新的陌生空间中。市场的交易主体、交易行为、交易制度和交易商品，都在日新月异地变化着。尤其是考虑到经济生活信息化和网络化，市场经济的陌生关系就呈现出更为复杂的状态。

这段文字重在说明()

- A. 市场经济活动中人们面对的是陌生关系
- B. 市场经济的主要特点就是信息不断更新
- C. 市场经济生活变得越来越信息化网络化
- D. 市场经济使得人与人之间的关系复杂化

64. 说到食品安全的治理，人们首先想到的是，中国依然是一个发展中国家，各个方面的制度建设不够完善。面对现实，人们自然而然地将问题引向法律法规制度、政府监管体系、社会治理机制的完善。这一指向当然是正确的，政府也沿着这些方向做了许多努力。但是这类

治理方案的一个问题是，“远水解不了近渴”。

作者引用“远水解不了近渴”想要表达的意思是（ ）

- A. 中国短时期之内无法真正解决食品安全问题
- B. 相关法律及机制建设不是短时间内可以完成的
- C. 作为发展中国家要解决食品安全问题难度极大
- D. 想解决食品安全问题必须做好长期工作的准备

65. 将下列句子重新排列，语序最恰当的是（ ）。

- ①所以，在医生准入这件事情上，任何国家都不敢“任性”，宁缺毋滥。
- ②良医治病，庸医要命。
- ③让不合格的人穿上白大褂，等于让“隐形杀手”混入医生队伍。
- ④而庸医之害，甚于无医。
- ⑤医生有良医和庸医之分。
- ⑥如果良医短缺了，就用庸医来充数，无异于饮鸩止渴，拿人命当儿戏。
- ⑦降低当医生的门槛，必然导致医疗质量下降，最终受害的是患者。

- A. ⑦⑤②⑥③④①
- B. ③⑥⑤②④⑦①
- C. ⑤②④⑥⑦③①
- D. ⑥⑤④⑦②③①

66. “据理力争”不是最佳的表达方式，太用力，太急切地想说明道理，反而少了从容淡定。它反映出“力争”者的不够自信，也表明他对听众辨别事物能力的评估。

以下与作者表述的观点最接近的是（ ）。

- A. 有理不在声高
- B. 公道自在人心
- C. 此时无声胜有声
- D. 针尖不必对麦芒

67. 当前，对于大部分消费者来说，智能化家居产品既熟悉又陌生，很多人的概念还停留在电动窗帘或别墅防盗系统。从技术层面来说，一键控制、远程遥控、感应人体、自动开启这些电影里才出现的产品如今并非“高科技”，但由于价格昂贵等原因，智能家居并未普及。

根据这段文字，以下说法正确的是（）。

- A. 智能化已成为家居业未来的发展方向
- B. 目前技术上实现智能家居已无屏障
- C. 普及智能家居必须降低生产成本
- D. 智能家居的概念模糊影响其普及程度

68. 人的自尊可以划分为有条件的自尊和无条件的自尊。前者是通过达到一些预设的标准来获得的自尊，自我价值感有赖于这些标准的实现，而非自我的本真需要，比如认为拥有美貌才有价值感。有条件自尊者往往并不了解自己的需要，其衡量自尊的标准是内化得来的。如果父母的爱是有条件的，对自己欲求的行为进行奖励，对不欲求的行为进行惩罚，这就把行为标准强加给了儿童。儿童会不自觉地在这种标准当作自己的人生追求。有条件的自尊往往通过强烈的自我意识表现出来，这样的人总是通过他人的眼光来看待自己。

与这段文字的意思相符的一项是（）。

- A. 人的本真需求是有条件自尊的来源
- B. 父母的过分溺爱会损害孩子的自尊
- C. 有条件自尊者往往过于在意外界的评价
- D. 父母给孩子制定行为标准对其成长不利

69. 大数据是指规模极其巨大，以致很难通过一般软件工具加以获取、管理、处理并整理成为有用资讯的海量数据。其具有大量、高速、多样和价值四个特点，被认为是人类新世纪的“新财富”，价值“堪比石油”。发达国家纷纷将开发利用大数据作为夺取新一轮制高点的重要目标，就是个明证。

这段文字意在说明（）。

- A. 大数据在处理上还存在技术难度
- B. 大数据背后隐藏着巨大的价值
- C. 发达国家在开发利用大数据上已经先行一步
- D. 开发利用大数据已成为国家竞争的一个热点

70. 中微子是一种基本粒子，在宏观的宇宙起源及演化中扮演着极为重要的角色。由于没有质量并且不带电荷，和其他物质的相互作用极其微弱，这使得中微子的运动轨迹不会发生改变。那些来自遥远宇宙、来自黑洞边缘或者来自宇宙线发源地的中微子，可以告诉人类那些“源”在哪里，甚至可以让我们一探黑洞的究竟。

最适合做本段文字标题的是 ()。

- A. 令人惊喜的存在
- B. 特立独行的中微子
- C. 中微子: 宇宙的使者
- D. 触不可及: “隐形”的中微子

71. 痴呆是一种以认知功能缺损为核心症状的获得性智能损害综合征, 其智能损害的程度足以干扰社会或职业功能, 是慢性进展性的疾病, 损害的范围涉及记忆、行为、人格、判断、注意力、视空间技能、语言、逻辑推理等多种高级神经功能。据统计, 痴呆已成为仅次于心血管疾病, 癌症和脑猝的第四大杀手, 严重威胁老年人身体健康和生活质量。年龄, 是老年性痴呆的重要危险因素, 一般认为, 60 岁以上的人群中, 每增加 5 岁, 痴呆的患病率将增加 1 倍。随着老年人口的不断增加, 老年痴呆将成为我国一个严重的公共卫生问题。

根据这段文字, 以下说法正确的是 ()。

- A. 老年性痴呆有时会突然发病
- B. 痴呆发病率与受教育程度有关
- C. 痴呆患者的基本生活能力可以改善
- D. 我国老年痴呆患者的人数将不断上涨

72. 可见光通信技术的原理非常简单, 光亮代表 1, 光灭代表 0, 亮灭的组合就携带了信息。不过, 由于可见光的频率远远高于无线网络通信信号, 其传播的直线性很强, 稍有阻挡就会导致通信中断。考虑到技术发展趋势和产品实用性, 可见光通信不大会替代无线网络而在家庭中得到广泛应用, 但这并不是说这种技术没有实用价值。这种技术在广播式的公共通信中有着令人兴奋的应用前景。运用可见光通信技术, 发光二极管信号灯可告诉司机前方直行有拥堵现象, 建议右转走另外的道路。

从这段文字我们可以推出 ()。

- A. 可见光通信技术将在公共通信中大放异彩
- B. 目前可见光通信的核心技术已有巨大突破
- C. 可见光通信技术的使用将使得城市真正变为智能之城
- D. 可见光通信技术将使得家庭网络发生翻天覆地的变化

73. 诗歌的面貌并不完全取决于作者人品的高下, 而是与作者的学力素养、心灵的敏感程度

有更为直接的关系。换句话说，_____。典型的例子就是晋代的潘岳，他虽然有“拜路尘”的卑劣行径，但其《闲居赋》一文却展现了一份清雅独绝的隐逸情怀。

填入划横线部分最恰当的一项是（ ）。

- A. 一个品格并不高尚的人同样有可能创作出动人的诗篇
- B. 人格是否高尚并不是决定作品质量高下的唯一要素
- C. 一些杰作的作者反而更擅长掩饰自己的真实品格
- D. “知人知面不知心”的情况在创作领域尤为常见

74. 风吹弯了路旁的树木，撕碎了店户的布幌，揭净了墙上的报单，遮昏了太阳，唱着，叫着，吼着，回荡着；忽然直弛，像惊狂了的大精灵，扯天扯地的疾走；忽然慌乱，四面八方地乱卷，像不知怎样好而决定乱撞的恶魔；忽然横扫，乘其不备的袭击着地上的一切，扭折了树枝，吹掀了屋瓦，撞断了电线；可是，祥子在那里看着；他刚从风里出来，风并没能把他怎样了！

这段文字意在强调（ ）。

- A. 环境之恶劣
- B. 生活之困苦
- C. 祥子之坚强
- D. 谋生之艰辛

75. 唐卡是极富藏族文化特色的一种绘画形式，自吐蕃王朝兴起至今已有 1300 多年的历史，是雪域高原的文化瑰宝。它的题材除宗教外，还有历史和民俗内容，故又被称为了解西藏的“百科全书”。所以，想要了解西藏的历史，除了正襟危坐地阅读严谨但略显呆板的史书外，你还可以选择一种惬意和愉悦的方式——欣赏唐卡，与众多的古人对话，想象曾经的历史事件，体味藏族人丰富的精神世界，了解独特的藏族民俗，这是一个让历史变得立体可感的过程。

这段文字意在说明（ ）。

- A. 唐卡可以给大家提供一种惬意轻松的了解西藏的方式
- B. 唐卡中记录了独特的藏族民俗和曾经的历史事件
- C. 唐卡是了解西藏文化和历史的“百科全书”式的绘画形式
- D. 唐卡是极富藏族文化特色且历史悠久的一种绘画形式

76. 研究表明，进入雷云的宇宙射线，使得雷云中的空气产生电离，进而在周围产生出许多悬浮的自由电子，已在云层中的电场，则使自由电子带有更高的能量。当空气中的现有电子和水分子碰撞时，释放出更多的电子，研究者将其称之为高能量微粒的雪暴，最终产生一次“逃逸崩溃”，这种放电过程就是人们所认为的闪电。

下列说法与原文不符的是()。

- A. 闪电因宇宙射线而产生
- B. 雪暴放电过程产生闪电
- C. 闪电因云朵碰撞而产生
- D. 电子与水分子碰撞引起闪电

77. 专家认为, 家庭氛围不和谐、缺少父母关爱是导致青少年出现心理精神问题, 继而迷上网游的原因之一。家庭是孩子体验情感、发展情商的关键场所。如果家庭不能给孩子提供需要的安全感、尊重、亲密与爱, 孩子很有可能在网游中逃避恐惧和孤独, 寻求安慰。忙于工作的父亲和爱批评唠叨的妈妈往往“善于”制造这样的情感生态。如果一个充满冒险精神、追求刺激的男孩过着单调和一成不变的生活时, 网游世界自然显得精彩无限。

这段文字的主要观点是()。

- A. 应尽可能地保证孩子的情感供给
- B. 情感缺位容易使孩子沉迷于网游
- C. 亲子关系和谐可使孩子冷落网游
- D. 应创造满足孩子个性的情感生态

78. 分布于不同地方的语言使用者, 在长期的发展过程中, 积累了生产生活的共同或独特的经验。这些经验或知识体系都凝聚在语言之中。而各个语言群体对自然界的认识分别在不同的方面达到了不同的深度, 形成了认识结构的互补分布, 共同构成了人类广博精深的知识体系。

这段文字意在说明()。

- A. 人类知识系统通过不同群体以语言的方式保存和建构
- B. 人类群体通过语言将经验和知识加以发扬和运用
- C. 语言促进了各个群体知识体系的分化
- D. 人类各群体的经验和知识体系的深度和广度上各不相同

79. 我们每个人都应该有这样的生活态度: 如果你赋予了工作意义, 不论工作轻重, 你都会感到快乐, 自我设定的成绩不论高低, 都会使人对工作产生乐趣。如果你不喜欢做的话, 任何简单的事都会变得困难、无趣, 当你叫喊着这个工作很累人时, 即使你不卖力气, 你也会感到精疲力竭, 反之就大不相同。如果你视工作作为一种乐趣, 人生就是天堂; 如果你视工作作为一种负担, 人生就是地狱。

对这段文字概括最恰当的一项是()。

- A. 人们应该选择做自己感兴趣的工作
- B. 在工作中找到乐趣会让生活变得美好
- C. 在工作时设定奋斗目标会使工作变得有趣

D. 人在做自己不喜欢的工作时很容易疲劳和厌烦

80. “摇一摇交友”“摇一摇找饭店”“摇一摇K歌”等已成为智能手机时代人们新的生活方式。然而，这“摇一摇”的过程中摇出来的地点往往与实际相差不少，少则几十米，多则上百米。这在建筑物密集分布的大城市往往给用户带来“找一找”的麻烦。随着互联网技术的发展，云计算或许能为这一问题提供解决方案。专家认为，云计算能提供定位精度校正服务，它与定位导航结合催生的位置服务，可使定位精度达到1米。作为信息行业的主旋律，云计算给人们的生活带来意想不到的改变，它越来越深入地服务于各群体，甚至改变整个社会的消费形态。

这段文字主要说明的是（ ）。

- A. 智能手机时代带来全新困惑
- B. 云计算让精准定位成为可能
- C. 信息行业引导生活方式转变
- D. 位置服务影响社会消费形态

81. 这几年，上海经济增速有所下滑。虽说不以GDP论英雄，但以上海的基础条件、人才优势和国际视野，经济增速下滑多少还是让人难以理解的。探究起来，其中一个原因就是上海改革动力不足，趋于保守。这种情况让一些跨国公司高管都感到不快。一份中美商会的调查报告显示，在上海的外资公司感到“投资压抑”。由此可见，上海正面临着重新改革和再出发的问题。上海再改革再出发应该以开放促改革，以上海自贸区的建立为契机，重振上海在长三角乃至全国经济中“领头羊”的雄风。

这段文字主要说明的是（ ）

- A. 上海经济增速的下降让人们难以理解
- B. 再改革是促进上海经济再起航的契机
- C. 改革动力不足导致外商投资趋于保守
- D. 上海应发挥自身的传统优势重振雄风

82. 李商隐说“美酒成都堪送老”，雍陶说“自到成都烧酒熟，不思身更入长安”，点名直夸成都酒好。客观来看，成都确实深受酒神的青睐：独有的弱酸性黄黏土，黏性强、保水性好，含铁、钙等金属离子少，是酿酒筑窖的最佳土壤。地下水和冰川融水形成的优质水源，浸润了美酒的灵魂。而盆地中湿润的气候，格外有利于酒窖里微生物的繁衍，为酿酒提供了得天独厚的外部环境。悠长历史，堆叠的不仅是酒窖的深、酒糟的浓、酒浆的冽，也是酿酒、沽酒、饮酒之人悠然享受生活的心态，这才使成都的酒，酝酿出至醇的香和韵。

对这段文字概括最恰当的一项是（ ）。

- A. 成都美酒从唐朝开始就已经闻名天下
- B. 独特的地理文化条件造就了成都美酒

- C. 产地的生活哲学塑造了酒文化的灵魂
- D. 气候形成了成都市井文化中慢的特质

83. 博物馆的重点展示厅基本上没有分割空间。尽量保证了展厅的畅通与宽敞, 并且把明显标本放在这个展厅最抢眼的位置, 这使得观众一进入展区就能够一览无余地看到最精彩的展示。在每个大空间上, 适当运用了错层的方式, 开辟出一个互动区域, 专门介绍相关的科学知识, 同时这个错层也是很好的观赏角度。

根据文意, 博物馆展品展示上的特点是 ()。

- A. 传统与现代的结合
- B. 艺术与科学的结合
- C. 个性与共性的结合
- D. 空间与互动的结合

84. 世界高新技术革命的浪潮已经把经济竞争从物质资源竞争推向人力资源竞争, 人力资源的开发、利用和管理将成为人类社会经济发展的关键因素, 在这个过程中需要大量的人力资源信息, 必然离不开人力资源会计。在人口众多、人口素质相对较差的我国, 建立和推行人力资源会计制度更具有必要性。

这段文字主要表述的是 ()。

- A. 我国发展人力资源会计的必要性
- B. 世界高新技术革命的浪潮影响巨大
- C. 我国的人口众多且人口素质相对较差
- D. 人力资源竞争成了社会发展的关键因素

85. “苍蝇妈妈”是对那些过分关注孩子的家长的称谓, 这类家长试图时刻走在孩子面前, 提前为他们扫清障碍。美国华盛顿大学的一项相关研究显示, 过分关照孩子的父母会妨碍儿童个人能力和独立意识的发展; 无微不至的照料会降低儿童的幸福感, 并令他们长大后难以正确对待压力。受到父母过度照料的儿童, 长大以后会经常意志消沉, 对生活不满, 精神焦虑。为了孩子的身心健康, “苍蝇妈妈”们_____。填入横线部分最恰当的一项 ()。

- A. 请适当降低对孩子的期望值
- B. 请移开你们挡在孩子面前的身体
- C. 请先学会不被其他意见影响或左右
- D. 请相信你们纠结的事情其实没那么重要

二、数量关系

86. 5、8、13、()、29

- A. 18
- B. 20
- C. 22
- D. 24

87. 8、10、14、18、()

A. 24 B. 32 C. 26 D. 20

88. 1、2、3、6、11、20、()

A. 25 B. 36 C. 37 D. 42

89. 5、12、24、36、52、()

A. 58 B. 62 C. 68 D. 72

90. 2219、555、139、35、()

A. -9 B. -74 C. 5 D. 9

91. 某区要从 10 位候选人中投票选举人大代表, 现规定每位选举人必须从这 10 位候选人中任选两位投票, 问至少要有多少位选举人参加投票, 才能保证有不少于 10 位选举人投了相同两位候选人的票? ()

A. 382

B. 406

C. 451

D. 516

92. 将 10 克盐和 200 克浓度为 5% 的盐水一起加入一杯水中, 可得浓度为 2.5% 的盐水, 则原来杯中水的克数是 ()。

A. 570

B. 580

C. 590

D. 600

93. 学生在操场上列队做操, 只知人数在 90~110 人之间。如果排成 3 排则不多不少; 排成 5 排则少 2 人; 排成 7 排则少 4 人; 则学生人数是多少人? ()

A. 102

B. 98

C. 104

D. 108

94. 两棵柳树相隔 165 米, 中间原本没有任何树, 现在这两棵树中间等距种植 32 棵桃树, 第 1 棵桃树到第 20 棵桃树间的距离是 () 米。

- A. 90
- B. 95
- C. 100
- D. 前面答案都不对

95 一个等腰三角形，两边长分别为 5cm、2cm，则周长为多少 Cm? ()

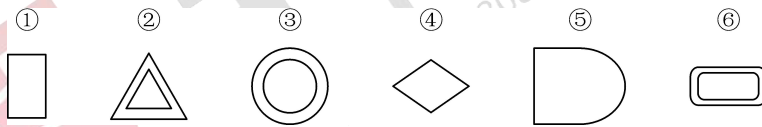
- A. 12
- B. 9
- C. 12 或 9
- D. 无法确定

三、判断推理

(一) 图形推理：每个题目包含六个图形，请把此六个图形分为两类，使得每一类图形都有各自的共同特征或规律。

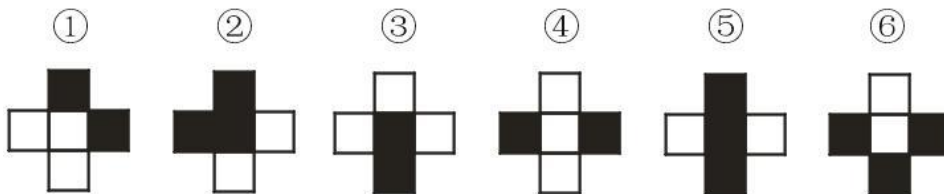
请开始答题：

96.



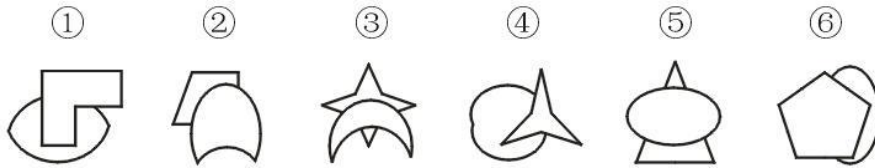
- A. ①③④, ②⑤⑥
- B. ①④⑤, ②③⑥
- C. ①②③, ④⑤⑥
- D. ①④⑥, ②③⑤

97. 把下面的六个图形分为两类，使每一类图形都有各自的共同特征或规律，分类正确的一项是：



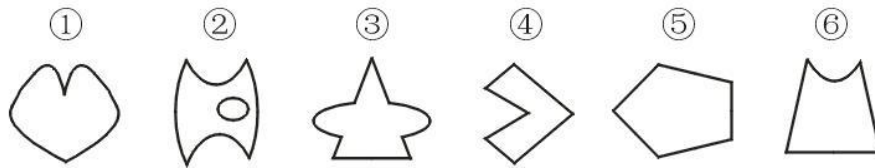
- A. ①②③, ④⑤⑥
- B. ①⑤⑥, ②③④
- C. ①③④, ②⑤⑥
- D. ①④⑥, ②③⑤

98. 把下面的六个图形分为两类，使每一类图形都有各自的共同特征或规律，分类正确的一项是：



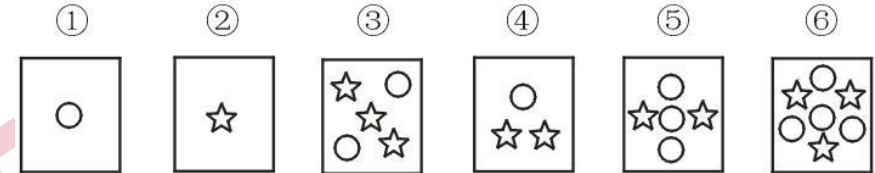
- A. ①③④, ②⑤⑥ B. ①③⑥, ②④⑤
 C. ①④⑥, ②③⑤ D. ①③⑤, ②④⑥

99. 把下面的六个图形分为两类,使每一类图形都有各自的共同特征或规律,分类正确的一项是:



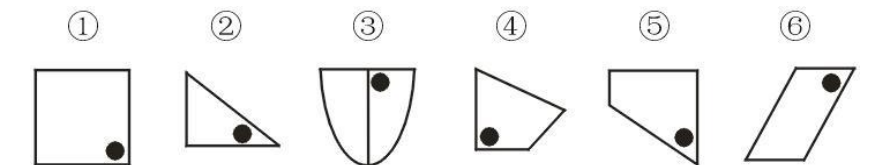
- A. ①⑤⑥, ②③④ B. ①③⑥, ②④⑤
 C. ①②③, ④⑤⑥ D. ①②⑥, ③④⑤

100. 把下面的六个图形分为两类,使每一类图形都有各自的共同特征或规律,分类正确的一项是:



- A. ①②③, ④⑤⑥ B. ①⑤⑥, ②③④
 C. ①②④, ③⑤⑥ D. ①④⑥, ②③⑤

101. 把下面的六组图形分为两类,使每一类图形都有各自的共同特征或规律,分类正确的一项是:



- A. ①③④, ②⑤⑥ B. ①③⑤, ②④⑥
 C. ①②③, ④⑤⑥ D. ①②⑥, ③④⑤

(二) 定义判断。每道题先给出一个定义,然后列出四种情况,要求你严格依据定义,

从四个备选项中选出一个最符合或最不符合该定义的答案。注意：假设这个定义是正确的，不容置疑的。

请开始答题：

102. 职业枯竭，又称“工作倦怠”，是指在工作重压下的一种身心疲惫的状态，厌倦工作的感受，是一种身心能量被工作耗尽的感觉。职业枯竭可表现为身体疲劳、情绪低落、创造力衰竭、价值感降低，工作上的消极状态还会进而影响整个生活状态。

以下事例中，哪项是符合职业枯竭的？（ ）

- A. 小张一直喜欢摄影，因为这个爱好，他多次在公司请长假外出拍摄外景
- B. 小王在担任部门经理之后，事情琐碎繁多，经常加班，时常觉得体力透支
- C. 李经理作为部门领导，常常觉得力不从心，部门的员工时常不予配合导致工作的不能完成
- D. 小赵大学毕业进外企之后，一直和部门领导处理不好关系，导致工作效率低下

103. 过劳模指超时工作的人。他们以牺牲节假日和个人休息时间为代价，没日没夜地干活儿——如今，昔日人们脑海中劳动模范的社会形象，正在大规模地移植到城市中的常人身上。他们的工作强度，大大超出了常规的“敬业”标准，比起传统意义上的“劳模”，也有过之而无不及，被戏称为“过劳模”。平均每天工作 10 个小时以上，基本没有休息日，睡眠不足、三餐不定……他们的工作强度可能比“劳模”有过之而无不及。

以下哪个人是过劳模？（ ）

- A. 老张退休后和儿子儿媳同住，给他们洗衣做饭打扫屋子，并且要带刚满一岁的小孙子，老张笑着说“这比我上班那会儿还累”
- B. 小李一直都喜欢动漫，每天下班后，都会窝在电脑前看动漫到凌晨
- C. 小刘每天下班之后，要辅导女儿的功课，经常凌晨才睡
- D. 小张经常在节假日加班，忙起来经常一天只吃一顿饭，家里所有的事情都是妻子照顾，妻子对他很有意见

104. 组织绩效是指组织在某一时期内组织任务完成的数量、质量、效率及赢利情况。组织绩效实现应在个人绩效实现的基础上，但是个人绩效的实现并不一定保证组织是有绩效的。如果组织的绩效按一定的逻辑关系被层层分解到每一个工作岗位以及每一个人的时候，只要每一个人达成了组织的要求，组织的绩效就实现了。

以下哪项是组织绩效的实现? ()

- A.小王从入职以来,一直都是部门的领先者,每月都能超额完成任务
- B.某公司销售部把每个季度的销售额分解到每个部门员工身上,而每个人到季度末工作总结的时候,都能超额完成任务
- C.小李及部门半数员工,在季度末加班突击,终于在季度末的时候,完成了各自的工作
- D.某部门把组织的绩效层层分解到每个岗位之后,发现季度末的时候总会有一两个人完不成该做的工作

105. 风险规避是风险应对的一种方法,是指通过计划的变更来消除风险或风险发生的条件,保护目标免受风险的影响。风险规避并不意味着完全消除风险,我们所要规避的是风险可能给我们造成的损失。一是要降低损失发生的机率,这主要是采取事先控制措施;二是要降低损失程度,这主要包括事先控制、事后补救两个方面。

以下哪项不属于风险规避的情况? ()

- A.某奶制品公司被媒体揭露,酸奶中含有废旧皮鞋制成的明胶,该公司负责人召开新闻发布会,解释生产流程,并且保证该公司酸奶中各项指标均符合国家标准,请广大消费者放心购买
- B.某家具厂负责人接到举报说,该工厂家具生产过程中使用材料含甲醛超标,当即召开董事会,决定整批家具全部作废,不能流入市场
- C.周末台风登陆沿海地区,某公司灯箱被吹倒损坏,在台风过后,公司迅速定制了新的灯箱
- D.某品牌汽车在投放市场之后,有很多用户反映刹车有问题,该公司当即决定召回这一批汽车

106. 英国学者贝尔天赋极高。有人估计过他毕业后若研究晶体和生物化学,定会赢得多次诺贝尔奖。但他却心甘情愿地走了另一条道路,把一个个开拓性的课题提出来,指引别人登上了科学高峰,此举被称为贝尔效应。贝尔效应是指在人才培养中,要以国家和民族的大业为重,以单位和集体为先,慧眼识才,放手用才,敢于提拔任用能力比自己强的人,积极为有才干的下属创造脱颖而出的机会。

以下哪项属于贝尔效应? ()

- A.程婴为了保全赵家的最后血脉,隐姓埋名数十年
- B.在 98 年洪水中,武警战士用自己的血肉之躯筑起了钢铁长城,保护了百姓的生命财

产

C.宋朝宰相王旦一生推荐了对国家有用的良臣十几位,其中包括一直对自己颇有微词的寇准

D.李厂长在自己退休时,极力推荐自己的侄子最为厂长的候选人

107. 先提出很大的要求,接着提出较小较少的要求,在心理学上被称为“拆屋效应”。

以下哪项不属于拆屋效应? ()

A.甲乙双方合作,甲方要求乙方发货之前付全款,乙方不同意,后来甲方要求乙方付半数的款,乙方同意了

B.闯祸的孩子因为害怕责罚离家出走,被找回来的时候,家长并不追求其犯下的过错

C.小张和小李两人结伴出游,小张要求小李全程按照之前的旅游攻略前行,小李同意了

D.小王要求老板为其加薪,老板不同意,小王接着要求增加季度奖金,老板同意了

108. 鲛鱼效应是指在已慵倦的人群中加进一个有威胁的人物、刺激人群的紧张度从而保持整体活力。

以下哪项属于鲛鱼效应? ()

A.班级里期末时,学习出现疲态,老师采取奖励措施激励大家

B.某销售小组业绩一直平平,小组长从别的组借来一个营销高手,业绩有了大幅度的提升

C.课堂学习时,出现学生睡觉的情况,老师采取讲笑话的方式让学生变得兴奋起来

D.小李转学之后,进入一个新环境,受到同学的感染,学习热情大幅度的提高

109. 强制性标准在一定范围内通过法律、行政法规等强制性手段加以实施的标准。具有法律属性。强制性标准一经颁布,必须贯彻执行。否则对造成恶劣后果和重大损失的单位和个人,要受到经济制裁或承担法律责任。我国规定,保障人体健康、人身财产安全的标准和法律,行政法规规定强制执行的标准属于强制性标准

以下哪项属于强制性标准? ()

A.某公司章程

B.检察院内部的员工管理规定

C.污染物排放限值和环境质量要求

D.某俱乐部管理条例

(三) 类比推理。每道题先给出一组相关的词,要求你在备选答案中找出一组与之在逻辑关系上最为贴近、相似或匹配的词。

请开始答题:

110. 电脑：程序员
- A.收割机：农民
B.卫星：航天员
C.卡车：驾驶员
D.火车票：乘务员
111. 正方体：魔方
- A.平行线：铁轨
B.三棱锥：金字塔
C.地球仪：球
D.圆：车轮
112. 蜻蜓：飞行：直升机
- A.海豚：游泳：蝶泳
B.萤火虫：发光：冷光灯
C.开水：沸腾：蒸汽机
D.蝙蝠：超声波：雷达
113. 怀才不遇 对于 ()，相当于 () 对于 灾难
- A.时势：兵荒马乱
B.才干：万事如意
C.贬职：山崩地裂
D.机遇：一帆风顺
114. 打盹 对于 () 相当于 () 对于 委婉
- A.桌子 表达
B.瞌睡 含蓄
C.困倦 懵懂
D.奋发 直白
115. 重耳 对于 () 相当于 () 对于 孺子可教
- A.退避三舍 张良
B.围魏救赵 韩信
C.杀妻求将 郭隗
D.惊弓之鸟 更羸
116. 战争 对于 () 相当于 () 对于 诉讼
- A.和平 赔偿
B.二战 民诉
C.战场 法院
D.瘟疫 斗殴
117. 《高老头》 对于 () 相当于 () 对于 司汤达
- A.罗曼·罗兰 《红字》
B.巴尔扎克 《红与黑》
C.海明威 《第二十二条军规》
D.屠格涅夫 《名利场》

(四) 逻辑判断。每道题给出一段陈述，这段陈述被假设是正确的，不容置疑的。要求你根据这段陈述，选择一个答案。注意：正确的答案应与所给的陈述相符合，不需要任何附加说明即可以从陈述中直接推出。

请开始答题：

118. 一家知名调研机构经过专项调查研究得出结论：饮用常规量的酒精对人的胃无害。因此，

饮酒者完全可以放心地享用，只要不过量，就不会有碍健康。

以下哪项如果正确，最有力地反驳了上述论点？（ ）

- A.酒精的常规饮用量可能因人而异
- B.饮酒者可能在饮酒后吃了对胃有害的食物
- C.喝茶，特别是喝绿茶比饮酒更有利于胃部的保健
- D.饮酒即使不过量也会对人的肝肾造成沉重的负担

119. 高三（二）班在高考结束后，几位老师在一起议论。

徐老师说：“王丽和张欣都能过重点线。”

贺老师说：“除非李宏过重点线，否则钱夏不能过重点线。”

胡老师说：“我看王丽和张欣两人中至少有一人不能过重点线。”

郝老师说：“我看李宏不能过重点线，但钱夏能过重点线。”

由此可以推出（ ）。

- A.四位老师的说法都可能为真
- B.四位老师中有且只有一位的说法为真
- C.四位老师中有且只有两位的说法为真
- D.题干的条件不足以推出确定的结论

120. 老林患有严重的糖尿病。为了取得疗效，李医生要求老林戒掉含淀粉质高的食物和精制糖类的食物。

以上论断所基于的假设是（ ）。

- A.李医生是治疗糖尿病的专家，经验丰富
- B.含淀粉质高的食物和精制糖类的食物是引起糖尿病的主要原因
- C.糖尿病患者吃含淀粉质高的食物和精制糖类的食物将严重影响治疗效果
- D.严重糖尿病难以治疗，并容易引起并发症

121. 某省商超业经营点的数量从 2000 年的约 50000 个，逐年下降到 2012 年的约 10000 个。

但是，12 年以来，该省商超业的经营资本在整个服务行业中所占的比例并没有减少。

以下各项如果正确，哪项最不能解释上述现象？（ ）

- A.作为激烈竞争的结果，12 年以来，该省的商场、超市有的被迫停业，有的则努力扩大经营规模
- B.该省 2012 年商超业经营店的平均经营资本额比 2000 年有显著增长

- C.2000 年以来, 该省服务行业的经营资本总额逐年下降
- D.2000 年以来, 该省服务行业的经营资本占全省产业经营总资本的比例逐年下降
122. 总经理: 根据各分校的实际情况, 我主张天津分校和河北分校至少要装修一个, 但甘肃分校不能装修。
- 董事长: 我不同意。
- 以下哪项最为准确地表达了董事长的意思? ()
- A.天津分校、河北分校和甘肃分校都要装修
- B.天津分校和河北分校至多装修一个, 但甘肃分校要装修
- C.天津分校和河北分校至多装修一个, 但如果这点做不到, 那也要保证甘肃分校能装修
- D.天津分校和河北分校都不装修, 如果这点做不到, 那也要保证甘肃分校能装修
123. 高一(3)班学生上完体育课后大汗淋漓, 有 30 人去学校小卖部买了伊牛汽水喝, 其中 10 人很快产生了腹泻。该种汽水马上被送去检验, 检验的结果不能肯定汽水中含有造成腹泻的有害物质。因此, 该种汽水不是造成腹泻的原因。
- 下列哪项如果为真, 最能对上述结论构成质疑? ()
- A.腹泻的 10 人还吃了百可牌冰激凌
- B.伊牛汽水在当地已经有十余年历史了, 从来没产生过问题
- C.检验是由学校化学老师在学校实验室进行的
- D.喝了汽水的其他 20 人两小时后也产生了腹泻
124. 一个跨栏教练这样教导他的队员: “跨栏比赛从来都是以结果论英雄。在跨栏比赛中, 你不是赢家就是输家; 在观众的眼里, 你要么是勇敢者, 要么是懦弱者。由于所有的赢家在观众眼里都是勇敢者, 所以所有的输家在观众眼里都是懦弱者。”
- 下列最有可能是跨栏教练论证的前提假设的是 ()。
- A.观众具有区分勇敢和懦弱的准确判断力
- B.在跨栏比赛中, 赢家一定是勇敢者
- C.在观众看来, 运动场上勇者必胜
- D.即使在运动场上, 输赢也不是区别勇敢和懦弱的唯一标准
125. 进入 20 世纪 90 年代以来, 中国的人均预期寿命不断上升, 到 2020 年将超过日本, 成为世界上人均预期寿命最长的国家。与此同时, 由于饮食中的高脂肪含量和缺乏运动, 中国人的心脑血管疾病的发病率也在逐年上升。

由此可以推出 ()。

- A. 中国人比日本人更喜欢吃脂肪含量高的事物, 更不喜欢运动
- B. 目前, 中国对于心脑血管疾病的治疗水平是全世界最高的
- C. 20 世纪 90 年代造成中国人死亡的那些主要疾病, 到 2020 年, 如果在该国的发病率没有实质性的降低, 那么对这些疾病的医治水平一定有实质性的提高
- D. 中国人的心脑血管疾病的发病率虽然逐年上升, 但这种疾病不是造成目前中国人死亡的主要原因

四、资料分析

(一) 根据材料回答 126~130 题。

2013 年二季度, 我国税收月收入同比增速逐步提高, 分别为 7.9%, 8.3% 和 12.9%。截至 2013 年 6 月, 全国税收总收入完成 59260.61 亿元, 同比增长 7.9%, 较上年同期回落 1.9 个百分点。其中, 国内增值税、企业所得税同比分别增长 6.6% 和 14.2%, 较上年同期增速分别回落 1.5 和 3.1 个百分点; 房产税同比增长 11%, 比上年同期增速回落 19.1 个百分点; 进口货物增值税消费税和关税同比分别下降 17.1% 和 16%。比上年同期增速分别回落 24.5 和 22.9 个百分点。

2013 年 1~6 月全国主要税种收入表(单位: 亿元)

税目	收入	比上年同期增数
企业所得税	14963.38	1857.07
国内增值税	14319.5	887.11
营业税	8845.14	-1007.2
进口货物增值税消费税	6382.82	1313.78
国内消费税	4353.49	150.93
个人所得税	3630.79	359.1
契税	1946.04	554.07
车辆购置税	1236.7	150.03

关税	1212.1	-230.9
城镇土地使用税	910.66	67.44
房产税	822.3	81.7
证券交易印花税	223.39	47.6
出口货物退增值税消费税	-5300.86	15.5

126. 2012 年 1~6 月全国税收总收入比 2011 年同期增加了 ()。

- A.4901.94 亿元
- B.3108.78 亿元
- C.5168.68 亿元
- D.4726.35 亿元

127. 2013 年上半年, 房产税、城镇土地使用税及契税等三项增收之和占全国税收增收比重为 ()。

- A.1.2%
- B.6.2%
- C.19.2%
- D.16.2%

128. 下列说法与资料相符合的有 () 个。

- ①2013 年第一季度我国税收总收入同比增速低于 7.9%
- ②2013 年我国税收总收入预计可以达到 118520 亿元
- ③若 2013 年上半年进口货物增值税消费税维持上年同期水平, 那么, 2013 年上半年我国税收总收入同比增长将比 2012 年提高约 1.5 个百分点
- ④2013 年我国上半年企业所得税、国内增值税两项之和不到同期税收总收入的 50%

- A.0
- B.1
- C.2
- D.3

129. 2013 年上半年与上年同期相比, 下面四个税种中增速最快的税种是 ()。

- A.企业所得税
- B.国内增值税

C.出口货物退增值税消费税

D.契税

130. 2011 年 1~6 月全国关税收入约为 ()。

A.1300 亿元

B.1350 亿元

C.1380 亿元

D.1540 亿元

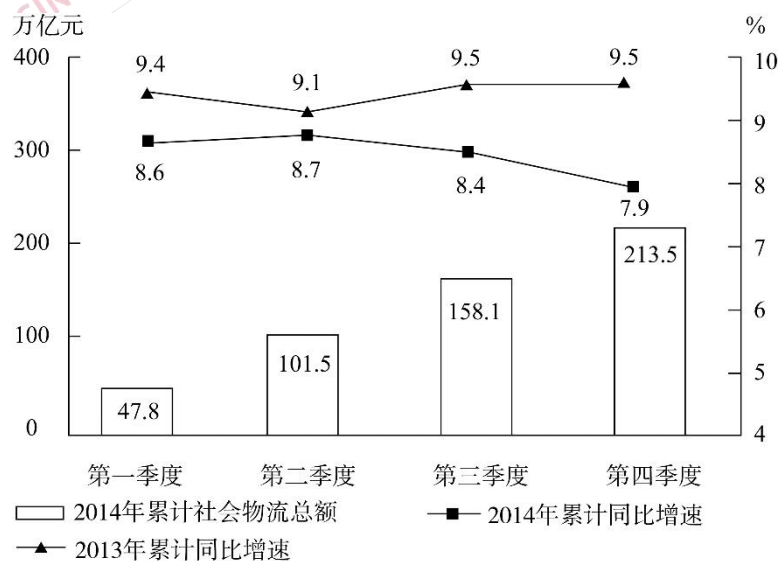
(二) 根据材料回答 131~135 题。

2014 年全国社会物流总额 213.5 万亿元, 同比增长 7.9%, 比上年回落 1.6 个百分点。

2014 年全国社会物流总费用 10.6 万亿元, 同比增长 6.9%, 其中, 运输费用 5.6 万亿元, 同比增长 6.6%; 保管费用 3.7 万亿元, 同比增长 7.0%; 管理费用 1.3 万亿元, 同比增长 7.9%。

2014 年全国社会物流总额构成情况

	总额(亿元)	当年同比 增速(%)	2013 年同比增速 (%)
工业品物流	1969000	8.3	9.7
进口货物物流	120000	2.1	6.4
再生资源物流	8455	14.1	20.3
农产品物流	33000	4.1	4.0
单位与居民物品 物流	3696	32.9	30.4



全国分季度累计社会物流总额及增速

131. 2014 年每实现 100 万元的社会物流额, 其运输费用平均约为多少万元 ()。

- A.2.6
- B.5.0
- C.5.6
- D.10.6

132. 2013、2014 年占全国社会物流总额比重均高于上一年水平的分类包括 ()。

- A. 再生资源物流、单位与居民物品物流、农产品物流
- B. 工业品物流、再生资源物流、单位与居民物品物流
- C. 进口货物物流、农产品物流、单位与居民物品物流
- D. 工业品物流、进口货物物流、农产品物流

133. 2014 年全国社会物流总额最高的季度是 ()。

- A. 第一季度
- B. 第二季度
- C. 第三季度
- D. 第四季度

134. 2012 年上半年全国社会物流总额约为多少万亿元 ()。

- A.93
- B.102
- C.75
- D.86

135. 能够从上述资料中推出的是 ()。

- A. 2014 年每万元社会物流总额的平均管理费用低于上年水平
- B. 2014 年农产品物流额在社会物流总额中的比重高于一成
- C. 2014 年单位与居民物品物流额超过 2012 年的两倍
- D. 2013 年第三季度社会物流总额同比增速高于第四季度

(三) 根据材料回答 136~140 题。

2015 年 1~3 月, 国有企业营业总收入 103155.5 亿元, 同比下降 6%。其中, 中央企业收入 63191.3 亿元, 同比下降 7%。地方国有企业收入 39964.2 亿元, 同比下降 4.2%。

1~3 月, 国有企业营业总成本 100345.5 亿元, 同比下降 5.1%, 其中销售费用、管理费用和财务费用同比分别下降 2.9%、增长 2.3%和增长 7.3%。其中, 中央企业成本 60216.5 亿元, 同比下降 6.4%; 地方国有企业成本 40129 亿元, 同比下降 3.1%。

1~3 月, 国有企业利润总额 4997.3 亿元, 同比下降 8%。国有企业应交税金 9383 亿元, 同比增长 0.13%。

3 月末, 国有企业资产总额 1054875.4 亿元, 同比增长 12%; 负债总额 685766.3 亿元, 同比增长 11.9%; 所有者权益合计 369109.1 亿元, 同比增长 12.2%。其中, 中央企业资产总额 554658.3 亿元。同比增长 10.5%; 负债总额 363304 亿元, 同比增长 10.4%; 所有者权益为 191354.4 亿元, 同比增长 10.7%。地方国有企业资产总额 500217.1 亿元, 同比增长 13.8%; 负债总额 322462.3 亿元, 同比增长 13.7%; 所有者权益为 177754.7 亿元, 同比增长 13.9%。

136.2014 年 1~3 月, 国有企业营业总收入最接近:

- A.10.5 万亿元
- B.11 万亿元
- C.11.5 万亿元
- D.12 万亿元

137.2015 年 1~3 月, 在销售费用、管理费用和财务费用, 占国有企业营业总成本的比重同比上升的有几项 ()。

- A.0
- B.1
- C.2
- D.3

138.2015 年 3 月末, 中央企业所有者权益占国有企业资产总额比重比上年周期约:

- A.下降了 0.7 个百分点
- B.下降了 1.5 个百分点
- C.上升了 0.7 个百分点
- D.上升了 1.5 个百分点

139.2015 年 3 月末, 中央企业的资产负债率 (负债总额÷资产总额) 约在以下哪个范围内 ()。

- A.50%以下

B.50%~60%

C.60%~70%

D.70%以上

140.能够从上述资料中推出的是:

A.2015 年 1~3 月, 中央和地方国有企业营业成本均低于同期营业收入

B.2014 年 1~3 月, 国有企业应交税金占同期营业总收入的一成以上

C.2015 年 3 月末, 国有企业资产总额同比增长不到 12 万亿元

D.2015 年 3 月末, 地方国有企业资产负债率高于上年同期水平



关注公众号回复“文广局”获取答案