



## 第一部分 常识判断

(共 30 题, 参考时限 15 分钟)

根据题目要求, 在四个选项中选出一个正确答案。

请开始答题:

1. 与邓小平理论、“三个代表”重要思想、科学发展观是一脉相承的理论是: ( )
  - A. 习近平新时代中国特色社会主义思想
  - B. 马克思列宁主义
  - C. 毛泽东思想
  - D. 以爱国主义为核心的民族精神和以改革开放为核心的时代精神
2. 人类命运共同体理念继承和发展了马克思、恩格斯的共同体思想。马克思、恩格斯曾把无产阶级为之奋斗的共产主义社会确立为: ( )
  - A. 无产者联合体
  - B. 自由人联合体
  - C. 无产阶级共同体
  - D. 世界公民联合体
3. 今年是实施“十三五”规划的重要一年, 也是推进供给侧结构性改革的深化之年, 要全面深化改革, 就要抓住牵一发动全身的改革突破口, 这样才能事半功倍, 启示是: ( )
  - A. 在认识具体的矛盾时要善于把握主流
  - B. 实践是判断认识是否正确的唯一标准
  - C. 在认识复杂事物时要善于抓住主要矛盾
  - D. 局部的发展可以决定整体的发展变化

4. 2017年9月4日，金砖国家领导人第九次会晤在厦门国际会议中心举行。习近平发表重要讲话，积极评价金砖合作走过的10年光辉历程，强调要开启金砖合作第二个“金色十年”，使金砖合作造福五国人民，惠及各国人民。目前，金砖合作机制进入“三轮驱动”的新阶段。即除了加强传统的经济、政治安全合作的同时，将\_\_\_\_\_合作纳入金砖合作的体系中，成为金砖合作的第三支柱。

- A. 生态
- B. 人文
- C. 教育
- D. 医疗

5. 2018年1月5日，在学习贯彻党的十九大精神研讨班开班式上，习近平总书记发表重要讲话。在讲话中，他引用了典故“**备豫不虞，为国常道**”，下列哪句话和这句话表达了同样的道理。（ ）

- A. 行百里者半九十
- B. 新故相推，日生不滞
- C. 泾溪石险人**兢慎**，终岁不闻倾覆人
- D. 褚小者不可以怀大，甕短者不可以汲深

6. 某村是贫困村，县扶贫工作队调研后认为该村有种植天麻的先天优势，遂决定将推动天麻种植作为扶贫工作的重要内容。县扶贫工作队采取的下列哪个措施不正确的是：（ ）

- A. 加强**宣**传引导，调动村民种植天麻的积极性
- B. 确定种植任务，规定每户村民的种植面积
- C. 统筹扶贫资金，做好良好引进和技术服务
- D. 吸进社会资本，推进天麻产品的深度加工

7. 关于福建省部分城市有通过国务院行政区划调整，撤县改区或撤市改区的是：（ ）

- A. 宁德霞浦县
- B. 龙岩长汀县
- C. 南平建阳县
- D. 漳州长泰县

8.（ ）自隋唐起就是东南沿海重要对外贸易中转地，是国家首批历史文化名城，是闽南文化发祥地。

- A. 福州
- B. 泉州
- C. 厦门

D. 漳州

9. 下列成语与哲学原理对应错误的是：（ ）

- A. 望梅止渴——物质决定意识
- B. 好事多磨——事物发展是前进性与曲折性的统一
- C. 乐极生悲——矛盾双方互相转化
- D. 朝令夕改——否认事物的相对静止

10. 以下哪一个选项不属于中国“大飞机家族三兄弟”：（ ）

- A. 运-20（新一代战略军用大型运输机）
- B. AG600（水陆两用飞机）
- C. C919（大型客机）
- D. CR929（远程宽体客机）

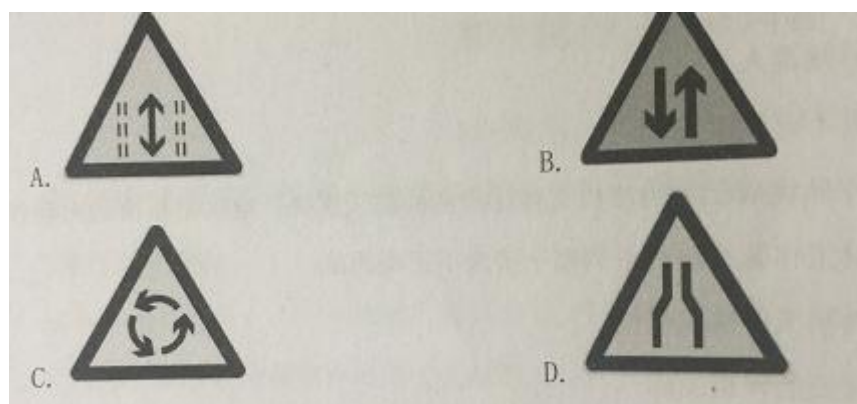
11. 最新版本的微信登陆页面上的背景图用什么拍摄的：（ ）

- A. 哈苏照相机
- B. 风云四号气象卫星
- C. 哈勃望远镜
- D. 墨子号量子卫星

12. 在余光中的《乡愁》中，他没有把下列哪一项比喻成乡愁。（ ）

- B. 邮票
- A. 船票
- D. 海峡
- C. 港湾

13. 某地为了缓解交通压力，开通潮汐车道，早上增设进城车道，晚上增设出城车道，请问这是以下哪一个交通标志：（ ）



14. 长江和黄河是中华民族著名的两大河流，孕育了灿烂的中华文明。下列关于长江和黄河的说法正确的是：（ ）

- A. 秦岭是长江流域和黄河流域的分水岭
  - B. 黄河最终流入渤海，长江最终流入东海
  - C. 长江、黄河的干流都流经青海省和甘肃省
  - D. 长江黄河的干流上建成的最大水利枢纽分别是三峡工程和三门峡工程
15. 2017 年度国家最高科学技术奖获奖人为王泽山和：（ ）
- A. 师昌绪
  - B. 赵忠贤
  - C. 屠呦呦
  - D. 候云德
16. 下列哪一个成语不可以用来形容书法：（ ）
- A. 颜筋柳骨
  - B. 丁真永草
  - C. 郊寒岛瘦
  - D. 胡肥钟瘦
17. 下面哪一个选项不会产生温室气体：（ ）
- A. 汽车尾气
  - B. 农村沼气池
  - C. 植物光合作用产生的气体
  - D. 空调制冷
18. 松土是农作物栽培的传统耕作措施，相关看法不合理的是：（ ）
- A. 可以增加土壤的透气性，促进植物对无机盐的吸收
  - B. 能加快枯枝落叶、动物遗体和粪便等有机物的分解
  - C. 容易造成水土流失，可能成为沙尘暴的一种诱发因素
  - D. 降低土壤微生物的呼吸作用强度，减少二氧化碳排放
19. 下列关于噪声的说法正确的是：（ ）
- A. 噪声的振动杂乱无章
  - B. 工业机器的声音均属于噪声
  - C. 大于 80 分贝的噪声会破坏听力
  - D. 球场震天的呐喊助威声属于噪声

20. 今年 1 月，王福满为了赶上期末考试，一大早在零下 9 摄氏度的低温环境中，走了 4 公里多山路到学校。走进教室，他被拍下一张头顶冰花、脸蛋通红、衣着单薄的照片，照片在网络上广泛流传并引发高度关注，他也因此被网友称为“冰花男孩”。请问冰花是怎么形成的？（）

- A. 升华
- B. 凝华
- C. 凝结
- D. 气化

21. 央视《国家宝藏》第一件藏品让我们看到了北宋的青山绿水，这一幅画作是：（）

- A. 千里江山图
- B. 八骏图
- C. 清明上河图
- D. 富春山居图

22. 2017 年是美国次贷危机十周年，关于次贷危机，“次”指的是：（）

- A. 贷款人的第二次贷款
- B. 贷款人的收入较低，信用等级较低
- C. 贷款机构的实力和规模较小
- D. 贷款机构的信用等级较低

23. 关于纳米材料的说法，正确的是：（）

- A. 纳米材料中的“纳米”是一个表示长度的计量单位
- B. 纳米材料的主要成分是从某种谷物中提取的
- C. 一纳米相当于一亿分之一米
- D. 在汽车表面进行纳米镀膜就可以防止不同程度的刮伤

24. 关于计算机，下列说法不正确的是：（）

- A. 平板电脑属于小型计算机
- B. 计算机断电后内存信息会丢失
- C. 计算机性能并非完全依赖于 CPU
- D. 机器语言可以被计算机硬件直接执行

25. 关于 24 节气的谚语，下列说法有误的是：（）

- A. 清明前后种瓜点豆

- B. 立秋节日雾，长河做大路
- C. 小寒寒，惊蛰暖
- D. 夏至大烂，好酒好饭
26. 下列古文中能够体现领导者榜样效应的是：（）
- A. 止宿公署，夜则祷于天，昼则出赈饥民，终日无少怠
- B. 为政以德，譬如北辰，居其所而众星共之
- C. 其身正，不令而行；其身不正，虽令不从
- D. 乐民之所乐，民亦乐其乐；忧民之所忧，民亦忧其忧
27. 在发生泥石流时，下列做法正确的是：（）
- A. 发现泥石流后，要马上向与泥石流成垂直方向一边的山坡爬
- B. 发生山体滑坡时，要马上沿着滑坡方向尽力奔跑
- C. 发生泥石流时，在沟底尽力爬到大树上进行躲避，等待救援
- D. 沿山谷徒步行走时，一旦遭遇大雨，发现山谷有异常的声音或听到警报时，应立即找寻较大的洞穴或巨石躲避，等大雨过后再走
28. 下列公文标题不正确的是：（）
- A. 《××县人民政府第×次常务会议纪要》
- B. 《关于开展向×××同志学习活动的决定》
- C. 《××市人民政府关于请求解决重大项目建设用地的请示报告》
- D. 《××关于进一步做好××工作的通知》
29. 房子是用来住的，不是用来炒的。“住有所居”是人民的期待，也是维护社会和谐安定的重要保障。下列无助于实现住房市场健康发展的是：（）
- A. 确保住房的制度框架全国统一，具体政策保持差异性
- B. 以市场为主满足多层次需求，以政府为主提供保障性住房
- C. 建立租售并举的住房制度，提高政府调控的精准性
- D. 加快房地产市场长效机制建设，确保房价稳步下降
30. 近年，分期购物平台和助学、创业 P2P 贷款平台等“校园贷”受大学生欢迎，但也出现了大学生无力偿还而离校出走甚至自杀的悲剧。下列处理“校园贷”方法中不可行的是：（）
- A. 建立学校担保制度，监督大学生贷款行为
- B. 培养科学消费观，营造理性消费的社会氛围
- C. 自觉抵制攀比消费、盲目消费的不良风气

D. 大学生创业应量力而行，合理规避风险

## 第二部分 言语理解与表达

(共 20 题，参考时限 15 分钟)

本部分包括表达与理解两方面的内容。请根据题目要求，在四个选项中选出一个最恰当的答案。

请开始答题：

31. 下列句中划线的成语，使用不恰当的一项是

- A. 每当夜幕降临，饭店里灯红酒绿，热闹非凡
- B. 高考落榜，有的人听到这个消息后会嚎啕大哭，但有的人会暗下功夫，振奋精神，变压力为动力，明年再考
- C. 爷爷虽然年纪大了，可听到音乐也还是会情不自禁地打着节拍
- D. 冬天老年人要增加营养，也要适当运动，在户外时一定要量入为出，以步行为宜，时间最好选在傍晚，还要注意保暖，防止着凉。

32. 下列没有错别字的一项是：（ ）

- A. 粗犷 磨厉          B. 震撼 蓦然
- C. 抽搐 驰聘          D. 苍桑 湮没

33. 全民关注、参与高考作文的盛况，说到底还是件好事情。一个社会当然应该崇尚文化、具有情怀，不要斯文扫地、粗鄙低俗。然而\_\_\_\_\_的是，这种热情每年都不过高考前后的三五天，犹如\_\_\_\_\_。在剩下的时间里，文化和情怀很难成为社会话题的中心。人们津津乐道的，更多还是金钱财富和八卦娱乐。

填入划横线最恰当的一项：（ ）

- A. 尴尬 空中楼阁          B. 遗憾 昙花一现
- C. 可惜 望梅止渴          D. 可悲 海市蜃楼

34. 随着中职教育免学费政策的深入推进，免学费政策在全国范围内已基本\_\_\_\_\_，其效果初步显现。但是在调研中发现，“一刀切”的中职免费政策也带来了一些问题，政府拨付的免学费补助主要用于保障学校的正常运转，包括水电气、维修、劳务、差旅等，很难再有经费用于学校专业建设和改善办学条件，很多发展中职内涵、提升软实力的政策措施变成“\_\_\_\_\_”。

填入划横线最恰当的一项：（ ）

- A. 涵盖 一纸空文          B. 涉及 名存实亡
- C. 覆盖 无米之炊          D. 包涵 形同虚设



35. 一直以来, 杂技的表演设计要充分彰显夸大难度动作, 这在过去是太正常不过了。然而, 当前杂技的设计和表现已经悄然发生变化。董争臻在第十届国际马戏论坛上作主旨发言时说, “看了今年吴桥杂技节的参赛节目, 我似乎更在意四个身着蓝色西装小伙子演绎的《四人技巧》, 编排上是近来兴起于欧洲的轻松、幽默的男子风, 表现出\_\_\_\_\_的魅力。”

填入划横线最恰当的一项: ( )

- A. 举重若轻
- B. 无与伦比
- C. 游刃有余
- D. 别具一格

36. 随着国家对新型农业经营主体和新型职业农民的大力培育, 现代化\_\_\_\_\_经营取代“散户”经营已经是大势所趋。而随着信息技术的进步, 近年来互联网对农业领域的渗透已扩大到土地领域, 土地的合理规划利用提供科学分析和依据, 为“农地流转+轮作休耕”打下基石, 避免“\_\_\_\_\_”。

填入划横线最恰当的一项: ( )

- A. 科学 杀鸡取卵
- B. 规模 竭泽而渔
- C. 专业 缘木求鱼
- D. 产业 饮鸩止渴

37. 广德生态环境优越, 为传统农业生产提供了得天独厚的条件。但如果让你在稻田中旅游, 你一定感觉枯燥无味。那么, 有没有什么办法让稻田游变得\_\_\_\_\_? 首届中国花鼓稻田文化艺术节向我们展示了这样的景象: 广袤的稻田里, 以稻草为原料创作的艺术形象遍布田野, 有童话故事、农耕文化、时空科幻、太极迷宫、动物世界、军事兵器等各大主题艺术景观, 造型\_\_\_\_\_, 让人叹为观止。

填入划横线最恰当的一项: ( )

- A. 引人入胜 美轮美奂
- B. 丰富多彩 栩栩如生
- C. 标新立异 异彩纷呈
- D. 妙趣横生 惟妙惟肖

38. 暑假过半, 在夏令营市场上, 短期海外游学夏令营十分火热。十余天的游学, 价格动辄数万, 由于是学校组织, 一些经济条件好的家长自然\_\_\_\_\_, 也有不少家境一般的家长, 为了孩子融入集体, 也咬着牙勉为其难。根据《2016年国际游学发展报告》显示, 中国国际游学每年以20%以上速度增长, 国际游学逐渐成为家长对孩子的刚性教育投资。

填入划横线最恰当的一项: ( )

- A. 前仆后继
- B. 纷至沓来
- C. 趋之若鹜
- D. 络绎不绝

39. 中国消费者在社交媒体和电商领域已变得何其精明老练一一而西方尚未普遍意识到这点。这也是\_\_\_\_\_在中国“硅谷龙”一一总部位于珠三角的众多大型科技公司一一成功背后的推动力之一, 这些巨头正在创造堪比谷歌和脸谱\_\_\_\_\_的收入增长。

填入划横线最恰当的一项: ( )

- A. 躲藏 比肩                                      B. 隐藏 媲美  
C. 潜藏 匹敌                                      D. 暗藏 较量

40. 浦口左所老街上的大众照相馆已经有 30 来年的历史，老板王根林，算是见证了整个行业的\_\_\_\_\_。随着数码相机的普及以及网络冲印业务的扩张，传统的照相馆的日子越来越艰难。而与之相反的是，各种影楼和摄影工作室在数码时代\_\_\_\_\_。巨大的反差，让人不得不反思，传统的照相馆，是不是已经失去了存在的意义呢？

填入划横线最恰当的一项：（ ）

- A. 发展 风生水起                                      B. 兴衰 如鱼得水  
C. 繁荣 游刃有余                                      D. 起落 声名鹊起

41. 农贸市场建设是百姓的民生工程，农贸市场关系百姓的日常“菜篮子”。在五指山市装修一新的 4200 余平方米的河北农贸市场无商户问津，而“马路市场”却\_\_\_\_\_。记者走访调查，为全面“双创”建设，五指山市多部门将联合推动农贸市场升级改造，彻底取缔“马路市场”。然而，就是这样的农贸市场却没有商户入驻，令人\_\_\_\_\_。

填入划横线最恰当的一项：（ ）

- A. 门可罗雀 尴尬                                      B. 车马盈门 惊讶  
C. 门庭若市 费解                                      D. 形影相吊 无奈

42. 西医药学，它是由于传入我国以后，相对于原来的中医学而言的。西药，就是相对于我国的传统药物—中药而言的。这种按起源或地域来源划分中药和西药，在西药刚刚传入我国的初期，是可以理解的，在现代，随着我国药物科学研究和制药工业的发展，我国不仅能制造和生产外国人最先制造和生产的药物，同时也研制和生产了很多为我国首创的药物，这些药物再按地域来源划分，称之为西药，显然是不合适了。中药和西药的概念，就目前实际情况来看，应当结合不同的医药学体系来划分：以中医药理论体系的术语表示药物的性能和功效，从而能按中医药理论体系来使用的药物，称作中药；以现代科学术语来表示药物的性能和功效，从而能按西医药理论体系来使用的药物，称作西药。

这段文字主要说明了：（ ）

- A. 西医和中医的由来  
B. 中医药已不能适应现代药学的发展  
C. 中药和西药概念的差异  
D. 应按不同医药学体系区分中西药的概念

43. 近年来，关爱留守者和关爱外来人员，在输入与输出两个层面都得到了倡导。不过，政策愿景与现实之间却存在着极大的落差，看似多元而系统的关爱工程，其实未能发挥应有的功能性作用。让他们感受到一座城市的温暖，是对公共责任最直接的要求，也是对执行力最现实的考验。给予出租屋里的“候鸟”们以温暖，离不开输入地所在地方的重视与努力。其实要做到这点并不难，比如以社区或者学校为单位，开展一点联谊性活动：或者与城市的孩子结成对子，进行互相体验与帮助；或者发动孩子所供职的单位或者企业，自发性开展一些

活动，要么给父母适当放一点假，给一点经济上的补偿，让他们有时间和精力多陪陪孩子，带他们去看一看风景，既满足了形式又升华了内涵，可谓一举两得。

这段文字意在强调：（ ）

- A. 呼吁社会共同关爱留守者和外来人员
- B. 关爱城市“候鸟”，输入地需要作出的努力
- C. 对留守者的人文关怀考验政府的执行力
- D. 给予城市“候鸟”温暖需要多元而系统的关爱工程

44. 在所有的人为污染中，大气污染最为严重。而且还是现在全球变暖的主要因素之一，举个实例：1943年5月至10月，美国洛杉矶发生了光化学烟雾导致大多数居民患病，65岁以上的老人死亡400多人，中毒症状为刺激眼、鼻、喉，引起眼病、喉头炎，公害成因是汽车多，每天有1000多吨碳氢化合物进入大气，空气水平流动缓慢，致害原因竟是石油工业和汽车废气惹得祸，远离城市100千米以外的海拔2000米高山上的一大片松林也因此枯死。1970年，约有75%以上的居民患上了红眼病，从而得知祸首就是工业废气和汽车尾气，因为汽车尾气中的烯烃类碳氢化合物和二氧化氮被排放到大气中后，在强烈的阳光紫外线照射下，会吸收太阳光所具有的能量后，会变得不稳定起来。原有的化学链遭到破坏，形成新的物质，其产物为含剧毒的光化学雾。

这段文字说法正确的是：（ ）

- A. 大气污染是所有污染中最严重的
- B. 汽车尾气排放到大气中即产生剧毒
- C. 美国洛杉矶的光化学污染极易引起眼病和喉头炎
- D. 大气污染是导致全球变暖的罪魁祸首

45. 经典作品中的美食，是一道耐人寻味的存在。比如在《白鹿原》中，为什么新娘会做一手好面条，是给娘家“长脸”必需的本领？又比如《京华烟云》中，经历了那么多社会动荡和家庭变故的姚木兰，为什么还会有心思慢条斯理地花费一下午的时间，料理一道焖鸡榨菜蒸笋？对于中国人来说，吃饭不仅是为了果腹，也是一种生活方式，体现着生活智慧和生命尊严。而《中国味道》试图寻找个崭新的充满烟火气息的温暖角度，感受经典作品字里行间透露出的优雅和从容，领略千百年的寻常日子里，一茶一饭的生动气韵，在日用饮食之间带给人们强有力的文化归属感。

这段文字表达的主要意思是：（ ）

- A. 《中国味道》从新的角度感受经典作品中的饮食文化
- B. 《中国味道》中折射出寻常日子的饮食文化归属感
- C. 经典作品中耐人寻味的美食
- D. 经典作品中体现的生活智慧

46. 推动义务教育均衡发展，也要做到“精准灌溉”。地区、学校、学生不同，存在的教育发展间也是千差万别，一位教育领域的干部坦言，西部农村地区教学点多、小规模学校多，学校撤并往往面临两难：撤了容易造成上学远、上学难，甚至引起辍学；不撤又无法解决学

校规模小、师资差、质量低的窘况。如果没有经过事先周密调研，政策上搞“一刀切”，盲目调整学校布局，无疑给农家孩子上学平添了不少负担。从这个角度来看，有了普惠性的政策，还需因地制宜、因人而异，更加注重改革的系统性、整体性、协同性，兼顾教育发展需求与群众便利需要，确保教育公平稳步推进。

这段文字意在说明：（ ）

- A. 普及义务教育有需要经过精准调研
- B. 西部农村地区教育发展的两难选择
- C. 普惠性政策对教育均衡发展的重要性
- D. 义务教育均衡发展需要统筹兼顾

47. 作为拥有 60 多年造车经验的老国企，中国第一汽车集团公司也是智能车辆产业技术创新战略联盟的发起单位之一。中国一汽技术中心安全研究室主任李红建接受记者采访时表示，“智能网联汽车产业技术创新战略联盟”的成立，为各单位智能汽车的技术研发和共享提供了平台，节约了我国智能汽车研发的时间和成本，取得了积极成效。以中国一汽为例，通过与国防科大、清华大学等联盟高校合作，率先攻克发动机电控共轨技术难题，使我国成为继德国、美国、日本后，第四个全面自主掌握了电控共轨系统的国家：基于燃烧系统基因的红旗汽油机系列化技术创新，实现了国内自主高端乘用车汽油发动机系列化的“零”的突破。

这段文字说法正确的是：（ ）

- A. 与高校联盟合作是攻克智能车辆技术的关键
- B. 中国的智能电控共轨技术已进入世界领先地位
- C. 中国已实现高端乘用车汽油发动机的“零”的突破
- D. 红旗汽油机是目前国内最先进的技术创新

48. ①“照着讲”，能够溯本求源，明白古代圣贤的本初意蕴，去除后人的附会曲解，实现扬弃性的传承；

②君子文化能够实现这种时代性的转化，一是因为新的时代背景提出了新的问题和要求，二是君子文化具有与时俱进的品质，能够顺应时代要求，实现创新发展；

③实现君子文化时代性转化的路径，就是要在传统文化和当代文化的碰撞中找到连接点；

④弘扬君子文化，既要“照着讲”，又要“接着讲”，坚持“我注六经”和“六经注我”的结合；

⑤要在东方文明与西方文明的激荡中找到融合点；要在精英文化与大众文化的价值取向上找到兴奋点；

⑥“接着讲”，就是在把握经典本蕴的前提下，直面时代问题，反映时代要求，回应时代呼声，体现时代精神，实现君子文化的时代性转化。

⑦要在理论探索与现实问题的结合上找准切入点，使其成为新时代文化建设的重要载体，成为弘扬社会主义核心价值观的重要抓手。

上述文字排列最恰当的是：（ ）

- A. ④①⑥②③⑤⑦
- B. ①⑥④②③⑤⑦
- C. ③⑤⑦②④①⑥
- D. ②③④①⑥⑤⑦

49. 东汉和帝以后社会走下坡路，整个社会动荡不安，党锢之祸使文人与社会逐渐疏远，加之自然灾害频发，地震、灾、水灾、瘟疫等随时威胁着人们的生命，文人士大夫内心世界发生了重要变化，深感人生迷茫。此期经学衰落，道家思想又占据了重要位置。社会的剧变带来汉赋的新变，文人鸿篇巨制形式的大赋作品逐渐减少，代之而起的是以抒情为主的小赋。

这段文字接下来最有可能说的是：（ ）

- A. 社会剧变对汉赋新变的影响
- B. 抒情小赋的特点
- C. 道家思想引发的社会剧变
- D. 大赋作品逐渐减少的深层次原因

50. 日前，解放军总医院手术室传来双胞胎新生儿的啼哭声，北京的一对常染色体隐性遗传枫糖尿病基因携带的正常夫妇，历时 5 年，4 次妊娠，终于迎来了他们家庭中一对正常的宝宝。这对新生儿的诞生，标志着我国对枫糖尿病这种单基因遗传疾病出生缺陷的产前诊断及干预上升到新的台阶。枫糖尿病又称支链酸尿症，是一种遗传性支链氨基酸代谢障碍疾病，新生儿发病率为 1: 1856000。枫糖尿病这样的单基因遗传疾病，大部分具有致畸、致残或致死性，虽然发病率低，但是种类多，日前人类已知的单基因病有 7000 多种，此次对患者实施的胚胎植入前遗传学诊断是目前已知最有效的可以阻断疾病垂直传播从而预防出生缺陷发生的技术，对减少出生缺陷，提高人口素质具有重要意义

这段文字说法不准确的是：（ ）

- A. 胚胎植入前遗传学诊断能有效预防出生缺陷发生
- B. 枫糖尿病出生缺陷的产前诊断及干预有了新的进展
- C. 枫糖尿病是一种基因遗传疾病，新生儿发病率较高
- D. 目前已知的单基因疾病种类很多

※※※ 第二部分结束，请继续做第三部分！ ※※※

### 第三部分 数量关系

(共 10 题, 参考时限 10 分钟)

在这部分试题中, 每道题呈现一段表述数字关系的文字, 要求你迅速准确的计算出答案。

请开始答题:

51. 有 19 个连续整数, 其总和为 4009。那么, 最大的数是: ( )

A.217

B.218

C.219

D.220

51. 工程队 A 的工作方式是工作 4 天休息 2 天, 工程队 B 的工作方式是工作 5 天休息 3 天。现一项工程交给 A 单独做需要 34 天, 而 B 单独做需要 29 天, 那么, 这项工程 A、B 一起施工, 需要多少天完成? ( )

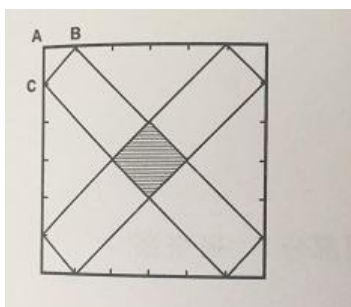
A.15

B.16

C.17

D.18

53. 有一个正方形边长 1 厘米, 将正方形的每个边进行 6 等份, 如下图所が, 那么正中间这个阴影部分的面积是多少? ( )



A.1/36

B.1/18

C.1/6

D.1/3

54.有一个数列，第一项是 2、第二项是 6，后面的数都是其前面两项的个位数。那么，第 2018 项是多少？（ ）

A.2

B.4

C.6

D.8

55.有两种瓶子，体积之比为 1: 2。大瓶子和小瓶子分别装满浓度 20%和 50%的酒精溶液。现将大瓶子中的酒精溶液倒掉  $\frac{3}{4}$  后和小瓶子中的溶液混合，那么，此时混合溶液浓度是多少？（ ）

A.25%

B.30%

C.35%

D.40%

56.自然数 1—2018 中，数位上含有 0 的自然数有多少个？（ ）

A.470

B.479

C.551

D.1199

57.集合  $A = \{1, 2, 3, 4, 5, 6, 7, 8, 9\}$ ，集合  $B = \{1, 2, 3, 6, 9\}$ ，集合  $C = \{1, 2, 4, 7, 8, 9\}$ 。那么，属于集合 A，但不属于集合 B 和集合 C 的集合一共有多少个？（ ）

A.421

B.422

C.423

D.424

58.有一个 00 后的孩子，其今年年龄的 20 倍加上 18，然后乘以 5，再加 365，减去其出生的月份后得到的数字是 1646，那么，这个孩子的出生日期是多少？（ ）

A.2006 年 9 月

B.2007 年 8 月

C.2008 年 7 月

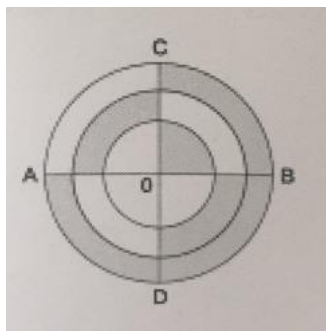
D.2009 年 6 月

59.一副扑克牌有 52 张，最上面一张是红桃 A。如果每次把最上面的 10 张移到最下面而不改变它们的顺序及朝向，那么，至少经过多少次移动，红桃 A 会出现在最上面？（

- A.27
- B.26
- C.25
- D.24

60.在下图中，三个圆的半径分别为 1 厘米、2 厘米、3 厘米，AB 和 CD 垂直且过这三个圆的共有圆心 O。图中阴影部分面积与非阴影部分的面积之比是多少？

- A.11:7
- B.10:7
- C.12:5
- D.13:6



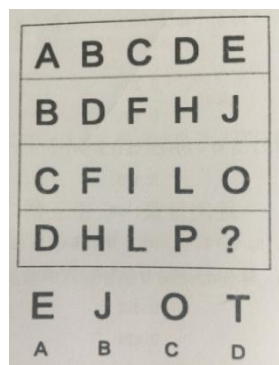
## 第四部分 判断推理

（共 30 题，参考时限 30 分钟）

一、图形推理。请按每道题的答题要求作答。


请开始答题：

61. 从所给的四个选项中，选择最合适的一个填入问号处，使之呈一定的规律性：（ ）




62. 从所给的四个选项中，选择最合适的一个填入问号处，使之呈一定的规律性：（ ）

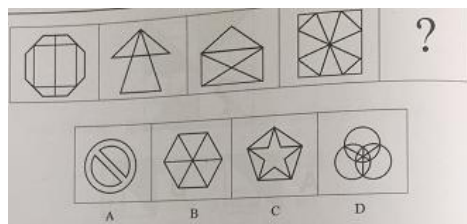




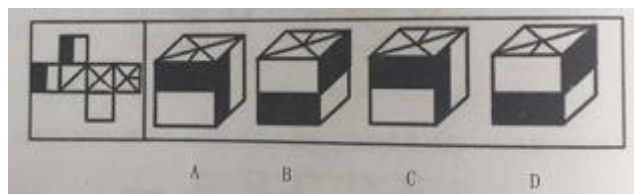
63. 从所给的四个选项中，选择最合适的一个填入问号处，使之呈一定的规律性：（ ）



64. 从所给的四个选项中，选择最合适的一个填入问号处，使之呈一定的规律性：（ ）



65. 以下为立方体的外表面，下列哪个立方体可以由此折成（ ）



二、定义判断。每道题先给出一个概念的定义，然后分别列出四种情况，要求你严格依据定义，从中选出一个最符合或最不符合该定义的答案。注意：假设这个定义是正确的、不容置疑的。

请开始答题：

66. 甜柠檬效应就是个体在追求预期目标失败时，为了冲淡自己内心的不安，就百般提高现已实现目标的价值，从而达到心理平衡、心安理得的现象。

根据上述定义，下列属于甜柠檬效应的是：（ ）

- A. 据教练估计，小张需要减肥到 60 千克才能达到他想要的健身效果，但小张在减到 63 千克时就放弃了，因为他觉得自己足够健美了
- B. 小明本来想买笔记本电脑，却在导购员的劝说下买了平板电脑，使用后他很满意，并一直向朋友推荐
- C. 小文的数学成绩又让他的辅导老师失望了，老师最后只能用“比起上一次，还是有进步”来安慰自己
- D. 这几周，小红为自己的销售业绩不断下滑而苦恼，但当她知道自己仍是销售状元时，变得安心多了

67. 边际效应是指经济上在最小成本的情况下达到最大经济利润，从而达到帕累托最优，指的是物品或劳务的最后一单位比起前一单位的效用。如果后一单位的效用比起前一单位的效用大则是边际效用递增，反之则为边际效用递减。感恩边际效应递减指第一次受到来自陌生人的帮助会心存感激，但是多次帮助之后感恩心理便会递减。递减到一定程度上，受助者几乎已经坦然地接受别人的馈赠，并认为这理所应当。

下列属于感恩边际效应递减的一项是：（ ）

- A. 一个馒头店主，看到很多环卫工人和流浪汉吃不上热乎饭，开办了“爱心馒头”，免费送热乎馒头，这些环卫工人和流浪汉表示非常感激。
- B. 一个人吃第一碗面条特别香，第二碗面条很香，第三碗面条还可以，第四碗面条饱了，第五碗面条吃不下，看到第六碗面条产生一种厌倦的心理。
- C. 一名患者 5 年前被查出癌症晚期，一直在一家医院治疗。医院考虑到患者家庭经济条件，5 年来给患者垫付了 10 多万元医疗费，家属备受感动。后来患者不治身亡，其家属不仅不支付拖欠的医疗费用，还向法院索赔。
- D. 国产迈腾上市之前，大众汽车公司已经将进口迈腾引进中国，用进口车的售价先拉高消费者的心理接受度，随后再公布国产迈腾汽车的价格，达到对市场的刺激

68. 恶魔效应：在印象形成过程中对不好的一面加以夸大化的感觉和看法，是由于某一点或某些不好印象而扩大到全部印象的知觉现象：对一个人进行评价时，往往会因某一品质特征的强烈、清晰的不良感知和印象，而对这个人的其他品质、特性也会给予否定性、妖魔化的评价。

下列符合上述定义的一项是：（ ）

A. 那些有名的歌星、影星拍的广告片很容易得到认同，而那些名不见经传的小人物不被信任。

B. 同事小张在一次工作汇报中为了突显自己的成绩故意夸大事实，自此以后小张被同事们一致认为他就是一个不诚实的人

C. 童童经常跟小朋友吹牛说：“我们家的房子有这么大，有十个房间，还有一个大大的车库，我爸爸有两辆车，一辆是奔驰一辆是宝马”

D. 本月，中国 2000 所高校的毕业生人数达到创纪录的 700 万人，很多中国媒体把这个月称为史上最难就业季

69. 货币幻觉：是货币政策的通货膨胀效应，是指人们只注意货币工资的提高或降低，而意识不到货币的实际购买力是否发生了变化，因而只抵制货币工资下降的心理现象。

以下符合上述定义的一项是：（ ）

A. 小李花 40 万元买了一套房子，后来把房子卖掉了，小李卖房子时，当时有 25% 的贬值率——商品和服务平均降低 25%，小李卖得 30.8 万元，比买价低 23%，小李认为自己的实际购买能力下降了。

B. 小李花 40 万元买了一套房子，后来把房子卖掉了，小李卖房子时，当时有 25% 的贬值率——商品和服务平均降低 25%，小李卖得 30.8 万元，比买价低 23%，小李认为自己的货币工资降低了

C. 小王花 40 万元买了一套房子，后来把房子卖掉了，而小王卖房子时，物价上涨了 25%，结果房子卖了 49.2 万元，比买房价高 23%。小王认为自己的货币降低了。

D. 小王花 40 万元买了一套房子，后来把房子卖掉了，小王卖房子时，物价上派了 25%，结果房子卖了 49.2 万元，比买房价高 23%。小王认为自己的实际购买能力降低了。

70. 文化扩散：指思想观念、经验技艺和其他文化特质从一个社会传到另一个社会，从一地传到另一地的过程。文化扩散分为扩展扩散和迁移扩散：其中扩展扩散又可进一步分成传染扩散、等级扩散和刺激扩散。传染扩散如同疾病传播那样不分等级地将文化传播给每一个地区社会所有接触者；等级扩散是指一种文化现象在不同划分标准的空间等级中，由高至低或者由低至高的扩散过程；刺激扩散是指一种文化现象由一地传到他地后，保留了思想实质而摒弃了具体形式的扩散过程。

下列属于传染扩散的一项是：（ ）

- A. 1848 年欧洲殖民者在加州发现黄金后，众多白人向西迁移，进驻加州，随之将其宗教、生活方式等带到了加州。
- B. 7 世纪中期，日本天皇下令仿效中国唐朝教育制度，在中央设立太学，在地方设立国学。
- C. 随着近代中国现代化转型期的到来，基督教传入国内，虽然形式各异但是传播福音的实质未曾发生改变。
- D. 马克思主义在中国的传播。

71. 间接融资是指资金盈余单位与资金短缺单位之间不发生直接关系，而是分别与金融机构发生一笔独立的交易，即资金盈余单位通过存款，或者购买银行、信托、保险等金融机构发行的有价证券，将其暂时闲置的资金先行提供给这些金融中介机构，然后再由这些金融机构以贷款、贴现等形式，或通过购买需要资金的单位发行的有价证券，把资金提供给这些单位使用，从而实现资金融通的过程。属于间接融资的是：（ ）

- A. 你向太平洋人寿保险公司支付人寿保险的保费，该公司向购房人发放抵押贷款
- B. 你通过经纪人买入通用电气公司的债券
- C. 你购买了微软的股票
- D. 你将钱投入了集资公司，便于该公司缓解资金紧张的状况

72. 本能是指一个生物体趋向于某一特定行为的内在倾向。其固定的行为模式非学习得来，也不是继承而来。固定行为模式的实例可从动物的行为观察得到。它们进行各种活动（有时非常复杂），不是基于此前的经验。以下不属于本能的是：（ ）

- A. 藏羚羊之间为了求偶而进行的战斗
- B. 燕子的筑巢行为
- C. 把食物放在玻璃板的后面，狒狒只要看过人类取物一次就可以很快明白阻隔的存在和解决的办法
- D. 出现火烧森林的时候，动物四下散开逃跑

73. 气质是表现在心理活动的强度、速度、灵活性与指向性、等方面的一种稳定的心理特征，气质主要有四类：①多血质：灵活性高，易于适应环境变化，善于交际，在工作，学习中精力充沛而且效率高；对什么都感兴趣，但情感兴趣易于变化；有些投机取巧，易骄傲，受不了一成不变的生活。

②黏液质：反应比较缓慢，坚持而稳健的辛勤工作；动作缓慢而沉着，能克制冲动，严格恪守既定的工作制度和生活秩序；情绪不易激动，也不易流露感情；自制力强，不受显露自己的才能；固定性有余而灵活性不足。

③胆汁质：情绪易激动，反应迅速，行动敏捷，暴而有力；性急，有一种强烈而迅速燃烧的热情，不能自制；在克服困难上有坚忍不拔的劲头，但不善于考虑能否做到，工作有明显的周期性，能以大的热情投身于事业，但当精力消耗殆尽时，便失去信心，情绪顿时转为沮丧而一事无成

④抑郁质：高度的情绪易感性，主观上把很弱的刺激当作强作用来感受，常为微不足道的原因而动感情，且有力持久；行动表现上迟缓，有些孤僻；遇到困难时优柔寡断，面临危险时极度恐惧。

以下对应的代表人物正确的是：（ ）

A. 王熙凤属于多血质 B. 孙悟空属于黏液质 C. 张飞属于抑郁质 D. 韦小宝属于胆汁质

74.对比是指故意把两个相反、相对的事物或同一事物相反、相对的两个方面放在一起，用比较的方法加以描述或说明以提示事物的本质，使好的显得更好，使坏的显得更坏，对比是表明对立现象的，两种对立的事物是平行的并列关系。

根据以上定义，下列哪项没有运用对比：（ ）

- A. 政之所兴，在顺民心；政之所废，在逆民心
- B. 亲贤臣，远小人，此先汉所以兴隆也；亲小人，远贤臣，此后汉所以倾颓也
- C. 有缺点的战士终究是战士，完美的苍蝇终究不过是苍蝇
- D. 海鸥在大海上飞窜，轰隆隆的雷声把海鸥吓坏了，企鹅胆怯地把肥胖的身躯躲藏在悬崖底……只有那高傲的海燕，勇敢地、自由自在地在泛起白沫的大海上飞翔

75. 泡菜效应是指同样的蔬菜在不同的水中浸泡一段时间后，将它们分开煮，其味道是不一样的，根据这个原理可知，人在不同的环境里，由于长期耳濡目染，其性格、气质、素质和思维的方式等方面都会有明显的差别。

根据以上定义，下列哪项不属于泡菜效应：（ ）

- A. 入芝兰之室，久而不闻其香；入鲍鱼之，久而不闻其臭
- B. 千磨万击还坚劲，任尔东西南北风
- C. 孟母三迁

0. 近朱者赤，近墨者黑

三、类比推理。每道题先给出一组相关的词，要求你在备选答案中找出一组与之在逻辑关系上最为贴近、相似或匹配的词。

请开始答题：

76. 出卷人：答卷人：阅卷人 （ ）

A. 报修人：修理人：核查人

B. 制作方：出品方：群众

C. 老师：校长：教育局

D. 守护者：窃贼：盗取

77. 福州：榕城 （ ）

A. 重庆：山城

B. 济南：泉城

C. 江苏：水城

D. 南京：江城

78. 月亮：婵娟：蟾宫 （ ）

A. 父亲：家严：令堂

B. 荷花：菡萏：芙蕖

C. 冠军：折桂：鳌头

D. 成年：弱冠：而立

79. 凿壁：偷光

A. 杀鸡：骇猴

B. 打草：惊蛇

C. 水落：石出

D. 落井：下石

80. 微信：MS

- A. 淘宝：易趣
- B. 一号店：qq
- C. 京东：唯品会
- D. 饿了么：美团

**四、逻辑判断。**每题给出一段陈述，这段陈述被假设是正确的，不容置疑的。要求你根据这段陈述，选择一个答案。注意：正确的答案应与所给的陈述相符合，不需要任何附加说明即可以从陈述中直接推出。

**请开始答题：**

81. 一个慈善机构收到两份匿名捐款，经过询问四个人得到这样的结论。刘星说：“不是陆明捐的”，陈春说：“是陆明捐的”，王璐说：“是刘星捐的”，陆明说：“或者是刘星捐的，或者是王璐捐的”。其中只有两个人说真话，以下选项正确的是：（ ）

- A. 王璐捐了，刘星一定没捐
- B. 刘星捐了，陆明一定也捐了
- C. 刘星捐了，王璐一定没捐
- D. 陆明捐了，王璐没有捐款

82. 张、王、李三位老师分别教数学、英语、阅读、劳技、语文、思品这六门课，每位老师教两门课。已知：1、阅读老师和数学老师住在一起；2、张老师是三位老师中最年轻的；3、数学老师经常和李老师在一起下象棋；4、英语老师比劳技老师年长，比王老师年轻；5、最年长的老师的家比其他两位老师家离学校远。问：李老师教哪两门课：（ ）

- A. 数学、思品
- B. 语文、劳技
- C. 英语、阅读
- D. 英语、劳技

83. H市的交通管理部门表示，和去年相比，今年我市市区的道路通行有明显改善。该部门负责人认为，这是由于我市聘用了大量的交通协管员。

以下哪项最不能削弱该负责人的结论：（ ）

- A. 今年初，H 市专门召开会议对交通问题进行认真研究和整顿
- B. 许多专家认为，聘用大量的交通协管员的成本巨大，得不偿失
- C. 今年初，H 市市区的道路新建扩建工程刚刚结束
- D. 今年日市对驶入市区的车辆进行了严格的限制，许多大货车、外地车在交通“高峰”时期不能进入市区

84. 有四个外表看起来没有分别的小球，它们的重量可能各有不同。取一个天平将 1, 2 放一组，3, 4 为另一组分别放在天平的两边，天平是基本平衡的。将 2 和 4 对调一下，1、4 一边明显的要比 2、3 一边重很多。可奇怪的是我们将天平的一边放上 1、3，而另一边刚放上 2，还没有来的及放上 4 时天平就压向了 2 一边。则四个球由重到轻的顺序是：（

- A. 2、4、1、3
- B. 4、2、3、1
- C. 2、1、4、3
- D. 4、2、1、3

85. 2018 年刚开始，顶尖杂志《自然》一篇最新论文指出：剑桥大学科学家通过动物模型，发现酒精会显著提高患癌症的概率。以下各项如果为真，最能加强上述观点的是：（ ）

- A. 大量数据早已证明长期酗酒的人，造血能力有明显缺陷
- B. 酒精进入体内后，由乙醇脱氢酶代谢为乙醛，乙醛能直接诱发造血干细胞中的基因突变，甚至可能直接癌变，导致各种血癌
- C. 保健酒和啤酒在成分以及口感上有着巨大差别
- D. 研究表明不同种类酒混合喝的危害比大量饮单一一种类酒的危害大

86. 研究者给 24 位 60 岁以上的健康男性注射生长激素（GH），每周三次，并用 24 位状况相似的人作为空白对照。半年之后，发现注射生长激素的人体内的类胰岛素生长因子（IGF-1）的含量上升到了青年人的水平，而且肌肉和皮肤厚度增加，脂肪下降。因此，研究人员认为通过促进激素产生或者直接补充激素能够延缓衰老而无明显的副作用。以下哪项如果为真，最能加强研究人员观点的是（ ）

- A. 生长激素是人脑垂体分泌的一种激素，会刺激 IGF-1 的产生，而 IGF-1 能促进生长，延缓衰老
- B. 注射 H 会引起软组织水肿、关节痛以及糖尿病等风险疾病。



C. 儿童和青少年体内的 GH 和 IGF-1 的含量较高。

D. 补充 H 所带来的肌肉增加和脂肪减少并没有改善身体机能

87. 小张在整理自己的书柜发现：并非所有的书都是教科书，文史类图书都是小张在网上购买，有的青春文学类小说是他的好友送给他的，所有的书柜中的自然科技类图书都是他喜欢的，小张喜欢的图书都是通过在线下实体书店购买

由此不能断定真假的是：（ ）

A. 有些书是小张通过网络购买

B. 小张不喜欢文史类图书

C. 有些青春文学类小说是在网上购买

D. 书柜中有些自然科学类图书不是小张最喜欢的

8. 最近有研究显示，强迫购物行为已经感染了发达国家近 5% 的成年群体，低收入的年轻女性受害尤深。而且这种疾病的发病率正在上升，最新的估测显示，约 14% 的人都有轻度强迫购物症。冲动性购物我们都很熟悉：超市结账时顺手再拿一条巧克力，或者在发薪的日子狠狠地买一大笔。但是和这些相比，强迫性购物行为还是很不一样的。大多数人购物都是因为物品的价值和效用。而购物强迫症患者购物是为了缓解压力、得到社会认可，并提升自我形象。这种购物举动是一种行为成，它的特征是自己控制减弱、对外界的诱惑难以招架。对于患病者和他们的家人，这会造成严重的心理、社会和经济意害。依据上文，可以推出下列哪项：（ ）

A. 高收入的年轻女性不会感染强迫购物症

B. 强迫性购物行为，所购物品往往不会有价值和效用

C. 强迫性购物行为者与普购物行为者购物目的不同

D. 强迫购物行为已经感染了发达国家近 5% 的低收入的年轻女性

89. 在一个办公室里，小王和几个同事在探讨即将举办的演讲比赛。小王说：如果小刘能得奖，那么小李也可以得奖。小李说：如果小刘能得奖，那么我不能得奖。小明说：小刘等奖与我得奖是相容的命题。小春说：如果小明得奖，那么小军不能得奖。最终结果出来，发现他们四人说的都对，请问以下选项一定正确的是：（ ）

A. 小刘得奖了 B. 小李一定得奖了 C. 小明没有得奖 D. 小军不能得奖

90. 地球有南北极磁场，很多人以为它们是固定不变的。其实，在地球演化史中，“磁极倒转”事件经常发生，即地磁的北极变成地磁的南极，而地磁的南极变成了地磁的北极。仅在近 450 万年里，就可以分出 4 个磁场极性不同的时期。有 2 次和现在基本一样的“正向期”，有 2 次和现在正好相反的“反向期”。地球磁极倒转造成的后果相当严重，最大的灾难莫过于强烈的太阳辐射。平时，这些宇宙射线在太空中就被地球磁场吞没了。然而地球两极倒转过程中一旦地球磁场消失，这些太阳粒子风将会袭击地球大气层，对地球气候和人类命运产生致命的影响。从以上文段中可以推出以下哪项：（ ）

- A. 在更古老的年代中地球磁场同样发生过这种磁极变化
- B. 地球马上将要面临下一次地磁倒转
- C. 如果发生地磁倒转，除了宇宙射线外，还可能有其它严重后果
- D. 火星之所以没有生命就是因为磁场消失，宇宙射线杀死了所有生命

※※※ 第四部分结束，请继续做第五部分！ ※※※

## 第五部分 资料分析

（共 20 题，参考时限 20 分钟）

所给出的图、表、文字或综合性资料均有若干的问题要你回答。你应根据资料提供的信息进行分析、比较、计算和判断处理。

**请开始答题：**

根据以下资料，回答 91~95 题

2016 年全国粮食情况如下：

全国粮食总产量 61623.9 万吨（12324.8 亿斤）、比 2015 年减少 520.1 万吨（104.0 亿斤），减少 0.8%。其中谷物产量 56516.5 万吨（11303.3 亿斤），比 2015 年减少 711.5 万吨（142.3 亿斤），减少 1.2%。

全国粮食播种面积 113028.2 千公顷（169542.3 万亩），比 2015 年减少 314.7 千公顷（472.1 万亩），减少 0.33%。其中，谷物播种面积 94370.8 千公顷（141556.2 万亩），比 2015 年减少 1265.1 千公顷（1897.7 万亩），减少 1.3%

对此，国家统计局解读称，2016 年粮食产量下降同时受到播种面积减少和单产下降的影响。2016 年，全国粮食播种面积比上年减少了 472 万亩，因播种面积减少而减产 34 亿斤，占粮食减产总量的 33.2%。

粮食单产下降的主要原因：一是高产作物面积减少。按可食用的籽粒玉米统计，玉米播种面积 5.51 亿亩，比上年减少 2039 万亩，减少 3.6%。低产作物大豆播种面积 1.08 亿亩，比上年增加 1046 万亩，增长 10.7%。2016 年，玉米平均亩产 398.2 公斤，是大豆的 3.3 倍，仅玉米改种大豆就可拉低粮食亩产约 1.7 公斤。

二是全国农业气象灾害较上年偏重，部分地区受灾较重。夏粮、早稻因灾减产。秋粮生长前期，南方多地遭受强降水，湖北、安徽等地受灾较重，部分农田反复受淹，作物倒伏严重。7 月下旬至 8 月中下旬，南方一些地区又遭遇持续高温天气，导致水稻空壳率增加；东北、西北部分地区出现不同程度旱情，对玉米后期生产和灌浆不利。据民政部统计，今年 1—10 月份，全国农作物受灾面积 3.97 亿亩，比上年同期增加 5410 万亩；绝收面积 6218 万亩，增加 1719 万亩。

91.2015 年我国粮食非谷物播种面积占全国的比重约为：（ ）

- A.8%
- B.16%
- C.84%
- D.92%

92.2015 年我国玉米播种面积约是大豆的多少倍：（ ）

- A.5.1
- B.5.9
- C.7
- D.4.3

93.2016 年，我国谷物产量占粮食总产量的比重比上年：（ ）

- A.提高 0.37 个百分点
- B.提高 2.08 个百分点
- C.降低 0.37 个百分点
- D.降低 2.08 个百分点

94.2016 年我国粮食单位面积产量同比约：（ ）

- A.增长 0.56%

B.增长 1.12%

C.减少 0.56%

D.减少 1.12%

95. 以下说法正确的是 ( )

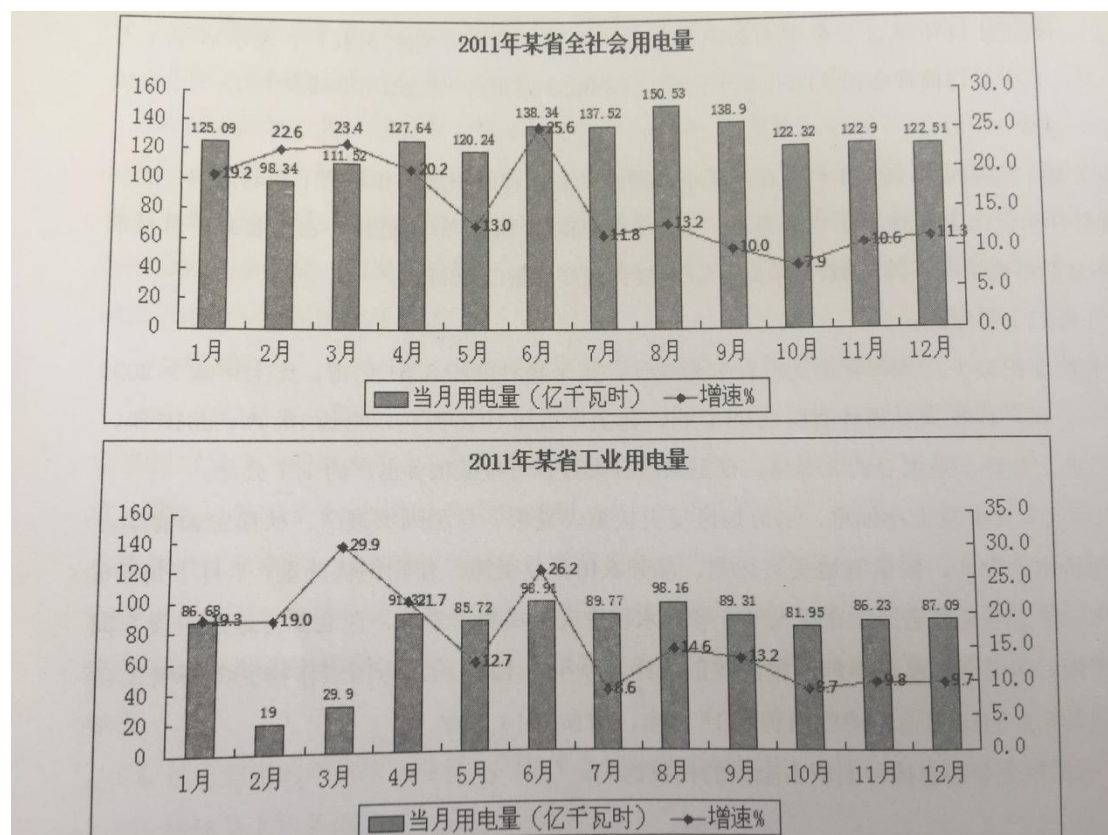
A.2016 年, 除谷物外我国其他粮食播种面积之和有所增加

B.假设粮食总产量以每年 10%的速度增长, 2019 年将首次突破 7 万万吨

C.2016 年粮食产量下降主要是播种面积减少造成的

D.2016 年全国农作物受灾面积同比增长约为 16%

2、根据以下资料, 回答 96~100 题



96.2011 年某省工业用电量最多的季度是: ( )

A.第一季度

B.第二季度

C.第三季度

D.第四季度

97.2011 年工业用电增速高于全社会用电量增速的月份有：（ ）

- A.6 个
- B.7 个
- C.8 个
- D.9 个

98.2011 年第一季度全社会用电量同比增长量和增速分别为：（ ）

- A.59.43 亿千瓦时，17.7%
- B.59.43 亿千瓦时，21.6%
- C.72.80 亿千瓦时，26.4%
- D.72.80 亿千瓦时，21.7%

99.2011 年工业用电量占全社会用电量的比重最小的月份是：（ ）

- A.2 月份
- B.3 月份
- C.8 月份
- D.9 月份

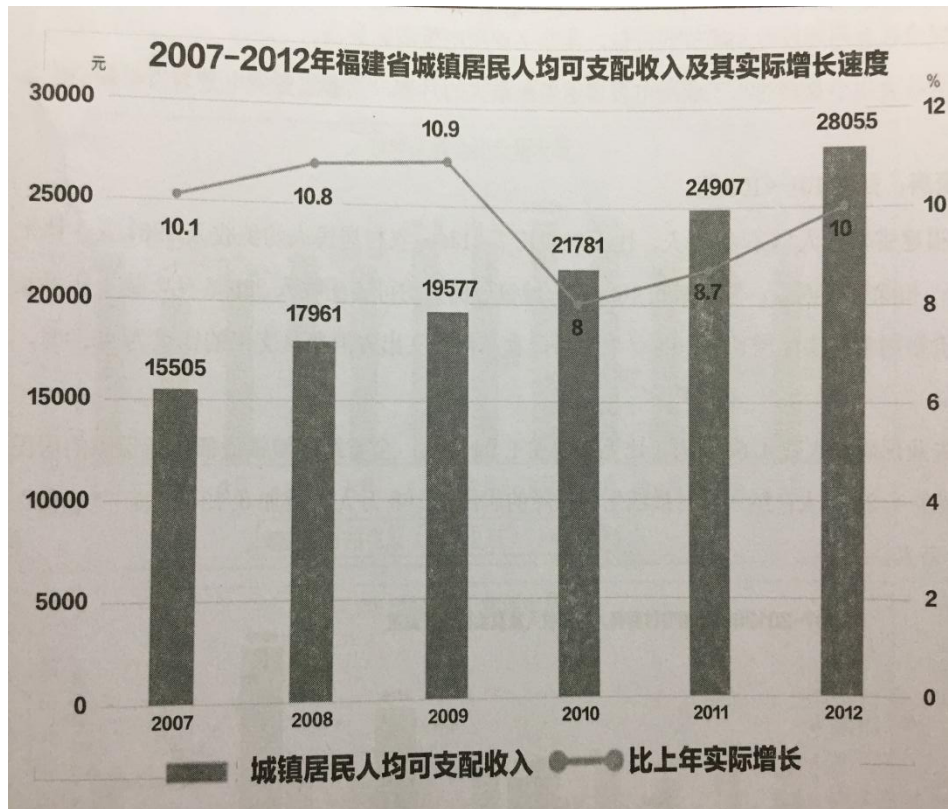
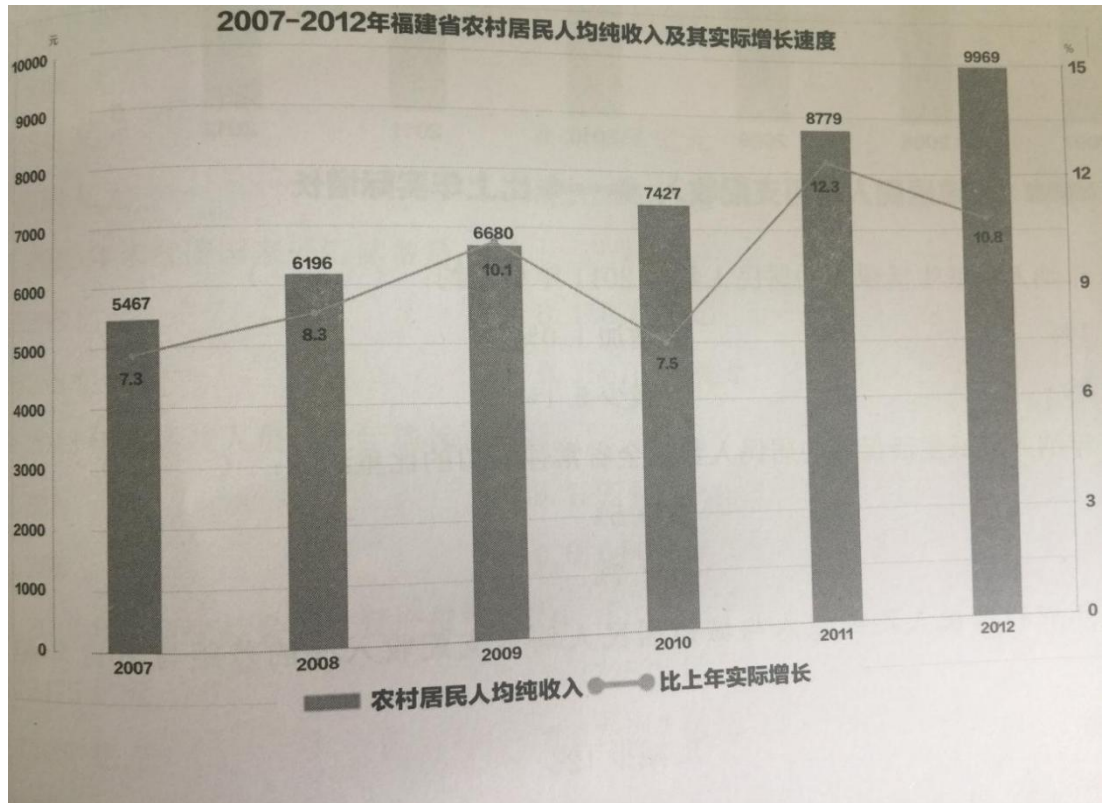
100. 以下说法正确的是：（ ）

- A.2011 全社会用电量环比变动的趋势与工业用电量完全一致。
- B.2011 年和 2010 年月底工业用电量的峰值均出现在 6 月份。
- C.2011 年度全社会用电量达到峰值的月份，其非工业用电量增速最高。
- D.2011 年全社会用电量增速与工业用电量增速差距最大的月份，其非工业用电量为当年最小值。

三、根据以下资料，回答 101~105 题

2012 年末福建省常住人口 3748 万人，比上年增长 7.01%。农村居民人均纯收入 9967 元，比上年增长 13.5%；扣除价格因素，实际增长 10.8%。城镇居民人均可支配收入 28055 元，比上年增长 12.6%；扣除价格因素，实际增长 10.0%。农村居民食品消费支出占消费总支出的比重为 46.0%，城镇为 39.4%。

全省领取失业保险金人数 4.61 万人，比上年增加 1.04 万人；全省纳入城镇最低生活保障的居民 16.89 万人，减少 1.20 万人；纳入农村最低生活保障的居民 73.68 万人，增加 0.73 万人；“五保”供养对象 9.14 万人



101. 2012年纳入最低生活保障的居民人数与2011年相比约：( )

- A. 减少 7.1%
- B. 增加 1.0%
- C. 减少 0.5%

D.减少 5.1%

102. 2011 年纳入最低生活保障的居民人数占全省常住人口的比重约为：（ ）

A.2.4%

B.0.5%

C.1.9%

D.2.7%

103. 2012 年农村居民人均纯收入与城镇居民人均可支配收入间的差距与 2011 年相比约（ ）

A.增大 12%

B.减少 12%

C.增大 21%

D.减少 21%

104. 2007-2010 年,农村居民人均纯收入年平均增长率约为（ ）

A.10.0%

B.9.3%

C.8.3%

D.8.6%

105.根据上述材料，下列描述错误的是：（ ）

A.2007- 2012 年,农村居民人均纯收入与城镇居民人均可支配收入间的绝对差距呈增大趋势

B.2007—2011 年,农村居民人均纯收入与城镇居民可支配收入增长趋势大致相同

C.2007-2012 年,农村居民人均纯收入比城镇居民人均可支配收入增加慢的年份有 3 年

D.2011 年,农村居民人均纯收入与城镇居民人均可支配收入增长速度间的差距最大

#### 四、根据以下材料，回答 106-110 题

国家统计局 2015 年 2 月 25 日发布 2014 年国民经济和社会发展统计公报，各项社会事业取得新的进展。初步核算，全年国内生产总值 33553 亿元，比上年增长 8.7%

统计公报分综合、农业、工业和建筑业、固定资产投资、国内贸易、对外经济、交通邮电和旅游、金融、教育和科学技术、文化卫生和体育、人口、人民生活和社会保障，以及资源、环境和安全生产等十二部分，展示了 2014 年中国国民经济和社会发展状况。

公报显示，截至 2014 年末，国家外汇储备 23992 亿美元，比上年末增加 4531 亿美元，增速减慢 4 个百分点；全年财政收入 68477 亿元，比上年增加 7147 亿元，增长 11.7%；全国就业人员 77995 万人，比 2013 年末增加 515 万人，比 2012 年末增加 1005 万人。

中国政府 2014 年推出四万亿元的刺激计划。公报显示，2014 年全年全社会固定资产投资 224846 亿元，比上年增长 30.1%。其中，中西部投资增长高于东部和东北地区。

106.根据 2014 年国民经济和社会发展统计公报初步核算的结果，2014 年全年国内生产总值比上年增加了约：（ ）

A.2684.1 亿元

B.2689.7 亿元

C.2695.4 亿元

D.2699.5 亿元

107.2012 年末我国国家外汇储备是：（ ）

A.15288 亿元

B.15676 亿元

C.15288 亿美元

D.15676 亿美元

108.2013 年末就业人员比上年增长了：（ ）

A.2.53%

B.1.97%

C.1.26%

D.0.64%

109.2013 年全年全社会固定资产投资约为（ ）

A.172475 亿元

B.172826 亿元

C.173056 亿元

D.173217 亿元

110.以下说法错误的是（ ）

A.2014 年我国国民经济形势总体回升向好，各项社会事业取得新的进展

B.2013 年全年财政收入为 61330 亿元

C.2013 年末全国就业人员比 2012 年末全国就业人员增加 490 万人

D.2014 年全年中西部的全社会固定资产投资增长低于东部和东北地区

※※※ 全部测验到此结束！※※※

## 加欧老师微信并回复：选调真题解析。

### 获取答案



华图教育-欧老师 

福建 厦门



扫一扫上面的二维码图案，加我微信