

# 国家

## 【【2017-国家-判断】】

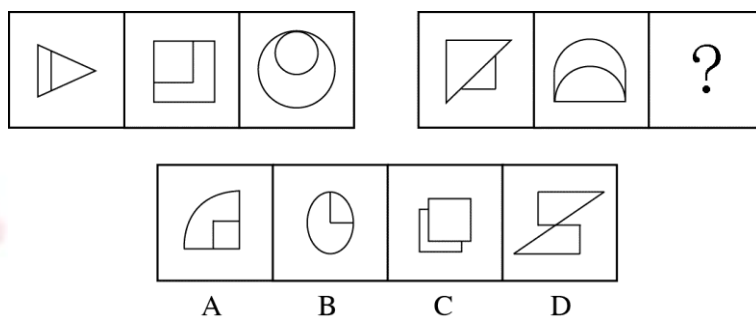
### 第四部分 判断推理

(共 40 题, 参考时限 35 分钟)

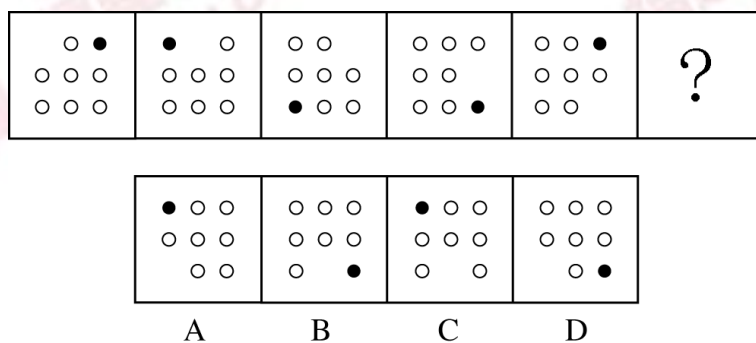
一、图形推理。请按每道题的答题要求作答。

请开始答题:

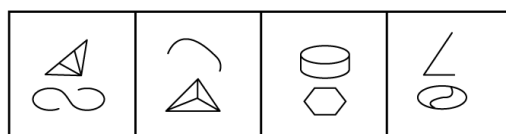
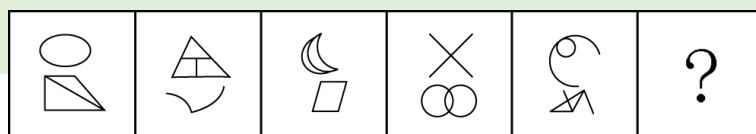
(2017-国家-76.) 从所给四个选项中, 选择最合适的一个填入问号处, 使之呈现一定规律性:



(2017-国家-77.) 从所给四个选项中, 选择最合适的一个填入问号处, 使之呈现一定规律性:

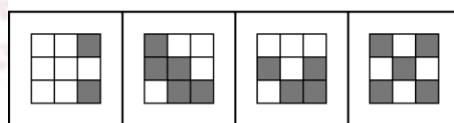



(2017-国家-78.) 从所给四个选项中, 选择最合适的一个填入问号处, 使之呈现一定规律性:




A B C D

(2017-国家-79.) 从所给四个选项中, 选择最合适的一个填入问号处, 使之呈现一定规律性:



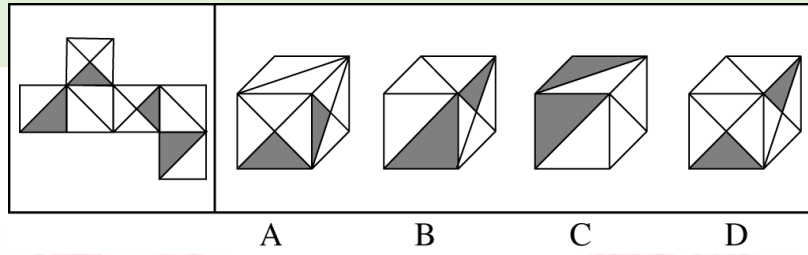
A B C D

(2017-国家-80.) 从所给四个选项中, 选择最合适的一个填入问号处, 使之呈现一定规律性:

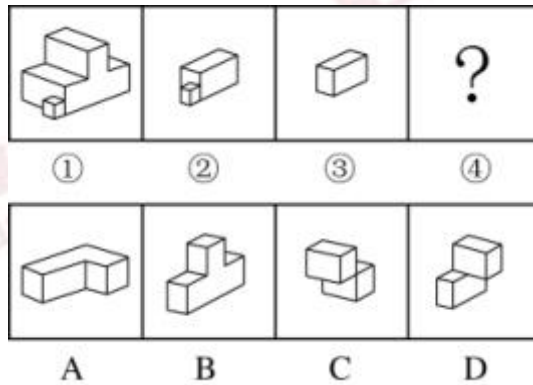


A B C D

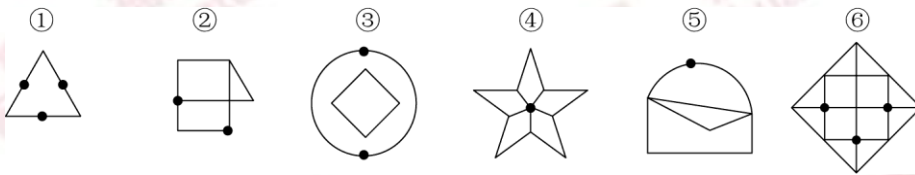
(2017-国家-81.) 左边给定的是正方体的外表面展开图, 下面哪一项能由它折叠而成?



(2017-国家-82.) 下图中的立体图形①是由立体图形②、③和④组合而成，下列哪一项不能填入问号处？

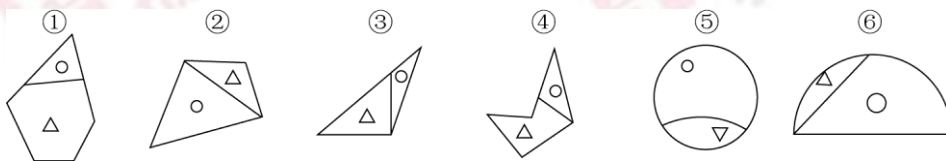


(2017-国家-83.) 把下面的六个图形分为两类，使每一类图形都有各自的共同特征或规律，分类正确的一项是：



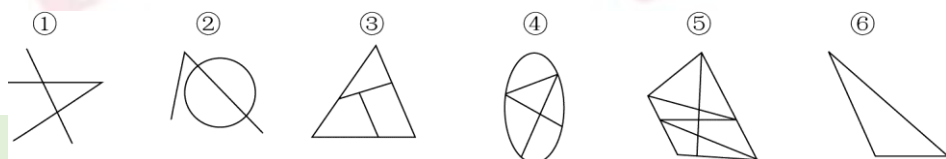
- A. ①④⑥, ②③⑤      B. ①②③, ④⑤⑥  
 C. ①⑤⑥, ②③④      D. ①③⑤, ②④⑥

(2017-国家-84.) 把下面的六个图形分为两类，使每一类图形都有各自的共同特征或规律，分类正确的一项是：



- A. ①③④, ②⑤⑥      B. ①②⑤, ③④⑥  
 C. ①③⑥, ②④⑤      D. ①④⑤, ②③⑥

(2017-国家-85.) 把下面的六个图形分为两类，使每一类图形都有各自的共同特征或规律，分类正确的一项是：



A.①②⑤, ③④⑥

B.①②③, ④⑤⑥

C.①③⑤, ②④⑥

D.①②⑥, ③④⑤

二、定义判断。每道题先给出定义，然后列出四种情况，要求你严格依据定义，从中选出一个最符合或最不符合该定义的答案。注意：假设这个定义是正确的，不容置疑的。

请开始答题：

(2017-国家-86.) 语句的示意功能是指通过语句表达某种通知、告诫、命令或请求，目的在于要求别人按照语句表达的思想，做出或不做出某种行为。

根据上述定义，下列**没有**反映语句的示意功能的是：

- A.全体学生请到操场集合
- B.请您务必不要践踏草坪
- C.禁止生产假冒伪劣产品
- D.销售部现在应该在开会

(2017-国家-87.) 水利工程是用于控制和调配自然界的地表水和地下水，达到除害兴利目的而修建的工程。

根据上述定义，下列**不涉及**水利工程的是：

- A.城市污水处理厂利用微生物分解吸收水中的有机物
- B.水电站利用水力发电技术，将水能转化为电能
- C.农业上建设合理开发利用地下水的灌溉设施，以满足作物生长需要
- D.在水利枢纽中设河岸泄洪道以防止因洪水超过水库容量而漫顶造成溃坝

(2017-国家-88.) 火力投射密度是指军事行动中军事部门在单位时间内的最大弹药发射量。它是现代军事学中衡量作战部队战斗力的重要指标之一。

根据上述定义，以下属于通过增大火力投射密度来加强部队战斗力的是：

- A.某步兵师在普通士兵中选拔特等射手编入狙击班，进而能够更有效地杀伤敌人的有生力量
- B.某炮兵部队将原计划两小时的炮火掩护时间延长为三小时，更有效地杀伤了掩体中的敌人
- C.某国将其部队列装的半自动步枪全部更换为全自动步枪，增加了子弹的发射频率
- D.某军事科研单位研制出更先进的炮火定位系统，能够将火力打击的误差由半径 200 米缩小到 50 米

(2017-国家-89.) 货币性资产是指持有的现金及将以固定或可确定金额的货币收取的资产，包括现金、应收账款和应收票据以及准备持有至到期的债券等。非货币性资产则是指货币性资产以外的资产，这些资产在将来为企业带来的经济利益(即货币金额)是不固定的或

不可确定的。

根据上述定义，下列属于货币性资产的是：

- A.某服装厂的库存货物
- B.某汽车公司用于出租的车辆
- C.某通讯企业旗下手机品牌的商标权
- D.某化工集团按照国家规定获得的技术补贴

(2017-国家-90.) 埋伏营销是指企业利用媒体和公众对重大事件的关注，通过举办与重大事件相关的活动，使自己与重大事件产生关联，从而引起消费者的联想和媒体的注意，这类营销通常是隐蔽的、突发的，不以赞助者的身份出现，却对自己的品牌悄无声息地进行了宣传。

根据上述定义，下列**不属于**埋伏营销的是：

- A.地震发生后，某户外用品公司向灾区捐赠价值 100 万元的帐篷，并举行了捐赠仪式
- B.某矿泉水公司邀请著名运动员为其代言，并将广告投放在电视媒体的黄金时段和一些大型酒店的视频媒体中
- C.世界一级方程式锦标赛比赛期间，观众席中时不时会有人挥舞着印有某轮胎企业商标的彩色旗帜
- D.某市举办中小学知识竞赛，一出版集团在现场向参与者免费发放其出版的图书

(2017-国家-91.) 自由落体运动是指物体只在重力作用下从静止开始下落的运动。这种运动只有在真空条件下才能发生，在有空气时，如果空气的阻力作用比较小，可以忽略不计，则物体的下落可以近似看作自由落体运动。

根据上述定义，下列可以近似看作自由落体运动的是：

- A.熟透了的苹果从树上被风吹落
- B.飞行中的飞机被导弹击中坠落
- C.冬日中午，冰棱融化后从屋檐掉下
- D.抛过来的皮球没被接住，掉在地上

(2017-国家-92.) 著名科学家、科学史家普赖斯提出：如果  $K$  代表参与某一专业领域的人数，那么这个数字的平方根大致等于这个领域做出一半贡献的排名在前的那部分人的人数。

根据上述定义，下列符合普赖斯观点的是：

- A.某组织统计过去一年全世界公开举办的音乐会的演奏曲目，发现所有演奏曲目是由大约 250 位作曲家完成的，其中大约一半的曲目来自于 16 位作曲家
- B.某国出版协会统计了本国的期刊，发现与经济有关的期刊大约有 150 种，所有与经济有关的科研论文中，有一半发表在其中的 13 种期刊上

- C.某县有 20 万农业人口，统计发现，过去一年全县的粮食总产量中，大约一半粮食产

量是由 450 位左右的种粮大户贡献的

D.某销售奢侈品的网店过去一年的访问量为 10 万人次，但去年全部的销售额中，大约一半的销售额是由其中大约 300 位固定客户提供的

(2017-国家-93.) 隐匿定位策略是指当一类产品不被消费者看好时，公司能够在不打破产品种类界限的情况下，合法地利用某些策略消除消费者对这类产品的偏见，使消费者转而接受它们，实现更好的销量。

根据上述定义，下列**没有**运用隐匿定位策略的是：

A. 某公司生产的游戏机销量不佳，公司决定将产品升级并提出创建家庭娱乐平台的概念，该游戏机因此变得畅销

B. 某公司开发了家庭机器人，但消费者并不感兴趣。该公司调整思路，推出一种可爱的、不做家务的机器狗，一上市就大受欢迎

C. 某公司推出一种小型电脑，由于定价高而鲜有问津。该公司在产品宣传中强调其可作为移动数字化设备等，与低端产品区分开，从而打开销路

D. 某公司推出新款 SUV 车型，但少有人问津，于是公司又推出一款价格昂贵的跑车，消费者觉得 SUV 性价比更高，纷纷购买

(2017-国家-94.) 参照依赖是指个体基于某个参照点对得失价值进行判断，参照点之上，个体感受是收益，反之感受为损失，损失和收益的感知取决于参照点的选择。

根据上述定义，下列**不属于**参照依赖的是：

A. 小张原本对收入很满意，他听说跟自己同时进公司、现在同是项目经理的小李收入比自己高 10% 后，对收入没有那么满意了

B. 研究者设计了一项实验：告知被试者他们邻居的月水电支出比他们低，结果发现被试者下个月的家庭能耗显著降低了

C. 张女士因为生育和哺乳不得不暂停工作半年，失去了很多客户，心里很苦恼，但看到自己健康活泼的儿子，又变得高兴起来

D. 姐姐期中考试得了 99 分，期末考试得了 95 分，妈妈批评了她；弟弟期中考试得了 75 分，期末考试得了 85 分，妈妈奖励了他

(2017-国家-95.) 传递关系指的是对任意的元素 A、B、C 来说，若元素 A 与元素 B 有某关系并且元素 B 与元素 C 有该关系，则元素 A 与元素 C 也有该关系。反传递关系指的是若元素 A 与元素 B 有某种关系并且元素 B 与元素 C 有该关系，但元素 A 与元素 C 没有该关系。

根据上述定义，下列关系属于传递关系的是：

A. 家庭中的父子关系

B. 食物链的天敌关系

C. 自然数中的大于关系

D.生活中的同学关系

三、类比推理。每道题先给出一组相关的词，要求你在备选答案中找出一组与之在逻辑关系上最为贴近、相似或匹配的词。

请开始答题：

(2017-国家-96.) 白醋：消毒

- A.白糖：调味
- B.人参：滋补
- C.热水器：加热
- D.汽油：去渍

(2017-国家-97.) 成百：上千

- A.千变：万化
- B.千方：百计
- C.三教：九流
- D.三头：六臂

(2017-国家-98.) 生死：存亡

- A.轻重：缓急
- B.好坏：优劣
- C.亲疏：长幼
- D.真伪：对错

(2017-国家-99.) 踢皮球：相互推诿

- A.燕归巢：时过境迁
- B.睁眼瞎：目不识丁
- C.破天荒：闻所未闻
- D.纸老虎：不堪一击

(2017-国家-100.) 战术：战争：胜负

- A.血型：人种：胖瘦
- B.诉状：案件：输赢
- C.策略：竞选：成败
- D.经验：能力：高低

(2017-国家-101.) 观众：电视：新闻

- A.士兵：靶场：命令
- B.渔夫：渔船：渔汛
- C.教师：课堂：知识
- D.消费者：消费指南：优惠信息

(2017-国家-102.) 寒：寒冷：寒舍

- A.恨：仇恨：怨恨
- B.甘：甘甜：甘愿
- C.肤：皮肤：肌肤
- D.讽：讽刺：讥讽

(2017-国家-103.) 设计：发放：问卷

- A.复制：修改：文字
- B.预习：复习：考试
- C.播放：快进：磁带
- D.制定：执行：政策

(2017-国家-104.) 教案对于 ( ) 相当于 ( ) 对于分类

- A.授课；标准
- B.提纲；商品
- C.课件；信息
- D.教学；归类

(2017-国家-105.) 故人西辞黄鹤楼对于 ( ) 相当于 ( ) 对于怀古

- A.送别；折戟沉沙铁未销  
B.离别；西出阳关无故人  
C.出游；越王勾践破吴归  
D.场所；千古兴亡多少事

四、逻辑判断。每道题给出一段陈述，这段陈述被假设是正确的，不容置疑的。要求你根据这段陈述，选择一个答案。注意：正确的答案应与所给的陈述相符合，不需要任何附加说明即可以从陈述中直接推出。

请开始答题：

(2017-国家-106.) 某网购平台发布了一份网购调研报告，分析亚洲女性的网购特点。分析显示，当代亚洲女性在网购服饰、化妆品方面的决定权为 88%，在网购家居用品方面的决定权为 85%。研究者由此认为，那些喜爱网购的亚洲女性在家庭中拥有更大的控制权。

以下哪项如果为真，最能**反驳**上述结论？

- A.亚洲女性中，习惯上网购物的人数只占女性总人数的 30%左右  
B.一些亚洲女性经济不独立，对家庭收入没有贡献  
C.喜爱网购的亚洲女性的网购支出只占其家庭消费支出的 25%  
D.亚洲女性在购买贵重商品时往往会与丈夫商量，共同决定

(2017-国家-107.) 公元 250 年至 800 年，玛雅文明还十分发达，城市繁荣，庄稼收成也很喜人。气候记录显示，这一时期玛雅地区的降水量相对较高，此后玛雅文明开始衰落。从公元 820 年左右起，在连续 95 年的时间里，该地区开始经历断断续续的干旱，有些地方的干旱甚至持续了数十年之久，许多专家由此认为，9 世纪的气候变化或许正是玛雅文明消亡的原因。

以下哪项如果为真，最能支持上述专家的观点？

- A.在 9 世纪衰退的玛雅城市大多分布在南部，使用木材进行的建造活动也大大减少  
B.和所有大型农耕文明一样，玛雅人的社会很大程度上依赖于农作物，干旱导致农产品减少，严重影响玛雅人的生存  
C.大多数玛雅城市是在公元 850 年到 925 年之间衰落的，和干旱发生的时间高度重合  
D.公元 1000 年至 1075 年期间，玛雅地区石雕和其他建造活动减少了将近一半，而那时当地又一次遭受了严重的旱灾

(2017-国家-108.) 人体的大脑与血液之间有一道“血脑屏障”，任何起安眠作用的物质首先必须能穿过这个屏障才能起效。牛奶中含有一种名为色氨酸的氨基酸能够穿过血脑屏障，制造诱发睡眠的荷尔蒙 5-羟色胺，因此人们认为睡前喝牛奶是促进睡眠非常有效的方法。

以下哪项如果为真，最能**削弱**上述结论？

- A.皮肤温度上升，入睡速度就快，故而喝一杯热牛奶就如同洗热水浴一样，能够加快入



睡速度

B.小份的牛奶所含的色氨酸总量不足以让身体的激素水平发生较大的波动,只有喝大量的牛奶助眠效果才会好

C.米饭等碳水化合物助眠效果更好,它们会刺激胰岛素的合成,让色氨酸以外的氨基酸进入肌肉组织,从而使色氨酸更易进入大脑

D.牛奶中蕴含许多种类的氨基酸,这些物质进入血液后,会争抢穿过血脑屏障的通道,从而降低色氨酸穿过血脑屏障的能力

(2017-国家-109.)阿尔茨海默病是一种较为严重的疾病,4号基因突变曾被认为是阿尔茨海默病的一项致病因素,但近期有科学家提出导致这一复杂疾病的病因可能很简单,就是一些能引起脑部感染的微生物,如HSV-1病毒。

以下哪项如果为真,最能支持上述科学家的观点?

A.当大鼠脑部受到HSV-1感染时,携带4号突变基因的大鼠产生的病毒DNA是正常大鼠的14倍

B.携带4号突变基因同时感染了HSV-1病毒的人群罹患阿尔茨海默病的概率会比单独具有此类突变基因的群体高2倍

C.有些携带4号突变基因的患者使用抗病毒药物治疗后,其病情有所好转

D.在一些健康老年人的大脑中也存在着HSV-1病毒

(2017-国家-110.)研究显示,约200万年前,人类开始使用石器处理食物,例如切肉和捣碎植物。与此同时,人类逐渐演化形成较小的牙齿和脸型,以及更弱的咀嚼肌和咬力。因此研究者推测,工具的使用减弱了咀嚼的力量,从而导致人类脸型的变化。

以下哪项如果为真,最能削弱上述研究者的观点?

A.对与人类较为接近的灵长类动物进行研究,发现它们白天有一半时间用于咀嚼,它们的口腔肌肉非常发达、脸型也较大

B.200万年前人类食物类型发生了变化,这加速了人类脸型的变化

C.在利用石器处理食物后,越来越多的食物经过了程度更高的处理,变得易于咀嚼

D.早期人类进化出较小的咀嚼结构,这一过程使其他变化成为可能,比如大脑体积的增大

(2017-国家-111.)针对地球冰川的研究发现,当冰川之下的火山开始喷发后,会快速产生蒸汽流,爆炸式穿透冰层,释放灰烬进入高空,并且产生出沸石、硫化物和黏土等物质。日前人们发现,在火星表面的一些圆形平顶山丘也探测到这些矿物质,并且广泛而大量地存在。因此,人们推测火星早期是覆盖着冰原的,那里曾有过较多的火山活动。

要得到上述结论,需要补充的前提是:

A.近日火星侦察影像频谱仪发现,火星南极存在火山

B.火星地质活动不活跃,地表地貌大部分形成于远古较活跃的时期

C.在火星平顶山丘的岩石中发现了某种远古细菌，说明这里很可能曾经有水源

D.沸石、硫化物和黏土这三类物质是仅在冰川下的火山活动后才会产生的独特物质

(2017-国家-112.)复活节岛是位于太平洋上的一座孤岛。在报道中，复活节岛文明的衰落常作为一个警世故事，讲述人类肆意采伐棕榈树林，致使肥沃的土壤流失，最终导致岛中食物短缺，文明自此衰落。然而近日有专家提出，复活节岛文明的衰落与树木砍伐并无必然联系。

以下哪项如果为真，最能支持上述专家的观点？

A.考古发现，当岛上最后的树木(棕榈树)被砍伐之后，仍有大量原住居民生活着，其农业耕作的水平没有下降

B.大约公元1200年，岛上居民开始砍伐棕榈树，用于建造木船，运送大型石质雕像

C.花粉分析表明，早在公元800年，森林的毁灭就已经开始，岛屿地层中的大棕榈树和其他树木的花粉越来越少

D.1772年荷兰殖民者开始登陆复活节岛，并对当地居民进行奴役，那时岛上的土著人口是4000人，到1875年时仅有200人

(2017-国家-113.)教练在甲、乙、丙三人背上分别贴上了三个数字，三人都能看到对方的数字，但是看不到自己的数字，甲、乙、丙背上的数字分别用A、B、C代替。甲说 $B>C$ ；乙说 $A<C$ ；丙说 $A<B$ ；教练说他们之中最多有一个人说了假话。

假如教练说的是假话，则甲、乙、丙数字大小的顺序可能是：

A. $A>B>C$

B. $C>B>A$

C. $B>C>A$

D. $B>A>C$

(2017-国家-114.)在某公司中，李明帮助了王刚，而王刚帮助了赵贤。李明纳税比赵贤多。

由此可以推出：

A.王刚的纳税比赵贤多

B.李明纳税和王刚一样多

C.有人帮助了一个纳税比他多的人

D.有人帮助了一个纳税比他少的人

(2017-国家-115.)大学毕业的张、王、李、赵4人应聘到了同一家大型公司，每人负责一项工作。其中一人做行政管理，一人做销售，一人做研发，另一人做安保。已知：

①张不做行政管理，也不做安保；

②王不做行政管理，也不做研发；

③如果张没有做研发，那么赵也没有做行政管理；

④李不做行政管理，也不做安保；

⑤赵不做研发，也不做安保。

由此可以推出：

- A.张做销售，李做研发
- B.赵做研发，李做销售
- C.李做销售，张做研发
- D.李做研发，赵做安保

**※※※第四部分结束，请继续做第五部分！※※※**

**注：市(地)以下综合管理类和行政执法类试卷判断推理部分为 40 题,其中不包含以上第**

**107、108、113、114、115 题,但含有以下试题：**

**【题型】 复合客观题**

材料 1:根据所给材料，回答 111~115 题。

某办公室有王莉、李明和丁勇 3 名工作人员，本周有分别涉及网络、财务、管理、人事和教育的 5 项工作需要他们完成。关于任务安排，需要满足下列条件：

- ①每人均需至少完成其中的一项工作，一项工作只能由一人完成；
- ②人事和管理工作都不是由王莉完成的；
- ③如果人事工作由丁勇完成，那么财务工作由李明完成；
- ④完成教育工作的人至少还需完成一项其他工作。

到了周末，3 人顺利地完成了上述 5 项工作。

(2017-国家-111.) 以下哪项的工作安排符合上述条件？

- A.王莉：教育、财务；李明：人事、管理；丁勇：网络
- B.王莉：网络；李明：人事、管理、财务；丁勇：教育
- C.王莉：管理、网络；李明：教育、人事；丁勇：财务
- D.王莉：网络；李明：教育、管理；丁勇：人事、财务

(2017-国家-112.) 如果李明只完成 5 项工作中的一项，那么包括该工作的所有可能性是以下哪项？

- A.财务
- B.人事、管理、财务
- C.人事、网络
- D.人事、财务

(2017-国家-113.) 以下哪项中的任务**不可能**均由李明完成？

A.教育、人事、财务

B.教育、人事、网络

C.教育、管理、网络

D.教育、管理、财务

(2017-国家-114.) 以下哪项中的任务**不可能**均由丁勇完成?

A.网络、人事

B.财务、管理

C. 管理、人事

D.教育、管理

(2017-国家-115.) 如果管理工作和网络工作是由同一个人完成的, 则以下哪项是可能的?

A.财务工作是由丁勇完成的

B.管理工作是由李明完成的

C.教育工作是由李明完成的

D.人事工作是由丁勇完成的

※※※第四部分结束, 请继续做第五部分! ※※※

## 【【2016-国家-判断】】

### 第四部分 判断推理

(共 40 题, 参考时限 35 分钟)

一、图形推理。请按每道题的答题要求作答。

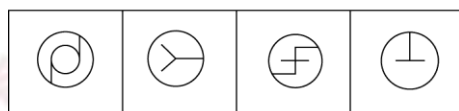

请开始答题:

(2016-国家-76.) 从所给四个选项中, 选择最合适的一个填入问号处, 使之呈现一定规律性:



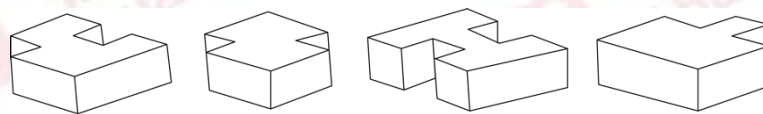
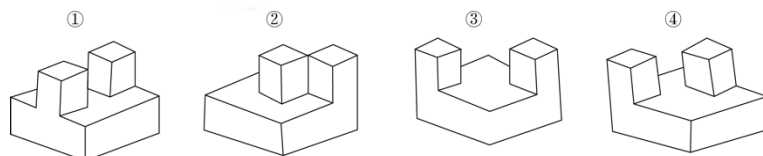
A B C D

(2016-国家-77.) 从所给四个选项中, 选择最合适的一个填入问号处, 使之呈现一定规律性:



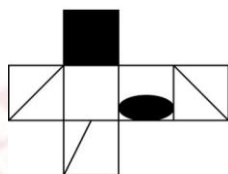
A B C D

(2016-国家-78.) ①、②、③、④为四个多面体零件, 问 A、B、C、D 四个多面体零件中的哪一个与①、②、③、④中的任一个都不能组合成长方体?




A B C D

(2016-国家-79.) 左边给定的是纸盒的外表面, 下列哪一项能由它折叠而成?

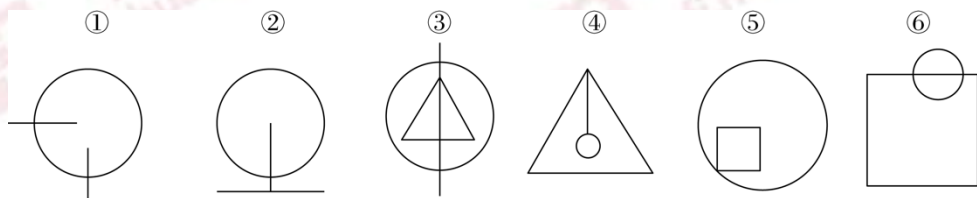


A B C D

(2016-国家-80.) 左图是给定的立体图形, 将其从任一面剖开, 下面哪一项可能是该立体的截面?



(2016-国家-81.) 把下面的六个图形分为两类, 使每一类图形都有各自的共同特征或规律, 分类正确的一项是:



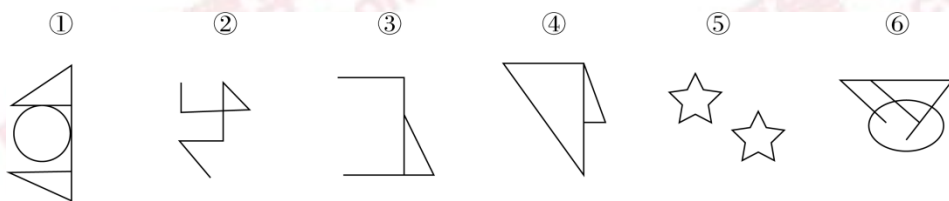
- A. ①②④, ③⑤⑥  
 B. ①②⑤, ③④⑥  
 C. ①③④, ②⑤⑥  
 D. ①③⑥, ②④⑤

(2016-国家-82.) 把下面的六个图形分为两类, 使每一类图形都有各自的共同特征或规律, 分类正确的一项是:



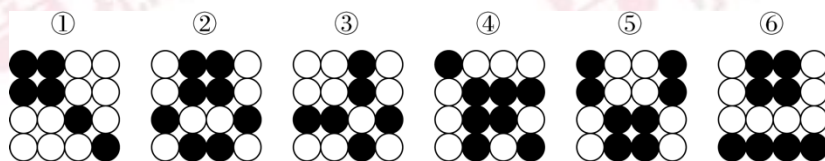
- A. ①④⑥, ②③⑤  
 B. ①③⑤, ②④⑥  
 C. ①②④, ③⑤⑥  
 D. ①②③, ④⑤⑥

(2016-国家-83.) 把下面的六个图形分为两类, 使每一类图形都有各自的共同特征或规律, 分类正确的一项是:



- A. ①④⑥, ②③⑤  
 B. ①③⑤, ②④⑥  
 C. ①②④, ③⑤⑥  
 D. ①②⑤, ③④⑥

(2016-国家-84.) 把下面的六个图形分为两类, 使每一类图形都有各自的共同特征或规律, 分类正确的一项是:

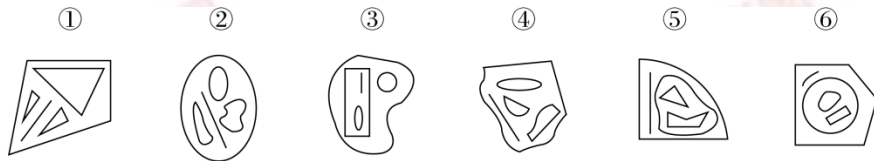


- A. ①③④, ②⑤⑥  
 B. ①④⑥, ②③⑤

C.①②④, ③⑤⑥

D.①③⑥, ②④⑤

(2016-国家-85.)把下面的六个图形分为两类,使每一类图形都有各自的共同特征或规律,分类正确的一项是:



A.①②④, ③⑤⑥

B.①③⑥, ②④⑤

C.①③⑤, ②④⑥

D.①⑤⑥, ②③④

二、定义判断。每道题先给出定义,然后列出四种情况,要求你严格依据定义,从中选出一个最符合或最不符合该定义的答案。注意:假设这个定义是正确的,不容置疑的。

请开始答题:

(2016-国家-86.)土壤是岩石在风化作用下破碎,物理化学性质改变后形成结构疏松的风化壳,风化壳在气候与生物的作用下,经历很长时间形成的地表物质。与土壤自然形成过程无关的外来物质被称为土壤侵入体。

根据上述定义,下列属于土壤侵入体的是:

- A.戈壁滩中大量的沙砾
- B.河床上存在的大量鹅卵石
- C.考古发掘中挖出的砖瓦
- D.岩缝中生长的野草

(2016-国家-87.)合成字是合体字中一个比较特殊的门类。它原本是汉语中一个常用的词语、词组,但由于这些词语、词组在方言中使用的频率很高,就把这些词语在讲究字形美观的前提下原封不动地组合成了一个独有的汉字。

根据上述定义,下列汉字根据其意思**不属于**合成字的是:

- A.彘,读作 jiào,方言,“只要”的意思
- B.爨,读作 nì,古同“溺”,沉没,沉溺
- C.勹,读作 fiào,表示否定,相当于“不要”
- D.尠,读作 xiǎn,意思是稀有的、罕见的

(2016-国家-88.)真理是指客观事物及其规律在人的意识中的正确反映。真理可以分为理性真理和事实真理两种。理性真理指的是具有普遍性和必然性的真理,其反面是不可能的;事实真理指的是具有偶然性的真理,其反面是可能的。

根据上述定义，下列属于理性真理的是：

- A.月晕而风，础润而雨
- B.如果 a 大于 b 且 b 大于 c，那么 a 大于 c
- C.恩惠要一点点地施舍才具有最大效益
- D.一个人如果违反了法律，就一定会受到法律的制裁

(2016-国家-89.) 数字鸿沟指的是由于信息化和互联网的影响，人们的信息获取、信息处理和信息传播都是通过数字化技术来实现的，由此造成了不同个体、群体或者国家在思想意识、经济、文化和政治等方面的差距越来越大。

根据上述定义，下列**不涉及**数字鸿沟的是：

- A.放假回家的小宋和同学用手机聊天，满口网络新词，一旁的奶奶一句也听不懂
- B.小赵整天沉迷于网络游戏，父母多次苦口婆心地劝说，均没有效果，为此小赵和父母发生了多次争执
- C.东部某镇种植的水果尚未成熟就已经通过网络平台被订购一空，而西部某乡质优价廉的水果由于无人知晓只能烂在树上
- D.一些西方国家利用其技术积累，在大数据处理方面取得了绝对的优势，他们进一步实行技术封锁，使得某些国家在大数据分享方面一筹莫展

(2016-国家-90.) 党政机关公文是党政机关实施领导、履行职能、处理公务的具有特定效力和规范体式的文书。其中命令(令)适用于公布行政法规和规章、宣布施行重大强制性措施、批准授予和晋升衔级、嘉奖有关单位和人员。意见适用于对重要问题提出见解和处理办法。批复适用于答复下级机关请示事项。函适用于不相隶属机关之间商洽工作、询问和答复问题、请求批准和答复审批事项。

根据上述定义，下列选项中应添加批复的是：

- A.《国务院办公厅关于进一步加强资本市场中小投资者合法权益保护工作的》
- B.《国务院办公厅关于黑龙江双鸭山经济开发区升级为国家级经济技术开发区的》
- C.《国务院关于在我国统一实行法定计量单位的》
- D.《国务院关于同意设立陕西西咸新区的》

(2016-国家-91.) 叶龄指数指的是禾谷类作物主茎已出叶数与最终总叶数的比值，是衡量作物生长进程的重要指标之一。

根据上述定义，下列关于叶龄指数的说法一定正确的是：

- A.稻谷的叶龄指数与其生长进程成正比
- B.荞麦的叶龄指数越大则其产量也越高
- C.小麦的叶龄指数最大值为 100%
- D.玉米的平均叶龄指数大于高粱

(2016-国家-92.) 产品责任是指产品有缺陷，存在可能危及人身、财产安全的危险，造



成产品的消费者、使用者或其他第三人人身或其他直接财产损失后，缺陷产品的生产者、销售者应当承担的特殊的侵权法律责任。

根据上述定义，下列受害人可因产品责任要求侵权损害赔偿的是：

A.甲购买了一辆新车，一次与朋友王某驾车外出时，汽车因电路质量问题发生自燃，致使王某被烧伤

B.乙购买了一件大衣，大衣上没有洗涤标志和成分说明，营业员也未告知应如何洗涤。大衣水洗后严重缩水

C.丙购买了一部新手机，一次因质量问题自动关机，无法开启，致使丙漏接了客户的电话，损失了一笔大额订单

D.丁的电视机使用了 20 年，图像不清晰时拍打几下就好了。一次丁在拍打电视机时，电视机发生爆炸，将丁炸伤，后经检验发现是显像管老化造成的

(2016-国家-93.)图灵测试是测试者在与被测试者(一个人和一台机器)隔开的情况下，通过一些装置(如键盘)向被测试者随意提问。问过一些问题后，如果被测试者有超过 30% 的答复不能使测试者确认出哪个是人、哪个是机器，那么这台机器就通过了测试，并被认为具有人类智能。

根据上述定义，以下哪项中的测试一定通过了图灵测试？

A.对机器甲 40% 的答复所有人都确认其为机器

B.对机器乙 60% 的答复测试者能确认其为机器或人

C.对机器丙 30% 的答复有 90% 的某小区居民确认其为机器

D.对机器丁 30% 的答复只有 10% 的某校大学生不能确认其为机器

(2016-国家-94.)直观教学是指利用教具作为感官传递物，向学生展示相关内容，以达到提高学习效率或效果的一种教学方式。直观教学包括实物直观、模象直观和言语直观。实物直观通过直接感知实际事物而进行；模象直观通过对实物的模拟性形象来直接感知；言语直观是在形象化的语言作用下，通过学生对语言的物质形式(语音、字形)的感知及对语义的理解而进行的一种直观形式。

根据上述定义，下列**不属于**上述三种直观教学的是：

A.请学生在课后阅读整篇小说内容并撰写读后感

B.暑期带着学生去工厂和农村进行实地参观访问

C.请学生分角色朗读戏剧作品，或通过上台表演来体会人物性格

D.在艺术鉴赏课上，使用幻灯片给学生展示西方油画的经典之作

(2016-国家-95.)负启动效应是指人们由于之前受到某一刺激的影响而使之后对同一类型刺激的知觉加工过程变得困难的心理现象。其中知觉加工过程是指外界事物作用于人的感官后，头脑中产生的对事物的认识和理解的过程。

根据上述定义，下列属于负启动效应的是：

A.先给被试人员呈现一组汉字,里面有“海”这个字,随后让他们写出部首是“氵”的字时,这些人写出“海”的几率并未增大

B.先在黑板上给一组被试人员呈现词语“桌子”,后播放语音“椅子”,一段时间后,请被试人员分别说出看到和听到的词语,发现很多人答错了

C.请被试人员回答屏幕中显示的词语的颜色,先向其呈现词语“绿色”(字体为红色),再呈现词语“蓝色”(字体为绿色),发现被试人员辨识颜色变得困难

D.给被试人员呈现一张未完成的画,随着画越来越完整,被试人员逐渐辨认出画的内容,过一段时间后再给他们呈现这个未完成的画,他们会更早辨认出画的内容

三、类比推理。每道题先给出一组相关的词,要求你在备选答案中找出一组与之在逻辑关系上最为贴近、相似或匹配的词。

请开始答题:

(2016-国家-96.) 佩刀：刀鞘

A.墨：墨盒

B.火箭：发射架

C.毛笔：笔帽

D.旅游鞋：旅行包

(2016-国家-97.) 森林：郁郁葱葱

A.法庭：庄严肃穆

B.校园：勤奋好学

C.餐桌：饕餮大餐

D.公园：嬉戏玩闹

(2016-国家-98.) 白驹过隙：秒表

A.恩重如山：天平

B.一线希望：皮尺

C.一言九鼎：弹簧秤

D.风驰电掣：测速仪

(2016-国家-99.) 琴棋书画：经史子集

A.兵强马壮：闭关自守

B.悲欢离合：漂泊流浪

C.衣帽鞋袜：冰清玉洁

D.鸟兽虫鱼：江河湖海

(2016-国家-100.) 素描：单色：绘画

A.色素：食品：添加剂

B.书签：阅读：工具

C.变脸：表演：艺术

D.新闻：纪实：文体

(2016-国家-101.) 教：学：教学

A.买：卖：买卖

B.好：坏：好坏

C.正：大：正大

D.阴：暗：阴暗

(2016-国家-102.) 前瞻：预见：回溯

A.深谋远虑：未雨绸缪：鼠目寸光

B.标新立异：特立独行：循规蹈矩

C.犬牙交错：参差不齐：顺理成章

D.墨守成规：井然有序：纷乱如麻

(2016-国家-103.) 自然科学：化学：化学元素

- A.人文科学：历史学：历史人物      B.物理学：生物物理学：光合作用  
C.语言学：汉语言：文学      D.社会学：社会科学：社区

(2016-国家-104.) 历练对于 ( ) 相当于磨砺对于 ( )

- A.栉风沐雨；千锤百炼      B.波澜不惊；一鸣惊人  
C.处心积虑；百折不回      D.千辛万苦；九死一生

(2016-国家-105.) 重力对于 ( ) 相当于 ( ) 对于昼夜交替

- A.物体质量；月圆月缺      B.潮汐；地球公转  
C.地球；月球      D.自由落体；地球自转

四、逻辑判断。每道题给出一段陈述，这段陈述被假设是正确的，不容置疑的。要求你根据这段陈述，选择一个答案。注意：正确的答案应与所给的陈述相符合，不需要任何附加说明即可以从陈述中直接推出。

请开始答题：

(2016-国家-106.) 人类与疟疾已经进行了几个世纪的斗争，但一直是“治标不治本”——无法阻断疟疾传染源。日前研究者培育出一种经过基因改造的蚊子，它具备了不再感染疟疾的能力，并且能妨碍野生蚊子繁衍，从而有效切断人与蚊子的疟疾传播途径，假以时日，就能根绝疟疾这个顽症。

以下哪项如果为真，最能支持上述结论？

- A.转基因蚊子的体质比野生蚊子差，一旦被放到野外很容易死亡  
B.转基因蚊子只在疟疾存在时才有生存优势，当生存环境中没有疟疾时，它们和野生蚊子的存活率是相同的  
C.转基因蚊子的生殖能力在繁衍了9代后显著增加，可能带来野生蚊子种群的灭亡  
D.转基因蚊子与野生蚊子交配产下的后代并不都具有抗疟疾基因，但在基因层面上都会产生突变，形成新型蚊子

(2016-国家-107.) 近来，国外一些学者和媒体对西方民主体制较为集中地进行了反思和批评，指出西方民主正在衰败。对此，有学者认为，西方民主衰败的原因之一是其存在基因缺陷。西方民主是建立在一个假设前提的基础上的，即权利是绝对的。也就是说，权利与义务本应是相对的，但在西方民主模式中，权利绝对化已成为主流，各种权利绝对化，个人主义至上，社会责任缺乏。

以下哪项如果为真，最能支持学者的观点？

- A.权利是有限度的，超越了权利的限度，就可能走向权利滥用  
B.西方民主制对权利绝对化的偏好，导致对他人权利与生存环境的忽视

C.美国两党常常把自己的权利放在国家利益之上，互相否决，危害国家和公民的利益

D.“程序万能”理论导致了西方民主制度的游戏化，民主被简化为竞选程序

(2016-国家-108.) 研究人员在观察开普勒太空望远镜发现的数千颗太阳系外行星后，发现银河系内拥有大量的行星，几乎每一颗恒星周围都存在行星。许多恒星系统内存在两至六颗行星，其中约三分之一的行星处于宜居带上，行星表面的温度适合液态水存在，这可能意味着银河系内几乎处处有宜居的星球。

以下哪项如果为真，最能支持上述结论？

A.只要存在水资源，就有生命存在的可能性，但不一定能完成进化

B.许多宜居带行星与恒星之间的距离小于地球和太阳的间距，恒星释放的耀斑可能扼杀生命

C.“恒星系统内存在两至六颗行星”这一结论是根据 200 多年前的提丢斯-波得定则推算而出，非实测结果

D.银河系内 2000~4000 亿颗恒星中 80% 是红矮星，超过一半的红矮星周围环绕的行星与地球类似，并存在水和大气层

(2016-国家-109.) 记者采访时的提问要具体、简洁明了，切忌空泛、笼统、不着边际。

《采访技巧》一书中尖锐地剖析了“您感觉如何”等问题的弊端，认为这些提问实际上在信息获取上等于原地踏步，它使采访对象没法回答，除非用含混不清或枯燥无味的话来应付。

由此可以推出：

A.记者采访时的提问如果具体、简洁明了，就不会给采访对象带来回答的困难

B.采访对象如果没法回答提问，说明他没有用含混不清或枯燥无味的话来应付

C.采访对象只有用含混不清或枯燥无味的话来应付，才能回答“您感觉如何”等问题的提问

D.诸如“您感觉如何”这样的问题，只能使采访对象抓不住问题的要点而作泛泛的或言不由衷的回答

(2016-国家-110.) 格陵兰岛是地球上最大的岛屿，形成于 38 亿年前，大部分地区被冰雪覆盖。有大量远古的岩石化石埋藏在格陵兰岛地下，它们的排列就像是一个整齐的堤坝，也被称为蛇纹石。通过这些蛇纹石，人们可以断定格陵兰岛在远古时可能是一块海底大陆。

补充以下哪项作为前提可以得出上述结论？

A.这些蛇纹石化石的年代和特征与伊苏亚地区发现的一致，而后者曾是一片海底大陆

B.蛇纹石是两个大陆板块在运动中相互碰撞时挤压海底大陆而形成的一种岩石

C.蛇纹石中碳的形状呈现出生物组织特有的管状和洋葱型结构，类似于早期的海洋微生物

D.由于大陆板块的运动才创造出了许多新的大陆，在板块运动发生之前，地球上绝大部

分地区是一片汪洋大海

(2016-国家-111.) 某大型晚会的导演组在对节目进行终审时,有六个节目尚未确定是否通过,这六个节目分别是歌曲 A、歌曲 B、相声 C、相声 D、舞蹈 E 和魔术 F。综合考虑各种因素,导演组确定了如下方案:

- (1) 歌曲 A 和歌曲 B 至少要上一个;
- (2) 如果相声 C 不能通过或相声 D 不能通过,则歌曲 A 也不能通过;
- (3) 如果相声 C 不能通过,那么魔术 F 也不能通过;
- (4) 只有舞蹈 E 通过,歌曲 B 才能通过。

导演组最终确定舞蹈 E 不能通过。

由此可以推出:

- A.无法确定魔术 F 是否能通过
- B.歌曲 A 不能通过
- C.无法确定两个相声节目是否能通过
- D.歌曲 B 能通过

(2016-国家-112.) 甲、乙、丙、丁四人商量周末出游。甲说:乙去,我就肯定去;乙说:丙去我就不去;丙说:无论丁去不去,我都去;丁说:甲乙中至少有一人去,我就去。

以下哪项推论可能是正确的?

- A.乙、丙两个人去了
- B.甲一个人去了
- C.甲、丙、丁三个人去了
- D.四个人都去了

(2016-国家-113.) 9 月初大学入学报到时,有多家手机运营商到某大学校园进行产品销售宣传。有好几家运营商推出了免费套餐服务。但是其中一家运营商推出了价格优惠的套餐,同时其业务员向学生宣传说:其他运营商所谓的“免费”套餐是通过出售消费者的身份信息来获得运营费用的。

以下哪项如果为真,最能**质疑**该业务员的宣传?

- A.有法律明确规定,手机运营商不得出售消费者的身份信息
- B.很难保证价格优惠的运营商不会同样出售消费者的身份信息
- C.免费套餐运营商所提供的手机信号质量很差
- D.免费套餐运营商是通过广告来获得运营费用的

(2016-国家-114.) 有研究者认为,有些人罹患哮喘病是由于情绪问题。焦虑、抑郁和愤怒等消极情绪,可促使机体释放组织胺等物质,从而引发哮喘病。但是,反对者认为,迷走神经兴奋性的提高和交感神经反应性的降低才是引发哮喘病的原因,与患者的情绪问题无关。

以下哪项如果为真,最能**削弱**反对者的观点?

- A.现代医学已经证实,消极情绪也可诱发身体疾病

- B.哮喘病发作会造成患者情绪焦虑、抑郁和愤怒等
- C.焦虑、抑郁和愤怒等消极情绪是现代人的普遍问题
- D.消极情绪会提高患者迷走神经的兴奋性并降低交感神经的反应性

(2016-国家-115.) 某国的科研机构跟踪研究了出生于上世纪 50 至 70 年代的 1 万多人的精神健康状况,其间测试了他们在 13 岁至 18 岁时的语言能力、空间感知能力和归纳能力。结果发现,在此期间语言能力远低于同龄人水平的青少年,成年后患精神分裂症等精神疾病的风险较高。研究人员认为,青少年期语言能力的高低将是预测成年后精神疾病的重要指标。

以下哪项如果为真,能够**质疑**上述观点?

- A.青少年期激素分泌水平异常,影响大脑发育,导致语言能力发展迟缓
- B.患精神分裂症的青少年,其归纳能力相比语言能力的发展更加缓慢
- C.许多精神健康的脑肿瘤患者在青少年时期也经常出现语言能力发展迟缓的问题
- D.适当的教育可显著提高青少年的语言能力,但对中老年人影响不大

※※※第四部分结束,请继续做第五部分!※※※

## 【【2015-国家-判断】】

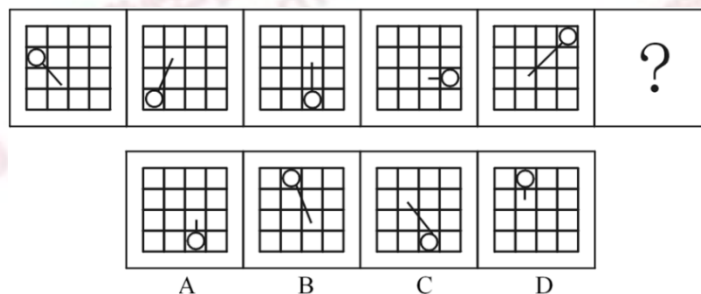
### 第四部分 判断推理

(共 40 题,参考时限 35 分钟)

一、图形推理。请按每道题的答题要求作答。

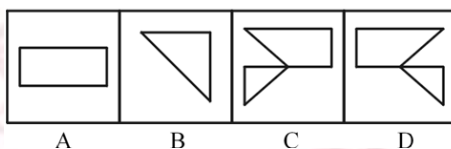
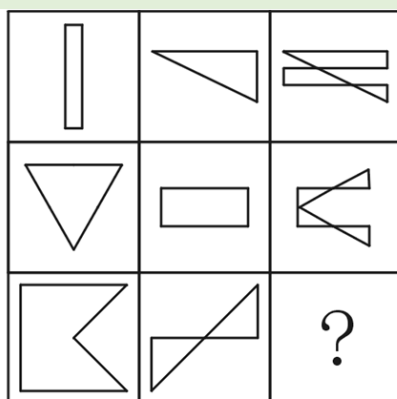
请开始答题:

(2015-国家-76.) 从所给四个选项中,选择最合适的一个填入问号处,使之呈现一定规律性:

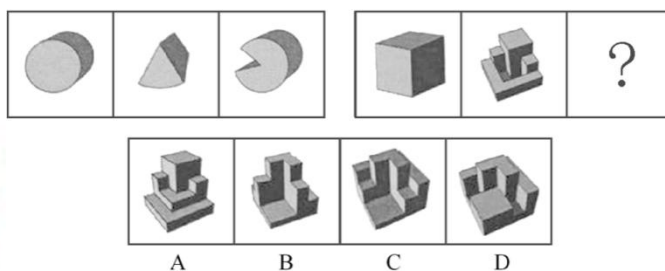


(2015-国家-77.) 从所给四个选项中,选择最合适的一个填入问号处,使之呈现一定规

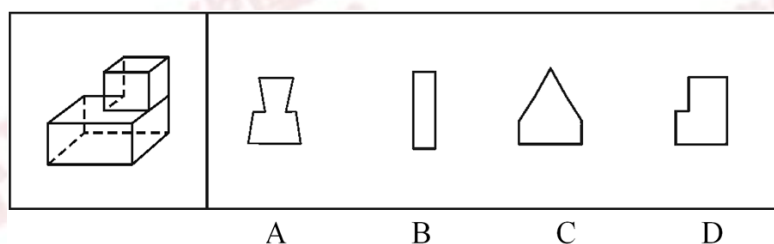
律性:



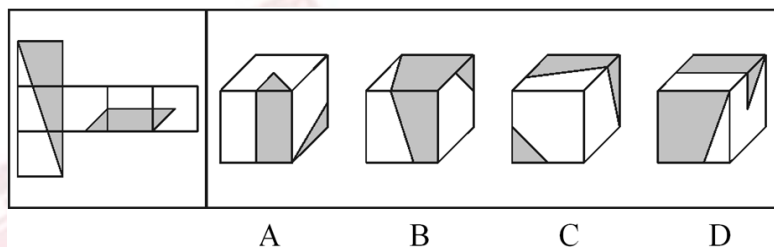
(2015-国家-78.) 从所给四个选项中, 选择最合适的一个填入问号处, 使之呈现一定规律性:



(2015-国家-79.) 一正方体如下图所示切掉了上半部分的 3/4, 现在从任意面剖开, 下面哪一项**不可能**是该多面体的截面?



(2015-国家-80.) 左边给定的是纸盒的外表面, 下列哪一项能由它折叠而成?



(2015-国家-81.) 把下面的六个图形分为两类, 使每一类图形都有各自的共同特征或规律, 分类正确的一项是:



- A. ①③④, ②⑤⑥      B. ①②⑥, ③④⑤  
C. ①③⑤, ②④⑥      D. ①⑤⑥, ②③④

(2015-国家-82.) 把下面的六个图形分为两类, 使每一类图形都有各自的共同特征或规律, 分类正确的一项是:



- A. ①②⑥, ③④⑤      B. ①④⑤, ②③⑥  
C. ①②⑤, ③④⑥      D. ①②③, ④⑤⑥

(2015-国家-83.) 把下面的六个图形分为两类, 使每一类图形都有各自的共同特征或规律, 分类正确的一项是:



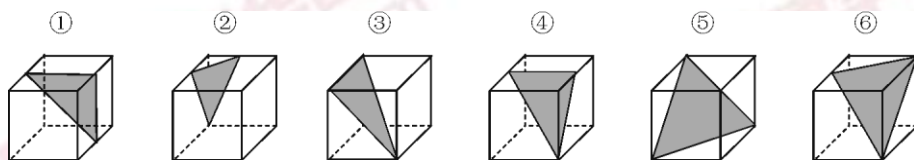
- A. ①⑤⑥, ②③④      B. ①③⑥, ②④⑤  
C. ①②③, ④⑤⑥      D. ①②⑤, ③④⑥

(2015-国家-84.) 把下面的六个图形分为两类, 使每一类图形都有各自的共同特征或规律, 分类正确的一项是:



- A. ①②③, ④⑤⑥      B. ①③⑤, ②④⑥  
C. ①②⑥, ③④⑤      D. ①④⑥, ②③⑤

(2015-国家-85.) 把下面的六个图形分为两类, 使每一类图形都有各自的共同特征或规律, 分类正确的一项是:



- A. ①②④, ③⑤⑥      B. ①③④, ②⑤⑥  
C. ①④⑥, ②③⑤      D. ①⑤⑥, ②③④

二、定义判断。每道题先给出定义, 然后列出四种情况, 要求你严格依据定义, 从中选



出一个最符合或最不符合该定义的答案。注意：假设这个定义是正确的，不容置疑的。

请开始答题：

(2015-国家-86.) 垂直绿化指的是利用攀援植物向空中生长进行纵向绿化的一种方式，以期达到在有限面积内最大限度地利用空气和阳光来提高绿化的效率。

根据上述定义，下列涉及垂直绿化的是：

- A. 爬山虎爬满了墙头和屋顶
- B. 松树林从山脚一直延伸到山顶
- C. 利用巴根草匍匐攀援的特性，人们在沙漠中逐渐开拓出一片绿洲
- D. 在丘陵地区，人们常使用飞机从空中播种的方式对山地进行绿化

(2015-国家-87.) 赋、比、兴指的是诗歌的三种表现手法。赋：铺陈直叙，把思想感情及其有关的事物平铺直叙地表达出来；比：类比，以彼物比此物，使此物更加生动具体、鲜明浅近；兴：先言他物，然后借以联想，引出诗人所要表达的事物、思想、感情。

根据上述定义，下列诗句中使用了“比”的是：

- A. 死生契阔，与之成说。执子之手，与子偕老
- B. 七月流火，九月授衣，春日载阳，有鸣仓庚
- C. 我心匪石，不可转也。我心匪席，不可卷也
- D. 手如柔荑，肤如凝脂，领如蝤蛴，齿如瓠犀

(2015-国家-88.) 经济学中，系统内部个别效率较高的组织的出现，会对其他效率较低的组织的存在和发展构成破坏或抑制，人们把这种作用称为“顶尖效应”。由于个人之间、地区之间、国家之间的发展不平衡，因此“顶尖效应”是普遍存在的。

根据上述定义，下列有助于**避免**“顶尖效应”的是：

- A. 发达国家甲与经济落后国家乙之间的贸易交易费用下降，导致乙国的资金外流
- B. 某地制定新政，加大对中小企业的扶持力度，同时对垄断行业进行调控，限制规模
- C. 某粮食生产企业一直不景气，在采用先进栽培技术后，企业生产规模扩大，销售份额开始提升
- D. 某地规定，对于优秀留学归国人员可参照其学历或专业水平直接授予相应等级的专业技术职称，不受任职年限等限制

(2015-国家-89.) 疑罪是指司法机关对被告人是否犯罪或罪行轻重难以确证的情况。疑罪从无原则是现代刑法“有利被告”思想的体现，是无罪推定原则的具体内容之一。即在既不能证明被告人有罪又不能证明被告人无罪的情况下，推定被告人无罪。

根据上述定义，下列采用了疑罪从无原则的是：

- A. 赵六因盗窃他人网络密码被起诉，但由于赵六被证明从来不使用网络，法院判其无

罪

- B. 史某和汤某打架，两人都受了伤，因无法确定谁先动手，法庭建议庭外和解
- C. 钱某因涉嫌投毒被起诉，后因证据不足，法院判决钱某无罪
- D. 张三起诉李四侵权，但因拿不出任何证据，结果败诉

(2015-国家-90.) 隐域性是指自然地理现象在受到局部的地形、水文、土壤、气流、洋流、季风等因素的影响下，在地球表面不按或偏离纬向地带性规律分布的特性，它使地带性分布规律变得不鲜明，使自然环境变得更具复杂性与多样性。

以下属于隐域性分布的是：

- A. 关汉卿《窦娥冤》中描写的“六月飞雪”
- B. 余秋雨所描写的丝绸之路上的“月牙泉”
- C. 岑参在诗中所描述的“北风卷地白草折”
- D. 电影《木乃伊归来》中所出现的大沙漠


(2015-国家-91.) 正惩罚是指当个体发出某种行为后，引发外部对其行为的某种反应，导致令该个体不愉快的后果，使个体今后发出此行为的可能性降低。负惩罚是指当个体发出某种行为后，撤销令个体愉快的后果，使个体今后发出此行为的可能性降低。

根据上述定义，下列属于正惩罚的是：

- A. 禁烟标识贴出后，在办公室吸烟的人明显减少
- B. 母亲要求小明不写完作业不得出去玩
- C. 某人因酒驾被处罚后，再没有酒驾
- D. 冰棍解暑，所以夏天冰棍很畅销

(2015-国家-92.) 甗是古代的一种盛酒器和盛水器，亦可用于盛酱。流行于商代至战国。圆体，敛口无颈，广肩，大腹，圈足，带盖，亦有方形甗。

根据上述描述，下列器具中哪一个是甗？



(2015-国家-93.) 垂直搜索引擎是针对某一个行业的专业搜索引擎，是对网页资源中的某类专门的信息进行一次整合，定向分字段抽取需要的数据进行处理后再以某种形式返回给用户。

根据上述定义，下列应用与垂直搜索引擎关系最为密切的是：

- A. 在某个购物网站上在线购买鞋子
- B. 登陆央视网站查询某个城市天气
- C. 用百度音乐搜索自己爱听的歌曲
- D. 在图书馆网站上查询该馆的藏书

(2015-国家-94.) 概念的内涵是指概念所反映的事物具有的本质属性(或特有属性),它是从质的方面反映概念的。概念的外延是指具有概念所反映的本质属性(或特有属性)的那些事物,它是从量的方面反映概念的。内涵和外延的反变关系是指具有属种关系的概念之间所具有的一种相互联系、相互制约的关系。一个概念的外延越大,它的内涵越少;一个概念外延越小,它的内涵越多。反之,一个概念的内涵越多,它的外延越小;一个概念内涵越少,它的外延越大。

根据上述定义,下列哪组概念体现了概念内涵与外延的反变关系?

- A. 司法机关, 最高审判机关, 最高人民法院
- B. 水杯, 热水杯, 大号热水杯
- C. 中国, 新疆, 乌鲁木齐
- D. 中国人, 文学家, 鲁迅

(2015-国家-95.) 时间知觉是对客观现象延续性和顺序性的感知。时间知觉的信息,既来自于外部,也来自内部。外部信息包括计时工具,也包括宇宙环境的周期性变化。内部信息是机体内部的一些有节奏的生理过程和心理活动。

根据上述定义,下列**没有**包含时间知觉信息的是:

- A. 东边日出西边雨, 道是无晴却有晴
- B. 三更灯火五更鸡, 正是男儿读书时
- C. 人有悲欢离合, 月有阴晴圆缺
- D. 月出惊山鸟, 时鸣春涧中

三、类比推理。每道题先给出一组相关的词,要求你在备选答案中找出一组与之在逻辑关系上最为贴近、相似或匹配的词。

请开始答题:

(2015-国家-96.) 小麦:馒头

- A. 麋鹿:麝香
- B. 叶绿体:细胞
- C. 乌贼:墨汁
- D. 棉花:布鞋

(2015-国家-97.) 八卦:乾坤

- A. 九族:师生
- B. 七情:情志
- C. 五音:宫商
- D. 四书:五经

(2015-国家-98.) 春夏秋冬:四季

- A. 喜怒哀乐:情绪
- B. 赤橙黄绿:颜色
- C. 早中晚:一天
- D. 东南西北:四方

(2015-国家-99.) 深入:浅尝辄止

A. 疏远：形影不离 B. 细致：事无巨细

C. 安定：水深火热 D. 独立：自食其力

(2015-国家-100.) 音符：乐谱：五线谱

A. 笔画：汉字：金文 B. 树木：森林：自然

C. 稻穗：稻谷：香米 D. 卫星：星云：宇宙

(2015-国家-101.) 经济赤字：收入：开支

A. 债务纠纷：还钱：借钱 B. 优胜劣汰：适应：淘汰

C. 销售利润：进价：售价 D. 背信弃义：诺言：谎言

(2015-国家-102.) 铁匠：火炉：镰刀

A. 医学家：试管：药剂 B. 记者：摄像机：新闻稿

C. 科学家：科技文献：新产品 D. 网民：互联网：营销

(2015-国家-103.) 鸳鸯：凤凰：雌雄

A. 翡翠：珊瑚：红绿 B. 经纬：阡陌：纵横

C. 满月：弦月：盈缺 D. 锱铢：分毫：长短

(2015-国家-104.) 存折对于 ( ) 相当于栅栏对于 ( )

A. 储户；牛羊 B. 存款；绿地

C. 虚拟；实物 D. 银行卡；围墙

(2015-国家-105.) 七寸对于 ( ) 相当于 ( ) 对于头绪

A. 尺度；线索 B. 要害；眉目

C. 七步；头脑 D. 关键；脉络

四、逻辑判断。每道题给出一段陈述，这段陈述被假设是正确的，不容置疑的。要求你根据这段陈述，选择一个答案。注意：正确的答案应与所给的陈述相符合，不需要任何附加说明即可以从陈述中直接推出。

请开始答题：

(2015-国家-106.) 在防治癌症方面，橙汁有多种潜在的积极作用，尤其由于它富含橙皮素和柚苷素等类黄酮抗氧化剂。研究证据已经表明，橙汁可以减少儿童患白血病的风险，并有助于预防乳腺癌、肝癌和结肠癌。根据研究结果，橙汁的生物效应在很大程度上受到其成分的影响，而其成分的变化又依赖于气候、土壤、水果成熟度以及采摘后的存储方法等条件。

由此可以推出：

A. 并非所有的橙汁都有相同的防癌功效

B. 过度饮用橙汁会给身体健康造成不良影响

- C. 相对于健康儿童而言，白血病患儿的橙汁饮用量较小
- D. 生长于良好的气候土壤条件下、成熟并避光保存的橙子最有功效

(2015-国家-107.) 一个旅行者要去火车站，早上从旅馆出发，到达一个十字路口，十字路口分别通向东南西北四个方向，四个方向上分别有饭店、旅馆、书店和火车站，书店在饭店的东北方，饭店在火车站的西北方。

该旅行者要去火车站，应当往哪个方向走？

- A. 东
- B. 南
- C. 西
- D. 北

(2015-国家-108.) 碎片化时代人们的注意力很难持久，让用户在邮件页面停留更长时间已经成为了营销者不断努力的方向。随着富媒体化的逐步流行，邮件逐步从单一静态向动态转变，个性化邮件的特性也逐步凸显。GIF 制作简单，兼容性强，在邮件中可以增加视觉冲击力。因此，在邮件中插入 GIF 动态图片，更能吸引用户的目光，增加用户的点击率。

以下哪项如果为真，最能支持上述结论？

- A. 如果针对特定用户群而制定个性化营销邮件，那么销售机会会增加 20%
- B. 过去没有插入 GIF 动态图片的个性化营销邮件，也为很多企业带来了成功
- C. 上世纪 70 年代出生的人习惯于电子邮件的静态界面，不喜欢花里胡哨的东西
- D. 插入 GIF 动态图片的个性化营销邮件，比普通发送的邮件给企业带来的收入多 18 倍

(2015-国家-109.) 某国际小组对从已灭绝的一种恐鸟骨骼化石中提取的 DNA 进行遗传物质衰变速率分析发现，虽然短 DNA 片段可能存在 100 万年，但 30 个或者更多碱基对序列在确定条件下的半衰期只有大约 15.8 万年。某位科学家据此认为，利用古代 DNA 再造恐龙等类似于电影《侏罗纪公园》中的故事不可能发生。

以下哪项如果为真，最能**反驳**该科学家的观点？

- A. 《侏罗纪公园》虽然是一部科幻电影，但也要有事实依据
- B. 上述研究的化石样本可能受到人类 DNA 的“污染”
- C. 环境因素会影响 DNA 等遗传物质的衰变速率
- D. 恐鸟与恐龙的碱基对序列排列顺序不同

(2015-国家-110.) 由于一种新的电池技术装置的出现，手机在几分钟内充满电很快就会变成现实。这种新装置是一种超级电容器，它储存电流的方式是通过让带电离子聚集到多孔材料表面，而非像传统电池那样通过化学反应储存这些离子。因此这种超级电容器能在几分钟内储满电，研究人员认为这种技术装置将会替代传统电池。

以下哪项如果为真，**不能**支持上述结论？

- A. 超级电容器能够储存大量电能，保证长时间正常运行
- B. 超级电容器能循环使用数百万次，相比之下传统电池只能使用数千次

- C. 超级电容器可嵌入汽车底盘为汽车提供动力，可更方便地进行无线充电
- D. 超级电容器充电时所耗电能比传统电池少 90%，但供电时间比后者长 10 倍

(2015-国家-111.) 台风是大自然最具破坏性的灾害之一。有研究表明：通过向空中喷洒海水水滴，增加台风形成区域上空云层对日光的反射，那么台风将不能聚集足够的能量，这一做法将有效阻止台风的前进，从而避免更大程度的破坏。

上述结论的成立需要补充以下哪项作为前提？

- A. 喷洒到空中的水滴能够在云层之上重新聚集
- B. 人工制造的云层将会对邻近区域的降雨产生影响
- C. 台风经过时，常伴随着大风和暴雨等强对流天气
- D. 台风前进的动力来源于海水表面日光照射所产生的热量

(2015-国家-112.) 有一段时间，电视机生产行业竞争激烈。由于电视机品牌众多，产品质量成为消费者考虑的首要因素。某电视机生产厂家为了扩大市场份额，一方面加大研发力度，进一步提高了电视机产品的质量；另一方面在价格上作调整，适当降低了产品的价格。然而，调整之后的头三个月，其电视机产品的市场份额不但没有提高反而有所下降。

以下哪项如果为真，最能解释上述现象？

- A. 消费者通常会考虑不同产品的价格差异，而非同一产品在不同时期的价格差异
- B. 一个家庭再次购买电视机产品时会首先考虑原来的品牌
- C. 消费者通常是通过价格来衡量电视机产品质量的
- D. 其他电视机生产厂家也调整了产品价格

(2015-国家-113.) “有好消息，也有坏消息。”无论是谈起什么主题，这样的开场白都顿时让人觉得一丝寒意传遍全身。接着这句话，后边往往是这样一个问题：你想先听好消息还是坏消息？一项新的研究表明，你可能想先听坏消息。

如果以下各项为真，最能削弱上述论证的是：

- A. 若消息是来自一个你信任的人，那么你想先听好坏消息的顺序会不同
- B. 研究发现，若由发布消息的人来决定，那么结果往往总是先说好消息
- C. 心理学家发现，发布好坏消息的先后顺序很可能改变人们对消息的感觉
- D. 心理评估结果证明先听到坏消息的学生比先听到好消息的学生焦虑要小

(2015-国家-114.) 城市病指的是人口涌入大城市，导致其公共服务功能被过度消费，最终造成交通拥挤，住房紧张，空气污染等问题。有专家认为，当城市病严重到一定程度时，大城市的吸引力就会下降，人们不会再像从前一样向大城市集聚，城市病将会减轻，从而焕发新的活力。

如果以下各项为真，能够削弱上述观点的是：

- A. 我国已经进入城市病的爆发期，居民生活已受到影响
- B. 大城市能够提供的公共服务是中小城市所无法替代的

C. 政府应该将更多财力用于发展中小城市、乡镇、农村

D. 中小城市活力足，发展潜力大，对人们吸引力会很强

(2015-国家-115.) 今年联赛决赛的最后 4 支队伍是甲、乙、丙和丁，其中 N 和 T 分别为甲队和丁队的主教练。有人指出，甲队此前每次夺该项桂冠的赛季都曾战胜过 T 教练所在的球队；过去 4 年间，丁队在 N 教练的指导下，每隔一年都能夺得该项桂冠，而去年丁队没有夺冠。

以下哪项如果为真，与上述表述相矛盾？

A. T 教练可能执教过丁队

B. N 教练去年曾执教丁队

C. 甲队曾 4 次夺得该项冠军

D. 丁队前年未获得该项冠军

※※※第四部分结束，请继续做第五部分！※※※

## 【【2014-国家-判断】】

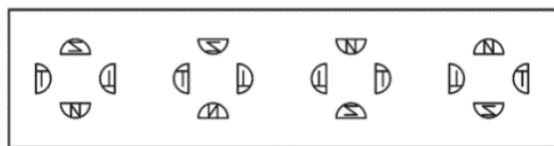
### 第四部分 判断推理

(共 40 题，参考时限 35 分钟)

一、图形推理。请按每道题的答题要求作答。

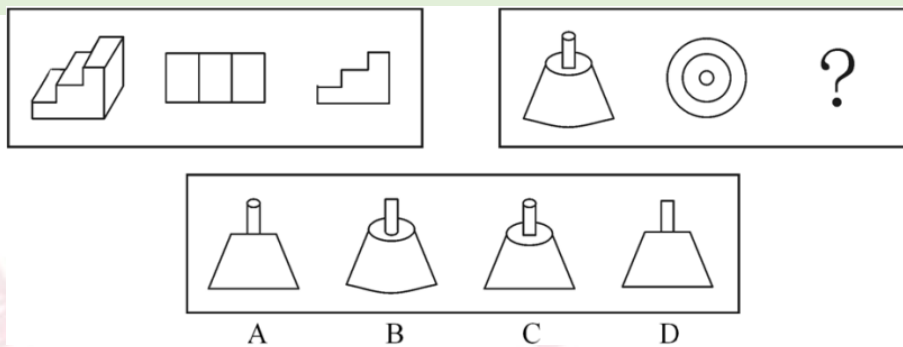
请开始答题：

(2014-国家-76.) 从所给四个选项中，选择最合适的一个填入问号处，使之呈现一定规律性：



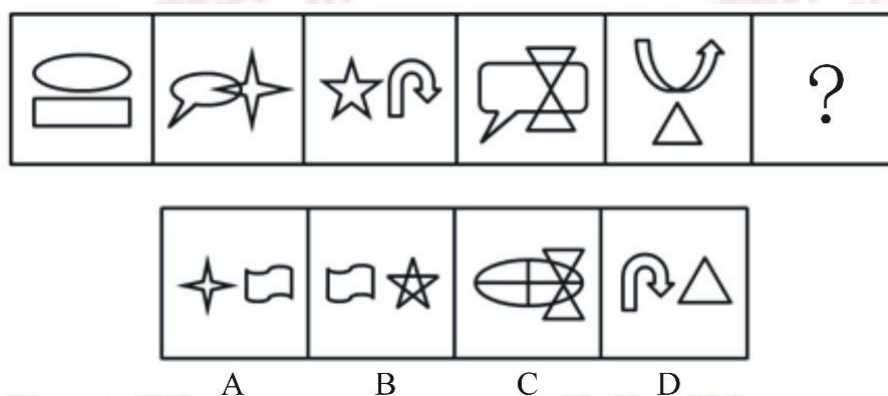
(2014-国家-77.) 从所给四个选项中，选择最合适的一个填入问号处，使之呈现一定规

律性:



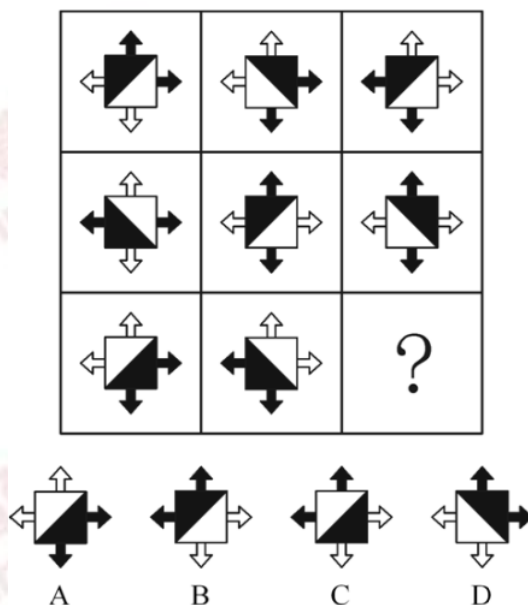
(2014-国家-78.) 从所给四个选项中, 选择最合适的一个填入问号处, 使之呈现一定规律性:

律性:



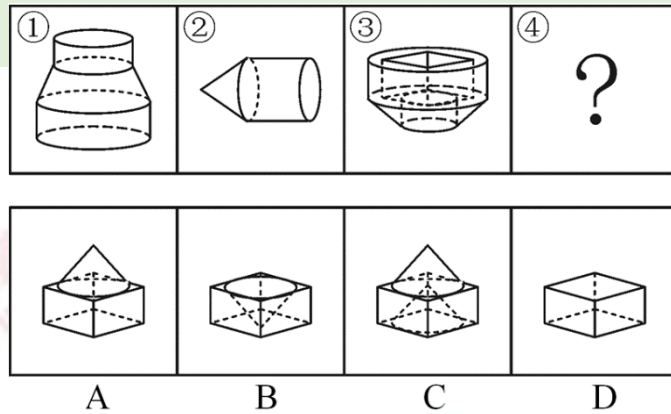
(2014-国家-79.) 从所给四个选项中, 选择最合适的一个填入问号处, 使之呈现一定规律性:

律性:

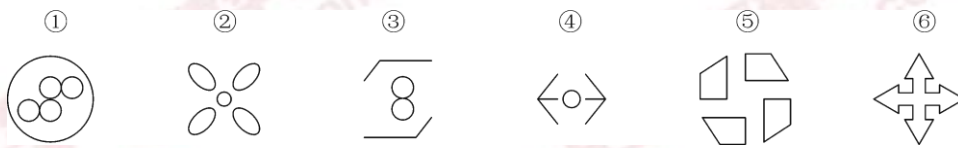


(2014-国家-80.) 下列中的立体图形①是由立体图形②、③和④组合而成, 下列哪一项能够填入问号处?



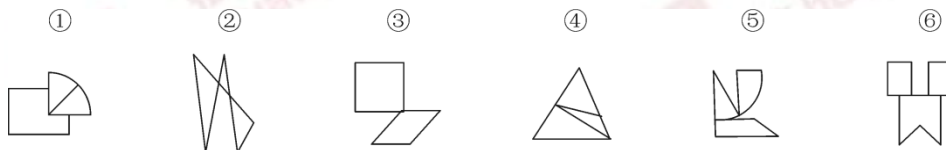


(2014-国家-81.) 把下面的六个图形分为两类, 使每一类图形都有各自的共同特征或规律, 分类正确的一项是:



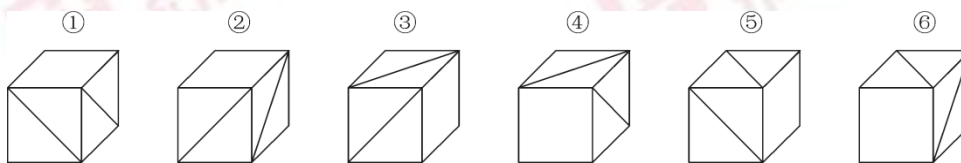
- A. ①③④, ②⑤⑥
- B. ①③⑤, ②④⑥
- C. ①②⑥, ③④⑤
- D. ①④⑥, ②③⑤

(2014-国家-82.) 把下面的六个图形分为两类, 使每一类图形都有各自的共同特征或规律, 分类正确的一项是:



- A. ①④⑥, ②③⑤
- B. ①②③, ④⑤⑥
- C. ①③⑥, ②④⑤
- D. ①⑤⑥, ②③④

(2014-国家-83.) 把下面的六个图形分为两类, 使每一类图形都有各自的共同特征或规律, 分类正确的一项是:



- A. ①②⑥, ③④⑤
- B. ①③⑥, ②④⑤
- C. ①④⑤, ②③⑥
- D. ①③④, ②⑤⑥

(2014-国家-84.) 把下面的六个图形分为两类, 使每一类图形都有各自的共同特征或规律, 分类正确的一项是:





- A. 生长在京剧世家的孩子耳濡目染，很小就会唱京剧
- B. 小张在高考前做了大量数学学习题，因此在数学考试中获得高分
- C. 小李经常看别人下象棋，时间一长，他也掌握了下象棋的方法
- D. 儿童无需系统地学习语词和语法规则，不知不觉地就会说母语

(2014-国家-89.) 注意分为内源性注意和外源性注意。内源性注意是指个体根据自己的目标或意图来分配注意、支配行为，是主动注意；外源性注意是指由个体外部信息引起的个体注意，是被动注意。

根据上述定义，下列属于内源性注意的是：

- A. 根据客户的要求，广告设计师特别关注了大量以温馨家园为题材的售楼广告素材
- B. “轰”的一声响，大家不由地都回头看了一眼
- C. 六一儿童节，公园里奇幻的魔术表演受到许多小朋友和家长的喜爱
- D. 超市琳琅满目的商品，包装各异、颜色鲜亮，吸引了许多顾客的眼球

(2014-国家-90.) 顺从型互动是指行动者之间发生性质相同或方向一致的行动过程，常有三种形式：有意无意向他人发出信号或暗示，并引起他人反应；不经过考量，直接按照他人的方式去行动；行动者在他人压力下接受他人行动方式，并且照做。

根据上述定义，下列**不属于**顺从型互动的是：

- A. 小文对新来的家教老师不满意，但无奈于父母的苦心和已缴的学费，还是开始了家教课程
- B. 护士阿姨一边说“不哭啊，一点都不疼”，一边在毛毛的手臂上注射，毛毛果然没哭
- C. 大家对小刘的业务能力有目共睹，连素来挑剔的老主任也赞成选小刘为业务主管
- D. 很多投资者寻找项目时什么热就投资什么，股票热时炒股票，翡翠热时炒翡翠

(2014-国家-91.) 组织控制是指组织用各种规章制度和奖惩手段来约束组织成员行为，以保证组织的决策和指令能够有效地贯彻执行，维护组织的各项秩序。

根据上述定义，下列最能体现组织控制的是：

- A. 某高校不断加强对外交流，派遣访问学者的名额逐年增加
- B. 某外企实行上班打卡制，如果员工去见客户可以不用打卡，但须在前一天向上级报告
- C. 某公司每年举办新人入职会，以便让新加入团队的成员尽快熟悉环境
- D. 某生产厂商为了提高员工生产积极性，薪酬计算由原来的计时绩效改为计件绩效

(2014-国家-92.) 矩阵对策是指处于利益竞争的两个关系主体，各自可选的策略有限，且在一局对策中双方得失和为零的现象，即要不成功、要不失败。对策中，一方真正成功的措施应该是，针对对方所采取的行动相应地制定有利于自己的应对策略，各方选择的策略必定是自己对对方策略预测的最佳反应。

根据上述定义，下列属于矩阵对策的是：

- A. 在进入奥运女子排球决赛后，某国家队重新安排队员阵容和出场顺序
- B. 齐王和田忌按原条件重新赛马，并约定每局比赛须用同等级的马参赛
- C. 劳资双方进行薪资谈判，经过反复的讨价还价，最终双方都作出让步
- D. 丈夫要去踢球，妻子要去看电影，儿子要去游乐园，最后三人去郊游

(2014-国家-93.) 签名效应是指当人们在纸上写下自己名字时，大脑中的自我意识会加强，此时看到喜欢的东西，更容易把物品和自己联系起来，产生“这个东西真适合我”等想法，从而激发购买欲望。

根据上述定义，下列现象可用签名效应解释的是：

- A. 快递公司坚持“先签字后验货”的做法
- B. 采取实名捐款的办法能够募捐到更多善款
- C. 中介公司要求租客在看房前签订《看房协议书》
- D. 手术前，患者被要求在《知情同意书》上签字

(2014-国家-94.) 角色混同指的是将自己所具有的不同角色相混淆，而发生的导致背离角色期待和角色规范的行为。

根据上述定义，下列哪项属于角色混同？

- A. 老李是某局局长，对于儿子提出的要求，他常常不自觉地说到：“这事得和其他同志研究研究。”为此，他多次受到妻子的批评
- B. 小王是个游戏迷，他常常将工作中的同事假想成游戏中的玩家，也常常将游戏中的玩家想象成自己的某个同事
- C. 庄周梦见自己变成蝴蝶，醒过来之后惊惶不定，庄周不知自己梦中变成了蝴蝶，还是蝴蝶梦中变成了自己
- D. 到北京来打工的某外省青年有时不自觉地说起家乡话，常常弄得同事莫名其妙

(2014-国家-95.) 红旗原则是指如果侵犯著作权的事实是显而易见的，网络服务商就不能装作看不见，或以不知道侵权的理由来推脱责任。

根据上述定义，下列适用红旗原则的情形是：

- A. 未经用户许可，某客户端软件就能够自动扫描，获取用户个人数据
- B. 甲某利用网络服务商提供的免费存储空间，非法经营盗版影视作品
- C. 乙某上传正在首播的某热门电视剧，并被网站编辑推荐到下载首页
- D. 丙某通过第三方在有下载功能的互联网电视上获取未经授权的节目

三、类比推理。每道题先给出一组相关的词，要求你在备选答案中找出一组与之在逻辑关系上最为贴近、相似或匹配的词。

请开始答题：

(2014-国家-96.) 创新：僵化

- A. 发展：前进
- B. 开放：闭塞
- C. 计划：秩序
- D. 革新：失败

(2014-国家-97.) 生命：生物

- A. 思维：人类
- B. 绿色：植物
- C. 节气：历法
- D. 收获：秋季

(2014-国家-98.) 厨师：炒鱿鱼

- A. 法官：和稀泥
- B. 高手：摆擂台
- C. 脚夫：撂挑子
- D. 司机：开天窗

(2014-国家-99.) 抽样调查：抽样原则

- A. 调查问卷：征求意见
- B. 设备操作：操作规程
- C. 数学模型：建模软件
- D. 人物访谈：访谈内容

(2014-国家-100.) 红茶：发酵：保健

- A. 丝绸：染色：收藏
- B. 石油：蒸馏：燃烧
- C. 中药：采摘：治病
- D. 玉镯：磨制：装饰

(2014-国家-101.) 木材：抽屉：收纳

- A. 钢铁：剪刀：切割
- B. 棉花：毛线：保暖
- C. 城墙：石头：防御
- D. 橡胶：气垫：缓冲

(2014-国家-102.) 交通：拥堵：治理

- A. 食材：讲究：享用
- B. 生活：贫困：救济
- C. 音乐：动感：聆听
- D. 健康：虚弱：保健

(2014-国家-103.) 言而有信：言而无信：承诺

- A. 童叟无欺：明码实价：交易
- B. 心满意足：贪心不足：满意
- C. 言之凿凿：口说无凭：证据
- D. 文思泉涌：搜索枯肠：知识

(2014-国家-104.) 坚若磐石对于 ( ) 相当于 ( ) 对于良心

- A. 信心；落井下石
- B. 品质；铁石心肠
- C. 懦弱；金石为开
- D. 意志；知恩图报

(2014-国家-105.) ( ) 对于国家相当于免疫对于 ( )

- A. 国防；生物
- B. 阶级；疫苗
- C. 民族；脱敏
- D. 人民；淋巴

四、逻辑判断。每道题给出一段陈述，这段陈述被假设是正确的，不容置疑的。要求你根据这段陈述，选择一个答案。注意：正确的答案应与所给的陈述相符合，不需要任何附加说明即可以从陈述中直接推出。

请开始答题：

(2014-国家-106.) 该不该让小孩玩电脑游戏? 这让很多家长困扰, 因为有太多的报告指责游戏正摧毁着下一代, 不过一项新的研究显示, 玩游戏有益于小孩的阅读能力, 甚至可帮助他们克服阅读障碍。

以下哪项如果为真, 最**不能**支持上述结论?

A. 研究发现, 如果让孩子们玩体感游戏, 即依靠肢体动作变化来操作的游戏, 累计超过 12 小时, 孩子的阅读速度及认字准确率会显著提升

B. 儿童阅读障碍主要与神经发育迟缓或出现障碍有关, 游戏只能暂时提高阅读速度, 却无法克服阅读障碍

C. 长期玩游戏的儿童阅读游戏规则更容易, 还会对游戏中出现的画面变得敏感, 但却对周围的事物表现冷漠

D. 相比玩单机版游戏的儿童, 玩网络互动游戏的儿童会更加注重相互交流, 因此他们的阅读能力提高得更快

(2014-国家-107.) 在南极海域冰冷的海水中, 有一种独特的鱼类, 它们的血液和体液中具有一种防冻蛋白, 因为该蛋白它们才得以存活并演化至今。但时至今日, 该种鱼类的生存却面临巨大挑战。有人认为这是海水升温导致的。

以下哪项如果为真, 最能支持上述观点?

A. 防冻蛋白能够防止水分子凝结, 从而保证南极鱼类正常的活动, 气候变暖使得该蛋白变得可有可无

B. 南极鱼类在低温稳定的海水中能够持续的演化, 而温暖的海水不利于南极鱼类的多样性

C. 南极海水中的含氧量随气温上升而下降, 缺氧导致防冻蛋白变性, 易沉积于血管, 导致供血不足, 从而缩短鱼的寿命

D. 并非所有南极物种都具有防冻蛋白, 某些生活于副极地的物种并没有这种蛋白

(2014-国家-108.) 研究发现, 试管婴儿的出生缺陷率约为 9%, 自然受孕婴儿的出生缺陷率约为 6.6%。这两部分婴儿的眼部缺陷比例分别为 0.3%和 0.2%, 心脏异常比例分别为 5%和 3%, 生殖系统缺陷的比例分别为 1.5%和 1%。因而可以说明, 试管婴儿技术导致试管婴儿比自然受孕婴儿出生缺陷率高。

以下哪项如果为真, 最能**质疑**该结论?

A. 试管婴儿要经过体外受精和胚胎移植过程, 人为操作都会加大受精卵受损的风险

B. 选择试管婴儿技术的父母大都有生殖系统功能异常, 这些异常会令此技术失败率增加

C. 试管婴儿在体外受精阶段可以产生很多受精卵, 只有最优质的才被拣选到母体进行孕育

D. 试管婴儿的父母比自然受孕婴儿的父母年龄大很多，父母年龄越大，新生儿出生缺陷率越高

(2014-国家-109.) 在一项实验中，让 80 名焦虑程度不同的女性完成同样的字母识别任务，同时在她们头上放置电极，观察大脑活动。结果表明，焦虑程度高的女性完成任务时脑电活动更复杂，更容易出错。实验者由此得出结论：女性焦虑影响完成任务的质量。

以下哪项如果为真，最能**反驳**上述结论？

- A. 焦虑程度高的女性与其他女性相比在实验前对任务不熟悉
- B. 女性焦虑时，大脑会受到各种思绪的干扰而无法专注
- C. 女性焦虑容易引发强迫症、广泛性焦虑等心理问题
- D. 有研究显示，焦虑和大脑反应错误率是正相关的

(2014-国家-110.) 如果用户手机里安装了企业的手机客户端，那么就可以大大提高用户游览手机时看到企业标识和名称的机会，进而达到宣传企业形象和品牌的目的是，提高企业知名度。

上述结论的假设前提是：

- A. 手机用户数量增长势头强劲
- B. 手机客户端是项成熟的技术
- C. 手机用户有浏览手机的习惯
- D. 手机营销的时效强、成本低

(2014-国家-111.) 素数是指只含有两个因子的自然数（即只能被自身和 1 整除）。孪生素数，是指两个相差为 2 的素数。比如，3 和 5，17 和 19 等。所谓的孪生素数猜想，是由希腊数学家欧几里得提出的，意思是存在着无穷对孪生素数。该论题一直未得到证明。近期，美国一位华人讲师的最新研究表明，虽然还无法证明存在无穷多个之差为 2 的素数对，但存在无穷多个之差小于 7000 万的素数对。有关方面认为，如果这个结果成立，那么将是数论发展的一项重大突破。

以下哪项如果为真，最能支持有关方面的观点？

- A. 这位华人讲师长期从事数学领域的相关教学和科研工作
- B. 关于孪生素数猜想的证明需要一个漫长的、逐步推进的过程
- C. 这是第一次有人正式证明存在无穷多组间距小于定值的素数对
- D. 7000 万这个数字很大，离孪生素数猜想给出的 2 还有很大距离

(2014-国家-112.) 一个人生活虽然很难，但也必须学会一个人，不要轻易依赖别人。这样以后身边的人都离开你的时候，你还可以好好活下去。

如果以上为真，则以下哪项为真？

- A. 身边人都离开时还可以好好活，未必是因你以前学会如何一个人生活
- B. 不能独自生活的人，在身边的人都离开他的时候，就无法好好活下去
- C. 一个人生活虽然很难，但也比身边的人都离开他的时候要来得容易些
- D. 不要轻易依赖别人，因为一个人生活的时候会很艰难无法好好活下去

(2014-国家-113.)调查显示,中国消费者对奢侈品品牌的忠诚度远远低于西方消费者。对许多中国消费者而言,高价格仍然很重要,物有所值仍然比品牌重要,而且现阶段甚至比质量还重要。

由此可以推出:

- A. 中国消费者购买奢侈品时往往不会考虑价格因素
- B. 中国消费者喜欢购买价格高且物有所值的奢侈品
- C. 比起知名度来,奢侈品的价格更吸引中国消费者
- D. 中国消费者不甚关注知名奢侈品的价格及其质量

(2014-国家-114.)研究小组利用超级计算机模拟宇宙,并结合多种其他计算,证明了在我们这个加速膨胀的宇宙中,描述大尺度时空结构的因果关系网络曲线图,是一个具有显著聚类特征的幂函数曲线,和许多复杂网络如互联网、社交网、生物网络等惊人的相似。

由此可以推出:

- A. 人脑研究有助于了解宇宙的结构
- B. 宇宙就是一个大脑或一台计算机
- C. 宇宙万物的演化遵循同样的规律
- D. 复杂系统演化存在某种相似法则

(2014-国家-115.)某局办公室共有 10 个文件柜按序号一字排开。其中 1 个文件柜只放上级文件, 2 个只放本局文件, 3 个只放各处室材料, 4 个只放基层单位材料。

1	2	3	4	5	6	7	8	9	10
---	---	---	---	---	---	---	---	---	----

要求:

1 号和 10 号文件柜放各处室材料;

两个放本局文件的文件柜连号;

放基层单位材料的文件柜与放本局文件的文件柜不连号;

放各处室材料的文件柜与放上级文件的文件柜不连号。

已知 4 号文件柜放本局文件, 5 号文件柜放上级文件, 由此可以推出:

- A. 9 号文件柜放基层单位材料
- B. 2 号文件柜放基层单位材料
- C. 7 号文件柜放各处室材料
- D. 6 号文件柜放各处室材料

※※※第四部分结束, 请继续做第五部分! ※※※



【【2013-国家-判断】】

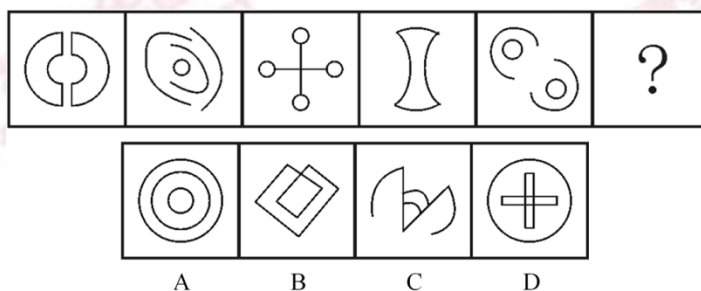
第四部分判断推理

(共 40 题，参考时限 35 分钟)

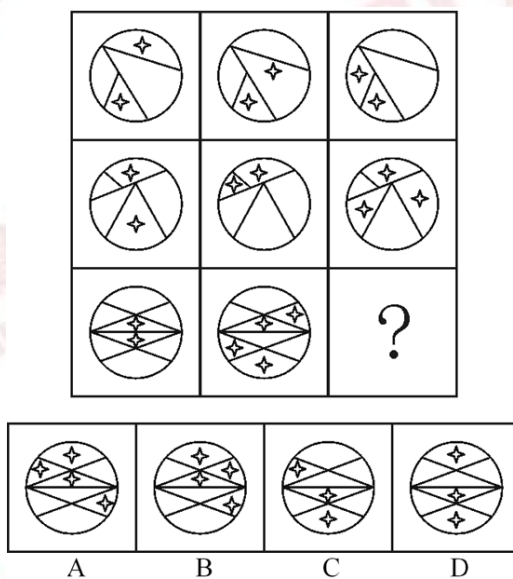
一、图形推理。请按每道题的答题要求作答。

请开始答题：

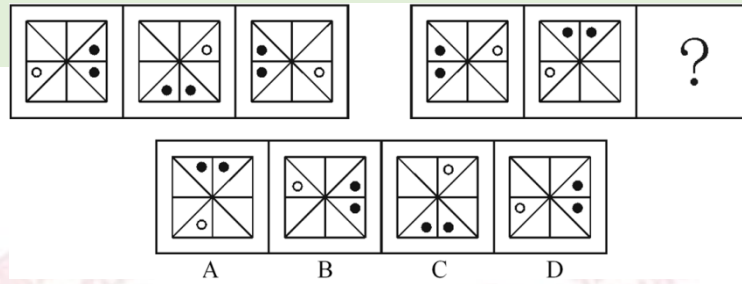
(2013-国家-76.) 从所给四个选项中，选择最合适的一个填入问号处，使之呈现一定规律性：



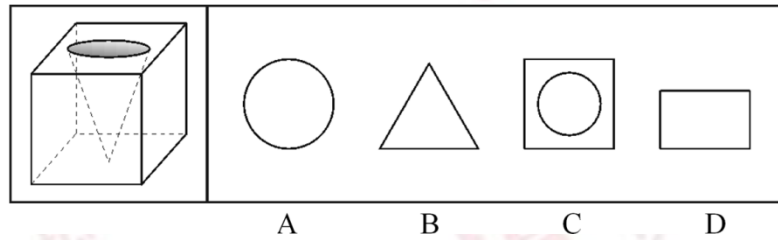
(2013-国家-77.) 从所给四个选项中，选择最合适的一个填入问号处，使之呈现一定规律性：



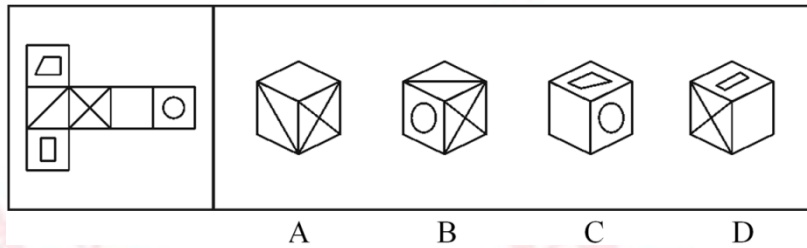
(2013-国家-78.) 从所给四个选项中，选择最合适的一个填入问号处，使之呈现一定规律性：



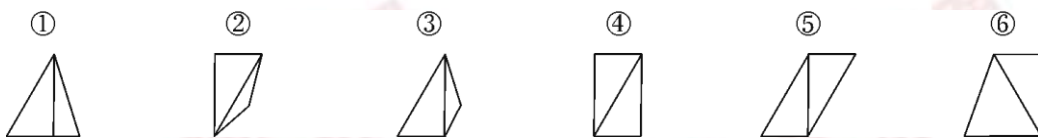
(2013-国家-79.) 一立方体如图所示从中挖掉一个圆锥体, 然后从任意面剖开, 下面哪一项不可能是该立方体的截面?



(2013-国家-80.) 左边给定的是纸盒的外表面, 下列哪一项能由它折叠而成?

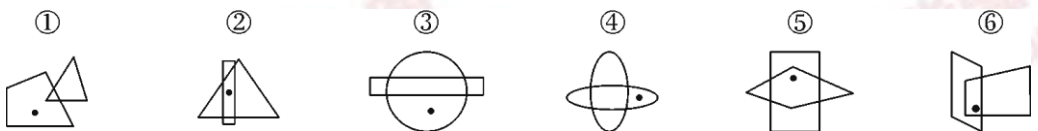


(2013-国家-81.) 把下面的六个图形分为两类, 使每一类图形都有各自的共同特征或规律, 分类正确的一项是:



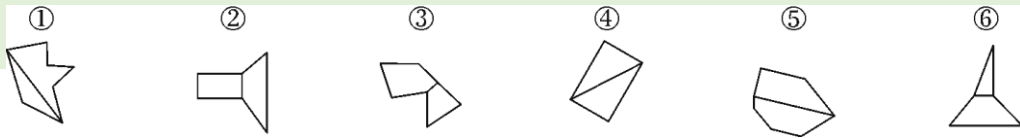
- A. ①④⑥, ②③⑤  
 B. ①④⑤, ②③⑥  
 C. ①②⑤, ③④⑥  
 D. ①③⑥, ②④⑤

(2013-国家-82.) 把下面的六个图形分为两类, 使每一类图形都有各自的共同特征或规律, 分类正确的一项是:



- A. ①⑤⑥, ②③④  
 B. ①③④, ②⑤⑥  
 C. ①②④, ③⑤⑥  
 D. ①②⑤, ③④⑥

(2013-国家-83.) 把下面的六个图形分为两类, 使每一类图形都有各自的共同特征或规律, 分类正确的一项是:




- A. ①③⑥, ②④⑤  
 B. ①②⑤, ③④⑥  
 C. ①②⑥, ③④⑤  
 D. ①④⑤, ②③⑥

(2013-国家-84.) 把下面的六个图形分为两类, 使每一类图形都有各自的共同特征或规律, 分类正确的一项是:



- A. ①③⑤, ②④⑥  
 B. ①④⑥, ②③⑤  
 C. ①③④, ②⑤⑥  
 D. ①②⑤, ③④⑥

(2013-国家-85.) 把下面的六个图形分为两类, 使每一类图形都有各自的共同特征或规律, 分类正确的一项是:



- A. ①②④, ③⑤⑥  
 B. ①②③, ④⑤⑥  
 C. ①③⑥, ②④⑤  
 D. ①③⑤, ②④⑥

二、定义判断。每道题先给出定义, 然后列出四种情况, 要求你严格依据定义, 从中选出一个最符合或最不符合该定义的答案。注意: 假设这个定义是正确的, 不容置疑的。  
 请开始答题:

(2013-国家-86.) 职业认同是指个人对所从事的职业主观建构的、与职业特征联系在一起的认知和感受, 常常包括职业角色的意义感和价值感、职业是否有乐趣和吸引力等。职业认同分为过程性职业认同和状态性职业认同。其中过程性职业认同是指个体从自己经历中逐渐发展出的认同自己职业角色的过程; 状态性职业认同是指个体当前对自己所从事职业的认可程度。

根据上述定义, 下列属于过程性职业认同的是:

- A. 身为一名人民警察, 老张几十年如一日, 始终将维护公共安全的原则牢记于心  
 B. 李老师凭借自己灵活的授课方式赢得最佳教师奖, 为此她深感自豪  
 C. 听完老党员的模范事迹, 小赵顿时感觉到作为一名党员干部身上肩负的重任  
 D. 陈医生行医多年, “救死扶伤”四个字已从字面意思转变为人生追求

(2013-国家-87.) 获致身份是指一个人经历某种公开的、具有竞争性的奋争或因具备某种特殊的本领而获得的社会地位。

根据上述定义, 下列选项符合获致身份说法的是:

A.生子当如孙仲谋

B.王侯将相宁有种乎

C.忠臣必出孝子之门

D.上品无寒门，下品无士族

(2013-国家-88.) 优势富集效应是一种起点发展理论，是指起点上的微小优势经过关键过程的级数放大，产生更大级别的优势积累。

根据上述定义，下列**不属于**优势富集效应的是：

A. 某名牌大学建校时间很早，文化传统悠久，并拥有政策、资金等多方面支持，全国许多优秀的学生填写高考志愿时都选择了该校

B. 上海的金茂大厦楼体高度略微超过“东方明珠”电视塔，被誉为“中华第一高楼”，因此吸引了众多游客和广告商，各类会议也常在此举办，呈现后来居上的态势

C. 某教育培训机构为了拓展业务，也像别的培训机构那样，通过发送宣传单来进行宣传，后来随着规模的不断扩大，服务质量也更上一层楼，成为业内的典范

D. 某服装品牌设立之初，最先提出要做“夹克之王”的理念，并通过电视媒体进行推广，后来这个概念逐渐被人们认可，许多人都认为买夹克就应该买这个品牌的

(2013-国家-89.) 制度的反功能指的是该制度实现了系统的某些功能之后而产生的副作用，诸如破坏该系统的内部协调、稳定关系，造成系统内部冲突，对系统良性运行产生破坏作用等现象。

根据上述定义，下列涉及制度的反功能的是：

A. 某校实行绩效考核，实行一段时间后引发了教师争抢上课、乱发文章等一系列问题

B. 某售楼处规定销售额可以提成，结果某销售员一个月卖房近 50 套

C. 一对夫妻新婚后实行家庭消费 AA 制，一段时间后觉得不方便就取消了

D. 某部门实行人性化管理，结果上班迟到现象反而比实行考勤制度时减少了

(2013-国家-90.) “翻异别勘”是宋代为防止冤假错案而规定的复审制度，是指犯人如果在录问或行刑时提出申诉，案件必须重新审理。宋代的“翻异别勘”分为原审机关的“移司别勘”和“差官别推”两种形式。“移司别勘”是指由原审机关将案子交给另一个同级的司法机关复审。“差官别推”是指原审机关将案子申报到上级机关，由上级机关负责差派与原审机关不相干的另外一个机关的官员重新审理。这种情况下，往往或者是差派上级机关的官员前往原审机关主审，或者将案子移往上级机关复审。

根据上述定义，下列**不属于**“翻异别勘”的是：

A. 宋代中央司法机关刑部分左、右两厅，对其中一厅审理的案件，若犯人提出申诉，则由另一厅重审

B. 宋代地方司法机关从上至下分为路、州、县三级，对由县上诉至州的案件作出判决后，若犯人提出申诉，则由州发回县重审

C. 犯人对州县审理的案件提出申诉, 可以将案件移交至州县的上级——路的长官进行重审

D. 犯人对州县审理的案件提出申诉, 州县的上级——路的长官可以亲至州县对案件进行重审

(2013-国家-91.) 求助者有两种求助动机: 执行性求助和工具性求助。前者是自己不作任何尝试或努力, 只想知道答案或让他人代自己完成任务; 后者是借助其他人的力量以达到自己解决问题或实现目标的目的。

根据上述定义, 下列属于工具性求助的是:

- A. 妈妈为五岁的小明报了很多兴趣班, 小明在兴趣班中结识了许多新朋友
- B. 小文每次阅读英语文章遇到生词时都会查阅电子词典, 掌握生词的读音和意思
- C. 家教老师耐心讲解了这道题的思路和原理后, 小斌还是请老师直接给出答案
- D. 综合了多家咨询机构提供的意见, 小峰拟定了符合自身条件的出国学习规划

(2013-国家-92.) 电子反对抗是指防止敌方或己方的电子对抗措施影响己方的设备和人员作战效能所进行的各种活动, 以防护己方的战斗力不遭受其损害, 主要措施包含电子反侦察、电子反干扰、抗反辐射摧毁、抗定向能致盲和抗计算机病毒传染。

根据上述定义, 下列选项**不涉及**电子反对抗的是:

- A. 军事演习前, 演习指挥中心提前对使用的电脑进行病毒查杀
- B. 发射车向敌方发射反辐射导弹, 关闭己方电子设备以免误击
- C. 军舰在冲突海域降低雷达发射信号功率, 并设置反辐射诱饵
- D. 为对抗敌方电子干扰, 指挥部决定重要指令用固定电话下达

(2013-国家-93.) 文化自觉是指生活在一定文化中的人, 对自己的文化有“自知之明”, 即明白它的来历、形成过程、特色和发展趋向, 从而增强自身文化转型的能力, 并能够在新的时代条件下进行文化选择的能力和地位。此外, 文化自觉还表现为应具有世界眼光, 能够理解别的民族的文化, 增强与不同文化之间接触、对话、相处的能力。

根据上述定义, 下列选项属于文化自觉的是:

- A. 经谈判, 中方同意增加美国电影进入中国市场的配额
- B. 为保护贵州梭嘎苗族文化习俗建立了梭嘎生态博物馆
- C. 赵武灵王的“胡服骑射”与北魏拓跋氏的“禁断胡语”
- D. 湖北省襄樊市与河南省南阳市都自称是“诸葛亮故里”

(2013-国家-94.) 生态演替是指在同一地段上生物群落有规律的更替过程, 分为原生演替和次生演替两类。在过去从未有过植被, 或者原来有过植被但被彻底破坏, 原有植被下的土壤已不复存在的裸地上开始的演替称为原生演替; 在原有植被虽已被破坏, 但仍保持着土壤和植物繁殖体的地方开始的演替称为次生演替。发生次生演替的生物群落趋向于恢复到破坏前的形态。

根据上述定义，下列可能导致次生演替的情形是：

- A.人类利用转基因技术培育的植物种子洒向森林
- B.某岛屿火山爆发之后，火山岩浆覆盖整座岛屿
- C.当森林被反复砍伐后，演化成为了稀疏的草原
- D.水坝建成后下游湖泊干涸，沿湖植被大多枯死

(2013-国家-95.) 偶然音乐是指音乐家在创作中将偶然性因素引入创造过程或演奏过程的一种音乐形式。具体方法包括：谱写作品时采用随意手法，允许演奏者进行没有任何提示的即兴演奏，甚至以改造乐器或加入场外声响来演奏曲目。

根据上述定义，下列选项**不属于**偶然音乐的是：

- A. 指挥家在演出前随机决定使用乐器的数量、演出时长以及参演人数
- B. 在钢琴琴弦中塞进橡皮和铁钉等物以模拟打击乐的声响来演奏音乐
- C. 用掷骰子、丢硬币来确定作品的音高、力度与配器等并创作成曲谱
- D.演奏者保持沉默，此时台上台下偶然出现的掌声、笑声构成了乐曲

三、类比推理。每道题先给出一组相关的词，要求你在备选答案中找出一组与之在逻辑关系上最为贴近、相似或匹配的词。

请开始答题：

(2013-国家-96.) 认真：一丝不苟

- A.清楚：一清二楚
- B.正确：分毫不差
- C.温暖：风和日丽
- D.干净：一尘不染

(2013-国家-97.) 火炬：蜡烛

- A.中药：草药
- B.矿石：煤炭
- C.棉布：丝绸
- D.扇子：蚊香

(2013-国家-98.) X光片：骨折

- A.卫星云图：降雨
- B.科普图书：知识
- C.电子导航：路线
- D.饮食习惯：健康

(2013-国家-99.) 柏油公路：阳光大道

- A.蔚蓝行星：美丽地球
- B.纳米涂料：超级墙漆
- C.双峰骆驼：沙漠之舟
- D.液晶屏幕：璀璨荧屏

(2013-国家-100.) 新月：满月：残月

- A.生产：销售：消费
- B.含苞：怒放：凋零
- C.早晨：中午：夜晚
- D.春困：秋乏：冬眠

(2013-国家-101.) 出征：击鼓：士气

- A.比赛：呐喊：信心
- B.生产：监督：效率

C.喝酒：谈判：气氛

D.宣传：登报：名气

(2013-国家-102.) 电动车：摩托车：救护车

A.乒乓球：保龄球：羽毛球

B.葡萄酒：香槟酒：保健酒

C.天鹅绒：清洁绒：法兰绒

D.联谊部：俱乐部：文学部

(2013-国家-103.) 风险：规避：损失

A.保险：购买：赔偿

B.老人：关爱：长寿

C.锻炼：加强：肥胖

D.军队：保卫：战争

(2013-国家-104.) ( ) 对于 邮费 相当于 纬度 对于 ( )

A.邮局；国家

B.重量；气候

C.邮票；经度

D.距离；时区

(2013-国家-105.) ( ) 对于 感时花溅泪 相当于 高兴 对于 ( )

A.伤心；含情杏花喜

B.哀伤；一日看尽长安花

C.多情；化作春泥更护花

D.憔悴；人比黄花瘦

四、逻辑判断。每道题给出一段陈述，这段陈述被假设是正确的，不容置疑的。要求你根据这段陈述，选择一个答案。

请开始答题：

(2013-国家-106.) 研究显示，在 115 摄氏度下，将甜玉米分别加热 10 分钟、25 分钟和 50 分钟后发现，其抗自由基的活性分别升高了 22%、44%和 53%，因此，加热时间越长的玉米，抗衰老的作用越好。

以下各项如果为真，**无法**削弱上述结论的是：

A.加热 65 分钟后，玉米抗自由基的活性反而降低了

B.与甜玉米相比，糯玉米在加热相同时间后，其抗自由基的活性增高的幅度很小

C.甜玉米是玉米中比较少见的一种，不具有代表性

D.对于玉米来说，并非是抗自由基的活性越高，其抗衰老的作用越好

(2013-国家-107.) 5000 多年前某地是大汶口文化，但在距今约 4400 年的时候，为龙山文化所替代。是什么原因导致这两种文化的更迭？考古人员发现，在距今约 4400 年的时候，发生了一次严重的“冷事件”，环境由原来的温暖湿润转变为寒冷干燥，植被大量减少，藻类、水生植物基本绝迹了，大汶口文化向南迁移，而龙山文化由北迁到此地。他们据此认为，距今 4400 年左右的极端气候变化，可能是导致这次文化变迁的主要原因。

以下哪项如果为真，最能支持上述论证？

A.大汶口文化有不断向南方迁移的传统

B.龙山文化刚迁来时，人口较多，但之后逐渐减少，在距今约 4000 年的时候消失了

C.大汶口文化的族群以藻类和水生植物作为食物的主要来源

D.不同生存方式的族群对气候和环境都有相对稳定的需求

(2013-国家-108.) 有研究表明, 要成为男性至少需要拥有一条 Y 染色体。3 亿年前, 男性特有的 Y 染色体在产生之际含有 1438 个基因, 但现有只剩下 45 个。按照这种速度, Y 染色体将在大约 1000 万年内消失殆尽。因此, 随着 Y 染色体的消亡, 人类也将走向消亡。

以下各项如果为真, 最**不能**质疑上述论证的是:

A.恒河猴 Y 染色体基因确实经历过早期高速的丧失过程, 但在过去的 2500 万年内则未丢失任何一个基因

B.男性即使失去 Y 染色体也有可能继续生存下去, 因为其他染色体有类似基因可以分担 Y 染色体的功能

C.人类进化过程中, 可以找到单性繁殖或无性繁殖后代的方法, 从而避免因基因缺失引发的繁殖风险

D.Y 染色体存在独特的回文结构, 该结构具有自我修复功能, 可以保持丢失基因的信息, 实现基因再生

(2013-国家-109.) 我国的佛教寺庙分布于全国各地, 普济寺是我国的佛教寺庙, 所以普济寺分布于我国各地。

下列选项中所犯逻辑错误与上述推理最为相似的是:

A.父母酗酒的孩子爱冒险, 小华爱冒险, 所以小华的父母酗酒

B.文明公民都是遵纪守法的, 有些大学生遵纪守法, 所以有些大学生是文明公民

C.寒门学子上大学机会减少, 大学生小飞不是寒门学子, 所以小飞上大学的机会不会减少

D.现在的独生子女娇生惯养, 何况他还是三代单传的独苗呢

(2013-国家-110.) 某公司行政部人员手机使用情况如下:

①小王拨打过行政部所有人的电话;

②小李曾经拨打过小赵的电话, 但是小赵不曾拨打过其他人的电话;

③不曾接听来自行政部其他人电话的人也就不曾拨打过其他人的电话。

由此可以推出:

A.小赵不曾接听过来自小李的电话

B.小李曾经接听过来自小王的电话

C.行政部曾有人拨打过小王的电话

D.小王接听过来自行政部所有人的电话

(2013-国家-111.) 现代企业在管理过程中发现, 人力资源管理部门对于公司的发展虽然十分重要, 但由于该部门并没有全程参与公司发展战略的决策, 而且公司聘请的高级经理均由 CEO 决定, 所以人力资源管理部门更多的时候起到的是支持和辅助的作用。

以下各项如果为真, 最能削弱上述论证的是:



- A.世界 500 强的企业中，人力资源管理部门的员工一般都有丰富的经验
- B.人力资源管理部门能为公司设计出人性化的报酬体系，进而留住人才
- C.世界上最大的物流公司，人力资源部经理有权参加公司最高决策会议
- D.人力资源部虽没有决定雇佣高级经理的权力，但有权雇佣中层管理者

(2013-国家-112.) 有人说，工作的时候，我们要将重要事务放在主要位置。重要事务是必要条件，关系着一件事情成功与否。重要的事务没做好，一定不成功。但是，细节也是很重要的，细节是成功的充分条件，同样也与一件事情成功与否相关。一个成功的人是能够协调好重要事务与细节的关系的。

由此可以推出：

- A.成功并不代表着所有细节都处理好了
- B.如果不成功则说明重要事务没有做好
- C.成功的前提条件是既要做好重要事务，又要处理好细节
- D.虽然处理好了细节，但没做好重要事务，也不一定成功

(2013-国家-113.) 在不同语言中，数字的发音和写法都不一样。一些科学家认为，代表不同文化背景的语言，会对人们大脑处理数学信息的方式产生影响。

以下哪项如果为真，最能支持上述结论？

- A.相比欧洲，亚洲地区的人们在进行数量大小比较时，大脑中个别区域的活跃程度有所不同
- B.在同一国家，不同方言区的人们进行数学运算时，大脑语言区的神经传递路线并不十分一致
- C.研究发现，以英语为母语的人进行心算时主要依赖大脑的语言区，而以中文为母语的人主要动用了大脑的视觉信息识别区
- D.研究发现，不同专业背景的人们在计算数学题时会选择不同的思考方法，但都会不同程度地依赖大脑的语言区

(2013-国家-114.) 20 世纪 50 年代以来，人类丢弃了多达 10 亿吨塑料，这种垃圾可能存在数百年甚至数千年。近日，一个科研小组在亚马逊雨林中发现一种名为内生菌的真菌，它能降解普通的聚氨酯塑料。科研人员认为利用这种真菌的特性，将有望帮助人类消除塑料垃圾所带来的威胁。

科研人员的判断还需基于以下哪一前提？

- A.塑料垃圾是人类活动产生的最主要的废弃物种类
- B.内生菌在任何条件下都可以很好地分解塑料制品
- C.目前绝大多数塑料垃圾都属于普通的聚氨酯塑料
- D.这种真菌在地球上其他地区也能正常地存活生长

(2013-国家-115.) 生物处于污染条件下，可以通过结合固定、代谢解毒、分室作用等

过程将污染物在体内富集、解毒。其中生物的解毒能力是生物抗性的基础，解毒能力强的生物都具有抗性，但解毒能力不是抗性的全部，抗性强的生物不一定解毒能力就强。

由此可以推知：

- A.解毒能力不强的生物不具有抗性
- B.具有抗性的生物一定具有较强的解毒能力
- C.生物可将污染物富集、解毒，所以生物能在污染环境下生存
- D.不具有抗性的生物解毒能力一定不强

※※※第四部分结束，请继续做第五部分！※※※

## 【【2012-国家-判断】】

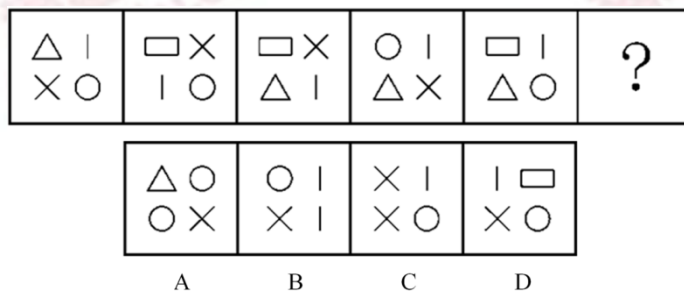
### 第四部分 判断推理

(共 35 题，参考时限 35 分钟)

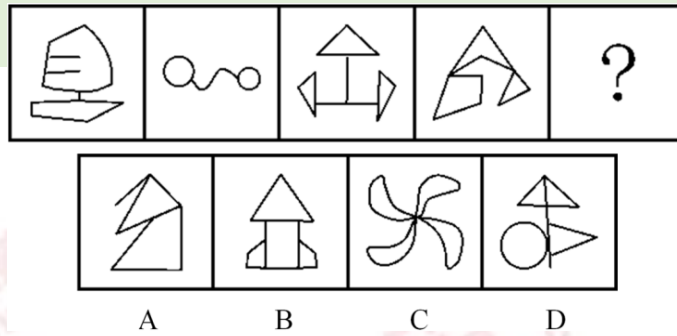
一、图形推理。请按每道题的答题要求作答。

请开始答题：

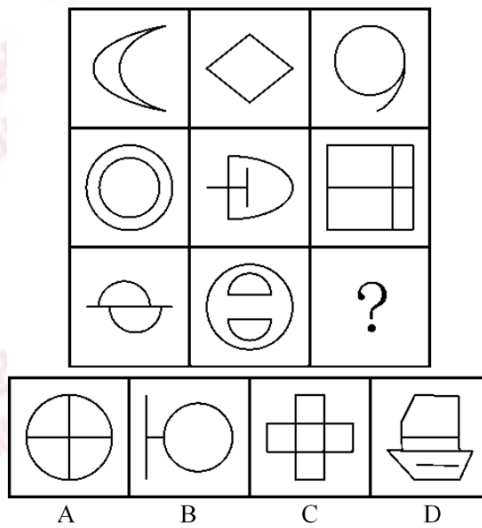
(2012-国家-81.) 从所给四个选项中，选择最合适的一个填入问号处，使之呈现一定规律性：



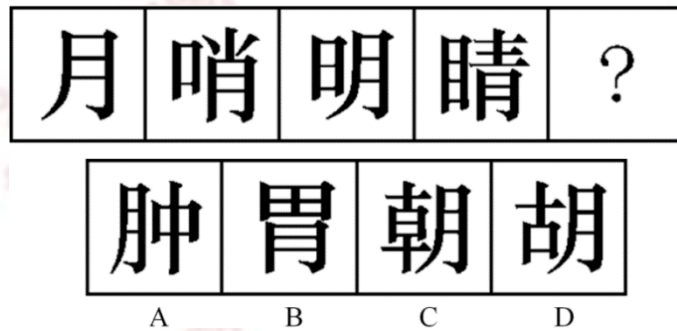
(2012-国家-82.) 从所给四个选项中，选择最合适的一个填入问号处，使之呈现一定规律性：



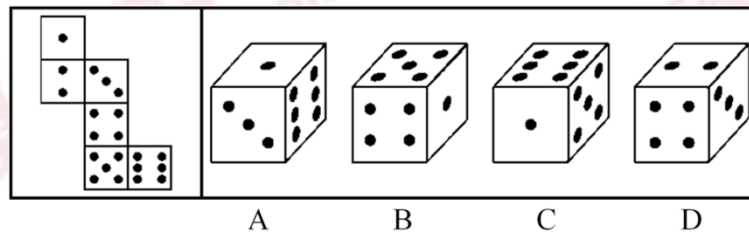
(2012-国家-83.) 从所给四个选项中, 选择最合适的一个填入问号处, 使之呈现一定规律性:



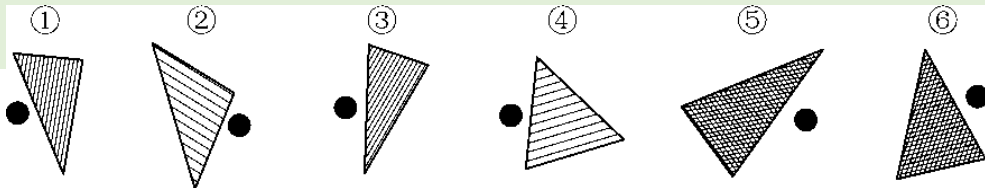
(2012-国家-84.) 从所给四个选项中, 选择最合适的一个填入问号处, 使之呈现一定规律性:



(2012-国家-85.) 左边给定的是纸盒的外表面, 下面哪一项能由它折叠而成?

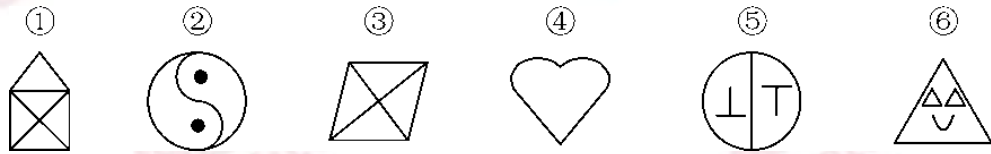


(2012-国家-86.) 把下面的六个图形分为两类, 使每一类图形都有各自的共同特征或规律, 分类正确的一项是:



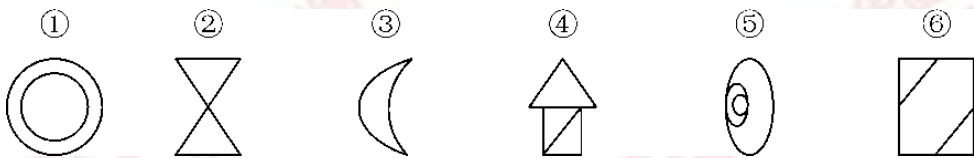
- A. ①②⑥, ③④⑤      B. ①③⑤, ②④⑥  
 C. ①②④, ③⑤⑥      D. ①③④, ②⑤⑥

(2012-国家-87.) 把下面的六个图形分为两类, 使每一类图形都有各自的共同特征或规律, 分类正确的一项是:



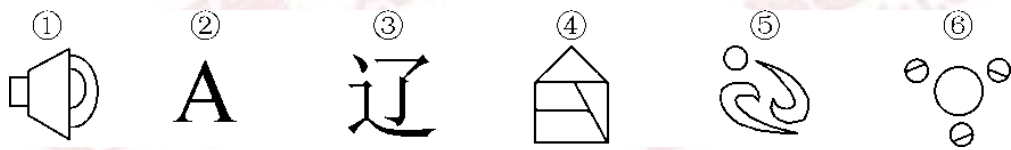
- A. ①③④, ②⑤⑥      B. ①③⑥, ②④⑤  
 C. ①④⑥, ②③⑤      D. ①③⑤, ②④⑥

(2012-国家-88.) 把下面的六个图形分为两类, 使每一类图形都有各自的共同特征或规律, 分类正确的一项是:



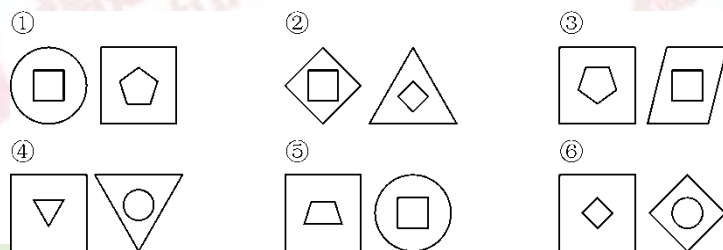
- A. ①⑤⑥, ②③④      B. ①③⑤, ②④⑥  
 C. ①②③, ④⑤⑥      D. ①②⑥, ③④⑤

(2012-国家-89.) 把下面的六个图形分为两类, 使每一类图形都有各自的共同特征或规律, 分类正确的一项是:



- A. ①②③, ④⑤⑥      B. ①⑤⑥, ②③④  
 C. ①②④, ③⑤⑥      D. ①④⑥, ②③⑤

(2012-国家-90.) 把下面的六组图形分为两类, 使每一类图形都有各自的共同特征或规律, 分类正确的一项是:



- A. ①④⑥, ②③⑤      B. ①③⑥, ②④⑤

C. ①③④, ②⑤⑥

D. ①②④, ③⑤⑥

二、定义判断。每道题先给出定义, 然后列出四种情况, 要求你严格依据定义, 从中选出一个最符合或最不符合该定义的答案。注意: 假设这个定义是正确的, 不容置疑的。

请开始答题:

(2012-国家-91.) 群体极化指的是群体成员中存在的某一种倾向性, 通过群体相互影响而使结果得到加强并趋于极端化, 从而偏离某种合理性的现象。群体极化通常存在两种情形, 一种是使结果变得更为冒险甚至激进, 称为冒险偏移; 一种是使结果变得更加保守, 称为谨慎偏移。

根据上述定义, 下列哪项中的现象**不涉及**群体极化?

- A. 一部略带瑕疵的电影在某网络论坛被批驳得一无是处
- B. 经过表决, 答辩委员会一致否决了某同学的博士论文答辩
- C. 对某人的不良行为, 大家均保持沉默, 这使得他气焰更加嚣张
- D. 足球比赛中甲队因犯规被判点球, 甲队球迷表示极大不满, 并纷纷向场内投掷杂物

(2012-国家-92.) 包容性增长即为倡导机会平等的增长, 最基本的含义是公平合理地分享经济增长。它涉及平等与公平的问题, 寻求的是社会和经济的协调发展及可持续发展, 与单纯追求经济增长相对立。

根据上述定义, 下列哪项**不涉及**包容性增长?

- A. 增进社会不同阶层的相互理解, 对各种社会矛盾增加容忍度
- B. 还田于海, 退耕于林, 延长禁捕期, 对山林进行保护性封育
- C. 反对投资和贸易的地方保护主义, 提倡投资和贸易自由化
- D. 在发展经济的同时充分重视社会保障体系的建立

(2012-国家-93.) 根据我国有关规定, 职工遇有下列情形之一的, 可以认定为工伤: (一) 在工作时间和工作场所内, 因工作原因受到事故伤害的; (二) 在工作时间和工作场所内, 因履行工作职责受到暴力等意外伤害的; (三) 因工外出期间, 由于工作原因受到伤害或者发生事故下落不明的; (四) 在上下班途中, 受到非本人负主要责任的交通事故或者城市轨道交通、客运轮渡、火车事故伤害的。

根据上述规定, 下列情形中可以认定为工伤的是:

- A. 周某开车在下班途中违章驾驶, 与前车发生追尾事故, 导致颅骨骨折
- B. 交警小李因纠正王某的违章行为引起王某不满, 在上班途中遭到王某的殴打
- C. 赵某在车间加班时因操作不当, 手指被绞进机器中, 事后被鉴定为二级伤残
- D. 张经理为加深与同事的感情, 在工作日邀请同事共进午餐, 结果同事在用餐后不慎

摔伤

(2012-国家-94.) 动物福利指的是尊重动物的权利、保护生态环境, 促进人与动物协调发展。动物福利主要包括: 生理福利, 即无饥渴之忧虑; 环境福利, 即让动物有适当的居所; 卫生福利, 即尽量减少动物的伤病; 行为福利, 即保证动物表达天性的自由; 心理福利, 即减少动物恐惧和焦虑的心情。

根据上述定义, 下列哪项**不涉及**动物福利?

- A. 为了科研目的对动物进行活体实验时注射麻药
- B. 采取多种奖励方式, 激发猴子表演高难度动作
- C. 在山区修建高速公路时预留多处动物过桥涵洞
- D. 养鸡场让母鸡在山林中自由觅食, 提高产蛋率

(2012-国家-95.) 客体行政文化是指作为行政管理对象的个人、群体和组织对行政主体(主要是指行政机关)的行为做出合理的评价, 其评价标准会因各自利益的不同而呈现多样性。

根据上述定义, 下列属于客体行政文化的是:

- A. 某地环保部门加大对污染严重企业的监管力度, 其严肃执法的态度受到当地群众的一致好评
- B. 小王是某政府部门工作人员, 工作认真负责, 他的主管领导和同事都认为小王是一名合格的工作者
- C. 个体经营者张某未按规定缴税, 税务部门向其下达限期缴纳税款的通知书, 张某不但置之不理, 还责怪税务部门不该向其征税
- D. 某市工商部门为支持当地中小企业的发展, 根据有关法律法规对这些企业实施优惠政策, 这一举措得到了广大中小企业经营者的欢迎

(2012-国家-96.) 差别化信贷是指对不同地区、不同行业、不同群体、不同用途的信贷额度和还贷方式采取差别对待的政策。这是国家对经济进行宏观调控的重要手段, 通过差别化信贷遏制两极分化趋势、促进社会公平、促进经济结构调整和全面可持续发展。

根据上述定义, 下列选项中属于差别化信贷的是:

- A. 2008 年年初, 央行放宽商业银行信贷规模, 全国性商业银行在原有信贷规模基础上调增 5%, 地方性商业银行在原有信贷规模基础上调增 10%, 共新增约 2000 亿元贷款
- B. 某商业银行规定: 贷款不满一年提前还款, 收取不低于实际还款额三个月的利息; 贷款满一年后提前还款, 则收取不低于实际还款额一个月的利息
- C. 新购房政策规定: 购买首套住房, 且套型建筑面积在 90 平方米以下的家庭, 可以享受首付付款 20% 的政策; 如果首套住房套型面积大于 90 平方米, 贷款首付付款比例不得低于 30%
- D. 2009 年, 某国际银行对中小企业的贷款总额较去年增长 14%, 同时又推出“幸福时贷”无担保个人贷款, 18-55 岁的本地居民可获得最高 50 万元的贷款

(2012-国家-97.) 相对剥夺感是指人们在与那些既和自己地位相近, 又不完全等同于自

己的人或群体做比较时，由价值期待和价值能力不一致的认知所产生的一种心理状态。

根据上述定义，下列属于相对剥夺感的是：

- A. 参加学生会竞选的人数比往年多了一倍，小燕感到竞选的压力更大了
- B. 王某从海外名校学成归来，总觉得在单位里无法施展自己的才华和能力
- C. 小张经常出色地完成各项工作，项目组其他人认为小张就是喜欢表现自己
- D. 小杨原本认为自己的工作还不错，但是参加同学聚会后，他觉得跟同学相比显得没有前途

(2012-国家-98.) 研究中把实际观测或调查的一部分个体称为样本，研究对象的全部称为总体。抽样误差是指抽样方法本身所引起的误差，即样本指标值与被推断的总体指标值之差。

根据上述定义，下列**不涉及**抽样误差的是：

- A. 调查员因为粗心、疏忽等原因将样本数据登记错误
- B. 通过随机拨打电话了解大众对某品牌洗发水的忠诚度
- C. 要了解某班学生数学水平，将他们的数学期中考试成绩进行统计分析
- D. 要调查全国城市居民婚姻满意度，选取北京 200 名已婚者作为调查对象

(2012-国家-99.) 军事上的电子欺骗指的是利用电子设备对己方的相关信息进行伪装或者虚假模拟，欺骗敌方的电子侦察，使敌方对己方部署、作战能力和作战企图等产生错误判断，从而达到迷惑和扰乱敌方的目的。

根据上述定义，下列涉及电子欺骗的是：

- A. 军事演习时蓝军故意丢失伪造的电子作战地图，佯装泄露己方情报
- B. 某国将无人机藏匿于敌国领空，冒充敌国领导人编制、发布虚假命令
- C. 二战中盟军虚设了一个司令部，用通讯设备源源不断地发送各种“指挥命令”
- D. 驻扎在太平洋小岛的某部为其计算机系统设置了数量庞大的仿真数据库

(2012-国家-100.) 统计性歧视，是指将一个群体的典型特征推断为群体中的个体具有的特征，并将此特征作为对个体的评价标准。

根据上述定义，下列属于统计性歧视的是：

- A. 小莉觉得周围许多金牛座的人都不太诚实，她就认为金牛座的人都不诚实可靠
- B. 公司认为某高校毕业生工作稳定性不够，该校的优秀毕业生小刘因此未被公司录取
- C. 某专家根据北京市过去十年的降雨量推断今年的降雨量将与往年的平均值基本持平
- D. 一名外国游客在旅游区随手乱扔垃圾，周围人们认为来自这个国家的人素质普遍较低

三、类比推理。每道题先给出一组相关的词，要求你在备选答案中找出一组与之在逻辑关系上最为贴近、相似或匹配的词。

请开始答题：

(2012-国家-101.) 取款机：银行职员

- A. 收音机：播音员
- B. 售货机：营业员
- C. 学习机：辅导员
- D. 读卡机：售票员

(2012-国家-102.) 通话记录：手机

- A. 硬盘：计算机
- B. 遥控器：电视机
- C. 录音磁带：录音机
- D. 语音文件：录音笔

(2012-国家-103.) 琵琶：木材：乐器

- A. 鼎：青铜：用具
- B. 水墨画：宣纸：工艺
- C. 浮雕：石块：建筑
- D. 竹筒：竹片：书籍

(2012-国家-104.) B 超：超声波：诊断

- A. 雷达：天线：探测
- B. 相机：底片：摄影
- C. 冰箱：制冷剂：冷藏
- D. 电脑：显示屏：工作

(2012-国家-105.) 萎靡不振对于 ( ) 相当于 ( ) 对于食物

- A. 动力；饥肠辘辘
- B. 活力；丰衣足食
- C. 精力；饥寒交迫
- D. 毅力；饥不择食

四、逻辑判断。每道题给出一段陈述，这段陈述被假设是正确的，不容置疑的。要求你根据这段陈述，选择一个答案。注意：正确的答案应与所给的陈述相符合，不需要任何附加说明即可以从陈述中直接推出。

请开始答题：

(2012-国家-106.) 任何无法量化及不设定时限的目标都是无效的目标，而任何无效的目标都没有实际操作的方法。因此，详细的职业规划不是无法量化及不设定时限的目标。

为使上述论证成立，必须补充以下哪项作为前提？

- A. 详细的职业规划不都是无效的目标
- B. 详细的职业规划有实际操作的方法
- C. 有效的目标都是可以量化和设定时限的目标
- D. 无法量化及不设定时限的目标没有实际操作的方法

(2012-国家-107.) 一项调查显示：78%的儿童中耳炎患者均来自二手烟家庭。研究人员表示，二手烟环境会增加空气中的不健康颗粒，其中包括尼古丁和其他有毒物质。与居住在不吸烟环境的孩子相比，居住于二手烟环境的孩子患中耳炎几率更大。因此医学专家表示，父母等家人吸烟，是造成儿童罹患中耳炎的重要原因。

以下哪项如果为真，最能削弱上述论证？



- A. 调查中还显示，无烟家庭的比率呈逐年上升的趋势
- B. 研究证明，二手烟家庭中儿童中耳炎的治愈率较高
- C. 门诊数据显示，儿童中耳炎就诊人数下降了 4.6%
- D. 在这次调查的人群中，只有 20%的儿童来自无烟家庭

(2012-国家-108.) 某刑事人类学家在对 260 名杀人犯的外貌进行了考察后，发现他们具有一些共同的生理特征，于是得出“杀人犯具有广颧、颧骨突出、头发黑而短特征”的结论。

以下哪项与上述推理方式相同？

- A. 24~28 之间没有质数
- B. 八月十五云遮月，正月十五雪打灯
- C. 植物种子经超声波处理后可增产，所以玉米种子经超声波处理后可增产
- D. 某高校在对全校学生进行调查后，得出“我校同学学习态度普遍较好”的结论

(2012-国家-109.) 分手不仅令人心理痛苦，还可能造成身体疼痛。美国研究人员招募 40 名志愿者，他们在过去半年中被迫与配偶分手，至今依然相当介意遭人拒绝。研究人员借助功能性磁共振成像技术观察志愿者的大脑活动，结果发现他们对分手等社会拒绝产生反应的大脑部位与对躯体疼痛反应的部位重合，因此分手这类社会拒绝行为会引起他们躯体疼痛。

得到上述结论，隐含的假设是什么？

- A. 个体对于疼痛的感受与社会应激事件有密切关系
- B. 功能性磁共振技术是目前进行大脑定位的常用方法
- C. 个体情绪等心理过程的变化能影响其生理反应
- D. 生理与心理反应可以通过大脑产生关联

(2012-国家-110.) 众所周知，西医利用现代科学技术手段可以解决很多中医无法解决的病症，而中医依靠对人体经络和气血的特殊理解也治愈了很多令西医束手无策的难题。据此，针对某些复杂疾病，很多人认为中西医结合的治疗方法是有必要的。

上述这些人在论断时作的假设是：

- A. 针对这些疾病的中医和西医的治疗方法可以相互结合，扬长避短
- B. 这些疾病单独用中医疗法或者单独用西医疗法并不能有效治疗
- C. 针对这些疾病，医疗界已经掌握了中西医疗法结合的方法
- D. 针对这些疾病，医学界已经尝试了中西医结合的疗法并取得了良好的效果

(2012-国家-111.) 近来网上出现了一则有关“公务员绿色出行”的报道，即 A 市教育局通过添置公务自行车，使得较近距离的公务活动不再派汽车，从而大幅降低了公务汽车使用率。B 市环保局负责人看了这则报道，认为引进公务自行车能缩减财政开支，于是决定也采取这种做法。

以下哪项如果为真，不能构成上述决定的前提条件？

- A. 自行车出行的方式结合 B 城市的地理环境以及道路交通状况是可行又可取的
- B. B 市环保局的办公人员规模和已有公车数量与 A 市教育局相近
- C. 较近距离的公务活动由自行车取代汽车不会影响办公效率
- D. B 市环保局原来的公务活动主要是采用汽车出行的方式

(2012-国家-112.) 某高校外语教研室新招进五位外语老师，每位老师只教授一门外语。并且满足以下条件：

- (1) 如果小钱教德语，那么小孙不教俄语；
- (2) 或者小李教德语，或者小钱教德语；
- (3) 如果小孙不教俄语，那么小赵不教法语；
- (4) 或者小赵教法语，或者小周不教英语。

以下哪项如果为真，可以得出“小李教德语”的结论？

- A. 小孙不教俄语
- B. 小钱教德语
- C. 小周教英语
- D. 小赵不教法语

(2012-国家-113.) 美国研究人员分析了南极半岛和邻近的斯科舍海地区的实地数据后发现，20 世纪 70 年代以来，当地气温上升了 5 至 6 摄氏度，并且来自其他海域的哺乳动物增多导致南极哺乳动物捕食竞争加剧。因此，在上述地区作为哺乳动物主要食物来源的磷虾的密度下降了近 80%。而同一时期，生活在该地区以磷虾为主食的阿德利企鹅和帽带企鹅的数量也急剧减少。

由此可以推出：

- A. 气温上升造成了南极海洋哺乳动物捕食的竞争加剧
- B. 如果磷虾的密度继续减少，阿德利企鹅和帽带企鹅都会灭绝
- C. 气候变暖和哺乳动物的捕食竞争加剧威胁了帽带企鹅的生存
- D. 气温上升对南极地区生态环境的破坏极大

(2012-国家-114.) 张老师将文房四宝装在一个有四层抽屉的柜子里，让学生猜笔、墨、纸、砚分别在哪一层。按照笔、墨、纸、砚的顺序，小李猜测四宝依次装在第一、二、三、四层，小王猜测四宝依次装在第一、第三、第四和第二层，小赵猜测四宝依次装在第四、第三、第一和第二层，而小杨猜测四宝依次装在第四、第二、第三和第一层。张老师说，小赵一个都没猜对，小李和小王各猜对了一个，而小杨猜对了两个。

由此可以推出：

- A. 第一层抽屉里装的是墨
- B. 第二层抽屉里装的是纸

C. 第三层抽屉里装的不是笔

D. 第四层抽屉里装的不是砚

(2012-国家-115.) 碳纳米管材料具有重量轻、强度高等优点, 被广泛应用于自行车和球拍等产品生产中。但是近日研究发现, 长期从事生产碳纳米管工作或利用该材料制造其他产品的工人, 有可能因吸入碳纳米管而致癌。

以下哪项如果为真, 最能支持上述研究发现?

A. 研究表明, 容易引发癌症的是一些较长的碳纳米管, 这可能是因为它们更容易卡在肺部或腹部细胞间的空腔中

B. 在使用体外培养的人体皮肤细胞进行实验时显示, 碳纳米管可以进入细胞内部, 降低细胞自身的免疫能力

C. 动物实验显示, 如果碳纳米管大量进入实验鼠的腹部, 约有 10% 的实验鼠会在一年内出现腹腔炎症

D. 石棉是国际癌症组织确认的致癌物质, 而碳纳米管在化学分子结构上和石棉存在一些相似之处

※※※第四部分结束, 请继续做第五部分! ※※※

## 【【2011-国家-判断】】

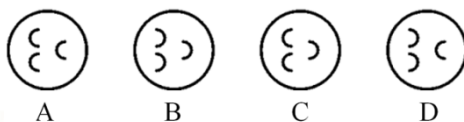

### 第四部分 判断推理

(共 40 题, 参考时限 35 分钟)

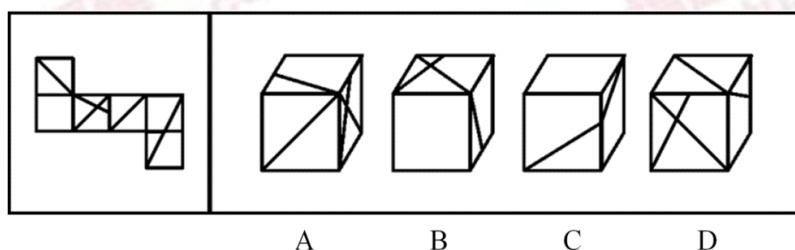
一、图形推理。请按每道题的答题要求作答。

请开始答题:

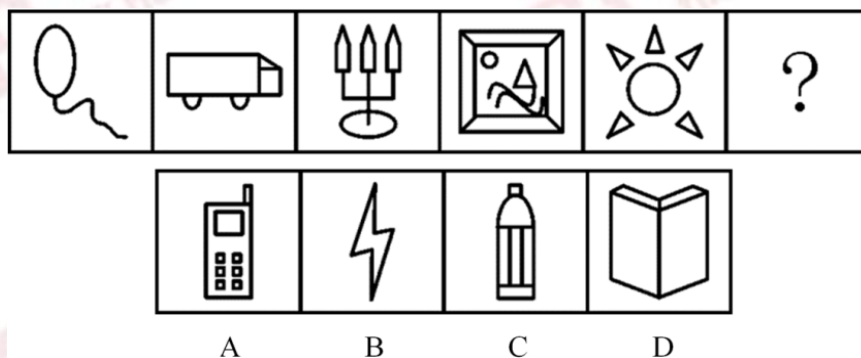
(2011-国家-81.) 从所给四个选项中, 选择最合适的一个填入问号处, 使之呈现一定规律性:



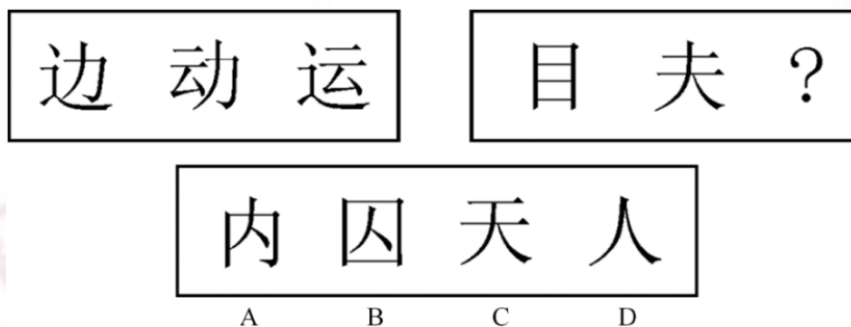
(2011-国家-82.) 左边给定的是纸盒的外表面, 下面哪一项能由它折叠而成?



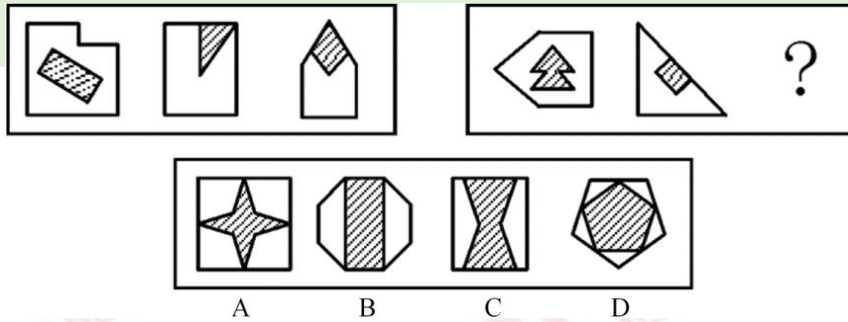
(2011-国家-83.) 从所给四个选项中, 选择最合适的一个填入问号处, 使之呈现一定规律性:



(2011-国家-84.) 从所给四个选项中, 选择最合适的一个填入问号处, 使之呈现一定规律性:

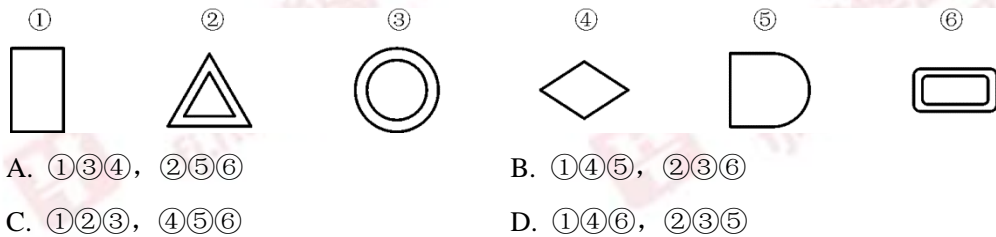


(2011-国家-85.) 从所给四个选项中, 选择最合适的一个填入问号处, 使之呈现一定规律性:



以下 86~90 题，每个题目包含六个图形，请把此六个图形分为两类，使得每一类图形都有各自的共同特征或规律。

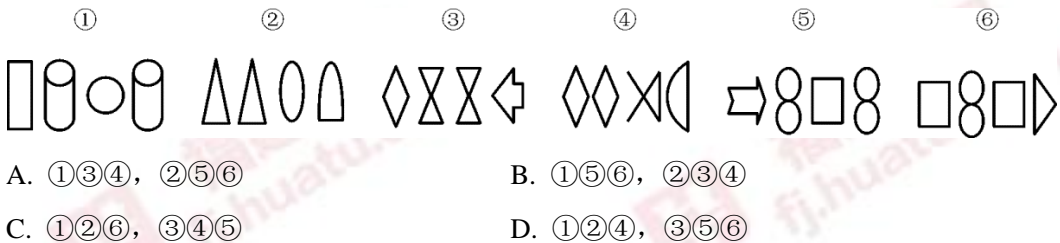
例题：



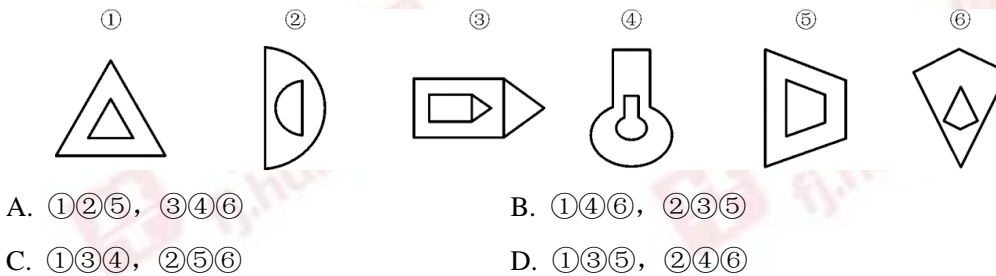
(答案：B。例题中，①、④、⑤都是一个图形，②、③、⑥都是由内外相似的两个图形组成)

请开始答题：

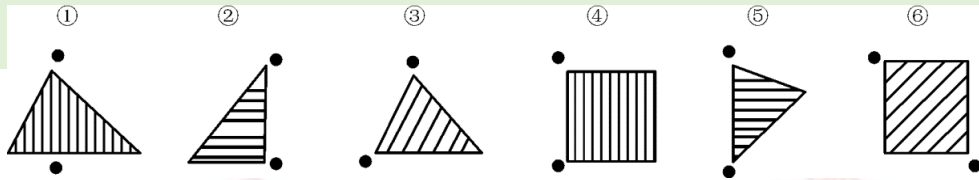
(2011-国家-86.) 把下面的六个图形分为两类，使每一类图形都有各自的共同特征或规律，分类正确的一项是：



(2011-国家-87.) 把下面的六个图形分为两类，使每一类图形都有各自的共同特征或规律，分类正确的一项是：

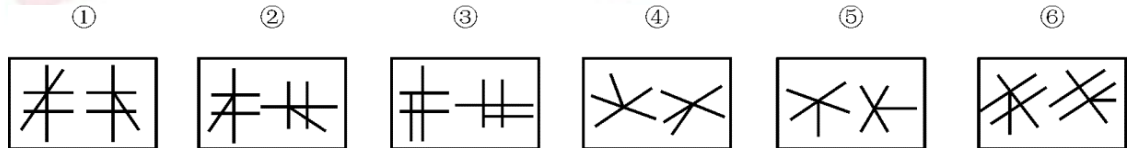


(2011-国家-88.) 把下面的六个图形分为两类，使每一类图形都有各自的共同特征或规律，分类正确的一项是：



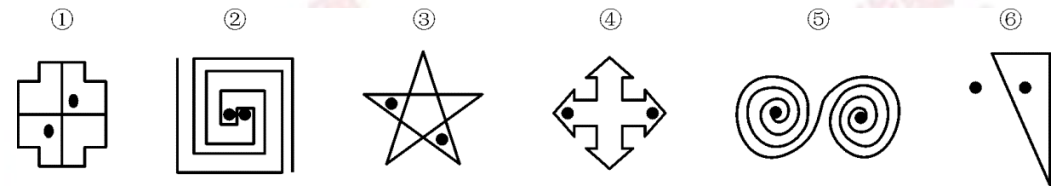
- A. ①③⑥, ②④⑤                      B. ①③⑤, ②④⑥  
C. ①③④, ②⑤⑥                      D. ①⑤⑥, ②③④

(2011-国家-89.) 把下面的六个图形分为两类, 使每一类图形都有各自的共同特征或规律, 分类正确的一项是:



- A. ①②⑥, ③④⑤                      B. ①②③, ④⑤⑥  
C. ①④⑤, ②③⑥                      D. ①④⑥, ②③⑤

(2011-国家-90.) 把下面的六个图形分为两类, 使每一类图形都有各自的共同特征或规律, 分类正确的一项是:



- A. ①③⑥, ②④⑤                      B. ①②⑤, ③④⑥  
C. ①③④, ②⑤⑥                      D. ①④⑤, ②③⑥

二、定义判断。每道题先给出定义, 然后列出四种情况, 要求你严格依据定义, 从中选出一个最符合或最不符合该定义的答案。注意: 假设这个定义是正确的, 不容置疑的。

请开始答题:

(2011-国家-91.) “社会人”假设是组织行为学家提出的一种与管理有关的人性假设。“社会人”假设认为, 人们在工作中得到的物质利益对于调动其生产积极性是次要的, 人们最重视在工作中与周围的人友好相处, 良好的人际关系对于调动人的工作积极性起决定作用。

根据上述定义, 下列哪项是基于“社会人”假设的管理方式?

- A. 员工的奖金与绩效挂钩, 并且实行秘薪制  
B. 鼓励、支持员工利用业余时间参加职业培训  
C. 对不同年龄层的员工实行不同的管理措施  
D. 上级和下级不同程度地参与企业决策的研究和讨论

(2011-国家-92.) 顺从是指互动中的一方自愿或主动地调整自己的行为, 按另一方的要

求行事，即一方服从另一方。顺应的含义比顺从更广泛，除了有顺从的含义外，它还指互动的双方或各方都调整自己的行为，以实现互相适应。

根据上述定义，下列行为属于顺应的是：

- A. 王某经常将垃圾堆放在家门口，影响了居民楼内的环境卫生，邻居们向他提出意见后，王某家门口变得干净起来
- B. 小燕经常出色地完成各项工作，经理根据小燕的表现在员工大会上表扬了她，并给予奖励
- C. 某食品厂因存在不正当竞争行为，被工商部门处以 20 万元罚款，该厂以罚款过重为由提起行政复议，上级工商部门作出罚款 10 万元的决定
- D. 强盛公司与荣发公司有意进行合作，经过多轮激烈地磋商，双方都降低了自己的条件，从而实现了合作目标

(2011-国家-93.) 体验营销是指企业采用让目标顾客观摩、聆听、尝试、试用等方式，使其亲身体会企业提供的产品或服务，让顾客实际感知产品或服务的品质或性能，从而促使顾客认知、喜好并购买的一种营销方式。

根据上述定义，下列采用了体验营销方式的是：

- A. 某美容公司举办了一场以“亲子教育”为主题的消费者联谊会，把“为消费者着想”的经营理念传递给潜在的客户
- B. 某服装公司邀请批发商参加其产品推广介绍会，在会上安排了表演、小竞赛、新产品试用等活动
- C. 某公司为维护行业领军地位，多次举办全国性的行业讨论会，邀请其部分消费者参与研讨
- D. 某化妆品公司先打开国外市场，树立国际品牌形象，然后在国内以电视购物的方式传播销售，逐步占领国内市场

(2011-国家-94.) 行政指令是指行政主体依靠行政组织的权威，运用行政手段，包括行政命令、指示、规定、条例及规章制度等措施，按照行政组织的系统和层次进行行政管理活动的方法。

根据上述定义，下列描述**不属于**行政指令的是：

- A. 体育局局长签发嘉奖令，表彰在全运会上取得优异成绩的运动员和教练员
- B. 消费者协会同中国家用电器协会正式发布《太阳能热水器选购指南》
- C. 市教育局紧急电话通知，要求全市中小学、幼儿园加强校园安全管理
- D. 市消防大队对未经消防设计备案擅自施工的违法工程下发《责令改正通知书》

(2011-国家-95.) 政策性收益是指由于某些政策、法规的变动而导致的个体收益，这种收益不会导致整个社会财富的增长，只会导致整个社会财富的重新分配。

根据上述定义，下列涉及政策性收益的是：

A. 由于市相关部门联合整治经营环境，小张经营的书店效益明显好转，每月营业额增加 5000 元

B. 歹徒意欲行凶，小王挺身而出制服了歹徒，因此获得市政府见义勇为奖 5 万元

C. 由于国家加大西部开发力度，某县获得了 5000 万元专项水利建设基金

D. 由于利率调整，小李的存款利息比此前每月增加 100 元

(2011-国家-96.) 反应性相倚是指在沟通过程中，沟通双方都以对方的行为作为自己行为的依据，做出相应的反应，而并不按照原来的计划进行沟通。

根据上述定义，下列属于反应性相倚的是：

A. 妈妈得知小明考试失利准备劝慰一番，但她发现小明的情绪并未受到影响，于是放弃了劝慰小明的打算

B. 王厂长在大会上宣读了关于加强劳动纪律的发言稿，由于制定的措施不合理，职工在下面议论纷纷，但他还是完成了自己的发言

C. 张老师认为他为学生准备的口试题目并不难，但是仍有一些学生回答不出来，当学生要求张老师提示时，张老师断然拒绝

D. 小李同意按照编辑意见修改稿件，但希望保留原文的写作风格，与编辑沟通后，编辑表示同意

(2011-国家-97.) 附款行政行为是指除行政法规明确规定外，行政主体根据实际需要在主内容基础上附加从属性内容的行政行为。这里的附款就是附条件，是行政主体规定（而不是行政法规规定）的某种将来不确定事实或行为，该条件是否符合将决定法律行为的效力。

根据上述定义，下列属于附款行政行为的是：

A. 某省物价局在关于小儿广谱止泻口服液的价格批复中规定：该药物每盒不得高于 36 元，此价格从 2009 年 9 月 30 日起执行

B. 某税务所对王某（现在外地打工）偷税行为作出的处理决定是：处王某罚款 1500 元，所处罚款及所欠税款待王某回乡后缴清

C. 交通警察李某对超速驾驶的刘某作出罚款 100 元的处罚决定，同时告知刘某应在规定的时间内到指定地点缴纳罚款，逾期需缴纳滞纳金

D. 某市人民政府为发展地方经济，规划未来五年内在本市南部建立高新技术产业开发区，吸引一批高新技术企业前来投资

(2011-国家-98.) 反向诱导是指政府、媒体等主体所采取的措施或者宣传活动，在实际的社会生活中不但没有收到预期的效果，反而导致了与预期相反的社会现象大量出现。

根据上述定义，下列属于反向诱导的是：

A. 某影院为了让观众摘下帽子，在银幕上打出通告：“本院允许老年人戴帽观赏。”结果通告一出，许多观众纷纷摘下了帽子

B. 某单位要求员工统一着装，结果招致单位很多女员工的强烈反对，最后只好不了了



之

C. 高温季节供水相对紧张，某市自来水公司贴出告示，告知市民近期不会停水，结果导致很多市民在家中大量囤水备用

D. 某电视台播放预防心理疾病的讲座，很多市民对号入座，觉得自己得了心理疾病，纷纷打电话咨询

(2011-国家-99.) 仿生设计学以自然界万事万物的“形”、“色”、“音”、“功能”、“结构”等为研究对象，有选择地在设计过程中应用这些特征原理，同时结合仿生学的研究成果，为设计提供新的思想、新的原理、新的方法和新的途径。其中，结构仿生设计学主要研究生物体和自然界物质存在的内部结构原理在设计中的应用问题，适用于产品设计和建筑设计。

根据上述定义，下列属于结构仿生设计的是：

- A. 设计师根据鱼鳔的作用原理发明了潜艇
- B. 科学家发明了能够模仿鱼类声音的电子诱鱼器
- C. 受变色龙的启发，军方设计出适用于野外作战的迷彩服
- D. 我们的祖先有巢氏受鸟类在树上筑巢的启发，发明“巢居”以防御猛兽的攻击

(2011-国家-100.) 非正式组织是指人们在共同工作或相互接触中，以感情、性格、爱好相投为基础形成的若干人群。这些群体不受正式组织的行政部门和管理层次等的限制，也没有明确规定的正式结构，但在其内部形成一些特定的关系结构，自然涌现出自己的“领导者”，形成一些不成文的行为准则和规范。

根据上述定义，下列提及的人群属于非正式组织的是：

- A. 老王过生日，邀请了十多位同事在自己家中聚会
- B. 小刘下班后和本单位的几名年轻人一起踢足球
- C. 小张是校学生会文艺部部长，经他介绍，几名同学参加了文艺演出
- D. 几位退休职工自发成立老人曲艺社，利用周末时间在社区演出

三、类比推理。每道题先给出一组相关的词，要求你在备选答案中找出一组与之在逻辑关系上最为贴近、相似或匹配的词。

请开始答题：

(2011-国家-101.) 航线：飞行

- A. 土壤：种植
- B. 煤炭：发电
- C. 提纲：发言
- D. 地基：建筑

(2011-国家-102.) 树根：根雕

- A. 纸张：剪纸
- B. 陶土：瓷器
- C. 竹子：竹排
- D. 水泥：砚台

(2011-国家-103.) 亦步亦趋：主见

- A. 兴高采烈：恐惧
- B. 优柔寡断：果断
- C. 鼠目寸光：眼力
- D. 孤陋寡闻：胆识

(2011-国家-104.) 导游：旅行社：行程

- A. 职员：公司：总结
- B. 演员：剧院：表演
- C. 教师：学校：大纲
- D. 司机：车队：驾照

(2011-国家-105.) 车轮：汽车：运输

- A. 衣服：衣架：晒衣
- B. 镜片：眼镜：读书
- C. 听筒：电话：通话
- D. 墨汁：毛笔：书法

(2011-国家-106.) 治疗：患者：医院

- A. 付款：顾客：商场
- B. 观看：观众：影院
- C. 判罚：裁判：赛场
- D. 改造：罪犯：监狱

(2011-国家-107.) 刀：屠夫：肉

- A. 剪刀：裁缝：布料
- B. 粉笔：老师：黑板
- C. 法律：法官：犯人
- D. 相机：记者：摄影

(2011-国家-108.) ( ) 对于吉祥相当于狼烟对于 ( )

- A. 和平；战争
- B. 麒麟；信号
- C. 盛世；烽火
- D. 凤凰；入侵

(2011-国家-109.) ( ) 对于绿茶相当于音乐对于 ( )

- A. 龙井；浪漫
- B. 早春；娱乐
- C. 咖啡；绘画
- D. 健康；情操

(2011-国家-110.) ( ) 对于表达相当于信件对于 ( )

- A. 比喻；沟通
- B. 文字；载体
- C. 感情；抒情
- D. 交流；包裹

四、逻辑判断。每道题给出一段陈述，这段陈述被假设是正确的，不容置疑的。要求你根据这段陈述，选择一个答案。注意：正确的答案应与所给的陈述相符合，不需要任何附加说明即可以从陈述中直接推出。

请开始答题：

(2011-国家-111.) 据某知名房产中介机构统计，2010年9月份第二周全国十大城市的商品房成交量总体呈上涨趋势，并且与8月第二周相比上涨幅度更明显。如果没有其他因素抑制，按照这种趋势发展，9月份或将创新政以来成交量最高水平。虽然现在还不能确认楼市完全回暖，但未来楼价调控的压力还是很大的。

下列最有可能是上述论证前提假设的是：

- A. 炒房者将资金大量投入楼市
- B. 国家对楼价的调控手段不足
- C. 消费者对房子的购买热情没有减退
- D. 楼市成交量的增长会带动楼价的上涨

(2011-国家-112.) 研究人员认为, 如果母亲在怀孕期间的头几个月接触杀虫剂较多, 那么出生的婴儿在智力上可能较差。他们认为, 妇女怀孕后不久胚胎大脑便开始发育, 因此怀孕前期是婴儿大脑发育的关键时期, 接触杀虫剂较多可能改变孕妇体内正在发育的胚胎大脑周围的环境。

以下哪项如果为真, 最能支持研究人员的观点?

- A. 由于母亲接触杀虫剂较多, 导致许多婴儿提前出生
- B. 杀虫剂对人们的健康是一个潜在的威胁, 它还会导致帕金森症、癌症和心理疾病等很多疾病
- C. 此前的研究已经发现, 较多地接触杀虫剂会导致孕妇的甲状腺出现问题, 而孕妇的甲状腺状况会影响胎儿的智力发育
- D. 研究人员对 1500 个孕妇进行了跟踪调查, 发现较多地接触杀虫剂的孕妇所生育的孩子在数学和语言学科上表现显著较差

(2011-国家-113.) 知己知彼, 才能百战不殆。这句话同样适用于人际交往之中。一个人只有先了解了自己, 才能了解别人; 任何人也只信赖充分了解他的人, 包括他自己。试想, 如果一个人根本不了解你, 他如何值得你信赖呢?

由此可以推出:

- A. 只有信赖自己, 才能信赖别人
- B. 不了解自己, 就不会被任何人信赖
- C. 他充分了解你, 所以他值得你信赖
- D. 充分了解自己, 就可以获得许多人的信赖

(2011-国家-114.) 研究人员对四川地区出土的一批恐龙骨骼化石进行分析后发现, 骨骼化石内的砷、钡、铬、铀、稀土元素等含量超高, 与现代陆生动物相比, 其体内的有毒元素要高出几百甚至上千倍。于是一些古生物学家推测这些恐龙死于慢性中毒。

如果以下各项为真, **不能质疑**上述推测的是:

- A. 恐龙化石附近土壤中的有毒元素会渗进化石
- B. 恐龙化石内还有很多相应的解毒元素
- C. 这批恐龙化石都是老年恐龙, 属于自然死亡
- D. 在恐龙化石附近的植物化石里, 有毒元素含量很少

(2011-国家-115.) 从世界经济的发展历程来看, 如果一国或地区的经济保持着稳定的

增长速度，大多数商品和服务的价格必然随之上涨，只要这种涨幅始终在一个较小的区间内就不会对经济造成负面影响。

由此可以推出，在一定时期内：

- A. 如果大多数商品价格上涨，说明该国经济正在稳定增长
- B. 如果大多数商品价格涨幅过大，对该国经济必然有负面影响
- C. 如果大多数商品价格不上涨，说明该国经济没有保持稳定增长
- D. 如果经济发展水平下降，该国的大多数商品价格也会降低

(2011-国家-116.) 北京市为缓解交通压力实行机动车辆限行政策，每辆机动车周一到周五都要限行一天，周末不限行。某公司有 A、B、C、D、E 五辆车，保证每天至少有四辆车可以上路行驶。已知：E 车周四限行，B 车昨天限行，从今天算起，A、C 两车连续四天都能上路行驶，E 车明天可以上路。

由此可知，下列推测一定正确的是：

- A. 今天是周六
- B. 今天是周四
- C. A 车周三限行
- D. C 车周五限行

(2011-国家-117.) 2008 年上半年原油期货价格一度上涨到每桶 147 美元，是 2000 年同期价格的 4.2 倍，年均增长 20%，而同期世界经济年均增长率在 5% 左右，世界石油消费需求并没有出现跳跃式的、急剧的增长。这说明原油价格的迅速攀升并不是由于世界石油供求关系的变化引起的，而是国际投机资本在石油期货市场进行疯狂投机的结果。

如果以下各项为真，哪项**不能质疑**上述推论？

- A. 2000 年至 2008 年，各国政府普遍加大了石油的战略储备量
- B. 较小的经济增长率总带来较大的石油需求增长率
- C. 石油需求变化率和石油价格变化率并不对等
- D. 即便对于国际投机资本来说，投资石油期货也是风险巨大

(2011-国家-118.) 一项最新研究发现，经常喝酸奶可降低儿童患蛀牙的风险。在此之前，也有研究人员提出酸奶可预防儿童蛀牙，还有研究显示，黄油、奶酪和牛奶对预防蛀牙并没有明显效果。虽然多喝酸奶对儿童的牙齿有保护作用，但酸奶能降低蛀牙风险的原因仍不明确。目前一种说法是酸奶中所含的蛋白质能附着在牙齿表面，从而预防有害酸侵蚀牙齿。

以下哪项如果为真，最能支持这项研究发现？

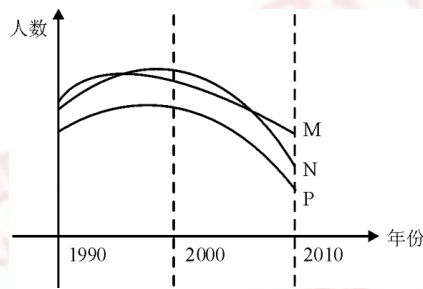
- A. 黄油、奶酪和牛奶的蛋白质成分没有酸奶丰富，对儿童牙齿的防蛀效果不明显
- B. 儿童牙龈的牙釉质处于未成熟阶段，对抗酸腐蚀的能力低，人工加糖的酸奶会增加蛀牙的风险

- C. 有研究表明，儿童每周至少食用 4 次酸奶可将蛀牙发生率降低 15%

D. 世界上许多国家的科学家都在研究酸奶对预防儿童蛀牙的作用

(2011-国家-119.) S 市规定, 适龄儿童须接种麻疹疫苗, 适龄儿童必须接受义务教育。下图表示 1990 年至 2010 年间 S 市儿童数量的一些统计。其中 M 表示接受义务教育的儿童总数, N 表示新生儿总数, P 表示接种麻疹疫苗的儿童总数。

下面哪一项最能解释 2000 年至 2010 年间 S 市接受义务教育的儿童总数与接种麻疹疫苗的儿童总数下降程度的不同?



- A. 2000 年至 2010 年间, 有部分在 S 市接种麻疹疫苗的儿童没有在 S 市入学
- B. 2000 年至 2010 年间, 约有 20% 的父母没有按照 S 市的规定让他们的孩子接种麻疹疫苗
- C. 2000 年至 2010 年间, 每年都有不在 S 市出生但已接种了麻疹疫苗的儿童在 S 市入学
- D. 2000 年至 2010 年间, S 市新生儿总数下降, 因此入学儿童总数和接种麻疹疫苗的儿童总数也随之下降

(2011-国家-120.) 提起极地冰, 很多人眼前总是浮现出一幅洁白无瑕、晶莹剔透的景观。然而, 在北纬 71 度、西经 168 度附近的北冰洋海域, “雪龙”号首次驶入一片“脏”冰区, 只见一块块淡蓝色的浮冰中间夹杂了许多脏兮兮的黄色冰块, 这种黄色冰块, 既出现在当年的新生冰块上, 也出现在多年冰块上。对于“人类造成的污染已经殃及极地浮冰”的说法, 有专家解释说这只是生活在极地冰中的一种特有生物——黄褐色的冰藻。

如果以下各项为真, 能够**反驳**专家上述观点的是:

- A. 在新生冰块上形成冰藻需要多年
- B. 北极冰中生长有冰藻并不是普遍现象
- C. 近年来人类踏上北极的次数逐年增加
- D. 北冰洋周围的陆地常有沙尘天气

※※※第四部分结束, 请继续做第五部分! ※※※

【【2010-国家-判断】】

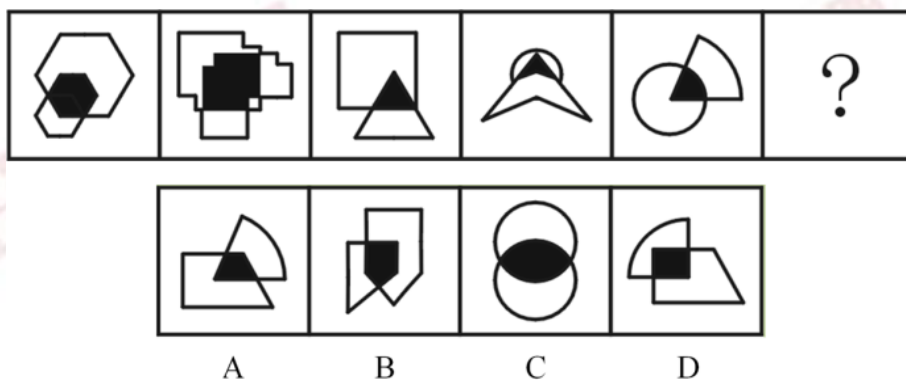
### 第四部分 判断推理

(共 35 题, 参考时限 35 分钟)

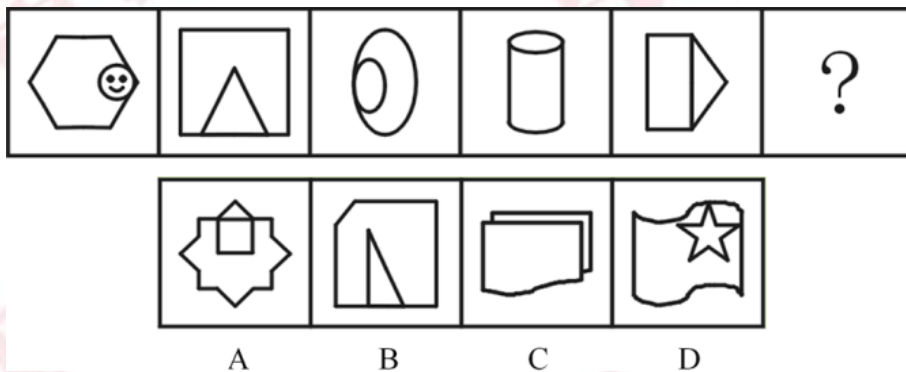
一、图形推理。请按每道题的答题要求作答。

请开始答题:

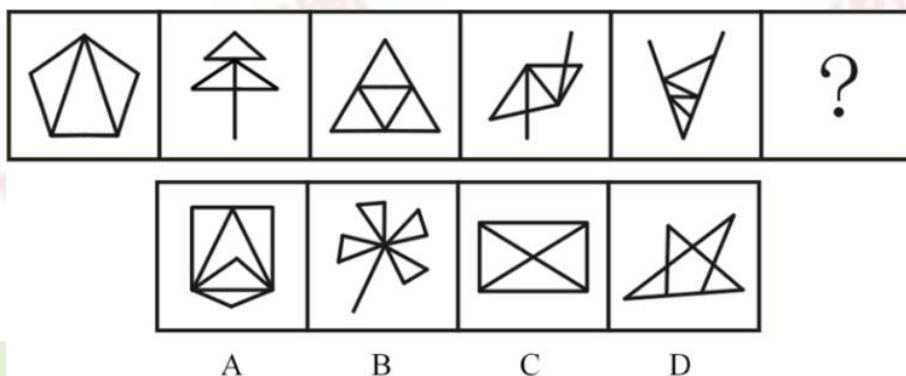
(2010-国家-56.) 从所给四个选项中, 选择最合适的一个填入问号处, 使之呈现一定规律性:



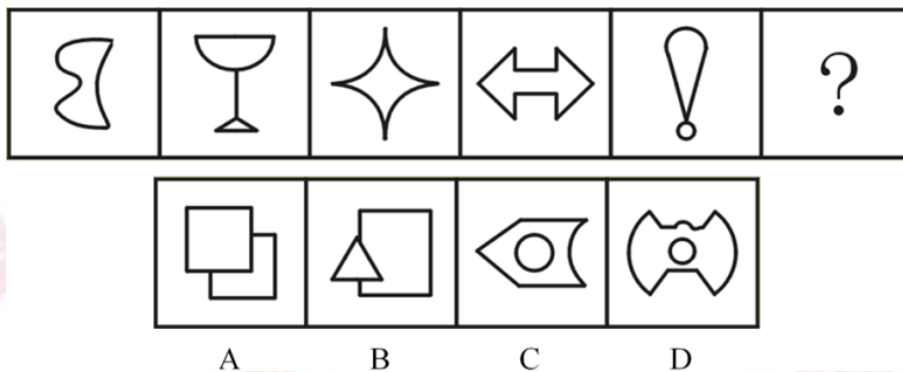
(2010-国家-57.) 从所给四个选项中, 选择最合适的一个填入问号处, 使之呈现一定规律性:




(2010-国家-58.) 从所给四个选项中, 选择最合适的一个填入问号处, 使之呈现一定规律性:



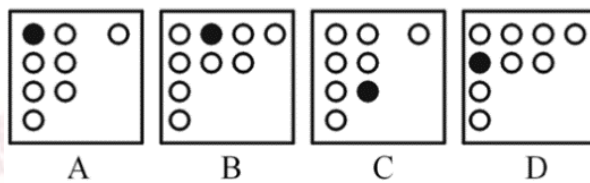

(2010-国家-59.) 从所给四个选项中, 选择最合适的一个填入问号处, 使之呈现一定规律性:



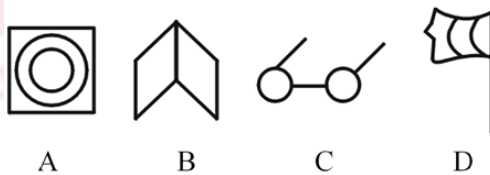

(2010-国家-60.) 从所给四个选项中, 选择最合适的一个填入问号处, 使之呈现一定规律性:



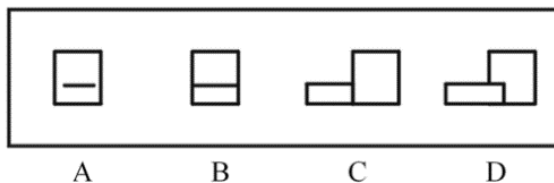
(2010-国家-61.) 从所给四个选项中, 选择最合适的一个填入问号处, 使之呈现一定规律性:



(2010-国家-62.) 从所给四个选项中, 选择最合适的一个填入问号处, 使之呈现一定规律性:

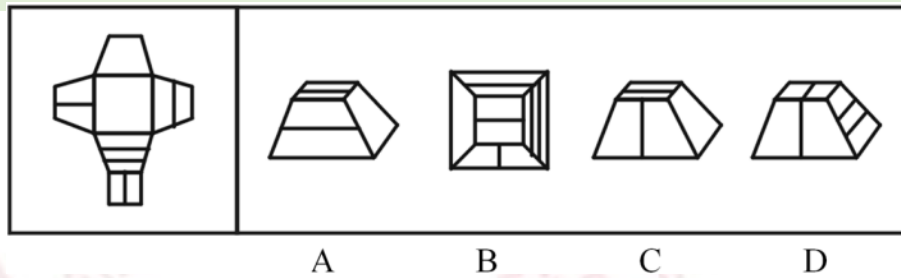


(2010-国家-63.) 从所给四个选项中, 选择最合适的一个填入问号处, 使之呈现一定规律性:

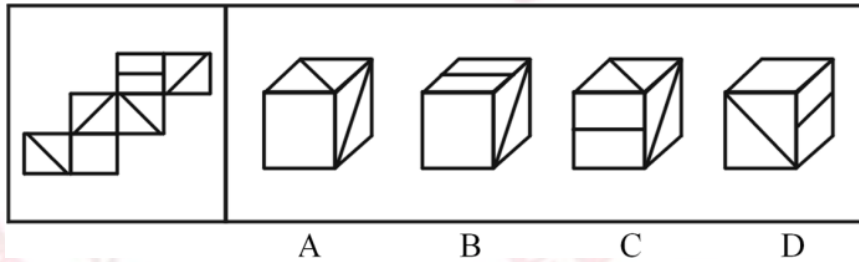




(2010-国家-64.) 左边给定的是纸盒的外表面, 下面哪一项能由它折叠而成?



(2010-国家-65.) 左边给定的是纸盒的外表面, 下面哪一项能由它折叠而成?



二、定义判断。每道题先给出定义, 然后列出四种情况, 要求你严格依据定义, 从中选出一个最符合或最不符合该定义的答案。注意: 假设这个定义是正确的, 不容置疑的。

请开始答题:

(2010-国家-66.) 差别比例税率是指一种税设两个或两个以上的税率, 不同纳税人按不同比例计算应纳税额的税率。累进税率是指随着征税对象的数额由低到高逐级累进, 所适用的税率也随之逐级提高的税率。

下列各项中所提到的税率, 属于差别比例税率的是:

- A. 对于某企业来说, 需缴纳 25% 的企业所得税, 还需缴纳 5% 的营业税
- B. 我国个人所得税中对工资薪金所得适用的税率随工资薪金所得增多而逐渐增多, 从 5% 到 45% 共分为九档
- C. 2009 年 1 月 20 日至 12 月 31 日, 我国对 1.6 升及以下排量的乘用车按 5% 征收车辆购置税, 对 1.6 升以上排量乘用车按 10% 征收车辆购置税
- D. 我国自 2009 年 1 月 1 日起实施成品油税费改革, 将成品油价内征收的汽油消费税单位税额每升提高 0.8 元, 即由每升 0.2 元提高到 1 元

(2010-国家-67.) 角色模糊是指个人所体验到的工作角色定位的不确定性, 包括工作职责的不确定、工作目标的不确定等, 因此常造成工作流程上的混乱和工作效率的低下。

根据上述定义, 下列属于角色模糊的是:

- A. 张大夫身兼数职, 是某医院骨科主任, 同时又担任该医院的副院长、该地区医学会委员等, 工作繁忙使他日渐憔悴
- B. 苏丽刚升任客服部的副总监, 有些事务她不知道是否该自己处理, 如果处理了是否会

超出目前的权限，也不知道去问谁，对于这些事务她通常就不处理

C.小陈刚当上小学老师，想跟学生做朋友，尽管她现在跟学生的关系很亲密，可她发现学生们不怕她，不听话，甚至作业也不交

D.小张刚参加工作，满怀热情，一心想在工作岗位上充分发挥自己的专业特长，但却不得不经常做些与其专业无关的工作，他因此觉得心理落差很大

(2010-国家-68.)美国社会学家默顿将社会功能划分为显功能和潜功能两个层次。显功能是有利于系统的调整和适应的客观后果，这种适应和调整是系统中的参与者所期望达到或能预料、认识到的。潜功能是没有被预料也没有被认识的客观后果。

下列选项**不包含**对潜功能描述的一项是：

A.电视剧《渴望》播放期间，万人空巷，社会治安明显好转

B.张某根据自己的家庭收入状况，贷款30万买了一套房子，由于利率上升，自己的生活变得捉襟见肘

C.为抵御外族入侵，秦始皇修筑了长城，客观上促进了我国民间建筑工艺的发展

D.来自偏远山区的小刘为了摆脱贫困，让父母过上好日子，从小刻苦学习，做事认真，没几年功夫就成为一家大型企业的负责人，也使自己成为家乡父老教育孩子的榜样

(2010-国家-69.)宜家效应是指劳动会增加人们对劳动成果的感情，当人们自己动手制作东西时，他们都会觉得自己的创作特别有价值。

根据上述定义，下列最能体现宜家效应的是：

A.让人们亲手做折纸，然后连同他人做的折纸放在一起竞价，结果大家都愿意为自己做的折纸出更高的价钱

B.某公司为方便人们制作蛋糕，推出方便蛋糕粉，使蛋糕的制作非常简单

C.某家具生产商生产的家具需要顾客买回家后，按照产品说明书来完成家具的拼装组合工作

D.学校鼓励学生自己动手制作各种教具，不仅锻炼了学生的动手能力，还节约了教学成本

(2010-国家-70.)生态入侵是指人们有意识或无意识地把某种生物带入适宜其栖息和繁衍的地区，使得该生物种群不断扩大，分布区不断稳定地扩展，从而危害当地的生产和生活，改变当地生态环境的过程。

根据上述定义，下列属于生态入侵的是：

A.某实验室由于管理不当将试验用的致病性结核菌株散播了出去，造成结核病在周围居民中流行

B.美国科学家将从我国引进的野生大豆与当地品种杂交，培育出抗大豆萎黄病的优良品种，该品种现已彻底取代了美国传统大豆

C.某地发生大面积放射性核素泄漏，使某种植物发生变异，其繁殖力超强，逐渐取代了

该地域内的其他植物

D.产于南美洲的凤眼莲朵艳丽，曾经作为观赏植物被我国引进，致使云南滇池因为凤眼莲的疯狂蔓延而鱼虾绝迹

(2010-国家-71.)证实性偏见是指过于关注支持自己决策的信息。当我们在主观上认为某种观点正确的时候，往往倾向于寻找那些能够支持这一观点的信息，而忽略掉那些可能推翻这一观点的信息。

根据上述定义，下列属于证实性偏见的是：

A.小张前天夜里梦见自己的钱包被偷，昨天钱包真的被偷了；昨晚他又梦见自己被车撞，结果今天一整天没敢出门

B.小张总觉得室友最近的表现很反常，好像出什么事了，第二天公安局的人找小张询问情况，证实了他的猜测，室友被牵扯进了一起盗窃案

C.自从小王产生辞职的念头以后，总觉得经理处处刁难他，甚至看不起他，就连经理和他开个玩笑，都认为是对他的嘲笑

D.小林今年未考上重点大学，他明知是因为自己实力不够，但他总是对同学说：“要不是考试前患了感冒，我肯定考得更好”

(2010-国家-72.)存疑时有利于被告原则是指在刑事诉讼中遇到事实无法查清或查清事实所需成本过高的情况，依照有利于被告的原则判决。

根据上述定义，下列表现符合该原则的是：

A.因缺少直接证据证实被告人有罪，法院对被告人做出无罪判决

B.无法确信某犯罪行为是否超过追诉时效时，应当追诉

C.检察机关认为被告人犯罪情节显著轻微，决定免于起诉

D.法院在认定被告人犯有数罪或一罪之间存在疑问时，发回公安机关补充侦查

(2010-国家-73.)同类群体影响力是指人们对他人(尤其是类似群体)的行为总会做出某种反应；类似程度越高，影响力就越大。比如对某种良好行为规范大力宣传，往往会成为所谓的“磁心”，吸引人们效仿。

下列做法中**不会带来**同类群体影响力的是：

A.某地节水办告知那些用水量高的用户，他们的用水量明显高出了周围的邻居

B.某森林公园设置告示牌，告知偷盗林木者将受到高出林木价钱10倍的罚款

C.酒店在房间内放置标语，提醒客人大多数客人都不是每天要更换毛巾

D.老师在墙报上贴小红花，表扬那些完成作业好、守纪律的小学生

(2010-国家-74.)蓄积器官是毒物在体内的蓄积部位，毒物在蓄积器官内的浓度高于其他器官，但对蓄积器官不一定显示毒作用。这种毒作用也可以通过某种病理生理机制，由另一个器官表现出来，这种器官叫作效应器官。

根据上述定义，下列判断正确的是：

A.大气污染物中的铅经肺吸收后可转移并积存于人的骨骼中,损害骨骼造血系统,所以铅的蓄积器官是肺

B.大气污染物中的二氧化硫经人体的上呼吸道和气管吸入人体,并直接刺激上呼吸道和气管,所以上呼吸道和气管是蓄积器官

C.有机磷酸酯农药作用于神经系统,会造成神经突触处乙酰胆碱蓄积,使人产生流涎、瞳孔缩小等症状,所以神经系统是有机磷酸酯的效应器官

D.沉积于网状内皮系统的放射性核素对肝、脾损伤较重,引起中毒性肝炎,所以网状内皮系统是蓄积器官

(2010-国家-75.)偶然防卫是指在客观上被害人正在或即将对被告人或他人的人身进行不法侵害,但被告人主观上没有认识到这一点,出于非法侵害的目的而对被害人使用了武力,客观上起到了人身防卫的效果。

根据上述定义,下列行为**不属于**偶然防卫的一项是:

A.甲与乙积怨很深,某日发生冲突后,甲回家拿了手枪打算去杀乙,两人在路上正好碰上,甲先开枪杀死了乙,但开枪时不知乙的右手已抓住口袋中的手枪正准备对其射击

B.甲正准备枪杀乙时,丙在后面对甲先开了一枪,将其打死。而丙在开枪时并不知道甲正准备杀乙,纯粹是出于报复泄愤的目的杀甲,结果保护了乙的生命

C.甲与乙醉酒后发生激烈冲突,两人相互厮打至马路上,正当甲要捡起路边砖头击打乙时,围观人群中有人喊“警察来啦”,甲受惊吓不慎跌落路边河沟溺水身亡,乙安全无事

D.甲身穿警服带着电警棍,冒充警察去“抓赌”,甲抓住乙搜身时,乙将甲打伤后逃离,甲未能得手

三、类比推理。每道题先给出一组相关的词,要求你在备选答案中找出一组与之在逻辑关系上最为贴近、相似或匹配的词。

请开始答题:

(2010-国家-76.)身份证:身份

A.执业证:资格

B.结婚证:配偶

C.房产证:房屋

D.毕业证:学位

(2010-国家-77.)茶壶:紫砂:雕刻

A.电线:金属:生产

B.马路:柏油:铺设

C.房门:木材:油漆

D.夹克:布料:制作

(2010-国家-78.)骨骼对于( )相当于( )对于房屋

A.人体;梁柱

B.上肢;窗户

C.关节;钢筋

D.肌肉;电梯

(2010-国家-79.) ( ) 对于大脑相当于资料对于 ( )

- A.智力; 书籍
- B.记忆; 硬盘
- C.细胞; 图书馆
- D.学习; 阅读

(2010-国家-80.) ( ) 对于建筑相当于计划对于 ( )

- A.设计; 成果
- B.图纸; 工作
- C.材料; 战略
- D.施工; 目标

四、逻辑判断。每道题给出一段陈述，这段陈述被假设是正确的，不容置疑的。要求你根据这段陈述，选择一个答案。注意：正确的答案应与所给的陈述相符合，不需要任何附加说明即可以从陈述中直接推出。

请开始答题：

(2010-国家-81.) 海洋中珊瑚的美丽颜色来自于其体内与之共生的藻类生物，其中虫黄藻是最重要的一类单细胞海藻。二者各取所需，相互提供食物。全球气候变暖造成的海水升温导致虫黄藻等藻类大量死亡，进而造成珊瑚本身死亡，引发珊瑚礁白化现象。然而研究发现，珊瑚能通过选择耐热的其他藻类生物等途径，来应对气候变暖带来的挑战。

以下哪项如果为真，将**削弱**这一研究发现？

- A.一些虫黄藻能够比耐热的其他藻类耐受更高的海水温度
- B.有些藻类耐热性的形成需要一个长期的过程
- C.有些虫黄藻逐渐适应了海水温度的升高并存活下来
- D.有些已白化的珊瑚礁中也发现了死去的耐热藻类生物

(2010-国家-82.) 甲、乙、丙、丁四人的车分别为白色、银色、蓝色和红色。在问到他们各自车的颜色时，甲说：“乙的车不是白色。”乙说：“丙的车是红色的。”丙说：“丁的车不是蓝色的。”丁说：“甲、乙、丙三人中有一个人的车是红色的，而且只有这个人说的是实话。”

如果丁说的是实话，那么以下说法正确的是：

- A.甲的车是白色的，乙的车是银色的
- B.乙的车是蓝色的，丙的车是红色的
- C.丙的车是白色的，丁的车是蓝色的
- D.丁的车是银色的，甲的车是红色的

(2010-国家-83.) 在一次考古发掘中，考古人员在一座唐代古墓中发现多片先秦时期的夔文（音 kuí，一种变体的龙文）陶片。对此，专家解释说，由于雨水冲刷等原因，这些先秦时期的陶片后来被冲至唐代的墓穴中。

以下哪项如果为真，最能**质疑**上述专家的观点？

- A.在这座唐代古墓中还发现多件西汉时期的文物
- B. 这座唐代古墓保存完好，没有漏水、毁塌迹象
- C.并非只有先秦时期才使用夔文，唐代文人以书写夔文为能事
- D. 唐代的墓葬风俗是将墓主生前喜爱的物品随同墓主一同下葬

(2010-国家-84.)有医学研究显示，吃维生素和矿物质补充剂对人体没有显著帮助，有时甚至会对人体造成伤害。一些医生给出劝告，不要再吃维生素和矿物质补充剂了，而应该通过均衡的饮食来补充人体所需的维生素和矿物质。

以下哪项如果为真，最能削弱上述研究结果？

- A.一项对3万名妇女进行的7年追踪调查发现，服用维生素D加上钙补充剂并没有给她们的身体造成伤害
- B.一项对1万名男性展开的8年追踪调查显示，不服用维生素和矿物质补充剂并没有增加他们患病的风险
- C.一项对1万名发达地区和欠发达地区老年人的对照调查显示，他们的健康状况差异不显著
- D.一项对2万名儿童展开的3年追踪调查显示，不服用维生素和矿物质补充剂的儿童，营养缺乏症的发生率较高

(2010-国家-85.)以下是一则广告：

本网络文学培训班有着其他同类培训班所没有的特点，除了传授高超的写作技巧、帮助学员打开认识世界的多维视角和宏观视野、丰富学员的文化知识和艺术涵养外，还负责向毕业班学员提供切实有效的就业咨询。去年进行咨询的毕业班学员，100%都找到了工作。为了在网络文学创作事业上开创一片天地，欢迎加入我们的行列。

为了确定该广告的可信性，以下相关问题必须询问清楚的是：

- I 去年共举办了多少期这类培训班，共有多少学员毕业？
- II 去年有多少毕业班学员进行了就业咨询？
- III 对于找到工作的学员，就业咨询究竟起到了什么作用？
- IV 咨询者找到的是否都是网络文学创作工作？

- A. I、II、III和IV
- B. I、II和III
- C. II、III和IV
- D. III和IV

(2010-国家-86.)在由发展中国家向经济发达国家前进的过程中，大量资本支持是必不可少的条件，而高储蓄率是获得大量资本的必要条件。就目前来说，中国正处于经济起飞时期，因此，储蓄率高是当前经济发展中的一种正常而合理的现象。

由此可以推出：

- A.有了大量的资本支持，就可以实现由发展中国家向发达国家的跨越
- B.有了高储蓄率，就可以获得大量的资本支持

C.如果没有获得大量的资本支持,说明储蓄率不高

D.如果没有高储蓄率,就不能实现向发达国家的转变

(2010-国家-87.)当代知名的动漫设计大师,绝大部分还没从动漫设计学校毕业就已经离开学校,开始自己的动漫设计生涯。因此,有人认为动漫设计的专业学习对学生们今后的职业发展并没能提供有力的帮助。

以下哪项如果为真,能够最有力地**反驳**上述推论?

A.在动漫设计行业中职业发展比较好的从业者,基本都毕业于动漫设计学校

B.调查显示,动漫设计学校毕业生的平均年收入要显著高于同类院校其他专业的毕业生

C.知名动漫公司在招聘设计师时,很看重应聘人员的毕业院校

D.动漫设计大师都承认,他们学习了动漫设计学校的基础课程

(2010-国家-88.)以往,境内企业进出口只能以美元或第三方货币结算,在合同签约至合同执行完毕期间汇率的变化会使企业的实际盈收出现波动,现在银行推出了人民币结算业务。由于人民币是境内企业的本币,合同计价和企业运营的主要货币相一致,境内企业在合同签订前就能够切实了解交易的成本和收入,从而防范了汇率风险。因此,使用跨境贸易人民币结算业务的企业必定会增多。

以下哪项如果为真,最能作为上述论证的前提条件?

A.在与国内企业开展贸易时,由于人民币币值保持稳定,境外企业愿意使用人民币作为结算货币

B.有了跨境贸易人民币结算业务,国内企业可以更方便地将跨境贸易开展到世界各地

C.有了跨境贸易人民币结算业务,开展对外贸易的企业数量会越来越多

D.由于国内巨大的市场空间,越来越多的境外企业愿意与国内企业开展贸易往来

(2010-国家-89.)某国人口总量自2005年起开始下降,预计到2100年,该国人口总数将只有现在的一半。为此该国政府出台了一系列鼓励生育的政策。但到目前为止该国妇女平均只生育1.3个孩子,远低于维持人口正常更新的水平(2.07个)。因此有人认为该国政府实施的这些鼓励生育的政策没有达到预期效果。

以下哪项如果为真,最能**反驳**上述论断?

A.近年来该国人口总数呈缓慢上升的趋势

B.如果该国政府出台更加有效的鼓励生育政策,就可以提高人口数量

C.如果该国政府没有出台鼓励生育的政策,该国儿童人口总数会比现在低很多

D.该国政府实施的这些鼓励生育的政策是一项长期国策,短时间内看不出效果

(2010-国家-90.)甲国生产了一种型号为su-34的新型战斗机,乙国在是否要引进这种战斗机的问题上,出现了两种不同的声音。支持者认为su-34较以往引进的su-30有更加强大的对地攻击作战能力。

以下哪项如果为真,最能**削弱**支持者的声音?

- A. su-30 足以满足对地攻击的需要，目前乙国需要提升的是对空攻击作战能力
- B. 目前市场上有比 su-34 性能更好的其他型号战斗机
- C. 甲乙两国目前在双边贸易中存在诸多摩擦，引入 su-34 会有很多实际困难
- D. 目前还没有实际数据显示究竟是 su-34 还是 su-30 有更强大的对地攻击作战能力

※※※第四部分结束，请继续做第五部分！※※※

## 【【2009-国家-判断】】

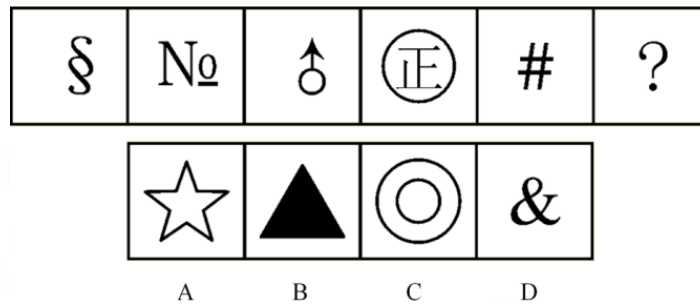
### 第三部分 判断推理

(共 35 题，参考时限 35 分钟)

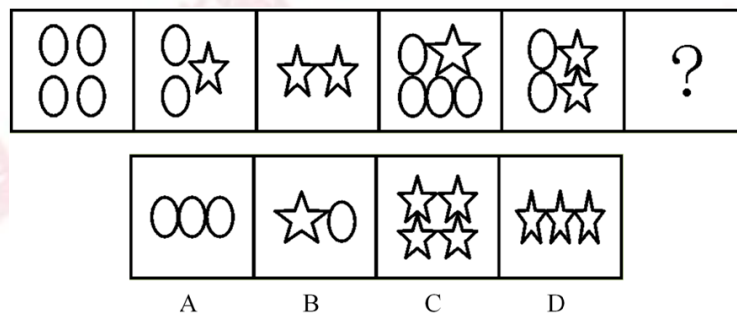
一、图形推理。请按每道题的答题要求作答。

请开始答题：

(2009-国家-66.) 请从所给四个选项中，选择最合适的一个填入问号处，使之呈现一定规律性：



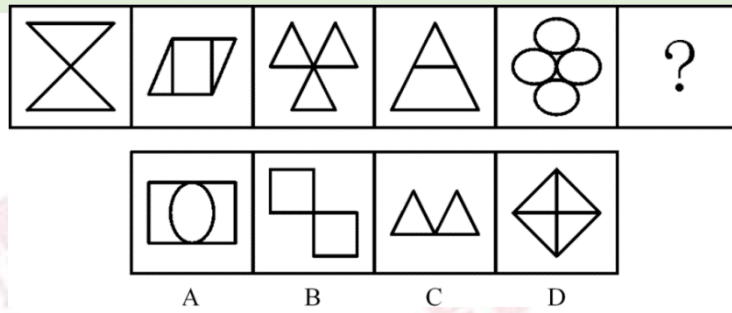
(2009-国家-67.) 请从所给四个选项中，选择最合适的一个填入问号处，使之呈现一定规律性：



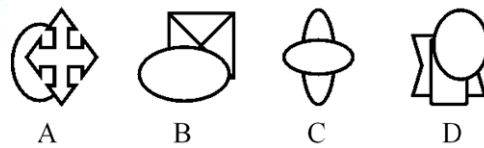

(2009-国家-68.) 请从所给四个选项中，选择最合适的一个填入问号处，使之呈现一定



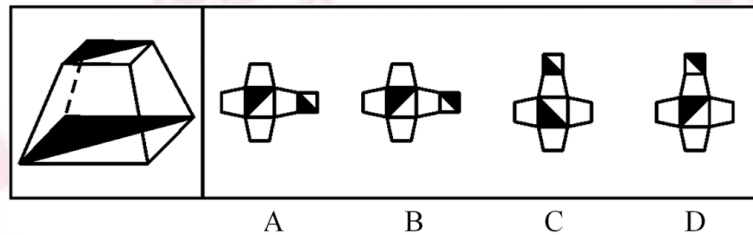
规律性:



(2009-国家-69.) 请从所给四个选项中, 选择最合适的一个填入问号处, 使之呈现一定规律性:



(2009-国家-70.) 下面四个所给的选项中, 哪一项能折成左边给定的图形?



二、定义判断。每道题先给出定义, 然后列出四种情况, 要求你严格依据定义, 从中选出一个最符合或最不符合该定义的答案。注意: 假设这个定义是正确的, 不容置疑的。

请开始答题:

(2009-国家-71.) 广义而言, 集体记忆即是一个具有自己特定文化内聚性和同一性的群体对自己过去的记忆。这种群体可以是一个政治宗教集团、一个地区文化共同体, 也可以是一个民族或是一个国家。这种记忆可以是分散的、零碎的、口头的, 也可以是集中的、官方的、文字的, 可以是对最近一个事件的回忆, 也可以是对远古祖先事迹的追溯。

根据上述定义，下列属于集体记忆的是：

- A. 我国广泛流传的大禹治水的传说
- B. 某市宣传地方旅游资源的纪录片
- C. 某政府机构关于某项工作的文件汇编
- D. 我国某大学内介绍邻国历史的教材

(2009-国家-72.)隐性广告是指将产品或品牌及其代表性的视觉性符号甚至服务性内容策略性地融入电影、电视剧或其他电视节目及其他传播内容中(隐藏于载体并与载体融为一体),使观众在接受传播内容的同时,不自觉地接受商品或品牌信息,继而达到广告主所期望的传播目的。

根据上述定义，下列属于隐性广告的是：

- A. 电视台在转播世界杯足球比赛中场休息时播放的某知名饮品的广告
- B. 某知名运动品牌赞助奥运会某国体育代表团运动员的领奖服
- C. 某电子产品生产商赞助拍摄电影，电影放映前播放该产品广告
- D. 某电视台知名女主播穿着某品牌提供的服装参加亲戚的婚礼

(2009-国家-73.)缺陷补偿是指个体在充当社会角色时不可能事事成功,当自我角色目标失败时,常常可能会对相关的社会角色的重要性做重新评价,从而进行自我定义以补偿自己的角色缺陷。

根据上述定义，下列属于缺陷补偿的是：

- A. 小王认为评上优秀员工是晋升的关键,因此当评选失利后决定在下一次评选中再接再厉
- B. 小张有份很不错的工做,他参加公务员考试是抱着试试看的态度,所以当他得知自己没有通过考试时并未觉得太遗憾
- C. 袁女士离婚后全身心投入工作,取得了很大成绩,她认为事业成功比婚姻幸福更为重要
- D. 黄某大学毕业后求职不顺利,他觉得这是由于自己不是名牌大学毕业生,否则就业会容易得多

(2009-国家-74.)职业社会化是指个体按社会需求选择职业,掌握从事某种职业的知识和技能,以及从事某种职业后进行知识、技能更新再训练的过程。

根据上述定义，下列属于职业社会化的是：

- A. 食堂管理员张某看到很多领域急需翻译人才,利用业余时间学习并取得翻译资格证后到某公司任职
- B. 青年张某参军后被分配至汽车班,学得精湛的修车技艺,退役后自己开了一间修理铺
- C. 某公司会计李某热爱厨艺,业余时间参加了一个培训班,学习营养知识,提高烹饪

技艺

D. 下岗女工陈某在抚育孩子期间，积累了丰富的知识和经验，后在朋友建议下开办了一所幼儿园

(2009-国家-75.) 差异性市场策略是指企业在对整体市场细分的基础上，针对每个细分市场的需求特点，设计和生产不同的产品，制定并实施不同的市场营销组合策略(各种营销手段的综合运用)，试图以差异性的产品满足差异性的市场需求。

根据上述定义，下列属于差异性市场策略的是：

A. 某汽车生产企业面向工薪阶层，主要生产经济型轿车，这种轿车售价低，耗油少，深受工薪阶层欢迎

B. 某超市推行会员制，根据会员积分的多少，赠予不同档次的礼品

C. 某企业生产的电脑在市场上销路很好，为拓宽市场，又开始研发手机

D. 某化妆品生产企业针对不同年龄阶段的消费者生产、销售不同种类的润肤露

(2009-国家-76.) 现在统计中常用的人均可支配收入由四部分构成，分别是：工资性收入、转移性收入、经营性收入和财产性收入。财产性收入一般是指家庭拥有的动产(如银行存款、有价证券等)、不动产(如房屋、车辆、土地、收藏品等)所获得的收入。它包括出让财产使用权所获得的利息、租金、专利收入等；财产营运所获得的红利收入、财产增值收益等。

根据上述定义，下列属于财产性收入的是：

A. 王某家传的青花瓷器在展览会上被专家估价为200万元

B. 李某买了一辆载重10吨的货车跑运营，每年收入8万元以上

C. 赵某为公司作出重大贡献，公司给予10万元的奖励

D. 高某在闹市有一间房屋，某厂家在其房顶安放了广告牌，并支付给他一定费用

(2009-国家-77.) 有一些植物需经过低温后才能开花并成长结实。通过低温诱导促使植物开花结实的作用称为春化作用。

根据上述定义，下列**未利用**春化作用原理的是：

A. 洋葱开花影响其品质，因此在春季种植前高温处理越冬贮藏的鳞茎，以降低其感受低温的能力，从而得到较大的鳞茎

B. 使用赤霉素，二年生天仙子、白菜、甜菜和胡萝卜等不经低温处理就可以开花

C. 将萌发的冬小麦种子装在罐中，放在冬季的低温下40至50天后在春季播种，可获得和秋播同样的收成

D. 在第一年将二年生药用植物当归的块根挖出，贮藏在高温下，以减少第二年的抽薹率而获得较好的块根

(2009-国家-78.) 产品召回是指生产商将已经送到批发商、零售商或最终用户手头上的产品收回。产品召回的典型原因是所售出的产品被发现存在缺陷。产品召回制度是针对厂家原

因造成的批量性问题而出现的，其中，对于质量缺陷的认定和厂家责任的认定是最关键的核心。

根据上述定义，下列属于产品召回的是：

- A. 某商家作出承诺，产品有问题可以无条件退货
- B. 某超市发现卖出的罐头已过期变质，及时告知消费者前来退货或更换
- C. 因质检把关不严，某厂一批次品流入市场，厂家告知消费者前来退货
- D. 某玩具厂因某种玩具有害物质超标，向提起诉讼的部分消费者退货赔偿

(2009-国家-79.) 环境影响评价指拟定开发计划或建设项目时，事前对该计划或项目将给大气、水体、土壤、生物以及由它们组成的环境系统造成什么影响，这些影响的结果又将对人类的健康和生活环境以及自然环境和经济、文化、历史环境造成什么影响所进行的调查、预测与评价，以及据此制定出防止或减少环境污染和破坏的对策与措施。

根据上述定义，下列属于环境影响评价的行为是：

- A. 某市在建设污水处理厂之前，请专家根据城市规模对该厂日处理污水能力进行调查、预测与评价
- B. 某市建高架桥后，附近几栋楼的居民反映该桥严重影响了采光，市政府组织相关部门进行评估以决定如何处理
- C. 某市在治理一条古老的河道前，请专家考证该河道的历史，以开发旅游资源
- D. 某市在建设机场前，预测飞机噪声并提出机场周围土地利用控制性建议

(2009-国家-80.) 政府采购就是指国家各级政府为从事日常的政务活动或为了满足公共服务的目的，利用国家财政性资金和政府借款购买货物、工程和服务的行为。政府采购不仅是指具体的采购过程，而且是采购政策、采购程序、采购过程及采购管理的总称，是一种对公共采购进行管理的制度。

根据上述定义，下列**不属于**政府采购的是：

- A. 某市政府规定，单笔超过一定金额的办公用品必须报有关部门集中采购
- B. 某市政府为方便市民出行，租用电信公司的短信平台给市民发送免费短信
- C. 某县政府为改善当地教育条件，拨专项资金给某小学翻修校舍，并规定必须严格按招标程序进行
- D. 某市政府通过公开竞标方式选择一家酒店作为指定接待酒店

三、类比推理。每道题先给出一组相关的词，要求你在备选答案中找出一组与之在逻辑关系上最为贴近、相似或匹配的词。

请开始答题：

- (2009-国家-81.) 杂志对于 ( ) 相当于 ( ) 对于农民

A. 编辑；蔬菜 B. 书刊；农村

C. 传媒；农业 D. 报纸；果农

(2009-国家-82.) ( ) 对于行动相当于 ( ) 对于航行

A. 目标；灯塔 B. 信心；风帆

C. 激情；桅杆 D. 毅力；水手

(2009-国家-83.) 寡对于 ( ) 相当于利对于 ( )

A. 孤；弊 B. 众；钝

C. 多；益 D. 少；害

(2009-国家-84.) ( ) 对于手机相当于交流对于 ( )

A. 电视；文学 B. 电脑；文化

C. 信号；文字 D. 通讯；语言

(2009-国家-85.) 签约：解约

A. 结婚：离婚 B. 订货：收货

C. 上班：下班 D. 借款：贷款

(2009-国家-86.) 冠心病：传染病

A. 熊猫：哺乳动物 B. 鲤鱼：两栖动物

C. 京剧：豫剧 D. 细菌：病毒

(2009-国家-87.) 考古：文物：博物馆

A. 培训：员工：社会 B. 耕种：庄稼：土地

C. 贸易：商品：工厂 D. 教育：人才：企业

(2009-国家-88.) 电梯：大厦：城市

A. 肥皂：浴室：客厅 B. 水草：小溪：山谷

C. 飞禽：走兽：森林 D. 奶牛：牛奶：超市

(2009-国家-89.) 图书：印刷厂：出版社

A. 桌椅：家具厂：木材厂 B. 水果：经销商：种植户

C. 电影：制片人：剧作家 D. 房子：建筑商：开发商

(2009-国家-90.) 打折：促销：竞争

A. 奖金：奖励：激励 B. 日食：天体：宇宙

C. 娱乐：游戏：健康 D. 京剧：艺术：美感

四、逻辑判断。每道题给出一段陈述，这段陈述被假设是正确的，不容置疑的。要求你根据这段陈述，选择一个答案。注意：正确的答案应与所给的陈述相符合，不需要任何附加说明即可以从陈述中直接推出。

请开始答题：

(2009-国家-91.) 有的人即便长时间处于高强度的压力下,也不会感到疲劳,而有的人哪怕干一点活也会觉得累。这除了体质或者习惯不同之外,还可能与基因不同有关。英国格兰斯哥大学的研究小组通过对 50 名慢性疲劳综合征患者基因组的观察,发现这些患者的某些基因与同年龄、同性别健康人的基因是有差别的。

以下哪项如果为真,最能支持该研究成果应用于慢性疲劳综合征的诊断和治疗?

- A. 基因鉴别已在一些疾病的诊断中得到应用
- B. 科学家们鉴别出了导致慢性疲劳综合征的基因
- C. 目前尚无诊断治疗慢性疲劳综合征的方法
- D. 在慢性疲劳综合征患者身上有一种独特的基因

(2009-国家-92.) 有三个骰子,其中红色骰子上 2、4、9 点各两面;绿色骰子上 3、5、7 点各两面;蓝色骰子上 1、6、8 点各两面。两个人玩掷骰子的游戏,游戏规则是两人先各选一个骰子,然后同时掷,谁的点数大谁获胜。

那么,以下说法正确的是:

- A. 先选骰子的人获胜的概率比后选骰子的人高
- B. 选红色骰子的人比选绿色骰子的人获胜概率高
- C. 没有任何一种骰子的获胜概率能同时比其他两个高
- D. 获胜概率的高低与选哪种颜色的骰子没有关系

(2009-国家-93.) 某国家先后四次调高化肥产品出口关税以抑制化肥产品出口。但是,该国化肥产品的出口仍在增加,在国际市场上仍然具有很强的竞争力。

以下**不能**解释这一情况的是:

- A. 国际市场上化肥产品处于供不应求的状态
- B. 该国化肥产品的质量在国际市场上口碑很好
- C. 该国化肥产品的价格在关税提高后仍然比其他国家低
- D. 该国化肥产品的产量仍在不断增加

(2009-国家-94.) 当受到害虫侵袭时,大豆和其他植物会产生一种叫做茉莉酸盐的荷尔蒙,从而启动一系列化学反应,合成更多蛋白酶抑制剂,增强自身的抵抗力。害虫吃下这种化合物以后,其消化功能会受到抑制。植物生物学家德鲁西亚发现高浓度二氧化碳会导致植物丧失分泌茉莉酸盐的能力,整个“防御通道”由此将被关闭,于是大豆类作物的抗虫害能力便随着二氧化碳含量的增多而逐渐减弱。

由此可以推出:

- A. 大豆产量会受到空气状况的影响
- B. 茉莉酸盐的主要作用是抵抗虫害
- C. 不能产生茉莉酸盐的植物将很难抵御虫害

D. 减少空气中的二氧化碳会增加大豆的抗虫害能力

(2009-国家-95.) 二氧化硫是造成酸雨的主要原因。某地区饱受酸雨困扰,为改善这一状况,该地区 1~6 月累计减排 11.8 万吨二氧化硫,同比下降 9.1%。根据监测,虽然本地区空气中的二氧化硫含量降低,但是酸雨的频率却上升了 7.1%。

以下最能解释这一现象的是:

- A. 该地区空气中的部分二氧化硫是从周围地区飘移过来的
- B. 虽然二氧化硫的排放得到控制,但其效果要经过一段时间才能显现
- C. 机动车的大量增加加剧了氮氧化物的排放,而氮氧化物也是造成酸雨的重要原因
- D. 尽管二氧化硫的排放总量减少了,但二氧化硫在污染物中所占的比重没有变

(2009-国家-96.) “东胡林人”遗址是新石器时代早期的人类文化遗址,在遗址中发现的人骨化石经鉴定属两个成年男性个体和一个少年女性个体。在少女遗骸的颈部位置有用小螺壳串制的项链,腕部佩戴有牛肋骨制成的骨镯。这说明在新石器时代早期,人类的审美意识已开始萌动。

以下哪项如果为真,最能**削弱**上述判断?

- A. 新石器时代的饰品通常是石器
- B. 出土的项链和骨镯都十分粗糙
- C. 项链和骨镯的作用主要是表示社会地位
- D. 两个成年男性遗骸的颈部有更大的项链

(2009-国家-97.) 甲、乙和丙,一位是山东人,一位是河南人,一位是湖北人。现在只知道:丙比湖北人年龄大,甲和河南人不同岁,河南人比乙年龄小。

由此可以推知:

- A. 甲不是湖北人
- B. 河南人比甲年龄小
- C. 河南人比山东人年龄大
- D. 湖北人年龄最小

(2009-国家-98.) 有关专家指出,月饼高糖、高热量,不仅不利于身体健康,甚至演变成了“健康杀手”。月饼要想成为一种健康食品,关键要从工艺和配料方面进行改良,如果不能从工艺和配料方面进行改良,口味再好,也不能符合现代人对营养方面的需求。

由此**不能**推出的是:

- A. 只有从工艺和配料方面改良了月饼,才能符合现代人对营养方面的需求
- B. 如果月饼符合了现代人对营养方面的需求,说明一定从工艺和配料方面进行了改良
- C. 只要从工艺和配料方面改良了月饼,即使口味不好,也能符合现代人对营养方面的需求
- D. 没有从工艺和配料方面改良月饼,却能符合现代人对营养方面需求的情况是不可能

存在的

(2009-国家-99.) 所有的恐龙都是腿部直立地“站在”地面上的, 这不同于冷血爬行动物四肢趴伏在地面上; 恐龙的骨组织构造与温血哺乳动物的骨组织构造形似; 恐龙的肺部结构和温血动物非常相近; 在现代的生态系统中(例如非洲草原), 温血的捕食者(例如狮子)与被捕食者(例如羚羊)之间的比值是一个常数, 对北美洲恐龙动物群的统计显示其中捕食者和被捕食者之间的比例与这个常数近似。这些都说明恐龙不是呆头呆脑、行动迟缓的冷血动物, 而是新陈代谢率高、动作敏捷的温血动物。

以下哪项如果为真, 最**不能反驳**上述推理?

- A. 有些海龟骨组织构造与哺乳动物类似, 却是冷血动物
- B. 鲸类等海生哺乳动物并不是直立的, 却是温血动物
- C. 关于北美洲恐龙动物群捕食者和被捕食者比例的统计有随意性
- D. 冷血动物和温血动物生理结构上的主要差别在于心脏结构而非肺部结构

(2009-国家-100.) 生物化学家们宣布, 他们已掌握了有效控制植物体内拟南芥酶的技术。使用这种技术, 人类就可以改变蔬菜和水果的气味。拟南芥酶是两种物质的综合体, 包括二烯烃氧化物和过氧化氢酶, 它能产生茉莉味和绿叶挥发物 GLV, 后者决定了蔬菜和水果的芳香特点。

由此可以推出:

- A. 茉莉花中含有的拟南芥酶比其他花多
- B. 在掌握这项技术之前, 人类无法改变植物的气味
- C. 如果去掉了拟南芥酶, 蔬菜和水果将改变气味
- D. 决定蔬菜和水果气味的是二烯烃氧化物和过氧化氢酶

※※※第三部分结束, 请继续做第四部分! ※※※

## 【【2008-国家-判断】】

### 第三部分判断推理


(共 35 题, 参考时限 40 分钟)

一、图形推理。请按每道题的答题要求作答。

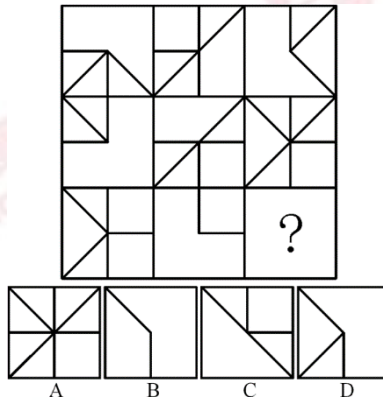
请开始答题:



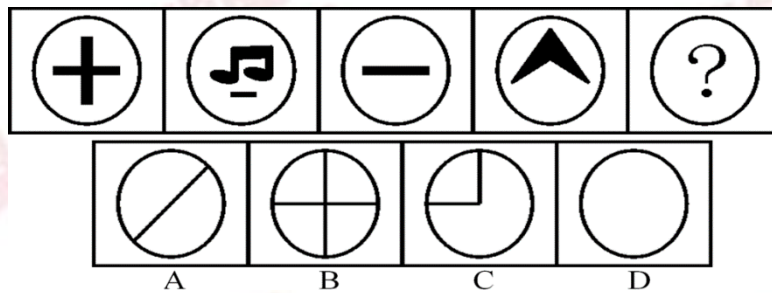
(2008-国家-61.) 请从所给四个选项中, 选择最合适的一个填入问号处, 使之呈现一定规律性:



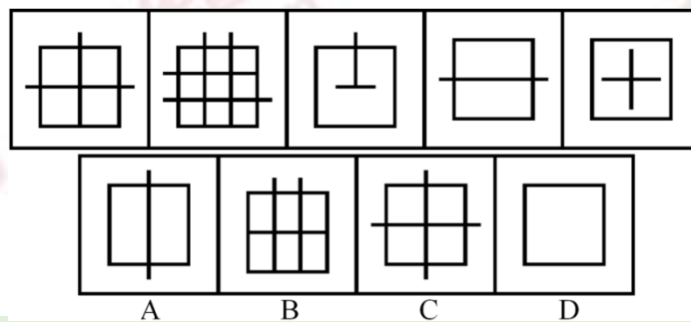
(2008-国家-62.) 请从所给四个选项中, 选择最合适的一个填入问号处, 使之呈现一定规律性:



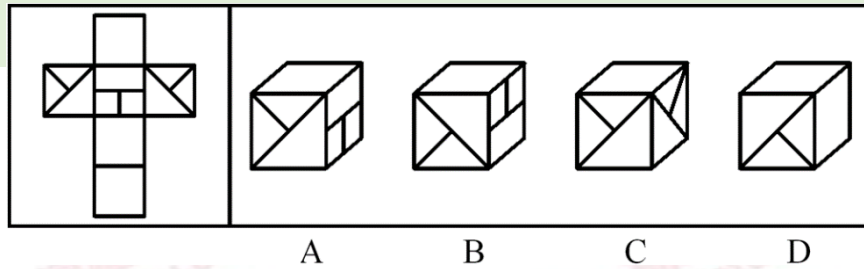
(2008-国家-63.) 请从所给四个选项中, 选出最符合左边五个图形一致性规律的选项:



(2008-国家-64.) 请从所给四个选项中, 选出最符合左边五个图形一致性规律的选项:



(2008-国家-65.) 下面四个所给选项中, 哪一选项的盒子**不能**由左边给定的图形做成?



二、定义判断。每道题先给出定义，然后列出四种情况，要求你严格依据定义，从中选出一个最符合或最不符合该定义的答案。注意：假设这个定义是正确的，不容置疑的。

请开始答题：

(2008-国家-66.) 立体农业是指农作物复合群体在时空上的充分利用。根据不同作物的不同特性，如高秆与矮秆、富光与耐荫、早熟与晚熟、深根与浅根、豆科与禾本科，利用它们在生长过程中的时空差，合理地实行科学的间种、套种、混种、轮种等配套种植，形成多种作物、多层次、多时序的立体交叉种植结构。

根据上述定义，下列属于立体农业的是：

- A. 甲在自己的玉米地里种植大豆
- B. 乙在自己承包的鱼塘不但养鱼，还种植了很多莲藕
- C. 丙在南方某地区承包了十亩稻田，特意引种了高产的水稻新品种
- D. 丁前年承包了一座山，他在山上种植了大量苹果树，并在山上养殖了大量蜜蜂

(2008-国家-67.) 天然孳息是指按照物质的自然生长规律而产生的果实与动物的出产物，与原物分离前，是原物的一部分。天然孳息，由所有权人取得；既有所有权人又有用益物权人的，由用益物权人取得；当事人另有约定的，按照约定。

根据上述定义，下列**不属于**天然孳息的是：

- A. 送给他人的猫崽
- B. 从羊身上剪下的羊毛
- C. 牛被宰杀后发现的牛黄
- D. 公园里的柿子树所结的果实

(2008-国家-68.) 绿色壁垒是指一些国家和国际组织通过制定环境标准和法规，为保护生态环境、人类以及动植物生命安全与健康而直接或间接采取的各种限制或者禁止贸易的措施，它是能对进出口贸易产生影响的一种非关税贸易壁垒。

根据上述定义，下列属于绿色壁垒行为的是：

- A. 某大型连锁超市只销售通过绿色食品检验的进口农产品
- B. 一家纺织品进出口公司销往欧洲的 10 余吨棉纱因检测出含有德国禁用的偶氮染料而停止出口

C. 某公司向国外出口大蒜，因途中货轮上的温控设施出问题，部分大蒜到港后变质，结果所有大蒜被退回

D. 一家工厂生产的木质卧室家具在美国市场销售量非常可观，但由于美国提高了木质卧室家具的关税，其出口量大受影响

(2008-国家-69.) 失语症是指由于神经中枢病损导致抽象信号思维障碍，而丧失口语、文字的表达和领悟能力的临床症候群。

根据上述定义，下列可能患失语症的是：

- A. “狼孩”回归社会后无法与人进行言语交流
- B. 幼时高烧听力受损致使发音有极大缺陷，影响交流
- C. 因受刺激精神失常，造成言语理解和表达上的困难
- D. 因车祸头部受伤，虽能模仿他人言语但经常答非所问

(2008-国家-70.) 职业枯竭是指人们在自己长期从事的工作重压之下，产生身心能量被工作耗尽的感觉。

根据上述定义，下列属于职业枯竭状态的是：

- A. 老周不能胜任自己现有的工作，每天都会忙得焦头烂额
- B. 刚参加工作的小李觉得这份工作太累，产生了跳槽的念头
- C. 刘经理每天工作繁忙，缺乏充足的休息，情绪也越来越糟糕
- D. 在从事过许多不同的职业之后，老王觉得所有工作都索然无味

(2008-国家-71.) 价格垄断行为是指经营者通过相互串通或者滥用市场支配地位，操纵市场调节价，扰乱正常的生产经营秩序，损害其他经营者或者消费者合法权益，或者危害社会公共利益的行为。

根据上述定义，下列**不属于**价格垄断行为的是：

- A. 几家大型电视机生产企业通过协议联手操纵价格
- B. 某商场为了吸引顾客将部分商品低于成本价销售
- C. 拥有专利权的工厂凭借市场支配地位，在经销商提货时强制限定转售价格
- D. 一家占市场份额 70% 的大企业以回扣、赠送等方式变相降价，致使商品市场价低于成本价

(2008-国家-72.) 生态移民是指为了保护某个地区特殊的生态或让某个地区的生态得到修复而进行的移民，也指因自然环境恶劣，不具备就地扶贫的条件而将当地人民整体迁出的移民。

根据上述定义，下列属于生态移民的是：

- A. 贵州省某山区因土地出现石质化现象，该地区村民被迁往他乡
- B. 几百年前，中原一带的居民为躲避战争，整体迁到南方，成为客家人

C. 某村落位于山谷中，交通十分不便，为更快致富，村民集体研究决定移居山外

D. 张三的父母家住三峡库区，由于修水库，其父母将家产变卖，来到上海与张三一起居住

(2008-国家-73.) 危机公关是指由于企业管理不善、同行竞争甚至遭遇恶意破坏或者是外界特殊事件的影响，而给企业或者品牌带来危机，企业针对危机所采取的一系列自救行动，包括消除影响、恢复形象等。

根据上述定义，下列属于危机公关的是：

A. 由于台风影响，某企业的户外广告牌被风吹倒，企业派员工前去修复

B. 某企业由于重要生产设备被盗，严重影响生产，高层领导召开紧急会议，研究对策

C. 某企业在行业竞争中失去领先地位，利润大幅下滑，企业高层领导决定转向新的领域

D. 某大型餐饮集团的一个连锁店由于卫生状况差被曝光后，该集团领导通过媒体向公众道歉，并借此机会发布新的企业卫生管理标准

(2008-国家-74.) 附加值是附加价值的简称，是在产品原有价值的基础上，通过生产过程中的有效劳动新创造的价值，即附加在产品原有价值上的新价值。

根据上述定义，以下行为提高了产品附加值的是：

A. 某明星为娱乐活动优胜者的奖品签名

B. 雨天商贩以高于市场价的价格在景区内销售雨具

C. 某生产饮料的厂家将产品由过去的罐装变为塑料包装

D. 个体商贩请人在白色 T 恤上画上各种漂亮的图案后出售

(2008-国家-75.) 流通加工是指物品在从生产地到使用地的过程中，根据需要施加包装、分割、计量、分拣、刷标志、贴标签、组装等简单作业的总称。

根据上述定义，下列属于流通加工的是：

A. 某工厂采购布匹、纽扣等材料，加工成时装并在市场上销售

B. 某运输公司在冷藏车皮中保存水果，使之在运到目的地时更新鲜

C. 杂货店将购进的西红柿按每斤 1 元和每斤 2 元两个档次销售

D. 某批发商在运输玻璃杯的过程中，为杯子加上防震外包装，以避免其碎裂

三、类比推理。每道题先给出一组相关的词，要求你在备选答案中找出一组与之在逻辑关系上最为贴近、相似或匹配的词。

请开始答题：

(2008-国家-76.) 法律：约束

A. 新闻：广播

B. 政策：规范

- C. 历史：借鉴 D. 制度：学问

(2008-国家-77.) 京剧：芭蕾

- A. 指南针：火药 B. 唐装：油画  
C. 佛教：基督教 D. 武术：拳击

(2008-国家-78.) 安居乐业：颠沛流离

- A. 吸收：放弃 B. 简单：杂乱  
C. 雪中送炭：雪上加霜 D. 巧夺天工：鬼斧神工

(2008-国家-79.) 蛹：蝶

- A. 丑小鸭：白天鹅 B. 胚胎：婴儿  
C. 种子：花朵 D. 蝌蚪：青蛙

(2008-国家-80.) 窑：陶瓷

- A. 学校：学生 B. 烤箱：面包  
C. 砖厂：砖 D. 整数：自然数

(2008-国家-81.) 国家：政府：行政

- A. 公司：经理部：经理 B. 野战军：作战部：参谋  
C. 董事会：经理部：职员 D. 总司令：军官：命令

(2008-国家-82.) 争议：仲裁：听证

- A. 诉讼：审判：旁听 B. 通货膨胀：宏观调控：货币政策  
C. 突发事件：现场抢救：善后处理 D. 交通安全：交通法规：交通警察

(2008-国家-83.) 岩石：矿物：成分

- A. 森林：树木：木材 B. 粘土：沙子：石头  
C. 器官：组织：功能 D. 酒精：饮料：果汁

(2008-国家-84.) ( ) 对于知识相当于分析对于 ( )

- A. 书本；理论 B. 学习；结论  
C. 学问；研究 D. 学生；研究员

(2008-国家-85.) 电子政务对于纸张相当于 ( ) 对于 ( )

- A. 电子邮件；信封 B. 网络歌手；歌迷  
C. 网上购物；现金 D. 电脑游戏；软件

四、逻辑判断。每道题给出一段陈述，这段陈述被假设是正确的，不容置疑的。要求你根据这段陈述，选择一个答案。注意：正确的答案应与所给的陈述相符合，不需要任何附加说明即可以从陈述中直接推出。

请开始答题：

(2008-国家-86.) 历史上一度盛行的古埃及、古巴比伦、古玛雅的语言文字已成历史尘埃，世界上现存的 6000 多种语言文字，平均每两周就消失一种。由此推算，到 2050 年，世界上将有 90% 的语言文字灭绝。

以下哪项如果为真，最能**反驳**以上观点？

- A. 有许多语言学家正在研究这些语言文字
- B. 古代语言文字往往是随着文明被征服而灭绝的
- C. 许多濒危语言文字已经得到了重视和有效的保护
- D. 现代的非文盲比例与古代相比有非常显著的降低

(2008-国家-87.) 史书记载，春秋战国时期的古滇国历时五百余年，在云南历史上的地位颇为重要。古滇国的青铜文化吸收和融合了不同地区和民族的文化精华，然而东汉以后，古滇国却神秘消失，唐代以后的史书上竟没留下任何记载。近年来，抚仙湖南岸江川县李家山墓葬群出土了数千件古滇青铜器，抚仙湖北岸相连的晋宁石寨山曾出土滇王印。据此，考古学家推测云南抚仙湖水下古城就是神秘消失的古滇王城。

以下哪项如果为真，最能支持上述推测？

- A. 在抚仙湖水下古城，也发现了大量青铜器
- B. 按考古常规看，王国都城附近都有墓葬群
- C. 抚仙湖水下古城与史料记载的古滇国都位于今云南省境内
- D. 据专家推测，抚仙湖水下古城与古滇国处于同一历史时期

(2008-国家-88.) 从 2005 年 7 月开始，敦煌研究院对莫高窟采用了预约参观办法。这一措施合理有效地调控和平衡了游客流量，一方面加强了洞窟的保护，另一方面给游客提供了更加优质的服务。实施预约参观办法以来，来莫高窟参观的人数逐年递增，年游客接待量由 2004 年 45 万人次增加到 2006 年 55 万人次。

由此可以推出：

- A. 莫高窟预约参观的办法为游客提供了便利
- B. 合理配置人力、物力资源可以实现利益最大化
- C. 预约参观办法实施前莫高窟的游客流量不均衡
- D. 科学合理地利用自然和人文资源能创造更大价值

(2008-国家-89.) 某小学向当地教育行政主管部门申请增购一辆校车，以加强对师生的接送能力。该教育行政主管部门否决了这项申请，理由是：校车的数量必须与学校规模和师生数量相配套。根据该校目前的师生数量和规模，现有的校车已经足够了。

以下哪一项假设最能支持教育行政主管部门的决定？

- A. 调查显示，租用校车比购买校车更经济
- B. 该小学的校车中，至少近期不会有车辆报废
- C. 该地区小学适龄儿童数量今后不会有大的增长

D. 该教育行政主管部门没有扩大该校师生规模的计划

(2008-国家-90.) 甲、乙、丙三名学生参加一次考试，试题一共 10 道，每道题都是判断题，每题 10 分，判断正确得 10 分，判断错误得零分，满分为 100 分。他们的答题情况如下：

	1	2	3	4	5	6	7	8	9	10
甲	×	√	√	√	×	√	×	×	√	×
乙	×	×	√	√	√	×	√	√	×	×
丙	√	×	√	×	√	√	√	×	√	√

考试成绩公布后，三个人都是 70 分，由此可以推出，1~10 题的正确是：

- A. ××√√√×√×√×
- B. ××√√√√√×√×
- C. ××√√√√√√√×
- D. ××√×√√√√√×

(2008-国家-91.) 有专家建议，为盘活土地资源有效保护耕地，让农民像城市人一样住进楼房是个不错的选择，这样就可以将农民现有的住房“叠起来”，从而节省大量土地资源。

以下哪项如果为真，最能削弱上述专家的观点？

- A. 由于农民的生产生活习惯，他们大多表示不愿住楼房
- B. 建楼房消耗的资源与建现有的农民住房消耗的资源差不多
- C. 有农民表示，即使搬进楼房居住，他们也不会将现有的房子拆掉
- D. 农民住进楼房后远离田地，影响农业生产，会从效益上降低土地资源的利用

(2008-国家-92.) 我国酸雨主要出现于长江以南，北方只有零星分布，这是因为北方常有沙尘天气，来自沙漠的沙尘和当地土壤都偏碱性。

由此可以推出：

- A. 长江以北地区酸性污染物排放较少
- B. 长江以南地区的土壤碱性的较少
- C. 沙尘天气可有效降低酸雨出现的几率
- D. 有酸雨的地区出现沙尘天气的几率较小

(2008-国家-93.) 有专家认为，家庭装修中使用符合环保标准的建材只能保证有害物质的含量符合相关行业要求，并不代表完全不含有害物质，因此在装修中大量甚至过度使用建材，仍会导致有害物质累积超标。

由此可以推出：

- A. 建材行业应该进一步严格环保标准
- B. 建材行业应努力降低产品的有害物质含量
- C. 挑选好的建材可以有效避免室内空气质量不合格

D. 适量使用建材才能减少室内空气中的有害物质含

(2008-国家-94.)为适应城市规划调整及自身发展的需要,某商业银行计划对全市营业网点进行调整,拟减员 3%,并撤销三个位于老城区的营业网点,这三个营业网点的人数正好占该商业银行总人数的 3%。计划实施后,上述三个营业网点被撤销,整个商业银行实际减员 1.5%。此过程中,该银行内部人员有所调整,但整个银行只有减员,没有增员。

据此可知,下列陈述正确的有:

- I.有的营业网点调入了新成员
  - II.没有一个营业网点调入新成员的总数超出该银行原来总人数的 1.5%
  - III.被撤销营业网点中的留任人员不超过该银行原来总人数的 1.5%
- A. 只有 I
  - B. 只有 I 和 II
  - C. 只有 II 和 III
  - D. I、II 和 III

(2008-国家-95.)最近一项调查显示,近年来在某市高收入人群中,本地人占 70%以上,这充分说明外地人在该市获得高收入相当困难。

以下哪一项如果为真,方能支持上述结论?

- A. 外地人占该市总人口的比例高达 40%
- B. 外地人占该市总人口的比例不足 30%
- C. 该市中低收入人群中,外地人占 40%
- D. 该市中低收入人群中,本地人占不足 30%

※※※第三部分结束,请继续做第四部分!※※※

## 联考

### 【【2017-联考-判断】】

#### 第三部分 判断推理 灌

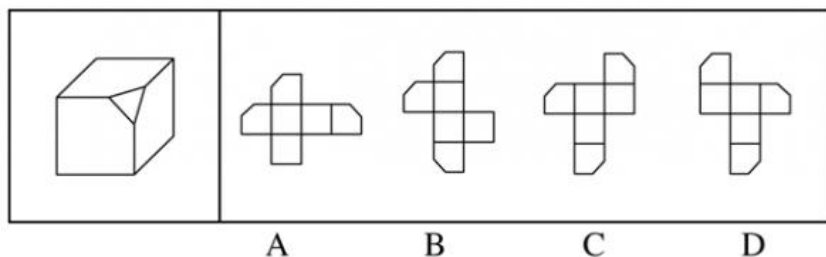
(共 35 题,参考时限 35 分钟)

一、图形推理。请按每道题的答题要求作答。

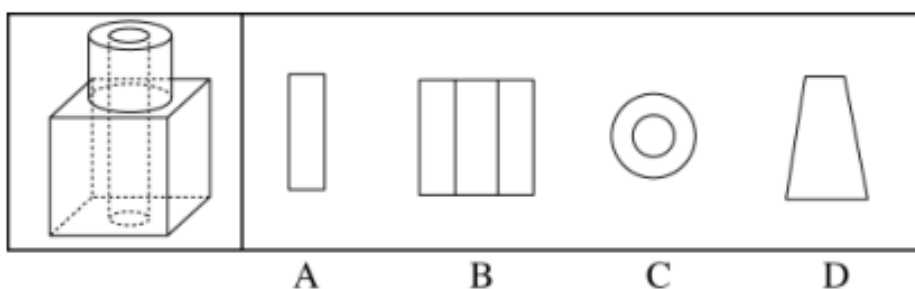


请开始答题：

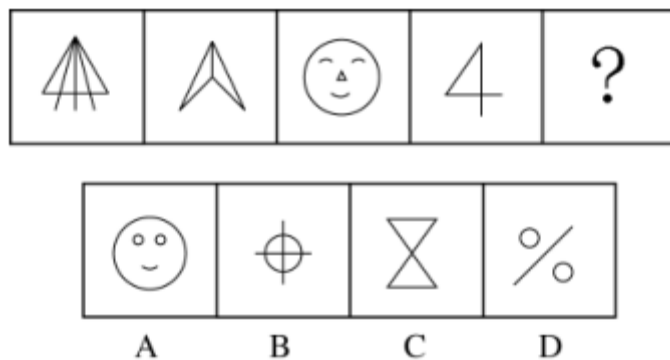
(2017-联考-56.) 左边给定的是削掉一个角的纸盒，下列哪一项**不是**由它展开而成？



(2017-联考-57.) 如图所示，立方体上叠加圆柱体再打通一个圆柱孔，然后从任意面剖开，下面哪一项**不可能**是该立体的截面：

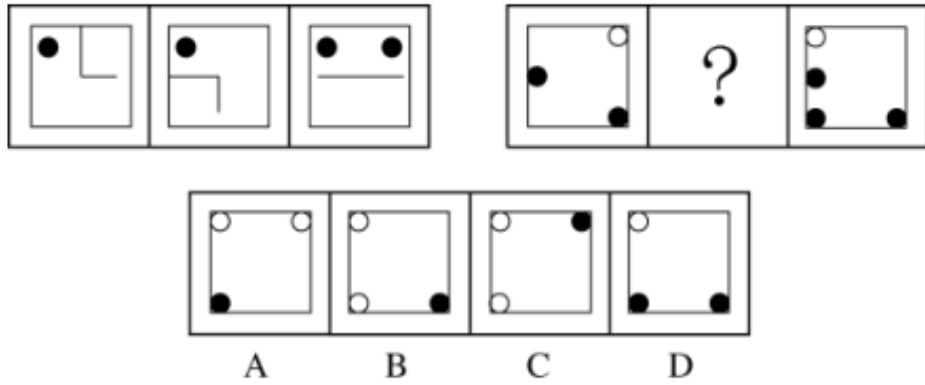


(2017-联考-58.) 从所给四个选项中，选择最合适的一个填入问号处，使之呈现一定规律性：

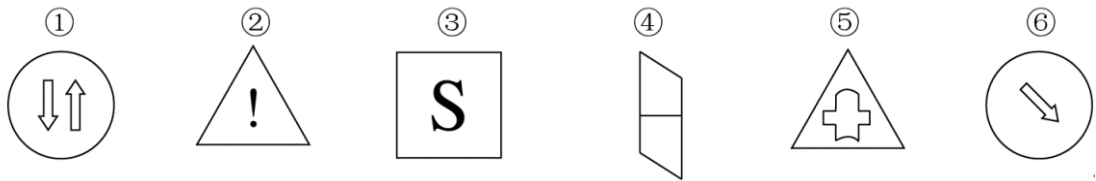


(2017-联考-59.) 从所给四个选项中，选择最合适的一个填入问号处，使之呈现一定规律性：





(2017-联考-60.) 把下列的六个图形分为两类,使每一类图形都有各自的共同特征或规律,分类正确的一项是:



- A. ①②⑤, ③④⑥  
 B. ①③⑥, ②④⑤  
 C. ①②④, ③⑤⑥  
 D. ①③④, ②⑤⑥

二、定义判断。每道题先给出定义,然后列出四种情况,要求你严格依据定义,从中选出一个最符合或最不符合该定义的答案。注意:假设这个定义是正确的,不容置疑的。

请开始答题:

(2017-联考-61.) 人类增强就是利用生物医学技术、智能技术、神经科学技术、信息技术和纳米技术等高新技术手段使健康人类的机体功能或能力超出其正常范围,从而使人类的体貌、寿命、人格、认知和行为等能力发生根本性变化并具有全新能力的一种技术手段。其目的是显著提高人类生活的质量。

根据上述定义,下列选项**不属于**人类增强的是:

- A. 演员赵某用药剂延缓衰老  
 B. 医生建议老张去做心脏搭桥手术  
 C. 医生将传感器植入老陈大脑提高其记忆力  
 D. 小王为了增加自己的身高服用类增高药物

(2017-联考-62.) 共享经济指借助网络第三方平台,基于闲置资源使用权的暂时性转移,实现生产要素的社会化,提高存量资产的使用效率以创造更多价值,促进社会经济的可持续发展。

根据上述定义,下列经济活动**不属于**共享经济的是:

- A. 王某在某网络平台上订车去飞机场,方便快捷

- B. 李某在某网络平台上贷款炒股，获得了预期收益
- C. 张某在某网络平台上购买外卖美食，在家享受美味
- D. 马某旅行前在某网络平台预订民宿，抵达后入住

(2017-联考-63.)木椅子效应是指将成绩相等的两组学生分别安排坐在舒适的沙发椅和很不舒服的木椅子上学习，不久之后，坐木椅子的学生学习成绩要比坐沙发椅的学生成绩高出许多。原因是坐木椅子的学生因为不舒服而不断调整坐姿，表面看来好像不安而好动，实质却因此给脑部供应了更多的血液和营养；而坐沙发椅的学生，由于舒适而一动不动，致使血液循环相对减慢，脑部得到的血液和营养相对减少，学习效果因此就差了一些。

根据上述定义，下列选项最能体现木椅子效应的是：

- A. 某学生从小到大饱受责罚，学习成绩一直不理想
- B. 某家长为鼓励孩子暑假学习，每天为其提供冷饮
- C. 小刚每天步行上学和回家，风雨无阻却学得很好
- D. 搬入新书房一个月后，小明的成绩名次一路攀升

(2017-联考-64.)心理会计是指人们在心里无意识地把财富划归不同的账户进行管理，并对结果（尤其是经济结果）加以编码、分类和估价的过程，且不同的心理账户有不同的记账方式和心理运算规则。小到个体、家庭，大到企业集团，都有一套或隐或显的心理账户系统，其心理记账方式与经济学和数学的运算方式都不相同，因此经常以非预期的方式影响着决策，使个体的决策违背最简单的理性经济法则。

根据上述定义，下列选项最能体现心理会计现象的是：

- A. 小陈已经攒够购买相机的钱，但他一定要领到年底奖金再买相机
- B. 整日忧心忡忡的小李将自己全部存款的四分之三用于购买人寿保险
- C. 小王在两家不同银行都有储蓄卡，但他总是去离家更近的银行取款
- D. 小刘因公司奖励出游某地感觉不错，后来自费重游此地却感觉不佳

(2017-联考-65.)随着科学技术的发展，人机交流已经成为现实，这其中的关键是脑机接口技术。所谓脑机接口，就是连接大脑与计算机之间的信息系统，可让大脑直接和计算机沟通。脑机接口可以从大脑传递信息到计算机，又可以从计算机传递信息进入大脑。

根据上述定义，下列应用**不属于**脑机接口技术的是：

- A. 某游戏玩家的大脑植入一部装置，通过该装置用意念控制机械手，端起杯子喝茶
- B. 某游戏玩家佩戴一套义肢设备，经过多次练习，凭着坚强意志力，实现独立行走
- C. 某游戏玩家佩戴一种脸部饰品，饰品根据佩戴者的情绪变化作出相应的指示动作
- D. 某游戏玩家戴上一套高科技耳机，集中注意力，通过精神控制小球飞越各种障碍

(2017-联考-66.)自我效能感是个体对自己能否成功操作某一行来达到某种预期效果的主观预期和推断。当面临困难任务时，低自我效能感的人比高自我效能感的人更集中于问题存在的障碍、失败影响以及个人缺陷上。

根据上述定义，下列选项属于低自我效能感表现的是：

- A. 破釜沉舟
- B. 画饼充饥
- C. 睹物兴悲
- D. 心急如焚

(2017-联考-67.) 描写就是用生动形象的语言，把人物或景物的状态具体地描绘出来。从描写的角度分，可分为正面描写和侧面描写。正面描写是指直接展现景物、环境的特点或通过描写人物的外貌、心理和行动来体现人物的个性特征。侧面描写又叫间接描写，是从侧面的角度烘托人物形象、景物特征或相关事态。

根据上述定义，下列选项既有正面描写，又有侧面描写的是：

- A. 一道残阳铺水中，半江瑟瑟半江红
- B. 大漠风尘日色昏，红旗半卷出辕门
- C. 天姥连天向天横，势拔五岳掩赤城
- D. 千里莺啼绿映红，水村山郭酒旗风

(2017-联考-68.) 非爱行为，指以爱的名义，对自己亲近的人进行非爱性的掠夺，即违背他人主观意愿，在精神与行为方面强制控制，迫使对方按照施控者的意愿去行为做事，这一行为往往发生在夫妻、恋人、父母与子女等最亲近的人之间。

根据上述定义，下列属于非爱行为的是：

- A. 张某按照医嘱，要求女儿每三个小时做一次牵引，以消除疼痛
- B. 林某强迫儿子每天练琴3小时，争取在钢琴大赛中取得好成绩
- C. 陈某为防止患精神病的女儿逃逸，将其关在地下室禁止其出入
- D. 李某按照轮流陪护协议，要求妻子前往医院陪护患重病的母亲

(2017-联考-69.) 我国婚姻法规定，禁止直系血亲和三代以内旁系血亲结婚。直系血亲是指和自己有直接血缘关系的亲属，三代以内旁系血亲是指与己身出自同一父母或同一祖父母、外祖父母，除直系血亲外的所有血亲。

根据上述定义，下列选项中的甲和乙可以结婚的是：

- A. 张某是甲(女)的姨父，乙系张某的儿子
- B. 李某是乙(女)的姑父，甲系李某的儿子
- C. 甲是林某与前夫的儿子，乙是林某与后夫的女儿
- D. 王某是张某的舅舅，甲系王某的儿子，乙系张某的女儿

(2017-联考-70.) 数据挖掘(Data mining)是指从大量的存储数据中利用统计、情报检索、模式识别、在线分析处理和专家系统(依靠过去的经验)等方法或技术，发现隐含在其中、事先不知道但又是潜在有用的信息和知识的信息处理过程。

根据上述定义，下列**不属于**数据挖掘应用的是：

A. 某全球零售企业在分析上一年度消费者购物行为后推出“尿布+啤酒”促销举措,使得二者销售量大幅增加

B. 某国际快递和物流公司使用 RFID(无线射频识别)技术在不同时间点跨境全程监控和调整药品装运的温度

C. 某大型网上书店在客户选购一种图书时,推出“购买该商品的用户还购买了”等栏目,从而增加可观收益

D. 某高校要求教师使用网上教学管理系统,录入学生的期末考试成绩,以便借助短信群发软件告知学生成绩

三、类比推理。每道题先给出一组相关的词,要求你在备选答案中找出一组与之在逻辑关系上最为贴近、相似或匹配的词。

请开始答题:

(2017-联考-71.) 鸿雁:笺札:书信

A. 月老:红娘:媒人

B. 乾坤:天地:宇宙

C. 红豆:相思:恋人

D. 东宫:王子:储君

(2017-联考-72.) 犹疑:深信

A. 晚造:提前

B. 老到:幼稚

C. 婉拒:褒扬

D. 爽利:强横

(2017-联考-73.) 茶树:茉莉花茶

A. 梅树:梅花糕

B. 小麦:肉夹馍

C. 螃蟹:蟹黄包

D. 冬瓜:冬瓜糖

(2017-联考-74.) 盲动:一败涂地:重起炉灶

A. 超速:风驰电掣:按部就班

B. 跟风:鹦鹉学舌:真知灼见

C. 熬夜:萎靡不振:养精蓄锐

D. 传神:生动逼真:洛阳纸贵

(2017-联考-75.) 讨论:会议:方案

A. 调研:基层:实情

B. 研究:手机:销量

C. 分析:汽车:技术

D. 合作:课题:计划

(2017-联考-76.) 进士:状元

A. 河水:海水

B. 银河:天文

C. 学位:博士

D. 宪法:民法

(2017-联考-77.) 农家乐:农家:乐

A. 一日游:一日:游

B. 广场舞:广场:舞

C. 袋鼠跳:袋鼠:跳

D. 颅内伤:颅内:伤

(2017-联考-78.) 中子：辐射：军事

- A. 货车：交通：运输
- B. 电解质：物理：化学
- C. 薄膜：隔热：大棚
- D. 干冰：吸热：消防

(2017-联考-79.) 番茄之于 ( ) 相当于 ( ) 之于蹴鞠

- A. 美洲；中国
- B. 白菜；篮球
- C. 植物；人类
- D. 炒饭；健身

(2017-联考-80.) 违约之于 ( ) 相当于 ( ) 之于承诺

- A. 法律；民俗
- B. 处罚；兑现
- C. 合同；食言
- D. 赔偿；责任

四、逻辑判断。每道题给出一段陈述，这段陈述被假设是正确的，不容置疑的。要求你根据这段陈述，选择一个答案。注意：正确的答案应与所给的陈述相符合，不需要任何附加说明即可以从陈述中直接推出。

请开始答题：

(2017-联考-81.) 很多家长认为，孩子不听话，“打屁屁”惩罚一下，至少能让孩子注意到自己的行为不当，变得更听话一些。还有一些人坚持“不严加管教会惯坏孩子”的传统信念，认为“打屁屁”是为孩子好。研究者对 16 万名儿童在过去 5 年里的经历进行研究，通过收集“打屁屁”行为的元数据加以分析，发现：打屁股会在儿童成长过程中造成智商低、攻击性行为高等多种负面影响。

以下哪项如果为真，最能支持上述结论？

- A. 最新调查显示，智商相对较低的孩子大多数经常被家长打屁股
- B. 本身不听话且更容易惹祸的孩子更有可能受到父母的严厉惩罚
- C. 研究报告称全球大约 80% 的父母都有以打屁股管教孩子的经历
- D. 被打屁股而困惑的孩子只懂得按家长要求去做而不会独立思考

(2017-联考-82.) 柠烯，俗称柠檬精油。它通常被用于制作柑橘香味剂，是很多空气清新剂、身体喷雾剂等芳香剂中重要的化学成分之一。柠烯本身并不可怕，因为该化学物质对人体不会形成大的危害，事实上，它可被用于食品的调味剂。然而柠烯一旦被喷入空气中，很快就会有所变化。研究表明，当柠烯暴露于普遍存在于空气的臭氧中时，两个柠烯分子会形成一个单分子化合物——甲醇。当房间中大量的柠烯被转化成甲醇时，其影响将迥然不同。

由此可以推出：

- A. 使用空气清新剂，可能会对我们自身有害处
- B. 柠烯被用作食品的调味剂时，会对人体产生危害
- C. 如果房间中测出甲醇浓度高，则说明使用了太多的芳香剂

D. 在生活中，我们应该尽量避免使用含有柠檬烯成分的物品

(2017-联考-83.) 一项研究显示，先让受试者参加消除某项偏见的学习，并给受试者播放与消除该偏见学习相关联的声音。之后，让受试者进入深度睡眠状态，同时重复播放那些相关联的声音，以重新激活消除该偏见的学习。结果发现，该偏见比睡眠前大大减少，且睡眠质量越高，偏见减少得越多。研究人员由此推测，睡眠干预可减少社会偏见与歧视。

以下哪项如果为真，最能支持上述论证？

- A. 普通民众难以得到消除偏见学习的睡眠干预
- B. 睡眠充足、睡眠质量高的人比其他人更不易产生偏见与歧视
- C. 有身高歧视、相貌歧视的人经过睡眠干预后，歧视程度明显降低
- D. 在接受睡眠干预的受试者中，有一部分并不存在明显的偏见或歧视

(2017-联考-84.) 某机构为研究“轻断食”与人体健康的关系，招募一批志愿者做试验。志愿者分为两组，试验期6个月，饮食推荐量实行同一标准。第一组志愿者，每个月中有5天连续断食，第1天，热量摄入被减至推荐量的一半，后4天每日仅为推荐量的三分之一。第二组志愿者，在试验期中的每一天都正常饮食，试验结果显示，第一组志愿者的身体状况得到明显改善，由此研究人员得出结论：“轻断食”使志愿者体内产生较多酮体，氧化应激和炎症标志物水平均有所下降。

以下哪项如果为真，最能削弱研究人员的结论？

- A. 所招募志愿者的身体机能和应激反应等本身就有差异
- B. 实行连续断食的某位志愿者的身体炎症得到较大缓解
- C. 试验开始之前志愿者体检显示相关健康指标基本相似
- D. 第二组的某位志愿者在试验结束后健康水平有所下降

(2017-联考-85.) 某科研机构提出潮湿的沙子是古埃及人在沙漠中搬运巨大石块和雕像的关键。研究人员指出，古埃及人将沉重的石块放在滑撬后，先在滑撬前铺设一层潮湿的沙，再牵引它们，这种搬运方式起到了意想不到的效果。在实验中，研究人员使用流变仪测试沙子的硬度，以证实需要多少牵引力才能使一定数量的沙子变形，并在此基础上设计了牵引模型，从中发现将潮湿的沙铺在滑撬前能更容易移动重物，而且沙子所含水分决定了沙子的硬度和牵引力。

以下哪项如果为真，最能支持上述结论？

- A. 在一幅古埃及墓室壁画中，一名男子站在滑撬前方，似乎正在浇水
- B. 滑撬牵引力与沙子硬度成反比，潮湿沙子的硬度是干燥沙子的两倍
- C. 实验证明，铺设在滑撬前的潮湿沙子容易堆积，形成较大的滑动阻力
- D. 一个实验室版的埃及滑撬被成功建造，能够模拟古埃及工地的实况

(2017-联考-86.) 汽车行业作为制造业中技术含量、智能化程度和产业集中度较高的代表，已经成为了德国“工业 4.0”的先导阵地。长期处于 2.0 工业思维的中国汽车制造业要

在全球占有一席之地，进行技术创新与变革和拥有丰富经验的资深人才必不可少，而高薪和福利成为吸引人才的制胜法宝。

由此可以推出：

- A. 如果能够吸引到资深人才，中国汽车制造业的改革就能成功
- B. 高薪和福利是很多中国职场人士选择职业时的一个重要关注点
- C. 德国汽车制造业在世界汽车行业具有举足轻重的地位和影响力
- D. 不进行技术变革，中国汽车制造业就不能在全球占有一席之地

(2017-联考-87.) 如果向大气排放的  $\text{CO}_2$  累积超过 32000 亿吨，那么到本世纪末，将升温控制在  $2^\circ\text{C}$  以内的门槛就守不住了。有科学家认为，为了达到将升温幅度控制在  $2^\circ\text{C}$  以内的目标，仅仅限制  $\text{CO}_2$  排放是不够的，必须在全球范围内大规模开展大气  $\text{CO}_2$  的回收行动，使大气污染程度得到有效控制和缓解。

若要使上述科学家的想法成立，最需要补充以下哪项作为前提？

- A. 全球范围内普及关于气候变化的科学知识
- B. 各国政府推出有效政策来控制  $\text{CO}_2$  排放量
- C. 科学界整合资源来支持发展地球工程技术
- D. 各地都建立能有效回收和储存  $\text{CO}_2$  的机制

(2017-联考-88.) 荷兰研究人员一直在试图模拟月球和火星的土壤条件进行农作物栽培实验。他们对该项实验种出的小红萝卜、豌豆、黑麦和西红柿进行初步分析。实验结果令人充满希望，这些产品不仅安全，而且可能比在地球土壤种出的农作物更健康。英国媒体称，能在火星土壤种出可食用作物，殖民火星的希望又向前迈进了一步。

以下哪项如果为真，**不能质疑**英国媒体说法的是？

- A. 火星土壤重金属占比和地球土壤不一样
- B. 在另一个同类实验中土豆的长势很糟糕
- C. 从实验到真正付诸实践还有很长的路要走
- D. 月球、火星、地球的气候条件有很大不同

(2017-联考-89.) 英国一项研究发现，人只要在每餐饭前半小时喝一杯 500 毫升的水，并坚持 3 个月，体重就能减轻 2 至 4 公斤。研究团队邀请了 84 位超重的成人，随机分成 2 组，其中 41 位被要求在餐前喝 500 毫升水，另外 43 位则照常生活。3 个月后，团队发现三餐前喝水的人，平均体重下降了 4.3 公斤；而餐前没喝水的人，平均体重只下降了 0.81 公斤，研究人员说，没有喝水的那组人，“平均运动量”比餐前饮水的人更高，这说明餐前喝适当的水真能减肥。

下列哪项如果为真，最能支持上述结论？

- A. 餐前喝水的那组人同时也注意控制饮食
- B. 餐前没喝水的人中有的体重减轻了 4 公斤



C. 除了餐前喝水，两组的其他情况都是一样的

D. 餐前没喝水的人就餐中会喝更多的汤和饮料

(2017-联考-90.) 作为抗衰老药物，雷帕霉素延长寿命的秘密在于能够阻断 mTOR 通道——这也是控制着影响细胞生长繁殖流程的“主开关”之一。当食物充足时，这种通道从激素和营养物质中获得信号使细胞吸收营养并生长，但细胞进行新陈代谢和生长的过程中会产生激发细胞老化的副产物；当限制食物热量的摄入时，这个通道可以发出信号使细胞停止生长，借此来延缓衰老。雷帕霉素可能是目前发现的最有效可靠的抗衰老药物。

以下哪项如果为真，不能支持上述结论？

A. 由于具有抑制细胞生长的作用，雷帕霉素被用于治疗某些癌症

B. 试验研究已经证明雷帕霉素能够延长酵母、蠕虫和果蝇的寿命

C. 雷帕霉素在延缓衰老的同时，使人更容易受到细菌和病毒的侵袭

D. 雷帕霉素可以阻断 mTOR 通道，而不需要限制食物热量的摄入

※※※第三部分结束，请继续做第四部分！※※※

## 【【2016-联考-判断】】

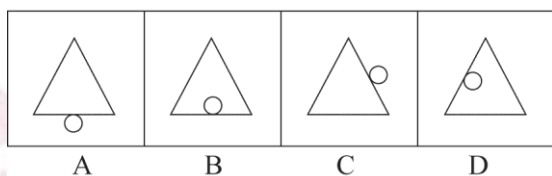

### 第四部分判断推理

(共 35 题，参考时限 35 分钟)

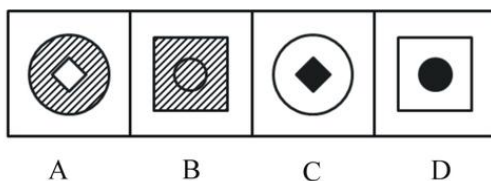
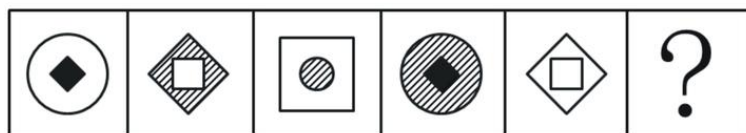
一、图形推理。请按每道题的答题要求作答。

请开始答题：

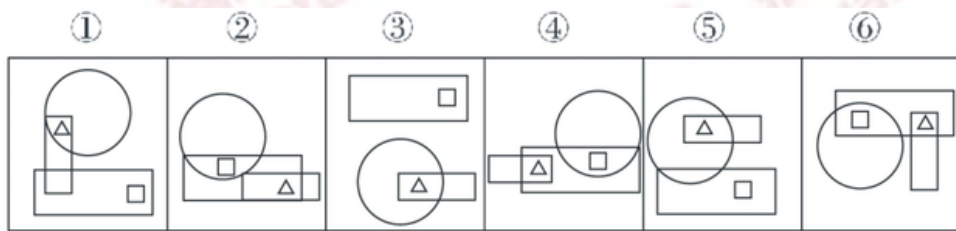
(2016-联考-71.) 从所给四个选项中，选择最合适的一个填入问号处，使之呈现一定规律性：



(2016-联考-72.) 从所给四个选项中, 选择最合适的一个填入问号处, 使之呈现一定规律性:

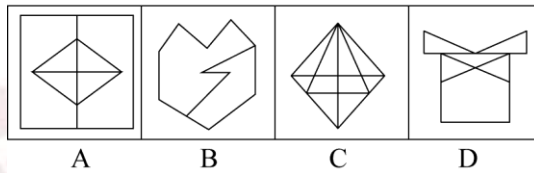
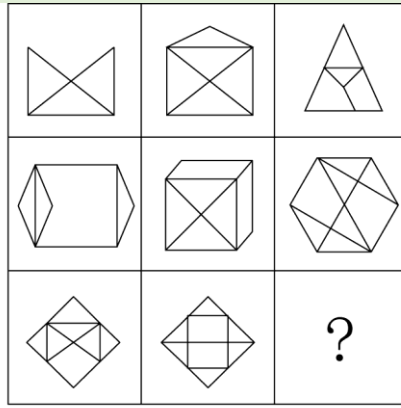


(2016-联考-73.) 把下面的六个图形分为两类, 使每一类图形都有各自的共同特征或规律, 分类正确的一项是:

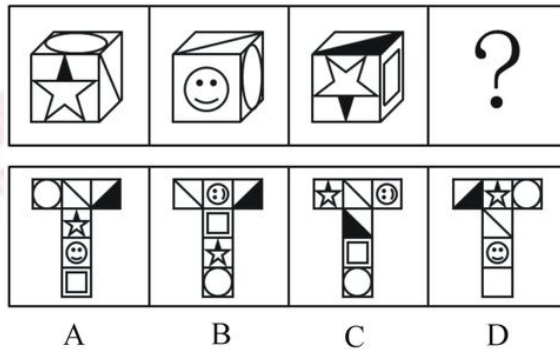


- A. ①④⑥, ②③⑤      B. ①④⑤, ②③⑥  
C. ①③⑤, ②④⑥      D. ①②③, ④⑤⑥

(2016-联考-74.) 从所给四个选项中, 选择最合适的一个填入问号处, 使之呈现一定规律性:



(2016-联考-75.) 从所给四个选项中, 选择最合适的一个填入问号处, 使之符合所给的题干所示:



二、定义判断。每道题先给出定义, 然后列出四种情况, 要求你严格依据定义, 从中选出一个最符合或最不符合该定义的答案。注意: 假设这个定义是正确的, 不容置疑的。

请开始答题:

(2016-联考-76.) 博喻又称连比, 就是用几个喻体从不同角度反复设喻去说明一个本体。博喻运用得当, 能给人留下深刻的印象。运用博喻能加强语意, 增添气势。博喻能将事物的特征或事物的内涵从不同侧面、不同角度表现出来, 这是其他类型的比喻所无法达到的。

根据上述定义, 下列属于博喻的是:

- A. 这个整天同钢铁打交道的技术员, 他的心倒不像钢铁那样
- B. 桃花潭水深千尺, 不及汪伦送我情
- C. 上海人叫小瘪三的那批角色, 也很像我们的党八股, 干瘪得很, 样子十分难看
- D. 试问闲愁都几许? 一川烟草, 满城风絮, 梅子黄时雨

(2016-联考-77.) 红叶子理论认为: 一个人职业的成功不在于红叶子的数目多少, 而在

于他是否具备一片特别硕大的红叶子。这片特别硕大的红叶子不是与生俱来的，需要根据个人优势不断努力才能获得。

根据上述定义，下列哪项能用红叶子理论解释？

- A. 小李的销售能力和财务水平一般，但对市场特别敏感，他努力发展这方面优势，最后成了一名企业家
- B. 小刘虽然偶尔迟到，但对工作尽职尽责、富有团队精神
- C. 小张本科学习数学专业，但是他觉得数学专业比较枯燥，所以他选择攻读经济学硕士
- D. 小文是英语系学生，但口语不太好，她辅修了国际法方面的课程，最后成了一名出色的律师

(2016-联考-78.) 择一的因果关系是指两个或者两个以上的行为人都实施了可能对他人造成损害的危险行为，并且已经造成了损害结果，但是无法确定其中谁是加害人。

根据上述定义，下列存在择一的因果关系的是：

- A. 甲、乙两人在搬卸货物过程中因操作不当，造成货物损坏
- B. 甲在乙的饮水中下毒，乙喝下后在毒发前又因琐事与丙发生争吵，丙一怒之下用刀刺死了乙
- C. 甲、乙共同绑架了丙，甲负责向丙的家人索要赎金，乙为避免被丙认出，将丙残忍杀害
- D. 甲、乙、丙三人带着相同的猎枪和子弹外出狩猎，甲、乙看到一只猎物出现在丙附近，二人同时开枪，结果其中一枪打中了丙

(2016-联考-79.) 不规则需求是指某些物品或者服务的市场需求在不同季节，或一周不同日子，甚至一天不同时间上下波动很大的一种需求状况。

根据上述定义，下列哪项属于不规则需求？

- A. 早晚高峰期出租车供不应求
- B. 某品牌牙刷分为软、硬、中三种以面向不同消费者
- C. 某电商店庆打折，活动当天点击量剧增
- D. 某博物馆引进一批梵高画作巡展，游客蜂拥而至

(2016-联考-80.) 企业从银行或海外取得外汇借款后并不是直接使用外汇资金，而是将外汇结汇给银行，取得人民币资金加以使用，这种现象称之为贷款替代。

根据上述定义，下列哪项属于贷款替代？

- A. 人民币升值后，一些企业纷纷减少人民币负债，增加外汇负债，然后再用人民币进行投资
- B. 国内经济过热，商业银行对人民币贷款的发放从紧。某贸易公司出于财务考虑转向外资银行贷款，获得外币资金

C. 王明觉得人民币利率高于美元，因此他申请美元贷款，然后将外汇结汇给银行，从而获得人民币资金

D. 小宇出国旅游前去银行兑换了一些外币，到国外后他使用信用卡结算，回国后用人民币还款

(2016-联考-81.) 生物研究发现，成群的蚂蚁中，大部分蚂蚁很勤劳，寻找、搬运食物争先恐后，少数蚂蚁却东张西望不干活。当食物来源断绝或蚂蚁窝被破坏时，那些勤快的蚂蚁一筹莫展。“懒蚂蚁”则“挺身而出”，带领众伙伴向它早已侦察到的新的食物源转移。这就是所谓的懒蚂蚁效应。

根据上述定义，下列属于懒蚂蚁效应的是：

- A. 通信工程师待遇优厚，工作时间自由，擅长攻克技术难题
- B. 某汽车公司鼓励员工创新，允许员工在上班时间钻研技术
- C. 某经理用人不拘一格，看重的是坚韧和正直，而非学历背景
- D. 在金融危机中，某外贸公司凭借多元化经营手段渡过了难关

(2016-联考-82.) “气候难民”指的是生存因气候变暖等特殊气候因素而受到威胁的人们，这是一个逐渐扩大的族群。某基金会发表的一份报告称，在未来 40 年，全球约 5 到 6 亿的人都面临着沦为“气候难民”的危险。

下列描述中被迫迁移的人们，**不属于**“气候难民”的是：

- A. 土地沙漠化使曾经繁荣的楼兰古国消亡，国民外迁
- B. 海平面上涨使马尔代夫领导人为国民另觅栖身之所
- C. 卡特里娜飓风使得墨西哥海岸的众多居民逃离家乡
- D. 印度洋海啸导致了印度、泰国等多国居民被迫迁移

(2016-联考-83.) 精益生产是通过系统结构、人员组织、运行方式和市场供求等方面的变革，最大限度地消除浪费和降低库存以及缩短生产周期，力求实现低成本准时生产的技术，其最终目的是通过流程整体优化、均衡物流、高效利用资源、消灭一切库存和浪费，达到用最少的投入向顾客提供最完美价值的目的。

根据上述定义，下列属于精益生产的是：

- A. 为了抢占市场，甲公司不断提高空间利用率
- B. 乙公司投入了大量资金以缩短其产品生产周期
- C. 丙公司的强大供货体系保证它能随时满足客户
- D. 丁公司充分发挥自身优势建立了超快的物流系统

(2016-联考-84.) 诱发运动是指由于一个物体的运动使其相邻的一个静止物体产生运动的错觉现象。

根据上述定义，下列属于诱发运动的是：

- A. 多张图片按一定空间间隔与时间距离相继呈现形成电影

- B. 当我们注视夜空时，会看到月亮在动，而云是静止的
- C. 在黑板前点燃一支蜡烛，并注视着烛光会看到烛光在运动
- D. 注视瀑布的某一处，再看周围的树木，会觉得树木在向上飞升

(2016-联考-85.)化学中的自发反应是指在给定条件下不需要外加能量就能自动进行的反应。在自发反应过程中有可能需要外加能量，但外加能量的目的不是改变“给定条件”，而是维持“给定条件”。

根据上述定义，下列**不属于**自发反应的是：

- A.  $MnO_2$  作催化剂加入  $H_2O_2$  中，发生催化反应，产生  $H_2O$  和  $O_2$
- B. 100kPa 条件下，将  $CaCO_3$  加热到  $900^\circ C$ ，分解生成  $CaO$  和  $CO_2$
- C.  $H_2O$  在通电的情况下产生  $H_2$  和  $O_2$
- D. 植物在光照条件下发生光合作用

三、类比推理。每道题先给出一组相关的词，要求你在备选答案中找出一组与之在逻辑关系上最为贴近、相似或匹配的词。

请开始答题：

(2016-联考-86.) 黄连：苦涩

- A. 花朵：鲜红
- B. 钻石：坚硬
- C. 城市：繁华
- D. 班级：团结

(2016-联考-87.) ( ) 对于 熟练 相当于 敏捷 对于 ( )

- A. 熟悉；迅速
- B. 操作；迅捷
- C. 谙熟；灵动
- D. 娴熟；灵敏

(2016-联考-88.) 麻雀：动物：生物链

- A. 豆浆：早餐：豆制品
- B. 开水：纸杯：便利品
- C. 发卡：首饰：妆扮品
- D. 钢笔：电脑：办公品

(2016-联考-89.) 鱼饵：鱼竿

- A. 笔：书籍
- B. 电脑：无线路由器
- C. 锅铲：炒锅
- D. 写诗：笔

(2016-联考-90.) 沟通：手机：金属

- A. 招聘：面试：简介
- B. 卫星：科技：科学家
- C. 物流：运输：公路
- D. 露营：帐篷：帆布

(2016-联考-91.) ( ) 对于 美丽 相当于 春风满面 对于 ( )

- A. 笑靥如花；兴奋
- B. 楚楚动人；愉快
- C. 心地善良；滋润
- D. 眉开眼笑；高兴

(2016-联考-92.) 报刊：新闻

- A. 出版社：书籍
- B. 唱片：歌曲
- C. 土地：玉米
- D. 法院：法律

(2016-联考-93.) 出行：雾霾：口罩

- A. 休息：沙发：电视
- B. 超车：公路：路标
- C. 勘探：野外：地图
- D. 娱乐：海滨：游泳

(2016-联考-94.) 水：森林：煤炭

- A. 氮：蛋白质：智力
- B. 闪电：雨：打伞
- C. 雪：丰年：喜悦
- D. 表扬：自信：乐观

(2016-联考-95.) ( ) 对于 疾病相当于新闻对于 ( )

- A. 细菌；报道
- B. 病毒；关注
- C. 药品；直播
- D. 病房；感动

四、逻辑判断。每道题给出一段陈述，这段陈述被假设是正确的，不容置疑的。要求你根据这段陈述，选择一个答案。注意：正确的答案应与所给的陈述相符合，不需要任何附加说明即可以从陈述中直接推出。

请开始答题：

(2016-联考-96.) 干细胞遍布人体，因为拥有变成任何类型细胞的能力而令科学家们着迷，这种能力意味着它们有可能修复或者取代受损的组织。而通过激光刺激干细胞生长很有可能实现组织生长，因此研究人员认为激光技术或许将成为医学领域的一种变革工具。

以下哪项如果为真，最能支持上述结论？

- A. 不同波段的激光对机体组织作用的原理尚不清楚
- B. 已有病例表明，激光会对儿童视网膜造成损伤，影响视力
- C. 目前激光刺激生长法尚未在人类机体上进行试验，风险还待评估
- D. 用激光治疗带有牙洞的臼齿，受损的牙体组织能逐渐恢复

(2016-联考-97.) 理论认为，反物质是正常物质的反状态，当正反物质相遇时，双方就会相互湮灭抵消，发生爆炸并产生巨大能量。有人认为，反物质是存在的，因为到目前为止没有任何证据证明反物质是不存在的。

以下哪项与题干中的论证方式相同？

A. 圣女贞德的审问者们曾对她说，我们没有证据证明上帝与你有过对话，你可能是在胡编乱造，也可能精神失常

- B. 动物进化论是正确的，例如始祖鸟就是陆地生物向鸟类进化过程中的一类生物
- C. 既然不能证明平行世界不存在，那么平行世界就是存在的

D. 长白山天池有怪兽，因为有人看见过怪兽在天池内活动的踪迹

(2016-联考-98.) 人们在社会生活中常会面临选择，要么选择风险小，报酬低的机会；要么选择风险大，报酬高的机会。究竟是在个人决策的情况下富于冒险性，还是在群体决策的情况下富于冒险性？有研究表明，群体比个体更富有冒险精神，群体倾向于获利大但成功率小的行为。

以下哪项如果为真，最能支持上述研究结论？

A. 在群体进行决策时，人们往往会比个人决策时更倾向于向某一个极端偏斜，从而背离最佳决策

B. 个体会将其意见与群体其他成员相互比较，因其想要被其他群体成员所接受及喜爱，所以个体往往会顺从群体的一般意见

C. 在群体决策中，很可能出现以个体或子群体为主发表意见、进行决策的情况，使群体决策为个体或子群体所左右

D. 群体决策有利于充分利用其成员不同的教育程度、经验和背景，他们的广泛参与有利于提高决策的科学性

(2016-联考-99.) 某市为了发展文化强市战略，在 2008 年、2010 年先后建成了两个图书馆，2008 年底共办理市民借书证 7 万余个，到 2010 年底共办理市民借书证 13 万个。2011 年，该市又在新区建立了第三个图书馆，于 2012 年初落成开放。截止 2012 年底，全市共计办理市民借书证 20 余万个。市政府由此认为，该项举措是有实效的，因为在短短的 4 年间，光顾图书馆的市民增加了近两倍。

以下哪项如果为真，最能削弱上述结论？

A. 图书馆要不断购置新书，维护成本也很高，这会影响该市其他文化设施建设

B. 该市有两所高等学校，许多在校生也办理了这 3 个图书馆的借书证

C. 很多办理了第一个图书馆借书证的市民又办理了另外两个图书馆的借书证

D. 该市新区建设发展迅速，4 年间很多外来人口大量涌入新区

(2016-联考-100.) 近日，火星车在加勒陨坑拍摄的图像发现，火星陨坑内的远古土壤存在着类似地球土壤裂纹剖面的土壤样本，通常这样的土壤存在于南极干燥谷和智利阿塔卡马沙漠，这暗示着远古时期火星可能存在生命。

以下哪项如果为真，最能支持上述结论？

A. 地球沙漠土壤中存在土块，具有多孔中空结构，硫酸盐浓度较高，这一特征在火星土壤层并不明显

B. 化学物质分析显示，陨坑内土壤的化学风化过程以及粘土沉积中橄榄石矿损耗情况与地球土壤的状况较为接近

C. 这些火星远古土壤样本仅表明火星早期可能曾是温暖潮湿的，那时的环境比现今更具宜居性



D. 土壤裂纹剖面中的磷损耗特别引人注意，因为地球土壤也存在这种现象，这是由于微生物的活跃性所致

(2016-联考-101.) 酒精本身没有明显的致癌能力。但是许多流行病学调查发现，喝酒与多种癌症的发生风险正相关——也就是说，喝酒的人群中，多种癌症的发病率升高了。

以下哪项如果为真，最能支持上述发现？

- A. 酒精在体内的代谢产物乙醛可以稳定地附着在 DNA 分子上，导致癌变或者突变
- B. 东欧地区广泛食用甜烈性酒，该地区的食管癌发病率很高
- C. 烟草中含有多种致癌成分，其在人体内代谢物与酒精在人体内代谢物相似
- D. 有科学家估计，如果美国人都戒掉烟酒，那么 80% 的消化道癌可以避免

(2016-联考-102.) 有报道称，由于人类大量排放温室气体，过去 150 多年中全球气温一直在持续上升。但与 1970 年至 1998 年相比，1999 年至今全球表面平均气温的上升速度明显放缓，近 15 年来该平均气温的上升幅度不明显，因此全球变暖并不是那么严重。

如果以下各项为真，最能削弱上述论证的是：

- A. 海洋和气候系统的调整过程使得海洋表层热量向深海输送
- B. 此现象在上世纪 50~70 年代曾出现过，随后又开始加速变暖
- C. 联合国气候专家指出，空气中的二氧化碳浓度处于 80 万年来的最高点
- D. 近几年发生多起因气候变暖而产生的自然灾害

(2016-联考-103.) X 分子具有 Y 结构，串联起了大量的原子，由该分子组成的某种物质在同类型的物质中具有很强的导热性。很明显，分子内包含大量原子是使得该物质拥有极强的导热性所必不可少的。

以下哪项如果为真，最能削弱上述结论？

- A. 有的分子拥有别的结构，也串联起了大量的原子，并拥有很强的导热性
- B. 有的物质导热性不强，但是它的分子中包含了大量的原子
- C. 有的物质其导热性很强，但是其分子不具备 Y 结构
- D. 有的物质其导热性不强，但是其分子具备类似的结构

(2016-联考-104.) 一个没有普通话一级甲等证书的人不可能成为一个主持人，因为主持人不能发音不标准。

上述论证还需基于以下哪一前提？

- A. 没有一级甲等证书的人都会发音不标准
- B. 发音不标准的主持人可能没有一级甲等证书
- C. 一个发音不标准的人有可能获得一级甲等证书
- D. 一个发音不标准的主持人不可能成为一个受人欢迎的主持人

(2016-联考-105.) 记者采访时的提问要具体、简洁明了，切忌空泛、笼统、不着边际。

约翰·布雷迪在《采访技巧》中剖析了记者采访时向访问对象提出诸如“您感觉如何？”等

问题的弊端，认为这些提问“实际上在信息获取上等于原地踏步，它使采访对象没法回答，除非用含混不清或枯燥无味的话来应付。”

由此可以推出：

- A. 记者采访时的提问如果具体、简洁明了，就不会给采访对象带来回答的困难
- B. 采访对象如果没法回答提问，说明他没有用含混不清或枯燥无味的话来应付
- C. 诸如“您感觉如何？”这样的问题，只能使采访对象抓不住问题的要点而作泛泛的或言不由衷的回答
- D. 采访对象只有用含混不清或枯燥无味的话来应付，才能回答那些空泛、笼统的提问

※※※第四部分结束，请继续做第五部分！※※※

## 【【2015-联考-判断】】

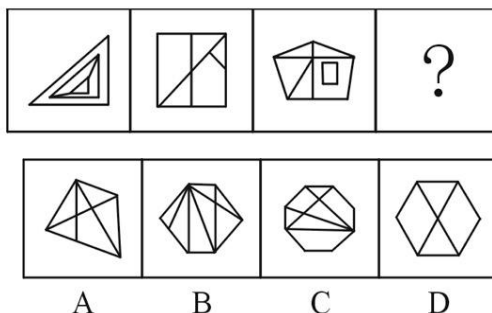
### 第四部分 判断推理

(共 36 题，参考时限 36 分钟)

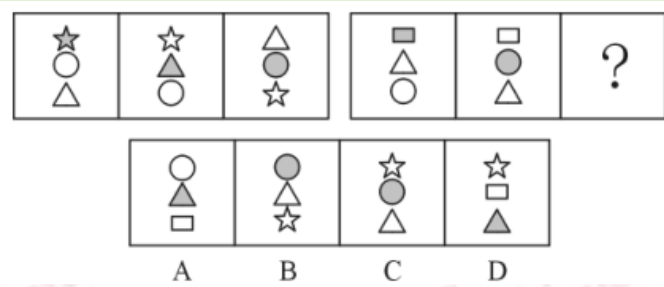
一、图形推理。请按每道题的答题要求作答。

请开始答题：

(2015-联考-70.) 从所给四个选项中，选择最合适的一个填入问号处，使之呈现一定规律性：



(2015-联考-71.) 从所给四个选项中，选择最合适的一个填入问号处，使之呈现一定规律性：

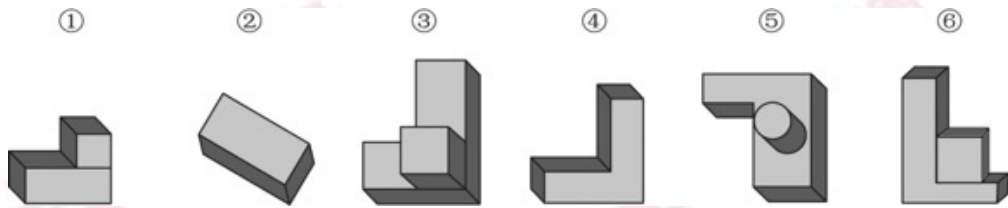


(2015-联考-72.) 把下面的六个图形分为两类, 使每一类图形都有各自的共同特征或规律, 分类正确的一项是:



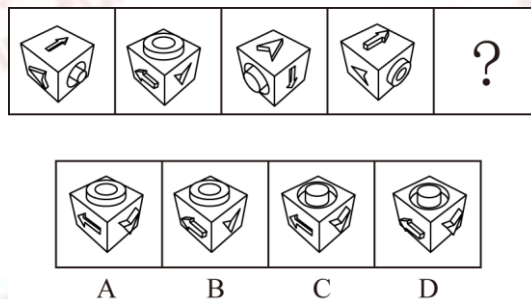
- A. ①②⑥, ③④⑤      B. ①④⑤, ②③⑥  
C. ①②⑤, ③④⑥      D. ①②③, ④⑤⑥

(2015-联考-73.) 把下面的六个图形分为两类, 使每一类图形都有各自的共同特征或规律, 分类正确的一项是:




- A. ①②③, ④⑤⑥      B. ①④⑤, ②③⑥  
C. ①⑤⑥, ②③④      D. ①④⑥, ②③⑤

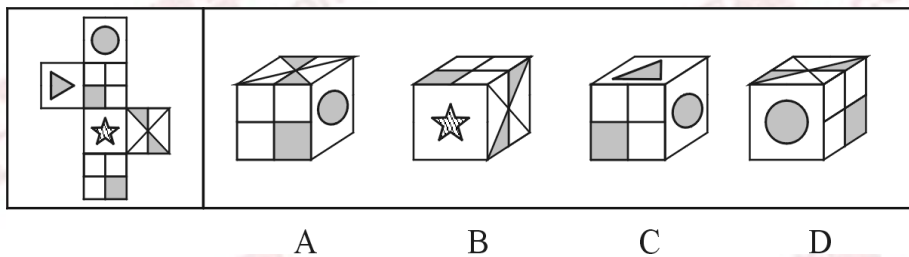
(2015-联考-74.) 从所给四个选项中, 选择最合适的一个填入问号处, 使之呈现一定规律性:



(2015-联考-75.) 从所给四个选项中, 选择最合适的一个填入问号处, 使之呈现一定规律性:



(2015-联考-76.) 左边给定的是纸盒的外表面, 下列哪一项能由它折叠而成?



二、定义判断。每道题先给出定义, 然后列出四种情况, 要求你严格依据定义, 从中选出一个最符合或最不符合该定义的答案。注意: 假设这个定义是正确的, 不容置疑的。

请开始答题:

(2015-联考-77.) 碳信用又称碳权, 指在经过联合国或联合国认可的减排组织认证的条件下, 国家或企业以增加能源使用效率、减少污染或减少开发等方式减少碳排放, 因此得到可以进入碳交易市场的碳排放计量单位, 一个碳信用相当于一吨二氧化碳排放量。

某燃煤发电厂去年碳排放额超标, 根据上述定义, 该电厂对应做法**不包括**:

- A. 将该厂从城市郊区迁到海边
- B. 减少该厂全年的发电总产量
- C. 改进设备提高热源转化效率
- D. 购买碳信用来实现排放达标

(2015-联考-78.) 行政不作为是行政机关对于公民、法人和其他组织的符合条件的申请依法应该实施某种行为或履行某种法定职责却无正当理由拒绝履行或拖延履行的行政违法行为。

根据上述定义, 下列选项中行政机关行为**不属于**行政不作为的是:

- A. 王某要求所在地交通局告知有关汽车养路费收费标准, 三个月未答复
- B. 陈某在某市建设局工作多年, 符合职称评定申请, 申请职称评定被拒绝
- C. 林某投诉某市医药公司贩卖假药, 某市药监局以不属于主管范围而拒绝

D. 何某因制止违章建筑施工被打伤，公安机关以违章建筑无权处理不理睬

(2015-联考-79.) 反社会人格犯罪是行为人基于反社会型变态人格而实施的犯罪行为。行为人的特点是：①智力和精神上并无明显缺陷，没有妄想或其他思维障碍；②多数有劣迹前科，有多次、多类型的违纪、违法、犯罪行为；③行为冲动、缺乏深思熟虑和明确的动机；④没有悔过和自责的心理，在接受教养或服刑以后仍然照旧违法犯罪，难以自控。

下列选项中行为人精神智力正常，其中最符合反社会人格犯罪特征的是：

- A. 陈某经常怀疑有人跟踪自己，某天下班后将走在自己后面的李某刺伤
- B. 林某多次上班迟到被领导当众呵斥，林某感觉受辱，将领导打成重伤
- C. 吴某有偷盗前科，某天下班遭遇抢劫，与劫匪搏斗中将劫匪打成残疾
- D. 王某街上闲逛，突然将陌生人郭某连刺两刀，随后将停在路边的汽车砸毁

(2015-联考-80.) “公众参与”是一种有计划的行动。它通过政府部门与公众之间双向交流，使公民们能参加行政决策过程并且防止和化解公民和政府机构与开发单位之间、公民与公民之间的冲突。

下列选项与上述定义最**不符合**的是：

- A. 某市宣传部发布倡议书，号召全体市民“绿色出行”，十万人回应支持
- B. 居民多次向某市人大投诉规划局违规审批项目，该项目在实施前被叫停
- C. 某县政府拟在工业园区内引进两条茶籽油生产线，组织附近村民座谈
- D. 某市政府公开新建垃圾填埋场选址方案，收到 10 万条反对意见而缓行

(2015-联考-81.) 近因原则是保险人对于承保范围的保险事故作为直接的、最接近的原因引起的损失承担保险责任，而对于承保范围以外的原因造成的损失不负赔偿责任。按照该原则，承担责任并不取决于时间上或空间上的接近，而是取决于导致保险标的损失的风险事故是否在承保范围内，如果存在多个原因导致保险损失，其中最直接、最有效、起决定作用的原因，以及不可避免会产生事故作用的原因就是近因。

根据上述定义，下列原因**不属于**近因的是：

- A. 张某夜间打猎不慎摔伤，在等待救援时受凉感冒引发肺炎导致死亡，其死亡原因是摔伤
- B. 王某的保险车辆遭受暴雨浸泡汽缸进水，他强行启动车辆时发动机受损，受损原因为暴雨
- C. 暴风雨致电线杆倒塌，电线短路引起火花引燃仓库，库存商品燃烧殆尽，损失原因是暴风雨
- D. 船舶进水，所载皮革进水腐烂，腐烂恶臭致使邻舱的烟草变质，烟草受损原因是船舶进水

(2015-联考-82.) 环境标志也称绿色标志、生态标志，是指由政府部门或公共团体依据一定的环境标准向有关厂家颁布证书，证明其产品的生产、使用及处置过程全部符合环保要

求，对环境无害或危害极少，同时有利于资源的再生和回收利用的一种特定标志。中国的环境标志唯一认证机构是中国环境产品认证委员会及其秘书处。

根据上述定义，下列选项**不符合**环境标志要求的是：

- A. 甲公司产品不在中国环境标志产品认证范围内，但其仍有权向认证机构填报环境标志产品种类建议表
- B. 乙公司的污染物排放不符合国家排放标准，但只要其生产的节能荧光灯符合认证条件，其产品仍可获得环境标志认证
- C. 丙公司生产的运动鞋 2012 年获得了环境标志认证，根据环境标志的时效性，该标志 3 年后仍需重新申请环境标志认证
- D. 丁公司有权在其获得环境标志认证的产品及其包装上使用认证的环境标志图形，也可在认证产品广告宣传中使用该图形

(2015-联考-83.) 贫困的要素不仅包括物质和收入水平指标，还包括能力指标，即人类基本能力和权利的剥夺。权利贫困就是缺乏政治、经济、文化和社会基本人权的一种贫困状态。权利贫困是贫困的核心，物质贫困是贫困的具体表现，权利贫困是造成物质贫困的根本原因。

根据上述定义，下列选项**不属于**权利贫困的是：

- A. 张某大学毕业在京成为“蚁族”一员，收入低下，蜗居城乡结合部多年
- B. 辛某房屋被强拆，致使一家人居无定所，其申诉上访过程中多次被拘留
- C. 李某在深圳私企打工多年，因工伤丧失劳动能力，却得不到任何赔偿
- D. 王某好心救人却被讹诈，因无证据证明无辜，被判令承担全部医疗费用

(2015-联考-84.) 交易成本是指在协商、谈判和履行协议等交易性活动中，为达成合作所需要支付的各种资源的总和。只要存在交易活动就存在交易成本，它已经成为人类社会中不可分割的组成部分。

下列选项**不属于**交易成本的是：

- A. 某公司为了搜索交易信息消耗了两天时间
- B. 老王在购房中为契约向中介支付了五千元
- C. 某工厂为了开拓生产花费五十万元购买专利
- D. 某企业因违反合同而支付五百万元的违约金

(2015-联考-85.) 社会方言是由社会群体的不同性质而形成的语言变体，是在某一社会群体、社会阶层或次文化群中被使用的语言，它是由不同的职业、社会地位、政治信仰、受教育程度因素或这些因素构成的社会交际习惯所形成的语言差异。主要差别是语言风格和表达方式，以及一些特殊词汇的使用。

根据上述定义，下列选项**不属于**社会方言的是：

- A. 贵族语言
- B. 学生腔

C. 法律术语

D. 客家话

(2015-联考-86.) 符号是人们共同约定来指称一定对象的标志物, 它可以包括以任何形式通过感觉来显示意义的全部现象, 在这些现象中某种可以感觉的东西就是对象其意义的体现者。

根据上述定义, 下列选项属于符号的是:

- A. 中医诊断时所观察的舌苔
- B. 野外行路时人所使用的指南针
- C. 十字路口指示用的红绿灯
- D. 搜救犬救人时所闻的人体气味

三、类比推理。每道题先给出一组相关的词, 要求你在备选答案中找出一组与之在逻辑关系上最为贴近、相似或匹配的词。

请开始答题:

(2015-联考-87.) 港湾: 停泊

- A. 基因: 遗传
- B. 法庭: 诉讼
- C. 电缆: 发电
- D. 公路: 运输

(2015-联考-88.) 爆胎: 事故: 保险

- A. 论坛: 交流: 学术
- B. 前卫: 时尚: 流行
- C. 能源: 电力: 生产
- D. 旱灾: 减产: 补贴

(2015-联考-89.) 海关: 检查: 关税

- A. 光缆: 通讯: 网速
- B. 过滤: 净化: 饮用
- C. 树林: 氧气: 健康
- D. 沙漠: 骆驼: 运输

(2015-联考-90.) 树根: 根雕: 工艺品

- A. 纸张: 风筝: 春天
- B. 粘土: 唐三彩: 古董
- C. 消费: 借贷: 信用
- D. 泥沙: 混凝土: 建筑

(2015-联考-91.) 谎言: 欺骗

- A. 谣言: 抱怨
- B. 谗言: 无知
- C. 佯言: 委婉
- D. 诤言: 劝诫

(2015-联考-92.) 竞争: 淘汰

- A. 惊吓: 失色
- B. 疏忽: 失算
- C. 亏损: 失信
- D. 判断: 失误

(2015-联考-93.) 沧桑: 白发

- A. 清纯: 酒窝
- B. 稚嫩: 乳牙

- C. 鲁莽：健壮                      D. 博学：眼镜

(2015-联考-94.) 家属：亲属：家族

- A. 而立：不惑：古稀              B. 助教：讲师：教授  
C. 蓝领：粉领：白领              D. 事故：事变：事情

(2015-联考-95.) 赛事对于 ( ) 相当于 ( ) 对于 编辑

- A. 哨子；文字                      B. 运动；校对  
C. 裁判；书稿                      D. 进取；精确

(2015-联考-96.) 三顾茅庐：刘备

- A. 负荆请罪：蔺相如              B. 请君入瓮：周兴  
C. 雪中送炭：宋太宗              D. 程门立雪：程颐

四、逻辑判断。每道题给出一段陈述，这段陈述被假设是正确的，不容置疑的。要求你根据这段陈述，选择一个答案。注意：正确的答案应与所给的陈述相符合，不需要任何附加说明即可以从陈述中直接推出。

请开始答题：

(2015-联考-97.) 美国一项新研究发现，人体生理反应的节奏跟昼夜交替一致，一旦这个节奏被破坏，人们免疫系统的抗病能力就会降低。

如果以下各项为真，最能**削弱**上述观点的是：

- A. 坐飞机到不同时区易产生头疼反胃等时差综合症  
B. 熬夜易使胃酸分泌过多而诱发胃溃疡病症  
C. 长跑运动后立即大量饮水容易破坏体内代谢平衡而致病  
D. 免疫系统先天缺陷病人，即使正常饮食患病概率也很高

(2015-联考-98.) 研究发现，大西洋、太平洋海面水温的微小变化与南美洲亚马逊热带雨林地区火灾的面积具有密切联系，将这种联系建立数学模型，可以用来预测亚马逊热带雨林地区来年的火灾情况。

以下哪项如果为真，最能支持上述观点？

- A. 大西洋海水温度升高 0.2℃，亚马逊雨林次年火灾发生面积增加 11%  
B. 海水温度增高会引起水分蒸发，导致降水减少，发生干旱或致火灾  
C. 海水温度变化虽然微小，但可能对热带雨林生态系统造成重要影响  
D. 北冰洋等海面水温可预测其附近的西伯利亚雨林火灾发生率和面积

(2015-联考-99.) 蚊子可传播多种疾病，如疟疾、丝虫病、乙型脑炎等。有人担心由于蚊子叮咬了 HIV 感染的人而在叮咬下一位时会将存在蚊子体内的 HIV 在人际间传播。但研究人员指出这样的担心大可不必。



如果以下各项为真，最能支持研究人员观点的是：

- A. HIV 感染的人血流中并不总是拥有高水平的 HIV 病毒
- B. 蚊子叮咬 HIV 感染的人后不一定立即去叮咬下一个人
- C. 蚊子通过食管吸入血液，这种血液的吸入总是单向的
- D. 孩子容易被蚊子叮咬，但他们身上极少发生 HIV 感染

(2015-联考-100.) 研究者发现细菌就像人类的简化版本，它们有自我意识，有自己的语言，群居，既交友也树敌，喜欢偷窥邻居家的隐私，还能以讹传讹，甚至杀害手足。各种细菌在自己的地盘上各司其职，相互配合，促进社会的稳定。

如果以下各项为真，最能**质疑**上述论断的是：

- A. 通过释放某种物质，细菌可召集群体成员执行各种任务
- B. 细菌的生活极其单调，不在单独进食，就在自我繁殖
- C. 最新研制的阻断细菌交流的药物可以替代普通的抗菌素
- D. 霍乱、肺炎和食物中毒，实际就是各种细菌聚集的后果

(2015-联考-101.) 科学就是不断接近真理的过程，我们深信不疑的事情中很大部分是会过期的，所有理解这一点的人都明白在发展过程中不断更新知识才是科学进步的正道。然而这个过程有时会令人困惑和不安。

如果以下各项为真，最能**质疑**上述论断的是：

- A. 婴儿该仰睡还是趴着睡，孕妇抽烟喝酒是否安全，答案一代和一代不同
- B. 医学院的老师会告诉学生，五年内他们所学的知识里有一半都不会适用
- C. 我一直以为“雷龙”这个名字正确无误，但后来才发现根本没有雷龙
- D. 吸烟有害健康被大量科学研究和事实所证实，这一结论至今难以改变

(2015-联考-102.) 矿产勘探人员观察发现，不同颜色和形状的矿物结晶体虽然有各自不同的名称和表象，但可能是化学组成相同的物质在不同的物理化学条件下结晶成不同结构的晶体，而且一般都有着不同的物理特征。所以说，不同的矿物种类可以有相同的化学成分。

以下选项最能支持上述论断的是：

- A. 二氧化碳和干冰名称不同而且表象也不同
- B. 不同颜色的矿物晶体暴露在空气里会变色
- C. 分析仪器能快速判断矿物晶体的化学成分
- D. 二氧化硅可以有 12 种不同的矿物结晶体

(2015-联考-103.) 国外的心理学研究表明，当遇到有人冒犯你时，如果你选择原谅冒犯者，冒犯者会更有可能在心理上感到悔恨而产生内在的愧疚。因此，类似的冒犯行为再次发生的可能性将会大大降低。

根据以上观点，可以推出：

- A. 被冒犯者原谅冒犯者，将可能有助于感化冒犯者

- B. 如果你不原谅冒犯者，类似的冒犯行为必然会增加
- C. 经常原谅冒犯者，就可能减少自己被冒犯的可能性
- D. 遇到冒犯者，原谅是唯一避免再次发生冒犯的方法

(2015-联考-104.) 根据经济学家最新的研究显示，年收入在 10000 美元以下时，随着家庭收入的增加，家庭成员的幸福感会明显增强。但是，一旦年收入达到 10000 美元以上，即使经济持续繁荣，家庭收入持续增加，家庭成员幸福感的增强却很缓慢。

根据上述观点，可以推出：

- A. 年收入不足 10000 美元的家庭可能会更加幸福
- B. 研究显示，幸福感与金钱之间并没有直接关系
- C. 调查表明，幸福感随家庭年收入的增加而增加
- D. 收入 10000 美元以上的家庭将面临幸福感危机

(2015-联考-105.) 有关研究表明，手机比电脑更伤人，因为手机屏幕小，玩手机时注意力更投入，目不转睛，因此更伤眼。使用电脑时，人们的肢体还能活动活动，可是“手机控”往往很少活动，这对身心健康更为不利。

如果以下各项为真，最能削弱上述论断的是：

- A. 电脑在使用过程中，显示屏会发出电磁、电离辐射
- B. 电脑背景光比手机更容易引起使用者视力下降和头痛
- C. 科学研究表明使用手机与脑瘤和癌症的发病率无关
- D. 长期使用电脑人群容易患鼠标手、颈椎病等“电脑病”

※※※第四部分结束，请继续做第五部分！※※※

## 【【2014-联考-判断】】

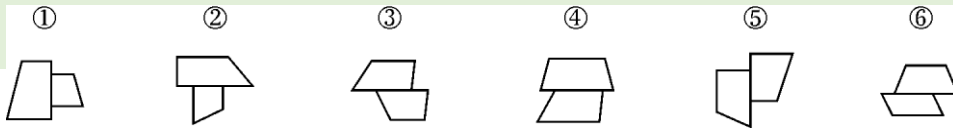
### 第四部分 判断推理

(共 35 题，参考时限 35 分钟)

一、图形推理。请按每道题的答题要求作答。

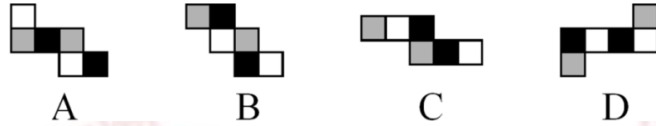
请开始答题：

(2014-联考-61.) 把下面的六个图形分成两类，使每一类图形都有各自的共同特征或规律，分类正确的一项是：

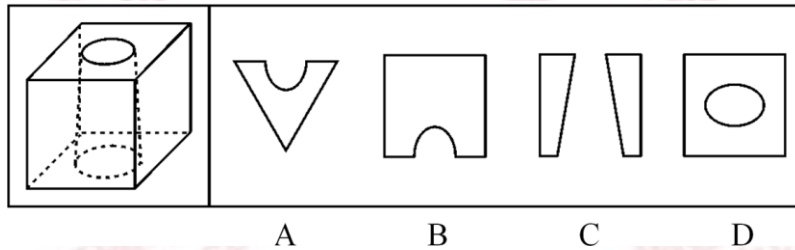


- A. ①②③, ④⑤⑥                      B. ①②④, ③⑤⑥  
C. ①②⑤, ③④⑥                      D. ①③④, ②⑤⑥


(2014-联考-62.) 如用白、灰、黑三种颜色的油漆将正方体盒子的6个面上上色,且两个相对面上的颜色都一样,以下哪一个**不可能**是该盒子外表面的展开图?



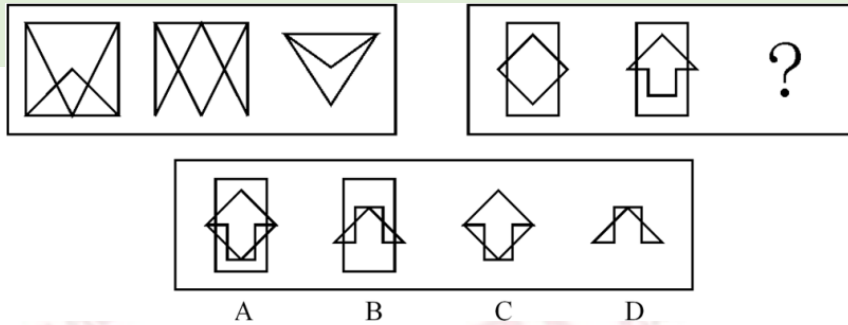
(2014-联考-63.) 下列的立体图形是立方体中挖出一个圆锥台孔后形成的,如果从任一  
面剖开,以下哪一个**不可能**是该立体图形的截面?



(2014-联考-64.) 从所给四个选项中,选择最合适的一个填入问号处,使之呈现一定规律性:



(2014-联考-65.) 从所给四个选项中,选择最合适的一个填入问号处,使之呈现一定规律性:



二、定义判断。每道题先给出定义，然后列出四种情况，要求你严格依据定义，从中选出一个最符合或最不符合该定义的答案。注意：假设这个定义是正确的，不容置疑的。

请开始答题：

(2014-联考-66.) 经营性资产是在生产和流通中能够为社会提供商品或劳务的资产。经营性资产的使用单位是具有法人地位的企业，其运营要以追求经济效益为原则。从会计角度看，主要指企业因盈利目的而持有，且实际也具有盈利能力的资产。

根据上述定义，下列**不属于**经营性资产的是：

- A. 某电视机厂中积压的黑白电视机
- B. 建设中尚未投入使用的水利发电站
- C. 某外贸公司用于交纳税金的银行存款
- D. 某重点中学新购入的实验室设备和器材

(2014-联考-67.) 风险规避是指通过计划的变更来消除风险或风险发生的条件，保护目标免受风险的影响。风险规避并不意味着完全消除风险，而是规避风险可能造成的损失。一是要降低损失发生的几率，这主要是采取事先控制措施；二是要降低损失程度，这主要包括事先控制、事后补救两个方面。

根据上述定义，下列**不属于**风险规避的是：

- A. 某外语培训机构近两年业务发展迅速，但缺乏配套的资金投入，因此该机构选择通过上市发行股票这一渠道来筹集资金
- B. 某广告公司为减少员工流失，实行了许多激励机制，包括提供更多培训机会、加大奖金幅度、增加保险额度等措施
- C. 小李业余时间喜欢理财，他在银行的理财产品涉及很多类型，有债券、基金，有短期也有长期的，他觉得这样理财更稳健
- D. 某购物网站有专门的储物仓库，平时供货稳定，但过节期间常供不应求，为此公司制定了一系列方案来控制货物储备和物流管理

(2014-联考-68.) 选择性接触是指受众在接触大众传播活动之际，并不是不加区别地对待任何媒介和内容，而是更倾向于接触与自己的既有立场、观点、态度一致或接近的加以接

触，或有意无意地回避与自己既有倾向相左的媒介或内容。

根据以上定义，下列属于选择性接触的是：

- A. 旅行社推出的夕阳红系列游的团体活动受到很多退休老人的欢迎
- B. 减肥产品最畅销的人群是那些正在减肥的人，而不是那些打算减肥的人
- C. 初中政治老师王某每天回家第一件事就是收看新闻联播
- D. 赵总监推崇人性化管理，经常参加人本主义取向的心理学培训课程

(2014-联考-69.) 潜伏需求是指相当一部分消费者对某种商品或服务有强烈的需求，而现有产品或服务又无法使之满足的一种需求状况。

根据上述定义，以下最能体现潜伏需求的是：

- A. 某市所售楼盘多为三居室大户型，让想在这里安家的工薪阶层望而却步
- B. 某药厂推出的中药降糖保健品在部分程度上可以取代药品，常供不应求
- C. 目前市场上的防辐射孕妇装抵御电子产品辐射的有效率是多少尚不明确
- D. 新型的电动游戏机带有护眼功能，想必可以说服一些学生家长前来购买

(2014-联考-70.) 喻代是一种建立于比喻基础之上的以喻体代本体的一种修辞方式。即先比喻，后用喻体代本体。喻代是比喻后的名称代换，喻体作为别名而存在，其比喻的色彩、意味减弱，含蓄表达成为关键。

根据上述定义，下列各项中**没有使用**喻代这一修辞方式的是：

- A. 我吃了一吓，却见一个五十岁上下的女人站在我的面前，两手搭在髀间，张着两脚，正像一个画图仪器里细脚伶仃的圆规……然而圆规很不平，显示鄙夷的神色
- B. 多么熟悉的声音，多么动人的曲子，去年春节文娱晚会上因这支歌而被同学们昵称为“李谷二”，她的声音，我一下子就能听出来
- C. 他走了，像只风筝，在山坡上摇啊摇，弯弯曲曲的白线越放越长，到底放到头了，那儿是山顶，是和天连着的地方，“风筝”停了，他知道这条白线还拴着一颗心呢
- D. 那外国人想雇我的驴去游山东，我要五块钱。他嫌贵。你嫌贵，我还嫌你胖呢。胖的像大白熊，别压坏了我的驴。讲来讲去，大白熊答应我的价格，骑着驴去逛了半天

(2014-联考-71.) 著作人身权，又称著作精神权，指著作权人对其作品所享有的各种与人身相联系或者密不可分而又无直接财产内容的权利，是作者通过创作表现个人风格的作品而依法享有获得名誉、声望和维护作品完整性的权利。著作财产权，又称著作经济权，是著作人身权的对称，是指著作权人自己使用或者授权他人以一定方式使用作品而获得物质利益的权利。

根据上述定义，下列说法中正确的是：

- A. 某知名网络小说作家要求出版社使用其真实姓名出版其作品，则该作家行使的是著作人身权
- B. 画家王某将自己的画作以高价卖给了姜某，则姜某获得了该画作的著作财产权

C. 某知名舞蹈家创作的舞蹈深受群众喜爱，不少人纷纷模仿并进行商业演出，该舞蹈家要求停止这一侵权行为，则她行使的是著作人身权

D. 某剧作家创作的电视剧因深受观众喜爱而被翻拍，该剧作家要求电视剧制作方不得修改故事的结局，则他行使的是著作财产权

(2014-联考-72.) 生产、销售有毒、有害食品罪是指在生产、销售的食品中掺入有毒、有害的非食品原料的，或者销售明知掺有有毒、有害的非食品原料的食品的行为。

根据上述定义，下列构成生产、销售有毒、有害食品罪的是：

A. 刘某在地下工厂用工业高纯度酒精加自来水制造大量假酒，并将其销售给商店，获利 8 万多元

B. 某肉食品加工厂用病死猪肉作原料生产火腿，造成大批消费者食物中毒

C. 某饮料生产家在生产的可乐中添加了食品添加剂——咖啡因，但并未在包装上予以注明，使大量消费者饮用了含有咖啡因的可乐

D. 某食品厂在所生产的一款彩虹糖中添加食用色素超标，长期食用会给人体健康造成危害

(2014-联考-73.) 姑息治疗是指对那些治愈性治疗无望或不能接受治愈性治疗的病人采取完全的主动的医疗和护理，控制疼痛及有关症状，并对心理、社会和精神问题予以重视。其目的是为病人和家属赢得最好的生活质量。姑息治疗同样适用于早期肿瘤病人，将姑息治疗与抗肿瘤治疗相结合。

根据上述定义，下列**不属于**姑息治疗的是：

A. 某患者因病情恶化且年老体衰，无法翻身，身体生了褥疮，口腔也有霉菌感染，护士为其洗澡擦身，并做了口腔清洁

B. 某患者因为癌症晚期，且自身状况差无法进行抗癌治疗，医生认为患者已没有治疗价值，劝患者回家休养

C. 某年轻患者刚结婚便被诊断为乳腺癌，情绪非常激动，拒绝接受治疗，医生为其进行了心理辅导

D. 某患者手术后严重疼痛，无法入睡，医生给他安置了止疼泵，并给予一定的镇静药，让患者能好好休息

(2014-联考-74.) 心理记账是人们在心理上对结果进行分类、编码、估价和预算等的过程。消费者在决策时可能根据不同的任务进行相应的心理记账。

根据上述定义，下列**不属于**典型心理记账的是：

A. 损失 10 元钱给人心理带来的痛苦要比获得 10 元奖金带来的高兴更强烈

B. 工会发放福利时，不再发实物而改发购物卡以使职工有更多的自由选择

C. 相比丢了 10 元钱的人，丢了电影票的人更不可能掏钱买票去看电影

D. 王某出差常选星级酒店，因为它比旅馆更可能提供免费网络和自助早餐

(2014-联考-75.) 诱导运动是一种视错觉,即观察者知觉到某个物体在运动,而实际上该物体没有发生空间移动,只是由于其他物体的运动使得被观察物体看起来好像在运动。

根据上述定义,下列属于诱导运动的是:

- A. 在没有月光的夜晚仰望天空,觉得星星好像在动
- B. 电影院里播放的精彩电影
- C. 月亮在云彩后面穿行
- D. 注视飞速开过的火车之后,会觉得附近的树木向相反方向运动

三、类比推理。每道题先给出一组相关的词,要求你在备选答案中找出一组与之在逻辑关系上最为贴近、相似或匹配的词。

请开始答题:

(2014-联考-76.) 荆棘:困难

- A. 布衣:学生
- B. 折柳:惜别
- C. 心腹:信任
- D. 桎梏:束缚

(2014-联考-77.) 戒烟:疾病

- A. 酒驾:事故
- B. 核对:差错
- C. 过失:反思
- D. 斟酌:顾虑

(2014-联考-78.) 照片:留念

- A. 文件:机密
- B. 古董:珍藏
- C. 日记:记载
- D. 书籍:查阅

(2014-联考-79.) 药物:胶囊

- A. 桌椅:桌面
- B. 电脑:屏幕
- C. 书本:封面
- D. 物品:木箱

(2014-联考-80.) 居住:居民

- A. 乞讨:流浪者
- B. 吝啬:守财奴
- C. 顺从:独裁者
- D. 继承:继承人

(2014-联考-81.) 抑制:热情

- A. 滋润:喉咙
- B. 分散:注意
- C. 消除:声音
- D. 反转:方向

(2014-联考-82.) 分水岭 对于 ( ) 相当于 ( ) 对于 水稻

- A. 山岭; 大米
- B. 地质; 节气
- C. 界线; 作物
- D. 回归线; 青稞

(2014-联考-83.) 计算 之于 ( ) 相当于 实验 之于 ( )

A. 推理；逻辑 B. 物理；天文

C. 数学；化学 D. 大脑；助手

(2014-联考-84.) 抵押 对于 ( ) 相当于 ( ) 对于 处罚

A. 银行；监狱 B. 担保；罚款

C. 房屋；立法 D. 债务；刑罚

(2014-联考-85.) ( ) 对于 汽车 相当于 开关 对于 ( )

A. 轮胎；电门 B. 汽油；电灯

C. 飞机；电池 D. 钥匙；电视

四、逻辑判断。每道题给出一段陈述，这段陈述被假设是正确的，不容置疑的。要求你根据这段陈述，选择一个答案。注意：正确的答案应与所给的陈述相符合，不需要任何附加说明即可以从陈述中直接推出。

请开始答题：

(2014-联考-86.) 噬菌体是一种病毒，它能够“捕食”细菌，目前随着医疗中植入技术的发展，越来越多的患者接受着诸如输尿管、心脏支架等医学植入装置，但随之也带来了细菌感染的风险，因此，一些研究人员认为如果噬菌体吸附在植入装置材料表面，再将其放入患者体内，就可以避免植入装置引发的感染。

以下哪项为真，最能削弱上述的结论？

A. 对植入医学装置的患者，一般通过服用抗生素来防御细菌感染

B. 有细菌的场所就可能有相应噬菌体的存在，只是存在数量的差异

C. 噬菌体能够攻击致病细菌，但有时也会“捕食”有益的细菌

D. 一些噬菌体进入机体后后，无法适应体液环境，难以保持活性

(2014-联考-87.) 以往的研究认为火山喷发会释放大量热量，引发全球变暖，但近期的研究发现，火山喷发不仅不会引发全球温度上升，还可以削弱全球变暖的影响。

以下哪项为真，最能支持上述结论？

A. 研究表明，火山爆发时地下岩浆喷出地面，与空气接触产生氧化反应，引起局部温度升高

B. 火山爆发能够抑制某种分解有机物的细菌，其分解的有机物中含有甲烷。甲烷是一种可燃性气体，可产生热能

C. 火山喷发后会带来大规模的酸雨，酸雨能够在短期内降低火山区气温，但同时也引发了农作物的虫害

D. 研究发现火山喷发物质——二氧化硫可与大气物质形成“水粒”并将阳光反射，减少对地面的热辐射，延缓全球变暖



(2014-联考-88.)随着人们的生活和工作逐渐进入高楼大厦,人们接触日光的机会变少。研究发现,日光是合成维生素 D 的必要条件,而维生素 D 是促进钙吸收的关键因素。因此有人得出结论:现代人更容易患骨质疏松等因缺钙引起的疾病。

以下哪项为真,最能**质疑**上述结论?

- A. 骨质疏松疾病患者多晒太阳就可以缓解或治愈
- B. 现代人饮食结构中的含钙食品比以前丰富很多
- C. 骨质疏松症患者接触日光的时长与其他人无异
- D. 口服维生素 D 片是添加了促吸收剂的合成配方

(2014-联考-89.)软件用户的调查显示,通常一个软件会有 1000 个用户采用,如果一个软件每天被下载安装的次数达到 55 次,这个软件的流行度会急速上升,最多时有 1200 万个用户采用,大量用户几乎是完全根据其他用户的行为来选择安装这个软件,而很少关注其本身的内在特点。

根据以上描述可以推出:

- A. 网站上最流行的软件未必是最实用的软件
- B. 参考别人选择安装软件是不明智的
- C. 网站上推出的软件未必都是有用的
- D. 用户安装在电脑上的一些软件或许会被删除

(2014-联考-90.)R 医院连续 5 年在 C 市举办的“我最满意的医院”调查中高居榜首,该医院负责人表示,这是由于该医院提供了比其他医院更加优质的导诊服务。

以下哪项为真,最能支持该医院负责人的观点?

- A. C 市各大医院都在导诊服务中投入了大量精力,力图提高导诊服务质量
- B. C 市“我最满意的医院”调查已开展 20 年,高居榜首的均是公立医院
- C. C 市共有 200 多家医院,并非所有的医院都参与了此次调查
- D. 与 R 医院医疗水平相当,但导诊服务不佳的排名均不如 R 医院

(2014-联考-91.)在地球构造活动频繁的时期,环非洲、南美和欧洲的新海洋盆地开始扩展,产生了新的空间。大气中大量二氧化碳与光合作用的生物发生反应,死亡的生物随后被埋在海底沉积物中,形成了富含碳元素的页岩,大气中的碳被固定下来,使得大气中二氧化碳的水平下降,减小了温室效应并降低了全球温度,这对海洋生命来说是非常严重的后果。因此科学家认为,全球变冷或变暖后果同样严重。

以下哪项为真,最能支持科学家的论断?

- A. 在全球变冷的 200 年后,由于频繁的火山爆发使得固化在岩叶中的碳以二氧化碳的形式重回到大气层,部分恢复了温室效应
- B. 全球变暖会导致海洋生物生态危机,科学家发现在 26 万年前全球变冷的时期,海洋生物发生过类似的危机

C. 大规模且长期的自然变化，或由于人类活动而造成全球温室效应在短期内的巨大改变对整个系统来说都具有冲击作用

D. 科学家观察到气候变冷发生超过几百万年而不是几十年或几百年，这还很难和我们迅速变化的现代气候条件联系起来

(2014-联考-92.) 新学期伊始，研究生院发现有新生没有到教务处办理注册手续。

若该命题为真，则下列陈述不能确定真假的是：

I 所有新生都没有到教务处办理注册手续

II 所有新生都到教务处办理了注册手续

III 有的新生到教务处办理了注册手续

IV 新生小明到教务处办理了注册手续

A. I、II、III、IV

B. II、III、IV

C. I、II、III

D. I、III、IV

(2014-联考-93.) 兄弟姐妹四人，甲、乙、丙、丁。甲说：丁是最小的妹妹。乙说：兄弟姐妹中只有哥哥一个男孩。丙说：我是甲的姐姐。

如果上述都为真，以下推断正确的是：

A. 甲排行第二，是男孩；乙排行第三，是女孩

B. 乙排行第二，是女孩；丙排行第一，是女孩

C. 丙排行第二，是女孩；丁排行最小，是女孩

D. 甲排行第二，是女孩；丙排行第一，是女孩

(2014-联考-94.) 研究人员认为肥胖症和人体内寄生某些能产生特定气体的微生物有关，这些微生物使他们呼出的气体味道更难闻。加州洛杉矶 CS 医学中心分析了 792 位体检者的呼吸，发现呼出甲烷和氢气量高的人的身高体重指数 (BMI) 比正常人要高 2.4 点，即属于肥胖人群。

根据以上描述**不能**推出：

A. 胖人体内可能寄生着某些产生特定气体的微生物

B. 可以通过气体是否难闻来判定呼气者是否是肥胖症患者

C. 呼出气体中甲烷和氢气含量高的人群比正常人群更胖

D. 甲烷和氢气的混合物味道较难闻

(2014-联考-95.) 低热量食物是指含淀粉、糖类等碳水化合物类较少的食物。通过食用低热量食品，可以有效控制能量的摄入量，避免多余能量在体内以脂肪形式储存下来。如果体重已经较重的人改为食用低热量食品，则可在保持饱腹感的同时达到减肥效果。另外，有许多人认为，低热量食物对糖尿病患者也十分有益。

以下哪项为真，最能支持上述推论？

A. 改食用低热量食物需要逐步进行，否则会引起机体代谢紊乱

- B. 低热量食品可以降低超重或糖尿病患者的体重，但需要补充基本营养
- C. 低热量食品可适量增加进食量，满足饱腹感，享受吃饱的乐趣
- D. 研究表明低热量饮食可减少脂肪在胰脏中的沉积，恢复胰岛素的分泌

※※※第四部分结束，请继续做第五部分！※※※

## 【【2013-联考-判断】】

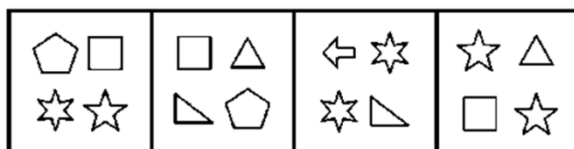
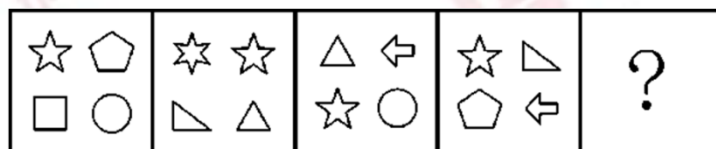
### 第四部分 判断推理

(共 35 题，参考时限 35 分钟)

一、图形推理。请按每道题的答题要求作答。

请开始答题：

(2013-联考-51.) 从所给四个选项中，选择最合适的一个填入问号处，使之呈现一定规律性：



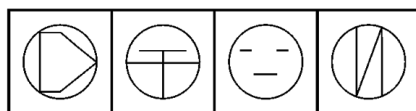
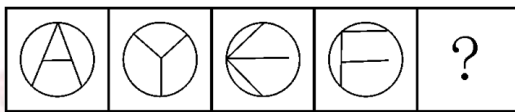
A B C D

(2013-联考-52.) 从所给四个选项中，选择最合适的一个填入问号处，使之呈现一定规律性：



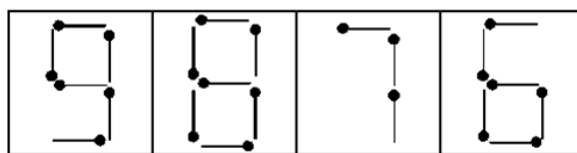
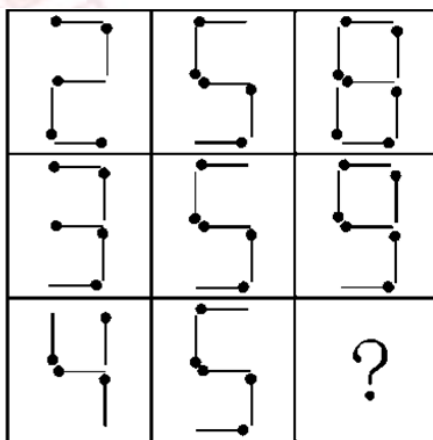
A B C D

(2013-联考-53.) 从所给四个选项中, 选择最合适的一个填入问号处, 使之呈现一定规律性:



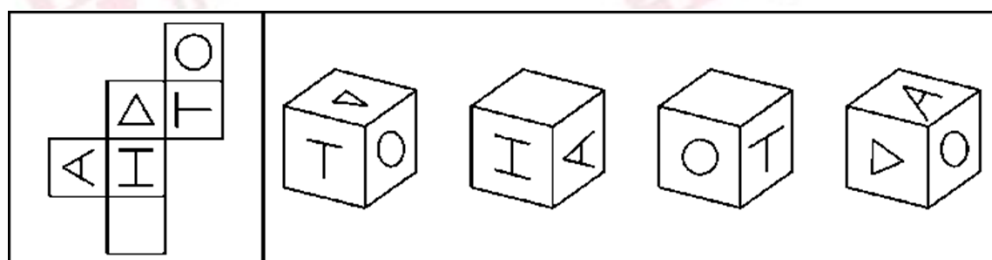
A B C D

(2013-联考-54.) 从所给四个选项中, 选择最合适的一个填入问号处, 使之呈现一定规律性:



A B C D

(2013-联考-55.) 以下为立方体的外表面, 下列哪个立方体可以由此折成:



A B C D

二、定义判断。每道题先给出定义, 然后列出四种情况, 要求你严格依据定义, 从中选出一个最符合或最不符合该定义的答案。注意: 假设这个定义是正确的, 不容置疑的。

请开始答题:

(2013-联考-56.) 印记学习是指发生在动物生活的早期阶段、由直接印象形成的学习行为, 印记学习行为虽发生在早期, 但对晚期行为也具有一定影响。

根据上述定义, 下列**不属于**印记学习行为的是:

- A. 绵羊走近并试图留在喂养过它的主人身边
- B. 由人喂养大的斑马雀会向主人的手指求偶
- C. 母羊用舌舐小羊的方式来标记自己的后代
- D. 刚出生的绿头鸭跟随着一个移动的物体走

(2013-联考-57.) 心理契约是指个体与组织之间隐含的没有明文规定的双方各自的责任及对对方的期望。

根据上述定义, 下列属于建立心理契约的措施是:

- A. 为提高员工积极性, 每月业绩最好者能享受双薪
- B. 为解决员工后顾之忧, 与优秀员工签订终身合同
- C. 为吸引优秀人才, 承诺为员工提供购房免息借款
- D. 结合企业的发展蓝图, 为员工提供职业生涯设计

(2013-联考-58.) 自白任意性规则是指只有基于犯罪嫌疑人自由意志而作出的、承认有罪的真实陈述, 才具有证据能力。

根据上述定义, 下列符合自白任意性规则做法的是:

- A. 为避免犯罪嫌疑人有做出虚假陈述, 应中止讯问
- B. 犯罪嫌疑人的有罪陈述须与收集到的证据材料一致
- C. 犯罪嫌疑人主张自己无罪, 可以不承担举证责任
- D. 以从轻处罚为条件, 换取犯罪嫌疑人的有罪答辩

(2013-联考-59.) 调查显示, 59.4%的公众感觉当前社会“逆淘汰”现象普遍, 其中 18.8%的人觉得“非常多”。所谓“逆淘汰”, 简言之, 即指坏的淘汰好的, 劣质的淘汰优质的, 平庸的淘汰杰出的等现象。

根据上述定义, 下列属于逆淘汰现象的是:

- A. 某公司拥有领先的卫星通话技术, 语音质量高, 覆盖范围广, 但该技术的维持费用高昂, 后来该公司入不敷出, 宣告破产
- B. 市场上某些价格高昂的止咳药疗效实际不如价格低廉的常用药, 而事实上常用药所占市场份额较小
- C. 许多公司都有对工作发牢骚的人, 结果, 凡是公司中有对工作发牢骚的人, 那家公司一定比没有这种人的公司要成功得多
- D. 名牌大学毕业的甲和普通大学毕业的乙同时进入某国际知名公司, 但甲始终未获提升, 乙却逐渐得到了公司的认可

(2013-联考-60.) 逆向服务是在产品(服务)销售以后, 企业向顾客提供实现产品(服务)

使用价值的服务。

根据上述定义，下列**不属于**逆向服务的是：

- A. 某电信运营商推出“存话费送手机”的优惠活动
- B. 某空调生产商为客户提供终身免费上门维修服务
- C. 某网店推出售后商品 7 天内可免费退、换货服务
- D. 某汽车 4S 店为客户提供二手车估价、转让服务

(2013-联考-61.) 政策性亏损是指为保证国民经济的协调发展和人民生活的安定，企业在实现政府规定的社会公益服务目标，生产经营某种商品的过程中，由于国家限价等原因而产生的亏损。发生这类亏损，由财政部门审核后给予合理补偿。

根据上述定义，下列属于政策性亏损的是：

- A. 2012 年，某粮食直补每亩增至 120 元，补贴资金将通过“省财政涉农补贴一本通”发放到种粮农民手中，以弥补农民增加的种粮成本
- B. 国家出台提高小麦最低收购保护价政策，某粮油企业为开拓市场大量抢购小麦，又将大量面粉低于市场价销售，因此造成了亏损
- C. 政府为实现农业现代化的目标，加大了对农业生产改造的资金投入，某农机企业在这种形势下扩大生产规模导致了亏损，得到了退税补偿
- D. 某县的粮食购销企业在经营政府规定的平价粮油过程中，因国家粮食保护价高但粮油成品销售价格低导致了亏损，财政部门给予了定额补贴

(2013-联考-62.) 蒸发冷却是指液体在蒸发成气体的过程中会吸热，从而降低周围的温度起到冷却的效果。蒸发冷却效应是指在目的或志趣相同的人们组成的社会团体中，团体的价值跟液体的整体温度类似，当价值较高的成员离开社团后，社团自身的平均价值会降低。

根据上述定义，下列属于蒸发冷却效应的是：

- A. 某高校的街舞社团的团长毕业离开学校后，该社团便再没有在街舞比赛中取得较好的名次
- B. 某知名流行音乐演唱组合中的一名歌手因意外去世，大批歌迷认为这个歌手的离开导致该组合整体演唱水平大打折扣
- C. 某教育机构的一些老师离开该机构创办自己的教育公司，使该机构在市场竞争的形势变得更加严峻
- D. 某社交网站的影评小组建立之初时人数较少，影评质量较高，后来有大量人加入这个小组上传影评，使这里整体的影评质量有所下降

(2013-联考-63.) 威客模式是指一些人通过互联网把自己的智慧、知识、能力、经验转换成实际收益，他们在互联网上通过解决科学、技术、工作、生活、学习中的问题从而让知

识、智慧、经验、技能产生经济价值。

根据上述定义，下列属于威客模式的是：

- A. 某高校学生建立的免费回答中小学生学习问题的公益网站受到了学生和家长的的好评，当地一家教育机构出资赞助扩大这个网站的规模，以帮助更多的学生
- B. 某 IT 技术人员用业余时间开了一个小公司，主要在网络远程帮助他人修理电脑
- C. 某大学毕业生在一个 B2C 网站上开了一家服装店，运用自己的人脉资源使网店很快就开始盈利
- D. 某摄影师个人网站上的摄影作品吸引了大批网友浏览、转发，后来该摄影师依靠在该网站上发布摄影器材广告带来大量收入

(2013-联考-64.)自我建构指个体通过行为表现表明自己符合在他人心目中的已经建立起来的社会身份或社会形象。

根据上述定义，下列属于自我建构的是：

- A. 16 岁的女孩欢欢经常模仿话剧团演员的表演并像他们一样早起练功，她自己希望以后也成为一名话剧演员
- B. 某公司创立之初就定下服务社会的企业使命，后来在偏远山区建立多所希望小学，树立了公司热心于社会公益事业的良好形象
- C. 一些企业家经常穿着昂贵的西装，坐豪华轿车，有些人认为这是“炫富”，但他们认为如果不是这样，就不会得到同行的认可
- D. 不同航空公司要求本公司的空中乘务员穿着不同的制服，他们认为员工形象会影响到公司在旅客心中的形象

(2013-联考-65.)有些产品的精心设计使产品方便高效，能给客户带来舒适感，使用时不用阅读复杂的说明或是求助他人。而有些产品恰恰相反，它们的设计没有考虑用户的使用习惯和需要，因而使人们在使用过程中会遇到困难或者迷惑不解的情况，这类产品被人们称为诺曼产品。

根据上述定义，下列属于诺曼产品的是：

- A. 某品牌木制大衣柜的底部滑轮质量较差，用户很难将门拉开
- B. 某款网络游戏很难通关，很多玩家在网上求助怎样破解其中的关卡
- C. 汽车收音机按钮和其他设备开关的形状、大小都一样，用户很难分辨哪个是收音机按钮
- D. 某科技公司的精密实验设备附有 300 页的说明书，一般人觉得里面术语太多，很难读懂

三、类比推理。每道题先给出一组相关的词，要求你在备选答案中找出一组与之在逻辑关系上最为贴近、相似或匹配的词。

请开始答题：

(2013-联考-66.) 量尺：厘米

- |          |           |
|----------|-----------|
| A. 时间：小时 | B. 天平：千克  |
| C. 电话：号码 | D. 显微镜：细胞 |

(2013-联考-67.) 平静：讲述

- |          |          |
|----------|----------|
| A. 欣喜：接受 | B. 愤怒：言论 |
| C. 悲哀：哀乐 | D. 快乐：行为 |

(2013-联考-68.) 军队：命令

- |           |          |
|-----------|----------|
| A. 乐队：指挥  | B. 游客：向导 |
| C. 志愿者：号召 | D. 学生：教导 |

(2013-联考-69.) 兴趣：索然无味

- |            |            |
|------------|------------|
| A. 知识：不学无术 | B. 误会：善解人意 |
| C. 骨气：卑躬屈膝 | D. 礼貌：盛气凌人 |

(2013-联考-70.) 发动机：飞机：旅客

- |             |              |
|-------------|--------------|
| A. 琴键：钢琴：音乐 | B. 电池：手电筒：灯光 |
| C. 发条：钟表：时间 | D. 杆秤：秤杆：重量  |

(2013-联考-71.) 地理：自然地理：经济地理

- |               |             |
|---------------|-------------|
| A. 城市：居民区：商业区 | B. 卫星：遥感：雷达 |
| C. 糖果：水果糖：芝麻糖 | D. 单位：千米：公里 |

(2013-联考-72.) 软件：程序员：编写

- |             |              |
|-------------|--------------|
| A. 木头：木匠：打制 | B. 渔网：渔民：编织  |
| C. 车票：乘客：购买 | D. 麦克风：歌手：唱歌 |

(2013-联考-73.) ( ) 对于 家具 相当于 花岗岩 对于 ( )

- |          |          |
|----------|----------|
| A. 书桌；石膏 | B. 家电；岩石 |
| C. 木材；雕塑 | D. 房间；石矿 |

(2013-联考-74.) ( ) 对于 湿地 相当于 稀土 对于 ( )

- |          |          |
|----------|----------|
| A. 候鸟；工业 | B. 生态；资源 |
| C. 雨水；黄金 | D. 沼泽；矿产 |



(2013-联考-75.) ( ) 对于领航相当于规则对于 ( )

- A. 航班; 选手
- B. 航标; 犯规
- C. 导航; 比赛
- D. 航线; 裁判

四、逻辑判断。每道题给出一段陈述，这段陈述被假设是正确的，不容置疑的。要求你根据这段陈述，选择一个答案。注意：正确的答案应与所给的陈述相符合，不需要任何附加说明即可以从陈述中直接推出。

请开始答题：

(2013-联考-76.) 科学家们认为，梦是大脑中主管人体各种功能的各个中心点联合作用的结果。人在睡眠时其部分脑细胞仍然在活动着，这就是梦的基础。最近的研究成果证实，做梦不仅不会影响人的睡眠和健康，而且还是保护大脑健康所必需的生理活动之一。

以下哪项如果为真，最能支持上述结论？

- A. 根据问卷分析，长期不做梦的人比经常做梦者所需的睡眠时间更长，在休息后有一半人仍会感到疲倦
- B. 实验中，研究人员在睡眠者出现做梦的脑电波时，就立即将其阻断，结果发现被试的血压和体温明显增高
- C. 研究中，梦境被打扰的被试者在醒来后显得焦虑不安，容易紧张，并出现记忆的短期障碍
- D. 调查显示，能完整讲述梦境的被试相比遗忘梦境者，在工作中更能快速集中注意力，从而工作效率更高

(2013-联考-77.) 2 亿年前，在恐龙统治地球之时，一小撮夜行性的远古爬行动物在不知不觉中找到了一条生存策略，并最终走向了大脑的进化之路。科学家从与原始哺乳动物极其类似的远古爬行动物的头骨化石中得出结论，正是嗅觉的发展促进了远古爬行动物大脑的进化。

以下哪项如果为真，最能支持上述结论？

- A. 许多早期哺乳动物由于自然选择进化出了更小的身体，而它们的脑却未能按比例缩小
- B. 研究人员分析了爬行动物犬齿龙类化石，其与早期哺乳动物摩根兽亲缘关系很近，但摩根兽的大脑比犬齿龙要大一半，其中处理嗅觉的区域明显增大
- C. 早期夜行性哺乳动物进化出更大的脑是为了促进它们的听觉，因为视觉在夜晚并不能起到很大作用

D. 研究表明，与现存哺乳动物关系最近的巨颅兽，其大脑容量和鼻腔所占空间都要比早期爬行动物大一些

(2013-联考-78.) 富裕起来的这一代中国父母，仍然处在家庭教育的“初级阶段”内，习惯于用物质欲望的满足、用金钱砸下的“抢跑”来帮助孩子“赢在起跑线上”，用不肯放手来表达自己的爱、对教育的重视。快乐对于单纯的孩子而言，实在是很简单的事。有爱心的父母，没有那么多期望与要求，放下怀抱的焦虑感，没有那么多对于社会、制度、他人的怨愤，单纯地和孩子在一起，为他们营造一个更安全的环境，一起度过快乐美好的一天。

由此可以推出：

- A. 关心孩子会给孩子带来比金钱更多的快乐
- B. 让孩子“赢在起跑线上”是一种错误的想法
- C. 满足孩子的物质欲望也是爱孩子的一种方式
- D. 孩子希望父母陪伴而不是把他们送进补习班

(2013-联考-79.) 某单位每逢年底会针对全体员工进行评优，评优奖项有5个，分别是最佳敬业奖、最佳创意奖、最佳协作奖、最佳写作奖、年度明星奖。其中如果评选了年度明星奖则不能再评选最佳创意奖和最佳敬业奖；如果评选了协作奖，就不能再获得写作奖；如果评选了敬业奖，则不能再获得协作奖。每个人最多获得两个奖项。综合科一共3位员工，揽括了所有奖项，每个人都获奖，但是奖项各不相同。已知员工甲获得了明星奖，员工乙和员工丙二人之间有人获得了写作奖。

由此可知，下列推测一定正确的是：

- A. 如果乙获得了写作奖，则其还获得敬业奖
- B. 如果乙获得了协作奖，则乙和丙各获得两个奖项
- C. 如果乙获得了写作奖和创意奖，则甲一定只获得一个奖项
- D. 如果丙获得了协作奖，则乙一定不能获得敬业奖

(2013-联考-80.) 树木枝干和许多植物的茎秆通常含有大量难以分解的木质素，因此利用它们来提炼生物燃料的效率会大打折扣。目前，人们发现了一种名为红球菌的细菌。它具有分解木头和其他植物中木质素的能力，因此，人们认为可以将红球菌广泛用于以往大都废弃的茎秆，从而大大提高生物燃料的利用率。

以下哪项如果为真，最能支持上述结论？

- A. 红球菌能分泌一种酶，这种酶具有分解木质素的能力，但是其分泌能力呈现周期性变化

B. 一些真菌也具有分解木质素的能力，研究发现，这些真菌的生长需要特定的温度和湿度

C. 红球菌易于培养，目前对红球菌已完成基因测序，因此可以利用红球菌大规模地生产分解木质素的酶

D. 木质素是一种优质高分子材料，迄今为止，超过 95%的木质素都是直接排入江河或浓缩后烧掉，很少有效利用

(2013-联考-81.) 所有的战争和混乱都是在没有协商、无理可讲的时候发生的，讲理和协商都离不开语言，然而，并非有语言的地方就自动会有说理，有语言的地方必须有自由才能有说理。

由此可以推出：

- A. 所有的战争和混乱都是因为没有自由而发生的
- B. 并非所有的战争和混乱都是在不可以协商和不可以讲理的时候发生的
- C. 如果没有自由，不能讲理，就可能发生战争和混乱
- D. 有语言和自由的地方就一定不会发生战争

(2013-联考-82.) 科学家发现，儿童时期不接触细菌和病菌，是 5 岁以下人群糖尿病病例近年来急剧增加的主要原因之一。而那些生活在农村的孩子由于更早接触到带菌的物质，有更多机会与宠物相处，患过敏症、哮喘和湿疹等疾病的几率反而很低。所以，将细菌消灭得过于彻底的环境可能反而会给儿童的健康带来危害。

以下哪项如果为真，将有力地支持上述结论？

- A. 刚出生的婴儿，其体表和体内是无菌的，但开始吃奶、喝水后，细菌便乘机进入体内
- B. 人体皮肤上的细菌大多起保护作用，并为每个人制造出独特的体味
- C. 大部分细菌是有益于身体健康的，人的健康长寿离不开正常的菌群
- D. 很多有害细菌平时与人体相安无事，当人体免疫力下降时，细菌便开始侵害人体

(2013-联考-83.) 传统观点认为，尽管用于制造贫铀弹所使用的贫铀放射性低，仍会导致人类染色体受损，从而引发肿瘤或癌症。但是，在最近的一项研究中，研究人员对接触过贫铀弹的退伍老兵的血细胞进行研究，到目前为止，还没有检测到任何染色体断裂和重复，并没有发现任何由于接触贫铀弹而造成的负面健康影响。因此相关研究人员认为，放射性低的贫铀弹不会对人类的健康造成影响。

以下哪项如果为真，最能削弱研究人员的结论？

- A. 某地居民向法院起诉，声称该国军队试验贫铀弹，已影响该地居民健康

- B. 世界上很多国家的专家都在致力于解决贫铀弹的放射性问题
- C. 有数据显示, 这些退伍老兵的后代患有先天性缺陷的比率高于正常值
- D. 没有接触过贫铀弹的人也会患有肿瘤或癌症

(2013-联考-84.) 我国生产婴幼儿配方奶粉的企业有 130 多家, 而美国只有 4 家企业, 相比之下, 美国吃配方奶粉的婴幼儿数量则远高于我国。“设想一下, 如果只有 4 家企业生产配方奶粉, 企业会倍加珍惜自己的品牌价值, 不断加强食品安全意识, 任何可能的食品安全风险都是企业自身无法容忍的, 发生三聚氰胺这样的问题是不可想象的”。

以下哪项如果为真, 最能**削弱**上述观点?

- A. 我国生产婴幼儿配方奶粉的企业太多, 品牌价值对于企业并不重要, 所以这些企业敢在奶粉中添加三聚氰胺
- B. 某国的婴幼儿配方奶粉生产商有 90 多家, 它们之中大多数企业生产出的奶粉均未查出过三聚氰胺
- C. 某公司是我国生产奶制品的著名企业, 其品牌价值很高, 但是在其生产出的奶制品中查出了三聚氰胺
- D. 某企业是美国婴幼儿配方奶粉的著名生产商, 在他们生产的某品牌配方奶粉中查出了三聚氰胺

(2013-联考-85.) 研究人员在正常的海水和包含两倍二氧化碳浓度的海水中分别培育了某种鱼苗。鱼苗长大后被放入一个迷宫。每当遇到障碍物时, 在正常海水中孵化的鱼都会选择正确的方向避开。然而那些在高二氧化碳浓度下孵化的鱼却会随机地选择向左转或向右转, 这样, 这种鱼遇到天敌时生存机会减少。因此, 研究人员认为在高二氧化碳环境中孵化的鱼, 生存的能力将会减弱。

以下哪项如果为真, **不能**支持该项结论?

- A. 人类燃烧化石燃料产生的二氧化碳大约有三分之一都被地球上的海洋吸收了, 这使得海水逐渐酸化, 会软化海洋生物的外壳和骨骼
- B. 在二氧化碳含量高的海洋区域, 氧气含量较低。氧气少使海洋生物呼吸困难, 觅食、躲避掠食者以及繁衍后代也变得更加困难
- C. 二氧化碳是很多海洋植物的重要营养物质, 它们在日光照射下把叶子吸收的二氧化碳和根部输送来的水分转变为糖、淀粉以及氧气
- D. 将小丑鱼幼鱼放在二氧化碳浓度较高的海水中饲养, 并播放天敌发出的声音, 结果这组小鱼听不到声音

※※※第四部分结束, 请继续做第五部分! ※※※

【【2012-联考-判断】】

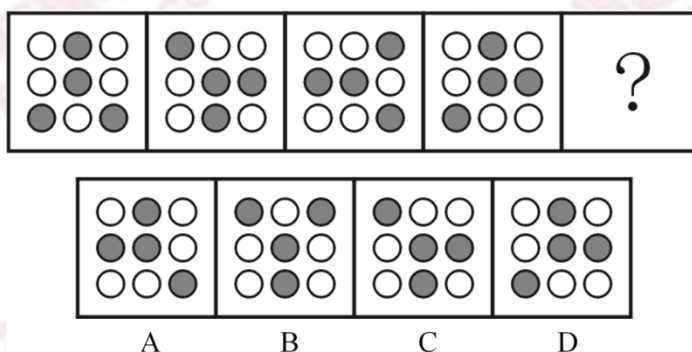
第四部分 判断推理

(共 35 题, 参考时限 35 分钟)

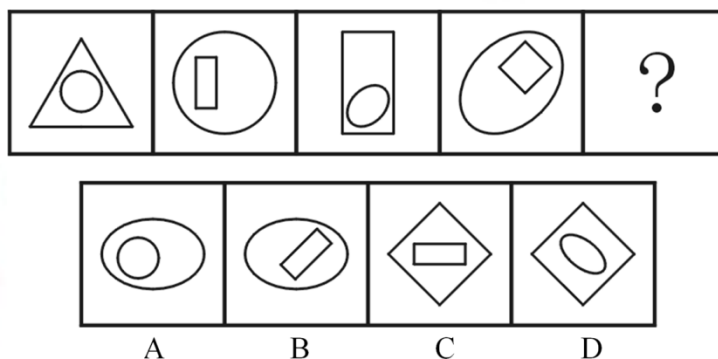
一、图形推理。请按每道题的答题要求作答。

请开始答题:

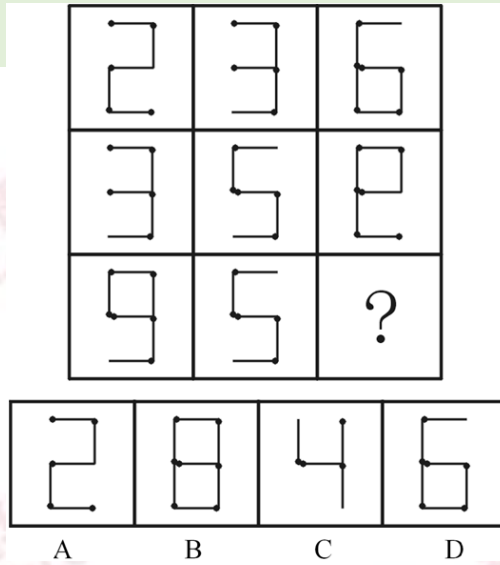
(2012-联考-66.) 从所给四个选项中, 选择最合适的一个填入问号处, 使之呈现一定规律性:



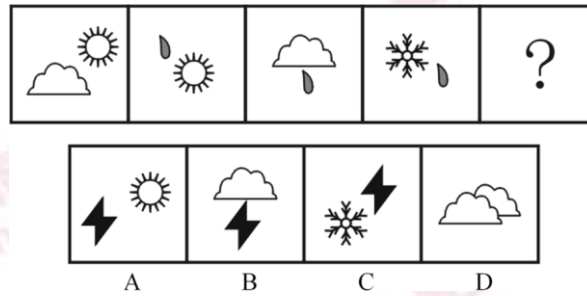
(2012-联考-67.) 从所给四个选项中, 选择最合适的一个填入问号处, 使之呈现一定规律性:



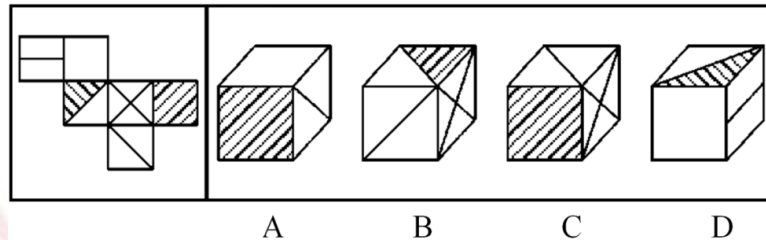
(2012-联考-68.) 从所给四个选项中, 选择最合适的一个填入问号处, 使之呈现一定规律性:



(2012-联考-69.) 从所给四个选项中, 选择最合适的一个填入问号处, 使之呈现一定规律性:



(2012-联考-70.) 左边给定的是纸盒的外表面, 下面哪一项能由它折叠而成?



二、定义判断。每道题先给出定义, 然后列出四种情况, 要求你严格依据定义, 从中选出一个最符合或最不符合该定义的答案。注意: 假设这个定义是正确的, 不容置疑的。

请开始答题:

(2012-联考-71.) 社会自组织就是指自发成立、自主发展、自行运作, 具有一定规模的, 以民间组织形式存在, 逐步从无序走向有序的社会组织。

根据上述定义, 下列选项**不属于**社会自组织的是:

- A. 某市软件企业定期组织企业家联谊, 进行业务交流
- B. 一群学生通过 QQ 群认识, 每周末一起参加敬老活动
- C. 每周六晚上, 某市政公园广场上都有年轻人在跳街舞

D. 一群年轻人建立动物收容所，收养各种被遗弃的宠物

(2012-联考-72.) 想象是指在原有经验的基础上创造新形象的思维活动。按照想象是否受意志控制，可分为随意想象和不随意想象。不随意想象的特点是把各种印象和信息离奇、突然、有时是无意义地组合在一起。随意想象是把各种印象和信息自觉控制、有目的、经过意志的努力呈现出需要的场景。

根据上述定义，下列选项属于随意想象的是：

- A. 小李昨天晚上睡觉时，梦到了儿时一起嬉戏的伙伴
- B. 张三接到录取通知，想到自己实现了目标，很兴奋
- C. 小王面对设计图，憧憬着公司新大楼竣工后的样子
- D. 小陈的父亲看着照片回忆起当年上山下乡时的场景

(2012-联考-73.) 代币管理制就是用某种东西或标记来替代实物或权利，当期望行为出现时即给予一定数量的“标记”加以强化，期望行为坚持一段时间后再将“标记”按事前编制的激励系统转换成物质奖励。

根据上述定义，下列选项**不属于**代币管理制的是：

- A. 幼儿园老师经常用小星星贴纸来鼓励表现好的孩子
- B. 某企业按员工每月接受表扬的次数，确定当月奖金
- C. 游戏规定优胜者可获得奖券，积累奖券可换取奖品
- D. 顾客在商场购物获得积分，年底用积分兑换打折卡

(2012-联考-74.) 虚拟人力资源管理是指以合作关系为基础，充分利用现代信息网络技术，帮助企业获取、发展和筹划智力和劳力资本的一种人力资源管理办法，它可以满足企业管理虚拟化发展的要求，将大量的人力资源管理活动外部化或由员工实现自主管理，企业从而可以将主要精力放在核心人力资源管理方面，提高人力资源管理效率。

根据上述定义，下列选项**不属于**虚拟人力资源管理的是：

- A. 某企业通过猎头公司物色到一位产品研发专家
- B. 某集团将其全部广告交由同一家广告公司设计
- C. 小李和同事都被公司派到某职业学校培训半年
- D. 某公司委托劳动派遣公司负责分发员工的薪酬

(2012-联考-75.) 相符行为是指个人的行为与他人的行为和意志相符合、一致或相似的现象。相符行为通常包括三种情况：第一，人们出于适应社会生活环境的需要而遵守共同的社会规范，产生相似行为，以便使社会生活能正常进行；第二，相似的文化背景和社会化过程促使人们产生相似的行为；第三，人际交往中双方心理的相互影响，也导致相符行为。

根据上述定义，下列选项**不属于**相符行为的是：

- A. 某高校毕业生大多愿意到大型国有企业工作
- B. 双胞胎失散多年，但见面时仍可以一眼认出

C. 两辆汽车在闹市区刮擦，路上行人驻足围观

D. 某设计院建筑师设计的作品都有相似的风格

(2012-联考-76.) 水平一体化物流是指同一行业的多个企业，通过共同利用物流渠道，获得规模经济效益、提高物流效率。水平一体化物流须具备物流需求和物流供应的信息平台，要有大量企业参与并存在较多的商品量。

根据上述定义，下列选项属于水平一体化物流的是：

A. 某家具厂要求原材料供应商和产品销售商使用同一家物流公司

B. 某市屠宰企业将猪、牛肉混放入冷藏车并送往一百多家零售店

C. 电子城百家商店签订协议，指定其中一家承担电子城送货业务

D. 某百货公司设立物流中心，统筹安排全公司各类货物发送工作

(2012-联考-77.) 网络暴力是行为主体的网络行为对当事人造成实质性伤害的网络失范现象。

根据上述定义，下列选项属于网络暴力的是：

A. 某非法传销团伙借助网络发展下线

B. 某足球俱乐部球迷建立网站，要求主教练下课

C. 某艺人喜欢在微博上爆料，提高自己微博的访问量

D. 某选秀选手隐私在网上被曝光后，宣布放弃晋级机会

(2012-联考-78.) 行政代履行是指行政机关依法作出要求当事人履行排除妨碍、恢复原状等义务的行政决定，当事人逾期不履行，经催告仍不履行，其后果已经或者将危害交通安全、造成环境污染或者破坏自然资源的，行政机关可以代履行，或者委托没有利害关系的第三人代履行。

根据上述定义，下列选项符合行政代履行规定的是：

A. 某企业违规倾倒废渣造成水污染，因其不具备治理能力，当地环保局指定另一企业代为治理

B. 安监局要求矿山企业配发防尘口罩，经催告，对拒不执行的企业，由安监局代为购买、配发

C. 某工厂因噪声污染被环保局处以罚款，经催告，厂方拒不缴纳罚款，环保局遂申请法院强制执行

D. 某店设置的广告牌影响行车安全，城管部门催告该店限期拆除，逾期未果，城管部门遂代为拆除

(2012-联考-79.) 公民的基本权利可分为积极权利和消极权利。积极权利是指通过国家积极介入保障公民在社会经济生活领域的权利，是要求国家积极作为的权利。消极权利即自由权，是要求排除国家妨害、国家相应不作为的权利。

根据上述定义，下列选项属于积极权利范畴的是：



- A. 董事长不得借助权力剥夺股东的股权
- B. 国家为满足低收入者需要建设保障房
- C. 盲、聋、哑人员应依法列入选民名单
- D. 每一位公民都有不受非法逮捕的权利

(2012-联考-80.)企业社会响应是指企业受社会伦理道德标准的引导满足社会某种普遍需要。

根据上述定义，下列选项**不属于**企业社会响应的是：

- A. 某工厂发生污染事故，周边企业出资垫付事故赔偿金
- B. 工程队在工地周围铺设防尘网，减少粉尘造成的污染
- C. 某企业捐赠3亿股企业股票给慈善组织设立专项基金
- D. 某公司按照《残疾人保障法》的规定安排残疾人就业

三、类比推理。每道题先给出一组相关的词，要求你在备选答案中找出一组与之在逻辑关系上最为贴近、相似或匹配的词。

请开始答题：

(2012-联考-81.) ( ) 对于轿车相当于牡丹对于 ( )

- A. 吉普；雪花
- B. 卡车；菊花
- C. 动车；梅花
- D. 轮船；浪花

(2012-联考-82.) 理想对于 ( ) 相当于 ( ) 对于钻研

- A. 梦想；学习
- B. 书籍；欲望
- C. 志向；探索
- D. 年龄；路程

(2012-联考-83.) ( ) 对于动物相当于 ( ) 对于星座

- A. 理智；幸运
- B. 凶猛；星星
- C. 可爱；神秘
- D. 珍稀；温馨

(2012-联考-84.) 满腹经纶对于 ( ) 相当于 ( ) 对于震撼

- A. 才能；精彩绝伦
- B. 才华；触目惊心
- C. 才干；美轮美奂
- D. 才学；绚丽多彩

(2012-联考-85.) 葡萄酒：名酒：酒精

- A. 火箭炮：火箭：战斗力
- B. 敞篷车：跑车：发动机
- C. 宇航员：人员：驾驶员
- D. 玫瑰花：鲜花：牡丹花

(2012-联考-86.) 社交：微博：即时性

- A. 医院：消毒：安全性
- B. 曲艺：评书：娱乐性
- C. 司机：驾驶：可靠性
- D. 新闻：评论：客观性

(2012-联考-87.) 战士：坦克：武器装备

- A. 记者：相机：镜头  
B. 农民：镰刀：农具  
C. 矿工：矿灯：照明  
D. 商人：计算：资产

(2012-联考-88.) 后果：结果：成果

- A. 信心：信念：信仰  
B. 妄想：遐想：理想  
C. 反动：反对：反思  
D. 思维：思想：思绪

(2012-联考-89.) 得陇望蜀：狼子野心

- A. 沐猴而冠：狐假虎威  
B. 指桑骂槐：趾高气扬  
C. 坐井观天：鼠目寸光  
D. 投桃报李：指雁为羹

(2012-联考-90.) 食物：食品

- A. 拘泥：拘谨  
B. 达到：到达  
C. 发挥：发扬  
D. 矿产：矿石

四、逻辑判断。每道题给出一段陈述，这段陈述被假设是正确的，不容置疑的。要求你根据这段陈述，选择一个答案。注意：正确的答案应与所给的陈述相符合，不需要任何附加说明即可以从陈述中直接推出。

请开始答题：

(2012-联考-91.) 据英国《每日邮报》报道，日本富士摄影胶片公司将利用所掌握的胶片技术创新护肤产品，进军美容业，感光乳剂中的胶原蛋白可以防止胶片被氧化，与利用胶原蛋白保护皮肤免受紫外线伤害有着异曲同工之妙。一些忠实于富士品牌的消费者认为这对于爱美人士来说是一个好消息。

消费者得出上述结论隐含的假设是：

- A. 含有胶原蛋白的护肤品在亚洲欧洲等地区广受消费者欢迎  
B. 富士公司具备了生产含有胶原蛋白护肤品的巨大生产能力  
C. 科学家们已经从富士公司的护肤产品中发现了抗氧化物  
D. 护肤产品能利用富士公司生产胶卷使用的科研成果和工艺

(2012-联考-92.) 某市以生产加工“工艺品”出口到欧盟国家著称。去年以来，受到欧洲债务危机影响，该市对欧盟工艺品出口锐减。鉴于市场的变化，作为该市最大的工艺品生产企业 A 公司，必须在以后两年的时间里提高 5% 的生产率，否则它就会破产。根据该市外经贸局的研究，A 公司按照目前的生产状况和经营结构，如果能提高 5% 的生产率，就能增加 10% 的生产利润。

如果上述陈述为真，以下选项必然为真的是：

- A. 如果 A 公司不能达到提高 10% 利润的目标，它就会破产

- B. A 公司的生产率两年内必须提高 10%，否则它就会破产
- C. 只要经济形势好转，A 公司不提高生产率，也不会破产
- D. A 公司生产状况和经营结构两年不变，利润才能提高 10%

(2012-联考-93.) 近年来，我国城乡儿童学前教育事业发展取得了长足的进步，但是农村学前儿童“入园难”的问题仍然没有得到彻底的解决，解决儿童“入园难”的问题，不能够依靠大量使用校车来接送儿童，“合理布局，就近入园”才是确保儿童安全，解决入园难的根本。

如果以下各项为真，最能支持上述论证的是：

- A. 国家财政每年对农村学前教育的投入占国民教育投入的比例不断加大
- B. 按照国际安全标准采购的校车维护费用高，部分地区幼儿园无法承担
- C. 每个乡镇应规划建设一所公办幼儿园，大村独立办园，小村联合办园
- D. 国家招收幼儿教师免费培养定向分配，毕业后回到当地从事学前教育

(2012-联考-94.) 小王、小张、小李、小顾四位舍友预测某次考试的结果。小王：我想这次大家都能过吧！小张：怎么可能？你没看见我乌云密布吗？小李：小顾肯定是没有问题的。小顾：拜托！要是我没问题，大家就都没问题。成绩公布后，证明四人中只有一个人的说法是错误的。

说法**错误**的是：

- A. 小王
- B. 小张
- C. 小李
- D. 小顾

(2012-联考-95.) 有专家认为，全球经济正缓慢复苏，其主要证据是，美国的经济表现超出预期，在就业和住房方面都有不错的表现；欧洲央行启动了融资运作计划，用比较低的利率贷款，为更多的企业以及中小企业进行融资；全球整个大宗商品市场树立了足够的信心。因此，这都是非常好的迹象。

如果以下各项为真，最有可能成为上述论证前提的是：

- A. 专家先前对美国经济表示不乐观
- B. 欧洲央行原有利率较高，银根紧
- C. 非欧美国家的经济状况保持稳定
- D. 全球大宗商品交易缺乏信心支持

(2012-联考-96.) 德国和瑞士的专家经过研究得出一个有趣的结论：餐具颜色能直接影响食欲，红色餐具可降低人们 40% 的食量，在人们的传统观念中，红色是极具进攻性的色彩，用红色餐具盛放食物往往会让人难以下咽，因为在潜意识中人们会给自己发出不能吃红色餐具中食物的心理暗示，从而令食欲下降。

如果以下各项为真，最能**质疑**上述论断的是：

- A. 快餐巨头常在大堂中使用大片鲜亮的红色图案，并没有影响快餐销量
- B. 红色易使人产生紧张感，暴饮暴食是人在紧张时放松自己的一种方式
- C. 试验表明，使用红色水杯者比使用蓝色水杯者平均饮水量要减少 44%
- D. 红色预示着不安和担忧，人们看到红色餐具会本能地担心食物有危险

(2012-联考-97.) 超级本作为笔记本市场中一个非常有竞争力的新生力量，2011 年销量只占移动计算机市场销量的 20%，低于预期的 30%。有供应商表示，超级本之所以遭遇销售低迷很大程度上是因为欧洲市场对超级本需求过小。调查显示，欧洲消费者普遍更青睐 15 英寸及以上尺寸的笔记本电脑。有数据显示，目前欧洲售出的移动计算机中有 40%~45% 都是 15 英寸的机型，而超级本根本就没有这样的尺寸。

供应商得出上述结论的前提假设是：

- A. 生产前厂家未考虑欧洲消费者的使用习惯
- B. 超级本应该设计生产 15 英寸级别的产品
- C. 欧洲消费者的消费习惯与其他地区相类似
- D. 欧洲市场在全球笔记本市场中占较大比重

(2012-联考-98.) 有经济学家不赞成政府对低收入人群的直接救助，主张政府对大企业家和富人采取优惠的财政和税收政策，认为大企业家和富人的投资与消费活动会促进经济发展，增加穷人的就业机会，将财富从社会上层传递到社会底层。

如果以下各项为真，最能**削弱**上述理论的观点是：

- A. 政府对大企业家和富人采取优惠的财政和税收政策，导致因贫富差距拉大而引发不确定的社会矛盾
- B. 打破收入分配方面的平均主义，鼓励一部分人先富起来，但具体实施这一政策存在不可预见的风险
- C. 高收入者的消费需求达到饱和后，人的“自私性”将抑制投资需求，社会投资规模也不再继续增长
- D. 政府的财政和税收政策应该优惠穷人，提高穷人购买力同样会增加有效消费需求促使经济持续发展

(2012-联考-99.) 部分英国医生宣称，他们开始对苹果 iPad 用户类似重复性劳损的病症进行治疗，这类被戏称为“i 伤害”的病症，主要表现为用户的手和点击、触摸屏幕的手指出现各种各样的病痛。专家推测：大多数 iPad 用户左手拿着平板电脑以保持其稳定，右手食指点击屏幕发送邮件或生成文件。这使得他们有患上诸如重复性劳损、腕管综合症以及其他肌腱伤害的风险。

如果以下各项为真，最能支持上述专家推测的是：

- A. 使用 iPad 的用户患上此类病症的概率比较高

- B. 使用其他品牌平板电脑的用户出现了类似病症
- C. 未普及 iPad 的地区此类病症出现的比率极少
- D. 使用台式机的用户患上此类病症的概率比较低

(2012-联考-100.) 法国总统萨科奇正式宣布竞选连任, 打出了“强盛法国”的竞选口号, 承诺带领法国走出经济危机。巴黎街头萨科奇竞选广告上写着: “只有强盛的法国才能保护你的家庭。”

根据此竞选口号的推理方式, 下列选项为真的是:

- A. 虚弱的法国保护不了你的家庭
- B. 强盛的法国可以保护你的家庭
- C. 法国虚弱是因为没有保护家庭
- D. 家庭得到保护, 法国就能强盛

※※※第四部分结束, 请继续做第五部分! ※※※

## 【【2011-联考-判断】】

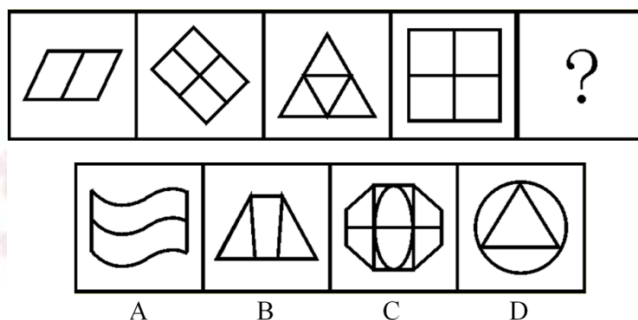
### 第四部分 判断推理

(共 30 题, 参考时限 30 分钟)

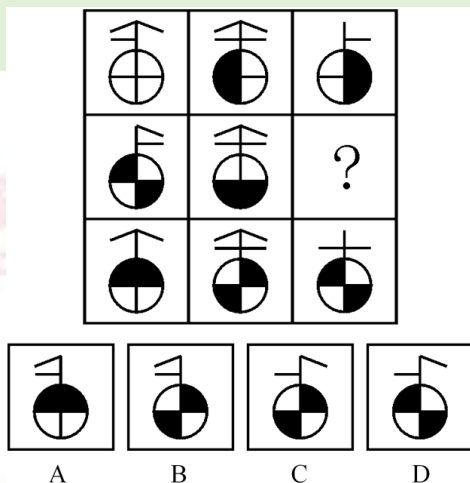
一、图形推理。请按每道题的答题要求作答。

请开始答题:

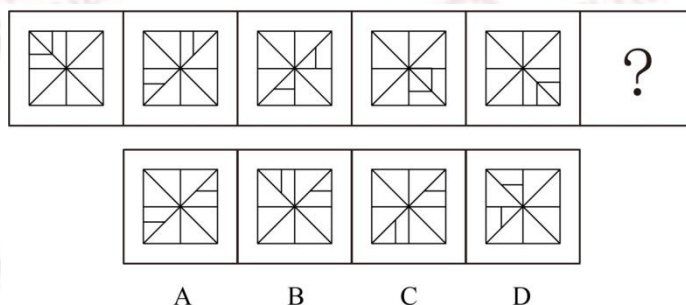
(2011-联考-51.) 从所给四个选项中, 选择最合适的一个填入问号处, 使之呈现一定规律性:



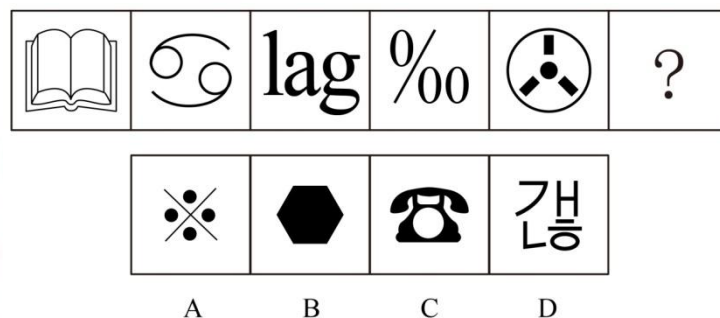
(2011-联考-52.) 从所给四个选项中, 选择最合适的一个填入问号处, 使之呈现一定规律性:



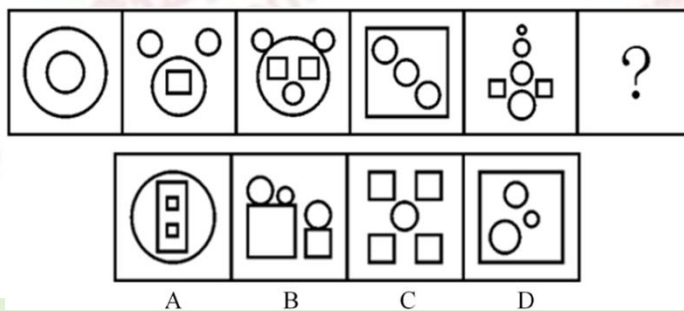
(2011-联考-53.) 从所给四个选项中, 选择最合适的一个填入问号处, 使之呈现一定规律性:



(2011-联考-54.) 从所给四个选项中, 选择最合适的一个填入问号处, 使之呈现一定规律性:

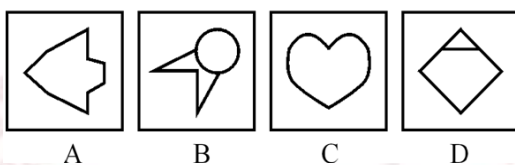



(2011-联考-55.) 从所给四个选项中, 选择最合适的一个填入问号处, 使之呈现一定规律性:

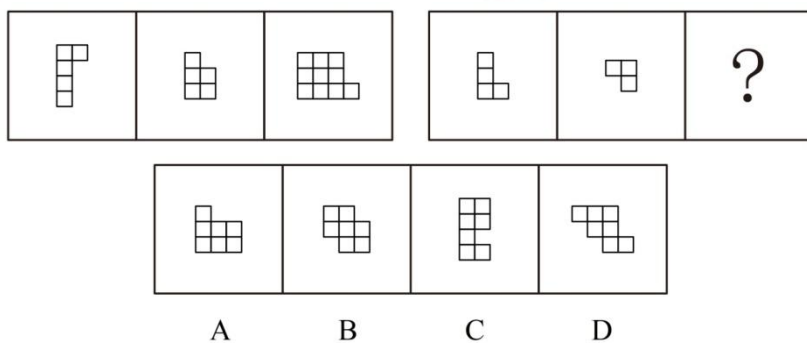


(2011-联考-56.) 从所给四个选项中, 选择最合适的一个填入问号处, 使之呈现一定规律性:

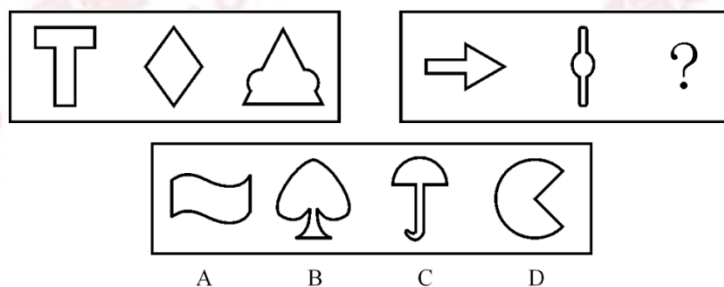
律性:



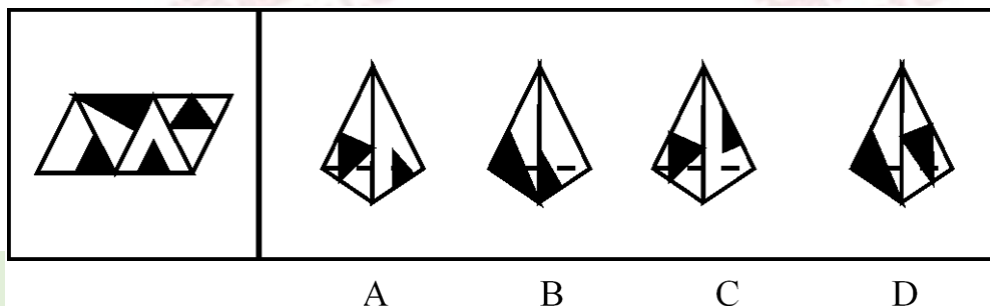
(2011-联考-57.) 从所给四个选项中, 选择最合适的一个填入问号处, 使之呈现一定规律性:



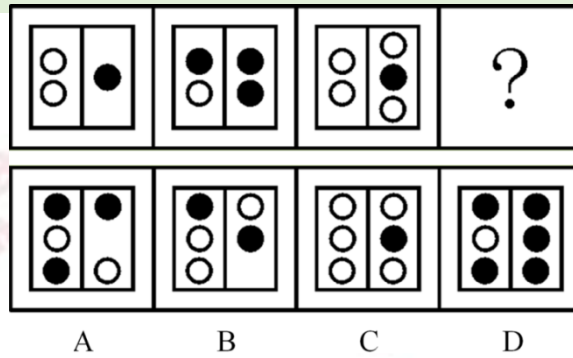
(2011-联考-58.) 从所给四个选项中, 选择最合适的一个填入问号处, 使之呈现一定规律性:



(2011-联考-59.) 左边给定的是纸盒的外表面, 右边哪一项能由它折叠而成?



(2011-联考-60.) 观察下图, 选择最合适的一个填入问号处, 使之呈现一定规律性:



二、定义判断。每道题先给出定义, 然后列出四种情况, 要求你严格依据定义, 从中选出一个最符合或最不符合该定义的答案。注意: 假设这个定义是正确的, 不容置疑的。

请开始答题:

(2011-联考-61.) 低碳经济是指在可持续发展理念指导下, 通过技术创新、制度创新、产业转型、新能源开发等多种手段, 尽可能地减少煤炭、石油等高碳能源消耗, 减少温室气体排放, 达到社会经济发展与生态环境保护双赢的一种经济发展形态。

根据上述定义, 下列**不符合**低碳经济理念的是:

- A. 某小区住房都安装了太阳能电池板
- B. 某粮油食品公司大力推广绿色食品
- C. 某空调公司引进了低能耗空调生产线
- D. 在荒山、滩头、草甸兴建风力发电站

(2011-联考-62.) 如果概念 B 所表达的对象均在概念 A 所表达的范围之内; 概念 A 所表达的对象有些在概念 B 所表达的范围之内, 有些不在概念 B 所表达的范围之内, 则称概念 A 与概念 B 之间存在真包含关系。

根据上述定义, 下列哪项中加点的两个概念是真包含关系?

- A. 启明星就是金星
- B. 榕树在很多城市被作为行道树
- C. 植物有时候也会表现出类似动物的行为
- D. 科学包括多种学科, 例如气象学、遗传学等

(2011-联考-63.) 沉没成本是指已经付出且不可收回的成本。沉没成本是由过去的决策或环境决定的, 它所造成的成本是不能由现在或将来的任何决策而改变的。

根据上述定义, 下列**不涉及**沉没成本的是:

- A. 某煤矿的煤炭已经开采完, 矿井里的一些采掘设备由于无法取出, 只好被废弃
- B. 小李花 100 美元买了一台二手台式电脑, 回国时由于无法携带, 只好忍痛将电脑丢弃



C. 小陈如果在承包的山林中放养野鸡，比放养野兔的年收益更多，但管理更难，于是他选择了放养野兔

D. 小张准备约小丽一起去看电影，因为小丽临时加班，又不能退票，小张只好将两张电影票充当了留言条

(2011-联考-64.) 学习障碍是指从发育的早期阶段起，儿童获得学习技能的正常方式受损。这种损害不是单纯缺乏学习机会的结果，不是智力发展迟缓的结果，也不是后天的脑外伤或疾病的结果。这种障碍来源于认知处理过程的异常，表现在阅读、拼写、计算等方面有特殊的障碍。

根据上述定义，下列属于学习障碍的是：

A. 小华原本学习优秀，随父母移居国外后由于听课困难，学习成绩大幅下降

B. 九岁的小强刚从国外回来，不能识别简体字，在阅读学习材料时面临不少困难

C. 小明的成绩不好，三年级时接受了专业的智力测验，结果发现他的智力只相当于六岁儿童的水平

D. 小红聪明可爱，但上学之后读书时常出现跳行跳字的现象，虽经老师多次纠正但她仍然难以改正

(2011-联考-65.) 行政赔偿是指行政机关及其工作人员违法行使职权，侵犯了公民、法人或其他组织的合法权益并造成损害，由国家承担赔偿责任的制度。

根据上述定义，下列各项要求中属于行政赔偿范围的是：

A. 交通警察孙某与出租车司机李某素有嫌隙，孙某诬陷李某违反交通规则，并吊销其驾照，李某要求交通管理部门赔偿其损失

B. 某区政府工作人员王某驾驶区政府车辆外出办事途中顺路回家探亲，因超速行驶撞伤村民张某，张某要求该区政府进行损害赔偿

C. 公安局销毁了一片非法种植的罂粟，种植者刘某认为他种植罂粟的目的是为母亲治病，公安机关不应销毁，要求公安部门赔偿其损失

D. 某市工商局发现某公司涉嫌销售假冒伪劣产品而将其产品扣押以备查实。该公司以其有合格证、工商局扣押其财产给该公司造成损失为由要求赔偿

(2011-联考-66.) 绿色公关是指企业以生态与经济可持续发展观念影响公关，选择具有“绿色”特征的媒体开展传播活动，以“绿色”为特色塑造企业形象，赢得公众的信任与支持，给企业带来更多便利和竞争优势的一系列公关活动。

根据上述定义，下列属于绿色公关的是：

A. 某快餐企业推出了“种植一棵树”的宣传活动，并倡导减少包装以节约资源，创造了良好的经营环境和社会氛围

B. 某软件公司推出一款绿色软件，无需安装即可使用，移除后也不会有任何残留记录留在电脑里，受到了很多用户的欢迎

C. 某小区居委会按照当地政府的要求进行垃圾分类宣传，在小区举办垃圾分类知识竞赛，现场发放不同颜色的垃圾袋供居民使用，受到大家的欢迎

D. 人民网举办了以“发展低碳经济引领绿色潮流”为主题的“2010 首届低碳中国年度创新论坛”，揭晓了 2010 年低碳中国领军人物、领军品牌、十大创新技术产品等十多个奖项

(2011-联考-67.) 敌意性归因偏差是指在情景不明的情况下，会将对方的动机或意图视为有敌意的倾向。

根据上述定义，下列属于敌意性归因偏差的是：

A. 领导看到小张在晋升前的民主评议中得票很低，就断定他人品不好，打消了提升他的念头

B. 小刘在社团主席竞选中败得很惨，当小王劝他再参加学生会将要进行的主席选举时，他觉得小王是故意来挖苦他的

C. 王老师班上的学生陈强一向表现平平，却在最近的学科竞赛上获得了全校最好成绩，王老师觉得陈强在竞赛中存在作弊行为

D. 某公司赵总一直不同意李总提出的年底奖金分配方案，李总多次与之沟通收效甚微，李总认为赵总过于维护自己部门的利益

(2011-联考-68.) 食品污染物指不是有意加入食品中，而是在生产、制造、加工、调制、处理、填充、包装、运输和贮藏等过程中带入食品中，或是由于环境污染带入食品中的任何物质。

根据上述定义，下列属于食品污染物的是：

A. 对肉质进行嫩化改良而使用的木瓜蛋白酶成分

B. “三鹿奶粉”事件中“问题奶粉”含有的三聚氰胺成分

C. 油炸食品在加工过程中由于加入增多剂而产生的铝成分

D. 食品腌制时，使用的添加剂中含有的对人体有害的亚硝酸盐

(2011-联考-69.) 范围经济是由厂商的经营范围而非规模带来的经济，是指同时生产两种产品的费用低于分别生产每种产品的费用的经济现象。

根据上述定义，下列属于范围经济的是：

A. 某家具生产厂家实行桌子与衣柜合并生产后，相同的生产过程使成本有效降低

B. 某啤酒制造厂收购了一个经营亏损的小型啤酒厂，生产线扩大后原料采购成本降低，两个厂区啤酒的生产效益均有提高

C. 因为市场需求扩大，布鞋和鞋垫的手工作坊式生产逐渐被机器生产取代，生产成本大幅下降

D. 某奶制品厂实行奶酪与酸奶一起生产后，二者的生产工艺相互借鉴，产品改良，销量大增

(2011-联考-70.) 自我设限是指个体针对可能到来的失败威胁，事先设置障碍，为失败

创造一个合理的借口，从而保护自我价值，维护自我形象。

根据上述定义，下列属于自我设限的是：

A. 小王即将参加某公司的面试，但总觉得自己无法通过，面试的前一天，他因为突然生病被送进了医院，错过了这次面试

B. 小周和小田一起竞选班长，小田跟朋友说，小周学习好，人缘也好，还在学生社团担任干部，老师都比较喜欢他，自己估计没戏了，最后果然小周当选了班长

C. 小李毕业后进入保险公司做销售代理，第一个月没有签订一单合同，他解释是因为受全球金融危机的影响，市场行情很不好

D. 小明的语文成绩在班上一直名列前茅，每次考试前他都跟同学说，自己状态不好肯定会考砸，但他最后的成绩都在前三名之内

三、逻辑判断。每道题给出一段陈述，这段陈述被假设是正确的，不容置疑的。要求你根据这段陈述，选择一个答案。注意：正确的答案应与所给的陈述相符合，不需要任何附加说明即可以从陈述中直接推出。

请开始答题：

(2011-联考-71.) 小刘是环保志愿者组织“拯救地球”的成员，由于身患重病，不能到上海做世博会志愿者，而该组织其他成员都获得了上海世博会志愿者的资格。

由此可以推出：

A. 上海世博会志愿者都是“拯救地球”的成员

B. 小刘是“拯救地球”的成员，但未获得上海世博会志愿者资格

C. 如果有人是上海世博会志愿者，又是“拯救地球”成员，他一定不是小刘

D. 如果有人是“拯救地球”的成员，但不是上海世博会志愿者，他一定是小刘

(2011-联考-72.) 在选购地板时，消费者都很关心地板散发的气味，因为地板的刺激性气味强往往是有毒有害物质超标的一种表现。最近有一种据称是香味环保地板赢得了不少消费者的青睐。销售人员声称地板散发的香味可以消毒杀菌，去除空气中的异味。当销售人员在推销这种产品时，往往会拿来几种不同的地板，让有购买意向的消费者闻一闻，并指出散发着清香气味的地板，即是香味环保地板。

以下哪项如果为真，最能削弱销售人员的观点？

A. 事实上，由于木材本身的气味以及受制造工艺所限，地板或多或少都带有一定的刺激性气味

B. 气味并不是判别地板是否环保的唯一标准，除气味外，消费者更关心地板中有机挥发物的含量

C. 到目前为止，国家有关部门还没有出台香味环保地板的专门标准，所谓的“香味”

不过是厂家炒作的概念

D. 检验证明,不少厂商是通过在地板中添加大量香精等化学助剂来达到掩盖或者中和刺激性气味的目的

(2011-联考-73.)生理学家发现,人类掌管记忆和思维等高级认知功能的大脑皮质在正常情况下有6层,如果胎儿缺乏一种名为“Cdk5”的酶,大脑皮质的发育就会变得极为缓慢,无法最终形成正常大脑皮质的6层结构,从而严重影响儿童认知发展。一些医药界人士推测,利用这一发现,将有望研发出药物,普遍提高学生的学习能力。

如果以下各项为真,哪项**不能质疑**上述推测?

- A. 人体不能吸收外部补充的“Cdk5”酶
- B. 学生的学习能力主要是通过后天学习获得的
- C. 一些脑部“Cdk5”酶含量高的人学习能力并不突出
- D. 青少年过了脑发育关键期后,补充“Cdk5”酶不起作用

(2011-联考-74.)食品安全的实现,必须有政府的有效管理。只有政府各部门之间的相互协调配合,才能确保政府进行有效的管理。但是,如果没有健全的监督制约机制,是不可能实现政府各部门之间协调配合的。

由此可以推出:

- A. 要想健全监督制约机制,必须有政府的有效管理
- B. 没有健全的监督制约机制,不可能实现食品安全
- C. 有了政府各部门之间的相互协调配合,就能实现食品安全
- D. 一个不能进行有效管理的政府,即是没有建立起健全的监督制约机制的政府

(2011-联考-75.)虎山长城遗址除一号台址发现很少的残砖之外,其他地方均没有发现城砖。虎山村及附近村庄也没有从长城上拆下城砖用于民房建筑的情况。由此可以推测,虎山长城用砖是极少的。

上述推测还需要隐含哪一项假设?

- A. 当地县志记载虎山长城是夯土筑成
- B. 虎山长城遗址附近没有发现古砖窑
- C. 此地山高坡陡,城砖难以运进运出
- D. 此地土质极差,不适宜烧制长城用砖

(2011-联考-76.)伏案工作者长时间低头阅读、书写很容易患腰颈椎疾病。为帮助这部分人预防和缓解腰颈椎疾病,某单位工会为职工印发了宣传册,教大家预防和治疗腰颈椎疾病的一些方法。

以下哪项如果为真,最能对上述宣传册的效果提出**质疑**?

- A. 腰颈椎疾病很难进行自我预防和治疗
- B. 预防和缓解腰颈椎疾病的方法因人而异

- C. 预防和治疗腰颈椎疾病需要专业人士指导
- D. 不经常伏案工作的人也可能患腰颈椎疾病

(2011-联考-77.) 克山病是一种原因未明的地方性心肌病, 山东省两次克山病流行均发生在病区居民生活困难时期, 此时居民饮食结构单一, 营养缺乏。1978 年以后, 由于农村经济体制的改革, 病区居民生活逐渐好转, 营养结构趋向合理, 克山病新发病人越来越少, 达到基本控制标准。一些研究者据此推测, 营养缺乏可能是克山病发病的重要因素。

如果以下各项为真, 哪项**不能质疑**上述推论?

- A. 1978 年前农村生活水平普遍较低, 但克山病仅在个别地方出现
- B. 原来克山病病区的土壤、水质在几十年中发生了较大变化
- C. 一些生活水平高的地区, 也出现过克山病病例
- D. 通过调整饮食结构, 无法治愈克山病

(2011-联考-78.) 出于安全考虑, 使用年限超过 10 年的电梯必须更换钢索。在必须更换钢索的电梯中有一些是 S 品牌的。所有 S 品牌电梯都不存在安全隐患。

由此可以推出:

- A. 有些存在安全隐患的电梯必须更换钢索
- B. 有些 S 品牌的电梯必须更换钢索
- C. 有些 S 品牌的电梯不需要更换钢索
- D. 所有必须更换钢索的电梯使用年限都超过了 10 年

(2011-联考-79.) 德国经济在席卷全球的金融危机当中受到的冲击与其他发达国家相比较小, 主要原因是德国经济建立在先进制造业的基础上, 德国的机械装备和汽车制造业保持了很强的竞争力。一些人根据德国的例子得出结论: 只有具备强大的制造业竞争水平, 一个国家的经济才有高度的稳定性。

如果以下各项为真, 哪项能够**质疑**上述结论?

- A. 某国制造业不发达, 该国经济一直动荡不安
- B. 有些制造业不发达的国家在金融危机中受影响较小
- C. 有些国家保持长期经济稳定, 却没有发达的制造业
- D. 有些国家制造业很发达, 但经济并没有长期保持稳定

(2011-联考-80.) 传统观点认为鸡蛋黄胆固醇含量高, 是直接造成高血压、动脉粥样硬化、冠心病及脑中风的罪魁祸首。所以, 很多中老年人不敢吃鸡蛋黄。最近, 营养学家组织了一个专门研究鸡蛋黄与胆固醇之间关系的小组, 对 116 名 50 至 65 岁的男性进行了为期半年的实验。

假定有以下几种实验结果, 哪种将最能**削弱**传统观点?

- A. 将被试者分为两组, 分别食用蛋黄和蛋清, 结果发现食用蛋清的一组被试者体内胆固醇含量明显增加

B. 将被试者分为两组，分别食用蛋黄和蛋清，结果发现两组被试者体内胆固醇含量没有明显差异

C. 将被试者分为两组，一组食用蛋黄，一组不食用蛋黄，半年后发现没有食用蛋黄的被试者体内胆固醇含量有所减少

D. 将被试者分为两组，一组食用蛋黄，一组不食用蛋黄，半年后被试者体内的胆固醇含量均没有发生变化

※※※第四部分结束，请继续做第五部分！※※※

【【2010-联考-判断】】

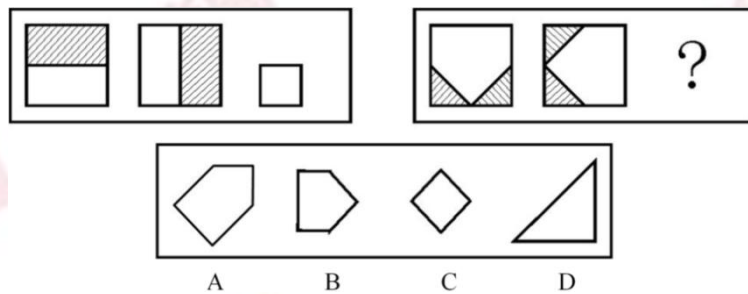
第三部分 判断推理

(共 35 题，参考时限 40 分钟)

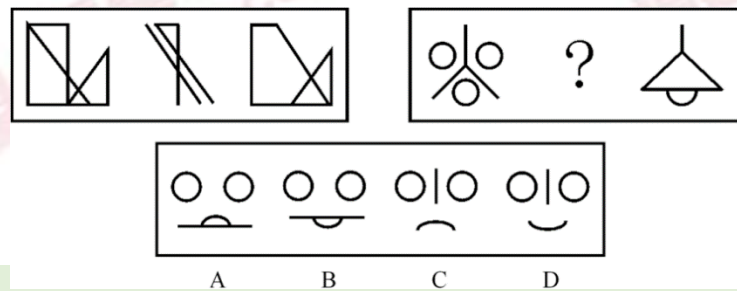
一、图形推理。请按每道题的答题要求作答。

请开始答题：

(2010-联考-51.) 从所给四个选项中，选择最合适的一个填入问号处，使之呈现一定规律性：

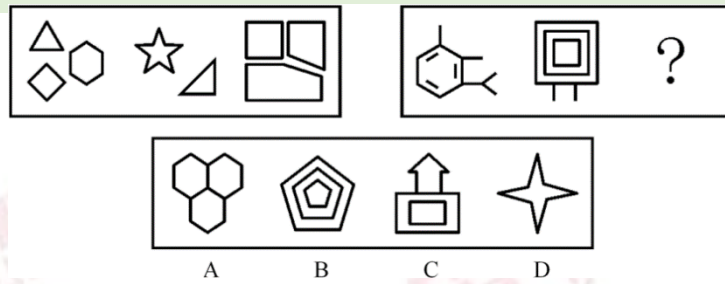


(2010-联考-52.) 从所给四个选项中，选择最合适的一个填入问号处，使之呈现一定规律性：

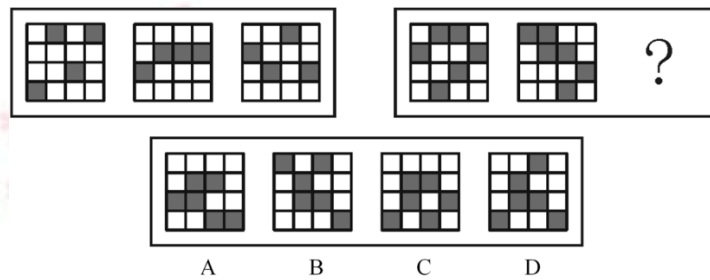


(2010-联考-53.) 从所给四个选项中，选择最合适的一个填入问号处，使之呈现一定规

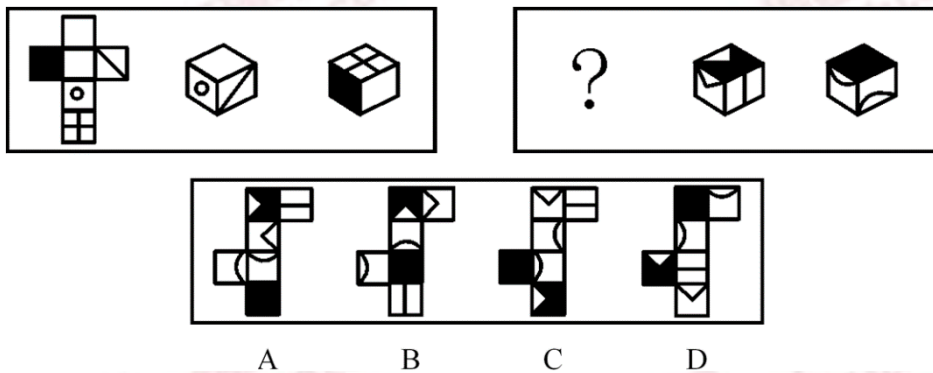
律性:



(2010-联考-54.) 从所给四个选项中, 选择最合适的一个填入问号处, 使之呈现一定规律性:



(2010-联考-55.) 从所给四个选项中, 选择最合适的一个填入问号处, 使之呈现一定规律性:



二、定义判断。每道题先给出一个定义, 然后列出四种情况, 要求你严格依据定义, 从中选出一个最符合或最不符合该定义的答案。注意: 假设这个定义是正确的, 不容置疑的。

请开始答题:

(2010-联考-56.) 第一次刺激能缓解第二次的小刺激, 这种规律称为“贝勃规律”。它表明当人经历强烈的刺激后, 之后施与的刺激对他来说会变得微不足道。

根据上述定义, 下列能用贝勃规律进行解释的是:

A. 当人们从一个明亮的地方进入一个光线很差的地方时, 一开始会看不清任何物体, 但过了一会后能很快适应黑暗

B. 得知公司将进行第三次裁员时, 小王没有前两次时那么担心, 能够比较平静地对待

了

C. 甲公司向乙公司出售整套设备，开始时报价很优惠，谈判即将结束时，却提出加收安装服务费，乙公司认为不可以接受

D. 小李刚开始工作时兢兢业业，熟悉环境后慢慢松懈下来，但周围人仍觉得他很敬业

(2010-联考-57.) 外包是一种战略管理模式，是指企业为维持核心竞争能力，将非核心业务委托给外部的专业公司，以降低运营成本、提高顾客满意度。离岸外包是外包的一种形式，是指企业将某项业务委托给海外的某个服务提供商或者公司在海外的子公司。

根据上述定义，下列**不属于**外包的是：

A. 某家企业的一个项目需要 5 名高级电子工程师，它请国内一家人力资源公司帮助招聘

B. 美国某公司的一个项目有大量文字资料需要转为电子文本，它请一家中国的公司来完成

C. 某公司承建中东某个国家的钢厂，工程的运输部分由这个公司的海外子公司——海运公司承担

D. 某家建筑工程公司承建某学校的一座教学楼，该校委托另外一家公司进行教学楼的室内装修工作

(2010-联考-58.) 前苏联研制的米格-25 喷气式战斗机的许多零部件与同时期美国的战机相比都要落后得多，但因设计者考虑了整体性能，对各零部件进行了更为协调的设计，使该机在升降、速度、应急反应等方面达到当时世界一流水平。这一因组合协调而产生的令人意想不到的结果，被后人称为“米格-25 效应”。

根据上述定义，下列属于米格-25 效应的是：

A. 一家礼品店礼品样式齐全、定价也不高，故此生意非常不错

B. 小方学习服装设计后，着装时从丝巾到鞋都搭配得当，给人以美感

C. 机关举行乒乓球混双比赛，某处的两人配合默契，以绝对优势战胜了男女单打冠军的组合

D. 某电脑公司开发了一款笔记本电脑，虽然内部配置不高但外观小巧精美，上市后销售情况很好

(2010-联考-59.) 自我防御性归因是指通过强调自己对积极的、合乎期望的好结果的作用，缩小对消极的、不合乎期望的坏结果的责任来保护自尊。

根据上述定义，下列属于自我防御性归因的是：

A. 很多家长认为，孩子能否具有创造力关键在于学校的教育理念是否先进

B. 某公司管理者在总结企业成功经验时说，一个成功的企业离不开优秀的员工和先进的管理方法

C. 某国 GDP 水平屡创新低，该国领导人表示，这是受到世界经济持续低迷的影响

D. 某企业因经营不善而面临破产，该企业领导承认企业领导班子在经营决策上存在失



误

(2010-联考-60.) 价格歧视实质上是一种价格差异, 通常指商品或服务的提供者在同一时间向不同的接受者提供相同等级、相同质量的商品或服务时, 在接受者之间实行不同的销售价格或收费标准。

根据上述定义, 下列属于价格歧视的是:

- A. 经销商将过季商品打五折出售
- B. 电信运营商对网内和网外通话实行区别定价
- C. 北京某电影院对其会员实行票价八折的优惠
- D. 香港四星级酒店的价格高于内地很多四星级酒店

(2010-联考-61.) 企业战略联盟是两个或两个以上的经济实体(一般指企业, 如果企业间的某些部门达成联盟关系, 也适用此定义) 为了实现特定的战略目标而采取的共担风险、共享利益的长期联合与合作协议。

根据上述定义, 下列属于企业战略联盟的是:

- A. 某人将自己的专利授权某工厂长期使用, 所得利润按协议分配
- B. 某汽车配件公司和某汽车制造厂签订合同, 长期以优惠价格向该厂提供优质配件
- C. 为储备人才, 某公司与某名牌大学计算机系达成协议, 该系每年的毕业生可参加该公司的招聘面试
- D. 为应对国外手机生产商的挑战, 国内 3 家手机生产商达成 10 年合作协议, 共同研发高端手机

(2010-联考-62.) 环境承载力是生态系统在维持生命机体的再生能力、适应能力和更新能力的前提下, 承受有机体数量的限度。

根据上述定义, 下列**不属于**保护环境承载力措施的是:

- A. 政府规定每公顷草场放牧的牲畜数量
- B. 某地政府出资修缮年久失修的道路, 并规定载重超过 20 吨的车辆禁止通行
- C. 为防止外人随意游牧, 政府将草场划分给牧民个人并在边界安装围栏
- D. 某风景旅游区规定, 每天进入景区的旅游人数不得超过 1000 人

(2010-联考-63.) 角色过载冲突是指一个人的角色要求太多, 工作量太大, 不可能完成所有角色要求的工作时所面临的冲突。

根据上述定义, 下列属于角色过载冲突的是:

- A. 节目主持人黄女士在主持节目的同时还接拍电影、撰写剧本、参加社会公益活动, 她觉得力不从心
- B. 保险业务员张先生为人热情, 经常帮助客户解决生活上的困难, 很多人都找他办理保险业务, 因而张先生每个月都能超额完成任务
- C. 李女士是单位的业务骨干, 又是一位孩子的母亲, 同时还要照顾老人, 但乐观的性

格和充沛的精力使她在工作和家庭之间游刃有余

D. 小刘是一名实验员，每天都要高度集中注意力，与各种危险的化学品打交道，还要防止化学品外泄，这让他感到身心疲惫

(2010-联考-64.) 诉前证据保全是指依诉讼参加人的申请，人民法院对有可能灭失或者以后难以取得对案件有证明意义的证据，在诉讼前对证据加以固定和保护的制度。

根据上述定义，下列对诉前证据保全的申请可能获得人民法院批准的是：

- A. 债务人未能按期偿还债务，债权人申请对作为抵押品的厂房申请诉前证据保全
- B. 水果商贩李某与供货商王某发生合同纠纷，胜诉后王某仍拒不交付货物，李某申请对该批水果进行诉前证据保全
- C. 货主因怀疑运输公司在运输途中出卖其货物，诉前申请对运输车辆予以证据保全
- D. 某公司在市场上发现有商店出卖假冒其品牌的商品，申请对这些商品诉前证据保全

(2010-联考-65.) 滥用市场支配地位是指在相关市场内具有能够控制商品价格、数量或者其他交易条件，或者能够阻碍、影响其他经营者进入相关市场的经营者，利用其市场支配地位危害竞争，损害竞争对手和社会公共利益及其他私人利益的行为。

根据上述定义，下列行为构成滥用市场支配地位行为的是：

- A. 甲公司通过取得股权或者资产方式取得对其他很多经营者的控制权，使自己该地的市场占有率达 50% 以上
- B. 在某地食用油市场占有率达 55% 的甲公司，要求当地某超市在购物车上为其免费做广告，遭到超市拒绝，甲公司停止向该超市供货
- C. 某市电力公司称很多用户的电表不准，要求用户必须购买该公司指定的几种品牌的电表，经查，电力公司与指定品牌的生产厂家并无利益关系
- D. 在某市打火机市场占有率达 70% 的甲乙二厂，为缓解由于经济不景气而导致的销售量严重下降，就限定生产数量和销售价格达成协议，造成很多小厂家破产

三、类比推理。每道题先给出一组相关的词，要求你在备选答案中找出一组与之在逻辑关系上最为贴近、相似或匹配的词。

请开始答题：

(2010-联考-66.) 手术刀：外科医生

- A. 渔网：渔民
- B. 讲台：教师
- C. 打火机：抽烟者
- D. 望远镜：科学家

(2010-联考-67.) 树木：砍伐

- A. 汽车：驾驶
- B. 山泉：流淌
- C. 酵母：分解
- D. 石油：开采

(2010-联考-68.) 世界地图：地球仪

- A. 一元纸币：一元硬币  
B. 纸飞机：飞机模型  
C. 肖邦画像：肖邦雕塑  
D. 楼房平面图：楼房三维图

(2010-联考-69.) 水：农业

- A. 消费：经济  
B. 婚姻：人生  
C. 文字：文化  
D. 娱乐：生活

(2010-联考-70.) 考古：文物：博物馆

- A. 教育：人才：企业  
B. 贸易：商品：工厂  
C. 耕种：庄稼：土地  
D. 培训：员工：社会

(2010-联考-71.) 田野：小麦：麦粒

- A. 水塘：鲤鱼：鱼籽  
B. 林场：树木：枯枝  
C. 牧场：牛群：牛尾  
D. 海洋：鱼鳍：鲨鱼

(2010-联考-72.) 妻子：母亲：社会角色

- A. 水：冰：液体  
B. 父亲：儿子：家庭  
C. 冰糖：砂糖：糖精  
D. 石墨：金刚石：化学物质

(2010-联考-73.) ( ) 对于效益相当于经营对于 ( )

- A. 投入；利润  
B. 成本；税收  
C. 生产；规划  
D. 资本；管理

(2010-联考-74.) 乐手对于 ( ) 相当于车厢对于 ( )

- A. 钢琴；铁轨  
B. 乐队；火车  
C. 舞台；站台  
D. 乐谱；乘客

(2010-联考-75.) 血管对于 ( ) 相当于 ( ) 对于城市

- A. 血液；国家  
B. 健康；居民  
C. 循环；运输  
D. 身体；道路

四、逻辑判断。每题给出一段陈述，这段陈述被假设是正确的，不容置疑的。要求你根据这段陈述，选择一个答案。注意：正确的答案应与所给的陈述相符合，不需要任何附加说明即可以从陈述中直接推出。

请开始答题：

(2010-联考-76.) 相关研究发现，每天睡眠不足7小时的人普遍比睡眠时间更长的人胖。这是因为睡眠不足影响了新陈代谢功能，使刺激食欲的荷尔蒙增加，同时使产生饱胀感的荷尔蒙水平降低。

由此**不能**推出：

- A. 胖人的食欲比体重正常的人好
- B. 睡眠状况影响新陈代谢
- C. 荷尔蒙水平影响食欲
- D. 胖人的荷尔蒙水平可能异于常人

(2010-联考-77.) 一个外地品牌为进入本地市场进行广告宣传效果的调查。结果显示，在用电视广告宣传时，当地每百人有 15 人知晓该品牌，而后选用报纸广告，每百人有 26 人表示对其有印象。据此，为提高该品牌的知晓率，该公司决定将全部广告资金投入报纸广告。

以下如果为真，最能**削弱**该公司决定的是：

- A. 电视是当地人获取信息的最主要途径
- B. 报纸广告容易给观众留下“产品过于廉价”的负面印象
- C. 若不采用报纸广告而继续采用电视广告宣传，相同时间后，每百人有 45 人知晓该品牌
- D. 通过电视知晓该品牌的人中，八成有购买意愿，而通过报纸广告知晓者，仅两成有此意愿

(2010-联考-78.) 某公司所有的销售人员都是男性，所有的文秘都是女性，所有的已婚者都是文秘，公司的总经理尚未结婚。

据此，我们可以知道：

- A. 总经理是男性
- B. 已婚者中有男性
- C. 女员工中可能有未婚者
- D. 销售人员中有的已经结婚

(2010-联考-79.) 研究证明，吸烟所产生烟雾中的主要成分丙烯醛，是眼睛健康的“慢性杀手”，而橄榄油提取物羟基酪醇，能有效减缓这个“慢性杀手”给眼睛带来的伤害。由此得出结论，常吃橄榄油能够让吸烟者眼睛远离伤害。

以下如果为真，最能支持上述论证的是：

- A. 羟基酪醇易于被人体吸收
- B. 橄榄油含有其他有益于人体的物质
- C. 常吃橄榄油的人视力优于不经常吃的人
- D. 烟雾中还含有其他对视力有伤害的物质

(2010-联考-80.) 春节期间，贩卖伪造火车票已经成为社会的一大公害。公安部门对此进行了多次突击整治，捣毁了一批制造和贩卖伪造火车票的窝点，抓捕和惩治了一批以此牟取暴利的不法分子。但是，社会上贩卖伪造火车票的现象依然存在。

如果上述断定为真，以下哪项**不可能**是贩卖伪造火车票现象依然存在的原因？

- A. 假火车票的买方市场依然存在
- B. 所破获的制假售假窝点只占其很小的比例
- C. 火车票缺乏有效的防伪标识
- D. 铁路运输部门仍在出售站票

(2010-联考-81.) 大量研究表明,几乎所有的合成色素都不能向人体提供营养物质,某些合成色素甚至会危害人体健康,导致生育力下降、畸胎等,有些甚至在人体内可能转换成致癌物质。因此,应该使用天然色素代替合成色素。

以下如果为真,最能**削弱**上述结论的是:

- A. 人体的解毒功能和排泄功能可消解合成色素中的一些毒素
- B. 天然色素成分复杂,加工过程中可能因结构改变而生成有害物质
- C. 天然色素的着色力一般不如合成色素强,比较容易褪色或变色
- D. 天然色素的提取并不容易,成本消耗大,技术上也不好操作

(2010-联考-82.) 快递公司服务范围即服务网络所能覆盖或到达的范围,是衡量快递公司竞争能力的最重要因素,也是快递企业提供快递服务的物质基础。服务范围决定了快递公司快件所能到达的服务区域。对于客户来说,快递公司能提供的服务范围当然是越大越好。

以下哪项如果为真, **不能**支持上述判断?

- A. 许多服务范围小的快递公司在激烈的市场竞争下举步维艰
- B. 大中型客户的业务范围往往非常广泛,覆盖全国各地
- C. 服务网络覆盖面广的快递公司,如 EMS、中铁快运等四家的营业总额超过国内市场总额的 50%
- D. 划分为省内和省外快件后,快递公司主要以重量计费,并不以距离计费

(2010-联考-83.) 几位同学对物理竞赛的名次进行猜测。小钟说:“小华第三,小任第五。”小华说:“小闽第五,小宫第四。”小任说:“小钟第一,小闽第四”。小闽说:“小任第一,小华第二。”小宫说:“小钟第三,小闽第四。”已知本次竞赛没有并列名次,并且每个名次都有人猜对。

那么,具体名次应该是:

- A. 小华第一、小钟第二、小任第三、小闽第四、小宫第五
- B. 小闽第一、小任第二、小华第三、小宫第四、小钟第五
- C. 小任第一、小华第二、小钟第三、小宫第四、小闽第五
- D. 小任第一、小闽第二、小钟第三、小宫第四、小华第五

(2010-联考-84.) 关于基本粒子目前最被认可的理论是“标准理论”。它约在 30 年前确立,已发现的基本粒子都可以根据这一理论进行解释。100 多年来,质子、中子、电子等基本粒子陆续被发现。面对这些成绩,有人认为,宇宙间的基本粒子被发现得差不多了,即使有,也可以用现有的理论解释,因而不会给人们带来太大的惊奇。

以下哪项如果为真，最能**反驳**以上观点？

- A. 基于“标准理论”而被发现的基本粒子很少
- B. 基于“标准理论”做出的某些预测未在实验中得到证实
- C. 新发现的基本粒子与“标准理论”做出的预测不相符
- D. 有科学家提出了颠覆人们以往对基本粒子认识的新理论

(2010-联考-85.) 据史料记载，唐贞观十九年，玄奘从印度取经归来后，亲自设计建造了大雁塔，用以供奉带回的佛经、金银佛像、舍利等宝物。但直到现在，玄奘所带回的珍宝到底藏在哪里，却无人知晓。考古专家认为，就像法门寺古塔下面存在千年地宫一样，大雁塔地下肯定也藏有地宫，只是尚未发掘而已，并由此推测，大雁塔下的地宫里极有可能藏有玄奘当初带回的珍宝。

以下哪项如果为真，最**不能质疑**上述推测？

- A. 玄奘所画的大雁塔图纸上没有地宫
- B. 已发掘的其他几座古塔下的地宫中并没有发现宝物
- C. 考古学家已经在其他地点发现了玄奘带回的佛经
- D. 根据史籍记载，玄奘带回的宝物已全部进献到皇宫

※※※第三部分结束，请继续做第四部分！※※※

## 【【2009-联考-判断】】

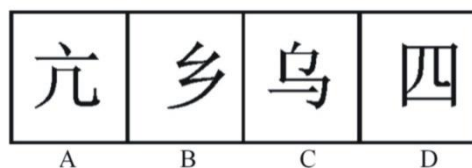
### 第三部分 判断推理

(共 35 题，参考时限 38 分钟)

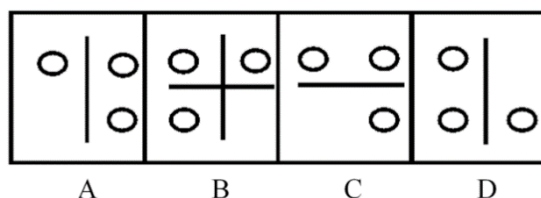
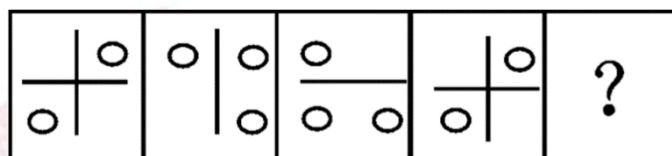
一、图形推理。请按每道题的答题要求作答。

请开始答题：

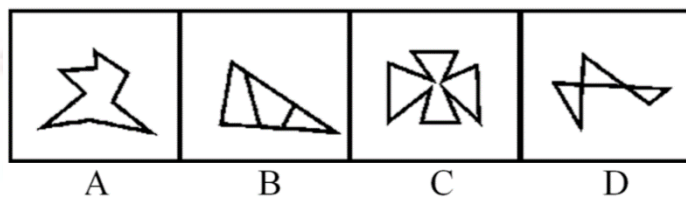
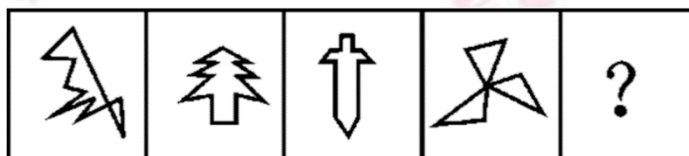
(2009-联考-51.) 从所给四个选项中，选择最合适的一个填入问号处，使之呈现一定规律性：



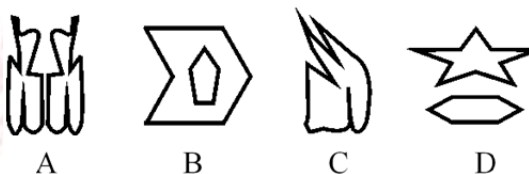

(2009-联考-52.) 从所给四个选项中, 选择最合适的一个填入问号处, 使之呈现一定规律性:



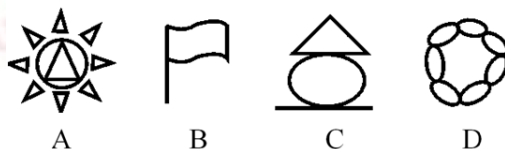

(2009-联考-53.) 从所给四个选项中, 选择最合适的一个填入问号处, 使之呈现一定规律性:



(2009-联考-54.) 从所给四个选项中, 选择最合适的一个填入问号处, 使之呈现一定规律性:



(2009-联考-55.) 从所给四个选项中, 选择最合适的一个填入问号处, 使之呈现一定规律性:



二、 定义判断。每道题先给出一个定义, 然后列出四种情况, 要求你严格依据定义, 从中选出一个最符合或最不符合该定义的答案。注意: 假设这个定义是正确的, 不容置疑的。

请开始答题:

(2009-联考-56.) 核心技术能力是企业通过特有的技术要素和技能或各种要素和技能的独特的组合来创造具有自身特性的技术, 以产生稀缺的、不可模仿的技术资源(包括技术和知识等)的企业能力。

根据上述定义, 下列**不属于**企业核心技术能力的是:



- A. Google 公司掌握网络搜索的关键技术
- B. 微软公司掌握操作系统的开发技术
- C. 原 IBM 公司掌握大型超级计算机的制造技术
- D. 联想公司掌握个人计算机的制造技术

(2009-联考-57.) 外部不经济性是指经济活动主体在生产和消费过程中, 给他人带来的损失或额外费用, 而他人并未因此得到补偿。

下列属于外部不经济性的是:

- A. 某项新技术发明被他人使用, 没有得到使用费
- B. 桃树花开时, 行人都可以享受到花香, 但并未向种桃树的人交钱
- C. 上游居民大量植树, 自己收获了木材又改善了下游居民的水源质量, 却未收取费用
- D. 农民使用农药过量造成污染, 却并没有赔偿受害者

(2009-联考-58.) 脑科学的研究表明, 在人脑的发育中存在“关键期”, 即人在发展过程中, 某一方面在某一阶段发展得最快, 比如: 3 岁以前是动作发展的“关键期”, 1~3 岁是语言发展的“关键期”, 4 岁左右是感知图形的“关键期”。在这一时期, 脑在结构和功能上都具有很强的适应和重组的能力, 易于受到环境的影响。关键期内适宜的刺激和经验是运动、感觉、语言及其他脑功能正常发展的重要前提。

下列利用了“关键期”理论的是:

- A. 狼孩 10 岁时回归社会, 学会了简单的语言
- B. 先天失聪的聋儿在 2 岁时接受语言康复训练, 最终学会了说话
- C. 母亲在怀孕期间给腹中的胎儿听音乐
- D. 某体操冠军在 3 岁时就已经被认为具有体操天赋

(2009-联考-59.) 耕作是指作物种植以前, 或在作物生长期, 为了改善植物生长条件而对土壤进行的机械操作, 耕作的基本目的有三个: (1) 改良土壤结构; (2) 把作物残茬和有机肥料掩埋并掺和到土壤中去; (3) 清除杂草或其他不需要的植株。

根据上述定义, 以下属于耕作的是:

- A. 在果园里挖排水沟
- B. 喷洒除草剂以清除杂草
- C. 将雨后板结的表土破碎
- D. 冬季在农田里种植绿肥作物

(2009-联考-60.) 战略决策是指在企业内贯彻的一种决策活动, 通常包括组织目标、方针的确定, 组织机构的调整, 企业产品的更新换代, 技术改造等, 这些决策牵涉组织的方方面面, 具有长期性和方向性。

下列属于战略决策的是:

- A. 我国的神舟七号载人航天计划

- B. 某公司决定开发新技术，在十年内推出神经网络电脑
- C. 某大公司经理决定招聘一位有多年工作经验并能熟练讲英语的主管
- D. 某公司用蓝皮书规范全国分公司经理行为

(2009-联考-61.) 生产销售伪劣产品罪是指生产者或销售者故意在产品中掺杂、掺假、以次充好、以假充真或者以不合格产品冒充合格产品，销售金额五万元以上的行为。

下列属于生产销售伪劣产品罪的是：

- A. 赖某、宣某经商量用化工原料二氧化硒掺过硫酸铵后当作纯二氧化硒出售，以每公斤 430 元的合同价格售出 425 公斤
- B. 陈某以假金项链冒充纯金项链出售，每条金项链 24 克，价值人民币 4600 元，共售出三条
- C. 某建筑公司承建价值 300 万元的住宅楼，为了降低成本，使用了不合格的建筑材料，导致住宅楼还没有验收就有了裂缝
- D. 孟某以二手车冒充新车，与肖某以 30 万元的价格签订汽车销售合同，但孟某在车款到手后携款逃匿

(2009-联考-62.) 风险转移是指通过合同或非合同的方式将风险转嫁给另一个人或单位的一种风险处理方式。风险转移是对风险造成的损失的承担的转移。

根据上述定义，以下属于风险转移的是：

- A. 医院在给垂危病人施行手术之前，要求病人家属签字同意
- B. 某人看到近期股票大跌，于是将本要投资股市的钱存入银行
- C. 为避免泄密可能带来的损失，甲单位要求相关人员签订保密协议
- D. 某企业产品出现了质量问题，声称是因原料供应商所供原料不合格

(2009-联考-63.) 关键个案抽样指的是选择那些可以对事情产生决定性影响的个案进行的研究，目的是将这些个案中获得的结果逻辑地推论至其他个案。

下列属于关键个案抽样的是：

- A. 对所有购买产品的顾客进行电子邮件调查以了解产品可以从哪些方面进行改进
- B. 对若干 6 岁儿童进行访问以剔除专门为 6 岁儿童开发但不受欢迎的糖果口味
- C. 制定严格的电话抽样方案，要求调查员电话访问顾客搜集对产品包装的反馈
- D. 在居民区中随机寻找符合产品香味调查的对象，邀请被调查者完成一份调查问卷

(2009-联考-64.) 选择性注意是指在外界诸多刺激中，人们仅仅注意到某些刺激或刺激的某些方面，而忽略了其他刺激。

根据上述定义，下列属于选择性注意的一项是：

- A. 志愿者小张在奥运会期间，每天忙于奥运赛场的服务，无暇观看奥运比赛
- B. 奥运结束后，一些学生仍对奥运精彩纷呈的赛事感到意犹未尽，无法投入到新学期的学习生活中

C. 意大利小伙子马克观看完北京奥运会开幕式后，对中国文化产生了浓厚兴趣，于是留在北京学习汉语

D. 北京奥运会期间，原本闹离婚的夫妻俩，由于一起收看奥运节目，交流增多，关系缓和，不再闹离婚了

(2009-联考-65.) 转继承是指继承人在继承开始后、遗产分割前死亡的，其有权继承的遗产转由其法定继承人(包括配偶、子女、父母、兄弟姐妹、祖父母和外祖父母)继承的制度。

下列属于转继承的是:

A. 老王与其妻子生有两个儿子，二儿子早年去世，留有一女，未满十八岁。老王去世后，在未立有遗嘱的情况下，该女孩要求继承老王的部分遗产

B. 老李有价值 50 万元的房产一处。老李去世的当天，儿子小李在赶往医院办理后事的途中不幸遭遇车祸死亡，小李的儿子当即表示要继承老李的遗产

C. 孤寡老人老刘一直由邻居老张照顾，老刘在生前立下遗嘱，将其全部财产留给老张。老刘去世后不久，老张心脏病发去世，老张的妻子要求继承老张应继承的部分份额

D. 老黄生前一直由其外甥小赵照顾，老黄立下遗嘱，将全部财产留给小赵。老黄去世后，老黄的子女向法院提起争夺遗产的诉讼，法院作出判决前，小赵不幸去世，老黄的子女继承了这笔遗产

三、类比推理。每道题先给出一组相关的词，要求你在备选答案中找出一组与之在逻辑关系上最为贴近、相似或匹配的词。

请开始答题:

(2009-联考-66.) 竹简：书籍

- |          |          |
|----------|----------|
| A. 竖笛：排笛 | B. 沙漏：钟表 |
| C. 毛笔：电笔 | D. 缶：鼓   |

(2009-联考-67.) 石头：钻石

- |              |           |
|--------------|-----------|
| A. 汽车：劳斯莱斯轿车 | B. 舞蹈：国标  |
| C. 水：眼泪      | D. 音乐：钢琴曲 |

(2009-联考-68.) 愤怒：驳斥

- |          |          |
|----------|----------|
| A. 微笑：高兴 | B. 可爱：纯真 |
| C. 详尽：陈述 | D. 善良：魅力 |

(2009-联考-69.) 水：冰

- |        |        |
|--------|--------|
| A. 米：饭 | B. 铁：锈 |
| C. 云：雨 | D. 树：木 |

(2009-联考-70.) 伞：雨衣

- A. 现金：支票
- B. 空调：暖气
- C. 钢笔：铅笔
- D. 蚊香：蚊帐

(2009-联考-71.) 青蛙：庄稼

- A. 律师：被告
- B. 树木：城市
- C. 合同：买方
- D. 空气：健康

(2009-联考-72.) 班门弄斧对于 ( ) 相当于 ( ) 对于五谷丰登

- A. 貽笑大方；风调雨顺
- B. 无妄之灾；国富民强
- C. 无奇不有；国泰民安
- D. 东施效颦；天从人愿

(2009-联考-73.) 鼓舞对于 ( ) 相当于 ( ) 对于捏造

- A. 士气；谎言
- B. 打击；欺骗
- C. 煽动；创作
- D. 语言；文书

(2009-联考-74.) 机动对于 ( ) 相当于 ( ) 对于清澈

- A. 固定；浑浊
- B. 有机；透明
- C. 活泼；洁净
- D. 灵活；明亮

(2009-联考-75.) ( ) 对于血液循环相当于引擎对于 ( )

- A. 血管；汽车
- B. 血管；车速
- C. 心脏；汽车
- D. 心脏；车速

四、逻辑判断。每题给出一段陈述，这段陈述被假设是正确的，不容置疑的。要求你根据这段陈述，选择一个答案。注意：正确的答案应与所给的陈述相符合，不需要任何附加说明即可以从陈述中直接推出。

请开始答题：

(2009-联考-76.) 动物的冬眠，完全是一项对付不利环境的保护性行动。引起动物冬眠的主要因素，一是环境温度的降低，二是食物的缺乏。科学家们通过实验证明，动物冬眠会引起甲状腺和肾上腺功能的降低。与此同时，生殖腺却发育正常，冬眠后的动物抗菌抗病能力反而比平时有所增加。显然冬眠对它们是有益的，使它们到翌年春天苏醒以后动作更加灵敏，食欲更加旺盛，而身体内的一切器官更会显出返老还童现象。由此可见，动物在冬眠时期神经系统的肌肉仍然保持充分的活力，而新陈代谢却降到最低限度。

以下如果为真，最能削弱上述结论的是：

- A. 很多昆虫，不是以“成虫”或“幼虫”，而是以“蛹”或“卵”的形式进行冬眠
- B. 刺猬，一次冬眠能睡上 200 多天，醒来后要经过很长时间才能恢复到原来的精神和体力

C. 在加拿大有些山鼠冬眠长达半年，冬眠期间脉搏变得极为微弱，体温更直线下降，可达 5 °C

D. 雌熊在冬眠中，让雪覆盖着身体，一旦醒来，它身旁就会躺着一两只小熊，这是冬眠时生产的仔

(2009-联考-77.) 文学院有学生为优秀奖学金获得者。除非各学院有学生为优秀奖学金获得者，否则任何学院都不能从学校领取奖学金。计算机学院可以从学校领取奖学金。

由此可以推出：

- A. 文学院可以从学校领取奖学金
- B. 文学院有的学生不是优秀奖学金获得者
- C. 计算机学院有的学生是优秀奖学金获得者
- D. 计算机学院有的学生不是优秀奖学金获得者

(2009-联考-78.) 财政专家指出，公共风险不仅产生于因政府政策不当导致的国有资产流失，而且由于政府直接积极参与经济生活，如政府直接参与国有企业、调控金融机构，这些重要经济领域一旦发生大面积损失，将会直接酿成公共风险，从而造成财政赤字、债务偿还压力。因此，如果要想实施稳健的财政和货币政策，仅仅调整财政政策是不够的。

从这段文字可以推出：

- A. 只要政府保证国有资产不流失，即使决策失误，也不会产生公共风险
- B. 只要政府不直接参与经济生活，或者国有企业、金融机构这些重要的经济领域不发生大面积损失，就不会产生公共风险
- C. 如果能够防范公共风险的产生，就可以实施稳健的财政和货币政策
- D. 由于重要经济领域发生大面积损失，所以即使政府决策正确，仍有可能产生公共风险

(2009-联考-79.) 越来越多的人处于亚健康状态，究其原因竟是睡得不好。睡眠时间太少，会引发种种不适，甚至导致疾病。研究指出：每晚睡眠不足四小时的成年人，其死亡率比每晚能睡七八个小时的人要高 180%。但是美国加利福尼亚大学的研究人员在对 100 多万人观察后得出结论，每天睡八小时以上的人，他们的死亡率比每晚睡六至七个小时的人高 120%。

如果这段文字表述的内容是正确的，以下断定最不可能正确的是：

- A. 每晚睡眠时间太多或太少，都会使人的寿命缩短
- B. 每晚睡眠时间少于四小时的人的死亡率比每晚睡眠时间多于八小时的人要高
- C. 有时睡眠时间少于四小时、有时睡眠时间多于八小时的人的死亡率比每晚睡眠时间为七小时的人高 150%
- D. 每晚睡眠八小时以上的人如果改为每晚睡眠不足四小时，所受的危害要加大

(2009-联考-80.) 美国科学家发现，雄性非洲慈鲷鱼能通过观察其他雄性成员在抢占地

盘争斗中的表现而评估对手的实力，在加入争斗时总是挑战那些最弱的对手。这是科学家首次发现鱼类具有这种推理能力。

由此，可以推知：

- A. 雄性非洲慈鲷鱼逻辑能力比雌性强
- B. 雄性非洲慈鲷鱼具有人类的某些理性认识特点
- C. 逻辑推理能力较强的鱼能够占有较大的地盘
- D. 人类是逻辑推理能力最强的高等动物

(2009-联考-81.)某国最大的方便面生产企业计划于4月份把方便面价格提高一至两成，这将是该国方便面价格自2006年度以来又一次大幅上涨，逼近历史最高价。该企业表示，之所以要提高方便面价格，主要是为了应对粮食等原材料价格的上涨。

最能支持上述论断的一项是：

- A. 面对国际市场粮食等原材料价格上涨的趋势，甲国政府出台政策，禁止国内粮食加工企业提高粮食产品价格，以防止甲国人民生活成本增加，负担加重
- B. 乙国国内粮食等原材料供应充足，但由于劳动力价格上涨，导致粮食加工企业生产成本增加，因而造成方便面等粮食产品价格上涨
- C. 丙国国内粮食等原材料供应一直非常充足，近来又大规模提高农业生产技术，提高粮食产量，该国的方便面等粮食产品价格平稳
- D. 丁国粮食加工企业工人举行大罢工，导致该国粮食加工企业瘫痪，国内方便面等粮食产品供应严重不足，丁国人不得不依赖进口粮食产品

(2009-联考-82.)气候变暖后，一般中高纬度地区粮食产量增加，而热带和亚热带只能以一些耐高温作物为主，产量下降，尤其是非洲和拉丁美洲。全球最贫穷地区饥荒危机将增加，饥饿和营养不良引起机体免疫力下降，增加人们对疾病的易感性。

由此能推出：

- A. 中高纬度并非是全球最贫困的地区
- B. 非洲和拉丁美洲存在全球最贫困地区
- C. 全球变暖对中高纬度气候的影响小于对热带和亚热带气候的影响
- D. 全球变暖对非洲和拉丁美洲粮食产量的影响高于世界平均水平

(2009-联考-83.)某联邦议院规定，只有在联邦议院中占有至少5%议席的政党才能组成议会党团，只有议员人数不足5%的政党，在征得绝大多数议员同意后，可以组成议会集团，议会集团只享有部分议会党团被赋予的权利。

根据这段文字，可推知，在该联邦议院：

- A. 能组成议会党团的政党不能组成议会集团
- B. 能否组成党团或集团最终需由联邦议院进行裁决
- C. 少于联邦议院议席5%的政党不可能组成议会集团

D. 该制度避免了议员们过于集中于某一议会党团或集团

(2009-联考-84.) 莱姆病, 像许多其他的人兽共患病一样, 是由通过吸食脊椎动物类宿主血液从而携带病原体的昆虫进行传播的。长久以来, 科学家们认为白脚鹿的种群密度是莱姆病发病率最好的预报因素。然而, 在纽约东南部一个莱姆病高发区, 一项历时 13 年的对莱姆病生态学中的决定因素进行的研究中, 推翻了这一观点, 因为在莱姆病发病率高的年份中, 白脚鹿的种群数量一般比莱姆病发病率低的年份低。

上述论述基于以下哪一种假设?

- A. 从未爆发过莱姆病的地区通常白脚鹿的种群数量比较低
- B. 莱姆病爆发之前白脚鹿的种群数量不会显著降低
- C. 其他物种的种群数量也可作为莱姆病发病的预报因素
- D. 白脚鹿的种群数量提高是其他疾病爆发的先兆

(2009-联考-85.) 阿尔迪、里德尔等德国超市折扣连锁店在全球食品涨价潮中逆市走俏。德国模式的折扣连锁店经营方式不同于普通超市、家庭店铺或法国特色的农民市场。它的店面一般仅有两三百平方米, 过道狭窄, 商品包装简单, 80% 以上的商品都是食品和饮料, 其价格一般要比普通超市低 30% 到 50%, 分析人士认为, 德国折扣连锁模式在食品涨价潮中逆市走俏的原因是多方面的, 除了其“低价”优势外, 折扣店品种少、规模大的采购模式使开店成本很低。

以下哪项对上述分析人士的解释有所削弱?

- A. 德国折扣连锁商店在法国零售业的市场份额已经从一年前的 10.5% 上升到 11.2%, 与此同时家乐福等大型超市的市场份额却在下降
- B. 低成本战略和低价战略是所有超市都在尽可能使用的经营战略, 即力求在“价格优势”上压倒竞争对手
- C. 里德尔折扣连锁店在挪威被当地一家超市连锁店收购, 挪威本土的这家连锁店, 恰恰是德国折扣连锁模式的翻版
- D. 家乐福等大型超市多年来有自己的经营模式、经营理念, 并且形成了其特有的企业文化

※※※第三部分结束, 请继续做第四部分! ※※※

山东

【【2017-山东-判断】】

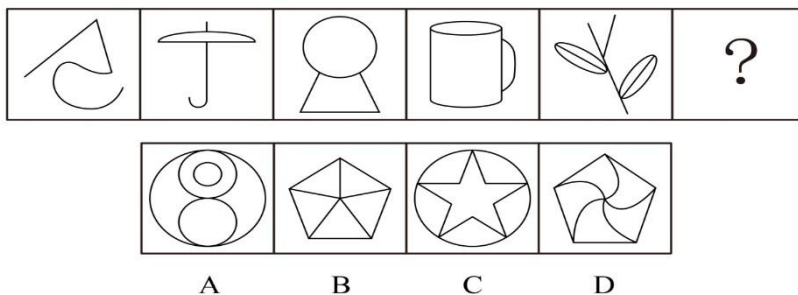
## 第四部分 判断推理

(共 40 题, 参考时限 35 分钟)

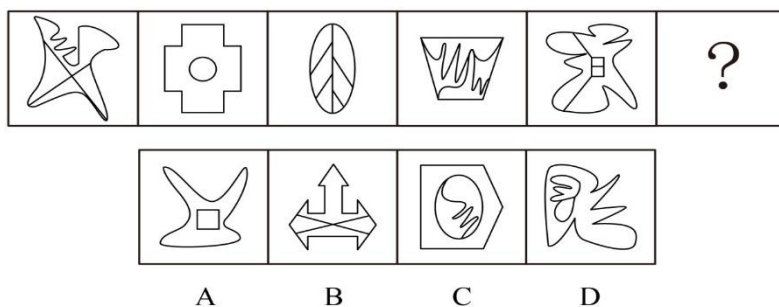
一、图形推理。请按每道题的答题要求作答。

请开始答题:

(2017-山东-61.) 从所给四个选项中, 选出最合适的一个填入问号处, 使之呈现一定规律性:

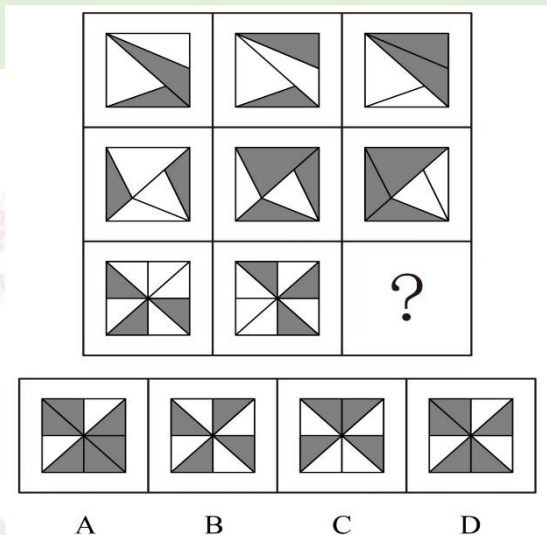


(2017-山东-62.) 从所给四个选项中, 选择最合适的一个填入问号处, 使之呈现一定规律性:

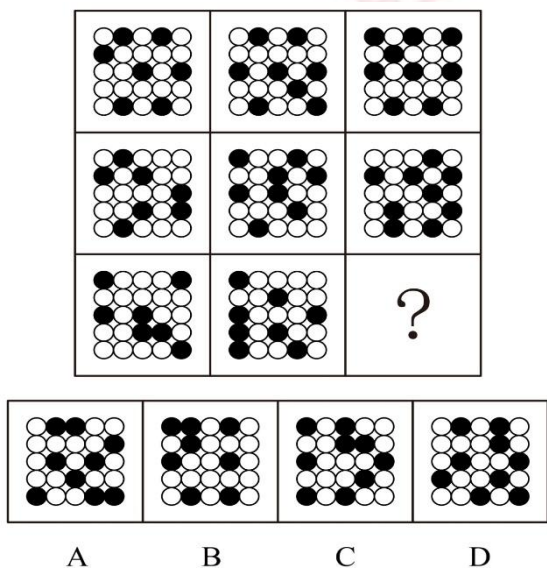


(2017-山东-63.) 从所给四个选项中, 选择最合适的一个填入问号处, 使之呈现一定规律性:

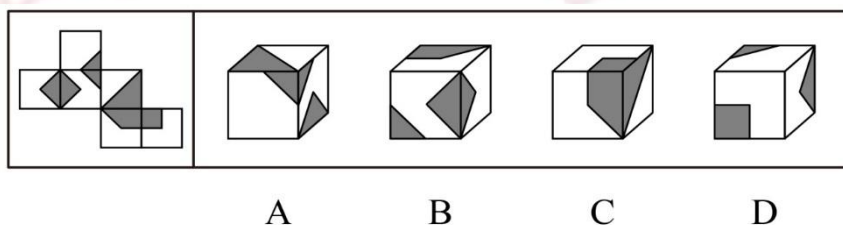




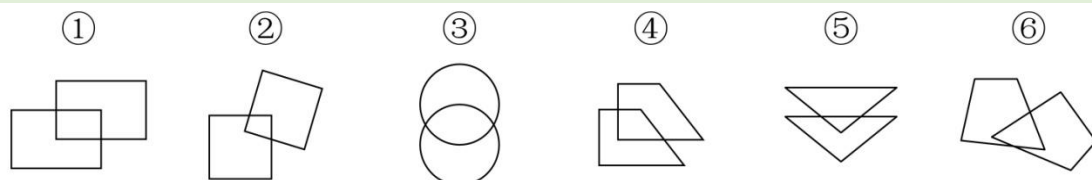
(2017-山东-64.) 从所给四个选项中, 选择最合适的一个填入问号处, 使之呈现一定规律性:



(2017-山东-65.) 左边给定的是纸盒的外表面, 下列哪项能由它折叠而成?

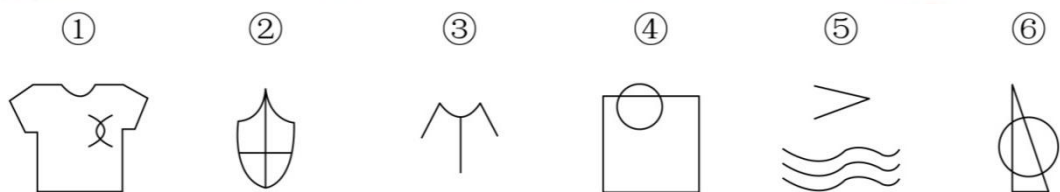


(2017-山东-66.) 把下面的六个图形分为两类, 使每一类图形都有各自的共同特征或规律, 分类正确的一项是:



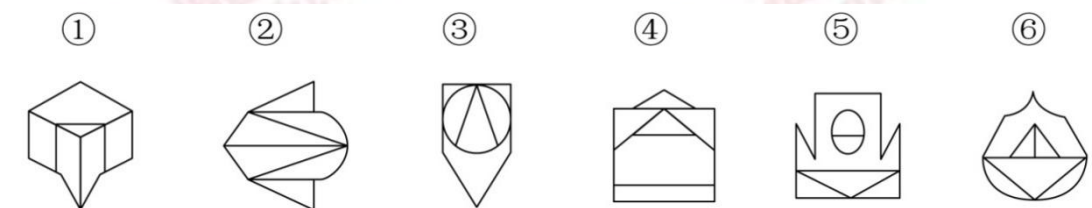
- A. ①④⑤, ②③⑥                      B. ①②④, ③⑤⑥  
C. ①②⑤, ③④⑥                      D. ①②⑥, ③④⑤

(2017-山东-67.) 把下面的六个图形分为两类, 使每一类图形都有各自的共同特征或规律, 分类正确的一项是:



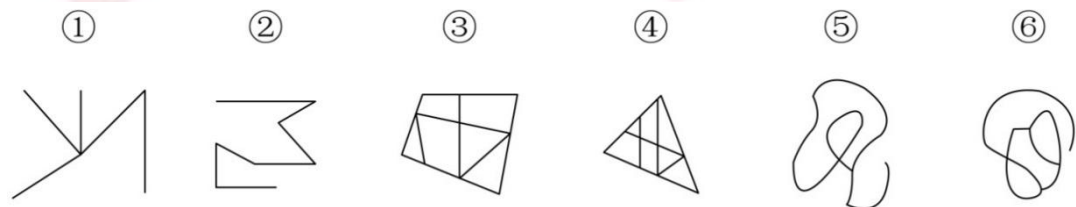
- A. ①②④, ③⑤⑥                      B. ①②⑤, ③④⑥  
C. ①③⑥, ②④⑤                      D. ①⑤⑥, ②③④

(2017-山东-68.) 把下面的六个图形分为两类, 使每一类图形都有各自的共同特征或规律, 分类正确的一项是:



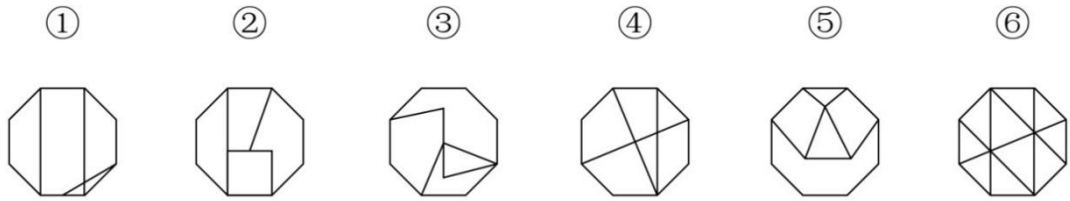
- A. ①②⑥, ③④⑤                      B. ①③⑤, ②④⑥  
C. ①②④, ③⑤⑥                      D. ①④⑥, ②③⑤

(2017-山东-69.) 把下面的六个图形分为两类, 使每一类图形都有各自的共同特征或规律, 分类正确的一项是:



- A. ①②③, ④⑤⑥                      B. ①③⑤, ②④⑥  
C. ①②⑥, ③④⑤                      D. ①④⑥, ②③⑤

(2017-山东-70.) 把下面的六个图形分为两类, 使每一类图形都有各自的共同特征或规律, 分类正确的一项是:



- A. ①②③, ④⑤⑥  
 B. ①③④, ②⑤⑥  
 C. ①③⑥, ②④⑤  
 D. ①④⑥, ②③⑤

二、定义判断。每道题先给出定义，然后列出四种情况，要求你严格依据定义，从中选出一个最符合或最不符合该定义的答案。注意：假设这个定义是正确的，不容置疑的。

请开始答题：

(2017-山东-71.) 危险犯，指行为人实施的危害行为造成法律规定的危险状态作为既遂标志的犯罪。这类犯罪不是以造成物质性的和有形的犯罪结果为标准，而以法定的客观危险状态的具备为标志。

根据上述定义，以下属于危险犯的是：

- A. 猥亵儿童  
 B. 商业诈骗  
 C. 诬告陷害  
 D. 醉酒驾驶

(2017-山东-72.) 民族昆虫学是研究在一定社会中人类与昆虫相互关系的各种形式的学科。在研究昆虫的同时，研究社会的结构、人类的行为和昆虫之间的相互作用。

根据上述定义，下列各项中**不属于**民族昆虫学的研究范围的是：

- A. 研究具有某种宗教信仰的人食用昆虫的方式  
 B. 研究某一民族将蝴蝶标本作为衣饰的原因  
 C. 研究某一地区的人们利用昆虫娱乐的方式和原因  
 D. 研究某一国家昆虫学的发展历史

(2017-山东-73.) 税负转嫁，是指在商品交易过程中纳税人通过提高销售价格或压低购进价格的方法，将税收负担转移给购买者或供应者的一种经济现象。

根据上述定义，下列选项**没有**反映税负转嫁现象的是：

- A. 提高烟草消费税后，某烟草批发商将进口卷烟价格相应提高了 6%，进口卷烟的消费量明显下降  
 B. 对棉纱制造商征收棉纱税后，制造商开始提高棉纱出厂价格，因此批发商也提高了价格  
 C. 对化妆品在零售环节征税，零售商要求供应商降低货物价格，供应商又以同样方式要求制造商降低价格  
 D. 营业税提高后，织布厂在将布匹卖给印染厂时提高了价格，同时减少了本厂职工的

工资

(2017-山东-74.) 去个性化,是指个人在群体压力或群体意识影响下,自我导向功能的削弱或责任感丧失,产生一些个人单独活动时不会出现的行为。去个性化有两个特点:一是身份的隐匿;二是责任感的模糊化。

根据上述定义,以下情境**不属于**去个性化的是:

- A. 网站论坛里面,一些匿名网友随意转发不实信息
- B. 路上老人跌倒,很多人在旁围观但无人伸出援手
- C. 足球比赛现场,球迷为裁判是否误判而争执打闹
- D. 某大型集会时,两小偷趁乱偷走价值连城的古董

(2017-山东-75.) 产品责任,是指产品在使用过程中因其缺陷(包括设计缺陷,制造缺陷和警示说明缺陷)而造成用户、消费者或公众的人身伤亡或财产损失时,依法应当由产品供给方(包括制造者、销售者、修理者等)承担的民事损害赔偿责任。

根据上述定义,以下情况明确属于产品供给方承担产品责任的是:

- A. 某高架桥因使用不达标准的钢筋导致坍塌造成行人受伤
- B. 未经过敏皮试的患者在注射青霉素之后死亡
- C. 市民购买酸奶后未冷藏,饮用后生病住院
- D. 某婴儿误食成人维生素导致急性中毒

(2017-山东-76.) 众筹,即大众筹资或群众筹资,是指用“团购+预购”的形式,向网友筹集项目资金的模式,由发起人、跟投人、平台构成,利用互联网传播的特性,让小企业、艺术家或个人对公众展示他们的创意,争取大家的关注和支持,进而获得所需要的资金援助,具有低门槛、多样性、依靠大众力量、注重创意的特征。

根据以上定义,以下行为属于众筹的是:

- A. 某地区盛产西瓜,小赵在网上发布消息组织预购,很多网友参加“团购”,瓜农根据预订信息种植,每年都能很快将西瓜销售一空
- B. 小李希望为小区老人建设一个日常活动的活动区,他在小区的网站上发起集资活动,很快获得小区居民的响应,筹集到所需的经费
- C. 小辛设计了一个宠物喂食器,网友看到他“晒”的照片,纷纷要求购买,小辛集中接受了一批网友预订,用预订的费用进行了批量生产
- D. 小唐设计了一个养鸡场自动捡蛋机,为了批量生产,他在网上介绍自己的项目,一家投资公司看到之后,为小唐提供了生产所需的全部费用

(2017-山东-77.) “饥饿营销”是指商品提供者有意调低产量,以期达到调控供求关系、制造供不应求“假象”、维持商品较高售价和利润率的目的。饥饿营销比较适合一些单价较高、

不容易形成单个商品重复购买的行业。

根据上述定义，下列属于饥饿营销的是：

- A. 某厂商设计了新款笔记本电脑，与该品牌以往的一贯风格相差甚远，该厂商不确定是否能被市场接受，限量生产了3万台，上市后市场反应异常火爆，供不应求
- B. 某汽车品牌推出新款，很多人排队等候，甚至愿意加价购买，厂家宣称该款汽车产量有限，一直限量销售，以扩大“热销”影响
- C. 某品牌一款经典白球鞋，一直销量稳定，近期受时尚界刮起的“怀旧风”影响，该款白球鞋销量大增，供不应求
- D. 近期高档白酒滞销，某知名品牌白酒生产商为保证效益，主动限产、调高售价，销售额出现明显下滑

(2017-山东-78.)一次文献，又称原始文献，指以作者本人的工作经验、观察或者实际研究成果为依据而创作的具有一定发明创造和一定新见解的原始文献。二次文献是对一次文献进行加工整理后的产物，即对无序的一次文献的外部特征如题名、作者、出处等进行著录，将其内容提炼压缩成提要或文摘，并按照一定的学科或专业加以有序化而形成的文献形式。

根据上述定义，下列属于二次文献的是：

- A. 小刘摘抄优美词句的“好词好句”手册
- B. 小李整理实验记录、处理数据后写出的文章
- C. 小郭从出版社拿到的经济类新书目录和简介
- D. 小赵购买的急救手册

(2017-山东-79.)睡眠者效应指的是信源可信性的传播效果会随时间推移而发生变化的现象。也就是说，传播结束一段时间后，高可信性信源带来的正效果在下降，而低可信性信源带来的负效果却朝向正效果转化。

根据上述定义，以下哪项属于睡眠者效应？

- A. 名人广告只能带来短期内销售额的增加，时间一长，产品的销售额就迅速下降了
- B. 某产品由于名称容易使人产生不好的联想，尽管质量上乘，但是一直打不开市场
- C. 小李前一天晚上看中的一件非常满意的商品，第二天早上一看，觉得不过如此，他迅速取消了订单
- D. 爱看武侠小说的李某年轻时常常有打抱不平的冲动，40岁之后的他变得谨慎持重了

(2017-山东-80.)预防成本是指为预防不良产品或服务出现而支付的成本。它包括计划与管理、人员训练、品质管制过程，以及加强对设计和生产两阶段的注意以减少不良产品出现的概率所产生的种种成本，这类成本一般都发生在生产之前。

根据上述定义，下列**不属于**“预防成本”的是：

- A. 某家具公司为搜集产品质量情报并对资料进行分析研究所支付的费用

- B. 某汽车厂商针对新型跑车的设计方案进行评价、试制和质量评审所支付的费用
- C. 某手机企业为改进手机品质在公司设立“产品升级奖”所产生的费用
- D. 某购物网站定期举办特惠活动，期间印制宣传手册或影像资料所花费的广告费用

三、类比推理。每道题先给出一组相关的词，要求你在备选答案中找出一组与之在逻辑关系上最为贴近、相似或匹配的词。

请开始答题：

(2017-山东-81.) 烟灰：烟灰缸

- A. 黑板：黑板擦
- B. 鼠标：鼠标垫
- C. 首饰：首饰盒
- D. 领带：领带夹

(2017-山东-82.) 上衣：领袖

- A. 兄弟：手足
- B. 时间：岁月
- C. 身体：耳目
- D. 动物：鹰犬

(2017-山东-83.) 进展：变化

- A. 妥协：退让
- B. 口角：冲突
- C. 开花：结果
- D. 喜欢：信任

(2017-山东-84.) 作茧自缚：化蛹成蝶

- A. 灯蛾扑火：化羽归尘
- B. 雨润花开：春华秋实
- C. 鱼翔浅底：鹰击长空
- D. 凤凰浴火：涅槃重生

(2017-山东-85.) 风：风车：旋转

- A. 水：金鱼：游动
- B. 雷：闪电：暴雨
- C. 电：电车：行驶
- D. 火：木柴：燃烧

(2017-山东-86.) 玫瑰：植物：动物

- A. 童话：书籍：影像
- B. 画眉：鸟：鱼
- C. 镜片：太阳镜：墨镜
- D. 雾：雨：风

(2017-山东-87.) 面试：笔试：招聘

- A. 摄影：购物：旅游
- B. 招标：中标：建设
- C. 批发：零售：销售
- D. 出口：内销：商品

(2017-山东-88.) 年号：历法：计时

- A. 股票：基金：投资
- B. 水坝：城墙：防洪
- C. 火把：流星：照明
- D. 手机：信函：洽谈

(2017-山东-89.) 家庭对于 ( ) 相当于细胞对于 ( )

- A. 社会；生物
- B. 住房；细胞核



C. 大龄、有研究生学历并购买新车的女性车主所交的保费低

D. 谨慎细致的车主要比奔放活泼的车主所交的保费低

(2017-山东-93.) 奇虾是一类已经灭绝的大型无脊椎海洋动物，是目前已知最庞大的寒武纪动物，化石表明这种动物口器有十几排牙齿，直径有 25 厘米，粪便化石长 10 厘米，粗 5 厘米，由此推测，奇虾体长可能超过 2 米。

以下哪项如果为真，最能支持上述推测？

A. 寒武纪时期，海洋虾类食物充足

B. 25 厘米直径的巨口奇虾可掠食当时的任何大型生物

C. 对于大型无脊椎动物而言，牙齿越多身体越长

D. 寒武纪时期的海洋虾类，其牙齿和体长有比较固定的构成比例

(2017-山东-94.) 在亚洲某国山区，二月份和三月份出生的新生儿体质普遍不如其他月份的新生儿好。当地医务所的工作人员经过调查后认为，导致这一现象的主要原因是冬季的食物比较匮乏，孕妇不能很好地补充营养从而导致了新生儿体质虚弱。

以下哪项如果为真，最能支持上述调查结论？

A. 该山区中少数能为孕妇提供足够营养的富有家庭在冬天依然生下体质虚弱的婴儿

B. 决定新生儿体质的时期是生产前半年的营养情况，而非当月的营养情况

C. 该山区的孕妇普遍患有一种冬季发作的疾病，这会使得她们体质下降进而影响婴儿的健康

D. 该山区为数不多的几种冬季食物中普遍缺乏某种微量元素，这恰是新生儿所急需的

(2017-山东-95.) 研究显示，黑、灰色汽车是盗贼的最爱，亮色汽车很少被问津，白色汽车失窃率最低。心理学家分析认为，偷车贼往往有“黑暗型人格”，选择和自己性格颜色相反的汽车倒卖，让他们感觉不踏实。相比新款或豪车而言，盗车贼偏好有着三年车龄左右的大众车型，这种车保值且好转手。

根据上文，最有可能推出的是：

A. 三年车龄的红色大众车型最易被盗

B. 暗色系汽车在二手车市场最为畅销

C. 崭新的白色豪华汽车不容易被盗

D. 最畅销的车型也是最易被盗的车型

(2017-山东-96.) 水力压裂是一项有广泛应用前景的油气井增产措施，这种方法利用地面高压泵，通过井筒向油层挤注具有较高黏度的压裂液，将油层压开并产生裂缝，使油层与井筒之间建立起一条新的流体通道。压裂之后，油气井的产量一般会大幅度增长。但这种技术会给环境带来极大的破坏。

补充以下哪项论据，可以得到以上结论？

A. 当注入压裂液的速度超过油层的吸收能力时，井底油层会形成很高的压力



- B. 为保证已压开的裂缝不至于闭合，需要注入顶替液进入裂缝，将其支撑起来
- C. 油气田的开发会影响附近居民的生活，居民用水的管道需要绕开井筒所在位置
- D. 向地表以下注入高强度的压裂液，可能会激活休眠地质断层，从而引发地震

(2017-山东-97.) 快乐是非常个人的，也是非常主观的，它与物质、环境相关，但是更主要的是取决于一个人的心态。他人的快乐，未必是自己的快乐；自己的快乐，也未必是他人的快乐；将自己的快乐告诉别人，未必能给他人带来快乐；别人将快乐告诉自己，也未必会给自己带来快乐。

根据以上陈述，能够得出以下哪项？

- A. 他人的快乐可能给自己带来快乐
- B. 自己的快乐可能是他人的快乐
- C. 他人的快乐可能不是自己的快乐
- D. 自己的快乐可能给他人带来快乐

(2017-山东-98.) 在下列 4×4 的正方形矩阵中，每个小方格可填入一个汉字，要求每行每列以及粗线框成的 4 个小正方形中均含有天、地、日、月 4 个汉字。

			月
	地	日	
		①	
天			

根据上述条件，方格 1 中应填入的汉字是：

- A. 地
- B. 天
- C. 月
- D. 日

(2017-山东-99.) 某项研究中，研究者追踪了该国 19 万名在 1974 年至 1994 年期间出生的人的医疗档案，他们在 2006 年至 2012 年期间做过智力测试。在做智力测试时，大约有 35% 的调查对象因感染而住院。研究人员发现，那些因感染而住院者的智商分数平均比一般人低 1.76 分，而那些因感染住了 5 次及以上医院的人，智商分数平均比一般人低 9.44 分。研究人员指出，人体感染会造成个体智商下降。

以下哪项如果为真，最能削弱以上结论？

- A. 大脑周围组织感染会影响大脑的智力水平
- B. 有证据表明，感染会影响痴呆病人的认知能力
- C. 智商是对心智能力的评价方式，存在着测量误差
- D. 患病使得患者情绪紧张，测试时注意力不集中

(2017-山东-100.) 学校工会举办“教工好声音”歌唱比赛，赛后参赛者们预测比赛结果。张老师说：“如果我能获奖，那么李老师也能获奖。”李老师说：“如果我能获奖，那么刘老师也能获奖。”刘老师说：“如果田老师没获奖，那么我也不能获奖。”比赛结果公布后发现，上述3位老师说的都对，并且上述四位老师中有三位获奖。

由此可以推出哪位老师**没有**获奖？

- A. 张老师
- B. 李老师
- C. 刘老师
- D. 田老师

※※※第四部分结束，请继续做第五部分！※※※

## 【【2016-山东-判断】】

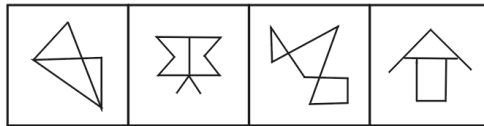
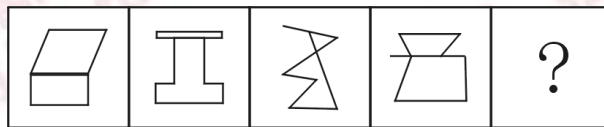
### 第四部分 判断推理

(共40题，参考时限35分钟)

一、图形推理。请按每道题的答题要求作答。

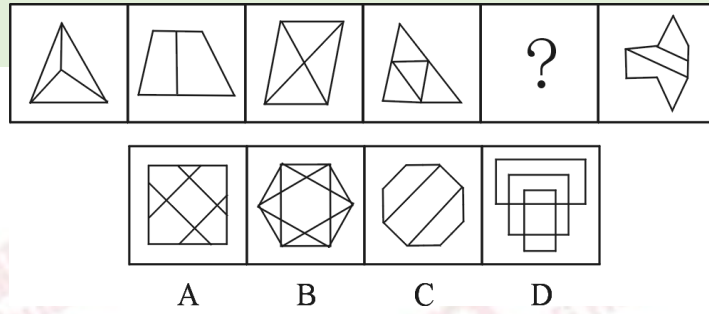
请开始答题：

(2016-山东-66.) 从所给四个选项中，选择最合适的一个填入问号处，使之呈现一定规律性：

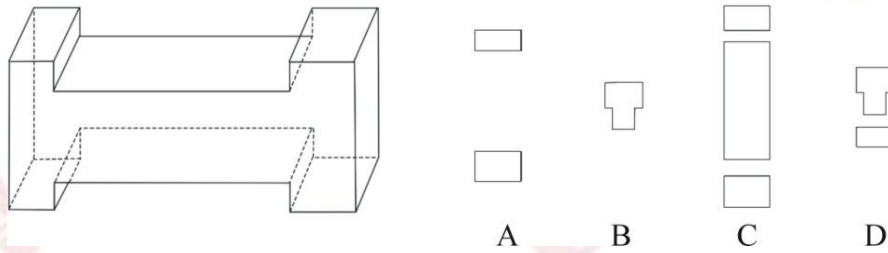


A      B      C      D

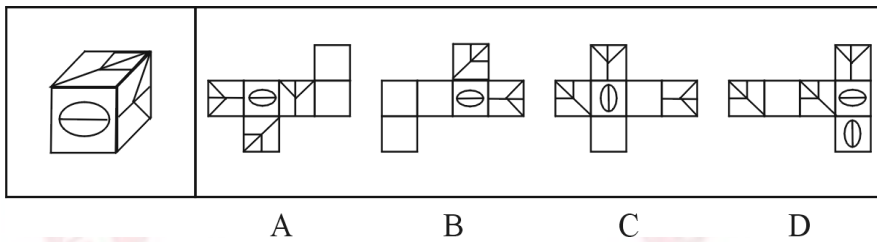
(2016-山东-67.) 从所给四个选项中，选择最合适的一个填入问号处，使之呈现一定规律性：



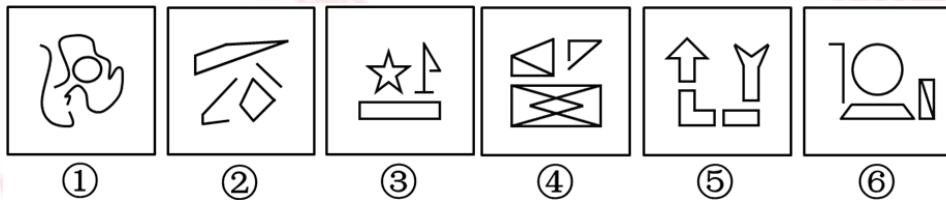
(2016-山东-68.) 下面的立体图形如果从任一面剖开, 以下哪一项**不可能**是该立体图形的截面?



(2016-山东-69.) 右边哪一项**不可能**是左边正方体纸盒的展开图?



(2016-山东-70.) 把下列的六个图形分为两类, 使每一类图形都有各自的共同特征或规律, 分类正确的一项是:



- A. ①②③, ④⑤⑥                      B. ①③⑤, ②④⑥  
C. ①③④, ②⑤⑥                      D. ①⑤⑥, ②③④

二、定义判断。每道题先给出定义, 然后列出四种情况, 要求你严格依据定义, 从中选出一个最符合或最不符合该定义的答案。注意: 假设这个定义是正确的, 不容置疑的。

请开始答题:

(2016-山东-71.) 群体规范包括正式规范和非正式规范, 前者是指由组织明文规定的员工应该遵循的规则和程序; 后者是指人们在工作与生活过程中约定俗成的行为准则, 该规范的形成受到历史的、习惯的、群体目的性的和社会因素的影响, 同时也在很大程度上受到模

仿、暗示、顺从等心理因素的制约，在群体成员彼此相互作用的条件下，发生的一种内化的过程。

根据上述定义，下列**不属于**非正式群体规范的是：

- A. 公司要求每位员工在刚入职时签署保密责任书
- B. 由于受到描写黑帮的电影影响，一些青少年往往容易进行简单的模仿，形成各种“帮”、“会”等组织
- C. 春节是一家人团聚的时刻，北方人常常在除夕夜包饺子，而南方人则是煮汤圆
- D. 在举手表决时，尽管有些人不赞成提案，但碍于情面，也会举手赞成

(2016-山东-72.)前控控制是指在计划实施之前，为了保证将来的实际成果能达到计划的要求，尽量减少偏离的控制。

根据上述定义，下列属于前控控制的是：

- A. 营销部主任在方案推广期间，不断作出调整，尽量避免误差
- B. 新药剂的配方尽管之前经过了多位专家考证，但药效还不如老配方
- C. 新游戏的图纸在投入编程之前，经过了几轮研讨以确保效果逼真
- D. 新产品上市后销量一般，工厂组织技术人员进行升级后再次推向市场

(2016-山东-73.)诉诸群众指的是为赢得众人同意一项主张时，不诉诸相关的事实和理由，而通过激起众人的情感和热情，以达到目的。不是服人以理，而是动人以情。这是宣传家、政客和广告商最常用的辩论方式。

根据上述定义，下列哪项属于诉诸群众？

- A. 某宣传家说：“在座的都要支持我的主张，因为我的主张是合理的！”
- B. 某政客说：“大家投我一票，选择我就是选择未来！”
- C. 某广告说：“好吃的包子叫龙凤，因为它采用了宫廷秘方。”
- D. 某刑事被告人说：“我是家里的顶梁柱，希望法官量刑时综合考虑。”

(2016-山东-74.)专利间接侵权是指，行为人的行为本身并不直接侵犯他人的专利，但却教唆、帮助或诱导他人实施专利侵权行为。

根据上述定义，下列哪项属于专利间接侵权？

- A. 王某通过个人关系购买了甲公司发动机设备，该设备已申请国家专利，之后经甲公司许可转售给乙公司
- B. 李某购买了一批已申请专利的用于浇筑系统的模具，在购买前他和生产该模具的公司签订了相关合同
- C. 宋某将某外文小说译成中文后，以第一作者的身份出版该小说，从中获利一百万元
- D. 甲公司遇到技术问题后委托乙公司解决，并暗示乙公司技术人员采用了丙公司的专利技术，但未告知丙公司

(2016-山东-75.)互助旅游是指有旅游意向的双方利用互联网等媒介中的人脉关系交换

旅游资源，相互提供帮助而实现旅游的方式，达到双方都能降低旅游成本、实现深入体验旅游的目的。

根据上述定义，下列涉及互助旅游的是：

- A. 小张在北京读书，利用暑假时间到同学所在的城市旅游，期间住在同学的宿舍
- B. 小王家住南京，准备到西藏旅游，邀请家住西安的网友同行，分摊支出，旅途中互相帮助
- C. 小刘住在北京，在桂林旅游期间住在网友家里，对方到北京旅游时，自己也向对方提供住宿
- D. 小赵住在上海，到海南旅行，食宿与行程均由朋友安排负责，小赵返沪后邀请朋友到上海玩

(2016-山东-76.) 替代性攻击，即遭受挫折后由于无法直接向挫折制造的源头表达愤怒或不满，而将怒气发泄到另外的“替罪羊”身上，“替罪羊”往往处于相对较弱的地位。

根据上述定义，下列**不属于**替代性攻击的是：

- A. 甲在工作中被老板责备，心情不满，回家后因为一件小事责骂妻子
- B. 乙上课时受到老师批评，心中憋闷，下课后在学校超市把货架上的方便面全部捏碎
- C. 丙和邻居发生冲突时被迫忍气吞声，后趁天黑将邻居家的汽车车胎扎漏
- D. 丁路过树下时被树上的鸟粪砸中，感到很生气，轰走了上来乞食的流浪猫

(2016-山东-77.) 价值的条件化过程是指个体的价值评价建立在他人评价的基础上，以他人的价值规范为标准，而非根据自身的满足感进行评价。

根据上述定义，下列**不属于**价值的条件化过程的是：

- A. 一个学生受到老师误解，虽然内心愤怒和委屈，但从小受教导应当尊重老师，认为即使受到误解，也不应该指责老师
- B. 一个男孩把玻璃杯摔在地上，他觉得很好玩，其父母因此不满并教育他不能随意摔东西，为让父母高兴，男孩学会不再摔东西
- C. 一个婴儿突然哭了，母亲听到后立刻给他换上干净清洁的纸尿裤，并给他喂奶，婴儿停止哭闹，不久后酣然入睡
- D. 一个身材适中的女孩，其男友认为她很胖，于是女孩开始每天通过节食的方式进行减肥，即使饿了也不多进食

(2016-山东-78.) 动物权利主义认为，动物就其本质上来说应该有行为自由，有在它们自己的生活圈中生活、居住的自由；有远离人类伤害、虐待和剥削的自由，也就是说动物有权利不受人伤害、虐待和剥削，享有和人类一样的权利。动物福利主义认为，人类可以利用动物，例如用于研究实验、食用、猎取，用于体验娱乐或其他用途，但在利用动物的过程中，人类应该人道地对待动物，防止并惩罚虐待动物的残酷行为。

根据上述定义，下列做法中符合动物权利主义思想的是：

A. 有些国家的法律禁止解剖动物，并禁止在马戏团进行驯兽表演

B. 1822年，英国国会通过了世界上第一部反对虐待动物的法律——《马丁法案》。这个法案禁止无故殴打、虐待任何驴、马、羊或其他牲口，除非牲口先攻击人

C. 大多数人看到一只弱小的毛驴被无辜地鞭打的时候，都会身不由己地同情毛驴

D. 某地爱狗人士将高速公路上运送食用狗的车辆拦截，反对食用狗肉，但他们并不反对食用猪、牛、家禽等动物

(2016-山东-79.) 商标平行进口是指在国际货物贸易中，某一特定产品的商标已获进口国知识产权法保护，并且商标权所有人已在该国自己或授权他人制造或销售其商标权产品的情况下，进口商未经商标权人包括商标所有人或商标独占被许可人许可，擅自从国外进口该商标产品到进口国销售的行为。

根据上述定义，下列**不属于**商标平行进口的是：

A. 商标权人甲在A国享有商标权，并仅授权乙在A国制造、销售该商标权产品，丙在B国仿造该商标权产品，并输入到A国

B. A国的商标权人甲授权B国代理商乙在B国独家制造、销售该商标权产品，丙从B国将该商标权产品输入到A国

C. 商标权人甲分别在A、B两国获得了同一商标注册，取得商标权，并且制造、销售产品，乙从A国将该商标产品输入到B国

D. 商标权人甲在A国享有商标权，甲授权B国的乙为独占被许可人，甲在C国不享有该商标权，丙从C国合法购买该商标产品并输入到A国

(2016-山东-80.) 精神防御机制是在人们遇到困难时所采取的回避困难、解除烦恼、保护心理安宁的方法。该机制包括几种方法：转移作用是指对某一对象的情感因某种原因（发生危险或不合社会习惯）无法向其他人直接表现时，而转移到其他较安全或较为大家所接受的对象身上。合理化作用是指个人遭受挫折或无法达到所追求的目标以及行为表现不符合社会规范时，给自己找一些有利的理由来解释。投射作用是指将自己所不喜欢或不能接受的性格、态度、意念，“投射”到别人身上或外部世界去，而断言别人是这样的现象。

根据定义，下列反映了上述三种防御机制之一的是：

A. 小琴的父母不喜欢体育运动，小琴被校羽毛球队选去当优秀苗子来培养，父母认为这样会耽误学习而坚决反对

B. 小风在住院期间长时间跟高护士接触，很感激高护士对自己的照顾，出院后他始终感念，对在护士学校上学的妹妹更加关心爱护

C. 小宁不喜欢数学，数学考试也常常不及格，他认为不是自己学不好，而是老师教得不好，无法引起他的兴趣

D. 小何在宾馆做前台接待，最近和家人发生了矛盾，心情很低落，在接待客户时常常心不在焉、丢三落四

三、类比推理。每道题先给出一组相关的词，要求你在备选答案中找出一组与之在逻辑关系上最为贴近、相似或匹配的词。

请开始答题：

(2016-山东-81.) 指甲：指甲钳

- A. 头发：发卡
- B. 铅笔：铅笔盒
- C. 手：手套
- D. 胡子：剃须刀

(2016-山东-82.) 哺乳动物：陆生动物

- A. 航天器：交通工具
- B. 有花植物：无花植物
- C. 星际物质：天狼星
- D. 北极熊：极地企鹅

(2016-山东-83.) 清洁能源：太阳能

- A. 女英雄：三八红旗手
- B. 风车：风能
- C. 可再生资源：植物
- D. 治疗仪：按摩器

(2016-山东-84.) 天下雨：地上湿

- A. 满 18 岁：有选举权
- B. 开花：结果
- C. 地上不湿：天没下雨
- D. 摩擦：生热

(2016-山东-85.) 研究生：硕士：博士

- A. 青少年：少年：青年
- B. 妇孺：儿童：妇女
- C. 建筑：平房：高楼
- D. 图形：直线：三角形

(2016-山东-86.) 行驶：违章：罚款

- A. 学习：成绩：奖励
- B. 栽培：减产：施肥
- C. 竞争：优势：成功
- D. 锻炼：受伤：医治

(2016-山东-87.) 监督：人大：媒体

- A. 教育：小学：中学
- B. 融资：借贷：赞助
- C. 增收：加薪：优惠
- D. 惩罚：死刑：徒刑

(2016-山东-88.) 春雨：杏花：江南

- A. 夏荷：烈日：江北
- B. 秋风：腊梅：华北
- C. 秋霜：枯草：塞外
- D. 冬雪：牡丹：边疆

(2016-山东-89.) 航空母舰对于 ( ) 相当于雷达对于 ( )

- A. 驱逐舰 天线
- B. 海洋天空
- C. 舰载机 显示屏
- D. 舰艇 电子设备

(2016-山东-90.) 理想对于 ( ) 相当于 ( ) 对于涂鸦

- A. 现实作品
- B. 梦想画家
- C. 白日梦画作
- D. 志愿涂改

四、逻辑判断。每道题给出一段陈述，这段陈述被假设是正确的，不容置疑的。要求你根据这段陈述，选择一个答案。注意：正确的答案应与所给的陈述相符合，不需要任何附加说明即可以从陈述中直接推出。

请开始答题：

(2016-山东-91.) 人类排放温室气体导致北极冰川开始消融，海平面扩大。冰川可以反射 85% 的太阳光，而海水只反射 5% 的太阳光，越来越多的海水吸收更多能量，进一步加速冰川消融。

以下哪一项中的因果关系与题干最为相同？

- A. 商场为某名牌香水做推广和宣传，顾客购买几次后发现该香水香氛淡雅，持久清新，成为了该品牌香水的忠实顾客
- B. 英语考试在即，王强不得不每天早起诵读英语，早上空气清新，精神抖擞，英语考试结束后，王强依然坚持早起
- C. 张楠在爸爸的引荐下，认识了一些证券交易的客户，这个圈子的客户发展是滚雪球式的，张楠认识的客户也越来越多
- D. 使用新方法后，刘丹的平面几何成绩迅速提高，由于平面几何很多原理可用在立体几何中，刘丹的立体几何成绩也很快提高

(2016-山东-92.) 某研究所人员结构状况如下：所有女性都拥有博士学位，有的男博士有高级职称，但所里也存在既没有博士学位也没有高级职称的人员。

根据以上陈述，可以推出以下哪项？

- A. 有的男性没有高级职称
- B. 有的女性有高级职称
- C. 所有男性都拥有高级职称
- D. 有的女性没有高级职称

(2016-山东-93.) 在摩天大楼里工作的人大多数都是白领阶层，英语水平四级以上是成为外企白领的必要条件，外企中只有白领阶层的办公地点设在摩天大楼里。

根据上述陈述，以下哪项是不正确的？

- A. 在摩天大楼里的白领不一定是在外企工作
- B. 外企中英语水平四级以上的未必是白领
- C. 英语水平四级以上的白领可能不在摩天大楼里工作
- D. 外企中英语水平四级以下者可能在摩天大楼里工作

(2016-山东-94.) 随着气候变化，肥料和供水导致了极大的能源和环境成本，如何让作物更好地吸收营养和水就显得极其重要。因此不少人认为只要增加植物根毛的长度，就可以更有效地吸收水和养分，从而提高作物产量。



下列哪项如果为真，最能**削弱**上述结论？

- A. 实践证明，合理控制光照时间，并保证同一块田地间隔播种作物能极大地提高产量
- B. 根毛的寿命很短，仅能存活 2~3 周便自行脱落，由于更新很快，植物的根部总能保持一个数量相对稳定的根毛区
- C. 如果植株过于密集而养料不足，即使增加了根毛长度，也无法保证植物的营养供应
- D. 根毛的长度和植物生长激素密切相关，当植物生长激素分泌过旺时，根毛也变长；当生长激素分泌减少时，根毛也逐渐萎缩

(2016-山东-95.) 有研究发现，那些每天坐着看电视和工作总计达 10 小时的女性，与每天通常坐 8 小时的女性相比，患结肠癌的风险增加 8%，患子宫癌的风险增加 10%，而且无论研究对象在不坐时有多活跃，都不会影响这个结果。

由此可以推出：

- A. 缺乏运动可能是某些癌症的首要病因
- B. 久坐可能对女性健康造成不良的影响
- C. 工作之余的体育锻炼可以强身健体
- D. 上班族职业女性的身体健康状况堪忧

(2016-山东-96.) 大脑受到有毒化学物质伤害会产生功能受损，进而导致帕金森症。研究显示，体内细胞色素 P450 水平低的人患帕金森症的可能性是体内 P450 水平正常的人的三倍。因而可以认为，P450 可以保护大脑免受有毒化学物质的损伤，进而预防帕金森症。

以下陈述如果为真，哪项最能**质疑**上述结论？

- A. 有毒化学物质损伤大脑功能的同时也抑制人体产生 P450
- B. 帕金森症患者除 P450 外的其他细胞色素水平也是显著低于常人
- C. 人工合成 P450 可以用于治疗帕金森症患者
- D. 某些非细胞色素物质可有效对抗有害化学物质来预防帕金森症

(2016-山东-97.) 众所周知，每个人的指纹都是不同的，指纹才是每个人独一无二的身份证，因此指纹常常用在案件侦破中。然而科学家的最新研究发现，随着机体老化，指纹的纹路排列会发生不可逆转的变化，因此科学家得出结论：指纹不应该再用于案件侦破中。

以下哪项如果为真，最能**质疑**上述结论？

- A. 指纹是目前案件侦破的最关键证据，许多重案犯是依靠指纹才被抓捕归案的
- B. 除了指纹，每个人的 DNA 也是独一无二的且不会随着时间变化而发生变化
- C. 除了纹路排列，指纹的其他几项指标也是指纹识别技术的重要依据
- D. 指纹纹路排列发生变化有规律可循，这一规律是普遍适用的

(2016-山东-98.) 骨质疏松是一种骨钙质减少，骨脆性增加，易发骨折的疾病。现有的治疗手段比如使用雌激素或者降钙素有助于阻止进一步的骨质减少但不能增加骨头质量。氟化物被认为能增加骨质，给骨质疏松症患者注入氟化物会帮助他们的骨骼不容易折断。

以下哪项如果为真，能够削弱文中观点？

- A. 大多数患骨质疏松症的人没有意识到注入氟化物能够增加骨质
- B. 牙膏中常加入氟化物来起到坚固牙齿的作用
- C. 氟化物注入健康人的体内会导致较强的副作用
- D. 通过注入氟化物增加的骨质比正常的骨骼组织更加脆弱而缺少弹性

(2016-山东-99.) 澳大利亚研究人员称，桉树在吸收水分的同时，会将水中微量的金元素吸收进树体。通过分析桉树落叶中金的含量，可指示金矿的位置，不用钻探就能了解地表以下是否有矿藏。因此桉树探矿法对矿产勘探具有重要意义。

以下哪项如果为真，最能削弱上述结论？

- A. 金矿一般都埋藏于砂石层之下，普通土壤层在砂石层上面，植物的根生长在土壤层
- B. 澳洲西南部的的新南威尔士州富含金矿，当地的桉树叶中含金量与其他地区并无显著差异

- C. 桉树探矿法的实施周期较长，需要等待桉树成材之后才能有效
- D. 澳洲西南部有大片的桉树林，澳洲最早发现的金矿也在那里

(2016-山东-100.) 过去人们基于对月岩原子放射性衰变的测量认为，月球诞生在太阳系形成之后约 3000 万到 4000 万年之间。一项新的研究基于 259 台电脑对围绕太阳旋转的原行星盘演化过程的模拟，再现了小型天体在最终形成现有岩态行星之前不断撞击和聚合的过程。该研究人员认为，大约在太阳系诞生之后约 9500 万年，一颗巨大的小行星撞击地球，形成的碎片最后变成了月球。

以下哪项最能指出前后两种观点的分歧？

- A. 关于月球形成时间，有两种不同的估算方法，一种基于放射性衰变测量，一种是计算机模拟

- B. 关于月球形成过程，有两种不同的理论假说，一种基于月岩自然衰变，一种是原行星盘自然演化

- C. 关于月球形成方式，有两种不同的模型解释，一种基于月球组成成分的测量，一种是小行星撞击

- D. 关于月球与地球的演化，有两种不同的还原方法，一种基于月球现有成分的测量，一种是计算机模拟

※※※第四部分结束，请继续做第五部分！※※※

【【2015-山东-判断】】

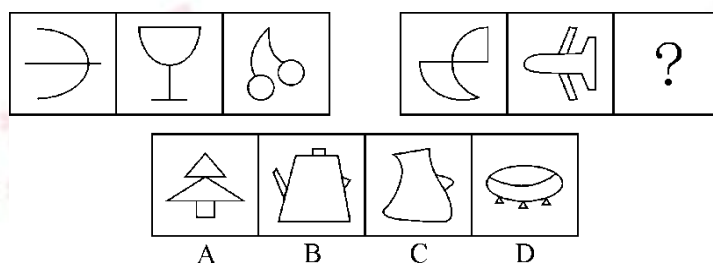
## 第四部分判断推理

(共 35 题, 参考时限 40 分钟)

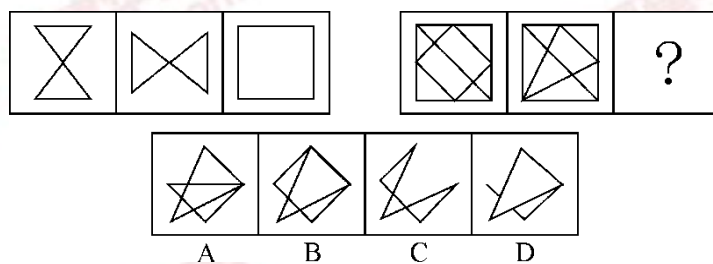
一、图形推理。请按每道题的答题要求作答。

请开始答题:

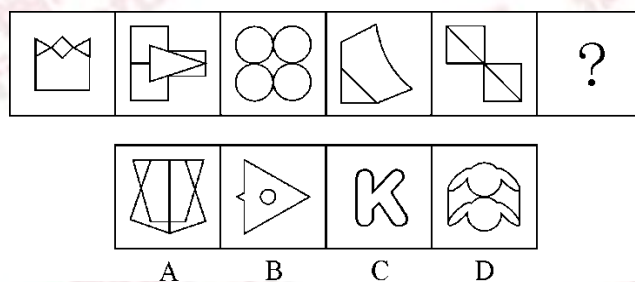
(2015-山东-66.) 从所给四个选项中, 选择最合适的一个填入问号处, 使之呈现一定规律性:



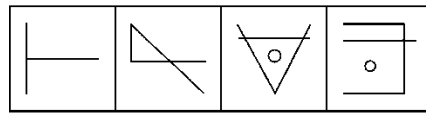

(2015-山东-67.) 从所给四个选项中, 选择最合适的一个填入问号处, 使之呈现一定规律性:



(2015-山东-68.) 从所给四个选项中, 选择最合适的一个填入问号处, 使之呈现一定规律性:

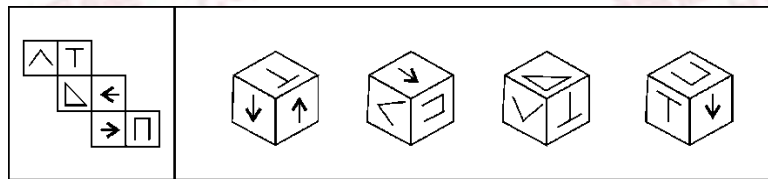


(2015-山东-69.) 从所给四个选项中, 选择最合适的一个填入问号处, 使之呈现一定规律性:



A B C D

(2015-山东-70.) 左边给定的是纸盒的外表面, 下列哪项能由它折叠而成?



A B C D

二、定义判断。每道题先给出定义, 然后列出四种情况, 要求你严格依据定义, 从中选出一个最符合或最不符合该定义的答案。注意: 假设这个定义是正确的, 不容置疑的。

请开始答题:

(2015-山东-71.) 行动公众指的是不仅意识到组织行为引起的共同问题的存在, 而且准备或已经采取某种解决问题的行动的公众。

根据上述定义, 以下哪项涉及行动公众?

- A. 某化工厂污染严重, 小李带领附近居民对此进行了抗议
- B. 某小区居民领取了某公司免费发放的化妆品
- C. 某班学生从广告中得知某文具公司推出了新型文具
- D. 多名消费者到厂家了解有关产品的生产情况

(2015-山东-72.) 非语言沟通是相对于语言沟通而言的, 是指通过身体动作、体态、语气语调、空间距离等方式交流信, 进行沟通的过程。在沟通中, 信息的内容部分往往通过语言来表达, 而非语言则作为提供解释内容的框架, 来表达信息的相关部分。

根据上述定义, 下列**不属于**非语言沟通的是:

- A. 交警向驶入路口的车辆打出通行的手势
- B. 接受采访时, 小丽有意降低语速, 显得很自信
- C. 废墟下传来了求救者断断续续的敲击声
- D. 谈判陷入僵局, 双方代表都身体后靠, 拉开距离

(2015-山东-73.) 手表定律是指一个人有一只表时，可以知道现在是几点钟，而当他同时拥有两只显示时间不一致的表时却无法确定。两只表并不能告诉一个人更准确的时间，反而会使看表的人失去准确判断时间的信心。

根据上述定义，以下选项中所述内容**不属于**手表定律的是：

- A. 在两个显示不同路线的导航系统的指挥下，驾驶员会感到非常慌张
- B. 对于一个任务，目标应尽量明确，评价体系应尽量单一具体
- C. 一个人走入超市，想买些什么，但是又不是很确定，最后什么也没有买
- D. 一个人如果同时选择两种不同的价值观，他的行为很可能会陷于混乱

(2015-山东-74.) 思想库是指从事于力图影响公共政策的多学科研究的独立组织。

根据上述定义，以下属于思想库的是：

- A. M 研究所是 N 企业下属的一家研究机构，专门从事 N 企业战略发展方面的相关研究
- B. J 省语言研究所在方言研究方面独树一帜，产生不少科研成果，也获得不少科研奖项
- C. D 研究院是一家民间机构，专门从事气候政策方面的研究。旨在为国家气候政策制定与完善提供咨询报告
- D. 刘师爷是晚清绍兴师爷之一，任过几位清廷大员的幕僚，是当时有名的“智囊”人物

(2015-山东-75.) 逻辑学家伯特兰·罗素有个你我他定理：我坚守原则，你不知变通，他冥顽不灵；我三思而行，你迟疑不决，他反应迟钝；我节俭，你小气，他嗜钱如命；我正在沉思，你在发呆，他整天浑浑噩噩。

根据上述定义，下列符合你我他定理的是：

- A. 我是活雷锋，你是好公仆，他是小官僚
- B. 我好学上进，你不学无术，他不耻下问
- C. 我光明磊落，你宅心仁厚，他故作聪明
- D. 我无所畏惧，你趾高气扬，他盛气凌人

(2015-山东-76.) 把一个漂亮的鸟笼挂在房间最显眼的地方，过不了几天，主人必定会做出下面两个选择之一：把鸟笼扔掉，或者买一只鸟回来放在鸟笼里，因为这比无休止地向别人解释和说明挂一个空鸟笼要轻松得多，这就是鸟笼逻辑。并不一定每一个鸟笼里都应该装进一只鸟，但可惜的是人们总是受制于惯性思维，不知变通，难以突破常规，逃不出这个逻辑的局限。

根据上述定义，下列**没有**反映鸟笼逻辑的是：

- A. 大多数年轻人都认为结婚要先置办新房
- B. 大学毕业生一般都选择先就业再择业，待职业发展成熟后再考虑创业
- C. 楚国人想要偷袭宋国，派人先在河里做标记，晚上河水突然上涨，楚国人依然沿着原来的标记渡水，结果淹死了不少兵士

D. 乌鸦为了喝到瓶子里的水，把衔到的小石子放到瓶子里，使没装满水的瓶子里的水位得到上升，最终它喝到了水

(2015-山东-77.) 必要条件指的是两个句子之间的一种关系，如果由甲句子为假，可得出乙句子为假，那么就说明甲句子是乙句子的必要条件。

根据上述定义，以下哪项中的前一个句子是后一个句子的必要条件？

- A. 首饰柜台的营业员不是大学生，就是漂亮的女孩；首饰柜台的营业员是漂亮女孩
- B. 南京景色优美，气候宜人；南京气候宜人
- C. 观象台的仪器既有清代的，也有宋元的；观象台的仪器都是唐代的
- D. 大学教师王菲菲既是博士，又有留学海外的经历；王菲菲可以被评聘为副教授

(2015-山东-78.) 市场区隔是指不断地与某一群特定消费者进行对话，了解其特定需求，通过新产品或新服务或新的沟通形式，使消费者从认识到使用产品或服务并回馈相关信息，其作用在于巩固旧市场或发现新市场。

下列哪项最符合上述定义？

- A. 公司员工条款规定凡内部工作人员购买本公司最新款产品，一律打 8 折
- B. 某大型外贸市场按照食品、服装、日用百货分成三大块消费区域
- C. 某时装品牌位于购物中心最显眼的位置，成为许多顾客驻足的第一站
- D. 某一线运动品牌不定时进行市场调研，更新产品，受到越来越多年轻人追捧

(2015-山东-79.) “第一时间”译自英语的“primetime”，它有两个意思，本义指“电台、电视台等受众最多的时间段”，相当于汉语的“黄金时间”；另一个引申义，指“最佳时间或最快并及时的时间”。

下列各项中“第一时间”的用法与上述定义**不符合**的是：

- A. 学生们第一时间学会了基本的网络语
- B. 媒体通过网络第一时间报道会议进程
- C. 事件发生时，记者积极捕捉第一时间的独家新闻
- D. 危急时刻，政府主要负责人要第一时间到达现场

(2015-山东-80.) 大气污染物分为一次污染物和二次污染物。从污染源排放到大气后，直接污染空气称一次污染物，主要有二氧化硫、一氧化碳、氮氧化物、二氧化氮、颗粒物（飘尘、降尘、油烟等），氮气及含氧、氮、氯、硫有机化合物以及放射性物质等。二次污染物是由于阳光照射污染物、排入环境中的一次污染物在物理、化学因素或生物的作用下发生变化，或与环境中的其他物质发生反应所形成的物理、化学性状与一次污染物不同的新污染物。

根据上述定义，下列**没有**提及二次污染物的是：

A. 火山爆发喷出的二氧化硫与大气中的氧结合会形成硫酸雾或硫酸盐气溶胶，引起环境酸化，后者还会通过直接或间接辐射强迫作用影响气候变化

B. 颗粒物是漂浮在大气中的固体和液体微粒，颗粒物能散射和吸收阳光，使可见

度降低，影响交通，增加汽车与航空事故

C. 工业生产排放出的氮氧化物和乙醛会发生光化学反应生成过氧乙酰硝酸酯，该物质强烈刺激眼睛，会引起呼吸困难、心功能障碍和肺功能衰竭等一系列症状

D. 汽车发动机排放的污染物中的氮氧化物和碳氢化合物，经阳光照射，在大气中形成光化学烟雾，对人类呼吸系统产生极大危害

三、类比推理。每道题先给出一组相关的词，要求你在备选答案中找出一组与之在逻辑关系上最为贴近、相似或匹配的词。

请开始答题：

(2015-山东-81.) 颁奖：领奖

- |          |          |
|----------|----------|
| A. 受虐：施虐 | B. 成功：失败 |
| C. 盈利：亏损 | D. 行贿：受贿 |

(2015-山东-82.) 耳朵：赫兹

- |          |          |
|----------|----------|
| A. 皮肤：温度 | B. 鼻子：气味 |
| C. 舌头：味蕾 | D. 眼睛：波长 |

(2015-山东-83.) 密码锁：保密

- |           |           |
|-----------|-----------|
| A. 打卡器：考勤 | B. 防火墙：黑客 |
| C. 监视器：摄像 | D. 微博：手机  |

(2015-山东-84.) 潮：涨：落

- |          |          |
|----------|----------|
| A. 花：蕊：瓣 | B. 草：荣：枯 |
| C. 心：悲：喜 | D. 水：沸：冰 |

(2015-山东-85.) 运动：热量：瘦身

- |             |             |
|-------------|-------------|
| A. 压力：倾诉：释放 | B. 按摩：疼痛：骨骼 |
| C. 打磨：瑕疵：平滑 | D. 检查：纠正：合格 |

(2015-山东-86.) 律师：厨师：职业

- |               |             |
|---------------|-------------|
| A. 大学生：中学生：学校 | B. 博士：硕士：学位 |
| C. 作者：记者：学者   | D. 飞机：飞船：飞行 |

(2015-山东-87.) 实验员：试管：器具

- |                |               |
|----------------|---------------|
| A. 司机：公交车：交通工具 | B. 农民：水稻：作物   |
| C. 职员：电脑：科技    | D. 雕塑家：雕塑：艺术品 |

(2015-山东-88.) 潮汐：月球引力：太阳引力

- |                 |                |
|-----------------|----------------|
| A. 地震：海啸：火山喷发   | B. 车祸：违章驾驶：醉驾  |
| C. 污染：人为活动：尾气排放 | D. 泥石流：暴雨：乱砍乱伐 |

(2015-山东-89.) 歼击机对于 ( ) 相当于 ( ) 对于通信

- A. 军事; 卫星
- B. 空战; 手机
- C. 客机; 探测
- D. 雷达; 网络

(2015-山东-90.) 版权对于 ( ) 相当于 ( ) 对于军衔

- A. 作品; 军人
- B. 权利; 上将
- C. 著作权; 级别
- D. 智力; 战争

四、逻辑判断。每道题给出一段陈述，这段陈述被假设是正确的，不容置疑的。要求你根据这段陈述，选择一个答案。注意：正确的答案应与所给的陈述相符合，不需要任何附加说明即可以从陈述中直接推出。

请开始答题：

(2015-山东-91.) 对于权力，有人这样主张：有实权干大事，有虚权干实事，没权了干好事。

以下哪项最不可能从上述主张中推出？

- A. 没有权，不干好事
- B. 没有虚权，不干实事
- C. 有权了，干好事
- D. 没有实权，不干大事

(2015-山东-92.) 某单位员工除了基本工资之外，其收入很大一部分来源于绩效工资。在今年4月份，该单位第一项目组所有员工的绩效工资均高于第二组员工的最高绩效工资，但是该单位本月绩效工资最高的员工并不在第一项目组。

由此可以推出：

- A. 该单位领导的绩效工资最高
- B. 该单位其他项目组有些员工的绩效工资没有第一、第二项目组平均的高
- C. 该单位有些员工既不属于第一项目组也不属于第二项目组
- D. 第二项目组的平均绩效工资低于单位的平均绩效工资

(2015-山东-93.) 研究人员设计了这样一个实验。他们从实验鼠体内收集了神经细胞并且将它们植入到家鼠大脑内。实验鼠的寿命大约只有18个月。而家鼠的寿命是它们的两倍。研究人员发现，当家鼠死亡的时候，从实验鼠植入的神经细胞仍然存活。

以下哪项可以作为上述实验的结论？

- A. 实验鼠的神经细胞比它们所属的生物体的寿命更长
- B. 家鼠的神经细胞寿命长于实验鼠的神经细胞寿命
- C. 实验鼠的神经细胞寿命长于家鼠的神经细胞寿命



D. 神经细胞可以通过移植而得到无限期的存活

(2015-山东-94.) 感冒是自限性疾病，一、两周之后会自愈。如果忍受得了，完全没有必要吃那些缓解症状的感冒药，注意多喝水和休息即可。忍受不了，可吃点缓解症状的感冒药也行，但普通感冒药并不真正治疗感冒。

以下哪项如果为真，能够**削弱**上述观点？

- A. 吃药缓解症状可加速感冒的治愈
- B. 感冒会自愈，吃药的作用在于缓解症状
- C. 多喝水多休息有利于感冒的自愈
- D. 感冒药可缓解咳嗽、流鼻涕等症状

(2015-山东-95.) 小王、小张、小赵、小刘四人讨论进入比赛四强的甲、乙、丙、丁四个队伍哪个将获得冠军。

小王：“乙是冠军。”

小张：“冠军是丁或丙。”

小赵：“冠军是甲或丁。”

小刘：“甲和丙不是冠军。”

结果出来后，只有两个人的推断是正确的，冠军是：

- A. 甲
- B. 乙
- C. 丙
- D. 丁

(2015-山东-96.) 通常情况下，人体内的瘦素和胰岛素能帮人管住嘴巴，一旦吃饱就会发出信号传至大脑，告知人们停止进食。而垃圾食品中含有过量的饱和脂肪，饱和脂肪分子会屏蔽这些停止进食的信息。

由此可以推出：

- A. 整体均衡饮食，保持营养全面是维护健康的最关键因素
- B. 垃圾食品不仅会导致肥胖，还会诱发其他疾病
- C. 垃圾食品中含有的饱和脂肪大大超过其他食品
- D. 吃饱的信号传至大脑可避免饮食过度

(2015-山东-97.) 所有来自中国的留学生，都住在校园内；所有住在校园内的学生，都必须参加运动会；有些中国留学生加入了学生会；有些心理学专业的学生也加入了学生会；所有心理学专业的学生都没有参加运动会。

由此**不能**推出以下哪项结论？

- A. 所有中国留学生都参加了运动会
- B. 没有一个心理学专业的学生住在校园内

C. 有些中国留学生是学心理学专业的

D. 有些学生会成员没有参加运动会

(2015-山东-98.) 考古学家对安第斯地区出土的 900 年到 2800 年前的人类骨骼进行了研究。从中提取出的某些化学同位素成分,反映出那里的人当时多以玉米为食。“玉米文化”带动了安第斯地区的人口增长,当时爆发的几次大规模战争也与争夺稀缺的适种玉米的土壤有关,战争导致了社会体系不断变革和发展。因此他们得出结论“农业推动了古代安第斯社会的发展”。

以下哪项如果为真,最能**质疑**上述结论?

A. 安第斯地区的印加文明早在 2800 年前就经历了几次较大的社会变革

B. 安第斯地区 3600 年前的人类以沿海捕鱼为主,直到 2800 年左右才逐渐向内陆迁徙

C. 从人类骨骼中提取的另一些化学同位素反映了人们当时也食用马铃薯和豆类

D. 安第斯地区的社会体系拥有中央政府和地方政府,后又衍生出多种社会形态

(2015-山东-99.) 谷子大约在 5000 万年前开始从水稻中分化出来,分化之后的基因组结构仍存在明显的共线性。研究人员发现谷子的 2 号和 9 号染色体分别由水稻的 7 号和 9 号,3 号和 10 号染色体融合而成。同时,他们发现这两次融合事件也发生在高粱的染色体中,由此,研究人员推测这两次染色体融合事件应该发生在高粱从谷子中分化出来之前。

上述推理需要以下哪项作为前提?

A. 高粱从谷子中分化出来发生在谷子从水稻中分化出来之后

B. 高粱与谷子之间的共线性小于高粱和水稻之间的共线性

C. 3 号和 10 号染色体融合之后不大可能再分离开来

D. 谷子由水稻分化出来之后又发生一次染色体融合事件

(2015-山东-100.) 很多医学专家提出过量饮用咖啡对健康有害。为验证过量饮用咖啡对心脏的影响,研究人员选取了两组被试者。第一组被试者每天饮用 5 杯或 5 杯以上咖啡,第二组被试者从不饮用咖啡。一段时间后发现,第一组被试者中患心脏病的比例明显高于第二组被试者。因此,研究人员得出结论,过量饮用咖啡会增加患心脏病的风险。

以下哪项如果为真,最能**质疑**上述论证?

A. 研究发现,每日饮用 2 杯咖啡的人心脏功能未受影响

B. 在研究期间,第一组被试者每日的运动量大大小于第二组被试者

C. 除影响心脏功能外,咖啡中所含的咖啡因还易引发焦虑症

D. 第一组被试者中部分人每日饮用 10 杯咖啡

※※※第四部分结束,请继续做第五部分!※※※

【【2014-山东-判断】】

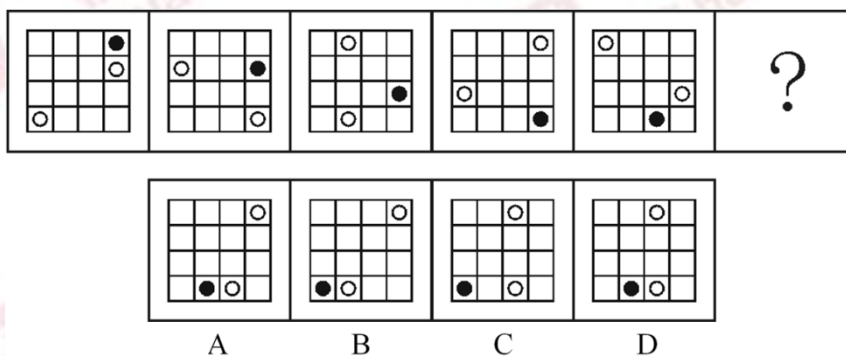
第四部分 判断推理

(共 35 题, 参考时限 4 分钟)

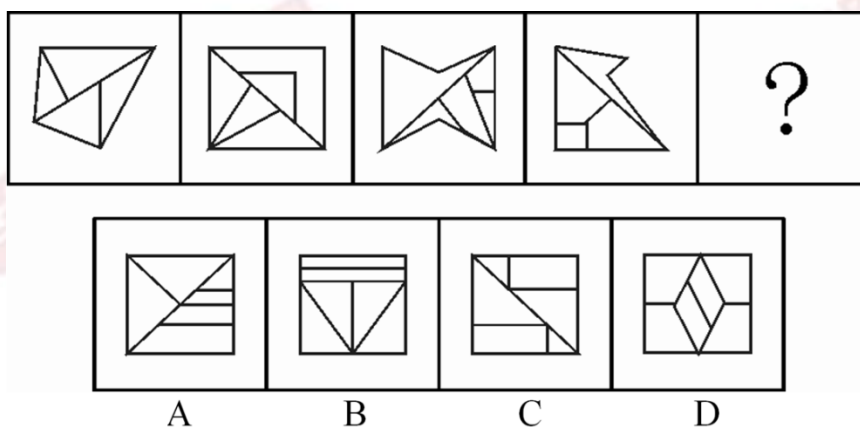
一、图形推理。请按每道题的答题要求作答。

请开始答题:

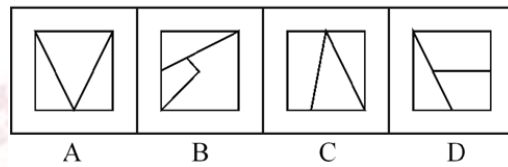

(2014-山东-66.) 从所给四个选项中, 选择最合适的一个填入问号处, 使之呈现一定规律性:



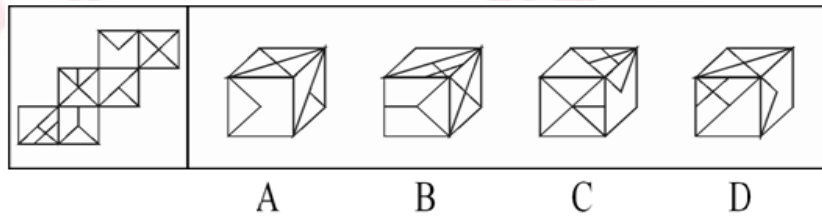
(2014-山东-67.) 从所给四个选项中, 选择最合适的一个填入问号处, 使之呈现一定规律性:



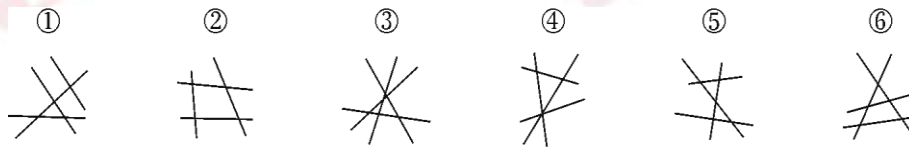
(2014-山东-68.) 从所给四个选项中, 选择最合适的一个填入问号处, 使之呈现一定规律性:



(2014-山东-69.) 左边给定的是纸盒的外表面, 下列哪一项能由它折叠而成?



(2014-山东-70.) 把下面的六个图形分为两类, 使每一类图形都有各自的共同特征或规律, 分类正确的一项是:



- A. ①③④, ②⑤⑥      B. ①②④, ③⑤⑥  
C. ①④⑤, ②③⑥      D. ①⑤⑥, ②③④

二、定义判断。每道题先给出定义, 然后列出四种情况, 要求你严格依据定义, 从中选出一个最符合或最不符合该定义的答案。注意: 假设这个定义是正确的, 不容置疑的。

请开始答题:

(2014-山东-71.) 游说是指个人或组织有目的地利用语言、文字或其他传播媒介对特定信息进行讲解、说明, 以鼓励自己的受众按照自己的意图行事的一种劝服性传播。

根据上述定义, 下列属于游说的是:

- A. 宣传栏中展示了定期少量献血并不会给身体带来危害, 反而有利健康的资料  
B. 张教授以图文并茂的方式介绍了自己的研究, 学生们都觉得受益匪浅  
C. 社区开展了一系列“防害灭害”活动, 给每家每户都发放了蟑螂药

D. 妈妈答应了小明，如果他今天中午能多吃一碗饭，周末就带他去公园

(2014-山东-72.) 微博营销是指以微博为营销平台，每个关注者都是潜在营销对象，企业利用更新微博向网友传播企业、产品信息，树立良好企业形象和产品形象。微博营销的特点是立体化、高速度、便捷性和广泛性。

根据以上定义，下列属于微博营销的是：

A. 小张自从去年开始关注某服装网店微博后，经常会收到其他服装网店的“求关注”信息

B. 某知名英语培训机构官方微博，除了发布机构的课程信息外，还定期发布商务英语单词和句式，供大家学习

C. 小王在某门户网站注册了免费邮箱，注册时注明愿意接收该网站发布的关于娱乐、体育方面的资讯，之后该邮箱经常收到该网站发送的邮件

D. 小李崇拜某歌星，关注该歌星微博，随时了解自己偶像的动向和心情，并自己组建一个该歌星的粉丝群

(2014-山东-73.) 集合概念是以事物的集合体为反映对象的概念。集合体是由许多个体组成的统一整体，集合体所具有的属性，只为该集合体所具有，而不必为这个集合体中的某一个体所具有。集合概念所涉及的关系不同于类和分子的关系，也不完全同于整体和部分的关系。组成类的各个分子都必然具有类的属性，而组成集合体的个体却不具有集合体的属性；整体是由不同的部分组成的，而集合体则是由同类的个体组成的。

根据上述定义，下列画线语词在当前语境下所反映的概念**不是**集合概念的是：

A. 人定胜天

B. 主权在民

C. 羊入虎口

D. 正义之师

(2014-山东-74.) 转移是一个机构单位向另一个机构单位或个人提供货物、服务或资产，而同时并没有从后一个机构单位获得任何货物、服务或资产作为回报的一种交易。简言之，转移支付单位并没有得到可具体量化的利益作为回报。在国民经济核算体系中，居民的经济转移性收入包括社会补助收入和其他经济转移性收入。社会补助收入包括单位补助收入和政府补助收入及社会救济收入。

根据上述定义，下列**不属于**居民的经济转移性收入的是：

A. 企业给职工发放的独生子女费

B. 国家发放的残疾、下岗职工补助

C. 国家为调动农民种粮积极性和增加农民收入，按一定的补贴标准和粮食实际种植面积，对农户直接给予的补贴

D. 企业职工每月获得的工资

(2014-山东-75.) 紧随某个行为之后所发生的事件(行为之结果), 使得该行为再次出现的可能性增加, 行为受其结果的影响不断增加的现象, 称之为强化。

根据上述定义, 下列**不属于**强化的是:

- A. 三岁的小明见到客人后主动跟客人打招呼, 妈妈表扬了他, 小明以后每次见到客人都会主动打招呼
- B. 小王参加聚会时对朋友的敬酒来者不拒, 第二天由于宿醉上班迟到, 后来, 小王参加聚会都会适当拒绝朋友的敬酒
- C. 妈妈不给小红买冰淇淋, 小红就在街上哭闹, 妈妈无奈只好给她买冰淇淋吃, 以后每次妈妈不答应小红的请求, 小红都会哭闹
- D. 小丽有一次骑自行车去公司上班, 发现比乘公交车用时更短, 以后每天都骑自行车上班

(2014-山东-76.) 命题可以分为四种: ①伪命题, 指的是无真假可言的命题; ②永真命题, 指的是不论在何种情况下都不可能假的命题; ③永假命题, 指的是不论在何种情况下都不可能真的命题; ④可满足命题, 指的是在有些情况下为真在有些情况下为假的命题。

根据上述定义, 下列属于永真命题的是:

- A. 存在即合理
- B. 思想或者是可捉摸的, 或者是不可捉摸的
- C. 人既能在不同时间跨进同一条河流, 又不能在相同时间跨进同一条河流
- D. 地球是一直围绕太阳旋转的

(2014-山东-77.) 相邻效应指的是个体或者组织的付出和其应该获得的利益之间存在不一致, 但由此形成的费用差别和收益差别在社会上却没有相应的弥补来源。

根据上述定义, 下列**不涉及**相邻效应的是:

- A. 某厂商训练的熟练工跳槽到其他厂家工作
- B. 工厂的生产活动中产生的允许范围内的噪音对周边居民的生活有影响
- C. 甲厂生产的品牌电脑非常畅销, 乙厂也盗用该品牌进行销售
- D. 邻居甲家养护良好的草坪花木常常使得习惯早起的乙神清气爽

(2014-山东-78.) 恐慌是指面临迫近的危险时人们为获得安全而进行的逃逸。恐慌通常出现在这样的情况下: 虽然有逃离的路径, 但数量有限或是即将消失, 因此看起来只有一些、而不是所有的人能够逃离。

根据上述定义, 下列**不属于**恐慌的是:

- A. 剧院演出正进入高潮时, 突然发生火灾, 人们不顾一切地冲向出口以致相互踩踏
- B. 当股票持有人目睹股票的资产价值在不断减少时, 担心股票价格跌破发行价导致损失, 便立即抛售股票
- C. 当一篇描述外星人袭击某市的小说在该市被当作真实新闻播出后, 该市的许多人迅速逃离
- D. 当一个人乘坐电梯下楼时, 电梯即将停在低楼层, 他紧张的捂住了眼睛, 生怕自己看见了可怕的情景

速驾车逃离，而另一些人则把自己锁在家里，听天由命

D. 小王经历过地震，目睹过地震造成的种种惨烈现象，因而每当周围稍有响动，他都会迅速跑出房屋，寻找安全地带

(2014-山东-79.) 直接证据是指能够直接证明刑事案件主要事实的证据，间接证据是指不能单独地直接证明刑事案件主要事实，需要与其他证据相结合才能证明的证据。所谓刑事案件的主要事实，是指犯罪行为是否系犯罪嫌疑人、被告人所实施。

根据上述定义，下列属于直接证据的是：

- A. 小区监控拍摄下的犯罪嫌疑人李某盗窃车辆的视频
- B. 被害人的邻居王某提供的犯罪嫌疑人在案发前到过案发现场的证言
- C. 刑警在凶杀案现场提取到的男性鞋印
- D. 诈骗案受害人姜某提供的自己所遭受的金钱损失的银行记录

(2014-山东-80.) 布利丹效应源自法国哲学家布利丹讲述的一个寓言故事：一头驴子外出觅食，发现两堆相距不远的草料。东边是一大堆干草料，西边是一小堆新鲜的嫩草。驴子很高兴，跑到大堆的干草料处，刚要吃，突然想西边草料那么新鲜，肯定好吃，不去可能会被别的驴子吃掉。于是它就跑到嫩草堆前，刚要吃又想，这堆草虽然很嫩，可别的驴子把那一堆干草料吃光的话自己就要饿肚子了，还是回去吃干草吧！就这样来来回回，这只可怜的驴子，最后饿死在草堆旁。

根据上述定义，下列**不符合**布利丹效应的是：

- A. 弈者举棋不定，终之败矣
- B. 一山望着一山高
- C. 凡事预则立，不预则废
- D. 鱼，我所欲也；熊掌，亦我所欲也

三、类比推理。每道题先给出一组相关的词，要求你在备选答案中找出一组与之在逻辑关系上最为贴近、相似或匹配的词。

请开始答题：

(2014-山东-81.) 作家：出版社

- A. 演员：制片厂
- B. 警察：派出所
- C. 球员：运动场
- D. 医生：手术台

(2014-山东-82.) 纸扇：电扇

- A. 瓷杯：保温杯
- B. 扫帚：吸尘器
- C. 马车：自行车
- D. 毛笔：钢笔

(2014-山东-83.) 合同：签字

- A. 申请：同意  
B. 文件：存档  
C. 婚姻：结婚  
D. 毕业证：盖章

(2014-山东-84.) 鸡蛋：孵箱

- A. 细胞：器官  
B. 胚胎：孕育  
C. 受精卵：子宫  
D. 养分：土壤

(2014-山东-85.) 语言：文字：文化

- A. 辞典：电脑：知识  
B. 报纸：电视：传媒  
C. 图书：信息：磁盘  
D. 邮票：书信：感情

(2014-山东-86.) 乐队：听众：音乐

- A. 酒店：游客：食宿  
B. 电视剧：儿童：故事  
C. 俱乐部：会员：车辆  
D. 工会：权益：员工

(2014-山东-87.) 产品：销售：营利

- A. 兴趣：培养：特长  
B. 明星：宣传：媒体  
C. 问题：解决：创新  
D. 起义：发动：革命

(2014-山东-88.) 烽火台：烟火：军情

- A. 货船：海洋：货物  
B. 电视：信息：网络  
C. 钟表：电量：时间  
D. 飞机：导航仪：方向

(2014-山东-89.) 晚霞对于 ( ) 相当于 ( ) 对于地形

- A. 朝霞；地理  
B. 日落；勘探  
C. 彩霞；盆地  
D. 光线；沙漠

(2014-山东-90.) 游轮对于 ( ) 相当于 ( ) 对于宣传

- A. 观光；海报  
B. 航行；飞机  
C. 客轮；讲座  
D. 港口；广告

四、逻辑判断。每道题给出一段陈述，这段陈述被假设是正确的，不容置疑的。要求你根据这段陈述，选择一个答案。注意：正确的答案应与所给的陈述相符合，不需要任何附加说明即可以从陈述中直接推出。

请开始答题：

(2014-山东-91.) 鲁国的平民都信任孔子的所有的门徒，但是没有一个诡辩者被鲁国的任何一个平民所信任，鲁国的有些平民崇文尚武。

由此可以推出：

- A. 崇文尚武的都不是诡辩者  
B. 孔子的有些门徒崇文尚武



C. 崇文尚武的有些人被孔子的门徒所信任

D. 孔子的门徒都不是诡辩者

(2014-山东-92.) 有研究显示, 高果糖溶液会损伤小鼠神经元, 导致学习能力受损。将小鼠分为两组, 实验组每天喂食高果糖溶液来取代饮用水, 对照组则同时喂食高果糖溶液和欧米伽脂肪酸。六周之后, 训练两组小鼠走迷宫, 对照组可以很容易学会, 而实验组则非常困难。因而可以认为欧米伽脂肪酸能保护小鼠免受高果糖溶液的损伤。

以下哪项如果为真, 是得出该结论的前提?

A. 高果糖溶液浸泡下的大脑神经元易出现萎缩

B. 欧米伽脂肪酸可以增进小鼠记忆力

C. 实验前两组小鼠学习走迷宫的能力不存在差异

D. 实验中两组小鼠均接受了大量的走迷宫训练

(2014-山东-93.) 按照公布的计划, “昊鲲” 战机部署到扶桑洲机场后, 将在扶桑洲北部的训练航线上进行超低空飞行训练, 训练时间段的 28% 为傍晚。这意味着居住在训练航线下的民众, 将要承受更多的噪音困扰。

以下哪项如果为真, 最能支持以上论述?

A. 其他飞机傍晚的飞行训练量减少了 26%

B. “昊鲲” 的加入, 将使原训练航线的利用率增加 21%

C. “昊鲲” 部署后, 政府将对居住在训练航线下的民众进行搬迁

D. “昊鲲” 战机是大型运输机, 在傍晚的轰鸣声较之其他类型的飞机稍大

(2014-山东-94.) 一项研究中, 在其他条件均相同的情况下, 研究人员每天用含有 0.002 克 13-oxo-ODA 的高热量食物喂食一组肥胖小鼠, 另一组肥胖小鼠则单纯喂食高热量食物。4 周后测量它们体内中性脂肪含量和血糖值, 发现前者血液和肝脏中的中性脂肪比后者少 30% 左右, 血糖值也比后者低 20% 左右。13-oxo-ODA 是一种亚油酸, 在西红柿特别是在经过加热处理的西红柿汁中含量较高。

由此可以推出:

A. 13-oxo-ODA 有助于降低脂肪含量和血糖值

B. 13-oxo-ODA 对小鼠的身体健康有益

C. 食用经过加热处理的西红柿更有利于健康

D. 亚油酸是一种对身体健康有益的物质

(2014-山东-95.) 空气污染已成为危害人类健康的“隐形杀手”。研究表明, 包括汽车尾气在内的各种总悬浮颗粒物(即悬浮在大气中不易沉降的所有颗粒物, 主要来源于燃料燃烧时产生的烟尘、生产加工过程中产生的粉尘以及建筑和交通扬尘)对心脏有很大的损伤, 而且颗粒物体积越小, 这种危害越大。

以下哪项如果为真, 不能支持上述结论?

A. 动物实验发现，较小颗粒物（0.18 微米以下）比较大颗粒物（2.5 微米以上）更容易引发心血管病变

B. 较小颗粒物直径可能只有头发丝的 1%，很容易沉积在动脉血管壁的脂肪物质上，进而增加罹患心脏病和中风的风险

C. 微小颗粒不容易被过滤，难以检测，日常防护不能抵御它的侵袭，因此很容易引发过敏

D. 微小的颗粒会“关闭”高密度脂蛋白对人体的保护作用，从而导致动脉粥样硬化

(2014-山东-96.) 在索莱岛上，有四个草屋，每个草屋的门上挂着一块牌子。第一块牌子上写着：“有些草屋中没有食物。”第二块牌子上写着：“该草屋中没有猎枪。”第三块牌子上写着：“所有的草屋中都有食物。”第四块牌子上写着：“该草屋中有草药。”索莱岛上的游客发现，四块牌子中只有一块牌子上写着真话。

由此可以推出：

A. 四个草屋中都有草药

B. 四个草屋中都有食物

C. 第三个草屋中有猎枪

D. 第四个草屋中没有草药

(2014-山东-97.) 箭竹是大熊猫喜爱的一类食物，近年来，大熊猫栖息地出现了箭竹大面积开花现象，由于箭竹开花后会成片枯死，不再繁衍，因此人们不免对大熊猫日后的生存产生担忧。

以下哪项如果为真，最能削弱上述结论？

A. 研究表明，目前大熊猫所食用的箭竹总量，不到其所在栖息地可食用箭竹总量的 2%

B. 据了解，对大熊猫最大的威胁不是食物箭竹的缺乏，而是栖息地的隔离和减少

C. 箭竹开花的周期一般是在 50~70 年左右，目前开花的箭竹主要是位于海拔 2900 米的一类箭竹

D. 目前大熊猫栖息地共有十种箭竹，一般来说，这十种箭竹不可能在同一年或者同一时期开花

(2014-山东-98.) 在一次流感大流行中，研究人员到农场去探视，发现很多农民感染了流感。但有一家每个人都很健康，这家的女主人说在家里的每个房间都放了一颗没有剥皮的洋葱。研究人员观察后在洋葱上发现了流感病毒，因此得出结论，洋葱吸收了病菌，使这家人保持了健康。但也有专家认为，虽然洋葱是一种不错的蔬菜，但防流感的重任不能交给洋葱。

以下哪项如果为真，最能支持该专家的观点？

A. 另有研究表明，大蒜同样具有预防流感的功效

B. 流感病毒在大自然中存在着亿万年都没有灭绝，反而不断变异

C. 如果身体健康、注意卫生，在空气新鲜且病原微生物密度极低的环境中，人感染流感的几率就小

D. 这家人在流感流行期间每天都要吃大量的新鲜蔬菜和水果

(2014-山东-99.) 对于高技术产业而言，每一次颠覆性发展总是伴随着创新的出现。没有创新很容易陷入自戕的危局，即使曾经享誉一时，也难逃厄运。比如柯达的破产，乐凯关闭胶片生产等等莫不是如此。因为没有创新，即使像柯达那么强大，最终还是被数码相机拉下了马。因此，创新才是高技术产业发展的根本原因。

以下哪项如果为真，**不能削弱**这一论证？

A. 创新若不能为消费者带来便利，也不会为市场所接受

B. 世界知名品牌高技术产品的成功，再次印证了质量是产品生命线的道理

C. 世界各国高技术产业的成功，无一不凝聚着技术人员的大胆创新

D. 创新离不开技术的进步，而且技术的不断进步也带来了高技术产业的发展

(2014-山东-100.) 在一项研究中，研究者先给 6~10 个月大的婴儿播放视频资料，视频中一些玩具娃娃在爬楼梯，另一些玩具娃娃会走上前帮助他们、看着他们或者推倒他们，然后让婴儿选择视频中的玩具娃娃。实验结果显示，几乎每个婴儿都选择了帮助别人的玩具娃娃。因此研究者认为婴儿在他们会说话之前就已经表现出了至关重要的社会判断能力。

以下哪项如果为真，最能支持上述结论？

A. 如果只给婴儿那些视频中中立或捣乱的玩具娃娃让其选择，只有一半左右的婴儿会选择中立的玩具娃娃

B. 如果事先不让这些婴儿观看视频，他们选择中立、捣乱或帮助人的玩具娃娃的概率没有明显差别

C. 如果只给婴儿那些视频中中立或帮助别人的玩具娃娃，婴儿会选择帮助别人的玩具娃娃，而且这一现象在 3 个月大的婴儿身上也出现了类似的反应

D. 研究发现，视频中同样是帮助别人的玩具娃娃，男孩多会选择调皮的，而女孩大都选择乖巧的

**※※※第四部分结束，请继续做第五部分！※※※**

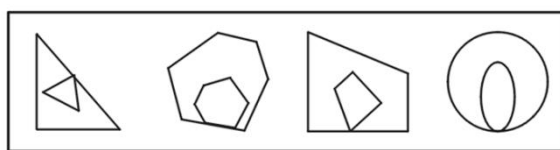
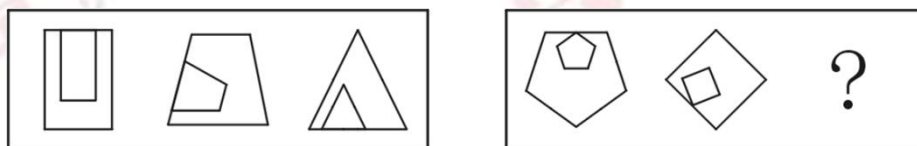
**【【2013-山东-判断】】**

(共 40 题, 参考时限 35 分钟)

一、图形推理。请按每道题的答题要求作答。

请开始答题:

(2013-山东-66.) 从所给四个选项中, 选择最合适的一个填入问号处, 使之呈现一定规律性:



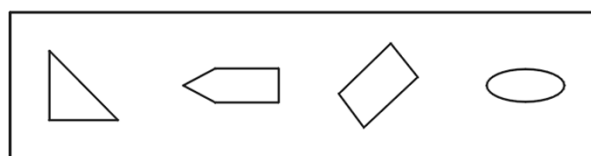
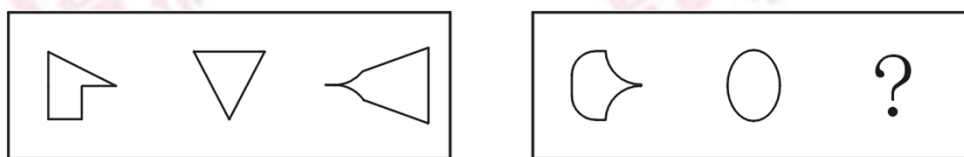
A B C D

(2013-山东-67.) 从所给四个选项中, 选择最合适的一个填入问号处, 使之呈现一定规律性:



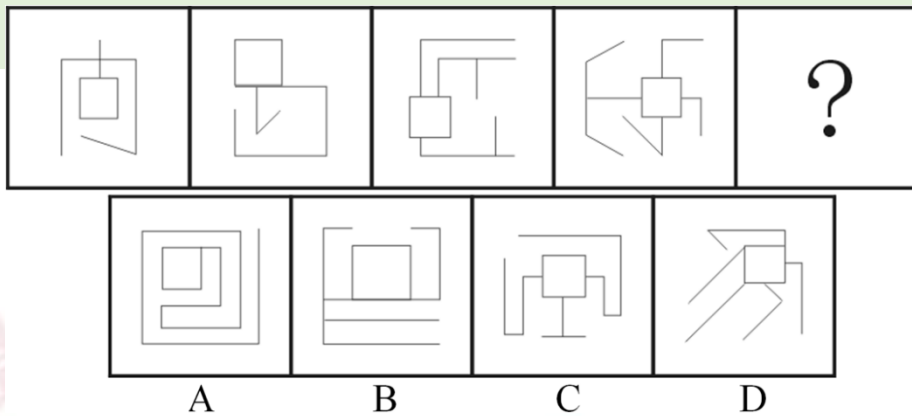
A B C D

(2013-山东-68.) 从所给四个选项中, 选择最合适的一个填入问号处, 使之呈现一定规律性:



A B C D

(2013-山东-69.) 从所给四个选项中, 选择最合适的一个填入问号处, 使之呈现一定规律性:



(2013-山东-70.) 以下哪两个图形调换位置之后, 所有图形能呈现出一定规律性?

- ①                  ②                  ③                  ④                  ⑤                  ⑥



- A. ②和③                  B. ③和④  
C. ④和⑤                  D. ⑤和⑥

二、定义判断。每道题先给出定义, 然后列出四种情况, 要求你严格依据定义, 从中选出一个最符合或最不符合该定义的答案。注意: 假设这个定义是正确的, 不容置疑的。

请开始答题:

(2013-山东-71.) 水土流失是指在水力、重力、风力等外力作用下, 水土资源和土地生产力遭受的破坏和损失, 包括土地表层侵蚀和水的损失, 亦称水土损失。水土流失是不利的自然条件与人类不合理的经济活动互相交织作用产生的。

根据以上定义, 下列**不存在**水土流失的是:

- A. 某地在这次暴雨后发生泥石流  
B. 某些地区在强风作用下逐步沙漠化  
C. 岩石经过长期的风化变成沙砾  
D. 黄河将高原大量的泥沙挟带至下游

(2013-山东-72.) 化归思想是指当问题难以直接解决时, 根据问题的性质、条件和关系的特点, 采取适当的变换方法而对问题进行转换, 最终把它化为容易的、较简单的或已经解决的问题的思想。

根据上述定义, 下列运用了化归思想的是:

- A. 人类发明了用钨丝做灯丝的电灯泡, 取代了以往的碳丝电灯, 从而使电灯的亮度明显提高  
B. 在掌握了扇形和三角形的面积计算公式后, 用图形分割的方法求出弓形的面积

C. 张教授用新的实验方法取代以往的实验方法，从而攻克了一道技术上的难题

D. 法学研究者将法学方法加以理论化，从而上升为法学方法论

(2013-山东-73.)道路交通事故是指车辆在道路上因过错或者意外事故造成的人身伤亡或者财产损失的事件。其中“道路”是指公路、城市道路和虽在单位管辖范围但允许社会机动车通行的地方，包括广场、公共停车场等用于公众通行的场所。“车辆”，是指机动车和非机动车。“非机动车”，是指以人力或者畜力驱动，上道路行驶的交通工具，以及虽有动力装置驱动但设计最高时速、空车质量、外形尺寸符合有关国家标准的残疾人机动轮椅车、电动自行车等交通工具。

根据上述定义，下列**不属于**道路交通事故的是：

A. 小王在进行封闭管理的小区内倒车时不慎将一老人撞倒

B. 周小姐带着宠物狗横穿马路时，乱闯的宠物狗不幸丧生在车轮下

C. 小赵将汽车停在商场附近的停车场，取车时发现车尾部被撞，肇事车辆已逃跑

D. 绿灯亮时，小姜穿过斑马线过马路，被一辆闯红灯的自行车撞伤

(2013-山东-74.)自我障碍策略指的是当人们预期自己会失败的时候，常常会提前设置一些障碍来阻挠自己获的成功，以作为解释失败的借口，这种行为被称为自我障碍策略。

根据上述定义，下列使用自我障碍策略的是：

A. 小李的学习成绩一直是全班第一，但对马上来临的期末考试很没有把握，索性谎称自己生病了，以此来逃避期末考试

B. 营销员张某的业绩出现下滑，经理找其谈话，张某解释这是因为最近一段时间自己神经衰弱，工作状态不佳导致的

C. 小杨一路披荆斩棘，终于杀入全国网球总决赛。这时他突然担心决赛拿不到好名次，故意在训练中扭伤脚，带伤去参加比赛

D. 中学时期一直是学习尖子生的小刘，高考发挥失常，只考上一所不起眼的大学，之后破罐破摔，再也提不起学习的兴趣了

(2013-山东-75.)知识营销是指在企业的营销过程中，使企业的广告、宣传、公关、产品注入一定的知识含量与文化底蘊，帮助消费者增加与商品相关并实用的信息与知识，提高他们的消费与生活质量，从而达到推广产品、树立形象、提升品牌竞争力的目的。

根据上述定义，下列属于知识营销的是：

A. 某保健品生产企业深入社区为居民开设健康生活讲座，并在讲座中推销其保健品

B. 某体育用品生产企业为希望小学捐献价值 20 万元的体育用品，多家媒体报道了这一事迹

C. 某师范院校派出大学生支教团，在支教的同时宣传教育的重要性，为该校在当地的招生起到了积极作用

D. 某证券公司股票分析师经常受电视台邀请在电视节目中为广大股民进行股票分析

(2013-山东-76.)利群偏差指的是人们对自己的群体成员的行为总是倾向于给予善意的理解,而在解释其他群体成员的类似行为时,更容易从坏的角度去设想。

根据上述定义,下列存在利群偏差的是:

- A. 东道主球队的胜利得益于天时地利人和,我们客场作战失利,是因为球员在异国他乡水土不服
- B. 我们队员比赛失利的主要原因是训练过度劳累,没有很好地保存实力进行比赛,让对方球员捡了个大便宜
- C. 某公司经理认为去年公司业绩不尽如人意的主要原因是低估了竞争对手的实力,让对方抢走了绝大多数的客户
- D. 某班主任看到自己班学生的打闹行为时会认为只是“玩笑胡闹”,在看到其它班学生的类似行为时会认为是“品质恶劣”

(2013-山东-77.)互补商品是指两种或几种共同满足消费者同一种欲望的相关商品,在消费者的爱好、货币收入和其他商品价格保持不变的情况下,如果商品甲价格的下落引起对商品乙需求的增长,那么商品甲和商品乙就是互补商品。

根据上述定义,下列属于互补商品的是:

- A. 在胶片相机价格不变时,胶卷价格的上涨使得人们对胶片相机的需求也相应减少
- B. 由于原料成本的增加,某酒厂将其生产的葡萄酒每瓶的价格由原先的 10 元调到 11 元,但并没有影响市场上酒杯的价格
- C. 一些地区为了缓解交通压力出台了汽车限购令,使得一些汽车的价格有所下降,与此同时,由于石油紧缺,汽油的价格却在不断上涨
- D. 某学校为了组织一支乒乓球队,采购了一批乒乓球和球拍,后发现球拍的质量不好,又增购了一批高质量的球拍

(2013-山东-78.)内隐认知是指人的大脑对各种刺激的内部加工过程,即在认知的过程中,虽然行为者不能回忆某一过去经验,但这一经验已潜在地对行为者的行为和判断产生影响。

根据上定义,下列符合内隐认知的是:

- A. 小方在电视上看到某品牌手机的广告,她想到爸爸使用的手机听筒有问题,不如买一款广告中的手机送给他
- B. 小辉利用业余时间学习了法语,工作后由于没有从事法语相关工作,法语学习就被迫中断了
- C. 三十岁的张明很怕毛毛虫,母亲认为这是因为他一岁半时曾被毛毛虫蜇伤过
- D. 一些企业借鉴国外经验,请名人为公司产品代言,并进行广泛宣传,以此为企业赢得利润与声誉

(2013-山东-79.)挤进效应是指政府采取扩张性财政政策时,能够诱导民间消费和投资

的增加，从而带动产出总量或者就业总量增加的效应；挤出效应是指当供应和需求有新的增加时，随着政府支出的增加而引起的私人消费或投资降低的效果，这会导致部分资金从原来的预支中挤出，而流入到新的商品中。

根据上述定义，下列属于挤出效应的是：

- A. 某地区县政府对家庭困难的个体经营者减免税收，从而带动了当地的个体经济
- B. 某地方政府计划投资一些大型化工项目并建立化工厂，由于工厂将占用一部分耕地，因此该地区粮食价格上涨
- C. 由于适龄儿童增加，该地区政府加大了对学校基础建设的资金投入，并降低学杂费，于是当地家庭为孩子报艺术班的比例增加了
- D. 某市实行房屋限购令后，楼市交易低迷，人们转向投资邻市，使邻市楼市被进一步催热

(2013-山东-80.) 内部行政行为是指行政主体(包括行政机关、法律法规授权的组织和部分国有事业单位)在内部行政组织管理过程中所作的只对行政组织内部产生法律效力的行政行为。依内部行政行为的内容可将其大致分为两类：一类是涉及行政机关公务员权利义务的内部人事管理行为，如行政主体对内部行政人员的奖惩、任免、考核、退休等；另一类是行政主体间工作关系行为，如上下级行政机关以及同级行政机关之间的请示、报告、批复、通知等。

根据上述定义，下列属于内部行政行为的是：

- A. 某省粮食局制定保障粮食生产发展纲要，要求各县市粮食局贯彻实施
- B. 某市工商局指导当地外资企业进行网上年检，简化手续并提高了工作效率
- C. 某市国税局购进一批办公桌椅，因质量存在严重问题，作出暂缓向销售商支付剩余款项的决定
- D. 某市政府与打扫办公室卫生的清洁工签订劳动合同，并对工作不合格的人员做出解除劳动关系的决定

三、类比推理。每道题先给出一组相关的词，要求你在备选答案中找出一组与之在逻辑关系上最为贴近、相似或匹配的词。

请开始答题：

(2013-山东-81.) 尝试：成功

- A. 奋斗：目标
- B. 动力：创造
- C. 劝说：接受
- D. 改革：进步

(2013-山东-82.) 原告：被告

- A. 交警：司机
- B. 正方：反方



- C. 上级：下级  
D. 雇主：雇员

(2013-山东-83.) 超市：消费者

- A. 医院：患者  
B. 法院：犯人  
C. 学校：老师  
D. 军队：军人

(2013-山东-84.) 成本：价格

- A. 北方：寒冷  
B. 金钱：成功  
C. 身高：体重  
D. 工时：质量

(2013-山东-85.) 植物：授粉：结果

- A. 米酒：发酵：保鲜  
B. 绿茶：采摘：加工  
C. 灯丝：导电：发光  
D. 石油：加热：沉积

(2013-山东-86.) 勘探：矿石：工厂

- A. 运输：货物：火车  
B. 养殖：鲫鱼：餐厅  
C. 训练：士兵：战场  
D. 驯服：海豚：大海

(2013-山东-87.) 芒种：成熟：节气

- A. 音响：立体：设备  
B. 流星：闪光：天体  
C. 冠礼：婚嫁：礼仪  
D. 古稀：高寿：称谓

(2013-山东-88.) 湖纸对于 ( ) 相当于 ( ) 对于指南针

- A. 宣纸；司南  
B. 端砚；火药  
C. 印章；造纸  
D. 镇纸；印刷

(2013-山东-89.) 传记对于 ( ) 相当于 ( ) 对于基因

- A. 自传；细胞  
B. 人物；遗传学  
C. 文学；染色体  
D. 纪实；治疗

(2013-山东-90.) 误会：( )：朋友相当于贸易：( )：( )

- A. 消除；协商；伙伴  
B. 误解；协商；伙伴  
C. 消除；合同；出口  
D. 误解；合同；出口

四、逻辑判断。每道题给出一段陈述，这段陈述被假设是正确的，不容置疑的。要求你根据这段陈述，选择一个答案。注意：正确的答案应与所给的陈述相符合，不需要任何附加说明即可以从陈述中直接推出。

请开始答题：

(2013-山东-91.) 科学家对发掘于埃塞俄比亚哈达尔遗址的南方古猿足骨的第4根跖骨化石进行分析研究后发现，非洲南方古猿具有定型的弓形足。他们据此认为，人类的祖先早在320万年前就开始像现代人一样用双脚行走。

以下哪项如果为真，最能支持上述论证？

- A. 只有分析第 4 根跖骨化石，才能发现非洲南方古猿具有定型的弓形足
- B. 只有南方古猿才是人类的祖先
- C. 只有具有定型的弓形足，才能使用双脚行走
- D. 只有使用双脚行走，才具有定型的弓形足

(2013-山东-92.) 美国睡眠专家设计了一项测试，让志愿者在睡眠实验室里连续度过 13 个夜晚，前 4 个夜晚，志愿者每晚能睡足 8 小时；接下来 6 天，他们的睡眠时间缩短至每晚 6 小时；最后 3 个晚上，志愿者出现“补觉”现象，每天要睡 10 个小时。测试结果显示，持续几天睡眠不足后，志愿者各反应速度变慢。补觉后，虽然感觉头脑清醒一些，但仍行动迟缓、笨拙。由此可见，连续工作一周、睡眠不足后，用 3 个晚上补觉可以改善困倦的状况，但是不能改善缺觉对认知功能造成的累积影响。

以下哪项如果为真，最能支持上述结论？

- A. 很多志愿者难以适应睡眠实验室的环境，晚上经常做梦
- B. 志愿者平时习惯的睡眠时间不等，平均睡眠时间为每晚 6 小时
- C. 实验前后对志愿者进行大脑功能扫描，发现大脑结构并无明显异常
- D. 补觉后让志愿者进行反应灵敏度测试，多数人的灵敏度明显低于平时

(2013-山东-93.) 某研究机构调查分析了 208 名有心痛和心律不齐等症状的病人，在开始接受手术治疗时，通过问卷报告了自己对病情的看法，其中约 20% 的人非常担忧病情会恶化，有的人甚至还害怕因此死亡，其他人就没有那么多担忧。后来随访调查表明，那些术前有严重担忧情绪的人术后半年复发率高于其他人。研究人员认为担忧情绪不利于心脏病的康复。

以下哪项如果为真，最能支持上述结论？

- A. 有研究表明担忧情绪会抑制大脑前额叶皮层活动，使人更抑郁
- B. 研究人员发现那些有严重担忧情绪的人更关注自己的健康状况
- C. 那些有严重担忧情绪的人血液中含有加重心脏病风险的化学物质
- D. 担忧情绪对健康是一个潜在的威胁，会导致癌症、糖尿病等多种疾病

(2013-山东-94.) 某水果店只有进货价低于正常价格时，才能以低于市场的价格卖水果而获利；除非该水果店的销售量很大，否则，不能从果农那里购得低于正常价格的水果；要想有大的销售量，该水果店就要拥有特定品种水果的独家销售权，因为种种原因，该水果店没有得到特定品种水果的独家销售权。

由此可以推出：

- A. 该水果店的销售量很大
- B. 该水果店的进货价低于正常价格
- C. 该水果店不能以低于市场的价格卖水果而获利

D. 该水果店获利很少

(2013-山东-95.) 挪威研究人员分析了该国过去几十年里 230 万份出生记录, 以及相应孕妇的健康数据, 结果发现, 如果母亲怀孕期间出现妊娠剧吐症状, 女儿后来怀孕时也出现该症状的可能性是其他人的 3 倍。研究还表明, 孕妇妊娠剧吐与腹中胎儿是否含有来自丈夫一方的相关基因没有关系, 导致这一症状的基因只可能来自母亲。因此研究人员认为妊娠剧吐与父亲的基因无关, 而是由母亲遗传给女儿。

以下哪项如果为真, 最能**削弱**上述结论?

- A. 女儿和母亲生活的自然和家庭环境(气候、饮食习惯等)比较类似
- B. 一项亚洲研究表明, 母亲有妊娠剧吐, 女儿出现的可能性是其他人的 1.5 倍
- C. 研究表明, 外婆怀孕时有妊娠剧吐, 外孙女出现的可能性是其他人的 3 倍
- D. 在过去几十年中, 挪威妇女吸烟的比例逐年上升, 而吸烟与妊娠剧吐有关

(2013-山东-96.) 大雁一般排成整齐的人字形或一字形飞行, 这是集群本能的表现。因为这样有利于防御敌害。雁群总是由有经验的老雁当“队长”, 飞在队伍的最前面。在飞行中, 带队的大雁体力消耗得很厉害, 因而它常与别的大雁交换位置。幼鸟和体弱的鸟, 总是插在队伍的中间。因此, 飞行时它们不会受到敌害的攻击。

以下哪项如果为真, 可以成为得出上述结论所需的前提?

- A. 大雁的飞行队形兼具防守和攻击两种功能
- B. 体弱的不能成为带队的大雁
- C. 飞行时敌害不会攻击大雁飞行队列的中间
- D. 雁群中需要有不止一只带队的大雁

(2013-山东-97.) 研究发现, 如果开饭时间晚了几分钟, 人类的婴儿就会大声哭叫, 而对于 3、4 个月大的企鹅幼崽来说, 它们却异常平静。在小企鹅的父母外出觅食时, 它们甚至要适应长达几天没有食物的困境。

以下哪项如果为真, 能够解释这一现象?

- A. 3、4 个月大的企鹅消化系统并未发育健全, 因此它们的食量相对较小
- B. 当雌企鹅去觅食时, 雄性企鹅会用胃内的分泌物喂食幼崽
- C. 大企鹅外出时, 小企鹅常会在夜间聚在一起互相取暖
- D. 当大企鹅不在时, 小企鹅的叫声会引来天敌

(2013-山东-98.) 某军事驻地有 9 名士兵陆续出现身体极度不适的症状。据调查, 在距这 9 名士兵驻守点约 200 米处停有两辆被贫铀弹击毁的坦克。医生认为, 这是由于他们吸入了贫铀弹爆炸产生的放射性粉尘。但有关专家反对说, 贫铀弹击中目标后, 其产生的放射性粉尘最终会沉降在爆炸点 150 米的范围内, 因此不会影响这些士兵的身体健康。

以下哪项如果为真, 能够**反驳**上述专家的言论?

- A. 研究已经证明, 贫铀弹会诱发各种肿瘤疾病

- B. 该地区的风一向很大，贫铀弹爆炸产生的放射性粉尘会被风吹到 40 公里外的地方
- C. 在爆炸点 150 米范围内吸入放射性粉尘的士兵均出现了身体不适症状
- D. 爆炸事件发生后，路过该地的某居民没有出现明显的不适状况症状

(2013-山东-99.) 当鸟类面临栖息地破坏、天敌威胁和环境污染等生存压力时，自身就会分泌一种名为皮质醇的激素。因此，经常处于生存压力状态下的鸟类，其羽毛会变得较为稀疏。

以下哪项如果为真，能够支持上述论证？

- A. 鸟类体内的皮质醇含量可能会因全球变暖而发生变化
- B. 一些鸟类更换栖息地后，体内的激素水平会增高
- C. 皮质醇会影响鸟类羽毛的生长和代谢
- D. 如果鸟类的羽毛变得稀疏，则它们一定处于长期的压力状态

(2013-山东-100.) 某国政府在半年内两次宣布降低购房按揭贷款的利率，因此很多潜在的购房者都处于持币待购的状态，进一步观望利率能否再探新低，所以六月份新建房屋的销售量大幅下降，但是，一个值得关注的现象是，在新建房屋销售量大幅下降的同时，新建房屋销售的平均价格却在快速上涨。

以下哪项如果为真，能够解释这一矛盾现象？

- A. 新建高价房处于热销中，价格一路上涨，因为高价房的购买者基本不受利率波动的影响
- B. 受利率波动的影响，已购房者惜售手中的房屋，造成二手房的市场供应量不足
- C. 过去三年中，由于住房供应短缺的问题越来越严重，使得新建房屋的销售量一直在缓慢上涨
- D. 受国际市场的影响，一年来该国建筑材料价格不断波动

※※※第四部分结束，请继续做第五部分！※※※

## 【【2012-山东-判断】】

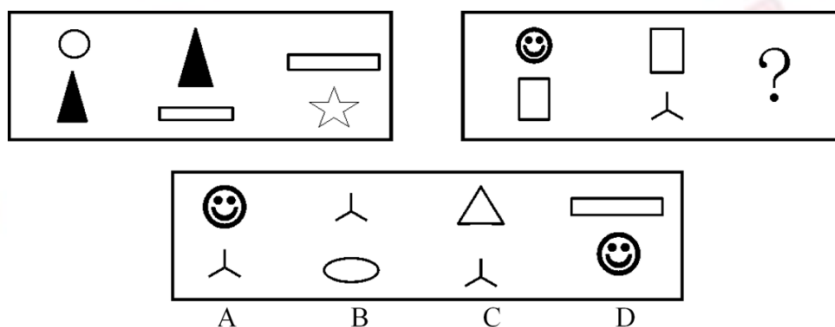
### 第四部分 判断推理

(共 35 题，参考时限 35 分钟)

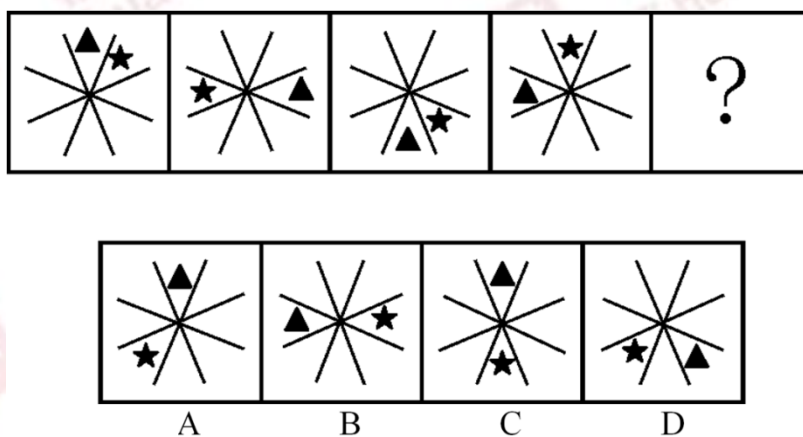
一、图形推理。请按每道题的答题要求作答。

请开始答题：

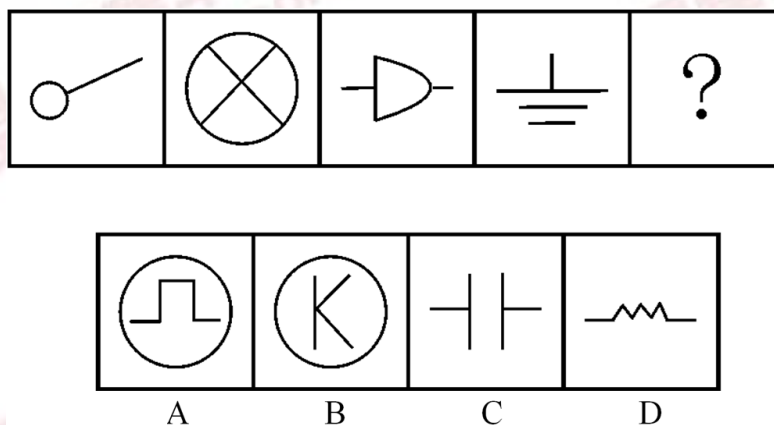
(2012-山东-66.) 从所给四个选项中，选择最合适的一个填入问号处，使之呈现一定规律性：



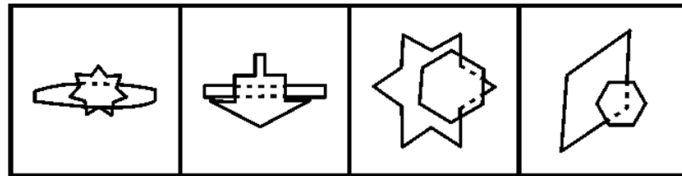
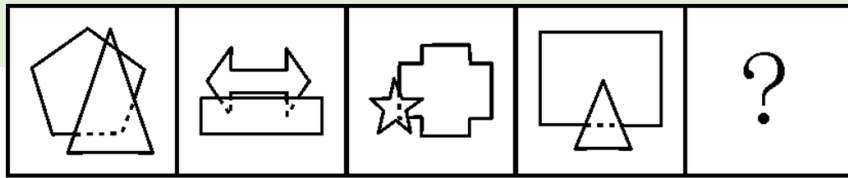
(2012-山东-67.) 从所给四个选项中，选择最合适的一个填入问号处，使之呈现一定规律性：



(2012-山东-68.) 从所给四个选项中，选择最合适的一个填入问号处，使之呈现一定规律性：



(2012-山东-69.) 从所给四个选项中，选择最合适的一个填入问号处，使之呈现一定规律性：



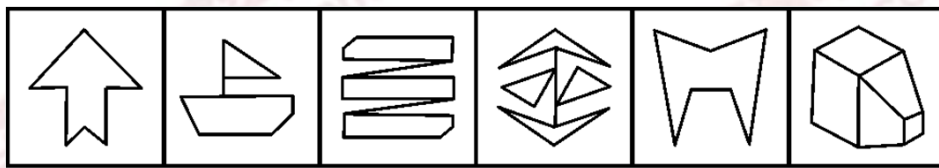
A

B

C

D

(2012-山东-70.) 下列四项去掉哪一项后, 剩下的图形可以呈现出一定的规律性?



A

B

C

D

二、定义判断。每道题先给出定义, 然后列出四种情况, 要求你严格依据定义, 从中选出一个最符合或最不符合该定义的答案。注意: 假设这个定义是正确的, 不容置疑的。

请开始答题:

(2012-山东-71.) 有形磨损和无形磨损是描述机器设备价值下降的概念。人才作为一种资源, 也面临着有形磨损和无形磨损。人才的有形磨损是指随着年龄和工作时间的增长, 同人才的身体和心理状况有关的体力、进取性和合作性等因素水平的下降。人才的无形磨损是指由于人才的观念、知识、方法的相对落后造成人才使用价值的下降。

根据上述定义, 下列属于人才无形磨损的是:

- A. 科室的陈力对新引进的遥感设备不感兴趣, 也不积极学习
- B. 在同一个岗位做了 20 年, 刘主任有时觉得烦躁、意志减退
- C. 大学毕业生赵刚工作方法简单、经常受到同事的批评
- D. 45 岁的王组长常觉得体力不支, 发出“心有余而力不足”的感慨

(2012-山东-72.) 结构性流动指的是因生产技术或者社会结构方面的变革引起的社会集团、社会阶层和人口性质与分布的大规模变化, 往往不以个人意志为转移。

根据上述定义, 下列哪项**不属于**结构性流动?

- A. 随着东部沿海经济的迅速发展, 中西部人口大量东移
- B. 由于国内发生军事政变, 某国公民近期大量涌入邻国
- C. 不满一线城市生活质量下降, 人才纷纷向二三线城市回流
- D. 城市化表现为乡村人口向城市的转移以及城市的不断发展、完善

(2012-山东-73.)复种指数指的是一年内农作物总播种面积与耕地面积之比,一般用百分数表示。复种指数的高低受当地日照、土壤、水利、肥料、劳力和科学技术水平等条件的制约。日照条件好、无霜期长、水分充足、合理套种等是提高复种指数的基础。

根据上述定义,下列关于复种指数的叙述哪项是正确的?

- A. 我国由南向北,地区复种指数逐渐增高
- B. 复种指数和地区所处的经度有密切的关系
- C. 春季和秋季的复种指数要高于夏季和冬季
- D. 较高的农业科技水平可使复种指数超过百分之百

(2012-山东-74.)能力的补偿是指同一个体的不同能力之间或组织内部成员之间能力的相互替代或补偿作用,从而保持或维持活动的正常进行。其中辐射补偿是指优势能力有效地加强了各种能力之间的相互联系或带动其他能力同时提高的现象。放大补偿是指优势能力的高度发展,有效地弥补某些薄弱能力的现象。

根据上述定义,下列各项中应用了辐射补偿的是:

- A. 甲国足球队7号球员奔跑速度快,盘带技术强,在他的带动下,本方多次突破对方防线,射门得分
- B. 乙国篮球运动员在体能上存在不足,但是他们凭借“魔鬼训练”弥补了身体条件上的不足,创造了奥运会三连冠的佳绩
- C. 丙国跳水队中一位小将技术全面,实力较强,但由于临场经验不足,有时发挥失常。因此教练安排他参加团体比赛,第二个出场
- D. 丁国乒乓球运动员的进攻实力是世界一流的,但是防守能力相对较弱,在多次世界大赛中他们依靠强大的进攻使对手疲于防守,从而取得胜利

(2012-山东-75.)短板理论是指木桶的盛水量是由组成木桶的木板中最短的一块决定的,这块短板即为这个木桶盛水量的“限制因素”。

根据上述定义,下列**不符合**短板理论的是:

- A. 某单位员工工作积极性降低,单位遂任命一位新领导,提高了团队士气
- B. 某家长注重孩子的智力培养,忽视其心理健康,使得孩子因为心理问题而迷失自我
- C. 某企业注重对技术精英的培养,对一般员工的使用和开发不足,致使团队士气受挫
- D. 某酒业集团投入巨资做广告,一度成为酒业的新秀,但终因产能不足,导致企业破产

(2012-山东-76.)替代效应是指当某种税的征收或税率变化影响相对价格或相对效益时,人们就选择另一种消费或活动来代替原先的消费或活动。

根据上述定义,下列**不涉及**替代效应的是:

- A. 我国加入WTO后,不少进口商品的税率降低,人们更多地选购这些商品
- B. 工资累进税率提高后,不少白领阶层选择用休息的方式来代替部分工作时间

C. 1747 年英国曾征收窗户税，为了避免纳税，多数人纷纷将自家的窗户堵上

D. 国家开始对工业锅炉烧用的原油征税以后，不少企业纷纷更新设备或改用其他原料

(2012-山东-77.) 片利共生是指在生物界中两个物种间的生态关系，一种生物会因这个关系而获得生存上的利益，但是，另一种生物在这个关系中，并没有获得任何益处，但也没有获得害处，只是带动对方去获取利益。

根据上述定义，下列现象属于片利共生的是：

A. 微生物寄生在反刍动物的胃内，同时还可以帮助反刍动物消化食物

B. 鲫鱼的游泳能力较差，其背鳍演变成吸盘吸附在鲨鱼身上，随着鲨鱼遨游四海，在鲨鱼捕获猎物时，鲫鱼就偷吃那些残存的食物

C. 藻类植物生长在树懒的粗毛夹缝中，在雨季时，藻类繁盛，形成绿色的伪装，使树懒更易在树丛中生存，藻类则借助树懒作为衍生的工具

D. 水母捕食海螺的幼虫，幼虫进入水母的体腔后不会被消化，反而获得食物及保护，幼虫长成离开水母体腔时，会带走一个水母繁殖体

(2012-山东-78.) 社会事实指的是存在于社会之中的一类具有非常特殊性质的事实。这类事实存在于个人之身外，由具有使个人不能不服从的行为方式、思维方式和感觉方式构成，对于个人的行为具有约束力和强制性。它潜移默化地存在于人们的日常生活之中，个人如果触犯它就会受到惩罚。

根据上述定义，下列哪项**不涉及**社会事实？

A. 尊老爱幼

B. 先天下之忧而忧

C. 王子犯法，与庶民同罪

D. 入乡随俗

(2012-山东-79.) 无因管理是指未受委托，并无法定或约定义务而为他人管理事务。

根据上述定义，下列**不属于**无因管理的是：

A. 乙应甲的请求带其 6 岁的孩子到海边玩耍，小孩不慎落水，乙将其救起

B. 甲、乙是邻居，甲外出打工，乙为了避免甲的老宅遭受台风侵袭而垮塌，自行招工修缮甲宅

C. 甲家的马丢失，乙捡到马后，寻找马主未果，便养在自己家中，后甲找到乙将马取回

D. 甲养的鱼正值出售时节，甲突然因急事外出，乙看甲不在就将其所养鱼出售，在甲回来后扣除销售成本将剩余钱款给甲

(2012-山东-80.) 行为经济学认为，互惠行为是一种条件合作行为，是对善意和助人的行为进行回报。互惠行为通过实施报答的形式而使对方获得利益，这种报答往往通过降低或损害自我利益而实现。



根据上述定义，下列属于互惠行为的是：

- A. 企业家刘志刚每年捐款资助癌症患者，获得社会各界的赞誉
- B. 为了感谢同事救了自己落水的孩子，李玲让出了自己升职加薪的机会
- C. 小王利用空余时间帮助新来的大学生熟悉业务，自己也因此得到锻炼
- D. 为了长期的共同合作，总经理给供货商提供了很多优厚条件

三、类比推理。每道题先给出一组相关的词，要求你在备选答案中找出一组与之在逻辑关系上最为贴近、相似或匹配的词。

请开始答题：

(2012-山东-81.) 侦探：线索：结论

- A. 医生：病情：诊断
- B. 交警：违章：罚单
- C. 裁缝：针线：衣服
- D. 学生：复习：成绩

(2012-山东-82.) 锁具：保安员：安全

- A. 日月：星辰：光明
- B. 航母：导弹：战争
- C. 手镯：项链：美观
- D. 画框：纽扣：装饰

(2012-山东-83.) 蓝天：飞行员：战斗机

- A. 草原：牧民：牛羊
- B. 刺绣：绣女：绣花针
- C. 森林：伐木工：电锯
- D. 大海：水兵：军舰

(2012-山东-84.) 理想对于 ( ) 相当于 ( ) 对于行动

- A. 现实；作风
- B. 动机；规划
- C. 蓝图；希望
- D. 奋斗；目标

(2012-山东-85.) ( ) 对于汽车相当于 ( ) 对于人体

- A. 发动机；心脏
- B. 车轮；关节
- C. 汽油；肌肉
- D. 方向盘；眼睛

(2012-山东-86.) 荷花：莲子

- A. 绿豆：豆芽
- B. 韭菜花：韭菜
- C. 大蒜：蒜苗
- D. 葵花：葵花子

(2012-山东-87.) 锦上添花：雪上加霜

- A. 美不胜收：目不暇接
- B. 耀武扬威：弃甲曳兵
- C. 水滴石穿：磨棒成针
- D. 雨后春笋：每况愈下

(2012-山东-88.) 大步流星：走路

- A. 指手画脚：教导
- B. 歌舞升平：跳舞
- C. 奋笔疾书：书写
- D. 闻鸡起舞：勤奋

(2012-山东-89.) 教师：学生

- A. 丈夫：妻子
- B. 出版商：读者
- C. 商家：客户
- D. 警察：罪犯

(2012-山东-90.) 桥梁：河岸

- A. 信件：邮局
- B. 楼梯：楼层
- C. 电话：沟通
- D. 火车：终点

四、逻辑判断。每道题给出一段陈述，这段陈述被假设是正确的，不容置疑的。要求你根据这段陈述，选择一个答案。注意：正确的答案应与所给的陈述相符合，不需要任何附加说明即可以从陈述中直接推出。

请开始答题：

(2012-山东-91.) 垃圾焚烧发电被列入国家发改委《可再生能源发展“十一五”规划》，有专家认为垃圾焚烧是一种安全环保的垃圾处理方式。

以下哪项如果为真，最能**削弱**上述专家观点？

- A. 焚烧垃圾产生的有机物无法自然分解
- B. 1吨生活垃圾焚烧后可以发电 300 度至 500 度
- C. 1吨生活垃圾焚烧后残留物只有原先的 10%至 15%
- D. 在日本，70%的生活垃圾被回收利用而不是被焚烧

(2012-山东-92.) 在城镇化过程当中，当城镇化率超过 50%以后，城镇化减速的现象将逐渐出现。阻止城镇化减速的一个必备的战略思路是加快农民工市民化进程，加快这一进程的一个必要举措是建设农民工信息系统和信用体系。

由此可以推出：

- A. 如果没能阻止城镇化减速，也就没有加快农民工市民化
- B. 如果加快农民工市民化进程，就可以阻止城镇化减速
- C. 如果不建设农民工信息系统和信用体系，就不能阻止城镇化减速
- D. 如果建设农民工信息系统和信用体系，就可以推进农民工市民化进程

(2012-山东-93.) 英国剑桥大学专家称，早期人类的大脑比现代人类更大，而且现代人类比早期人类身材矮小 10%。这项研究颠覆了此前的理论——现代人类伴随着进化变得更高、更强壮。科学家称，这种人类进化衰减性出现在过去一万年左右，很可能是由于农业的出现导致的。农业耕作出现之后，人类受限于食物种类的减少以及疾病的蔓延，所以出现了进化衰减现象。

以下哪项如果为真，最**不能质疑**研究人员的假设？

- A. 据研究，人类大规模农业耕作出现在 5000 年前

- B. 一万年前，居住在非洲的人身材和现代人类差不多
- C. 随着农业水平的提高，人类的食物种类远多于一万年前
- D. 早期人类患病没有办法医治，身残体弱者在进化中均遭到淘汰

(2012-山东-94.) 在人事科科长人选问题上，某局决定由单位全体工作人员投票产生，得票前三名作为候选人。每人只需在本局职工名单上打钩即可。计票组发现，刚毕业的张浩没有打任何人的钩；凡是对赵杰打钩的人，王明对这些人也都打了钩；没有得全票的人李紫露都打了钩。

由此可以推出：

- A. 王明与李紫露相互没打钩
- B. 王明与李紫露相互打了钩
- C. 王明选了李紫露，但是李紫露没选王明
- D. 王明没选李紫露，但是李紫露选了王明

(2012-山东-95.) 在某次调查中，有高达 2/3 的受访者认为目前影响安全感的最重要的因素是收入高低。分析不同收入人群的安全感，发现月收入在 3000—6000 元的人群，安全感要明显低于月收入 6000—8000 元的人群。因此，收入越低，安全感越低。

以下哪项如果为真，**不能削弱**上述观点？

- A. 收入在 3000—6000 元的人群生活成本比其他群体更高
- B. 很多人认为收入稳定比收入多更易给人安全感
- C. 收入在 1500—3000 元的人群更有安全感
- D. 收入不是影响安全感的唯一因素，食品、婚姻等都对安全感有同等重要的作用

(2012-山东-96.) 无论是从全球范围，还是从我国的实际情况来看，人类文明都发展到了这样一个阶段，即保护生态环境，确保人与自然的和谐，是经济能够得到可持续发展的必要前提，也是人类文明得以延续的保证。

由此可以推出：

- A. 如果经济不可持续发展，就是没有搞好环境保护
- B. 只有搞好环境保护，才能实现经济的可持续发展
- C. 即使没搞好环境保护，也能实现经济可持续发展
- D. 只有实现了经济的可持续发展，环境保护才能搞得好

(2012-山东-97.) 某研究机构耗时 9 年，追踪调查 6.3 万名健康人士的饮食习惯，包括肉的消费量、肉类烹调方式以及肉类煮熟的程度等，研究小组按食用烤肉的量多少把研究对象分为 5 组。截至研究结束时，共有 208 人患上胰腺癌，他们大多集中在烤肉食用量最高的两组。因此，研究者得出大量食用烤肉更容易患胰腺癌。

以下哪项如果为真，最能**削弱**上述结论？

- A. 研究表明，父母若有一人患胰腺癌，子女患该病的几率将提高 30%

B. 研究显示，长期食用煮食肉类和长期食用烤肉的人群相比，患胰腺癌的比例相当

C. 调查数据表明，大量食用烤肉的人有 98% 都喜欢一边喝啤酒一边吃烤肉，并且常常熬夜

D. 该研究中偏好半熟烤肉的人罹患胰腺癌的比例比偏好全熟烤肉的人高约 60%

(2012-山东-98.) 小女孩喜欢洋娃娃，小男孩更爱玩具汽车，这是天生本能反应还是后天环境影响下的选择？在一项实验中，研究人员观察了 3 至 8 个月大的婴儿对玩具的喜好，发现女婴盯着粉色洋娃娃看的时间明显长于玩具卡车，而男婴关注蓝色卡车的时间更多。因此，研究者认为婴儿对玩具的不同偏好或许是由性别基因决定的。

上述结论隐含的假设是什么？

A. 婴儿对新鲜事物关注的时间较长

B. 婴儿对玩具的喜好不受玩具颜色的影响

C. 玩具卡车和洋娃娃摆放位置的不同会对婴儿的注意力产生影响

D. 大多数婴儿更容易注意到和自己衣服色调相同或相近的玩具

(2012-山东-99.) 实验发现，将小鼠突然置身于巨大声响（恐惧）中，小鼠大脑杏仁体内特定细胞更活跃，脑内一种特殊“恐惧蛋白”会增加，这种“恐惧蛋白”含量在一定时间达到峰值之后自动消失。进一步实验发现，“恐惧蛋白”的消失归功于一种名为“GluA1”的物质。缺少 GluA1 的小鼠会保持与巨大声响相关的恐惧记忆，而其他小鼠则不会。因此实验得出结论，研制 GluA1 类药物可以帮助人们删除痛苦或恐惧等不好的记忆，只留下快乐时光。

以下哪项如果为真，**不能质疑**上述结论？

A. 小鼠跟人的神经系统差距较大，小鼠实验结果很难应用到人身上

B. 杏仁体负责掌管焦虑、急躁、惊吓及恐惧等负面情绪的产生和调控

C. GluA1 删除了恐怖记忆，也删除了自我保护的记忆

D. 长期服用 GluA1 类药物可能导致健忘症

(2012-山东-100.) 吴旭、郑洁和沈瑶三人打算到南京故地重游，三人选择了飞机、火车、汽车和轮船之一出行，但各人出行方式均不相同。如果郑洁选择汽车出行，则吴旭不选择轮船；如果吴旭选择火车出行，则沈瑶不选择飞机；沈瑶选择飞机、火车之一出行。

根据以上陈述可知，下列哪项必定是**错误**的？

A. 沈瑶选择飞机，而郑洁选择汽车

B. 沈瑶选择飞机，而郑洁选择轮船

C. 沈瑶选择火车，而郑洁选择汽车

D. 沈瑶选择火车，而郑洁选择飞机

※※※第四部分结束，请继续做第五部分！※※※

# 北京

## 【【2017-北京-判断】】

### 第四部分 判断推理

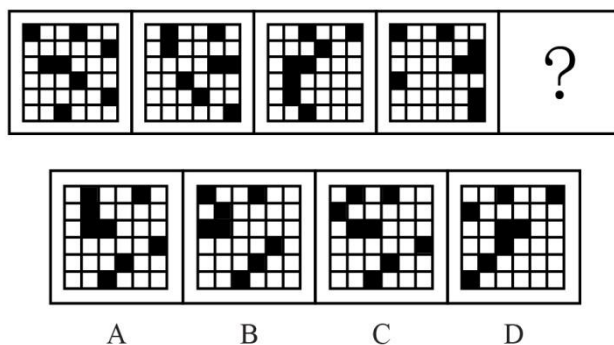
(共 30 题, 参考时限 30 分钟)

本部分包含三种类型的题目:

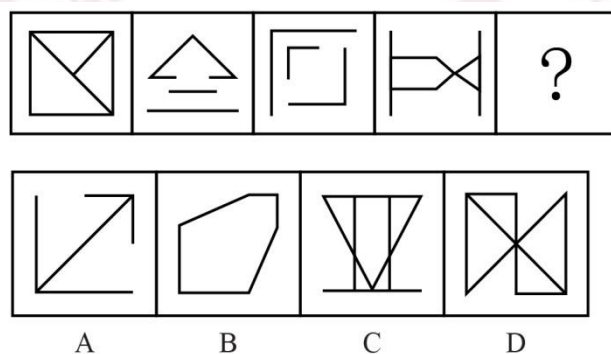
一、图形推理: 共 5 题, 请按每道题的答题要求作答。

请开始答题:

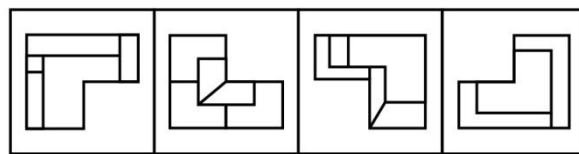
(2017-北京-86.) 从所给四个选项中, 选择最适合的一个填入问号处, 使之呈现一定规律性:



(2017-北京-87.) 从所给四个选项中, 选择最适合的一个填入问号处, 使之呈现一定规律性:

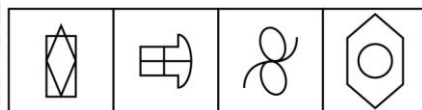



(2017-北京-88.) 从所给四个选项中, 选择最适合的一个填入问号处, 使之呈现一定规律性:



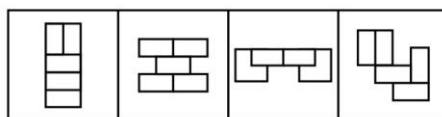
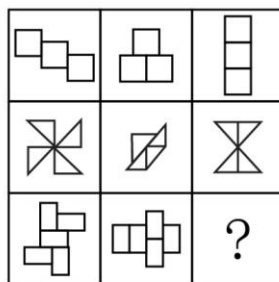
A B C D

(2017-北京-89.) 从所给四个选项中, 选择最适合的一个填入问号处, 使之呈现一定规律性:



A B C D

(2017-北京-90.) 从所给四个选项中, 选择最适合的一个填入问号处, 使之呈现一定规律性:



A B C D

二、演绎推理: 共 15 题, 每题给出一段陈述, 这段陈述被假设是正确的、不容置疑的。要求你根据这段陈述, 选出一个答案。注意: 正确的答案应根据所给的陈述选出, 不需要附加陈述之外的任何信息。

例题:

某厂有五种产品: 甲、乙、丙、丁、戊。它们的年销售额之间的关系为: 丙没有丁高,

甲没有乙高，戊不比丁低，而乙不如丙高。且它们的年销售额均不等。

请问，哪种产品的年销售额最高？

- A. 甲
- B. 乙
- C. 丁
- D. 戊

解答：从条件可以知道戊<丁<丙<乙<甲因此正确答案为D。

请开始答题：

(2017-北京-91.) 在过去的 12 个月中，某市新能源电动汽车的销售量明显上升。与之相伴随的是，电视、网络等媒体对新能源电动汽车的各种报道也越来越多。于是，有电动车销售商认为，新能源电动汽车销售量的提高主要得益于日益增多的媒体报道所起的宣传作用。

以下哪项如果为真，最能削弱该电动车销售商的观点？

- A. 对新能源电动汽车进行报道的人中有不少是环保人士，他们喜欢宣传电动汽车
- B. 有些消费者因为传统汽车摇号的中签率低而购买新能源电动汽车
- C. 个别消费者购买新能源电动汽车，是因为能够获得政府补贴
- D. 看过关于新能源电动汽车报道的人，几乎都不购买该类型汽车

(2017-北京-92.) 入室抢劫者 Q 或者是从窗户进入房间的，或者是从屋门进入房间的。经查实，Q 不是从屋门进入房间的，所以，他一定是从窗户进入房间的。

以下哪项与上述论证的结构最为相似？

- A. 新近考古发掘的一幅字画要么是唐代的，要么是宋代的。经鉴定，这幅字画是唐代的，所以，它一定不是宋代的
- B. 某晚午夜时分，天上最亮的星星或者是牛郎星，或者是织女星。经证实，该时刻天上最亮的星星不是织女星，所以，一定是牛郎星
- C. 如果一个数能被 8 整除，它就能被 4 整除。某个数 X 不能被 4 整除，所以，X 也不能被 8 整除
- D. 小华通常上网或者是收发邮件，或者是 QQ 聊天，或者是打游戏。星期天下午她上网没有进行 QQ 聊天，所以，她一定收发邮件了

(2017-北京-93.) 约翰喜欢攀岩和射击运动。他的大学同学中没有一个人既喜欢攀岩，又喜欢射击，但他所有的中学同学和大学同学都喜欢游泳。

若上述断定为真，以下哪项不可能为真？

- A. 除攀岩和射击外，约翰也喜欢游泳
- B. 约翰所有的同学都喜欢游泳
- C. 约翰喜欢的所有运动，他有一位中学同学也都喜欢
- D. 约翰喜欢的所有运动，他有一位大学同学也都喜欢

(2017-北京-94.) 某饭店宣布“新开发的排放油烟系统，虽然还未完成为期 6 个月的试验检验，但是至今并未发生故障，所以公司决定要安装在饭店后厨，毕竟这个系统可以更有

效地解决油烟问题。”该饭店的主厨说：“我们不能使用未完成试验的排放油烟系统，6个月以后再说吧。”

以下哪项最能支持主厨的反对意见？

- A. 能更有效地处理油烟的新系统也可能存在新问题
- B. 尽管新的排放油烟系统比以前的难操作，但有一些新功能
- C. 新的排放油烟系统保修期更长，维修方便
- D. 许多安全事故都是排放油烟系统造成的

(2017-北京-95.) 在美国，X 研究院的所有院士都反对人类食用转基因食品，而专门生产转基因玉米的 Y 公司，其所有领导层人员都认为转基因食品是安全的，提倡人们放心食用。一些大学教授兼任 Y 公司的领导。

假设以上陈述为真，则以下哪项也一定为真？

- A. 有些大学教授是美国 X 研究院的院士
- B. 有些研究院院士支持人类食用转基因食品
- C. 一些大学教授支持人们食用转基因食品
- D. 有些大学教授不支持人们食用转基因食品

(2017-北京-96.) 在大气层的自然状态下，自由落体会受到空气阻力的干扰。要排除这种干扰，就要创造一种真空环境。在伽利略所处的时代，人们无法用技术手段创造出真空环境。因此，伽利略只能在思维中撇开空气阻力的因素，设想真空中的落体运动，从而得出自由落体定律，推翻了亚里士多德关于落体的结论。

要使伽利略得出的自由落体定律成立，必须以下列哪项为前提？

- A. 当时的人们都能进行同样的思维实验
- B. 伽利略的思维实验符合真空状态的运动规律
- C. 伽利略在比萨斜塔通过现实实验进行了验证
- D. 伽利略设想了各种可能性

(2017-北京-97.) 在一次班会上，老师问大家：“成功的心态应该是怎样的？”郑磊说：“要不断地努力奋斗，活到老学到老。”刘连说：“要保持知足的心态，肯定自己已经取得的成绩。”老师说：“你们的观点都是好的，结合起来才准确：成功的心态既要不断努力，也要知足常乐。”

根据老师的说法**不能**推出的是：

- A. 郑磊和刘连的观点都不全面
- B. 一个具有知足常乐心态的人，可能是具有成功心态的人
- C. 一个具有成功心态的人，必定是具有不断努力心态的人
- D. 不断努力的心态和知足常乐的心态同等重要

(2017-北京-98.) 有研究调查了大学生食用泡菜、酸奶等发酵食品的情况和他们的社交



焦虑症发病率，发现食用发酵食品可以显著减少社交焦虑症状的发生。可能原因在于发酵食品中含有能够促进消化吸收和改善肠道环境的益生菌，通过改善消化功能来促进情绪健康。

以下哪项如果为真，最能**质疑**上述研究结论？

- A. 社交焦虑的发病与个性、性别、年龄等也有关系
- B. 不少情绪健康的大学生从来不吃泡菜、酸奶等发酵食品
- C. 某国大学生的泡菜消费量和社交焦虑症发病率均全球第一
- D. 不少出现考试焦虑或社交焦虑的学生都不同程度地存在腹泻症状

(2017-北京-99.) 几乎所有的数学家都是这样：他们能够识别正确的证明以及不正确证明的无效之处，尽管他们无法定义一个证明的准确意义。

由此，可以推知以下哪项一定为真？

- A. 能识别正确证明和不正确证明的人可能无法定义证明的准确意义
- B. 有的数学家不能识别不正确证明的无效之处
- C. 数学家都不能定义一个证明的准确意义
- D. 有的数学家不能识别正确的证明，但能识别不正确的证明

(2017-北京-100.) 雨果说：“多建一所学校，就少建一座监狱。”马克·吐温说：“你每关闭一所学校，你就必须开设一座监狱。”在他们看来，教育能够减少犯罪。有学者认为，近年来，随着教育的大规模扩大，学历程度越高，犯罪率越低。

以下哪项如果为真，最能**反驳**该学者的观点？

- A. 2015 年，某高校一名本科生杀死自己的母亲，事后潜逃
- B. 学历越高的人，对各项法律条文规定就越了解，就越容易钻法律的空子，实施犯罪
- C. 近年来，大部分犯罪为经济犯罪，高学历人群的犯罪率明显高于低学历人群
- D. 文化水平低的人，对法律了解相对较少，而且通常低学历者的生存状况较差，更容易铤而走险

(2017-北京-101.) 苗苗是某少儿舞蹈班学生，她喜欢民族舞。对于该舞蹈班学生，她们或者喜欢拉丁舞，或者喜欢芭蕾舞；喜欢民族舞的，则不喜欢芭蕾舞。

以下哪项如果为真，可推出苗苗喜欢街舞这一结论？

- A. 舞蹈班有些喜欢拉丁舞的学生也喜欢街舞
- B. 舞蹈班学生中，喜欢拉丁舞的都喜欢街舞
- C. 舞蹈班学生喜欢的舞蹈只局限于民族舞、拉丁舞、芭蕾舞和街舞
- D. 民族舞和街舞比芭蕾舞更容易学

(2017-北京-102.) 面对家长们对于某小学装修已两月的教室存在甲醛超标的质疑，该小学校长回应道：“所有的教室我都逐一去过，没有闻到异味，所以，甲醛不超标。”

以下哪项如果为真，最能**反驳**该小学校长的论证？

- A. 不同的人对于味道的感受不同，校长闻起来无异味并不代表事实上无异味

- B. 某新房装修完工三个多月后，经正规检测，甲醛依然超标
- C. 即使装修后无异味的房间，在装修后几月内通常都会有甲醛超标的可能
- D. 甲醛是一种无色无味的气体，不能通过房间的味道来判断是否甲醛超标

(2017-北京-103.) 近日来，由于南方持续降雨，导致很多人工养鱼池被淹。因此，有几位养鱼专家就鲫鱼和鲤鱼的价格走势进行预测：

李强说：只有鲫鱼价格上涨，鲤鱼价格才会上涨；

孙振说：鲫鱼和鲤鱼的价格至少有一种会上涨；

王刚说：只有鲤鱼价格不上涨，鲫鱼价格才不上涨；并且如果鲤鱼价格不上涨，则鲫鱼价格不上涨。

假如事实证明三位专家的预测均为真，则以下哪项必须为真？

- A. 鲫鱼价格上涨，鲤鱼价格不上涨
- B. 鲫鱼价格不上涨，鲤鱼价格上涨
- C. 鲫鱼和鲤鱼的价格都上涨
- D. 鲫鱼和鲤鱼的价格都不上涨

(2017-北京-104.) 张女士特别爱美，多年来喜欢在冬天穿裙子以显示她婀娜多姿的身材。从去年冬天起，每到阴冷天，她都感觉到膝关节疼痛。后经医生诊断，她得了关节炎。于是张女士认为，阴冷天穿得少是导致关节炎的原因。

以下哪项如果为真，最能**质疑**张女士的观点？

- A. 日本一些年轻女士喜欢冬天穿裙子，却并没有因为阴冷天穿得少而患上关节炎
- B. 现代医学研究表明导致关节炎的根本原因是劳损、感染或创伤，阴冷天穿得少关节炎易发作
- C. 张女士的姐姐和她生活在一个城市，多年来也喜欢在冬天穿裙子，但没得关节炎
- D. 阴冷天穿得多的人群中也有很多得了关节炎，而且以中老年人居多

(2017-北京-105.) 张导演在为联欢会的最后三个节目进行排序，相邻的节目不能属于同一种类。张导演要从三个小品节目、三个歌曲节目、三个舞蹈节目中进行选择。要排好最后这三个节目，还要满足如下条件：

- (1) 如果第一个节目是小品，则第二个节目是舞蹈
- (2) 如果第二个节目是歌曲，则第一个节目是舞蹈
- (3) 如果第三个节目是小品或者舞蹈，则第二个节目是歌曲

请问以下哪项是节目安排的可能次序？

- A. 节目一：小品 节目二：舞蹈 节目三：舞蹈
- B. 节目一：小品 节目二：歌曲 节目三：舞蹈
- C. 节目一：歌曲 节目二：小品 节目三：舞蹈
- D. 节目一：舞蹈 节目二：小品 节目三：歌曲

三、定义判断：共 10 题，每道题中都给出了一个概念的定义，请你根据这个定义，从四个备选的事物或行为中选出一个最为符合或最不符合该定义的典型事物或行为。注意：在这项测验中，本定义被假定为正确的、不容置疑的。

请开始答题：

(2017-北京-106.) 内卷化效应，指的是个体长期从事一项相同的工作，并且保持在一定的层面，只是进行自我重复，没有任何变化和改观。

根据上述定义，以下符合内卷化效应的是：

- A. 小李大学毕业后三年换了五份工作，每次刚熟悉工作就离职，下次重新开始
- B. 钱老师在图书馆工作十几年，虽然经常有研究成果发表，但一直没有升职
- C. 老杨已在城里打工二十余年，长期在某家公司做保安，一直没有什么改变
- D. 刘阿姨说丈夫张先生性格固执，一起过了几十年，张先生都没有什么改善

(2017-北京-107.) 互动式教学，就是通过营造多边互动的教学环境，在教学双方平等交流探讨的过程中，达到不同观点碰撞交融，进而激发教学双方的主动性和探索性，从而提高教学效果的一种教学方式。

根据上述定义，以下属于互动式教学的是：

- A. 某学院通过文化讲座向外国留学生介绍儒家思想
- B. 王老师带领教育专业的学生进行课堂教学模拟实验
- C. 小王觉得自己英语不好，报名参加课外一对一辅导
- D. 学生和老师在某一个问题上展开课堂辩论

(2017-北京-108.) 闪光灯效应是心理学的一个术语，也称闪光灯记忆，是指个人对令人震撼的事件容易留下深刻而准确的记忆，并且记忆的准确性不随时间的推移而减弱的现象。闪光灯记忆所记之事件，多半是与个人有关的重要事件。

根据上述定义，以下属于闪光灯效应的是：

- A. 冯雨在心情愉快时阅读课文，对课文内容印象格外深刻
- B. 经历汶川地震而幸存的小王，八年之后，对当时的情景仍记忆犹新
- C. 高阳小时候上学走过的路，在时隔 40 年之后返乡之时仍能准确辨认
- D. 失联 30 年的战友重新团聚，许多当年的生活琐事还历历在目

(2017-北京-109.) 概念，是反映对象本质属性的思维形式。概念的外延是指具有概念所反映的本质属性的全部对象。根据概念外延之间是否有重合的部分，可将概念间的关系区分为相容关系和不相容关系。概念间的相容关系是指两个概念外延至少有部分重合的关系。

根据上述定义，以下概念间**不具有**相容关系的是：

- A. 导体—半导体
- B. 美国的首都—华盛顿

C. 作家—中国作家

D. 大学生—中共党员

(2017-北京-110.) 地方保护主义, 是指地方政府利用其手中的行政权力, 对本地企业和外地企业在经济上实行差别待遇, 以维护或扩大该地方局部利益的倾向。

根据上述定义, 以下情况属于地方保护主义的是:

- A. 南方某山区为保护本地稀有野生动植物资源, 拒绝外地游客进入山区参观
- B. 某地政府为保证本地品牌的市场占有率, 在宣传报道中夸大外地同类产品的缺陷
- C. 某地为保护当地连锁超市利益, 通过收取高额税费限制某跨国超市集团发展
- D. 某市政府盲目发展本地经济, 对大型化工厂的重度污染问题不理睬不治理

(2017-北京-111.) 同群效应, 是指处于社会中的个体的行为不仅会受个体自身特质的影响, 同时也会受周围与他具有相同或相似的地位、经历或背景的人的影响, 从而改变个体单独存在时可能采取的行为。

根据上述定义, 以下属于同群效应的是:

- A. 小江在超市看到很多人在排队购买打折的鸡蛋, 她想起家里的鸡蛋快要吃完了, 于是跟别人一起去排队了
- B. 小娜原计划大学毕业就参加工作, 但宿舍同学都积极准备考研。小娜认为考研也不错, 也加入了考研的行列
- C. 小赵腿部有残疾, 但他并不消沉, 他用张海迪等人的事迹鼓励自己, 身体残疾的人通过努力也可以为社会创造价值
- D. 小方认为人都应该建立家庭、生儿育女, 后来她认识了一些独身主义者, 认识到人有多种生活方式可以选择

(2017-北京-112.) 深度报道作为传统的新闻形式, 指新闻工作者以社会发展现实问题为主要内容, 以分析解释的科学方法进行报道, 维护公众利益, 引导舆论。深度报道不管如何定义, 都离不开社会性和深刻性两大关键点。

根据上述定义, 以下属于深度报道的是:

- A. 某记者对雾霾天气进行系统调查, 在媒体上发布了一个半小时的新闻报道
- B. 某电视台晚间新闻中, 对某部长到某地视察进行报道
- C. 多家报纸和网站针对马航 MH370 坠机事件的家属善后工作进行跟踪报道
- D. 某报纸刊出了对某市的报道, 解释为什么该地值得投资

(2017-北京-113.) 艺术衍生品, 是艺术作品衍生而来的艺术与商品的结合体, 具备一定的艺术附加值。包括经艺术家亲笔签名且限量发行的专供收藏和欣赏的书籍等, 印有艺术家代表作品的文具、生活用品、服装服饰以及与艺术元素相结合的具有收藏价值的产品等。

根据上述定义, 以下**不属于**艺术衍生品的是:

- A. 著名绘画大师齐白石的绘画作品集
- B. 著名钢琴演奏家朗朗签名的 CD
- C. 冰心先生生前写作使用的钢笔
- D. 以徐悲鸿著名画作为图案的金银纪念币

(2017-北京-114.) 牧童经济, 是指牧童在放牧时, 只管放牧不顾对草原的破坏。经济学中以此来比喻, 为追求高生产量(消耗自然资源)和高消费量(商品转化为污染物), 大量迅速地消耗自然资源, 造成废物累积和环境污染的情况。

根据上述定义, 以下属于牧童经济的是:

- A. 宇宙飞船中乘客的排泄物经过处理净化, 变成氧气、水和盐回收, 再给乘客使用
- B. 猪粪和部分秸秆被用作沼气池的原料, 产生的沼气可供做饭、照明
- C. 某地投入大量资金组织村民种植苹果树, 因销路不畅导致苹果成熟后落地, 大量腐烂
- D. 某地为提高农作物产量, 大量消耗水资源、化肥和农药, 造成土壤、地下水的污染

(2017-北京-115.) 有位姑娘想要学习绣花作为谋生手艺, 但她买不起针线和布料, 也无师可拜。她花了十年时间, 免费为他人绣花, 用他人提供的绣花材料, 练就出色的绣花技艺, 打出了名声, 也积累了大量图样。十年后她以高于市场的价格为人绣花, 仍然有很多顾客。有学者由此提出绣花理论, 即一个人的职业生涯开始时, 可以借助他人的“资源”, 义务或以低于市场的价格为提供资源者工作, 借此完成自己技能、关系、资金及其他资源的积累, 获取职业发展的成功。

根据上述定义, 以下符合绣花理论的是:

- A. 小江专营户外运动服装批发, 他采用薄利多销策略, 主动制定比同市场其他商户略低的价格, 所经营店铺逐渐成为该批发市场最大的户外运动服装店
- B. 小齐从事过工程师、教师等多个职业, 读研究生时学习了管理工程、人事管理等课程。人力资源管理工作融会了他过去学到的所有知识, 他毕业后在此领域大获成功
- C. 小刘是人力资源专业研究生, 上学期间他为多家企业免费做过策划和项目设计, 毕业时, 由于经验丰富, 他顺利进入一家全球 500 强企业的人力资源部
- D. 小李是化学专业本科生, 大二时他利用学校为其安排的勤工助学机会, 给多名高中生进行家教, 后来以专业第一的成绩考上了化学系的研究生

※※※第四部分结束, 请继续做第五部分! ※※※

【【2016-北京-判断】】

## 第四部分 判断推理

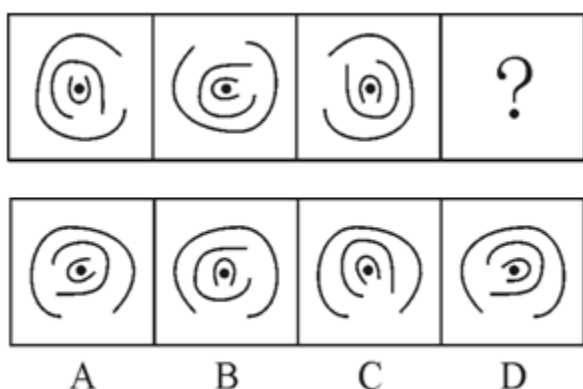
(共 30 题, 参考时限 30 分钟)

本部分包含三种类型的题目:

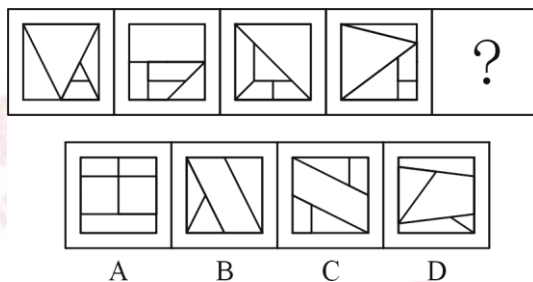
一、图形推理: 共 5 题, 请按每道题的答题要求作答。

请开始答题:

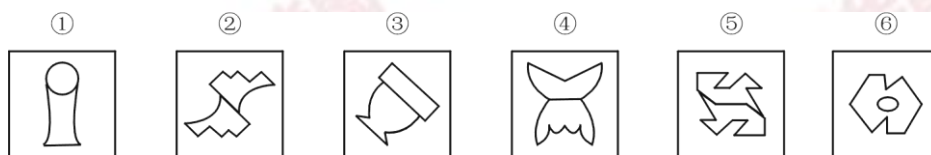
(2016-北京-86.) 从所给四个选项中, 选择最合适的一个填入问号处, 使之呈现一定规律性:



(2016-北京-87.) 从所给四个选项中, 选择最合适的一个填入问号处, 使之呈现一定规律性:



(2016-北京-88.) 把下面的六个图形分为两类, 使每一类图形都有各自的共同特征或规律, 分类正确的一项是:



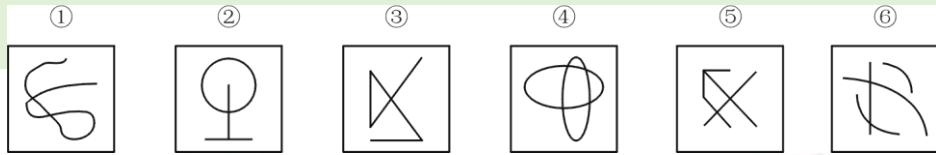
A. ①②⑤, ③④⑥

B. ①③⑥, ②④⑤

C. ①③④, ②⑤⑥

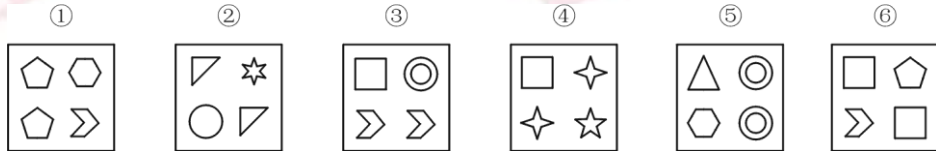
D. ①⑤⑥, ②③④

(2016-北京-89.) 把下面的六个图形分为两类, 使每一类图形都有各自的共同特征或规律, 分类正确的一项是:



- A. ①③⑤, ②④⑥                      B. ①②③, ④⑤⑥  
C. ①②⑤, ③④⑥                      D. ①②⑥, ③④⑤

(2016-北京-90.) 把下面的六个图形分为两类, 使每一类图形都有各自的共同特征或规律, 分类正确的一项是:



- A. ①②③, ④⑤⑥                      B. ①③⑤, ②④⑥  
C. ①②⑤, ③④⑥                      D. ①③⑥, ②④⑤

二、演绎推理: 共 15 题, 每题给出一段陈述, 这段陈述被假设是正确的、不容置疑的。要求你根据这段陈述, 选出一个答案。注意: 正确的答案应根据所给的陈述选出, 不需要附加陈述之外的任何信息。

例题:

某厂有五种产品: 甲、乙、丙、丁、戊。它们的年销售额之间的关系为: 丙没有丁高, 甲没有乙高, 戊不比丁低, 而乙不如丙高。且它们的年销售额均不等。

请问, 哪种产品的年销售额最高?

- A. 甲                                      B. 乙  
C. 丁                                      D. 戊

解答: 从条件中可以推出戊>丙>乙>甲, 因此正确答案为D。

请开始答题:

(2016-北京-91.) 当前, 随着数字化技术的发展, 数字化阅读越来越流行。更多的人愿意利用电脑、手机及各种阅读器来阅读电子图书。而且电子图书具有存储量大、检索便捷、便于保存、成本低廉等优点。因此, 王研究员认为, 传统的纸质图书将最终会被电子图书所取代。

以下哪项如果为真, 最能削弱王研究员的观点?

- A. 阅读电子图书虽然有很多方便之处, 但相对于阅读纸质图书, 更容易损害视力  
B. 有些读者习惯阅读纸质图书, 不愿意采用数字化方式阅读  
C. 许多畅销书刚一出版, 短期内就会售完, 可见, 纸质图书还是有很大市场的  
D. 通常情况下, 只有在纸质图书出版的前提下才允许流通相应的电子图书

(2016-北京-92.) 某国议员认为：“只要提高工人工资就会导致通货膨胀。如果发生通货膨胀，那么人民就会遭受损失。人民遭受损失，就会使政府失去人心。政府只有得人心，国家才能和谐稳定。”

根据该议员的观点，以下**除了**哪项，均可以推出？

- A. 只要提高工人工资，政府就会失去人心
- B. 如果发生通货膨胀，政府就会失去人心
- C. 提高工人工资，且政府得人心
- D. 国家和谐稳定与提高工人工资不能并存

(2016-北京-93.) 中东呼吸综合征（简称 MERS）根本不像人们想象得那么可怕。据统计，2015 年 1-6 月份，因感染 MERS 而死亡的人数显著低于同期因患普通感冒而死亡的人数。因此，普通感冒比 MERS 更能威胁人们的生命安全。

下列哪项最能**反驳**上述论证？

- A. 2015 年 1-6 月份，普通感冒患者远远多于 MERS 患者
- B. 2015 年 1-6 月份，韩国爆发了 MERS 疫情，严重威胁着民众的生命安全
- C. 引起普通感冒的原因与引起 MERS 的原因不同
- D. 有人患有普通感冒，又感染了 MERS 病毒，最终死亡

(2016-北京-94.) 某单位正在创建无烟单位，最近实行新规：禁止在单位内任何场所吸烟。有些吸烟员工因为不能适应，试图改变这一规定，却以失败告终。因为单位规定：制度变更必须经过如下程序：只有获得 15% 以上的员工签字提议，才能由全体员工进行投票表决。结果，这些吸烟员工的提议被大多数员工投票否决了。

由上述断定最可能推出的结论是：

- A. 投否决票的员工小于或等于 85%
- B. 在吸烟员工的提议书上签字的员工不到 15%
- C. 在吸烟员工的提议书上签字的员工不少于 15%
- D. 有员工在提议书签了字，但在表决时又投了否决票

(2016-北京-95.) 在人一生当中，人脑会不断对脑神经连接进行“优化重组”，“修剪”掉多余的连接，以保证有用的连接更加快速通畅。研究人员选取了 121 名年龄在 4-20 岁的健康志愿者，利用磁共振技术，分析了这一年龄段神经连接随着大脑发育和成熟而发生的变化。结果发现，女性对脑神经连接开始“修剪”的时间普遍早于男性。因此研究人员认为，女性的大脑相比男性大脑更高效。

以下陈述如果为真，哪项**无法**支持上述结论？



- A. 学龄期女孩往往表现出比同龄男孩更好的理解能力和语言能力
- B. 脑神经连接“修剪”出错会导致自闭症，患病率性别差异显著
- C. 男孩只能专注于一件工作的时候，女孩可以同时处理多项工作
- D. 大脑“修剪”和“重组”之后使得各种认知活动效率提升很多

(2016-北京-96.) 某经销商为感谢消费者，同时进一步宣传其产品，组织部分消费者进行郊游活动。此次活动为参与者准备了 H、I、J、K、L、M 六种可供选择的礼物。但是，礼物的选择必须满足如下条件：

- (1) 只有选择礼物 I 和 J，才可选礼物 H；
- (2) 如果选择了礼物 L，就不能再选礼物 J，也不能再选礼物 K；
- (3) 只有选择礼物 L，才可选礼物 M。

已知赵先生选择了礼物 H，请问以下哪项有可能是赵先生选择的其他礼物？

- A. I 和 M
- B. I 和 L
- C. J 和 L
- D. J 和 K

(2016-北京-97.) 研究者对一万名平均年龄 65 岁的男女进行追踪研究，评估他们是否存在抑郁以及中风发病情况。研究开始时这些人均无中风史。研究发现，持续存在重度抑郁症状与中风风险增加一倍以上相关，而那些无抑郁症状或症状较轻的参与者的中风风险则并未增加。曾经存在重度抑郁症状的患者，即使其症状在访谈间期已然缓解，他们的中风风险仍然与那些始终存在重度抑郁症状的人相比无显著差异。

以上陈述如果为真，可以推出：

- A. 重度抑郁症极有可能会发展演变为中风
- B. 中风患者人群中患抑郁症的几率也比较高
- C. 正患有或曾患有重度抑郁均是中风的风险因素
- D. 抑郁和中风作为老年常见疾病，经常一起发病

(2016-北京-98.) 只有在湿度高且光线昏暗的山林里才会有野生灵芝生长。紫金山林区没有野生灵芝生长。

若以上判断为真，可推出以下哪项结论？

- I. 紫金山林区湿度不高并且光线不昏暗。
- II. 如果紫金山林区光线昏暗，则肯定湿度不高。
- III. 如果紫金山林区湿度高，则肯定光线不昏暗。

- A. 仅 I
- B. 仅 II
- C. 仅 II 和 III

D. I、II 和 III 都推不出

(2016-北京-99.) 某科学家批评了人们对化学添加剂的恐惧。“食品标签上如果出现很多添加剂就会让人心生恐惧。但其实添加剂和防腐剂是受到严格控制和计量的，真正应该关注的是食品中糖和脂肪的含量。防腐剂是有益的，显然，我们都愿意吃到一个保存良好的罐头，而不希望因为摄入肉毒杆菌而死亡。”

下列陈述如果为真，哪项**无法**支持该科学家的观点？

- A. 很多药物也是化学制剂，是药三分毒，用药要谨慎
- B. 纯天然无添加的原生态食品很难储存，而且价格更高
- C. 防腐剂可以有效防止食品腐败变质、滋生细菌
- D. 食品安全关键在于食品添加剂种类与量的严格控制

(2016-北京-100.) 某舞蹈队里有三名女队员王虹、张静和高薇，她们是好朋友，来自不同省份，或者来自甘肃或者来自山东或者来自广西。高薇见过张静的姐姐，高薇的国标舞比来自广西的队员跳得好。来自山东的队员是独生女，其国标舞是三人中跳得最不好的。

由此可以推出：

- A. 王虹来自甘肃，张静来自广西
- B. 张静来自广西，高薇来自甘肃
- C. 高薇国标舞跳得最好，张静跳得最不好
- D. 王虹国标舞跳得最不好，张静跳得最好

(2016-北京-101.) 研究员将六百多位老年痴呆症患者分为三个组，一组补充一定剂量的维生素 E，另一组接受药物治疗，第三组服用安慰剂。在接下来两年多的时间里，与服用安慰剂的患者相比，服用维生素 E 的患者从事制订计划、做饭和购物等日常活动的能力下降较慢。服用药物的患者没有获得类似的临床效果。因而研究员认为，维生素 E 补充剂有望成为治愈老年痴呆症的特效药。

以下陈述如果为真，哪项最能**质疑**研究员的结论？

- A. 维生素 E 为脂溶性，不易代谢，一次性大量服用会导致中毒
- B. 老年痴呆是不可逆性疾病，症状的发生只可能延缓而无法逆转
- C. 正常人体每日所需的维生素 E 可以从饮食中摄取，不必额外补充
- D. 现在的抗老年痴呆的药物中均未添加维生素 E

(2016-北京-102.) 某中学高中部所有喜欢球类运动的学生都参加过学校的运动会。因此，有些喜欢美术的同学不喜欢球类运动。

为使上述论证成立，关于该中学高中部学生的断定必须假设的是：

- A. 所有喜欢球类运动的学生都不喜欢美术
- B. 参加过学校运动会的学生都喜欢球类运动

C. 所有喜欢美术的同学都没参加过学校的运动会

D. 有些喜欢美术的同学没有参加过学校的运动会

(2016-北京-103.) 研究表明,近 15 年来全球平均气温没有显著的增温趋势,这似乎与温室气体排放造成全球变暖的大背景相矛盾。但温度变化是动力温度和辐射温度两部分造成的,对其气候效应的研究既要考虑气候系统动力因子的年代际变化,更要量化人类活动造成的辐射温度的作用。事实上,动力温度在近 15 年出现显著的降温趋势,而辐射温度持续上升,两者相互抵消,造成了近年来全球气温的增温停滞。

下列推论中正确的是:

A. 气候系统动力因子的年代际变化“冷却”了大气温度

B. 动力温度和辐射温度均增高导致全球变暖的大趋势

C. 气温稳定取决于动力温度与辐射温度的相同变化

D. 动力气候降温不显著造成了 15 年前的全球变暖

(2016-北京-104.) 从前,有一个奇怪的岛屿,岛屿上只住着 M 族人和 N 族人。M 族人从不说真话,N 族人总是说真话。有一天,小张来到这个岛屿,碰到该岛屿上的三个人。小张问甲:“你是 M 族人吗?”甲做了回答。乙根据甲的回答说:“甲不是 M 族人。”丙说:“甲确实是 M 族人。”

根据以上陈述,可推出小张碰到的三个人中,有几个 M 族人?

A. 0

B. 1

C. 2

D. 3

(2016-北京-105.) 某学校要从甲、乙、丙、丁、戊、己、庚七名学生中挑选四人组成一个辩论队,去参加全市的辩论比赛。根据平时的训练情况,挑选必须满足下列条件:

(1) 如果戊参加,则丙也要参加;

(2) 除非乙参加,否则庚不参加;

(3) 甲和乙中至少有一人参加,但不能都参加;

(4) 戊和己中至少有一人参加,但不能都参加。

根据以上陈述,以下哪些学生一定会参加辩论比赛?

A. 乙或庚,或者二人都参加

B. 戊或庚,或者二人都参加

C. 丙或丁,或者二人都参加

D. 丙或戊,或者二人都参加

三、定义判断:共 10 题,每道题中都给出了一个概念的定义,请你根据这个定义,从四个备选的事物或行为中选出一个最为符合或最不符合该定义的典型事物或行为。注意:在

这项测验中，本定义被假定为正确的、不容置疑的。

请开始答题：

(2016-北京-106.) 房地产经纪，是以提取佣金为经营特征，为促成他人房地产交易，而从事房地产买卖、交换、租赁、置换等信息提供、信托劳务、居间代理等业务的经济活动。

根据上述定义，下列属于房地产经纪的是：

- A. 作为社区工作者，张大妈经常为小区内买卖房屋的人牵线搭桥
- B. 某网站设置房产专栏，免费为发布租房卖房信息的会员提供服务
- C. 某中介公司接受一房地产开发商的委托，销售其新开发的商品房
- D. 物业顾问小李通过自己多年的房产人脉关系买到一套性价比较高的房子

(2016-北京-107.) 互补品，是指两种商品之间存在着某种消费依存关系，即一种商品的消费必须与另一种商品的消费相配套。可以分为两类，普通互补品，是指两种商品之间没有固定的同时使用的比例；完全互补品，是指两种商品之间必须按照固定不变的比例同时被使用。

根据上述定义，下列选项正确的是：

- A. 薯条和汉堡属于普通互补品
- B. 眼镜框和眼镜片属于完全互补品
- C. 毛笔和墨汁属于完全互补品
- D. 数码相机和胶卷属于普通互补品

(2016-北京-108.) 委婉语，是指在特定的语境中，对于使人感到敬畏、恐惧、羞耻、不适的事物，信息组织者有意地运用语音、语义、语法等手段而形成的对这些事物非直接的语言或言语表达，从而避免使信息组织者本人、信息理解者、话语涉及的第三方即信息的潜在理解者有消极的心理反应。

根据上述定义，下列选项中使用了委婉语的是：

- A. 王某回忆起母亲常把“树欲静而风不止，子欲养而亲不待”放在嘴边
- B. 诗人把“春风又过江南岸”改成“春风又绿江南岸”
- C. 同事询问田某母亲的病情，她回答说“老了，送上路了”
- D. 外国学生学习汉语后，在路上遇到同学时问“你吃饭了吗？”

(2016-北京-109.) 法律移植，是指一个国家同时对时代其他国家法律制度的吸收和借鉴。

根据上述定义，下列属于法律移植的是：

- A. 非西方国家在西方列强殖民主义扩张之后，被迫地或主动地施行西方国家法律
- B. 张某认为雅典城邦的法律思想体现了公平，认为我国的法律也体现了公平
- C. 非洲某落后国家研究发达国家的法律史，并根据实际情况修改了本国的法律制度

D. 法国 18 世纪借鉴了中国的科举考试，设立了本国的公务员考试

(2016-北京-110.) 随意注意，是指有预定目的、需要一定意志努力的注意；不随意注意是事先没有预定的目的，也不需要作意志努力的注意；随意后注意是在随意注意之后发生的，既有一定的目的任务，又不需要意志努力的注意。

根据上述定义，下列属于随意后注意的是：

- A. 小林在看杂志时发现了一幅插画，他觉得很不错就用照相机拍了下来
- B. 某射箭运动员比赛时过度紧张，致使射第一箭时角度出现了严重偏差，只获得 2 环的成绩
- C. 小林在窗前读书时，突然听到了外面有一些声响，他抬头一看发现有两只小鸟停在了树上
- D. 小王刚学开车时必须全神贯注，熟练后，上班途中可以边开车边听广播

(2016-北京-111.) 感知综合障碍是指病人在感知某一现实事物时，作为一个客观存在的整体来说是正确的，但对该事物的个别属性，如大小、形状、颜色、空间距离等产生与该事物不相符合的感知。

根据上述定义，下列属于感知综合障碍的是：

- A. 王某由于沉迷于游戏而经常出现幻觉，眼前浮现游戏中打斗的场景
- B. 张某最近一段时间以来经常觉得正在摆动着的钟摆停止了摆动
- C. 由于眼睛高度近视，李某在大街上经常会认错人，心里非常苦闷
- D. 孙某对颜色的辨别能力差，经医生检查发现这是色弱的表现

(2016-北京-112.) 斡旋受贿罪，也称间接受贿罪，是指国家工作人员利用本人职权或地位形成的便利条件，通过其他国家工作人员职务上的行为，为请托人谋取不正当利益，索取请托人财物或者收受请托人财物。

根据上述定义，下列存在斡旋受贿罪的是：

- A. 民办学校校长张某收受了某学生家长的红包，委托本校老师伪造该生的成绩单
- B. 李董事长送了审计司司长太太一部轿车，成功使得自己的企业逃过审计审查
- C. 海关负责海外货品清关的小赵，时常收到海外代购商的礼物，并帮他们逃税
- D. 警察孙某请交管局的老同事帮小李删除违章记录，并向小李索要一笔好处费

(2016-北京-113.) 资源民族主义，是指基于国家对自然资源的合法管辖，通过控制和支配资源，以及市场干预行为，实现为政治服务和国家特定发展等目标。

根据上述定义，下列属于资源民族主义的是：

- A. 某国发展与石油资源国的合作，持续推进原油进口来源多元化
- B. 某国加强了某稀有金属开矿许可，并为外资企业投资设立高门槛
- C. 某公司研发的特色旅游纪念品在市场上广受欢迎，不得不限量发售
- D. 政府组织高科技企业生产高质量钢铁并依靠出口获得利润

(2016-北京-114.) 兼并, 指的是一个企业收购另一个企业的行为, 通常以一个企业收购另一企业股票的形式发生。主要形式包括: (1) 纵向兼并, 发生在两个企业处在生产过程的不同阶段的时候; (2) 横向兼并, 发生在两个企业处在同一个市场中的情况下; (3) 混合兼并, 发生在两个企业在两个没有关联的市场中各自经营的场合。

根据上述定义, 下列选项正确的是:

- A. 甲果汁公司收购乙可乐公司, 属于横向兼并
- B. 甲手机公司收购乙电脑公司, 属于纵向兼并
- C. 甲面粉厂被乙面包厂收购, 属于混合兼并
- D. 甲商品房开发公司收购乙物业管理公司, 属于混合兼并

(2016-北京-115.) 显性知识, 是能够被人类以一定符码系统 (如语言, 数学公式, 各类图表、盲文、手势语、旗语等符号形式) 加以完整表述的知识。隐性知识与其相对, 通常是指人们知道却难以言述的知识, 依靠个人经验获取。基于身体的隐性知识是指主体在认识过程中所产生和应用的隐性知识, 多植根于人类身体机能的运用或对于工具的使用。

根据上述定义, 下列行为运用基于身体的隐性知识最典型的一项是:

- A. 某公司开发了一套金融软件, 能够让用户不花费现金就可以模拟炒股的情形
- B. 幼儿园老师通过讲故事、打比方等方法帮助孩子们理解一些成语的含义
- C. 一位具有 20 年外科手术经验的医生为患者进行骨髓移植手术
- D. 一些研究者利用浮力原理制造潜水艇, 并设计了能够减少阻力的流线外形

**※※※第四部分结束, 请继续做第五部分! ※※※**

## **【【2014-北京-判断】】**

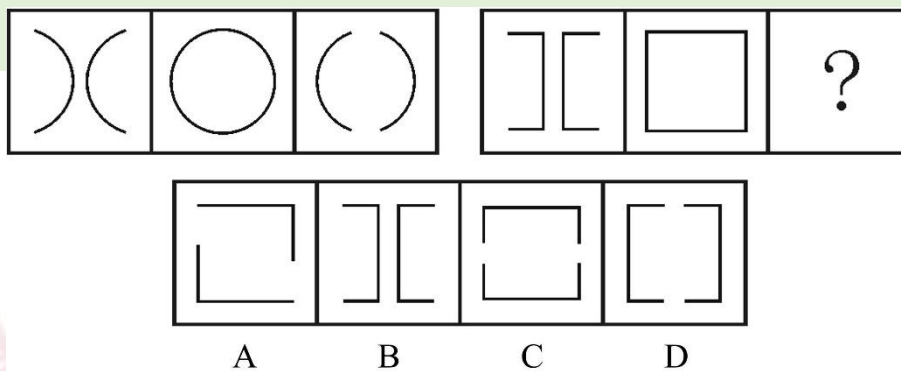
### **第四部分 判断推理**

(共 30 题, 参考时限 30 分钟)

本部分包含三种类型的题目:

一、图形推理: 共 5 题, 请按每道题的答题要求作答。

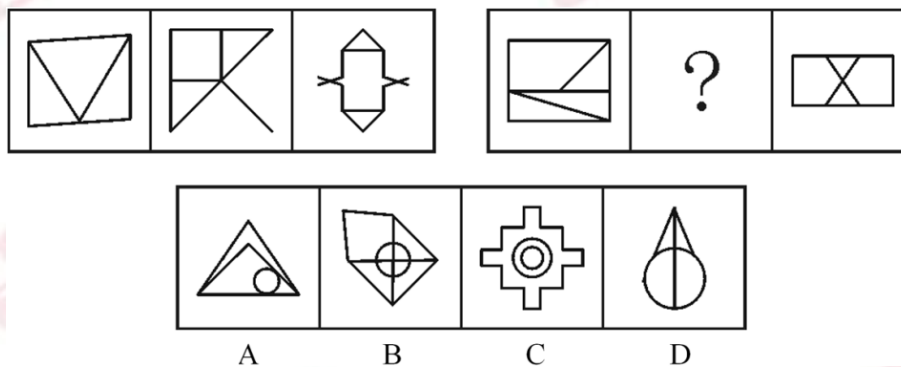
**例题:** 从所给四个选项中, 选择最合适的一个填入问号处, 使之呈现一定规律性:



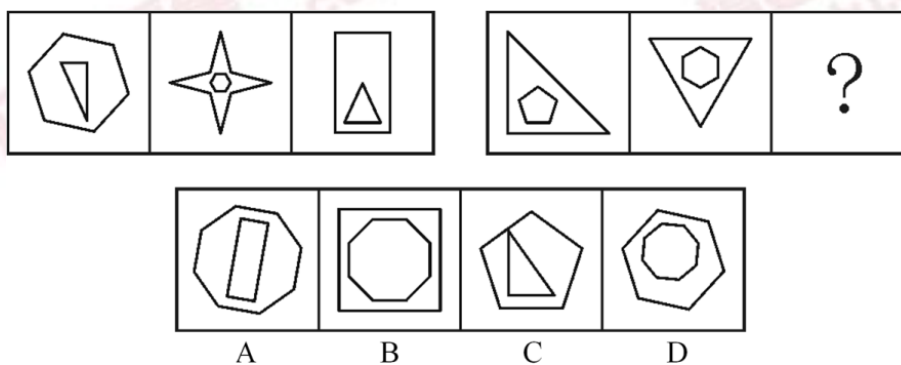
**解答：**正确答案为 D。因为只有 D 能使两套图形具有相似性，仅仅元素不同，一个是半圆，一个是半个正方形，但两组图形中元素的排列规律完全相同。

请开始答题：

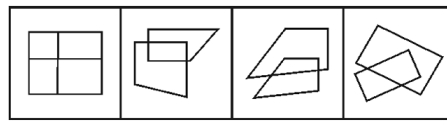
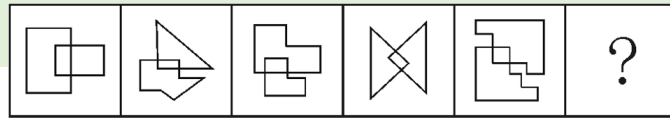
(2014-北京-86.) 从所给四个选项中，选择最合适的一个填入问号处，使之呈现一定规律性：



(2014-北京-87.) 从所给四个选项中，选择最合适的一个填入问号处，使之呈现一定规律性：

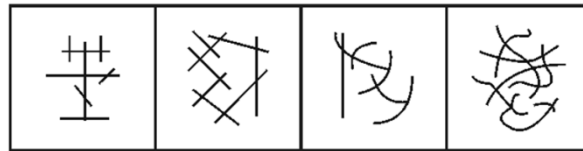


(2014-北京-88.) 从所给四个选项中，选择最合适的一个填入问号处，使之呈现一定规律性：



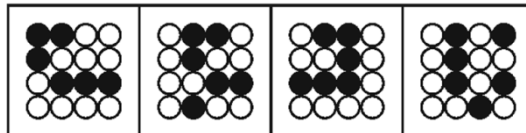
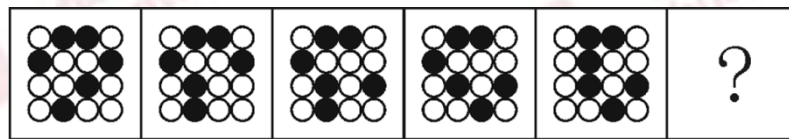
A B C D

(2014-北京-89.) 从所给四个选项中, 选择最合适的一个填入问号处, 使之呈现一定规律性:



A B C D

(2014-北京-90.) 从所给四个选项中, 选择最合适的一个填入问号处, 使之呈现一定规律性:



A B C D

二、演绎推理: 共 15 题, 每题给出一段陈述, 这段陈述被假设是正确的、不容置疑的。要求你根据这段陈述, 选出一个答案。注意: 正确的答案应根据所给的陈述选出, 不需要附加陈述之外的任何信息。

例题:

某厂有五种产品: 甲、乙、丙、丁、戊。它们的年销售额之间的关系为: 丙没有丁高, 甲没有乙高, 戊不比丁低, 而乙不如丙高。且它们的年销售额均不等。

请问, 哪种产品的年销售额最高?

- A. 甲
- B. 乙
- C. 丁
- D. 戊

解答: 从所给条件可以知道: 戊 > 丁 > 丙 > 乙 > 甲。因此, 正确答案为 D。



请开始答题：

(2014-北京-91.) 熟练掌握输入法技能对于提高打字效率至关重要。所以，打字员应参加专门教授五笔输入法的培训班。

以下哪项如果正确，最能**削弱**上述论证？

- A. 只有熟练掌握输入法技能的打字员才参加过专门教授五笔输入法的培训班
- B. 只有参加过专门教授五笔输入法培训班的打字员才能熟练掌握输入法技能
- C. 一些打字员能熟练掌握输入法技能，但从未参加过专门教授五笔输入法的培训班
- D. 有些教授其他计算机技能的机构比专门教授五笔输入法的培训班更有助于学员掌握输入法技能

(2014-北京-92.) 某教师对美国高中生和中国高中生做了一项测试，他问被试者相同的问题“一张 A4 纸如果对折，最多可以折几次”。结果发现，听到问题后，大部分美国高中生马上开始动手折纸，然后根据实际情况回答能折的次数，而大部分中国高中生听到问题后马上回答：无穷多次。这位教师由此得出结论：美国高中生注重实践，而中国高中生注重理论。

以下哪项是这位教师得出结论所必须假设的？

- A. 理论与实践是相互对立的
- B. 只要开始动手折纸并根据实际情况来回答问题，就是注重实践
- C. 只要开始动手折纸并根据实际情况来回答问题，就是不注重理论
- D. 只要马上回答“无穷多次”，就是不注重实践

(2014-北京-93.) 某公司有些新入职职工拥有博士学位。该公司所有拥有博士学位的职工都被董事长单独接见过，而该公司所有甲省的职工都没有被董事长单独接见过。

如果以上陈述为真，则以下哪项也一定为真？

- A. 有些新入职职工不是甲省的
- B. 所有新入职职工都是甲省的
- C. 有些新入职职工没有被董事长单独接见过
- D. 有些拥有博士学位的职工是甲省的

(2014-北京-94.) 某食品包装上标明：本食品可放心食用，因为其中不含防腐剂和人工色素。

该食品包装上所标明内容最可能假设了以下哪项？

- A. 有些食品中含防腐剂和人工色素
- B. 安全的食品一定不含防腐剂和人工色素
- C. 不含防腐剂和人工色素的食品一定是安全食品
- D. 这些食品的生产者抓住了消费者的心理需求

(2014-北京-95.) 健康专家在电视节目中劝说经常饮用纯净水的人群：与矿泉水相比，

纯净水缺乏矿物质，而其中有些矿物质是人体必需的。所以，你们应该改变习惯，多饮用矿泉水。

以下哪项最能**削弱**健康专家的观点？

- A. 人体所必需的不仅仅是矿物质
- B. 人们可以从其他食物中摄取足够的矿物质
- C. 一些经常饮用某品牌矿泉水的人得了肾结石
- D. 可以饮用纯净水和矿泉水以外的其他水

(2014-北京-96.) 王涛的好朋友都喜欢歌手周某的歌。王涛在某咨询公司工作的同学都不喜欢歌手周某的歌。丽莎既是王涛的同学，也是他的好朋友，米蓝是王涛的同学但不在该咨询公司工作，贺宇是王涛的同学但不喜欢歌手周某的歌。

根据以上陈述，一定可以得出以下哪项？

- A. 米蓝喜欢歌手周某的歌
- B. 王涛不在该咨询公司工作
- C. 贺宇在该咨询公司工作
- D. 丽莎不在该咨询公司工作

(2014-北京-97.) 在科学界，我们希望论证中不出现任何“存在预设”。所谓存在预设，即预先设定命题中的主体存在。例如在“孙悟空有火眼金睛”这个命题中，并不预设孙悟空的存在，但在命题“有的花是红的”中，必须预设花的存在。牛顿第一运动定律，断定的是不受任何外力作用的物体必然保持静止状态或匀速直线运动状态。这个定律可能为真，但物理学家在表达和断定它的时候，并没有预设不受任何外力作用的物体存在。

从这段话中可以推出的是：

- A. 存在预设取决于命题主体是否真的存在
- B. 没有不受外力作用的物体
- C. 牛顿第一运动定律不适用于现实
- D. 牛顿第一运动定律的论证中不存在“存在预设”

(2014-北京-98.) 近来，月嫂收入成为人们讨论的热门话题。有人要求政府加强监管，并质疑月嫂的收入为何能高过一个医学博士的月薪。也有人反驳说，月嫂的收入为什么不能高过医学博士呢？月嫂收入的提高，一方面是市场调节的结果，另一方面反映了我国越来越重视体力劳动，尊重体力劳动者是社会的进步。

下列哪项陈述**不能**支持反驳者的观点？

- A. 收入高低不完全取决于学历高低
- B. 有些月嫂非常优秀，具有博士学位
- C. 随着新生儿的增多，出现“一嫂难求”的现象
- D. 谁能放下身段去赚辛苦钱，谁就值得尊重

(2014-北京-99.) 某硕士班同学举办毕业 20 周年聚会, 联络人王宁说班里有同学不能参加。班长说: “我看 513 宿舍的 4 名同学秋菊、阿春、秀秀和楠楠最多有两人能参加。” 团支书说: “班长, 我觉得你说得不对。”

如果团支书说得不对, 则下列哪项必定为假?

- A. 秋菊、阿春、秀秀和楠楠四人中有两人能参加
- B. 秋菊、阿春、秀秀和楠楠四人都不能参加
- C. 秋菊、阿春、秀秀和楠楠四人都能参加
- D. 如果秋菊、阿春能参加, 那么秀秀和楠楠也能参加

(2014-北京-100.) 某招考职位规定: 凡通过英语专业八级考试、参加过支教活动的英语专业应届毕业生均有资格报考该职位。张华是北京某名牌大学英语专业的一名应届毕业生, 却没有资格报考该职位。

由此一定可以推出的是:

- A. 张华没有通过英语专业八级考试
- B. 张华没参加过支教活动
- C. 如果张华通过了英语专业八级考试, 那么他没有参加过支教活动
- D. 如果张华参加过支教活动, 那么他通过了英语专业八级考试

(2014-北京-101.) 统计表明, 某国的火车事故多发生在南部地区, 因此在北部地区坐火车更安全。

以下哪项最能**反驳**上述论证?

- A. 该国北部的火车车速较慢
- B. 该国南部的火车线路比北部多得多
- C. 该国南部的许多线路已经使用动车组了
- D. 该国北部大部分地区为山区, 更适合汽车行驶

(2014-北京-102.) 英语六级考试结束后, 关于王刚、刘超二人是否能通过考试, 宿舍同学有如下讨论:

王刚说: 或者我能通过, 或者刘超能通过, 或者我和刘超都能通过。

李强说: 王刚一定能通过。

杨帆说: 刘超能通过。

赵进说: 王刚没有可能通过。

考试成绩出来后, 证明四人的话有两人说的是真的, 两人说的是假的。

根据以上陈述, 可推出以下哪项?

- A. 王刚、刘超都通过了
- B. 王刚、刘超都没通过
- C. 王刚通过了, 刘超没通过

D. 刘超通过了，王刚没通过

(2014-北京-103.) 一类疫苗是国家根据目前国内疾病流行情况以及我国儿童的普遍身体状况规定的必须接种的疫苗，接种费用由政府支付，而其他不属于一类疫苗并且需要家长自费的疫苗属于二类疫苗。由此，家长们普遍认为，二类疫苗只是预防一类疫苗之外的疾病的。

以下哪项最能**反驳**家长们的看法？

- A. 二类疫苗中的五联疫苗可以预防一类疫苗已覆盖的一些疾病，因此可减少接种次数
- B. 一类疫苗预防的是可能给孩子带来更大伤害的疾病，二类疫苗则不一定
- C. 同一种疫苗在不同的国家和地区可能属于不同类型的疫苗
- D. 选择不接种二类疫苗除了经济原因，还有对其安全性的考虑

(2014-北京-104.) 某实验室一共有 3 种类型的机器人，C 型能识别颜色，S 型能识别形状，X 型既不能识别颜色也不能识别形状。3 类机器人都能根据简单命令拿起实验品。实验室对 1 号机器人和 2 号机器人进行实验，当命令它们拿起红球时，1 号拿起的是红方块，2 号拿起的是蓝球。

根据上述实验，以下哪项断定一定为真？

- A. 1 号和 2 号都是 X 型
- B. 1 号和 2 号都不是 X 型
- C. 1 号是 C 型且 2 号是 S 型
- D. 1 号不是 S 型且 2 号不是 C 型

(2014-北京-105.) 甲、乙、丙、丁、戊、己六位运动员的跳高记录有如下比较：

- (1) 乙的成绩比丙好，但不如甲；
- (2) 丁的成绩不如甲和丙；
- (3) 戊的成绩好于丁和己，但不如甲和丙。

由此，可以确定：

- A. 丁的成绩好于己
- B. 己的成绩好于丁
- C. 戊的成绩好于乙
- D. 乙的成绩好于戊

三、定义判断：共 10 题，每道题中都给出了一个概念的定义，请你根据这个定义，从四个备选的事物或行为中选出一个最为符合或最不符合该定义的典型事物或行为。注意：在这项测验中，本定义被假定为正确的、不容置疑的。

请开始答题：

(2014-北京-106.) 非我所创综合症或 NIH 综合症，是社会、公司和组织中的一种文化现象，人们不愿意使用、购买或者接受某种产品、研究成果或者知识，不是出于技术或者法

律等因素，而只是因为它源自其他地方。

根据上述定义，下列选项中涉及非我所创综合症的是：

- A. 每年九一八纪念日時小李都会将自己的日系车车标摘下
- B. 甲国某公司经检验后退回一整批不合格的乙国进口光学器材
- C. 某国宣布全面禁止进口日本福岛第一核电站周边 8 个县水产品
- D. 有强烈爱国情结的某国居民只购买本国生产的手机

(2014-北京-107.) 心理学家认为，在一般情况下，人们都不愿接受较高较难的要求，因为它费时费力又难以成功，相反，人们却乐于接受较小的、较易完成的要求，在实现了较小的要求后，人们才慢慢地接受较大的要求，这就是“登门坎效应”。

根据上述定义，下列**不符合**登门坎效应的是：

- A. 某推销员总是仔细地记录客户的需求，并定期向他们宣传新产品
- B. 先请居民在赞成安全行驶的请愿书上签字，几周后再向他们提出在自己房前竖立“小心驾驶”的语牌
- C. 某高中的班主任不忽视学生的每一点进步，并帮助他们制定短期目标，促使他们考上理想的大学
- D. 一位万米长跑冠军说：“我将 10000 米分成 10 段。每段我都保持了领先，所以赢得了胜利。”

(2014-北京-108.) 音乐治疗，是一个系统的干预过程，在这个过程中，治疗师利用音乐体验的各种形式，以及在治疗过程中发展起来的、作为治疗动力的治疗关系来帮助治疗对象达到健康的目的。

根据上述定义，下列选项中属于音乐治疗的是：

- A. 病人李某无意中听到其他病友推荐的治疗音乐后感觉非常舒服
- B. 医生为精神紧张抑郁的周某播放催眠音乐，周某说他感到非常放松
- C. 某治疗师给病人听过某些音乐后，病人出现呕吐等不适症状
- D. 治疗师王某旅游时在山泉前听到潺潺水声顿觉心旷神怡

(2014-北京-109.) 自媒体，是指一个普通市民或机构组织能够在任何时间、任何地点，以任何方式访问网络，通过现代数字科技与全球知识体系相联，并提供或分享他们的真实看法、自身新闻的一种途径和即时传播方式。

根据上述定义，以下哪项行为**没有**涉及自媒体？

- A. 张教授将他的课件传到网上，供学生下载
- B. 小李在微博上与网友讨论食品卫生问题
- C. 小张将拍摄的“中国式过马路”用电子邮件发给网友
- D. 老刘浏览论坛上的关于春运的新闻

(2014-北京-110.) 社会体育，是由企业、事业单位职工，国家机关工作人员，以及城

镇或农村居民等不同的群体，为达到健身、健心、健美、娱乐、医疗等目的而进行的内容丰富、形式多样的身体锻炼活动。

根据上述定义，以下哪项活动**不是**社会体育活动？

- A. 由北京市体委举办的群众长跑运动
- B. 某大学举办了教工篮球队与社区篮球队的友谊比赛
- C. 某市承办了国际铁人三项赛
- D. 在国家奥林匹克体育中心举办的社区居民网球赛

(2014-北京-111.) 分布式能源，是一种新型的建于用户当地或附近的发电系统，可产生电能及其他形式能量，并优先满足当地用户需求，且由用户来管理支配。

根据上述定义，下列选项中属于分布式能源的是：

- A. 葛洲坝水电枢纽发电满足附近省市用电需求
- B. 某核电站生产的电能并入了国家电网
- C. 某农户将自家化粪池产生的沼气用于照明
- D. 西部地区某乡建风电站发电用于本村生产生活

(2014-北京-112.) 宅经济，又称闲人经济，是指人们将假日时间分配在家庭生活、减少出门消费而带来商机的现象。

根据上述定义，下列选项中属于宅经济的是：

- A. 十一长假期间，某小区附近的音像店提供光盘上门租借服务
- B. 某在线购物网站的客服人员因需要在节假日值班，而在网上定购快餐
- C. 放假期间，某镇的甲商场门可罗雀，而乙商场因搞促销而门庭若市
- D. 某快递公司在十一长假时订单大幅减少，这是因为很多人去旅游了

(2014-北京-113.) 超限效应，是指当人们所接受的刺激过多、过强或者作用时间过久时，引起的心理极不耐烦或逆反的心理现象。

根据上述定义，下列**不符合**超限效应的是：

- A. 小林因为妈妈经常唠叨，他决定毕业后到外地找工作
- B. 王老师因为儿子意外身亡，上课时无法集中注意力
- C. 小方因学习成绩不好，多次受到老师的批评，后来她就放弃了学业
- D. 小华连续加班一周，感到非常疲惫，因琐事与家人大吵

(2014-北京-114.) 病毒式营销，是指发起人把产品的最初信息发送到用户，再依靠用户自发进行口碑宣传的一种营销方法。这种战略像病毒一样，利用快速复制的方式将信息传向数以千计，乃至百万计的受众。

根据上述定义，下列属于病毒式营销的是：

- A. 某公司通过发展客户作为销售渠道，鼓励他们向更多人推销该公司产品
- B. 某企业举办广告创意设计大赛活动，让消费者自己设计相关产品的广告

- C. 某公司通过电子邮箱随机发送产品广告，并告知转发该广告可参与抽奖
- D. 某商家用标新立异的广告词宣传，网友纷纷转发使其迅速成为流行语

(2014-北京-115.) 中国传统医学中“七情”之一的“惊”指突然遭受意料之外的事，引起心神欠稳或脏腑机能失调，之后又遇到异物异声而产生的伴有紧张惊骇的情绪体验。

根据上述定义，下列选项中可以认定为“惊”的是：

- A. 李某意外摔下楼梯后昏迷不醒，醒来后未感到异常，只觉得自己睡了一觉
- B. 遭遇歹徒劫持的王某被营救后大哭起来，并拉着民警的手连声称谢
- C. 赵某目睹车祸惨剧后呆若木鸡，再次看到摩托车紧急刹车时一下子晕倒在地
- D. 周某与朋友聊天时得知自己中了 500 万大奖，他顿时热泪盈眶并跳了起来

※※※第四部分结束，请继续做第五部分！※※※

## 【【2013-北京-判断】】

### 第四部分 判断推理

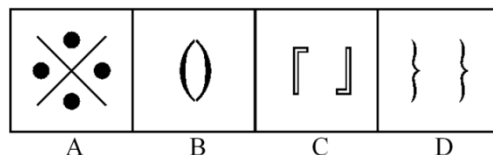
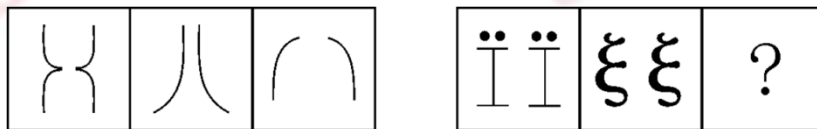
(共 30 题，参考时限 30 分钟)

本部分包含三种类型的题目：

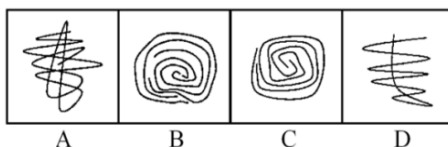
一、图形推理：共 5 题，请按每道题的答题要求作答。

请开始答题：

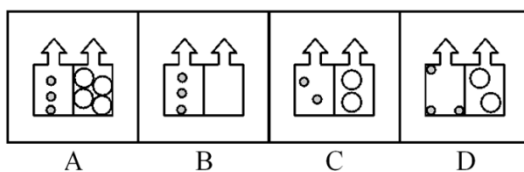
(2013-北京-86.) 从所给四个选项中，选择最合适的一个填入问号处，使之呈现一定规律性：



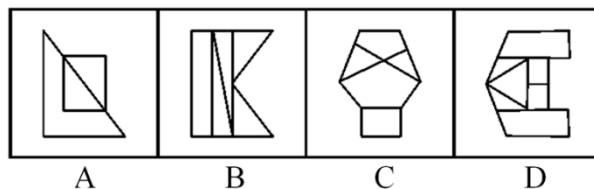
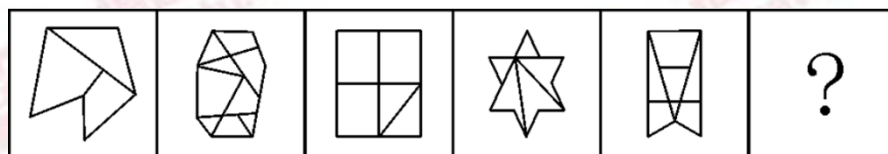
(2013-北京-87.) 从所给四个选项中，选择最合适的一个填入问号处，使之呈现一定规律性：



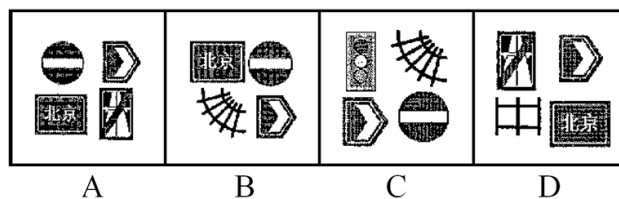
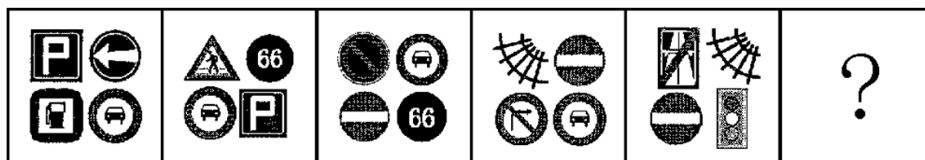
(2013-北京-88.) 从所给四个选项中, 选择最合适的一个填入问号处, 使之呈现一定规律性:



(2013-北京-89.) 从所给四个选项中, 选择最合适的一个填入问号处, 使之呈现一定规律性:



(2013-北京-90.) 从所给四个选项中, 选择最合适的一个填入问号处, 使之呈现一定规律性:





二、演绎推理：共 15 题，每题给出一段陈述，这段陈述被假设是正确的、不容置疑的。要求你根据这段陈述，选出一个答案。注意：正确的答案应根据所给的陈述选出，不需要附加陈述之外的任何信息。

例题：

某厂有五种产品：甲、乙、丙、丁、戊。它们的年销售额之间的关系为：丙没有丁高，甲没有乙高，戊不比丁低，而乙不如丙高。且它们的年销售额均不等。

请问，哪种产品的年销售额最高？

- A. 甲
- B. 乙
- C. 丁
- D. 戊

解答：从条件知道戊不比丁低，因此正确答案为D。

请开始答题：

(2013-北京-91.) 老虎属猫科动物，是亚洲陆地上最强大的食肉动物之一。老虎拥有猫科动物中最长的犬齿、最大号的爪子，集速度、力量、敏捷于一身，前肢一次挥击力量可达 1000 公斤，爪刺入深度达 11 厘米，擅长跳跃，一次跳跃的最长距离可达 6 米，且擅长捕食。

由此可以推出：

- A. 最凶猛的老虎也是最凶猛的猫科动物
- B. 猫科动物都擅长捕食
- C. 有些猫科动物不是食肉动物
- D. 擅长跳跃的动物有些是猫科动物

(2013-北京-92.) 一本书要成为畅销书，必须有可读性或者经过精心的包装。

如果上述断定成立，则以下哪项一定为真？

- A. 大多数人喜欢有可读性的畅销书
- B. 没经过精心包装的书一定不是畅销书
- C. 有可读性的书一定是畅销书
- D. 没有可读性又没有精心包装的书一定不是畅销书

(2013-北京-93.) 通过对一定数量的新生儿进行测试，研究人员发现新生儿对某些图形的识别是与生俱来的。

如果上述测试结果正确，那么以下哪项一定为真？

- A. 新生儿可以区别圆形和方形
- B. 人类对图形的识别能力随学习不断提高
- C. 人类对图形的识别能力不都是通过学习获得的
- D. 人类对图形的识别能力大多数是通过学习获得的

(2013-北京-94.) 如果王教授是北京大学的教师，又写过许多哲学论文，则他一定是哲学系的教师。

以下哪项如果为真，最能支持上述论证？

- A. 王教授写过许多哲学论文
- B. 哲学系的教师写过许多哲学论文
- C. 北京大学的教师中只有哲学系的教师写过许多哲学论文
- D. 很少有教师写过许多哲学论文

(2013-北京-95.) 在是否戒烟的问题上，总有些不算明智的人。除非他们戒烟成功，否则就不得不为其健康恶化承担所有后果。老李已有 20 年的烟龄，但他很怕失去健康的身体和美好的生活，不想因为自己的不明智而承担健康恶化的后果。

由此可以推出：

- A. 老李请亲朋好友严格监督自己戒烟
- B. 老李若要实现自己的想法，必须成功戒烟
- C. 老李戒烟不能成功，因为他总是做不明智的选择
- D. 如果老李身体不好，一定是吸烟造成的

(2013-北京-96.) 地名是各个历史时代人类活动的产物，有着丰富的历史、地理、语言、经济、民族、社会等科学内涵，是一种特殊的文化现象，是人类历史的活化石。据统计，中国古今的姓氏超过 22000 个。由此可以推测，地名中涉及姓氏的用字也不会少。

以下哪项如果为真，最能支持上述推测？

- A. 这些凝聚民族、语言史料的地名，对于了解古代的部族迁徙有很大帮助
- B. 宗法社会的人们往往按姓氏聚居，姓氏便成为地名中最富区别意义的亮点
- C. 考古学家以河南登封县一个叫“王城岗”的古地名为线索，在那里挖掘出夏朝遗址
- D. 据统计，姓陈的人在南方比较多，在北方比较少

(2013-北京-97.) 有两种农产品甲和乙，甲不能生长在干旱的气候里，乙不能生长在寒冷的气候里。在某个国家的大部分地区，或者可以种植农产品甲，或者可以种植农产品乙。

如果以上陈述为真，则以下哪项一定**为假**？

- A. 这个国家有一半地区的气候既干旱又寒冷
- B. 这个国家大部分地区的气候是非常寒冷的
- C. 这个国家根本不种植农产品甲
- D. 这个国家只能种植农产品甲

(2013-北京-98.) 参与讲座的人曾跟军方有关联，他们所有人都相信 UFO 真的存在，而且大部分人觉得应该研究 UFO 问题。国家原子试验博物馆举行的讲座虽然规模不大，但演讲者都是非常可信的。由此可见，有些非常严谨的科学家也相信 UFO 真的存在。

以下哪项如果为真，最能支持上述论证？

- A. 有些科学家跟军方有关联
- B. 演讲者有些不是严谨的科学家

C. 部分参与讲座的人是非常严谨的科学家

D. 科学家的讲座都是非常严谨可信的

(2013-北京-99.) 一些恐龙的头骨和骨盆与所有现代鸟类的头骨和骨盆具有相同的特征,但不是所有的恐龙都有这样的特征。有些科学家宣称:所有具有这样特征的动物都是恐龙。

根据以上陈述和科学家的宣称,可以推出:

A. 与其他动物相比,鸟类与恐龙有更多的相似性

B. 一些古代的恐龙与现代的鸟类是没有区别的

C. 所有的恐龙都是鸟类

D. 现代的鸟类是恐龙

(2013-北京-100.) 某办公室有三位工作人员:刘明、庄嫣和文虎。他们三人中,一人是博士,一人是硕士,还有一人是本科毕业生。已知博士比刘明大两岁;庄嫣与本科毕业生同岁,但是月份稍大;本科毕业生的年龄最小。

由此可以推出:

A. 刘明是本科毕业生、庄嫣是硕士、文虎是博士

B. 刘明是硕士、庄嫣是博士、文虎是本科毕业生

C. 刘明是本科毕业生、庄嫣是博士、文虎是硕士

D. 刘明是硕士、庄嫣是本科毕业生、文虎是博士

(2013-北京-101.) 某中学举办了文学和科学两类讲座,并对学生参加讲座情况进行了统计。发现一年级学生中,有学生参加了全部文学讲座,也有学生参加了全部科学讲座。

如果以上陈述为真,则以下哪项一定为真?

A. 有一年级学生参加了全部讲座

B. 每个一年级学生至少参加了一个讲座

C. 每个讲座都有一年级学生参加

D. 有的一年级学生没有参加任何讲座

(2013-北京-102.) 秦始皇陵位于陕西省西安市以东 35 公里的临潼区境内,是秦始皇于公元前 246 年至公元前 208 年修建的,也是中国历史上第一个皇帝陵园。20 世纪 70 年代中期长沙马王堆汉墓“女尸”的发现震惊中外,其尸骨保存之完好举世罕见。由此,有人推测秦始皇的遗体也会完好地保存下来。

对于下列三条陈述和以上推测的论证关系,哪项评价是正确的?

I.长沙马王堆汉墓的修建日期距秦代不足百年

II.秦始皇死于盛夏出巡途中,尸骨经长途颠簸运回咸阳,由死到下葬间隔近两个月

III.秦陵地宫“令匠作机弩矢,有所穿进者辄射之”,至今没有发现被盗痕迹

A. I 支持, II、III 质疑

B. I 支持, II 质疑, III 无关

C. I、II、III均质疑

D. I、II、III均支持

(2013-北京-103.) 某智能研究所目前只有三种实验机器人 A、B 和 C, A 不能识别颜色, B 不能识别形状, C 既不能识别颜色也不能识别形状。该智能研究所的大多数实验室里都要做识别颜色和识别形状的实验。

如果以上陈述为真, 则以下哪项一定为假?

A. 有的实验室里三种机器人都有

B. 半数实验室里只有机器人 A 和 B

C. 这个智能研究所正在开发新的实验机器人

D. 半数实验室里只有机器人 A 和 C

(2013-北京-104.) 北大山鹰社的周、吴、郑、王四人中, 有且只有一人登上过卓奥友峰。记者采访他们时: 周说: “登上卓奥友峰的是队员郑。” 郑说: “我还没有参加过任何登山活动。” 吴说: “我虽然也参加了那次登山活动, 但没有登顶。” 王说: “我是队员吴的候补, 如果我没登顶就是我登顶了。”

如果他们中只有一人说了假话, 则以下哪项一定为真?

A. 北大山鹰社的其他队员也登上过卓奥友峰

B. 吴或者周登上过卓奥友峰

C. 郑登上过卓奥友峰

D. 王登上过卓奥友峰

(2013-北京-105.) 截至 2011 年年底某市常住人口 1100 万人, 其中本地人口 800 万人, 外来人口 300 万人。常住人口的男、女比例为 1.03: 1。该市高校众多, 教育水平远高于全国平均水平。常住人口中具有大学本科及以上学历的超过 20%。

根据以上陈述, 一定可以推出的是:

A. 本地本科及以上学历人口超过外来本科及以上学历人口

B. 本地女性人口超过外来女性人口

C. 本地男性人口超过外来女性人口

D. 本地男性人口超过外来男性人口

三、定义判断: 共 10 题, 每道题中都给出了一个概念的定义, 请你根据这个定义, 从四个备选的事物或行为中选出一个最为符合或最不符合该定义的典型事物或行为。注意: 在这项测验中, 本定义被假定为正确的、不容置疑的。

请开始答题:

(2013-北京-106.) 旅游商品, 是指旅游者在旅游活动中出于非商业性目的而购买的实

物性商品，它不包含维持旅游活动所必需的生活用品。

根据上述定义，下列属于旅游商品的是：

- A. 小王在尼泊尔买了 100 个手链、200 条围巾准备放到自己在北京经营的店铺里销售
- B. 到欧洲出差的张小姐利用闲暇时间在英国某古董商店购买了一套精美茶具
- C. 某夫妇为了国庆假期的海南五日游到超市购买了一瓶防晒霜和两副墨镜
- D. 李女士在泰国旅游时从小商贩那里得到了很多关于当地美食娱乐方面的信息

(2013-北京-107.) 休闲体育，是指在相对自由的社会生活环境和条件下，人们自愿选择并从事的各种形式的体育活动的统称，它是体育的一种社会现象，也是体育的一种存在形态，是社会休闲活动的主要方式之一。

根据上述定义，下列属于休闲体育的是：

- A. 马拉松运动员小李在假期陪朋友打球
- B. 作为私人保镖的小王每天接受 4 个小时的擒拿格斗训练
- C. 某高中全体学生按照学校要求每天下午完成半小时的长跑锻炼
- D. 受过腿伤，正处于恢复期的赵先生应医生要求，每天由护士指导到户外散步 15 分钟

(2013-北京-108.) 新媒体，是新的技术支撑体系下出现的，相对于报刊、户外、广播、电视四大传统意义上的媒体，新媒体被形象地称为“第五媒体”。

根据上述定义，下列属于新媒体的是：

- A. 具有接收新闻功能的 3G 手机
- B. 地铁站台上的大屏幕电视
- C. 改版后的《都市娱乐报》采用了新的印刷技术，文字和图片更为清晰
- D. 广场上采用高科技手段的科普展览

(2013-北京-109.) 自助游，是指自己设计路线，自己安排旅途中的一切，利用现代文明带来的便捷，却又不受束缚的旅行。

根据上述定义，下列属于自助游的是：

- A. 旅行社只负责交通和住宿，自己安排游览景点
- B. 参考旅行社的游览路线，进行适当调整，自己开车游玩
- C. 旅行社安排的旅游，但在每个游览点只规定时间，游览路线自己选择
- D. 单位组织的旅游，游览路线由旅行社设计，日程由单位负责人决定

(2013-北京-110.) 生态经济的操作定义为，不破坏环境、不污染环境的经济，不以不可再生资源为基础的经济。

根据上述定义，下列属于生态经济的是：

- A. 某地利用开山伐树筹集来的资金修建成马路后，极大地方便了村民的出行
- B. 某市在发展煤炭经济时注重改进技术、提高资源利用率，以保护并修复环境
- C. 某村利用家畜—沼气—经济作物的沼气工程发展当地经济

D. 某乡运用新型肥料和农药发展鱼藕混养模式，农民收成再创新高

(2013-北京-111.) 语言磨蚀，是指某种语言在特定的语言环境中受该语言的语言因素或非语言因素（情感、动机、年龄、语言使用的减少或停止等）影响而出现的言语行为或言语能力的衰减现象，具有非病理性、渐变性、可逆性和反复性等特征。

根据上述定义，下列属于语言磨蚀的是：

- A. 小李高考成绩很好，但暑期休息后在开学分班考试中英语成绩不理想
- B. 八十多岁的老张与年轻时差别较大，常常要别人重复说过的话，且说话缓慢
- C. 小赵小时候生病导致双耳失聪，成年后别人常常听不懂她说的话
- D. 中学生小夏到美国参加暑期夏令营后，英语水平提高不少

(2013-北京-112.) 城市森林，是指在城市及其周边范围内以乔木为主体，达到一定的规模（面积应 $\geq 0.5\text{hm}^2$ ，hm 表示百米）和覆盖度（林木树冠覆盖度应在 10%~300%），能对周围的环境产生重要影响，并具有明显的生态价值和人文景观价值等的各种生物和非生物的综合体。

根据上述定义，下列**不属于**城市森林的是：

- A. 某市在城市机动车道与非机动车道的中间建了长达数十公里的花坛，种植月季、连翘等植物
- B. 在沿海城市的海边公园种植松树，以达到防风固土作用
- C. 位于繁华地段的某市中央公园共种植了 1400 多种树木和花卉，并配以十多项雕塑
- D. 某市全部处于森林的意境之中，庄园式的建筑与四周的林地融为一体，树种以桉树、榕树等乡土树种为主

(2013-北京-113.) 冷链，是指易腐食品从产地收购或捕捞之后，在产品加工、贮藏、运输、分销和零售各个环节始终处于产品所必需的低温环境下，以保证食品质量安全，减少损耗，防止污染的特殊供应链系统。

根据上述定义，下列属于冷链的是：

- A. 为保持疫苗的药效而在运输至使用时放在特殊的低温系统中
- B. 为了节能校园超市小卖部出售冰棒的冰箱每隔 5 小时停 1 小时
- C. 为保鲜商家使用冷藏车运输新鲜海产品至各个商场的冷藏室
- D. 某厂利用低温深度榨取技术使橙子变为橙汁以方便常温保存

(2013-北京-114.) 野生动植物，是指自身或上代亲本来自野生环境，或虽然由人工繁殖或人工栽培所获但仍需要不定期地引入野外个体基因的动物或植物。

根据上述定义，下列属于野生动植物的是：

- A. 近期在某大熊猫保护基地出生的熊猫幼崽“平平”，其父母都是该基地人工繁殖的第二代熊猫
- B. 科学家进行了大量培植实验，成功得到北冬虫夏草，即野生冬虫夏草的理想替代品

- C. 环保工作者去野外寻找野生鳄鱼的卵或者受伤的成年鳄并将其投放到鳄鱼保护区
- D. 人工培育出的二代中华鲟幼年在保护基地中度过，成年阶段被释放到野生环境中

(2013-北京-115.) 刑事诉讼中检查笔录，是指办案人员为确定被害人、犯罪嫌疑人、被告人的某些特征、伤害情况和生理状态，对他们的人身进行检验和观察，并作出客观记录。

根据上述定义，下列哪项**不属于**刑事诉讼中检查笔录中的检查？

- A. 对于死因不明的被害人尸体，公安机关进行了解剖
- B. 为了确定被告人具体特征，技术部门对其进行人身检查
- C. 警察对犯罪嫌疑人进行搜身、拍照、指纹扫描
- D. 法官在询问证人时让侦查人员出示与案件有关的物品让证人进行辨认

※※※第四部分结束，请继续做第五部分！※※※

## 【【2012-北京-判断】】

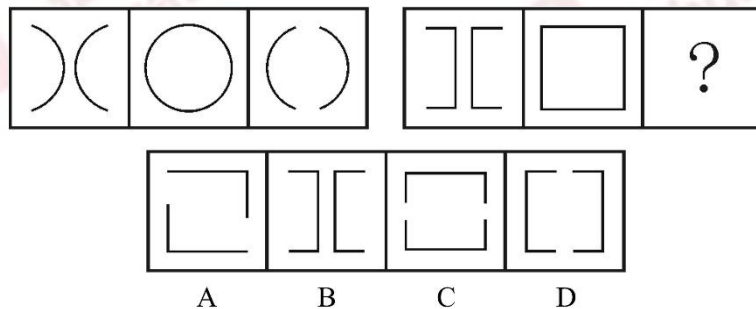
### 第四部分 判断推理

(共 30 题，参考时限 30 分钟)

本部分包含三种类型的题目：

一、图形推理：共 5 题，请按每道题的答题要求作答。

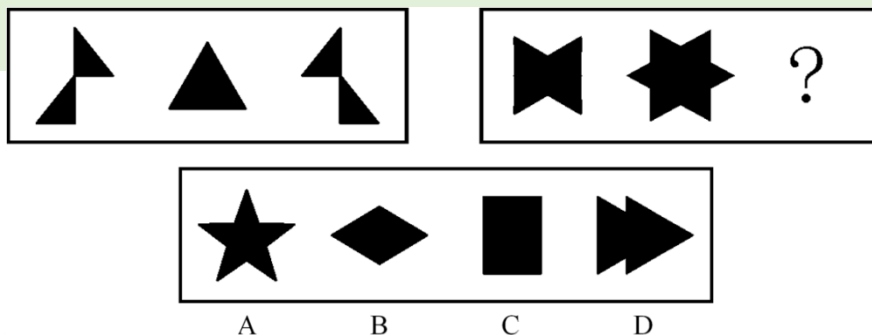
例题：从所给四个选项中，选择最合适的一个填入问号处，使之呈现一定规律性：



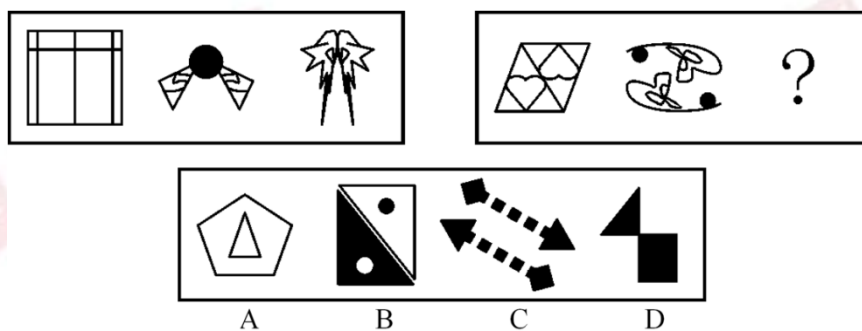
解答：正确答案为 D。因为只有 D 能使两套图形具有相似性，仅仅元素不同，一个是半圆，一个是半个正方形，但两组图形中元素的排列规律完全相同。

请开始答题：

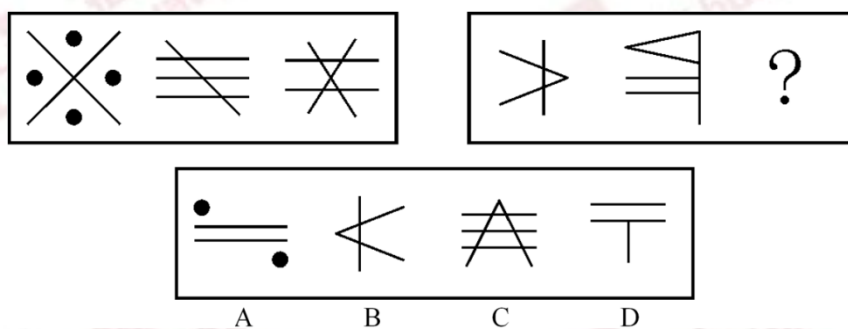
(2012-北京-86.) 从所给四个选项中，选择最合适的一个填入问号处，使之呈现一定规律性：



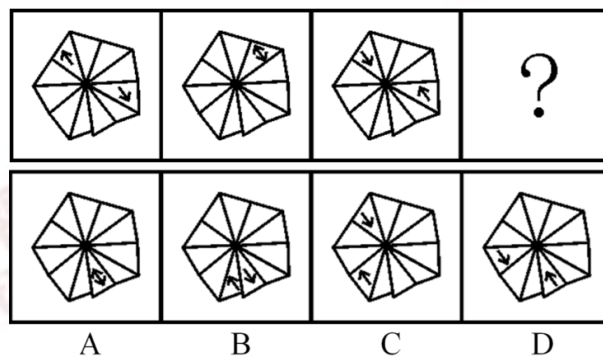
(2012-北京-87.) 从所给四个选项中, 选择最合适的一个填入问号处, 使之呈现一定规律性:



(2012-北京-88.) 从所给四个选项中, 选择最合适的一个填入问号处, 使之呈现一定规律性:




(2012-北京-89.) 从所给四个选项中, 选择最合适的一个填入问号处, 使之呈现一定规律性:



(2012-北京-90.) 从所给四个选项中, 选择最合适的一个填入问号处, 使之呈现一定规律性:





二、演绎推理：共 15 题，每题给出一段陈述，这段陈述被假设是正确的、不容置疑的。要求你根据这段陈述，选出一个答案。注意：正确的答案应根据所给的陈述选出，不需要附加陈述之外的任何信息。

例题：某厂有五种产品：甲、乙、丙、丁、戊。它们的年销售额之间的关系为：丙没有丁高，甲没有乙高，戊不比丁低，而乙不如丙高。且它们的年销售额均不等。

请问，哪种产品的年销售额最高？

- A. 甲
- B. 乙
- C. 丁
- D. 戊

解答：从所给条件可以知道：戊>丁>丙>乙>甲。因此，正确答案为 D。

请开始答题：

(2012-北京-91.) 任何小说在写完之前，都和作者有千丝万缕的联系，作者总是努力使它完美无缺。而一旦出版之后，一切可用的心血都已用尽，个人已再无力量去改动它，剩下的事情就是让别人去评说。

由此可以推知：

- A. 任何小说都不是完美无缺的
- B. 小说作者能做的就是把小说写好
- C. 小说作者不关心别人的评说
- D. 出版之后的小说与作者无关

(2012-北京-92.) 所有聪明人都是近视眼，我近视得很厉害，所以，我很聪明。

以下哪项最能揭示上述推理的错误？

- A. 我是个笨人，因为所有的聪明人都是近视眼，而我的视力很好
- B. 所有的羊都有四条腿，但这种动物有八条腿，所以它不是羊
- C. 马是四蹄食草动物，牛是四蹄食草动物，所以，牛是马
- D. 所有的天才都高度近视，我一定是高度近视，因为我是天才

(2012-北京-93.) 气候变暖已经成为全人类共同面临的大问题。科学家和环境保护组织不断发出警告：如果我们不立刻行动起来保护环境，阻止气候变暖，那么人类总有一天会毁

灭地球，不能继续生存下去。

由此可以推出：

- A. 只要我们立刻行动起来保护环境，就能阻止气候变暖，人类就能在地球上继续生存
- B. 如果人类不能继续生存在地球上，必定是没有立刻开始保护环境
- C. 要想保护环境、保护地球、保护人类自身，就必须防止气候变暖
- D. 如果人类想在地球上继续生存，就必须立即行动起来保护环境，阻止气候变暖

(2012-北京-94.) 对某受害人的五位朋友进行侦查分析后，四个警员各自做出了如下推测：甲说：“这五个人都有嫌疑。”乙说：“老陈不能逃脱干系，他有嫌疑。”丙说：“这五个人不都是有嫌疑的。”丁说：“五人中肯定有人作案。”

如果四个人中只有一个人推测正确，那么以下哪项为真？

- A. 甲推测正确，老陈最有嫌疑
- B. 丙推测正确，老陈没有嫌疑
- C. 丙推测正确，但老陈可能作案
- D. 丁推测正确，老陈有嫌疑

(2012-北京-95.) 想从事媒体工作的学生都报考新闻与传播专业。李金报考了新闻与传播专业，他一定想从事媒体工作。

下述哪项为真，最能支持上述论断？

- A. 所有报考新闻与传播专业的学生都想从事媒体工作
- B. 有些媒体的记者是大学新闻与传播专业的毕业生
- C. 想从事媒体工作的学生有些报考了新闻与传播专业
- D. 只有新闻与传播专业毕业的学生，才有资格从事媒体工作

(2012-北京-96.) “阿基米德将被永远铭记，而剧作家埃斯库罗斯将会被遗忘，因为语言会消亡而数学理念不会消亡。”

这一论证可能隐含了哪些前提，除了：

- A. 阿基米德的贡献在于数学理念
- B. 埃斯库罗斯不是一个好作家
- C. 使用会消亡的东西的人会被遗忘
- D. 数学理念不是语言

(2012-北京-97.) 《天天快报》报社组织拓展训练，最后一天对所有参加拓展的员工进行考核。如果考核结果达到3分或3分以上，记为优秀。在考核之前，有几个人就成绩讨论起来。陈东说：“小军、小霞身体素质都不错，他们俩至少有一个优秀。”牛力说：“训练的时间太短，大家练习都不够，这次没有人能得优秀。”马方说：“怎么可能呢？有人以前就参加过训练，他们一定能得优秀。”

假设这三个人只有一个人的猜测得到了验证，那么一定可以推出以下哪项结论？

- A. 牛力说的对，参加拓展的报社成员没有人得优秀
- B. 没法确定对错，但所有训练成员都得到优秀
- C. 马方说的对，有人获得了优秀，但也有人得优秀
- D. 陈东说的不对，小霞没有得到优秀

(2012-北京-98.) 有人说：“中国运动员也有人获得法国网球公开赛（简称法网）的冠军。”

如果这个断定为真，**不能**由此断定真假的是：

- I 李娜为中国运动员争了光，她获得了法网冠军
- II 有的中国运动员不能获得法网冠军
- III 网球在中国不够普及，中国运动员都不能获得法网冠军

- A. I 和 II
- B. I、II 和 III
- C. I 和 III
- D. 只有 I

(2012-北京-99.) 宋江、林冲和武松各自买了一辆汽车，分别是宝马、奥迪和路虎。关于他们购买的品牌，吴用有如下猜测“宋江选的是路虎，林冲不会选奥迪，武松选的肯定不是路虎”，但是他只猜对了其中一个人的选择。

由此可知：

- A. 宋江选的是奥迪，林冲选的是路虎，武松选的是宝马
- B. 宋江选的是路虎，林冲选的是奥迪，武松选的是宝马
- C. 宋江选的是奥迪，林冲选的是宝马，武松选的是路虎
- D. 宋江选的是宝马，林冲选的是奥迪，武松选的是路虎

(2012-北京-100.) 每年中秋节前夕各商家都会展开“月饼大战”。有关专家指出，月饼大战不仅不利于大众消费者的经济利益，甚至成了中秋佳节的“甜蜜负担”。月饼市场要想回归平实，必须从工艺和配料方面进行改良。否则，就算包装和赠品再华丽，也不能满足正当的消费需求。

据此题干，**不能**推出以下哪项结论？

- A. 只有改良月饼工艺和配料，才是满足消费者正当需求的关键
- B. 只要从月饼工艺和配料方面进行改良，就算包装和赠品华丽些，也满足正当需求
- C. 如果月饼市场满足了正当的消费需求，就说明一定是在工艺和配料方面得到了改良
- D. 若不从工艺和配料方面进行改良，就不能满足消费者的正当需求

(2012-北京-101.) 我虽然不认识你，但第一眼就知道你是个军医。很简单，因为你具有医生的风度，但却是一副军人气概。

上述推理需要补充以下哪项前提？

- A. 若要成为军医，必须同时具备医生和军人的双重气质
- B. 军队的医生与普通医生相比，更具军人气概
- C. 只要是军医，就一定能显示出其医生的风度和军人气概
- D. 凡是具有医生风度和军人气概的人，一定都是军医，不管其医术如何

(2012-北京-102.) 创业者应该具备沟通说服的能力，这是一项成功创业必不可少的能力。创业的目的，就是让社会大众认同并购买你的产品和服务。所以，沟通说服的能力，与执行力同样重要。

根据上述观点，**不能**得出以下哪项结论？

- A. 既具备沟通说服能力又具备执行力的人是成功的创业者
- B. 执行力也是成功创业必不可少的能力
- C. 如果不具备沟通说服的能力，就不可能成功创业
- D. 刘畅是个成功的创业者，他一定有很强的沟通说服能力

(2012-北京-103.) 终于我确信无法阻止你离开的脚步，于是我重新开始享受孤独。  
以下哪项是上述推理的前提？

- A. 除非我确信无法阻止你离开的脚步，否则我就不能享受孤独
- B. 只有我确信无法阻止你离开的脚步，我才开始享受孤独
- C. 或者我不确信是否无法阻止你离开，或者我必须重新开始享受孤独
- D. 我不确信是否无法阻止你离开的脚步，但我只能重新开始享受孤独

(2012-北京-104.) 要是不学习二胡演奏，徐平就做不了民乐理论研究。如果他喜欢民族乐器，那么他会选择学习二胡演奏作为专业。如果不喜欢民族乐器，他就会做民乐理论研究。

由此可推出徐平将：

- A. 研究民乐理论
- B. 学习二胡演奏
- C. 不学二胡演奏
- D. 不研究民乐理论

(2012-北京-105.) 小红、小兰和小慧三姐妹，分别住在丰台区、通州区、朝阳区。小红与住在通州区的姐妹年龄不一样大，小慧比住在朝阳区的姐妹年龄小，而住在通州区的姐妹比小兰年龄大。

那么按照年龄从大到小，这三姐妹的排序是：

- A. 小红、小慧、小兰
- B. 小红、小兰、小慧
- C. 小兰、小慧、小红
- D. 小慧、小红、小兰

三、定义判断：共 10 题，每道题中都给出了一个概念的定义，请你根据这个定义，从四个备选的事物或行为中选出一个最为符合或最不符合该定义的典型事物或行为。注意：在这项测验中，本定义被假定为正确的、不容置疑的。

请开始答题：

(2012-北京-106.) 网络团购，是借助互联网，将具有相同购买意向的零散消费者集合起来，向商家大批量购买，以求得最优惠的价格。网络团购的特点是：有成交数量和成交时间限制、价格折扣高、可以小额支付等特点，实现网络组织者、消费者和生产者三方获益。

以下属于网络团购的是：

- A. 某公司在网上订购 500 件棉衣享受六折优惠
- B. 某购物网站征集欲购买某品牌跑步鞋的消费者后向厂家下了三千双的订单
- C. 某机构网络营销店长期代购某品牌产品且会员享受原价五折优惠
- D. 小王联络十余名邻居一同购买某家具以减免运费

(2012-北京-107.) 群体，通常指的是相对于个体的各种社会成员的聚合，实际上就是一种人的集合体。可分为正式群体、非正式群体和准群体。准群体是指没有组织结构，人与人之间有某种联系，有一定程度的共同关注点，有可能在某些时候形成集团，但目前还没有组织起来的人群。

以下属于准群体的是：

- A. 某地，某大姓家族举行大型宴会祭祖，在宴会上很多人都互相不认识
- B. 在网络某社区，一些从未谋面的户外运动爱好者商议去某地登山
- C. 国庆期间，十余万名来自各地的游客到颐和园游览参观
- D. 某部官兵在训练途中看到有汽车遭遇泥石流，迅速组织救援

(2012-北京-108.) 二次污染，指的是污染物由污染源排入环境后，在物理、化学或生物作用下生成新的污染物，而对环境产生的再次污染。

以下属于二次污染的是：

- A. 汽车尾气中的有害化合物，在阳光作用下发生光化学反应，生成以臭氧为主的多种强氧化剂，危害人类健康
- B. 房屋装修时，施工机械发出强烈噪声，严重影响周边居民休息与生活
- C. 农药残留在棉花、麻纤维之中，制成服装后虽残留量甚微，但经常与皮肤接触也会对人体造成伤害
- D. 人们在公共场所吸入了二手烟

(2012-北京-109.) 视网膜效应，是指当一个人拥有一件物品或一项特征时，他就比平常人更会注意到其他人是否跟他一样具备这种物品或特征。

以下**不属于**视网膜效应的一项是：

- A. 部门主管老宋心胸开阔而乐观，总能发现员工的优点并发挥他们的潜能
- B. 老王藏有一件明代瓷器，他热衷于结识同样收藏明代瓷器的爱好者
- C. 小李常抱怨别人对他说话时比较急躁，而事实上他自己的脾气也很不好
- D. 小刘看见有两个人穿的和她的衣服一样，她感慨怎么会有这么多人买相同的衣服

(2012-北京-110.) 网络出版，又称互联网出版，是指互联网信息服务提供者将自己创作或他人创作的作品经过选择和编辑加工后登载在互联网上，或者通过互联网发送到用户端，供公众浏览、阅读、使用或者下载的在线传播行为。

以下**不属于**网络出版行为的是：

- A. 某搜索网站收集了大量歌曲，供网民免费下载
- B. 某健康网站每天向会员的电子信箱发送有关养生保健的常识
- C. 某电子地图网站提供大部分城市的公共交通路线，以供网民出行查阅
- D. 某网站在商品名录中列出一套百科全书光盘，顾客可通过网购得到光盘

(2012-北京-111.) 物流，是物质资料从供给者向需要者的物理性移动，是创造时间性、场所性价值的经济活动，包括包装、装卸、保管、库存管理、流通加工、运输、配送等诸种活动。

以下属于物流活动的是：

- A. 小王在某销售网站开店出售电话充值卡，自动发货功能使顾客在线支付后即可获得密码
- B. 小李办理出国手续急需一份经济担保书，他请父母通过快递公司从家乡将该文件邮来
- C. 老刘出资几十万元建了一间冷库，用于储藏收购来的蔬菜，以便赶在春节上市卖个好价钱
- D. 小赵自己有一辆卡车，他本周日帮助公司的客户钱某搬家，钱某为表示感谢请他吃饭

(2012-北京-112.) 有奖销售，是指经营者销售商品或者提供服务，附带性地向购买者提供物品、金钱或者其他经济上的利益的行为。包括：某时段内奖励所有购买者的附赠式有奖销售和奖励部分购买者的抽奖式有奖销售。

以下**不属于**抽奖式有奖销售的是：

- A. 某移动通讯公司发短信告知用户，回复短信即可获得用积分兑奖的机会
- B. 某网上商城称到商城购买商品的前 10000 名顾客将获得每人 200 元代金券
- C. 某大型超市促销时规定，购物满 100 元可获一袋洗衣粉或者一条肥皂
- D. 某家具商场规定，开业一个月内到该商场购物的顾客可享受九折优惠

(2012-北京-113.) 质押也称质权，是债务人或第三人将其动产或可转让的权力移交债权人占有，将该动产或可转让权力作为债权的担保。当债务人不履行债务时，债权人有权依

法就该动产或可转让权力卖得价金优先受偿。

以下属于质押的是：

A. 小赵承揽的工程项目因缺乏流动资金无法开工，遂请某公司帮忙出资，签订了合同并将他名下的一辆名车交给该公司作为担保

B. 王某向刘某借款 100 万元，签订了合同并办理登记，将自己的住宅作为担保，约定借款期满还钱

C. 石某外出治病期间，将自己经营的养鹅场委托表弟照管，表弟因石某欠钱到期未还，卖掉一部分鹅抵账

D. 甲公司与修理厂签订维修服务合同大修生产设备，后因维修费用高昂而未支付费用，修理厂遂变卖了该设备抵偿维修费

(2012-北京-114.) 对抗，在生态学中指生活在一起的两种不同种类的生物，一方或双方遭受损害的关系。对抗通常是不同生物为占据同一生态位而产生的结果。可分为侵害、抗生和竞争，一种生物受益而另一种生物遭受损害的属于侵害；一种生物遭受损害而另一种生物不受影响的属于抗生；两种生物相互施加不利影响的属于竞争。

以下属于竞争的是：

A. 小菜蛾的天敌蜂把卵产在小菜蛾的幼虫体内。当蜂卵孵化成幼蜂时，幼蜂便会吃掉小菜蛾的幼虫

B. 有种鸟儿常在鳄鱼身上寻找寄生虫，而由于掠食者不敢在鳄鱼身边攻击这些鸟类，使得鸟儿更安全

C. 池塘中如果蝌蚪的密度过大，蝌蚪会分泌一种毒物，限制其他蝌蚪的生长发育，甚至增加其死亡率

D. 萝卜蚜和桃蚜混合饲养达一定密度时，产蚜量均显著下降，但桃蚜产蚜量显著高于萝卜蚜

(2012-北京-115.) 不安抗辩权，是指当事人互负债务，有先后履行顺序的，先履行的一方有确切证据表明另一方丧失履行债务能力时，在对方没有履行或者没有提供担保之前，有权终止合同履行的权利。规定不安抗辩权是为了切实保护当事人的合法权益，防止借合同进行欺诈，促使对方履行义务。

以下行使了不安抗辩权的一项是：

A. 甲乙公司约定由甲公司在 5 个月内分批向乙公司供货，乙公司在 10 个月内每月付款 10 万元。甲公司货物供应完毕后，乙公司声称甲公司货物不合格，拒绝支付余下货款

B. 甲乙签订房屋租赁合同，约定某日双方同时交租金并交付房屋。但时间到时，发现乙方房屋还被占用，甲方遂拒绝支付租金

C. 某公司与演员甲签订演出合同，该公司应在规定日期预付演出劳务费 5 万元。后甲因车祸受伤住院治疗，该公司告知甲暂不支付该笔劳务费

D. 老汪向某公司定制了一套设备, 合同生效还未开始设计生产时就支付了 5 万元全款。后老汪因经营的公司倒闭, 不再需要该设备, 遂请求解除合同

※※※第四部分结束, 请继续做第五部分! ※※※

## 政法

### 【【2010-政法-判断】】

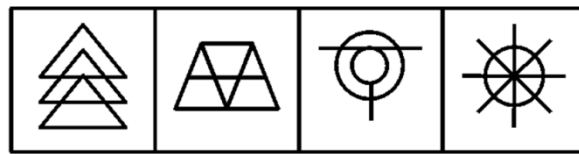
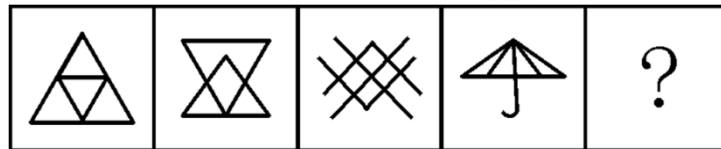
#### 第三部分 判断推理

(共 35 题, 参考时限 40 分钟)

一、图形推理。请按每道题的答题要求作答。

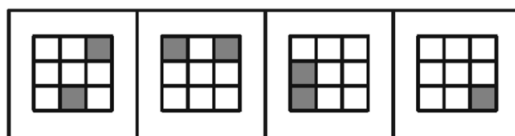
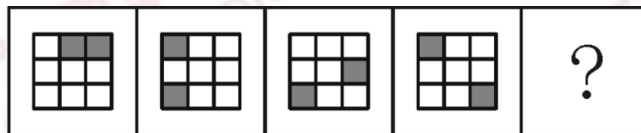
请开始答题:

(2010-政法-36.) 从所给四个选项中, 选择最合适的一个填入问号处, 使之呈现一定规律性:



A B C D

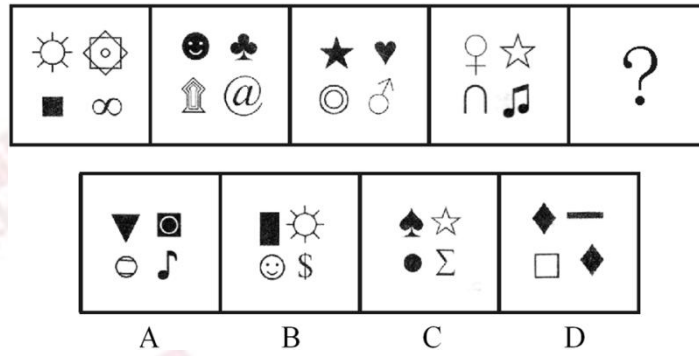
(2010-政法-37.) 从所给四个选项中, 选择最合适的一个填入问号处, 使之呈现一定规律性:



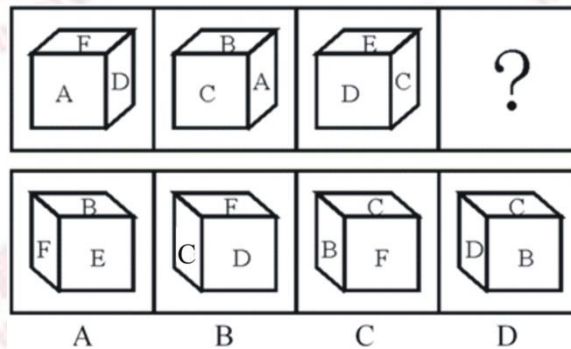
A B C D




(2010-政法-38.) 从所给四个选项中, 选择最合适的一个填入问号处, 使之呈现一定规律性:



(2010-政法-39.) 从所给四个选项中, 选择最合适的一个填入问号处, 使之呈现一定规律性:



(2010-政法-40.) 从所给四个选项中, 选择最合适的一个填入问号处, 使之呈现一定规律性:



二、逻辑判断。每题给出一段陈述, 这段陈述被假设是正确的, 不容置疑的。要求你根据这段陈述, 选择一个答案。注意: 正确的答案应与所给的陈述相符合, 不需要任何附加说明即可以从陈述中直接推出。

请开始答题：

(2010-政法-41.)如果月球表面曾经是岩浆海洋,那么许多元素的分布就应该是连续的。岩浆海洋掌握着解开月球诞生之谜的钥匙,如果岩浆海洋的存在得到确认,那么“巨型冲击假说”将成为最有力的月亮起源说。

由此可以推出:

- A. 如果月球表面不曾是岩浆海洋,那么月球表面的元素分布就不是连续的
- B. 如果“巨型冲击假说”没有成为最有力的月亮起源说,那么表明月球表面的元素分布都不是连续的
- C. 如果月球表面的元素分布不是连续的,那么月球表面不曾是岩浆海洋
- D. 如果月球表面的元素分布是连续的,那么“巨型冲击假说”将成为最有力的月亮起源说

(2010-政法-42.)有人认为“巨额的国家预算赤字必然会导致巨额的国家贸易逆差”,如果这样的话,那么世界上预算赤字最大的国家必然会有相应的最大的贸易逆差;但我们知道,世界上预算赤字最大的国家是美国,而美国的贸易总的来说是顺差而不是逆差(因为尽管其货物贸易亏本,但其技术和服务贸易却赚得非常多)。

由此可以推出:

- A. 巨额的国家预算赤字必然不会导致巨额的国家贸易逆差
- B. 巨额的国家贸易逆差必然不会导致巨额的国家预算赤字
- C. 巨额的国家预算赤字可能不会导致巨额的国家贸易逆差
- D. 巨额的国家预算赤字可能会导致巨额的国家贸易逆差

(2010-政法-43.)某市要建花园或修池塘,有下列4种假设:修了池塘就要架桥;架了桥就不能建花园;建花园必须植树;植树必须架桥。

据此**不可能**推出的是:

- A. 最后有池塘
- B. 最后一定有桥
- C. 最后可能有花园
- D. 池塘和花园不能同时存在

(2010-政法-44.)某位经营者投入巨资修建了一条连通市区和机场的高速公路,这条公路比原来市区通往机场的高速公路路程短且路况好。当然,这条私营高速公路是要收费的。运行一段时间后,经营者发现车流量比预期的要少得多,这条期望中的“招财路”并没有立即招财。

以下各项如果为真,哪项**最不可能**造成上述结果?

- A. 人们宁可多花时间也不愿支付额外的“过路费”
- B. 绝大多数去机场的人还不知道新的高速公路已经开通

- C. 金融危机影响了当地居民的收入，外出坐飞机的人减少
- D. 与在一般公路上开车相比，在高速公路上开车更具危险性

(2010-政法-45.) 英国鸟类学基金会在不久前公布了《英国鸟类状况》的报告。他们认为，全球变暖正促使鸟类调整生物钟，提前产蛋期，而上述变化会使这些鸟无法为其刚破壳而出的后代提供足够的食物，比如蓝冠山雀主要以蛾和蝴蝶的幼虫为食，而蛾或蝴蝶的产卵时间没有相应提前，“早产”的小蓝冠山雀会在破壳后数天内持续挨饿。

下列哪项如果为真，最能支持上述论证？

- A. 最近 40 余年英国的平均气温不断上升
- B. 很多鸟类的产蛋期确实提前了
- C. 除了蛾和蝴蝶的幼虫外，蓝冠山雀很少吃其他食物
- D. 蛾和蝴蝶的产卵期不同

(2010-政法-46.) 一种针对某种疾病的新疗法在 12 个月的临床试验中使 68% 的患者病情有了明显改善，其中 43% 的患者痊愈。然而，通常采用的治疗方法也可在 12 个月内将 38% 的患者完全治愈。由于新疗法主要选择了那些症状比较严重的患者，因此有人认为这种新疗法在疗效方面比常用的疗法更显著。

以下各项如果为真，能够对上述观点提出最有力**质疑**的是：

- A. 新疗法出现后，这种疾病的患者仍然倾向于使用原有疗法
- B. 这种疾病发病初期往往很严重，但相对容易治疗
- C. 通过改变生活方式，很多人即使不用药也可使病情改善，甚至痊愈
- D. 常用疗法使用四种药物搭配治疗，但新疗法只使用两种药物

(2010-政法-47.) 某国一足球杂志报道说，30 年来该国足球甲级联赛的冠军都是通过假球决出来的。该杂志还给出证据说，有一位不愿透露姓名的参赛队员告诉记者，他和他的队友曾收取了 20 万美元的贿赂，于是他们在一场关键性的比赛中踢假球，最终让另一支球队获胜。但是，该国足球联赛主席对这则报道进行了反驳。

以下各项如果为真，最能对该主席予以支持的是：

- A. 该足球杂志曾数次刊发不实报道
- B. 该国足联赛对踢假球行为处罚极重，所以一般不会出现踢假球事件
- C. 即使那场比赛中踢假球事件是真的，也不能断定甲级联赛的冠军是通过假球决出来的，否则联赛也不会举办 30 年
- D. 通过近期一次全国性的调查，并没有发现足够影响冠军归属的假球案件

(2010-政法-48.) 一群网友在现实中举办化装舞会，每个人必须按照网名所代表的人物或者事物来装扮自己。白雪公主、巫婆、佐罗、石头、哈利波特、仙人掌是甲、乙、丙、丁、戊、己六个网友的网名。甲、乙、戊是女性，其他三位是男性。乙、丙、戊的年龄超过了 30 周岁。在化妆舞会上扮演上述六种角色的六个人分别说了一句话表明现实身份：

白雪公主：我比你们都小，请多多关照。

巫婆：巫婆只能是女的，男的应当叫巫师，所以我是女的。

佐罗：六个人的年龄从大到小排列，我是倒数第 2 的，我不是丁。

石头：我的网名是我妻子取的，因为她说我不浪漫，连木头都不如。

哈利波特：虽然我年纪最大，但我还是很有童心。

仙人掌：多刺的我终于能够在 30 岁以前把自己嫁出去了，明天举行婚礼，欢迎大家来参加。

如果他们说的都是真话，则**不能**推出的是：

- A. 白雪公主是丁
- B. 哈利波特是乙
- C. 佐罗是己
- D. 石头是丙

(2010-政法-49.) “闪婚”是指男女双方恋爱不到半年就结婚。某研究机构对某市法院审理的所有离婚案件作了调查。结果显示，闪婚夫妻 3 年内起诉离婚的比例远远高于非闪婚夫妻。由此，该研究机构认为闪婚是目前夫妻离婚的一个重要原因。

下列哪项如果为真，最能**削弱**以上论证？

- A. 调查发现，离婚最快的夫妻往往不是闪婚夫妻
- B. 到该市民政部门办理的协议离婚案件占该市离婚案件总量的 70%
- C. 调查显示，闪婚夫妻婚后感情更加融洽
- D. 调查显示，恋爱时间过长的夫妻离婚率高于闪婚夫妻

(2010-政法-50.) 合成氨基酸特征与 20 种标准氨基酸不同，将这些合成氨基酸整合进入蛋白质中，可以系统地改变蛋白质的结构和生物学特性。然而，到目前为止研究人员只能做到一次将一个合成氨基酸整合进一个蛋白质中，因此一次只能改变蛋白质的一种特性。

下列哪项是以上论述所需要的前提？

- A. 改变蛋白质的结构，就可以改变蛋白质的生物学特性
- B. 研究人员一次只能改变一个蛋白质的结构
- C. 一个合成氨基酸只能改变蛋白质的一种结构
- D. 一个合成氨基酸只能改变蛋白质的一种特性

三、类比推理。每道题先给出一组相关的词，要求你在备选答案中找出一组与之在逻辑关系上最为贴近、相似或匹配的词。

请开始答题：

(2010-政法-51.) 鱼：鳞片

A. 人：衣服 B. 鸟：羽毛

C. 书：目录 D. 蚕：蚕茧

(2010-政法-52.) 并蒂莲：鸳鸯

A. 松树：仙鹤 B. 夜来香：蝙蝠

C. 何首乌：画眉 D. 牡丹：孔雀

(2010-政法-53.) 谬论：结论

A. 纠纷：纠葛 B. 相识：见识

C. 承认：否认 D. 否决：表决

(2010-政法-54.) 时间：速度

A. 空间：质量 B. 体积：密度

C. 压力：效率 D. 价格：价值

(2010-政法-55.) 演员：导演

A. 作家：读者 B. 战士：指挥官

C. 司机：交警 D. 歌手：经纪人

(2010-政法-56.) 子弹：枪管

A. 马车：山路 B. 原子：原子核

C. 电流：电缆 D. 行人：斑马线

(2010-政法-57.) 地膜覆盖：增温保水

A. 田间管理：霜冻虫害 B. 临床试验：不良反应

C. 天气预报：卫星云图 D. 整顿市场：净化风气

(2010-政法-58.) 促销：利润：商场

A. 游戏：娱乐：游乐园 B. 美化：绿化：城市

C. 检修：安全：铁路部门 D. 诚信：美德：人类

(2010-政法-59.) ( ) 对于处分相当于死刑对于 ( )

A. 撤职；刑法 B. 开除；刑罚

C. 严厉；严重 D. 警告；抢劫

(2010-政法-60.) ( ) 对于爬行相当于青蛙对于 ( )

A. 缓慢；害虫 B. 匍匐；蟾蜍

C. 运动；动物 D. 螃蟹；跳跃

四、定义判断。每道题先给出一个定义，然后列出四种情况，要求你严格依据定义，从中选出一个最符合或最不符合该定义的答案。注意：假设这个定义是正确的，不容置疑的。

请开始答题：

(2010-政法-61.) 不确定性避免是指在任何一个社会中,人们对于不确定的、含糊的、前途未卜的情境,都会感到面对的是一种威胁,从而总是试图加以防止。

根据上述定义,下列**不属于**不确定性避免的是:

- A. 学校号召研究生出国深造,小王觉得自己生活比较安定,不想出去,就说:“我的外语水平不行,还是把机会让给其他同学吧。”
- B. 随着金融风暴的到来,股市跌宕起伏不定,小赵将自己手上的股票迅速抛售
- C. 毕业答辩日期临近,小李对于答辩老师可能提出的问题心中没底,非常紧张
- D. 小张在去国企工作还是自己创业之间反复思考,觉得后者风险太大,于是选择进入国企

(2010-政法-62.) 文化反哺是指在急速的文化变迁时代所发生的年长一代向年轻一代进行广泛的文化吸收的过程。

根据上述定义,下列属于文化反哺的是:

- A. 七十年代出生的人并不是狂热的追星族,但很多人都非常喜欢八十年代出生的歌星创作的一些歌曲
- B. 张老师说:“现在教学都是电子化,很多时候要做 PPT,要上网查资料,遇到不会的时候,儿子就是我的老师。”
- C. 孙经理说,他们单位年轻人人居多,他常试着用跟儿子交流的方式与年轻人沟通,果然效果很好
- D. 刘主任接受了下属们的建议,制定了新的工作制度,提高了员工的工作积极性

(2010-政法-63.) 社会促进是指个体从事某项活动时,他人在场促进其活动完成,提高其活动效率的现象,也称社会助长。

根据上述定义,下列**不属于**社会促进的是:

- A. 学生在进行数学计算时,教师的旁观可使学生充分开动脑筋
- B. 小王扶起跌倒的李大爷,他觉得自己做了一件有意义的事
- C. 员工在进行生产时,厂长站在车间里,员工效率就会大大提升
- D. 足球运动员走进球场时,看到比赛场座无虚席就会斗志昂扬

(2010-政法-64.) 庭院经济是指农户充分利用家庭院落的空间、周围非承包的空坪隙地和各种资源,从事高度集约化商品生产的一种经营形式,主要有种植业、养殖业、加工业。

根据上述定义,下列属于庭院经济的是:

- A. 在阳台上种植花草美化居住环境
- B. 在承包的池塘养殖鲤鱼
- C. 在自家后院加盖瓦房建立手工艺编织厂
- D. 在草原上放牧羊群

(2010-政法-65.) 职业病是指企业、事业单位和个体经济组织的劳动者在职业活动中,

因接触粉尘、放射性物质和其他有毒、有害物质等因素而引起的疾病。

根据上述定义，下列属于职业病的是：

- A. 李老师搬进了刚装修的新办公室，由于有害气体严重超标，导致她患上了血液病
- B. 刑警老王在近 30 年的职业生涯中接触过各种犯罪分子，在日常生活中，他也经常用职业的眼神打量亲朋好友
- C. 小赵是一家公司的高级管理人员，工作经常加班加点，饮食很不规律，终于被医院查出患上了胃炎
- D. 小张在一家皮鞋厂工作，因长期接触含苯物质而患上了再障性贫血

(2010-政法-66.) 积累基金是指国民收入中用作追加生产资金的部分，主要包括：扩大再生产基金，如建工厂、修铁路、开垦土地、兴建水利等；非生产性基本建设基金，如修建学校、医院、体育场馆以及国家行政、国防部门的基本建设等；社会后备基金，如应付战争、自然灾害等突发性事件的物质储备等。

根据上述定义，下列**不属于**积累基金的是：

- A. 三峡工程建设费用
- B. 地震灾区学校重建费用
- C. 奥运会场馆建设费用
- D. 军事演习费用

(2010-政法-67.) 主观镜头是指在影视活动中把摄像机的镜头当做剧中人的眼睛，直接“目击”剧中人所看到的景象。

根据上述定义，下列属于主观镜头的是：

- A. 电视剧《红楼梦》描写林黛玉初进贾府时由于看到与别家不同，心情很复杂，于是处处留心，时时在意
- B. 电视剧《三国演义》在展示蒋干“窃书”过程中，把周瑜帐中的每一个角落都用特写镜头进行了放大呈现
- C. 电视剧《水浒传》中的豹子头林冲一出场就给了特写镜头，凸显了其外貌特征：“豹头环眼，燕颌虎须，八尺长短身材”
- D. 电视剧《西游记》中，孙悟空大闹天宫时，镜头详细表现了打斗的过程

(2010-政法-68.) 冗余设计是指在人力资源聘任、使用、解聘、辞退、晋升等过程中要留有充分的余地，使人力资源整体运行过程具有一定的弹性，当某一决策发生偏差时，留有纠偏和重新决策的余地。

根据上述定义，以下**不属于**冗余定义的是：

- A. 篮球比赛中双方各出场 5 名队员，但通常每支职业篮球队有 12~15 人
- B. 某公司每年都会招一批大学生，让他们在每个岗位实习，作为储备干部培养
- C. 某物业配电室配备了两个人，即使一人有事外出，也可以保证有人值班

D. 设计部的一名员工辞职，公司立即从质检部抽人兼任，同时人力资源部开始紧急招人

(2010-政法-69.) 股东代表诉讼是指当公司的合法权益受到不法侵害而公司却怠于起诉时，公司的股东即以自己的名义起诉，所获赔偿归于公司的一种诉讼制度。

根据上述定义，以下情形可以提起股东代表诉讼的是：

- A. 甲公司连续 5 年盈利，却不向股东分配利润
- B. 乙公司由于经营不善，连年亏损，公司股东要求查阅会计账簿，被公司拒绝
- C. 丙公司经理私自以公司资产为他人提供担保，公司董事会就此提出诉讼
- D. 某公司拖欠丁公司大笔货款已近两年，而丁公司董事会和经理未采取任何措施索要

(2010-政法-70.) 定义：

①行政赔偿：行政主体违法实施行政行为，侵犯相对人合法权益造成损害时由国家承担的一种赔偿责任。

②行政补偿：国家行政机关及其工作人员在管理国家和社会公共事务的过程中，因合法的行政行为给公民、法人或其他组织的合法权益造成了损失，由国家依法予以补偿的制度。

③行政追偿：行政赔偿义务机关代表国家向行政赔偿请求人支付赔偿费用后，依法责令有故意或重大过失的组织和个人承担部分或全部赔偿费用的法律制度。

例证：

- (1) 李某的宅基地被国家征用，获得各种补偿款六万元
- (2) 某城建执法大队在拆除违章建筑时损坏了相邻的合法建筑，后执法大队私下对房屋所有人进行了赔偿
- (3) 刑警赵某对疑犯刑讯逼供造成重伤，公安机关对当事人进行赔偿之后，责令赵某承担部分医疗费用。

符合上述三种定义之一的例证有几个？

- A. 0
- B. 1
- C. 2
- D. 3

※※※第三部分结束，请继续做第四部分！※※※

【【2009-政法-判断】】




### 第三部分 判断推理

(共 35 题, 参考时限 40 分钟)

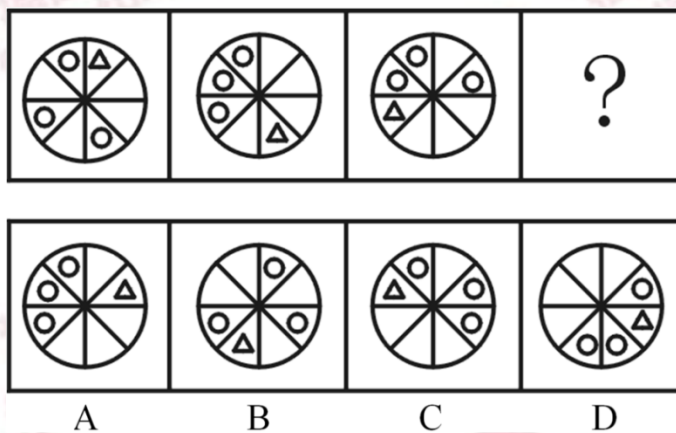
一、图形推理。请按每道题的答题要求作答。

请开始答题:

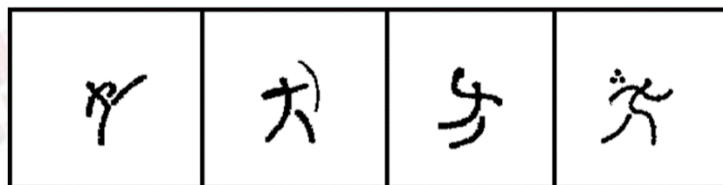

(2009-政法-51.) 从所给四个选项中, 选择最合适的一个填入问号处, 使之呈现一定规律性:



(2009-政法-52.) 从所给四个选项中, 选择最合适的一个填入问号处, 使之呈现一定规律性:

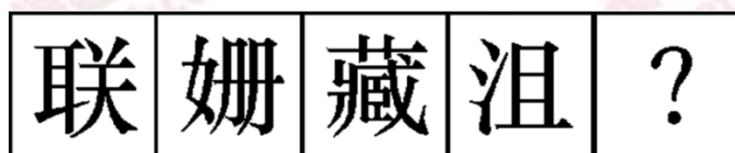


(2009-政法-53.) 从所给四个选项中, 选择最合适的一个填入问号处, 使之呈现一定规律性:



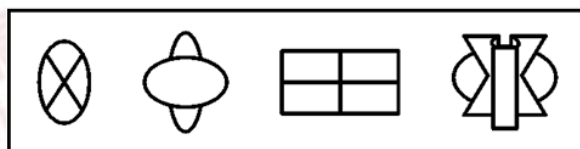

A B C D

(2009-政法-54.) 从所给四个选项中, 选择最合适的一个填入问号处, 使之呈现一定规律性:



A B C D

(2009-政法-55) 从所给四个选项中, 选择最合适的一个填入问号处, 使之呈现一定规律性:



A B C D

二、定义判断。每道题先给出一个定义, 然后列出四种情况, 要求你严格依据定义, 从

中选出一个最符合或最不符合该定义的答案。注意：假设这个定义是正确的，不容置疑的。

请开始答题：

(2009-政法-56.) 酝酿效应是指当一个人长时间致力于解决某一问题而又百思不得其解时，如果他暂停下来去做别的事情，一段时间之后，他可能会忽然想到解决的办法。

下列属于酝酿效应的一项是：

- A. 小王找某份文件一时没有找到，过了两个小时他发现了那份文件
- B. 晓峰写毕业论文遇到困难，几天后他参加学术会议时得到很多相关信息，并且理清了思路
- C. 某修理人员在修理电视时查阅了大量线路图，终于修好了电视
- D. 某研究人员申请一个项目迟迟没有得到有关部门批复，他转而研究别的课题，几个月后该项目得到了批准

(2009-政法-57.) 发散性思维是一种从不同的方向、途径和角度去设想、探求多种答案，最终使问题获得圆满解决的思维方法。

以下属于发散性思维的一项是：

- A. 司马光见到小朋友落入水缸，当“救人离水”行不通时，果断地砸破水缸，“让水离人”救了小朋友的命
- B. 病人因胸痛来门诊检查，医生根据经验考虑可能是气胸、肺炎、心绞痛等，经各项检查，确诊为肺炎
- C. 根据草莓比香蕉贵，香蕉比苹果贵，苹果比桔子贵得出草莓比桔子贵
- D. 画家在艺术创作的时候，事先要在脑海中将自己想要呈现的主题、构图和色彩进行安排，呈现出一幅草图

(2009-政法-58.) 类比推理是指根据两个（或两类）对象之间在某些方面的属性相似或相同的关系，推出它们在其他方面的属性也可能相似或相同的逻辑方法。

以下推理过程**没有**应用类比推理的一项是：

- A. 由“敲击木桶可以大致判断桶内的酒量”推断出“叩击胸腔可以大致判断胸腔积液的量”
- B. 由“氯霉素可以影响幼龄小白鼠的骨骼发育”推断出“氯霉素可以影响幼儿的骨骼发育”
- C. 由“从这个病人的痰中发现了癌细胞”推断出“这个病人患了肺癌”
- D. 由“颜色鲜艳的蘑菇一般具有毒性”推断出“颜色鲜艳的蛇一般具有毒性”

(2009-政法-59.) 社会保障制度是指在政府的管理之下，按照一定的法律和规定，通过国民收入的再分配，以社会保障基金为依托，为保障人民生活提供物质帮助和服务的社会安全制度。

下列属于社会保障制度范围内的一项是：

- A. 下岗工人在街道办事处帮助下申请了优惠贷款，开办了自己的工厂，为许多下岗职工提供了再就业的机会
- B. 市领导在春节前夕探望了本市的孤寡老人，并为他们送去了食品、衣物及彩电等物资，希望他们能度过一个温暖祥和的节日
- C. 退休职工李大爷前不久查出了肺癌，手术及其他治疗共花费了十几万元，其中大部分的医疗费用由医疗保险机构报销
- D. “希望工程读书室”项目的开展使得边远山区的学校也有了自己的图书馆，那里的孩子们也能读到自己喜爱的书了

(2009-政法-60.) 亚健康是对生物有机体生理机能状态的一种描述，一般指生理机能处于健康与疾病之间的状态。由健康过渡到疾病需要一个从量变到质变的过程，而在质变发生之前的这个特殊阶段即是亚健康。

下列现象中属于亚健康的一项是：

- A. 老王退休后连续多次在医院体检发现血压很高，但是他从没有感到身体有什么不适
- B. 小刘在上周六出去购物时遭遇抢劫，在搏斗中被歹徒用匕首捅伤，现在已脱离生命危险，正在医院进行最后的康复调理
- C. 小兵正在读初三，面临升学的压力，他经常熬夜学习，最近感到眼睛看东西有一层雾气，医学专家说这可能是假性近视
- D. 小刚的爸爸在单位体验时，发现腹内有肿瘤包块，医生说可能是长期劳累所致，劝其保养，可是他因没有任何外在征兆而并不在意

(2009-政法-61.) 妄想是一种病理性的歪曲信念，是病态的推理和判断。它具有以下特征：①信念的内容与事实不符，没有客观现实基础，但患者深信不疑；②妄想内容均涉及患者本人，总是与个人的利害有关；③妄想具有个人独特性；④妄想的内容因文化背景和个人经历而有差异，但常有浓厚的时代色彩。

下列所描述的症状可以被判断为妄想的一项是：

- A. 小王最近总是反复思考“先有蛋，还是先有鸡”这个问题，虽然自己也知道没有必要，可是就是无法把这个问题从脑子里清除掉
- B. 丽丽最近感到身边的事物和环境发生了变化，变得不真实，周围好像舞台布景，树木、房屋好像纸糊的一样，毫无生气
- C. 老张最近总是在家中听到有人在门口骂他，尽管老伴告诉他说自己什么都没听到
- D. 因为自己的腹部有一块椭圆形的胎记，小李认为自己是拥有超能力外星人的后代，尽管听到的人都觉得这是无稽之谈，可他自己却深信不疑

(2009-政法-62.) 犯罪的间接故意是指行为人明知自己的行为可能发生危害社会的结果，并且放任这种结果发生的心理态度。

下列属于犯罪的间接故意的是：

- A. 甲欲毒杀同事乙，于是在大家共同喝水的饮水机中投毒，乙当天并未从饮水机中取水，但却导致其他三位同事中毒
- B. 甲欲枪杀乙，在乙家门口伏击，只击中了乙的胳膊
- C. 出租车司机甲与朋友吃饭时多喝了几杯，但是凭借自己多年的驾驶经验，甲认为不会有什么问题，于是不顾朋友劝阻执意出车，结果撞死了行人乙
- D. 某医院护士甲将病人乙和丙的药物弄混，到了给乙用药的时间，甲没有仔细核对就拿起应该给丙服用的药物给乙服用，结果因药性不对导致乙死亡

(2009-政法-63.) 习得性无助是指在多次经历过消极体验之后，再面临同样或类似情境时个体所产生的一种无能为力的心理状态与行为表现。

下列属于习得性无助的一项是：

- A. 小明兴高采烈地跟妈妈谈起自己跟同学去爬树的事，遭到严厉批评并被警告不能再玩危险的游戏，小明此后再也不把玩的事情告诉妈妈了
- B. 4岁的丽丽刚刚跟爸妈分房睡，她说一闭上眼就会想起奶奶讲的老妖怪的故事，于是爸爸妈妈只好允许丽丽每晚都开着台灯睡
- C. 小李因为宿舍水管漏水的事多次报告宿舍管理员和学校的后勤部门，可是一个月了还是没有人来修，前两天宿舍灯又坏了，小李索性不报告了
- D. 小张刚搬来时，邻居家的小狗一见到他就很凶地叫，过了一个多月小狗认识他了，每次都会友好地向他摇尾巴，但小张还是有点害怕

(2009-政法-64.) 定金是指合同当事人为了确保合同的履行，依据法律规定或者当事人双方的约定，由当事人一方在合同订立时，或订立后、履行前，按合同标的额的一定比例，预先给付对方当事人的金钱或其他代替物。

以下属于定金的是：

- A. 甲与乙(房东)于6月5日签定租房协议(月租金500元)，该协议将于6月10日生效。乙要求甲先“交”100元钱，如甲不能履行合同，将不予退还
- B. 小张今年考入大学，通知书上写明：须先缴纳学费5000元，才能办理入学手续
- C. 甲欲向乙借款1000元，甲的好友丙将自己价值1000元的相机留给乙作为担保
- D. 小王近日签订了一份购房合同，在合同条款中规定，首付10万现金，剩余10万于办理产权证书时一并交清

(2009-政法-65.) 诽谤罪是指故意捏造并散布某种事实，损坏他人人格，破坏他人名誉，情节严重的行为。

下列行为中构成诽谤罪的是：

- A. 甲因公司经理对其进行点名批评而心怀不满，认为这是由于自己在言语方面得罪了经理的缘故，于是多次在同事面前表达这种想法，给经理的声誉造成了很坏的影响

B. 乙与邻居王某素来不睦，在王某想要卖房搬家之际，乙多次向周围住户声称王某家的房屋风水不好，致使王某因房价下跌而遭受严重的经济损失

C. 丙听说同学小张在校外参与打架斗殴，在消息未经证实的情况下，丙到处向同学们说小张因带头聚众斗殴而被拘留，致使小张因压力过大而自杀

D. 丁为某公司财务部门主管领导，因一笔巨款不翼而飞，认为是会计小刘私吞，因而找小刘谈话，并在部门会议上表示小刘有作案嫌疑，致使小刘声誉受损

三、类比推理。每道题先给出一组相关的词，要求你在备选答案中找出一组与之在逻辑关系上最为贴近、相似或匹配的词。

请开始答题：

(2009-政法-66.) 股票：证券

- |            |          |
|------------|----------|
| A. 电脑病毒：程序 | B. 粮食：谷物 |
| C. 操作系统：电脑 | D. 军人：警察 |

(2009-政法-67.) 骨骼：肌肉

- |          |          |
|----------|----------|
| A. 齿轮：发条 | B. 表针：表盘 |
| C. 果核：果皮 | D. 轮胎：汽车 |

(2009-政法-68.) 近视：眼镜

- |          |          |
|----------|----------|
| A. 聋哑：手语 | B. 中风：针灸 |
| C. 咳嗽：糖浆 | D. 癌症：化疗 |

(2009-政法-69.) 钢笔：墨水

- |          |          |
|----------|----------|
| A. 血管：血液 | B. 煤炉：煤灰 |
| C. 电钻：钻头 | D. 手枪：子弹 |

(2009-政法-70.) 红绿灯：交通

- |           |          |
|-----------|----------|
| A. 机场：安检  | B. 手机：通话 |
| C. 教育部：学生 | D. 开关：电流 |

(2009-政法-71.) 学生：报到：录取通知书

- |               |              |
|---------------|--------------|
| A. 顾客：积分：优惠券  | B. 会计：报销：火车票 |
| C. 报考者：考试：准考证 | D. 员工：考勤：工作证 |

(2009-政法-72.) 电脑：电子邮件：照片

- |             |             |
|-------------|-------------|
| A. 毛笔：国画：字帖 | B. 卡车：货物：冰箱 |
| C. 空调：温度：冷气 | D. 手机：信息：彩信 |

(2009-政法-73.) 提案：政协委员：政协会议

- |             |               |
|-------------|---------------|
| A. 菜肴：厨师：宴会 | B. 道具：演员：文艺汇演 |
|-------------|---------------|

- C. 动物：饲养员：动物表演                      D. 纪录：运动员：运动会

(2009-政法-74.) ( ) 刺激消费发消费券相当于增加体重鼓励进食 ( )

- A. 消除贫困；多吃肉类                      B. 金融安全；餐费打折  
C. 消除危机；调换品味                      D. 扩大内需；用餐免费

(2009-政法-75.) 网球运动男女 ( ) 相当于交通标志 ( ) 信号灯

- A. 教练员；红绿                      B. 混合双打；明暗  
C. 单打比赛；黑白                      D. 裁判员；左右

四、逻辑判断。每题给出一段陈述，这段陈述被假设是正确的，不容置疑的。要求你根据这段陈述，选择一个答案。注意：正确的答案应与所给的陈述相符合，不需要任何附加说明即可以从陈述中直接推出。

请开始答题：

(2009-政法-76.) 一项对某市大学生运动会的调查结果似乎存在着矛盾，当参加百米决赛的运动员被问及在此次运动会上的名次时，有 60% 的回答者说他们的成绩位居此次比赛的前 20%。

如果所有参与调查的运动员说的都是真话，那么下列哪项能对上述现象给出更合理的解释？

- A. 并不是所有未回答者的名次都在百米决赛的前 20% 以外  
B. 其余 40% 的回答者百米决赛的成绩都在前 20% 之外  
C. 参加百米决赛的运动员有 80% 的人成绩不理想  
D. 百米决赛成绩较差的运动员没有参加调查

(2009-政法-77.) 专家们认为，造成老虎数量急剧下降的原因很简单：捕杀野生动物的违法行为仍未被完全禁止，东亚许多国家仍猖狂地进行动物皮毛交易。专家指出，亚洲新的人口增长趋势和经济变化对老虎的生存造成了非常重大的影响。亚洲富有的中产阶级可以承受昂贵的“虎宴”——用老虎身体的各个部分做成晚餐，炫耀财富。这也充分刺激了野生老虎的非法贸易，直接导致了亚洲老虎数量的急剧下降。

由此可以推出：

- A. 减少对老虎的捕杀，老虎数量就不会下降  
B. 制止动物皮毛交易，老虎数量就不会下降  
C. 经济变化趋势对有些动物的生存影响很大  
D. 如果中产阶级改变不健康的消费观，老虎数量就不会下降

(2009-政法-78.) 一项新的研究表明，存在于舌头上的能检测甜味的蛋白质，也存在于肠道。研究人员据此推测，肠道同样能尝出糖果的味道。这项研究的负责人说：“其实，肠

道与舌头品尝甜味的方式是一样的。”

下列哪项最能支持上述推测？

- A. 只要有这种检测甜味的蛋白质，就能尝到甜味
- B. 除了甜味，肠道还能尝到酸味
- C. 除了肠道，还有其它器官能够尝到甜味
- D. 味觉可以通过其它感觉表达出来

(2009-政法-79.) 科学家发现，生活在大的群体之中的鸟类，比生活在孤独之中的鸟类大脑中有着更多的新的神经元，也有着更强的记忆力。他们据此向人类发出忠告：如果你是一个孤独者，你最好结交一些朋友，否则就会丧失你宝贵的脑细胞，导致记忆力低下。

下列哪项如果为真，最能**反驳**上述观点？

- A. 人类的大脑和鸟类根本不同
- B. 人脑比鸟类大脑发达得多
- C. 很多交友多的人记忆力并不好
- D. 很多孤独者的记忆力非常好

(2009-政法-80.) 在几十位考古人员历经半年的挖掘下，规模宏大、内涵丰富的泉州古城门遗址——德济门重现于世。考古人员在此发现了一些古代寺院建筑构件。考古学家据此推测：元明时期该地附近曾有寺院存在。

下列哪项如果为真，最能**质疑**上述推测？

- A. 考古人员未发现任何寺院遗址
- B. 民居也常使用同样的建筑构件
- C. 发掘出的寺庙建筑构件较少
- D. 关于德济门的古代典籍未提到附近有寺院

(2009-政法-81.) 研究人员分析了美国南加州将近 4000 名亚裔和非亚裔胃癌患者的病例资料，他们发现亚洲人的存活率远高于其它种族患者。一般而言，5 年期的存活率，亚裔有 20% 的比例，拉丁裔是 12%，而白人和黑人则是 10%。一些研究人员推测，这可能是由于生物学上的差异导致亚裔人体内肿瘤较不具有侵害性。

下列哪项对这个观点**不构成**质疑？

- A. 亚裔人的饮食习惯和其他种族不同，而饮食习惯对胃癌影响很大
- B. 亚裔人普遍重视体检，可以早期发现胃癌
- C. 亚裔肿瘤患者除接受西医治疗外，还常常接受中医疗法
- D. 亚裔人胃癌发病率比其他种族低

(2009-政法-82.) 研究人员报告说，动物脑部具有不同功能的区域占总脑量的比例是物种的一个重要特征。他们发现，在同物种中，不同个体之间的脑容量可能有明显差别，但脑部结构特征基本一致；而不同物种之间，结构特征就有较大差异。研究人员据此认为，脑部



结构特征将有助于分辨不同物种间的亲缘关系。他们还指出，脑部结构的变化，通常标志着由进化产生了新的种群。例如，从较为原始的狐猴进化到现代的猴子；从猿进化到人，脑部的重要变化是新大脑皮层所占比例增加。

由此可以推出：

- A. 聪明人大脑皮层比常人发达
- B. 人的大脑皮层比猴子发达
- C. 人脑与猿脑的结构相似度大于猴脑和狐猴脑的结构相似度
- D. 黑猩猩和大猩猩脑结构的相似度大于黑猩猩和猴子脑结构的相似度

(2009-政法-83.) 41 摄氏度是人体发烧时才能达到的体温。不久前，研究人员将试管中的皮肤细胞每周两次、每次 1 小时暴露在 41 摄氏度的空气里。结果发现，这些细胞不但没有受到损害，反而生命力更加旺盛。他们由此推测，适度的高温可以起到延长寿命、抗衰老、美容的效果。

下列**不能**对上述观点构成质疑的一项是：

- A. 常患感冒的人并没有比常人更长寿
- B. 影响衰老过程的主要不是皮肤细胞
- C. 皮肤细胞不能代表所有的人体细胞
- D. 体温暂时升高会对人体中有些细胞造成伤害

(2009-政法-84.) 甲、乙两公司均为使用其公司数码产品有疑难问题的顾客提供 24 小时的热线电话咨询。拨打热线电话要收取相应的通话费用，所以通常来说，消费者只有在使用数码产品遇到困难时才会拨打电话。甲公司接到的热线电话的数量比乙公司多 5 倍。这说明，甲公司的数码产品一定比乙公司的数码产品复杂难用。

以下各项如果为真，最能支持上述结论的是：

- A. 乙公司数码产品的消费者数量比甲公司的多 2 倍
- B. 甲公司数码产品的消费者数量比乙公司的多 5 倍
- C. 乙公司收到的有关数码产品质量问题的投诉比甲公司多 2 倍
- D. 甲公司收到的有关数码产品质量问题的投诉比乙公司多 5 倍

(2009-政法-85.) 日常生活中，有些人在服药时为图省事，将药片放在口中后，不喝水或仅喝一口水，再用力一咽，就算是服完药了。有些人认为，这种服药方式是不可取的。

以下哪项如果为真，最能支持这些人的观点？

- A. 服药时增加饮水量会降低药物的浓度
- B. 服药时大量饮水，可加快药物通过咽、食管进入胃的速度
- C. 有些药物，由于代谢产物深解度低，容易在泌尿道中析出，引起其他症状，因此病人在服药期间每天至少要饮水 1500 毫升
- D. 服药时饮水过少会使药片滞留在食管中时间较长，甚至产生副作用

※※※第三部分结束，请继续做第四部分！※※※

## 安徽

### 【【2012-安徽-判断】】

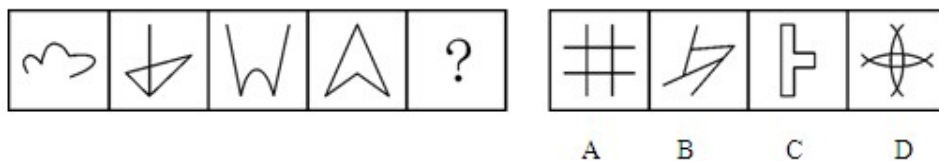
#### 第四部分 判断推理

(共 45 题，参考时限 45 分钟) 谨

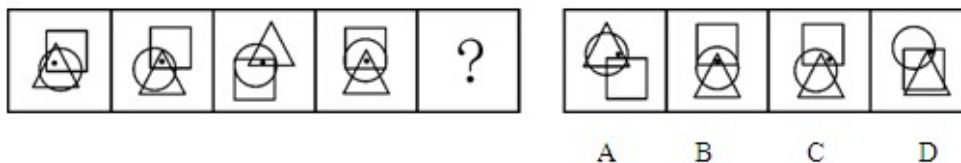
一、图形推理。请按每道题的答题要求作答。

请开始答题：

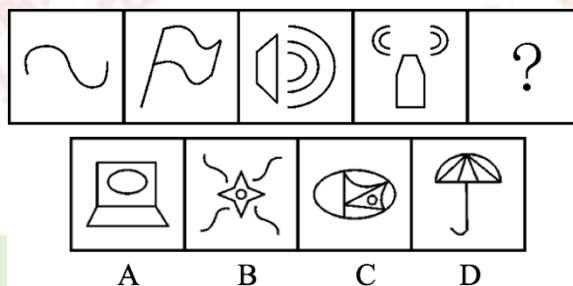
(2012-安徽-71.) 从所给四个选项中，选择最合适的一个填入问号处，使之呈现一定规律性：



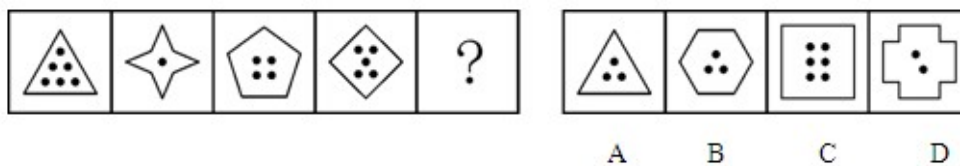
(2012-安徽-72.) 从所给四个选项中，选择最合适的一个填入问号处，使之呈现一定规律性：



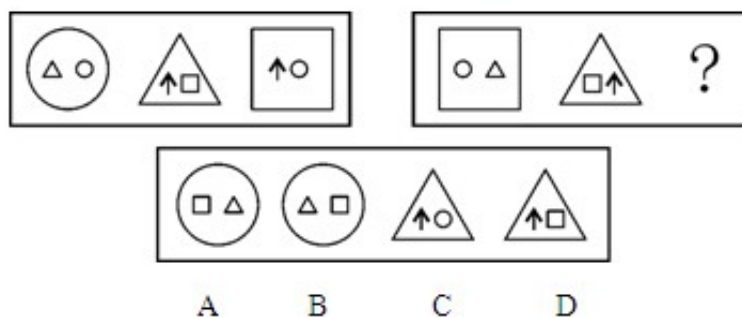
(2012-安徽-73.) 从所给四个选项中，选择最合适的一个填入问号处，使之呈现一定规律性：



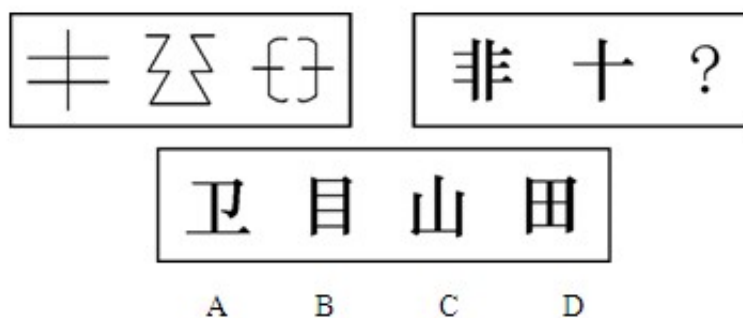
(2012-安徽-74.) 从所给四个选项中, 选择最合适的一个填入问号处, 使之呈现一定规律性:



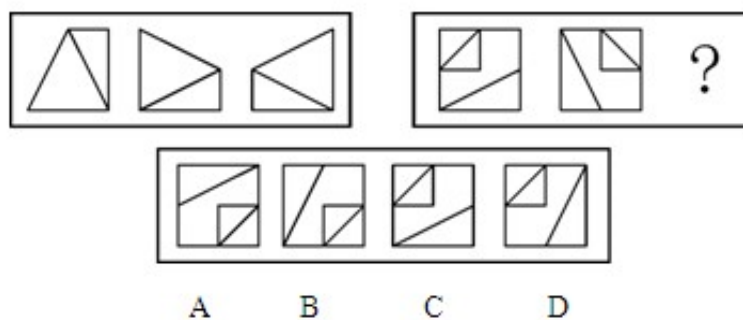
(2012-安徽-75.) 从所给四个选项中, 选择最合适的一个填入问号处, 使之呈现一定规律性:



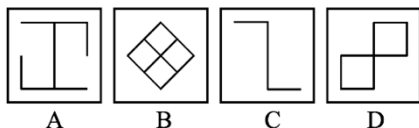

(2012-安徽-76.) 从所给四个选项中, 选择最合适的一个填入问号处, 使之呈现一定规律性:



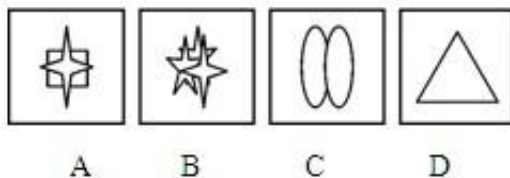

(2012-安徽-77.) 从所给四个选项中, 选择最合适的一个填入问号处, 使之呈现一定规律性:



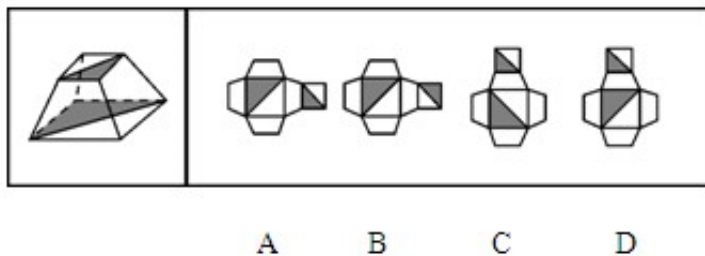
(2012-安徽-78.) 从所给四个选项中, 选择最合适的一个填入问号处, 使之呈现一定规律性:



(2012-安徽-79.) 从所给四个选项中, 选择最合适的一个填入问号处, 使之呈现一定规律性:



(2012-安徽-80.) 左边这个图形是由右边四个图形中的某一个作为外表面折叠而成, 请指出它是哪一个?



二、定义判断。每道题先给出定义, 然后列出四种情况, 要求你严格依据定义, 从中选出一个最符合或最不符合该定义的答案。注意: 假设这个定义是正确的, 不容置疑的。

请开始答题:

(2012-安徽-81.)品质成本是指企业为了保证和提高产品品质而支出的一切费用和由于产品品质未达到规定的要求而造成的一切损失。根据上述定义,下列属于品质成本的是:

- A. 某医药企业为树立产品良好的品质形象聘请专家代言的费用
- B. 某汽车制造商为新产品开展品质见证之旅主题试乘试驾活动的费用
- C. 某保健品公司因为涉嫌虚构夸大产品功效而被处罚缴纳的罚款
- D. 某食品生产企业因产品人工色素含量超标,被质监部门查处缴纳罚款

(2012-安徽-82.)故意毁坏财物罪,是指达到刑事责任年龄且具备刑事责任能力的自然人故意毁坏或者损坏公私财务,数额较大或者有其他严重情节的行为。犯罪目的只是损坏公私财务,不具有非法占有的目的。

根据上述定义,下列属于故意毁坏财物罪的是:

- A. 张某不满公司年终分红方案,私自拿走公司贵重物品
- B. 精神病人李某抢走路人财务并致其伤残
- C. 王某对自己的新房装修过度,导致居民楼出现裂缝
- D. 赵某破坏高压线路,导致整个地区停电三天

(2012-安徽-83.)人际冲突有两种:工作性冲突与情绪性冲突(关系冲突)。工作性冲突是因为对工作本身有不同的理解、思路和方法;情绪性冲突则是情绪上的对立或敌意。

根据上面的定义,下面属于情绪性冲突的是:

- A. 某单位领导因为坚持原则和下属发生严重的争执
- B. 一位年轻女孩子,因男友的冷漠,和他吵起来了
- C. 一位年轻的同事正在向顾客说明什么,但顾客显得很激动
- D. 一位老者正在教训那些采摘校园玫瑰花的人

(2012-安徽-84.)结构性失业,是指由于经济结构(包括产业结构、产品结构、地区结构)发生了变化,现有劳动力的知识、技能、观念、区域分布等不适应这种变化,与市场要求不匹配而引发的失业。

根据上述定义,下列属于结构性失业的是:

- A. 小王因为所学专业偏冷,大学毕业后马上就“失业”了
- B. 文化水平不高的张阿姨不适应现代化的要求,失业了
- C. 小李由于没有大学英语六级证书,在找工作时老是碰壁
- D. 上海的一家企业缺少高级工,存在人才空位现象

(2012-安徽-85.)工作扩大化是指在横向水平上增加工作任务的数目或变化性,使工作多样化。工作丰富化是指从纵向上赋予员工更复杂、更系列化的工作,使员工有更大的控制权。

下列属于工作丰富化的是:

- A. 自助餐的伙计在面食、沙拉、蔬菜、饮品和甜点部轮换工作

- B. 邮政部门的员工从原来只专门分拣邮件增加到同时分送到各邮政部门
- C. 在某传输数据系统公司，员工可以经常提出自己喜欢的工作并随后转入新的岗位
- D. 在一家研究所，一个部门主管告诉她的下属，只要在预算内并且合法，他们就可以做想做的任何研究

(2012-安徽-86.) 职务发明，是指企业、事业单位、社会团体、国家机关的工作人员执行本单位的任务或者主要是利用本单位的物质条件所完成的职务发明创造。

根据上述定义，下列属于职务发明的是：

- A. 张大爷参加了老年健身活动俱乐部，发明了一种新型的健身器材
- B. 小李受公司委托参加了某高校一项课题研究，发明了一种新技术
- C. 刘老师在家设计了一个多功能黑板，以方便平时上课
- D. 王同学在读高中时就发明了一种多功能雨伞，并获得了专利

(2012-安徽-87.) 乐观，是指认识事物过程中的一种心理状态，表现为关心事物的正向价值，并把最大正向价值作为其行为方案的选择标准，即相信自己有足够的行为能力来承受和减弱原有负向价值对自己的不良影响，并使原有正向价值发挥更大的积极效应。

下列最符合上述关于乐观的定义的是：

- A. 长风破浪会有时，直挂云帆济沧海
- B. 风力掀天浪打头，只须一笑不须愁
- C. 今年欢笑复明年，秋月春风等闲度
- D. 烹羊宰牛且为乐，会须一饮三百杯

(2012-安徽-88.) 自居作用，是指一个人把他所钦佩或崇拜的人的特点、某一团队或某种主张作为自己的特点，用以弥补自己的缺点和不足。自居作用有两种：一是使自己模仿他人的行为；二是利用别人的优点、荣誉等来满足自己的愿望。

根据上述定义，下列属于自居作用的是：

- A. 见贤思齐
- B. 谈笑有鸿儒，往来无白丁
- C. 人云亦云
- D. 推己及人

(2012-安徽-89.) 知觉防御，是指个体进行自我保护的一种思想方法倾向，它使人比较容易观察能满足个体需要的事物，对于满足个体需要无关的事物则是视而不见、听而不闻。

下列选项中**不属于**知觉防御的是：

- A. 先天下之忧而忧，后天下之乐而乐
- B. 两耳不闻窗外事，一心只读圣贤书
- C. 可怜后主还祠庙，日暮聊为《梁甫吟》
- D. 商女不知亡国恨，隔江犹唱后庭花

(2012-安徽-90.) 消费信贷,是指银行等金融机构向消费者为消费而发放的贷款。消费信贷往往需要采取综合的担保措施以及进行充分的市场信用调查,在法律上表现为买卖合同(往往是分期付款买卖)、借款合同、担保合同的综合体。

根据上述定义,下列属于消费信贷的是:

- A. 某饭店允许某位客户的赊账行为
- B. 某农村信用合作社为农民购车发放小额贷款
- C. 某职工为购房与单位签合同预支 20 年的住房补贴
- D. 在资产清收、处置过程中,银行垫付债务人的诉讼费、经济纠纷款等

三、类比推理。每道题先给出一组相关的词,要求你在备选答案中找出一组与之在逻辑关系上最为贴近、相似或匹配的词。

请开始答题:

(2012-安徽-91.) 谬误:语法

- A. 木头:煤炭
- B. 俗气:文章
- C. 馒头:面粉
- D. 快乐:高兴

(2012-安徽-92.) 川剧:变脸

- A. 滑稽戏:逗乐
- B. 西河大鼓:弹三弦
- C. 二人转:转手绢
- D. 京剧:画脸谱

(2012-安徽-93.) 火山:岩浆

- A. 小麦:面包
- B. 海洋:岛屿
- C. 汽车:尾气
- D. 地下水:喷泉

(2012-安徽-94.) 真诚:真挚

- A. 论证:论点
- B. 顽强:顽劣
- C. 果断:武断
- D. 争议:争执

(2012-安徽-95.) 画家:作家

- A. 工人:农民
- B. 土豆:山芋
- C. 绿茶:红茶
- D. 军人:诗人

(2012-安徽-96.) 人生:阅历:经验

- A. 身体:营养:体重
- B. 企业:销量:产能
- C. 职场:学识:成功
- D. 学校:生源:名气

(2012-安徽-97.) 茶水:茶壶:茶杯

- A. 乘客:公交车:出租车
- B. 杂志:书架:阅览室
- C. 人才:学校:企业
- D. 课本:书店:印刷厂

(2012-安徽-98.) 药品：药房：药方

- A. 旅行：飞机：机票
- B. 桌餐：饭店：菜单
- C. 存款：银行：银行卡
- D. 电影：影院：电影票

(2012-安徽-99.) 老师对于 ( ) 相当于 ( ) 对于病人

- A. 书本；父母
- B. 学校；医院
- C. 学生；医生
- D. 教室；药品

(2012-安徽-100.) 玫瑰对于 ( ) 相当于 ( ) 对于鲸鱼

- A. 香精；鱼翅
- B. 花园；海水
- C. 蔷薇；海豚
- D. 月季；鲨鱼

四、逻辑判断。每道题给出一段陈述，这段陈述被假设是正确的，不容置疑的。要求你根据这段陈述，选择一个答案。注意：正确的答案应与所给的陈述相符合，不需要任何附加说明即可以从陈述中直接推出。

请开始答题：

(2012-安徽-101.) 有人认为“美是客观的”，比如你无论是否看到黄山的美景，它都是存在着的；也有人认为“美是主观的”，一些在你眼中的美女在其他人看来却是不怎么样，可见：

- A. 没有绝对的美，也没有绝对的丑
- B. “美是客观的”不正确
- C. 美是相对的，是存在于我们主客观世界里的
- D. 美是主观，还是客观，属于萝卜白菜各有所爱之事

(2012-安徽-102.) 根据美国营养学家的研究，花菜中含有一氯化物——吲哚。科研人员将一种类似花菜中吲哚的特殊物质注入一批志愿试验人员体内，注射一周后，采血进行化验检查，结果发现这些受试者体内可致乳腺癌的雌激素水平显著降低了，这说明花菜有预防乳腺癌的功效。

如果以下各项为真，最能**质疑**上述推测的是：

- A. 花菜中吲哚的含量较低
- B. 一些常吃花菜的人也患有乳腺癌
- C. 很多从来不吃花菜的人也没有患乳腺癌
- D. 雌激素的水平不是导致乳腺癌的唯一因素

(2012-安徽-103.) 在发生了若干起由于汽车本身质量问题而导致的严重事故之后，某汽车公司开始针对导致事故发生的技术原因在全球范围内召回旗下部分系列的产品。鉴于事故造成的严重后果，这种举措也许短时间内并不能重新赢回消费者对其品牌的信赖，但亡羊



补牢的措施总算没有使其遭到所有人的抛弃。

由此可以推知：

- A. 该公司旗下其他系列的产品不存在类似的质量问题
- B. 亡羊补牢的措施终究会使消费者对该公司的信赖回升到原有水平
- C. 消费者对该公司及其产品信赖，部分原因在于它能够较好地处理出现的问题
- D. 该公司召回产品的目的是避免因同类质量问题再次出现事故

(2012-安徽-104.) 班主任在期末总结会上说：“我们班的同学在过去的一年里取得了优异的成绩，有的在奥数竞赛中获了奖，有的在英语口语比赛中获了奖，有的在舞蹈比赛中获了奖。我们班有许多女同学……”

由此可以推出：

- A. 取得优异成绩的全部是女同学
- B. 取得优异成绩的肯定有女同学
- C. 取得优异成绩的女同学多于男同学
- D. 取得优异成绩的可能没有女同学

(2012-安徽-105.) 一家汽车生产商推出标准型、豪华型两款车型，豪华型的安全性能比标准型好很多，两款车型同时上市后，豪华型的销量一直没有超过标准型。由此，该生产商认为安全性能并非顾客考虑的首要因素。

如果以下各项为真，最能削弱该生产商观点的是：

- A. 大部分顾客对标准型汽车的信赖度更高
- B. 豪华型汽车的价格与标准型相差不是很多
- C. 大部分顾客认为标准型汽车的安全性能足以满足日常生活需要
- D. 购买标准型汽车的大多是集体客户，所以标准汽车销售量一直很高

(2012-安徽-106.) 科学家发现，在过去的 200 年内，地球的磁场急剧衰减。科学家预言，照这种速度发展下去，在未来的 1000 年内，地球磁场可能会完全消失，地球生灵将面临前所未有的宇宙射线大灾难。

由此可以推出：

- A. 目前地球磁场的衰减速度比 200 年前更快
- B. 人类无法改变地球磁场急剧衰减的状况
- C. 今后来自外太空的辐射强度将会越来越大
- D. 地球磁场可阻挡来自太空的辐射

(2012-安徽-107.) 科学研究发现，植物对触摸作出反应是因为它们认为自己正在遭受风的打击，因此“觉得”必须提高强度防止风的破坏。每天只要对植物的茎进行几秒钟的抚摸和敲击就可使植物枝干的密度加强。在植物被触摸不到 30 分钟后，植物的基因便生成使其体内钙含量提高的蛋白质。钙的增加相应地又导致一种名为钙调蛋白的物质的增多，该物

质可以使植物更为坚固。

如果下列各项为真，能够**质疑**上述结论的是：

- A. 菜农们在将温室中的幼苗移种至露天之前，一般会对秧苗进行敲打
- B. 在移种甜菜之前，要去掉甜菜中的水分并用扫帚拍打它们
- C. 在农田边缘经常受风的作物倒伏概率比在农田中央吹不到风的作物要高 80%
- D. 如果碰到含羞草的叶子，它就会在几秒钟之内缩做一团，出现该现象的原因是钙迅速流进了它的细胞

(2012-安徽-108.) 某市风景优美，气候宜人。该市晨曦路两侧开设的几乎全部都是老年疗养院，来自全国各地的很多老年人来此旅游、疗养。晨曦路只有很少几座居民住宅，但是晨曦路附近却有很多专门经营儿童用品的商店，而且生意还相当火爆。

下列哪一项最能解释这一现象？

- A. 晨曦路附近的专门经营儿童用品的商店所出售的商品物美价廉
- B. 来此疗养的老人都是有子女带着孩子陪同的，他们需为孩子购买所需物品
- C. 居住在晨曦路的居民虽然不多，但孩子们之间经常互相赠送礼物
- D. 晨曦路附近的儿童用品商店闹中取静购物环境良好

(2012-安徽-109.) 人工合成食用色素，是用煤焦油中分离出来的苯胺染料为原料制成的，故又称煤焦油色素或苯胺色素，如合成苋菜红、胭脂红及柠檬黄等等。偶尔食用添加一定量的人工合成食用色素的食品，并不会引发中毒、腹泻等状况。因此，人们可以放心食用添加少量人工合成色素的食品。

以下哪项如果为真，最能**削弱**上述论证？

- A. 食用添加少量人工合成食用色素的食品不利于人体健康
- B. 经常食用和偶尔食用对人体的影响不同
- C. 苯胺染料含对人体有害的物质
- D. 食用添加少量天然食用色素的食品不会影响人体健康

(2012-安徽-110.) 近日，某检验检疫局对从德国进口的百余箱机电产品木质包装箱开箱检查时发现，其中两箱有大量疑似白蚁，数量在几千只左右，密度较大，导致部分箱体出现多处蚁孔。现场采集的标本经鉴定为台湾乳白蚁。由于这种白蚁在欧洲是没有分布的，所以专家推测，可能是在中国境内运输途中感染的。

由此可以推出：

- A. 货物不是直接从德国空运过来的
- B. 货物运输经过了台湾
- C. 白蚁繁殖速度很快
- D. 中国境内的台湾乳白蚁很多

(2012-安徽-111.) 英国一家非常受欢迎的专卖三明治的快餐店，最近把三明治的价格

提高了 0.2 欧元，即从 1.8 欧元提到 2 欧元。可是涨价后仅仅一个月，所有的服务员都不约而同地辞职了。

下列哪项如果为真，能最好地解释上述现象？

- A. 价格上涨后，快餐店就可以继续赠送顾客饮料，而服务员嫌麻烦
- B. 服务员的小费比以前大大地减少了。因为售价是整数，顾客可能没有零钱给小费了
- C. 尽管三明治的价格上涨了，但是并没有相应的增加服务员的工资
- D. 由于价格上涨，除了某些老主顾经常来光顾，店里的生意可是日渐冷清了

(2012-安徽-112.) 本能可以使生物对刺激作出复杂的反应。相对非本能反应，本能反应只需要很少的神经细胞。具有非本能反应能力的大脑一定有大量的神经细胞，而没有哪种昆虫的大脑具有如此数量的神经细胞。

根据这段文字，可以知道：

- A. 昆虫的反应一般是本能反应
- B. 大脑小于或等于昆虫大脑的生物只能做出本能反应
- C. 大脑大于昆虫大脑的生物都有能力做出非本能反应
- D. 拥有高级大脑的生物做出大的反应一般不是本能反应

(2012-安徽-113.) 由于在乐业天坑中最大的天坑——大石围底部的原始森林中发现了与恐龙同时代的植物桫欏，有人据此推测，大石围应形成于恐龙时代，即 6500 万年前。

如果下列各项为真，哪项最能**反驳**上述推测？

- A. 桫欏至今仍然存在
- B. 在其他乐业天坑中未发现桫欏
- C. 恐龙无法进入这个极深的天坑
- D. 没有在大石围中发现恐龙化石

(2012-安徽-114.) 近期一项电脑市场调查显示：按照一品牌学生购买者占全部购买者的百分比计算，A、B 两品牌电脑名列前两位，比例分别为 68% 和 52%。但是，在过去 6 个月的学生购买电脑量排行榜中，国产 C 品牌一直排在首位。

下列哪项为真，最有助于解释上述矛盾？

- A. 有关机构设立排行榜在一定程度上影响学生消费者对品牌的选择
- B. C 品牌的学生购买者占其购买者的比例也曾在相当长的时间内高于其他品牌
- C. 与 A、B 两种品牌相比，C 品牌电脑性价比更高，更符合学生要求
- D. 某种品牌学生购买者占各品牌学生购买者总数的百分比，与某种品牌学生购买者占该品牌全部购买者的百分比是不同的

(2012-安徽-115.) 大众意识到新闻传媒中可能有偏见并且怀疑新闻传媒强有力的传播效果。然而，大众对被报道的每一条新闻貌似有理的评价与新闻主体是不一致的，因为大众的评价是以从新闻媒介中得到的资料为背景的。

如果作者上述的观点是正确的，那么他在试图说明：

- A. 如果在新闻传媒所报道的新闻中普遍存在偏见，那么公众要识别这些偏见是困难的
- B. 新闻传媒修改他们的报道以适应特殊的政治议事日程
- C. 新闻媒介把其偏见强加在往往不会被意识到失真的报道中，反而使它变成大众感兴趣和可信的观念中的一部分
- D. 新闻报道者与大众在重大的社会问题上的观点是完全一致的，因为新闻报道者也是这个社会中的一员

※※※第四部分结束，请继续做第五部分！※※※

江西

【【2012-江西-判断】】

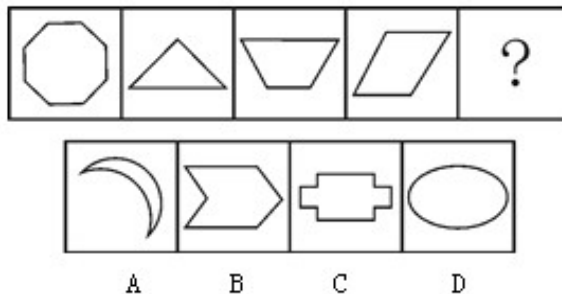
第三部分 判断推理

(共 35 题，参考时限 35 分钟)

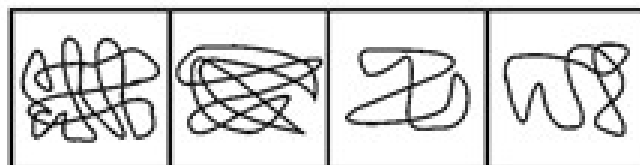

一、图形推理。请按每道题的答题要求作答。

请开始答题：

(2012-江西-56.) 从所给四个选项中，选择最合适的一个填入问号处，使之呈现一定规律性：

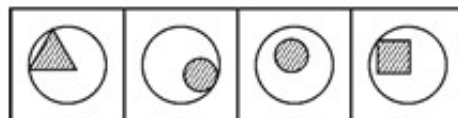
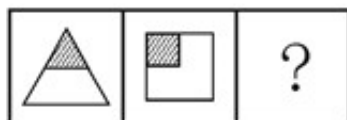
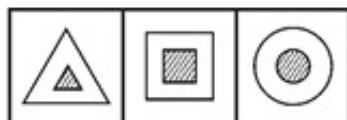


(2012-江西-57.) 从所给四个选项中，选择最合适的一个填入问号处，使之呈现一定规律性：



A B C D

(2012-江西-58.) 从所给四个选项中, 选择最合适的一个填入问号处, 使之呈现一定规律性:



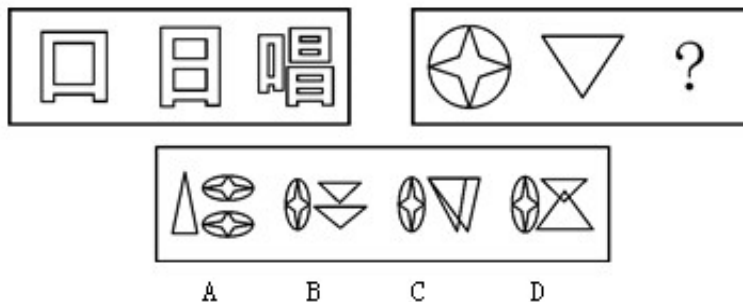
A B C D

(2012-江西-59.) 从所给四个选项中, 选择最合适的一个填入问号处, 使之呈现一定规律性:

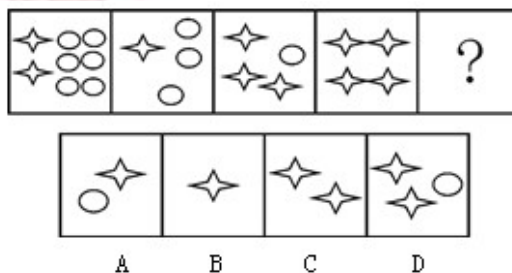


A B C D

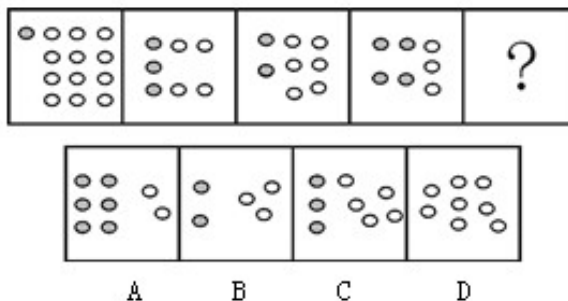
(2012-江西-60.) 从所给四个选项中, 选择最合适的一个填入问号处, 使之呈现一定规律性:



(2012-江西-61.) 从所给四个选项中, 选择最合适的一个填入问号处, 使之呈现一定规律性:



(2012-江西-62.) 从所给四个选项中, 选择最合适的一个填入问号处, 使之呈现一定规律性:



(2012-江西-63.) 从所给四个选项中, 选择最合适的一个填入问号处, 使之呈现一定规律性:

项	呈	圆
国	杳	?
态	图	投

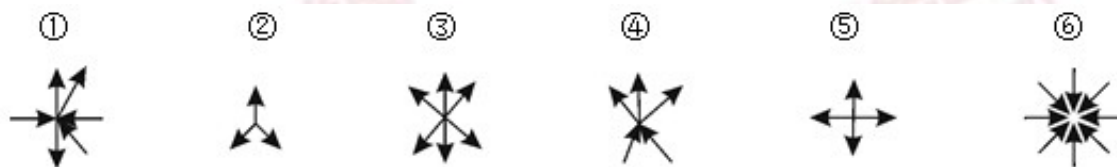
林	员	同	叉
A	B	C	D

(2012-江西-64.) 把下列的六个图形分为两类, 使每一类图形都有各自的共同特征或规律, 分类正确的一项是:



- A. ①②④, ③⑤⑥                      B. ①③④, ②⑤⑥  
C. ①③⑤, ②④⑥                      D. ①④⑤, ②③⑥

(2012-江西-65.) 把下列的六个图形分为两类, 使每一类图形都有各自的共同特征或规律, 分类正确的一项是:



- A. ①②③, ④⑤⑥                      B. ①③④, ②⑤⑥  
C. ①③⑤, ②④⑥                      D. ①④⑥, ②③⑤

二、定义判断。每道题先给出定义, 然后列出四种情况, 要求你严格依据定义, 从中选出一个最符合或最不符合该定义的答案。注意: 假设这个定义是正确的, 不容置疑的。

请开始答题:

(2012-江西-66.) 民事单方法律行为: 是指根据民事主体一方的意思表示即可成立的法律行为。

依据上述定义, 下列属于单方法律行为的是:

A. 美国公民约翰在中国某大学访学期间，租用该大学学术中心 406 房间，租期为三个月

B. 王一在自动存款机上，将 4500 元现金存进去了

C. 王二发现洗发精用完了，到设在楼下超市的自动售货柜上付款后，取走了一瓶洗发精

D. 小张搬家时，将一套旧沙发和一台四成新洗衣机丢弃在小区垃圾分类回收处

(2012-江西-67.) 广告：是指为了商业目的，由商品或服务之生产、经营者承担费用，通过一定媒介或一定公之于众的形式，直接或间接地对其经营的商品或服务予以宣扬的公开活动。

依据上述定义，下列**不属于**广告活动的选项是：

A. 江西某酒品有限公司，给其客户寄送五洋牌陈年黄酒的品种规格及价格清单表

B. 某县自来水厂厂长就其自来水水质受污染情况，在县电视台上予以公开说明

C. 某奶品公司就其绿健牌 150 毫升装酸乳的质量问题，召开新闻说明会

D. 某大型集团公司为首届环鄱阳湖自行车大赛提供赞助

(2012-江西-68.) 复句：是指两个或两个以上意义相关、在结构上互不包含的分句形式组成的句子。

依据上述定义，下列**不属于**复句的是：

A. 虽然他很聪明，人也很努力勤奋，但由于人际关系处理得不够好，最后还是非常遗憾地退出了比赛

B. 夕阳将其最后的一抹余晖，慷慨地泼洒在寂静的院子里，杨扬推着父亲的轮椅，缓缓地走在洒满落叶的乡间小道上；父亲沉醉在这乡土气息里，散发着生命中炽热的光芒，杨扬感觉到某种最后的日子来临

C. 叶问少年习武，青年卖武，中年教授武术，老年颐养天年，除此之外，他还开过一家旅店，兼营手脚之保健理疗

D. 新材料对一个国家经济增长速度、产业结构布局和人民生活方式的改变具有越来越重要的作用

(2012-江西-69.) 民事法律关系：是由民事法律规范所调整的社会关系，也就是由民事法律规范确认和保护的社会关系。

依据以上定义，下列属于民事法律关系的是：

A. 公民李某在购得一辆新轿车后，前往车辆管理所办理汽车牌照

B. 王某在购得秦某的房屋后，到房产管理部门办理产权过户手续

C. 李某为新出生的儿子欢欢办理户口登记手续

D. 江西籍中国公民王某在获得耶鲁大学全额奖学金的入学通知书后，到美国驻上海总



领事馆办理留学签证事宜

(2012-江西-70.) 法律制定：是指有立法权的国家机关或经授权的国家机关，在法定的职权或授权范围内，依照程序制定、补充、修改和废止法律和其他规范性文件，以及认可法律的一项专门活动。

依照上述定义，下列关于法律制定的说法正确的是：

- A. 法的制定实质上就是法的创立或立法，从根本上讲，就是掌握国家政权的阶级将自己的意志上升为国家意志的活动
- B. 中国法律的制定是指中共中央和国家最高权力机关依照法定权限和程序，制定规范性文件的活动
- C. 在现代社会，某些不产生国家意志的活动也属于法律制定活动
- D. 从本质上讲，法律制定实际上就是特定国家机关运用专门技术的活动，立法技术运用的高低，直接关系到立法效果的好坏

(2012-江西-71.) 中国刑法规定了单位犯罪。单位犯罪的主体是单位，包括公司、企业、事业单位、机关、团体。

依据上述规定，下列说法**错误**的是：

- A. 某市自来水公司是公用企业，因而不能成为单位犯罪中的企业
- B. 某市工商行政管理局能够成为单位犯罪中的机关
- C. 某市共青团委能够成为单位犯罪中的团体
- D. 某市第一中学能够成为单位犯罪中的事业单位

(2012-江西-72.) 基层群众性自治组织：是指我国依照宪法和法律有关规定，以城乡居民或村民一定居住地为纽带和范围设立的，并由居民或村民选举产生的成员组成的，实行自我管理、自我教育、自我服务的社会组织。

依据上述定义，下列组织属于基层群众性自治组织：

- A. 仙霞东区物业业主委员会和仙霞西区物业业主委员会
- B. 仙霞村村民委员会和仙霞路居民委员会
- C. 仙霞东区物业管理委员会和仙霞西区物业管理委员会
- D. 仙霞东区街道办事处和仙霞西区街道办事处

(2012-江西-73.) 不作为的危害行为：是指消极的行为，即行为人不履行或不积极地履行其法律义务，而出现危害社会的后果。

依据上述定义，下列行为中属于**不作为**危害行为的是：

- A. 甲驾车将王某撞伤后，逃逸现场，致使王某因未及时抢救而死亡
- B. 乙分娩婴儿后，因不愿抚养，遂以二万元的价格将婴儿转卖他人
- C. 丙分娩婴儿后，为掩盖其未婚先孕真相，遂将孩子送给他人抚养

D. 丁分娩婴儿后，将孩子弃置于火车站致其冻成重伤

(2012-江西-74.) 公民的基本权利与义务：是指由宪法所确认，作为中国公民所应当享有和履行的最起码的法律权利和义务。

依据上述定义，下列说法正确的是：

- A. 基本权利表明公民的宪法地位，构成一个国家权利体系的基础
- B. 凡是宪法规定的基本权利，各级政府和社会都应该为其实现提供一切可能的条件，不得打折扣
- C. 张三年老体弱，膝下无子女，当地政府应该将其收进福利院颐养天年
- D. 丁某是某省流浪到北京的智障者，在北京流浪一年后，该省当地政府有义务将其接回老家

(2012-江西-75.) 《宪法》第 40 条规定：中华人民共和国公民的通信自由和通信秘密受法律的保护。除因国家安全或者追查刑事犯罪的需要，由公安机关或者检察机关依照法律规定的程序对通信进行检查外，任何组织或者个人不得以任何理由侵犯公民的通信自由和通信秘密。

依据上述规定，下列说法中正确的是：

- A. 某市人民法院为了查明案情，根据需要，可以对当事人王某的手机通话记录予以查验
- B. 某市人民法院不能对当事人王某所有与案件无关的通话记录予以查验
- C. 无论什么理由，某市人民法院都不得对当事人王某的通话记录予以查验
- D. 某市人民法院是否有权查验当事人王某通话记录并不重要，重要的是它有助于法院作出公正的判决

三、类比推理。每道题先给出一组相关的词，要求你在备选答案中找出一组与之在逻辑关系上最为贴近、相似或匹配的词。

请开始答题：

(2012-江西-76.) 横看成岭侧成峰：《题西林壁》：苏轼

- A. 床前明月光：《静夜思》：李绅
- B. 锄禾日当午：《悯农》：李白
- C. 青春做伴好还乡：《闻官军收河南河北》：杜甫
- D. 清明时节雨纷纷：《清明》：白居易

(2012-江西-77.) 宁波：浙江

- A. 柳州：广西
- B. 大连：辽宁

C. 南昌：江西

D. 韶山：湖南

(2012-江西-78.) 荷兰：日本

A. 中国：印度

B. 德国：英国

C. 美国：加拿大

D. 瑞典：西班牙

(2012-江西-79.) 雪花：大海

A. 绿叶：土地

B. 星星：宇宙

C. 白云：天空

D. 树木：森林

(2012-江西-80.) 黄豆：蚕豆

A. 饰具：灯具

B. 鲫鱼：鲸鱼

C. 猴子：狮子

D. 木瓜：西瓜

四、逻辑判断。每道题给出一段陈述，这段陈述被假设是正确的，不容置疑的。要求你根据这段陈述，选择一个答案。注意：正确的答案应与所给的陈述相符合，不需要任何附加说明即可以从陈述中直接推出。

请开始答题：

(2012-江西-81.) 公司董事会决定调整公司的经理层，现在 A、B、C、D、E、F、G 七个合格人选，可供董事会挑选 4 名进入新组建的经理层。如何选定此 4 人，公司人力资源部门经过充分调查论证，已形成下列意见：

- (1) 如果选了 A，最好也同时选取 B，即让 A 和 B 一起进入班子；
- (2) 如果决定 C 不进入班子，那么最好让 D 进入；
- (3) 如果 A 不进入，而让 C 进入，那么最好让 E 进入；
- (4) 最好不要让 E 和 F 同时进入经理层；
- (5) 最好让 F 成为新班子的总经理。

根据以上意见，理想的人选方案是：

- A. F、A、B、C
- B. F、D、E、C
- C. F、D、B、A
- D. F、C、B、D

(2012-江西-82.) 研究人员做了一项长达 12 年的跟踪调查的研究项目，其主题是验证人类对音乐的敏感性和感受力。他们选取了 80 个出生三个月左右的婴儿作为样本。经测试，其中 65 个婴儿对音乐的节奏有明显反应，15 个婴儿无明显反应。当这些孩子成长到 9 至 12 岁时，进行最后的测试，研究人员发现，在婴儿阶段对音乐有明显反应的孩子们，不仅依然

喜欢音乐，而且还表现出很高的音乐素养。而在婴儿时期，15 个对音乐无明显反应的孩子，有 9 个仍无明显兴趣，有 6 个比较喜欢音乐。

从这段文字中，不能推出的是：

- A. 对音乐无明显兴趣的，可能会变得有兴趣了，但“有兴趣”很难变成“无兴趣”
- B. 人对音乐的兴趣随着年龄的增长，会有所改变
- C. 大多数人的音乐潜质在婴儿时期形成了
- D. 大部分人还是喜欢音乐的

(2012-江西-83.) 二胡演奏家胡某，在其晚年的演奏表演中，并没有像其青年时代那样严格遵守曲目的戒律，而是融入了其毕生演奏形成的精微而细致的体验。最近，市面上出现了一部她演奏的作品，经其粉丝倾听鉴别，发现此作品与其早年演奏的一样，严格遵守曲目的节律。因此断定此作品是其早年的作品，更具收藏价值。

上面论断所依据的前提是：

- A. 胡某在晚年演奏时，比早年更不愿意打破其一贯坚守的节律
- B. 随着演奏技巧及领悟作品内涵的功力日渐深厚，胡某越来越意识不到她是在演奏别人的作品
- C. 在其晚年的演奏中，她是业内唯一有意在演奏中加入个人节律的演奏家，这使得其演奏更多地充满了个人风格
- D. 胡某在晚年演奏时，没有再以其青年时代那样的方式，演奏过任何一部作品

(2012-江西-84.) 2008 年之前国内新培植的大豆品种平均产油率仍低于原产于某国的大豆，但自 2008 年 3 月至 2010 年 4 月，经过科技人员的精心培植，其平均产油率提高了很多。至今，平均产油率虽没再提高，但与进口某国的大豆产油率平均值差距在缩小。

基于上述论断，下面一定正确的一项是：

- A. 从 2010 年 4 月后进口的某国大豆平均产油率逐渐降低
- B. 新培植的本土大豆平均产油率从 2010 年 4 月后逐渐降低
- C. 2010 年 4 月后培植的本土大豆平均产油率高于同期进口某国的大豆
- D. 2008 年之前进口的某国大豆平均产油率高于 2010 年 4 月后进口的

(2012-江西-85.) 刑警王某从某个杀人现场勘察完毕回到局里。门卫老张问他结果怎么样，王某说知道了杀人犯到过现场。老张知道王刑警在调侃他，因为根本无须王某告诉，他就知道：如果某人是杀人犯，那么案发时他一定在现场。

但据此回答，我们可以推知：

- A. 如果张三案发时在现场，那么他就是杀人犯
- B. 如果李四不是杀人犯，那么案发时他就不在现场
- C. 如果王五案发时不在现场，那么他就不是杀人犯

D. 即使许六不在案发现场，也有可能是杀人犯

(2012-江西-86.) 为保护凤凰山上红枫林免受山顶季节性狂风的肆虐而不被刮倒，凤凰山国家风景管理局在山顶上设置了巨大的防风屏障。这些屏障的建立虽然挡住了狂风的侵袭，但就风景的整体性而言，有两个副作用，一是近乎将红枫林圈围起来了，二是红枫林山顶在狂风季节的“风”景，也因此屏障而大为逊色，另外也使本来就不太大的山顶显得更狭小了。

上述信息最支持的一项论断是：

- A. 通过建筑防风屏障来保护红枫林，从长远来看，其作用可能是适得其反的
- B. 由于季风的猛烈程度不断加深，必须在红枫林周围建立起更多更有效的防风屏障
- C. 为人类留下宝贵的红枫林资源，应该是红枫林风景管理的首要目标
- D. 防风屏障永远不被风暴破坏，也不需要昂贵的维修和更新

(2012-江西-87.) 某市某繁华街道“十字路口可见度改善工程”竣工使用后，有关它对交通事故预防效果的两份调查报告出台了。第一份报告的结论是：此项工程改善了此十字路口的能见度，从而大大减少了那里的交通事故的发生。第二份报告的结论是：此项工程完工后，每周交通事故增加了而不是减少了，因此，此项工程增加了事故发生的几率。

以下对于评价第二份报告的论述最有用的选项是：

- A. 工程完工后，在十字路口处值勤的交警员平均值勤时间是多少
- B. 工程竣工使用后，作为该市最为繁忙的十字路口之一，车流量的改变情况如何
- C. 邻近城镇在改善危险路段能见度方面采取了什么样的措施
- D. 工程完工后，该十字路口是否会不便于行人通行

(2012-江西-88.) 已知法学 10 级 3 班有 36 人，假定下列四种说法有两个为真，其余为假：(1) 并非法学 10 级 3 班所有同学都去过庐山。(2) 法学 10 级 3 班王芳和李娜都去过庐山。(3) 只有法学 10 级 3 班有人去过庐山，才能说该班张斐既去过庐山，也去过三清山。(4) 并非法学 10 级 3 班没有同学去过庐山。

依据上述假定及其给定条件，下列判断为真的选项是：

- A. 该班至少有三个同学去过庐山
- B. 王芳没有去过庐山，但是李娜去过
- C. 张斐和李娜去过庐山
- D. 王芳、李娜、张斐都没有去过庐山

(2012-江西-89.) 王教授是某大学人气极旺的教师，他非常喜欢微博，自然对喜欢开微博的人也很欣赏。他的一位学生粉丝认为，不开微博者没有资格来听王老师的课，于是自作主张，就在王教授上课的教室门口竖起了一块牌子，上面写着“不开微博者不得入内”。牌子竖起后，就来了一位想听课的学生小芳，据查她确实是个“微博控”。

如果牌子上的话得到准确理解和执行，那么正确的选项是：

- A. 小芳可能不会被允许听课
- B. 王教授一定不会允许小芳听课
- C. 王教授的那位粉丝学生不可能会允许小芳听课
- D. 小芳一定会被允许听课

(2012-江西-90.) 指出下列推理中正确的一项是：

- A. 有些人既喜欢吃牛肉，也喜欢吃鱼片，王佳喜欢吃牛肉，所以她也喜欢吃鱼片
- B. 大量抽烟会导致肺癌，朱某不抽烟，所以朱某不会得肺癌
- C. 中国是发展中国家，中国是社会主义国家，所以，有的社会主义国家同时也是发展中国家
- D. 艺术没有阶级性，艺术是一种社会现象，所以，社会现象都是没有阶级性的

※※※ 第三部分结束，请继续做第四部分！ ※※※

广东

## 【【2017-广东-判断】】

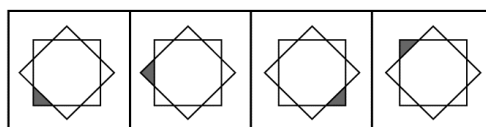
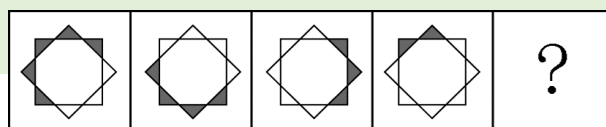
### 第三部分判断推理

(共 40 题，参考时限 35 分钟)

一、图形推理。请按每道题的答题要求作答。

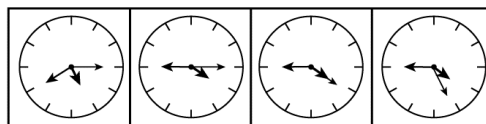
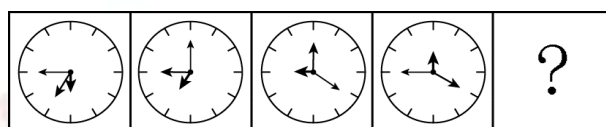
请开始答题：

(2017-广东-31.) 从所给四个选项中，选择最合适的一个填入问号处，使之呈现一定规律性：



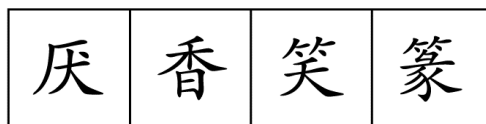

A B C D

(2017-广东-32.) 从所给四个选项中, 选择最合适的一个填入问号处, 使之呈现一定规律性:



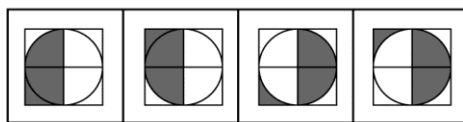
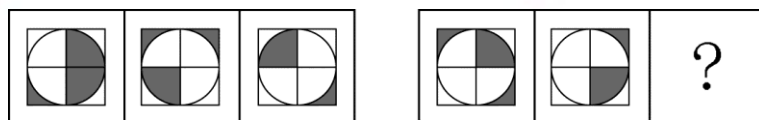
A B C D

(2017-广东-33.) 从所给四个选项中, 选择最合适的一个填入问号处, 使之呈现一定规律性:



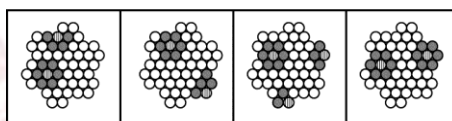
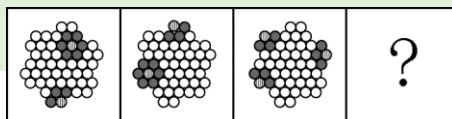
A B C D

(2017-广东-34.) 从所给四个选项中, 选择最合适的一个填入问号处, 使之呈现一定规律性:



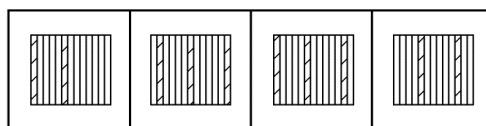
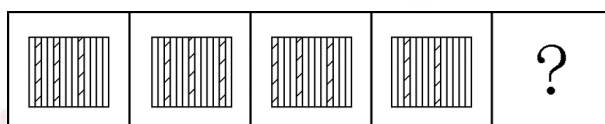
A B C D

(2017-广东-35.) 从所给四个选项中, 选择最合适的一个填入问号处, 使之呈现一定规律性:



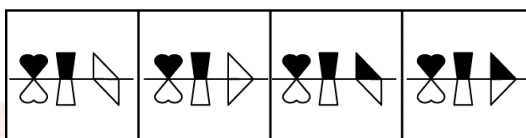
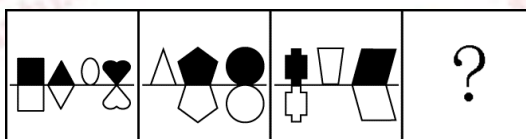
A B C D

(2017-广东-36.) 从所给四个选项中, 选择最合适的一个填入问号处, 使之呈现一定规律性:



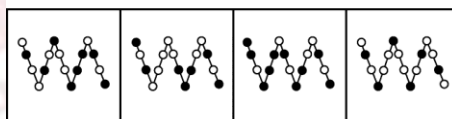
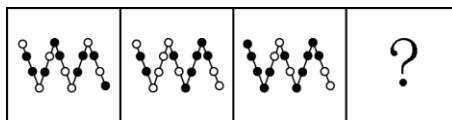
A B C D

(2017-广东-37.) 从所给四个选项中, 选择最合适的一个填入问号处, 使之呈现一定规律性:



A B C D

(2017-广东-38.) 从所给四个选项中, 选择最合适的一个填入问号处, 使之呈现一定规律性:



A B C D

(2017-广东-39.) 把下面的 6 个图形分为两类, 使每一类图形都有各自的共同规律, 分类正确的是:





- A. ①④⑥, ②③⑤                      B. ①②⑤, ③④⑥  
C. ①⑤⑥, ②③④                      D. ①③⑤, ②④⑥

(2017-广东-40.) 把下面的 6 个图形分为两类, 使每一类图形都有各自的共同规律, 分类正确的是:



- A. ①④⑥, ②③⑤                      B. ①②⑤, ③④⑥  
C. ①⑤⑥, ②③④                      D. ①③⑤, ②④⑥

二、类比推理共 10 题。每道题给出一组相关的词或一个表达, 然后要求你仔细观察, 在备选项中找出与题干在逻辑关系上最为贴近或相似的一项。

请开始答题:

(2017-广东-41.) U 盘: 光盘

- A. 楼梯: 电梯                              B. 插头: 插座  
C. 国画: 毛笔                              D. 水杯: 杯盖

(2017-广东-42.) 春暖: 花开

- A. 和风: 细雨                              B. 雨后: 天晴  
C. 天寒: 地冻                              D. 云开: 雾散

(2017-广东-43.) 投票: 抽签

- A. 联系: 沟通                              B. 管理: 服务  
C. 劝说: 争辩                              D. 推荐: 号召

(2017-广东-44.) 调研: 座谈

- A. 转型: 创新                              B. 垄断: 专营  
C. 发明: 试验                              D. 秩序: 通畅

(2017-广东-45.) 言论: 自由

- A. 版权: 保护                              B. 危机: 调控  
C. 生产: 安全                              D. 设计: 创新

(2017-广东-46.) 水: 火

- A. 美: 丑                                      B. 有: 无  
C. 左: 右                                      D. 红: 绿

(2017-广东-47.) 净水: 过滤

A. 名次：竞赛 B. 房屋：装修

C. 苗条：节食 D. 环境：绿化

(2017-广东-48.) 雾霾：污染：治理

A. 风扇：电器：使用 B. 粳米：粮食：调查

C. 信息：报纸：阅读 D. 报告：文件：审批

(2017-广东-49.) 好感：喜欢：热爱

A. 伤心：悲伤：悲哀 B. 不安：紧张：焦躁

C. 不悦：反感：厌恶 D. 高兴：愉快：喜悦

(2017-广东-50.) 自行车：出行：环保

A. 蔬菜：食品：健康 B. 台灯：灯泡：节能

C. 手表：时间：指针 D. 货车：运输：载体

三、逻辑判断。每道题给出一段陈述，这段陈述被假设是正确的，不容置疑的。要求你根据这段陈述，选择一个答案。注意：正确的答案应与所给的陈述相符合，不需要任何附加说明即可以从陈述中直接推出。

请开始答题：

(2017-广东-51.) 某单位每个月都要对工作人员的工作表现进行考评。去年上半年，该单位的甲、乙、丙、丁4位员工均获得了3次月度优秀奖。已知，甲和乙有2个月同时获奖，乙和丙也有2个月同时获奖，甲和丁获奖的月份完全不同。

以下说法一定正确的是：

- A. 只有3个人同时获奖的月份有2个
- B. 只有2个人同时获奖的月份有3个
- C. 只有1个人获奖的月份有1个
- D. 只有2个人同时获奖的月份少于只有1个人获奖的月份

(2017-广东-52.) 现在人们常常提到大学毕业生就业难。但据统计，近年我国就业市场空缺岗位与求职人数的比率一般大于1，劳动力市场的需求大于供给。而在求职人群中，大学毕业生的文化水平较高。因此，我国大学毕业生实际上不存在就业难的问题。

以下信息如果为真，能够有效**反驳**上述结论的是：

- A. 当前经济下行压力较大，不少企业严控用工成本，已经开始裁员
- B. 劳动力市场最紧缺的一些岗位主要是适合高级技工的岗位
- C. 大学毕业生愿意从事的岗位往往竞争激烈
- D. 一些高级技能人才的收入水平要高于大学毕业生

(2017-广东-53.) 甲和乙都有可能受邀参加某专家论坛。现在，甲得知了以下消息：

(1) 论坛主办方决定，至少邀请甲或乙中的一位。

(2) 论坛主办方决定不邀请甲。

(3) 论坛主办方一定会邀请甲。

(4) 论坛主办方决定邀请乙。

假如上述消息中，两条为真，两条为假，则可推出：

- A. 论坛主办方决定邀请甲，不邀请乙
- B. 论坛主办方决定邀请乙，不邀请甲
- C. 论坛主办方决定同时邀请甲和乙
- D. 论坛主办方决定既不邀请甲，也不邀请乙

(2017-广东-54.) 某科研机构研发了一项神经刺激技术，他们在试验中对一批滑雪选手实施了该刺激，持续数周后发现，相比未接受刺激的选手，接受刺激选手的跳跃能力和协调能力分别提高了 10% 和 15%。本国体育部门计划与该机构合作，在滑雪运动员的训练、比赛中推广使用这一技术。

以下哪项为真，最能**质疑**该国体育部门的计划？

- A. 未接受刺激的运动员通过正常训练也能提高跳跃能力和协调性
- B. 这项合作会增加该国体育部门的经费支出
- C. 该国是传统滑雪强国，滑雪成绩长期处于世界领先地位
- D. 这项技术会降低运动员的专注力，而专注力是能力发挥的前提

(2017-广东-55.) 一名茶叶经销商在对客人介绍一种茶叶时说：“这种茶叶产自云山，而大名鼎鼎的云山茶正是产自云山，所以这就是正宗的云山茶。”

以下与该经销商介绍茶叶时的逻辑最为相似的是：

- A. 三班的学生都勤奋好学，小李是三班的学生，所以小李勤奋好学
- B. 飞驰牌汽车产自某国，刚才那辆汽车不是飞驰牌，所以肯定不是该国产的
- C. 所有司机都必须有驾照，小郑有驾照，所以小郑是司机
- D. 好医生需要具备精湛的医术和高尚的医德，小陈二者兼备，所以他是好医生

(2017-广东-56.) 某公司招聘业务经理，小张和小李前来应聘。小张说：“如果我做了业务经理，我会积极进取，开拓新业务。” 小李说：“如果我做了经理，我会优化管理，精减人员。” 最终，他们其中一人当上了业务经理，并顺利实现了自己的工作主张。

由此可知，以下说法必定为真的是：

- A. 该公司不仅开拓了新业务，还精减了人员
- B. 如果该公司开拓了新业务，那么肯定是小张当上了业务经理
- C. 如果该公司精减了人员，那么肯定是小李当上了业务经理
- D. 如果该公司没有开拓新业务，就肯定精减了人员

(2017-广东-57.) 由于按揭贷款的利率下调，人们每月还贷压力减小，因此一家机构预

测某地的商品房销售量会增长，但实际上，销售量并未出现明显增长。

下列哪项如果为真，最能解释以上现象？

- A. 当地一直存在人口外流的现象
- B. 本地的商品房价格没有明显下降
- C. 有的开发商取消了购房优惠政策
- D. 因经济环境不好，当地人均收入下降

(2017-广东-58.) 媒体 A 报道称：今年以来，患季节性皮肤病的人数大幅上升，这是因为城市水污染日益严重和空气质量恶化造成的。媒体 B 报道称：患季节性皮肤病的人数大幅上升与城市水污染、空气质量恶化没有关系，主要是因为人们缺乏锻炼，身体素质下降造成的。

以下哪项如果为真，最能对媒体 B 的观点提出**质疑**？

- A. 目前 7-12 周岁儿童的身体素质比 10 年前普遍下降
- B. 大多数春季患皮肤病的人，在秋冬季节症状会有所好转
- C. 环保局承认，城市水污染和空气质量问题日益严重
- D. 游泳运动员患季节性皮肤病的人数逐年增多

(2017-广东-59.) 某投资公司在评价一个项目时说：我们挑选投资项目，主要是看项目的技术门槛和未来市场的需求量，而不是当前的业务增长率。现在新的可投资项目这么多，短期内发展很迅速但很快就被其他项目追赶上来的也不少，这显然不是我们想要的。这个项目在一年内营业额就增加了 5 倍，倒是很有必要怀疑它将来的状况。

以下和该投资公司评价项目的逻辑最为类似的是：

- A. 婚姻生活是否幸福取决于夫妻双方的和谐程度，而不是家庭收入，有些收入高的夫妻，婚姻生活反而不幸福
- B. 通过票房评价一部电影并不靠谱，一部电影即使票房再高，观众的口碑也不一定好
- C. 某足球队在选拔新队员时，除了关注他们的技术水平，更看重他们的训练状态和发展潜力
- D. 歌手要成功，天赋和优秀的市场推广缺一不可。那些失败的歌手，要么没有天赋，要么市场推广做得不好

(2017-广东-60.) 流感病毒的变异速度相当快，即使疫苗每年更新，也不能保证疫苗接种覆盖全部的“当季流行款”。接种流感疫苗，既不能保证百分之百不得流感，还可能导致接种人群出现低烧等副作用。因此，没有必要接种流感疫苗。

以下选项如果为真，**不能有效反驳**上文结论的是：

- A. 接种流感疫苗可以减少儿童、慢性病患者等高危人群因流感而发生严重并发症的风险
- B. 接种季节性流感疫苗可以降低易感人群感染流感病毒的概率

C. 接种流感疫苗后只有极少数人会出现全身反应，且一两天可以缓解，比流感的症状要轻很多

D. 从疾病中恢复过来的人可以获得一定的免疫力，1年内不会再次被同样的流感病毒感染

四、科学推理共 10 题。每道题给出由文字、图表构成的背景材料，要求考生在给定材料的基础上，灵活运用基本科学知识进行推理判断，从四个备选项中选出正确的选项。

请开始答题：

(2017-广东-61.) 在下面的电路图中，c、d 是两个不同的灯泡，e、f 均为安培表。当开关 g 闭合时（如图 1），e 显示读数为 1.3A，f 显示读数为 0.9A。如果将断开的开关 g 与灯泡 c 的位置互换（如图 2），则以下情况**不会**出现的是：

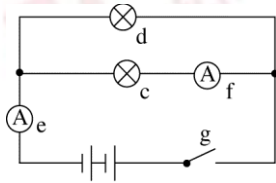


图 1

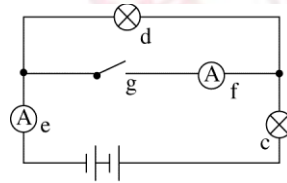


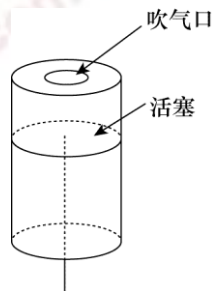
图 2

- A. f 的读数变为 0A
- B. e 的读数变小
- C. c 比原来亮
- D. d 比 c 亮

(2017-广东-62.) 下列关于蔬菜大棚内氧气和二氧化碳含量变化的说法，**不正确**的是：

- A. 在无光的环境下，植物只进行呼吸作用，二氧化碳含量增加
- B. 在有光的环境下，植物同时进行光合作用和呼吸作用，氧气含量增加
- C. 光线逐渐增强时，植物的光合作用逐渐增强，氧气含量增加
- D. 光线逐渐减弱时，植物的光合作用和呼吸作用也逐渐减弱，氧气含量降低

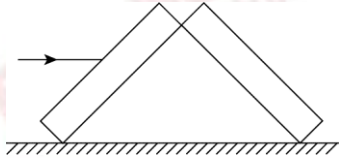
(2017-广东-63.) 小王用塑料圆筒做了一个简易哨子（如图），当他从吹气口吹气的同时，将活塞慢慢往下拉，可以听到哨声（）。



- A. 逐渐变小声

- B. 音调越来越高
- C. 音调越来越低
- D. 没有变化

(2017-广东-64.) 两块完全相同的平面玻璃砖相互垂直放置 (如图), 一束单色光从左侧水平射入左边的玻璃砖, 从右边的玻璃砖射出, 则出射光线相对入射光线 ( )。

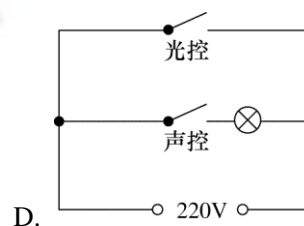
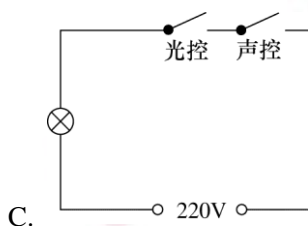
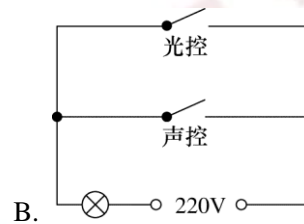
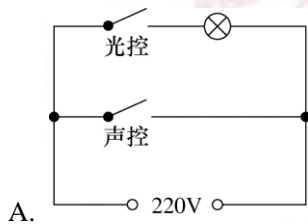


- A. 向上偏折
- B. 向下偏折
- C. 在同一条直线上
- D. 平行

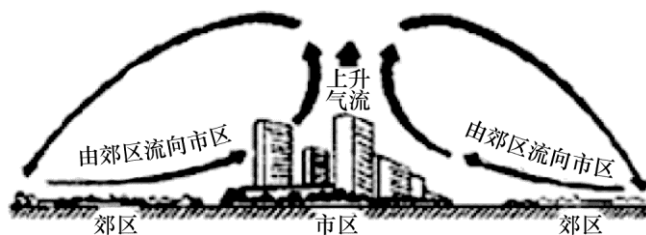
(2017-广东-65.) 有一家四口, 包括一对夫妻和他们的两个亲生子女, 四人的 ABO 血型各不相同。已知儿子有一次受伤时, 是爸爸献的血, 那么, 以下信息可以确定的是:

- A. 爸爸的血可以献给家里所有人使用
- B. 妈妈的血不能献给家里所有人使用
- C. 女儿有可能是 AB 型血
- D. 儿子只可能是 A 型或 B 型血

(2017-广东-66.) 为节约用电, 有生产商为楼道照明开发出“光控开关”和“声控开关”。“光控开关”在天黑时自动闭合, 天亮时自动断开; “声控开关”在有人走动发出声音时自动闭合, 无人走动时自动断开。若将这两种开关配合使用, 就可以使楼道照明变得更加节能。为达到这个目的, 楼道照明的电路安装简图是:

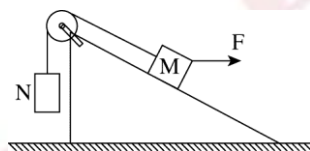


(2017-广东-67.) 下图是某地市区与郊区之间的热力环流图。根据该图, 为保证市区空气质量, 下列说法正确的是:



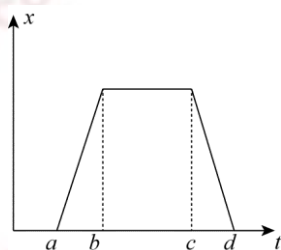
- A. 化工厂可以建设在郊区
- B. 绿化带应该建设在郊区外
- C. 绿化带可以建设在市区内
- D. 化工厂应该建设在郊区与市区之间

(2017-广东-68.) 如图所示, 两物体 M、N 用绳子连接, 绳子跨过固定在斜面顶端的滑轮 (不计滑轮的质量和摩擦力), N 悬于空中, M 放在斜面上, 均处于静止状态, 当用水平向右的拉力 F 作用于物体 M 时, M、N 仍静止不动, 则下列说法正确的是:



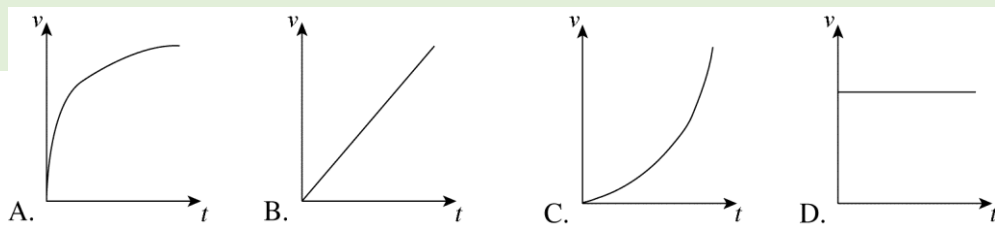
- A. 绳子的拉力始终不变
- B. M 受到的摩擦力方向沿斜面向上
- C. 物体 M 所受到的合外力变大
- D. 物体 M 总共受到 4 个力的作用

(2017-广东-69.) 下图是某辆汽车的位移 x 随着时间 t 变化而变化的图像, 下列说法中正确的是:



- A. 在 a 到 b 的时间段内, 汽车的加速度不断增大
- B. 在 b 到 c 的时间段内, 汽车做匀速运动
- C. 在 c 到 d 的时间段内, 汽车的速度保持不变
- D. 在 d 时间点, 汽车回到出发地

(2017-广东-70.) 下列能正确反映自由落体速度随时间变化的图像是:



※※※第三部分结束，请继续做第四部分！※※※

## 【【2016-广东-判断】】

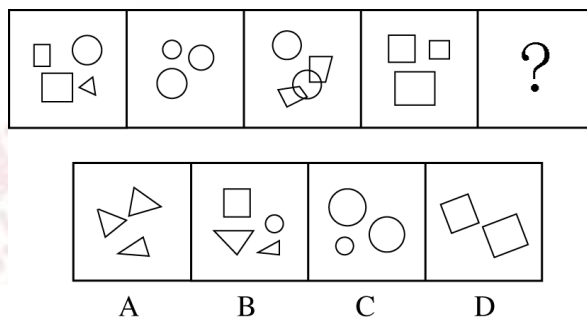
### 第三部分 判断推理

(共 35 题，参考时限 30 分钟)

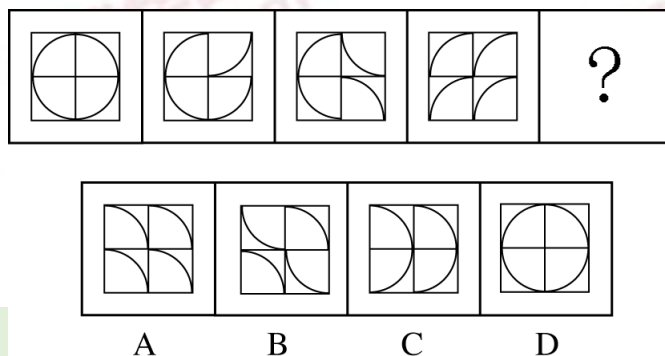
一、图形推理。请按每道题的答题要求作答。

请开始答题：

(2016-广东-36.) 从所给四个选项中，选择最合适的一个填入问号处，使之呈现一定规律性：

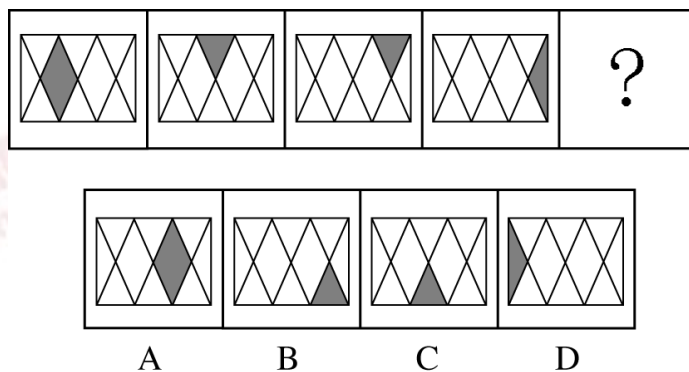


(2016-广东-37.) 从所给四个选项中，选择最合适的一个填入问号处，使之呈现一定规律性：

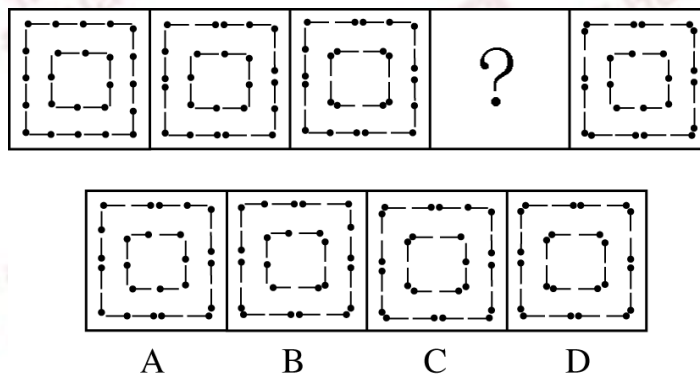




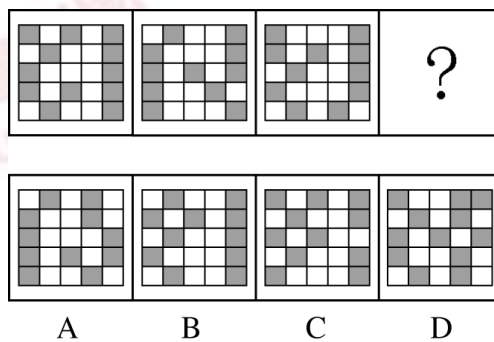
(2016-广东-38.) 从所给四个选项中, 选择最合适的一个填入问号处, 使之呈现一定规律性:



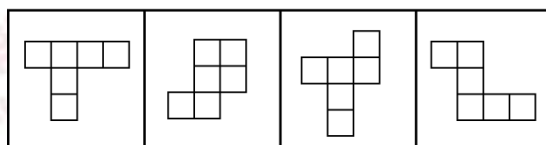
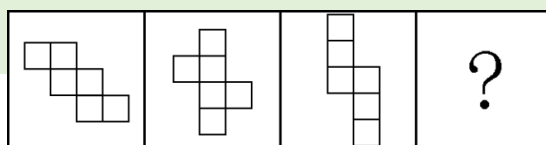
(2016-广东-39.) 从所给四个选项中, 选择最合适的一个填入问号处, 使之呈现一定规律性:



(2016-广东-40.) 从所给四个选项中, 选择最合适的一个填入问号处, 使之呈现一定规律性:

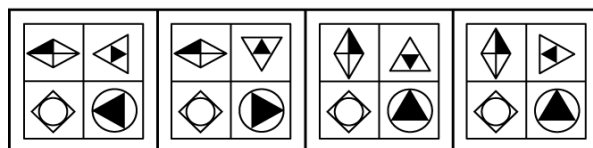
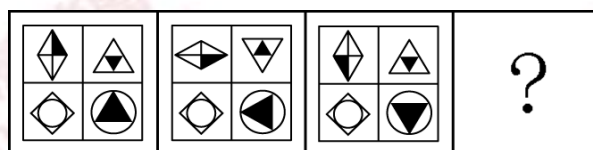


(2016-广东-41.) 从所给四个选项中, 选择最合适的一个填入问号处, 使之呈现一定规律性:



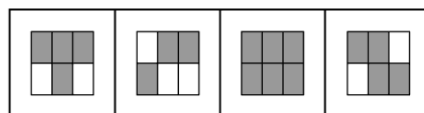
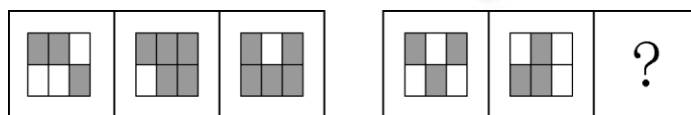
A B C D

(2016-广东-42.) 从所给四个选项中, 选择最合适的一个填入问号处, 使之呈现一定规律性:



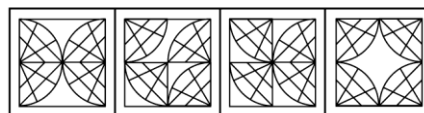
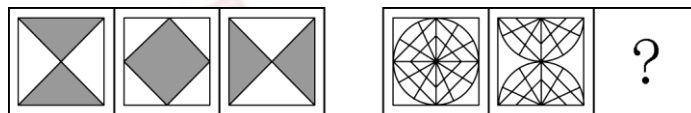
A B C D

(2016-广东-43.) 从所给四个选项中, 选择最合适的一个填入问号处, 使之呈现一定规律性:



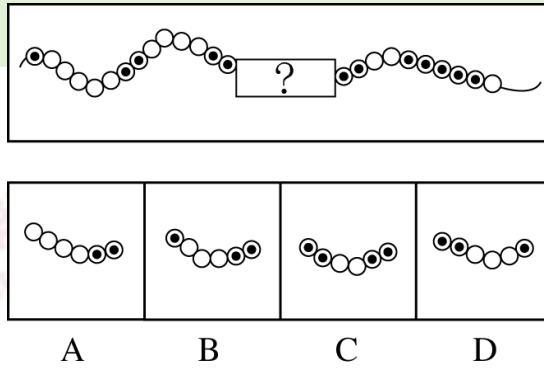
A B C D

(2016-广东-44.) 从所给四个选项中, 选择最合适的一个填入问号处, 使之呈现一定规律性:



A B C D

(2016-广东-45.) 从所给四个选项中, 选择最合适的一个填入问号处, 使之呈现一定规律性:



二、类比推理。每道题先给出一组相关的词，要求你在备选答案中找出一组与之在逻辑关系上最为贴近、相似或匹配的词。

请开始答题：

(2016-广东-46.) 天空：蔚蓝

- A. 气氛：融洽                      B. 土地：耕种  
C. 茶叶：保健                      D. 河流：灌溉

(2016-广东-47.) 蜡烛：电灯

- A. 椅子：写字台                      B. 茶杯：饮水机  
C. 拖把：吸尘器                      D. 电视：计算机

(2016-广东-48.) 富裕：扶贫

- A. 干燥：抽湿                      B. 蒙昧：教育  
C. 落后：推进                      D. 健康：保卫

(2016-广东-49.) 干旱：沙漠

- A. 笔直：树干                      B. 坚硬：水泥  
C. 寒冷：南极                      D. 多雨：赤道

(2016-广东-50.) 菜刀：食物

- A. 子弹：枪支                      B. 毛巾：身体  
C. 铅笔：书籍                      D. 窗帘：窗户

(2016-广东-51.) 玉石：雕琢：玉器

- A. 蚕丝：织造：丝绸                      B. 粮食：酿造：美酒  
C. 生铁：冶炼：钢材                      D. 蚊香：点燃：烟雾

(2016-广东-52.) 站台：码头：停机坪

- A. 现金：支票：银行卡                      B. 软件：硬件：互联网  
C. 外套：婚纱：羽绒服                      D. 演员：群众：主持人

(2016-广东-53.) 沙龙：志趣相投

- A. 论坛：千言万语  
B. 擂台：针锋相对  
C. 网站：集思广益  
D. 枢纽：承上启下

(2016-广东-54.) 陈词滥调：老生常谈

- A. 按部就班：循序渐进  
B. 博闻强识：见多识广  
C. 见义勇为：助人为乐  
D. 八面玲珑：面面俱到

(2016-广东-55.) 吹毛求疵：鸡蛋里面挑骨头

- A. 赶鸭子上架：牛不喝水强按头  
B. 敬酒不吃吃罚酒：不识抬举  
C. 舍本逐末：捡了芝麻丢了西瓜  
D. 福无双至：屋漏偏逢连夜雨

三、逻辑判断。每道题给出一段陈述，这段陈述被假设是正确的，不容置疑的。要求你根据这段陈述，选择一个答案。注意：正确的答案应与所给的陈述相符合，不需要任何附加说明即可以从陈述中直接推出。

请开始答题：

(2016-广东-56.) 某县计划引进一种生长快、肉质好的良种牛，在本县推广养殖，以提高农民养牛的经济收益。

以下最能对该计划可行性提出**质疑**的是：

- A. 该良种牛不适应当地气候  
B. 当地农民养牛的积极性不高  
C. 该良种牛的养殖成本较高  
D. 当地农民没有饲养过该良种牛

(2016-广东-57.) 老张为了试验某品牌化肥的效果，把自家的稻田分成东边、西边两块，在东边地块施肥，西边地块不施肥。水稻收割后，东边地块亩产 700 公斤，西边地块亩产 400 公斤。因此，该品牌化肥能有效增产。

以下最能**反驳**上述论证的是：

- A. 东边地块的土壤肥力原本就比西边地块高  
B. 东西两块地种植的是同一品种的水稻  
C. 东边地块的水稻遭受过虫害  
D. 老张收割西边地块的水稻先于东边地块

(2016-广东-58.) 全球气候变暖给人类带来诸多影响的同时，也影响着地球上的其他生物，降水的增加可以改善植被，从而有利于鼠类的增长，研究表明，降水的增加使原本干旱的内蒙古地区植被更加丰富，也增加了鼠类的食物，长爪沙鼠数量随之增加。

以下最能**削弱**上述论断的一项是：

- A. 据统计，一些地区的植被覆盖率并没有增加

- B. 据测算，全球沙漠化面积近年有所增加
- C. 内蒙古地区植被的增加和近年的生态保护有很大关系
- D. 植被的增加使各种动物包括鼠类的天敌都增加了

(2016-广东-59.) 根据人事部门的数据，某单位的女性员工多于男性员工，中共党员员工多于政治面貌为群众的员工。(该单位员工政治面貌只有中共党员和群众两种情况)

下列判断一定正确的是：

- A. 政治面貌为群众的女性员工多于政治面貌为群众的男性员工
- B. 政治面貌为中共党员的男性员工多于政治面貌为中共党员的女性员工
- C. 政治面貌为中共党员的女性员工多于政治面貌为群众的男性员工
- D. 政治面貌为群众的男性员工多于政治面貌为中共党员的男性员工

(2016-广东-60.) 随着网络的普及，电子版图书越来越多，其中包括电子版的文学名著，而且价格很低。人们只要打开电脑，在网上几乎可以浏览到任何一本名著。电子版文学名著的问世，会改变大众的阅读品位，有利于造就高素质读者群体。

以下最能削弱上述结论的一项是：

- A. 对文学没有兴趣的人不会因为文学名著的价钱高低或者是否方便而阅读文学名著
- B. 文学名著的普及率一直不如娱乐杂志、时事报刊等大众读物
- C. 许多读者认为阅读电子书籍的感觉不如阅读印刷书籍那么好，宁愿选择印刷版读物
- D. 在互联网上阅读文学名著仍然需要收费

(2016-广东-61.) 有研究表明，运动，特别是大量运动，会提高人体内血清基的水平。在某种程度上，人的心情由人体内血清基的水平决定。抗抑郁药物可以通过提高体内血清基的水平来起作用。

下列判断一定正确的是：

- I. 提高体内血清基水平，要么大量运动，要么吃抗抑郁药物
  - II. 人的心情，可能由于运动量决定，也可能受抗抑郁药物影响
  - III. 大量运动会影响人的心情，或影响抗抑郁药物的疗效
- A. I
  - B. II
  - C. I 和 II
  - D. II 和 III

(2016-广东-62.) 气候与经济发展具有紧密关系。在欧洲，北部气候较冷的国家总体上比南部国家发达；在美洲，加拿大和美国比南部的墨西哥发达；在亚洲，韩国的 GDP 是东南亚所有国家的总和。之所以有这种差别，是因为寒冷地区的人们为了生存，大脑会进一步地复杂化，而热带的人们，由于食物充足，大脑失去了进一步进化的动力。

以下最能削弱上述论断的一项是：

- A. 人类共有的惰性使任何地区的人都类似
- B. 寒冷地区的人并不比热带的人智商高

C. 经济的发达与文化的繁荣没有必然联系

D. 获取食物并不是人类主要的脑力活动

(2016-广东-63.) 我国以占世界 7% 的耕地养活了占世界 22% 的人口, 其中年平均生产大豆 1200 万吨左右。同时, 还利用国外的耕地、国外的农民, 继续开放市场, 降低关税或免除关税, 年平均进口大豆 5800 万吨左右, 更多利用国外的资源来让我国人民生活得更好。

以上论断基于下列假设, **除了**:

A. 大量进口粮食不会带来粮食安全问题

B. 政府相关部门对进口粮食严把质量关

C. 进口粮食的价格能被国内群众所接受

D. 大量进口粮食损害了国内生产者的利益

(2016-广东-64.) 一项研究发现: 经常喝咖啡的成年人患上心脏病的概率是不常喝咖啡的成年人患心脏病概率的 2.5 倍。由此可以断定, 咖啡中的某种物质能够导致人患上心脏病。

以下最能**削弱**上述结论的一项是:

A. 咖啡含有提高心脏活力的成分

B. 用餐时喝咖啡有降低血脂的作用

C. 心脏病高危人群更容易爱上喝咖啡

D. 爱喝咖啡的人大都性格开朗, 喜欢运动

(2016-广东-65.) 液体都能够流动, 水能够流动, 所以水是液体。

以下与上述推理在结构上最为相似的一项是:

A. 哲学家都爱思考, 李教授是哲学家, 所以他爱思考

B. 哺乳类动物都是恒温动物, 蛇不是哺乳类动物, 所以蛇不是恒温动物

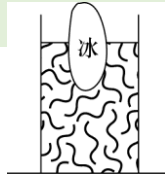
C. 平板电脑都有触摸屏, 手机有触摸屏, 所以手机是平板电脑

D. 工作态度端正就能取得好的业绩, 小刘取得好业绩, 所以他工作态度端正

四、科学推理 共 5 题。每道题给出由文字、图表构成的背景材料, 要求考生在给定材料的基础上, 灵活运用基本科学知识进行推理判断, 从四个备选项中选出正确的选项。

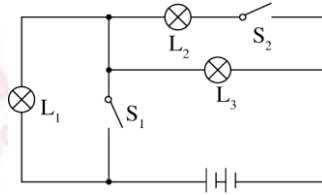
请开始答题:

(2016-广东-66.) 如图所示, 在一个装着水的杯子里放进一块冰, 则在冰块融化的过程中, 杯子水面高度的变化情况应当是:



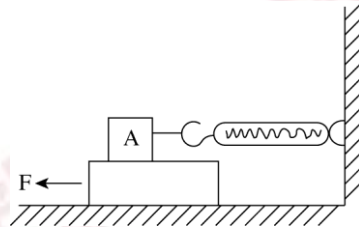
- A. 一直上升  
 B. 先下降后上升  
 C. 先上升后下降  
 D. 一直不变

(2016-广东-67.) 如图所示, 当  $S_1$ 、 $S_2$  闭合时, 以下说法正确的是:



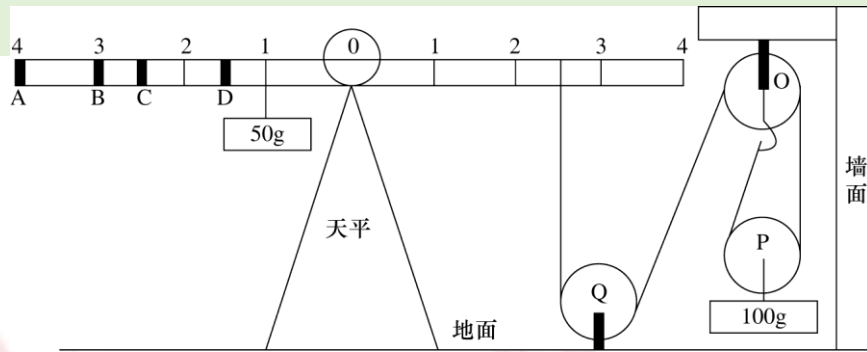
- A. 仅有灯  $L_3$  亮  
 B. 灯  $L_2$ 、 $L_3$  亮, 它们是串联的  
 C. 灯  $L_1$ 、 $L_3$  亮, 它们是串联的  
 D. 灯  $L_2$ 、 $L_3$  亮, 它们是并联的

(2016-广东-68.) 如图所示, 将弹簧测力计一端固定, 另一端钩住长方体木块 A, 木块下面是一长木板。实验时拉着长木板沿水平地面向左运动, 读出弹簧测力计示数即可测出木块 A 所受摩擦力大小。在木板运动的过程中, 以下说法正确的是:



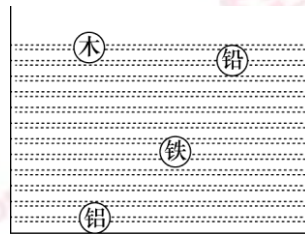
- A. 木块 A 受到的是静摩擦力  
 B. 木块 A 会相对地面匀速运动  
 C. 木块 A 所受摩擦力的方向向左  
 D. 拉动速度变大时, 弹簧测力计示数变大

(2016-广东-69.) 如图所示, 地面上有一架天平, 天平左端系有一个 50g 的物体, 右端通过绳子连接一组滑轮。滑轮组合中, O、Q 为定滑轮, P 为动滑轮, 下端系有一个 100g 的物体。要使天平两端平衡, 需要的操作是:



- A. 在 A 处挂上重 15g 的物体                      B. 在 B 处挂上重 25g 的物体  
C. 在 C 处挂上重 50g 的物体                      D. 在 D 处挂上重 70g 的物体

(2016-广东-70.) 如图所示, 四个外形相同的铅球、铁球、铝球、木球静止在水中, 其中能判断是实心还是空心的是:



- A. 木球和铅球                                      B. 铝球和铅球  
C. 木球和铝球                                      D. 铅球和铁球

※※※第三部分结束, 请继续做第四部分! ※※※

## 【【2015-广东-判断】】

### 第三部分 判断推理

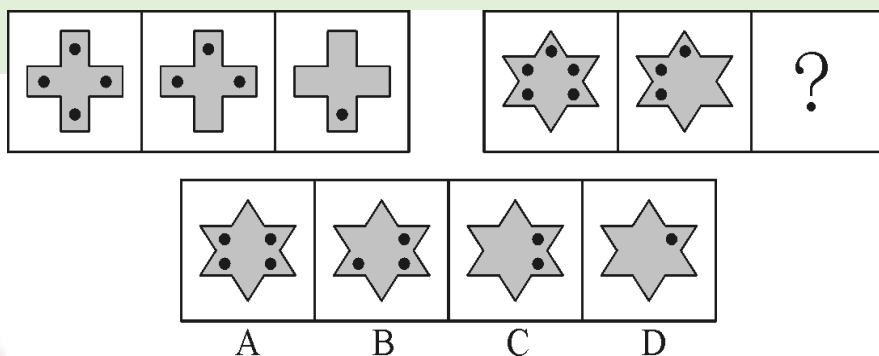
(共 30 题, 参考时限 25 分钟)

一、图形推理共 10 题。请按照每道题的答题要求作答。

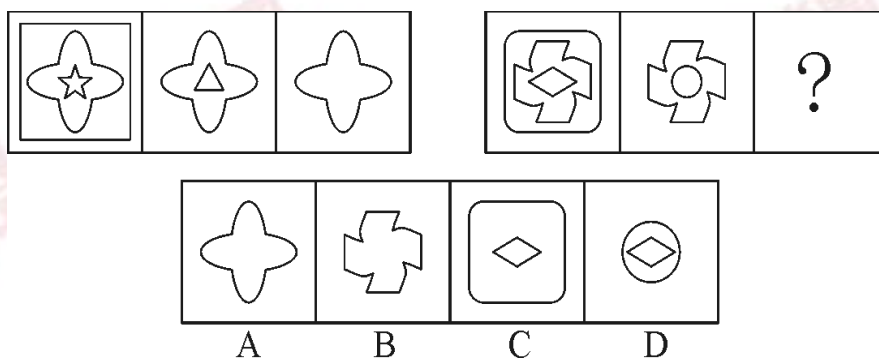
请开始答题:

(2015-广东-36.) 从所给四个选项中, 选择最合适的一个填入问号处, 使之呈现一定规律性:

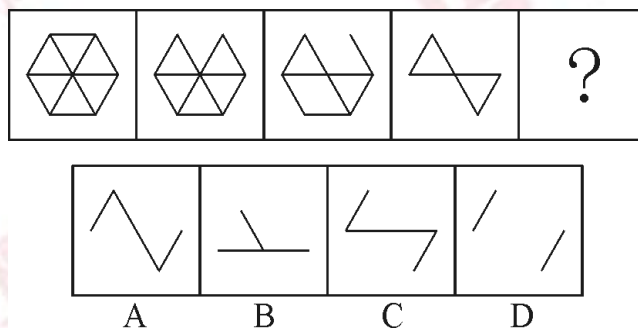




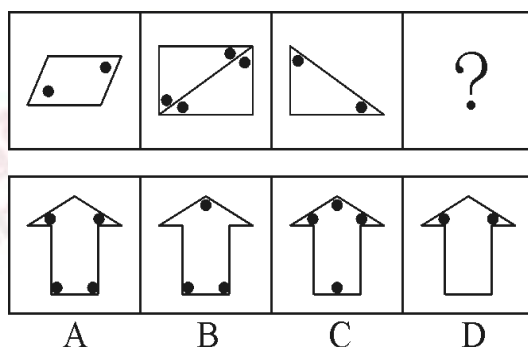
(2015-广东-37.) 从所给四个选项中, 选择最合适的一个填入问号处, 使之呈现一定规律性:



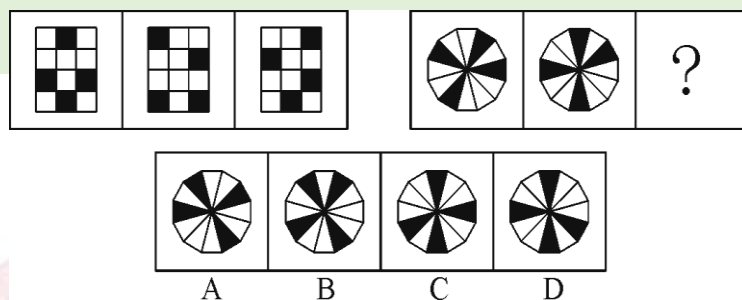
(2015-广东-38.) 从所给四个选项中, 选择最合适的一个填入问号处, 使之呈现一定规律性:



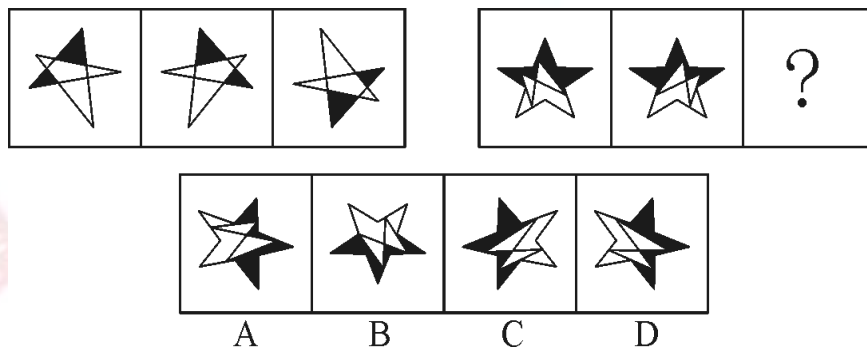
(2015-广东-39.) 从所给四个选项中, 选择最合适的一个填入问号处, 使之呈现一定规律性:



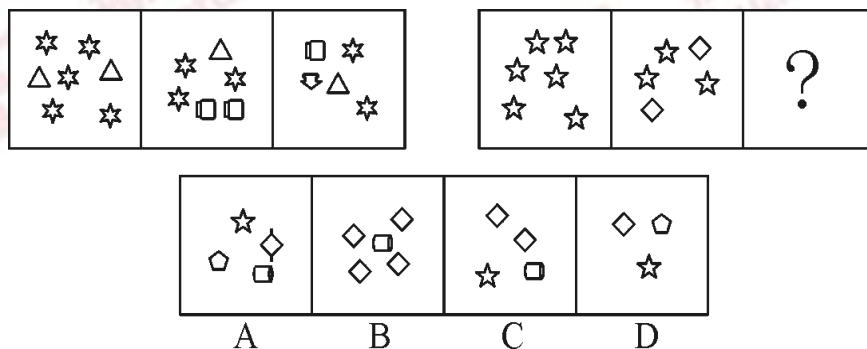
(2015-广东-40.) 从所给四个选项中, 选择最合适的一个填入问号处, 使之呈现一定规律性:



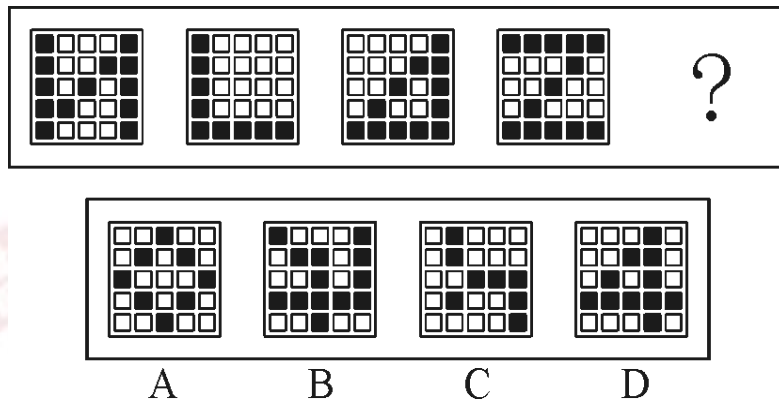
(2015-广东-41.) 从所给四个选项中, 选择最合适的一个填入问号处, 使之呈现一定规律性:



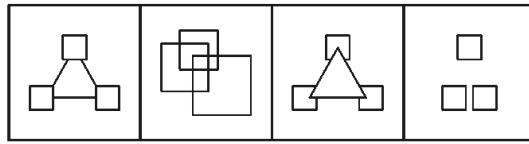
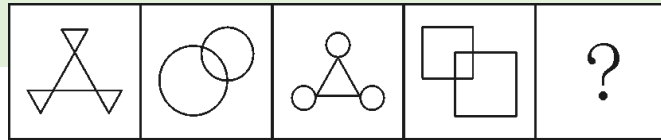
(2015-广东-42.) 从所给四个选项中, 选择最合适的一个填入问号处, 使之呈现一定规律性:



(2015-广东-43.) 从所给四个选项中, 选择最合适的一个填入问号处, 使之呈现一定规律性:

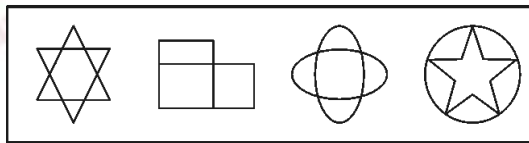



(2015-广东-44.) 从所给四个选项中, 选择最合适的一个填入问号处, 使之呈现一定规律性:



A B C D

(2015-广东-45.) 从所给四个选项中, 选择最合适的一个填入问号处, 使之呈现一定规律性:



A B C D

二、类比推理共 10 题。给出一组相关的词或一个表述, 然后要求你仔细观察, 在备选项中找出与题干在逻辑关系上最为贴近或相似的一项。

请开始答题:

(2015-广东-46.) 商场: 小卖部

- A. 县城: 农村
- B. 拖拉机: 农用车
- C. 水稻: 莲藕
- D. 工厂: 作坊

(2015-广东-47.) 天真: 幼稚

- A. 小偷: 强盗
- B. 懵懂: 糊涂
- C. 公正: 公平
- D. 懦弱: 忍让

(2015-广东-48.) 高大: 渺小

- A. 无穷: 无尽
- B. 春种: 秋收
- C. 赞誉: 诋毁
- D. 牛奶: 面包

(2015-广东-49.) 计算: 电脑

A. 可乐：饮料 B. 热水：茶壶

C. 载货：货车 D. 火焰：灶台

(2015-广东-50.) 和平：战争

A. 小生：老生 B. 油画：素描

C. 遗传：变异 D. 整齐：凌乱

(2015-广东-51.) 艳羨：嫉妒

A. 崇拜：迷信 B. 增长：衰退

C. 淡漠：热心 D. 排放：污染

(2015-广东-52.) 花木：盆景

A. 布料：窗帘 B. 轮胎：汽车

C. 墨水：书画 D. 石头：假山

(2015-广东-53.) 近视：远视

A. 雨水：冰雹 B. 瘦弱：肥胖

C. 前进：后退 D. 收缩：松弛

(2015-广东-54.) 散步：走路：赶路

A. 战斗：战役：战争 B. 想象：理想：幻想

C. 休闲：无聊：空虚 D. 好感：喜欢：热爱

(2015-广东-55.) 空气：空调：冷气

A. 信号：电视：图像 B. 食材：烹饪：美食

C. 面粉：烤箱：面包 D. 石油：提炼：汽油

三、演绎推理 共 10 题。每道题给出一段陈述，这段陈述被假设是正确的，不容置疑的。要求你根据这段陈述，选择一个最恰当的答案，该答案应与所给的陈述相符合，应不需要任何附加说明即可以从陈述中直接推出。

请开始答题：

(2015-广东-56.) 只有遇到下雨天，客车才不会准时到达。

现在，客车没有准时到达，所以（ ）遇到下雨天。

- A. 没有
- B. 可能
- C. 一定
- D. 不可能

(2015-广东-57.) 已知甲、乙、丙、丁四人具有以下直系、旁系血亲关系：甲是乙的父亲，丙是甲的弟弟，丁是丙的母亲。

则甲、乙、丙、丁四人中年龄最大的是：

- A. 甲
- B. 乙
- C. 丙
- D. 丁

(2015-广东-58.)海水经过海水淡化技术的处理可变成淡水,而海水的量是极其巨大的。因此,无须节约使用淡水资源。

最能**质疑**上述结论的是:

- A. 近海海水的污染比较严重
- B. 海水淡化成本高昂
- C. 冰川水储量巨大,可替代海水淡化
- D. 地球上的水资源总量是恒定的

(2015-广东-59.)有甲、乙两家公司,甲公司售后服务部门接到的产品投诉电话是乙公司的3倍。因此,甲公司产品的质量没有乙公司的好。

以下最能**反驳**上述结论的是:

- A. 乙公司的产品操作相对来说更为简单
- B. 甲公司接到电话大多数是咨询电话
- C. 甲公司的咨询电话机数量比乙公司多
- D. 甲公司产品的市场占有率达到76%

(2015-广东-60.)某高中只有文科班和理科班,男生人数比女生多,理科班人数比文科班多。

根据以上条件,可以判断下列说法必定为真的是:

- A. 文科班的男生总人数多于文科班的女生总人数
- B. 理科班的男生总人数多于理科班的女生总人数
- C. 文科班的男生总人数多于理科班的女生总人数
- D. 理科班的男生总人数多于文科班的女生总人数

(2015-广东-61.)据统计,和去年相比,今年1月以来流感患者的数量有明显的下降。这得益于新型特效药的发明和投入使用。

以下最能**反驳**上述结论的是:

- A. 2月份为流感的高发期
- B. 流感患者很少到医院去治疗
- C. 流感病毒具有抗药性
- D. 新型特效药定价高,患者使用少

(2015-广东-62.)某项科学研究发现:经常使用左手能更好地锻炼右脑,使得人的形象

思维能力增强,更利于促进创造性思维的发展。但事实证明:发明家中左撇子的比例并不高。

因此,这个科学研究的结论不可信。

以下最能**削弱**上述结论的是:

- A. 用右手也可以达到锻炼右脑的效果
- B. 用右手的人数大大超过用左手的人数
- C. 发明创造主要依靠天赋,而非后天锻炼
- D. 发明创造不依靠形象思维能力

(2015-广东-63.)有调查显示,那些作息时间不同的夫妻,虽然每天相处的时间较少,但他们发生争吵的次数比作息时间基本相同的夫妻更多。因此,为了建立良好的夫妻关系,夫妻之间应当尽量有相同的作息时间。

最能**削弱**上述论点的一项是:

- A. 夫妻产生矛盾后,往往以作息时间不同来表现不满
- B. 具有同事关系的夫妻更容易在工作上产生矛盾
- C. 作息时间不同的夫妻更容易产生矛盾
- D. 生活习惯不同是夫妻产生矛盾的主要原因

(2015-广东-64.)小张准备在下周去观看一场比赛,但他忘了具体是哪一天,便分别询问了甲、乙、丙、丁和戊,他们五人的回答如下:

甲:肯定是在双休日。

乙:是周二、周四、周六的其中一天。

丙:就是周一。

丁:绝对是周一、周三、周五、周日的其中一天。

戊:肯定是周五。

甲、乙、丙、丁和戊只有一个人说对了。那么比赛时间是:

- A. 周一
- B. 周三
- C. 周五
- D. 周六

(2015-广东-65.)某市举办了一场职业技能竞赛,有甲、乙、丙、丁四支代表队进入决赛,每支队伍有两名参赛选手,获得第一名的选手将得10分,第二名得8分,第三名到第八名分别是6、5、4、3、2、1分,最后总分最高的队伍将获得冠军。比赛的排名情况如下:

甲队选手的排名都是偶数,乙队两名选手的排名相连,丙队选手的排名一个是奇数一个是偶数,丁队选手的排名都是奇数;第一名是丁队选手,第八名是丙队选手;乙队两名选手的排名在甲队两名选手之间,同时也在丙队两名选手之间。

根据以上条件可以判断各队总分由高到低的排列顺序为:

- A. 丁>甲>丙>乙
- B. 甲>丁>乙>丙
- C. 甲>丁>丙>乙
- D. 丁>甲>乙>丙

※※※第三部分结束，请继续做第四部分！※※※

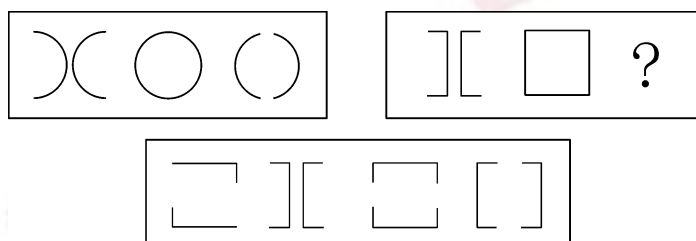
## 【【2014-广东-判断】】

### 第三部分 判断推理

(共 40 题，参考时限 35 分钟)

一、图形推理共 10 题。每道题包含问题图形和可供选择的 4 个图形。问题图形具有一定的规律，要求你从四个选项中选择你认为最适合取代问号的一个。你要从中找出变化的规律，并把这种规律正确地运用到解题过程中。

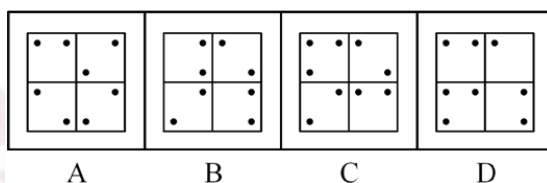

例题：



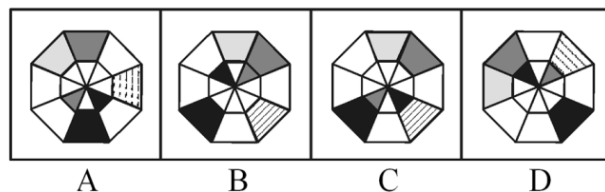
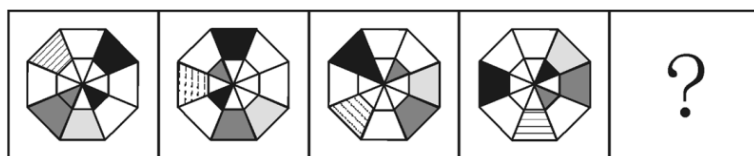
解答：正确答案为 D。因为只有 D 能使两组图形具有相似性，仅仅元素不同，但两组图形中元素的变化规律相同。

请开始答题：

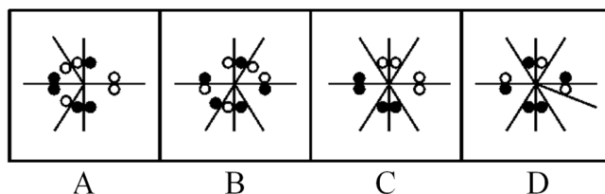
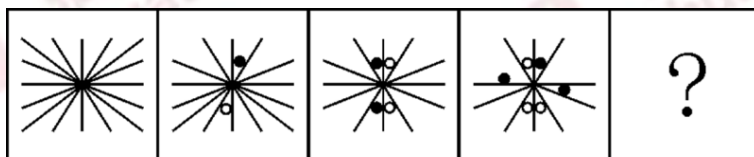
(2014-广东-46.) 从所给四个选项中，选择最合适的一个填入问号处，使之呈现一定规律性：



(2014-广东-47.) 从所给四个选项中, 选择最合适的一个填入问号处, 使之呈现一定规律性:

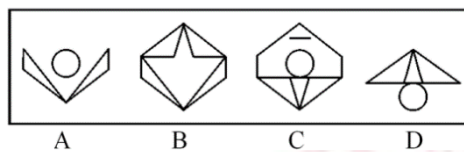


(2014-广东-48.) 从所给四个选项中, 选择最合适的一个填入问号处, 使之呈现一定规律性:

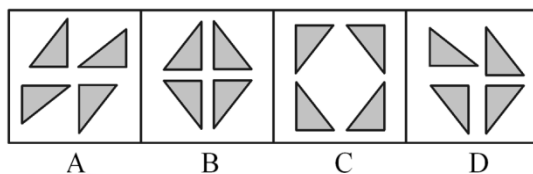
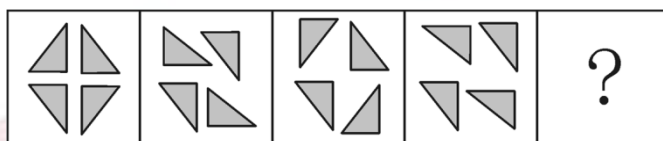


(2014-广东-49.) 从所给四个选项中, 选择最合适的一个填入问号处, 使之呈现一定规律性:

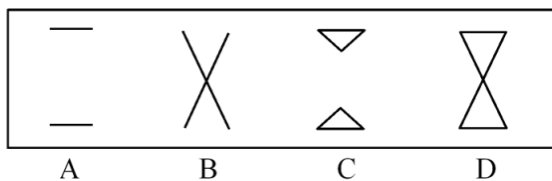
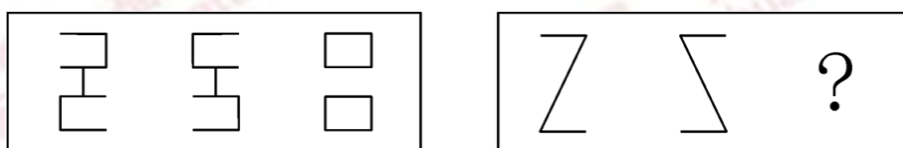




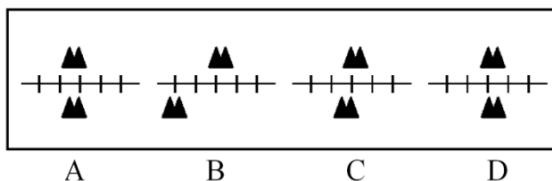
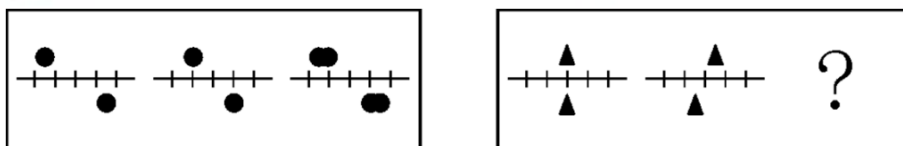
(2014-广东-50.) 从所给四个选项中, 选择最合适的一个填入问号处, 使之呈现一定规律性:



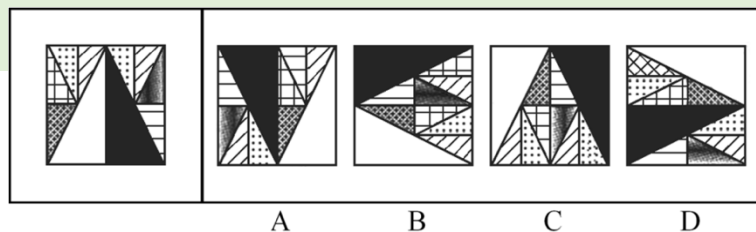
(2014-广东-51.) 从所给四个选项中, 选择最合适的一个填入问号处, 使之呈现一定规律性:



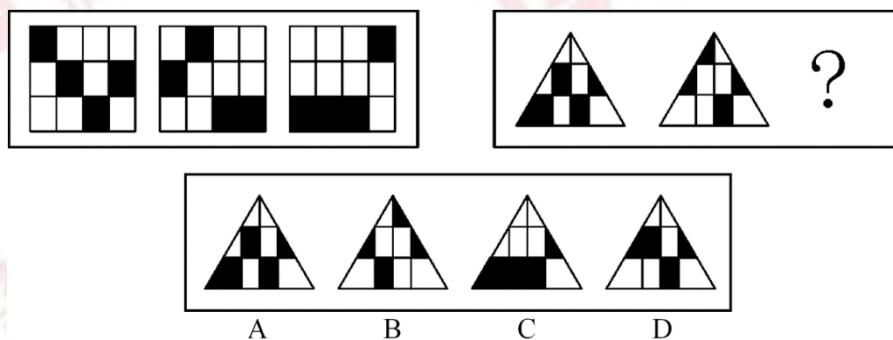
(2014-广东-52.) 从所给四个选项中, 选择最合适的一个填入问号处, 使之呈现一定规律性:



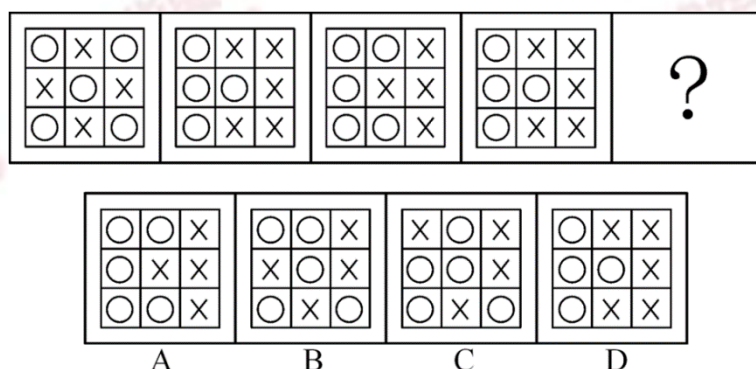
(2014-广东-53.) 把给定图形中的元素重组可以得到的是:



(2014-广东-54.) 从所给四个选项中, 选择最合适的一个填入问号处, 使之呈现一定规律性:



(2014-广东-55.) 从所给四个选项中, 选择最合适的一个填入问号处, 使之呈现一定规律性:



二、类比推理 共 10 题。类比推理考查的是一种推理能力, 先给出一个或一组词语 (短语), 然后要求在备选答案中找出与之在逻辑关系上最为贴近或相似的一项。

例题:

橘子: 苹果

A. 球迷: 球员

B. 衣柜: 书桌

C. 老师: 学生

D. 南瓜: 西瓜

解答: 橘子和苹果同属水果, 衣柜和书桌同属家具, 因此答案为 B。

请开始答题:

(2014-广东-56.) 水面: 镜子

A. 毛笔: 钢笔

B. 藤条: 绳子

C. 图画：照片 D. 火把：电灯

(2014-广东-57.) 解释：理解

A. 分析：结论 B. 奉献：赞许  
C. 拼搏：成功 D. 分享：满足

(2014-广东-58.) 兵马：粮草

A. 工人：工资 B. 植物：雨水  
C. 电视：遥控器 D. 发动机：燃油

(2014-广东-59.) 上升：下降

A. 乡道：公路 B. 鸭梨：雪梨  
C. 欢喜：悲哀 D. 平年：闰年

(2014-广东-60.) 春夏：秋冬

A. 生老：病死 B. 昨天：今天  
C. 日出：日落 D. 雷鸣：暴雨

(2014-广东-61.) 泥土：煨烧：陶瓷

A. 泥炭：燃烧：热能 B. 玉石：雕刻：饰品  
C. 学生：学习：人才 D. 粮食：发酵：白酒

(2014-广东-62.) 流芳百世：遗臭万年

A. 佳偶天成：夫唱妇随 B. 近朱者赤：近墨者黑  
C. 富商大贾：小商小贩 D. 卧虎藏龙：藏污纳垢

(2014-广东-63.) 技能：技术：技艺

A. 昏沉：昏迷：昏睡 B. 习惯：规矩：法律  
C. 认可：鼓励：奖励 D. 经常：往往：一直

(2014-广东-64.) 电波：基站：信息

A. 屏幕：观众：感动 B. 天线：卫星：影像  
C. 音乐：民族：文化 D. 货轮：港口：物资

(2014-广东-65.) 电脑：程序：功能

A. 组织：机制：作用 B. 汽车：汽油：路程  
C. 环境：意识：保护 D. 纸张：印刷：书本

三、常识判断共 10 题，要求你依据常识作出判断。请注意，合理的答案可能有多个，你应选择最为合理的一个。

例题：尽管我们关于太阳能的研究和议论已经相当多，但今天对太阳能的利用还是非常有限的，其主要原因是：

A. 难以将阳光有效地聚焦

- B. 尚未开发出有效的收集和储存太阳能的系统
- C. 核能仍然更为有效
- D. 太阳能系统尚不安全

解答：根据常识进行判断。只有 B 符合题意。故正确答案为 B。

请开始答题：

(2014-广东-66.) 春节，我国有贴春联的民俗。春联具有很强的时代性，新中国成立以来，一个家庭几代人贴过的春联有：

- ①联产承包显威力，国富民强示繁荣
- ②新中国百废待兴，共和国前程似锦
- ③已把复兴编入梦，正将崛起织成春
- ④骏马奔腾迎奥运，五洲健儿谱新篇

按照这些春联出现的时间先后顺序排列正确的是：

- A. ②①③④
- B. ①②④③
- C. ①②③④
- D. ②①④③

(2014-广东-67.) 如何提高老年人生活质量与幸福满意度已经逐渐成为国家立法所关注的热点问题。以下行为**不违反**我国《老年人权益保障法》的是：

- A. 子女与生活不能自理的老年人分开居住
- B. 子女阻止老年人再婚
- C. 子女长时间不回家探望老人
- D. 子女干涉老年人处置个人财产

(2014-广东-68.) 上个世纪，我国提出了“实现工业、农业、科学技术和国防四个现代化”。当前，我国的“新四化”是指：

- A. 工业化、信息化、城镇化、农业现代化
- B. 工业化、信息化、城镇化、国际化
- C. 工业化、信息化、市场化、农业现代化
- D. 工业现代化、农业现代化、交通运输业现代化、国防现代化

(2014-广东-69.) 在我国古代，人们把一夜分为五更，即一更、二更、三更、四更、五更，按更报时。“三更”相当于现在的时间为：

- A. 17 时—19 时
- B. 19 时—21 时

C. 21 时—23 时

D. 23 时—1 时

(2014-广东-70.) 火车轨道由两条钢轨组成。一般来说, 转弯处的火车轨道, 内外两侧钢轨的高低关系为:

A. 内侧比外侧高

B. 外侧比内侧高

C. 两侧一样高

D. 有时内侧高, 有时外侧高

(2014-广东-71.) “斗柄东指, 天下皆春” 的意思是指: 北斗七星斗柄指向东方的时候, 春天就来了。那么, 在冬季, 北斗七星的斗柄指向:

A. 北方

B. 南方

C. 西方

D. 东方

(2014-广东-72.) 以下路况, 一般来说, 驾驶员最容易出现视觉疲劳的是:

A. 高速公路

B. 盘山水泥公路

C. 平原砂石公路

D. 城市街道

(2014-广东-73.) 《清明上河图》是北宋作品, 描绘了八百多个人物, 七十多匹牲畜, 二十多辆车、轿, 二十九艘大小船只, 以及各具特色的房屋、桥梁、城楼等。这幅画主要表现的是:

A. 祭祀活动

B. 山水景色

C. 田园风光

D. 社会风俗

(2014-广东-74.) 当海面上空气各层的密度有较大差异时, 远处的光线通过密度不同的空气层发生折射或全反射, 海面上会出现远处物体的影像, 这一现象被称为海市蜃楼。海市蜃楼最有可能出现的季节是:

A. 春季

B. 夏季

C. 秋季

D. 冬季

(2014-广东-75.) 今年, 农历闰九月。下列说法正确的是:

A. 农历九月有 31 天

B. 农历全年有 390 天

C. 闰九月有 28 天

D. 农历全年有 13 个月

四、演绎推理 共 10 题。每题给出一段陈述, 这段陈述被假设是正确的、不容置疑的。要求你根据这段陈述, 选出一个答案。注意, 正确答案应与题干陈述相符合, 不需要任何附加说明即可以从陈述中直接推出。

例题: 某厂有五种产品: 甲、乙、丙、丁、戊。它们的年销售额之间的关系为: 丙没有

丁高，甲没有乙高，戊不如丁低，而乙不如丙高。

年销售额最高的产品是：

- A. 甲
- B. 乙
- C. 丁
- D. 戊

解答：从所给条件可以知道：戊>丁>丙>乙>甲。因此，正确答案为 D。

请开始答题：

(2014-广东-76.) 甲、乙两份报纸的编辑部，都有专门校对文稿的工作人员。去年，甲报纸出现了一些文字错误，而乙报纸没有文字错误。因此，在去年的校对工作中，乙报纸的校稿员比甲报纸的校稿员的工作更有成效。

以上结论基于的假设是：

- A. 乙报纸校稿员的工作时间比甲报纸校稿员长
- B. 甲报纸收到的稿件存在文字错误的数量不比乙报纸少
- C. 甲报纸每期的版面数量比乙报纸少
- D. 文字错误出现的数量是评价校稿员工作成效的标准

(2014-广东-77.) 据统计，与文科专业的大学毕业生相比，理工科大学毕业生刚入职时的收入更高。因此，高中毕业生要想将来毕业后获得较高收入，应该报考理工科专业。

最能削弱上述结论的一项是：

- A. 文科生最终获得高收入的比例高于理工科学生
- B. 理工科专业由于知识难度大而不容易毕业
- C. 如今不少年轻人更愿意按自己的兴趣选择专业
- D. 有些没有读过大学的人最后成了著名的企业家

(2014-广东-78.) 公众人物需要担当更多的道德责任，因为权力和责任是相等的，既然拥有常人不具备的优势地位，那么就应该比一般人承担更高的道德要求。因此，承受更多的舆论批评甚至人身攻击，哪怕是一定程度的失真，也是不得不付出的必要代价。

最能质疑上述观点的一项是：

- A. 普通人和公众人物应该具有同等的道德责任
- B. 失真评价会影响公众人物对道德义务的履行
- C. 更多的道德责任并不意味着一定要承受舆论批评
- D. 公众人物正是因为没有尽到道德责任才会受到舆论批评

(2014-广东-79.) 某市环保部门的监测结果显示：今年上半年，该市的空气质量整体处于优良水平，严重污染天数不足 15 天，污染天数比去年同期少了 4 天。由此可知，今年的空气质量好于去年。

最能**质疑**上述结论的一项是：

- A. 该市去年关停了几家重污染企业
- B. 该市今年开展了植树造林活动
- C. 该市的严重污染时段一般在下半年
- D. 该市环保部门今年更新了空气检测设备

(2014-广东-80.) 某市的人口普查结果显示, 35 岁以上单身男性人数是 35 岁以上单身女性的 1.5 倍。显而易见, 除非这些男性中的一些人娶外地女性为妻, 否则这些单身男性中的一部分将被迫一直保持单身状态。

以上结论基于的假设是：

- A. 这些单身男性持有“先立业再成家”的观念
- B. 本市单身女性中外出务工的较多
- C. 这些单身男性不愿娶比他们年龄大的女性为妻
- D. 这些单身男性倾向于娶与他们同龄的女性为妻

(2014-广东-81.) 由于销量过少难以回收药品的研发和生产成本, 因此, 制药厂生产治疗罕见疾病的药物, 就会遭受经济损失。

最能**削弱**上述结论的一项是：

- A. 一些治疗罕见疾病的药物对其他疾病也有良好的疗效
- B. 治疗罕见疾病的药物的研发会推动医学的进步
- C. 相对经济效益, 有些制药厂更注重社会效益
- D. 药物生产数量越大, 每个单位的药物平均成本越小

(2014-广东-82.) 赵先生、钱先生、孙先生、李先生四人参加一项技能比赛, 获得了比赛的前四名。据了解, 他们之间有以下关系：

- ①孙先生和李先生经常相约一起打篮球
- ②第一名和第三名在这次比赛中刚认识
- ③第二名不会骑自行车, 也不打篮球
- ④赵先生的名次比钱先生的名次靠前
- ⑤钱先生和李先生每天一起骑自行车上班

根据以上条件, 可以判断此次比赛的第一、二、三、四名的获得者是：

- A. 孙先生、赵先生、钱先生、李先生
- B. 李先生、赵先生、孙先生、钱先生
- C. 李先生、孙先生、赵先生、钱先生
- D. 孙先生、李先生、赵先生、钱先生

(2014-广东-83.) 在过去五年中, 某地所有家庭所购买衣服的平均价格增长了 50%, 但在平均家庭消费支出中, 购买衣服支出所占比例没发生变化, 因此, 所有家庭的平均消费

支出在这五年中也增长了 50%。

以上结论基于的假设是：

- A. 在这五年中，所有家庭在购买衣服上的平均花费没有变化
- B. 在这五年中，所有家庭所购衣服的平均数量没有变化
- C. 在这五年中，该地的家庭数量增加了 50%
- D. 在这五年中，该地所有家庭用于购买衣服的支出总和增长了 50%

(2014-广东-84.) 甲、乙、丙、丁四名青少年拥有手机、电脑、相机三种电子产品的情况如下：

- ①只有一个人同时拥有手机、电脑、相机；
- ②有三个人拥有手机，有两个人拥有电脑，只有一个人拥有相机；
- ③每个人至少拥有三种电子产品中的一种；
- ④甲和乙是否拥有电脑的情况相同（要么两个都有，要么两人都没有）；
- ⑤乙和丙是否拥有手机的情况相同；
- ⑥丙和丁是否拥有手机的情况不同。

拥有相机的是：

- A. 甲
- B. 乙
- C. 丙
- D. 丁

(2014-广东-85.) 随着技术的进步，科学家可以通过对木料的检测来确定树木被砍伐的年份。因此，通过古建筑中幸存的木料，就可以确定古建筑的建造年份。

上述结论基于的假设是：

- A. 古建筑中的木料在使用前没有闲置很长时间
- B. 古建筑大量使用木料作为建筑材料
- C. 一栋古建筑的建造通常只使用一种木料
- D. 保存完好的古建筑是使用最耐久的木料建造的

※※※第三部分结束，请继续做第四部分！※※※

## 【【2013-广东-判断】】

### 第三部分 判断推理

(共 40 题，参考时限 35 分钟)

一、类比推理。共 10 题。类比推理考察的是一种推理能力，先给出一个或一组词语（短



语), 然后要求在备选答案中找出与之在逻辑关系上最为贴近或相似的一项。

请开始答题:

(2013-广东-46.) 业务: 业绩

- |           |           |
|-----------|-----------|
| A. 工作: 收入 | B. 现实: 幻想 |
| C. 手术: 疗效 | D. 投入: 产出 |

(2013-广东-47.) 政务: 公文

- |           |           |
|-----------|-----------|
| A. 广告: 电视 | B. 品牌: 产品 |
| C. 市场: 需求 | D. 规划: 计划 |

(2013-广东-48.) 重视: 人才

- |           |           |
|-----------|-----------|
| A. 依法: 治国 | B. 商品: 销售 |
| C. 掌握: 知识 | D. 作战: 军队 |

(2013-广东-49.) 读书: 治学

- |           |           |
|-----------|-----------|
| A. 收获: 耕种 | B. 继承: 传播 |
| C. 归纳: 总结 | D. 战争: 战役 |

(2013-广东-50.) 山色: 水声

- |           |           |
|-----------|-----------|
| A. 春花: 秋月 | B. 珠圆: 玉润 |
| C. 钟鼓: 琴瑟 | D. 天寒: 地冻 |

(2013-广东-51.) 兼济天下: 独善其身

- |               |               |
|---------------|---------------|
| A. 扶危济困: 落井下石 | B. 前车之鉴: 后顾之忧 |
| C. 出双入对: 形单影只 | D. 好高骛远: 好大喜功 |

(2013-广东-52.) 鱼沉雁渺: 音信全无

- |               |               |
|---------------|---------------|
| A. 风声鹤唳: 人心惶惶 | B. 焚琴煮鹤: 附庸风雅 |
| C. 举杯望月: 对牛弹琴 | D. 势成骑虎: 威风凛凛 |

(2013-广东-53.) 刻薄不赚钱: 忠厚不折本

- |                 |                   |
|-----------------|-------------------|
| A. 骏马不等鞭: 响鼓不重锤 | B. 慷慨杀身易: 从容就死难   |
| C. 枯木难复活: 惯贼难悔悟 | D. 谦虚使人进步: 骄傲使人落后 |

(2013-广东-54.) 道路: 红绿灯: 畅通

- |                 |                |
|-----------------|----------------|
| A. 教室: 教师: 秩序   | B. 运动员: 拼搏: 荣誉 |
| C. 游泳池: 救生员: 健康 | D. 国家: 法律: 稳定  |

(2013-广东-55.) 铁路: 火车: 乘客

- |               |               |
|---------------|---------------|
| A. 车间: 机器: 工人 | B. 旅馆: 房间: 宾客 |
| C. 田地: 庄稼: 农民 | D. 海洋: 潜艇: 士兵 |

二、常识判断。共 10 题, 要求你依据常识作出判断。请注意, 合理的答案可能有多个,

你应选择最为合理的一个。

请开始答题：

(2013-广东-56.) 任人唯贤的“贤”是指：

- A. 思想品德好
- B. 工作作风好
- C. 德才兼备
- D. 文武双全

(2013-广东-57.) “阳关大道”原是指通往( )的道路。

- A. 东海
- B. 西域
- C. 南国
- D. 中原

(2013-广东-58.) 今年初，严重影响我国华北华东地区的灰霾天气再次引发人们对PM2.5的关注。以下关于PM2.5的说法**错误**的一项是：

- A. PM2.5的主要来源是日常发电、工业生产、汽车燃油等过程中经过燃烧而排放的残留物
- B. 与较粗的大气颗粒物相比，PM2.5粒径小，含有大量的有毒、有害物质且在大气中的停留时间长、输送距离远
- C. PM2.5主要对呼吸系统和心血管系统造成伤害，老人、小孩以及心肺疾病患者是PM2.5污染的敏感人群
- D. 空气中不同大小的颗粒物均能降低能见度，不过相比于粗颗粒物，PM2.5由于颗粒细小，对空气能见度的影响相对较弱

(2013-广东-59.) 日常生活中的污染现象可以分为不同的种类。下列污染**不属于**物理性污染的是：

- A. 遗弃的废旧荧光灯管
- B. 夜间刺眼的汽车灯光
- C. 歌厅震耳欲聋的音乐
- D. 变压器的电磁波辐射

(2013-广东-60.) 下列关于日常礼仪说法**正确**的一项是：

- A. 在宴会中，将筷子横搁就表示自己已饱不需要再进食了
- B. 行拱手礼时，双手的叠放次序为右手包在左手之外
- C. 拜访别人时，如果有非常充分的理由，也可以不预约
- D. 同事开车时，为表示尊重，最好坐在后面一排而不要与同事并排而坐

(2013-广东-61.) 据统计，地震常常发生在夜间，而且还常常发生在农历初一或者十五前后，这是因为：

- A. 人们的错觉，因为人们在白天接收的刺激比较多，不容易感知小地震的发生
- B. 农历初一、十五与夜间，地球表面受太阳、月球引力较大
- C. 夜间气温较低，地表容易为炽热的岩浆冲破，而农历初一或者十五也常常是当月中气温最低的时段
- D. 地震统计仅统计较为剧烈的地震，而大多数地震是较为轻微的

(2013-广东-62.) 下列说法**错误**的一项是：

- A. 日常生活中的无糖食品一般是指不含蔗糖、葡萄糖等的甜味食品
- B. 人的汗液发臭主要是由于细菌分解了汗液中的有机物导致的
- C. 人补充钙剂时加服维生素 D 可以促进钙剂的吸收
- D. 肌肉系统是负责人体各类运动功能的重要系统

(2013-广东-63.) “青红皂白”现在常用来比喻事情的是非曲直，其原意是指各种深浅不同的颜色。其中“皂”指的是：

- A. 黑色
- B. 灰色
- C. 黄色
- D. 绿色

(2013-广东-64.) 可再生能源是指自然界中可以不断利用、循环再生的能源。以下属于可再生能源的是：

- A. 风能
- B. 煤炭
- C. 石油
- D. 天然气

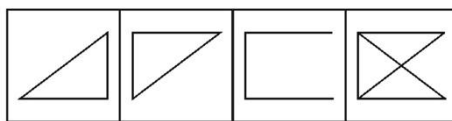
(2013-广东-65.) 发生雷暴时，有时会下冰雹。大冰雹甚至可以击穿飞机的机翼，砸伤地面上的动植物。影响冰雹大小的主要因素是：

- A. 风速
- B. 云团
- C. 上升气流
- D. 空气中的固体颗粒

三、图形推理。共 10 题。每道题包含问题图形和可供选择的 4 个图形。问题图形具有一定的规律，要求你从四个选项中选择你认为最适合取代问号的一个。你要从中找出变化的规律，并把这种规律正确地运用到解题过程中。

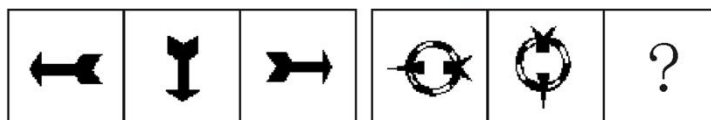
请开始答题：

(2013-广东-66.) 从所给四个选项中，选择最合适的一个填入问号处，使之呈现一定规律性：



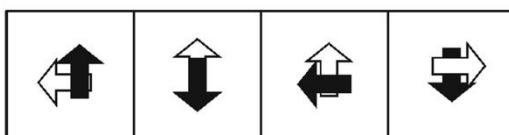
A B C D

(2013-广东-67.) 从所给四个选项中, 选择最合适的一个填入问号处, 使之呈现一定规律性:



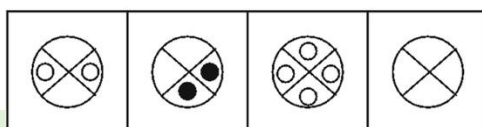
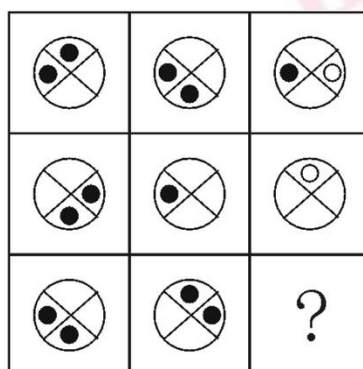
A B C D

(2013-广东-68.) 从所给四个选项中, 选择最合适的一个填入问号处, 使之呈现一定规律性:



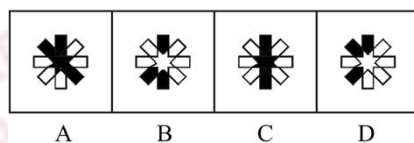

A B C D

(2013-广东-69.) 从所给四个选项中, 选择最合适的一个填入问号处, 使之呈现一定规律性:

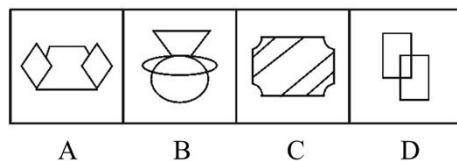
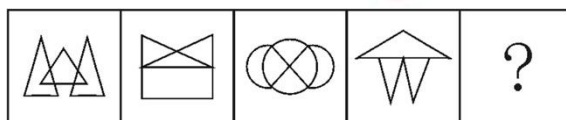


A B C D

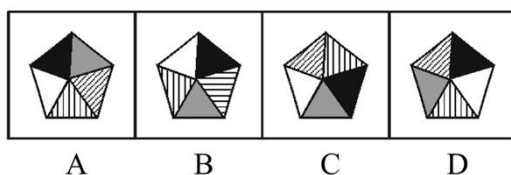
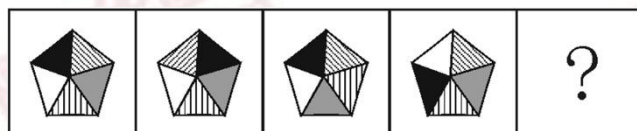
(2013-广东-70.) 从所给四个选项中, 选择最合适的一个填入问号处, 使之呈现一定规律性:



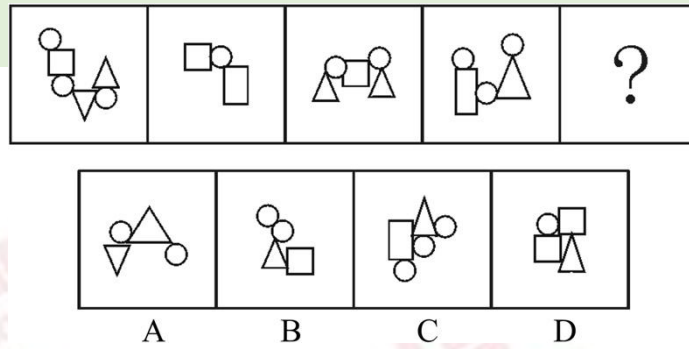
(2013-广东-71.) 从所给四个选项中, 选择最合适的一个填入问号处, 使之呈现一定规律性:



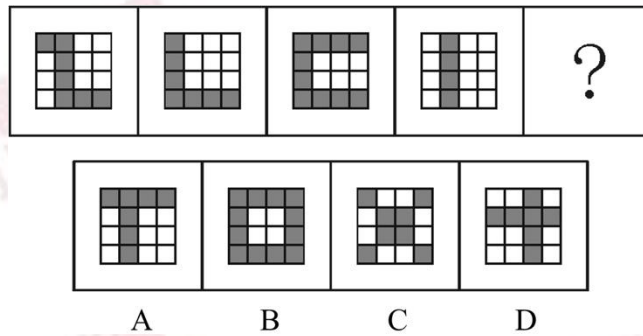
(2013-广东-72.) 从所给四个选项中, 选择最合适的一个填入问号处, 使之呈现一定规律性:



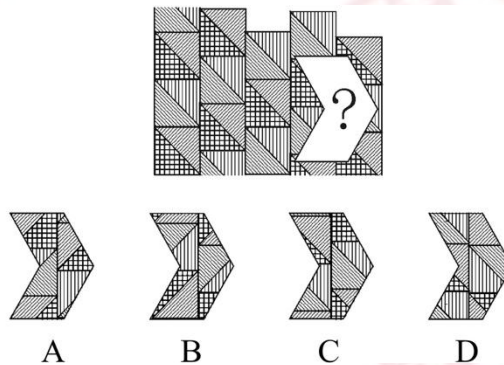
(2013-广东-73.) 从所给四个选项中, 选择最合适的一个填入问号处, 使之呈现一定规律性:



(2013-广东-74.) 从所给四个选项中, 选择最合适的一个填入问号处, 使之呈现一定规律性:



(2013-广东-75.) 从所给四个选项中, 选择最合适的一个填入问号处, 使之呈现一定规律性:



四、演绎推理。共 10 题。每题给出一段陈述, 这段陈述被假设是正确的, 不容置疑的。要求你根据这段陈述, 选出一个答案。注意, 正确答案应与题干陈述相符合, 不需要任何附加说明即可以从陈述中直接推出。

请开始答题:

(2013-广东-76.) 据国家权威科研机构研究证实, 当前市场上热销的某品牌保健食品并不含有提高人类身体机能、增强个体免疫力的成分。但调查结果表明, 不少身体虚弱的人在购买服用了该品牌的保健食品一段时间后, 身体素质明显提高。

以下最有助于解释上述矛盾的一项是:

- A. 保健食品作用的发挥具有一定的时间滞后性

- B. 许多身体健康的人在服用保健食品后体质也增强了
- C. 购买该品牌保健品的人大多经济条件较好
- D. 服用保健品的人在生活其他方面也开始注重健康

(2013-广东-77.)某公司研发了一种空调管理系统,通过对人流量的检测系统自动启动、关闭空调,这个系统的应用,将使得办公场所的空调用电量大大节省。但这个系统推出几年来,购买的单位并不多,销售不理想。

以下最能够合理解释上述现象的是:

- A. 该空调管理系统受到许多城市家庭用户的欢迎
- B. 该空调管理系统操作复杂,需配备专业人员才能运作
- C. 市场上节能空调占主流,空调能耗较以往已大大降低
- D. 许多单位的职工环保意识强,养成了出门关空调的习惯

(2013-广东-78.)相比于化工“污染地”、重金属“污染地”,化肥、农药、农膜带来的农地污染并没有那么触目惊心,但却具有量大、面广、隐蔽性强、持续时间长等特点。一些受污染严重的土地,已经不能进行正常的农业生产。农地的“批量污染”治理已经到了刻不容缓的地步。以农膜为例,由于塑料残余物在自然条件下可在土壤中残存数十年甚至上百年而不降解,这些废膜的存在会影响土壤的通透性,阻碍土壤水分的补给和养分转移。

根据以上表述,可以得出的结论是:

- ①化工和重金属的污染往往量不大、面不广、易发现、持续时间不长
- ②农膜残留通过阻碍土壤的水分补给和养分转移对农地产生影响
- ③农膜残留是当前农地“批量污染”中最为突出和严重的
- ④农地污染不能因其隐蔽性强等特点而在治理土地污染中被人们忽视
- ⑤化工和金属对土地的污染比农地污染更为严重

- A. ①②
- B. ①③④
- C. ②④
- D. ②③⑤

(2013-广东-79.)“没有经济的快速发展,就不会有社会事业的进步。现在经济发展速度很快,所以社会事业的建设也会取得显著的成绩。”

与上述文字推理形式相同的是:

- A. 社会主义民主和法制相辅相成,缺一不可,民主是法制的前提,法制是民主的体现。现在法制体系不断健全,因此民主得以保障
- B. 效益与公平是矛盾统一体,没有公平很难取得更大的效益。某企业的效益提高了,因此,该企业也实现了分配公平
- C. 社会化程度越高,社会分工越细。现在社会化程度提高了,因此现在的社会分工也更细了
- D. 清正廉洁是对领导干部的基本要求。一名作风正派、严于律己的领导干部就是合格

的领导干部

(2013-广东-80.) 由于某市路边的报刊亭大多属于违章建筑, 影响城市形象, 而且普遍存在超范围经营等问题, 当地政府考虑拆除路边报刊亭, 市民可以直接到当地超市、书店或专门的报刊销售点购买报纸、杂志。

以下有助于推动当地政府作出拆除路边报刊亭决定的信息**不包括**:

- A. 不少路边的报刊亭存在贩卖非法出版物的现象
- B. 当地超市、书店和专门的报刊销售点相当充足, 随处可见
- C. 路边报刊亭的销售收入主要来源于售卖烟酒零食等副食品
- D. 数据显示, 当地居民购买报纸、杂志主要还是通过邮局订购

(2013-广东-81.) 在我国的黄海和东海的海底地层中, 蕴藏着丰富的石油资源。这些石油就是远古时大量陆地植物的遗骸生成的。这表明, 现在黄海和东海的大陆架在远古时代是一片生长着茂密植物的大平原。

以下能够支持上述推论的一项是:

- A. 大陆架会随着地球地壳的移动而持续着缓慢但永不停息的变化
- B. 川流不息的江河就像传送带, 把陆地上的有机物质源源不断地带到大海中
- C. 中东的海湾地区大多是广袤的沙漠, 地下蕴藏着丰富的石油资源
- D. 一般来说, 陆地上相同纬度的山区比平原地区植被资源更为丰富

(2013-广东-82.) 中国社会的未来发展, 离不开包括儒学在内的传统文化的滋养和作用, 这一点已被越来越多的人所认同和接受。因此, 大力弘扬中国传统文化的优良传统应当成为当前我国文化建设的一项重要内容。

以下最能够支持上述主张的一项是:

- A. 中国传统文化中的许多优良传统面临将要失传的危机
- B. 许多地方政府加大了对本地各类文化遗产的保护和宣传力度
- C. 经过历史沉淀的传统文化对一个民族具有无可替代的积极作用
- D. 传统文化对经济社会发展的积极作用在越来越多的地方呈现出来

(2013-广东-83.) 为了让居者有其屋, 某市筹措资金推进保障房建设。明年该市保障房建设将进入建成完工的高潮。目前, 保障房申请资格如何界定引起市民的普遍关注。有人认为, 保障房是政府筹资建设的, 因此只能让本市居民购买。对于非本市户籍的人口, 不应具有保障房申请资格。

以下最能够**质疑**这一观点的是:

- A. 保障房建设的资金来源除了政府财政外, 还有大量商业资本
- B. 该市非户籍常住人口为政府财政上缴了大量税费
- C. 该市户籍人口的收入水平普遍高于非户籍人口
- D. 该市的常住人口有一半以上为非户籍人口



(2013-广东-84.) 据统计, 自 1901 年起共有 786 位男性和 44 位女性科学家获得诺贝尔奖。这一男女比例为 18: 1。其中在经济学和物理学领域, 几乎没有女性科学家获奖。据此, 诺贝尔奖存在着严重的性别歧视。

以下最能削弱上述结论的一项是:

- A. 能否获得诺贝尔奖不是衡量工作潜能的唯一标准
- B. 女性从事科研工作的人数远远低于男性
- C. 近些年, 诺贝尔奖评奖委员会中女性成员的人数不断增多
- D. 其他的国际科学大奖也存在此类获奖者男女失调的现象

(2013-广东-85.) 小周、小吴、小郑三人中, 一人是工人, 一人是农民, 一人是知识分子。已知: 小郑的年龄比知识分子大; 小周的年龄和农民不同; 农民的年龄比小吴小。

根据以上情况, 判断正确的是:

- A. 小周是工人、小吴是知识分子、小郑是农民
- B. 小周是知识分子、小吴是农民、小郑是工人
- C. 小周是工人、小吴是农民、小郑是知识分子
- D. 小周是知识分子、小吴是工人、小郑是农民

※※※第三部分结束, 请继续做第四部分! ※※※

## 江苏 A

### 【【2017-江苏 A-判断】】

#### 第四部分 判断推理

(共 45 题, 参考时限 40 分钟)

##### 一、类比推理。

请开始答题:

(一)请从四个选项中选出正确的一项, 其关系与题干给出的词或词组的关系最为相似。

(2017-江苏 A-71.) 文物: 建筑

- A. 烹饪: 佐料
- B. 故宫: 楼房
- C. 诗人: 教授
- D. 皮鞋: 布鞋

(2017-江苏 A-72.) 园: 园中园

- A. 楼: 楼外楼
- B. 人: 梦中人

C. 月：水中月 D. 画：画中画

(2017-江苏 A-73.) 铁路：道路

A. 南京：江苏 B. 空调：家电  
C. 英国：西欧 D. 美国：国家

(2017-江苏 A-74.) 人去：楼空

A. 鸟尽：弓藏 B. 兽聚：鸟散  
C. 鸢飞：鱼跃 D. 虎踞：龙盘

(2017-江苏 A-75.) 《大学》：《中庸》：四书

A. 泰山：华山：五岳 B. 物欲：财欲：六欲  
C. 朝夕：除夕：七夕 D. 春风：秋雨：四季

(2017-江苏 A-76.) 买票：乘机：抵达

A. 生产：流通：消费 B. 相识：相恋：结婚  
C. 调研：调查：总结 D. 申报：评审：得奖

(二) 请从四个选项中选出正确的一项，使得该项的两个词或词组依次代入题干的括号中，能够最大限度地满足题干所表达的类比关系。

(2017-江苏 A-77.) 扶贫之于 ( ) 相当于深化改革之于 ( )

A. 小康社会；国家治理现代化  
B. 和谐社会；科学发展观  
C. 社会动员；大国治理  
D. 从严治党；依法治国

(2017-江苏 A-78.) 丝绸之路之于 ( ) 相当于万里长征之于 ( )

A. 敦煌；遵义 B. 骆驼；草鞋  
C. 沙漠；海洋 D. 贸易；解放

(三) 请从四个选项中选出正确的一项，其特征或规律与题干给出的一串符号的特征或规律最为相似。

(2017-江苏 A-79.) BD5k6kDB

A. XA99ddAX B. WQ6s8fQW  
C. RM4j9jMR D. SEe2e2ES

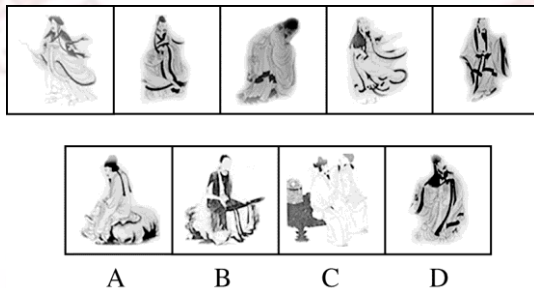
(2017-江苏 A-80.) 龙 99×3&ssW

A. 民 88+8¥#2& B. 族 33÷¤×89¥  
C. 复 55+4&s¤¥ D. 兴 66÷1∧ffK

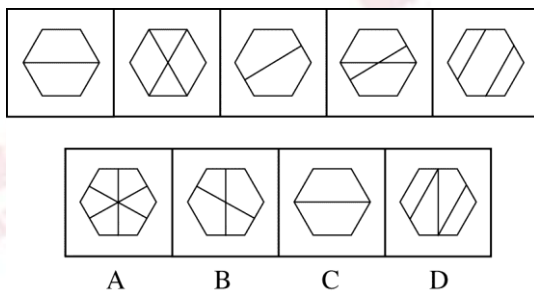
二、图形推理。本部分共 10 题，包括三种类型的题目。

请开始答题：

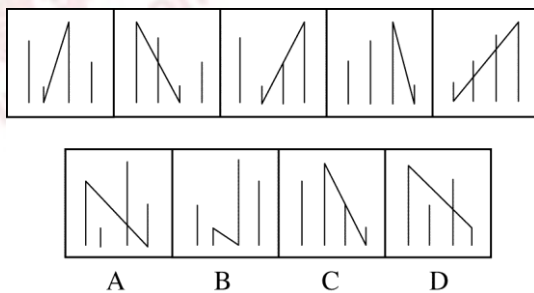
(2017-江苏 A-81.) 上边的题干中给出一套图形，其中有五个图，这五个图呈现一定的规律性。在下边给出一套图形，其中有四个图，从中选出唯一的一项作为保持上边五个图规律性的第六个图。



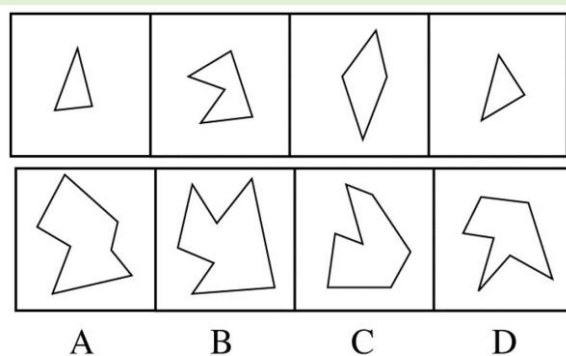
(2017-江苏 A-82.) 上边的题干中给出一套图形，其中有五个图，这五个图呈现一定的规律性。在下边给出一套图形，其中有四个图，从中选出唯一的一项作为保持上边五个图规律性的第六个图。



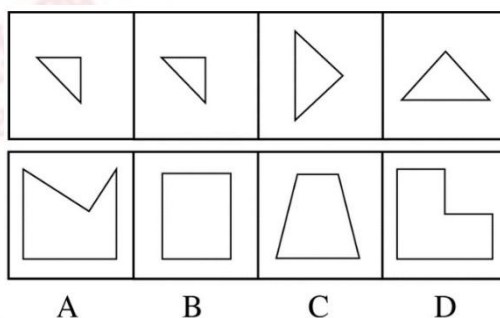
(2017-江苏 A-83.) 上边的题干中给出一套图形，其中有五个图，这五个图呈现一定的规律性。在下边给出一套图形，其中有四个图，从中选出唯一的一项作为保持上边五个图规律性的第六个图。



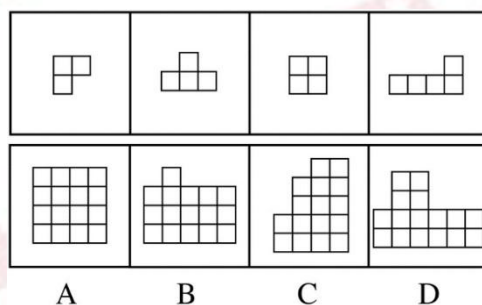
(2017-江苏 A-84.) 下边四个图形中，只有一个是上边的四个图形拼合(只能通过上、下、左、右平移)而成的，请把它找出来。



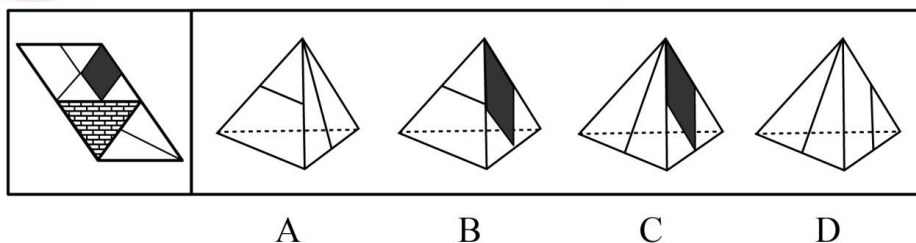
(2017-江苏 A-85.) 下边四个图形中, 只有一个是由上边的四个图形拼合(只能通过上、下、左、右平移)而成的, 请把它找出来。



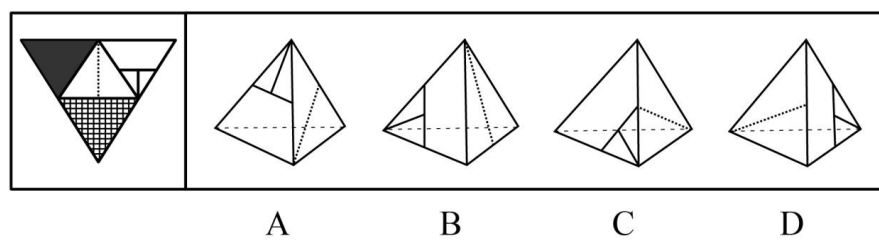
(2017-江苏 A-86.) 下边四个图形中, 只有一个是由上边的四个图形拼合(只能通过上、下、左、右平移)而成的, 请把它找出来。



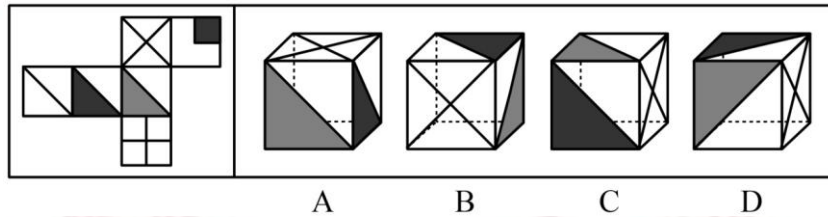
(2017-江苏 A-87.) 左边给定的是纸盒外表面的展开图, 右边哪一项能由它折叠而成? 请把它找出来。



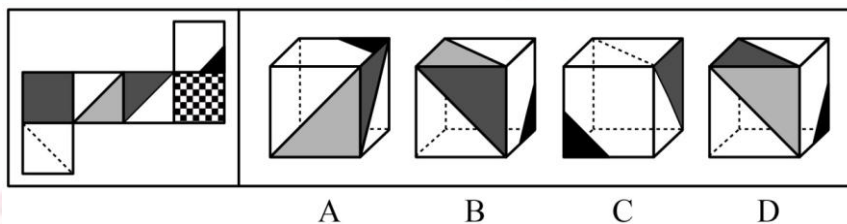
(2017-江苏 A-88.) 左边给定的是纸盒外表面的展开图, 右边哪一项能由它折叠而成? 请把它找出来。



(2017-江苏 A-89.) 左边给定的是纸盒外表面的展开图, 右边哪一项能由它折叠而成? 请把它找出来。



(2017-江苏 A-90.) 左边给定的是纸盒外表面的展开图, 右边哪一项能由它折叠而成? 请把它找出来。



三、逻辑判断。每题给出一段陈述, 这段陈述被假设是正确的、不容置疑的。请你根据这段陈述, 选择一个答案。注意: 正确的答案不需要任何附加说明即可以从陈述中必然推出。

请开始答题:

(2017-江苏 A-91.) 近日国外一项调查研究发现, 肥胖与较差的社会经济地位之间存在着内在的关系, 那些社会经济地位较差的人大多比较肥胖, 甚至越穷越胖。研究者解释, 这是因为社会经济地位较差的人更容易选择高热量低营养的快餐食品, 而摄入这些食品很容易导致肥胖。

下列哪项如果为真, 最能削弱研究者的上述解释?

- A. 高热量低营养食品的摄入虽是一些人的饮食习惯, 但却容易造成营养不良
- B. 刚富起来的人更容易沉迷于高热量食品, 而有些穷人对快餐食品只能偶尔尝鲜
- C. 穷人没有足够的金钱和时间去锻炼身体, 富人却更有能力在身体健康上投入
- D. 现在高热量低营养的快餐食品变得越来越廉价, 而健康的低卡路里食品变得越来越昂贵

(2017-江苏 A-92.) 某市举办民间文化艺术展演活动, 小李、小张、大王和老许将作为剪纸、苏绣、白局和昆曲的传承人进行现场展演, 每人各展演一项, 展演按序一一进行。主

办方还有如下安排：

- (1) 老许的展演要排在剪纸和苏绣的后面
- (2) 白局、昆曲展演时小李只能观看
- (3) 大王的展演要排在剪纸前面
- (4) 小张的展演要排在昆曲和老许的展演前面

根据上述安排，可以得出以下哪项？

- A. 小李展演剪纸，排在第 1 位
- B. 大王展演苏绣，排在第 2 位
- C. 小张展演昆曲，排在第 3 位
- D. 老许展演白局，排在第 4 位

(2017-江苏 A-93.) 人类医学的发展与进步，既得益于科学家们的辛苦钻研，也离不开实验动物做出的默默牺牲。在药物开发进入临床前，需要做大量动物实验，探究药物的药效、毒性、安全剂量等。然而，人与鼠、猪、狗、兔子等动物毕竟存在不少差别，即使正确认识了动物的生理构造及药物反应规律，也不能将认识结果轻易、盲目地移用到人的身上。

以下哪项如果为真，最能支持上述观点？

- A. 古希腊医学大师盖伦根据自己对动物解剖的结果认为，无论是在人的静脉或是动脉中，血液都是作单程运动的，并非循环运动。这当然不符合现代科学观念
- B. 宋代《本草衍义》记载，有人以自然铜折翅的胡雁，后胡雁伤愈飞去，今人(以之治)跌打扑损。食用自然铜治疗骨折，这在现代人看来是不可想象的
- C. 1882 年，德国罗伯特·科赫利用豚鼠做实验得出结论：结核菌是结核病的病原菌，不论来自猴、牛或人均有相同症状，他因此发现而获得了诺贝尔奖
- D. 1957 年，一种叫做沙利度胺的妊娠反应药物经过对大鼠试验后被投放市场，一段时间后却发现，沙利度胺会造成人类胎儿畸形，但它不会对大鼠胎儿致畸

(2017-江苏 A-94.) 老张：你在这儿摆摊设点属于占道经营！

小王：这儿是中山北路又不是中山北道，我占的什么道？

以下哪项与上述对话方式最为相似？

- A. 甲：你这种执法行为一点人情味都没有！  
乙：我严格执法是为了保障人民群众的生命财产安全。
- B. 甲：你成天打游戏是在虚度年华！  
乙：我只有在游戏中才觉得年华没有虚度。
- C. 甲：你工作时间不能抽烟！  
乙：我抽烟时从不工作。
- D. 甲：你这种说法是栽赃陷害！  
乙：你这种说法是血口喷人！

(2017-江苏 A-95.) 将东西方两位戏剧大师的生平经历、文学造诣及身后影响作对比, 是一个有趣的话题。有专家认为, 将汤显祖称作“东方的莎士比亚”有很大的问题, 因为无论是就人格的魅力, 还是就文本美感而言, 汤显祖都是不逊于莎士比亚的。

以下哪项最可能是上述专家观点所包含的假设?

- A. 汤显祖的人格魅力及其文本的美感均高于莎士比亚
- B. 汤显祖在西方的影响要大于莎士比亚在东方的影响
- C. 汤显祖和莎士比亚都不愿意别人用他人的名字来称呼自己
- D. “东方的威尼斯”是逊色于真正的威尼斯的

(2017-江苏 A-96.) 老张、老张的妹妹、老张的儿子和老张的女儿 4 人进行乒乓球比赛。比赛后发现, 第 1 名与第 4 名的年龄相同, 但第 1 名的孪生同胞(上述 4 人之一)与第 4 名的性别不同。

根据以上信息, 可以推出第 1 名是:

- A. 老张
- B. 老张的妹妹
- C. 老张的女儿
- D. 老张的儿子

(2017-江苏 A-97.) 张某死了, 法医查明是中毒身亡, 张某的两个邻居甲和乙对前来调查的赵警官说了这样的话:

甲: 如果张某死于谋杀, 他老婆李某脱不了干系, 这段时间她正和张某闹离婚;

乙: 张某不是死于自杀, 就是死于谋杀, 不可能是意外;

赵警官听了甲和乙的话以后, 作出如下两个判断:

- (1) 如果甲和乙说的都是对的或都是错的, 那么张某就是死于意外
  - (2) 如果甲乙两人中有一人说的是错的, 那么张某就不是死于意外
- 后来, 查明事实后发现, 赵警官的判断都是正确的。

根据以上信息, 可以得出以下哪项?

- A. 张某死于谋杀
- B. 张某死于自杀
- C. 张某死于意外
- D. 李某杀了张某

**【题型】**复合客观题

材料 1: 黑茶、白茶、黄茶等 5 种茶叶装在 1~5 号 5 个盒子中, 每个盒子只装 1 种茶叶, 已知:

- (1) 黄茶装在 2 号或者 4 号盒子中;

(2) 如果白茶装在 3 号盒子中，则绿茶装在 5 号盒子中；

(3) 红茶装在 1 号或者 2 号盒子中，当且仅当黑茶装在 5 号盒子中。

(2017-江苏 A-98.) 如果白茶装在 3 号盒子中，则黑茶装在哪个盒子中？

- A. 1 号
- B. 2 号
- C. 4 号
- D. 5 号

(2017-江苏 A-99.) 如果绿茶装在 2 号盒子中，白茶没有装在 1 号盒子中，则黑茶装在哪个盒子中？

- A. 1 号
- B. 3 号
- C. 4 号
- D. 5 号

(2017-江苏 A-100.) 如果黑茶装在 5 号盒子中，黄茶没有装在 4 号盒子中，则绿茶装在哪个盒子中？

- A. 1 号
- B. 2 号
- C. 3 号
- D. 4 号

四、定义判断。先给你一个概念的定义，然后给出一组典型例证，要求你从中选出最符合题意的一项。注意：假设这个定义是正确的、不容置疑的。

请开始答题：

(2017-江苏 A-101.) 斜杠青年：指不满足于从事单一职业，追求拥有多重职业身份及多元生活方式的年轻人。他们在自我介绍时往往喜欢用斜杠来区分自己的不同身份，如：张三，金牌律师/企划师/专栏作家。

下列属于斜杠青年的是：

- A. 最近两三年，八零后导演黄某某先后出演了 10 多次男配角，去年在一个著名的国际电影节上斩获了最佳男配角奖
- B. 小丁在国外获得博士学位后，任职于国内一所著名高校，因科研成就突出，被破格聘为教授，并入选省“双百”人才计划
- C. 某公司程序员小陈爱好广泛，性格温和，人际关系融洽，节假日常邀上三五个好友一起登山、打球、游泳



D. 李总做过保安，送过快递，当过安装工，开过小杂货店，他经常自豪地向员工讲述自己 30 多年来丰富的职业经历

(2017-江苏 A-102.)影子工作:指消费者使已购商品变为可用物品所付出的任何劳动。

下列属于影子工作的是:

A. 小孙到饭店就餐,老板告诉他,这几天大部分服务员都已经放假,顾客需要自己点餐,并递给他一支笔和一张菜单

B. 小李的儿子快出生了,他赶紧抽时间将同事老王给的婴儿车拿出来修理一番,车子焕然一新,十分好用

C. 经不住软磨硬泡,爸爸终于答应给小明买两条金鱼,小明高兴坏了,连夜在网上收集了十几页的金鱼养殖攻略

D. 将拼板餐桌从商场运回家后,老冯忙乎了半天,对照安装说明,拆了装,装了拆,终于组装成功,中午就派上了用场

(2017-江苏 A-103.)权利暗示:指基于职务地位、业务能力、人格魅力而产生的对组织机构外部成员的影响力。

下列**不属于**权利暗示的是:

A. 张教授是微电子领域的专家,不少企业遇到相关问题,都会向他请教解决的方法

B. 五年级的小聪,电子游戏玩得特别顺溜,学校组队参加各级比赛时总请他协助指导

C. 退伍军人老赵处事公平,街坊邻居遇到大小纠纷,首先想到的就是请他来主持公道

D. 教育局李主任长期研究教师的专业发展,亲友们却常常向他求教孩子的教育问题

(2017-江苏 A-104.)随机试验:指在同一条件下会出现多种可能结果且可以重复进行的试验;试验的所有可能结果虽预先可知,但每次具体实验的结果却无法预知。

下列属于随机试验的是:

A. 将一壶淡水加热到沸腾,观察其状态变化的实验

B. 在狮子身上安装定位设备了解其生活习性的实验

C. 为检测某辆新款汽车的安全性能所做的撞击实验

D. 抛一枚硬币观察带有数字的一面朝上次数的实验

(2017-江苏 A-105.)临时救助:指家庭或个人遭遇突发事件、意外伤害、重大疾病等变故,基本生活陷入困境时,政府有关部门提供的应急性、过渡性救助。

下列属于临时救助的是:

A. 80岁的李大爷无儿无女,独自生活,社区工作人员定期到他家中探望,把每月的养老金交到他手上,还时不时地送来一些生活用品

B. 地震发生后,社会各界积极响应市政府号召,通过多种渠道捐款捐物,很快就筹集了大批物资并分发到了灾民手中

C. 老张患上了强直性脊柱炎,巨额医疗费花光了积蓄,夫妻名下的房子也变卖了,一

家三口只得暂住在街道办为他们租来的小房子里

D. 老赵在几年前的一次车祸中失去了左腿，从那以后再也不能外出工作，每月数百元的低保金就成了家里主要的经济来源

(2017-江苏 A-106.) 渐进式退休：指员工到了法定退休年龄，用人单位根据实际工作需要，需要对部分人员灵活确定退休时间。

下列属于渐进式退休的是：

A. 马教授临近退休年龄，因为他是国内最具影响力的学者之一，对学科发展作出了重大贡献，学校决定聘任他为终身教授

B. 近年来，李工程师的身体状况越来越糟糕，还患上了轻度的抑郁症，无法坚持工作，公司领导经过研究，决定让他提前退休

C. 赵先生已经到了退休年龄，但是他主持的重大攻关项目还没有结题，他所在的研究所决定聘用他继续工作，直到项目完成

D. 某研究机构决定，从下半年开始，本单位申请提前退休的职工，初、中级职称不低于 54 岁，高级职称不低于 58 岁

(2017-江苏 A-107.) 订单式培养：指用人单位提出用人申请后，由劳动保障部门委托培训机构根据用工需求组织实施的明确就业岗位去向的人才培养模式。

下列属于订单式培养的是：

A. 某职业技术学院调研后发现，烹饪即将成为未来数年的紧俏职业，当年就开设了烹饪专业，果不其然，毕业生很抢手，很多餐饮名店都登门签约

B. 某民办托儿所急需几名保育员，主管部门接到申请后马上找到一家资深代培机构组织培训，几名合格的保育员很快到岗

C. 某市每年都会根据各乡镇上报的用人需求，在全省高校中聘请一批科研人员，然后分派到各地担任科技副镇长

D. 某物业公司最近被多个小区选中，需要补充大批保安，为了顺利接手各个小区的安保工作，公司急招了数十名新手，正委托专业保安公司强化培养

(2017-江苏 A-108.) 短命政策：指地方政府制定的事关群众权益却无法得到社会公众认可或受到普遍反对，一出台很快就被迫终止的政策措施。

下列**不属于**短命政策的是：

A. 某市交管部门出台“闯黄灯视为违反交规，记 6 分”政策，在社会上引起了强烈反响，5 天后该部门举行发布会宣布“暂时不予执行”

B. 某市推出购房新政：毕业未满 5 年的高校毕业生在市区购房实行“零首付”。因为不符合有关政策，几天后就被上级紧急叫停

C. 南方某城市推出在市区范围内的“禁摩令”后，大批快递员集体离职，摩的司机纷纷上访。很快，这一政策被宣布“暂缓执行”

D. 北方某市交通局宣布某风景优美的县级公路设卡收费, 消息传出后, 舆论一片哗然。没到月底, 这一收费政策就寿终正寝

(2017-江苏 A-109.) 分享经济: 指个人、组织或者企业借助现代化的信息交流手段, 盘活闲置资源的经济活动。通过这种活动, 供给方能够获得额外收益, 需求方能够以更低成本获得产品和服务。

下列属于分享经济的是:

A. 某小区业委会建立了一个业主微信群, 业主家中如果有闲置物品, 就可以拍照发到群里, 供其他家庭根据需要选用。业主们对业委会的这一做法非常满意

B. 每年毕业季, 将要离开校园的大学生们就会在校园的各个角落摆摊设点, 甩卖不打算带走的生活用品, 低年级的学弟学妹们往往能从中淘到不少“宝贝”

C. 某快递公司通过手机软件把用户需求推送给自由快递人, 自由快递人选择就近订单, 顺路把大大小小的包裹及时、准确地送到客户手中。公司投送费用大幅下降

D. 小钟建了网站专门发布来自各厂家的技术难题, 有偿征集网友设计的解决方案, 经过技术处理再行转让。厂家们虽然并未节省研发费用, 却很喜欢这种方式

(2017-江苏 A-110.) 劳动碰瓷: 指个别劳动者利用企业的管理漏洞, 促使企业发生违法行为, 进而索要双倍工资或经济补偿等经济利益。

下列属于劳动碰瓷的是:

A. 林某应聘到某公司后, 以种种借口未与公司签订劳动合同。三个月后, 林某以公司拒绝与他订立劳动合同为由向劳动仲裁部门提出申请, 要求公司赔偿未签订合同期间的双倍工资

B. 工作满一年后, 丁女士发现公司没有为她交纳养老保险, 经过多次交涉都没有得到满意的结果, 她向劳动仲裁部门提出申请, 要求公司为她补交养老保险

C. 洪女士生下二胎后, 厂里把她怀孕期间的工资扣掉了一半, 并劝她辞职, 洪女士最终决定告上法庭, 要求厂里补足她的工资奖金, 并给予赔偿

D. 某公司招聘的 10 余名工人均未签订书面劳动合同, 因为不断要求增加工资被集体辞退, 几天后, 他们以公司拒签劳动合同、过错在先为由申请劳动仲裁, 要求同意他们回公司继续工作

(2017-江苏 A-111.) 评论式营销: 指商家借助对商品、服务的评论引导客户消费倾向, 推动产品推广和销售的营销模式。

下列属于评论式营销的是:

A. 某中药研究所举办了中药膏方的系列公益讲座, 许多膏方受益者现身说法, 引起了很多市民关注, 药店膏方热销

B. 某购物网站建立起对买家的信誉评价机制, 帮助卖家筛选恶意差评的顾客并列入黑名单, 很快提高了店铺的营业额

C. 某饭店推出“集赞换龙虾”活动后，有近两千名粉丝对它的活动规则和龙虾品质提出质疑，营业额急剧下滑

D. 某知名家电企业推出了一款新产品，外包装上醒目地印着行内专家的专业评价，该产品一投放市场就很抢手

(2017-江苏 A-112.) 错峰就业：指大学毕业生在求职高峰时，主动选择短时间游学、实习、创业考察或志愿服务，推迟个人就业，以寻找更合适的就业岗位。

下列属于错峰就业的是：

A. 小林大学毕业后正碰上“世上最难的就业季”，他没有急着找工作，而是到多个非营利性社团、咖啡厅体验生活。半年后与两个志同道合的朋友创办了一家科技咨询公司

B. 小高毕业后一直没有找到合适的工作，每次有人问起工作的事情，他一点也不着急，心里盘算着再过几年，自己设法开个网店，照样能够过上舒舒服服的小日子

C. 虽然已被推荐保研，但考虑到家中久病的父亲和尚在读书的弟弟，小李还是到人才市场投递了简历。在等待消息的过程中，她又到老家附近的餐馆找了一份零工

D. 又到毕业季，与忙着投简历的其他同学不同，小金大二时就创办了一家共享办公租赁服务公司，只等一毕业，就可以全身心地投入到公司的经营管理上

(2017-江苏 A-113.) 覆盖竞争：指在行业内部竞争已经十分激烈的阶段，行业外部的生产经营者强势介入该行业领域，导致业内竞争进一步加剧的现象。

下列属于覆盖竞争的是：

A. 从事电子产品设计与开发的某公司进入刚刚开始兴起的无人机研制领域

B. 鉴于去年各个分公司的销售业绩都实现了快速增长，公司高层经研究决定今年再成立几家分公司

C. 某房地产公司在市区中心地带的大型购物广场开业后，周边五六家大型商场的客流量明显减少

D. 某汽车零部件销售商为了进一步满足客户需求，决定新增汽车维修保养业务

(2017-江苏 A-114.) 新乡贤：指长期扎根农村，利用自己的知识、技术、财富为村民热心服务并作出突出贡献，在当地社会生活及民众心目中具有较高威望和影响力的乡村人士。

下列属于新乡贤的是：

A. 10 多年来，老李虽然一直在外经商，但他时时惦念着家乡，每年都会捐出大量资金为家乡修桥铺路，资助家乡的特困大学生完成学业，乡亲们经常千里迢迢地跑来看望他

B. 小张复员后回到家乡，两三年就成了远近闻名的“养殖大王”，为了带动乡亲们共同致富，他开办了多期培训班，免费传授实用养殖技术和经验，受到了大家的称赞

C. 20 多年来，某市商会会长孙先生利用自己长期积累的丰富经验，为经营各种农副产品的家乡村民牵线搭桥，指导他们寻找商机，被乡亲们誉为贴心的“诸葛亮”

D. 某乡村小学校长程某退休后，利用自己学生多、关系广的优势，为挖掘家乡历史文

化资源、发展乡村文化旅游业积极谋划、东奔西走，被乡亲们传为佳话

(2017-江苏 A-115.) 零优势意识：指一种危机意识和忧患意识，即能够看到自身优势的相对性，从而带着危机感把比较优势转化为竞争优势，以防止自身优势无法发挥甚至逐渐丧失。

下列属于零优势意识的是：

A. 以色列是世界上自然资源最贫乏的国家之一，水和耕地资源尤为短缺，但以色列人不断创新农业技术，通过滴灌技术和光热网膜技术把沙漠变成绿洲，创造出资源节约型农业典范，甚至成为重要的农产品出口大国

B. 田忌与齐王赛马，每次都输，原来马分上中下三等，进行三场比赛，无论哪一等级的马，田忌都赛不过齐王。孙臏知道后指导田忌用下等马对齐王的上等马，再用上等马对中等马，用中等马对下等马，结果只输第一场，赢了后两场

C. 某古城以保留众多清代建筑物闻名于世，旧城改造中，市政府吸取外地教训，避免“拆了值钱的，盖了不值钱的”，全力保护和开发旅游资源。如今，已彻底改变了过去旅游资源丰富而旅游消费水平低的态势，形成了稳固的行业优势

D. 某公司在制造感光材料时，需要有人长时间在暗室工作，但员工大多无法适应长时间黑暗，效率很低。针对这种情况，该公司将暗室内的工作人员全部换成盲人，极大地提高了工作效率

※※※第四部分结束，请继续做第五部分！※※※

## 【【2016-江苏 A-判断】】

### 第四部分 判断推理

(共 45 题，参考时限 40 分钟)

#### 一、类比推理。

请开始答题：

(一)请从四个选项中选出正确的一项，其关系与题干给出的词或词组的关系最为相似。

(2016-江苏 A-71.) 上山：山上

A. 上海：海上

B. 回收：收回

C. 工人：人工

D. 下台：台下


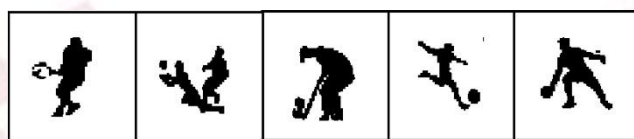
(2016-江苏 A-72.) 舞蹈：天鹅

A. 歌唱：黄莺

B. 春燕：呢喃

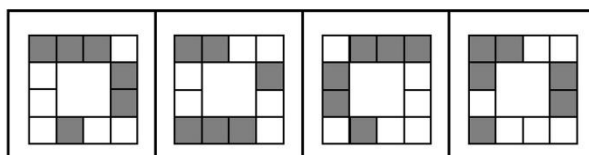
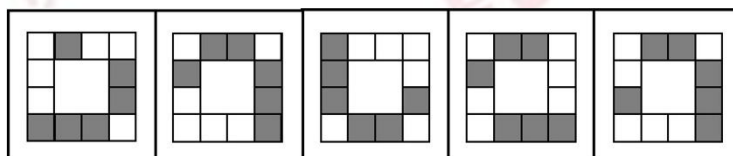


(2016-江苏 A-81.) 上边的题干中给出一套图形, 其中有五个图, 这五个图呈现一定的规律性。在下边给出一套图形, 其中有四个图, 从中选出唯一的一项作为保持上边五个图规律性的第六个图。



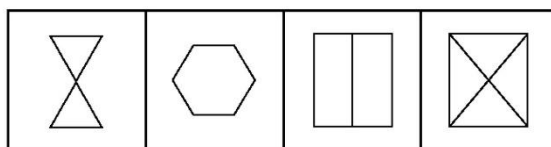
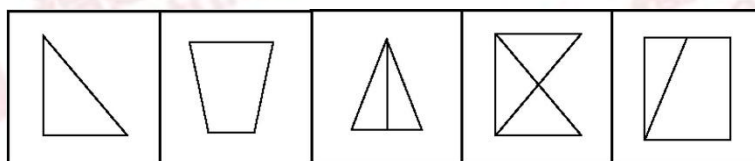
A B C D

(2016-江苏 A-82.) 上边的题干中给出一套图形, 其中有五个图, 这五个图呈现一定的规律性。在下边给出一套图形, 其中有四个图, 从中选出唯一的一项作为保持上边五个图规律性的第六个图。



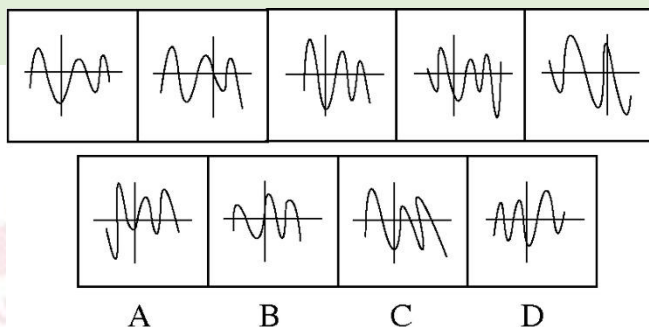
A B C D

(2016-江苏 A-83.) 上边的题干中给出一套图形, 其中有五个图, 这五个图呈现一定的规律性。在下边给出一套图形, 其中有四个图, 从中选出唯一的一项作为保持上边五个图规律性的第六个图。

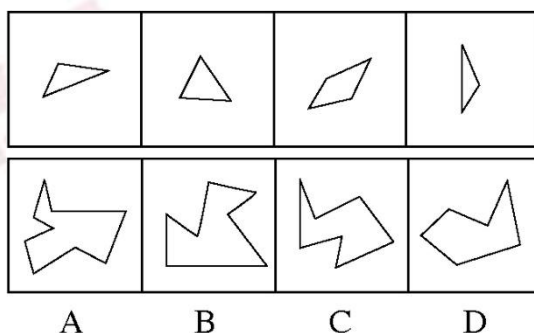


A B C D

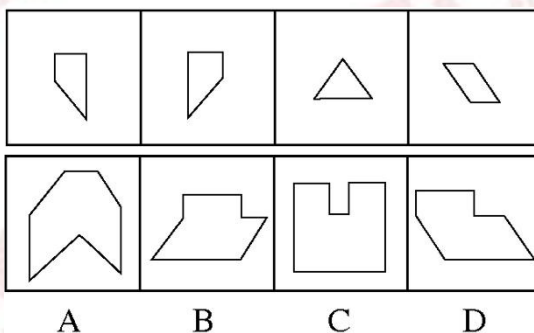
(2016-江苏 A-84.) 上边的题干中给出一套图形, 其中有五个图, 这五个图呈现一定的规律性。在下边给出一套图形, 其中有四个图, 从中选出唯一的一项作为保持上边五个图规律性的第六个图。



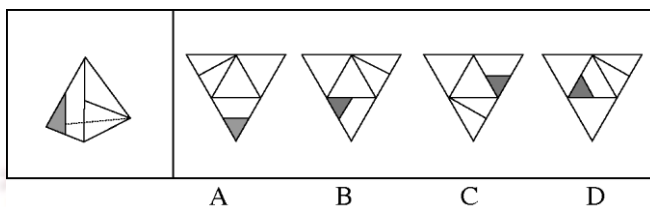
(2016-江苏 A-85.) 下边四个图形中, 只有一个是上边的四个图形拼合(只能通过上、下、左、右平移)而成的, 请把它找出来。



(2016-江苏 A-86.) 下边四个图形中, 只有一个是上边的四个图形拼合(只能通过上、下、左、右平移)而成的, 请把它找出来。

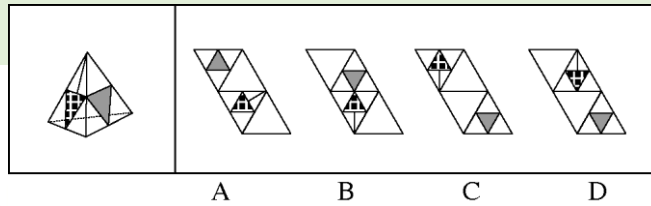


(2016-江苏 A-87.) 左边这个图形是由右边四个图形中的某一个作为外表面折叠而成, 请指出它是哪一个。

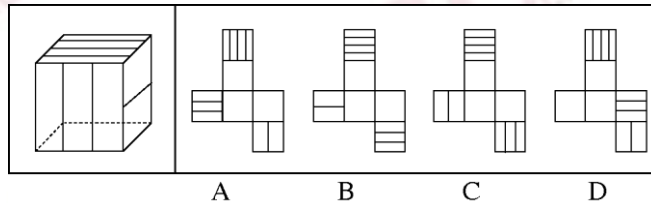


(2016-江苏 A-88.) 左边这个图形是由右边四个图形中的某一个作为外表面折叠而成, 请指出它是哪一个。

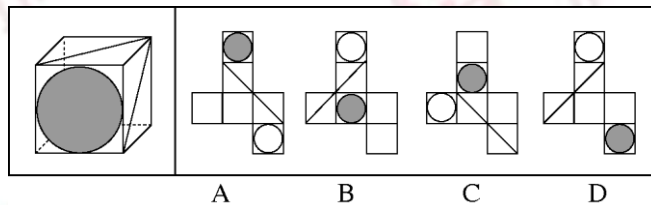




(2016-江苏 A-89.) 左边这个图形是由右边四个图形中的某一个作为外表面折叠而成，请指出它是哪一个。



(2016-江苏 A-90.) 左边这个图形是由右边四个图形中的某一个作为外表面折叠而成，请指出它是哪一个。



三、逻辑判断。每题给出一段陈述，这段陈述被假设是正确的、不容置疑的。请你根据这段陈述，选择一个答案。注意：正确的答案不需要任何附加说明即可以从陈述中必然推出。

请开始答题：

(2016-江苏 A-91.) 与传统的“汗水型”经济不同，创新是一种主要依靠人类智慧的创造性劳动。由于投入多、风险大、周期长、见效慢，创新并非是每个人自觉的行动，它需要强大的动力支持。如果有人可以通过土地资源炒作暴富，或者可以借权钱交易腐败发财，那么人们创新就不会有真正的动力。

根据以上陈述，可以得出以下哪项？

- A. 如果有人可以通过土地资源炒作暴富，就有人可以凭借权钱交易腐败发财
- B. 如果没有人可以通过土地资源炒作暴富，人们创新就会有真正的动力
- C. 如果人们创新没有真正的动力，那么就有人可以通过土地资源炒作暴富
- D. 如果人们创新具有真正的动力，那么没有人可以凭借权钱交易腐败发财

(2016-江苏 A-92.) 某学院共有 42 名员工，他们或者做教学科研工作，或者做行政工作。在该学院中，教授都不担任行政工作，而 30 岁以下的年轻博士都在做行政工作，学院中有不少人是从海外招聘来的，他们都具有博士学位，李明是该学院最年轻的教授，他只有 29 岁。

根据以上陈述，可以得出以下哪项？

- A. 该学院从海外招聘来的博士大多是教授
- B. 该学院从海外招聘来的博士都不做行政工作
- C. 该学院教授大多是 30 岁以上的海外博士
- D. 该学院有的教授不是从海外招聘来的

(2016-江苏 A-93.) 经理: 小张, 这星期你怎么上班总是迟到?

小张: 经理, 不要只盯着我哟! 小李有时比我到的还要晚!

以下哪项的对话方式与上述最为**不同**?

- A. 丈夫: 老婆, 你有没有觉得最近你特别爱发火?

妻子: 你什么意思! 你有没有觉得最近你特别爱唠叨?

- B. 乘客: 师傅, 开车时你怎么还打手机啊?

司机: 你乱嚷什么! 把我惹火了, 一车人的安全你负责?

- C. 老师: 小明, 你最近上课怎么老不注意听课?

学生: 老师, 我注意听讲了但是听不懂! 听不懂我怎么听?

- D. 顾客: 老板, 你们卖的馄饨里怎么有股怪味呢?

老板: 你是何居心! 你是哪家馄饨店派来的捣蛋鬼?

(2016-江苏 A-94.) 据报道, 与国外相比, 中国河流的总体抗生素浓度较高, 测量浓度最高达 7560 纳克/升, 平均也有 303 纳克/升, 而意大利仅为 9 纳克/升, 美国为 120 纳克/升, 德国为 20 纳克/升。对此, 有专家认为不足为虑。因为绝大多数抗生素对于致病细菌的最小抑制浓度都在 10000 纳克/升以上, 目前中国江河和土壤中检测到的抗生素浓度都小于各种抗生素对病菌的最小抑制浓度。

以下哪项是上述专家所作论断的假设?

- A. 抗生素浓度如果低于其对病菌的最小抑制浓度, 病菌就不会产生抗药性
- B. 很多病人就诊后, 必须要使用更多的新一代抗生素才能控制感染和病情
- C. 细菌如果具有抗药性, 因细菌感染而导致的疾病就很难用抗生素治愈
- D. 通过环境摄入的残留抗生素浓度高一些可能反而有利于维护人体健康

(2016-江苏 A-95.) 甲、乙、丙、丁、戊 5 支球队进行小组单循环赛。比赛规定, 每队胜一场得 3 分, 平一场得 1 分, 负一场得 0 分; 积分前两名出线。比赛结束后发现, 没有积分相同的球队, 乙队胜了 3 场, 另一场负于甲队。

根据以上信息, 可得出以下哪项?

- A. 甲队一定出线
- B. 乙队一定出线
- C. 丙队一定出线
- D. 戊队一定出线

(2016-江苏 A-96.) 俄国作家肖洛霍夫讲过一个故事: “一个兔子没命地狂奔, 路遇

狼。狼说，你跑那么急干嘛？兔子说，他们要逮住我，给我钉掌。狼说，他们要逮住钉掌的是骆驼，而不是你。兔子说，他们要是逮住我钉了掌，你看我还怎么证明自己不是骆驼。”

在这个故事中，兔子最担心的是：

- A. 只要是骆驼，都要被钉掌
- B. 即使不是骆驼，也可能被钉掌
- C. 如果被钉了掌，就一定是骆驼
- D. 如果没有被钉掌，就不会是骆驼

(2016-江苏 A-97.) 荷兰画家梵高在一家精神病院里创作了著名的绘画作品《星空》。这幅画作中的“漩涡”引起了人们长期的争论，许多心理学家认为，“漩涡”是梵高当时脆弱心理状态的延伸和表现。欧洲航天局近日发布了一幅根据“普朗克”卫星探测绘制的星空图，神奇的是，这幅图与《星空》有惊人的相似之处。有艺术家认为，自然的星空正是梵高创作的灵感来源。

以下各项如果为真，则除了哪项均能支持上述艺术家的观点？

- A. 梵高的创作灵感一般均有明显的现实来源
- B. 《星空》的创作年代要远早于卫星绘制星空图的年代
- C. 梵高具有超越常人的视觉观察能力与想象能力
- D. 卫星绘制的星空图和《星空》的画面大体是一致的

(2016-江苏 A-98.) 和蔼小区里的居民具有乐于助人的良好风尚。在该小区里，凡帮助过老刘的人，老张都帮助过；一个人，只要有一人没帮助过他，老周就帮助过他。老王新搬来不久，还没有帮助过其他人。

根据以上陈述，可以得出以下哪项？

- A. 老周没有帮助过老张
- B. 老周没有帮助过老王
- C. 老刘与老张互相帮助过
- D. 老张和老周互相帮助过

99-100 题基于以下题干：

某单位工会成立职工业余兴趣活动小组，分台球、乒乓球、羽毛球、登山四个小组。已知该单位的甲、乙、丙、丁、戊、己、庚等 7 人每人各参加其中的两个小组，每个小组最少有其中的 2 人参加，最多有其中的 5 人参加。另外，还知道：

- (1) 丁与戊的参加情况完全相同
- (2) 己与庚的参加情况完全相同；
- (3) 如果甲参加台球组，则丁也会参加台球组；
- (4) 只有乙和丙参加乒乓球组。

(2016-江苏 A-99.) 如果登山组只有己和庚参加，则可以得出以下哪项？

- A. 甲参加台球组、羽毛球组                      B. 乙参加台球组、羽毛球组  
C. 己参加台球组、登山组                        D. 庚参加羽毛球组、登山组

(2016-江苏 A-100.) 某单位工会成立职工业余兴趣活动小组,分台球、乒乓球、羽毛球、登山四个小组。已知该单位的甲、乙、丙、丁、戊、己、庚等7人每人各参加其中的两个小组,每个小组最少有其中的两人参加。最多有其中的5人参加。另外,还知道:

- (1) 丁与戊的参加情况完全相同  
(2) 己与庚的参加情况完全相同  
(3) 如果甲参加台球组,则丁也会参加台球组  
(4) 只有乙和丙参加乒乓球组

如果乙与丁都没有参加台球组,则可以得出以下哪项?

- A. 如果己参加台球组,则丙参加登山组  
B. 如果庚参加台球组,则戊参加台球组  
C. 如果甲参加羽毛球组,则庚参加登山组  
D. 如果乙参加羽毛球组,则己参加登山组

四、定义判断。先给你一个概念的定义,然后给出一组典型例证,要求你从中选出最符合题意的一项。注意假设这个定义是正确的、不容置疑的。

请开始答题:

(2016-江苏 A-101.) 逆势扩张:指企业在面临巨大压力和困难的情况下,进一步巩固和拓展市场,在竞争中抢占先机的经营行为。

下列**不属于**逆势扩张的是:

- A. 当大多数的国产品牌彩电市场份额纷纷下滑的时候,某电视厂家却连续推出了几款超级电视,市场占比高歌猛进,遥遥领先几大洋品牌  
B. 某汽车油箱销售公司是我国规模较大的自主品牌出口企业,近期已正式进入预先披露更新企业名单之列,向上市的目标又迈进了一步  
C. 在人们普遍认为房地产调控政策将严重影响家居行业之际,某品牌家具企业高调宣布,最近在省城及周边地区又成功开设了多家专营店  
D. 国内零售行业近期表现欠佳,各销售企业纷纷收缩实体阵地,某民营企业近日却在省城新增了一家购物中心,另外两家不久也将开业

(2016-江苏 A-102.) 公共信息资源,指社会特定管理机构依法管理,面向全体社会公众提供信息服务的各种数据系统,具有公共性、广泛性、基础性和公益性等特点。

下列属于公共信息资源的是:

- A. 公安部门为了核查居民身份或侦破案件所建立的公安部信息共享系统

- B. 银行为了审核贷款申请、开展各种金融业务而开发的客户个人信息系统
- C. 国家气象部门建立的气象信息发布系统，如天气预报、地质灾害预警
- D. 高校教务部门为提高教学管理效率而开发的学生选课、评课、成绩管理系统

(2016-江苏 A-103.) 功利化阅读，指在有限的读书时间里，出于特殊目的，只选择阅读那些对提高自己的学习成绩、工作能力或求职更有帮助的书刊资料。

下列**不属于**功利化阅读的是：

- A. 小李平时忙着上课和做家教，资格考试前三天，才一门心思复习考试课程
- B. 老李是业务骨干，一有时间就去资料室翻阅与自己工种相关的刊物
- C. 为了取得面试好成绩，小江特地去书店买了几本关于面试技巧方面的书
- D. 小林虽然工作繁忙，却一直迷恋科幻小说，只要有点空闲就会找一本来看

(2016-江苏 A-104.) 定制旅游，指由游客和旅游服务商共同商定旅游方案，以充分满足旅游个性化要求的旅游方式。

下列**不属于**定制旅游的是：

- A. 某旅行社最近推出了欧洲十日游、沿海五市一周游等产品，提前订好酒店、机票、景点门票等，游客觉得价格合适就可以购买成行
- B. 某在线旅游网站根据游客的个性预算、旅游目标等制订行程计划，与客户反复沟通，最终形成了客户满意的方案，并派出专人随行监管
- C. 某旅行社组织了一个美食旅游项目，应游客要求精心挑选几家有特色的美食店，预定好当地的个性民居，全程陪游，游客归来后都感到十分满意
- D. 小李同几个酷爱摄影的朋友策划了一个拍摄沙漠风光的活动计划，经过与旅行社多次讨价还价，终于成行，参与者过了一个很有意思的假期

(2016-江苏 A-105.) 优势反应，指熟练程度极高、遇到某种刺激时不加思考就做出来的习惯性动作。

下列**不属于**优势反应的是：

- A. 中国人遇到多年未见的朋友时，一般都伸出右手去和对方握手
- B. 在街上听到有人喊自己名字，人们总会循着声音方向去寻找
- C. 小丽在家看小说时，一碰到不认识的字就会下意识地去查字典
- D. 人们无意之中伸进滚烫的开水，瞬间就会把手缩回

(2016-江苏 A-106.) 以房养老，指老人将自己的产权房抵押给金融机构，按约定条件定期领取养老金并获得相应服务的养老方式。老人去世后，金融机构可以按约定处置房产，偿付已经支出的各项费用。

下列属于以房养老的是：

A. 最近，老李夫妇把卖房子的钱存进银行，一起住进了附近的老年公寓，每月的存款利息足够支付那里的各种费用

B. 年逾古稀的张先生夫妇与银行签订了协议：在世时，他们每月从银行领取 13000 元养老金；去世后，他们的产权房由银行处置

C. 赵某在一次车祸中落下重度残疾，他与典当行的远房侄子签了一份协议：由侄子照顾他的日常起居，自己名下的房子将来过户给侄子

D. 老孙退休后卖掉市中心的大房子，买了一套二手小房住，每月的退休金加上卖房款利息，夫妻俩的日子过得很是自在惬意

(2016-江苏 A-107.) 自然淘汰育种法，指在良种筛选过程中，减少人为干预，尽量通过被筛选对象的自然生长确定所需良种的育种方法。

下列属于自然淘汰育种法的是：

A. 甲鱼养殖场为了选育出抗病力强的种鱼，在甲鱼接连死亡的情况下，没有使用任何药物，存活到最后的则作为种鱼

B. 锦鲤养殖户从幼鱼开始分拣最有经济价值的鱼苗，经过三次人工选鱼后，最终只有大约 10% 的幼鱼成了精品锦鲤

C. 石斛养殖户爬上人迹罕至的悬崖峭壁采集野生石斛，挑选其中的一部分作为种苗，精心培育出了多个新品种

D. 生长在同一片山坡上的某种植物，有的长势非常茂盛，有的则弱小枯黄，泾渭分明，这正是“物竞天择”的形象说明

(2016-江苏 A-108.) 隐形就业，指没有通过传统就业渠道获取固定职业，处于相关部门就业统计范围之外的工作状态。

下列**不属于**隐形就业的是：

A. 颜某辞去工作后，一边带孩子一边经营一家奶粉网店

B. 某教授受多家培训学校之邀，在工作之余常去指导授课

C. 小陈离开公司后专门为电商店铺提供平台搭建和维护服务

D. 酷爱写作的小王，大学毕业后成了一家报社的自由撰稿人

(2016-江苏 A-109.) 众筹行为，指通过互联网发布筹款项目、实施方案、投资回报的资金募集方式，其构成要素包括有创造能力但缺乏资金的发起人，对筹资者的故事或回报感兴趣的支持者，在两者之间发挥连接作用的互联网平台等。

下列属于众筹行为的是：

A. 地震发生后，市红十字会利用官网、微博、微信等多种网络平台及时发布灾情信息呼吁市民捐款捐物，帮助灾民重建家园，很快筹集到大量善款、赈灾物资

B. 小陶大学毕业后回乡创业资金不足，他在网上发布了自己的创意，争取各界人士的资金援助，在网友们帮助下迅速渡过了难关

C. 某中学的一名学生患了白血病，学校在网上发起了募捐活动，两天之内就募捐了几万元，帖子被转载后各地的善款越来越多

D. 某青年艺术家为了举办个人画展，利用网络筹集了一大笔启动资金，画展圆满结束后，一一兑现了让出资人享受展品收藏待遇的承诺

(2016-江苏 A-110.) 路怒症，指机动车驾驶者在行车过程中因焦躁、愤怒情绪而产生攻击性行为。

下列**不属于**路怒症的是：

A. 在路口等红灯时，小张感觉汽车被碰了一下，下车一看，果然是后车刹车不及时追尾了。小张猛踢后车车轮，大声责怪其司机并且索要赔偿

B. 妻子开车送老陈去上班，一辆小汽车突然窜到了面前，险些撞到他的车，老陈下车拦住那辆车，把司机痛斥了一顿

C. 小李开了 8 年车，技术高超，每次被人超车，就忍不住狂踩油门飚上一把，直到反超并羞辱对方一番才罢休

D. 小王正在赶路，旁边车子中飞出的一个纸团突然落在他的挡风玻璃上，小王十分生气，他猛按喇叭，嘴里骂个不停

(2016-江苏 A-111.) 跳板策略，指在特定条件下，为了避免因统一指挥造成的信息传递延误而跨越权力边界、直接进行横向沟通。

下列属于跳板策略的是：

A. 小杰被毒蛇咬伤，生命垂危，县医院立即向国家卫生部紧急求救。在卫生部直接干预下，仅两个小时就拿到了所需的特效药，小杰很快转危为安

B. 一次学术会议上，某大学校长遇到了兄弟院校从未谋面的老同行，两人就一些学术热点问题进行了深入探讨，并商定联手申报国家重大科研项目

C. 一次追逃行动中，通讯系统突发故障，为防嫌疑人再次逃脱，第一小组的高组长未向指挥中心汇报就直接请求第二小组的邓组长火速增援，迅速抓获了犯罪嫌疑人

D. 由于路程较远，120 救护车不能马上赶到车祸现场，巡警得知这一情况后，主动用自己的摩托警车把伤员送进了附近的一家医院

(2016-江苏 A-112.) 配套效应，指拥有某件物品后，为了追求完美效果而不断配置其他相应物品。

下列**不属于**配套效应的是：

A. 邻居送给小李一只宠物狗，半月以后，小李家阳台上狗笼子、狗饭碗、狗澡盆、狗毛衣等一应俱全，几乎变成了宠物用品展示中心

B. 小孙穿着朋友赠送的一件质地精良、做工考究的睡袍在书房走动，总觉得身边的一切都不协调，他很快换掉了书房中的地毯、桌椅、书柜

C. 张女士在商场亲子装专柜为儿子买了一件 T 恤，儿子和丈夫都非常满意，于是她又

返回商场为丈夫和自己各买了一件

D. 赵总在古玩店淘到一件康熙宫廷玉器，特意为它配制了一个红木底座，还请诗友为它专门写了一首咏玉诗，放在大厅最醒目的地方

(2016-江苏 A-113.) 平行竞争，指各家厂商提供不同种类的产品以满足顾客同一需求而形成的竞争。

下列属于平行竞争的是：

A. 冬天还没到，电器商场就摆满了各种取暖用品，空调、油汀、热风扇、电热毯应有尽有，价格有高有低，款式或经典或新潮

B. 为了扩大市场份额，某公司新近推出了一款平板电脑，硬盘容量有 64G、128G 和 256G 三种规格，供不同层次的消费者选择

C. 只要走进地下商城，马上就会有一群人把你团团围住，卖服装的、卖玩具的、卖食品的……迫不及待地要把你拉到自己的摊位上

D. 小李拿到了 1 万多元年终奖，准备好好奖励自己，现在正纠结于出国旅游、买笔记本电脑还是黄金首饰

(2016-江苏 A-114.) 反向激励，指领导者对于工作表现欠佳的下属不仅不批评，反而适度肯定，以期取得与正向激励效果相当的评价策略。

下列属于反向激励的是：

A. 小刘提前完成了经理布置的讲演稿，经理要他拿回去认真推敲，第二天小刘的修改稿得到了经理的高度肯定

B. 小王因工作失误被顾客投诉，同事老王安慰她，并指导小王如何避免失误，小王经过一段时间的努力，业务能力越来越强，顾客十分满意

C. 小李接受撰写市场调研报告的任务后，未能按时完成。经理称赞他调研认真，特意延期两天，小李的调研报告最终写得很出色

D. 在工会羽毛球循环赛中，夺冠热门小王首轮意外失手，单位领导没有批评他，反而鼓励他调整好心态，小王最终获得了冠军

(2016-江苏 A-115.) 代际歧视，指上代人从自己的视角对新生代整体形象作出的描述性或定位性负面评价，这种评价往往不够客观、准确。

下列属于代际歧视的是：

A. 年近花甲的钱总在职工大会上批评少数年轻的技术人员缺乏创新意识，不思进取，要求他们尽快改变目前的精神状态

B. “80 后”曾被父辈斥为“叛逆的一代”，被指责为自我、叛逆和缺乏责任感，然而最近某七十高龄的作家却称“80 后”是“懦弱的一代”，缺乏反叛精神

C. 孙大妈学会了使用微信，经常关注女儿的朋友圈，由于女儿经常分享一些充满正能量的短文，饭桌上她戏称女儿是“鸡汤党”



D. 某“啃老”男整天游手好闲、惹是生非，父母恨铁不成钢，欲将其赶出家门，他却指责父母这一代人自私自利，不顾子女

※※※第四部分结束，请继续做第五部分！※※※

## 【【2015-江苏 A-判断】】

### 第三部分 判断推理

(共 40 题，参考时限 35 分钟)

#### 一、类比推理。

请开始答题：

(一) 先给出一组有某种关系的词或词组，请你从四个选项中选出正确的一项，其关系与题干给出的词或词组的关系最为相似。

(2015-江苏 A-41.) 白羊：黑羊

- A. 高价：价格
- B. 蓝天：春天
- C. 周刊：月刊
- D. 苏州：徐州

(2015-江苏 A-42.) 自拍：拍照

- A. 铁矿：金属
- B. 茶馆：场所
- C. 微信：博客
- D. 船舱：飞船

(2015-江苏 A-43.) 教师：教师法：尊重教师

- A. 企业：劳动法：招聘童工
- B. 会计：会计法：虚报账目
- C. 司机：交通法：肇事逃逸
- D. 夫妻：婚姻法：婚姻自主

(2015-江苏 A-44.) 人民币：美元：欧元

- A. 海鲜：海鸥：海滩
- B. 贵州：杭州：常州
- C. 兰花：牡丹：菊花
- D. 宽恕：品性：诚信

(二) 请从四个选项中选出正确的一项，使得该项的两个词或词组依次代入题干的括号中，能够最大限度地满足题干所表达的类比关系。

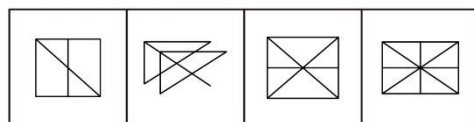
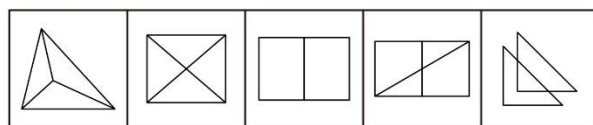
(2015-江苏 A-45.) 七天之于一个星期相当于 ( ) 之于 ( )

- A. 一米；十分米
- B. 十元；一百元
- C. 直线；几何学
- D. 一吨；十公斤

(2015-江苏 A-46.) 扎小羊灯之于 ( ) 相当于剪福字窗花之于 ( )

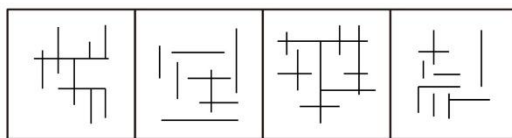
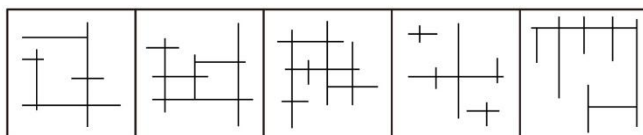


(2015-江苏 A-52.) 上边的题干中给出一套图形, 其中有五个图, 这五个图呈现一定的规律性。在下边给出一套图形, 其中有四个图, 从中选出唯一的一项作为保持上边五个图规律性的第六个图。



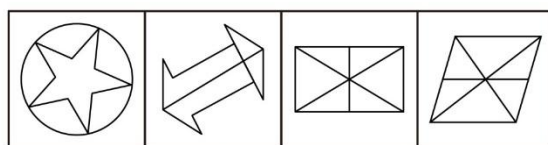
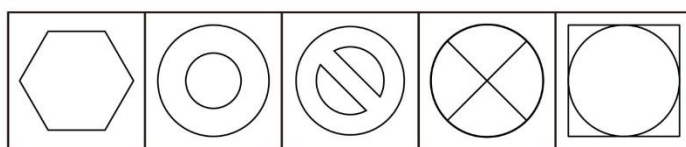
A B C D

(2015-江苏 A-53.) 上边的题干中给出一套图形, 其中有五个图, 这五个图呈现一定的规律性。在下边给出一套图形, 其中有四个图, 从中选出唯一的一项作为保持上边五个图规律性的第六个图。



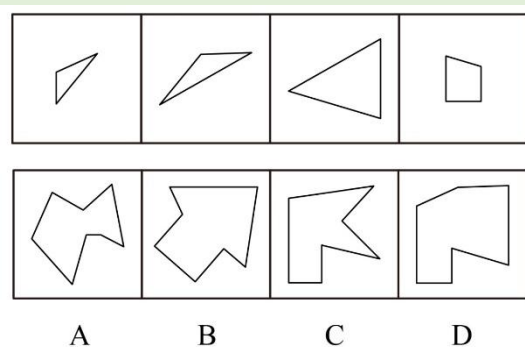
A B C D

(2015-江苏 A-54.) 上边的题干中给出一套图形, 其中有五个图, 这五个图呈现一定的规律性。在下边给出一套图形, 其中有四个图, 从中选出唯一的一项作为保持上边五个图规律性的第六个图。

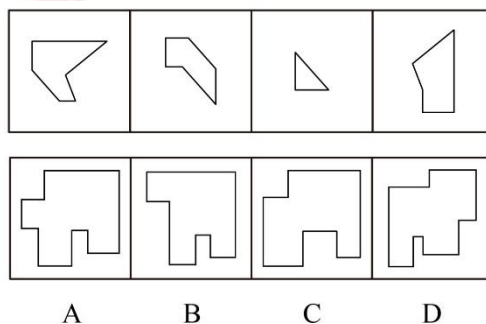


A B C D

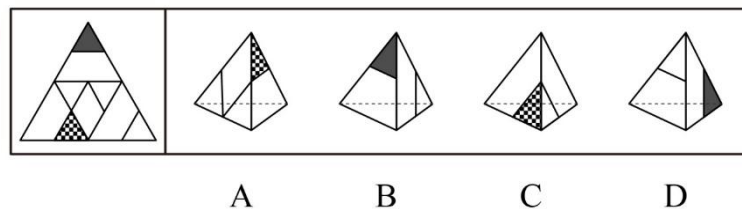
(2015-江苏 A-55.) 下边四个图形中, 只有一个是上边的四个图形拼合(只能通过上、下、左、右平移)而成的, 请把它找出来。



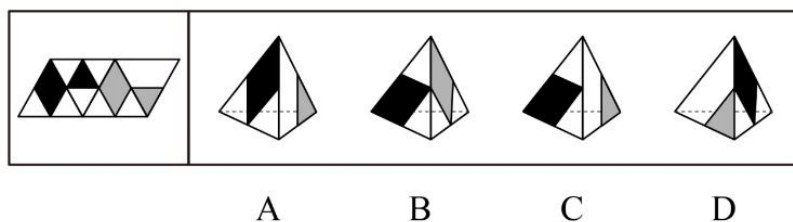
(2015-江苏 A-56.) 下边四个图形中, 只有一个是由上边的四个图形拼合(只能通过上、下、左、右平移)而成的, 请把它找出来。



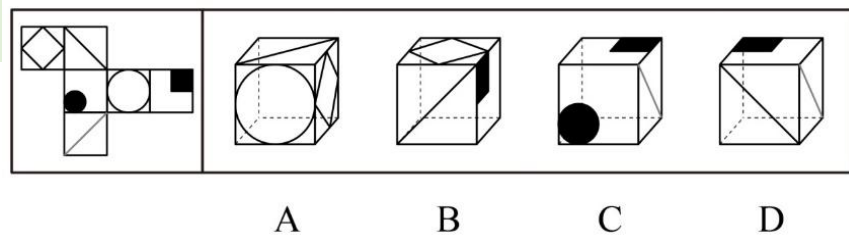
(2015-江苏 A-57.) 左边给定的是纸盒外表面的展开图, 右边哪一项能由它折叠而成? 请把它找出来。



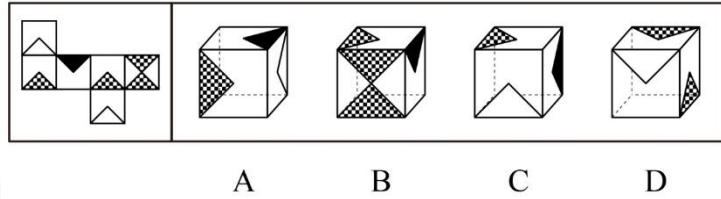
(2015-江苏 A-58.) 左边给定的是纸盒外表面的展开图, 右边哪一项能由它折叠而成? 请把它找出来。



(2015-江苏 A-59.) 左边给定的是纸盒外表面的展开图, 右边哪一项能由它折叠而成? 请把它找出来。



(2015-江苏 A-60.) 左边给定的是纸盒外表面的展开图, 右边哪一项能由它折叠而成? 请把它找出来。



三、逻辑判断。每题给出一段陈述, 这段陈述被假设是正确的、不容置疑的。请你根据这段陈述, 选择一个答案。注意: 正确的答案不需要任何附加说明即可以从陈述中必然推出。

请开始答题:

(2015-江苏 A-61.) 只有加大查处、惩罚力度, 对贪污官员绝不姑息手软, 才能让官员“不敢腐”; 只有在权力运作的每个环节建立和完善相关制度, 才能让官员“不能腐”。但是, 如果官员缺乏必要的廉耻之心, 单纯依靠制度, 那么, 他们一定会找到制度的漏洞; 相反, 如果官员有一定的廉耻之心, 那么, 即便存在一些制度漏洞, 他们也不会有意利用, 而是会克制自己, 甚至会修补这些漏洞, 真正做到“不想腐”。

根据以上陈述, 可以推出的是:

- A. 如果官员有一定的廉耻之心, 一般不会发现制度的漏洞; 即使发现了, 也不会利用, 只会去修补它们
- B. 如果官员有一定的廉耻之心, 就会加强自我约束, 不会有意利用制度的漏洞, 从心里消除腐败的念头
- C. 如果官员缺乏必要的廉耻之心, 只要加大查处、惩罚力度, 绝不姑息手软, 他们就“不敢腐”
- D. 如果官员缺乏必要的廉耻之心, 只要建立和完善权力运作各个环节的相关制度, 他们就“不能腐”

(2015-江苏 A-62.) 中国人大多是在批评与训斥中长大的, 父母、老师、长辈、领导……看你哪一点不顺眼, 都能给出指教。话多半不好听, 可听者听了多半心悦诚服, 心生感激, 因为大家想的是良药苦口、忠言逆耳的道理。但是, 逆耳的未必都是忠言。有种电话诈骗就是以很凶的方式出现的。电话里的他们就是要批评你、威胁你、吓唬你, 一旦你心里打怵了, 你就听他们的了; 而你听了他们的, 你也就上当了。

根据以上陈述，可以推出的是：

- A. 有的逆耳之言可能不是忠言
- B. 有的忠言并不逆耳
- C. 有的电话诈骗的声音并不是很凶
- D. 如果你听到逆耳的电话心里不打怵，你就不会上当

(2015-江苏 A-63.) 某单位寻求对外合作，准备在甲、乙、丙、丁四家单位中确定一个或几个合作对象。单位管理层经过认真调研和讨论，最终形成了以下三种意见：

- (1) 对于甲和乙两单位，至多选一个；
- (2) 对于甲和丁两单位，至少选一个；
- (3) 如果选择丙或丁单位，就不能选择乙单位。

在最终决定时，单位领导只采纳了上述一种意见。

根据以上陈述，以下哪项最符合单位领导的最终决定？

- A. 选择乙、丙、丁
- B. 选择乙，但不选择丙和丁
- C. 选择甲、乙、丁
- D. 选择丙，但不选择乙和丁

(2015-江苏 A-64.) 甲：为富不仁，为官皆不义。

乙：你说的两句都不对。

以下哪项与乙的说法最为相近或相似？

- A. 为富皆仁，为官皆义
- B. 有的为富仁，有的为官义
- C. 有的为富不仁，有的为官不义
- D. 仁者不为富，义者不为官

(2015-江苏 A-65.) 五对夫妻结伴自驾游。从出发点到目的地，正好有三个服务区，将他们的行程分为四段路，他们在每个服务区都休息了一会儿，有的夫妻也刚好可以换人驾车走下一段路。车队行进过程中，每对夫妻均在自家车中，一人驾车，一人休息。小孙因头晚喝了不少酒，所以今天一直未敢碰方向盘，只是与驾车的妻子说着闲话。已知：

第一段路驾车的是：张、王、李、赵、周；

第二段路驾车的是：吴、王、张、赵、郑；

第三段路驾车的是：李、钱、张、刘、吴；

第四段路驾车的是：郑、张、王、钱、周。

根据以上信息，可以推出这五对夫妻分别是：

- A. 李吴、周郑、赵钱、孙张、刘王
- B. 刘赵、钱王、孙李、郑张、周吴

C. 孙张、李郑、吴周、刘王、赵钱

D. 孙张、周郑、李吴、刘赵、王钱

(2015-江苏 A-66.) 顾客：老板，你这盘鱼香肉丝里怎么没有鱼啊？

老板：这有什么奇怪的！难道老婆饼里有老婆吗？

以下哪项的对话方式与上述最为相似或相同？

A. 老师：小明，你为什么没有做我昨天布置的家庭作业啊？

小明：对不起，老师！难道我没有回家也要做家庭作业吗？

B. 妻：亲，你的钱包里怎么没有钱啊？

夫：这没什么不正常！难道茶叶罐里总是有茶叶吗？

C. 孩子：妈妈，棉花糖里怎么没有棉花啊？

妈妈：这很正常！难道你用的英雄墨水里藏了一个英雄吗？

D. 顾客：小妹，你卖的珍珠奶茶里怎么没有珍珠？

售货员：这有什么稀奇！夫妻肺片里也没有夫妻啊！

(2015-江苏 A-67.) 近年来，在全国除港澳台以外的 31 个省区市书法家协会中，许多名誉主席、主席、副主席已为官员或退休官员担任。几乎在每个省市书法家协会领导名单中，都能看到同等级政府官员的名字。有专家指出，党政官员热衷于担任各级艺术类人民团体领导，官员与艺术家在身份和职务上相互交叠，会让艺术成为腐败的掮客，使各种肮脏的行贿受贿行为在艺术的光环笼罩下大行其事。

以下哪项**不能**支持上述专家的论断？

A. 某下属向其领导请求墨宝，再付之以一笔可观的“润笔费”

B. 某些官员高价出售自己的作品，并坦然视之为“公平交易”

C. 某些官员书法功底颇为深厚，对别人请求题字一般并不推托

D. 在多项艺术活动中，具有行政职务的官员总能获得特别的优待

(2015-江苏 A-68.) 在以下 5×5 矩形阵中，每个小方格可填入一个汉字，要求每行、每列及每个由粗线条围成的小区域内均含有松、菊、梅、兰、竹 5 个汉字，不能重复也不能遗漏。

根据已经给定的条件，可以推出矩阵中①②③④⑤方格中依次填入的汉字是：

	兰		①	
菊		竹	②	
			③	
	梅		④	
			⑤	松

A. 松兰梅竹菊

B. 菊梅松竹兰

C. 松兰菊竹梅

D. 梅菊竹兰松

【题型】复合客观题

材料 1：王刚、赵虎与李亮是某机关新进员工。他们三人中，有两人单身，两人爱好打乒乓球，两人是北方人，两人是公共管理专业硕士。如果王刚与李亮是公共管理专业硕士，则他们都是北方人；如果赵虎与李亮爱好打乒乓球，则他们都单身。已知他们每人最多只拥有 3 个上述特征。

(2015-江苏 A-69.) 加上“如果王刚是北方人，则他单身”这一条件，可以得出以下哪项？

- A. 王刚单身
- B. 赵虎是公共管理专业硕士
- C. 李亮爱好打乒乓球
- D. 王刚是北方人

(2015-江苏 A-70.) 加上“如果赵虎单身，则王刚也单身”这一条件，**得不出**以下哪项？

- A. 王刚单身
- B. 王刚爱好打乒乓球
- C. 赵虎是公共管理专业硕士
- D. 李亮是北方人

四、定义判断。先给你一个概念的定义，然后给出一组典型例证，要求你从中选出最符合题意的一项。注意：假设这个定义是正确的、不容置疑的。

请开始答题：

(2015-江苏 A-71.) 认知地图效应：指通过对特定事物多次探索之后，头脑中形成一张包含各种相关信息的地图，根据这张地图采取行动，往往能够取得事半功倍的效果。

下列**不属于**认知地图效应的是：

- A. 庖丁解牛
- B. 胸有成竹
- C. 老马识途
- D. 管中窥豹

(2015-江苏 A-72.) 精神赡养：是指在家庭生活中，子女理解、尊重、关心、体贴父母、尽力满足其精神生活方面的需要。

下列**不属于**精神赡养的是：

A. 老孙最近专门买了 1 台液晶电视安装在父母房间，让二老看自己喜欢的节目，还为他们买了许多京剧光盘

B. 尽管老吴没和父母住在一起，但他多年来已经养成了每天都去看望的习惯，无微不至地照顾好他们的生活，老人感到很欣慰

C. 春节临近，“夕阳红”敬老院的李院长请来朝阳小学的“小红花”乐团，孩子们的欢声



笑语和精彩节目，为老人们带来了无尽的快乐

D. 老姜的母亲已 70 多岁，但仍不服老，报名参加了交谊舞培训班，为避免老人生气并确保安全，每次母亲去上课时，老姜都悄悄跟在后面

(2015-江苏 A-73.) 密码焦虑症：指现代人在日常生活中被银行卡、手机、登录网站、进入小区等密码包围、困扰而引起的心理焦虑症状。

下列属于密码焦虑症的是：

A. 张先生酷爱上网，平日购物、看电影、看书及与朋友通信聊天都通过网络来实现，好多密码都设成了自己的生日，因而也就没有感到特别的不方便

B. 王厂长为保障工厂安全，给厂门加装了密码锁，要求员工输密码进厂，但又担心员工将密码泄露给外人，为此他经常提醒保安，要认识本厂所有员工，不要让外人进来

C. 金女士从来不用网银，总担心网银虽然有密码保障，但还是不安全，说不定哪天就被黑客盗取了密码，自己的银行存款就可能不翼而飞，惹来一身的麻烦

D. 从乡下来到儿子家养老的李大爷，几年来最烦心的事就是不敢外出，因为小区大门、所住的大楼单元门及自家大门都有不同的密码，生怕自己记不清，一出门就回不了家

(2015-江苏 A-74.) 幻想性错觉：指人们即使对于一个客观中立、并无任何暗示性意义的事物，也往往试图从中寻找出某种特殊意义的心理现象。

下列**不属于**幻想性错觉的是：

A. 夜晚，有时候有人会把高空的灯看成星星

B. 人们常常会在云朵中发现一个个动物形象

C. 古人认为月亮上有桂树、兔子、嫦娥、吴刚

D. 天柱山周围的三座山峰绵延相连很像卧佛

(2015-江苏 A-75.) 标杆效应：指在某一区域内，由于消费者对某种品牌认知度较高，导致其价格往往比同一区域其他同类商品高出一大截，并影响到整个区域同类商品的价格走势。

下列属于标杆效应的是：

A. 在某市，某大品牌电器企业每到节假日就大搞特价促销活动，其他商家纷纷效仿，也出奇招来招揽顾客

B. 某知名品牌推出的新款智能手表受到热捧，虽然价格偏高，却一再脱销，其他品牌的智能手表纷纷调低价格，争抢市场份额

C. 市一中即将搬往高新区的消息一传开，高新区的房价就一路飙升，连紧邻的湾树区房价也跟着涨了三四成

D. 老徐的网店短短半年内就赢利数万，朋友们纷纷前来取经，采用同样的经营方式创办了自己的网店，一个个赚得盆满钵满

(2015-江苏 A-76.) 帐篷理论：指在一定范围内，帐篷的容量不仅仅取决于篷布的面积，

也取决于支撑篷布的竹竿的高度。竹竿越高，帐篷容量就越大，比喻利用核心竞争力带动其他各方面要素，最终取得竞争优势。

下列**不符合**帐篷理论的是：

- A. 在某市直机关举办的足球赛上，实力均衡的机关二队出人意料地击败了拥有两名前省队球员的机关一队，夺得冠军
- B. 某公司凭借其在发动机和传动系统上的技术优势，由原先的摩托车陆续进入汽车、割草机、水下引擎和发电机等市场，均取得巨大成功
- C. 小李的高考成绩虽然一般，社会实践经历也不出众，却凭借全国高中物理奥林匹克竞赛一等奖的优异成绩进入了重点大学
- D. 某款手机整体设计并不前卫，配置相当大众化，定价也相对偏高，本来不被业内专家看好，上市以后，却凭借超大屏幕受到广大用户青睐，销量连续数周排行第一

(2015-江苏 A-77.)协同治理:指政府部门为了达成公共利益的目标,通过与非政府的、非盈利的社会组织和普通公众合作开展社会管理活动的工作模式。

下列属于协同管理的是:

- A. 某市辖区内有多个街道办,每个街道办管辖一片区域,有的街道服务中心专门设立了为老年人和残疾人提供公益服务的绿色通道
- B. 某高校学生会多次组织大学生深入社区,开展心理咨询,消防安全讲座,帮助孤寡老人等公益活动
- C. 为创建卫生城市,某市卫生局、环保局、城管局通力合作,卫生防疫人员、环境监测人员、环卫工人和城管人员各司其职,积极工作
- D. 某市为确保城市公交畅通安全,每个公交站台都配有治安巡查员,这些人员中既有各职能部门人员,也有志愿者协会成员,还有退休者

(2015-江苏 A-78.)O2O的营销方式:即 Online To Offline,指以互联网为前台,用线上营销带动线下消费的商业营销模式。通常包括商家网上提供商品信息、折扣信息、服务预订、消费者在线预付、线下消费等环节完成商品交易。

下列**不属于**O2O营销方式的是:

- A. 某公司推出线上、线下同价促销活动,旗下的网上商城和实体店所有商品价格相同,一时间网上商城订单量剧增,到实体店提货的人也摩肩接踵
- B. 小兰在时装杂志上看到了一款心仪的长裙,通过某比价网站发现单位附近一家商场同款长裙正在打折促销,于是趁中午休息时间买了回来
- C. 女朋友生日临近,小袁从网上团购了某酒店的自助餐消费券,邀请多名好友为女朋友开了一个难忘的生日派对
- D. 某家电厂商利用微信平台向订阅用户定期推送新品上市、促销信息,用户用手机扫描推送消息中商品下方的二维码即可完成支付,等待附近门店的配送

(2015-江苏 A-79.) 趋同进化: 指不同生物物种在进化过程中由于适应相似的环境而呈现出外形上的相似性。

下列属于趋同进化的是:

A. 海豚和鲨鱼, 一个是哺乳动物, 一个是鱼类, 只是为了更好地在海洋中生存, 它们就变得越来越相像了

B. 随着共同生活时间的增加, 夫妻二人的价值观念、生活习惯, 甚至连五官都变得越来越相近了

C. 无脊椎动物中, 肠腔动物门的珊瑚、甲壳类的藤壶、棘皮动物门的海百合, 都有相似的辐射对称躯体构型

D. 蚂蚁从金合欢的刺中取食蛋白质、脂肪和蜜, 也在金合欢枝叶间巡逻缠绕金合欢的其他植物, 进攻来此觅食的食草动物

(2015-江苏 A-80.) 星期一综合征: 是指由于在双休日过分消耗精力处理工作之外的事情, 导致周一上班时出现头晕、胸闷、腹胀、食欲不振、周身酸痛、注意力不集中等症状。

下列属于星期一综合征的是:

A. 五一小长假, 小李和同事们计划已久的黄山之旅终于成行了。3 天下来, 爬山、聚餐、照相、乘车, 一点也不比上班轻松。这不, 长假结束刚一上班, 个个都像霜打的茄子——蔫了吧唧的

B. 终于又到周末了, 小王将下载好的一部 40 集连续剧不分白天黑夜地看完了, 两天里除了上厕所, 就没下过床, 饭都是舍友帮忙从食堂带的。周一起床整个人都昏昏沉沉的, 干脆向辅导员请假不去上课了

C. 周六上午陪小孩参加绘画兴趣班, 下午学钢琴, 晚上带着去品尝风味小吃; 周日上午带着小孩去游乐场, 下午去奶奶家。整个周末, 王女士的时间表都被小孩填满了, 周一上班脑袋里还是这些, 根本没法工作

D. 已经连续工作了 5 天, 也计划好周末陪女友上街购物, 但公司临时通知周末加班, 小许只好向女友“请假”, 回到办公室和同事们通宵达旦地又干了两天。星期一上班, 个个都成了“熊猫眼”

※※※第三部分结束, 请继续做第四部分! ※※※

【【2014-江苏 A-判断】】

第三部分 判断推理

(共 40 题, 参考时限 35 分钟)

一、类比推理。

请开始答题:

(一) 先给出一组有某种关系的词或词组, 请你从四个选项中选出正确的一项, 其关系与题干给出的词或词组的关系最为相似。

(2014-江苏 A-41.) 绿洲: 荒漠

- A. 开放: 乐观  
B. 白玉: 玉石  
C. 翠柳: 黄花  
D. 冷静: 紧张

(2014-江苏 A-42.) 喜气洋洋: 欢乐

- A. 气象万千: 天气  
B. 寻根究底: 问题  
C. 画蛇添足: 多余  
D. 眼明手快: 好动

(2014-江苏 A-43.) 花儿: 因开放而飘香

- A. 水稻: 种在水田里的稻  
B. 果实: 从苦涩走向香甜  
C. 玉米: 籽实比黄豆稍大  
D. 青苗: 没有成熟的庄稼

(二) 请从四个选项中选出正确的一项, 使得该项的两个词或词组依次代入题干的括号中, 能够最大限度地满足题干所表达的类比关系。

(2014-江苏 A-44.) 手链之于 ( ) 相当于工资之于 ( )

- A. 精美; 工作  
B. 手镯; 工人  
C. 饰品; 收入  
D. 手腕; 津贴

(2014-江苏 A-45.) 构建之于 ( ) 相当于破除之于 ( )

- A. 外交模式; 利益藩篱  
B. 养老保险; 城乡二元  
C. 良好习惯; 侥幸心理  
D. 学术思想; 环境污染

(2014-江苏 A-46.) ( ) 之于钢琴相当于乒乓球之于 ( )

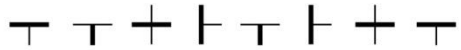
- A. 舞台; 球台  
B. 手风琴; 足球  
C. 音乐家; 运动员  
D. 琴声; 喝彩

(三) 请从四个选项中选出正确的一项, 其特征或规律与题干给出的一串符号的特征或规律最为相似。

(2014-江苏 A-47.) 34569812

- A. 23654189  
B. 83562149  
C. 92563481  
D. 41268593

(2014-江苏 A-48.)



- A. 水平线-下竖线, 水平线-上竖线, 竖线-左横线, 竖线-右横线, 水平线-下竖线, 水平线-上竖线, 水平线-下竖线
- B. 水平线-上竖线, 竖线-左横线, 水平线-下竖线, 水平线-下竖线, 竖线-左横线, 水平线-下竖线, 水平线-上竖线
- C. 竖线-左横线, 水平线-下竖线, 水平线-下竖线, 水平线-上竖线, 水平线-下竖线, 水平线-上竖线, 竖线-左横线
- D. 水平线-下竖线, 水平线-上竖线, 水平线-下竖线, 竖线-左横线, 水平线-下竖线, 竖线-左横线, 水平线-上竖线

(2014-江苏 A-49.) ◎!&~※~&!◎※

- A. !◎&~※~&※◎!
- B. ~◎!&※&!※~◎
- C. ※&!~◎~!&※◎
- D. &!◎※~!※◎&~

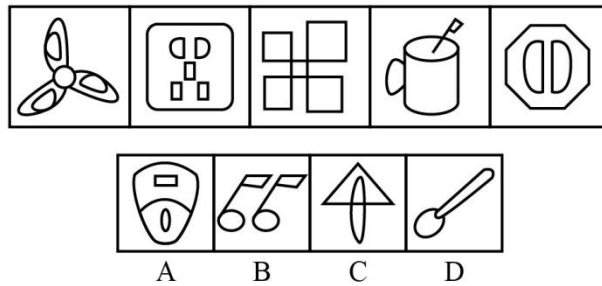
(2014-江苏 A-50.) FOLWSJWFJSJLO

- A. ETMUJJCUEJCM T
- B. KLTMJCTKJCM L
- C. IVXUJWUIJVXW
- D. RHTMUQU MRHQ T

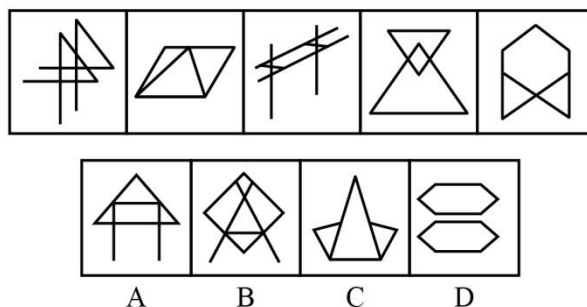
二、图形推理。本部分共 10 题，包括三种类型的题目。

请开始答题：

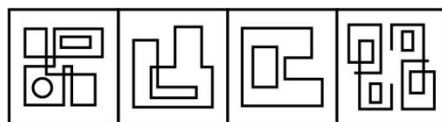
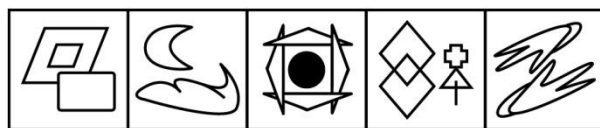
(2014-江苏 A-51.) 上边的题干中给出一套图形，其中有五个图，这五个图呈现一定的规律性。在下边给出一套图形，其中有四个图，从中选出唯一的一项作为保持上边五个图规律性的第六个图。



(2014-江苏 A-52.) 上边的题干中给出一套图形，其中有五个图，这五个图呈现一定的规律性。在下边给出一套图形，其中有四个图，从中选出唯一的一项作为保持上边五个图规律性的第六个图。

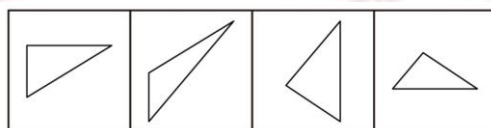


(2014-江苏 A-53.) 上边的题干中给出一套图形, 其中有五个图, 这五个图呈现一定的规律性。在下边给出一套图形, 其中有四个图, 从中选出唯一的一项作为保持上边五个图规律性的第六个图。



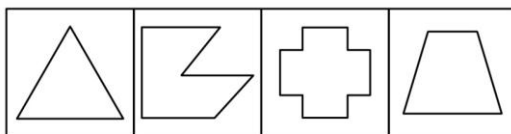
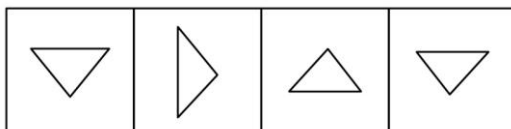
A B C D

(2014-江苏 A-54.) 下边四个图形中, 只有一个是上边的四个图形拼合(只能通过上、下、左、右平移)而成的, 请把它找出来。



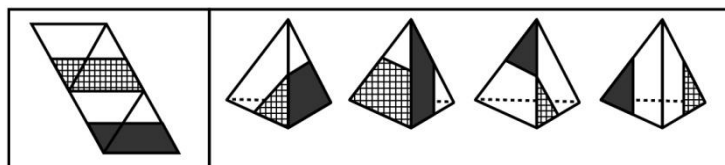
A B C D

(2014-江苏 A-55.) 下边四个图形中, 只有一个是上边的四个图形拼合(只能通过上、下、左、右平移)而成的, 请把它找出来。



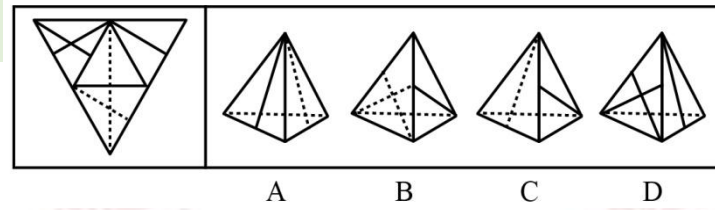
A B C D

(2014-江苏 A-56.) 左边给定的是纸盒外表面的展开图, 右边哪一项能由它折叠而成? 请把它找出来。

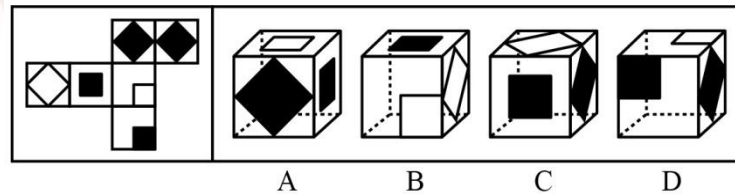


A B C D

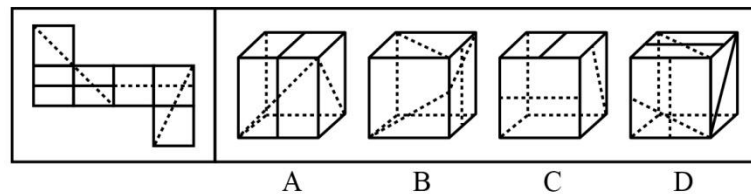
(2014-江苏 A-57.) 左边给定的是纸盒外表面的展开图, 右边哪一项能由它折叠而成? 请把它找出来。



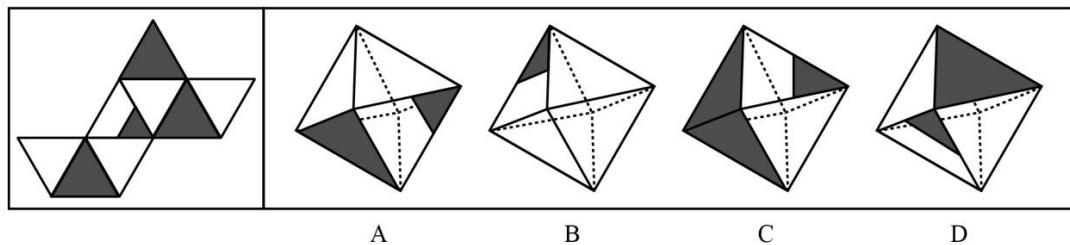
(2014-江苏 A-58.) 左边给定的是纸盒外表面的展开图, 右边哪一项能由它折叠而成?  
请把它找出来。



(2014-江苏 A-59.) 左边给定的是纸盒外表面的展开图, 右边哪一项能由它折叠而成?  
请把它找出来。



(2014-江苏 A-60.) 左边给定的是纸盒外表面的展开图, 右边哪一项能由它折叠而成?  
请把它找出来。



三、逻辑判断。每题给出一段陈述, 这段陈述被假设是正确的、不容置疑的。请你根据这段陈述, 选择一个答案。注意: 正确的答案不需要任何附加说明即可以从陈述中必然推出。

请开始答题:

(2014-江苏 A-61.) 党要管党, 首先是要管好干部, 从严治党, 关键是从严治吏。干部作风存在问题, 就易成为腐败的温床。唯有紧抓干部的清廉从政, 坚决扫除作风之弊、行为之垢, 我们的党才能永葆纯洁, 才能永葆与人民群众的血肉联系。

根据以上信息, 可以得出以下哪项?

- A. 如果从严治吏, 就要从严治党
- B. 如果干部作风没有问题, 腐败就找不到滋生的温床
- C. 如果不紧抓干部的清廉从政, 我们的党就不能永葆与人民群众的血肉联系

D. 如果坚决扫除作风之弊、行为之垢，我们的党就能永葆纯洁

(2014-江苏 A-62.) 快递来了不敢开门，查水表的不让进屋，买肉时总要用手按按看肉里有没有注水，去超市买牛奶面包看不清保质期绝不会轻易埋单……怀疑一切似乎成了当今社会很多人的心理共识，老百姓成了“老不信”，这导致政府、专家及媒体等公信力严重受损。一项权威调查表明，中国社会的总体信任度下降，只有不到一半的被调查者认为社会上大多数人可信。

根据上述调查的结论，可以得出以下哪项？

- A. 社会上多数人认为社会上少数人可信
- B. 社会上少数人认为社会上多数人不可信
- C. 社会上有人不认为社会上少数人可信
- D. 社会上有人不认为社会上多数人可信

(2014-江苏 A-63.) 如果某地公共政策制定是正确的并且执行有力，则不会出现大规模上访。只有相关决策人不关心群众，才会出现大规模上访。某地公共政策制定是正确的，相关决策人也心系群众，深入实际搞调查研究，当地群众对此是满意的。

根据以上信息，**得不出**以下哪项？

- A. 如果某地出现大规模上访，则该地相关决策人不关心群众
- B. 如果某地出现大规模上访，则该地公共政策并非执行有力
- C. 如果某地没有出现大规模上访，则该地公共政策执行有力
- D. 如果某地没有出现大规模上访，则该地公共政策制定正确

(2014-江苏 A-64.) 随处可见的榨菜，在中国经济舞台上正扮演越来越重要的角色。从2007年到2011年，涪陵榨菜在华南地区的市场份额从49%一路跌破30%，与此对应的是珠三角地区劳动密集型企业转移；2012年，在中西部地区务工的农民工数量增长较快。与此同时，该地区涪陵榨菜销售额创造了接近50%的增长。有专家就此指出，榨菜销售量与农民工的流动趋势存在巨大的相关性，政府可根据“榨菜指数”变化情况提前制定政策，从容应对人口骤增后带来的就业、治安、教育、社保等公共服务问题。

以下哪项如果为真，最能支持上述专家的言论？

- A. 榨菜是大众喜爱的食品，四川、重庆人尤其酷爱榨菜，而四川、重庆两地又都是农民工输出地
- B. 榨菜美味可口、价格低廉，购买、携带均很方便，在外地务工的农民工是榨菜的主要消费群体
- C. 据传，国家某权威部门根据“榨菜指数”变化情况将全国分为“人口流入区”和“人口流出区”，但近期该部门对此传闻予以明确否认
- D. 浙江、福建等地生产的榨菜可能与涪陵榨菜的销量情况相似，其销量的区域变化也能体现农民工的流动趋势



(2014-江苏 A-65.) 六朝时的清谈名家刘惔话很多,但他也欣赏不说话的人。他见江权不常开口,非常欢喜,说:“江权不会说话,而能够不说,真叫人佩服。”江权知道自己不善言谈,但他懂得藏拙。不是每个人都知道自己的缺点在什么地方,好为人师夸夸其谈者不计其数。能说话而爱说,情有可原;很多人明明不大会说话,偏偏说个不停,自暴其短,往往令人生厌。因此可以说,江权这样做,其实是一种极难得的聪明。

以下哪项如果为真,最能支持上述结论?

- A. 能言而能不言是一种极难得的聪明
- B. 不能言而能不言是一种自知的聪明
- C. 不能言而言其实是一种浮夸之举
- D. 不能言而不言其实是一种无奈之举

(2014-江苏 A-66.) 一个人只有努力奋斗拼搏,才能获得事业的成功;只有获得事业的成功,才能获得人生的幸福。但是,如果努力奋斗拼搏,就要勇于承受痛苦与艰难。遗憾的是,世上有些人十分畏惧痛苦与艰难,并不愿意承受它们。

根据以上信息,可以推出以下哪项?

- A. 如果勇于承受痛苦与艰难,就能获得事业的成功
- B. 如果勇于承受痛苦与艰难,就能获得人生的幸福
- C. 世上有些人能够获得事业的成功和人生的幸福
- D. 世上有些人不能获得事业的成功和人生的幸福

(2014-江苏 A-67.) 购买彩票时,很多人往往愿意自己选号,不愿交由电脑随机选号。因为他们相信,中奖号码从长远看是随机产生的,但在短期内却有规律,比如前面连续多期出现的数字,这期出现的可能性就要小一些;或者某些数字对于自己意味深长,或者干脆就是自己的幸运数字,选择他们应该更可能中奖。

以下哪项如果为真,最能**质疑**上述这些人的想法?

- A. 很多人研究彩票的中奖规律,但他们的中奖率并没有因此而显著提高
- B. 每一期中奖号码都是独立随机产生的,彼此间没有任何内在的关联
- C. 对于中奖号码的产生究竟有无规律,更多人持“信则有,不信则无”的观念
- D. 电脑选号是随机的,而自己选号有特定的意向,在这一点上人比电脑更聪明

(2014-江苏 A-68.) 在以下  $5 \times 5$  矩阵中,每个小方格中可填入一个汉字,要求每行每列均含有金、木、水、火、土 5 个汉字,不能重复也不能遗漏。

根据已经给定的条件,矩阵中①所在方格中应填入的汉字是:



- A. 某市国土房管局在官方微博上推出系列活动，邀请市民就所关心的问题参与讨论
- B. 某企业建立了网络互动平台，对员工关心的问题进行解答，受到员工的热捧
- C. 某市工商局在社区设立一名指导员，负责开展消费维权知识讲座，帮助解决纠纷
- D. 某大学广播站面向全体师生开通微信群，社会焦点问题成了大家的热门话题

(2014-江苏 A-72.) 禁果心理：指基于对某种禁令的逆反心理而产生的强烈的探求欲望。

下列**不属于**禁果心理的是：

- A. 许多寺院的入口处都有“禁止拍摄”的牌子，仍有少数游客趁工作人员不备偷偷拍摄
- B. 宙斯派侍女潘多拉传递魔盒，特地交代她千万不能打开，潘多拉却经不住诱惑打开了盒子，结果里面的罪恶跑到了人间
- C. 某部书是官方禁书，但很多人不明白为什么要禁，千方百计地找这部书来读，还出现了许多手抄本
- D. 某商场在“双十一”当日推出 20 台特价平板电脑，先到先得，结果出现了数百人抢购的场面

(2014-江苏 A-73.) 换城消费：指由于两个城市之间交通便捷，物价高低不一，市民经常到对方城市购物的消费方式。

下列属于换城消费的是：

- A. 北京市民小汪告诉记者：在北京 6 块钱一斤的红富士苹果，天津 10 元能买 4 斤；北京 80 元一桶的食用油，天津才 65 元
- B. 每次听到珠海有商场搞促销，深圳的李女士都会兴高采烈地赶去血拼，半天时间，家里就满是她的战利品
- C. 赵女士每次从韩国回来，都在机场免税店买一大堆化妆品，这比在国内购买同一韩国品牌省不少钱
- D. 黄先生在南方某市工作了七八年，眼见物价一路狂飙，准备卖掉自家房子，和妻子一块回北方老家养老

(2014-江苏 A-74.) 倒逼：指某些消极因素在特定条件下推动事物朝着积极方向发展的过程。

下列**不属于**倒逼的是：

- A. 网络谣言不断刺激公众神经，某地政府痛下决心，采取一系列措施加大信息公开的力度，逐渐掌握了网络话语主动权
- B. 某地民间非法融资活动屡禁不止，影响极为恶劣，政府有关部门终于再次启动了搁置半年之久的金融改革方案
- C. 针对部分地区小产权房越来越多的现象，有专家撰文指出，小产权房在一定程度上解决了中低收入群体的安居问题。政府正在对这个问题进行调研

D. 1980年，某地农民违规搞集体土地承包，当年粮食产量大幅提高，引起高层高度重视，催生了土地使用制度的全面改革

(2014-江苏 A-75.) 协议制决策：指具有同等权限的单位或部门就共同面临的问题，通过协商作出决定的决策方法。

下列属于协议制决策的是：

- A. 某林业局提出的项目申请，经过上级主管部门领导签字后，已正式立项
- B. 在厅办公会上，经过协商、讨论，大家一致通过了某下属部门提交的方案
- C. 某县环保局、城管局和卫生局多次会商环境问题，就环保局的方案讨论后形成了决议
- D. 某科室购买办公用品的方案经正副主任签字同意后交由秘书小赵办理

(2014-江苏 A-76.) 隐性歧视：指存在于人的思想中、未公开显现出来的对特定群体的歧视性认识。

下列属于隐性歧视的是：

- A. 戴着墨镜进居民小区的中年男子更容易被保安拦住盘问
- B. 满脸大胡子、装束怪异的人往往被看成艺术家
- C. 西装笔挺、皮鞋锃亮的人常常被认为是成功人士
- D. 打扮成失学少年的乞丐往往能讨到更多的钱

(2014-江苏 A-77.) 财务自由：指不需要为钱而努力工作的收入状态，一般需要满足两方面条件：保持财产性收入的现金流入；保有一定量的净资产。

下列属于财务自由的是：

- A. 李先生拥有总价三百多万的两套房产，每月的租金正好抵平银行按揭，家庭日常开支由自己的薪水维持
- B. 某公司老总张先生准备负债经营、扩大公司的生产规模，已经用自家房产向银行申请了抵押贷款
- C. 刘先生辞去工作后，长年在国内各地旅游，饱览名胜古迹，用自己的银行存款利息轻松地支付了一切开销
- D. 股迷王先生把自家两百多万现金全部用于炒股，随时关注股票走势，每一个涨停板、跌停板从不放过

(2014-江苏 A-78.) 二次留守：指农村留守儿童被父母接到城市后，由于父母每天忙于工作，孩子周围都是陌生人，没有朋友和玩伴。

下列属于二次留守的是：

- A. 某城市农民工公寓聚居着大量外来工友，很多人都把孩子接到城里过暑假，天天有操各地口音的小孩在附近的小卖部、广场上一起玩耍
- B. 在某新区街道菜场里，被父母接进城的小英每天帮着卖菜的奶奶收钱，没有客人的

时候，她就蹲在地上翻看连环画

C. 暑假期间，某教育部门组织大批留守儿童进城参加夏令营活动，有的孩子还能与久别重逢的父母短暂相聚，由父母带他们游玩城市景点

D. 进城打工的小陈夫妇把智障儿子小明带到身边，民政部门得知后把他安排到残疾人康复中心，小陈夫妇每周只能见小明一次

(2014-江苏 A-79.) 防御型公共关系：指组织与外部环境发生协调困难，与公众的关系出现摩擦苗头时，及时调整组织结构、产品、方针政策或经营方式等，以适应环境变动和公众要求而开展的关系活动。

下列属于防御型公共关系的是：

A. 某公司的高层成员多次深入每一个拆迁家庭，进行真诚、细致的沟通，顺利完成了拆迁工作

B. 某公司针对其副总不当言论造成的不良影响，及时通过媒体公开道歉，取得了公众的谅解

C. 某上市公司通过相关媒体定期发布公司的生产和财务等信息，员工对这种透明做法非常满意

D. 某蛋糕生产企业接到个别客户的投诉电话后，及时召回 2 个批次生产的 100 多公斤蛋糕

(2014-江苏 A-80.)  $\pi$  型人才：指至少拥有两种专业技能，并能将多门知识融会贯通的复合型人才。 $\pi$  下面的两竖指两种专业技能，上面的一横指多门知识的融会贯通。

下列属于  $\pi$  型人才的是：

A. 庄先生拥有理学、管理学两个博士学位，现在是一家高新技术企业的老总，个人拥有多项专利，业余时间喜欢自行车运动

B. 张女士是一位远近闻名的理发师，每天为 20 多位顾客理发，一天下来尽管十分疲惫，回家后还要陪着女儿弹钢琴

C. 曹先生是服装界达人，对各类服装的款式、面料、做工、产地及市场行情了如指掌，他几次进军餐饮业都铩羽而归

D. 老赵是某酒店的大厨，川菜、粤菜、淮扬菜样样拿手，平时还苦练书法，歌唱的也好，是朋友圈里有名的麦霸

※※※第三部分结束，请继续做第四部分！※※※

# 四川

## 【2015-四川-判断】

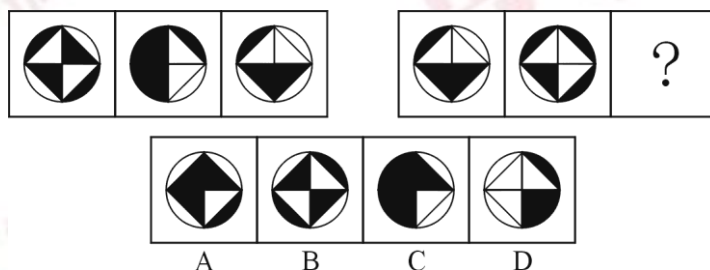
### 第四部分 判断推理

(共 30 题, 参考时限 30 分钟)

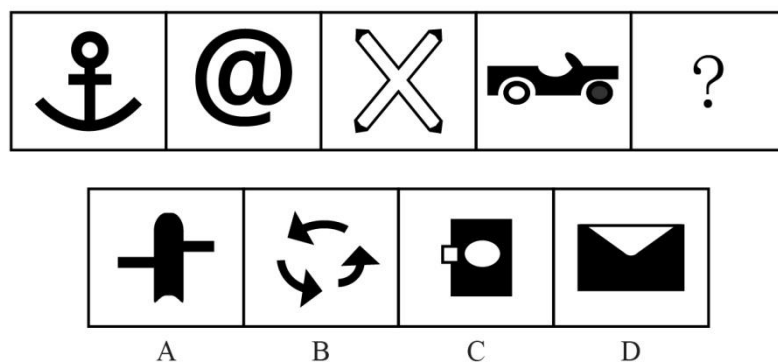
一、图形推理。请按每道题的答题要求作答。

请开始答题:

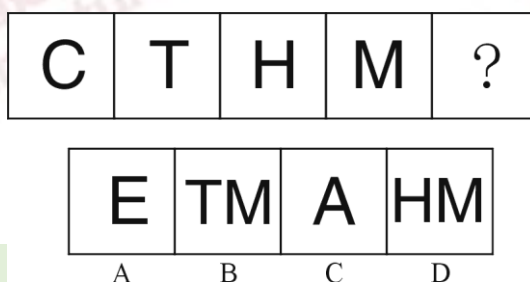
(2015-四川-56.) 从所给四个选项中, 选择最合适的一个填入问号处, 使之呈现一定规律性:



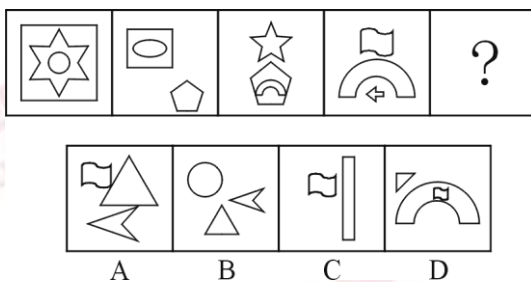
(2015-四川-57.) 从所给四个选项中, 选择最合适的一个填入问号处, 使之呈现一定规律性:



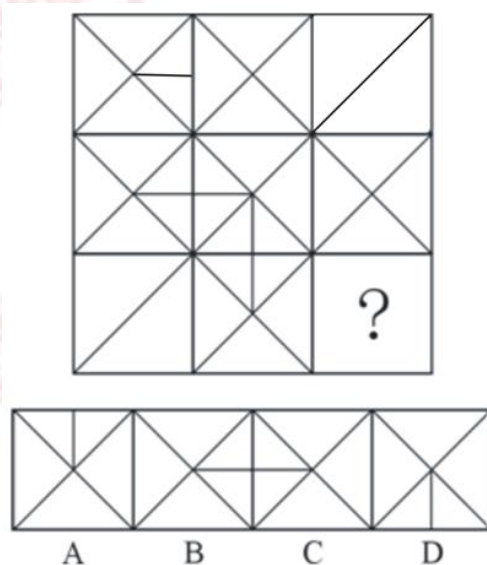
(2015-四川-58.) 从所给四个选项中, 选择最合适的一个填入问号处, 使之呈现一定规律性:




(2015-四川-59.) 从所给四个选项中, 选择最合适的一个填入问号处, 使之呈现一定规律性:



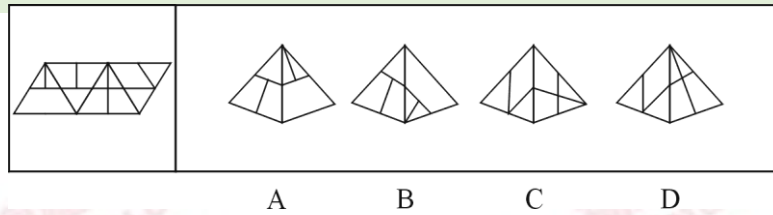
(2015-四川-60.) 从所给四个选项中, 选择最合适的一个填入问号处, 使整个大图形呈现一定规律性:



(2015-四川-61.) 从所给四个选项中, 选择最合适的一个填入问号处, 使整个大图形呈现一定规律性:



(2015-四川-62.) 左边给定的是纸盒的外表面, 下列哪一项能由它折叠而成?



二、定义判断。每道题先给出定义, 然后列出四种情况, 要求你严格依据定义, 从中选出一个最符合或最不符合该定义的答案。注意: 假设这个定义是正确的, 不容置疑的。

请开始答题:

(2015-四川-63.) 德商是指一个人的人格和道德品质, 其内容包括体贴、尊重、容忍、宽容、诚实、负责、平和、忠心、礼貌、幽默等各种美德。

根据上述定义, 下列属于德商的是:

- A. 小徐善于把握机会, 具有非凡胆略和魄力
- B. 小史喜欢挑战新鲜事物, 对世界和他人充满探索欲望
- C. 小陈对环境的适应能力很强, 在恶劣的环境下也能生存
- D. 小吴能理解本人的疾苦, 考虑别人的感受, 关心别人的生活

(2015-四川-64.) 社会壁垒是指在国际贸易中一国以其他国家劳动者的劳动环境和生存权利为借口而采取的贸易保护措施。

根据上述定义, 下列属于社会壁垒的是:

- A. 甲国认为乙国制衣业雇佣童工现象严重, 因而取消了该国的贸易订单
- B. 甲国在从乙国进口的奶粉中发现某种重金属含量超标, 即终止了该项贸易
- C. 甲国受经济危机影响, 国内工人大批失业, 为给工人创造就业机会, 甲国政府终止了与多国的进口贸易
- D. 甲国认为乙国汽车制造业的从业人员素质较低, 会对汽车的安全性产生影响, 因而取消了从乙国进口汽车的订单

(2015-四川-65.) 创伤后压力反应是指人在遭遇或对抗重大压力后, 其心理状态产生失调后遗症, 但这个现象是经历创伤后所产生的合理结果, 而非患者心理状态原本就有问题。

根据上述定义, 下列**不属于**创伤后压力反应的是:

- A. 小王连续面试失败后经常失眠, 变得易怒、过度警觉、失忆和易受惊吓
- B. 一位二战老兵晚景凄凉, 妻离子散, 不久前又诊断出患有危及生命的重病
- C. 小吴在地震中死里逃生后, 一听到楼板响就高度紧张, 担心掉下来砸了自己
- D. 在中东国家, 饱受战争之苦的人一谈到四处盘旋的轰炸机就吓得想四处躲藏

(2015-四川-66.) 法定孳息是指依一定的法律关系由原物所生的物, 是原物的所有权人



进行租赁、投资等特定的民事法律活动而应当获得的合法收益。

根据上述定义，下列属于法定孳息的是：

- A. 甲投资国债获得的分红
- B. 某农民承包的果园产出的水果
- C. 宠物商店的纯种狗配种生出的小狗
- D. 甲借给乙的钱，乙购买彩票中了 10 万元大奖

(2015-四川-67.) 共情是指能设身处地地体验他人的处境，对他人情绪情感具备感受力或理解力。

根据上述定义，下列属于共情的是：

- A. 己所不欲，勿施于人
- B. 先天下之忧而忧，后天下之乐而乐
- C. 纸上得来终觉浅，绝知此事要躬行
- D. 老吾老以及人之老，幼吾幼以及人之幼

(2015-四川-68.) 生态工艺指的是把大自然的法则应用于社会物质生产，模拟生物圈物质运动过程，设计无废料的生产，以闭路循环的形式，实现资源充分合理的利用，使生产过程保持生态学上的洁净。

根据上述定义，下列符合生态工艺的生产模式是：

- A. 物质-产品-消费-残留物
- B. 原料-产品-剩余物-加工-产品
- C. 自然环境-房地产开发-旅游经济-消费
- D. 原料-生产-剩余物-废弃物-回收掩埋

(2015-四川-69.) 归因是指人们对他人或自己行为原因的推论过程，归因偏差是指由于主观上的原因而造成的归因偏向和差别，是不当归因的主要形成原因。

下列行为存在归因偏差的是：

- A. 陈某因为一件琐事和邻居王某产生矛盾，从此不再与其来往
- B. 李某在自己工作不顺利时，总是感叹“谋事在人，成事在天”
- C. 老师帮助张某分析成绩下降的原因，说他对学习的专注度不如以前了
- D. 高某竞争部门经理失败后，主动分析对手成败的原因，改进自己的不足

(2015-四川-70.) 自然环境效应是以地能和太阳能为主要动力来源，环境中的物质相互作用所产生的环境效果；人为环境效应则是由于人类活动而引起的环境质量变化和生态变异的效果。

根据上述定义，下列属于自然环境效应的是：

- ①云南昆明日照时间长，花木长得特别好，花期也长
- ②酸雨造成地面的水体和土壤的酸度增大，使农业和渔业减产

③某区实行退耕还林多年，泥石流比过去少了，庄稼也比过去长得更好

④地震使山体松动，一遇大雨，就易发生泥石流

⑤村民祖祖辈辈生活在大山里，靠打猎为生，致使山里的动物逐渐减少

- A. ①④
- B. ①②③
- C. ②③⑤
- D. ①②③④

(2015-四川-71.) 前馈控制是指通过观察情况、整理信息、掌握规律、预测趋势，正确预计未来可能出现的问题，提前采取措施，将可能发生的偏差消除在萌芽状态。

根据上述定义，下列属于前馈控制的是：

- A. 股票投资者根据往年的股市行情预测今年股票投资可能存在的风险
- B. 某企业根据企业的规模、核心竞争力和发展规划制定企业战略
- C. 某电子商务网站为应对可能出现的市场变化制定了多个方案
- D. 某工厂因为原材料和燃料等物资价格上涨调整了生产模式

(2015-四川-72.) 网络中立是指在法律允许范围内，所有互联网用户都可以按自己的选择访问网络内容、运行应用程序、接入设备、选择服务提供商。这一原则要求网络运营商平等对待所有互联网内容和访问，防止其从商业利益出发控制传输数据的优先级，保证网络数据传输的“中立性”。

根据上述定义，下列哪项**违反**了网络中立原则？

- A. 某邮箱与网络运营商有合约，故网络拥挤时使用该邮箱更快
- B. 某网络运营商采取技术手段，屏蔽了带有欺诈性质的网站
- C. 某网站的某些图片只有注册用户才有权浏览
- D. 某网络运营商向入网用户收取宽带使用费

三、类比推理。每道题先给出一组相关的词，要求你在备选答案中找出一组与之在逻辑关系上最为贴近、相似或匹配的词。

请开始答题：

(2015-四川-73.) 豺狼：凶残

- A. 喜鹊：报喜
- B. 小鸟：依人
- C. 蜜蜂：勤劳
- D. 梅花：坚强

(2015-四川-74.) 火药：烟花

- A. 汽油：汽车
- B. 金属：指南针
- C. 无线电：手机
- D. 玻璃：放大镜

(2015-四川-75.) 葡萄：酒

- A. 大米：年糕
- B. 铁观音：茶
- C. 椰子：糖
- D. 大豆：酱油

(2015-四川-76.) 石料：刻刀：石雕

- A. 石墨：钻石：首饰
- B. 电源：电灯：光线
- C. 木材：锯子：家具
- D. 石灰石：熔炉：玻璃

(2015-四川-77.) 拍卖会：拍卖师：艺术品

- A. 果园：农民：水果
- B. 奥运会：运动员：跑道
- C. 商场：售货员：商品
- D. 山峰：登山者：帐篷

四、逻辑判断。每道题给出一段陈述，这段陈述被假设是正确的，不容置疑的。要求你根据这段陈述，选择一个答案。注意：正确的答案应与所给的陈述相符合，不需要任何附加说明即可以从陈述中直接推出。

请开始答题：

(2015-四川-78.) 瑜伽教练都不住在华兴园小区，但是华兴园小区的有些住户是太极拳教练，瑜伽教练大多住在花园路小区。

由此可以推出：

- A. 有些太极拳教练是瑜伽教练
- B. 花园路小区在华兴园小区内
- C. 有些太极拳教练不是瑜伽教练
- D. 住在花园路小区的大多是瑜伽教练

(2015-四川-79.) 婚姻的维系离不开夫妻双方彼此信任，信任是保持稳定亲密关系的基础。但仅仅信任是不够的，还需要有共同的兴趣爱好，两个人能一起打发时间，体会生活的乐趣。因此，信任和共同兴趣爱好是婚姻稳定的必要因素。

根据上述文字，可以得出：

- A. 彼此信任并且有共同兴趣爱好的夫妻一定能长久
- B. 仅仅有共同兴趣爱好的婚姻关系肯定是不稳定的
- C. 幸福长久的婚姻关系意味着双方大多拥有共同兴趣爱好
- D. 建立在信任和共同兴趣爱好基础上的关系是最理想的婚姻关系

(2015-四川-80.) 脸部肌肉直接和大脑的情绪控制区相连，所以面部表情是心情的窗口。通过近距离观察面部表情、肢体语言和说话声调，任何人都可以识别出说谎者的谎言痕迹。

以下哪项如果为真，能够**质疑**上述观点？

- A. 即便最高科技的谎言识别器都无法识破所有谎言

- B. 极少数的人能够下意识地控制他们的整个面部表情
- C. 真实的情绪和不真实的情绪通过不同的方式进入大脑
- D. 如果有人说他很伤心，但他的眉毛内侧没有上拉，那么他的悲伤很可能是假的

(2015-四川-81.) 近年来，我国电子垃圾产生量增长迅猛。电子垃圾问题若得不到妥善解决，建设生态文明的目标就无法实现。因此，必须多管齐下，综合治理。除了建立生产者责任延伸制度和加大打击电子垃圾进口走私力度外，还要大力促进电子垃圾拆解处理领域的技术创新。如果这样，那么电子垃圾就不再会是令人头痛的污染源，而能成为填补短缺的“新矿山”。

由此可以推出：

- A. 只有妥善解决电子垃圾问题，才能实现建设生态文明的目标
- B. 如果能够实现电子垃圾拆解处理领域的技术创新，就能彻底解决电子垃圾问题
- C. 如果建立生产者责任延伸制度，它们就能从设计开始尽量降低电子垃圾产生量
- D. 如果电子垃圾仍是令人头痛的污染源，那么一定是打击电子垃圾进口走私力度不够

(2015-四川-82.) 美国一项最新研究发现，肥胖具有“社会传染性”，它很容易从一个人传染到另一个人身上，社会纽带在肥胖问题上的影响甚至超过基因的作用。研究人员认为，这主要是由于身体肥胖的亲人和朋友改变了你对于体重可接受的标准，你会认为他们的体重可以接受。

以下哪项如果为真，最能**质疑**研究人员的解释？

- A. 肥胖的人更倾向与肥胖的人交朋友
- B. 基因对人的肥胖程度的影响其实是不确定的
- C. 一个人的饮食习惯往往会受到家人和朋友的影响
- D. 很多人由于现代社会压力大、暴饮暴食等原因导致肥胖

(2015-四川-83.) 某村突发山洪泥石流灾害后，有一批帐篷捐助给受灾群众，但捐助者没有留下姓名就悄然离去。事后，村民经过多方了解，得知以下事实：

- (1) 这批帐篷是由一辆大卡车运来的；
- (2) 如果张华不参加这项捐助活动，王刚也不会参加；
- (3) 李伟不会开大卡车；
- (4) 捐助者在上述 3 人之中，没有雇佣他人。

由此可以推出：

- A. 3 人都是捐助者
- B. 王刚一定是捐助者
- C. 李伟一定是捐助者
- D. 张华一定是捐助者

(2015-四川-84.) 一项研究发现，一对同是右撇子的夫妻生出左撇子孩子的几率只有

9.5%左右。如果父母中有一方是左撇子，那么孩子是左撇子的几率上升到 19.5%。如果父母双方都是左撇子，那么孩子是左撇子的几率则为 26%。因此研究者认为左右手的使用习惯受遗传影响。

以下哪项如果为真，能够**削弱**上述观点？

- A. 一项针对双胞胎的研究发现，双胞胎中有 50% 是一个左撇子一个右撇子
- B. 观察发现，孩子一旦形成使用左手或右手的习惯就很难再改变
- C. 对大多数动物来说，对某侧肢体的使用习惯似乎是随机的
- D. 不同的左右手使用习惯很可能为不同的人带来不同的天赋

(2015-四川-85.) 某国际组织针对多边协定发布研究指出，多边协定通过减少国际贸易的繁文缛节将显著降低贸易成本。其中，发达国家的贸易成本降低 10%，发展中国家的贸易成本将降低 13%~15.5%。而全球贸易成本每降低 1%，将为全球经济带来超过 40 亿美元的收入。该组织分析认为，多边协定的签署将极大地促进全球经济的发展。

以下哪项如果为真，最能**质疑**该组织的分析结果？

- A. 协定签署后，全球贸易量在近期没有发生明显变化
- B. 所签署的多边协定，并未在大多数国家中得到实施
- C. 从发达国家和发展中国家的贸易成本无法得知全球的贸易成本
- D. 发展中国家和发达国家贸易成本降低的比例不一致，将影响全球贸易成本的降低

**※※※第四部分结束，请继续做第五部分！※※※**

## **【【2014-四川-判断】】**

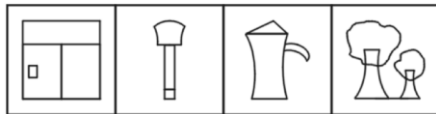
### **第四部分 判断推理**

(共 35 题，参考时限 40 分钟)

一、图形推理。请按每道题的答题要求作答。

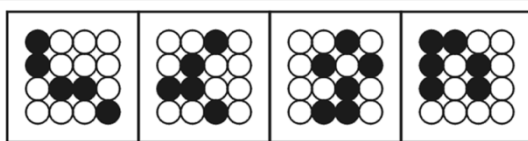
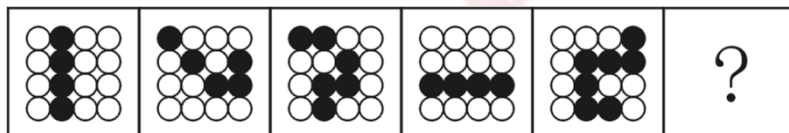
请开始答题：

(2014-四川-66.) 从所给四个选项中，选择最合适的一个填入问号处，使之呈现一定规律性：



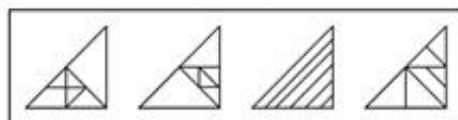
A B C D

(2014-四川-67.) 从所给四个选项中, 选择最合适的一个填入问号处, 使之呈现一定规律性:





A B C D

(2014-四川-68.) 从所给四个选项中, 选择最合适的一个填入问号处, 使之呈现一定规律性:



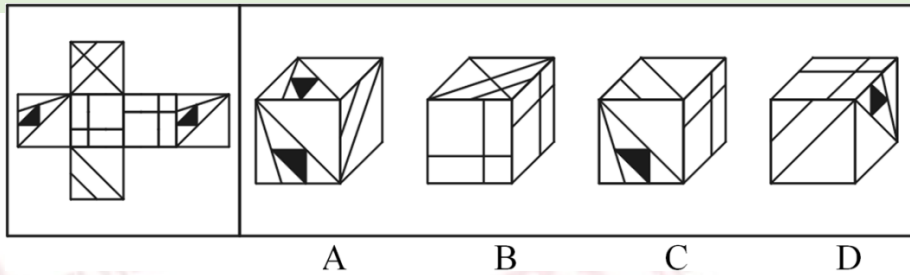
A B C D

(2014-四川-69.) 从所给四个选项中, 选择最合适的一个填入问号处, 使之呈现一定规律性:



A B C D

(2014-四川-70.) 左边给定的是纸盒的外表面, 下面哪一项能由它折叠而成?



二、定义判断。每道题先给出定义, 然后列出四种情况, 要求你严格依据定义, 从中选出一个最符合或最不符合该定义的答案。注意: 假设这个定义是正确的, 不容置疑的。

请开始答题:

(2014-四川-71.) 试图控制他人对自己印象的形成过程被称为印象管理。

根据上述定义, 下列行为**不属于**印象管理的是:

- A. 在面试时, 考生小李有意附和主考官的言论
- B. 小赵上课迟到了, 向老师道歉, 解释迟到原因
- C. 小周年龄不大就秃顶了, 他每次见客户都戴上帽子
- D. 老孙在工作中兢兢业业, 勤勤恳恳, 吃苦在前, 享受在后

(2014-四川-72.) 行政法律关系根据行政权力的作用范围不同分为外部行政法律关系和内部行政法律关系。行政机关与公民、法人和其他组织之间作为管理和被管理关系的是外部行政法律关系; 双方当事人作为上下级的从属关系是内部行政法律关系。

根据上述定义, 下列行为属于内部行政法律关系的是:

- A. 某企业到税务局纳税
- B. 某大学对违纪学生进行处罚
- C. 某卫生局检查所辖范围内的餐饮企业
- D. 某省公安厅表彰省交警大队的“英模干警”

(2014-四川-73.) 语言规划是指政府或社会团体对语言文字及其使用进行的有组织、有目的、有计划的人工干预与管理, 主要包括语言地位规划、语言本体规划。

根据上述定义, 下列**不属于**语言规划的是:

- A. 立法推广普通话
- B. 制订简化字总表
- C. 国家语委规范网络用语
- D. 大学发展语言教育产业

(2014-四川-74.) 社会支持系统通常是指来自社会各方面包括父母、亲戚、朋友等给予个体的精神或物质上的帮助和支持的系统, 它的目标是使个体重新恢复到和谐的心理状态和

优良的生活中。

根据上述定义，下列**不属于**社会支持系统的是：

- A. 小陈高考失败，父母对其进行安慰
- B. 张某因为失恋，心情不好，找朋友倾诉
- C. 小赵心情不好时，就听自己偶像的歌曲缓解情绪
- D. 平时工作压力很大，李某就经常和同事出去唱歌吃饭

(2014-四川-75.)私德是指人们在不直接涉及对社会整体的义务和责任的私人生活和私人交往中应当遵循的道德准则，主要包括个人生活习惯、行为风度、性格特点以及处理爱情、婚姻、家庭问题的道德等。

根据上述定义，下列**不属于**私德的是：

- A. 王某是个公务员，他和邻居相处得很好
- B. 刘某个性张扬，喜欢穿戴各种新潮服饰
- C. 张某遵纪守法，从没干过违法犯罪的事情
- D. 李某很勤快，家里所有家务活都是他做的

(2014-四川-76.)习得性无助是指将多次失败无条件地归因于自身因素的个体，会习得一种自我失控感，认为自己的一切努力都是无效的，因此会放弃努力，被动屈从，变得淡漠而毫无激情。

根据上述定义，下列**不属于**习得性无助的是：

- A. 小红因弹钢琴出错屡遭母亲训斥，她认为自己没有音乐天分，不再愿意练习钢琴了
- B. 小张大学所学的专业相对冷门，在多次求职无果后，他便不再对外出工作抱有热情
- C. 小王工作中粗心大意，常出现失误，被领导批评几次后工作细致了许多，近期再没被领导批评过
- D. 小李曾交往过好几个女朋友，但都以分手告终，于是他认为自己没有魅力，再也不敢和女孩交往了

(2014-四川-77.)定金是指根据约定一方向对方给付一定数额的金钱作为债权担保的担保方式。债务人履行债务后，定金应当抵作价款或者收回。给付定金的一方不履行约定的债务的，无权要求返还定金；收受定金的一方不履行约定的债务的，应当双倍返还定金。

根据上述定义，下列属于定金的是：

- A. 小张订婚时按照双方的商定送给女方 5 万元的礼金
- B. 由于车源紧张，小陈在买车时为了能立即提车而同意向 4S 店多支付 1 万元
- C. 某公司为了确保员工在下一年继续在该公司上班，扣留部分工资至第二年发放
- D. 小李在看中某套二手房后向房东支付了 2 万元，双方约定，在一周内房东将此房出售给小李

(2014-四川-78.)对比效应是一种社会知觉偏见，指评价一个人或一件事时，受到最近



接触到的其他人或事的影响，导致对这个人或这件事的评价发生歪曲，作出不客观的评价。

根据上述定义，下列属于对比效应的是：

- A. 实验表明，模拟审判团对形象差的被告判的刑期更长
- B. 和很多人一样，老王也认为理想的家庭应该是“男主外，女主内”
- C. 小李认为自己能进入某知名外企工作是由于自身优秀，而小罗只是运气好
- D. 面试时如果前一个考生表现平平，考官往往会给其后面的考生偏高的分数

(2014-四川-79.) 公共产品也被称为“公共物品”，系指一种非排他性的物品或服务。根据上述定义，下列属于公共产品的是：

- A. 社区治安
- B. 经济适用房
- C. 高速公路
- D. 牧民草地

(2014-四川-80.) 正强化，又叫积极强化，是采用鼓励的方法来肯定某种行为，使个体感到有利，从而愿意保持自己的积极行为。

根据上述定义，下列属于正强化的是：

- A. 甲上课发言受到老师公开表扬，他后来发言的次数明显增多了
- B. 乙有一次上班迟到碰到领导，他以后再也不敢迟到了
- C. 丙的办公室失窃了，从此他每次离开办公室都要检查门窗
- D. 丁发现在英语角没有人嘲笑他的口语发音，他以后就经常去英语角

三、类比推理。每道题先给出一组相关的词，要求你在备选答案中找出一组与之在逻辑关系上最为贴近、相似或匹配的词。

请开始答题：

(2014-四川-81.) 国会：议员

- A. 论坛：网民
- B. 监狱：犯人
- C. 法院：法官
- D. 企业：工会

(2014-四川-82.) 树木：煤炭

- A. 汽油：石油
- B. 象牙：大象
- C. 树脂：琥珀
- D. 太阳：能源

(2014-四川-83.) 电：手机

- A. 风：风车
- B. 螺旋桨：直升机
- C. 水：船
- D. 光：植物

(2014-四川-84.) 唐诗：七律

- A. 曲艺：越剧
- B. 瓷器：茶杯
- C. 哺乳动物：老虎
- D. 自行车：汽车

(2014-四川-85.) 家用电器：洗衣机

- A. 游戏厅：游戏机
- B. 台式电脑：笔记本
- C. 北京大学：中文系
- D. 交通工具：大巴车

(2014-四川-86.) 见异思迁：忠贞不二

- A. 汗马功劳：汗牛充栋
- B. 刚愎自用：刚正不阿
- C. 一饭千金：忘恩负义
- D. 厝火积薪：扬汤止沸

(2014-四川-87.) 邀请：拒绝：接受

- A. 问候：咒骂：感谢
- B. 道歉：真诚：虚伪
- C. 威胁：妥协：报警
- D. 建议：反对：接纳

(2014-四川-88.) 白丁：布衣：百姓

- A. 冠军：亚军：季军
- B. 须眉：手足：男子
- C. 总角：垂髫：小孩
- D. 学士：硕士：博士

(2014-四川-89.) 士兵：军队：保卫

- A. 鲜花：花园：休闲
- B. 衣服：商场：消费
- C. 教室：学校：研究
- D. 建筑：城市：旅游

(2014-四川-90.) ( ) 对于教师相当于 ( ) 对于树木

- A 学生；小鸟
- B 校长；小草
- C 医生；鲜花
- D 学校；森林

四、逻辑判断。每道题给出一段陈述，这段陈述被假设是正确的，不容置疑的。要求你根据这段陈述，选择一个答案。注意：正确的答案应与所给的陈述相符合，不需要任何附加说明即可以从陈述中直接推出。

请开始答题：

(2014-四川-91.) 老王对老李说：“除非你在今天之内按照合同要求支付货款，否则我们法庭上见。”

以下哪项判断的含义与上述判断**不同**？

- A. 只有老李今天按照合同的要求支付货款，老王才不会将他告上法庭
- B. 如果老李今天按照合同的要求支付货款，那么老王不会将他告上法庭
- C. 如果老李今天不按照合同的要求支付货款，那么老王就会将他告上法庭
- D. 如果老王没有将老李告上法庭，那么老李在今天按照合同的要求支付货款

(2014-四川-92.) 某所高中调查学生参加社团的情况，发现在象棋社社员中，只要是高二(3)班学生，则其一定也是校篮球队的队员。

由此可以推出：

- A. 甲是象棋社社员，且甲是篮球队员，则甲是高二（3）班学生
- B. 乙是高二（3）班学生，且乙是篮球队员，则乙是象棋社社员
- C. 丙是象棋社社员，且丙不是篮球队员，则丙不是高二（3）班学生
- D. 丁不是象棋社社员，且丁也不是篮球队员，则丁不是高二（3）班学生

（2014-四川-93.）某些公务员是行政管理专业的。因此，某些行政管理专业的人做管理工作。

上述推理如果成立，必须补充以下哪项作为前提？

- A. 所有公务员都做管理工作
- B. 某些公务员不是做管理工作的
- C. 某些行政管理专业的人不是公务员
- D. 所有行政管理专业的人都是公务员

（2014-四川-94.）研究人员对年龄在 40 岁至 70 岁的 990 人的电话采访和实验室化验结果进行分析发现：乐观者“坏”胆固醇（即低密度脂蛋白）高的可能性较低，而“好”胆固醇（即高密度脂蛋白）较高，这对心脏有保护作用，有助于抵消“坏”胆固醇。因此，研究认为这是心理健康与身体健康息息相关的又一证据，乐观的性情可能对人体健康有一些实实在在的好处。

以下哪项如果为真，最能支持上述研究结论？

- A. 目前该研究尚未发现乐观程度和总的胆固醇水平之间产生联系的原因
- B. 乐观者的生活方式更为健康，这使得他们血液中的脂类与其他人群有差别
- C. 被采访的乐观者中有大量运动爱好者，经常锻炼能使其患心脏病的风险降低
- D. 实验中，乐观程度得分每增加 5 分，每 100 毫升血液中的高密度脂蛋白就增加 1 毫克，这意味着罹患心脏病的风险降低 3%

（2014-四川-95.）全球变暖在大多数人看来已经是一个不争的事实，但某气候变化研究机构却发表数据称，从 1997 年年初至 2012 年 8 月，全球总体气温变化仅为 0℃。该机构据此认为，全球变暖趋势已经中止。

以下哪项如果为真，**不能质疑**该研究机构的结论？

- A. 气候观察所选择的时间起点和终点十分关键，否则会扭曲研究结论
- B. 对研究全球气候变化而言，十几年的数据只是一个短期数据，并不能说明问题
- C. 最新研究结果显示，相比于人类活动，全球气候变化更多受地球自身运动的影响
- D. 目前全球气温记录所依赖的电脑模型存在缺陷，真实的气候变化远比其反映的要复杂

（2014-四川-96.）调查显示，选择多种方式投资的人往往比只从事本职工作的人更富有。因此，选择多种方式投资有助于人们获得财富。

下列哪项如果为真，最能**反驳**上述观点？

- A. 能进行多种方式投资的人的学历普遍较高
- B. 选择多种方式投资的风险比只从事本职工作大
- C. 人们只有拥有一定财富后才会选择多种方式投资
- D. 有些只从事本职工作的人比选择多种方式投资的人更富有

(2014-四川-97.) 今天的美国人比 1965 年的美国人运动量减少了 32%，预计到 2030 年将减少 46%；在中国，与 1991 年相比，人们运动量减少 45%，预计到 2030 年将减少 51%。缺少运动已经成为一个全球性问题。

以下哪项如果为真，最能支持上述观点？

- A. 其他国家人们的运动量情况和中国、美国大致相同
- B. 人们保持健康的方式日益多样化，已不仅局限于运动
- C. 中国和美国都是运动量缺乏这一问题较为严重的国家
- D. 在运动量方面，中国和美国分别是亚洲和美洲最有代表性的国家

(2014-四川-98.) 近年来，猫成为 A 国野生动物的最大威胁，这些猫（包括宠物猫和流浪猫、野猫、农场猫等无主猫）每年捕杀动物的数量达上百亿。有动物慈善机构建议可以给猫佩戴有铃铛的项圈。戴有项圈的猫比其他猫的捕杀成功率至少降低三分之一，捕杀数量将因此而大幅减少。

以下哪项如果为真，最能对该建议形成**质疑**？

- A. 猫进行捕杀时，并不会顾及铃铛的响声
- B. 这一举措将导致猫食物链的断裂，可能导致该国猫的大量死亡
- C. 有数据显示，近年来死于车辆碾压、中毒的野生动物数量在急剧上升
- D. 给“无主猫”戴上项圈难度很大，而绝大部分动物由“无主猫”捕杀

(2014-四川-99.) 心理学家德威克用 10 年时间对 400 名五年级小学生进行实验，发现被夸聪明的孩子更容易放弃、缺乏自信、不敢冒险。后来她在重复实验时把不同社会阶层都纳入了自己的实验，都发现了相同的结果，不论男女，连学龄前的孩子也未能幸免被表扬后带来的负面效应。

以下哪项如果为真，最能支持上述研究结论？

- A. 表扬并不一定都具有积极作用，效果因表扬的具体内容和形式而有天壤之别
- B. 一份关于表扬的综合调查结果显示，被表扬的学生变得更倾向于规避风险和缺乏独立精神
- C. 一项对积极表扬组和无表扬组的学生的学习成绩对比研究显示，他们的学习成绩差异不显著
- D. 研究发现，表扬对最聪明的女孩影响最大，她们大部分在一项“失败反应”的测试中都崩溃了

(2014-四川-100.) “万夫一力，天下无敌”说的就是团结。团结出凝聚力，出生产力，

出战斗力，团结可以战胜艰难险阻，创造人间奇迹。一个组织的成员只有团结一致，这个组织才能高效率的运作；一个组织的成员如果能团结一致，也就一定能产生超出各个体之和的整体效益。

由此可以推出：

- A. 只有团结一致，才能战胜各种艰难险阻
- B. 一个高效率运作的组织其成员之间一定是团结一致的
- C. 一个组织的成员若不团结一致，就会相互内耗，影响整体效益
- D. 一个组织只有高效率的运作，才能产生超出各个体之和的整体效益

※※※第四部分结束，请继续做第五部分！※※※

浙江

【【2014-浙江-判断】】

### 第三部分 判断推理

(共 35 题，参考时限 35 分钟)

一、类比推理：共 10 题。每道题先给出一组相关的词，要求在备选答案中找出一组与之在逻辑关系上最贴近、相似或匹配的词。

请开始答题：

(2014-浙江-61.) 雨：雪

- A. 热水瓶：盘子
- B. 加热器：电容器
- C. 音响：显示器
- D. 电视机：游戏机

(2014-浙江-62.) 中国：熊猫

- A. 美国：白头鹰
- B. 南非：企鹅
- C. 澳大利亚：考拉
- D. 英国：狮子

(2014-浙江-63.) 未雨绸缪：临阵磨枪

- A. 曲高和寡：阳春白雪
- B. 忠贞不渝：朝三暮四
- C. 瑕不掩瑜：差强人意
- D. 今非昔比：物是人非

(2014-浙江-64.) 上元节：赏花灯

A. 七夕节：鹊桥相会 B. 端午节：插茱萸

C. 重阳节：登高 D. 中秋节：游湖

(2014-浙江-65.) 七窍生烟：气愤

A. 同流合污：腐败 B. 百口莫辩：复杂

C. 手舞足蹈：高兴 D. 鹏程万里：遥远

(2014-浙江-66.) 路程：时间：速度

A. 压强：面积：压力 B. 功率：电流：电压

C. 本金：利率：利息 D. 原价：折扣：现价

(2014-浙江-67.) 物资：匮乏：补给

A. 知识：渊博：传授 B. 政府：廉洁：监督

C. 本金：利率：利息 D. 走私：猖獗：打击

(2014-浙江-68.) 婚礼：司仪：宾客

A. 教学：学生：教师 B. 诉讼：法官：原告

C. 新闻：主持人：记者 D. 球赛：裁判：球迷

(2014-浙江-69.) ( ) 对于蜜蜂相当于产品对于 ( )

A. 蜂蜜；工人 B. 昆虫；企业

C. 鲜花；商店 D. 蝴蝶；原料

(2014-浙江-70.) 计划对于 ( ) 相当于 ( ) 对于操作

A. 实施；规程 B. 调研；方法

C. 方案；制定 D. 改变；失误

二、定义判断：共 5 题。每道题先给出一个概念的定义，然后分别列出四种情况，要求你严格依据定义从中选出一个最符合或最不符合定义的答案。注意：假设这个定义是正确的，不容置疑的。

请开始答题：

(2014-浙江-71.) 刻板印象是将对一类人行为的整体印象推广到个体的过程。它是由于人们在种族（或民族）、宗教、性别、年龄等方面的差异而形成的。对一个人的刻板印象可导致知觉错误。

根据上述定义，下列**不属于**刻板印象的是：

A. 东北人都是活雷锋，有事找东北人没错

B. 俗话说“家贫出孝子”，老李家境贫寒，他的孩子肯定孝敬父母

C. 某企业觉得有些地方的人不诚实，因此没有录用来自这一地区的小张

D. 经理认为小王在工作中经常出错，所以今后对他的任用要谨慎

(2014-浙江-72.) 园林是指在一定地域运用工程技术和艺术手段, 通过改造地形(或进一步筑山、叠石、理水), 种植花草, 营造建筑和布置园路等途径, 创作而成的优美自然环境和游憩境域。

根据上述定义, 下列属于园林的是:

- A. 某企业为了打造良好的工作环境, 在厂房前后种植了大量的树木和花草
- B. 老张承包一片山林, 建造餐厅和客舍, 吸引城市游客前来休闲观光
- C. 某区专辟一块地供市民休闲, 修建回廊亭阁, 假山喷泉, 以树木花草环绕
- D. 某地树木葱茏, 山清水秀, 且遗留许多奇特的民俗, 很多游客慕名前往

(2014-浙江-73.) 主观唯心主义把个人的某种主观精神如感觉、经验、心灵、意识、观念、意志等看作是世界上一切事物产生和存在的根源与基础, 而世界上的一切事物则是由这些主观精神所派生的, 是这些主观精神的显现。

根据上述定义, 下列观点**不属于**主观唯心的是:

- A. 生死有命, 富贵在天
- B. 对象和感觉是同一个东西
- C. 有条件要上, 没条件也要上
- D. 万物森然于方寸之间, 满心而发充塞宇宙

(2014-浙江-74.) 蘑菇长在阴暗的角落, 得不到阳光, 也没有肥料, 自生自灭, 只有长到足够高的时候才会开始被人关注, 可此时它自己已经能够接受阳光了。人们将这种现象称为“蘑菇效应”。

根据上述定义, 下列属于蘑菇效应的是:

- A. 小刘是留学归来的 MBA, 一进公司就担任了部门经理
- B. 演员小王初入行时常等上几个月只为演一个小角色, 后来终于成名, 每天片约不断
- C. 某单位给每个层级的管理者规定了一项制度, 没有预先培养自己的接班人, 就不能升迁
- D. 小李工作后一直表现平平, 一次偶然的机会有领导赏识, 在后来的大项目中被委以重任

(2014-浙江-75.) 气象服务经济包含两层意义, 一是指利用气象服务来防灾、抗灾以避免风险和损失; 二是指利用有利的气象条件来创造效益。人们可以利用气象信息作为从事经济活动的决策依据之一, 可以根据气象服务提供的信息, 安排生产经营活动, 减少经济损失, 提高经济效益。

根据上述定义, 下列属于气象服务经济的是:

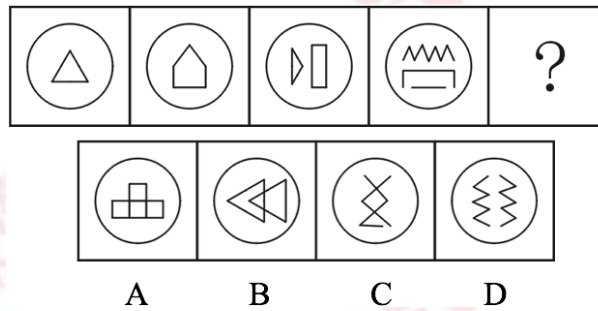
- A. 渔民根据台风警报取消出海作业
- B. 大学生根据气象预报选择旅行时间
- C. 电信服务商发布收费天气预报短信

D. 根据地球公转周期选择卫星最佳发射时机

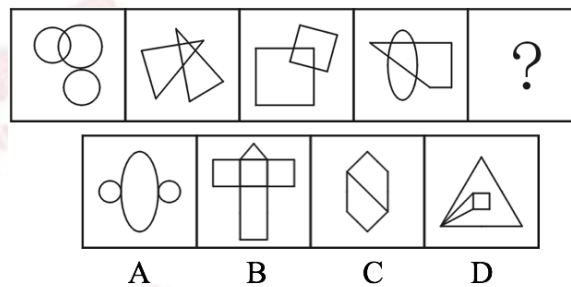
三、图形推理：共 10 题。请按每道题的要求作答。

请开始答题：

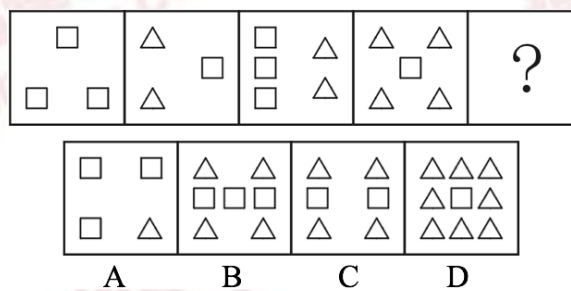
(2014-浙江-76.) 从所给四个选项中，选择最合适的一个填入问号处，使之呈现一定规律性：



(2014-浙江-77.) 从所给四个选项中，选择最合适的一个填入问号处，使之呈现一定规律性：



(2014-浙江-78.) 从所给四个选项中，选择最合适的一个填入问号处，使之呈现一定规律性：



(2014-浙江-79.) 把下面的六个小图形分为两类，使每一类图形都有各自的共同特征或规律，分类正确的一项是：



A. ①②③, ④⑤⑥

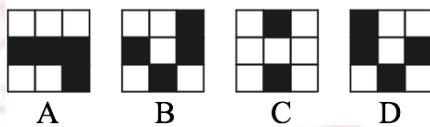

B. ①④⑥, ②③⑤

C. ①②⑤, ③④⑥

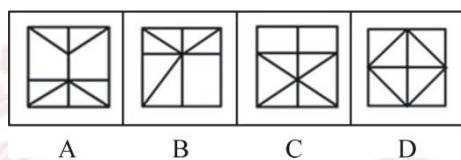
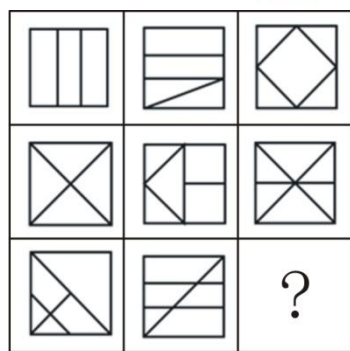
D. ①⑤⑥, ②③④



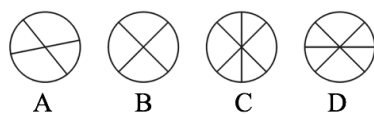

(2014-浙江-80.) 从所给四个选项中, 选择最合适的一个填入问号处, 使之呈现一定规律性:



(2014-浙江-81.) 从所给四个选项中, 选择最合适的一个填入问号处, 使之呈现一定规律性:

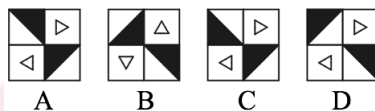



(2014-浙江-82.) 从所给四个选项中, 选择最合适的一个填入问号处, 使之呈现一定规律性:

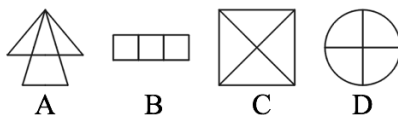



(2014-浙江-83.) 从所给四个选项中, 选择最合适的一个填入问号处, 使之呈现一定规律性:

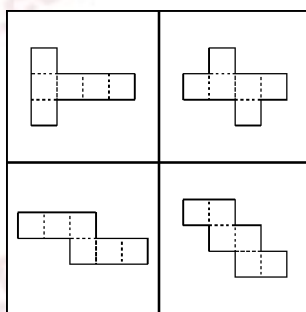
律性：



(2014-浙江-84.) 从所给四个选项中，选择最合适的一个填入问号处，使之呈现一定规律性：



(2014-浙江-85.) 下列四块纸板均由六个正方形组成，问沿虚线折叠，能形成立方体的有几个？



- A. 1 个
- B. 2 个
- C. 3 个
- D. 4 个

四、逻辑判断：共 10 题。每题给出一段陈述，这段陈述被假设是正确的，不容置疑的。要求你根据这段陈述，选择一个答案。注意：正确的答案应与所给的陈述相符合，不需要任何附加说明即可以从陈述中直接推出。

请开始答题：

(2014-浙江-86.) 有甲、乙、丙、丁四人，如果甲炒股，那么乙、丙、丁也都炒股。

如果上述断定为真，那么以下哪项一定也为真？

- A. 如果甲没有炒股，那么乙、丙、丁也没有炒股
- B. 如果甲没有炒股，那么乙、丙、丁中至少有一人没有炒股
- C. 如果乙、丙、丁都炒股，那么甲也炒股
- D. 如果丁没有炒股，那么甲和乙至少有一人没有炒股

(2014-浙江-87.) 曹操又称魏武王，河南安阳西高穴大墓中出土了刻有“魏武王格虎大戟”的石碑以及刻有“魏武王常用慰项石”的石枕等随葬品。所以西高穴大墓就是曹操墓。

为使上述论证成立，需要增加以下哪项作为前提？

- A. 随葬品是证明墓穴墓主身份的重要证据
- B. 如果在墓穴中没有发现刻有“魏武王”之类字样的随葬品，就不能证明该墓穴是曹操墓
- C. 只有在墓穴中发现刻有“魏武王”之类字样的随葬品，才能证明该墓穴是曹操墓
- D. 只要在墓穴中发现刻有“魏武王”之类字样的随葬品，那么该墓穴就是曹操墓

(2014-浙江-88.) 某工厂的生产线会排放大量废弃物导致大气污染。为了迫使该工厂改变生产流程，减少污染，当地居民决定对该厂销量最大的产品——荧光灯进行联合抵制。因为居民们认为对销售量最大的产品进行抵制能够最大程度地降低该厂的利润。

以下哪项如果为真，最能**质疑**上述推论？

- A. 联合抵制行动仅考虑产品的销售量，无法推断其相应的利润
- B. 联合抵制行动没有考虑该工厂改变生产流程的可能途径等信息
- C. 联合抵制行动没有涉及可以使得该工厂改变生产流程的其他方法
- D. 居民通过联合抵制的方式，想要达到目的需要花费很长时间

(2014-浙江-89.) 近年来，学术不端甚至学术腐败现象愈演愈烈。有些人剽窃他人研究成果，有些人编造实验数据，有些人私自拿患者做实验，不仅丧失了学者的底线，甚至连最起码的做人底线都没有了。身为学者的李教授对此感到非常痛心，他认为学术腐败已经到了非惩治不可的地步。但是，同样身为学者的妻子说：“我不同意你的观点，我们学院的张教授治学严谨，他从来没有学术不端的行为。”

以下哪项最能**反驳**李教授妻子的观点？

- A. 惩治学术腐败光靠榜样的力量是不够的，更需要法律的约束
- B. 张教授也可能存在学术不端行为，只是没有被发现而已
- C. 作为一名公共知识分子，张教授要注意自己在公众面前的正面形象
- D. 张教授的情况属于个别案例，并不能反驳带有普遍性的某一类问题

(2014-浙江-90.) 雪豹属于世界级濒危物种、国家一级保护动物，已被列入国际濒危野

生动物红皮书，它常栖息于海拔 2500~5000 米人迹罕至的高原地区，昼伏夜出。但近年来，雪豹与人类邂逅的故事屡见报端，很多人觉得这无疑是雪豹种群数量上升的有力证据。

以下哪项如果为真，最能**反驳**上述观点？

- A. 一些国家设立了保护区来保护雪豹
- B. 雪豹的生存环境不断恶化，开始进入人类的生活区觅食
- C. 有些雪豹白天也会出来活动
- D. 人类比以前更加关注雪豹的生存

(2014-浙江-91.) 目前，我国新能源汽车推广的战略方向是在公共交通领域进行示范应用，截至 2012 年 12 月，全国约有 27800 多辆新能源汽车，其中 80% 是公交车，但是汽车生产商认为，新能源汽车在全社会的推广还比较艰难，短期内难以大规模普及。

以下哪项如果为真，**不能**支持厂商的观点？

- A. 另外 20% 的新能源汽车大部分是机关单位公务用车
- B. 新能源汽车的维修网点等配套设施尚不完善
- C. 新能源汽车的性能与普通汽车无异
- D. 目前公众的节能环保意识还不强

(2014-浙江-92.) 某国近年来放松了对销售民用枪支的管制，枪击案发生率快速上升。据统计，大多数枪击案与合法购置的民用枪支被滥用有关，所以有人提出为减少该国的枪击案发生率，政府应该加强销售民用枪支的限制。

下列哪项最能支持以上论述？

- A. 该国走私枪支的数量远远大于合法购置的枪支
- B. 目前对枪击案罪犯的严厉惩罚没有足够的威慑力
- C. 大多数在该国销售的民用枪支的杀伤力并不大
- D. 严格限制销售民用枪支能得到国民的支持

(2014-浙江-93.) 某慈善基金会收到一笔没有署名的捐款，经多方调查得知，是林川、吴飞、郑傅和郭博四人中的一人捐的。但问到他们时，林川说：“我没捐。”郑傅说：“是吴飞捐的。”吴飞说：“是郭博捐的。”郭博说：“不是我捐的。”

如果四人中只有一人说了真话，则下列哪项为真？

- A. 林川说真话，是吴飞捐的
- B. 林川说假话，是林川捐的
- C. 吴飞说真话，是郭博捐的
- D. 郑傅说假话，是郑傅捐的

(2014-浙江-94.) 科学家研制出一种新型纳米涂层材料，能够促使任何液体从物体表面反弹出去。例如，油类、酒、有机酸、有机碱和溶剂等表面张力很低的液体洒到用这种材料制作的衣物上时，会立刻被反弹，不会弄脏衣物。因此，有商业人士预测，这种材料如果大

量用于生产服装，洗涤剂的销量将大幅下降。

以下哪项如果为真，**不能质疑**该商业人士的预测？

- A. 消费者使用洗涤剂往往还因为洗涤剂具有消毒的功效
- B. 这种涂层材料将影响服装穿着的舒适度，从而影响服装的销量
- C. 该研究成果商业化还需要相当长的一段时间
- D. 人们习惯于根据穿着时间来洗衣服，无论衣服是否已经被弄脏

(2014-浙江-95.) 某校报受校学生会委托，在全校师生中进行抽样调查，推选最受欢迎的学生会干部，结果姚俊得到 65% 以上的支持，得票最多。据此，学生会认为最受欢迎的学生会干部是姚俊。

以下哪项如果为真，最能**削弱**学生会的结论？

- A. 这次的调查对象大部分来自于姚俊所在的院系
- B. 多数被调查者并不关注学生会成员及其工作
- C. 该校师生中有部分人没有在调查中发表自己的意见
- D. 这次调查问卷在设计上把姚俊放在了候选人的首位

※※※第三部分结束，请继续做第四部分！※※※

## 【【2013-浙江-判断】】

### 第三部分 判断推理

(共 35 题，参考时限 35 分钟)

一、类比推理：共 10 题。每道题先给出一组相关的词，要求在备选答案中找出一组与之在逻辑关系上最贴近、相似或匹配的词。

请开始答题：

(2013-浙江-61.) 树枝：柴火

- A. 舞蹈：节奏
- B. 活性炭：除臭剂
- C. 电脑：信息
- D. 毒品：海洛因

(2013-浙江-62.) 精湛：手艺

- A. 关系：暧昧
- B. 差异：视野
- C. 温柔：抒情
- D. 深邃：思想

(2013-浙江-63.) 中国：杭州

- A. 美国：匹兹堡
- B. 法国：法兰克福
- C. 美国：瓦伦西亚
- D. 阿联酋：沙特

(2013-浙江-64.) 解放：束缚

- A. 犯罪：惩罚
- B. 蜕变：堕落
- C. 伶俐：笨拙
- D. 黎明：拂晓

(2013-浙江-65.) 雕塑：绘画

- A. 政体：民主
- B. 政治：信仰
- C. 力学：光学
- D. 样本：范例

(2013-浙江-66.) 岳父：丈人

- A. 舅舅：外甥
- B. 姨妈：婶婶
- C. 伯父：侄子
- D. 祖母：奶奶

(2013-浙江-67.) 救助站：乞丐

- A. 敬老院：护工
- B. 监狱：罪犯
- C. 加油站：业务员
- D. 研究所：研究员

(2013-浙江-68.) 管乐器：笛

- A. 哺乳动物：鲸鱼
- B. 寒冬：大雪
- C. 国庆节：纪念日
- D. 中医：草药

(2013-浙江-69.) 本分：职责

- A. 羁绊：障碍
- B. 奇葩：宝库
- C. 蓝图：想象
- D. 傲慢：偏见

(2013-浙江-70.) 程门立雪：尊师敬道

- A. 草木皆兵：泰然自若
- B. 按图索骥：事半功倍
- C. 扑朔迷离：错综复杂
- D. 叶公好龙：情有独钟

二、定义判断：共 5 题。每道题先给出一个概念的定义，然后分别列出四种情况，要求你严格依据定义从中选出一个最符合或最不符合定义的答案。注意：假设这个定义是正确的，不容置疑的。

请开始答题：

(2013-浙江-71.) 变化视盲：指在短时间内物体表面特征明显改变但人类却无法察觉的现象。

根据上述定义，下列**不属于**变化视盲的是：

- A. 电视剧中出现穿帮镜头，同一场戏由于不同时间拍了两次，结果主要演员穿了不同

的衣服，但是大部分观众都没有发现

B. 一个学生在向小李问路，恰巧有人抬黑板从两人之间经过，之后小李告诉对方如何走，但是他没有发现那个人已经不是刚刚问路的那个学生了

C. 小王听了朋友在南非的一次冒险经历，很有感触，经常回想这件事，后来他竟然认为这件事是自己的亲身经历

D. 小张看见一个男人走进对面的房子，紧接着又走出来，但是他没有发现其实走出来的是一个女人

(2013-浙江-72.) 行政强制措施：指行政机关在行政管理过程中，为制止违法行为、防止证据损毁、避免危害发生、控制危险扩大等情形，依法对公民的人身自由实施暂时性限制，或者对公民、法人或者其他组织的财物实施暂时性控制的行为。

根据上述定义，下列属于行政强制措施的是：

A. 公安机关在刑事诉讼中限令犯罪嫌疑人在规定的期限内不得离开住处或者指定的居所

B. 交通管理部门对某货车散落在高速公路上的西瓜进行及时清理

C. 公安消防部门为了阻止火势蔓延而拆除与着火处相连的房屋

D. 医疗机构为防止某精神病人病情发作伤害他人而将其强制约束

(2013-浙江-73.) 就业平等权：指公民不论其民族、种族、性别、宗教信仰、家庭背景等的不同和差异，均享有平等获得就业机会的权利。

根据上述定义，下列**没有**侵犯求职者的就业平等权的是：

A. 女大学生小刘，本科学历，在几次应聘中，都因为是女性而落聘

B. 某公司招聘时，明确规定本公司员工的亲属比其他应聘者优先录用

C. 小李的父亲是某县政府领导，在该县事业单位公开招聘中，小李未和其他应聘者一样参加考试，就直接被录用了

D. 某食品加工厂在招聘员工过程中，以食品安全为由，拒绝录用一名乙肝患者

(2013-浙江-74.) 破窗现象：一个房子如果窗户破了，没有人去修补，隔不久，其他的窗户也会莫名其妙地被人打破。所以环境中的不良现象如果被放任存在，会诱使人们仿效，甚至变本加厉。

根据上述定义，下列**不属于**破窗现象的是：

A. 一面墙出现了一些涂鸦没有被清除，很快，墙上就布满了乱七八糟、不堪入目的东西

B. 一个干净的地方，人们不好意思丢垃圾，但是一旦地上有垃圾出现，人们就会毫不犹豫地跟着丢，丝毫不觉羞愧

C. 一个村落发生了传染性疾病，由于没有及时隔离，结果很快整个村落的人都被传染上了

D. 一个教室里，有两个学生偷偷讲话，老师没有制止，很快大半个班级的学生都在聊天了

(2013-浙江-75.) 诈骗罪：指以非法占有为目的，用虚构事实或者隐瞒真相的方法，骗取数额较大的公私财物的行为。

根据上述定义，下列可以构成诈骗罪的是：

A. 甲假装在商场购买西装，售货员乙让其试穿，甲穿上西装后声称去照镜子，趁乙接待其他顾客之际偷偷溜走

B. 某加油站负责人通过在计价器上动手脚，使得实际加油量少于机器显示数量，据此获取大笔收益

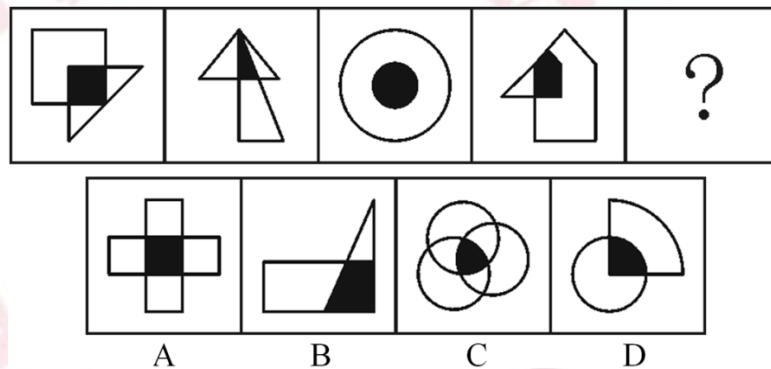
C. 某甲在低价出售其别墅时隐瞒其中曾发生凶杀案的事实，致某乙因不知情而购买

D. 某售楼小姐甲向客户乙推销地铁口的楼盘，称楼盘的升值空间很大，乙购房后两个月，房价大跌，致乙遭受惨重损失

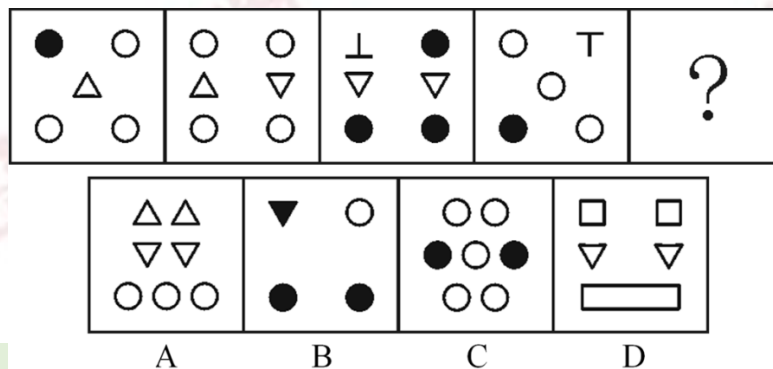
三、图形推理：共 10 题。请按每道题的要求作答。

请开始答题：

(2013-浙江-76.) 从所给四个选项中，选择最合适的一个填入问号处，使之呈现一定规律性：

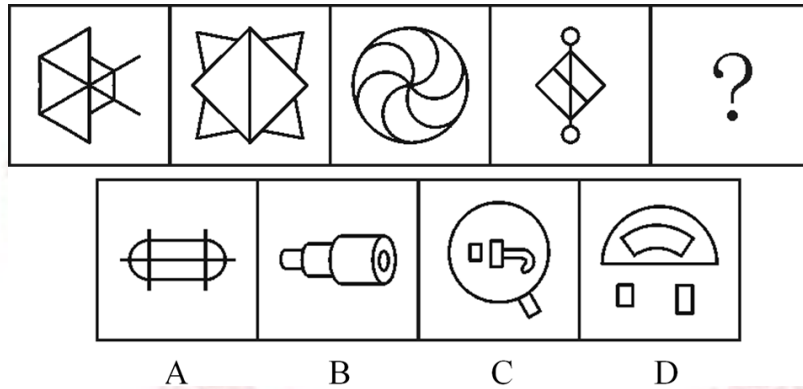


(2013-浙江-77.) 从所给四个选项中，选择最合适的一个填入问号处，使之呈现一定规律性：

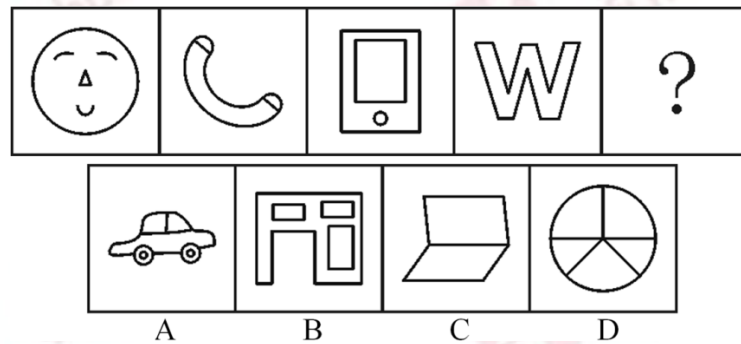




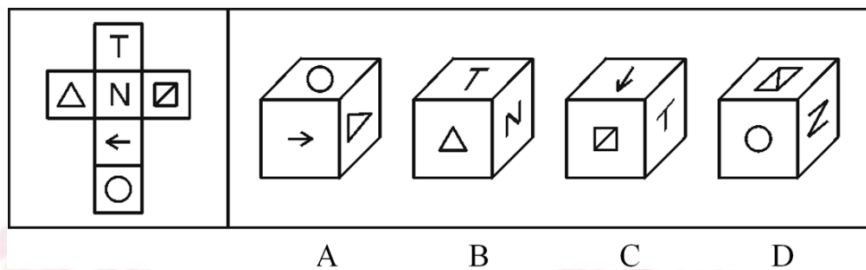
(2013-浙江-78.) 从所给四个选项中, 选择最合适的一个填入问号处, 使之呈现一定规律性:



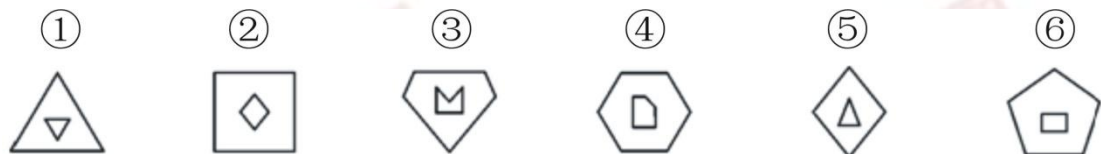
(2013-浙江-79.) 从所给四个选项中, 选择最合适的一个填入问号处, 使之呈现一定规律性:



(2013-浙江-80.) 左边给定的是纸盒的外表面, 下面哪一项能由它折叠而成?




(2013-浙江-81.) 把下面的六个图形分为两类, 使每一类图形都有各自的共同特征或规律, 分类正确的一项是:



- A. ①②③, ④⑤⑥      B. ①②⑤, ③④⑥  
C. ①③⑥, ②④⑤      D. ①③⑤, ②④⑥

(2013-浙江-82.) 把下面的六个图形分为两类, 使每一类图形都有各自的共同特征或规律, 分类正确的一项是:




- A. ①②④, ③⑤⑥      B. ①②⑤, ③④⑥  
 C. ①③⑤, ②④⑥      D. ①②⑥, ③④⑤

(2013-浙江-83.) 把下面的六个图形分为两类, 使每一类图形都有各自的共同特征或规律, 分类正确的一项是:

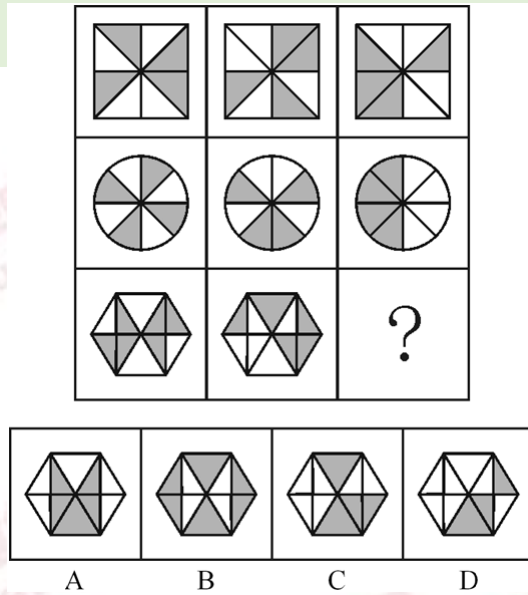


- A. ①②③, ④⑤⑥      B. ①③⑤, ②④⑥  
 C. ①④⑤, ②③⑥      D. ①④⑥, ②③⑤

(2013-浙江-84.) 从所给四个选项中, 选择最合适的一个填入问号处, 使之呈现一定规律性:



(2013-浙江-85.) 从所给四个选项中, 选择最合适的一个填入问号处, 使之呈现一定规律性:



四、逻辑判断：共 10 题。每题给出一段陈述，这段陈述被假设是正确的，不容置疑的。要求你根据这段陈述，选择一个答案。注意：正确的答案应与所给的陈述相符合，不需要任何附加说明即可以从陈述中直接推出。

请开始答题：

(2013-浙江-86.) 品学兼优的学生不都读研究生。

如果以上论述为真，则下列命题能判断真假的有几个？

- I. 有些品学兼优的学生读研究生
- II. 有些品学兼优的学生不读研究生
- III. 所有品学兼优的学生都读研究生
- IV. 所有品学兼优的学生都不读研究生

- A. 1 个
- B. 2 个
- C. 3 个
- D. 4 个

(2013-浙江-87.) 20 世纪 60 年代，加州大学伯克利分校进行了一系列关于小鼠认知能力的实验。在实验中，一组小鼠被放在摆满各种玩具、转轮和隧道的笼子里，另一组小鼠则在空无一物的笼子里长大。实验结果显示，前一组小鼠大脑的体积更大，认知能力也显著高于后一组，研究人员因此作出推论：充分的外界刺激可以改变大脑的结构和能力。

下列哪些为真，最能加强研究人员的推论？

- A. 实验中，前一组小鼠的食物营养更丰富
- B. 实验后，后一组小鼠的运动能力更强
- C. 后来，两组小鼠的平均寿命差不多
- D. 实验前，两组小鼠的个体差异不大

(2013-浙江-88.) 因为规定“黄灯亮时, 已越过停止线的车辆可以继续通行”, 所以, 黄灯亮时, 未越过停止线的车辆不能继续通行。

下列哪项的论证逻辑与此最为**不同**?

A. 因为规定“间歇性的精神病人在精神正常的时候犯罪, 应当负刑事责任”, 所以, 间歇性的精神病人在精神不正常的时候犯罪, 不应负刑事责任

B. 因为规定“尚未制定法律的, 行政法规可以设定行政许可”, 所以, 已经制定法律的, 行政法规不可以设定行政许可

C. 因为规定“申请小型汽车驾驶证的年龄条件为 18 周岁以上、70 周岁以下”, 所以, 不满 18 周岁以及超过 70 周岁的公民不能申请小型汽车驾驶证

D. 因为规定“18 周岁以上的公民, 可以独立进行民事活动”, 所以, 不满 18 周岁的公民, 不能独立进行民事活动

(2013-浙江-89.) 亲生父母双方都有高血压的人, 得高血压的几率是亲生父母都没有高血压的人的 5 倍, 所以, 高血压可能是一种遗传病。

下列哪项为真, 最能支持上述结论?

A. 亲生父母都有高血压的人, 无论如何注意生活方式, 得高血压的几率仍然很高

B. 亲生父母没有高血压的人, 在和患高血压的养父母生活一段时间后, 得高血压的几率会增高

C. 亲生父母都有高血压的人, 在承受巨大生活压力时, 更易得高血压

D. 亲生父母都有高血压的人, 在没有出现高血压病症前, 做些预防性治疗, 可以降低得高血压的几率

(2013-浙江-90.) 西双版纳傣族的竹楼都用方形柱子将房子架空来防止潮湿及蚊虫骚扰。之所以用方形柱子而不是圆形柱子, 是为了防止蛇攀爬进入竹楼。

下列哪项最有可能是上述陈述的假设?

A. 傣族人喜欢把东西做成方形的

B. 蛇喜欢攀爬圆形的柱子

C. 西双版纳热带雨林中有很多蛇

D. 蛇不能缠绕着方形的柱子爬行

(2013-浙江-91.) 甲、乙、丙、丁四人对四个抽屉中的物品进行预测。甲: 有些抽屉中没有书本; 乙: 所有抽屉中都有书本; 丙: 第二个抽屉中没有钢笔; 丁: 第三个抽屉中有信件。

如果四人的断定中只有一项为真, 那么以下哪项一定为真?

A. 第二个抽屉中有钢笔

B. 第三个抽屉中有信件

C. 四个抽屉中都有书本

D. 四个抽屉中都没有书本

(2013-浙江-92.) 耐甲氧西林金黄色葡萄球菌(MRSA)、克雷伯氏菌等细菌能引起多种疾病和感染,同时各种抗生素往往又对它们无可奈何,这些令人色变的细菌因而被称为超级细菌,近年来,研究人员通过微生物的全基因组测序技术不仅能追踪 MRSA 的源头,而且能追踪到其他耐药细菌的源头。因此,全基因组测序技术可以解决 MRSA 等超级细菌给人类带来的疾病困扰。

下列哪项为真,最能削弱上述论证?

- A. 超级细菌会随着环境的变化而变异
- B. 进行全基因组测序的费用比较高
- C. 全基因组测序技术可为寻找抑制超级细菌的药物提供线索
- D. 全基因组测序技术无法杀灭超级细菌

(2013-浙江-93.) 张红、李聪、王敏,一个是江苏人,一个是浙江人,一个是广东人。浙江人比李聪年龄小,张红和浙江人不同岁,王敏的年龄比广东人大。

根据上述断定,可以推出:

- A. 张红是江苏人,李聪是浙江人,王敏是广东人
- B. 张红是广东人,李聪是江苏人,王敏是浙江人
- C. 张红是浙江人,李聪是广东人,王敏是江苏人
- D. 张红是浙江人,李聪是江苏人,王敏是广东人

(2013-浙江-94.) 对某班学生喜欢的体育活动进行调查后发现:该班的学生或者喜欢打篮球,或者喜欢打羽毛球;如果喜欢打排球,则不喜欢打羽毛球;该班的班长喜欢打排球,因此他也喜欢打乒乓球。

以下哪项最可能是上述论证的假设?

- A. 该班的班长至少喜欢三项体育活动
- B. 喜欢打乒乓球的学生都喜欢打羽毛球
- C. 喜欢打篮球的学生都喜欢打乒乓球
- D. 该班学生喜欢的体育活动只有篮球、羽毛球、排球和乒乓球四项

(2013-浙江-95.) 新加坡国立大学社会学家波林·斯特劳恩副教授对当地已婚者和离婚者展开的调查发现,恋爱时间较长的夫妻,婚后闹分手的几率会比那些恋爱时间较短的夫妻低,于是有人得出结论,要想以后的婚姻更稳固,必须延长恋爱时间。

下列哪项为真,最能削弱上述结论?

- A. 恋爱谈得越长,两人结婚的可能性会越低
- B. 情侣在恋爱期是否深入了解彼此比恋爱时间长短更重要
- C. “一见钟情式”的速成婚姻容易破碎
- D. 恋爱时间长的人,往往会忘记恋爱的目的是婚姻

※※※第三部分结束，请继续做第四部分！※※※

## 【【2012-浙江-判断】】

### 第三部分 判断推理

(共 35 题，参考时限 35 分钟)

一、类比推理：共 10 题。每道题先给出一组相关的词，要求在备选答案中找出一组与之在逻辑关系上最贴近、相似或匹配的词。

请开始答题：

(2012-浙江-61.) 眼睛：虹膜

- |          |          |
|----------|----------|
| A. 骨头：关节 | B. 乔木：白桦 |
| C. 衣服：丝绸 | D. 手表：表带 |

(2012-浙江-62.) 蝴蝶：蟋蟀

- |          |          |
|----------|----------|
| A. 桑葚：鲜花 | B. 海棠：海参 |
| C. 鹦鹉：海鸥 | D. 恒星：太阳 |

(2012-浙江-63.) 土地：农民

- |          |          |
|----------|----------|
| A. 资本：商人 | B. 药方：医生 |
| C. 晚会：歌手 | D. 课本：教师 |

(2012-浙江-64.) 创造：历史

- |          |          |
|----------|----------|
| A. 发展：经济 | B. 和谐：社会 |
| C. 发扬：光大 | D. 生产：积累 |

(2012-浙江-65.) 票友：业余

- |          |            |
|----------|------------|
| A. 专家：肤浅 | B. 运动员：瘦弱  |
| C. 教师：慈祥 | D. 艺术大师：著名 |

(2012-浙江-66.) 出人头地：苏轼

- |            |             |
|------------|-------------|
| A. 东山再起：谢安 | B. 多多益善：项羽  |
| C. 投笔从戎：班固 | D. 指鹿为马：李林甫 |

(2012-浙江-67.) 百发百中：百步穿杨

- |              |              |
|--------------|--------------|
| A. 门可罗雀：班门弄斧 | B. 深思熟虑：优柔寡断 |
|--------------|--------------|

- C. 不求甚解：囫囵吞枣                      D. 白日做梦：梦想成真

(2012-浙江-68.) 道德：行为：约束

- A. 权力：人民：服务                      B. 信仰：图腾：崇拜  
C. 教师：教育：学生                      D. 法律：犯罪：惩治

(2012-浙江-69.) 煤气灶：主妇：做饭

- A. 车间：工程师：生产                      B. 炼丹：道士：修行  
C. 剪刀：理发师：美发                      D. 马路：清洁工：打扫

(2012-浙江-70.) 微博：媒体：消息

- A. 股票：有价证券：金融                      B. 护照：证件：身份  
C. 长城：景点：北京                      D. 债权：权利：债务

二、定义判断：共 5 题。每道题先给出一个概念的定义，然后分别列出四种情况，要求你严格依据定义从中选出一个最符合或最不符合定义的答案。注意：假设这个定义是正确的，不容置疑的。

请开始答题：

(2012-浙江-71.) 附条件的民事法律行为：在意思表示当中附有决定该行为效力发生或者消灭条件的民事法律行为。

下列哪一项属于附条件的民事法律行为？

- A. 甲、乙订立房屋租赁合同，约定出租人甲的儿子一旦结婚需要布置新房时，就终止合同  
B. 甲对乙说：“如果我儿子考上名牌大学，我一定请你吃饭”  
C. 甲与乙签订夏粮买卖合同，约定 11 月中旬生效  
D. 甲与乙约定：如果甲晚上帮乙一起去打乙的仇人，乙就付给甲 1000 元钱

(2012-浙江-72.) 行政成本：政府为了社会的公共管理和为公众提供公共服务付出的代价，包括直接行政成本和间接行政成本。

下列**没有**涉及行政成本的一项是：

- A. 某政府部门为了提高工作效率合并机构、精简工作人员  
B. 某区政府为了应对私家车增多的问题，新建了两个地下公共停车场  
C. 某商业银行为方便广大用户处理业务，耗费巨资开通了手机银行业务  
D. 某公安局招聘交通协管员协助交警维护交通秩序

(2012-浙江-73.) 无因管理：没有法律规定或者约定的义务而为他人管理事务。

下列行为中**不属于**无因管理的一项是：

- A. 甲收留了一位迷路的儿童，一边让他在自己家吃住，一边四处打听儿童父母的地址

- B. 甲失踪后，其财产代管人乙对甲的财产进行管理
- C. 甲看见有几个人在殴打乙，立即上前制止
- D. 甲的邻居乙家失火，甲怕火烧伤乙家的小孩，于是实施救火

(2012-浙江-74.) 简单命题：不包含其他命题的命题，只能把它分析为不同的词项，不能再把它分析为其他命题，因此又叫做“原子命题”。

下列哪项**不是**简单命题？

- A. 小明和小红是朋友
- B. 生命在于运动
- C. 掷骰子 4 点朝上的概率是 1/6
- D. 小张既高且胖

(2012-浙江-75.) 角色冲突：当一个人扮演一个角色或者同时扮演几个不同的角色时，由于不能胜任，造成不合适宜而发生的矛盾和冲突。

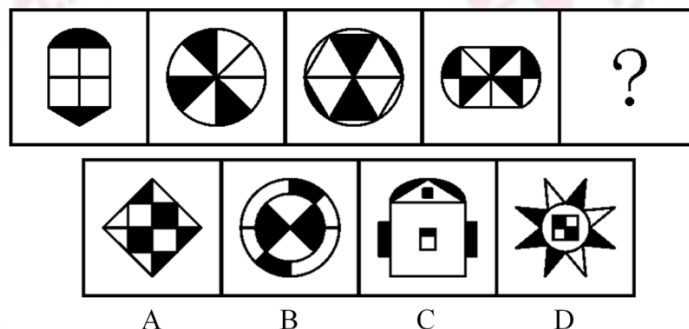
下列情形**不属于**角色冲突的一项是：

- A. 一些大一新生入学后，面对新的生活环境很不适应
- B. 某公司一职员由于业绩出众，被公司提拔为销售经理，但是他感到力不从心
- C. 假期里，张某的妻子想让他陪她出去旅游，而他的母亲想让他回家陪父母
- D. 在边远山区的一所小学里，某位老师既教数学，又教语文，但是学生们的两门功课成绩都很好

### 三、图形推理：共 10 题。请按每道题的要求作答。

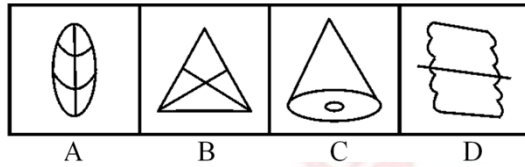
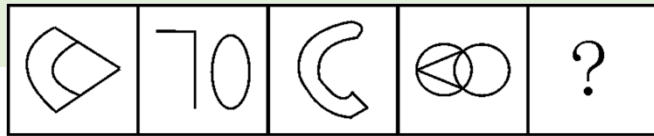
请开始答题：

(2012-浙江-76.) 从所给四个选项中，选择最合适的一个填入问号处，使之呈现一定规律性：

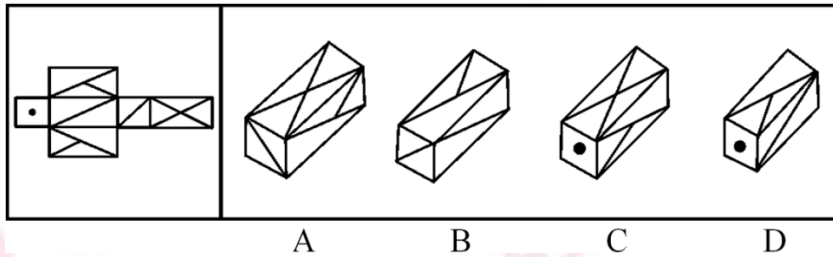


(2012-浙江-77.) 从所给四个选项中，选择最合适的一个填入问号处，使之呈现一定规律性：

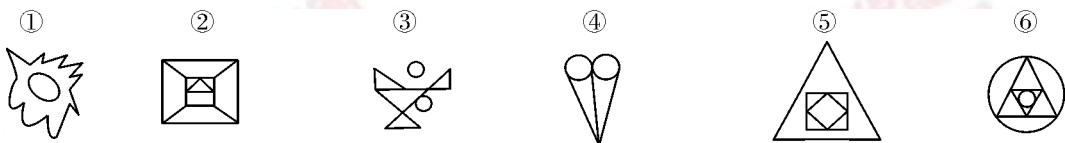




(2012-浙江-78.) 左边给定的是纸盒的外表面, 下面哪一项能由它折叠而成?




(2012-浙江-79.) 把下面的六个图形分为两类, 使每一类图形都有各自的共同特征或规律, 分类正确的一项是:



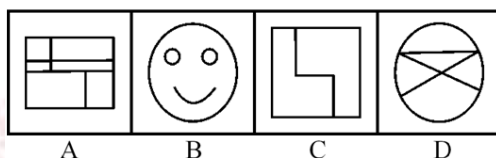
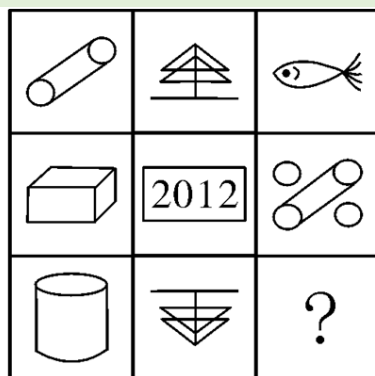
- A. ①②④, ③⑤⑥  
 B. ①③⑤, ②④⑥  
 C. ①③⑥, ②④⑤  
 D. ①④⑥, ②③⑤

(2012-浙江-80.) 把下面的六个图形分为两类, 使每一类图形都有各自的共同特征或规律, 分类正确的一项是:

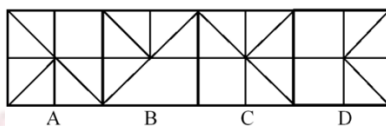
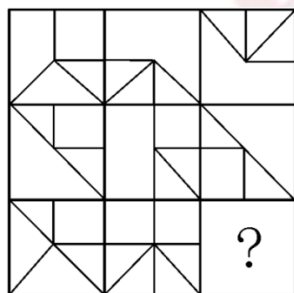


- A. ①②④, ③⑤⑥  
 B. ①③④, ②⑤⑥  
 C. ①③⑤, ②④⑥  
 D. ①③⑤, ②③⑥

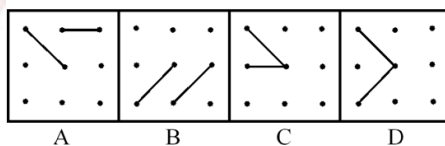

(2012-浙江-81.) 从所给四个选项中, 选择最合适的一个填入问号处, 使之呈现一定规律性:



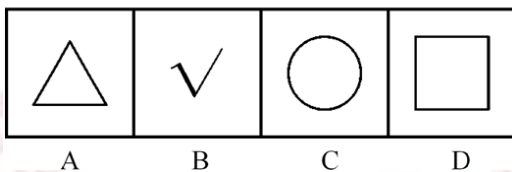

(2012-浙江-82.) 从所给四个选项中, 选择最合适的一个填入问号处, 使之呈现一定规律性:



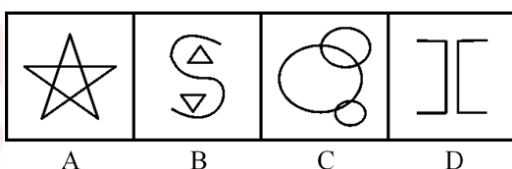

(2012-浙江-83.) 从所给四个选项中, 选择最合适的一个填入问号处, 使之呈现一定规律性:



(2012-浙江-84.) 从所给四个选项中, 选择最合适的一个填入问号处, 使之呈现一定规律性:



(2012-浙江-85.) 从所给四个选项中, 选择最合适的一个填入问号处, 使之呈现一定规律性:



四、逻辑判断: 共 10 题。每题给出一段陈述, 这段陈述被假设是正确的, 不容置疑的。要求你根据这段陈述, 选择一个答案。注意: 正确的答案应与所给的陈述相符合, 不需要任何附加说明即可以从陈述中直接推出。

请开始答题:

(2012-浙江-86.) “不可能所有深圳人都很有钱。”

以下哪项断定的涵义, 与上述断定最为接近?

- A. 可能有的深圳人不是很有钱
- B. 可能有的深圳人很有钱

C. 必然有的深圳人不是很有钱

D. 必然大部分深圳人都很有钱

(2012-浙江-87.)“小孙并非既会游泳又会打网球。”

根据以上表述，下列哪项断定必然为真？

A. 如果小孙不会打网球，那么他一定会游泳

B. 如果小孙会打网球，那么他一定不会游泳

C. 小孙既不会游泳，也不会打网球

D. 小孙会游泳，但不会打网球

(2012-浙江-88.)以“如果孙强、李超不是优秀共青团员，那么周红是优秀共青团员”为一前提，若要必然推出“李超是优秀共青团员”，则需要增加下列哪项作为前提？

A. 周红不是优秀共青团员

B. 孙强是优秀共青团员

C. 周红是优秀共青团员，而孙强不是优秀共青团员

D. 孙强和周红都不是优秀共青团员

(2012-浙江-89.)暑假里，小张的父母给小张报了摄影兴趣班和美术兴趣班，小张知道后说，以后我又不想成为摄影家，何必学摄影。

以下哪项是小张的回答中包含的前提？

A. 学摄影的不一定能成为摄影家

B. 小张更想成为一名画家，而不是摄影家

C. 只有想成为摄影家，才需要学摄影

D. 与摄影相比，小张更喜欢学画画

(2012-浙江-90.)某大学寝室有8个人，3个是广东人，1个是北京人，有2个是北方人，1个保送生，3个是贫困生。

假设上述介绍涉及该寝室的所有同学，则下列关于该寝室同学的判断与题干有矛盾的是：

A. 保送的学生来自北方

B. 北京人既不是保送生也不是贫困生

C. 有两个贫困生是广东人

D. 没有一个来自黑龙江的学生

(2012-浙江-91.)宏达公司管理人员的平均年薪为20万元，而销售人员的平均年薪是18万元，公司所有员工的平均年薪是12万元。

如果以上信息是正确的，能够推出以下哪一项结论？

A. 至少有一位员工的年薪比销售人员的平均年薪低

B. 没有一位销售人员的年薪比管理人员高

C. 至少有一半管理人员的年薪比销售人员的平均年薪高

D. 宏达公司的管理人员少于销售人员

(2012-浙江-92.) 如果一个人在 A 城市乱扔垃圾就会被认为没有道德; 一个人如果没有道德, A 城市里就没有人和他做朋友, 一个人如果在 A 城市没有朋友就寸步难行, 无法继续留在这里。

从上述叙述中, 可以推出以下哪项结论?

- A. 一个人在 B 城市乱扔垃圾但是仍然可以留在 A 城市
- B. 如果一个人道德修养很高, 那么他就能留在 A 城市
- C. 生活在 A 城市的小李在过马路时将西瓜皮扔在地上, 那么他将难以再留在 A 城市
- D. 小王没有留在 A 城市说明他缺乏道德修养

(2012-浙江-93.) 北方某地区为了应对干旱, 居民用水量已经受到严重的限制。不过目前水库蓄水量与 5 年前该地区干旱期间的蓄水量持平。既然当时居民用水量并未受到限制, 所以现在也不应该受到限制。

下列哪一陈述为真, 将最严重地削弱作者的主张?

- A. 居民用水量占总用水量的比重很大
- B. 自上次干旱以来, 当地政府采取了一些节水措施
- C. 5 年来该地区的人口数量显著增加
- D. 自上次干旱以来, 该地区并没有建造新的水库

(2012-浙江-94.) 科学家研究发现, 由能承担部分母亲角色的机器替代母亲“养育”的雌性大猩猩幼崽, 当它们有后代时, 难以承担母亲的角色。而人类与大猩猩具有很大的相似性, 所以婴儿不应该由保姆或日托中心来照管, 而只应该由他们的亲生母亲来抚养。

下列哪一陈述为真, 最能加强作者的结论?

- A. 研究表明大猩猩的个体差异不显著
- B. 当由机器替代母亲“养育”长大的雌性大猩猩有后代时, 可以教会它们一些抚育技能
- C. 即使由亲生母亲抚育较短一段时间的大猩猩幼崽, 长大后也能承担母亲的角色
- D. 由亲生母亲之外的其他雌性大猩猩抚育的大猩猩幼崽, 当它们有后代时, 都不能承担母亲的角色

(2012-浙江-95.) 甲、乙、丙、丁、戊、己是一个家族的兄弟姐妹, 已知: 甲是男孩, 有 3 个姐姐; 乙有一个哥哥和一个弟弟; 丙是女孩, 有一个姐姐和一个妹妹; 丁的年龄在所有人当中是最大的; 戊是女孩, 但是她没有妹妹; 己既没有弟弟也没有妹妹。

从上述叙述中, 可以推出以下哪项结论?

- A. 己是女的且年龄最小
- B. 丁是女的
- C. 六个兄弟姐妹中女孩的数量多于男孩的数量

D. 甲在六个兄弟姐妹中排行第三

※※※第三部分结束，请继续做第四部分！※※※

## 【【2011-浙江-判断】】

### 第四部分 判断推理

(共 35 题，参考时限 35 分钟)

一、类比推理：共 10 题。每道题先给出一组相关的词，要求在备选答案中找出一组与之在逻辑关系上最贴近、相似或匹配的词。

请开始答题：

(2011-浙江-81.) 农药：污染

- |          |          |
|----------|----------|
| A. 太阳：温度 | B. 运动：健康 |
| C. 噩耗：悲痛 | D. 电脑：辐射 |

(2011-浙江-82.) 知觉：感性认识

- |          |          |
|----------|----------|
| A. 意识：物质 | B. 管制：刑罚 |
| C. 运动：发展 | D. 灾难：地震 |

(2011-浙江-83.) 元宵：汤圆

- |          |          |
|----------|----------|
| A. 清明：龙舟 | B. 冬至：面条 |
| C. 重阳：菊花 | D. 端午：茱萸 |

(2011-浙江-84.) 《诗经》：诗集

- |              |             |
|--------------|-------------|
| A. 《说文解字》：字典 | B. 《琵琶行》：戏剧 |
| C. 运动会：奥运会   | D. 国家：主权    |

(2011-浙江-85.) 决策：执行

- |          |          |
|----------|----------|
| A. 组织：监督 | B. 计划：实施 |
| C. 总结：改进 | D. 合同：制定 |

(2011-浙江-86.) 破釜沉舟：项羽

- |            |            |
|------------|------------|
| A. 乐不思蜀：刘备 | B. 精忠报国：岳飞 |
| C. 卧薪尝胆：夫差 | D. 纸上谈兵：赵奢 |

(2011-浙江-87.) 房屋：地基

A. 艺术：经济 B. 火车：铁路

C. 婚姻：爱情 D. 烦恼：欲望

(2011-浙江-88.) 教师：教室：教育

A. 经理：市场：经商 B. 军队：国家：保卫

C. 公务员：机关：执法 D. 演员：舞台：表演

(2011-浙江-89.) ( ) 对于纠纷相当于垄断对于 ( )

A. 调解；市场 B. 经济；价格

C. 磋商；议会 D. 劳动；权力

(2011-浙江-90.) 电子邮件对于 ( ) 相当于 ( ) 对于道路

A. 隐私；城市 B. 网络；汽车

C. 信息；交通 D. 交流；运输

二、逻辑判断：共 10 题。每题给出一段陈述，这段陈述被假设是正确的，不容置疑的。要求你根据这段陈述，选择一个答案。注意：正确的答案应与所给的陈述相符合，不需要任何附加说明即可以从陈述中直接推出。

请开始答题：

(2011-浙江-91.) 某单位共有 20 名工作人员。①有人是本科学历；②单位的负责人不是本科学历；③有人不是本科学历。上述三个判断中只有一个是真的。

以下哪项正确表示了该单位具有本科学历的工作人员的人数？

A. 20 个人都是本科学历

B. 只有 1 个人是本科学历

C. 20 个人都不是本科学历

D. 只有 1 个人不是本科学历

(2011-浙江-92.) 只有巧干加实干，才能创造出惊人的业绩。某公司的业务经理取得了非凡的业绩，可见该业务经理实践了巧干加实干。

下列哪个推理结构与上述推理在形式上是相同的？

A. 如果一个人犯了罪，那么他就会受到刑事处罚。张某受到了刑事处罚，可见张某犯了罪

B. 这种植物只有开花，才能结出果实，今年这种植物没有开花，所以不会结出果实

C. 只有通过全国统一司法考试的人才能从事律师职业。小李从事律师职业，所以小李已通过全国统一司法考试

D. 只有在特定的土质和气候条件下，这种葡萄才能获得好收成。现在这种葡萄没有获得好收成，说明这里没有这种特定的土质和气候条件

(2011-浙江-93.) 七名候选人中有女性三人：张丽、孙美和朱萍，男性四人：赵海、王波、李田和胡庆。现要从这七名候选人中选出三人组成某委员会，且符合以下规则：孙美和王波不能同时入选，胡庆不能与女性候选人同时入选。

问如果赵海和李田不入选，那么该委员会的组成有几种可能？

- A. 一种
- B. 两种
- C. 三种
- D. 四种

(2011-浙江-94.) 大学生小王参加研究生入学考试，一共考了四门科目：政治、英语、专业科目一、专业科目二。政治和专业科目一的成绩之和与另外两门科目的成绩之和相等。政治和专业科目二的成绩之和大于另外两门科目的成绩之和。专业科目一的成绩比政治和英语两门科目的成绩之和还高。

根据以上条件，小王四门科目的成绩从高到低依次是：

- A. 专业科目一、专业科目二、英语、政治
- B. 专业科目二、专业科目一、政治、英语
- C. 专业科目一、专业科目二、政治、英语
- D. 专业科目二、专业科目一、英语、政治

(2011-浙江-95.) 一般而言，帕金森病多是因人类大脑中产生多巴胺的细胞死亡而发病的。华盛顿大学的研究人员用一些基因改造过的双翅目昆虫果蝇来做实验，这些果蝇在迈入老年时期时，多巴胺细胞会逐渐死亡。科学家惊奇地发现，当他们将烟草、咖啡榨成汁，喂给这些果蝇以后，果蝇们的多巴胺细胞又增多了，而且这些果蝇又变得生龙活虎起来。因此，研究者指出，有烟瘾和嗜好咖啡的人，得帕金森病的几率更低。

如果以下各项为真，**不能质疑**上述推测的是：

- A. 人类与果蝇大脑产生多巴胺细胞的机制存在差异
- B. 实验的 4 个小组当中，其中 1 组得出了相反结果
- C. 人类大脑中的多巴胺细胞过量分泌容易导致暴力犯罪
- D. 多数双翅目昆虫在获得新食物种类后均会产生多巴胺细胞分泌增多现象

(2011-浙江-96.)



以上 4 张卡片均为一面是图案，另一面是阿拉伯数字。现在断定：如果一面是梅花，那么另一面是 6。

如果要检验该断定正确与否，且只允许翻动以上两张卡片，正确的选择是：

- A. 翻动第一张和第三张
- B. 翻动第二张和第三张
- C. 翻动第一张和第四张



D. 翻动第二张和第四张

(2011-浙江-97.)一起盗窃案发生,经调查共有二人合伙作案。警察逮捕了甲、乙、丙、丁四名嫌疑人,罪犯必是其中二人。经询问,甲说:“丁是罪犯。”乙说:“甲是罪犯。”丙说:“我不是罪犯。”丁说:“我也不是罪犯。”

经调查,四人中二人说了假话,二人说了真话,则下列哪项可能为真?

- A. 甲、丁二人合伙作案
- B. 丙、丁二人合伙作案
- C. 甲、丙二人合伙作案
- D. 甲、乙二人合伙作案

(2011-浙江-98.)某专家就目前多方对支线航空安全性的质疑发表声明,他表示,支线飞机所执行的安全标准,与波音、空客大飞机基本一致,大小飞机结构强度也是一样的。乘客感觉支线飞机颠簸,是由于飞机越大,抗干扰能力就越强,所以感觉平稳。事实上,支线飞机和干线飞机在安全性上没有任何差别。

以下哪项如果为真,最能**质疑**该专家的观点?

- A. 近年来我国支线航空的发展过快,支线机场管理和设备滞后问题日益突出
- B. 在北美、欧洲等成熟的航空市场,支线航空占到近40%的比例
- C. 航空事故中,乘客是否具有迅速离开出事飞机的能力非常重要
- D. 部分心脑血管疾病患者不愿意坐支线飞机

(2011-浙江-99.)某大学学生会换届选举,张华和其他四个竞选者报名竞选学生会主席一职。其他四个竞选者都没有同时具备张华所有的优点。

从以上断定能合乎逻辑地得出以下哪项结论?

- A. 其他四个竞选者都有一些缺点
- B. 张华是最优秀的学生,具备当选学生会主席的条件
- C. 其他四个竞选者都有不如张华的地方
- D. 张华具有其他四个竞选者的所有优点

(2011-浙江-100.)有人说看电视会影响小学生的学习,可是对一所学校的调查发现,该校看电视时间较长的学生比看电视时间较短的学生的学习成绩好。由此看来,看电视不会影响小学生的学习。

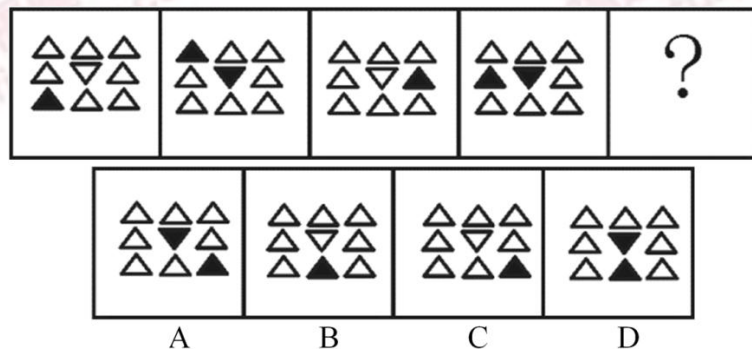
以下哪项如果为真,最能**削弱**上面的推论?

- A. 该被调查学校的代表性不强
- B. 看电视可以开阔小学生的视野,增长他们的见识,有助于学习
- C. 该学校小学生的父母经常让孩子看一些具有教育意义的电视节目
- D. 该学校小学生的父母只在孩子取得了好成绩的时候才允许他们看电视

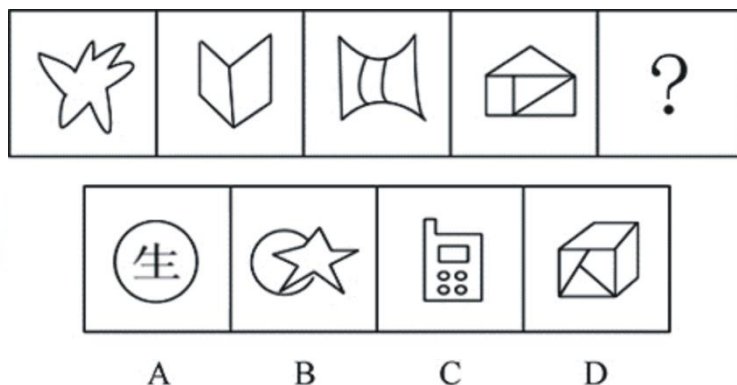
三、图形推理：共 10 题。请按每道题的要求作答。

请开始答题：

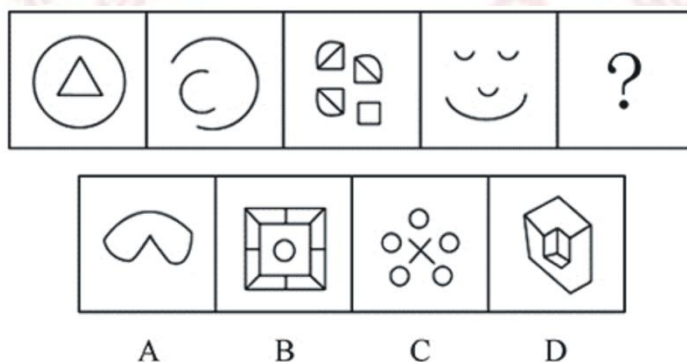
(2011-浙江-101.) 从所给四个选项中，选择最合适的一个填入问号处，使之呈现一定规律性：



(2011-浙江-102.) 从所给四个选项中，选择最合适的一个填入问号处，使之呈现一定规律性：




(2011-浙江-103.) 从所给四个选项中，选择最合适的一个填入问号处，使之呈现一定规律性：




(2011-浙江-104.) 把下面的六个图形分为两类，使每一类图形都有各自的共同特征或规律，分类正确的一项是：



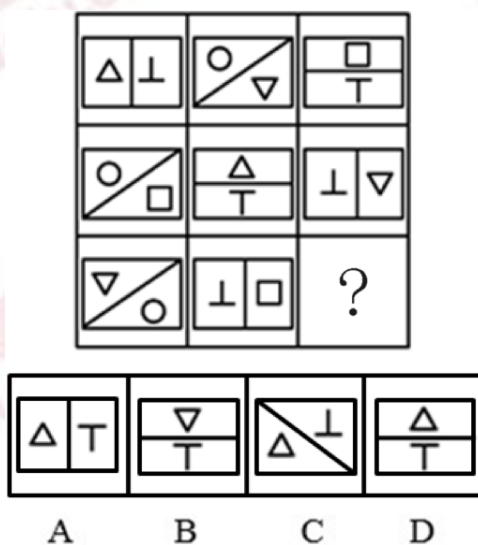




(2011-浙江-109.) 从所给四个选项中, 选择最合适的一个填入问号处, 使之呈现一定规律性:



(2011-浙江-110.) 从所给四个选项中, 选择最合适的一个填入问号处, 使之呈现一定规律性:



四、定义判断: 共 5 题。每道题先给出一个概念的定义, 然后分别列出四种情况, 要求

你严格依据定义从中选出一个最符合或最不符合定义的答案。注意：假设这个定义是正确的，不容置疑的。

请开始答题：

(2011-浙江-111.) 地缘政治学：是地理和政治的结合体，又称地理政治学。它关注地理学对国际政治的特征、历史、结构尤其是与外国关系的影响，把地理因素视为影响甚至决定国家对外政治决策的一个基本因素，并依据这些地理因素和政治格局的地域形成，分析预测世界或地区范围的战略形势及有关国家的政治行为。

根据上述定义，下列**不属于**地缘政治学的观点的是：

- A. 德国海陆兼备，具有争夺世界霸主地位的有利条件
- B. 一个国家要想发展“海权”，首先必须在地理上便于进入世界的海洋
- C. 谁统治东欧，谁就控制了心脏地带
- D. 文明冲突将左右全球政治，文明之间的断层线将成为未来的战斗线

(2011-浙江-112.) 行政许可：是指行政机关根据公民、法人或者其他组织的申请，经依法审查，准予其从事特定活动的行为。

根据上述定义，下列属于行政许可的是：

- A. 甲省政府批准了某市政府提交的土地征收申报材料
- B. 乙公司任命孙强为全权代表，让其负责与外方的业务洽谈
- C. 丙工商局根据某学校食堂的申请向其颁发了营业执照
- D. 丁公安局根据某犯罪嫌疑人的申请同意其取保候审

(2011-浙江-113.) 边际效应：消费者在逐次增加一个单位消费品的时候，带来的单位效用是逐渐递减的。

根据上述定义，下列属于边际效应的是：

- A. 洪某下海创业，第一年赚了六十万，第二年赚了二十万，第三年赔了钱
- B. 程某第一次带孩子逛博物馆时孩子非常好奇，第二次去的时候孩子还是很开心，但是第五次、第六次去的时候，孩子就有点厌倦的感觉了
- C. 郭某是资深集邮爱好者，前天终于集齐了他那套宝贝邮票的最后一张，那兴奋劲儿简直比抱孙子还要开心
- D. 范某请朋友吃饭，酒一瓶一瓶下去，越喝越高兴，越喝越香

(2011-浙江-114.) 三段论：是以包含三个不同词项的两个直言命题为前提，推出一个直言命题为结论，而且每两个直言命题都有一个共同词项的推理。

根据上述定义，下列属于三段论推理的是：

- A. 或者你说错了，或者我听错了，我没有听错表明你说错了
- B. 如果寒潮到来，气温就会下降，气温没有下降说明寒潮没有到来

C. 水银是金属，金属是能导电的物质，所以有的能导电的物质是水银

D. 老张是画家，老李是音乐家，他们是朋友，所以画家和音乐家可以做好朋友

(2011-浙江-115.) 抢劫罪：是指以非法占有为目的，以暴力、胁迫或者其他方法，强行劫取公私财物的行为。

根据上述定义，下列行为属于抢劫罪的是：

A. 甲在路上放了很多铁钉，乙骑自行车路过，车胎被扎破，甲趁乙下车查看时，迅速将乙车筐里的包拿走

B. 甲伙同乙在夜间闯入丙家中，用猎枪胁迫丙拿出现金和银行卡

C. 甲见乙手上拿着手机，上前将乙的手一碰，乙的手机掉在地上，甲迅速拿起手机逃走

D. 甲对乙怀恨在心，趁天黑时将乙打昏后逃跑，后来甲返回发现乙还未醒来，又将乙的手表拿走

※※※第四部分结束，请继续做第五部分！※※※

## 河南

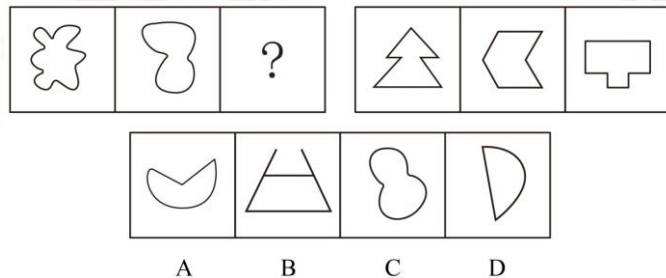
### 【【2016-河南-判断】】

#### 第三部分 判断推理

一、图形推理。请按每道题的答题要求作答。

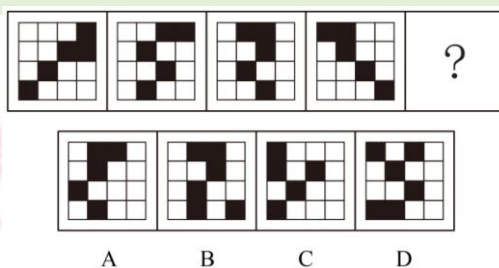
请开始答题：

(2016-河南-46.) 从所给四个选项中，选择最合适的一个填入问号处，使之呈现一定规律性：

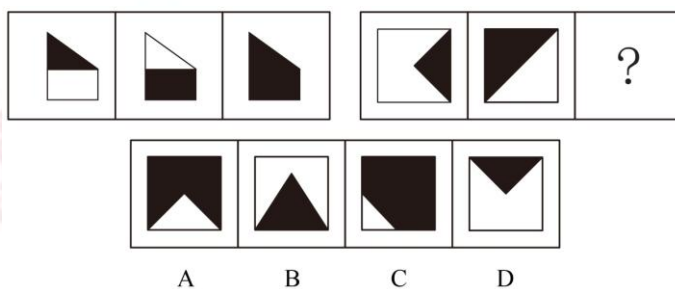


(2016-河南-47.) 从所给四个选项中，选择最合适的一个填入问号处，使之呈现一定规

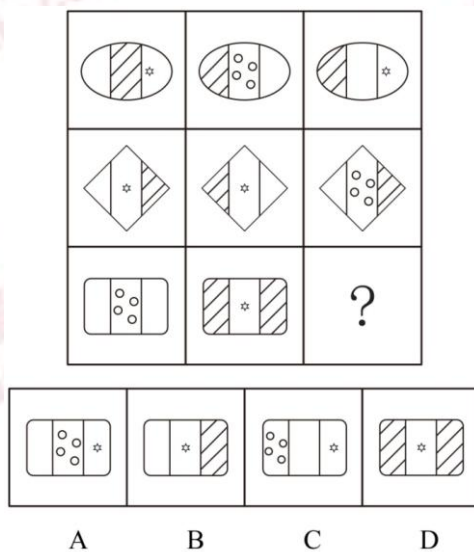
律性:



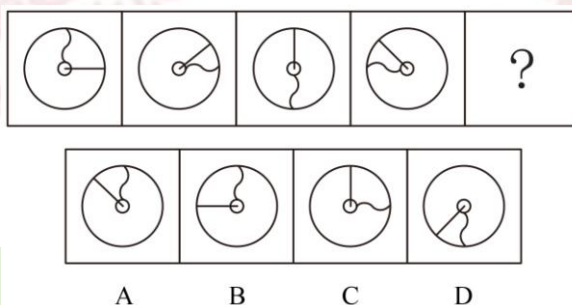
(2016-河南-48.) 从所给四个选项中, 选择最合适的一个填入问号处, 使之呈现一定规律性:



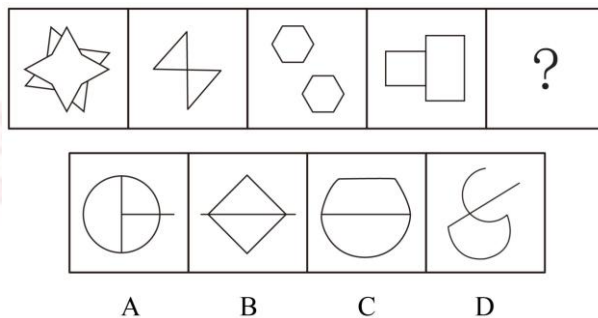
(2016-河南-49.) 从所给四个选项中, 选择最合适的一个填入问号处, 使之呈现一定规律性:



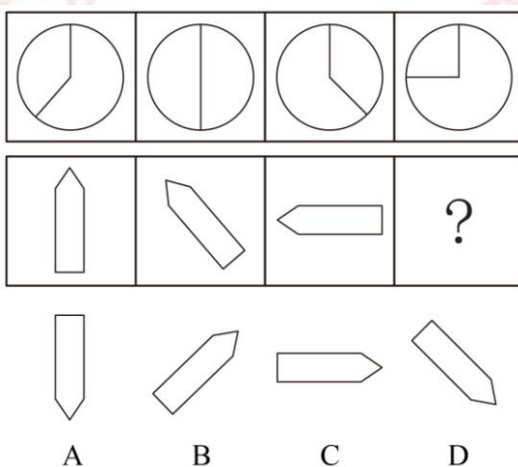
(2016-河南-50.) 从所给四个选项中, 选择最合适的一个填入问号处, 使之呈现一定规律性:



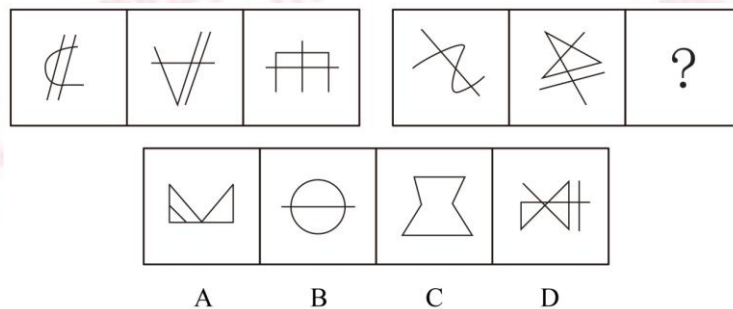
(2016-河南-51.) 从所给四个选项中, 选择最合适的一个填入问号处, 使之呈现一定规律性:



(2016-河南-52.) 从所给四个选项中, 选择最合适的一个填入问号处, 使之呈现一定规律性:

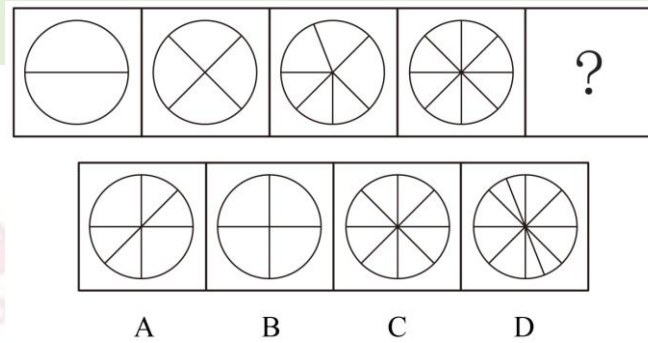


(2016-河南-53.) 从所给四个选项中, 选择最合适的一个填入问号处, 使之呈现一定规律性:

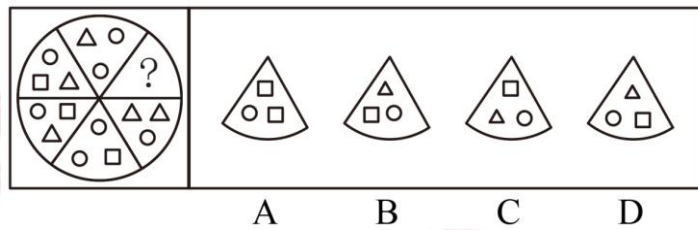


(2016-河南-54.) 从所给四个选项中, 选择最合适的一个填入问号处, 使之呈现一定规律性:





(2016-河南-55.) 从所给四个选项中, 选择最合适的一个填入问号处, 使之呈现一定规律性:



二、定义判断。每道题先给出定义, 然后列出四种情况, 要求你严格依据定义, 从中选出一个最符合或最不符合该定义的答案。注意: 假设这个定义是正确的, 不容置疑的。

请开始答题:

(2016-河南-56.) 智慧城市是运用信息和通信技术整合城市运行各项关键信息, 从而对包括民生、环保、公共安全、城市服务、工商业活动在内的各种需求做出智能响应, 实现城市智慧式管理和运行。

根据上述定义, 下列**不属于**智慧城市内容的是:

- A. 逐步实现多领域跨行业的“一卡通”网
- B. 网上“一站式”行政审批及其他公共行政服务
- C. 根据人工智能算法科学合理规划城市公共交通网
- D. 整合各类监控资源, 建立治安综合管理平台

(2016-河南-57.) 在因果关系十分复杂的科学领域, 即使在基本条件相同的情况下, 每做一次观察或试验, 都可能得到不同的结果。这意味着, 我们往往无法根据已知的有限原因精确地预测结果, 每做一次预测, 也都可能会出现偏差。我们将这种无法精确预测的现象, 称为随机现象。

根据上述定义, 下列属于随机现象的是:

- A. 种瓜得瓜, 种豆得豆
- B. 郑州市每年 8 月 9 日的气温
- C. 对正常人而言, 剧烈运动后会出汗
- D. 定量的氢气在氧气中燃烧生成一定量的水

(2016-河南-58.) 案例教学法是指在教师的指导下,由学生对选定的具有代表性的典型案例,进行针对性地分析、审理和讨论,做出自己的判断和评价。

根据上述定义,下列属于案例教学法的是:

- A. 为讲解什么是“正当防卫”,赵老师给出真实案件,把学生分为辩方律师与控方律师进行分析、辩论
- B. 为教授无土栽培技术,李老师以“无土栽培番茄”为例进行逐步演示,学生分组动手操作,并完成栽培过程书面报告
- C. 为讲解“包产到户”,张老师组织学生到小岗村进行实地考察,与当地农民座谈,讨论、分析“包产到户”的必要性
- D. 为传授网线制作的技巧,刘老师播放了一段事先录制好的网线制作视频,供大家观察、讨论和学习

(2016-河南-59.) 军事侦察侧重于侦察对象是什么、现在什么状态,是一种主动获取的方式。而军事监视侧重于将会发生什么,具有一定的预警功能,是一种相对被动的方式。

根据上述定义,下列属于军事侦察行为的是:

- A. 某国在网络设备上开启后门搜集情报
- B. 某国间谍在我驻外使馆安装窃听设备
- C. 某国军机抵近我沿海军事基地搜集情报
- D. 某国在我周边地区安装大型远程雷达时刻关注我军事动向

(2016-河南-60.) 经验科学是指偏重于经验事实的描述和明确具体的实用性的科学。它旨在探究、描述、说明和预言发生在我们所生活的世界上的事件。因此,经验科学的论断必须由我们经验中的事实来检验,而且仅当它们有经验证据的支持时,它们才是可以接受的。

根据上述定义,下列**不属于**经验科学的是:

- A. 逻辑学
- B. 星座学
- C. 万有引力定律
- D. 自由落体定律

(2016-河南-61.) 事业单位固定资产是指使用期限超过一年,单位价值在 1000 元以上(其中:专用设备单位价值在 1500 元以上),并在使用过程中基本保持原有物质形态的资产。单位价值虽未达到规定标准,但是耐用时间在一年以上的大批同类物资,作为固定资产管理。

根据上述定义,下列属于事业单位固定资产的是:

- A. 一个价值 800 元的移动硬盘
- B. 每箱价值 200 元的打印纸 100 箱
- C. 单套价值 500 元的座椅 10 套
- D. 价值 2000 元的一批试验用试剂

(2016-河南-62.) 自 17 世纪以来,也许是受到理性精神的鼓舞和科学进步的激励,人类思想长期处在逻辑形式主义和科学唯理主义的密云之中。到了 20 世纪上半叶的逻辑实证

主义那里,这种思想发展为一种极端:只有符合逻辑的、可验证的知识才是人类唯一的选择,凡不能由逻辑与实证加以检验的知识都是空想,没有意义。

根据上述观点,下列**不属于**“空想”的是:

- A. 法学
- B. 几何学
- C. 伦理学
- D. 政治学

(2016-河南-63.)非战争军事行动是指在相对和平环境下,动用军事力量有组织有计划地采取战争以外的军事手段。

根据上述定义,下列属于非战争军事行动的是:

- A. 南苏丹武装冲突
- B. 2016 中俄联演
- C. 美军击毙本拉登
- D. 德军打击 IS 组织

(2016-河南-64.)单工通信是指发送端和接收端的身份是固定的,发送端只能发送信息,不能接收信息。接收端只能接收信息,不能发送信息。数据信号仅从一端传送到另一端,即信息流是单方向的。

根据上述定义,下列**不属于**单工通信的是:

- A. 校园广播
- B. 对讲机通话
- C. 收音机收听电台
- D. 电视机遥控器切换频道

(2016-河南-65.)语言是一种符号系统。任何符号都包含形式和意义两方面。在语法系统里,基本符号是语素,它被定义为“最小的有意义的语言成分”。例如“我喜欢吃葡萄”里的“我”“喜”“欢”“吃”都有意义,而且都不能分割成更小的有意义的单位了,所以它们都是语素;“葡”和“萄”只有合在一起才有意义,所以“葡萄”也是最小的有意义的语言成分,也是语素。

根据上述定义,下列属于语素的是:

- A. 琵琶
- B. 人民
- C. 衣服
- D. 履历

三、类比推理。每道题先给出一组相关的词,要求你在备选答案中找出一组与之在逻辑关系上最为贴近、相似或匹配的词。

请开始答题:

(2016-河南-66.)鸭子:河

- A. 摩天轮:过山车
- B. 喜剧:话剧
- C. 飞机:飞机场
- D. 火车:轨道

(2016-河南-67.) 水泥：建房

- A. 水杯：解渴
- B. 船桨：船帆
- C. 瓢：舀水
- D. 血：循环

(2016-河南-68.) 书籍：人类进步的阶梯：《进化论》

- A. 跑步：使人健康的方式：强壮
- B. 语言：心灵的桥梁：汉语
- C. 月亮：天空中的小船：天体
- D. 舞蹈：流动的符号：表演

(2016-河南-69.) 歌唱家：歌唱：歌曲

- A. 厨师：烹饪：食物
- B. 学生：学习：考试
- C. 律师：法院：案件
- D. 清洁工：拖把：垃圾

(2016-河南-70.) 报名：培训：结业

- A. 高考：招生：毕业
- B. 设计：产品：使用
- C. 驾驶：公路：旅行
- D. 挂号：看病：痊愈

四、逻辑判断。每道题给出一段陈述，这段陈述被假设是正确的，不容置疑的。要求你根据这段陈述，选择一个答案。注意：正确的答案应与所给的陈述相符合，不需要任何附加说明即可以从陈述中直接推出。

请开始答题：

(2016-河南-71.) 有人说某地养石斛浇的是富含微量元素的矿泉水，似乎是说该地石斛的品质跟这种矿泉水有关。

为了验证这个结论，下列哪种实验方法最可靠？

- A. 选一些不同品种、等级的石斛，用富含微量元素的矿泉水浇灌，然后检验比较它们的品质
- B. 选择品种、等级等完全相同的石斛，一半用富含微量元素的矿泉水浇灌，一半用普通水浇灌，然后比较它们的品质
- C. 检验和比较用富含微量元素的矿泉水浇灌和用普通水浇灌的石斛的品质
- D. 选一种优良品种、等级高的石斛用富含微量元素的矿泉水浇灌，然后与用普通水浇灌的普通石斛作品质比较

(2016-河南-72.) 某市工商局的员工数量较五年前减少了数百人，但新办企业办证时间减少了一周。由此可以得出结论：目前该市工商局的员工工作效率较五年前有明显的提高。

以下各项如果为真，**不能**支持上述论证的是：

- A. 该工商局增加了新办企业办证的环节

- B. 该工商局管理力度较五年前有明显加强
- C. 该市新办企业数量较五年前也有大幅度减少
- D. 新办企业办证时间主要取决于人员办事的速度

(2016-河南-73.) 已知一次英语考试甲、乙、丙、丁的成绩如下：甲、乙的成绩之和等于丁、丙的成绩之和，如果把乙和丁的成绩互换，甲和丁的成绩之和大于乙和丙的成绩之和，乙的成绩比甲、丙的成绩都高。

根据以上所知，下列哪项为真？

- A. 甲的成绩最高
- B. 乙的成绩最高
- C. 丙的成绩最高
- D. 丁的成绩最高

(2016-河南-74.) 甜品店有四种甜点：双皮奶、布丁、蛋糕和冰淇淋。B 比 A 贵，C 最便宜，双皮奶比布丁贵，蛋糕最贵，冰淇淋比 D 贵。

关于这四种甜点，下列说法正确的是：

- A. A 是双皮奶，B 是蛋糕，C 是冰淇淋，D 是布丁
- B. A 是布丁，B 是冰淇淋，C 是蛋糕，D 是双皮奶
- C. A 是冰淇淋，B 是蛋糕，C 是布丁，D 是双皮奶
- D. A 是冰淇淋，B 是蛋糕，C 是双皮奶，D 是布丁

(2016-河南-75.) 三人在一起猜测晚会节目的顺序。甲说：“一班第一个出场，二班第三个出场。”乙说：“三班第一个出场，四班第四个出场。”丙说：“四班第二个出场，一班第三个出场。”结果公布后，发现他们的猜测都只对了一半。

由以上可以推出，节目的正确出场顺序是：

- A. 四班第一，三班第二，一班第三，二班第四
- B. 二班第一，一班第二，三班第三，四班第四
- C. 三班第一，四班第二，二班第三，一班第四
- D. 一班第一，二班第二，四班第三，三班第四

(2016-河南-76.) 把红、黄、蓝、绿、紫五个小球放在五个排成一列的抽屉里，序号为 A、B、C、D、E。要求：黄球放在绿球和紫球前面，蓝球不能放在 B 抽屉里，红球和绿球之间隔着一个抽屉。

问黄球放在哪个抽屉时，五个球的排放顺序是唯一的？

- A. B 抽屉
- B. C 抽屉
- C. D 抽屉
- D. E 抽屉

(2016-河南-77.) 甲乙丙丁四个人高考前对英语成绩进行预测。当时，甲说：“我再怎么努力也考不了 90 分。”乙说：“不知道自己能考多少分，但是我知道丙能考 90 分。”丙

说：“丁不会考到 80 分。”丁说：“乙不会考得比 60 分还低。”事实上只有一人猜对了。

以下哪个结论**不支持**乙猜对了？

- A. 丁考得比甲高
- B. 乙考得不是最差的
- C. 甲和丙考得一样高
- D. 丙和丁考得一样高

(2016-河南-78.) 某市多年来一直存在人才外流的现象，但自从大学城搬迁到该市后，出现了名校毕业生在该市就业难的现象，因此，有人认为该市就业难是大学城搬迁带来的。

以下哪项如果为真，最能支持上述结论？

- A. 周围其他市依旧存在人才外流现象
- B. 本市的企业在 2 年内增长了 3 倍
- C. 本市大学城搬迁前也存在就业难的现象
- D. 本市政府出台政策鼓励学生自主创业

(2016-河南-79.) 小丽一大早到公司，发现自己桌子上有一束玫瑰花，同事小王经过仔细分析，认为是客户张总送的，小丽则认为不可能。但是小王说，其他可能性都被排除了，剩下的可能性不管看起来多荒谬，都是真的。

以下哪项如果为真，最能**削弱**小王的说法？

- A. 小王不可能比小丽更了解张总
- B. 逻辑推理不一定能得出正确答案，必须有证据
- C. 张总是公认的浪漫的人
- D. 小王不可能穷尽所有的可能性

(2016-河南-80.) 甲乙丙丁住在同一寝室，有人问他们：“你们当中谁会会的语言最多？”甲说：“我不会说英语，当乙和丙交谈时，我能用外语给他们翻译。”乙说：“我是英国人，丁不会说英语，但我俩可以毫无困难地交流。”丙说：“我和丁交流时，需要请乙来帮忙翻译。”丁说：“我们四个人不能同时用一种语言交流。”

据此可以推断出四个人中谁会的语言最多？

- A. 甲
- B. 乙
- C. 丙
- D. 丁

※※※第三部分结束，请继续做第四部分！※※※

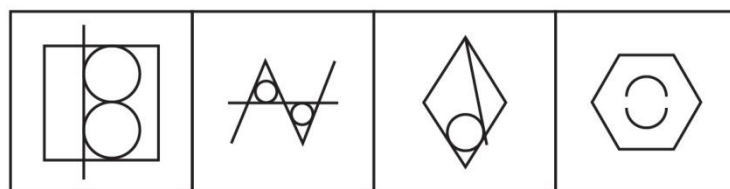
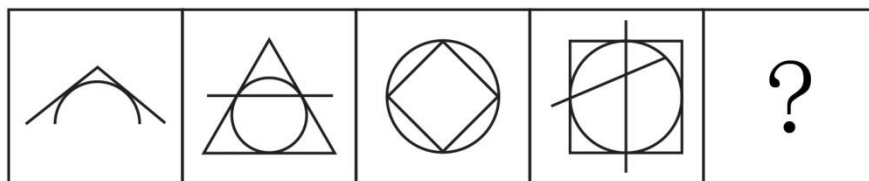
【【2015-河南-判断】】

### 第三部分 判断推理

一、图形推理。请按每道题的答题要求作答。

请开始答题：

(2015-河南-46.) 从所给四个选项中，选择最合适的一个填入问号处，使之呈现一定规律性：



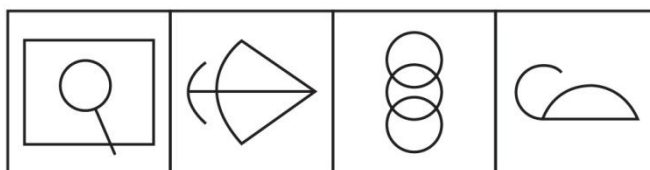
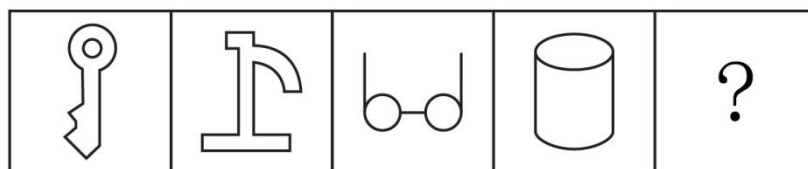
A

B

C

D

(2015-河南-47.) 从所给四个选项中，选择最合适的一个填入问号处，使之呈现一定规律性：



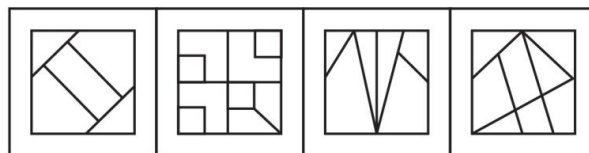
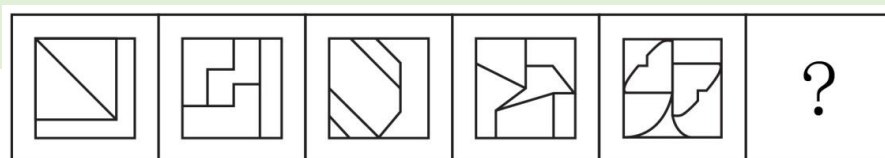
A

B

C

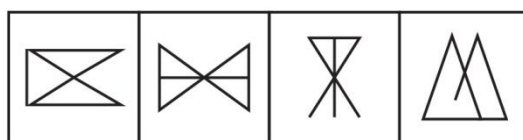
D

(2015-河南-48.) 从所给四个选项中，选择最合适的一个填入问号处，使之呈现一定规律性：



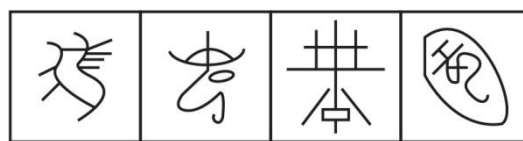
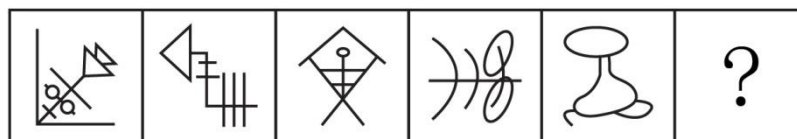
A B C D

(2015-河南-49.) 从所给四个选项中, 选择最合适的一个填入问号处, 使之呈现一定规律性:



A B C D

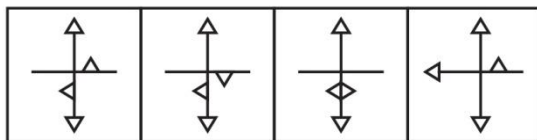
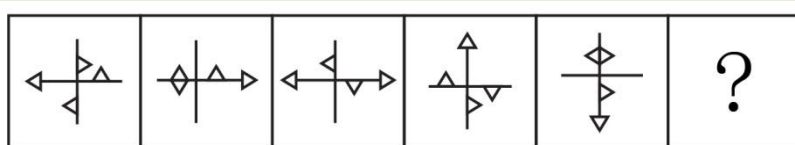
(2015-河南-50.) 从所给四个选项中, 选择最合适的一个填入问号处, 使之呈现一定规律性:



A B C D

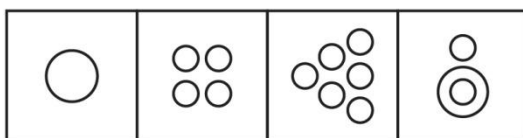
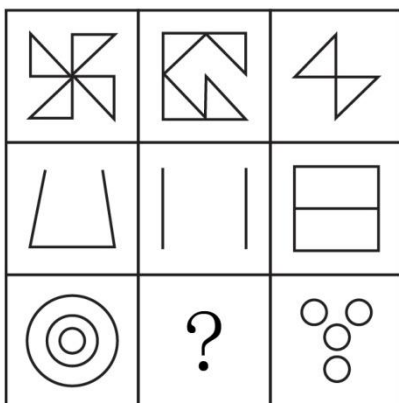
(2015-河南-51.) 从所给四个选项中, 选择最合适的一个填入问号处, 使之呈现一定规律性:





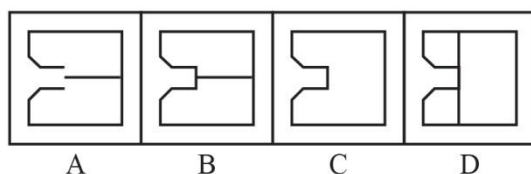
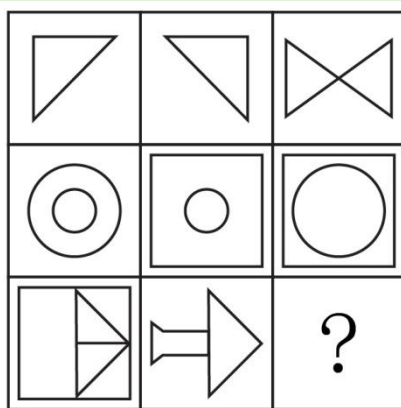
A B C D

(2015-河南-52.) 从所给四个选项中, 选择最合适的一个填入问号处, 使之呈现一定规律性:

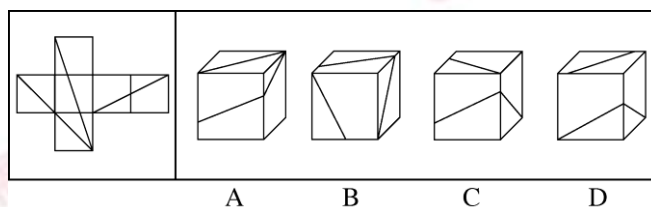


A B C D

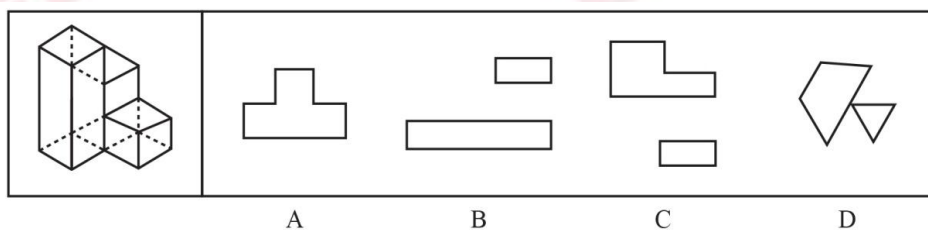
(2015-河南-53.) 从所给四个选项中, 选择最合适的一个填入问号处, 使之呈现一定规律性:



(2015-河南-54.) 左边平面图折叠后可得到右边的哪一立体图?



(2015-河南-55.) 以下哪一项**不可能**是左边立体图形的切面?



二、定义判断。每道题先给出定义，然后列出四种情况，要求你严格依据定义，从中选出一个最符合或最不符合该定义的答案。注意：假设这个定义是正确的，不容置疑的。

请开始答题：

(2015-河南-56.) 广度经济是一种多样化生产经营商品或服务的经济，当同时生产 X 和 Y 的成本低于单独生产两种商品或服务的时候，就存在广度经济。

根据上述定义，下列**不存在**广度经济的是：

- A. 巧克力工厂生产巧克力的生产线也用于生产巧克力花生豆
- B. 干洗店在干洗业务之外，同时提供皮衣保养等服务
- C. “扬名”饮料公司的工业园同时有生产“扬名”牌童装的车间
- D. 旅行社销售各种旅游产品的同时有偿提供导游和伴游服务

(2015-河南-57.) 反对关系指的是两个概念所反映的对象类互不相同, 没有交叉, 并且有些对象均不属于这两个概念。

根据上述定义, 以下哪项中涉及的两个加点词语所表达的概念之间属于反对关系?

- A. 实数包括有理数和非有理数
- B. 蝴蝶、蜜蜂等都是昆虫
- C. 组织既有国际组织又有非国际组织
- D. 植物包括观赏性植物和非观赏性植物、挂果植物和非挂果植物

(2015-河南-58.) 病毒式网络营销是通过用户的口碑宣传网络, 信息像病毒一样传播和扩散, 利用快速复制的方式传向数以千计、数以百万计的受众。

根据上述定义, 下列选项中**没有**应用病毒式网络营销手段的是:

- A. 某些网站在帖子下面设置“转发”或“告诉朋友”按钮, 使网站信息可以迅速被转发到上网者的个人网页
- B. 某些即时通讯工具开发了“发红包”功能, 让使用者争先恐后地互发红包, 同时增加了该通讯工具的安装量
- C. 某体育品牌邀请体育明星拍摄精彩视频, 并在视频承诺, 若该视频的转发次数超过一定数量, 就会请更多明星来继续拍摄新的视频
- D. 某在线购物网站向所有注册会员推送促销信息的邮件, 为即将到来的大减价活动做广告

(2015-河南-59.) 间接融资是指拥有暂时闲置货币资金的单位或个人通过存款的形式, 或者购买银行、信托、保险等金融机构发行的有价证券, 将其暂时闲置的资金先行提供给这些金融中介机构, 然后再由这些金融机构以贷款、贴现、购买证券等方式, 把资金提供给一些单位使用。获取资金的这些单位就实现了间接融资。

根据上述定义, 下列属于间接融资的是:

- A. 银行吸收储蓄资金, 贷款给私营企业
- B. 金融投资人将个人财产投资于新型产业
- C. 国家发行债券, 获得资金用于教育产业
- D. 上市公司向社会发行股票进行融资, 促进发展

(2015-河南-60.) 双避冲突又称负负冲突, 是动机冲突的一种, 指同时有两个可能对个体具有威胁性、不利的事发生, 两种都想躲避, 但受条件限制, 只能避开一种, 接受一种, 个体在作抉择时内心产生矛盾和痛苦。

根据上述定义, 下列面临的情境中属于双避冲突的是:

- A. 高不成, 低不就
- B. 狡兔死, 良犬烹
- C. 士可杀, 不可辱

D. 前有狼，后有虎

(2015-河南-61.) 行政许可，是指在法律一般禁止的情况下，行政主体根据行政相对方的申请，经依法审查，通过颁发许可证、执照等形式，赋予或确认行政相对方从事某种活动的法律资格或法律权利的一种具体行政行为。

根据上述定义，下列**不涉及**行政许可的是：

A. 伦理审查委员会在详细查阅王教授进行人体试验的研究计划之后，认为符合伦理规范，批准该项研究

B. 临近春节，小李向安全生产监督管理局申请生产经营烟花爆竹并获得批准

C. 小张从医学院本科毕业之后，参加卫生部医师资格考试，获得医师资格证书之后开始行医

D. 国家工商总局在对某进口企业的资质进行了审核之后，给予其进口认证

(2015-河南-62.) 知觉的整体性是指在直接作用于感觉器官的外界刺激不完备的情况下，人们根据自己的经验，对刺激进行加工处理，使知觉保持完备的一种性质。

根据上述定义，下列选项中**不属于**“知觉的整体性”的是：

A. 在浓雾中，人们看不清前方的物体，但通过对轮廓的大致观察，知道那是一辆自行车

B. 人们在观看有缺口的圆环时，通常会在心里将缺少的部分补足，形成一个整体圆环的形象

C. 小王听到了切瓜果的声音，同时又闻到了香瓜的香味，他觉得隔壁的同事正在切香瓜

D. 一张红纸一半有阳光照射，一半没有阳光照射，从远处看颜色差异很大，人们仍然可以判断出这是一张红纸

(2015-河南-63.) 巴纳姆效应指的是人们常常认为一种笼统的、一般性的人格描述十分准确地揭示了自己的特点。这种心理倾向的出现是因为每个人的思维都有选择性，会优先选择和自己相符的信息，或者选择一些自己能够接受的信息。

根据上述定义，下列现象符合巴纳姆效应的是：

A. 小方听到同学跟别人说“这个人人品有问题”，小方认为同学很可能在说自己

B. 王先生外出不慎摔伤，后来看到黄历上写着那天“不宜出行”，觉得黄历真的很准确

C. 小张看到网上的性格分析说“金牛座的男人个性实际、勤勉”，认为很符合自己

D. 老师在毕业鉴定上给小黄同学的评价是“尊敬师长、待人诚恳”，小黄看到后非常高兴

(2015-河南-64.) 皮格马利翁效应是指个体基于对某种情境的知觉，其情感和观念受到他人的影响和暗示而形成某种期望，并由该期望对情境产生实际效果的现象，亦称期待效应。

根据上述定义，下列选项中**不符合**皮格马利翁效应的是：

A. 从小顽劣的罗尔斯在一次调皮捣蛋后出乎意料地听到老师对他说“我一看就知道你将来是纽约州的州长”，从此以此为信念，长大后成为纽约州州长

B. 玛莎从小学习刻苦努力但成绩平平，面对老师和同学们不认可的目光，她不予理睬奋起直追，用实际行动证明自己是可塑之材，并最终取得优异成绩

C. 韦尔奇告诉每个团队成员最宝贵的东西就是构想，并激励他们完成构想，实现目标，最终他们共同推动了企业经营的巨大发展

D. 助手贝特因经营失误导致公司损失巨大，总裁却对他说“全靠你处置有方，保全了部分投资”，贝特后来成为公司屡创佳绩的中坚人物

(2015-河南-65.) 结果犯，指由危害行为和危害结果共同构成犯罪客观方面的犯罪，结果犯的既遂，不仅要求有犯罪行为，而且必须发生法定的犯罪结果，缺少危害结果，犯罪的客观方面就不具有完整性或者说犯罪客观方面的要件就不齐备。结果犯的结果，是指有形的、可以计量的具体危害结果，是与犯罪的性质相一致的结果。

根据上述定义，以下**不属于**结果犯的是：

A. 诈骗

B. 抢劫

C. 故意杀人

D. 诬告陷害

三、类比推理。每道题先给出一组相关的词，要求你在备选答案中找出一组与之在逻辑关系上最为贴近、相似或匹配的词。

请开始答题：

(2015-河南-66.) 资料：文件

A. 质量：砝码

B. 飞艇：航空器

C. 护卫舰：补给舰

D. 自然现象：极光

(2015-河南-67.) 开：关

A. 小麦：水稻

B. 痛苦：快乐

C. 盈利：非盈利

D. 工作：休息

(2015-河南-68.) 拍卖公告：拍卖：交付

A. 起诉：应诉：庭审

B. 感冒：服药：发热

C. 泡茶：加水：饮用

D. 开机：关机：重启

(2015-河南-69.) 药物：手术：治疗

A. 火车：公路：运输

B. 现金：信用卡：金融

C. 物质：精神：文明

D. 电子邮件：短信：通讯

(2015-河南-70.) 航空母舰对于 ( ) 相当于潜艇对于 ( )

- A. 巡洋舰；导弹
- B. 舰载机；鱼雷
- C. 常规动力；核动力
- D. 远程偷袭；协同攻击

四、逻辑判断。每道题给出一段陈述，这段陈述被假设是正确的，不容置疑的。要求你根据这段陈述，选择一个答案。注意：正确的答案应与所给的陈述相符合，不需要任何附加说明即可以从陈述中直接推出。

请开始答题：

(2015-河南-71.) 某品牌的新型插座产品中包含防雷击部件，在电路遭到雷击后能保证所连接电器不受损害。有人提出，应将这种部件作为标准配件安装到该品牌所有的插座产品中；另有人认为这么做会提高产品成本，降低其在行业内的价格竞争优势，且国内行业标准并没有强制要求产品加入防雷部件，故没有必要加装防雷击部件。

以下哪项如果为真，最能**削弱**上述反对意见？

- A. 越来越多的其他品牌的插座也开始加入了防雷部件
- B. 调查显示大多数消费者对其电路遭受雷击并不感到担忧
- C. 在家电遭受雷击的已知案例中，使用了该新型插座的家电都没有受损
- D. 在即将发布的国家标准中，强制要求所有插座产品都包含防雷击部件

(2015-河南-72.) 研究人员对平均年龄为 66 岁的 648 名痴呆症患者进行研究，发现掌握两种语言的患者罹患痴呆的时间比只掌握一种语言的患者晚大约四年半。研究人员因此认为掌握两种语言可以延缓痴呆的发生。

以下哪项如果为真，最能**质疑**上述结论？

- A. 很多人患上痴呆之后大脑的言语功能均出现显著下降
- B. 大脑认知功能好的人才说双语，认知功能好可延缓痴呆
- C. 相当多的人只掌握一种语言，但一生都未出现痴呆的症状
- D. 掌握三种或以上语言的人，痴呆发生时间比掌握两种语言的稍晚

(2015-河南-73.) 某研究员认为，人类语言最初直接来源于鸟类和灵长类，因为如果重新审视现代人类语言，我们可以看到人类的相互交流是如何从鸟类和其他灵长类古老的交流模式系统演化而来的。他宣称，从鸟类身上，我们获得了语言的旋律部分；从其他灵长类身上，我们获得了语言的实用性内容部分。在过去 10 万年里的某个时候，这些能力最终演化成我们今天所知的人类语言。

上述结论还需基于以下哪一前提？

- A. 人类的交流与其他动物的交流之间的相似度比我们一般认为的要多
- B. 人类语言包含两个不同层面：与句子可变结构相关的表达层面以及表达句子核心内容的词汇层面

- C. 人类语言的交流在过去和现在变化不大
- D. 鸟类和除人类以外的其他哺乳动物有自己的交流语言

(2015-河南-74.) 当前,市中心小区车位十分紧张。某天傍晚,某小区仅剩甲、乙、丙 3 个车位。正好只剩 3 辆车要停进来,车子的品牌分别是吉利、奇瑞和大众。已知:每个车位只能停一辆车,先到先得;若吉利车停在乙车位,则奇瑞车无法停到丙车位;大众车只能停到甲或乙车位;如果甲车位被吉利或奇瑞停占,大众就会找不到车位。三辆车最后刚好把 3 个车位停满。

如果最后吉利车停在丙车位上,则可以得出以下哪项?

- A. 奇瑞车比大众车先找到车位
- B. 大众车比奇瑞车先找到车位
- C. 奇瑞车停在乙车位上
- D. 大众车停在乙车位上

(2015-河南-75.) 一项新的研究认为,如果孕妇在怀孕头三个月接受日光照射过少,所生的孩子日后患多发性硬化症的几率可能会增加,这是因为人体维生素 D 含量较低与多发性硬化症患病风险增加有关。

以下哪项如果为真,最能削弱上述研究结论?

- A. 除了日光照射以外,也可以通过多种食物提高人体维生素 D 的含量
- B. 若新生儿体内维生素 D 的含量较低,他们更易患多发性硬化症
- C. 孕妇接受日光照射不足,其胎儿的中枢神经系统可能会受到影响
- D. 胎儿体内维生素 D 的含量取决于母亲体内维生素 D 的含量

(2015-河南-76.) 2013 年末,一家公司为鼓励员工按时上班,对于 2013 年从未迟到的员工,公司为其免费办理公司旗下电影院 2014 年实名制的年卡,该公司员工张明拥有该电影院的 2014 年的年卡。

据此,可以推出:

- A. 张明在 2013 年上班从未迟到
- B. 2014 年全年张明可在该影院免费观影
- C. 2013 年没有迟到的员工有 2014 年年卡
- D. 拥有实名制年卡的员工在 2013 年从未迟到过

(2015-河南-77.) 某景点制定新的门票优惠政策,据此政策,并非有些学生在本景点享受门票优惠,所有在本景点享受门票优惠者年龄都超过 12 岁。

由此可以推出:

- A. 有些年龄超过 12 岁的学生在本景点享受了门票优惠
- B. 该景点的门票优惠政策仅面向不超过 12 岁的学生
- C. 所有年龄超过 12 岁的学生都没在本景点享受门票优惠

D. 所有年龄不超过 12 岁的学生都在本景点享受门票优惠

(2015-河南-78.) 据一项小规模研究显示, 身材偏瘦的人并不一定比其他人吃得更好或锻炼更多, 他们只是早起多晒了一会儿太阳。曙光对体重指数的影响约为 20%, 起床晒太阳的时间越早, 体重指数就越低。反之亦然。因此, 研究人员提出, 想要降低体重, 只需早起晒一会儿太阳。

以下哪项如果为真, 最能说明上述研究结果**不成立**?

- A. 有些地区的农民每天起早摸黑地辛苦劳动, 一直都很瘦
- B. 某海滩度假区光照十分充足, 但当地人都很胖
- C. 与坚持室内健身者相比, 迎着曙光慢跑者体重变化相对较小
- D. 某大学号召学生晨练, 坚持下来的同学晒黑不少, 体重却没有减轻

(2015-河南-79.) 研究人员通过基因工程技术将特定基因引入作物, 使其能够编码合成 Bt 毒蛋白, 该蛋白能杀死侵袭的害虫。某地广泛种植转基因 Bt 棉花, 有效控制了棉铃虫的危害, 但与此同时, 另外一种害虫——盲椿象却泛滥成灾。对此, 研究人员认为, 盲椿象泛滥并非是转基因 Bt 棉花导致的, 而是由于当地气候比较适宜盲椿象生长。

以下哪项如果为真, 最能**削弱**研究人员的观点?

- A. 盲椿象一般于 6 月上中旬从其他寄主迁入棉田, 而这段时间正是二代棉铃虫的防治期
- B. 转基因 Bt 棉花大面积种植后, 由于棉花本身抗棉铃虫, 农药喷洒次数和用量都明显减少, 间接导致盲椿象种群获得生存空间
- C. 随着盲椿象从棉田继续向其他寄主迁移, 盲椿象也威胁到了当地葡萄、苹果树、桃树和梨树的生长, 成为多种作物的新虫害
- D. 棉花生长期期间该地的气候条件同时也有利于棉蚜、地老虎和红蜘蛛等害虫的生长

(2015-河南-80.) 某书店有 10 个书架按序号 1、2、3……、10 依次摆放, 其中只放置儿童书籍的书架有 1 个; 只放置科技书籍的书架有 2 个, 并且连号排列; 只放置历史书籍的书架有 3 个, 并且不与放置儿童书籍的书架连号排列; 只放置文学书籍的书架有 4 个, 并且不与放置科技书籍的书架连号排列, 如果第 1、3、10 号书架放置历史书籍, 4 号书架放置科技书籍, 那么儿童书籍一定放置在几号书架上?

- A. 2 号书架
- B. 5 号书架
- C. 6 号书架
- D. 7 号书架

※※※第三部分结束, 请继续做第四部分! ※※※



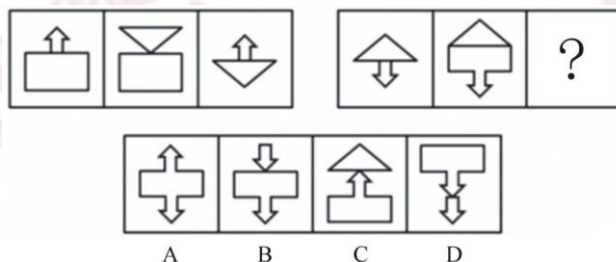
## 【【2014-河南-判断】】

### 第三部分 判断推理

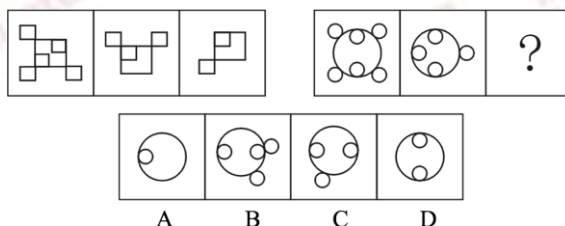
一、图形推理。请按每道题的答题要求作答。

请开始答题：

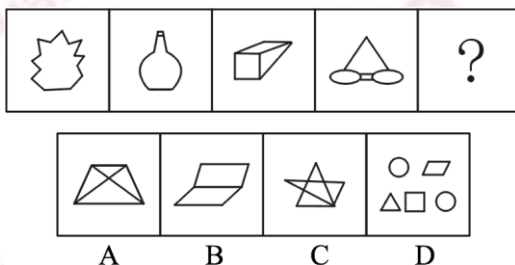
(2014-河南-46.) 从所给四个选项中，选择最合适的一个填入问号处，使之呈现一定规律性：



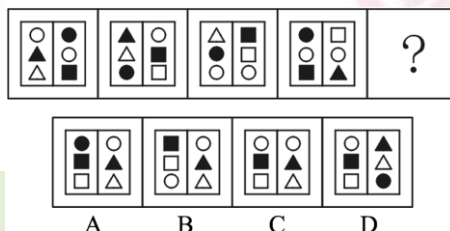
(2014-河南-47.) 从所给四个选项中，选择最合适的一个填入问号处，使之呈现一定规律性：



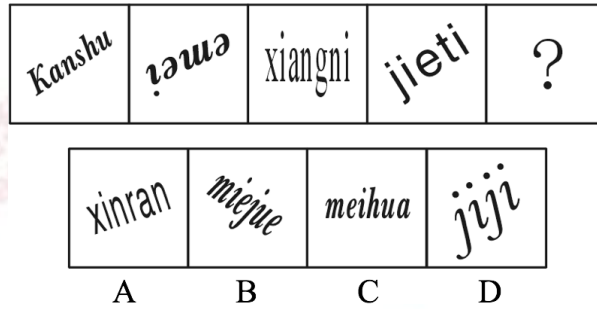
(2014-河南-48.) 从所给四个选项中，选择最合适的一个填入问号处，使之呈现一定规律性：



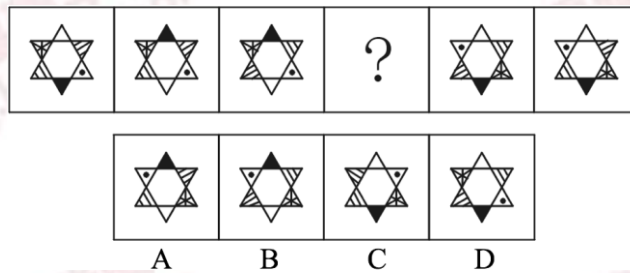
(2014-河南-49.) 从所给四个选项中，选择最合适的一个填入问号处，使之呈现一定规律性：



(2014-河南-50.) 从所给四个选项中, 选择最合适的一个填入问号处, 使之呈现一定规律性:




(2014-河南-51.) 从所给四个选项中, 选择最合适的一个填入问号处, 使之呈现一定规律性:



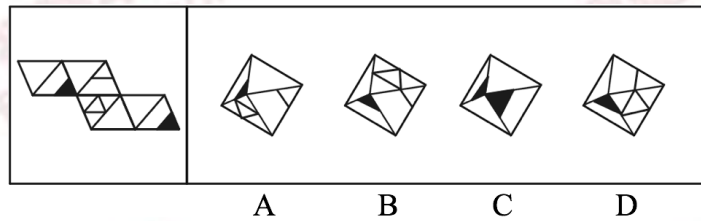
(2014-河南-52.) 从所给四个选项中, 选择最合适的一个填入问号处, 使之呈现一定规律性:



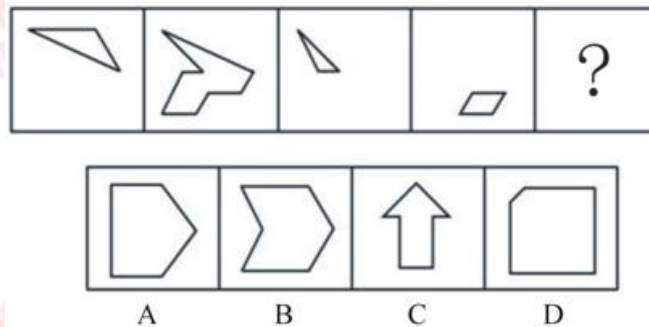
(2014-河南-53.) 从所给四个选项中, 选择最合适的一个填入问号处, 使之呈现一定规律性:



(2014-河南-54.) 左边给定的是纸盒的外表面, 下面哪一项能由它折叠而成?



(2014-河南-55.) 以下哪一个图形是由左边的四个图形不经旋转、翻转直接拼接而成的?



二、定义判断。每道题先给出定义, 然后列出四种情况, 要求你严格依据定义, 从中选出一个最符合或最不符合该定义的答案。注意: 假设这个定义是正确的, 不容置疑的。

请开始答题:

(2014-河南-56.) 环境保护的经济政策是指运用税收、信贷、财政补贴、收费等各种有效经济手段引导和促进环境保护的政策。

根据上述定义, 下列**不属于**环境保护的经济政策的是:

- A. 某省通过交通税费的征收与管理, 发展有益于环境保护的交通方式
- B. 某国鼓励和支持各类金融机构增加对资源综合利用企业的信贷投入
- C. 某环保设备制造园规定了允许进入园区的企业注册资金的最低限度
- D. 某企业由于污染治理未达标, 而被环保部门取消了当年申请环保专项资金的资格

(2014-河南-57.) 有意想象是指事先有预定目的想象, 可分为再造想象和创造想象。前者指根据别人的描述或图样, 在头脑中形成新形象的过程; 后者指不根据现成的描述, 而在大脑中独立地产生新形象的过程。

根据上述定义, 下列属于创造想象的是:

- A. 老刘故地重游时脑海里浮现出了一些往事
- B. 公安人员根据受害者的描述画出犯罪嫌疑人的肖像
- C. 人们在听评书《三国演义》时仿佛身临其境来到了古战场
- D. 小明在他创作的科幻小说中描绘了未来人类在月球上的生活图景

(2014-河南-58.) 大众传播是指专业化的媒介组织通过一定的传播媒介, 在接受国家管理下, 对受众进行大规模的信息传播活动。

根据上述定义, 下列**不属于**大众传播的是:

- A. 某市政府网站开办市民专栏, 就民生问题回答市民的提问
- B. 某报刊刊登了某传染病的最新传播情况
- C. 某电台开通了法治热线, 接受听众的咨询
- D. 某新闻频道对国家领导人的外事活动进行了直播

(2014-河南-59.) 系谱是指根据各类生物间的进化历程和亲缘关系的远近而编制的生物变化系统。

根据上述定义, 下列属于系谱的是:

- A. 在自然界, 人类与各种动植物相互依存, 一旦失去平衡, 灾难就会接踵而至
- B. 鱼类演化到两栖类, 从中分化出哺乳类和鸟类, 哺乳类中的一支发展为高等智慧生物
- C. 有一种观点认为, 人类起源于非洲, 并逐步迁徙到世界各地
- D. 李氏家族的家谱中详细记录了家族五百年来的发展和变迁

(2014-河南-60.) 延伸产品是指顾客购买产品时, 附带获得的各种利益的总和, 包括产品说明书、保证、安装、维修、送货、技术培训等。

根据上述定义, 下列涉及延伸产品的是:

- A. 某电器经销商承诺, 顾客购买本店任何电器, 都能享受九折优惠
- B. 某品牌服饰店进行促销活动, 购买本店服饰满 300 元减 100 元
- C. 某游戏公司在推出一款游戏后, 又及时推出了升级版以满足用户需求
- D. 某汽车经销商为吸引顾客, 承诺本店售出的汽车可享受三年质保

(2014-河南-61.) 利他惩罚是指人们不惜牺牲自己的利益去惩罚违反社会准则的人。第三方惩罚是利他惩罚的一种, 第三方虽然没有受到违规行为的直接损害, 却愿意付出代价来惩罚违反社会准则的人。

根据上述定义, 下列属于第三方惩罚的是:

- A. 得道多助，失道寡助
- B. 人若犯我，我必犯人
- C. 以牙还牙，以眼还眼
- D. 路见不平，拔刀相助

(2014-河南-62.) 二难推理是由两个假言判断和一个选言判断作前提构成的推理。假言判断是断定一个事物情况的存在(称为前件)是另一个事物情况存在(称为后件)的条件的判断。选言判断是断定在几种可能情况下,至少有一种情况存在的判断。二难推理是通过运用选言判断来肯定或否定假言判断,从而来肯定或否定假言判断的后件或前件存在或不存在的一种推理形式。

根据上述定义,下列**不属于**二难推理的是:

- A. 如果刺激老虎,它是要吃人的;如果不刺激它,它也是要吃人的;或是刺激它,或是不刺激它;所以老虎总是要吃人的
- B. 如果今天下午下大雨,那么操场就要积水。如果操场积水,那么球赛就要延期,所以,如果今天球赛不延期,那么今天下午没有下大雨
- C. 如果打人的行为触犯了法律,那么要受到法律处罚;如果打人的行为没有触犯法律,那么要受到社会舆论的谴责。打人的行为或者触犯了法律,或者没有触犯法律,所以或者要受到法律处罚,或者要受到社会舆论的谴责
- D. 如果张三是杀人犯,那么他有作案时间;如果张三是杀人犯,那么他有作案动机。张三或者没有作案时间,或者没有作案动机,所以他不是杀人犯

(2014-河南-63.) 政府向社会组织购买服务,是通行于国际社会的一种新型的公共服务供给方式,其具体做法是政府引入市场机制,把直接向社会公众提供的一部分公共服务和社会管理事项,按照一定的方式与程序,交由具备条件的社会组织承担,并根据服务数量和质量向社会组织支付费用。

根据上述定义,下列属于政府向社会组织购买服务做法的是:

- A. 某街道面向辖区招募志愿者,以协助当地司法机关承担社区内服刑人员的社区矫正服务工作
- B. 某市交管部门为方便市民出行,租用电信公司的短信平台定期给市民发送提醒短信
- C. 某市教委建立特级教师在线回答中小学生学习问题的公益网站受到了学生和家长的好评,一家教育机构出资赞助扩大这个网站的规模,以帮助更多的学生
- D. 国家为保护农民利益和种粮积极性,委托中储粮总公司作为托市收购政策的执行主体,组织国有粮库对稻农实行敞开收购

(2014-河南-64.) 涵化是指不同文化的群体间发生持续的接触,从而导致原有文化发生变迁的现象。

根据上述定义,下列**不属于**涵化的是:

- A. 历史上英国曾将其法治文化和政治体系推行到自己的殖民地
- B. 在 20 世纪，牛仔裤成为了风靡世界的时尚穿着
- C. 近年来，越来越多的外国人对中国文化感兴趣，纷纷来中国学习汉语
- D. 由于英国曾长期受罗马帝国的统治及罗马天主教的影响，英语词汇中出现大量拉丁语词

(2014-河南-65.) 行政诉讼是指公民、法人或其他组织认为国家行政机关或法律、法规授权的组织作出的行政行为侵犯其合法权益时，依法向人民法院起诉，人民法院通过对被诉行政行为的合法性进行审查，从而解决特定范围内行政争议的活动。行政诉讼第三人，指同提起诉讼的行政行为有利害关系，因而参加到他人正在进行的行政诉讼中的公民、法人和其他组织。

根据上述定义，下列对行政诉讼第三人的判断正确的是：

- A. 某交警队因违法行政而成为被告，则该交警队队长为行政诉讼第三人
- B. 甲为了躲避乙而将丙碰伤，丙将甲告上法庭，则乙为行政诉讼第三人
- C. 某饭店对卫生局的处罚决定不服提起诉讼，则饭店老板为行政诉讼第三人
- D. 甲将乙打伤，但甲对公安局的处罚决定不服提起诉讼，则乙为行政诉讼第三人

三、类比推理。每道题先给出一组相关的词，要求你在备选答案中找出一组与之在逻辑关系上最为贴近、相似或匹配的词。

请开始答题：

(2014-河南-66.) 报警：救援

- A. 违章：罚款
- B. 毕业：就业
- C. 消费：生产
- D. 手术：住院

(2014-河南-67.) 经济特区：珠海

- A. 南沙群岛：黄岩岛
- B. 乐器：陶笛
- C. 海军：航空母舰
- D. 飞禽：蝙蝠

(2014-河南-68.) 杂货店：百货公司：电子商城

- A. 玉石：宝石：水晶
- B. 快餐店：餐馆：酒店
- C. 钢笔：铅笔：圆珠笔
- D. 白炽灯：节能灯：LED 灯

(2014-河南-69.) 展览：铭记：历史

- A. 处分：告知：结果
- B. 晚会：庆祝：节日
- C. 研究：阅读：文献
- D. 广告：推广：口碑

(2014-河南-70.) 他人：镜子：明得失

- A. 公仆：清廉：克己奉公
- B. 国法：家规：惩罚

C. 法律：准绳：辨是非

D. 历史：教训：知兴替

四、逻辑判断。每道题给出一段陈述，这段陈述被假设是正确的，不容置疑的。要求你根据这段陈述，选择一个答案。注意：正确的答案应与所给的陈述相符合，不需要任何附加说明即可以从陈述中直接推出。

请开始答题：

(2014-河南-71.) 在人们的印象中，生物燃料是一种可再生的绿色能源，而最新公布的研究成果颠覆了人们的这一传统印象。研究人员发现，生物燃料可能因其未完全燃烧而转化为乙醛，进而污染空气，这种污染会导致 M 国每年有 1400 人早亡。因此，有 M 国医疗机构人员认为现阶段应该暂缓推广生物燃料，限制其使用。

以下哪项如果为真，会对医疗机构人员的观点提出最有力的**质疑**？

- A. 现阶段 M 国科学家已研制出使生物燃料充分燃烧的新技术
- B. 目前 M 国正在使用的其他燃料的污染每年会导致超过 3000 人早亡
- C. 石油等传统燃料已经得到技术改善，由燃烧所带来的污染大幅降低
- D. 科学家预计，随着研究工作的推进，5 年后新型生物燃料将不会再产生乙醛

(2014-河南-72.) 某单位要选拔人才下乡挂职，符合条件的候选人有甲、乙、丙、丁、戊、己，人事部门、组织部门和办公室分别提出了自己的要求：

人事部门：丙、丁两人中只能去一人

组织部门：若丁不去，则戊也不能去

办公室：甲、丙和己三人必须留下一个

由此可以推出，能够同时满足三个部门要求的派出方案是：

- A. 乙、丙、丁、戊
- B. 乙、丙、戊
- C. 甲、乙、丙、己
- D. 甲、乙、丙

(2014-河南-73.) 某校学生家长：现在学生学习压力太大，每天做作业到晚上十点多，都没有童年的快乐了！该校老师：学校本身没给孩子们太多压力，布置作业很少，是家长给孩子们报的补习班太多，导致各种作业做完就很晚了。孩子们没有时间玩，所以没有快乐的童年。

以下哪项如果为真，最能**质疑**该校老师的解释？

- A. 该校学生作业与其他学校相比确实不多
- B. 学校老师觉得作业布置得少，但学生仍然觉得很多
- C. 老师虽没布置多少书面作业，但作业的要求使得学生必须报班补习

D. 学生压力大是普遍的社会问题，不是该校老师减少作业就能解决的

(2014-河南-74.) 根据某国卫生部门的统计数据，贫困家庭儿童的肥胖率要比富裕家庭儿童高出近一倍。根据该国政府 2012 年 12 月公布的数据，全国 11 岁的贫困家庭儿童当中，有超过 24.3% 的人有体重超标问题，而富裕家庭的同龄儿童肥胖率只有 13.7%。因此专家认为，越是贫穷的家庭，越有可能出现儿童体重超标的现象。

以下哪项如果为真，最能支持上述结论？

- A. 贫困家庭一般选择到廉价超市购买食材
- B. 贫困家庭日常食用的多是价格低廉但热量高的食品
- C. 贫困家庭儿童与富裕家庭儿童喜欢的体育运动项目不同
- D. 贫困家庭的儿童与富裕家庭的儿童往往在不同的学校就读

(2014-河南-75.) 弗朗西斯·H·劳舍尔博士在 1993 年通过实验展示了音乐和学习之间的联系。欣赏音乐可以提高智商，从而促进学习，这种现象叫做莫扎特现象。

以下哪项如果为真，能够削弱上述观点？

- A. 研究音乐的专家并不比其他领域的专家智商更高
- B. 听莫扎特作品后智商表现出的短暂提高没有持续到实验结束
- C. 学习音乐所需要的毅力是在任何学习中都需要的性格特征
- D. 音乐对人的品格的影响比对智商的影响更大

(2014-河南-76.) 有研究结果显示，看电视对儿童尤其是婴幼儿的智力发展存在着负面影响。研究人员据此警告家长，避免让 2 岁以下的孩子看电视，因为过早看电视可能有碍幼儿智力发展。

以下哪项如果为真，能够支持上述观点？

- A. 电视上五彩斑斓的颜色会影响幼儿的视力
- B. 1~2 岁是儿童认知形成的重要时期
- C. 幼儿过多看电视会减少他们对真实环境的观察和触摸
- D. 过早接触电视会减少幼儿与家长间表情、动作、言语的互动

(2014-河南-77.) 一项对 3.7 万名年龄在 49 至 75 岁之间的某国男性进行的跟踪调查发现，10 年中，这些男性里有近 2000 人得过中风；那些经常食用巧克力的受调查者与少量食用甚至不食用巧克力的人相比，患中风的风险要低不少。研究人员推测，经常食用巧克力可降低中风风险。

以下哪项如果为真，最能支持上述研究人员的推测？

- A. 研究发现，经常食用巧克力可调节低血糖患者体内的血糖含量
- B. 研究人员对女性的类似调查结果与上述研究结果基本一致
- C. 巧克力中含有黄酮类化合物，而它具有预防中风的功效
- D. 在此项调查中，得过中风的男性患者中部分人有经常食用巧克力的习惯



(2014-河南-78.) 研究表明,适当休息可以提高工作效率。当完成一项复杂艰巨的任务时,人们可以适当休息一下,做点较简单的其他事情,之后继续工作,这可以让工作业绩提高约 40%。一家公司老总将这一结论应用于公司,增加了员工休息时间,但生产业绩却没有上升,反而明显下降。

以下哪项如果为真,最能解释上述矛盾现象?

- A. 公司的有些部门并没有严格执行老总的休息计划
- B. 一些员工在休息的时候想工作,工作的时候想休息
- C. 近段时间公司的销售业绩不佳,没有出现明显的增长
- D. 公司生产都是流水线作业,员工做的都是单一机械动作

(2014-河南-79.) 某开发区发展委员会召开环境工作专题圆桌会议,参加会议的有委员会主任和副主任,以及委员会所属的开发区环保局、工业局和农业局的局长和副局长。他们八个人均匀地坐在一张会议圆桌旁,只有一个同部门的正职和副职的座位被分隔开了。并且:

(1) 委员会副主任对面的人是坐在环保局局长左边的一位局长;(2) 工业局副局长左边的人是坐在农业局局长对面的一位副局长;(3) 农业局局长右边的人是一位副局长,这位副局长坐在委员会主任左边第二个位置上的副局长的对面。

则座位一定被隔开的是:

- A. 环保局的局长和副局长
- B. 工业局的局长和副局长
- C. 农业局的局长和副局长
- D. 委员会的主任和副主任

(2014-河南-80.) 近 50 年来,某市户籍人口的平均寿命提高了 38 岁,达到了 82 岁,居全国最高水平。与此同时,该市恶性肿瘤的总体发病率和死亡率也逐年上升,目前已相当于欧美等发达国家和地区的 2/3~3/4,在世界范围内处于中等水平,在全国则处于较高的水平。

由此可以推出:

- A. 该市恶性肿瘤的总体发病率和死亡率虽逐年上升,但此类疾病并不是造成目前该市人口死亡的主要原因
- B. 目前该市对于恶性肿瘤的治疗水平是全国最高的
- C. 如果 50 年前导致该市人口死亡的主要疾病发病率目前没有降低,那么对这些疾病的治疗水平在 50 年间一定有提高
- D. 该市恶性肿瘤的总体发病率和死亡率其实比欧美等发达国家和地区低

※※※第三部分结束,请继续做第四部分!※※※

