

国家

【【2017-国家-资料】】

第五部分资料分析

(共20题, 参考时限20分钟)

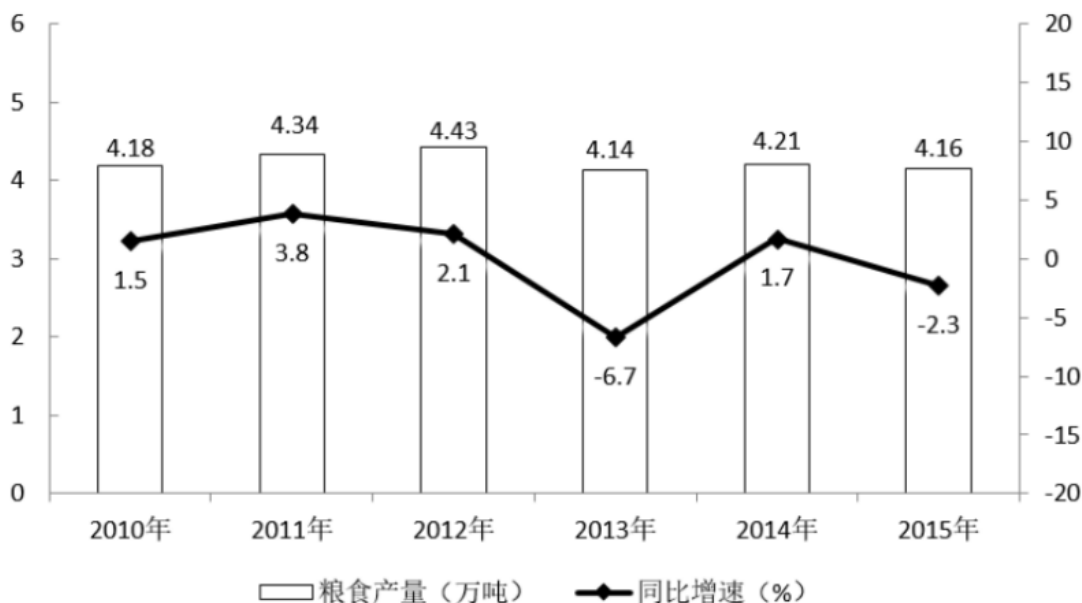
所给出的图、表、文字或综合性资料均有若干个问题要你回答。你应根据资料提供的信息进行分析、比较、计算和判断处理。

请开始答题:

一、根据以下资料, 回答 116~120 题。

某市 2015 年全年粮食总产量 4.16 万吨, 同比下降 2.3%; 甘蔗产量 0.57 万吨, 下降 23.6%; 油料产量 0.12 万吨, 增长 32.4%; 蔬菜产量 15.79 万吨, 下降 3.4%; 水果产量 7.84 万吨, 增长 7.4%。

全年水产品产量 29.16 万吨, 同比增长 3.6%。其中海洋捕捞 1.09 万吨, 与上年持平; 海水养殖 6.07 万吨, 增长 89.5%; 淡水捕捞 0.18 万吨, 增长 1.1%; 淡水养殖 21.81 万吨, 下降 7.9%。



2010~2015 年某市粮食产量及其增速

116. 2014 年该市蔬菜产量比水果产量的高多少万吨？

- A. 9
B. 8
C. 7
D. 6

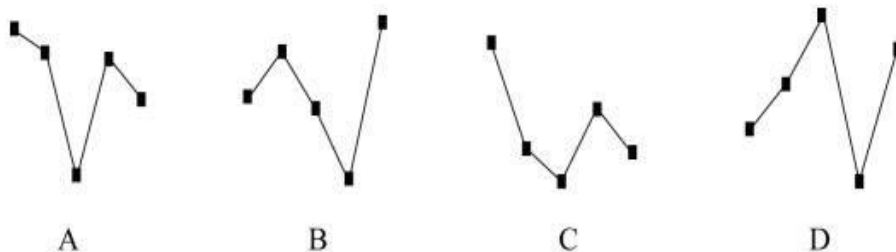
117. “十二五”期间，该市粮食总产量在以下哪个范围？

- A. 23~24 万吨之间
B. 22~23 万吨之间
C. 21~22 万吨之间
D. 20~21 万吨之间

118. 按照 2015 年水产品产量从多到少，以下排序正确的是：

- A. 海洋捕捞、海水养殖、淡水捕捞、淡水养殖
B. 淡水养殖、海水养殖、海洋捕捞、淡水捕捞
C. 淡水捕捞、淡水养殖、海洋捕捞、海水养殖
D. 淡水养殖、海洋捕捞、海水养殖、淡水捕捞

119. 以下哪张线图能准确反映 2011~2015 年间，该市粮食生产同比增量的变化趋势？



120. 能够从上述资料中推出的是：

- A. 2014 年油料产量超过 1000 吨
B. 除淡水养殖之外，其余类型的水产品 2015 年产量占水产品总量的比重均高于上年
C. 2014~2015 年甘蔗累计产量不到 1 万吨
D. 2010~2015 年，粮食产量同比上升的年份多于同比下降的年份

二、根据以下资料，回答 121~125 题。

截至 2014 年末，我国共有博物馆 3658 个，占文物机构总数的 43.5%。全国文物机构拥有文物藏品 4063.58 万件，比上年末增加 222.77 万件。其中，博物馆文物藏品 2929.97 万件，文物商店文物藏品 770.00 万件。文物藏品中，一级文物 9.82 万件，二级文物 68.82 万件，三级文物 340.51 万件。

2014 年全国文物机构共安排基本陈列 9996 个，比上年增长 19.1%；举办临时展览 11174 个，增长 15.8%；接待观众 84256 万人次，增长 12.8%，其中博物馆接待观众 71774 万人次，占文物机构接待观众总人次的 85.2%。

C. 2014 年

D. 2010 年

132. “十二五”期间整车制造专利申请总数约是“十五”期间总数的多少倍?

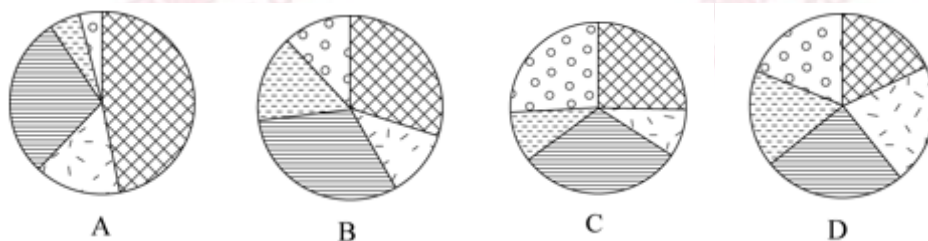
A. 2

B. 4

C. 6

D. 8

133. 能够正确描述 2015 年新能源汽车产业五种专利申请数占比的统计图是:



134. 2001~2015 年间, 新能源汽车五种技术专利申请数均高于上年的年份有多少个?

A. 7

B. 8

C. 9

D. 10

135. 能够从上述资料中推出的是:

A. 2000~2015 年间, 五种技术专利中申请数年均增速最快的是零部件配件制造

B. 2011~2015 年间, 储能装置制造专利申请数均超过电动机制造的 3 倍

C. 2010 年储能装置制造专利申请数比 2005 年翻了两番

D. 2001~2015 年间, 储能装置制造专利申请数增加最多的年份是 2010 年

※※※全部测验到此结束! ※※※

【【2016-国家-资料】】

第五部分资料分析

(共 20 题, 参考时限 20 分钟)

所给出的图、表、文字或综合性资料均有若干个问题要你回答。你应根据资料提供的信息进行分析、比较、计算和判断处理。

请开始答题:

一、根据以下资料, 回答 116~117 题。

下表是某旅游网站上推荐的从 M 地到 N 地的机票价格 (5 月 30 日) 及在线支付的优惠

活动。

| 班次 | 单价 | 优惠活动 | 出发时间 | 到达时间 | 历史准点率 | 退票手续费 | | 改签手续费 | |
|----|------|-------------|--------|--------|-------|--------|--------|--------|--------|
| | | | | | | 起飞前 | 起飞后 | 起飞前 | 起飞后 |
| 甲 | ¥599 | 首次购买返现 50 元 | 7: 10 | 9: 45 | 91% | 不支持 | | | |
| 乙 | ¥820 | 有餐食 | 8: 05 | 10: 40 | 88% | ¥299/人 | ¥369/人 | 免费 | 免费 |
| 丙 | ¥783 | 返现 14 元 | 8: 30 | 11: 05 | 91% | ¥166/人 | ¥249/人 | ¥83/人 | ¥166/人 |
| 丁 | ¥691 | 返现 28 元 | 9: 55 | 12: 25 | 73% | ¥276/人 | ¥310/人 | ¥216/人 | ¥360/人 |
| 戊 | ¥828 | 含 70 元接机券 | 10: 55 | 13: 20 | 61% | ¥194/人 | ¥291/人 | 免费 | ¥125/人 |

注：如果发生退票，取消相应的优惠活动。

116. 5 月 30 日早晨，王先生由于记错了时间，10: 30 到达机场时，所购班次的飞机已经起飞。幸运的是隔天同一班次的机票还有售，且价钱不变，于是在窗口办理了改签。加上之前网上订票的费用，王先生一共花费了 900 多元，他所购买的最可能是哪个班次的机票？

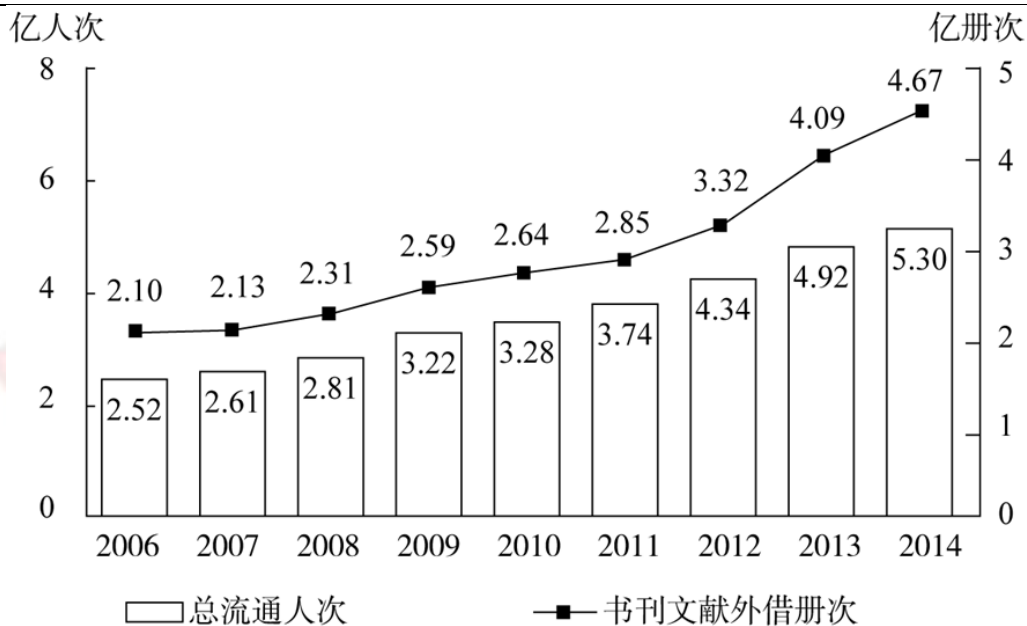
- A. 乙班次
B. 丙班次
C. 丁班次
D. 戊班次

117. 由上述资料可知，以下哪个班次起飞前的退票手续费率最高？

- A. 乙班次
B. 丙班次
C. 丁班次
D. 戊班次

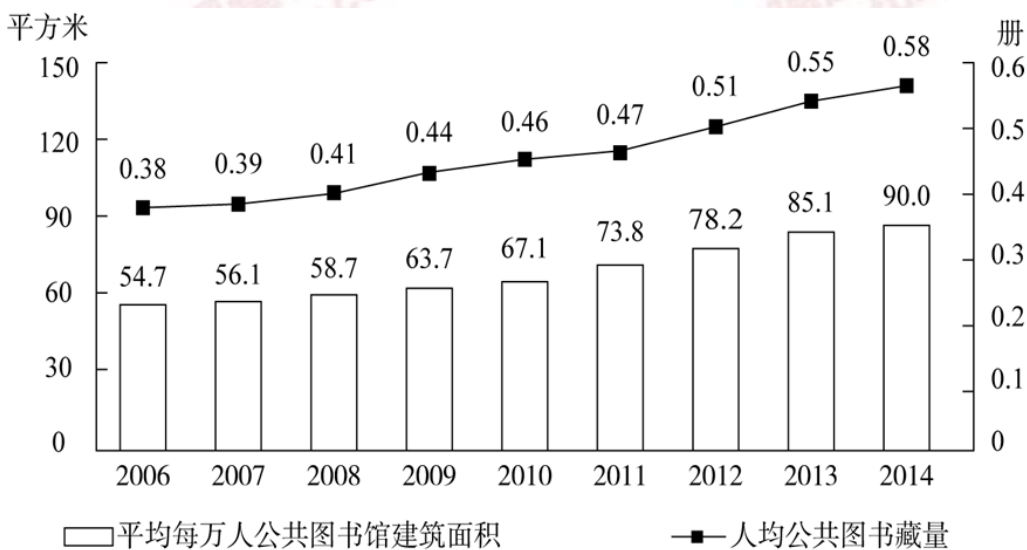
二、根据以下资料，回答 118~120 题。

某影院 6 个影厅，最近一周的排片情况和昨天的票房收入见下表：



2006~2014 年全国公共图书馆总流通情况

2014 年末全国公共图书馆实际使用房屋建筑面积 1231.60 万平方米,比上年末增长 6.3%; 图书总藏量 79092 万册,比上年末增长 5.6%; 电子图书 50674 万册,比上年末增长 34.2%; 阅览室座席数 85.55 万个,比上年末增长 5.7%。



2006~2014 年全国公共图书馆人均资源情况

121. 2014 年, 全国平均每个公共图书馆月均流通人次约为:

- A. 2 万多
- B. 3 万多
- C. 不到 1 万
- D. 1 万多

122. 2014 年, 公共图书馆电子图书藏量增长册数约是图书总藏量增长册数的多少倍?

- A. 3
- B. 2
- C. 8
- D. 5

123. 2012~2014 年, 平均每流通人次约产生多少册次的书刊文献外借?

- A. 1.0
C. 0.6
- B. 0.8
D. 0.4

124. 2008~2014 年，人均公共图书藏量同比增速快于上年的年份有几个？

- A. 2
C. 3
- B. 4
D. 5

125. 能够从上述资料中推出的是：

- A. “十一五”期间全国公共图书馆总流通人次超过 15 亿
B. 2014 年平均每个公共图书馆拥有二十多个阅览室座席
C. 2008 年人均公共图书馆建筑面积增量和人均公共图书藏量增量均低于 2011 年
D. 2008~2014 年间，每年平均每万人公共图书馆建筑面积同比增速均低于 12%

四、根据以下资料，回答 126~130 题。

截至 2014 年 12 月底，全国实有各类市场主体 6932.22 万户，比上年末增长 14.35%，增速较上年同期增加 4.02 个百分点；注册资本（金）129.23 万亿元，比上年末增长 27.70%。其中，企业 1819.28 万户，个体工商户 4984.06 万户，农民专业合作社 128.88 万户。

2014 年，全国新登记注册市场主体 1292.5 万户，比上年同期增加 160.97 万户；注册资本（金）20.66 万亿元，比上年同期增加 9.66 万亿元。其中，企业 365.1 万户，个体工商户 896.45 万户，农民农业合作社 30.95 万户。

2014 年，新登记注册现代服务业企业 114.10 万户，同比增长 61.41%。其中，信息传输、软件和信息技术服务业 14.67 万户，同比增长 97.87%；科学研究和技术服务业 26.26 万户，同比增长 70.32%；文化、体育和娱乐业 6.59 万户，同比增长 83.51%；教育业 0.68 万户，同比增长 86.17%。

2014 年，新登记注册外商投资企业 3.84 万户，同比增长 5.76%。投资总额 2763.31 亿美元，同比增长 15.05%；注册资本 1796.39 亿美元，同比增长 23.87%。

126. 截至 2012 年 12 月底，全国实有各类市场主体户数最接近以下哪个数字？

- A. 5100 万
C. 6100 万
- B. 4500 万
D. 5500 万

127. 2014 年，全国新登记注册市场主体中个体工商户所占比重约为：

- A. 69%
C. 81%
- B. 75%
D. 85%

128. 2014 年，以下哪个现代服务业新登记注册企业的户数同比增速最快？

- A. 文化、体育和娱乐业
C. 科学研究和技术服务业
- B. 信息传输、软件和信息技术服务业
D. 教育业

129. 2014 年，新登记注册外商投资企业户均注册资本约比上年同期增长：

- A. 8%
C. 17%
- B. 4%
D. 12%

130. 能够从上述资料中推出的是:

- A. 2013 年新登记注册科学研究和技术服务业企业不到 20 万
- B. 2014 年新登记注册现代服务业企业大部分属于教育行业
- C. 2014 年末超过三分之一的农民专业合作社成立不满一年
- D. 2013 年全国实有各类市场主体注册资本(金)不足 100 万亿元

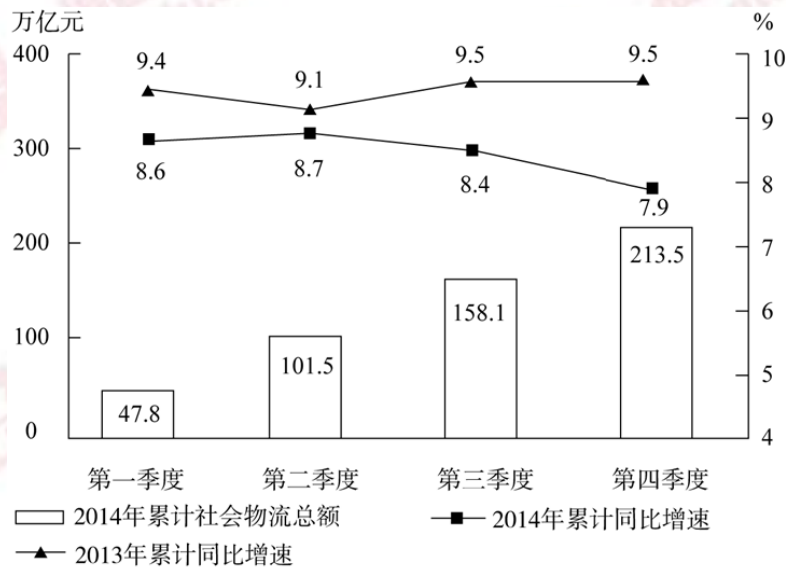
五、根据以下资料, 回答 131~135 题。

2014 年全国社会物流总额 213.5 万亿元, 同比增长 7.9%, 比上年回落 1.6 个百分点。

2014 年全国社会物流总费用 10.6 万亿元, 同比增长 6.9%, 其中, 运输费用 5.6 万亿元, 同比增长 6.6%; 保管费用 3.7 万亿元, 同比增长 7.0%; 管理费用 1.3 万亿元, 同比增长 7.9%。

2014 年全国社会物流总额构成情况

| | 总额(亿元) | 当年同比增速(%) | 2013 年同比增速(%) |
|-----------|---------|-----------|---------------|
| 工业品物流 | 1969000 | 8.3 | 9.7 |
| 进口货物物流 | 12000 | 2.1 | 6.4 |
| 再生资源物流 | 8455 | 14.1 | 20.3 |
| 农产品物流 | 33000 | 4.1 | 4.0 |
| 单位与居民物品物流 | 3696 | 32.9 | 30.4 |



全国分季度累计社会物流总额及增速

131. 2014 年每实现 100 万元的社会物流额, 其运输费用平均约为多少万元?

- A. 2.6
- B. 5.0
- C. 5.6
- D. 10.6

132. 2013、2014 年占全国社会物流总额比重均高于上一年水平的分类包括:

- A. 再生资源物流、单位与居民物品物流、农产品物流
- B. 工业品物流、再生资源物流、单位与居民物品物流
- C. 进口货物物流、农产品物流、单位与居民物品物流

D. 工业品物流、进口货物物流、农产品物流

133. 2014 年全国社会物流总额最高的季度是：

- A. 第一季度
B. 第二季度
C. 第三季度
D. 第四季度

134. 2012 年上半年全国社会物流总额约为多少万亿元？

- A. 93
B. 102
C. 75
D. 86

135. 能够从上述资料中推出的是：

- A. 2014 年每万元社会物流总额的平均管理费用低于上年水平
B. 2014 年农产品物流额在社会物流总额中的比重高于一成
C. 2014 年单位与居民物品物流额超过 2012 年的两倍
D. 2013 年第三季度社会物流总额同比增速高于第四季度

※※※

全部测验到此结束！

※※※

【【2015-国家-资料】】

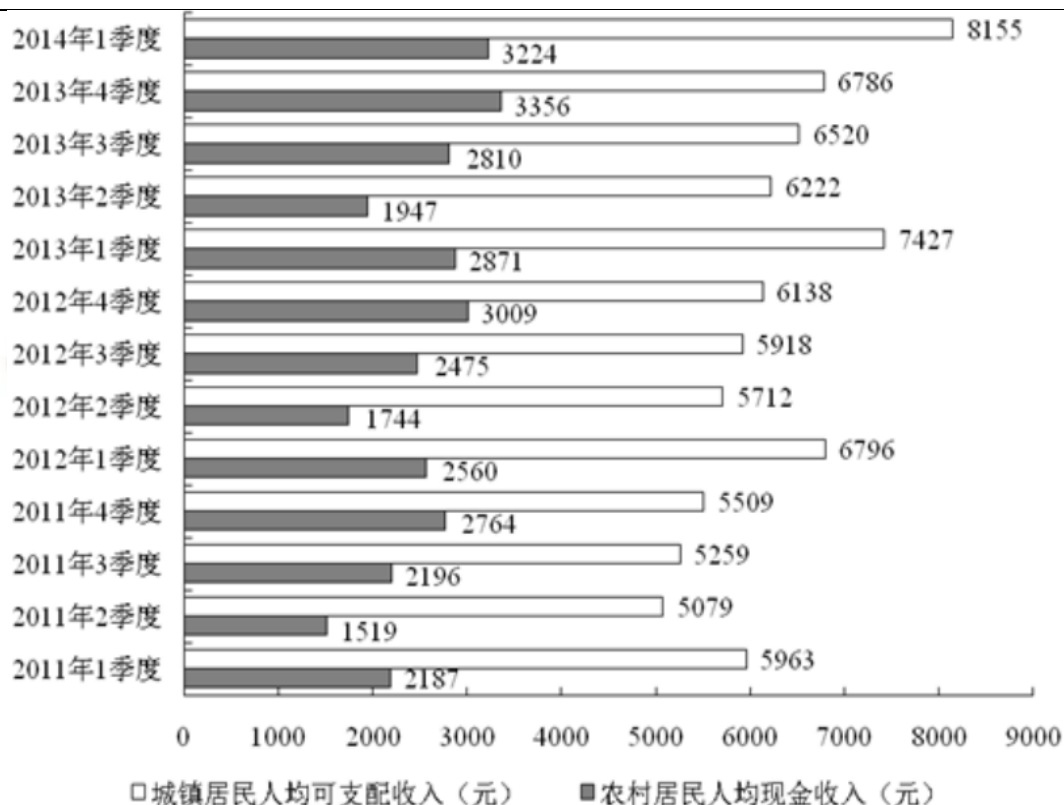
第五部分资料分析

(共 20 题，参考时限 20 分钟)

所给出的图、表、文字或综合性资料均有若干个问题要你回答。你应根据资料提供的信息进行分析、比较、计算和判断处理。

请开始答题：

一、根据以下资料，回答116~120题。



2011年1季度~2014年1季度全国农村居民与城镇居民收入情况

116. 与2011年同期相比, 2014年1季度农村居民人均现金收入约增长了:

- A. 25.9%
- B. 36.8%
- C. 47.4%
- D. 52.5%

117. 2013年城镇居民人均可支配收入同比增加了:

- A. 4千多元
- B. 3千多元
- C. 2千多元
- D. 1千多元

118. 综合2011~2013年的数据, 农村居民人均现金收入和城镇居民人均可支配收入最高的季度分别是:

- A. 1季度和1季度
- B. 1季度和4季度
- C. 4季度和4季度
- D. 4季度和1季度

119. 2011~2013年, 农村居民年人均现金收入超过1万元的年份有几个?

- A. 0
- B. 1
- C. 2
- D. 3

120. 能够从上述资料中推出的是:

- A. 2013年各季度农村居民人均现金收入均同比增加
- B. 2013年4季度城镇人均可支配收入同比增速低于环比增速
- C. 2014年1季度城镇居民人均可支配收入环比增长了三成多
- D. 2013年下半年农村居民人均现金收入比上半年多约2000元

二、根据以下资料，回答 121~125 题。

2013 年，某省工业企业全年实现主营业务收入 37864 亿元、税金 1680 亿元、利润 2080 亿元，分别增长 19.1%、19.4%、26.4%，分别高出全国 7.9、8.4、14.2 个百分点。该省工业企业主营业务收入占全国工业的 3.7%，比上年提高 0.3 个百分点。百户重点企业主营业务收入、税金、利润分别增长 10.2%、11.1%、20.8%，分别占全省工业的 29.5%、51%、27.6%。

2013 年，汽车行业实现主营业务收入 4538 亿元，增长 23.1%；实现利润 416.6 亿元，增长 19.9%；税金 225.3 亿元，增长 50%。销售利润率（利润占主营业务收入的比重）攀升至 9.2%。

食品（含烟草）实现主营业务收入 6359 亿元，增长 20.8%，增速同比放缓 9.2 个百分点，实现利润 398 亿元，增长 34.5%；工业税金 506.2 亿元，增长 11.4%。

钢铁行业实现主营业务收入 3510 亿元，增长 1.8%，利润总额 34.6 亿元，增长 18.8%，行业销售利润率仅 1%。

石化行业主营业务收入 5138 亿元，增长 18.8%；实现利润 204.2 亿元，增长 38.1%。子行业中，石油加工业净亏损 0.2 亿元，同比减亏 13.6 亿元；化工行业全年利润增长 31.6%，扭转上半年利润下降局面；石油开采业净亏损 8.6 亿元，橡胶塑料行业利润增长 29.1%。

建材行业实现主营业务收入 2412 亿元，增长 27.1%；实现利润 167.2 亿元，增长 51.6%。

机械行业实现主营业务收入 3886 亿元，增长 26.6%；实现利润 191.6 亿元，增长 23.8%。其中，电气机械（家电）利润增长 38.5%，专用设备利润增长 22.1%，船舶行业利润增长 18.9%。

121. 2013 年全国工业企业主营业务收入约为多少万亿元？

- A. 84
- B. 90
- C. 97
- D. 102

122. 2013 年全国工业企业的税金增速比利润增速：

- A. 低 1.2 个百分点
- B. 低 5.8 个百分点
- C. 高 7.0 个百分点
- D. 高 8.4 个百分点

123. 2013 年该省工业企业的哪项信息，能够从上述资料中直接推出？

- A. 工业企业利润占全国工业企业利润总额的比重
- B. 船舶行业主营业务收入占机械行业的比重
- C. 橡胶塑料行业工业企业实现利润额
- D. 百户重点企业的总体销售利润率

124. 2013 年该省以下行业利润增速从高到低排序正确的是：

- A. 石化行业，建材行业，机械行业
- B. 建材行业，石化行业，机械行业
- C. 汽车行业，食品（含烟草）行业，钢铁行业
- D. 食品（含烟草）行业，钢铁行业，汽车行业

125. 能够从上述资料中推出的是:

- A. 2012 年该省食品（含烟草）行业主营业务收入同比增速 11.6%
- B. 2012 年该省工业企业税金总额中，汽车行业所占比重超过 15%
- C. 2013 年该省建材行业的销售利润率高于 2012 年水平
- D. 2012 年该省石油加工业净亏损 13.4 亿元

三、根据以下资料，回答 126~130 题。

2014 年 1~5 月，我国软件和信息技术服务业实现软件业务收入约 13254 亿元，同比增长 20.9%，比去年同期回落 3.3 个百分点。其中，软件产品完成收入 4141 亿元，信息系统集成服务完成收入 2649.3 亿元，信息技术咨询服务完成收入 1399.2 亿元，数据处理和运营服务完成收入 2429.5 亿元，嵌入式系统软件完成收入 2230.3 亿元，IC 设计完成收入 405.1 亿元。

2014 年 1~5 月副省级城市软件和信息技术服务业部分软件业务收入情况
(单位: 亿元)

| 城市名称 | 信息技术咨询服务收入 | | 数据处理和运营服务收入 | | 嵌入式系统软件收入 | | IC 设计收入 | |
|------|------------|----------|-------------|----------|-----------|----------|---------|----------|
| | 本期累计 | 同比增长 (%) | 本期累计 | 同比增长 (%) | 本期累计 | 同比增长 (%) | 本期累计 | 同比增长 (%) |
| 大连 | 130.51 | 22.2 | 133.48 | 24.7 | 52.20 | 16.2 | 2.37 | 19.0 |
| 宁波 | 2.97 | 20.5 | 11.78 | 28.8 | 29.94 | 16.0 | 2.25 | 21.7 |
| 厦门 | 53.35 | 28.3 | 35.82 | 29.2 | 38.60 | 18.9 | 8.56 | 41.8 |
| 青岛 | 63.26 | 39.5 | 56.44 | 41.0 | 166.03 | 38.7 | 9.51 | 43.3 |
| 深圳 | 24.40 | 27.3 | 206.84 | 28.3 | 472.19 | 17.4 | 6.95 | 11.6 |
| 沈阳 | 73.03 | 19.9 | 83.73 | 22.2 | 84.42 | 24.4 | 10.20 | 17.2 |
| 长春 | 0.89 | 20.1 | 2.70 | 21.7 | 10.15 | 21.4 | 0.03 | 20.7 |
| 哈尔滨 | 3.02 | 10.1 | 2.09 | 21.8 | 3.36 | 16.2 | 0.19 | 17.0 |
| 南京 | 100.30 | 21.8 | 130.90 | 37.5 | 154.50 | 14.9 | 12.30 | 3.3 |
| 杭州 | 13.09 | 35.7 | 258.28 | 53.3 | 164.78 | 17.5 | 8.06 | 10.6 |
| 济南 | 112.54 | 20.3 | 74.01 | 33.3 | 28.08 | 11.9 | 0.10 | 34.9 |
| 武汉 | 36.68 | 33.1 | 60.34 | 34.2 | 45.93 | 32.1 | 1.20 | 20.4 |
| 广州 | 178.67 | 18.1 | 209.64 | 16.1 | 14.05 | 21.3 | 13.74 | 22.1 |
| 成都 | 59.62 | 28.5 | 190.57 | 8.4 | 3.60 | 8.7 | 18.87 | 12.9 |
| 西安 | 84.22 | 32.7 | 14.37 | 33.3 | 32.28 | 26.0 | 14.25 | 26.5 |
| 合计 | 936.56 | 24.2 | 1470.98 | 28.0 | 1300.11 | 20.5 | 108.60 | 19.1 |

126. 2014 年 1~5 月，表中四项软件业务收入之和最高的东北地区副省级城市是:

- A. 沈阳
- B. 大连
- C. 长春
- D. 哈尔滨

127. 2014 年前 5 个月完成收入排名前三的软件业务，同期完成收入占我国软件业务总收入的比重约为:

- A. 69.6%
- B. 61.8%
- C. 81.2%
- D. 86.5%

128. 2014 年 1~5 月，副省级城市哪项软件业务完成收入之和低于该业务全国总收入的一半?

- A. 数据处理和运营服务
- B. 信息技术咨询服务
- C. 嵌入式系统软件
- D. IC 设计

129. 2014 年 1~5 月, 信息技术咨询服务收入同比增速最快的副省级城市, 该项收入约是增速最慢的副省级城市的多少倍?

- A. 21
B. 4
C. 201
D. 70

130. 关于 2014 年 1~5 月副省级城市软件业务收入, 能够从上述资料中推出的是:

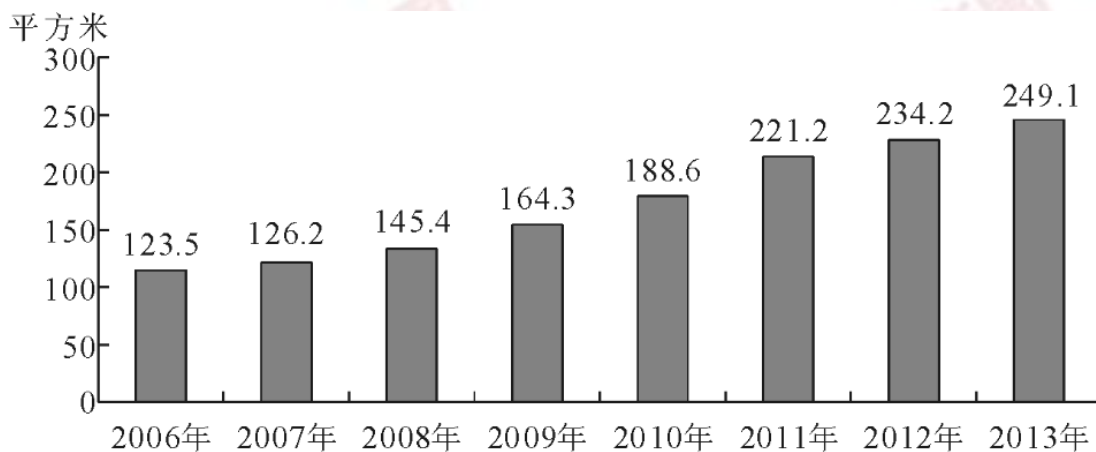
- A. 广州市的四项业务收入在副省级城市中均排名前三
B. 武汉市四项业务收入增速均高于副省级城市平均水平
C. 深圳市 IC 设计业务收入超过副省级城市该项业务收入的平均水平
D. 数据处理和运营服务与嵌入式系统软件收入最高的副省级城市是同一个

四、根据以下资料, 回答 131~135 题。

2013 年末全国共有群众文化机构 44260 个, 比上年末增加 384 个, 其中乡镇文化站 34343 个, 增加 242 个。年末群众文化机构从业人员 164355 人, 比上年末增加 8127 人。群众文化机构实际使用房屋建筑面积 3389.4 万平方米, 比上年末增长 6.9%。年末群众文化机构共有馆办文艺团体 6022 个, 演出 15.13 万场, 观众 6569 万人次。

2013 年全国群众文化机构开展活动情况

| 项目 | 活动次数 (万次) | 增速 (%) | 参加人数 (万人次) | 增速 (%) |
|-------|-----------|--------|------------|--------|
| 展览 | 13.82 | 20.4 | 9245 | 3.2 |
| 文艺活动 | 74.06 | 7.6 | 31379 | -1.8 |
| 公益性讲座 | 2.36 | 13.5 | 441 | 20.5 |
| 训练班 | 39.08 | 0.9 | 3105 | 12.9 |
| 总计 | 129.32 | 6.8 | 44170 | 0.3 |



2006~2013 年全国平均每万人群众文化设施建筑面积

131. 2013 年末全国群众文化机构数量同比约增长了:

- A. 8%
B. 3%
C. 0.9%
D. 0.4%

132. 2013 年每个馆办文艺团体平均每月演出约多少场?

- A. 12
B. 25

C. 2

D. 5

133. 2013 年群众文化机构开展的活动中，平均每次活动参加人数最多的是：

A. 展览

B. 文艺活动

C. 公益性讲座

D. 训练班

134. 2007~2013 年间，平均每万人群众文化设施建筑面积同比增速高于 10% 的年份有几个？

A. 5

B. 4

C. 3

D. 2

135. 能够从上述资料中推出的是：

A. 2012 年末全国群众文化机构共有从业人员 16 万多人

B. 2013 年文艺活动的参加人数约是公益性讲座的 50 倍

C. 2013 年全国人均群众文化设施建筑面积比 2006 年翻了一番

D. 2013 年乡镇文化站占群众文化机构总数的比重高于上年水平

※※※

全部测验到此结束！

※※※

【【2014-国家-资料】】

第五部分资料分析

(共 20 题，参考时限 20 分钟)

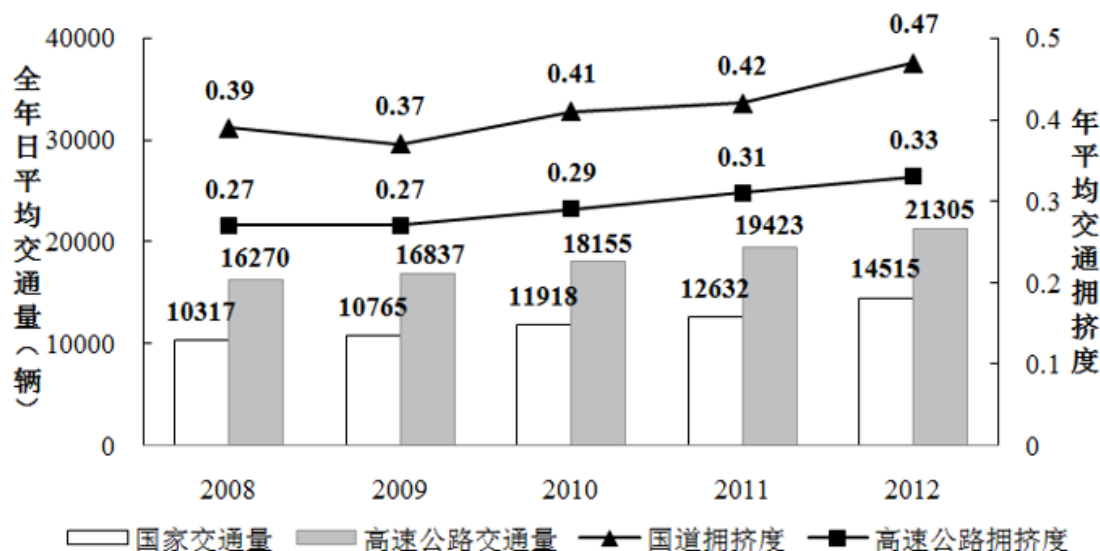
所给出的图、表、文字或综合性资料均有若干个问题要你回答。你应根据资料提供的信息进行分析、比较、计算和判断处理。

请开始答题：

一、根据以下资料，回答 116~120 题。

2012 年全国国道网车流量较大的地区主要集中在北京、天津、上海、江苏、浙江、广东和山东，上述省市国道网的日平均交通量均超过 2 万辆。全国国道网日平均行驶量为 244883 万车公里，北京、天津、河北、山西、上海、浙江、湖北、广东的国道年平均拥挤度均超过 0.6。其中，国家高速公路日平均交通量为 22181 辆，日平均行驶量为 148742 万车公里；普通国道日平均交通量为 10845 辆，日平均行驶量为 111164 万车公里。全国高速公路日平均交

通量为 21305 辆，日平均行驶量为 204717 万车公里。（注：交通拥挤度指公路上某一路段折算交通量与适应交通量的比值，反映交通的繁忙程度。）



2008~2012 年全国国道与高速公路日平均交通量及年平均交通拥挤度

116. 2009~2012 年全国国道日平均交通量同比增速最快的一年是：

- A. 2009 年
- B. 2010 年
- C. 2011 年
- D. 2012 年

117. 2008~2012 年全国国道与高速公路年平均拥挤度数值相差最小的年份，高速公路全年日平均交通量为：

- A. 10765 辆
- B. 16837 辆
- C. 12632 辆
- D. 19423 辆

118. 以下关于 2012 年日平均行驶量由高到低排序正确的是：

- A. 国家高速公路—全国高速公路—普通国道
- B. 全国高速公路—国家高速公路—全国国道网
- C. 全国国道网—普通国道—国家高速公路
- D. 全国国道网—国家高速公路—普通国道

119. 2012 年国家高速公路日平均交通量约是普通国道日平均交通量的：

- A. 1.7 倍
- B. 1.5 倍
- C. 2.0 倍
- D. 1.8 倍

120. 能够从上述资料中推出的是：

- A. 2008~2012 年，全国国道交通繁忙程度持续增加
- B. 2012 年国道网日平均交通量超过 2 万辆的省份最多有 6 个
- C. 2008~2012 年，全国高速公路交通繁忙程度持续增加
- D. 2012 年国道年平均拥挤度超过 0.6 的省份至少有 8 个

二、根据以下资料，回答 121~125 题。

2012 年第三季度全国 100 个城市的公共就业服务机构市场中，用人单位通过公共就业服务机构招聘各类人员约 643.3 万人，进入市场的求职者约 610 万人，岗位空缺与求职人数比率比上年同期上升了 1%。上年同期这 100 个城市中，用人单位通过公共就业服务机构招聘各类人员约 577.9 万人。

2012 年第三季度，在所有求职人员中：失业人员所占比重为 48.8%，其中，新成长失业青年占 24.2%（在新成长失业青年中应届高校毕业生占 51.4%），就业转失业人员占 13.4%，其他失业人员占 11.2%；外来务工人员的比重为 41%，外来务工人员由本市农村人员和外埠人员组成，其中本市农村人员为 95.2 万人。

2012 年第三季度全国十个城市岗位需求和求职信息

| 城市 | 岗位空缺与求职人数的比率 | 第二产业需求岗位占比 (%) | 第三产业需求岗位占比 (%) | 岗位空缺大于求职人数缺口最大的前三个职业 |
|-----|--------------|----------------|----------------|------------------------------|
| 天津 | 0.81 | 24.4 | 75.6 | 推销展销人员；电气电子设备装配人员；储运人员 |
| 上海 | 1.08 | 10.5 | 89.4 | 餐厅服务员、厨工；治安保卫人员；营业人员、收银员 |
| 重庆 | 1.02 | 32.1 | 67 | 机械冷加工人员；裁剪缝纫人员；推销展销人员 |
| 石家庄 | 1.02 | 15.1 | 84.9 | 推销展销人员；行政业务人员；清洁人员 |
| 福州 | 1.26 | 63.7 | 35.7 | 搬运、包装人员；电子元件、器件制造人员；餐厅服务员、厨工 |
| 郑州 | 1.49 | 7.7 | 92.2 | 推销展销人员；部门经理；简单体力劳动人员 |
| 武汉 | 1.15 | 26.3 | 72.5 | 推销展销人员；机械冷加工人员；裁剪缝纫人员 |
| 长沙 | 1.11 | 33.4 | 65.5 | 机械冷加工人员；治安保卫人员；清洁人员 |
| 西安 | 0.95 | 33.5 | 61.2 | 机械冷加工人员；治安保卫人员；清洁人员 |
| 成都 | 1.04 | 36.8 | 62.8 | 推销展销人员；餐厅服务员、厨工；采购人员 |

121. 与 2011 年同期比，2012 年第三季度全国 100 个城市调查的公共就业服务机构市场供求中，进入市场的求职者人数：

- A. 高于上年同期
- B. 低于上年同期
- C. 与上年同期持平
- D. 无法推出

122. 2012 年第三季度全国 100 个城市，求职的新成长失业青年中，应届高校毕业生人数约为：

- A. 66 万
- B. 71 万

C. 76 万 D. 81 万

123. 2012 年第三季度全国十个城市中，第三产业需求岗位数超过第二产业 2 倍的城市共有：

- A. 3 个 B. 4 个
C. 5 个 D. 6 个

124. 2012 年第三季度全国十个城市中，岗位空缺大于求职人数缺口最大的前三个职业，在半数以上城市中出现过的是：

- A. 推销展销人员 B. 治安保卫人员
C. 机械冷加工人员 D. 餐厅服务员、厨工

125. 从上述资料能够推出的是：

- A. 2012 年第三季度在全国 100 个城市，进入市场的外来务工人员在新成长失业青年中所占的比重
B. 2012 年第三季度在全国 100 个城市，进入市场的外来务工人员中外埠人员在求职者中所占的比重
C. 2012 年第三季度在全国十个城市中，劳动力缺口最大的岗位
D. 2012 年第三季度在全国十个城市中，失业人口最多的城市

三、根据以下资料，回答 126~130 题。

2012 及 2013 年 1~4 月某市电影院线票房情况

| | 场次（万） | | 观众人次（百万） | | 票房收入（亿元） | |
|-----|--------|--------|----------|--------|----------|--------|
| | 2012 年 | 2013 年 | 2012 年 | 2013 年 | 2012 年 | 2013 年 |
| 1 月 | 9.77 | 10.91 | 3.19 | 3.50 | 1.28 | 1.47 |
| 2 月 | 9.02 | 9.79 | 2.89 | 3.36 | 1.19 | 1.54 |
| 3 月 | 9.47 | 11.07 | 2.18 | 3.17 | 0.88 | 1.34 |
| 4 月 | 8.87 | 11.13 | 3.08 | 3.72 | 1.41 | 1.56 |

2008~2012 年国家电网公司机组并网容量

单位：万千瓦

| | 2008 年 | 2009 年 | 2010 年 | 2011 年 | 2012 年 |
|---------------|--------|--------|--------|--------|--------|
| 并网总容量 | 61300 | 67100 | 74400 | 81800 | 88000 |
| 其中：清洁能源机组并网容量 | 13524 | 15357 | 17585 | 20260 | 24004 |
| 其中：水电并网容量 | 12214 | 13419 | 14458 | 15617 | 16816 |
| 核电并网容量 | 507 | 507 | 574 | 640 | 640 |
| 新能源发电机组并网容量 | 803 | 1431 | 2553 | 4003 | 6548 |

2008~2012 年国家电网公司并网机组上网电量

单位：亿千瓦时

| | 2008 年 | 2009 年 | 2010 年 | 2011 年 | 2012 年 |
|---------------|--------|--------|--------|--------|--------|
| 总上网电量 | 22800 | 24300 | 28800 | 32400 | 33900 |
| 其中：清洁能源机组上网电量 | 4161 | 4321 | 4903 | 5943 | 7177 |
| 其中：水电上网电量 | 3662 | 3692 | 4103 | 4373 | 5518 |
| 核电上网电量 | 353 | 355 | 308 | 416 | 475 |
| 新能源发电机组上网电量 | 146 | 724 | 492 | 1154 | 1184 |

131. 下列年份中，国家电网公司并网机组总上网电量同比增速最快的是：

- A. 2010 年
- B. 2009 年
- C. 2012 年
- D. 2011 年

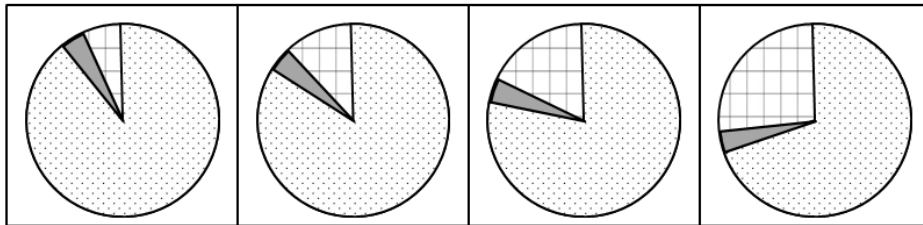
132. 2012 年清洁能源机组并网容量占当年并网机组总容量的比重比上年：

- A. 上升了 5.5 个百分点
- B. 上升了 2.5 个百分点
- C. 下降了 5.5 个百分点
- D. 下降了 2.5 个百分点

133. 下列年份中，清洁能源机组上网电量占当年并网机组总上网电量比重最高的是：

- A. 2009 年
- B. 2008 年
- C. 2012 年
- D. 2011 年

134. 下列哪一张图能反映 2012 年清洁能源机组并网容量中水电、核电和新能源发电的构成？



A

B

C

D

135. 关于 2008~2012 年间国家电网公司清洁能源的发展，能够从资料中推出的是：

- A. 新能源发电机组上网电量从 2011 年开始超过核电上网电量
- B. 水电上网电量年均增长率超过同期水电并网容量

C. 新能源发电机组并网容量翻了 8 番

D. 核电上网电量保持持续增长

※※※

全部测验到此结束!

※※※

【【2013-国家-资料】】

第五部分资料分析

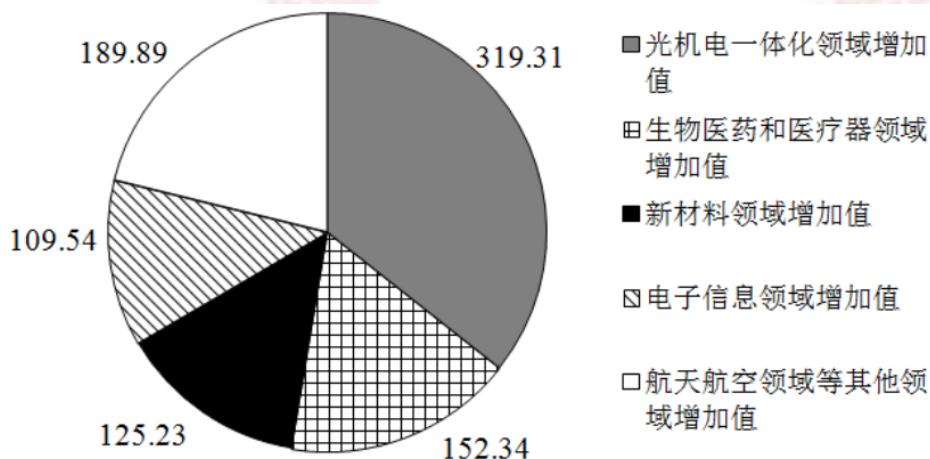
(共20题, 参考时限20分钟)

所给出的图、表、文字或综合性资料均有若干个问题要你回答。你应根据资料提供的信息进行分析、比较、计算和判断处理。

请开始答题:

一、根据以下资料, 回答 116~120 题。

2011 年前十一个月, 某省高新技术产业完成总产值 3763.00 亿元, 实现增加值 896.31 亿元。增加值同比增长 30.74%, 比规模以上工业增加值高 11.64 个百分点, 占规模以上工业增加值的比重达到 25.32%。高新技术产业各领域的增加值如下图所示:



高新技术产业各领域增加值饼形图 (单位: 亿元)

116. 2011 年前十一个月, 该省规模以上工业增加值同比增长约为多少?

A. 11.64%

B. 19.10%

C. 30.74%

D. 42.38%

117. 2010 年前十一个月，该省规模以上工业增加值约为多少亿元？

- A. 2972
B. 3540
C. 3865
D. 4373

118. 2011 年前十一个月，光机电一体化领域实现增加值与生物医药和医疗器械领域、新材料领域、电子信息领域增加值总和的比约为：

- A. 3: 5
B. 3: 4
C. 5: 6
D. 9: 10

119. 若该省高新技术产业增加值保持同样的增长速度，则 2012 年前十一个月高新技术产业增加值比 2010 年同期约增加多少亿元？

- A. 210.7
B. 486.3
C. 275.5
D. 685.6

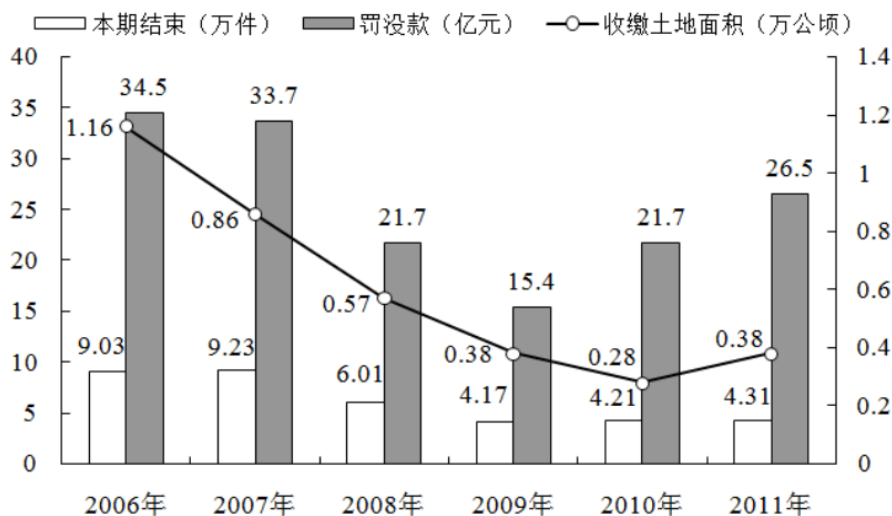
120. 关于该省高新技术产业各领域增加值情况，下列说法**错误**的是：

- A. 生物医药和医疗器械领域的增加值超过全省高新技术产业增加值的 $\frac{1}{6}$
B. 光机电一体化领域与新材料领域增加值之和大约是全省高新技术产业增加值的 $\frac{1}{2}$
C. 航空航天领域实现的增加值可能不到全省高新技术产业增加值的 $\frac{1}{3}$
D. 生物医药和医疗器械领域与电子信息领域增加值之和不到全省高新技术产业增加值的 $\frac{1}{4}$

二、根据以下资料，回答 121~125 题。

2011 年发现违法用地行为 7.0 万件，涉及土地 5.0 万公顷（耕地 1.8 万公顷），同比分别上升 5.8%、11.0%（耕地下降 2.4%），立案查处违法用地案件 4.2 万件，涉及土地 4.4 万公顷（耕地 1.5 万公顷），同比分别上升 2.5%、11.4%（耕地下降 5.7%）。依法拆除违法构筑物 1289.8 万平方米，收回土地 3791.2 公顷（耕地 1064.7 公顷），罚没款 26.5 亿元。

2006~2011 年我国违法用地案件查处情况（一）



2006~2011 年我国违法用地案件查处情况（二）

| 年度 | 本期发现违法 | | | 本期立案 | | | 本期结案 | | |
|------|--------|-------------|-------------|--------|-------------|-------------|--------|-------------|-------------|
| | 件数 (件) | 涉及土地面积 (公顷) | 其中耕地面积 (公顷) | 件数 (件) | 涉及土地面积 (公顷) | 其中耕地面积 (公顷) | 件数 (件) | 涉及土地面积 (公顷) | 其中耕地面积 (公顷) |
| 2006 | 131077 | 92237 | 43408 | 96133 | 84082 | 38680 | 90340 | 69559 | 34331 |
| 2007 | 123343 | 99069 | 43739 | 95937 | 89847 | 39382 | 92347 | 80873 | 36708 |
| 2008 | 100266 | 57660 | 21518 | 60399 | 46672 | 17579 | 60077 | 50430 | 19963 |
| 2009 | 72940 | 37973 | 17039 | 41623 | 31086 | 13868 | 41662 | 31851 | 14182 |
| 2010 | 66373 | 45124 | 18030 | 40795 | 39279 | 15833 | 42140 | 39330 | 16230 |
| 2011 | 70212 | 50074 | 17596 | 41806 | 43756 | 14935 | 43149 | 46064 | 15358 |

121. 与 2006 年相比，2011 年全国收缴土地面积约减少了：

- A. 52%
- B. 110%
- C. 67%
- D. 205%

122. 2011 年结案的案件中，平均每个案件的罚没款约为多少万元？

- A. 0.56
- B. 1.13
- C. 3.78
- D. 6.14

123. 2011 年，发现违法但未立案的违法用地行为占发现违法用地行为总数的比重约为多少？

- A. 59.5%
- B. 40.5%
- C. 38.5%
- D. 61.5%

124. 下列年份中，本期结案中涉及的耕地面积占结案涉及土地面积比重最高的是：

- A. 2006 年
- B. 2008 年
- C. 2010 年
- D. 2011 年

125. 能够从上述资料中推出的是：

- A. 2006~2011 年, 违法用地案件查处中收缴土地面积逐年减少
- B. 2006~2011 年, 违法用地案件查处中罚没款的变化趋势与收缴土地面积变化趋势完全一致
- C. 2011 年发现违法用地行为涉及土地面积中非耕地面积同比上升约 20%
- D. 2006 年立案涉及的土地面积略小于 2010 年与 2011 年立案涉及土地面积之和

三、根据以下资料, 回答 126~130 题。

截至 2011 年 4 月 21 日 22 时, 沪深两市已有 534 家上市公司第一季度财报。这 534 家公司实现营业总收入 4572.78 亿元, 同比增长 30.74%; 实现净利润 336.7 亿元, 同比增长 30.52%。不过, 一季度销售收入和净利润环比则有所下降, 其中营业总收入环比下降 12%, 净利润环比下降 25%。这 534 家公司 2011 年一季度存货 6167.68 亿元, 较上年年末增长 10%。

已公布一季报的创业板公司有 71 家, 实现营业收入 80.08 亿元, 同比增长 73.60%; 实现净利润 13.16 亿元, 同比增长 80%。已公布一季报的中小企业板公司有 202 家, 实现营业收入 789.97 亿元, 同比增长 36%; 实现净利润 73.25 亿元, 同比增长 25%。

25 家已公布一季报的房地产公司一季度实现营业收入 193.68 亿元, 同比增长 9%; 实现净利润 29.97 亿元, 同比增长 31%; 存货 2892.18 亿元, 同比增长 10%。

已公布一季报的 6 家钢铁板块公司一季度存货为 322 亿元, 实现营业收入 493.39 亿元, 同比略有降低, 环比下降 20%; 实现净利润 12.65 亿元, 同比增长 62%, 环比表现更好, 这 6 家公司 2010 年四季度净亏损 3.77 亿元。

建筑机械类公司持续了之前的景气度, 有 4 家公司公布一季报, 实现营业总收入 15.90 亿元, 同比增长 39%; 实现净利润 1.18 亿元, 同比增长 47.5%。

126. 已公布一季报的 534 家公司, 平均每家在 2010 年第四季度实现营业收入约多少亿元?

- A. 0.63
B. 7.54
C. 8.56
D. 9.73

127. 这 534 家公司中, 平均每家中小企业板公司在 2011 年第一季度的净利润约是创业板公司的:

- A. 2 倍
B. 3 倍
C. 4 倍
D. 5 倍

128. 已公布 2011 年一季报的房地产公司中, 平均每家的存货比上年同期增长了约多少亿元?

- A. 5
B. 11
C. 51
D. 105

129. 已经公布一季报的钢铁板块公司 2010 年第四季度的净利率 (净利润比营业收入) 约为:

- A. 2.57%
B. 1.80%

- C. -0.96% D. -0.61%

130. 关于这 534 家公司在 2011 年第一季度营业状况的描述与资料相符的是:

- A. 所有公司净利润之和比 2010 年第四季度有所上升
 B. 超过 $\frac{1}{4}$ 的净利润来自中小企业板公司
 C. 平均每家钢铁板块公司的存货高于 534 家公司的平均水平
 D. 平均每家建筑机械类公司的营业收入高于 534 家公司的平均水平

四、根据以下资料，回答 131~135 题。

2011 年全国农民工总量达到 25278 万人，比上年增长 1055 万人，增长 4.4%。农民工从业仍以制造业、建筑业和服务业为主，从事建筑业的比重明显提高。从农民工的就业地区来看，2011 年在东部地区务工的农民工 16537 万人，比上年增加 324 万人；在中部地区务工的农民工 4438 万人，比上年增加 334 万人，增长 8.1%；在西部地区务工的农民工 4215 万人，比上年增加 370 万人，增长 9.6%。

2008 年~2011 年农民工从事的主要行业分布 (单位: %)

| | 2008 年 | 2009 年 | 2010 年 | 2011 年 |
|-------------|--------|--------|--------|--------|
| 制造业 | 37.2 | 36.1 | 36.7 | 36.0 |
| 建筑业 | 13.8 | 15.2 | 16.1 | 17.7 |
| 交通运输、仓储和邮政业 | 6.4 | 6.8 | 6.9 | 6.6 |
| 批发零售业 | 9.0 | 10.0 | 10.0 | 10.1 |
| 住宿餐饮业 | 5.5 | 6.0 | 6.0 | 5.3 |
| 居民服务和其他服务业 | 12.2 | 12.7 | 12.7 | 12.2 |

2011 年农民工在不同地区从事的主要行业分布 (单位: %)

| | 全国 | 东部地区 | 中部地区 | 西部地区 |
|-------------|------|------|------|------|
| 制造业 | 36.0 | 44.8 | 23.0 | 15.4 |
| 建筑业 | 17.7 | 13.4 | 24.7 | 27.4 |
| 交通运输、仓储和邮政业 | 6.6 | 5.5 | 8.1 | 9.3 |
| 批发零售业 | 10.1 | 8.7 | 13.1 | 12.5 |
| 住宿餐饮业 | 5.3 | 4.5 | 5.9 | 7.3 |
| 居民服务和其他服务业 | 12.2 | 12.3 | 11.4 | 12.2 |

131. 与上一年相比，2011 年在东部地区务工的农民工人数增长率约为:

- A. 2.0% B. 4.4%
 C. 5.2% D. 8.1%

132. 2008~2011 年从事建筑业、批发零售业、居民服务和其他服务业的农民工人数总和超过从事制造业的农民工人数的年份有:

- A. 1 个 B. 2 个
 C. 3 个 D. 4 个

133. 2008~2011 年农民工从事交通运输、仓储和邮政业的比重变化趋势符合:

请开始答题：

一、根据以下资料，回答 116~120 题。

2010 年，某省广电实际总收入为 145.83 亿元，同比增长 32.07%。其中，广告收入为 67.08 亿元，同比增长 25.88%；有线网络收入为 45.38 亿元，同比增长 26.35%；其他收入为 33.37 亿元，同比增长 57.3%。

2010 年，该省广电收入中，省级收入为 65.32 亿元比上年增加 15.5 亿元；地市级收入为 41.61 亿元，比上年增加 13.39 亿元；县级收入为 38.90 亿元，比上年增加 6.52 亿元。

2010 年该省各市、县广电收入的区域分布如下：

东部地区 50.06 亿元，同比增长 32.48%，占市县收入份额的 62.18%，该地区的市均收入为 10.01 亿元，上年同期为 7.56 亿元。中部地区 17.78 亿元，同比增长 40.70%，该地区的市均收入为 5.93 亿元，上年同期为 4.21 亿元。西部地区 12.67 亿元，同比增长 80.86%，该地区的市均收入为 2.53 亿元，上年同期为 1.4 亿元。

截至 2010 年底，该省有线电视用户数为 1885.88 万户，比上年末净增 161.7 万户。其中有线数字电视用户为 1007.8 万户，比上年末净增 277.58 万户。

116. 2009 年，该省的有线网络收入约为多少亿元？

- A. 21
B. 36
C. 57
D. 110

117. 2009 年，该省广告收入占广电总收入的比重约为：

- A. 23%
B. 26%
C. 31%
D. 48%

118. 2010 年，该省地市级广电收入的同比增速约为：

- A. 15%
B. 20%
C. 32%
D. 47%

119. 2010 年，该省有线电视用户平均每月的有线网络费用约为多少元？

- A. 20
B. 36
C. 180
D. 240

120. 关于该省广电收入情况，下列说法正确的是：

- A. 2010 年，省级广电收入同比增长金额低于县级
B. 2010 年，东部地区广电收入超过中部地区的 3 倍
C. 2009 年，中部地区市均广电收入约是西部地区的 3 倍
D. 2010 年，有线电视用户中有线数字电视用户的比重不足一半

二、根据以下资料，回答 121~125 题。

表1 2010年三大经济圈产业结构及增长速度(%)

| | 长三角 | | 珠三角 | | 京津冀 | | 全国 | |
|--------|-----------|------|-----------|------|-----------|------|-----------|------|
| | 占地区生产总值比重 | 增长速度 | 占地区生产总值比重 | 增长速度 | 占地区生产总值比重 | 增长速度 | 占地区生产总值比重 | 增长速度 |
| 第一产业产值 | 4.7 | 3.6 | 5.0 | 4.4 | 6.6 | 3.3 | 10.2 | 4.3 |
| 第二产业产值 | 50.6 | 13.4 | 50.4 | 14.5 | 43.8 | 15.2 | 46.8 | 12.2 |
| 第三产业产值 | 44.7 | 10.7 | 44.6 | 10.1 | 49.6 | 11.4 | 43.0 | 9.5 |

表2 2010年三大经济圈主要经济指标(%)

| 指标 | 长三角 | | 珠三角 | | 京津冀 | | 全国 |
|----------|-------|------|-------|------|-------|------|--------|
| | 占全国比重 | 增长速度 | 占全国比重 | 增长速度 | 占全国比重 | 增长速度 | 平均增长速度 |
| 地区生产总值 | 21.4 | 11.8 | 9.4 | 12.0 | 10.8 | 12.7 | 10.3 |
| 固定资产投资 | 14.7 | 17.7 | 4.1 | 18.2 | 9.7 | 22.6 | 23.8 |
| 社会消费品零售额 | 18.9 | 18.6 | 8.0 | 16.8 | 10.1 | 18.2 | 18.4 |
| 地方财政收入 | 23.5 | 21.1 | 7.7 | 24.4 | 11.7 | 21.7 | 25.7 |
| 实际利用外资 | 47.9 | 10.6 | 17.4 | 4.8 | 19.9 | 12.8 | 17.4 |
| 进出口贸易额 | 36.6 | 35.3 | 25.3 | 28.4 | 14.3 | 38.3 | 34.7 |

121. 三大经济圈中，2010年三个产业增长速度均超过全国平均水平的有几个？

- A. 0
- B. 1
- C. 2
- D. 3

122. 2010年，珠三角地区第二产业产值占国内生产总值的比重为：

- A. 3.72%
- B. 5.76%
- C. 4.74%
- D. 6.78%

123. 2010年地方财政收入占地区生产总值比重低于全国平均水平的经济圈是：

- A. 长三角
- B. 珠三角
- C. 京津冀
- D. 以上皆非

124. 2010年，京津冀经济圈的哪一经济指标值居三大经济圈之首？

- A. 实际利用外资占全国比重
- B. 进出口贸易额占全国比重
- C. 固定资产投资增长速度
- D. 第一产业产值增长速度

125. 能够出上述资料中推出的是：

- A. 产业结构越向第三产业倾斜的经济圈，进出口贸易额增长越迅速
- B. 地区生产总值越高的经济圈，其地区生产总值增长速度越低
- C. 社会消费品零售额越高的经济圈，进出口贸易额越高
- D. 固定资产投资越高的经济圈，实际利用外资额越低

三、根据以下资料，回答126~130题。

2010年底，全国高速公路里程为7.41万公里，居世界第二位，比“十一五”规划目标增加9108公里。其中，国家高速公路5.77万公里，比上年末增加0.54万公里。“五纵七横”12条国道主干线提前13年全部建成。全国有11个省份的高速公路里程超过3000公里。

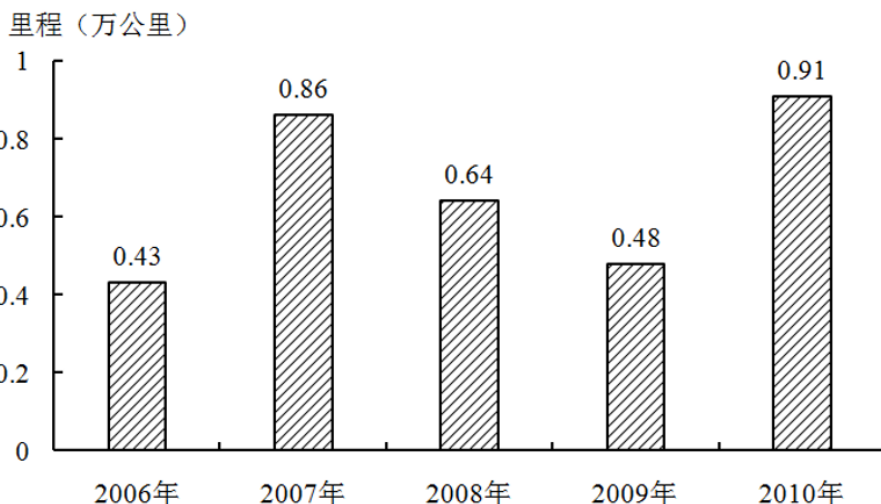


图1 “十一五”期间全国高速公路年新增里程

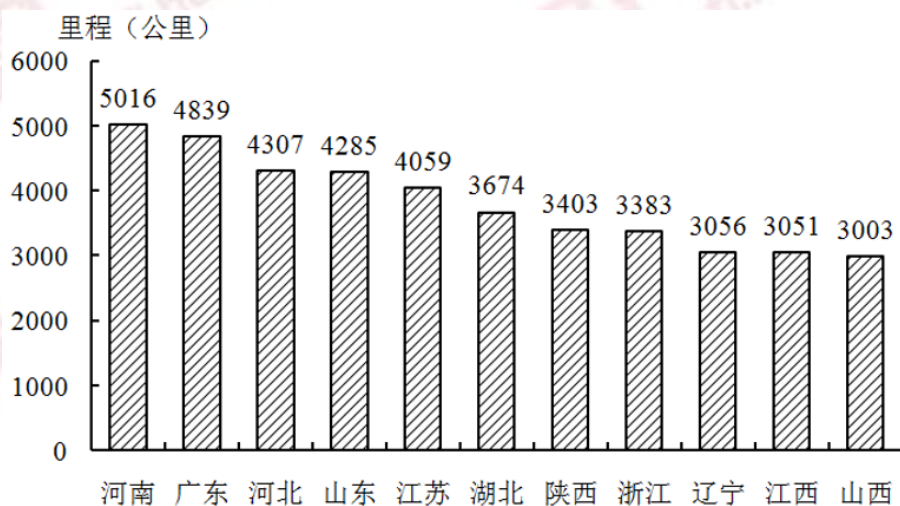


图2 2010年底部分省份高速公路里程

126. 根据“十一五”规划，2010年底全国高速公路里程应达到多少万公里？

- A. 5
B. 5.5
C. 6
D. 6.5

127. 2010年底，高速公路里程超过全国总里程5%的省份有几个？

- A. 5
B. 6
C. 7
D. 8

128. 2005年底，全国高速公路里程为多少万公里？

- A. 2.45
B. 3.89
C. 4.09
D. 4.53

129. 2010年底，图2中11省拥有高速公路的里程约占同期全国总里程的：

- A. 49%
B. 57%
C. 62%
D. 70%

130. 关于我国“十一五”期间高速公路建设状况，能够从资料中推出的是：

- A. 高速公路里程每年同比增长率都超过 10%
- B. 沿海省份高速公路里程显著高于内陆省份
- C. 2010 年底，国家高速公路占全国高速公路里程的比重达到 90%
- D. 2010 年全国高速公路新增里程中，国家高速公路的里程超过一半

四、根据以下资料，回答 131~135 题。

2010 年，我国进出口贸易总额为 29727.6 亿美元，同比增长 34.7%。

2010 年，我国机电产品出口 9334.3 亿美元，同比增加 30.9%；高新技术产品出口 4924.1 亿美元，同比增长 30.7%。船舶、汽车零部件出口保持较快增长，其中船舶出口同比增长 44.5%，汽车零部件出口同比增长 44.1%。

2010 年，机电产品进口额达到 6603.1 亿美元，同比增长 34.4%，高新技术产品进口额达到 4126.7 亿美元，同比增长 33.2%。

2010 年我国进出口贸易情况

| 项目 | 出口 | | 进口 | | |
|------|-------------|-------------|-------------|-------------|------|
| | 金额 (亿美元) | 同比增速 (%) | 金额 (亿美元) | 同比增速 (%) | |
| 总值 | 15779.3 | 31.3 | 13948.3 | 38.7 | |
| 贸易方式 | 一般贸易 | 7207.3 | 36.0 | 7679.8 | 43.7 |
| | 加工贸易 | 7403.4 | 26.1 | 4174.3 | 29.5 |
| | 其他方式贸易 | 1168.6 | 37.7 | 2094.2 | 40.2 |
| 企业性质 | 国有企业 | 2343.6 | 22.7 | 3875.5 | 34.3 |
| | 外商投资企业 | 8623.1 | 28.3 | 7380.0 | 35.3 |
| | 其他企业 | 4812.7 | 42.2 | 2692.8 | 56.7 |

131. 2009 年我国进出口贸易总额约多少万亿美元？

- A. 1.6
- B. 2.2
- C. 2.6
- D. 3.0

132. 2010 年高新技术产品出口额占到出口总额的比重与上年相比约：

- A. 增加了 10 个百分点
- B. 减少了 10 个百分点
- C. 增加了 0.1 个百分点
- D. 减少了 0.1 个百分点

133. 在 2010 年我国进出口贸易中，下列哪一项的同比增长金额最高？

- A. 机电产品出口
- B. 高新技术产品出口
- C. 机电产品进口
- D. 高新技术产品进口

134. 下列关于 2010 年净出口额（出口额减进口额）的关系表述正确的是：

- A. 加工贸易 > 一般贸易
- B. 其他方式贸易 > 一般贸易
- C. 国有企业 > 外商投资企业
- D. 国有企业 > 其他企业

135. 下列关于 2010 年我国进出口贸易的表述正确的是：

- A. 高新技术产品逆差约为 800 亿美元

- B. 国有企业进出口总额同比增速为 28.5%
- C. 机电产品出口额占出口总额的一半以上
- D. 船舶出口同比增长金额高于汽车零部件

※※※

全部测验到此结束!

※※※

【【2011-国家-资料】】

第五部分资料分析

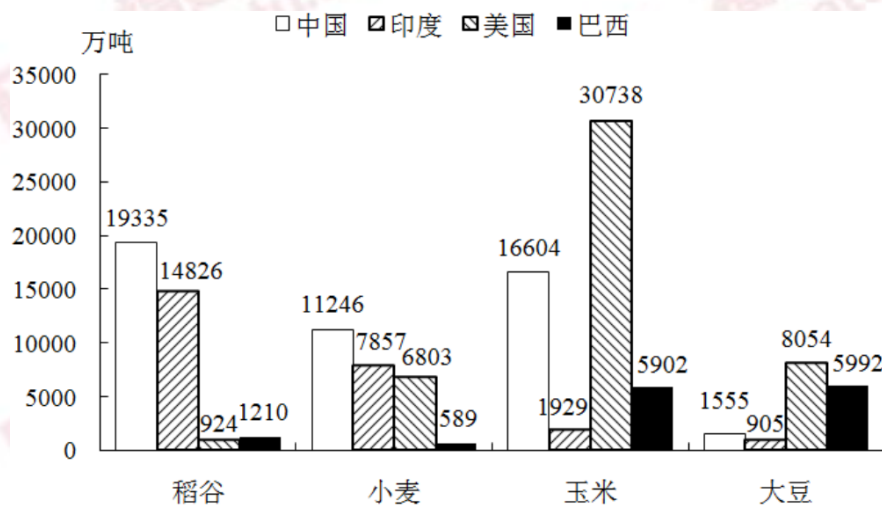
(共 15 题, 参考时限 15 分钟)

所给出的图、表、文字或综合性资料均有若干个问题要你回答。你应根据资料提供的信息进行分析、比较、计算和判断处理。

请开始答题:

一、根据以下资料, 回答 121~125 题。

2008 年世界稻谷总产量 68501.3 万吨, 比 2000 年增长 14.3%; 小麦总产量 68994.6 万吨, 比 2000 年增长 17.8%; 玉米总产量 82271.0 万吨, 比 2000 年增长 39.1%; 大豆总产量 23095.3 万吨, 比 2000 年增长 43.2%。



2008 年部分国家各种谷物产量

表2 主要出口目的地（出口额前7位）

| | 出口量（万吨） | 同比增长率（%） | 出口额（亿美元） | 同比增长率（%） |
|------|---------|----------|----------|----------|
| 日本 | 13.24 | 8.27 | 6.45 | 16.95 |
| 美国 | 10.72 | 3.05 | 4.66 | 8.76 |
| 欧盟 | 10.68 | 11.50 | 3.71 | 12.89 |
| 韩国 | 10.30 | 16.21 | 3.04 | 48.68 |
| 中国香港 | 3.42 | 9.98 | 2.08 | 23.78 |
| 东盟 | 6.83 | -14.60 | 1.73 | 19.43 |
| 中国台湾 | 2.10 | 52.30 | 1.28 | 124.90 |

131. 2010年一季度，我国水产品出口额比上年同期约增长了多少亿美元？

- A. 5.3
B. 7.0
C. 9.2
D. 21.2

132. 2010年一季度，我国水产品主要进口来源地，按进口量从小到大排序正确的是：

- A. 日本—挪威—美国
B. 秘鲁—东盟—日本
C. 挪威—美国—东盟
D. 东盟—智利—俄罗斯

133. 2010年一季度，我国与美国水产品进出口贸易额占我国水产品进出口贸易总额的比重约为：

- A. 7.8%
B. 12.7%
C. 14.2%
D. 17.6%

134. 2010年一季度，我国对以下哪个国家或地区出口水产品的平均单价最高？

- A. 日本
B. 美国
C. 欧盟
D. 韩国

135. 能够从上述资料中推出的是：

- A. 2010年一季度，我国是俄罗斯最大的水产品出口目的地
B. 2009年一季度，日本比美国进口了更多的我国水产品
C. 2010年一季度，我国从秘鲁进口水产品的平均单价比上年同期有所下降
D. 2009年一季度，我国对东盟水产品进出口贸易为逆差

※※※

全部测验到此结束！

※※※

【【2010-国家-资料】】

第四部分资料分析

所给出的图、表、文字或综合性资料均有若干个问题要你回答。你应根据资料提供的信息进行分析、比较、计算和判断处理。

请开始答题:

一、根据以下资料, 回答 91~95 题。

中国汽车工业协会发布的 2009 年 4 月份中国汽车产销数据显示, 在其他国家汽车销售进一步疲软的情况下, 国内乘用车销量却持续上升, 当月销量已达 83.1 万辆, 比 3 月份增长 7.59%, 同比增长 37.37%。

乘用车细分为基本型乘用车(轿车)、多功能车(MPV)、运动型多用途车(SUV)和交叉型乘用车。其中, 轿车销量比 3 月份增长 8.3%, 同比增长 33.04%; MPV 销量比 3 月份下降 3.54%, 同比下降 4.05%; SUV 销量比 3 月份增长 19.27%, 同比增长 22.55%; 交叉型乘用车销量比 3 月份增长 3.62%, 同比增长 70.66%。轿车、MPV、SUV 和交叉型乘用车销量占 4 月份乘用车总销量的比重分别为 71%、2%、6%和 21%。

91. 与上年同期相比, 2009 年 4 月份乘用车销量约增长了多少万辆?

- A. 13.2
B. 22.6
C. 31.1
D. 40.4

92. 2009 年 3 月份轿车销量约为多少万辆?

- A. 50
B. 54
C. 59
D. 64

93. 2008 年 4 月, SUV 销量比 MPV 销量约:

- A. 少 3.4 万辆
B. 少 2.3 万辆
C. 多 3.4 万辆
D. 多 2.3 万辆

94. 关于 2009 年 3 月份各种车型销量在总销量中所占比重的描述, 以下正确的是:

- A. MPV 超过 2%
B. 交叉型乘用车低于 21%
C. SUV 超过 6%
D. 轿车超过 71%

95. 关于 2009 年 4 月乘用车销量的描述**不正确**的是:

- A. MPV 车型当时不受市场追捧
B. 轿车销量比上年同期增加了 20 万辆以上
C. 同比增长率最高的是交叉型乘用车
D. SUV 以外车型销量占乘用车总销量比重比上月有所下降

二、根据以下资料, 回答 96~100 题。

2009年5月全国邮电业务基本情况表

| | 单位 | 5月 | | 比去年同期增长 (%) | |
|-----------------|-----|----------|----------|----------------|-------|
| | | 累计(1~5月) | 当月 | 累计 | 当月 |
| 邮电业务总量 | 亿元 | 10722.8 | 4274.2 | 11.4 | 11.6 |
| 邮政业务总量 | 亿元 | 630.1 | 133.0 | 12.7 | 16.4 |
| 电信业务总量 | 亿元 | 10092.7 | 2141.2 | 11.3 | 11.4 |
| 函件总数 | 万件 | 311389.3 | 62864.3 | 1.7 | 2.8 |
| 包裹 | 万件 | 2912.7 | 625.0 | -15.8 | -5.3 |
| 快递 | 万件 | 67468.0 | 14829.1 | 18.1 | 21.9 |
| 汇票 | 万笔 | 10825.3 | 2487.6 | 3.4 | 3.0 |
| 订销报纸累计数 | 万份 | 668388.1 | 137278.6 | -0.1 | -1.5 |
| 订销杂志累计数 | 万份 | 42900.2 | 8916.3 | -0.5 | -4.3 |
| 邮政储蓄期末余额 | 亿元 | — | 22788.8 | — | 20.5 |
| 固定传统长途电话通话时长 | 亿分钟 | 352.1 | 72.4 | -4.6 | -0.8 |
| 移动电话通话时长合计(含本地) | 亿分钟 | 13770.2 | 2961.3 | 17.6 | 16.4 |
| 移动电话长途通话时长 | 亿分钟 | 895.2 | 200.6 | 28.4 | 24.0 |
| IP电话通话时长 | 亿分钟 | 500.0 | 103.9 | -16.8 | -20.3 |
| 移动短信业务量 | 亿条 | 3195.4 | 643.2 | 11.2 | 10.4 |

96. 2009年1~5月, 邮电系统平均每月订销报纸、杂志约多少亿份?

- A. 13.7
B. 14.2
C. 14.6
D. 17.8

97. 按2009年5月业务同比增长率从高到低排列, 以下正确的是:

- A. 函件-包裹-快递
B. 汇票-包裹-快递
C. 快递-汇票-函件
D. 函件-汇票-包裹

98. 2008年1~5月, 移动电话长途通话时长约是固定传统长途电话通话时长的多少倍?

- A. 3.4
B. 2.5
C. 1.9
D. 0.5

99. 假如平均每条移动短信的业务费用为0.1元, 则2009年5月移动短信业务总量占当月电信业务总量的比重约为:

- A. 2.8%
B. 3.0%
C. 3.2%
D. 6.4%

100. 能够从上述资料中推出的是:

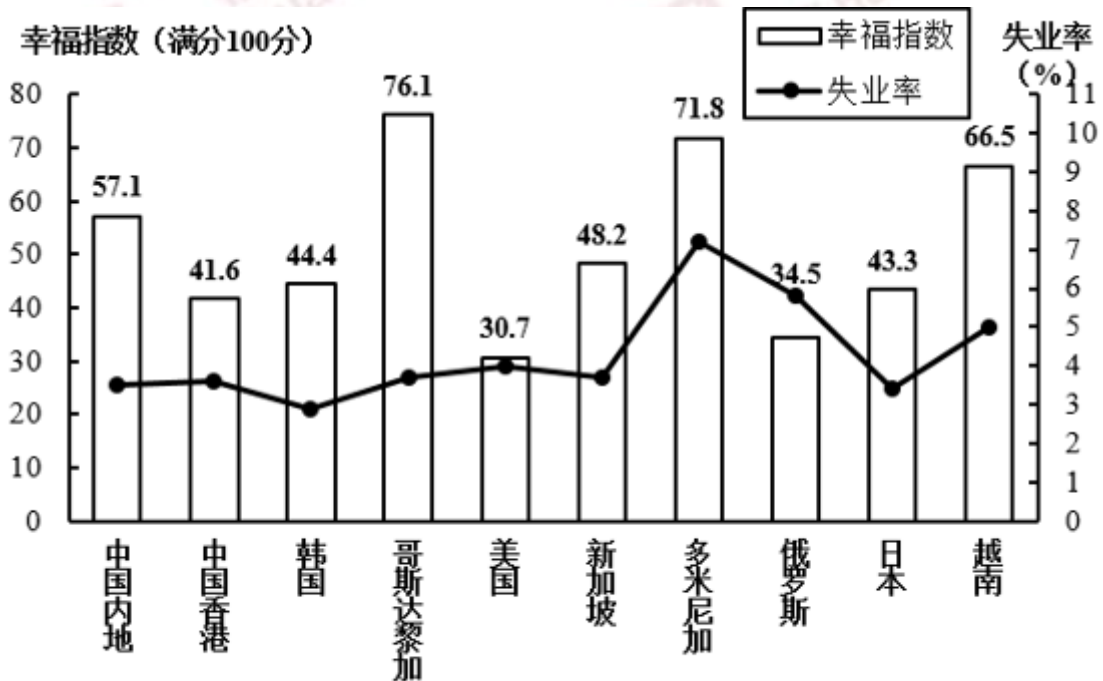
- A. 2009年5月, 各项电信业务与去年同期相比均有所增长
B. 2009年5月, 各项邮政业务营业状况均好于1~4月平均水平
C. 2009年5月, 移动电话长途通话占移动电话通话总时长的10%以上

D. 2009 年 1~5 月，电信业务同比增长率高于邮政业务

三、根据以下资料，回答 101~105 题。

2007 年部分国家（地区）国民生产总值

| 国家（地区） | 人均国民生产总值（美元） | 国民生产总值（亿美元） |
|--------|--------------|-------------|
| 中国内地 | 2360 | 32801 |
| 中国香港 | 31610 | 2067 |
| 韩国 | 19690 | 9698 |
| 哥斯达黎加 | 5560 | 252 |
| 美国 | 46040 | 138112 |
| 新加坡 | 32470 | 1613 |
| 多米尼加 | 3550 | 367 |
| 俄罗斯 | 7560 | 12910 |
| 日本 | 37670 | 43767 |
| 越南 | 790 | 712 |



2007 年部分国家（地区）幸福指数与失业率

101. 2007 年，下列国家（地区）中人口最少的是：

- A. 中国香港
- B. 哥斯达黎加
- C. 新加坡
- D. 多米尼加

102. 资料中失业率最高与最低的国家（地区），其幸福指数相差：

- A. 27.4
- B. 22.1
- C. 31.4
- D. 28.5

103. 资料中人均国民生产总值和幸福指数均排名前五的国家（地区）有几个？

- A. 4
- B. 3
- C. 2
- D. 1

104. 能够从上述资料中推出的是：

- A. 美国的失业人口少于俄罗斯
- B. 资料中人均国民生产总值越高的国家失业率越低
- C. 人均国民生产总值排名第二的国家（地区），幸福指数排名第八
- D. 资料中只有一个亚洲国家（地区）的失业率高于美国

105. 下列说法与资料相符的有几个？

- ①国民生产总值小于 1000 亿美元的国家（地区），幸福指数均高于其他国家（地区）
- ②人口过亿的国家（地区）失业率越低，幸福指数越高
- ③比中国内地失业率低的国家（地区），幸福指数均低于中国内地
- ④人均国民生产总值超过 2 万美元的国家（地区），幸福指数均低于其他国家（地区）

- A. 3
- B. 2
- C. 1
- D. 0

四、根据以下资料，回答 106~110 题。

2008 年，某省农产品进出口贸易总额为 7.15 亿美元，比上年增长 25.2%。其中，出口额为 5.02 亿美元，增长 22.1%；进口额为 2.13 亿美元，增长 33.2%。农产品进出口贸易额占全省对外贸易总额的 4.5%。出口额居前 5 位的产品为蔬菜、畜产品、水果、粮食和茶叶，而绿茶出口额占茶叶出口额的四分之三。全省农产品对东欧、非洲、拉美等国家和地区的市场进一步开拓，出口额比上一年进一步增长。其中，对美国的出口额增长 16.0%；对日本的出口额增长 7.3%；对韩国的出口额增长 59.8%；对东盟的出口额增长 58.6%。

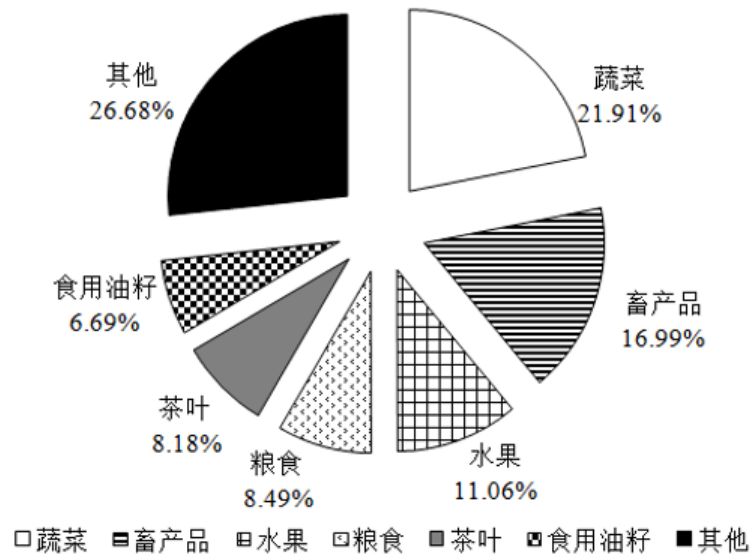


图 12008 年某省出口农产品结构图

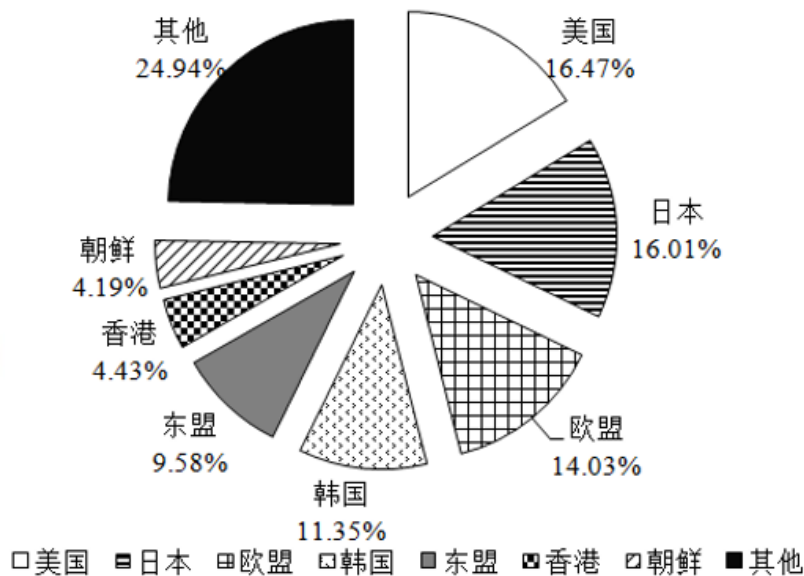


图 22008 年某省农产品出口市场分布情况图

106. 2008 年, 该省的对外贸易总额约为多少亿美元?
 A. 79.25
 B. 91.78
 C. 134.66
 D. 158.89
107. 2008 年, 该省的绿茶出口额约为多少万美元?
 A. 1307
 B. 2255
 C. 3080
 D. 4387
108. 2008 年, 该省农产品外贸顺差比上年增长:
 A. 5%
 B. 15%
 C. 25%
 D. 35%
109. 与 2007 年相比, 2008 年该省出口韩国的农产品总额约增加了多少万美元?
 A. 2100
 B. 3200
 C. 4500
 D. 5100
110. 能够从上述资料中推出的是:
 A. 2008 年, 该省出口日本的农产品总额接近 8000 万美元
 B. 2008 年, 该省的粮食出口额比上年有所增长
 C. 2008 年, 该省蔬菜的出口额超过 1 亿美元
 D. 2007 年, 该省对东亚及东南亚地区的农产品出口占总出口额的一半以上

五、根据以下资料, 回答 111~115 题。

新中国成立后, 经过 60 年特别是改革开放以来的建设, 我国公共卫生体系初步建立, 卫生服务能力明显增强。2008 年全国共有卫生机构 27.8 万个, 比 1949 年增加约 75 倍; 卫生技术人员为 503 万人, 比 1949 年增加 9.0 倍; 医院和卫生院床位数为 374.8 万张, 比 1949 年增加 45.9 倍; 每千人口医院、卫生院床位数为 2.8 张, 远高于 1949 年 0.15 张的水平。

- C. 上升了 12% D. 下降了 12%

125. 下列关于 2008 年 1~8 月间北京空气质量的描述, **不正确**的是:

- A. 3~5 月的空气质量较差
 B. 各月份空气质量相差不大
 C. 8 月是空气质量最好的一个月
 D. 有一个月的空气质量达标天数少于 15 天

二、根据以下资料, 回答 126~130 题。

2006 年全国农村外出从业劳动力流向及从业情况统计表 (单位: %)

| | 全国 | 东部地区 | 中部地区 | 西部地区 | 东北地区 |
|---------------|------|------|------|------|------|
| 外出从业劳动力从业地区构成 | | | | | |
| 乡外县内 | 19.2 | 29.9 | 13.5 | 15.2 | 26.9 |
| 县外市内 | 13.8 | 18.4 | 9.9 | 12.4 | 31.5 |
| 市外省内 | 17.7 | 33.1 | 9 | 12.8 | 24.2 |
| 省外 | 49.3 | 18.6 | 67.6 | 59.6 | 17.4 |
| 外出从业劳动力产业构成 | | | | | |
| 第一产业 | 2.8 | 2.5 | 2.2 | 3.6 | 4.2 |
| 第二产业 | 56.7 | 55.8 | 57.1 | 58.4 | 44.3 |
| 第三产业 | 40.5 | 41.7 | 40.7 | 38 | ? |

2006 年, 全国农村外出从业劳动力中, 男性劳动力 8434 万人, 占 64%。从年龄构成上看, 20 岁以下占 16.1%, 21~30 岁占 36.5%; 31~40 岁占 29.5%; 41~50 岁占 12.8%; 51 岁以上占 5.1%。从文化程度看, 文盲占 1.2%; 小学文化程度占 18.7%; 初中文化程度占 70.1%; 高中文化程度占 8.7%; 大专及以上文化程度占 1.3%。

126. 全国农村外出从业的女性劳动力约有多少万人?

- A. 4744 B. 5397
 C. 9901 D. 13178

127. 表中“?”处的数值应为:

- A. 41.6 B. 42.5
 C. 51.5 D. 52.4

128. 假设不同性别劳动力会在三大产业间均匀分布, 则全国男性农村外出从业劳动力从事第二产业的约有多少万人?

- A. 3416 B. 3736
 C. 4342 D. 4782

129. 关于农村外出从业劳动力的描述, **无法**从上述资料中推出的是:

- A. 外出劳动力大多从事第二产业
 B. 各地区的劳动力流向主要取决于本地的生活习惯
 C. 东部和东北地区的劳动力大部分会留在省内
 D. 不同地区劳动力对从业地区选择的倾向性差异很大

130. 关于农村外出从业劳动力的描述, 能够从上述资料中推出的是:

- A. 超过 7500 万男性劳动力为高中以下文化程度
- B. 东北地区劳动力对从业地的选择差异最小
- C. 中西部地区劳动力大部分流向东部和东北地区
- D. 大专及以上学历文化程度仅占 1.3%，说明高学历的劳动力多数都在家从业

三、根据以下资料，回答 131~135 题。

某港口 2007 年生产统计表

| 月份 | 港口货物吞吐量（万吨） | | | | 港口集装箱吞吐量（万 TEU） | | | |
|----|-------------|---------|---------|-------|-----------------|-------|------|-------|
| | 本月数 | 累计 | | | 本月数 | 累计 | | |
| | | 本年 | 上年同期 | 比上年同期 | | 本年 | 上年同期 | 比上年同期 |
| 1 | 872.1 | 872.1 | — | — | 8.4 | 8.4 | — | — |
| 2 | 806.7 | 1678.8 | — | — | 5.9 | 14.3 | — | — |
| 3 | 905.5 | 2584.3 | 2379.6 | 8.6% | 7.5 | 21.8 | 15.6 | 39.7% |
| 4 | 912.8 | 3497.1 | 3244.2 | 7.8% | 8.6 | 30.4 | 21.8 | 39.4% |
| 5 | 990.3 | 4487.4 | 4139.1 | 8.4% | 8.4 | 38.8 | 27.1 | 43.2% |
| 6 | 927.5 | 5414.9 | 4898.7 | 10.5% | 8.9 | 47.7 | 33.0 | 44.5% |
| 7 | 918.2 | 6333.1 | 5653.6 | 12.0% | 8.8 | 56.5 | 39.1 | 44.5% |
| 8 | 929.1 | 7262.2 | 6448.9 | 12.6% | 9.8 | 66.3 | 45.5 | 45.7% |
| 9 | 904.5 | 8166.7 | 7221.5 | 13.1% | 9.9 | 76.2 | 53.2 | 43.2% |
| 10 | 871.1 | 9037.8 | 8133.6 | 11.1% | 10.1 | 86.3 | 62.0 | 39.2% |
| 11 | 905.2 | 9943.0 | 9121.9 | 9.0% | 9.8 | 96.1 | 71.8 | 33.8% |
| 12 | 916.1 | 10859.1 | 10088.8 | 7.6% | 9.6 | 105.7 | 80.0 | 32.1% |

131. 2007 年该港口货物吞吐量最高的季度是：

- A. 第一季度
- B. 第二季度
- C. 第三季度
- D. 第四季度

132. 2006 年 4 月到 2007 年 12 月间，港口货物吞吐量高于 900 万吨的月份有多少个？

- A. 12
- B. 13
- C. 10
- D. 11

133. 2007 年 4~12 月间该港口集装箱吞吐量同比增长率最高的月份是：

- A. 8 月
- B. 5 月
- C. 6 月
- D. 7 月

134. 2007 年，港口货物吞吐量和集装箱吞吐量均低于全年平均水平的月份有几个？

- A. 5
- B. 4
- C. 3
- D. 2

135. 能够从上述资料中推出的是：

- A. 2006 年第一季度，月均港口货物吞吐量超过 800 万吨
- B. 2007 年第一季度，港口集装箱吞吐量高于全年平均水平
- C. 2006 年 4~12 月间港口集装箱吞吐量低于 6 万 TEU 的月份有 3 个
- D. 2007 年第四季度的所有月份港口货物吞吐量均比上一年同期有所下降

四、根据以下资料，回答 136~140 题。

全国 2007 年认定登记的技术合同共计 220868 项，同比增长 7%，总成交金额 2226 亿元，同比增长 22.44%；平均每项技术合同成交金额突破百万元大关，达到 100.78 万元。

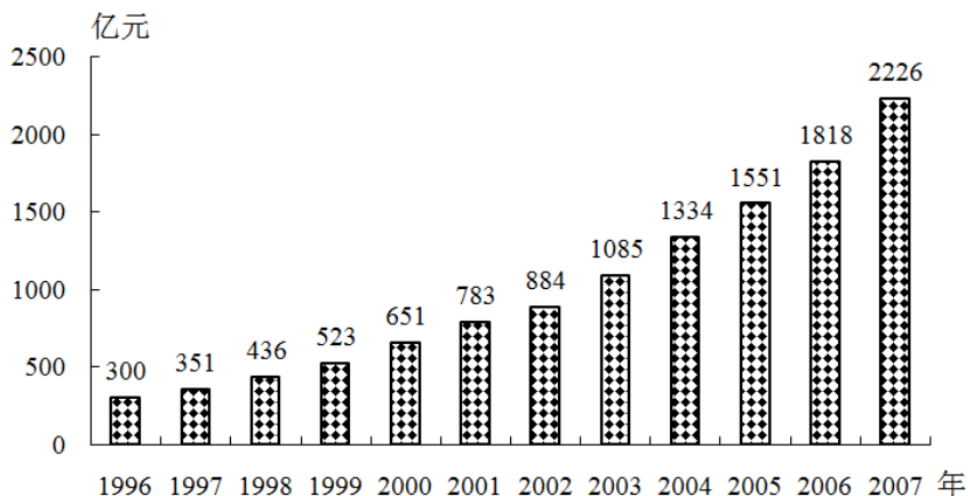


图 1 1996~2007 年全国技术合同成交金额

2007 年全国共签订技术开发合同 73320 项，成交金额 876 亿元，分别比上年增长 13.5% 和 22.2%；共签订技术转让合同 11474 项，成交金额 420 亿元，成交金额同比增长 30.8%；技术服务和技术咨询合同成交金额分别为 840 亿元和 90 亿元，分别比上年增长了 20.9% 和 5.9%。

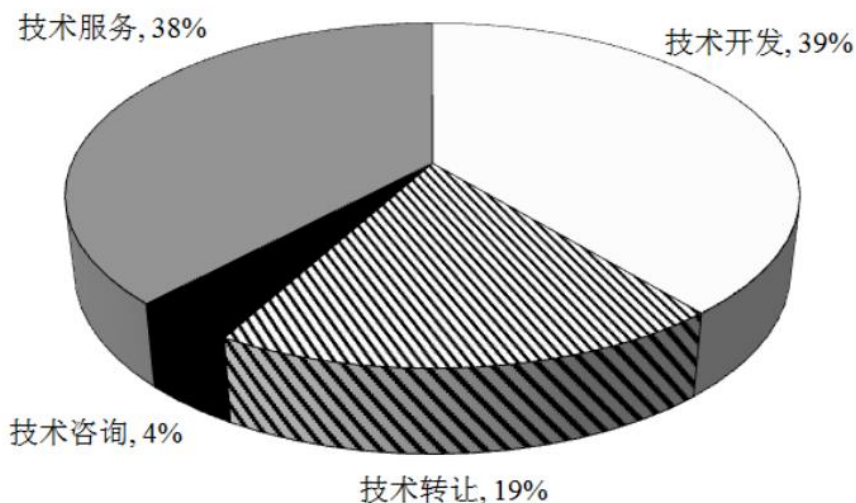


图 2 2007 年全国各类技术合同成交金额构成

2007 年，在全国认定登记的技术合同中，涉及技术秘密、计算机软件、专利、集成电路、生物医院、动植物新品种等各类知识产权的技术合同共计 109740 项，成交金额 1477 亿元，较上年增长 23.5%，其中，技术秘密和计算机软件著作权的技术交易成交额居第一、第二，技术秘密合同成交 76261 项，成交金额 1008 亿元，较上年增长 29.2%。计算机软件著作权合同成交 27617 项，成交金额 255 亿元，较上年增长了 15.4%。

136. 2007 年平均每项技术合同成交金额同比增长率为多少？

- A. 25.05%
- B. 35.25%

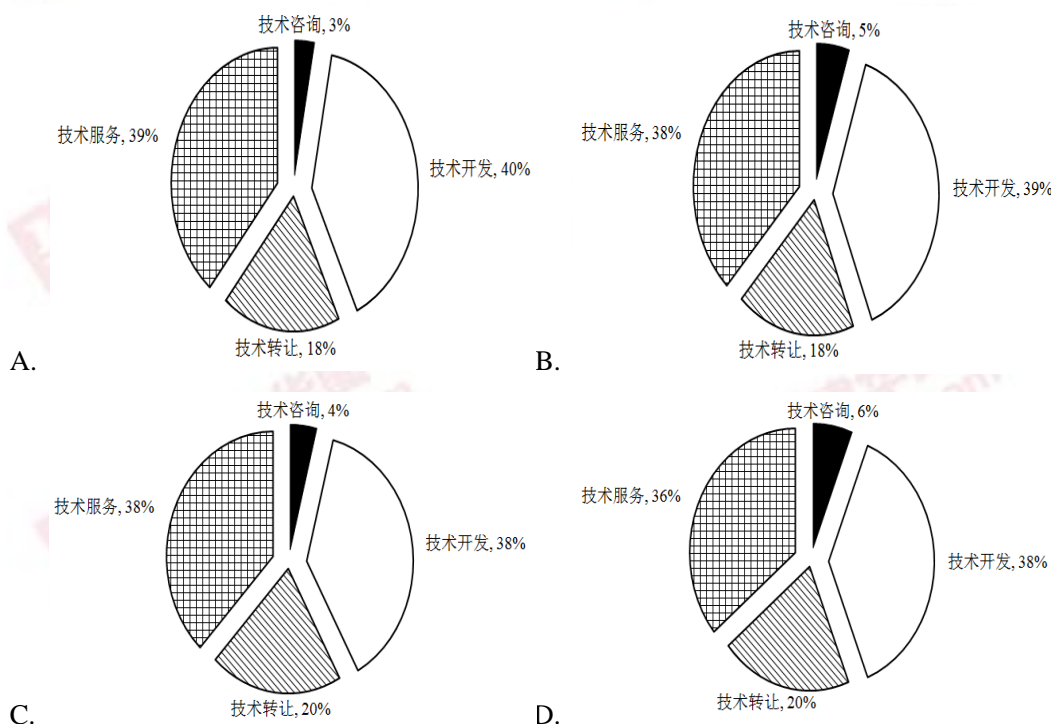
C. 8.15%

D. 14.43%

137. 根据图 1 所提供的信息，以下关于全国合同成交金额的描述正确的是：

- A. 1997 年至 2007 年间，年增长率逐年提高
- B. 1997 年至 2007 年间，年增长金额逐年递增
- C. 2007 年的成交金额未能实现比 1996 年翻三番的目标
- D. 1996 年至 2007 年的年平均成交金额约为 800 亿元

138. 下列关于 2006 年技术开发，技术转让，技术咨询和技术服务等四类合同占全国成交金额比重的图形，描述正确的是：



139. 2006 年技术秘密合同成交金额占全国技术合同总成交金额的比重是多少？

- A. 68.2%
- B. 42.9%
- C. 65.2%
- D. 45.3%

140. 能够从上述资料中推出的是：

- A. 计算机软件著作权合同平均每项的成交金额是所有技术合同中最高的
- B. 2007 年技术服务和技术咨询合同总数达不到全国认定登记的技术合同总数的一半
- C. 2007 年技术开发、技术转让、技术咨询、技术服务的成交金额同比增长都超过 10%
- D. 如果保持 2007 的增速，全国技术合同成交总金额将在 2010 年突破 3500 亿元

※※※

全部测验到此结束！

※※※

【【2008-国家-资料】】

第五部分资料分析

(共 20 题, 参考时限 20 分钟)

所给出的图、表、文字或综合性资料均有若干个问题要你回答。你应根据资料提供的信息进行分析、比较、计算和判断处理。

请开始答题:

一、根据以下资料, 回答121~126题。

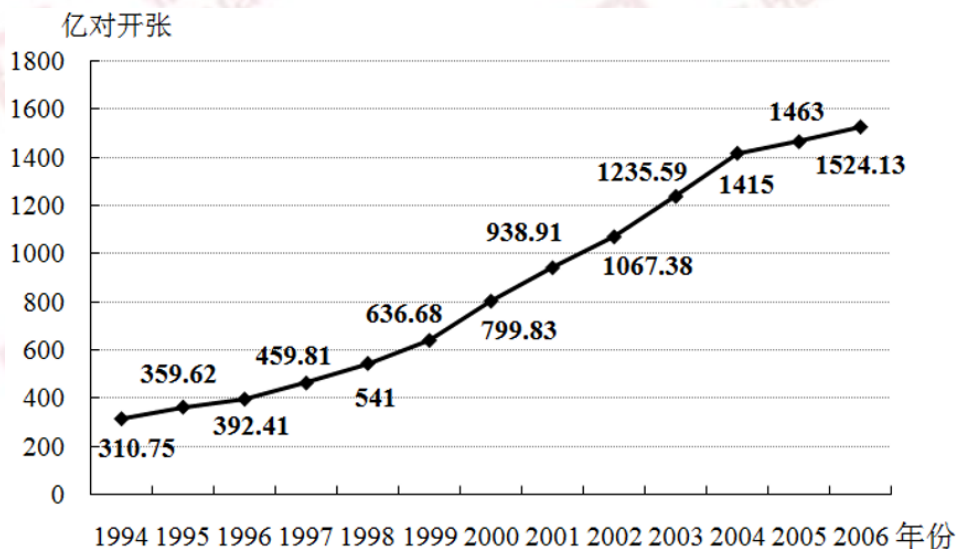


图1 1994至2006年全国报纸印刷量增长曲线

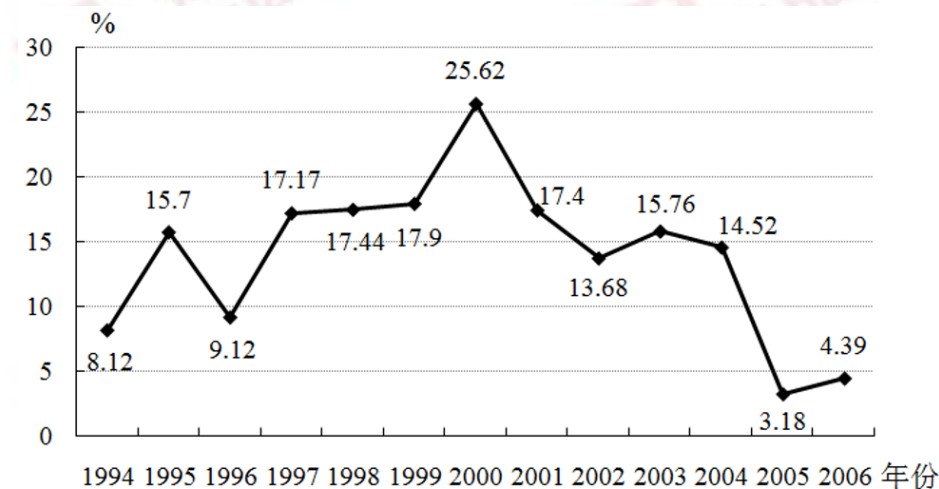
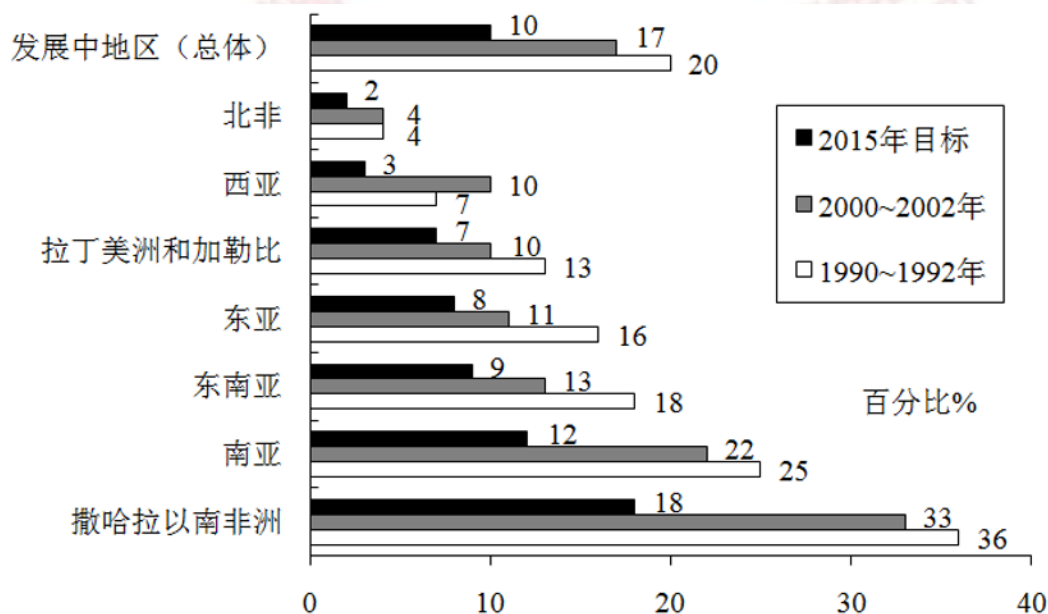


图2 1994至2006年全国报纸印刷量增长率

在1994至2006年间, 全国报纸印刷总量持续增长。

D. 1997 至 1999 年各大报纸刊登的广告数量持续减少

二、根据以下资料，回答127~130题。



1990 至 1992 年和 2000 至 2002 年全球发展中地区饥饿人口的比例示意图

127. 1990~2002 年间，当地人民食物获取状况恶化的地区是：

- A. 拉丁美洲和加勒比 B. 南亚
C. 撒哈拉以南非洲 D. 西亚

128. 按 1990~2002 年间的发展趋势，有几个地区将能够达到或超过 2015 年发展中地区（总体）的目标水平：

- A. 3 B. 4
C. 5 D. 6

129. 若南亚地区 1992 年总人口数为 15 亿，该地区平均人口年增长率为 2%，那么 2002 年南亚地区饥饿人口总量为多少亿人？

- A. 3.30 B. 3.96
C. 4.02 D. 4.82

130. 下列说法中，**不能**从图示信息中获得支持的是：

- I.1992~2002 年间，北非饥饿人口的数量并没有因人口总量的变化而变化
II.1992~2002 年间，东南亚和南亚地区的饥饿人口比例基本能反映发展中地区的总体概况
III.1992~2002 年间，发展中地区的饥饿人口主要集中在南亚地区和撒哈拉以南非洲地区
IV.1992~2002 年间，东亚地区在改善人民饥饿状况的工作方面最为突出

- A. I B. II 和 III
C. I 和 III D. I 和 IV

三、根据以下资料，回答131~135题。

某市 2005 年就该市城镇居民和农民参加体育锻炼及影响因素，开展了一项调查。调查结束后，按城乡、性别进行了统计，统计结果如以下两张表所示。

表 1 2005 年某市城镇居民和农民参加体育锻炼项目情况统计 (%)

| | 城镇 | 农村 | 男 | 女 |
|--------|------|------|------|------|
| 武术健身气功 | 6.0 | 2.1 | 4.7 | 5.9 |
| 健身操舞秧歌 | 12.8 | 8.0 | 3.8 | 20.1 |
| 健美力量练习 | 7.3 | 5.8 | 8.5 | 5.4 |
| 自行车 | 23.8 | 21.0 | 24.7 | 21.8 |
| 登山 | 14.9 | 10.4 | 14.4 | 13.8 |
| 球类 | 31.6 | 16.8 | 37.9 | 19.9 |
| 步行 | 63.7 | 72.3 | 57.9 | 72.7 |
| 游泳 | 17.6 | 4.1 | 16.4 | 13.9 |
| 跑步 | 23.8 | 25.9 | 29.2 | 19.1 |
| 其他 | 13.3 | 9.5 | 11.9 | 13.3 |

表 2 2005 年某市城镇居民和农民参加体育锻炼的影响因素 (%)

| | 城镇 | 农村 | 男 | 女 |
|------------|------|------|------|------|
| 缺乏组织 | 8.8 | 3.6 | 7.0 | 7.4 |
| 缺乏指导 | 7.8 | 4.7 | 7.1 | 6.8 |
| 缺乏场地设施 | 13.2 | 8.0 | 12.1 | 14.1 |
| 工作忙、缺少时间 | 21.8 | 21.5 | 32.7 | 24.6 |
| 家务忙、缺少时间 | 9.2 | 20.8 | 17.6 | 10.5 |
| 体力工作多，不用参加 | 3.4 | 15.9 | 7.8 | 11.8 |
| 惰性 | 4.9 | 7.5 | 15.9 | 6.7 |
| 没兴趣 | 1.4 | 9.1 | 6.8 | 6.1 |

131. 在各项体育项目的普及程度上，农村与城镇相比：

- A. 登山高于城镇
- B. 步行低于城镇
- C. 自行车高于城镇
- D. 健身操舞秧歌低于城镇

132. 与男性相比，在女性更普及的两个体育项目是：

- A. 球类步行
- B. 跑步游泳
- C. 步行健身操舞秧歌
- D. 健身操舞秧歌跑步

133. 根据表 2，在被调查的全体人群中，选择“缺乏组织”的人占全体人群的比例可能是：

- A. 5.2%
- B. 6.2%
- C. 7.1%
- D. 8.2%

134. 无法从表 2 获得支持的判断是：

- A. 家务过多成为影响男性参加体育锻炼的第二大因素

- B. 惰性对女性参加体育锻炼的影响小于对男性的影响
- C. 无论城镇或农村，兴趣都是影响人们参加体育锻炼的最重要因素之一
- D. 无论城镇或农村，男或女，工作忙已成为影响人们参加体育锻炼的第一大因素

135. 无法从表 1、表 2 获得支持的判断是：

- A. 农民对体育锻炼的不恰当看法和认识更普遍一些
- B. 与城镇居民相比，农民参加体育锻炼的项目比较单调
- C. 在全民健身方面，培养农民参加体育锻炼的兴趣可能比城镇居民更迫切
- D. 男性因工作忙放弃体育锻炼的更多一些，而女性因家务忙放弃体育锻炼的更多一些

四、根据以下资料，回答136~140题。

表 1 2001 至 2005 年世界主要国家和地区经济增长率比较 (%)

| 国家和地区 | 2001 年 | 2002 年 | 2003 年 | 2004 年 | 2005 年 | 2001 至 2005 年平均 增长率 |
|----------|--------|--------|--------|--------|--------|---------------------------|
| 世界总计 | 2.4 | 3.0 | 4.1 | 5.3 | 4.9 | 4.0 |
| 发达国家和地区 | 1.2 | 1.5 | 1.9 | 3.2 | 2.6 | 2.1 |
| 美国 | 0.8 | 1.6 | 2.5 | 3.9 | 3.2 | 2.4 |
| 欧盟 | 2.0 | 1.3 | 1.4 | 2.4 | 1.8 | 1.8 |
| 日本 | 0.2 | -0.3 | 1.8 | 2.3 | 2.6 | 1.4 |
| 发展中国家和地区 | 4.1 | 4.8 | 6.7 | 7.7 | 7.4 | 6.3 |
| 中国 | 7.5 | 8.3 | 10.0 | 10.1 | 10.2 | 9.5 |
| 印度 | 3.9 | 4.7 | 7.2 | 8.0 | 8.5 | 6.4 |
| 俄罗斯 | 5.1 | 4.7 | 7.3 | 7.2 | 6.4 | 6.1 |
| 巴西 | 1.3 | 1.9 | 0.5 | 4.9 | 2.3 | 2.2 |
| 马来西亚 | 0.3 | 4.4 | 5.5 | 7.2 | 5.2 | 4.5 |
| 亚洲四小龙 | | | | | | |
| 中国香港 | 0.5 | 1.9 | 3.2 | 8.6 | 7.3 | 4.3 |
| 中国台湾 | -2.2 | 4.2 | 3.4 | 6.1 | 4.1 | 3.1 |
| 韩国 | 3.8 | 7.0 | 3.1 | 4.7 | 4.0 | 4.5 |
| 新加坡 | -1.9 | 3.2 | 2.9 | 8.7 | 6.4 | 3.9 |

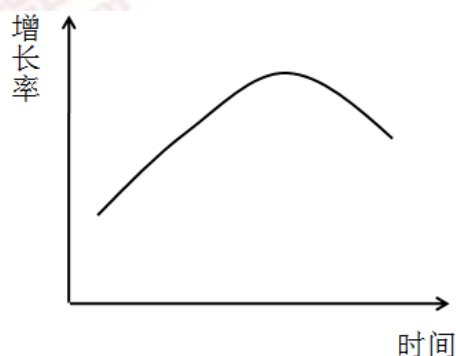
表 2 2001 至 2005 年国内生产总值居世界前 10 位国家比较 (亿美元、%)

| 位次 | 2001 年 | | | 2005 年 | | |
|----|--------|--------|--------|--------|--------|--------|
| | 国家和地区 | 国内生产总值 | 占世界的比重 | 国家和地区 | 国内生产总值 | 占世界的比重 |
| | 世界总计 | 315750 | 100 | 世界总计 | 443849 | 100 |
| 1 | 美国 | 100759 | 31.9 | 美国 | 124551 | 28.1 |
| 2 | 日本 | 41624 | 13.2 | 日本 | 45059 | 10.2 |
| 3 | 德国 | 18913 | 6.0 | 德国 | 27819 | 6.3 |
| 4 | 英国 | 14313 | 4.5 | 中国 | 22289 | 5.0 |
| 5 | 法国 | 13398 | 4.2 | 英国 | 21926 | 4.9 |
| 6 | 中国 | 13248 | 4.2 | 法国 | 21102 | 4.8 |
| 7 | 意大利 | 10904 | 3.5 | 意大利 | 17230 | 3.9 |
| 8 | 加拿大 | 7051 | 2.2 | 西班牙 | 11237 | 2.5 |
| 9 | 墨西哥 | 6221 | 2.0 | 加拿大 | 11152 | 2.5 |
| 10 | 西班牙 | 6084 | 1.9 | 巴西 | 7941 | 1.8 |

136. 2005 年和 2001 年相比较, 国内生产总值占世界比重变化幅度最大的国家是:

- A. 美国
- B. 日本
- C. 中国
- D. 法国

137. 2001 年到 2005 年间, 完全符合曲线所显示的经济发展趋势的国家和地区有:



- A. 2 个
- B. 3 个
- C. 4 个
- D. 5 个

138. 下面描述**不正确**的是:

- A. 从 2001 年开始, 我国国内生产总值及其占世界的比重一直在上升
- B. 大部分国家和地区经济增速在 2001 至 2004 年不断加快, 2005 年有所减缓
- C. 从 2001 年开始, 发达国家经济增长速度一般低于主要发展中国家和地区
- D. 2001 年至 2005 年间, 香港经历了比台湾、新加坡更加剧烈的经济波动和发展

139. 下列说法正确的是:

- I. 2001 至 2005 年间, 与主要发展中国家相比, 亚洲四小龙的经济增长相对放慢
- II. 2001 至 2005 年间, 日本经济开始摆脱“停滞”状态, 经济形势逐渐好转

III. 2001 至 2005 年间, 国内生产总值在世界排名的变化趋势和其占世界比重的变化趋势是一致的。

- A. I
B. II
C. I 和 II
D. II 和 III

140. 能从表 1、表 2 获得支持的说法是:

- I. 整个世界的财富越来越集中到少数几个发达国家中
II. 传统的世界经济强国在世界经济中的排名和地位发生了根本性变化
III. 主要的发展中国家在世界经济中扮演着越来越重要的角色

- A. I
B. II
C. III
D. I 和 II

※※※ 全部测验到此结束! ※※※

联考

【【2017-联考-资料】】

第四部分资料分析

(共 20 题, 参考时限 20 分钟)

所给出的图、表、文字或综合性资料均有若干个问题要你回答。你应根据资料提供的信息进行分析、比较、计算和判断处理。

请开始答题:

一、根据以下资料, 回答91~95题。

2015 年国家自然科学基金委全年共接收 173017 项各类申请, 同比增长约 10%, 择优资助各类项目 40668 项, 比上年增加 1579 项, 资助直接费用 218.8 亿元, 平均资助强度(资助直接费用与资助项数的比值) 53.8 万元, 各项工作取得新进展新成效。

在研究项目系列方面, 面上项目资助 16709 项, 比上年增加 1709 项, 占总项数的 41%, 直接费用 102.41 亿元, 平均资助率 22.9% (资助项目占接收申请项目的比重), 同比下降 2.5 个百分点。重点项目资助 625 项, 同比增长约 3.3%, 直接费用 17.88 亿元。重大项目资助 20 项, 直接费用 3.18 亿元。

在人才项目系列方面, 青年科学基金资助 16155 项, 比上年减少 266 项, 占总项数的 40%, 直接费用 31.95 亿元, 平均资助率 24.6%, 同比下降 0.7 个百分点, 地区科学基金资助 2829

2011~2014 年社会捐赠款和社会捐赠衣被情况

| 年份 | 民政部门接收社会捐款额（亿元） | 社会组织接收社会捐款额（亿元） | 民政部门接收捐赠衣被（万件） |
|------|-----------------|-----------------|----------------|
| 2011 | 96.6 | 393.6 | 2918.5 |
| 2012 | 101.7 | 470.8 | 12538.2 |
| 2013 | 107.6 | 458.8 | 10405.0 |
| 2014 | 79.6 | 524.9 | 5244.5 |

101. 2015 年，全国建立的慈善超市较 2014 年约：

- A. 减少 519 个
- B. 增加 519 个
- C. 减少 686 个
- D. 增加 686 个

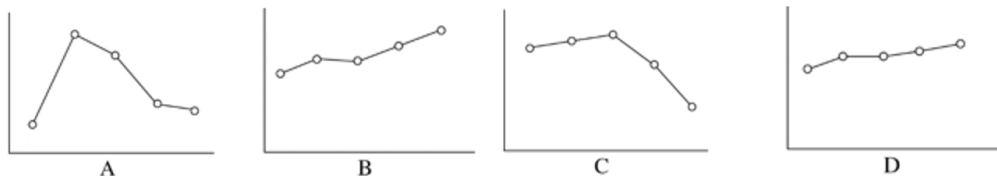
102. 2015 年受益的困难群众较 2013 年增长约：

- A. 27.6%
- B. 34.5%
- C. 40.4%
- D. 47.6%

103. 2012~2015 年社会组织接收社会捐赠款占总捐赠款的比重最高的是：

- A. 2012 年
- B. 2013 年
- C. 2014 年
- D. 2015 年

104. 下面哪一张图能正确反映 2011~2015 年民政部门接收捐赠衣被数量的变化？



105. 能够从上述资料中推出的是：

- A. 2011~2015 年民政部门接收的社会捐赠款在持续增加
- B. 2015 年民政部门接收捐赠衣被同比增长率高于 2014 年的二分之一
- C. 相比 2014 年，2015 年在社会服务领域提供志愿服务的人次有所增加
- D. 2012~2015 年社会组织接收社会捐赠款同比增长最快的年份是 2012 年

四、根据以下资料，回答106~110题。

第五部分资料分析

(共 20 题, 参考时限 20 分钟)

所给出的图、表、文字或综合性资料均有若干个问题要你回答。你应根据资料提供的信息进行分析、比较、计算和判断处理。

请开始答题:

一、根据以下资料, 回答106~110题。

2015年1~3月, 国有企业营业总收入103155.5亿元, 同比下降6%。其中, 中央企业收入63191.3亿元, 同比下降7%。地方国有企业收入39964.2亿元, 同比下降4.2%。

1~3月, 国有企业营业总成本100345.5亿元, 同比下降5.1%, 其中销售费用、管理费用和财务费用同比分别下降2.9%、增长2.3%和增长7.3%。其中, 中央企业成本60216.5亿元, 同比下降6.4%; 地方国有企业成本40129亿元, 同比下降3.1%。

1~3月, 国有企业利润总额4997.3亿元, 同比下降8%。国有企业应交税金9383亿元, 同比增长0.13%。

3月末, 国有企业资产总额1054875.4亿元, 同比增长12%; 负债总额685766.3亿元, 同比增长11.9%; 所有者权益合计369109.1亿元, 同比增长12.2%。其中, 中央企业资产总额554658.3亿元, 同比增长10.5%; 负债总额363304亿元, 同比增长10.4%; 所有者权益为191354.4亿元, 同比增长10.7%。地方国有企业资产总额500217.1亿元, 同比增长13.8%; 负债总额322462.3亿元, 同比增长13.7%; 所有者权益为177754.7亿元, 同比增长13.9%。

106. 2014年1~3月, 国有企业营业总收入最接近:

- A. 10.5万亿元
- B. 11万亿元
- C. 11.5万亿元
- D. 12万亿元

107. 2015年1~3月, 在销售费用、管理费用和财务费用中, 占国有企业营业总成本的比重同比上升的有几项?

- A. 0
- B. 1
- C. 2
- D. 3

108. 2015年3月末, 中央企业所有者权益占国有企业资产总额比重比上年同期约:

- A. 下降了0.7个百分点
- B. 下降了1.5个百分点
- C. 上升了0.7个百分点
- D. 上升了1.5个百分点

109. 2015年3月末, 中央企业的资产负债率(负债总额÷资产总额)约在以下哪个范围内?

- A. 50%以下
- B. 50%~60%

C. 60%~70%

D. 70%以上

110. 能够从上述资料中推出的是:

A. 2015 年 1~3 月, 中央和地方国有企业营业成本均低于同期营业收入

B. 2014 年 1~3 月, 国有企业应交税金占同期营业总收入的一成以上

C. 2015 年 3 月末, 国有企业资产总额同比增长不到 12 万亿元

D. 2015 年 3 月末, 地方国有企业资产负债率高于上年同期水平

二、根据以下资料, 回答 111~115 题。

2014 年 1~11 月我国货物运输情况

| | 11 月 | 同比增速 (%) | 1-11 月 | 同比增速 (%) |
|---------------|---------|----------|----------|----------|
| 货物运输总量 (亿吨) | 39.3 | 7.1 | 393.2 | 7.3 |
| 其中: 铁路 (亿吨) | 3.2 | -6.5 | 35.0 | -3.2 |
| 公路 (亿吨) | 30.7 | 8.6 | 303.6 | 8.8 |
| 水运 (亿吨) | 5.4 | 7.6 | 54.5 | 6.8 |
| 民航 (万吨) | 55.5 | 3.4 | 538.0 | 5.7 |
| 货物周转总量 (亿吨公里) | 16409.2 | 8.6 | 164873.0 | 10.1 |
| 其中: 铁路 (亿吨公里) | 2354.4 | -6.4 | 25200.7 | -5.2 |
| 公路 (亿吨公里) | 5833.0 | 10.4 | 55448.0 | 9.8 |
| 水运 (亿吨公里) | 8204.1 | 12.5 | 84056.0 | 16.0 |
| 民航 (亿吨公里) | 17.6 | 8.5 | 168.7 | 8.8 |

111. 2014 年 1~10 月我国货物运输总量为多少亿吨?

A. 340.2

B. 353.9

C. 366.5

D. 393.2

112. 2013 年 1~10 月我国货物运输总量最大的领域是:

A. 公路

B. 民航

C. 铁路

D. 水运

113. 2013 年 11 月我国货物周转总量中, 水运周转量占比在以下哪个范围之内?

A. 低于 40%

B. 40%~50%

C. 50%~60%

D. 高于 60%

114. 哪些运输方式在 2014 年 11 月的货物运输量占当月货物运输总量的比重超过上年同期水平?

A. 仅铁路

B. 仅公路

C. 铁路和民航

D. 公路和水运

115. 关于 2014 年 1~11 月我国货物运输状况, 能够从上述资料中推出的是:

A. 月均货物运输量约为 33 亿吨

B. 每吨货物平均运输距离为 500 多公里

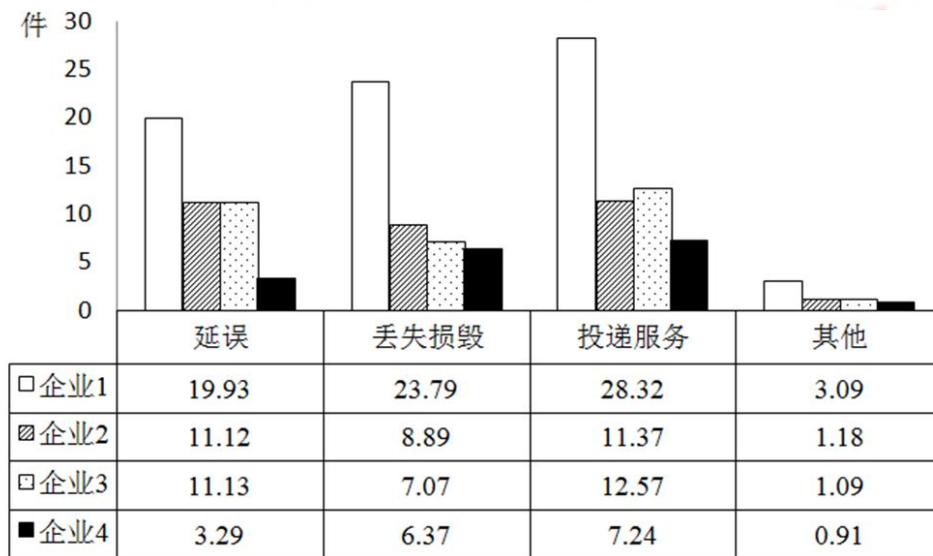
C. 铁路货运量占总体比重低于其货物周转量占总体比重

D. 公路货物周转量同比增量高于水运货物周转量同比增量

三、根据以下资料，回答 116~120 题。

2015 年 2 月，我国快递业务量完成 8.2 亿件；同比增长 18.7%；业务收入完成 136.0 亿元，同比增长 22.5%。消费者对快递业务进行的申诉中，有效申诉（确定企业责任的）占总申诉量的 97.6%，为消费者挽回经济损失 229.8 万元。

2015 年 2 月，全国每百万件快递业务中，有效申诉量为 23.4 件。对企业 1 的每百万件有效申诉量为 75.13 件，环比增长 48.0%，对企业 2 的每百万件有效申诉量为 32.56 件，环比增长 55.0%，对企业 3 的每百万件有效申诉量为 31.86 件，环比增长 140.0%，对企业 4 的每百万件有效申诉量为 17.81 件，环比增长 36.0%。



2015 年 2 月对四家企业的每百万件快递业务有效申诉量（单位：件）

2015 年 2 月四家企业每百万件快递业务有效申诉量环比增长率（单位：%）

| 企业 | 延误 | 丢失损毁 | 投递服务 | 其他 |
|------|-----|------|------|-----|
| 企业 1 | 87 | 49 | 53 | -46 |
| 企业 2 | 72 | 87 | 44 | -38 |
| 企业 3 | 217 | 114 | 139 | -9 |
| 企业 4 | 54 | 55 | 41 | -48 |

116. 2015 年 2 月，平均每笔快递业务的收入在以下哪个范围之内？

- A. 低于 17 元
- B. 17~19 元
- C. 19~21 元
- D. 高于 21 元

117. 2015 年 2 月，消费者对快递业务的全部申诉量约为：

- A. 1.96 万件
- B. 2.36 万件
- C. 1.96 亿件
- D. 2.36 亿件

118. 将四家企业按 2015 年 1 月每百万件快递业务丢失损毁有效申诉量从高到低排序，以下正确的是：

- A. 企业 2、企业 1、企业 3、企业 4
- B. 企业 1、企业 2、企业 3、企业 4

- A. 5
C. 7
- B. 6
D. 8

125. 能够从上述资料中推出的是:

- A. 2015 年 4 月全国租赁贸易进出口额比 2013 年 4 月翻了一番
B. 2015 年 1~4 月月均全国租赁贸易进出口额超过 8 亿美元
C. 2013 年 8~9 月全国租赁贸易进出口额超过 20 亿美元
D. 表中全国租赁贸易进出口额同比下降的月份占总数的三分之一

※※※

全部测验到此结束!

※※※

【【2015-联考-资料】】

第五部分资料分析

(共 20 题, 参考时限 20 分钟)

所给出的图、表、文字或综合性资料均有若干个问题要你回答。你应根据资料提供的信息进行分析、比较、计算和判断处理。

请开始答题:

一、根据以下资料, 回答 106~110 题。

2013 年二季度, 我国税收月收入同比增速逐步提高, 分别为 7.9%, 8.3% 和 12.9%。截至 2013 年 6 月, 全国税收总收入完成 59260.61 亿元, 同比增长 7.9%, 较上年同期回落 1.9 个百分点。其中, 国内增值税、企业所得税同比分别增长 6.6% 和 14.2%, 较上年同期增速分别回落 1.5 和 3.1 个百分点; 房产税同比增长 11%, 比上年同期增速回落 19.1 个百分点; 进口货物增值税消费税和关税同比分别下降 17.1% 和 16%。比上年同期增速分别回落 24.5 和 22.9 个百分点。

经过 50 多年的发展,我国台湾地区资本市场建立起由“证券交易所集中市场—上柜市场—兴柜市场”构成的完善成熟的多层次资本市场体系。近年由于金融海啸、欧债危机等因素影响,台湾多层次资本市场总体成交值从 2010 至 2012 年连续 3 年下降,2012 年较 2011 年衰退 23.28%。周转率也呈现逐年下降趋势,2012 年证券交易所集中市场周转率为 97%,上柜市场周转率为 175%,兴柜市场周转率为 27%。

2012 年台湾多层次资本市场一览表(单位:10 亿新台币)

| 项目 | 证交所集中市场 | 上柜市场 | 兴柜市场 |
|----------|---------|------|------|
| 挂牌公司数(家) | 809 | 638 | 285 |
| 资本额 | 6384 | 667 | 335 |
| 总市值 | 21352 | 1737 | 538 |
| 挂牌公司营收 | 20083 | 1384 | 497 |
| 总成交值 | 20789 | 2987 | 154 |

台湾资本市场第一层次是证券交易所集中市场。在准入门槛方面,台湾证交所要求上市企业实收资本 6 亿新台币以上;从设立年限来看,要求上市企业设立满 3 年以上;从获利能力来看,要求上市企业最近 1 个会计年度无累计亏损,且税前利润占财务报表中的比率最近 5 个年度达到 3% 以上,或最近 2 个年度都达 6%。至 2012 年底,上市公司有 809 家,资本额 6.384 兆新台币,台湾证券交易所总市值在世界交易所联合会(WFE)会员中排名与前一年份相同,为第 22 名,所占比重仍为 1.34%;成交值排名第 15 名,排名不变,所占比重由 1.41% 略微降至 1.39%;周转率排名为第 9 名,较 2011 年下降 2 名。

台湾资本市场第二层次是上柜市场。在准入门槛方面,上柜市场要求公司实收资本额必须在新台币 5000 万元以上;从获利能力来看,上柜公司要求个别及合并财务报表获利能力最近年度达 4% 以上,且其最近一个会计年度结算无累积亏损,或最近二个年度获利能力均达 2% 以上。至 2012 年底,上柜公司有 638 家,资本额 0.667 兆新台币,总市值 1.737 兆新台币。

台湾资本市场第三层次是兴柜市场。在准入门槛方面,兴柜市场没有营业利润、资本额、设立年限的限制,只须符合已经申报上市或上柜辅导且有两家以上证券商书面推荐。至 2012 年底,兴柜公司有 285 家,资本额 0.335 兆新台币,总市值 0.538 兆新台币

111. 2012 年,台湾某企业实收资本额为 2 亿新台币,该企业最近 2 个年度财务报表获利能力均为 3%,该企业最适合进入台湾哪个层次资本市场?

- A. 证券交易所集中市场
- B. 上柜市场
- C. 兴柜市场
- D. 无法进入

112. 2012 年世界交易所联合会(WFE)会员总市值为:

- A. 894.73 兆新台币
- B. 1593.43 兆新台币
- C. 1799.73 兆新台币
- D. 2135.22 兆新台币

113. 2012 年台湾证券交易所集中市场平均每家公司成交值是兴柜市场平均每家公司成交值的倍数为:

- A. 17.6
C. 37.6
- B. 27.6
D. 47.6

114. 2011 年台湾三个层次资本市场的总成交值为:

- A. 15.441 兆新台币
C. 31.233 兆新台币
- B. 23.931 兆新台币
D. 45.023 兆新台币

115. 同 2011 年相比, 2012 年台湾证券交易所在世界交易所联合会 (WFE) 中, 发生变化的是:

- A. 总市值排名
C. 成交值比重
- B. 总市值比重
D. 成交值排名

三、根据以下资料, 回答 116~120 题。

2012 年末, 中国大陆总人口 135404 万人, 全年出生人口 1635 万人, 死亡人口 966 万人。从性别结构看, 男性人口 69395 万人, 同比增加 327 万人, 女性人口 66009 万人, 同比增加 342 万人; 从城乡结构看, 城镇人口 71182 万人, 同比增加 2103 万人; 乡村人口 64222 万人, 同比减少 1434 万人。

2012 年末全国就业人员 76704 万人, 比上年末增加 284 万人; 其中城镇就业人员 37102 万人, 比上年末增加 1188 万人, 乡村就业人员 39602 万人。

2012 年末, 0~14 岁 (含不满 15 周岁) 人口 22287 万人, 占总人口的 16.5%; 15~59 岁 (含不满 60 周岁) 劳动年龄人口 93727 万人, 占总人口的 69.2%; 60 周岁及以上人口 19390 万人, 占总人口的 14.3%。

2012 年全国农民工总量 26261 万人, 比上年增加 983 万人, 增长 3.9%; 其中本地农民工 9925 万人, 增长 5.4%; 外出农民工 16336 万人, 增长 3.0%。

116. 2011 年中国大陆总人口是:

- A. 133769 万人
C. 134735 万人
- B. 136370 万人
D. 136103 万人

117. 相较于 2011 年, 2012 年的乡村就业人员:

- A. 增加 904 万人
C. 增加 1472 万人
- B. 减少 904 万人
D. 减少 1472 万人

118. 2012 年中国男性人口、女性人口、城镇人口的同比增长率按大小顺序正确的是:

- A. 城镇人口 > 男性人口 > 女性人口
C. 女性人口 > 男性人口 > 城镇人口
- B. 城镇人口 > 女性人口 > 男性人口
D. 女性人口 > 城镇人口 > 男性人口

119. 根据上述资料, 可以推出的是:

- A. 2012 年城镇男性人口数量大于城镇女性人口数量
B. 2012 年本地农民工的增加量小于外出农民工的增加量
C. 在不存在人口跨境流动的前提下, 2026 年中国大陆人口 15~59 岁 (含不满 60 周岁)

123. 2012 年，欧洲各国入境游客量占欧洲入境游客总量比例超过 11% 的国家有：

- A. 1 个
B. 2 个
C. 3 个
D. 4 个

124. 2011 年，除美国、加拿大以外的美洲国家游客入境旅游人数约为：

- A. 13.8 万人次
B. 23.8 万人次
C. 33.8 万人次
D. 43.8 万人次

125. 根据上述资料，**不能**推出的是：

- A. 2012 年，韩国为我国第一大入境客源国
B. 2012 年，在 20 个主要客源国中，六成来自亚洲
C. 2012 年，非洲地区入境游客量占入境外国游客总量的 2.1%
D. 2012 年，越南是入境旅游人数增长最快的主要客源国

※※※

全部测验到此结束！

※※※

【【2014-联考-资料】】

第五部分资料分析

(共15题，参考时限20分钟)

所给出的图、表、文字或综合性资料均有若干个问题要你回答。你应根据资料提供的信息进行分析、比较、计算和判断处理。

请开始答题：

- 一、根据以下资料，回答 96~100 题。

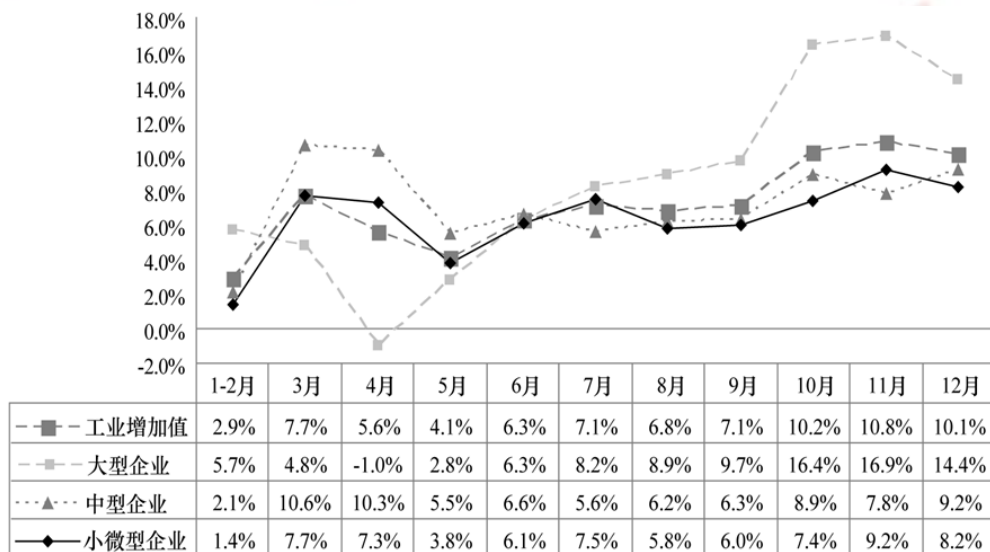
C. 2月各类险种保险赔付支出均低于1月

D. 1月人身意外伤害险收入在保费总收入中的占比不足2%

二、根据以下资料，回答101~105题。

2012年，某省规模以上工业增加值10875亿元，比上年增长7.1%，月度增速从1~2月的2.9%回升到10~12月的10%以上。大型、中型和小微型企业增加值分别为3074、3217和4584亿元，比上年分别增长8.2%、6.8%和6.7%。

2012年，该省规模以上工业企业主营业务收入56730亿元，比上年增长3.5%，增速比全国低7.5个百分点；利润总额2900亿元，比上年下降6.1%。



2012年某省规模以上工业增加值同比增速情况

101. 与2011年相比，2012年该省规模以上工业增加值约增加了多少亿元？

- A. 600
- B. 720
- C. 840
- D. 960

102. 2012年3~10月间，中型企业增加值增速和规模以上工业增加值总体增速差异最大的月份是：

- A. 4月
- B. 6月
- C. 8月
- D. 11月

103. 2012年3~10月间，三类企业工业增加值同比增速均超过5%的月份有几个？

- A. 5
- B. 6
- C. 7
- D. 8

104. 与2011年相比，2012年全国规模以上工业企业主营业务收入：

- A. 下降了4%
- B. 上升了4%
- C. 上升了7.5%
- D. 上升了11%

105. 以下关于该省2012年规模以上工业发展状况的描述与资料相符的是：

- A. 小微型企业对10~12月的月度同比增速回升拉动作用最大

- B. 全年小微企业增加值同比增量低于中型企业
- C. 规模以上工业企业主营业务利润率高于上年水平
- D. 第三季度大型企业工业增加值同比增速高于其他两类企业

三、根据以下资料，回答 106~110 题。

2013 年 3 月末，金融机构人民币各项贷款余额 65.76 万亿元，同比增长 14.9%，增速比上年同期低 0.8 个百分点。

2013 年 3 月末，主要金融机构及小型农村金融机构、外资银行人民币小微企业贷款余额 11.78 万亿元，同比增长 13.5%，比全部企业贷款余额增速高 1.2 个百分点。

2013 年 3 月末，主要金融机构本外币工业中长期贷款余额 6.46 万亿元，同比增长 3.2%。其中，轻工业中长期贷款余额 6824 亿元，同比增长 7.6%；重工业中长期贷款余额 5.77 万亿元，同比增长 2.7%。服务业中长期贷款余额 16.55 万亿元，同比增长 8.9%。

2013 年 3 月末，主要金融机构及小型农村金融机构、村镇银行、财务公司本外币农村贷款余额 15.24 万亿元，同比增长 18.4%；农户贷款余额 3.86 万亿元，同比增长 16.9%；农业贷款余额 2.87 万亿元，同比增长 12.3%。

2013 年 3 月末，主要金融机构及小型农村金融机构、外资银行人民币房地产贷款余额 12.98 万亿元，同比增长 16.4%。地产开发贷款余额 1.04 万亿元，同比增长 21.4%。房产开发贷款余额 3.2 万亿元，同比增长 12.3%。个人购房贷款余额 8.57 万亿元，同比增长 17.4%。保障性住房开发贷款余额 6140 亿元，同比增长 42.4%。

106. 2013 年 3 月末，金融机构人民币各项贷款余额约是 2011 年同期的多少倍？

- A. 1.1
- B. 1.2
- C. 1.3
- D. 1.4

107. 2013 年 3 月末，轻工业中长期贷款余额占工业中长期贷款余额总体的比重与上年相比：

- A. 约上升 0.4 个百分点
- B. 约上升 4 个百分点
- C. 约下降 0.4 个百分点
- D. 约下降 4 个百分点

108. 2013 年 3 月末，各项贷款余额从高到低排序正确的是：

- A. 农户贷款余额、地产开发贷款余额、农业贷款余额
- B. 房产开发贷款余额、地产开发贷款余额、轻工业中长期贷款余额
- C. 服务业中长期贷款余额、农户贷款余额、重工业中长期贷款余额
- D. 重工业中长期贷款余额、轻工业中长期贷款余额、房产开发贷款余额

109. 2013 年 3 月末，房地产开发贷款余额同比增速约为：

- A. 12.3%
- B. 14.4%
- C. 19.3%
- D. 21.4%

110. 关于 2013 年 3 月末贷款余额情况，能够从上述资料中推出的是：

- A. 全部企业贷款余额同比增长了 14.7%
- B. 农村贷款余额比上年同期增长了 3 万多亿元
- C. 个人购房贷款余额同比增速快于保障性住房开发贷款余额
- D. 服务业中长期贷款余额同比增量超过工业中长期贷款余额的 3 倍

※※※全部测验到此结束! ※※※

【【2013-联考-资料】】

第五部分资料分析

所给出的图、表、文字或综合性资料均有若干个问题要你回答。你应根据资料提供的信息进行分析、比较、计算和判断处理。

请开始答题：

一、根据以下资料，回答106~110题。

2011年1~9月，全国造船完工5101万载重吨，同比增长18.3%，9月当月完工786万载重吨，环比增长67.2%。新承接船舶订单规模2902万载重吨，同比下降42.8%。手持船舶订单规模16886万载重吨，同比下降13.8%，比2010年底下降14.5%。

1~9月，全国规模以上船舶工业企业1526家，完成工业总产值5734亿元，同比增长24.6%。1~8月，全国规模以上船舶工业企业实现主营业务收入4383亿元，同比增长27.1%。受成本上涨、低价船交付比例增大等因素影响，船舶工业利润增幅出现回落。1~8月，船舶企业实现利润总额328亿元，同比增长24.5%，增幅下降8.2个百分点。1~8月，船舶工业企业主营业务收入利润率7.5%，同比下降2.1%。主营业务收入和利润总额增幅分别低于全国工业平均水平4.6和3.7个百分点。

1~9月，全国规模以上船舶工业企业完成出口交货值2394亿元，同比增长16%，增幅下降1.9个百分点。全国完工出口船舶规模4305万载重吨，占全国造船总量的84.4%；新承接出口船舶订单规模2162万载重吨，占新接订单的74.5%；手持出口船舶订单规模13863万载重吨，占全部手持订单的82.1%。

9月当月，我国船舶行业仅承接船舶订单规模94万载重吨，是2009年6月以来月度成交的最低值。截至9月底，全国约有30%的船厂没有接到订单，部分企业2012年上半年可能陷入开

C. 129
D. 132

112. 该市2010年粮食平均产量约为每公顷多少吨?

- A. 4.6
B. 5.2
C. 5.8
D. 6.5

113. 该市主要农副产品与上年相比, 产量变化绝对值最小的是:

- A. 肉类
B. 禽蛋
C. 水产品
D. 牛奶

114. 该市种业收入增长速度:

- A. 高于观光园总收入增长速度
B. 高于设施农业收入增长速度
C. 低于民俗旅游总收入增长速度
D. 低于设施农业占地面积增长速度

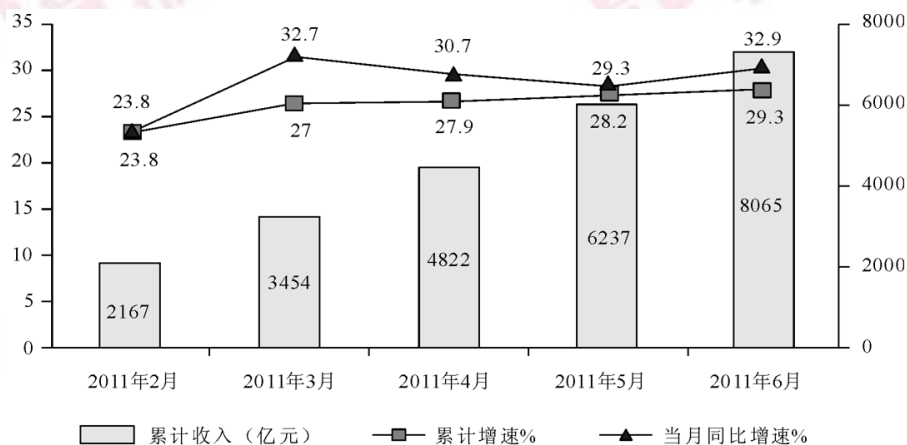
115. 以下说法与资料相符的是:

- A. 2010年该市粮食产量不到蔬菜产量的1/3
B. 2010年该市主要农副产品产量均有所下降
C. 2009年该市观光园数量为1312个
D. 2010年该市单位面积粮食产量比上年有所下降

三、根据以下资料, 回答116~120题。

2011年上半年, 我国软件产业实现软件业务收入8065亿元, 同比增长29.3%, 增速比去年同期高0.2个百分点; 实现利润103亿元, 同比增长34.9%。其中, 6月份完成软件业务收入1828亿元, 同比增长32.9%, 增速比5月份回升3.6个百分点。

上半年, 信息技术咨询服务、数据处理和运营服务实现收入761和1073亿元, 同比增长36.5%和34.5%, 分别高出全行业7.2和5.2个百分点; 嵌入式系统软件实现收入1443亿元, 同比增长33.8%, 增速比去年同期高14.2个百分点。软件产品和信息系统集成服务发展较为稳定, 分别实现收入2867亿元和1673亿元, 同比增长28.2%和23.9%。IC设计增长放缓, 上半年实现收入248亿元, 同比增长13.7%, 低于去年同期20个百分点以上。



2011年上半年软件业务收入情况

116. 2011年6月份我国软件产业软件业务收入占上半年总值的比重约为:

A. 22.7% B. 24.6%

C. 26.5% D. 29.1%

117. 与2011年一季度相比, 二季度软件业务收入增长了约:

A. 30.2% B. 33.5%

C. 36.7% D. 39.4%

118. 2011年上半年嵌入式系统软件收入同比增长了多少亿元?

A. 307 B. 365

C. 424 D. 488

119. 2011年上半年收入占整个软件产业的比重高于上年同期水平的是:

A. 信息系统集成 B. 嵌入式系统软件

C. IC设计 D. 软件产品

120. 以下说法与资料相符的是:

A. 2011年5月份我国软件产业实现软件业务收入同比增长28.2%

B. 2011年3月份我国软件产业实现软件业务收入高于4月份

C. 2011年上半年信息技术服务实现收入超过1800亿元

D. 2010年上半年IC设计实现收入同比增速为6.3%

※※※

全部测验到此结束!

※※※

【【2012-联考-资料】】


第五部分资料分析

(共 20 题, 参考时限 20 分钟)

所给出的图、表、文字或综合性资料均有若干个问题要你回答。你应根据资料提供的信息进行分析、比较、计算和判断处理。

请开始答题:

一、根据以下资料, 回答101~105题。



A

B

C

D

114. 表中所列举的国家和地区中, 2011年我国货物进出口贸易差额最大的是:

- A. 欧盟
B. 中国香港
C. 美国
D. 中国台湾

115. 能够从上述资料中推出的是:

- A. 与上一年相比, 2011年我国全年货物出口额占进出口总额的比重上升
B. 2006~2011年我国货物进出口总额逐年增加
C. 2011年我国对俄罗斯进口增长金额低于我国对韩国进口增长金额
D. 2011年大陆对中国台湾贸易总额与上一年相比增长18%

四、根据以下资料, 回答 116~120 题。

2006年至2011年全年我国农村居民人均纯收入分别为3587元、4140元、4761元、5153元、5919元、6977元; 城镇居民人均可支配收入分别为11759元、13786元、15781元、17175元、19109元、21810元。

2006年至2011年全年我国粮食产量分别为49804万吨、50160万吨、52871万吨、53082万吨、54648万吨、57121万吨。

与2010年相比, 2011年全年粮食种植面积11057万公顷, 增加70万公顷; 棉花种植面积504万公顷, 增加19万公顷; 油料种植面积1379万公顷, 减少10万公顷; 糖料种植面积195万公顷, 增加4万公顷; 棉花产量660万吨, 增产10.7%; 油料产量3279万吨, 增产1.5%; 糖料产量12520万吨, 增产4.3%; 肉类总产量7957万吨, 增长0.4%, 其中, 猪肉产量5053万吨, 下降0.4%; 养殖水产品产量4026万吨, 增长5.2%; 捕捞水产品产量1574万吨, 增长1.9%。

2011年末全国参加城镇基本医疗保险的人数47291万人, 增加4028万人。其中, 参加城镇职工基本医疗保险人数25226万人, 参加城镇居民基本医疗保险22065万人。截至9月底, 2646个县(市、区)开展了新型农村合作医疗工作, 新型农村合作医疗参合率97.5%; 新型农村合作医疗基金支出总额为1114亿元, 受益8.4亿人次。

116. 2011年我国城镇居民人均可支配收入比2008年大约增加了:

- A. 18%
B. 38%
C. 58%
D. 85%

117. 2010年, 我国水产品产量大约达到多少万吨?

- A. 1500
C. 5000
- B. 3800
D. 5300

118. 2010~2011年, 下列哪项年增长速度最快?

- A. 农村居民人均纯收入
C. 棉花产量
- B. 粮食种植面积
D. 粮食产量

119. 2010年, 我国猪肉产量占肉类总产量的比重约为:

- A. 43%
C. 64%
- B. 53%
D. 84%

120. 根据上述资料, 下列说法**错误**的是:

- A. 2011年末, 我国参加城镇居民基本医疗保险人数约占参加城镇基本医疗保险人数的46.7%
- B. 2011年棉花、油料、糖料的总种植面积比上年增加约13万公顷
- C. 2011年前三个季度, 开展了新型农村合作医疗工作的县(市、区)中, 人均基金支出大约为130元
- D. 2006年至2011年, 我国城镇居民人均可支配收入增长比农村居民人均纯收入增长慢

※※※

全部测验到此结束!

※※※

【【2011-联考-资料】】

第五部分资料分析

(共 20 题, 参考时限 25 分钟)

所给出的图、表、文字或综合性资料均有若干个问题要你回答。你应根据资料提供的信息进行分析、比较、计算和判断处理。

请开始答题:

一、根据以下资料, 回答101~105题。

2009年, 某省全年粮食作物播种面积253.85万公顷, 比上年增长1.5%; 糖蔗种植面积13.58万公顷, 下降0.2%; 油料种植面积33.14万公顷, 增长2.3%; 蔬菜种植面积113.84万公顷, 增长2.3%。

2009 年某省各类产品产量情况

| | 产量 (万吨) | 同比增长率 (%) |
|---------|---------|-----------|
| 粮食 | 1314.50 | 5.7 |
| 糖蔗 | 1116.11 | 3.4 |
| 油料 | 84.64 | 3.8 |
| 蔬菜 | 2567.17 | 5.6 |
| 水果 | 1061.89 | 8.0 |
| 茶叶 | 5.14 | 6.2 |
| 肉类 | 426.99 | 3.6 |
| 水产品 | 702.81 | 3.3 |
| 其中：海洋捕捞 | 152.75 | -0.7 |
| 海水养殖 | 234.62 | 5.2 |
| 淡水捕捞 | 12.65 | 1.3 |
| 淡水养殖 | 302.79 | 4.0 |

101. 以下三种作物按 2009 年亩产从高到低排序正确的是：

- A. 糖蔗油料蔬菜 B. 糖蔗蔬菜油料
C. 蔬菜油料糖蔗 D. 蔬菜糖蔗油料

102. 下列作物 2009 年比 2008 年增产量最多的是：

- A. 粮食 B. 糖蔗
C. 蔬菜 D. 水果

103. 2009 年，海水养殖业产量占水产品养殖业的比重为：

- A. 77.5% B. 33.4%
C. 60.8% D. 43.7%

104. 若保持 2009 年的增长速度，哪一年水果的年产量开始超过糖蔗？

- A. 2010年 B. 2011年
C. 2012年 D. 2013年

105. 能够从上述资料中推出的是：

- A. 与上年相比，2009 年肉类的增产量高于水产品的增产量
B. 2008 年，肉类和水产品总产量高于粮食产量
C. 2009 年，茶叶种植面积比上年有所增长
D. 2009 年，水产品捕捞业产量比上年有所下降

二、根据以下资料，回答 106~110 题。

2010 年 1~3 月，法国货物贸易进出口总额为 2734.4 亿美元，同比增长 13.4%。其中，出口 1264.7 亿美元，同比增长 14.5%；进口 1469.7 亿美元，同比增长 12.4%；逆差 205.0 亿美元，同比增长 1.0%。

1~3 月，中法双边贸易额为 142.7 亿美元，同比增长 22.4%。其中，法国对中国出口 32.1 亿美元，同比增长 43.5%；自中国进口 110.6 亿美元，同比增长 17.4%；法国逆差 78.5 亿美元，同

比增长9.3%。中国在法国主要出口伙伴中排名第九位、在法国的主要进口来源地中居第四位。

1~3月,法国对中国出口的前三大类产品为机电产品、运输设备和化工产品,出口额分别为9.8亿美元、8.4亿美元和4.0亿美元,同比分别增长14.9%、99.7%和25.9%,这三类产品出口额合计占法国对中国出口总额的()。另外,与上年同期相比,1~3月法国对中国出口的塑料橡胶、皮革箱包、陶瓷玻璃和家具玩具等的出口额增长显著,其中家具玩具的出口额增长最快,增幅达到190.9%。

1~3月,法国自中国进口的前三大类产品为机电产品、纺织品及原料、家具玩具,进口额分别为48.5亿美元、18.2亿美元和11.8亿美元,同比分别增长30.4%、3.6%和8.1%,在法国同类产品进口市场中的份额分别为16.8%, 25.9%和30.8%,这三类产品1~3月进口额合计占法国自中国进口总额的70.9%。另外,法国自中国进口的化工产品的进口额同比增长最快,为38.8%。

106. 2010年1~3月,法国货物贸易出口额比上年同期增长了约多少?

- A. 120亿美元
- B. 140亿美元
- C. 160亿美元
- D. 180亿美元

107. 资料中括号处应填入的数字为:

- A. 20.1%
- B. 28.3%
- C. 56.7%
- D. 69.2%

108. 2010年1~3月,法国对中国出口的各类产品中,出口额比上年同期增长最多的是:

- A. 运输设备
- B. 机电产品
- C. 化工产品
- D. 家具玩具

109. 2010年1~3月,法国纺织品及原料的进口额约为多少亿美元?

- A. 67.8
- B. 70.3
- C. 99.1
- D. 108.3

110. 关于2010年1~3月中法双边贸易情况的描述,以下说法与资料相符的是:

- A. 中国机电产品对法贸易顺差高于上年同期
- B. 中国是法国最大的家具玩具进口来源地
- C. 法国对中国出口额占其出口总额的4%以上
- D. 中法化工产品进出口贸易额同比增长了约20%

三、根据以下资料,回答111~115题。

各级别轿车历年销售份额 (%)

| 年份 | A00级型车 (微型) | A0级型车 (小型) | A级型车 (紧 凑型) | B级型车 (中 大型) | C级型车 (大 型) |
|------|----------------|---------------|----------------|----------------|---------------|
| 2001 | 5.1 | 28.6 | 41.5 | 21.1 | 3.7 |
| 2002 | 7.5 | 29.8 | 39.9 | 19.8 | 3.0 |
| 2003 | 8.5 | 29.4 | 34.9 | 24.5 | 2.7 |
| 2004 | 8.6 | 30.6 | 39.2 | 19.4 | 2.2 |
| 2005 | 10.7 | 27.3 | 39.9 | 19.6 | 2.5 |
| 2006 | 8.8 | 24.7 | 42.9 | 20.2 | 3.4 |
| 2007 | 6.9 | 21.9 | 47.1 | 20.4 | 3.7 |
| 2008 | 7.1 | 20.3 | 48.9 | 20.2 | 3.5 |
| 2009 | 7.3 | 20.4 | 52.4 | 17.4 | 2.5 |
| 2010 | 7.3 | 19.8 | 53.6 | 16.7 | 2.6 |

111. A0级型车比A00级型车在过去的五年中每年平均销售份额约高出:

- A. 14个百分点
B. 15个百分点
C. 16个百分点
D. 17个百分点

112. 相对于2001年, 2010年的销售份额增长率最大的车型是:

- A. B级型车
B. A级型车
C. A0级型车
D. A00级型车

113. 2001~2010年各级别轿车历年销售份额的变化趋势正确的是:

- A. B级型车销售份额逐年减小
B. 近十年来, C级型车销售份额最平稳
C. A00级型车的销售份额始终是C级型车销售份额的2倍以上
D. 2010年A0级型车的销售量相比于2001年减少

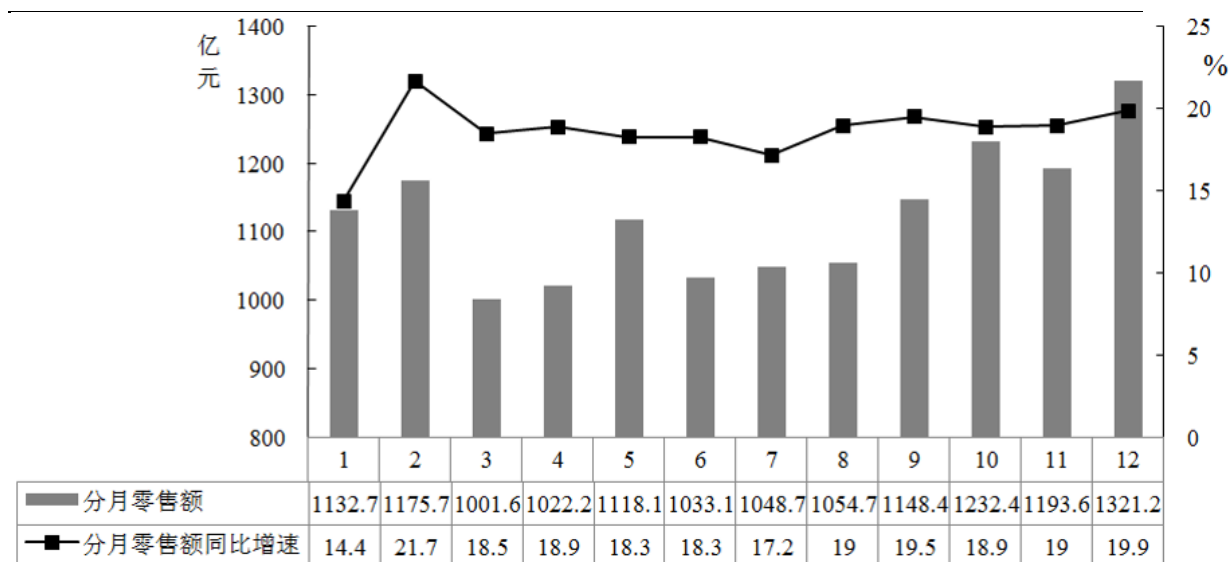
114. 因1.6升购置税调整, A级型车市场从2008年到2009年的上升率相对于B级型车同比下降率的比值约为:

- A. 0.3
B. 0.4
C. 0.5
D. 0.6

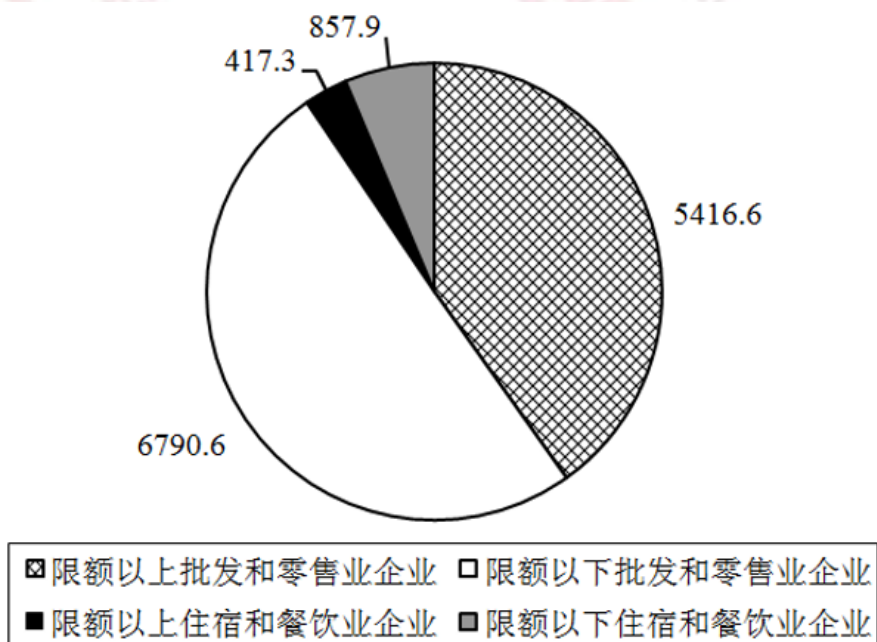
115. B级型车与C级型车相比, 比值最大的年份与比值最小的年份相比, 比值相差:

- A. 2.84
B. 2.64
C. 3.56
D. 2.44

四、根据以下资料, 回答116~120题。



2010年某省社会消费品分月零售额及增幅



2010年该省分行业零售额 (单位: 亿元)

116. 以下说法正确的是:

- A. 2009年该省社会消费品分月零售额最大的是12月份
- B. 2010年该省社会消费品分月零售额增幅最大的是12月份
- C. 2010年该省限额以上企业零售额大于限额以下企业零售额
- D. 该省2009年5月社会消费品零售额为941.5亿元

117. 已知2010年该省限额以下批发和零售企业零售额相比于2009年同期增幅为18.7%，那么2009年该省限额以下批发和零售企业零售额约为:

- A. 4563亿元
- B. 5720亿元
- C. 772亿元
- D. 351亿元

118. 已知 2010 年限额以上企业零售额增幅为 27.4%，限额以下企业零售额增幅为 12.8%，那么 2009 年限额以上企业和限额以下企业零售额差值比 2010 年差值相比是：

- A. 约少386亿元
B. 约多386亿元
C. 约少647亿元
D. 约多647亿元

119. 该省 2010 年社会消费品零售总额是：

- A. 11959.6亿元
B. 13482.4亿元
C. 14852.6亿元
D. 16347.2亿元

120. 以下说法**错误**的是：

- A. 2010年3月的零售额在12个月中是最少的
B. 2010年1月的零售增幅在12个月中是最小的
C. 2010年限额以上企业零售额占社会消费品零售总额的比重超过50%
D. 2010年批发零售业零售额占社会消费品零售总额的比重超过50%

※※※

全部测验到此结束！

※※※

【【2010-联考-资料】】

第五部分资料分析

(共 20 题，参考时限 25 分钟)

所给出的图、表、文字或综合性资料均有若干个问题要你回答。你应根据资料提供的信息进行分析、比较、计算和判断处理。

请开始答题：

一、根据以下资料，回答 101~105 题。

2008年，全国民政事业基本建设完成投资总额为66.6亿元，施工项目为3906个，完成投资总额比上年增长39.6%。其中国家投资26.6亿元，比上年增长83.4%。在投资总额中，用于优抚安置事业单位投资为9.6亿元，比上年增长88.2%；社区服务单位投资为5.2亿元，比上年增长52.9%；收养性单位投资为30.4亿元，比上年增长33.9%；殡仪服务单位投资为11.3亿元，比上年增长21.3%；救助类单位投资为2.6亿元，比上年增长100%；其他事业单位投资为7.5亿元，比上年增长27.1%。

世界部分城市气候状况

| 城市 | 国家 | 地理纬度 | 海拔 (米) | 年均 温度 (度) | 最冷月 平均温 度 (度) | 最暖月 平均温 度 (度) | 年均 降水 (m m) | 最湿月 平均降 水 (mm) | 最干月 平均降 水 (mm) | 日照最 长月平 均日照 (小 时) | 日照最 短月平 均日照 (小 时) |
|------|-----------|-----------|-----------|-----------------|------------------------|------------------------|----------------------|-----------------------------|-----------------------------|-------------------------------|-------------------------------|
| 北京 | 中国 | 39° 55' N | 37 | 11.8 | -4.3/1 | 25.9/7 | 578 | 182/8 | 2/12 | 9.3/5 | 6.1/12 |
| 香港 | 中国 | 22° 20' N | 33 | 22.9 | 15.8/1 | 28.8/7 | 2215 | 391/8 | 23/1 | 7.5/7 | 3.1/3 |
| 鄂木斯克 | 俄罗斯 联邦 | 55° 00' N | 85 | 1.4 | - 17.3/1 | 19.7/7 | 391 | 61/7 | 14/2、 3 | 10.4/7 | 2.0/12 |
| 海参崴 | 俄罗斯 联邦 | 43° 10' N | 28 | 4.2 | - 13.1/1 | 19.5/8 | 788 | 149/8 | 15/1 | 7.0/3 | 3.9/7 |
| 东京 | 日本 | 35° 40' N | 6 | 15.6 | 5.2/1 | 27.1/8 | 1406 | 185/5 | 45/1 | 5.9/5 | 3.7/9 |
| 新德里 | 印度 | 28° 40' N | 216 | 25.1 | 14.3/1 | 33.4/6 | 790 | 237/7 | 9/11、 12 | 7.3/9 | 5.4/7 |
| 加尔各答 | 印度 | 22° 35' N | 10 | 26.9 | 20.1/1 | 30.7/5 | 1800 | 411/7 | 11/1 | 7.9/4 | 3.0/7 |
| 孟买 | 印度 | 18° 55' N | 11 | 27.5 | 24.5/1 | 30.2/5 | 2168 | 682/7 | 0/1-3 | 9.6/5 | 2.4/7 |
| 马尼拉 | 菲律宾 | 14° 35' N | 16 | 27.4 | 25.6/1 | 29.5/5 | 1875 | 398/8 | 3/2 | 8.6/4 | 4.2/8 |
| 胡志明市 | 越南 | 10° 45' N | 10 | 27.2 | 25.7/1 | 29.0/4 | 1861 | 303/9 | 4/2 | 7.5/2 | 4.4/7 |
| 新加坡 | 新加坡 | 1° 20' N | 17 | 26.7 | 25.7/1 2 | 27.5/5 | 2150 | 304/12 | 140/6 | 6.2/2 | 4.3/11 |
| 雅加达 | 印度尼 西亚 | 6° 10' S | 8 | 26.2 | 25.6/2 | 27.3/8 | 1802 | 336/1 | 46/8 | 7.6/8 | 4.5/1 |

注：第6、7、9、10、11、12列中温度、降水和日照指标之后的数字表示特定的月份。

106. 表中最靠近赤道的四个城市，其年均降水量的均值为：

- A. 1747毫米
- B. 1778毫米
- C. 1922毫米
- D. 2013.5毫米

107. 表中最冷月与最暖月温差在20度以上的城市有多少个？

- A. 2
- B. 3
- C. 4
- D. 5

108. 表中纬度第二高的城市，其日照最长月的平均日照时间约为日照最短月平均日照时间的几倍？

- A. 1.5倍
- B. 1.8倍
- C. 2.0倍
- D. 2.5倍

115. 下列说法与资料相符的是：

- A. 2008年底，我国网络购物用户数已超过手机网民数
- B. 2008年底，我国使用网络媒体的人数比使用电子邮件的约多0.65亿
- C. 2008年底，我国的宽带网民中超过一半的人拥有博客
- D. 2001~2008年，我国IPv4地址数几乎每年翻一番

四、根据以下资料，回答 116~120 题。

2005~2008 年全国主要港口 7 月货运吞吐量（单位：万吨）

| | 2005 年 7 月 | 2006 年 7 月 | 2007 年 7 月 | 2008 年 7 月 |
|--------|------------|------------|------------|------------|
| 1.沿海合计 | 24245 | 27660 | 32631 | 36516 |
| 其中：大连港 | 1357 | 1626 | 1804 | 2000 |
| 秦皇岛港 | 1310 | 1685 | 2154 | 2126 |
| 天津港 | 1995 | 2243 | 2759 | 3080 |
| 青岛港 | 1585 | 1857 | 2190 | 2503 |
| 上海港 | 3950 | 3950 | 4180 | 4590 |
| 深圳港 | 1306 | 1526 | 1605 | 1864 |
| 2.内河合计 | 8244 | 9588 | 11376 | 13944 |
| 其中：南京港 | 910 | 755 | 915 | 960 |
| 苏州港 | 937 | 1237 | 1448 | 1706 |
| 南通港 | 650 | 830 | 1010 | 1200 |
| 镇江港 | 375 | 495 | 675 | 700 |

116. 全国港口2008年7月货运吞吐总量的同比增长率约为：

- A. 11.9%
- B. 14.7%
- C. 17.8%
- D. 21.5%

117. 与2005年同期相比，上海港2008年7月货运吞吐量占沿海港口合计吞吐量的比重约：

- A. 增加了3.7%
- B. 减少了3.7%
- C. 增加了5.3%
- D. 减少了5.3%

118. 2006~2008年间，表中港口有几个在7月出现过货运吞吐量比上年同期下降的局面？

- A. 0
- B. 1
- C. 2
- D. 3

119. 与2006年7月相比，2007年同期哪个港口货运吞吐量的同比增长率与沿海港口合计吞吐量的同比增长率最为接近？

- A. 大连港
- B. 青岛港
- C. 上海港
- D. 深圳港

120. 下列说法与材料相符的是：

- A. 沿海港口合计吞吐量2008年7月的同比增长额高于2007年
- B. 2005~2008年，每年7月内河港口合计吞吐量在全国港口货运吞吐总量中所占的比重逐渐降低

- C. 2008年7月，天津港在全国港口货运吞吐总量中的比重为四年以来同期最高
 D. 与2005年7月相比，表中2008年7月货运吞吐量增长率最高的港口是一个内河港

※※※

全部测验到此结束！

※※※

【【2009-联考-资料】】

第五部分资料分析

(共 20 题，参考时限 22 分钟)

所给出的图、表、文字或综合性资料均有若干个问题要你回答。你应根据资料提供的信息进行分析、比较、计算和判断处理。

请开始答题：

一、根据以下资料，回答101~105题。

2008年7月商品零售价格指数表（上年同月=100）

| | | 全国 | 城市 | 农村 |
|-----------|-------------|-------|-------|-------|
| 商品零售价格总指数 | | 106.8 | 106.5 | 107.5 |
| 分类 指数 | 食品 | 114.5 | 115 | 113.4 |
| | 饮料、烟酒 | 103.6 | 103.9 | 103.1 |
| | 服装、鞋帽 | 98.3 | 97.9 | 99.3 |
| | 纺织品 | 100.6 | 100.3 | 101 |
| | 家用电器及音像器材 | 97.1 | 96.5 | 98.5 |
| | 文化办公用品 | 96.9 | 96 | 99.3 |
| | 日用品 | 104 | 103.9 | 104.3 |
| | 体育娱乐用品 | 98 | 96.9 | 100.4 |
| | 交通、通信用品 | 93.6 | 93.1 | 95.1 |
| | 家具 | 102.9 | 102.9 | 102.8 |
| | 化妆品 | 100.6 | 100.6 | 100.7 |
| | 金银珠宝 | 124.2 | 124 | 124.9 |
| | 中西药品及医疗保健用品 | 102.7 | 102.7 | 102.7 |
| | 书报杂志及电子出版物 | 101.1 | 101.5 | 100.4 |
| | 燃料 | 124.5 | 122 | 130.5 |
| 建筑材料及五金电料 | 110.7 | 109.9 | 112.2 | |

101. 2008年7月城市商品价格较上年同月上涨幅度最大的是：

- A. 食品
 B. 燃料
 C. 日用品
 D. 金银珠宝

102. 较上年同期, 2008年7月城市跟农村商品价格涨幅相差最小的商品是:

- A. 化妆品
B. 服装、鞋帽
C. 建筑材料及五金电料
D. 书报杂志及电子出版物

103. 2008年7月农村各类商品零售价格与上年同月相比上涨的有:

- A. 11种
B. 12种
C. 13种
D. 14种

104. 2008年7月较上年同月涨幅最大的是:

- A. 全国燃料
B. 城市食品
C. 农村体育娱乐用品
D. 全国书报杂志及电子出版物

105. 下列关于2008年7月商品价格的描述正确的是:

- A. 饮料、烟酒在城市的价格更高
B. 燃料价格涨幅对商品零售价格整体上涨的贡献最大
C. 只有体育娱乐用品的价格走势在城乡是相反的
D. 城市中西药品及医疗保健用品涨幅最接近全国商品零售价格平均涨幅

二、根据以下资料, 回答106~110题。

2007年前三季度, 我国全社会固定资产投资91529亿元, 同比增长25.7%。其中, 城镇固定资产投资78247亿元, 增长26.4%; 农村投资13282亿元, 增长21.2%。在城镇投资中, 国有及国有控股完成投资33951亿元, 增长16.2%; 房地产开发完成投资16814亿元, 增长30.3%。从项目隶属关系看, 中央项目投资7749亿元, 同比增长15.4%; 地方项目投资70497亿元, 增长27.8%。从产业看, 第一、二、三产业分别完成投资938亿元、34522亿元和42787亿元, 同比分别增长41.1%、29.3%和24.0%。从行业看, 煤炭开采及洗选业投资1103亿元, 同比增长24.9%; 电力、热力的生产与供应业投资5348亿元, 增长10.6%; 石油和天然气开采业投资1232亿元, 增长13.7%; 铁路运输业投资1395亿元, 增长7.1%; 非金属矿制品业投资1890亿元, 增长50.9%; 黑色金属矿冶炼及压延加工业投资1741亿元, 增长13.0%; 有色金属矿冶炼及压延加工业投资864亿元, 增长31.2%。从注册类型看, 内资企业投资69502亿元, 同比增长26.8%; 港澳台商投资和外商投资分别完成3742亿元和4648亿元, 分别增长31.5%和18.7%。从施工和新开工项目情况看, 截止到9月底, 城镇50万元以上施工项目累计259083个, 同比增加27901个; 施工项目计划总投资222439亿元, 同比增长18.2%; 新开工项目170123个, 同比增加18151个; 新开工项目计划总投资60309亿元, 同比增长24.2%。从到位资金情况看, 城镇投资到位资金88764亿元, 同比增长27.8%。其中, 国内贷款增长14.5%, 利用外资增长15.5%, 自筹资金增长32.2%。

106. 2006年前三季度城镇固定资产投资是:

- A. 60479亿元
B. 61904亿元
C. 69104亿元
D. 72815亿元

107. 下列各项投资中，2007年前三季度增幅最大的一项是：

- A. 石油和天然气开采业投资
- B. 煤炭开采及洗选业投资
- C. 房地产开发完成投资
- D. 有色金属矿冶炼及压延加工业投资

108. 就2007年前三季度而言，下面说法正确的是：

- A. 第二产业投资增长率高于第一、第三产业投资增长率
- B. 第三产业投资增长额大于第一、第二产业投资增长额
- C. 第一、第二产业的投资总值要超过第三产业
- D. 上述说法都不正确

109. 下列说法与资料相符的是：

- A. 与其他行业相比，2007年前三季度有色金属增长率最大
- B. 2006年前三季度，非金属矿制品投资已经超过铁路运输业投资
- C. 2007年前三季度石油和天然气开采业的投资额度已经超过煤炭开采及洗选业投资
- D. 2007年前三季度黑色金属矿冶炼及压延加工业增长率超过石油和天然气开采业增长率

率

110. 关于2007年前三季度，城镇50万元以上的项目，下面说法正确的是：

- A. 施工项目增加个数小于新开工项目增加个数
- B. 新开工项目平均每个项目投资858万元
- C. 平均每个新开工项目的金额大于施工项目平均金额
- D. 施工项目增速大于新开工项目增速

三、根据以下资料，回答111~115题。

广播电视节目制作时数（单位：小时）

| 项目 | 1995年 | 2002年 | 2003年 | 2004年 | 2005年 | 2006年 |
|--------|---------|---------|---------|---------|---------|---------|
| 广播节目制作 | 2332164 | 3774001 | 4301505 | 5267457 | 6139227 | 6192339 |
| 新闻 | 353368 | 531278 | 628090 | 858579 | 1066880 | 1055077 |
| 专题 | 1054140 | 1703554 | 1861943 | 1579675 | 1822621 | 1728485 |
| 综艺 | 924656 | 1161402 | 1376816 | 1606519 | 1937290 | 1986800 |
| 广播剧 | — | — | — | 66053 | 75456 | 59225 |
| 广告 | — | 377767 | 434656 | 564207 | 671071 | 691610 |
| 其他 | — | — | — | 592424 | 565909 | 671142 |
| 电视节目制作 | 383513 | 1072704 | 1185507 | 2117158 | 2553861 | 2618034 |
| 新闻 | 80800 | 256883 | 280273 | 474218 | 637956 | 646337 |
| 专题 | 193391 | 379240 | 433083 | 486311 | 525528 | 540369 |
| 综艺 | 109322 | 218955 | 228802 | 321318 | 382350 | 407442 |
| 影视剧 | — | — | — | 167511 | 193771 | 71377 |
| 广告 | — | 217626 | 243349 | 426553 | 524892 | 589067 |
| 其他 | — | — | — | 241247 | 289364 | 363442 |

111. 2003~2006年间，广告节目较上一年增幅最大的是：

- A. 2004年广告类广播节目
- B. 2005年广告类广播节目

C. 2004年广告类电视节目 D. 2005年广告类电视节目

112. 2006年新闻类电视节目时数相对于1995年的增幅是：

A. 699.9% B. 718.9%

C. 899% D. 789%

113. 2003年广告类节目时数中，广播要比电视多出：

A. 56.18% B. 66.78%

C. 78.61% D. 81.72%

114. 在2005年、2006年中，下列哪类节目时数增幅下降最明显？

A. 其他类电视节目 B. 综艺类广播节目

C. 专题类电视节目 D. 广告类电视节目

115. 下列说法与资料相符的是：

A. 2004年、2005年专题类广播节目占年广播节目的比重非常接近

B. 广播剧节目与影视剧节目时数呈不同增长趋势

C. 新闻类节目时数呈逐年递增趋势

D. 各年度综艺类电视节目中，2004年的时数占年电视节目总时数的比重最小

四、根据以下资料，回答116~120题。

2007年末全国就业人员76990万人，比上年末增加590万人，其中，第一产业就业人员31444万人，占全国就业人员的40.8%；第二产业20629万人，占26.8%；第三产业24917万人，占32.4%。年末城镇就业人员29350万人，比上年末净增加1040万人。其中，城镇单位就业人员12024万人，比上年末增加311万人；城镇私营个体就业人员7891万人，比上年末增加924万人。在城镇单位就业人员中，在岗职工11427万人，比上年末增加266万人。

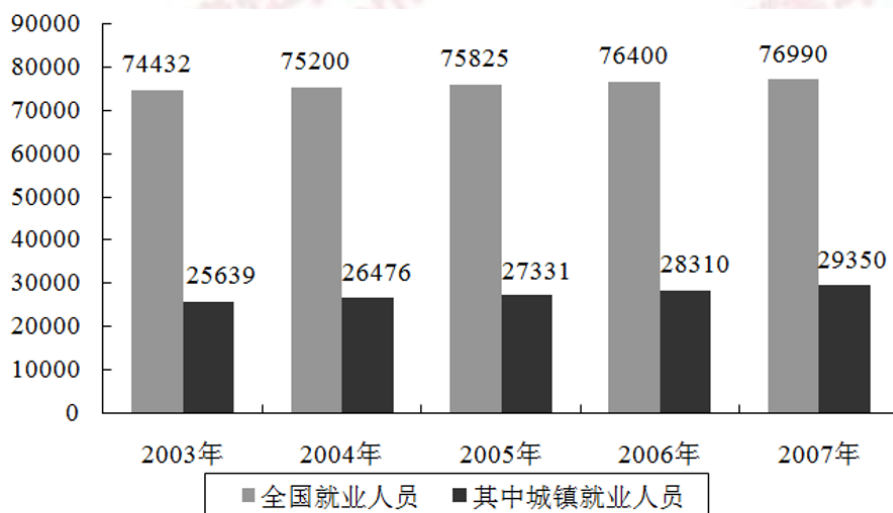


图1 2003~2007年全国就业与城镇就业人数（万人）

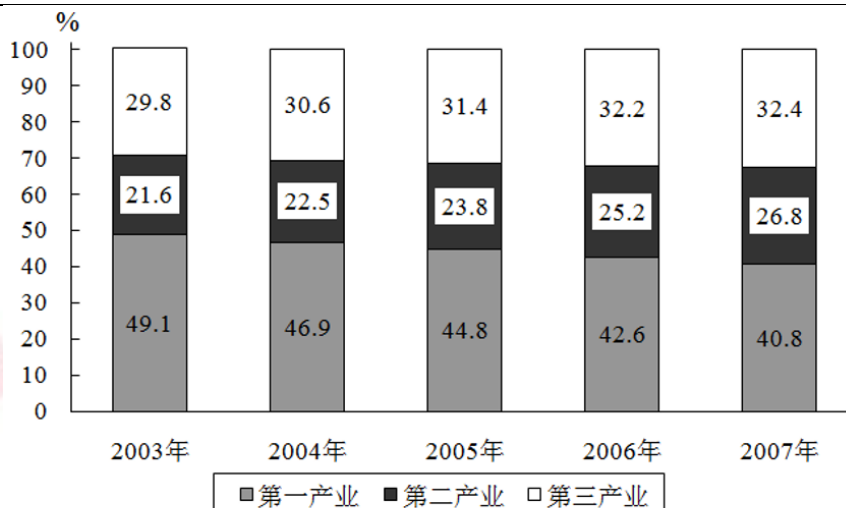


图2 2003~2007年全国就业人员产业构成情况(%)

116. 2007年我国第三产业就业人员比第二产业的多多少万人?

- A. 1600
B. 4100
C. 4300
D. 10800

117. 2007年和2003年相比, 第一产业的就业人数约下降了:

- A. 8%
B. 14%
C. 16%
D. 无法计算

118. 2007年末城镇就业人员中私营个体就业人员所占比重比2006年末增加了约:

- A. 2%
B. 27%
C. 0.4%
D. 4%

119. 从以上图表中**无法**得到的推论是:

- A. 2004年~2007年第二产业就业人员增幅始终高于第三产业
B. 我国城镇单位就业人员在绝对量上增长趋势明显
C. 第一产业依然是我国国民经济的重要产业
D. 近年来我国从第一产业流出的劳动力大部分被第二产业吸收

120. 以下关于2003年~2007年全国就业状况的描述**不正确**的是:

- A. 2003年~2007年间全国就业人员数年均增长率约为0.85%
B. 2006年末城镇单位就业人员中在岗职工比重超过95.1%
C. 2007年和2003年相比城镇就业人数约增长了14.6%
D. 2007年比2005年第一产业就业人数减少4%, 绝对量减少3033万人

※※※

全部测验到此结束!

※※※

【【2010-政法-资料】】**第五部分资料分析**

(共 20 题, 参考时限 25 分钟)

所给出的图、表、文字或综合性资料均有若干个问题要你回答。你应根据资料提供的信息进行分析、比较、计算和判断处理。

请开始答题:

一、根据以下资料, 回答101~105题。

近几年来, 我国开始对国内20个制造业行业中820家企业的采购经理进行月度问卷调查, 加工汇总他们对所在行业的采购和供应等问题的判断结果, 得到制造业采购经理指数(PMI)。

PMI是一个综合指数, 由生产、新订单、主要原材料库存、从业人员、供应商配送时间5个分类指数乘以相应的权数后相加得到。PMI指数反映了当月制造业采购和供应状况相对于上月的变化。各类指数在50%以上, 通常反映其对应的某一方面经济扩张; 低于50%, 通常反映其经济活动衰退。

中国制造业采购经理指数 (PMI) (单位: %)

| 指数 | 权数 | 2010年6月 | 2010年7月 |
|---------|-----|---------|---------|
| PMI | 100 | ? | 51.2 |
| 生产 | 25 | 55.8 | 52.7 |
| 新订单 | 30 | 52.1 | 50.9 |
| 主要原材料库存 | 10 | 49.4 | 47.8 |
| 从业人员 | 20 | 50.6 | 52.2 |
| 供应商配送时间 | 15 | 50.0 | 49.9 |

份人均日消费高56.7%。5月29日实现销售额2313.04万元，是5月5日的4.7倍。

随着入园人数的不断增加，世博园区的销售记录不断刷新。5月份第2至5周的销售总额(包括餐饮消费和特许商品销售)依次为5801.2万元、8108.57万元、10331.87万元和12239.75万元。其中，餐饮消费的营业额依次为3022.86万元、4325.52万元、5467.6万元和6232.2万元。

106. 5月份世博会浦西片区的销售额约为多少亿元?

- A. 0.28
- B. 0.44
- C. 0.97
- D. 1.25

107. 5月份世博园区人均日消费约为:

- A. 46元
- B. 51元
- C. 138元
- D. 153元

108. 5月5日世博园区的入园人数约为:

- A. 3.6万人
- B. 4.5万人
- C. 5.2万人
- D. 8.9万人

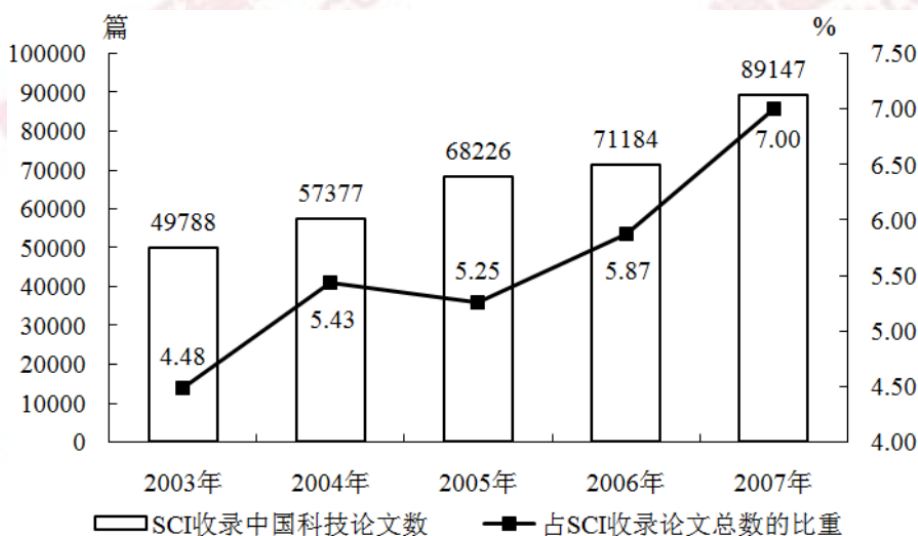
109. 第2~5周的特许商品销售额由高到低依次是:

- A. 第5周、第4周、第3周、第2周
- B. 第4周、第5周、第2周、第3周
- C. 第2周、第3周、第4周、第5周
- D. 第3周、第2周、第4周、第5周

110. 下列说法与资料相符的有几个? (1) 5月份世博园区每日午餐就餐人次总高于晚餐就餐人次 (2) 5月5日销售额不到当月第2周销售总额的1/10 (3) 5月第2~5周中，餐饮消费的营业额与特许商品销售额之差最大的是第3周

- A. 0
- B. 1
- C. 2
- D. 3

三、根据以下资料，回答 111~115 题。



2003~2007年SCI (科学引文索引) 收录中国科技论文情况

111. 以下年份中，SCI收录中国科技论文数与上年相比增长量最少的是:

- A. 2004年
B. 2005年
C. 2006年
D. 2007年

112. 2003~2007年，SCI平均每年约收录多少篇中国科技论文？

- A. 5.9万
B. 6.3万
C. 6.7万
D. 7.1万

113. 图中SCI收录论文总数最少的年份是：

- A. 2003年
B. 2004年
C. 2005年
D. 2006年

114. 2003~2007年间，SCI收录中国科技论文数的年均增长率约为：

- A. 6%
B. 10%
C. 16%
D. 25%

115. 下列说法与资料相符的是：

- A. 2004年SCI收录中国科技论文数的同比增长率是2004~2007这四年中最高的
B. 2005年SCI收录中国科技论文数占其收录论文总数比例的增量是2004~2007这四年中最大的

C. 2003~2007年间，SCI收录中国科技论文数占其收录论文总数的比重逐年上升

D. 若保持2007年的增长速度，2008年SCI收录中国科技论文数将超过10万篇

四、根据以下资料，回答 116~120 题。

2009年度全国旅行社营业收入为1806.53亿元，同比增长8.64%；毛利润总额为134.36亿元，毛利率为7.44%；净利润总额为11.48亿元，净利率为0.64%。

2009年度全国旅行社的旅游业务营业收入为1745.59亿元，同比增长8.87%；旅游业务毛利润为120.27亿元，旅游业务毛利率为6.89%；实缴税金为12.69亿元，同比增长12.37%；外汇结汇10.51亿美元，同比减少11.24%；全年促销费支出为6.76亿元，同比增长13.87%。

2009年度全国旅行社旅游业务营业收入表

| | 营业收入 (亿元) | 同比增长 (%) | 毛利润 (亿元) | 同比增长 (%) |
|--------|--------------|-------------|-------------|-------------|
| 入境旅游业务 | 222.15 | -1.21 | 18.69 | 4.72 |
| 国内旅游业务 | 1139.10 | 11.79 | 76.33 | 16.64 |
| 出境旅游业务 | 384.34 | 6.92 | 25.25 | 28.99 |

116. 2008年度全国旅行社入境旅游业务营业收入约为多少亿元？

- A. 185
B. 210
C. 225
D. 235

117. 2009年全国旅行社非旅游业务的毛利率约为：

- A. 8%
B. 11%
C. 17%
D. 23%

118. 下列各项中，占当年全国旅行社的旅游业务营业收入比重最大的是：

- A. 2009年国内旅游
B. 2008年国内旅游
C. 2009年入境旅游
D. 2008年入境旅游

119. 下列各项中，2009年毛利率最低的是：

- A. 国内旅游业务
B. 入境旅游业务
C. 出境旅游业务
D. 总体旅游业务

120. 关于2009年全国旅行社营业状况，从资料中可以推出的结论是：

- A. 三类旅游业务的毛利率均比上年有所增长
B. 国内旅游业务的毛利润比上年增加近8亿元
C. 全国旅行社旅游业务的外汇结汇比上年减少近1亿美元
D. 全国旅行社促销费用占其旅游业务营业收入的比例比上年有所下降

※※※

全部测验到此结束！

※※※

【【2009-政法-资料】】

第五部分资料分析

(共 20 题，参考时限 25 分钟)

所给出的图、表、文字或综合性资料均有若干个问题要你回答。你应根据资料提供的信息进行分析、比较、计算和判断处理。

请开始答题：

一、根据以下资料，回答101~105题。

部分国家国际旅游人数统计表（单位：人）

| | 国外游客到达人数 | | | 出国旅游人数 | | |
|-------|----------|-------|-------|--------|-------|-------|
| | 2000年 | 2004年 | 2005年 | 2000年 | 2004年 | 2005年 |
| 中国 | 3123 | 4176 | 4681 | 1047 | 2885 | 3103 |
| 日本 | 476 | 614 | 673 | 1782 | 1683 | 1740 |
| 韩国 | 532 | 582 | 602 | 551 | 883 | 1008 |
| 加拿大 | 1963 | 1910 | 1877 | 1918 | 1955 | 2110 |
| 美国 | 5124 | 4609 | 4921 | 6133 | 6181 | 6350 |
| 巴西 | 531 | 479 | 536 | 323 | 374 | 470 |
| 法国 | 7719 | 7512 | 7600 | 1989 | 2113 | 2227 |
| 德国 | 1898 | 2014 | 2150 | 7440 | 7230 | 7740 |
| 俄罗斯联邦 | 2117 | 2206 | 2220 | 1837 | 2451 | 2842 |
| 英国 | 2521 | 2776 | 2997 | 5684 | 6419 | 6649 |
| 澳大利亚 | 493 | 522 | 550 | 350 | 437 | 475 |

101. 表中 2005 年国外游客到达人数高于出国旅游人数的国家有：

- A. 2个
B. 3个
C. 4个
D. 5个

102. 2000 年至 2005 年，以下四国中出国旅游人数平均增长速度最快的是：

- A. 韩国
B. 巴西
C. 俄罗斯联邦
D. 澳大利亚

103. 2000 年至 2005 年，哪个国家出国旅游人数的发展速度超过了国外游客到达人数的发展速度？

- A. 英国
B. 德国
C. 日本
D. 中国

104. 表中国家按所属大洲分类，2004 年出国旅游人数均值最高的是：

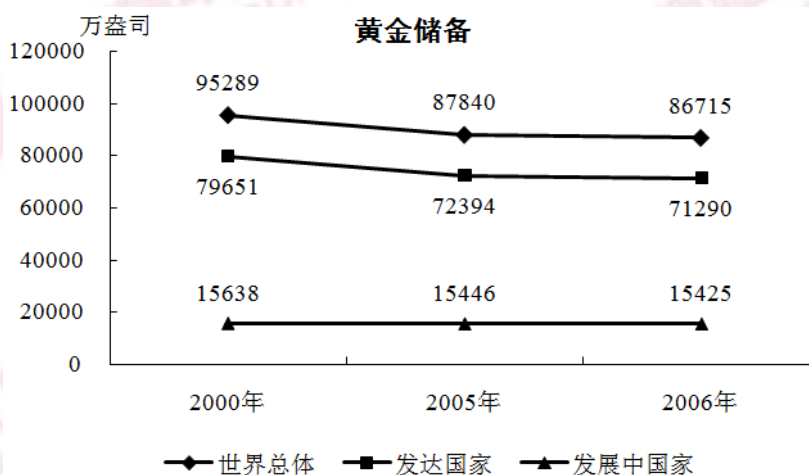
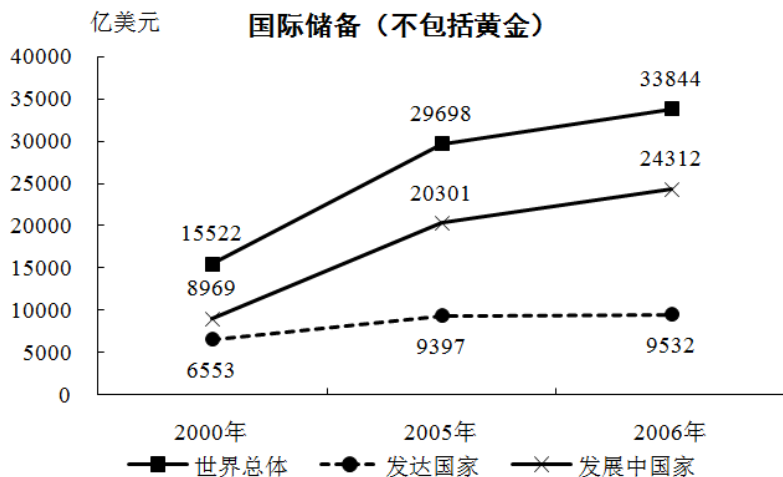
- A. 亚洲国家
B. 美洲国家
C. 欧洲国家
D. 大洋洲国家

105. 从资料中**不能**推出的结论是：

- A. 法国是表中所列国家中最受欢迎的国际旅游目的地
B. 2005年美国国外游客到达人数的同比增长率小于巴西
C. 2000年国外游客到达人数与出国旅游人数最接近的国家是加拿大
D. 按国外游客到达人数排序，2000年、2004年、2005年中国在11国中位次不变

二、根据以下资料，回答106~110题。

2000年、2005年、2006年发达国家、发展中国家和世界总体的国际储备（不包括黄金）和黄金储备变化情况，如图所示：



部分国家国际储备和黄金储备的变化情况如下表所示：

| | 国际储备 (不包括黄金, 亿美元) | | | 黄金储备 (万盎司) | | |
|----|-------------------|--------|---------|------------|---------|---------|
| | 2000年 | 2005年 | 2006年 | 2000年 | 2005年 | 2006年 |
| 中国 | 1682.8 | 8215.1 | 10684.9 | 1270.0 | 1929.0 | 1929.0 |
| 印度 | 379.0 | 1319.2 | 1707.4 | 1150.2 | 1150.2 | 1150.2 |
| 日本 | 3549.0 | 8342.8 | 8796.8 | 2454.7 | 2460.2 | 2460.2 |
| 韩国 | 961.3 | 2103.2 | 2388.8 | 43.9 | 45.8 | 41.8 |
| 美国 | 566.0 | 540.8 | 548.5 | 26161.1 | 26155.1 | 26149.9 |
| 法国 | 370.4 | 277.5 | 426.5 | 9724.5 | 9085.2 | 8744.3 |
| 德国 | 568.9 | 451.4 | 416.9 | 11151.9 | 11020.7 | 11003.7 |
| 英国 | 387.7 | 384.7 | 407.0 | 1567.4 | 999.3 | 997.5 |

106. 2000年至2006年黄金储备量下降幅度超过11%的国家有多少个？

- A. 0
- B. 1
- C. 2
- D. 3

107. 2000年至2006年印度国际储备量的平均增长速度低于：

- A. 发达国家
- B. 世界总体
- C. 发展中国家
- D. 中国

108. 假设黄金价格为 500 美元/盎司, 那么表中各年黄金储备量均超过相应年份国际储备量的国家有多少个?

- A. 0
B. 1
C. 2
D. 3

109. 与 2005 年相比, 下面关于 2006 年储备量的描述**错误**的是:

- A. 中国黄金储备量占世界总体的比重略有上升
B. 美国黄金储备量占世界总体的比重略有下降
C. 中国的黄金储备量没有变化, 国际储备量上升
D. 美国的黄金储备量略有下降, 国际储备量略有上升

110. 从资料中**不能**推出的结论是:

- A. 上表所列国家中, 西方国家更倾向于进行黄金储备
B. 与国际储备相比, 表中多数国家黄金储备量相对稳定
C. 整体看来多数发达国家的黄金储备量大大高于其国际储备量
D. 2000年至2006年印度的国际储备量年平均增长速度快于韩国

三、根据以下资料, 回答111~115题。

2006年全国共有生产力促进中心1331家, 比上年增加61家。生产力促进中心在全国分布广泛, 但地区分布不均, 四川、山西、黑龙江、广西、福建等地较多, 分别为136、99、96、94、83家。边远省份数量较少, 如海南仅有1家, 云南、西藏、青海各2家。

截至2006年底, 国家级示范生产力促进中心达到128家, 占全国生产力促进中心总数的9.6%。其中, 陕西省最多, 有11家, 占本省中心总数的23.4%; 辽宁、山东、江苏三地各有9家, 并列位居第二, 分别占本省中心总数的25%、13.6%、17%。

2006年, 根据对1237家生产力促进中心的调查, 其在岗职工总数为16927人。其中, 35岁以下有7025人, 占总人数的41.5%, 比上年略有增加, 35~50岁有7708人, 占总人数的45.5%, 比上年有所减少; 50岁以上在岗职工所占比例与上年基本一致。

在16927名在岗职工中, 有8299人具有大学或大学以上学历, 占总数的49.0%。具有高级职称的人数为4295人, 具有中级职称的人数为5114人, 具有中级以上职称的在岗职工占55.6%。

111. 2006 年全国生产力促进中心数量比 2005 年增长了:

- A. 2.9%
B. 3.7%
C. 4.0%
D. 4.8%

112. 生产力促进中心数量最多的三个省份的中心数量占全国总数的比重是:

- A. 19.7%
B. 22.7%
C. 23.0%
D. 24.9%

113. 以下省份按生产力促进中心数量由小到大排列正确的是:

- A. 辽宁山东江苏
B. 江苏陕西辽宁
C. 辽宁陕西广西
D. 陕西山东江苏

114. 2006 年，全国生产力促进中心 50 岁以下在岗职工总人数为：

- A. 2194
B. 14733
C. 16927
D. 无法计算

115. 在本次调查中，平均每个中心的中级以上职称在岗职工有多少人？

- A. 6.7
B. 7.0
C. 7.6
D. 12.7

四、根据以下资料，回答116~120题。

2008 年我国第一季度社会消费品零售总额统计表（单位：亿元）

| | 3 月 | 比上年同月增 长 (%) | 1~3 月累计 | 比上年同期增 长 (%) |
|-----------|--------|-----------------|---------|-----------------|
| 社会消费品零售总额 | 8123.2 | 21.5 | 25555.2 | 20.6 |
| (一) 按地区分 | | | | |
| 市 | 5536.8 | 22.1 | 17367.5 | 21.2 |
| 县 | 894.0 | 21.7 | 2839.0 | 21.2 |
| 县以下 | 1692.4 | 19.4 | 5338.8 | 18.3 |
| (二) 按行业分 | | | | |
| 批发和零售业 | 6851.7 | 21.4 | 21490.2 | 20.4 |
| 住宿和餐饮业 | 1151.6 | 24.6 | 3687.3 | 23.6 |
| 其它 | 119.9 | 3.7 | 377.7 | 4.2 |

116. 打字人员在抄录上表时因粗心输错了一个数据，该数据可能是：

- A. 5536.8
B. 17367.5
C. 6851.7
D. 3687.3

117. 2007 年 3 月，批发和零售业社会消费品零售总额为多少亿元？

- A. 5499.0
B. 5643.9
C. 8318.0
D. 8717.2

118. 2008 年 1~2 月县以下社会消费品零售总额比上年同期增长了：

- A. 20.1%
B. 19.2%
C. 17.8%
D. 16.5%

119. 假设自 2008 年第一季度起，县级社会消费品零售总额每季度增长 10%，则 2009 年第一季度县级社会消费品零售总额约为多少亿元？

- A. 3847
B. 3974
C. 4157
D. 4263

120. 从资料中可以推出的结论是：

- A. 2008年3月比2月的社会消费品零售总额高
B. 按地区分，2008年3月县级社会消费品零售总额同比增长量最小
C. 在县级社会消费品零售总额中住宿和餐饮业零售总额所占的份额最大
D. 2009年3月社会消费品零售总额至少达到1.5万亿元，才能比2007年同月翻一番

※※※

全部测验到此结束！

※※※

