

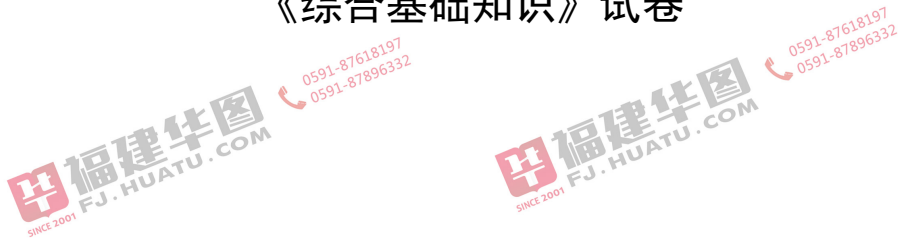
准考证号

姓名



2018年3月31日福建省事业单位公开招聘考试

《综合基础知识》试卷



华图福建事业单位考试研究院 审定

说明

这项测验共有五个部分，110 道题，总分时限为 120 分钟。

请在机读答题卡上严格按照要求填写好自己的姓名、涂写准考证号。

请仔细阅读下面的注意事项，这对你获得成功非常重要：

- 1、题目应在答题卡上作答，不要在题本上作任何记号。
- 2、监考人员宣布考试开始时，你才可以开始答题。
- 3、监考人员宣布考试结束时，你应立即放下铅笔，考试题本、答题卡 and 草稿纸都留在桌上，然后离开。

如果你违反了以上任何一项要求，都将影响你的成绩。

- 1、在这项测验中，可能有一些试题较难，因此你不要在一道题上思考时间太久，遇到不会答的题目，可先跳过去，如果有时间再去思考。否则，你可能没有时间完成后面的题目。

2、试题答错不倒扣分。

3、特别提醒你注意，涂写答案时一定要认准题号。严禁折叠答题卡！

停！请不要往下翻！听候监考老师的指示。

否则，会影响你的成绩。

*本试卷所选题目，均来源于网络或根据考生回忆整理。

第一部分 公共基础知识

根据题目要求，在四个选项中选出一个正确答案。（共 30 题，每题 0.8 分，计 24 分）

2018-福建-1. 第十二届全国人民代表大会第一次会议表决通过的宪法修正案，以国家根本法的形式确立了 在国家政治和社会生活中的指导地位。

- A. 伟大斗争，伟大工程，伟大事业，伟大梦想
- B. 习近平新时代中国特色社会主义思想
- C. 全面建成小康社会，全面深化改革，全面依法治国，全面从严治党
- D. 以爱国主义为核心的民族精神和以改革创新为核心的时代精神

2018-福建-2. 近日，中共中央印发了《深化 方案》，这是推进国家治理体系和治理能力现代化的一场深刻改革。

- A. 国务院机构改革
- B. 行政体制改革
- C. 党和国家机构改革
- D. 国家机关改革

2018-福建-3. 随着人工只能的发展，未来装有驾驶脑的智能车会比人驾驶的车更好更安全。发展全自动驾驶技术，我们不但要解决“车”的问题，将车做成软件定义的机器；还要解决“人”的问题，用驾驶脑代替驾驶员驾驶认知，并获得驾驶知识和驾驶技巧，使得汽车自己成为驾驶员。材料表明：

- A. 作为一种新型思维工具，驾驶脑可以全面代替驾驶员
- B. “驾驶脑”替代人脑，体现人工只能的主动创造性

- C. 先进技术的发展可以实现“驾驶脑”等同于人脑
- D. 借助“驾驶脑”驾驶汽车，体现了意识的能动性

2018-福建-4. 从党的十九大到二十大，是“两个一百年”奋斗目标的历史交汇期。我们既要全面建成小康社会，又要趁势而上，开启全面建设社会主义现代化国家新征程。这说明：

- ①世界是不断运动、变化、发展的
 - ②事物的发展是新事物对旧事物彻底否定
 - ③量变是事物性质的根本改变，是事物发展的根本途径。
 - ④事物的发展是在新质的基础上开始新的量变
- A. ①② B. ②③ C. ①④ D. ②④

2018-福建-5. 近日武汉大学官微曝光一名男子在夜色中疯狂摇动樱花树干，下起一场人造“樱花雨”的视频后，网民纷纷谴责这种行为。表示美丽中国要靠大家共同建设，每个人都应该成为美丽风景的贡献者，文明之风的践行者。这表明：

- A. 社会意识具有相对独立性，保护环境需要增强公众的责任感
- B. 虽然联系具有多样性，但人们在环境问题上只能扮演一种角色
- C. 要重视意识的指导作用，因为意识能够促进美丽中国的实现
- D. 人民群众是历史的创造者，建设美丽中国的成败取决于群众的意志

2018-福建-6. “治国有常、而利民为本”，这些年，“把人民群众的小事当作自己的大事”成为从上到下、真真切切的行动锁定重点人群、重

点领域，织牢织密兜底之网：举全社会之力脱贫攻坚，靶向精准、力度增大；户籍制度改革、公立医院改革、城乡养老并轨、“全面二孩”等一系列标志性的改革措施落地生根... 一项项便民、惠民政策，解的是民忧，暖的是民心。“解民忧，暖民心”的改革：

- A. 体现了人民群众力量的薄弱
- B. 抓住了关键领域和主要矛盾
- C. 突出了意识对事物发展的作用
- D. 实现了从量变到质变的飞跃

2018-福建-7. “西安交大西迁的老教授”群体，响应国家的号召，献身大西北建设，凝铸起“胸怀大局、无私奉献、弘扬传统、艰苦奋斗”的“西迁精神”。这体现人的价值在于：

- A. 社会对个人的责任和贡献
- B. 个人对社会的尊重与满足
- C. 个人价值与社会价值的统一
- D. 没有个人价值就没有社会价值

2018-福建-8. 今年我国将进一步深入推进供给侧结构性改革，坚持把发展经济着力点放在实体经济上，继续抓好“三去一降一补”，大力简政减税减费，不断优化营商环境，进一步激发市场主体活力，提升经济发展质量。下列做法无法实现政策目标的是：

- A. 实施全国统一的市场准入负面清单制度
- B. 减轻企业税负，促进实体经济转型升级
- C. 加大“僵尸企业”破产清算和重整力度
- D. 阶段性提升企业“五险一金”缴费比例

2018-福建-9. 当前我国经济发展进入新常态，提高居民收入和调整收入分配格局面临新的机遇和挑战。研究制定针对重点群体的差别化收

入分配激励政策,对技术工人、农民、中小创业者、科研人员、企业家、公务员、有就业能力的困难群体等进行精准激励,优化收入分配格局。

这有利于:

- A. 完善收入分配制度,健全生产要素按贡献参与分配制度
- B. 加大财政转移支付,促进国民收入再分配更加公平合理
- C. 加强政府预算管理,实现经济发展与居民收入增长同步
- D. 提高困难人群收入,使人民在共建共享中有更多获得感

2018-福建-10. 目前中国经济存在结构性矛盾,如果不采取针对性的结构性改革措施,经济增长率将继续下滑,并对经济社会发展造成冲击。要有效应对目前经济增长结构性减速,必须首先实现经济需求结构的转型,改变传统经济增长模式。下列各项结构性改革措施中,不正确的是:

- A. 外需拉动转为内需拉动
- B. 投资拉动转为消费拉动
- C. 实施紧缩性货币政策
- D. 积极鼓励民间投资

2018-福建-11. 恩格尔系数是国际通行的衡量人民生活水平每一个重要指标,表示食物支出与消费总支出之比。经测算,某国恩格尔系数达到 0.25,这表明该国居民生活水平处于_____状态。

- A. 饥寒型
- B. 温饱型
- C. 小康型
- D. 富裕型

2018-福建-12. 人民币已被正式纳入国际货币基金组织(IMF)特别提款权(SDR)货币篮子。SDR 是 IMF 根据会员国认缴的份额分配的,可用于偿还 IM 债务、弥补会员国政府之间国际收支逆差的一种账面资产,SDR

采用一篮子货币的定值方法，货币篮子每五年复审一次，以确保篮子中的货币是国际交易所使用的具有代表性的货币，各货币所占的权重反映了其在国际贸易和金融体系中的重要程度。目前 SDR 篮子的最新权重排序正确的是：

- A. 美元 欧元 人民币 日元 英镑
- B. 欧元 美元 英镑 日元 人民币
- C. 欧元 美元 英镑 人民币 日元
- D. 美元 欧元 日元 英镑 人民币

2018-福建-13. 2018年3月23日，美国正式签署对华贸易备忘录，将600亿美元中国商品加征关税，并限制中国企业对美投资并购。作为国际贸易规则曾经的主要缔造者之一，美国的这种做法带有明显的“破坏者”性质，为世界经济埋下失序的隐患。按照国际贸易规则，在发生贸易争端，经双方协商无效时，不应采取单边行动对抗，而应提交_____寻求救济解决争端。

- A. 20国集团
- B. 世界贸易组织
- B. 国际货币基金组织
- D. 经济合作与发展组织

2018-福建-14. 国家数字货币是国家结合自身货币发展需求，组合现有技术，以国家信用背书发行的货币，具有法定货币的性质，数字货币可以降低传统货币发行、流通的高昂成本，提升经济交易活动的便利性和透明度。下列理解不正确的是：

- A. 法定数字货币总量保持恒定
- B. 法定数字货币具有价值贮藏职能

- C. 法定数字货币简化跨境结算流程
- D. 法定数字货币能有效监控资金流向

2018-福建-15. 关于中华人民共和国主席、副主席，下列说法不正确的是：

A. 有选举权和被选举权、年满四十五周岁的中国公民，可以被选举为中华人民共和国主席

B. 中华人民共和国主席、副主席连续任职不得超过两届

C. 中华人民共和国主席缺位的时候，由副主席继任主席的职位

D. 中华人民共和国副主席受主席的委托，可以代行主席的部分职权

2018-福建-16. 关于我国婚姻法的相关制度，下列说法正确的是：

A. 在结婚年龄方面，男不得早于 20 周岁，女不得早于 18 周岁

B. 因一方有赌博、吸毒等恶习屡教不改导致离婚的，另一方有权请求损害赔偿

C. 因胁迫结婚的，受胁迫的一方可以向婚姻登记机关或人民法院请求撤销该婚姻

D. 因感情不和分居满一年，经人民法院调解无效，应准予离婚

2018-福建-17. 甲某向科技公司购买一批电脑送给学校。合同约定由科技公司负责将电脑支付学校。后来，科技公司委托快递公司负责电脑配送，因运输不当导致两台电脑毁坏。下列说法正确的是：

A. 学校有权要求科技公司承担违约责任

B. 甲某有权要求快递公司承担违约责任

- C. 学校有权要求快递公司承担违约责任
- D. 甲某有权要求科技公司承担违约责任

2018-福建-18. 关于劳动合同法中的经济补偿制度，下列说法不正确的是：

- A. 劳动者因嫌薪酬太低而主动提出辞职的，可以向用人单位主张经济补偿
- B. 劳动者以用人单位未及时足额支付劳动报酬为由解除劳动合同的，可以向用人单位主张经济补偿
- C. 用人单位向劳动者提出解除劳动合同并与劳动者协商一致的，应当向劳动者支付经济补偿
- D. 用人单位以额外支付劳动者一个月工资解除劳动合同的，应当向劳动者支付经济补偿

2018-福建-19. 高岭市白泉县公安局清河派出所以白泉县公安局的名义对张某作出行政处罚，张某不服，欲申请行政复议，张某可以选择的复议机关是：

- A. 白泉县人民政府或白泉县公安局
- B. 白泉县人民政府或高岭市公安局
- C. 高岭市人民政府或高岭市公安局
- D. 高岭市人民政府或白泉县人民政府

2018-福建-20. 下列属于犯罪对象的是：

- A. 赌博的筹码
- B. 抢夺的财务

C. 行贿的财务

D. 运输毒品的车辆

2018-福建-21. 孤儿某甲（已成年）在公交车上扒窃钱包一个，钱包内有一封灾区孤儿写给钱包主任的捐资助学感谢信，某甲读后大为感动，于是将窃得的钱包依照信封地址原封不动寄还钱包主任。某家的行为属于：

A. 不构成犯罪

B. 犯罪中止

C. 犯罪未遂

D. 犯罪既遂

2018-福建-22. 十九届二中全会审议通过了《中共中央关于修改宪法部分内容的建议》，建议指出，为更好发挥宪法在新时代坚持和发展中国特色社会主义的重要作用，需要对宪法做出适当修改，把党和人民在实践中取得的重要理论创新、实践创新、制度创新成果上升为宪法规定，此次修宪：

A. 由中共中央负责修改，全国人大常委会审议并通过

B. 有利于宪法在保持稳定性和权威性的基础上、与时俱进、完善发展

C. 旨在确立宪法的最高法律地位，更好的发挥宪法的作用

D. 强调了宪法规定国家生活的所有问题，是一切法律的总和

2018-福建-23. 当前世界格局在变，发展格局在变，各个政党都要顺应时代发展潮流，把自身发展同国家、民族、人类的发展紧密结合在一起。世界各国人民应该秉持“天下一家”理念，彼此理解、求同存异，

共同为构建人类命运共同体而努力。中国共产党将一如既往为世界和平安宁、共同发展、文明交流互鉴做贡献。由此可见：

- A. 中国共产党已经成为世界各国政党的领导核心
- B. 作为国家最高权利的象征，政党是主权国家的生命和灵魂
- C. 国家间的共同利益是构建人类命运共同体的基础
- D. 维护世界和平、促进共同发展是中国共产党的宗旨

2018-福建-24. <<中华人民共和国监察法>>明确了国家监察工作的一系列重大问题，特别规定监察委员会由本级人民代表大会产生，对本级人民代表大会及其常务委员会和上一级监察委员会负责，并接受其监督。这表明：

- A. 人民代表大会与监察委员会是领导与被领导的关系
- B. 监察机关应当与审判机关、检察机关互相配合、互相制约
- C. 监察委员会是我国法律监督机关，行使国家监察权
- D. 加强党的全面领导是人民代表大会制度的组织和活动原则

2018-福建-25. 去年底，国务院办公厅对全国互联网政务服务平台现状进行了首次检查，此次检查重点包括两方面：一是是否形成统一服务入口，服务类与具体服务事项是否对应等；二是服务事项是否准确，包括办事指南是否齐全、办理流程是否清晰、办理材料是否明确等。这次检查工作其目的在于强调：

- A. 要树立求真务实的工作作风，建设便民利民的政府
- B. 要充分发扬民主，扩大公民的政治权利
- C. 要减少行政管理职能，提高公共服务水平
- D. 坚持以人为本，维护群众的一切利益

2018-福建-26. 实施乡村振兴战略，切实解决农业、农村、农民问题，是贯彻新发展理念、建设现代化经济体系的重要内容。加强农村基层基础工作，健全自治、法治、德治相结合的乡村治理体系，是实施乡村振兴战略的题中应有之义。实施乡村有效治理要求：

- A. 基层群众性自治组织按照城市文明建设的模式与标准建设新农村
- B. 保障市场在资源配置中的基础性作用，健全生成要素合理流动机制
- C. 集民意聚民智，更好的发挥村民在解决乡村事物中的主体地位
- D. 政府要坚持依法行政，正确处理基层政府与村委会的关系

福建-27. 近年来，某地创新社会基础治理方式，探索实施社区“三事分流”自治机制，将社区事务依据公共属性大小，分流成“大事、小事、私事”，大事由政府负责，小事由社区、社会组织、居民协同办理、私事由社区引导群众自行解决，做到每件事都解决，取得良好效果。这主要得益于：

- A. 厘清了政府，社区和居民在社区治理中的身份和职责
- B. 实施了多元化治理，强化了政府对社区的直接管理
- C. 发挥了政府的主体责任和主体作用，实现社区治理全覆盖
- D. 明确了以“社区+社会+居民”为主体的城市居民基层政权的组织形式

2018-福建-28. 下列公文标题不正确的是：

- A. 《XX 县人民政府第 X 次常务会议纪要》
- B. 《关于开展向 XXX 同志学习活动的决定》

- C. 《XX 市人民政府关于请求解决重大建设项目用地的请示报告》
- D. 《XX 关于进一步做好 XX 工作的通知》

2018-福建-29. 继《中国诗词大会》和《朗读者》之后，央视推出的一档自制文化类节目《国家宝藏》再度刷爆了微信朋友圈。《国家宝藏》不仅在题材选择、节目模式和内容表现等方面都颇具新意，而且兼具专业性和娱乐性，符合不同年龄段人的审美需求，使观众在感受传统文化之美时产生民族自豪感，这告诉我们：

- A. 发展大众文化就是制作大家都喜欢的综艺节目
- B. 文化创作要立足社会实践，继承传统，推陈出新
- C. 博大精深的中华文化是世界上最优秀的文化
- D. 中华文化具有很强的包容性和多样性

2018-福建-30. 福建省将启动大数据中心建设，汇集海洋与渔业经济、管理、环境、防灾减灾等信息资源，面向行业应用、军民融合、公众服务的数据汇聚共享平台，形成分类分级的海洋与渔业数据管理体系。这表明福建省将实施：（ ）。

- A. 数字海洋建设
- B. 数字福建建设
- C. 生态福建建设
- D. 生态海洋建设

第二部分 言语理解与表达

根据题目要求，在四个选项中选出一个正确答案。（共 25 题，每题 1 分，计 25 分）

2018-福建-31. 依次填入横线部分最恰当的是（ ）。

进入新世纪之后，文化遗憾的价值日益_____，手工技艺不但没有_____，相反以多种姿态在现实生活、高端市场和创意产业里呈现_____。

- A. 彰显 偃旗息鼓 气象万千
- B. 凸显 销声匿迹 勃勃生机
- C. 浮现 难觅踪迹 生机盎然
- D. 回升 潜踪隐迹 蒸蒸日上

2018-福建-32. 依次填入横线部分最恰当的是（ ）。

在现代性社会变迁的过程中，人们的心灵经历着_____的张力失衡，_____的叠加冲突，_____的纠结错位，_____的精神落差。

- A. 高雅与庸俗 物质与精神 希望与失望 传统与现代
- B. 物质与精神 传统与现状 高雅与庸俗 希望与失望
- C. 传统与现代 希望与失望 物质与精神 高雅与庸俗
- D. 希望与失望 高雅与庸俗 传统与现代 物质与精神

2018-福建-33. 下列加点成语使用不正确的是：（ ）。

A. 所谓旷世经典，指的是那些极少数经过历史选择的、对后世产生过重大影响并且至今依然散发着持久魅力的原创性著作。在中国历史上，这样的作品有如恒河沙数。

B. 这部深邃悠远、匠心独运的艺术作品，为国内外画廊与国际友人所收藏。

C. 这几年新建的楼房鳞次栉比，使这座城市更加繁荣。

D. 在信息社会和知识爆炸的时代，只有坚持读书，才能更新知识，提高能力，与时俱进。

2018-福建-34. 将以下 5 个句子重新排列，语序正确的是：（ ）。

①真、草、隶、篆、行，五体变化，气韵生动。

②从古到今，著名书法家的作品中都能够看出中国书法艺术的丰富多样与光辉灿烂。

③汉字作为书写性文化，最能体现中国人的艺术个性与审美情趣。

④舒展与凝重，沉静与飞扬，直与曲、浓与淡、实与虚，变化万千，奥妙无穷。

⑤书法家的一笔一画，结构章法，都有情感和个性因素在里边。

A. ②①④⑤③

B. ③⑤①④②

C. ③①⑤④②

D. ②⑤④①③

2018-福建-35. 下列各句话没有语病的是：（ ）。

A. 书法是我国优秀传统文化，今年来在教育部门的大力扶持下，使得中小学书法教育蓬勃发展，学生水平大幅提高。

B. 经过几代航天人的艰苦奋斗，中国的航天事业开创了以“两弹一星”、载人航天、月球探测为代表的辉煌成就。

C. 职业教育的意义不仅在于传授既能，更在于育人，因此有意识地把工匠精神渗透进日常的技能教学中是职业教育改革的重要课题。

D. 截止 12 月底，我院已经推出了 40 多次以声光电技术打造的主题鲜明的展览，是建院 90 年来展览次数最多的一年。

2018-福建-36. 民间工艺是艺术的，也是生活的。民间艺人使用简单的工具和材料进行创作，常呈现出某种稚拙的艺术风貌，但这些风貌稚拙的作品，却反映出广阔的社会生活，表达出广大民众的心声，表现出人与自然和谐的审美观念。人是自然的一部分，利用自然是人的能力。民间工艺的制作离不开其所处的自然环境，其材料来源于当地提供的自然资源。

根据上文叙述，作者接下来最有可能讲述的事例是：

- A. 湘西土家族织锦上出现了抽象的几何纹样
- B. 贵州的蜡染和扎染用的是当地的植物材料
- C. 瑶族师公绘制的《八仙图》的制作和使用
- D. 民间流传的端午门楣上插“艾蒿”的风俗

2018-福建-37. 中国东南沿海不但拥有海洋文明的基因，也从未彻底间断过海洋文明。中国海洋事业经过秦汉魏晋南北朝及隋唐数朝发展，逐渐走向良性循环，但正当海洋事业比重在中国社会经济结构中步步加重、宋元海陆双重帝国架构渐渐成型之际，与朱元璋相伴而来的明清绝对君主专制体制在中国登场，大陆性皇权势力经常凌驾于海洋性民间社会力量之上，阻遏了中国海洋文明的进一步发展，从而使中国成为大航海时代的落伍者。

根据上述材料，下列判断有误的是：

- A. 早在秦汉时期，中国的海洋事业便走向了良性发展之路

- B. 明清的绝对君主专制体制严重阻碍了中国海洋文明发展
- C. 宋元时期，陆地与海洋经济在国民经济总值中分庭抗礼
- D. 自明清时起，中国的海洋文明开始逐渐落后于欧美诸国

2019-福建-38. 左边痒了看着镜子挠右边，右边痒了看着镜子挠左边。“镜像挠痒法”尽管没有直戳痒点那么好，但的确有效。该研究获得某年“搞笑诺贝尔奖”的医学奖。“镜像挠痒法”看似荒谬，其实有一定道理。痒的感觉虽然始于皮肤上的感受器，但它的感知和调节很大程度上是由中枢神经系统起作用。如果大脑接收到了互相矛盾或者模棱两可的知觉信息，就会产生错觉。

这段文字意在说明：

- A. 直戳痒点的感知和调节很大程度上是由中枢神经系统起作用
- B. “镜像挠痒法”比直戳痒点更有科学研究价值
- C. “镜像挠痒法”的科学原理
- D. “镜像挠痒法”的效果有待进一步研究

2018-福建-39. 陆地对二氧化碳的吸收是通过光合作用进行的，在过去 100 多年，光合作用的增加大于呼吸作用的增加，使得陆地成为“碳汇”。与海洋“碳汇”不同，陆地“碳汇”有很大的年际变化。中国的国土面积占全球的陆地面积的 6.44%，而中国的碳排放量占全球排放量约 22%。中能陆地对中国碳排放的吸收之所以能接近世界平均水平，是因为中国森林在大量吸收二氧化碳。

这段文字意在说明：

- A. 陆地的“碳汇”有很大的年际变化

- B. 陆地的“碳汇”作用不同于海洋的“碳汇”作用
- C. 中国的碳排量接近世界平均水平
- D. 中国陆地生态大量吸收二氧化碳

2018-福建-40. 依据这一判断，东南亚某国经济自2009年进入谷底，虽然经过大规模的刺激，经济增长速度有所回升，但很快又回到谷底，究其原因，不能仅仅归结为经济周期和世界金融危机的冲击，还需要考虑动力系统转型才刚刚开始，或者说，没有动力系统的转型，这个调整期很难走出了。

根据上述文字可以推断，材料中加点的“这一判断”的具体论点是：

- A. 经济体制改革是某国经济增长的持续动力
- B. 某国经济增长缓慢的原因不是需求约束而是供给约束
- C. 经济的周期波动，既有周期原因，也有动力系统转型的原因
- D. 动力系统转型必须要以保持较高的经济增长速度为前提

2018-福建-41. 故宫和长城，已成为历史的记忆，早已失去了它们原有的阻隔意义。那么，会不会有一天，今天这些雨后春笋般冒出的种种“围墙”，也会在历史的风雨中联通到处都是的“岗哨”一起悄然消失，把一个广阔的世界，还给本来开放的这片土地？

最合适作为这段文字标题的一项是：

- A. 时代的“围墙”
- B. “围墙”与“大门”
- C. “围墙”与限制
- D. “围墙”的象征意义

2018-福建-42. 关于孩子的出生顺序对其人格发展的影响，心理学家阿尔弗雷德·阿德勒进行了非常系统的研究和论述。阿德勒假设所有的父母都具有健全的人格，并且尽心尽力地养育孩子。但即便是在这样的前提下，每个孩子在家中的排行还是会极大地影响到他们的发展。没有任何两个孩子的成长环境是完全相同的，为了适应各自的环境，不同的孩子也会形成不同的生活风格和人格特质。

以上文字最有可能摘抄自下列的哪篇文章中：

- A. 《性格决定命运》
- B. 《环境影响性格》
- C. 《二胎时代的“养子兵法”》
- D. 《如何培养健全的人格》

2018-福建-43. 有人会说，幸福这个东西，很难说，好像是很主观的感觉，很难有统一的标准。确实是这样，每个人对幸福的理解是不一样的。但是，你若深入地问一下，为什么会不一样？还是有标准的。一个人对于幸福的理解，从大的方面来说，其实是体现了价值观的，就是你究竟看重什么。

这段文字意在说明：

- A. 幸福的标准难以统一原因复杂
- B. 幸福的感觉过于主观，难有统一标准
- C. 幸福的标准模糊，难以言清
- D. 要从价值观的角度去谈幸福

2018-福建-44. 一切思想史的研究，不仅意味着人们必须历史地、设身处地地思考古人在做某一件事情时是如何思想的，而且意味着一切过去的历史必须联系当下才得以理解和阐明。谈及如何历史地理解思想，

以往的学者常常会倡导文本精读的方法。实际上，这种对于文本的处理方式，是否能够真正地挖掘出作者的真实意图，本身也是存疑的。

下列说法与原文不符的是：

- A. 思想史研究应弃除文本精读的方法
- B. 一切历史必须联系当下才得以阐明
- C. 文本精读未必能够真正挖掘出作者的真实意图
- D. 思想史研究要求研究者能够设身处地理解古人

2018-福建-45. 每当一种强势文化伴随着现代的生产方式进入不同质文化区时，势必会引起当地族群对自身文化和前途的担忧以致恐惧。这时，极端主义者大多会以本民族的和宗教的辉煌历史反证西方文明引起的礼崩乐坏，以反全球化的思想抵制全球化对传统文化的冲击，这种非理性的逻辑更加剧了世界上众多族群对全球化的抵制心理。当这些不同质文化区进入社会政治转型期产生诸多敏感问题时，这种心理均可能转化成为极端主义实现社会动员的条件。

根据上述语段，下列判断正确的是：

- A. 西方文明以强势姿态进入不同质文化区时，会引发礼崩乐坏的现象
- B. “中心”与“边缘”两种文化的对抗，是极端主义思想泛滥的原因
- C. 处于社会政治转型期的落后地区，容易成为极端主义者滋生的温床
- D. 极端主义者往往利用本民族大众对全球化的抵制情绪发动对抗行动

2018-福建-46. 长期照料社会保险是高水平社会保险的组成部分，也是缓解公民在年老、病残、伤害时出现生活障碍的一个必要的保障措施。在 20 世纪八九十年代，欧美等发达国家普遍完成了长期照料社会保险制度的构建。到目前为止，日本、韩国等东亚国家的长期照料社会保险制度，也都取得了一定的成效。就我国现阶段而言，伴随着快速的人口老龄化、高龄化趋势以及社会经济和家庭结构的快速转型，我国失能老年人的长期照料问题日益突出，长期照料社会保险的社会需求日益迫切，建立长期照料社会保险制度成为摆在政府面前的一项重要课题。

上述文字讨论的中心是：

- A. 立足国情渐进式推进，做好舆论和制度的准备
- B. 做好长期照料机构建设和专业人才的培养
- C. 我国建立长期照料社会保险制度的基本构想
- D. 建立长期照料社会保险的含义及特点

2018-福建-47. 智慧能开辟一片新天地。改革需要极大的勇气，但绝不是有勇无谋地蛮干硬干，而是充满着智慧。一要有谋划全局的胸怀。二要有胸有成竹的气度。三要有刚中有柔的策略。

这段文字的主旨是：

- A. 勇气和智慧相结合是改革的辩证法
- B. 有智无勇，只能纸上谈兵，改革将很难推动和突破
- C. 有勇无智，改革将困难重重，改革者会遇到很多麻烦
- D. 勇气能杀开一条血路，改革要凭着一股子闯劲

2018-福建-48. 互联网的互联互通解决了人类很多闲置资源，人际网络的巨大和沟通的低成本，使得过去不可能的事情变成了今天的可能。互联网时代的存在方式是“网状存在”，每个人都是网络关系的一个端。

互联网时代的决定性因素是关系而不是实体，关系决定实体，实体服从关系，关系决定新的游戏规则。我们要做的是，争取成为网络关系中的一个关键点，从而支配整个网络关系和新的游戏规则。由此，互联网逻辑要求我们能实现一种自我的开放。

上述文字旨在说明：

- A. 互联网时代的决定性因素是关系而不是实体
- B. 互联互通逻辑下，开放自我是重要的要求
- C. 人是网络关系中的一个关键点
- D. 互联网是一个互联互通的人际网络

2018-福建-49. 真正的通俗应该是从最简单的、众所周知的材料出发，用简单的推论或恰当的例子来说明从这些材料中得出的主要结论，启发肯动脑筋的读者不断去思考更深一层的问题。把读者当成不动脑筋或不会动脑筋的人，试图通过一种畸形简化的充满玩笑和俏皮话的形式，把某一种学说的全部结论现成地奉献给读者，读者连咀嚼都用不着，只要囫囵吞下去就行了的做法，是十足的庸俗之举。

最适于作上述语段标题的是：

- A. 通俗有赖于读者思考
- B. 囫囵吞枣不是通俗化
- C. 大众化离不开通俗化
- D. 通俗化不等于庸俗化

2018-福建-50. 眼下，一些城市“患”上住房拥挤、交通拥堵、环境污染等城市病。表面上看，它可以通过减少需求、缩小供求之间的差距来加以解决。但是，从城市整体角度看，需求由市场规律作用下的劳动力和其他生产要素的集聚规模决定，与城市的吸引力和辐射水平有关，人为控制集聚规模相对于市场力量“微不足道”，这也正是人们一边抱怨大城市拥挤，一边不断向大城市集聚的主要原因。

作者接下来最有可能论述的是：

- A. 协调供需关系是治理“城市病”的关键
- B. 控制人口是治理“城市病”的关键
- C. 治理“城市病”要加强环境、交通建设
- D. 控制城市规模是治理“城市病”的关键

2018-福建-51. 描写中国现实，需要中国经验，这对作家来说是一个严峻的挑战。我们写今天的现实，没有拉开时间的距离，作家和批评家都知道，这个距离其实就是审美距离。迎接那样审美不确定的挑战，除了关注现实之外，其对生活的理解、过滤和把握更为重要，要调动各种艺术手段，让自己的作品安上翅膀飞扬起来，文学应该给残酷的现实注入浪漫和温暖。

上述文字强调的是：

- A. 描写中国现实，对作家来说需要拉开时间的距离
- B. 作家描写中国现实，审美不确定的挑战很多
- C. 如今的作家陷入了某种无法摆脱的精神困境
- D. 作家光有生活积累是不够的，应该用作品唤起生命中的神圣情感

2018-福建-52. 成语“滴水穿石”所说的“石”通常是指大理石。大理石的主要成分是碳酸钙。碳酸钙虽然坚硬、不溶于水，但是长期在潮湿的环境中，会与空气中的二氧化碳、水发生反应生成可溶于水的碳酸氢钙。“滴水穿石”就包含了这个化学反应，天长日久，大理石才会被滴穿。

上述文字旨在说明：

- A. “滴水穿石”的环境
- B. “滴水穿石”的原理
- C. “滴水穿石”的利弊
- D. “滴水穿石”的哲理

53. 创客教育旨在为学生提供适宜的用于创造的环境、资源与社会，尤其是借助技术工具与资源让学生能够将学习过程融于创造过程，实现基于创造的学习；能够在创造过程中提升学科学习质量和学科学习中的自信、创造力与兴趣；能够全身心投入到基于创造的学习过程中，培养自己的批判性思维、创新思维与问题解决能力，实现全人发展。

这段文字谈论的主题是：

- A. 创客教育激发学生学习兴趣
- B. 创客教育实现全人发展
- C. 创客教育的内涵
- D. 创客教育提高学生学习效率

2018-福建-54. 对绝大多数生物来说，DNA 是遗传信息中心。它一方面可以复制自身，把遗传信息从上一代生物传给下一代生物，或是从生物体的上一代细胞传给下一代细胞；另一方面又可以把遗传信息传达给 RNA（核糖核酸），再由 RNA 翻译成各种蛋白质，由蛋白质来完成多数具体的生命活动——包括协助 DNA 进行复制。

对这段文字理解不正确的一项是

- A. DNA 可将遗传信息从生物体的上一代细胞传给下一代细胞
- B. RNA 接受 DNA 传递来的遗传信息并将之翻译成各种蛋白质
- C. DNA 可以将遗传信息传达给 RNA
- D. RNA 可以协助 DNA 进行复制活动

2018-福建-55. 实践观点是马克思主义的首要观点，理论与实践的统一是马克思主义的一个最基本的原则。实践没有止境，理论创新也没有止境。习近平同志指出，要使党和人民事业不停顿，要根据时代变化和实践发展，不断深化认识，不断总结经验，不断进行理论创新。这是我们事业兴旺发达的成功之道。

这段文字旨在强调：

- A. 理论创新是实践创新的先导
- B. 理论创新是党和人民事业兴旺发达的成功之道
- C. 实践创新是理论创新的基础和源泉
- D. 在理论创新和实践创新的良性互动中不断增强问题意识

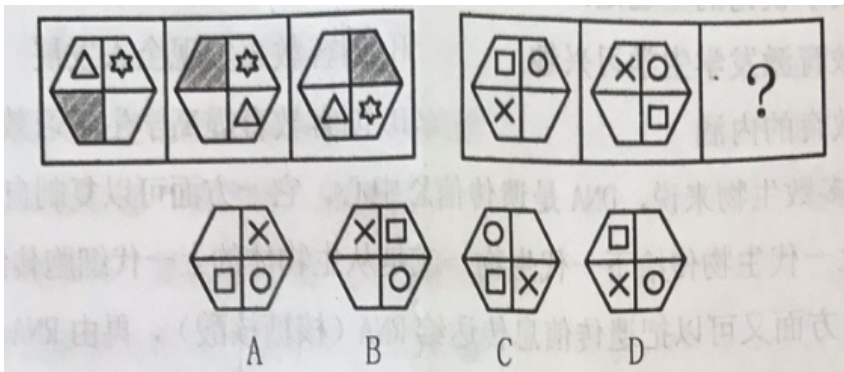
第三部分 判断推理

本部分包含五种类型，共 30 道试题：

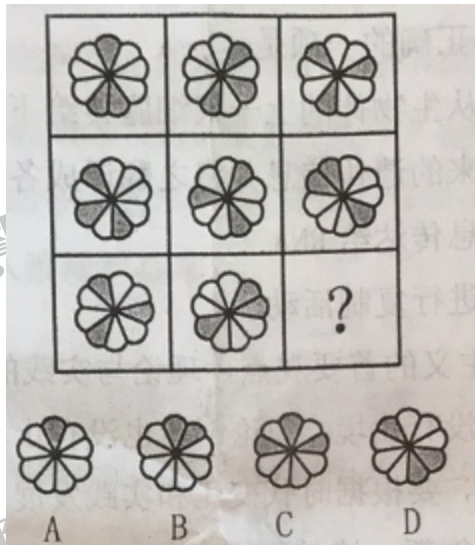
一、图形推理

请认真观察每组图形，理解其中含义，判断出它的逻辑和顺序，并在四个选项中选择最正确的答案。（共 5 题，每题 0.9 分，计 4.5 分）

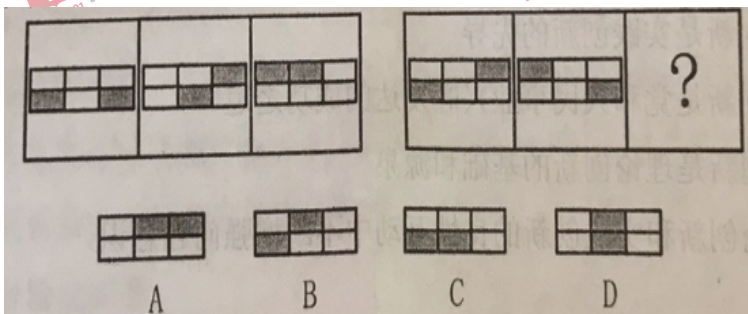
2018-福建 56. 填入问号处最恰当的是



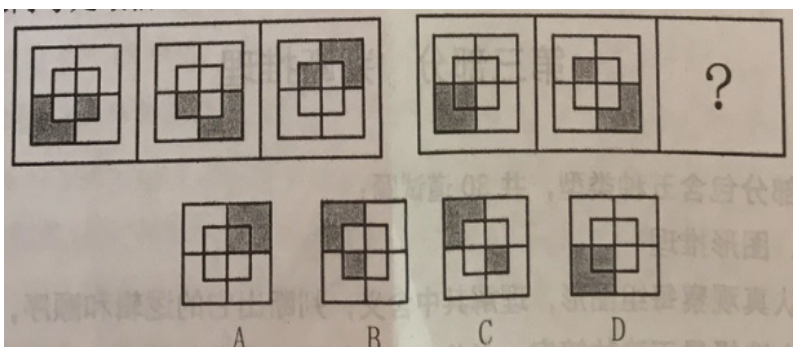
2018-福建-57. 填入问号处最恰当的是



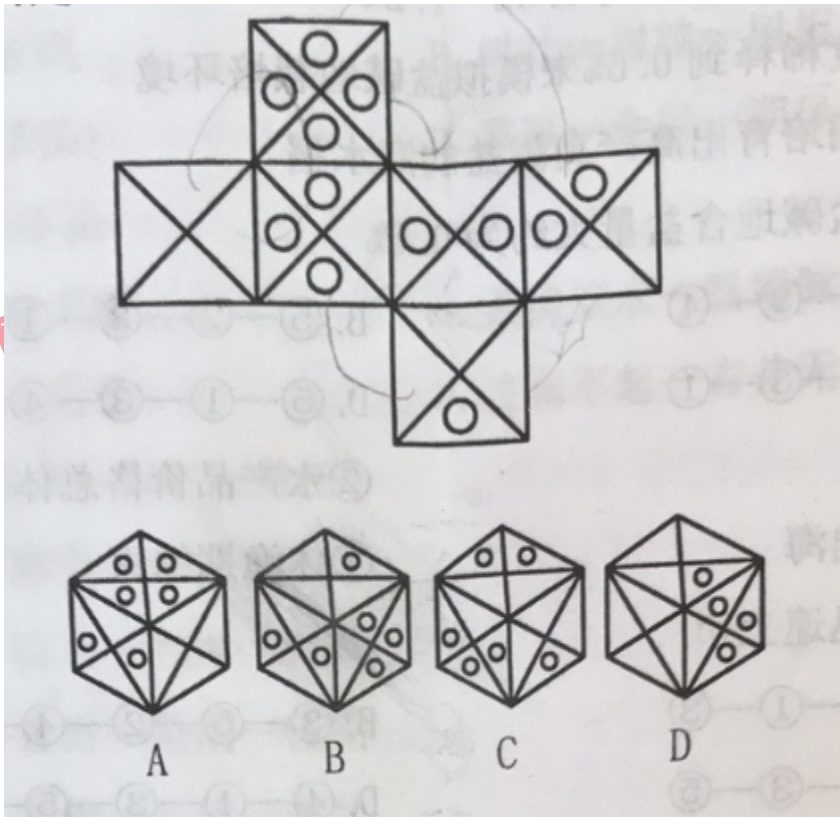
2018-福建-58. 填入问号处最恰当的是



2018-福建-59. 填入问号处最恰当的是



2018-福建-60. 由此模板折成的是:



二、事件排序

每道题给出五个事件，每个事件是以简短语句表述的，接着给出四种假定发生顺序的序列，请选择其中最合乎逻辑的一项。（共5题，每题0.7分，计3.5分）

2018-福建-61.

- ①“白色污染”严重 ②二氧化碳可降解塑料
③研制环境友好塑料 ④禁用一次性泡沫包装材料
⑤塑料制品应用广泛

- A. ④-⑤-①-②-③ B. ①-④-⑤-③-②
C. ⑤-①-④-③-② D. ①-⑤-③-②-④

2018-福建-62.

- ①信息化战争模式以网络为基础
- ②数据链连接中枢和武器终端
- ③网络神经中枢是指挥的核心
- ④智能终端武器能接收中枢指令
- ⑤整体的信息化使得作战能力倍增

- A. ②-⑤-④-①-③ B. ①-③-②-④-⑤
C. ⑤-④-①-②-③ D. ①-⑤-②-③-④

2018-福建-63.

- ①海水的盐度是 3%~3.5%
- ②一般野生水稻耐盐度为 0.3%~1.25
- ③将海水盐度稀释到 0.6%来模拟盐碱地栽培环境
- ④优选野生稻培育出高产高耐盐的海水稻
- ⑤内陆地区盐碱地含盐量大约为 0.6%

- A. ①-②-⑤-③-④ B. ⑤-②-③-①-④
C. ④-⑤-②-③-① D. ⑤-①-③-④-②

2018-福建-64.

- ①正式开渔
- ②水产品价格总体下降
- ③万艘渔船出海
- ④休渔期结束
- ⑤新鲜渔获迅速上市

- A. ⑤-②-④-①-③ B. ③-⑤-②-④-①
C. ④-②-①-③-⑤ D. ④-①-③-⑤-②

2018-福建-70. 节日：元旦—春节—端午—重阳

- A. 黎明：凌晨—拂晓—破晓—昧旦
- B. 节气：立春—雨水—谷雨—白露
- C. 生日：诞辰—吉日—婚期—假期
- D. 时令：季节—黄梅—三伏—数九

四、定义判断

每道题先给出一个概念的定义，然后分别列出四种情况，请严格依据定义，从中选出一个最符合或最不符合该定义的答案。注意：假设这个定义是正确的，不容置疑的。（共5题，每题0.9分，计4.5分）

2018-福建-71. 翻转课堂教学模式：是指重新调整课堂内外的时间，将学习的决定权从教师转移给学生。在这种教学模式下，教师不再占用课堂的时间来讲授信息，这些信息需要学生在课外通过观看视频、听播客等方式自主学习。在课堂时间内，教师主要进行问题辅导，或者对实验过程中有困难的学生提供帮助，使得学生能更专注于主动学习。

根据上述定义，下列属于翻转课堂教学模式的是：

- A. 教师布置学生在课后阅读一道案例并要求查阅相关资料，在课堂上由教师主持学生进行分组讨论
- B. 学生在课前预习教材的内容，记录下遇到的疑难问题，教师在课堂讲授后的剩余时间与同学们一起讨论所记录的难题
- C. 教师布置学生在课余时间自行设计下次实验课的操作步骤，学生在课堂上展示自己的实验步骤，教师进行点评计分
- D. 学生在课外完成课程教材的阅读，教师在课堂上通过对学生讨论和学生提出的问题进行分析指导。

2018-福建-72. 工业 4.0，是指利用信息物理系统促进产业变革，将智能产品制造、生产服务化与云工厂融于一体的工业发展阶段。生产由集中向分散转变，规模效应不再是工业生产的关键因素；产品由趋同向个性转变，未来产品都将完全按照个人意愿生产，极端情况下将成为自动化，个性化的单件制造；用户由部分参与向全程参与转变，用户不仅出现在流程的两端，而且广泛、实时地参与到生产和价值创造的全过程。

根据上述定义，下列符合工业 4.0 的企业是：

- A. 甲公司通过对生产流水线进行规模化升级，降低了汽车生产的固定成本，提高了生产效率
- B. 乙公司利用云制造平台，实施分散接洽客户需求模式，推行“私人定制”的个性化全程可视生产模式
- C. 丙公司推行产品组装的客户参与模式，将标准化产品组件的最终组装交由用户自己完成
- D. 丁公司生产油电混合动力的智能汽车，降低了环境污染，实现驾驶过程舒适度安全性的同步提升

2018-福建-73. 边界效应，是指人们喜爱逗留在区域的边缘，而区域开敞的中间地带是最后的选择。一般来说，边界是众多信息汇聚的地方，它具有异质性，是变化的所在，容易产生特殊的现象，受到人们的关注：

根据上述定义，下列不属于边界效应的是：

- A. 在地铁里，人们乐于选择人少的座位
- B. 在就餐时，人们普遍倾向选择靠窗的位置坐下
- C. 在聚会中，人们往往喜欢选择靠边位置坐下
- D. 在广场上，人们常常选择广场四周的花圃坐下

2018-福建-74. 软瘾，是指那些强迫性的习惯、行为或回复性的情绪，通常表现为过度购物、看电视、上网，强迫性地频繁查看电子邮件等。软瘾患者通过上述行为获得暂时的满足和快感，却花费大量的精力和财力，其事后可能会后悔，但当时却难以自拔，深陷其中。软瘾不同于毒品、药物、酒精成瘾，也不同于爱好和激情，爱好和激情是人在学习、成长过程中，通过活动自我调整、消除不良情绪而产生愉快心理体验的一种正面情绪，软瘾则是一种负面情绪。

根据上述定义，下列不属于软瘾的是：

- A. 张某频繁而不加节制地购买各种有用或没用的物品，导致债台高筑，陷入经济困境，但张某仍乐此不疲
- B. 李某担心未能及时获得招聘单位的相关信息，每隔半个小时就上网查阅邮箱，每次查无所获后都非常沮丧却又无法自拔
- C. 王某为了在网络游戏上战胜对手，每周末都要通宵达旦上网激战，但游戏结束后都会空虚后悔，愧疚自责
- D. 林某为了给追求的女孩陈某送上生日礼物，在陈某宿舍楼下连续守候一周后被拒绝，从此郁郁寡欢，酗酒成瘾

2018-福建-75. 个体社会化，是指个体在社会环境影响下，认识和掌握社会事物、社会标准的过程，通过这个过程，个体得以独立地参加社会生活。从社会心理学的角度讲，是指个体的特定的社会情境中，通过自身与社会的双向互动，逐步形成社会心理定向和社会心理模式，学会旅行其社会角色，由自然人转变为社会人并不断完善的长期发展过程。

根据上述定义，下列不属于个体社会化的是：

- A. 小甲通过到博物馆担任志愿者，锻炼了口语能力，增长了文物辨别能力
- B. 小乙注重身体锻炼，个子长得很快，还没 12 岁身高就已达 1.7 米
- C. 小丙在工作中掌握了汽车营销的行业技巧，辞职创办汽车销售公司
- D. 小丁经历多次创业失败后，决定出国深造，学习法语

五、逻辑判断

每段给出一段陈述，这段陈述被假设是正确的，不容置疑的。请根据这段陈述，选择一个答案。注意，正确的答案应与所给的陈述相符合，不需要任何附加说明即可从陈述中直接推出。（共 10 题，每题 1 分，计 10 分）

2018-福建-76. 有人说：“早起的鸟儿有虫吃，有一只小麻雀有虫吃，所以这只小麻雀是早起的鸟儿。”

下列哪项如果为真，最能加强上述论证？

- A. 越早起的麻雀越有虫吃
- B. 早起的虫子被鸟吃
- C. 迟起的鸟儿没有虫吃
- D. 只有有虫吃的麻雀，才是勤奋的鸟儿

2018-福建-77. 专家对学校教师队伍建设的评估结论是：具有博士学位的教师比例没达到 25%，而且教授、副教授职称的男教师比例偏低，需要加强引进和培养高层次人才的力度。

下列情况哪个是对专家评估结论的加强？

- A. 有一位男博士漏统计了
- B. 有一位女教授漏统计了
- C. 信息安全专业有三位男教师既是博士又是副教授
- D. 学校规定博士毕业工作一年后即可以聘为副教授

2018-福建-78. 数字福建社会安全大数据研究所里有的研究人员获得了大数据专业的理学硕士学位。因此，有些工学背景的大学本科毕业生也可以攻读理学硕士学位。

下列哪项如果为真，则最能保证上述论述成立？

- A. 数字福建社会安全大数据研究所里所有研究人员都是工学背景的大学生
- B. 数字福建社会安全大数据研究所里有的研究人员是工学硕士
- C. 数字福建社会安全大数据研究所里有的研究人员是工学背景的大学生
- D. 数字福建社会安全大数据研究所里所有的研究人员是理学硕士

2018-福建-79. 有的病不是所有的医生都能够治疗的。下列哪项判断与上述论断的涵义最为相近？

- A. 有的病是某些医生不能够治疗
- B. 有的医生不是包治百病的
- C. 有的医生可以治所有的病
- D. 有的病是所有的医生都不能够治疗的

2018-福建-80. 学校买了一批电脑给老师用，甲、乙、丙、丁四位老师将各自拿到一台，他们对电脑的性能进行猜测和评论：

甲： 我们的电脑性能肯定都是合格的。

乙： 一批产品合格率不可能是百分百，总有一些电脑是不合格的。

丙： 我不可能那么倒霉拿到一台不合格的电脑。

丁： 其他人的电脑不都是不合格的，但我的电脑是合格的。

经过验证，发现四人中只有一个人的预测是错误的。下列哪项与最后实际情况吻合？

- A. 丙的电脑是不合格的，其他人的电脑都是合格的
- B. 丁的电脑是合格的，其他人的电脑都是不合格的
- C. 丙的电脑是合格的，其他人的电脑不都是合格的
- D. 丁的电脑是合格的，其他人的电脑都是合格的

2018-福建-81. 现在的家长都爱给自己的孩子报各种培训班，有个小女孩对她的妈妈说：

- ①如果培训班的英语老师是男的，那么我就不想报英语的培训班
- ②或者选英语，或者选舞蹈，两个必须选择一个
- ③如果选择学舞蹈，那就不学钢琴了
- ④钢琴和心算可以一起学

下列哪项如果为真，可得出“培训班的英语老师是女的”的结论？

- A. 选择了学舞蹈
- B. 没有选学心算
- C. 选择了学钢琴
- D. 选择了学心算

2018-福建-82. 年终考核表里有计算出每人的工作量及排名，考核组长随机抽取一部分考核表进行统计，发现其中 60% 的人的工作量位居全部员工的前 20%。那么下列哪一项能够对上述现象给出最合适的解释()。

- A. 未抽中的考核表里工作量位居全部员工前 20% 的人的比例是 60%
- B. 考核表里的工作量较少的人大多数没有被考核组长抽到
- C. 抽中的考核表里工作量位居全部员工前 60% 的人的比例是 20%
- D. 考核表里的工作量较多的人大多数没有被考核组长随机抽到

2018-福建-83. 某服务行业基层单位每年都要接收行风评议，如果行风评议不合格，单位年终不能评优，对应的个人也都不能评优，有数据显示该行业上一年度 97.5% 的基层单位行风评议是合格的。

如果上述论述为真，则下列四个选项找中哪项一定为真？()。

- (1) 某个人被评优了，其所在单位也一定是行风评议合格的
 - (2) 2.5% 的个人没有获得评优的资格
 - (3) 97.5% 的个人获得评优的资格：()
- A. 仅 (1) B. (2) 和 (3)
C. (1) 和 (2) D. (1) 和 (3)

2018-福建-84. 房管部门统计今年一月到六月本市大约有 3 万套商品房签约售出，是去年全年销售的 36%。由此可推断，今年的商品房销售量一定会比去年少。下列哪项如果为真，将对上述推论提出质疑？()

- A. 去年上半年的销售量也不到前年全年销售量的 36%
- B. 很多家庭购买商品房已经不是刚需
- C. 今年上半年销售的商品房中有一半是在前两月售出的

D. 房产销售界有“金九银十”的现象，九月、十月的销售量一般占全年销售 66%以上

2018-福建-85. 三八节单位组织活动，有以下几种选择方案：

- ①如果去泡温泉，那么就不包粽子
- ②不包粽子就只能学习插花
- ③如果下雨，那么不能泡温泉
- ④包粽子活动必须和采摘粽叶活动一起组织

由于时间太短最后决定最多只能组织一项活动，下列哪项如果为真可以推测组织的活动是“学习插花”？（ ）

- A. 下雨
- B. 下雨或不泡温泉
- C. 不采摘粽叶
- D. 不泡温泉

第四部分 数量关系

一、数字推理

给你一个数列，但其中缺少一项，要求你仔细观察数列的排列规律，然后从四个选项中选出最合理的一项，来填补空缺项，使之符合原数列的排列规律。（共 5 题，每题 0.9 分，计 4.5 分）

2018-福建-86. 4 6 7 12 () 18 19 24

- A. 10
- B. 12
- C. 14
- D. 16

2018-福建-87. 122 144 242 263 () 331 362

- A. 281 B. 296
C. 300 D. 326

2018-福建-88. 0 1 2 3 6 9 18 () 63

- A. 18 B. 24
C. 36 D. 54

2018-福建-89. -1 0 3 -8 15 () 35 -48

- A. 26 B. -26
C. 24 D. -24

2018-福建-90. $-1/2$ 0 $1/6$ $1/4$ $3/10$ () $5/14$

- A. $1/5$ B. $1/3$
C. $2/5$ D. $2/3$

二、数学运算

在这部分试题中，每道试题为一段表述数字关系的文字，请准备、迅速地计算出结果。（共 10 题，每题 1 分，计 10 分）

2018-福建-91. 计算 $\frac{1993 \times 1994 - 1}{1993 + 1992 \times 1994}$

- A. 1 B. -1
C. 2 D. -2

2018-福建-92. 计算 $1 + 3\frac{1}{6} + 5\frac{1}{12} + 7\frac{1}{20} + \dots + 17\frac{1}{90}$

- A. $80\frac{2}{5}$ B. $81\frac{2}{5}$
C. $80\frac{3}{5}$ D. $81\frac{3}{5}$

2018-福建-93. 有一个号码是六位数，前四位是 2857，后两位记不清，即 2857??。但是我记得，它被 11 和 13 整除，那么这个号码是：

- A. 285712 B. 285714
C. 285715 D. 285717

2018-福建-94. 一个数的 20 倍减去 1 能被 153 整除，这样的自然数中最小的是：

- A. 31 B. 29
C. 23 D. 18

2018-福建-95. 平面上有 99 条直线，这些直线最多有多少交点？

- A. 1198 B. 2297
C. 3596 D. 4851

2018-福建-96. 甲乙合作完成一项工作，由于配合得好，甲的工作效率比单独做时提高 $\frac{1}{10}$ ，乙的工作效率比单独做时提高 $\frac{1}{5}$ ，甲乙合作 6 小时完成了这项工作。如果甲单独做需要 11 小时，那么乙单独做需要几小时？

- A. 13 B. 16
C. 18 D. 20

2018-福建-97. 甲乙在银行存款共 9600 元，如果两人取走各自存款的 40%，然后甲再从存款中转账 120 元给乙，这时两人存款数相等。那么甲的原存款为多少元？

- A. 3500
- B. 3900
- C. 4200
- D. 5000

2018-福建-98. 某代表队参加文艺会演的共 46 人，其中女生人数的 $\frac{4}{5}$ 是男生人数的 $1\frac{1}{2}$ ，那么参加演出的女生人数为多少人？

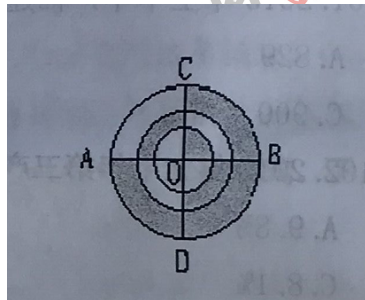
- A. 30
- B. 33
- C. 36
- D. 38

2018-福建-99. 某班有 50 人，其中有 42 人会打乒乓球，40 人会打篮球，38 人会打排球，35 人会打羽毛球，则这个班至少有多少人这四项球类都会打？

- A. 2
- B. 3
- C. 4
- D. 5

2018-福建-100. 在右图中，两个圆的半径分别为 1 厘米、2 厘米、3 厘米、AB 和 CD 垂直且过这三个圆的共有圆形 O。图中阴影部分面积与非阴影部分的面积之比是多少？

- A. 11:7
- B. 10:7
- C. 12:5
- D. 13:6



第五部分 资料分析

所给出的图、表、文字或综合性资料均设置了若干个问题，请根据资料提供的信息进行分析、比较、计算和判断处理。(共 10 题，每题 1 分，计 10 分)

(一) 根据下列资料回答 101-105 题

2015 年上半年，福建省实现生产总值 10468.34 亿元，按可比价格计算，同比增长 8.6%，增幅比一季度提高 0.1 个百分点，比上年同期回落 1.1 个百分点。分产业看，第一产业产值 696.78 亿元，增长 3.0%；第二产业产值 584.21 亿元，增长 9.4%；第三产业产值 3929.35 亿元，同比也呈增长态势。

2015 年上半年，工业产值增幅加快，全省规模以上工业产值 5208.86 亿元，同比增长 9.4%，增幅比一季度提高 0.1 个百分点。其中，6 月份规模以上工业实现产值 970.19 亿元，同比增长 10.0%，增幅分别比 4 月份和 5 月份提高 0.7 个和 0.6 个百分点。分轻重工业看，重工业产值增长 10.9%，轻工业增长 7.9%。分行业看，38 个大类行业有 34 个行业产值实现同比增长，其中 13 个行业实现两位数增长，增速超过 20% 的有 4 个。分地区看，工业产值同比增长居前三位的分别是漳州 11.9%，莆田 10.8%，福州、泉州、宁德均为 9.5%。上半年工业产品销售率为 96.21%，比上年同期下降 0.67 个百分点。规模以上工业企业实现出口交货值 3414.69 亿元，同比增长 2.0%。

2018-福建-101. 2015 年上半年，福建省实现生产总值同比增长约__亿元。

- A. 829
- B. 890
- C. 900
- D. 1015

2018-福建-102. 2015 年上半年第三产业产值同比增长为：

- A. 9. 8%
- B. 8. 5%
- C. 8. 1%
- D. 5. 8%

2018-福建-103. 福建省 2015 年上半年产值同比增长金额最高的是：

- A. 第一产业
- B. 第二产业
- C. 第三产业
- D. 规模以上产业

2018-福建-104. 2015 年 1-5 月，福建省规模以上工业产值同比增长约为：

- A. 9. 3%
- B. 9. 4%
- C. 9. 5%
- D. 9. 7%

2018-福建-105. 从资料中可以确定的正确说法是：

A. 2015 年上半年，福建实现生产总值增速同比上涨

B. 2015 年上半年，福建省规模以上工业中重工业增加值大于轻工业增加值

C. 2015 年上半年，福建规模以上工业中有 21 个行业产值的同比增长小于 10%

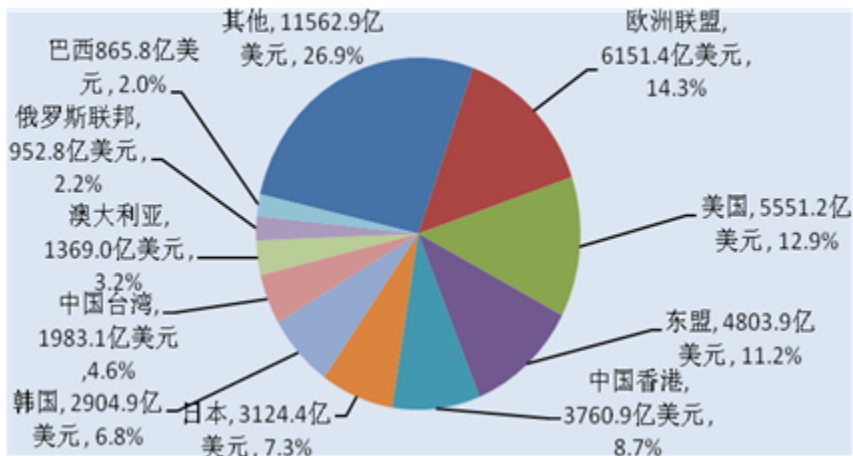
D. 2015 年上半年，漳州和莆田的工业产值占比超过 20%

(二) 根据下列资料回答 106-110 题

2014 年，中国进出口增速比全球贸易增速高出 2.7 个百分点，出口占全球份额为 12.7%，比 2013 年提高 0.6 个百分点。全球第一货物贸易大国地位进一步巩固。

进出口市场结构更趋平衡。对发达国家进出口保持稳定，2014 年对欧盟和美国进出口分别增长 9.9% 和 6.6%。自贸区战略促进进出口的效果明显，对自贸伙伴（不含港澳台地区）出口增长 10.6%，占出口总额的比重为 13.4%，较 2013 年上升 0.6 个百分点。

图2 2014年中国前十大贸易伙伴进出口额及占比



2014 年，中国中西部地区进出口额合计约占全国进出口的比重为 15%，较 2013 年上升了 1.5 个百分点，对整体进出口增量贡献 60.3%，贡献率首次超过东部。

| | 进出口额(亿美元) | 同比增长(%) | 占比(%) | 出口额(亿美元) | 同比增长(%) | 占比(%) | 进口额(亿美元) | 同比增长(%) | 占比(%) |
|----|-----------|---------|-------|----------|---------|-------|----------|---------|-------|
| 全国 | 43030.4 | 3.4 | 100 | 23427.5 | 6 | 100 | 19602.9 | 0.5 | 100 |
| 东部 | 36559.5 | 1.6 | 85 | 19436.4 | 3.9 | 83 | 17123 | 7 | 87 |
| 中部 | 3127.1 | 10 | 7.3 | 1816.4 | 13 | 7.8 | 1310.6 | 6.3 | 6.7 |
| 西部 | 3343.8 | 20 | 7.8 | 2174.6 | 22 | 9.3 | 1169.2 | 17 | 6 |

2018-福建-106. 2014年，全球进出口份额约为_____万亿美元

- A. 15.4
- B. 18.4
- C. 29.2
- D. 33.9

2018-福建-107. 2013年，我国对欧盟和美国进出口额占全国进出口额的比重约为：

- A. 10%
- B. 17%
- C. 26%
- D. 27%

2018-福建-108. 2013 年，对自贸伙伴（不含港澳台地区）出口额约为_____亿美元：

- A. 2210. 1 B. 2483. 2
C. 2838. 4 D. 3139. 3

2018-福建-109. 2014 年，东部地区拉动全国进出口额增长约_____百分点：

- A. 1. 4 B. 1. 5
C. 1. 6 D. 1. 9

2018-福建-110. 从资料中可以确定的不正确说法是：

- A. 2014 年，全球贸易增速约为 0.7 个百分点
B. 2014 年，我国对亚洲地区国家的进出口额占前十大贸易伙伴的比重超过 50%
C. 2014 年，东部地区的出口额增长大于中西部地区的合计出口增长
D. 2014 年，东部地区的进出口额增量占全国进出口额增量的比重超过 50%