

# 贵州省农村信用社 2017 年公开招聘员工 笔试试卷

## 第一部分 公共基础知识

### 1、政治法律基础知识（请根据题目要求，在四个选项中选出一个最恰当的答案）

1、2017 年 6 月 14 日，国务院常务会议决定在贵州、浙江、江西、广东、新疆 5 省（区）选择部分地方，建设绿色金融改革创新试验区，在体制机制上探索可复制可推广的经验，此次国务院决定在我省（ ）建设绿色金融改革创新试验区，充分体现了中央对贵州发展的高度重视和大力支持，对我省调结构转方式、加快生态文明建设具有双重意义，是我省加快发展、后发赶超的重大机遇。

- A、贵安新区                      B、贵阳国家高新区  
C、贵阳综合保税区              D、双龙航空港经济区

【答案】A。6 月 14 日，国务院常务会议决定在贵州、浙江、江西、广东、新疆 5 省（区）选择部分地方，建设绿色金融改革创新试验区，在体制机制上探索可复制可推广的经验。此次国务院决定在贵州省贵安新区建设绿色金融改革创新试验区，充分体现了中央对贵州发展的高度重视和大力支持，对我省调结构转方式、加快生态文明建设具有重大意义。

2、2017 年 6 月 26 日，（ ）率先在京沪高铁两端的北京南站和上海虹桥站双向首发，分别担当 G123 次和 G124 次高速列车。在研制过程中，占比 84%的“中国标准”构建出我国高铁的核心竞争力和话语权，“中国标准”体现的不再仅仅是中国制造，而是实现了从“中国制造”到“中国创造”的跨越。

- A、和谐号                      B、复兴号                      C、韶山号                      D、东风号

【答案】B。中国标准动车组“复兴号”将率先在京沪高铁两端的北京南站和上海虹桥站双向首发 6 月 25 日，由中国铁路总公司牵头组织研制、具有完全自主知识产权、达到世界先进水平的中国标准动车组被命名为“复兴号”。

3、2017 年 7 月 1 日，在庆祝香港回归祖国 20 周年大会暨香港特别行政区第五

届政府就职典礼上，香港特别行政区第五任行政长官（ ）正式宣誓就职。

- A、董建华 B、梁振英 C、林郑月娥 D、曾荫权

【答案】C。7月1日上午，庆祝香港回归祖国20周年大会暨香港特别行政区第五届政府就职典礼在香港会展中心隆重举行。中共中央总书记、国家主席、中央军委主席习近平出席并发表重要讲话。这是习近平监誓，香港特别行政区第五任行政长官林郑月娥宣誓就职。

4、2017年6月5日，巴林、沙特、阿联酋、埃及分别宣传断绝与（ ）的外交关系，限令其外交官48小时内离境，并禁止该国公民前往这些国家。随后，也门、利比亚、马尔代夫也宣布同该国断交，指责其支持恐怖主义活动并破坏地区安全局势，造成中东地区近年来最严重的外交危机。

- A、阿富汗 B、叙利亚 C、卡塔尔 D、巴拿马

【答案】C。新华社北京6月5日电巴林、沙特阿拉伯、阿联酋、埃及5日分别宣布与卡塔尔断绝外交关系，指责卡塔尔支持恐怖主义活动并破坏地区安全局势。巴林政府5日宣布，与卡塔尔断绝外交关系，召回巴驻卡塔尔外交人员，并要求卡塔尔驻巴外交人员48小时内离境。埃及外交部宣布，关闭与卡塔尔的海空联系。沙特政府宣布，将关闭与卡塔尔的陆海空联系。

5、2017年5月14日，习近平主席在“一带一路”国际合作高峰论坛开幕式上，发表了题为《携手推进“一带一路”建设》的主旨演讲，强调坚持以和平合作、开放包容、互学互鉴、互利共赢为核心的（ ），将“一带一路”建成和平、繁荣、开放、创新、文明之路，迈向更加美好的明天。

- A、丝绸精神 B、开拓精神 C、创新精神 D、工匠精神

【答案】A。新华社北京5月14日电（记者李忠发、王慧慧、李舒）国家主席习近平14日出席“一带一路”国际合作高峰论坛开幕式，并发表题为《携手推进“一带一路”建设》的主旨演讲，强调坚持以和平合作、开放包容、互学互鉴、互利共赢为核心的丝路精神，携手推动“一带一路”建设行稳致远，将“一带一路”建成和平、繁荣、开放、创新、文明之路，迈向更加美好的明天。国务院副总理张高丽主持开幕式。故选A。

6、党的十八大以来，我们党坚持“老虎”，“苍蝇”一起打，使不敢腐的震慑

作用得到发挥，不能腐、不想腐的效应初步显现，反腐败斗争（ ）态势正在形成。

- A、阶段性      B、压倒性      C、常态性      D、全面性

【答案】B。我们党作为执政党，面临的最大的威胁就是腐败。党的十八大以来，我们党坚持“老虎”、“苍蝇”一起打，使不敢腐的震慑作用得到发挥，不能腐、不想腐的效应初步显现，反腐败斗争压倒性态势正在形成。反腐倡廉、拒腐防变必须警钟长鸣。各级领导干部要牢固树立正确权力观，保持高尚精神追求，敬畏人民、敬畏组织、敬畏法纪，做到公正用权、依法用权、为民用权、廉洁用权，永葆共产党人拒腐蚀、永不沾的政治本色。我们要以顽强的意志品质，坚持零容忍的态度不变，做到有案必查、有腐必惩，让腐败分子在党内没有任何藏身之地。故选B。

7、党的十八大确定了到2020年全面建成小康社会的目标，其中最难实现的就是农村贫困人口脱贫、贫困县摘帽、消除区域性整体贫困。下列说法错误的是（ ）

- A、实现这个目标是我们党对人民的庄严承诺  
B、必须把从严要求贯穿脱贫攻坚工作的全过程、各方面  
C、要严格落实脱贫攻坚工作的报告制度、责任制度、考核制度、督查巡查制度  
D、确保贫困地区与全国其他地区同时进入小康社会

【答案】D。地区发展不平衡不可能使各地区同时进入小康社会，故选D。

8、马克思主义哲学产生的自然科学前提是（ ）

- ①细胞学说      ②达尔文进化论      ③爱因斯坦相对论      ④能量守恒定律  
A、①②③      B、①②④      C、①③④      D、②③④

【答案】D。略

9、以生产力和技术发展水平以及与此相适应的产业结构为标准划分的社会形态称之为技术社会形态，下列选项中属于技术社会形态的是（ ）

- ①原始社会      ②渔猎社会      ③农业社会      ④工业社会  
A、①②③      B、①②④      C、①③④      D、②③④

【答案】D。技术社会形态是以生产力和技术发展水平以及与此相适应的产业结构为标准划

分的社会形态，划分为1 渔、猎社会；2 农业社会；3 工业社会；4 信息社会。故选D。

10、1937年8月22-25日，中共中央召开政治局扩大会议，作出了《关于目前形势与党的任务的决定》，制定了《抗日救国十大纲领》。会议指出争取抗战胜利的关键是实行全面的全民族的抗战路线和艰苦的持久战。这次会议的名称是（ ）

A、八七会议 B、洛川会议 C、古田会议 D、庐山会议

【答案】B。1937年8月，中共中央在陕北洛川召开政治局扩大会议，通过了《抗日救国十大纲领》，作为领导全国人民争取抗战胜利的根本方针。在中国共产党的倡议和督促下，1937年9月，国共两党抗日民族统一战线正式宣告成立。

11、改革开放以来中国取得一切成绩和进步的根本原因，归结起来就是：开辟了中国特色社会主义道路，形成了中国特色社会主义理论体系。该理论体系包括（ ）

①科学发展观 ②“三个代表”重要思想 ③邓小平理论 ④毛泽东思想  
⑤马列主义

A、①②③ B、①②③④ C、②③④ D、①②③④⑤

【答案】A。中国特色社会主义理论体系主要指邓小平理论、“三个代表”重要思想、科学发展观。

12、右侧漫画《你站到阴影里，却说太阳对你不公平》给我们的哲学启示是（ ）

A、检查否定之否定，注重事物的周期性  
B、坚持意识第一，重视直接经验  
C、把握发展的规律，坚持发展的观念  
D、把握事物的联系，正确发挥主观能动性



【答案】D。漫画劝导人要走出阴影，要发挥人的主观能动性，故D。

13、关于法律和自由的关系，下列说法正确的是（ ）

A、自由意味着绝对自由，人可以干自己想干的事情

- B、人活着为了追求自由，因此自由与法律没有任何关系
- C、法律唯一的目标和价值就是保障个人自由
- D、自由属于相对自由，要受法律的约束

【答案】D。自由是相对自由，A选项错误。在法是社会主要规则的时代，自由需要通过法和在法律的范围内来实现，B选项错误。自由不是社会唯一价值，其它的社会价值还有秩序、安全、平等、正义等，都是法律的目标和价值，D选项错误。

14、李某系国家工作人员，在履行职务的过程中侵犯了张某的权利，张某请求国家机关对李某的违法失职行为予以制裁。张某行使的权利是（ ）

- A、建议权
- B、控告权
- C、检举权
- D、批评权

【答案】B。我国现行宪法第4条第1款规定：“中华人民共和国公民对于任何国家机关和国家工作人员，有提出批评和建议的权利；对于任何国家机关和国家工作人员的违法失职行为，有向有关国家机关提出申诉、控告或者检举的权利，但是不得捏造或者歪曲事实进行诬告陷害。”控告权和检举权区别：一是控告人通常是直接受到不法侵害的人，而检举人则不一定与事件有直接关系；二是控告是为了保护自己的权益而要求对违法失职行为进行处理，检举则多为出于正义感和维护公共利益的目的。

15、下列关于我国检察机关的表述正确的是（ ）

- A、最高人民检察院是最高司法行政机关
- B、人民检察院是国家的法律监督机关
- C、上级人民检察院指导下级人民检察院工作
- D、人民检察院有批准逮捕、审查起诉并领导公安机关侦查活动的职权

【答案】B。最高人民法院是最高司法机关，A错误；上下级检察院是领导关系，C错误；法院有批准逮捕、审查起诉并领导公安机关侦查活动的职权，D错误；人民检察院是国家的法律监督机关，B正确。

16、张某在丈夫的茶杯中倒入砒霜，意图杀害丈夫，丈夫中毒后呕吐不止且昏迷不醒，此刻，张某想起丈夫平常对自己非常好，顿生悔意，遂将丈夫送到医院进行抢救，最后，张某的丈夫获救。张某的行为属于（ ）

- A、犯罪预备
- B、犯罪未遂
- C、犯罪既遂
- D、犯罪中止

【答案】D。张某在犯罪过程中由于自己主观方面的原因停止了对丈夫的杀害，并将丈夫送到医院进行抢救，有效地避免了丈夫死亡。

17、裴某讲母亲的骨灰葬于张村坟地，将自己的一对手镯随葬，该手镯的所有权



属于（ ）

A、裴母 B、裴某 C、张村 D、国家

【答案】B。物权没有转移，仍归属裴某所有。

18、王某购得某画家创作的一幅油画，根据我国《著作权法》的规定，王某获得该作品的（ ）

A、复制权 B、修改权 C、著作权 D、原件展览

【答案】D。王某获得作品后可以对其进行展览，故选D。复制权、修改权、著作权仍归画家所有。

19、甲公司由于效益不好需裁员，根据我国《劳动合同法》的规定，应当优先留用的人员不包括（ ）

A、与甲公司签订无固定期限劳动合同的员工  
B、与甲公司签订较长期限的固定期限劳动合同的员工  
C、在甲公司患有职业病或者因工负伤并确认丧失或者部分丧失劳动能力的员工  
D、家庭无其他就业人员，有需要抚养的老人或者未成年人的员工

【答案】C。《劳动合同法》第四十一条规定。裁减人员时，应当优先留用下列人员：

（一）与本单位订立较长期限的固定期限劳动合同的；

（二）与本单位订立无固定期限劳动合同的；

（三）家庭无其他就业人员，有需要抚养的老人或者未成年人的。

用人单位依照本条第一款规定裁减人员，在六个月内重新招用人员的，应当通知被裁减的人员，并在同等条件下优先招用被裁减的人员。

20、A公司对B公司进行控制，B公司依附A公司存在。A公司和B公司的关系为（ ）

A、有限公司和无限公司 B、母公司和子公司  
C、两合公司和无限公司 D、股份有限公司和有限责任公司

【答案】B。母公司和子公司存在控制与依附关系，故选B。

21、股份有限公司的权力机构是（ ）

A、股东大会 B、董事会 C、监事会 D、总经理

【答案】A。A:股东大会。也叫股东会，是公司的最高权力机构。B:董事会。董事会由股东

会选举的董事组成，是公司的决策机构和法定代表人。C:监事会。监事会是股东大会领导下的公司的常设监察机构，执行监督职能。

22、以文字、图画或符号记载的内容来证明案件的真实情况的证据是（ ）

A、被害人陈述 B、证人证言 C、书证 D、物证

【答案】C。证人证言则是指以口头或书面方式向人民法院所作的能够证明案件情况的陈述，一般是以口头方式表达的。被害人陈述是指犯罪行为的直接受害者就案件事实所作的陈述。物证是指以外部特征，物质属性、所处位置以及状态证明案件情况的实物或痕迹。如作案工具、现场遗留物、赃物、血迹、精斑、脚印等。

23、小梅在某超市买了一个高压锅，在使用过程中因质量问题发生爆炸使小梅受伤。下列说法正确的是（ ）

A、小梅只能向高压锅的生产者索赔  
B、小梅只能向高压锅的销售者索赔  
C、小梅既可以向高压锅的生产者索赔，也可以向高压锅的销售者索赔  
D、小梅自行承担损失

【答案】C。产品对消费者造成伤害，生产方与销售方具有连带责任，所以小梅既可以向生产方也可以向销售方索赔。故选 C

24、小强到国内某景点旅游时被强制购物，与经营人员发生纠纷。若经营人员与小强均想通过调解的方式解决这一问题，根据我国《旅游法》的规定，（ ），旅游投诉受理机构和有关调解组织，可依法对这起纠纷进行调解。

A、消费者协会 B、律师协会 C、旅游协会 D、经营者协会

【答案】A。《旅游法》规定，消费者协会，旅游投诉受理机构和有关调解组织，可依法对这起纠纷进行调解，故选 A。

25、对于银行业金融机构充足失败的，国务院银行业监督管理机关可以决定终止重组，由（ ）按照法律规定的程序依法宣告破产。

A、人民法院 B、人民检察院 C、公安机关 D、银监会

【答案】A。对于银行业金融机构充足失败的，国务院银行业监督管理机关可以决定终止重组，由人民法院按照法律规定的程序依法宣告破产。故选 A。

2、经济金融基础知识（请根据题目要求，在四个选项选出一个最恰当的答案）

26、经过多年的努力，当前贵州已经实现县县通收费高速公路，未来将进一步加强交通基础设施建设，力争实现通村公路覆盖全部自然村。关于材料中的高速公路和通村公路，以下说法中正确的是（ ）

- A、均不属于公共产品，不具备非竞争性
- B、均属于公共产品，具备非排他性
- C、高速公路不属于公共产品，不具备非竞争性和非排他性
- D、通村公路不属于公共产品，不具备非竞争性和非排他性

【答案】B。此题考查公共物品相关概念。公共物品包括纯公共物品和准公共物品，同时具有非竞争性和非排他性的属于前者。收费高速公路和通村公路属于准公共物品，具有排他性，没有交费的排斥在外，但不具备竞争性。故答案选B。

27、根据委内瑞拉中央银行和国家统计局数据，2016年5月消费者价格指数上周给你21.8%，2016年前5个月通胀率为125.5%，近12个月内消费者价格指数上涨450.7%。假设你是委内瑞拉居民，不考虑其他因素，你应该（ ）

- A、选择固定收入工作，放弃浮动收入工作
- B、增加银行储蓄，减少当前消费
- C、尽快归还所欠债务
- D、尽快购买耐用消费品

【答案】D。此题考查的知识点为通货膨胀及通货膨胀的再分配效应。消费者价格指数是用来衡量通胀率的常用指标之一。题目中，通胀率大于100%，说明委内瑞拉的通货膨胀已属于恶性。又根据通货膨胀的再分配效应，当存在恶性通胀时，有利于浮动收入者不利于固定收入者，有利于消费不利于储蓄，有利于债务人不利于债权人，ABC选项均不对。故选D。

28、十八届三中全会决定，健全工资正常增长机制，增加财产性收入。以下选项中属于财产性收入的是（ ）

- A、王某在单位由于业绩突出获得奖金1万元
- B、张某购买国债获得利息收入2万元
- C、赵某在外企工作获得年薪15万元
- D、李某领取低保金500元

29、现在很多年轻人结婚时是直接租用礼服，而不是购买。关于这种现象下列说法正确的是（ ）

- A、由于消费者使用次数有限，租赁消费更加便宜合算，避免浪费



- B、这种消费方式的特点之一是其使用权不变
- C、租赁消费是当今最流行的一种消费方式
- D、租赁消费是商品所有权和使用权的合一

30、2016年3月18日召开的国务院常务会议决定，自2016年5月1日起，中国将全面推进“营改增”试点，将建筑业、房地产业、金融业、生活服务业全部纳入试点范围。至此，营业税退出历史舞台，增值税制度将更加规范。以下说法错误的是（ ）

- A、营改增有利于消除重复征税，降低企业负担
- B、营改增有利于提高我国商品的国际竞争力
- C、营改增有利于深化产业分工
- D、营改增有利于控制地方政府债务风险

【答案】D。营改增是指以前缴纳营业税的应税项目改成缴纳增值税，增值税只对产品或者服务的增值部分纳税，减少了重复纳税的环节。目的是加快财税体制改革、进一步减轻企业赋税，A项正确。在营业税制下，出口不会进行退税，增加出口劳务和货物的成本，不利于出口企业参与国际竞争。采用增值税制后，就能有效的避免上述问题。降低出口企业成本，提高我国劳务和货物的国际竞争力，B项正确。调动各方积极性，促进服务业尤其是科技等高端服务业的发展，促进产业和消费升级、培育新动能、深化供给侧结构性改革，C项正确。故选D。

31、近年来，在北京、广州、杭州等多个城市，继共享单车、共享汽车之后，共享充电宝、共享篮球、共享雨伞等共享经济新形态不断涌现，成为当前经济社会发展的热门话题。共享经济一般是指借助三方信息平台，以获取一定报酬为主要目的，基于陌生人且存在物品使用权暂时转移的一种新的经济模式。以下选项中不属于该模式的是（ ）

- A. 赵某在某手机APP上租车从甲地去往乙地
- B. 钱某在某购物网站上购买生活用品
- C. 孙某从某P2P网络借贷平台借入资金购买汽车
- D. 李某出门旅游前在网站上预订目的地民宿

32、一国经济可以分为三个产业，信用合作社属于（ ）产业。

- A. 第一            B. 第二            C. 第三            D. 以上答案都不对

【答案】C。第一产业是指提供生产物资材料的产业，包括种植业、林业、畜牧业、水产养殖业等直接以自然物为对象的生产部门；第二产业是指加工产业，利用基本的生产物资材料进行加工并出售；第三产业是指第一、第二产业以外的其他行业，包括交通运输业、通讯业、商业、餐饮业、金融保险业、行政、家庭服务等非物质生产部门。信用合作社属于银行类金融机构里的农村金融机构类型之一，属于第三产业。故选 C。

33、据统计，自去年 9 月份以来，纯碱价格已经从 1400 元/吨左右上涨至 2200 元/吨左右，涨幅约 60%。假设纯碱与甲商品是替代品，与乙商品是互补品。那么在其他条件不变的情况下，以下说法正确的是（ ）

- A. 甲商品需求量会增加，乙商品需求量会增加  
B. 甲商品需求量会减少，乙商品需求量会减少  
C. 甲商品需求量会增加，乙商品需求量会减少  
D. 甲商品需求量会减少，乙商品需求量会增加

【答案】C。根据需求定理，对于本商品而言，价格与需求量成反向变动关系，纯碱价格上涨，纯碱需求量下降，互补品乙需求量随之下降，而替代品甲的需求量相应增加。故选 C。

34. 商业信用是指企业之间进行商品往来时发生的信用。以下属于商业信用的是（ ）

- A. 私营业主王某由于缺乏进货资金，向其好友张某以 5%的利率借入 100 万元  
B. 甲企业由于流动资金不足，向其关联企业乙企业以 5%的利率借入 200 万元  
C. 市场上某原材料非常紧俏，供不应求，丙企业为此向供应商预付 300 万元  
D. 大学生赵某因购买高档手机从网络借贷平台上借入 5000 元

【答案】C。信用是以偿还和付息为特征的借贷行为。商业信用指工商企业之间相互提供的、与商品交易直接相联系的信用形式，它包括企业之间以赊销、分期付款等形式提供的信用以及以预付定金等形式提供的信用。选项 A.D 均是个人与企业之间的借贷行为；选项 B 未涉及商品交易。故选 C。

35. 2017 年 6 月 29 日，某证券股份有限公司发布公司债券发行公告称，面向合格投资者发行 1 年期固定利率债券，基础发行规模为 30 亿元，每张票面金额为人民币 10 元，票面利率为 5%。若市场平均利率 4%，则此次债券的发行价格将（ ）100 元/张

- A. 高于            B. 低于            C. 等于            D. 视申购情况而定

【答案】A。市场利率 $>$ 债券收益率（票面利率），折价发行；市场利率 $<$ 债券票面利率，溢价发行；市场利率 $=$ 债券票面利率，等价发行。本题中，市场利率 $4\% <$ 债券票面利率 $5\%$ ，债券溢价发行，即债券的发行价格 $>$ 票面金额，将高于10元/张。故选A。

36. 2017年6月美联储召开的议息会议提前公布了缩表计划。缩表是资产负债表缩小的简称，即央行通过一定的手段缩减资产负债规模。以下央行的措施不能达到缩表目的是（ ）

- A. 出售所持债券
- B. 抛售外汇
- C. 停止到期债券再投资
- D. 停止公开市场业务

【答案】C。选项C，央行停止到期债券再投资，即到期的债券央行持有在手中不向市场投入，此时市场上货币资金不会减少，无法达到缩表目的。选项A、B和D，央行出售所持债券、抛售外汇或停止公开市场业务（逆回购），回笼货币资金，市场上货币供应量下降，可以达到缩表目的。故选C。

37. 中国外汇交易中心公布，2017年6月1日，人民币对美元中间价调升543个基点，报6.8090，创去年11月中旬以来的新高，年初至今上涨1.99%。致辞，人民币贬值压力已经大大减弱了，甚至可以说消失了。人民币持续升值将对我国经济产生多方面影响，以下选项中不正确的是（ ）

- A. 扩大中国出口商品的价格优势，增加出口
- B. 可能使外汇储备发生贬值
- C. 有利于实现人民币的国际化，提高中国经济的国际地位
- D. 增强进口依存度较高的行业部门的盈利能力

【答案】A。人民币升值，人民币购买力相对增强，有利于我国进口，不利于出口，选项A错误。故选A。

38. 流动性偏好理论认为，人们的货币需求行为是由交易动机、预防动机和投机动机决定的。根据该理论，以下选项中将引起货币需求下降的是（ ）

- A. 各地先后提高最低工资标准
- B. 股市泡沫现象严重，价格虚高
- C. 黄金价格低位运行时间较长，涨价预期明显
- D. 多渠道增加农民财产性收入

【答案】C。货币需求指人们愿意以货币形态持有财富的需求。流动性偏好理论三大动机，由交易动机和预防动机引起的货币需求，与人们的收入成正比；投机动机引起的货币需求与

利率成反比。选项 A 和 D，工资提高、收入增加，都将引起货币需求上升；选项 B，股票价格虚高，人们不愿意投资，更愿意以货币形态持有财富，货币需求也会上升；选项 C，黄金涨价预期明显，理性人会投资黄金，导致货币需求下降。故选 C。

39、股票是股份公司发给股东的入股凭证，小明购买某公司的股票后成为该公司的股东，这意味着小明是公司的（ ）

- A. 债权人            B. 法定代表人            C. 所有者            D. 经营者

【答案】C。股票反映的是所有权关系。故选 C。

40. 2003 年以来，国务院要求农村信用合作机构按照股权结构多样化、投资主体多元化的原则，进一步改革产权制度，依据不同地区农村信用社的发展情况，分别实行不同的产权形式，以下做法中不符合这一要求的是（ ）

- A. 甲地经济金融条件较好，对信用社进行股份制改造，建立农村商业银行  
B. 乙地经济金融条件一般，对信用社进行股权合作制改造，建立农村合作银行  
C. 丙地股份制改造有困难，继续发展农村信用社，进一步完善合作制  
D. 丁地信用社经营困难，对信用社进行合伙制改造，建立小额信贷公司

【答案】D。2003 年以来，国务院要求农村信用合作机构按照股权结构多样化、投资主体多元化的原则，进一步改革产权制度，依据不同地区农村信用社的发展情况，分别实行不同的产权形式。在经济条件较好地区的信用社可进行股份制改造，建立农村商业银行；暂不具备条件的信用社可比照股份制原则和做法，实行股份合作制，建立农村合作银行；股份制改造有困难而又适合搞合作制的，进一步完善合作制，继续发展农村信用社。故选 D。

41. 能承受一定风险、追求较高收益，这样的理财特征属于（ ）生命周期阶段

- A. 少年成长期    B. 青年奋斗期    C. 中年稳健期    D. 退休养老期

【答案】B。少年成长期没有或仅有较低的理财需求和理财能力；青年奋斗期愿意承担较高的风险，追求高收益；中年稳健期风险厌恶程度提高，追求稳定的投资收益；退休养老期尽力保全已积累的财富，厌恶风险。故答案选 B。

42. 下列投资方式中，最具流动性的是（ ）

- A. 活期存款    B. 基金    C. 证券    D. 房地产

【答案】A。流动性是指资产变为现实的购买力且不遭受损失的能力。现金流动性最强，其次是活期存款，基金、证券的流动性相对比较弱，房地产流动性比较差。故答案选 A。

43. 在某一时期，一国经济中总供求大体平衡，但存在消费需求不足而投资需求

旺盛结构性矛盾，我国应实行（ ）

- A. 松的货币政策和松的财政政策    B. 紧的货币政策和紧的财政政策  
C. 松的货币政策和紧的财政政策    D. 紧的货币政策和松的财政政策

【答案】D。宽松的财政政策如降低税率，会刺激消费需求，紧缩的货币政策会提高利率水平，抑制投资需求旺盛。故答案选D。

44. 以下不属于直接投资的是（ ）

- A. 国内某银行持有非洲某银行 10%的股份  
B. 茅台在海外设立全资子公司  
C. 通用汽车在中国投资建厂  
D. 优衣库在中国开直营连锁店

【答案】B。直接投资的形式：（1）投资者开办独资企业，直接开店等，并且独自经营；（2）与当地企业合作开办合资企业或合作企业，从而取得各种直接经营企业的权利，并派人员进行管理或参与管理；（3）投资者参加资本，不参与经营，必要时可派人员任顾问或指导；

（4）投资者在股票市场上买入现有企业一定数量的股票（10%或以上的股权），通过股权获得全部或相当部分的经营权，从而达到收购该企业的目的。故答案选B。

45. 像余额宝一类互联网金融产品只要投资于风险低、收益稳定的基金，这种基金是（ ）

- A. 股票基金    B. 债券基金    C. 货币市场基金    D. 混合基金

【答案】C。货币市场基金资产主要投资于短期货币工具如国库券、商业票据、银行定期存单、银行承兑汇票、政府短期债券、企业债券等短期有价证券，收益稳定、风险低。典型的是余额宝。故答案C正确；股票型基金，指的是60%以上资金投资于股票市场的基金，风险大，故A错误；债券型基金，是指80%以上资金投资于债券的基金，它通过集中众多投资者的资金，对债券进行组合投资，寻求较为稳定的收益，故B错误；混合基金是指同时投资于股票、债券和货币市场等工具，没有明确的投资方向的基金。其风险低于股票基金，预期收益则高于债券基金，故D错误。

46. 某商业银行在进行贷后检查时发现，贷款客户A公司目前正涉入诉讼案件中，若败诉，A公司将承担巨额损失，但目前尚无足够信息判断诉讼结果。按照《贷款风险分类指导原则》，该银行应将A公司介入（ ）

- A. 正常类贷款    B. 关注类贷款    C. 次级类贷款    D. 可疑类贷款

【答案】B。正常贷款：借款人能够履行合同，有充分把握按时足额偿还本息；关注贷款：尽管借款人目前有能力偿还贷款本息，但是存在一些可能对偿还产生不利影响的因素；次级



贷款：借款人的还款能力出现了明显的问题，依靠其正常经营收入已无法保证足额偿还本息；可疑贷款：借款人无法足额偿还本息，即使执行抵押或担保，也肯定要造成一部分损失；损失贷款：在采取所有可能的措施和一切必要的法律程序之后，本息仍然无法收回，或只能收回极少部分。本题中 A 公司若败诉将承担巨额损失，但目前尚无足够信息判断诉讼结果，这笔贷款属于关注类贷款。故答案选 B。

47. 以下贷款申请中，某农村信用合作社最有可能批准的是（ ）

- A. 某大型集团申请 1000 万元流动资金贷款
- B. 某大学生申请 2 万元助学贷款
- C. 某农村申请 40 万元贷款用于发展果树种植
- D. 某农村居民申请 50 万元贷款用于购买城市商品住宅

【答案】C。农信社的主要任务是筹集农村闲散资金，为农业、农民和农村经济发展提供金融服务。依照国家法律和金融政策规定，组织和调节农村基金，支持农业生产和农村综合发展，支持各种形式的合作经济和社员家庭经济。所以某农村申请贷款用于发展果树种植最有可能批准。故答案选 C。而 A 可以向资本金充足的大型商业银行贷款；B 助学贷款有国家专门指定的银行；D 可以申请向大型商业银行，不属于农信社的主要业务范围。

48. 某带酒企业带着大量产品去外地参加为期一周的酒业博览会，为方便业务开展，该企业可到博览会当地银行申请设立（ ）

- A. 基本存款账户
- B. 一般存款账户
- C. 专门存款账户
- D. 临时存款账户

【答案】D。企业开立临时存款账户的母的：设立临时机构、异地临时经营活动、注册验资时开立，有效期最长不得超过二年。题干中企业去外地参加为期一周的酒业博览会，属于异地临时活动，可申请开立临时存款账户。故答案选 D。

49. 储户于 2016 年 3 月 10 日到银行存入一年期定期存款 50000 元，利率为 3.6%，到 2017 年 5 月 20 日将该笔存款取出，当日活期存款利率为 1%。关于该笔存款的利息计算，下列说法中正确的是（ ）

- A. 定期内按 3.6% 计算，超期按 1% 计算
- B. 全部按 1% 计算
- C. 定期内按 3.6% 计算，超期不计算利息
- D. 全部按 3.6% 计算

【答案】A。逾期支取，以逾期日为界，分两段计算利息：逾期前的利息，仍按原约定的存期相应的档次计付利息；逾期后的利息，按支取日银行挂牌公告的活期利率计付利息。故答案选 A。

50. 委托贷款系指由政府部门、企事业单位及个人等委托人提供资金，由贷款人（即委托人）根据委托人确定的贷款对象、用途、金额、期限、利率等代为发放、监督使用并协助收回的贷款。当商业银行发生委托贷款业务时，以下说法错误的是（ ）

- A. 商业银行不承担贷款风险
- B. 商业银行不从中获利
- C. 商业银行不保证贷款收回
- D. 商业银行不参与确定贷款条件

【答案】B。委托贷款是指由委托人提供合法来源的资金转入委托银行一般委存账户，委托银行根据委托人确定的贷款对象、用途、金额、期限、利率等代为发放、监督使用并协助收回（不保证收回）的贷款业务。商业银行对委托贷款收取手续费，故答案B错误。

51. 根据银行要求，自2016年12月1日起，个人银行账户实行分类管理，分为1类、2类、3类账户，不同类别的账户有不同的功能和权限，央行做出的规定主要目的是（ ）

- A. 鼓励居民存款
- B. 引导居民扩大消费
- C. 加强流动性管理
- D. 保障账户安全

【答案】D。对个人银行账户进行分类管理，就是依照开户渠道的风险评级程度不同，赋予不同的账户功能，通过分类，规避金融诈骗风险，保障账户安全，故选D。

52. 随着利率市场化的推进，利率将逐步放开，由市场决定，下列不属于央行的主要控制的是（ ）

- A. 商业银行贷款利率
- B. 准备金存款利率
- C. 再贷款利率
- D. 再贴现利率

【答案】A。中央银行主要控制的利率，包括：再贷款利率，指中国人民银行向金融机构发放再贷款所采用的利率；再贴现利率，指金融机构将所持有的已贴现票据向中国人民银行办理再贴现所采用的利率；存款准备金利率，指中国人民银行对金融机构交存的法定存款准备金支付的利率；超额存款准备金利率，指中央银行对金融机构交存的准备金中超过法定存款准备金水平的部分支付的利率。故选A。

53、下列关于个人信用报告说法正确的是（）

- A、只能通过网上查到个人信用报告
- B、商业银行无需被查询人授权就可以查询信用报告
- C、经过被查询人书面授权他人才能查询信用报告
- D、信用报告中不记录查询原因

【答案】C。《个人信用信息基础数据库管理暂行办法》第十二条规定，商业银行办理下列业务，可以向个人信用数据库查询个人信用报告：（一）审核个人贷款申请的；（二）审核个人贷记卡、准贷记卡申请的；（三）审核个人作为担保人的；（四）对已发放的个人信贷进行贷后风险管理的；（五）受理法人或其他组织的贷款申请或其作为担保人，需要查询其法定代表人及出资人信用状况的。第十三条规定，商业银行查询个人信用报告时应当取得被查询人的书面授权。书面授权可以通过在贷款、贷记卡、准贷记卡以及担保申请书中增加相应条款取得。根据《金融信用信息基础数据库本人信用报告查询业务规程》（银征信中心〔2013〕97号）规定，个人可以亲自或委托代理人查询个人信用报告。故选C。

54、某公司在农行的存款账户上有1亿元余额，当年的存款准备金率为10%，则农行可用此存款发放贷款的最大数额是（）万元。

- A、1000
- B、9000
- C、11000
- D、5000

【答案】B。农行可用此存款发放贷款的最大数额=1亿元-1亿元×10%=9000万元。故选B。

55、越来越多的人用分期付款的方式购车，一些汽车公司自己成立了汽车金融公司，这类金融企业的监管机构是（）

- A、中国人民银行
- B、中国银行协会
- C、中国证监会
- D、中国银监会

【答案】D。汽车金融公司是经银监会批准成立的，由银监会进行监管。

3、其他综合知识（根据题目的要求，在四个选项中选出一个最恰当的答案）

56. 下列说法符合用语基本要求的是（）

- A、语感自然年，不局促、不呆板
- B、语言简练，语速略快，以节省顾客的时间
- C、语感明确，直截了当表达观点
- D、语调柔和，并辅以丰富的肢体语言吸引顾客

【答案】C。略

57、下列关于商务礼仪规范说法不正确的是（ ）

- A、主持会议时，让在座的每一位都发言
- B、女性可以采取跷二郎腿的方式就坐
- C、社交场合不宜问对方身体健康相关的问题
- D、主人或服务人员为你斟酒时，你无需端起杯子

【答案】B。略

58.、在 WORD 窗口中用户不可以（ ）

- A、同时打开多个文档窗口
- B、将正编辑的文档另存为一个纯文本（.txt）文件
- C、将所选的文档内容直接另存为一个文档文件
- D、在没有开启打印机时进行打印预览

【答案】C。A，WORD 可以同时打开多个，B，正编辑的文档另存为 DOC 或 PDF 或 TXT。C，不可以将所选文档内容直接另存为一个文档文件。D，未开启打印机可以打印预览。故选 B。

59. 下列退出 PowerPoint2010 的方法中，错误的是（ ）

- A、单击 PowerPoint 标题栏右上角的关闭按钮
- B、按 Alt+F4 快捷键
- C、选择“文件”菜单中的“退出”命令
- D、单击 PowerPoint 标题栏左上角的控制菜单按钮

【答案】D。略

60. 下列行为中，银行从业人员没有遵守“公平对待”原则的是（ ）

- A、因产品设计的差异而导致费率和 service 便捷程度上的差别

- B、在客户提供大额存取款和小额存取款服务时，体现差异化服务
- C、设置明显的标志，区分个人业务和对公业务
- D、耐心公平的对待不熟悉业务流程的客户

【答案】B。公平对待是指银行从业人员应当公平对待所有的客户，不得因为客户的国籍、肤色、民族、性别、年龄、宗教信仰、残障及业务的繁简程度和金额大小等方面的差异而歧视客户。故答案选B。

61、下列关于香港特别行政区的描述正确的是（ ）

- A、自然资源十分丰富
- B、与福建省相邻
- C、地广人稀
- D、与祖国内地的联系十分密切

【答案】A.香港地域狭小，资源不丰富。B，与广东省相邻。C,人多地少。故选D。

62、省委十一届六次全会以来，在党中央领导下贵州省委常委会深入贯彻习近平总书记系列重要讲话精神特别是对贵州工作的重要指示要求，大力推进（）两大战略行动，贵州全省呈现出经济、社会持续向好的良好局面。

- A、创新驱动、开放带动
- B、可持续发展、科教兴国
- C、大扶贫、大数据
- D、大金融、大医疗

【答案】C。一是深学笃用习近平总书记系列重要讲话精神,坚决同以习近平同志为核心的党中央保持高度一致。二是大力实施大扶贫大数据两大战略行动,加快积蓄后发赶超、同步小康的强大能量。

63、秦孝公即位时，秦国“兵弱”，而商鞅变法后，秦国人“勇于公战”这是因为商鞅变法（）

- A、统一货币
- B、按军功受爵位
- C、推行县制
- D、统一度量衡

【答案】B。略



64. 隋炀帝命编著全国各地风俗，编者写“以吴人为东夷”隋炀帝加以怒责，并称：“昔汉末三方鼎立，大国之吴，以称人物……自平陈之后，硕学通儒，文人才子莫非彼至。”据此可知，魏晋以来（ ）

- A、南北方民族间的隔阂仍较严重
- B、南方文化在全国的地位上升
- C、江南取代北方成为经济重心
- D、统治者都偏好南方文化风格

【答案】B。“以吴人为东夷”人文南方人还很野蛮。但自平陈之后，硕学通儒，文人才子莫非彼至。说明南方文人众多，文化地位提升。

65. 我国成为全球领先掌握海底可燃冰试采技术的国家。可燃冰燃烧后仅会生成少量的二氧化碳和水，可燃冰仅海域储量就可供人类使用 1 000 年。下列关于可燃冰的叙述错误的是（ ）

- A. 储量达
- B. 清洁环保
- C. 分不广
- D. 开发技术难度小

【答案】D。“可燃冰”是未来洁净的新能源。它的主要成分是甲烷分子与水分子，B 选项正确。D 选项错误，开发技术难度大。

66. 从长远来看，解决水资源利用问题的途径是（ ）

- A. 设法从空气中提取水
- B. 设法大量开发地下水
- C. 设法用最经济的办法淡化海水
- D. 设法从两极冰川取水

【答案】C。设法用最经济的办法淡化海水

67. “女娲补天”这则神话出自（ ）

- A. 《山海经》
- B. 《淮南子》
- C. 《吕氏春秋》
- D. 《周易》

【答案】B。西汉·刘安《淮南子·览冥训》：“于是女娲炼五色石以补苍天。”

68. “韩国成功部署“萨德”系统后，东北亚地区的攻防战略平衡或将做被彻底打破，这对中国的安全环境来说是个极大的威胁。下列关于“萨德”系统的说法正确的是（ ）

- A. “萨德”系统是俄罗斯 S—400 野战防空、阵地防空系统的升级版

- B. “萨德”系统是韩国针对朝鲜的导弹威胁专门研制开发的反弹道导弹系统
- C. “萨德”系统是韩国和日本联合开发的短程弹道导弹系统
- D. “萨德”系统是美国战区导弹防御系统中负责战区末端高空区域拦截的部分

【答案】D。末段高空区域防御系统(Terminal High Altitude Area Defense,THAAD),即“萨德”系统。其是美国全球导弹防御系统的一个子系统。该导弹系统由美国航空航天制造商洛克希德·马丁公司承担主要的研发和生产,是一种可车载机动部署的反导系统,具备在大气层内外拦截来袭的短程、中程和远程洲际弹道导弹的独特能力。

69. 我国古代用生铁炼钢主要采用生铁脱碳法,要反复加热,同时输送( )

- A. 氧气 B. 氧气 c. 氮气 D. 氦气

【答案】B。利用空气里面的氧气使生铁里面的碳原子氧化,形成二氧化碳而“脱碳”

70. 《阿里山的姑娘》是( )的民歌。

- A. 朝鲜族 B. 彝族 c. 黎族 D. 高山族

【答案】D。本题主要考查的是我国民族的相关知识。歌曲《阿里山的姑娘》是台湾高山族少数民族的民歌。

71. 反映肌肉收缩力大小的素质是( )

- A. 耐力素质 B. 速度素质 C. 力量素质 D. 综合素质

【答案】C。略

72. 人们常说“门缝里看人——把人看扁了,事实上,从门缝里看人时,看到的人( )

- A. 会变扁 B. 会变小 C. 会形成倒影 D. 和原来一样

【答案】D。从门缝中看人,因为人体反射的光线是沿直线传播的,人的形状并不会发生变化,只是人眼看门外场景的视角受到门缝的影响。

#### 四、案例分析(请根据题目要求,在四个选项中选出一个最恰当的答案)

根据给定材料,回答73~77题:

互联网技术的产业化,被称为第四次工业革命。它的出现,带来了包括银行在内的各个行业的脱媒化变革,使整个供应链架构重新组合,并彻底改变了消费者获取服务的方式,推动了世界经济和生产服务的发展。

在刚结束的 2017 年夏季达沃斯论坛上，一位外国友人阐述了中国金融科技的创新给生活带来的便利：“在中国，我口袋里已不放现金了。我之前都住在英国，现在来中国已经一年半了，我口袋里已经不怎么放现金了，用手机就可以完成支付。”确实，现如今的中国，许多年轻人都已基本会用互联网的支付方式去支付。中国的互联网金融也是高速发展的时代，微信支付与支付宝支付已经占据了大部分的互联网支付方式。

经过几年的拼杀，国内第三方支付市场已经逐渐被支付宝和微信支付占领。数据显示，2017 年第一季度中国第三方移动支付交易市场规模达到 22.7 万亿元，同比增长 113.4%。而支付宝的份额同比增长 2.2%，目前已经达到了 54%，另一方面，腾讯旗下的财付通涨幅为 1.7%，达到 40%。财付通包含微信支付，总体来看，支付宝的优势仍然比较明显，而支付宝和财付通合计占据了国内移动支付市场 94% 的份额，显然已经是他们两者之间的战争。

生意被支付宝们抢走，人才被新兴行业挖走，钱被互联网金融赚走……互联网金融借力先进技术，在第三方支付、个人理财、消费贷款等领域异军突起、势不可挡，特别是在服务的便捷性、综合化等方面，传统银行似乎越来越处于下风，客户在流失、存款大搬家、业务不断收缩、高管频繁跳槽……原本捧着“金饭碗”的传统银行在金融业大变革和互联网新挑战面前，正面临一场生死考验。

73. 支付宝和财付通已占据国内第三方支付市场份额 94%，国内第三方支付市场的结构属于（ ）

- A. 垄断    B. 寡头    C. 垄断竞争    D. 完全竞争

【答案】B。寡头垄断市场的特点：1. 厂商极少。寡头垄断市场上的厂商只有一个以上的少数几个（当厂商为两个时，叫双头垄断市场）。2. 相互依存。任一厂商进行决策时，必须把竞争者的反应考虑在内，因而既不是价格的制定者，更不是价格的接受者，而是价格的寻求者。3. 产品同质或异质。4. 进出不易。其他厂商进入相当困难，甚至极其困难。因为不仅在规模、资金、信誉、市场、原料、专利等方面，其他厂商难以与原有厂商匹敌，而且由于原有厂商相互依存，休戚相关，其他厂商不仅难以进入，也难以退出。支付宝和财付通在国内第三方支付市场的情况基本符合四个特点，故选 B。

74. P2P 网络借贷是当前互联网金融行业中最活跃的业态，以下对于 P2P 网络借贷说法正确的是（ ）

- A. P2P 网络借贷是民间借贷与大数据金融相融合的产物

- B. P2P 网络借贷是股权型众筹的一种典型商业模式
- c. P2P 网络借贷是基于个人与企业之间的小额借贷交易
- D. P2P 网络借贷包括 P2P 投资理财与 P2P 网络贷款两部分

【答案】D。P2P 网络借贷平台，是 P2P 借贷与网络借贷相结合的互联网金融（ITFIN）服务网站，分为两个产品一个是投资理财，一个是贷款，都是在网上实现的。故答案选 D。人民银行等十部门发布《关于促进互联网金融健康发展的指导意见》，该意见原则性的划定了争议已久 P2P 与股权众筹规则边界。P2P 与股权众筹的主要区别是 P2P 被界定为民间借贷由银监会监管，股权众筹指通过互联网形式进行公开小额股权融资的活动，由证监会监管。因此 P2P 网络借贷和股权型众筹是两种不同的商业模式，故 B 错误。

75. 互联网公司与传统金融企业的管理层次均受到组织规模和管理幅度的影响，以下说法正确的是（ ）

- A. 组织规模越大，层次越少
- B. 在组织规模已定的条件下，管理层次与管理幅度成正比
- C. 在组织规模已定的条件下，管理层次与管理幅度成反比
- D. 主管直接控制的下属越多，管理层次越多

【答案】B。管理层次受到组织规模和管理幅度的影响。它与组织规模成正比：组织规模越大，包括的成员越多，则层次越多；在组织规模已定的条件下，它与管理幅度成反比：主管直接控制的下属越多，管理层次越少，相反，管理幅度减小。则管理层次增加。

76. 互联网金融相对于传统金融的特点，下列说法不正确的是（ ）

- A. 交易成本低
- B. 资金流转效率高
- C. 监管难度小
- D. 时空范围限制小

【答案】C。由于互联网金融存在互联网金融机构的持牌准入问题，互联网金融机构数量庞大，互联网金融可以机构通过多种层面的所谓创新来规避监管等诸多问题，多所以监管难度大于传统金融，本题选 C。

77. 互联网技术的发展产生了多样化的电子商务模式，如京东自营就属于 B2C 的电子商务模式。下列不属于电子商务模式的是（ ）

- A. 经济组织对经济组织— B2B
- c. 网上与网下相结合— O2O
- B. 消费者对消费— c2c
- D. 政府对政府 G2G

【答案】D。常见电子商务模式一般有五种：1. 企业与消费者之间的电子商务（Business to Consumer，即 B2C）。2. 企业与企业之间的电子商务（Business to Business，即 B2B）。3. 消费者与消费者之间的电子商务（Consumer to Consumer 即 C2C）。4. 线下商务与互联网之间的电子商务（Online To Offline 即 O2O）。5. 所谓 B2B 是 Business-Operator-Business 的缩写，意指供应方（Business）与采购方（Business）之间通过运营者（Operator）达成产品或服务交易的一种新型电子商务模式。

根据给定材料，回答 78~82 题：

关于报请审定《2017 生态文明试验区贵阳国际研讨会  
总体工作方案(送审稿)》的请示

生态文明试验区贵阳国际研讨会执委会：

2017 生态文明试验区贵阳国际研讨会将于 2017 年 6 月在贵阳举行，我们拟定了《2017 生态文明试验区贵阳国际研讨会总体工作方案(送审稿)》，现将方案呈报，请予审定。 妥否，请批示。

附件：《2017 生态文明试验区贵阳国际研讨会总体工作方案(送审稿)》

生态文明试验区贵阳国际研讨会执委会综合协调组

2017 年 4 月 15 日

78. 按照公文标题的巧作要求，该公文标题存在的主要问题是（ ）

- A. 缺少发文机关      B. 有书名号  
C. 文种错误          D. “(送审稿)” 多余

【答案】D。其一般构成形式可表示为：发文机关+“关于”+事由+“的”+文种。但请示可以省略文种，公文标题一般只有书名号。

79. 按照公文的巧作要求，该公文版头部分可以缺省的是（ ）

- A. 发文机关标识      B. 发文字号  
C. 签发人              D. 紧急程度

【答案】。版头六要素为份数序号、秘密等级和保密期限、紧急程度、发文机关标识、字号、签发人。上行文不能省略签发人。

80. 按照公文的写作要求，该公文附件说明存在的主要问题是（ ）

- A. 书名号多余          B. 附件名称不应同在一行  
C. 缺少方案起草机关      D. 附件标题缺少介词“关于”

【答案】A。附件说明不加书名号。



81. 下列关于“请示”的特点说法不正确的是( )

- A. 请示与报告都是上行文
- B. 除请示外，函也有请求批准、答复的功能
- C. 按照“一事一请”原则，在请示批准某项工程项目时不能同时请示经费事
- D. 可以要求主送单位必须答复

【答案】D。A 请示和报告都是上行文。B,函也有请求函和答询函。C, 请示必须一文一事。D, 请示是上行文，语言必须得体。故选 D

8 2. 主送机关在回复材料中的请示事项时，最有可能使用的文种是( )

- A. 通矢
- B. 通告
- C. 意见
- D. 方案

【答案】C。回复请示时，如无批复，选意见。

## 第二部分行政职业能力测试

### 五、言语理解与表达(请根据题目要求，在四个选项中选出一个最恰当的答案)

83. 乌托邦有着\_\_\_\_\_的历史，长期以来，代表人类对美好事物的\_\_\_\_\_，亦流露山人类对改革社会现实的希望。依次填入横线处的词语，最恰当的一项是( )

- A. 源远流长 憧憬
- B. 源源不断 想象
- C. 经久不衰 幻想
- D. 吐故纳新 寄托

解析:逻辑填空题，考察成语和实词。语境中提示“长期以来”，所以第一个空要填入一个表示时间长的成语，AC 符合，源源不断形容接连不断、连绵不绝，吐故纳新比喻扬弃旧的，吸收新的，不断更新，词意不合适排除 BD，第二个空表示对美好事物的，应该填入一个表示积极意义的词，憧憬表示对未来的美好生活的期待与向往，符合，幻想是一个中性词，所以选 A。

84. 我们暂不自行思索而拿书来读时，会觉得很轻松，\_\_\_\_\_在读书时我们的头脑实际上成为了别人思想的运动场。\_\_\_\_\_, 读书越多，或整天沉浸读书的人，虽然可借以\_\_\_\_\_精神，但他的思维能力必将渐次丧失，此犹如时常骑马的人步行能力必定较差，道理相同。依次填入划线部分词语最恰当的一项是( )

- A. 但是 然而 修养
- B. 然而 因此 休养
- C. 可是 所以 休养
- D. 可是 所以 修养

解析：逻辑填空。第一个空前面内容讲轻松，后面内容讲头脑被别人思想占据，内容上

出现了明显的变化，应该填入较强的转折关系，AB符合，可是是一个转折意味较弱的词，排除。第二个空后面内容讲到思维能力将丧失，承接前面成为别人思想的运动场，所以应该填入一个表示因果关系的词，B符合，答案为B。

85. 石头和电脑是两种不同的物质存在，石头是自然界中固有的，在人类出现之前就已经存在了，而自然界本身没有电脑，它是人类制造出来的。大自然可以演化出一座珠穆朗玛峰，但是即使再过几亿年，自然界也不可能演化出一台电脑。

对这段文字的主旨概括最准确的是（ ）

- A. 先有石头后有电脑                      B. 人能制造出自然界没有的东西  
C. 人能够能动地改造世界                D. 电脑是人类出现之后才有的

解析：主旨题。题干中出现“而”“但是”表示转折关系，重点在转折之后的内容。主旨句为自然界本身不能制造、自然演化出电脑，人能制造出电脑，能创造出电脑。符合这个意思的为C。

86. 没有一劳永逸的制度，制度是有保质期的，只有不断地修补、革新，才能保证社会机器的良好运转。改革固然会伤及既得利益团体，固然会出现波折动荡，但不改则必死无疑。对这段文字主旨概括最准确的一项是（ ）

- A. 制度是阶段性的                      B. 改革家是社会的勇勇士、历史的功臣  
C. 制度是阶段性的，改革是必须的      D. 改革会伤及制度，要谨慎为之

解析：主旨题。这道题利用主体排除法做，第一句话中的主体是制度，第二句话的主体是改革，因此主旨句应该包括这两个主体，符合要求的之后C。

87. 科学家们做过计算，在一块草地上，大风刮走18厘米厚的表土，约需200年；如在玉米耕作地上，刮走同样数量的表土需49年；而在裸露地上，则只需18年。通过这段文字作者最可能想表达的意思是（ ）

- A. 大风刮起表土的威力巨大              B. 科学家们对大风刮走表土的计算精确  
C. 表土裸露对自然环境的影响巨大      D. 保护好植被，防止土地沙漠化

解析：意图题。先找主旨句，三个并列的句子讨论的是地表越裸露，表土越容易被大风刮走，引申项应该为解决问题的对策，即利用植被保护表土，答案为D。

88. 在艰苦中成长成功之人，往往由于心理的阴影，会导致变态的偏差。这种偏差，便是对社会、对人们始终有一种仇视的敌意，不相信任何一个人，更不同情

任何一个人。爱钱如命的悭吝，还是心理变态上的次要现象。相反的，有器度、有见识的人，他虽然从艰苦困难中成长，反而更具有同情心和慷慨好义的胸襟怀抱。因为他懂得人生，知道世情的甘苦。这段话中，作者对于艰苦的态度是（ ）

- A. 艰苦对人的影响因人而异
- B. 艰苦给人心理留下阴影，容易滋生人的仇视心理
- C. 艰苦让人更具有同情心和慷慨好义的胸襟怀抱
- D. 艰苦是人生成长的财富

解析：态度观点题。题干前面讲到艰苦中成功的人会导致变态的偏差，通过后面的解释发现作者对这类人是持否定态度的，第三句通过相反的例子有人在艰苦中成长为优秀的人，可以发现作者对这类人持肯定态度。综合起来，作者认为艰苦对人的影响是不同的，选 A。

89. 贝多芬的音乐震撼了无数人的心灵。可是，这位天才作曲家，不到 30 岁就忍着日益严重的耳疾的折磨，不到 50 岁就完全丧失听觉。凭着对音乐的挚爱，凭着一种坚定的信念与命运抗争，他在完全失聪的状态下创作一生中最重要的几部作品。贝多芬的作品。表达了只有通过暴风骤雨和艰难困苦才能走向辉煌，走向胜利的高昂的进取精神。最适合做本段文字标题的是（ ）

- A. 信念的力量
- B. 精神是万能的
- C. 贝多芬的坚强
- D. 贝多芬的不幸

解析：标题填入题。题干中讲了贝多芬的故事，贝多芬失聪之后还取得了成功，是因为他有坚定的信念，所以要标题中要体现出他的品质，即 A。

90、读书人是幸福人，因为他除了拥有现实的世界之外，还拥有另一个更为浩瀚、也更为丰富的世界。现实的世界是人人都有的，而后一个世界却为读书人所独有。

对“后一个世界”理解最准确的一项是（ ）

- A. 极乐世界
- B. 精神世界
- C. 幻科世界
- D. 现实世界

解析：词句理解题。后一个世界对应前文中“还拥有另一个更为浩瀚、也更为丰富的世界。”，讲的是读书人有另一个世界，理解句意可知是精神世界，B。

91、下列选项中有语病的一句是（ ）

- A. 纵观校园里的消费百态，我们不难发现，大学生在消费观念上存在着种种误

区

- B. 卫生部介绍，中国现有烟民超过 3 亿，约占全球吸烟者 1/3 左右
- C. 所谓“秀才不出门，全知天下事”，说的是通过阅读了解世相
- D. 为进一步做好毕业生的就业工作，本着“自主择业、双向选择、择优录用的原则”的原则，我校决定举办 2017 届本校毕业生招聘会

解析：B 选项中“约”和“左右”存在语意多余。

92、将以下 6 个句子重新排列，语序正确的是（ ）

- ①子代体细胞中的这 24 条染色体，按形态结构来分，两两成对，共 12 对。每对染色体中 B. 的一条来自父方，一条来自母
- ②蝗虫代体细胞中的染色体数目，与双亲的体细胞染色体数目一样
- ③萨顿由此推论，基因是由染色体携带着从亲代传递给下一代的
- ④精子和卵细胞结合形成的受精卵，又具有了 24 条染色体
- ⑤也就是说，基因就在染色体上，因为基因和染色体行为存在着明显的平行关系，
- ⑥萨顿发现，有一条蝗虫的体细胞中有 24 条染色体，生殖细胞中只有 12 条染色体

- A. ①⑥⑤②④③
- B. ①④②③⑥⑤
- C. ⑤①④②⑥③
- D. ⑥④②①③⑤

解析：观察选项猜首句，①句中出现代词“这 24 条”，不适合做首句，排除 AB，⑤句中  
出现“也就是说”，表示对前面句意的同义替换，不适合做首句，排除 C，⑥中说萨顿发  
现，可以作为开头引出后面的内容，答案基本锁定 D，验证句子之间的顺序 D 逻辑通顺，  
所以答案为 D。

## 六、数量推理(请根据题目要求，在四个选项中选出一个最恰当的答案)

93、4， 2， 7， 12， 81（ ）。

- A. 968
- B. 547
- C. 465
- D. 211

[答案]A 该数列为递推数列， $a_1=4$ ， $a_2=2$ ， $a_{n+2}=a_{n+1} \times a_n - n$ 。  $7=2 \times 4 - 1$ ， $12=7 \times 2 - 2$ ， $81=12 \times 7 - 3$ ，因此答案处应为  $81 \times 12 - 4 = 968$ 。选 A 项。

94、9， 4， 7， -4， 5， 4， 3， -4， 1， 4，（ ），（ ）。

A. 0, -4                      B. 1, 4                      C. -2, 4                      D. -1, -4

**[答案]D** 该数列项数多，隔项看，发现为多重数列，即 9, 7, 5, 3, 1 和 4, -4, 4, -4, 4 这两个数列间隔排列组成，易知答案处应为-1, -4。选 D 项。

95、0, 1, 4, 11, 26, 57 ( )。

A. 237                      B. 200                      C. 174                      D. 120

**[答案]D** 该数列为递推数列， $a_{n+1}=a_n \times 2 + n$ 。1=0×2+1, 4=1×2+2, 11=4×2+3, 26=11×2+4, 57=26×2+5, 因此答案处应为 57×2+6=120。选 D 项。

96、0                      4/27                      16/125                      36/343 ( )。

A. 64/729                      B. 64/523                      C. 51/649                      D. 3/512

**[答案]A** 为分数数列，0 可以写作 0/1，然后分子分母分开看，分子为 0, 4, 16, 36，分别是 0、2、4、6 的平方；分母为 1, 27, 125, 343，分别是 1、3、5、7 的立方，易知答案处分子应为 8 的平方，分母应为 9 的立方，即 64/729。故选 A

97、1, 0.1, 1.2, 3.5, 8.13 ( )。

A. 11.17                      B. 11.34                      C. 21.17                      21.34

**[答案]D** 该数列为广义隔项的递推数列，小数点为隔项符号，原数列为 1, 0, 1, 1, 2, 3, 5, 8, 13,  $a_1=1, a_2=0, a_{n+2}=a_{n+1}+a_n$ 。1=1+0, 1=0+1, 2=1+1, 3=2+1, 5=2+3, 8=3+5, 13=5+8, 因此答案处小数点之前为 8+13=21, 小数点之后为 13+21=34, 即 21.34。选 D 项。

7、数字运算（在这个部分试题中，每道试题呈现一段表述数字关系的文字，要求你迅速准确的计算出答案）

98、三篮桃子共重 90 斤，如果从第一篮中取出 13 斤放入第二篮，从第二篮中取出 8 斤放入第三篮，从第三篮中取出 2 斤放入第一篮，这时三篮桃子的重量相等，原来第二篮中有桃子 ( ) 斤。

A. 21                      B. 23                      C. 25                      D. 27

**[答案]C** 最后三篮桃子的重量相等，即  $90 \div 3 = 30$  斤，过程中第二篮放入了 13 斤、取出了 8 斤，折合放入了  $13 - 8 = 5$  斤，即第二篮原来的重量加 5 斤为 30 斤，则第二篮原来有  $30 - 5 = 25$  斤，选 C 项。

99、某市举办大型招聘会，在入场前若干分钟就开始排队，每分钟来的求职人数



一样多，从开始入场到等候入场的队伍消失，同时开 14 个入口需 30 分钟，同时开 5 个入口需 20 分钟，如果同时开打开 7 个路口，需（ ）分钟。

- A. 8                      B. 10                      C. 12                      D. 15

**[答案]C** 牛吃草问题，带入公式  $y = (N-x) \times T$ ，可列出  $\begin{cases} y = (4-x) \\ \times 30 \end{cases}$ ，解出  $x=2$ ， $y=60$ 。打开 7 个入口时  $60 = (7-2) \times T$ ， $T=12$ ，选 C 项。

100、有一辆汽车运输 2000 只玻璃瓶，运输按到达时完好的瓶子数目计算，运费每只 2 角，如有破损，运破瓶子不给运费，还要每次赔偿 1 元，结果得到运费 379.6 元。这次搬运中破坏损了（ ）只。

- A. 21                      B. 19                      C. 18                      D. 17

**[答案]D** 设破损瓶子  $x$  只，则完好瓶子  $2000-x$  只，课列出方程  $(2000-x) \times 0.2 - x = 379.6$ ，解出  $x=17$ ，选 D 项。

101、甲、乙两人在路上追逐，甲的速度为 27 千米/时，每跑 5 分钟休息 1 分钟，乙的速度是 300/分，现在已知乙先行 1500 米，甲开始追乙，追到乙所需的时间为（ ）分钟。

- A. 13                      B. 15                      C. 16                      D. 17

**[答案]C** 27 千米/时=450 米/分。观察选项均大于 12 分钟，先计算出前 12 分钟的情况：甲跑  $450 \times 5 \times 2 = 4500$  米，乙跑  $300 \times 12 = 3600$  米，甲比乙多跑  $4500 - 3600 = 900$  米，甲乙现在相距  $1500 - 900 = 600$  米。此后可以带入追及问题公式  $S_{\text{追}} = (V_1 - V_2) \times t$ ， $600 = (450 - 300) \times t$ ，解出  $t=4$ ，则甲追到乙所需的时间为  $12+4=16$  分钟，选 C 项。

102、某企业举办技能大赛，有来自 A 部门的 4 名职工和来自 B 部门的 3 名职工参加，结果有 3 人获奖且每人的成绩均不相同，如果获奖者中最多只有 1 人来自 B 部门，那么获奖者的名单和名次顺序有（ ）种不同的可能性。

- A. 72                      B. 96                      C. 120                      D. 132

**[答案]D** 排列组合。最多只有 1 人来自 B 部门即可以有两种情况： 1 人来自 B 部门、0 人

来自 B 部门。若 0 人来自 B 部门，则直接从 A 部门选 3 人排序，即为  $A_4^3 = 4 \times 3 \times 2 = 24$ ；

若 1 人来自 B 部门，先选出获奖的 3 人，A 部门中选 2 人为  $C_4^2$ ，B 部门选 1 人为  $C_3^1$ ，再

将3人名次排序  $A \begin{smallmatrix} 3 \\ 3 \end{smallmatrix}$ ，即为  $C \begin{smallmatrix} 2 \\ 4 \end{smallmatrix} \times C \begin{smallmatrix} 1 \\ 3 \end{smallmatrix} \times A \begin{smallmatrix} 3 \\ 3 \end{smallmatrix} = 6 \times 3 \times 6 = 108$ 。答案等于两种情况相加，即  $108 + 24 = 132$ ，选 D 项。


103、某公司对营销员的全年考评，中年终考评成绩和年末考评成绩分别占 20% 和 30%，销售业绩占 50%，销售员小张和小李的全年销售相同，小张的年终考评成绩比小李高 3 分，小李的全年考评成绩比较小张高 3 分。小李的年末考评成绩比小张高（ ）分。

- A. 6                      B. 8                      C. 10                      D. 12

**[答案]D** 根据题意，因为甲乙销售业绩相同，所以二人产生只在年中和年末考核上产生差别。因为年中考评成绩和年末考评成绩分别占 20% 和 30%，甲的年中考评成绩比乙高 3 分，所以总分上会高出  $3 \times 20\% = 0.6$ ，乙的全年考评成绩比甲高 3 分，因此乙需要在年末考核中将总分提升  $3 + 0.6 = 3.6$  分，根据年末考核所占比率 30%，所以实际上甲的年末成绩比乙多： $3.6 / 30\% = 12$ ，选 D 项。

8、图形推理（每道题给出若干图形，要求你通过观察分析找出图形推理规则，选出符合规律的一项）

104（ ）



105、（ ）

|   |   |   |   |   |
|---|---|---|---|---|
| 大 | 和 | ? | 罪 | 患 |
|---|---|---|---|---|

|   |   |   |   |
|---|---|---|---|
| 路 | 力 | 留 | 忠 |
|---|---|---|---|

A                      B                      C                      D

106、( )

|   |   |   |
|---|---|---|
| A | X | V |
| E | B | C |
| H | M | ? |

|   |   |   |   |
|---|---|---|---|
| N | Z | D | F |
|---|---|---|---|

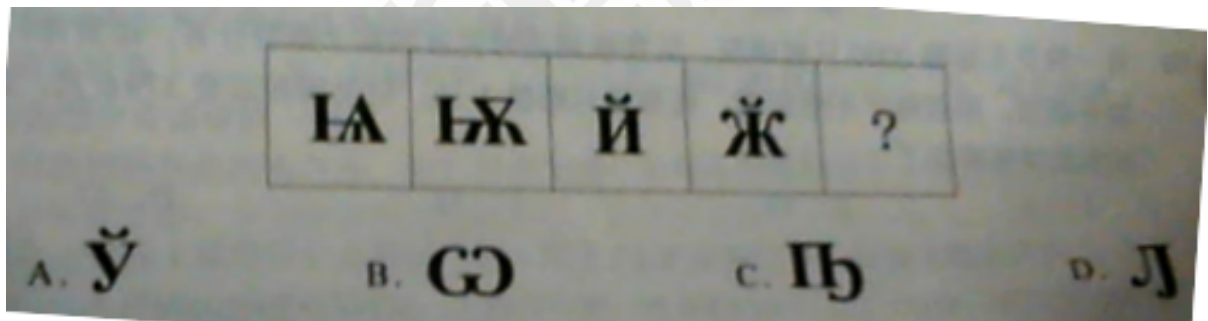
A

B

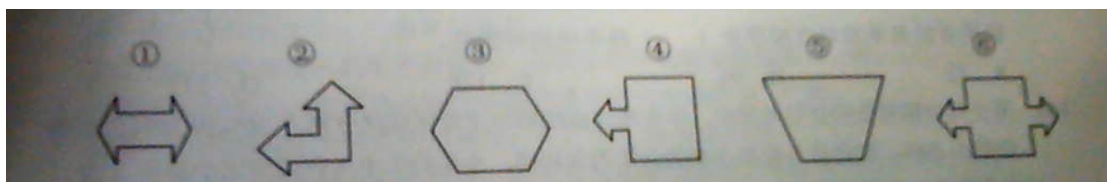
C

D

107、



108、把下面的六个图形分为两类，使每一类图形都有各自的共同特征或规律，分类正确的一项是( )。



- A. ①②⑤    ③④⑥                      B. ①③⑥    ②④⑤  
 C. ①③④    ②⑤⑥                      D. ①⑤⑥    ②③④

9、类比推理，（每道题先给出一组相关的词，要求你在备选答案中找出一组与之在逻辑关系上最为贴近、相似或匹配的词）

109、算盘—计算机（ ）

- A. 运动鞋—皮鞋      B. 步梯—电梯      C. 电脑—鼠标      D. 门窗—车窗

110、医生—治疗—健康（ ）

- A. 教师—教学—认真      B. 法官—公正—胜诉  
C. 交警—指挥—安全      D. 军人—训练—英勇

111、洋芋—土豆（ ）

- A. 西瓜—冬瓜      B. 芒果—青芒      C. 西红柿—番茄      D. 蔬菜—白菜

112、期刊—《中国人力资源开发》（ ）

- A. 杯子—茶壶      B. 可乐—奶茶      C. 木瓜—西瓜      D. 动物—美洲豹

113、浙江—江苏（ ）

- A. 香港—台湾      B. 辽宁—吉林      C. 四川—西藏      D. 广东—海南

114、《项链》—莫泊桑（ ）

- A. 《京华烟云》—钱钟书      B. 《窦娥冤》—关汉卿  
C. 《麦琪的礼物》—欧亨利      D. 《草叶集》—马克吐温

115、宏观调控—凯恩斯（ ）

- A. 心理学—佛罗伊德      B. 双因素理论—赫茨伯格  
C. X-Y理论—马斯洛      D. 市场经济—邓小平

116、奖励—惩罚（ ）。

- A. 积极—消极      B. 美丽—漂亮      C. 褒扬—高尚      D. 整数—分数

10、事件排序，（每道题给出五个事件，每个事件以简短语句表达，请你选择题中最后乎逻辑的一种事件排序）

117、（ ）

- ①十一届三中全会提出改革开放                      ②清朝政府割让香港岛  
③庆祝香港回归祖国                                      ④中央谈判解决香港回归问题  
⑤邓小平提出“一国两制”构思
- A. ②⑤①③④      B. ②①⑤④③      C. ⑤①④②③      D. ⑤②①③④

118、（ ）

- ①“三变”改革探索扶贫经验                      ②各省大力实施精准扶贫战略  
③“三变”改革规模得到省市领导批示              ④省委政策研究室调研  
⑤召开会议总结推广“三变”改革经验
- A. ②③①⑤④      B. ①③⑤④②      C. ③⑤①④②      D. ②①③④⑤

119、（ ）。

- ①一号线试运行                      ②一号线全线贯通                      ③缓解城市交通运输压力  
④一号线正式运营                      ⑤修建地铁一号线
- A. ②⑤①④③      B. ⑤②①③④      C. ⑤②①④③      D. ①②④③⑤

120、（ ）

- ①西部地区连夜连日暴雨                      ②人民群众生命财产受到威胁  
③各地政府组织力量抢险救灾                      ④多地出现洪涝灾害  
⑤中央政府通报表扬
- A. ②①④③⑤      B. ⑤②①③④      C. ①③②④⑤      D. ①④②③⑤

121、（ ）

- ①发展存在问题                      ②提出解决方案                      ③组织专家调研  
④实施方案解决问题                      ⑤确定实施方案



- A. ②①④③⑤      B. ②①⑤③④      C. ①③②⑤④      D. ①②③⑤④

122、( )

- ①救治无效，家属起诉      ②媒体报道，药厂蒙冤  
③身患重疾，借钱购药      ④药厂胜诉，媒体道歉  
⑤工商介入，鉴定药品

- A. ③①②⑤④      B. ③①⑤②④      C. ②⑤①③④      D. ②③①⑤④

123、( )

- ①重点领域改革深入推进  
②经济发展动力平稳转换  
③中国人民的方向感、获得感、公平感和自豪感进一步提升  
④中国在全球治理中的地位与作用日益凸显  
⑤党中央治国理政新理念新思想新挑战的指引

- A. ⑤①②④③      B. ④①⑤②③      C. ④⑤①②③      D. ⑤②①④③

124、( )

- 旅游局将交密打造为 4A 景点      许多人到交密参观瀑布  
新闻媒体对交密的瀑布作了大量报道      交密的很多村民办起了农家乐，  
交密发现一个天然大瀑布

- A. ④①⑤②③      B. ⑤③②①④      C. ①⑤②③④      D. ①④⑤②③

11、定义判断（每道题先给出一个概念定义，然后分别列出四种情况，请严格依据定义，从中选出一个最符合题意的答案。注意：假设这个定义是正确的，不容置疑的）

125、语音是从人类发音器官发出、具有一定意义、能起社会交际作用的声音。

根据上述定义，下面选项属于“语音”的是( )

- A. 打鼾声      B. 打哈欠      C. 咳嗽      D. 呼唤

126、关系名词事表示人或事物之间相互关系的名词。

根据上述定义，下列选项属于“关系名词”的是（ ）

- A. 小王                      B. 爸爸                      C. 红色                      D. 桌子

127、暗示是在缺乏足够逻辑根据的情况下导致信服地接受所提供建议的代交流过程。

根据上述定义。下列选项属于“暗示”的是（ ）

- A. 望梅止渴                      B. 饮鸩止渴                      C. 投桃李报                      D. 瓜田李下

128、行为文明是人类社会实践中尤其是在人际交往中约定俗成的行为习惯，往往是以礼俗、民俗、风俗等形态出现的行为规范。

根据上述定义，下列选项属于“行为文化”的事（ ）

- A. 书房张挂《陋室铭》                      B. 冬天滑雪  
C. 元宵赏灯                      D. 放风筝

129、自媒体又称公民媒体，是普通大众经由数字科技强化、与全球知识体系相连之后，一种开始理解普通大众如何提供与分享他们本身的事实、他们本身的新闻途径，简言之，即公民用以发布自己亲眼所见、亲耳所闻事件的载体。

根据上述定义，下列选项属于“自媒体”的是（ ）

- A. 博客                      B. 广播                      C. 电台                      D. 报纸

130、箴言：箴字从竹从咸，竹指远古时代竹制的针灸用针，咸指酸涩感觉，

“箴言”即指一类带有酸涩味的语言，也就俗称的“刺耳逆言”，用来规劝、规诫那些行为处事不太合规矩的类似于病人的社会成员。

根据上述定义，下列选项不属于“箴言”的是（ ）

- A. 亲兄弟，明算账  
B. 尊敬别人才能让人尊敬，尊敬别人就是尊敬自己  
C. 长风破浪会有时，直挂云帆济沧海  
D. 不要在你的智慧中夹杂傲慢，不要使你的谦虚心缺乏智慧

131、别居又称分居或分床分食制，是指夫妻双方解除同居义务，而婚姻关系依旧存在的法律制度，设立别居制度是为了用于解决一些夫妻不堪共处的实际问题，把它作为婚姻暂时存续的补救手段及缓和办法。

根据上述定义下列选项属于“别居”的是：

- A. 因为工作需要，小丽的丈夫经常被派到美国出差
- B. 老张长期在广州打工，他的妻子在家照看孩子
- C. 小黄长期与妻子感情不和，两年来他一直在单位宿舍居住
- D. 小陈患有严重的肺结核，坚持不与妻子同时

132、皮格马利翁效应也称“罗森塔尔效应”或“期待效应”，由美国著名心理学家罗森塔尔和雅格布森在小学教学过程中予以验证提出，指人们基于对某种情景的知觉而形成的期望或预言，会使该情境产生适应这一期望或预言的效应。指人们基于对某种情景的知觉而形成的期望或预言，会使该情境产生适应这一期望或预言的效应，暗示在本质上人的情感和观念会不同程度地受到别人下意识的影响，人们会不自觉地接受自己喜欢、钦佩、信任和崇拜的人的影响和暗示。

根据上述定义，下列选项属于皮格马利翁效应的是：

- A. 屈原遭楚怀王流放，成就《离骚》
- B. 程思泽器重郑珍，郑珍最终著述遍布经史子集
- C. 李白与杜甫都是唐代著名诗人
- D. 司马迁因替李陵辩护遭受宫刑，忍辱负重完成史记

133、某班级共有 20 人。

①有人会说普通话      ②有人不会说普通话      ③班长不会说普通话。

假设上述判断只有一个是真的以下判断正确的是：

- A. 20 人都会说普通话      B. 20 人都不会说普通话
- C. 仅有一人会说普通话      D. 仅有一人不会说普通话

134. 某公司共有五人，其中两人是女性，这五人的年龄分段分别是：一名处于 51-60 岁之间，两名处于 41-50 岁之间，两名处于 31-40 岁之间，两名女性的年龄段不同。根据上述所述，最可能正确的是（ ）

- A. 三名男性的年龄段各不相同      B. 一名女性所处年龄段一定是 31-40 岁之间  
C. 男性所处年龄段不完全相同      D. 第三名男性全部在一个年龄段

135. 某空军部队实战演习有 A 和 B 两个演习小组，A 组周一开始飞行演习，每隔一天飞行一次，B 组周二开始飞行演习，并每隔两天飞行一次。空军部队规定：凡飞行之日均禁止周围放飞风筝，演习不到两周，群众电话咨询周几可以放飞风筝，得到的答复是“今天不行，前天和后天都可以”。

以上为真，以下（ ）比必真

- A 群众来电时间为周一      B 群众来电时间为周三  
C 群众来电时间为周四      D 群众来电时间为周五

136. 有研究者以女性面试群体为对象，将面试者分为两组，第一组面试时，女生打扮得体漂亮面容姣好；第二组则卸妆，没有特色，研究结果是再发言内容等条件相同情况下，第一组发言得分明显较高

从这个研究可以看出（ ）

- A 面试官都喜欢打扮得体漂亮的女性面试者  
B 人的容貌与自身的能力和素质有一定的关系  
C 人的容貌和人的成功有很大的影响  
D 人的容貌对他人的判断有较大影响

137. “十一”长假期间，部分景区出现了游客不文明现象，他们随地乱扔垃圾、乱题字，媒体对此进行了曝光，并配发一些游客不文明行为的照片。有人在谈到这些照片时说：“如果不想被拍照曝光，那么就应该举止文明”。

下列选项所表达的意思与上面这句话的意思不同的是（ ）

- A. 如果不做到举止文明，就准备被拍照曝光  
B. 如果做不到举止文明，必然被拍照曝光

- C. 或者因不文明行为而被拍照曝光，或做到举止文明  
D. 只有举止文明，才能避免被拍照曝光

138、“法律是治国之重器，良法是善治之前提”，这句话可以理解为法治与善治存在必然联系。法治是善治的基础，善治必须建立在法治之上，没有法治就没有善治，法治本身也是构成善治的基本要素，由此可以推出（ ）

- A. 有善治就没有法治                      B. 必有善治就有法治  
C 有法治就没有善治                      D 有法制就有善治

139、只有遇到大雾天或下雨天，飞机才会晚点。现在，飞机没有准时到达，所以（ ）遇到大雾天或大雨天

- A 可能                      B 没有                      C 不可能                      D 一定

140、某中学所有喜欢球类运动的学生都参加过学校的运动会，因此，有些喜欢美术的学生不喜欢球类运动。

为了使上述论证成立，必须假设的是（ ）

- A 所有喜欢球类运动的学生都不喜欢美术  
B 参加过学校运动会的学生都喜欢球类运动  
C 所有喜欢美术的学生都喜欢球类运动  
D 有些喜欢美术的学生没有参加过学校的运动会

## 十二、资料分析

材料：“中华人民共和国 2016 年国民经济和社会发展统计公报”显示，年末广义货币供应量（ $M_2$ ），余额 155.0 万亿元，比上年末增长 11.3%。狭义货币供应量（ $M_1$ ），余额 48.7 万亿元，增长 21.4%，流通中货币（ $M_0$ ），余额 6.8 万亿元，增长 8.1%。

全年社会融资规模增量 17.8 万亿元，比上年多 2.4 万亿元，年末全部金融机构本外币各项存款余额 155.5 万亿元，比年初增长 15.7 万亿元，其中人民币各项存款余额 150.6 万亿元，增加 14.9 万亿元，全部金融机构本外币比各项贷



款金额 112.1 万亿元，增加 12.7 万亿元，其中人民币各项贷款余额 106.6 万亿元，增加 12.6 万亿元。

年末主要农村金融机构（农村信用社、农村合作银行、农村商业银行）人民币贷款余额 134219 亿元，比年初增加 13895 亿元，金融机构境内住户人民币消费贷款余额 250472 亿元，增加 60998 亿元，其中短期消费贷款余额 49313 亿元，增加 8347 亿元中长期消费贷款余额 201159 亿元，增加 52651 亿元。

全年上市公司通过境内市场累计筹资 23342 亿元，比上年增加 5088 亿元，其中首次公开发行 A 股 248 只，筹资 1634 亿元；A 股现金再融资（包括增发、定向增发、配股、优先股）13387 亿元，增加 4618 亿元。上市公司通过沪深交易所发行公司债可转再投资 8321 亿元，增加 414 亿元，全年全国中小企业股份转让系统新增挂牌公司 5034 家，筹资 1391 亿元，增加 145 亿元。

全年保险公司原保险保费收入 30959 亿元，比上年增长 27.5%，其中寿险业务原保险保费收入 17442 亿元，健康险和意外伤害险业务原保险保费收入 4792 亿元，财产险业务原保险保费收入 8725 亿元。支付各类赔款及给付 10513 亿元，占原保险保费总收入的 33.9%，其中寿险业务给付 4603 亿元，占原保险保费收入的 26.4%，财产险业务赔款 4726 亿元，占原保险保费收入的 54.2%

141、若已知“ $M_2=M_1+$ 准货币余额”，则 2016 年度准货币余额增长速度，正确的是（ ）

- A. 高于  $M_1$       B. 高于  $M_2$  但低于  $M_1$       C. 低于  $M_2$       D. 不确定

**[答案]C** 考察混合增速，整体的增长量介于部分之间，则  $M_2$  的增速应该介于  $M_1$  和准货币余额的增速之间， $M_2$  增长 11.3%， $M_1$  增长 21.4%，高于  $M_2$  增速，则准货币余额的增速低于  $M_2$  增速，选 C 项。

142、2016 年末全部金融机构外币存款余额与上年末相比

- A. 增加      B. 减少      C. 保持不变      D. 无法确定

**[答案]A** 直接读数，材料给出“年末全部金融机构本外币各项存款余额 155.5 万亿元，比年初增长 15.7 万亿元”，2016 年初即上年末，因此为增长，选 A 项。

143、2016 年末金融机构境内住户人民币中长期消费贷款余额占总消费贷款余额的比例约为

- A. 20%      B. 80%      C. 86%      D. 14%

[答案]B 求比重，材料给出“金融机构境内住户人民币消费贷款余额 250472 亿元，中长期

消费贷款余额 201159 亿元”，比重 =  $\frac{\text{部分值}}{\text{整体值}} = \frac{201159}{250472} \approx 80\%$ ，选 B 项。

144、2010 年全年上市公司首次公开发行 A 股，筹资金额比上年

A. 增加 56 亿元 B. 减少 56 亿元 C. 增加 119 亿元 D. 减少 119 亿元

[答案]A 全年上市公司筹资金额包括首次公开发行 A 股、A 股现金再融资、上市公司通过沪深交易所发行公司债可转再投资，全年上市公司筹资金额比上年增加 5088 亿元，其中 A 股现金再融资增加 4618 亿元，上市公司通过沪深交易所发行公司债可转再投资增加 414 亿元，则首次公开发行 A 股筹资金额比上年增加 = 5088 - 4618 - 414 = 56，即增加 56 亿元，选 A 项。

145、如定义“赔付率 = 赔款及给付 / 原保险保费收入”则下列说法错误的是：

A 财产险业务的赔付率最高 B 寿险业务的赔付率处于中间水平  
C 健康险和意外险业务的赔付率最低 D 寿险业务的赔付率高于行业总水平

[答案]D 读数比较，由材料知全年保险公司赔付率 33.9%，寿险赔付率为 26.4%，健康险和意外伤害险赔付率为 24.7%，财产险赔付率为 54.2%，读数可知 A、B、C 正确，D 项错误，选 D 项。

2016 年贵州规模以上工业增加值及其增长速度

| 指标名称             | 绝对款（亿元） | 比上年增长（%） |
|------------------|---------|----------|
| 规模以上工业增加值        | 4032.11 | 9.9      |
| 煤炭开采洗选业          | 675.30  | -0.9     |
| 非金属矿采选业          | 109.28  | 24.6     |
| 酒、饮料和精制茶制造业      | 815.09  | 12.8     |
| 烟草制品业            | 281.58  | -8.9     |
| 化学原料和化学制品制造业     | 178.76  | 12.8     |
| 医药制造业            | 126.57  | 12.3     |
| 非金属矿物制造业         | 316.75  | 18.3     |
| 黑色金属冶炼和压延加工业     | 78.80   | 2.2      |
| 有色金属冶炼和压延加工业     | 182.96  | 12.0     |
| 计算机、通信和其他电子设备制造业 | 93.38   | 66.6     |

|             |        |      |
|-------------|--------|------|
| 电力、热力生产和供应业 | 421.85 | 9.7  |
| 汽车制造业       | 68.28  | 38.4 |

2016年，贵州规模以上工业中，煤炭开采和洗选业，电力、热力生产和供应业，烟草制品业，酒、饮料和精制茶制造业等四大传统行业实现增加值2193.81亿元，占规模以上工业增加值的比重为54.4%，其中，酒、饮料和精致茶制造业增加值421.85亿元，增长9.7%。新兴产业中，计算机，通信和其他电子设备制造业，汽车制造业，医药制造业增加值分别为93.38亿元，68.28亿元和126.57亿元，分别比上年增长66.6%，38.4%和12.3%，占规模以上工业增加值的比重分别为2.3%，1.7%和3.1%，高技术产业增加值272.58亿元，比上年增长27.2%，占规模以上工业增加值的比重为6.8%。

146. 2015年贵州规模以上工业增加值是（）亿元

- A. 4475.15
- B. 4870.88
- C. 3668.89
- D. 3886.88

**[答案]C** 已知现期量和增长率求基期量，基期 =  $\frac{A}{1+r} = \frac{4032.11}{1+9.9\%} \approx 3668.89$ ，选C项。

147. 2016年贵州规模以上工业中同比增速最大的工业是（）

- A、汽车制造业
- B、计算机、通信和其他电子设备制造业
- C、非金属矿采选业
- D、非金属矿物制品业

**[答案]B** 直接读数，表格最后一列即为同比增速，最大的是计算机、通信和其他电子设备制造业，为66.6%，选B项。

148. 2016年贵州规模以上工作中（）的增加绝对数最大

- A、酒、饮料和精制茶制造业
- B、电力、热力生产和供应业
- C、非金属矿物制品业
- D、计算机，通信和其他电子设备制造业

**[答案]A** 增加绝对数即为增长量，比较增长量直接比较现期量×增长率，A 选项为  $815.09 \times 12.8\%$ ，B 选项为  $421.85 \times 9.7\%$ ，C 选项为  $316.75 \times 18.5\%$ ，D 选项为  $93.38 \times 66.6\%$ ，可以看出 A 选项现期量×增长率最大，选 A 项。

149. 2016 年贵州规模以上工业中有（ ）个呈增长态势

A、7      B、8      C、9      D、10

**[答案]D** 直接读数，表格最后一列为同比增速，同比增速大于 0 即为增长，表中所列除煤炭开采洗选业和烟草制品业以外均为增长，第二行的规模以上工业增加值为总的，不计算在内，共 10 个，选 D 项。

150. 下列说法正确的是（ ）

- A、2016 年贵州规模以上的所有工业都实现增长
- B、2015 年贵州规模以上工业中煤炭开采和洗选业的增加值最大
- C、2016 年贵州规模以上工业的各工业增长速度各不相同
- D、2015 年烟草制品业的增加值大于非金属矿物制品业

**[答案]D** A 选项由 149 题可知煤炭开采洗选业和烟草制品业为下降，错误；B 选项为比较基期量，计算量较大，可先跳过；C 选项直接读表格最后一列数据，发现酒、饮料和精制茶制造业和化学原料和化学制品制造业均为 12.8%，C 选项错误；D 选项为比较基期量，2015

年烟草制品业的增加值为  $\frac{A}{1+r} = \frac{281.58}{1-8.9\%} \approx 309.09$ ，2015 年非金属矿物制品业的增加值

为  $\frac{A}{1+r} = \frac{316.75}{1+18.3\%} \approx 267.75$ ，正确，选 D 项。

## 2017 年贵州华图农信社面试辅导课程

| 状元系列       |                    |          |          |
|------------|--------------------|----------|----------|
| 产品名称       | 授课内容               | 职位保护     | 参考价格     |
| 金领状元 A     | 结构化 7 天 8 晚，赠送金领实战 | 1:1 职位保护 | 6180     |
| 金领状元 A 协议班 | 结构化 7 天 8 晚，赠送金领实战 | 1:1 职位保护 | 详情咨询贵州华图 |

地址：花果园金融街金融大厦 16 楼

电话：0851-85829568

|             |                     |             |             |
|-------------|---------------------|-------------|-------------|
| 金领状元 B      | 结构化 4 天 5 晚, 赠送金领实战 | 1:1 职位保护    | 3680        |
| 金领状元 B 协议班  | 结构化 4 天 5 晚, 赠送金领实战 | 1:1 职位保护    | 详情咨询贵州华图    |
| <b>必达系列</b> |                     |             |             |
| <b>产品名称</b> | <b>授课内容</b>         | <b>职位保护</b> | <b>参考价格</b> |
| 金领必达 A      | 结构化 7 天 8 晚, 赠送金领实战 | 1:1 职位保护    | 6180        |
| 金领必达 A 协议班  | 结构化 7 天 8 晚, 赠送金领实战 | 1:1 职位保护    | 详情咨询贵州华图    |
| 金领必达 B      | 结构化 4 天 5 晚, 赠送金领实战 | 1:1 职位保护    | 3680        |
| 金领必达 B 协议班  | 结构化 4 天 5 晚, 赠送金领实战 | 1:1 职位保护    | 详情咨询贵州华图    |
| <b>实战系列</b> |                     |             |             |
| <b>产品名称</b> | <b>授课内容</b>         | <b>职位保护</b> | <b>参考价格</b> |
| 金领实战        | 2 天 2 晚实战演练含模考      | 无           | 2080 (含住)   |

## 报班优惠：现在报名预约交 100 抵 500

### 贵州华图联系方式：

贵阳华图：0851-85829568/85866569      地址：贵阳市花果园国际金融街金融大厦 16 楼  
 大学城华图：0851- 85969718/18984320281      地址：花溪大学城医科大九栋 8 号  
 六盘水华图：0858-8690565      地址：六盘水钟山区龙井高架桥头  
 凯里华图：0855-8236463      地址：凯里市北京东路(0 八三红绿灯路口)州建公司 3 楼  
 兴义华图：0859- 3116855/3225278      地址：兴义市桔山大道兴义商城 A 座 6 楼 615  
 都匀华图： 0854-8236608      地址：都匀市大十字匀中大厦 4 楼  
 安顺华图：0851-33598095/18085377730      地址：安顺市老大十字悦立达酒店 6 楼  
 遵义华图：0851-28820443/13628526007      地址：遵义市汇川区凤凰路 154 号  
 毕节华图：0857-8986990/18188177997      地址：毕节市桂花路苏宁电器 4 楼华图教育  
 铜仁华图：0856-5232002/18085625591      地址：碧江区西外环八号西城御都 12 楼