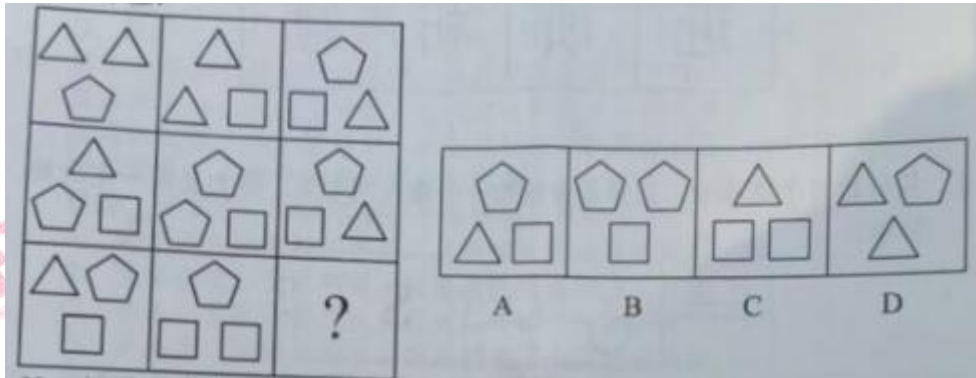



第二周第四天 判断推理

1.从所给四个选项中，选择最适合的一个填入括号处，使之呈现一定的规律性：

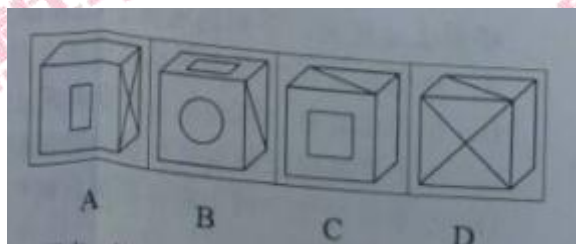
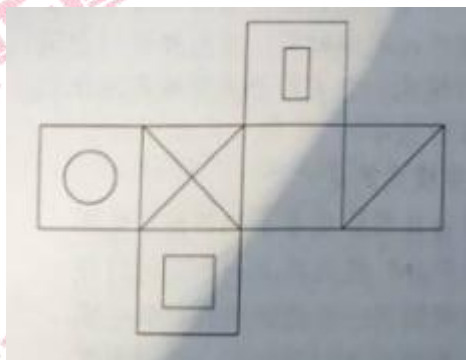


2.把下面的六个图形分为两类，使每一类图形都有各自的共同特征和规律，分类正确的一项是：

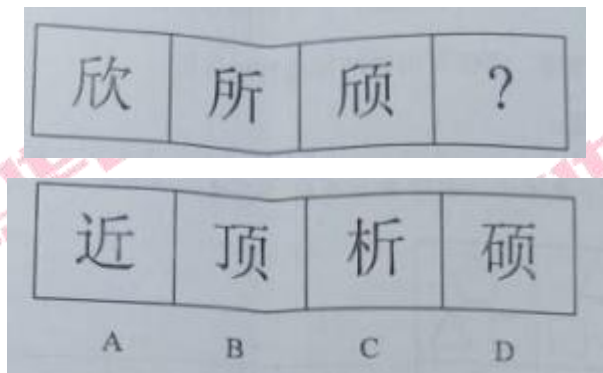


- A. ①②⑥，③④⑤ B. ①②⑤，③④⑥
 C. ①③④，②⑤⑥ D. ①②③，④⑤⑥

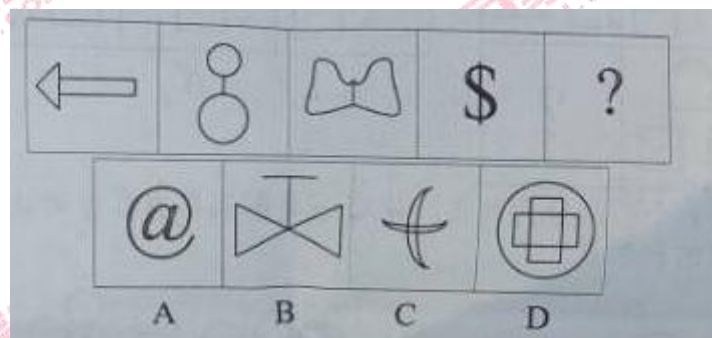
3.左边是给定的纸盒的外表面，下面哪一项能由它折叠而成？



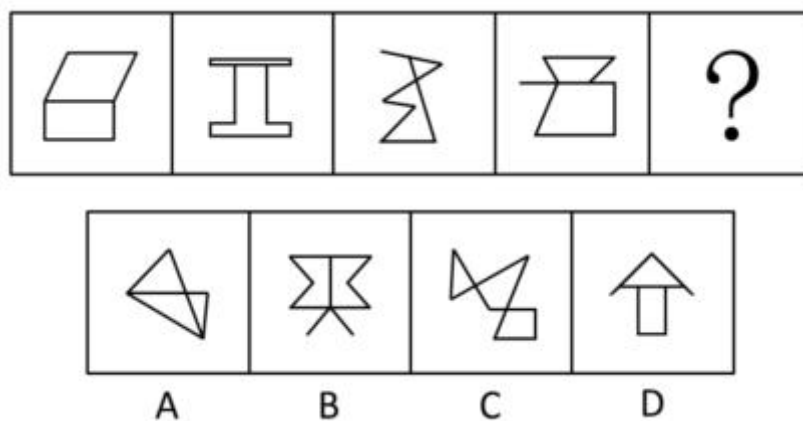
4. 从所给四个选项中，选择最合适的一个填入问号处，使之呈现一定的规律性：



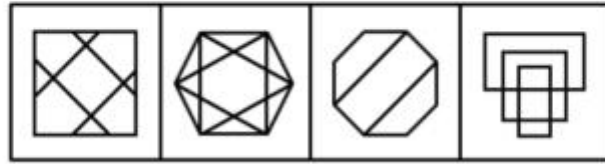
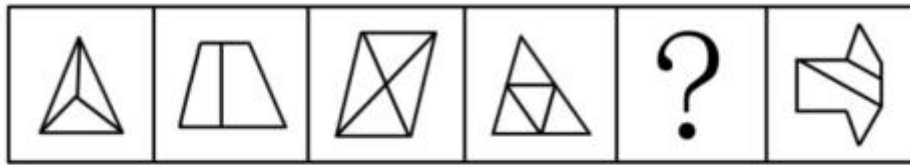
5. 从所给四个选项中，选择最合适的一个填入问号处，使之呈现一定的规律性：



6. 从所给的四个选项中，选择最合适的一个填入问号处，使之呈现一定的规律性：

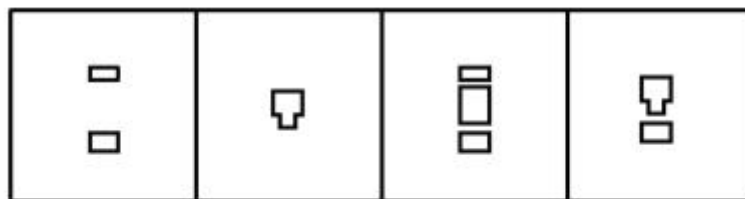
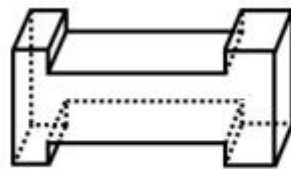


7. 从所给的四个选项中，选择最合适的一个填入问号处，使之呈现一定的规律性：



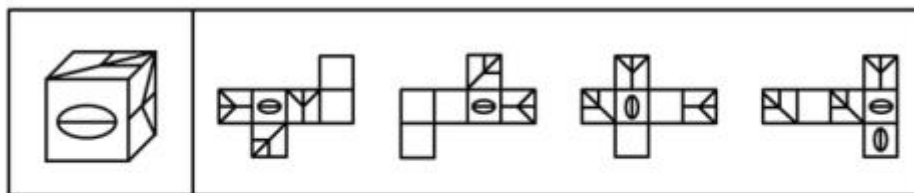
A B C D

8. 下面的立体图形如果从任一面剖开，以下哪一项不可能是该立体图形的截面？



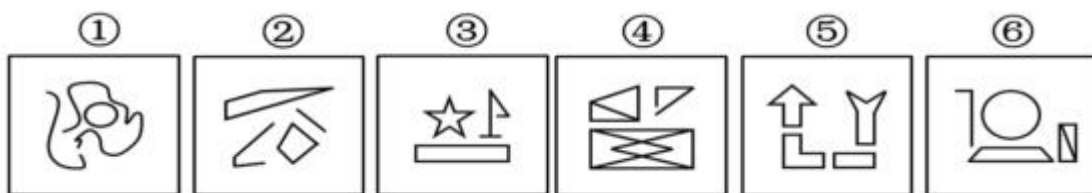
A B C D

9. 右边哪一项不可能是左边正方体纸盒的展开图？



A B C D

10. 把下面的六个图形分成两类，是每一类图形都有各自共同特征或规律，分类正确的一项是：



- A . ①②③ , ④⑤⑥ B . ①③⑤ , ②④⑥
 C . ①③④ , ②⑤⑥ D . ①⑤⑥ , ②③④



微信号: **hebhuatu**
 扫左侧二维码
 关注河北华图微信

咨询电话
 0311-85335555

河北华图
 HUATU.COM
 SINCE 2001

河北华图
 HUATU.COM
 SINCE 2001

河北华图
 HUATU.COM
 SINCE 2001

河北华图
 HUATU.COM
 SINCE 2001

河北华图
 HUATU.COM
 SINCE 2001

河北华图
 HUATU.COM
 SINCE 2001

河北华图
 HUATU.COM
 SINCE 2001

河北华图
 HUATU.COM
 SINCE 2001