



事业单位招聘考试模拟题

华图，让考“事”更轻松
赤峰华图

2018 年事业单位笔试模拟题(第一套)

一、单选题（60 题，每题 0.8 分，共 48 分）

1. 上海合作组织成员国元首理事会第十八次会议于 2018 年 6 月 9 日到 10 日在山东省青岛市举行，国家主席习近平将主持会议并出席相关活动。下列关于上海合作组织的说法错误的是（ ）

- A. 上海合作组织成立于 2001 年
- B. 上海合作组织是政府间合作组织
- C. 目前上海合作组织共有 8 个成员国：中国、俄罗斯、哈萨克斯坦、吉尔吉斯斯坦、乌兹别克斯坦、巴基斯坦、孟加拉国、印度
- D. 2017 年 6 月 9 日，印度和巴基斯坦正式成为上海合作组织成员

2. 中国共产党第十九届中央委员会第三次全会提出，转变政府职能，优化政府机构设置和职能配置，是深化党和国家机构改革的重要任务。要坚决破除制约使市场在资源配置中起（ ）作用、更好发挥政府作用的体制机制弊端，围绕推动高质量发展，建设现代化经济体系。

- A. 基础性
- B. 决定性
- C. 辅助性
- D. 积极性

3. 中共中央政治局 1 月 30 日召开会议，听取和审议《中央政治局常委会听取和研究全国人大常委会、国务院、全国政协、最高人民法院、最高人民检察院党组工作汇报和中央书记处工作报告的综合情况报

告》。中共中央总书记习近平主持会议。会议认为，（ ）是中国特色社会主义最本质的特征，是全党全国各族人民共同意志和根本利益的体现，是决胜全面建成小康社会、夺取新时代中国特色社会主义伟大胜利的根本保证。

- A. 党的领导
- B. 人民当家做主
- C. 依法治国
- D. 全面从严治党

4. 2018年7月31日11时，我国在（ ）卫星发射中心，用长征四号乙运载火箭成功将高分十一号卫星送入预定轨道。

- A. 文昌
- B. 酒泉
- C. 西昌
- D. 太原

5. 2018年1月26日，（ ）被正式推荐为2019年世界文化遗产申报项目。

- A. 良渚古城遗址
- B. 扶阳古城遗址
- C. 临清古城遗址
- D. 新店古城遗址

6. 我们的奋斗目标是，到2020年国内生产总值和城乡居民人均收入在2010年的基础上翻一番，全面建成小康社会；到（ ）建成富

强民主文明和谐的社会主义现代化国家，实现中华民族伟大复兴的中国梦。

- A. 2035 年
- B. 建党 100 年
- C. 本世纪中叶
- D. 本世纪末

7. 2018 年 1 月 5 日，习近平在学习贯彻党的十九大精神研讨班开班式上发表重要讲话强调，建设好我们这样的大党，领导好我们这样的大国，必须要做到“三个一以贯之”。这三个“一以贯之”不包括（ ）

- A. 坚持和发展中国特色社会主义要一以贯之
- B. 提高思想认识、增强大局观念要一以贯之
- C. 推进党的建设新的伟大工程要一以贯之
- D. 增强忧患意识、防范风险挑战要一以贯之

8. 西方法律格言说：“法律不强人所难”。关于这句格言涵义的阐释，下列哪一选项是正确的？（ ）

- A. 凡是人能够做到的，都是法律所要求的
- B. 对人所不知晓的事项，法律不得规定为义务
- C. 根据法律规定，人对不能预见的事项，不承担过错责任
- D. 天灾是人所不能控制的，也不是法律加以调整的事项

9. 宏观调控是一门艺术，也是一种科学。宏观调控不能拍脑袋，必须尊重经济规律，近来，“定向调控”为大众所熟知，它是对宏观调控的进一步创新，基于区间调控，成熟于微刺激，意在更加精准发力，

强调调控“靶点”的精准度，是适应经济新常态的必然要求。下列符合“定向调控”的措施有（ ）

- ①降低部分城市商业银行和农村信用社存款准备金率
- ②证监会进一步加大稽查执法力度，打击内幕交易
- ③GDP 增长率等不滑出下限，CPI 涨幅不超过上限
- ④财政部宣布扩大对小微企业所得税优惠的范围

- A. ①③
- B. ①④
- C. ②③
- D. ②④

10. 十八届二中全会指出，（ ）是深化行政体制改革的核心。

- A. 坚持改革开放
- B. 转变政府职能
- C. 完善综合服务
- D. 全面依法治国

11. 下列经济行为中不属于执行货币的支付手段职能是（ ）

- A. 用现金购买商品
- B. 缴纳税款
- C. 付房租
- D. 发工资

12. 市场体系的三大支柱是（ ）

- A. 商品市场、技术和信息市场、房地产市场

- B. 商品市场、资本市场、劳动力市场
- C. 资本市场、技术和信息市场、劳动力市场
- D. 生产资料市场、期货市场、技术和信息市场
13. 下列选项中属于通货紧缩产生的原因之一是（ ）
- A. 货币供给过多
- B. 经济结构不合理，存在过多的无效供给
- C. 外资流入增加
- D. 有效需求过大
14. 随着互联网金融的火热，大学生借助“校园网贷”进行消费的方式悄然“走红”。但一段时间以来，“校园网贷”引发的借贷纠纷甚至债务悲剧也不时见诸媒体。这警示我们（ ）
- A. 要反对追求与众不同、标新立异的消费
- B. 要避免贷款消费
- C. 要避免只重物质消费忽视精神消费倾向
- D. 要做理性消费者
15. 应对物价上涨，可采取的措施是（ ）
- A. 降低基准利率
- B. 扩大财政支出
- C. 提高存款准备金率
- D. 扩大财政赤字
16. 2015 年中央经济工作会议指出，（ ）新常态、（ ）新常态、（ ）新常态，是当前和今后一个时期我国经济发展的大逻辑，

这是我们综合分析世界经济长周期和我国发展阶段性特征及其相互作用作出的重大判断。

A. 认识 适应 引领

B. 认识 适应 发展

C. 理解 适应 完善

D. 理解 适应 引领

17. 根据经济发展实际，某县提出了“腾笼换鸟”思路，即下决心改变粗放型经济发展方式，腾出空间培育“吃得少、产蛋多、飞得远的鸟”。这给我们在唯物论的方法论上的启示是（ ）

A. 意识决定于物质

B. 思想要适应变化了的实际

C. 具体问题具体分析

D. 意识对物质的能动作用

18. 实现中华民族伟大复兴的中国梦，必须弘扬中国精神，这就是以爱国主义为核心的民族精神和以（ ）为核心的时代精神。

A. 与时俱进

B. 和平发展

C. 解放思想

D. 改革创新

19. 根据《宪法》和法律的规定，下列哪一职位由全国人民代表大会选举产生？（ ）

A. 国务院总理

- B. 国家副主席
- C. 军委副主席
- D. 国务院副总理
20. 有法谚云：“法律为未来作规定，法官为过去作判决”。关于该法谚，下列哪一说法是正确的？（ ）
- A. 法律的内容规定总是超前的，法官的判决根据总是滞后的
- B. 法官只考虑已经发生的事实，故判案时一律选择适用旧法
- C. 法律绝对禁止溯及既往
- D. 即使案件事实发生在过去，但“为未来作规定”的法律仍然可以作为其认定的根据
21. 下列哪一情形构成重大误解，属于可撤销的民事行为？（ ）
- A. 甲立下遗嘱，误将乙的字画分配给继承人
- B. 甲装修房屋，误以为乙的地砖为自家所有，并予以使用
- C. 甲入住乙宾馆，误以为乙宾馆提供的茶叶是无偿的，并予以使用
- D. 甲要购买电动车，误以为精神病人乙是完全民事行为能力人，并与之签订买卖合同
22. 根据我国《宪法》规定，下列关于土地所有权的说法正确的是（ ）
- A. 土地全部属于国家所有
- B. 城市土地属于国家所有
- C. 土地全部属于集体所有
- D. 农村和城市郊区的土地，除由法律规定属于集体所有的以外，属

于国家所有

23. 某交通局在检查中发现张某所驾驶货车无道路运输证，遂扣留了张某驾驶证和车载货物，要求张某缴纳罚款 1 万元。张某拒绝缴纳，交通局将车载货物拍卖抵缴罚款。下列说法不正确的是（ ）

- A 扣留驾驶证的行为为行政强制措施
- B. 扣留车载货物的行为为行政强制措施
- C. 拍卖车载货物的行为为行政强制措施
- D. 拍卖车载货物的行为为行政强制执行

24. 丙以出卖为目的，偷盗婴儿后，惧怕承担刑事责任，又将婴儿送回原处。丙的行为属于（ ）

- A. 犯罪中止
- B. 犯罪未遂
- C. 犯罪既遂
- D. 不构成犯罪

25. 关于行政许可的申请，下列说法正确的是（ ）

- A. 行政许可既可以委托申请，也可以采用电子邮件申请
- B. 申请人既可以口头申请也可以书面申请
- C. 需要对实质内容进行核实的，应指派一名工作人员核查
- D. 申请人申请材料不全，行政机关在 6 天后告知其补正材料的视为自申请材料之日起已经受理申请

26. 为避免绕远，与邻人协商通过其土地直接到达自己的土地，该项权利属于（ ）

- A. 相邻权
- B. 地役权
- C. 地上权
- D. 土地使用权
27. 经营者与其交易相对人达成的下列协议中，未被《反垄断法》明确禁止的是（ ）
- A. 固定向第三人转售商品的价格
- B. 限定向第三人转售商品的最低价格
- C. 限定向第三人转售商品的最高价格
- D. 国务院反垄断执法机构认定的其他垄断协议
28. 下列行为，属于行政诉讼受案范围的是（ ）
- A. 某外国人对《出入境管理条例》不服向法院起诉的
- B. 财政局工作人员李某对定期考核为不称职不服向法院起诉的
- C. 王五在周末参加朋友聚会，酒后驾车回家途中被交警大队查获并处以行政拘留 15 日处罚，王五不服处罚向法院提起诉讼
- D. 张某对劳动争议仲裁裁决不服向法院起诉的
29. 关于行政许可，下列说法正确的是（ ）
- A. 公民对行政机关实施行政许可，享有陈述权、申辩权，有权依法申请行政复议或者提起行政诉讼。
- B. 江西省政府的规章有权设定 1 年以内的行政许可，期满后要继续实施的，应当提请全国人大及其常委会制定地方性法规
- C. 国务院可以设定行政许可

D. 江西省政府规章，有权设定企业或者其他组织的设立登记及其前置性行政许可。

30. 甲深夜盗窃 5 万元财物，在离现场 1 公里的偏僻路段遇到乙。乙见甲形迹可疑，紧拽住甲，要甲给 5000 元才能走否则就报警。甲见无法脱身，顺手一拳打中乙左眼，致其眼部受轻伤，甲乘机离去。关于甲伤害乙的行为定性，下列哪选项是正确的？（ ）

- A. 构成抢劫罪
- B. 构成故意伤害罪
- C. 属于正当防卫，不构成犯罪
- D. 系过失致人轻伤，不构成犯罪

31. 《中国诗词大会》让诗词的魅力重新回归人们视野。下列诗词中涉及化学变化的是（ ）

- A. 粉身碎骨浑不怕，要留清白在人间
- B. 千里冰封，万里雪飘
- C. 江上月明胡雁过，淮南木落楚山多
- D. 忽如一夜春风来，千树万树梨花开

32. 新民主主义革命期间，毛泽东撰写了很多革命文章，下列对应正确的是（ ）

- A. 《论人民民主专政》——工作重心由农村转移到城市
- B. 《实践论》——界定实事求是的科学含义
- C. 《论十大关系》——统筹兼顾，适当安排
- D. 《矛盾论》——社会主义的矛盾问题

33. “知行兼举”是中国古代哲学的一个命题，下列选项与之有关的是（ ）

- A. 纸上得来终觉浅，绝知此事要躬行
- B. 城门失火，殃及池鱼
- C. 凡事预则立，不预则废
- D. 运筹帷幄之中，决胜千里之外

34. “如果小猫看到的老鼠只存在于小猫的眼睛中，如果老鼠是小猫视神经的感觉，那么，小猫为什么用它的爪去抓老鼠而不去抓它的眼睛呢？”从费尔巴哈这一诙谐的哲理批判中，可以得到的启示（ ）

- ①存在就是被感知②世界上只有尚未认识之物，而没有不可认识之物
- ③物质第一性，意识第二性，意识是物质的反映④物质是不依赖于意识的客观存在，并不是感觉的产物

- A. ①④
- B. ②③
- C. ②④
- D. ①②

35. 国家之间之所以出现分离聚合、亲疏冷热的复杂关系，其主要决定因素是（ ）

- ①国家性质 ②国家力量 ③国家利益 ④国家科技发展水平

- A. ②④
- B. ②③

C. ①②

D. ①④

36. 为满足员工自我实现需要，推出哪种管理措施较为有效（ ）

A. 改善住房条件

B. 职工持股计划

C. 星级晋升制度

D. 合理化活动

37. 下列不属于领导者的三项基本职能的是（ ）

A. 观念技能

B. 人事技能

C. 管理技能

D. 技术技能

38. “一带一路”的战略方向是“五通”，即政策沟通、道路联通、贸易畅通、货币流通、（ ）

A. 民心相通

B. 官民相通

C. 民俗相通

D. 习惯相通

39. 下列灾害具有关联性的是（ ）

A. 滑坡——台风——暴雨

B. 火山喷发——地面沉降——全球气候变暖

C. 水土流失——山洪暴发——海啸

- D. 寒潮——干旱——沙尘暴
40. 下列关于职业道德的说法中，正确的是（ ）
- A. 社会分工和专业化程度的培强，对职业道德提出了更高要求
 - B. 职业道德的稳定性特征，说明职业道德是稳定而不变化的
 - C. 职业选择属于个人权利的范畴，不属于职业道德的范畴
 - D. 职业道德与法律分属不同领域，二者没有关联性
41. “未若锦囊收艳骨，一抔净土掩风流”的作者是《红楼梦》中的（ ），此诗的名字是《葬花吟》，此诗意在喻人，悲叹自己的命运，控诉社会的黑暗，其思想性与艺术性均达到最高境界。
- A. 晴雯
 - B. 林黛玉
 - C. 薛宝钗
 - D. 史湘云
42. 鸦片战争后，爱国志士用“新的眼光”审视世界。鸦片战争后萌发的新思潮（ ）
- A. 起了资产阶级思想启蒙的作用
 - B. 引导人们注意世界的形势
 - C. 掀起了学习外国技术的高潮
 - D. 抨击了封建专制制度
43. 下列有关文学常识的表述错误的一项是（ ）
- A. 关汉卿、王实甫、白朴、马致远被称为“元曲四大家”，他们的代表作分别有《窦娥冤》《西厢记》《汉宫秋》《倩女离魂》。

B. “南戏中兴之祖”是人们对南戏优秀作品《琵琶记》的誉称，该剧为元末高明所作。

C. “临川四梦”是明代剧作家汤显祖四部剧作的合称，即《牡丹亭》《南柯记》《邯郸记》《紫钗记》。因作家是江西临川人，且四部作品皆以神灵梦感来启开情节，故得此名。

D. 马致远，字千里，号东篱，元散曲作家中成就最高者。其中《天净沙秋思》及《夜行船秋思》尤为著名。

44. 下列文化常识的表述中，错误的一项是（ ）

A. “五色土”中间是黄土，北方是黑土，南方是赤土，西方是青土，东方是白土，跟我国版图上土壤的实际分布是一致的，是中国的象征

B. “三教九流”中的“三教”是指儒教、道教、佛教

C. 古代的王侯公卿、高官大臣死后，朝廷会根据其生平行为给予他一个称号，叫做“谥号”，如“齐桓公”“晋文公”“武穆公”等

D. 古代最不礼貌的坐姿是“箕踞”，即随意伸开两腿，像簸箕一样地席地而坐

45. 下列说法错误的是（ ）

A. 暖水瓶为保证保温效果，一般不宜灌的太满，主要体现了热传导原理

B. 海水呈现蓝色体现了光的反射和散射原理

C. 火灾现场中首先对人体造成危害的一般是烧伤

D. 发现室内燃气泄漏，应关闭气源，打开门窗

46. 上海合作组织始终保持旺盛生命力、强劲合作动力，根本原因在

于它创造性地提出并始终践行（ ），主张（ ）、尊重多样文明、谋求共同发展。

- A. “上海精神” 互信、互利、平等、协商
- B. “上海精神” 互助、互利、平等、协商
- C. “上合精神” 互信、互利、团结、协商
- D. “上合精神” 互助、互利、平等、协商

47. 《中共中央 国务院关于实施乡村振兴战略的意见》提出要探索农村宅基地（ ）“三权分置”。

- A. 所有权、资格权、使用权
- B. 承包权、分配权、收益权
- C. 分配权、资格权、使用权
- D. 收益权、处置权、所有权

48. 列宁说：“意识到自己的奴隶地位而与之斗争的奴隶，是革命家。没有意识到自己的奴隶的地位而过着默默无闻、浑浑噩噩，忍气吞声的奴隶生活的奴隶，是十足的奴隶。对奴隶生活的各种好处津津乐道，并对和善的奴隶主感激不尽，以至垂涎欲滴的奴隶，才是无耻之流。”这三种奴隶的思想意识之所以有如此大的差异，从历史唯物主义的观点看，是由于（ ）

- A. 人的社会意识具有历史继承性
- B. 人的社会意识并不都是社会存在的反映
- C. 人的社会意识与社会存在具有不一致性
- D. 人的社会意识中的各种形式之间相互作用

49. 中国人民解放军某省军区向该省各市、县人民政府行文时可制发
()

- A. 命令
- B. 函
- C. 请示
- D. 通知

50. 《XX 广播局关于向 XX 县土地局申请划拨建设电视转播台用地的请示》，该标题的主要错误是()

- A. 违反报告不得夹带请示的规定
- B. 违反应协商同意后再发文的规定
- C. 错误使用文种，应使用函
- D. 错误使用文种，应使用报告

51. 事实上任何一个不可避免的危害原本就是社会人口因素与生态系统中潜在的破坏性因素相结合的产物。就舟曲泥石流而言，人类活动的_____和社会管理_____显然是灾害的要素之一，但在地质专家们看来，这些原因还远不足以将舟曲之灾_____为人祸之故。

依次填入划横线部分最恰当的一项是 ()

- A. 加速 疏忽 断言
- B. 破坏 漏洞 归咎
- C. 频繁 忽略 断定
- D. 加剧 疏漏 妄定

52. 人类的寿命与基因有关，体内有多个基因_____着你的生命长短。

研究表明，那些在恶劣环境下控制机体防御功能的基因，能够显著地改善多种生物的健康状况并且延长其寿命。了解这些基因的运作_____，或许可以帮助我们找到消除老年疾病、延长人类生命的秘诀。

依次填入划横线部分最恰当的一项是（ ）

- A. 操控 规律
- B. 支配 原理
- C. 决定 机制
- D. 主宰 流程

53. 2017 年的“双十一购物节”让外界_____中国热闹异常的电子商务产业。美国媒体感叹中国的“双十一”一天的销售规模已经赶超美国两大网上购物日，预计电子商务将_____中国在 2017 年成为全球最大的零售市场。

依次填入划横线部分最恰当的一项是（ ）

- A. 惊诧 力推
- B. 关注 助推
- C. 热议 襄助
- D. 聚焦 助力

54. 一个人不能失忆，一个国家当然就更不能失忆了，但是因为历史的原因，有时候会有意无意地试图_____某方面的回忆。对于这种无奈的现实，我们能够理解，但是并不是说就应该支持或者默认这么做。在具备了条件之后，我们还是应该寻找和_____我们的记忆。

依次填入划横线部分最恰当的一项是（ ）

- A. 回避 恢复
- B. 隐藏 修复
- C. 躲避 还原
- D. 掩盖 复原

55. 一个国家的发展道路合不合适，只有这个国家的人民才最有发言权。我们主张，各国和各国人民应该共同享受发展成果。世界长期发展不可能建立在一批国家越来越富裕而另一批国家却长期贫穷落后的基础上。只有各国共同发展了世界才能更好发展，那种_____、转嫁危机_____的做法，既不_____也难持久。

依次填入划横线部分最恰当的一项是（ ）

- A. 嫁祸于人 害人害己 可能
- B. 兄弟阋墙 损人利己 团结
- C. 以邻为壑 害人害己 安全
- D. 以邻为壑 损人利己 道德

56. 当前，由于全球贸易“蛋糕”的缩小，部分经济实体借“反倾销”“特别保护税”之名，行贸易保护主义之实。近年来，由于中国是全球最大的贸易出口国，欧盟、美国等经济实体对华贸易一直存在巨额逆差，它们对此选择了日益强硬的态度，相关的贸易摩擦日渐增多。

根据这段文字，接下来作者最有可能着重讲述（ ）

- A. 中国如何采取积极措施应对贸易摩擦
- B. 中国对外贸易顺差产生的原因

C. 部分经济实体进行贸易保护的根源

D. 当前全球贸易格局的新变化

57. 经典并非天然就是经典，他们都经历了从普通著述变成神经典典的过程。没有哪部著作是事先照着经典的尺寸和样式量身定做的，只是因为它写得好，被引用得多，被人觉着充满真理，又被反复解释，有的还被“钦定”为必读书，于是就在历史中渐渐成了被尊崇、被仰视的经典。因此，如今我们重新阅读经典，又需要你把它放回产生塔的时代里面，重新去理解。经典的价值和意义也是层层积累的，对那些经典里传达的思想、原则甚至知识，未必需要亦步亦趋“照搬不走样”，到时要审时度势、活学活用，要进行“创造性的转化”。

这段话意在强调（ ）

A. 经典在历史上是如何生成的

B. 阅读经典要进行创造性转化

C. 我们应以历史的态度对待经典

D. 要破除对经典的迷信和盲目崇拜

58. 大部分人会通过体重来判断自己是否肥胖，其实并不准确。有专家指出_____。脂肪对人体构成非常重要，过多或过少都会影响健康，一般来说，男性体脂率高于 25%，女性高于 30%属于肥胖，会引发高血压、高脂血症、冠心病、糖尿病等疾病；体脂率过低，即男性低于 5%，女性低于 13%，可能引起身体功能失调。

填入划横线部分的语句，与上下文衔接最恰当的一项是（ ）

A. 肥胖的标准对于不同的性别的人也不尽相同

- B. 控制体脂率才是健康减肥的关键
- C. 很多人一说减肥就认为是减体重，这其实是个误区
- D. 判断是否肥胖更准确的标准应该是体脂率

59. 在我国城镇化加速的进程中，伴随着农业生产效率的逐步提高，已经有相当部分农村人口进入城镇的第二产业、第三产业，这些劳动人口是未来城镇化的支撑力量，也是社会经济全面发展的基础动力，但目前的现实问题是这部分人在城镇化中的居住水平较低，如果能够通过棚户区改造解决这部分人口的居住问题，再辅以其他措施的落实，把相当一部分农民工和潜在的溢出劳动力变为稳定生活的居民，则有利于我国城镇化进程的加速推进。

对这段话理解正确的一项是（ ）

- A. 棚户区改造助力中国避开中等收入陷阱
- B. 棚户区改造在一定程度上缓解了居民收入差距的问题
- C. 棚户区改革有利于加快我国的城镇化进程
- D. 棚户区改造也有利于深化改革、促进经济结构转型

60. 在互联网时代，因为要证明自己的存在，所以人们在数字世界里不断分享，不断交流。但事实上，这种对联系的渴望，与其说是一种治疗方法，还不如说是一种病症。它表达着我们害怕孤独的焦虑，但并不能解决问题，相反它使我们与外界更为隔绝。同时我们已经失去独处的能力，而这种独处才能让我们集中注意力思考问题，找到自我，在找到自我的同时，才可能与他人产生更好的联系。

这段文字意在说明（ ）

- A. 只有独处才能找到自我
- B. 在现代社会人们更加害怕孤独
- C. 要学会独处，否则会更为孤独
- D. 现代数字媒体让人们失去独处的能力

二、多项选择题（5小题 1.6分共 8分）

61. 散步的时候\我走直路\儿子却故意\把路走弯\我说\把路走直\就是捷径\儿子说\把路走弯\路就延长”。这首《散步》诗蕴含的哲理是（ ）

- A. 事物发展是前进性与曲折性的统一
- B. 认识事物的角度不同，价值评价也就不同
- C. 整体和部分相互联系的
- D. 矛盾双方在一定条件下可以相互转化

62. 下列对行政执行的阐述正确的有（ ）

- A. 行政执行是实现决策目标的活动
- B. 行政执行受权利机关的监督和制约
- C. 行政执行主体只能是行政机关
- D. 行政执行活动本质上是对未来行政管理活动作出的反应

63. 在十九届二中全会上，对宪法部分内容的修改建议进行了研究，并指出修改宪法应遵循的基本原则，以下属于基本原则的是（ ）

- A. 坚持党的领导，坚持中国特色社会主义法治道路
- B. 充分发扬民主、广泛凝聚共识
- C. 坚持对宪法作部分修改、不作大改

D. 确保反映人民意志、得到人民拥护

64. 备受关注的嫦娥四号中继星及其搭载的由哈尔滨工业大学研制的两颗小卫星也在 24 日揭晓命名，分别被称为“鹊桥”和“龙江一号”“龙江二号”。嫦娥五号月球探测器预计在 2019 年发射，采集月球样品并返回地球，全面实现月球探测工程“三步走”战略目标。另外，2018 年“中国航天日”主题活动 24 日在哈尔滨工业大学开幕。其目的在于（ ）

- A. 落实创新驱动发展战略、军民融合发展战略
- B. 传承航天精神，凝聚强大力量
- C. 打造航天强国
- D. 加快推动航天强国建设

65. 下列关于政府和市场关系的表述中，正确的是（ ）

- A. 应当充分发挥市场在资源配置中的决定性作用
- B. 政府调控经济能够优化资源配置
- C. 市场经济意味着企业可以不受政府制约地自由行动
- D. 市场的局限性和市场失灵使得政府管制和宏观调控成为必要

三、判断题（每小题 0.6 分，共 9 分）

1. 在行政决策组织体系中被称为“神经系统”的是信息系统。（ ）
2. 由于决策类型的划分依据不同，同一个决策不可以属于不同的决策类型。（ ）
3. 实施精准扶贫精准脱贫方略，标志着我国扶贫开发工作开始实现三个转变。（ ）

4. 上合组织峰会城市运行志愿者出征仪式 13 日在青岛举行。()
5. 市场经济以市场作为资源配置的决定性手段，但它并不排斥国家对经济的宏观调控。()
6. 马克思主义确认社会生活在本质上是实践的，也就是从实践出发去理解社会，把社会生活“当作实践去理解”。()
7. 依法治国的核心是依宪治国，要完善以宪法为核心的法律体系，提高立法质量。()
8. 社会主义道德建设要坚持以为人民服务为核心，以集体主义为原则，以爱祖国、爱人民、爱劳动、爱科学、爱社会主义为基本要求，以社会公德、职业道德、家庭美德为着力点。()
9. 政治方向是党生存发展第一位的问题。()
10. 有权对特别行政区基本法做出修改的是国务院。()
11. 不相隶属机关之间可以进行联合行文。()
12. 2018 年 4 月 24 日首届数字中国建设峰会在福建福州举行，其主题是“发展数字经济促进开放共享——携手共建网络空间命运共同体”。()
13. 习近平总书记指出，实现中国梦必须走中国道路、弘扬中国精神、凝聚中国力量，必须顽强奋斗、艰苦奋斗、不懈奋斗。()
14. 推动政府职能深刻转变、极大激发市场活力的战略举措是供给侧结构性改革。()
15. 建立社会保障制度是建立社会主义市场经济的要求。()

四、案例分析题（每题 10 分，共 20 分）

冯某，男，43 岁，某局局长。徐某，女，35 岁，系该局会计。2017 年 5 月，徐某发现股市行情很好。于是徐某对冯某说：“现在股市很好，我有内部消息，我从单位账户上借 100 万，这桩生意稳赚不赔。”冯某欣然答应。冯某和徐某合伙通过各种方式向徐某的账户打了从单位挪用的 100 万元。随后，徐某从这 100 万中取出了 5 万给冯某作为感谢。之后，他投入股市，徐某通过朋友朱某透露的内部消息，净赚了 100 万。7 月 15 日，徐某又将 100 万打回单位上的账户。8 月 16 日，群众向监察局举报徐某事发。

请根据以上案例回答以下两题：

- 1、徐某、冯某的行为构成什么罪？应怎样处罚？
- 2、若一个月后，徐某发现股市行情不好，没有投入。又将 100 万还回单位的账户，这样的行为是否构成犯罪？为什么？

五、公文写作（共 15 分）

为深入贯彻落实党的十九大精神，在新时代坚持和发展中国特色社会主义，进一步提高高校党员的先进性，学院拟在 2018 年 8 月 18 日举办“红色传承”党建知识竞赛，活动地点为景德镇市 XX 学院图书馆报告厅，希望广大师生踊跃参加。赛前各党支部需自行进行十九大报告、新党章、党史等材料的学习，各党支部选派 3 名党员代表支部参加初赛。初赛形式为闭卷笔试，题型为选择和填空，共 100 分。初赛后，按每个支部三名参赛选手的总分排序，成绩前六名的支部进入决赛。决赛以现场问答的形式进行，具体赛制另行通知。初赛设置

参与奖，所有初赛参赛队伍均获得参与奖及其相应奖品。决赛设置一等奖 1 支队伍，奖励每人价值 300 元的奖品；二等奖 2 支队伍，奖励每人价值 200 元的奖品；三等奖 3 支队伍，奖励每人价值 100 元的奖品，并可获得荣誉证书。请各党支部于 2018 年 8 月 15 日中午 12 点之前将三名参赛队员信息填写好并发送至：123456789@mail.edu.cn。各参赛选手报名审核通过后原则上不允许随意换人，如有特殊情况，请赛前联系会务组。初赛定于 2018 年 8 月 18 日晚上，决赛定于 2018 年 8 月 20 日晚上。

假如你是该高校党委相关工作人员，请你根据以上信息写一份关于党建知识竞赛的通知。

1-20 题，出题人：卢鹏飞；审核人：陈晓芳

21-40 题，出题人：陈晓芳；审核人：卢鹏飞

41-50 题，出题人：闫文婷；审核人：刘月娣

61-80 题，出题人：刘月娣；审核人：闫文婷

2018 年事业单位考试模拟题（第二套）

一、单选题（60 题，每题 0.8 分，共 48 分）

1. 习近平 27 日和 28 日在武汉东湖宾馆同印度总理莫迪举行非正式会晤。习近平强调，中印两国要坚定聚焦发展，深化互利合作，共同实现民族复兴，共同打造（ ）的 21 世纪亚洲，共同为世界和平与发展作出积极贡献。
- A. 和平、发展、合作
 - B. 稳定、开放、繁荣
 - C. 和平、开放、合作
 - D. 稳定、发展、繁荣
2. 4 月 23 日是人民海军成立的周年纪念日，海军各部队通过参观军史馆、举办文艺演出、舰艇开放日等活动，展示新时代人民海军的发展成就，激励海军官兵牢记使命、忠诚担当、矢志强军。人民海军成立于（ ）
- A. 1949 年
 - B. 1950 年
 - C. 1953 年
 - D. 1954 年
3. （ ）是我国生态环境部 3 月 23 日发布的 2018 年环境日主题。生态环境部有关负责人表示，确立该主题，旨在推动社会各界和公众积极参与生态文明建设，携手行动，共建天蓝、地绿、水清的美丽中国。

- A. 美丽中国，我是行动者
- B. 塑战塑决
- C. 共建生态文明，共享绿色生活
- D. 践行绿色生活
4. 中共中央办公厅、国务院办公厅印发《关于进一步加强科研诚信建设的若干意见》，对进一步推进科研诚信制度化建设等方面做出部署。在其主要内容中，哪一项不是科研诚信制度化建设的基本原则（ ）
- A. 明确责任，协调有序
- B. 系统推进，重点突破
- C. 激励创新，宽容失败
- D. 自我规范，首问追责
5. 中阿合作论坛第八届部长级会议 10 日在人民大会堂开幕。国家主席习近平出席开幕式并发表题为《携手推进新时代中阿战略伙伴关系》的重要讲话。推动中阿关系发展，全方位合作进入新阶段，双方致力于打造中阿命运共同体。关于习总书记的建议，不正确的是（ ）
- A. 增进政治互信
- B. 实现复兴梦想
- C. 实现互利共赢
- D. 促进包容互鉴
6. 习近平近日对中央和国家机关推进党的政治建设作出重要指示强

调，中央和国家机关首先是政治机关，必须旗帜鲜明讲政治，坚定不移加强党的全面领导，坚持不懈推进党的（ ）

- A. 思想建设
- B. 作风建设
- C. 政治建设
- D. 组织建设

7. 新时代党的组织路线是：全面贯彻新时代中国特色社会主义思想，以（ ）为重点，着力培养忠诚干净担当的高素质干部，着力集聚爱国奉献的各方面优秀人才，坚持德才兼备、以德为先、任人唯贤，为坚持和加强党的全面领导、坚持和发展中国特色社会主义提供坚强组织保证。

- A. 思想建设
- B. 作风建设
- C. 政治建设
- D. 组织体系建设

8. 法治是依法治理，是治国的基本方式，其在形式上要求具备制度安排及相关的运行机制，在事先途径上要求法必究，但法治还有另外一层含义，依古人说，法者，治之端也。这样所说的“治”是指天下，法治政府、法治社会，事关国家长治久安、社会和谐有序，文中所说的法治“还有另外一层含义。”是指（ ）

- A. 法治应当是一种社会治理的策略
- B. 法治应当是一种社会治理的目标

- C. 法治应当是一种社会治理的方法
- D. 法治应当是一种社会治理的阶段
9. 下列不属于市场经济国家宏观调控基本目标的是 ()
- A. 经济增长
- B. 充分就业
- C. 价格稳定
- D. 贸易顺差
10. 刚领到 3000 元工资的小王在商场看中一件标价 500 元的服装，在和卖家讨价还价后最终支付了 300 元。这里涉及的货币职能依次是 ()
- A. 支付手段、流通手段、价值尺度
- B. 支付手段、价值尺度、流通手段
- C. 价值尺度、支付手段、流通手段
- D. 价值尺度、流通手段、支付手段
11. 以下属于紧缩性财政政策的工具是 ()
- A. 减少政府支出和增加税收
- B. 减少政府支出和减少税收
- C. 增加政府支出和减少税收
- D. 增加政府支出和增加税收
12. 李克强总理提出，要把错装在政府身上的手换成市场的手。“换成市场的手” ()

(1) 是发挥市场调节决定性作用的要求

- (2) 是促进经济持续高速发展的要求
- (3) 是加强和改善国家宏观调控的要求
- (4) 是深入完善市场经济体制的要求

- A. (1) (2)
- B. (2) (3)
- C. (1) (4)
- D. (3) (4)

13. 国民收入再分配是国民收入继初次分配后在整个社会范围内进行的分配，根据党的十八大报告，我国的国民收入再分配更加注重（ ）

- A. 效率
- B. 公平
- C. 效益
- D. 平均

14. 近年来中国经济工作的总基调是稳中求进，实施积极的财政政策和稳健的货币政策。下列属于积极财政政策的具体措施的是（ ）

- A. 减少财政支出
- B. 实行结构性减税
- C. 降低存贷款利率
- D. 增加货币发行规模

15. 某市“酒类管理办公室”排斥外来产品，实行地区封锁，增加歧视性收费，卖外地酒要加收 3 个百分点的专卖利润。该市“酒类管理

办公室”的做法违背了市场经济的（ ）

- A. 法制性
- B. 开放性
- C. 灵活性
- D. 社会性

16. 从中华人民共和国成立到社会主义改造基本完成，是我国从新民主主义到社会主义的过渡时期，这一时期，个体经济向社会主义集体经济过渡的形式是（ ）

- A. 国家资本主义经济
- B. 私人资本主义经济
- C. 合作社经济
- D. 国营经济

17. 邓小平坚持马克思主义的思想路线，把“解放思想”和“实事求是”联系起来表述，更鲜明地体现了马克思主义思想体系的开放性，体现它的（ ）的统一。

- A. 科学性、理论性和实践性
- B. 科学性、理论性和革命性
- C. 理论性、实践性和革命性
- D. 实践性、科学性和革命性

18. 道德在调节人与人之间及个人与社会之间相互关系时，主要运用的手段是（ ）

- A. 法律

B. 政策

C. 纪律

D. 内心信念

19. 政治职能，亦称统治职能，政治职能是指政府为维护国家统治阶级的利益，对外保护国家安全，对内维持社会秩序的职能，下列选项中不属于政治职能的是（ ）

A. 军事保卫职能

B. 外交职能

C. 治安职能

D. 提供公共产品和服务职能

20. 下列法律谚语与其蕴含的法学理念对应正确的是（ ）

A. 法无明文授权不得为：人的权利根源于法条

B. 在法律面前人人平等：人的自由不能被剥夺

C. 迟到的正义不是正义：效率是法的价值目标

D. 民若不告则官必不究：诉权只能由个人行使

21. 关于自然人与法人的区别，下列表述正确的是（ ）

A. 仅自然人享有继承权

B. 法人不具有民事行为能力

C. 仅自然人享有人格权

D. 法人不可作为代理人

22. 我国集体经济组织实行什么形式的经营体制？（ ）

A. 家庭承包经营为主的

- B. 集体承包经营为主的
- C. 家庭联产承包为主的
- D. 家庭承包经营为基础，统分结合双层
23. 根据《行政复议法》规定，对海关、金融、国税、外汇管理相关的具体行政行为不服的，申请人（ ）
- A. 不可申请行政复议
- B. 可向上级主管部门申请行政复议
- C. 可向市级人民政府申请行政复议
- D. 可向省级人民政府申请行政复议
24. 中学生汪某在电影院看电影时与同伴追逐打闹，大声喧哗影响了电影的正常放映，工作人员多次劝阻无效后把他们送到派出所，民警对他们进行了法制教育和治安处罚，江某及其同伴的行为属于（ ）
- A. 侵犯他人休息权的行为
- B. 行政违法行为
- C. 扰乱公共秩序行为
- D. 妨害公共安全行为
25. 国家行政机关指统治者运用国家权力，通过强制和非强制手段对国家经济、政治、教育、科技、文化、卫生、国防等事务进行组织和管理的机关。下列不属于国家行政机关的是（ ）
- A. 国务院
- B. 省人民政府
- C. 乡镇人民政府

- D. 村委会
26. 经营者有下列那种行为，消费者可以请求“退一赔三”？（ ）
- A. 进口的电脑说明书上没有标注生产厂家和厂名
- B. 出售国家明令淘汰的农药
- C. 速食品包装上没有标注生产日期和保质期
- D. 中国大陆制造的皮鞋标为英国原产进口
27. 《个人所得税自行纳税申报办法》明确规定：个人年收入 12 万元以上的纳税人须向税务机关自行申报纳税。不按规定自行申报的行为属于（ ）
- A. 偷税
- B. 欠税
- C. 骗税
- D. 抗税
28. 《行政诉讼法》中规定，提起行政诉讼的主体是（ ）
- A. 行政机关
- B. 行政机关工作人员
- C. 受委托的机构
- D. 认为侵犯其合法权益的公民、法人或其他组织
29. 我国制定行政法规的机关是（ ）
- A. 国务院
- B. 全国人大
- C. 全国人大及其常务委员会

D. 全国人大常务委员会

30. 张某与赵某有仇，一天，两拨人发生斗殴，张某与赵某恰好各属一方，打斗中张某持刀砍伤赵某大腿，赵某用木棒敲中张某头部，致张某死亡。本案中，赵某属于（ ）

A. 故意杀人

B. 正当防卫

C. 故意伤害

D. 防卫过当

31. 埋木桩前，将埋入地下的一段表面用火微微烧焦，是因为碳在常温下（ ）

A. 具有吸附性

B. 具有氧化性

C. 具有还原性

D. 化学性质不活泼

32. “双兔傍地走，安能辨我是雄雌？”出自《木兰辞》，这首长篇叙事诗叙述了我国巾帼英雄花木兰女扮男装替父从军的故事。花木兰的故事发生于我国的（ ）时期。

A. 东晋

B. 南北朝

C. 唐朝

D. 五代十国

33. 规律具有客观性，尊重客观规律，按客观规律办事，才能事半功

倍，收到好的效果。下列典故中反映了这一哲学原理是（ ）

- A. 饮鸩止渴
- B. 庖丁解牛
- C. 刻舟求剑
- D. 孟母三迁

34. 共享单车作为一种新型共享经济，为群众的日常出行和休闲旅游提供了很大的便利，同时也带来了一些城市治理难题，比如乱停乱放、丢失严重、保养困难等。这表明（ ）

- A. 事物是一分为二的，要用全面的观点看问题
- B. 要集中力量解决主要矛盾，学会统筹兼顾
- C. 只有把握主流，才能正确认识事物的本质
- D. 任何事物都有优点和缺点，不能以偏概全

35. （ ）两国加入上合组织后，上合组织八个成员国的地域范围从北极覆盖至印度洋，占据欧亚大陆面积的五分之三，区域人口总量超过 31 亿，国民生产总值超过 17 万亿美元，使得上合组织成为在国际上影响举足轻重的“大块头”，扩员为上合组织的发展注入了强大动力。

- A. 印度 巴基斯坦
- B. 俄罗斯 印度
- C. 哈萨克斯坦 塔吉克斯坦
- D. 吉尔吉斯斯坦 乌兹别克斯坦

36. 公共行政学研究的核心问题是（ ）

- A. 行政体制
- B. 行政监督
- C. 公共服务
- D. 政府职能

37. 在管理学中，管理人员对当前的实际工作是否符合计划而进行测定并促使组织目标实现的过程，被称为（ ）

- A. 计划
- B. 组织
- C. 协调
- D. 控制

38. 中国内地首批九价宫颈癌疫苗在海南博鳌超级医院开始接种。九价 HPV 疫苗，用于预防（ ）引起的宫颈癌等癌前病变或不典型病变，可以预防 92.1% 的宫颈癌。（ ）疫苗是全球首个把癌症作为适应症列入说明书的疫苗。

- A. HIV
- B. SARS
- C. HIP
- D. HPV

39. 地球自转一圈的时间是一天，地球半径约为 6371 千米，毛泽东诗词“坐地日行八万里”是有科学依据的，人可以随着地球自转运动，那么与诗句最吻合的可能是哪个国家的人？（ ）

- A. 阿富汗

B. 南非

C. 新加坡

D. 挪威

40. 我国《公务员法》规定，对新录用公务员应该在试用期内进行：

()

A. 初任培训

B. 任职培训

C. 专门业务培训

D. 更新知识培训

41. 有很多成语可以用来形容友谊。下列成语中，() 体现的友谊最为深重。

A. 布衣之交

B. 刎颈之交

C. 忘年之交

D. 点头之交

42. 鸦片战争打开了中国关闭已久的大门，被称为中国近代史的开端。其主要依据是()

A. 中国被卷入世界资本主义漩涡

B. 国家主权和领土完整遭到破坏

C. 民族矛盾成为社会的主要矛盾

D. 中国社会性质发生了根本变化

43. 《儒林外史》是清朝时期的小说家() 创作的章回体长篇小

说。

- A. 曹雪芹
- B. 吴敬梓
- C. 石玉昆
- D. 李伯元

44. 下列寓言故事出自《庄子》的是（ ）

- A. 庖丁解牛
- B. 愚公移山
- C. 自相矛盾
- D. 拔苗助长

45. “跳进黄河洗不清”反映了黄河的泥沙含量特别大，黄河的泥沙主要来自（ ）

- A. 华北平原
- B. 黄土高原
- C. 四川盆地
- D. 长江中下游平原

46. 习近平总书记在第八次全国生态环境保护大会上强调要充分发挥两大政治优势，加大力度推进生态文明建设、解决生态环境问题，坚决打好污染防治攻坚战，推动我国生态文明建设迈上新台阶。这两大政治优势分别是（ ）和（ ）

- A. 党的领导 统一战线
- B. 统一战线 组织建设

- C. 组织建设 民主集中制
- D. 党的领导 我国社会主义制度能够集中力量办大事
47. 下列有关人口老龄化的表述错误的是（ ）
- A. 人口老龄化是指总人口中因年轻人口数量减少、年长人口数量增加而导致的老年人口比例相应增长的动态
- B. 医疗技术进步不会影响人口老龄化的进程
- C. 国际上通常把 60 岁以上人口占总人口的比例达到 10%，或 65 岁以上人口占总人口比例达到 7% 作为国家或地区进入老龄化社会的标准
- D. 20 世纪后期，为控制人口的急剧增长，国家推行计划生育政策，使得人口出生率迅速下降，加快了我国人口老龄化的进程
48. 我国东汉时期的王充认为：“人，物也；物，亦物也。物死不为则，人死何故独能为鬼？”下列观点与之蕴含哲理相同的是（ ）
- A. 心外无物，心外无理
- B. 心生种种法生，心灭种种法灭
- C. 据器而道存，离器而道毁也
- D. 则虽未有物品，而已有物之理
49. 通报一般用于（ ）
- A. 答复下级机关请示事项
- B. 表彰先进、批评错误、传达重要精神或情况
- C. 批转下级机关的公文
- D. 转发上级机关、平行几关和不相隶属机关的公文

50. 关于公文的管理，下列说法错误的是（ ）

- A. 公开发布行政机关公文，必须经发文机关批准
- B. 公文复印件作为正式公文使用时，应当加盖复印机关证明章
- C. 公文被撤销，视作自始不产生效力
- D. 机关合并时，公文不需要合并管理

51. 很多大学生希望毕业后找到一份工作，稳步发展，可是也有许多人不愿_____，他们有相对稳定的家庭背景，有工作能力，却在寻找生活的另一种可能性。

填入划横线部分最恰当的一项是（ ）

- A. 按部就班
- B. 墨守成规
- C. 人云亦云
- D. 步人后尘

52. “环保督查”近来成为一个热词。一方面，它透露环保形势_____，另一方面，它代表着监督模式的改革。

填入划横线部分最恰当的一项是（ ）

- A. 不容置喙
- B. 凶多吉少
- C. 水火不容
- D. 不容乐观

53. 个别干部走访慰问困难群众不过是“走秀”而已，这种_____式的慰问不仅不能送去党的温暖，反而损害了党的形象，让群众寒心。

填入划横线部分最恰当的一项是（ ）

- A. 走马观花
- B. 蜻蜓点水
- C. 一曝十寒
- D. 轻描淡写

54. 宜居带是指一颗恒星周围一定距离的范围，在这一范围内水可以以液态形式存在。由于液态水被科学家认为是生命生存_____的元素，因此如果一颗行星恰好落在这一范围内，那么它就被认为有更大的_____拥有生命或至少拥有生命可以生存的环境。

依次填入划横线部分最恰当的一项是（ ）

- A. 缺一不可 范围
- B. 举足轻重 条件
- C. 至关重要 优势
- D. 必不可少 机会

55. 天池经历了漫长的无名时期，后来伴随着天池传说的兴起，天池也开始_____。谈到天池传说，还有一个缘由：人们面对神奇的山水之境时，总爱把神灵的光环罩在山水的头上，使山水之景与神灵之气_____，即所谓山不在高，有仙则名。

依次填入划横线部分最恰当的一项是（ ）

- A. 声名鹊起 相得益彰
- B. 门庭若市 相映成趣
- C. 脱颖而出 相濡以沫

D. 广为人知 相视莫逆

56. 据了解，针对药价虚高的现象，国家发改委希望通过药品降低方式来解决。据统计，自政府恢复对部分药品价格实行管制以来，已经进行了 17 次药品降价，截至目前，已经制定、调整了国家医保目录的 1000 多种药品的最高零售价。但由于流通环节的繁琐和暗箱操作等原因，药品价格依然很高，实际药价与患者的期望值仍然具有较大差异。

根据这段文字，我们可以知道（ ）

- A. 通过减少流通环节和实施透明操作使药品降价已成为当务之急
- B. 患者认为药价过高是患者期望值过高的缘故
- C. 对药品价格实行管制是解决药价虚高的根本方法
- D. 国家已经通过调整国家医保目录的 1000 多种药品最高零售价解决了药价虚高的问题

57. 汽车产业是一个长期性产业，作为产业革命带来的核心产品，它形成了相当长的产业链，不仅产业自身的发展会对经济增长具有一定的扩展或成倍的乘数效应，而且会带动金属、电器设备、橡胶等一系列相关产业的发展，极大地解决了就业问题，提升了社会福利，这反过来又会促进汽车工业的进一步发展。

这段文字主要说明的是（ ）

- A. 汽车产业与其他相关产业的关系
- B. 汽车产业与社会就业问题的关系
- C. 汽车产业与产业革命进程的关系

D. 汽车产业与经济社会发展的关系

58. 发起质疑需要拿出证据，交由公众去甄别和判断，而不宜过早下结论。尤其是在自己的结论可能对他人造成很大影响的背景下，应慎之又慎。对任何网上质疑，如果没有确凿的证据，仅凭自己的逻辑推理，使用言之凿凿的话语、给出结论性意见，大部分公众无法信服。

关于这段文字，以下理解正确的是（ ）

- A. 公众能够判断质疑的真伪
- B. 如果质疑不会对他人造成影响，可以大胆下结论
- C. 发起质疑不能使用逻辑推理
- D. 确凿的证据是发起质疑的前提

59. 将下列句子组成一段逻辑连贯的、语言流畅的文字，排列顺序最合理的是（ ）

①从这个意义出发，“不文明与文明之间”的概念就可作为公共文明研究的一种解释工具，以表示“不文明”常发生在每个人身边又在时刻改变。

②通过整理与分析调查数据可以发现，公共场所林林总总的行为带有某种“过程性”，不文明与文明既相斥又相叠，呈现为一种文明的模糊地带。

③把文明研究定格在公共文明之上，并进行跟踪调查与思考，是一个有趣的研究维度。

④同时，在这个过程中，无论个体还是由个体集合而成的聚群，都会产生对不文明的排斥，这常常是促使行为转向文明的动因。

- A. ③②④①
- B. ②①③④
- C. ①②④③
- D. ②③①④

60. ①全民健身的普及，往往需要借助一定的外力，甚至是技术上的“绑架”

②走步、遛弯儿本属于个人习惯

③当今，新技术、新媒体和运动的联姻，却能轻松创造一种“天涯共此时”运动氛围

④而微信运动等新技术的“嫁接”，看上去能起到这种作用

⑤让那些有心愿无毅力和不重视健身，疏于运动的人，在时尚诱惑和社交需求下，有冲动把健康生活当成一种群体性追求

将上面的句子组成词语连贯的语段，排序最恰当的一项是（ ）

- A. ②④⑤③①
- B. ①②④③⑤
- C. ①④②③⑤
- D. ③⑤②①④

二、多项选择题（5小题 1.6分共 8分）

61. 下列诗句中，没有蕴含着理性认识的是（ ）

- A. 会当凌绝顶，一览众山小
- B. 不闻爷娘唤女声，但闻黄河流水鸣溅溅
- C. 蜂蝶纷纷过墙去，疑是春色在邻家
- D. 沾衣欲湿杏花雨，吹面不寒杨柳风

62. 社会保障是现代国家一项基本的社会经济制度，是社会安定的重

要保障，也是社会文明进步的标志，下列属于社会保障的是（ ）

- A. 社会保险
- B. 社会救济
- C. 社会福利
- D. 优抚安置

63. 全面从严治党，是十八届党中央，管党兴党、治国理政的重大政治成就。习近平同志为核心的党中央把（ ）作为全面从严治党的重大举措，使之成为党之利剑、国之利器。下列选项错误的是（ ）

- A. 巡视
- B. 监督
- C. 追责
- D. 教育

64. 近年来，我国民主政治取得巨大进步，人民群众的公民意识觉醒，积极参与公共事务：甲作为选民参加直接选举人大代表活动；乙向居委会反应小区物业存在的问题；丙找人大代表反应社区缺少健身场地问题；丁参加某区政府机关举办的民主名义活动，据此我们可以判断说法错误的是（ ）

- A. 甲行使公民基本的民主权利
- B. 乙参与民主决策与民主监督
- C. 丙积极参与基层民主管理
- D. 丁直接参与管理国家事务

65. 社会主义市场经济体制强调有效市场和有效政府相结合。市场机

制将潜藏在人民群众中的财富、资源、知识、信息、技能和创造力动员起来，使它们成为生产力发展的不竭资源。而政府则确保人民群众不仅创造财富，而且公平分享财富，享有选择的自由。这说明社会主义市场经济（ ）

- A. 能把市场经济的长处与社会主义制度的优势结合起来
- B. 以坚持公有制经济的主体地位为基本标志
- C. 坚持共同富裕的目标，正确处理效率与公平的关系
- D. 市场调节和宏观调控共同在资源配置中起决定作用

三、判断题（每小题 0.6 分，共 9 分）

1. 行政沟通行为是行政主体谋求行政体系和谐有序运转的一种管理行为或过程。具有单向性和法规性。（ ）
2. 在管理对象和内容不变的情况下，管理层次与组织效率成反比。（ ）
3. 中国特色社会主义是改革开放以来党的全部理论和实践的主题。（ ）
4. 在当地时间 6 月 22 日进行的国际田联世界田径挑战赛马德里站比赛中，中国“飞人”张培萌以 9 秒 91 的成绩获得男子 100 米冠军。（ ）
5. 生产要素一般包括劳动、土地、资本、企业家。（ ）
6. 世界上并不是所有的物质都具有一定的质和一定的量。（ ）
7. 由国家制定和认可，是法律规范成立的两种不同的方式。（ ）
8. 道德评价具有扩散性和持久性的特点。（ ）

9. 中国特色社会主义是改革开放以来党的全部理论和实践的主题。
()
10. 我国宪法和法律的修改，均须由全国人民代表大会全体代表的过半数通过。()
11. 启事、声明必须加盖印章方能生效。()
12. 时代是思想之母，实践是理论之源。()
13. 在我国现阶段，以经济建设为中心，加快民族地区政治文化的发展，逐步消除东西部差距，是增进民族团结、发展社会主义民族关系的必由之路。()
14. “一带一路”东边连接欧洲经济圈，西边连接亚太经济圈。()
15. 行政管理的实质是行政管理组织对社会公共事务的组织和管理活动。()

四、案例分析题（每题 10 分，共 20 分）

赵某与杨某系夫妻，二人共有以下财产：一家连锁酒店价值 860 万元，市中区有两套房产价值 168 万元，上市公司有价证券 136 万元，现金存款 98 万元，汽车一辆价值 34 万元。一日，赵某与杨某在驾车外出时发生车祸，赵某当场死亡，杨某重伤，在送往医院途中死亡。赵某和杨某有一子赵甲（已满 18 周岁），赵某还有其他近亲属父亲赵乙，妹妹赵丙，杨某没有其他近亲属。赵甲、赵乙、赵丙因为遗产分割产生纠纷。

请根据以上案例回答以下问题：

1. 案例中谁有权继承赵某和杨某的遗产？

2. 按照法定继承，案例中财产应该如何分配？

五、公文写作（共 15 分）

你是湖里区某派出所的工作人员，为了更好的迎接厦门市主办的金砖国家领导人第九次会晤，单位在辖区内开展了系列突击检查活动，取得了不错的成绩，请你拟写一份报告，向上级报告检查情况。

1-30 题，出题人：宋文珊；审核人：王远远

31-50 题，出题人：崔会娜；审核人：宋文珊

61-80 题，出题人：王远远；审核人：周洁

2018 年事业单位考试模拟题（第三套）

一、单选题（60 题，每题 0.8 分，共 48 分）

1. 博鳌亚洲论坛 2018 年年会将在海南拉开帷幕，中国国家主席习近平将应邀出席论坛年会开幕式并发表重要主旨演讲，本次年会以（ ）为主题，符合现实需要，引发各方高度关注。来自各国的 2000 多位各界嘉宾将汇聚一堂，共商合作共赢大计，共谋发展繁荣良方，为亚洲和世界提供“博鳌智慧”，贡献“博鳌力量”。

- A. “开放合作的亚洲，繁荣共赢的世界”
- B. “开放发展的亚洲，繁荣共赢的世界”
- C. “开放创新的亚洲，繁荣发展的世界”
- D. “开放智慧的亚洲，繁荣美好的世界”

2. 2018 年 8 月 4 日，由中远海运集团建造的冰级船（ ），满载货物从江苏连云港启程，取道北极东北航道，经白令海峡，跨越北冰洋前往欧洲，全程 18520 公里。北极东北航道也被称为“冰上丝绸之路”，比传统航线节约航程 12 天。

- A. “天恩号”
- B. “大洋号”
- C. “雪龙号”
- D. “科学号”

3. 华佗去世后，曹操还想寻找一位名医为自己诊治疾病，他可以找下列的哪一位？（ ）

- A. 扁鹊

- B. 张仲景
- C. 孙思邈
- D. 李时珍
4. 2018年8月5号，福建向（ ）地区供水工程正式通水，乡亲们期待了23年的梦想成为现实。
- A. 高雄
- B. 泉州
- C. 金门
- D. 基隆
5. 农业农村部发布：为保障市场供应，今年十多个部委将联合首次开展“菜篮子”（ ）考核。考核内容包括：“菜篮子”产品生产能力和市场流通能力、质量安全监管能力、调控保障能力和市民满意度五个方面。
- A. 省长负责制
- B. 市长负责制
- C. 区长负责制
- D. 县长负责制
6. 国家体育总局发布《关于举办2018年全国电子竞技公开赛的通知》，以下哪一项没有被列入正式比赛。（ ）
- A. 《炉石传说》
- B. 《绝地求生》
- C. 《英雄联盟》

D. 《星际争霸 2-虚空之遗》

7. 中国共产党第十九届中央委员会第二次全体会议于1月18日至19日在北京召开。会议指出，我们党高度重视宪法在治国理政中的重要地位和作用，明确坚持依法治国首先要坚持依宪治国，坚持依法执政首先要坚持依宪执政，把实施宪法摆在全面依法治国的（ ），采取一系列有力措施加强宪法实施和监督工作，为保证宪法实施提供了强有力的政治和制度保障。

- A. 核心位置
- B. 突出位置
- C. 重要位置
- D. 首要位置

8. 波洛克说过：“法律不能使人人平等，但是在法律面前人人是平等的”。下列可以代替此话的名言是（ ）

- A. 法不阿贵，绳不绕曲
- B. 任何人都不能充当自己案件的法官
- C. 没有无义务的权利，也没有无权利的义务
- D. 法官乃会说话的法律，法律乃沉默的法官

9. 近来，吉林长春长生公司违法违规生产狂犬病疫苗案件引发社会广泛关注，国务院开展调查并公布了进展情况。市场秩序的良好运营，离不开国家的宏观调控或计划指导，只有这样有机地结合起来，才能实现资源的有效配置及整个经济的协调发展。下列关于宏观调控的说法错误的是（ ）

- A. 是社会化大生产发展的客观要求
 - B. 是弥补市场缺陷的需要
 - C. 是充分发挥国家经济职能的需要
 - D. 是促进经济发展的根本动力
10. 企业职工的工资属于 ()
- A. 国民收入的初次分配
 - B. 国民收入的再次分配
 - C. 国民收入中的储备基金
 - D. 国民收入中的收益基金
11. 价格影响需求，在日常生活中，价格变动对需求影响较小的有 ()
- A. 电视机、米面、轿车
 - B. 粮油、日用调味品、蔬菜
 - C. 食盐、金银首饰、摄像机
 - D. 空调、电冰箱、水果
12. 中国共产党如此重视推进农村改革发展问题，从经济学上体现了 ()
- A. 实践三个代表重要思想，代表人民群众的根本利益
 - B. 体现社会主义本质要求，注重社会公平
 - C. 坚决惩治党内的腐败现象，加强作风建设
 - D. 保证人民群众共享改革发展的成果，直接参与国家事务的管理
13. 财政政策，是指政府根据既定目标，通过财政收支的变动以影响

宏观经济水平的经济政策，当通货膨胀出现的时候，紧缩性财政政策能够发挥一定的作用。以下不属于紧缩性财政政策的主要手段的是（ ）

- A. 提高政府转移支付水平，增加社会福利费用
- B. 增加税收，以降低企业的投资能力和个人的投资热情，并抑制总需求的膨胀
- C. 发行公债以减少流通中的货币供应量
- D. 削减政府预算，限制公共事业投资，以此来减少政府支出

14. 春节后往往会出现蔬菜的断档期，新菜未上市，旧菜卖光了，因为行情好，菜价高，这时是菜农为了追求高价同时种植大量蔬菜，一时间蔬菜的社会需求已经接近饱和，而菜农却还在加大种植量，到了蔬菜滞销引起价格下跌才恍然大悟，这一现象反映了市场调节具有（ ）的特点。

- A. 灵活性
- B. 自发性
- C. 强制性
- D. 滞后性

15. 马克思说：“我们从小麦的滋味中尝不出种植小麦的人是俄国的农奴，法国的小农，还是英国的资本家。使用价值虽然是社会需要的对象，处在社会联系之中，但是并不反映任何社会生产关系。”从这段话中，我们可以得出（ ）

- A. 使用价值可以满足不同的物质需要

- B. 使用价值是价值的物质承担者
- C. 使用价值是商品的自然属性
- D. 使用价值是商品的社会属性，体现不同的社会生产关系
16. 人们通常所说的中央银行，指的就是（ ），它是中华人民共和国国务院组成部门，在国务院领导下，制定和执行货币政策，防范和化解金融风险，维护金融稳定。
- A. 中国建设银行
- B. 中国工商银行
- C. 中国人民银行
- D. 中国银行
17. 下列成语全部蕴含辩证思维的一组是（ ）
- A. 居安思危、仰视值察、藏春特时
- B. 群龙无首、水火不容、生龙活虎
- C. 否极泰来、革故鼎新、祸福相倚
- D. 周而复始、刚柔相济、龙吟虎啸
18. 下列选项中，不属于爱岗敬业基本要求的表现是（ ）
- A. 公私分明，不谋私利
- B. 树立强大的事业心和责任感
- C. 热爱本职、扎实工作
- D. 忠于职守、尽职尽责
19. 2018 年是修宪大年。我国宪法的修改，由全国人民代表大会常务委员会或者（ ）以上的全国人民代表大会代表提议，并由全国人

民代表大会以全体代表的（ ）以上的多数通过。

A. 1/5 ; 2/3

B. 1/3 ; 2/3

C. 1/5 ; 1/2

D. 1/3 ; 1/2

20. 下列法律名言与法的特征相对应正确的是（ ）

A. 人生而自由，却无往不在枷锁中——权利与义务的统一

B. 法不阿贵，绳不绕曲——法的强制性

C. 法不禁止即自由——法调整人的行为

D. 法的生命在于它的实行——法具有普遍约束力

21. 下列各项中，属于可撤销的民事行为是（ ）

A. 不满 8 周岁的甲与乙发生的买卖行为

B. 甲趁乙急需钱的时候，以市场价的一半从乙处买了一所别墅

C. 甲和乙串通骗了丙的财物

D. 甲从乙处购买了一盒香烟，经查系假烟

22. 我国宪法规定，下列资源既可以属于国家，又可以属于集体的是

（ ）

A. 矿藏

B. 水流

C. 森林

D. 宅基地

23. 某市 Q 区安联防队行使区公安分局委托的治安管理权，某天，联

防队员吴某捉获有盗窃嫌疑的孙某，因孙某拒不说自己的真是姓名，吴某用木棍将其打伤，孙某向法院请求国家赔偿，应由（ ）承担国家赔偿义务。

- A. 该市公安局
- B. Q 区治安联防队
- C. Q 区公安分局
- D. 吴某

24. 关于犯罪中止，下列哪些选项是正确的（ ）

- A. 甲基于杀人的意图对他人实施暴力，见被害人流血不止而心生怜悯，将其送到医院，被害人经治疗后仍鉴定为重伤。甲不是犯罪中止
- B. 甲入户抢劫时，看到客厅电视正在播放庭审纪实片，意识到犯罪要受刑罚处罚，于是向被害人赔礼道歉后离开。甲成立犯罪中止
- C. 甲潜入乙家原打算盗窃巨额现金，入室后发现大量珠宝，便放弃盗窃现金的意思，仅窃取了珠宝。对于盗窃现金，甲成立犯罪中止
- D. 甲向乙的饮食投放毒药后，乙呕吐不止，甲顿生悔意急忙开车送乙去医院，但由于交通事故耽误一小时，乙被送往医院时死亡。医生证明，早半小时送到医院乙就不会死亡。甲的行为仍然成立犯罪中止

25. 某区市场监督管理局根据文某提交的材料，为文某经营的餐厅颁发了《食品卫生许可证》，后发现文某提交的健康证是伪造的，该市场监督管理局应当（ ）此许可证。

- A. 吊销
- B. 注销
- C. 撤销
- D. 撤回

26. 按照法律规定，下列哪一项财产可以抵押（ ）

- A. 土地所有权
- B. 依法被查封的财产
- C. 所有权有争议的财产
- D. 某企业的生产设备
27. 下列行为中，涉嫌违反我国《反垄断法》的是（ ）
- A. 经国家有关部门批准，中石油、中石化等石油企业联合上调成品油价格
- B. 某行业协会召集本行业经营者，共同制定本行业产品的定价公式
- C. 中国移动、中国联通等少数几家国有电信企业共同占据我国电信基础运营业务市场的全部份额
- D. 某生产企业通过协议，限制分销商转售商品的最高价格
28. 根据行政诉讼法规定，下列属于行政诉讼受案范围的是（ ）
- A. 公务员贾某不服其所在行政机关给予其免职处理的决定
- B. 公民张某不服我国政府对美国的外交政策
- C. 公民李某对行政机关不给颁发《危险品经营许可证》的行为不服
- D. 公民王某对《中华人民共和国行政许可法》中的规定不服
29. 以下对于行政许可的设定权限说法正确的是（ ）
- A. 法律可设定行政许可，而行政法规只能对其中的某些非根本性事项设定行政许可
- B. 地方性法规一般不能设定行政许可，但是可以在法律设定的行政许可范围内作出具体规定
- C. 政府规章不得设定行政许可

- D. 尚未制定法律、行政法规的，地方性法规可以设定行政许可
30. 李某在销售冰毒时被林某发现，林某起了贪心，想将毒品据为己有，于是持刀威胁，李某遂拔枪将林某打死。对李某杀死林某的行为，应认定为（ ）
- A. 正当防卫
B. 紧急避险
C. 故意杀人
D. 防卫过当
31. 正在运动的物体如果所受到的一切外力都同时消失，那么它会（ ）
- A. 立即停下来
B. 先慢下来，然后停止
C. 作匀速直线运动
D. 改变运动方向
32. 下列事件按时间先后顺序排列正确的是（ ）
- ①提出社会主义初级阶段理论②做出实行改革开放的决策③提出建立社会主义市场经济体制④上海浦东成为对外开放区
- A. ①②③④
B. ②①④③
C. ②①③④
D. ①③②④
33. 古希腊哲学家克拉底鲁指出，万物瞬息变化，不可捉摸，人连一

次也不能踏进同一条河流。这是一种（ ）

- A. 唯心主义的观点
- B. 形而上学的观点
- C. 相对主义诡辩论的观点
- D. 庸俗进化论的观点

34. 一般来说，我们只有先观察好了竹子，才能做到“胸有成竹”，下列选项中，与它所体现的哲学原理相一致的是（ ）

- A. 纸上谈兵
- B. 庖丁解牛
- C. 郑人买履
- D. 邯郸学步

35. 下列关于我国人口与民族的阐述，错误的是（ ）

- A. 我国是世界上人口最多的国家
- B. 我国是一个有多种宗教的国家
- C. 中国各民族的人口分布呈现大散居、小聚居、交错杂居的特点
- D. 回族是我国少数民族中人口最多的一个民族

36. “治病不如防病，防病不如讲卫生。”根据这一说法，在以下几种控制方式中，最重要的是（ ）

- A. 预先控制
- B. 实时控制
- C. 反馈控制
- D. 前馈控制

37. 被称为“科学管理之父”的是（ ）
- A. 弗雷德里克·W 泰罗
 - B. 亚当·斯密
 - C. 马克思·韦伯
 - D. 法约尔
38. “六朝古都”指的是（ ）
- A. 北京
 - B. 南京
 - C. 西安
 - D. 开封
39. 四大佛教名山与所在省区组成不正确的是（ ）
- A. 峨眉山——四川
 - B. 五台山——山西
 - C. 九华山——湖南
 - D. 普陀山——浙江
40. 村干部陈友凤为孤寡老人张顺富落实了低保。申请民政救助金 3000 元，带头捐资 500 元，带领党员干部给老人建了 20 平方米的住房，还为他安排了管水沟的工作，每月发给工资 500 元，让老人有了稳定住所和收入，除了物质上的关怀，陈友凤还注重丰富村民的精神生活。每年都组织开展“优秀党员、好婆婆、好妯娌、和谐社区建设者”评选表彰，激发干事创业的正气。村里的贫困老人身体不好，陈有凤就定期去看望慰问。村干部陈有凤践行了（ ）的职业道德要

求。

- A. 爱岗敬业
- B. 互利共赢
- C. 廉洁自律
- D. 坚持原则

41. 《红楼梦》中，“未见其人，先闻其声”指的是（ ）

- A. 秦可卿
- B. 李纨
- C. 尤二姐
- D. 王熙凤

42. 选官用人是国之大事，为了保证人才选拔，国家一方面大力发展教育，另一方面不断探索和完善选官制度。下列有关我国古代人才选拔制度的说法正确的是（ ）

- A. “九品中正制”制定于秦朝
- B. 察举制后于“九品中正制”出现
- C. 科举制度在唐朝以后才出现
- D. 征辟是一种自上而下选拔官吏的制度

43. 我国第一部浪漫主义诗歌总集是（ ）

- A. 楚辞
- B. 诗经
- C. 山海经
- D. 庄子

44. 唐太宗对杜如晦说:今专以言辞刀笔取人,而不悉其行,至后败职,虽刑戮之,而民已敝矣。强调 ()

- A. 选官注重才学
- B. 选官注重品行
- C. 对官员应严格处罚
- D. 官员失职会危害民生

45. 下列洗涤剂用品最为环保的是 ()

- A. 洗衣粉
- B. 洗衣液
- C. 肥皂
- D. 洗衣漂白剂

46. 十八届五中全会提出坚持创新发展,把创新摆在国家发展全局的核心位置,不断推进理论创新、制度创新、科技创新、()等各方面的创新,让创新贯穿党和国家一切工作,让创新在全社会蔚然成风。

- A. 文化创新
- B. 教育创新
- C. 载体创新
- D. 传统创新

47. 下列不属于我国基本国策的是 ()

- A. 环境保护
- B. 节约资源

C. 保护耕地

D. 改革开放

48. 成立深圳经济特区以来，深圳市政府制定相关的政策，使特区经济得到迅猛发展，这说明了（ ）

A. 上层建筑的发展方向决定经济基础的发展速度

B. 上层建筑的发展程度决定经济基础的发展方向

C. 特区经济的发展可以不受经济基础与上层建筑之间的客观规律的制约

D. 上层建筑对经济基础具有能动的反作用

49. 适用于对重要事项或重大行动做出安排的文种是（ ）

A. 决定

B. 命令

C. 通告

D. 批复

50. 含有重要国家机密泄密使国家利益遭受重大损失，这种文件属于（ ）

A. 机要文件

B. 机密文件

C. 绝密文件

D. 安全文件

51. 心理学家发现，手势和话语在交流时具有同样的丰富性，手和嘴_____表达着说话人的意思，人们听故事时，如果在听到声音的同时

能够看见讲故事人的手势，他们对故事理解的准确度要比_____听到声音时增加 10%。

填入划横线部分最恰当的一项是：（ ）

- A. 分别 单纯
- B. 共同 单纯
- C. 独立 单独
- D. 一致 单独

52. 从法官的精英化到法官的专业化，无不_____着人们对法官资格和法官职位的憧憬和理想，当前，应当建立以职业品德、专业知识、实践经验三位一体的法官培养_____标准。

依次填入划横线处最恰当的一项是：（ ）

- A. 承载 遴选
- B. 寄托 挑选
- C. 肩负 选取
- D. 承担 入选

53. 科学家在分析气象卫星发回的数据时_____地发现，这个神秘的气溶胶层的浓度大大增加了，竟然达到了 1996 年时的 3 倍。科学家_____到问题的严重性了，因为一旦气溶胶进入到平流层，就可以随着平流层特有的强劲侧风迅速扩散到整个地球大气层。并给臭氧层带来严重的破坏。

依次填入划横线部分最恰当的一项是：（ ）

- A. 惊讶 意识

- B. 好奇 意识
- C. 好奇 认识
- D. 惊讶 意味

54. 保护好历史建筑，实质就是留住城市发展的_____，让人真切_____到真是的“昨天”“今天”与“明天”。我们并不_____，有历史的城市，但很多城市确实缺少“历史感”与“厚重感”。就此看，“不拆真遗存，不建假古董”，其实并不是针对具体历史建筑的保护，而是强调对历史的敬畏，对人文本位的回归。

依次填入划横线部分最恰当的一项是：（ ）

- A. 痕迹 感受 存在
- B. 文脉 体认 缺乏
- C. 线索 了解 获得
- D. 遗迹 领悟 缺少

55. 一直以来，家庭养老是中国式养老的重要方式，极大_____了社会养老风险。不过，随着计划生育和人口流动因素的影响，“四个老人、一对夫妻和一个孩子”的家庭模式，使家庭养老功能_____。目前，中国式养老大致有三种方式：家庭养老、社区养老和机构养老。而机构养老除国家投资的养老院外，需求最大的是一般工薪阶层消费水平可以负担的养老院，但这类养老院_____。而无论是哪种养老，背后都藏着两本账：经济账和感情账。

依次填入划横线部分最恰当的一项是：（ ）

- A. 承担 减弱 供过于求

- B. 减轻 强化 于事无补
- C. 舒缓 失去 事半功倍
- D. 缓解 弱化 供不应求

56. 关于金钱和幸福的关系，心理学方面的研究很多。美国自 1960 年开始至今人均 GDP 增长了三倍幸福指数却停滞不前。中国人均 GDP 增长得更快，但对现有生活的满意感不升反降。北欧四国幸福感最高不是因为他们最富裕，而是由于他们财富分配的方式令人信服：占人口 20% 的富人掌握着 30%-40% 的社会财富；在美国，这些人占有的社会财富却超过 80%。

上述语段支撑的主要观点是：（ ）

- A. 金钱多少和个人幸福感之间没有必然联系
- B. 中国人对生活满意的要求远胜于欧美国民
- C. 社会财富的分配方式影响社会成员的幸福感
- D. 个人财富总量的多少直接影响个人的幸福感

57. 我国科学家首次合成了一类叫拓扑绝缘体的奇特材料，该材料内部是绝缘材料，表面却能导电，而且电子可以完全自由移动。因为电子只从表面的原子上传导，消除了电子移动时不断掉头的现象，也免除了电子从材料内部“打洞”前进的困难。与现有的电子产品中电子的移动相比，拓扑绝缘体上的电子传导就像汽车从拥挤的街道驶入高速公路。

上述文字旨在说明：（ ）

- A. 扑绝缘体材料首次合成

B.拓扑绝缘体材料提高了电子传导速度

C.拓扑绝缘体是最新研发的合成材料

D.电子传导速度取决于材料的性质

58. 人类思维进化的顺序，是从具象到抽象，从图形到语言。粗粗了解一点文物史的人都知道，早期文明及其器物上只有图形，如世界各地的史前壁画，如半坡陶器上的鱼纹、人脸等。没有文字，因为语言能力不发达。语言能力发达以后，才有文字，人类文明才真正脱离原始阶段。而文字的进化本身也遵循同样的过程，最初是图形，不脱具象，涵盖能力很有限，慢慢离开图形阶段，真正成为文字，表示人的语言能力愈来愈深刻，思维愈来愈独立。

这段文字谈论的主题是：（ ）

A.研究文物史的意义

B.语言文字的主要功能

C.史前文明的表现形式

D.思维的演变过程

59. 原始人类的思维方式有许多共同之处，表现在文化中，几乎所有原始文化都有自然神灵崇拜和图腾崇拜现象。人类愈是走向文明，也就愈是脱离自然，直至最后从自然界中彻底分离出来，成为独尊者，成为万物的主宰。在人与自然分离的文明进程中，即在人的自觉意识、自我意识确立的过程中，中西方哲学思维走出了两条截然不同的路。

承接上述文字，下文最可能进行的是：（ ）

A. 阐述中西方哲学各自的思维方式

B. 举例证明中西方文化中都存在着自然神灵崇拜和图腾崇拜

C. 对人与自然相分离的文明进程进行反思

D. 论述中西方文明进程的各自特点

60. 将下列句子组成一段逻辑连贯的、语言流畅的文字，排列顺序最合理的是：（ ）

①情况危急，我紧急调集数十名战士用人墙隔出检票通道，对群众进行疏导，协调场馆开放全部检票口。

②虽然天气炎热，但观众热情高涨，排队检票的队伍达数百米。

③当悬着的心落下来，大家都已汗流浹背，早成了“水人”。

④越临近比赛，人们越是不安焦躁，有人开始往检票口挤，排在后面的一哄而上，几千人瞬间把检票口围了个水泄不通。

⑤经过半个多小时的紧张努力，终于让全部观众有序进场，避免了混乱踩踏。

A. ③②⑤④①

B. ④①②③⑤

C. ②④①⑤③

D. ①③②⑤④

二、多项选择题（5小题 1.6分共8分）

61. 越来越多的城郊农民发现，脚下的土地不仅能生产农产品，还能生产田园风光，生产农家情趣等。“种这种那，不如综合开发”观念一更新，农民们在原有土地上创造出了更多的财富。这从一个侧面表明（ ）

- A. 掌握系统优化方法有利于实现整体最优目标
- B. 辩证的否定是事物的自我完善与发展
- C. 生产关系的变革促进生产力的发展
- D. 要用发展的观点看问题
62. 唐太宗有句名言：明主之任人，如巧匠之制木，直者以为辕，取者以为轮，长者以为栋梁，短者以为拱角。这段话反映了领导者在选人用人时（ ）
- A. 要准确识别个人的长处和短处
- B. 要看长处、容忍不足
- C. 要善用人短，做到长短搭配
- D. 要注意人无完人、金无足赤
63. 坚持以人为本，全面、协调、可持续发展的科学发展观，是我们党以邓小平理论和“三个代表”重要思想为指导，从新世纪新阶段党和国家事业发展全局出发提出的重大战略思想。树立和落实科学发展观，要注意把握好的问题是（ ）
- A. 必须始终坚持以经济建设为中心，聚精会神搞建设，一心一意谋发展
- B. 必须在经济发展的基础上，推动社会全面进步和人的全面发展，促进社会主义物质文明、政治文明、精神文明协调发展
- C. 必须着力提高经济增长的质量和效益，努力实现速度和结构、质量、效益相统一，经济发展和人口、资源、环境相协调，不断保护和增强发展的可持续性

D. 必须坚持理论和实际相结合，因地制宜、因时制宜地把科学发展观的要求贯穿于各方面的工作

64. 中国共产党第十八届中央委员会第三次全体会议，通过了《中共中央关于全面深化改革若干重大问题的决议》，《决定》提出要构建开放型经济体制，下列措施有利于实现这一目标的有（ ）

- A. 放宽投资准入
- B. 加快自由贸易区建设
- C. 扩大内陆沿边开放
- D. 发展基础民主

65. 社会化大生产要求企业必须适应市场经济的需求，形成现代企业制度。现代企业制度的核心是公司制，其基本特征包括（ ）

- A. 管理科学
- B. 产权清晰
- C. 权责明确
- D. 政企分开

三、判断题（每小题 0.6 分，共 9 分）

1. 行政决策组织中的“神经系统”是行政决策中枢系统。（ ）
2. 管理就是管理者在一定的环境下，为了实现特定组织的目标，动员和运用资源而进行的计划、组织、领导和管制等社会活动。（ ）
3. 科学发展、社会和谐是发展中国特色社会主义的核心内容。（ ）
4. 2018 年 6 月，第十八届上海合作组织会议在中国青岛举行。（ ）
5. 在经济发展过热、物价上涨、经济运行主要受供给能力制约时，

政府应采取扩张性财政政策。（ ）

6. 坚持社会主义市场经济体制是我党在社会主义初级阶段的基本路线。（ ）

7. 法体现的是整个统治阶级的意志，即统治阶级每个成员个人意志的总和，这是由统治阶级所处社会的物质生活条件所决定的。（ ）

8. 在社会主义核心价值观中，最深层、最根本、最永恒的是爱国主义。（ ）

9. 行政执法行为只约束行政相对人。（ ）

10. 自治区的人民代表大会常务委员会主任、自治区的主席应当由实行区域自治的民族的公民担任。（ ）

11. “函”就是信，不具有正式公文的法定效力。（ ）

12. 市场经济以市场作为资源配置的基础性手段，但它并不排斥国家对经济的宏观调控。（ ）

13. 中国共产党在长期的革命斗争中形成了理论联系实际、密切联系群众、批评与自我批评等一整套优良作风。（ ）

14. 十九大报告指出，中国特色社会主义事业总体布局是“五位一体”、战略布局是“四个全面”，强调坚定道路自信、理论自信、制度自信、文化自信。（ ）

15. 社会福利不属于社会保障的范畴。（ ）

四、案例分析题（每题 10 分，共 20 分）

贾某的父亲生前是书法爱好者，去世时给贾某留下其多年收集珍藏的 15 幅不同书法家的书法作品。贾某对书法作品既不会欣赏也不

感兴趣,感觉这些书法作品成了家里累赘。某日,贾某邀请其朋友赵某来家里喝茶聊天,赵某在贾某的储藏间角落里发现了这些书法作品,赵某是书法爱好者,家里收藏着很多书法作品,赵某表示愿意出 1 万元购买全部 15 幅书法作品,贾某感觉价格合适,双方钱货两清后赵某将书法作品带走半月后,贾某在与父亲生前的一朋友聊天时得知,其父亲所留书法作品中,有 6 幅相当珍贵,每幅的价格都超过 1 万元;同时另一朋友告诉贾某,赵某正在寻找买家准备出手这 15 幅书法作品。贾某立即找到赵某,要求退还赵某的 1 万元钱,取回 15 幅书法作品.但赵某坚决不同意。双方协商不成,贾某诉至法院,要求撤销与赵某的交易,返还书法作品。

1.贾某与赵某间买卖书法作品之行为是有效的、无效的还是可变更、可撤销的?为什么?

2.法院应如何对待贾某的请求?

五、公文写作（共 15 分）

你是昌江区新枫街道工作人员，辖区内旧房子较多，严重影响城市形象，领导要求你拟写一份请示，申请资金对旧房子进行改造。

1-20 题，出题人：李国霞；审核人：李雪

21-40 题，出题人：刘亚茹；审核人：鲁文君

41-50 题，出题人：鲁文君；审核人：刘亚茹

61-80 题，出题人：李雪；审核人：李国霞

2018 年事业单位考试模拟卷（第四套）

一、单选（共 60 道）

1.2014 年以来，个别大学食堂开始引进炒菜机器人。由于火候、时间掌握等原因，使用炒菜机器人烹饪的时间比普通人工炒菜能节省 5%-10%，全程自动化控制程序，除了能保障菜肴准时出锅，还具有油烟低、辨别过期食材等特点和功能。这说明（ ）

- A.机器人也能进行某些实践活动
- B.实践工具可以强化人某一方面的能力
- C.意识可以创造物质
- D.实践是社会关系形成的基础

2.下列表述，围绕哲学基本问题中的第一方面展开的是（ ）

- A.射人先射马，擒贼先擒王
- B.祸兮福之所倚，福兮祸之所伏
- C.未有此气，已有此理，理生万物
- D.没有不可认识，只有尚未认识的事物

3.范蠡拜计然为师学习经商之道，计然告诉范蠡“贵上极则反贱，下极则反贵”。主张“贵出如粪土，贱取如珠玉”，即当货物极贵之时，要能当机立断把货物看成粪土一样尽可能地抛出；当货物极贱之时，要把货物看成珠玉一样尽可能地购进。以下哲学道理最能说明计然经商观点的是（ ）

- A.意识活动具有主动创造性
- B.意识对改造客观世界具有指导作用
- C.意识活动具有客观规律性
- D.意识对人体生理活动具有调节作用

4.英国诗人雪莱在《无常》中吟唱道：“今天，花儿喜爱欢悦/明天，就会凋谢/我们希望长驻一切/诱惑你，然后飞逸/什么是人间的欢乐/那是戏弄黑夜的电火/像闪光一样短促”。下列与诗中的哲理相近的是（ ）

- A.不是风动，不是幡动，仁者心动
- B.人一次也不能踏进同一条河流
- C.万物都在运动，但只是在概念中运动
- D.静者静动，非不动也。静即含动，动不舍静

5. “非洲屋脊”埃塞俄比亚自然条件恶劣，长期以来无人成功种植蔬菜。我国某农学专家坚信，粮食作物能生长的地方一定能种蔬菜。他在总结前人失败教训的基础上，采取收集雨水、提高土壤墒情、选择抗寒性较强的品种等措施，在埃塞俄比亚成功种植了大白菜、茄子、辣椒等蔬菜，创造了“里程碑式的”奇迹。他的成功从一个侧面表明（ ）

- ①意识活动的创造性是认识外部世界的重要条件
- ②意识活动的能动性是改造外部世界的可靠保证
- ③尊重客观规律是实践活动取得成功的前提条件
- ④尊重客观规律与发挥主观能动性总是统一的

A. ①②

B. ①③

C. ②③

D. ②④

6. “忧心忡忡的穷人甚至对最美丽的景色都没有什么感觉；贩卖矿物的商人只看到矿物的商业价值，而看不到矿物的美和特性；他对没有对矿物学的感觉。”从哲学上讲，这段话说明（ ）

A. 人的感觉是先验的

B. 意识建构认识对象

C. 人的感觉是包含理性的感觉

D. 事物的本质取决于人

7. 同一个物理学规律可以用不同的数学公式或语言文字形式加以表述，而在这一规律本身不会随之改变。这说明（ ）

A. 对于一个特定的认识客体而言，不同的阶级、民族可以有不同的真理

B. 真理形式的多样性并不否认真理内容的客观性

C. 真理本身就是客观事物

D. 真理是相对的

8. 英国哲学家波普尔说“如果我们过于爽快地承认失败，就可能使自己发觉不了我们非常接近于正确。”这句话告诉我们（ ）

①辩证否定是事物之间的相互否定

②事物发展是前进性与曲折性的统一

③矛盾双方在一定条件下相互转化

④真理是主观性和相对性的辩证统一

A. ①③

B. ①④

C. ②③

D. ②④

9.商人带两袋大蒜到某地，当地人没见过大蒜，极为喜爱，于是赠商人两袋金子。另一商人听说，便带两袋大葱去，当地人觉得大葱更美味，金子不足以表达感情，于是把两袋大蒜给了他。这个故事启示我们要（ ）

- ①乘势待时，把握事物发展状态 ②知难而进，顺应事物发展趋势
③敦本务实，要使主观符合客观 ④系统优化，把握整体部分关系
- A.①② B.①③ C.②④ D.③④

10.毛泽东的（ ），比较完整地阐明了新民主主义的基本理论、基本纲领、基本政策，为各抗日根据地的建设指明了方向。

- A.《井冈山的斗争》
B.《新民主主义论》
C.《论人民民主专政》
D.《论联合政府》

11.在土地革命战争后期和抗日战争时期，毛泽东思想得到系统总结和多方面展开而达到成熟。下列毛泽东的科学著作中，写于这个时期的有（ ）

- A.《星星之火可以燎原》
B.《反对本本主义》
C.《新民主主义》
D.《中国社会各阶级的分析》

12.（ ）的革命道路，是1927年大革命失败后，以毛泽东为代表的中国共产党人在领导中国革命实践中逐步摸索出来的一条具有中国特色的发展道路和总战略。

- A.农村包围城市最后夺取全国胜利
B.新民主主义向社会主义转变
C.反对党内主观主义和教条主义
D.建设新民主主义革命统一战线

13.毛泽东在《关于正确处理人民内部矛盾的问题》中提出解决社会主义社会基本矛盾的途径是（ ）。

- A.进行新民主主义革命
B.进行社会主义改造
C.依靠社会主义制度本身的自我调整和自我完善
D.进行无产阶级专政下的继续革命

14.我国之所以将长期处于社会主义初级阶段，是因为（ ）

- ①我国现阶段的生产力水平低下 ②科学技术水平、民族文化素质还不够高
③我国已建立社会主义市场经济体制 ④社会主义具体制度还不完善

A.①②③

B.①②④

C.②③④

D.①③④

15.关系党和国家生死存亡的大事是（ ）

- A.经济建设
B.能源问题
C.党风廉政建设和反腐败斗争
D.外交关系

16.实现一国两制的前提和核心是（ ）

- A.港澳台享有高度自治权
B.港澳台保持原有的资本主义制度不变
C.中国坚持社会主义
D.国家主权统一于中华人民共和国

17.（ ）伟大旗帜，是当代中国发展进步的旗帜，是全党全国各族人民奋斗的旗帜。

- A.中国特色社会主义
B.有中国特色社会主义
C.中国现代化
D.社会主义

18.吉林长白山区素有“长白林海”之称，是中国六大林区之一，有红松、柞树、水曲柳、黄菠萝等树种。（ ）为长白山特有的珍稀树种，著有“美人松”的美称。

- A.红松
B.柞树
C.水曲柳
D.长白松

19.长春，别称“春城”，是吉林省省会、副省级市、东北亚经济圈中心城市，下列不属于其著名景点的（ ）

- A. 伪满皇宫
- B. 净月潭
- C. 南湖公园
- D. 中央大街

20. 需求价格弹性指一定时期内一种商品的需求量变动对于该商品价格变动的反应程度。下列说法错误的是（ ）

- A. 需求价格弹性大于 1，被称为富有弹性，即需求对价格变动的反应程度大
- B. 需求价格弹性小于 1，被称为缺乏弹性，即需求对价格变动的反应程度小
- C. 汽车、金银首饰、电脑等高档耐用品富有弹性
- D. 米面油、调味品、蔬菜水果等生活必需品富有弹性

21. 根据规模经济理论，随生产能力的扩大，使单位成本下降的趋势，即长期费用曲线呈（ ）趋势。

- A. 上升
- B. 下降
- C. 先降后升
- D. 先升后降

22. 下列产业中属于寡头垄断市场的是（ ）

- A. 中国电网
- B. 中国移动
- C. 中国石油
- D. 中国铁路

23. 在经济衰退时期，有利于扩大内需的政策措施是（ ）

- A. 提高税率
- B. 提高存款准备金率
- C. 降低税率
- D. 缩减财政支出

24. 一国政府控制 CPI 的快速上涨，实行适度从紧的财政政策和货币政策，一般情况下，这会导致（ ）

- A. 恩格尔系数的上升
- B. 就业机会的增加

C.通货膨胀

D.经济增长速度的放慢

25. “多渠道增加居民财产性收入”，以下属于财产性收入的是（ ）

A.工资薪金收入

B.劳动者年终奖金所得

C.劳动者兼职所得

D.银行存款利息所得

26.下列属于国务院直属特设机构的是（ ）

A.中国银行业监督管理委员会

B.国家自然科学基金委员会

C.国有资产监督管理委员会

D.国家质量监督检验检疫总局

27.下列哪一情形属于行政诉讼的受案范围（ ）

A.外交行为

B.行政机关制定规章

C.行政机关对行政机关工作人员的奖惩决定

D.对征收的补偿决定不服

28.工商行政机关对有贩运、销售违禁物品的人的物品进行扣押的行为属于（ ）

A.行政强制措施

B.行政确认

C.行政处罚

D.行政强制执行

29.根据《中华人民共和国行政处罚法》规定，不属于适用简易程序当场收缴罚款的情形是（ ）

A.依法给予 20 元以下的罚款的

B.当事人要求当场交纳

C.不当场收缴事后难以执行的

D.对边远地区当事人予以处罚的

30.下列哪一个不是地方性法规可以设定的行政处罚种类（ ）

A.没收违法所得

B. 吊销许可证

C. 吊销企业营业执照

D. 责令停产停业

31. 关于股东的表述，下列哪一选项是正确的（ ）

A. 股东应当具有完全民事行为能力

B. 股东资格可以作为遗产继承

C. 非法人组织不能成为公司的股东

D. 外国自然人不能成为我国公司的股东

32. 张某窃得同事一张银行信用卡及身份证，向丈夫何某谎称路上所拾。张某与何某根据身份证号试出了信用卡密码，持卡消费 5000 元。关于本案，下列说法正确的是（ ）

A. 张某与何某均构成盗窃罪

B. 张某与何某均构成信用卡诈骗罪

C. 张某构成盗窃罪，何某构成信用卡诈骗罪

D. 张某成信用卡诈骗罪，何某不构成犯罪

33. 经营者侵犯消费者人格尊严时，应当承担的责任不包括（ ）

A. 赔礼道歉

B. 消除影响

C. 恢复名誉

D. 罚金

34. 同升公司以一套价值 100 万元的设备作为抵押，向甲借款 10 万元，未办理抵押登记手续。同升公司又向乙借款 80 万元，以该套设备作为抵押，并办理了抵押登记手续。同升公司欠丙货款 20 万元，将该套设备出质给丙。关于甲、乙、丙对该套设备享有的担保物权的清偿顺序，下列排列正确的是（ ）

A. 甲乙丙

B. 乙丙甲

C. 丙甲乙

D. 乙甲丙

35. 小赵因驾车乱闯红灯，交警对其处以 200 元罚款。该案件体现了法的（ ）作用。

A. 强制作用

B. 教育作用

C.指引作用

D.评价作用

36.宪法最主要、最核心的价值在于（ ）

A.确认社会各阶级的政治地位

B.使民主制度法律化

C.保障公民的基本权利

D.集中体现阶级力量对比关系

37.有权的国家机关在制定、认可、修改、补充和废止法的活动中所应当遵循的法定步骤和方法是（ ）

A.立法程序

B.立法过程

C.立法完善

D.审议法案

38.连某因犯诈骗罪被判处无期徒刑，附加剥夺政治权利终身；犯故意伤害罪被判处10年有期徒刑，附加剥夺政治权利3年数罪并罚时应当采用（ ）

A.限制加重原则

B.并科原则

C.吸收原则

D.相加原则

39.依照刑法规定，法定最高刑为无期徒刑、死刑的，经过二十年。如果二十年后认为必须追诉的，须报请（ ）核准。

A.最高人民检察院

B.最高人民法院

C.高级人民法院

D.中级人民法院

40.美国人Mike在我国吉林省实施抢劫，对甲应（ ）

A.适用中国刑法追究刑事责任

B.驱逐出境

C.适用美国刑法追究刑事责任

D.通过外交途径解决

41.普利策小说奖（Pulitzer Prize for Fiction）是美国最悠久和最著名的文学奖项之一，曾有很多著名作家获得过该奖项。被认为是 20 世纪最著名的小说家之一的欧内斯特·米勒·海明威，曾两次获得此奖项。其中下列哪个作品，同时获得普利策小说奖和诺贝尔文学奖的是

（ ）

- A.《丧钟为谁而鸣》
- B.《掠夺者》
- C.《老人与海》
- D.《永别了，武器》

42.诺贝尔奖是以瑞典著名化学家、硝化甘油炸药的发明人阿尔弗雷德·贝恩哈德·诺贝尔的部分遗产作为基金创立的。下列属于后续增加的诺贝尔奖是（ ）

- A.化学奖
- B.文学奖
- C.经济学奖
- D.和平奖

43.我国经济已由（ ）阶段转向（ ）阶段，正处在转变发展方式、优化经济结构、转换增长动力的攻关期，建设现代化经济体系是跨越关口的迫切要求和我国发展的战略目标。

- A.高速增长 高水平发展
- B.高速发展 高水平发展
- C.高速增长 高质量发展
- D.高速发展 高质量发展

44.建设现代化经济体系，必须把发展经济的着力点放在（ ）上，把提高供给体系质量作为主攻方向，显著增强我国经济质量优势。

- A.实体经济
- B.共享经济
- C.虚拟经济
- D.国民经济

45.国家安全是安邦定国的重要基石，（ ）是全国各族人民根本利益所在。

- A.加快经济发展
- B.维护国家统一

C.促进国际合作

D.维护国家安全

46.坚决防止和反对（ ），坚决防止和反对宗派主义、圈子文化、码头文化，坚决反对搞两面派、做两面人。

A.个人主义、享乐主义、自由主义、本位主义、好人主义

B.个人主义、分散主义、山头主义、本位主义、好人主义

C.个人主义、分散主义、自由主义、本位主义、好人主义

D.个人主义、分散主义、自由主义、本位主义、享乐主义

47.发展是解决我国一切问题的基础和关键，发展必须是科学发展，必须坚定不移贯彻（ ）的发展理念。

A.创新、协调、绿色、开放、共享

B.创造、协调、生态、开放、共享

C.创新、统筹、绿色、开放、共享

D.创造、统筹、生态、开放、共享

48.在秋冬时节，我国大部分地区常会出现大雾，阻碍水、陆、空交通的正常运行，引发交通事故，危害人体健康。下列关于雾的说法正确的是（ ）

A.雾其实是空气中的小水珠附在空气中的灰尘上形成的

B.辐射雾是由冷空气中的水气遇到温暖的地表后凝结而成的

C.雾的出现预示着坏天气的到来

D.雾通常产生于多云无风的夜晚或清晨

49.可再生能源有哪些？（ ）

A.核能、太阳能、地热能

B.生物能、太阳能、地热能

C.太阳能、核能、生物能

D.地热能、生物能、核能

50.下列哪项不是植物基因工程技术的主要应用（ ）

A.提高农作物的抗逆性

B.生产某些天然药物

C.改良农作物的品质

D.作器官移植的供体

- 51.听音能辨人，主要是依据不同的人讲话声具有不同的（ ）
- A.音调
 - B.响度
 - C.音色
 - D.振幅
- 52.按频率由小到大排列，电磁波谱的排列顺序为（ ）
- A.红外线、无线电波、紫外线、可见光、射线、伦琴射线
 - B.无线电波、紫外线、可见光、红外线、伦琴射线、 γ 射线
 - C.射线、伦琴射线、紫外线、可见光、红外线、无线电波
 - D.无线电波、红外线、可见光、紫外线、伦琴射线、 γ 射线
- 53.下列关于生活中的物理现象判断中错误的是（ ）
- A.烧水时，壶口会出现“白气”，这是汽化现象
 - B.潮湿的衣服变干了，这是汽化现象
 - C.夏天的早晨，自来水管会“冒汗”，这是液化现象
 - D.秋天，草地上会出现露珠，这是液化现象
- 54.人体受精卵发育成胎儿的结构层次是（ ）
- A.细胞→组织→器官→系统→人体
 - B.人体→系统→器官→组织→细胞
 - C.组织→细胞→器官→系统→人体
 - D.人体→细胞→组织→器官→系统
- 55.关于道德，正确的说法是（ ）
- A.道德在职业活动中不起作用
 - B.道德在公共生活中几乎不起作用
 - C.道德威力巨大，无坚不克
 - D.道德是调节社会关系的重要手段
- 56.古代先贤主张“仁者爱人”，强调“己所不欲，勿施于人”“己欲立而立人，己欲达而达人”这些都体现了中华传统美德中（ ）
- A.求真务实，敬重诚实守信
 - B.勤劳勇敢，追求自由解放
 - C.乐群贵和，强调人际和谐

D. 立志自强，崇尚精神境界

57. 公文与文学作品不同，它要求文件内容必须（ ）

A. 提出问题

B. 实事求是

C. 介绍经过

D. 沟通信息

58. 公文的标题一般由哪些要项组成（ ）

A. 版头、发文字号

B. 抄送机关、版头、主题词

C. 份号、密级标志、主题词

D. 发文机关名称、内容、文种

59. 以强制力推行的用以规定各种行为规范的法规、规章属于（ ）

A. 规范性文件

B. 指导性文件

C. 呈请性文件

D. 证明性文件

60. 调查报告具有明显的特点，突出表现为（ ）

A. 真实性、针对性、规律性、时效性

B. 真实性、准确性、时效性、规律性

C. 正确性、针对性、规律性、时效性

D. 真实性、自然性、规律性、时效性

二、多选（共 20 道）

61. “社会生活在本质上是实践的”，这一命题的含义包括（ ）

A. 实践是社会历史的主体

B. 在社会历史中，精神、观念的作用十分微小

C. 实践是人类社会的存在和运动方式

D. 实践是社会生活的本质内容

62. 思维和存在的关系问题之所以是哲学的基本问题，原因包括（ ）

A. 思维和存在的关系是一切哲学都无法回避的问题

B. 对该问题的解答是研究和解决哲学其他问题的前提和基础

- C.思维和存在的关系问题是哲学研究的根本目的
- D.对该问题的解答是划分唯物主义与唯心主义两个基本阵营的唯一标准
- 63.西周末年思想家史伯说“和实生物，同则不继，以他平他谓之和，故能丰长而物归之”。这里所包含的辩证法思想有（ ）
- A.矛盾的同一是包含差别的同一
- B.对立面的同一是事物发展的动力
- C.不包含内部差别的事物就不能存在和发展
- D.事物是由不同方面、不同要素构成的统一体
- 64.新中国成立后，中国共产党把独立自主、自力更生运用到外交领域和经济建设方面，形成的方针、政策是（ ）
- A.既反保守又反冒进，坚持在综合平衡中稳步前进
- B.独立自主的和平外交政策
- C.自力更生为主，争取外援为辅的方针
- D.以农业为基础，以工业为主导的总方针
- 65.坚持用马克思主义的态度学习贯彻“三个代表”重要思想，要注重做到（ ）
- A.坚持学习理论和指导实践相结合
- B.坚持改造客观世界和改造主观世界相结合
- C.坚持提高思想政治水平和加强道德品质修养相结合
- D.坚持运用理论和发展理论相结合
- 66.邓小平指出，“改革是中国的第二次革命”，这一论断的含义是指（ ）
- A.改革也是解放生产力
- B.改革是对原有经济体制的根本性变革
- C.改革引起社会生活各方面的深刻变化
- D.改革是社会主义发展的动力
- 67.“东北三宝”指的是吉林省的（ ）
- A.人参
- B.貂皮
- C.鹿茸
- D.林芝
- 68.下列关于 GDP 指标的说法中，正确的有（ ）

- A.用现行价格计算的 GDP 可以用来计算经济增长速度
- B.用不变价格计算的 GDP 可以用来计算经济增长速度
- C.GDP 包含了伴随经济增长而来的生态与环境变化的影响
- D.提出“绿色 GDP”概念是为了强调在经济增长过程中要注意对环境的保护
- 69.“四铁”干部除了要有铁一样的信仰、铁一样的信念，还要有（ ）
- A.铁一般的纪律
- B.铁一般的体魄
- C.铁一般的担当
- D.铁一般的作风
- 70.根据宪法和法律，下列哪些表述是正确的（ ）
- A.全国人大常委会行使国家立法权
- B.香港特别行政区立法会行使国家立法权
- C.内蒙古自治区的人大常委会行使地方立法权
- D.延边朝鲜族自治州的人大常委会行使地方立法权
- 71.根据《民法总则》的规定，以下哪些民事法律行为无效？（ ）
- A.违背公序良俗的民事法律行为
- B.无民事行为能力人实施的民事法律行为
- C.行为人与相对人恶意串通，损害他人合法权益的民事法律行为
- D.行为人与相对人以虚假的意思表示实施的民事法律行为
- 72.根据《民法总则》的规定，民事主体从事民事活动，应当（ ）
- A.遵守诚信原则，秉持诚实，恪守承诺
- B.有利于节约资源、保护生态环境
- C.遵循公平原则，合理确定各方的权利和义务
- D.遵循自愿原则，按照自己的意思设立、变更、终止民事法律关系
- 73.下列选项中，有关精神病患者选举权的论述，哪些是正确的（ ）
- A.根据我国宪法规定，年满 18 岁的精神病患者是选举权和被选举权的主体
- B.年满 18 岁的精神病患者不应列入选民名单
- C.根据我国宪法规定，年满 18 岁的精神病患者可暂不行使选举权
- D.我国宪法规定，年满 18 岁的精神病患者可否行使选举权，须经选举委员会确认
- 74.十九大报告指出，健全人民当家作主制度体系，发展社会主义民主政治，我们应当（ ）

- A.加强人民当家作主制度保障
- B.发挥社会主义协商民主重要作用
- C.培育和践行社会主义核心价值观
- D.深化机构和行政体制改革

75.十九大报告指出，加快建立绿色生产和消费的法律制度和政策导向，建立健全绿色低碳循环发展的经济体系。构建市场导向的绿色技术创新体，（ ）

- A.发展绿色金融
- B.壮大节能环保产业
- C.清洁生产产业
- D.清洁能源产业

76.下列关于文学常识说法正确的是（ ）

- A.《史记》是我国第一部以人物为中心的纪传体文学创作
- B.屈原，名平，我国第一个爱国主义，浪漫主义诗人，开创楚辞新诗体
- C.《战国策》又名《国策》，《邹忌讽齐王纳谏》《过秦论》都出于此书
- D.《淮南子》又名《淮南鸿烈》，女娲补天、后羿射日、嫦娥奔月等故事都出于此书

77.下列属于名著《水浒传》中情节的是（ ）

- A.桃园结义
- B.鲁智深三拳打倒镇关西
- C.吴用智取生辰纲
- D.浔阳楼宋江吟反诗

78.社会公德对公共生活中的方方面面提出的基本规范和要求。在我国现代社会中，社会公德的主要内容为（ ）

- A.文明礼貌
- B.助人为乐
- C.保护环境
- D.奉献社会

79.下列符合我国公民道德建设发展主流的有（ ）

- A.人民群众的精神文化需求不断增长，道德建设出现许多新情况、新问题和新矛盾
- B.追求科学、文明、健康生活方式已成为人民群众的自觉行动
- C.中华民族的传统美德与体现时代要求的新的道德观念相互对立

D.社会主义精神文明建设呈现出积极健康向上的良好态势

80.应立卷的文件必须满足的条件有（ ）

A.办理完毕的

B.有查考价值的

C.完全失去现行效用的

D.机关在工作中形成的

三、判断（共 10 道）

81.运动是物质的固有属性和存在方式。（ ）

82.毛泽东在《中国的红色政权为什么能够存在》中提出了“农村包围城市，武装夺取政权”的道路。（ ）

83.共同富裕是中国特色社会主义的根本目标。（ ）

84.吉林省是朝鲜族的主要聚居地，朝鲜族妇女喜爱穿着旗袍，样式美观大方，具有鲜明的民族特点，已成为中国传统女装，并深受青睐。（ ）

85.国内生产总值是反映常住单位生产活动成果的指标。（ ）

86.我国宪法典包括三部分，序言、正文和附则。（ ）

87.监察机关实行双重领导制度。（ ）

88.毛泽东思想活的灵魂是实事求是。（ ）

89.吉林省是我国最大的商品粮生产基地。（ ）

90.联合行文时各机关排名不分先后。（ ）

附：出题审核人

吉林七月份模拟真题 一套

单选	出题人	审核人
1-12	闫文婷	王迎
13-24	曹原	孙靖
25-36	陈晓方	刘亚茹
37-48	刘月娣	鲁文君
49-60	卢鹏飞	宋文珊
多选		
61-70	卫雅雅	周洁
71-80	李雪	李国霞
判断		
81-90	汪露露	孟春阳

2018 年事业单位考试模拟卷（第五套）

一、单选（共 60 道）

1. 匠心之道，看似无着出，实则有迹可寻循，匠心之道贵在“守破离”，跟着师傅修业绩之“守”，在传承中加入自己的想法之“破”，开创自己的新境界位之“离”，“守破离”，蕴含的哲理是（ ）

- A. 丰富的实践经验必然促进思维创新
- B. 创新思维对推动人类的实践有决定作用
- C. 辩证的否定是事物联系和发展的环节
- D. 树立创新意识是唯物辩证法的根本观点

2. 毛泽东说：“马克思主义的哲学认为十分重要的问题，不在于懂得了客观世界的规律性，因而能够解释世界，而在于拿了这种对于客观规律性的认识去能动地改造世界。”这段话强调的是（ ）

- A. 认识的根本任务是透过现象，抓住事物的本质和规律
- B. 认识的最终目的是指导实践，改造世界
- C. 改造世界是第一性的，认识世界是第二性的
- D. 懂得客观事物的规律性，就能在改造世界中获得成功

3. 要实施中国制造 2025，必须坚持创新驱动和绿色发展，从历史唯物主义角度看，其意义在于（ ）

- A. 创新推动社会生产力的发展
- B. 人类应该尊重规律、利用客观规律
- C. 改革的根本目的是消除社会基本矛盾
- D. 生产关系适合生产力状况时会促进生产力发展

4. 关于马克思主义的革命性，错误的说法是（ ）

- A. 它自身并不是一个绝对真理的封闭体系，而是一个随着实践的发展而不断自我更新完善的发展的生机勃勃的开放体系
- B. 它坚持新陈代谢是宇宙间不可抗拒的普遍规律
- C. 它主张对以往的一切哲学进行彻底的否定
- D. 它并没有结束真理，而是开辟了不断认识和掌握真理的道路

5. “有无相生，难易相成，长短相形，高下相倾，音声相和，前后相随”，老子的世界观，

即事物的存在是对立统一的，这就是矛盾。下面俗语体现矛盾的哲学思想的是（ ）

- A. 家家有本难念的经
- B. 失之毫厘，谬以千里
- C. 皮之不存，毛将焉附

D. 操千曲而后晓声，观千剑而后识器

6. 随着中国经济发展的转型，关注发展质量，增加民生福祉被提到了前所未有的重要位置。

在城市形象宣传中，“幸福”“活力”“生态”等成了常见的宣传语。这说明（ ）

- A. 社会意识反映社会存在
- B. 社会意识具有相对独立性
- C. 语言的变化决定意识的变化
- D. 社会意识对社会存在有反作用

7. 《习近平用典》中“兵无常势，水无常形”反映出的哲学原理是（ ）

- A. 矛盾的普遍性
- B. 矛盾的特殊性
- C. 矛盾双方相互依存
- D. 矛盾双方在一定条件下可以相互转化

8. 下列观点中，属于唯心主义的是（ ）

- A. 世界的统一性在于它的物质性
- B. 万物的基础是原始物质
- C. 天地万物皆在吾心中
- D. 形存则神存，形谢则神灭

9. “草萤有耀终非火，荷露虽团岂是珠”体现的哲学道理是（ ）

- A. 现象与本质的关系
- B. 运动与静止的关系
- C. 量变与质变的关系
- D. 否定之否定原理

10. 下列影视剧，按照事件发生的先后顺序，正确的排列顺序是（ ）。

①台儿庄战役 ②南昌起义 ③重庆谈判 ④建国大业

- A. ①②③④
- B. ②③④①
- C. ①②④③
- D. ②①③④

11. 毛泽东系统阐述中国革命三大法宝的文章是（ ）

- A. 《〈共产党人〉发刊词》 B. 《中国革命和中国共产党》
- C. 《新民主主义论》 D. 《论联合政府》
12. 在 1949 年 3 月召开的党的（ ）上，毛泽东提出“务必使同志们继续地保持谦虚、谨慎、不骄、不躁的作风，务必使同志们继续地保持艰苦奋斗的作风”。
- A. 七大 B. 七届二中全会 C. 七届三中全会 D. 七届四中全会
13. 邓小平同志指出“一个党，一个国家，一个民族，如果一切从本本出发，思想僵化，迷信盛行，那它就不能前进，它的生机就停止了，就要亡国亡党”，这段话非常深刻的阐明了（ ）
- A. 反对教条主义的重要性
- B. 改革开放的重要性
- C. 破除封建迷信的重要性
- D. 解放思想的重要性
14. 中国共产党领导的多党合作和政治协商制度是中国特色政治制度，我国多党合作基本方针是（ ）
- A. 坚持中国共产党的领导
- B. 遵守宪法和法律
- C. 坚持民主集中制原则
- D. 坚持长期共存，互相监督，肝胆相照，荣辱与共
15. 我国社会保障体系不包括（ ）
- A. 社会保险
- B. 社会福利
- C. 社会救济
- D. 社会扶助
16. 中共中央国务院关于实施乡村振兴战略的意见》指出，探索宅基地（ ）“三权分置”。
- A. 所有权、资格权、使用权
- B. 承包权、分配权、收益权
- C. 分配权、资格权、使用权
- D. 收益权、处置权、所有权
17. 吉林省人口最为稀疏的地区是（ ）

- A. 白山区
- B. 黑土台地
- C. 西部风沙平原区
- D. 中部半山丘陵区
18. 与桂林山水、云南石林、长江三峡一起被誉为中国四大奇观的是（ ）
- A. 长城
- B. 秦始皇兵马俑
- C. 敦煌莫高窟
- D. 吉林雾凇
19. 吉林长春市净月潭的（ ）景点是净月潭的象征
- A. 钟楼
- B. 钟亭
- C. 广场大门
- D. 仙女引擎月雕塑
20. 小李花 300 元购买了某团体的演唱会门票，看了 20 分钟以后发现很无趣，歌也不好听，于是决定提前离开，小李所付出的的这 300 元票款成为（ ）
- A. 隐含成本
- B. 外在成本
- C. 机会成本
- D. 沉没成本
21. 市场经济在本质上是一种（ ）
- A. 保护型经济
- B. 垄断型经济
- C. 竞争型经济
- D. 封闭型经济
22. 我国目前进行的经济结构调整改革过程中，货币政策的相对紧缩，会导致市场上（ ）
- A. 货币供给减少，利率降低
- B. 货币供给增加，利率降低
- C. 货币供给减少，利率升高
- D. 货币供给增加，利率升高

23. 国家财政收入中最主要的来源收入来源是（ ）
- A. 收费收入
 - B. 税收收入
 - C. 国有资产收益
 - D. 债务收入
24. 刘某在选择个人投资方向时，既要求安全性高，又要求其流通性强和收益率高，下列理财方式中，对他来说，最好的选择是（ ）
- A. 购买商业股票
 - B. 办理银行定期存款
 - C. 购买商业保险
 - D. 购买政府债券
25. 在我国现行税制体系中，资源税、车船税、土地使用税等属于（ ）
- A. 从价税
 - B. 从量税
 - C. 流转税
 - D. 所得税
26. 我国在特别行政区内实行的制度由（ ）
- A. 全国人民代表大会规定
 - B. 全国人民代表大会以法律规定
 - C. 国务院以行政法规规定
 - D. 国务院以特别决定规定
27. 为落实淘汰落后产能政策，某区政府发布通告：凡在本通告附件所列名单中的企业两年内关闭。提前关闭或者积极配合的给予一定补贴，逾期不履行的强制关闭。关于通告的性质，下列哪一选项是正确的（ ）
- A. 行政规范性文件
 - B. 具体行政行为
 - C. 行政给付
 - D. 行政指导
28. 某区公安分局集中销毁处理了一批扣押的无人认领的电动车，这种执法活动属于（ ）
- A. 行政处罚行为

- B. 行政指导行为
- C. 行政许可行为
- D. 行政事实行为
29. 人民法院审理不可以使用简易程序的有（ ）
- A. 被诉行政行为是依法当场作出的
- B. 案件涉及款额二千元以下的
- C. 案件涉及款额三千元以下的
- D. 属于政府信息公开案件的
30. 行政机关作出（ ）行政处罚决定之前，应当告知当事人有要求举行听证的权利。
- A. 责令停产停业
- B. 行政拘留
- C. 注销许可证
- D. 没收财产
31. 股东大会应当每年召开一次年会。有下列哪一情形的，应当在两个月内召开临时股东大会（ ）
- A. 董事人数不足本法规定人数或者公司章程所定人数的三分之二时
- B. 公司未弥补的亏损达实收股本总额三分之二时
- C. 单独或者合计持有公司百分之五以上股份的股东请求时
- D. 证监会认为有必要召开时
32. 2016年1月28日，刘某某驾驶电动车沿开发区安澜北路西侧机动车道由南向北逆行，与高某某驾驶的电动自行车相撞（在同车道由北向南行驶），高某某受伤，经抢救无效死亡，警方调查后认为，被告人刘某某负该起事故的主要责任。则刘某某的行为构成（ ）
- A. 破坏交通工具罪
- B. 叛逃罪
- C. 交通肇事罪
- D. 过失爆炸罪
33. 按照《中华人民共和国消费者权益保护法》的规定，经营者不得对消费者进行侮辱、诽谤，不得搜查消费者的身体及其携带的物品，不得侵犯消费者的（ ）
- A. 人身自由
- B. 人身安全

C. 财产安全

D. 人格遵守

34. 个体户李某因急需资金，向王某借款 20 万元，并以市区价值 10 万元的房子为抵押签订合同，但未办理登记。后因王某认为房子价值太小，李某遂将祖传一套金器交给王某，签订质押合同。这两项担保有效吗（ ）

A. 抵押，质押均有效

B. 抵押有效，质押无效

C. 抵押无效，质押有效

D. 抵押、质押均无效

35. 根据法所依赖以产生的经济基础及其阶级本质对法所作的分类，在法学上称之为（ ）

A. 法律体系

B. 法的渊源

C. 法制体系

D. 法的历史类型

36. “凡权利无保障和分权未确立的社会就没有宪法”，该名言出自（ ）

A. 《人权宣言》

B. 《独立宣言》

C. 《人身保护法》

D. 《权利法案》

37. 有关国家机关按照法定程序，对一定时期和范围的规范性法律文件进行审查并重新确定其法律效力的活动，称为（ ）

A. 法律编纂

B. 法律制定

C. 法律清理

D. 法律汇编

38. 以下关于追诉时效的说法，错误的是（ ）

A. 追诉时效期限是以法定最高刑为标准，不是以实际应当判处的刑罚为标准

B. 法定最高刑为不满 5 年有期徒刑的，经过 5 年，不再追诉

C. 法定最高刑为有期徒刑的，经过 15 年以后，如果认为有必要追诉，可以报请最高人民检察院核准

- D. 法定最高刑为 10 年以上有期徒刑的，经过 15 年，不再追诉
39. 下列哪种刑罚既可以单独适用，也可以附加适用（ ）
- A. 有期徒刑
 - B. 管制
 - C. 剥夺政治权利
 - D. 拘役
40. 甲国公民乘坐乙国飞机飞越丙国领空时，殴打中国籍乘客刘某致其重伤。甲国公民对刘某的犯罪，适用我国刑法的依据是（ ）
- A. 属地管辖原则
 - B. 保护管辖原则
 - C. 属人管辖原则
 - D. 普遍管辖原则
41. 历年诺贝尔文学奖得主与其代表作不匹配的是（ ）
- A. 石黑一雄；《被掩埋的巨人》
 - B. 鲍勃·迪伦；《像一块滚石》
 - C. 韦特兰娜·阿列克谢耶维奇；《切尔诺贝利的回忆：核灾难口述史》
 - D. 莫言；《狂人日记》
42. 下列哪一位未获得过诺贝尔生理学或医学奖（ ）
- A. 雅克·杜波切特
 - B. 大隅良典
 - C. 屠呦呦
 - D. 迈克尔·杨
43. 党的十九大明确提出党的（ ）这个重大命题，强调其是党的根本性建设，要把其摆在首位，以其为统领。
- A. 思想建设
 - B. 组织建设
 - C. 作风建设
 - D. 政治建设
44. 2018 年 1 月 11 日上午在中国共产党第十九届中央纪律检查委员会第二次全体会议上，习近平强调，要深化标本兼治，夺取反腐败斗争压倒性胜利。标本兼治，既要夯实治本的基

础，又要敢于用治标的利器。要坚持无禁区、全覆盖、零容忍，（ ）、（ ）、（ ），坚持受贿行贿一起查，坚决减存量、重点遏增量。“老虎”要露头就打，“苍蝇”乱飞也要拍。要推动全面从严治党向基层延伸，严厉整治发生在群众身边的腐败问题。

- A. 强遏制、重高压、长震慑
- B. 重遏制、长高压、强震慑
- C. 长遏制、强高压、重震慑
- D. 重遏制、强高压、长震慑

45. 中共中央总书记、国家主席、中央军委主席习近平 2018 年 1 月 11 日上午在中国共产党第十九届中央纪律检查委员会第二次全体会议上发表重要讲话。他强调，在中国特色社会主义新时代，完成伟大事业必须靠（ ），党一定要有新气象新作为。

- A. 依法治国
- B. 党的建设
- C. 全面从严治党
- D. 党的领导

46. 中国共产党第十九届中央委员会第二次全体会议于 2018 年 1 月 18 日至 19 日在北京召开。会议指出，我们党高度重视宪法在治国理政中的重要地位和作用，明确坚持依法治国首先要坚持依宪治国，坚持依法执政首先要坚持依宪执政，把实施宪法摆在全面依法治国的（ ），采取一系列有力措施加强宪法实施和监督工作，为保证宪法实施提供了强有力的政治和制度保障。

- A. 核心位置
- B. 突出位置
- C. 重要位置
- D. 首要位置

47. 2018 年 5 月 31 日，中共中央政治局召开会议，审议《关于打赢脱贫攻坚战三年行动的指导意见》。习近平总书记主持召开的中共中央政治局会议审议了《乡村振兴战略规划（2018-2022 年）》和《关于打赢脱贫攻坚战三年行动的指导意见》。习近平明确当前脱贫攻坚战的三个“着力点”，这三个“着力点”指的是（ ）

- ①着力激发贫困人口内生动力
- ②着力夯实贫困人口稳定脱贫基础
- ③着力细化贫困地区攻坚规划实施

④着力加强扶贫领域作风建设

- A. ①②③
- B. ①②④
- C. ①③④
- D. ②③④

48. 下列关于低碳生活的说法，错误的是（ ）

- A. 以液晶电视为例，只要将动态模式改变为影院模式，就能减少大约 40% 的耗电量
- B. 对于冰箱，只要提高 1°C 制冷时的温度设定，就可以节电约 10% 了
- C. 夏天开空调，应先打开窗户让室内空气自然更换，开电风扇让室内先降温，开空调后调至 25°C~26°C 之间（最好在 26°C 以上），用小风，这样既省电又低碳
- D. 对于笔记本电脑，待机状态比睡眠状态更省电，并且灵活使用内置的节电程序，也可取得明显的节电效果

49. 下列能源中，属于不可再生能源的是（ ）

- A. 核能
- B. 生物能
- C. 风能
- D. 水能

50. 红外线是太阳光线中众多不可见光线的一种，它之所以不能被人看到是因为（ ）

- A. 超出了可见光谱范围
- B. 低于视觉刺激阈限
- C. 不能刺激锥体细胞
- D. 不能刺激棒体细胞

51. 极光是一种大气（ ）现象。

- A. 电学
- B. 力学
- C. 光学
- D. 热学

52. 电磁波谱中，红外线、紫外线和可见光三个波段的频率大小关系是（ ）

- A. 红外线最高、可见光最低
- B. 紫外线最高、红外线最低

- C. 可见光最高、红外线最低
- D. 红外线最高、紫外线最低
53. 骑自行车上坡前，往往需要用力蹬几下，这样是增大车（ ）
- A. 动能
- B. 势能
- C. 重力
- D. 摩擦力
54. 组成蛋白质的基本单位是（ ）
- A. 基因
- B. 核苷酸
- C. 细胞
- D. 氨基酸
55. 要大力倡导以爱岗敬业、诚实守信、办事公道、服务群众、奉献社会为主要内容的（ ）鼓励人们在工作中做好一个建设者。
- A. 社会公德
- B. 职业道德
- C. 家庭美德
- D. 人生理想
56. 我们在全社会大力倡导（ ）的基本道德规范，努力提高人的道德素质，促进人的全面发展。
- A. 爱国守法、明礼诚信、团结友善、勤俭自强、敬业奉献
- B. 爱岗敬业、诚实守信、办事公道、奉献社会、遵纪守法
- C. 尊老爱幼、男女平等、夫妻和睦、勤俭持家、邻里团结
- D. 文明礼貌、助人为乐、爱护公物、保护环境、遵纪守法
57. 公文的特定格式包括命令格式、信函格式和（ ）格式。
- A. 纪要 B. 图表 C. 议案 D. 决议
58. 习近平总书记曾在中央办公厅座谈会上指出，公文写作要坚决杜绝“假、大、空”的不良作风，这主要是针对公文写作的（ ）要求。
- A. 格式 B. 结构 C. 内容 D. 主题
59. 根据单位工作需要用于工作安排总结和宣传交流的文书是指（ ）

- A. 通用文书
- B. 规范性文书
- C. 专用文书
- D. 事务文书

60. 撰写公文的一个重要环节是选择公文的文种，一般而言，确定公文文种的最重要的依据是（ ）

- A. 行文的对象
- B. 行文的方向
- C. 行文的目的
- D. 行文的内容

二、多选（共 20 道）

61. “猪肉菱角若共食，肚子疼痛不好受；牛肉栗子一起吃，食后就会发呕吐。”这些流传甚广的民间谚语说的是我国的食物相克之道，被一些人奉若“灵丹妙药”时刻谨记在心。专家们随机选取了 130 名健康的志愿人员，针对民间流传最广的“相克食物”进行了实验。按照家常方法进行烹饪，在志愿人员食用这些“相克食物”一周后观察他们的尿液、大便、血压、精神、体温等反应，结果一切正常。这表明（ ）

- A. 正确的认识是推动实践发展的动力
- B. 获得直接经验比学习间接经验更重要
- C. 实践是检验认识的真理性的唯一标准
- D. 实践活动制约着人们认识世界的能力和水平

62. 阿里巴巴集团董事局主席马云就“双 11”促销抛出了“狮羊论”。以电子商务为代表的新商业生态系统对于传统商业生态系统将会开展一次革命性的颠覆，“就像狮子吃掉森林里的羊，这是生态的规律……新经济模式已经有点狮子的味道”。下列诗句与“狮羊论”蕴含的哲理相同的是（ ）

- A. 冬霜茅枯无情去，春风草青百花开
- B. 芳林新叶催陈叶，流水前波让后波
- C. 历尽天华成此景，人间万事出艰辛
- D. 新竹高于旧竹枝，全凭老干为扶持

63. 人们对于同一对象的认识产生“仁者见仁，智者见智”的原因是（ ）

- A. 意识能够建构认识的对象

- B. 认识主体受到专业知识和经验的影响
- C. 人的认识具有主观能动性
- D. 对同一认识对象产生差异的根源是客观的
64. 毛泽东在《论十大关系》中提出的主要观点有（ ）
- A. 把国内外一切积极因素调动起来，为社会主义事业服务
- B. 吸取苏联的经验教训，少走弯路，引以为戒
- C. 采用多发展一些农业和轻工业的办法发展重工业
- D. 更多地利用和发展沿海工业，特别是轻工业
65. 中国共产党第十九届中央委员会第三次全体会议，于 2018 年 2 月 26 日至 28 日在北京举行。全会提出，深化党和国家机构改革的首要任务是（ ）
- A. 完善坚持党的全面领导的制度
- B. 加强党对各领域各方面工作领导
- C. 确保党的领导全覆盖
- D. 确保党的领导更加坚强有力
66. 邓小平说，只有两个文明都搞好，才是有中国特色的社会主义。这是因为（ ）
- A. 物质文明为精神文明的发展提供物质条件和实践经验，精神文明为物质文明提供思想保证、精神动力和智力支持
- B. 物质文明和精神文明是互为条件、相互促进的
- C. 物质文明是精神文明的基础，精神文明对物质文明有反作用
- D. 物质文明是精神文明发展的基础，精神文明又有自己的相对独立性
67. 下列关于吉林省各地市的描述，错误的是（ ）
- A. 吉林市是吉林省的省会、副省级市、东北亚经济圈中心城市
- B. 吉林市是中国唯一省市同名的城市
- C. 松原市素有“粮仓、林海、肉库、鱼乡”之美誉
- D. 通化境内有世界 A 级湿地、国家级自然保护区——向海
68. 下列关于经济常识的说法，正确的有（ ）
- A. 私营经济是以生产资料私有制为基础的经济
- B. 纸币代表金属货币执行价值尺度和支付手段职能
- C. 经济处于繁荣时期，税收自动增加，缩小社会总需求，可抑制经济过热
- D. 价格由价值决定，价值是价格的基础，价格是价值的货币表现

69. 三期叠加是当前我国经济阶段性特征。三期是指（ ）
- A. 增长速度换挡期
 - B. 结构调整阵痛期
 - C. 前期刺激政策消化期
 - D. 大有可为的重要战略机遇期
70. 下列哪些选项属于全国人民代表大会代表的权利（ ）
- A. 在全国人大会议期间，10 名以上的全国人大代表可以书面提出对最高人民法院的质询案
 - B. 在全国人大会议期间，1/10 以上全国人大代表联名，可以提议组成特定问题调查委员会，由大会主席团提请大会全体会议决定
 - C. 在全国人大会议期间，全国人大代表非经全国人大主席团许可，在全国人大闭会期间，非经全国人大常委会许可，不受刑事拘留、逮捕或者刑事审判
 - D. 全国人大代表在全国人大各种会议上的发言、表决以及在列席原选举单位的人大各种会议上的发言，不受法律追究
71. 根据相关法律的规定，宣告死亡的条件有（ ）
- A. 自然人失踪的事实
 - B. 自然人失踪达到法定期限
 - C. 利害关系人的申请
 - D. 人民法院的受理与宣告
72. 民事法律行为有效的条件包括（ ）
- A. 行为人具有相应的民事行为能力
 - B. 意思表示真实
 - C. 不违反法律、行政法规的强制性规定
 - D. 不违背公序良俗
73. 下列有关宪法的内容说法正确的是（ ）
- A. 每年 12 月 4 日为国家宪法日
 - B. 宪法的修改由全国人大常委会或三分之一以上的全国人大代表提议
 - C. 我国现行宪法是人大五次会议通过并公布施行的
 - D. 全国人大于 1988 年、1993 年、1999 年、2004 年和 2018 年先后五次修宪
74. 2018 年 4 月，国家主席习近平在博鳌亚洲论坛 2018 年年会开幕式上作主旨演讲《开放共创繁荣 创新引领未来》中提到，过去 40 年中国经济发展是在开放条件下取得的，未来中

国经济实现高质量发展也必须在更加开放条件下进行。在扩大开放方面，中国将采取下列（ ）重大举措。

- A. 大幅度放宽市场准入
- B. 创造更有吸引力的投资环境
- C. 加强知识产权保护
- D. 主动扩大进口

75. 中央经济工作会议在北京举行，会议指出，2018年是（ ）

- A. 贯彻党的十九大精神的开局之年
- B. 改革开放40周年
- C. 决胜全面建成小康社会、实施“十三五”规划承上启下的关键一年
- D. 全面深化改革、夺取新时代中国特色社会主义伟大胜利的一年

76. 下列属于以少胜多或以弱胜强战役的是（ ）

- A. 巨鹿之战
- B. 官渡之战
- C. 长平之战
- D. 白江口之战

77. 关于戏曲知识，下列说法正确的是（ ）

- A. 梨园子弟，原指唐太宗时梨园宫廷歌舞艺人的统称，后泛指戏曲演员
- B. 明代四大声腔是中国明代南曲系统的海盐腔、余姚腔、弋阳腔和昆山腔
- C. 四大徽班，指的是三庆班、四喜班、和春班、春台班，多以安徽籍艺人为主
- D. 中国戏曲最早的成熟形式是宋元南戏。

78. 从我国历史和现实的国情出发，社会主义道德建设要坚持（ ）

- A. 以为人民服务为核心
- B. 以实现少数民族的利益为根本目的
- C. 以爱祖国、爱人民、爱劳动、爱科学、爱社会主义为基本要求
- D. 以社会道德、职业道德、家庭美德为着力点

79. 下列关于公务员职业道德的观点正确的是（ ）

- A. 慎独自律是加强公务员职业道德修养的重要方法
- B. 公共行政权的特殊性决定了公务员职业道德修养的特殊性
- C. 提高行政效率是公务员职业道德修养的终极目标

D. 形成高尚的道德人格是公务员道德修养的重要目标

80. 关于公文印刷，下列说法正确的有（ ）

- A. 公文印刷必须确保质量和时效
- B. 涉密公文应当在符合保密要求的场所印制
- C. 公文印制完毕，应当对公文的文字、格式等进行检查后分发
- D. 公文印制的份数只需口头确定，不需详细记载

三、判断（共10道）

- 81. 1997年十五大正式使用“邓小平理论”这一概念，并将其作为党的指导思想写入党章。（ ）
- 82. 人民群众是社会历史的主体，是社会发展的决定力量。（ ）
- 83. 新旧民主主义革命的根本区别在于革命的前途不同。（ ）
- 84. 吉林省旅游资源丰富，著名景点有长白山、伪满皇宫、松花湖、净月潭、镜泊湖等。（ ）
- 85. “农村包围城市，武装夺取政权”道路理论的形成是毛泽东思想形成的重要标志。（ ）
- 86. 十九大指出，实现中华民族伟大复兴是近代以来中华民族最伟大的梦想。（ ）
- 87. 通知由于其专业性和业务性较强，因此被称为公文中的轻骑兵。（ ）
- 88. 吉林省矿产资源丰富，油页岩、硅灰石、火山渣等矿产储量居全国首位，开发潜力巨大。（ ）
- 89. 宪法最主要最核心的价值在于使民主制度法律化。（ ）
- 90. 当纸币退出流通领域，可以当做纪念货币贮藏起来，实现货币的贮藏手段。（ ）

附：出题审核人

吉林七月份模拟真题 二套

单选	出题人	审核人
1-12	王迎	闫文婷
13-24	孙靖	曹原
25-36	刘亚茹	陈晓方
37-48	鲁文君	刘月娣
49-60	宋文珊	卢鹏飞
多选		
61-70	周洁	卫雅雅
71-80	李国霞	李雪
判断		
81-90	孟春阳	汪露露

2018 年事业单位考试模拟试卷（第六套）

一、单项选择题（下列各题备选答案中只有一项符合题意，请将其选出，并用 2B 铅笔填涂在答题卡相应的位置上，本题 60 分，每小题 0.8 分，共 48 分）

1. 七集政论专题片《不忘初心 继续前进》在央视综合频道播出后，激荡人心，第一集《举旗定向》深刻阐述（ ）是改革开放以来党的全部理论和实践的主题，实现中华民族伟大复兴的中国梦必须走中国道路。

- A. 毛泽东思想
- B. 邓小平理论
- C. 中国特色社会主义
- D. 习近平系列讲话精神

2. 在新的历史时期，党中央制定了干部队伍的基本方针，该方针是（ ）

- A. “革命化、年轻化、知识化、专业化”
- B. “革命化、年轻化、科技化、专业化”
- C. “综合化、年轻化、知识化、专业化”
- D. “革命化、自动化、知识化、专业化”

3. 习近平“7.26”重要讲话中强调，“实践使我们越来越深刻地认识到，（ ）不仅关系党的前途命运，而且关系国家和民族的前途命运，必须以更大的决心、更大的勇气、更大的气力抓紧抓好。”

- A. 党政分开
- B. 管党治党
- C. 治国理政
- D. 内政外交

4. 2017 年 10 月 3 日，（ ）载人深潜实验队在中国南海完成全部海上实验任务，胜利返航三亚港。

- A. “蛟龙”号
- B. “深海勇士”号
- C. “深潜”号
- D. “和平”号

5. 2017 年 9 月 28 日，由袁隆平挂帅的“海水稻”项目将在（ ）海水稻研究发展中

心的试验基地和金口镇海水稻稻作改良国家示范基地进行实地测产。

- A. 烟台
- B. 青岛
- C. 日照
- D. 威海

6. 2017年9月29日上午，省委副书记、省长龚正主持召开省政府常务会议，研究创新型省份建设、2016年度节能考核奖励及当前节能工作、（ ）国土绿化行动、进一步加强和改进消防工作、山东省城乡规划委员会工作规则等事项。

- A. 节约适度、绿色低碳
- B. 绿水青山、健康发展
- C. 绿满齐鲁、美丽山东
- D. 深化改革、推动发展

7. 汇总国民经济各部门的增加值用于核算国内生产总值的方法，被称为（ ）

- A. 收入法
- B. 支出法
- C. 生产法
- D. 支配法

8. 主张“人之生也固小人”，认为人的本性可以通过后天学习仁义法正得到矫正，最后达到善的境界的中国古代思想家是（ ）

- A. 孔子
- B. 荀子
- C. 韩非
- D. 庄子

9. 中国共产党第十八届中央委员会第六次全体会议强调，新形势下加强和规范党内政治生活，必须以（ ）为根本遵循，坚持党的政治路线、思想路线、组织路线、群众路线。

- A. 党章
- B. 宪法
- C. 党内法规制度
- D. 国家法律法规

10. 2017年10月9日，我国在酒泉卫星发射中心用长征二号丁运载火箭将（ ）成

功送入预定轨道，发射任务获得圆满成功。

- A. 风云二号
- B. 天舟一号
- C. 北斗导航卫星
- D. 委内瑞拉遥感卫星二号

11. 联合国世界旅游组织第 22 届全体大会 2017 年 9 月 13 日在（ ）开幕。

- A. 成都
- B. 北京
- C. 厦门
- D. 杭州

12. 2017 年 10 月 17 日是我国（ ）扶贫日。党的十八大以来，脱贫攻坚称为全面建成小康社会的底线任务和标志性指标。

- A. 第 4 个
- B. 第 5 个
- C. 第 6 个
- D. 第 7 个

13. 辩证唯物主义认识论的首要基本观点是（ ）

- A. 唯物的观点
- B. 实践的观点
- C. 发展的观点
- D. 认识的观点

14. 邓小平提出“发展才是硬道理”的著名论断是在（ ）

- A. 1992 年南巡讲话
- B. 1956 年中共八大上的报告
- C. 十一届三中全会上的讲话
- D. 《坚持四项基本原则》一文中

15. 中央城市工作会议提出六大发展理念，做好城市工作，必须加强和改善党的领导，会议提出，必须抓好城市这个“火车头”，把握发展规律，推动（ ）的新型城镇化，发挥这一扩大内需的最大潜力，有效化解各种“城市病”。

- A. 以经济为核心

- B. 以工业为核心
- C. 以房地产为核心
- D. 以人为核心

16. 经济学家詹姆斯在《公平是最大的劳力》一书中写道，公平是对人格的尊重，可以使一个人最大限度地释放自己的能量，促进社会财富的增加，这说明（ ）

- A. 公平与效率是矛盾的
- B. 公平与效率是互补的
- C. 公平是提高效率的保证
- D. 效率是公平的物质前提

17. 特赦是我国宪法规定的一项重要制度，2015年8月29日我国时隔四十后重启特赦制度。根据法律的规定，下列有关我国特赦的表述错误的是（ ）

- A. 特赦的决定权由全国人民代表大会行使
- B. 由中华人民共和国主席发布特赦令
- C. 特赦只赦其罪
- D. 特赦的范围是一类或几类犯罪的人

18. 党史上唯一一次在国外召开的全国代表大会是（ ）全国代表大会。

- A. 第四次
- B. 第五次
- C. 第六次
- D. 第七次

19. 2017年9月26日，“书于竹帛——中国简帛文化展”在（ ）开展，这是全国乃至世界首次如此大规模集中展出简帛文物资料。

- A. 山东省博物馆
- B. 故宫博物院
- C. 上海博物馆
- D. 河南博物院

20. 市场体制中“无形的手”从根本上说（ ）

- A. 就是放开不管
- B. 就是行业协会的作用
- C. 就是货币的作用

D. 就是价值规律的作用

21. 下列各项不属于唯物主义基本形态的有（ ）

A. 自然科学的唯物主义

B. 古代的朴素唯物主义

C. 近代的形而上学唯物主义

D. 现代的辩证唯物主义和历史唯物主义

22. 张某的新车出了车祸，他认为是选了个尾号为4的车牌号不吉利造成的，这种做法（ ）

A. 违背了联系的客观性

B. 违背了联系的普遍性

C. 违背了事物的普遍性

D. 违背了事物的同一性

23. 下列关于我国地理表述，正确的是（ ）

A. 泰山、华山、衡山、恒山和庐山被称为“五岳”

B. 南海有东沙、西沙、中沙、南沙四个群岛

C. 西藏自治区是我国面积最大的省级行政区

D. 华北平原是我国面积最大的平原

24. 自从塑料被广泛使用后，“白色污染”一直困扰着人类。最近，中美研究人员通过科学实验发现，黄粉虫可以吞食和完全降解塑料，他们还从黄粉虫体内分离出靠聚苯乙烯生存的细菌，这项研究对治理“白色污染”具有重要意义。由此可见（ ）

A. 认识是实践的目的

B. 实践是检验认识真理性的唯一标准

C. 科学实验是认识的唯一来源

D. 实践为人们提供日益完备的认识工具

25. “心虽主于一身，而实时管乎天下之理；理虽散在万事，而实不外遇一人之心。”该观点属于（ ）

A. 主观唯心主义观点

B. 古代朴素唯物主义思想

C. 朴素的辩证法思想

D. 客观唯心主义观点

26. 下级机关向上级机关汇报工作、反应情况，应该选择的公文文种是：（ ）

- A. 请示
- B. 意见
- C. 报告
- D. 函

27. 中共十八届七中全会强调，我们党是一个有着（ ）名党员的大党，一个领导着13亿多人民进行改革开放和社会主义现代化建设的执政党。

- A. 8400 多万
- B. 8700 多万
- C. 8800 万多
- D. 8900 多万

28. 与“欲穷千里目，更上一层楼”有异曲同工之妙的诗句是（ ）

- A. 不畏浮云遮望眼，只缘身在最高层
- B. 总为浮云能蔽日，长安不见使人愁
- C. 不识庐山真面目，只缘身在此山中
- D. 莫愁前路无知己，天下谁人不识君

29. 对下列诗词蕴古的化学原理解释错误的是（ ）

- A. 蜡烛成灰泪始干——烃类的不完全燃烧
- B. 爆竹声中一岁除——爆炸产生二氧化硫
- C. 日照香炉生紫烟——多环芳香烃的升华
- D. 洪炉照破夜沉沉——燃烧释放二氧化碳

30. 张某在商场中看中了一款价格 5600 的苹果手机，这里货币执行的是（ ）

- A. 价值尺度
- B. 流通手段
- C. 贮藏手段
- D. 支付手段

31. 中国共产党第十九次全国代表大会指出，（ ）是全党全国人民为实现中华民族伟大复兴而奋斗的行动指南。

- A. 中国特色社会主义
- B. 中国特色社会主义理论体系

- C. 新时期中国特色社会主义理论
- D. 新时代中国特色社会主义思想

32. “一门三父子，都是大文豪，诗赋传千古，峨眉共比高。”这首诗中的“三父子”指的是（ ）

- A. 曹操、曹丕、曹植
- B. 苏洵、苏轼、苏辙
- C. 杜甫、杜牧、杜荀鹤
- D. 班彪、班固、班超

33. 新时代坚持和发展中国特色社会主义的总任务是：（ ）

- A. 全面建成小康社会
- B. 全面实现社会主义现代化
- C. 实现中华民族的振兴崛起
- D. 全面依法治国

34. 古人说：“有象斯有对，对必反其为；有反斯有仇，仇必和而解。”这句话告诉我们（ ）

- A. 世界上一切事物都是相对运动的
- B. 时间与空间是事物的存在方式
- C. 矛盾是对立统一的
- D. 物质和运动是不可分的

35. CD-ROM 是一种大容量的外部存储设备，其特点是（ ）

- A. 只能读不能写
- B. 处理数据速度低于软盘
- C. 只能写不能读
- D. 既能写也能读

36. 下列连线错误的是（ ）

- A. 五禽戏—华佗
- B. 切脉诊断—扁鹊
- C. 《本草纲目》—李时珍
- D. 《千金方》—张仲景

37. 汉代的官学分为中央和地方两种，中央官学的最高学府是：（ ）

- A. 太学
- B. 国子监
- C. 翰林院
- D. 国子学
38. 下列由刘勰创作的文学理论著作是（ ）
- A. 《梦溪笔谈》
- B. 《世说新语》
- C. 《文心雕花》
- D. 《阅微草堂笔记》
39. 司法解释是指：（ ）
- A. 最高司法机关在适用法律过程时具体应用法律问题所作的解释
- B. 司法机关在适用法律时对法律所作的解释
- C. 各级人民法院在审理案件中对法律的解释
- D. 各级人民检察院在检察工作中对法律所作的解释
40. 危害行为属于犯罪的客观要件之一，其基本形式是（ ）
- A. 不作为形式
- B. 作为和不作为形式
- C. 故意和无意形式
- D. 作为形式
41. 下列各项个人所得，不应缴纳个人所得税的是（ ）
- A. 稿酬
- B. 岗位津贴
- C. 股息
- D. 抚恤金
42. 共同犯罪中的实行犯（ ）
- A. 起主要作用的是主犯，起次要作用的是从犯
- B. 都是主犯
- C. 都是从犯
- D. 不可能是胁从犯
43. 除法律另有规定外，行政复议机关应当自受理申请之日起（ ）日内做出行政复

议决定。

- A. 三十
- B. 十五
- C. 四十五
- D. 六十

44. 我国有权制定行政法规的主体是（ ）

- A. 人民代表大会
- B. 国家各部委
- C. 国务院
- D. 省级人民政府

45. 2017年9月25日，2017年中国森林旅游节在上海世博展览馆开幕，活动主题是“绿水青山就是金山银山——走进森林，让城市生活更精彩！”在中国森林旅游节上，山东省的威海市被命名为（ ）

- A. 全国首批森林旅游示范市
- B. 全国文明城市
- C. 中国十大宜居城市
- D. 中国幸福城市

46. 时间和空间是（ ）

- A. 物质的根本属性
- B. 物质运动的根本原因
- C. 物质运动的存在形式
- D. 物质的唯一性

47. 价值转化为生产价格说明了（ ）

- A. 价值规律的内在发生了变化
- B. 价值规律的作用形式发生了变化
- C. 价值规律失去了作用
- D. 供求规律取代了价值规律发生作用

48. 世界上拥有自主卫星导航系统的国家有（ ）

- A. 中国、美国、俄罗斯
- B. 英国、法国、德国

C. 印度、美国、德国

D. 中国、美国、印度

49. 对收文如何办理提出建设性处理意见被称为（ ）

A. 拟办

B. 承办

C. 注办

D. 拟稿

50. 苏轼诗：“乌云翻墨未遮山，白雨跳珠乱入船。卷地风来忽吹散，西湖楼下水如天。”
该诗句描述的是（ ）

A. 天气变化

B. 气候状态

C. 降水情况

D. 季节变化

51. 经复议的案件，复议机关维持原具体行政行为的，由（ ）

A. 最初作出具体行政行为的行政机关所在的法院管辖

B. 复议机关所在地的法院管辖

C. 既可由最初作出具体行政行为的行政机关所在地的人民法院，也可以由复议机关所在地的人民法院管辖

D. 原告所在地的人民法院管辖

52. 第二届山东金融博览会暨金融+实体经济高峰论坛（简称山东金博会暨高峰论坛），
于12月初在青岛举行。本届金博会暨高峰论坛的主题是（ ）

A. 助力新旧动能转换

B. 新动能、新生态、新活力

C. 服务实体经济发展

D. 创新协同发展

53. 根据现行《宪法》规定，关于公民权利和自由，下列哪一选项是正确的？（ ）

A. 劳动、受教育和依法服兵役既是公民的基本权利又是公民的基本义务

B. 休息权的主体是全体公民

C. 公民在年老、疾病或者未丧失劳动能力的情况下，有从国家和社会获得物质帮助的权利

D. 2004 年《宪法修正案》规定，国家尊重和保障人权

根据以下材料，回答第 54-56 题。

甲在强制戒毒所戒毒时，无法抗拒毒瘾，设法逃出戒毒所。甲径直走到毒贩陈某家，以赊账方式买了少量毒品过瘾。后甲逃往乡下，告知朋友乙详情，请乙收留。乙让甲住下（事实一）。甲对陈某的毒品动起了歪脑筋，探知陈某将毒品藏在厨房灶膛内。某夜，甲先用毒包子毒死陈某的 2 条看门狗（价值 6000 元），然后翻进陈某院墙，从厨房灶膛拿走陈某 50 克纯冰毒（事实二）。甲拿出 40 克冰毒，让乙将 40 克冰毒和 80 克其他物质混合，冒充 120 克纯冰毒卖出（事实三）。

54. 关于事实一，下列选项正确的是（ ）

- A. 甲是依法被关押的人员，其逃出戒毒所的行为构成脱逃罪
- B. 甲购买少量毒品是为了自吸，购买毒品的行为构成犯罪
- C. 陈某出卖毒品给甲，虽未收款，仍属于贩卖毒品既遂
- D. 乙收留甲的行为构成窝藏罪

55. 关于事实二的判断，下列选项错误的是（ ）

- A. 甲翻墙入院从厨房取走毒品的行为，不属于入户盗窃
- B. 甲进入陈某厨房的行为触犯非法侵入住宅罪
- C. 甲毒死陈某看门狗的行为是盗窃预备与故意毁坏财物罪的想象竞合
- D. 对甲盗窃 50 克冰毒的行为，应以盗窃罪论处，根据盗窃情节轻重量刑

56. 关于事实三的判断，下列选项错误的是（ ）

- A. 甲让乙卖出冰毒应定性为甲事后处理所盗赃物，对此不应追究甲的刑事责任
- B. 乙将 40 克冰毒掺杂、冒充 120 克纯冰毒卖出的行为，符合诈骗罪的构成要件
- C. 甲、乙既成立诈骗罪的共犯，又成立贩卖毒品罪的共犯
- D. 乙在冰毒中掺杂使假，不构成制造毒品罪

根据以下材料，回答第 57-60 题。

2016 年 1 月，某甲与某乙签订房屋租赁合同，约定将甲自有一套商品房租与乙居住。双方并未约定租赁期限，也未进行登记。2016 年底，甲因经营生意急需用钱，与某丙签订借款协议，协议约定甲以租与乙的商品房为抵押物，丙借给甲 20 万元，2017 年 4 月 1 日还款。若甲到期不还，该房屋归丙所有。双方未就该合同办理登记。2017 年 4 月 1 日，甲无钱还款，丙要求甲将房产过户。4 月 12 日，甲在未告知任何人的情况下将商品房作价 40 万卖给某丁居住，然后向丙还钱。甲与丁依法办理了房屋过户手续。

57. 对于没有约定期限的房屋租赁合同，应当认为（ ）
- A. 合同无效
 - B. 认定租赁期限为2年
 - C. 双方当事人可随时解除合同
 - D. 认定租赁期限为20年
58. 对于甲和丙在抵押合同中约定“到期不还款，该房屋归丙所有”的合同条款（ ）
- A. 抵押合同和该条款均有效，该房屋所有权在办理过户登记后即转移
 - B. 抵押合同和该条款均有效，该房屋所有权在“到期不还款”的条件达成后即转移
 - C. 抵押合同有效，但该条款无效，房屋所有权不转移
 - D. 抵押合同无效
59. 丙收到还款后不再主张该房屋所有权。但乙认为自己租赁房屋，对房屋有优先购买权，向法院起诉要求认定甲和丁的房屋买卖合同无效（ ）
- A. 法院应当认定该买卖合同无效
 - B. 法院应当认定该买卖合同有效，但丁不能取得房屋所有权
 - C. 法院应当认定该买卖合同有效，丁可以依法取得房屋所有权
 - D. 法院应当依法撤销该买卖合同
60. 甲在4月10日和乙约定房屋出租合同期限为10年。若丁取得了房屋所有权，对于甲和乙的租赁合同（ ）。
- A. 租赁合同在甲和乙之间继续生效
 - B. 租赁合同在乙和丁之间生效
 - C. 租赁合同无效
 - D. 由丁决定租赁合同是否有效

二、多项选择题（下列各题备选答案中至少有两项是符合题意的，请找出恰当的选项，并用2B铅笔填涂在答题卡相应的位置上，多选、错选或少选均不得分，本题20小题，每小题1.1分，共22分）

61. （ ）是中国共产党人的精神支柱和政治灵魂，也是保持党团结统一的思想基础。
- A. 共产主义远大理想
 - B. 中国特色社会主义共同理想
 - C. 科学社会主义远大理想
 - D. 社会主义现代化共同理想

62. 必须毫不放松理想信念教育、思想道德建设、意识形态工作，大力培育和弘扬社会主义核心价值观，用富有时代气息的中国精神凝聚中国力量。这体现的哲理有（ ）

- A. 意识依赖于物质并反作用于物质
- B. 生产关系对生产力具有能动的反作用
- C. 先进的社会意识对社会发展起促进作用
- D. 正确发挥社会意识的能动作用有赖于先进文化建设

63. 下列说法对意识表述正确的是（ ）

- A. 意识的形式具有客观性
- B. 意识的内容是主观的
- C. 意识是人脑的机能和产物
- D. 意识不仅能够反映事物的外部现象，而且能够由感性认识能动地上升到理性认识

64. 不同人士对服装有不同认识，艺术家看到的是服装的外形设计，经济学家看到的是服装如何拉动经济。这体现了（ ）

- A. 认识来源于实践
- B. 物质与意识的关系原理
- C. 感性认识和理性认识的关系
- D. 社会存在决定社会意识

65. 黄河流域是华夏文明的中心之一。下列各朝中，建都在黄河流域的有（ ）

- A. 西夏
- B. 东汉
- C. 北宋
- D. 东晋

66. 家庭美德的重要意义包括（ ）

- A. 是维系家庭和谐和调、幸福的重要精神支柱
- B. 是社会安定团结、健康发展的保障
- C. 是社会道德的有益补充
- D. 是公民个体道德化的摇篮

67. 下列关于亚投行的说法，正确的是（ ）

- A. 英国是加入亚投行的第一个主要西方国家
- B. 亚投行是一个政府间性质的亚洲区域多边开发机构

- C. 亚投行致力为亚洲基础设施建设提供融资支持
- D. 亚投行是由我国提出倡议筹建的，总部设在上海

68. 下列有关山东省自然地理的表述，正确的是（ ）

A. 山东境内中部山地突起，西南、西北低洼平坦，东部缓丘起伏，形成以山地丘陵为骨架、平原盆地交错环列其间的地形大势。

B. 泰山雄踞中部，主峰海拔 1532.7 米，为全省最高点。

C. 黄河三角洲一般海拔 2 米~10 米，为全省陆地最低处。

D. 境内地貌复杂，大体可分为中山、低山、丘陵、台地、盆地、山前平原、黄河冲积扇、黄河平原、黄河三角洲 9 个基本地貌类型。

69. 2017 年 9 月 29 日召开省政府常务会议，会议讨论并原则通过《山东省创新型省份建设实施方案》。会议强调，要深入贯彻落实习近平总书记建设创新型国家重要指示精神，紧紧围绕新旧动能转换，坚持（ ），大幅提升全省创新综合实力。

- A. 创新“第一理念”
- B. 科技“第一生产力”
- C. 创新驱动“第一动力”
- D. 人才“第一资源”

70. 杜牧的《阿房宫赋》有言：“灭六国者六国也，非秦也；族秦者秦也，非天下也。嗟乎！使六国各爱其人，则足以拒秦；使秦复爱六国之人，则递三世可至万世而为君，谁得而族灭也？”这段话说明的哲学原理有（ ）

- A. 内因是事物自我运动的源泉
- B. 外因需要通过内因才能起作用
- C. 量变积累到一定程度才能引起质变
- D. 质变会引起新的量变

71. 2017 年 11 月 1 日，山东省政府办公厅学习研讨党的十九大精神。省委副书记、省长龚正强调，要不忘初心，牢记使命，坚持用习近平新时代中国特色社会主义思想武装头脑、指导实践、推动工作。要把握旗帜鲜明讲政治这个根本要求，牢固（ ），更加坚定维护习近平总书记的核心地位和领袖权威，更加坚定深学笃用习近平新时代中国特色社会主义思想。

- A. 树立“四个意识”
- B. 坚定“四个自信”

- C. 落实“四个看齐”
- D. 贯彻“四个全面”

72. 自 2016 年 5 月 1 日起，我国全面推开“营改增”试点，这给供给侧结构性改革注入了税收政策的强动力。全面推开“营改增”试点推动供给侧结构性改革的重要意义在于（ ）

- A. 深化财税体制改革，增加财政收入
- B. 减轻企业负担，激发其创新活力
- C. 推动结构性减税，助推经济转型
- D. 加强宏观调控，引导企业规范经营

73. 一位科学家说：“我们今天生活着的世界，与其说是自然世界，还不如说是人造或人为的世界在我们周围，几乎每样东西都刻有人的技能的痕迹。”这段话应理解为（ ）

- A. 人造的或人为的世界是唯一存在的世界
- B. 现实世界是人类精神的创造物
- C. 人类世界是人的实践活动对象化的结果
- D. 科学技术越来越成为人类改造世界的伟大力量

74. “四个全面”是指全面建成小康社会，全面深化改革，全面推进依法治国，全面从严治党，推动改革开放和社会主义现代化建设迈上新台阶。“四个全面”的重大战略思想的意义有（ ）

- A. 马克思主义中国化的最新成果
- B. 新一代中央治国理政方略的顶层设计
- C. 实现中华民族伟大复兴中国梦的行动指南
- D. 坚持和发展中国特色社会主义的强大思想武器

75. 为了加强最高国家权力机关的工作，全国人民代表大会设立了若干专门委员会。下列属于全国人大专门委员会的机构包括（ ）

- A. 全国人大民族委员会
- B. 全国人大法律委员会
- C. 全国人大香港特别行政区基本法委员会
- D. 全国人大常委会

76. 激励是管理者为提高组织绩效而进行的重要活动。根据相关激励理论。下列各项描述正确的有（ ）

- A. 未得到满足的需要是产生激励的起点
- B. 奖励的价值越大，个人的努力程度就越大
- C. 实施负强化应以连续负强化为主，以消除人们的侥幸心理
- D. 受激励者对所获取的报酬公平性的感觉影响他对所受奖励是否满意、满意的程度以及最终的激励效果

77. 在联合发文时，发文机关标志使用正确的是（ ）

- A. 并用联合机关发文
- B. 任意选用一个机关
- C. 用主办机关
- D. 选用一个比较重要机关

78. 张某家住甲县，在乙县生产伪劣商品经过丙县运输到丁县进行销售。有权对张某的违法行为进行处罚的机关有（ ）

- A. 甲县依法享有处罚权的行政机关
- B. 乙县依法享有处罚权的行政机关
- C. 丙县依法享有处罚权的行政机关
- D. 丁县依法享有处罚权的行政机关

79. 建立社会信用体系的支柱是（ ）

- A. 政府
- B. 法制
- C. 教育
- D. 道德

80. 下列属于治安管理处罚种类的是（ ）

- A. 警告
- B. 罚款
- C. 行政拘留
- D. 吊销公安机关发放的许可证

2018 年事业单位考试模拟试卷（第七套）

一、单选题（共 60 题，每题 0.8 分）

1. 国家主席习近平 5 月 14 日出席“一带一路”国际合作高峰论坛开幕式，并发表题为《携手推进“一带一路”建设》的主旨演讲，强调坚持以（ ）为核心的丝路精神，携手推动“一带一路”建设行稳致远，将“一带一路”建成和平、繁荣、开放、创新、文明之路，迈向更加美好的明天。

- A. 和平合作、开放包容、互学互鉴、互利共赢
- B. 和平合作、求同存异、互学互鉴、互利共赢
- C. 和平合作、开放包容、学习先进、互利共赢
- D. 和平合作、开放包容、互学互鉴、实现双赢

2. “一国两制”的伟大构想最早是（ ）为了解决（ ）问题提出来的。

- A. 毛泽东 台湾
- B. 毛泽东 香港
- C. 邓小平 台湾
- D. 邓小平 香港

3. 2017 年环境日主题发布（ ），尊重自然、顺应自然、保护自然，自觉践行绿色生活，共同建设美丽中国。

- A. “共建一个地球”
- B. “绿水青山就是金山银山”
- C. “环境保护人人有责”
- D. “珍惜每一滴水”

4. 推进（ ）建设，是全面建成小康社会、基本实现社会主义现代化的重要基础，是全面提升中华民族健康素质、实现人民健康与经济社会协调发展的国家战略，是积极参与全球健康治理、履行 2030 年可持续发展议程国际承诺的重大举措。

- A. 全民健康
- B. 营养中国
- C. 全民健身
- D. 健康中国

5. 2017年11月18日,在天津市滨海新区召开的2017全国智慧城市合作大会上,()荣获中国智慧城市最具潜力城市奖。在全国获得中国智慧城市最具潜力城市奖的八个城市中,该市是山东省唯一获得智慧城市最具潜力城市奖的县级城市。

- A. 平度市
- B. 寿光市
- C. 临朐县
- D. 昌乐县

6. 2018年1月18日,山东省政府新闻办举行新闻发布会,省编办、省政府审改办、省环保厅、省工商局、省质监局介绍山东减证便民、规范中介暨“证照分离”改革试点有关情况。在全国各地地方标准中,首次提出()要求。

- A. “四级六同”
- B. “三级五同”
- C. “四级五同”
- D. “三级六同”

7. 当今世界激烈的综合国力竞争,不仅包括经济实力,科技实力,国防实力等方面的竞争,文化的力量,深深熔铸在民族的生命力、创造力和凝聚力之中,成为综合国力的重要标志。这主要揭示了()

- A. 经济在综合国力竞争中的地位下降
- B. 科技在国际竞争中不是关键因素
- C. 当今国际竞争中最主要的是文化竞争
- D. 文化在国际竞争中的地位十分重要

8. 下列选项中,名言与作者的对应关系不正确的是()

- A. 老骥伏枥,志在千里——司马迁
- B. 鞠躬尽瘁,死而后已——诸葛亮
- C. 路漫漫其修远兮,吾将上下而求索——屈原
- D. 横眉冷对千夫指,俯首甘为孺子牛——鲁迅

9. 2018年1月18日至19日,中国共产党第十九届中央委员会第二次全体会议将在北京召开。中央委员会总书记习近平作了重要讲话。全会审议通过了《中共中央关于修改宪法部分内容的建议》,()就《建议(草案)》向全会作了说明。

- A. 李克强

- B. 张德江
- C. 栗战书
- D. 汪洋

10. 从“尊重和保障人权”写入宪法，到修改选举法实现城乡居民“同票同权”；从调整和家庭息息相关的生育政策，到修法赋予设区的市立法权为地方改革发展注入新活力……一系列制度和实践，实现了对（ ）理念和方法的建设性创新。

- A. 政治
- B. 民主
- C. 管理
- D. 转型

11. 党的十九大的主题是（ ），高举中国特色社会主义伟大旗帜，决胜全国建成小康社会，夺取新时代中国特色社会主义伟大胜利，为实现中华民族伟大复兴的中国梦不懈奋斗。

- A. 牢记使命，砥砺前行
- B. 不忘初心，牢记使命
- C. 牢记使命，继续前进
- D. 不忘初心，方得始终

12. 毛泽东同志在其诗词中描写过许多历史事件，“万木霜天红烂漫，天兵怒气冲霄汉。雾满龙冈千嶂暗，齐声唤，前头捉了张辉瓒。”描述的是（ ）

- A. 湘赣边秋收起义
- B. 八一起义
- C. 红军第一次反“围剿”
- D. 北伐军进军湖南

13. 清朝龚自珍的名言“我劝天公重抖擞，不拘一格降人才”。常被用来表达对压制人才的不满人才既有格也无格，拘泥于一格会压制人才；没有一定的格，又无法把握人才的标准。从哲学的上看就是（ ）

- A. 既要着重抓住主要矛盾，又不忽视次要矛盾
- B. 既要看到事物的共性，又要重视事物的个性
- C. 既要认识事物的现象，又要看到事物的本质
- D. 既要尊重规律，又要突破规律

14. 根据美国管理心理学家维克多·弗鲁母的期望理论，人们在工作中的积极性努力程度（激发力量）是（ ）和期望值的乘积。

- A. 获利性
- B. 成本
- C. 可操作性
- D. 效价

15. 2017年8月1日中国人民解放军驻（ ）保障基地部队进驻营区仪式在基地营区举行，这标志着我国首个海外保障基地建成和投入使用。

- A. 亚丁
- B. 阿曼
- C. 索马里
- D. 吉布提

16. 李克强总理上任以来，面对经济上的种种考验，挤水分、调结构、简政放权、力促发展模式转型。有媒体和学者将他采取的政策措施称之为“克强经济学”，其最简洁的内涵就是，厘清政府与市场的关系。在社会主义市场经济条件下，政府与市场的关系应该是（ ）

- A. 只要是政府对市场的干预就不是市场经济
- B. 只有完全由市场调节的经济才是市场经济
- C. 政府的调控应该以遵循市场规律作为前提
- D. 市场的调节应该以政府宏观调控作为基础

17. 关于宪法下列说法正确的是（ ）

- A. 任何公民享有宪法和法律规定的权利，但并非都要履行宪法和法律规定的义务
- B. 国务院根据宪法和法律规定行政措施，制定行政法规，发布决定和命令
- C. 宪法的修改，由全国人民代表大会全体代表的1/2以上的多数通过
- D. 全国人民代表大会可以行使修改宪法，解释宪法，监督宪法的实施等职权

18. 关于古田会议决议，下列说法正确的是（ ）

- A. 第一次提出了“工农武装割据”的思想
- B. 系统论述了中国革命战争的特点和规律
- C. 确立了思想建党、政治建军的一系列重大原则
- D. 阐明了农村包围城市、武装夺取政权的思想

19. 2017年9月6日上午，以（ ）为主题的第十七届中国（淄博）国际陶瓷博览会、第十三届中国（淄博）陶瓷代理/经销商峰会在中国财富陶瓷城隆重开幕。

- A. “绿色 蝶变 共赢”

- B. “合作 绿色 共享”
- C. “创新 开放 绿色”
- D. “新常态 新机遇 新未来”

20. 财政补贴是指在特定的条件下，为了发展社会主义经济和保障劳动者的福利而采取的一项财政措施，下列关于财政补贴的表述有误的是（ ）

- A. 财政补贴能够保持市场销售价格的基本稳定
- B. 财政补贴有利于合理分配国民收入
- C. 财政补贴范围过广会扭曲比价关系
- D. 财政补贴是国家财政的沉重负担

21. “把论文发表在国际高端期刊上，更要把论文写在大地上。”这是中国农科院迁飞害虫实验室研究员罗礼智常说的一句话。他认为，农业科研要提倡顶天立地，既要出高端论文，搞清楚机理研究，还要提出具体办法，为农业生产解决实际问题。这体现了（ ）

- A. 矛盾普遍存在的
- B. 意识的能动作用
- C. 实践是认识的目的和归宿
- D. 认识的目的性

22. 人民日报评神曲《张世超你到底把我家钥匙放哪里了》“它让人不自觉地去反思生活中再简单的故事和情绪都经得起吟唱，在焦虑的情绪经艺术的调侃后也能轻松解锁”。这主要说明（ ）

- A. 经济基础决定上层建筑的性质
- B. 上层建筑决定了经济基础的发展方向
- C. 上层建筑能反作用于经济基础
- D. 经济基础和上层建筑是对立统一的

23. 大部分植物的叶子都是绿色的，主要原因是（ ）

- A. 绿色有利于不被食草动物发现
- B. 叶片中的叶绿素对绿光吸收甚少
- C. 绿色叶片衬托花更鲜艳，有利于昆虫授粉
- D. 叶片中含有花青素等绿色色素

24. 下列不属于人员配置过程中必须依据的一定原则（ ）

- A. 效忠于组织的原则

- B. 因事择人的原则
- C. 因才器使的原则
- D. 人事动态平衡的原则

25. 面对经济新常态下遇到的新问题，中国从解决当前经济主要矛盾入手，下大力气推进供给侧结构性改革。在全球经济增长乏力背景下，中国经济保持稳健增长，得益于结构性改革，把住了方向，找对了路子。中国方案的成功主要表明了（ ）

- ①主要矛盾在矛盾体系中处于支配地位
- ②主要矛盾和次要矛盾相互影响，相互制约
- ③在实践中学会分清主次，坚持两点论和重点论
- ④内因是事物变化发展的根据

- A. ①②
- B. ①③
- C. ③④
- D. ②④

26. 会议纪要是一种行政公文，以下关于会议纪要的标题说法正确的是（ ）

- A. 标题需写明会议名称与文种
- B. 标题需写明会议名称、事由、文种
- C. 标题需写明发文机关名称、事由和文种
- D. 可采用一般文章标题的形式，标题中简明地揭示中心思想

27. 2021—2030年，我国人口发展进入关键转折期。根据预测，人口总量将在2030年前后达到峰值，劳动年龄人口波动下降，老龄化程度不断加深，人口流动仍然活跃，家庭呈现（ ）

- A. 单一化趋势
- B. 多样化趋势
- C. 集中化趋势
- D. 分散化趋势

28. 一般来说，生活必需品的需求价格弹性较（ ），而消费者在生活中预算总支出中所占比重较大的，该商品的需求的价格弹性变化（ ）

- A. 小 小
- B. 小 大

C. 大 小

D. 大 大

29. “种瓜得瓜，种豆得豆”说明生物界普遍存在着（ ）

A. 生长现象

B. 繁殖现象

C. 变异现象

D. 遗传现象

30. 投入某种商品生产过程中的劳动量不变，如果劳动生产率提高，在单位劳动的时间内生产的商品数量和单位商品的价值的变化为（ ）

A. 商品数量增加，单位商品价值量不变

B. 商品数量不变，单位商品价值量增大

C. 商品数量增加，单位商品价值量减少

D. 商品数量增加，单位商品价值量增大

31. 习近平近日作出重要指示强调，（ ）在全面深化改革、全面依法治国中居于重要地位，对推进国家治理体系和治理能力现代化意义重大。

A. 法院体制改革

B. 公安体制改革

C. 检察院体制改革

D. 司法体制改革

32. （ ）的泰姬陵，被誉为“完美建筑”，他在2007年7月7日成为世界七大奇观之一。

A. 马来西亚

B. 柬埔寨

C. 印度

D. 泰国

33. 2018年1月25日，我国在西昌卫星发射中心用长征二号丙运载火箭成功发射遥感三十号04组卫星，主要用于开展（ ）环境探测及相关技术试验。

A. 暗物质

B. 气象

C. 电磁

D. 黑洞

34. 据心理专家分析：缺乏关爱、缺少交流、生活空虚是大多数未成年人沉迷网络的主要原因，事实上孩子们并非天生喜爱这些东西。这说明（ ）

- A. 外因是事物变化的根本原因
- B. 内因是事物变化的根本原因
- C. 外因是事物变化的重要条件
- D. 外因在一定条件下决定内因

35. 由我国自主开发的字处理软件是（ ）

- A. WPS2000
- B. Windows98
- C. 中文 Word97
- D. 中文 DOS

36. 曲辕犁是（ ）出现的一种耕作工具，它装有犁盘和软套曲辕，转弯方能调节犁耕深浅，适应水田和各种土壤的精耕细作。

- A. 春秋战国
- B. 秦汉
- C. 隋唐
- D. 五代

37. 老子对于鬼神的看法是（ ）

- A. 祭神如神在
- B. 未知生 焉知死
- C. 无神论
- D. 怀疑论

38. （ ）对于南宋相当于西游记与（ ）

- A. 封神演义 南宋
- B. 三侠五义 汉
- C. 说岳全传 唐朝
- D. 水浒传 清朝

39. 张某以出让方式取得某土地使用权，合同约定的使用年限为 50 年，在使用了 20 年后，张某将该土地上的房地产转让给了陈某，陈某对该土地的使用年限为（ ）年。

D. 小陈是开车多年的老司机，对各种交通规定都烂熟于心

45. 2018年1月25日，山东省第十三届人大一次会议开幕，会上山东省长龚正作的《政府工作报告》中提到“去增提”这一关键词，它们分别对应的指向其中错误的是（ ）

- A. “去”指化解房地产过剩，拓展动能新空间
- B. “增”指发展新兴产业，培育壮大新动能
- C. “提”指提升传统产业，改造形成新动能
- D. “去”指化解过剩产能，拓展动能新空间

46. 推进城镇化是解决农业、农村、农民问题的重要途径，对全面建成小康社会、加快推进社会主义现代化具有重大现实意义和深远历史意义。在新的阶段，我们的发展面临着新的机遇，也面临着许多重大挑战。这说明了（ ）

- A. 事物都是发展的
- B. 矛盾是普遍存在的
- C. 辩证的看待事物
- D. 要重点解决主要矛盾

47. 水资源是一种非常重要的自然资源，下列有关水资源叙述有误的是（ ）

- A. 从空间分布看，我国水资源总体呈现出从东南沿海向西北内陆递减的特点
- B. 从时间分布看，我国东部地区的水资源呈现出夏秋多、冬春少的特点
- C. 我国各地修建了许多的水库等蓄水工程，其目的是解决水资源空间分布不均的问题
- D. 水资源的污染和浪费，使我国水资源短缺的状况更加突出

48. 在Excel中，要在不连续的单元格输入相同的数据，操作时需要按（ ）键

- A. Ctrl+Enter
- B. Shift+Enter
- C. Alt+Enter
- D. Enter

49. 国务院办公厅为了支持返乡下乡人员创业创新，促进农村一二三产业融合发展，对此提出见解，此时使用的文种是（ ）

- A. 决议
- B. 通知
- C. 意见
- D. 批复

50. 2018 年起每年 8 月 19 日为“中国医师节”。以下关于医学常识说法不正确的是()

- A. 人体呼吸的基本中枢位于延髓
- B. 国家提倡 18-50 周岁的健康公民自愿献血
- C. 体循环起始于左心室，终于右心房
- D. 从动脉到静脉，血压逐渐降低

51. 行政相对人是行政管理法律关系中与行政主体相对应的另一方当事人，即行政主体行政行为影响其权益的个人、组织。下列说法正确的是()

- A. 行政相对人是受行政行为直接影响的个人、组织
- B. 非法人组织不能作为行政相对人
- C. 行政机关、非法人组织也可能作为行政相对人
- D. 国家公务员不可能作为行政相对人

52. 2017 年 10 月 27 日，山东省人民政府新闻办召开新闻发布会，解读《山东省人民政府办公厅关于支持返乡下乡人员创业创新促进农村一二三产业融合发展的实施意见》，符合条件的返乡下乡创业人员，可申请最高()万元，符合条件的小微企业，可申请最高()万元。

- A. 10 300
- B. 20 300
- C. 10 200
- D. 20 200

53. 2018 年 1 月 19 日中国共产党第十九届中央委员会第二次全体会议，全会审议通过了《中共中央关于修改宪法部分内容的建议》。下列关于宪法说法不正确的是()

- A. 我国目前现行宪法为“八二宪法”
- B. 五分之一以上的全国人大代表有权提出修宪
- C. 修改宪法的主体为全国人民代表大会常务委员
- D. 社会保障首次出现在 2004 的宪法修正案中

根据以下材料，回答第 54-56 题。

2015 年 8 月女工程师李某到某工厂工作，约定劳动合同期限为 2 年半，试用期半年，试用期工资 1800，转正后每个月工资为 5000，试用期内工厂不为李某购买社会保险，试用期内李某如要辞职需提前 15 日向工厂申请。2016 年 3 月，经理办公室讨论决定并征得工会主席同意，公司公布施行《工作纪律规定》，该规定第八条明确指出，为了维持职工队伍稳

定，要求女职工自用工之日起两年内不得怀孕生子。2017年6月，李某产下一名男婴，工厂据此解除与李某的劳动关系。

54. 关于双方约定的劳动合同内容，下列说法正确的是（ ）

- A. 试用期超过法定期限
- B. 试用期工资符合法律规定
- C. 试用期内无需为职工购买社会保险
- D. “试用期内李某如要辞职需提前15日向工厂申请”的条款符合法律规定

55. 关于该《工作纪律规定》，下列说法错误的是（ ）

- A. 有关禁止怀孕生子的规定内容违法
- B. 该规定的制定程序合法
- C. 依据该规定解除李某的劳动合同违法
- D. 该工厂执行该规定给李某造成损害的，应承担赔偿责任

56. 若李某想申请劳动仲裁，遂向律师咨询，律师的说法不正确的是（ ）

- A. 可以向工厂所在地的劳动争议仲裁委员会申请
- B. 应当在一年内向劳动争议仲裁委员会申请
- C. 申请劳动仲裁后，不可以自行与工厂和解，需等待仲裁庭的裁决
- D. 若对仲裁裁决不服，可以自收到仲裁裁决书之日起15日内向人民法院提起诉讼

根据以下材料，回答第57-60题。

2017年10月21日上午，张某在菜市场买菜时与摊贩王某发生争吵，张某从地上捡起一块石头砸向王某头部，王某头破血流，经鉴定为轻微伤。民警遂将张某传唤到当地派出所接受询问。张某正在被询问时，忽然两眼发呆，精神恍惚，语无伦次，无法交流。经鉴定，张某系精神分裂症。后经查，张某家族有精神病史，其本人一直精神正常。此次系因受刺激发病。根据以上案情回答下列问题。

53. 对张某采取的处罚措施正确的是（ ）

- A. 张某是间歇性精神病人应当减轻处罚
- B. 张某是间歇性精神病人应当不予处罚
- C. 张某在实施违反治安管理行为（殴打王某）时，精神尚正常，但他是间歇性精神病人，不属于完全责任能力者，应从轻处罚
- D. 张某在实施违反治安管理行为（殴打王某）时，精神尚正常，能够辨认和控制自己的行为，属于完全责任能力者，应于处罚

58. 张某如不服处罚可以选择的救济途径是（ ）

- A. 只能选择行政复议
- B. 只能选择行政诉讼
- C. 行政诉讼前必须行政复议
- D. 可以选择行政复议或者行政诉讼

59. 张某在实施违反治安管理行为（殴打王某）时是否具有辨认或者控制能力，可以采取的判断或证明方法是（ ）

- A. 依据争吵殴打时目击证人的证人证言
- B. 委托具有鉴定资格的人员进行精神疾病鉴定
- C. 以多名办案人员的经验认定
- D. 以其亲属和邻居的证明材料认定

60. 犯罪嫌疑人冯某因一起打斗事件被拘留，检察院在审查公安机关移送的起诉材料时，认定冯某的行为属于正当防卫。对此，检察院应该采取的处理方式是（ ）

- A. 撤销案件
- B. 中止审查
- C. 不起诉
- D. 提起公诉

二、多选题（共 20 题，每题 1.1 分）

61. 1921 年夏，在上海召开的中国共产党第一次全国代表大会因遭到法租界巡捕袭扰，被迫转移到浙江嘉兴南湖的一条小船上继续进行，在这里完成了大会议程，宣告中国共产党正式成立。这条小船因而获得了一个永载中国革命史册的名字——红船，而中国共产党建党伟业所蕴含的伟大革命精神，因此被称之为红船精神。红船精神是指（ ）

- A. 开天辟地、敢为人先的首创精神
- B. 坚定理想信念、百折不挠的奋斗精神
- C. 言行一致、实事求是的务实精神
- D. 立党为公、忠诚为民的奉献精神

62. 以下与“在艰苦中锻炼是成才的必要条件”意义相一致的格言警句有（ ）

- A. 梅花香自苦寒来
- B. 人才是第一资源，人人都可成才，人才就在群众中
- C. 不经历风雨怎能见彩虹

- D. 千淘万漉虽辛苦，吹尽狂沙始到金
63. 下列观点体现了实践对认识的决定作用这一哲学原理的是（ ）
- A. 纸上得来终觉浅，绝知此事要躬行
- B. 没有调查就没有发言权
- C. 秀才不出门，尽知天下事
- D. 不临深溪，不知地之厚也
64. 矛盾的同—性是指矛盾双方相互吸引、相互联结的属性和趋势。下列选项中包含矛盾同—性思想的有（ ）
- A. 千里之行，始于足下
- B. 物极必反，相反相成
- C. 祸兮福之所倚，福兮祸之所伏
- D. 有无相生，难易相成
65. 下列关于我国古代文学常识的表述，正确的是（ ）
- A. 欧阳修，“唐宋八大家”之一，主要作品有《新唐书》、《醉翁亭记》等
- B. 辛弃疾，宋词豪放派代表人物，主要作品有《稼轩长短句》《清平乐》等
- C. 李清照，晚唐女词人，在散文诗词方面有成就，代表作品《声声慢·寻寻觅觅》《夏日绝句》《阿房宫赋》
- D. 白居易，南宋现代主义诗人，代表作有《长恨歌》《忆江南》
66. 日前，教育部印发《义务教育学校管理标准》，适用于全国所有义务教育学校。《标准》在保障学生平等权益、促进学生全面发展、引领教师专业进步、（ ）六大方面，明确了学校的主要管理职责。
- A. 提升教育教学水平
- B. 营造和谐美丽环境
- C. 改善教育硬件设施
- D. 建设现代学校制度
67. 近日，中共中央办公厅、国务院办公厅印发了《关于建立资源环境承载能力监测预警长效机制的若干意见》，基本原则包括（ ）
- A. 坚持定期评估与实时监测相结合
- B. 坚持设施建设与制度建设相结合
- C. 坚持从严管制与有效激励相结合

D. 坚持政府监管与社会监督相结合

68. 下面是中国现代史上发生的几次事变，其中属于日本帝国主义侵略中国事变有（ ）

- A. 九一八事变
- B. 四一二事变
- C. 皖南事变
- D. 一二八事变

69. 2017年9月，水利部下发《水利部关于公布第十七批国家水利风景区的通知》，山东省（ ）被批准为国家水利风景区。

- A. 莒县沭河水利风景区
- B. 青州市洋河水利风景区
- C. 沂水县沂河水利风景区
- D. 青州市弥河水利风景区

70. 学校要根据教育特点、时代特点、区域特点和学校环境，科学规划，因地制宜，对校园环境进行精心设计体现文化内涵，发挥育人功能，展现学校形象，形成独特的学校环境文化风格。这是因为（ ）

- A. 文化对人的影响来自于特定环境
- B. 文化对人的影响是潜移默化的
- C. 文化氛围影响人的思想和行为
- D. 文化创新可以推动社会实践的发展

71. 为进一步增进与“一带一路”欧洲国家文化交流，有力推动山东文化走出去，更好地搭建山东省企业与意大利、法国企业文化贸易交流与合作平台，由省委宣传部与省商务厅共同主办的山东文化贸易推介会日前分别在（ ）举行。

- A. 英国伦敦
- B. 法国巴黎
- C. 希腊雅典
- D. 意大利米兰

72. 下列对“分享经济”的相关信息分析正确的有（ ）

- A. 任何人有机会分享闲置资源
- B. 资源在分享中提升了使用价值

- C. 向任何人分享资源
- D. 摩拜、OFO 等共享单车的运营属于分享经济

73. 截止 2016 年，中国高铁已经达到 2 万公里。中国高铁在完成从行业的追赶者到领跑者华丽转身的同时，悄然地影响着国人从就业到置业，从休假到探亲的日常生活。这体现出（ ）

- A. 消费是社会再生产的重要环节
- B. 消费对生产的调整和升级起促进作用
- C. 消费的方式、质量是通过生产创造的
- D. 生产为消费提供对象，为消费创造动力

74. 宽松货币政策总的来说是增加市场货币供应量，一般能使经济更快发展，是促进繁荣或者是抵抗衰退的措施，下列属于宽松货币政策的是（ ）

- A. 放宽贷款条件审核
- B. 增加新增贷款投放
- C. 努力缩减政府财政赤字
- D. 下调金融机构存款准备金率

75. 罗某的专利因白某的申请被国家专利复审机构宣告无效，并与 2015 年 5 月 5 日将决定送达给罗某，罗某接到决定书后十分气愤，导致心脏病突发当场猝死，其妻子胡某悲愤交加欲提起诉讼，以下有关胡某提起诉讼的说法中正确的有哪些（ ）

- A. 如胡某因提起行政诉讼，白某应当作为共同被告
- B. 如胡某欲提起行政诉讼，白某应当作为第三人参加诉讼
- C. 胡某可以以原告的身份提起行政诉讼
- D. 胡某应当以罗某的代理人的身份提起行政诉讼

76. 2018 年 1 月 9 日，省政府办公厅印发《山东省地理信息产业发展规划(2017-2025 年)》，提出到 2025 年，我省地理信息产业总产值突破 2000 亿元，形成“1 个基地，3 个特色集聚区”的产业空间格局。其中，3 个特色集聚区是指（ ）

- A. 鼓励支持威海市依靠地理信息平台整合旅游资源，打造以海洋地理信息服务和旅游产业为特色的集聚区
- B. 鼓励支持济南市用好新旧动能转换先行区平台，打造地理信息全产业链集聚融合发展新高地
- C. 鼓励支持济宁市依托山东省信息产业基地，建设以地理信息开发应用为特色的集聚

区

D. 鼓励支持青岛市以地理信息产业园和地图文化与创意国家测绘地理信息局工程技术研究中心为基础，建设以海洋地理信息服务和地图产业为特色的集聚区

77. 下列有关公文结束语部分的说法，表述妥当的是（ ）

- A. “以上要求，请予批准”
- B. “妥否，请审批”
- C. “上述请示，请批准”
- D. “上述意见，请考虑”

78. 因合同纠纷提起的诉讼，哪些人民法院有管辖权（ ）

- A. 被告住所地人民法院
- B. 原告住所地人民法院
- C. 合同签订地人民法院
- D. 合同履行地人民法院

79. 中央军委近日印发《中央军委巡视工作条例》，自 2018 年 1 月 15 日起施行。《条例》对于推进（ ），强化备战打仗的鲜明导向，确保党中央、中央军委和习主席决策指示的贯彻执行，确保部队高度集中统一和有效履行使命任务，具有十分重要的意义。

- A. 政治建军
- B. 改革强军
- C. 科技兴军
- D. 依法治军

80. 下列情形中，国家不承担赔偿责任的是（ ）

- A. 民间陈某酒后驾车撞伤了正在过马路的路人
- B. 某市工商局的副局长李某在执法过程中不小心损坏了市民的笔记本电脑
- C. 正在街头摆摊的赵某看见城管人员赶紧就跑，被路过的汽车撞成重伤
- D. 某县交通局交警金某在执法过程中，致当事人甲右手臂骨折

三、综合写作：本题包括给定材料和作答要求两部分，请仔细阅读给定材料，并按要求完成作答。（本题 1 小题，共 30 分）

给定材料

材料 1

小贾是公司销售部一名员工，为人比较随和，不喜争执，和同事的关系处得都比较好。但是，前一段时间，不知道为什么，同一部门的小李老是处处和他过不去，有时候还故意在别人面前指桑骂槐，对跟他合作的工作任务也都有意让小贾做得多，甚至还抢了小贾的好几

个老客户。

起初，小贾觉得都是同事，没什么大不了的，忍一忍就算了。但是，看到小李如此嚣张，小贾一赌气，告到了经理那儿。经理把小李批评了一通，从此，小贾和小李成了绝对的冤家了。

材料 2

有一个秀才去买材，他对卖材的人说：“荷薪者过来！”卖材的人听不懂“荷薪者”（担材的人）三个字，但是听得懂“过来”两个字，于是把材担到秀才前面。秀才问他“其价如何？”卖材的人听不太懂这句话，但是听得懂“价”这个字，于是就告诉秀才价钱。秀才接着说“外实而内虚，烟多而焰少，请损之。（你的木材外表是干的，里头却是湿的，燃烧起来，会浓烟多而火焰小，请减些价钱吧。）”卖材的人因为听不懂秀才的话，于是担着材就走了。

材料 3

自 2008 年起，上海市市长每年出席记者招待会、新闻发布会。2015 年，根据市政府常务会议的决定，杨雄市长和七位副市长先后参加市政府新闻发布会。所有市政府领导直接参与信息发布与政策解读工作，在全国省级政府中并不多见。在此推动下，2015 年我们有 37 人（次）的政府部门和区县主要负责同志出席市政府发布会。2016 年前三季度，已经有 13 人（次）的市政府领导出席的新闻发布会。领导带头，不光是发布信息，更是表达一种强烈的与民沟通，讲清道理的意愿，也是锻炼讲好政府故事的重要机遇。

实践证明，发生重特大突发事件后 1 小时内首次信息发布、24 小时内举行新闻发布会的时限规定和主要领导是“第一新闻发言人”等要求，是提升舆情应对工作效率的重要保障。

材料 4

近几年来，“上海发布”政务微博和微信影响力在全国政务新媒体中始终居于前列。目前，新浪、腾讯两个平台微博粉丝数量达 1250 万，日均阅读量 210 万次；微信用户突破 250 万，日均阅读量超过 80 万次。此外，全市联动的政务微博、微信群；以“中国上海”为首的政府网站和“12345”市民热线等都是官方信息发布的重要渠道。

我们当然可以通过党报、党台、党刊和所属的新媒体发布信息，但是政务新媒体的建设，让政府部门和官员在实践中感受沟通的挑战、提高沟通能力，这些体验别人无法替代。

有没有体验当然是不一样的。比如，政务新媒体要吸引年轻人，就不能做政策文件的“搬运工”。据统计，2015 年“上海发布”共制作了 200 多张图解新闻，单条阅读量超过 10 万次的微信累计 400 余条。今年 5 月 31 日，备受关注的养老金调整方案出台，“上海发布”的微信点击量突破 150 多万次，转发数超 19 万次。

再比如，为了吸引关注，我们就要提供服务。“上海发布”微信的“市政大厅”目前聚合了 15 项便民查询服务功能，包括公交实时到站，公交卡余额、交通违法、实时路况，公积金查询等。用户日均访问 38 万次，成为上海使用频次最高的微信公共服务办事平台。

领导当好第一发言人，建设政务新媒体，都是在强化领导干部的沟通意识，提高我们讲清道理的能力。

【作答任务】

请结合全部给定材料，以“沟通”为主题，结合实际，自拟题目，写一篇议论文。

要求：观点明确，内容充实，结构严谨，语言流畅，总字数 1000 字左右。



2018 年事业单位考试模拟试卷（第八套）

一、单项选择题（下列各题备选答案中只有一项符合题意，请将其选出，并用 2B 铅笔填涂在答题卡相应的位置上，本题 60 分，每小题 0.8 分，共 48 分）

1. 国家主席习近平于 2017 年 5 月 14 日出席“一带一路”国际合作高峰论坛开幕式，并发表题为（ ）的主旨演讲。

- A. 《公平互利“一带一路”贸易》
- B. 《互惠共享“一带一路”成果》
- C. 《集思广益“一带一路”规划》
- D. 《携手推进“一带一路”建设》

2. 我国新时期改革开放的伟大开端是（ ）

- A. 十一届三中全会
- B. 十二大
- C. 十三大
- D. 十四大

3. 2017 年 6 月 20 日，由中央组织部举办的“（ ）”国情研修班在中国浦东干部学院开班，这是首次面向高技能人才举办的国情研修班。

- A. 高技能人才
- B. 大国工匠
- C. 青年科技领军人才
- D. 专业技术人才

4. 世界经济论坛 2018 年年会 1 月 23 日至 26 日在瑞士达沃斯举行，本届经济论坛将“（ ）”定为年会主题。

- A. “一带一路”倡议
- B. 在分化的世界中打造共同命运
- C. 在区域世界中打造命运共同体
- D. 在“一带一路”中打造共同命运

5. 中国共产党山东省（ ）委员会第二次全体会议，于 2017 年 10 月 30 日至 31 日在济南举行。深入学习贯彻党的十九大和十九届一中全会精神，审议通过《中共山东省委关于深入学习贯彻党的十九大精神的决议》。

- A. 第十一届
- B. 第九届
- C. 第八届
- D. 第十二届

6. 2017年10月7日，第21届世界企业论坛暨全球女神阿尔忒弥斯颁奖典礼在希腊雅典举行，导演孙宪凭借多部原生态鸟类电影荣获“阿尔忒弥斯女神奖”，让（ ）生态之美在世界级舞台上绽放，为美丽中国添上新的注脚。

- A. 青岛
- B. 烟台
- C. 威海
- D. 蓬莱

7. 货币转化为资本的前提是（ ）

- A. 货币流通的目的是带来剩余价值
- B. 货币所有者购买到劳动力商品
- C. 货币发生交换增值
- D. 货币所有者买到生产资料

8. “明月出天山，苍茫云海间”是李白的著名诗句，我们根据该句诗可以推断（ ）

- A. 李白当时可能位于天山以西
- B. 李白当时可能位于天山以东
- C. 当时可能是农历三十或初一
- D. 以上都不可能

9. 2017年10月18日，中共19次全国代表大会隆重召开，习近平代表大会作出报告，报告指出：实现伟大梦想必须建设伟大工程。这里说的伟大工程指的是（ ）

- A. 实现中华民族伟大复兴的中国梦伟大工程
- B. 我们党正在进行的坚决打赢脱贫攻坚战的伟大工程
- C. 我们党正在进行的深入推进党的建设新的伟大工程
- D. 我们党正在进行的深入推进深化改革的伟大工程

10. 关于计算机，下列说法不正确的是（ ）

- A. 平板电脑属于微型计算机
- B. 计算机断电后内存中的信息会丢失

- C. 计算机的性能并非完全依靠于 CPU
- D. 机器语言可以被计算机硬件直接执行

11. 2017 年 8 月 20 号上午，中国国民党第 20 届第一次党代会，在台中世贸中心第二展览馆举行，新当选的国民主席（ ）正式就职，并发表了就职演说。

- A. 马英九
- B. 洪秀柱
- C. 朱立伦
- D. 吴敦义

12. 日前，国务院正式批复设立“（ ）”的请示，自 2017 年起，将每年 5 月 10 日设立为“（ ）”。

- A. 中国品牌日
- B. 中国航天日
- C. 中国互联网日
- D. 中国宪法日

13. 1994 年 4 月 20 日，我国通过一条 64K 的国际专线，全功能接入国际互联网，互联网时代从此开启。历经 20 多年，中国目前已成为世界公认的网络大国。这主要说明（ ）

- A. 构建事物之间的联系要遵循客观规律
- B. 事物之间的联系是多样的和无条件的
- C. 联系构成运动，引起事物变化和发展
- D. 自在事物和人为事物的联系都是主观的

14. 2017 年 9 月 3 日至 9 月 5 日，金砖国际领导人第九次会晤在（ ）举行，作为轮值主席国的中国国家主席习近平主持了此次会晤，会议期间还举办了新兴市场国家与发展中国家对话，峰会取得来了非凡成效，产生深渊世界影响，被世界舆论广泛、高度称赞。

- A. 江苏省苏州市
- B. 浙江省杭州市
- C. 福建省厦门市
- D. 山东省青岛市

15. 应巴基斯坦国家海洋研究所邀请，中国科学院南海海洋研究所“实验 3”号考察船 30 日从（ ）起航，奔赴巴基斯坦卡拉奇港。

- A. 上海

- B. 深圳
- C. 广州
- D. 北京

16. 公有制经济和非公有制经济都是社会主义初级阶段经济制度的组成部分，这意味着（ ）

- A. 它们的社会经济性质是一样的
- B. 它们对经济发展所起的作用是相同的
- C. 它们在市场竞争中的地位是平等的
- D. 政府对它们的政策是一致的

17. 黄某为某县某乡政府工作人员，如果要当选为本县的人大代表，黄某当选的正确途径是（ ）

- A. 乡人大代表选举
- B. 乡人大主席团选举
- C. 所在选区选民直接选举
- D. 本县全体选民直接选举

18. 国共十年对峙时期，中共自身建设方面取得的最突出的成就是（ ）

- A. 彻底纠正了“左”倾错误
- B. 提出了统一战线策略
- C. 确立了毛泽东在党和红军的领导地位
- D. 胜利完成了战略转移

19. 9月30日闭会的省十二届人大常委会第三十二次会议表决通过了《山东省（ ）条例》，自2018年1月1日起施行。

- A. 自然资源
- B. 人力资源
- C. 水资源
- D. 矿藏资源

20. 正确处理国家和企业的分配关系，关键问题是（ ）

- A. 生产要素价格的确定
- B. 企业要自主经营
- C. 工资总额的确定

D. 利益分配

21. 太空科技助力“健康中国”。“天舟一号”上开展的太空干细胞实验，旨在更细致地解释人体干细胞定向分化为骨细胞的过程，该研究有助于老年人骨质疏松的治疗。医学科技的探索不局限与地球表面，也能在太空中开展，这表明（ ）

- A. 人类意识来源于可视对象，他不是无缘无故产生的
- B. 真理最基本的属性是主观性，但需要依赖于客观实践
- C. 实践是认识的基础，实践发展能为认识深化提供新条件
- D. 掌握和运用系统优化的方法，才能促成认识的发展

22. 《列子·天瑞》记述了“杞人忧天”的故事，这个杞人的错误在于（ ）

- A. 否认了世界是物质的
- B. 否认了物质世界是运动的
- C. 否认了物质世界的运动是有规律的
- D. 否认了物质世界运动的绝对性

23. 经过长时间调研和热烈讨论，最终决策者将（ ）南极考察站选址锁定罗斯海地区恩科斯堡岛。位于罗斯海西岸的恩科斯堡岛紧邻冰川和海洋，是开展南极地质构造演化和现代环境、探索空间秘密，尤其是开展海洋、冰川和地质研究的理想之地。

- A. 第三座
- B. 第四座
- C. 第五座
- D. 第六座

24. 2017年5月5日是共青团成立95周年的日子，各级共青团组织广泛开展（ ）主题团日活动。

- A. “两学一做”
- B. “八荣八耻”
- C. “不忘初心跟党走”
- D. “科学发展观”

25. 从“发展才是硬道理”到“科学发展观”的提出，从“让一部分先富起来”到“初次分配和再分配都要处理好效率与公平的关系，都要关注社会公平”。中国共产党对发展观、公平观的认识达到了一个新的高度，这说明（ ）

- A. 客观性是真理最基本的属性

- B. 真理相对于事物的真相只有一个
- C. 真理都是具体的有条件的
- D. 真理是主观和客观的历史的统一

26. 批复在制发前需进行认真的调查，下列属于其调查内容的是（ ）

- A. 查阅有关的规定和指示
- B. 查阅前案处理的材料
- C. 与内容涉及到的有关部门协商
- D. 调查研究请示的理由、事项与具体要求

27. 庆祝香港回归祖国 20 周年大会暨香港特别行政区第五届政府就职典礼 7 月 1 日上午在香港会展中心隆重举行。习近平出席并强调，一国两制凝结（ ）了中国的智慧。

- A. 不积跬步无以至千里
- B. 海纳百川，有容乃大
- C. 自强不息，厚德载物
- D. 踏石有印、抓铁留痕

28. 顾客在购买时是消极和被动的，通常情况下他们不会足量购买，企业必须通过一定的技巧和手段促使顾客购买其产品，企业所持的这种经营观念是（ ）

- A. 推销观念
- B. 生产观念
- C. 产品观念
- D. 营销观念

29. 下列说法中错误的一项是（ ）

- A. 21 世纪高技术的核心是生物技术
- B. 核电站利用核能发电的是铀
- C. 磁悬浮列车是利用磁极间吸引力排斥力原理的交通工具
- D. 医生用的听诊器接触面越小，拾取的音效越好

30. 下列关于剩余价值的表述中，正确的是（ ）

- A. 剩余价值在生产领域中产生，通过流通领域来实现
- B. 剩余价值在流通领域中产生，但不能离开生产领域
- C. 剩余价值在生产领域中产生，可以离开流通领域
- D. 剩余价值在流通领域中产生，也在生产领域中产生

31. 习近平同志在庆祝中国共产党成立 95 周年大会上指出，党的（ ）是党的形象，是观察党群、干群关系、人心向背的晴雨表。

- A. 纪律
- B. 制度
- C. 作风
- D. 权威

32. “白日放歌须纵酒，青春作伴好还乡”是杜甫听到叛乱平息时写下的诗句。这里的“叛乱”是指（ ）

- A. 七国之乱
- B. 玄武门之变
- C. 安史之乱
- D. 靖难之乱

33. 社会主义和谐社会是人类孜孜以求的一种美好社会，是马克思主义政党不懈追求的一种社会理想。构建社会主义和谐社会最根本的保证是（ ）

- A. 依法治国
- B. 以德治国
- C. 从严治党
- D. 党的领导和社会主义制度

34. “天下虽安，忘战必危”是我国古代著名的军事思想，充满着朴素的辩证法智慧，下列选项中体现的哲学思想与这句话相同的是（ ）

- A. 不谋全局者不足以谋一城
- B. 有心栽花花不开，无心插柳柳成荫
- C. 贾人旱则资舟，水则资车，以待乏也
- D. 富贵而姿势弄权，乃自取灭亡之道

35. 地球表面的绿色植物通过光合作用，将太阳的辐射能量转化成能被其他生物利用的有机化合能。下面的说法错误的是（ ）

- A. 光合作用吸收的主要是太阳光中的绿光
- B. 植物的绿色是反射了太阳光中的绿光
- C. 不同植物的光合作用效率是不一样的
- D. 植物在不同时间的光合作用效率不一样

36. 提出“师夷长技以制夷”的儒家思想是（ ）

- A. 魏源
- B. 蔡元培
- C. 林则徐
- D. 严复

37. 胡适在 1923 年的一封信中说“25 年来，只有三个杂志可代表三个时代，可以说是创造了三个时代：一是《时务报》；一是《新民丛报》；一是《新青年》。”胡适所说的“三个时代”分别是（ ）

- A. 辛亥革命、护法运动、新文化运动
- B. 戊戌变法、辛亥革命、护国运动
- C. 戊戌变法、辛亥革命、新文化运动
- D. 护国运动、戊戌变法、护法运动

38. 贝多芬的交响曲中被称为“命运交响曲”的是（ ）

- A. 第三交响曲
- B. 第五交响曲
- C. 第六交响曲
- D. 第九交响曲

39. 下列有关法律文化的说法错误的是（ ）

- A. 《汉谟拉比法典》是迄今最早最完整的成文法典
- B. 《拿破仑法典》是资产阶级国家第一部民法典
- C. 《查士丁尼法典》是罗马法集大成者
- D. 《大宪章》是美国的根本大法

40. 下列行为需要承担刑事责任的是（ ）

- A. 李武饮酒过量，神志不清，暴打妻子致其重伤
- B. 张良见胡同里有一人强暴妇女，于是拿砖头将其打昏，等事后鉴定为重伤
- C. 李四 15 岁，盗窃珠宝财物价值 20 余万
- D. 张三精神病发作砍死其父

41. 根据我国法律规定，用人单位自用工之日起超过一个月不满 1 年未与劳动者签订劳动合同的，应向劳动者每月支付（ ）的工资

- A. 2 倍

B. 3 倍

C. 4 倍

D. 5 倍

42. “法无明文规定不为罪，法无明文规定不处罚”为《刑法》的何种基本原则（ ）

A. 罪刑法定原则

B. 适用刑法人人平等原则

C. 罪责相适应原则

D. 罪刑相适应原则

43. 某区政府在整顿市容环境时对辖区内的一个菜市场作出了关闭的决定，该行政行为属于（ ）

A. 行政确认

B. 行政征收

C. 具体行政

D. 抽象行政

44. 我国公民不分民族、种族、职业、家庭出身和教育程度，凡是年满（ ）岁的，都有义务依法服兵役。

A. 14

B. 16

C. 18

D. 20

45. 《山东省建设工程抗震设防条例》施行的目的是（ ）

A. 加强建设工程抗震设防管理，提高建设工程抗震性能，减轻地震灾害损失，保护人民生命和财产安全

B. 根据抗震设防要求和抗震设防技术标准

C. 对建设工程进行抗震设计、施工

D. 提高建设工程抗震性能

46. 被称为“中国航天之父”的钱学森把对科学的热情和对祖国、民族的热爱融为一体，成为中国 20 世纪最伟大的科学巨匠，影响了一代又一代中国人，这说明（ ）

A. 人生价值是在个人与社会的统一中实现的

B. 人生的真正价值在于社会对自己尊重

C. 只要坚定理想信念和信念就能实现人生价值

D. 有价值的人生是不考虑个人利益的

47. 下列不属于紧缩性货币政策的措施是（ ）

A. 提高再贴现率

B. 提高存款准备金率

C. 发行央行票据

D. 买进政府债券

48. 下列关于太空垃圾的说法不正确的是（ ）

A. 是宇宙空间中除正在工作着的航天器以外的人造物体

B. 航天器遗漏出的液体材料也可以成为太空垃圾

C. 可以用检测导弹和间谍卫星的系统检测大一些的太空垃圾

D. 可以让太空垃圾相互碰撞湮灭，减少对航天器的危害性

49. 地市级纪律检查委员会向所属省纪律检查委员会汇报重大案件查处情况所采取的是

（ ）行文。

A. 通知

B. 通报

C. 通告

D. 报告

50. 下列文字与出处对应错误的是（ ）

A. 问今是何世，乃不知有汉，无论魏晋——《桃花源记》

B. 山不在高，有仙则名——《陋室铭》

C. 晋陶渊明独爱菊——《爱莲说》

D. 大道之行也，天下为公——《论语》

51. 张某与刘某生有两子甲和乙，后来张某与刘某离婚，甲、乙由刘某抚养。刘某与李某结婚，当时甲已参加工作而乙尚未成年，乙跟随刘某和李某居住，后来刘某与李某生下一子丙，李某与前妻生有一女丁。张某、李某先后去世，下列说法正确的是（ ）

A. 刘某、甲和乙可以继承张某的遗产

B. 甲和乙可以继承李某的遗产

C. 刘某、甲和丙可以继承李某的遗产

D. 乙和丁可以继承李某的遗产

52. 2017年9月，国务院医改办、国家卫生计生委、财政部、国家中医药局联合发布通知，将（ ）在内的15个城市确立为公立医院综合改革首批国家级示范城市。

- A. 青岛
- B. 济南
- C. 淄博
- D. 威海

53. 根据我国《宪法》和相关法律法规，下列不属于民族自治地方的行政区域是（ ）

- A. 内蒙古自治区
- B. 凉山彝族自治州
- C. 本溪满族自治县
- D. 白关坡回族自治县

根据下列给定材料，结合相关法律规定，回答第54—57题：

甲公司将一台挖掘机出租给乙公司，为担保乙公司依约支付租金，丙公司担任保证人，丁公司以机器设备设置抵押。乙公司欠付10万元租金时，经甲公司、丙公司和丁公司口头同意，将6万元租金债务转让给戊公司。之后，乙公司为现金周转将挖掘机分别以45万元和50万元的价格先后出卖给丙公司和丁公司，丙公司和丁公司均已付款，但乙公司没有依约交付挖掘机。

因乙公司一直未向甲公司支付租金，甲公司便将挖掘机以48万元的价格出卖给王某，约定由乙公司直接将挖掘机交给王某，王某首期付款20万元，尾款28万元待收到挖掘机后支付。此事，甲公司通知了乙公司。

王某未及取得挖掘机便死亡。王某临终立遗嘱，其遗产由其子大王和小王继承，遗嘱还指定小王为遗嘱执行人。因大王一直在外地工作，同意王某遗产由小王保管，没有进行遗产分割。在此期间，小王将挖掘机出卖给方某，没有征得大王的同意。

请回答第54-57题。

54. 关于乙公司与丙公司、丁公司签订挖掘机买卖合同的效力，下列表述正确的是：

（ ）

- A. 乙公司可以主张其与丙公司的买卖合同有效
- B. 丙公司可以主张其与乙公司的买卖合同无效
- C. 乙公司可以主张其与丁公司的买卖合同无效
- D. 丁公司可以主张其与乙公司的买卖合同无效

55. 在乙公司将 6 万元租金债务转让给戊公司之前，关于丙公司和丁公司的担保责任，甲公司下列做法正确的是：（ ）

- A. 可以要求丙公司承担保证责任
- B. 无权要求丁公司承担抵押担保责任
- C. 须先要求丙公司承担保证责任，后要求丁公司承担抵押担保责任
- D. 须先要求丁公司承担抵押担保责任，后要求丙公司承担保证责任

56. 王某死后，关于甲公司与王某的买卖合同，下列表述正确的是：（ ）

- A. 甲公司有权解除该买卖合同
- B. 大王和小王有权解除该买卖合同
- C. 大王和小王对该买卖合同原王某承担的债务负连带责任
- D. 大王和小王对该买卖合同原王某承担的债务按其继承份额负按份责任

57. 关于小王将挖掘机卖给方某的行为，下列表述正确的是：（ ）

- A. 小王尚未取得对挖掘机的占有，不得将其出卖给方某
- B. 小王出卖挖掘机应当取得大王的同意
- C. 小王出卖挖掘机的行为不需要大王追认
- D. 小王是王某遗嘱的执行人，出卖挖掘机不需要大王的同意

根据以下材料，结合相关法律规定，请回答第 58-60 题：

某省 A 市力源钢厂与本省 B 市三友公司于 2000 年 12 月 1 日在 C 市签订了合同，约定由三友公司在 3 个月内为力源钢厂提供 X 助剂 10 吨，每吨 10 万元，共 100 万元。约定的交货地点是 A 市力源钢厂的某仓库。合同签订后，三友公司将自己研制的未能通过检验的 X 助剂按照合同约定的数量投入生产，并伪造了材料合格证与准用证，在约定的履行日期向力源钢厂交货。力源钢厂收到货物后，马上发现货物质量并不符合约定的标准，根本无法使用，因此拒绝支付货款，双方发生纠纷。

请回答第 58-60 题。

58. 本案中，双方当事人商定合同的签订时，双方的法律顾问就与本合同有关纠纷的诉讼管辖法院的选择拟定了如下条款，以供当事人参考。其中不合法的是（ ）

- A. 当事人双方就本合同的履行所发生的纠纷提起诉讼由 A 市的人民法院管辖
- B. 当事人双方就本合同的履行所发生的纠纷提起诉讼由 B 市的人民法院管辖
- C. 当事人双方就本合同的履行所发生的纠纷提起诉讼由 C 市的人民法院管辖
- D. 当事人双方就本合同的履行所发生的纠纷提起诉讼由本省高级人民法院管辖

59. 如果力源钢厂和三友公司在签订的合同中没有规定协议管辖的条款。此时，力源公司因为交付的货物不符合约定而要向人民法院起诉，那么本案可以由何地人民法院管辖（ ）

- A. 原告力源公司所在的 A 市人民法院或被告三友公司所在的 B 市人民法院
- B. 只能由被告三友公司所在的 B 市人民法院
- C. 双方签订合同的 C 市人民法院
- D. 三友公司从事 X 助剂研制的实验室所在地人民法院

60. 如果本案根据法律的规定有两个人民法院都享有管辖权，发生纠纷后，力源钢厂于 2001 年 3 月 16 日向某个有管辖权的人民法院起诉，又于 3 月 18 日向另一个有管辖权的人民法院起诉，其后两个人民法院在不知原告分别起诉的情况下先后立案，则本案应当由哪个人民法院受理？（ ）

- A. 由先收到起诉状的人民法院管辖
- B. 由后收到起诉状的人民法院管辖
- C. 由先立案的人民法院管辖
- D. 由最先受理的人民法院管辖

二、多项选择题（下列各题备选答案中至少有两项是符合题意的，请找出恰当的选项，并用 2B 铅笔填涂在答题卡相应的位置上，多选、错选或少选均不得分，本题 20 小题，每小题 1.1 分，共 22 分）

61. 习近平总书记在中国共产党第十八次全国代表大会提出，人口问题始终是我国面临的全局性、长期性、战略性问题。在未来相当长时期内，（ ）计划生育基本国策必须长期坚持。

- A. 我国要保持经济增长的趋势不会根本改变
- B. 我国人口众多的基本国情不会根本改变
- C. 人口对经济社会发展的压力不会根本改变
- D. 人口与资源环境的紧张关系不会根本改变

62. “今天科学技术不仅仅是自然科学与工程技术，还是认识客观世界、改造客观世界的整个知识体系，而这个体系的最高概括是马克思主义哲学。”钱学森关于哲学与科学关系的论断的合理性在于

- A. 认为哲学是科学之科学，是最高概括的科学
- B. 主张科学是哲学的知识前提，哲学是科学的最高概括

- C. 强调离开了哲学世界观的指导，科学研究就不能取得进展
- D. 指出哲学与科学具有一致性，哲学对科学具有方法论的指导作用

63. 2010年，中国保持宏观经济政策的连续性和稳定性，继续实施积极的财政政策和适度宽松的货币政策，根据新形势新情况着力提高宏观调控政策的针对性和灵活性，这里所蕴含的哲学道理有（ ）

- A. 办事情要从实际出发
- B. 坚持普遍联系和发展观点看问题
- C. 坚持具体问题具体分析
- D. 坚持两点论与重点论的统一

64. 美国动物学家曾经做过这样一个实验：把含有氯化钠的药品塞进羊肉里喂狼，狼吃后，呕吐不止，十分痛苦，慢慢对羊肉倒了胃口，改食其他肉类。动物学家然后对其进行驯化，用于看守羊群，效果十分理想。材料主要体现的哲理是（ ）

- A. 人在规律面前不是无能为力的，人能认识和利用规律为人类谋福利
- B. 规律是客观的，但人能创造新的规律
- C. 规律的存在与发生作用是有条件的
- D. 人的理性为自然界立法

65. 下列选项中，关于我国传统文化的说法正确的是（ ）

- A. 王阳明创立了与朱熹相对立的主观唯心主义理论一心学
- B. 黄宗羲提倡“法治”反对“人治”
- C. 《老子》是道家哲学思想的重要来源
- D. 顾炎武提出在政治上要趋时更新

66. 习近平总书记曾强调，生态文明建设是“四个全面”战略布局的重要内容。各地区各部门要切实贯彻新发展理念，用“绿水青山就是金山银山”的强烈意识，努力走向社会主义生态文明新时代，这体现了我国政府坚持（ ）的执政理念。

- A. 人民当家作主
- B. 一切以经济建设为中心
- C. 全面、协调、可持续发展
- D. 统筹人与自然和谐发展

67. 下列关于逆向选择和道德风险的说法正确的有（ ）

- A. 二者都处在信息不对称的情况下

- B. 逆向选择一般处于合同缔结之前
- C. 市场经济中道德风险的现象十分普遍
- D. 道德风险一般处于合同缔结之后

68. 山东省人民政府公布第一批历史文化街区，下列选项中的历史文化街区与所在的市对应正确的是（ ）

- A. 芙蓉街（济南）
- B. 台儿庄古城（临沂）
- C. 戚继光故里（蓬莱）
- D. 周村古商城（淄博）

69. 为认真贯彻落实党的十九大和省第十一次党代会精神，加快推动文化强省建设，我省近日启动第三届文化强省建设先进市县创建考评活动。考评内容涵盖培育和践行（ ）推动文化产业发展、加强文化建设组织领导和群众满意度调查等七个方面，将文化强省建设的内容具体化、载体化、项目化。

- A. 社会主义核心价值观
- B. 传承发展中华优秀传统文化
- C. 深化文化体制改革
- D. 完善公共文化服务体系

70. 一片秋叶随风飘落，宣告了其自然生命的终结。有人突发奇想，用现代工艺把叶子镶嵌在陶罐上，叶子获得了第二次生命，陶罐也因彩叶依偎而焕发出新的生机和光彩。新产品备受消费者青睐，取得了“1+1>2”的良好效果。这一事例说明（ ）

- A. 秋叶和陶罐的价值随着关系的改变而改变
- B. 新价值的创造改变了秋叶和陶罐的属性
- C. 观念创新实现了秋叶和陶罐价值的增值
- D. 秋叶和陶罐的价值取决于其自身属性和人的需要

71. 《山东省“十三五”教育事业发展规划》明确了教育大省的“小目标”，到2020年，全面完成山东省中长期教育规划纲要目标任务，使山东教育（ ）位居全国前列。

- A. 发展规模
- B. 整体水平
- C. 综合实力
- D. 经济水平

72. 下列选项中属于世界贸易组织主要职能的有（ ）

- A. 组织实施各项贸易协定
- B. 为各成员提供多边贸易谈判场所
- C. 解决成员间发生的贸易争端
- D. 协调与国际货币基金组织、世界银行的关系

73. 下列选项中的典故与其体现的哲学判断相符的是（ ）

- A. 种瓜得瓜，种豆得豆—内因是事物变化的依据
- B. 望梅止渴—理性认识依赖于感性认识
- C. 水滴石穿—量变是质变的前提
- D. 士别三日，当刮目相看—用发展的眼光看问题

74. 下列有关内容，应在调查报告正文的开头部分撰写的有（ ）

- A. 概述调查对象的情况，给读者以概貌的认识
- B. 告诉读者写作背景的有关情况
- C. 给读者展示前景，发出号召
- D. 以议论、提问的方式揭示全文主题

75. 向国家机关建言献策，这是宪法赋予公民参与政治生活的一项权利，下列选项属于公民合法的政治权利和自由的是（ ）

- A. 参与本单位年度评优投票
- B. 在某网站公开发表对中国建国的 60 周年的感想，讴歌翻天覆地的变化
- C. 因拆迁问题没有妥善解决，老王组织拆迁户到市政府上访反映情况
- D. 因产品出现质量问题，小枣找商场退费

76. 我省与“一带一路”沿线国家产业合作成果丰硕。目前我省企业在“一带一路”沿线国家的国际产能合作主要集中在（ ）等行业，一批重点合作项目取得积极进展。

- A. 机械电子
- B. 冶金化工
- C. 纺织服装
- D. 能源交通

77. 下面属于公文必备的基本组成部分有（ ）

- A. 发文种类
- B. 主送机关
- C. 标题

D. 成文日期

78. 行政诉讼中，原告负举证责任的情形有（ ）

- A. 公民法人或其他组织向人民法院起诉时，应当提供其符合法定条件的相应证据材料
- B. 被告认为原告起诉超过起诉期限的，应由原告提供其没超过起诉期限的证据材料
- C. 在起诉被告不作为的案件中，原告应当提供其在行政程序中提出申请的证据材料
- D. 在起诉被告不作为的案件中，被告主动履行职权的，原告应提供相当的证据材料

79. 2017年12月25日，中共中央印发了《中国共产党党务公开条例（试行）》，并发出通知，要求各地区各部门认真遵照执行。通知要求，各级党组织要以习近平新时代中国特色社会主义思想为指导，牢牢把握党务公开基本原则，把党务开放到（ ）新的伟大工程的实践中谋划和推进，把坚持和完善党的领导要求贯彻到党务公开全过程和各方面。

- A. 新时代坚持和发展中国特色社会主义
- B. 推进党的建设
- C. 推进政府建设
- D. 推进社会保障体系建设

80. 常某喜欢编造并传播小道消息，她曾经捏造事实，同时诽谤甲、乙、丙、丁四人。此后，甲独自向人民法院起诉。关于本案，人民法院下列哪些处理方式是错误的（ ）

- A. 人民法院不受理此案
- B. 同意乙、丙、丁不参加诉讼
- C. 乙、丙、丁不参加诉讼，但允许他们在本案宣判后另行提起刑事自诉
- D. 乙、丙、丁不出庭，但允许其保留告诉权

三、综合写作：本题包括给定材料和作答要求两部分，请仔细阅读给定材料，并按要求完成作答。（本题1小题，共30分）

给定材料

材料1

随着网络科技的日益进步，抢票插件盛行，春运的抢票大战已经从体力活逐渐转变为技术活。而相比于熟谙网络知识，拥有“先天优势”的学生、白领等，农民工逐渐沦为购票弱势群体。

作为当今社会一个庞大的群体，农民工无论是在服务城镇化建设，还是在促进城乡发展一体化过程中都起到了重要的作用。而他们的一举一动也牵动着很多人的心，特别是每逢春运回家过年时，让农民工顺利买到一张返乡的火车票，让辛苦了一年的劳动者舒心地返乡，每每成为了社会各界热议的话题。

在众多交通方式中，火车以其票价相对低廉、稳定可靠成为了大部分人春运出行首选的交通工具，数倍甚至数十倍于平常的旅客集中在短短的四十天内出行，造成这一时期运力与需求矛盾突出，客观上给农民工购票带来了“溢出效应”。

客观地分析，农具有庞大、流动性强的特点，要逐步解决农民工购票难题、化解他们心中的纠结，需要的是各方齐发力、多管齐下。不仅需要铁路部门承担主体责任，社会也应给与真真切切的关心，当然，也少不了农民工兄弟自身的努力。

针对农民工群体文化程度相对不高、不熟悉互联网购票的特点，铁路部门对农民工的购票服务应当走好“最后一公里”，在继续降低务工团体购票门槛的同时，还可以通过开设农民工购票专用窗口、增开务工临客列车、流动售票车主动送票上门服务等方式，最大程度地帮农民工解决不会或没时间通过网络订票的烦恼，让他们购票更加便捷顺畅。

而社会各界对于农民工购票难的问题，不能一味地将问题推给第三方，抑或不付之于实践，只是停留在“嘴上”和“纸上”。平心而论，农民工兄弟为了城市的靓丽出力流汗，也是“蛮拼的”，这是有目共睹的事实。因而，地方工会部门不妨尝试将互联网、电话购票纳入农民工一项业务技能培训组织开展起来，公益组织可以定期组织一批大学生志愿者免费帮助农民工购票……

作为农民工本身，当然是不能置身事外，社会在发展、在进步，信息化、智能化是社会发展大势所趋，这都是不争的事实。只有更新知识内容，持续充电完善，努力做一个有文化、有知识的农民工，才能跟上时代的步伐，进而让回家的路更加顺畅。

材料 2

为缓解春运紧张之急，铁路总公司推出了网上实名购票。网上实名购票，一方面打击了票贩子的倒票行为，另一方面因不需要到售票窗口排队买票，为购票者提供了不少便利。虽然有不少网友反映网络速度慢、购票过程不顺畅等问题，但据本报记者的亲身体验，总体来说，网上购票还是比较便利的。

中国经济时报记者在 12306 订票网站注册，耗费 16 分钟，信息填写重复了三次才成功，因为尚未到销售高峰期，当时查询余票的过程比较顺畅。1 月 7 日，记者多次登录 12306 订票网站，一直失败，最后费了九牛二虎之力才登录成功。刷新、刷新、再刷新，直到网上显示有余票，但订单却一直提交不上去，再刷新，网页上已经显示没有余票，前后耗时两个半小时，记者最终也没有买到票。1 月 14 日，记者第三次登录 12306 订票网站，购买 1 月 25 日郑州到武汉的车票，整个查询过程比较顺畅，余票信息显示只剩 2 张硬卧，随后用网银付款的过程没有出现问题。

据记者了解，春节法定假期从 1 月 22 日开始，网络订票可提前 12 天，因此 1 月 8 日左右为订票高峰期，其间出现了不同程度的拥堵。随着年关将至，学生流逐渐减少，农民工客流开始逐步上升，农民工客流的购票高峰期到来。此时面临的一个问题是：网络购票对农民工的作用如何？

1 月 12 日，在北京工作的山东人小冬一大早便赶去售票窗口排队买票。在 40 分钟的等

待过程中，她发现有很多农民工仍旧选择排队买票。这让人不禁疑问，网络订票到底方便了谁？

云南大学学生小杜向本报记者表示，自1月8日开始，他便试图用网络进行购票。在经过持续两天时间的尝试后，只登录成功一次的他发现只剩无座票。最后，小杜只好选择乘飞机回家。

采访中记者发现，网络购票的问题主要表现为网络登录难、提交订单过慢、余票无法查询等，12306订票网站还需进一步改善。

据了解，考虑到部分农民工不熟悉上网购票的实际情况，铁路部门实施了电话订票与互联网售票同步优先的方式，网络订票方面，铁路总公司已调试升级了12306订票网站，目前已将订单后的付款时限从过去的30分钟延长到45分钟，减少支付成功购票不成功现象。

在全国各地，各种社会力量都在帮助农民工购票。在哈尔滨某社区，社区专门提供了帮助农民工网购车票的服务。上海交通大学大二学生小徐组织大学生志愿者免费为农民工订票。陕西省图书馆公共电子阅览室面向全省市民免费开放，并专门开辟出5台网络购票专座，给农民工提供上网订票服务。重庆公共图书馆为农民工提供网上订票服务，其工作人员介绍说，图书馆网络带宽是300M，而家庭带宽才2M左右，因此最快2分钟就可以订到火车票。

“此时，如果一些企业能够出钱帮助不会上网的农民工免费网络订票，其实是一个很好的公益广告，既解决了社会问题，又可以迅速提升企业的影响力。”德国鲍尔集团华北销售总监对中国经济时报记者表示。

在北京工作的湖北人程先生对记者表示，在推广网络购票之前，铁路部门如果能够设置一段时间的“过渡期”，估计效果会比较好。他说，“过渡期”内，不仅要多做宣传、多给不会上网的人培训网络知识，还可以适当给车站售票处多留点票，再搞好农民工团体购票，多想办法，逐步解决问题。

春运安全和买票难都是老生常谈的话题。虽然近些年也提出不少解决的办法，比如铁路总公司近两年实施的新举措——通过网络或电话提前12天预定火车票，以及实名制购票，其目的主要是为缓解买票难、打击黄牛倒票等，这些举措值得肯定。但是这显然忽略了一个问题，就是庞大的农民工不会使用网络也没条件。可见，如何解决这部分人的购票问题成为当前的一个难点。

应该承认，当前农民工的各种权益很难一下子得到保障。正如铁路总公司所言，以目前的春运需求就是把所有的火车都用于农民工也不够，而提高火车运力在短期内也不现实。相关数据显示，当前中国外出农民工有1.64亿人，此外还有大量的流动人口，如此大规模的运输，即便实施了实名制，也无法解决该矛盾。

其实，解决这一矛盾的办法也不难，关键就是为了让数亿农民工群体融入城市，让长途运输需求大幅减少。从根本上来说，只有通过进一步把农民工融入城市化当中，让他们不用一到春节就为了赶回家不得不长距离跋涉，这样我国的春运问题才能从根本上得到缓解。

可喜的是，针对农民工融入城市的问题，民政部近日出台了《关于促进农民工融入城市

社区的意见》，这是中央探索将农民工市民化的第一个全局性、专门性政策文件。广东省则进一步要求广东建立健全外来务工人员融入城镇的制度设计，加快研究并适时出台取消“农民工”称谓的政策措施，促进外来务工人员与本地居民的真正融合。总之，在新的城市化发展时期，大力推动农民工融入城市已经成为我国城市化发展的关键。只有让这部分群体真正实现市民待遇，才能最终实现城市化的健康发展。

【作答任务】

结合给定材料，以“让农民工融入城市”为主题，自拟标题，自选角度，写一篇议论文。

要求：结合实际，观点鲜明，议论深刻，结构严谨，语言流畅，字数 1000 字左右。

2018 年政府购买职业能力测验模拟卷（第九套）

第一部分 言语理解与表达

一、选词填空

（共 20 题。要求你从所给的四个选项中选出一个填空，使句子的意思表达得最准确）

请开始答题：

1. 很多大学生希望毕业后找到一份工作，稳步发展，可是也有许多人不愿_____，他们
有相对稳定的家庭背景，有工作能力，却在寻找生活的另一种可能性。

填入划横线部分最恰当的一项是（ ）

- A. 按部就班
- B. 墨守成规
- C. 人云亦云
- D. 步入后尘

2. 个别干部走访慰问困难群众不过是“走秀”而已，这种_____式的慰问不仅不能送
去党的温暖，反而损害了党的形象，让群众寒心。

填入划横线部分最恰当的一项是（ ）

- A. 走马观花
- B. 蜻蜓点水
- C. 一曝十寒
- D. 轻描淡写

3. 天池经历了漫长的无名时期，后来伴随着天池传说的兴起，天池也开始_____。谈
到天池传说，还有一个缘由：人们面对神奇的山水之境时，总爱把神灵的光环罩在山水的头
上，使山水之景与神灵之气_____，即所谓山不在高，有仙则名。

依次填入划横线部分最恰当的一项是（ ）

- A. 声名鹊起 相得益彰
- B. 门庭若市 相映成趣
- C. 脱颖而出 相濡以沫
- D. 广为人知 相视莫逆

4. 有人用“天价”片酬导致行业畸形来批判“天价”片酬，然而实际上“天价”片酬

与行业畸形是恶性循环，互为因果的关系，因为现有的行业的畸形，才导致对明星效应的依赖，一线明星_____，片酬自然_____。

依次填入画横线部分最恰当的一项是（ ）

- A. 席珍待聘 坐地起价
- B. 待价而沽 居高不下
- C. 奇货可居 水涨船高
- D. 国积居奇 随行就市

5. 胡同大多形成于13世纪的元朝，胡同从诞生之日起，就与北京城建立了一种天然的联系，胡同也就_____地成为北京城的标志。一条条横平竖直、纵横交错的胡同不仅仅是老北京城市的命脉，同时也是普通百姓生活的场所，蕴含了北京悠久的历史和文化，形成了与这座城市_____的胡同文化。

依次填入划横线处最恰当的一项是（ ）

- A. 理所当然 交相辉映
- B. 顺理成章 水乳交融
- C. 顺其自然 唇齿相依
- D. 名正言顺 天人合一

6. 唐朝社会的各色人物在唐朝文人笔下_____，活灵活现。世界名著中有著名的四大吝啬鬼形象，即阿巴贡、泼留希金、夏洛克和葛朗台，而唐朝文人笔下的吝啬和贪婪之人亦_____这些生活社会各阶层的人，被唐代文人刻画得_____，读来呼之欲出，令人不禁莞尔。

依次填入画横线部分最恰当的一项是（ ）

- A. 惟妙惟肖 不相上下 绘声绘色
- B. 跃然纸上 大相径庭 酣畅淋漓
- C. 栩栩如生 毫不逊色 入木三分
- D. 引人入胜 风格各异 活灵活现

7. 宜居带是指一颗恒星周围一定距离的范围，在这一范围内水可以以液态形式存在。由于液态水被科学家认为是生命生存_____的元素，因此如果一颗行星恰好落在这一范围内，那么它就被认为有更大的_____拥有生命或至少拥有生命可以生存的环境。

依次填入划横线部分最恰当的一项是（ ）

- A. 缺一不可 范围

- B. 举足轻重 条件
- C. 至关重要 优势
- D. 必不可少 机会

8. 事实上任何一个不可避免的灾害原本就是社会人口因素与生态系统中潜在的破坏性因素相结合的产物。就舟曲泥石流而言，人类活动的_____和社会管理_____显然是灾害的要素之一，但在地质专家们看来，这些原因还远不足以将舟曲之灾_____为人祸之故。

依次填入划横线部分最恰当的一项是（ ）

- A. 加速 疏忽 断言
- B. 破坏 漏洞 归咎
- C. 频繁 忽略 断定
- D. 加剧 疏漏 妄定

9. 人类的寿命与基因有关，体内有多个基因_____着你的生命长短。研究表明，那些在恶劣环境下控制机体防御功能的基因，能够显著地改善多种生物的健康状况并且延长其寿命。了解这些基因的运作_____，或许可以帮助我们找到消除老年疾病、延长人类生命的秘诀。

依次填入划横线部分最恰当的一项是（ ）

- A. 操控 规律
- B. 支配 原理
- C. 决定 机制
- D. 主宰 流程

10. 2017年的“双十一购物节”让外界_____中国热闹异常的电子商务产业。美国媒体感叹中国的“双十一”一天的销售规模已经赶超美国两大网上购物日，预计电子商务将_____中国在2017年成为全球最大的零售市场。

依次填入划横线部分最恰当的一项是（ ）

- A. 惊诧 力推
- B. 关注 助推
- C. 热议 襄助
- D. 聚焦 助力

11. 一个人不能失忆，一个国家当然就更不能失忆了，但是因为历史的原因，有时候会

有意无意地试图_____某方面的回忆。对于这种无奈的现实，我们能够理解，但是并不是说就应该支持或者默认这么做。在具备了条件之后，我们还是应该寻找和_____我们的记忆。

依次填入划横线部分最恰当的一项是（ ）

- A. 回避 恢复
- B. 隐藏 修复
- C. 躲避 还原
- D. 掩盖 复原

12. 领导要善于_____人才，他们应该使每个职员都能在自己的岗位上得到充分施展才华的机会，使所有人才都能_____。

依次填入画横线部分最恰当的一项是（ ）

- A. 任用 各得其所
- B. 聘用 各司其职
- C. 选用 各取所需
- D. 利用 各行其是

13. 心理学家发现，手势和话语在交流时具有同样的丰富性，手和嘴_____表达着说话人的意思，人们听故事时，如果在听到声音的同时能够看见讲故事人的手势，他们对故事理解的准确度要比_____听到声音时增加10%。

填入横线部分最恰当的一项是（ ）

- A. 分别 单纯
- B. 共同 单纯
- C. 独立 单独
- D. 一致 单独

14. 从法官的精英化到法官的专业化，无不_____着人们对法官资格和法官职位的憧憬和理想，当前，应当建立以职业品德、专业知识、实践经验三位一体的法官培养_____标准。

依次填入划横线处最恰当的一项（ ）

- A. 承载 遴选
- B. 寄托 挑选
- C. 肩负 选取

D. 承担 入选

15. 科学家在分析气象卫星发回的数据时_____地发现，这个神秘的气溶胶层的浓度大大增加了，竟然达到了 1996 年时的 3 倍。科学家_____到问题的严重性了，因为一旦气溶胶进入到平流层，就可以随着平流层特有的强劲侧风迅速扩散到整个地球大气层。并给臭氧层带来严重的破坏。

依次填入划横线部分最恰当的一项是（ ）

- A. 惊讶 意识
- B. 好奇 意识
- C. 好奇 认识
- D. 惊讶 意味

16. 保护好历史建筑，实质就是留住城市发展的_____，让人真切_____到真是的“昨天”“今天”与“明天”。我们并不_____，有历史的城市，但很多城市确实缺少“历史感”与“厚重感”。就此看，“不拆真遗存，不建假古董”，其实并不是针对具体历史建筑的保护，而是强调对历史的敬畏，对人文本位的回归。

依次填入划横线部分最恰当的一项是（ ）

- A. 痕迹 感受 存在
- B. 文脉 体认 缺乏
- C. 线索 了解 获得
- D. 遗迹 领悟 缺少

17. 一直以来，家庭养老是中国式养老的重要方式，极大_____了社会养老风险。不过，随着计划生育和人口流动因素的影响，“四个老人、一对夫妻和一个孩子”的家庭模式，使家庭养老功能_____。目前，中国式养老大致有三种方式：家庭养老、社区养老和机构养老。而机构养老除国家投资的养老院外，需求最大的是一般工薪阶层消费水平可以负担的养老院，但这类养老院_____。而无论是哪种养老，背后都藏着两本账：经济账和感情账。

依次填入画横线部分最恰当的一项是（ ）

- A. 承担 减弱 供过于求
- B. 减轻 强化 于事无补
- C. 舒缓 失去 事半功倍
- D. 缓解 弱化 供不应求

18. 为了使机器人理解幽默，挖苦，讽刺或其它高层次的_____特征，不仅需要机器

人从声学特征中 _____ 情感，还需要他们理解语言的内在含义，并把对应的语言和这句话在表达时所传递的情感放在一起对比。

填入划横线部分最恰当的一项是（ ）

- A. 交流 识别 B. 情感 区分 C. 潜在 体会 D. 复杂 分析

19. 天价罚单是一种 _____，也是一种立场，它所释放的执法 _____ 就在于，罚款不是儿戏，要罚得你肉疼，罚得你不敢无动于衷。但是对于污染企业并非只有罚款一个法子。新环保法明确规定，对于拒不改正者，可对违法企业责任人，引入治安拘留处罚；构成犯罪的，依法追究其刑事责任。

填入划横线部分最恰当的一项是（ ）

- A. 昭告 理念 B. 宣告 思维 C. 宣示 逻辑 D. 信号 方式

20. 一个国家的发展道路合不合适，只有这个国家的人民才最有发言权。我们主张，各国和各国人民应该共同享受发展成果。世界长期发展不可能建立在一批国家越来越富裕而另一批国家却长期贫穷落后的基础上。只有各国共同发展了世界才能更好发展，那种 _____、转嫁危机 _____ 的做法，既不 _____ 也难持久。

依次填入划横线部分最恰当的一项是（ ）

- A. 嫁祸于人 害人害己 可能
B. 兄弟阋墙 损人利己 团结
C. 以邻为壑 害人害己 安全
D. 以邻为壑 损人利己 道德

二、阅读理解

（共 20 道题。阅读短文，短文后面有若干不完整的陈述，要求你从四个选项中选出一道来完成每一陈述。注意：供选择的答案有时可能是对短文的内容重复，有时则满足了陈述中其他方面的要求，你的选择应与所提要求最相符）

21. 打个车，几个快递，叫个餐，被互联网改造的生活便利无比，但也要求人们不断输出自己的个人信息。无论是公共服务机构还是市场主体，都各自积累着大量个人信息资源。一些公共服务机构对于信息的管理还过于粗放，市场主体对大数据的摄取更是处于丛林法则阶段。由此衍生出无数信息交易产业链。浑然不觉中，个人信息泄露风险已如影随形。_____。

填入划横线部分最恰当的一句是（ ）

- A. 信息泄露愈发严重，骗子的骗术变得“与时俱进”

- B. 个人信息保护正面临前所未有的严峻考验
- C. 我们再任何情况下都不要将自己的个人信息告知别人
- D. 我国公民需要加强个人信息保护意识

22. 原始人类的思维方式有许多共同之处，表现在文化中，几乎所有原始文化都有自然神灵崇拜和图腾崇拜现象。人类愈是走向文明，也就愈是脱离自然，直至最后从自然界中彻底分离出来，成为独尊者，成为万物的主宰。在人与自然分离的文明进程中，即在人的自觉意识、自我意识确立的过程中，中西方哲学思维走出了两条截然不同的路。

承接上述文字，下文最可能进行的是（ ）

- A. 阐述中西方哲学各自的思维方式
- B. 举例证明中西方文化中都存在着自然神灵崇拜和图腾崇拜
- C. 对人与自然相分离的文明进程进行反思
- D. 论述中西方文明进程的各自特点

23. 一个国家移民出去的人，一般都是打拼精神很足的人。一般的移民，特别是第一代，他们吃的苦要比在国内生存多太多了。而当初的那些人，他们承受着文化上的断裂，承受着经济上立足的困难，但仍旧顽强地打拼、生存。他们和民族根系的联系很远，但也正因为如此，他们对于民族文化的东西更加需要。实际上，移民中保留的传统文化，许多时候并不比国内少。而在异国他乡依旧遵循这些传统文化的人，其实也是不同民族之间文化交流的一种重要方式。

这段文字主要是（ ）

- A. 介绍不同民族之间文化的差异
- B. 强调移民对本民族文化的重视
- C. 阐述传统文化对文化交流的影响
- D. 说明移民在国外文化生活的困境

24. 大部分人会通过体重来判断自己是否肥胖，其实并不准确。有专家指出_____。脂肪对人体构成非常重要，过多或过少都会影响健康，一般来说，男性体脂率高于 25%，女性高于 30%属于肥胖，会引发高血压、高脂血症、冠心病、糖尿病等疾病；体脂率过低，即男性低于 5%，女性低于 13%，可能引起身体功能失调。

填入划横线部分的语句，与上下文衔接最恰当的一项是（ ）

- A. 肥胖的标准对于不同的性别的人也不尽相同
- B. 控制体脂率才是健康减肥的关键

- C. 很多人一说减肥就认为是减体重，这其实是个误区
- D. 判断是否肥胖更准确的标准应该是体脂率

25. 植物科学画家并没有想象中浪漫，大多数时间，他们面对的是黯然失色的标本，而不是鲜活的植物。标本解剖是必须掌握的技能。每个植物标本解剖后区别于其他植物的特点都要一丝不苟地绘于图纸。关于植物的照片能作为辅助作画的手段，但不能代替植物画，因为它无法细致到剖面，又常会带入无关的细节。有的许多年前采集下的植物，随着气候和环境的变化已经消失了，存留下的标本就格外珍贵。而标本总是面临着虫噬的威胁，一旦有了植物画再转化为电子版本，信息就可以永远保留下来。

这段文字主要是（ ）

- A. 说明标本解剖技能对植物科学画家的重要性
- B. 展现植物科学画家为植物画像的工作细节
- C. 介绍植物画对植物标本研究的科学价值
- D. 强调植物标本面临的难以保存的困境

26. 所谓“乡绅”，就是乡间的绅士，即士大夫居乡者。由乡间士大夫组成的“乡绅”群体，他们有高于普通民众的文化知识和精神素养，有着为官的阅历和广阔的视野，对下层民众生活有深刻的了解。他们既可以将下情上达于官府甚至朝廷，也可以将官方的意旨贯彻于民间。他们在乡间承担着传承文化、教化民众的责任，同时参与地方教育和地方管理，引领着一方社会的发展。他们可以说是乡村的灵魂，代表着一方的风气和文化。

下列关于乡绅在乡村文化中的影响的叙述，不正确的一项是（ ）

- A. 由于特殊的文化素养和生活阅历，乡绅可以成为官府与民间上下通达的桥梁和纽带
- B. 乡绅作为成功的榜样，激励着乡村后辈学子奋发向上，使乡村形成了一个良性人才大循环
- C. 乡绅参与地方教育和地方管理，对促进神会发展起到了积极作用
- D. 乡绅在乡村承担着文化传承、教化民众的责任

27. 小型实体书店的消失是大势所趋，但好的实体书店往往能成为一个城市的文化地标，如今很多有知识的游客到城市旅游，常去逛那些特色书店这些书店已成为所属城市独具特色的文化景观，然而有关部门却听任其自生自灭，保护实体书店，保护的不只是一道文化景观，也包括文化的尊严。

对上述语段理解不正确的是（ ）

- A. 一个城市的文化地标是有文化特色的实体书店

- B. 保护有文化特色的实体书店也是维护文化尊严
- C. 有文化特色的实体书店可增加城市旅游吸引力
- D. 保护有文化特色的实体书店是有关部门的职责

28. 民间艺术并不是今天才受到人们关注，早在汉代（一说始于秦王朝期间）中央政府就设立“乐府”以“采风”，其主要功能就在于收集民间歌谣，乐府之所以关注民间歌谣，主要是侧重于通过这些歌谣察知民情，它恐怕并不承担整理、改编民间歌谣以“繁荣文化艺术事业”的功能。严格的说，民间艺术活动真正大规模地受主流文化人的关注，要迟至二十世纪。

下列选项中，对这段话的理解正确的是（ ）

- A. 人们关注民间艺术的时间存在争议
- B. 民间艺术一直没有受到主流文化的认同
- C. 民间艺术得到人们关注是在二十世纪
- D. 汉代的乐府采风是为了整理民间歌谣

29. 目前国内关于个人信息保护的法规分散，既缺乏对个人信息的界定，也缺乏可操作的标准，执法主体缺位，执法力度不足。对于个人信息保护的难题，业内讨论认为主要有三方面：保护程度界定，难以区别正当或非法使用个人信息；信息泄露取证，难以确定个人信息是在哪个环节发生泄露；执法力度统一，难以确保多个监管主体执法的宽严尺度一致。

因此，个人信息保护的关键在于（ ）

- A. 保障信息充分流通的同时避免滥用个人信息
- B. 行业自律与政府部门监管相结合
- C. 要形成一定程度的执法威慑
- D. 要出台专门的法律法规保护个人信息

30. 在中华大地上，农耕时代很长。这正是人和人的关系最为密切的时代，也正是人和大自然的关系最为密切的时代。也正是在农耕时代，人类开始有了闲暇和冥想，在主观思维发展和客观环境变化的刺激下，深思自己身与心的关系，农耕社会特别是原始农耕社会，一个人是种不了地的，需要多人合作，甚至需要整个部落一起上，这就培育了以“和”处理人际关系的伦理。俗话说“种瓜得瓜，种豆得豆”，其实质是对现实与未来之间关系的揭示，中国人秉承“忠厚传家久，诗书继世长”就由此来。

这段文字意在说明（ ）

- A. 中华传统文化的历史十分悠久

- B. 农耕生活推动了人类社会的发展
- C. 人际合作从农耕社会开始就很密切
- D. 农耕时代的文化孕育发展了中华文化。

31. 盘点 2013 年的文化日历，“土豪”的异军突起是一道独特风景。谁是土豪？顾名思义，“土”意味着土气和粗野，“豪”意味着显赫和华丽，既豪且土，则意味着光有钱财而品位不高，追求奢侈而审美不足，炫耀消费而内涵不够。于是，“只买贵的，不买对的”，充满喜感的消费方式，最能契合人们心中的土豪形象：到国外像买白菜一样狂扫 LV 包，把迎娶新娘的百元大钞拼成羊肉卷形状，年终分红用数百斤现金垒成“钱墙”……总之，土豪们的鲜明特点就是：有钱，有钱，有钱；座右铭就是，能用钱摆平的都不是事儿。

根据这段文字，下列说法正确的是（ ）

- A. 人们对土豪的态度是不屑一顾、嗤之以鼻和充满仇恨的
- B. “土豪”的异军突起是 2013 年的文化日历中靓丽的一笔
- C. 人们期待土豪们物质丰盈之后，能够更追求精神富足
- D. 到国外像买白菜一样狂扫 LV 包是土豪们的真实写照，土豪们会用钱来解决所有的事情

32. 玫瑰也许是我们能见到的最复杂的花卉。其花型、颜色和香味千变万化，既有雅致的种玫瑰，也有馨香的园林玫瑰，还有宝石般耀眼的现代杂交玫瑰。如今，世界各地生长着 200 多个种类的玫瑰，由于人们不断通过杂交试图获得更美、更香、花期更长的玫瑰，因此我们常见的园艺和商业用途的玫瑰品种一直在以每 5 年一批的速度进行着更新换代。要识别出一种玫瑰非常困难，连专家们的观点也往往有很大差异，因为玫瑰的种类非常容易发生变化，也很容易杂交；杂交玫瑰不仅可以通人工控制进行选种，也大量地自然形成。

这段文字意在说明（ ）

- A. 杂交技术在培育玫瑰新品种中作用显著
- B. 如何对玫瑰进行科学分类目前尚无定论
- C. 玫瑰的商业价值刺激着人们不断开发新品种
- D. 自然属性与人为需求导致玫瑰品种十分复杂

33. 人类思维进化的顺序，是从具象到抽象，从图形到语言。粗粗了解一点文物史的人都知道，早期文明及其器物上只有图形，如世界各地的史前壁画，如半坡陶器上的鱼纹、人脸等。没有文字，因为语言能力不发达。语言能力发达以后，才有文字，人类文明才再真正脱离原始阶段。而文字的进化本身也遵循同样过程，最初是图形，不脱具象，涵盖能力很有

限，慢慢离开图形阶段，真正成为文字，表示人的语言能力愈来愈深刻，思维愈来愈独立。

这段文字谈论的主题是（ ）

- A. 研究文物史的意义
- B. 语言文字的主要功能
- C. 史前文明的表现形式
- D. 思维的演变过程

34. 农民是弱势群体：以补贴照顾弱势群体，是正当的，合理的，应该的。只是，如果补贴的方式不够妥当。则会在农民受惠的同时，还会引发一些问题。当这些问题变得突出之后。补贴就陷入了困境，进退两难。这些年，我国的粮棉补贴政策，就经历了这样的过程。在棉花、玉米方面，进行了突围性的探索，取得了初步成效，但也还存在一些问题；而在稻谷、小麦方面，则止与原地，仍然有待拿出破解方案。

对上述文段中“这样的过程”理解正确的是（ ）

- A. 补贴陷入困境，进退两难
- B. 政府补贴等方式不够妥当
- C. 农民受惠的同时会引发一些问题
- D. 在棉花、玉米方面取得初步成效

35. 一项新技术的研究者介绍，目前这项技术主要运用在医学领域，希望在癌症的早期监测和诊断中应用。这种方法以后可以用于肿瘤细胞的检测，一方面降低肿瘤细胞检测成本，另一方面可以实现在细胞尚未病变时就发现癌变的可能性，提早判断。这项新的突破，可以事先在细胞中找到“犯罪嫌疑人”的藏身之地，观察他们有没有“预谋”犯罪，方便以后“正义力量”及时将他们捕获制裁。

给这段文字加上标题，最恰当的是（ ）

- A. 医疗技术研究取得重大突破
- B. 新技术即将全面应用于医疗领域
- C. 新技术有望发现癌前病变
- D. 癌症治疗新技术问世

36. 以下句子组成语意连贯的一段文字，排序最恰当的是（ ）

- ①这个任务的复杂性要求各门不同科学之间密切对话
- ②无论对社会或对个人来说，这个任务所提出的问题日益复杂。
- ③只有通过他们的共同努力，这些复杂问题才能得到解决。

- ④为此，他们像目前那样仅提供许多零星的新成果是不够的；
⑤改善每个人的生活是人类当今最重要的任务之一。
⑥自然科学、工程科学和社会科学必须为解决这些问题奠定基础

- A. ⑤①②④③⑥
B. ⑤⑥③②④①
C. ⑤②⑥④①③
D. ⑤②④⑥③①

37. ①但是，在读书中，就是要过河拆桥

- ②既然知道了那个意思以后
③这就是古人所说的“得意忘言”
④语言文字是帮助了解书的意思的拐棍
⑤最好扔了拐棍
⑥在人与人的关系中，过河拆桥是不道德的事

将以上六个句子重新排列，语序正确的是（ ）

- A. ④②⑤③⑥①
B. ⑥①③④②⑤
C. ④⑤②⑥①③
D. ②⑤⑥③①④

38. ①在作者的想象力与读者的想象力比较中，如果读者赢了，那这部作品必定惨败

②科幻作品永远不会说：“世界就是这样的”。而始终在说：“在这个世界上，还有很多很多人类所不了解的东西，每个人都可以尽情去思索、去发现。”

③如果在作者自己的想象力和“自我对世界已有认知的限制”之间的较量中，作者的想象力输了，那么注定这部作品即使没有失败也是平淡无奇的。

- ④这些较量都是非常残酷的。
⑤每一部科幻作品毋庸置疑都是一场想象力的较量
⑥在一部作品中，既有作者的想象力与读者的想象力相比较量，也有作者自己的想象力与

“自我对世界已有认知的限制”之间的较量。

将以上 6 个句子重新排列，语序正确的是（ ）

- A. ②⑤⑥④①③
B. ②⑥①③⑤④

C. ⑤④⑥③①②

D. ⑤②①③⑥④

39. ①在这里，人们已经从浮躁的，高速的城市发展中沉淀下来，希望获得内在的宁静

②二十多年以来，从外表上看，那里的变化并不是非常巨大

③整个城市显得平和恬静

④每年，我仍旧有机会飞往硅谷，参加各种年会

⑤包括节能减排的新举措

⑥是生活在那里的人正在源源不断的为它注入各种生机

将以上6个句子重新排列，语序正确的是（ ）

A. ④②⑥⑤①③

B. ②④⑤⑥①③

C. ②④①③⑤⑥

D. ④①③②⑥⑤

40. 按顺序排列下面几个句子，组成语意连贯的一段话，排序最恰当的一项是（ ）

①他不会趋炎附势地扭曲自己的形象，涂改自己灵动的线条

②除非用烈火将其燃为灰烬，使之化为尘埃

③真正美丽的生命执着的追求真善美

④否则美丽的生命就像一条清澈的小溪，永远百折不回、乐观坚强的奔向大海直到最后一滴

⑤更不会让自己美丽的底色涂上尘埃

A. ③①②④⑤

B. ①⑤②④③

C. ③①⑤②④

D. ①⑤③②④

第二部分 数量关系

一、数字推理

（共10题。给你一个数列，但其中缺少一项，要求你仔细观察数列的排列规律，然后从四个供选项的选项中选择你认为最合理的一项，来填补空缺项，使之符合原数列的排列规律）

请开始答题：

15	2	3
10	?	17
22	4	14

41.

A.7

B.5

C.3

D.9

42. 3, 2, 4, 5, 16, ()

A.45

B.15

C.65

D.75

43. $\frac{1}{2}$, 1, $\frac{7}{6}$, $\frac{5}{4}$, $\frac{13}{10}$, ()。

A. $\frac{4}{3}$

B. $\frac{3}{4}$

C. $\frac{11}{14}$

D. $\frac{17}{18}$

44. -1, 1, 5, 11, 19, 29, ()

A.30

B.31

C.32

D.41

45. 23, 56, 1130, 5330, ()。

A.111580

B.112430

C.121540

D.111590

46. 4, 2, 2, 0, (), -2, 4

A.-2

B.-1

C.1

D.2

47. 1, 9, 7, 27, 13, (), 19, 63

A.25

B.33

C.45

D.54

48. 212, 207, 198, 180, 171, ()

A.160

B.163

C.162

D.161

49. $\frac{1}{4}$, $\frac{3}{10}$, (), $\frac{2}{5}$

A. $\frac{23}{50}$

B. $\frac{17}{40}$

C. $\frac{11}{30}$

D. $\frac{7}{20}$

50. 2, 6, 30, 60, 130, 210, ()

A.340

B.350

C.360

D.370

二、数字运算

(共 10 题，在这部分试题中，每道试题呈现一段表述数字关系的文字，要求你迅速、准确地计算出答案)

51. 小伟参加英语考试，共 50 道题，满分为 100 分，得 60 分算及格。试卷评分标准为做对一道加 2 分，做错一道倒扣 2 分，结果小伟做完了全部的试题但没及格。他发现，如果他少做错两道题就刚好及格了。问小伟做对了几道题：()

- A. 32
- B. 34
- C. 36
- D. 38

52. 五名工人按甲—乙—丙—丁—戊的顺序轮流值夜班，每人值班 1 天休息 4 天。某日乙值夜班，问再过 789 天该谁值班：()

- A. 甲
- B. 乙
- C. 丙
- D. 戊

53. 某钢铁厂生产一种特种钢材，由于原材料价格上涨，今年这种特种钢材的成本比去年上升 20%。为了推销该种钢材，钢铁厂仍然以去年的价格出售，这种钢材每吨的盈利下降 40%，不过销量比去年增加了 80%，那么今年生产该种钢材的总盈利比去年增加了多少：()

- A. 4%
- B. 8%
- C. 20%
- D. 54%

54. 数字 3、5 至少都出现一次的三位数有多少个：()

- A. 48
- B. 52
- C. 54
- D. 60

55. 在一杯清水中放入 10 克盐，然后再加入浓度为 5% 的盐水 200 克，这时配成了浓度为 2.5% 的盐水，问原来杯中有清水多少克：()

A. 460 克

B. 490 克

C. 570 克

D. 590 克

56. 清晨 5 点时，时钟的时针和分针的夹角是多少度：（ ）

A. 30 度

B. 60 度

C. 90 度

D. 150 度

57. 有甲、乙、丙三辆公交车于上午 8:00 同时从公交总站出发，三辆车再次回到公交总站所用的时间分别为 40 分钟、25 分钟和 50 分钟，假设这三辆公交车中途不休息，请问它们下次同时到达公交总站将会是几点：（ ）

A. 11 点整

B. 11 点 20 分

C. 11 点 40 分

D. 12 点整

58. 某大型会议室共有 20 排座位，第一排有 12 个座位，以后每排都比前一排多 1 个座位，则该会议室共有（ ）个座位。

A. 430

B. 420

C. 410

D. 440

59. 双十一期间小王在网上买了 16 元一袋的纸巾、10 元一支的牙刷和 7 元一瓶的洗手液若干，共花了 150 元。如果他买的每一样物品数量都不同，纸巾数量最多而洗手液最少，那么他买的牙刷数量比洗手液多几个？（ ）

A. 1

B. 2

C. 3

D. 4

60. 一把钥匙只能开一把锁，现在有 4 把钥匙 4 把锁，但不知道哪把钥匙开哪把锁，最

多要试多少次就能配好全部的钥匙和锁？（ ）

- A. 6
- B. 8
- C. 7
- D. 9

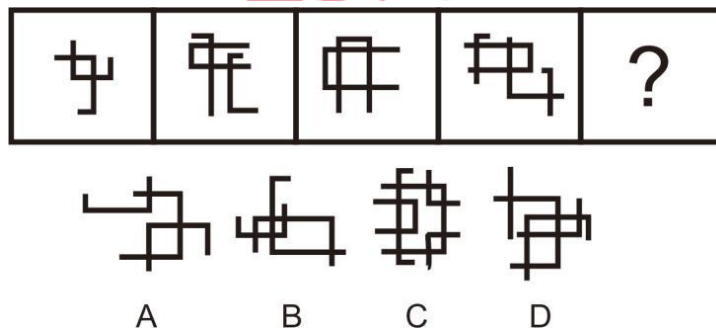
第三部分 判断推理

一、图形推理

（共 10 题。要求你从四个选项中选择你认为最适合取代问号的一个。正确的答案应不仅使两套图形表现出最大的相似性，而且使第二套图形也表现出自己的特征）

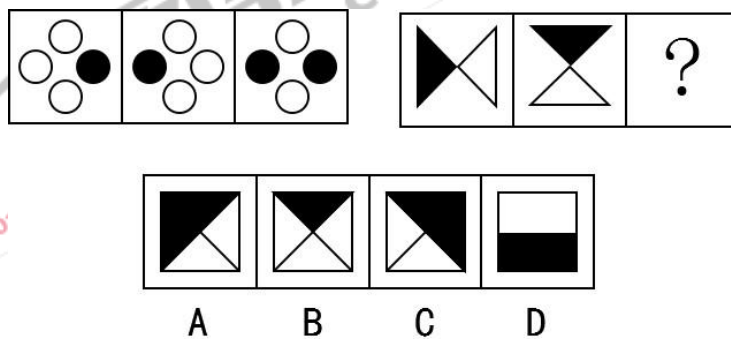
请开始答题：

61. 根据前四个图形的规律，判断第五个图形应该是（ ）

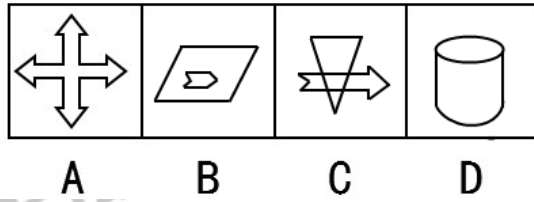
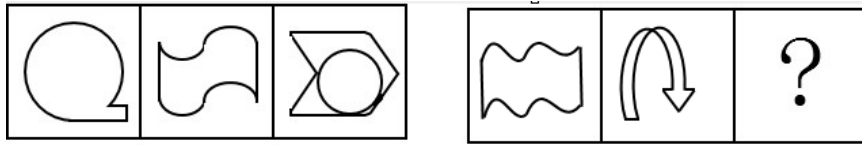


62. 从所给出的四个选项中，选择最合适的一项填入问号处，使之呈现一定规律性。

（ ）



63. 请从所给的四个选项中，选出一个填入问号处，使之呈现一定的规律性。（ ）

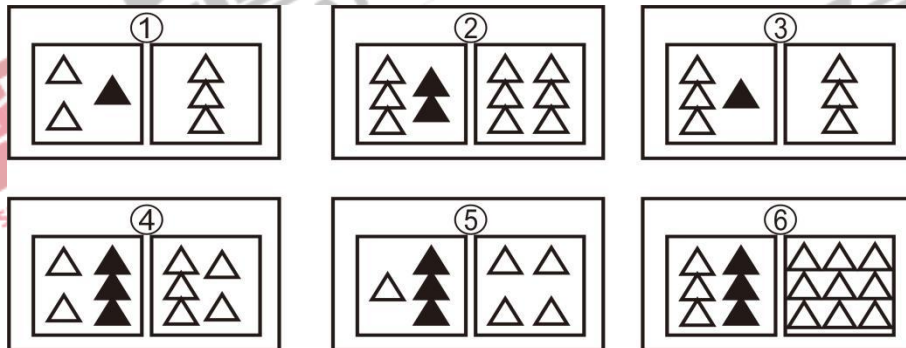


64. 把下面的六个图形分为两类，使每一类图形都有各自的共同特征或规律，分类最为恰当的一项是（ ）



- A. ①③⑤, ②④⑥
- B. ①②③, ④⑤⑥
- C. ①②⑤, ③④⑥
- D. ①③④, ②⑤⑥

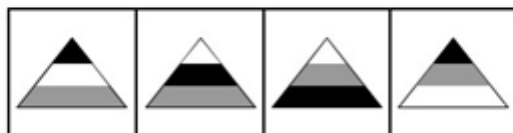
65. 把下列六个图形分为两类，使每一类图形都有各自的共同特征或规律，分类正确的是（ ）



- A. ①②③, ④⑤⑥
- B. ①③⑥, ②④⑤
- C. ①④⑤, ②③⑥

D. ①⑤⑥, ②③④

66. 请从所给的四个选项中, 选出一个填入问号处, 使之呈现一定的规律性。()



A B C D

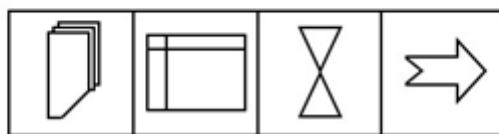
67. 从所给出的四个选项中, 选择最合适的一项填入问号处, 使之呈现一定规律性。

()



A B C D


68. 请从所给的四个选项中, 选出一个填入问号处, 使之呈现一定的规律性。()



A B C D

69. 把下面的六个图形分为两类, 使每一类图形都有各自的共同特征或者规律, 分类正

确的一项是：（ ）



- A. ①②⑤, ③④⑥ B. ①③⑥, ②④⑤
C. ①③④, ②⑤⑥ D. ①⑤⑥, ②③④

70. 把下面的六个图形分为两类,使每一类图形都有各自的共同特征或者规律,分类正确的一项是：（ ）



- A. ①②③, ④⑤⑥ B. ①③⑤, ②④⑥
C. ①②⑤, ③④⑥ D. ①③⑥, ②④⑤

二、定义判断

（共 10 题，每道题先给出一个概念的定义，然后分别列出四种行为，要求你严格依据定义从中选出一个最符合或最不符合该定义的答案。注意：假设这个定义是正确的，不容置疑的。）

71. 反社会人格犯罪是行为人基于反社会型变态人格而实施的犯罪行为。行为人的特点是：①智力和精神上并无明显缺陷，没有妄想或其他思维障碍；②多数有劣迹前科，有多次、多类型的违纪、违法、犯罪行为；③行为冲动、缺乏深思熟虑和明确的动机；④没有悔过和自责的心理，在接受教育或服刑以后仍然照旧违法犯罪，难以自控。

下列选项中行为人精神智力正常，其中最符合反社会人格犯罪特征的是（ ）

- A. 陈某经常怀疑有人跟踪自己，某天下班后将走在自己后面的李某刺伤
B. 林某多次上班迟到被领导当众呵斥，林某感觉受辱，将领导打成重伤
C. 吴某有偷盗前科，某天下班遭遇抢劫，与劫匪搏斗中将劫匪打成残疾
D. 王某街上闲逛，突然将陌生人郭某连刺两刀，随后将停在路边的汽车砸毁

72. 知识经济,是指以知识为基础的经济,是与农业经济、工业经济相对应的一个概念,它以人才和知识等智力资源为资源配置第一要素,以知识、信息等智力成果为基础构成的无

形资产投入为主，是一种富有生命力的新兴经济形态。

根据上述定义，下列不属于对知识经济描述的是（ ）

- A. 高科技产业成为经济的新兴产业
- B. 以稀缺自然资源为主要依托
- C. 以知识产权转让、许可为主要形式的无形商品贸易大大发展
- D. 农业专家推广立体化种植技术，极大提高了作物的产量

73. 泛化，是指某种特定刺激的条件反应形成后，另外一些类似的刺激会诱发同样的条件反应。新刺激越近似于原刺激，条件反应被诱发的可能性就越大。

根据上述定义，下列可以被称为泛化现象的是（ ）

- A. 一朝被蛇咬，十年怕井绳
- B. 甲某有次吃苹果，发现果核里有一条青虫，于是怀疑自己吃了虫子，一直感到恶心
- C. 乙喜欢吃面条，也喜欢吃米粉
- D. 丁小时候有一次不慎栽入水缸，差点淹死，从此丁再也不敢去水边游玩，更不敢下水游泳

74. 忒休斯之船是一种同一性悖论，假定某物体构成要素被置换后，它依旧是原来的物体吗？这一问题在公元一世纪时由普鲁塔克提出：如果忒休斯船上的木头被逐渐替换，知道所有的木头都不是原来的木头，那这艘船还是原来的那艘船吗？此类问题被称为“忒休斯之船”的问题。根据上述定义，下列不属于“忒休斯之船”的问题的是（ ）

- A. 祖父留下的一把斧头，刀刃换了3次，斧柄换了四次
- B. 湖人队数年来，有数名老球员退役，也有数名年轻球员加入
- C. 汽车报废后废铁被回收炼成铁块，用该铁块制成无数汽车模型
- D. 某大学的雷锋小组成立15年来，毕业季有人离开，开学后有人加入

75. 学习迁移是一种学习对另一种学习的影响，它广泛的存在于知识、技能、态度和行为规范的学习中，任何一种学习都要受到学习者已有知识、经验、技能、态度等的影响，只要有学习就有迁移。迁移既是学习的继续和巩固，又是提高和深化学习的条件。根据上述定义下列属于学习迁移的是（ ）

- A. 自从买了复读机，夏美觉得英语没那么难学了
- B. 会打羽毛球的人学打排球相对容易
- C. 因为买了舒服的练功服，张媛对学习太极拳更有信心了
- D. 小明每天学习结束后都会将课桌收拾干净

76. 消费习俗是指消费者受共同的审美心理支配，一个地区或一个民族的消费者共同参加的人类群体消费行为，它是人们在长期的消费活动中相沿而成的一种消费风俗习惯。根据上述定义，下列不属于消费习俗的是（ ）

- A. 春节来临，红色衣物广受欢迎
- B. 每年双十一前后网购火爆
- C. 美国许多家庭圣诞节都会装饰圣诞树
- D. 苗族聚居区银饰需求大

77. 失语症是指由于神经中枢病损导致抽象信号思维障碍，而丧失口语、文字的表达和领悟能力的临床症候群。

根据上述定义，下列可能患失语症的是（ ）

- A. “狼孩”回归社会后无法与人进行言语交流
- B. 幼时高烧听力受损致使发音有极大缺陷，影响交流
- C. 因受刺激精神失常，造成言语理解和表达上的困难
- D. 因车祸头部受创，虽能模仿他人言语但经常答非所问

78. 危机公关是指由于企业管理不善、同行竞争甚至遭遇恶意破坏或者是外界特殊事件的影响，而给企业或者品牌带来危机，企业针对危机所采取的一系列自救行动，包括消除影响、恢复形象等。

根据上述定义，下列属于危机公关的是（ ）

- A. 由于台风影响，某企业的户外广告牌被风吹倒，企业派员工前去修复
- B. 某企业由于重要生产设备被盗，严重影响生产，高层领导召开紧急会议，研究对策
- C. 某企业在行业竞争中失去领先地位，利润大幅下滑，企业高层领导决定转向新的领域
- D. 某大型餐饮集团的一个连锁店由于卫生状况差被曝光后，该集团领导通过媒体向公众道歉，并借此机会发布新的企业卫生管理标准

79. 红叶子理论认为，一个人职业的成功不在于红叶子数目的多少，而在于他是否具备一片特别硕大的红叶子，这片特别硕大的红叶子不是与生俱来的，需要根据个人优势不断努力才能获得。

根据上述定义，下列哪项能用红叶子理论解释（ ）

- A. 小刘虽然偶尔迟到，但对工作尽职尽责、富有团队精神
- B. 小张本科学习数学专业，但是他觉得数学专业比较枯燥，所以他选择攻读经济学硕

士

C. 小李的销售能力和财务水平一般，但对市场特别敏感，他努力发展这方面优势，最后成了一名企业家

D. 小文是英语系学生，但口语不太好，她辅修了国际法方面的课程，最后成了一名出色的律师

80. 补偿性消费：指消费者通过消费来应对心理焦虑，补偿内心缺失的行为
假设这个定义是正确的，不容置疑的，则下列属于补偿性消费的是（ ）

A. 高先生下班高峰时段在路上被堵了一个小时，头脑发胀，口干舌燥他决定去买一瓶冰镇饮料降降火

B. 李女士因家务繁杂与老公吵了一架，气愤的离开家之后，她独自一个人去逛街，为自己买了许多新衣服

C. 因为近段时间工作压力很大，小李打算周末约上一群朋友去郊外的草坪上踢一场球，放松一下心情

D. 小王的婚期将近，他的父亲坚决要大摆筵席，认为不请客就收不回以前的人情投资，为了补偿以前的支出，他们在饭店订了几十桌酒席

三、类比推理

（共 10 题，先给出一对相关的词，要求你在备选答案中找出一对与之在逻辑关系上最为贴近或相似的词）

81. 糖：苦（ ）

A. 孤儿：可怜

B. 复杂：简单

C. 明确：模糊

D. 美国：弱小

82. 恐惧：惧怕（ ）

A. 陶醉：幻想

B. 陌生：生疏

C. 赏心悦目：触目惊心

D. 名副其实：名不副实

83. 时间：停顿（ ）

- A. 微生物：生长
B. 平行线：交叉
C. 物质：存爱
D. 河流：干枯
84. 荆棘：困难 ()
A. 布衣：学生
B. 折柳：惜别
C. 心腹：信任
D. 桎梏：束缚
85. 种植：丰收：减产 ()
A. 旅游：名胜：特产
B. 治疗：痊愈：病危
C. 努力：失败：成功
D. 家长制：反抗：服从
86. 洞庭湖：湖北：屈原 ()
A. 太行山：山西：庄周
B. 黄河：河南：商鞅
C. 黄山：安徽：曹操
D. 鄱阳湖：江西：朱熹
87. 出行：雾霾：口罩 ()
A. 休息：沙发：电视
B. 超车：公路：路标
C. 勘探：野外：地图
D. 娱乐：海滨：游泳
88. 生活水平：消费：收入 ()
A. 住宅：位置：功能
B. 价格：成本：供求
C. 产品：工艺：技术
D. 职业：生活：发展
89. 海马对于 () 相当于 () 对于珊瑚

- A. 海龙 海葵
- B. 河马 礁石
- C. 木马 海螺
- D. 贝壳 海带

90. 计算之于（ ）相当于实验之于（ ）

- A. 推理 逻辑
- B. 物理 天文
- C. 数学 化学
- D. 大脑 助手

四、逻辑判断

（共 10 题，每题给出一段陈述，这段陈述被假设是正确的，选出一个答案，注意，正确的答案应与所给的陈述相符合）

91. 有研究表明，人体皮肤中的一种化合物在接触阳光中的紫外线之后，会形成维生素 D 的前体——维生素原，维生素原中的两个碳原子会自动重新排列，形成维生素 D3。这一化学过程发生的速度非常快，因此晒太阳能够补充人体所需维生素 D3。

以下最能削弱上述观点的是（ ）

- A. 人体所需的大量维生素原是通过膳食获取的
- B. 紫外线会杀死维生素原两个碳原子的自动重新排列反应所必需的酶
- C. 身体每天对维生素 D3 的需求量是非常大的
- D. 维生素原中的两个碳原子自动重新排列会消耗紫外线

92. 近年来，猫成为 A 国野生动物的最大威胁，这些猫（包括宠物猫和流浪猫、野猫、农场猫等无主猫）每年捕杀动物的数量达上百亿。有动物慈善机构建议可以给猫佩戴有铃铛的项圈。带有项圈的猫比其他猫的猎捕成功率至少降低三分之一，捕杀数量将因此而大幅减少。

以下哪项如果为真，最能对该建议形成质疑？（ ）

- A. 猫进行捕杀时，并不会顾及铃铛的响声
- B. 这一举措将导致猫食物链的断裂，可能导致该国猫的大量死亡
- C. 有数据显示，近年来死于车辆碾压、中毒的野生动物数量在急剧上升
- D. 给“无主猫”戴上项圈难度很大，而绝大部分动物由“无主猫”捕杀

93. 研究者招募了 128 名参加 155 英里超级马拉松的运动员，这些运动员需要穿越戈壁滩以及约旦和马达加斯加等地的沙漠。每名运动员均随机选择一只脚使用纸质医用胶带。结果，在胶带使用的部位，有 98 人没有足泡，而在未使用胶带的部位，则有 81 人磨出了足泡。研究者由此认为，这种纸质胶带对防止足泡有明显效果。

以下哪项如果为真，能够质疑上述结论？（ ）

- A. 沙漠中的长途奔跑比其他马拉松更易引发足泡
- B. 止汗剂、润滑油、粘着垫等对防止足泡更有效
- C. 运动员没有将胶带贴在足泡易发部位
- D. 纸质医用胶带粘着温和，扯掉时不会撕破足泡

94. 调查表明，国家放开二孩生育政策出台后，虽然有许多夫妻担心生得起养不起，但还是有很多夫妻有生育二孩的意愿。预计不久的将来，中国人口会有一个快速增长。

下列哪项如果为真，则最能加强上述结论？（ ）

- A. 生育技术有保障
- B. 养育二孩有保障
- C. 家庭收入快速增加
- D. 国民经济快速增长

95. 以往研究表明，玩手机游戏会使孩子学习成绩下降。而一项最新的调查结果显示，许多玩手机游戏的孩子学习成绩并没有下降，估计该结果公布后，家长会放宽对孩子手机游戏的管制。

上述推论基于的假设是（ ）

- A. 学习成绩不好的孩子通常更喜欢玩手机游戏
- B. 孩子的学习成绩是否下降取决于其玩手机游戏时间的长短
- C. 除玩手机游戏外，还有其他因素可能影响孩子的学习成绩
- D. 家长反对孩子玩手机游戏是因为他们认为玩游戏会导致孩子学习成绩下降

96. 有调查表明，学生玩手机时间过长会影响学习成绩。因此，学校作出决定，禁止学生在上课期间使用手机。

以下最能质疑该学校决定的一项是（ ）

- A. 学生上课期间使用手机查询学习资料
- B. 学生使用手机有利于提高交往能力
- C. 禁止使用手机会引起学生不满情绪

D. 学生主要在课余时间使用手机

97. 考古研究发现，并非所有的恐龙发掘现场都会发现恐龙骨头。如果上述调查结果是真的，则可以推出的是（ ）

- A. 有的恐龙发掘现场没有发现恐龙骨头
- B. 少数恐龙发掘现场发现了恐龙骨头
- C. 所有恐龙发掘现场都没有发现恐龙骨头
- D. 所有恐龙发掘现场都发现了恐龙骨头

98. 父亲鼓励即将大学毕业大儿子去考公务员，儿子说：“我又不想当官，干嘛去考公务员。”儿子的回答包含的前提是（ ）

- A. 要当官，需要先考公务员
- B. 只有想当官的，才去考公务员
- C. 当官没什么意思
- D. 考上公务员一定能当官

99. 1984年，英国科学家首次发现南极上空出现臭氧层空洞。臭氧层空洞一般出现在每年9~10月，也就是南极的春季到夏季。近日，某研究小组研究发现，2015年9月臭氧层空洞的面积比2000年同期缩小了450万平方公里，他们认为过去30年中，世界各国为缩小南极上空臭氧层空洞而采取的种种减排措施已收到效果。

以下哪项如果为真，最能支持研究小组的讨论？（ ）

- A. 研究同时发现，2015年臭氧层空洞出现的时间比2000年缩短了10天
- B. 北极地区和地球的第三极---青藏高原受到的臭氧层破坏也有减轻趋势
- C. 2011~2015年间臭氧层空洞直径出现扩大趋势是火山频繁喷发造成的异常情况
- D. 早在1987年，国际社会就签署《蒙特利尔协定书》淘汰消耗臭氧层的物质

100. 随着人们生活和工作逐渐进入高楼大厦，人们接触日光的机会变少，研究发现，日光是合成维生素D的必要条件，而维生素D是促进钙吸收的关键因素，因此有人得出结论：现代人更容易患骨质疏松等因缺钙引起的疾病。

以下哪项为真，最能质疑上述结论？（ ）

- A. 骨质疏松疾病患者多晒太阳就可以缓解或治愈
- B. 现代人饮食结构中的含钙食品比以前丰富很多
- C. 骨质疏松症患者接触日光的时长比其他人无异
- D. 口服维生素D片是加了促吸收剂的合成配方

第四部分 资料分析

一、根据所给资料，回答下列问题。

社会服务基本情况

单位：亿元

指标	2007年	2008年	2009年	2010年	2011年	2012年	2013年	2014年
社会服务事业费支出	1215.5	2146.5	2181.9	2697.5	3229.1	3683.7	4276.5	4404.1
基本建设投资总额	47.7	66.6	157	183	218.5	235	292.8	282.2
社会服务机构固定资产原值	3973	4592.8	5198	6589.3	6676.6	6675.4	6810.2	7213

101. 2007-2014年，社会服务事业费支出中增长额最多的是（ ）。

- A. 2008年
- B. 2010年
- C. 2011年
- D. 2013年

102. 2007-2014年，基础建设投资总额增长率超过20%的有（ ）个。

- A. 2
- B. 3
- C. 4
- D. 5

103. 2007-2014年，社会服务事业费平均支出约为（ ）亿元。

- A. 2143.3
- B. 2979.4
- C. 3150.1
- D. 3329.8

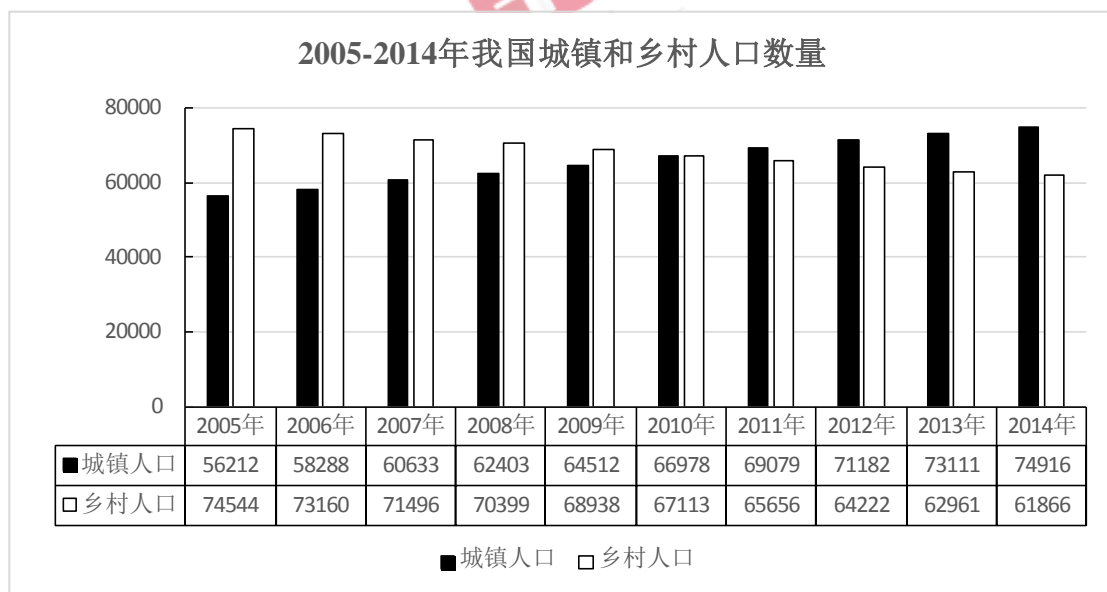
104. 2007-2014年，社会服务机构固定资产原值最高额比最低额增长（ ）。

- A. 72.5%
- B. 79.3%
- C. 81.6%
- D. 85.2%

105. 下列说法和资料相符的是 ()。

- A. 近 8 年社会服务各项指标都在平稳向上发展
- B. 基本建设投资总额增长最多的是在 2013 年
- C. 2011 年，三项指标中同比增长最多的是社会服务事业费支出
- D. 2007-2014 年，社会服务机构固定资产原值平均值为 4637.1 亿元

二、根据所给资料，回答下列问题。



部分国家和地区城镇化率

国家	1970 年	1980 年	1990 年	2000 年	2010 年	2011 年
世界	36.54	39.32	42.88	46.61	51.52	51.99
高收入国家	68.78	71.77	74.10	76.53	80.23	80.50
上中等收入国家	32.45	36.57	43.39	50.63	59.75	60.62
中等收入国家	28.82	32.66	37.88	42.92	48.99	49.58
低收入国家	14.82	18.61	21.48	24.26	27.60	28.00

美国	73.60	73.74	75.30	79.09	82.14	82.38
日本	71.88	76.18	77.34	78.65	90.54	91.14
德国	72.27	72.84	73.12	73.07	73.82	73.94
俄罗斯	62.47	69.75	73.39	73.35	73.65	73.82
巴西	55.91	65.47	73.92	81.19	84.34	84.60
印度	19.76	23.10	25.55	27.67	30.93	31.30
韩国	40.70	56.72	73.84	79.62	82.93	83.20

106. 城镇化率是指城镇人口占总人口的比重，2012年我国的城镇化率约为（ ）。

- A. 47.5%
- B. 50.5%
- C. 52.5%
- D. 56.5%

107. 如所有数据均为年末数据，则“十一五”期间（2006-2010年），我国平均每年约新增（ ）人口

- A. 不到500万
- B. 500多万
- C. 600多万
- D. 700万以上

108. 2011年，我国的城镇化率处于（ ）类国家的水平：

- A. 高收入国家
- B. 上中等收入国家
- C. 中等收入国家
- D. 低收入国家

109. 1990-2010年，下列各国中（ ）每万人中城镇人口数量增长最多：

- A. 美国
- B. 巴西
- C. 印度
- D. 韩国

110. 根据所给资料，下列表述正确的是（ ）。

- A. 2010年起，我国城镇化率首次超过50%
- B. 韩国城镇化率增量最高是在上世纪80年代
- C. 1970-2010年，德国的城镇化率每年均比上一年有所增长
- D. 中等收入国家2010年的城镇化率高于上中等收入国家10年前的水平

三、根据所给资料，回答下列问题。

2017年上半年，S市接待游客总人数1.4亿人次，实现旅游总收入2458.5亿元，同比分别增长4.9%和9.2%，增幅比2016年分别提高0.3个和0.2个百分点。旅游业发展呈现以下特点：

国内旅游市场保持稳步增长。上半年，S市接待国内游客1.3亿人次，同比增长5.2%；实现国内旅游收入2302.7亿元，同比增长10.0%。从游客构成看，外省游客8307.0万人次，本市游客5149.0万人次，同比分别增长8.2%和0.6%。从收入构成看，外省游客花费2103.2亿元，本市游客花费199.5亿元，同比分别增长10.4%和5.9%。

景区旅游持续向好。上半年，全市A级及以上旅游景区共接待游客1.5亿人次，同比增长4.2%，实现收入36.9亿元，同比增长8.6%，增幅同比提高1.8个百分点。从景区类型看，博物馆、历史文化景点、自然风景区、休闲娱乐场所是市民主要的游玩兴趣点。其中，博物馆型景区上半年共接待游客1016.3万人次，实现收入1.5亿元，同比分别增长12.7%和1.0%；历史文化观光型景区上半年共接待游客5388.3万人次，实现收入11.5亿元，同比分别增长11.3%和1.8%；自然山水型景区上半年共接待游客1257.6万人次，实现收入7.4亿元，同比分别增长5.1%和23.8%；休闲娱乐型景区上半年共接待游客1216.8万人次，实现收入3.7亿元，同比分别增长3.9%和2.0%。

住宿业稳步发展。上半年，全市限额以上住宿业单位累计接待住宿者2008.1万人次，同比增长4.2%，其中接待国内住宿者1852.4万人次，同比增长4.9%；实现营业收入213.9亿元，同比增长0.4%，其中客房收入和商品销售收入分别增长2.9%和3.4%。限额以上住宿业平均房价497.7元/间，同比上涨3.0%；平均出租率64.0%，同比提高2.8个百分点。

观光民俗旅游收益提高。上半年，观光园加大宣传力度，创新发展模式，民俗旅游发展不断规范，强化品牌建设，观光民俗旅游收入17.7亿元，同比增长4.9%。其中，观光园均收入99.5万元，同比增长12.3%，民俗户户均收入3.7万元，同比增长3.4%。

111. 2016年，S市接待游客总人数同比增长()，实现旅游总收入同比增长()。

A. 4.9% 9.2%

B. 4.6% 9.0%

C. 4.1% 8.9%

D. 3.8% 8.7%

112. 2017 年上半年，S 市接待外省游客约比本市游客（ ）万人次

A. 多 3158.0

B. 少 3158.0

C. 多 3046.0

D. 少 3046.0

113. 下列景区中，2017 年上半年实现收入占 S 市 A 级及以上旅游景区实现收入比例最大的是（ ）。

A. 博物馆型景区

B. 自然山水型景区

C. 历史文化观光型景区

D. 休闲娱乐型景区

114. 2017 年上半年，S 市接待国内住宿人次占全市限额以上住宿业单位累计接待住宿人次的比重约为（ ）。

A. 92%

B. 86%

C. 74%

D. 79%

115. 根据上述资料，下列说法正确的是（ ）。

A. 2017 年上半年，S 市限额以上住宿业平均房价比 2016 年上半年要低

B. 2016 年上半年，S 市观光民俗旅游收入不足 15 亿元

C. 2016 年上半年，S 市限额以上住宿业平均出租率为 61.2%

D. 2017 年上半年，S 市历史文化观光型景区接待游客人次同比增幅大于博物馆型景区

四、根据所给资料，回答下列问题。

随着信息技术的迅猛发展和广泛应用，网络已经深入到社会的各个领域。青少年网络成瘾问题已经引起家庭、学校和社会的广泛关注，成为一个普遍关注的社会问题。

某市，2006 年的统计数据表明，该市青少年网络成瘾人数为 30000 人，比例达 10%，

其中，网络游戏成瘾的比例占到 60%，同比 2005 年网络游戏成瘾人数增长了 20%，网络游戏成瘾比例提高了 5 个百分点。网络成瘾表现出显著的性别差异，男性青少年网络成瘾的比例高达 20%，女性青少年的这一比例为 5%，且女性青少年网络成瘾者中，60% 沉溺于网络聊天，网络游戏成瘾的比例只有 30%。青少年网络成瘾问题不仅严重阻碍了青少年身心的健康发展，对社会的健康、和谐也造成了极大的危害。

116. 2006 年该市男、女青少年网络成瘾者各有多少人？

- A. 15000, 15000
- B. 20000, 10000
- C. 25000, 5000
- D. 18000, 12000

117. 该市 2005 年青少年网络游戏成瘾人数为多少人？

- A. 10000
- B. 12000
- C. 15000
- D. 18000

118. 该市 2005 年青少年网络成瘾人数为多少人？

- A. 27273
- B. 25487
- C. 15858
- D. 28576

119. 该市 2006 年男性青少年网络游戏成瘾在网络成瘾中所占的比例为：

- A. 60%
- B. 65%
- C. 70%
- D. 75%

120. 该市 2006 年，男、女青少年各有多少人？

- A. 100000, 200000
- B. 150000, 150000
- C. 250000, 100000
- D. 300000, 100000



2018 年政府购买职业能力测验模拟卷（第十套）

第一部分 言语理解与表达

一、选词填空

（共 20 题。要求你从所给的四个选项中选出一个填空，使句子的意思表达得最准确）

请开始答题：

1. 他们是一群来自祖国各地、各行各业的文艺青年，他们每个人都经历过艰辛、不为人知的奋斗经历，在为青春梦想拼搏的道路上，他们品尝过心酸苦辣，却不_____。因为他们深知，在实现梦想的道路上，从来不是_____，为自己的人生梦想忘我拼搏奋斗，是一件无比幸福的事。

依次填入画横线部分最恰当的一项是（ ）

- A. 坚持不懈 得心应手
- B. 坚持不懈 一帆风顺
- C. 轻言放弃 得心应手
- D. 轻言放弃 一帆风顺

2. 中国国防部表示，“中方捍卫国家领土主权的决心和意志坚定不移，将不惜一切代价维护自主权和安全利益，”“强烈要求印方立即将越界的边防人员撤回边界线印方一侧，这是解决事态的前提和基础，”“印方不要_____，不要抱着_____的幻想”，“撼山易，撼解放军难”。

依次填入横线最恰当的一项是（ ）

- A. 心存侥幸 不切实际
- B. 心存侥幸 天马行空
- C. 肆意妄为 不切实际
- D. 肆意妄为 天马行空

3. 庄子一生穷困潦倒，却能超越贫困乐在其中，庄子_____，尤其善用寓言和小故事来表达自己的观点，同时嘲讽那些追名逐利的小人。庄子的文章充满了讽刺和挖苦。他的所作所为，经常令人_____，又令人拍案叫绝。

填入划横线部分最恰当的一项是（ ）

- A. 学富五车 匪夷所思

- B. 洞悉世事 如坠云雾
- C. 能言善辩 瞠目结舌
- D. 旁征博引 恍然大悟

4. 作为影视剧改编重要源头的网络文学，因抄袭引发的纠纷长期存在。事实上，网络小说抄袭之争虽然多发，但起诉的_____。出现这一情况，主要在于对于网络小说在何种情况下构成抄袭，业界_____。

依次填入划横线部分最恰当的一项是（ ）

- A. 多如牛毛 置若罔闻
- B. 大有人在 众说纷纭
- C. 寥寥无几 莫衷一是
- D. 屈指可数 仁者见仁

5. 传统经济学习习惯铺陈宏大的讲说辞，在人性的细节方面，总是_____，被抽空了细节的经济学，虽_____，拥有如庙堂般巍峨的气势，却还原和解读不了世界的真实。

依次填入画横线部分最恰当的一项是（ ）

- A. 语焉不详 高屋建瓴
- B. 闪烁其词 博大精深
- C. 含糊其辞 鞭辟入里
- D. 捉襟见肘 天马行空

6. 英国《金融时报》关于苹果公司拟以 10 至 15 亿英镑收购迈凯伦的报道在全球范围内_____。然而，该消息很快被迈凯伦否认，至此，一场跨界“盛世联姻”似乎_____不到 24 小时_____宣告破灭。

依次填入划横线处最恰当的一项是（ ）

- A. 不胫而走 还 就
- B. 不胫而走 可能 已经
- C. 秘而不宣 还 就
- D. 秘而不宣 可能 已经

7. 13 世纪的欧洲在经历了前后近 200 年的十字军东征之后，显得倦怠而疲惫，宗教战争的狂热逐渐被茶叶、陶瓷、香料和丝绸等这些被打上“神秘东方”标记的商品所替代。《马可·波罗游记》的记述_____地满足了西方的遐想，_____了西方对东方的无限神往。

填入划横线部分最恰当的一项是（ ）

- A. 难能可贵 产生

- B. 恰如其分 激起
- C. 淋漓尽致 引发
- D. 面面俱到 唤醒

8. 从社会学的眼光看，重复博弈的结果之一可能是博弈双方由陌生人变为熟人，甚至成为_____，并发展出超越当下经济互动关系之外的其他社会关系。假如当前的经济互动关系只不过是发生在双方之间的多种社会交往之中的一种，其他社会交往就可能_____，当事人在当下博弈中的策略选择。

依次填入画横线部分最恰当的一项是（ ）

- A. 伙伴 加快
- B. 搭档 操纵
- C. 朋友 影响
- D. 同僚 改变

9. 实践表明，_____良善的制度设计，住房保障已不再是政府的财政包袱，相反，它还是经济增长的_____。住房保障本身已表现出一种强大可持续的生命力，并成为能够产生稳定回报的投资品。

填入划横线部分最恰当的一项是（ ）

- A. 基于 机遇
- B. 处于 动力
- C. 由于 前提
- D. 鉴于 表现

10. 比成功更宝贵的是追求本身，能被失败阻止的追求是软弱的，它_____了力量的有限；能被成功阻止的追求是_____的，它显示了深度的有限。

依次填入划横线部分最恰当的是（ ）

- A. 泄露 脆弱
- B. 暴露 浅薄
- C. 泄露 浅薄
- D. 暴露 脆弱

11. 近年来儿童遗传疾病的发病率呈逐年上升趋势，且病因大多未明，研究儿童遗传病的发病_____，提高儿童遗传病的_____和_____水平，对于优生优育和提高我国人口出生素质的意义重大。

依次填入划横线部分最恰当的一项是（ ）

- A. 机制 治疗 诊断
- B. 机制 诊断 预防
- C. 机理 治疗 判断
- D. 机理 查找 预防

12. 经此改革之后，城乡居民所享受的公共服务将逐渐_____。比如，社会保障体系将逐步统一，乡村居民更有获得感，也更能体面生活，感受到权利平等_____的尊严。当然，这种公共服务的平衡不是_____，将城里居民的福利打折分给乡村居民，而是致力于共同提升，尤其是加大乡村居民的跃升水平。

依次填入划横线部分最恰当的一项是（ ）

- A. 合并 代表 一蹴而就
- B. 同步 带来 交相辉映
- C. 靠拢 彰显 削峰填谷
- D. 接近 显示 劫富济贫

13. 长期以来中国股市被外界冠之以“政策市”，股市走势深受政策影响。这并不是说，当股市_____时，监管层不该出台政策进行干预，而常常是在“父爱情节”下不当的政策干预，造成了股市发展_____了市场本身的规律。要改变这一现象，还是要加强制度建设。这虽是老话常谈，其实从一个侧面也说明了制度建设的重要性。

依次填入划横线部分最恰当的一项是（ ）

- A. 变动 背离 B. 异动 脱离 C. 涨跌 违背 D. 震荡 违反

14. 对于大多数的传统媒体而言或许很难_____建立具有上亿用户规模的超级平台实现“有话大声说”而通过我们的专业素养和专业能力做出“有品质”的作品，实现“好话传千里”，或许是我们更应该_____的。

依次填入划横线部分最恰当的一项是（ ）

- A. 实现 深思熟虑 B. 期待 知难而上 C. 想象 寤寐求之 D. 指望 孜孜以求

15. 能为几代人所激赏的文学名著，给改编者留下的再创造的天地就变得_____得多，对于已经定型、成熟的著名剧作，便是超越了“再创造”的界限，_____，是不宜提倡的。

依次填入划横线部分最恰当的一项是（ ）

- A. 平淡 因小失大 B. 束缚 舍本逐末 C. 局促 事倍功半 D. 狭小 徒劳无益

16. 数码时代的人类有了更多快捷储存知识的方法，许多知识信息在网络、电脑

上_____，无需再费时费力地加以经历。经历的有些方面可以_____给书籍和数码机器，但我们依然需要明白怎么才能最为有效地运用这些工具。因此，我们仍然需要让自己的头脑和经历处于最佳的状态。

依次填入划横线部分最恰当的一项是（ ）

- A. 唾手可得 委托 B. 俯仰即是 交付 C. 应有尽有 传递 D. 一览无余 转移

17. 许多历史学专业人士认为，使用传记来研究历史的做法很_____，粗不可靠，忽略了社会因素。错误地以为是伟人创造了历史。可事实上，社会是无数人公共作和生活的产物。因此历史就是无数传记的_____，优秀传记的秘密是弄清个人及社会之间的关系。

填入划横线部分最恰当的一项是（ ）

- A. 危险 集合 B. 夸张 再现
C. 业余 精华 D. 失败 汇聚

18. 在人们翘首期待中，随着“越过高山，越过平原，跨过奔腾的黄河长江”的_____旋律响起，国旗护卫队战士迈着_____的步伐走来，激动人心的时刻终于来到了。

依次填入划横线部分最恰当的一项是（ ）

- A. 壮烈 豪放
B. 雄壮 威严
C. 悠扬 矫健
D. 优美 雄健

19. 商标的生命力影响力大小取决于取代表达商品或服务的质量，_____商品或服务的品质过硬，商标_____过硬，_____企业培育商标品牌一定要有长跑意识，切忌只知靠竞投“地王广告”包装商标品牌，陷入“其兴也勃焉，其亡也忽焉”的过把瘾就死模式。

依次填入划横线部分最恰当的一项是（ ）

- A. 不仅 而且 如果
B. 只有 才能 因此
C. 首先 其次 因而
D. 因为 也 所以

20. 从道理上讲，多一些_____，就少一点误解成见，多一些_____，就多一分和谐共赢，但这还是道理上的，现实生活中公安民警的工作压力和心理压力都非常大，要求他们时时刻刻克制情绪也是确实属于高要求。

依次填入划横线部分最恰当的一项是（ ）

- A. 披肝沥胆 不教而诛
- B. 推心置腹 循循善诱
- C. 畅所欲言 耳提面命
- D. 各抒己见 苦口婆心

二、阅读理解

(共 20 道题。阅读短文，短文后面有若干不完整的陈述，要求你从四个选项中选出一道来完成每一陈述。注意：供选择的答案有时可能是对短文的内容重复，有时则满足了陈述中其他方面的要求，你的选择应与所提要求最相符)

21. 发达工业国家普遍存在以下长期趋势：首先是经济增长持续下滑，2008 年后这一现象更加严重；其次是主要资本主义国家负债持续增长，无论是政府个人还是金融机构都背负上沉重债务，_____。

填入划线部分最恰当的一项是 ()

- A. 最后是收入和财富不平等状况恶化
- B. 最重要的是经济的不和谐状况
- C. 主要集中在国民经济方面
- D. 但整体经济还在上升

22. 发展倒逼改革，改革释放“红利”。一路闯关夺隘、披荆斩棘，改革让中国站到了新的历史起点。站在新的历史起点、开启新的发展航程，全面深化改革正拉开帷幕。而政府改革乃是各项改革的龙头，政府改革牵一发而动全身。

文章接下来最有可能讲述的是 ()

- A. 政府改革的内容
- B. 政府改革的意义
- C. 政府改革的路径
- D. 政府改革的目标

23. 有调查表明，在拆迁人员犯罪的比例中，赌博和吸毒的人员为数不少，粗一看不可思议，细思量确有其因，拆迁补偿，一夜暴富，物质的丰盈与精神的贫困，一旦联手太容易滑向欲望的深渊。捧着“一辈子也没见过打那么多的钱”，一些人以赌博和吸毒打发时间，最后一贫如洗，甚至出现“孩子饿死”这样的极端惨剧。

这段文字主要观点 ()

- A. 拆迁人员的犯罪率比较高

- B. 拆迁会导致很多社会问题
- C. 一夜暴富会使人们的欲望膨胀
- D. 没有精神的富足，物质的富裕可能是一种灾难

24. 民间工艺是艺术的，也是生活的。民间艺人使用简单的工具和材料进行创作，常呈现出某种稚拙的艺术风貌，但这些风貌稚拙的作品，却反映出广阔的社会生活，表达出广大民众的心声，表现出人与自然和谐的审美观念。人是自然的一部分，利用自然是人的能力。民间工艺的制作离不开其所处的自然环境，其材料来源于当地提供的自然资源。

根据上文叙述，作者接下来最有可能讲述的事例是（ ）

- A. 湘西土家族织锦上出现了抽象的几何纹样
- B. 贵州的蜡染和扎染用的是当地的植物材料
- C. 瑶族师公绘制的《八仙图》的制作和使用
- D. 民间流传的端午门楣上插“艾蒿”的风俗

25. 如果没有传统的积累，我们的生命，可能永远也不会拥有如此广泛的价值意义。很多时候，生命甚至是超越了生命本身的意义而存在。比如司马迁，生命已经消亡两千多年了，但由他带给中华民族的伟大历史传统，却历久弥香地存在于人世间。我们之所以要重视传统，就是因为传统经历了漫长的检测，而最终让人们产生了共鸣。就像家风，有时是经过几代人才形成的一种带有整体风格的生命景观。

这段文字主要说明了（ ）

- A. 历史人物或家风带给后世的传统意义颇大
- B. 传统积累赋予了我们生命广泛的价值意义
- C. 经历漫长检测的传统需要我们重视
- D. 传统让人们产生了共鸣

26. 世界卫生组织最新研究报告称，目前中国近视患者人数多达 6 亿，几乎是中国总人口数量的一半。我国高中生和大学学生的近视率，均已超过七成，并逐年增加，青少年近视率高居世界第一，学生的近视率也接近 40%。相比之下，美国中小学生学习近视率仅为 10%。

根据上述文字，下列说法正确的是（ ）

- A. 中国的高中生和大学生，近视率高于美国高中生和大学生
- B. 大部分中国的家庭极其关注小孩的用眼卫生
- C. 中国小学生的近视率约为美国中小学生学习近视率的四倍
- D. 美国的中小学生学习不喜欢玩电子产品，所以近视率较低

27. 每年公历的 8 月 6 日到 9 日，便是立秋时节。立秋是二十四节气的第 13 个节气，也是秋天的第一个节气，标志着孟秋时节的正式开始。“秋”是指暑去凉来。古人云“一叶落而知秋”，到了立秋，梧桐树开始落叶。“秋”字由“禾”与“火”字组成，是禾谷成熟的意思。秋季是天气由热转凉，再由凉转寒的过渡性季节。

这段文字的主要目的是（ ）

- A. 表达作者对立秋这一节气的喜爱
- B. 对二十四节气之一的立秋进行解说
- C. 强调立秋是一个由热转凉、由凉转寒的过渡性时节
- D. 渲染立秋时节的美丽景象

28. 讲故事的能力和水平与讲述载体、讲述方式息息相关。讲故事是一门说服的艺术，实现传播效果最大化，加以情感沟通。理性说服、价值共鸣都是必不可少的要素。寻找共同的价值和情感，激荡同声相应、同气相求的共鸣。传播才能拉进距离，增进信任，取得突破。为此，讲好红色旅游故事需要建设一批真正管用的渠道和平台。既要坚持用好已有渠道，又要推出新的平台，设计新的载体；既要以我为主，又要善借外力，打通更多途径，让红色旅游故事成为国内外舆论关注的话题。让红色旅游赢得国内外游客的理解和认同。

下列说法与文段内容不符的是（ ）

- A. 讲好红色旅游故事需要懂得说服的艺术
- B. 讲好红色旅游故事需要建设管用的渠道和平台
- C. 讲述的方式会影响红色旅游故事的传播效果
- D. 国内外舆论特别关注红色旅游故事

29. 每个人都只能按照他的内心世界的限度来看世界。你心中完全没有的东西，在外部世界里无论多么丰富，你一定熟视无睹。你是一个心灵丰富的人，那你看到的世界也会是一个丰富的世界。你是一个内心贫乏的人，那你看到的世界也一定是贫乏的。有的人心中只有功利，那么他是看不到功利之外的东西的。

关于这段文字，以下理解准确的是（ ）

- A. 世界因我们的内心而改变
- B. 没有心灵的人，并没有了世界
- C. 功利的人和非功利的人存在于不同的世界
- D. 我们看到的世界是按照我们内心世界来放映的

30. 泛科技谣言的来源，大概有 5 种情况：科学话语的专业性，奇怪的创作冲动，复古

思潮的影响，又不信任引发的阴谋论以及逐利的商业动机。复古思潮的影响表现为，人们更倾向于信任传统的观念与方法，而排斥新的或者自己不熟悉，没有听说过的方法。特别是当传统的观念和方法对实际生活并不产生恶性影响，或者成本很低时，人们尤其倾向于保守态度——各种“食品禁忌”

这段文字主要说明了（ ）

- A. 在泛科技谣言的来源中，复古思潮成为了主流
- B. 受复古思潮影响的谣言危害更大
- C. 复古思潮的泛科技谣言和具体表现
- D. 在泛科技谣言的来源中，每种原因都值得思考

31. 蚊子之所以传播疾病，不是因为咬完一个人再咬一个的交叉感染，而是将带有病菌，虫卵的血液吸入体内，病菌和虫卵在体内繁殖，通过刺吸式口器感染下一个被叮咬的人。也许是幸事，蚊子并不会传播艾滋病，乙肝病毒，而且处于非热带地区的人们受到蚊子的威胁会相对较少。

关于这段文字，以下理解准确的是（ ）

- A. 蚊子体内不带有乙肝和艾滋病毒
- B. 某些存在于血液中的虫卵可以通过蚊子传播
- C. 在人身上可以生存的病菌在蚊子身上也可以生存
- D. 非热带地区的气候不适合病菌和虫卵繁殖

32. 自 20 世纪以来，传统的经典教育逐渐失色，各级学校愈发重视自然科学乃至实用技能的教学，这自然引起了守旧人士的不满。然而，无可奈何花落去，经典阅读的式微并不以人的意志为转移，我们似乎与传统渐行渐远——不论是传统的教育方式本身，抑或是传统教育方式中对经典的珍视。

这段文字的主旨是（ ）

- A. 传统经典教育难掩颓势
- B. 当代教育更加重视科学和技能
- C. 当代教育中存在实用主义倾向
- D. 经典阅读式微会带来不利后果

33. 尘世间最大的痛苦是，世界变了自己却没变。不管是某个组织，还是某个个体，如果在 2015 年感觉比周围其他人都要更“难”，甚至“难”到了“发愁”“焦虑”；如果内心还对周遭变化充斥着担心与恐惧，那多半就需要不断地反求诸己：既然这是一个充满了随

机性、不确定性与混沌性的时代，我们能多大程度上，在变动的世界中管控好自己，迎难而上，顺势而为，让“难”变得更得心、更应手？

通过这段文字，作者想表达的意思是（ ）

- A. 人应该随着世界的变化而变化
- B. 面对困难时，要善于管控自己
- C. 对困难应采取一种轻视的态度
- D. 世界的不确定性令人产生不安全感

34. 我们不仅要毫不犹豫地惩罚那些自以为“泄义愤”的反社会罪犯，而且也要警惕甚至惩罚那些心理扭曲的喝彩者。因为他们的喝彩，不仅仅是对已发生罪行的粉饰，更是对未来犯罪行为的教唆。而这种蛊惑与教唆的言行，有可能导致对于社会的即刻而现实的危险。

通过这段文字，作者想表达的意思是（ ）

- A. 要严厉惩罚“泄义愤”的反社会演员
- B. 教唆“泄义愤”具有现实危险
- C. 喝彩“泄义愤”是对罪行的粉饰
- D. 要警惕和惩罚反社会犯罪的喝彩者

35. 我国农村贫困人口主要分布在偏远闭塞或生态脆弱地区，而这些地区有不少具备旅游业发展条件。纵观现代发达国家与地区的崛起之路，无论发展任何产业，当地居民都会经历流通中的经济与文化冲击，从而具备竞争能力。发展旅游业为贫困地区人口参与社会分工提供了可能，并能在频繁的服务与交易互惠中，带动贫困地区人口融入现代社会。同时，一个地区的旅游开发往往都伴随着区域基础设施改善、景观风貌治理、特色产业培育等过程，并能显著提升其教育、商业、服务业与文化水平。

这段文字意在说明（ ）

- A. 偏远闭塞或生态脆弱的地区更适合发展旅游业
- B. 发展旅游业是一项需软硬件配套发展的系统工程
- C. 旅游开发能从经济、文化两方面推动贫困地区发展
- D. 我国贫困地区的发展应借鉴现代发达国家与地区的经验

36. 城市马拉松带来的“福利”，已然超越了一场单纯的体育赛事。事实上，马拉松带来的影响力和公众的参与程度，超过了很多传统项目，它包含着明显的国际性、时尚性、年轻化、商业性与社交功能。也正因如此，城市管理者不能只把眼睛盯着赛前、赛中，而忽视了赛后。赛前“来也匆匆”，赛后“去也匆匆”，以这样的态度发展体育运动、提升城市知

名度，很不科学。城市管理者应深挖当地的文化禀赋、旅游资源、历史积淀，让这些具有较强独特性、较高认知度的名片，与马拉松品牌的世界性影响有机融合起来，并借助参赛者、大众传媒迅速放大。这对提升城市形象和知名度，可谓事半功倍。

这段文字意在说明（ ）

- A. 城市马拉松对城市国际化的作用不可忽视
- B. 提升城市形象不能靠举办一场体育赛事一蹴而就
- C. 文化历史资源丰富的城市无需借助赛事扩大知名度
- D. 举办马拉松赛事对城市管理者的管理水平提出了挑战

37. ①不该办的事情坚决不能办，不该拿的东西坚决不能拿，不该去的地方坚决不能去

②君子之交淡如水，为政之道清似茶

③朋友交往要注意把握分寸，领导干部交友必须讲原则

④不要把个人交往与行使公权混在一起，感情用事

⑤少数领导干部在交友过程中不善于把握分寸，讲关系，不讲原则，讲交情，不讲纪律

律

⑥甚至在“为朋友两肋插刀”的哥们儿义气面前，丧失党性原则。突破应当坚守的道德和法律底线

将以上六个句子重新排列，语序正确的是（ ）

- A. ②③④①⑤⑥
- B. ④①②③⑤⑥
- C. ⑤④①②③⑥
- D. ③①②④⑤⑥

38. 旅途中不可能都是美妙的风景，也有黄沙满地，满目荒凉的时候。现实中也不可能总是一帆风顺，也会有烦恼，有悲痛，有奔波劳苦的际遇，但废墟中挺立的城堡才更坚固，荒芜中亮起的风景才更养眼。人生需要修剪，以保证生命的精致华美。但在心的某个角落，还需高抬贵手，留下一阵荒芜，那么你便留下了最原始的风，留下了最初的蛮夷和悸动，留下了麋鹿和野兽的气息，留下了纯天然的味道。

通过这段文字，作者想表达的观点是（ ）

- A. 人生总是有时，高潮有时低潮
- B. 有缺陷的美，更加真实生动
- C. 应该给自己的心留点空间

D. 完美本身也是一种缺憾

39. 一个国际科研团队通过分析埋在南极冰下的一个粒子探测器的观测数据，认为“99%肯定”惰性中微子不存在。中微子是一种不带电质量极小的基本粒子，是宇宙中光子之后数量最多的离子，但难以被捕捉和探测。根据粒子物理标准模型，中微子分为双三种，分别是电子中微子，a 中微子和 b 中微子，其中前两种可以被观测到。从 20 世纪 90 年代起，一些实验得出的结论是可能有被称为惰性中微子的第四种中微子存在，惰性中微子不参加除引力之外的任何相互作用，它的存在可以解释一些粒子物理学及宇宙学的重要前沿问题，如什么是暗物质，但也会对现有的粒子物理标准模型构成挑战。早在 2014 年，参与大亚湾反应堆中微子实验的科学家发表文章称，没有找到惰性中微子存在的证据。

这段文字意在强调（ ）

- A. 惰性中微子的探测实验失败了
- B. 惰性中微子的可能根本不存在
- C. 惰性中微子的类型
- D. 惰性中微子对当代物理学及宇宙学的重要作用

40. 饭后马上喝水不能减肥很正常，但饭后一段时间喝水是可以的。因为饭后半小时正是肠胃蠕动开始对食用进去的食物进行消化和分解的阶段，这个时候如果喝水，能够更加有效的促进肠胃对于食物的消化作用，减少肠胃的负担，不利于脂肪的囤积，这样才能够起到良好的减肥作用，而且对于身体健康也有一定的好处。

这段文字最适合的标题是（ ）

- A. 饭后半小时喝水有助于减肥
- B. 饭后喝水可预防肠胃疾病
- C. 饭后立即喝水，对健康不利
- D. 喝水太少，对身体有害

第二部分 数量关系

一、数字推理

（共 10 题。给你一个数列，但其中缺少一项，要求你仔细观察数列的排列规律，然后从四个供选项的选项中选择你认为最合理的一项，来填补空缺项，使之符合原数列的排列规律）

请开始答题：

41. 6, 14, 22, (), 38, 46

A.30

B.32

C.34

D.36

42. 2, 6, 16, 44, (), 328

A.104

B.108

C.112

D.120

43. 110, 484, 231, 352, 143, ()

A.572

B.429

C.512

D.139

44. $2, \frac{9}{8}, \frac{28}{27}, \frac{65}{64}, ()$

A. $\frac{126}{125}$

B. $\frac{82}{81}$

C. $\frac{66}{65}$

D. $\frac{112}{111}$

45. 7, 7, 9, 17, 43, ()

A.119

B.117

C.123

D.121

46. 1, 0, 9, 16, (), 48

A.25

B.33

C.36

D.42

47. 1, 8, 22, 50, (), 176

A.99

B.102

C.106

D.108

48. 11, 14, 19, 26, 35, ()

A.39

B.41

C.45

D.46

49. 3, 10, 29, 66, 127, ()

A.218

B.227

C.189

D.321

50. 11, 14, 12, 20, 13, 30, (), 44, 15, ()

A.15、55

B.14、60

C.14、62

D.15、60

二、数字运算

(共 10 题，在这部分试题中，每道试题呈现一段表述数字关系的文字，要求你迅速、准确地计算出答案)

51. 一个饲养场饲养了不同种类的动物 144 只，任意两种动物之和不少于 20 只，且任意两种动物的数量不同，问这个饲养场最多饲养了多少种动物？ ()

- A. 7
- B. 8
- C. 9
- D. 10

52. 今年父亲和儿子年龄的和是 50，5 年前父亲的年龄是儿子的 7 倍，5 年后父亲的年龄是儿子的几倍？（ ）

- A. 2
- B. 3
- C. 5
- D. 6

53. 一张边长为 8 米的正方形纸板，在四个角上各截去一个周长为 3 米的正方形，所剩下的部分的周长是多少米？（ ）

- A. 20
- B. 26
- C. 32
- D. 38

54. 已知甲乙两地相距 24 千米，某人骑自行车自甲地去乙地办事，去时顺风用了 80 分钟，回来逆风用了 2 小时，假设此区间风速恒定，问此人在无风时的骑行速度是多少千米/小时？（ ）

- A. 12
- B. 14
- C. 15
- D. 18

55. 在 1-100 的自然数中，既不能被 3 整除，又不能被 5 整除，也不能被 7 整除的自然数有几个？（ ）

- A. 45
- B. 48
- C. 51
- D. 52

56. 甲乙两件商品成本共 300 元，甲商品按 30% 的利润定价，乙商品按 20% 的利润定价，

然后两家商品分别按定价的八折和九折促销。结果获得利润 20 元，甲商品的成本多少元？

()

- A. 200
- B. 150
- C. 100
- D. 80

57. 运动会场外的大街上插了一排彩旗，从第一面开始，按照四面红旗，三面黄旗，两面绿旗，一面蓝旗的顺序周而复始的排下去，则第 206 面旗是什么颜色？()

- A. 红色
- B. 蓝色
- C. 绿色
- D. 黄色

58. 从一瓶装满浓度为 75% 的医用酒精中，到出 $\frac{3}{5}$ 后，加满清水，再倒出 $\frac{2}{5}$ ，又加满清水，此时这瓶酒精的浓度是多少？()

- A. 12%
- B. 18%
- C. 27%
- D. 50%

59. 规定 $a*b=3a+b+1$ ，如果 $3*(2*x)=20$ ，那么 x 的值是多少？()

- A. 6
- B. 5
- C. 4
- D. 3

60. 已知甲数的 12% 为 13，乙数的 13% 为 14，丙数的 14% 为 15，丁数的 15% 为 16，则甲、乙、丙、丁 4 个数中最大的数是()

- A. 甲
- B. 乙
- C. 丙
- D. 丁

第三部分 判断推理

一、图形推理

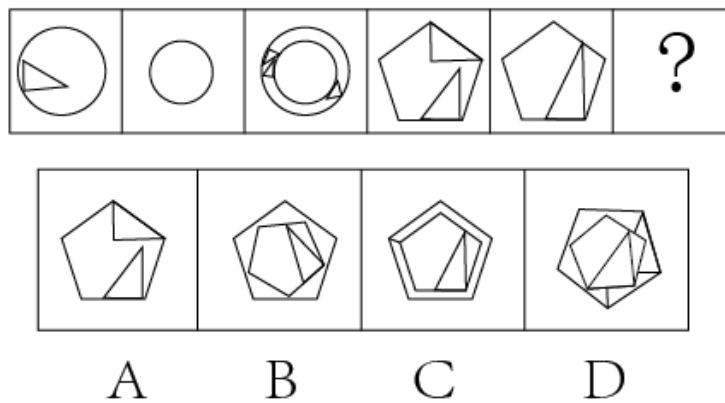
(共 10 题。要求你从四个选项中选择你认为最适合取代问号的一个。正确的答案应不仅使两套图形表现出最大的相似性，而且使第二套图形也表现出自己的特征)

请开始答题：

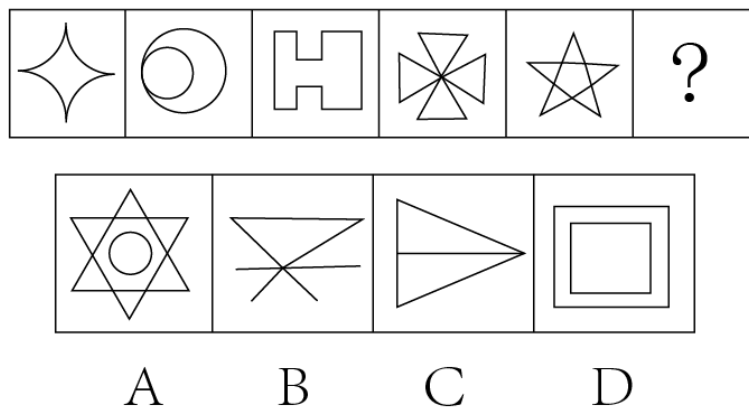
1. 请选择最适合的一个选项填入问号处，使右边图形的变化规律与左边图形一致 ()

F	A	Z	M	W	?
E	Y	N	I		
A	B	C	D		

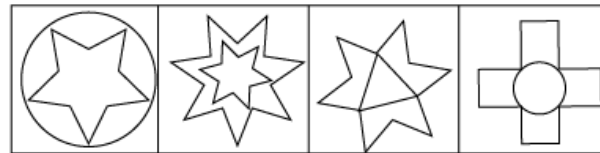
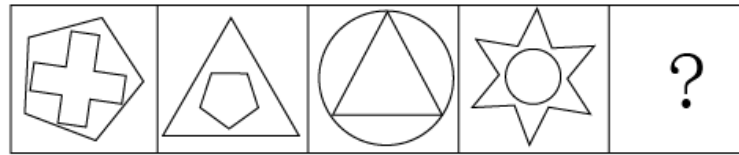
2. 请选择最适合的一个选项填入问号处，使右边图形的变化规律与左边图形一致 ()



3. 请选择最适合的一个选项填入问号处，使右边图形的变化规律与左边图形一致 ()

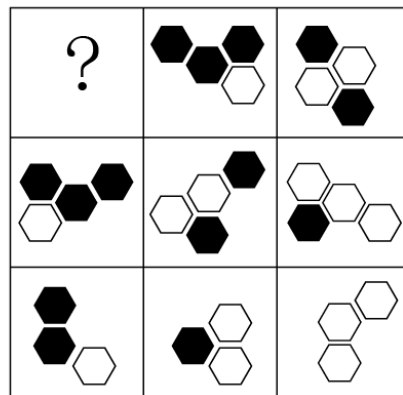


4. 请选择最适合的一个选项填入问号处，使右边图形的变化规律与左边图形一致（ ）



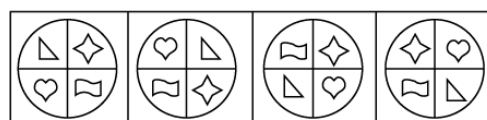
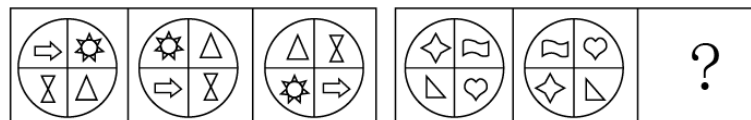
A B C D

5. 请选择最适合的一个选项填入问号处，使右边图形的变化规律与左边图形一致（ ）



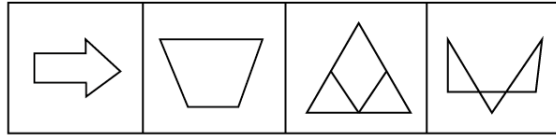
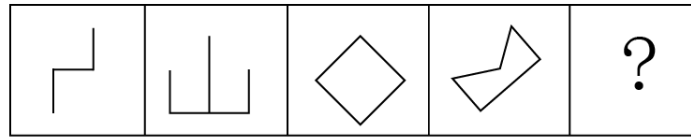
A B C D

6. 根据所给图形答题有规律，选出一个最合理的答案（ ）。



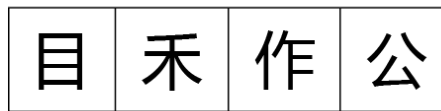
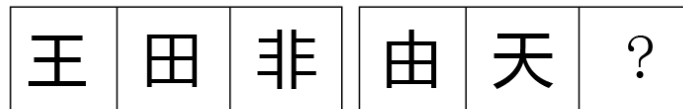
A B C D

7. 根据所给图形答题有规律，选出一个最合理的答案（ ）。





A B C D

8. 根据所给图形答题有规律，选出一个最合理的答案（ ）。



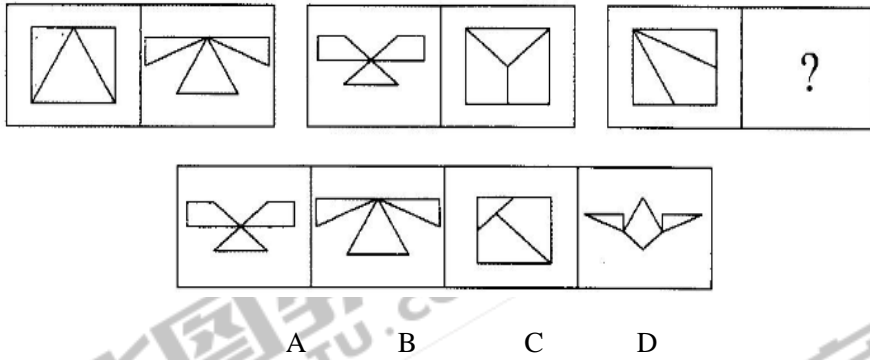
A B C D

9. 从所给的四个选项中，选择最合适的一个填入问号处，使之呈现一定的规律性是：



A B C D

10. 从所给的四个选项中，选择最合适的一个填入问号处，使之呈现一定的规律性是：



二、定义判断

(共 10 题，每道题先给出一个概念的定义，然后分别列出四种行为，要求你严格依据定义从中选出一个最符合或最不符合该定义的答案。注意：假设这个定义是正确的，不容置疑的。)

11. 虚假诉讼，是指当事人出于非法的动机和目的，利用法律赋予的诉讼权利，采取虚假的诉讼主体、事实及证据的方法提出民事诉讼，使法院作出错误的判决、裁定、调节，从而侵害国家、集体、他人合法权益或逃避履行法律文书确定的义务的行为。

根据上述定义，下列属于虚假诉讼的是 ()

A. 丁某因购买煤矸石欠林某 9 万余元，林某提起诉讼，一审判决后，丁某为拖延还款时间，有意提起上诉

B. 吴某购买了宋某（丈夫为宋某）的房屋，并付了部分购房款。后宋某与罗某离婚，为在离婚财产分割中获得有利于自己的证据，宋某故意起诉吴某要求其付全款

C. 蔡某和妻子王某准备离婚，为了多分财产，蔡某找到堂叔，出局了两张借条，实际未发生借款行为，随后让堂叔到法院起诉自己

D. 赵某与张某因票据无效而产生合同履行纠纷，赵某先以票据责任纠纷起诉，无果后，又以合同责任重新起诉，请求张某承担票据诉讼期间产生的利息损失

12. 服务是指为他人做事，并使他人从中受益的一种有偿或无偿的活动，不以或很少以实物形式而以提供活动的形式满足他人某种特殊需要。

根据以上定义，以下不属于服务的是 ()

A. 小周的车出现故障去维修，汽车修理店更换了价值 2000 余元的零件

B. 为方便学生随时取款，某银行在校园里安装了一部自动取款机

C. 某医院派出医疗队深入农村，为农民上门诊断治疗

D. 某小区居民小王在小区网络论坛上发帖要求提高物业管理水平

13. 博喻又称连比，就是用几个喻体从不同角度反复设喻去说明一个本体。博喻运用得当，能给人留下深刻的印象。运用博喻能加强语意，增添气势。博喻能将事物的特征或事物的内涵从不同侧面、不同角度表现出来，这是其他类型的比喻所无法达到的。

根据上述定义，下列属于博喻的是（ ）

- A. 这个整天同钢铁打交道的技术员，他的心倒不像钢铁那样
- B. 试问闲愁都几许？一川烟草，满城飞絮，梅子黄时雨
- C. 上海人叫小瘪三的那批角色，也很像我们的党八股，干瘪得很，样子十分难看
- D. 桃花潭水深千尺，不及汪伦送我情

14. 不定时工作制是指因生产特点、工作特点需要或职责范围的关系，无法按标准工作时间衡量或需要机动作业的企业职工所采用的一种工时制度。

根据以上定义，下列属于不定时工作制的是（ ）

- A. 王某任教于某市重点中学，经常加班批改作业
- B. 李某是某报社的记者，经常报道现场新闻
- C. 张某在某大型超市担任品牌促销员
- D. 赵某在某市政府后勤部门做接待工作

15. 初级群体指的是由面对面互动所形成的、具有亲密的人际关系和浓厚的感情色彩的社会群体；次级群体指的是其成员为了某种特定的目标集合在一起，通过明确的规章制度结成正规关系的社会群体。请根据上述定义，下列选项中的群体涉及次级群体定义的是（ ）

- A. 社区里的部分居民来到海选赛场，为参加海选的小明助威
- B. 小东是村里第一位即将出国留学的高材生，在临行前村里的人都为他送行
- C. 小李通过努力复习，在今年夏天成功考上公务员，他所在公司的同事给他庆贺
- D. 小红今年研究生毕业，他建立了一个通讯录方便以后跟同班同学联系

16. 网宅经济：指在网络科技的支持下为满足宅生活而兴起的一种新的经济模式。他使人们足不出户就可以通过网络订购满足需求。

假设这个定义是正确的、不容置疑的，则下列属于网宅经济的是（ ）。

- A. 某搜索引擎推出懒人搜索，不用打字直接说出要查询的关键词，搜索结果就会显示出来
- B. 调查显示，有 8 成购书者过去一年没有去过实体店，而是采取网购的形式获取所需的书籍

C. “有事您动嘴，办事我跑腿，一个电话就OK。”代办证件、代购代送、酒后代驾，跑腿公司的业务越来越火

D. 打网络游戏是小胖赚生活费的一个渠道。卖个装备能挣100，带小号升级能挣300。玩着还能赚钱，小胖乐此不疲

17. 彼得原理是指每个人在层级组织里都会得到晋升，直到不能胜任为止，也就是说一个人无论有多大的聪明才智，也无论如何努力进取，总有一个你胜任不了的职位在等待着，并且一定会达到那个位置。根据上述定义，以下最有可能符合彼得原理的是（ ）

A. 老李通过多年研究，在天然抗氧化剂方面取得了突破性进展，他也被评为该单位的“科研之星”

B. 职业运动员王某，自退役后在家乡成立一所体校，但是由于经营不善，以失败告终

C. 业务员小李由于业务娴熟且肯干，老板将其提拔为销售部经理，上任后他每天忙得焦头烂额，部门业务一团糟

D. 某公司制度规定表现优秀的管理人员可以在年底申请加薪或者休假

18. 拟制血亲关系指当事人之间本无血缘关系，经过法定程序确认其为亲戚关系，在我国拟制血亲关系仅指《婚姻法》、《收养法》明确规定的情形。下列属于拟制血亲关系的一项是（ ）

A. 干爹和干女儿

B. 在同一个户口簿上的养母与养女

C. 老王的私生子和老王

D. 孤儿院长大的小赵和孤儿院保育员

19. 妄想是一种病理性的歪曲信念，是病态的推理和判断，它具有以下特征：①信念的内容与事实不符，没有客观现实基础，但患者坚信不疑；②妄想内容均涉及患者本人，总是与个人利害有关；③妄想具有个人独特性；④妄想的内容因文化背景和个人经历而有差异，但常有浓厚的时代色彩。根据上述定义，下列描述的症状可以判定为妄想症的是（ ）

A. 小李最近一直在思考宇宙的起源问题，尽管科学家们已经发现了一些支持“大爆炸”理论的证据，但小李还是认为大爆炸理论不科学，不可信

B. 企鹅是鸟类的一种，尽管电视上说企鹅是不会飞的，但小王相信企鹅也能像其他鸟类一样可以飞翔，因为鸟儿在天空中飞，而企鹅在大海里“飞”

C. 自从观看了一部关于外星人的电视剧以后，小梁常常幻想自己也是迷失在地球的外星人，并且自己拥有超能力，他对此深信不疑，并常常仰望天空等待飞船接自己离开地球

D. 最近，老陈常常梦到自己的儿子考上了重点大学，事实上他的儿子才刚刚上初中一年级

20. 迁徙是指自然界中动物由于繁殖、觅食、气候变化等原因而进行一定距离的迁徙。可分为周期性迁徙和非周期性迁徙，周期性迁徙有一定的规律和路线。根据上述定义，下列不属于迁徙的是（ ）

- A. 圈养的猪吃完这边食槽的食物后就去另一个食槽继续吃
- B. 候鸟因季节和繁殖每年春季返回繁殖地，秋季迁往南方越冬地
- C. 淡水区的鳗鱼在生殖期游向深海产卵
- D. 北方驯鹿冬季南迁至针叶林带，春季则返回食物丰富的北方苔原带

三、类比推理

（共 10 题，先给出一对相关的词，要求你在备选答案中找出一对与之在逻辑关系上最为贴近或相似的词）

21. 海：水 （ ）

- A. 写作：小说
- B. 太阳：光
- C. 画家：图画
- D. 旋律：音符

22. 丛林之王：东北虎 （ ）

- A. 游牧民族：熊猫
- B. 长江女神：鲨鱼
- C. 长寿之神：长颈鹿
- D. 高原精灵：藏羚羊

23. 高山：陆地 （ ）

- A. 波浪：海洋
- B. 暴雨：雷电
- C. 白云：蓝天
- D. 电能：电网

24. 商场：顾客 （ ）

- A. 发布会：记者

- B. 书店：书
- C. 火车：列车员
- D. 目录：大纲
25. 厨师：厨房：锅铲 ()
- A. 农民：农田：铁锹
- B. 运动员：足球：操场
- C. 教师：办公室：学生
- D. 白领：健身房：健身
26. 绿茶：酸奶：健康 ()
- A. 黄山：泰山：祈福
- B. 冰箱：冷冻：储存
- C. 手机：苹果：通讯
- D. 绿萝：吊兰：美观
27. 著作：书：丛书 ()
- A. 裙子：衣服：服装
- B. 树：树林：森林
- C. 成语：词语：词汇
- D. 人：人群：人民
28. 治疗：患者：医院 ()
- A. 付款：顾客：商场
- B. 观看：观众：影院
- C. 判罚：裁判：赛场
- D. 改造：罪犯：监狱
29. () 对于教师相当于 () 对于树木
- A. 学生：小鸟
- B. 校长：小草
- C. 医生：鲜花
- D. 学校：森林
30. “水果”对于 () 相当于“工具”对于 ()
- A. 植物 生产

- B. 维生素 箱子
- C. 甜蜜 工人
- D. 凤梨 锤子

四、逻辑判断

(共 10 题，每题给出一段陈述，这段陈述被假设是正确的，选出一个答案，注意，正确的答案应与所给的陈述相符合)

31. 西红柿中含有大量的维生素 C、B 族、维生素和胡萝卜素，还含有丰富的抗氧化剂，可以防止自由基对皮肤的破坏，具有非常好的美容抗皱效果。研究发现，西红柿的提取物还能阻止胃癌细胞生长并抑制其恶性特征，帮助预防、治疗胃癌。

下列选项如果为真，最能削弱上述观点的是 ()。

- A. 40 岁的张某每天吃一个西红柿，她的皮肤如婴儿般细腻
- B. 经常吃西红柿的曾某身体免疫力很好，不容易感冒
- C. 胃不好的谢某每天坚持吃一个西红柿，他还是被诊断出患有胃癌
- D. 爱吃西红柿的程某感觉自己的皱纹少了，心情特别舒畅

32. 调查表明，最近几年，成年人中患肺结核的病例逐年减少。因此有人得出肺结核发病率逐年下降的结论。

以下 () 如果为真，则最能削弱上述推论。

- A. 肺结核病已不再是不治之症
- B. 和心血管病、肿瘤等比较，近年来对肺结核的防治缺乏足够的重视
- C. 防治肺结核病的医疗条件近年来有较大的改善
- D. 近年来未成年人中的肺结核病例明显增多

33. 为加强党员干部队伍建设、从严治党，某乡政府推出了干部考核新规定：干部工作以外的“私德情况”将纳入考察中。按照规定，领导干部平时生活作风是否严谨、家庭关系是否和睦、……这些都将由干部的同事、下属、邻居给出评价，作为干部任用的重要参考。

以下最能反驳这一新规定的一项是 ()。

- A. 应将领导干部工作以内的职业道德纳入考核
- B. 考核领导干部“私德”涉嫌侵犯个人隐私
- C. “私德”考核指标难以量化，更难以比较
- D. 领导干部的人际关系状况对考核结果有影响

34. 在实行通票之前，凤凰是广受游客喜爱的小城。实行通票之后，散客急剧减少，旅游收入也不断下降。显然旅游收入下降是实行通票造成的。

下列最能支持上述论断的是（ ）。

- A. 凤凰的旅游收入在实施通票之前一直稳定增长
- B. 实施通票广受游客诟病
- C. 与凤凰相似的小城旅游项目越来越多
- D. 实行通票后，凤凰城内的住宿、餐饮和旅游纪念品销售等收入大幅下滑

35. 针对 A 和 B 两位候选人的民意支持率调查数据显示，对 A 的支持率大大超过了 B，但终选举结果却出现了 B 的支撑票数大大超过 A，最终赢得了选举，由此可以说明，此次民调数据不可信。

以下各项如果为真，最能加强上述论证的是（ ）。

- A. 民意调查的样本数量太少，只有 1651 人，不具有代表性，而且误差范围高达 4%
- B. 此次选举中大学以下教育程度的选民投票率大大提高，而这些选民多数是 B 的支持者
- C. 民调数据受到了主流媒体的影响、操纵甚至恶意篡改，而这些媒体大多是 A 的坚定支持者
- D. 民意调查采用随机抽取并拨打电话的方式，这种方式只能打固话，而全国半数以上人口不使用固话

36. 人类和平共处是一个不可能实现的理想。统计数据显示，自 1945 年以来，地球上每天有 12 场战斗在进行。这包括大大小小的国际战争以及内战中的武力交战。

下列哪项如果为真，最能对上述结论提出质疑？（ ）。

- A. 1945 年至 21 世纪初，国与国之间在外交关系的处理上都表现出了极大的克制，边境冲突也少有发生
- B. 就像静止相对于运动而存在一样，没有战争也就没有现代意义上的和平
- C. 20 世纪 70 年代全世界总共爆发了 30 次战争，而 20 世纪 80 年代爆发的战争总共还不到 10 次
- D. 现代战争更讲究威慑而不是攻击，比如曾经愈演愈烈的核军备竞赛以及由此而造成的东西方冷战

37. 以欧洲核子研究组织为首的科学家发现，前工业革命时代的天空可能远远不像我们想象中那样万里无云，而是经常会被乌云所笼罩。这主要是因为科学家直到最近才发现，树

木释放出的某些特殊化学成分能够促使云团形成，其造云能力并不在火山喷发及化石燃料燃烧释放的硫酸蒸汽之下。据此，可以推出（ ）。

- A. 树木释放出的某些特殊化学成分使前工业革命时代晴天数量少
- B. 雾霾的形成和树木释放的某些化学成分有关
- C. 火山喷发及化石燃料燃烧释放的硫酸蒸汽不是前工业革命时代云团形成的原因
- D. 硫酸蒸汽主要来自于火山的喷发

38. 众所周知，西医利用现代科学技术手段可以解决很多中医无法解决的病症，而中医依靠对人体经络和气血的特殊理解也治愈了很多令西医束手无策的难题。据此，针对某些复杂疾病，很多人认为中西医结合的治疗方法是有必要的。

为使上述论证能够成立，必须假设的前提是（ ）。

- A. 针对这些疾病的中医和西医的治疗方法可以互相结合，扬长避短
- B. 这些疾病单独用中医疗法或者单独用西医疗法并不能有效治疗
- C. 针对这些疾病，医疗界已经掌握了中西医疗法结合的方法
- D. 针对这些疾病，医学界已经尝试了中西医结合的疗法并取得了良好的效果

39. 在长期戴用隐形眼镜后，角膜内皮细胞可发生特征性的形态改变。角膜内皮细胞发生变化的初期患者可能没有明显的症状，但严重者可出现不同程度的视力下降、虹视、畏光流泪等症状。因此，专家建议，尽量少佩戴隐形眼镜，最好选择框架眼镜代替。

以下哪项如果为真，最能支持专家的观点？（ ）。

A. 经对 1000 名佩戴隐形眼镜者调查显示，几乎所有人在改戴框架眼镜后眼睛不舒服的症状得到了显著改善

- B. 佩戴框架眼镜时间久了，会导致鼻梁变形
- C. 佩戴隐形眼镜比框架眼镜更美观
- D. 专家们一直致力于对隐形眼镜是否会对眼睛造成严重伤害的调查

40. 某区从 8 月份以上启动“文明交通志愿者”活动，每天组织近 300 名文明交通志愿者到早晚高峰路段上岗，引导行人不闯红灯，文明出行。活动开展三个多月以来，行人闯红灯的老大难问题得到了有效整治，行人交通违章行为有了明显下降，可见，“文明交通志愿者”活动，可以有效治理交通违章，改善交通环境。市公安局决定在全市范围内推广该活动。

以下各项如果为真，最能削弱上述论证的是（ ）。

- A. 行人并非自愿遵守交通法规，一旦没有了志愿者监督，违章行为还会上升

- B. “文明交通志愿者”活动增加了交通执法的成本，数百人的人力动员没有可持续性
- C. 行人违章在交通违章中所占比例很低，交通环境改善的重点在于机动车的遵章守法
- D. 8月以来，行人违章引发的交通伤亡事故仅8起，与去年同期相比数量明显下降

第四部分 资料分析

一、根据所给资料，回答下列问题。

2016年1-8月，国有企业营业总收入286652.5亿元，同比增长0.2%。其中，中央企业173622.3亿元，同比下降1%；地方国有企业113030.2亿元，同比增长2.1%。

1-8月，国有企业营业总成本278809.2亿元，同比增长0.3%，其中销售费用、管理费用和财务费用同比分别增长5.4%、增长6.3%和下降6.8%。其中，中央企业166544.9亿元，同比下降0.5%，其中销售费用、管理费用和财务费用同比分别增长5.8%、增长8.9%和下降8.4%；地方国有企业112264.3亿元，同比增长1.5%，其中销售费用、管理费用和财务费用同比分别增长4.7%、增长2.8%和下降4.8%。

8月末，国有企业资产总额1278941.7亿元，同比增长15.1%；负债总额846453.8亿元，同比增长17.5%；所有者权益合计432487.9亿元，同比增长10.6%。其中，中央企业资产总额674018.9亿元，同比增长17.9%；负债总额457904.7亿元，同比增长22.8%；所有者权益合计216114.2亿元，同比增长8.6%；地方国有企业资产总额604922.8亿元，同比增长12.1%；负债总额388549.1亿元，同比增长11.8%；所有者权益合计216373.7亿元，同比增长12.6%。

101. 2015年1-8月，地方国有企业收入最接近()。

- A. 10.5万亿元
- B. 10.8万亿元
- C. 11.1万亿元
- D. 12万亿元

102. 2016年1-8月，在销售费用、管理费用和财务费用中，占国有企业营业总成本的比重同比上升的有几项？()

- A. 0
- B. 1
- C. 2

D. 3

103. 2016年8月末，中央企业所有者权益占国有企业总体比重比上年同期()。

- A. 下降了约1个百分点
- B. 上升了约1个百分点
- C. 下降了约1.5个百分点
- D. 上升了约1.5个百分点

104. 2016年8月末，中央企业的资产负债率(负债总额/资产总额)约在下列哪个范围?

- ()
- A. 50%以上
 - B. 60%-70%
 - C. 50%-60%
 - D. 70%以上

105. 下列说法正确的一项是()

- A. 2016年1-8月，中央和地方国有企业营业成本均低于去年同期营业成本
- B. 2016年8月末，地方国有企业资产总额占国有企业资产总额的51%
- C. 2016年1-8月，中央企业收入同比下降不到2000亿元
- D. 2016年8月末，地方国有资产负债率高于中央企业资产负债率

二、根据所给资料，回答下列问题。

2016年城镇私营单位分行业就业人员年平均工资表

单位：元，%

行 业	2016 年	增速
合 计	42833	8.2
农、林、牧、渔业	31301	8.4
采矿业	39600	3.7
制造业	42115	8.1
电力、热力、燃气及水生产和供应业	38605	11.5
建筑业	44803	7.4
批发和零售业	39589	8.1

交通运输、仓储和邮政业	42705	5.5
住宿和餐饮业	34712	8.9
信息传输、软件和信息技术服务业	63578	10.2
金融业	50366	12.2
房地产业	46063	10.3
租赁和商务服务业	47836	9.3
科学研究和技术服务业	54764	8.6
水利、环境和公共设施管理业	40099	7.7
居民服务、修理和其他服务业	35824	7.9
教育	39508	6.7
卫生和社会工作	43993	8.5
文化、体育和娱乐业	38228	9.3

106. 下列选项中，2016 年城镇私营单位分行业就业人员年平均工资最高的行业是（ ）。

- A. 科学研究和技术服务业
- B. 金融业
- C. 信息传输、软件和信息技术服务业
- D. 建筑业

107. 2016 年城镇私营单位中，科学研究和技术服务业就业人员的年平均工资约为表格中各行业合计年平均工资的（ ）倍。

- A. 1.25
- B. 1.28
- C. 2.13
- D. 2.34

108. 从 2016 年就业人员平均工资的增长速度来看，下列四个选项中增速最快的行业是（ ）。

- A. 金融业
- B. 电力、热力、燃气及水生产和供应业
- C. 房地产业

D. 文化、体育和娱乐业

109. 上表所示 18 个行业门类中 2016 年平均工资的增速高于表格中各行业合计年平均工资的增速的行业有 () 个。

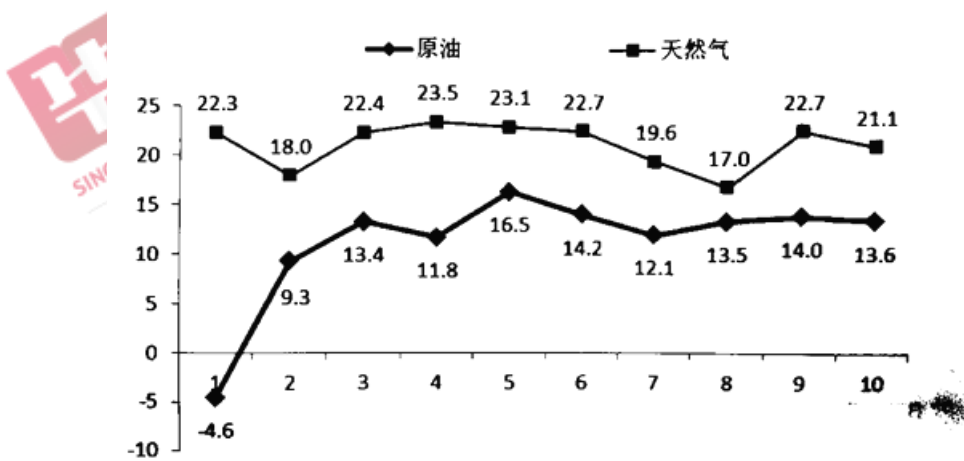
- A. 6
- B. 8
- C. 10
- D. 11

110. 根据上述材料，下列说法有误的是 ()。

- A. 2015 年，各行业城镇私营单位就业人员的年平均工资最低的是农、林、牧、渔业
- B. 从平均工资的增长速度来看，增速最快的行业为增速最慢行业的 2.3 倍
- C. 2016 年，居民服务、修理和其他服务业就业人员的年平均工资低于全国平均水平
- D. 2016 年，城镇私营单位所有行业就业人员年平均工资比 2015 年增加 3246 元

三、根据所给资料，回答下列问题。

2016 年 10 月份，我国规模以上工业原油产量降幅较大，天然气产量有所下降，进口量继续保持快速增长。10 月份，原油产量 1605.1 万吨，由 9 月份的同比下降 9.8%，转为同比下降 11.3%；天然气产量 108.3 亿立方米，由 9 月份的同比增长 0.1%，转为同比下降 1.4%。1~10 月份，原油进口量 31228 万吨，同比增长 13.6%，原油进口量占产量与进口量之和的比重已达到 65.2%，比去年同期提高了 4.6 个百分点；天然气进口量 4338 万吨，同比增长 21.1%，天然气进口量占产量与进口量之和的比重已达到 35.0%，比去年同期提高了 2.7 个百分点。



2016 年 1~10 月我国规模以上工业原油、天然气进口量累计增速走势图 (%)

111. 2016 年 10 月我国规模以上工业原油、天然气产量同比速度分别比 9 月（ ）。

- A. 下降 1.4 个百分点、上升 0.5 个百分点
- B. 上升 0.1 个百分点、下降 1.4 个百分点
- C. 下降 1.5 个百分点、下降 1.5 个百分点
- D. 上升 1.5 个百分点、下降 1.4 个百分点

112. 2016 年 10 月我国规模以上工业原油产量约占 1—10 月份总产量的（ ）。

- A. 21%
- B. 16%
- C. 12%
- D. 10%

113. 2016 年 1—10 月份我国规模以上工业天然气产量约为（ ）。

- A. 31228 万吨
- B. 16668 万吨
- C. 8056 万吨
- D. 4338 万吨

114. 2016 年 2—10 月份，我国规模以上工业原油进口量月同比增速比截止到上月年内累计增速有所下降的月份有（ ）。

- A. 2 个
- B. 4 个
- C. 6 个
- D. 8 个

115. 下列关于 2016 年我国规模以上工业天然气进口量同比增速的说法不正确的是（ ）。

- A. 第 3 季度的同比增速为 22.7%
- B. 第 2 季度的同比增速高于第 1 季度
- C. 2 月份的同比增速为 18%
- D. 1 月份的同比增速为 22.3%

四、根据所给资料，回答下列问题。

2007 年上半年某镇完成工业总产值 66625 万元，比去年同期增长 32.7%，增速提高 12.7

个百分点。其中规模以上工业企业完成产值 56869 万元，比上年同期增长 43.9%，占全年工业总产值计划的 45.3%。完成工业增加值 22177 万元，同比增长 26.2%，其中规模以上工业企业实现增加值 19270 万元，同比增长 47.9%。

骨干企业群体壮大，对经济增长的带动作用明显，上半年全镇规模以上工业企业中有 3 家企业完成工业总产值超过 5000 万元，累计完成工业总产值 28501.8 万元，同比增长 48.9%。有 10 家企业产值同比增加额超过 1000 万元，比去年增加 3 家，共完成工业总产值 18852.7 万元，同比增长 88.1%。这 13 家骨干企业拉动规模以上工业企业经济增长 20 个百分点。

10 个行业大类中，服装行业实现价值 3.01 亿元，同比增长 84.9%；机械行业实现产值 2236.8 万元，同比增长 49.5%；酒业完成价值 1284 万元，同比增长 118.7%；童车行业实现产值 1107.2 万元，同比增长 19.3%；五金机械行业完成价值 377.3 万元，同比增长 34.4%；箱包行业实现产值 1363.2 万元，同比增长 31.7%；羊毛衫行业实现产值 1.75 亿元，同比增长 11.6%；有机化学行业实现产值 792.7 万元，同比增长 16.4%；纸制品行业实现产值 1713 万元，同比增长 7.0%；砖瓦行业由于今年砖窑厂数量的减少，实现产值 329.5 万元，同比下降 64%。

116. 2006 年上半年，该镇工业增加值中由规模以上企业实现的增加值约为：

- A.5.02 亿元
- B.3.95 亿元
- C.1.75 亿元
- D.1.3 亿元

117. 2006 年上半年，该镇工业增加值中由规模以上企业实现的比例约为：

- A.74.1%
- B.78.8%
- C.85.4%
- D.86.9%

118. 2007 年上半年该镇有 10 家企业产值同比增加额超过 1000 万元，这 10 家骨干企业的产值较去年同期增长：

- A.0.38 亿元
- B.0.41 亿元
- C.0.88 亿元
- D.1.0 亿元

119. 2007 年上半年，该镇完成的工业总产值约占全年工业总产值计划的：

- A.17.7%
- B.45.3%
- C.53.1%
- D.无法计算

120. 由上述材料可知：

- A.2007 年上半年，该镇 10 个行业大类对全镇工业产值增加的贡献率相同
- B.2007 年上半年，该镇 10 个行业大类中有 6 个行业产值的同比增长率超过 20%
- C.2007 年上半年，该镇 10 个行业中有 8 个行业产值保持增长
- D.2005 年上半年，该镇完成工业总产值约为 4.18 亿元

2018 政府购买职业能力测验模拟卷（第十一套）

第一部分 言语理解与表达

一、选词填空

（共 20 题。要求你从所给的四个选项中选出一个填空，使句子的意思表达得最准确）

请开始答题：

1. 技术不光是一种手段，它反过来对人的思维感知，对社会文化产生巨大影响。事实上，技术不但会对现有社会格局造成影响，而且会创造出新的事物，让人们以另一种眼光来看待此前_____的一些观念。

填入横线处的词语，最恰当的是（ ）

- A. 自以为是
- B. 固步自封
- C. 一成不变
- D. 根深蒂固

2. 中国古代医家有五戒十要之说，强调的重点有两个，一个是自律，解除名利色欲，一个是博爱，贫富亲疏_____。唐朝名医孙思邈有一篇名著叫《大医精诚》，点明伟大医生的两个特点，一是在医术上_____，二是在医德上诚心诚意。

依次填入横线处的词语，最恰当的一组是（ ）

- A. 一视同仁 精益求精
- B. 不偏不倚 救死扶伤
- C. 视同一律 登峰造极
- D. 爱人如己 孜孜不倦

3. 每个人对梦的诠释都是有选择性的。因为我们渴望梦能验证与支持我们的先验想法，所以我们便选择性地区关注那些“_____”的梦，这和其他心理学家们曾提出的“证实偏见”_____了。

依次填入横线处的词语，最恰当的一组是（ ）

- A. 虚无缥缈 背道而驰
- B. 心有灵犀 不谋而合
- C. 千奇百怪 相映成趣
- D. 五彩缤纷 殊途同归

4. 千百年来，是水，滋养着江南的风物、江南的人，_____了江南独特的文化。江

南的水，如轻纱薄雾，随风起舞，变幻无穷，滋润得江南的景物_____，江南的人风情万种。

依次填入划横线部分最恰当的一项是（ ）

- A. 哺育 闻名遐迩
- B. 孕育 风姿绰约
- C. 培育 森罗万象
- D. 滋生 婀娜多姿

5. 我国目前 600 多座城市中，有 2/3 的城市缺水。有的城市由于过度使用地下水，已出现城区部分地段塌陷的严重后果。这些城市的可持续发展形势已十分严峻，提高城市水利用率已_____。

依次填入划横线部分最恰当的一项是（ ）

- A. 迫在眉睫
- B. 时不我待
- C. 十万火急
- D. 千钧一发

6. 皮影戏是我国民间工艺美术与戏曲巧妙结合的独特艺术品种，某种程度上可以说是我国动画最早的表现形态。有人说，对于现在的孩子，皮影戏这门古老的艺术已经太_____。其实，皮影戏并没有因为历史的久远而_____，相反，皮影戏的幽默诙谐、简约古朴完全可以转换为颇具时尚气息的中国是卡通形象。

依次填入划横线部分最恰当的一项是（ ）

- A. 幼稚 不适宜
- B. 晦涩 一成不变
- C. 遥远 老气横秋
- D. 落伍 每况愈下

7. 抗战_____在中华民族历史上居于重要位置，_____因为近代以来首次彻底击败外来侵略者，_____因为这是一个逐渐紧密团结，进而争取独立自由的民族觉醒过程。

依次填入划横线部分最恰当的一项是（ ）

- A. 不仅仅 还 而且
- B. 不单单 而且 还
- C. 之所以 不仅 也
- D. 之所以 不是 而是

8. 心理学家唐纳德诺曼可能是最早提出“好设计让复杂的食物变得简单”理论的人。

他认为，_____设计是个复杂的综合体，_____从本质上说它最重要的部分是人类和技术之间的互动。

依次填入划横线部分最恰当的一项是（ ）

- A. 不仅 还
- B. 尽管 但
- C. 何况 因而
- D. 既然 所以

9. 培育和弘扬社会主义核心价值观，不能光说不练，只说不做。我们古人历来重视道德教化，而这种教化不是单纯地“教”，还要在“践行”中化为内心的自我_____。

依次填入划横线部分最恰当的一项是（ ）

- A. 规范
- B. 规则
- C. 规律
- D. 规划

10. 丝路千年，曾熙攘繁华，也曾冷寂荒驰。在新的历史起点，沿途各国在_____经济发展，_____交流合作上达成高度共识。

依次填入划横线部分最恰当的一项是（ ）

- A. 追求 扩大
- B. 谋求 扩大
- C. 谋求 凝聚
- D. 追求 凝聚

11. NASA 型新科学部门负责人吉姆格林说：“尽管人们知道金星是我们的“姐妹行星”，可它仍有许多秘密需要我们去揭开，包括它是否拥有海洋，是否有_____过生命等，了解金星和火星上事物的过程，将有助于我们更进一步了解类地行星如何演变，并由此_____地球的过去，现在和未来。

依次填入划横线部分最恰当的一项是（ ）

- A. 哺育 知道
- B. 孕育 洞悉
- C. 抚育 获悉
- D. 发育 洞察

12. 共享化是汽车行业转型的趋势之一，共享汽车的出场_____潮流所向。

填入划横线部分最恰当的一项是（ ）

- A. 俗称
- B. 号称
- C. 著称
- D. 堪称

13. 权力必须来自权利，权力才能真正_____权利；权利必须_____权力，权力才能真正服从权利；权力必须_____权利，权力才能真正属于权利。

依次填入划横线部分最恰当的一项是（ ）

- A. 代表 制衡 回归
- B. 制衡 代表 回归
- C. 代表 回归 制衡
- D. 制衡 回归 代表

14. 我们今天的任何改革都很有可能_____利益格局的重新调整，_____的微观改革往往难以撬动坚固的“利益板结”。但是，我们必须从国家和民族的未来着眼，不回避，敢担当，以更大的决心冲破思想观念的障碍，突破利益_____的藩篱。

依次填入划横线部分最恰当的一项是（ ）

- A. 波及 避重就轻 僵化
- B. 导致 谨小慎微 均衡
- C. 引发 裹足不前 重组
- D. 涉及 小打小闹 固化

15. ①地震发生后，党和政府迅速_____，科学部署，统筹协调，全力调动全国各方力量抗震救灾。

②商家制作商业广告的根本目的是为了_____，带有明显的功利色彩。

③要想为体育运动赢得生长空间，必须深化教育改革，打破分数崇拜，_____价值评价体系。

依次填入划横线部分最恰当的一项是（ ）

- A. 应对 赢利 改良
- B. 响应 盈利 完备
- C. 反映 利润 改善
- D. 反应 营利 完善

16. 在我国逻辑哲学的研究刚刚起步时，人们致力于引进、学习西方逻辑哲学理论。因此，部分学者产生一种_____，似乎西方逻辑学的理论就是逻辑哲学的唯一真理。他们对待西方逻辑哲学理论不是采取批判的态度，去其糟粕，取其精华，并以之作为构建我国逻辑哲学的素材，而是全盘照搬_____。

依次填入划横线部分最恰当的一项是（ ）

- A. 错觉 奉为圭臬
- B. 误解 肃然起敬
- C. 倾向 人云亦云
- D. 认识 顶礼膜拜

17. 目前，不少大城市属于超载状态，“城市病”严重，而人口不断_____，许多小城市发展慢，甚至出现_____。

依次填入划横线部分最恰当的一项是（ ）

- A. 增加 空置
- B. 迁移 停滞
- C. 涌入 萎缩
- D. 流动 退化

18. 电子化阅读具有携带方便、容量较大、可选择范围广等优势，但是不少专家指出，利用_____时间进行的阅读，获得的是碎片化信息，令读者进行_____思考。容易形成思维“惰性”。

依次填入划横线部分最恰当的一项是（ ）

- A. 短暂 冷静
- B. 闲暇 独立
- C. 业余 深入
- D. 零散 严谨

19. 当一个湮没个性、缺少选择的社会开始转向一个价值多元、选择多样的社会时，如果不能根据客观情况对法律法规进行适时地调整，只会将其推入_____之境，语言文字领域亦复如此，所以，此次异体、生僻字的“转正”值得_____。

依次填入划横线部分最恰当的一项是（ ）

- A. 被动 斟酌
- B. 两难 珍视
- C. 矛盾 反思
- D. 尴尬 喝彩

20. 这次省军区文工团下乡首演取得圆满成功！来源于生活、起源于基层、植根于群众的“_____”得到了“下里巴人”的由衷喜爱和热烈欢迎。

下列选项中，最适合填入横线的是（ ）

- A. 高山流水 B. 曲高和寡
C. 阳春白雪 D. 通俗易懂

二、阅读理解

(共 20 道题。阅读短文，短文后面有若干不完整的陈述，要求你从四个选项中选出一道来完成每一陈述。注意：供选择的答案有时可能是对短文的内容重复，有时则满足了陈述中其他方面的要求，你的选择应与所提要求最相符)

21. 供给侧结构性改革是从供给、生产端入手，激发微观主体的活力，解放生产力，开发优质新产品，解决有效供给不适应市场需求变化，使供需在更高水平实现新的平衡，这就需要以提高劳动力市场的灵活性，鼓励竞争，打破垄断，放宽准入，减少政府不正当干预为基础和条件。为此_____是全面推进供给侧改革必须跨越的首道门槛。

填入划横线处最合适的一句是 ()

- A. 加快形成社会资本公平竞争的市场准入和运营环境
B. 激发调动社会资本参与促进供给侧结构性改革的热情和活力
C. 废除妨碍权利公平、机会公平、规则公平的各种规定和做法
D. 构建竞争有序的现代市场体系和营商环境

22. 加拿大科学家在研究“威廉斯综合征”时意外地发现，有着音乐、数学天赋的人，他们的天赋其实是基因排列失常造成的，而且同样的基因失序也会导致精神分裂症等精神病。大多数一出生就患有“威廉斯综合征”的孩子，他们体内的 7 号染色体错排了 20 个基因。在全球每两万人当中，就有一人会出现这种情况。

作者接下来最有可能着重介绍的是 ()

- A. 什么是“威廉斯综合征”
B. 7 号染色体对人类的重要意义
C. “威廉斯综合征”的典型病例
D. 基因失序与天才

23. 关于演员认证，大家最为熟悉的莫过于“一级演员”这个称谓，而“一级演员”的评选，有一个主要考量标准是，“为繁荣中国的文艺事业作出了突出贡献”，这样的考量标准本身也是含糊的。另据相关资料显示，把“一级演员”称为“国家一级演员”只是习惯使然，在职称前面冠以“国家”二字，更多是出于对荣耀的显示。也可以这么理解，一个演员的知名度和受欢迎程度，主要来自他的作品，和他的职称并无关系。

这段文字主要强调 ()

- A. 评价演员的标准应明确、可行
- B. 演员认证不是衡量能力的标尺
- C. 评价演员应看重作品而非职称
- D. 当前演员认证存在的现实问题

24. 几千年前，在非洲湿热的原始森林里，土著居民围着火堆，跟随各种复杂节奏自由而热烈地边舞边唱。这种歌声，也许在某些“文明人”眼里算不上音乐。然而，这样的声音却是最原始的，是在恶劣环境里顽强的本能所发出的生命之音。如果说布鲁斯音乐是很多音乐的根源，那么，上面所说的便是这个根源的根源。

这段文字是一篇文章的引言，文章接下来最应该讲述的是（ ）

- A. 自然环境与音乐风格的关系
- B. 布鲁斯音乐与土著音乐的源流关系
- C. 土著音乐产生的历史背景
- D. 人类本能在原始音乐中的表现

25. 藏獒被疯狂炒作的时候，有些养殖者为迎合市场、提高售价，引进高加索犬等其他犬类进行杂交，导致市场鱼龙混杂，其数量在几年内急剧增长，改变了市场供求关系，导致价格暴跌，多地发生藏獒伤人事件，让人们对于藏獒产生畏惧和排斥心理。藏獒已从曾经风光无限的市场宠儿，沦落为如今不受人待见的累赘。

这段文字主要说明了（ ）

- A. 藏獒曾经的“风光无限”
- B. 如今人们对藏獒的“厌恶”
- C. 当下藏獒不受欢迎的原因
- D. 养殖藏獒对市场带来的影响

26. 因为观察是可错的，当检验蕴涵和观察实验结果不一致时，不一定是检验蕴涵不真，不能肯定假说被证伪了，有可能是观察实验结果不正确。当然，在假说的确证过程中，也需要观察实验证据，也要考虑实验的可错性问题。

关于这段文字，以下理解准确的是（ ）

- A. 观察是可错的，在科学实验中应尽量避免使用这种方法
- B. 检验蕴涵和观察实验结果不一致对于证伪假说意义不大
- C. 假说确证也需要考虑观察可错性问题
- D. 在假说证伪和假说确证过程中，观察所起的作用是一样的

27. 移动互联网在快速改变商业模式的同时，也深刻地改变着商业逻辑：不是你不明白，是这世界变化太快，现在“玩法变了”。如果你还在继续算计每个客户，每次交易能带来多

少直接利润，这样的小账本在移动互联网时代已经跟不上了。补贴，红包确实是倒贴钱，但在这个产品过剩，同质竞争激烈的时代，获得新用户的成本已越来越高，而只要有了用户，通过用户重复消费，传播扩散，就不怕没钱挣。

关于这段文字，以下理解准确的是（ ）

- A. 移动互联网的商业模式不会导致亏损
- B. 传统的商业逻辑易导致用户流失
- C. 移动互联网提高了获得新用户的效率
- D. 移动互联网改变了当下的商业逻辑

28. “枢纽型”社会组织本质上是支持性社会组织的一种本土化形式。这一类型的组织不直接服务于目标人群，而是以提供活动经费，公益需求信息，能力培训，政策咨询等方式服务于另一些中小型社会组织和草根社会组织。从我国社会转型的具体背景来看，“枢纽型”社会组织作为支持性组织顺应了政府职能转变的时代趋势。发挥了社会管理格局中“社会协同”“共同参与”的功能。

关于这段文字，以下理解准确的是（ ）

- A. 支持性社会组织本质上是一种“枢纽型”社会组织
- B. “枢纽型”社会组织对目标人群的服务是间接的
- C. 支持性社会组织运营的结果是政府职能转变
- D. 只有建立“枢纽型”社会组织才能发挥社会协同的功能

29. 所谓的功能模拟方法就是在未弄清或不必要弄清原型的内部结构的条件下，仅仅以功能相似为基础建立模型来在线原型功能的一种模拟方法。功能模拟把着重点放在达到同样的功能而不着重于结构是否一致或者类似。飞机模拟鸟的方法，电脑模拟脑的某些功能都是采用功能模拟的方法。

关于这段文字，以下理解准确的是（ ）

- A. 功能模拟不重现原型结构，因此很难达到模拟功能的目的
- B. 通过功能模拟可以再现原型功能，因此结构对于功能毫无意义
- C. 功能模拟尽管注重功能，但也希望可以把原型结构复制出来
- D. 通过功能模拟制造的产品和结构可能和原型的结构大相径庭

30. 宋至清末，是古代私家藏书的兴盛期。与宋前相比，该期最重要的变化为雕版印刷的普及与发展。之前图书生产靠手工抄写，生产速度慢。北宋时，雕版印刷普及，书籍的数量大大增加，流通速度加快，为私人藏书提供了资源保障。也是自此时起，私人藏书逐渐成

为社会的一个普遍文化现象。

上述文字旨在说明（ ）

- A. 雕版印刷的普及促进了私家藏书之兴盛
- B. 北宋以后，私家藏书逐渐成为一种风尚
- C. 宋代以前图书生产技术落后
- D. 古代私家藏书文化意蕴深厚

31. 作为杜威的弟子，李普曼理论与人文主义教育学家观点一脉相承，充满了人文关怀的精神。他赞同法国近代启蒙思想的先驱，著名作家蒙田的论断：“儿童不是一个可以塞满东西的瓦罐，而是一团可以点燃的火。”他希望儿童能被培养出一个很好的脑袋，而不是一个装满东西的脑袋。他说，应该把青少年培养有批判精神和怀疑精神的人，而把不是成年人自认为正确的理论灌输给他们。

关于这段文字，以下理解准确的是（ ）

- A. 蒙田是一位人文主义教育学家
- B. 李普曼和杜威对儿童教育的观点一致
- C. 李普曼提出“儿童是一团可以点燃的火”
- D. “塞满东西的瓦罐”比喻灌输式教育的结果

32. 群众实践中蕴藏的丰富智慧，文件上都读不到，会场中听不到，办公室里想不到，最好的办法是深入群众，和群众面对面交流，肩并肩劳动，在零距离接触中收获最为真切的感知。必须下决心，动真情，真正沉到基层，融入群众，从与群众朝夕相处中获取真知。

最适合作为这段文字标题的是（ ）

- A. 扎根群众实践要“扎”得下去
- B. 扎根群众实践要“扎”得迅速
- C. 扎根群众实践要“扎”得持久
- D. 善于总结群众实践是我们党的优良传统

33. 牛奶中确实含有 L-色氨酸，而 L-色氨酸也确实可用于制造诱发睡眠的 5-羟色胺与褪黑激素。这可能也是牛奶有利于人们休息和睡眠广为人知的原因。不只是牛奶。肉类中也广泛含有 L-色氨酸。但一小份食物中含有的 L-色氨酸总量一般并不足以让体内激素水平发生波动。

这段文字的作者对“饮用牛奶能帮助人们入眠的”态度是（ ）

- A. 不置可否

- B. 辩证
- C. 质疑
- D. 赞成

34. 将下列句子组成一段逻辑严谨，语言流畅的文字，排列顺序最合理的是（ ）

- ①世界文化最基本的立场应当是多元化
- ②衡量一种文化是优是劣，要不要继续发展，很难有一个统一的标尺
- ③这乃是文明社会的本意
- ④在这里容不得一个文明的强权者，站在自己的立场上，以自我为蓝本，先行设定一个框架，对其他文化指手画脚

- A. ②①④③
- B. ①②③④
- C. ③①④②
- D. ④③①②

35. 将下列句子组成一段逻辑严谨，语言流畅的文字，排列顺序最合理的是（ ）

- ①随着市场经济发展，分工和专业化必然带来市场规模的扩大，把越来越多的人群，越来越广的地域纳入统一市场
- ②从理论上说，市场经济具有自我扩张的本性
- ③由此，人流，物流，资金流越来越频繁，经贸联系越来越紧密，分工和专业化从城市和区域内部扩展到城市和区域之间
- ④这个过程一般表现为城市的资源聚集效应，规模经济效应，辐射带动效应，推动城市特色发展，联动发展，组团发展
- ⑤这是市场经济发展和城镇化的一般过程，也是经济一体化的过程

- A. ①②③④⑤
- B. ②③①⑤④
- C. ②①③⑤④
- D. ③①②④⑤

36. 将下列句子组成一段逻辑严谨，语言流畅的文字，排列顺序最合理的是（ ）

- ①随着年龄的增长，聚焦于邻近物体的视力下降了，要看清物体所需的光线量增加了。
- ②这种倾向导致了老年人行动反应迟缓的现象
- ③听力，特别是对高频声波的辨别力也下降了

④在信息处理过程中，检索知识的速度取决于眼睛，耳朵和其他感觉器官的感知输入

⑤在感知能力出现缺陷的情况下，年龄开始影响感知的质量，并且影响人们接受，处理和响应信息的能力

⑥在这种情况下，眼睛不能适应从光亮到黑暗的变化，反之亦然

A. ④①⑥③⑤②

B. ④①③⑥②⑤

C. ⑤⑥③②①④

D. ⑤①④⑥③②

37. 根据我国近年来的一项全国 977 家医院。39248 名医参与。覆盖全国 31 个省（区市）的调查显示，有 17% 的被调查者从来或者很少主动询问患者的吸烟情况，42% 的被调查者认为没有规定必须要询问患者的吸烟情况。

这段文字意在说明（ ）

A. 吸烟危害青少年生长发育

B. 医生是健康知识的传播者

C. 医生应起带头作用，先行戒烟，

D. 在对患者戒烟干预方面，我国医生缺乏行动力

38. 赵雷，武亦姝有两句话格外令人印象深刻。一句话是“人生需要不断感动，才能守住那些始终干净的东西”，另一句是“文化在我们每个人身上的烙印，终归会显现出它的力量”。“始终干净的东西”“文化的烙印”表述虽然不同，但无疑都是对雅文化的一种呼唤，拒绝那些虚伪的东西，用有意义的文化涵养现代心灵，这或许是赵雷，武亦姝给我们带来的最大的文化启示。

上文中的“这”指的是（ ）

A. 赵磊和武亦姝对于雅文化的一种呼唤

B. 拒绝虚伪，用有意义的文化涵养心灵

C. “文化在我们每个人身上的烙印，终归会显现出它的力量”

D. “人生需要不断感动，才能守住那些始终干净的东西”

39. 拆掉“门票经济”围墙，关键是要破除封闭式旅游的思维桎梏，把景点经营纳入旅游产业化的宏大格局，实现从景点旅游向全城旅游的模式转换，从而促进变“旅游城市”为“城市旅游”的根本性改观。

这段文字在意在强调（ ）

- A. 要“城市旅游”而非“旅游城市”
- B. 封闭式旅游思维阻碍旅游产业发展
- C. 旅游产业化促进景点旅游模式转换
- D. 拆除“门票经济”围墙要改变思路

40. 在环境、时尚、潮流的影响下，人们容易没头没脑地喜欢一样东西。可是你若厌恶一样东西，那多半是你自己的真实秉性和内在经验在说话。所以，喜欢容易模仿和传染，厌恶却不能，一旦产生则难以克制。当然，人们也会追随权力和舆论去声讨一样东西，但那是出于利害的计算，和厌恶是两回事。

对这段文字的主旨概括最准确的是（ ）

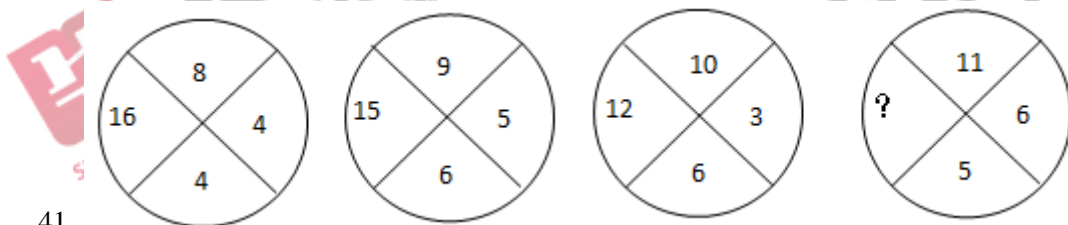
- A. 喜欢比厌恶更容易模仿和传染
- B. 人们喜欢某物多为随波逐流
- C. 因利害关系声讨某物非真正的厌恶
- D. 通常人们的厌恶比喜欢更加本能

第二部分 数量关系

一、数字推理

（共 10 题。给你一个数列，但其中缺少一项，要求你仔细观察数列的排列规律，然后从四个供选项的选项中选择你认为最合理的一项，来填补空缺项，使之符合原数列的排列规律）

请开始答题：



41.

- A.1
- B.8
- C.10
- D.36

42. 1, 5, 7, 10, 13, 15, (), ()

A.17, 20

B.17, 25

C.19, 20

D.19, 25

43. 7, 8, 8, 10, 11, ()。

A.12

B.13

C.14

D.16

44. 1, 11, 112, 1112, 11123, (), 1111234

A.11112

B.11113

C.111123

D.111124

45. $\frac{1}{8}$, $\frac{1}{6}$, $\frac{9}{22}$, $\frac{27}{40}$, ()。

A. $\frac{27}{16}$

B. $\frac{27}{14}$

C. $\frac{81}{40}$

D. $\frac{81}{44}$

46. $\frac{3}{2}$, $\frac{8}{5}$, $\frac{5}{3}$, $\frac{12}{7}$, ()

A. $\frac{10}{7}$

B. $\frac{11}{7}$

C. $\frac{14}{8}$

D. $\frac{13}{8}$

47. -2, -2, 0, 4, 10, ()

A.18

B.16

C.15

D.12

48. 3, 8, 33, 158, ()

A.219

B.378

C.512

D.783

49. $1, \frac{25}{24}, \frac{17}{18}, \frac{43}{54}, (), \frac{122}{243}$

A. $\frac{53}{81}$

B. $\frac{81}{52}$

C. $\frac{81}{51}$

D. $\frac{80}{51}$

50. 4, 4, 4, 8, 24, 120, ()

A.240

B.360

C.560

D.960

二、数字运算

(共 10 题，在这部分试题中，每道试题呈现一段表述数字关系的文字，要求你迅速、准确地计算出答案)

51. 甲乙合作完成一项工作，由于配合得好，甲的工作效率比单独做时提高 $\frac{1}{10}$ ，乙的工作效率比单独做时提高 $\frac{1}{5}$ ，甲乙合作 6 小时完成了这项工作。如果甲单独做需要 11 小时，那么乙单独做需要几小时？ ()

A. 13

B. 16

C. 18

D. 20

52. 某代表队参加文艺会演的共 78 人，其中女生人数的 $\frac{4}{5}$ 是男生人数的 $\frac{1}{2}$ ，那么参加演出的女生人数为多少人？（ ）

A. 30

B. 33

C. 36

D. 38

53. 某班有 50 人，其中有 42 人会打乒乓球，40 人会打篮球，38 人会打排球，35 人会打羽毛球，则这个班至少有多少人这四项球类都会打？（ ）

A. 2

B. 3

C. 4

D. 5

54. 一个数的 20 倍减去 1 能被 153 整除，这样的自然数中最小的是：（ ）

A. 31

B. 29

C. 23

D. 18

55. 平面上有 99 条直线，这些直线最多有多少交点？（ ）

A. 1198

B. 2297

C. 3596

D. 4851

56. 甲乙在银行存款共 9600 元，如果两人取走各自存款的 40%，然后甲再从存款中转账 120 元给乙，这时两人存款数相等。那么甲的原存款为多少元？（ ）

A. 3500

B. 3900

C. 4200

D. 5000

57. 某单位准备在一条小路的两边栽树。已知该小路长 40 米，在路的两边每隔 4 米栽

一棵树，那么小路的两边一共要栽树（ ）棵。

- A. 10
- B. 11
- C. 20
- D. 22

58. 小张因为太久没有登录某网站了，故忘记了该网站登录密码的最后两位数字，只记得其中有一位是4，则他最多要试（ ）次才能保证把密码输入正确。

- A. 16
- B. 17
- C. 19
- D. 21

59. 甲乙二人协商共同投资，甲从乙处取了9000元，并以两人名义进行了15000元的投资，但由于决策失误，只收回6000元。甲由于过失在己，愿意主动承担 $\frac{2}{3}$ 的损失。问收回的投资中，乙将分得多少钱？（ ）

- A. 2000元
- B. 3000元
- C. 4000元
- D. 6000元

60. 一个立方体随意翻动，每次翻动朝上一面的颜色与翻动前都不同，那么这个立方体的颜色至少有几几种？（ ）

- A. 3
- B. 4
- C. 5
- D. 6

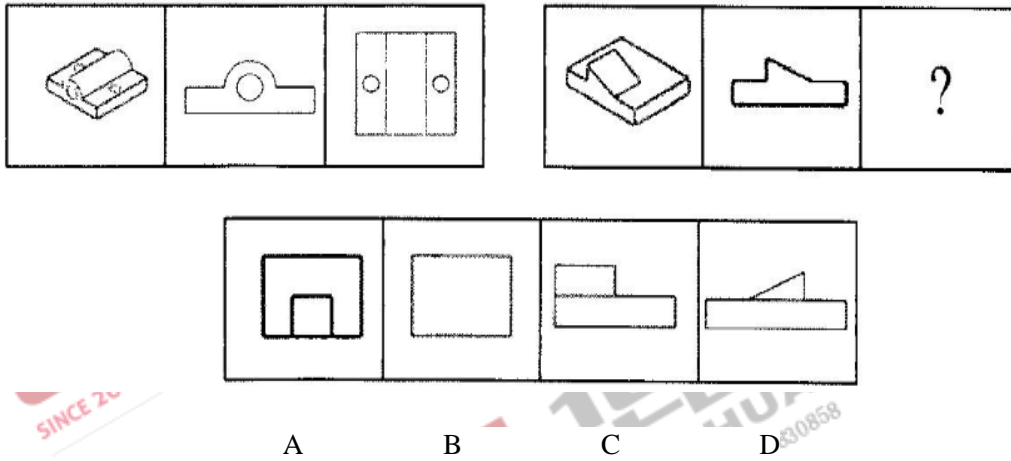
第三部分 判断推理

一、图形推理


（共10题。要求你从四个选项中选择你认为最适合取代问号的一个。正确的答案应不仅使两套图形表现出最大的相似性，而且使第二套图形也表现出自己的特征）

请开始答题：

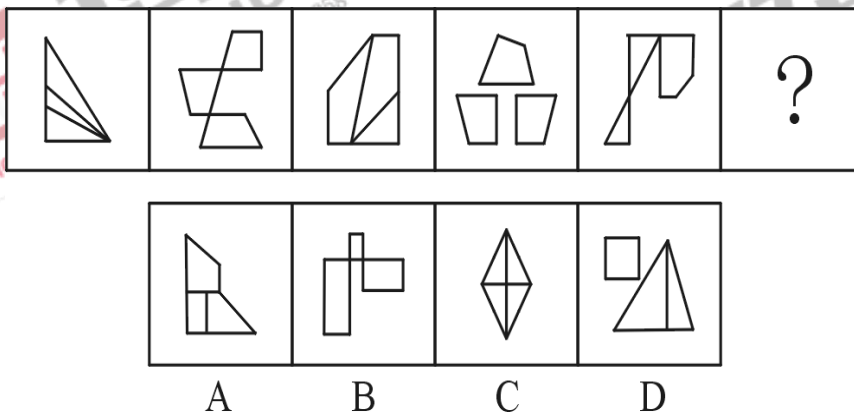
61.从所给的四个选项中，选择最合适的一个填入问号处，使之呈现一定的规律性是




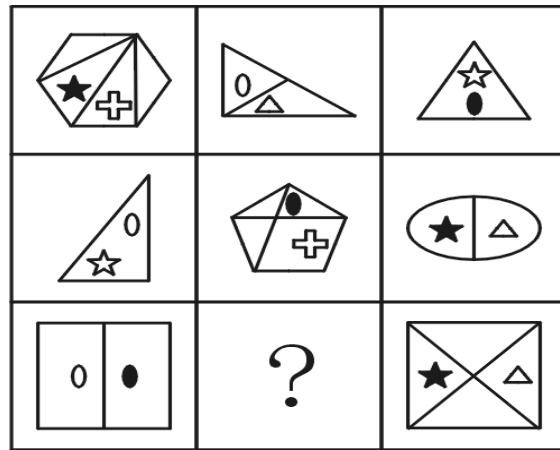
62.从所给的四个选项中选择最合适的一个填入问号处，使之呈现一定的规律。



63.从所给的四个选项中选择最合适的一个填入问号处，使之呈现一定的规律。

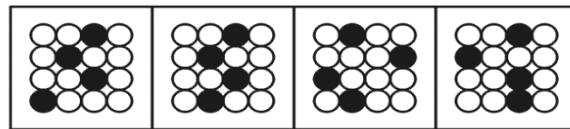
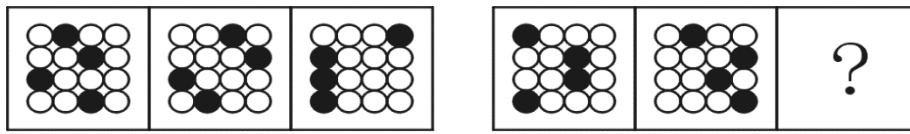


64.从所给的四个选项中选择最合适的一个填入问号处，使之呈现一定的规律。



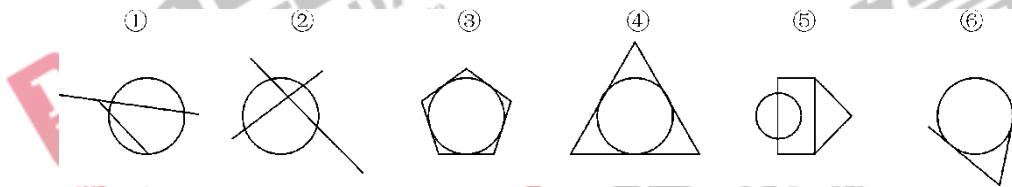
A B C D

65.从所给的四个选项中选择最合适的一个填入问号处，使之呈现一定的规律。



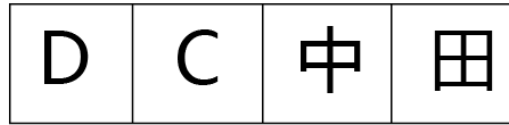
A B C D

66.把下面的六个图形分成两类，使每一类图形都有各自的共同特征或规律，分类正确的一项是：



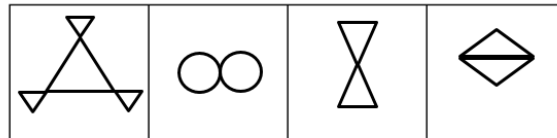
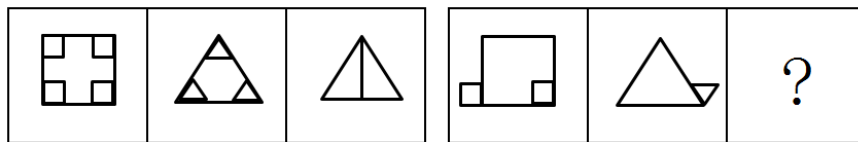
- A. ①②④, ③⑤⑥
- B. ①③⑥, ②④⑤
- C. ①②⑤, ③④⑥
- D. ①③④, ②⑤⑥

67.根据所给图形的既有规律



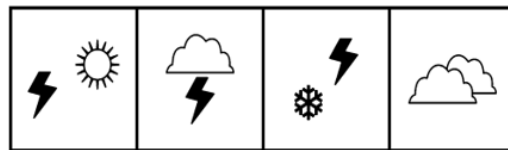
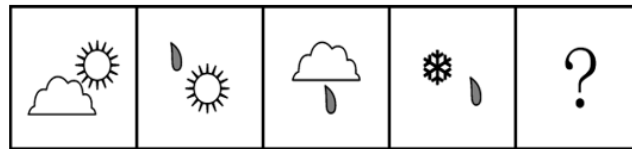
A B C D

68. 从所给的四个选项中选择最合适的一个填入问号处，使之呈现一定的规律 ()



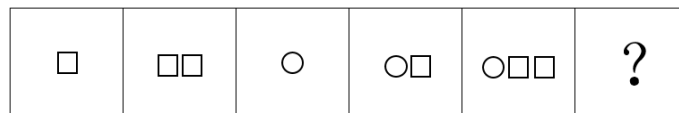
A B C D

69. 从所给的四个选项中，选择最合适的一个填入问号处，使之呈现一定的规律性 ()



A B C D

70. 根据所给图形的既有规律，选出一个最合理的答案 ()



A B C D

二、定义判断

(共 10 题，每道题先给出一个概念的定义，然后分别列出四种行为，要求你严格依

据定义从中选出一个最符合或最不符合该定义的答案。注意：假设这个定义是正确的，不容置疑的。)

71. 职业培训，是指按照不同职业岗位的要求，对接受培训的人员进行职业培训与实际技能的培训和训练。

根据上述定义，下列属于职业培训的是 ()

- A. 某社区居委会对社区下岗人员进行计算机技能培训
- B. 某单位组织今年新入职的会计人员进行财务制度学习和实操培训
- C. 某高校新生入学后到军训基地参加军训
- D. 高考艺术生考试前报名参加考前集中培训班

72. “正义不仅应得到实现，而且要以人们看得见的方式加以实现”。这句格言的意思是说，不仅某种法律决定应正确、公平，并完全符合实体法的规定和精神，而且还应当使人感受到该决定形成过程的公平性和合理性。程序正义即“看得见的正义”，实质上就是指法律决定形成过程（相对于法律决定结果而言）的公平，法律程序（相对于实体结论而言）的正义。

根据上述定义，下列违反程序正义的是 ()

A. 法院宣告某地方政府授予某公司的许可无效，理由是该地方政府通过先前的一份合同与该公司产生了财务上的利益牵连，按照合同的约定，如果地方政府不授予许可的话就要对该公司承担赔偿责任

B. 美国加利福尼亚州最高法院对前美式橄榄球明星辛普森进行的刑事审判，由于警方的几个重大失误导致所谓的有力证据失效，在经历了创加州审判史记录的长达九个月的马拉松式审判后，辛普森被判无罪

C. 某市工商行政管理局对某电器有限公司做出了吊销营业执照的行政处罚，处罚前未告知处罚决定的事实、理由及依据，也未告知当事人有依法要求举行听证的权利

D. 一拒绝延长某出租车司机许可证的决定被上诉法院撤销，理由是据以作出该决定的一份医疗报告没有向该司机出示

73. 口红效应是指每当经济不景气，人们的消费就会转向购买廉价商品，而口红虽非生活必需品，却兼具廉价和粉饰的作用，能够给消费者带来心理慰藉。在经济危机下，消费者的购物心理和消费行为等都发生了变化，普通消费者个个都变成了砍价高手，经济危机也使得如口红这类的廉价化妆品和文化类的产品出现了大卖。

根据上述定义，下列符合口红效应的定义是 ()

A. 小李为了参加某公司的面试，原本准备购买一套名牌西服，但是由于资金有限最后购买了一套廉价西服

B. 小王最近开销比较大，他平常理发都是洗剪吹套餐 50 元，这次他选择了 15 元的理发套餐

C. 公司最近销售情况不好，往常小马都要带全家去美国旅游，但是今年换成了云南旅游，花销减少了不少，不过小马一家都觉得很好

D. 李老板由于决策失误，导致了公司业绩下降，为了保证资金链不断，他低价出售了多处房产和高级轿车，现在上班都选择骑自行车

74. 价格歧视实质上是一种价格差异，通常指商品或服务的提供者在同一时间向不同的接受者提供相同等级、相同质量的商品或服务时，在接受者之间实行不同的销售价格或收费标准。

根据上述定义，下列属于价格歧视的是（ ）

- A. 服装店将应季服装提高价格后出售
- B. 移动公司对高峰期和夜间流量区别定价
- C. 香港迪士尼乐园门票的价格高于内地很多乐园门票的价格
- D. 某餐馆给会员顾客和非会员顾客的菜单上，菜品价格不同

75. 在心理学上，自我暗示指通过主观想象某种特殊的人与事物的存在来进行自我刺激，达到改变行为和主观经验的目的。

根据上述定义，下列不是由自我暗示所引起的是（ ）

- A. 草木皆兵
- B. 望梅止渴
- C. 杯弓蛇影
- D. 风声鹤唳

76. 隐私权是指在不违反法律的情况下，为了保护个人的名誉和形象，个人对其个人行为和个人材料保密，不让他人非法获知的权利。

根据上述定义，下列属于隐私权的是（ ）

- A. 某明星拒绝向媒体透露其恋爱对象的身份的权利
- B. 某犯罪嫌疑人向公安机关隐瞒其过往犯罪行为的权利
- C. 某涉嫌贪污的官员拒绝透露其巨额财产来源的权利
- D. 某军事基地禁止无关人员进入的权利

77. 知觉是客观事物直接作用于感官而在头脑中产生的对事物整体的认识。知觉有这样几个特性：整体性、恒常性、意义性、选择性。选择性知觉，是指个体通过媒介信息来感知某些他们想要感知的信息而自动忽略其他相反的信息的过程。选择性知觉也可以认为是一种

心理学上的认知偏差，可以影响我们如何感知事物。人类在做出判断和决定的时候会被一系列的认知偏差、感知偏差和动机偏差而扭曲和误导，然而人类却不会感觉到自己被误导。

根据上述定义，下列不属于选择性知觉的是（ ）

- A. 齐人失斧，怀疑是邻居偷去了，邻居的一举一动看着都像是偷了自己斧头的小偷，后来斧头找到了，邻居怎么看又都不像小偷了
- B. 地震专家根据地下水异常、生物异常、地声异常、地光异常、地震云、气象异常等方面判定某地将有地震
- C. 父母通常都觉得自家孩子比一般孩子更加聪明可爱
- D. 某面试主考认为女职员总是把家庭放在事业之上，由此拒绝录用女职员

78. 模仿反射：是指当一个人看到别人完成一个动作时，这个人大脑的相应神经元会兴奋，且人类大脑有一个基于个人自己模式的动作模版，因而大脑会自动模仿这个动作，以帮助得知动作的目标，从而明白动作产生主体的意图。

根据以上定义，下列不属于模仿反射的是（ ）

- A. 乙打哈欠，同一房间的甲也开始打哈欠
- B. 甲看到有人把手伸向书架，便猜测这个人是要拿书
- C. 篮球比赛中，甲观察乙传球的动作，便知道乙要传给哪个队友
- D. 一个小孩被大人的威吓动作给吓哭了

79. 知觉恒常性：知觉系统能在一定范围内保持对客观事物的稳定地认识，而不随知觉条件或感觉映像模式的改变而改变。下列属于知觉恒常性的是（ ）

- A. 5岁的明明第一次坐飞机，在空中看到地面的人小的像蚂蚁，很是奇怪“人怎么变得那么小”
- B. 同样的水，由大杯子倒进了小杯子，明明觉得水变多了
- C. 明明坐车的时候，看到路两旁的树也在跑，感到很疑惑
- D. 妈妈今天换了一身衣服，头发也染了颜色，但明明还是一眼就认出了妈妈

80. 微博营销是指以微博为营销平台，每个关注者都是潜在营销对象，企业利用更新微博向网友传播企业、产品信息，树立良好的企业形象和产品形象。微博营销的特点是立体化、高速度、便捷性和广泛性。

根据以上定义，下列属于微博营销的是（ ）

- A. 小张自从去年开始关注某服装网店微博后，经常会收到其他服装网店的“求关注”信息

B. 某知名英语培训机构官方微博，除了发布机构的课程信息外，还定期发布商务英语单词和句式，供大家学习

C. 小王在某门户网站注册了免费邮箱，注册时注明愿意接收该网站发布的关于娱乐、体育方面的资讯，之后该邮箱经常收到该网站发送的邮件

D. 小李崇拜某歌星，关注该歌星的微博，随时了解自己偶像的动向和心情，并自己组建了一个该歌星的粉丝群

三、类比推理

(共 10 题，先给出一对相关的词，要求你在备选答案中找出一对与之在逻辑关系上最为贴近或相似的词)

81. 步枪：机枪

A. 飞弹：流弹

B. 地雷：水雷

C. 弹头：弹丸

D. 弹壳：弹筒

82. 茶砖：砖茶

A. 蚕桑：桑蚕

B. 蜜蜂：蜂蜜

C. 杆秤：秤杆

D. 冰棒：棒冰

83. 草莓：樱桃：苹果

A. 衣服：袖子：衣襟

B. 树叶：树枝：树根

C. 掌心：虎口：拳头

D. 熏风：金风：朔风

84. 顺藤：摸瓜

A. 轻描：淡写

B. 闻鸡：起舞

C. 饮鸩：止渴

D. 抛砖：引玉

85. 节日：元旦：春节：端午：重阳

A. 黎明：凌晨：拂晓：破晓：昧旦

B. 节气：立春：雨水：谷雨：白露

C. 生日：诞辰：吉日：婚期：假期

D. 时令：季节：黄梅：三伏：数九

86. 左邻：右舍

A. 东张：西望

B. 瞻前：顾后

C. 水滴：石穿

D. 相形：见绌

87. 陶土：煅烧：陶器

A. 钢铁：模具：铁锅

B. 毛笔：宣纸：国画

C. 书本：阅读：钢琴

D. 木柴：煅烧：木炭

88. 笔画：汉字：小篆

A. 木板：桌子：凳子

B. 小米：大米：五谷

C. 卫星：星云：宇宙

D. 音符：乐谱：五线谱

89. 橙子：水果刀：案板

A. 瑜伽：普拉提：健身房

B. 衣服：搓衣板：脸盆

C. 床单：洗衣机：洗衣液

D. 教师：学生：教师

90. 高铁：电线：铁轨

A. 楼房：水泥：地基

B. 航母：海域：战斗

C. 茶壶：胚胎：炼制

D. 书柜：书籍：阅读

四、逻辑判断

(共 10 题，每题给出一段陈述，这段陈述被假设是正确的，选出一个答案，注意，正确的答案应与所给的陈述相符合)

91. 某镇仅有一中和二中两所中学。一中学生的学习成绩一般比二中的学生好。由于来自该镇的大刚在大学一年级的学习成绩是全班最好的，因此，他一定是该镇一中毕业的。

以下哪项与题干的论证方式最为类似？

A. 北方人个子通常比南方人高，陈陆在班上最高，因此，他一定是北方人

B. 如果人们懂得赚钱的方法，则一般都能积累更多的财富。因此，李杰的财富是来源于他的足智多谋

C. 儿童的心理教育与成年人更高。高峰是某公司心理素质最好的人，因此，他一定在儿童时获得良好的心理教育

D. 如果父母对孩子的教育得当，则孩子在学校的表现一般都比较良好。由于张华在学校的表现不好，因此他的家长一定教育失当

92. 知行中学初一由六个班级组成，去年，初一一班试行开设逻辑思维课程。其他五个班级则维持原有的课程体系。结果，一班学生的成绩比其他班级的平均成绩高出 20%。由此可知，在知行中学开设逻辑思维课程有利于提高该校学生的成绩。

以下哪项为真，最能削弱上述论证？

- A. 开设了逻辑思维课程后，吸引了其他班级一些优秀的学生转来一班
- B. 南山中学去年也开设了逻辑思维课程，但学生成绩没有明显提高
- C. 知行中学去年从全国聘请的优秀高级教师，主要分配在一班
- D. 知行中学五班去年没有开设逻辑思维课程，但五班学生的成绩比一班略高

93. 生活节俭应当成为选拔国家干部的标准。一个不懂得节俭的人，怎么能尽职地为老百姓当家理财呢？

以下哪项不符合题干的断定？

- A. 不存在生活不节俭却又合格的国家干部
- B. 一个生活节俭的人，一定能成为称职的国家干部
- C. 一个称职的国家干部，一定是一个生活节俭的人
- D. 除非生活节俭，否则不能成为称职的国家干部

94. 英国一项研究发现，英国男性如果父母上过大学，其收入就比较高。相比之下，父母没有受过高等教育的男性比有同等学历但家庭环境比较好的人收入低 20%。这证明，父母是否受过高等教育，在一定程度上决定了孩子的未来，收入差距可以从一代传到下一代。

以下哪项最有可能是上述论证的假设前提？

- A. 英格兰和北爱尔兰父母受教育低的女性比父母受过高等教育的女性收入低 11%，尽管他们有同等学力
- B. 在英国，研究生的孩子更有可能会上私校然后上更好的大学，英国对好大学的经济奖励特别高
- C. 在英国，富裕家庭的孩子都会上排名高的大学，从而使富裕家庭的孩子比贫穷家庭的孩子有更多机会找合适的工作
- D. 该调查研究了 24 个国家中包括英国 22-30 岁的两万男士的工资和家庭背景

95. 知己知彼，才能百战不殆。这句话同样适用于人际交往之中，一个人只有先了解自己，才能了解别人；任何人也只能信赖充分了解他的人，包括他自己。试想，如果一个人根本不了解你，他如何值得信赖呢？

由此可以推出：

- A. 只有信赖自己，才能信赖别人
- B. 不了解自己，就不会被别人信赖
- C. 他充分了解你，所以他值得你信赖
- D. 充分了解自己，就可以获得许多人的信赖

96. 一份发行量非常大的报纸居然停刊，原因在于它拥有的读者群是年龄偏大且社会经济地位低下的男性，这部分人群消费能力低下，因为广告效果十分不理想，使广告主对它失去信心。失去了广告主，它再也办不下去了。

由此可以推出：

- A. 发行量不是报纸争取广告收入的唯一条件
- B. 报纸发行量对广告主没有吸引力
- C. 女性比男性更喜欢广告
- D. 依赖广告收入办报不利于报业发展

97. 甲、乙、丙三朋友去参观车站，看到一款轿车。甲说：这不是“奇瑞”，也不是“荣威”。乙说：这不是“奇瑞”，而是“红旗”。丙说：这不是“红旗”，而是“奇瑞”。后来，车展管理员说：“三个人中，有一个人的两个判断都会对；另一个人的两个判断都错；第三个人的两个判断一对一错。”

由此可知：

- A. 这辆轿车是红旗轿车
- B. 这辆轿车是荣威轿车
- C. 这辆轿车是奇瑞轿车
- D. 这辆轿车不是上述任一品牌

98. 有甲、乙、丙、丁四个人，各对某个两位整数的特点用两句话表述：

甲：“用2除余1”，“用3除余2”。

乙：“用4除余3”，“用5除余4”。

丙：“用6除余5”，“用7除余6”。

丁：“用8除余7”，“用9除余8”。

已知四人中每个人都只说对了一句话，而另外一句话是错的。请问这个两位数是：

- A. 55
- B. 66
- C. 77
- D. 88

99. 人们经常使用微波炉给食品加热。有人认为，微波炉加热时食物的分子结构发生了改变，产生了人体不能识别的分子。这些奇怪的新分子是人体不能接受的，有些还具有毒性，甚至可能致癌。因此，经常吃微波炉食品的人或动物，体内会发生严重的生理变化，从而造成严重的健康问题。

以下哪项为真，最能质疑上述观点？

- A. 微波加热不会比其他烹饪方式导致更多的营养流失
- B. 自 1947 年发明微波炉以来，还没有因微波炉食品导致癌变的报告
- C. 我国微波炉生产标准与国际标准、欧盟标准一致，发达国家使用微波炉也很普遍
- D. 微波只是加热食物中的水分子，食品并未发生化学变化

100. 全民健康是健康中国建设的战略举措。从全民健身到全民健康，再到全面小康，让全民健身获得了前所未有的发展动力。运动是良医，从被动医疗到主动健康，这意味着全民健身正越来越成为生活的常态，成为提升人民生活品质的基本保障。

下列哪项最能增强上述结论：

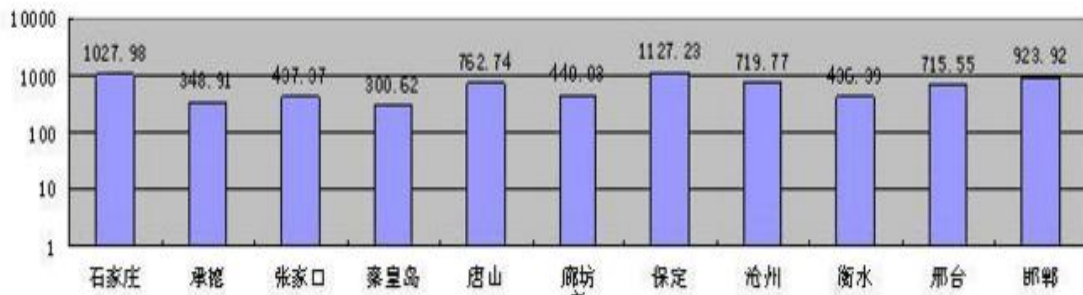
- A. 没有全民健康就没有全面小康
- B. 全民健身是体育产业发展的动力源
- C. 个体素质的提升包括身体素质的提升
- D. 我国应树立大体育理念

第四部分 资料分析

一、根据所给资料，回答下列问题。

2015年河北省各市人口分布图

单位：万人



品产量增幅超过 10%。主要产品中，果酒及配制酒同比增长 256.7%，米制半成品增长 29.3%，冷冻蔬菜增长 28.3%，水产业增长 22.5%，熟肉制品增长 20.3%，酱油增长 17.9%，成品糖增长 17.8%，在减产的产品中，汽水产量同比减少 73.1%，冷冻水产品减少 47.3%，饮料减少 6.0%。

1—3 月，规模以上食品工业主营业务收入为 1070.37 亿元，同比增长 13.8%，实现利润总额 52.66 亿元，增长 9.5%，平均用工人数 39.7 万人，增长 6.0%。资产总计 1836 亿元，增长 7.2%。

106. 2017 年 4 月份，该省规模工业产值平均水平同比增长：（ ）

- A. 5.6%
- B. 7.1%
- C. 16.1%
- D. 24.4%

107. 下列选项中，2017 年 1-4 月该省产量增速最快的是：（ ）

- A. 熟肉制品
- B. 米制半成品
- C. 冷冻蔬菜
- D. 酱油

108. 2017 年 1-4 月，该省规模以上食品工业主要产品品种中，产量同比增加的品种约占：（ ）

- A. 38.5%
- B. 42.6%
- C. 53.7%
- D. 78.8%

109. 2017 年 1-4 月，该省规模以上食品工业主要产品中，果酒及配制酒业同比增速约为水产业的（ ）倍。

- A. 9.5
- B. 10.2
- C. 11.4
- D. 12.6

110. 根据上述资料，下列说法中，正确的有（ ）个。

- (1) 2016 年 1-3 月，该省规模以上食品工业主营业务收入约为 940.57 亿元
- (2) 2017 年 1-4 月，该省规模工业产值同比累计增长 7.1%
- (3) 2017 年 1-4 月，该省规模以上食品工业主要产品中，冷冻水产品减产最多

- A. 0
- B. 1
- C. 2
- D. 3

三、根据所给资料，回答下列问题。

2017年5月 邮电运输业主要业务量指标				
项 目	计量单位	2017年5月	同比增长 (%)	增幅比上年同期提高
旅客运输总量	万人	5796.1	-3.5	3.2
公路	万人	3916.1	-8.4	1.4
铁路(旅客发送量)	万人	1180.7	8.5	8.1
航空	万人	699.3	8.8	3.9
旅客周转量	亿人公里	165.3	9.7	6.1
公路	亿人公里	8.8	-15.7	-2.9
铁路	亿人公里	13.2	6.4	7.8
航空	亿人公里	143.3	12.1	6.3
货物运输总量	万吨	1873.1	-10.8	-10.4
公路	万吨	1801.1	-11.1	-12
铁路(货物发送量)	万吨	57.3	-4.7	26
航空	万吨	14.7	8.4	8.9
货物周转量	亿吨公里	38.9	-1	-3.5
公路	亿吨公里	14.2	-6.3	-6.8
铁路	亿吨公里	18.2	-0.7	-5.2
航空	亿吨公里	6.4	12.4	10.5

111. J省 2016 年 5 月旅客运输总量约为 () 万人

- A. 5796.1 B. 6325.1
 C. 6006.3 D. 5986.3

112. 2017 年 5 月, J 省航空货物周转量比上年同期约多 () 亿吨公里。

- A. 0.64 B. 0.71
 C. 1.28 D. 1.42

113. J 省 2017 年 5 月, 航空旅客周转量约是公路旅客周转量的 () 倍。

- A. 20.7 B. 10.9
 C. 11.4 D. 16.3

114. J 省 2017 年 5 月铁路(旅客发送量)比 2015 年同期增长了约 ()

- A. 0.4% B. -0.4%
 C. 8.9% D. 17.8%

115. 根据上述材料, 下列说法正确的是 ()

- A. J 省 2016 年 5 月公路、铁路(旅客发送量)、航空的旅客运输量中增速最快的为公路运输量
 B. J 省 2017 年 5 月铁路货物周转量占全部货物周转量的比重比上年同期有所下降
 C. J 省 2017 年 5 月航空货物运输总量占货物运输总量的比重比上年同期有所下降

D. J省 2017 年 5 月公路旅客运输量约占旅客运输总量的六成以上

四、根据所给资料，回答下列问题。

2015 年，全国文化及相关产业增加值 27235 亿元，比上年增长 11%（未扣除价格因素），在 2014 年增长 12.2% 的基础上继续保持两位数增长，呈快速增长态势。2015 年文化及相关产业增加值占 GDP 的比重为 3.97%，比上年提高 0.16 个百分点。

2015 年，代表文化内容的“文化产品的生产”创造的增加值为 17071 亿元，而“文化相关产品的生产”创造的增加值为 10165 亿元；且“文化产品的生产”作为我国文化产业的主体，增速达 13.4%，远高于“文化相关产品的生产”的 7.1% 的增速。从产业类型看，文化制造业增加值 11053 亿元，比上年增长 8.4%，占 40.6%；文化批发零售业增加值 2542 亿元，增长 6.6%，占 9.3%；文化服务业增加值 13640 亿元，增长 14.1%，占 50.1%。

2015 年文化休闲娱乐服务业和以“互联网+”为主要形式的文化信息传输服务业实现增加值分别为 2044 亿元和 2858 亿元，增速分别达 19.4% 和 16.3%，占文化及相关产业的比重分别为 7.5% 和 10.5%，均比上年提高 0.5 个百分点；广播电视电影服务业实现增加值 1227 亿元，占比为 4.5%，比上年提高 0.2 个百分点；文化创意和设计服务业实现增加值 4953 亿元，增长 13.5%，占比为 18.2%，比上年提高 0.4 个百分点。

116. 2013 年全国文化及相关产业增加值约为多少万亿元？

- A.1.8
- B.2.0
- C.2.2
- D.2.5

117. 2015 年，“文化产品的生产”创造的增加值占全国文化及相关产业增加值的比重比“文化相关产品的生产”创造的增加值所占比重高出约：

- A.23%
- B.25%
- C.27%
- D.29%

118. 2014 年，文化休闲娱乐服务业和文化信息传输服务业增加值占文化及相关产业增加值的比重约为：

- A.16%
- B.17%

C.18%

D.19%

119. 下列各项中，2015 年增加值增速最高的是：

A.文化制造业

B.文化服务业

C.文化相关产品

D.文化产品的生产

120. 能够从上述材料中推出的是：

A.2014 年文化及相关产业增加值占 GDP 比重超过 4%

B.2015 年文化制造业增加值占文化及相关产业比重高于 2014 年

C.2015 年文化创意和设计服务业增加值占文化服务业比重高于 2014 年

D.2015 年文化服务业增加值增量高于文化制造业增量

2017 年事业单位笔试模拟题(第一套)

单选

1. 12 月 1 日，中共中央总书记、国家主席习近平在中国共产党与世界政党高层对话会开幕式上发表主旨讲话指出，今天人类生活的关联前所未有的，同时人类面临的全球性问题也前所未有的。世界各国人民前途命运越来越紧密地联系在一起。世界各国人民应该秉持（ ）

A 天下一家理念。 B 求同存异思想 C 天下为公精神。 D 豁然贯通境界。

2. 2017 年 12 月 3 日，在第四届世界互联网大会上，中国、埃及、老挝、沙特、塞尔维亚、泰国、土耳其、阿联酋等国家代表共同发起（ ）

A 《清朗网络空间，文明网络行为》 B 《一带一路数字经济国际合作倡议》
C 《一带一路信息化建设》 D 《创新驱动，造福人类倡议》

3. 中国第三代核电技术研制成功的自主品牌是。（ ）

A 长征一号 B 华夏一号 C 长江一号 D 华龙一号

4. 越南共产党中央委员会总书记（ ）

A 胡志明 B 农德梦 C 阮富仲 D 李可漂

5. 2017 年 11 月 20 日，中蒙最大口岸二连浩特铁路口岸进出口创历史新高。这是自 1956 年中蒙俄三国铁路开办国际联运业务以来，二连站进出口运量首次突破（ ）大关。

A 十万吨 B 百万吨 C 千万吨 D 亿万吨。

6. 2017 年 10 月 30 日，联合国教科文组织网站发布消息，我国申报的（ ）顺利通过联合国教科文组织世界记忆工程国际咨询委员会的评审，成功入选《世界记忆名录》。

A 甲骨文 B 汉墓简牍 C 西夏文佛经

7. 巴塞罗那和（ ）签署了一份新合同，这位阿根廷巨星将在球队效力到 2020—2021 赛季……合同中设置的买断条款为 7 亿欧元。

A 哈维·阿隆 B 梅西 C 比利亚 D 托雷斯

8. 中国空间科学卫星系列首发星、暗物质卫星成功发射升空！暗物质卫星具有世界先进的探测器，有助于我国科学家在全球竞争中尽早地捕获神秘的暗物质。这标志中国空间科学研究已进入全面探索阶段！这颗暗物质卫星是（悟空）

9. 马克思说：哲学把无产阶级当作自己的物质武器，同样，无产阶级也把哲学当作自己的精神武器。对这句话的正确理解是

12. 鉴于我国大部分地区七月份气温偏高自然灾害频繁对考生复习应考。及考试阅卷儿的组织工作影响很大，从 2013 年开始全国高考提前一个月进行。这一变化，蕴含的哲学道理是()

- A 实践是认识的基础
- B 客观要和主观相一致
- C 想问题办事情要从实际出现
- D 认识对实践有反作用

13. 老子曰，有无相生，难易相成下列诗句中与老子这一。思想蕴含相同哲理的是()

- A 读书破万卷下笔如有神
- B 欲穷千里目，更上一层楼
- C 蝉噪林愈静鸟鸣山更幽
- D 生当做人杰，死亦为鬼雄。

14. 中国人待客时聊备薄酒的自谦可能被外国人误解为。慢待客人西方人聚餐时各付各的帐，往往被东方人视为吝啬小气，这说明文化的差异()

- A 去交往不可逾越的障碍
- B 是不同意识形态的反映
- C 体现民族文化的优劣
- D 影响人们之间的交往

15. 在我国任何人都享有宪法和法律规定的权利。同时也必须履行宪法和法律规定的义务，这是因为()

- A 公民的权利和义务是按比例分配的
- B 权利和义务在法律关系上是相对应而存在的权利
- C 也是义务义务也是权利
- D 公民的权利和义务是对立的

16. 每当发生重大灾害给群众生产生活造成严重影响时。我国政府都会迅速指导抗灾救灾工作。看望慰问受灾群众。不惜一切代价，缓解灾区的各项困难，这是因为。()

- A 我国实行人民代表大会制度，人民是国家的主人。
- B 我国是人民民主专政的社会主义国家
- C 国家履行社会公共服务的职能。
- D 国家机构坚持对人民负责的原则。

17. 每年 4 月 22 日是世界阅读日。我国也已将全民阅读立法列入国家立法工作计划。如果你是一名政协委员在推动阅读。立法，工作上应该()

- A 积极提出支持阅读立法的提案，建言献策，参政议政
- B 就全民阅读工作情况，对政府相关部门进行质询和监督
- C 积极进行社会调研，将群众的意见落实在法律条款中
- D 积极行使提案权。审议相关议案。支持阅读立法工作

18. 中国共产党的领导地位是由党的先进性决定的。党的先进性主要体现在 ()

- A. 党的性质、宗旨、指导思想和党员的先锋模范作用等方面
- B. 党领导人民推进我国社会主义现代化建设和实现中华民族的伟大复兴
- C. 党维护国家的统一、社会和谐稳定和保证政权稳定
- D. 党把亿万人民团结凝聚起来共同建设美好未来

19. 对“实事求是”首先作出马克思主义的解释, 并把它确立为中国共产党的思想路线的人 ()

- A 毛泽东 B. 邓小平 C. 刘少奇 D. 王稼祥

20. 某村有年满 18 周岁以上村民 300 人, 其中有 60 名村民联名提出罢免村委会主任。经村民会议投票表决, 则罢免被通过至少需要 ()

- A. 30 人同意 B. 31 人同意 C. 150 人同意 D. 151 人同意

21. 甲乙两村相邻, 乙村的用水取自流经甲村的小河, 多年来两村常因用水问题发生冲突于是, 县政府决定将这条小河的水流交给乡水管站统一调配。但甲村人认为, 小河历史上就属于甲村所有, 县政府无权将这条河的水流交给乡水管站统一调配。根据现行宪法和法律下列说法正确的是 ()

- A. 甲村人有理, 因为水流属于甲村集体所有, 政府无权收归国有
B. 甲村人有理, 因为这条小河的河床属于甲村集体所有, 其水流应由村民集体支配
C. 县政府的决定合法, 因为水流属于国家所有, 政府有权调配河水的供应
D. 县政府的决定合理, 因为水流虽然属于甲村所有, 但乙村人也应享有喝水用水的权利, 为解决乙村用水问题, 政府可以将水流供应统一调配

22. 某市政府自开通微信公众号后, 积极利用这一平台体察民情、了解民意, 并在此基础上定不建大工程, 而着力治理小街尖巷, 大善了群众的生活环境, 得到群众的广泛拥护政府这一举措体现了尊重公民 ()

- A. 提案权 B. 监督权 C. 质询权 D. 议政权

23. 下列选项中货币执行的职能与“某地住房均价 7000 元”的职能相一致的是 ()

- A. 为了备考, 小赵花了 1200 元在学校附近租了一间房
B. 小王花 8858 元买了一台 iphone x 手机
C. 月底, 公司发给小孙 5000 元工资
D. 小李所在剧团巡回演出的入场券价格为 500 元

65 卢梭说过, 一切法律中最最重要的法律既不是刻在大理石上, 也不是刻在铜表上, 而是刻在公民心中, 这句话强调的是 ()。

- a 依法治国的主体是全体公民。
b 公民对法律的认同, 是治法的力量之源。
c 法律是人民意志的直接体现和载体。
d 依法治国是治国理论的基本方略

67 甲投入全部资金承包了一个快递点, 但后期运营也需要钱, 却求借无门, 乙趁机表示愿意借甲十万元, 甲同意, 甲、乙之间行为 ()。

- a 因乙乘人之危而可撤销。
b 因乙乘人之危而无效。
c 因以欺诈可撤销。
d 因乙欺诈而无效

68 A 地的甲与 B 地的乙, 两人因 C 地的一处房产归属问题发生纠纷。甲提起不动产诉讼, 根据民事诉讼法依法规定该诉讼的管辖地是 ()。

- A 地法院 B 地法院

- A 20 B 30 C 35 D 40
- 92, 冬日早晨大雪纷飞, 连续不断, 街道组织少扫雪, 如果组织 20 人扫雪 2 小时能扫完, 如果组织 12 人扫雪, 4 小时扫完, 如果要求 1 小时扫完则需要 ()。
- A 48 人 B 40 人 C 36 人 D 28 人
- 93, 老张夫妇的年龄之和是小儿子的 13 倍, 老张比妻子大 6 岁, 五年后, 老张夫妇的年龄之和是小儿子的 8 倍。那么老张今年 ()。
- A 57 岁 B 55 岁 C 42 岁 D 36 岁
- 94 下列长度可以构成直角三角形的是 ()
- A 3,3,7 B 3,5,7 C 1,3,5 D 6,8,10
- 95 某蛋糕店有红糖 36 千克, 白糖 24 千克, 制作糕点过程中, 需要将红糖和白糖混合后分成若干份, 并且每份重量相同。那么, 至少需要分成 ()
- A 30 份 B 20 份 C 5 份 D 2 份
- 96 给下面语句排序, 衔接恰当的一组是 ()
- ①我的亲人, 也许是由于身处民风淳朴的边塞的缘故, 他们是那么的善良、隐忍、宽厚, 爱意总是那么不经意地写在他们的脸上, 让人觉得生活里到处都是融融暖意。
- ②我从他们身上, 领略最多的就是那种随遇而安的平和与超然, 这几乎决定了我成年以后的人生观。
- ③童年围绕着我的, 除了那些可爱的植物, 还有亲人和动物。
- ④至于那些令人难忘的小动物, 我与它们之间也是有着难以理解的情缘。
- ⑤请原谅我把他们并列放在一起谈, 因为在我看来, 他们都是我的朋友。
- ⑥当然, 他们也有自己的痛苦和烦恼, 比如年景不好的时候他们会为没有成熟的庄稼而惆怅, 亲人们故去的时候, 他们会抑制住自己的悲哀情绪。
- A ②⑤③⑥①④ B ③⑤①⑥②④
- C ④⑥③⑤②① D ④①⑤⑥②③
- 97 下列各句中, 划线成语使用恰当的一句是 ()
- A 随着全社会对宏观经济增长目标的深入解读, “幸福感” “幸福指数”毋庸置疑地成为民生改善和文化发展进程中的重要话题, 受到公众的普遍关注。
- B 置身美术馆中, 你会发现那里艺术不再是高高在上的物品, 而是像站在你身边懂你的真心朋友
- C 如今, 视觉文化方兴未艾, 在这图像和文本相互转换、相互模仿、共同存在的现实下, 图文关系正在成为中外学者共同关注的跨学科研究热点。
- D 中国古代文化是一座巍峨的高峰, 不管我们在儒、释、道哪一条路上行走, 异曲同工, 最终都必然会在山顶上相逢。
- 98 哺乳动物冬眠的奥秘在于心脏。无论冬眠动物, 还是非冬眠动物, 甚至人类, 其心脏的工作原理是相同的。当钙离子流进心脏细胞时, 就引起心脏收缩; 当钙离子排出细胞时, 心脏开始舒张。但是随着温度的降低, 非冬眠动物的心脏细胞排出钙离子的能力明显降低, 从而使心脏的舒张越来越困难, 最后导致死亡; 而此时冬眠动物的心脏细胞则完全与此相反。因此, _____。
- 填入划线处最恰当的一项是 ()

- A 冬眠动物是一种高度发达的机能
- B 冬眠动物比起人类来具有更强的体温调节机制
- C 心脏细胞排出钙离子的能力明显增强会使心脏的收缩也随之增强
- D 心脏细胞调节钙离子浓度的机制，是冬眠心脏正常活动的关键所在

99 科学的思维方式有一个特征，它对建立它所用到的概念是不表达什么感情的。对于科学家，只有“存在”，而没有什么愿望，没有什么价值，没有善，没有恶，也没什么目标。只要我们逗留在科学本身的领域里，我们就绝不会碰到像“你不可说谎”这样的事。附带地说，这个特点是慢慢发展起来的，而且是现代西方思想所特有的。

对于划线语句理解正确的一项是（ ）

- A 在科学本身的领域里，科学家构建完整的科学体系所用到的概念是不充分表达个人感情的
- B 在科学本身的领域里，科学家只关注、研究客观存在，绝不会碰到“你不可说谎”这一类的命题
- C 在科学本身的领域里，科学家都像清教徒一样追求真理而不放任自己或者凭一时冲动处理问题
- D 在科学本身的领域里，科学家运用的不表达愿望、善恶等情感的概念，是现代西方思想所特有的

100 现代语言学自开创至今只有不足 100 年的时间，但它的迅猛发展却出乎意料。以汉语为例，随着社会的发展、科技的进步，以及新生事物的层次不穷，“新词”“酷词”不断快速增生。此后便是一些违规短语和句子的组合、搭配等问题的出现。对此，语言学界，也包括一些中小学语文老师多有不尽相同，甚至截然相反的议论。但是，无论学界怎么看，特别是年轻人，对这些“新词”“酷词”和新的语法构成却情有独钟，还创造了不少网络语言。

这段文字主要说明（ ）

- A 汉语的发展已进入了一个繁荣时期
- B 语言词汇的良莠杂糅是正常现象
- C 语言发展和使用中出现了新情况
- D 语言的发展映射着社会和人们的意识

101 有调查显示，我国参加高考的人数连续五年下降，为了尽快就业，很多高中生选择职业教育，职业教育与实践结合紧密，能够给学生带来更多的实习和工作的机会，下列说法正确的是（ ）

- A 适龄高中学生人数逐年减少
- B 学生不参加高考的目的就是就业
- C 就业因素影响高中生的选择
- D 高考制度应该改革

102 人在生理的某个阶段，会进入更年期，更年期容易产生焦躁情绪，认为事事不顺心，会给周围的家人，朋友，同事带来负面情绪，除非更年期结束，否则不会产生正能量，使自

己和周围人快乐，由此可以推出（ ）

- A 更年期结束，就会产生正能量使人快乐
- B 没有进入更年期的人是快乐的
- C 如果人不产生正能量，不快乐，那么肯定是在更年期
- D 如果一个人是充满正能量的，是快乐的，那么他肯定没有进入更年期

多选

131. 十九大提出，在新中国成立特别是改革开放以来我国发展取得的重大成就基础上，党和国家事业发生历史性变革，我国发展站到了新的历史起点上，中国特色社会主义进入了新时代。新时代中国特色是社会主义总任务包括（ ）。

- A、实现社会主义现代化
- B、实现中华民族伟大复兴
- C、全民建成小康社会
- D、建成富强民主文明和谐美丽的社会主义现代化强国

132、加快实施“中国制造 2025”的重要意义包括（ ）

- A、推动制造业转型升级
- B、提高实体经济发展质量
- C、巩固制造大国地位
- D、加强制造强国建设

133、缺

134、下列属于因果联系的有（ ）

- A、摩擦生热，热胀冷缩
- B、冬去春来，夏尽秋生
- C、月晕而风，础润而雨
- D、勤学出智慧，实践出真知

135、1939 年，爱因斯坦上书美国总统罗斯福，建议尽快制造原子弹，防止德国占先。美国研制出了原子弹，投放到了日本的广岛、长崎。目睹了惨剧的发生，爱因斯坦开始反对研制原子弹。这其中蕴含的哲理（ ）

- A、真理和价值总是一致的
- B、真理和价值总是不一致的
- C、真理和价值都是人类活动追求的目标
- D、真理和价值统一于人类的实践中，最终由实践检验。

136-138 缺

139、社会保障制度是国家通过国民收入分配和再分配实现。由社会福利、社会保险、社会救助、社会优抚和安置等各项不同性质、作用和形式的社会保障制度构成整个社会保障体系。我国之所以重视社会保障制度的建立与完善，是因为（ ）

- A、实现社会安定的根本措施
- B、关系到改革、发展、稳定的大局
- C、有利于维护劳动者合法权益
- D、是社会主义的本质特征

140、春运期间火车票贵，节假日的时候蔬菜贵，夏季的时候羽绒服便宜，这是因为（ ）

- A、商品的价格受供求关系影响
- B、商品的价值决定价格
- C、商品销售的时间因素直接影响价格的高低

D、商品价格是变动的，不是一成不变的

141、内蒙古一教授去外地做学术交流，在网上购买的飞机票从呼和浩特出发，直接到达目的地，其使用的是全球通用的信用卡支付。其中涉及到的经济学现象有（）。

- A、现金结算
- B、电子货币
- C、信用透支
- D、转账结算

142、获得过诺贝尔文学奖的亚洲作家是（）

- A、莫言
- B、泰戈尔
- C、川端康成
- D、赛珍珠

143、1950年，我国政府颁布《中华人民共和国土地改革法》，废除了封建制度土地所有制，施行农民阶级的土地所有制，但从1953年开始，把农民个体所有制变为集体所有制，迅速调整农村生产关系原因包括（）

- A、适应工业建设和城镇、工矿区发展的需要
- B、分散落后的小农经济束缚农村生产力发展
- C、粮食供应问题严重，国家实行粮食的统购、统销政策
- D、农村重新出现土地买卖，贫富分化

144、从20世纪70年代初开始，黄河下游经常断流，下列针对黄河下游经常断流的举措，正确的是（）

- A、制订法规，不允许沿河取用黄河水
- B、加大资金投入，实施全流域人工降雨
- C、实施水资源有偿使用制，增强节水意识
- D、南水北调，引长江水流入黄河，补充黄河水量。

145、液态水存在是地球生命起源和发展的重要条件之一，下列于地球“液态水存在”有密切关系的是（）

- A、地球上昼夜更替的周期较适中
- B、地球质量与体积适中
- C、地球与太阳距离适中
- D、地球处于一种比较安全的宇宙环境中

146、生物技术是21世纪技术的核心，以生命科学为基础，是利用生物体和工程原理等生产产品的综合技术，生物技术主要包括（）

- A、基因工程
- B、细胞工程
- C、酶工程
- D、微生物工程

147、醋是非常常见的调味品，下列选项中，关于醋在日常生活中的应用正确的是（）

- A、以醋醒酒
- B、炖骨头汤时促进骨头钙、磷溶解
- C、保持鲜花数日不谢
- D、洗头时在水中加入一点醋可防脱发

148、下列公文选项中可以使用“决定”的是

- A、严重破坏社会治安的犯罪分子的工作安排

- B、大兴安岭特大火灾事故的处理
 - C、授予 XX 全国劳模称号的嘉奖
 - D、在太平洋某地区试验运载火箭，使过往船只周知
- 149、微软公司研发的 Word，出了可以录入和存储文字符号外，它可以插入的内容包括（）
- A、图片 B、表格 C、音频 D、视频
- 150、计算机系统中，网络防火墙的作用是（）
- A、防止病毒程序进入内部网络
 - B、防止未经授权的数据流入内部网络
 - C、阻止内部数据流入内部网络
 - D、阻止管理员用户控制计算机。

判断

- 151、国务院正式批准将天然气水合物列为新矿种，称为我国第 173 个矿种。
- 152、特朗普税改法案日前获得了美国国会参议院通过，标志着美国近 30 年最大的税法改革尘埃落定。
- 153、从本质上看，宗教是鬼神观念再人脑中虚幻的歪曲的反映。
- 154、在人类社会发展的历程中，按照职能，可以分为：奴隶制国家、封建制国家、资本主义国际和社会主义国家。
- 155、为世界和平与发展做贡献，是我国应尽的国际义务。
- 156、人们购买商品时都希望“经久耐用”，这是商品本身具有使用价值和价值的两个基本属性的反应。
- 157、博士和教授都是古代的学者或者博学多才之人，与官职无关。
- 158、我国首座获评“媒体艺术之都”，加入联合国教科文组织“创意城市网络”的城市是长沙。
- 159、代表古希腊数学最高成就的是欧几里得的《几何原本》。
- 160、联合行文的拟稿单位应为同级机关。

（没有题号的）

xx 调研公司欲购进最新版 spss 统计软件，需向其主管单位提出书面申请，则在《关于 xx 调研公司购进最新版 spss 统计软件》的请示中落款作者为（）

- a xx 调研公司
- b xx 调研公司负责人
- c 起草公司文件的秘书
- d 签发文件的公司经理

古罗马法学家盖尤斯记述过一个案例：有人砍伐邻居家的葡萄树，被告上法庭，原告虽提供了确凿证据，却输掉了官司。原因是原告在法庭辩论中把“葡萄树”说成了“葡萄”而《十二铜表法》只规定了 非法砍伐他人“树木”应处以罚金。该案例说明当时在罗马

- A. 不重视私有财产的保护
- B. 法律具有形式主义特征
- C. 审判程序缺乏公正性
- D. 审判结果取决于对法律的解释

童年围绕着我的,除了那些可爱的植物,还有亲人和动物。请原谅我把他们并列放在一起谈。因为在我看来,他们都是我的朋友。我的亲人,也许是由于身处民风淳朴的边塞的缘故,他们是

那么的善良、隐忍、宽厚,爱意总是那么不经意地写在他们的脸上,让人觉得生活里到处是融融暖意。当然,他们也有自己的痛苦和烦恼,比如年景不好的时候他们会为没有成熟的庄稼而惆怅,亲人们故去的时候,他们会抑制住自己的悲哀情绪。我从他们身上,领略最多的就是那种随遇而安的平和与超然,这几乎决定了我成年以后的人生观

A 253614

B 351624

C 462521

D425623

甲将一辆古董汽车转让给了乙,根据个人所得税法法律制度规定。甲这一行为所得适用的税法是()。

a 特许权使用费所得 b 偶然所得 c 股息红利所得 d 财产转让所得

某些影视作品在创作过程中因缺乏考证,有时存在违背史实的错误。下列片段或场景不符合史实的是:

A 岳飞说:身为南宋子民,定当以抗金报国为己任。

B 汉武帝对卫青说:此番出兵匈奴,责任重大,愿大胜而归

C 明朝开始大规模活字印刷

D 隋炀帝乘龙舟沿大运河巡游