

2017 年于都县事业单位《行测》考前模拟卷

第一部分 常识

(共 20 题，参考时限 15 分钟)

根据题目要求，在四个选项中选出一个最恰当的答案。

请开始答题：

1. 一般来讲，我们只有先观察好了竹子，才能做到“胸有成竹”，下列选项中，与它所体现的哲学原理相一致的是（ ）

- A. 纸上谈兵
- B. 庖丁解牛
- C. 郑人买履
- D. 邯郸学步

2. 贝塔系数是用来衡量一个国家的（ ）

- A. 收入分配差异
- B. 城乡发展差距
- C. 股票风险指数
- D. 经济发展水平

3. 下列关于死刑说法错误的是（ ）

- A. 死刑分为死刑立即执行和死刑缓期两年执行
- B. 死缓期间如果没有故意犯罪，二年期满后减为无期徒刑
- C. 死缓期间如果有立功表现，二年期满后减为 20 年有期徒刑
- D. 死缓期间如果故意犯罪查证属实的，由最高院核准执行死刑

4. 以下不属于无效合同的情形的是（ ）

- A. 乘人之危，违背他人真实意思的合同
- B. 恶意串通，损害第三人利益的合同
- C. 以合法形式掩盖非法目的的合同
- D. 损害社会公共利益的合同

5. 下列关于西藏说法错误的是（ ）

- A. 西藏唐宋时期称为“吐蕃”，元明时期称为“乌斯藏”，清代称为“唐古特”、“图伯特”等，清朝康熙年

间起称“西藏”至今。

B.布达拉宫位于西藏首府拉萨市区西北的玛布日山上，是一座宫堡式建筑群，最初是吐蕃王朝赞普松赞干布为迎娶文成公主而兴建。

C.元朝忽必烈始置总制院，后改为宣政院，从此，西藏地区正式成为我国中央政府直接管辖的一个地方行政区域。

D.2014年3月28日是西藏百万农奴解放65周年纪念日。

6.下列关于外国文学家及其作品对应错误的是（ ）

A.塞万提斯---西班牙---《唐吉可德》

B.裴多菲---匈牙利---《自由与爱情》

C.安徒生---丹麦---《豌豆公主》

D.狄更斯---法国---《巨人的花园》

7.下列关于历史事件排序错误的一项是（ ）

A.虎门销烟---鸦片战争---黄浦条约---金田起义

B.天津条约---资政新篇---北京条约---义和团运动

C.京师同文馆---甲午中日海战---中法战争---北京政变

D.洋务运动--- 马关条约---戊戌变法---辛丑条约

8.中国古代对于年龄有不同的称谓，人们常说的“桃李年华”的年龄是指（ ）

A.男孩8岁

B.女孩7岁

C.女子20岁

D.女子24岁

9.地球是人类赖以生存的星球，下列关于地球内部构造说法错误的是（ ）

A.地球内部由内到外分为三层，依次是地核、地壳和地幔

B.地核的主要元素是由铁和镍组成

C.上地幔顶部存在软流层，是岩浆的发源地

D.地壳中含量最多的元素是氧，其次是硅，以下是铝、铁、钙、钠、钾、镁

10.中国地形地貌的基本特点是西高东低，下列关于中国地形地貌说法错误的是（ ）

A.东北平原、华北平原和长江中下游均位于我国的第三阶梯

B.四川盆地、柴达木盆地和云贵高原均位于我国的第二阶梯

C.青藏高原被称为世界屋脊，有地球第三极之称

D.黄土高原是世界上最大的黄土堆积区，降水集中，沟壑纵横

11. 下列关于中国地理说法错误的是（ ）

- A. 最大的咸水湖泊是青海湖
- B. 海拔最高的湖泊是新疆的艾丁湖
- C. 五大淡水湖是它们分别是鄱阳湖、洞庭湖、太湖、洪泽湖、巢湖
- D. 最深的湖泊是吉林长白山的天池

12. 北回归线是阳光在地球上直射的最北界线，通过我国四个省级行政区域，下列哪一个区域没有经过（ ）

- A. 云南
- B. 广西
- C. 广东
- D. 福建

13. 某位作家在编写“诸子百家论治国”的历史短剧时，为扮演墨翟的演员设计台词，下列选项中适合作为其台词的是（ ）。

- A. 己所不欲，勿施于人
- B. 不法古 不循今
- C. 祸兮，福之所倚；福兮，祸之所伏
- D. 兼爱非攻，互助互爱

14. 下列说法中作者、作品、朝代对应正确的是（ ）。

- A. 刘备—《诫子书》—汉
- B. 贾谊—《过秦论》—汉
- C. 苏轼—《秋声赋》—宋
- D. 王安石—《捕蛇者说》—宋

15. 十二时辰是古人根据一日间太阳出没的自然规律、天色的变化以及自己日常的生产活动、生活习惯而归纳总结、独创于世的。那么古代“子时”指的是（ ）。

- A. 晚上 9 点—晚上 11 点
- B. 晚上 10 点—晚上 12 点
- C. 晚上 11 点—凌晨 1 点
- D. 晚上 12 点—凌晨 2 点

16. 以下成语故事与故事中的主人公对应有误的一项是（ ）。

- A. 金玉良缘——薛宝钗
- B. 鸡鸣狗盗——信陵君
- C. 围魏救赵——庞涓
- D. 程门立雪——程颐

17.国粹指的是华夏民族的传统文化中最具有代表性和最富有独特内涵的深受许多时代的人们欢迎的文化遗产，那么现代公认的中国三大国粹分别是（ ）。

- A.京剧、国画和武术
- B.茶艺、京剧和武术
- C.瓷器、中医和国画
- D.国画、京剧和中医

18.下列关于航天航空技术表述不正确的一项是（ ）

- A.GPS 是英文 Global Positioning System（全球定位系统）的简称，是由欧盟研制和建立的全球卫星导航定位系统
- B.长征三号甲系列火箭包括长征三号甲、长征三号乙、长征三号丙三个型号
- C.三个宇宙速度中，第一宇宙速度约为 7.9 千米/秒；第二宇宙速度约为 11.2 千米/秒；第三宇宙速度约为 16.7 千米/秒
- D.世界上第一个空间站被称为“礼炮”号

19.维生素是人类生存不可缺少的微量有机物质，在人体生长、代谢、发育过程中发挥着重要的作用，下列关于维生素说法不正确的是（ ）

- A.维生素 A 属于脂溶性维生素，有助于防止夜盲症和视力减退
- B.维生素 D 属于水溶性维生素，是人体唯一能少量合成的维生素，可促进钙磷的吸收
- C.维生素 B 属于水溶性维生素，缺乏维生素 B 的人容易患口腔溃疡
- D.维生素 E 属于脂溶性维生素，有助于提高生育能力、预防流产

20.下列关于新能源表述错误的是（ ）

- A.地球表面每年从太阳获得的能量是太阳总辐射能量的千分之一
- B.氢能也叫氢燃料，是一种无色、无味、无毒的清洁能源
- C.风能是一种无污染、可再生的自然资源，应用潜力巨大
- D.核能是通过转化其质量从原子核释放的能量，释放方式有核裂变、核聚变、核衰变

※※※ 第一部分结束，请继续做第二部分！ ※※※

第二部分 言语理解与表达

(共 40 题，参考时限 30 分钟)

本部分包括表达与理解两方面的内容。请根据题目要求，在四个备选项中选出一个最恰当的答案。

请开始答题：

- 21.自改革开放以来，人们不再为肚子发愁，城市人曾经十分宝贝的购粮本终于作废了，各种副食也不再需要_____的票券限制，就连过去最缺吃的农民也有余粮了。于是，人们见面打招呼，自然而然也不太用“吃了吗？”填入画横线部分最恰当的一项是（ ）。
- A. 一成不变 B. 不胜枚举
C. 五花八门 D. 凤毛麟角
- 22.然而，历史的轮廓未必是清晰的。有时候，它显得异常神秘，恍如_____；有时候很曲折，天梯石栈，云翳重重；有时候则为大手所倾覆，全然不见_____，有如火山灰下深埋的庞贝城。填入画横线部分最恰当的一项是（ ）。
- A. 沧海一粟 痕迹
B. 海市蜃楼 形迹
C. 空中楼阁 迹象
D. 白云苍狗 踪影
- 23.人民群众对戏剧和故事的审美习惯和文化需求_____，电视剧很好地结合了戏剧要素和视听媒介，这种节目形态和艺术样式相对稳定，并具有较强的可持续性和广阔的创新空间。文化工作者，有责任和义务利用电视剧为人民群众提供更好的服务，多向观众提供一些向上、向善、向美、向和、向外的作品。填入画横线部分最恰当的一项是（ ）。
- A. 由来已久 B. 大势已去
C. 与日俱增 D. 根深蒂固
- 53.奢侈品牌代工工厂加速转移出中国，除了国内生产成本上升的因素外，还有一个重要原因是，当中国成本_____日益减弱时，出于对品牌尊贵感的_____，品牌商们更愿意选择中国以外作为产品的产地。依次填入画横线部分最恰当的一项是（ ）。
- A. 优势 维护
B. 费用 喜好
C. 开支 提升
D. 机会 支持
- 54.兼听则明，偏信则暗，这是_____的真理，应用在品牌战略咨询中也是一样。目前品牌咨询推广行业企业众多，水平_____，地区差异很大，要让身处乙方地位的品牌咨询公司直言不讳，慨然直言，本身就要有很大的勇气。依次填入画横线部分最恰当的一项是（ ）。
- A. 亘古不变 参差不齐
B. 毋庸置疑 良莠不齐
C. 无可厚非 鱼龙混杂

D. 耳濡目染 鱼目混珠

26. 作风是党的_____，重视作风建设是我们党的传统。党的十八大以来，新一届中央政治局作出了改进工作作风、密切联系群众的八项规定，作风建设呈现新的_____，赢得了人民群众拥护。

依次填入画横线部分最恰当的一项是（ ）。

- A. 生命 气象
- B. 路线 面貌
- C. 方针 气息
- D. 思想 现象

27. 从一介平民到首相，其间有漫长的道路。当撒切尔夫人_____时，有记者问她，她的成功是否得益于欧洲正在兴起的妇女解放运动，她不无骄傲地说，有些妇女在被解放之前就已靠自己的努力取得了成功。她是有资格这样讲的，她的成功完全是她_____的结果，完全来自她对政治自始至终的强烈热情和为事业不懈奋斗的惊人毅力与决心。

依次填入画横线部分最恰当的一项是（ ）。

- A. 一掷千金 实至名归
- B. 旗开得胜 名副其实
- C. 功成名就 自强不息
- D. 风起云涌 废寝忘食

28. 卡尔维诺说，是观看者的心情_____一座城市形状。比利时小城布鲁日，因布满河道而常与威尼斯_____，算得上是布鲁塞尔的后花园。这个以手工编织刺绣的精美蕾丝花边和台布著称的小城，被中世纪的古老城墙环绕。

依次填入画横线部分最恰当的一项是（ ）。

- A. 给予 一较高低
- B. 赐予 同日而语
- C. 赋予 相提并论
- D. 描绘 混为一谈

29. 20世纪80年代以后，受众参与媒介的观念迅速扩散，渐成体系不仅要求大众传媒媒体应当致力于在一般民众中发展多元的文化，任何民众个人和弱小社会群体都_____知晓权、传播权，对媒介的接近和使用权、接受媒介服务的权利；而且认为，与大规模的、单向的、垄断性的巨大媒介相比，小规模、双向的、_____性的媒介更符合社会理想。

依次填入画横线部分最恰当的一项是（ ）。

- A. 拥护 开放
- B. 拥有 参与
- C. 倡导 独立
- D. 享有 发散

30. 时政新闻也叫政治新闻，是时事新闻与政治新闻的_____，在实际运作中，往往特指关于党政要员活动的报道，狭义上即指关于领导人物的新闻，内容大多_____关乎国家前途命运的大政方针。

依次填入画横线部分最恰当的一项是（ ）。

- A. 简写 包括
- B. 简称 涉及
- C. 合称 涉猎
- D. 俗称 包含

31. 在海尔的发展中有许许多多_____的事例，从最初的青岛电冰箱总厂引进了德国利勃海尔电冰箱生产线，随后，从这里传出了震撼全国的“砸冰箱”事件，要的就是这样一个_____的效应：海尔产品件件皆一流！

依次填入画横线部分最恰当的一项是（ ）。

- A. 可歌可泣 振聋发聩
- B. 图文并茂 激动人心
- C. 可圈可点 震撼人心
- D. 绘声绘色 感人至深

32. 一些非凡的企业家或管理者，他们天生好像有独特的再生能力、魔力，可以在很短的时间内，_____，将一群柔弱的羔羊训练成一支如雄狮猛虎般的管理团队，_____。

依次填入画横线部分最恰当的一项是（ ）。

- A. 颠倒是非 一较高低
- B. 气壮山河 无往不利
- C. 只手遮天 劈涛斩浪
- D. 扭转乾坤 所向披靡

33. 计算机技术的广泛使用和因特网的成熟_____，为网络信息时代的到来_____。人们在享受着前所未有的便捷和触摸到多彩斑斓的网络世界的同时，处于同一个公共话语平台上，只需满足了某些条件，_____就会自觉地消失而群体的共性便随之显现出来，形成所谓的“网民群体”。

依次填入画横线部分最恰当的一项是（ ）。

- A. 推广 披荆斩棘 秉性
- B. 应用 铺路搭桥 性格
- C. 普及 开疆辟路 个性
- D. 传播 破釜沉舟 个体

34. 从时政新闻、民生新闻、公共新闻到时政新闻民生化，中国的电视新闻传播观念不断_____。这一嬗变过程的重要意义在于“民生新闻”、“公共新闻”、“时政新闻民生化”等符号_____了业界、学界的探索力，促使人们认真_____新闻的本质、媒介的角色、媒介与受众及政府之间的关系。

依次填入画横线部分最恰当的一项是（ ）。

- A. 创新 创造 正视
- B. 更新 激发 审视
- C. 改变 激励 观察
- D. 更迭 引发 审核

35. 一旦提起第二次世界大战中的海战，大家_____、津津乐道的往往是太平洋海战，美日两军航母对决、战列舰对轰，场面非常_____！而在欧洲战场，进行的主要是陆战和空战，加上海军一直不是德国的强项，因而人们对大西洋海战的了解就少一些。实际上，大西洋海战照样是_____、惨烈异常。

依次填入画横线部分最恰当的一项是（ ）。

- A. 如数家珍 雄壮 血流成河
- B. 耳熟能详 壮观 惊心动魄
- C. 兴致勃勃 壮烈 惊天动地
- D. 耳闻则诵 惨烈 扣人心弦

36. 《易经》是一部_____的古书。看不懂的人说它是有字天书，_____的人对它深感敬畏，真正了解的人就_____，

随时摆在案头，向它请益人生各种问题，然后增长处世的智慧。

依次填入画横线部分最恰当的一项是（ ）。

- A. 奇妙无比 略知一二 爱不释手
- B. 巧夺天工 一窍不通 不屑一顾
- C. 独一无二 耳熟能详 不置可否
- D. 旷世仅有 一知半解 不以为然

37. 驴的精神状态很不好，既没有人家骏马的昂扬向上、_____、马到成功，也没有牛的_____、勤勤恳恳、任劳任怨，它情绪低沉、_____、当一天和尚撞一天钟，根本不准备有所作为。

依次填入画横线部分最恰当的一项是（ ）。

- A. 一往无前 脚踏实地 悲观厌世
- B. 无往不利 坚持不懈 不卑不亢
- C. 萎靡不振 虚心求教 一事无成
- D. 义愤填膺 踏踏实实 唯唯诺诺

38. 存钱有存钱的道理，花钱有花钱的_____。在现实生活中，对个人和家庭而言，货币是_____的象征；对企业和社会而言，货币是经济生活的血液。有的人暂时有一定的闲余资金，有的人又因生产或生活而急需货币，这时银行充当了调节货币余缺的_____。

依次填入画横线部分最恰当的一项是（ ）。

- A. 理由 财富 中介
- B. 明细 权利 管家
- C. 技巧 财产 关键
- D. 艺术 资产 节点

39. 成功_____实力，这是人所共知的道理。但是，所谓“实力”并不像一般人想象的那样是金钱，是关系，是学历。人们_____成功人士，往往只见表面，专注于人家一时的运气和干事业的客观条件，却忽略了人家赖以成就大事的_____，忽略了成功背后所付出的努力和多年的辛苦修炼。

依次填入画横线部分最恰当的一项是（ ）。

- A. 借助 对待 因素
- B. 依据 区分 关键
- C. 依托 面对 原因
- D. 依靠 看待 内因

40. 处在最基层的街道办事处能否高效、廉洁运行，很大程度上_____甚至决定了社会的和谐、稳定和发展状况。因此，如何有效_____制约街道办一把手的权力，不容_____。

依次填入画横线部分最恰当的一项是（ ）。

- A. 影响 监督 忽视
- B. 反应 监控 轻视
- C. 制约 削弱 忽略
- D. 干扰 监管 蔑视

41. Apple I 的创造成功刷新了家庭/个人电脑的市场空白。iTunes 不仅改变了用户通过 CD、磁带等获取音乐的传统方式，更是为数字音乐发展奠定了坚实的基础。iPad 系列着手于空白的平板电脑市场，为消费者提供了一种前所未有的崭新体验。在移动通信设备被诺基亚、三星等品牌将市场瓜分殆尽之时，苹果却创意性地抛弃了原本呆板的固体键盘，采用全新的多点触屏，将网页浏览、搜索、移动地图等完美融合，提供了全新的智能手机产品，苹果用

自己的创新为手机设备做了全新的注解，让消费者对手机设备产生了全新的理解。

这段文字主要是说明苹果成为消费者心目中不可替代的品牌之一的原因是（ ）。

- A. 细节追求
- B. 科技创新
- C. 营销技术
- D. 设计理念

42. 眼下，城镇中行人、非机动车不遵守交通规则的现象很常见，而机动车则规矩很多。原因何在？就是对于机动车违反交通规则，已有较为规范的严惩机制，而对于行人、非机动车乱闯红灯，则缺乏相应的严惩机制。如果处罚程度一样，试问还会有这么多人乱闯红灯吗？

这段文字意在说明（ ）。

- A. 闯红灯式过马路的原因在于缺乏严惩机制
- B. 机动车比行人和非机动车更遵守交通规则
- C. 机动车与非机动车闯红灯的惩罚程度不同
- D. 城镇居民不遵守交通规则的现象屡禁不止

43. 雾霾天 PM2.5 浓度值高，颗粒悬浮物含有大量的有毒有害物质，因此这种天气更易患流感。随着雾霾天到来，大气环境急转，医院呼吸科旧病急发的病人增多。除因感冒发烧引起的上呼吸道感染、肺炎外，慢性支气管炎以及曾患肺肿、哮喘等病的患者旧病复发的也很多。其原因就是健康的气道黏膜受损后，无法抵御大颗粒可吸入物。

根据这段文字，下列说法正确的是（ ）。

- A. PM2.5 是监测空气质量的唯一标准
- B. 雾霾天是导致流感发生因素之一
- C. 呼吸系统疾病的突发是雾霾天导致的
- D. 戴口罩可以预防呼吸疾病的发生

44. 在某种意义上，植物似乎比动物有更大的灵活性。植物的体细胞不需要烦琐的体细胞核移植技术，就能重新变成植物胚胎细胞。科学家很早就已经开始利用植物的这种性质。用一小块植物组织，在实验室里就能培养出可以供一片森林使用的幼苗。但是为什么植物细胞有这样的灵活性？科学家已经发现了一些线索，例如植物的生长素在这个过程中起到的作用。

下列作为选文标题最恰当的一项是（ ）。

- A. 植物为何具有比动物更大的灵活性
- B. 一个体细胞是如何变成整株植物的
- C. 植物组织培养有望应用于森林繁殖
- D. 生长素是胚胎细胞形成的决定机制

45. 群体对于事件的推理判断能力往往低于孤立的个体，而群体在事件中态度的选择也很大程度上取决于群体领袖所传播信息的性质，群体对领袖暗示盲从的心理特征，让领袖暗示的价值取向和个人好恶变得尤为重要。领袖的主要策略，就在群体中间诱导培养一种心理和行为倾向。当舆论领袖所传播信息客观公正时，群体的态度选择往往偏于理性；反之，则不然。

这段文字最合适的标题是（ ）。

- A. 群体领袖的暗示作用
- B. 群体的判断推理能力
- C. 群体领袖的主要策略
- D. 群体的盲从心理特征

46. 海平面上升将带来愈加频繁的海潮、内涝、海岸侵蚀、盐水入侵等自然威胁。全世界超过半数的人口集中居住在离海岸线 200 公里以内的区域，人口超过 500 万的大都市中近 2/3 位于海拔高度仅为 0—10 米的平原地区，其中又有大部分重要城市集中在河口三角洲地区，而这些城市贡献了世界大部分的经济产值。一旦海平面按预测数值上升、防护措施又不当，许多城市在本世纪末就可能沦为汪洋。

这段文字意在强调（ ）。

- A. 全球变暖会导致严重的后果——海平面上升
- B. 应对海平面上升的策略与行动亟待研究和加强
- C. 海平面上升直接威胁“低地国家”的安全
- D. 要着重保护河口三角洲地区的城市

47. 免疫系统反应过度使抗体过高，一般会导致炎症。研究人员发现，研究对象越孤单，体内潜在的疱疹病毒越活跃，造成炎症的蛋白质含量也越高。这表明，孤独感可能导致了人体免疫系统对抗体管理能力的降低，最终导致人体免疫力下降。

这段文字意在说明（ ）。

- A. 孤独感或导致人体免疫力下降
- B. 孤独感如何导致炎症发生
- C. 孤独感促使蛋白质的含量升高
- D. 孤独感是炎症发生的主要原因

48. 改革开放以来，我们取得了许多成果与进步，_____。无论家庭贫富贵贱，孩子只要好好读书，就能进入大学、成就事业，彻底改变自己与家人的命运其现实和未来的意义，并不亚于辉煌的经济成果。还有什么，能比这更好地诠释中国梦？

填入画横线部分最恰当的一句是（ ）。

- A. “知识改变命运”无疑是最耀眼的之一
- B. 并意识到了命运应该掌握在自己的手里
- C. 归根结底是因为坚持中国共产党的领导
- D. 贫富贵贱已不是决定命运的主要因素了

49. 道家与儒家，本是同样地要求了解自己，其分别处，在儒家是用全副力量要求能了解自己的心理，如所谓反省等。道家则是要求能了解自己的生理，其主要的工夫是静坐，静坐就是收视返听，不用眼看耳听外面，而看听内里——看听乃是譬喻，真意指了解认识。开始注意认识的入手处在呼吸、血液循环、消化等，注意呼吸，使所有呼吸处都能觉察出来。呼吸、血液循环、消化等，是不随意肌的活动；关乎这些，人平常多不甘用心去管他，道家反是将心跟着呼吸、血液循环、消化等去走，以求了解他。

这段文字意在说明（ ）。

- A. 儒家更倾向于通过反省来了解自己
- B. 道家认为静坐更容易全面认识自己
- C. 道家与儒家在了解自己方式上的区别
- D. 道家和儒家在心与呼吸关系上的分歧

50. ①后来经过了老人指点，这才知道是窗外的柴火垛里有一只刺猬

②这也不对

③有人在野外小屋里睡觉，总听到窗外有人咳嗽，出去找，却没有人

④有一个看油库的老人，院子里有个柴火垛

⑤他每天出来拍拍手，一个大刺猬就领着三个小刺猬出来了，与他玩得挺好，围着他转，让他抚摸

⑥大家可能以为刺猬不是猫和狗，不通人性

将以上 6 个句子重新排列，语序正确的是（ ）。

- A. ①③⑤②⑥④
- B. ③①⑥②④⑤
- C. ①②⑥③④⑤
- D. ③⑤⑥④①②

51. ①当信息技术发展到一定阶段，能推动知识经济增长的动力，主要还是文化和艺术内容的创新
 ②都说我们来到了一个知识经济的年代
 ③这一切，都需要从保护文化和艺术人的著作权做起，只有培养起一个人人尊重著作权的社会环境，文化的原创力才能得到保护
 ④从政府到市场都应认识到，知识经济的核心竞争力，还是在文化和艺术原创力上
 ⑤再好的传播平台、再便捷的信息技术，如果没有内容的创新，就不可能带来巨量增长的使用和消费
 ⑥而文化和艺术创新之本，又是对相关人才和权益的保护
 将以上 6 个句子重新排列，语序正确的是（ ）。
- A. ②⑤①③⑥④ B. ④②①③⑤⑥
 C. ②①⑤④⑥③ D. ④⑤⑥①②③

52. 我国是世界矿产大国。截至 2011 年底，全国已发现 172 种矿产，查明资源储量的矿产 160 种。但矿产开采产生巨量含有铜、铅、镉、镍等重金属的生产污水，其中相当部分污水得不到有效的处置，就被直接排入自然环境中，_____。
- 填入画横线部分最恰当的一句是（ ）。
- A. 极易引发水体富营养化
 B. 使得水体污染日益严重
 C. 造成一些矿产区出现严重的重金属污染
 D. 对生态系统和人畜健康带来致命性伤害

53. 禽流感 and SARS 的相同点就是，都是动物传播，基本呈现流感一样的症状——SARS 和人感染的禽流感都表现出肺炎的症状。不同之处在于，首先，SARS 的感染人群集中在中年人和壮年人，而禽流感则多感染孩童。第二，禽流感的死亡率比 SARS 高许多，已接近 50%，广东 SARS 病人的死亡率只有 3% 左右。第三，禽流感如果在 48 小时之内确诊，是可以用药治愈的；而 SARS 直到目前都没有药物能直接治疗，只能针对不同的症状分别用药。
- 下列说法与原文不符的是（ ）。
- A. 人感染的禽流感和 SARS 表现症状一致
 B. 禽流感比 SARS 的死亡率高得多
 C. SARS 是不可治愈的
 D. 禽流感和 SARS 感染对象不同

54. 调查发现，_____。工作态度积极的员工往往活力十足，工作效率更高，在客户服务、工作质量、工作状态保持度以及创新能力等方面也表现较好。正是这种积极的心态，让他们的生活方式也更加积极健康，具体表现为饮食更健康，经常进行体育锻炼和吃更多新鲜的果蔬。因此，敬业的员工患慢性疾病和肥胖症的几率更低，使用的医疗费用也相应较少。他们积极的工作心态和敬业精神，也会影响其他员工的工作状态，从而带动整个公司的业绩提升。
- 填入画横线部分最恰当的一句是（ ）。
- A. 员工的敬业度与其健康状况紧密相关
 B. 工作积极的员工患病几率更低
 C. 员工健康是公司业绩提升的基础
 D. 只有积极敬业才会有高收入

55. 生活中，很多人在各种压力下表现出了亚健康状态，觉得生活一片昏暗，更有甚者已经在压力的摧残下患上了各种各样的疾病，研究表明，人体 60%—90% 的疾病与压力有关。除了会引起感冒、头痛、失眠等疾病外，长期压力过大还会引起心脑血管、冠心病、癌症等疾病。
- 对这段文字最准确的概括是（ ）。

- A. 人们要学会给心理减压
- B. 压力过大会对心理健康造成危害
- C. 压力过大会对身体健康造成危害
- D. 心理垃圾积存太久会毒化心灵

56. 环境一号 C 星是中国首颗民用合成孔径雷达卫星，具备空间分辨率 5 米条带和 20 米扫描两种成像模式，幅宽分别为 40 千米和 100 千米；具有全天时、全天候的成像能力，可以不受天气影响，在多云、阴雨、大雾等任何恶劣天气条件下，准确获取地表真实的图像。相比光学成像卫星，环境一号 C 星对地观测效率大幅提高，大大提升了中国对地观测卫星的总体观测能力。

这段文字意在说明（ ）。

- A. 环境一号 C 具有高度清晰的成像模式
- B. 环境一号 C 具有全天时、全天候的成像能力
- C. 环境一号 C 已经取代了光学成像卫星的地位
- D. 环境一号 C 大幅提升中国对地观测系统能力

57. 上台时，什么样的打扮才最适宜？关于这一点，没有标准的答案，应该说，要根据你当天演讲的目的和场合来决定。比方说，如果演讲的目的是建立权威感，让听众信服你的理念，那么深色西装配上条纹或圆点的领带会比较合适。如果当天是很轻松的座谈，浅色西装配花领带，可以让底下的听众觉得你很亲切，更快拉近你们之间的距离。至于女性，典雅的套装最适合，不过，最好避免戴大耳环，以免在台上演讲时，因为耳环晃动造成大家分心。

这段文字意在说明（ ）。

- A. 演讲及座谈的目的
- B. 要了解演讲的目的和场合
- C. 打扮应视场合调整
- D. 女性穿着打扮的重要性

58. 面对就业难，教育部和各高校都采取了相应的对策。教育部发文明确，反对性别、户籍、学历、高校类型等方面的就业歧视；各高校也相应从推动大学生村官、选调生等特殊类型就业，引导和鼓励京外就业，鼓励创业，开展就业培训等方面着手。这些措施或许能收一时之效，但解决大学生就业难还需从根子上着手。

这段文字未暗示的信息是（ ）。

- A. 大学生就业面临着严峻的形势
- B. 用人单位就业歧视现象仍存在
- C. 解决大学生就业问题指日可待
- D. 就业难背后具有深层次的原因

59. 对地震成因，过往有很多猜测。如中国古人有一种颇有想象力的看法，认为地震是沉睡的地龙惊醒后抖动的结果，这简直是对地震 S 波的形象化描述，不过 S 波是地震的结果，不是原因。现在较为一致的看法是，根据板块构造学说，板块之间会相对移动，板块交汇的地方有断层线，这提供了能量释放的薄弱环节。这些地方发生地震的概率要高些，但凭这些知识要预测地震几乎是不可能的。

作者接下来最有可能讲述的是（ ）。

- A. S 波如何引发地震
- B. 板块构造学说原理
- C. 为何地震不能预测
- D. 地震发生前的征兆

60. 女影星梅·韦斯特曾经说过：“任何有意义的事情都需要慢慢来做。”在投资中，时间就是一个伟大的疗伤者和慷慨的捐助人。一个出色的投资人要考虑到数年后资本的运营前景，他往往会秉持一种社会责任感，对那种以损害他人利益迅速致富的行为表示怀疑。他们的观点与那种认为通过不择手段、施展伎俩会捞钱更快的想法正好相反，

耍小聪明会丧失全球资本；同时，也与那种认为投资期限最多不超过 10 年的短视思想格格不入。总之，美好的结果值得等待。

与这段文字主旨无关的名言是（ ）。

- A. 善于等待的人，一切都会及时来到
- B. 只要有耐心，总有成功的机会
- C. 人的全部本领无非是耐心和时间的混合物
- D. 如果有什么需要明天做的事，最好现在就开始

※※※ 第二部分结束，请继续做第三部分！ ※※※

第三部分 数量关系

（共 15 题，参考时限 15 分钟）

在这部分试题中，每道题呈现一段表述数字关系的文字，要求你迅速、准确地计算出答案。

请开始答题：

61. 甲、乙两人都在看同一本书，甲看书的速度大于乙，并且两者的速度都为整数。现在甲看了 3 天，乙看了 2 天，他们看的页数都是两位数，且甲看的页数的个位与十位相调换就刚好得到乙看的页数。甲、乙的看书速度之差最多为（ ）。
- A. 2
 - B. 4
 - C. 6
 - D. 18

62. 甲、乙两人现在的年龄之比为 3: 5, 9 年前乙的年龄刚好为甲的二倍, 那么 9 年前甲 () 岁。
- A. 18
B. 27
C. 36
D. 45
63. 三个正整数之和为 33, 之积为 192, 并且三个数中最大的数与最小的数的差为 23, 那么这三个数中第二大的那个数是 ()。
- A. 4
B. 6
C. 8
D. 24
64. 某人用 3420 元买了一台电脑, 其价格是原来定价相继折扣了 10% 和 5% 后的价格, 则电脑原来定价是 ()
- A. 3950 元
B. 3990 元
C. 4000 元
D. 4010 元
65. 某班 45 个学生参加期末考试, 成绩公布后, 数学得满分的有 10 人, 数学及语文成绩均得满分的有 3 人, 这两科都没有得满分的有 29 人。那么语文成绩得满分的有多少人?
- A. 6
B. 7
C. 8
D. 9
66. 5 名同学代表班级参加学校的自由体操比赛获得了一等奖, 赛后他们与指导老师拍照留念, 为了拍摄效果, 摄影师让他们分成前后两排, 每排 3 人, 那么一共有 () 种站法。
- A. 125
B. 240
C. 720
D. 1440
67. 烧杯里装着酒精含量为 15% 的溶液 500 克, 现向烧杯中分别倒入 50 克和 200 克的 A、 B 两种酒精溶液, 最后测得烧杯中酒精含量为 14%。已知 A、 B 两种酒精溶液的浓度之比为 2: 1。则 B 酒精溶液的浓度为 ()。
- A. 8%
B. 10%
C. 16%
D. 20%
68. 运动会上, 甲、乙两人在 400 米的跑道上进行 10000 米长跑的决赛, 起跑后, 甲每分钟跑 400 米, 乙每分钟 360 米, 当乙发现自己已经落后于甲整整一圈时, 他提速 $\frac{1}{4}$, 与此同时, 甲也将速度提高了 18 米/分, 如果他们维持这样的速度, 则 () 是 10000 米长跑的冠军。
- A. 甲
B. 乙
C. 并列
D. 不确定
69. 某村修一条公路, 如果让村里的甲、乙两个修路队合修, 六天可以完成; 现由于某种原因, 甲队修了 3 天之后, 乙队又修了 1 天, 并测出完成了工程的 $\frac{3}{10}$ 。那么甲队单独完成修路的任务需要 () 天。

- A. 7.5 B. 10
- C. 12
- D. 15
70. 某工厂共有 240 名员工。每位员工的工号由 4 位数组成，其中，从左到右第一位数表示性别，1 表男性，2 表女性；后面三位数则是 001 到 240 的连续编号（女员工从 150 至 240 号），那么工号中含有“1”的员工有（ ）名。
- A. 211 B. 212
- C. 213 D. 214
71. 桌上有两个外表一样的袋子，本来应该是其中一个装 100 个白球（白球袋），另一个装 100 个黑球（黑球袋），并且已知在装袋的时候两个袋子里各混入了另一个袋子里的球。为了区别出白球袋和黑球袋，一名同学从其中一个袋子里随机抽取了一个球，发现是黑色的，那么该黑球所在的袋子是（ ）。
- A. 白球袋 B. 黑球袋
- C. 都有可能 D. 不知道
72. 班上正在举行一次单元测验，30 分钟后，交卷人数与未交卷人数比为 4: 5，之后的 10 分钟内有 10 人陆续提交了试卷，于是该比例变成 2: 1，这个班级的总人数是（ ）。
- A. 35 B. 40
- C. 45 D. 48
73. 四位数 $7a2b$ 能同时被 2、3、5 整除，这样的四位数有（ ）个。
- A. 3 B. 4
- C. 5 D. 6
74. 某直线地铁全长为 151200 米，全程共设了 8 个站点，那么相邻两站点之间的平均距离为（ ）千米。
- A. 21600 B. 18900
- C. 21.6 D. 2.52
75. 一个班外出旅游住宾馆，如果每间住 4 人则有 5 人没地方住，如果每间住 5 人则有一间只有 1 人住，则共有（ ）名学生。
- A. 34 B. 35
- C. 40 D. 41

※※※ 第三部分结束，请继续做第四部分！ ※※※

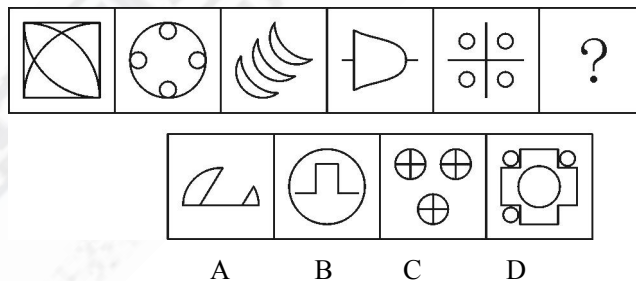
第四部分 判断推理

(共 40 题，参考时限 35 分钟)

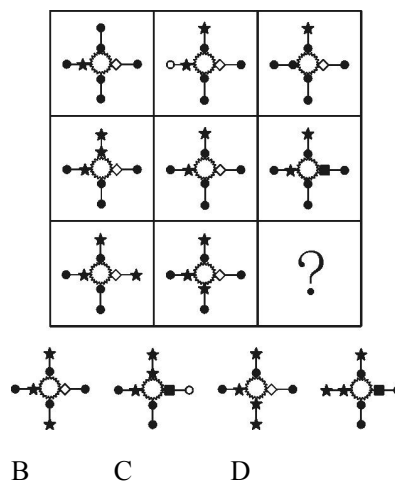
一、图形推理，请按照每道题的答题要求作答。

请开始答题：


76. 从所给的四个选项中，选择最合适的一个填入问号处，使之呈现一定的规律性：



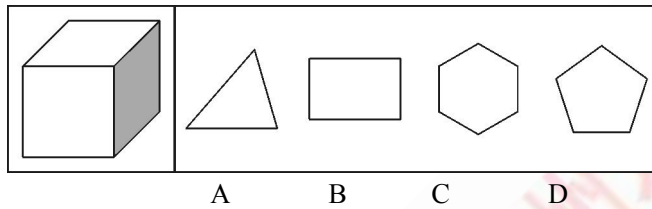
77. 从所给的四个选项中，选择最合适的一个填入问号处，使之呈现一定的规律性：



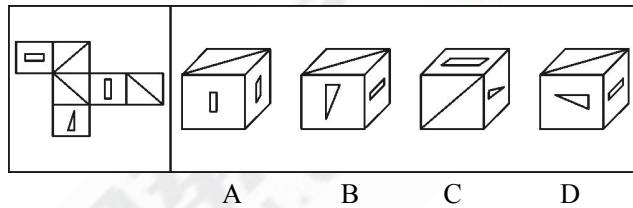
78. 从所给的四个选项中，选择最合适的一个填入问号处，使之呈现一定的规律性：




79. 一立方体如图所示从任意面剖开，下面哪一项不可能是该立方体的截面？



80. 左边给定的是纸盒的外表面，下列哪一项能由它折叠而成？



81. 把下面的六个图形分为两类，使每一类图形都有各自的共同特征或规律，分类正确的一项是：



A. ①②③, ④⑤⑥ B. ①③⑤, ②④⑥

C. ①④⑤, ②③⑥ D. ①④⑥, ②③⑤

82. 把下面的六个图形分为两类，使每一类图形都有各自的共同特征或规律，分类正确的一项是：



A. ①②④, ③⑤⑥ B. ①②⑤, ③④⑥

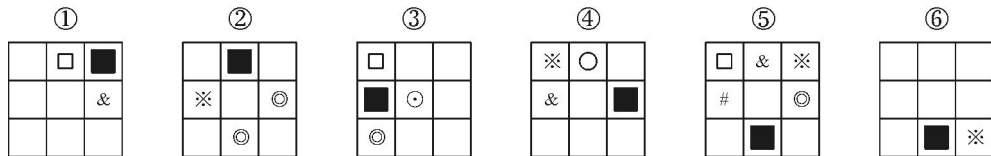
C. ①③⑤, ②④⑥ D. ①②⑥, ③④⑤

83. 把下面的六个图形分为两类，使每一类图形都有各自的共同特征或规律，分类正确的一项是：



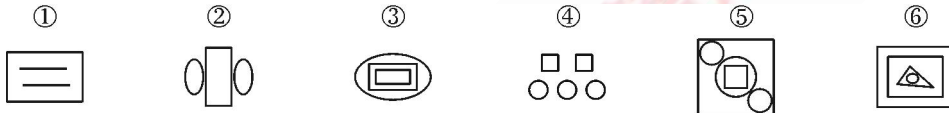
- A. ①②③, ④⑤⑥ B. ①②⑤, ③④⑥
C. ①③⑥, ②④⑤ D. ①③⑤, ②④⑥

84. 把下面的六个图形分为两类，使每一类图形都有各自共同特征或规律，分类正确的一项是：



- A. ①②④, ③⑤⑥ B. ①③⑤, ②④⑥
C. ①③⑥, ②④⑤ D. ①④⑥, ②③⑤

85. 把下面的六个图形分为两类，使每一类图形都有各自共同特征或规律，分类正确的一项是：



- A. ①②④, ③⑤⑥ B. ①③⑥, ②④⑤
C. ①③⑤, ②④⑥ D. ①②③, ④⑤⑥

二、定义判断。每道题先给出定义，然后列出四种情况，要求你严格依据定义，从中选出一个最符合或最不符合该定义的答案。注意：假设这个定义是正确的，不容置疑的。

请开始答题：

86. 一项调查研究显示：95%的大学毕业生填高考志愿均来自班主任的推荐。研究人员表示，班主任的推荐会增加考生报考志愿的盲目性。与自己独立选择志愿的人相比，听班主任推荐定志愿的考生盲目性更大。因此有人认为，班主任给学生推荐志愿是造成目前毕业生盲目填报大学生专业的重要原因。

以下哪项如果为真，最能削弱上述论证？（ ）

- A. 调查还反映，自己独立选择志愿的人的比例正在逐年上升
B. 研究证明，班主任的推荐填志愿的考生录取率更高
C. 一项调查显示，目前毕业生盲目填报大学生专业的现象得到了有效地遏制
D. 大部分学生最后并没有采纳班主任的推荐

87. 2012年是宝马集团在华飞速增长的一年，在该年前10个月宝马国产车单一品牌累计销量近24.6万辆，同比增长达到了34.6%。市场占有率也从14.6%上升至23%，而生产中利用某地风能优势，将节省约86%能源使用成本。于是，研究人员认为，到2014年，宝马国产车销量最终会超过宝马进口车的销量。

以下哪项如果为真，最能支持研究人员的推断？（ ）

- A. 宝马集团在华团队研发的新款X1即将生产入市

- B. 中国人口购车人员未来 2 年将增加一倍，消费者人数将大幅增加
- C. 国产和进口宝马车的销量将减少，但宝马国产车需求仍将持续上升
- D. 品牌已成为影响宝马国产车销售的重要因素

88. 有学者认为股份制企业采用强制力对会计信息披露进行管制是不必要的，企业产权结构内部变迁为会计信息变迁提供了诱致性变迁动力。如果会计信息披露不一致，由于外部性冲突的存在，管理当局会自动引导会计信息产权的明确界定。一方面因为企业剩余控制权完全能以较低的交易费用得到界定，另一方面因为会计信息产权能通过市场自身力量得到有效界定。

- 以下哪项为真，能有力地对上述论述提出质疑？（ ）
- A. 会计信息出现外部性冲突后，大多数股东直接与管理当局缔结私人契约的可能性很小
 - B. 由于不满披露企业筹资困难的负面影响，很多股东抗议公司在会计信息管制中的无所作为
 - C. 不同的使用者对会计信息的需求是有差异的，管理当局提供会计信息存在歧视
 - D. 会计信息披露后会有助于决策的财务信息和其他经济信息

89. 纸张费用是图书公司最大的成本支出，三个出版公司的纸张费用成本均占总成本一半左右。近年来，随着纸张费用的不断上涨，图书公司的运营成本不断增加。对此，资深书商认为，尽管图书公司面对着巨额的纸张费用上涨压力，但不会上调出版书的零售价格。

- 以下最有力解释该资深书商观点的一项是（ ）。
- A. 许多图书公司更新设备，缩短了原材料转换纸张的工序
 - B. 政府出台新规，新书不得低于 7 折发货，比原来发货价大幅提高
 - C. 为了避免恶性竞争，几家大的出版公司结成了价格联盟
 - D. 由于受中国人获诺贝尔奖的冲击，出版行业前景一片光明

90. 某学校在一次体育课上练习游泳，老师课前叫大家都不要先下水，但是有的同学不听，趁老师不在偷偷下水，老师叫来几名同学来训话：

- 同学一说：“下水的如果不是穿绿色衣服，肯定就是穿蓝色衣服。”
- 同学二说：“如果穿紫色衣服没有下水，则穿红色衣服也没有下水。穿蓝色衣服也不会下水。”
- 同学三说：“下水的如果是穿绿色衣服，那么穿紫色衣服或穿红色衣服也会下水的。”
- 同学四说：“下水的肯定是穿绿色衣服，而穿紫色衣服与穿红色衣服都没有下水的。”
- 训话后得知，四位同学的说法中只有一个人说法是准确的。
- 据此，可以推出偷偷下水的同学穿的衣服颜色是（ ）。
- A. 绿色衣服
 - B. 紫色衣服
 - C. 红色衣服
 - D. 蓝色衣服

91. 某研究表明，老百姓喜爱的家常蔬菜大白菜中含有丰富的微量元素铝能抑制人体对亚硝胺的吸收和合成。实验证实，亚硝胺是很强的诱发食管癌的病原体，可以导致正常的食管部位细胞转化为癌细胞。因此，经常吃大白菜的人将减少患食管癌的风险。

- 以下各项如果为真，最能削弱上述论证的是（ ）。
- A. 已经患有食管癌的患者吃大白菜后并未发现病情好转
 - B. 微量元素铝能抑制人体对亚硝胺的吸收和合成，但是过多了也会产生负面作用
 - C. 经常吃大白菜会加强微量元素铝对亚硝胺的抑制作用
 - D. 微量元素铝的作用可以被大白菜中的某类元素中和

92. 有人学者认为，新的政权如果能防止制度的腐败，就一定能推动经济的发展；而这样的新的政权要想保持道德上纯洁，它所运行的经济发展必须符合大财团的需求；而符合大财团的需求将不需受法律监督；但是，法律监督正是防止制度腐败不可或缺的先决条件。

由此可以推出（ ）。

- A. 新的政权道德纯洁和推动经济发展不可能同时满足
- B. 新的政权道德纯洁和防止制度腐败不可能同时满足
- C. 一个经济发展的政权一定是能防止腐败的
- D. 一个不能保持道德上纯洁的新政权，一定会受到法律的监督

93. A 国地震有很大比例的伤亡源于建筑物倒塌；然而在 B 国地震伤亡源于建筑物倒塌的比率大约是 A 国的一半。A 国地质中的砂土层比 B 国的要多很多。因为人们知道砂土层凝聚力下降会造成岸堤失稳，房屋倒塌，所以 A 国地震的伤亡惨重很可能是由于地质中的砂土层的含量较多所致。

以下哪项如果为真，最能支持上述结论？（ ）

- A. 在 A 国地质中发现的砂土层种类与在 B 国地质中发现的砂土层大相径庭
- B. B 国房屋建筑的抵御地震的能力要比 A 国抵御地震的能力强很多
- C. 调查显示，在 A 国地质中的砂土层的面积没有想象那么多
- D. A 国其他同样地质（砂土层）的建筑物地震倒塌伤亡比率要比 B 国高很多

94. 尽管网购可以方便人们购物，整天宅在家却促成了年轻人不爱运动的坏习惯。他们把逛街的时间都花费在居家网购上，而不是外出运动。所以说，把周末时间花费在网购上的年轻人比其他人更少运动。

以下哪项是上述议论最可能假设的？（ ）

- A. 一些网络活动，如微博和微信聊天，并不会阻碍人们运动
- B. 大多数年轻人在网购之外还有其他事情可做
- C. 在周末不网购的年轻人至少有一些时候是在运动
- D. 传统的购物方式对增强年轻人养成运动的习惯没有帮助

95. 楚风：根据现在和竞争对手的严峻形势，我建议在《天才知道》和《一站到底》这两个栏目至少冠名一个栏目，但《征服全场》不能冠名。

齐明：我不同意。

以下哪项，最为准确地表达了齐明的真实想法？（ ）

- A. 《天才知道》、《一站到底》和《征服全场》这三个栏目都冠名
- B. 《天才知道》和《一站到底》两个栏目都不冠名，如果这点做不到，那也要保证《征服全场》冠名
- C. 《天才知道》和《一站到底》两个栏目中至多冠名一个栏目，但《征服全场》要冠名
- D. 《天才知道》和《一站到底》两个栏目至多冠名一个栏目，如果这点做不到，那也要保证《征服全场》冠名

三、类比推理。每道题先给出一组相关的词，要求你在备选答案中找出一组与之在逻辑关系上最为贴近、相似或匹配的词。

请开始答题：

96. 传统雕塑：城市雕塑：树脂

- A. 中国画：黑白版画：毛笔
- B. 瑞丽手镯：硬玉手镯：翡翠
- C. 软翅风筝：天津风筝：马拉纸
- D. 篆刻印章：阳文印章：黄金

97. 城市：内涝：暴雨

- A. 机场：雾霾：污染
- B. 干枯：水田：太阳

C. 山地：滑坡：地震 D. 房屋：倒塌：海啸

98. 账号：购物：邮箱

- A. 软件：学习：下载 B. 制定：治国：政策
C. 路由：上网：固定电话 D. 游戏：电源：插座

99. 嗟来之食 对于 () 相当于 曲高和寡 对于 ()

- A. 《礼记》 《大学》 B. 齐国 楚国
C. 朱自清 音乐剧 D. 残羹剩汁 下里巴人

100. () 对于 杀毒软件 相当于 黑客 对于 ()

- A. 病毒 防火墙 B. 防火墙 白客
C. 卡巴斯基 电脑侵入者 D. 计算机防御系统 网络安全

101. 债券：投资：收益

- A. 文物：鉴别：真伪 B. 罪犯：打击：正义
C. 真理：检验：实践 D. 书籍：阅读：怡情

102. 发芽：开花：结果

- A. 阴天：打雷：下雨 B. 婴儿：襁褓：孩提
C. 卵：蝌蚪：青蛙 D. 播种：施肥：收获

103. 桑榆：王勃：《滕王阁序》

- A. 三径：陶渊明：《归去来兮辞》 B. 楼兰：岑参：《从军行》
C. 寒食：介子推：《寒食》 D. 杜康：曹操：《长歌行》

104. 海拔 对于 () 相当于 () 对于 浮力

- A. 高度；大小 B. 压强；气压
C. 温度；密度 D. 高山；大气

105. () 对于 君子一言，驷马难追 相当于 胸中天地宽，常有渡人船 对于 ()

- A. 君子坦荡荡，小人长戚戚；天行健，君子以自强不息
B. 得黄金百斤，不如得季布一诺；海纳百川，有容乃大
C. 言之凿凿，如指诸掌；淡泊以明志，宁静以致远
D. 路遥知马力，日久见人心；百家齐鸣，百花齐放

四、逻辑判断。每题给出一段陈述，这段陈述被假设是正确的，不容置疑的。要求你根据这段陈述，选择一个答案。注意：正确的答案应与所给的陈述相符合，不需要任何附加说明即可以从陈述中直接推出。

请开始答题：

106. 冲击式劝导：是指针对某些特定的公众或公众群体的，具有很强的针对性，是有的放矢式的劝导。它最终是要明确地转变和化解及巩固公众已经形成的看法和意见，是由鲜明的意图支配的，具有很强的目的性。

根据上述定义，下列选项属于冲击式劝导的是（ ）。

- A. 某公司进入新的市场领域，在电视台黄金时段作广告宣传，专门宣传一类重点产品
- B. A 国政治家说：“你要一个持续四年的通货膨胀，还是要一个新的开端”
- C. 某选秀节目专门制作一期救灾专题，选手通过各种活动为其拉票，让支持者看见选手的另一面
- D. 某图书公司战略会议中，大多数认为应该开发少儿项目，钟某例举很多惨败案例后很多人不再支持开发

107. 纳什均衡，是指在一个博弈过程中，无论对方的策略选择如何，当事人一方都会选择某个确定的策略，则该策略被称作支配性策略。如果两个博弈的当事人的策略组合分别构成各自的支配性策略，那么这个组合就又被定义为非合作性均衡。双方在已知对方策略的情况下，认为自己现有的策略是最好的策略。

根据上述定义，下列选项不属于纳什均衡的是（ ）。

- A. A 国两大移动运营商组成卡特尔，对各自的价格进行限制，获取高额垄断利润
- B. 两国希望用增加军备竞赛来达成削减武器协议，两国最终往往会倾向增加军备
- C. 当一国因某些因素不遵守关税协定，而独自提高关税时，另一国也会作出同样反应
- D. B 企业没有管制会大量排污，若只自己投资治理污染，则竞争力会减弱

108. 产业国际化是指产业的研究与开发的国际合作与交流，产业国际化就是根据比较利益原则，在全球范围内通过生产要素的流动进行国际分工。

根据上述定义，下列选项不属于产业国际化的是（ ）。

- A. 甲国企业利用 B 国大量廉价的劳动力为其代工组装产品
- B. 乙国高端装备制造业在国外投资建厂，设立生产示范园区
- C. 丙国公司在境外收购同类企业，建立海外营销网络体系
- D. 丁国花巨资赴海外科技型产业园区参观学习，以提高企业的国际竞争力

109. 投资过度理论：是指生产资料的生产过多，而消费资料的生产则相对不足来解释危机。一种观点认为是货币引起了投资过度，称为货币投资过度理论，是由于货币因素所引起的物质生产领域的两大部门之间的配合比率的失调的结果；另一观点则认为主要是新发明、新市场开辟等非货币因素引起了投资过度，称为非货币投资过度理论。

根据上述定义，下列关于本国经济危机看法，不符合非货币投资过度理论的是（ ）。

- A. 甲国经济萧条，因该国国民普遍存在悲观情绪，购买力下降明显
- B. 乙国企业认为在开辟新市场中投建厂房添加设备多，资金短缺而不能完成
- C. 丙国认为开发了新的种植技术，使的生产的成本大大地降低，经济迅速复苏
- D. 丁国相信房地产投资需求会旺盛，价格不断攀升，建筑材料也随之上涨

110. 税收效应是指政府课税所引起的各种经济反应。如果这些反应与政府课征该税时所希望达到的目的一致，税收的这种效应就谓之正效应；如果课税实际产生的经济效果与政府课税目的相违背，税收的这种效应则谓之负效应。

根据上述定义，下列选项属于负效应的是（ ）。

- A. 甲国对某海外手机征收 100% 关税来保护本国手机，但是消费者对该手机的热情并未减退
- B. 乙国想课征窗户税增加收入，纳税人纷纷将窗户堵塞
- C. 丙市对二手房交易征收 20% 的交易所得税，大量市民转向新楼盘，导致该市房价猛涨
- D. 丁国为保护环境，征收若干年的烧油特别税之后，政府课征该税的收入越来越少

111. 网络游戏虚拟货币，是指由网络游戏运营企业发行，游戏用户使用法定货币按一定比例直接或间接购买，存在于游戏程序之外，以电磁记录方式存储于网络游戏运营企业提供的服务器内，并以特定数字单位表现的一种虚拟兑换工具。

根据上述定义，下列选项不属于网络游戏虚拟货币的是（ ）。

- A. 某网络游戏的“合资网游一卡通”充值卡
- B. 玩家为体验游戏而预付的游戏费用
- C. 某网民在游戏活动中获得的游戏武器道具
- D. 用于给网游内虚拟人物买衣服的 Q 币

112. 志愿者困境是指有多个参与者，每人都面临要么牺牲自己小部分利益，要么选择搭便车。

根据上述定义，下列选项不属于志愿者困境的是（ ）。

- A. 在自行车比赛中，选手们在到终点前的路程常以大队伍方式前进
- B. 甲某在住所附近遭歹徒抢劫殴打，38 个邻居目睹此事，但无一出手相助
- C. 某大型公寓停电，如果没有一个人花钱给房东打电话，整栋楼将一直停电
- D. 某旅游团困在孤岛没有任何联系，需要有人游过有鲨鱼出没的海湾向彼岸求助

113. 光适应是指对光的感受性下降的变化现象。由暗处到亮处，最初一瞬间会感到光线刺眼发眩，几乎看不清外界事物，几秒钟之后逐渐看清物品。

根据上述定义，下列选项属于光适应的是（ ）。

- A. 杨某进入真正放映的电影院里，突然眼前一片漆黑，看不清座位
- B. 徐某夜晚开车，对面的车突然打开远光灯，而产生“瞬间失明”
- C. 齐某突然关掉宿舍的灯，舍友们瞬间看不见键盘上的字母，几秒之后逐渐看清
- D. 周某从地下网吧出来买瓶水，由于阳光强烈，根本看不清手机里的文字

114. “借景抒情”是指诗人用某种感情看待某一景物或场景，在其笔下，这一景物或场景，也染上了某种感情的色彩，其中的“景”是指自然风景，而不是某种物品。托物言志是指诗人通过描写的物来表明心迹，以及人生的态度和对人生的感悟，其中的“物”常常是一些具有象征意味的客观事物，诗人借助于此物的一些特性来表明自己的“志”。

根据上述定义，下列选项属于托物言志的是（ ）。

- A. 寒蝉凄切，对长亭晚，骤雨初歇
- B. 阶下青苔与红树，雨中寥落月中愁
- C. 零落成泥碾作尘，只有香如故
- D. 留连戏蝶时时舞，自在娇莺处处啼

115. 生态产品是指维系生态安全、保障生态调节功能、提供良好人居环境的自然要素，其特点在于节约能源、无公害、可再生，带有社会属性，是人类自觉活动的成果。

根据上述定义，下列选项不属于生态产品范畴的是（ ）。

- A. 江河上游营造水土、绿化风景林，形成的江河下游地区的清洁水源
- B. 湿地常年涵养水源，为野生动物提供良好的生存环境和气候
- C. 大树长成的躯干通过光合作用产出氧气产品，形成了清新的空气
- D. 因需要提升城市清洁能源使用率和减少有害物排放而安装的天然气

※※※ 第四部分结束，请继续做第五部分！ ※※※

第五部分 资料分析

(共 20 题，参考时限 15 分钟)

所给出的图、表、文字或综合性资料均有若干个问题要你回答。你应根据资料提供的信息进行分析、比较、计算和判断处理。

请开始答题：

一、根据以下资料，回答 115—120 题。

2016 年 1-2 月，全国固定资产投资（不含农户）38008 亿元，同比增长 10.2%。从环比速度看，2 月份固定资产投资（不含农户）增长 0.83%。



图 1 固定资产投资（不含农户）累积同比增速

分产业看，第一产业投资 744 亿元，同比增长 34.3%；第二产业投资 14087 亿元，增长 7.9%；第三产业投资 23177 亿元，增长 11.1%。第二产业中，工业投资 13774 亿元，同比增长 7.1%；其中，采矿业投资 390 亿元，下降 29.5%；制造业投资 11663 亿元，增长 7.5%；电力、热力、燃气及水生产和供应业投资 1720 亿元，增长 18.5%。第三产业中，基础设施投资（不含电力）6531 亿元，同比增长 15%。其中，水利管理业投资增长 24.7%；公共设施管理业投资增长 26.5%；道路运输业投资增长 6.8%；铁路运输业投资下降 13%。

分地区看，东部地区投资 19468 亿元，同比增长 9.7%；中部地区投资 9023 亿元，增长 12.5%；西部地区投资 8716 亿元，增长 12.7%；东北地区投资 529 亿元，下降 18.6%。

分登记注册类型看，内资企业投资 35491 亿元，同比增长 10.2%；港澳台商投资 1340 亿元，增长 14.7%；外商投资 1068 亿元，增长 6%。从项目隶属关系看，中央项目投资 1509 亿元，同比下降 4.4%；地方项目投资 36499 亿

元，增长 10.9%。从施工和新开工项目情况看，施工项目计划总投资 481452 亿元，同比增长 13.9%；新开工项目计划总投资 27443 亿元，增长 41.1%。从到位资金情况看，固定资产投资到位资金 59324 亿元，同比增长 0.9%。其中，国家预算资金增长 10.9%；国内贷款增长 1.8%；自筹资金下降 3.1%；利用外资下降 34.2%；其他资金增长 15.5%。

115. 与上年同期相比，我国第三产业投资额增长了（ ）？

- A. 2088.0 亿元 B. 2315.6 亿元
C. 2572.6 亿元 D. 20861.4 亿元

116. 分地区看，地区投资额增长量最大的是（ ）

- A. 东部地区 B. 中部地区
C. 西部地区 D. 东北地区

117. 与上年同期相比，工业投资在第二产业投资中的比重（ ）

- A. 上升了 0.8 个百分点 B. 下降了 0.8 个百分点
C. 上升了 0.73 个百分点 D. 下降了 0.73 个百分点

118. 2015 年六月我国固定资产投资（不含农户）同比增速（ ）

- A. 高于 11.4% B. 低于 11.4%
C. 不确定 D. 等于 11.4%

120. 根据以上材料，下列论述正确的是（ ）

- A. 2015 年，我国固定资产投资（不含农户）累积同比增速持续递增；
B. 2016 年 1-2 月，港澳台商投资增量低于外商投资。
C. 第三产业投资占三大产业投资总额的比重超过 50%；
D. 2015 年 1-2 月，我国固定资产投资到位资金低于 59000 亿元。

二、根据以下资料，回答 121—125 题。

2015 年全国规模以上工业企业实现利润总额 63554 亿元，比上年下降 2.3%；实现主营业务利润 58640.2 亿元，比上年下降 4.5%。2015 年 12 月份，规模以上工业企业实现利润总额 8167.2 亿元，同比下降 4.7%，降幅比 11 月份扩大 3.3 个百分点。

2015 年，在 41 个工业大类行业中，29 个行业利润总额比上年增长，12 个行业下降。主要行业利润增长情况：农副食品加工业利润总额比上年增长 6.4%，纺织业增长 5.1%，石油加工、炼焦和核燃料加工业增长 9.7 倍，化学原料和化学制品制造业增长 7.7%，汽车制造业增长 1.5%，电气机械和器材制造业增长 12.1%，计算机、通信和其他电子设备制造业增长 5.9%，电力、热力生产和供应业增长 13.8%，煤炭开采和洗选业下降 65%，石油和天然气开采业下降 74.5%，非金属矿物制品业下降 9%，黑色金属冶炼和压延加工业下降 67.9%，有色金属冶炼和压延加工业下降

11%，通用设备制造业下降 0.6%，专用设备制造业下降 3.4%。

表 1 2015 年规模以上工业企业主要财务指标

分 组	主营业务收入		利润总额	
	全年累计	比上年增长	全年累计	比上年增长
	(亿元)	(%)	(亿元)	(%)
总计	1103300.7	0.8	63554.0	-2.3
其中：采矿业	53406.2	-16.3	2604.2	-58.2
制造业	986913.3	2.0	55609.2	2.8
电力、热力、燃气及水供应业	62981.2	-0.3	5340.6	13.5
其中：国有控股企业	235899.6	-7.8	10944.0	-21.9
其中：集体企业	6947.5	-5.8	507.5	-2.7
股份制企业	770887.5	1.9	42981.4	-1.7
外商及港澳台商投资企业	249486.5	-0.8	15726.1	-1.5
其中：私营企业	386258.1	4.5	23221.6	3.7

注：经济类型分组之间存在交叉，故各经济类型企业数据之和大于总计。

121. 2015 年 11 月份，规模以上工业企业实现利润总额增速为（ ）

- A. 8.0%
- B. -8.0%
- C. 1.4%
- D. -1.4%

122. 2014 年全国规模以上工业企业实现利润总额为（ ）亿元

- A. 62125
- B. 65050
- C. 63245
- D. 64250

123. 与 2014 年相比较，2015 年国有控股企业的利润率（ ）

- A. 上升了
- B. 下降了
- C. 保持不变
- D. 无法确定

124. 2014 年 12 月份全国规模以上工业企业实现利润总额占全年利润总额的比重为（ ）

- A. 12.85%
- B. 13.93%
- C. 13.17%
- D. 12.54%

125. 从上述资料中不能推出的是（ ）。

- A. 2015 年 1-11 月全国规模以上工业企业实现利润增速高于-2.3%
- B. 2015 年 41 个工业大类行业中，超过一半行业的利润总额上升
- C. 2015 年，石油加工、炼焦和核燃料加工业的增长率高于化学原料和化学制品制造业的增长率
- D. 2015 年规模以上工业企业的利润率较上年有所上升

三、根据以下资料，回答 126—130 题。

根据有关基础资料和国民经济核算方法，我国 2016 年 1 季度 GDP（国内生产总值）初步核算主要结果如下：

表 1 2016 年 1 季度 GDP 初步核算数据

	增加值绝对额（亿元）	比上年同期增长（%）
第一产业	8803	2.9
第二产业	59510	5.8
第三产业	90214	7.6
农林牧渔业	9153	3.1
工业	52335	5.5
建筑业	7438	7.8
批发和零售业	16293	5.8
交通运输、仓储和邮政业	7249	3.3
住宿和餐饮业	3113	7.0
金融业	15791	8.1
房地产业	10819	9.1
其他服务业	36336	8.7

126. 2016 年第 1 季度，我国国内生产总值为（ ）亿元
- A. 148572
 - B. 158527
 - C. 158214
 - D. 154078
127. 2016 年第 1 季度，我国 GDP 的较上年同期增长了（ ）
- A. 2.5%
 - B. 2.9%
 - C. 6.7%
 - D. 7.7%
128. 2016 年第一季度，建筑业占第二产业的比重较上年同期（ ）
- A. 上升了
 - B. 下降了
 - C. 保持不变
 - D. 无法确定
129. 2016 年我国房地产业的增加值是（ ）亿元
- A. 9917
 - B. 902
 - C. 11803
 - D. 5155

130. 从上述资料中不能推出的是()。

- A. 2016 年第一季度，我国 GDP 较上年同期有所上升
- B. 2016 年第一季度，工业占第二产业的比重有所下降
- C. 2016 年第一季度，第一产业对于我国 GDP 的拉动作用最小
- D. 2016 年第一季度相较于工业，建筑业同比增长量更大

四、根据以下资料，回答 131—135 题。

根据《全国人口普查条例》和《国务院办公厅关于开展 2015 年全国 1%人口抽样调查的通知》，我国以 2015 年 11 月 1 日零时为标准时点进行了全国 1%人口抽样调查。这次调查以全国为总体，以各地级市（地区、盟、州）为子总体，采取分层、二阶段、概率比例、整群抽样方法，最终样本量为 2131 万人。

据统计，我国全国大陆 31 个省、自治区、直辖市和现役军人的人口为 137349 万人。同第六次全国人口普查 2010 年 11 月 1 日零时的 133972 万人相比，五年共增加 3377 万人。

其中，大陆 31 个省、自治区、直辖市共有家庭户 40947 万户，家庭户人口为 126935 万人。

大陆 31 个省、自治区、直辖市和现役军人的人口中，0-14 岁人口为 22696 万人，占 16.52%；15-59 岁人口为 92471 万人，占 67.33%；60 岁及以上人口为 22182 万人，占 16.15%，其中 65 岁及以上人口为 14374 万人，占 10.47%。同 2010 年第六次全国人口普查相比，0-14 岁人口比重下降 0.08 个百分点，15-59 岁人口比重下降 2.81 个百分点，60 岁及以上人口比重上升 2.89 个百分点，65 岁及以上人口比重上升 1.60 个百分点。

大陆 31 个省、自治区、直辖市和现役军人的人口中，汉族人口为 125614 万人，占 91.46%；各少数民族人口为 11735 万人，占 8.54%。同 2010 年第六次全国人口普查相比，汉族人口增加 3021 万人；各少数民族人口增加 356 万人。

大陆 31 个省、自治区、直辖市和现役军人的人口中，居住在城镇的人口为 76750 万人，；居住在乡村的人口为 60599 万人。同 2010 年第六次全国人口普查相比，城镇人口增加 10193 万人，乡村人口减少 6816 万人，城镇人口比重上升 6.20 个百分点。

131. 2015 年该次调查样本量占全国总人口的比重为 ()

- A. 1.55%
- B. 1.56%
- C. 1.57%
- D. 1.58%

132. 与全国第六次人口普查相比，我国人口增长了 ()

- A. 2.46%
- B. 2.52%
- C. 3.21%
- D. 3.50%

133. 全国第六次人口普查至该次普查的五年间，总人口年均增速约为 ()

- A. 0.35% B. 0.40%
C. 0.50% D. 0.65%

134. 2016 年我国平均每个家庭户的人口是 () 人

- A. 3.10 B. 4.21
C. 2.50 D. 3.75

135. 能从上述资料中推出的是()。

- A. 2010 年第六次全国人口普查相比，0-14 岁人口比重为 16.44%
B. 与全国第六次人口普查相比，我国汉族人口增长了 2.46%
C. 与全国第六次人口普查时相比，我国城镇人口的增速低于总人口增速
D. 2015 年调查结果显示，我国城镇人口占总人口的比重是 44.12%

※※※全部测验到此结束! ※※※

2017 年于都县事业单位《申论》考前模拟卷

一、注意事项

1. 本题本由给定资料与作答要求两部分构成。考试时限为 180 分钟。其中，阅读给定资料参考时限为 50 分钟，作答参考时限为 130 分钟。
2. 请在题本、答题卡指定位置上用黑色字迹的钢笔或签字笔填写自己的姓名和准考证号，并用 2B 铅笔在准考证号对应的数字上填涂。
3. 请用黑色字迹的钢笔或签字笔在答题卡上指定区域内作答，超出答题区域的作答无效!
4. 监考人员宣布考试开始时，你才可以开始答题。
5. 所有题目一律使用现代汉语作答，未按要求作答的，不得分。
6. 监考人员宣布考试结束时，考生应立即停止作答，将题本、答题卡和草稿纸翻过来留在桌上，待监考人员确认数量无误、允许离开后，方可离开。

严禁折叠答题卡！

二、给定资料

材料 1

我国的农村发展正处于新的历史转折点上。由于一直强调现代化、城镇化在经济发展领域的主导作用，使人们有一种似是而非的模糊观念：唯有城市代表着先进、文明或历史前进的方向。而乡村则代表着落后、封闭、愚昧，是封建社会的产物，不足以支撑我国现代化发展，应该在城镇化的进程中逐步改造乃至淘汰。所以乡村价值一直是被否定的。中央政府在这样认识的前提下，虽然各地政府都投入大量资金项目打造“新农村”，但在“工业支持农业”、“城市反哺乡村”理念的支持下，却是在否定乡村传统文化的前提下进行建设，把乡村改造成向城市看齐的现代、时尚、面目全非的四不像，传统社会稳定、安详、包容、和谐的气度却难觅芳踪。对乡村的全面改造，使得乡村遭遇了几千年未有的变化和困境。乡村不可挽回地走向衰败，不仅表现在经济增长速度上远远低于城市，更在于文化价值的衰败。不仅城市人哀叹大拆大建下乡愁难寻，就是祖祖辈辈在乡村生活的农民，也不再珍惜自己祖辈传下来的文化，各种民俗节庆不兴，各种农耕方式被抛弃，各种伦理道德被无情嘲笑为“愚昧落后、呆头呆脑”。在城镇化的压力下，城市成为唯一的出路。如果农民贫困，不能靠农业收入获得富裕生活的话，就必须进城打工，如果农民已经富裕起来，就要在城市买房子，成为城里人。进退失据的乡村和农民，失去了往日的自信和自尊，不再固守原本的家园，亦步亦趋地跟在城镇化时代列车的后面踉跄前行。留下了大量的乡村空心、留守问题。

就城乡发展的客观规律而言，无论城市发展到怎样的水平，农村仍然是不可或缺的。从文明发展的规律而言，城市与乡村不是一对先进与落后文化之间的矛盾，而是不同历史阶段的不同文明方式。在由传统农耕社会向现代转型阶段，当然要以城镇化、工业化为主导，至今我国尚未完成这个历史进程。在工业化、现代化向生态文明方向转型时期，就必须兼顾城乡统筹，注重协调发展、共同发展、绿色发展，注重发挥乡村的特殊功能。我国目前正处于这两者交叉、更替的转折阶段。复兴乡村文化，发挥乡村的多重功能，既是国家下一步经济发展的重要目标，也是生态文明建设的重要尺度。从文化发展历史来说，我国有 5000 年乡土文明的传统，如果今天我们把传承了五千年的农耕文明都连根拔去了，拿什么实现“中华民族伟大复兴”？所以，现在要做好传统文化建设，首先要重建乡村文化，找回乡村文化的自信和自尊，才能复兴乡村的价值。乡村文化价值的重建，就是以现代人的视角、现代化的眼光对乡村文化的回望和致敬，是当代人对乡村文化的反哺与滋养。

对乡村文化的复兴和再造不仅是修出传统风格的房子，更在于激活乡村精神元气，给乡村送去文化温暖，用文化把乡村文化价值这一中华民族的根基筑牢。因此，恢复乡村的精神内涵至关重要。对传统文化的弘扬，也给重建社会精神共同体提供了新的支持力量。本来，乡村被城镇化抽空后，社会涣散、社会治理能力下降。乡村社会正在演变成家族势力、宗派势力、乃至黑恶势力的角力场。文化能够让乡村重新焕发活力，形成一系列道德建设、文化建设、制度建设体系，重塑农民的精神。文化不仅能够重新建立社会治理关系，还能够重建乡村伦理，重建邻里守

望相助等社会关系，促进新的社会共同体形成，这一和谐健康氛围的形成，将为新的社会善治格局奠定基础 and 前提。

材料 2

2003 年文化体制改革试点工作以来，文化体制改革逐渐“催肥”文化产业。各文艺院团、影视公司、出版企业积极进行体制改革，按照现代企业制度，重塑国有制主体地位。尤其在国际金融危机的冲击、经济发展遇到困难的情况之下，我国文化产业逆势增长，对保增长、促改革、调结构、惠民生具有重要意义。

文艺院团方面，全国除新疆、西藏外的 29 个省区市 884 家省属和试点地区文艺院团中，已有 71 家完成转企改制。北京先后完成北京市儿童艺术剧团、北京歌剧舞剧院、中国木偶艺术剧院、中国杂技团的转企改制，2009 年又积聚优势演出资源，成立了北京演艺集团公司。中国对外文化集团公司、上海文广新闻传媒集团、上海杂技团组建第一家跨地区、跨行业、跨系统的项目制演艺公司。目前，国有文艺演出院团体体制改革气氛日益浓厚，条件日益成熟；影视公司方面，全国先后组建了中国电影集团公司和上影、长影、西影、潇影、峨影、珠影等 7 家制片发行放映一体化的国有电影集团公司，拥有 34 条主流院线、188 条农村数字电影院线。目前新画面、华谊、橙天、慈文、保利博纳等 300 多家民营影视制作公司所投拍的影片占国产影片产量的 70% 以上。从 1994 年开始，上海东方明珠、中视传媒、湖南电广、北京歌华有线、陕西广电网络、深圳天威视讯 6 家从事广播影视类业务的公司先后成功上市，带动了相关领域广播影视产业的快速发展；出版企业方面，报刊和出版、发行、印刷企业集团化建设成果显现，上市融资步伐加快，民营书业正在崛起，出版物发行网络遍布城乡。安徽时代出版传媒股份公司、北方联合出版传媒（集团）股份有限公司、江苏凤凰出版传媒集团有限公司、上海世纪出版股份有限公司、四川新华文轩连锁股份有限公司等，引领新闻出版体制改革潮流，取得突出成绩。

随着我国文化软实力不断增强，中华文化影响力不断扩大。文化部门以文化走出去重大工程、项目的实施为契机，充分利用国际国内两个市场、两种资源，主动参与国际合作和竞争，扩大对外文化贸易，努力形成以民族文化为主体、吸收外来有益文化、推动中华文化走向世界的文化开放格局。

2002 年起，文化部整合全国各地及驻外使领馆、文化中心、华人社团及国外官方、民间各机构等资源，合力把春节建成传播中华文化的新载体和品牌。春节庆祝活动已覆盖亚洲、欧洲、非洲、美洲、太平洋等广大地区。2000 年起举办的“相约北京”联欢活动增进了我与欧美国家的文化交往，促进了与周边国家的合作。近年来，在海外举办的中国文化年和在国内举办的亚洲艺术节，都服务于我外交大局，为中华文化的对外传播发挥了不可替代的作用。多年来，我国通过法兰克福图书博览会、北京国际图书博览会两大图书盛事带动我国新闻出版业走向世界。2009 年我国作为主宾国参展法兰克福图书博览会，自 3 月莱比锡书展拉开中国主宾国序幕，全部主宾国活动数量约百场之多；将于 9 月在京举办的第 16 届北京国际图书博览会，参展的国家和地区 56 个，比上届增加 5 个，海外已有 1000 多家出版单位参展，爱思唯尔、施普林格、哈柏·柯林斯、企鹅等国际著名出版集团皆在其列。此外，在英国伦敦书展、俄罗斯莫斯科书展、日本东京书展等重要国际书展上，都能看到中国出版人的身影。香港书展、海峡两岸图书交易博览会成为出版界交流的重要舞台。

经过多年发展，中央电视台已在 140 个国家和地区实现落地入户，卫星传输信号基本实现了全球覆盖。中国国际广播电台已形成 53 种语言广播、22 家境外整频率电台、153 家调频/中波合作电台、3158 个海外听众俱乐部、覆盖全球 60 多个国家和地区的对外广播体系。多年来，我国影视产品海外市场份和影影响不断扩大。一些优秀国产动画片开始走出国门，出口到 17 个国家和地区，累计出口量 4430 集、65100 分钟，成交额 550 万美元。2004 年国产影片海外票房及销售收入仅为 11 亿元，2008 年上升到 25.28 亿元，平均年增幅 4 亿元至 5 亿元。此外，我国还通过积极举办海外影视展和加强对台港澳及周边国家、地区的广播影视合作交流等方式，扩大我国影视节目在海外的影响力。

材料 3

1993 年，在各地发生了一系列貌似无关、实则存在千丝万缕联系的事：

北京。中国对外演出公司某下属单位的总经理张宇正在琢磨一个问题：为什么买别的东西可以到大商场、大超市里很方便地挑选，买演出票只能到影剧院门口的小窗口前排队呢？不久，他牵头成立了中演文化娱乐公司，并成立票务部，这就是后来著名的“票务通”的前身；深圳。已经在中日合资的深圳美光彩色印刷股份有限公司工作过 7 年，并成为该公司董事的万捷决心重新创业。怀着“打造中国顶级印刷企业”的梦想，他创办了深圳雅昌彩色印刷有限公司。这个起初只有 35 名员工的小公司后来发展成了享誉国际的雅昌企业（集团）有限公司；郑州。26 岁的王红丽原来是河南豫剧二团的一颗新星，荣获了河南省首届香玉杯艺术奖和河南省第二届戏剧大赛表演一等奖。但她却在这一年同几位家庭成员一起，凭着 10 万元流动资金办起一家民营戏曲表演团体——河南小皇后豫剧团。16 年间，不仅她本人成为中国戏剧二度梅花奖获得者，她的剧团也因演艺水准一流、经济效益突出，成为民营剧团的先进典型。……

事实上，上世纪 90 年代初，全中国有无数像张宇、万捷、王红丽这样的青年，怀抱梦想投身到今天我们称之为“文化产业”的行当之中。1993 年 11 月，文化部提出“发展文化产业”的命题，标志着全社会开始对“文化产业”领域发生的现象给予关注。

1998 年，文化部设立了文化产业司，标志着中国文化产业进入政府致力推动的时期。2000 年 10 月 11 日，党的十五届五中全会通过的《中共中央关于制定国民经济和社会发展第十个五年计划的建议》中使用了“文化产业”的概念。这是“文化产业”一词首次出现在党的文件中。此后，随着文化体制改革的不断深入，文化产业开始进入快速发展时期。从那时到现在，不过 9 年。

2003 年，我国文化体制改革试点工作启动。2004 年 1 月，北京儿童艺术剧院股份有限公司正式挂牌；4 月，中国出版集团更名为中国出版集团公司，成为中国第一家具有企业身份的出版单位；12 月，《北京青年报》的北青传媒股份有限公司在香港联交所挂牌上市，成为内地传媒企业海外首发上市“第一股”；年底，上影集团完成了整体转制。

体制转变激发出空前的活力。儿艺改制当年，剧院共创收 2163 万元，其中营业收入 1568 万元，是改制前的 18

倍，2005年又创下总收入5000万元的业绩；上影集团实现利润由2003年的209万元跃升到2005年的8548万元，其所属的上海联合院线公司，2005年观众达到2028万人次，实现票房收入2.46亿元，在全国院线排名第一，与此同时，民营文化企业不断壮大，形成了以公有制为主体、多种所有制共同发展的产业格局。2004年，国有文化企业和民营文化企业的比例为1:1，至2007年，这一比例已变为1:4。据不完全统计，当前全国民营文艺院团已超过6800家，年演出200万场以上，出现了河南宝丰、浙江嵊州、辽宁沈阳、安徽临泉、江苏如皋、福建莆田等典型地区和河南小皇后豫剧团、吉林东北风二人转艺术团等优秀民营文艺表演团体。

2004年，国家统计局首次发布了我国文化产业统计数据。当年我国文化产业实现增加值3440亿元，占GDP的比重为2.15%。到2007年，文化产业增加值占GDP的比重提高到了2.6%。去年，在一些发展较快的省份，文化产业占当地GDP的比重已超过5%。短短几年间，不少地方的文化产业增长速度已经远远高于其他产业，成为当之无愧的支柱产业。

材料4

随着社会发展和文明进步，广大人民群众对精神文化生活的要求越来越高，公共文化服务也发生着令人欣喜的变化，更加关注民生，服务方式和手段不断创新，服务质量和水平显著提高。2004年起，我国各级各类国有博物馆、纪念馆、美术馆、有条件的爱国主义教育基地等逐步实行优惠或者免费开放；2008年，全国文化、文物系统博物馆、纪念馆开始向社会免费开放，到2008年底，全国已有1007个博物馆、纪念馆陆续向社会免费开放，观众人数突破1.54亿人次。全国各地众多青少年走进博物馆、美术馆、图书馆、纪念馆，在这些“第二课堂”中了解历史、感受文化、欣赏艺术、学习知识，不断丰富自己的精神世界。同时，在政府的扶持下，传统文化、高雅艺术和民族艺术得到弘扬，极大地满足了人民群众新时期以来日益增长的精神文化需求，艺术创作和演出面向市场、面向群众，更加注重维护全体公民的基本文化权益。“文化下乡”、“高雅艺术进校园”、为进城务工人员送戏等措施和活动，丰富了基层群众的文化生活，推动了高雅艺术的普及。2002年至2008年，全国各级艺术院团在农村演出场次达202万场、观众人数超过32.5亿人次。许多演出场馆推出低票价政策，满足不同人群看演出的需求。

在更加广阔的县乡地区，创建文化先进县活动、全国万里边疆文化长廊建设工程、知识工程、蒲公英计划、全国文化信息资源共享工程、送书下乡工程、流动舞台车工程等等一系列重大文化工程的实施，极大地推动了基层文化建设，使公共文化服务的覆盖面更广、内容更丰富、受益的群众更多。中国老年合唱节、中国少儿歌曲创作推广活动在全国的蓬勃开展，受到各地群众的热烈欢迎。浙江台州和嘉兴、四川成都、辽宁等地在推动公共文化服务、建立农村图书馆服务网络、加快社区文化建设的做法，为各地推动公共文化服务体系建设提供了可资借鉴的宝贵经验。

多年来在我国广大农村和边疆地区实施的广播电视“村村通”工程、西新工程、农村电影放映工程等，为农村基层和边疆人民享受到基本文化权益提供了渠道和保障。广播电视“村村通”工程建设实施十年来，全国广播电视综合覆盖水平明显提高，解决了近亿广播电视覆盖“盲村”群众听广播、看电视问题，我国的广播、电视人口综合

覆盖率也分别从 1997 年的 86.02% 和 87.68% 提高到了 2005 年的 94.48% 和 95.81%。西新工程前三期工程的实施，极大地改善了西藏、新疆等西部边远少数民族地区广播影视基础设施条件。农村电影放映工程已在全国建立了遍布乡村的农村电影放映网，建立了专业的电影放映队伍。到 1984 年，全国共有集镇影院 1 万座，农村电影放映队 13.5 万个。

新时期以来，党和政府高度重视文化遗产保护工作。国务院自 2006 年起设立“文化遗产日”，文化遗产保护理念深入人心，保护文化遗产日渐成为全社会的文化自觉。国家分别于 1956 年、1981 年和 2007 年开展了第一次、第二次和第三次大规模文物普查，基本摸清了我国现存不可移动文物的家底和现状；国务院先后公布 6 批共 2351 处全国重点文物保护单位、国家历史文化名城共 109 座，建设部、国家文物局公布中国历史文化名镇名村共 157 处。自 1987 年中国的第一批 6 项遗产进入《世界遗产名录》以来，我国已拥有世界遗产 38 处，位居世界第三。非物质文化遗产保护机制逐步建立，国务院已公布两批国家级非物质文化遗产名录项目 1028 项。国家、省、市、县四级非物质文化遗产保护名录体系已经初步建立。先后设立了福建省闽南文化生态保护实验区、徽州文化生态保护实验区、青海省热贡文化生态保护实验区和羌族文化生态保护实验区。昆曲艺术、古琴艺术、新疆维吾尔木卡姆艺术以及与蒙古国联合申报的蒙古族长调民歌已被列入联合国教科文组织“人类口头和非物质遗产代表作”名录。

材料 5

少数民族文化是构成中华文化最斑斓的色彩，这一点显而易见。中国共有 38 项非遗项目入选联合国教科文组织非物质文化遗产名录，其中少数民族项目有 14 项。2013 年，1219 项国家级非遗保护项目中，少数民族项目有 433 项，占 34.9%；1986 名国家级非遗传承人中，少数民族传承人有 524 名。这表明，一方面少数民族文化构成了中华文化的斑斓色彩，另一方面少数民族文化保护、传承和发展的的问题最为突出。正如习近平总书记所指出的，少数民族文化块头小，抵抗市场经济冲击的能力弱，一些非物质文化遗产流失严重，不能等到失去才懂得珍惜。少数民族文化是我们中华民族共有的文化资产，不是哪一个民族，哪一个地域的。

近几十年来，无论是因大量知识分子西学意识强烈，还是全球化形势愈演愈烈，都使国人在很大程度上了解与接受外来文化。当一种文化现象久了便成为一种习惯，无形之中使我国国民淡化了中国传统文化，甚至认为中国传统文化已不再适应时代的发展，就更谈不上对其实行保护。而当举世都认同中国传统文化的巨大价值后，才发现并愿意承认其博大精深。尽管如此，国人仍沉浸在外来文化之中，对本民族文化重视程度不够，导致对中国文化缺乏认识。而更值得反思的是，在政策制定上历来对其关注较少，中国的文化发展规划纲要一般非常的宏观且空泛，并且对培养青少年传统文化保护意识的重视程度不够，此外，广大经营者为获取经济利益大力宣传外来文化，忽视本土文化，这其中固然有媒体方面在某种程度上没有完成历史责任的原因，但政策等方面的不加重重视，导致民众意识淡薄，从而难以有文化危机感，则更加重了对文化的忽视，如果连基本的重视都做不到，就更谈不上传承与发展。

未经雕琢去雕饰，未经专业艺术家们的改造，草根艺术家们以简单、快乐为主导基调，用人们喜闻乐见的形式让接地气的草根文化登上了艺术的舞台，引领了当下基层百姓文化生活的新风尚。草根文化作为主流文化生活的有

益补充，以其创作扎根生活，灵感来与百姓生活感悟而吸引了广大人民群众的眼球。草根艺人们的低调、简单、务实和不做作的文化作品赢得了基层人民的心。真正接地气的文化生活需要音乐剧、演奏会等高雅文化的熏陶，更需要创作于民，服务为民并为人民群众所喜闻乐见的优秀草根文化的及时补充，他们都是中国特色社会主义文化的重要组成部分，在反映的是当今社会文化多元的发展趋势。我们需要这样的平民文化来点缀生活、充实生活、陶冶情操。群众需要这样的扎根于生活的草根文化，虽然粗糙、平凡，但是群众看得到、摸得着、感受得到其作品里蕴藏的深刻内涵，让人们的思想道德水平在形式在多样的文化氛围中得到提升，这样的文化更具旺盛的生命力和强大的凝聚力，更具经久不衰的魅力。

当然，和主流文化相比，草根文化更容易因为其亲民性而存在良莠不齐的现象。这就要求草根艺人们要立好航标，跟随社会主流思潮，以社会主义核心价值观为引领，避免“铜臭味”污染了草根文化的本源和本真，创造出优秀文化作品，以优秀文化作品鼓舞人。我们呼唤更多的优秀的草根文化来满足基层群众对文化生活的强烈渴求，也呼吁政府等相关部门能为草根文化的发展、壮大提供必要的扶持，让草根文化引领人们文化生活新风尚，在引导人们树立正确的世界观、人生观和价值观等方面发挥更积极的作用。

三、作答要求

一、根据给定材料 1，谈谈在新农村建设过程中，复兴农村文化的重要性。（15 分）

要求：观点明确，全面深入，有条理性，不超过 200 字。

二、根据给定材料 2，概括相关部门在文化建设方面所采取的主要措施。（15 分）

要求：全面准确，分条归纳。不超过 200 字。

三、假设你是省文化厅文化产业部门的负责人，参加由文化部组织的文化产业发展交流会，请你根据给定材料 3，就如何进行文化产业发展，写一篇经验交流稿。（20 分）

要求：（1）内容具体，符合实际

（2）条理清楚，见解深刻

（3）语言生动，对象明确

（4）字数 500-800 字。

四、文化的建设和发展关系着社会每一个人的生活，请根据给定材料 4，就如何做好文化建设谈谈自己的看法。（15 分）

要求：全面准确，有针对性，合理可行，不超过 400 字。

五、材料 5 中写道“当一种文化现象久了便成为一种习惯，无形之中使我国国民淡化了中国传统文化，甚至认为中国传统文化已不再适应时代的发展，就更谈不上对其实行保护。”请从这句话说开去，练习给定资料，结合社会现实，写一篇文章。

要求：（1）立意明确，针对性强；

（2）联系实际，不拘泥于给定资料

（3）思路清晰，语言流畅；

（4）字数 800-1000 字。

于都事业单位课程					
班型	科目	授课内容	授课天数	单科价格	双科价格
封闭 基础班	行测	言语理解	2天	2080元	2380元
		判断推理	2天		
		数量与资料	2天		
	申论	申论	2天	680元	
封闭 题海班	行测	言语理解	2天	2080元	2380元
		判断推理	2天		
		数量与资料	2天		
	申论	申论	2天	680元	
冲刺 预测班	行测	言语理解	1天1晚	1580元	1880元
		判断推理	1天1晚		
		数量与资料	1天1晚		
	申论	申论	1天1晚	580元	
封闭特训班	面试	结构化面试	7天7晚	6080元	
笔面直通	行测 申论 结构化面试	笔试所有课程+面试封闭特训班（7天7晚）		16800元不被录用退 10000元	

现已在于都县新联书香大酒店开课，欲报从速哦！

报班请咨询：0797-8177395 18179727446（吕老师） 18079721433（谢老师）

华图教育 HUATU.COM
SINCE 2001

以教育推动社会进步

公考

这是一场速度，智慧与机遇的考验，
只有不停刷，才能刷出不一样的明天。

每天一模块 科目导师陪你练
每天一小时 争分夺秒学得好
公考一群人 比拼赛跑进步快



赣州华图公考刷题群
每晚9点，华图导师陪你一起刷刷题

扫码进赣南刷题群，每天晚上免费陪你刷题



扫码关注，并回复“于都事业单位答案”，即可获取参考答案。

”