



2016 年公务员录用考试 《行政职业能力测验》试卷

姓 名：_____

联系方式：_____

考试成绩：_____

华图教育教学研究院 审定

说 明

这项测验共有五个部分,135 道题,总时限为 120 分钟。各部分不分别计时,但都给出了参考时限,供你参考以分配时间。

请在机读答题卡上严格按照要求填写好自己的姓名、报考部门,涂写准考证号。

请仔细阅读下面的注意事项,这对你获得成功非常重要:

1.题目应在答题卡上作答,不要在题本上作任何记号。

2.监考人员宣布考试开始时,你才可以开始答题。

3.监考人员宣布考试结束时,你应立即放下铅笔,将试题本、答题卡和草稿纸都留在桌上,然后离开。

如果你违反了以上任何一项要求,都将影响你的成绩。

4.在这项测验中,可能有一些试题较难,因此你不要在一道题上思考时间太久,遇到不会答的题目,可先跳过去,如果有时间再去思考。否则,你可能没有时间完成后面的题目。

5.试题答错不倒扣分。

6.特别提醒你注意,涂写答案时一定要认准题号。严禁折叠答题卡!

**停! 请不要往下翻! 听候监考老师的指示。
否则,会影响你的成绩。**

第一部分 常识判断

(共 20 题,参考时限 15 分钟)

本部分包括常识判断的内容。请根据题目要求,在四个选项中选出一个最恰当的答案。

请开始答题:

1. 下列关于“十二五”规划期间我国的科技成就描述有误的是()。
 - A. “吉林一号”发射成功,这是我国自主研发的商业高分辨率遥感卫星。
 - B. 基于北斗导航系统的开发应用广泛服务于测绘、城建、水利、交通、旅游和应急救援等领域
 - C. 中国女药学家屠呦呦获 2015 年诺贝尔生理学或医学奖,并获得 2015 年国家最高科学技术奖
 - D. 我国主导的 TD-LTE 技术成为两大 4G 国际标准之一,完整产业链基本形成,4G 用户达到 2.7 亿
2. 1980 年 2 月 15 日,中国邮政发行首套生肖邮票,名为(),原图由最著名画家黄永玉绘制,图像美观,印刷精致,深受集邮爱好者欢迎,已成为是中国收藏、集邮的标志藏品。
 - A. 龙票
 - B. 猴票
 - C. 虎票
 - D. 鼠票
3. 2014 年,霍尔果斯成为中国最年轻的经济特区,至此中国已经有 7 个经济特区。其中,()特区是这七个经济特区中面积最大的省级经济特区和唯一的省级经济特区。
 - A. 喀什
 - B. 霍尔果斯
 - C. 广东
 - D. 海南
4. 习近平总书记多次作出重要论述、提出明确要求。中央政治局围绕培育和弘扬社会主义核心价值观、弘扬中华传统美德进行集体学习。富强、民主、文明、和谐是国家层面的价值目标。社会主义核心价值观中“爱国”是中华民族的传统美德。下列关于爱国的诗人和诗句描述有误的是()。
 - A. 范仲淹的名句“先天下之忧而忧,后天下之乐而乐”,出自他的名篇《岳阳楼记》
 - B. “路漫漫其修远兮,吾将上下而求索”是春秋时期屈原所写
 - C. “苟利国家生死以,岂因祸福避趋之! 谪居正是君恩厚,养拙刚于戍卒宜”是林则徐在《赴戍登程口占示家人·其二》中所写
 - D. “历览前贤国与家,成由勤俭破由奢”出自李白《咏史二首》
5. 下列关于遵义的描述不正确的是
 - A. 1935 年 1 月,遵义会议的召开,是我中国共产党第一次独立自主运用马克思列宁主义原理解决中国革命具体问题,标志着中国共产党从幼年走向成熟
 - B. 1935 年在遵义,中共建立了第一个红色政权,遵义也被称为“共和国的摇篮”
 - C. 遵义属亚热带季风气候,年均气温 14.7℃,终年温凉湿润,盛产美酒茅台
 - D. 遵义位于贵州省境内,著名自然景观有世界自然遗产赤水丹霞,黄果树瀑布

6. 下列战争,按照从古至今的顺序进行排列()
- ①牧野之战 ②围魏救赵 ③赤壁之战 ④官渡之战 ⑤百团大战 ⑥城濮之战
- A. ①②③④⑥⑤
B. ①②⑥③④⑤
C. ①⑥②④③⑤
D. ①⑥②③④⑤
7. 抗战 70 周年纪念活动中,中央军委主席习近平宣布了裁军 30 万的决定。去年底以来,中国军队进行了一系列改革的大动作:二炮改名为“火箭军”、中国陆军和战略支持部队正式授旗;总参谋部、总政治部、总后勤部、总装备部等 4 总部,改为 7 个部(厅)、3 个委员会、5 个直属机构共 15 个职能部门,原七大军区改革为五大战区等等。我党历来重视军队的建设。下列历次会议,武装、军队建设无关的是()。
- A. 三湾改编
B. 瓦窑堡会议
C. 八七会议
D. 古田会议
8. “中国梦”归根结底就是要实现中华民族的伟大复兴,下列对于我国现阶段国情的描述正确的是()。
- A. 我国现阶段还处于社会主义初级阶段
B. 我国已经步入现代化国家的行列
C. 我国是世界上老龄人口最多的国家
D. 我国已经全面开放单独二胎政策,
9. 下列关于 24 节气的说法不正确的是()。
- A. 谷雨:雨生百谷。雨量充足而及时,谷类作物能茁壮成长
B. 处暑:处是处在,正在的意思。处暑是表示炎热的暑天还要持续一段时间
C. 小满:麦类等夏熟作物籽粒开始饱满
D. 芒种:麦类等芒作物成熟
10. 亚洲基础设施投资银行(Asian Infrastructure Investment Bank,简称亚投行,AIIB)是一个政府间性质的亚洲区域多边开发机构,重点支持基础设施建设,成立宗旨在促进亚洲区域的建设互联互通化和经济一体化的进程,并且加强中国及其他亚洲国家和地区的合作。以下关于亚投行的说法错误的是()。
- A. 2013 年 10 月 2 日,习近平主席提出筹建倡议,2014 年 10 月 24 日,首批意向创始成员国的财长和授权代表在北京签约,共同决定成立亚洲基础设施投资银行。
B. 是首个由中国倡议设立的多边金融机构
C. 亚投行初期投资的重点领域主要包括五大方向,即能源、交通、农村发展、城市发展和物流
D. 目前该组织暂无亚洲以外的意向国。
11. 下列关于我国的地理知识正确的是()。
- A. 我地势东高西低,呈阶梯状分布,分为三级阶梯
B. 世界第三长河,亚洲第一大河,发源于青藏高原。流经青、川、藏、滇、渝、鄂、湘、赣、皖、苏、沪 11 个省级行政区,注入东海
C. 柴达木盆地丰富的生物、水力资源和煤、铁、天然气、岩盐以及金属矿藏。盆地西北部为成都平原,有“天府之国”之称
D. 著名的世界文化遗产三江并流的三江指的是金沙江、澜沧江和长江

12. 下列物品在使用过程中,没有利用杠杆原理的是()。
- A. 筷子
B. 开瓶器
C. 钉子
D. 剪刀
13. 下列生活常识,不正确的是()。
- A. 白酒有透风、散寒、舒筋、活血效果,如红花酒治血瘀性痛经症,龟肉酒治多年咳嗽,蛇血酒补气养血等。但长期大量饮用白酒易发生肝硬变或肝癌或偏瘫
- B. 葡萄酒适合陈年需要单宁(即单宁酸),而赤霞珠(葡萄品种)因地理因素和其特性,是众多葡萄品种中最适宜陈年的
- C. 北宋农学家贾思勰《齐民要术》记载的制曲酿酒的方法一直沿用至今
- D. 在使用头孢类药物期间饮酒,容易出现面部潮红、腹痛、恶心、呕吐、头痛、头晕、嗜睡、胸闷、心悸、视觉模糊等反应,甚至出现血压下降、呼吸困难、意识模糊、休克等严重症状,这可能是因为头孢类药物与酒精反应所致的“双硫醒样反应”
14. 下列关于西藏问题的说法不正确的是()。
- A. 我国两条最长的河流,均发源于青藏高原
- B. 西藏普遍信奉藏传佛教,即喇嘛教
- C. 元朝在中央设宣政院掌管全国佛教事宜和吐蕃(西藏地区)的军政事务,使西藏正式成为我国中央政府直接管辖的行政区域
- D. 藏族民间最大的传统节日为每年农历正月初一的农历年
15. 王某家中饲养一只宠物狗,由于狗狗患病,便将狗遗弃在郊外,恰巧李某从此地经过,将病够请兽医将狗治好。王某得知后,向李某索要宠物狗,则王某
- A. 王某有权要求返还狗,因为李某的行为构成不当得利
- B. 王某无权要求返还狗,但可以向李某索要一部分费用
- C. 王某有权要求返还狗,但应该补偿李某的无因管理行为
- D. 王某无权要求返还狗,因为遗弃的行为,王某不再具有狗狗的所有权
16. 2015年10月19日最高人民法院审判委员会第1664次会议通过《刑法修正案九》,人民法院2015年11月1日以后审理的刑事案件,适用刑法修正案九,11月1日以后审理的案件将不会出现以下情况:
- A. 王某在2016年被处罚金2万元,判决以后,由于发洪水,冲毁了老王的工厂,致使老王无力偿还罚金,当地法院将罚金数量减至1万元。
- B. 校车司机李某严重超员,校车所有人张某也应该会被处罚
- C. 王某因为多者盗用他人的居民身份证、护照从事违法活动,情节严重,被判处刑罚。
- D. 李某因收买被拐儿童,但对被拐儿童视如己出,故此公安机关对于李某免除刑事处罚。
17. 近代中国资产阶级的第一个革命团体是()。
- A. 光复会
B. 兴中会
C. 同盟会
D. 华兴会
18. 下列价值规律是一只无形的手,下列关于价值规律的说法正确的是()。
- A. 价格受供求关系的影响围绕价值上下波动
- B. 价值受供求关系的影响围绕价格上下波动
- C. 价格就是价值,而这没有区别。

D. 没有必然联系

19. 是针对军人及其家属所建立的社会保障制度,是指国家和社会对军人及其家属所提供的各种优待、抚恤、养老、就业安置。

A. 社会福利

B. 社会保险

C. 社会救济

D. 社会优抚

20. 下列对于国民经济的三大产业理解正确的是()。

A. 第一产业是从物质资料生产的最基本部门

B. 第二产业主要为人们提供基本的生活消费品

C. 第三产业是为人们生活提供服务的行业总称

D. 三大产业都是解决新增劳动力就业的主渠道

第一部分结束,请继续做第二部分!

第二部分 言语理解与表达

(共 40 题,参考时限 35 分钟)

本部分包括表达与理解两方面的内容。请根据题目要求,在四个选项中选出一个最恰当的答案。

请开始答题:

21. 乎寻常的前行速度,让中国市场成为世界眼中的香饽饽。但在 2015 年中国电影票房的盛宴中,曾横行世界的好莱坞大片却没能均分成果。在中国电影高歌猛进的号角声里,一些好莱坞大片_____。

A. 突飞猛进

B. 偃旗息鼓

C. 东山再起

D. 销声匿迹

22. 电影大师希区柯克的《蝴蝶梦》早已成为电影史上的经典,影片也让女作家达夫妮·杜穆里埃_____。她的另一部代表作《浮生梦》近日由读客图书引进出版,这个爱情故事堪称杜穆里埃巅峰期的代表作,在中国却不被人所_____。

A. 声名鹊起 熟知

B. 名声大噪 接受

C. 脱颖而出 喜爱

D. 妇孺皆知 欢迎

23. 在今天,以广播、电视、报纸为主体的大众传媒,在公众的日常生活中几乎是_____。媒介产品已经是展示在公众面前的一种_____、无远弗届的庞大存在。

A. 随处可见 俯拾即是

B. 无所不至 漫山遍野

C. 无孔不入 铺天盖地

D. 琳琅满目 遮天蔽日

24. 互联网大会后的乌镇_____在一片安宁中。但在西栅正门外的主路上,仍然能看见沿路而插的小红旗,黛瓦粉墙上也到处刷上了“互联网大会”几个大字。没有人知道,一场_____性的互联网革命,正从这里酝酿发酵。

- A. 沉睡 颠覆
B. 沉浸 预见
C. 沉溺 全球
D. 沉陷 国际
25. 城市在党和国家工作的全局中具有_____的地位,充分认识城市工作的重要性,不断_____城市环境、人民生活质量、城市竞争力,不断_____城市发展的新局面,可以让我们的城市更加美好和宜居。
- A. 轻而易举 提高 创造
B. 举足轻重 提升 开创
C. 举重若轻 加强 开拓
D. 至关重要 增强 拓展
26. 当经济开始走下坡路时,一切变得_____,人们开始寻找约会对象。或许是因为孤单,或许想在沉闷的氛围中寻找一丝_____。全球最大的婚恋网站 Match.com 注意到,每当经济_____时,网站的访问量就会大幅增加。
- A. 消沉 救赎 复苏
B. 恶劣 光明 崛起
C. 糟糕 明媚 低迷
D. 昏暗 慰藉 下滑
27. 现当代历史人物的传记片创作,传主离当下越近,对历史的_____性要求往往越高,传奇、演绎固然允许,但创作所受到的_____ (如文献的详细记载、家属和后代的要求等)往往更多,因此不能像重写古代历史人物故事那样,可以任凭想象驰骋。
- A. 准确 影响
B. 真实 限制
C. 细致 制约
D. 重要 批评
28. “一带一路”是指“丝绸之路经济带”和“21世纪海上丝绸之路”的简称。它将充分依靠中国与有关国家既有的双多边机制,借助既有的、行之有效的区域合作平台。“一带一路”追求的是的_____大利,不是一枝独秀的小利。
- A. 百花齐放
B. 为国为民
C. 休戚与共
D. 一花独放
29. 地球上曾经出现过很多体形巨大的动物,如恐龙、猛犸象、蓝鲸等,如今它们要么数量大减,要么濒临灭绝。这些大型动物不但有无与伦比的观赏价值,还具有_____的生态价值。
- A. 无可替代
B. 今非昔比
C. 同日而语
D. 每况愈下
30. 街口,大红灯笼在风中_____,“恭喜发财”的歌声_____,从路边商户门口往外飘,不远处玩杂耍的民间艺人也总能赚得阵阵叫好。整条街依然沉浸在春节氛围里。
- A. 摇摆 此起彼伏
B. 摇曳 响彻云霄
C. 招摇 宛转悠扬
D. 飘摇 回旋往复
31. 我国已是网络零售第一大国。2015年全国网上零售额同比增长了33.3%。撑起这张越来越壮观“消费版图”的,是_____的中国快递业。而快递供给能力的提升也_____了消费,也让上门洗衣、超市代购等“互联网+”服务业创新更为_____。
- A. 一日千里 满足 运用自如
B. 日新月异 刺激 得心应手
C. 墨守成规 促进 驾轻就熟
D. 循规蹈矩 扩大 踌躇满志
32. 《连环念》把江河湖海、日月星辰、荒林晚菊、寡妇过客等人、事、物连环串结,使主客对立的理性架构在时空、物象的循环往复中逐渐淡化、_____,人与时空、自然融入了_____的境界。

- A. 瓦解 浑然一体
B. 消失 沉湎一气
C. 消逝 浑然天成
D. 融解 水乳交融
33. 内地学者习惯性地港台文学并提,自上世纪 50 年代起,香港文学与台湾文学的联系就已经相当_____,这种联系一直是相互的,_____,像双程交通,并不是单方面的。
A. 融洽 交相辉映
B. 紧密 珠联璧合
C. 密切 有来有往
D. 融合 相得益彰
34. 羊祜镇守襄阳,是在晋初,而孟浩然的《与诸子登岘首》写在盛唐,中间隔了四百余年。朝代的_____,人事的变迁,是多么的巨大!然而羊公碑却还_____在岘首山上,令人敬仰。
A. 更替 屹立
B. 变化 伫立
C. 更换 耸立
D. 更迭 矗立
35. 故乡的亲朋故旧、山川景物、风土人情,都值得_____。但引起亲切怀想的,有时候往往是看起来很平常、很细小的情事,但它_____了当年家居生活的味道。
A. 牵挂 饱含
B. 眷恋 蕴藏
C. 怀念 蕴含
D. 向往 赋予
36. 人们熟悉的观点是:失败是成功之母。这个世界上,想不经历失败而_____走向成功是基本不可能的。应试教育的死穴恰恰在于它没有给孩子们留下“犯错”的空间。然而,_____才是人类不断学习、进步的前提。
A. 径自 犯错
B. 直接 求知
C. 径直 试错
D. 顺利 好奇
37. 旗袍的确是我国服饰文化的特色,G20 峰会期间女性穿旗袍,或也确能产生不一般的视觉效果,但是“全城穿旗袍”_____的壮观场景,到底能展示什么样的“软实力”?女性统一穿旗袍,男性又该穿啥呢?稍加追问就不难发现,类似这类形象工程思维应该_____。
A. 千篇一律 消除
B. 整齐划一 去除
C. 协调一致 摒除
D. 千人一面 摒弃
38. 从古至今,以一篇文章而影响了中华民族政治文明、人格行为和文化思想的美文为数不多。著名作家梁衡从_____的千古文章中,选出了政治史上令人赞叹的十篇美文。它们已成为中华文明的经典,是中国两千多年来政治史上的坐标、文学史上的脊梁。
A. 浩如烟海
B. 汗牛充栋
C. 蔚为大观
D. 盈篇满籍
39. 当谭嗣同的头颅在菜市口刑场落下的时候,也就标志着清廷_____政治改革的梦幻_____。晚清的知识分子对西方文化价值的认识因此从政治层面递进到哲学、社会人文科学层面。
A. 自上而下 破灭
B. 弃旧图新 终结
C. 弃暗投明 破产
D. 从上至下 消失
40. 阿黛尔的新专辑发行一周后就卖了 338 万张。创造了美国音乐史上有唱片销量记载以来,首周和单周销量的最高纪录她的同时代人都在努力唱得像是代表潮流,她却相反,听上去就像是来自_____。她的音乐_____,因为亲切、简单而被誉为流行音乐界最老的灵魂。

A. 天堂 家喻户晓

B. 过去 老少皆宜

C. 乡村 众所周知

D. 历史 享誉全球

41. 教育,尤其是基础教育,应该以人格健全的公民为培养目标,教育孩子“成人”的重要性远远大于“成才”。然而,眼下的现实却恰好相反。从家庭教育到学校教育,急功近利的态度将“育人”过程挤压得十分扁平,不仅让孩子承受了难以负担的学业压力,更将庸俗浅薄的功利化价值观念植入他们的人生观、世界观。很难想象,一个从未感受到平等与尊重的“差生”,如何能够拥有适度的自尊自重意识、不以对立的情绪看人处世;也很难想象,一个仅因学科成绩优秀或拥有了“红领巾”“五道杠”就被娇纵的“优等生”,即便日后成为“精英”,便会陡然懂得平等待人、体恤弱势群体。

上段文字针对的主要问题是

A. 教育尤其是基础教育过于关注成绩的优劣

B. 目前教育中对健全人格的培养仍显乏力

C. 应该教育孩子学会自尊自重

D. 教育的目的是为了培养未来的精英阶层

42. 如今,大数据已经被赋予多重战略含义。从资源的角度,数据被视为“未来的石油”,作为战略性资产进行管理;从国家治理角度,大数据被用来提升治理效率、重构治理模式、破解治理难题,它将掀起一场国家治理革命;从经济增长角度,大数据是全球经济低迷环境下的产业亮点,是战略新兴产业的最活跃部分;从国家安全角度,全球数据空间没有国界边疆,大数据能力成为大国之间博弈和较量的利器。总之,国家竞争焦点将从资本、土地、人口、资源转向数据空间,全球竞争版图将分成新的两大阵营:数据强国与数据弱国。

下列说法与原文不相符的是()。

A. 数据在当下被作为战略性资产的一种

B. 大数据时代,数据将会在国家治理层面发挥作用

C. 国家竞争的焦点已经从原来的资本、土地、人口、资源转向数据空间

D. 大数据也是战略新兴产业中特别活跃的部分

43. 我们不妨大致把语言文字分为两种:一种是现实社会中流传着的具有显而易见的现实影响力;另一种只寄存在典籍文献里,或者只限于特定区域中使用,一般人很少翻阅与接触。鲁迅先生曾说:我国国民的学问,大多数是靠着小说和从小说编出来的戏文。在今天,对于大多数人来说,最常规的文化读本就是以报刊、广播影视和网络为主体的大众传媒,它们已经深深地嵌入人们的日常生活中。一个中国人,尤其是一个中国的都市人的生活,大众传媒成了他们生存空间中的一种弥漫性与充满冲击力和诱惑力的存在。

从上段文字我们不能得出:

A. 语言文字分为两类,一种是现实社会流传一种是典籍文献存在

B. 寄存于典籍文献的语言文字接受面相对狭窄

C. 大众传媒对于当下中国人的影响很大

D. 当下最常规的文化读本是国学经典名著

44. 有学者撰文指出,《百家讲坛》所传播的是一种走样与失真的传统文化,该栏目应该改版或者停办。这也是一种媒介批评样式。其特点是,批评者根据自己的学养与识见,对一种媒介现象提出了自己的否定性意见。但是这个意见并不是所讨论问题的唯一方案,被批评

者完全可能有一套自己的理由和充分的说法,双方相反的意见还不妨同时并存。因而开展这种批评不会有太多的心理负担,因为只要自圆其说,就不可能被证伪。

这段文字中媒介批评的特点不包括:

- A. 批评者主要依据自己的知识背景提出观点
- B. 开展这种媒介批评,因为其不唯一性,所以不容易被证伪
- C. 多为否定性意见
- D. 开展媒介批评要具备良好的心理素质,批评者心理压力较大

45. 甲马是一种古老神秘的用于民间祈福消灾祭祀活动的木刻板画,流行于云南各地,其中白族甲马最具特色,又称为“纸符”。其制作方法简单却需要精心的设计、精湛的刀法,刻工遒劲,独具匠心。大理白族甲马由于历史的原因,一度被当作封建迷信而禁止,但其在民间的生命力经久不衰,即便在非常时期,老百姓也从来没有停止使用它。而今,甲马更是一份极其珍贵的民间民俗文化遗产,已列入中国民间文化遗产抢救工程。

下列说法符合文意的一项是()。

- A. 木版刻画多用于民间祈福消灾祭祀活动
- B. 由于历史原因,民间对大理白族甲马的使用曾经中断过
- C. 云南各地甲马较为盛行
- D. 甲马将被申请列入中国民间文化遗产抢救工程

46. “庖”字怎么写呢?外面是一个“广”字,这是建筑物的标志;里面是个“包”,包裹的包。正是这个“庖”字,透露了中国饮食文化的秘密;以“包”为特色。厨师是干什么的?就是在房子里面,把东西“包”起来加工的人。中国饮食文化源远流长,早在陶器发明之前,我们的祖先就已经懂得利用天然物体包裹食料加温,因此形成了一系列的包馅食品。你看,中国的汤圆是包着的,饺子是包着的,春卷是包着的,粽子是包着的,不一口咬下去,根本不知道里面是肉还是菜,甚至于连鸡啊、鱼啊,也可以包起来制作,“叫花鸡”就是一道名菜。

为上段文字拟制标题最恰当的一项是()。

- A. 中国饮食的“包”特色
- B. “庖”字透露的中国饮食文化秘密
- C. 中国饮食文化源远流长
- D. 中国的包馅食品

47. “中小学减负”是近年来大城市公立学校一直推行的改革,初听来是减轻中小学生的学习负担,增加课余时间,让学生有更多时间参加课外活动。但是上有对策、下有对策。笔者发现,有些公立学校以减负之名减少学生在校时间,实质是减少学生学习时间;更有甚者,老师上课时教得很快,学生根本无法理解掌握,而学校也不提供课后补习的可能,很多家长下班回家后,一边忙家务一边监督孩子学习和做作业,无形中学校的教育责任却转移给家长承担。这种减负,不见减掉了教育时间,甚至连教育质量也一起减掉了。

作者对“中小学减负”这一政策推行的实际效果:

- A. 全面肯定
- B. 不置可否
- C. 存有疑虑
- D. 全盘否定

48. 城市建设中,用几十万、几百万乃至上千万建设一个地标建筑的情况,并不鲜见。很多人觉得,这可以在短时间内快速提高城市的形象。然而这些表象的浮华背后,是随处可见的

管沟开挖,下水道堵塞、“雨季来城里看海”,路基下沉、塌陷,山体滑坡等等。天长日久,让休养生息的家园患上了“城市病”。一座重外表,轻内涵的城市,哪怕它发展的再快,外观再漂亮,也是不健康的。城市的建设者和管理者必须在顶层设置理念中,把涉及国计民生的“地下”工程纳入重要一环,才能让城市发展步入良性循环。

这段文字意在强调:

- A. 城市建设需要将“地下”基础设施建设提高到战略高度
- B. 城市建设目前过于追求表面上的浮华
- C. 许多城市处于“亚健康”状态
- D. 城市发展需要建设者和管理者的共同努力

49. 失智症在美国已经是个常见病,并有普遍的预检和筛查机制;在日本,失智症高发率已占65岁以上老人的二成。但在中国,这仍是一个半遮掩下的“家庭内部话题”,羞于为外人道,而社会缺乏针对失智老人的专业收容机构,也让很多老人在似是而非的状态下一天天恶化。失智症的结果是大脑海马体萎缩直至脑衰竭而死,而正确用药和良好的康复训练可以将过程拖慢。

上段文字主要针对的问题是()。

- A. 目前对失智症的关注及配套解决方案仍显不足
- B. 缺少专业的失智老人收容机构
- C. 目前仍没有找到正确的治疗失智症的方法
- D. 失智症的结果严重时会导致死亡

50. 植物和动物一样都是要“吃东西”的,只不过植物吃的是水和二氧化碳,现代科学证明,植物生长除了光合作用之外还需要氮磷钾钙硫镁等矿物质,虽然这些东西需求量不大,但在土壤中的含量是有限的。农业出现之前地球上大部分地区的动植物都不会走太远,所以土壤里含有的矿物质都是在小范围里内循环的,问题倒也不大。但农业的出现使得大量矿物质以农产品(大米或者面粉)的形式被转运到其他地方,久而久之土壤的肥力就下降了,非洲大陆就是一个很好的例子。

下列说法不符合文意的是()。

- A. 植物和动物都需要“食物”
- B. 植物生长除了光合作用还需要大量的矿物质
- C. 由于农业的出现,大量矿物质被转运到其他地方
- D. 非洲大陆的土壤肥力呈现下降趋势

51. 学术界似乎有一种观点,认为中国古代是一个重农抑商的国家,其实不全面。春秋战国时代到汉朝,中国的商业已经非常繁荣,而且商人成为了一个横跨政治商业的非常有权力的阶层,其代表多是道家人物,如范蠡等人。司马迁对道家经商治国的经验进行了理论提炼,提出“善者因之,其次利导之,其次教诲之,其次整齐之,最下者与之争”的命题。从这个命题出发,可以归纳出国家治理经济的四个原则:顺其自然,因势利导,教而育之,整而齐之。这与当前的新古典经济学派、供给学派是不谋而合,而且更为系统。

这段文字作者意在说明:

- A. 司马迁的国家治理经济四个原则有一定的现实意义
- B. 新古典经济学派的观点是系统性的

C. 中国古代在经商治国方面也有独到之处

D. 中国古代的商业异常繁荣

52. 交通规则是现代生活不可或缺的一部分,它能给大家带来便利。其实,在古代,尽管没有汽车、飞机等现代化的交通工具,但从唐朝开始,随着城市的发展,繁华的街道上,行人与马车并存的情况逐渐增多,因此,出于安全的考虑,唐代皇帝根据实际情况,制定了一些交通规则,比如唐朝的“仪制令”就是较早的关于交通方面的礼仪规范。它的主要内容用十二字就能概括:“贱避贵、少避长、轻避重、去避来”。在宋朝,“仪制令”被刻在石碑或木板上,立于大街要道,以提醒行人和车辆遵守规则。除此之外,在唐律及宋刑中,也有不少关于交通的规定,比如不准在闹市或人众处跑马,不准在道路上设置障碍等。如果违反了规定,同样会受到相应的处罚。

这段文字主要介绍了:

- A. 中国古代的交通规则
- B. 古代统治者对交通管理很重视
- C. 中国古代的法律法规很严苛
- D. 古代的交通法规是由皇帝颁布的

53. 票房指数反映的是经济环境与电影票房之间的关系。在经济不景气时,既能够满足消费者心理慰藉需求,价格又低到能消费得起的产品,往往能获得更好的市场待遇,看场电影花费不多,_____。因而,经济环境严峻反而能有效促进电影票房走高。

填入上文横线处最恰当的一句是()。

- A. 但是能够打发很多无聊的时间
- B. 因为电影票的价格在经济低迷时期很便宜
- C. 却能够让人沉浸其中而获得短暂的心理慰藉
- D. 而且相较于其他娱乐更易于被大众接受

54. 在传统媒体时代,一个人是否“红”不仅要靠自身的努力,也取决于意识形态、权力组织、传播机构是否给他红的机会。而在新媒体环境中,过去出名所需要的中间力量已不再是必需品(当然这些力量仍在持续地捧红一些人)。从这个角度看,“网红”现象是网络社会运动的表现形式之一,它至少传递了相应社会群体的一类意志。尽管良莠不齐并且与商业利益关系暧昧,但是“网红”现象真切地勾勒出一个平等而自由的互联网世界。

这段文字的主要意思是()。

- A. “网红”不再依靠自身努力而是与商业利益有关
- B. “网红”是网络社会运动的消极表现形式之一
- C. “网红”现象良莠不齐,要区别对待
- D. “网红”的背后是平等自由的网络世界的本质

55. 文化心理学家很早就发现,在东亚文化中,人们对脸面特别看重。一方面想方设法不让自己当众丢面子,另一方面又热衷于通过各种方式给自己长脸。以加拿大多伦多大学为首的研究小组在《心理学前沿》上的论文指出,在被要求回忆自己做过的不那么体面的行为之后,东亚人会不由自主地选择洗脸用品并通过清洁面部的方式来减轻内心的罪恶和羞愧,且能在完成之后获得切实的解脱。

这段文字意在说明:

- A. 面部清洁可以减轻内心的罪恶和羞愧
- B. 东亚文化中,人们更热衷于通过各种方式给自己长脸面
- C. 欧洲文化中,人们不重视脸面问题
- D. 东亚文化中,人们对脸面特别看重

56. ①作为美元和黄金的补充,以适应世界贸易结构需要
 ②美国以国际流通手段不足为由,主动提出创设一种新的国际储备货币体系——SDR
 ③为防止其他国家陷入被动
 ④其根本目的仍是巩固美元霸权地位
 ⑤1960年爆发的美元危机使美国开始意识到,“布雷顿森林体系”需要改良加固
 ⑥这遭到法国为首的西欧国家的坚决反对。

上文六个句子排列最恰当的一组是()。

- A. ⑥①⑤②③④
- B. ⑤③②①④⑥
- C. ⑤④③②①⑥
- D. ⑥③①④②⑤

57. ①这位“吃货”应当是位爱国青年,他笔下的1933年春节,充满着对国家前途的担忧,流露着对国民素质的失望。

②1933年2月20日的北平《世界日报》上,就刊载过一篇署名为“吃货”的《废历新年》的文章。

- ③吃货,如今已成为都市人群的日常用语,直截了当地表达着人们对美食生活的向往
- ④吃货,指爱吃的人,多指喜欢吃各类美食的人
- ⑤其实,早在1930年代,“吃货”一词就在民间普遍运用
- ⑥并对美食有一种独特的向往、追求

上文六个句子排列最恰当的一组是()。

- A. ④⑥③⑤②①
- B. ③④①②⑤⑥
- C. ③⑤⑥④①②
- D. ④⑥①②③⑤

58. 上帝是个错误吗? 人类是个偶然吗? 《明镜》周刊找来了意味汉堡的神学家和一位英国科学家辩论,究竟是某种更高的生物规定了人类现在的模样,还是说人类仅仅是化学过程中的结果,然而在辩论过程中,任何一方都可以找出让对方无法回答的论据,即使科学家坚定地认为,如果没有宗教,这个世界将会更美好,但这个结论却是无法用科学证明的。

关于人类现目前模样的产生缘由,作者认为:

- A. 更高的生物规定了人类现在的模样
- B. 是化学过程产生的必然结果
- C. 是生物进化自然而然的的结果
- D. 为表达明显观点

59. “电视不让播的,网络也不能播”,广电总局用一个十分接地气的说法,表明了2016年对网络剧实行线上线下一个标准的管理态度。用电视剧的标准来要求网络剧,比预想的时间要快一些。此前有业内人士猜测,因为播出渠道的原因,网络剧在内容创作方面的尺度还是要大于电视剧一些。但随着网络视频用户的快速增加,网络剧的影响甚至比电视剧还要大。于是,广电总局的这次表态,等于楼上第二只靴子终于落了地。

文中“楼上第二只靴子终于落了地”指的是()。

- A. 网络剧的播出渠道得到明确
 - B. 网络剧的上线标准与电视剧标准相同
 - C. 网络剧的播出标准出台
 - D. 网络剧的创作内容尺度比较大
60. 今天,我们所生活的时空已不再是知识经济时代,信息已演变为日用品,只需借助任何连接到互联网的机器终端,人们可以免费获得任何所需信息。因此,比身边的人多具某方面知识已经不再构成竞争优势。常规的白领和蓝领工作,更多地可以由机器人替代。所以,在新的创新经济社会里,个人唯一的核心竞争力、人类唯一的真正意义上的附加价值,体现为有创造性地解决问题的能力——所谓“创新”的能力。

这段文字意在强调:

- A. 今天知识经济已经不适用
- B. 未来知识多寡已经不再是竞争优势强弱的标准
- C. 当下社会人应该具备解决问题的能力
- D. 创新能力是人们的核心竞争力

第二部分结束,请继续做第三部分!

第三部分 数量关系

(共 15 题,参考时限 15 分钟)

在这部分试题中,每道试题呈现一段表述数学关系的文字,要求你迅速、准确地计算出答案。

请开始答题:

61. 已知对于任意的正整数 a, b , 有 $a \oplus b = a + b, a \otimes b = a \times b$ 。 $(1 \oplus 2) \otimes 3 = (\quad)$
- A. 6
 - B. 7
 - C. 8
 - D. 9
62. 甲仓有粮 80 吨,乙仓有粮 120 吨,如果把乙仓的一部分粮调入甲仓,使乙仓存粮是甲仓的 60%,则需要从乙仓调入甲仓多少吨粮食? ()
- A. 15
 - B. 30
 - C. 45
 - D. 60
63. 在某次数学竞赛中,共有 100 道题。前 40 道题中小王做对了 30 道;余下题目的正确率为 40%,则这次竞赛中小王的正确率为()。
- A. 40%
 - B. 48%
 - C. 54%
 - D. 60%
64. 有两包糖块,每包均含有水果糖和奶糖。两包糖的数量比是 2:3,且第一包糖中奶糖所占的百分比是在第二包糖中所占百分比的两倍。当两包糖合在一起时,奶糖占比为 28%,那么在第一包奶糖中,水果糖所占的比例为多少? ()

- A. 20% B. 40%
- C. 60% D. 80%
65. 做少年广播体操时,若所有学生站成一个实心方阵,则发现多 10 人;若站成一个每边多 1 人的实心方阵,则还缺少 15 人。那么该年级学生共有多少人? ()
- A. 154 B. 184
- C. 635 D. 653
66. 将一根长为 39 毫米的钢管锯成长为 3 毫米和 7 毫米两种规格的短钢管,每锯一次都要损耗 1 毫米的钢管。为了确保损耗最少,则至多能锯出几段钢管? ()
- A. 6 B. 7
- C. 8 D. 9
67. 某批发商到边远山区收购山药运往城市销售,收购价为每千克 1.20 元。已知从山区到最近城市的公路里程是 400 公里,每吨山药运费为 1 元/公里。如果批发商要想实现 25% 的利润率,那么这批山药的零售价应为多少元/千克? ()
- A. 1.5 B. 2
- C. 2.5 D. 3
68. 一项工程,若按照甲、乙、甲、乙…的顺序轮流做,每人每次 1 小时,共需 $20\frac{1}{2}$ 小时;若按照乙、甲、乙、甲…的顺序轮流做,共需 $20\frac{2}{3}$ 小时;若乙单独完成这项工程需要多少小时? ()
- A. 16 B. 18
- C. 21 D. 24
69. 速度为 40 米/秒的列车,通过 480 米长的隧道用时 15 秒,若该列车与另一列长 150 米、时速为 180 千米的列车错车而过,共需几秒钟? ()
- A. 3 B. 4
- C. 5 D. 6
70. 某商店进了一批苹果,按进价的 50% 进行定价出售,由于定价较高,只销售了苹果总量的 20%;于是商家在定价基础上打了 8 折,售出所有苹果。最终实际获得利润是期望获利的 ()。
- A. 36% B. 42%
- C. 48% D. 52%
71. 4 个女孩和 2 个男孩一起玩,已知他们的年龄各不相同。6 人中年龄最大的为 10 岁,最小的为 4 岁;最大的男孩比最小的女孩大 4 岁,最大的女孩比最小的男孩也大 4 岁。则年龄居中的两个女孩最多相差几岁? ()
- A. 1 B. 2
- C. 3 D. 4
72. 小明平时 8:00 出门步行上学,准点到校。某天出门时已经是 8:10,于是他一半路程跑步,另一半路程步行,结果发现仍然准点到校。已知小明跑步速度是步行速度的 3 倍,那么小明每天步行上学需要多少分钟? ()

A. 20

B. 30

C. 40

D. 60

73. 端午节的早上,妈妈为乐乐准备了4只粽子:一只豆沙馅,一只火腿馅,两只鲜肉馅。乐乐随机吃两只粽子均是鲜肉馅的可能性是()。

A. 1/2

B. 1/3

C. 1/4

D. 1/6

74. 从正方体的12条棱中任意选择两条,这两条直线为异面的概率是()。

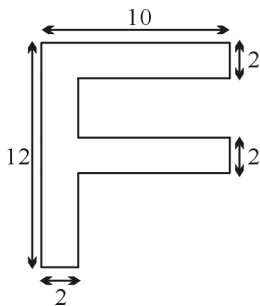
A. 2/3

B. 4/11

C. 8/11

D. 1/33

75. 下图中“F”图形(单位:cm)的周长为()



A. 28

B. 36

C. 60

D. 68

第三部分结束,请继续做第四部分!


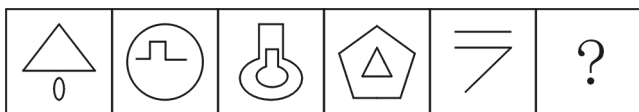
第四部分 判断推理

(共40题,参考时间35分钟)

一、图形推理。请按每道题的答题要求作答。

请开始答题:

76. 从所给的四个选项中,选择最合适的一个填入问号处,使之呈现一定的规律性:



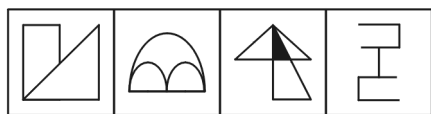
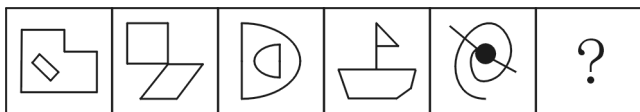
A

B

C

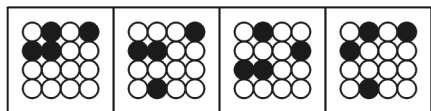
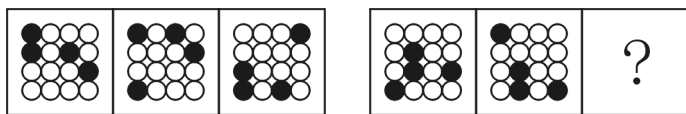
D

77. 从所给的四个选项中,选择最合适的一个填入问号处,使之呈现一定的规律性:




A B C D

78. 从所给的四个选项中,选择最合适的一个填入问号处,使之呈现一定的规律性:



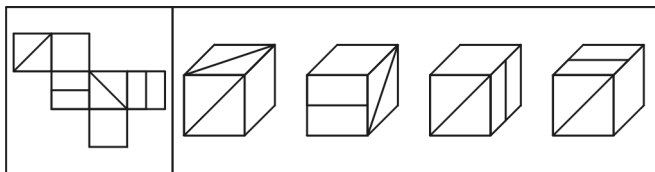
A B C D

79. 从所给的四个选项中,选择最合适的一个填入问号处,使之呈现一定的规律性:



A B C D

80. 左边是正六面体的外表面,下列哪个选项可以由它折成?



A B C D

81. 把下面的六个图形分成两类,使每一类图形都有各自的共同特征或规律,分类正确的一项是()。



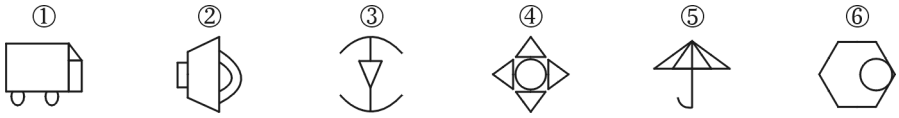
A. ①④⑥, ②③⑤

B. ①③⑤, ②④⑥

C. ①②④, ③⑤⑥

D. ①②⑥, ③④⑤

82. 把下面的六个图形分成两类, 使每一类图形都有各自的共同特征或规律, 分类正确的一项是()。



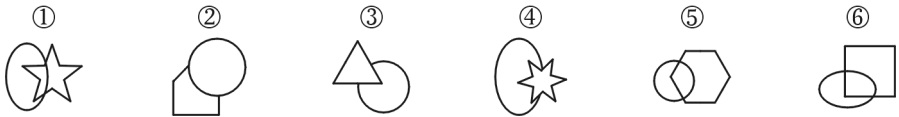
A. ①④⑥, ②③⑤

B. ①②③, ④⑤⑥

C. ①②④, ③⑤⑥

D. ①③⑤, ②④⑥

83. 把下面的六个图形分成两类, 使每一类图形都有各自的共同特征或规律, 分类正确的一项是()。



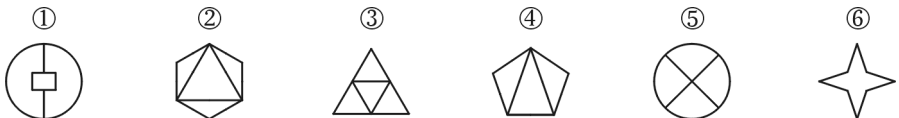
A. ①⑤⑥, ②③④

B. ①②④, ③⑤⑥

C. ①④⑤, ②③⑥

D. ①③④, ②⑤⑥

84. 把下面的六个图形分成两类, 使每一类图形都有各自的共同特征或规律, 分类正确的一项是()。



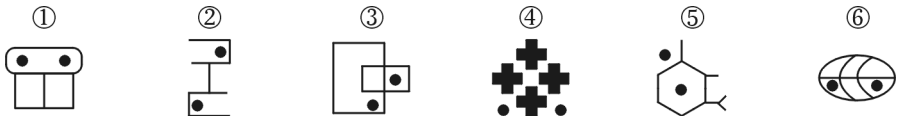
A. ①⑤⑥, ②③④

B. ①③④, ②⑤⑥

C. ①②④, ③⑤⑥

D. ①②③, ④⑤⑥

85. 把下面的六个图形分成两类, 使每一类图形都有各自的共同特征或规律, 分类正确的一项是()。



A. ①③⑥, ②④⑤

B. ①②④, ③⑤⑥

C. ①③④, ②⑤⑥

D. ①④⑤, ②③⑥

二、定义判断。每道题先给出定义, 然后列出四种情况, 要求你严格依据定义, 从中选出一个最符合或最不符合该定义的答案。注意: 假设这个定义是正确的, 不容置疑的。

请开始答题:

86. 在出行中, 主动采用能降低二氧化碳排放量的交通方式, 谓之“低碳出行”。

下列各项中, 属于低碳出行的是()。

A. 某村过去发展工业, 现在搞旅游业

- B. 领导出行,非特殊情况,不再封路
- C. 下了火车后,乘坐出租车前往目的地
- D. 同住一个小区,同在一个单位工作的甲、乙、丙每天拼车上下班
87. 紧急避险,指为了国家、公共利益、本人或者他人的人身、财产和其他权利免受正发生的危险,不得已而采取的损害另一较小合法权益的行为。紧急避险超过必要限度造成不应有的伤害的,应当负刑事责任,但是应当减轻或者免除处罚。
- 下列情况,属于紧急避险的是()。
- A. 王某在大街上被强盗追杀,于是把街边小卖部的房门踹开,冲进屋内进行躲藏
- B. 某厂房发生火灾,因存在遇水爆炸的风险,因此消防队没有采取用水灭火,导致该厂房损失严重
- C. 小李在路上看到一个小偷正在行窃,于是见义勇为进行制止,没想到小偷竟对小李拳脚相向
- D. 歹徒用棍棒将出纳员打晕后,抢走了2万余元的现金
88. 罪集团是指三人以上为了实施一种或几种犯罪而组织起来的共同犯罪组织。
- 下列不属于犯罪集团的是()
- A. 八项规定出台后,某地已经处理了500多位违反八项规定的党员干部
- B. 某地抓获了20多人的黑社会组织
- C. 甲、乙、丙三人分工明确,盗取、销赃各司其职
- D. 孙某纠集十余名青年,开赌场,无恶不作,最终该团伙被公安机关抓获
89. 政府采购是指各级国家机关、实行预算管理事业单位和社会团体采取竞争、择优、公正、公平、公开的形式使用财政预算内、外资金等财政性资金,以购买、租赁、委托或雇佣等方式获取货物、工程和服务的行为。
- 下列不属于政府采购的是()。
- A. 某市城建局采购道路两侧的垃圾桶
- B. 某学校饭堂实行体育场改造工程,全部换为了塑胶跑道
- C. 某市教育局采购单位内的OA办公系统
- D. 某民政局采购棉衣棉布,送给五保户过冬
90. 职业素质是指劳动者在一定的生理和心理条件的基础上,通过教育、劳动实践和自我修养等途径而形成和发展起来的,在职业活动中发挥重要作用的内在基本品质。职业素质是劳动者对社会职业了解与适应能力的一种综合体现。
- 下列不属于职业素质的是()。
- A. 医生救死扶伤的职业精神
- B. 漫画家对社会实践敏锐的感知力
- C. 剧作家的创作能力和语言表达能力
- D. 运动健将所具有的先天性的肌肉纤维强度
91. 机会成本是指一种资源(如资金或劳力等)用于本项目而放弃用于其他机会时,所可能损失的利益。根据以上定义,下列不属于机会成本的是()。
- A. 王某用6万元理财一年赚了5000元,如果炒股则有可能赚10000元
- B. 李某花费百万投资了一套房产出租,年入租金5万元

- C. 秦某在学校代课年工资 2 万元,后索性在家班辅导班一年赚了 20 万
 D. 金某 18 岁选择读大学每年花费 1 万元,但如果参加工作,四年至少能赚到 10 万元
92. 绝对公共物品指完全没有竞争性和排他性的物品。其效用是不可分割的,边际使用者的增加不会造成正在使用此种物品人的效用的减少,并且没有办法阻止一个人使用该物品。根据以上定义,下列属于绝对公共物品的是()。
- A. 商店里的电视
 B. 小区里的治安
 C. 公共汽车
 D. 国防
93. 蒸发散热是指体液的水分在皮肤和粘膜(主要是呼吸道粘膜)表面由液态转化为气态,同时带走大量热量的一种散热方式。根据上述定义,下面属于蒸发散热的是()。
- A. 夏天喝冰镇可乐来降温
 B. 人发烧的时候在体表擦一些酒精,可以起到降温的目的
 C. 比赛结束后,运动员通常会将双脚放在冰桶里
 D. 运动中大汗淋漓
94. 投射作用,是指个体依据其需要、情绪的主观指向,将自己的特征转移到他人身上的现象。投射作用的实质,是个体将自己身上所存在的心理行为特征推测成在他人身上也同样存在
- 下列不属于投射的是()。
- A. 人在愤怒的时候,认为周围的人都是充满敌意的
 B. 一个善良的人,认为周围的人也都是善良的
 C. 自己不想做的事情,反而认为是别人愿意做的事情
 D. 苏东坡认为佛印是“狗屎”,佛印认为苏东坡是佛
95. 双面心理指在做某件事情时心底却产生厌恶感排斥感,但却又加倍努力。下列不属于双面心理的是()。
- A. 经理老徐十分想辞职,但是还是硬撑着在工作,一刻都不敢停下
 B. 会计小李觉得这份工作分享很大,内心里不愿意碰,但做起来又得尽职尽责
 C. 小明临近考试的时候十分不愿意做题,但最终也不得不做题
 D. 小强围棋技术非常高,喜欢跟周围人切磋,即使对方不愿意,他也会再进一步请求对方

三、类比推理。每道题先给出一组相关的词,要求你在备选答案中找出一组与之在逻辑关系上最为贴近、相似或匹配的词。

请开始答题:

96. 西汉:东汉
- A. 明朝:清朝
 B. 北朝:南朝
 C. 战国:春秋
 D. 唐代:晋代
97. 烈日:炎炎
- A. 青山:绿水
 B. 鸟语:花香
 C. 微风:习习
 D. 万里:晴空

98. 杜牧:牧童遥指杏花村
- A. 王维:一片冰心在玉壶
B. 李商隐:蜡炬成灰泪始干
C. 李煜:念天地之悠悠
D. 杜甫:接天莲叶无穷碧
99. 买票:登机
- A. 安检:上车
B. 买单:结账
C. 比赛:热身
D. 购物:消费
100. 自然科学:物理:化学
- A. 教育:应试教育:非应试教育
B. 历史:人文科学:历史事件
C. 社会科学:哲学:政治学
D. 音乐:贝多芬:维塔斯
101. 法国:巴黎:卢浮宫
- A. 美国:纽约:自由女神
B. 澳大利亚:悉尼:歌剧院
C. 德国:柏林:汉诺威
D. 英国:伦敦:白金汉宫
102. 菜刀:砧板
- A. 铅笔:铅笔刀
B. 手枪:弹夹
C. 粉笔:黑板
D. 书写:信纸
103. 诗人:青年
- A. 故宫:建筑
B. 冰箱:电器
C. 科学家:美国人
D. 大学生:高中生
104. 国画:油画
- A. 跆拳道:散打
B. 西装:唐装
C. 京剧:体操
D. 毛笔:钢笔
105. 饮品:豆浆:黄豆
- A. 家具:沙发:木材
B. 汽车:轮胎:橡胶
C. 文学:诗歌:散文
D. 灯具:台灯:发电

四、逻辑判断。每题给出一段陈述,这段陈述被假设是正确的,不容置疑的。要求你根据这段陈述,选择一个答案。注意:正确的答案应与所给的陈述相符合,不需要任何附加说明即可以从陈述中直接推出。

请开始答题:

106. 某编辑部有有 3 个编辑室。去年,编辑一室实行了弹性工作制,其他编辑室仍为固定工作制。结果,编辑一室的编辑错误率之前降低了 30%。因此,弹性工作制有利于降低编辑错误率。
- 以下哪项最有可能是上述论证所假设的? ()
- A. 编辑一室与其他编辑室相比,原来的编辑错误率基本相同
B. 编辑一室与其他编辑室相比,其编辑错误率居于平均水平
C. 编辑一室与去年相比,除了实行弹性工作制的差别外,没有其他差别
D. 编辑一室与其他编辑室相比,编辑人员的综合素质差别不大
107. 调查显示,作息时间不同的夫妻之间,每月爆发吵架次数,比那些作息时间一致的夫妻明

显要多。故为了维护良好的夫妻关系,夫妻双方要尽量保证一致的作息时间。

以下哪项如果为真,最能削弱上述论证?()

- A. 当夫妻闹矛盾时,一方往往故意晚睡来抗议
- B. 即使是作息时间一致的夫妻,关系照样可能不好
- C. 晚睡晚起对人的身体健康的影响是不利的
- D. 作息时间一致的夫妻往往夫妻关系更加和谐

108.物理学界一般会把那些在物理学圈子里提出物理学理论的人当做真正的物理学家。因此,如果有人人在科普领域出版了一些物理学著作,物理学界是不会把这些人当做真正的物理学家的。

为使上述论证成立,以下哪项是必须假设的?()

- A. 非常少的物理学家的会在科普领域出版了一些物理学著作
- B. 评价是否是物理学家的标准不能简单地定义为是否出版物理学著作
- C. 在科普领域出版了一些物理学著作的人都不能在物理学圈子里提出物理学理论
- D. 许多物理学家都在物理学领域提出了许多理论

109.四名安保人员甲、乙、丙、丁,分别驻扎在医院的东门、西门、南门和北门。现在知道:甲不在东门也不在北门;乙不在南门也不在东门;如果甲不在南门,那么丁就不在东门;丙既不在东门也不在北门。

那么在西门的是()。

- A. 甲
- B. 乙
- C. 丙
- D. 丁

110.在公务员考试中结构化面试时一个不可取代的环节,因为通过结构化面试,可以全面地了解一个人的综合素质,进而将那些素质不行的报考者淘汰。

以下哪项是上述论证最可能假设的?()

- A. 综合素质是确定是否录用报考者的最重要因素
- B. 报考者的综合素质根本无法通过其他的环节测试出来
- C. 结构化面试的目的是测查出报考者的谈吐举止
- D. 结构化面试的分数权重是要大于笔试中的任何一个科目的

111.社会安定的基础是没有大面积的饥荒,而人口总数应该与基本的生活要素相适应。如果30年前中国不实行计划生育,人口就会按几何级数增长,到现在发生大面积饥荒真的是有可能了。

下列最有可能是上述论证前提假设的是()。

- A. 基本的生活要素是不可能按照几何级数的增长的
- B. 人口数量与基本的生活要素不适应一定会出现饥荒
- C. 地球上的资源虽然是有限了,但人改造自然的能力是不断增强的
- D. 所谓几何级数的增长速度比成倍增长还要快

112.培训营的的学员每天都要出早操,除非当天有极端恶劣天气或生病了。若以上论述为真,以下哪项所描述的人不可能是培训营的的学员?()

- A. 甲今天生病了,仍然坚持出早操
- B. 乙昨天生病了,就没有出早操

C. 前天遭遇了极端恶劣天气,丙就没有出早操

D. 今天天气很好,丁也没生病,但没有出早操

113. 某出版公司出版的一本习题册售价为 25 元,每本书可以赚 10 元。但市面上这本书的盗版书横行,只卖 10 元,并且盗版书已经累计卖了 10 万册。据此,该出版公司认为,如果市面上没有盗版书,那么该公司的将会比目前多赢利 100 万元。

为使上述论证成立,以下哪项是必须假设的? ()

A. 每个购买盗版书的人,如果没有盗版书可以买,仍然会购买正版书

B. 与正版书相比,盗版的书的印刷错误是不存在的

C. 销售盗版书的商家不会进行打折促销活动

D. 购买盗版书的人是基于价格优势而购买盗版书的

114. 小王在以往的所有考试中,其数学成绩在一班都排在最后一名,但在此次期末考试中其数学成绩 62 分,达到了及格线。因此,一班这次期末考试中所有人数学都及格了。

以下哪项如果为真,最能削弱上述论证? ()

A. 小王在本次期末考试中排在倒数第二的位置

B. 数学考试分数低并不能说明其数学水平的高低

C. 另一位一班同学小郑这次数学成绩相比上次下降了 30 分

D. 一班的小明辉在此次数学考试中得了 44 分,没及格

115. 成长比成功更重要,毕竟成功会受到一些客观条件的制约,但成长基本上就取决于自己的态度和行动。因此,如果我们成长了,真的就可以问心无愧了。

由此无法推出()。

A. 只要我们成长了,就可以问心无愧

B. 如果问心有愧,说明没有经历成长

C. 一件事情没有带给我们成长,对于自己而言就比较失败了

D. 问心无愧,也可能没有经历成长

第四部分结束,请继续做第五部分!

第五部分 资料分析

(共 20 题,参考时限 20 分钟)

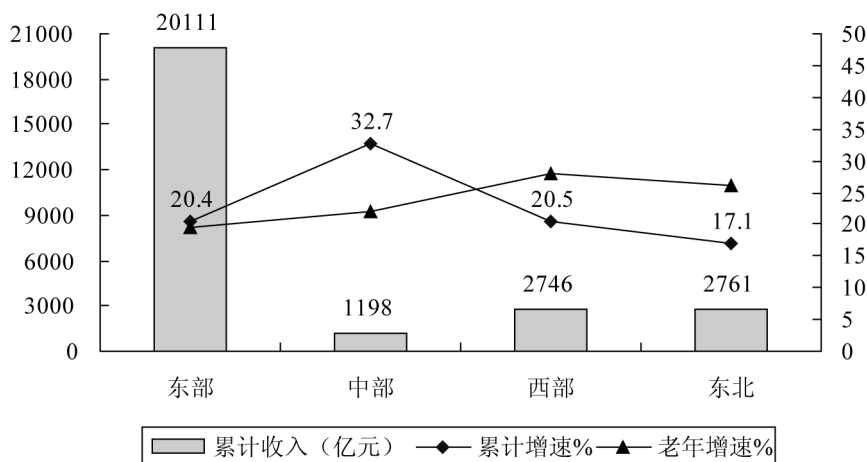
所给出的图、表、文字或综合性资料均有若干个问题要你回答。你应根据资料提供的信息进行分析、比较、计算和判断处理。

请开始答题:

一、根据以下资料,回答第 116—120 题。

2014 年 1—9 月,我国软件和信息技术服务业实现软件业务收入 26815 亿元,同比增长 20.6%,增速比 1—8 月下降 0.8 个百分点,比去年同期回落 3 个百分点。其中 9 月份完成软件业务收入 3568 亿元,同比增长 14.9%,增速比 8 月份回落 6.9 个百分点。

2014 年 1—9 月,中部地区完成软件业务收入 1198 亿元,同比增长 32.7%,增速高出全国平均水平 12.1 个百分点,比 1—8 月提高 1.1 个百分点,其中湖北、安徽增长超过 35%,湖南、河南等省增幅都比去年有所提高。东北三省增速均有所回落,完成软件业务收入 2761 亿元,同比增长 17.1%,增速比 1—8 月回落 7.2 个百分点,低于去年同期 8 个百分点,其中辽宁回落幅度较大,低于去年同期 9.1 个百分点。东部地区完成软件业务收入 20111 亿元,同比增长 20.4%,增速比 1—8 月回落 0.2 个百分点,比去年同期下降 2.4 个百分点。西部地区完成软件业务收入 2746 亿元,同比增长 20.5%,增速比 1—8 月回落 0.7 个百分点,低于去年同期 7.1 个百分点。



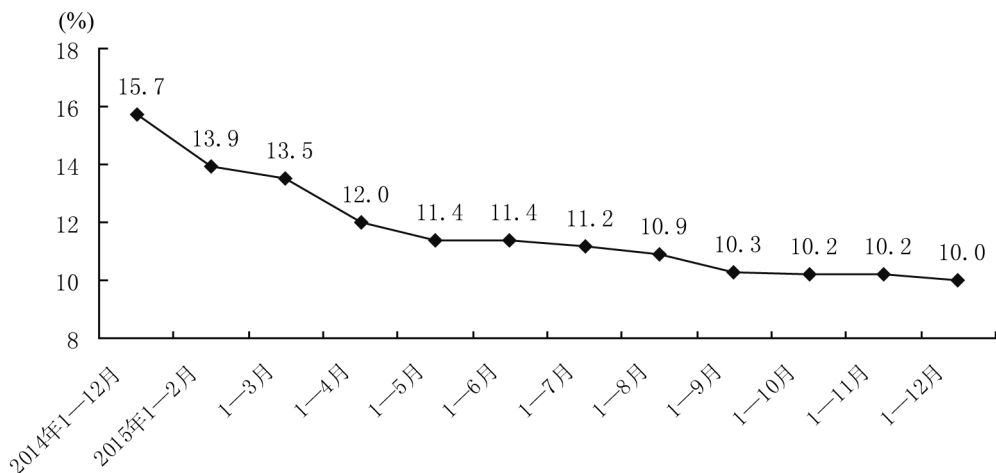
2014 年 1—9 月软件业分区域增长情况

116. 2014 年 9 月份完成软件业务收入占 2014 年 1—9 月我国软件和信息技术服务业实现软件业务收入的比重为? ()
- A. 14.4% B. 13.3%
- C. 12.2% D. 15.5%
117. 2013 年 1—9 月东部地区完成软件业务收入比西部地区多多少亿元? ()
- A. 15668 B. 13879
- C. 15025 D. 14425
118. 与上年同期相比, 2014 年 1—9 月中部地区完成软件业务收入占全国实现软件业务收入的比重? ()
- A. 上升了 0.39 个百分点 B. 上升了 3.9 个百分点
- C. 下降了 0.39 个百分点 D. 下降了 3.9 个百分点
119. 2012 年 1—9 月东北三省完成软件业务收入为多少亿元? ()
- A. 1885 B. 1674
- C. 2166 D. 1521
120. 根据上述材料, 下列表述正确的是: ()
- A. 2014 年 1—8 月, 中部地区完成软件业务收入同比增速低于同期东北三省完成软件业务收入同比增速
- B. 2013 年 1—9 月西部地区完成软件业务收入高于同期东北三省完成软件业务收入

- C. 2014 年 1—9 月东部地区完成软件业务收入比上年同期约增长了 3400 亿元
 D. 2014 年 8 月完成软件业务收入同比增速为 8%

二、根据以下资料,回答第 121—125 题

2015 年,全国固定资产投资 551590 亿元,比上年名义增长 10%。从环比速度看,12 月份固定资产投资增长 0.68%。



固定资产投资(不含农户)同比增速

分产业看,第一产业投资 15561 亿元,比上年增长 31.8%,增速比 1—11 月份提高 3.1 个百分点;第二产业投资 224090 亿元,增长 8%,增速回落 0.1 个百分点;第三产业投资 311939 亿元,增长 10.6%,增速回落 0.4 个百分点。

第二产业中,工业投资 219957 亿元,比上年增长 7.7%,增速比 1—11 月份回落 0.4 个百分点;其中,采矿业投资 12971 亿元,下降 8.8%,降幅扩大 0.1 个百分点;制造业投资 180365 亿元,增长 8.1%,增速回落 0.3 个百分点;电力、热力、燃气及水生产和供应业投资 26621 亿元,增长 16.6%,增速提高 0.6 个百分点。

第三产业中,基础设施投资 101271 亿元,比上年增长 17.2%,增速比 1—11 月份回落 1 个百分点。其中,水利管理业投资增长 21%,增速回落 2.3 个百分点;公共设施管理业投资增长 20.2%,增速回落 0.3 个百分点;道路运输业投资增长 16.7%,增速回落 0.8 个百分点;铁路运输业投资增长 0.6%,增速回落 0.2 个百分点。

121. 2015 年,全国固定资产投资的增速比 1—11 月份()

- A. 提高 0.2 个百分点。
 B. 回落 0.2 个百分点
 C. 提高 2%
 D. 回落 2%

122. 与上年同期相比,2015 年第三产业投资在全国固定资产投资中的比重()

- A. 降低 0.3 个百分点
 B. 降低 1 个百分点
 C. 上升 0.3 个百分点
 D. 上升 1 个百分点

123. 与 2014 年相比,以下投资额增长最多的是()

- A. 第一产业投资额
 B. 采矿业投资
 C. 制造业投资
 D. 基础设施投资

124. 2014年,采矿业投资额约()亿元。

- A. 12971
B. 11921
C. 14223
D. 13265

125. 根据上述材料,下列表述正确的是()

- A. 2015年,全国固定资产投资额同比增速逐月下降。
B. 2015年,水利管理业投资额大于铁路运输业投资额。
C. 2015年1—11月,电力、热力、燃气及水生产和供应业投资增速小于道路运输业。
D. 2015年,全国固定资产投资额增速相比,7月大于6月。

三、根据以下资料,回答第126—130题。

2013年,云南省全省农业总产值达3056.04亿元,比上年增长7.0%。其中,农业产值1639.40亿元,增长6.6%;林业产值293.25亿元,增长12.1%;牧业产值962.55亿元,增长5.7%;渔业产值70.41亿元,增长13.7%;农林牧渔服务业产值90.43亿元,增长9.4%。

2013年,云南省主要农产品中,全年粮食总产量达1824万吨,比上年增长4.3%。油料产量60.7万吨,比上年下降3.4%;烤烟产量103.9万吨,下降6.5%;蔬菜产量1625.4万吨,增长10.4%;园林水果产量571.5万吨,增长11.9%;茶叶产量30.2万吨,增长11.1%;鲜切花产量80.5亿枝,增长12.1%。

全年猪、牛、羊、禽肉总产量达357.44万吨,比上年增长3.4%;牛奶产量54.51万吨,增长1.5%;禽蛋产量23.24万吨,增长5.0%。

126. 2012年,云南省农业产值为多少亿元?()

- A. 1720
B. 1638
C. 1538
D. 1484

127. 2013年云南省农业产值中,下列哪项产值比上年增长最多?()

- A. 牧业产值
B. 林业产值
C. 渔业产值
D. 农业产值

128. 若保持同比增速不变,预计2014年鲜切花产量可以达到多少亿枝?()

- A. 89.68
B. 91.24
C. 92.08
D. 90.24

129. 2013年粮食总产量的同比增速?()

- A. 高于茶叶产量
B. 低于烤烟产量
C. 高于园林水果产量
D. 低于蔬菜产量

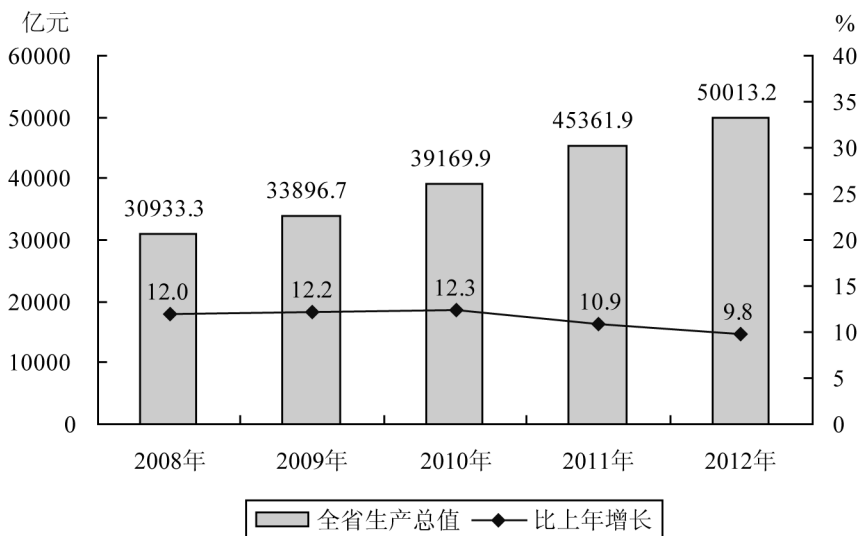
130. 根据上述材料,下列表述正确的是:()

- A. 2013年渔业产值占农业总产值的比重不足2%
B. 2012年烤烟产量大于油料产量
C. 2013年禽蛋产量超过牛奶产量的一半
D. 2012年牧业产值占农业总产值的比重低于31.5%

四、根据以下资料,回答131—135题。

初步核算结果显示,2012年全省实现生产总值(GDP)50013.2亿元,比上年增长9.8%。

其中,第一产业增加值 4281.7 亿元,增长 4.7%;第二产业增加值 25735.7 亿元,增长 10.5%;第三产业增加值 19995.8 亿元,增长 9.8%。产业结构调整稳步推进,三次产业比例由上年的 8.8:52.9:38.3 调整为 8.6:51.4:40.0。人均生产总值 51768 元,增长 9.2%,按年均汇率折算为 8201 美元。



2008—2012 年全省生产总值及增长速度

131. 2012 年三大产业在全省生产总值中的比重明显增加的是()。

- A. 第一产业、第二产业
- B. 第二产业
- C. 第三产业
- D. 第二产业、第三产业

132. 2012 年年均汇率为()。

- A. 6.31
- B. 5.78
- C. 6.89
- D. 7.22

133. 2008—2011 年全省生产总值增速变化趋势符合()。

- A.
- B.
- C.
- D.

134. 2009—2012 年全省生产总值增长量由低到高排序正确的是()。

- A. 2009 年、2010 年、2011 年、2012 年
- B. 2012 年、2011 年、2010 年、2009 年

C. 2009 年、2012 年、2010 年、2011 年

D. 2011 年、2010 年、2012 年、2009 年

135. 能够从上述资料中推出的是()。

A. 2008—2012 年全省生产总值及增长速度的变化趋势相反

B. 2012 年全省生产总值约比 2008 年增长了 1.6 倍

C. 若增长率保持不变, 预计 2015 年该省生产总值将突破 7 万亿

D. 与 2011 年相比, 第二产业增加值增长了约 2445.5 亿元

全部测验到此结束!