

## 2017.11.11 工商银行真题解析

### 考生须知

考试内容:

单元	时长 (180 分钟)
情景职业能力测试	140 分钟
职业性格测试	40 分钟

所有单元必须按顺序完成,不能相互切换,不得提前提交,考试时间结束后自动进入下一单元。进入下一单元后,不能再对之前单元作答。

### 第一单元(题量 145 限时 140 分钟)

#### 欧洲

##### 情景职业测试-英语-(共 20 个小题)

欧洲的经济学家 Mr.T 首先跟你谈了欧洲的一些优势,以及一些好的企业。请根据下列资料回答问题

The best-selling sports drink Zumo is produced by Zumospa a food and drinks company based in Valencia Spain. In the last financial year, Zumo contributed 30 million Euros to Zumospa's annual sales revenue, accounting for 20% of the company's total turnover. It is, in fact, Zumospa's cash cow, generating more revenue than any other of its products.

At present, Zumo is sold only in Europe. However the sports drink market is the most rapidly growing segment of the World beverage market. Zumospa is now looking outside Spain for markets and would like to make Zumo a global brand.

Zumospa needs to reposition it for the global market. Initial research suggests that Zumo is perceived as a Spanish drink and its close identification with Spain may not be suitable when developing a global brand.

1. What is Zumo?

- A. It is a Spanish food
- B. It is a soft drink

- C. It is a sports drink
- D. It is a food and drinks company

【答案】C。根据题干关键词 Zumo 定位至第二段第一行 At present Zumo is sold only in Europe. However, the sports drink market is...可知 Zumo 是一种运动饮料。故正确答案是选项 C。A 项错误，它并不是一种食物，而是一种饮料；B 项“soft drink（软饮）”原文并没有提到，排除；D 项“一家食物和饮料公司”，表述错误，排除；所以答案选 C。

2. Approximately what is Zumospa's total turnover?

- A. 100 million euros
- B. 150 million euros
- C. 20 million euros
- D. 30 million euros

【答案】B。根据关键词 total turnover 可以定位至首段第二句 Zumo contributed 30 million Euros to Zumospa's annual sales revenue accounting for 20% of the company's total turnover 可知 30million 代表 20%的 turnover，通过计算 30 除以 20%，结果为 150，选项 B 正确。ACD 选项均不符合。

3. What can be inferred from the article?

- A. Zumo does not need to change its brand name
- B. Zumospa only produces sports drinks
- C. Zumo is available in Europe and North America
- D. A Spanish identity is not suitable for Zumo to tap into global market

【答案】D。选项 B 根据首段末句 Zumospa's cash...any other of its products.可知旗下产品不仅仅是运动饮料；选项 C 根据第二段首句 At present Zumo is sold only in Europe 可知表述错误；末段最后一句话 Initial research suggests that Zumo...close identification with Spain may not be suitable when developing a global brand.可知选项 A 表述错误，D 项表述正确。故正确答案是选项 D。

之后，经济学家 Mr.U 与你讨论了一些潜在的问题，请根据下列资料回答问题。

KGV is a traditional high-street music retailer. Based in Amsterdam, it has 12 stores in the Netherlands, three of which are Megastores. Some years ago, it expanded into the rest of Europe

and now owns 65 stores-eight of these are mega stores.

The company is at present going through a difficult period. Over the last three years, profits have steadily fallen from 450m Euros to 290m Euros. The megastores'sales have risen by 8%, accounting for 55% of the company's turnover, but the increased revenue has been achieved only by heavy expenditure on advertising and promotion. Fierce competition, a narrow product range and a lack of innovation are some of the reasons for KGV's poor performance. The management are concerned especially that they are not exploiting the opportunities offered by selling through the Internet.

4.What kind of company is KGV?

- A. It is music studio
- B. It is an advertising agency
- C. It is a high-street music retailer
- D. It is a consulting firm

【答案】C。细节题，由第一段 KGV is a traditional high-street music retailer.可知选项 C 正确。选项 A：音乐工作室；选项 B：广告代理；选项 D：咨询公司，这三个选项内容明显错误。故正确答案是选项 C。

5.What does the word "turnover" in paragraph 2 mean?

- A. An act or result of turning over
- B. The aggregate of worker replacements
- C. The total amount of business done in a given time
- D. A change from one position to another

【答案】C。根据题干关键词 turnover 定位至 The Megastores' sales have risen by 8% accounting for 55% of the company's turnover...由该句 sales 销售和所占比重 55%可推知 turnover 是“收益、收入”，因此选项 C 表述正确。选项 A：调转的结果或者行为，明显错误；选项 B：工人替换的集合，不符合原文语境；选项 D：位置的变化，不符合原文语境。故正确答案是选项 C。

6.What can be inferred from the article?

- A. KGV's revenue has been steadily falling
- B. KGV's costs of promotion are high

- C. KGV was founded in the US
- D. The industry of music is very competitive

【答案】B。根据选项 B 关键词 promotion 可以定位至第二段...by heavy expenditure on advertising and promotion.可知在促销上花费巨大，故选项 B 正确。根据选项 A 的内容可以定位至第二段 Over the last three years, profits have steadily fallen from 450m Euros to 290m Euros.可知下降的是利润而不是收入，因此 A 选项错误；文章第一段讲述 KGV based in Amsterdam，因此 C 选项错误；选项 D 内容的主体是 industry of music，但是文中并没有讲述音乐产业的竞争状况，故选项错误。因此正确答案是选项 B。

之后，经济学家 Mr.V 发表了关于一些新名词的感悟，请根据下列资料回答问题。

The word “globalization” is in daily use throughout the world, variously referred to as “mondialisation” in French, “globalisierung” in German, or “Quan qui hua” in China (Scholte, 1996). News articles television and even textbooks often use the word “globalization” to mean many different things. Author Jan Pieterse (1995) asserts there are almost as many conceptualizations of globalization as there are disciplines in the social sciences. Teachers and scholars in disciplines, such as management marketing finance accounting and economics, also use the word “globalization” to mean different things.

For example, some believe globalization is the absence of borders and barriers to trade between nations (Ohmae, 1995), but also it has been described as a shift in traditional patterns of international production investment and trade (Dicken, 1992). Another popular conception of globalization is that it is a business strategy that means doing everything the same everywhere (Kanter and Dretler, 1998). Others believe globalization is interconnections between overlapping interests of business and society (Brown 1992; Renesch 1992). As you can see these definitions differ in significant ways. Because definitions descriptions and visions of globalization vary widely, it is difficult to know what it means for businesses to go “global”.

- 7.Which of the following statement is NOT implied by the underlined sentence?
- A. The conceptions of globalization vary
  - B. The disciplines in the social sciences vary
  - C. There are less conceptions of globalization

D. There are many disciplines in the social sciences

【答案】C。根据题干定位至第一段 *there are almost as many conceptualizations of globalization as there are disciplines in the social sciences.* 可知讲述的是关于全球化的概念解释和社会科学的学科一样多，因此只有 C 选项不符合该句含义。选项 A：关于全球化的概念很多样；选项 B：社会科学的学科很多样；选项 D：社会科学的学科很多。这三个选项的内容与划线句子所表达句意一致，因此正确答案是选项 C。

8. Which of the following statement about globalization has no reference?

A. Globalization is a business strategy that means doing everything the same everywhere

B. Globalization is a shift in traditional patterns of international production investment and trade

C. Globalization is an interconnections between different interests of business and society

D. Globalization is the absence of borders and barriers to trade between nations

【答案】C。根据 C 选项关键词 *interconnections* 定位至第二段第三句话 *Others believe globalization is interconnections between overlapping interests of business and society...* 可知文中用的是 *overlapping*（重叠的），也就是相似的，而不是选项中的 *different*，故选项 C 错误。根据 A 选项关键词 *business strategy* 定位至第二段第二句 *it is a business strategy that means doing everything the same everywhere* 可知表述正确；根据 B 选项关键词 *traditional patterns* 可以定位至第二段首句后半部分 *...as a shift in traditional patterns of international production investment and trade* 可知表述正确；D 选项根据关键词 *absence of borders and barriers* 定位至第二段首句 *globalization is the absence of borders and barriers to trade between nations* 可知表述正确。故正确答案是选项 C。

9. What probably will be further discussed in the following paragraph?

A. what globalization means for businesses

B. how definitions differ from each other

C. how businesses go “global”

D. the definition of the term “globalization”

【答案】A。下文推断题，可以从末段最后入手，可知文段最后讲述的是 *As you can see, these definitions differ in significant ways...It is difficult to know what it means for businesses to go “global”* 可知接下来要继续描述的是 *global business*，因此 A 选项为正确。选项 BD 这两

个选项已经在文段中讲述过了，因此在后续的文段中不会重复讲述。选项 C：商业如何全球化，但是文章最后一句讲述的是很难知道全球化对于商业来讲意味着什么，和选项 C 的内容没有任何逻辑上的联系，因此选项 C 错误。正确答案是选项 A。

之后，经济学家 Mr.W 谈了谈对中国的一些看法，请根据下列资料回答问题。

China is an emerging economic giant with almost endless potential for business opportunities. Guan xi-meaning “connections” or “relationship”-is a Chinese way of doing business and is practically considered an art form there. It involves exchanging “favors” when you need something done. Many Chinese business people see it as a way to solidify relationships, get things done and cultivate well-being.

To Westerners, however, it often looks more like graft in the form of bribery, nepotism, gift giving and kickbacks. Transparency International, a German-based corruption watchdog, ranks China along with India Russia Turkey Malaysia and South Africa as the countries with the most rampant corruption.

However, China is cracking down by enacting stricter anti-corruption laws and prosecuting violators. In 2007, China’s former director of the State Food and Drug Administration, was executed for taking bribes.

10. According to the passage, what is TRUE about Guan xi in Chinese?

- A. It requires you to exchange favors to get things done
- B. It is the art form of bribery in the business
- C. It involves money and power
- D. It means connections or relationship among family members

【答案】A。是非题。定位到第一段，It involves exchanging “favors” when you need something done 可知 A 选项正确。B 项是片面的选项，概括不全，不仅仅是 bribery（腐败），还有 gift giving（送礼）等，排除；C 项“它涉及到钱和权力”，原文没有明确指出，排除；D 项“它是指家庭成员之间的联系和关系”，D 项表述过于字面，很明显，原文里面的“关系”并不只是单纯指家庭成员之间的关系，排除。故答案选 A。

11. What can be inferred from passage?

- A. The German-based corruption watchdog is probably a committee which makes sure that

companies do not act illegally or irresponsibly

- B. Bribery, nepotism, gift giving and kickbacks are illegal in the commercial activities
- C. Westerners are more critical about Guan xi in business
- D. All of above

【答案】B。细节题。A 选项通过第二段可知 Transparency International 关注的是国际间的腐败，文段中并没有特别指出是对公司的监督，选项 A 错误；C 项“西方国家的人对于商业中的‘关系’更加吹毛求疵，但是通过文段 To Westerners, however, it often looks more like graft in the form of bribery, nepotism, gift giving and kickbacks，并没有说他们对”商业中‘关系’更为吹毛求疵，所以 C 项错误；既然 AB 都是错误的，那么 C 项就可以排除；故正确答案是选项 B。

12. What's the tone of the passage?

- A. positive
- B. sarcastic
- C. skeptical
- D. objective

【答案】D。态度题。全文没有表现出作者的态度，而是客观的描述事实，所以正确答案是选项 D。A 项：积极的；B 项：讽刺的；C 项：怀疑的；D 项：客观的。

之后，经济学家 Mr.X 展望了中欧之间的商业机遇，请根据下列资料回答问题。

### **Finding a trustworthy supplier**

This is perhaps the most important step in your import business. A serious and dependable supplier minimizes any concerns on quality trust and disputes.

There are a number of sourcing sites where you can find suppliers from massive directories. To find the right one can be a laborious task, but your work can be made easier by going to sites that screen supplier before they are listed-like Global Sources Online. Under their “verified suppliers” system, suppliers need to have company information and contact person verified and are visited 3 times in-person before being authenticated as a “verified supplier”. This also means if you pick and export-ready.

Once you're in contact with prospective suppliers, address all your concerns with the right

questions. State your requirements to suppliers clearly-like product warranty key specifications and order terms. Alternatively some suppliers will provide product samples if you ask, and you can first test them yourself. If you're happy about the quality o this sample shipment, you can order in bulk. If possible, try and attend a sourcing fair to test samples free of charge. Most sourcing fairs are organized around themes like "Clothing & Garments" or "Electronics", so buyers like you can meet all the specializing sellers of the products you want.

### **Factory visits and inspections**

China's business environment is changing rapidly and you'd be surprised how much factories can develop in a year. If this is too much trouble for you consider appointing a local agent or third-party quality (3PQ) firm to inspect the factory on your behalf, get someone who speaks the language and knows local business conditions enough to make a good judgment. Most agents usually charge by commission from the amount of goods you import, and also inspect the output before it gets shipped.

13.What is the target reader of this article?

- A. Foreign entrepreneurs
- B. Job seekers
- C. Fresh graduate
- D. Company employees

【答案】A。由两个小标题的关键词 supplier、factory 以及每个标题的首句...import business、China's business environment is changing rapidly 可知这篇文章的目标读者是进行贸易的外国企业家，而选项 B（求职者）、C（刚毕业的大学生）、D（公司员工）在文中均没有体现。故正确答案是选项 A。

14.Why should businessmen make use of the sites that screen suppliers?

- A. Because those sites can legitimize suppliers
- B. Because those sites are free of charge
- C. Because those sites can verify the suppliers' legitimacy
- D. Because those sites can arrange factory visits for businessmen

【答案】C。细节题，根据题干的关键词 screen suppliers 和 sites 可以定位至第二段后半段 Under their "verified suppliers" system,...This also means if you pick a "verified supplier", you



can be sure the contact person is a legitimate...可知这些网站可以确认供应商的合法性,故选项 C 正确。选项 A: 这些网站可以让供应商合法,表述错误;选项 B: 这些网站是免费的,文中并未提及;选项 D: 这些网站可以为商人预约工厂参观,文中并未提及。故正确答案是选项 C。

15. According to the article, which of the following is the right order of finding a trustworthy supplier?

- A. Go to sourcing sites-contact prospective suppliers-attend sourcing fairs-order
- B. Go to sourcing sites-visit factories-test samples-attend sourcing fairs-order
- C. Go to sourcing sites-contact prospective suppliers-state demands-test samples-order
- D. Go to sourcing sites-visit factories-state demands-test samples-order

【答案】C。细节题,根据题干关键词 trustworthy 可以定位至二三段,可知应该是先浏览网站、再联系供应商、提出需求、样本检测、最后下订单。C 项为正确顺序,故正确答案为选项 C。AB 项: attend sourcing fairs 和 test samples 是一起的,文段并没有把他们割裂开来排除;D 项:根据原文第二节小内容,visit factories 应该属于第二部分的内容,并不是第一部分 finding a trustworthy supplier 的内容,排除;故答案选 C。

16. What can be inferred from paragraph 4?

- A. Hiring a local agent or 3PQ is most convenient
- B. Agents charge high prices
- C. One should inspect the factories personally
- D. Visiting a factory requires applications

【答案】A。推断题,根据题干定位至第四段。根据选项 A 关键词 3PQ 定位至第二句话 If this is too much trouble for you, consider appointing a local agent or third-party quality (3PQ) ...可知 A 项表述正确。根据选项 B 关键词 charge 可以定位至最后一句话 Most agents usually charge by commission from the amount of goods you import 佣金是根据进口货物的总量决定,所以选项 B 表述错误;根据选项 C 关键词 inspect the factory 定位至第二句...consider appointing a local agent or third-party quality (3PQ) firm to inspect the factory on your behalf.表明可以雇佣代理商或第三方质检,不一定要个人亲自去,所以选项 C 表述错误;D 选项:参观工厂需要事先预约申请,这句话无法从第四段推断出来。故正确答案是选项 A。

17. What may the author discuss later?

- A. His own stories about visiting China
- B. The quality of Chinese goods
- C. Why should foreign businessmen do business in China?
- D. Other important steps of doing business in China

【答案】D。下文推断，文章的两个小标题分别阐述了寻找供应商和工厂参观视察，可知接下来要写的也是与在中国做生意相关的重要项目，所以选项 D 更符合。选项 A：他自己参观中国的事迹；选项 B：中国货物的质量；选项 C：为什么国外商人要在中国做生意？这三个选项推测内容并不能与文章形成合理的逻辑关系，故排除。所以正确答案是选项 D。

最后，大家谈论了中国在绿色经济方面做出的杰出贡献，请根据下列资料回答问题。

On behalf of the organizing committee we cordially hope yo can join us at the Low Carbon Earth Sumrnit-2011, with a Theme of “Leading the Green Economy Returning to Harmony to Harmony with Nature”, which will be held during October 19-26, 2011 at World Exposition enter Dalian China As far as we know your work in this field is a clear example of the leadership so we would like to highlight your effort at our conference and hope you can give a speech at track 7-8-28: Anaerobic Biotechnology for Bioenergy Production.

The purpose of LCES-2011 is to provide a wold-class meeting place for information exchanges and trade fair for Promoting Low Carbon Economy. It will take the form of plenary lectures, oral presentations, posters, exhibitions and project matchmaking; LCES-2011 will support new business development with the opportunity to learn from one another’s experiences in this field, identify ways to play an even more active role in control of global climate change and seize further green investment opportunities for innovators and entrepreneurs worldwide.

Lastly we would like to urge you not to miss this historical initiation and actively join us with your great passion and contributions. Hope to see you in Dalian in the golden fall season.

18.Which type of writing does the passage belong to?

- A. apology
- B. advertisement
- C. invitation
- D. memo

【答案】C。主旨题。从文章第一段和最后一段开头可知，这篇文章是一封邀请函。故正确答案是选项 C。A 项（致歉），原文并没有用到一些道歉等方面的表达，排除；B 项：广告，广告有很明显的宣传痕迹，文段并没有体现，排除；D 项：备忘录，不符合原文文体风格，排除；故答案选 C。

19.To whom is the passage addressed?

- A. One with much wealth
- B. One with high professional level
- C. One with high social status
- D. One with high reputation in academia

【答案】D。细节题。这次会议的目的是探讨低碳经济，文章中有对细节指明对在该领域当中的学术研究要有一定的要求，如第一段五行中的 highlight your effort at our conference and hope you can give a speech，还有第二段中第一行 world-class meeting。这里 B、D 两项很相似。但是 professional 更多的强调专业，而非学术，academic 更多的是指在该领域中所做的研究工作。A 项：富人，原文并没有提到这一话题，排除；因此 D 项更符合这个题目。

20.According to the passage which of the following will NOT be the contribution of the summit?

- A. More experience exchange and business development
- B. More occasion towards this historical initiation
- C. More active attitude towards tackling climate change
- D. More green investment chances

【答案】B。是非题。第二段最后一句 LCES-2011 will support new business development with the opportunity to learn from one another's experiences in this field (A 选项)，to identify ways to play an even more active role in control of global climate change (C 选项)，and seize further green investment opportunities for innovators and entrepreneurs worldwide (D 选项)。只有 B 项没有提到，故正确答案是选项 B。

## 中亚

### 情景职业测试(共 25 个小题)

1.中亚的各国学者们都到齐了，考察团准备出发了，这时，对于如何到中国，大家产生了不同的想法，若学者 A 乘坐火车或飞机去中国，则学者 B 就会跟他一起去，只要学者 A 不乘坐火车去中国，学者 C 就会跟他一起去中国，实际上，学者 B 一直闭门不出去也不想外出。



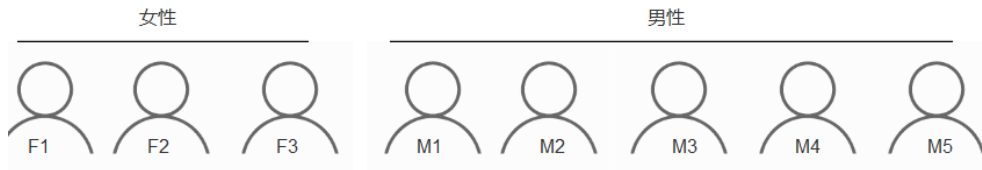
根据以上陈述，推断为真的是 ( )。

- (1) 学者 A 没有乘坐飞机去中国
- (2) 学者 A 没有乘坐火车去中国
- (3) 学者 A 和学者 C 在一起

- A. 只有 (1) 正确
- B. 只有 (1) 和 (2) 正确
- C. 只有 (1) 和 (3) 正确
- D. 三个推断都正确

【答案】D。翻译推理题型，先翻译后推理。①A 飞机或火车→B；②A 不火车→C；然后 B 并没有外出，对于①是否后，否后必否前，所以可知，A 既没坐火车也没坐飞机，这个结论对于②而言是肯前，肯前必肯后，所以 C 和 A 一起，因此三个推断都正确，故答案为 D。

2.学者们决定选出一个临时的小组进行考察团的管理工作。大家从下图的人员中选出四个人组成管理小组：



组成管理小组的条件是：

- (1) 组内男性和女性都有；
- (2) F1 和 M1 不能都入选；
- (3) F2 和 F3 不能都入选；
- (4) 如果选了 M5，那么就不选 M3；

如果是 M1 入选了，那么，可以得出以下哪项为真？（ ）

- A.M2 不可能在组内
- B.M3 在组内，那么，M5 也有可能入选
- C.F2 和 F3 至少有一个人在组内
- D.组内可能有 F1

【答案】A。先翻译后推理。①有男有女；②非 F1 或非 M1；③非 F2 或非 F3；④M5 → 非 M3；现在 M1 入选了，由②知 F1 没入选，再由①③可知，F2 和 F3 只有一人在组内，要么 F2 要么 F3，所以排除 C、D；由④可知，B 错误，因为否后必否前，所以答案为 A。

3.管理小组的成员确定后，还需要从 F1、F2、F3 中选出一名临时的会计，以便统一负责旅行中的经费，加入只有一人会制作财务的报表。

如果这三句话只有一句是真的，那么会制作财务报表的是（ ）。



- A.无法判断
- B.F3
- C.F2
- D.F1

【答案】C。真假推理，F1 和 F3 说的话矛盾，必有一真一假，所以可知 F2 说的话是假话，因此 F2 会制作财务报表，故答案为 C。

4.大家决定从六个国家中各带一些学者，每个国家所派遣的学者数量，呈现一定的规律性，看了前五个国家派遣的学者数量，你能推算出第六个国家派遣的学者数量吗？请在下图空缺处，填入正确的人数。（注意：空缺处只能填 0-99 之间的自然数）（ ）



- A.48
- B.50
- C.52
- D.54

【答案】D。做差得 1、2、10、11、（ ），规律不明显再次做差得 1、8、1、（ ），考虑是周期数列，则下一个是 8，因此上一级为  $11+8=19$ ，第一级数列下一项应为  $35+19=54$ 。因此，本题答案为 54。

5.六个国家的学者都到齐后，每个国家都交了一定的旅行费用，每个国家交的旅行费用，是按照一定的规律交的，看了前五个国家的费用，你能推断出第六个国家交的费用吗？（ ）



- A.107
- B.67
- C.1034
- D.690

【答案】D。递推数列。 $1 \times 3 + 1 = 4$ ； $3 \times 4 + 1 = 13$ ； $4 \times 13 + 1 = 53$ ， $13 \times 53 + 1 = 690$ 。因此，本题选 D。

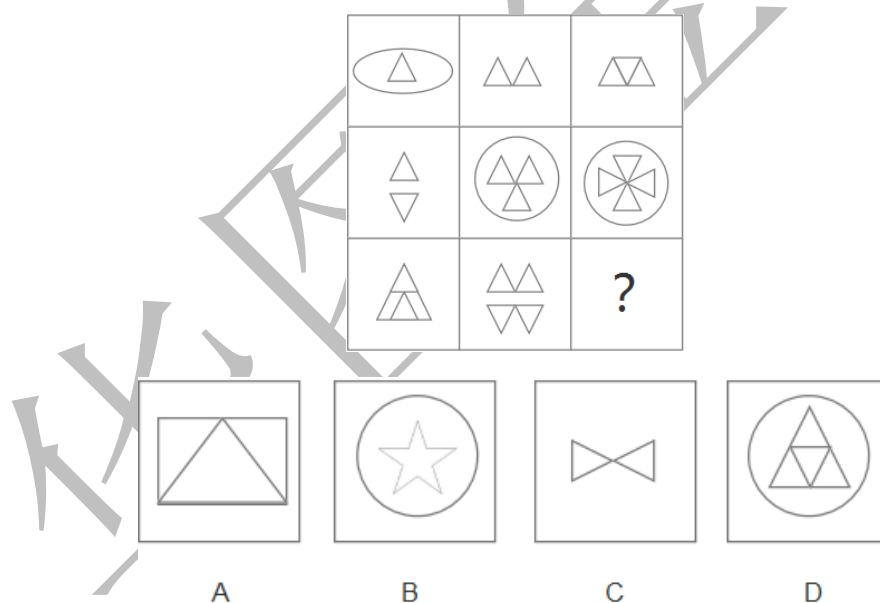
6.收齐旅行费用后，你为大家买了火车票，火车票的号码按照一定的规律排列，看了前五个火车票号码，你能推断出第六个火车票的号码吗？请在下图空缺处，填入正确的火车票号码。（注意，空缺处只能填 0-99 之间的自然数）



- A.3
- B.4
- C.5
- D.6

【答案】A。多级数列。前后两项做差可得到 12、10、8、6、( ) 的等差数列，下一项应为 4，则  $7-4=3$ ，因此，本题答案为 3。

7.你们乘坐的这趟火车，有一个很有趣的列车标志。列车长告诉你们，这列的标志就是下图中问号处的标志，它与其他的 8 个标志呈现一定的规律性。你能选出问号处的正确列车标志吗？( )



【答案】D。素的数量变化，第一行三角形个数分别为 1、2、3；第二行三角形个数分别为 2、3、4；第三行三角形个数为 3、4、?，故问号处应有 5 个三角形，答案为 D。

8.上了火车后，你发现在一节火车厢中，一个人是石家庄人，两个人是北方人，一个人是福州人，三个人只做食品生意，两个人只做运输生意，如果以上介绍涉及该车厢所有人，那么，该节车厢共有多少位乘客？( )

- A.最少有 6 位，最多有 7 位

- B.最少有 7 位，做多有 9 位
- C.最少有 5 位，最多有 8 位
- D.无法确定

【答案】C。分析推理题，题干中按两种形式描述了车厢的人，一种是地域，一种是工作，先看最少的情况，最少的时候是这些地域和工作描述的可能是同一些人，所以最少为 5 人；最多的情况是地域和工作描述的是不同的人，首先看地域，石家庄人是北方人，而福州人是南方人，所以可知地域描述的人有 3 人，加上工作描述的 5 人共 8 人，故答案为 C。

9.各位学者都上了车，各自坐好后，列车员拿来了图书供大家阅览，列车员问学者 AA 想看什么类的书？

学者AA说  
我不像讨厌文学那样讨厌地理  
我不像讨厌军事那样讨厌科教  
我不像喜欢艺术那样喜欢地理  
我对教科不如对文学那样喜欢

列车员  
想看什么类的书？

学者 AA 最后会选择 ( )。

- A.文学
- B.艺术
- C.地理
- D.科教

【答案】B。分析推理题，可用排除法做，由第一句话可排除 A，第三句话可排除 C，第四句话可排除 D，故答案为 B。

10.学者 A 问列车员，他选择的书多少钱？列车员告诉他，他这本书的价钱，就是下面这组数中，空缺的第五个数字，你能告诉学者 A，他选择的这本书多少钱吗？请在下图空缺处，填选正确的价格。(注意，空缺处只能填 0-99 之间的自然数) ( )

1元, 6元, 15元, 28元, ( )元, 66元

- A.36
- B.40
- C.45
- D.52

【答案】C。前后两项做差可得 5、9、13、( )、( )，观察差数列的前三项，是



公差为 4 的等差数列，差数列后两项应该依次为 17、21，代入  $28+17=45$ ； $66-21=45$ ，推测正确。因此，本题答案为 45。

11. 学者 B 拿了一本关于中国年画的书，看完书后其表示：

你根据这一判断，可以推出（ ）。

只有民族的，才是世界的；  
只有世界的，才是人类的。  
年画是民族的。

- A. 年画是世界的，也是人类的
- B. 年画不一定是世界的，但它是民族的
- C. 年画是人类的，但它不是世界的
- D. 年画不是人类的，但它是世界的

【答案】B。只有…才…，后推前，题干可翻译为：人类→世界→民族，而年画是民族的，肯后无必然，所以可知答案为 B。

12. 学者 B 的这个观点，出自于书中的某一页的描述。这一页的页码，是下面这组数中空缺的第六个数，你能找出这一页的页码吗？请在下图空缺处，填入正确的页码。（注意，空缺处只能填 0-99 之间的自然数）（ ）

第3页，第4页，第7页，第11页，第18页，第（ ）页

- A. 20
- B. 23
- C. 26
- D. 29

【答案】D。题干规律为第三项是前两项的和， $3+4=7$ ， $4+7=11$ ， $7+11=18$ ， $11+18=29$ 。因此，本题答案为 29。

13. 学者 B 拿的这本中国年画的书的价钱，是下面这组数中空缺的第五个数字，你能告诉她这本书是多少钱吗？（ ）

12.5元，8元，4.5元，2元，（ ）元

- A. 1.5

B.1


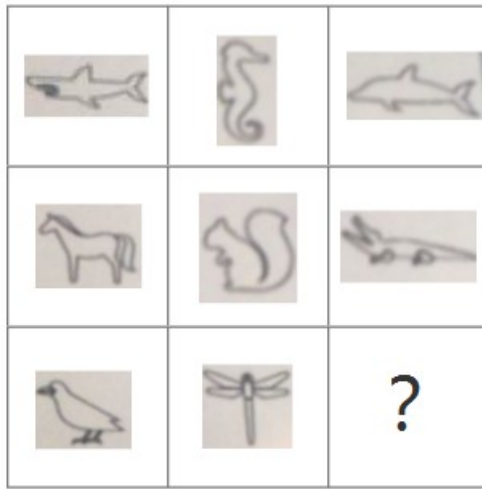
C.0.5

D.0

【答案】C。前一项减去第二项依次得到 4.5、3.5、2.5、( )，观察差数列的前三项应是公差为 1 的等差数列，则差数列的下一项为 1.5，未知项为  $2-1.5=0.5$ 。因此，本题选 C。

14. 学者 C 想看一本关于中国动物的书，他想研究的这个动物，就是下图中问号处的动物，这些动物的排列，呈现一定的规律性，你能告诉列车员，他想要关于哪种动物的书籍吗？

( )



【答案】D。第一行全是水里游的，第二行全是陆地动物，第三行前两个都会飞，所以问号处也应该是会飞的动物，因此答案为 D。

15. 这本关于动物学图书的价钱，是下面这组数中空缺的第五个数字，你能告诉她这本书是多少钱吗？请在下图空缺处，填入正确的价格（注意，空缺处只能填 0-99 之间的自然数）( )

1元, 3元, 7元, 13元, ( )元, 31元

A.18

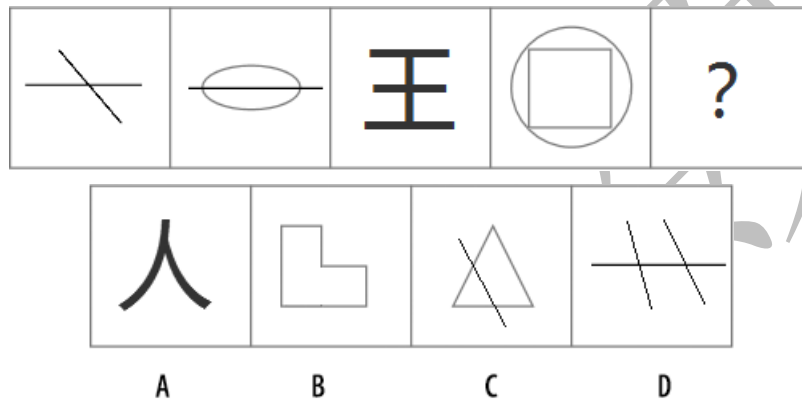
B.20

C.21

D.25

【答案】C。前后两项做差可得 2、4、6、( )、( )，观察前三项，应为公差为 2 的等差数列，后两项应该依次为 8、10，代入  $13+8=21$ ； $31-10=21$ ，推测正确。因此，本题答案为 21。

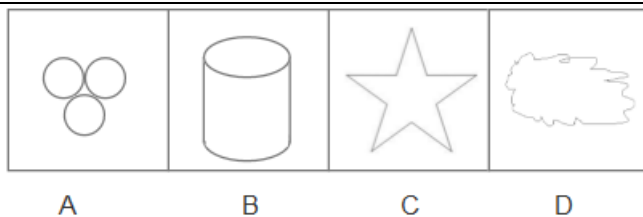
16. 学者 D 选了一本关于图形推理的书，其中有一题很有趣，学者 D 想考考你，请你从所给的选择项中，选择唯一的一项填在问号处，使呈现一定的规律性 ( )。



【答案】D。交点个数，乱序。题干中的交点个数分别为 1、0、3、4、?，缺个 2，因此答案为 D。

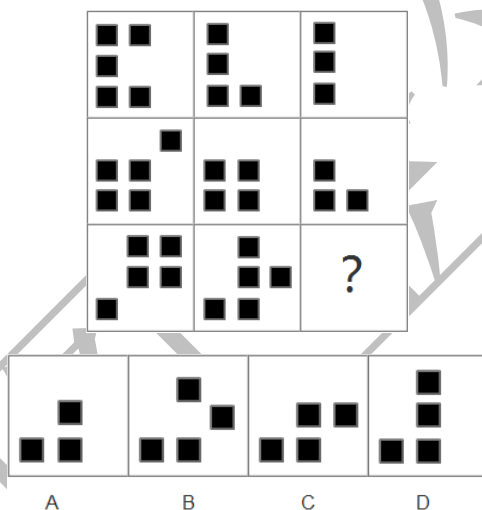
17. 学者 E 也非常喜欢图形推理问题，他也拿出一道题目来考考你。请你从所给的选择项中，选择唯一的一项填在问号处，使之呈现一定的规律性 ( )。





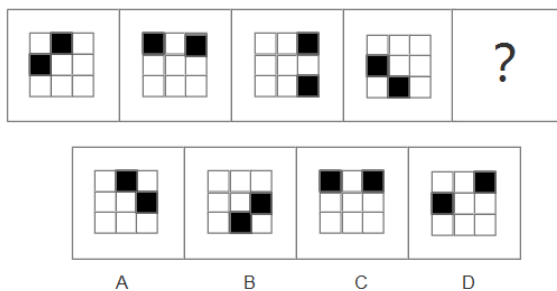
**【答案】A。**元素的个数，每行第一个图元素的个数加第二个图元素的个数等于第三个图元素的个数，第一行是  $1+1=2$ ，数字 8 其实是两个圆构成的；第二行是  $2+1=3$ ；第三行是  $2+1=?$ ，所以问号处应该是有三个元素，A 是 3 个元素。B 项是 2 个，C、D 都是 1 个。因此选择 A 项。

18. 学者 F 画了一个方格的游戏，让大家玩，九个图形呈现一定的规律性，你能找到规律，并为问号处选择一幅正确的图形吗？（ ）



**【答案】D。**每行从第一个图向右，最右边一列的小方块从右上角依次减少一个，将第三行第二个图形最右边一列的小方块从右上角减去一个，选择 D 项。

19. 学者 G 也拿出一个方格的游戏，看大家谁能做出来，根据前四幅图片的规律，你能选出问号处的正确图片吗？（ ）

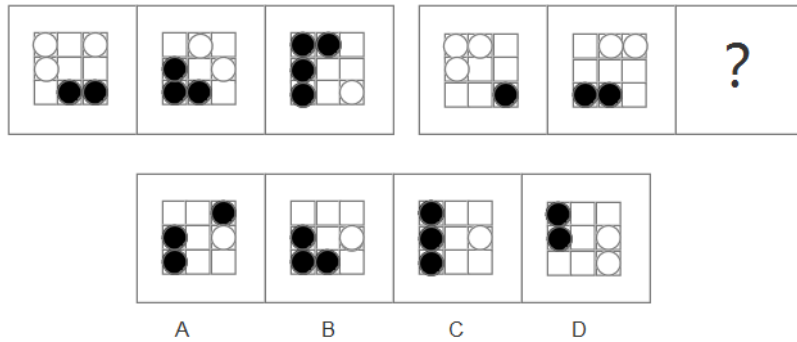


**【答案】A。**动态位置类，移动。两个小黑方块中间隔着一个白方块，将这三个方块看成一个整体。它们沿着九宫格外框顺时针移动，第一次整体移动 1 格，第二次整体移动 2

格，第三次整体移动 3 格，步数成等差数列，因此第四次应整体移动 4 格，答案为 A。

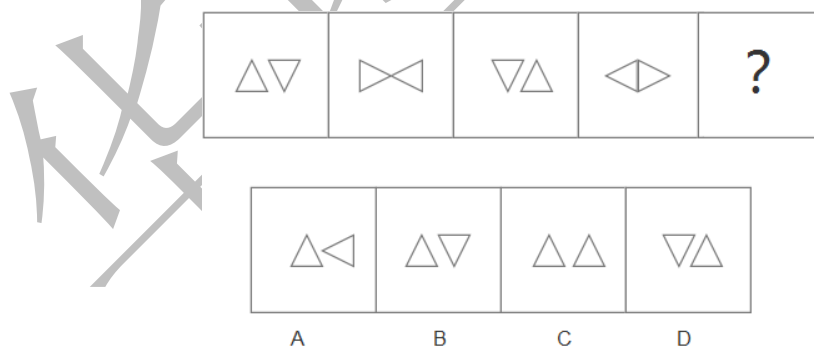
20. 学者 H 在玩一个看似很难的黑白棋的游戏，你要从前三幅图片中，找到游戏规律，然后在问号处选出正确的图案，你就可以获胜，那么你应该为问号处选择哪一幅图案呢？

( )



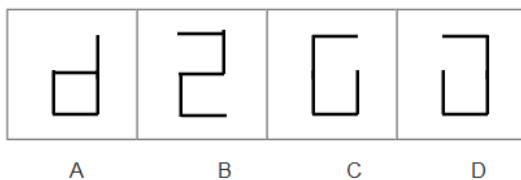
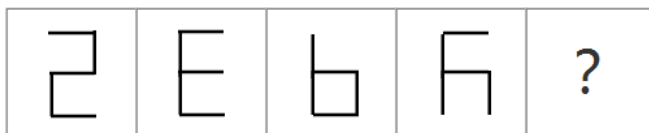
**【答案】C。** 左边一组白棋数量递减，黑旗数量递增，右边一组白棋数量递减，黑旗数量递增，根据黑白棋的个数可以排除 D 选项。然后再看具体规律，左边已知图形中，白色棋子每次均顺时针移动一格，每移动一次，最后面的棋子就少一颗；黑色棋子也是每次均顺时针移动一格，每移动一次，在棋子的最前端就会加一颗棋；再看未知行，同样也是这样的规律，故问号处应填 C。

21. 学者 I 只用了两个小三角板，就出了一道有趣的题目，他按照一定规律，把两个三角板依次拼出了如下图的 4 种形状组合。继续按照这种规律往下拼的话，问号处的形状组合，是什么样的呢？( )



**【答案】B。** 旋转，左边三角形和右边三角形均每次旋转 90 度，故答案为 B。

22. 学者 J 正在玩火柴棍游戏，他用五根火柴棍依次拼了 4 个图形，这四个图形是有一定规律的，你能发现拼火柴棍的规律，并在问号处选出正确的图形吗？( )



【答案】C。每次只移动一根火柴得到下一个图形，故答案为 C。

23. 有三个学者，甲、乙、丙，他们同时在解答刚才学者 J 出的题目。三个学者中只有一个人说了假话。




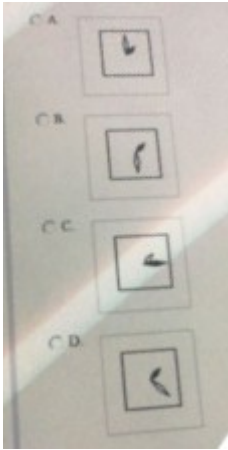
请你确定下面 ( ) 是真的。

- A. 甲和乙都答错了
- B. 甲和丙都答错了
- C. 乙答错了
- D. 乙和丙都答错了

【答案】C。真假推理题型，先翻译题干，①乙错；②丙错；③甲且乙错；③和①是包含关系，③→①，根据口诀一假后真可知，①为真，所以乙答错了，故答案为 C。


24. 学者 K 在做一个有趣的统计，每经过一段时间，他会把手表上的时间画在纸上，画了四幅图以后，大家发现了其中的规律，你是否也发现了呢？请为问号处，选出正确的第五幅时间图吧。( )






【答案】B。分针（长的那根）每次顺时针旋转 135 度，时针（短的那根）每次顺时针旋转 90 度，故答案为 B。


25. 经过长时间旅行，大家都有点口渴了，列车员为大家端来了茶水，一共有四壶茶，每个茶壶都写者一句话，假如只有一个为真话，那么（ ）为真。

-  第一个：“本茶壶中有红茶”


---

-  第二个：“所有茶壶中都有绿茶”

---

-  第三个：“本茶壶中没有白茶”

---


-  第四个：“有些茶壶中没有绿茶”

- A. 第一个壶里有绿茶
- B. 四个茶壶里都没有绿茶
- C. 第三个茶壶里有白茶
- D. 第二个茶壶里有红茶

【答案】C。真假推理题型。先翻译题干：①红茶；②所有都是绿茶；③没白茶；④有些没有绿茶；可知②④为矛盾关系，必有一真一假，又因为只有一句为真话，所以①③为假话，正确应为第一个壶中没有红茶，第三个壶里有白茶，还可知第二个茶壶上为假话，第四个茶壶为真话。故答案为 C。

#### 情景职业测试-(共 30 个小题)

1. 博览会开幕这天，你早早的来到博览会门口，你看了一下门口的大摆钟，如下图所示。






你突然想到个有趣的问题，从现在开始，过（ ）分钟后，时针和分钟重合？

- A.54
- B.49
- C.60
- D.37

【答案】A。根据题干，可得A项正确；分针每分钟走6度，时针每分钟走0.5度，可以将钟表问题看作环形追击问题，观察现在的表盘，分针与时针之间的角度为60度，到下一次重合分针应比时针多走过的度数为 $360-60=300$ 度。 $300/(6-0.5)$ 约为54，A选项符合题意。B、C、D选项错误。故本题应选C项。

2.你来到博览会入口，看到8名教师带着40名小学生前来参观，博览会售票规划如下图：

	成人票：10元/人	¥ ?
	成人票：5元/人	
<div style="display: flex; align-items: center;">  <div>                     团体票                      (10人以上,含10人) 7元/人                 </div> </div>		

请你帮他们计算一下，全部人都要进入景点，那么，花费最少是（ ）元。


- A.336
- B.308
- C.280
- D.260



【答案】D。根据题干，可得D项正确；团队票达到10人有折扣7元/人，老师8人，加两名学生2人，十人购买团体票，剩余38名学生购买学生票5元/人，则 $10 \times 7 + 38 \times 5 = 260$ ，为选项中最少，D选项符合题意。A、B、C选项错误。故本题应选D项。

3.进入博览会后，你看到一家西亚的参展商，正在搭建自己的展台，原材料铁条和实际需求如下：

规格要求	数量要求
3米/每根铁条 	100根
4米/每根铁条 	100根


原材料贴条 10米/根  


请你帮他们计算一下，为了最省材料，至少需要（ ）根10米的原材料铁条。

- A.200
- B.100
- C.75
- D.50

【答案】C。根据题干，可得C项正确；每根10米原材料铁条可以加工成两根3米与一根4米铁条，则50根10米原材料铁条即可得到100根3米铁条，50根4米铁条。又由于每根10米铁条可以加工两根4米铁条，则50根4米铁条，还需25根10米原材料铁条。即至少需要 $50 + 25 = 75$ 根原材料铁条，C选项符合题意。A、B、D选项错误。故本题应选C项。

4.截取完铁条后，这家参展商需要圈一块展台场地，他们将一根长56米的绳子截成4段，首尾相接拼成一个四边形作为展台场地，该四边形的最大面积是（ ）平方米。



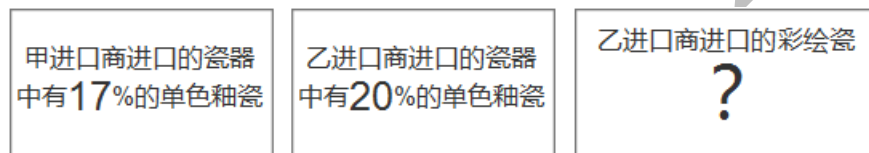
- A.195
- B.192

C.196

D.225

【答案】C。根据已知条件，可得 C 项正确；同样周长的四边形中正方形面积最大，已知周长为 56，则可得正方形边长为 14，则正方形面积为  $14 \times 14 = 196$ ，C 选项符合题意。A、B、D 选项错误。故本题应选 C 项。

5.往前走，你来到瓷器展区，西亚人民非常喜欢中国精美的瓷器，甲乙两家瓷器进口商，一共从中国进口了单色釉瓷和彩绘瓷共 160 件，目前两家的瓷器：



请你帮他们计算一下，乙进口商进口的彩绘瓷共有（ ）件。

A.48

B.66

C.75

D.96

【答案】A。根据已知条件，可得 C 项正确；由图可知，甲购买的单色釉是瓷器总数的 17%，因此等量关系式：单色釉=瓷器总数×~~错误!未找到引用源。~~，因此甲购买的瓷器总数应为 100 的整数倍，而单色釉为 17 的整数倍，因此符合这两个条件的最小的数字分别是 17、100，因此本题中乙购买的瓷器总数为 60，彩色釉为 48 个，A 选项符合题意。B、C、D 选项错误。故本题应选 C 项。

6.继续往前走是矿业展区。一家当地的矿井探测公司，遇到了问题，向你请教。他们将一根绳子对折成 4 段后顺入矿洞中，触底后量的露出井口部分的绳子每段为 5 米，然后将绳子折成等分 5 段后顺入同一洞中，触底后量的露出井口部分的绳子每段为 1 米，他们需要你帮忙计算一下，洞深（ ）米。

A.6

B.19

C.15

D.4

【答案】C。根据题干，可得 C 项正确；由题意，设洞深为  $x$  米，则  $4(x+5) = 5(x+1)$ ，

解得  $x=15$ ，C 选项符合题意。A、B、D 选项错误。故本题应选 C 项。

7.再往前走，是金融类展区。基金公司参与“一带一路”的金融合作，感到非常幸运，对基金公司第一季度营收进行了分析，已知信息如下：



甲公司净收入的  $\frac{1}{4}$  等于乙公司净收入的  $\frac{1}{6}$ ；

乙公司净收入的  $\frac{3}{4}$  等于丙公司净收入的  $\frac{4}{5}$ ；

结果丙公司比甲公司多挣 130 万元。

请你帮他们计算一下，乙公司挣了（ ）万元钱。

A.480

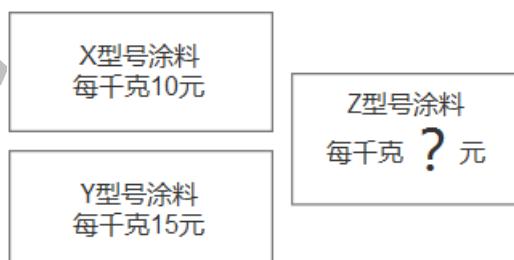
B.470

C.420

D.430

【答案】A。根据已知条件，可得 C 项正确；由题意，可知  $\frac{1}{4}$  甲 =  $\frac{1}{6}$  乙； $\frac{3}{4}$  乙 =  $\frac{4}{5}$  丙；丙 - 甲 = 130。由前两个式子可以得到甲 =  $\frac{2}{3}$  乙，丙 =  $\frac{15}{16}$  乙，则丙 - 甲 =  $\frac{15}{16}$  乙 -  $\frac{2}{3}$  乙 =  $\frac{13}{48}$  乙 = 130，解得乙 = 480 万元，A 选项符合题意。B、C、D 选项错误。故本题应选 A 项。

8.再往前，是化工展区。B 公司是西亚有名的化工公司，正在为“一带一路”建设调配一种新型涂料，已知信息如下：



请你帮他计算一下，如果花同样的钱分别购买 X 型号、Y 型号两种涂料配成 Z 型号新型涂料每千克（ ）元。

A.13

B.12

C.14

D.11

【答案】B。根据题干，可得 C 项正确；由总价=单价×数量，则单价分别为 10 元/千克、15 元/千克，出现  $A=B \times C$  形式，且已知一类量，可以适用赋值法，赋值不变量总价为 60 元，可得数量分别是 6 千克与 4 千克，则两种涂料调配的 Z 型号涂料总价 120 元，数量 10 千克，可得单价为  $120/10=12$  元/千克，B 选项符合题意。A、C、D 选项错误。故本题应选 B 项。

9.接着，调配人员拿出一个烧杯，其中有 100 克某物质溶液，调配人员将 20 克浓度为 40%的同种物质溶液加入其中后浓度变成 50%，请你帮助他们计算一下，如果调配人员再往烧杯中加入 20 克水，则烧杯中溶液的浓度变成了（ ）。

A.49%

B.42.9%

C.37.2%

D.30%

【答案】B。根据题干，可得 B 项正确；由题干“100 克某物质溶液，调配人员将 20 克浓度为 40%的同种物质溶液加入其中后浓度变成 50%”可知原溶液 120 克，溶质  $120 \times 50\%=60$  克。再加入 20 克水，溶液质量 140 克，则浓度为  $60/140$  算得约为 42.9%，B 选项符合题意。A、C、D 选项错误。故本题应选 B 项。

10.制作这种新型溶液需要至少两个人合作才可以，已知信息如下：



请你计算一下，如果让甲丁搭档，那么需要（ ）天。

A.14

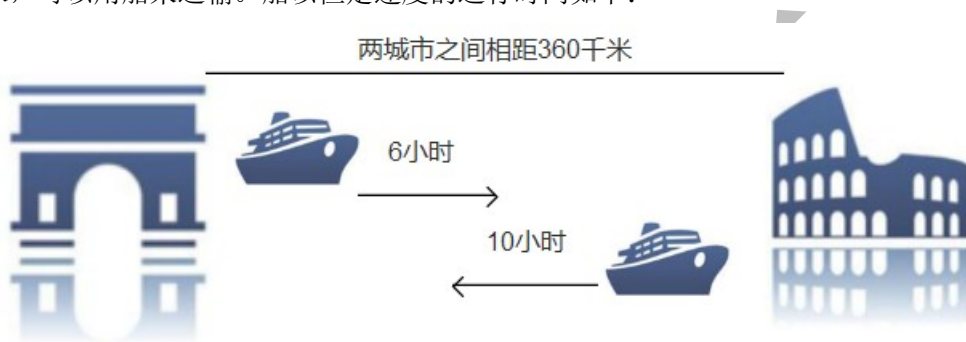
B.16

C.22

D.24

【答案】D。根据题干，可得 C 项正确；已知搭档组合为甲乙、乙丙、丙丁完成时间分别为 16、12、16，赋值总量为 48，可得效率甲乙=3，乙丙=4，丙丁=3，则甲丁效率=甲乙+丙丁-乙丙=3+3-4=2。则甲丁搭档需要  $48/2=24$  天完成，D 选项符合题意。A、B、D 选项错误。故本题应选 D 项。

11.这种新型的溶液配制好后，要从 A 城市运送 B 城市进行销售，AB 两城市之间相距 360 千米，可以用船来运输。船以恒定速度的运行时间如下：



请你计算一下，河水的流速是（ ）千米/时。

- A.12
- B.24
- C.10
- D.6

【答案】A。根据已知条件，可得 C 项正确；因错误!未找到引用源。，由图中示意可知，两城市相距 360 千米，A 城市到 B 城市用时 6 小时，可得错误!未找到引用源。 $=360/6=60$  千米/时，B 城市到 A 城市用时 10 小时，可得错误!未找到引用源。 $=360/10=36$  千米/时，代入公式，错误!未找到引用源。 $= (60-36) /2=12$  千米/时，A 选项符合题意。B、C、D 选项错误。故本题应选 A 项。

12.商品运到 B 城市后，销售人员准备出售这种新型的溶液，预定出售 80 桶，定价每桶 100 元，根据测算，商品价格每下降 1 元，将多出售 4 桶，若降价 5%，增加了商品销量，那么获得的利润比原来预定时多了 100 元，请你帮忙计算一下，该商品每桶的成本是（ ）元。

- A.25
- B.48
- C.70

D.90

【答案】C。根据题干，可得C项正确；若定价100元，降价5%，即下降5元，则可多出20桶，即实际出售100桶。“获得的利润比原来预定时多了100元”可以此条件列式，设每桶成本x元，则 $(95-x) \times 100 - (100-x) \times 80 = 100$ ，解得 $x=70$ ，C选项符合题意。A、B、D选项错误。故本题应选C项。

13.销售人员还出售两种小规格的溶液，价格如下：



顾客要用60元买这两种瓶的溶液，且正好花完，那么，他最多能买到中瓶和小瓶两种溶液共（ ）。

- A.8
- B.12
- C.4
- D.16

【答案】D。根据题干，可得D项正确；设买到中瓶x瓶，小瓶y瓶，则 $7x+3y=60$ ，由于x和y一定是正整数，60是3的倍数， $3y$ 也一定是3的倍数，则 $7x$ 也一定是3的倍数，且7不是3的倍数，则x只能取3的倍数，若 $x=3$ ，则 $y=13$ ，共买到16瓶；若 $x=6$ ， $y=6$ ，共买到12瓶；若 $x=9$ ，则 $7 \times 9 = 63 > 60$ ，不符题意，则最多可买到16瓶，D选项符合题意。A、B、C选项错误。故本题应选D项。

14.帮助化工展区的企业解决了问题后，你发现已经到了中午就餐时间，你来到园区的餐饮区，看到有烧烤店，你打算买些烤肉片作为午餐，烧烤店工作人员在烤肉片的时候，两面都要烤，第一面需要2分钟，第二面需要1分钟你买了3片肉片，但你发现烤架上一次只能放2片肉，最短需要（ ）分钟才能将3片肉全部烤完。

- A.6
- B.5
- C.7

D.4

【答案】B。根据题干，可得 B 项正确；假设有 A，B，C 三片肉片，A，B 肉片第一面一起烤两分钟，然后换掉 A 肉片，放入 C；将 B 翻面烤 1 分钟，则 3 分钟时 B 肉片烤制完成，换 A 肉片，则 4 分钟时 A、B 肉片已烤制完成，C 翻面再烤 1 分钟，5 分钟时三片肉片均烤制完成，B 选项符合题意。A、C、D 选项错误。故本题应选 B 项。

15.在等烤肉的过程中，你要了一杯 500 克的盐水解渴，盐水的浓度为 18%，杯子编号为 A。你觉得有点咸，于是又另外要了一杯 500 克的水，杯子编号为 W。你把一半盐水从 A 杯倒入 W 杯子的水中，混合后再把盐水的一半从 W 杯倒入 A 杯盐水中，混合后又把 A 杯子中的一部分倒入 W 杯中，使 A 杯和 W 杯中的盐水同样多，那么请你计算一下，最后 W 杯中盐水的百分比浓度为（ ）。

- A.10%
- B.12%
- C.18%
- D.7.2%

【答案】D。根据已知条件，可得 C 项正确；盐水溶质为  $500 \times 18\% = 90$  克，第一次混合：W 杯中溶液  $500 + 250 = 750$  克，溶质盐  $90/2 = 45$  克；第二次混合：A 杯中溶液  $250 + 750/2 = 625$  克，溶质盐  $45 + 45/2 = 67.5$  克，W 杯中剩余  $750/2 = 375$  克溶液， $45/2 = 22.5$  克盐；第三次混合：两杯盐水一样多，即 500 克，说明 A 杯向 W 杯倒入 125 克盐水，W 杯中盐有  $22.5 + 67.5/5 = 36$  克，则浓度为  $36/500 = 7.2\%$ ，D 选项符合题意。A、B、C 选项错误。故本题应选 D 项。

16.点完烤肉和盐水后，你发现只有一个空着的位置可以就餐了，店员告诉你，除了你以外，还有另外三位顾客也在等这个空间位置就餐，你们四位顾客的就餐时间长短不同，分别如下：



因为目前只有这一个空位置可用，所以其中一位顾客在就餐时，其他三位顾客需要等待，请你计算一下，按四位顾客等待的总时间最少安排顺序。四位顾客需要等待的总时间最少是（ ）分钟。

- A.165
- B.105
- C.210
- D.390

【答案】A。根据题干，可得 A 项正确；要使总的等待时间最短，需让就餐时间短的人先就餐，则依次是 15 分钟、30 分钟、1 小时、2 小时，则总的最短等待时间为  $15 \times 3 + 30 \times 2 + 60 \times 1 = 165$  分钟，A 选项符合题意。B、C、D 选项错误。故本题应选 A 项。

17.人工智能展区，一家做智能机器人的公司，正在展出他们新开发的计算机器人，计算机器人给出了几道计算题，你能计算出正确答案吗？

- $486 \div (243 \div 973) \div (973 \div 575) \div (575 \div 25) \div (25 \div 137) \div (137 \div 23) \div (23 \div 2) = ( \quad )$ 。
- A.1
  - B.243
  - C.4
  - D.486

【答案】C。根据题干，可得 C 项正确；数字之间运算均为除法，则可将式子变形为  $(486 \div 243) \times (973 \div 973) \times (575 \div 575) \times (25 \div 25) \times (137 \div 137) \times (23 \div 23) \times 2 = 4$ ，C 选项符合题意。A、B、D 选项错误。故本题应选 C 项。

- $18.35978 - 31534 + 44576 - 40132 + 15498 - 11054 + 79466 - 75022 + 87690 - 83246 = ( \quad )$ 。
- A.0
  - B.22220
  - C.2222
  - D.1

【答案】C。根据题干，可得 C 项正确；数字之间均为加减法运算，则式子可变形为  $(35978 - 31534) + (44576 - 40132) + (15498 - 11054) + (79466 - 75022) + (87690 - 83246) = 4444 + 4444 + 4444 + 4444 + 4444 = 22220$ ，C 选项符合题意。A、B、D 选项错误。故本题应选 C 项。

19.某公司希望你能帮助他们，把产品介绍翻译成中文，你马上联系了中国的翻译公司，请他们派出 2 名翻译人员进行翻译，甲翻译员单独翻译，需要 12 小时可以完成，乙翻译员单独翻译，需要 9 小时完成，如果按照甲先乙后的顺序，每人每次 1 小时轮流进行，你帮他



们计算一下，完成这件翻译工作需要（ ）小时。



- A.10
- B.31/3
- C.11
- D.29/3

【答案】B。根据题干，可得 B 项正确；甲乙完成时间分别是 12 小时与 9 小时，则赋值总量为 36，可得甲效率为 3，乙效率为 4，甲乙轮流做，则两小时一个周期，一个周期的工作量为  $3+4=7$ ，且  $36/7=5\cdots\cdots 1$ ，即完成这个工作需 5 个周期，10 个小时，剩余一个工作量由甲完成，需要  $1/3$  个小时，则总共需要  $10+1/3=31/3$  个小时，B 选项符合题意。A、C、D 选项错误。故本题应选 B 项。

20.之后，你来到了汽车展区。西亚的某汽车销售商专门销售中国汽车，你向他们了解了中国汽车在西亚的销售量况，此销售商本年度所销售的汽车台数比上一年度上升了 20%，而每台的价格比上一年度下降了 20%，如果本年度该汽车销售商的汽车销售额为 6000 万元，那么请你帮他们计算一下，上一年度的汽车销量额是（ ）。

- A.5800 万元
- B.6000 万元
- C.6250 万元
- D.6600 万元

【答案】C。根据已知条件，可得 C 项正确；由  $\text{单价} \times \text{销量} = \text{销售总额}$ ，今年销售额为 6000 万元，赋值今年单价为 10，销量 600，由“销售商本年度所销售的汽车台数比上一年度上升了 20%，而每台的价格比上一年度下降了 20%”可知，上一年度单价为  $10 \div 0.8=12.5$ ，销量为  $600 \div 1.2=500$ ，则上一年度销售额为  $12.5 \times 500=6250$  万元，C 选项符合题意。A、B、D 选项错误。故本题应选 C 项。

21.与此汽车销售商合作的中国汽车生产厂商，需要在规定的时间内生产一批汽车，如果每天生产 280 辆，可以提前 3 天完成；如果每天生产 240 辆，就要再生产 3 天才能完成，

请你计算一下，规定完成的时间是（ ）天。

- A.39
- B.36
- C.33
- D.30

【答案】A。根据已知条件，可得 A 项正确；设规定完成时间是  $x$  天，则由条件可知  $280(x-3)=240(x+3)$ ，解得  $x=39$ ，A 选项符合题意。B、C、D 选项错误。故本题应选 A 项。

22. 西亚另外一个零件公司负责为中国汽车生产商加工汽车零件，他们现在有原材料 500 吨需要在 20 日内，将这 500 吨原材料全部加工成零件提供给中国汽车生产商，该公司每天只能加工一种零件：精密零件或普通零件，加工精密零件每日消耗原材料 30 吨，加工普通零件每日消耗原材料 10 吨，加工精密零件每消耗一顿原材料可以盈利 1050 元，加工普通零件每消耗一顿原材料可以盈利 270 元，请你帮助他们计算一下，该公司完成这项工作后可以盈利（ ）元。

- A.174000
- B.162000
- C.210000
- D.486000

【答案】D。根据已知条件，可得 D 项正确；设加工精密零件需要  $x$  天，加工普通零件需要  $y$  天，则可得出以下关系式： $30x+10y=500$ ； $x+y=20$  解得： $x=15$ ， $y=5$ ，因此最后这项工作后可以盈利： $30 \times 15 \times 1050 + 10 \times 5 \times 270 = 486000$ ，D 选项符合题意。A、B、C 选项错误。故本题应选 D 项。

23. 博览会上，汽车销售商，生产商，零件商，三家公司谈判愉快，准备签署合作协议，但是他们忘记带重要的文件，于是他们匆匆赶到机场，分别乘坐甲、乙、丙三架飞机回各自的公司取文件。三架飞机于上午 11:00 同时从机场出发，再次回到机场的时长如下：



起飞时间 11:00

甲往返时间4小时

乙往返时间2.5小时

丙往返时间5小时

假设这三架飞机中途不休息，请问它们下次同时到达该机场的时间将会是（ ）。

- A.11 点 40 分
- B.11 点整
- C.12 点整
- D.7 点整

【答案】D。根据题干，可得 D 项正确；下次同时到达机场说明经过的时间是三者往返时间的最小公倍数，4、2.5、5 的最小公倍数是 20，则经过 20 小时三者再次同时到达该机场。从上午 11 点向后延 20 小时即为 7 点整，D 选项符合题意。A、B、C 选项错误。故本题应选 D 项。

24.博览会上还有关于中国的图书出售，有甲、乙、丙三种书籍，甲、乙两种书的册数之比是 6: 5，如果甲销售出去  $\frac{2}{3}$ ，丙销售出去一部分，则甲和丙售出的册数比是 5: 4，这两种书剩余的量数相等，请你计算一下，甲、乙、丙这三种书原来的册数之比是（ ）。

- A.30: 25: 26
- B.6: 5: 16
- C.18: 15: 13
- D.6: 5: 26

【答案】A。根据题干，可得 A 项正确；由“如果甲销售出去  $\frac{2}{3}$ ，丙销售出去一部分，则甲和丙售出的册数比是 5: 4，这两种书剩余的量数相等”可知，丙售出的册数为  $\frac{4}{5} \times \frac{2}{3}$  甲 =  $\frac{8}{15}$  甲，则丙 -  $\frac{8}{15}$  甲 =  $\frac{1}{3}$  甲，则有甲: 丙 = 15: 13，又因为甲: 乙 = 6: 5，则甲: 乙: 丙 = 30: 25: 26，A 选项符合题意。B、C、D 选项错误。故本题应选 A 项。

25.在博览会当天还安排了歌舞表演，节目单上原有歌舞类 3 个节目，组委会想保持者 3 个歌舞类节目的相对顺序不变，再添加进去 2 个节目，请你帮他们计算一下，安排方法有（ ）种？

A.12

B.20

C.6

D.4

在博览会当天还安排了歌舞表演，节目单上原有歌舞类 3 个节目，组委会想保持者 3 个歌舞类节目的相对顺序不变，再添加进去 2 个节目，请你帮他们计算一下，安排方法有（ ）种。

A.12

B.20

C.6

D.4

【答案】B。根据已知条件，可得 B 项正确；用插空法解题，三个歌舞类节目相对顺序不变，再添加 2 个节目，且可以在三个节目的前后，即 4 个位置中选择 2 个， $A(2, 4) = 4 \times 3 = 12$ ，还可以在其中一个空中同时插入两个节目，此时有  $C(1, 4) \times A(2, 2) = 8$  种，这两种方法都能安排好节目，结果应该相加，有  $12+8=20$  种方法，B 选项符合题意。A、C、D 选项错误。故本题应选 B 项。

26.原有的 3 个节目的演员中，有 10 个 26 岁，6 个 27 岁，4 个 25 岁三个年龄的演员，现在组委会想从中随机挑选演员，如果需要保证其中有 27 岁的演员，请你帮忙计算一下，至少要选出（ ）个演员？

A.14

B.15

C.17

D.18

【答案】B。根据题干，可得 B 项正确；要保证其中有 27 岁的演员，可以先找其最不利的情况，在最不利的基础上+1，本题中的最不利情况是随机挑出的人中有 10 个 26 岁和 4 个 25 岁演员，在此基础上只要+1，就可以满足肯定有 27 岁的演员了，即为  $10+4+1=15$  人，B 选项符合题意。A、C、D 选项错误。故本题应选 B 项。

27.新增加的两个节目中，有两个小演员，一个是弟弟今年 8 岁，另外一个姐姐今年 12 岁，弟弟给你出了一个有趣的问题，当弟弟和姐姐的岁数和是 36 岁时，姐姐多少岁？

( )

- A.22
- B.20
- C.24
- D.18

【答案】B。根据题干，可得 B 项正确；由“一个是弟弟今年 8 岁，另外一个姐姐今年 12 岁”可知，姐姐和弟弟年龄差 4 岁。设当姐弟年龄和 36 岁时，姐姐年龄  $x$  岁，则  $x+(x-4)=36$ ，解得  $x=20$ ，B 选项符合题意。A、C、D 选项错误。故本题应选 B 项。

28. 回答完弟弟的问题，姐姐也给出你出了一个问题：某年 2 月有 5 个星期三，则当年 7 月 1 日为星期几？( )

- A.星期四
- B.星期五
- C.星期六
- D.星期日

【答案】D。根据已知条件，可得 D 项正确；每个月至少有四个星期，即 28 天，2 月出现 5 个星期三，说明为闰年，2 月 29 日为星期三，掐头留尾，从 2 月 29 日到 7 月 1 日共有  $31+30+31+30+1=123$  天， $123/7=7\cdots\cdots 4$ ，余 4 加 4，星期三加 4 为星期日，D 选项符合题意。A、B、C 选项错误。故本题应选 D 项。

29. 节目表演后，还有抽奖活动，所有参会者都可参与抽奖，一个袋中装有编号为 0 到 9 的十个完全相同的球，你可以在袋中摸球，一共摸两次，每次摸出一个球，摸完第一个球后，将球放回，再摸第二个球，如果第一次摸出球的数字比第二次小，就可以获奖，你计算一下，你获奖概率是( )。

- A.85%
- B.45%
- C.25%
- D.5%

【答案】B。根据题干，可得 B 项正确；两次摸球共有  $10\times 10=100$  种可能的组合。其中，两次相同的组合有 10 种。剩余 90 种组合中第一次比第二次大和第一次比第二次小各占一半，为 45 种。顾客获奖概率  $P=45/100=0.45$ ，B 项符合题意。A、C、D 选项错误。故本

题应选 B 项。

30.在本届博览会上还设置了五个奖项，A 公司的产品参加了所有五个奖项的评比，这五个奖项的计分规则都是百分制，A 公司产品的成绩如下：甲奖项得了 94 分，乙奖项得分最高，丙奖项得分等于甲奖项和丁奖项的平均分，丁将项的得分等于五个奖项的平均分，戊奖项得分比丙奖项多了 2 分，并且是五个奖项中第二高的分数了那么，请你计算一下，A 公司产品在丁奖项上得了（ ）分。

- A.95
- B.96
- C.94
- D.97

【答案】B。根据题干，可得 B 项正确；由题意可知甲：94，丙： $(94+丁)/2$ ，戊： $(94+丁)/2+2$ ，因为丁奖项得分为 5 个奖项平均分，则有甲+乙+丙+戊=4 丁，代入以上表达式可得乙=3 丁-190。因为乙得分最高，戊第二高，可知  $3 丁-190 > (94+丁)/2+2$ ，得到丁 $>95.6$ ，排除 A、C 选项。代入 B 选项，如果丁=96，则乙=98，戊=97，符合题意；若丁=97，乙=101 $>100$ ，不符题意。故本题应选 B 选。

## 南亚

### 情景职业测试-(共 44 个小题)

1.在“一带一路”国际合作高峰论坛上，各国专家聆听了中华人民共和国主席习近平在开幕式上发表的主旨演讲，演讲内容如下：

尊敬的各位国家元首，政府首脑，各位部长，各位国际组织负责人，女士们，先生们，朋友们：

“孟夏之日，万物并秀。”在这美好时节，来自 100 多个国家的各界嘉宾齐聚北京，共商“一带一路”建设合作大计，具有十分重要的意义，今天（ ）、少长咸集，我期待着大家集思广益、畅所欲言，为推动“一带一路”建设献计献策让这一世纪工程造福各国人民。

请在发言稿中空缺的地方，选择最恰当的词语

- A.人杰地灵
- B.群英荟萃
- C.钟灵毓秀
- D.群贤毕至

E.群雄毕聚

F.群星荟萃

【答案】D。所填入词语与“少长咸集”中间是顿号，表示并列，有大家聚在一起的意思。从语境看，习主席是觉得各位嘉宾都是贤能之才，共商大计。群贤毕至，指贤能者齐集，济济一堂，都汇聚在这里。毕:全。“毕至”和“咸集”二字也是并列。这八个字出自晋·王羲之《兰亭集序》：“群贤毕至，少长咸集，此地有崇山峻岭，茂林修竹。”可见，也是用典，所以，答案为D选项。

人杰地灵：山川秀丽之处有灵秀之气，能孕育出杰出的人才。

群英荟萃：许多才能出众的人聚集在一起。

钟灵毓秀：凝聚了天地间的灵气，孕育着优秀的人物。

2.下面四句话，排列顺序不是很正确，请你按正确的顺序排序。（ ）

第一句：\_\_\_\_\_

第二句：\_\_\_\_\_

第三句：\_\_\_\_\_

第四句：\_\_\_\_\_

A.我们的先辈扬帆远航，穿越惊涛骇浪，闯荡出连接东西方的海上丝绸之路。

B.2000 多年来，我们的先辈筚路蓝缕，穿越草原沙漠，开辟出联通亚欧非的陆上丝绸之路。

C.中国陕西历史博物馆珍藏的千年“鎏金铜蚕”，在印度尼西亚发现的千年沉船“黑石号”等，见证了这段历史。

D.古丝绸之路打开了各国友好交往的新窗口，书写了人类发展进步的新篇章

【答案】BADC。四句话在追述古丝绸之路，B项“2000 多年前”适合作首句。讲完陆上丝绸之路，接下来 A 项，描述海上丝绸之路的诞生。接下来，根据话题一致的原则，应该跟 D 项，说明古丝绸之路的重大意义。最后，用考古的发现例证。

3.上一题的演讲材料中的“筚路蓝缕”是什么意思？（ ）

A.是指我们的先辈不断历经风雨、经历坎坷的道路，形容旅途环境非常艰苦

B.是指我们的先辈风餐露宿、衣着破烂，形容生活非常艰辛

C.是指我们的先辈驾着简陋的柴车，穿着破烂的衣服去开辟山林道路，形容创业的艰苦

D.是指我们的先辈靠着双腿，走出一条丝绸之路，进行了艰辛和顽强的拼搏

【答案】C。最早出现于《左传·宣公十二年》：“筮路蓝缕，以启山林。”筮路：柴车；蓝缕：破衣服。意思是坐着柴车，穿着破衣服去开辟山路。用以形容创业艰辛。另有出处《史记·楚世家》：“昔我先王熊绎辟在荆山，筮路蓝缕以处草莽，跋涉山林以事天子，唯是桃弧棘矢以共王事。”

4.古丝绸之路绵亘万里，延续千年，积淀了以和平合作、开放包容、互学互鉴、互利共赢为核心的丝路精神，这是人类文明的宝贵遗产——和平合作

(1)从公元前140多年的中国汉代，一支从长安出发的和平使团，开始打通东方通往西方的道路完成了“凿空之旅”，这就是著名的张骞出使西域。

(2)中国唐宋元时期，陆上和海上丝绸之路同步发展，中国、意大利、摩洛哥的旅行家杜环、马可波罗、伊本白图泰都在陆上和海上丝绸之路留下了历史印记，

(3)15世纪初的明代，留下千古佳话，中国著名航海家郑和七次远洋航海。

(4)这些开拓事业之所以永垂不朽，是因为使用的不是战马和长矛，而是驼队和善意；依靠的不是坚船和利炮，而是宝船和友谊。一代又一代“丝路人”架起了东西方合作的纽带、和平的桥梁。

请选出没有语病的一句是（ ）。

- A.第(1)句
- B.第(2)句
- C.第(3)句
- D.第(4)句

【答案】D。A项，“从……以来”表示一段时间，选项中，应表示的是一个时间点，“从”字用法不当。B项，定语修饰有歧义。C项，语序不当，“留下千古佳话”的不是明代，而是郑和。应该是“15世纪初的明代，中国著名航海家郑和七次远洋航海，留下千古佳话。”

5.——开放包容。古丝绸之路跨越尼罗河流域、底格里斯河和幼发拉底河流域、印度河和恒河流域、黄河和长江流域，跨越埃及文明、巴比伦文明、印度文明、中华文明的发祥地，跨越佛教、基督教、伊斯兰教信众的汇集地，跨越不同国度和肤色人民的聚居地。不同文明、宗教、种族求同存异、开放包容，并肩书写相互尊重的壮丽诗篇，携手绘就共同发展的美好画卷。酒泉、敦煌、吐鲁番、喀什、撒马尔罕、巴格达、君士坦丁堡等古城，宁波、泉州、广州、北海、科伦坡、吉达、亚历山大等地的古港，就是记载这段历史的“活化石”。

用哪一句话作为上面这段文字的总结句最好呢？（ ）



- A.历史教导我们：不同的文明、宗教、种族互相之间，都是开放包容的
- B.经验告诉我们：丝绸之路是一条开放之路
- C.展望未来，只有开放包容，才能复兴四大文明
- D.历史告诉我们：文明在开放中发展，民族在融合中共存

【答案】D。这是一道语句衔接题。综合文段，总结句应该对前文进行总结。文段不止说明古丝绸之路是开放包容的，还说明了这样的开放包容能够促进发展，“并肩书写相互尊重的壮丽诗篇，携手绘就共同发展的美好画卷”。而且，前一句是关于历史的印证，下句应衔接的是历史的经验。匹配选项，只能选择D选项。

6.——互学互鉴。古丝绸之路不仅是一条通商易货之道，更是一条知识交流之路。沿着古丝绸之路，中国将丝绸、瓷器、漆器、铁器传到西方，也为中国带来了胡椒、亚麻、香料、葡萄、石榴。沿着古丝绸之路，佛教、伊斯兰教及阿拉伯的天文、历法、医药传入中国，中国的四大发明、养蚕技术也由此传向世界。（接下来的4句话应该怎么样排序？）（ ）

- 第一句：\_\_\_\_\_
- 第二句：\_\_\_\_\_
- 第三句：\_\_\_\_\_
- 第四句：\_\_\_\_\_

- A.比如，佛教源自印度，在中国发扬光大，在东南亚得到传承。
- B.儒家文化起源中国，受到欧洲莱布尼茨、伏尔泰等思想家的推崇。
- C.更为重要的是，商品和知识交流带来了观念创新。
- D.这是交流的魅力、互鉴的成果。

【答案】CABD。文段前文讲述的是商品和知识的交流。接下来，“佛教”、“儒教”是关于观点，应该先接过渡语句，所以首句为C。接下来，AB都属于举例，D项，“这”指示代词总结，举例应该在前，并有所过渡。所以第二句是A。第三句是B。尾句为D。

7.——互利共赢。(1)古丝绸之路见证了陆上“使者相望于道，商旅不绝于途”的盛况，也见证了海上“舶交海中，不知其数”的繁华。(2)在这条大动脉上，资金、技术、人员等生产要素自由流动，商品、资源、成果等实现共享。(3)阿拉木图、撒马尔罕、长安等重镇和苏尔港、广州等良港兴旺发达，罗马、安息、贵霜等古国欣欣向荣，中国汉唐迎来盛世。(4)古丝绸之路创造了地区大发展大繁荣。

其中有一句话有一些语病，请你找出来吧。（ ）

- A.第(4)句
- B.第(3)句
- C.第(2)句
- D.第(1)句

【答案】B。定语修饰有歧义。

8.历史是最好的老师,对以上(2-7题)讲话内容,最精确的总结是( )。

A.丝绸之路的开辟,有力地促进了东西方的经济文化交流,对促成汉朝的兴盛产生了积极作用。这条丝绸之路,至今仍是中西交往的一条重要通路

B.丝绸之路作为起始于古代中国,连接亚洲、非洲和欧洲的商业,贸易路线,曾经对东西方经济、文化、社会发展产生过重大作用和影响

C.丝绸之路在古代是一条横贯亚洲、连接欧亚大陆的著名陆上,商贸通道

D.这段历史表明,无论相隔多远,只要我们勇敢迈出第一步,坚持相向而行,就能走出一条相遇相知、共同发展之路,走向幸福安宁和谐美好的远方。

【答案】D。历史的作用,更多是以史为鉴,从历史中获得启迪。A项,提到促成汉朝兴盛,对于总结来说太窄,也没有说到对未来的启发。B项,只说到曾经。C项,定义化的铺述。都不适合作为总结。所以,正确答案为D选项。

9.(一)世界经济增长需要新动力,发展需要更加普惠平衡,贫富差距鸿沟有待弥合。

(二)各国之间的联系从来没有像今天这样紧密,世界人民对美好生活的向往从来没有像今天这样强烈,人类战胜困难的手段从来没有像今天这样丰富。

(三)世界多极化、经济全球化、社会信息化、文化多样化深入发展,和平发展的大势日益强劲,变革创新的步伐持续向前。

(四)和平赤字、发展赤字、治理赤字,是摆在全人类面前的严峻挑战。这是我一直思考的问题。

(五)地区热点持续动荡,恐怖主义蔓延肆虐。

(六)从历史维度看,人类社会正处于一个大发展大变革大调整时代。

(七)从现实维度看,我们正处在一个挑战频发的世界。

- A.第一句
- B.第二句
- C.第三句

D.第四句

E.第五句

F.第六句

G.第七句

以上这段文字，语序有些错乱，请你选出一个正确的顺序：（ ）。

**【答案】**ECBGFAD。这是题中七句话每句的顺序，文段是一带一路提出的背景，从历史和现实两个维度，历史维度应该在前。“从历史维度看，人类社会正处于一个大发展大变革大调整时代”是第一句 A。根据话题一致，接下来应该说处于的大时代，“世界多极化、经济全球化、社会信息化、文化多样化深入发展，和平发展的大势日益强劲，变革创新的步伐持续向前”为第二句 B。接下来，更细化的阐述，第三句 C 是“各国之间的联系从来没有像今天这样紧密，世界人民对美好生活的向往从来没有像今天这样强烈，人类战胜困难的手段从来没有像今天这样丰富。”接下来，从现实维度来看，“从现实维度看，我们正处在一个挑战频发的世界”为第四句 D。然后先从大的方面说明现实的挑战，“世界经济增长需要新动力，发展需要更加普惠平衡，贫富差距鸿沟有待弥合”为第五句 E。接下来，更细致的描述，“地区热点持续动荡，恐怖主义蔓延肆虐”为第六句 F。最后，“和平赤字、发展赤字、治理赤字，是摆在全人类面前的严峻挑战。这是我一直思考的问题”是尾句 G。

10. **【多选题】**2013 年秋天，我在哈萨克斯坦和印度尼西亚提出共建丝绸之路经济带和 21 世纪海上丝绸之路，即“一带一路”倡议。“桃李不言，下自成蹊。”4 年来，全球 100 多个国家和国际组织积极支持和参与“一带一路”建设，联合国大会、联合国安理会等重要决议也纳入“一带一路”建设内容。“一带一路”建设逐渐从理念转化为行动，从愿景转变为现实，建设成果丰硕。

对上面这段文字中，“桃李不言，下自成蹊”的理解，正确的是（ ）。

- A. “一带一路”倡议充分体现了当代中国的“道路自信”
- B. 当代中国无疑正是“桃李”一般的嘉木，得到了众多国家和国际组织的积极支持
- C. “一带一路”倡议具有很大的感召力
- D. 行在言先，中国人本是重视“实践和实效”的民族，不尚空谈和清谈

**【答案】**ABCD。“桃李不言，下自成蹊”，原意是桃树和李树不招引人，但因它有花和果实，人们在它下面走来走去，便走成了一条小路。比喻为人品德高尚，诚实、正直，用不着自我宣言，就自然受到人们的尊重和敬仰。“一带一路”的提出，体现了我们的道路自信，

当代中国本身就是佳木，注重实践和实效，不空谈，但仍旧能够得到众多国家和国际组织的积极支持，所谓得道多助失道寡助。ABCD 都是正确的。

11.这是政策沟通不断深化的 4 年。我多次说过，“一带一路”建设不是另起炉灶、推倒重来，而是实现战略对接、优势互补。我们同有关国家协调政策，包括俄罗斯提出的欧亚经济联盟、东盟提出的互联互通总体规划、哈萨克斯坦提出的“光明之路”、土耳其提出的“中间走廊”、蒙古提出的“发展之路”、越南提出的“两廊一圈”、英国提出的“英格兰北方经济中心”、波兰提出的“琥珀之路”等。中国同老挝、柬埔寨、缅甸、匈牙利等国的规划对接工作也全面展开。中国同 40 多个国家和国际组织签署了合作协议，同 30 多个国家开展机制化产能合作。本次论坛期间，我们还将签署一批对接合作协议和行动计划，同 60 多个国家和国际组织共同发出推进“一带一路”贸易畅通合作倡议

这段文章的主旨是什么呢？（ ）

- A. “一带一路”与其他区域经济政策对接，存在一定的难度
- B. “一带一路”可以完全替代各地区的经济计划
- C. “一带一路”与各地区的经济政策存在一定的冲突
- D.各方面政策对接，实现了“一加一大于二”的效果

【答案】D。文段一开始说明这是政策沟通深化的四年，强调战略对接。接下来，举例来说明，我国和许多国家达成政策对接沟通方面的成果。所以匹配选项，答案为 D 选项。

12.——这是贸易畅通不断提升的 4 年。(1)同“一带一路”参与国大力推动贸易和投资便利化，不断改善营商环境。(2)我了解到，仅哈萨克斯坦等中亚国家农产品到达中国市场的通关时间就缩短了 90%。(3)2014 年至 2016 年，中国同“一带一路”沿线国家贸易总额超过 3 万亿美元。中国对“一带一路”沿线国家投资累计超过 500 亿美元。(4)中国企业已经在 20 多个国家建设 56 个经贸合作区，为有关国家创造近 11 亿美元税收和 18 万个就业岗位。

这段文章中，有一些句子有语病，请选出没有语病的一句话（ ）。

- A.第(2)句
- B.第(3)句
- C.第(1)句
- D.第(4)句

【答案】B。1 句主语缺失，“同”字前面加“中国”两个字。2 句仅修饰不明。4 句，

56 个经贸合作区建设在一个国家还是 56 个国家，不明确。答案为 B 选项。

13.——这是资金融通不断扩大的 4 年。融资瓶颈是实现互联互通的突出挑战，中国同“一带一路”建设参与国和组织开展了多种形式的金融合作。亚洲基础设施投资银行已经为“一带一路”建设参与国的 9 个项目提供 17 亿美元的贷款，“丝路基金”投资达 40 亿美元，中国同中东欧“16+1”金融控股公司正式成立。这些新型金融机制同世界银行等传统多边金融机构各有侧重、互为补充，形成层次清晰、初具规模的“一带一路”金融合作网络。

——这是民心相通不断促进的 4 年。“国之交在于民相亲，民相亲在于心相通”。“一带一路”建设参与国弘扬丝绸之路精神，开展智力丝绸之路、健康丝绸之路等建设，在科学、教育、文化、卫生、民间交往等各领域广泛开展合作，为“一带一路”建设夯实民意基础，筑牢社会根基。中国政府每年向相关国家提供 1 万个政府奖学金名额，地方政府也设立了丝绸之路专项奖学金，鼓励国际文教交流。各类丝绸之路文化年、旅游年、艺术节、影视桥、研讨会、智库对话等人文合作项目百花纷呈，人们往来频繁，在交流中拉近了心与心的距离。

“一带一路”的丰硕成果表明了什么呢（ ）？

- A. “一带一路”倡议顺应时代潮流，适应发展规律，符合各国人民利益，具有广阔前景
- B. “一带一路”已经取得了最终的成功，各国人民已经获得了巨大的利益
- C. “一带一路”使所有国家都受益匪浅
- D. “一带一路”带来的收益远远大于弊端

【答案】A。各方面的丰硕成果，表明“一带一路”是顺应发展规律，具有广阔前景的。A 项正确。B 项，“已经取得了最终的成功”错误。C 项，“所有国家”错误。D 项，文段并没有提到弊端。所以答案为 A 选项。

14.第一，我们要将“一带一路”建成和平之路。古丝绸之路，和时兴，战时衰。“一带一路”建设离不开和平安宁的环境。我们要构建以合作共赢为核心的新型国际关系，打造对话不对抗、结伴不结盟的伙伴关系。各国应该尊重彼此主权、尊严、领土完整，尊重彼此发展道路和社会制度，尊重彼此核心利益和重大关切：

(1) 要着力斡旋调解，坚持公道正义；要着力推进反恐，标本兼治，消除贫困落后和社会不公

(2) 我们要树立共同、综合、合作、可持续的安全观，营造共建共享的安全格局。要着力化解热点，坚持政治解决

(3) 这种状况不能再持续下去

(4) 古丝绸之路沿线地区曾经是“流淌着牛奶与蜂蜜的地方”如今很多地方却成了冲突动荡和危机挑战的代名词

以上4句话，最恰当的语序是什么呢？（ ）

- A. (4) (2) (3) (1)
- B. (1) (2) (3) (4)
- C. (1) (2) (4) (3)
- D. (4) (3) (2) (1)

【答案】D。首先从选项入手，1句缺主语，应该是承接前文主语，所以应该跟在2句后面，不应该做首句，所以排除BC。4句做首句，现状化描述，根据话题一致原则，3句，“这种状况”承接，答案为D选项。21句，说明，针对这样的现象，我们应该怎么做。

15. (1) 第二，我们要将“一带一路”建成繁荣之路

(2) 发展是解决一切问题的总钥匙

(3) 推进“一带一路”建设，要聚焦发展这个根本性问题，释放各国发展潜力，实现经济大融合、发展大联动、成果大共享

(4) 产业是经济之本，我们要深入开展产业合作，推动各国产业发展规划相互兼容。相互促进，抓好大项目建设，加强国际产能和装备制造合作，抓住新工业革命的发展新机遇，培育新业态，保持经济增长活力

以下哪个选项是正确的呢？（ ）

- A. 全都没有语病
- B. 第(4)句有语病
- C. 第(3)句有语病
- D. 第(2)句有语病
- E. 第(1)句有语病

【答案】A。此题各句均没有语病，因此选择A项。

第三，我们要将“一带一路”建成开放之路，开放带来进步，封闭导致落后。(1) 我们欢迎各国结合自身国情，积极发展开放型经济，参与全球治理和公共产品供给，携手构建广泛的利益共同体，(2) 对一个国家而言，开放如同（ ），虽然经历一时阵痛，但将换来新生(3) 我们要打造开放型合作平台，维护和发展开放型世界经济，共同创造有利于开放发展的环境，推动构建公正、合理、透明的国际经贸投资规则体系，促进生产要素有序流动，

资源高效配置、市场深度融合（4）“一带一路”建设要以开放为导向，解决经济增长和平衡问题。

16.这段文章中，带序号的四句话的排序正确吗？（ ）

- A.正确
- B.错误

【答案】错误。正确序号为，2431。首先，应该对开放进行解读，对国家意味着什么。所以2为首句，接下来，联系“一带一路”，应该以开放为导向，跟4。再接下来，是具体应该怎么做，1和3比较，应该是先己后人，所以3在前，1在后。

17.请为文中括号处选出一个最恰当的词语（ ）。

- A.浴火重生
- B.绝处逢生
- C.破茧成蝶
- D.雏鹰展翅
- E.凤凰涅槃

【答案】C。“虽然经历一时阵痛，但将换来新生”，解释性语句，匹配选项，有这样含义的，是AE。但浴火重生和凤凰涅槃，语义过重。所以，答案为C选项。

18.下面几句话，排列顺序不是很正确，请你按正确的顺序排序（ ）。

- 第一句：\_\_\_\_\_
- 第二句：\_\_\_\_\_
- 第三句：\_\_\_\_\_
- 第四句：\_\_\_\_\_
- 第五句：\_\_\_\_\_

- A.我们要有“向外看”的胸怀，维护多边贸易体制
- B.贸易是经济增长的重要引擎
- C.建设开放、包容、普惠、平衡、共赢的经济全球化
- D.推动自由贸易区建设，促进贸易和投资自由化便利化
- E.当然，我们也要着力解决发展失衡、治理困境、数字鸿沟、分配差距等问题

【答案】BADEC。首先定义化铺述，B项，强调贸易的重要性。接下来，浏览选项，是对策化描述，CD缺主语，E“我们也要”应该后置。所以，接下来，应该是A和D。接

下来，E，提出也要解决各种不均衡的问题，要达到平衡，C。

19.第四，我们要将“一带一路”建成创新之路。创新是推动发展的重要力量。“一带一路”建设本身就是一个创举，搞好“一带一路”建设也要向创新要动力。我们要坚持创新驱动发展，加强在数字经济、人工智能、纳米技术、量子计算机等前沿领域合作，推动大数据、云计算、智慧城市建设，连接成21世纪的数字丝绸之路。我们要促进科技同产业、科技同金融深度融合，优化创新环境，集聚创新资源。我们要为互联网时代的各国青年打造创业空间、创业工厂，成就未来一代的青春梦想。

用哪一句话作为上面一段话的总结句，最好呢？（ ）

- A.创新之路，将开启“一带一路”沿线国家合作、共赢的新航程
- B.创新就是以市场换技术，全面打开市场才能换取创新之路
- C.创新就是创业，创新之路就是创业之路，我们要大力鼓励“大众创业，万众创业”
- D.创新之路关键是要依靠制度创新、组织创新、政策创新和文化创新

【答案】A。总结句，也就是要对前文内容进行总结。文段主要说明，创新对于“一带一路”的重要性。BCD都没有提到“一带一路”。A项，根据文段进行展望，所以，答案是A选项。

20.女士们、先生们、朋友们！（1）中国古语讲：“不积跬步，无以至千里。”阿拉伯语说“金字塔是一块块石头垒成的。”（2）欧洲也有句话：“伟业非一日之功。”（3）“一带一路”建设事业是重要的阵地，还需要伟大的实践。（4）让我们一步一个脚印推进实施，一点一滴抓出成果，造福世界，造福人民！

这段文章中，哪句话是有语病的？（ ）

- A.第（4）句
- B.第（3）句
- C.第（2）句
- D.第（1）句

【答案】B。“事业”和“阵地”搭配不当。

21.论坛结束后，南亚各国的学者和代表与你进行了沟通和交流，交流内容涉及到方方面面，有文化、前沿科技、当前热点，请你为他们解答如下问题：

以下哪个是儒家的道德标准？（ ）

- A.逍遥



- B.非攻
- C.无为
- D.中庸

【答案】D。儒家讲究的是中庸之道，D项正确。逍遥是庄子的思想，属于道家流派，非攻是墨子的主张，属于墨家流派，无为是老子的思想，属于道家。所以答案选D。

22.无人驾驶汽车是智能汽车的一种，主要依靠车内的以计算机系统为主的智能驾驶仪来实现无人驾驶的目标。无人驾驶汽车是通过车载（ ）感知道路环境，自动规划行车路线并控制车辆到达预定目标的智能汽车。

- A.雷达系统
- B.动力系统
- C.传感系统
- D.照明系统

【答案】C。无人驾驶汽车是利用车载传感器来感知车辆周围环境，并根据感知所获得的道路、车辆位置和障碍物信息，控制车辆的转向和速度，从而使车辆能够安全、可靠地在道路上行驶。所以答案选C。

23.当人们还在关注 AlphaGo 的时候，AlphaGo 已不再是地球上最好的棋手，新式高超的人工智能机器人（ ）已经出现，它从零开始，仅仅通过自学使自己的游戏技能得以提高，在一场白热化对决中，它以 100:0 的不败战绩绝杀“前辈”在每场对弈结束后，他实际上都训练了一个新的神经网络。

- A.Ponanza
- B.Deepmind
- C.Alpha.Zero
- D.AlphaGo Zero

【答案】D。A 中 Ponanza 是在 16 年 在与日本职业棋手山祁隆之较量中率先取胜电脑软件；B 中的深蓝，在 20 年前的人机大战中，深蓝超级计算机战胜了国际象棋世界冠军卡斯帕罗夫 C 项 Alpha.Zero 是 AlphaGo Zero 错误的名称；D.AlphaGo Zero 即阿尔法元，是阿尔法狗的下一代，17 年 5 月阿尔法狗战胜了围棋大师柯洁，17 年 10 月靠自主强化的深度学习的阿尔法元完胜阿尔法狗，所以本题选 D。

24.太阳能使太阳内部连续不断的（ ）过程产生的能量。

- A.核衰变反应
- B.核裂变反应
- C.核辐射反应
- D.核聚变反应

【答案】D。A 中核衰变是原子核自发射出某种粒子而变为另一种核的过程；B 中核裂变是一个原子核分裂成几个原子核的变化过程中释放出巨大的原子能，容易控制和引发；C 中核辐射是原子核从一种结构变为另一种结构过程中所释放出来的微观粒子流；D 中核聚变不易控制，需要上亿度的高温，是宇宙中最常见的核反应。所以本题选 D。

25.量子卫星是中国科学院空间科学先导专项首批科学实验卫星之一，其主要科学目标是借助卫星平台，进行星地高速量子密钥分发实验，以期在（ ）实用化方面取得重大突破。

- A.爱因斯坦质能方程
- B.空间量子通信
- C.高速量子计算
- D.空间量子力学

【答案】B。空间量子通信指利用量子纠缠效应进行信息传递的，具体来讲是利用分发的共享密钥，实现加密数据传输以及视频通信，而量子通信是建立在量子力学的基础上。所以本题选 B。

26.图灵测试的标准是当超过（ ）的测试者不能确定被测试者是人还是机器，那么这台机器就通过了测试，并被认为具有人类智能。

- A.30%
- B.40%
- C.50%
- D.60%

【答案】A。图灵测试是指如果电脑程序能在 5 分钟内回答由人类测试者提出的一系列问题，且超过 30% 的回答让测试者误认为是人类回答，则电脑通过测试。据此 BCD 错误，所以本题选 A。

27.【多选题】人脸识别技术是指利用分析比较的计算机技术识别人脸，人脸识别是一项热门的计算机技术研究领域，其中包括人脸追踪侦测，自动调整影像放大，夜间红外侦测，

自动调整曝光强度等技术，以下哪些选项使用了人脸识别技术？（ ）

- A.支付宝“刷脸支付”
- B.iPhone X 的 FaceID 功能
- C.武汉火车站“刷脸进站”系统
- D.虹膜识别门禁

【答案】ABC。人脸识别技术是指利用分析比较的计算机技术识别人脸，ABC 选项都是利用该技术识别人脸的，只有 D 选项是识别眼睛的虹膜的，所以本题选 ABC。

28.纳米技术是利用电子的（ ）进行工作。

- A.变异性
- B.粒子性
- C.波动性
- D.分解性

【答案】C。电子既有波动性又具有粒子性，纳米技术是利用电子的波动性来工作的，是以控制单个原子、分子来实现特定功能，而微电子技术是利用了电子的粒子性来工作的，主要通过控制电子群体来实现其功能，所以本题选 C。

29.计算机管理信息的本质是（ ）。

- A.数据仓库系统
- B.人机管理系统
- C.大型网络系统
- D.人工智能系统

【答案】B。计算机信息系统，是指由计算机及其相关的和配套的设备、设施（含网络）构成的，按照一定的应用目标和规则对信息进行采集、加工、存储、传输、检索等处理的人机管理系统。而 ACD 是现代管理信息系统，所以本题选 B。

30.“云安全（Cloud.Security）”计划是网络时代信息安全的最新体现，它融合了一些新兴技术和概念，但一般不包括（ ）。

- A.网络计算
- B.并行处理
- C.包过滤防火墙
- D.未知病毒行为判断

【答案】C。云安全是我国企业创造的概念，它融合了并行处理，网络计算，未知病毒行为判断等新兴技术和概念，通过对网络中软件行为的异常监测，获取互联网中木马、恶意程序的最新信息。据此 ABD 正确，所以本题选 C。

31.论坛在热烈的气氛中结束了，会后需要和南亚的媒体进行合作，通过传媒的方式介绍中国以及全球的时事热点，让南亚民众更加了解中国以及全球的形势。

8月1日，庆祝中国人民解放军建军（ ）周年大会在北京人民大会堂隆重举行，中共中央总书记、国家主席、中央军委主席习近平在大会上发表重要讲话。

A.95

B.90

C.100

D.85

【答案】B。1927年8月1日我党建立自己的军队，至2017年8月1日，中国人民解放军建军90周年，据此，ACD 错误，所以本题选 B。

32.十八大以来，在中国举办的大型国际会议有（ ）。

A.G20 峰会

B.金砖国家峰会

C.“一带一路”国际合作高峰论坛

D.APEC 峰会

【答案】ABCD。A 中 16 年 9 月，G20 杭州峰会在杭州召开；B 中 17 年 9 月，金砖国家领导人第九次会晤在厦门举行；C 中 17 年 5 月，“一带一路”国际合作高峰论坛在北京举行；D 中 14 年 11 月，APEC 峰会在北京召开，所以本题选 ABCD。

33.10 月 16 日，多国科学家联合宣布，人类第一次直接探测到来自双中子星合并的（ ）。

A.暗能量

B.希格斯场

C.引力波

D.暗物质

【答案】C。A 和 D 中暗能量和暗物质都不会吸收、反射或者辐射光，所以人类无法直接使用现有的技术进行观测，其中，暗能量是驱动宇宙运动的一种能量，而暗物质就像胶水

一样把宇宙中所有物质连接在一起，有研究发现暗能量导致暗物质消失，据此排除 AD；B 中希格斯场是苏格兰物理学家彼得·希格斯发现的物理机制中的一个标准模型。C 中引力波是双中子星合并发出的电磁信号。所以本题选 C。

34. ( ) 是一种可以创建和体验虚拟世界的计算机仿真系统，它利用计算机生成一种模拟环境，是一种多源信息融合的、交互式的三维动态视景和实体行为的系统仿真，使用户沉浸到该环境中。

- A. 虚拟现实技术 VR
- B. 影像现实技术 CR
- C. 增强现实技术 AR
- D. 混合虚拟技术 MR

【答案】A。虚拟现实技术是一种可以创建和体验虚拟世界的计算机仿真系统。它利用计算机生成一种模拟环境，是一种多源信息融合的交互式的三维动态视景和实体行为的系统仿真。据此 BCD 错误，所以本题选 A。

35. 2016 年，中国工商银行连续第 4 年蝉联《银行家》全球 1000 家大银行、美国《福布斯》全球企业 2000 强和美国《财富》“500 强商业银行子榜单”3 个权威排行榜的 ( )。

- A. 第一名
- B. 第二名
- C. 第三名
- D. 第四名

【答案】A。中国工商银行在 2016 年，连续第 4 年蝉联《银行家》全球 1000 家大银行、美国《福布斯》全球企业 2000 强和美国《财富》“500 强商业银行子榜单”3 个权威排行榜的榜首。据此 BCD 错误，所以本题选 A。

36. 2017 年 10 月 24 日上午，党的十九大通过了关于《中国共产党章程（修正案）》的决议。大会一致同意，在党章中把习近平 ( ) 同马克思列宁主义、毛泽东思想、邓小平理论、“三个代表”重要思想、科学发展观一道确立为党的行动指南。

- A. 现代化中国特色社会主义
- B. 中国特色社会主义思想
- C. 新时代中国特色社会主义思想
- D. 百年中国特色社会主义

【答案】C。党的十九大会议上一致同意，在党章中把习近平新时代中国特色社会主义思想同马克思列宁主义、毛泽东思想、邓小平理论、“三个代表”重要思想、科学发展观一道确立为党的行动指南。据此 ABD 错误，所以本题选 C。

37.9 月 29 日，中国在西昌卫星发射中心，成功将（ ）卫星发射升空，此卫星将主要用于科学试验、国土资源普查、农作物估产及防灾减灾等领域。

- A.遥感三十号
- B.风云四号
- C.实践十三号
- D.墨子号量子

【答案】A。A 中 9 月 29 日 12 时 21 分，我国在西昌卫星发射中心用长征二号丙运载火箭，成功将遥感三十号 01 组卫星发射升空。B 中风云四号气象卫星是 16 年 12 月 11 日在西昌卫星发射中心点火成功的。C 中实践十三号通信卫星是在 17 年 4 月 12 日在西昌卫星发射中心发射升空。D 中墨子号量子科学实验卫星是在 16 年 8 月 16 日在酒泉卫星发射中心发射成功。所以本题选 A。

38.2017 年 9 月 21 日，美联储正式宣布从今年 10 月开始启动渐进式缩表，所谓缩表，即缩减（ ）。

- A.资产负债表
- B.主要资产表
- C.主要负债表
- D.资产收益表

【答案】A。所谓缩表，即缩减资产负债表的规模，也就是资产和负债要同时减少，资产方面减少当时买来的债券和 MBS，而在负债端收回美元。美联储通过直接抛售所持债券或停止到期债券再投资的方式，可实现对基础货币的直接回收，是更为严厉的紧缩政策。所以本题选 A。

39.（ ）是具有中国自主知识产权。世界最大单口径、最灵敏的射电望远镜，10 月 10 日，其探测到优质脉冲星候选体达数十个，其中目前已通过系统认证的达 6 颗。

- A.天空之眼
- B.中国天眼
- C.TMT

D.巨型麦哲伦望眼镜

【答案】A。中国“天眼”500米口径球面射电望远镜工程由中国天文学家于1994年提出构想，从预研到建成历时22年，是具有中国自主知识产权、世界最大单口径、最灵敏的射电望远镜。所以本题选A。

40.10月12日，经中央军委批准，中央军委办公厅日前印发（ ），这是新形势下发挥军队资源优势推动全民国防教育普及深入的重要举措。

- A.《我军军事职业教育改革部署展开》
- B.《关于加快推进建设现代营房的意见》
- C.《中国人民解放军军营开放办法》
- D.《中国共产党军队委员会工作条例》

【答案】A。中国民兵北京10月12日消息，经中央军委批准，中央军委办公厅日前印发《中国人民解放军军营开放办法》（以下简称《办法》）。这是新形势下发挥军队资源优势推动全民国防教育普及深入的重要举措，为各部队规范有序组织军营向社会开放提供了基本遵循。所以本题选A。

41.【多选题】特朗普当选美国总统后，美国都退出了以下哪些组织或协议？（ ）

- A.《巴黎气候协议》
- B.《京都议定书》
- C.联合国教科文组织
- D.跨太平洋伙伴关系协定

【答案】ACD。自今年1月特朗普就任美国总统以来，美国就在1月23日宣布退出TPP（跨太平洋伙伴关系协定）、随后在6月宣布退出巴黎气候协定、在10月12日宣布退出联合国教科文组织（UNESCO），表明了美国强烈的功利外交政策。所以本题选ACD。

42.10月18日，中国共产党第十九次全国代表大会开幕，习近平总书记代表十八届中央委员会向大会作报告，报告中指出，我国社会主要矛盾已经转化为（ ）。

- A.经济基础和上层建筑的矛盾
- B.生产关系和生产力、上层建筑和经济基础基本适应条件下的矛盾
- C.人民日益增长的物质文化需要同落后的社会生产之间的矛盾
- D.人民日益增长的美好生活需要和不平衡不充分的发展之间的矛盾

【答案】D。习近平强调，中国特色社会主义进入新时代，我国社会主要矛盾已经转化

为人民日益增长的美好生活需要和不平衡不充分的发展之间的矛盾。而人民日益增长的物质文化需要同落后的社会生产之间的矛盾是十九大召开前我国社会的主要矛盾，所以本题选 D。

43. ( ) 是超大型跨海通道，全长 55 公里，建成后成为世界最长的跨海大桥，预计 2017 年年底或 2018 年建成通车。

- A. 港珠澳大桥
- B. 港深澳大桥
- C. 厦漳跨海大桥
- D. 杭州湾跨海大桥

【答案】A。港珠澳大桥是连接香港、珠海、澳门的超大型跨海通道，全长 55 公里，建成后将成为世界最长的跨海大桥，所以本题选 A。

44. ( ) 载人潜水器是一艘由中国自行设计、自主集成研制的载人潜水器，也是 863 计划中的一个重大研究专项。当前最大下潜深度 7062.68 米，理论上它的工作范围可覆盖全球 99.8% 海洋区域。

- A. 蛟龙号
- B. 彩虹鱼号
- C. 远征号
- D. 长征号

【答案】A。载人潜水器是具有水下观察核作业能力的潜水装置，主要用来执行水下考察，海底勘探与开发等，而蛟龙号载人潜水器在 2012 年 6 月 27 日，到达 7062.68 米。彩虹鱼号是上海海洋大学深渊科学技术研究中心正在研制的 11000 米全海深载人深潜器；我国核潜艇是我国海军核潜艇部队的主力装备，长征 1 号是我国第一艘核潜艇，远征号也是我国的核潜艇，所以本题选 A。

## 东南亚

### 情景职业测试-(共 26 个小题)

1. 银行业务部门，中国五大银行都是综合性大型银行，业务涵盖广泛且多元化，代表着中国金融界最雄厚的资本和实力。强大的中国五大银行的实力，领新成立的联合银行的成员们分厂敬佩。因此你给他们讲解了一些中国银行行业方面的基础知识。



( )是指商业银行因没有遵循法律、规则和准则可能操守法律的制裁、监管处罚、重大财产损失和声誉损失的风险。

- A.战略风险
- B.合规风险
- C.市场风险
- D.声誉风险

【答案】B。本题考查的是金融风险。A 战略风险：银行在追求短期商业目的和长期发展目标系统化管理过程中，不适当的未来发展规划和战略决策可能威胁银行未来发展的潜在风险。B 合规风险：商业银行因没有遵循法律、规则和准则可能操守法律的制裁、监管处罚、重大财产损失和剩余损失的风险。C 市场风险：因市场价格的不利变动而使银行表内和表外业务发生损失的风险。包括利率风险、汇率风险、股票价格风险、商品价格风险四大类。D 声誉风险：金融机构因受公众的负面评价，而出现客户流失、股东流失、业务机遇丧失、业务成本提高等情况，从而蒙受相应经济损失的可能性。所以答案选 B。

2.国际收支包括经常项目和资本项目。经常项目主要反映一国的贸易和劳务往来状况，包括贸易收支、劳务收支和( )是最具有综合性的对外贸易指标。

- A.企业借贷
- B.单方面转移
- C.政府和银行的借款
- D.直接投资

【答案】B。本题考查的是国际收支概述。经常账户：包括货物、服务、收入和经常转移(单方面转移)，所以 B 是正确的，企业借贷记入金融账户，故 A 项错误；政府和银行的借款记入金融账户，故 C 项错误；直接投资记入金融账户，故 D 项错误。所以答案选 B。

3.法定存款准备金是指商业银行为保证客户提取存款和( )需要而准备的资金，包括商业银行的库存现金和缴存中央银行的准备金存款两部分。

- A.资金清算
- B.同业拆借
- C.发放贷款
- D.市场交易

【答案】A。本题考查的是商业银行资产业务。存款准备金是指金融机构为保证客户提

取存款和资金清算需要而准备的在中央银行的存款,包括商业银行的库存现金和缴存中央银行的准备金存款两部分,故 A 项正确;同业拆借是金融机构之间的临时性资金借贷,故 B 项错误;贷款是指金融机构向企业发放贷款,故 C 项错误;市场交易是指经济主体参与市场经济活动,故 D 项错误。所以答案选 A。

4.由交易双方信息不对称和市场价格下降产生的劣质品驱逐优质品,进而出现市场交易产品平均质量下降的现象称为( )。

- A.市场失衡
- B.市场扭曲
- C.逆向选择
- D.劣品选择

【答案】C。逆向选择是指由于交易双方信息不对称和市场价格下降产生的劣质品驱逐优质品,这种现象叫做逆向选择,是一种事前行为,故 C 项正确;市场失衡是指市场供求不匹配,故 A 项错误;市场扭曲是指市场失灵,不能使资源得到最优配置,故 B 项错误;劣品是指劣质产品,故 D 项错误。所以答案选 C。

5.在金融监管的对象中,一国的整个金融体系都可视为金融监管的对象,包括国内银行业金融机构等,以下属于银行业金融机构的是( )。

- A.基金监管公司
- B.银行附属公司
- C.城市商业银行
- D.小额信贷公司

【答案】C。银行类金融机构是指在中华人民共和国境内设立的商业银行、城市信用合作社、农村信用合作社等吸收公众存款的金融机构以及政策性银行,故 C 项正确;金融市场上不存在基金监管公司,故 A 项错误;非银行金融机构是指除商业银行和政策性银行以外的所有金融机构,主要包括信托、证券、保险、融资租赁、银行附属机构、财务公司、贷款公司等,所以 BD 均属于非银行金融机构,故 BD 均错误。所以答案选 C。

6.股票估值中的绝对估值是通过对公司历史及当前的基本面的分析和对未来反应公司经营状况财务数据的预测获得上市公司股票的内在价值。以下属于绝对估值的方法是( )。

- A.EV/EBITDAR 倍数法

- B.企业价值书估值法
- C.现金流贴现定价模型
- D.市盈率 PE 估值方法

【答案】C。绝对估值的方法是指现金流贴现定价模型和 B-S 期权定价模型（主要应用于期权定价、权证定价等），故 C 项正确；相对估值包括市盈率 PE、市净率 PB、PEG、企业价值倍数（EV/EBITDA 估值法）等估值法，所以 AD 属于相对估值，故 AD 错误；股票估值中没有企业价值书估值法，故 B 项错误。所以答案选 C。

7.预期通货膨胀理论由货币主义者提出，强调现在对未来的营销，与其很相似的通货膨胀理论是（ ）。

- A.结构性通货膨胀理论
- B.惯性通过膨胀理论
- C.需求拉上的通货膨胀理论
- D.供给推动的通货膨胀理论

【答案】B。惯性通货膨胀是由于预期通货膨胀率而持续存在的通货膨胀，和预期通货膨胀理论很相似，两个理论是从不同的角度解释了通货膨胀的可预期性，故 B 项正确；结构性通货膨胀指物价上涨是在总需求并不过多的情况下，而对某些部门的产品需求过多造成部分产品的价格上涨现象，如钢铁、猪肉、楼市、食用油等，与题干无关，故 A 项错误；需求拉动的通货膨胀又称超额需求通货膨胀，是指总需求超过总供给所引起的一般价格水平的持续显著的上涨，不符合题意，故 C 项错误；供给推动的通货膨胀又称成本推动通货膨胀，是指在没有超额需求的情况下由于供给方面成本的提高所引起的一般价格水平持续和显著的上涨，也不符合题意，故 D 项错误。所以答案选 B。

8.产业投资基金一般是指向具有高增长潜力的未上市企业进行股权或准股权投资，并参与被投资企业的经营管理，以期所投资企业发育成熟后通过股权转让实现资本增值。关于契约型产业投资基金的说法错误的是（ ）。

- A.由于管理公司拥有充分的管理和运作基金的权力，基金资产的支配不会被追求短期利益的意图所影响
- B.是以股份公司形式存在或以有限合伙形式设立，基金的每个投资者都是基金公司的股东或者投资人
- C.契约型产业投资基金的投资者不是股东，仅是信托契约的当事人和基金的受益者，无

权参与管理决策

D. 契约型产业投资基金不是法人，必须委托管理公司管理运作基金资产，所有权和经营权得到彻底分离

【答案】B。契约型产业投资基金不是以股份公司形式存在，投资者不是股东，而仅仅是信托契约的当事人和基金的受益者，无权参与管理决策，故 C 项正确；B 项错误；由于管理公司拥有充分的管理和运作基金的权力，契约型产业投资基金资产的支配，不会被众多小投资者追求短期利益的意图所影响，符合现代企业制度运作模式，故 A 项正确；契约型产业投资基金不是法人，必须委托管理公司管理运作基金资产，所有权和经营权得到彻底分离，故 D 项正确。故 B 项错误。

9. 由商品的价值变动所引起的商业相对价格的变动。进而由商业的相对价格变动所引起的商品需求量的变动，称为（ ）。

- A. 替代效应
- B. 消费效应
- C. 收入效应
- D. 变动效应

【答案】A。商品的价格变动会引起两种效应，收入效应和替代效应。收入效应是指商品价格变化使人们的实际收入发生变化；而替代效应是指由商品的价值变动所引起的商业相对价格的变动，此题考查替代效应的定义，因此答案选 A。

10. 在资本完全流动的浮动汇率下，扩张性的货币政策，一般不会出现的是（ ）。
- A. 进口增加
  - B. 收入增加
  - C. 资本涌入
  - D. 利率下降

【答案】C。在资本完全流动的浮动汇率下，扩张的货币政策会使得 LM 曲线向右移动，收入水平上升，利率下降，增加了资本净流出，降低了汇率，有利于进口增加，并增加了净出口。

11. 微观经济政策是指为提高资源配套效率、调节微观经济行为主体关系的有关政策，以下属于微观经济政策的是（ ）。

- A. 需求管理

- B.价格政策
- C.供给管理
- D.国际经济政策

【答案】B。价格政策通过影响商品价格来调节经济，价格因素主要是微观因素，通过价格机制提高资源配置效率，因此答案选B。需求管理是指按照凯恩斯主义经济学，在通常的情况下，经济中的有效需求是不足的。所以，充分就业状态下的国民收入均衡不可能自行实现，而只有通过总需求，即对有效需求的管理，才能实现充分就业均衡。供给管理是通过总供给的调节来达到宏观经济目标，其中包括对劳动力、工资、价格、产量增长等的管理与调节。选项AC都为宏观经济政策。

12.在基础汇率的基础上计算出来的本币与非关键货币之间的汇率，规范的属于称为（ ）。

- A.折算汇率
- B.换算汇率
- C.套算汇率
- D.基本汇率

【答案】C。套算汇率又称交叉汇率，是指在基础汇率基础上套算出来本币与非关键货币之间的汇率，故C项正确；没有折算汇率和换算汇率这样的说法，故AB错误；基本汇率是指本国货币与国际上某一关键货币的兑换比率，故D项错误。所以答案选C。

13.财会部门：财会部门在制订会计政策和处理会计事务中，非常需要了解中国的会计事务。因为随着中国经济的快速发展，国际经济重心地位的确立，使得中国的会计理论、方法体系、行为方式、规范范式等在国际会计中起到作用，逐步被国际会计认可接受。你为他们重点培训了三个关于中国财会领域的知识点。

中国企业会计准则体系和应用指南。具体准则是在基本准则的指导下。处理会计具体业务标准的规范。其内容不包括（ ）。

- A.特殊行业和特殊业务准则
- B.财务报告准则
- C.会计框架准则
- D.一般业务准则

【答案】C。根据《企业会计准则——具体会计准则》的规定《企业会计准则——具体

会计准则》分为一般业务准则、特殊行业的特定业务准则和财务报告准则三大类。所以故 C 项正确。所以答案选 C。

14. 会计分录在实际工作中，是通过填制记账凭证来实现的，它是保证跨级记录正确可靠的重要环节。会计分录有两种（ ）。

- A. 标准分录和特殊分录
- B. 单一分录和综合分录
- C. 简单分录和复杂分录
- D. 简单分录和符合分录

【答案】C。据会计分录涉及账户的多少，可以分为简单分录和复合分录。简单分录是指只涉及两个账户的会计分录，即一借一贷的会计分录；复合分录是指涉及两个（不包括两个）以上账户的会计分录。复合分录也称复杂分录。反映经济业务时涉及两个以上账户的会计分录。在借贷记账法下，复杂分录一般表现为一“借”多“贷”、一“贷”多“借”或多“借”多“贷”三种形式的分录。会计分录中没有特殊分类的说法故 A 项错误；会计分录中没有综合分类的说法故 B 项错误；会计分录中没有符合分类的说法选项，故 D 项错误。所以答案选 C。

15. 根据《实际署关于内部审计工作的规定》，中国内部审计的对象不包（ ）。

- A. 本部门的会计账目
- B. 所属单位的会计账目
- C. 本单位注册资金的验证
- D. 所属单位财务管理的咨询服务

【答案】B。审计对象可以概括为被审计单位的经济活动，具体包括两个方面的内容：1. 被审计单位的财政财务收支及其有关的经济活动。2. 被审计单位提供的各种财政财务收支状况及其有关经济活动信息的载体。根据审计对象划分 A 属于被审计单位提供的有关经济活动信息载体，故 A 项错误；B 所属单位的会计账目可能涉及跨单位审计，并非仅是被审单位自己，故 B 项正确；CD 属于被审计单位的财政财务收支及其有关的经济活动故 CD 项错误。所以答案选 B。

16. 管理部门：随着中国经济的发展，优秀的大型企业不断涌现。在 1995 年的《财富》世界 500 强排行榜上，中国大陆只有 2 家企业上榜。2000 年增加到了 9 家。而在 2016 年的这份榜单上，中国大陆企业的数量已经达到了 110 家。在这令人惊叹的成绩单后面，是优秀

的企业管理水平急需提高的结果。联合银行的管理部门急需你给予一些企业管理方面的经验。你为他们讲解了两个与企业管理相关的问题。

对于公司各种权利合理分配、相互制约，进行配置的原则是（ ）。

- A. 权力均衡原则
- B. 赋权配置原则
- C. 分权制衡原则
- D. 授权约束原则

【答案】C。本题考察公司法基本原则。公司法的基本原则是社会主义市场经济体制下公司运行规律的反映，其效力贯穿于公司法的始终，是贯彻于公司运行始终、调整公司内外部关系的根本准则。公司法基本原则包括分权制衡原则，利益均衡原则，股东股权平等原则，自治原则，股东有限责任原则，法人所有权原则。所以 A、B、D 项错误，没有此类说法。分权制衡原则是指公司有效运转的制度安排与实现，是以对公司各种权力合理分配、相互制衡为出发点而进行配置的结果。故正确答案为 C。

17. 组织内部在遇到紧急情况或处理与公司利益关系重大的问题上，最佳的冲突处理方式是（ ）。

- A. 强制
- B. 开诚合作
- C. 妥协
- D. 回避

【答案】A。本题考察冲突管理。冲突管理是指采用一定的干预手段改变冲突的水平和形式，以最大限度地发挥其益处而抑制其害处。根据组织成员介入冲突的方式，研究者区分了五种冲突管理风格：回避、迁让、竞争、妥协和合作。竞争（强制）是指以他人的利益为代价，试图在冲突上占上风。使用竞争策略的时机：当处于紧急情况下，需要迅速果断的做出决策并及时采取行动；在公司至关重要的事情或利益上，你明确知道自己是正确的情况下。所以 A 项正确。合作是指双方通过积极地解决问题来寻求互惠和共赢，B 项不合题意，错误。回避是指试图通过逃避问题情境的方式来平息冲突，D 项不合题意，错误。妥协（折中）是指试图寻求一个中间位置，使自身的利益得失相当，C 项不合题意，错误。故正确答案为 A。

18. 法务部门：古人云：“不以规矩，无以成方圆。”商业银行的经营活动营严格遵守相

关法律、法规的规定。依章办事，讲求合规是商业银行应遵循的基本准则，是其健康发展的生命线，你为联合银行的法律部门讲解一下法律知识吧。

根据我国《商业银行》第 43 条的规定，商业银行目前在我国境内可以开展的业务是（ ）。

- A. 金融债券买卖
- B. 证券经营业务
- C. 信托投资业务
- D. 非自用不动产投资

【答案】A。我国商业银行证券投资的主要对象是政府债券和中央银行、政策性银行发行的金融债券等，故 A 项正确；商业银行在境内不得从事信托投资和证券经营业务，不得向非自用不动产投资或者向非银行金融机构和企业投资，故 BCD 错误。所以答案选 A。

19. 【多选题】《中华人民共和国民法总则》规定，承担民事责任的方式主要有（ ）。

- A. 赔礼道歉
- B. 返还财产
- C. 赔偿损失
- D. 停止侵害

【答案】ABCD。《民法总则》第一百七十九条，承担民事责任的方式主要有：停止侵害；排除妨碍；消除危险；返还财产；恢复原状；修理、重作、更换；继续履行；赔偿损失；支付违约金；消除影响、恢复名誉；赔礼道歉。本条规定的承担民事责任的方式，可以单独适用，也可以合并适用。所以 ABCD 四个选项都正确。

20. 【多选题】《中华人民共和国公司法》规定，公司经营执照应当载明的资本事项中不包括（ ）。

- A. 实缴资本
- B. 认购资本
- C. 发行资本
- D. 注册资本

【答案】ABC。《中华人民共和国公司法》第七条。依法设立的公司，由公司登记机关发给公司营业执照。公司营业执照签发日期为公司成立日期。公司营业执照应当载明公司的名称、住所、注册资本、经营范围、法定代表人姓名等事项。公司营业执照记载的事项发生



变更的，公司应当依法办理变更登记，由公司登记机关换发营业执照。题干问不包括，选择 ABC。

21.根据《合同法》规定，下列关于合同约定不明确的处理方法，不正确的是( )。

- A.履行期限不明确的，债务人可以随时履行或者随时要求履行，但应给予准备时间
- B.价格、款或者报酬不明确的，按照订立合同时履行地的市场价格履行
- C.履行地点不明确，交付不动产的，在接受货币一方所在地履行
- D.质量要求不明确，按照相关的国家标准、行业标准履行

【答案】C。履行地点不明确，给付货币的，在接受货币一方所在地履行；交付不动产的，在不动产所在地履行，其他标的，在履行义务一方所在地履行，故 C 项错误；履行期限不明确的，债务人可以随时履行，债权人也可以随时要求履行，但应当给对方必要的准备时间，故 A 项正确；价款或者报酬不明确的，按照订立合同时履行地的市场价格履行，依法应当执行政府定价或者政府指导价的，按照规定履行，故 B 项正确；质量要求不明确的，按照国家标准、行业标准履行；没有国家标准、行业标准的，按照通常标准或者符合合同目的特定标准履行，故 D 项正确。所以答案选 C。

22.中国 A 股在今年 6 月被正式纳入( )，对于 A 股国际化进程是一个重要契机。作为全球最具影响力的指数和全球第二大市值股票市场，A 股的纳入，将改善中国股市在全球基准指数中代表性“严重不足”的局面。

- A.金融时报很全交易指数
- B.股票价格指数 (StockPriceIndex)
- C.StockQ 国际股市指数
- D.MSCI (MorganStanleyCapitalInterational)

【答案】D。中国 A 股正式被纳入摩根士丹利资本国际公司 (MSCI) 新兴市场指数和全球基准指数 (ACWI)，作为全球最具影响力的指数和全球第二大市值股票市场，A 股纳入 MSCI 将改善中国股市在全球基准指数中代表性“严重不足”的局面，MSCI 指数也将由此更加完整，故 D 项正确；ABC 错误。所以答案选 D。

23.由于工作和实施方面的原因，自公司宣布发放股利至公司实际将股利发出要有一定的时间间隔。由于上市公司的股票在此期间间隔内处在不停的交易之中，公司股东会随股票交易而不断易人。为了明确股利的归属，公司确定有( )。

- A.股权起始日

- B. 股权归属日
- C. 股权登记日
- D. 股权有效日

【答案】C。本题考查的是证券与保险法律制度。由于工作和实施方面的原因，自公司宣布发放股利至公司实际将股利发出要有一定的时间间隔。由于上市公司的股票在此时间间隔内处在不停的交易之中，公司股东会随股票交易而不断易人，为了明确股利的归属，公司确定有股权登记日，凡在股权登记日之前（含登记日当天）列于公司股东名单上的股东，都将获得此次发放的股利，而在这一天之后才列于公司股东名单上的股东，将得不到此次发放的股利，股利仍归原股东所有，故 C 项正确；ABD 均错误。所以答案选 C。

24. 对于上市公司的资产进行剥离出现的方式主要有两种：单纯资产剥离方式和战略相资产剥离方式，以下关于战略性资产剥离的特点，说法不正确的是（ ）。

- A. 其实质是对上市公司的不良债务进行剥离
- B. 剥离后对剥离资本普遍进行破产、清算
- C. 剥离时不可以以零价格转让
- D. 不良资产和负债一同剥离

【答案】C。战略性资产剥离是上市公司资产重组的一种较为特殊的形态。它一般有以下特点：

1. 剥离后对剥离资产普遍进行破产、清算，因此 A 选项正确；
2. 其实质是对上市公司的不良债务进行剥离，因此 B 选项正确；
3. 不良资产和负债一同剥离，因此 D 选项正确。

剥离时可以有零价格转让，也可以根据双方的协议价格进行转让；所以选项 C 不正确。除上述选项之外，采用此种方式的上市公司财务报表容易被会计师事务所出示保留意见或说明段。

25. IPO 是指一家企业或公司（股份有限公司）第一次将它的股份向公众出售。《中华人民共和国证券法》发行要求，以下哪一项是不正确的？（ ）

- A. 股票经国务院证券管理部门核准已公开发行
- B. 公司股本总额不少于人民币 3000 万元
- C. 公开发行的股份占公司股份总数的 25% 以下
- D. 公司在三年内无重大违法行为，财务会计告知无虚假记载

【答案】C。第五十条：股份有限公司申请股票上市。应当符合下列条件：①股票经国务院证券监督管理机构核准已公开发行；②公司股本总额不少于人民币 3000 万元；③公开发行的股份达到公司股份总数的 25%以上；④公司股本总额超过人民币四亿元的，公开发行股份的比例为 10%以上；⑤公司最近三年无重大违法行为，财务会计报告无虚假记载。证券交易所可以规定高于前款规定的上市条件，并报国务院证券监督管理机构批准。根据规定，C 选项应该是 25%以上，而不是以下，故 C 项错误；ABD 均符合股份有限公司申请股票上市的条件，所以 ABD 均描述正确。题干选的是不正确，所以答案选 C。

26.根据我国《证券法》规范，关于收购要约的表述，不正确的是（ ）。

- A.收购要约的期限不得少于 30 日，并不得超过 60 日
- B.收购要约的有限期限内，收购人可以根据经营策略撤回其收购要约
- C.收购人在依照规定报送上市公司收购报告书之日起 15 日后，公告其收购要约
- D.收购人需要变更收购要约中的事项的，必须事项向监管机构提出报告，经获准后予以公告

【答案】B。《证券法》第八十四条：在收购要约的有效期限内，收购人不得撤回其收购要约。在收购要约的有效期限内，收购人需要变更收购要约中事项的，必须事先向国务院证券监督管理机构及证券交易所提出报告，经获准后，予以公告，故 B 项错误，D 项正确；第八十三条：收购人在依照前条规定报送上市公司收购报告书之日起十五日后，公告其收购要约，收购要约的期限不得少于三十日，并不得超过六十日，故 AC 正确。所以答案选 B。