

2018 江西农信社模拟试题（二）

第一部分 言语理解与表达

1、自从产生宋诗以后,唐诗和宋诗便成为诗歌史上_____的两个典范。
宋代以后的诗歌虽然还在继续发展,但再也没能超出唐宋诗的风格范围。

填入文段中划线部分最恰当的一项是（）

- A.双峰并峙 B.独领风骚 C.三足鼎立 D.无有其匹

2、作为竞技体育项目之一,电竞职业选手偏重脑力上的_____,但为了最大限度地发挥个人和集体潜能,也需要通过科学的训练方法完成上万次的重复训练,_____肌肉习惯,提高体格、体能、心理及运动能力等方面的潜力。

填入文段中划线部分最恰当的一项是（）

- A.竞争 形成 B.对抗 养成
C.竞争 养成 D.对抗 形成

3、褪黑素是一种激素,在_____动物的昼夜节律和季节节律以及机体“睡眠—觉醒”节律方面发挥着重要作用。白天光线强,可_____褪黑素的分泌,体内褪黑素低,机体处于_____状态;夜里光线弱,能促进褪黑激素的释放,机体渐渐进入睡眠状态。

填入文段中划线部分最恰当的一项是（）

- A.调节 抑制 觉醒 B.调整 抑制 苏醒
C.调节 抑止 苏醒 D.调整 抑止 觉醒

4、房地产泡沫破灭后,美国市场一派_____,微观经济体的信用链条全面

收紧，产出缺口快速扩大。此时，如果没有外力_____，则微观经济个体很可能因为市场出清而大面积猝死，“大萧条”的凛冬再次到来。

填入文段中划线部分最恰当的一项是（）

- A.萧条 提升
- B.萧瑟 刺激
- C.肃杀 提振
- D.荒凉 影响

5、南京城墙作为重要的文化遗产，是南京的一道风景线。而古城墙比较多，也给一些建设项目带来了_____。但无论什么项目，都必须以保护古城墙为前提条件，在此基础上_____设计，规避影响，这应该成为一道红线，不得_____。

填入文段中划线部分最恰当的一项是（）

- A.促进 精妙 跨越
- B.影响 巧妙 逾越
- C.阻碍 周密 凌驾
- D.利好 认真 超越

6、如果说“丧文化”只是小范围的调侃、个性化的设置，比如“葛优瘫”等也_____，可风气一旦_____开来，便亟需_____。

填入文段中划线部分最恰当的一项是（）

- A.无关紧要 蔓延 警戒
- B.无伤大雅 蔓延 警惕
- C.无关紧要 蔓延 警戒
- D.无伤大雅 蔓延 警惕

7、春季是_____的季节，草长莺飞，草木葱茏。在温带及高纬度地区，多数鸟类会选择在春季开始_____。

填入文段中划线部分最恰当的一项是（）

- A.万象更新 繁殖
- B.生机盎然 生殖

C.万象更新 生殖 D.生机盎然 繁殖

8、一弯残月如小船般_____在东方微明的天幕之上，闪耀银色的光辉。在弯月旁，以‘启明星’姿态现身的金星紧紧跟随，犹如一盏光亮的_____，在为月亮船导航。由于周围没有其他特别明亮的天体，这幅浪漫的画面_____很高。

填入文段中划线部分最恰当的一项是（）

A.飘荡 航灯 清晰度 B.摇曳 天灯 观赏性
C.漂流 灯塔 分辨率 D.荡漾 明灯 辨识度

9、中国山水千姿百态，可谓得天独厚，中国传统文化悠久丰厚，与山水文化____。自然与人文的两大优势，孕育出绚丽多彩的山水文化。山水文化是一种以自然山水及其与之相关事物为____对象，体现人对山水客体认识审美等诸种反映的一种精神现象。

填入画横线部分最恰当的是（）

A.兼收并蓄 参照
B.融会贯通 描述
C.相映成趣 关照
D.相得益彰 观照

10、闭塞的自然环境、落后的交通设施，不再成为贫困地区接收先进文化的阻碍，人们通过网络平台，轻松获取外界资源，在_____中改变着自身的思想观念和行为方式，从思想上打破贫困文化带来的_____。

填入画横线部分最恰当的是（）

A.耳濡目染 限制
B.与时俱进 局限

C.潜移默化 束缚

D.沧海桑田 约束

11、尽管业内公认由图书馆收藏古籍善本，能发挥更大的学术研究价值，但随着中国拍卖市场的日渐兴盛，私人藏家的强势崛起，国有文博机构在_____。重大收购之前要专门开研讨会、集体做出价格判断，然后报上级文化单位、财政部门层层批准，可能拍完了资金都没审批下来，更遑论在价格竞争上国有单位已远不及一些“生猛”的私人藏家。

填入文中划横线部分最恰当的一项是（）

A.在当下已完全没有优势可言

B.可以走市场化道路，进行联合

C.继续保持在收购上的优势地位

D.在当下已是没有任何竞争实力

12、延迟到账是为了给转账人设置“冷静期”“后悔期”，倘若在一定时间内发现问题，通过撤销转账以避免被骗。可到账是延迟了，却不能及时撤销转账，这无疑架空了“延迟到账”的制度初衷。就这点来看，不能及时撤销转账的延迟到账制度，当然需要及时改进。但如何补上这个显而易见的漏洞，则是目前的紧迫之事。

给该文段拟定一个标题，下面那个选项最合适（）

A.延迟到账存在很大的漏洞

B.延迟到账其实名不副实

C.延迟到账应该名副其实

D.延迟到账没能实现制度初衷

13、①英美等国制定了严格的儿童读物分级制，按3~6岁、6~9岁、9~12岁进行分级

②分级阅读，从理论上来说，是按照少年儿童不同年龄段的智力和心理发育程度为儿童提供科学的阅读计划，为不同孩子提供不同的读物，提供科学性和有针对性的阅读图书

③当然国外的分级阅读并非只有一套标准

④这一体系帮助读者了解自己的语言水平，并据此去寻找难度适中的读物

⑤其中针对语言能力的提高而设计的“蓝思专业进阶计划”被认可度较高

⑥分别根据年级、年龄、儿童阅读水平来划分的体系非常多

对以上句子排序最恰当的一项是（ ）

A.③⑤④①⑥② B.②①③⑥⑤④

C.⑤①⑥④②③ D.①⑤④②③⑥

14、近年来，国家对于人文社会科学研究，有了相当程度的重视，不仅加大了经济投入，而且还采取了一系列有力措施，推进学术研究，鼓励学术创新。因此，最近十几年时间，人文社会科学研究领域，推出了一批引人注目的厚重学术成果，产生了一批卓有成就的人文科学与社会科学学者，尤其值得肯定的是，在全社会普遍形成了一个尊重知识、尊重人才的良好学术氛围。

这段文字主要说明了（ ）

A.近年来国家大力推动人文社会科学研究

B.我国人文社科研究成果显著、人才辈出

C.全社会对人文社科研究有了极大的重视

D.我国人文社科研究有了良好发展和氛围

15、一些从海外留学归来的“创二代”，眼睛看到的都是资本条件下的财富快速形成，而不是父辈们的逐步积累，看到的是资本凶残的牙齿，而不是父辈们

沧桑的脸。他们承认父辈们的伟大，但不愿重复父辈们的艰辛。于是，归国以后，一些“创二代”都选择了资本运作，选择了“创一代”留下的财富，而不是“创一代”留下的事业。在他们看来，创业是父辈们的事，事业是社会的事，财富和金钱才是他们的事。

这段文字主要说明了（）

- A. “创二代”眼里只有父辈的财富没有父辈的事业
- B. 一些“创二代”不愿艰辛积累而选择了父辈的财富
- C. 眼里只有财富是一些“创二代”容易失败的原因
- D. 必须同时继承父辈的财富和事业才有可能创业成功

16、由于儿童专用药匮乏，很多患儿在服药时都被当成“缩小版的成人”对待，按照“小儿酌减”的原则把成人药给孩子减量使用，用药靠掰、剂量靠猜，这样做存在着巨大的安全隐患。近日，一项调查报告显示，因用药不当，我国每年约有3万名儿童耳聋。这一数字表明，儿童用药不当，不仅仅孩子受到伤害，也给家庭带来了诸多不幸，给社会造成了沉重负担。

这段文字意在强调（）

- A. 儿童用药不当已成社会问题
- B. 儿童用药不当伤害儿童健康
- C. 儿童用药应当酌减药量
- D. 应研发更多儿童专用药

17、东北三省的经济状况与其人才流动现状相符，尤其在一些地方，这种人口流出往往伴随着“死海效应”：能力强、容易找到新机会的人对环境的容忍度最低，最先离开，而无心改变现状的人更容易选择留下。就像死海蒸发掉水，

剩下的盐度会越来越高。以一个简单指标为例，年轻人口比例：全国最年轻的城市都是一二线，而东北没有一座城市排进前 20 名——本来就老龄化严重，出走打拼的还都是年轻人。

通过这段文字作者想表达的是（）

- A.东北三省的经济状况与其人才流动现状相符
- B.东北三省的年轻人口比例低于一二线城市
- C.东北三省的人口老龄化问题制约了经济发展
- D.应当重视人才流出对东北经济发展的影响

18、一方面，鼓励政府将现有公办养老机构交由社会资本方运营管理，另一方面，鼓励政府和社会资本在城乡社区内建设运营居家养老服务网点、社区综合服务设施，兴办或运营老年送餐、社区日间照料等形式多样的养老服务。同时，积极发展医养健融合，鼓励养老机构与医疗卫生机构、健康服务机构开展合作，支持打造“以健康管理为基础、以养老服务为核心、以医疗服务为支撑”的全生命周期养老服务链，兴建一批以养老为主题且附加康养、体育健身等现代服务业的“养老+”综合新业态。

最适合做这段文字标题的是（）

- A.鼓励社会资本参与推进养老服务业供给侧改革
- B.发展养老服务产业，推动社会和谐稳定
- C.大有可为！养老服务业已成朝阳产业
- D.我国养老服务业改革已刻不容缓

19、社会组织作为社会治理的多元主体之一，对社会各个方面治理工作都能够起到积极推动作用。当前，社会组织参与社区治理，已经成为社区治理现代

化的重要推力，但在实际参与过程中还受到各方利益群体和制度失范等多方面因素影响。要想让社会组织在社区治理中充分发挥沟通协调、资源整合和矛盾化解等方面作用，应该着重从自身定位和体系建设上下功夫，整合现有社会组织资源，充分发挥其服务功能，有效推动城市社区治理现代化进程。

这段文字意在表达（ ）

- A.要有效推动社会治理现代化进程
- B.社区对社会治理工作起积极推动作用
- C.将自身和现有资源进行有效整合
- D.社区组织在治理过程中受诸多不利因素影响

20、下列没有语病的一项是（ ）

- A. 接到群众举报后，他们马上召集有关人员进行研究，统一安排了这次宣传活动应注意的问题。
- B. 环保部门对一些废气废水乱排乱放的现象，及时进行了批评教育和严肃处理。
- C. 近年来，我国加快了高等教育事业发展的速度和规模，高校将进一步扩大招生，并重点建设一批高水平的大学和学科。
- D. 有识之士指出，全面治理生态环境，是当前人类面临的重要任务。

第二部分 数学运算

21.4 7 9 40 () 1559

- A.120 B.41 C.6 D.-8

22.1 2 6 18 54 ()

- A.162 B.176 C.188 D.194

23.0 1 1 2 5 9 ()

A.11 B.14 C.17 D.18

24.某工厂的生产零件总数是一个三位数，平均每个车间生产了 35 个。统计员在记录时粗心 68 地将该三位数的百位与十位数字对调了，结果统计的零件总数比实际总数少了 270 个。问该工厂所生产的零件总数最多可能有多少个？

A 525 B 630 C 855 D 960

25.所有人员共计捐款 320 元，已知该部门总人数超过 10 人，问该部门可能有几名部门领导？

A 1 B 2 C 3 D 4

26.甲乙两地相距 20 公里，小李、小张两人分别步行和骑车，同时从甲地出发沿同一路线前往乙地，小李速度为 4.5 公里/小时，小张速度为 27 公里/小时。出发半小时后，小张返回甲地取东西，并在甲地停留半小时后再次出发前往乙地。问小张追上小李时，两人距离乙地多少公里？

A 8.1 B 9 C 11 D 11.9

27.在空间中最最多能放置多少个正方体，使得任意两个正方体都有一部分表面相接触？

A 4 B 5 C 6 D 7

28.速算比赛，小李全对的概率为 95%，小杨全对的概率为 92%，问这次比赛两人中只有一个人全对的概率为 ()。

A0.046 B0.076 C0.122 D0.874

29.数字 3、5 至少都出现一次的三位数有多少个？

A48 B52 C54 D60

30. 在一场篮球比赛中，甲、乙、丙、丁共得 125 分，如果甲再多得 4 分，乙再少得 4 分，丙的分数除以 4，丁的分数乘以 4，则四人得分相同。问甲在这场比赛中得了多少分：


- A24 B20 C16 D12

第三部分 判断推理

一、图形推理，请按照每道题的答题要求作答。

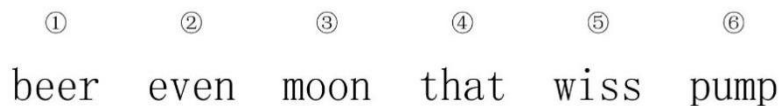
请开始答题：

31. 把下面的六个图形分为两类，使每一类图形都有各自的共同特征或规律，分类正确的一项是：



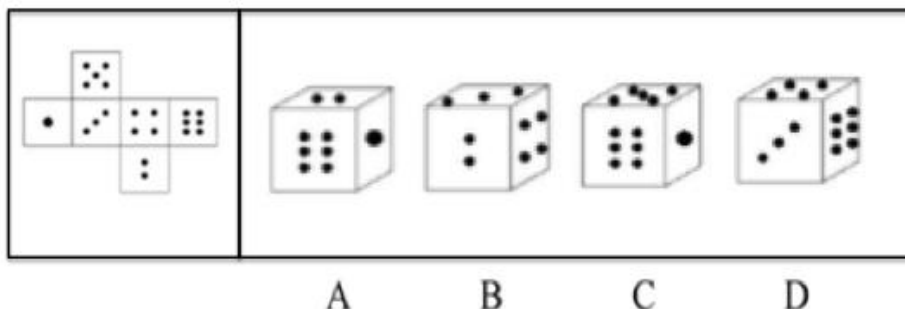
- A. ①⑤⑥，②③④ B. ①②④，③⑤⑥
C. ①③④，②⑤⑥ D. ①④⑥，②③⑤

32. 把下面的六个图形分为两类，使每一类图形都有各自的共同特征或规律，分类正确的一项是：

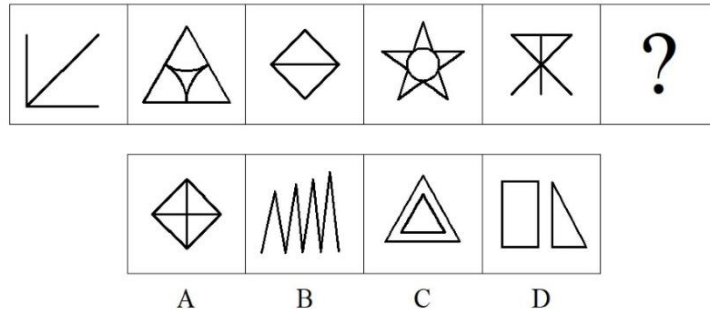


- A. ①③⑥，②④⑤ B. ①②⑤，③④⑥
C. ①③⑤，②④⑥ D. ①④⑤，②③⑥

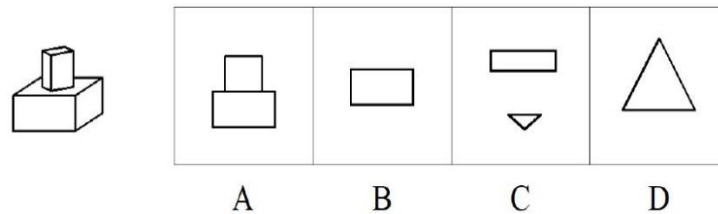
33. 左边给定的是纸盒的外表面，下面哪一项能由它折叠而成？



34. 请从所给的四个选项中，选择最合适的一个填入问号处，使之呈现一定的规律性：



35. 左侧为一个小长方体放在一个大的长方体上方的中心位置，以下哪项不可能是该立体图的剖面图？



二、定义判断。每道题先给出一个定义，然后列出四种情况，要求你严格依据定义，从四个备选项中选出一个最符合或最不符合该定义的答案。注意：假设这个定义是正确的，不容置疑的。

请开始答题：

36. 数字创意产业是现代信息技术与文化创意产业逐渐融合而产生的一种新经济形态，和传统文化创意产业以实体为载体进行艺术创作不同，数字创意是以CG（Computer Graphics）等现代数字技术为主要技术工具，强调依靠团队或个人通过技术、创意和产业化的方式进行数字内容开发、视觉设计、策划和创意服务等。目前数字创意产业的应用主要体现在会展领域、虚拟现实领域等、产品可视化领域。

根据上述定义，以下不属于数字创意产业的是：

- A. 虚拟现实
- B. 网络游戏
- C. 动漫
- D. 云计算

37. 创业孵化器是指为创业之初的公司提供办公场地、设备、甚至是咨询意见和资金的企业。创业育成公司通常是由大学、非营利性组织和风险投资家创建的，尤其在新兴的网络商务方面。

根据上述定义，以下属于创业孵化器的是：

- A. 高校创业指导中心
- B. 南京民营创业中心
- C. 某市就业局
- D. 养鸡孵化器

38. 乘人之危是指一方当事人乘对方处于危难之机，为谋取不正当利益，通过不正当手段，严重损害对方利益。可以认定为乘人之危。

根据上述定义，下列符合乘人之危的是：

- A. 趁火打劫
- B. 围魏救赵
- C. 落井下石
- D. 顺手牵羊

39. “赠与”是赠与人将自己的财产无偿给予受赠人、赠与受赠人表示接受的一种行为。这种行为的实质是财产所有权的转移。赠与行为一般要通过法律程序来完成，即签订赠与合同（也有口头合同和其它形式）。

根据上述定义，以下属于赠与的是：

- A. 张某将自己闲置的汽车送给刘某使用，但要求刘某四年后归还
- B. 为了能进入某重点大学学习，王某将价值二十万的表送给该校招生办主任
- C. 吴先生与于女士订婚，将自己的攒的十万元现金，送给了于女士，并承诺不再要回
- D. 郑某在孀居多年的母亲去世后，获得他母亲留下的房子

40. 慢就业是指一些大学生毕业后既不打算马上就业也不打算继续深造，而是暂时选择游学、支教、在家陪父母或者创业考察，慢慢考虑人生道路的现象。

根据上述定义，以下不属于慢就业的是：

- A. 赵某今年大学毕业，他打算先去乡村支教一段时间，再回城市找工作
- B. 郝某工作两年，但觉得没意思，恰逢母亲身体不好，于是离职回家陪父

母

- C. 李某在大学期间一直想创业，但一直没有践行，毕业后开始了创业考察
- D. 杨某毕业后不愿对口就业，决定先花一年时间走走看看，再选择行业

三、类比推理。每道题先给出一组相关的词，要求你在四个备选项中找出一组与之在逻辑关系上最为贴近、相似或匹配的词。

请开始答题：

41. 弃暗投明：改邪归正

- A. 鸾凤和鸣：夫唱妇随
- B. 嫉恶如仇：刚正不阿
- C. 外强中干：色厉内荏
- D. 九死一生：凶多吉少

42. 鸿鹄 对于 () 相当于 () 对于 送别

- A. 老虎；离别
- B. 燕雀；送行
- C. 志向；长亭
- D. 飞翔；离家

43. 细菌：生物

- A. 鼠标：电脑
- B. 皮肤：细胞
- C. 蓝莓：水果
- D. 房子：房梁

44. 蛙泳：游泳：运动

- A. 芥末：酱油：调料
- B. 冰雹：暴雨：天气
- C. 律师：法官：人
- D. 企鹅：鸟：动物

45. 完璧归赵：负荆请罪：蔺相如

- A. 破釜沉舟：四面楚歌：项羽
- B. 手不释卷：金屋藏娇：刘秀
- C. 鞠躬尽瘁：三顾茅庐：诸葛亮
- D. 七步成诗：才高八斗：曹植

46. 握手：言和

- A. 做梦：大脑
- B. 生命：呼吸
- C. 跪地：求饶
- D. 鞠躬：道歉

47. 金钱草：过路黄
- A. 千根草：小飞扬 B. 黄花菜：西湖莼菜
- C. 马蹄草：猫须草 D. 化石草：忘忧草
48. 吕不韦 对于 () 相当于 () 对于 一鼓作气
- A. 一字千金；曹刿 B. 一掷千金；曹植
- C. 一饭千金；韩信 D. 一诺千金；刘彻
49. 白头搔更短，浑欲不胜簪：杜甫
- A. 人生得意须尽欢，莫使金樽空对月：李白
- B. 枯藤老树昏鸦，小桥流水人家：辛弃疾
- C. 黄发垂髫，并怡然自乐：陶渊明
- D. 烽火连三月，家书抵万金：王安石
50. 体检：健康
- A. 运动：锻炼 B. 胶囊：药物
- C. 检测：质量 D. 绿色：希望

四、逻辑判断。每道题给出一段陈述，这段陈述被假设是正确的，不容置疑的。要求你根据这段陈述，选择一个答案。注意：正确答案应与所给的陈述相符合，不需要任何附加说明即可以从陈述中直接推出。

请开始答题：

51. 美国地质勘探局称，9月23日下午探测到朝鲜北部一处已知的核试验场附近发生了一场3.5级地震。有专家猜测，这场地震可能是因为核试验导致的。

以下哪项如果为真，最能削弱上述专家猜测的是？

A. 据了解朝鲜在9月21号的确进行了第三次核试验，并且此次核试验所造成的地质反应很可能会有延迟

- B. 一位不愿透露姓名的人说这场地震不是由爆炸引起的
- C. 有权威机构通过分析地震波证实，此次地震是自然地震，并非人为爆炸所致
- D. 人们基本没有感觉到地震

52. 2014 年的诺贝尔生理与医学奖颁给 Moser 夫妇—发现海马位置细胞。海马在大脑中间，属于颞叶的中内侧，是记忆关键脑区，掌管着记忆形成、转化和调用。没有海马，我们就会成为一个无法形成新记忆的人，而真正地“永远活在当下”。如果多用脑，从神经干细胞转变过来的海马记忆神经元将被保持，并且支持记忆功能。

由此可以推出：

- A. 人们的记忆是随着海马位置细胞的增多而增加
- B. 能够形成新记忆的人，大脑中一定有海马
- C. 不用脑，海马记忆神经元不会被保持
- D. 人们多用脑，海马神经元会增多，从而使人们更加聪明

53. 尽管媒体不时有消息指出 3D 打印技术正在不断取得创新性突破，但是对于创业者来讲，无论是商用的高昂成本，还是民用的低精准度，都困扰着创业者。因此有专家指出，3D 技术在短期内不会有光明的发展前景。

以下哪项如果为真，最能支持上述专家观点的是？

- A. 过去的两年时间里，3D 打印馆的创业者均表示该行业的利润很低
- B. 3D 打印技术的定位使其短期内无论是在商用和家用上都无法凸显“性价比”的优势
- C. 3D 打印技术是一项新兴技术，是与大数据、人工智能并驾齐驱的第三大风口行业
- D. 平均每十分钟造出一个玩具的 3D 技术让很多孩子成为了忠实消费群体

54. 小刚、小付、小邓一起参加了学校的运动会，分别报了游泳、乒乓球和短跑，并且每人只参加其中一项比赛，已知：

- ①小刚从小到大一直怕水。
- ②参加乒乓球的同学都是男同学。
- ③小邓她平常也喜欢短跑，并经常向参加短跑比赛的那名同学请教问题。

问小刚、小付、小邓三人各自报名的是什么项目？

- A. 小刚报乒乓球；小付报游泳；小邓报短跑
- B. 小刚报游泳；小付报乒乓球；小邓报短跑
- C. 小刚报短跑；小付报游泳；小邓报乒乓球
- D. 小刚报乒乓球；小付报短跑；小邓报游泳

55. 金融是服务业，金融创造的价值和实体经济创造的价值在我看来是不同的。如果是实体创造价值，那么比较容易得到承认。长期看来，没有人能够跑赢市场，除非那些人是基金经理以及操盘手。

根据上述论断，能够推出：

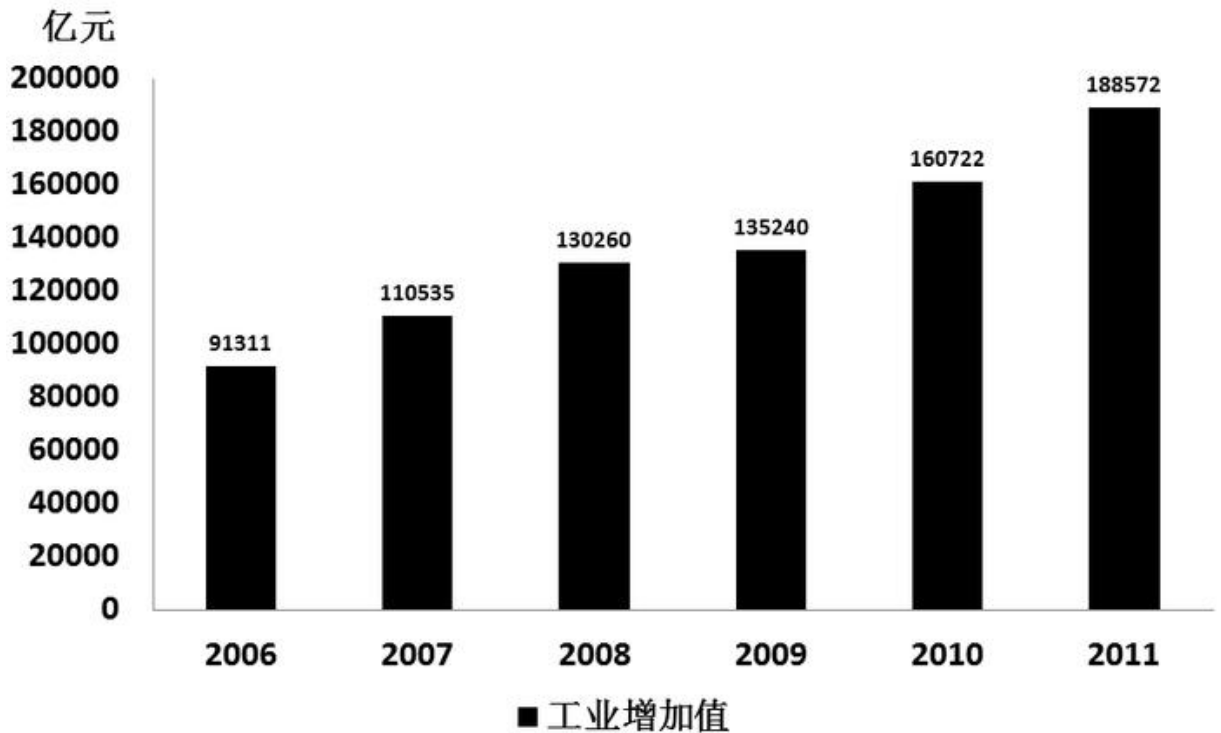
- A. 价值得到承认或者不是实体创造价值
- B. 如果没有人能够跑赢市场，那么这些人是基金经理
- C. 基金经理和操盘手可以跑赢市场
- D. 基金经理以及操盘手比较容易赚到钱财，容易得到承认

第四部分资料分析

一、根据下列统计资料回答问题。

2011年我国全部工业增加值188572亿元。规模以上工业增加值增长13.9%，在规模以上工业中，国有及国有控股企业增长9.9%；集体企业增长9.3%，股份制企业增长15.8%，外商及港澳台商投资企业增长10.4%；私营企业增长19.5%，轻工业增长13.0%，重工业增长14.3%。

2006-2011年我国全部工业增加值



全年规模以上工业中，农副食品加工业增加值比上年增长14.1%，纺织业增长8.3%，通用设备制造业增长17.4%，专用设备制造业增长19.8%，交通运输设备制造业增长12.0%，通信设备、计算机及其他电子设备制造业增长15.9%，电气机械及器材制造业增长14.5%。六大高耗能行业增加值比上年增长12.3%，其中，非金属矿物制品业增长18.4%，化学原料及化学制品制造业

增长 14.7%，有色金属冶炼及压延加工业增长 13.6%，黑色金属冶炼及压延加工业增长 9.7%，电子、热力的生产和供应业增长 10.1%，石油加工、炼焦及核燃料加工业增长 7.6%。高技术制造业增加值比上年增长 16.5%。

全年规模以上工业企业实现利润 54544 亿元，比上年增长 25.4%。

2011 年我国规模以上工业企业实现利润及其增长速度

单位：亿元

指标	利润总额	比上年增长%
规模以上工业	54544	25.4
其中：国有及国有控股企业	14989	15.0
其中：集体企业	882	34.0
股份制企业	31651	31.2
外商及港澳台商投资企业	14038	10.6
其中：私营企业	16620	46.0

56.2008—2011 年，全部工业增加值增加最多的是：

A2008 年 B2009 年 C2010 年 D2011 年

57.2011 年，在规模以上工业中，下列企业的增加值增长最快的是：

A 国有及国有控股企业

B 股份制企业

C 外商及港澳台商投资企业

D 私营企业

58.2011 年，六大高耗能行业增加值的增长速度大于 10%的有：

A3 个 B4 个 C5 个 D6 个

59.2010 年，规模以上工业企业实现利润约为：

A43500 亿元 B43800 亿元 C44100 亿元 D44500 亿元

60.根据资料，下列表述不正确的是：

A2011 年，轻工业增加值的增长速度比重工业慢

B2010 年，在规模以上工业企业中，私营企业实现利润多于外商及港澳台商投资企业

C2006 年，我国全部工业增加值不足 2011 年的一半

D2011 年，在规模以上工业企业中，股份制企业实现利润是国有及国有控股企业的 2 倍多

二、根据下列统计资料回答问题。

截至 2011 年末，T 市城镇职工基本医疗保险参保人员 474.52 万人，城乡居民基本医疗保险参保人员 498.30 万人，城镇职工基本养老保险参保人员 458.70 万人，城乡居民基本养老保险参保人员 97.80 万人，失业保险参保职工 258.75 万人，工伤保险参保职工 320.42 万人。职工五项社会保险基金总收入 510.6 亿元，增长 18.1%；其中，养老保险基金收入 335.8 亿元，增长 20.4%。

T 市全年保障性住房投资完成 306.77 亿元，占房地产开发投资的 28.4%。全年开工建设保障性住房 1600 万平方米、23.9 万套，发放租房补贴 8.5 万户。年末城市人均住宅建筑面积 32.77 平方米，同比增长 4.8%。

T 市城镇低保标准由 450 元调整为 480 元，农村低保标准由 250 元调整为 280 元，优抚抚恤、特困救助、农村五保供养、老年人生活补贴标准等都有新的提高。政府抚恤，补助各类优抚对象 3.02 万人；城乡低保对象 27.77 万人，其

中城镇 17.98 万人。完善价格补助联动机制，受益群众由 18.4 万人增加到 33.7 万人。年末全市各类福利院有床位 3.28 万张，同比增长 14.5%；在院收养 2.04 万人，增长 15.5%。当年新安排残疾人就业 3070 人。全市 11 个救助站全年救助 5046 人。接受社会捐赠 2790.6 万元，销售社会福利彩票 16.07 亿元，筹集彩票公益金 4.86 亿元。

61.截至 2011 年末，T 市下列哪种保险的参保人数最多：

- A 工伤保险
- B 城镇职工基本医疗保险
- C 城乡居民基本医疗保险
- D 城镇职工基本养老保险

62.如按 2011 年的增长速度估算，2012 年 T 市职工五项社会保险基金总收入约为：

- A580 亿元 B600 亿元 C620 亿元 D640 亿元

63.2011 年，T 市房地产开发投资总额约为：

- A1080 亿元 B1160 亿元 C1240 亿元 D1290 亿元

64.2011 年，T 市城镇低保对象人数约为农村低保对象的：

- A1.7 倍 B1.8 倍 C1.9 倍 D2.1 倍

65.根据资料，下列表述正确的是：

- A2011 年，T 市养老保险基金收入比去年增加超过 60 亿元
- B2010 年末，T 市城市人均住宅建筑面积不足 30 平方米
- C2011 年，T 市农村低保标准上调超过 15%

D2010 年末，T 市各类福利院的床位不足 3 万张

三、根据下列统计资料回答问题。

2011 年 Z 省进出口主要分类情况

	绝对数 (亿美元)	比上年增长 (%)
进出口总额	3094.0	22.0
出口额	2163.6	19.9
#一般贸易	1765.0	21.7
加工贸易	360.4	9.2
#机电产品	921.0	16.4
#高新技术产品	155.2	5.4
进口额	930.4	27.3
#一般贸易	653.5	32.2
加工贸易	172.0	9.2
#机电产品	180.5	10.7

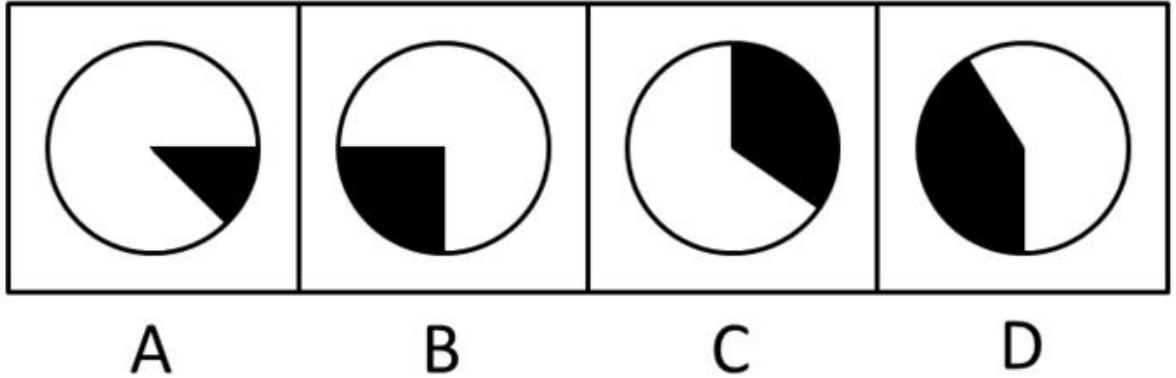
2011 年 Z 省对 8 个主要市场进出口情况

国家或地区	出口额 (亿美元)	比上年增长 (%)	进口额 (亿美元)	比上年增长 (%)
欧盟	557.7	15.4	111.9	19.2
东盟	147.5	34.0	106.5	55.0
美国	349.2	14.7	77.6	26.8
日本	133.4	26.4	118.6	18.4
俄罗斯	70.1	37.1	18.3	49.5
韩国	54.5	20.1	87.2	37.3
中国香港	59.4	-7.8	3.3	30.8
中国台湾	23.7	17.9	112.4	10.3

66.2010 年，该省的出口额比进口额约多：

A1070 亿美元 B1140 亿美元 C1190 亿美元 D1230 亿美元

67.下列饼图中，阴影部分最能体现 2011 年 Z 省对欧盟的出口额占当年 Z 省对 8 个主要市场出口总额比重的是：



AA BB CC DD

68.2011 年，机电产品的出口额占 Z 省出口额的比重比高新技术产品约高：

A31 个百分点 B33 个百分点 C35 个百分点 D37 个百分点

69.2011 年，Z 省对 8 个主要市场的进口额增速最快的三个国家或地区的进口额之和为：

A168 亿美元 B212 亿美元 C287 亿美元 D343 亿美元

70.下列表述与资料相符的有几个：

- I. 2010 年，Z 省一般贸易的进口额不足 500 亿美元
- II. 2010 年，Z 省对韩国的进出口总额超过 100 亿美元
- III. 2011 年，Z 省对中国香港的进出口总额比 2010 年下降了
- IV. 2011 年，Z 省对 8 个主要市场的出口额与进口额最接近的是日本

A1 个 B2 个 C3 个 D4 个

第五部分 常识判断

71.中国共产党全国代表大会为中国共产党最高领导机关。每五年举行一次，由中央委员会召集。中国共产党第十九次全国代表大会于（ ）在北京召开。

A. 10月18日 B. 10月21日

C. 10月23日 D. 10月24日

72. 有利于激发员工内在积极性的工作安排是 ()

A. 能力远远高于任务要求的人

B. 能力远远低于任务要求的人

C. 能力略高于任务要求的人

D. 能力略低于任务要求的人

73. 下列俗语描述的现象与经济学名词对应**错误**的是：

A. 覆水难收——机会成本

B. 一山不容二虎——完全垄断

C. 入芝兰之室，久而不闻其香——边际效用递减

D. 城门失火，殃及池鱼——负外部效应

74. 提出“X理论-Y理论”的行为科学家是 ()

A. 克莱顿·奥尔德弗 B. 戴维·麦克利兰

C. 道格拉斯·麦格雷戈 D. 维克托·弗鲁姆

75. 下列说法中正确的一项是：

A. 日光灯通过电流加热钨丝产生热量，继而产生光辐射来发光

B. 数码相机利用电子传感器技术，与普通相机记录图像的原理基本相同

C. 等离子电视显示器采用荧光粉显示屏幕，因而明亮度高于液晶电视

D. 激光打印机是把射到感光器材的图像转印到打印纸（或复印纸）上，其原理与复印机不同

76. 船只在海上发生事故后，饮用水缺乏常常是幸存者面临的首要问题。海

水不可以饮用的原因是：

A. 海水中含有大量电解质，与人体的电解质构成有很大差异，海水进入人体后会造成人体电解质紊乱，甚至造成死亡

B. 海水中含有大量电解质，渗透压远远大于人体细胞内液，海水进入人体后会造成人体细胞脱水，甚至造成死亡

C. 海水中含有大量电解质，某些电解质对于人体而言是有毒的，海水进入人体后会造成中毒，甚至造成死亡

D. 海水中含有大量电解质，味道又咸又涩，难以下咽

77.联合国安理会常任理事国进行决策的规则是：

A. 简单多数规则 B. 绝对多数规则

C. 加权多数规则 D. 全体一致规则

78.习近平总书记提出开展“两学一做”学习教育，基础在在学，关键在做。

要把党的（ ）放在首位，教育引导党员尊崇党章、遵守党规。

A.思想建设 B.政治建设 C.经济建设 D.文化建设

79. 下列说法符合《环境保护税法》的是：

A. 纳税人排放应税污染物需要缴纳环境保护税和排污费

B. 为减轻农民负担，所有的农业生产都无需缴纳环境保护税

C. 纳税人排放应税大气污染物或者水污染物的浓度值低于国家和地方规定的，可减税

D. 应税污染物包括大气污染物、水污染物和固体废物三类

80.《资治通鉴》成书于：

- A. 西汉 B. 东汉
C. 北宋 D. 南宋

第六部分 专业知识

81.甲公司同意乙公司以分期付款的方式偿还所欠贷款，这种信用属于（ ）。

- A.直接信用
B.国家信用
C.银行信用
D.消费信用

82.我国金融机构体系的主体是（ ）。

- A.中央银行
B.商业银行
C.投资银行
D.政策性银行

83.中央银行提高法定存款准备金率，将导致商业银行信用创造能力（ ）。

- A.上升
B.下降
C.不变
D.不确定

84.关于安全性、流动性、盈利性的关系，说法错误的是（ ）。

- A.流动性越强，风险越小，安全性越高
B.流动性越强，安全性越高，盈利性越低
C.流动性越强，盈利性越低，风险越低

- D.流动性越强，盈利性越高，安全性越高
- 85.目前现代商业银行最科学的经营管理理论是（ ）。
- A.负债管理制度
- B.资产管理制度
- C.资产负债管理制度
- D.利率管理制度
- 86.如果人们预期利率上升，则会（ ）。
- A.多买债券、少存货币
- B.少存货币、多买债券
- C.卖出债券、多存货币
- D.少买债券、少存货币
- 87.如果一国货币汇率上升，即对外升值，则有可能导致（ ）。
- A.本国旅游收入增加
- B.本国旅游收入不变
- C.本国出口增加
- D.本国进口增加
- 88.由于银行的业务性质要求银行要维持存款人、贷款人和整个市场的信心，因此，银行通常将（ ）看做对其市场价值最大的威胁。
- A.市场风险
- B.声誉风险
- C.法律风险
- D.流动性风险

89.存款业务按客户类型，分为个人存款和（ ）。

- A.储蓄存款
- B.外币存款
- C.对公存款
- D.定期存款

90.中央银行减少货币供给量，可通过（ ）渠道来实现。

- A.降低再贴现率
- B.在公开市场上卖出证券
- C.增加外汇储备
- D.减少商业银行在中央银行的存款

二、资料

1、2000年，我国北方地区连续出现沙尘暴、扬沙和浮尘天气，滚滚沙尘掠过华北、东北，跨过长江，直指祖国东南。频繁袭来的沙尘暴使人们体验到风沙的无情，天灾的恐怖。一份权威的统计资料显示出一种可怕的趋势：我国沙漠化的扩展速度在不断加快。20世纪70年代，沙漠化土地每年推进1560平方公里，90年代扩展速度达到每年2460平方公里。气象部门统计显示：50—70年代的20年间特大沙尘暴在我国发生了26次，80年代至90年代有37次。

2、内蒙古锡林郭勒大草原位于北京正北方，是我国主要的畜牧业生产

基地之一。据说从前到夏天，这里绿草连天，牛羊满地，一片风吹草低现牛羊的优美景致。由于当地水草丰美，所产的苏尼特羊因肉质鲜美被北京东来顺饭庄列为首先羊肉。可去年 8 月再踏足其上时，却发现这里既没有草，也很少看到牛羊，只午剩下干燥的风裹着沙砾刺得人脸生疼。放眼望去，零星点缀着枯草的黄沙地连到天边，偶尔会瘦骨嶙峋的死羊躺在地上。

3、发菜和甘草都是国家重点保护的野生固沙植物，在保护草场资源、防止荒漠化方面具有重要作用。近年由于乱采滥挖，不仅使资源濒临枯竭，还造成草原大面积退化、沙化，沙清真尘暴频频光顾。据专家介绍，每挖二两发菜，要破坏相当于 16 个足球场大的草地；每挖 1 公斤野生甘草，就可使 20 亩草原沙化。在宁夏西固地区。每年外出找发菜、挖甘草者约有 10 多万人。甘草之乡盐池县的马儿庄、惠安堡和冯记沟乡一带，20 世纪 80 年代还是芳草萋萋的绿色莽原，如今，已变得满目疮痍，流沙茫茫，几乎寸草不生。

4、海口万绿园是海口市的对外窗口，园内停车场有成片的名贵树木——印度紫檀，令到此浏览的人欣喜不已。然而，细心的游人会发现一个奇怪的现象：200 多棵紫檀树被绕上电线，缠上铁丝，钉上开头、插座，挂上电话，充当起灯柱。最多的一棵树上竟有七八个开头、插座，铁丝已深碗巨萑胧魅恚 鞞杀慌 蒙撕劬劬邸？

5、从前年秋天到去年秋天的三个植树季节里，内蒙古苏木特镇的乌日更达赖和他家周围的 7 户牧民共种了 3 万多亩树，最多一户造林面积达 7000 多亩。据悉，全苏木特内镇现在已有 28 户牧民跟随乌日更达赖，在沙漠中建起自己的绿色庄园。当年那片无人烟，鸟兽绝迹荒漠，如今变成 10 万多亩的绿洲。在绿洲中央的水库里，活蹦乱跳着几万尾鱼。芦苇荡的周围是五彩野花和萋萋芳

草，牛羊成群，六畜兴旺。一位治沙专家说，从理论上讲，这里是生命禁区的神话。

6、长江是我国最大的河流，素以水量大，自净能力强而著称，现在也面目全非了。沿干流上大中城市排放 63 亿吨污水，以致每个城镇附近江段都有 10—30 公里不等的污水染段，加起来总长超过 500 公里；江面每年有航船 30 多万艘次，向江中排放 36 亿吨污水；沿江两岸及船舶向江中丢弃的垃圾更是难以计数。2000 年 10 月，记者再次看到长江，依然水质浑浊，江面漂浮着稻草屑、泡沫饭盒及死猪、死鸡。靠近葛洲坝的垃圾积累了 3 米厚，人站在垃圾上面居然沉不下去。长江是沿江各城镇主要的纳污水体，又是人们主要的活饮用水源。人们无法摆脱这样一个恶性循环：自己排污自己吃。

7、有关专家指出，从源头抓起，下决心对产业、产品结构动大手术，是解决污染反弹的治本之策。以山东的造纸业为例，尽管目前已调整到 248 家，所排放的 COD(化学耗氧量)仍占全省工业 COD 排放总量的 59.6%。这些造纸厂每天的治污运行费用高达几万元，仍很难实现长期稳定达标，必须继续，集中治理。济宁市将原来的 13 家麦草制浆企业调整为 3 家，麦草制浆能力压缩了 69%，纸产量却上升了 43%，实现了经济与环境的共赢。

8、市民随意弃置的废旧彩电、冰箱、洗衣机已成为危害城市蓝天水清地绿的一个新污染源，据环保专家作称，由于缺乏行之有效的回收渠道，目前十有八九有废家电弃置后都得不到妥善处理，大多混同于一般生活垃圾填埋，构成了对生态环境的负面影响。值得提醒的是，电冰箱中的制冷剂 and 发泡剂是破坏臭氧层的物质；电视机显像属于具有爆炸性废物，荧光屏为含汞的废物。这些东西会导致大量有毒有害物质渗漏，造成空气、土壤和水质的严重污染，对城市环境

造成极大的破坏。

9、近年来，人们经常谈论白色污染可是无论是去菜市场买菜，还是到商店购物，大家用塑料袋盛装食品、物品都习以为常，欣然接受。结果，我们经常会看到如下景象：大风起处，塑料袋挂满路旁树枝，有的比圣诞树还多彩。学校老师在周日组织学生们捡拾废塑料袋，其行动真是可敬可赞，让人感动，可是他们捡得完吗？白色污染天天在我们身边泛滥，消灭它，要做的事情太多了。

10、2002年1月，第五次全国环境保护会议在北京召开，朱镕基在会上指出，保护环境是我国的一项基本国策，是可持续发展战略的重要内容，直接关系到现代化建设的成败和中华民族的复兴。他强调，保护和改善环境就是发展生产力。实践证明，无论什么地方，保护好环境就能增强投资吸引力和经济竞争力。经济建设绝不能以破坏人类生存环境为代价，不能把环境保护同经济建设对立起来或割裂开来，要把认识真正统一到走可持续发展的道路上来，要让这种思想深入人心，决不能做吃祖宗饭、断子孙生路的事情。

三、申论要求

1、请用不超过150字的篇幅，概括出给定资料的主要内容。要求：有条理、有层次。(20分)

3、就给定资料反映的主要问题。用1000字左右的篇幅，自拟题目进行议论。要求：中心明确，内容充实，论述深刻，有说服力。(40分)