

2016 寒假作业

吉林华图独家秘制

吉林华图喊你回家做作业啦！

2016

华图教育 | 吉林华图
HUATU.COM

猴赛雷

hao li hai



新年大礼包 扫码有红包



开年红包

运气不魁，舍你其谁，喊你还不领？！

50

活动时间：2016年2月1日-2月7日

活动内容：“公考有华图 开心过大年”，吉林华图全体员工恭祝您：新春快乐 万事如意！
即日起至吉林华图各分校，可领取新年礼包“吉祥三宝”一份
(吉祥三宝：对联、福字一副、寒假作业)

每天全省第1个报班学员均可获得新年优惠红包



活动时间：2016年2月7-13日

红包为 800元、500元、300元，每天仅一名

开年红包

红包使用说明：
8000元以上班型可使用800元红包； 备注：以上红包仅可用于非协议班，协议班和一对一班不可使用，
5000元以上班型可使用500元红包； 此优惠与其他优惠不可叠加使用。
3000元以上班型可使用300元红包。

扫码回复“数钱”
赢微信奖品



桃子喊来数钱

参加“数钱”游戏，在10秒内，谁能数钱最多？
参与方式：扫码，回复“数钱”这两个字即可参与！
活动时间：2016年2月7—12日

想获得奖品请先关注吉林华图官方微信，微信名：吉林华图
富豪们，前16名均可获得奖品（全国包邮！）
参与游戏后，请务必填写信息！否则视为放弃！

咨询电话：0431-88408222，8896767

寒假作业解析QQ群：488329031（群文件下载）

第一天 数量关系与资料分析

1. 3、10、31、94、()

- A.125
- B.188
- C.283
- D.2914

2. 2、10、30、68、130、()

- A.222
- B.272
- C.300
- D.390

3. 阅览室有100本杂志。小赵借阅过其中75本，小王借阅过70本，小刘借阅过60本，则三人共同借阅过的杂志最少有()本。

- A. 5
- B. 10
- C. 15
- D. 30

4. 在一次抽奖活动中，要把18个奖品分成数量不等的4份各自放进不同的抽奖箱。则一个抽奖箱最多可以放()个奖品。

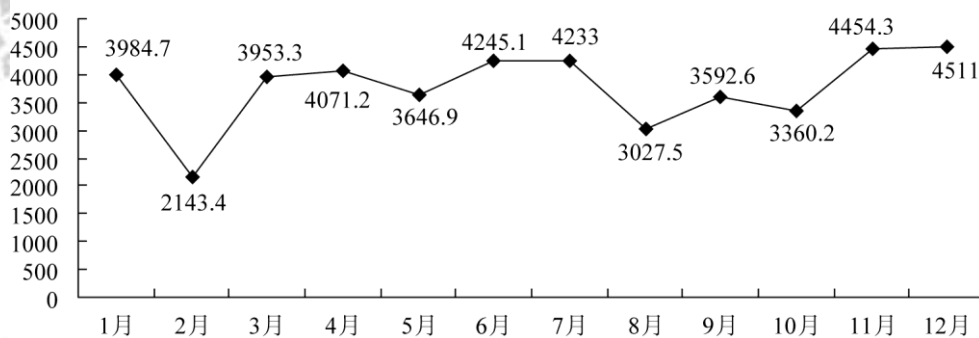
- A. 6
- B. 8
- C. 12
- D. 15

5. 某乡镇举行运动会，共有长跑、跳远和短跑三个项目。参加长跑的有49人，参加跳远的有36人，参加短跑的有28人，只参加其中两个项目的有13人，参加全部项目的有9人。那么参加该次运动会的总人数为()。

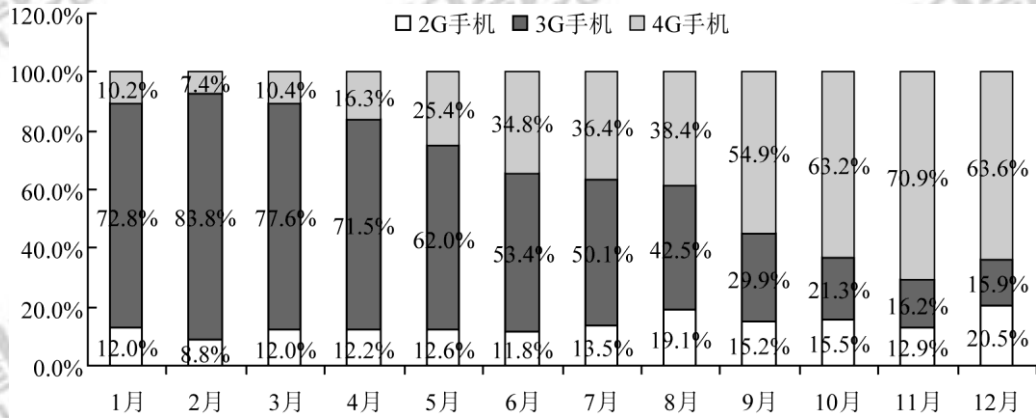
- A.75
- B.82
- C.88
- D.95

根据下列资料，回答6~10题：

单位：万



◆—2014年1—12月份我国手机出货量



2014年1—12月我国手机出货量各类型所占比例

6. 2014年2—12月,我国手机出货量与上月相比增长率最高的月份是()。

- A. 2月
- B. 3月
- C. 6月
- D. 11月

7. 2014年1—12月,我国3G手机和4G手机出货量相差最大、最小的月份分别是()。

- A. 1月、8月
- B. 2月、8月
- C. 1月、7月
- D. 2月、7月

8. 2014年2—12月,我国2G手机出货量所占比例与上月相比有所上升的月份共有()个。

- A. 2
- B. 4
- C. 7
- D. 8

9. 2014年1—12月,最接近我国手机出货量全年平均数的月份是()。

- A. 5月
- B. 8月
- C. 9月
- D. 10月

10. 下列说法错误的是()。

- A. 2014年2—12月,我国手机出货量与上月相比有所下降的月份有5个
- B. 2014年2月,我国2G手机和4G手机的出货量均为全年最低
- C. 2014年7月,我国4G手机出货量首次超过了1500万
- D. 2014年1—12月,我国3G手机出货量所占比例逐月下降

第二天 言语理解与表达

1.怀特海说：科学研究的概率是 999 个想法会没有任何结果，可是，第 1000 个想法也许会改变世界。可见，好想法的产生不是_____的。

填入划横线部分最恰当的一项是（ ）。

- A.随心所欲
- B.轻而易举
- C.一蹴而就
- D.信手拈来

2.很多人认为动力是一块馅饼，会从天而降，幸运地砸在自己头上，他们意识到自己缺少动力，却还在_____，期望动力哪天能无缘由地突然掉到自己身上。

填入划横线部分最恰当的一项是（ ）。

- A.望眼欲穿
- B.翘首以盼
- C.浮想联翩
- D.守株待兔

3.语言在代代相传的过程中会发生改变。在人口众多的族群中，语言倾向于保持_____，原因很简单，因为有更多的人能记住上一辈说话的方式，然而在规模较小的族群中，语言有可能更快地发生变化，在世代交替中有些音素将会_____。

依次填入划横线部分最恰当的一项是（ ）。

- A.稳定 流失
- B.传统 异化
- C.活力 消亡
- D.原貌 式微

4.纵观历史，所有的文明都深知教育的价值。实质上，每一种文明的巅峰状态都伴随着许多伟大学术中心的发展——古希腊、阿巴斯王朝巅峰时期的阿拉伯穆斯林，阿卡巴国王统治时期的印度和中国的唐朝时期都是如此。鉴于西方近几个世纪的领先地位，如今西方拥有众多全球知名大学便不足为奇。真正使这些西方大学出类拔萃的是，它们认为自己负有保护全人类的古老知识和发展学术前沿的使命。

这段文字意在强调（ ）。

- A. 西方大学的成功之处在于重视学术研究，而不是以西方文明为导向
- B. 任何文明的兴盛与历史并无直接关联，而是来源于教育事业的繁荣
- C. 重视人类文明的成果并使其不断发展进步是西方优秀学校的独特之处
- D. 为了传承和发扬中国文化，中国的大学需要向西方众多知名大学学习

5. 行业收入差异反映了行业壁垒的存在，其给予社会的直接影响就是个人的价值可能是无用的。在市场经济社会，最有价值的本是人才，一个人只要有能力，在不同行业都应该能够得到社会的承认，但是在行业壁垒存在的现实中，个人的价值让位于行业的价值，个人的价值由行业的价值体现，而不是由个人体现，当然此种情况下行业的发展也将受到制约。同时，由于进入行业的机制并不是自由竞争，行业收入差异还将让人们看到公平的缺失和缺位——那些没有能力但有关系进入高收入行业者，他们仅仅因为能够进入而成为了更有价值的人。

这段文字旨在说明（ ）。

- A. 行业壁垒的存在体现了用人机制的不公
- B. 个人价值的高低不应该由行业价值来评估
- C. 行业收入差异使人们对个人价值的评判发生扭曲
- D. 行业壁垒使得真正的人才往往被拒之门外

6. 在古代，每遇战乱，手艺人都会成为战争双方争夺的对象，这是因为手艺人掌握着传统社会中最重要的技术，他们代表着当时最先进的社会生产力。如今，尽管现代科学技术取代了手工技能，成为当今时代最强大的生产力，但传统工艺完全可以借助现代科技而提升，继续服务于大众。

这段文意在说明（ ）。

- A. 与现代科技联姻是传统工艺发展的有效途径
- B. 任何时代，社会发展的第一要素是社会生产力
- C. 现代科技的进步对传统手工艺产生的深远影响
- D. 现代科技可以解决制约着生产的传统工艺难题

7. 在任何一个历史时代和艺术潮流中，丧失民族特性的艺术家和作品都会成为外来艺术的附庸和追随者。这不但使民族文化处于被改造的弱势地位，还会让艺术家丧失民族自信心，这样的创作无疑也是缺乏活力的。近些年，当代绘画的活跃和繁荣，不仅仅得益于艺术家日益扩大的视野和活跃的创作思想，更得益于中国艺术家对于本民族文化的尊重和挖掘。

这段文字意在说明（ ）。

- A. 艺术创作离不开民族特性
- B. 艺术家应该保持民族自信心
- C. 绘画的繁荣得益于本土文化元素的挖掘
- D. 民族文化对绘画艺术的发展产生深刻影响

8. 目前我国气象卫星的技术能力，只能在太空给大气“拍照”，呈现出的是平面的图像，对大气的立体探测能力尚不足。随着卫星更新换代、新科技的研发，今后可以给大气做“CT”，比如能监测出云层的厚度、温度及湿度的分布、台风的热力学结构，这将提高天气预报的准确率，提升我国应对气候变化的能力。目前我国的气象卫星在规模、核心技术方面和美国等发达国家相比还存在一些差距，再经过十年的发展，有望赶上国际先进水平，甚至在部分领域取得领先，可能从一个“气象卫星大国”变成“气象卫星强国”。

根据这段文字，以下说法正确的是（ ）。

- A. 现阶段欧美国家的天气预报准确率略高于中国
- B. 我国和发达国家的气象卫星技术水平相差十年
- C. 我国气象卫星未来将能够实现大气的立体探测
- D. 目前我国气象卫星技术在某些领域处于世界领先地位

9. 目前，IBM 公司研发的电脑沃森战胜了美国电视智力节目《危险边缘》的两名人类常胜将军，一时间，很多网友担心，电脑越来越像人了，将会超越人类智慧。从深蓝到沃森，人工智能又向前跨越了一大步。电脑会代替人脑吗？近几年，每次有电脑战胜人脑的事发生，都会有“终结者”之类的担忧。甚至有人认为，电脑的计算速度正变得越来越快，不久的将来电脑将能够模拟人脑、产生意识，并最终替代人类。

作者对于“电脑替代人脑”这种观点的态度（ ）。

- A. 作者认为人工智能技术有可能实现电脑模拟人脑
- B. 看不出作者是否认同“电脑替代人脑”这种观点
- C. 认同这种观点，因为人工智能技术不断超越人类智慧
- D. 不认同这种观点，因为人类是人工智能技术的主宰者

10. ①在这里，人们已经从浮躁的、高速的城市发展中沉淀下来，希望获得内在的平衡

②二十多年以来，从外表上看，那里的变化并不是非常巨大

③整个城市显得平和恬静

④每年，我仍旧有机会飞往硅谷，参加各种年会

⑤包括节能减排的新举措

⑥但是生活在那里的人正在源源不断地为它注入各种生机

将以上 6 个句子重新排列，语序正确的是（ ）。

A.④②⑥⑤①③



B.②④⑤⑥①③

C.②④①③⑤⑥


D.④①③②⑥⑤

第三天 判断推理

1. 从所给的四个选项中，选择最合适的一个填入问号处，使之呈现一定的规律性：



2. 从所给的四个选项中，选择最合适的一个填入问号处，使之呈现一定的规律性：



3. 荷花：莲子

A. 绿豆：豆芽

B. 韭菜花：韭菜

C. 大蒜：蒜苗

D. 葵花：葵花子

4. 桥梁：河岸

A. 信件：邮局

B. 楼梯：楼层

C. 电话：沟通

D. 火车：终点

5. 领导权变并非是一种权术，其实质是一切从实际出发，根据领导活动的具体情境，灵活采用还是得领导方式去实现领导价值。在领导活动中权变的是方法和策略，不变的事价值和方向。根据上述定义，下列属于领导权变的是（ ）

A. 赵科长把复杂的任务交给了工作能力较强的小张，新来的小陈负责收集资料

B. 王书记刚刚带领干部群众完成抗旱自救工作，又忙着去协调路网建设纠纷

C. 李县长亲自下乡送水，随行人员拍照，录像后，李县长马上乘专车返回县城

D. 张科长在工作中总是当机立断，雷厉风行，可下班回家后就对老婆言听计从

6. 碳信用又称碳权，指在经过联合国或联合国认可的减排组织认证的条件下，国家或企业以增加能源使用效率、减少污染或减少开发等方式减少碳排放，因此得到可以进入碳交易

市场的碳排放计量单位，一个碳信用相当于一吨二氧化碳排放量。

某燃煤发电厂去年碳排放额超标，根据上述定义，该电厂对应做法不包括：

- A. 将该厂从城市郊区迁到海产边
- B. 减少该厂全年的发电总量
- C. 改进设备提高热源转化效率
- D. 购买碳信用来实现排放达标

7. 交易成本是指在协商、谈判和履行协议等交易性活动中，为达成合作所需要支付的各种资源的总和。只要存在交易活动就存在交易成本，它已经成为人类社会不可分割的组成部分。

下列选项不属于交易成本的是：

- A. 某公司为了搜索交易信息消耗了两天时间
- B. 老王在购房中为契约向中介支付了五千元
- C. 某工厂为了开拓生产花费五十万元购买专利
- D. 某企业因违反合同而支付五百万元的违约金

8. 兄弟姐妹四人，甲、乙、丙、丁。甲说：丁是最小的妹妹。乙说：兄弟姐妹中只有哥哥一个男孩。丙说：我是甲的姐姐。

如果上述都为真，以下推断正确的是（ ）。

- A. 丙排行第二，是女孩；丁排行最小，是女孩
- B. 乙排行第二，是女孩；丙排行第一，是女孩
- C. 甲排行第二，是男孩；乙排行第三，是女孩
- D. 甲排行第二，是女孩；丙排行第一，是女孩

9. 有一句歌词：“不经历风雨，怎能见彩虹”。下面哪一个选项不是上面这句歌词的逻辑推论（ ）。

- A. 只有经历风雨，才能看见彩虹
- B. 若经历风雨，则能看见彩虹
- C. 除非经历风雨，否则不能看见彩虹
- D. 凡看见彩虹的都应该是经历过风雨的

10. 美国一项最新研究发现，肥胖具有“社会传染性”，它很容易从一个人传染到另一个人身上，社会纽带在肥胖问题上的影响甚至超过基因的作用。研究人员认为，这主要是由于身体肥胖的亲人和朋友改变了你对于体重可接受的标准，你会认为他们的体重可以接受。以

下哪项为真，最能质疑研究人员的解释：

- A.肥胖的人更倾向与肥胖的人交朋友
- B.基因对人的肥胖程度的影响其实是不确定的
- C.一个人的饮食生活习惯往往会受到家人和朋友的影响
- D.很多人由于现代社会压力大，暴饮暴食等原因导致肥胖

第四天 常识判断

1. 明史专家吴晗在《朱元璋》一书中曾这样描述我国古代的君臣关系：“在宋以前有三公坐而论道的说法……到宋朝便不然了。从太祖以后，大臣上朝在皇帝面前无坐处，一坐群站，……到了明代，不但不许坐，站着都不行，得跪着说话了”。君臣关系从坐而站而跪，说明中国古代中央政治制度演变的重要特点是（ ）。

- A. 中央对地方的管理日益加强 B. 内阁制度日渐成熟
C. 中央的权力日益向帝王集中 D. 丞相权力被六部分割

2. 在我国农历的干支纪年中，从甲子年到癸亥年共六十年构成一个循环，如果将上一个甲子年当作本循环中的第1年，那么第31年是（ ）。

- A. 甲戌年 B. 甲午年 C. 戊戌年 D. 庚午年

3. 关于我国的出土文物，下列说法正确的是（ ）。

- A. 湖南马王堆汉墓出土了素纱禅衣
B. 西安附近出土了大量殷商时期的刻有文字的龟甲和兽骨
C. 越王勾践剑是战国时期兵器冶炼技术的杰出成果
D. 洛阳出土的唐三彩以红 蓝 白三种颜色为主

4. 下列有关书法艺术的表述，正确的是（ ）。

- A. 东汉著名书法家张芝被称为“书圣”
B. 唐代书法家颜真卿是楷书四大家之一
C. 《真书千字文》是唐代著名书法家怀素的代表作
D. “苏、黄、米、蔡”中的“黄”指的黄公望

5. 郭沫若用“犀利”、“恣肆”、“深厚”、“俊俏”四个词语分别概括了先秦四大散文家作品的风格。符合这四种风格的散文家依次是（ ）。

- A. 孟子、庄子、荀子、韩非子 B. 庄子、孟子、荀子、韩非子
C. 孟子、庄子、韩非子、荀子 D. 庄子、孟子、韩非子、荀子

6. 卜骨和卜甲是古代占卜器具，先民以其推测吉凶的主要依据是（ ）。

- A. 甲骨上面钻出孔洞的形状 B. 甲骨被水浸泡后的表面条纹形状
C. 甲骨被敲碎后的碎片形状 D. 甲骨上面灼烧出的裂纹形状

7. 以下关于我国古代命令文书的运用，说法一定错误的是（ ）。

A. 皇帝即位或驾崩，须诏告天下，颁发“诏书”

B. 皇帝封赠五品以下，七品以上官员，颁发“诰命”

C. 开馆修书、修史，大都先由皇帝颁发“敕谕”

D. 皇帝册立皇后、三公长官，颁发“册书”

8. 老五的三位朋友分别在今天过七十大寿、乔迁新居、分店开幕。下面三副对联该如何送才恰当？（ ）

(甲) 大启而宇，长发其祥

(乙) 交以道接以礼，近者悦远者来

(丙) 室有芝兰春自永，人如松柏岁长新

A. 甲送乔迁新居者；乙送分店开幕者；丙送过七十大寿者

B. 甲送分店开幕者；乙送乔迁新居者；丙送过七十大寿者

C. 甲送过七十大寿者；乙送乔迁新居者；丙送分店开幕者

D. 甲送七十大寿者；乙送分店开幕者；丙送乔迁新居者

9. 关于中国历史上的改革和变法，下列说法不正确的是（ ）

A. 秦穆公任用商鞅实行变法

B. 戊戌变法的目标是实行君主立宪制

C. 管仲主张通过改革实现齐国的富国强兵

D. 王安石变法意在消除冗兵、冗官、冗费的危机

10. 下列成语与所涉人物对应不正确的是（ ）

A. 图穷匕见——荆轲

B. 高山流水——伯牙

C. 破釜沉舟——项羽

D. 投笔从戎——岳飞

第五天 申论

【给定资料】

材料 1:

《全国人民代表大会常务委员会关于修改〈中华人民共和国未成年人保护法〉的决定》于 2012 年 10 月 26 日通过，自 2013 年 1 月 1 日起施行。

《未成年保护法》规定：“保护未成年人，是国家机关、武装力量、政党、社会团体、企业事业组织、城乡基层群众性自治组织、未成年人的监护人和其他成年公民的共同责任。对侵犯未成年人合法权益的行为，任何组织和个人都有权予以劝阻、制止或者向有关部门提出检举或者控告。国家、社会、学校和家庭应当教育和帮助未成年人维护自己的合法权益，增强自我保护的意识和能力，增强社会责任感。”

2011 年 7 月 30 日，国务院颁布《中国儿童发展纲要（2011 年—2020 年）》，它规定了中国政府儿童发展事业的新目标和新举措，是今后十年中国政府全面推动儿童权益保护工作的基础性文件，标志着保护儿童工作进入新的阶段。新纲要从儿童健康、教育、福利、社会环境及法律五个方面制定了明确的目标与策略，对儿童保护事业中涉及到这五个领域的发展起到了提纲挈领的指导作用。

2013 年 3 月 16 日，“2013 年唐山市共青团与人大代表、政协委员面对面”暨唐山市未成年人保护与自护意见征集座谈会在团市委召开。《唐山市未成年人保护规定（草案建议稿）》经过 12 次修改后，已提交市人大常委会，有望在今年内出台。根据最新修订的《规定（草案建议稿）》，该市将成立未成年人保护委员会，并依托 12355 电话服务平台，接受未成年人咨询及个案求助。《规定》要求，一旦发现未成年人受到侵害，老师、家长等知情者必须在 24 小时内向公安机关举报。针对放学后学生无处可去的现状，《规定》建议 7 时至 18 时学校应允许学生留校并保障其安全。

材料 2:

2011 年 11 月 16 日，G 省某镇，一辆运煤货车与某幼儿园学生接送面包车相撞，造成 20 人死亡。发生事故的校车核载 9 人，实载却达到 64 人。

2013 年 8 月 29 日，某县一幼儿园在接送孩子时，一名三岁的男童被遗忘在校车上，因闷热致死。

有专家收集了近 5 年部分国内媒体披露的 74 宗学生上学车辆安全事故数据，通过分析

发现，各年事故数量基本持平。在死亡人数中有74%是农村学生；伤残的农村学生占40%；49%的校车事故发生在义务教育阶段，50%在幼儿园。

由于“夺命校车”事故频发，2011年11月27日，温家宝总理在第五次全国妇女儿童工作会议上指出，国务院已经责成有关部门迅速制订校车安全条例。2012年3月，国务院总理温家宝主持召开国务院常务会议，审议并原则通过《校车安全管理条例（草案）》，要求校车通行优先。4月10日，《校车安全管理条例》发布，载有学生的校车享有路上“优先权”，可在公共交通专用车道以及其他禁止社会车辆通行但允许公共交通车辆通行的路段行驶。

目前，一些农村，特别是偏远山区，学生长期乘坐黑车病车上学放学。据调查，某县的乡镇中学2200多名学生中，经常搭乘三无车上学放学的达1200人，这些学生分布在该镇辖区内的26个自然村和近50个单位，最远的有30公里。全县149台用以接送学生的机动车中，只有69台手续齐全。该地区交警支队调查还发现，接送学生的中巴车驾驶员20%—30%无驾驶证或者准驾不符；驾驶机动三轮车接送学生的有近60%没有驾驶证。这些驾驶员普遍缺乏交通法规意识和安全意识，多拉快跑、超载超速、乱靠乱停、逆向行驶等交通违法行为十分普遍。

材料3：

7岁的女童彤彤（化名）家住高档小区，富裕的家庭却没给她一个幸福的童年。3岁父母离异，跟父亲和继母生活，长期被关在阳台，饿成皮包骨。2011年7月6日晚，不堪忍受饥饿的她沿着墙体逃下地面，跑到便利店偷饼干吃。被发现后，居委会、妇联和爱心业主将彤彤送到了救助站。而救助站只能住10天，10天之内必须决定彤彤的去向，而她的监护人是生父，很有可能被送回虐待的家庭。令人心寒的是，她的父母竟然玩“失踪”，其父亲在电话中竟怒称“没有这个女儿”。最终在舆论的压力下，生父和继母放弃了监护权，生母将彤彤接到自己身边。

2012年12月，6岁的小豪不听话遭遇了父亲皮带的抽打，口吐鲜血不治身亡。这是当年媒体报道的该市第八起暴力虐童事件。

法律界人士对此类家庭暴力的极端案例表示了强烈关注。某市律师协会未成年人保护委员会副主任张律师表示，应建立一个未成年人的保护和监督机构，防止类似悲剧再次发生。目前我国已制定了《未成年人保护法》，但在这部法律的立法宗旨与理念中，作为监护人的父母利益与孩子的利益是一致的。社会常理认为，父母不会对孩子不利。但实际上，在许多家庭暴力事件中，孩子是受害者，是需要重点保护的對象。大部分人认为，“虎毒不食子”，父母对孩子进行体罚是对孩子的另一种“爱”，虽表达方式不妥，但都是为孩子好。其实这

种错误观念造就了对未成年人保护的欠缺,其背后反映的是现行法律及机制在保护未成年人方面的某些缺失。在我国现有的法律制度下,父母是孩子的监护人,孩子受到的保护是与父母结合在一起的。但在国外,许多国家都将孩子作为独立的个体进行保护。张律师呼吁,我国应该在立法上向这个方面努力,将孩子作为一个独立的公民进行保护。张律师提出,法律应该明确,当家庭暴力发生的时候,邻居或者其他公民可以向有关部门进行反映,并且政府需要成立一个专门保护未成年人的独立机构,对类似的家庭暴力进行监督,甚至可以暂时剥夺使用暴力的父母对孩子的监护权。

材料 4:

2012 年 10 月, Z 省发生一起幼儿园教师虐童事件。该校教师 Y 因“一时好玩”在该园活动室里强行揪住一名幼童双耳向上提起,同时让另一名教师用手机拍下,之后该视频被上传到网上。事发当天, W 市教育局接到被虐幼童家长举报,立即赶赴该幼儿园进行调查,并采取了向公安部门通报,以及联合街道办事处发出通知,责成校方深刻检查、整改并立即辞退相关教师等举措。

此前知情人士爆料称 Y 从事幼师职业系无证上岗,该情况已被证实。对此, W 市教育局副局长在接受中新网记者采访时称,按有关规定,不论公办或民办学校,教师必须持证上岗。不过,他随即表示因当地幼儿园存在师资紧缺情况,幼师实际持证率仅为 40%,为弥补师资不足,幼儿园基本实行“先上岗、后考证”。“民办幼儿园在教师招聘中有自己的实权,其教师存在的职业素养问题,教育管理部门无法负责。”

无独有偶,几乎就是在一年之内,湖北、山东、广东等全国多个省份的幼儿园和小学相继发生了多次老师暴力体罚甚至殴打、猥亵未成年人的事件,经过媒体铺天盖地的报道,给社会造成了极恶劣的影响。

针对这一问题,有专家认为《未成年人保护法》可操作性较弱,呼吁增加虐童的相关规定。犯罪学专家皮教授指出,《未成年人保护法》中,专门有关于学校保护的内容,在学校里发生的侵害未成年人权益的事件应由学校来负责,这其中包括幼师对于儿童的人权和精神上的伤害。但是,其中适用条款的规定,反映了《未成年人保护法》强调倡导性,可操作性却比较弱的特点。大家不能从中得知事情具体由谁来管,处理起来的程序应当是什么,哪些部门可以接受家长的申诉。法律上既无实体上的规定,又无程序上的规定,当然也没有组织上的规定。因此,这部法律到现在为止,还是处于一个倡导的层面上,可操作性是它一直没有解决的问题。

材料 5:

2011年8月,国务院办公厅发出《关于加强和改进流浪未成年人救助保护工作的意见》,在措施中要求实行主动救助保护,加大打击拐卖未成年人犯罪力度,帮助流浪未成年人回归家庭,成立流浪未成年人救助保护中心,开展流浪未成年人教育矫治工作,强化源头预防和治理,在工作机制上建立民政部牵头的部际联席会议制度。为贯彻落实该意见精神,2011年12月,民政部、中央综治办、教育部、公安部、财政部、人力资源社会保障部、住房城乡建设部、卫生部发布《关于在全国开展“接送流浪孩子回家”专项行动的通知》,决定从当时起至2012年底,在全国联合开展以“保护儿童,告别流浪”为主题的“接送流浪孩子回家”专项行动。

2012年2月,G省某小学26个平均年龄只有9岁的留守儿童,用他们的220篇日记、21幅画、12封写给爸爸妈妈的信,汇聚成书——《中国留守儿童日记》。该书出版后,引起巨大反响。据媒体公开报道,中国农村目前留守儿童的数量超过了5800万人。社会学家认为,留守儿童面对的家庭教育缺失,家庭关爱缺乏,直接对未来中国人口整体素质产生影响。

2013年3月的全国人民代表大会上,一位农民工代表带来《关于解决外来农民工子女入学问题的建议》,呼吁尽快建立公平合理的外来务工人员子女义务教育转移支付制度,这样才能调动流入地政府积极性,切实解决农民工子女入学难的问题。

S市某区人民检察院的调查显示,2009年至2011年间,该院共受理未成年人犯罪案件253件,涉罪未成年犯罪嫌疑人343人。其中,非本地户籍293人,占涉罪未成年人总数的85.4%;非本地户籍中208人系农民工子女,占涉罪未成年人总数的60.6%。

一些农民工子女无户籍,无固定居住地,“他们既无法接受良好的教育,又无法享受父母的关心和爱护,在心理发育及逐渐成熟的关键时期,教育缺失、意识观念的不成熟和社会不公平的存在,使他们易产生偏激的观念和过激行为。”该院未成年人检察科一名检察官就此分析说。

材料6:

《预防未成年人犯罪法》虽然规定了要立足于教育和保护,“从小抓起”,对未成年人的不良行为及时进行预防和矫治,但并没有规定明确的负责部门和有效的措施。这使得在实践中,防微杜渐的预防工作常常难以发挥应有的作用,“小错不管,养肥了再管”已成为预防未成年人犯罪工作中难以回避的尴尬。

“很多时候,民警只能把这些孩子说一顿、批评一阵就放出来,没别的办法。”北京师范大学刑事法律科学研究院何副教授接受中国青年报记者采访时举了个例子说,14岁的孩子小偷小摸,父母也不在身边,从看守所出来没人“接手”,更谈不上对他们进行教育和帮

助了。专家表示，家庭监管缺位，可由政府和社会组织给未成年人“补课”，第一时间挽救濒临失足的未成年人。

S市阳光社区青少年事务中心（以下简称“阳光中心”）是一家专门承担由政府委托的社区青少年事务项目的非政府组织，由政府出资向他们购买社工服务，其服务内容包括：①了解和把握服务对象的动态；②实现对服务对象的有效控制；③为服务对象提供社会工作的专业服务；④协助服务对象解决就学、就业等实际困难和问题；⑤整合社会资源，推进社工工作。S市的运作方式是，在市委统一领导下，首先，在法律地位上，由市政府通过法律途径，授权团组织组织专门机构代行政府的社区青少年工作的行政管理职权；其二，在组织结构上，市一级设立由团市委负责的社区青少年事务办公室，区一级设立由团区委负责的社区青少年事务办公室，有专人从事社区青少年事务的行政管理工作；其三，在具体工作领导、指导上，市、区政法委和有关部门直接承担责任。

阳光中心有一项是“预防青少年犯罪”。据阳光中心总干事F女士介绍，该中心目前共有400多名社工，2012年共服务了4万余名未成年人。“为了更有针对性的预防，我们实行了‘类别化管理’。”F女士说，“已有偏差行为”的未成年人被阳光中心归为“重点服务类”，基本上是由公安机关移交过来的。在帮扶的过程中，社工亦会对帮扶对象进行阶段性的考评。同时，阳光中心亦为帮扶对象推荐就业。

据统计，阳光中心成立后，S市未成年人违法犯罪总量下降明显。S市综治办副主任C向媒体披露，自2007年起，该市青少年违法犯罪总数持续下降；2010年25周岁以下违法犯罪青少年总数同比2006年下降了25.45%，下降速度好于全市总体违法犯罪状况。

“由政府向社会组织购买服务，这在发达国家已是普遍做法，但在我国仍处于起步阶段。”专家认为，“S市模式”值得各地借鉴。一方面，放权给社会组织，能对相关行政部门的力量形成有效补充；另一方面，提供帮扶服务的社工，大多接受过专业训练，专业性强。有了社会组织参与是第一步，影响预防“效果”的另一个问题，是社会组织中社工的数量和能力。

据F女士介绍，阳光中心的社工常年面临着“供不应求”的困境。“1位社工平均每年要帮扶100多名未成年人，确实有点顾不过来。”她说，现在社工的社会地位、劳动报酬都不高，没有多少人愿意干。可社工这份职业对个人能力要求较高，不仅要有社会学、法学等相关专业基础，也需要良好的沟通能力。F女士坦言，门槛高、人数少，是摆在面前的难题。有关关注此事的人士建议，要解决这个问题，还是应该从资金抓起。“政府应联合基金会，共同加盟对社会组织的财政支持，提高社工的劳动报酬。对表现好的社工，给予一定的奖励。”

2013年9月，B市民政局下发通知称，面向全市社会工作事务所购买社会组织参与未成

年人社会保护试点服务项目，其中购买服务项目的对象为依法登记注册、具有独立法人资格和健全的财务管理制度、年检合格的社会工作事务所。经过审核的社会组织将承担心理治疗、监护评估等工作。此次购买的服务项目为3个，服务项目包括构建社区保护机制和强化教育保护。具体来说，在试点街乡探索建立社区未成年人保护中心，做好未成年人返校复学工作；重点探索建立受助未成年人发现、报告和响应机制，及时庇护受伤害未成年人；探索开展困境未成年人救助帮扶机制。据介绍，社会组织将需要配合救助管理机构参与街头救助以及辖区困境未成年人排查摸底工作，对困境未成年人及其家庭开展监护情况与需求评估。

材料7:

随着社会的发展，涌现出了诸多的社会需求，这些社会需求原先都由政府来解决，导致政府机构设置臃肿，各类经费剧增，而同时，一些政府部门向社会提供公共服务时效率不高，不能满足群众需求，引起诸多不满。

20世纪80年代以来，以英国、美国、澳大利亚为代表的发达国家都推行了“购买公共服务”制度，并逐步发展成为政府履行公共管理职能的一种主流模式。小到社区一老一少的照护、一花一草的建设，大到教育、医疗、住房的“民生三大件”，都是政府购买公共服务的内容。当下，作为一种新型的政府公共服务方式，我国政府购买社会组织服务方面的发展也在提速。《关于2012年深化经济体制改革重点工作的意见》中明确提出，研究制定扶持社会组织发展的政策措施，建立健全政府向社会组织购买服务制度。

在香港，儿童保护工作备受重视，服务体系中包括了政府和非政府的力量。政府的力量有香港社会福利署保护家庭及儿童服务课，香港警务处虐儿案件调查组。非政府的力量有香港防止虐待儿童会、保良局、“母亲的抉择”、平等机会委员会、联合医院、明爱晓晖计划—性侵犯综合辅导服务中心等。这些非政府机构除了得到社会捐助资金外，大部分也得到政府的专项资金支持，每年向政府汇报工作和有关儿童问题的统计数据，这些资料将成为政府工作报告的依据。香港还有很多的寄养家庭，由自愿提供寄养服务的家庭填写申请表，政府对该家庭进行全面考察后登记备案。有需要家庭照顾的孩子随时有可能被送到寄养家庭，由政府每月支付一定的港币给寄养家庭，部分作为孩子的生活费，部分作为对寄养家庭的报酬。

材料8:

“这种变味的教育，学了能有什么用呢？就是考上大学能如何？找到工作又如何……”
“我们不是机器，即使是机器，学校也不该把我们当成追求升学率的工具！”这样内容犀利的言辞，不是出现在辩论赛上，而是一名中学生在3000多名师生众目睽睽之下的激情演讲。2012年4月9日上午，J省某中学举行升国旗仪式，一名高二学生在国旗下发表讲话时，将

之前老师“把关”过的演讲稿，悄悄换成另外一篇抨击教育制度的文章。5分钟的演说中，这名学生“慷慨陈词”，表达自己对现行升学和教育制度的不满，抨击父母强加给自己的所谓理想，学校没有让这名学生停止演讲，坚持让他讲完，事后对其进行了批评教育。

针对这一事件社会各界议论纷纷。全国律师协会未成年人保护专业委员会将这一事件评为2011—2012年度“未成年人保护领域十大事件”之一，认为学校并未因此而恼羞成怒或严厉处分该学生是一种对未成年人的尊重与保护。而相关教育界人士则认为该学生的言辞多多少少会对其他学生的心态产生影响，一味地放任或严厉地处分都会对其本人和其他学生的身心发展产生负面效果。学校如何在尊重未成年人、保护未成年人的基础上消除影响，维持正常的教学秩序考验着学校的管理水平。

弗吉尼亚公立小学暑假前的最后一天是学校举办期末颁奖典礼的日子。尽管颁奖典礼是早上举行的，依旧有很多家长请假前来出席。首先是给全勤和高勤的孩子们颁奖。英国教育讲究责任感、提倡参与的理念，从这个奖项的设立中可见一斑。其次是由学校图书馆负责人给加速阅读达到十级的孩子们授奖牌。这个评价体系对孩子们的毅力和坚持精神的考验远远超过了对智商水平的考查，而对他们养成良好的阅读习惯、提高阅读理解能力，则是一个很好的锻炼过程。接下来的颁奖项目是颁给最出色的家长志愿者，这位家长给学校贡献了最多的义工时间。从这个奖项的设立上，你可以看到美国教育是如何提倡贡献社区和回报社会的，对在美国大学的录取中将“社区贡献”作为一个重要的因素也就不会奇怪了。美国小学里经常听到老师对孩子说一句话是：最重要的不是你有多聪明，而是你有多努力。这种观念在“最大进步奖”的设立中表现得淋漓尽致。

材料9：

目前，对于孩子来说，不快乐似乎已成为一种普遍现象。曾任全国人大常委会副委员长的许嘉璐教授在谈未成年人保护法修订草案时表示，对未成年人“心”的关怀应该加强。许嘉璐认为，对未成年人的保护，无非是身、心两部分。现在，这部法偏重保护“身”，保护“心”的方面有些乏力。当前中国青少年最大的问题不是“身”的保护，孩子遭受伤亡的情况有，但是就一亿两千万学生来说，这种情况很少很少，更多的是“心”的问题。许嘉璐强调，对未成年人“心”的关怀应该加强。孩子摔伤了、骨折了是看得见的，父母老师心疼，但这是短痛；孩子学坏了，关系的则是一个家庭、一个民族的未来。

【作答要求】

1. 当前我国社会，对未成年人缺乏有效保护的问题体现在多个方面，根据给定资料对这些具体表现进行概括。（15分）

(200字)

(300字)

(400字)

第六天 数量关系与资料分析

1. 19、18、26、24、33、30、40、()

- A.32
B.34
C.36
D.38

2.

()	14	19	102
16	22	109	1
12	101	()	30
107	11	15	15

- A.11, 7
B.13, 5
C.17, 9
D.21, 3

3. 一个人骑车去工厂上班。他从家出发,用30分钟骑行一半的路程后,他加快了速度,以每分钟比原来快50米的速度,又骑行了10分钟,这时发现距离工厂还有2千米。那么他从家到工厂之间的距离为()千米。

- A.6
B.7.5
C.8
D.8.5

4. 在400米的环形跑道上每隔16米插一面彩旗。现在要增加一些彩旗,并且保持每两面相邻彩旗的距离相等,起点的一面彩旗不动,重新插完后发现共有5面彩旗没有移动,则现在彩旗间的间隔最大可达到()米。

- A.15
B.12
C.10
D.5

5. 有两箱数量相同的文件需要整理。小张单独整理好一箱文件要用4.5小时,小钱要用9小时,小周要用3小时。小周和小张一起整理第一箱文件,小钱同时开始整理第二箱文件。一段时间后,小周又转去和小钱一起整理第二箱文件,最后两箱文件同时整理完毕。则小周和小张、小钱一起整理文件的时间分别是()。

- A.1小时, 2小时
B.1.5小时, 1.5小时
C.2小时, 1小时
D.1.2小时, 1.8小时

根据下列资料,回答6~10题:

第七天 言语理解与表达

1. 拖延是一种对待生活的消极态度，_____你总是寄希望于明天，_____你终究会被拖入一事无成的困境。_____再美丽的花朵，_____终将枯萎的那一天，_____不要等到一切都枯萎了再采取行动。

- A. 因为 所以 即使 都 所以
- B. 如果 那么 即使 也 所以
- C. 只要 那么 哪怕 都 因此
- D. 只要 那么 即使 都 因此

2. 填入下列横线处最恰当的是 ()

- ①谁也不能以任何理由_____赡养父母的义务。
- ②要合法经营，不能靠搞歪门邪道来_____。
- ③咱们认真_____一下这件事该怎么办。

- A. 推托 盈利 合计
- B. 推托 营利 核计
- C. 推脱 盈利 核计
- D. 推脱 营利 合计

3. 填入下列横线处最恰当的是 ()

- ①今年全国两会实行矿泉水“实名制”，不再提供沏茶服务。这_____不是一种创新？
- ②只要我们还拥有生命，就得对生命负责，让生命_____出光彩。
- ③我们经历了灾难的创痛，更在灾难中铸就了不屈的精神，_____了无尽的力量。

- A. 难道 散发 凝结
- B. 何尝 散发 凝聚
- C. 何尝 焕发 凝聚
- D. 何曾 焕发 凝结

4. 下列句子组成语意连贯的语段，排序最恰当的一项是：()

- 1“常形”是指现实生活中客观物象的正常自然形态。
- 2 艺术美学所研究的，是正常的自然形态在艺术变形中的变化及美学意义。
- 3“变形”是指客观物象反应在艺术中的形态的改变。

4 所谓“变形”是相对“常形”而言。

5 例如两头蛇、三脚鸡等，这种“变形”虽然怪异，但不是艺术美学的研究对象。

6 在现实生活中，由于种种原因，物象的形态有时会出现变异。

A.413625

B.652413

C.431652

D.431265

5.下列各句中，下划线的成语使用恰当的一句是：（ ）

A.由于构思精巧，章法严密，这幅巨型国画表现的人物与场景虽然众多，但却具有内在联系，画面上各部分水乳交融。

B.近几年，黄河、岷江的部分河段多次出现枯水现象，面对这种红河下日下的情况，人们开始冷静地思考环保问题。

C.近两三年来，某市大型商场新增营业面积相当于过去十年所增营业面积的三倍，但前往购物的消费者却寥寥无几，出现了僧多粥少的局面。

D.限制消费范围，并不能制止公共权力的滥用，因为它没有切断用公共资金为自己办事的渠道，所以只是扬汤止沸，不是釜底抽薪。

6.中国人民正在为实现中华民族伟大复兴的中国梦而奋斗，实现中国梦，是物质文明和精神文明均衡发展、相互促进的结果，没有文明的继承和发展，没有文化的弘扬和繁荣，就没有中国梦的实现，实现中国梦，是物质文明和精神文明比翼双飞的发展过程，随着中国经济社会不断发展，中华文明也必将顺应时代发展焕发出更加蓬勃的生命力。

最适合做这段文字标题的是：（ ）

A.为实现中国梦而奋斗

B.伟大复兴的中国梦

C.中国人民与中国梦

D.中华民族的梦想

7.一些备受雾霾困扰的人们选择逃离，尤其是退休老人，那些环境宜居、生态良好的二三线城市成为他们的主要目的地。与此同时，也有少量年轻人选择移民海外。刚过 30 岁的大学教师李文就在今年出踏上了赴加拿大的移民之路。但不少市民和专家表示，逃离只是极少数人的选择，不能从根本上解决问题，面对雾霾，人人行动起来，积极参与治理，从自己做起，从身边的事做起才是大道。

这段话的主题是：（ ）

- A. 雾霾的治理办法
- B. 面对雾霾的逃离
- C. 人们面对雾霾的不同态度
- D. 治理雾霾需要人们积极行动

8. 良好的亲子沟通能让家庭气氛更和谐，教养子女也变得更轻松。然而还是有很多父母大叹和孩子难以沟通，或是已经尽力去和孩子沟通，但亲子关系还是不太融洽。其实，孩子和大人的沟通方式有所不同，如果父母只是用心学习与孩子沟通的方式，而没有掌握良好的沟通技巧，仍然不能建立有效的沟通桥梁。

这段话意在强调：（ ）

- A. 良好的亲子沟通能让家庭气氛更和谐
- B. 良好的亲子沟通的关键是沟通技巧
- C. 父母和孩子难以沟通是因为沟通方式不同
- D. 良好的亲子沟通的关键是沟通桥梁

9. 近来虽然有降雨，但气温并没有降多少，不少人仍然依赖空调过日子，而干眼症也“趁机上位”，让不少年轻人眼睛干涩刺痛。记者近日从多家医院了解到，近来就诊的干眼症患者比以往增多，主要集中在上班族和青少年。专家介绍，干眼症本是中老年疾病，年轻患者增多与电子产品的大量使用以及用眼过度有关。看电脑或电视屏幕，眨眼次数减少，眼睛得不到滋润就易引发干眼症。长时间使用空调、空气干燥也是诱因之一。

从上述文字可知，下列有关“干眼症”的叙述错误的是：（ ）

- A. 眨眼次数减少也容易引起干眼症
- B. 使用空调是引起干眼症的诱因之一
- C. 年轻人不会得干眼症
- D. 大量使用电子产品容易引发干眼症

10. 临近年底，部分二三线城市楼市调控走到一个微妙时点，业内人士认为，目前来看，一些二三线城市在限购政策落实方面“疲态”渐显，或试图放松限购令，或期待限购令自动到期作废。截止到 2013 年底，多个限购令将到期的城市未就限购令走向表态。

根据上述文字推断，作者接下来最有可能讲述的内容是：（ ）

- A. 限购令对楼市的影响
- B. 对中国楼市现状的分析

- C.二三线城市对限购令的态度
- D.限购令到期后城市楼市走向

第八天 判断推理


1.把下面的六个图形分为两类，使每一类图形都有各自的共同特征或规律，分类正确的一项是：

- ① ② ③ ④ ⑤ ⑥

中 国 龙 口 日 法

- A. ①②⑥,③④⑤
- B. ①③⑤,②④⑥
- C. ①④⑤,②③⑥
- D. ①⑤⑥,②③④

2.从所给的四个选项中，选择最合适的一个填入问号处，使之呈现一定的规律性。



- A B C D

3.锦上添花：雪上加霜

- A. 美不胜收：目不暇接
- B. 耀武扬威：弃甲曳兵
- C. 水滴石穿：磨棒成针
- D. 雨后春笋：每况愈下

4.秒：分钟：小时

- A. 钧：石：斤
- B. 忽米：丝米：毫米
- C. 立方分米：升：毫升
- D. 英寸：分米：厘米

5.“公民参与”是一种有计划的行动。它通过政府部门与公众之间双向交流，使公民能参加行政决策过程并且阻止和化解公民和政府机构与开发单位之间，公民与公民之间的冲突。

下列选项与上述定义最不符合的是：

- A. 某市宣传部发布倡议书，号召全体市民“绿色出行”，十万人回应支持
 - B. 某市政府公开新建垃圾填埋选址方案，收到 10 万条反对意见而缓行
 - C. 某县政府拟在工业园区内引进两条茶籽油生产线，组织附近村民座谈
 - D. 居民多次向某市人大投诉规划局违规审批项目，该项目在实施前被叫停
6. 习俗冲击是指生活在某一种习俗中的人初次接触到另一种习俗时所产生的不适感和

压力感。

根据上述定义，下列属于习俗冲击的是：

- A. 湘西女孩小莉考上湖南大学，入学后感觉生活与学习一团糟
 - B. 江南女子小苏第一次去北方某省公婆家过年，对当地下跪磕头的拜年方式难以适应
 - C. 周教授去英国做访问学者，很为自己的“哑巴英语”带来的沟通障碍感到焦虑
 - D. 小高能加“变形记”到一城市富裕家庭短暂生活，被“新家”的奢华震惊了
7. 创伤后压力反应是指人在遭受或对抗重大压力后，其心理状态产生失调后遗症，但这个现象是经历创伤后所产生的合理结果，而非患者心理状态原本就有问题。

下列不属于创伤后压力反应的是：

- A. 小王连续面试失败后经常失眠，变得易怒、过度警觉、失忆和易受惊吓
 - B. 一位二战老兵晚景凄凉，妻离子散，不久前又诊断出患有危及性命的重病
 - C. 在中东国家，饱受战争之苦的人一谈到四处盘旋的轰炸机就吓得想四处躲避
 - D. 小吴在地震中死里逃生，一听到楼板响就高度紧张，担心掉下来砸了自己
8. 已知甲、乙、丙、丁四人具有以下直系、旁系血亲关系：甲是乙的父亲，丙是甲的弟弟，丁是丙的母亲。则甲、乙、丙、丁四人中年龄最大的是()。

- A. 甲
- B. 乙
- C. 丙
- D. 丁

9. 厨房的桌子上有四个杯子，每个杯子上都写着一句话：第一个杯子上写着“所有的杯子中都是蜂蜜水”；第二个杯子上写着是“本杯是淡盐水”；第三个杯子上写着是“本杯不是白糖水”；第四个杯子上写着是“有些杯子中没有蜂蜜水”。

如果这四个杯子上写的话只有一句是真的，那么以下哪项必定为真？()

- A. 第一个杯子中的是蜂蜜水
- B. 第二个杯子中的淡盐水
- C. 第三个杯子中是白糖水
- D. 第四个杯子中不是蜂蜜水

10. 研究发现，大西洋、太平洋海面水温的微小变化与南美洲亚马孙热带雨林地区火灾的面积具有密切联系，将这种联系建立数学模型，可以用来预测亚马孙热带雨林地区来年的火灾情况。

以下哪项如果为真，最能支持上述观点？

- A. 大西洋海水温度升高 0.2°C ，亚马孙雨林次年火灾发生面积增加 11%

B.海水温度增高会引起水分蒸发，导致降水减少，发生干旱或致火灾

C.海水温度变化虽然微小，但可能对热带雨林生态系统造成重要影响

D.北冰洋等海面水温可预测其附近的西伯利亚雨林火灾发生率和面积

第九天 常识判断

1. 下列关于板块构造学说的说法错误的是（ ）

- A. 六大板块是针对地球表面陆地部分的划分
- B. 火山、地震等地质灾害主要发生在板块边缘
- C. 建立在大陆漂移和海底扩张学说基础上
- D. 喜马拉雅山是由两大板块碰撞挤压形成的

2. 下列关于我国地理方面的表述正确的是：

- A. 华北平原是我国面积最大的平原
- B. 南海有东沙、西沙、中沙、南沙四个群岛
- C. 西藏自治区是我国面积最大的省级行政区
- D. 泰山、华山、恒山、衡山和庐山被称为“五岳”

3. 海洋动物科学考察的结果显示，近几十年来，许多海洋“有壳类”动物，如贝壳、螺类和虾蟹类等，其外壳有变薄、变软的趋势，造成这种现象的主要原因是：

- A. 二氧化碳排放过度导致海水酸化
- B. 海水升温导致海洋动物的生长成熟周期缩短
- C. 外壳轻便的海洋动物更易于游动、捕食和躲避天敌
- D. 海洋“有壳类”动物面临食物短缺的困境，经常营养不良

4. 下列关于地理位置的描述与城市之间对应关系错误的是（ ）。

- A. 北通汝洛，西带秦蜀，南遮湖广，东瞰吴越——襄阳
- B. 东压江淮，西挟关陇，北通幽燕，南系荆襄——南京
- C. 南抚百越，北望中州，据五岭之要会，扼赣闽粤湘之要冲——赣州
- D. 居浙右之上游，控鄱阳之肘腋，制闽越之喉吭，通宣歙之声势——衢州

5. 下列说法符合生活实际的是（ ）。

- A. 处暑时节，我国北方医院里中暑病人相对有所减少
- B. 小满时节，我国东部由低温导致呼吸疾病明显增多
- C. 芒种时节，我国南方居民发现春困的感觉有所加剧
- D. 雨水过后，我国西部蚊蝇所传播疾病开始明显增多

6. 下列说法错误的是（ ）。

A. 根据光的偏振原理可以制成看立体电影的立体眼镜

B. 打枪瞄准时闭上一只眼利用了光沿直线传播的原理

C. 光在光纤中传播利用的是光的全反射原理

D. 潜望镜利用了光的折射原理

7. 世界大河中，与长江流向大致相同的是（ ）。

A. 尼罗河

B. 印度河

C. 亚马逊河

D. 伏尔加河

8. 海鸥是最常见的海鸟，被称为海上航行安全的“预报员”，下列对海鸥获得“预报员”称号的解释中不符合事实的是（ ）。

A. 如果海鸥贴近海面飞行，那么未来的天气将是晴好的

B. 海鸥常落在浅滩、岩石或暗礁周围，航海者可据此判断附近是否有暗礁

C. 海鸥有沿港口出入飞行的习性，迷失方向时可观察海鸥的飞行方向寻找港口

D. 如果海鸥离开水面高高飞翔，成群结队地从海边飞向大海远处，则预示着暴风雨即将来临

9. 2011年3月，日本强地震造成核泄漏。为降低和防止核泄漏造成的危害，发生核泄漏时，下列做法中不正确的是（ ）。

A. 离开核泄漏地区后，要换衣服和鞋子并将其放在塑料袋中

B. 食品不暴露在空气中，而是放在密闭的容器内或冰箱里保存

C. 进入被放射物质污染的地区时，使用手帕、毛巾等捂住口鼻

D. 将从核泄露国家回来的人员隔离，避免他人受到放射性元素的伤害

10. 下列成语和俗语中描写这种生物种间竞争现象的是（ ）。

A. 鸠占鹊巢

B. 一母生九子，连母十个样

C. 一山不容二虎

D. 螳螂捕蝉黄雀在后

第十天 申论

【给定资料】

2. “中国人，便后请冲水”，“请安静”，“请不要随地吐痰”……这种仅以简体中文标出的警示牌，正在中国人出境游的主要目的地国——法国、德国、日本、泰国、新加坡等地频现。当大批游客成为中国的最新出口品时，“中国人”却成了不文明、粗鲁的代名词。

乱丢垃圾，坐公交车抢座，排队加塞，大庭广众脱鞋脱袜、赤膊袒胸，吃自助餐多拿多占，遇有纠纷恶语相向……近日，中央文明办和国家旅游局公布了从网上征集的 10 类“中国公民出国（境）旅游常见不文明行为”，以上行为全部榜上有名。

对于国人在境外旅游中的不文明行为，国家知识产权局公务员张利深有体会。除了加塞、随地吐痰等常见“症状”，张利印象尤为深刻的是国人的“扎堆”和“大嗓门”。

“中国人出去喜欢集体行动。几十个人浩浩荡荡地走在一起，有说有笑，休息的时候连躺带卧，占一溜长椅。”

“一般的国外餐馆，即使宾客满座也非常安静。人们交谈的音量控制在对方可以听见的范围内。再看国内，很高档、门外停了很多车的饭店，里面也吵得不得了。”

对中国人的大嗓门，台湾学者柏杨在《丑陋的中国人》一书中讲过一件事：两个广东人在美国街边说话，美国人认为他们就要打架，急拨电话报案。警察来了，问两人在干什么，他们说：“我们正在耳语。”

上海学者朱大可认为，中国人缺乏公共空间的基本礼貌，肆无忌惮地大声喧哗是其中一种表现。

“近几年来，一些中国公民的旅游陋习，严重损害了中国‘礼仪之邦’的形象，引起海内外舆论的广泛关注和批评，人民群众反应强烈。”中央文明办相关人士表示，将用 3 年左右时间，实施“提升中国公民旅游文明素质行动计划”，维护国家的荣誉和尊严，增强国家的“软实力”。

评论人士指出，“中国公民文明素质不高并不是作为一名游客的时候才表现出来，要提高的不是游客素质，而是全体国民的素质”。

3. 泱泱礼仪之邦，何以在最基础的礼仪方面出现问题？

国际关系学院文化与传播系教授郭小聪认为，历史的拐点出现在明中叶以后。

唐宋以前，中华文化是优雅的代名词，中国是礼仪输出国。史载中国商人到东南亚去，

被看作来自礼仪之邦的人上人，甚至免费食宿。日本和朝鲜对中华文化的模仿亦步亦趋。

明中叶以后，随着人口增多，游民越来越多，社会问题无法在家族内部解决，游民们组成秘密教门、会党、行帮、商帮等“江湖组织”，社会生活日益粗俗化、江湖化。

“这种东西一直影响到今天——称兄道弟，哥们姐们……这是生存逼的，我们人人觉得这种生活方式很累，但没有办法。人需要超脱和孤独，但是这种文化不让你孤独。”

“不认原则，认人情，必然就有亲有疏，造成不公正和紧张。面对生存竞争的时候，你不知道别人有什么‘关系’。”郭小聪分析，今天中国人显得“无礼”的另一个原因，是传统生活方式与现代社会的冲突。就如农村人不适应城市交通规则、随地吐痰、大声说话、赤膊一样。在田野上长大的人如同自然之子，自由自在，与物相融。但在城市，高度集中的陌生人群就不得不被各种复杂的规则所限制。

与“人口过剩导致社会粗俗化”有连带关系的另一观点认为，不文明行为是由资源匮乏导致的恐慌造成的。

但台湾女孩丁玥不赞成这种观点，“要讲资源匮乏，整个亚洲都资源匮乏。”日本“新干线”的拥挤程度不比北京的地铁逊色。每个车站都有一些戴白手套的人专门负责把乘客往车厢里推。一边推一边鞠躬，毕恭毕敬地说“对不起”。乘客知道空间有限，都拼命收缩自己。“不像在大陆，有些人自己要挤进去，还恨不得把别人挤下来。在车厢里，胳膊和腿都伸得很开，拼命占地方。”

4.两年前，一张中国游客卢浮宫前水池泡脚的照片，曾引来关于国人文明素养的热烈讨论。耐人寻味的是，当人们发现许多金发碧眼的游客也在同样行事，就有声音立即“再反思”：为什么外国人可以泡，中国人泡就要背上“低素质”的污名？必须厘清的一个基本事实是，卢浮宫的水池允许不允许泡脚？如果泡脚违规，哪怕是法国总统泡脚了，也不能佐证中国人泡脚有合理性。答案是：首先水池旁边有禁止戏水的标牌；其次从媒体后续报道可知，卢浮宫工作人员让·保罗表示，在卢浮宫外的水池泡脚的行为是要禁止的。

“别人可以，我为什么不行？”这样的提问方式，显示了国人个体意识、权利意识的觉醒。但放在卢浮宫的语境下，却少了些说服力。一些令人反感的陋习，往往被理解成与他人无关的个人选择，甚至被视为不可侵犯的“权利”。殊不知，走入公共场合，再彪悍的个人权利也有边界，“人人相善其群”，才能涵养人们的公共意识。公共意识的背后，是在现代化之路上困扰中国百余年的国民素质大考题。

“欲维新吾国，当维新吾民”，从梁启超到孙中山再到中国共产党，所有社会的进步力量，无不把“国民素质”作为发展的根本。正如梁启超所说，“苟有新民，何患无新制度，

无新政府，无新国家”。而所谓“素质”，并不仅是会英语、会电脑的现代技能，更不是会穿衣、会玩乐的现代生活，而是价值尺度、思维方式、行为规则的“观念现代化”。前贤早已痛心疾首于国人公共精神的缺失，遗憾的是，直到今天，我们还在为景观水池中泡脚争论、为颐和园绿地上小便辩护。我们必须正视的是：怎样在享受个人自由、行使个人权利的同时，不干涉其他人作为“我”的正当权利？怎样培育起国人的基本的公共意识？

5.脸部涂满“鲜血”的“僵尸”突然出现在车厢内，这一幕发生在万圣节前夕的某市轨道交通2号线上。扮成“僵尸”的贺某，因涉嫌扰乱公共交通工具上的秩序，已被依法行政拘留。据了解，当天高峰时段，贺某“顶”着满脸“鲜血”的“僵尸妆”出现在车厢内，部分乘客惊慌尖叫四处逃窜，引起众人恐慌，导致秩序混乱。

因为过一把万圣节的瘾，而被行政拘留，看似倒霉，实则活该。对于西方的节日，我们不能拿来主义。毕竟，中西方文化不同，在人家那里，万圣节活动是一个有着社会传统、相对固定而且大范围存在的习俗，因此在公共场所扮演“僵尸”，才不会引发恐慌。

但在中国，模仿西方的万圣节活动，毕竟是这几年才零星出现的。尽管一些人尤其是年轻人，思想很前卫，但对于大多数人来说，还没有形成习惯。一个文明有序的社会，必须有这样一个前提，那就是你的自由不能影响到别人的权益。同样是舶来品的圣诞节、情人节，喜欢的人群也大都是年轻人，但并没引起其他年龄层的人们的反感，为什么？因为那是年轻人自己玩自己的，并没有妨碍到其他群体的正当利益。

一定要看到，个人的行为在公共场所是有边界的。而且这种边界，不会因为你所谓的个性、艺术，或者节日活动，就有所改变。遗憾的是，一些人往往僭越边界，把原本应该限定在私人领域、小范围特定领域的行为活动，放到了公共场所，影响到他人，进而违背公序良俗，甚至违法。

6.你的邻居有一条狗狗，邻居富有，它不眼红，邻居贫穷，它不弃嫌，邻居睡觉，它趴在床前，犹如一名“警卫员”，每天都能给邻居带来欢乐和温暖。拥有这样一条狗狗，一定让你特别的羡慕，但是如果告诉你，你的邻居们都有一条狗狗，并且一到晚上夜深人静的时候就开始叫，你是不是立刻无语了？

这不，3月2日，家住F市保利小区的刘先生就向F市环保局反映，旁边的别墅区里，每户人家都养了一条到两条大型犬，一到晚上，就吵得周边居民无法安睡。

据了解，《F市城区限制养犬管理办法》规定，F市的城区为限制养犬区域，在限养区内养狗的单位和个人，都必须经过当地公安部门审批。但保利小区辖区派出所负责人罗所长表示，现在市区内居民养狗越来越多，流动性也很大，但几乎没有狗主人来登记过。

2013年7月21日凌晨3时左右，一艘运载石材的轮船撞到大桥桥墩后，发生故障、失去动力，向下游漂流一段距离后沉没。这本是一起单纯的船只失事事件，却引起了位于沉船地点下游的C市市民的一片恐慌。

“在C市自来水厂取水口附近，一艘装满原油的轮船翻掉了，水面被大面积污染，全市的自来水都不能喝了！”从中午开始，这条据说是来自C市造船厂一名工作人员的“一手信息”，通过微博、微信、QQ群等网络社交平台在市民中疯传。整个下午，大量市民都在超市排队抢购桶（瓶）装水。直到下午五点，市政府才在政府官网上发布《关于C市自来水取水口安全问题的通告》，对此事进行澄清。市民们的不安情绪才得到一定缓解。在谣言传播发酵了5个小时后，政府才小范围发布权威信息。这也导致政府发布信息后，仍有部分市民半信半疑，误认为政府在隐瞒实情，于是继续在网上发帖质疑。

【案例2】

最近，小明希望为两岁的外甥女入选“十佳活力宝贝”增加一些网络投票数。因为发动亲朋好友投票太慢，他便在网上寻找投票代理公司，结果搜索到不少。最后，小明按要求将200元汇到代理公司账号上。汇款次日，小明外甥女的票数开始直线上升，瞬间达到1万多票，将其他参赛者远远抛在身后。据了解，这次网上评选活动是采取了严格监控措施的，一个IP地址只能投一票。投票代理公司对此表示，涨票并未使用黑客手段。那瞬间的1万票，是怎么刷出来的呢？

一位长期从事网络投票代理的业内人士透露内幕——全靠网络“水军”，水军大多是兼职的普通网民，长时间泡在网上，被一些代理公司招揽后，坐等赚外快的机会，有了业务随手点击就能得到报酬，却全然不知他们的行为有可能违法违规。对于这类做法，目前绝大多数网络运营商、服务商在技术层面上还缺乏有效的制约手段。

【案例3】

在D市，有家看上去很普通的鞋店，生意却出奇兴隆。每天下午4点，快递公司的车都会来取货，有时一天能发两车货。这家店主要靠网上销售。点开网页，里面卖得最好的是“正品原单，接受专柜验货的雪地靴”，该网店的销售记录显示，网店一天可出售200件左右商品，而价格仅为专柜的十分之一。

去年年底，D市工商局接到消费者举报，称这家网店销售假货。经审查，这家店老板对卖假货供认不讳。他承认这些所谓的“国际品牌产品”全部来自当地的一些厂家，否则也不会这么便宜。

工商局执法人员则指出，现在很多电商交易平台对经营者、商品销售和交易行为管理等

第十一天 数量关系与资料分析

1. 19、38、57、76、95、()

- A.114
- B.133
- C.171
- D.190

2. 2、4、16、96、768、()

- A.864
- B.3072
- C.7680
- D.9216

3. 地上放着一个每一面上都有一个数的六面体箱子，对面两个数的和均为 27，甲能看到顶面和两个侧面，这三个面上的数字之和是 35；乙能看到顶面和另外两个侧面，且这三个面上的数字和为 47。箱子贴地一面的数字是()。

- A. 14
- B. 13
- C. 12
- D. 11

4. 某单位有 52 人投票，从甲、乙、丙三人中选出一名先进工作者。在计票过程中的某时刻，甲得 17 票，乙得 16 票，丙得 11 票，如果规定得票比其他两人都多的候选人才能当选，那么甲要确保当选，最少要再得票()。

- A. 1 张
- B. 2 张
- C. 3 张
- D. 4 张

5. 甲、乙、丙、丁四人，其中每三个人的岁数之和分别是 55、58、62、65。这四个人中年龄最小的是()。

- A. 7 岁
- B. 10 岁
- C. 15 岁
- D. 18 岁

根据下列表格，回答 6—10 题。

某省环境统计公报（2004—2008 年）

内容	单位	2004 年	2005 年	2006 年	2007 年	2008 年
一、废水						
废水排放总量	亿吨	54.2	63.8	65.5	69.1	67.7
工业废水排放达标率	%	83.9	83.9	84.9	86.1	89.7
城镇生活污水处理率	%	35.7	40.2	45.3	50.2	55.9
二、废气						
工业废气排放总量	亿米	12543	13447	13584	16939	20510

第十二天 言语理解与表达

1.周敦颐通过自己的努力,丰富和发展了儒家思想理论体系,开拓了儒学发展的新境界,使之_____,一扫魏晋南北朝及隋唐五代的_____,回归到原有的正统地位,赢得了与释、道竞争的全面胜利,取得了意识形态的主导权。

依次填入划横线部分最恰当的一项是()。

- A.独树一帜 弊端
- B.柳暗花明 萧条
- C.脱胎换骨 落寞
- D.焕然一新 颓势

2.托尔斯泰创造了小说艺术的巅峰,他能把拿破仑进军俄国的战争史诗般场面驾驭自如,能把安娜的人性刻画得_____。像这样的大手笔再也没有了。

填入划横线部分最恰当的一项是()。

- A.惟妙惟肖
- B.妙笔生花
- C.入木三分
- D.鬼斧神工

3.人类社会自有了国家,就开始了征税的历史。从古到今各国开征的税种_____,但总的来说,可以将它们_____为直接税和间接税两大类。直接税如土地税、房屋税等,间接税如盐税、渔税等。两类税种本身以及主体税种的经历了一个漫长演进的过程。

依次填入划横线部分最恰当的一项是()。

- A.大同小异 概括 出现
- B.林林总总 划分 发展
- C.不胜枚举 归纳 更替
- D.五花八门 合并 蜕变

4.下列语句中,有歧义的是()。

A.在众多国家强烈反对的情况下,欧盟委员会依然宣布从2012年开始征收国际航空碳排放费

B.毛泽东、何叔衡是秘密前往上海的，谢觉哉是何叔衡的同乡兼好友，也不知他去上海干什么

C.希腊选举结果出炉，新民主党获得胜利，但没有绝对优势

D.高端市场上逐渐丧失话语权的诺基亚，试图通过推出低价手机来挽救颓势

5.王羲之书法所表现出的那种姿韵萧散、超然于物外的雅逸之风，一直是后代书法家极力追摹的理想境界。王羲之的书法从容自得、真率烂漫，没有一点尘埃气的风流神韵，散发着当时的时代趣味，展示了当时士人向外发现了自然、向内发现了自我的自信和超逸，成为引领这一书风的代表。

最能概括王羲之书法风格的是（ ）。

A.傲岸磅礴，潇洒出神

B.肉不没骨，筋不外透

C.清华雅淡，晋人尚韵

D.丰富肥厚中藏道劲之趣

6.近年来，社会热点事件频频占据了我们的视线，从毒奶粉事件到染色馒头事件，无疑给广大民众带来了巨大的心理负担和精神困惑；曾经轰动全国的抢盐事件，更是对社会正常秩序的一种冲击。很明显，这些社会热点事件，给人们的社会生活带来了破坏性甚至是毁灭性的影响。但是最为严重的影响，莫过于这些社会热点事件所产生的负面效应的不断扩散，并由此引发的公众的困惑和不安。

根据这段文字，可以看出作者的意图是（ ）。

A.呼吁对社会热点事件负面效应的扩散进行有效抑制

B.批判社会热点事件的负面效应混淆了公众的视听

C.揭示社会热点事件的负面效应不断扩散的实质

D.提醒人们在复杂多变的环境中提高甄别社会热点事件的能力

7.下列语句中，成语使用不当的一句是（ ）。

A.如今这里是经济开发区，高楼林立，机声隆隆，给人以面目一新的美好感觉。

B.我本来就对那里的情况不熟悉，你却硬要派我去，这不是差强人意吗？

C.掐丝工人心里有谱，不用在铜胎上打稿，就能自由自在地把铜丝粘成图案。

D.如果没有无数默默的枕木，力大无穷的火车头也只能站着叹气。

8.把下面几个句子组成语意连贯的一段文字，排序正确的一项是（ ）。

(1)我们吃了早餐后，便坐着船出发

(2) 天平山，从苏州前去，是比较遥远的途程。

(3) 河道两旁的田野，青绿地活趣欲跃。

(4) 所走的水路是运河的故道。

(5) 一路多枫树、短桥，对之令人感到一种清隽的散文诗的风味。

A.1-2-4-3-5

B.2-1-4-5-3

C.4-1-3-2-5

D.2-5-1-4-3

9.如果我是一株树，我要做一株高大粗壮的树，把我的顶际插入云端，把我的枝干伸向辽远，当太阳沉下去了，我用我的全心来迎接四面八方的失巢的小鸟，要它们全都栖息在我的枝干间……

这段话中，作者的感情和下列诗歌中相仿的是（ ）。

A.谁言寸草心，报得三春晖

B.我欲乘风归去，又恐琼楼玉宇，高处不胜寒

C.安得广厦千万间，大庇天下寒士俱欢颜

D.山不厌高，海不厌深。周公吐哺，天下归心

10.学术评价中，往往交织着主客观的各种复杂因素。由于学术评价常受到评价主体学术观点、情感倾向、价值观等因素的影响，所以人们倾向于依靠量化数据进行评价。事实上，这类数据所包含的评价意义是由点击者、下载者、引用者体现出的，过度倚重这类数据就是把量化数据的制作者当成了评价主体。

这段文字意在说明（ ）。

A.以量化指标为标准的评价体系备受争议

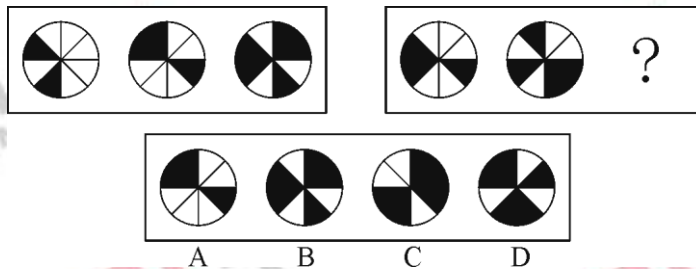
B.在进行学术评价时不能过多依赖量化数据

C.正确的学术评价需要经历很长的历史过程

D.经得住实践检验的学术评价才是可靠的

第十三天 判断推理

1. 从所给的四个选项中，选择最合适的一个填入问号处，使之呈现一定的规律性：



2. 把下面的六个图形成为两类，使每一类图形都有各自的共同特征或规律，分类正确的一项是：



- A. ①②⑤, ③④⑥
- B. ①②⑥, ③④⑤
- C. ①④⑤, ②③⑥
- D. ①⑤⑥, ②③④

3. 经济赤字：收入：开支

- A. 债务纠纷：还钱：借钱
- B. 销售利润：进价：售价
- C. 背信弃义：诺言：谎言
- D. 优胜劣汰：适应：淘汰

4. 创新：僵化 ()

- A. 发展：前进
- B. 开放：闭塞
- C. 计划：秩序
- D. 革新：失败

5. 同类对象错误，指行为人意图侵害的对象不一致，但属于同一类的，应当按照犯罪既遂定罪处罚。非同类对象错误，指行为人意图侵害的对象与实际行为侵害的对象不一致，且不属于同一类，只能根据行为人的主观故意内容认定犯罪性质。

根据上述定义，下列说法正确的是：

- A. 甲误将乙当做丙而杀死，应当以故意杀人罪既遂处罚
- B. 甲误把动物当成人而加以杀害，应当不成立犯罪
- C. 甲误把人当成动物而加以杀害，应当不成立犯罪
- D. 甲误把他人放置的财务当成垃圾扔掉，成立犯罪

6. 社会方言是由社会群体的不同性质而形成的语言变体，是在某一社会群体、社会阶层或次文化群中被使用的语言，它是由不同的职业、社会地位、政治信仰、受教育程度因素

或这些因素构成的社区交际习惯所形成的语言差异。主要差别是语言风格和表达方式，以及一些特殊词汇的使用。

根据上述定义，下列选项不属于社会方言的是：

- A. 贵族语言
- B. 学生腔
- C. 法律术语
- D. 客家话

7. 白色农业是指以蛋白质工程、细胞工程、酶工程为基础，用基因工程等高科技手段开发微生物资源的工程农业。它是通过优化配置微生物资源，利用微生物惊人的繁殖生产能力，在工厂化条件下生产人类及动植物所需营养品和保健品的新型农业。

根据上述定义，下列不属于白色农业的是：

- A. 使用各种农业废料制成蛋白饮料
- B. 利用转基因技术培育水稻新品种
- C. 农业生产中应用细菌、真菌制成杀虫剂、杀菌剂、除草剂
- D. 应用科学技术措施，形成宜林则林、宜牧则牧、宜渔则渔的高效农业群

8. 某市风景优美，气候宜人。该市晨曦路两侧开设的几乎全部都是老年疗养院，来自全国各地的很多老年人来此旅游、疗养。晨曦路只有很少几座居民住宅，但是晨曦路附近却有很多专门经营儿童用品的商店，而且生意还相当火爆。

下列哪一项是最能解释这一现象？（ ）

- A. 晨曦路附近的专门经营儿童用品的商店所出售的商品物美价廉
- B. 来此疗养的老人都是有子女带着孩子陪同的，他们需为孩子购买所需物品
- C. 居住在晨曦路的居民虽然不多，但孩子们之间经常互相赠送礼物
- D. 晨曦路附近的儿童用品商店闹中取静购物环境良好

9. 近期一项电脑市场调查显示：按照一品牌学生购买者占全部购买者的百分比计算，A、B 两品牌电脑名列前两位，比例分别为 68% 和 52%。但是，在过去 6 个月的学生购买电脑量排行榜中，国产 C 品牌一直排在首位。

下列哪项为真，最有助于解释上述矛盾（ ）

- A. 有关机构设立排行榜在一定程度上影响学生消费者对品牌的选择
- B. C 品牌的学生购买者占其购买者的比例也曾在相当长的时间内高于其他品牌
- C. 与 A，B 两种品牌相比，C 品牌电脑性价比更高，更符合学生要求

D.某种品牌学生购买者占各品牌学生购买者总数的百分比,与某种品牌学生购买者占该品牌全部购买者的百分比是不同的

10.一位博士生导师说:现在的博士生论文,语句越来越难读懂,本届学生交给我的博士生论文都写得很差,句子不通,还有不少错别字。下列哪一个选项最能削弱这位大学博导的论证? ()

- A.上述论证没有证明博士生导师能够判断博士生的写作水平
- B.这位博导的学生水平是否能够代表所有博士生的水平尚需得到证实
- C.上文的论证并没有排除这位博士生导师不是一个好老师的可能性
- D.在上文论述中没有提供反面的论点

第十四天 常识判断

1. 古诗云：“眼处欣生句自神，暗中摸索总非真。画图临出秦川景，亲到长安有几人？”

下列选项中与此诗所蕴涵的哲理相同的是（ ）。

- A. 近水楼台先得月，向阳花木易为春 B. 竹外桃花三两枝，春江水暖鸭先知
C. 纸上得到终觉浅，绝知此事要躬行 D. 日出江花红胜火，春来江水绿如蓝

2. 调查研究发现，由于原料、人工等成本大幅攀升，很多农产品的价格上涨是成本推动型的，还有些是周期性的。这种通过调查研究得出结论的做法符合（ ）。

- A. 一切从实际出发，实事求是的要求 B. 用发展的观点看问题的要求
C. 两点论和重点论相统一的要求 D. 唯物主义的方法论要求

3. 今天，社会经济和结构调整，价值和利益多元多样，任何一项改革措施的出台，都要遇到不同声音，遭受很多阻力，这很正常，重要的是统筹各方利益，汇聚真知灼见，找到改革的“最大公约数”，形成推动改革的合力，从哲学角度讲，这个“最大公约数”应该是（ ）。

- A. 党和政府的政策主张 B. 人们对改革的正确认识
C. 改革开放的伟大实践 D. 最广大人民的根本利益

4. 俗话说“绣花要得手绵巧，打铁还须自身硬”，下列与该俗语哲学道理相同的是（ ）。

- A. 身正不怕影子斜 B. 师傅领进门，修行靠个人
C. 水大漫不过船 D. 有理不在声高

5. 作家萧伯纳说“人生有两大悲剧，一是没得到你心爱的东西，另一是得到了你心爱的东西”；学者周国平则说“人生有两大快乐，一是没有得到你心爱的东西，于是你可以去寻求和创造，另一是得到了你心爱的东西，于是你可以去品味和体验”。从哲学角度看，两个观点存在差异的主要原因是（ ）。

- A. 追求真理是一个永无止境的认识过程
B. 价值判断和价值选择具有社会历史性特征
C. 人们的认识结果是由客体对主体的作用决定的
D. 意识对于客观事物的反映是主动的、有选择的

6. 下列关于《共产党宣言》的说法不正确的是（ ）。

- A. 是法国大革命的理论基础
B. 标志着马克思主义的正式诞生

C. 贯穿全书的基本思想是唯物主义的历史观

D. 把马克思主义哲学、政治经济学和科学社会主义原理融为一体

7. 关于建设中国特色社会主义的总布局，我们党的认识经历了一个逐步发展的过程。即从最初的“两手抓”到“三位一体”“四位一体”，再到“五位一体”。这体现的哲理是（ ）。

A. 理性认识依赖于感性认识

B. 感性认识有待发展为理性认识

C. 在实践中坚持和发展真理

D. 实践是检验真理的唯一标准

8. “手机可以让分处地球两端的人轻松对话，也可以让面对面的两个人忽视了彼此的存在。”这体现的哲理是（ ）。

A. 科学技术是先进生产力的集中体现

B. 科学技术的社会作用具有两重性

C. 科技革命是失去社会发展的重要动力

D. 科技革命引发生产方式的深刻变化

9. 公务员王某抱着“只要不出事，宁愿不做事”的态度，对于群众反映的需要费心解决的问题应付了事。这种行为违背的公务员职业道德规范是（ ）。

A. 清正廉洁

B. 勤政为民

C. 诚实守信

D. 品行端正

10. 下列关于我国民主党派和无党派人士的说法，不正确的是（ ）。

A. 工商联不属于民主党派

B. 民主党派是参政党，不是在野党

C. 无党派人士是指既不参加中国共产党也不参加民主党派的普通群众

D. 中国共产党与民主党派将长期共存、互相监督、肝胆相照、荣辱与共

第十五天 申论

材料 3

我是小强，我没时间吃晚饭；我是王继伟，我没时间长途旅行；我是张慧，我没时间睡午觉；我是朱亚青，我没时间减肥；我是盖伦，我没时间睡觉……突然很想上班，发一发呆，偷一点懒，我真的没时间，没时间……2011年下半年一首流行歌曲《没时间》唱出了广大职场人的心声。

《小康》调查显示，对自己的休闲状况感到“满意”的职场人，只占两成多(22.2%)，45.5%的人感到不满，32.4%的人感觉一般，关于中国人的工作时长，经济学家郎咸平曾经算过一笔账，中国人均工作时间排名世界第一，一年高达2200个小时，美国为1610小时，日本是1758小时，荷兰则只有1389小时，为全球最低，与此相关的是绝对工资收入，每小时工资中国在全世界排名最低，中国人的人均工资为0.8美金1小时，全世界第一是德国，约30美金一小时，第二名是美国，约22美金一小时。对于中国职场人停不下来的原因，《中国旅游报》报社总编辑，国家旅游局综合协调司前副司长高舜礼有另外一个解释，“关于休闲的要素，大家比较多的强调有钱有闲，却往往忽视了一个很大的问题——休闲的观念，欧洲人在严重的债务危机影响下，都还开着车去休假，我们享受美丽，祥和的日子，为什么不能休？”

材料 4

刚刚过去的这个黄金周，所到之处有无限风光总是被掩埋，取而代之的是“风光无限”的滔滔人海，游客的大好心情荡然无存。休闲之旅变的索然无味，休假出行越发成为一种负担，“自然给了人类风景，人类给了自己拥挤”。

据陕西省旅游局发布的数据称，2012年10月2日华山接待游客3.9万人次，同比增长49%；但同是这一天，数万游客被困华山，原来怀着美好旅行愿望的人们，从中午开始就拥堵在景区内，上下不能，直至拦车砸车。再后来，内蒙古游客董立文夫妇又因退票被捅伤，其中董立文身中11刀，“我时刻感觉命悬一线，”“十一期间，人肯定多但只有身临其境，才能真正体会人多到让人心生恐惧。”来自广东的游客小兰说出了广大游客的心生。

从事软件开发的小程说：“我们也有带薪假，单位福利不错，每年都组织员工们旅游。大家在一起玩的也挺兴奋，但是总感觉有些缺点什么，孩子平时上学，要请假不方便。如果能和家人一起出游就好了，再说每次出去都是名山大川的，是观光而不是度假，难怪有人

成为异地扶贫搬迁工作的瓶颈。国家严禁在耕地上建设住宅，各村有又没有公共用地，搬迁中的土地问题就难以解决。

搬迁的另一个尴尬是补助少，个人出资的部分太重。结果是有钱的搬了，没钱的只能等。每户 4.5 万元的建房款，在靠天吃饭的农村是一笔巨款。甲村 22 户村民中，就有 13 户因交不起房款无法搬迁。77 岁的李大爷就是交不起钱的住户之一。老人有两个儿子，老伴去世后，先是跟着大儿子住，后来大儿子去渭南工作，小儿子也成了家，最后就只剩下他一个人。“能搬走的都是那些能交起房款的人，剩下的村民怎么办？虚报和私下转让等不法行为。据陕西省发改委《关于 Z 县 2008 年以工代赈易地扶贫搬迁试点工程实施方案的批复》统计，路井镇乳阳村 1 组 50 户、230 人，集中安置在该村南 1.5 公里路边 42 户、184 人，插花安置 8 户、46 人。该村一位不愿透露姓名的村民反映，1 组实际只有 30 多户，不到 180 人，这明显属于虚报，该村民称，多出的指标被 2 组霍林村村民“冒名顶替”，有的搬迁户甚至私下转让指标套取补助款，更有甚者，一些“吃皇粮”的国家工作人员也借村民的名义占用宅基地。

2003 年 8 月，Z 县遭遇历史罕见的长期暴雨，位于县城 10 公里的乙村村东和东北方沟堤大面积滑坡崩裂，沿沟边居住的 6 组村民房屋倒塌十几间，就连院子里也出现了大裂缝。2008 年，Z 县决定将原来住在沟沿边的 6 组整体搬迁到村南一公里处的空地上。作为数量不多的避灾移民，这次搬迁建房采取的是村民自建、政府补助的方式。按当地政府规定，房子建好后，经验收合格，国家将给每户 1 万元补助款。但两年之后，村民的房子陆续建成，不仅补助没有全部到位，每户还被额外收取了 2500 元的宅基地费。一位姓张的村民说，政府承诺每户 1 万元的补助，实际上每户仅得到 7500 元，部分原来的老房子没来得及腾出来的，甚至只领到 3000 元，远低于国家的补偿标准。搬迁户还要自购地皮？大部分人对此表示不解。张姓村民反映，村里用来安置的土地本身就是 6 组的土地，并没有新占土地，而且新建每户占地面积只有 4 分多，村民原先住宅占地大多比这个面积大，搬迁后原宅基地交给了村集体复耕，耕地不仅不会减少反而增加了，为什么 1 万元反而缩水成了 7500 元？以工代赈办搬迁负责人解释称，国家的建房补助标准是按人口计算，但自建房一般按户补助，县里便将该村的建房平均分摊以后每户 1 万元，但是由于集中居住需要基础设施投入，因此最终定下来的标准是每户 8000 元。至于村上收每户 2500 元宅基地费，是在项目实施之前，以工代赈办曾要求全数退给农户，但由于乙村村委会干部长期空缺（村上事务有镇上一位副书记代管），这个问题目前还是没有得到解决。与乙村补助款“缩水”不同，在 Z 县丙村、丁村等移民点，补助款被以宅基地平整费、管理费、押金等方式克扣。丁村村委会甚至给每户都配

上了大铁门、不锈钢护栏和塑钢窗，“没说多少钱，只说等发搬迁补助时一起扣。补助款变成了唐僧肉，人人都想咬一口”Z县以工代赈搬迁负责人对此深有感触。

材料 6:

移民搬迁安置工作中，陕南地区旬阳县的做法颇有亮点。多数农村地区农民的富裕程度不同，相对富裕的农民有比较迫切的进城愿望，因而这部分人成为当前搬迁的首要群体。经过摸底调查，旬阳县采取了统一编制住宅规划、统一征用调配土地、统一安排基础设施建设、统一办理各类手续，房屋由农民分户建设的“四统一分”法，在八个集镇统征土地，以最低价为农民进镇建房提供用地。旬阳县发展计划局负责人表示，从市场开发、社区建制、居民管理、公共设施建设等方面综合比较，满足农民进城需要的最佳选择无疑是集镇，集镇承接城市 and 乡村，最易于发挥集聚效益、产生发展效能，镇域经济是未来农村经济发展的方向，是改变城乡二元体制的最大突破口。

而对于一定数量的贫困人口，旬阳县也把他们作为扶贫工作的重点群体予以关注。近年来，旬阳县已有近万户农民迁入集镇，其中 6000 多户还保留了在农村的住宅，这就使得农村出现了大量闲置房屋。这些闲置房屋比贫困户的住房在位置、材料、设施等方面都要好，使用价值较高。同时，进镇村民还有部分遗留的土地、圈策、沼气等生产生活设施也处于闲置状态。因此，旬阳县提出将农村闲置资产向贫困农民转移，由政府为贫困户购买进镇农户的闲置房，再以极低的价格甚至免费“转卖”给贫困户居住，这一办法受到了卖房户、买房户的共同支持，实施一年来，迁入“新居”的贫困户绝大多数都提高了生活水平。

旬阳生态工业园位于县城近郊，是一个包含有矿产开采加工、水泥生产、汽车制造培训、魔芋种植以及烟草生产等多种行业的县域工业园区。如水泥生产线，依靠配套产业尤其是下属公司解决了大师农民的就业问题。据悉，县域工业园先后给 1 万多名城乡居民提供了就业岗位，成为移民解决就业、实现增收的重要渠道。

材料 7:

宁夏固原市原州区是 35 万生态移民工程的重点区县，5 年内要完成移民任务 6 万人。区委 F 书记对记者说，既要让移民搬出去，更要关心移民有没有致富的路子，我们采取的办法，是移民搬迁住房和蔬菜温棚两把“钥匙”一齐交，目的是让他们真正做到既安居，又乐业。针对移民长期受旱作农业耕作方式束缚、短时间内难以适应温棚种植技术的状况，原州区采取举办培训班、邀请技术人员实地讲解等方式，强化对移民实施生产技术和技能培训。

对原州区的做法：陕南地区商洛市 Y 市长非常认同，他坦言，商洛市以前的移民搬迁中，确有搬迁后的居民最终又返回了家乡。“因为以前的搬迁只是简单地把大家从一个地方移民

到另一个地方，新地方没有配套设施，生活很不方便。”Y市长分析，“缺乏收入的方式，新生活自然难以为继。尤其是农民搬迁进城后，生活成本比农村高，不想办法拓展他们的收入，肯定还会返乡。”此次商洛市移民搬迁将集中安置作为搬迁的最重要方式，“这样做主要是便于道路、水电等基础设施和卫生院、幼儿园、学校等配套设施的统一建设。”Y市长说，“首先让搬迁群众生活方便，他们才愿意长久住下去。”

2、针对“给定资料5”所反映的移民搬迁中各种具体问题，从Z县主管部门的角度，提出改进工作的具体建议。


要求：(1) 问题定位准确；(2) 建议措施具体可行；(3) 不超过900字。

(100字)

(200字)

(300字)

(400字)



Blank grid row 1

Blank grid row 2

Blank grid row 3

Blank grid row 4

(500 字)

Blank grid row 5

Blank grid row 6

Blank grid row 7

Blank grid row 8

(600 字)

Blank grid row 9

Blank grid row 10

Blank grid row 11

Blank grid row 12

(700 字)

Blank grid row 13

Blank grid row 14

Blank grid row 15

Blank grid row 16

(800 字)

Blank grid row 17

Blank grid row 18

Blank grid row 19

Blank grid row 20

(900 字)

Blank grid row 21

Blank grid row 22

(1000字)



第十六天 数量关系与资料分析

1. 2187, 729, 243, 81, 27, ()

- A.3
B.6
C.9
D.12

2. 4, 6, 10, 18, 34, 66, ()

- A.82
B.98
C.114
D.130

3. 一些员工在某工厂车间工作, 如果有 4 名女员工离开车间, 在剩余的员工中, 女员工人数占九分之五, 如果有 4 名男员工离开车间, 在剩余的员工中, 男员工人数占三分之一。原来在车间工作的员工共有 () 名。

- A.36
B.40
C.48
D.72

4. 一辆客车与一辆货车从东、西两个车站同时出发匀速相向而行, 客车和货车的行驶速度之比为 4:3。两车相遇后, 客车的行驶速度减少 10%, 货车的行驶速度增加 20%, 当客车到达西车站时, 货车距离东车站还有 17 公里。东、西两个车站的距离是 () 公里。

- A.59.5
B.77
C.119
D.154

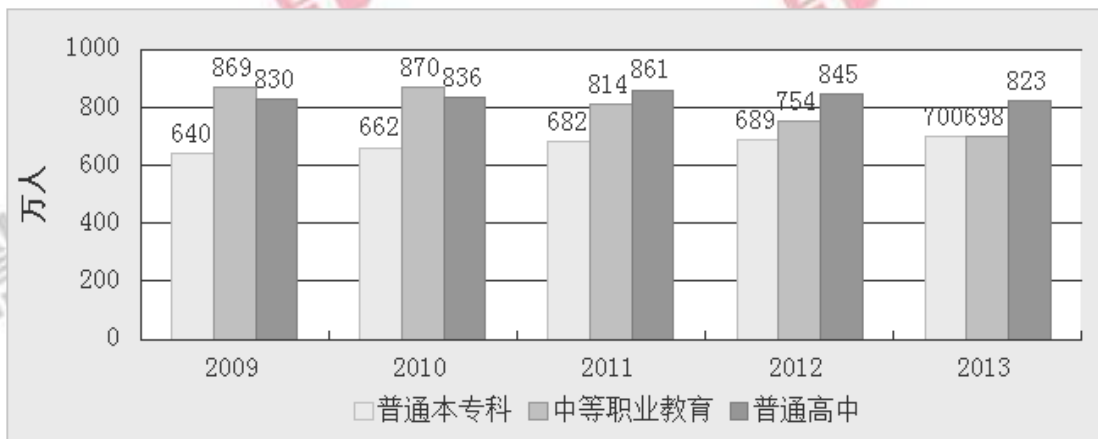
5. 为丰富职工业余文化生活, 某单位组织了合唱、象棋、羽毛球三项活动。在该单位的所有职工中, 参加合唱活动有 189 人, 参加象棋活动有 152 人, 参加羽毛球活动有 135 人, 参加两种活动的有 130 人, 参加三种活动的有 69 人, 不参加任何一种活动的有 44 人。该单位的职工人数为 ()。

- A.233
B.252
C.321
D.520

根据下列材料, 回答 6~10 题

2013 年, 我国研究生招生 61.1 万人。在校研究生 179.4 万人, 毕业生 51.4 万人。普通本专科在校生 2468.1 万人, 毕业生 638.7 万人。中等职业教育在校生 1960.2 万人, 毕业生 678.1 万人。普通高中在校生 2435.9 万人, 毕业生 799.0 人。初中招生 1496.1 万人, 在校生 4440.1 万人, 毕业生 1561.5 万人。普通小学招生 1695.4 万人, 在校生 9360.5 万人, 毕业生

1581.1 万人。特殊教育招生 6.6 万人，在校生 36.8 万人，毕业生 5.1 万人。幼儿园在园幼儿 3894.7 万人。



2009-2013 年普通本专科、中等职业教育、普通高中的招生人数

6. 2013 年，招生人数和毕业生人数相差最小的教育层次是（ ）。

- A. 研究生
- B. 普通本专科
- C. 中等职业教育
- D. 普通高中

7. 2013 年我国中等职业教育招生人数比 2012 年大约（ ）。

- A. 减少 7.4%
- B. 减少 8.4%
- C. 增加 7.4%
- D. 增加 8.4%

8. 我国普通本专科、中等职业教育及普通高中招生人数总和最多的年份是（ ）年。

- A. 2009
- B. 2010
- C. 2011
- D. 2012

9. 下列说法正确的是（ ）。

- A. 2013 年专科以上毕业生人数为 638.7 万人
- B. 2013 年特殊教育毕业生人数多于招生人数
- C. 2013 年普通高中在校生人数多于其他教育层次的在校生人数
- D. 2013 年普通小学毕业生有 80 万以上没有入读我国初中学校

10. 下列说法不正确的是（ ）。

- A. 2010—2013 年，普通本专科的招生人数逐年增加
- B. 2010—2013 年，中等职业教育的招生人数逐年减少
- C. 2009—2013 年，普通高中的招生人数先增加后减少
- D. 2009—2013 年，普通本专科的招生人数总是比中等职业教育少

第十七天 言语理解与表达

1.最早对西方的写实油画表示莫名惊叹欣赏的，是康有为、梁启超一辈。他们对光影效果、____的视觉幻象，及西洋宗教画所体现的人文情怀，都表达了由衷的激赏。

- A.眼花缭乱
- B.惟妙惟肖
- C.光怪陆离
- D.栩栩如生

2.中低端手机的巨大出货量推动了国产手机的繁荣，但低端意味着低利润，国产手机仍____于“来料加工，仿制生产”的流水线生产经营理念，在产品创新方面缺乏核心竞争力。目前，大多数国产手机没有实质的功能和核心创新，很难获得强大的品牌影响力，最终还是只能____于中低端市场。

- A.拘泥 着眼
- B.醉心 落脚
- C.局限 游走
- D.固守 混迹

3.商业的最大魅力是其不确定性和无限可能性。企业的历程和人生一样，曲折漫长，荆棘密布却又可能____，真正决定命运的，往往是几个关键的岔路口，特别是在一家企业____的初创期，没有足够的试错机会，此时做出的向左或者向右的艰难抉择，可能会把一家创业企业导向截然不同的命运轨迹。

- A.峰回路转 无依无靠
- B.别有洞天 孤助无援
- C.柳暗花明 羽翼未丰
- D.曲径通幽 筌路蓝缕

4.在文学史上，科幻文学是近期才出现的东西，它伴随着近代科学出现，随着世界的现代化而发展。在此之前，虽然也广泛存在幻想文学，但是但丁的《神曲》和玛丽·雪莱的《科学怪人》之间却存在这无法跨越的鸿沟，科幻文学的本质性要求是科学的内核，科学精神的核心一定是可知论，是反对蒙昧注意，栖身于科学的幻想作品，才能称之为科幻文学。

根据上文，科幻文学和幻想文学根本区别在于，科幻文学：

A. 是基于现实的想像

B. 以科学为依托

C. 出现时间较晚

D. 具有启发民智的作用

5. 下列语句中,没有语病的一项是()

A. 将自重 2 吨的预制板直接架在砖墙上,大大超过了安全标准,非常危险

B. 去年的学习成绩和今年的比较起来大不相同

C. 在省级单位的政务新媒体较量中,广东和北京并列成为全国第三名,这一成绩靠的是政府不断创新问政平台,提高服务水平,重视政民沟通取得的

D. 深圳市政府从培养高层次创新人才和开放高科技项目的目的出发,创办了以培养研究生为主的虚拟大学园

6. 从高层决心和公众自觉方面看,大气污染治理的步伐不断加快。调整能源结构、产业转型升级,需要政府更有所作为,这是无可争议的重头。同时,作为每位公民却可做到少些抱怨,多些从自身做起,比如不放鞭炮、多乘坐公共交通等等。

作者通过这段文字主要想表达的是()。

A. 每位公民在大气污染治理中都应承担相应责任

B. 大气污染治理需要政府与每位公民的共同努力

C. 政府在大气污染治理中应承担起最主要的责任

D. 政府与公民都已经开始积极投身于大气污染治理中

7. 经济增长下滑源于人口的老龄化,果真如此吗?有结论指出:人口结构越年轻,国家越穷,而反之则越富裕。那么为什么要恐惧老龄化呢?人们认为衰老会让人变得脆弱,65 岁以上的人是社会的负担。不过,一些人的生产力要远远高于其他人,而这并不关乎年龄。事实证明,人口老龄化需要结合人力资本,特别是教育和健康状况来综合考虑。全球大多数国家年轻人受教育程度高于年长者,他们通过提高教育程度来提高生产力水平的办法,或许可以弥补劳动人口少的缺陷。

这段文字旨在说明()。

A. 人们完全有能力应对人口老龄化问题

B. 要多角度分析人口老龄化对经济的影响

C. 人口老龄化对经济增长没有任何影响

D. 人口老龄化对经济增长造成负面影响

8.对于雾霾天气，人们深受其害。殊不知，精神上也存在雾霾现象，如果不及时祛除，就会使心灵压抑灰暗，精神萎靡不振，思想浑浑噩噩，危害一点儿都不比雾霾天气小。现代社会，节奏快，压力大，矛盾多。这种精神的雾霾对个人生活和事业的害处多多。如何调适心情，驱散雾霾？一剂良方就是借助文艺的力量，以文“明”志、以文“养”心、以文“怡”情、以文“化”人。

对这段文字理解准确的一项是()。

- A. 借助文艺有助于驱散精神雾霾
- B. 精神雾霾比雾霾天气更难驱散
- C. 不良生活方式是导致精神雾霾出现的原因
- D. 精神雾霾对人们的危害比雾霾天气更大

9.元朝人画山水的基本态度发生了改变，不想宋朝人那么追求真山真水，却注意自己的“有笔有墨”，大家所称的“宋人丘壑”和“元人笔墨”正是指此。换言之，宋朝人爱大自然胜过笔墨，而元朝人爱自己的笔墨胜过大自然，_____。

填入划横线部分最恰当的一句是()

- A. 由此反映出宋元艺术家或刚或柔的不同情怀
- B. 由此可见元代画家造诣成就之非凡
- C. 这种求变的主张遂弥漫于整个元代画坛
- D. 这就是元朝画家重笔墨趣味的原因所在

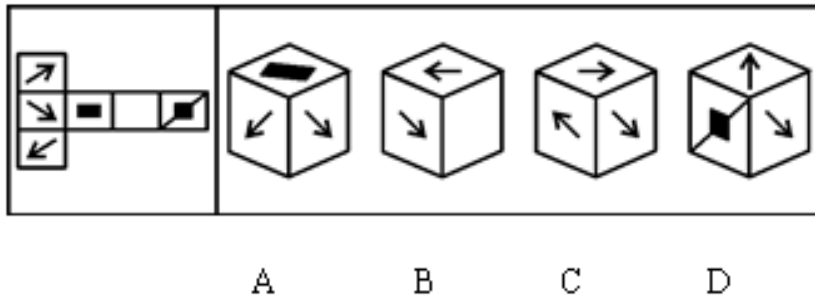
10.起床后的第一件事是摸手机，吃饭先拿起手机拍照传微博，一桌人都对着手机，有一句没一句地聊天，半夜都要从枕头底下掏出手机来看看新闻……智能手机渗透到生活的方方面面，已经对个人生活和社会交往产生不良影响，针对人们日渐以来智能手机的现象，专家呼吁要“数字节食”——人们应该合理利用智能手机，而不是被手机掌控，全民都需要认识到手机上瘾的危害。

根据这段文字，作者接下来最有可能()

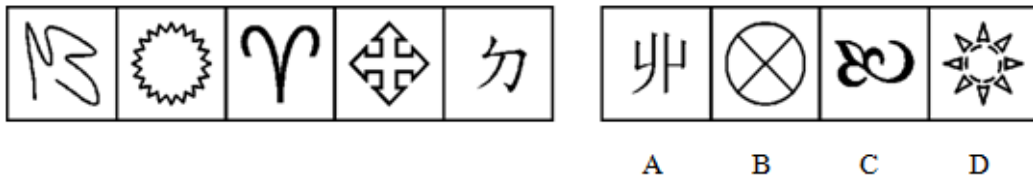
- A. 介绍“数字节食”概念是如何出现的
- B. 就如何减少对智能手机的依赖给出建议
- C. 回顾传统手机时代人们简单而健康的生活
- D. 说明智能手机在哪些方面给生活造成了影响

第十八天 判断推理

1.将下面左图进行折叠后，得到的图形是（ ）。



2.请从所给的四个选项中，选择最合适的一个填入问号处，使之呈现一定的规律性：



3.坚持：突破

A.学习：发展

B.赞同：争论

C.继承：创新

D.团结：竞争

4.鼓舞 对于 （ ） 相当于 捏造 对于 （ ）

A. 士气 谎言

B. 打击 欺骗

C. 煽动 创作

D. 语言 文书

5.权力是指一个人影响另一个人的能力。其中强制性权力是建立在惧怕基础上，一个人如果不服从的话就可能产生消极的后果，处于对这种惧怕，这个人就对强制性权力作出了反应。奖赏性权力是指人们服从一个人的愿望或指示是因为这种服从能给他们带来益处。因此，那些能给人们带来他们所期望的报酬的人就拥有了权力。法定性权力是指一个人通过组织正式层级结构中的职位所获得的权力。法定性权力取决于个人在组织中的职位，它是一个人正武或官方明确规定的权威地位。有些人能使事情发生，是因为他们有这么做的能力与权威。根据上述定义，下列各项中没有涉及到上述三种权力的是：

A. 经理要求所有员工放弃假期在公司加班，虽然不情愿，但员工们都没有提出异议

B. 四岁的小明发现，只要他给小朋友糖吃，小朋友就愿意和他玩，所以他经常从家里

带糖在幼儿园与小朋友们分享

C. 小刘在下班途中被抢劫，看到歹徒只有一人，小刘决定反抗，但是当他看到歹徒拿出刀来，他又放弃了反抗的想法

D. 小李在工作决策上与老王产生分歧。经过考虑后，小李认为老王的经验比他更丰富，处理过更多同类事务，所以决定听从老王的决策

6. 企业社会响应是指企业受社会伦理道德标准的引导满足社会某种普遍需要。

根据上述定义，下列选项不属于企业社会响应的是（）。

A. 某工厂发生污染事故，周边企业出资垫付事故赔偿金

B. 工程队在工地周围铺设防尘网，减少粉尘造成的污染

C. 某企业捐赠3亿股企业股票给慈善组织设立专项基金

D. 某公司按照《残疾人保障法》的规定安排残疾人就业（受法律引导）

7. 冲突管理：是由冲突与管理组合而成，冲突是指人们由于某种抵触或对立状况而感知到的不一致的差异，管理者不仅要解决组织中的冲突，更要刺激功能性的冲突，以促进组织目标的达成。

根据上述定义，下列选项不属于冲突管理的是：

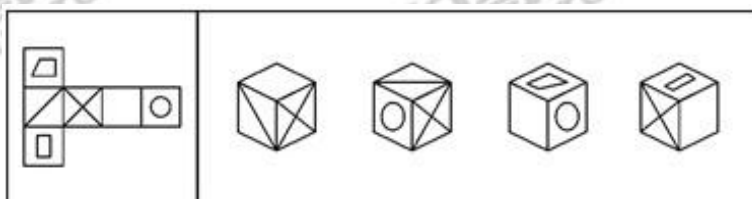
A. 某公司营销部和技术部因产品的定位产生意见分歧，公司领导在听取技术部的意见后，采纳了他们的意见

B. 某公司的部门之间常有沟通和协作障碍，公司决定将各个部门人员分批送到拓展机构开展团队协作训练，效果显著

C. 在课题论证会上，主持人鼓励大家发言，有些专家观点针锋相对，最后主持人汇总了大家的意见后提出结论性意见

D. 某公司人力资源部与战略部对公司目标的确定存在争议，公司领导要求各部联合论证方案的合理性，最终形成新的方案

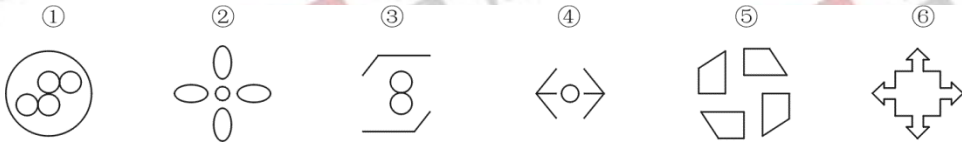
8. 左边给定的是纸盒的外表面，下列哪一项能由它折叠而成？



A B C D

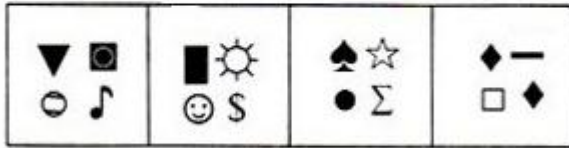
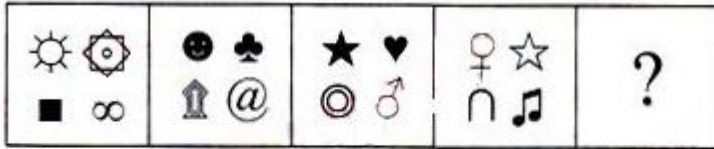
9. 把下面的六个图形分为两类，使每一类图形都有各自的共同特征或规律，分类正确的

一项是:



- A. ①③④, ②⑤⑥
 B. ①③⑤, ②④⑥
 C. ①②⑥, ③④⑤
 D. ①④⑥, ②③⑤

10.



- A B C D

第十九天 常识判断

1. 根据我国宪法规定，连续任职可以超过两届的是（ ）。

- A. 国家院副总理
- B. 最高人民法院副院长
- C. 国家副主席
- D. 全国人大常委会副委员长

2. 正义不仅要实现，而且要以看得见的方式实现，这句话体现了程序正义，即裁判结论要得到人们的普遍认可，裁判者必须确保裁判符合公正、正义的要求，下列说法违背了程序正义的是（ ）

- A. 罚款应当由作出罚款决定的行政机关收缴
- B. 与案件有利害关系的审判人员，应当回避
- C. 行使案件的判处要重证据，不轻信口供
- D. 证人证言必须在法庭上经过询问，质证查证属实后才能作为定案证据

3. 下列哪种情形最可能实行一审终审？（ ）

- A. 基层人民法院审理被告提出反诉的买卖合同纠纷案件
- B. 基层人民法院审理夫妻双方争夺子女抚养权的离婚案件
- C. 中级人民法院审理在本辖区有重大影响的合同纠纷案件
- D. 基层人民法院审理权利义务关系明确的租赁合同纠纷案件

4. 因张三拒不偿还一年前的十万元现金借款（约定年利率5%），李四将其诉至法院，但因李四丢失了借条原件，面临败诉的风险，最后在法院的调解下，张三自愿偿还李四现金十万元，李四主动放弃利息的诉讼请求。下列法谚的内涵最能体现这一调解精神的是（ ）。

- A. 举证之所在，败诉之所在
- B. 善良的心是最好的法律
- C. 无救济，即无权利
- D. 法者，定分止争也

5. 小李于2013年10月2日与某软件开发公司签订劳动合同一份，双方约定如下：合同期限为3年，试用期9个月，试用期工资为3000元人民币（转正后工资为4000元人民币）。

小李于2013年11月2日到公司报到上班。下列说法错误的是（ ）。

- A. 小李与公司之间于2013年11月2日正式建立劳动关系
- B. 小李与公司之间关于试用期期限和工资的约定均不合法
- C. 在试用期间，小李可以随时解除与公司之间的劳动合同
- D. 公司在合同期间无权单方面对小李的工作岗位作出调整

6. 《人民日报》评论指出：“一个人挥舞胳膊的自由止于别人鼻子的地方。”下列可以代替该评论的名言是（ ）。

- A. 哪里没有法律，哪里就没有自由
- B. 法典就是人民自由的圣经
- C. 法律是自由的保姆
- D. 自由只服从法律

7. 甲乙两家是邻居，甲家在距乙家地基 2 米处种有一棵大树。每逢刮大风，风便会将这棵树的一些大树枝刮落到乙家房屋上。乙担心会损坏房屋，多次找甲协商，要求甲将树枝砍去一些，被甲拒绝。某日，暴风雨即将来临，乙再次找甲协商却没找到，情急之下自己砍去了一些伸到自家房屋上的树枝。甲回家后要求乙赔偿 500 元，乙不同意，甲将乙起诉至法院。下列说法正确的是（ ）。

- A. 狂风暴雨即将来临，乙砍掉一些树枝来避免对自己房屋的损害属于紧急避险，因而乙不应承担民事责任
- B. 乙的行为已经构成了对甲财产权利的侵害，因为乙为了自己的利益未经甲同意就砍掉了一些树枝，因此，乙应当承担赔偿责任
- C. 虽然这棵树属于甲，但因伸到了乙的房顶，这棵树在乙房屋界内的部分应当属于乙，因此，乙砍掉那些树枝是合法的，不应承担民事责任
- D. 乙的行为已经构成了对甲财产权利的侵害，因为乙为了自己的利益未经甲同意就砍掉了一些树枝。但是乙在砍之前有意愿但无法告知甲，因此可豁免其部分责任

8. 今年 3 月，小李在某网站购买了五盒某明星代言的药品，收到后发现药品为假药。小李找到该网站，该网站却不能提供该药品生产者真实名称、地址和联系方式。这时小李该如何维权（ ）

- A. 要求网站、代言明星都承担责任，法院均应支持
- B. 要求网站承担责任，法院也应支持
- C. 要求代言明星承担责任，法院也应支持
- D. 要求网站、代言明星都承担责任，法院不支持小李对代言明星追责的要求

9. 一艘行驶在日本海域的美国货船上，有甲乙两个中国人发生争执，甲将乙捅死，依据我国刑法，该案件适用于（ ）

- A. 中国法律
- B. 美国法律
- C. 日本法律
- D. 既适用中国法律也适用日本法律

10. 下列与某食品厂相关的做法不符合食品安全法规定的是（ ）

- A. 该厂无需为食品安全风险评估付费

- B. 该厂退休职工有权举报食品安全违法行为
- C. 该厂配备了兼职的食品安全专业技术人员
- D. 食品安全风险监测工作人员到该厂采集样品无需支付费用

第二十天 申论

【给定资料】

[1]众所周知，旅游景区景点在旅游业的发展中具有非常重要的地位和作用。它既是旅游业重要的生产力要素，是旅游业创收的重要来源，也是旅游者参观游览的目的地，是旅游吸引力的根本所在。旅游景点的资源品位、服务质量、环境气氛、管理水平等，既是旅游业形象的总体体现，也是旅游者是否满意地实现旅游目的的关键因素。在我国旅游景区景点的建设和管理中，门票价格一直是一个比较敏感的问题。在目前我国居民总体收入水平状况下，旅游价格是影响其出游选择的一个重要因素，而旅游景区景点的门票价格作为旅游总体价格的一个重要组成部分，对居民出游意向影响更大。旅游景区景点的门票价格是否合理可行，在影响居民出游选择和满意程度的同时，也牵动着经营的经济利益，决定着他们最终的盈利空间。

[2]多年来，我国旅游景区门票价格上涨已成为一种常态化现象，为了遏制旅游景区盲目涨价，国家发展改革委于2007年下发通知，规定旅游景区门票价格的调整频次不低于三年。国内许多景区的最近一次价格调整时间是2009年，到2012年恰逢“解禁年”。舆论普遍认为，第二个“解禁年”已成为景区涨价的借口，成为涨价的推动力，旅游景区景点票价已进入“三年必涨”的怪圈。据有关部门统计，2012年“五一”期间，136家5A级景区半数门票价格超过百元，价格在100元至200元的5A级景区占比最多，达35.38%。其中，武当山、张家界、黄山、九寨沟等14个著名景区门票价格甚至高于200元，占比超过10%。除了知名景区，一些和市民生活相关的城市公园也进入此轮门票涨价的行列。如果某市植物园的门票由30元/人次调整为40元/人次，另一座城市动物园门票也由40元/人次调整为50元/人次。一项调查显示，超过九成网友可接受的5A级景区门票心理价位在100元以内，约61%的网友认为门票价格应在60元以内，超过200元的门票价格几乎没有人接受。2012年3月14日中国旅游研究院发布《中国休闲旅游客户需求趋势研究报告》，其中有关旅游费用支出的调查结果显示：游客在景点门票、交通方面的花费最多，分别占21.92%和20.92%，其次才是购物、餐饮、住宿和娱乐。门票价格已成为国内旅游的最大一笔开支，另据有关专家统计，以2011年城乡居民平均收入数据计算，我国5A级景区门票价格已占到城镇居民人均月收入的5%。农村居民人均月收入的14%，大大高于国际水平。某晚报记者算了一笔账：如按旺季（或黄金周）票价计算，玩遍国内136家5A级景区平均一个人门票花费

需要 19085 元（部分景区票价包含了必付的观光车费等）。如果加上“园中园”门票费用以及索道、观光车、游览船票等交通费用等，总开销还要再增加。该报道引发了社会各界对旅游景区门票价格问题的热烈讨论。很多人说，风景名胜作为公共资源，人人有权享用。适当收取门票费用维持景区正常运转也可以理解，但价格如此离谱，实在有点不正常。对此，一些景区管理者也陆续发表意见，特别就门票价格问题作出了回应。

例如武汉黄鹤楼公园负责人给出了调价的三点理由：首先，2008 年黄鹤楼由 4A 级升为 5A 级，是四大名楼中惟一的 5A 级国家景区，在全国首批 66 家 5A 级国家景区中，黄鹤楼票价最低。其次，黄鹤楼面积扩大，建设任务繁重，资金紧缺。据物价部门核算，随着园区扩容；黄鹤楼管理成本如按门票价格平摊，一张门票应为 70 元。若仍维持原价，则将制约黄鹤楼景区发展，故门票价格由 50 元调整到 80 元。第三，有人提到故宫博物院门票仅 60 元，低于黄鹤楼的 80 元。但故宫属于文物景点，有国家财政支持。而黄鹤楼是园林景点，没有国家财政支持，需自负盈亏，两者之间没有可比性。

以天池、原始森林、火山地貌、垂直景观为主要特点的吉林省长白山属于著名国家 5A 级旅游景区。依据吉林省物价局 2011 年核准的《关于调整长白山自然保护区门票价格的批复》，长白山景区门票价格由原来的每人 100 元上调至每人 125 元。长白山景区管委会有关负责人对媒体解释称：长白山是中华十大名山之一，每年有很多游客到此游玩，但是长白山旅游开发必须遵照保护生态、保护环境的原则，来长白山的游客人数不是越多越好。如果不限人数，长白山搞生态旅游就是泡影。要发展生态旅游和休闲度假旅游，就要适当提高价格，逐步向高薪人群发展。此外，长白山景区面积比较大，每年需投入大量资金用于景区运营维护，现行门票价格难以支撑正常的运营支出。

[3]杭州西湖位于浙江省杭州市的西南方。它以其秀丽的湖光山色和众多的名胜古迹而成为闻名中外的旅游胜地，并被世人赋予“人间天堂”的美誉。作为中国首批极少数免费对外开放的国家重点 5A 级风景名胜区，西湖凭借着千年的历史积淀所孕育出的特有江南风韵和大量杰出的历史文化景观而入选世界文化遗产。它是中国在《世界遗产名录》中唯一的一处湖泊类文化遗产，是自然景观与人文景观融合最好的旅游景区。出现于人民币壹圆纸币背面的西湖三潭印月景观，体现着西湖在中国风景名胜中的特殊地位。

2002 年杭州市政府提出“还湖于民”的口号，西湖大部分景区免费开放至今已经十一年。杭州市政府有关领导曾表示，“西湖免费开放，我们每年少收入 2000 多万元门票收入。但西湖免费开放，游客增多了，很多人就说冲着免费来的，这样一来，旅游收入增加了，综合效益也提高了。”需要澄清的一点是，西湖景区其实并不是全免费，而是“收费”与“免

票”景点的合理搭配。据统计，杭州西湖风景名胜区管委会管辖范围的 103 处公园景点，免费开放的 84 处，基本分布在西湖四周的开放区域中。收费景点 19 处，以各级文物保护单位为主，如灵隐飞来峰、岳王庙（墓）、六和塔、三潭印月、郭庄等。这种“免费为主、收费为补”的经营模式，使得部分门票收入成为西湖景区日常管理经费的重要来源之一。另一方面，通过拍卖、出租或承包景区商业网点特许经营权等市场化手段，用市场运作而来的收入也可以抵补损失。以西湖景区南线为例，取消门票后，仅沿线商铺拍卖总收入当年就达到 700 万元。到 2006 年，西湖景区内的商业网点、各类游览车船等旅游服务设施的年租金总收入达 5500 多万元。这些经营所得不仅弥补了西湖景区因免费景点增加、面积扩大而增加的 2500 多万元养护管理支出，还回补了门票损失。

西湖景区免费旅游的举措带动了杭州市在食、宿、行、游、购、娱等相关服务业的发展。免费西湖不仅没有让杭州旅游亏本，反而给这座城市带来了意想不到的经济收益。由于游客数量逐年增加，逗留时间延长，使杭州市餐饮、旅馆、零售、交通等服务业获得了新的发展空间，促进了城市经济的发展。杭州虎跑路附近的四眼井村原来很不起眼，但这个位于西湖景区的小村却以青年旅馆闻名。“做的都是游客生意。”村民付家胜说：“西湖免费后游客经常一住就是三四天，每到旅游旺季，村里几乎全是外地旅客，餐馆、旅店的收入是免费前的两倍。”免费西湖还提升了景区周边以及整个杭州市商贸业和娱乐业的发展品质。市政府每年拨付近 5000 万元用于扶持茶楼、餐饮、保健、养生等旅游衍生的行业，推动整个城市从观光游向商务会展游和休闲度假游转型。

在西湖逐步增加免费景点的 10 年间，国内景区正经历着多轮门票价格的上调，几乎每有景区涨价，人们就会想起西湖的免费模式。作为全国第一个、也是为数不多的免费开放的 5A 级景区，这个“淡妆浓抹都相宜”的西湖总能引起人们太多的遐想。2012 年，记者专门采访了杭州市旅游委宣传处 H 处长。他介绍说：“西湖免费开放需要旅委、园文、建委、发改委等多部门协调联动，这得市委、市政府主要领导甚至一把手来主导。”西湖风景名胜区管委会网站公布的一份 2011 年财政报告显示：景区财政收支平衡面临较大压力，财政收支形势仍然趋紧。但是在 H 处长看来，西湖放弃的门票收入在其它方面得到了补偿。“西湖免费开放后，门票减收和运营维护增支存在的资金缺口，由市政府的体制性补贴加上市场化运作收入基本就填上了。市政府每年对西湖景区还有 8 亿元专项投入，主要用于绿化养护、文化保护、西湖环境综合整治以及日常运营等。”在《杭州市旅游发展总体规划》中，由于西湖景区与城市融为一体，西湖被定义为“大西湖”。H 处长将其理解为“跳出西湖经营西湖。即将免费开放的西湖作为一个品牌，吸引更多人到杭州旅游，促进城市经济发展。”

他进一步指出，利益如何再分配是一个关键。“比如旅游牵涉部门较多，在西湖免费开放过程中，西湖风景名胜区管委会属于吃亏的一方，杭州市旅委则属于得利的一方。市政府采取对西湖财政拨款等措施，保证了管委会的利益不受损失。”利益的协调在西湖风景名胜区管委会内部同样存在。西湖景区去年的门票收入为 2.8 亿元，各景点之间效益有好有坏，收益上同样需要协调平衡。据 H 处长介绍，西湖风景名胜区管委会属于杭州市政府派出机构，与杭州市园文局实行“两块牌子、一套班子”的管理体制，整个西湖景区 60 平方公里范围内的保护、利用、规划、建设职能都由其负责。“类似区一级政府，包括了公安、工商、行政执法等多个部门。”在采访即将结束时，H 处长特别自豪的对记者说：“生态环境是招揽游客的重要因素。免费西湖实施的十年，也是推动西湖综合保护和环境整治工程的十年。经过十年的努力，我们恢复了‘一湖双塔三岛三堤’的西湖历史格局，拆除了影响西湖景观的 60 平方米建筑，搬迁了景区内 265 家单位、2791 户居民，恢复、重建、修复了 180 余处人文景观。‘还湖于民’不是要还人民一个破破烂烂的西湖，而是一个漂漂亮亮、干干净净的西湖，这些，我们都做到了。”西湖模式的成功，提升了杭州的城市形象，带动了杭州市大旅游产业的发展，增强了杭州城市的经济实力和综合竞争力。

[4]有专家指出，旅游景区门票价格上涨客观因素在于国内旅游需求旺盛，但景区门票集体涨价背后却反映出景区收入来源单一的现状，这种短视行为也与目前景区经营模式有关。由于很多旅游景区与周边区域经济的关联度低，特别是诸如九寨沟、张家界等离城市较远的单个景区，虽说降低门票价格能促进周边经济发展，但景区并不能从后续的城市旅游收入中得益，其结果是这些景区只能依赖门票收入。毕竟游客在城市的交通、餐饮、娱乐等消费与景区收益没有直接关系。加之目前我国大多数景区在旅游娱乐、深度游等衍生品开发方面滞后，门票提价便成为主要的收益方式。数据显示，目前我国部分世界遗产和国家 5A 级风景名胜区中，门票收入占其总收入的比例已达到一半以上，个别景区已高达 90% 以上。针对这种主要依赖门票涨价赚钱的“门票经济”发展模式，部分业内人士认为这是旅游业发展经历的初级阶段，也是景区市场化的必经阶段。名义上景区管理是一种特殊的政府行为，但实际上景区管理机构有明确的盈利目标，自负盈亏。法律、法规虽然赋予了景区管理机构统一管理权力，却没有充足的财政资金支持，管理机构需要自筹资金，主要筹措方式就是利用景区资源进行旅游服务经营获取收入，景区门票的涨价、景区内的各种违规经营便难以避免。而且随着市场经济的发展，人工、硬件等各项运营成本的提高，门票涨价就成为必然趋势。特别是针对某些知名度不高的旅游景区，可供游客参与与体验的观光和休闲娱乐项目不多，旅游产业链不长，更多地依赖门票收入也是迫不得已。还有一些专家指出，旅游景区无论是政

府直接经营还是授权或委托企业经营，地方政府与旅游经营收入息息相关。以旅游开发公司名义经营的景区，地方政府通过三重渠道从景区取得回报：一是景区门票收入的分成，二是收取企业营业税和所得税，三是企业赢利分成。这些收入往往成为地方政府的“预算外收入”。

“门票经济”盛行的背后实际体现的是千丝万缕的利益关系。据统计，我国旅游景区门票价格，西部地区明显高于东部地区，中小城市明显高于北京、上海等大城市，这恰好反映出旅游业欠发达地区门票收入占据了旅游收入的很大部分，购物、娱乐、餐饮等“弹性消费”比重很低，旅游经济几乎等同于“门票经济”。一些旅游景区在抬高门票价格的同时并不能提供与高票价相对应的优质服务。更有甚至，许多景区门票价格本已很高，景区内各景点却还要分别收费，“园中园”、“票中票”现象在一些景区广泛存在，备受游客诟病。这些都暴露出增加旅游收入的技巧与乏术，反映了旅游经济低层次发展的阶段性特征。

[5]钟山风景区是古都南京著名的风景浏览胜地，是国务院公布的 44 个风景名胜区之一，位于南京东北郊。全区包括 50 多个可供观光游览的景点，其中著名的有紫金山、玄武湖、北极阁、鸡鸣寺等，其特点是山光与水色齐放，山、水、城、林融为一体，相得益彰。自钟山远眺，玄武湖五洲烟柳，十里春风，景色优美。玄武湖古名桑泊，至今已有一千五百多年的历史。它位于南京城中心区域，是紫金山脚下的国家级风景区，江南三大名湖之一，被誉为“金陵明珠”。巍峨的明城墙，秀美的九华山，古色古香的鸡鸣寺环抱其右。六朝时期为皇家园林，明朝时为黄册库，系皇家禁地，1909 年辟为公园。玄武湖总面积为 4.72 平方公里，水面面积 5000 亩，有多处文化古迹。现有国家级文保单位 1 个，市级文保单位 4 个。自 2010 年 10 月 1 日免费开放后，玄武湖年游客接待量由原来的每年不到 200 万人次上升到 600 万人次以上，截止 2012 年底，两年来游客总人数突破了 2000 万人次。

近年来，南京市委、市政府修订城市“十二五”发展规划，提出重建紫金山和玄武湖打造成人文内涵深厚、自然生态优美、旅游品质优良、功能服务配套的城市中央公园，促进南京市旅游产业进一步发展。市政府还出台相关政策，积极鼓励民营资本参与城市中央公园项目的建设与发展。

玄武湖的品牌知名度不如西湖，但两湖所处城市地理位置相仿，均在中心城区。南京与杭州在城市地理、经济实力等方面也不相上下。近日，南京市有关方面组成考察团，专门赴杭州学习调研，南京市提出“学杭州之长，创南京之新”，拟深入研究学习西湖模式和杭州旅游发展的经验，结合自身特点，探索南京市旅游发展的新路径。


[6]在美国黄石国家公园、科罗拉多大峡谷国家公园等“世界遗产”级别的旅游景点，门票更多的时候是按车收费，而不是按人收费，一辆车花费“入门费”10 美元到 25 美元，

一个家庭三四个人，买一张票就可以在 7 天内自由进出景区。以著名的黄石公园为例，1872 年，该公园成为美国历史上第一个国家公园，它的门票价格 1916 年时定为 10 美元一辆车，这一价格直到 1996 年才被改变。如今，黄石公园的票价涨到了 25 美元一辆车，但可以同时游览附近的大提顿国家公园。如果步行进入公园，门票是每人 12 美元，16 岁以下免费。据统计，美国普通家庭平均年收入大约是 5 万美元，黄石公园的门票价格大约只是他们平均月工资的 1/200。美国全国国家公园还出售统一定价为 80 美元的车票，如果爱旅游的人，可以花 80 美元游遍 300 多个国家公园和纪念公园。美国实行国家公园管理制度，国会制定适用于各州的国家公园管理法规，国家公园统一由国家公园管理局负责管理，该局隶属于联邦政府内政部，有两万多名工作人员和 14 万名志愿者。联邦政府的财政拨款一直是国家公园运营费用的主要来源：国家公园管理局专注于自然文化遗产的保护与管理，不从事以盈利为目的的经营活动。国会有专门的立法，规定国家公园的具体收费项目，明确哪些地方可以收费，哪些地方不能收费，并确定了最高收费限额，按照立法规定，各公园的门票与娱乐项目收费 80% 可以留在公园，用于支付公园的维护和管理开支，其余 20% 上交国家公园管理局统一支配，用于“援助”不收费的公园。法律针对门票提价有严格的规定，新价格必须在公布一年后才能生效。

日本是一个高物价的地方，但参观门票的价格却不贵。日本的门票主要分为三大类，一类是以东京的迪斯尼乐园、大阪的国际影城等为代表的游乐场所，这些地方的门票按照市场价格定位。第二类就是各类公园和风景区，这类门票价格很便宜，很多地方甚至不收费，如著名的赏樱胜地上野公园就不收门票，就连大名鼎鼎的富士山也没有门票，只是按照每辆车的型号，收取进山道路费。第三类就是一些科普场所和博物馆，这些地方也多是免费或是低票价的。当然日本也有一些入场费较高的地方，比如一些商业性的演出、展览、比赛等，但总的来说，在日本较少有如国内动辄数百元的景区门票。

意大利是一个旅游业十分发达的国家。拿罗马来说，处处都是景点，但收费的仅限于博物馆和部分重要历史遗迹。只有少数景点，如梵蒂冈博物馆、斗兽场的门票才会超出 10 欧元。梵蒂冈博物馆每月最后一个周末供人免费参观，而像万神殿、真理之口、圣彼得大教堂等知名旅游地则是完全免费的。意大利很重视古迹的维护，但此举并不依赖于门票收入。意大利政府对旅游景点的管理十分严格，门票收入上缴国家财政后统一从国库中支取。目前，意大利用于保护、修缮旅游景点的资金中，约 65% 来自政府，其余则通过发行彩票等途径获得。

[7]2013 年 3 月，国务院发布的《国民旅游休闲纲要（2013—2020 年）》提出要“稳定



Handwriting practice grid consisting of four rows of 12 empty squares each.

(100字)

Handwriting practice grid consisting of four rows of 12 empty squares each.

(200字)

Handwriting practice grid consisting of four rows of 12 empty squares each.

(300字)

Handwriting practice grid consisting of four rows of 12 empty squares each.

(400字)

第二十天 数量关系与资料分析

1. 768, 199, 827, 69, 904, ()

- A.92
B.77
C.53
D.39

2. 1, 27/15, 2.6, 51/15, ()

- A.21/15
B.21/5
C.5.2
D.6.2

3. 在某公司年终晚会上,所有员工分组表演节目。如果按 7 男 5 女搭配分组,则只剩下 8 名男员工;如果按 9 男 5 女搭配分组,只剩下 40 名女员工。该公司员工总数为()。

- A.446
B.488
C.508
D.576

4. 一名顾客购买两件均低于 100 元的商品,售货员在收款时错将其中一件商品标价的个位数和十位数弄反了,该顾客因此少付了 27 元。被弄错价格的这件商品的标价不可能是()元。

- A.42
B.63
C.85
D.96

5. 某地民政部门对当地民间组织进行摸底调查,发现 40%的民间组织有 25 人以上,20 个民间组织有 50 人以上规模,80%的民间组织不足 50 人,人员规模在 25 人以上但不足 50 人的民间组织数量有()个。

- A.20
B.40
C.60
D.80

根据下列资料,回答 6~10 题:

改革开放三十多年以来,广东经济发展连上新台阶,综合实力不断实现大跨越。1979—2012 年,世界经济年均增长速度为 2.8%,中国增速为 9.8%,广东增速则达 13.3%。持续较快的经济增速,推动广东经济总量不断跃上新台阶。自 1989 年开始,广东 GDP 总量(国内生产总值)在全国一直保持首位,到 2012 年已连续 24 年居全国第一,占全国经济总量比重在 1/10 至 1/8 之间。

2012 年,民营经济达 29319.97 亿元,占 GDP 比重为 51.4%;民营经济上缴税金 6467.82

亿元，占全省税收总额的 49.1%；民间投资 10177.28 亿元，占全部固定资产投资的 52.7%，民营经济已成为支撑广东经济内生增长的主力。

2012 年，广东铁路营业里程达到 2577 公里，比 1978 年增长 1.6 倍；公路通车里程 19.5 万公里，增长 2.7 倍；民用航线里程 185.1 万公里，增长 88.1 倍；管道输油（气）里程 6448.01 公里，增长 82.7 倍；沿海港口货物吞吐量 14.08 亿吨，增长 49.5 倍。改革开放之初尚无的高速公路在 2011 年实现通车里程 5049 公里，首次突破 5000 大关，2012 年进一步提高到 5524 公里。

2012 年，广东城镇居民人均消费性支出 22396.35 元，比 1978 年增长 55.0 倍；农村居民人均生活消费支出 7458.56 元，比 1978 年增长 39.3 倍。2012 年，广东城镇居民人均住宅建筑面积 34.4 平方米，比 1978 年增加 27.3 平方米；农村居民人均生活住房面积 31.67 平方米，比 1978 年增加 22.9 平方米。

6. 1979—2012 年，广东经济年均增速约为世界经济增速的（ ）倍。

- A.1.4
- B.3.5
- C.4.8
- D.10.5

7. 2012 年，广东税收总额约为（ ）亿元。

- A.12273
- B.13173
- C.19312
- D.57043

8. 广东高速公路在 2012 年实现通车里程比 2011 年增长约（ ）。

- A.9.4%
- B.109.4%
- C.270%
- D.370%

9. 1978 年，广东的下列四项数据由小到大排列正确的是（ ）。

- A.管道输油（气）里程<铁路营业里程<民用航线里程<公路通车路程
- B.管道输油（气）里程<铁路营业里程<公路通车里程<民用航线里程
- C.民用航线里程<公路通车里程<管道输油（气）里程<铁路营业里程
- D.民用航线里程<公路通车里程<铁路营业里程<管道输油（气）里程

10. 下列说法不正确的是（ ）。

- A.2012 年广东民间投资占全部固定资产投资的一半以上
- B.2012 年广东沿海港口货物吞吐量比 1978 年大
- C.1978 年广东城镇居民人均消费性支出比农村居民人均生活消费性支出高
- D.1978 年广东城镇居民人均住宅建筑面积比农村人均生活住房面积大

第二十二天 言语理解与表达

1. 荀子认为，人的知识、智慧、品德等，都是由后天学习、积累而来的。他专门写了《劝学》篇，论述学习的重要性，肯定人是教育和环境的产物，倡导_____、日积月累、不断求知的学习精神。

填入划横线部分最恰当的一项是：

- A. 孜孜不倦
- B. 坚忍不拔
- C. 按部就班
- D. 一丝不苟

2. 目前我国高校博物馆的数量已有 150 多座，然而这些博物馆却很寂寞，终年_____，有的连自己学校的师生都不知晓，有的由于没有展出条件，众多的宝贝常年灰尘满面，利用率很低。至于说到免费开放和惠及民众，更是很_____的话题。

依次填入划横线部分最恰当的一项是：

- A. 门可罗雀 遥远
- B. 无人问津 突兀
- C. 门庭冷落 生僻
- D. 人迹罕至 超前

3. 信用卡从根本上改变了我们的花钱方式。当我们用现金买东西时，购买行为就涉及到实际的损失——我们的钱包变空了。然而，信用卡却把交易行为_____化了，这样我们实际上就不容易感觉到花钱的消极面了。脑成像实验表明，刷卡真的会降低脑岛的活动水平，而脑岛是与消极情绪有关的脑区。信用卡的实质就是_____我们，让我们感觉不到付账的痛苦。

依次填入划横线部分最恰当的一项是：

- A. 合理 麻痹
- B. 抽象 麻醉
- C. 简单 迷惑
- D. 概念 蒙蔽

4. 有些被宣称为“清热下火”的凉茶，其实连茶的“远亲”都算不上，它们不含通常的“茶叶”，只是含些中草药提取液。从现代医学角度看，人体的许多症状跟中医所说的“热”、“火”类似，

而这些症状，有许多是会自然减退的，不管喝凉茶还是白水，一段时间后都会减轻。另一方面，在理论上完全可能有中草药的某些成分正好对某些症状有效，所以不少人喝了凉茶，觉得清了“热”、下了“火”，这并不奇怪。但是，这样一种“有效”却符合大众的思维方式，但凡质疑这些功效的言论都会招来大量消费者“现身说法”的攻击，也就成了顺理成章之事。

这段文字意在说明：

- A. 乱喝凉茶可能会对健康不利
- B. 很多消费者并不了解凉茶的实质
- C. 某些凉茶“清热下火”的功能值得怀疑
- D. 凉茶中真正发挥功效的是中草药成分

5. 一般来说，一个社会的监督体系是由多方面力量组成的，媒体监督不应成为其中的主要力量，更不应“一枝独秀”，因为这个体系还应该包括公众监督、制度监督等多个方面，任何一个方面的缺失，都会使整个体系出现明显漏洞。单纯依靠一种监督力量，对于任何一个社会来说都是“不安全”的，因为不同的监督力量，在整个体系中扮演的角色是不同的。媒体监督相对于制度监督等方式而言，是一种非强制性监督，不仅受制于舆论环境，而且监督效果在很大程度上取决于监督对象的态度。因此，将整个社会监督的“希望”全部寄托在媒体身上，既不科学，也不现实。

这段文字针对的主要问题是：

- A. 目前媒体监督被赋予过多的期望
- B. 社会监督未引起监督对象的足够重视
- C. 媒体监督的效果尚不理想
- D. 强制性监督的作用未得到充分发挥

6. 纵观各国货币发展历史，货币国际化虽然给所在国带来一定风险，但却远远低于带来的好处。从老百姓的角度看，本国货币的国际化程度高，就意味着在出国旅游、消费、留学的过程中可以较为便利地用本币进行支付，不必经过繁琐的汇兑程序；从政府的角度看，国际货币发行国可以通过发行本国货币为国际赤字融资，相当于对别的国家征收了“铸币税”，其中的好处不言而喻。因此，许多国家的货币都“争先恐后”地走向国际化。

这段文字意在：

- A. 揭示促使货币国际化的原因
- B. 说明实现货币国际化的结果
- C. 提醒货币国际化潜藏的危险

D.剖析货币国际化的实现途径

7.目前,我国正处于产业结构调整的关键阶段。在当前的世界经济危机中,我们已有的外贸主导型经济模式可持续性越来越小。农业是经济危机的避风港,只有通过强农惠农、提高农业综合生产能力和粮食市场竞争力,来全面提高农民的收入,推动农村经济的大发展和广阔的农村市场需求的大升级,才能全面扩大内需,推进我国外向型经济向内向型经济的顺利转型。

对这段文字的主旨概括最准确的是:

- A.当前我国扩大内需最有效的途径应是大力发展农业
- B.世界经济危机可以成为我国经济转型的一个契机
- C.当前我国产业结构调整的重点是农业生产结构的调整
- D.强农惠农政策是当前我国转变经济发展方式的必然要求

8.美国著名学者伊顿曾预言:“我们深信,在不久的将来,我们国家的最高经济利益,将主要取决于我们同胞的创造才智,而不取决于自然资源。”伊顿的预言在今天已经变为现实,金融危机、能源和矿产资源价格急剧上涨,世界经济滞涨风险苗头显现,国民的创新能力得到许多国家前所未有的重视。

这段文字意在强调:

- A.人力资源将在经济增长中发挥越来越大的作用
- B.自然资源在国家发展中的重要性将逐步降低
- C.国家要发展必须充分发挥国民的创造能力
- D.国民素质的高低将决定国家未来发展的方向

9.甜菜的上部叶片垂直生长,叶簇呈漏斗形。这种生长方式所形成的叶面空间的配制结构,极有利于光照的吸收,提高植株和群体的光合效率。而车前草的叶片是轮生的,叶片夹角为 137.5° ,这正是圆的黄金分割的弦角,叶片按这个角度生长,可以充分利用光照。梨树随着树干长高,叶片沿对数螺旋上升,每个叶片都不会遮蔽下面的叶片。

这段文字意在说明:

- A.光照吸收率是影响植物生长的关键因素。
- B.暗合数学规律的叶片结构对植物生长有利
- C.不同的生长环境造成了植物叶片生长的差异
- D.对光照的吸收影响叶片的生长角度

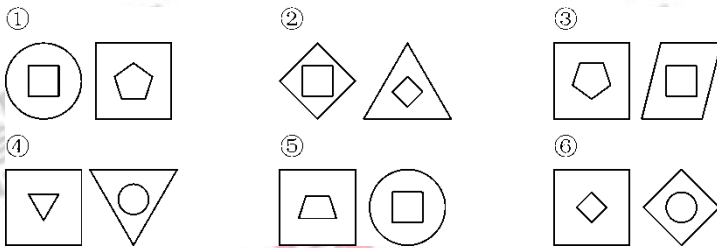
10.世界茶叶生产的基本规律是“南红北绿”，即：较低纬度地区（如印度、肯尼亚）只能生产优质红茶，相对较高纬度地区（北纬 25 度—30 度）最适宜生产优质绿茶。国际茶价历年绿茶高于红茶。茶叶主产国印度、印尼、斯里兰卡的绿茶品质都不高，以上三国从上个世纪 70 年代开始“红改绿”，企图占领国际绿茶市场，均以失败告终。我国名优绿茶主要分布在山区，拥有丰富的农村劳动力资源和较低的劳动力成本，发展绿茶产业有明显的比较优势。

下列说法与原文相符的是：


- A. 目前国际市场上红茶供过于求
- B. 印度绿茶价格高于国际绿茶均价
- C. 中国绿茶在国际市场上较有竞争实力
- D. 国际茶叶市场上出现“红改绿”的趋势

第二十三天 判断推理

1. 把下面的六组图形分为两类，使每一类图形都有各自的共同特征或规律，分类正确的一项是：



- A. ①④⑥, ②③⑤
 B. ①③⑥, ②④⑤
 C. ①③④, ②⑤⑥
 D. ①②④, ③⑤⑥



A B C D

3. 求助者有两种求助动机：执行性求助和工具性求助。前者是自己不作任何尝试或努力，只想知道答案或让他人代自己完成任务；后者是借助其他人的力量以达到自己解决问题或实现目标的目的。根据上述定义，下列属于工具性求助的是：

- A. 妈妈为五岁的小明报了很多兴趣班，小明在兴趣班中结识了很多新朋友
 B. 小文每次阅读英语语文章遇到生词时都会查阅电子词典，掌握生词的读音和意思
 C. 家教老师耐心讲解了这道题的思路和原理后，小斌还是请老师直接给出答案
 D. 综合了多家咨询机构提供的意见，小峰拟定了符合自身条件的出国学习规划

4.想象是指在原有经验的基础上创造新形象的思维活动。按照想象是否受意志控制,可分为随意想象和不随意想象。不随意想象的特点是把各种印象和信息离奇、突然、有时是无意义地组合在一起。随意想象是把各种印象和信息自觉控制、有目的、经过意志的努力呈现出需要的场景。根据上述定义,下列选项属于随意想象的是:()

- A. 小李昨天晚上睡觉时,梦到了儿时一起嬉戏的伙伴
- B. 张三接到录取通知,想到自己实现了目标,很兴奋
- C. 小王面对设计图,憧憬着公司新大楼竣工后的样子
- D. 小陈的父亲看着照片回忆起当年上山下乡对的场景

5.器官移植分为:①自体移植,指移植物取自受者自身;②同系移植,指移植物取自遗传基因与受者完全相同或基本相似的供者;③同种移植,指移植物取自同种但遗传基因有差异的另一个体;④异种移植,指移植物取自异种动物。

根据以上定义,同卵双生姐妹之间的肾移植属于:

- A. 自体移植
- B. 同系移植
- C. 同种移植
- D. 异种移植

6.酱油:食盐

- A.动物:熊猫
- B.双软马车:手推车
- C.鸡精:味精
- D.房间:大厅

7.铅笔:钢笔:毛笔

- A.电话:电视:电脑
- B.足球:篮球:气球
- C.棉衣:皮衣:毛衣
- D.棉花:棉衣:棉被

8.低热量食物是指含淀粉、糖类碳水化合物类较小的食物。通过食用低热量食品,可以有效控制能量的摄入量,避免多余能量在体内以脂肪形式储存下来。如果体重已经较重的人改为食用低热量食品,则可在保持饱腹感的同时达到减肥效果。另外,有许多人认为,低热量食物对糖尿病患者也十分有益。

以下哪项为真,最能支持上述推论?

- A.改食用低热量食物需要逐步进行,否则会引起机体代谢紊乱

B.研究表明低热量饮食可减少脂肪在胰脏中的沉积,恢复胰岛素的分泌

C.低热量食品可适当增加进食量,满足饱腹感,享受吃饱的乐趣

D.低热量食品可以降低超重或糖尿病患者的体重,但需要补充其它营养

9.科学家们认为,梦是大脑中主管人体各种功能的各个中心点联合作用的结果。人在睡眠时其部分脑细胞仍然在活动着,这就是梦的基础。最近的研究成果证实,做梦不仅不会影响人的睡眠和健康,而且还是保护大脑健康所必需的生理活动之一。

以下哪项如果为真,最能支持上述结论?()

A.根据问卷分析,长期不做梦的人比经常做梦者所需的睡眠时间更长,在休息后有一半人仍会感到疲倦

B.实验中,研究人员在睡眠者出现做梦的脑电波时,就立即将其阻断,结果发现被试的血压和体温明显增高

C.研究中,梦境被打扰的被试在醒来后显得焦虑不安,容易紧张,并出现记忆的短期障碍

D.调查显示,能完整讲述梦境的被试相比遗忘梦境者,在工作中更能快速集中注意力,从而工作效率更高

10.假设某国政府开始对出售的每一罐食用油征税两分钱,然而税务记录显示,尽管人口数量保持稳定且税法执行有力,食用油的税收在税法生效的头两年中却呈现下降趋势。下列各项中,如果()正确,最有助于解释食用油税收额下降。

A.很少家庭在加税后开始生产他们自己的食用油

B.商人在税法实施后开始用比以前更大的罐子出售食用油

C.在食用油税实行后的两年,政府开始在许多其他商品上征税

D.食用油罐传统上被用作结婚礼物,税法实施后,用食用油做礼物增多了

第二十四天 常识判断

1. 一辆客车夜晚行驶在公路上，发现油箱泄漏，车厢里充满了汽油的气味，这时应该采取的应急措施是()。

- A. 洒水降温减少汽油蒸气 B. 开灯查找漏油部位
C. 让车内的人集中到车厢后部 D. 打开所有车窗，严禁一切烟火，疏散乘客

2. 红色与黄色混合得到一种新颜色，红色与蓝色混合得到另一种新颜色，这两种新颜色分别是()。

- A. 绿色、紫色 B. 绿色、橙色 C. 橙色、紫色 D. 紫色、绿色

3. DNA 检测技术的应用为执法部分侦破案件起到重要作用，有效的减少了错案冤案的出现。下列有关遗传物质的说法正确的是()。

- A. DNA 是一种遗物物质，同一个家庭每个人都相同
B. DNA 是一种蛋白质，每个人都不相同
C. 只有染色体才是遗传物质，父子之间一模一样
D. DNA 是一种遗传物质，它可由亲代遗传给子代

4. 下述特定时间里，气温最高的是()。

- A. 夏季阴天正午 B. 春季晴天 14 时
C. 春季晴天正午 D. 夏季晴天日出前

5. 普朗克曾这样评论爱因斯坦的科学成熟：“这个原理在物理世界观上所引起的革命，只有哥白尼世界体系的引入才能与之相提并论。”文中的“这个原理”是()。

- A. 相对论 B. 日心说 C. 量子假说 D. 万有引力定律

6. 以下说法不正确的是()

- A. 小孩多理发能有效促进头发生长
B. 眼泪中溶有许多不同的盐，所以是咸的
C. 当我们停止运动后，肌肉会变软，但不会变成脂肪
D. 眨眼可以湿润眼球，正常人平均每分钟要眨眼十几次

7. 我国生产科技、记录、动画和特种影片 186 部。以下不属于“特种影片”的是()

- A. 动作影片 B. 立体影片 C. 动感影片 D. 球幕影片

8. 央视 3.15 晚会曝光了部分小商品市场将激光笔作为儿童玩具进行销售一事。儿童使用激光笔不当，最容易造成的人身伤害是（ ）

- A. 辐射内脏，危害健康
- B. 点燃衣服，烧伤身体
- C. 影响食欲，阻碍发育
- D. 损伤视力，甚致盲

9. “嫦娥一号”在绕月飞行时，卫星上的太阳能电池会遇到没有太阳照射的情况，为了有效帮助“嫦娥一号”内的电池设备度过黑暗时光，你认为“嫦娥一号”内必须有的设备是（ ）

- A. 性能好的蓄电池
- B. 性能好的发电机
- C. 性能好的电动机
- D. 性能好的热机

10. 袋装食品中附有的干燥剂，除防干燥外，其作用是（ ）。

- A. 过滤食品包装袋外的细菌
- B. 保持食品的新鲜程度
- C. 吸收食品包装袋里的氧气
- D. 消除食品袋中的异味

第二十五天 申论

【给定资料】

材料 1:

《全国人民代表大会常务委员会关于修改〈中华人民共和国未成年人保护法〉的决定》于 2012 年 10 月 26 日通过，自 2013 年 1 月 1 日起施行。

《未成年保护法》规定：“保护未成年人，是国家机关、武装力量、政党、社会团体、企业事业组织、城乡基层群众性自治组织、未成年人的监护人和其他成年公民的共同责任。对侵犯未成年人合法权益的行为，任何组织和个人都有权予以劝阻、制止或者向有关部门提出检举或者控告。国家、社会、学校和家庭应当教育和帮助未成年人维护自己的合法权益，增强自我保护的意识和能力，增强社会责任感。”

2011 年 7 月 30 日，国务院颁布《中国儿童发展纲要（2011 年—2020 年）》，它规定了中国政府儿童发展事业的新目标和新举措，是今后十年中国政府全面推动儿童权益保护工作的基础性文件，标志着保护儿童工作进入新的阶段。新纲要从儿童健康、教育、福利、社会环境及法律五个方面制定了明确的目标与策略，对儿童保护事业中涉及到这五个领域的发展起到了提纲挈领的指导作用。

2013 年 3 月 16 日，“2013 年唐山市共青团与人大代表、政协委员面对面”暨唐山市未成年人保护与自护意见征集座谈会在团市委召开。《唐山市未成年人保护规定（草案建议稿）》经过 12 次修改后，已提交市人大法工委，有望在今年内出台。根据最新修订的《规定（草案建议稿）》，该市将成立未成年人保护委员会，并依托 12355 电话服务平台，接受未成年人咨询及个案求助。《规定》要求，一旦发现未成年人受到侵害，老师、家长等知情者必须在 24 小时内向公安机关举报。针对放学后学生无处可去的现状，《规定》建议 7 时至 18 时学校应允许学生留校并保障其安全。

材料 2:

2011 年 11 月 16 日，G 省某镇，一辆运煤货车与某幼儿园学生接送面包车相撞，造成 20 人死亡。发生事故的校车核载 9 人，实载却达到 64 人。

2013 年 8 月 29 日，某县一幼儿园在接送孩子时，一名三岁的男童被遗忘在校车上，因闷热致死。

有专家收集了近 5 年部分国内媒体披露的 74 宗学生上学车辆安全事故数据，通过分析

发现，各年事故数量基本持平。在死亡人数中有74%是农村学生；伤残的农村学生占40%；49%的校车事故发生在义务教育阶段，50%在幼儿园。

由于“夺命校车”事故频发，2011年11月27日，温家宝总理在第五次全国妇女儿童工作会议上指出，国务院已经责成有关部门迅速制订校车安全条例。2012年3月，国务院总理温家宝主持召开国务院常务会议，审议并原则通过《校车安全管理条例（草案）》，要求校车通行优先。4月10日，《校车安全管理条例》发布，载有学生的校车享有路上“优先权”，可在公共交通专用车道以及其他禁止社会车辆通行但允许公共交通车辆通行的路段行驶。

目前，一些农村，特别是偏远山区，学生长期乘坐黑车病车上学放学。据调查，某县的乡镇中学2200多名学生中，经常搭乘三无车上学放学的达1200人，这些学生分布在该镇辖区内的26个自然村和近50个单位，最远的有30公里。全县149台用以接送学生的机动车中，只有69台手续齐全。该地区交警支队调查还发现，接送学生的中巴车驾驶员20%—30%无驾驶证或者准驾不符；驾驶机动三轮车接送学生的有近60%没有驾驶证。这些驾驶员普遍缺乏交通法规意识和安全意识，多拉快跑、超载超速、乱靠乱停、逆向行驶等交通违法行为十分普遍。

材料3：

7岁的女童彤彤（化名）家住高档小区，富裕的家庭却没给她一个幸福的童年。3岁父母离异，跟父亲和继母生活，长期被关在阳台，饿成皮包骨。2011年7月6日晚，不堪忍受饥饿的她沿着墙体逃下地面，跑到便利店偷饼干吃。被发现后，居委会、妇联和爱心业主将彤彤送到了救助站。而救助站只能住10天，10天之内必须决定彤彤的去向，而她的监护人是生父，很有可能被送回受虐待的家庭。令人心寒的是，她的父母竟然玩“失踪”，其父亲在电话中竟怒称“没有这个女儿”。最终在舆论的压力下，生父和继母放弃了监护权，生母将彤彤接到自己身边。

2012年12月，6岁的小豪不听话遭遇了父亲皮带的抽打，口吐鲜血不治身亡。这是当年媒体报道的该市第八起暴力虐童事件。

法律界人士对此类家庭暴力的极端案例表示了强烈关注。某事律师协会未成年人保护委员会副主任张律师表示，应建立一个未成年人的保护和监督机构，防止类似悲剧再次发生。目前我国已制定了《未成年人保护法》，但在这部法律的立法宗旨与理念中，作为监护人的父母利益与孩子的利益是一致的。社会常理认为，父母不会对孩子不利。但实际上，在许多家庭暴力事件中，孩子是受害者，是需要重点保护的對象。大部分人认为，“虎毒不食子”，父母对孩子进行体罚是对孩子的另一种“爱”，虽表达方式不妥，但都是为孩子好。其实这

种错误观念造就了对未成年人保护的欠缺,其背后反映的是现行法律及机制在保护未成年人方面的某些缺失。在我国现有的法律制度下,父母是孩子的监护人,孩子受到的保护是与父母结合在一起的。但在国外,许多国家都将孩子作为独立的个体进行保护。张律师呼吁,我国应该在立法上向这个方面努力,将孩子作为一个独立的公民进行保护。张律师提出,法律应该明确,当家庭暴力发生的时候,邻居或者其他公民可以向有关部门进行反映,并且政府需要成立一个专门保护未成年人的独立机构,对类似的家庭暴力进行监督,甚至可以暂时剥夺使用暴力的父母对孩子的监护权。

材料 4:

2012 年 10 月, Z 省发生一起幼儿园教师虐童事件。该校教师 Y 因“一时好玩”在该园活动室强行揪住一名幼童双耳向上提起,同时让另一名教师用手机拍下,之后该视频被上传到网上。事发当天, W 市教育局接到被虐幼童家长举报,立即赶赴该幼儿园进行调查,并采取了向公安部门通报,以及联合街道办事处发出通知,责成校方深刻检查、整改并立即辞退相关教师等举措。

此前知情人士爆料称 Y 从事幼师职业系无证上岗,该情况已被证实。对此, W 市教育局副局长在接受中新网记者采访时称,按有关规定,不论公办或民办学校,教师必须持证上岗。不过,他随即表示因当地幼儿园存在师资紧缺情况,幼师实际持证率仅为 40%,为弥补师资不足,幼儿园基本实行“先上岗、后考证”。“民办幼儿园在教师招聘中有自己的实权,其教师存在的职业素养问题,教育管理部门无法负责。”

无独有偶,几乎就是在一年之内,湖北、山东、广东等全国多个省份的幼儿园和小学相继发生了多次老师暴力体罚甚至殴打、猥亵未成年人的事件,经过媒体铺天盖地的报道,给社会造成了极恶劣的影响。

针对这一问题,有专家认为《未成年人保护法》可操作性较弱,呼吁增加虐童的相关规定。犯罪学专家皮教授指出,《未成年人保护法》中,专门有关于学校保护的内容,在学校里发生的侵害未成年人权益的事件应由学校来负责,这其中包括幼师对于儿童的人权和精神上的伤害。但是,其中适用条款的规定,反映了《未成年人保护法》强调倡导性,可操作性却比较弱的特点。大家不能从中得知事情具体由谁来管,处理起来的程序应当是什么,哪些部门可以接受家长的申诉。法律上既无实体上的规定,又无程序上的规定,当然也没有组织上的规定。因此,这部法律到现在为止,还是处于一个倡导的层面上,可操作性是它一直没有解决的问题。

材料 5:

2011年8月,国务院办公厅发出《关于加强和改进流浪未成年人救助保护工作的意见》,在措施中要求实行主动救助保护,加大打击拐卖未成年人犯罪力度,帮助流浪未成年人回归家庭,成立流浪未成年人救助保护中心,开展流浪未成年人教育矫治工作,强化源头预防和治理,在工作机制上建立民政部牵头的部际联席会议制度。为贯彻落实该意见精神,2011年12月,民政部、中央综治办、教育部、公安部、财政部、人力资源社会保障部、住房城乡建设部、卫生部发布《关于在全国开展“接送流浪孩子回家”专项行动的通知》,决定从当时起至2012年底,在全国联合开展以“保护儿童,告别流浪”为主题的“接送流浪孩子回家”专项行动。

2012年2月,G省某小学26个平均年龄只有9岁的留守儿童,用他们的220篇日记、21幅画、12封写给爸爸妈妈的信,汇聚成书——《中国留守儿童日记》。该书出版后,引起巨大反响。据媒体公开报道,中国农村目前留守儿童的数量超过了5800万人。社会学家认为,留守儿童面对的家庭教育缺失,家庭关爱缺乏,直接对未来中国人口整体素质产生影响。

2013年3月的全国人民代表大会上,一位农民工代表带来《关于解决外来农民工子女入学问题的建议》,呼吁尽快建立公平合理的外来务工人员子女义务教育转移支付制度,这样才能调动流入地政府积极性,切实解决农民工子女入学难的问题。

S市某区人民检察院的调查显示,2009年至2011年间,该院共受理未成年人犯罪案件253件,涉罪未成年犯罪嫌疑人343人。其中,非本地户籍293人,占涉罪未成年人总数的85.4%;非本地户籍中208人系农民工子女,占涉罪未成年人总数的60.6%。

一些农民工子女无户籍,无固定居住地,“他们既无法接受良好的教育,又无法享受父母的关心和爱护,在心理发育及逐渐成熟的关键时期,教育缺失、意识观念的不成熟和社会不公平的存在,使他们易产生偏激的观念和过激行为。”该院未成年人检察科一名检察官就此分析说。

材料6:

《预防未成年人犯罪法》虽然规定了要立足于教育和保护,“从小抓起”,对未成年人的不良行为及时进行预防和矫治,但并没有规定明确的负责部门和有效的措施。这使得在实践中,防微杜渐的预防工作常常难以发挥应有的作用,“小错不管,养肥了再管”已成为预防未成年人犯罪工作中难以回避的尴尬。

“很多时候,民警只能把这些孩子说一顿、批评一阵就放出来,没别的办法。”北京师范大学刑事法律科学研究院何副教授接受中国青年报记者采访时举了个例子说,14岁的孩子小偷小摸,父母也不在身边,从看守所出来没人“接手”,更谈不上对他们进行教育和帮

助了。专家表示，家庭监管缺位，可由政府和社会组织给未成年人“补课”，第一时间挽救濒临失足的未成年人。

S市阳光社区青少年事务中心（以下简称“阳光中心”）是一家专门承担由政府委托的社区青少年事务项目的非政府组织，由政府出资向他们购买社工服务，其服务内容包括：①了解和把握服务对象的动态；②实现对服务对象的有效控制；③为服务对象提供社会工作的专业服务；④协助服务对象解决就学、就业等实际困难和问题；⑤整合社会资源，推进社工工作。S市的运作方式是，在市委统一领导下，首先，在法律地位上，由市政府通过法律途径，授权团组织组织专门机构代行政府的社区青少年工作的行政管理职权；其二，在组织结构上，市一级设立由团市委负责的社区青少年事务办公室，区一级设立由团区委负责的社区青少年事务办公室，有专人从事社区青少年事务的行政管理工作；其三，在具体工作领导、指导上，市、区政法委和有关部门直接承担责任。

阳光中心有一项是“预防青少年犯罪”。据阳光中心总干事F女士介绍，该中心目前共有400多名社工，2012年共服务了4万余名未成年人。“为了更有针对性的预防，我们实行了‘类别化管理’。”F女士说，“已有偏差行为”的未成年人被阳光中心归为“重点服务类”，基本上是由公安机关移交过来的。在帮扶的过程中，社工亦会对帮扶对象进行阶段性的考评。同时，阳光中心亦为帮扶对象推荐就业。

据统计，阳光中心成立后，S市未成年人违法犯罪总量下降明显。S市综治办副主任C向媒体披露，自2007年起，该市青少年违法犯罪总数持续下降；2010年25周岁以下违法犯罪青少年总数同比2006年下降了25.45%，下降速度好于全市总体违法犯罪状况。

“由政府向社会组织购买服务，这在发达国家已是普遍做法，但在我国仍处于起步阶段。”专家认为，“S市模式”值得各地借鉴。一方面，放权给社会组织，能对相关行政部门的力量形成有效补充；另一方面，提供帮扶服务的社工，大多接受过专业训练，专业性强。有了社会组织参与是第一步，影响预防“效果”的另一个问题，是社会组织中社工的数量和能力。

据F女士介绍，阳光中心的社工常年面临着“供不应求”的困境。“1位社工平均每年要帮扶100多名未成年人，确实有点顾不过来。”她说，现在社工的社会地位、劳动报酬都不高，没有多少人愿意干。可社工这份职业对个人能力要求较高，不仅要有社会学、法学等相关专业基础，也需要良好的沟通能力。F女士坦言，门槛高、人数少，是摆在面前的难题。有关关注此事的人士建议，要解决这个问题，还是应该从资金抓起。“政府应联合基金会，共同加盟对社会组织的财政支持，提高社工的劳动报酬。对表现好的社工，给予一定的奖励。”

2013年9月，B市民政局下发通知称，面向全市社会工作事务所购买社会组织参与未成

年人社会保护试点服务项目，其中购买服务项目的对象为依法登记注册、具有独立法人资格和健全的财务管理制度、年检合格的社会工作事务所。经过审核的社会组织将承担心理治疗、监护评估等工作。此次购买的服务项目为3个，服务项目包括构建社区保护机制和强化教育保护。具体来说，在试点街乡探索建立社区未成年人保护中心，做好未成年人返校复学工作；重点探索建立受助未成年人发现、报告和响应机制，及时庇护受伤害未成年人；探索开展困境未成年人救助帮扶机制。据介绍，社会组织将需要配合救助管理机构参与街头救助以及辖区困境未成年人排查摸底工作，对困境未成年人及其家庭开展监护情况与需求评估。

材料7:

随着社会的发展，涌现出了诸多的社会需求，这些社会需求原先都由政府来解决，导致政府机构设置臃肿，各类经费剧增，而同时，一些政府部门向社会提供公共服务时效率不高，不能满足群众需求，引起诸多不满。

20世纪80年代以来，以英国、美国、澳大利亚为代表的发达国家都推行了“购买公共服务”制度，并逐步发展成为政府履行公共管理职能的一种主流模式。小到社区一老一少的照护、一花一草的建设，大到教育、医疗、住房的“民生三大件”，都是政府购买公共服务的内容。当下，作为一种新型的政府公共服务方式，我国政府购买社会组织服务方面的发展也在提速。《关于2012年深化经济体制改革重点工作的意见》中明确提出，研究制定扶持社会组织发展的政策措施，建立健全政府向社会组织购买服务制度。

在香港，儿童保护工作备受重视，服务体系中包括了政府和非政府的力量。政府的力量有香港社会福利署保护家庭及儿童服务课，香港警务处虐儿案件调查组。非政府的力量有香港防止虐待儿童会、保良局、“母亲的抉择”、平等机会委员会、联合医院、明爱晓晖计划—性侵犯综合辅导服务中心等。这些非政府机构除了得到社会捐助资金外，大部分也得到政府的专项资金支持，每年向政府汇报工作和有关儿童问题的统计数据，这些资料将成为政府工作报告的依据。香港还有很多的寄养家庭，由自愿提供寄养服务的家庭填写申请表，政府对该家庭进行全面考察后登记备案。有需要家庭照顾的孩子随时有可能被送到寄养家庭，由政府每月支付一定的港币给寄养家庭，部分作为孩子的生活费，部分作为对寄养家庭的报酬。

材料8:

“这种变味的教育，学了能有什么用呢？就是考上大学能如何？找到工作又如何……”
“我们不是机器，即使是机器，学校也不该把我们当成追求升学率的工具！”这样内容犀利的言辞，不是出现在辩论赛上，而是一名中学生在3000多名师生众目睽睽之下的激情演讲。2012年4月9日上午，J省某中学举行升国旗仪式，一名高二学生在国旗下发表讲话时，将

之前老师“把关”过的演讲稿，悄悄换成另外一篇抨击教育制度的文章。5分钟的演说中，这名学生“慷慨陈词”，表达自己对现行升学和教育制度的不满，抨击父母强加给自己的所谓理想，学校没有让这名学生停止演讲，坚持让他讲完，事后对其进行了批评教育。

针对这一事件社会各界议论纷纷。全国律师协会未成年人保护专业委员会将这一事件评为2011—2012年度“未成年人保护领域十大事件”之一，认为学校并未因此而恼羞成怒或严厉处分该学生是一种对未成年人的尊重与保护。而相关教育界人士则认为该学生的言辞多多少少会对其他学生的心态产生影响，一味地放任或严厉地处分都会对其本人和其他学生的身心发展产生负面效果。学校如何在尊重未成年人、保护未成年人的基础上消除影响，维持正常的教学秩序考验着学校的管理水平。

弗吉尼亚公立小学暑假前的最后一天是学校举办期末颁奖典礼的日子。尽管颁奖典礼是早上举行的，依旧有很多家长请假前来出席。首先是给全勤和高勤的孩子们颁奖。英国教育讲究责任感、提倡参与的理念，从这个奖项的设立中可见一斑。其次是由学校图书馆负责人给加速阅读达到十级的孩子们授奖牌。这个评价体系对孩子们的毅力和坚持精神的考验远远超过了对智商水平的考查，而对他们养成良好的阅读习惯、提高阅读理解能力，则是一个很好的锻炼过程。接下来的颁奖项目是颁给最出色的家长志愿者，这位家长给学校贡献了最多的义工时间。从这个奖项的设立上，你可以看到美国教育是如何提倡贡献社区和回报社会的，对在美国大学的录取中将“社区贡献”作为一个重要的因素也就不会奇怪了。美国小学里经常听到老师对孩子说一句话是：最重要的不是你有多聪明，而是你有多努力。这种观念在“最大进步奖”的设立中表现得淋漓尽致。

材料9：

目前，对于孩子来说，不快乐似乎已成为一种普遍现象。曾任全国人大常委会副委员长的许嘉璐教授在谈未成年人保护法修订草案时表示，对未成年人“心”的关怀应该加强。许嘉璐认为，对未成年人的保护，无非是身、心两部分。现在，这部法偏重保护“身”，保护“心”的方面有些乏力。当前中国青少年最大的问题不是“身”的保护，孩子遭受伤亡的情况有，但是就一亿两千万学生来说，这种情况很少很少，更多的是“心”的问题。许嘉璐强调，对未成年人“心”的关怀应该加强。孩子摔伤了、骨折了是看得见的，父母老师心疼，但这是短痛；孩子学坏了，关系的则是一个家庭、一个民族的未来。

【作答要求】

“给定资料9”划线部分写道：“对未成年人‘心’的关怀应该加强。孩子摔伤了，骨折了是能够看得见的，父母老师心疼，但这是短痛；孩子学坏了，关系的则是一个家庭、

一个民族的未来。”请结合你对给定材料的理解，联系实际，自拟题目，写一篇文章。（40分）

要求：1. 观点鲜明，论述准确； 2. 逻辑严谨，语言流畅； 3. 结构完整，条理清晰； 4. 字数 1000-1200 字。

(100 字)

(200 字)

(300 字)

(400 字)

(500字)

(600字)

(700字)

(800字)

(900字)

(1000字)

(1100字)

(1200字)

第二十六天 数量关系与资料分析

1. 4、12、36、108、()

A.223

B.257

C.315

D.324

2. 90、45、15、3.75 ()

A.0.25

B.0.5

C.0.75

D.1

3. 小李晚上到镇中心广场看电影。第一排共有 21 个座位，部分座位已有人就座，小李发现，他无论坐在第一排的哪个位置，都将与第一排已经就座的人相邻。在小李之前已在第一排就坐的人数最少是 ()。

A.6

B.7

C.8

D.9

4. 某市组织技术人员到外地培训学习，需要先乘车再乘船才能到达目的地。要保证每个人都有座位，需要每辆有 60 个座位的大巴至少 4 辆，需要定员为 70 人的船至少 3 条。到达目的地之后，对技术人员进行分组培训，结果发现，分的组数跟每组的人数恰好相等，则参加这次培训学习的技术人员共有 () 名。

A.169

B.181

C.196

D.225

5. 报社将一定的奖金分发给征文活动获奖者，其中一等奖奖金是二等的 2 倍，二等奖奖金是三等的 1.5 倍，如果一、二、三等奖各评选两人，那么一等奖获得者将得 2400 元奖金；如果一等奖只评选一人，二、三等奖各评选两人，那么一等奖的奖金是 ()。

A.2800 元

B.3000 元

C.3300 元

D.4500 元

根据下列资料，回答 6~10 题：

2013 年，广东固定资产投资总量迈上新台阶，共完成 22858.53 亿元，增长 18.3%，比 2012 年加快 2.8 个百分点。其中，城镇投资 18907.34 亿元，增长 18.6%；农村投资 3951.19 亿元，增长 17.0%。

广东 2013 年分地区分产业固定资产投资结构情况表 单位：亿元

指标名称	珠三角		粤东		粤西		粤北	
	完成投资	比去年 增长%	完成投资	比上年 增长%	完成投资	比上年 增长%	完成投资	比上年 增长%
第一产业	92.74	10.4	63.03	34.6	105.9	41	92.47	36.1
第二产业	4431.69	6.5	1132.53	22.3	867.03	37.9	914.81	20.2
第三产业	11532.46	18.5	1134.22	23.5	981.84	38.9	1409.81	24.8

6. 2013 年，广东城镇投资约为农村投资的（ ）。

- A.1.2
B.2.2
C.4.8
D.5.8

7. 2013 年，广东第三产业完成投资（ ）亿元。

- A.354.14
B.7446.06
C.15058.33
D.22858.53

8. 2013 年，珠三角完成投资比上年增长约（ ）。

- A.6.4%
B.14.9%
C.23.2%
D.30.5%

9. 2013 年完成投资由大到小排列正确的是（ ）。

- A.珠三角>粤东>粤西>粤北
B.珠三角>粤北>粤东>粤西
C.粤东>珠三角>粤西>粤北
D.粤东>珠三角>粤北>粤西

10. 下列说法不正确的是（ ）。

- A.2013 年珠三角完成投资比粤东、粤西、粤北的总和大
B.2013 年珠三角完成投资比上年增长的速度快于粤东、粤西、粤北
C.2013 年第三产业完成投资比第一产业、第二产业的总和大
D.2013 年第一产业完成投资比上年增长的速度快于第二产业、第三产业

第二十七天 言语理解与表达

1.“诗是不可译的，中国古典诗歌更是不可译。”爱好古典诗歌的中国人，包括不少作家、学者、翻译家常常如是说，语气中带着七分_____三分_____。然而，话说回来，如果没有翻译，中国古典诗歌如何走出国门、走向世界呢？

依次填入划横线部分最恰当的一项是（ ）。

- A.自豪 遗憾
- B.无奈 悲伤
- C.感伤 埋怨
- D.骄傲 惭愧

2.从20世纪90年代“人类基因工程”计划启动之日起，美国、日本和欧洲等展开了一场激烈的基因专利争夺战，因为谁拥有专利，就意味着谁就能在国际上获得_____基因产业的“王牌”，谁就能拥有今后基因开发的庞大市场，为此，美国等少数发达国家大量地将阶段性研究成果_____申请了专利。

依次填入划横线部分最恰当的一项是（ ）。

- A.垄断 抢先
- B.操纵 独立
- C.控制 自发
- D.专营 及时

3.明代工艺品的名字大都先强调年号，然后再强调东西本身。但景泰蓝不是在景泰年间出现，而是在元代就出现了。到了景泰年间，皇家的重视使它_____，因此有了今天这样一个通俗易懂且带有文学色彩的名字——景泰蓝。

填入划横线部分最恰当的一项是（ ）。

- A.如日中天
- B.声名鹊起
- C.享誉中外
- D.名声大噪

4.改革开放以来，我国经济整体上保持了高速增长态势，但劳动就业的增长却远低于经济增长的速度。目前，尽管我国服务业吸纳劳动就业的比重在不断上升，甚至已经成为吸纳

就业的主力军，并且基本消化了包括从农业和制造业中转移出来的劳动力存量在内的所有新增劳动力，但与发达国家相比，它对劳动就业的贡献率还是太低。我们务必利用产业结构调整 and 增长模式转变的机会，发掘服务业对发展经济和扩大就业的巨大潜力。

这段文字主要说明了（ ）。

- A. 服务业是保障我国就业快速增长的重要推动因素
- B. 产业结构调整是我国服务业快速发展的重要契机
- C. 我国服务业对劳动就业的吸纳能力有待进一步拓展
- D. 就业与经济增长不一致的主要原因在于服务业发展滞后

5. 传统的动物资源保护措施主要是划分保护区或建立保种基地。这些措施能很好地保护物种的多样性，但也存在一些缺点：保护区面积大，偷猎现象屡禁不止；建立良种基地保护地方品种投资大，时间长，容易出现近亲繁殖、物种衰退等现象。试管、克隆、冷冻保存等生物技术新成果的问世，为动物遗传资源的保护和利用开辟了新途径，建造“动物诺亚方舟”不再是天方夜谭。

这段文字主要介绍了（ ）。

- A. 生物技术的进步为动物资源保护开辟了新天地
- B. 动物资源保护促进了生物技术新成果的诞生
- C. 保护动物物种多样性所取得的突破性进展
- D. 传统资源保护措施所遇到的困难和取得的进步

6. 法国著名寓言作家拉封丹有一则寓言：北风和南风比试，看谁能把一个行路人的大衣吹掉，北风呼呼猛刮，行路人紧紧裹住大衣，北风无奈于他。南风徐徐吹动，温暖和煦，行路人解开衣扣，脱衣而行，南风获胜。

这个寓言意在告诉人们（ ）。

- A. 具体问题具体分析
- B. 方法得当柔可克刚
- C. 实践是检验真理的唯一标准
- D. 工欲善其事，必先利其器

7. 今天，随着科学技术的迅速发展，人们物质与精神文化需求日益增长，小范围、低水平的科普活动已远不适应时代的发展。“理解科学”这个大“科普”，便成为迫切需要全社会关注的重大课题。随着科学技术的纵深发展，科学技术逐渐形成了自己的概念和逻辑体系，也渐渐远离了大众的视线与常识。人们很难凭借以往的知识结构，来准确理解科学及其所引起

的各种变化，很难判断其社会价值与意义，这就使得一些科学技术成为横亘在人类发展道路上的知识壁垒。

这段文字意在说明（ ）。

- A. 公民的科学素养与飞速发展的科学存在差距
- B. 在新形势下提升科普工作水平的必要性
- C. 提高科普工作水平所面临的种种困难
- D. 现代科学技术有成为知识壁垒的可能

8. 一只小型广告灯箱一年可以杀死约 35 万只昆虫，亮如白昼的夜晚还会严重影响昆虫、特别是成虫的生命周期。昆虫是大自然食物链上的一个重要环节，很多小型动物、鸟类和蝙蝠以昆虫为主要食物，许多植物靠昆虫传授花粉，如果昆虫的种类和数量发生变化，必将严重影响生态环境。过度的照明对能源的浪费和环境污染的压力更是不言而喻。

这段文字意在强调（ ）。

- A. 光照对动植物生长的主要影响
- B. 自然界各物种之间的关联密切
- C. 昆虫在自然界中的重要作用
- D. 光污染对自然生态平衡的干扰

9. 哲学曾经是一种生活的方式，所谓苏格拉底的哲学，不只是他和别人对话的方法与其间隐含的辩证逻辑，也不只是他在对话中提出的种种理论，更是他不立文字浪迹街头四处与人闲聊的生活方式。哲学从一开始就不是种书面的研究，还是一种过日子的办法。只不过我们后来都忘了这点，把它变成远离日常的艰深游戏。当年在大学上关子尹先生的课时，他就一而再，再而三地告诉我们，即便是很多人眼中的蛋头学者康德，也不忘区分“学院意义的哲学”和“入世意义的哲学”，并且以后者为尊。

这段文字意在表明（ ）。

- A. 哲学源于生活，应服务于人民
- B. 如今的哲学发展偏离了它的本质
- C. 康德和苏格拉底的哲学观念一脉相承
- D. 当代人们对哲学的诠释方式发生了改变

10. ①在丹麦、瑞典等北欧国家发现和出土的大量石斧、石制矛头、箭头和其他石制工具以及树干造出的独木舟便是遗证。

②陆地上的积冰融化后，很快就出现了苔藓、地衣和细草，这些冻土原始植物引来了驯

鹿等动物

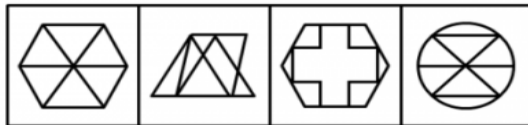
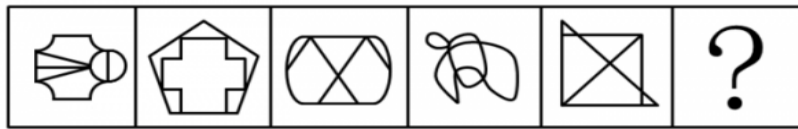
- ③又常年受着从西面和西南面刮来的大西洋暖湿气流的影响，很适合生物的生长
- ④动物又吸引居住在中欧的猎人在夏天来到北欧狩猎
- ⑤北欧虽说处于高纬度地区，但这一带正是北大西洋暖流流经的地方
- ⑥这大约发生在公元前 8000 年到公元前 6000 年的中石器时代

将以上 6 个句子重新排列，语序正确的是（ ）。

- A. ⑥⑤③②④①
- B. ⑥②④①⑤③
- C. ⑤③②④⑥①
- D. ⑤②③④①⑥

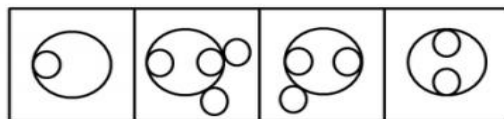
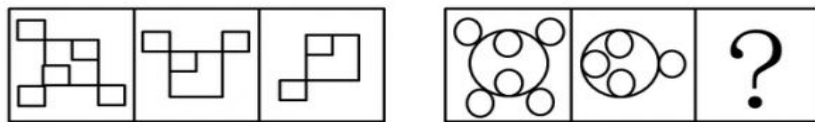
第二十八天 判断推理

1. 从所给四个选项中，选择最合适的一个填入问号处，使之呈现一定的规律性：



A B C D

2. 从所给的四个选项中，选择最合适的一个填入问号处，使之呈现一定的规律性：



A B C D

3. 家用电器：洗衣机

A. 游戏厅：游戏机

B. 台式电脑：笔记本

C. 北京大学：中文系

D. 交通工具：大巴车

4.电：手机

A. 风：风车

B. 螺旋桨：直升机

C. 水：船

D. 光：植物

5.私德是指人们在不直接涉及对社会整体的义务和责任的私人生活和私人交往中应当遵循的道德准则，主要包括个人生活习惯、行为风度、性格特点以及处理爱情、婚姻、家庭问题的道德等。根据上述定义，下列不属于私德的是：

A. 刘某个性张扬，喜欢穿戴各种新潮服饰

B. 张某遵纪守法，从没干过违法犯罪的事情

C. 李某很勤快，家里所有家务活都是他做的

D. 王某是个公务员，他和邻居相处得很好

6.行政法律关系根据行政权力的作用范围不同分为外部行政法律关系和内部行政法律关系。行政机关与公民、法人和其他组织之间作为管理和被管理关系的是外部行政法律关系；双方当事人作为上下级的从属关系是内部行政法律关系。

根据上述定义，下列行为属于内部行政法律关系的是：

A. 某省公安厅表彰省交警大队的“英模干警”

B. 某卫生局检查所辖范围内的餐饮企业

C. 某大学对违纪学生进行处罚

D. 某企业到税务局纳税

7.语言规划是指政府或社会团体对语言文字及其使用进行的有组织、有目的、有计划的人工干预与管理，主要包括语言地位规划、语言本体规划。

根据上述定义，下列不属于语言规划的是：

A. 立法推广普通话

B. 制订简化字总表

C. 国家语委规范网络用语

D. 大学发展语言教育产业

8.某所高中调查学生参加社团的情况，发现在象棋社社员中，只要是高二（3）班学生，则其一定也是校篮球队的队员。由此可以推出：

A. 甲是象棋社社员，且甲是篮球队员，则甲是高二（3）班学生

B. 乙是高二（3）班学生，且乙是篮球队员，则乙是象棋社社员

C. 丙是象棋社社员，且丙不是篮球队员，则丙不是高二（3）班学生

D. 丁不是象棋社社员，且丁也不是篮球队员，则丁不是高二（3）班学生

9. 在信息化的背景下，发展中国家和发达国家在经济全球化中的机遇和风险是相对平等的，因此，发达国家和发展中国家的经济发展差距呈现日益缩小的趋势。以下哪项为真，能对以上结论提出最严重的质疑？

A. 经济全球化一方面促进了各国经济快速增长，另一方面却蕴含着前所未有的风险

B. 即使对美国这样的发达国家来说，全球化也给它带来了不利影响：过量移民、廉价商品、跨国犯罪等

C. 据联合国的报告，1990 年到 2000 年间，世界各国中按发达程度排名的前 15 名和后 15 名的人均年收入比率从 60：1 扩大到 74：1

D. 经济全球化为世界创造了无数的就业机会，为千百万人创造了新的发展机遇

10. 心理学家德威克用 10 年时间对 400 名五年级小学生进行实验，发现被夸聪明的孩子更容易放弃、缺乏自信、不敢冒险。后来她重复实验时把不同社会阶层都纳入了自己的实验，都发现了相同的结果，不论男女，连学龄前的孩子也未能幸免被表扬后带来的负面效应。以下哪项如果为真，最能支持上述研究结论？

A. 表扬并不一定都具有积极作用，效果因表扬的具体内容和形式而有天壤之别

B. 一份关于表扬的综合调查结果显示，被表扬的学生变得更倾向于规避风险和缺乏独立精神

C. 一项对积极表扬组和无表扬组的学生的学习成绩对比研究显示，他们的学习成绩差异不显著

D. 研究发现，表扬对最聪明的女孩影响最大，她们大部分在一项“失败反应”的测试中都崩溃了

第二十九天 常识判断

1. 以下衡量经济社会发展的重要指标，解释错误的是()。

- A. 国内生产总值是在一国范围内生产的最终产品的价值，是一个地域概念
- B. 国民生产总值中有一部分是本国拥有的生产要素在国外生产的最终产品价值
- C. 国民收入不计算中间产品价值，也不包括固定资产折旧价值，而只计算净产值
- D. 社会总产值既计算物质生产部门的劳动成果，也计算非物质生产部门的劳动成果

2. “无言独上西楼，月如钩，寂寞梧桐深院锁清秋。剪不断，理还乱，是离愁，别是一番滋味在心头”。这种文学的特点是()。

- A. 词藻华丽，手法夸张
- B. 长短不齐，便于抒发感情
- C. 可雅可俗，抒情叙事兼长
- D. 题材多样，表现手法丰富

3. 下列属于政府运用经济手段进行宏观调控的是()。

- A. 全国人大常委会审议通过消费者权益保护法修正案
- B. 中国人民银行调整银行在贷款基准利率
- C. 工商总局召集 10 家电商企业进行约谈
- D. 国家质检总局公布网络销售商品质量抽查公告

4. 京剧是我国的国粹，下列关于京剧的说法正确的是()

- A. 京剧起源于山西、河北一带
- B. 青衣属于京剧行当中的“净”
- C. 常香玉是京剧的四大名旦之一
- D. 《贵妃醉酒》是梅兰芳的代表剧目

5. 下列宗教与其经典对应不正确的是()

- A. 道教——《道德经》
- B. 基督教——《圣经》
- C. 佛教——《南华经》
- D. 伊斯兰教——《古兰经》

6. 对下列道路交通标志解释不正确的是()



- A. 注意儿童
- B. 注意行人
- C. 前方有施工
- D. “徒步”旅游区

7. 关于目前的国际体育赛事，下列说法正确的是()。

- A. 世界一级方程式锦标赛所用赛车的发动机排量没有限制
- B. 进入世界杯和欧洲杯足球赛决赛圈的球队数量相同

C. 斯诺克台球属于奥运会的比赛项目之一

D. 法国网球公开赛属于大满贯的赛事

8. 核电站往往修建在沿海地区，其最主要（ ）。

A. 运输电站建设原材料方便

B. 沿海地区的电力消耗大

C. 核能发电需要大量水冷却

D. 发生安全事故的概率小

9. 下列关于微波炉加热原理的说法，正确的是（ ）。

A. 利用电热元件发出的辐射热进行烘烤

B. 利用明火加热空气形成的热风进行吹投

C. 利用交流磁场形成的涡流向锅体导热

D. 利用超短波穿透引起食品内部分子振动

10. 对下列诗词蕴含的化学原理解释错误的是（ ）。

A. 蜡炬成灰泪始干——烃类的不完全燃烧

B. 爆竹声中一岁除——爆炸产生二氧化硫

C. 日照香炉生紫烟——多环芳香烃的升华

D. 洪炉照破夜沉沉——燃烧释放二氧化碳

第三十天 申论

【给定资料】

[1]节，即节日、纪念日。世界上任何被广泛认可的节日的起源往往与信仰、崇拜、祭祀和纪念有关，或者与一定范围内的乡风民俗有关；其形成、被认可和广泛传承的过程大都有了一定的民间群众基础，与民族民俗是分不开的。我国是个多神信仰的国家，有些神话传说和历史人物被奉为神明加以崇拜和祭祀，由此在民间自下而上产生了一系列大大小小的民俗节日或纪念日，也就是传统的庆祝或祭祀的日子。

中国社会科学院H研究员说，“节”是民众自己的事情，它的产生来自民众集体的需要和智慧，是每个人重要的生活方式之一，并且具有集体性；“假”是国家、政府的事，是国家、政府把民众的事纳入政策、计划之中。节日假与平时假有很大不同，平时假一般是个人休闲、娱乐，方式方法多种多样，各自可以自由选择；节日假则不一样，节日具有独特的文化功能，包含着诸多感情因素，有安抚心理的作用，如赶回家过年，如清明节想方设法祭奠自己的先人，从身上调动我们对亲人、对家乡、对祖国的情感，唤起民族文化的记忆和对民族精神的认同，唤起我们社会成员之间同宗同祖的亲和力，这是平时假日所完全没有的。

从文化人类学的角度来看，文化是一组行为模式。传统节日因为传承了特定的行为模式和文化内涵，构成了一个民族的文化血脉与集体记忆。

[2]上千条空中航线，9万多公里铁路，近400万公里公路，40天的时间，亿万人辗转于各种交通工具，只为了回家过年。据国家有关部门统计，近两年的春运客流量在30亿人次左右。这些数字折射出“回家团圆”是春节永恒的主题。与此同时，春节贴春联、挂福字、吃年夜饭等传承千年的习俗依然是春节的“必修课”。显然作为民族最重要的传统节日，作为炎黄子孙不能忘怀的鲜明文化符号和文化记忆，春节在人们心目中的地位从未消退。

然而不可否认的是，传统春节的人文内涵正受到现代文明的严重冲击。近些年，国人明显感受到春节的年味淡了、节日气氛不浓厚了。某知名网站近日的一项调查显示，93.6%的受调查者感觉现在年味儿变淡了。其中51.8%的人表示年味儿“淡多了”，41.8%的人认为“有点淡”，认为年味儿没变淡的人仅占4.6%。

生产和生活方式、生活环境的巨变，信息沟通和交通技术手段的日益发达完善，使一些产生于农耕文化的传统节日原有的内涵和功能，在工业化和城市化面前失效或淡化，比如中秋节乡思、旅愁的释放功能减弱，月宫神话魅力丧失，月球的神秘感消失。

[3] “端午节很重要吗？为什么要放假？”山西某大学外语学院两名大一学生这样反问记者。14日下午，记者在外语学院遇见小文和小杜时，这两名女生正在校园里四处打听哪里有电玩城。

当记者问怎样过端午节时，她们说：“什么过不过？我觉得除了放假稍微长点，跟平时周末没什么区别，平时学习紧张，难得放个假，要好好玩个痛快。”“其实我们很不能理解端午节为什么要放假，端午节有那么重要吗？”她们这个小长假的游玩日程是“第一天唱歌、打游戏，后两天去平遥古城玩”。

当记者问太原理工大学学生小洪哪一天是端午节时，小洪想了半天仍一脸茫然，他解释说：“端午节跟我还真没什么关系，端午节不就吃个粽子吗？其实，吃不吃都无所谓，怎么过节不重要，只要放假就行。”

记者走访发现，对很多年轻人来说，端午节小长假重点在于小长假，端午节似乎只是一个由头，人们可以借此聚会、逛街、购物、出游，或者干脆宅在家里观看世界杯。“我们现在缺的是休息和闲暇，只要有假期，端午节还是清明节都不重要。”一家知名电脑公司太原分公司经理高洁说。

“假日是公民的福利，想干什么都可以，而节日要按节日的方式过。”著名作家冯骥才认为，不少人特别是年轻人不知道节日文化的内涵，节日生活空空荡荡、无事可做，久而久之，这些节日便退化成一个普通的假日，失去了原有的意义。

[4]吃之于中国传统节日几乎是天然的重头戏。一谈起过节，人们最先想起的就是“过节要吃什么？”中秋节吃月饼，端午节吃粽子，春节吃饺子。每个传统节日似乎都在跟着一个“吃”字转。“民以食为天”是农耕社会追求温饱的价值取向潜移默化于各种文化与精神活动中。但近年来，随着社会的进步与经济的发展，国人对于传统节日以吃为主基调的行为模式越来越多地提出反思与质疑，这是对于生理需求得到保障后的超越，也是对于传统节日内涵流失与本义曲解的不满与不安。因为除了吃，传统节日还有着丰富的内涵。历史上过端午节，人们除了吃粽子，各地还有喝雄黄酒、插艾草、挂菖蒲、赛龙舟、系五色丝绳、缝荷包等诸多的民俗，在这些民俗的背后包含了许多值得传承的文化财富和思想精髓。现在的情况是：一边是对传统民俗的遗忘，一边是对节日气氛缺失的抱怨，两者纵横交错暴露国人的矛盾心理。

人们在这些节日里除了吃就是看电视了。据统计，全国有90%的家庭春节是在电视前度过的，看电视成为人们在传统节日里最重要的文化活动。电视台每年为了给广大群众奉上这盘节日“大餐”，也越来越用心了，然而也越来越满足不了人们的兴趣和口味了。显然，春

晚已经不能满足现代人对文化生活的需求。然而除了电视节目之外，其他的传统节日活动却早已被遗忘，踩高跷、玩狮子、舞龙等有着浓厚的中国文化色彩的活动早已被人们遗失了，并且也没有其他能体现中国节日内涵的活动创新。

节日民俗是一个民族的盛典，它绝对不是简单的吃喝穿戴。“所以，很多时候老百姓过节时常常感到很失落，不知道节该怎么过了，这种失落实际上是一种精神上的失落。”冯骥才如是说。

[5]“王经理，再帮我准备100盒‘含金’月饼。”某日中午，南海一私营企业销售经理刘哲（化名）刚拜访完一拨客户后，打开车后备箱发现，周一买来的100盒月饼已所剩无几，赶紧再次拨通了一大型酒店的月饼销售经理电话。每年中秋节前一个月开始，刘哲都会开始痛苦的送礼历程，“没办法，我们搞销售的，有求于客户，不招待好，生意就被别人抢了，所以每逢过节都跟打仗似的。”所谓的“含金”月饼，是一句行话。刘哲将其翻译成通俗语，“光送月饼，客户懒得要，也吃不完，一定要在月饼中夹带消费券、金币等贵重礼品。”刘哲举例说，各大酒店推出的月饼一般都分A、B两种，外包装几乎一样，但价格往往相差很大。“具体差异，就要看我们向酒店方所提的‘含金量’要求而定，我今年送的最贵的一盒过万元了，因为里面放了金条。”

在禅城汾江路一家星级酒店做销售经理的李灿（化名）则透露了各酒店之间的“中秋之战”，“有人说有月饼的地方就有江湖，这么说一点不夸张”。文化搭台，经济唱戏，本无可厚非，但是当原本为普通时令食品的月饼贵到普通民众都舍不得买，当本应是以“合家团圆”为主题的中秋节，从一个增进家庭情谊的传统节日慢慢变成了维系社会社交资源的重要契机时，中秋节已不再是我们记忆中的那个中秋节了，套用一种比较滥俗的说法，如今的节日已经成了很多人的“劫日”，那些传承了千百年的节日，则因为变形走样而失去了色彩和生机，甚至变得有些面目可憎。可实际上，无论是节日食品的“异化”，还是节日传统的式微，都不是中秋节这个节日遭遇的困境，而是几乎所有传统节日都正在面临的危机，节日文化是传统文化的重要一环，也是维系社会交往和国民认同的重要纽带。当“异化”改变了公众对节日的情感认知，蚕食了公众对节日价值的认识，很多传统文化都将无可依附。在目前的文化语境下，即使我们所有的传统节日都“申遗”成功，也不会和我们的生活产生太大的关系。

[6]在研究如何承续和发展传统节日方面，专家们存在着不同的意见。东南大学的A教授指出，由于普遍缺少传统文化和民俗知识的教育，我们的年节文化符号和功能意义已被很多人所曲解或淡忘，不少人盲目跟风，人云亦云，使节日习俗产生了明显的异变。比如，说

春节倒贴“福”字为“福到”，说元宵节吃元宵是为“团员”，把牛郎织女七夕相会的鹊桥取名为“七巧桥”等，都是由于知识的缺失而对传统节日事象的妄说。

此外，近些年来，西方文化中的有关“情人节”的话题备受年轻人的青睐。于是一些商家、学者和媒体纷纷参与其中推波助澜，不仅把中国农历七月初七的“七夕节”赋予了“中国情人节”的元素并开始打“中国情人节”的牌子，甚至有些不负责任的学者还把中国的“元宵节”、“中秋节”统统都与“情人节”扯上关系，大有一番把中国的传统节日“改朝换代”的趋势，大有一番不去做“情人”的文章，就不叫过节的倾向。

虽然节日属于民俗，具有多元性、民间普遍性和发展性的特点，但在一片大唱“中国情人节”的声浪中，我们是否想过在我国历史文化背景中，“情人节”的元素和内涵是不可能形成社会推崇的、普遍的民间基础，没有民间基础也没有节日之说，也就不可能存在“情人节”的元素和内涵，A教授认为，这些都是应该警惕的。

北京师范大学B教授认为，我们的传统不是一成不变的，传统节日正在不断地增添新的内容，比如北京春节地坛庙会经常有许多民俗风情出现，有些并不是固有的，而是外来的东西。2008年北京春节地坛庙会的标志物鲤鱼旗，就来自日本。在日本，端午节的时候要挂鲤鱼旗，家里有几个小孩就挂几条旗。这是“全球化时代中国传统节日的新变化”。他说，“我们传统节日的创新，最终要服务于人民的生活需要，以人为本。”中国社会科学院C研究员以甘肃庆阳香包民俗文化节为例，说明今天各地流行的节庆活动，不少是在各种现实力量的促发下生产或再生产出来的，所以，对于目前的节日现状，不必过于忧虑。传统是被不断发明、生产和再生产的过程，现有的传统并非一成不变地来自于过去的某个原点，其中甚至常常融入当代的内容，今天出现的文化现象，实际上也正在为促进向后世延续的传统增加新的因素。

[7]经济在增长，民族文化认同感也在坚守，韩国的主要节日和中国一样，大多也是植根于农耕时代，但是他们在传统文化身上注入了现代的元素，成功地实现了现代转型，并得到了国际认同。20世纪90年代末，韩国提出了“文化立国”战略，确定将低消耗、无污染，立足于创新创意的文化产业作为21世纪国家经济发展支柱加以扶持。资料显示，2010年韩国文化产业规模为72.58万亿韩元（约合650亿美元）、约占韩国当年GDP的6.2%。

政府鼓励民居拥有者继续在传统的瓦房和草屋里生活，建筑外观不能被随意改变，以形成体现传统乡土风情的“民俗村”，各级政府和民间团体还举办“文化遗产年”、“旅游年”等活动，设立“泡菜节”、“假面舞节”等年度庆典来进一步宣传韩国传统文化。

为发掘韩国的优秀传统文化，韩国还专门设立了“无形文化财产厅”，组织专家发现并认证值得保护的传统文化项目，韩国的传统说唱、假面具、造纸等传统手工艺，宫廷御膳、礼仪、传统风俗节庆，传统医药等被当作“无形的文化财产”加以保护。

此外，在韩国还善于将传统文化与现代工业手段相结合，创造新价值。电视剧《大长今》中的饮食文化，《新娘十八》中的家族文化和婚俗文化等，包含了众多的韩国饮食、服饰、医学、婚恋等传统文化元素。除电视剧出口获得的一次性收益外，韩剧还带动了旅游热、韩式美食养生热和韩国传统文化体验热，创造了极大的综合效益。在韩剧中，传统的文化元素在里面得到了充分的体现。

韩国的年轻人打扮时尚而现代，在地铁里、公交车上，他们听着喜欢的音乐，与西方年轻人一样喜欢 NBA、喜欢互联网，但是在传统节日和结婚时却是一定要穿韩服画韩妆而不是披婚纱画现代妆的。政府的投入、各项政策的实施、根植在国民思想深处的民族自豪感、一大批民族文化者的努力工作等，推动着这个国家生机勃勃的传统现代文化发展。10 万人口的东海市，有政府建设的免费开放的各种传统文化博物馆 6 个。在博物馆和民族特色公园里，无论是不是节假日，最多的参观者是中小学生。景福宫里有个主题展览叫“韩国人的一生”给人印象深刻。他们用蜡像、声、光、电、影等传统和现代科技手段，把祈子、怀孕、出生、长成、结婚、工作、花甲祝寿、去世及葬礼等韩国人一生中的重要节点，都细腻具体地展现出来，尤其是礼节、服饰、饮食体现的最充分。

【作答要求】

南宋思想家朱熹曾说：自敬，则人敬之；自慢，则人慢之。请你从给定资料出发，结合实际，以“增强民族自信 重建节日文化”为标题，写一篇文章谈谈自己的体会和思考。

要求：主题正确、内容丰富、论证深入、语言流畅，900—1100 字。

(100 字)

(200字)

(300字)

(400字)

(500字)

(600字)

(700字)

(800 字)

(900 字)

(1000 字)

(1100 字)

(1200 字)



组合报班 优惠多多

组合班次	班次名称	原价	优惠额度	优惠价
组合A	红领寒假营+嗨题Club+考前预测集训营	30760	2580	28180
组合B	红领寒假营+考前预测集训营	27780	2280	25500
组合C	红领寒假营+嗨题Club	24780	1200	23580
组合D	红领决胜班+嗨题Club+考前预测集训营	15940	1780	14160
组合E	模块精讲班+嗨题Club+考前预测集训营	13240	980	12260
组合F	红领决胜班+考前预测集训营	12960	1560	11400
组合G	模块精讲班+考前预测集训营	10260	780	9480
组合H	红领决胜班+嗨题Club	9960	880	9080
组合I	模块精讲班+嗨题Club	7260	580	6680

吉林华图各地联系方式

长春华图：长春市西安大路823号吉隆坡大酒店一楼华图教育

咨询电话：0431-88408222 88967678

净月华图：长春市新城大街与博学路交汇复地嘉年华广场A2座142号华图教育

咨询电话：0431-88605234 89566542

榆树华图：榆树市向阳路影剧院对面华图教育

咨询电话：0431-89789345

吉林市华图：吉林市河南街天桥西行50米吉林茶城4楼华图教育

咨询电话：0432-63106111 63106222

磐石华图：磐石市琉森小镇中国银行旁华图教育

咨询电话：0432-65668855

延吉华图：延边大学正门东侧华图教育

咨询电话：0433-2766099 8929000

敦化华图：敦化市阳光城三期正门华图教育

咨询电话：0433-8916111 8916776

四平华图：四平市铁西区中西医结合医院北侧圣悦宾馆一楼门市华图教育

咨询电话：0434-3155000

公主岭华图：公主岭市迎宾街与南环城路交汇阳光医院南行150米华图教育

咨询电话：0434-6299055

通化华图：通化市东昌区新开道川娃子火锅对面华图教育

咨询电话：0435-3500222

梅河口华图：梅河口市站前路与泰源街交汇碰碰凉后身华图教育

咨询电话：0435-4707727

白城华图：白城市洮北区青年南大街27号华图教育（白城二中对面）

咨询电话：0436-3214567 5033050

辽源华图：辽源市人民大街4027号北门御峰广场对面华图教育