

商业银行模拟题测试(二)

答题说明

1. 本试卷分为三个部分，第一部分为行政能力测试，第二部分为综合知识，第三部分为英语，总分为 120 分
2. 本试卷考试总时间为 180 分钟
3. 本次考试采取网络考试形式，所有考生通过操作计算机完成考试
4. 考试结束时间一到，考生应立即停止答题
5. 请您在正式答题前仔细阅读以上考试说明，以便让您了解试题构成及考核时间。阅读完成后，请开始作答正式试题

第一部分 职业能力测验

(共 70 题，每题 1 分)

吉林省金融银行考试 qq 群 580952807

注意本套试卷答案解析在上方 qq 群文件夹中获取或加群私聊管理员。

言语理解

1. 执行力的强弱已经成为影响企业成败的关键因素。世界级优秀企业总是能够让那些令人振奋的战略规划_____地得到落实，达到甚至超出预期的目标。填入画横线部分最恰当的一项是（ ）。
A.分毫不差
B.滴水不漏
C.一丝不苟
D.不遗余力
2. 世界上没有完美无缺的医疗体系，无论是免费医疗还是市场化的医疗体系，都各有弊端。但从生存权和人的尊严的角度看，对个人免费或少量收费的医疗实乃_____。填入画横线部分最恰当的一项是（ ）。
A.未雨绸缪
B.万全之策
C.大势所趋

D.当务之急

3. 实际上雾霾形成的原因是多方面的，识别污染源是有效治理大气污染至关重要的环节。对京津冀区域而言，认清区域内污染源的共性及差别，有助于区域内地区_____地对污染源进行综合治理。填入画横线部分最恰当的一项是（ ）。

- A.因地制宜
- B.正本清源
- C.有的放矢
- D.齐心协力

4. 作为一种现代产权制度，知识产权制度的本质是通过保护产权形成_____，"给天才之火添加利益之油"，使全社会创新活力_____，创新成果涌流。依次填入画横线部分最恰当的一项是（ ）。

- A.吸引 释放
- B.刺激 膨胀
- C.促进 凸显
- D.激励 迸发

5. 筹算应用了大约两千年，对中国古代数学的发展功不可没。但筹算有个严重缺点，就是运算过程不保留。元朝数学家朱世杰能用筹算解四元高次方程，其数学水平居世界领先地位，但是他的方法难懂、运算过程又不能保留，因而_____。中国古代数学不能发展为现代数学，筹算方法的_____是个重要原因。依次填入画横线部分最恰当的一项是（ ）。

- A.形同虚设 束缚
- B.销声匿迹 片面
- C.后继无人 限制
- D.难以为继 约束

6. 在某种程度上，各地博物馆收藏化石，是对我国化石资源最大程度的保护。但_____的是，这种方式的收藏也不能被_____，因为这就像吃鱼翅的人越多，遭到杀戮的鲨鱼就越多一样。依次填入画横线部分最恰当的一项是（ ）。

- A.遗憾 复制
- B.矛盾 鼓励
- C.不幸 推广
- D.尴尬 宣传

7. 中国教育，向来不缺批评声，这其中不乏_____，也难免过激之言。问题当然要直面，难题一定要破解。需要_____的是，当批评蜂拥而至，不要无视那些被掩盖的优点和进步。唯有如此，才能在改革的道路上不彷徨、不摇摆，找到真正适合自己的发展道路。依次填入画横线部分最恰当的一项是（ ）。

- A.真知灼见 警惕
- B.远见灼识 担心
- C.深谋远虑 注意

D.肺腑之言 反思

8. 在量子理论产生之前，人类在宏观世界里从未观测到任何负能量的物质。把真空的能量定为零的经典物理学，无法_____一种比真空具有更少能量的物质。而在量子理论中，真空不再是_____，每时每刻都有大量的虚粒子对（一种永远不能直接检测到、但其存在确实具有可测量效应的粒子）产生和湮灭。依次填入画横线部分最恰当的一项是（ ）。

A.理解 高高在上

B.相信 空空如也

C.认可 一尘不染

D.接受 一无所有

9. 关于枕头，现代人比前人的认识和经验都要多得多，但是人们记得最_____的话，却是古人说的"高枕无忧"，现在被_____最多的，恰恰也是这句话，"高枕"被认为是颈椎问题的诱因之一。依次填入画横线部分最恰当的一项是（ ）。

A.深刻 指责

B.清楚 批评

C.牢固 谴责

D.广泛 批判

10. 改进作风涉及习俗、文化、制度、利益等方方面面，本身就是一场攻坚战。无论是克服_____的形式主义、官僚主义，还是攻破思维定势、疗治沉疴顽疾，都需要有坚忍不拔的毅力。只有这样，才能_____，积小胜为大胜，取得让广大干部群众满意的成效。依次填入画横线部分最恰当的一项是（ ）。

A.固步自封 渐入佳境

B.老调重弹 稳操胜券

C.抱残守缺 循序渐进

D.根深蒂固 稳扎稳打

11. 公元 1772 年，在西方世界，狄德罗_____长达 21 年编纂的《百科全书》11 卷全部出齐，大功告成；而在东方世界，乾隆皇帝正式下诏编纂《四库全书》。作为主编这两部巨著的领袖人物狄德罗和纪晓岚，他们曲折的命运，无疑最集中地_____了中西方知识分子的心路沧桑。依次填入画横线部分最恰当的一项是（ ）。

A.废寝忘食 显露

B.呕心沥血 展示

C.苦心孤诣 反映

D.精益求精 表现

12. 资源为国家所有，资源开发不应成为暴利行业。可以大幅提高修复基金、生态补偿基金额度，作为_____，让有能力、有资源、负责任的企业成为开发主体，使其成为未来矿产开发的方向。与此同时，建立矿山生态终身追责机制，严厉打击私挖滥采，让_____者得不偿失，这样才能保障矿山资源的有序开发。依次填入画横线部分最恰当的一项是（ ）。

A.门槛 杀鸡取卵



- B.标杆 寅吃卯粮
- C.壁垒 唯利是图
- D.标准 暴殄天物

13. 海军舰艇中的军辅船是大洋上的"粮草官", 虽不具备强大作战能力, 却直接关系着远洋保障。但是, 目前中国仅有四艘综合补给舰在海军服役, 维持日益_____的远洋训练、护航和演习, 显得有些_____。依次填入画横线部分最恰当的一项是 ()。

- A.漫长 顾此失彼
- B.复杂 无能为力
- C.繁重 捉襟见肘
- D.艰苦 苦不堪言

14. 没有互联网的时候, 商家跟消费者之间的交易以信息不对称为基础, _____地讲, 就是"买的不如卖的精"。但有了互联网, 消费者掌握的信息越来越多, 于是变得越来越精明, 越来越具有_____。如果你的产品或服务做得好, 好得超出他们的预期, 即使一分钱广告不投, 消费者也愿意在网上分享, _____为你树口碑。依次填入画横线部分最恰当的一项是 ()。

- A.简单 知情权 主动
- B.通俗 话语权 免费
- C.确切 主动权 自愿
- D.坦白 选择权 义务

15. "心理弹性"的动力可能来自大脑激素反应、基因以及行为方式的共同作为, 以保证一种情绪上的_____状态。它不仅帮助我们在人生变故、创伤面前不至于崩溃, 也让我们在好的经验上不至于沉溺, 比如享受美餐、赢得球赛、受到表扬, 都不会持续太久, 这可能因为人是天生的_____动物, 在愉快的经验中沉浸太久, 会_____识别新危险的能力。依次填入画横线部分最恰当的一项是 ()。

- A.平衡 忧患 钝化
- B.应激 危险 弱化
- C.积极 健忘 异化
- D.稳定 懒散 退化

数量关系

16. 某电器工作功耗为 370 瓦, 待机状态下功耗为 37 瓦。该电器周一从 9: 30 到 17: 00 处于工作状态, 其余时间断电。周二从 9: 00 到 24: 00 处于待机状态, 其余时间断电。问其周一的耗电量是周二的多少倍? ()

- A.5
- B.6
- C.8



D.10

17. 某政府机关内甲、乙两部门通过门户网站定期向社会发布消息，甲部门每隔 2 天、乙部门每隔 3 天有一个发布日，节假日无休。问甲、乙两部门在一个自然月内最多有几天同时为发布日？（ ）

A.2

B.3

C.5

D.6

18. 某单位组建兴趣小组，每人选择一项参加。羽毛球组人数是乒乓球组人数的 2 倍，足球组人数是篮球组人数的 3 倍，乒乓球组人数的 4 倍与其他 3 个组人数的和相等。则羽毛球组人数等于（ ）。

A.足球组人数的 1.5 倍

B.篮球组人数的 3 倍

C.足球组人数与篮球组人数之和

D.乒乓球组人数与足球组人数之和

19. 某新建小区计划在小区主干道两侧种植银杏树和梧桐树绿化环境。一侧每隔 3 棵银杏树种 1 棵梧桐树，另一侧每隔 4 棵梧桐树种 1 棵银杏树，最终两侧各栽种 35 棵树。问最多栽种了多少棵银杏树？（ ）

A.33

B.34

C.36

D.37

20. 20 人乘飞机从甲市前往乙市，总费用为 27000 元。每张机票的全价票单价为 2000 元，除全价票之外，该班飞机还有九折票和五折票两种选择。每位旅客的机票总费用除机票价格之外，还包括 170 元的税费。则购买九折票的乘客与购买全价票的乘客人数相比（ ）。

A.两者一样多

B.买九折票的多 1 人

C.买全价票的多 2 人

D.买九折票的多 4 人

21. 某浇水装置可根据天气阴晴调节浇水量，晴天浇水量为阴雨天的 2.5 倍。灌满该装置的水箱后，在连续晴天的情况下可为植物自动浇水 18 天。小李 6 月 1 日 0:00 灌满水箱后，7 月 1 日 0:00 正好用完。问 6 月有多少个阴雨天？（ ）

A.10

B.16

C.18

D.20

22. 某集团有 A 和 B 两个公司，A 公司全年的销售任务是 B 公司的 1.2 倍。前三季度 B 公

司的销售业绩是 A 公司的 1.2 倍，如果照前三季度的平均销售业绩，B 公司到年底正好能完成销售任务。问如果 A 公司希望完成全年的销售任务，第四季度的销售业绩需要达到前三季度平均销售业绩的多少倍？（ ）

- A.1.44
- B.2.76
- C.2.4
- D.3.88

23. 李主任在早上 8 点 30 分上班之后参加了一个会议，会议开始时发现其手表的时针和分针呈 120 度角，而上午会议结束时发现手表的时针和分针呈 180 度角。问在该会议举行的过程中，李主任的手表时针与分针呈 90 度角的情况最多可能出现几次？（ ）

- A.4
- B.5
- C.6
- D.7

24. A 地到 B 地的道路是下坡路。小周早上 6:00 从 A 地出发匀速骑车前往 B 地，7:00 时到达两地正中间的 C 地。到达 B 地后，小周立即匀速骑车返回，在 10:00 时又途经 C 地。此后小周的速度在此前速度的基础上增加 1 米/秒，最后在 11:30 回到 A 地。问 A、B 两地间的距离在以下哪个范围内？（ ）

- A.小于 30 公里
- B.30~40 公里
- C.40~50 公里
- D.大于 50 公里

25. 有一位百岁老人出生于二十世纪，2015 年他的年龄各数字之和正好是他在 2012 年的年龄的各数字之和的三分之一，问该老人出生的年份各数字之和是多少（出生当年算作 0 岁）？（ ）

- A.14
- B.15
- C.16
- D.17

26. 某出版社新招了 10 名英文、法文和日文方向的外文编辑，其中既会英文又会日文的小李是唯一掌握一种以上外语的人。在这 10 人中，会法文的比会英文的多 4 人，是会日文人数的两倍。问只会英文的有几人？（ ）

- A.2
- B.0
- C.3
- D.1

27. 将一个 8 厘米×8 厘米×1 厘米的白色长方体木块的外表面涂上黑色颜料，然后将其切成

64 个棱长 1 厘米的小正方体，再用这些小正方体堆成棱长 4 厘米的大正方体，且使黑色的面向外露的面积要尽量大，问大正方体的表面上有多少平方厘米是黑色的？（ ）

- A.88
- B.84
- C.96
- D.92

28. 某农场有 36 台收割机，要收割完所有的麦子需要 14 天时间。现收割了 7 天后增加 4 台收割机，并通过技术改造使每台机器的效率提升 5%。问收割完所有的麦子还需要几天？（ ）

- A.3
- B.4
- C.5
- D.6

29. 某单位有 50 人，男女性别比为 3: 2，其中有 15 人未入党。如从中任选 1 人，则此人为男性党员的概率最大为多少？（ ）

- A.3/5
- B.2/3
- C.3/4
- D.5/7

30. 某技校安排本届所有毕业生分别去甲、乙、丙 3 个不同的工厂实习。去甲厂实习的毕业生占毕业生总数的 32%，去乙厂实习的毕业生比甲厂少 6 人，且占毕业生总数的 24%。问去丙厂实习的人数比去甲厂实习的人数（ ）。

- A.少 9 人
- B.多 9 人
- C.少 6 人
- D.多 6 人

31. 把 12 棵同样的松树和 6 棵同样的柏树种植在道路两侧，每侧种植 9 棵，要求每侧的柏树数量相等且不相邻，且道路起点和终点处两侧种植的都必须是松树。问有多少种不同的种植方法？（ ）

- A.36
- B.50
- C.100
- D.400

32. 小李的弟弟比小李小 2 岁，小王的哥哥比小王大 2 岁、比小李大 5 岁。1994 年，小李的弟弟和小王的年龄之和为 15。问 2014 年小李与小王的年龄分别为多少岁？（ ）

- A.25、32
- B.27、30

C.30、27

D.32、25

33. 某学校准备重新粉刷国旗的旗台，该旗台由两个正方体上下叠加而成，边长分别为1米和2米。问需要粉刷的面积为（ ）。

A.30平方米

B.29平方米

C.26平方米

D.24平方米

34. 设有编号为1、2、3、...、10的10张背面向上的纸牌，现有10名游戏者，第1名游戏者将所有编号是1的倍数的纸牌翻成另一面向上的状态，接着第2名游戏者将所有编号是2的倍数的纸牌翻成另一面向上的状态，.....，第n名（ $n \leq 10$ ）游戏者，将所有编号是n的倍数的纸牌翻成另一面向上的状态，如此下去，当第10名游戏者翻完纸牌后，那些纸牌正面向上的最大编号与最小编号的差是（ ）。

A.2

B.4

C.6

D.8

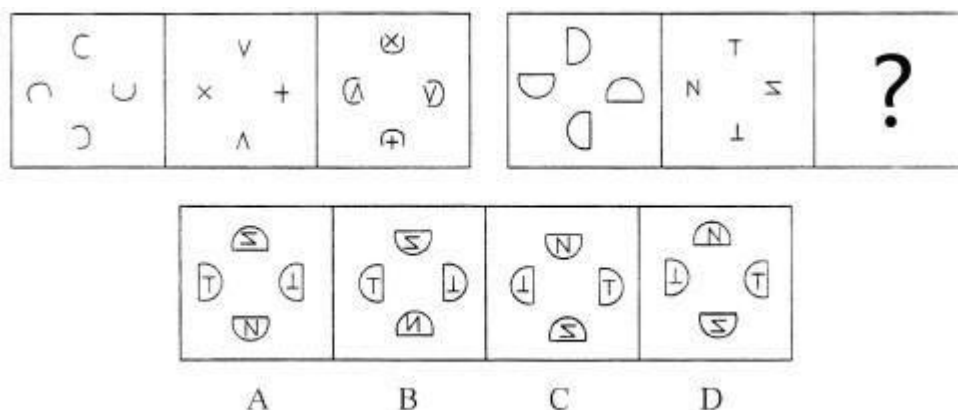
35. 为了国防需要，A基地要运载1480吨的战备物资到1100千米外的B基地。现在A基地只有一架运“9”大型运输机和一列货运列车。“运9”速度550千米每小时，载重能力为20吨，货运列车速度100千米每小时，运输能力为600吨，那么这批战备物资到达B基地的最短时间为（ ）。

A.53小时

B.54小时

C.55小时

D.56小时

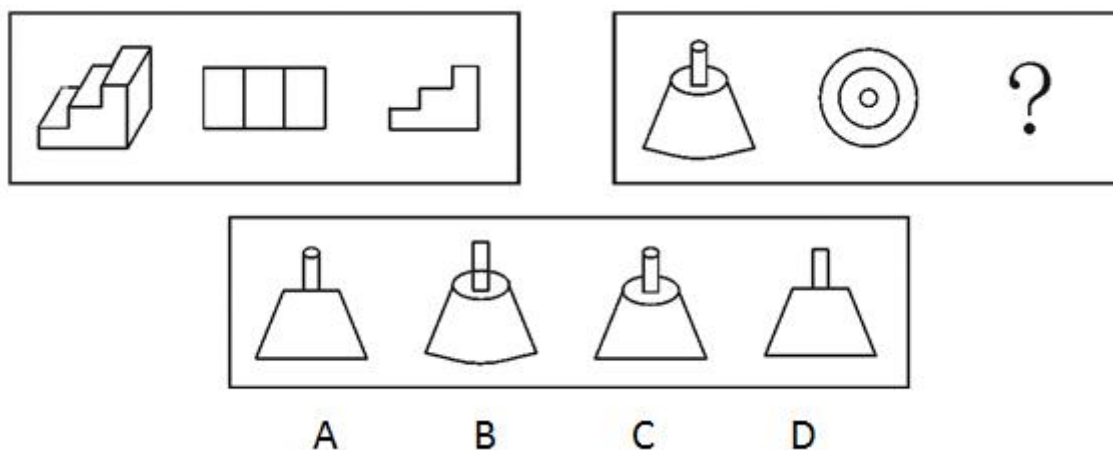


图形推理

36. 从所给的四个选项中, 选择最合适的一个填入问号处, 使之呈现一定的规律性。()


- A. 如上图所示
- B. 如上图所示
- C. 如上图所示
- D. 如上图所示

37. 从所给的四个选项中, 选择最合适的一个填入问号处, 使之呈现一定的规律性。()



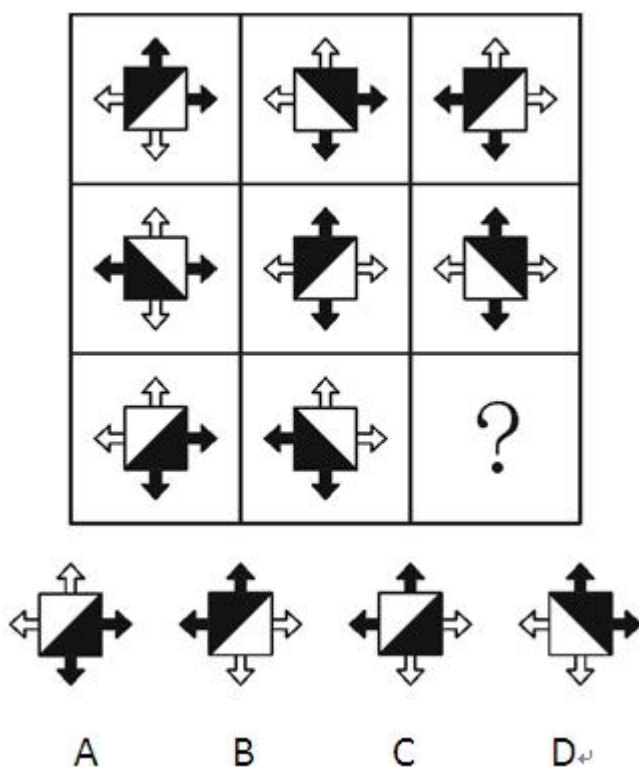
- A. 如上图所示
- B. 如上图所示
- C. 如上图所示
- D. 如上图所示

38. 从所给的四个选项中, 选择最合适的一个填入问号处, 使之呈现一定的规律性。()



- A. 如上图所示
- B. 如上图所示
- C. 如上图所示
- D. 如上图所示

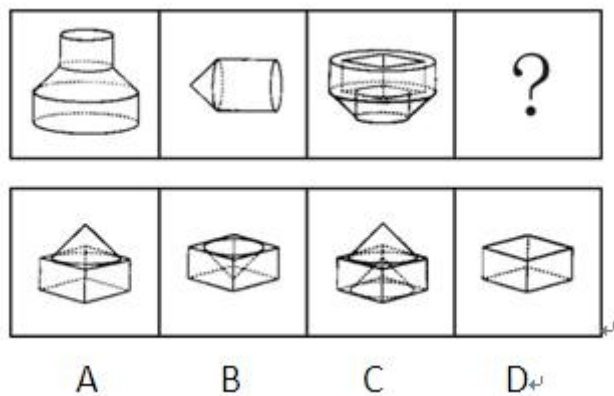
39. 从所给的四个选项中, 选择最合适的一个填入问号处, 使之呈现一定的规律性。()



- A. 如上图所示
- B. 如上图所示
- C. 如上图所示

D. 如上图所示

40. 下列中的立体图形①是由立体图形②、③和④组合而成，下列哪一项能够填入问号处？
()。



A. 如上图所示

B. 如上图所示

C. 如上图所示

D. 如上图所示

41. 把下面的六个图形分为两类，使每一类图形都有各自的共同特征或规律，分类正确的一项是 ()。



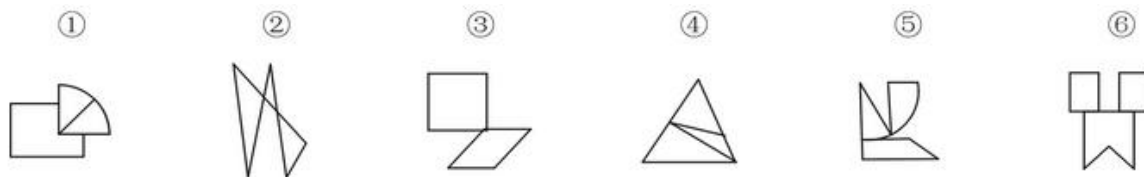
A. ①③④, ②⑤⑥

B. ①③⑤, ②④⑥

C. ①②⑥, ③④⑤

D. ①④⑥, ②③⑤

42. 把下面的六个图形分为两类，使每一类图形都有各自的共同特征或规律，分类正确的一项是 ()。



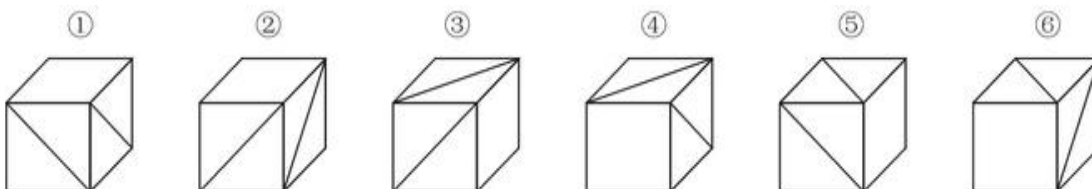
A. ①④⑥, ②③⑤

B. ①②③, ④⑤⑥

C. ①③⑥, ②④⑤

D. ①④⑤, ②③⑥

43. 把下面的六个图形分为两类, 使每一类图形都有各自的共同特征或规律, 分类正确的一项是 ()。



A. ①②⑥, ③④⑤

B. ①③⑥, ②④⑤

C. ①④⑤, ②③⑥

D. ①⑤⑥, ②③④

44. 把下面的六个图形分为两类, 使每一类图形都有各自的共同特征或规律, 分类正确的一项是 ()。



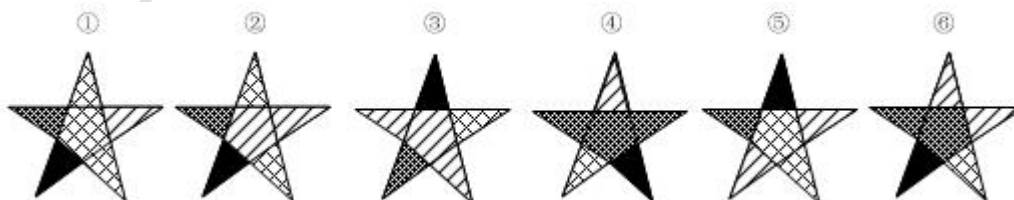
A. ①③⑤, ②④⑥

B. ①②⑤, ③④⑥

C. ①④⑤, ②③⑥

D. ①③④, ②⑤⑥

45. 把下面的六个图形分为两类, 使每一类图形都有各自的共同特征或规律, 分类正确的一项是 ()。



A. ①③⑤, ②④⑥

B. ①③⑥, ②④⑤

C. ①③④, ②⑤⑥

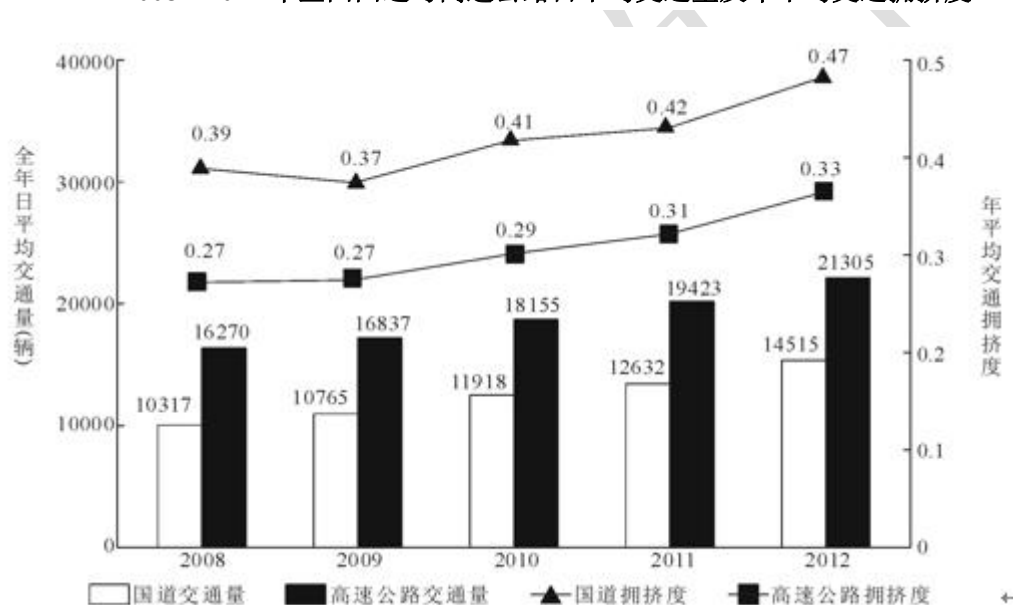
D. ①④⑤, ②③⑥

资料分析

材料一、根据以下资料，回答 116—120 题。

2012 年全国国道网车流量较大的地区主要集中在北京、天津、上海、江苏、浙江、广东和山东，上述省市国道网的日平均交通量均超过 2 万辆。全国国道网日平均行驶量为 244883 万公里，北京、天津、河北、山西、上海、浙江、湖北、广东的国道年平均拥挤度均超过 0.6。其中，国家高速公路日平均交通量为 22181 辆，日平均行驶量为 148742 万公里；普通国道日平均交通量为 10845 辆，日平均行驶量为 111164 万公里。全国高速公路日平均交通量为 21305 辆，日平均行驶量为 204717 万公里。（注：交通拥挤度指公路上某一路段折算交通量与适应交通量的比值，反映交通的繁忙程度。）

2008—2012 年全国国道与高速公路日平均交通量及年平均交通拥挤度



46. 2009—2012 年全国国道日平均交通量同比增速最快的一年是 ()。
- A. 2009 年
 B. 2010 年
 C. 2011 年
 D. 2012 年
47. 2008—2012 年全国国道与高速公路年平均拥挤度数值相差最小的年份，高速公路全年日平均交通量为 ()。
- A. 10765 辆
 B. 16837 辆

- C.12632 辆
D.19423 辆
48. 以下关于 2012 年日平均行驶量由高到低排序正确的是 ()。
- A.国家高速公路—全国高速公路—普通国道
B.全国高速公路—国家高速公路—全国国道网
C.全国国道网—普通国道—国家高速公路
D.全国国道网—全国高速公路—普通国道
49. 2012 年国家高速公路日平均交通量约是普通国道日平均交通量的 ()。
- A.1.7 倍
B.1.5 倍
C.2.0 倍
D.1.8 倍
50. 能够从上述资料中推出的是 ()。
- A.2008—2012 年, 全国国道交通繁忙程度持续增加
B.2012 年国道网日平均交通量超过 2 万辆的省份最多有 6 个
C.2008—2012 年, 全国高速公路交通繁忙程度持续增加
D.2012 年国道年平均拥挤度超过 0.6 的省份至少有 8 个

材料二、根据以下资料, 回答下列题目。

2012 年第三季度全国 100 个城市的公共就业服务机构市场中, 用人单位通过公共就业服务机构招聘各类人员约 643.3 万人, 进入市场的求职者约 610 万人, 岗位空缺与求职人数比率上年同期上升了 1%。上年同期这 100 个城市中, 用人单位通过公共就业服务机构招聘各类人员约 577.9 万人。

2012 年第三季度, 在所有求职人员中: 失业人员所占比重为 48.8%, 其中, 新成长失业青年占 24.2% (在新成长失业青年中应届高校毕业生占 51.4%), 就业转失业人员占 13.4%, 其他失业人员占 11.2%; 外来务工人员的比重为 41%, 外来务工人员由本市农村人员和外埠人员组成, 其中本市农村人员为 95.2 万人。

2012年第三季度全国十个城市岗位需求和求职信息

城市	岗位空缺与求职人数的比率	第二产业需求岗位占比 (%)	第三产业需求岗位占比 (%)	岗位空缺大于求职人数缺口最大的前三个职业
天津	0.81	24.4	75.6	推销展销人员；电气电子设备装配人员；储运人员
上海	1.08	10.5	89.4	餐厅服务员、厨工；治安保卫人员；营业人员、收银员
重庆	1.02	32.1	67	机械冷加工人员；裁剪缝纫人员；推销展销人员
石家庄	1.02	15.1	84.9	推销展销人员；行政业务人员；清洁人员
福州	1.26	63.7	35.7	搬运、包装人员；电子元件、器件制造人员；餐厅服务员、厨工
郑州	1.49	7.7	92.2	推销展销人员；部门经理；简单体力劳动人员
武汉	1.15	26.3	72.5	推销展销人员；机械冷加工人员；裁剪缝纫人员
长沙	1.11	33.4	65.5	机械冷加工人员；治安保卫人员；清洁人员
西安	0.95	33.5	61.2	机械冷加工人员；治安保卫人员；清洁人员
成都	1.04	36.8	62.8	推销展销人员；餐厅服务员、厨工；采购人员

51. 与2011年同期比，2012年第三季度全国100个城市调查的公共就业服务机构市场供求中，进入市场的求职者人数（ ）。

- A. 高于上年同期
- B. 低于上年同期
- C. 与上年同期持平
- D. 无法推出

52. 2012年第三季度全国100个城市，求职的新成长失业青年中，应届高校毕业生人数约为（ ）。

- A. 66万
- B. 71万
- C. 76万
- D. 81万

53. 2012 年第三季度全国十个城市中，第三产业需求岗位数超过第二产业 2 倍的城市共有（ ）。

- A.3 个
- B.4 个
- C.5 个
- D.6 个

54. 2012 年第三季度全国十个城市中，岗位空缺大于求职人数缺口的最大的前三个职业，在半数以上城市中出现过的是（ ）。

- A.推销展销人员
- B.治安保卫人员
- C.机械冷加工人员
- D.餐厅服务员、厨工

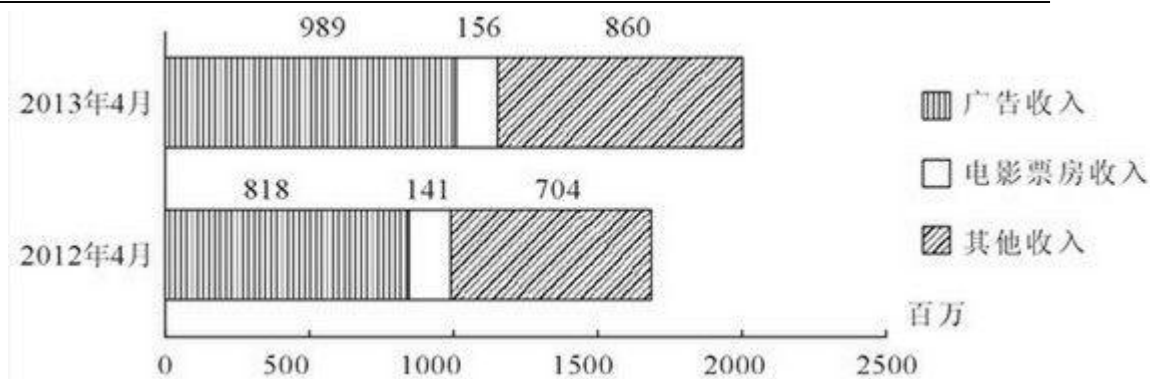
55. 从上述资料能够推出的是（ ）。

- A.2012 年第三季度在全国 100 个城市，进入市场的外来务工人员在新成长失业青年中所占的比重
- B.2012 年第三季度在全国 100 个城市，进入市场的外来务工人员中外埠人员在求职者中所占的比重
- C.2012 年第三季度在全国十个城市中，劳动力缺口最大的岗位
- D.2012 年第三季度在全国十个城市中，失业人口最多的城市

材料三、根据以下资料，回答下列题。

2012 及 2013 年 1~4 月某市电影院线票房情况

	场次（万）		观众人次（百万）		票房（亿元）	
	2012 年	2013 年	2012 年	2013 年	2012 年	2013 年
1 月	9.77	10.91	3.19	3.50	1.28	1.47
2 月	9.02	9.79	2.89	3.36	1.19	1.54
3 月	9.47	11.07	2.18	3.17	0.88	1.34
4 月	8.87	11.13	3.08	3.72	1.41	1.56



56. 2013年1~4月, 该市电影院线平均每场电影观众人数最少的月份是()。
- A.1月
B.2月
C.3月
D.4月
57. 2013年第一季度, 该市电影院线平均每场电影的票房收入约为多少元? ()
- A.1170
B.1370
C.1570
D.1770
58. 2013年1~4月, 该市电影院线票房收入同比增量从高到低排序正确的是()。
- A.3月—2月—1月—4月
B.4月—2月—1月—3月
C.3月—4月—2月—1月
D.4月—3月—1月—2月
59. 2012年1~4月, 该市平均每天观看电影的观众超过10万人次的月份有几个? ()
- A.1
B.2
C.3
D.4
60. 关于2013年4月该市广播影视情况, 能够从资料中推出的是()。
- A.广告收入同比上升了近两成
B.电影观众人次环比增速下降
C.电影票房收入同比增速快于其他收入
D.电影播放场次环比增速慢于同比增速

材料四、根据以下资料，回答下列题。

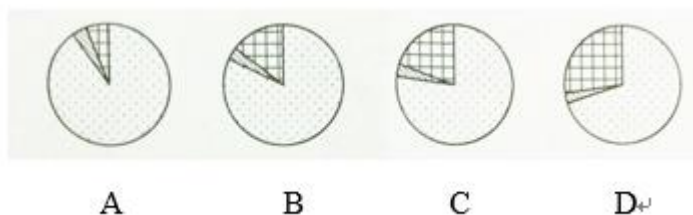
2008~2012 年国家电网公司机组并网容量 单位：万千瓦

	2008 年	2009 年	2010 年	2011 年	2012 年
并网总容量	61300	67100	74400	81800	88000
其中：清洁能源机组并网容量	13524	15357	17585	20260	24004
其中：水电并网容量	12214	13419	14458	15617	16816
核电并网容量	507	507	574	640	640
新能源发电机组并网容量	803	1431	2553	4003	6548

2008~2012 年国家电网公司机组上网容量 单位：亿千瓦时

	2008 年	2009 年	2010 年	2011 年	2012 年
总上网电量	22800	24300	28800	32400	33900
其中：清洁能源机组上网电量	4161	4321	4903	5943	7177
其中：水电上网电量	3662	3692	4103	4373	5518
核电上网电量	353	355	308	416	475
新能源发电机组上网电量	146	724	492	1154	1184

61. 下列年份中，国家电网公司机组总上网电量同比增速最快的是（ ）。
- A.2010 年
B.2009 年
C.2012 年
D.2011 年
62. 2012 年清洁能源机组并网容量占当年并网机组总容量的比重比上年（ ）。
- A.上升了 5.5 个百分点
B.上升了 2.5 个百分点
C.下降了 5.5 个百分点
D.下降了 2.5 个百分点
63. 下列年份中，清洁能源机组上网电量占当年并网机组总上网电量比重最高的是（ ）。
- A.2009 年
B.2008 年
C.2012 年
D.2011 年
64. 下列哪一张图能反映 2012 年清洁能源机组并网容量中水电、核电和新能源发电的构成？（ ）。



- A.如上图所示

- B.如上图所示
- C.如上图所示
- D.如上图所示

65. 关于 2008~2012 年间国家电网公司清洁能源的发展，能够从资料中推出的是（ ）。
- A.新能源发电机组上网电量从 2011 年开始超过核电上网电量
 - B.水电上网电量年均增长率超过同期水电并网容量
 - C.新能源发电机组并网容量翻了 8 番
 - D.核电上网电量保持持续增长

材料五

2012 年末，中国大陆总人口 135404 万人，全年出生人口 1635 万人，死亡人口 966 万人。从性别结构看，男性人口 69395 万人，同比增加 327 万人，女性人口 66009 万人，同比增加 342 万人；从城乡结构看，城镇人口 71182 万人，同比增加 2103 万人；乡村人口 64222 万人，同比减少 1434 万人。

2012 年末全国就业人员 76704 万人，比上年末增加 284 万人；其中城镇就业人员 37102 万人，比上年末增加 1188 万人，乡村就业人员 39602 万人。

2012 年末，0~14 岁（含不满 15 周岁）人口 22287 万人，占总人口的 16.5%；15~69 岁（含不满 60 周岁）劳动年龄人口 93727 万人，占总人口的 69.2%；60 周岁及以上人口 19390 万人，占总人口的 14.3%。

2012 年全国农民工总量 26261 万人，比上年增加 983 万人，增长 3.9%；其中本地农民工 9925 万人，增长 5.4%；外出农民工 16336 万人，增长 3.0%。

66. 2012 年，中国大陆 1~14 岁（含不满 15 周岁）的人口数量为（ ）。
- A.20652 万人
 - B.23922 万人
 - C.22287 万人
 - D.1635 万人

67. 相较于 2011 年，2012 年的乡村就业人员（ ）。
- A.减少 904 万人
 - B.增加 904 万人
 - C.增加 1472 万人
 - D.减少 1472 万人

68. 2012 年中国男性人口、女性人口、城镇人口的同比增长率按大小顺序正确的是（ ）。
- A.城镇人口>女性人口>男性人口
 - B.城镇人口>男性人口>女性人口
 - C.女性人口>男性人口>城镇人口
 - D.女性人口>城镇人口>男性人口

69. 根据上述资料，可以推出的是（ ）。

- A.2012 年城镇男性人口数量大于城镇女性人口数量
 - B.2012 年本地农民工的增加量小于外出农民工的增加量
 - C.在不存在人口跨境流动的前提下，2026 年中国大陆人口 15~59 岁（含不满 60 周岁）人数最多比 2012 年多 22287 万人
 - D.2012 年乡村人口转移进城市变成城镇人口的数量最多不超过 1434 万人
70. 2011 年中国大陆总人口是（ ）。
- A.133769 万人
 - B.136370 万人
 - C.134735 万人
 - D.136103 万人

第二部分 综合知识

（共 60 题，每题 0.5 分）

1. 声音在介质中的传播速度，一般情况从慢到快的是（ ）。
 - A.气体、固体、液体
 - B.固体、气体、液体
 - C.固体、液体、气体
 - D.气体、液体、固体
2. 将标有“6V 3W”、“12V 15W”和“6V 6W”的三个灯泡串联起来，接在可调的电源两端，其中一个灯泡正常发光，其他灯泡两端电压不超过额定电压，则下列说法正确的是（ ）。
 - A.电源电压是 24V
 - B.电路的总电流是 1.2A
 - C.电路的总功率是 6.9W
 - D.电路的总功率是 26W
3. “垃圾是放错了位置的资源”，应该分类回收。生活中废弃的铁锅、铝质易拉罐、铜导线等可以归为一类加以回收，它们都属于（ ）。
 - A.易磁化
 - B.易导电
 - C.不容易导热
 - D.比热容最大
4. 下列计时数据指“时刻”的是（ ）。
 - A.南宁市最早的公共汽车于 6 时 30 分发车
 - B.牙买加名将博尔特在柏林世界田径锦标赛上以 9 秒 58 打破了男子百米世界纪录
 - C.语文课中老师安排了 10 分钟的时间给同学们练习朗读
 - D.F1 赛车可以在 2.5 秒内将速度由零加速到 100km/h

5. 下列选项中属于化学变化的是 ()。
- A.木料制家具
 - B.大米酿酒
 - C.石蜡熔化
 - D.水制冰块
6. 下列各组物质对应的鉴别方法正确的是 ()。
- A.硬水和软水——观察是否澄清
 - B.合成纤维和羊毛——用手触摸
 - C.黄金和假黄金(铜锌合金)——滴加稀盐酸
 - D.食盐水和白糖水——观察颜色
7. 下列对生产、生活现象的解释正确的是 ()。
- A.铝锭难被压缩, 因为铝原子间没有间隙
 - B.在花园里可嗅到花香, 因为分子在不断运动
 - C.石油气加压后贮存在钢瓶中, 因为气体分子体积很小
 - D.温度计里的汞柱下降, 因为原子随温度的降低而变小
8. 下列物质的用途与其化学性质相关的是 ()。
- A.用铝作导线
 - B.用金刚石切割玻璃
 - C.用活性炭作净水剂
 - D.用氮气作食品包装袋的填充气
9. 下列关于基因的描述, 正确的是 ()。
- A.基因只存在于生殖细胞中
 - B.基因数和染色体数一样多
 - C.基因在生殖细胞中成单存在
 - D.生物的某一性状是由一个基因控制
10. 下列几种变异中, 不能遗传的变异是 ()。
- A.人类的皮肤的黑黄白
 - B.玉米粒的黄白红
 - C.ABO 血型
 - D.生长在遮阴处的小麦秆细穗小
11. 化石记录显示, 在越晚形成的地层里形成化石的生物 ()。
- A.越简单、低等, 水生的越多
 - B.越复杂、高等, 水生的越多
 - C.越复杂、高等, 陆生的越多
 - D.越简单、低等, 陆生的越多
12. 影响人口分布的主要因素除历史、政治、社会经济因素外, 还有 ()。
- A.自然因素

- B.行为因素
C.气候因素
D.海拔因素
13. 原始农业是农业起始阶段的农业类型，即（ ）农业。
A.狩猎
B.采集
C.定居
D.迁移
14. 人口构成，又称人口结构，指的是（ ）内部不同属性之间的比例关系。
A.人地系统
B.生态系统
C.社会系统
D.人口系统
15. 关于农业起源的理论大体分为两类：一是人口压力说，二是（ ）说。
A.食物短缺
B.食物过剩
C.宴享
D.需求
16. 一般认为，（ ）是语言产生的唯一源泉。
A.思维
B.劳动
C.行为
D.心理
17. 以下属于宗教传播方式之一的是（ ）。
A.交流和转教
B.经商与贸易
C.武力侵略
D.文化侵略
18. 参加剧烈体育活动前为了避免受伤需要先做（ ）。
A.放松运动
B.整理活动
C.拉伸运动
D.准备活动
19. 下列哪种运动对于降低血脂效果更好（ ）。
A.力量练习
B.有氧运动
C.柔韧性练习



D.平衡能力练习

20. 下列哪种运动对于降低血脂效果更好（ ）。

A.力量练习

B.有氧运动

C.柔韧性练习

D.平衡能力练习

21. 计算机的运算采用（ ）。

A.六十进位制

B.十进位制

C.八进位制

D.二进位制

22. 计算机鼠标是一种（ ）。

A.输出设备

B.输入设备

C.光标

D.控制器

23. 计算机软件系统可分为（ ）。

A.DOS

B.Windows3.1

C.MP3

D.CCDOS

24. 计算机术语中的“防火墙”（ ）。

A.是在网络服务器所在的机房中建立的一栋用于防火的墙

B.用于限制外界对某特定范围内网络的登录与访问

C.不限制其保护范围内主机对外界的访问与登录

D.可以通过在域名服务器中设置参数实现

25. 通常把计算机网络定义为（ ）。

A.以共享资源为目标的计算机系统

B.能按网络协议实现通信的计算机系统

C.把分布在不同地点的多台计算机互联起来构成的计算机系统

D.把分布在不同地点的多台计算机在物理上实现互联，按照网络协议实现相互间的通信，以共享硬件、软件和数据资源为目标的计算机系统

26. 计算机的三类总线是指（ ）。

A.控制总线、传输总线、数据总线

B.传输总线、地址总线、数据总线

C.控制总线、地址总线、数据总线

D.控制总线、地址总线、传输总线

27. 计算机病毒在本质上是 ()。
- A. 一种寄生虫
 - B. 一种流行性病毒
 - C. 一个文本文档
 - D. 一段程序式代码
28. 下列计算机术语对应错误的是 ()。
- A. 通用串行总线——UPS
 - B. 硬盘传输速率——ATA
 - C. 操作系统——OS
 - D. 显示卡——VGA
29. 计算机应用最广泛的领域是 ()。
- A. 科学计算
 - B. 信息处理
 - C. 过程控制
 - D. 人工智能
30. 计算机能直接执行的语言是 ()。
- A. 高级语言
 - B. 机器语言
 - C. 数据路语言
 - D. 符号语言
31. 计算机中的“EDO”代表什么含义 ()。
- A. 随机存储器
 - B. 扩充数据输出
 - C. 只读存储器
 - D. 同步动态存储器
32. 人们在谈到计算机的时候, 往往要谈到计算机的 386、486 或 586, 这里的 X86 代表着计算机的 ()。
- A. CPU (中央处理器)
 - B. 内存
 - C. 主机板
 - D. 硬盘
33. 随着计算机的广泛应用和深入, 计算机的发展呈现出以下几大发展趋势, 除了 ()。
- A. 巨型化
 - B. 智能化
 - C. 娱乐化
 - D. 网络化
34. 下列关于计算机通讯技术的表述不正确的是 ()。

- A.Web2.0 的用户既是网站内容的浏览者，也是网站内容的制造者
- B.3G 相对于 2G 的优势在于传输声音和数据的速度更快
- C.物联网是在互联网的基础上，实现人与物品之间的信息交换
- D.进入纳米时代，新材料研究成为计算机芯片发展的关键
35. 具有多媒体功能的微型计算机系统中，常用的 CD-ROM 是（ ）。
- A.只读性光盘
- B.半导体只读存储器
- C.只读性硬盘
- D.只读性大容量软盘
36. 2015 年 12 月 1 日，中共中央政治局常委、国务院总理李克强做出重要批示，批示指出：（ ）是实施精准扶贫、精准脱贫的有力抓手，是全面建成小康社会、跨越中等收入陷阱的关键举措。各地区和相关部门要紧密结合新型城镇化和农业现代化，扎实推进这项工作。
- A.易地扶贫搬迁
- B.帮扶规划到村到户
- C.精确配置扶贫资源
- D.对口帮扶
37. 2015 年 11 月 18 日，在国际能源署 2015 年部长级会议上，（ ）成为国际能源署盟国。
- A.中国
- B.日本
- C.菲律宾
- D.美国
38. 2015 年 5 月 19 日李克强与巴西总统罗塞夫共同出席中巴工商界峰会。李克强表示，中方愿同巴方一道，促进（ ），大力深化产能合作，积极推动科技教育交流合作，为全球经济复苏作出更大贡献。
- A.经贸结构共同化
- B.经贸结构特殊化
- C.经贸结构多元化
- D.经贸结构协作化
39. 根据《2015 年全国海洋经济工作要点》，今年将全面开展第一次全国（ ）调查，加强（ ）宏观指导和调控能力。
- A.海洋地理
- B.海洋生物
- C.海洋经济
- D.海洋能源
40. 李克强指出，我国人多地少，任何时候都要守住耕地红线，守住基本农田红线。要坚持数量与质量并重，严格划定（ ），筑牢国家粮食安全的基石。
- A.过度配套农田

- B.过度基本农田
C.永久基本农田
D.永久配套农田
41. 2015年5月19日,联合国发布《2015年世界经济形势与展望》报告的年中修订版。报告说,全球经济持续()。
- A.高速增长
B.温和增长
C.低速增长
D.匀速增长
42. 2015年5月29日,美国国务院宣布,将()从支持恐怖主义名单中删除。
- A.古巴
B.朝鲜
C.伊朗
D.伊拉克
43. 由中共中央台办海峡两岸关系研究中心和中国国民党政研基金会共同举办的第十届(),5月3日在上海浦东隆重举行。
- A.两岸政治体制论坛
B.两岸军事合作论坛
C.两岸经贸文化论坛
D.两岸文化教育论坛
44. 2015年12月1日,()正式接任2016年二十国集团(G20)主席国。目前,2016年峰会各项筹备工作正全面有序推进,()将同各方共同推动峰会取得成功。
- A.中国
B.法国
C.加拿大
D.德国
45. 2015年12月2日,国家主席习近平在比勒陀利亚同南非总统()进行会谈。两国元首一致认为,中南关系面临历史性发展机遇,双方要以落实两国高层共识和《中南5-10年合作战略规划》为抓手,以中非合作论坛约翰内斯堡峰会为新起点,推动中南关系再上新台阶。
- A.阿卜杜勒
B.祖玛
C.瓦塔拉
D.姆贝基
46. 2013年爆发禽流感,大量的鸡鸭被杀掉深埋。人们转而购买鱼肉,以替代鸡肉、鸭肉的短缺。那么,鸡鸭肉市场的供需曲线变化情况是()。
- A.需求曲线向右移动

- B.供给曲线不变
C.需求曲线不变
D.供给曲线向左移动
47. 贾某租了 500 亩土地,用于种植花生并在市场上出售,那么,花生市场的类型属于()。
- A.垄断竞争
B.自由竞争
C.寡头竞争
D.完全竞争
48. 下列关于“道义劝告”的描述错误的是()。
- A.道义劝告能调整信用的构成
B.道义劝告能控制信用的总量
C.道义劝告决定银行的贷款投资方向
D.道义劝告不具有强制性
49. 我们经常听到“谷贱伤农”的说法,但在商场上又经常看到化妆品促销,为什么化妆品促销增加厂商收入,谷子降价却会使农民遭受损失()。
- A.两种商品的需求弹性不同
B.两种商品的供给弹性不同
C.两种商品销售方式不同
D.两种商品的生产周期不同
50. 简政放权,是要理顺市场和政府之间的关系,也是尊重市场在配置资源方面的基础性作用,市场通过()途径来配置资源。
- A.良好的政府服务
B.反应灵敏的价格
C.完善财政税收制度
D.塑造安全稳定经济环境
51. 长期平均成本呈现 U 形特征的决定因素是()。
- A.长期技术生产的规模经济和规模不经济
B.外在经济和外在不经济
C.厂商对生产要素的利用程度
D.劳动投入的边际报酬先递增再递减
52. 为了进行生产,某厂商雇佣了 3 名工人,从银行贷款 100 万元,并租用仓库作为生产场所,亲自参与企业管理,由此可知,该厂商的隐性成本包括()。
- A.向工人支付的工资
B.从银行获得的贷款
C.所占用仓库的地租
D.参与管理所应支付的薪金
53. 2013 年 8 月份,美国宣布逐步退出量化宽松货币政策,受此消息影响,东南亚金融市场

发生波动，那么量化宽松货币政策指的是（ ）。

- A.中央银行大量印钞，出售国债或企业债等方式，向市场注入流动性
- B.目的是降低货币的市场利率，刺激经济增长
- C.中央银行通过出售国债等方式，回收货币。
- D.目的是调高信贷的成本

54. 国际经验表明，一个国家人均 GDP 在 3000 美元至 10000 美元之间时，容易发生“中等收入陷阱”，关于该种现象，下列说法正确的是（ ）。

- A.通常在这阶段，前期经济发展中积累的各种经济矛盾凸显出来，原来的经济发展模式动力不足或停止
- B.它指的是发达国家在经济发展过程中出现的收入停滞不前甚至倒退的经济现象
- C.“陷阱”并非指经济无法继续保持前期的增长幅度，而是指民众的收入出现停滞甚至减少
- D.这是由于在这个阶段人力资本价格飙升导致各项成本骤增，从而使得经济增长幅度下滑而出现的经济现象

55. 2013 年，一方面美元因人们对美国经济的复苏预期而升值，另一反面，黄金的价格却一路走低，那么下列关于美元和黄金之间关系的说法正确的是（ ）。

- A.这是偶然发生的巧合，两者之间并没有相关性
- B.黄金以美元计价，美元升值使黄金需求量降低，从而导致黄金价格下降
- C.黄金和美元都是硬通货，都可以长期持有，其内在价值决定了它们必将升值
- D.随着美国经济的复苏，美元的流动性大于黄金，从而使得黄金的价格下跌

56. 信用在消费中的作用主要是（ ）。

- A.刺激消费
- B.加速资本积累
- C.促进利润平均化
- D.推迟消费

57. 关于离岸金融市场，下列说法不正确的是（ ）。

- A.与各国国内金融市场相对独立
- B.交易货币一般是市场所在国发行的
- C.交易双方一般都是市场所在地的非居民
- D.基本上不受任何一国国内政策法规的限制

58. 买卖双方分别承诺在将来某一特定时间按照事先确定的价格，购买和提供某种商品，这种金融衍生工具是（ ）。

- A.远期合约
- B.期权合约
- C.票据发行便利
- D.互换交易

59. 从融资角度看，下列属于间接融资工具的是（ ）。

- A.银行承兑汇票

- B.企业债券
 - C.商业票据
 - D.公司股票
60. 企业的筹资组合是指企业资金总额中 ()。
- A.债务资本与权益资本的比例关系
 - B.流动资产也非流动资产的比例关系
 - C.长期债务与短期债务的比例关系
 - D.长期债务与中短期资金的比例关系

第三部分 英语

(共 40 题, 每题 0.5 分)

Section I multiple choice question

Read the following sentence. Choose the best word(s) for each blank and mark A, B, C or D.

1. Although subway fare was cheaper, Danielle chose to take a taxi to the concert hall () she would not be late.
A.so
B.or
C.but
D.and
2. () to use crutches for six months severely limited Mr. Locke's ability to work in the shipping facility.
A.Has
B.Have
C.Having
D.Has had
3. A new booklet explaining the process of course selection along with counseling services is () to any student interested in receiving help.
A.potential
B.available
C.expressed
D.approaching
4. We believe that () recent changes in state laws, the majority vote standard is now in the best interests of the company and its shareholders.
A.due to

- B. whereas
C. otherwise
D. instead of
5. () Mr. Pennington retires, he will receive an annual pension of more than fifty thousand dollars from Packard Incorporated.
A. Often
B. Once
C. Whoever
D. Sometimes
6. John Clarke, who is in the prime of his career, has been ranked () the top 10 players in tennis history by Sports Daily.
A. at
B. into
C. among
D. from
7. Due to popular demand by the staff members, the scheduled talk by Mr. Smith will take place () Room 15 instead of Room 20 as was first planned.
A. in
B. on
C. of
D. as
8. The government issued a warning to local companies that all waste must be disposed of () or they will face heavy fines.
A. corrects
B. correcting
C. correction
D. correctly
9. Hydrogen is one of the most important element in the universe () it provides the building blocks from which the other elements are produced.
A. so that
B. but that
C. provided that
D. in that
10. Just as relaxation is an important part of our lives, () stress.
A. so is
B. as it is
C. and so is

- D.the same is
11. Perhaps the most significant postwar trend was the decentralization of cities throughout the United States, () when massive highway-building programs permitted greater suburban growth.
- A.and accelerated a phenomenon
B.a phenomenon that accelerated
C.accelerating a phenomenon which
D.the acceleration of which phenomenon
12. In 1976 Sarah Caldwell became () at the Metropolitan Opera House in New York City.
- A.she was the first woman to conduct
B.the first woman conductor
C.the woman was first conducting
D.the woman conducts first
13. If you have any information regarding the identity of the man()left his car parked in the lot overnight, please contact the security department.
- A.who
B.whom
C.whose
D.which
14. The newspaper identified the journalist () wrote the anonymous editorial predicting a stock market crash.
- A.which
B.whose
C.who
D.whom
15. () how much the price of our shares rises, we may be able to offer shareholders a larger return on their investments.
- A.Depending on
B.Resulting from
C.Leading to
D.Relying on
16. Ms. McMahon would like to speak with () attended the annual accounting seminar in Phoenix last weekend.
- A.anyone
B.however
C.everybody
D.whomever

17. The team manager charged Michelle Palamides with the task of () the department's webpage for the company's new intranet.
- A.design
B.designing
C.to design
D.designed
18. Once we begin()these files according to their content and date, our computer network drive will seem less confusing.
- A.organize
B.organized
C.organizing
D.organizes
19. Ms. Adams is hoping that the committee officers will consider () request for a new computer system soon.
- A.herself
B.she
C.her
D.hers
20. Team members must understand that the project they have () will demand all of their time and energy.
- A.removed
B.completed
C.undertaken
D.overheard

Section II Reading Comprehension

Directions: Read the following four texts. Answer the questions below each text by choosing **A, B, C** or **D**. Mark your answers.

Text 1

The Daily Inquirer

October 8

Book Review of Anne Narazaki's

New Century, New Business

Reviewed by John Gilliam

Anne Narazaki's recent book, *New Century, New Business*, seeks to examine the new technologies that are critical for global business and how they affect today's corporate transactions. Ms. Narazaki argues that while economic transactions of one kind or another have taken place for



thousands of years, the impact of changing technology on business has become obvious only recently. In fact, as new technologies have grown more prevalent, Ms. Narazaki observes, international businesses have increased in size and number. At the same time, the time required to conduct each business transaction has decreased.

Mr. Narazaki illustrates her observations with detailed examples of recent business transactions. Citing the merger of Poynter Technologies and Carce Company, which created the largest financial services company in the world, Ms. Narazaki explains the effect technology has on the valuation of a company, on communication between the managements of different companies, and on stock and funds trading.

Those of us who take an interest in the interaction between business and technology will find Ms. Narazaki's ideas persuasive. The view that business cannot survive without keeping up with new technology has become today's corporate reality.

To: Anne Narazaki	Date: October 13
From: Lily Oguro	
<p>Dear Anne,</p> <p>I know we haven't spoken since our days working together at the Rosence Company in Sydney, but I'm writing to congratulate you on the publication of your first book! I happened to read the Daily Inquirer on October 8 and was pleased and surprised to come across John Gilliam's article. You must be thrilled at getting such a great review.</p> <p>It seems like ages ago we worked together in Sydney. Do you remember our office? No computers, no internet, and three phones for twenty employees. Times and businesses certainly have changed. Judging by what I have read in your book so far, I thoroughly agree with your insightful and engaging assessment of technology and business.</p> <p>Are you still living in London? I'll be making a business trip there next month. (I'm with Rotaro incorporated now). And it would be nice to see you. In any event, I am really looking forward to finishing your book.</p> <p>Sincerely yours,</p> <p>Lily Oguro</p>	

1. In the article, the word "critical" in paragraph 1, line 4 is closest in meaning to?

- A. growing
- B. sensitive
- C. disapproving

- D. Important
2. According to the article, why is the merger of Poynter Technologies and Carce Company mentioned in the book?
- A. To point out the legal issues raised by new technologies
 - B. To show how the world's largest computer technology firm was created
 - C. To indicate that large companies have advantages in the marketplace
 - D. To illustrate the impact technology has on transactions
3. What can be inferred about John Gilliam from his review?
- A. He specializes in articles focusing on history.
 - B. He agrees with the ideas presented in the book
 - C. He hopes technology will become less important to business
 - D. He is training to work in corporate mergers.
4. Why did Ms. Oguro write an e-mail to Ms. Narazaki?
- A. To offer her a job
 - B. To compliment her on her new book
 - C. To invite her to visit Sydney
 - D. To request advice on writing books
5. What does Ms. Oguro indicate about New Century, New Business?
- A. It is Anne Narazaki's first book.
 - B. It is published by Rotaro incorporated
 - C. John Gilliam helped write a section of it
 - D. Anne Narazaki wrote it at Poynter Technologies

Text 2

To:	Technical Support Team
From:	Sanchez, Hanna
Sent:	Wednesday, July 10
Subject:	Business Technologies Seminar
<p>This message is to finalize the organizational details for the technical support team for next Monday's Business Technologies Seminar. Attached you will find the schedule with the names of technical assigned to the various conference rooms.</p>	

Each session runs for two hours and made up of four 30-minute presentations. Presenters have been asked to designate a timekeeper to ensure that they do not exceed their time limits. Note that there is a break between each session, which should allow you sufficient time to prepare for the next speaker.

Your job is to set up microphones adjust lighting, and address any other needs of the speakers. Speakers will not be videotaped, but several have to be recorded, so please be sure the recording equipment is in place and functioning properly. Also, room 106 does not have a computer on-site, but the presentation in the third session will require one. Fortunately, this is not a big problem because neither of the laptop computers in rooms 104 and 108 will be in use at that time. The technician assigned to room 106 for that session must remember to bring the laptop from one of those other rooms to room 106 and set it up.

If you have any questions, feel free to contract me.

Henna Sanchez

Technical Support for Presentation Sessions				
1st session	8:45	Adam Narozny	Julia Kovacs	Jim Dawkins
Morning break		10:45-11:00		
2nd session	11:00	Maria Faustini	Julia Kovacs	Jim Dawkins
Lunch break		1:00-2:00		
3rd session	2:00	Adam Narozny	Julia Kovacs	Maria Faustini
Afternoon break	4:00-4:15	Julia Kovacs	Adam Narozny	Maria Faustini

- What is the purpose of the e-mail?
 - To change a policy
 - To inquire about a problem
 - To give instructions
 - To correct an error
- In the e-mail, the word “address” in paragraph 3, line 1, is closest in meaning to
 - give attention to
 - write to
 - look forward to
 - call by name

3. What will the technical support team NOT do?
 - A. Record speakers
 - B. Videotape presentations
 - C. Check sound equipment
 - D. Adjust lighting
4. What problem does Hanna Sanchez mention?
 - A. The technicians do not have enough time between sessions
 - B. One of the rooms is not fully equipped for the presentations
 - C. One of the presentations will need to be rescheduled
 - D. The lighting in room 106 does not work properly
5. Who will need to move a laptop computer?
 - A. Adam Naraozny
 - B. Maria Faustini
 - C. Jim Dawkins
 - D. Hanna Sanchez

Text 3

Ranch. It was near Los Angeles in California. A few years later Hollywood was one of the famous places in the world. At the beginning of the 20th century there was a big farm called Hollywood. From the 1910's to the 1950's, Hollywood was the film center of the world.

Every family knew the names of its film stars — Charlie Chaplin, Greta Garbo, Bergman and hundreds more.

The reason why people went to Hollywood to make films was the sun. At first, people made films in New York on the east coast of the United States.

But then they heard about Los Angeles, where there are 350 days of the sun every year. As they made all the films by sunlight, the west coast was a much better place to work. Also near Hollywood you can find mountains and sea and desert. They did not have to travel far to make any kind of film.

When TV became popular, Hollywood started making films for television. Then in the 1970's they discovered people still went to the cinema to see big expensive films. Nowadays they are still making films in Hollywood and people see them all over the world.

1. Hollywood used to be a ()。
 - A. cinema
 - B. big farm
 - C. park
 - D. Market
2. In the 1910's Hollywood became a () .

- A. famous theatre
B. good place to have holidays
C. film center
D. home for stars
3. Who was not mentioned (提到) as a film star in the passage () .
A. Charlie Chaplin
B. Marilyn Monroe
C. Bergman
D. Greta Garbo
4. People went to Hollywood to make films because () .
A. it was a beautiful place
B. they could find many film stars
C. there was a lot of sunlight there
D. it was a famous place
5. Which statement (说法) is true () ?
A. The west coast was a better place to make films.
B. There are no mountains near Hollywood.
C. People no longer went to the cinema after television became popular.
D. Hollywood began to make films for television after the First World War.

Text 4

In studying both the recurrence of special habits or ideas in several districts, and their prevalence within each district, there come before us ever-reiterated proofs of regular causation producing the phenomena of human life, and of laws of maintenance and diffusion conditions of society, at definite stages of culture. But, while giving full importance to the evidence bearing on these standard conditions of society, let us be careful to avoid a pitfall which may entrap the unwary student. Of course, the opinions and habits belonging in common to masses of mankind are to a great extent the results of sound judgment and practical wisdom. But to a great extent it is not so.

That many numerous societies of men should have believed in the influence of the evil eye and the existence of a firmament, should have sacrificed slaves and goods to the ghosts of the departed, should have handed down traditions of giants slaying monsters and men turning into beasts—all this is ground for holding that such ideas were indeed produced in men's minds by efficient causes, but it is not ground for holding that the rites in question are profitable, the beliefs sound, and the history authentic. This may seem at the first glance a truism, but, in fact, it is the denial of a fallacy which deeply affects the minds of all but a small critical minority of mankind. Popularly, what everybody says must be true, what everybody does must be right.



There are various topics, especially in history, law, philosophy, and theology, where even the educated people we live among can hardly be brought to see that the cause why men do hold an opinion, or practise a custom, is by no means necessarily a reason why they ought to do so. Now collections of ethnographic evidence, bringing so prominently into view the agreement of immense multitudes of men as to certain traditions, beliefs, and usages, are peculiarly liable to be thus improperly used in direct defense of these institutions themselves, even old barbaric nations being polled to maintain their opinions against what are called modern ideas.

As it has more than once happened to myself to find my collections of traditions and beliefs thus set up to prove their own objective truth, without proper examination of the grounds on which they were actually received, I take this occasion of remarking that the same line of argument will serve equally well to demonstrate, by the strong and wide consent of nations, that the earth is flat, and night-mare the visit of a demon.

1. The author's attitude towards the phenomena mentioned at the beginning of the text is one of ().
 A. skepticism
 B. approval
 C. indifference
 D. Disgust
2. By "But to...it is not so"(Line 7) the author implies that ().
 A. most people are just followers of new ideas
 B. even sound minds may commit silly errors
 C. the popularly supported may be erroneous
 D. nobody is immune to the influence of errors
3. Which of the following is closest in meaning to the statement "There are various... to do so" (Line 17-20)?
 A. Principles of history and philosophy are hard to deal with.
 B. People like to see what other people do for their own model.
 C. The educated are more susceptible to errors in their daily life.
 D. That everyone does the same may not prove they are all right.
4. Which of the following did the author probably suggest?
 A. Support not the most supported.
 B. Deny everything others believe.
 C. Throw all tradition into trashcan.
 D. Keep your eyes open all the time.
5. The author develops his writing mainly by means of ().
 A. reasoning
 B. examples

C. comparisons

D. Quotations

更多银行招聘信息敬请关注华图金融培训官方公众平台



官方微信



官方微博