

版权所有  
复制必究

## 2018 年中央、国家机关公务员录用考试 《行政职业能力测验》

### 重要提示：

为维护你的答卷权益，确保公务员卷试的公平公正，请您协助我们监督卷试实施工作。

本场卷试规定：监卷老师要向本卷场全体卷生展示题本密封情况，并邀请 2 名卷生代表验封签字后，方能开启试卷袋。

全真模考照国考标准卷试流程（省略试卷袋验封启及答题卡贴条形码环节，请同学们认真完成。

二〇一七年

条  
形  
码

请将此条形码揭下，  
贴在答题卡指定位置。

准考证号

姓名

## 注意事项

1. 本题本由五个部分构成，共 135 题，总作答时间 120 分钟。
2. 请在题本、答题卡指定位置上用黑色字迹的钢笔或签字笔填写自己的姓名和准考证号，并用 2B 铅笔在准考证号对应的数字上填涂。
3. 请用黑色字迹的钢笔或签字笔在指定的答题区域内作答。在非指定位置作答或用铅笔作答的，成绩无效。
4. 待监考人员宣布考试开始后，你才可以开始答题。
5. 所有题目一律使用现代汉语作答。在作答时，不得使用本人姓名，答题中凡出现本人姓名者作违纪处理。
6. 监考人员宣布考试结束时，考生应立即停止作答，将题本、答案卡和草稿纸留在桌上，在考生座次表对应准考证号、姓名栏内签字确认后方可离开。

严禁折叠答题卡！

停！请不要往下翻！听候监考老师的指示。  
否则，会影响你的成绩。

# 第一部分 常识判断

(共20题, 参考时限15分钟)

根据题目要求, 在四个选项中选出一个最恰当的答案。

请开始答题:

1. 2017年是内蒙古自治区成立70周年。下列关于自治区成立顺序排列正确的是:
  - A. 内蒙古—新疆—广西—宁夏—西藏
  - B. 内蒙古—广西—新疆—宁夏—西藏
  - C. 西藏—广西—新疆—宁夏—内蒙古
  - D. 西藏—新疆—宁夏—广西—内蒙古
2. 根据我国宪法规定, 下列情形**不能**从国家和社会获得物质帮助的是:
  - A. 张某, 因生产事故, 丧失劳动能力
  - B. 李某, 因长期赌博, 穷困潦倒
  - C. 王某, 八十周岁, 一人独居
  - D. 赵某, 患有癌症, 生活困难
3. 下列关于国际货币基金组织说法正确的是:
  - A. 该组织在华盛顿成立, 被称为“经济联合国”
  - B. 该组织的目标是建立一个富有活力、永久性的多边贸易机制
  - C. 该组织与世界银行和世界贸易组织是国际经济体制的三大支柱
  - D. 该组织由国际复兴开发银行、国际开发协会、国际金融公司等机构组成
4. 下列关于通货膨胀说法正确的是:
  - A. 通货膨胀是指货币的发行量不能满足流通中货币的需求量
  - B. 一国出现货币贬值, 那么一定发生通货膨胀
  - C. 通货膨胀对企业的生产具有一定的刺激作用
  - D. 当一国的CPI连续数月下跌, 则该国出现通货膨胀的风险较大

5. 根据我国刑法规定，下列情形属于正当防卫的是：
- A. 胡某听人报信称李某扬言要烧掉他家，于是埋伏在李某回家路上，当李某走近时，用棍棒将其手打折
  - B. 某市散打队员王某挎着包走在路上，李某抢过王某的包正欲转身逃跑，被王某踢翻在地。李某把包交给王某并求饶，王某再次踢李某两脚，将其左小腿踢折。
  - C. 刘某看王某不顺眼，遂对其恶语相向。王某被激怒，动手殴打刘某，刘某掏出随身携带的匕首将王某捅成轻伤
  - D. 吴某下夜班回家路上，一男子欲对其实施强奸，吴某奋起反抗，扭打过程中吴某一脚踹在该男子的小腹。由于吴某穿高跟鞋，导致男子内脏破裂失血过多而死
6. 下列作家、国籍、作品对应正确的是：
- A. 都德—英国—《最后一课》
  - B. 司汤达—法国—《青春颂》
  - C. 易卜生—匈牙利—《玩偶之家》
  - D. 塞万提斯—西班牙—《堂·吉珂德》
7. 下列历史场景按照发生年代由早到晚的顺序排列正确的是：
- ①范缜完成《神灭论》的创作
  - ②宋应星亲笔签名的《天工开物》一上市就被抢购一空
  - ③吕秀才被选派去参加《四库全书》初稿的编纂工作
  - ④召公和周公共同主政受到了人民的欢迎
  - ⑤邯郸地区的税收工作由金国皇帝派来的官员负责征收
- A. ④①⑤②③
  - B. ③②⑤①④
  - C. ②③④⑤①
  - D. ⑤②③④①
8. 下列诗句所描写的景点对应正确的是：
- A. 横看成岭侧成峰，远近高低各不同——山东泰山
  - B. 接天莲叶无穷碧，映日荷花别样红——杭州西湖
  - C. 旧时王谢堂前燕，飞入寻常百姓家——安徽六尺巷

D. 二十四桥明月夜，玉人何处教吹箫——江苏苏州

9. 关于花生，下列说法**错误**的是：

A. 花生是重要的经济作物

B. 对于肠胃虚弱者，花生不宜与黄瓜同食

C. 增施有机肥和磷、钾肥能有效防治花生锈病

D. 花生红衣味涩且对人体无益，食用时应将其去除

10. 下列元曲选段与作者、作品对应正确的是：

A. 听的人说，这教坊司有个裴妈妈家一个女儿，小字兴奴。好生聪明，尤善琵琶，是这京师出名的角妓——马致远——《墙头马上》

B. 浮云为我阴，悲风为我旋，三桩儿誓愿明提遍。婆婆也，直等待雪飞六月，亢旱三年呵——关汉卿——《窦娥冤》

C. 常记得碧梧桐阴下立，红牙箸手中敲。他笑整缕金衣，舞按霓裳乐——孔尚任——《梧桐雨》

D. 三十三天觑了，离恨天最高；四百四病害了，相思病怎熬——汤显祖——《倩女离魂》

11. 下列关于我国地理状况描述正确的是：

A. 四川省是我国地震最频繁的省份

B. 文莱是与我国隔海相望的六个国家之一

C. 我国领土最东端在黑龙江和松花江主航道中心线的交汇处

D. 贵州高原上高出地面的部分被称为“坝子”

12. 下列关于我国文学史上的第一，表述**错误**的是：


A. 第一篇长篇叙事诗：《孔雀东南飞》

B. 第一部文言志怪小说集：《山海经》

C. 第一部字典：《说文解字》

D. 第一部长篇讽刺小说：《儒林外史》

13. 下列图片与人物对应正确的是：



①

②

③

④

- A. 张学良周恩来梅兰芳汪精卫  
 B. 周恩来张学良蒋介石汪精卫  
 C. 周恩来张学良汪精卫梅兰芳  
 D. 张学良周恩来梅兰芳蒋介石
14. 下列农谚说法**错误**的是：  
 A. 小暑不种豆，立伏不种薯  
 B. 早霞不出门，晚霞行千里  
 C. 鱼跳水，有雨来  
 D. 雨中闻蝉叫，预告晴天到
15. 清代爱国诗人丘逢甲在《春愁》中写道：“四百万人同一哭，去年今日割台湾”，由此可以判断，此诗的写作时间是：  
 A. 1843 年  
 B. 1861 年  
 C. 1896 年  
 D. 1902 年
16. 下列选项中属于物理性质的是：  
 A. 延展性  
 B. 酸碱性  
 C. 可燃性  
 D. 氧化性
17. 下列关于动物的说法**错误**的是：  
 A. 鳄鱼肾脏和汗腺不发达，只能通过盐腺来排盐，因此会“流泪”  
 B. 动物无法将无机物合成有机物的，只能以有机物为食物  
 C. 最早的两栖动物是从鱼类进化而来的脊椎动物  
 D. 恐龙最早出现在寒武纪，偏好生活在干燥的地方

18. 下列生活常识正确的是：

- A. 脚踝扭伤后应第一时间进行局部按摩，并用冷毛巾或冰块冷敷
- B. 发现煤气泄漏，应立即关闭煤气，并立即打电话报警，防止发生火灾
- C. 火灾逃生过程中，要将口鼻用毛巾、口罩或者衣服捂严，并尽量保持弯腰低姿前进
- D. 发生烫伤后，应立即用冷水冲洗或者冰敷患处，可以在伤口上涂抹牙膏来降低疼痛

19. 下列关于青铜的说法**错误**的是：

- A. 青铜与纯铜相比强度高、熔点低，是金属冶铸史上最早的合金
- B. 青铜器种类繁多，以食器、酒器、水器、乐器、兵器五类最多
- C. 铸造青铜器主要采用范铸法、失蜡法和浑铸法
- D. 后母戊鼎不仅是我国最大的青铜器，也是考古学家发现的最早的青铜器

20. “双遗”是指世界文化遗产和世界自然遗产，下列**不属于**“双遗”的是：

- A. 峨眉山
- B. 武夷山
- C. 庐山
- D. 泰山

※※※ **第一部分结束，请继续做第二部分！** ※※※









素养”在今天显得尤为重要和紧迫。

填入划横线处最恰当的一项是：

- A. 沉渣泛起 弘扬
- B. 积重难返 颂扬
- C. 根深蒂固 宏扬
- D. 卷土重来 发扬

33. 据统计，特大暴雨造成修水县公路塌方、桥梁受损、房屋倒塌、农田淹埋，先后有 7 个乡镇道路中断、9 个乡镇通讯和供电中断，全县受灾人口 29.5 万人，造成经济损失达 7.85 亿元。正是在这样的“\_\_\_\_\_”面前，才愈加凸显这几位救灾干部生命的“\_\_\_\_\_”。

填入划横线处最恰当的一项是：

- A. 民不聊生 尽职尽责
- B. 满目疮痍 难能可贵
- C. 千疮百孔 重若千钧
- D. 千难万险 忠于职守

34. 在人类文字发展的历史长河中，与世界上其他文字对比，汉字\_\_\_\_\_，具有独特的魅力。虽然我们今天从博物馆和遗址中能够欣赏到其他很多古老文字的残片\_\_\_\_\_，但它们都是已经死去了的文字。而汉字作为人类四大古代文明中唯一延续下来不曾中断的文字，至今仍在在使用。

填入划横线处最恰当的一项是：

- A. 匠心独运 保存
- B. 标新立异 文物
- C. 独树一帜 遗迹
- D. 源远流长 痕迹

35. 把从书中汲取到的\_\_\_\_\_带入生活，会有一种“一念既悟，众生是佛”的感受，所以此后看许多人和事从\_\_\_\_\_走向清晰，发现许多现实的迷思都迎刃而解。

填入划横线处最恰当的一项是：

- A. 精华 复杂
- B. 深思 黑暗
- C. 醒悟 模糊
- D. 知识 迷雾

36. 作为一代大家，世人公认的一大哲学高峰，冯友兰于孤寂的哲学研究中问“智”，站在哲学制高点，孜孜构筑人类精神的理想境界。他书中所述四大主题，\_\_\_\_\_了人生的诸多方面，从人生真相、境界一直到道德修养以及对人生的漫谈，无不把大道至理



录片《我在故宫修文物》引发年轻人追捧，到“石渠宝笈特展”成为舆论热点，都说明传统文化在与现代人共生共长的过程中，获得了全新的生命力。故宫的成功转型不只是技术层面的，更是心灵的、文化的，它说明只要融入现代人蒸腾的生活，传统文化就能再发新芽。“观乎人文，以化成天下”，文化理应与人类共同进化。正如习近平总书记指出的，“要系统梳理传统文化资源，让收藏在禁宫里的文物、陈列在广阔大地上的遗产、书写在古籍里的文字都活起来。”

这段文字意在强调：

- A. 只有跟公众建立起共生共长的关系，传统文化才会焕发活力
- B. 古代典籍和历史文物与广大人民相关联
- C. 传统文化资源理应回归社会
- D. 故宫的转型应是文化层面的

42. 古老而神奇的方块汉字，不仅是中华文化的核心，也是东方文明的象征。“汉字文化圈”的形成是一个复杂而漫长的历史过程。日本学者西嶋定生认为“汉字文化圈”的构成要素是：以汉字为传意媒介，以儒家为思想伦理基础，以律令制为法政体制，以大乘佛教为宗教信仰等等作为共同的价值标准。这些看法大体是符合实际的。以日本为例，从公元 607 年初次派“遣隋使”到中国，其后 250 年间，遣使不断。通过使节和来华的留学生、还学生、学问僧，唐代文化大量传入日本。天皇名称、国号的确立、中央体制、地方制度、考试制度、土地田赋制度等，日本多以唐制为蓝本。奈良、京都受大唐文化的影响十分明显，两京的建筑多仿自唐代的长安城。

对上述文段概括最准确的一项是：

- A. 汉字古老而神奇
  - B. 汉字文化圈最明显的特征就是汉字的使用
  - C. 汉字是东方文明的象征
  - D. 日本的建制受到汉文化的深刻影响
43. 驱动世界前进的是人类力图与众不同的热情，科学本身是一个不断探索推陈出新的过程。能否发现并阐明自然规律，不是由个人身份决定的，关键在于是否能够以实事求是

的态度和慎思明辨的求知方法去探索。科学创造活动的出发点就是合理的怀疑精神，要依据事实思考，勇于怀疑一切现实的权威意见。许多伟人就是因“怀疑”而创立了新的科学理论，达尔文的进化论由怀疑神创论而始，爱因斯坦创立相对论源于怀疑牛顿的绝对时空观。科学理论不是神圣不可触犯的宗教教条，去伪存真是科学研究的精髓，怀疑一切才是科学精神的核心。

上述文段的关键词是：

- A. 规律方法
- B. 前进科学
- C. 思考怀疑
- D. 科学怀疑

44. 自从人类开始接触毒品，科学家对于毒品成瘾与人类关系的研究就一直没有停止。一项最新研究发现，大鼠对可卡因成瘾后所产生的第一代和第二代仔鼠也更容易对可卡因成瘾，提示毒品成瘾可能会遗传给后代。研究人员将可卡因成瘾组和非成瘾组的两群大鼠分别与没有接触过可卡因的雌性大鼠交配，产生后代，以观察父代可卡因成瘾是否会对后代产生影响。结果显示，成瘾组大鼠的第一代仔鼠通过踏板获得可卡因的“渴望”，明显比非成瘾组更强烈。并且，这种较强的可卡因成瘾行为在第二代仔鼠身上还能观察到。但此项研究中，研究人员只选择了雄性大鼠及其雄性后代作为研究对象，至于雄性大鼠的雌性后代是否也会继承毒瘾，以及雄性后代与雌性后代的毒瘾继承几率是否有区别还需要进一步研究。

下列选项中与原文相符的是：

- A. 吸毒者的后代毒瘾继承的可能性比较大
  - B. 两个吸毒者的后代毒瘾继承比单独吸毒者的后代几率更大
  - C. 毒品成瘾雄性的雌性后代是否也会继承毒瘾还需进行研究
  - D. 对毒品成瘾的研究已经进行了成熟的探索
45. 瑞典的研究者做过一项实验，实验对象是平均年龄 75 岁的老人。研究者以三种不同的形式——文字、图像和气味——为他们提供 20 个记忆线索，结果发现文字和图片触发的记忆大多是青少年或者年轻时的，而气味触发的则是 10 岁以前的童年记忆。老人们以罕见的丰富的情感词汇来描述这些记忆：厨房里小豆蔻的气味，妈妈做蛋糕时空气中

漂浮的面粉尘埃，夏日午后草坪上刚刚割过的青草香气……研究者解释说，在人类所有的感官中，嗅觉是最早成熟的，但在成长过程中，它的重要性逐渐让位于视觉与语言，但嗅觉皮层与作为记忆处理中心的海马回的连接保证这些记忆一直保存下来，直到遇到某种恰当的触发点。

下列选项正确的一项是：

- A. 人类的感官中，嗅觉是最灵敏的
- B. 随着年龄的增长，嗅觉的重要性慢慢让位于视觉与语言
- C. 老年人的记忆最深刻的是年轻时期
- D. 嗅觉皮层与海马回的连接确保嗅觉一直发挥作用

46. 近年来，中国画与西洋画的距离越来越近，表现力却差了许多。离开书写趣味和写意精神的中国画实际上被抽了筋骨。中国的书法是有生命的，笔法讲求骨法。什么叫骨法呢？南齐谢赫说“骨法用笔”，唐代张彦远解释为“生死刚正谓之骨”。这其中有人格要求。明代的文徵明说：“人品不高，落墨无法。”笔，往往表现为具有高度生命力的线条，其文化内涵则远非西洋画的线条可比拟。浑厚华滋，苍润并济，可视为笔墨的最高境界。苍，往往能表现出人的骨气和品格；润则反映出一个画家的感情和生趣。

上述文段作者的意图是：

- A. 一个画作需要具备感情和骨气
  - B. 中国的书法是有生命的
  - C. 中国画与西洋画依然存在很大差距
  - D. 中国画不能离开书写的“骨法”
47. 虚拟游戏是现代人生活的一部分，一味地隔绝，既不必要也不现实。哪怕是成年人，每天通过微信、邮件等虚拟通道与人交流和沟通的时间也远远超越了现实生活。“社交”成为了眼下教育过程中时常被强化的概念，所谓社交教育，大多指公共性的交往教育，为学生们提供一定空间和平台，帮助他们形成相互交流的群体。如果孩子无法在真实社会中获得积极体验，那么他就很有可能蜗居在虚拟社会中出不来。专家指出：“这不是社会问题，而是教育问题，更多的是家长应该反思教育的方式和方法。”

这段文字接下来将要讲述的是：

- A. 不应一味否定虚拟游戏
- B. 学校和家庭教育孩子的科学方法
- C. 社交教育亟待完善
- D. 虚拟社会的危害

48. 每到岁末年初，对于不少全年含辛茹苦却被欠薪的农民工来说，无疑有苦说不出，有理无处诉。作为中国改革开放和工业化、城镇化进程中一支劳动大军，农民工对中国现代化建设做出了重大贡献，维护农民工的劳动保障权益，确保农民工能及时、足额拿到血汗钱，是政府与社会共同关心的大事。然而在社会公共生活大厦高起的今天，每到年关就频频上演的农民工讨薪戏码，成为了法治和道德都无法回避的“黑洞”，折射出发展中的问题、前进中的阻碍。

上述文段，作者意在表明的是：

- A. 我国城镇化问题日益突出
  - B. 社会公共生活中法制和道德显现“黑洞”
  - C. 农民工讨薪难凸显法治短板
  - D. 政府应该保护农民工合法权益
49. 我们现在处在一个网络下载非常方便和普及的时代，因此，有人担心实体书会逐渐退出历史舞台，也有人预言 CD 这种载体会彻底消失。事实上，\_\_\_\_\_。如今，30 岁以下的年轻人出国度假时，已经不会再带着纸质地图用以认路了，他们只要掏出 iPhone 轻轻点几下，就可以获得任何信息。习惯于只携带移动电话出行的年轻旅行者正在使传统的地图变得英雄无用武之地。

填入划横线部分最恰当的一项是：

- A. CD 和地图并不会消失
- B. 现代很多高科技产品确实给我们的生活带来了许多便利
- C. 我们确实需要担心地图的消亡
- D. 人们最应该担心的恐怕是传统的地图



50. 倡导和培育科学精神，不是主张科学崇拜，也不是鼓吹和相信科学万能论，宣扬唯科学主义。否则，就是对科学精神的违背。因为倡导和培育科学精神，是为了人自身的全面发展，为了人们更加幸福和更有尊严，而不是让人们沦为科学技术的奴仆。因此，科学精神的培育，当与人文精神的培育相辅相成、共同发展。其中，既包括从少数精英向全体民众的全面拓展，也包括从普及科学知识到传播科学思想、倡导科学方法的潜移默化，还包括坚持不懈地反对形形色色的伪科学、反科学及其他现代迷信。

下列选项中最适合作上述文段标题的是：

- A. 走出科学精神的理解误区                      B. 科学精神与人文精神共存  
C. 科学并非万能                                      D. 抵制现代迷信

51. ①对于我们来说，清明节并非只是日历表上简单的放假安排，而是承载了厚重文化意味的传统节日。

②实际上，清明节的意蕴远不止于此。

③“天涯共此时，同寄一缕哀。”

④春雨霏霏，岁岁清明，又是一年清明时

⑤作为一个承续了上千年历史的中华民族传统节日，时间的累积给了它厚度，历史的行进赋予它内涵。

⑥距离清明节被列入国家法定节假日已经过去 9 年

⑦每年在这个时候结伴扫墓、祭拜先人、寄托哀思已成为约定俗成的传统，让即使远在他乡的游子也心生思念、心怀故人。

填入划横线部分最恰当的一项是：

- A. ④⑦①⑥②③⑤                                      B. ①⑥④⑦②⑤③  
C. ④⑥①③⑦②⑤                                      D. ①③④⑦⑥②⑤

52. ①就因为不少人意识到了个人与环境的关系，在主动调整自己的节庆方式

②而且往往是，只有改变了自己，才能改变世界

③今年春节，各地鞭炮燃放比起往年明显下降

④这个世界上没有一种“改变”与你无关



C. 电影发展不能倚赖明星效应

D. 我国国产电影现状堪忧

55. 近期环境违法出现大规模反弹，该关停的不关停、该限产的不限产、污染防治设施该运行的不运行、企业监测数据作假等问题突出。各种虚报、瞒报、造假、偷排，套路旧得让人无奈。表面来看，是此前很多企业因为执行地方的错峰生产计划被限产停产，恢复生产后，排放总量增加。从深层去想，其实是一些地方政府在协调经济增长和环境保护时失衡，产业布局老旧，产业结构未能实现环保节能的综合考量。比起污水、废气，部分企业与地方政府相互勾结，欺瞒、干涉甚至敢扣押环保部督察组，恐怕这才是更大的“污染源”。

这段文字主要想表达的是：

- A. 我国生态环境问题任重道远
- B. 政府应该加快产业结构升级
- C. 地方政府须拿出强硬态度配合环保督查组监督执法
- D. 我国企业生产者环保责任意识薄弱
56. “青年的婚恋是青年发展中的大问题”“帮助青年树立正确的婚恋观”“帮助青年人能够真正地找到自己合意的伴侣”……这两天，一则“团中央发话：将帮助大龄未婚青年找合适伴侣”的消息刷爆了朋友圈。面对组织的“关怀”，网友们点赞的不少。比如，有的人认为，“树建正确家庭观很不错，是社会稳定的基础，一个有感情，充满爱的家庭培育出来的孩子不容易走歪路”。但也有人认为，婚姻是私事，结不结婚、啥时候结婚，个人有选择的自由，不需要组织的操心。可以说，这样一则消息，就像一个三棱镜，折射出当代青年婚恋观念的多元、思想的多样。观点针锋相对、争论两不相让，也足以说明，帮助脱单，恐怕并非那么简单。

对于大龄青年婚恋问题，作者认为：

- A. 婚姻是每个人的自由，不必干涉
- B. 青年的婚恋问题政府必须重视
- C. 帮助青年脱单任重道远

D. 正确的婚恋观是社会稳定的基础

57. 作为监管机构，证监会在过去很长时间内，更多扮演的是“重指数，轻监管”的角色，在很大程度上偏离了本质定位。在经历了换帅风波之后，证监会开始逐渐显露出回归本位的迹象，不再强调指数的涨跌，更多将精力集中于市场监管，如果能在未来成为常态，必将能够大大改善 A 股市场的制度化建设。

这段文字旨在说明：

- A. 证监会所扮演的角色已偏离了本质定位
  - B. 证监会回归本位正是换帅风波的结构
  - C. 过度强调指数的涨跌只会让证监会越来越偏离本身的定位
  - D. 只有将精力集中于市场监管并成为常态才能有改善市场
58. 对于科研人员来说，现在科研经费似乎正在成为“烫手山芋”。一方面，科学研究必须要有经费，另一方面目前的科研经费的申请和使用也存在一些问题，在纠正这些问题的同时让其他一些研究人员担心成为违规者和瓜田李下者，甚至不愿再做科研了。这显然是一个巨大的矛盾，如果不理顺和妥善解决，不仅不利于科研人员的生存和体现其人生价值，也不利于科技立国和以科学技术振兴中华的宏伟目标的实现。解决这个问题当然首先必须区分腐败现象和违规现象，以及违规是违反哪些方面的规定。例如，用旧的课题冒充新课题以套现科研经费不仅是严重违规，而且涉嫌犯罪；但是，科研经费没有用来买国航的票而是买其他航空公司的票显然就是轻微的违规或者说不需要这样限制经费使用。

这段文字的核心观点是：

- A. 我国科研经费现存的问题亟待解决
  - B. 科研人员运用科研经费必须遵纪守法
  - C. 保障科研人员的人生价值是科技立国的基础
  - D. 科研经费使用的界限需要进一步细化和明确
59. 如果说，新品牌是正在孵化中的传奇，那么老字号就是已经成型的传奇，那些定格在历史中的传说和人物就是老字号在当代的品牌代言。老字号应该将承载着中华民族传统文

化的品牌文化，有效传递给消费者，实现人文情怀、历史情怀的共鸣。此外，在传统商业时代，品牌宣传具有明显的信息流向，企业说给消费者听，说多了自然就记住了。但在今天，信息交互覆盖的频率太高，指望一人没完没了地说，一群人一遍一遍地听是不可能的。只有不断探寻老字号品牌在新媒体时代的传播方式，把文化内涵与这个新媒体时代紧密结合起来，才能在消费者的心灵深处形成文化认同。惟有如此，才能让消费者成为品牌的忠实粉丝。

这文段文字意在说明：

- A. 老字号应该向消费者传递品牌文化
- B. 保护老字号要寻找新的传播方式
- C. 传统商业传播方式不利于老字号传承
- D. 消费者应该对老字号的文化形成心理认同

60. 生物的生存策略有一个最基本的共同点，那就是在维持生命的正常活动中最大限度地去节省能量。因此，它们不需要发出特别明亮的光芒，有的甚至微弱到人眼无法识别而只能通过仪器检测到。而且，大部分动物也不需要一直发光，这样不仅消耗能量，还会招来捕食者。比如，当城市的亮光干扰了萤火虫的交流，当萤火虫感知到外界灯光时，就会停止发光、飞行、求偶。“也许，在进化的历史上，也曾经出现过主动发光的植物，可能因为太消耗能量，或者是容易招致天敌，以至于携带这一基因的植物并没有竞争力，因此被淘汰。”

文中划线部分“携带这一基因的植物”指的是：

- A. 过于消耗能量的植物
- B. 主动发光的植物
- C. 容易招致天敌的植物
- D. 不需要发光的植物

※※※ **第二部分结束，请继续做第二部分！** ※※※









人，则小张和小王分在同一组的概率：

- A. 在 10%~20%之间
- B. 在 20%~30%之间
- C. 在 30%~40%之间
- D. 在 40%~50%之间

※※※ 第三部分结束，请继续做第四部分！ ※※※

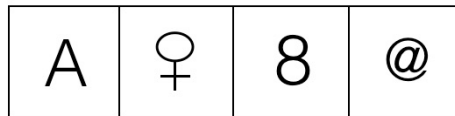
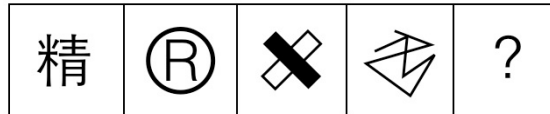
## 第四部分 判断推理

(共40题, 参考时限35分钟)

一、图形推理, 请按照每道题的答题要求作答。

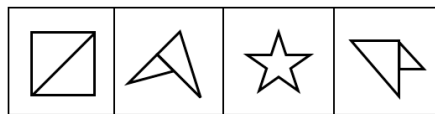
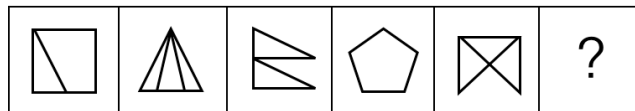
请开始答题:

76. 从所给四个选项中, 选择最合适的一个填入问号处, 使之呈现一定规律性:



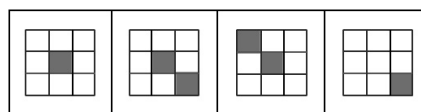
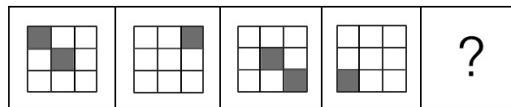
A      B      C      D

77. 从所给四个选项中, 选择最合适的一个填入问号处, 使之呈现一定规律性:



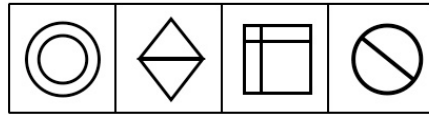
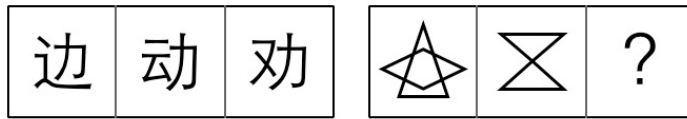
A      B      C      D

78. 从所给四个选项中, 选择最合适的一个填入问号处, 使之呈现一定规律性:



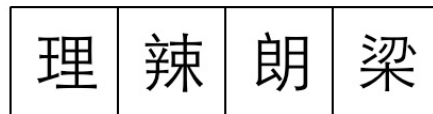
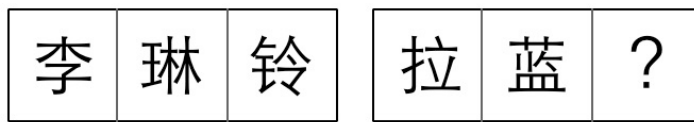
A      B      C      D

79. 从所给四个选项中，选择最合适的一个填入问号处，使之呈现一定规律性：



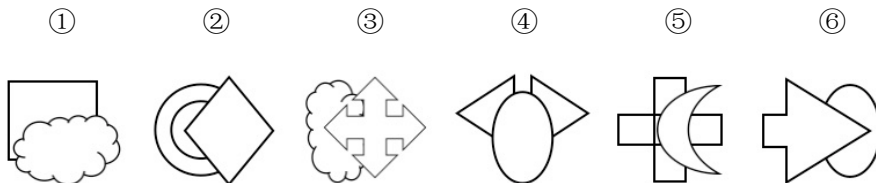
A      B      C      D

80. 从所给四个选项中，选择最合适的一个填入问号处，使之呈现一定规律性：



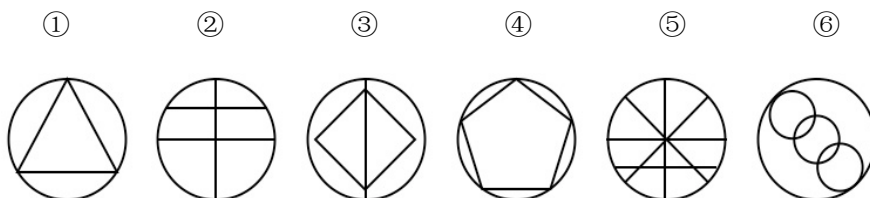
A      B      C      D

81. 把下面的六个图形分为两类，使每一类图形都有各自的共同特征或规律，分类正确的一项是：



- A. ①③④, ②⑤⑥                      B. ②③⑤, ①④⑥
- C. ①④⑤, ②③⑥                      D. ①②⑥, ③④⑤

82. 把下面的六个图形分为两类，使每一类图形都有各自的共同特征或规律，分类正确的一项是：



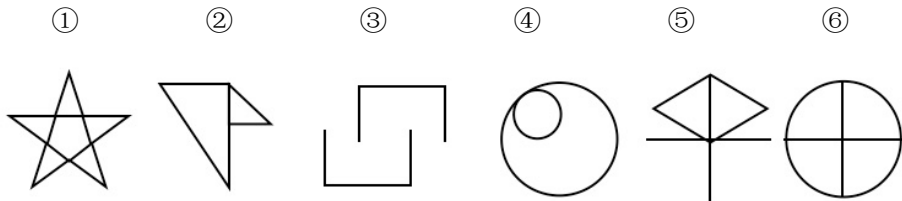
A. ①②③, ④⑤⑥

B. ②③④, ①⑤⑥

C. ①④⑤, ②③⑥

D. ①②⑥, ③④⑤

83. 把下面的六个图形分为两类, 使每一类图形都有各自的共同特征或规律, 分类正确的一项是:



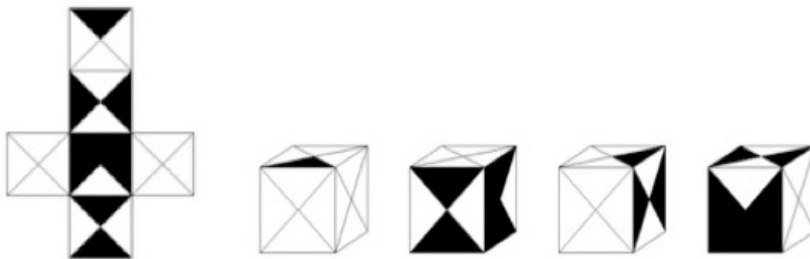
A. ①③⑤, ②④⑥

B. ①③⑥, ②④⑤

C. ①②④, ③⑤⑥

D. ①④⑥, ②③⑤

84. 左边给定的是正方体的外表面展开图, 下面哪一项能由它折叠而成?



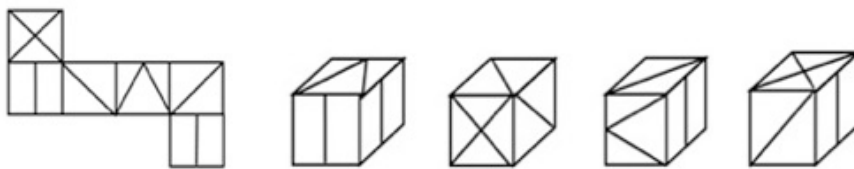
A

B

C

D

85. 左边给定的是正方体的外表面展开图, 下面哪一项能由它折叠而成?



A

B

C

D

**二、定义判断。**每道题先给出一个定义, 然后列出四种情况, 要求你严格依据定义, 从四个备选项中选出一个最符合或最不符合该定义的答案。注意: 假设这个定义是正确的, 不容置疑的。

请开始答题:

86. 家谱：又称族谱、宗谱等。是一种以表谱形式记载一个家族的世系繁衍及重要人物事迹的书。皇帝的家谱称玉牒，它以记载父系家族世系、人物为中心，由正史中的帝王本纪及王侯列传、年表等演变而来。

根据上述定义，以下属于家谱的是：

- A. 新朝玉牒
- B. 生物树
- C. 帝王本纪
- D. 百家谱

87. 罍是古代中国先民用于温酒的酒器，也被用作礼器，通常用青铜铸造，三足，一鑿（耳），两柱，圆口呈喇叭形。商汤王打败夏桀之后，定为御用的酒杯，诸侯则用角。

根据上述的描述，以下哪个图形是罍？



88. 心本管理，是指管理的关键是抓住人的心，让员工自觉自发地参与管理，并积极主动工作，以达成管理目标。心本管理的特点是攻心为上，假如你要用一个人的“手”，必须要用他整个的“人”；假如你要用他整个的“人”，你必须影响他整个的“心”；“治人者必先治己，治己必先治心；争天下者必先争人，争人者必先争心。”

根据上述定义，下列属于心本管理的是：

- A. 甲公司通过严格的管理制度让员工完成工作
- B. 乙公司通过奖励等制度调动员工的积极性创造新业绩
- C. 丙公司领导有很强的影响力，员工都死心塌地地跟着他干
- D. 丁公司工作人员彼此平等，有问题都一起讨论解决

89. “灯下黑”，原指照明时由于被灯具自身遮挡，在灯下产生阴暗区域。现引申为：人们对发生在身边很近的事物和事件没有看见和察觉。

根据上述定义，以下属于“灯下黑”现象的是：

- A. 小张对摔倒的老人视而不见
- B. 公安人员参与黑社会
- C. 在城管的严管下市容市貌得以改善
- D. 人们在漆黑的夜里伸手不见五指

90. 结构仿生是通过研究生物肌体的构造，建造类似生物体或其中一部分的机械装置，通过结构相似实现功能相近。

根据上述定义，以下**不涉及**结构仿生的是：

- A. 人们仿照蜂巢构造用各种材料制成蜂巢式夹层结构板，强度大、重量轻、不易传导声音和热，是建筑及制造航天飞机、宇宙飞船、人造卫星等的理想材料
- B. 仿照叶脉肌理设计成了意大利都灵展览馆的巨型拱顶，混凝土骨架和玻璃格组成的拱顶宽 93.6 米，长 75 米
- C. 塞维利亚 1992 年国际博览会为科威特设计的展览馆，其屋顶是可自由启闭的结构，模拟着动物关节的自由运动
- D. 从令人讨厌的苍蝇身上，仿制成功一种十分奇特的小型气体分析仪，已经被安装在宇宙飞船的座舱里，用来检测舱内气体的成分

91. 密码疲劳是指由于账号、密码过多，不得不记忆大量的密码而导致的精神疲惫和压力。

根据上述定义，下列**不涉及**密码疲劳的是：

- A. 张阿姨因为年纪大了总是忘记自己的银行卡密码
  - B. 王阿姨为了保险起见把每个银行卡都设置了不同密码，但也给自己记忆密码带来了很大压力
  - C. 小文有很多密码，总是记混让他非常烦恼
  - D. 现在的很多 APP 软件登陆都需要密码，使很多人不胜其烦
92. 踢猫效应是指对弱于自己或者等级低于自己的对象发泄不满情绪，而产生的连锁反应。

根据上述定义，下列涉及踢猫效应的是：

- A. 项目经理因迟到丢掉了个项目，回公司将火气全部撒在下属小李的身上
- B. 小张总是做不完自己的工作，向朋友倒苦水说领导过于刻薄

C. 小张因做错了老师讲过很多遍的试题而被老师严厉地批评了

D. 小林觉得自己在感情上受到了委屈，所以周围所有的人都应该同情自己

93. 诬告陷害罪是指以陷害他人受刑事处罚为目的，捏造事实，伪造证据，向有关机关虚告发的行为。

根据上述定义，下列行为**不属于**诬陷罪的是：

A. 因为追不到男神吴某，孙某无中生有，向公安机关举报说吴某强奸了她

B. 孙某被单位辞退，为了报复单位，向检察机关举报人事经理有重大经济问题，但经审查，人事经理并无经济问题

C. 张某因私怨多次造谣葛某婚外恋，结果造成葛某夫妇最终离婚

D. 因为和小王有过节，李某并向公安机关提供小王犯罪证据，并伪造现场陷害小王

94. 角色中断是指在一个人前后相继的两种角色之间发生了矛盾的现象。角色中断的发生是由于人们在承担一种角色时，并没有为后一阶段所要承担的角色做好准备，或前一种角色所具有的一套行为规范与后来的新的角色所要求的行为直接冲突。

根据上述定义，下列选项当中**不符合**角色中断的是：

A. 小王原本是一家公司的职员，因工作表现突出被提拔为部门经理。上任后小王发现凭借原来的工作经验并不能使他做好现有工作

B. 小李原本在国外的一家公司就职，回国后加入了一家国内企业。他发现原来为人处世的方法在现在的工作环境中并不适用，于是很苦恼

C. 小刘是一名高三在读学生，暑假过后，他发现由于自己假期没有预习新学期的学习内容，听课很吃力，最近的几次考试成绩都不理想

D. 小赵在大学期间的学习成绩优异，在学校一直受到大家关注。就业后他发现现在的公司同事因为他工作经验不足，并不认可他的工作能力

95. 就地保护是指为了保护生物多样性，把包含保护对象在内的一定面积的陆地或水体划分出来，进行保护和管理。就地保护的**对象**，主要包括有代表性的自然生态系统和珍稀濒危动植物的天然集中分布区等。

根据上述定义，下列**不属于**就地保护的是：

- A. 某地为了濒危候鸟的生存，将这种鸟类赖以生存的湿地建设为国家级自然保护区
- B. 牧民为了发展养殖项目通过隔离的方式将牧区划分成不同区域，方便对多种动物的同时管理
- C. 采药人从山中发现了若干株本来被认为已经灭绝的草药后上报政府，相关部门决定立即封山
- D. 从三年前开始，这片水域内的一切捕鱼行为被禁止，有效保护了河中濒危鱼类的生存环境

**三、类比推理。每道题先给出一组相关的词，要求你在四个备选项中找出一组与之在逻辑关系上最为贴近、相似或匹配的词。**

**请开始答题：**

96. 糯米：米酒

- A. 聚乙烯：塑料
- B. 小麦：馒头
- C. 竹片：竹筒
- D. 墨汁：乌贼

97. 方天画戟：丈八蛇矛

- A. 六四式手枪：AK-47
- B. 军舰：护卫舰
- C. 巧克力：薯条
- D. 落叶植物：杨树

98. 嫦娥：月亮

- A. 芙蓉：荷花
- B. 五音：徵羽
- C. 伊妹儿：电子邮件
- D. 令尊：令堂

99. 孔雀：吉祥幸福

- A. 蝙蝠：幸福如意
- B. 玫瑰：爱情
- C. 松树：健康长寿
- D. 莲花：高洁

100. 一知半解：似懂非懂

- A. 大同小异：迥然不同
- B. 口是心非：心口如一
- C. 东张西望：目不转睛
- D. 笑容可掬：眉开眼笑

101. 昆明：春城





- A. 随着叶绿体的不断摄入，绿叶海天牛不断变绿，至成体的时候就像是海中一片舞动的绿色叶子
- B. 叶绿体是细胞内唯一具有自身遗传和蛋白合成系统的细胞器，它能够遗传转移并能够存活在绿叶海天牛体内
- C. 对于绿叶海天牛来说，体内如此丰富的叶绿体在光照的情况下不断进行光合作用，也不可避免的会产生大量的活性氧，发生细胞损伤
- D. 绿叶海天牛要及时找到滨海无隔藻，获得其中的叶绿体

107. 2016年9月，因电池燃烧事件，全球召回300多万台三星Note7手机，三星电子移动部门的当季利润下降了96%。但从赚钱这件事情来说，三星反倒是成立以来赚钱最好的时候。虽然手机的卖相不好，但是三星电子已经不靠买手机来赚钱了，三星电子旗下主要业务分为三块：专门卖家电的消费电子部门，卖手机的IT和移动部门，还有卖芯片的半导体和显示屏部门，目前显示屏和芯片是最大的赢家。

以下哪项如果为真，最能加强上述论断？

- A. 大众群体对三星Note7手机电池燃烧事件已经予以谅解
- B. 随着手机品牌的增多，出现“手机热”的现象
- C. 三星手机的品牌依然在全球名列前茅
- D. 每一款手机都会使用三星的显示屏和芯片

108. 心理学家认为：高自我监察的人在高档的环境中会感觉到“紧张”。心理学家在1970年提出自我监察的概念，它指的是人们能够依照周围环境去调整和控制自己行为的一种能力。这些高自我监察的人对融入环境有更强烈的动机，他们会对环境中的“高端”、“气派”、“服务员热情洋溢”、“关怀有加”等线索十分敏感。

以下哪项如果为真，最能削弱上述论断？

- A. 低自我监察的人不太注意所在的环境高端与否，气不气派
- B. 高自我监察的人善于审时度势，会随着环境的改变不断调整与之相适应的行为表现
- C. 高自我监察的人的衣着打扮，言行举止期望能够与所处的环境相匹配
- D. 高自我监察的人与低自我监察的人都是个体的特质，并没有优劣好坏之分

109. 人力资源部有四位新来的员工：小圣、小胡、小新和小朱。他们四人分别是北京人、黑龙江人、吉林人和辽宁人。已知：1) 小圣比黑龙江人年龄大；2) 小新比小胡年龄小；3) 辽宁人比北京人年龄大；4) 吉林人比黑龙江人年龄小；5) 辽宁人不是小朱就是小新。

根据以上信息可以推知：

- A. 四个人的家乡可以确定一个
  - B. 四个人的家乡可以确定二个
  - C. 四个人的家乡可以确定三个
  - D. 四个人的家乡都可以确定
110. 对于生活在卫星上的文明来说，如果要生存，卫星要足够大。想要卫星大，母星要足够大。结果卫星被潮汐锁定，除非不被潮汐锁定，否则母星不会足够大。对于这种卫星来说，一个月等于一日。

由此可以推出：

- A. 只要母星足够大，母星就会被潮汐锁定
  - B. 一月等于一日是可以生存的
  - C. 不被潮汐锁定是生存的基础
  - D. 对于卫星来说，生存是必不可少的
111. 广场舞引发的争议并不是项目本身的问题。任何活动如果不能与参与者、周围环境和谐共处，都不可能健康发展。希望通过全运会，引导广场舞的规范运作，而各地方也要不断加强科学规划，为不同人群提供娱乐健身的场地，真正推动全民健身运动事业的发展。

由此**不能**推出：

- A. 广场舞比其他运动项目更多的受到了大家的关注
- B. 广场舞本身并没有引发争议，争议的源头可能是规划不合理
- C. 全运会对于规范广场舞来讲应该是一次好的契机
- D. 解决广场舞引发的问题，不能光靠广场舞者自己的努力

112. 大学期末考试后，四名同学对他们的考试成绩进行了讨论：

小刚：“我们肯定全能过。”

小黄：“小刚说的太绝对了，咱几个没有都过的时候。”

小邓：“小黄和小张平时学习很认真，我认为他们俩肯定都能过。”

小张：“我这次复习的特别充分，肯定能过。”

待考试结果出来后，发现在四个人的预测中，两人预测对了，两人预测错了，则以下哪  
项成立？

- A. 小刚和小张预测对了
- B. 小黄和小邓预测对了
- C. 小刚和小邓预测对了
- D. 小黄和小张预测对了

113. 河水的上下层不断进行着水体交换，于是热水就相对均匀的分布在河道各部位。表层水经过日晒短暂增温，但同时又被螺旋流带入江底散热，紊流在这个过程里也在不停扰乱水质点之间的能量传递关系，最终使河水的温度始终保持一种微妙的平衡。

以下哪项如果为真，最能**削弱**上述论断？

- A. 水流很慢的小河沟、河湾里，温度的变化会比较显著
- B. 河流的这一温度分布模式，与海洋大容量安静水体的温度分布截然不同
- C. 昼夜的温差变化对河底水温不能造成温度变化
- D. 在全球范围跨深度循环的洋流是非常重要的热量传送带，温度决定呼吸生命带

114. 根据《美国人时间使用调查》的数据可知，当前美国年轻男子玩视频游戏的时间相比10年前有了大大的增加，这要归功于当前日益完善的图形技术和越来越快的互联网速度。有专家认为，视频游戏的强大已经到了使人们“罢工”的地步。他们称，在04年至16年间美国年轻男子减少的工作时间当中，大约有43%~66%用来玩视频游戏。

以下哪项如果为真，最能**削弱**上述专家的观点？

- A. 电子竞技以及其他许多产品都将网游从偶尔为之的消遣变成了一种生活方式
- B. 美国很多年轻男性现在沉溺于电子游戏，不上班工作

- C. 年轻的无业男子虽然在打游戏上花的时间增多了，但减少了他们在其他娱乐上花的时间
- D. 美国经济形势进入颓废期，大批工人因此失业。由于大势所趋，他们很难再就业，只好终日打视频游戏来消磨时光
115. 最近，特斯拉公司于北京时间 7 月 29 日正式发布了他们的新车 model3，model3 定于一款平民电动轿车，售价仅 3.5 万美元，要知道这在特斯拉公司旗下的产品中算是性价比最高的一款了。因此有专家预测这款产品一定会大卖。
- 以下哪项如果为真，最**不能削弱**专家的观点？
- A. 3.5 万美元的 model3 配置非常低，电池只能供车辆行驶 200 公里，而想要获得更长久的续航，消费者不得不额外再付 1 万美元来购置 model3 的更高配置版本。然而这个售价可以买到很多其它品牌的高品质车型，并不具有很强的竞争力
- B. model3 是一款全新平台的电动轿车，这个平台由于刚刚推出，它的产能有限，所以无法将车短时间内交付给车主，你需要提前长达一年的时间去订购
- C. model3 并没有传统的仪表盘，而是把所有功能都集成到了中控的一块 15 英寸的屏幕上，对于现在的车主来说，虽然这种方式很酷，但是他们很难在短时间内适应，尤其是对于能消费起这个价位的潜在中年客户来说
- D. model3 这款车型吸取了之前特斯拉产品的一些经验和教训，诸如门窗打开方式导致漏雨等。可以说是集大成之作，是一款非常成熟优秀的产品

※※※**第四部分结束，请继续做第五部分!**※※※

## 第五部分 资料分析

(共20题, 参考时限20分钟)

所给出的图、表、文字或综合性资料均有若干个问题要你回答。你应根据资料提供的信息进行分析、比较、计算和判断处理。

请开始答题:

一、根据以下资料, 回答第 116~120 题。

2016 年全国规模以上工业企业实现利润总额 68803.2 亿元, 比上年增长 8.5%。

2016 年, 规模以上工业企业中, 国有控股企业实现利润总额 11751.1 亿元, 比上年增长 6.7%; 集体企业实现利润总额 476.9 亿元, 下降 4.2%; 股份制企业实现利润总额 47196.8 亿元, 增长 8.3%; 外商及港澳台商投资企业实现利润总额 17351.9 亿元, 增长 12.1%; 私营企业实现利润总额 24325.3 亿元, 增长 4.8%。

2016 年, 采矿业实现利润总额 1825.2 亿元, 比上年下降 27.5%; 制造业实现利润总额 62397.6 亿元, 增长 12.3%; 电力、热力、燃气及水生产和供应业实现利润总额 4580.4 亿元, 下降 14.3%。

2016 年, 在 41 个工业大类行业中, 主要行业利润情况如下: 煤炭开采和洗选业利润总额比上年增长 2.2 倍, 农副食品加工业增长 5.5%, 纺织业增长 3.5%, 石油加工、炼焦和核燃料加工业增长 1.6 倍, 化学原料和化学制品制造业增长 10.7%, 非金属矿物制品业增长 11.2%, 黑色金属冶炼和压延加工业增长 2.3 倍, 有色金属冶炼和压延加工业增长 42.9%, 通用设备制造业增长 0.2%, 专用设备制造业增长 2.1%, 汽车制造业增长 10.8%, 电气机械和器材制造业增长 12.6%, 计算机、通信和其他电子设备制造业增长 12.8%, 电力、热力生产和供应业下降 17.5%, 石油和天然气开采业由同期盈利转为亏损。

2016 年, 规模以上工业企业实现主营业务收入 115.2 万亿元, 比上年增长 4.9%; 发生主营业务成本 98.5 万亿元, 增长 4.8%; 主营业务收入利润率为 5.97%。

2016 年末，规模以上工业企业资产总计 106.8 万亿元，比上年增长 7.1%；负债合计 59.6 万亿元，增长 6.3%；所有者权益合计 47.2 万亿元，增长 8.2%。

2016 年末，规模以上工业企业应收账款 12.6 万亿元，比上年增长 9.6%；产成品存货 39752.1 亿元，增长 3.2%。

2016 年 12 月份，规模以上工业企业实现利润总额 8443.5 亿元，同比增长 2.3%，增速比 11 月份回落 12.2 个百分点。

116. 2015 年全国规模以上工业企业实现利润总额约为多少亿元？

- A. 68803.2
- B. 57190.9
- C. 63413.1
- D. 65128.3

117. 2016 年，规模以上工业企业中，以下哪类企业实现利润总额增长最多：

- A. 国有控股企业
- B. 股份制企业
- C. 外商及港澳台商投资企业
- D. 私营企业

118. 2015 年规模以上工业企业的资产负债率（负债总额÷资产总额）约为：

- A. 55.8%
- B. 63.4%
- C. 68.2%
- D. 56.2%

119. 2016 年末，产成品存货占规模以上工业企业应收账款的比重与上一年相比：

- A. 上升 2 个百分点
- B. 上升 6.4 个百分点
- C. 下降 2 个百分点
- D. 下降 6.4 个百分点

120. 能够从上述资料中推出的是：

- A. 2016 年 11 月规模以上工业企业实现利润总额同比负增长
- B. 2016 年，主要工业大类行业中占全国规模以上工业企业实现利润总额比重较去年有所上升的有 8 个
- C. 2016 年末产成品存货增长约 1200 万元
- D. 2015 年采矿业实现利润总额低于电力、热力、燃气及水生产和供应业利润总额

二、根据以下资料，回答第 121~125 题。

### 2016 年 1~10 月份全国固定资产投资（不含农户）主要数据

指标	2016 年 1~10 月	
	绝对量	同比增长 (%)
固定资产投资（不含农户）（亿元）	484429	8.3
分项目隶属关系		
中央项目	19354	2.6
地方项目	?	8.7
按构成分		
建筑安装工程	339938	9.4
设备工器具购置	87907	1.8
其他费用	56584	12.3
分产业		
第一产业	15366	22.0
第二产业	189136	2.9
第三产业	279926	11.5
分行业（主要行业）		
农林牧渔业	18600	20.0
采矿业	8316	-20.9
其中：煤炭开采和洗选业	2524	-23.6
有色金属矿采选业	1217	-8.7
制造业	153068	3.1
其中：农副食品加工业	9569	9.5
食品制造业	4740	13.7
纺织业	5331	8.5
化学原料和化学制品制造业	12076	-3.3
医药制造业	5207	8.9
橡胶和塑料制品业	5726	6.4
非金属矿物制品业	13797	-0.6
黑色金属冶炼和压延加工业	3501	-0.2
有色金属冶炼和压延加工业	4463	-7.1
金属制品业	8237	5.8
通用设备制造业	10724	-2.7
专用设备制造业	9775	-4.0
汽车制造业	9827	2.8

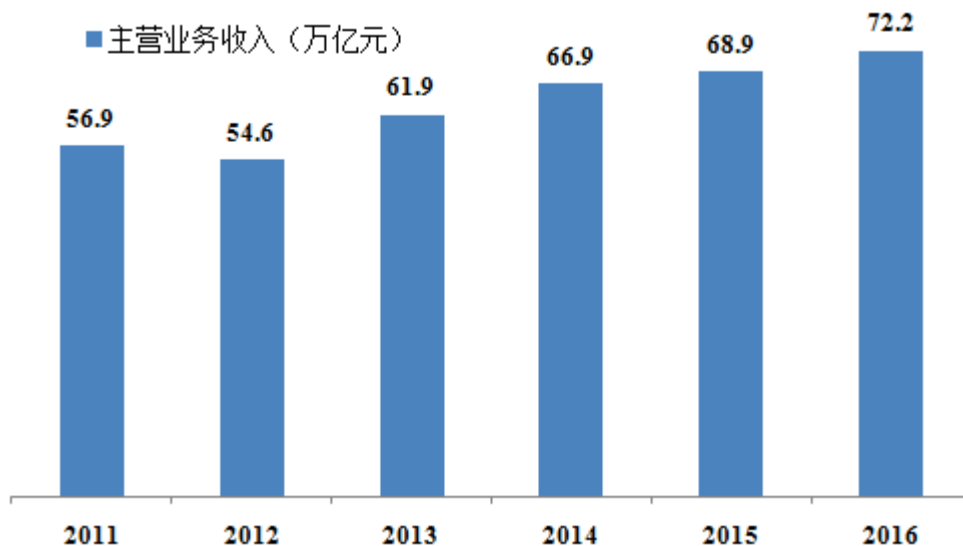




2016 年，中小企业实现主营业务收入 72.2 万亿元，占全国工业企业主营业务收入的 62.7%。其中，中型企业实现主营业务收入 28.5 万亿元，同比增长 5.3%；小型企业实现主营业务收入 43.7 万亿元，同比增长 6.5%。

分地区看，东部、中部、西部和东北地区中小企业分别完成主营业务收入 41.3 万亿元、17.1 万亿元、10.4 万亿元和 3.4 万亿元，同比分别增长 6.0%、9.3%、11.3%和-18.1%。

分行业看，制造业主营业务收入 66.3 万亿元，同比增长 6.5%；采矿业主营业务收入 2.6 万亿元，同比下降 0.1%；电力热力燃气及水生产和供应业主营业务收入 3.2 万亿元，增长 2.1%。



2011~2016 年中小企业主营业务收入情况

126. 2016 年，全国工业企业主营业务收入约多少万亿元？

- A. 128
- B. 45
- C. 115
- D. 450

127. 2012~2016 年，中小企业主营业务收入增长超过 10%的年份有：

- A. 1 个
- B. 2 个
- C. 3 个
- D. 4 个

128. 十二五期间，平均每年中小企业主营业务收入约为多少万亿元？

- A. 61.8
- B. 63.4

C. 65.2

D. 67.3

129. 2016年，东部地区中小企业完成主营业务收入是东北地区的多少倍：

A. 12

B. 8

C. 14

D. 13

130. 以下说法不正确的是：

A. 2015年，东北地区中小企业完成主营业务收入超过4万亿元

B. 2016年，制造业主营业务收入超过采矿业25倍

C. 2016年，全国各地区的中小企业完成主营业务收入均实现了增长

D. 2016年，中型企业实现主营业务收入占中小企业的比重接近40%

四、根据以下资料，回答131~135题。

2016年年末全国大陆总人口138271万人，其中城镇常住人口79298万人，占总人口比重（常住人口城镇化率）为57.35%，比上年末提高1.25个百分点。户籍人口城镇化率为41.2%，比上年末提高1.3个百分点。全年出生人口1786万人，出生率为12.95%；死亡人口977万人，死亡率为7.09%。全国人户分离的人口2.92亿人，其中流动人口2.45亿人。

### 2016年年末人口数及其构成

指标	年末数 (万人)	比重(%)
全国总人口	138271	100.0
其中：城镇	79298	57.35
乡村	58973	42.65
其中：男性	70815	51.2
女性	67456	48.8
其中：0~15岁（含不满16周岁）	24438	17.7
16~59岁（含不满60周岁）	90747	65.6
60周岁及以上	23086	16.7
其中：65周岁及以上	15003	10.8

2016年年末全国就业人员77603万人，其中城镇就业人员41428万人。全年城镇新增就业1314万人。年末城镇登记失业率为4.02%。全国农民工总量28171万人。其中，外出农

民工 16934 万人，增长 0.3%；本地农民工 11237 万人，增长 3.4%。

131. 2016 年末全国大陆总人口数量比上年增长了：

- A. 5.9%
- B. 0.59%
- C. 6.9%
- D. 0.69%

132. 2016 年 1~15 岁人口占总全国大陆总人口的比重约为：

- A. 16.4%
- B. 17.7%
- C. 18%
- D. 10.8%

133. 2016 年全国农民工总量比上年增长了：

- A. 0.2%
- B. 3.6%
- C. 1.5%
- D. 2.5%

134. 2015 年外出农民工占全国农民工的比重约为：

- A. 30%~40%之间
- B. 40%~50%之间
- C. 50%~60%之间
- D. 60%~70%之间

135. 下列能从材料中推出的是：

- A. 2015 年户籍人口城镇化率为 42.5%
- B. 2016 年年末全国就业人员中，有一半以上为城镇就业人员
- C. 2016 年乡村男性人口比重大于乡村女性人口比重
- D. 2026 年，11~25 岁人口数将达到 22652 万人

※※※ 全部测验到此结束！ ※※※