

声明：1、真题来源于网络，可能存在偏差，华图教育不对此真题的准确性、合法性以及内容的真实性负责；2、本真题解析中答案及解析为华图教育独家解析，其他任何机构及个人未经华图教育同意不得转载；3、若有权利人对真题及解析主张权利，请及时联系我司，我司将依法采取措施保障权利人合法权益。

事业单位 A 类职业能力倾向测验

第一部分 常识

1. 关于我国公民的基本权利和义务，下列说法错误的是（ ）。

- A. 劳动是我国公民的基本权利和义务
- B. 公民住宅不受侵犯属于人身自由权
- C. 公民不履行宪法规定的义务会构成违宪
- D. 我国公民有受教育的权利和义务

【答案】C

【解析】违宪是指违反宪法的非法行为。违宪行为是最高的违法行为。违宪的主体是国家机关及其工作人员，因为国家机关及其工作人员是宪法上的义务主体。因此，一般公民不能成为违宪的主体，公民不履行宪法规定的义务会构成违法，并不能构成违宪。C 选项说法错误。

我国宪法规定，劳动权和受教育权既是公民的基本权利又是公民的基本义务，A 选项和 D 选项说法正确。我国宪法规定，人身自由包括生命权、人身自由权、人格尊严、公民的住宅权、通信自由和通信秘密，B 选项说法正确。因此本题选 C。

2. 关于我国土地制度，说法错误的是：

- A. 农村的土地归农民集体所有
- B. 用来建设经济用房的行政拨用地的土地使用期限不确定
- C. 现阶段严守 18 亿亩耕地的红线
- D. 农村农民一户只能拥有一处宅基地

【答案】A

【解析】《土地管理法》第八条规定：农村和城市郊区的土地，除由法律规定属于国家所有的以外，属于农民集体所有。因此，农村的土地为农民集体所有的说法错误，也有可能由法律特殊规定属于国家所有，A 选项说法错误。《城市房地产管理法》第二十三条规定：土地使用权划拨，是指县级以上人民政府依法批准，在土地使用者缴纳补偿、安置等费用后将该幅土地交付其使用，或者将土地使用权无偿交付给土地使用者使用的行为。依照本法规定以划拨方式取得土地使用权的，除法律、行政法规另有规定外，没有使用期限的限制。B 选项说法正确。中央农村工作会议

声明： 1、真题来源于网络，可能存在偏差，华图教育不对此真题的准确性、合法性以及内容的真实性负责；2、本真题解析中答案及解析为华图教育独家解析，其他任何机构及个人未经华图教育同意不得转载；3、若有权利人对真题及解析主张权利，请及时联系我司，我司将依法采取措施保障权利人合法权益。

提出要确保粮食安全，坚守 18 亿亩耕地红线。C 选项说法正确。《土地管理法》第六十二条规定：农村村民一户只能拥有一处宅基地，其宅基地的面积不得超过省、自治区、直辖市规定的标准。

D 选项说法正确。因此本题选 A。

3. 根据我国刑法，下列情形构成犯罪的是：

- A. 甲将 1 岁多的女儿放到公园，被冻死了
- B. 乙收留了孤儿未办理收养手续，将其抚养成人
- C. 路人丙看到发生火灾不报警，火灾中 3 人死亡
- D. 丁因工作中发生矛盾说要打同事，同事害怕而逃跑，在跑的过程中不小心死了

【答案】A

【解析】不作为犯罪，是指行为人违反法律直接规定，负有法定义务而拒绝履行，情节严重或情节恶劣的行为。不作为犯罪的法律特征为：违反法律直接规定、负有法定义务、拒绝履行的行为、要达到情节严重或情节恶劣的行为。A 选项甲对未成年女儿负有抚养照顾的法律义务，甲将女儿放在公园，不履行其法定义务，从而造成女儿被冻死的严重情节，甲构成不作为犯罪。A 选项正确。B 选项乙收养孤儿未办理收养手续，违反了收养法中的程序义务，但后将小孩抚养长大，并未造成严重的后果，不构成不作为犯罪。B 选项错误。C 选项路人丙看到火灾不报警，火灾中三人死亡，丙对于看到的火灾没有法定的报警义务，故丙不构成不作为犯罪。C 选项错误。D 选项丁只是说要打同事，并未有具体的实施行为，不构成先行行为引起的义务，故丁不构成犯罪。D 选项错误。因此本题选 A。

4. 县级以上各级人民代表大会是县级以上地方国家权力机关，其职权不包括：

- A. 改变或撤销本级人大常委不适当的决定
- B. 选举并有权罢免本级人民法院院长
- C. 批准本行政区域内的预算执行情况报告
- D. 决定并宣布下一级行政区域进入紧急状态

【答案】D

【解析】《地方各级人民代表大会和地方各级人民政府组织法》第八条规定：县级以上的地方各级人民代表大会行使下列职权：（二）审查和批准本行政区域内的国民经济和社会发展规划、预

声明： 1、真题来源于网络，可能存在偏差，华图教育不对此真题的准确性、合法性以及内容的真实性负责；2、本真题解析中答案及解析为华图教育独家解析，其他任何机构及个人未经华图教育同意不得转载；3、若有权利人对真题及解析主张权利，请及时联系我司，我司将依法采取措施保障权利人合法权益。

算以及它们执行情况的报告；（六）选举本级人民法院院长和人民检察院检察长；选出的人民检察院检察长，须报经上一级人民检察院检察长提请该级人民代表大会常务委员会批准；（十）改变或者撤销本级人民代表大会常务委员会的不适当的决议；故 ABC 说法正确。《宪法》第八十九条规定：国务院行使下列职权：（十六）依照法律规定决定省、自治区、直辖市的范围内部分地区进入紧急状态。故县级以上地方各级人民代表大会无权决定并宣布下一级行政区域进入紧急状态，国务院有权决定并批准，D 选项说法错误。因此本题选 D。

5. 民事诉讼法规定了人民法院许可，证人可以通过书面证言、视听传输技术或者视听资料等方式作证的若干情形，下列不属于这些情形的是：

- A. 因健康原因不能出庭的
- B. 因路途遥远、交通不便不能出庭的
- C. 因经济困难不方便出庭的
- D. 因自然灾害不能出庭的

【答案】C

【解析】《民事诉讼法》第七十三条规定：经人民法院通知，证人应当出庭作证。有下列情形之一的，经人民法院许可，可以通过书面证言、视听传输技术或者视听资料等方式作证：（一）因健康原因不能出庭的；（二）因路途遥远，交通不便不能出庭的；（三）因自然灾害等不可抗力不能出庭的；（四）其他有正当理由不能出庭的。故 ABD 说法正确，C 不属于可通过书面、视听资料等出庭作证的原因范围。因此本题选 C。

6. 下列哪个主体不能担任精神病的监护人：

- A. 所在单位
- B. 住所的居民委员会
- C. 精神病医院
- D. 民政部门

【答案】C

【解析】《民法通则》第十七条规定：无民事行为能力或者限制民事行为能力的精神病人，由下列人员担任监护人：配偶；父母；成年子女；其他近亲属；关系密切的其他亲属、朋友愿意承担

声明： 1、真题来源于网络，可能存在偏差，华图教育不对此真题的准确性、合法性以及内容的真实性负责；2、本真题解析中答案及解析为华图教育独家解析，其他任何机构及个人未经华图教育同意不得转载；3、若有权利人对真题及解析主张权利，请及时联系我司，我司将依法采取措施保障权利人合法权益。

监护责任，经精神病人的所在单位或者住所地的居民委员会、村民委员会同意的。没有第一款规定的监护人的，由精神病人的所在单位或者住所地的居民委员会、村民委员会或者民政部门担任监护人。故 ABD 都可以作为精神病人的监护人，C 精神病医院不能作为精神病人的监护人。因此本题选 C。

7. 下列诗句与涉及人物对应不正确的是：

- A. 天子呼来不上船，自称臣是酒中仙——张旭
- B. 举世皆浊我独清，众人皆醉我独醒——屈原
- C. 醉里挑灯看剑，梦回吹角连营——辛弃疾
- D. 对酒当歌，人生几何，譬如朝露，去日苦多——曹操

【答案】A

【解析】A 项 天子呼来不上船，自称臣是酒中仙。出自杜甫《饮中八仙歌》。这句话描写的是李白。

B 举世皆浊我独清，众人皆醉我独醒。描写的是屈原。

C 醉里挑灯看剑，梦回吹角连营。出自辛弃疾的《破阵子》

D 对酒当歌 人生几何出自曹操的《短歌行》

8. 对应不正确的是：

- A. 萧规曹随——执政方式
- B. 颜筋柳骨——按摩手法
- C. 颠张醉素——书法特点
- D. 魏紫姚黄——牡丹名品

【答案】B

【解析】

A 萧规曹随是萧何定下的政策规章制度曹参全盘继承。借指后人沿袭前人遗制；

B 颜筋柳骨颜指颜柳两家书法挺劲有力，但风格有所不同。也泛称书法极佳。

C 颠张醉素 张旭与李白、贺知章相友善，杜甫将之列入“饮中八仙”。张旭是一位极有个性的草书大家，因他常喝得大醉，就呼叫狂走，然后落笔成书，甚至以头发蘸墨书写，故又有“张颠”的雅

声明： 1、真题来源于网络，可能存在偏差，华图教育不对此真题的准确性、合法性以及内容的真实性负责；2、本真题解析中答案及解析为华图教育独家解析，其他任何机构及个人未经华图教育同意不得转载；3、若有权利人对真题及解析主张权利，请及时联系我司，我司将依法采取措施保障权利人合法权益。

称。后怀素继承和发展了其笔法，也以草书得名，并称“颠张醉素”（或“颠张狂素”）。

D 魏紫姚黄是名贵的牡丹花品种，姚黄是指千叶黄花牡丹，出于姚氏民家；魏紫是指千叶肉红牡丹，出于魏仁溥家。原指宋代洛阳两种名贵的牡丹品种。后泛指名贵的花卉。如果说牡丹是花中之王，那么，姚黄和魏紫便可称“牡丹之冠”

9. 对清朝边疆的管理不正确的是：

- A. 在西藏实行政教合一制度
- B. 在新疆设置伊犁将军
- C. 台湾在建省前归浙江省管
- D. 在内蒙古族聚居区实行盟旗制度

【答案】C

【解析】

A 清朝时对西藏进行管理，由政教分离到政教合一，由中央政府册封达赖喇嘛和班禅额尔德尼；

B 清朝时在新疆设伊犁将军，新疆归伊犁将军管；

C. 台湾最早是福建省台湾府，1885 年台湾建省；第一任巡抚 1684 年，清政府设置分巡台厦兵备道及台湾府，隶属于福建省。

D 清朝为分化蒙古族，控制其上层贵族而实行的政治制度。天命九年(1624)后金统治者对归附的蒙古部众，按八旗组织原则（见八旗制度），在其原有社会制度基础上编制旗分，后复以此办法陆续安置归附的蒙古诸部。至乾隆三十六年(1771 年)，土尔扈特部蒙古返归中国后，全蒙古部众悉数被纳入盟旗体制，称为盟旗制度。

10. 战争按时间顺序排列错误的是：

- A. 牧野之战——官渡之战——淝水之战
- B. 拿破仑战争——普法战争——美国南北战争
- C. 抗美援朝战争——中苏珍宝岛战争——伊拉克战争
- D. 选项缺失

【答案】B

【解析】

声明： 1、真题来源于网络，可能存在偏差，华图教育不对此真题的准确性、合法性以及内容的真实性负责；2、本真题解析中答案及解析为华图教育独家解析，其他任何机构及个人未经华图教育同意不得转载；3、若有权利人对真题及解析主张权利，请及时联系我司，我司将依法采取措施保障权利人合法权益。

A 牧野之战——官渡之战——淝水之战（武王伐纣——东汉——东晋）顺序正确

牧野之战，又称“武王伐纣”，是周武王的联军与商朝军队在牧野（今河南省淇县南、卫河以北，今卫辉市境内）进行的决战；

官渡之战，是东汉末年“三大战役”之一，也是中国历史上著名的以弱胜强的战役之一；

淝水之战，是东晋时期北方的统一政权前秦向南方东晋发起的侵略吞并的一系列战役中的决定性战役。

B 拿破仑战争——普法战争——美国南北战争（南北战争在普法战争之前）

拿破仑战争是指拿破仑称帝统治法国期间（1803年—1815年）爆发的各场战争，这些战事可说是自1789年法国大革命所引发的战争的延续。

普法战争是1870~1871年普鲁士王国同法兰西第二帝国之间的战争

南北战争 1861-1865 即美国内战，是美国历史上唯一一次内战，参战双方为北方美利坚合众国和南方的美利坚联盟国。战争最终以联邦胜利告终。战争之初本为一场维护国家统一的战争，后来演变为一场为了黑奴自由的新生而战的革命战争。

C 抗美援朝——中苏珍宝岛——伊拉克战争

抗美援朝，是20世纪50年代初，中国人民支援朝鲜人民抗击美国侵略的群众性运动；珍宝岛反苏联战争是1969年左右中国人民解放军边防部队在珍宝岛击退苏联军队入侵的战争；

伊拉克战争，是以英美军队为主的联合部队在2003年3月20日对伊拉克发动的军事行动。

11. 关于水资源，错误的是：

- A. 地球上淡水资源的主体是冰川
- B. 水圈循环能够调节气温
- C. 水圈循环的主要动力是月球引力
- D. 湿地净水源具有“排毒”功能

【答案】C

【解析】C项水圈循环的主要动力是太阳辐射不是月球引力，错的。

12. 关于月相说法错误的是：

- A. 上弦月——七夕

声明： 1、真题来源于网络，可能存在偏差，华图教育不对此真题的准确性、合法性以及内容的真实性负责；2、本真题解析中答案及解析为华图教育独家解析，其他任何机构及个人未经华图教育同意不得转载；3、若有权利人对真题及解析主张权利，请及时联系我司，我司将依法采取措施保障权利人合法权益。

- B. 新月——露似真珠月似弓
- C. 渐亏凸月——重阳节
- D. 满月——但愿人长久，千里共婵娟

【答案】C

【解析】

- A 七夕上弦月是农历初八左右，七夕就在这个时间所以是上弦月；
- B 露似真珠月似弓描写的是上弦月也叫新月
- C 渐亏凸月是满月前后的月相。月球圆面上绝大部分是明亮的，故称凸月，满月以后（即农历每月十七、十八日）的凸月称为“渐亏凸月”，又称“下凸月”，所以不是指重阳节。
- D 满月——但愿人长久 千里共婵娟是指中秋节，描写的是满月。

13.下列典故与事件，不是发生在汉武帝在位期间的是：

- A. 七国之乱
- B. 封狼居胥
- C. 开通丝绸之路
- D. 颁布“推恩令”

【答案】A

【解析】

- A 七国之乱是发生在中国西汉景帝时期的一次诸侯国叛乱
- B 封狼居胥指西汉大将霍去病登狼居胥山筑坛祭天以告成功之事，后来封狼居胥成为中华民族武将的最高荣誉之一。霍去病是西汉汉武帝时期的杰出军事家
- C 丝绸之路是在汉武帝时三次远征西域，得以开通丝绸之路。
- D 颁布推恩令，推恩令是汉朝汉武帝时期推行的一个旨在减少诸侯的封地，削弱诸侯王势力范围的一项重要法令。

14.关于三部曲，作者和作品错误的是：

- A. 巴金《幻灭》《动摇》《追求》
- B. 王小波《黄金时代》《白银时代》《青铜时代》

声明： 1、真题来源于网络，可能存在偏差，华图教育不对此真题的准确性、合法性以及内容的真实性负责；2、本真题解析中答案及解析为华图教育独家解析，其他任何机构及个人未经华图教育同意不得转载；3、若有权利人对真题及解析主张权利，请及时联系我司，我司将依法采取措施保障权利人合法权益。

- C. 基耶斯洛夫斯《蓝》《白》《红》
- D. 凡尔纳《格兰特船长的女儿》《海底两万里》《神秘岛》

【答案】A

【解析】A项《幻灭》《动摇》《追求》是矛盾的“蚀三部曲”。不是巴金的，故A错误。

B项王小波（1952-1997），当代著名学者、作家。的代表作品有《黄金时代》、《白银时代》、《青铜时代》、《黑铁时代》等。被誉为中国的乔伊斯兼卡夫卡。

C项《蓝》、《白》、《红》都是由基耶斯洛夫斯基于1993年-1994年期间导演的电影三部曲。

D项凡尔纳一生创作了大量优秀的文学作品，以《在已知和未知的世界中的奇异旅行》为总名，代表作为三部曲《格兰特船长的儿女》《海底两万里》《神秘岛》以及《气球上的五星期》《地心游记》等。他的作品对科幻文学流派有着重要的影响，因此他与赫伯特·乔治·威尔斯一道，被一些人称作“科幻小说之父”。

因此本题选A。

15. 关于我国境内原始人，说法错误的是：

- A. 元谋人是我国最早的人类
- B. 北京人已经能够使用天然火
- C. 河姆渡居民能种植水稻
- D. 半坡居民是父系氏族部落

【答案】D

【解析】

A项元谋人,是目前我国已知最早的远古居民,因发现地点在云南元谋县上那蚌村西北小山岗上,定名为“元谋直立人”,故正确。

B项北京人使用的是天然火,不是人工取火。雷劈树木,森林火灾,这些天然火火种北京人能够保存。北京人是如何保存火种的呢?据民族学的资料分析,原始人保存火种一般采用篝火法。使用时不断往火堆中投放木头;不用时用灰土盖住火,使其阴燃,在用时扒开灰土,添草木引燃。北京人利用火照明、取暖、熟食、驱赶野兽,改善了生活条件。

声明： 1、真题来源于网络，可能存在偏差，华图教育不对此真题的准确性、合法性以及内容的真实性负责；2、本真题解析中答案及解析为华图教育独家解析，其他任何机构及个人未经华图教育同意不得转载；3、若有权利人对真题及解析主张权利，请及时联系我司，我司将依法采取措施保障权利人合法权益。

C 项我国是世界上最早种植水稻的国家之一。河姆渡居民主要种植水稻,还饲养猪、狗、水牛等家畜。河姆渡遗址大量稻谷的发现,这里的水稻比印度发现最早的水稻还早了三千余年。

D 半坡聚落是黄河流域原始文化的重要代表之一,半坡居民属于母系氏族公社时期。其余都是正确的。

16. 关于天文学下列说法错误的是:

- A. “七月流火”指火星
- B. 北斗七星位于大熊座
- C. 哈雷彗星环绕太阳一周需要 76 年
- D. 太阳除了自转,还绕着银河系的中心运动

【答案】A

【解析】A 项错误。七月流火出自《诗经》，指大火星西行，天气转凉。大火星是个星宿，并非太阳系八大行星中的火星。农历七月份天气从最热开始降温，但却是一年中第二热月份。所以，七月流火不指火星。

B 项北斗七星属大熊座的一部分,从图形上看,北斗七星位于大熊的尾巴。**B** 项正确。

C 项哈雷彗星(周期彗星表编号:1P/Halley)是每 76.1 年环绕太阳一周的周期彗星,肉眼可以看到。故 **C** 项正确。

D 项 1610 年伽利略研究太阳黑子时发现,认为黑子的一些规则运动是太阳自转的结果。太阳存在自转,可以从黑子以及日面上的其他活动客体,如日珥、暗条和谱斑等在日面上的移动,或从太阳东西边缘光谱线的多普勒效应来证实。太阳不仅在自转,而且还率领着整个太阳系,以每秒钟 250 公里的速度,绕着银河系的中心飞转。我们把这种运动称为“太阳的公转运动”。太阳公转一周大约需要 2.5 亿年。太阳在绕银河系的中心公转的同时,还以每秒钟 20 公里的速度向着武仙座方向大踏步地飞奔。因此本题选 **A**。

17. 下列哪一项特洛伊战争无关:

- A. 荷马史诗
- B. 阿喀琉斯
- C. 木马屠城

声明： 1、真题来源于网络，可能存在偏差，华图教育不对此真题的准确性、合法性以及内容的真实性负责；2、本真题解析中答案及解析为华图教育独家解析，其他任何机构及个人未经华图教育同意不得转载；3、若有权利人对真题及解析主张权利，请及时联系我司，我司将依法采取措施保障权利人合法权益。

D. 古巴比伦

【答案】D

【解析】特洛伊战争是在古希腊发生的战争，是以争夺世上最漂亮的女人海伦（Helen）为起因，以阿伽门农（Agamemnon）及阿喀琉斯（Achilles）为首的希腊军进攻以帕里斯及赫克托尔为首的的十年攻城战。希腊神话中时常提到特洛伊战争，整个故事是以荷马史诗《伊利亚特》（Iliad）为中心，加上索福克勒斯（Sophocles）的悲剧《埃阿斯》（Ajax）、《菲洛克忒忒斯》（Philoctetes），欧律庇德斯（Euripides）的悲剧《伊菲格涅娅在奥利斯》（Iphigenia at Aulis）、《安特罗玛克》（Andromache）、《赫库芭》（Hecuba），维吉尔（Virgil）的史诗《伊尼德》（Aeneid）、奥维德（Ovid）的长诗《古代名媛》（Heroides）等多部著作而成，故事详细地描述了特洛伊战争的情况。

故 ABC 都是与希腊有关的神话故事，D 项是古巴比伦的，故与特洛伊无关。

因此本题应选 D 项。

18. 关于铁下列说法错误的是：

- A. 铁的导电性比铜弱
- B. 铁器的表面锈可减缓其内部的锈蚀速度
- C. 战国时期已使用铁器农具
- D. 铁可以从硫酸铜溶液中置换出单质铜

【答案】B

【解析】A 项，导电性铜好，铜的电阻率低于铁， $R = \rho * L/S$ 在长度相同，横截面积相等，同一温度下，铜的电阻率 ρ 小于铁的，因此铜的电阻小于铁，铜的导电性比铁好。

B 项中，保留铁器表面的铁锈不消除，铁锈是疏松多孔的结构，易吸水，会加速铁的锈蚀，不能防锈。

C 项中，战国时期铁制品已开始逐步广泛使用，主要是农具和兵器，故 C 项正确。

D 项，我国古代“湿法治铜”的反应原理是铁和硫酸铜反应，铁比铜活泼，可以置换出铜，反应的化学方程式 $Fe + CuSO_4 = FeSO_4 + Cu$ ；该反应的特点是反应物生成物均是一种单质与一种化合物，属于置换反应。故 D 项正确。

声明： 1、真题来源于网络，可能存在偏差，华图教育不对此真题的准确性、合法性以及内容的真实性负责；2、本真题解析中答案及解析为华图教育独家解析，其他任何机构及个人未经华图教育同意不得转载；3、若有权利人对真题及解析主张权利，请及时联系我司，我司将依法采取措施保障权利人合法权益。

因此本题选 B。

19. 四大名著，说法错误的是：

- A. 赵云是刘备麾下的“五虎上将”
- B. “木石前盟”的木指的是绛珠仙草
- C. “智取生辰纲”首领是“玉麒麟”卢俊义
- D. 孙悟空取经后被封为“斗战胜佛”

【答案】C

【解析】A 项五虎上将，指汉末三国时期，跟随刘备建立蜀汉政权的五位将军。分别为关羽、张飞、马超、黄忠、赵云。故 A 项正确。

B 项木石前盟，《红楼梦》中贾宝玉与林黛玉的讹缘，木指黛玉前世绛珠仙草，石指宝玉前世顽石。

C 项《智取生辰纲》是元末明初小说家施耐庵的名著《水浒传》第十六回的后半部，原题“杨志押送金银担 吴用智取生辰纲”，叙述晁盖、吴用、白胜等草莽英雄与大名府军官杨志斗智斗勇的故事。该故事发生在今河南省濮阳市南乐县五花营村西北部的黄泥冈。故 C 项错误。首领与卢俊义无关。

D 项斗战胜佛是佛教里面著名的“三十五佛”中的一位。《西游记》中经历了九九八十一难的孙悟空最后被封为斗战胜佛。

因此本题选 C 项。

20. 下列成语对应错误的是：

- A. 三下五除二——珠算
- B. 丢车保帅——象棋
- C. 丝丝入扣——纺织
- D. 严丝合缝——刺绣

【答案】D

【解析】A 项，算盘是中国古代一种有效的计算工具，其功能相当于现代社会的计算器。“三下五除二”是珠算中最基本的加法口诀之一，由于古时借助于简单、易记的口诀，人们可在算盘上

声明： 1、真题来源于网络，可能存在偏差，华图教育不对此真题的准确性、合法性以及内容的真实性负责；2、本真题解析中答案及解析为华图教育独家解析，其他任何机构及个人未经华图教育同意不得转载；3、若有权利人对真题及解析主张权利，请及时联系我司，我司将依法采取措施保障权利人合法权益。

进行一系列运算，因而“三下五除二”这条基本口诀便产生了“迅速、快捷”的意思，比喻干净利落的做完一件事。

B项丢车保帅原是象棋术语。下象棋时为了保住车而丢掉卒，比喻为了保住主要的而舍弃次要的。

C项“丝丝入扣”的“扣”也叫杼(zhù)，通“箝”，不是指衣服上的“扣子”，而是织布机上的主要机件之一，形状像梳子，用来确定经纱的密度，保持经纱的位置，并把纬线打紧。“丝丝入扣”的意思是：织绸布时，经线都要从扣(箝)齿间穿过。比喻周密细致，有条不紊，一一合拍(多指文章、艺术表演等细腻生动)。

D项严丝合缝，指缝隙严密闭合。出自清·文康《儿女英雄传》第七回：“外省的地平，多是用木板铺的，上面严丝合缝盖上，轻易看不出来。”作定语、状语；指缝隙严密闭合。故与刺绣无关。

因此本题选D。

第二部分 言语理解与表达

21. 我国目前 600 多座城市中，有 $\frac{2}{3}$ 的城市缺水。有的城市由于过度使用地下水，已出现城区部分地段塌陷的严重后果。这些城市的可持续发展形势已十分严峻，提高城市水利用率已

A.迫在眉睫

B.时不我待

C.十万火急

D.千钧一发

【答案】A

【解析】本题是强调在这些城市的可持续发展严峻的大背景下，提高城市水资源利用率的急迫性。

“迫在眉睫”是形容事情已到眼前，情势十分紧迫，强调的是一种客观上的紧迫，符合题意；而“千钧一发”形容万分危急的情形，不合题意。“时不我待”是时间不会等待我们，指要抓紧时间，并未体现出现阶段的紧迫感。“十万火急”较口语化，不符合此文段规范化的表达。故正确答案为A。

22. 目前，不少大城市属于超载状态，“城市病”严重，而人口不断_____，许多小城市发展慢，甚至出现

声明： 1、真题来源于网络，可能存在偏差，华图教育不对此真题的准确性、合法性以及内容的真实性负责；2、本真题解析中答案及解析为华图教育独家解析，其他任何机构及个人未经华图教育同意不得转载；3、若有权利人对真题及解析主张权利，请及时联系我司，我司将依法采取措施保障权利人合法权益。

- A.增加 空置
- B.迁移 停滞
- C.涌入 萎缩
- D.流动 退化

【答案】C

【解析】根据文意，大城市人口超载，侧重强调“大城市人多”，所以第一空与此相关，而“迁移”和“流动”并无此意，排除B项和D项。根据“甚至”可知，第二空应比“发展缓慢”语意更重，A项的“空置”不符，因此本题选C。

23 电子化阅读具有携带方便、容量较大、可选择范围广等优势，但是不少专家指出，利用_____时间进行的阅读，获得的是碎片化信息，令读者进行_____思考。容易形成思维“惰性”。

- A.短暂 冷静
- B.闲暇 独立
- C.业余 深入
- D.零散 严谨

【答案】D

【解析】根据文段信息“获得的是碎片化信息”可知，第一空与此相关，“零散时间”与之相符。因此本题选D。

24. 当一个湮没个性、缺少选择的社会开始转向一个价值多元、选择多样的社会时，如果不能根据客观情况对法律法规进行适时地调整，只会将其推入_____之境，语言文字领域亦复如此，所以，此次异体、生僻字的“转正”值得

- A. 被动 斟酌
- B. 两难 珍视
- C. 矛盾 反思
- D. 尴尬 喝彩

【答案】A

【解析】根据文意可知，作者对“异体字、生僻字的转正”持积极态度，“斟酌”、“反思”与

声明： 1、真题来源于网络，可能存在偏差，华图教育不对此真题的准确性、合法性以及内容的真实性负责；2、本真题解析中答案及解析为华图教育独家解析，其他任何机构及个人未经华图教育同意不得转载；3、若有权利人对真题及解析主张权利，请及时联系我司，我司将依法采取措施保障权利人合法权益。

之感情色彩不一致，故排除 B 项和 C 项。D 项“珍视”与“异体字、生僻字的转正”搭配不当，排除 D 项。因此本题选 A。

25. 形式而方，引注被历史地赋予两种功能，即索引工具和道德标尺。引注以其标记技术直接显示所引内容的存在处所，方便人们_____，同时也有利于人们全面地把握所引内容的准确意义。另外，引注直观地表明作者对事实和前人劳动的_____，展示自己的道德人格。

- A. 搜索 认同
- B. 核实 尊重
- C. 理解 敬畏
- D. 查阅 关注

【答案】B

【解析】文段首句介绍了引注的两种功能，分别是索引工具和道德标尺，既然是索引工作，必然给人们提供便利，A、B、D 均可，可以排除 C 理解。

第二空是此题切入点，道德标尺，展现道德人格，说明第二个空所填词语体现道德层面的内容更佳，尊重入选。因此，答案为 B。

26. 先驱者们深厚的学养和科学的态度，对当下学界弥漫着的浮泛学风，有着深刻的现实意义。他们严谨扎实的作风和科学求实的态度，永远也不会过时，仍然是当代比较文学研究者应当继承和学习的。但这绝不意味着，我们要重复前人的劳动，_____地重走前人已经走过的道路。

- A. 改正 按部就班
- B. 矫正 如法炮制
- C. 纠正 心安理得
- D. 匡正 亦步亦趋

【答案】D

【解析】第一个空考察语素差异及词语搭配，匡正为纠正、改正之意，后面所接宾语一般为精神层面的内容，较为抽象，比如匡正想法、匡正价值观等，因此第一空匡正符合文意。第二个空，如法炮制和亦步亦趋均可以。如法炮制，本指按照一定的方法制作中药。现比喻照着现成的样子做。因此，答案为 D。

声明： 1、真题来源于网络，可能存在偏差，华图教育不对此真题的准确性、合法性以及内容的真实性负责；2、本真题解析中答案及解析为华图教育独家解析，其他任何机构及个人未经华图教育同意不得转载；3、若有权利人对真题及解析主张权利，请及时联系我司，我司将依法采取措施保障权利人合法权益。

27. 中国人口占世界首位，但是大数据只是日本的 60%、北美的 7%，而且存下来的数据很多未得到保护。部门间的数据很难共享，导致数据不_____，重复投资。另外，我们缺乏可控的大数据分析，要在保护隐私的前提下，保证大数据能够共享，而不是对其进行_____。

- A. 真实 改造
- B. 全面 封锁
- C. 完备 曝光
- D. 准确 掩盖

【答案】B

【解析】前文提及部门间的数据很难共享，也就是信息不对称，所以数据不够丰富，第二空体现出反方向对应词，也就是不应该对其进行保密，即封锁。因此，答案为 B。

28. 在我国逻辑哲学的研究刚刚起步时，人们致力于引进、学习西方逻辑哲学理论。因此，部分学者产生一种_____，似乎西方逻辑学的理论就是逻辑哲学的唯一真理。他们对待西方逻辑哲学理论不是采取批判的态度，去其糟粕，取其精华，并以之作为构建我国逻辑哲学的素材，而是全盘照搬_____。

- A. 错觉 封为圭臬
- B. 误解 肃然起敬
- C. 倾向 人云亦云
- D. 认识 顶礼膜拜

【答案】A

【解析】先看第二空，由“不是……而是”可知，前后语义相反，空中所填的词语“批判”语义相反，“肃然起敬”形容产生严肃敬仰的感情；“人云亦云”指没有主见，只会随声附和；二者不符语境，排除 B、C。再看第一空，由“似乎西方逻辑哲学的理论就是逻辑哲学的唯一真理”可知，部分学者所认为的是错误的，故用“错觉”恰当。所以本题答案为 A

29. 皮影戏是我国民间工艺美术与戏曲巧妙结合的独特艺术品种，某种程度上可以说是我国动画最早的表现形态。有人说，对于现在的孩子，皮影戏这门古老的艺术已经太_____。其实，皮影戏

声明： 1、真题来源于网络，可能存在偏差，华图教育不对此真题的准确性、合法性以及内容的真实性负责；2、本真题解析中答案及解析为华图教育独家解析，其他任何机构及个人未经华图教育同意不得转载；3、若有权利人对真题及解析主张权利，请及时联系我司，我司将依法采取措施保障权利人合法权益。

并没有因为历史的久远而_____，相反，皮影戏的幽默诙谐、简约古朴完全可以转换为颇具时尚气息的中国是卡通形象。

- A. 幼稚 不适时宜
- B. 晦涩 一成不变
- C. 遥远 老气横秋
- D. 落伍 每况愈下

【答案】A

【解析】

此题突破口为第一空，文段中多次出现表时间久远的词汇“最早”、“古老”、“久远”等进行信息提示，故可知答案为“遥远”。

30. 时尚快捷的 3D 打印技术余热未尽，更加让人_____的 4D 打印又即将出现。除了拥有 3D 打印的“长宽高”立体三维结构，4D 打印还新增加了一个维度，叫做“时间”。这意味着，4D 打印出来的东西，不再只能以_____的形态存在，而是可以根据设定时间，在一定条件的触发下，自动发生形状的改变。不过，4D 打印技术非常复杂，目前仍处在_____期，主要的应用场景还是在实验室里。

- A. 期待 稳定 探索
- B. 惊叹 固定 概念
- C. 折服 相同 开发
- D. 意外 单一 构想

【答案】B

【解析】

此题突破口为第三空，文末提示“在实验室里”，说明并未投入大规模生产应用，依然在思维阶段，故锁定“构思”、“概念”。而“构思”是过程中，还未完成。4D 打印技术明显已经基本成型。故答案为“概念”。

31. 目前社会上求职者众多，但大多不具备企业所需要的技能。很多地区和行业的人才缺口仍非常大，对既有专业技能又有较强综合素质的人才需求量很大，这从一个侧面反映了目前人才培养

声明： 1、真题来源于网络，可能存在偏差，华图教育不对此真题的准确性、合法性以及内容的真实性负责；2、本真题解析中答案及解析为华图教育独家解析，其他任何机构及个人未经华图教育同意不得转载；3、若有权利人对真题及解析主张权利，请及时联系我司，我司将依法采取措施保障权利人合法权益。

模式单一，千人一面的现实。要破解这一困局，最佳的途径是，大学应适应时代的发展和要求，走个性化发展之路。

这段文字中的画线词“困局”指的是（ ）。

- A.专业技能培养和综合能力培养无法兼顾的现实
- B.大学专业设置的趋同化倾向
- C.人才短缺与人力过剩并存的悖论
- D.部分大学攀高、求大、求全的发展倾向

【答案】A

【解析】词语理解题，文段前半部分提到求职者多，而实际人才不多仍有人才缺口，造成矛盾局面。这反应出人才培养模式单一的弊端，这一弊端即为“困局”，也就是培养模式的问题。因此，答案为A。

32.大约在5000年以前，美索不达米亚平原上的人们已经命名了20多个星座。之后，古巴比伦人继续划分天空的区域，不断提出新的星座。公元前1000年左右，古巴比伦人提出了30个星座。后来，他们的星座划分方法传到古希腊人那里，又得到了进一步的发展和补充。公元2世纪的时候，古希腊天文学家托勒密总结当时的天文学成就，提出了48个星座，并编制了古希腊星座表。根据星座内的主要亮星位置，托勒密用假想的线条将它们连接起来。然后赋予其不同的人物或者动物形象。这些形象大都取材于古希腊的神话故事，这便是现在星座名称的由来。

这段文字主要是说明星座（ ）。

- A.理念的传播路径
- B.命名的主要依据
- C.数量变化的过程
- D.划分的发展过程

【答案】D

【解析】文段由并列结构呈现，分别介绍了在不同时间段，人们对于星座的命名、星座的数量给出了不同的界定，从5000年前、公元前1000年、公元2世纪至今，星座划分经历了几大不同的阶段。因此，答案为D。

声明： 1、真题来源于网络，可能存在偏差，华图教育不对此真题的准确性、合法性以及内容的真实性负责；2、本真题解析中答案及解析为华图教育独家解析，其他任何机构及个人未经华图教育同意不得转载；3、若有权利人对真题及解析主张权利，请及时联系我司，我司将依法采取措施保障权利人合法权益。

33.开眼看世界，是中国在外来侵略压力下的被动反应，旨在了解西方，自立自强。但社会科学方面的知识，在政治上并非中性的。近代以来，西方在全球权力格局中的优越地位是以其经济军事实力和以全世界为研究对象而生产出来的知识体系共同支撑的。将这样的知识移植到中国来，并不等同于“开眼看世界”，因为其中描绘的世界图景是他人的眼睛观察的结果。现在，我们必须摆脱西方固有的模式，真正走出去，把全世界当作研究对象，真正用中国人的研究去看，去观察，去分析，从而生产出有中国主体性的知识。

这段文字意在强调（ ）。

- A.近代中国放眼世界是无奈之举
- B.保持立场的客观性关于国运
- C.国人看世界应保持自身的主体性
- D.社会科学与政治权力密不可分

【答案】C

【解析】文段为分总结构，阐述对“开眼看世界”的看法，文段最后一句引出重点，“现在，我们必须摆脱西方固有模式，真正走出去，把全世界当做研究对象，真正用中国人的研究去看，从而生产出有中国主体性的知识”，因此，可以得出强调中国看世界的主体性作用的发挥。因此，答案为C。

34.当前，随着信息技术的发展和新的商业模式的出现，整个社会的交易成本不断降低，这一趋势深刻改变了社会的分工结构和生产组织形式，即使在较为封闭的汽车产业，整车企业、发动机企业也都在努力提高零部件的外部采购比例。从这个角度来看，乔布斯的伟大成就还在于创造了一个社会化分工程度很高、但交易成本极其低廉的商业模式。在这个商业模式中，几十万个中小企业作为独立的决策单位在苹果商店中销售数字产品，这些中小企业既保持了创新活力和生产效率，同时又为提高苹果产品的应用体验和竞争力作出了贡献。

下列说法与原文相符的是（ ）。

- A.中小企业已经成为现代商业模式的主体
- B.信息技术降低了中小企业参与社会分工的成本
- C.现代生产技术激发了大型企业的创新能力

声明： 1、真题来源于网络，可能存在偏差，华图教育不对此真题的准确性、合法性以及内容的真实性负责；2、本真题解析中答案及解析为华图教育独家解析，其他任何机构及个人未经华图教育同意不得转载；3、若有权利人对真题及解析主张权利，请及时联系我司，我司将依法采取措施保障权利人合法权益。

D.传统产业能够较快适应更为细化的社会分工

【答案】B

【解析】细节理解题。对应原文，通过文段可以得出随着信息技术的发展，整个社会的交易成本不断降低，而且下文提及的有关乔布斯的成就，也说到“交易成本极低，几十万个中小企业参与其中保持发展活力”，可以看出这确实降低了中小企业的参与成本，答案B正确。A无中生有，文段没有提及中小企业已经成为现代商业模式的主体。C中大型企业文段无提及。D传统产业较快适应文中也没有体现。因此，答案为B。

35.①而在直接融资领域，改革的真正难题则在于这个市场的定位

②但受金融管制特别是利率管制的大环境影响，新主体的生存都成问题

③实际上，主体的多元化必须和利率市场化相配套才能达到效果

④目前，改革的重心主要放在了主体多元化上

⑤对于间接融资领域金融改革的目标而言，利率市场化和主体多元化是改革方向

⑥即以民营银行或者互联网银行的崛起来倒逼原有银行体系的改革

将以上6个句子重新排列，语序正确的是（ ）。

A.⑤④⑥②③①

B.⑤①③④⑥②

C.④⑥③⑤②①

D.④⑥②③⑤①

【答案】A

【解析】观察选项，对比⑤和④，⑤引出话题“改革的方向是利率市场化和主体多元化”，也是一个总括性句子。④重点突出了“主体多元化”是对⑤进一步的阐释，故⑤为首句。排除C项和D项。而⑤的论述核心为“间接融资领域金融改革”和①的论述核心“直接融资领域”，并无共同的论述核心，排除B项。因此本题选A。

36.①但在浸满水的土壤或湖底沉积物中，氧气是稀缺的，在这种情况下有机物发生厌氧分解，并释放甲烷

②就和我们打开冰箱门一段时间后，食物解冻并且开始变质的过程一样

声明： 1、真题来源于网络，可能存在偏差，华图教育不对此真题的准确性、合法性以及内容的真实性负责；2、本真题解析中答案及解析为华图教育独家解析，其他任何机构及个人未经华图教育同意不得转载；3、若有权利人对真题及解析主张权利，请及时联系我司，我司将依法采取措施保障权利人合法权益。

- ③湖下的甲烷分子随着水中气泡的逸出，冲破湖面，进入大气
- ④氧气促进细菌和真菌耗氧分解有机物，产生二氧化碳
- ⑤但当冰层融化，以前被固定起来的碳在微生物的作用下迅速分解，产生气体
- ⑥占地球陆地面积 20% 的冻土带在地表下几十米内储存了约 9500 亿吨碳，这种由动植物遗骸经过上万年形成的碳，冻结在冰层下的众多冰湖之中，与空气隔绝
- 将以上 6 个句子重新排列，语序正确的是（ ）。

- A.②④①③⑥⑤
- B.③④⑤②⑥①
- C.④①⑥②③⑤
- D.⑥⑤②④①③

【答案】D

【解析】⑤句出现转折关联词“但”，论述核心为“冰层融化后会产生气体”，能够与之搭配的为⑥：论述核心同样为“冻结的冰层”且“与空气隔绝”与⑤“产生气体”意思相反。所以，将⑥⑤捆绑，排除 B 项与 C 项。②的作用明显为“补充解释”，不能放在文段开端，排除 A 项。因此本题选 D。

37. 在所有的灵长类动物中，人类的智力无疑高居榜首，但在所有的灵长类动物中，也只有人类会为阿尔茨海默症所困。上海的研究小组日前发表论文指出，这两者可能密不可分。他们分析了 90 名祖先来自非洲、亚洲或欧洲的志愿者的基因组后发现，大约在距今 20 万到 5 万年间，与人类大脑发育相关的 6 个基因发生显著改变。这会增加神经元的连接性，令现代人演变得更聪明。然而，也正是这 6 个变异的基因，令阿尔茨海默症变得更复杂难解。

这段文字主要介绍（ ）。

- A. 人类与其他灵长类动物的差别
- B. 人类大脑发育的关键阶段
- C. 现代人变聪明的原因
- D. 阿尔茨海默症与基因变异的关系

【答案】D

声明： 1、真题来源于网络，可能存在偏差，华图教育不对此真题的准确性、合法性以及内容的真实性负责；2、本真题解析中答案及解析为华图教育独家解析，其他任何机构及个人未经华图教育同意不得转载；3、若有权利人对真题及解析主张权利，请及时联系我司，我司将依法采取措施保障权利人合法权益。

【解析】 文段为总分结构，首句提出主要观点，在所有灵长类动物中，只有人类会患有阿尔茨海默症。下文通过上海研究小组的研究成果揭示了内在原因，即此病与人类大脑发展相关的6个基因有关，也就是揭示了阿尔茨海默症与6个基因之间的微妙关系，因此，答案为D。

38. 戏曲在宋代形成之后，许多类型都以“杂剧”命名，如宋杂剧、元杂剧等，它们虽然是纯粹的戏剧，但是表现手法依然是“杂”的。戏曲可以让观众听到悦耳的歌声、诙谐滑稽的笑话、声情并茂的说白，看到让人欣怡的舞蹈身段、高难度的武打杂技和神似于生活动作的表演，只不过是多种表演形式高度融合在一起罢了。由此可见，_____，可以说，这是戏曲发展的重要规律。

填入画横线部分最恰当的一句是（ ）。

- A. 戏曲一定要是民族的、传统的、多元的
- B. 戏曲在形成和发展过程中融合了众多表演技艺的精华
- C. 对待戏曲艺术，最好的态度就是允许其以多元化形态存在
- D. 要使戏曲跟上历史前进的步伐，必须使之保持特性

【答案】 B

【解析】 文段空前指出“将多种表演形式高度融合”，可知其后应强调戏曲吸收多种表演形式，与之呼应为B选项。A选项“民族的”、“传统的”以及D项“特性”在文段中并未体现，故排除。而文段中“将多种表演形式高度融合”也不等于C项“以多元化形态存在”。故正确答案为B。

39. 与传统出版时代一样，出版社在数字出版时代依然是一个产品提供商、服务提供商的角色。但数字出版时代读者的需求日益个性化，出版社要想生存，就必须对读者的需求进行更细致的分析，出版更能满足读者需求的图书，提供更多样的产品。

这段文字意在强调（ ）。

- A. 出版社在数字出版时代的角色并未发生根本性改变
- B. 适应读者需求开发多样化产品是出版社的生存之道
- C. 图书数字化使得出版社的生存空间更为有限
- D. 读者需求日益个性化是出版社面临的新挑战

声明： 1、真题来源于网络，可能存在偏差，华图教育不对此真题的准确性、合法性以及内容的真实性负责；2、本真题解析中答案及解析为华图教育独家解析，其他任何机构及个人未经华图教育同意不得转载；3、若有权利人对真题及解析主张权利，请及时联系我司，我司将依法采取措施保障权利人合法权益。

【答案】B

【解析】文段为分总结构，提出问题——解决问题。数字出版时代读者的需求日益个性化，那么出版社如何生存呢？通过“必须”对策引导词给出对策，即“必须对读者的需求进行更细致的分析，出版更能满足读者需求的图书，提供更多样的产品”。同义替换即为答案，因此，答案为B。

40.我们不得不承认，今天是一个影像主导传播的时代。人们获取信息的渠道主要是四块屏幕——电脑、电视、电影和手机，它们主导了我们这个时代的感观系统，甚至决定着我们对这个世界的认知。如果我们不能利用视觉媒介有效地传播文化，还只停留在文字的地界内，也许就会被这个由视觉符号覆盖的时代所淘汰。

这段文字意在说明（ ）。

- A. 新媒体时代是由视觉符号覆盖的时代
- B. 影像内容比文字更容易为人们所接受
- C. 当代应更多地利用影像媒介传播文化
- D. 当今人们获取信息的渠道更加多元化

【答案】C

【解析】文段为分总结构，背景铺垫——通过反面论证引出核心论点，文段首句提出“影像主导的时代，人们获取解析主要是通过四块屏幕”，接下来通过反面论证反推得出答案，即告知读者文化的传播也需要借助视觉媒介。因此，答案为C。

第二部分结束，请继续做第三部分！

第三部分 数量关系

（共 10 题，参考时限 10 分钟）

在这部分试题中，每道题呈现一段表述数字关系的文字，要求你迅速、准确地计算出答案。

请开始答题：

41. 一个长方形菜地长 X 米，宽 Y 米，面积 Z 平方米， $Z=X+Y+3$ ，问 $X+Y$ 的值可能是（ ）。

A. 1

声明： 1、真题来源于网络，可能存在偏差，华图教育不对此真题的准确性、合法性以及内容的真实性负责；2、本真题解析中答案及解析为华图教育独家解析，其他任何机构及个人未经华图教育同意不得转载；3、若有权利人对真题及解析主张权利，请及时联系我司，我司将依法采取措施保障权利人合法权益。

B.3

C.5

D.7

【答案】D

【所属考试模块】数量关系

【题型】不定方程与不定方程组

【考点】不定方程

【难度系数】中等

【作者】黄金昌

【解析】解法一：代入A选项，X、Y只能等于0和1，不符合题意，排除A；B选项，X、Y只能等于1和2， $Z=2 \neq 1+2+3$ ，排除B；C选项，若X、Y等于1和4， $Z=4 \neq 1+4+3$ ，若X、Y等于2和3， $Z=6 \neq 2+3+3$ ，排除C；D选项，若X、Y等于2和5， $Z=10=2+5+3$ ，满足题意。选择D。

解法二：根据二项不等式 $X+Y \geq 2\sqrt{XY}$ ，即 $Z \leq \left[\frac{(X+Y)}{2} \right]^2$ ，令 $t=X+Y (t>0)$ ，则 $t+3 \leq \left(\frac{t}{2} \right)^2$ ，

化解得 $12 \leq t^2 - 4t$ ，即 $16 \leq (t-2)^2$ ，即 $6 \leq t$ ，结合选项选择D。

42.甲、乙二人分别同时从A、B两地出发相向匀速而行，两人相遇之后，甲又经过了2个小时到达B地；乙又经过4个半小时到达A地，若他们到达后都立即调头，当他们再次相遇时，距他们第一次相遇经过了多少个小时？（ ）

A.5

B.5.5

C.6

D.6.5

【答案】C

【所属考试模块】数量关系

【题型】行程问题

【考点】相遇追及问题

声明： 1、真题来源于网络，可能存在偏差，华图教育不对此真题的准确性、合法性以及内容的真实性负责；2、本真题解析中答案及解析为华图教育独家解析，其他任何机构及个人未经华图教育同意不得转载；3、若有权利人对真题及解析主张权利，请及时联系我司，我司将依法采取措施保障权利人合法权益。

【难度系数】 难

【作者】 黄金昌

【解析】 解法一：赋值 A、B 两地路程为 1，设第一次相遇时间为 t 。可得以下三个方程：

$$1 = (V_{甲} + V_{乙}) \times t$$

$$1 = V_{甲} \times (2 + t)$$

$$1 = V_{乙} \times (4.5 + t)$$

解得 $t=3$ ， $V_{甲}=1/5$ ， $V_{乙}=1/7.5$ ；两次相遇期间，两人合计走过路程为 2，因此时间为 $2 / (1/5 + 1/7.5) = 6$ 小时。选择 C。

解法二：设第一次相遇时间为 t 。根据题意有，甲走 t 小时的路程与乙走 4 小时相等： $V_{甲} \times t = V_{乙} \times 4.5$ ；乙走 t 小时的路程与甲走 2 小时相等： $V_{甲} \times 2 = V_{乙} \times t$ ，将两式子做除法，则 $\frac{t}{2} = \frac{4.5}{t}$ ，推出 $t=3$ ；根据多次相遇之间的时间关系，第一次相遇时间为 3 小时，则第一次和第二次相遇之间的时间为 6 小时。选择 C。

43. 汽车以每小时 54 千米的速度笔直地开向峭壁，驾驶员按一声喇叭，6 秒后听到回声，已知声音的速度是每秒 340 米，问听到回声时，汽车离峭壁的距离是多少米？（ ）

A.975

B.1020

C.1065

D.1155

【答案】 A

【所属考试模块】 数量关系

【题型】 行程问题

【考点】 基础行程

【难度系数】 中

【作者】 黄金昌

【解析】 汽车速度为 15 米/秒，假设按下喇叭时，车与峭壁之间的距离为 S ，车与声音在 6 秒的时间内，所走总路程为 2 倍 S ，有 $2S = (340 + 15) \times 6$ ，解得 $S = 1065$ 。听到回声时，汽车离峭壁的距离是 1065 米。

声明： 1、真题来源于网络，可能存在偏差，华图教育不对此真题的准确性、合法性以及内容的真实性负责；2、本真题解析中答案及解析为华图教育独家解析，其他任何机构及个人未经华图教育同意不得转载；3、若有权利人对真题及解析主张权利，请及时联系我司，我司将依法采取措施保障权利人合法权益。

距离为 $1065-15\times 6=975$ 米。选择 A。

44. 车库中有 10 个相连的空车位，有 3 辆车开进车库并随机停在这 10 个车位上，问剩下的空位中正好只有 5 个相连空位的概率为（ ）。

- A. 小于 10%
- B. 10%
- C. 20%
- D. 大于 20%

【答案】 C

【所属考试模块】 数量关系

【题型】 概率问题

【考点】 分类分布类

【难度系数】 难

【作者】 黄金昌

【解析】 解法一：若 5 个连续的空位在 1-5 号，则第 6 号必然停车，最后 4 个空位中任选 2 个空位停车，共有 $C_4^2=6$ 种；若 5 个连续空位在 2-6 号，则 1 和 7 号空位必须停车，最后 3 个空位中任选 1 个空位停车，共有 $C_3^1=3$ 种；若 5 个连续空位在 3-7 号，则 2 和 8 号空位必须停车，最后 3 个空位中任选 1 个空位停车，共有 $C_3^1=3$ 种；接下来的情况都与前面的三种情况相对应，因此共有 $(6+3+3)\times 2=24$ 种。任意停车，共有 $C_{10}^3=120$ 种，其概率为 $24/120=20\%$ 。选择 C。

解法二：将 3 辆车放置之后，还剩下 7 个空位，空位分为：5、1、1，此时将空位放在 3 辆车旁边有 $4\times C_3^2=12$ 种；若分为 5、2，此时有 $A_4^2=12$ 种，共计 24 种；任意停车，共有 $C_{10}^3=120$ 种，概率为 $24/120=20\%$ 。选择 C。

45. 甲和乙两名水平相当的选手打羽毛球，每一局每人的胜率都是 50%，如果两人连打五场，甲至少连胜三场的概率为（ ）。

- A. $1/4$

声明： 1、真题来源于网络，可能存在偏差，华图教育不对此真题的准确性、合法性以及内容的真实性负责；2、本真题解析中答案及解析为华图教育独家解析，其他任何机构及个人未经华图教育同意不得转载；3、若有权利人对真题及解析主张权利，请及时联系我司，我司将依法采取措施保障权利人合法权益。

B.1/8

C.1/16

D.3/16

【答案】D

【所属考试模块】数量关系

【题型】概率问题

【考点】分类分布类

【难度系数】易

【作者】黄金昌

【解析】甲至少连胜3场，可以分为以下几种情况：①连胜5局，概率为 $(\frac{1}{2})^5$ ；②连胜4局，前4局或者后4局连胜，概率为 $2 \times \frac{1}{2} \times (\frac{1}{2})^4$ ；③连胜3局，可以前3局或者中间3局或者后3局连胜，概率为 $3 \times (\frac{1}{2})^2 \times (\frac{1}{2})^3$ 。总概率为： $6 \times 1/32=3/16$ 。选择D。

46.某公司销售的一种设备有一代和二代两种型号，二代设备比一代设备每台贵5000元。已知本月一代设备和二代设备的销售额分别为30万元和15万元，问一代设备最少比二代设备多卖了多少台？（ ）

A.3

B.7

C.9

D.20

【答案】B

【所属考试模块】数量关系

【题型】不定方程与不定方程组

【考点】不定方程

【难度系数】中

【作者】黄金昌

声明： 1、真题来源于网络，可能存在偏差，华图教育不对此真题的准确性、合法性以及内容的真实性负责；2、本真题解析中答案及解析为华图教育独家解析，其他任何机构及个人未经华图教育同意不得转载；3、若有权利人对真题及解析主张权利，请及时联系我司，我司将依法采取措施保障权利人合法权益。

【解析】根据题意，若两类设备单价应该尽量高，则两类设备台数差值越小；且两种设备的单价必然要被销售额整除。若二代设备销售 1 台，单价 $15w$ ，一代设备单价 $14.5w$ ，无法被 30 整除；若二代设备销售 2 台，单价 $7.5w$ ，一代设备单价 $7w$ ，无法被 30 整除，排除，……若二代设备销售 5 台，单价 $3w$ ，一代设备单价 $2.5w$ ，则一代设备卖出 12 台，亮着相差 7 台。选择 B。

47. 小张买了一批文学读物和工具书准备打包捐赠给贫困学生。他发现如果每个包里装 5 本文学读物和 3 本工具书，则最后剩下 8 本文学读物；如果每个包里装 6 本文学读物和 2 本工具书，则最后剩下 8 本工具书。问小张买的文学读物和工具书共有多少本？（ ）

- A.72
- B.80
- C.88
- D.96

【答案】A

【所属考试模块】数量关系

【题型】基本方程

【考点】二元一次方程组

【难度系数】易

【作者】黄金昌

【解析】解法一：设第一次有 n 包，第二次有 m 包，则 $5n+8=6m$ ， $3n=2m+8$ ，解得 $m=n=8$ ，因此共有图书 $8m+8=72$ 本书。选择 A。

解法二：若从第一次包裹中每包各抽取一本工具书，最有剩下 8 本，说明有 8 第一次有 8 包书本，因此书本总数 $=8 \times 8+8=72$ 。选择 A。

48. 将一张足够大的正方形纸，横竖各对折 2 次后，用剪刀沿直线剪一刀，问最多可能把这张纸剪成多少个部分？（ ）

- A.9
- B.10

声明：1、真题来源于网络，可能存在偏差，华图教育不对此真题的准确性、合法性以及内容的真实性负责；2、本真题解析中答案及解析为华图教育独家解析，其他任何机构及个人未经华图教育同意不得转载；3、若有权利人对真题及解析主张权利，请及时联系我司，我司将依法采取措施保障权利人合法权益。

C.15

D.16

【答案】B

【所属考试模块】数量关系


【题型】几何问题

【考点】几何计数统计问题

【难度系数】难

【作者】黄金昌

【解析】在考场上直接用稿纸折一个正方形，并进行裁剪即可。其具体裁剪方式如下图所示：



中间四块在裁剪过程中为相互连接。选择 B。

49. 小李有 10 元、20 元面额的纸币各若干张，面值共 180 元。如果将 20 元的纸币都换成等值的 50 元时纸币的张数减少的数量，比 10 元的纸币都换成等值的 20 元时纸币的张数减少的数量少 1，问小李有多少张 10 元的纸币？（ ）

A.6

B.8

C.10

D.12

【答案】B

【所属考试模块】数量关系

【题型】不定方程与不定方程组

声明： 1、真题来源于网络，可能存在偏差，华图教育不对此真题的准确性、合法性以及内容的真实性负责；2、本真题解析中答案及解析为华图教育独家解析，其他任何机构及个人未经华图教育同意不得转载；3、若有权利人对真题及解析主张权利，请及时联系我司，我司将依法采取措施保障权利人合法权益。

【考点】不定方程组

【难度系数】简单

【作者】黄金昌

【解析】设10元有 x 张，20元有 y 张，则 $10x+20y=180$ ；根据题意20元都能换成等值50元纸币，因此 y 必然为5的倍数，且只能等于5，代入之后解得 $x=8$ 。选择B。

50.某村一片绿地呈直角三角形，两条直角边分别为20米和10米，村委会决定在绿地的外围植树，每个顶点处均植树1棵，且同一条边上的树彼此间距不少于3米，问最多能植树多少棵？（ ）

A.13

B.14

C.15

D.16

【答案】D

【所属考试模块】数量关系

【题型】几何边端问题

【考点】植树问题

【难度系数】中等

【作者】黄金昌

【解析】封闭植树问题，棵数=间隔数。植树最多，则间隔尽量小，但不能小于3。直角三角形斜边为 $\sqrt{10^2+20^2}=10\sqrt{5}\approx 22.36$ ，有7个间隔；10米直角边有3个间隔数；20米的直角边有6个间隔；共计16个间隔。因此最多能种16颗树。选择D。

第三部分结束，请继续做第四部分！

第四部分 判断推理

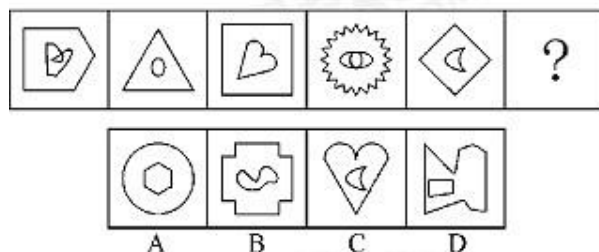
（共35题，参考时限35分钟）

声明： 1、真题来源于网络，可能存在偏差，华图教育不对此真题的准确性、合法性以及内容的真实性负责；2、本真题解析中答案及解析为华图教育独家解析，其他任何机构及个人未经华图教育同意不得转载；3、若有权利人对真题及解析主张权利，请及时联系我司，我司将依法采取措施保障权利人合法权益。

一、图形推理，请按每道题的答题要求作答。

请开始答题：

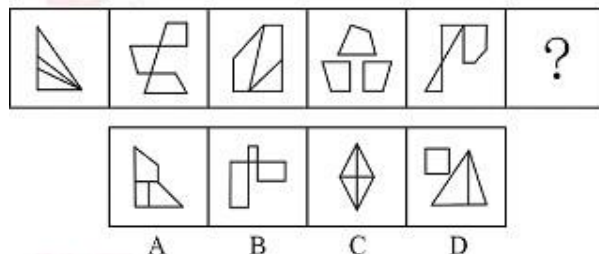
51.从所给的四个选项中选择最合适的一个填入问号处，使之呈现一定的规律。



【答案】B

【解析】曲直性。每一个图形外部为直线图形，内部为曲线图形。因此本题选B。


52.从所给的四个选项中选择最合适的一个填入问号处，使之呈现一定的规律。



【答案】D

【解析】题干图形的直角数依次为1、2、3、4、5、（6）。因此本题选D。

53.从所给的四个选项中选择最合适的一个填入问号处，使之呈现一定的规律。



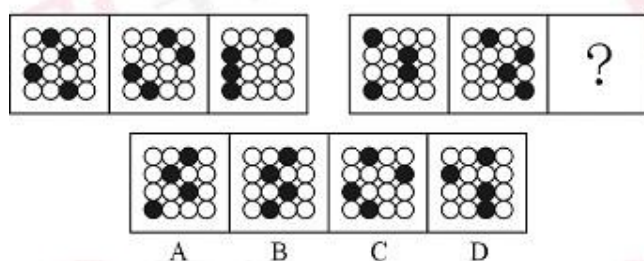
A B C D

声明： 1、真题来源于网络，可能存在偏差，华图教育不对此真题的准确性、合法性以及内容的真实性负责；2、本真题解析中答案及解析为华图教育独家解析，其他任何机构及个人未经华图教育同意不得转载；3、若有权利人对真题及解析主张权利，请及时联系我司，我司将依法采取措施保障权利人合法权益。

【答案】A

【解析】遍历。每一行图形内部有6个小图形，分别是黑星星，白星星，黑圈，白圈，白三角，十字。因此，第三行问号处内部图形应该是白星星和十字，排除C、D。每一行封闭空间的数量分别是1，2，4，所以第三行问号处是一个封闭空间。因此本题选A。

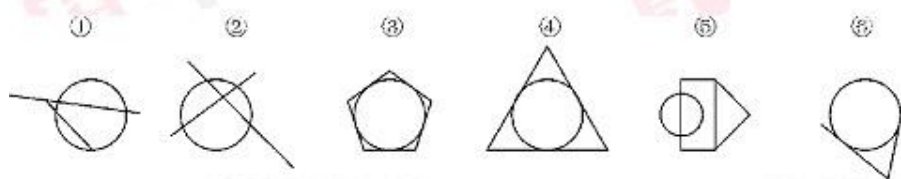
54.从所给的四个选项中选择最合适的一个填入问号处，使之呈现一定的规律。



【答案】D

【解析】平移。第一组三个图形中，小黑点按照横向移动。第一行小黑点每次向右移动一步；第二行小黑点每次向右一步；第三行小黑点位置不动；第四行小黑点每次向左移动一步。第二组图形的规律和第一组相同。因此本题选D。

55.把下面的六个图形分成两类，使每一类图形都有各自的共同特征或规律，分类正确的一项是：



A.①②④，③⑤⑥

B.①③⑥，②④⑤

C.①②⑤，③④⑥

D.①③④，②⑤⑥

【答案】C

【解析】相切、相交。①②⑤中，圆与直线图形是相交的关系；③④⑥中，圆与直线图形是相切的关系。因此本题选C。

声明： 1、真题来源于网络，可能存在偏差，华图教育不对此真题的准确性、合法性以及内容的真实性负责；2、本真题解析中答案及解析为华图教育独家解析，其他任何机构及个人未经华图教育同意不得转载；3、若有权利人对真题及解析主张权利，请及时联系我司，我司将依法采取措施保障权利人合法权益。

二、定义判断。每道题先给出定义，然后列出四种情况，要求你严格依据定义，从中选出一个最符合或最不符合该定义的答案。注意：假设这个定义是正确的，不容置疑的。

请开始答题：

56.伦理学是哲学的一门分支学科，研究与道德相关的问题，包括道德的产生、发展、本质、评价作用以及道德教育、道德修养规律等。

根据上述定义，下列不属于伦理学研究内容的是（ ）。

- A.安乐死
- B.高薪养廉
- C.学术造假
- D.保险条款

【答案】D

【解析】伦理学定义的关键是：研究与道德相关的问题。在 ABCD 四个选项中，ABC 都与道德有关，符合伦理学的定义要件，只有 D 保险条例与道德无关，只是正常的商业内容。因此本题选 D。

57.派出机关是指由县级以上地方人民政府经有权机关批准，在特定行政区划内设立的行使相当于一级人民政府管理职权的行政机关。

根据上述定义，下面哪项属于派出机关的范畴？（ ）

- A.北京市丰台区洋桥派出所
- B.北京市海淀区紫竹院街道办事处
- C.山西省太原市小店区工商所
- D.山西省清徐县税务局

【答案】B

【解析】派出机关定义的关键是：行使人民政府的管理职权。ACD 均是专项职能。只有 B 街道办事处行使政府管理职能。这里需要补充一个常识，街道办与居委会的区别：居委会是居民自治机构，街道办事处是政府派出机关。因此本题选 B。

58.医疗法律关系是指医务人员受患者委托或其他原因，对患者实施诊断、治疗等医疗行为所形成

声明： 1、真题来源于网络，可能存在偏差，华图教育不对此真题的准确性、合法性以及内容的真实性负责；2、本真题解析中答案及解析为华图教育独家解析，其他任何机构及个人未经华图教育同意不得转载；3、若有权利人对真题及解析主张权利，请及时联系我司，我司将依法采取措施保障权利人合法权益。

的法律关系。

根据上述定义，下列不属于医疗法律关系的是（ ）。

- A.小明患感冒到某医院挂号就诊，医生经诊断后给小明开出处方，小明取药后按医嘱在医院输液
- B.老张过马路时被一辆飞驰而来的汽车撞成重伤，路边的群众将昏迷的老张送到市医院，医院立刻对其进行抢救
- C.非典时期，小王在火车上恰巧与一位非典疑似病人有过接触，回京后，小王因患感冒到某医院就诊，被该医院强行留在医院进行治疗和观察
- D.小肖带着女儿到区卫生防疫站后，防疫站的工作人员按照规定给小肖的女儿打了一针百白破疫苗，并留下观察了半小时

【答案】D

【解析】医疗法律关系定义的关键是：①医务人员；②受患者委托或其他原因；③实施诊断、治疗等。ABC 都符合医疗法律关系的定义要件。只有 D 不符合③，只是打疫苗，不涉及诊断、治疗。因此本题选 D。

59.市场区隔是指先将消费者依不同的需求、特征区分成若干个不同的群体，引导消费者认知并使用相关产品或服务，进而获得消费者的回馈信息，旨在确定目标群体并制定营销策略。

根据上述定义，下列选项中不涉及市场区隔的是（ ）。

- A.某公司对天津地区的企业办公市场调研，发现在写字楼办公、居家办公、酒店办公三类市场中消费者对酒店办公的需求在逐年上升
- B.某方便面生产厂家对不同年龄段消费者进行分析，发现 20~30 岁年龄的人是消费主体，他们大多数人更中意“大块面饼、双料包”的方便面
- C.某日用品公司针对欧美和亚洲人群的肤质特点设计了不同的润肤霜，数据显示不管在欧美地区，还是在亚洲，适合中性肤质的润肤霜最受欢迎
- D.某手机制造商每 2 年推出一款新手机，并限量发售 2 万部，因此产品一上市就很快被抢空

【答案】D

【解析】市场间隔定义的关键是：①不同消费群体；②获得消费者回馈信息；③确定目标群体并制定营销策略。ABC 都符合市场间隔的定义要件。只有 D 不符合①②③，只是限量销售，不涉及

声明： 1、真题来源于网络，可能存在偏差，华图教育不对此真题的准确性、合法性以及内容的真实性负责；2、本真题解析中答案及解析为华图教育独家解析，其他任何机构及个人未经华图教育同意不得转载；3、若有权利人对真题及解析主张权利，请及时联系我司，我司将依法采取措施保障权利人合法权益。

消费者的不同群体、回馈信息和营销策略。因此本题选 D。

60. 法定抵销是指二人互负债务，且债务均已到清偿期，如果债务的标的物种类、品质相同，任何一方可以将自己的债务与对方的债务抵销。

根据上述定义，下列属于法定抵销的是（ ）。

A. 甲租赁乙的房屋，到 2000 年底欠乙租金 1.5 万元未付，2003 年 6 月，乙向甲购买价值 3 万元的货物，约定同年 12 月底付清货款，到了年底，乙仅支付甲货款 1 万元，并表示未支付的钱款用甲所欠的租金和利息抵销

B. 某公司聘用销售人员张某，合同约定每签约一笔销售合同，张某会从中获得 10% 的酬劳，张某在随后的三个月内签了 10 万元的销售合同，但公司仅向其支付了 8000 元

C. 王某是某网站的签约作家，在为该网站提供多篇小说后一直没有获得稿酬，后经两方协调，王某同意公司以一辆轿车来抵销某稿酬

D. 某医院向一家医疗器械公司采购某品牌的血糖仪 100 台并支付了现金，但公司由于存货不足仅提供 90 台，其余 10 台在经过院方同意后则换成了另一品牌同价格的血糖仪

【答案】A

【解析】法定抵销定义的关键是：①互负债务；②均到清偿期；③种类品质相同。A 符合法定抵销的定义要件。BCD 不符合①，不涉及互负债务，只是单方面的负债。因此本题选 A。

61. X 型人才是按知识结构划分出来的一种新型人才类型。它用字母“X”形象地反映出这类人才的知识结构特点。其一，X 型人才必须系统地掌握两门专业知识；其二，两门专业知识必须有明显的交叉点，结合部。X 型人才比较适合做两种专业交叉结合的工作。

根据上述定义，下列各项中属于 X 型人才的是（ ）。

A. 美国著名投资家查理·芒格有儿童一样的好奇心，又有一流科学家所具备的研究素质和科学研究方法。他的一生都有强烈的求知欲，几乎对所有的问题都感兴趣

B. 除绘画之外，达·芬奇在天文、物理、医学、建筑、军事、水利、地质等领域都有不朽的成就

C. 福克斯新闻频道的当家主持 Geraldo Rivera，毕业于布鲁克林法学院，他认为他的成功与在法学院学习期间获得的与人高效沟通的技巧，以及迅速找到问题核心的思维方法不无关系

D. 刘小萌上了一所军医大学学习临床医学，本科毕业后考取本校医学心理学专业的硕士研究生。

声明： 1、真题来源于网络，可能存在偏差，华图教育不对此真题的准确性、合法性以及内容的真实性负责；2、本真题解析中答案及解析为华图教育独家解析，其他任何机构及个人未经华图教育同意不得转载；3、若有权利人对真题及解析主张权利，请及时联系我司，我司将依法采取措施保障权利人合法权益。

参加工作后在临床做慢性病人的心理干预

【答案】D

【解析】X型人才定义的关键是：①两门专业知识；②两门专业知识有交叉点。A不符合①②，好奇心并不是专业知识；B不符合①，涉及很多门专业知识；C不符合①②，沟通技巧和思维方法不是两门专业知识。D符合X型人才的定义要件，医学、心理学是两门专业知识，并且有交叉点：医学心理学。因此本题选D。

62.两人以上合作的作品是合作作品。合作作品应同时具备以下三个条件：（1）合作作者之间应有共同创作某一作品的意思表示；（2）在创作过程中合作作者之间始终贯彻合作创作的意图，有意识地调整各自的创作风格和习惯；（3）合作作者所各自完成的作品，应是作品整体构成的有机部分。

根据上述定义，正确说法正确的是（ ）。

A.澳门回归晚会上演唱的《七子之歌》，其歌词改编自闻一多先生于1925年创作的一组诗，1999年在澳门回归前由今人谱曲，则这首歌属于合作作品

B.作家王某去世后，他的学生继续完成他未竟的作品，则该部作品属于合作作品

C.1938年武汉沦陷后，著名诗人光未然写成长诗《黄河吟》，后来由冼星海谱曲，是为《黄河大合唱》，作品完成后光未然参与了作品的修改和试唱，则《黄河大合唱》为合作作品

D.青年学者张某近年来专注于农村市场化的研究，并完成了40万字的专著，他邀请著名学者为其专著做序，而后出版，则该作品属于合作作品

【答案】C

【解析】合作作品定义的关键是：①共同创作的意思表示；②调整各自风格和习惯；③各自完成的作品是整体的有机部分。A不符合①②，没有共同创造，没有调整风格；B不符合①，没有体现共同创作的意思表示；D不符合①②，只是作序，没有体现共同创作和调整风格。C符合合作作品的定义要件。因此本题选C。

63.居民纳税人是指在中国境内有住所或者无住所而在境内居住满一年的个人。这里所说的在中国境内有住所的个人，是指因户籍、家庭、经济利益关系而在中国境内习惯性居住的个人。这里所说的在境内居住满一年，是指在一个纳税年度中（指1月1日到12月31日）在中国境内居住365

声明： 1、真题来源于网络，可能存在偏差，华图教育不对此真题的准确性、合法性以及内容的真实性负责；2、本真题解析中答案及解析为华图教育独家解析，其他任何机构及个人未经华图教育同意不得转载；3、若有权利人对真题及解析主张权利，请及时联系我司，我司将依法采取措施保障权利人合法权益。

日。临时离境的，不扣减日数。这里所说的临时离境，是指在一个纳税年度中一次不超过 30 日或者多次累计不超过 90 日的离境。

根据上述定义，下列人员在中国境内期间属于居民纳税人的是（ ）。

- A.甲：美国人，自 2012 年 4 月 1 日至 2013 年 6 月 1 日期间一直在中国境内居住并工作
- B.乙：日本人，2012 年 1 月 1 日来中国，2013 年 2 月 1 日离境，2012 年期间一次回国工作 1 个半月
- C.丙：新西兰人，2011 年 5 月 20 日入境旅游，至 2012 年 8 月 30 日离境，期间两次临时离境各 25 天
- D.丁：生长在中国，2001 年 1 月 1 日至 2003 年 1 月 1 日期间曾在德国留学，此后随父母在上海生活和工作

【答案】D

【解析】居民纳税人定义的关键是：①住满一个纳税年度（指 1 月 1 日到 12 月 31 日）；②临时离境一次不超过 30 日或者多次累计不超过 90 日。A 不符合①，不满足 1 月 1 日到 12 月 31 日；B 不符合②，临时离境一次超过了 30 日；C 不符合①，不满足 1 月 1 日到 12 月 31 日。D 符合居民纳税人的定义要件。因此本题选 D。

64. 排污交易权是指在一定区域内，在污染物排放总量不超过允许排放量的前提下，内部各污染源之间通过货币交换的方式相互调剂排污量，就是建立合法的污染物排放权，允许这种权利像商品那样被买入或卖出，从而达到污染物的排放控制。

根据上述定义，下列哪项属于排污交易？（ ）

- A. 包装厂今年二氧化碳的排放量预计为 1600 吨，超过了规定的 1300 吨，该厂向同区域的电厂购买了其剩余的 300 吨排放量
- B. 造纸厂 2005 年规定排出二氧化碳的上限为 1000 吨，而实际上每年排出的总量不超过 800 吨，于是将剩余的 200 吨二氧化碳的排放量送给了旁边的炼铁厂
- C. 印刷厂今年排放二氧化碳的总量为 1300 吨，超过了规定的 1000 吨，但该厂只向污水处理厂购买了区域内仅剩的 200 吨二氧化碳的排放量
- D. 按照规定，轮船厂今年二氧化碳的排放总量是 1500 吨，而由于业务拓展，实际排放量要达到

声明： 1、真题来源于网络，可能存在偏差，华图教育不对此真题的准确性、合法性以及内容的真实性负责；2、本真题解析中答案及解析为华图教育独家解析，其他任何机构及个人未经华图教育同意不得转载；3、若有权利人对真题及解析主张权利，请及时联系我司，我司将依法采取措施保障权利人合法权益。

2000 吨，于是打算购买 500 吨该厂明年的二氧化碳排放量

【答案】A

【解析】排污交易权定义的关键是：①一定区域总量不超标；②各污染源之间；③货币交换的方式。B 不符合③，是“送给”，不是货币交换；C 不符合①，该区域只剩下了 200 吨，但是印刷厂超规定 1000 吨，因此，该区域总量超标了；D 不符合②，轮船厂买自己的，并不涉及各个污染源之间。A 符合排污交易权的定义要件。因此本题选 A。

65. 森林效应是指一棵树如果孤零零地生长于荒郊，即使成活也多半是干枯矮小的；如果生长于森林中，则枝枝争抢雨露，叶叶竞取阳光，从而可能形成参天耸立、郁郁葱葱的景象。

根据上述定义，下列没有反映“森林效应”的是（ ）。

- A. 狼常到牧场叼羊，牧场主请猎手围猎狼群，狼患总算解除了。但不久，羊群体质下降，疫病流行。牧场主请来专家会诊，结论却是请几只狼来，使羊群重焕活力
- B. 东风街只有一家饭店，饭菜很一般，后来街对面开了另一家饭店，为了争夺顾客，两家店都使出浑身解数，翻新菜品并降低价格来吸引消费者
- C. 羽毛球锦标赛前，球队会分析对方球员的打法，找到他们的优势和劣势，试图在比赛中扬长避短，击败对手
- D. 某房产中介决定根据员工绩效排名发放年终奖，因此每个员工的业绩都有了很大提高

【答案】A

【解析】森林效应定义的要件是：①个体通过与其他同类的竞争才能更好地成长，A 项狼和羊是天地，并非同类之间的竞争，不符合题干定义；BCD 三项均为同类之间的竞争，反映了“森林效应”。因此本题选 A。

三、类比推理。每道题先给出一组相关的词，要求你在备选答案中找出一组与之在逻辑关系上最为贴近、相似或匹配的词。

请开始答题：

66. 路灯：夜晚

- A. 玩具：儿童
- B. 雨伞：雨天

声明： 1、真题来源于网络，可能存在偏差，华图教育不对此真题的准确性、合法性以及内容的真实性负责；2、本真题解析中答案及解析为华图教育独家解析，其他任何机构及个人未经华图教育同意不得转载；3、若有权利人对真题及解析主张权利，请及时联系我司，我司将依法采取措施保障权利人合法权益。

- C. 鞭炮：节日
- D. 眼镜：阳光

【答案】B

【解析】在夜晚中，有路灯存在，便不用担心天黑；在雨天中，有雨伞存在，便不用担心下雨。ACD 三项中的儿童、节日和阳光没有什么担心和需要预防的。因此本题选 B。

67. 考古：文物

- A. 旅游：风景
- B. 医学：人体
- C. 数学：数字
- D. 化学：实验

【答案】A

【解析】考古的目的之一是可以发掘文物，旅游的目的之一是可以观赏风景，医学、数学和化学不存在目的。因此本题选 A。

68. 鹅：羽毛球

- A. 大象：象牙
- B. 鸡：鸡尾酒
- C. 狐狸：皮草
- D. 狼：狼图腾

【答案】C

【解析】鹅毛是羽毛球的组成部分之一，狐狸皮是皮草的组成部分之一，A 项象牙是大象的组成部分，排除。因此本题选 C。

69. 罪犯：犯罪

- A. 法官：审判
- B. 作家：写书
- C. 消防员：救火
- D. 歌手：唱歌

声明： 1、真题来源于网络，可能存在偏差，华图教育不对此真题的准确性、合法性以及内容的真实性负责；2、本真题解析中答案及解析为华图教育独家解析，其他任何机构及个人未经华图教育同意不得转载；3、若有权利人对真题及解析主张权利，请及时联系我司，我司将依法采取措施保障权利人合法权益。

【答案】A

【解析】犯罪的人一定是罪犯，审判的人一定是法官，写书的人不一定是作家，救火的人不一定是消防员，唱歌的人不一定是歌手。因此本题选 A。

70. 春：秋：春秋

- A. 铁：锈：铁锈
- B. 绿：地：绿地
- C. 江：湖：江湖
- D. 明：月：明月

【答案】C

【解析】春和秋是并列关系，组成了春秋，江和湖并列关系，组成了江湖，其他三个选项中的前两个词都不是并列关系。因此本题选 C。

71. 西游记：孙悟空：吴承恩

- A. 三国志：曹操：刘备
- B. 红与黑：于连：司汤达
- C. 竞选州长：黑人小孩：马克·吐温
- D. 希腊神话：宙斯：荷马

【答案】B

【解析】西游记的作者是吴承恩，孙悟空是主角之一，红与黑的作者是司汤达，主人公是于连，三国志的作者是陈寿，竞选州长的主人公是“我”，希腊神话属于民间传说，没有唯一的作者。因此本题选 B。

72. 空军：战斗机：天空

- A. 足球裁判：哨子：球场
- B. 司机：方向盘：马路
- C. 学生：试卷：考场
- D. 消防员：云梯：洒水车

【答案】A

声明： 1、真题来源于网络，可能存在偏差，华图教育不对此真题的准确性、合法性以及内容的真实性负责；2、本真题解析中答案及解析为华图教育独家解析，其他任何机构及个人未经华图教育同意不得转载；3、若有权利人对真题及解析主张权利，请及时联系我司，我司将依法采取措施保障权利人合法权益。

【解析】 空军使用战斗机在天空作战，足球裁判使用哨子在球场判罚，BCD 不能进行同样的造句子。因此本题选 A。

73. () 对于 句子 相当于 纸张 对于 ()

- A.推理 书柜
- B.判断 书评
- C.词语 书本
- D.概念 书稿

【答案】 C

【解析】 组成关系。词语是句子的组成部分，纸张是书本的组成部分。A 选项，推理与句子，纸张与书柜没有相似逻辑关系；B 选项，纸张是书评的组成部分，判断与句子没有类似逻辑关系；D 选项，纸张是书稿的组成部分，概念与句子没有类似逻辑关系。因此本题选 C。

74.棕熊 对于 () 相当于 () 对于 迁徙

- A.本能 鸟类
- B.繁殖 鱼类
- C.动物 习性
- D.冬眠 候鸟

【答案】 D

【解析】 对应关系。棕熊先天具有的行为能力之一是冬眠；候鸟先天具有的行为能力之一是迁徙。A 选项，棕熊有本能，鸟类和迁徙没有类似逻辑关系；B 选项，棕熊会繁殖，但是鱼类和迁徙不存在相似逻辑关系；C 棕熊是一种动物，迁徙是一种习性，但是习性和迁徙的位置是相反的，所以 C 不对。因此本题选 D。

75.巡洋舰 对于 () 相当于 () 对于 侦察

- A.军舰 指挥
- B.护航 潜艇
- C.军事 卫星
- D.海战 海军

声明： 1、真题来源于网络，可能存在偏差，华图教育不对此真题的准确性、合法性以及内容的真实性负责；2、本真题解析中答案及解析为华图教育独家解析，其他任何机构及个人未经华图教育同意不得转载；3、若有权利人对真题及解析主张权利，请及时联系我司，我司将依法采取措施保障权利人合法权益。

【答案】B

【解析】对应关系。巡洋舰的功能之一是护航。潜艇的功能之一是侦察。A选项，巡洋舰是一种军舰，但是侦察和指挥不存在种属关系；C选项，卫星的功能之一是侦察，但是巡洋舰和军事不存在功能对应关系；D巡洋舰是海战的装备，海军和侦察不存在相似逻辑关系。因此本题选B。

四、逻辑判断。每道题给出一段陈述，这段陈述被假设是正确的，不容置疑的。要求你根据这段陈述，选择一个答案。注意：正确的答案应与所给的陈述相符合，不需要任何附加说明即可以从陈述中直接推出。

请开始答题：

76. 今年1月至6月，某品牌轿车在全国的销售量为1万台，仅占去年全年该品牌国内销售量的40%。由此可预测，今年该品牌轿车全年的销售量一定少于去年。

以下哪项如果为真，最能削弱上述结论？（ ）

- A. 该品牌轿车今年的售价低于去年
- B. 该品牌轿车去年销售量的70%是在上半年完成的
- C. 通常来说，轿车全年销售量的70%是在9月至12月之中完成的
- D. 该品牌轿车去年的销售量比前年要少

【答案】C

【解析】削弱论证。论点：今年品牌轿车全年的销量一定少于去年；论据：今年1月至6月的销量仅占去年全年的40%。A项，售价与销量无关，属于无关项，排除；B项，去年70%是上半年完成的，并不能推算今年的情况，排除；C项，通常来说，70%是在9至12月完成的，也就是说，不能单从1月至6月来推测一年的情况，因此削弱了论点。D项，去年比前年少与论点没有关系，排除。因此，本题答案为C选项。

77. 未剥皮的文玩核桃价格从两年前的20元/斤涨到了今天的120元/斤，可见文玩核桃的种植者们正在哄抬价格，相关部门应出台措施规范市场，控制因炒作所致的价格上升。

以下哪项如果为真，最能削弱上述结论？（ ）

- A. 由于病虫害和过度采摘，文玩核桃的产量较两年前明显减少
- B. 文玩核桃的产区距离城市主要消费地较远，运输费用高

声明： 1、真题来源于网络，可能存在偏差，华图教育不对此真题的准确性、合法性以及内容的真实性负责；2、本真题解析中答案及解析为华图教育独家解析，其他任何机构及个人未经华图教育同意不得转载；3、若有权利人对真题及解析主张权利，请及时联系我司，我司将依法采取措施保障权利人合法权益。

C.由于价格的上升，更多人进入到文玩核桃种植业，希望获利

D.近两年文玩核桃市场已经形成了一个相对固定的买家群体

【答案】A

【解析】削弱论证。论点：文玩核桃的种植者们正在哄抬物价；论据：价格从前两年的 20 元/斤涨到了 120 元/斤。A 项，说明是因为产量减少，导致价格上升的，而不是种植者哄抬物价，能够削弱；B 项，之前与现在的距离一样，不能说明是距离导致的价格上升，不能削弱，排除；C 项，价格上升，更多的人种植与论点没有关系，排除；D 项，形成相对固定的群体，与是否是因为种植者哄抬物价导致价格上升无关，排除。因此，本题答案为 A 选项。

78. 有研究者对喝葡萄酒以及滴酒不沾的人进行了调查发现，与滴酒不沾的人相比，喝葡萄酒的人患抑郁症的几率低 32%。因而研究者认为，葡萄酒可降低抑郁症患病率。

以下哪项如果为真，最能质疑上述结论？（ ）

A.与滴酒不沾的人相比，喝白酒的人患抑郁症的几率低 50%

B.全世界抑郁症患病率最高的地区，恰好是几乎所有成年人都饮用葡萄酒的地区

C.葡萄酒中含有刺激大脑活性、提高神经兴奋性的成分

D.患有抑郁症的人常会借酒消愁，葡萄酒饮用量显著增多

【答案】B

【解析】削弱论证。论点：喝葡萄酒可降低抑郁症患病率；论据：与滴酒不沾的人相比，喝葡萄酒的人患抑郁症的几率低 32%。A 项，喝白酒的人患病几率与论点无关，排除；B 项，患病率最高的地方几乎所有人都饮用葡萄酒，举例子说明，喝葡萄酒不能降低抑郁症患病率，能够削弱；C 项，葡萄酒中含有刺激大脑活性，提高神经兴奋的成分，解释了为什么葡萄酒可降低抑郁症患病率，加强了论点；D 项，与论点无关，排除。因此，本题答案为 B 选项。

79. 正常人体内的酸碱度(pH 值)稳定在 7.35~7.45 之间，是偏碱性的。之所以这么稳定，其原因在于人体有三大调节系统，分别为体内缓冲系统调节、肺调节和肾脏调节。如果体内的 pH 值低于 7.35，就属于“酸中毒”。有一种理论认为，癌症患者几乎都是酸性体质，因此酸性体质会诱发癌症。

以下哪项如果为真，最能质疑这一理论？（ ）

声明： 1、真题来源于网络，可能存在偏差，华图教育不对此真题的准确性、合法性以及内容的真实性负责；2、本真题解析中答案及解析为华图教育独家解析，其他任何机构及个人未经华图教育同意不得转载；3、若有权利人对真题及解析主张权利，请及时联系我司，我司将依法采取措施保障权利人合法权益。

- A.现代医学研究证实，癌症是由多种因素导致的
- B.健康人体内的 pH 值一般不会受摄入食物的影响而改变
- C.人的身体处于“酸中毒”状态，若未得到及时治疗，不出几天就会死亡
- D.没有证据表明癌症患者的人体调节系统失常，“酸性体质”难以界定

【答案】A

【解析】题干由癌症患者几乎都是酸性体质退出酸性体质会诱发癌症，A 项说明癌症是由多种原因导致的，因为题干因果关系不成立，削弱了题干论证，BC 项均为无关项，D 项为“诉诸无知”的选项，不选。

80. 近年来，人们对网络高等教育的品质信任度越来越高。据一项民意调查显示，某国 37%的公民称他们同意网络高等教育能提供高质量的教育。相比 2012 年的 33%和 2011 年的 30%，这个数字有所提高。这表明，攻读大学学位的方式将出现一波新的重大变化。

以下哪项如果为真，最能反驳上述结论？（ ）

- A.该国近一半的商界领袖说他们会雇佣在网络高等教育获得学位的人到自己的公司工作
- B.私营企业对网络高等教育的毕业生的信任度越来越高
- C.目前，网络高等教育注册人数的增长速度比以往有所放缓
- D.该国 77%的公民称传统高等教育能提供最高质量的教育

【答案】D

【解析】削弱论证。论点：攻读大学学位的方式将出现一波新的重大变化；论据：某国 37%的公民称他们同意网络高等教育能提供高质量的教育。A 项，近一半的商界领袖说会雇佣网络高等教育获得学位的人，加强了论点，排除；B 项，私营企业对网络高等教育的毕业生信任度越来越高，加强了论点，排除；C 项，注册人数说的是具体数字，论据说的是比例，属于无关项，排除；D 项，该国 77%的公民认为传统高等教育能提供最高质量的教育，说明支持传统教育的更多，说明攻读学位的方式不会出现重大变化。因此，本题答案为 D 选项。

81. 熔岩管道形成于火山喷发边缘的岩浆冷却过程，在熔岩周围形成一个坚硬外壳。当火山喷射的岩浆逐渐冷却，坚硬的火山管道变空，形成一种巨大的隧道结构。有科学家发现月球表面下也存在这种“熔岩管道”，其内部中空，可供居住，因此他们认为这些“管道”可作为未来的人类

声明： 1、真题来源于网络，可能存在偏差，华图教育不对此真题的准确性、合法性以及内容的真实性负责；2、本真题解析中答案及解析为华图教育独家解析，其他任何机构及个人未经华图教育同意不得转载；3、若有权利人对真题及解析主张权利，请及时联系我司，我司将依法采取措施保障权利人合法权益。

月球基地，抵御月球恶劣的气候状况。

以下哪项如果为真，不能削弱上述结论？（ ）

- A. 火山管道普遍存在于地球，一般其内部需要数十万年才能逐渐冷却下来，目前在月球上尚未发现已冷却的“管道”
- B. 月球的大气层较稀薄，不具备地球厚密大气层形成的保护层，因此太阳辐射将直接影响月球表面存在的任何物体
- C. 迄今发现的月球“熔岩管道”是通过月球轨道探测器拍摄的，其稳定性只能通过计算机模拟来测试，无法实测
- D. 一般来说，熔岩管道宽度在 1 公里以上的会相对稳定。据测算，绝大多数月球熔岩管道宽度尚不足 1 公里

【答案】B

【解析】削弱论证。论点：这些“管道”可作为未来的人类月球基地，抵御月球恶劣的气候状况。A 项，尚未发现冷却的“管道”，说明论点不可行，排除；B 项，太阳辐射将直接影响月球表面的物体，但并没有说有什么影响，也没有说是否对这些“管道”可作为未来的人类月球基地有影响，无关选项；C 项，稳定性只能通过模拟来测试，无法实测，说明测试的数据不一定准确，说明论点不可行，排除；D 项，宽度在 1 公里以上相对稳定，但绝大多数宽度不足 1 公里，说明论点不可行，排除。因此，本题答案为 B 选项。

根据以下材料，回答 82~83 题。

在某私营公司的一次董事会上，大家就研发部门展开了讨论。

副董事长说：我们是私营企业，就应该以盈利为目的。为了节约开支，我建议撤销研发部门，因为公司为研发而支付的费用太高。

总经理对此反驳说：我不同意这样做。研发部门集中了我公司最好的技术人员，他们可以研发出高质量的新产品。

82. 以下哪项如果为真，最能支持总经理的观点？（ ）

- A. 高收益的公司都有自己的研发部门
- B. 优秀的技术人才是公司盈利的根本保证

声明： 1、真题来源于网络，可能存在偏差，华图教育不对此真题的准确性、合法性以及内容的真实性负责；2、本真题解析中答案及解析为华图教育独家解析，其他任何机构及个人未经华图教育同意不得转载；3、若有权利人对真题及解析主张权利，请及时联系我司，我司将依法采取措施保障权利人合法权益。

- C. 高质量的新产品可以很快占领市场
- D. 高质量的新产品可以使公司获得高额回报

【答案】D

【解析】 总经理不同意撤销研发部，因为研发部集中了公司最好的技术人员，他们可以研发出高质量的新产品。D项说明高质量的新产品可以使公司获得高额回报，支持了总经理的观点。B项优秀的技术人才可以调入别的部门，依然可以撤销研发部，因此不能支持总经理的观点。因此本题选D

【答案】B

83. 以下哪项如果为真，最能质疑总经理的观点？（ ）

- A. 研发部门已经开发的产品没有受到市场的欢迎
- B. 研发新产品需要较多的前期投入
- C. 好的技术人员可以为公司树立人才济济的形象
- D. 私营公司既要考虑经济效益，也要考虑社会效益

【答案】A

【解析】 削弱论证。总经理的观点：不应该撤销研发部门；论据：研发部门集中了最好的技术人员，他们可以研发出高品质的新产品。A项，研发部门已经开发的产品没有受到市场的欢迎，直接削弱了论据；B项，前期是否需要较多投入，与论点无关，排除；C项，好的技术人员可以树立人才济济的形象，与论点没有关系，排除；D项，既要考虑经济效益，也要考虑社会效益，与论点没有关系，排除。因此，本题答案为A选项。

84. 春节期间朋友用手机互发电子红包成为新时尚。已知，小明给他手机通讯录上年龄比自己小的每一位好友都发了红包；小张收到了比小明年龄还大的好友发来的电子红包；小红是小明和小张的共同好友，但没有收到任何电子红包。

根据以上信息，可以得出以下哪项？（ ）

- A. 如果小张在小明的手机通讯录中，则小张比小红年龄大
- B. 如果小红在小明的手机通讯录中，则小红不比小明年龄小
- C. 小红不在小张的手机通讯录好友中

声明： 1、真题来源于网络，可能存在偏差，华图教育不对此真题的准确性、合法性以及内容的真实性负责；2、本真题解析中答案及解析为华图教育独家解析，其他任何机构及个人未经华图教育同意不得转载；3、若有权利人对真题及解析主张权利，请及时联系我司，我司将依法采取措施保障权利人合法权益。

D. 小张是小红和小明的共同好友

【答案】B

【解析】翻译推理。在小明的手机通讯录且比小明小的人? 收到红包。小红没有收到红包，否后推否前，可知，一在小明的手机通讯录或者一比小明小，如果小红在小明的通讯录，那么一定不比小明小。因此，本题答案为 B 选项。

85. 费米悖论提出，银河系大约有 2500 亿 (2.5×10^{11}) 颗恒星，可观测宇宙内则有 70 泽 (7×10^{22}) 颗，即使智慧生命以很小的概率出现在围绕这些恒星的行星中，则在银河系内就应有相当大数量的地外文明存在；考虑到智慧生命克服资源稀缺的能力和对外扩张的倾向性，任何高等文明都会寻找新的资源和开拓其所在的恒星系统而涉足邻近的星系。因此宇宙中存在且可探测到地外文明。

以下哪项如果为真，不能削弱上述结论? ()

- A. 智慧生命是很稀少的，人类对智慧生命一般行为的理解是有误的
- B. 目前人类没有在可观测的宇宙范围内发现其他智慧生命的存在
- C. 地球拥有满足生物维持生存和演化的条件，才演化出高等智慧生命
- D. 迄今为止，没有任何先进的地外文明访问地球

【答案】C

【解析】削弱论证。论点：宇宙中存在且可探测到地外文明。论据：智慧生命克服资源短缺的能力和对外扩张的倾向性，任何高等文明都会寻找新的资源和开拓其所在的恒星系统而涉足临近星系。A 项，智慧生命稀少，人类对智慧生命的一般行为理解有误，削弱了论据，排除；B 项，目前没有发现，D 项，迄今为止，没有现新的地外文明访问地球，都说明不一定存在并可探测到的地外文明。C 项，地球的情况，不能说明其他星球的情况，属于无关项。因此，本题但为 C 选项。
第四部分结束，请继续做第五部分!

第五部分 资料分析

(共 15 题，参考时限 15 分钟)

声明： 1、真题来源于网络，可能存在偏差，华图教育不对此真题的准确性、合法性以及内容的真实性负责；2、本真题解析中答案及解析为华图教育独家解析，其他任何机构及个人未经华图教育同意不得转载；3、若有权利人对真题及解析主张权利，请及时联系我司，我司将依法采取措施保障权利人合法权益。

所给的出图、表、文字或综合性资料均有若干个问题要你回答。你应根据资料提供的信息进行分析、比较、计算和判断处理。

请开始答题：

一、根据所给资料，回答 86~90 题。

2013 年某市港口货运及国际机场客货运吞吐量完成状况

	2013 年全 年完成量	同比增 速 (%)	2013 年 12 月完成量	同比增 速 (%)
港口货物吞吐量 (万吨)	50062.90	5.0	3897.06	-1.4
其中：口岸外贸货物 (万吨)	26744.12	9.9	2266.52	5.4
其中：外贸出口货物 (万吨)	7997.42	12.1	686.24	15.0
外贸进口货物 (万吨)	18746.70	9.1	1580.28	1.7
港口集装箱吞吐量 (万标准箱)	1301.02	5.7	104.27	3.4
其中：口岸外贸集装箱 (万标准箱)	727.11	6.3	67.89	19.7
国际机场旅客吞吐量 (万人次)	1003.58	23.3	105.10	65.4
其中：进出境旅客 (万人次)	100.88	22.5	7.54	7.9
国际机场货邮吞吐量 (万吨)	21.44	10.4	1.91	13.0
其中：进出境货邮 (万吨)	12.56	8.9	1.09	19.1

86. 2012 年，该市港口口岸外贸货物吞吐量占港口货物吞吐量的比重约为 ()。

- A. 51%
- B. 54%
- C. 57%
- D. 60%

【答案】 A

【题型】 计算类

【考点】 比重计算

声明： 1、真题来源于网络，可能存在偏差，华图教育不对此真题的准确性、合法性以及内容的真实性负责；2、本真题解析中答案及解析为华图教育独家解析，其他任何机构及个人未经华图教育同意不得转载；3、若有权利人对真题及解析主张权利，请及时联系我司，我司将依法采取措施保障权利人合法权益。

【难度系数】中等

【解析】2013年该市港口口岸外贸货物吞吐量为26744.12万吨，同比增速9.9%，2013年港口货物吞吐量为50062.90万吨，同比增速5.0%。2012年该市港口口岸外贸货物吞吐量占港口货物吞吐量的比重约为 $\frac{26744.12}{50062.90} \times \frac{1+5.0\%}{1+9.9\%}$ ，结合选项， $\frac{26744.12}{50062.90}$ 直除法解得前两位为53， $\frac{1+5.0\%}{1+9.9\%}$ 小于1，所以整体值前两位应小于53，选择A。

【技巧】估算法、直除法

87. 2013年12月，该市哪项吞吐量指标高于1~11月的平均值？（ ）

- A. 港口货物吞吐量
- B. 港口集装箱吞吐量
- C. 国际机场旅客吞吐量
- D. 进出境旅客吞吐量

【答案】C

【题型】比较类

【考点】平均数

【难度系数】容易

【解析】要解得2013年12月的某一指标高于1~11月的平均值，只需判断该指标12月的值大于全年的 $\frac{1}{12}$ ，即可，港口货物吞吐量12月的值3897.06，小于全年的值 $50062.90 \times \frac{1}{12}$ ；港口集装箱吞吐量12月104.27，小于全年 $1301.02 \times \frac{1}{12}$ ；国际机场旅客吞吐量12月105.10，大于全年 $1003.58 \times \frac{1}{12}$ ；进出境旅客吞吐量12月7.54，小于全年 $100.88 \times \frac{1}{12}$ 。选择C。

【技巧】估算法、直除法

88. 与上年相比，2013年该市国际机场旅客吞吐量增加了约多少万人次？（ ）

- A. 190

声明： 1、真题来源于网络，可能存在偏差，华图教育不对此真题的准确性、合法性以及内容的真实性负责；2、本真题解析中答案及解析为华图教育独家解析，其他任何机构及个人未经华图教育同意不得转载；3、若有权利人对真题及解析主张权利，请及时联系我司，我司将依法采取措施保障权利人合法权益。

B. 212

C. 235

D. 258

【答案】A

【题型】计算类

【考点】增长量计算

【难度系数】中等

【解析】2013年该市国际机场旅客吞吐量1003.58（万人次），同比增速23.3%。与上年相比，增

加了 $1003.58 \times \frac{23.3\%}{1+23.3\%} < 1003.58 \times \frac{25\%}{1+25\%} = \frac{1003.58}{5} = 200$ ，增加量小于200，结合选项，选择A。

【技巧】估算法、放缩法

89. 与上年同期相比，2013年12月外贸进口货物吞吐量和外贸出口货物吞吐量占当月港口货物总吞吐量的比重变化状况分别为（ ）。

A. 进口占比上升，出口占比下降

B. 进出口占比均下降

C. 进口占比下降，出口占比上升

D. 进出口占比均上升

【答案】D

【题型】比较类

【考点】比重大小比较

【难度系数】中等

【解析】比重变化情况，仅需比较部分增长率与整体增长率的大小即可。2013年12月外贸进口货物吞吐量和外贸出口货物吞吐量的增长率分别是1.7%、15%，整体增长率也就是当月港口货物吞吐量的增长率是-1.4%，两个部分增长率均大于整体，比重均上升。选择D。

90. 能够从上述资料中推出的是（ ）。

A. 2012年12月，该市港口口岸外贸货物吞吐量超过2000万吨

声明： 1、真题来源于网络，可能存在偏差，华图教育不对此真题的准确性、合法性以及内容的真实性负责；2、本真题解析中答案及解析为华图教育独家解析，其他任何机构及个人未经华图教育同意不得转载；3、若有权利人对真题及解析主张权利，请及时联系我司，我司将依法采取措施保障权利人合法权益。

- B. 2012 年全年，该市口岸外贸集装箱吞吐量超过 700 万标准箱
- C. 2013 年该市国际机场货邮吞吐量一半以上是境内货邮
- D. 2013 年 12 月，该市国际机场货邮吞吐量占全年的 10% 以上

【答案】 A

【题型】 综合分析类

【难度系数】 中等

【解析】 A 选项，2013 年 12 月该市港口口岸外贸货物吞吐量为 2266.52 万吨，同比增速 5.4%，则 2012 年 12 月为 $\frac{2266.52}{1+5.4\%} > 2000$ 万吨。A 正确；B 选项，2013 年全年该市口岸外贸集装箱吞吐量为 727.11，同比增速 6.3%，则 2012 年为 $\frac{727.11}{1+6.3} < 700$ ，B 错误；C 选项，材料中没有给出相关信息，无法判断，C 错误；D 选项，2013 年 12 月，该市国际机场货邮吞吐量占全年的 $\frac{1.91}{21.44} < 10\%$ ，D 错误。选择 A。

二、根据所给资料，回答 91~95 题。

2014 年，某市十大产业链企业累计完成产值 3528.8 亿元，同比增长 13.4%，实现主营业务收入 3478.8 亿元、利税 348.9 亿元、利润 222.9 亿元，同比分别增长 13.0%、19.4% 和 19.5%。其中，十大产业链规模以上企业共完成产值 3520.2 亿元，同比增长 13.3%；实现主营业务收入 3469.9 亿元、利税 348.4 亿元、利润 222.7 亿元。

碳材料产业链是十大产业链中增长最快的产业，产值、主营业务收入、利税和利润同比分别增长 45.4%、49.8%、46.7% 和 33.8%。

新医药产业链规上企业共完成产值 402.3 亿元、主营业务收入 391.1 亿元，同比分别增长 10.9% 和 12.2%，实现利税 50.2 亿元、利润 32.3 亿元，同比分别增长 30.2% 和 26.2%。

新光源产业链规上企业累计完成产值 94.0 亿元、主营业务收入 89.6 亿元，实现利税 4.6 亿元、利润 2.6 亿元，同比分别增长 10.7%、12.3%、30.1% 和 49.9%。

全市智能电网产业链规上企业共完成产值 733.2 亿元、营业收入 730.1 亿元，同比分别增长

声明： 1、真题来源于网络，可能存在偏差，华图教育不对此真题的准确性、合法性以及内容的真实性负责；2、本真题解析中答案及解析为华图教育独家解析，其他任何机构及个人未经华图教育同意不得转载；3、若有权利人对真题及解析主张权利，请及时联系我司，我司将依法采取措施保障权利人合法权益。

7.0%、6.5%。

91. 2014年，该市十大产业链企业累计完成产值同比增加最接近以下哪个数字？（ ）

- A. 420 亿元
- B. 470 亿元
- C. 520 亿元
- D. 570 亿元

【答案】A

【题型】计算类

【考点】增长量计算

【难度系数】中等

【解析】2014年该市十大产业链企业累计完成产值 3528.8 亿元，同比增长 13.4%，同比增长量为

$3528.8 \times \frac{13.4\%}{1+13.4\%} < 3528.8 \times \frac{14.3\%}{1+14.3\%} = \frac{3528.8}{8} = 440$ ，增长量小于 440，结合选项，选择 A。

【技巧】估算法、放缩法、直除法

92. 2014年，该市十大产业链企业以下哪项指标同比增长最快？（ ）

- A. 碳材料产业链利税
- B. 新医药产业链规上企业利税
- C. 新光源产业链规上企业利润
- D. 全市智能电网产业链规上企业主营业务收入

【答案】C

【题型】直接读数类

【考点】直接读数

【难度系数】容易

【解析】直接读数可得，碳材料产业链利税、新医药产业链规上企业利税、新光源产业链规上企业利润、全市智能电网产业链规上企业主营业务收入的同比增速分别是 49.8%、30.2%、49.9%、7.0%。同比增长最快的是新光源产业链规上企业利润。选择 C。

声明： 1、真题来源于网络，可能存在偏差，华图教育不对此真题的准确性、合法性以及内容的真实性负责；2、本真题解析中答案及解析为华图教育独家解析，其他任何机构及个人未经华图教育同意不得转载；3、若有权利人对真题及解析主张权利，请及时联系我司，我司将依法采取措施保障权利人合法权益。

93. 2014 年，全市智能电网产业链规上企业累计完成产值占十大产业链规上企业总额的比重约比上年（ ）。

- A. 下降 6.3 个百分点
- B. 下降 1.2 个百分点
- C. 上升 6.3 个百分点
- D. 上升 1.2 个百分点

【答案】 B

【题型】 计算类

【考点】 比重计算

【难度系数】 中等

【解析】 2014 年，全市智能电网产业链规上企业累计完成产值占十大产业链规上企业总额的比重为 $\frac{733.2}{3528.8}$ ，2013 年的比重为 $\frac{733.2}{3528.8} \times \frac{1+13.4\%}{1+7.0\%}$ ，二者之差即比重约比上年的变化情况：

$$\frac{733.2}{3528.8} - \frac{733.2}{3528.8} \times \frac{1+13.4\%}{1+7.0\%} = \frac{733.2}{3528.8} \times \frac{7\%-13.4\%}{1+7.0\%} \approx \frac{1}{5} \times (7\% - 13.4\%) \approx -1.2\%。选择 B。$$

【技巧】 估算法、放缩法

94. 2014 年，新医药产业链规上企业平均每百亿元产值贡献的利润比上年增长（ ）。

- A. 一成以下
- B. 一成多
- C. 两成多
- D. 三成以上

【答案】 B

【题型】 计算类

【考点】 平均数计算

【难度系数】 较难

声明： 1、真题来源于网络，可能存在偏差，华图教育不对此真题的准确性、合法性以及内容的真实性负责；2、本真题解析中答案及解析为华图教育独家解析，其他任何机构及个人未经华图教育同意不得转载；3、若有权利人对真题及解析主张权利，请及时联系我司，我司将依法采取措施保障权利人合法权益。

【解析】 本题属于平均数增长率，2014年，新医药产业链规上企业平均每百亿元产值贡献的利润比上年的增长率，运用公式 $\frac{a\%-b\%}{1+b\%}$ ，将数值代入有 $\frac{26.2\%-10.9\%}{1+10.9\%} \approx 13.8\%$ ，即一成多，选择B。【技巧】估算法、直除法

95. 关于该市2014年十大产业链发展状况，能够从上述资料中推出的是（ ）。

- A. 主营业务收入占产值比重高于上年水平
- B. 规模以下企业当年实现利润额为负数
- C. 新光源产业链规上企业实现利润比上年同期增长了1亿多元
- D. 新医药产业链规上企业实现利税比上年同期增长了11亿多元

【答案】 D

【题型】 综合分析类

【难度系数】 中等

【解析】 A选项，比重变化判断，主营业务收入的增速为13.0%，产值的增速13.4%，部分增速小于整体，比重下降即低于上年水平，A错误；B选项，总利润222.9亿元，规模以上利润222.7亿元，规模以下为0.2亿元，非负值，B错误；C选项，新光源产业链规上企业实现利润比上年同期增长了 $2.6 \times \frac{49.9\%}{1+49.9\%} \approx \frac{2.6}{3} \approx 0.87$ ，不到1亿，C错误；D选项，新医药产业链规上企业实现利税比上年同期增长了 $50.2 \times \frac{30.2\%}{1+30.2\%} \approx 11.6$ 亿元，D正确。选择D。

【技巧】 直除法、估算法

声明： 1、真题来源于网络，可能存在偏差，华图教育不对此真题的准确性、合法性以及内容的真实性负责；2、本真题解析中答案及解析为华图教育独家解析，其他任何机构及个人未经华图教育同意不得转载；3、若有权利人对真题及解析主张权利，请及时联系我司，我司将依法采取措施保障权利人合法权益。

三、根据所给资料，回答 96~100 题。

2010~2014 年中国电子商务发展状况

	2010 年	2011 年	2012 年	2013 年	2014 年
电子商务市场交易规模 (万亿元)	4.5	6.0	7.9	10.2	13.4
B2B 电子商务交易规模 (万亿元)	3.8	4.9	6.3	8.2	10.0
B2B 电子商务营业收入 (亿元)	96	130	160	205	255
B2B 企业规模 (家)	9200	10500	11350	12000	11200
网络零售交易规模 (亿元)	5141	8019	13205	18851	28211
网络零售占社会消费品零售总额比重 (%)	3.5	4.4	6.3	8.0	10.6
网络零售购物用户数 (亿人)	1.58	2.03	2.47	3.12	3.80

96. 2013 年，平均每个网络零售购物用户通过网络零售渠道产生的交易额约为 ()。

- A. 4 千多元
- B. 5 千多元
- C. 6 千多元
- D. 7 千多元

【答案】 C

【题型】 计算类

【考点】 平均数

【难度系数】 中等

【解析】 2013 年平均每个网络零售购物用户通过网络零售渠道产生的交易额约为

$\frac{18851}{3.12} \approx 6041$ 千元，选择 C。

声明：1、真题来源于网络，可能存在偏差，华图教育不对此真题的准确性、合法性以及内容的真实性负责；2、本真题解析中答案及解析为华图教育独家解析，其他任何机构及个人未经华图教育同意不得转载；3、若有权利人对真题及解析主张权利，请及时联系我司，我司将依法采取措施保障权利人合法权益。

【技巧】直除法

97. 2013年，B2B电子商务市场交易规模占电子商务整体市场交易规模的比重约为（ ）。

- A. 70%
- B. 75%
- C. 80%
- D. 85%

【答案】C

【题型】计算类

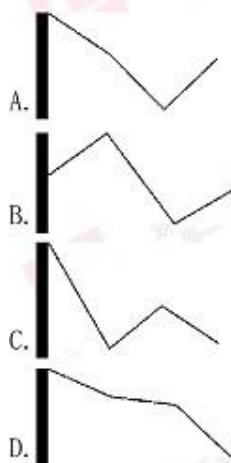
【考点】比重计算

【难度系数】容易

【解析】2013年，B2B电子商务市场交易规模占电子商务整体的比重为 $\frac{8.2}{10.2} \approx 80.4\%$ ，选择C。

【技巧】直除法

98. 以下哪项最能反映2011~2014年网络零售交易规模的增速变化趋势？（ ）



【答案】B

【题型】比较类

【考点】增长率比较

声明： 1、真题来源于网络，可能存在偏差，华图教育不对此真题的准确性、合法性以及内容的真实性负责；2、本真题解析中答案及解析为华图教育独家解析，其他任何机构及个人未经华图教育同意不得转载；3、若有权利人对真题及解析主张权利，请及时联系我司，我司将依法采取措施保障权利人合法权益。

【难度系数】中等

【解析】2011-2014 年，网络零售交易规模的增速分别是， $\frac{8019-5141}{5141} = \frac{2878}{5141} \approx 56.0\%$ ，

$\frac{13205-8019}{8019} = \frac{5186}{8019} \approx 64.8\%$ ， $\frac{19851-13205}{13205} = \frac{5646}{13205} \approx 42.8\%$ ， $\frac{29211-19851}{19851} = \frac{9360}{19851} \approx 49.7\%$ ，增速先上

升后下降再上升，B 项符合变化趋势，选择 B。

99. 若 2015 年电子商务市场交易规模增速比 2014 年高 3 个百分点，则 2015 年的电子商务市场交易规模约多少万亿元？

- A. 18
- B. 15
- C. 24
- D. 21

【答案】A

【题型】计算类

【考点】现期量计算

【难度系数】中等

【解析】先解得 2014 年电子商务市场交易规模增速为 $\frac{13.4-10.2}{10.2} \approx 31.4\%$ ，则 2015 年增速为 34.4%，

2015 年电子商务市场交易规模约为 $13.4\% \times (1 + 34.4\%) \approx 18$ 万亿元，选择 A。

【技巧】估算法、直除法

声明： 1、真题来源于网络，可能存在偏差，华图教育不对此真题的准确性、合法性以及内容的真实性负责；2、本真题解析中答案及解析为华图教育独家解析，其他任何机构及个人未经华图教育同意不得转载；3、若有权利人对真题及解析主张权利，请及时联系我司，我司将依法采取措施保障权利人合法权益。

100. 能够从上述资料推出的是：

- A. 2011 年社会消费品零售总额超过 20 万亿元
- B. 2014 年网络零售购物用户数比三年前翻了一番
- C. 2014 年平均每家 B2B 企业实现了 200 多万元的营业收入
- D. 2012 年 B2B 企业数同比增速快于网络零售购物用户数同比增速

【答案】 C

【题型】 综合分析类

【考点】

【难度系数】 中等

【解析】 A 选项，2011 年社会消费品零售总额为 $\frac{8019}{4.4\%} \approx 18$ 万亿元，A 错误；B 选项，2014 年网络

零售购物用户比三年前 $\frac{3.8}{2.03} \approx 1.87$ ，不到 1 翻，B 错误；C 选项，2014 年平均每家 B2B 企业实现的

收入约为 $\frac{255 \times 10^8}{11200} > 200$ 万元，C 正确；D 选项，2012 年 B2B 企业数同比增速为

$\frac{11950-10500}{10500} = \frac{850}{10500} = 8.1\%$ ，2012 年网络零售购物用户数同比增速为 $\frac{2.47-2.03}{2.03} = \frac{0.44}{2.03} = 21.7\%$ ，D

错误。选择 C。

【技巧】 估算法、直除法