

第一部分 数量关系

一、数字推理：给你一个数列或者数图，但其中存在空缺，要求你仔细观察数字的排列规律，然后从四个供选择的选项中选出一个来填补。（单项选择题，5题，每题1.0分）

2014上-深圳事业-1. 0, 9, 27, 54, ()

- A.84
- B.87
- C.90
- D.92

【答案】C

【所属考试模块】数字推理

【题型】数列问题

【考点】二级差数列

【难度系数】简单

【解析】相邻项做差依次为9、18、27构成等差，后两项相差36， $54+36=90$ ，因此，本题的答案选C。

2014上-深圳事业-2. 5, 3, 16, 49, ()

- A.785
- B.649
- C.516
- D.403

【答案】A

【所属考试模块】数字推理

【题型】数列问题

【考点】递推积数列

【难度系数】简单

【解析】数列大趋势递增，圈相邻三数3、16、49，显然 $3 \times 16 + 1 = 49$ ，前面 $5 \times 3 + 1 = 16$ 也成立，最后 $16 \times 49 + 1$ ，尾数5，因此，本题的答案选A。

2014 上-深圳事业-5.



A.27

B.19

C.13

D.11

【答案】D

【所属考试模块】数字推理

【题型】数图问题

【考点】数图推理

【难度系数】中等

【解析】由前两个图形观察发现 $(14+20) - (10+9) = 15$, $(13+4) - (2+0) = 15$, $(9+21) - (2+17) = 11$, 因此, 本题的答案选 D。

二、数字运算：请根据题意计算（单项选择题，5 题，每题 1.0 分）

2014-深圳-6. 某水池的容积是 300 立方米，甲、乙为进水管，丙为排水管。甲、乙两管单独灌满整个水池分别需要 20 小时和 30 小时。水池现有一些水，若同时打开三个水管，12 小时后将水放完；若只打开甲、丙两个管口，只需要 4 小时便将水放完。则水池中原有（ ）立方米的水。

A.30

B.60

C.90

D.120

【答案】B

【所属考试模块】数量关系

【题型】工程问题

【考点】

【难度系数】中等

【作者】刘娟文

【解析】根据题意可得：甲的效率为 $300/20=15$ 立方米/小时，乙的效率为 $300/30=10$ 立方米/小时，假设水池中原有的水量为 Q ，丙代表丙的效率，则有

$$\begin{cases} Q=(丙-25) *12 \\ Q=(丙-15) *4 \end{cases} \rightarrow \begin{cases} Q=60 \text{ 立方米} \\ 丙=30 \text{ 立方米/小时。} \end{cases}$$

所以水池中原有水量为 60 立方米。因此，本题的答案选 B。

2014-深圳-8. 甲、乙两个容器里面装有 200 克浓度为 12% 的盐水，乙容器装有 200 克清水，先将甲容器的一半盐水倒进乙容器，搅拌充分后再将乙容器里的一半盐水倒进甲容器，搅拌充分后再从甲容器中倒出部分盐水至乙容器使得两容器里的盐水一样多。则此时乙容器盐水的溶度为（ ）。

A.4.8%

B.6.4%

C.7.2%

D.9.6%

【答案】A

【所属考试模块】数量关系

【题型】溶液问题

【考点】

【难度系数】中等

【解析】根据题意得，两个容器中盐的质量为 $200*12%=24$ 克，溶液的总质量为 400 克，由最后两容器中盐水一样多可得，可知最后乙容器中盐水的质量为 200 克，所以本题的关键在于求得乙容器中的盐的质量。第一次甲倒入的盐的质量为： $200*12%*1/2=12$ 克，然后从乙中倒出一半，则乙容器还有溶质为 $12/2=6$ 克，溶液为 $(200+100)/2=150$ 克，则此时甲容器中有溶液 $400-150=250$ ，盐质量为： $24-6=18$ 克，乙容器要达到 200 克的溶液，还要甲容器往里倒入 50 克溶液，这 50 克溶液中其中含盐的质量为 $50*(18/250)=3.6$ 克，故此时乙容器中的盐的质量

为 $6+3.6=9.6$ 克，所以乙容器盐水的浓度为 $9.6/200=4.8\%$ ，用表格表示为（第一次表示每次操作后两个容器中溶液的状态，后面也类似）：

		开始状态	第一次	第二次	第三次
甲容器	溶质	24	12	18	$18 \times (200/250)$
	溶液	200	100	250	200
乙容器	溶质	0	12	6	$6+18 \times (50/250)$
	溶液	200	300	150	200

因此，本题的答案选 A。

2014-深圳-9. 甲、乙两列火车的速度比是 5:4，乙车先发，从 B 站开往 A 站，当走到离 B 站 72 千米的地方时，甲车从 A 站发车往 B 站，两列车相遇的地方离 A、B 两站距离的比是 3:4，那么 A、B 两站之间的距离为（ ）千米。

- A.350
- B.315
- C.450
- D.300

【答案】B

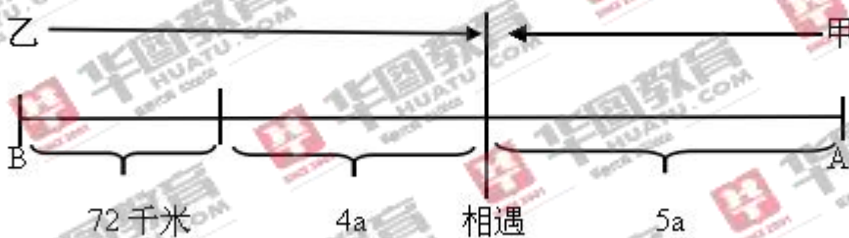
【所属考试模块】数量关系

【题型】行程问题

【考点】

【难度系数】较难

【解析】



根据题意得：从甲车开始运行到两车相遇这段时间，因为两车运行的时间相同，

所以运行的距离与两车的速度成正比，设甲车运行的距离为 $5a$ ，则乙车运行的距离为 $4a$ ，根据相遇时据 A、B 两地的距离可得： $(72+4a):5a=4:3$ ，解得 $a=27$ ，故 A、B 两地的距离为 $72+(4a+5a)=72+9*27=315$ 。因此，本题的答案选 B。

2014-深圳-10. 某工厂有甲、乙、丙、丁四条生产线，经抽样检查，这四条生产线的产品合格率分别为 $49/50$ 、 $50/51$ 、 $51/52$ 、 $52/53$ 。则这四条生产线中，产品的合格率最高的是（ ）。

- A. 甲
- B. 乙
- C. 丙
- D. 丁

【答案】D

【所属考试模块】数量关系

【题型】比例问题

【考点】

【难度系数】中等

【解析】 $49/50=1-1/50$ 、 $50/51=1-1/51$ 、 $51/52=1-1/52$ 、 $52/53=1-1/53$ 。所以合格率最高的为丁。因此，本题的答案选 D。

第二部分 言语理解与表达

一、选词填空：要求你从所给的四个选项中选出一个填空，使句子的意思表达得最准确。（单项选择题，10 题，每题 1.0 分）

2014-深圳职员-11. 将下列选项中的词语依次填入各句横线，最恰当的一组是：

- ①我是 1924 年_____的，历经坎坷，风风雨雨，而今已届古稀之年。
- ②从古到今，不知有多少仁人志士为了正义事业_____取义。从茹毛饮血的苏武到“前脚踏出大门，后脚就不准备再跨进大门”的闻一多，许许多多的英雄一直为世人所景仰。

- A. 出生、舍身
- B. 出身、舍身
- C. 出生、舍生

D. 出身、舍生

【答案】C

【所属考试模块】言语理解与表达

【题型】选词填空

【考点】实词辨析

【难度系数】中等

【解析】本题考查考生实词和成语辨析的能力。

“出生”，指出生是指胎儿从母体中分离出来，如：“十六年前，他出生了；

“出身”指为出身是指个人早期的经历或由家庭经济情况所决定的身分，如：“店员出身、工人家庭出身”等。结合语境①句应选“出生”。

②考点是成语，只有“舍生取义”，意为为了正义事业不怕牺牲。常用于赞扬别人难能可贵的精神。出自《孟子·告子上·鱼我所欲也》：“生，亦我所欲也，义，亦我所欲也。二者不可得兼，舍生而取义者也。”不存在“舍身取义”这个成语，所以排除 A 和 B，因此，本题答案为 C 项。

2014-深圳职员-12. 依次填入下列各句横线处的词语，最恰当的一组是：

①我们要警惕新纳粹势力_____，给世界安全带来威胁。

②新中国成立 60 年庆典上，我国首批歼击机女飞行员果然_____，零误差飞过天安门广场。

A. 东山再起、不孚众望

B. 死灰复燃、深孚众望

C. 死灰复燃、不孚众望

D. 东山再起、深孚众望

【答案】B

【所属考试模块】言语理解与表达

【题型】选词填空

【考点】实词辨析

【难度系数】易

【解析】本题考查考生成语辨析的能力。

“东山再起”指退隐后再度出任要职。也比喻失势后重新恢复地位，是褒义词。

“死灰复燃”意指冷灰重新烧了起来。原比喻失势的人重新得势。现常比喻已经消失了的恶势力又重新活动起来，是贬义词。新纳粹势力是恶势力，应该用贬义词，所以选择“死灰复燃”。

“不孚众望”是不使大家信服的意思；

“深孚众望”意思是在群众中享有威望，使大家信服。指深得众人信服。歼击机女飞行员零误差飞过天安门广场，所以应该用“深孚众望”。这道题选择B。

2014-深圳职员-14. 依次填入下列各句横线处的词语，最恰当的一组是：

①张明的姐姐下岗了，全家生活遇到了困难，张明每月寄一些钱去，_____一下他的姐姐。

②老厂长到了退休年龄，上级决定由小张_____厂长的职务。

③经过五十年的努力，我国科学技术发展取得了令人瞩目的成绩，在新的世纪，还要进一步_____我国科学发展的道路。

④中国共产党召开的“十七大”，为我国在新世纪的发展制定了_____规划。

- A. 接济、接替、开拓、宏伟
- B. 救济、接替、开拓、雄伟
- C. 接济、接手、开辟、雄伟
- D. 救济、接手、开辟、宏伟

【答案】A

【所属考试模块】言语理解与表达

【题型】选词填空

【考点】实词辨析

【难度系数】中等

【解析】本题考查考生实词辨析的能力。

接济：指在物质上援助，对象常是一时有了经济困难的人。多用于个人对个人。

救济：多指国家、政府、团体或单位等大规模的急救、援助，对象常是灾民、灾区、难民、失业者或生活困难的人。多用于较大场合，少用于个人。第①空的意思是张明姐姐生活困难，张明给他钱，所以用“接济”更合适。排除BD。

接替：接过别人的工作继续做。“接替”的对象可以是工作、任务，也可以是某个人或某种职务；“接手”对象仅限于工作、任务。而第②空的对象是职务，所以用“接替”更合适。

开辟：强调从无到有地打通、创建，如：开辟航线。

开拓：是从小到大地发展、扩大，对象一般是范围较大的，如：开拓新局面；用于比喻义时，对象可指领域，也可指胸怀，如：开拓人的心胸。第③空的意思是要进一步发展，而不是从无到有，所以有“开拓”。

雄伟：可用于形容山峰、富有历史意义的大型建筑，也可以指乐曲、绘画的雄壮；

宏伟：指大型建筑或计划的宏大。如“宏伟的计划”、“宏伟的蓝图”，一般不能说“宏伟的乐章”。第④空讲的是规划，所以用“宏伟”。所以正确答案为A。

2014-深圳职员-16. 依次填入下列各句横线处的词语，最恰当的一组是：

①英国是一个议会制的君主立宪国家，其君主为世袭制，但议会并没给君主过多的_____，国家一切的决定都要经过漫长的协商。

②据了解，北京市目前拥有家庭装修监理上岗证的监理员中仍 100 多人，即使这个数字再_____，也无法满足众多家庭用户的需求。

③我去过江浙一带，几乎每到一个县，都发现那里的博物馆会有一张登有几个几十个中过状元的人的名单表，这真令我瞠目结舌。

- A. 权力、翻一翻、以及
- B. 权力、翻一番、甚至
- C. 权利、翻一翻、以及
- D. 权利、翻一翻、甚至

【答案】B

【所属考试模块】言语理解与表达

【题型】选词填空

【考点】虚词辨析

【难度系数】中等

【解析】本题考查考生实词辨析的能力，权利与权力是两个不同的概念，前者属于法律上的概念，后者则属政治上的概念。

权力：①政治上的强制力量。如：一切权力归人民。②职责范围内的支配力量。如：他的权力太大。

权利：公民或法人依法行使的权力和享受的利益。如：男女平等的权利。第①空说的是政治上的权力，所以选“权力”。

翻一番：通常指的是翻一倍即增长了一倍。

翻一翻：指的是动作的词，把什么东西翻上来。第②空的意思是增长了一倍的意思，所以选“翻一番”。

以及：连词。表示在时间、范围上的延伸。表并列。

甚至：表递进。第三空要填的是表递进的一个词，所以用甚至。综上所述，所以正确答案为B。

2014-深圳职员-17. 依次填入下列各句横线处的词语，最恰当的一组是：

- ①上千吨的轮船碰上这么大的风浪也得上下颠簸，_____这么一只小船。
②他的动作完成得简直无可挑剔，_____全体裁判员无一例外地亮出了满分。
③我们在对某些教育现象进行分析后，_____应该思考教育的更深层次问题。

- A. 况且、以至、进而
B. 何况、以至、进而
C. 况且、以致、从而
D. 何况、以致、从而

【答案】B

【所属考试模块】言语理解与表达

【题型】选词填空

【考点】虚词辨析

【难度系数】中等

【解析】本题考查考生实词辨析的能力。

“况且”表示进一步申述理由或者追加更加理由，如“路不算远，况且还是快车，一定能准时赶到。”“还是快车”是对“路不算远”所以能“准时赶到”的一个追

加的理由。

“何况”则表示意义更进一层。一般来说，“何况”与“况且”连接两个句子，表示递进关系时往往可以互换，其区别主要是后面接名词时表现不同，如“本国语文他都还没学好，何况外国语文”，这里的何况不能用“况且”，因此①中应该选择的词语是“何况”。

“以至”和“以致”主要涉及“至”和“致”的区分问题，“至”是“到”的意思，常常表示到达某个地主，对了某个时间或者达到某一程度；“致”是“引起、使达到”，常常表示“致使”等因果关系。一般来说“以致”所引起的结果常常是不好的。本文中的结果明显是好的，所以不能用“以致”。

“从而”的意思是“因此，就……”，表示的是因果关系，“进而”表示进一步，在现在的基础上继续前进，表示的是递进关系。从文中来看，“后”“更”等词语都意味着这是一个递进关系的复句，因此应该选用“进而”。

因此最佳答案为B。

2014-深圳职员-18. 依次填入下列各句横线处的词语，最恰当的一组是：

宅在屋里久了，想出去看看风景，好风景_____可以打动人心，但若得几个情投意合的人，想与_____其间，那才真有味儿；这时候风景觉得更好。

- A. 即便、畅游
- B. 虽然、徘徊
- C. 固然、徜徉
- D. 即使、漫步

【答案】C

【所属考试模块】言语理解与表达

【题型】选词填空

【考点】虚词辨析

【难度系数】中等

【解析】本题属于实词辨析题，其中也考查到连词的用法。通过后面的“但”，可知第①空可以填“虽然”和“固然”。

“畅游”可表示尽情的游览或畅快的游泳。

“徘徊”意思是在一个地方来回地走，或比喻犹豫不决，或危险常顾，或比喻事物在某个范围内来回浮动、起伏。

“徜徉”可表示陶醉于某事物当中。

“漫步”指悠闲地随意走。第②个空白处根据“有味儿”和“觉得更好”可知可以填入词有“徜徉”、“漫步”，再综合考虑到第一处可填入的词，可知正确答案为C选项。

2014-深圳职员-20. 生活的_____让他过早地承担起了一个家庭的责任，使他不得不像个成人一样工作。

- A. 艰辛
- B. 艰难
- C. 坚持
- D. 危难

【答案】A

【所属考试模块】言语理解与表达

【题型】选词填空

【考点】实词辨析题

【难度系数】中等

【解析】此题是实词填空。

艰难的意思有：1. 困苦；困难。2. 危险。3 犹劳苦。4. 慎重。 6. 危难；祸乱。

艰辛 释义：艰苦。

坚持：执意不改，始终如一。

危难：危险和灾难。结合语境和习惯搭配可知答案是A选项。

二、语句表达：要求你从语气、词序、语法结构等方面对有关语句作出判断。（单项选择题，5题，每题1.0分）

2014-深圳职员-21. 下列各句中，没有语病的一句为（ ）

- A. 参加亚运会的中国游泳队，是由二十个集训队中挑选出的十二名优秀选手组成的。

B. 在那届世乒赛团体比赛中，刘国梁就首开中国选手输球先例，最终被排除出主力阵容。

C. 张国立一人入选“十大”，实力不够，加上妻子邓婕，分量差不多了，就忝列其中吧。

D. 如果美国政府不履行它在中美贸易协定、多种纤维品协定和纺织品协定中所承担的义务，那么，任何人也难以预料中美两国间的贸易不会出现逆转。

【答案】D

【所属考试模块】言语理解与表达

【题型】语句表达

【考点】病句辨析

【难度系数】较难

【解析】A项犯了成分残缺的错误。介词“中”，一般要和“从”或“在”搭配使用，所以原句应该是“是由（从）二十个集训队中”，少了一个介词“从”。B项成分赘余，“首”和“先例”语义相似，所以“首开”与“先例”重复。C项用词错误，“忝”字一般用于自谦，只能自用，不能用于他人。所以正确答案为D。

2014-深圳职员-22. 下列各句中，没有语病的一句为()

A. 这项基金，是对公益林管理者发生的管理、抚育、保护和营造等支出给予一定补助的专项资金。

B. 六年间，我国航天技术完成了从单舱到三舱、从无人到有人、从“一人一天”到“两人五天”的进步。

C. 目前，我市已做出规划，通过优惠的政策和到位的服务，多方引进资金，开拓经济发展的新途径。

D. 那些在各条战线上以积极进取、不折不挠对待生活和工作的人，才是我们尊敬和学习的对象。

【答案】C

【所属考试模块】言语理解与表达

【题型】语句表达

【考点】病句辨析

【难度系数】中等

【解析】A项语序不当，按照事物的先后发展顺利，应改为“营造、抚育、管理、保护”。B项搭配不当，不能使“完成进步”，应把“进步”改成“发展过程”即完成发展过程，或者“完成”改为“实现”，即实现进步。D项成分残缺，应该为“以……态度”，所以应在“不折不扣”后加“的态度”。所以正确答案为D。

2014-深圳职员-23. 下列各句中，没有语病的一句为()

- A. 令人不可思议的是，当该地区违规操作的问题曝光以后，各地的采购员反倒蜂拥而至。
- B. 兔子泛滥成灾，糟蹋了整个牧场，使誉满全球的澳洲绵羊成倍减少。
- C. 公司家大业大，更要注意节省不必要的开支和不应有的浪费。
- D. 我国向太平洋预定海域发射的首枚运载火箭圆满成功。

【答案】A

【所属考试模块】言语理解与表达

【题型】语句表达

【考点】病句辨析

【难度系数】中等

【解析】B项搭配不当，数量的减少不能用倍数来修饰，数量的减少只能用分数或百分数，增加才能用倍数。C项第一个错误是成分赘余。浪费即意味着不应有的，没有应有的浪费，所以不能用“不应有”来修饰浪费。第二个错误是搭配不当，“节省浪费”不搭配，应该是减少浪费。D项犯了搭配不当的错误，压缩句子，得出“运载火箭圆满成功”的主干，但是没有“火箭成功”的说法，圆满成功的是“发射运载火箭”。所以此题选择A。

2014-深圳职员-24. 下列各句中，没有语病的一句为()

- A. 随着我国人口结构中老龄人口的增长，老人对生活、学习用品的需要也将不断增长。
- B. 运动会开幕式后，上演了名为《太阳·冰雪·亚细亚》的大型文艺表演。

C. 镇政府大院，张灯结彩，有八对青年男女在这里喜结良缘，这是该镇进行的第七批农村青年集体婚礼。

D. 这种将企业各方的权利义务用合同、章程等方式加以明确，对于职工行使民主管理权力无疑是一种保障。

【答案】A

【所属考试模块】言语理解与表达

【题型】语句表达

【考点】病句辨析

【难度系数】中等

【解析】B项成分残缺，压缩句子，得出“上演表演”，有谓语和宾语，但是没有主语，所以主语缺失。C项动宾搭配不当，应该是举行婚礼，而不是进行婚礼。

D项成分残缺，压缩句子，得出“这种是一种保障”的主干，有谓语和宾语，但主语缺失，应该在“明确”之后加上“的措施”。故正确答案为A。

三、阅读理解：阅读短文，短文后面有若干不完整的陈述，要求你从四个选项中选出一项来完成每一陈述。注意：供选择的答案有时可能是对短文内容的一个复述，有时则满足了陈述中其它方面的要求，你的选择应与所提要求最相符。（单项选择，5题，每题1.0分）

2014-深圳职员-26. 无论是在温州市区，还是在桥头、白象镇，你总能感到一种异常浓烈的气氛和活力在包围着你，这就是温州特有的商品经济的气氛和活力。在温州城乡，你看到千家万户都在从事商品经营，到处有车间、作坊，到处有专业市场、自由市场和零售摊点，到处有大大小小的商品，到处有种类繁多的新产品。几百万温州人不少在忙于生产、就是在忙于销售。古代有一幅画叫《清明上河图》，温州商品经济所展现的图画是现代的《清明上河图》，而它比古画所描绘的更繁荣百倍、千倍。

下列叙述能最好概括上文的是：

A. 温州到处是商品交易。

B. 温州所展现的景象是一幅现代的《清明上河图》。

C. 温州到处是商品生产。

D. 温州到处呈现出繁荣的商品交易和商品生产, 让人感受到她特有的商品经济的气氛和活力。

【答案】D

【所属考试模块】言语理解与表达

【题型】阅读理解

【考点】主旨概括

【难度系数】中等

【解析】本题是典型的主旨概括题, 文段开头一句是总句, 重点强调温州到处呈现出繁荣的商品交易和商品生产, 让人感受到她特有的商品经济的气氛和活力。下文都是对温州商品繁荣和商品经济气氛与活力的解释说明。结合四个选项, 只有D项较全面地概括出文段强调的重点。因此, 本题选择D选项。

2014-深圳职员-27. 人们每天所吃的事物, 按酸碱性可分为两大类。含有磷、氯、硫元素较多的食物, 如大米、面粉、鱼、肉、蛋、糖、花生、啤酒等属酸性食物; 含钾、钠、钙、镁元素较多的事物, 如蔬菜、水果、豆类、茶等属碱性食物。酸、碱性食物应当搭配食用, 偏食酸性食物可能引起酸中毒, 即血液酸化, 易使人疲劳, 抵抗力降低, 容易出现便秘、软骨病, 特别是使脑力劳动者思维能力下降、记忆力减退, 发生神经衰弱症。因此, 脑力劳动者不宜偏食酸性食物。

下列说法符合文意的一项是:

- A. 人们每天吃的事物, 含有磷、氯、硫元素的为酸性食物; 含钾、钠、钙、镁元素的为碱性食物。
- B. 疲劳、抵抗力降低、便秘、软骨病都是偏食酸性食物使血液酸化造成的。
- C. 酸性食物吃了有诸多不宜, 还是不吃或不吃为妙。
- D. 血液酸化尤其会影响脑力劳动者的思维、记忆, 发生神经衰弱症。

【答案】D

【所属考试模块】言语理解与表达

【题型】阅读理解

【考点】细节理解题

【难度系数】中等

【解析】本题是典型的细节理解题，将四个选项一一带入原文进行验证，A选项表述有误，原文是含有磷、氯、硫元素的多为酸性食物；含钾、钠、钙、镁元素的多为碱性食物。B项表述过于绝对；文中只是说酸、碱性食物应当搭配食用而不是说酸性食物吃了有诸多不宜，还是不吃或不吃为妙。排除C。因此，本题选择D选项。

2014-深圳职员-28. 眼下，黑色食品在我国的一些大中城市行俏走红。黑芝麻、黑米锅巴、黑糯米等食品的销路极佳。皮心皆黑的黑米用来做饭，香甜而不腻，柔软可口，且具有滋补作用，因而大受欢迎；被列为“黑名单”的还有黑豆、黑芝麻、黑红豆、黑豌豆等杂粮，经过深加工同样可以成为口感好、回味无穷的可口食品。黑龙江所产的黑色饮料“黑加仑汁”也很畅销。不难预料，黑色食品将越来越被日趋注重营养和保健的现代人接受。

作者写这段话的主要目的是：

- A. 让读者了解黑色食品的种类
- B. 说明黑色食品将日趋被人们重视而迎来美好的市场前景。
- C. 说明黑色食品的味道很好。
- D. 阐述黑色食品的保健功能。

【答案】B

【所属考试模块】言语理解与表达

【题型】阅读理解

【考点】主旨概括题

【难度系数】中等

【解析】本题是典型的主旨概括题，该文段是典型的总-分-总的结构，将首尾两句综合概括，“黑色食品在我国的一些大中城市行俏走红。”和“黑色食品将越来越被日趋注重营养和保健的现代人接受。”再结合四个选项可知B选项才是正确答案。因此，本题选择B选项。

2014-深圳职员-29. 专业设置不合理、招生计划不科学，就会影响生源质量，影响培养质量和就业质量。而生源质量低、就业难，反过来不仅影响招生，而且会

影响学校的整体形象，形成恶性循环。

下列理解，有误的一项是：

- A. 专业设置不合理、招生计划不科学将导致恶性循环。
- B. 学校整体形象往往取决于生源质量，而培养质量和就业质量无关紧要。
- C. 搞好招生，有利于提高培养质量和就业质量。
- D. 招生计划不科学的最终结果是影响招生。

【答案】B

【所属考试模块】言语理解与表达

【题型】阅读理解

【考点】细节理解题

【难度系数】中等

【解析】本题是典型的细节理解题，将四个选项一一带入原文进行验证，原文只是说到“专业设置不合理、招生计划不科学，就会影响生源质量，影响培养质量和就业质量。反过来不仅影响招生，而且会影响学校的整体形象，形成恶性循环。”可知就是引起恶性循环。故A项正确。“专业设置不合理、招生计划不科学，就会影响生源质量，影响培养质量和就业质量。”可知学校整体形象往往取决于生源质量，而培养质量和就业质量无关紧要这句话是错误的；故B项表述错误。C和D均可以在原文中找到相应内容。因此，本题选择B选项。

2014-深圳职员-30. 对于人文社科类的学术著作，在撰写过程中，存在所谓“共识”问题。因而做出完全相同的释义是可能的，但也是有限度的，绝不能用所谓的“共识”给自己的抄袭行为开脱。

这段话支持了这样一种观点，即在人文社科类学术著作的撰写过程中：

- A. 出现完全相同的释义是不可避免的
- B. 会出现一定数量的完全相同的释义，但限度很难掌握。
- C. 只要出现完全相同的释义，就应该视为抄袭行为。
- D. 如果出现大量的完全相同的释义，就不是“共识”，而是抄袭。

【答案】D

【所属考试模块】言语理解与表达

【题型】阅读理解

【考点】主旨概括题

【难度系数】较易

【解析】本题是主旨概括题，该文段主要讲的是在撰写人文社科类的学术著作过程中，存在所谓“共识”问题。因而做出完全相同的释义是可能的，但也是有限度，不能成为抄袭的借口。再结合四个选项可知A和C明显错误，B选项的“限度很难掌握”在文中无相应的内容。因此，本题选择D选项。

第三部分 判断推理

一、事件排序：在回答问题时，要根据自己的一般知识和对事件间逻辑关系的理解作些补充或合理的假设，以填补欠缺的信息。每道题给出五个事件，每个事件是以简短语句表述的，接着给出四种假定发生顺序的四个数字序列，请你选出其中最合乎逻辑的一种事件顺序。注意要以最少的假设来联系和安排这五个事件的发生顺序。（单项选择题，5题，每题1.0分）

请开始答题：

31、（1）水生生物需要更多有氧代谢

（2）发育受阻或死亡

（3）水中溶解氧减少

（4）影响环境和生态平衡

（5）水温升高

A. 5-3-1-2-4

B. 5-1-2-3-4

C. 5-1-3-2-4

D. 3-1-5-4-2

【答案】A

【所属考试模块】判断推理

【题型】事件排序

【考点】因果关系

【难度系数】较易

【解析】本题考查的是事件之间的因果关系，具体的逻辑关系是：水温升高，导致水中溶解氧减少，同时水生生物需要更多的有氧代谢，（以上原因共同造成水生生物）发育受阻或死亡，从而影响了整个环境和生态的平衡。此题解题的关键

在于 (5)、(3) 主体一致，(1)、(2) 主体一致。因此，本题选择 A 选项。

32、(1) 该组住户不服请求救济

(2) 省政府对征用土地进行批复

(3) 甲公司拆除该村一组住户房屋

(4) 市规划局授予甲公司拆迁许可

(5) 某市决定征用某村的土地

A. 5-3-1-4-2

B. 4-2-5-3-1

C. 5-2-4-3-1

D. 5-2-3-1-4

【答案】C

【所属考试模块】判断推理

【题型】事件排序

【考点】事件流程

【难度系数】较易

【解析】本题考查的是事件流程，具体的逻辑关系是：某市决定征用土地（因此需要向省政府提交申请），然后省政府对征用土地（的申请）进行批复，然后市规划局才有权授予甲公司拆迁许可，甲公司拿到授权后拆除该村一组住户的房屋，住户不服请求救济。因此，本题选择 C 选项。

34、(1) 油库爆炸

(2) 半夜雷雨交加

(3) 电线短路

(4) 粮库着火

(5) 二十余人受伤

A. 3-2-4-1-5

B. 2-1-3-4-5

C. 2-3-4-1-5

D. 5-4-3-1-2

【答案】C

【所属考试模块】判断推理

【题型】事件排序

【考点】

【难度系数】较易

【解析】本题考查的是时间顺序加因果关系，具体逻辑关系是：雷雨引发电线短路，从而导致粮库着火，火灾又引发了爆炸，最后造成人员伤亡。此题解题的关键是（2）肯定在首位，并且（2）、（3）是最明显的因果关系。因此，选择 C 选项。

35、（1）李自成成立大顺政权

（2）后金改国号为清

（3）郑成功收复台湾

（4）三藩叛乱开始

（5）清朝设置台湾府

A. 2-1-5-3-4 B. 2-1-3-4-5

C. 2-5-1-3-4 D. 5-3-4-2-1

【答案】B

【所属考试模块】判断推理

【题型】事件排序

【考点】时间顺序

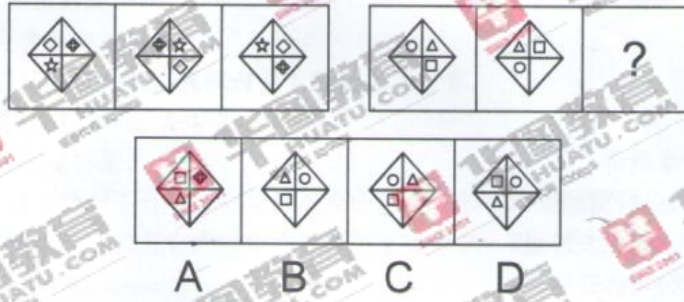
【难度系数】较易

【解析】本题考查的是时间顺序，由先到后的排序是：后金改国号为清（1636年），李自成建立大顺政权（1644年），郑成功收复台湾（1667年），三藩叛乱开始（1673年），清朝设置台湾府（1684年）。此题解题的关键是（5）项肯定是最后一项，只有 B 项符合。因此，选择 B 选项。

第二部分判断推理

二、图形推理：每道题包含两套图形和可供选择的四个图形。这两套图形具有某种相似性，也存在某种差异。要求你从四个选项中选择最适合取代问号的一个。正确的答案应不仅使两套图形表现出最大的相似性，而且使第二套图形也表现出自己的特征。（单项选择题，5 题，每题 1.0 分）

36.



【答案】D

【所属考试模块】判断推理

【题型】


【考点】遍历

【难度系数】较难

【解析】此题为遍历规律的变形，遍历的规律为每组出现的图形种类都相同，但是每个图形的位置都不一样。那么前一组符合遍历的规律，选项中首先排除A选项，元素种类不同，B选项中三角形的位置和第二个图中位置相同排除，C选项中圆的位置和第一图中位置相同排除，只有D符合规律。所以答案选择D选项。

2014-深圳-37.

37.



【答案】D

【所属考试模块】判断推理

【题型】

【考点】数量

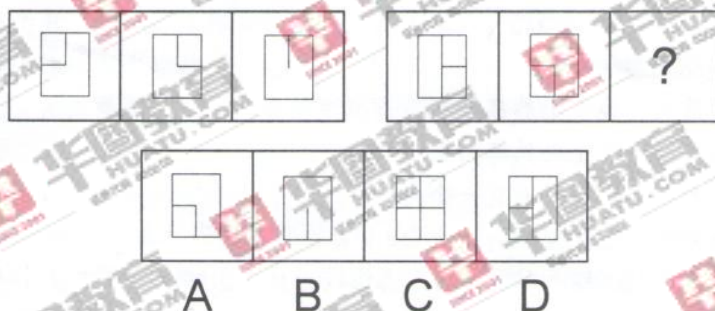
【难度系数】简单

【解析】此题考查图形数量上的规律，前一组图图形的数量变化为3、1、3，第

一个图的图形数量与第三个相同，并且都比中间的图形多 2 个，后面一组图的图形数量规律为 5、3、5。第一个图的图形数量与第三个相同，并且都比中间的图形多 2 个。并且两组图对比，第一组图的对应每个图都比后一组图对应位置的图形的数量少两个。所以答案选 D 选项。

2014-深圳-38.

38.



【答案】B

【所属考试模块】判断推理

【题型】

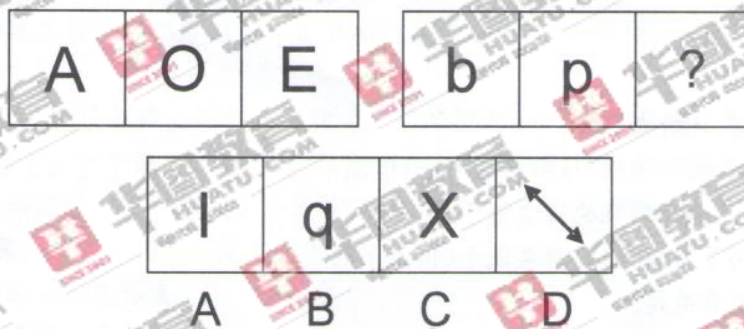
【考点】求同

【难度系数】简单

【解析】此题是很基础的一道运算规律题，考点是运算里面的去异求同，第一组图不一样的直线都去掉，相同的直线就中间的竖线保留下来。第二组图不同的直线去掉，相同的也是下面的半条竖线保留下来。所以答案选 B 选项。

2014-深圳-39.

39.



【答案】B

【所属考试模块】判断推理

【题型】

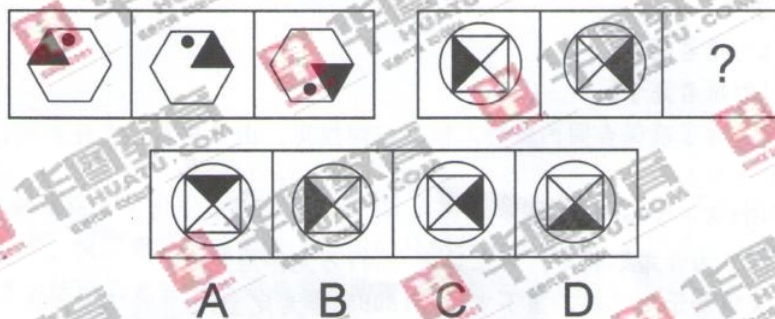
【考点】对称+大小写

【难度系数】中等

【解析】前一组图都是轴对称图形并且都是大写字母，后一组都是非对称图形，且都是小写字母，A、B、D选项图形都为轴对称图形且A、C都是大写字母。只有B选项同时符合轴对称且为小写字母两个规律。所以答案选B选项。

2014-深圳-40.

40.



【答案】C

【所属考试模块】判断推理

【题型】

【考点】翻转

【难度系数】简单

【解析】此题考查是最基础的翻转，前一组图中第一个图以图形自己的中心轴为对称轴进行左右翻转得到第二个图；第二个图再以横轴对称轴上下翻转得到第三个图。后一组图和前一组规律相同，前一组图中第一个图以图形自己的中心轴为对称轴进行左右翻转得到第二个图；第二个图再以横轴对称轴上下翻转得到第三个图，但注意因为第二个图是上下轴对称，所以上线翻转后不变。所以答案选C选项。

三、判断与推理：每题给出一段陈述，这段陈述被假设是正确的，不容置疑的。

要求你根据这段陈述，选出一个答案。注意：正确的答案应与所给的陈述最相符。（单项选择题，10题，每题1.0分）

请开始答题：

41、小明十分渴望成为古筝演奏家，为此他去请教古筝大师：“如果您教我古筝演奏，我将要多久才能成为一名古筝演奏家？”大师回答道：“大约十年。”小明不满足于此，再问：“如果我不分昼夜每天苦练，能否缩短时间？”大师道：“那需用五年。”

根据上述文段，古筝演奏大师的回答所提示的古筝演奏家的重要素质可能是：

- A. 谦虚
- B. 勤奋
- C. 尊师
- D. 耐心

【答案】B

【所属考试模块】判断推理

【题型】归纳推理

【考点】

【难度系数】较易

【解析】本题考查的是归纳推理，根据演奏大师的回答，一般而言需要十年的时间才能成为古筝演奏家，但是如果不分昼夜，勤学苦练，只需要五年就可以，可见每天付出更多的时间和精力，即更加勤奋，就可以缩短成为大师的时间。因此，选择B选项。

43、有G, H, I, J, K, L六个人，每个人或者只下围棋或者只下象棋。如果有多个人下同一种棋，则下该种棋的人按下棋水平从高到低排名。

给出下列条件：

- ①J下象棋。
- ②H下围棋。
- ③在下围棋的人中间，H排名最高。

④如果 I 下围棋，则 K 和 L 下围棋，K 的排名低于 I 但高于 L。

⑤如果 I 下象棋，则 L 下象棋，L 的排名低于 J 但高于 I。

⑥如果 K 下象棋，则 G 下象棋，J 的排名低于 G 但高于 K。

那么下列选项能够为真的是：

A. I 下象棋，L 下围棋。

B. G 下象棋，K 下围棋。

C. K 和 J 下象棋，K 的排名高于 J。

D. I 和 L 下象棋，I 的排名高 L。

【答案】B

【所属考试模块】判断推理

【题型】智能推理

【考点】

【难度系数】较难

【解析】此题属于题干信息肯定型智能推理，因此优先使用排除法。根据选项内容，分别与题干进行代入排除。根据“④如果 I 下围棋，则 K 和 L 下围棋”可知 A 项中 I 下象棋，L 应该也下象棋，故 A 项错误；根据“⑥如果 K 下象棋，则 G 下象棋，J 的排名低于 G 但高于 K。”可知 K 的排名应该低于 J，则 C 项错误；根据“⑤如果 I 下象棋，则 L 下象棋，L 的排名低于 J 但高于 I。”可知 I 的排名应该低于 L，则 D 项错误。因此，选择 B 项。

44、定金是指合同当事人为了确保合同的履行，依据法律规定，由当事人一方在合同订立时，或订立后、履行前，预先给付对方当事人的金钱。

根据上述定义下列属于定金的是：

A. 在订婚的时候，女方为了婚姻稳定，要求男方支付 1 万元作为定金。

B. 李某看好了赵某的场子和极其，当下支付了 1000 元作为定金。

C. 为了度周末，杨某和高某约定，周六的时候，杨某借走高某的电视，返还的时候，高某拿杨某的 DVD 使用一天。

D. 因为不能履行合同，所以赵某按照约定支付 1 万元现金。

【答案】B

【所属考试模块】判断推理

【题型】定义判断

【考点】

【难度系数】较易

【解析】本题考查的是定义判断。根据题干中关于定金含义的描述可抓住四个关键词：合同、履行、预先、金钱。A项不是履行合同，错误。C项既不是履行合同，也不是支付现金，错误。D项是不是预先支付，而是违约后支付，错误。只有B项符合题干中关于定金含义的描述。因此，选择B项。

45、去年某旅游胜地游客人数与前年游客人数相比，减少约一半。当地旅游管理部门调查发现，去年与前年的最大不同是入场门票从120元升到190元。

以下措施，最有可能有效解决上述游客锐减问题的是：

- A. 利用多种媒体加强广告宣传。
- B. 旅游地增加更多的游玩项目。
- C. 根据实际情况，入场门票实行季节浮动价。
- D. 对游客提供更周到的服务。

【答案】C

【所属考试模块】判断推理

【题型】归纳推理

【考点】

【难度系数】较易

【解析】本题考查的是归纳推理。根据题干表述，游客锐减的原因很可能是入场门票的提高，因此，最有可能解决游客锐减问题的措施也必须从门票的价格入手。A项说的是宣传；B项说的是游玩项目；D项说的是服务问题；均与题干中讨论的主题不一致，只有C项提到了门票价格的问题，根据主题一致原则，只有C项符合。因此，选择C项。

2014-深圳-46. 口腔癌对那些很少刷牙的人是危险的。为了能在早期发现这些人的口腔癌，某城镇的公共卫生官员向所有的该镇居民散发了一份小册子，上面描

述了如何每周进行口腔的自我检查以发现口腔内的肿瘤。

以下选项如果为真，能够最好的证明公共卫生官员的目标无法达成的是：

- A、有些口腔疾病的病症靠自检难以发现。
- B. 预防口腔癌的方案因人而异。
- C. 经常刷牙的人也可能患口腔癌。
- D. 很少刷牙的人不大可能每周对他们的口腔进行检查。

【答案】D

【所属考试模块】判断推理

【题型】论证

【考点】必要条件

【难度系数】中等

【解析】题干要削弱的是，把这份小册子作为一种达到公共卫生官员的目标的方法。削弱该论点就是要指出，通过这样的途径达不到该目的。如果很少刷牙的人不大可能每周对他们的口腔进行检查，那么即使公共卫生官员向所有居民发了小册子，上面描述如何进行每周口腔的自我检查等，也是不可能因此在早期发现这些人的口腔癌的，削弱了论点。A 选项中是指有些口腔疾病而不是所有口腔疾病。所以不能削弱论点。所以答案为 D 选项。

2014-深圳-47. 家用电炉有三个部件：加热器、恒温器和安全器。加热器只有两个设置：开和关。在正常工作的情况下，如果将加热器设置为开，则电炉运作加热功能；设置为关，则停止这一功能。当温度达到恒温器的温度旋钮所设定的读数时，加热器自动关闭。电炉中只有恒温器具有这一功能。只要温度一超出温度旋钮的最高读数，安全器自动关闭加热器。同样，电炉中只有安全器具有这一功能。当电炉启动时，三个部件同时工作，除非发生故障。

以上断定最能支持的结论是：

- A. 一个电炉，如果它的恒温器和安全器都出现了故障，则它的温度一定会超出温度旋钮的最高读数。
- B. 一个电炉，如果其加热的温度超出了温度旋钮的设定读数但加热器并没有关闭，则安全器出现了故障。

C. 一个电炉，如果加热器自动关闭，则恒温器一定工作正常。

D. 一个电炉，如果其加热的温度超出了温度旋钮的最高读数，则它的恒温器和安全器一定都出现了故障。

【答案】D

【所属考试模块】判断推理

【题型】

【考点】

【难度系数】中等

【解析】用排除法：A选项，如果恒温器和安全器都出现故障，那么加热器开关为关或者故障，那么它的温度不一定会超出温度旋钮的最高读数。所以A选项排除。B选项，一个电炉，如果其加热的温度超出了温度旋钮的设定读数但加热器并没有关闭，那么并不一定是安全器出现了故障，也可能是恒温器出现了故障。所以B选项排除。C选项，一个电炉，如果加热器自动关闭，那么并不一定是恒温器工作正常，如果恒温器故障但是安全器工作正常，那么加热器也会自动关闭。所以C选项排除，D选项，只有当恒温器和安全器都出现故障的时候，温度才会超过最高度数。所以答案选D选项。

2014-深圳-49. 一家飞机发动机制造商开发出了一种新型发动机，安全性能要好于旧型发动机。在新旧两种型号的发动机同时被销售的第一年，旧型发动机的销量超过了新型发动机，该制造商于是得出结论认为安全性并非客户的首要考虑。下面哪项如果正确，会最严重地削弱该制造商的结论？

A. 私人飞机主和航空公司都从这家飞机发动机制造商这里购买发动机。

B. 许多客户认为早期的型号在风险方面比新型号更小，因为他们对老型号发动机的安全性知道更多。

C. 这家飞机发动机制造商的许多客户也从另一些飞机发动机制造商那里购买发动机，那些制造商在其新型号发动机中没有提供额外的安全性能保障。

D. 新型发动机可以被所有的使用旧型发动机的飞机使用。

【答案】B

【所属考试模块】判断推理

【题型】

【考点】削弱前提

【难度系数】中等

【解析】题干推论的前提是客户对新、老发动机在安全性能方面的了解程度一样，所以要削弱该推论，只要否定了这个前提即可。由B项，“许多客户认为早期的型号在风险方面比新型号更小”，由此可以解释为什么旧型发动机比新型发动机的销量要多，也可以知道，发动机的安全性是客户的首先考虑的因素之一，只是客户不了解新型发动机的安全性能要好于旧型发动机罢了。因此严重地削弱了制造商的结论。

2014-深圳-50. 小丁说：“2006年年度统计报告如果是拿给高局长过目的，就绝对不会出错。”小陈说：“如果我和小丁认真负责，高局长就不会过目。”小马：“高局长审过了2006年统计报告，他一眼就看出了其中一个统计数字有问题。”

假如三人中只有一人说错并且高局长确实看过2006年统计报告，那么可以推出：

- A. 小马说了假话。
- B. 小陈说了假话。
- C. 小丁没有认真负责。
- D. 小丁或小陈没有认真负责。

【答案】D

【所属考试模块】判断推理

【题型】

【考点】矛盾关系

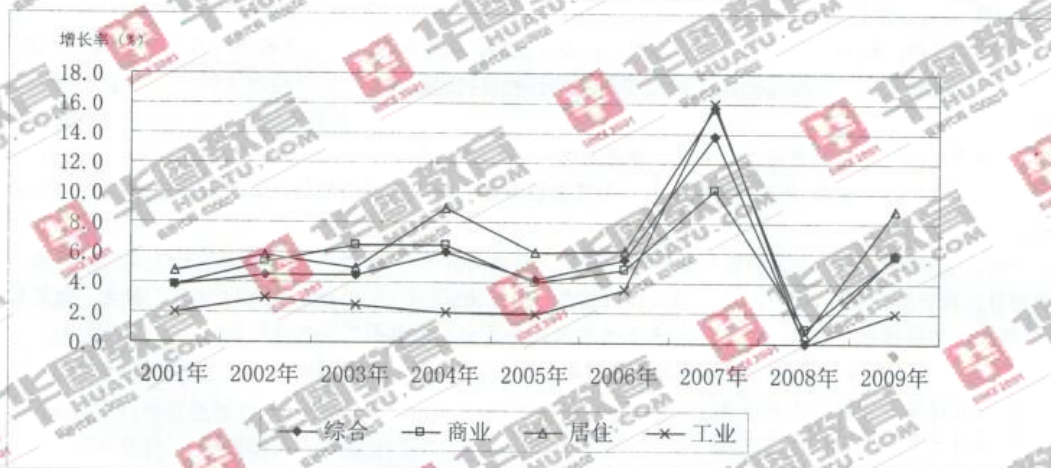
【难度系数】中等

【解析】此题是一道真假推理题，其中有三句话需要翻译，小丁说的话为“局长过目→不出错”。小陈说的话为“小陈且小丁负责→局长不过目”。小马说的话为“局长过目且出错”。那么小丁说的话和小马说的话为一组矛盾关系，“ $A \rightarrow B$ ”与“ $A \text{ 且 } \neg B$ ”矛盾。所以必然一真一假，那么小陈说的话为真话，所以“ $A \rightarrow B$ ”与“ $\neg A \text{ 或 } B$ ”等价；所以“小陈且小丁负责”为假。“ $A \text{ 且 } B$ ”为假，则“ $\neg A \text{ 或 } \neg B$ ”为真，那么小丁或小陈没有认真负责。所以答案为D选项。

第四部分 资料分析

一、统计图：根据下面的每一个统计图，分别回答它后面的5道题目。（单选题，10题，每题1.0分）

2001~2009年全国重点城市平均地价增长率



【所属考试模块】资料分析

【难度系数】中等

2014上-深圳事业-51. 2001~2009年，全国重点城市平均地价增长率最高的年份是（ ）。

- A.2000年
- B.2007年
- C.2003年
- D.2005年

【答案】B

【所属考试模块】资料分析

【题型】直接读数类

【考点】读数比较

【难度系数】容易

【解析】直接看图形，增长率最高的年份是2007年，因此，本题的答案选B。

2014上-深圳事业-52. 与2001年相比，2007年工业地价增长率提高了（ ）。

- A.8 倍
- B.36.5%
- C.57.4%
- D.7 倍

【答案】D

【所属考试模块】资料分析

【题型】简单计算类

【考点】增长率计算

【难度系数】容易

【解析】2007 年工业地价增长率是 2001 年的 $16\% \div 2\% = 8$ 倍，即提高了 7 倍，因此，本题的答案选 D。

2014 上-深圳事业-53. 在 2008 至 2009 年间，下列统计指标增速最快的是（ ）
地价。

- A.综合
- B.工业
- C.居住
- D.商业

【答案】C

【所属考试模块】资料分析

【题型】直接读数类

【考点】读数比较

【难度系数】容易

【解析】直接看图形，2009 年居住类地价增长率最大，因此，本题的答案选 C。

2014 上-深圳事业-54. 根据上图，下列关于全国重点城市平均地价增长率情况的表述，正确的一项是（ ）。

- A.2004 至 2007 年间，综合地价增长率一直在增加
- B.2001 至 2002 年间，工业地价增长率增加了 2 个百分点

- C.2005 至 2007 年间，全国重点城市平均地价一直在增加
D.2007 至 2008 年间，全国重点城市平均地价一直在减少

【答案】C

【所属考试模块】资料分析

【题型】综合分析类

【考点】增长率

【难度系数】中等

【解析】A 错误，从图形看 2004-2007 年综合地价增长率并非一直增加；B 错误，2%到 3%，增加了 1 个百分点；D 错误，地价的增长率减少，不代表地价减少，只要有增长率，地价就是增加的；C 正确，增长率为正，表示地价增加。因此，本题的答案选 C。

2014 上-深圳事业-55. 根据上图，下列选项错误的是（ ）。

- A.与 2007 年相比，2008 年综合地价基本持平
B.从 2001 年到 2005 年，工业地价增长最为缓慢
C.与 2004 年相比，2005 年商业地价下降了将近 2.5%
D.从 2008 年到 2009 年，商业和综合地价增长率相等

【答案】C

【所属考试模块】资料分析

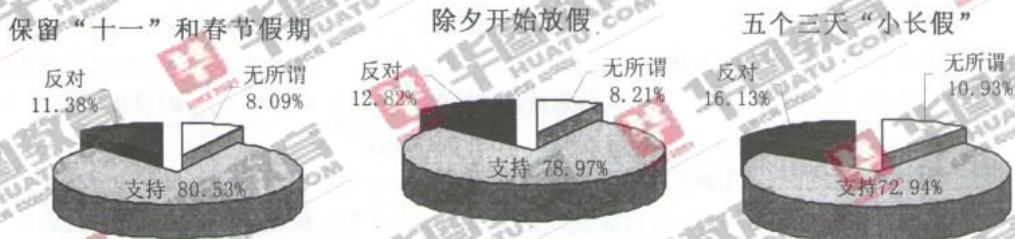
【题型】综合分析类

【考点】增长率

【难度系数】中等

【解析】A 表述正确，从图形看 2008 年综合地价增长率为 0，说明综合地价与上年持平；B 表述正确，从图形直接看出；D 表述正确，两个增长率点重合；C 表述错误，增长率下降不代表地价本身下降，增长率为正表示地价依然增加。因此，本题的答案选 C。

国家法定节假日调整方案网民支持率调查



注：参与调查网民人数约155万人。

【所属考试模块】资料分析

【难度系数】中等

2014上-深圳事业-56. 根据上图，可以推测出约有（ ）网民支持“保留‘十一’和春节假期”。

- A.1130000
- B.1240000
- C.1320000
- D.1370000

【答案】B

【所属考试模块】资料分析

【题型】直接计算类

【考点】简单计算

【难度系数】容易

【解析】 $155 \times 80.53\% = 124.8$ 万，因此，本题的答案选B。

2014上-深圳事业-57. 保留“十一”和春节两个黄金周的支持网民数比五个三天“小长假”的支持网民数多约（ ）万人。

- A.6
- B.8
- C.12
- D.20

【答案】C

【所属考试模块】资料分析

【题型】直接计算类

【考点】简单计算

【难度系数】简单

【解析】 $155 \times (80.53\% - 72.94\%) = 155 \times 7.59\% = 11.76 \approx 12$ 。因此，本题的答案选 C。

2014 上-深圳事业-58. 对这三项国家法定节假日调整方案都反对的人数最多约为 () 万人。

A.18

B.20

C.25

D.63

【答案】A

【所属考试模块】资料分析

【题型】直接计算类

【考点】简单计算

【难度系数】简单

【解析】三项都反对的人最多为 11.38%， $155 \times 11.38\% = 17.64 \approx 18$ 。因此，本题的答案选 A。

2014 上-深圳事业-59. 下列调查网民数中，人数最为相近的是 ()。

A.对“除夕开始放假”持无所谓态度的网民数与对“保留‘十一’和春节假期”持无所谓态度的网民数

B.对“除夕开始放假”持反对态度的网民数与对“五个三天‘小长假’”持无所谓态度的网民数

C.对“五个三天‘小长假’”持无所谓态度的网民数与对“保留‘十一’和春节假期”持无所谓态度的网民数

D.对“除夕开始放假”持支持态度的网民数与对“保留‘十一’和春节假期”持

支持态度的网民数

【答案】A

【所属考试模块】资料分析

【题型】计算比较类

【考点】简单计算

【难度系数】中等

【解析】看图获取数据，选项 A， $8.21-8.09=0.12$ ；选项 B， $11.38-10.93=0.45$ ；选项 C， $10.93-8.09=2.84$ ；选项 D， $80.53-78.97=1.56$ 。最小差值是 0.12。因此，本题的答案选 A。

2014 上-深圳事业-60. 下列说法不正确的是（ ）。

- A.反对“除夕开始放假”的网民不一定反对“保留‘十一’和春节假期”
- B.支持“五个三天‘小长假’”的一半以上网民支持“除夕开始放假”
- C.对“除夕开始放假”持无所谓态度的网民可能都反对“五个三天‘小长假’”
- D.支持“保留‘十一’和春节假期”的网民数小于支持“五个三天‘小长假’”并对“除夕开始放假”持无所谓态度的网民数

【答案】D

【所属考试模块】资料分析

【题型】综合分析类

【考点】分析比较

【难度系数】较难

【解析】A 表述正确，两者之间没有相关或包含关系；B 表述正确，支持前者的有 72.94%，一半为 36.47%，不支持后者的有 $1-78.97\%=21.03\%$ ， $36.47\%>21.03\%$ ；C 表述正确，前者 8.21%，后者 16.13%，前者可能包含于后者；D 表述错误，支持“保留‘十一’和春节假期”的网民数占 80.53%，而支持“五个三天‘小长假’”并对“除夕开始放假”持无所谓态度的网民数最多只有 8.21%，前者明显大于后者。因此，本题的答案选 D。

二、统计文字资料：根据下面的文字材料，回答它后面的 5 道题目。（单选选择题，5 题，每题 1.0 分）

2008 年某省家庭居民的消费水平持续提高，与 2006 年社会状况综合调查结果比较，消费支出总额从 8696.6 元升高到 11242.9 元（未考虑价格变动因素），消费结构也进一步改善，作为家庭生活水平标志的恩格尔系数（家庭食品支出占消费总支出的比例）进一步降低。在 2008 年该省城乡家庭消费支出细项中，列前三位的消费类型是食品、教育和医疗，分别占总支出的 34.0%、11.5%和 10.6%。其他的消费类型有：衣着占 6.9%，交通占 5.6%，通讯占 5.4%，文化娱乐旅游占 1.9%，电费水费燃气占 6.2%，家用电器家具占 3.5%，日用品占 1.7%，人情往来占 7.6%，住房占 5.1%。

调查还显示，城乡居民消费的总体结构及家庭生存型消费（包括食品与衣着类）与发展型消费（包括居住、交通通讯、文教、娱乐用品、医疗保健、旅游等）所占比重，都发生了重要变化。从购买商品和服务的消费情况看，城乡居民消费层次有所提高。大众耐用消费品普及率提高较快，但家庭消费率总体仍偏低。

【所属考试模块】资料分析

【难度系数】中等

2014-深圳-61、2008 年消费支出总额约是 2006 年的（ ）倍。

A.1.2

B.1.3

C.1.4

D.1.5

【答案】B

【所属考试模块】资料分析

【题型】简单计算

【考点】倍数问题

【难度系数】简单

【解析】从题中第一段可得“2008 年，消费支出总额为 11242.9 元，2006 年 8696.6

元”。
$$\frac{2008\text{年支出消费总额}}{2006\text{年支出消费总额}} = \frac{11242.9}{8696.6} = 1.3\text{倍}$$
，因此，本题的答案选 B。

2014-深圳-62、2008 年该省城乡家庭消费支出中食品的消费比人情往来消费多约 () 元。

- A.2432.5
- B.2597.2
- C.2968.1
- D.3214.3

【答案】C

【所属考试模块】资料分析

【题型】简单计算

【考点】

【难度系数】简单

【解析】根据题目第一段“……列前三位的消费类型是食品、教育和医疗，分别占总支出的 34.0%……人情往来占 7.6%”。我们可列式如下：

$112424.9 \times (34.0\% - 7.6\%) = 11242.9 \times 26.4\% = 2968.1$ 元。因此，本题的答案选 C。

2014-深圳-63、根据上文，城乡家庭居民的消费结构最主要的特点是 ()

- A.居民消费水平持续提高，总体结构进一步改善
- B.城乡居民消费的商品化程度较高，但消费层次存在明显差异
- C.家庭消费率总体偏低，消费率随收入提高而边际递减
- D.大众耐用消费品普及率较高，农村消费发展潜力巨大

【答案】A

【所属考试模块】资料分析

【题型】综合分析

【考点】

【难度系数】简单

【解析】

选项 A，原文第一段出现“2008 年某省家庭居民的消费水平持续提高。……消

费结构也在进一步的改善，……”，A 正确；

选项 B，原文未出现明显的消费层次的差异数据，资料不全，无法推出。

选项 C，“消费率随收入提高而边际递减”在原文未出现。

选项 D，选项中“普及率较高”与原文中“大众耐用消费品普及率提高较快”是偷换概念。

因此，本题的答案选 A。

2014-深圳-64、在城乡家庭消费支出中，生存型消费的比重约占到消费总支出的（ ）

A.34.0%

B.40.9%

C.56.1%

D.62.3%

【答案】B

【所属考试模块】资料分析

【题型】简单计算

【考点】

【难度系数】简单

【解析】生存型消费(包括食品和衣着类)，食品占总支出的 34.0%，衣着占 6.9%。

生存型消费的比重约占到消费总支出的 $34.0\%+6.9\%=40.9\%$ 。

因此，本题的答案选 B。

2014-深圳-65、以下消费细项所占比重，按从大到小排序正确的是（ ）

A.衣着>住房>电费水费燃气>交通

B.住房>家用电器家具>文化娱乐旅游>通讯

C.人情往来>通讯>交通>住房

D.人情往来>电费水费燃气>家用电器家具>日用品

【答案】D

【所属考试模块】资料分析

【题型】综合分析

【考点】

【难度系数】适中

【解析】

- A.衣着(6.9%)>住房(5.1%)>电费水费燃气(6.2%)>交通(5.6%)
B.住房(5.1%)>家用电器家具(3.5%)>文化娱乐旅游(1.9%)>通讯(5.4%)
C.人情往来(7.6%)>通讯(5.4%)>交通(5.6%)>住房(5.1%)
D.人情往来(7.6%)>电费水费燃气(6.2%)>家用电器家具(3.5%)>日用品(1.7%)
因此, 本题的答案选D。

三、统计表: 根据下面的统计表, 回答它后面的5道题目。(单选选择题, 5题, 每题1.0分)

2007~2008年部分上市银行年报表(单位: 百万元)

项目	招商银行		华夏银行		徽商银行		交通银行	
	2008年	2007年	2008年	2007年	2008年	2007年	2008年	2007年
净利息收入	120707	100405	7386	5595	16167	12379	21509	16642
营业收入	137628	116028	10070	7631	17303	12819	25084	19179
利润总额	67009	55140	2411	1989	5237	4285	10397	6500
净利润	41892	27492	1457	1279	3831	2673	7107	3787
资产总值	5325273	4742806	445053	355921	700449	557505	934102	736413
不良贷款	98220	103226	7087	7113	5502	5240	12006	11845

【所属考试模块】资料分析

【难度系数】简单

2014-深圳-66、2008年, 营业收入最低的银行是()

- A.招商银行
B.华夏银行
C.徽商银行
D.交通银行

【答案】B

【所属考试模块】资料分析

【题型】直接读数

【考点】

【难度系数】简单

【解析】通过读表中数据我们可以得到：各大银行的营业收入为：招商银行 137628 百万元，华夏银行为 10070 百万元，徽商银行 17303 百万元，交通银行为 25084 百万元，故营业收入最低的为华夏银行。因此，本题的答案选 B。

2014-深圳-67、与 2007 年相比，2008 年交通银行的净利润约增长（ ）

A.81.37%

B.83.28%

C.85.16%

D.87.67%

【答案】D

【所属考试模块】资料分析

【题型】增长率计算

【考点】

【难度系数】简单

【解析】解析：根据增长率的公式： $\frac{\text{现期}}{\text{基期}} - 1 = \frac{7107}{3787} - 1 = 87.67\%$ 。因此，本题的答案选 D。

2014-深圳-68、2007 年，四个银行的净利息收入总和约为（ ）

A.1350 亿元

B.1658 亿元

C.1784 亿元

D.1821 亿元

【答案】A

【所属考试模块】资料分析

【题型】简单计算

【考点】

【难度系数】简单

【解析】07年四个银行的净利息收入总和=100405+5595+12379+16642=135021
百万元=1350亿元。因此，本题的答案选A。

2014-深圳-69、与上一年相比，2008年四个银行中，“利润总额”的增长率最大的银行是（ ）

- A.招商银行
- B.华夏银行
- C.徽商银行
- D.交通银行

【答案】D

【所属考试模块】资料分析

【题型】增长率比较

【考点】

【难度系数】简单

【解析】根据增长率计算公式：现期/基期-1可得：招商银行的增长率为
 $67009/55140-1=21.5\%$ ；华夏银行的增长率为 $2411/1989-1=21.2\%$ ；徽商银行的
增长率为 $5237/4285-1=22.2\%$ ；交通银行的增长率为 $10397/6500-1=60\%$ 。因此，
本题的答案选D。

2014-深圳-70、下列说法中，不正确的一项是（ ）

- A.2008年招商银行的“资产总值”的同比增长率超过了10%
- B.与上年相比，2008年四个银行的“不良贷款”的总和有所下降
- C.2008年，华夏银行6个项目的数据都比其他三个银行相应项目的数据要小

D.与上年相比，2008年四个银行的“利润总额”和“利润率”都有所增加

【答案】D

【所属考试模块】资料分析

【题型】综合分析

【考点】

【难度系数】简单

【解析】A选项，2008年招商银行的“资产总值”的同比增长率为 $5325273/4742806-1=12.3\%$ ，因此，A选项正确；B选项，08年的不良贷款总额为： $98220+7087+5502+12006=122815$ 百万元，07年的不良贷款总额为： $103226+7113+5240+11845=127424$ ，故B选项正确；C选项中，08年华夏银行的不良贷款数比徽商银行高，故C选项错误；通过表中的数据，我们可以知道，08年四个银行“利润总额”和“利润率”的数据都比07年高，故D选项正确。因此，本题的答案选C。

第五部分 综合知识

72.2014年我国经济增长预期目标为（ ）。

A.7%

B.7.5%

C.8%

D.8.5%

【答案】B

【所属考试模块】常识判断

【题型】

【考点】时政

【难度系数】容易

【解析】2013年12月13日结束的中央经济工作会议，明确了2014年的经济社会发展目标，其中，经济增长预期目标定为7.5%左右，与2013年保持一致。因此选择B。

73. 行政机关履行法定职责，根据公民、法人或其他组织的要求，为其提供帮助或者办理有关事务的行为是（ ）。

- A. 行政干预
- B. 行政协调
- C. 行政服务
- D. 行政救济

【答案】C

【所属考试模块】常识判断

【题型】

【考点】行政管理

【难度系数】较难

【解析】行政干预是国家行政机关运用行政权力对所管辖的相对人有关活动的干涉和过问；行政协调为使相关国家行政机关及其公务人员的行政活动互相一致，密切配合的一种重要手段；行政救济是行政系统的内部监督，该制度的设置维护了行政相对人的合法权益；行政服务是行政机关履行法定职责，根据公民、法人或其他组织的要求，为其提供帮助或者办理有关事务的行为。因此选择 C

74. （ ）是国家按照有偿的原则筹集财政资金的一种方式。

- A. 税收
- B. 国债
- C. 财政补贴
- D. 基金

【答案】B

【所属考试模块】常识判断

【题型】

【考点】经济

【难度系数】中等

【解析】税收指政府为了提供公共服务及公共财，依照法律规定，对个人或民间企业（法人）无偿征收货币或资源的总称；财政补贴是指国家财政为了实现特定

的政治经济和社会目标，向企业或个人提供的一种补偿；基金是指为了某种目的而设立的具有一定数量的资金；国债是国家按照有偿的原则筹集财政资金的一种方式。因此选择 B。

75. 亚洲相互协作与信任措施会议第四次峰会，于 2014 年 5 月 21 日在（ ）举行，习近平主席发表了题为《积极树立亚洲安全观 共创安全合作新局面》的主旨讲话。

- A. 北京
- B. 上海
- C. 首尔
- D. 莫斯科

【答案】 B

【所属考试模块】 常识判断

【题型】

【考点】 时政

【难度系数】 容易

【解析】 亚洲相互协作与信任措施会议第四次峰会，于 2014 年 5 月 21 日在上海举行。因此选择 B。

76. 根据《深圳经济特区控制吸烟条例》，个人违反条例规定在禁烟场所吸烟的，将被处罚款（ ）。

- A. 50 元
- B. 50~200 元
- C. 50~500 元
- D. 200~500 元

【答案】 C

【所属考试模块】 常识判断

【题型】

【考点】 时政

【难度系数】中等

【解析】《深圳经济特区控制吸烟条例》明确了国家机关、学校、医疗机构等 16 类场所为禁止吸烟场所。对个人的罚款按照情节设定为 50 元、200 元、500 元三个阶梯。因此选择 C。

78、2014 年《商标法》明确规定，生产、经营者不得将（ ）字样用于商品、商品包装或者容器上。

- A.注册商标
- B.著名商标
- C.驰名商标
- D.地理标志保护商标

【答案】C

【所属考试模块】常识判断

【题型】

【考点】民法

【难度系数】中等

【解析】修改后的新《商标法》将于 2014 年 5 月 1 日起施行。新《商标法》规定，生产、经营者不得将“驰名商标”字样用于商品、商品包装或者容器上，或者用于广告宣传、展览及其他商业活动中。《通知》明确要求，对于已经发生上述行为的，适用修改后的商标法处理。但是，对于将“驰名商标”字样用于商品、商品包装或者容器上并于 2014 年 5 月 1 日以前已经进入流通领域的除外。此外，对于将“驰名商标”字样用于商品、商品包装或者容器上，商标持有人应承担违法责任，由其住所地工商行政管理部门查处。

79、2014 年 6 月 8 日，“海峡组合”彭帅、谢淑薇直落两盘，击败意大利组合，夺得（ ）女双冠军。

- A.温网
- B.澳网
- C.法网

D. 美国

【答案】C

【所属考试模块】常识判断

【题型】

【考点】时政

【难度系数】中等

【解析】彭帅和谢淑薇在大满贯之一的2014年法国网球公开赛女双决赛中拿下冠军，以6:4和6:1直落两盘击败2号种子意大利组合埃拉尼和文奇。

80、近年来，我国不断推进政府机构改革和职能转变，依据新一轮国务院机构改革方案，国务院组成部门减少至25个。这一改革的主要哲学依据是（ ）。

A. 生产关系要适应生产力的发展

B. 事物是普遍联系的

C. 上层建筑要适应经济基础的发展

D. 意识具有主观能动性

【答案】C

【所属考试模块】常识判断

【题型】

【考点】哲学

【难度系数】较难

【解析】国家政权机构及职能部门属于政治上层建筑，国家做出这一方面的调整是为了更好的适应当前社会经济基础的发展，因此选择C。

二、多项选择题（10题，每题1.2分，每题的备选答案中，有两个或两个以上的符合题意，错选、多选不得分，少选且选择正确的每个选项得0.3分。）

81、在现代企业制度中，必须建立科学的法人治理结构的根本原因包括（ ）。

A. 实行政企分开，规范政府职能

B. 建立法人财产制度和有限财产责任制度

C. 企业的财产权利被分解为财产终极所有权和法人财产权

D.在企业内部存在委托代理关系

E.产权主体具有多元性

【答案】CD

【所属考试模块】常识判断

【题型】

【考点】经济

【难度系数】较难

【解析】在现代企业制度中，企业的财产权利被分解为财产终极所有权和法人财产权。财产终极所有权即股东的股权，就是公司的财产最终来源于股东出资。股东出资设立公司法人，公司拥有法人财产权。股东大会选举产生董事会，董事会委托公司经理机构管理和经营公司资产。所以，在现代企业制度中，必须建立科学的法人治理结构，以保障股东权益。因此，本题选择 CD 选项。

82、下列政府职能中，不属于社会职能的有（ ）。

A.政府开展对环境的综合治理，加强对生态环境的保护

B.建立健全民主监督程序，提高政府活动的公开性和民主性

C.政府集中若干资源进行特大项目建设

D.政府制定教育发展战略和规划，并负责实施

E.政府实行紧缩财政政策

【答案】BCDE

【所属考试模块】常识判断

【题型】

【考点】行政管理

【难度系数】较难

【解析】政府职能主要有政治职能、经济职能、文化职能及社会职能。社会职能主要包括调节社会分配和组织社会保障的职能、保护生态环境和自然资源的职能、促进社会化服务体系建立的职能、提高人口质量，实行计划生育的职能等。其中 B、C 属于经济职能；D 属于文化职能、E 属于经济职能，只有 A 项属于社会职能。因此选择 BCDE

83、以下属于 GB/T9704-2012《党政机关公文格式》对 GB/T9704-1999《国家行政机关公文格式》作出的修订内容的有（ ）。

- A.适用范围扩展到各级党政机关制发的公文
- B.对标准结构进行适当调整
- C.对公文装订要求进行适当调整
- D.对公文格式各要素的编排进行细微调整
- E.进一步细化特定格式公文的编排要求

【答案】ABCE

【所属考试模块】常识判断

【题型】

【考点】公文

【难度系数】较难

【解析】GB/T9704-2012《党政机关公文格式》对 GB/T9704-1999《国家行政机关公文格式》作出的修订内容包括：a)标准名称改为《党政机关公文格式》，标准英文名称也作相应修改；b)使用范围扩展到各级党政机关制发的公文；c)对标准结构进行适当调整；d)对公文装订要求进行适当调整；e)增加发文机关署名和页码两个公文格式要素，删除主题词格式要素，并对公文格式要素的编排进行较大的调整；f)进一步细化特定格式公文的编排要求；g)新增联合行文公文首页版式、信函格式首页、命令（令）格式首页版式等式样。因此选择 ABCE。

84、与亚太经合组织领导人非正式会议有关的说法，错误的有（ ）。

- A.第二十一次会议在印度尼西亚巴厘岛举行
- B.第二十一次会议的主题为“活力亚太、全球引擎”
- C.第二十一次会议的主要议题包括实现茂物目标、可持续和公平增长、亚太互联互通
- D.亚太经合组织成员国共有 9 个
- E.第二十二次会议将在中国北京举行

【答案】D

【所属考试模块】常识判断

【题型】

【考点】时政

【难度系数】较难

【解析】D项：目前亚太经合组织成员国已有 21 个，是错的。其余选项都是对的。因此选择 D。

85、毛泽东思想独创性地发展了马克思理论，除了新民主主义革命理论外，还有（ ）。

- A.关于社会主义革命和社会主义建设的理论
- B.关于革命军队建设和军事战略的理论
- C.关于政策和策略的思想
- D.关于思想政治工作和文化工作的思想
- E.关于党的建设的学说

【答案】ABCDE

【所属考试模块】常识判断

【题型】

【考点】毛概

【难度系数】容易

【解析】毛泽东思想独创性地发展了马克思理论，提出了新民主主义革命理论；社会主义革命和社会主义建设的理论；党的建设的学说；政策和策略的思想；思想政治工作和文化工作的思想以及革命军队建设和军事战略的理论等。因此全选。

86、以下（ ）属于社会主义核心价值观的基本内容。

- A.富强
- B.民主
- C.自由
- D.敬业
- E.友善

【答案】ABCDE

【所属考试模块】常识判断

【题型】

【考点】时政

【难度系数】中等

【解析】党的十八大报告提出，要大力加强社会主义核心价值体系建设，“倡导富强、民主、文明、和谐，倡导自由、平等、公正、法治，倡导爱国、敬业、诚信、友善，积极培育和践行社会主义核心价值观”。因此选择 ABCDE。

87、我国省级政府个别主要领导人员和组成人员的任职，在省人民代表大会闭会期间由该省级人大常委会决定任命的有（ ）。

- A.副省长
- B.代省长
- C.厅长
- D.副厅长
- E.市长

【答案】ABC

【所属考试模块】常识判断

【题型】

【考点】宪法

【难度系数】较难

【解析】依据我国《中华人民共和国地方各级人民代表大会和地方各级人民政府组织法》规定，在省级人民代表大会闭会期间，由省级人大常委会决定任命的有副省长、代省长、厅长。因此选择 ABC。

88、行政与外部环境之间的协调机制包括（ ）。

- A.行政反馈
- B.行政参与
- C.行政分权
- D.行政委托
- E.行政分离

【答案】AB

【所属考试模块】常识判断

【题型】

【考点】行政管理

【难度系数】较难

【解析】系统环境的协调及其机制主要有三种：①行政反馈。即行政系统把外界输入的情况，加以转换分析，通过制定政策或提供服务等方式反作用于外部环境，再根据外部环境的变化对自己的政策和行为加以调整，以达到行政目标。②职能调整。即行政系统为适应外部环境、社会需求而实行政府职能的增减和转变。③行政参与。由政府召开各种专题调查会、论证会、听证会，通过吸引公民和各种社会组织，经由各种渠道和形式，直接或间接介入政府行为，来协调分散的社会利益与政府政策之间的不一致，从而实现行政与社会的统一。因此选择AB。

89、近年来我国分类推进事业单位改革，在清理规范已有事业单位的基础上，将事业单位划分为（ ）。

- A.承担行政职能
- B.实施社会管理
- C.从事生产经营活动
- D.从事公益服务
- E.进行科学研究

【答案】ACD

【所属考试模块】常识判断

【题型】

【考点】时政

【难度系数】一般

【解析】在清理规范基础上，按照社会功能将现有事业单位划分为承担行政职能、从事生产经营活动和从事公益服务三个类别。对承担行政职能的，逐步将其行政职能划归行政机构或转为行政机构；对从事生产经营活动的，逐步将其转为企业；对从事公益服务的，继续将其保留在事业单位序列、强化其公益属性。因此选择

ACD。

90、政府必须加强自身改革建设，要按照推进国家治理体系和治理能力现代化的要求，加快建设（ ）

- A.文明政府
- B.法治政府
- C.创新政府
- D.廉洁政府
- E.诚信政府

【答案】BCD

【所属考试模块】常识判断

【题型】

【考点】时政

【难度系数】容易

【解析】国务院总理李克强在十二届全国人大二次会议上作政府工作报告时说，做好政府工作，必须加强自身改革建设。按照推进国家治理体系和治理能力现代化的要求，加快建设法治政府、创新政府、廉洁政府，增强政府执行力和公信力，努力为人民提供优质高效服务。因此选择 BCD。

三、是非题（10 题，每题 0.8 分）

91.我国已成为世界第一货物贸易大国，全球第二大经济体和最大外汇储备国。

（ ）

【答案】A

【所属考试模块】常识判断

【题型】

【考点】时政

【难度系数】简单

【解析】商务部 2014 年 3 月 1 日发布消息称，2013 年中国正式成为世界第一货物贸易大国。日本公布 2010 年 GDP 数据，中国赶超日本，成为全球第二经济

体, 2006年2月, 中国外汇储备达8537亿美元, 超过日本, 成为全球外汇储备最大持有国。截至2010年3月中国外汇储备规模已达24470.84亿美元, 稳居全球第一位。因此, 本题观点正确。

92. 科学发展观, 是立足于社会主义初级阶段的基本国情, 总结我国发展实践, 借鉴国外发展经验, 适应新的发展要求提出来的。()

【答案】A

【所属考试模块】常识判断

【题型】

【考点】中国特色社会主义理论体系

【难度系数】简单

【作者】沈灿

【解析】科学发展观形成和发展的条件有:(1) 根本依据: 我国社会主义初级阶段的基本国情。(2) 现实依据: 我国在新世纪新阶段的阶段性特征(我国现阶段经济社会发展状况和发展要求)。(3) 历史依据: 我国社会主义建设的实践经验。(4) 理论来源: 马克思主义辩证发展观、列宁的社会发展观、毛泽东的发展观、邓小平和江泽民的发展观(邓小平——发展是硬道理; 江泽民——发展是第一要务)。(5) 重要借鉴: 当代世界的发展实践和发展理念。所以科学发展观, 是立足于社会主义初级阶段的基本国情, 总结我国发展实践, 借鉴国外发展经验, 适应新的发展要求提出来的。因此, 本题观点正确。

94. 法律对社会关系的调整, 是通过强制和惩罚来实现的。()

【答案】B

【所属考试模块】常识判断

【题型】

【考点】法理学

【难度系数】简单

【作者】沈灿

【解析】法律对社会关系的调整是通过法的规范作用和社会作用, 以及立法、执

法、司法几个环节的相互配合来实现的。法律对社会关系的调整，也是通过法律规范来对权利义务的确定和约束的，从而实现法律对社会关系的调整。因此，本题观点错误。

95.社会主义现代化建设要大力推进经济体制从粗放型向集约型转变。()

【答案】B

【所属考试模块】常识判断

【题型】

【考点】中国特色社会主义理论体系

【难度系数】简单

【解析】社会主义现代化建设要大力推进经济增长方式从粗放型向集约型转变。因此，本题观点错误。

96.对行政监督对象的监督，重点是对其行政职权的监督。()

【答案】A

【所属考试模块】常识判断

【题型】

【考点】行政管理

【难度系数】简单

【解析】行政监督是党、国家机关和人民群众对国家公共政策执行机关工作人员及国家公务员在行政管理过程中遵纪守法情况的监察和督导的活动。其中，党、国家机关和人民群众是行政监督的主体，具有广泛性和群众性。其内容是相对方遵守法律、法规、规章，执行决定、命令的情况。监督的目的是为了防止和纠正行政相对方的违法行为，保障法律、法规、规章的执行和行政目标的实现。因此，一般行政法上的行政监督主要是指对行政权力的监督。因此，本题观点正确。

97.市场经济的局限性主要体现在其具有盲目性、自发性和滞后性。()

【答案】A

【所属考试模块】常识判断

【题型】

【考点】社会主义市场经济

【难度系数】简单

【解析】市场经济的局限性主要体现在其具有盲目性、自发性和滞后性。正因为市场经济具有局限性，所以有必要进行政府宏观调控。因此，本题观点正确。

98. 2014 年中央电视台 3.15 晚会的主题为“让消费更有尊严”。（ ）

【答案】B

【所属考试模块】常识判断

【题型】

【考点】时政

【难度系数】简单

【解析】2014 年中央电视台 3.15 晚会的主题为“让消费者更有尊严”。因此，本题观点错误。

99. “凡事预则立 不预则废”体现了矛盾双方在一定条件下可以相互转化。（ ）

【答案】A

【所属考试模块】常识判断

【题型】

【考点】马克思主义哲学

【难度系数】较难

【解析】“凡事预则立 不预则废”意思是不论做什么事，事先有准备，就能获得成功，不然就会失败。矛盾双方是指矛盾的主要方面和矛盾的次要方面，事物的本质是由主要矛盾，特别是主要矛盾的主要方面所规定的。主要矛盾决定事物的性质决定事物发展的方向，主要矛盾解决了，其他矛盾也就迎刃而解了。凡事事先准备，抓住事物发展主要矛盾的主要方面，才能成功，一旦没有准备好，事物发展的主要矛盾的次要方面将主导，导致失败。因此，“凡事预则立、不预则废”体现了矛盾双方在一定条件下可以相互转化。

100. 通告与通知，都是用来传达上级机关意图和要求的下行文。（ ）

【答案】B

【所属考试模块】常识判断

【题型】

【考点】公文

【难度系数】较难

【解析】通告适用于在一定范围内公布应当遵守或者周知的事项，是用来传达上级机关意图和要求的下行文。通知适用于发布、传达要求下级机关执行和有关单位周知或者执行的事项，批转、转发公文，通知中的知照性通知可以是下行文、平行文和上行文。因此，本题观点错误。
