

## 第一部分 数量关系

一、数字推理：给你一个数列，但其中存在空缺，要求你仔细观察数字的排列规律，然后从四个供选择的选项中选出一个来填补。（单项选择题，5题，每题1.0分）

1、10, 12, 15, 20, 27( )

A. 37 B. 35

C. 38 D. 46

【答案】C

【所属考试模块】数量关系

【题型】数资推理

【考点】二级质数数列

【难度系数】简单

【解析】本题数资直接两两做差，得到一个新数列：2, 3, 5, 7, (11)是一个质数数列，所以( )部分为38，答案选C。

2、1, 2, 5, 6, 9, 14, 21 ( )

A. 34 B. 40 C. 54 D. 65

【答案】A

【所属考试模块】数量关系

【题型】数资推理

【考点】多重数列、多级数列

【难度系数】较难

【解析】本题难度较大，是多重数列和多级数列的混合

1, 2, 5, 6, 9, 14, 21 ( 34 )

1 1 5 (13)

0 4 (8)

4、0, 7, 19, 41, 78, ( )

A. 126 B. 127 C. 132 D. 135

【答案】D

【所属考试模块】数量关系

【题型】数资推理

【考点】三级数列

【难度系数】中等



0, 7, 19, 41, 78, (135)  
5, 12, 22, 37, (57)  
5, 10, 15, 20

【解析】

5, 1, 5, 17, 41, 81, ( )

A.126 B.141 C.160 D.174

【答案】B

【所属考试模块】数量关系

【题型】数资推理

【考点】三级数列

【难度系数】中等

1, 5, 17, 41, 81, (141)  
4, 12, 24, 40, (60)  
8, 12, 16, 20

【解析】

二、数学运算：请根据题意计算。（单项选择题，5题，每题1.0分）

例题：84.78、59.50、121.61、12.43以及66.50的总和是（ ）

A.343.73 B.343.83 C.344.73 D.344.82

解答：正确答案为D。实际上只需把最后一位小数相加，就会发现和的最后一位数是2，只有D符合要求。

请开始答题：

6、某种商品因换季准备打折出售，如果按定价的七五折出售将赔25元；而按定价的九折出售将赚20元。则这种商品的定价是（ ）元。

A.300 B.200 C.100 D.250

【答案】A

【所属考试模块】数量关系

【题型】数学运算

【考点】利润问题

【难度系数】简单

【解析】方程法，设成本为X、定价为Y，则： $0.75Y - X = -25$ 、 $0.9Y - X = 20$ ，得到 $X = 250$ 、 $Y = 300$ 。

8、从装满100克浓度为80%的盐水中倒出40克盐水，再用清水将杯加满，如此反复三次后，杯中盐水的浓度是（ ）

A.17.28% B.18% C.18.25% D.20%

【答案】A

【所属考试模块】数量关系

【题型】数学运算

【考点】浓度问题

【难度系数】中等

【解析】本题为浓度重复稀释问题，可以从题意中得出，每次稀释后，浓度都变为原来的



3/5, 重复3次, 则可直接套用公式:  $80\% \times (1-40/100)^3 = 0.1728$ , 答案选A。

9、某公司要往工地运送甲、乙两种建筑材料。甲种建筑材料每件重700千克, 共有120件, 乙种建筑材料每件重900千克, 共有80件, 已知一辆汽车每次最多能运载4吨, 那么5辆相同的汽车同时运送, 至少要( )次才能把全部建筑材料运送到工地。

- A.9      B.8      C.7      D.6

【答案】B

【所属考试模块】数量关系

【题型】数学运算

【考点】最值问题

【难度系数】中等

【解析】本题为最值问题, 需要根据题目构造满足题意的情况。一辆车最多运4吨即4000千克, 运甲3件、乙2件为3900千克, 最接近; 同时  $120/3=80/2=40$ , 刚好运40次, 则5辆车运送8次, 答案选B。

10、某人开汽车从A城到B城要行200千米, 开始时他以56千米/小时的速度行驶, 但途中因汽车故障停车修理用去半小时, 为了按时到达, 他必须提速14千米/小时来驶完剩下的路程, 则他修车的地方距离A城( )千米。

- A.90      B.60      C.75      D.80

【答案】B

【所属考试模块】数量关系

【题型】数学运算

【考点】行程问题

【难度系数】中等

【解析】根据题干, 设加速后形式的时间为Y, 则加速后节约的时间为停车修理的半小时, 可得等式:  $56 \times 0.5 = 14 \times Y$ ,  $Y=2$ ; 则修车的地方距离A城  $= 200 - (56+14) \times 2 = 60$ , 选B。

## 第二部分 言语理解与表达

一、选词填空: 要求你从所给的四个选项中选出一个填空, 使句子的意思表达得最准确。(单项选择题, 10题, 每题1.0分)

11. 依次填入下列各句横线处的词语, 最恰当的一组是:

我从我的沙发上发现映在窗玻璃上的玫瑰色的\_\_\_\_\_, 这使我非常惊异。在一色灰沉沉的天空上, 东方涌现出玫瑰的色彩, 它与一切分隔开, 孤零零地\_\_\_\_\_在那里, 看起来像是一个微笑。我用目光\_\_\_\_\_这幅光辉灿烂的图画, 把这幅画的每线霞光都吞咽下去, 直到不禁笑了起来。天哪, 天空、云彩和生命的美会跟我同在。

- A. 映照、挂、享受  
B. 反照、浮、饱餐  
C. 斜照、悬、鉴赏  
D. 残照、垂、打量



【答案】B

【所属考试模块】言语理解与表达

【题型】选词填空

【考点】实词辨析

【难度系数】中等

【解析】这一题从第三空入手，霞光后面有一个吞咽，所以根据提示信息，选饱餐最合适。再看第二空中，挂、悬、垂一般都依托实体物，而“浮”与前面的一切分隔开对应，说明没有实体物。所以本题答案选择B。

映照：光线照射。

反照：返回映照。

斜照：光线斜着照射。

残照：指“落日的光辉”。

13. 体操是一个结合了杂技和舞蹈的体育运动。它的魅力，在于那种刀锋上的平衡和美感，在于每一秒都让人\_\_\_\_\_。运动员在空中翻腾的时候，即使不在现场的观众，也会不由自主的屏住呼吸，直到运动员稳稳落地。

A. 心旷神怡 B. 赏心悦目

C. 战战兢兢 D. 如痴如醉

【答案】C

【所属考试模块】言语理解与表达

【题型】选词填空

【考点】成语辨析

【难度系数】中等

【解析】根据提示词“刀锋”和“屏住呼吸”体现了一种紧张感，只有“战战兢兢”合适。

心旷神怡：心境开阔，精神愉快。

赏心悦目：指看到美好的景色而心情愉快。

战战兢兢：形容非常害怕而微微发抖的样子。也形容小心谨慎的样子。

如痴如醉：形容神态失常，失去自制。

15. 依次填入下列各句横线处的词语，最恰当的一组是：



人的一生中，大脑\_\_\_\_\_了大量的数据、名称、面相、声音、味道和情感等信息，这些记忆有助于人类获得各种技能。比如，语义记忆好比一个巨大的仓库，它可\_\_\_\_\_词汇、物体、概念、地方、人员等。人创造语言和理解语言等能力的具备主以\_\_\_\_\_人生的大部分时间。

- A. 储藏、储存、贯通
- B. 储存、储藏、贯穿
- C. 储存、储藏、贯通
- D. 储藏、储存、贯穿

【答案】D

【所属考试模块】言语理解与表达

【题型】选词填空

【考点】实词辨析

【难度系数】中等

【解析】根据词义，人的一生，强调了一种时间，故而选择，储藏，而储存强调的则是大量保存，与第二空语义搭配，而贯通只是强调了连接，而贯穿则有从头到尾。这与人生搭配，故此题的答案应该选择D。

储藏：把一样东西长久的保管起来。

储存：储存指聚积保存。

贯通：指连接，通连；全部彻底地了解。

贯穿：从头到尾穿过一个或一系列事物。

17. 依次填入下列各句横线处的词语，最恰当的一组是：

这次请的装修工程队非常认真，把壁纸糊得很\_\_\_\_\_。

新娶的这房太太贤惠的很，这让马老爷心里很\_\_\_\_\_。

你放心，我肯定能把事情办\_\_\_\_\_。

- A. 服帖、伏帖、伏贴
- B. 伏帖、伏贴、伏帖
- C. 伏帖、伏帖、服帖
- D. 伏贴、伏帖、服帖

【答案】D

【所属考试模块】言语理解与表达

【题型】选词填空

【考点】实词辨析

【难度系数】中等



【解析】伏帖：心里舒服、顺从。服帖：顺从、妥当，常用AABB式重叠。伏贴：指紧贴贴在附着物上面，动词。表示顺从、驯服时，服帖、伏帖通用。但表示舒坦时用伏帖，表示妥当时用服帖。结合文段，因此，本题答案选D。

18. 依次填入下列各句横线处的词语，最恰当的一组是：

当你懂得欣赏生活中点点滴滴的美时，你的眼光，你的\_\_\_\_\_就变得高雅，变得艺术，变得独特了。

高考之门\_\_\_\_\_拥挤，但我们只得硬着头皮。

- A. 品位、不免
- B. 品味、不免
- C. 品位、难免
- D. 品味、难免

【答案】C

【所属考试模块】言语理解与表达

【题型】选词填空

【考点】实词辨析

【难度系数】中等

【解析】品味动词，仔细体会；玩味：他经过细细\_\_\_\_\_，才明白了那句话的含义。

品位名词。泛指人或事物的品质、水平。难免：表示因某种情况而发生不希望出现的结果：语言不通，难免产生误会|讨论问题，看法难免不一致。不免：副词。表示由于前面所说的原因而不能避免某种消极的结果，综上所述，结合语境，所以，本题答案选C。

20. 借鉴国外现代化管理经验，是发展智力经济，开发本国智力资源的有效\_\_\_\_\_。

- A. 途经
- B. 方法
- C. 方式
- D. 手段

【答案】A

【所属考试模块】言语理解与表达

【题型】选词填空

【考点】实词辨析

【难度系数】中等



【解析】方法：关于解决思想、说话、行动等问题的门路、程序等：工作～|学习～|思想～。方式：说话做事所采取的方法和形式：工作～|批评人要注意～。手段：①做事的方法：手段强硬|毒辣手段。特指不正当的方法：耍手段。②本事：正想当面请教您的手段。途径：方法、路子。根据感情色彩，手段是消极色彩的词汇，故排除D，方式趋向于形式，所以排除C，途径与方法相比，途径强调目的和作用，即是强调其有效性，所以选途径比较好，所以本题答案选A。

二. 语句表达：要求你从语气、词序、语法结构等方面对有关语句作出判断。(单项选择题，5题，每题1.0分)

21、下列各句中，没有语病的一句为：

- A. 正是《宇宙与人》这部电影，为我打开了爱好文学和接近文学的大门。
- B. 坚持与放弃人生有时只差了这么一点，结果就截然相反。
- C. 这次重大失误中，他虽然有一定责任，但他能够积极面对，并设法补救，这比一味埋怨别人推卸责任更值得我们学习。
- D. 遗憾的是，梵高的那些把自己内心感受刻画得淋漓尽致珍贵的作品，在得到世人的认可和欣赏前就过早地离开了我们。

【答案】B

【所属考试模块】言语理解与表达

【题型】语句表达

【考点】病句辨析

【难度系数】中等

【解析】A选项是明显的语序不当，只有先接近文学才可能爱好文学，故A错。C选项的”这“指代不明，到底是指积极面对，还是设法补救不明确，D选项过早的离开的主语不明，到底是梵高还是珍贵作品不明确。所以，本题答案选B。

22. 下列各句中，没有语病的一句为：

- A. 腐败现象不是市场经济取向的改革造成的，不是市场经济的产物，而恰恰是由于尚未真正建立起平等竞争的市场关系。
- B. 公司家大业大，要注意节省不必要的开支和不应有的浪费。
- C. 19世纪中叶，由于物理学发展了，人们开始用光谱分析、光度测量和照相术等方法研究天体。
- D. 如何合理密植的问题，是提高单位面积产量的重要问题，我们必须认真研究这个问题认真解决这个问题。



【答案】C

【所属考试模块】言语理解与表达

【题型】语句表达

【考点】病句辨析

【难度系数】中等

【解析】A项缺宾语中心词，应改为“……平等竞争的市场经济造成的”。B选项中浪费中已经包含了不应有的意思，构成语义重复。D选项把“如何合理密植的问题”中的问题去掉。所以，本题答案选C。

23. 下列各句中，没有与语病的一句为：

- A. 对于无故旷工的职工，屡教不改，他采取断然措施，从记过到开除厂籍。
- B. 一年后，肖玫又回到了学校，由于以前基础很差，尽管她平时非常努力，也赶不上功课。
- C. 考试完回家已经一个多月过去了。
- D. 沈建新非常恼火他的说话。

【答案】B

【所属考试模块】言语理解与表达

【题型】语句表达

【考点】病句辨析

【难度系数】中等

【解析】A选项中的“旷工”已经包含了无故的意思，所以构成语义重复。C选项中的过去去掉，属赘余。D选项中的他指代不明。所以，本题答案选B。

24. 下列各句中，没有语病的一句为：

- A. 哺乳期妇女如果仅仅靠服用补品中的含碘量，就有可能缺碘，若不及时添加含碘食品，则有可能导致婴儿脑神经损伤或智力低下。
- B. 在这部作品中，并没有给人们多少正面的鼓励和积极的启示，相反，其中一些情节的负面作用倒是不少。
- C. 当今世界，自主知识产权所占比重是衡量一个国家科学发展水平的标志，而科学技术进步与否是国家富强的标志。
- D. 如何体现企业文化的深刻内涵，认识优秀文化提升竞争力的重要性，而科学技术进步与否是国家富强的标志。

【答案】D

【所属考试模块】言语理解与表达



【题型】语句表达

【考点】病句辨析

【难度系数】中等

【解析】A选项中的“服用含碘量”不搭配，应该改为，服用含碘的补品。B选项，介词短语放在句首，后面缺少主语。C项犯了两面对一面的错误。所以，本题答案选D。

25. 下列各句中，有语病的一句为：

A. 只能接受掌声和鲜花，一遇到反对意见就暴跳如雷的人，是不成熟的；真正成熟的人，会冷静睿智地对待不同的意见。

B. 面对和平而不太平的的价值多元化的世界，国与国的主要竞争方式从残酷的军事对抗转向经济、社会、文化综合能力的比拼。

C. 在国外，围绕《魔戒》《哈利·波特》《纳尼亚传奇》《金刚》等小说进行的边缘产品开发，已经渗透到人们文化生活的多个层次。

D. 千万考生所命运攸关的高考作文不再有意回避社会热点，引导考生关注他人，关注社会、关注自我与外部世界之间的联系。

【答案】D

【所属考试模块】言语理解与表达

【题型】语句表达

【考点】病句辨析

【难度系数】中等

【解析】A、B、C均没有错误，D选项中的“攸关”的攸简单意思只是“所”

即所关联的意思，文段前面已经有“所”字，构成语义重复。所以，本题答案选D。

26、最近，美国麻省理工学院癌症研究所、哈佛大学医学院和冷泉港实验室的科学家纷纷宣布，他们在各自独立进行的研究中，先后从多种人体癌细胞中分离出了单独的基因，并且证实了这些基因可以使正常的健康细胞发生癌变。多年来，科学家一直认为，可以通过改变肿瘤的基因而使癌细胞转变成正常的细胞。现在果然找到了一些这样的基因，这就使得人类战胜癌细胞的努力前进了一大步。

关于这段话，下列说法正确的是：

A. 科学家找到了成功克服癌症的基因

B. 发现这些基因是不同研究机构合作的结果

C. 这些基因可以修复癌细胞，从而可以成功医治癌症

D. 这一发现在人类攻克癌症的进程中有深远的影响

【答案】D

【所属考试模块】言语理解与表达



【题型】片段阅读

【考点】细节理解

【难度系数】中等

【解析】A 选项错误在成功克服，文段中只是说进了一大步，B 选项中说了合作，而文段中说是独立研究。C 选项也是错误在成功医治癌症。最后一句努力前进了一大步与 D 选项搭配。此题的答案应选择 D。

27、哲学家们之所以坚持先要有真善美的知识，然后才有真善美的行为，其中有一个最大的误解，即错误的认为：有了知识，就有了与之相关的行为；有了真善美的知识，就有了真善美的生活。于是，哲学家们自以为有了获取美好生活的捷径。

对上面文字的理解不正确的一项是：

- A. 生活在根本意义上是一种体验而不是知识
- B. 对美好生活的体验要优越于获得关于美好生活的知识
- C. 哲学家们大都不知道如何获取幸福
- D. 只有从真善美的“知识”退回到面对真善美的“行为”，才能给我们以美好生活。

【答案】C

【所属考试模块】言语理解与表达

【题型】片段阅读

【考点】细节理解

【难度系数】中等

【解析】C 选项强调的是“幸福”，而文段探讨的是“真善美”，与文段没有关联。故而错误。整个文段作者都是在强调说明“知识”是远远不够的，而在于行为，故而 ABD 可以推理得知。

29. 殷商时期是一个神性至尊的时代，宗教意识极为浓厚，原始的神学观念在社会中占据绝对统治的地位。在殷人的神人关系系统中，神是至高无上的，一切都要听命于神的安排，人还没有从神的绝对权威下剥离出来，人完全是神的附庸，受神的支配。从已有的文献资料记载及前人的研究成果可以看出，殷人已经建立起了一整套较为完备的神学政治体系，殷人最重要的神事活动就是祭祀典礼，即所谓“国之大事，在祀在戎……神之大事也”。祭祀鬼神已成为一种社会制度并指导这国家所有的日常活动。人对神的祭祀活动，不仅表明了人类在早起发展过程中对大自然的某些现象无法做出合理解释而具有的畏惧和崇拜心理，也表明人们希望借助各种神灵的力量来消除种种自然或人为灾害，祈求神灵赐予福祉的愿望。殷代卜辞的记录的事实充分证明了殷人无论做何种事情，都要采用占卜的形式以解决疑惑。《尚书·洪范篇》作为追述殷商官方政治文化方面的原始资料，向我们展示了殷人一切都要通过占卜预决吉凶的事实。在国君、卿士、熟人、卜、筮等五方面因素中，起至关重要作用的是卜、筮的意见。

下列对文章中划线概念的理解，不正确的一项是（ ）

- A. “宗教意识”和“神学观念”在文中是同一个意思。
- B. 所谓“剥离”，是指让处于匍匐地位的人从神的绝对权威下解放出来
- C. “神学政治”的核心是人们在政治生活中把祭祀鬼神制度化。
- D. “神性至尊”是指神是至高无上的，人间的一切都要听命于神的安排

【答案】A

【所属考试模块】言语理解与表达

【题型】片段阅读



【考点】词语理解

【难度系数】难

【解析】A 选项中“宗教意识”是一个统称，而“神学观念”则是其中的宗教观念下的一种。B 中可以从“人完全是神的附庸，受神的支配”体现，C“神学政治”可以从殷人最重要的神事活动就是祭祀典礼，即所谓“国之大事，在祀在戎……神之大事也”。祭祀鬼神已成为一种社会制度并指导这国家所有的日常活动。D“神性至尊”在文中殷人的神人关系系统中，神是至高无上的，一切都要听命于神的安排，可以体现，故此题的答案选择 A。

30、一个人离开你的视线，只消失几秒钟，你便会给他一个评论，正视的时候却不行。聪明的人，一定把背后比前脸看的更加重要，这背后就是自己的一个雕像。雕塑是由别人操作的，材料和尺度则完全由自己提供。我们不奢望把每个人都塑造成完人，但至少自己“走过去”别让别人戳脊梁骨。

最适合做这段文字标题的是：

- A. 看好你的背影
- B. 背影比前脸更重要
- C. 人过留名，雁过留声
- D. 背影是一个人的德性和名声

【答案】A

【所属考试模块】言语理解与表达

【题型】片段阅读

【考点】标题填入

【难度系数】中等

【解析】通过阅读，发现文段在强调“背影”的重要性。而 B 中则是在说明与前脸的相比才重要的问题。强调的是背影重要，是对比出来的，与文义不符。C 中的人过留名，雁过留声则在比喻人的一生不能虚度，应做些有益于后人之事。与文义不符。D 只是一种解释，过于肤浅。因此本题的答案选择 A。

### 第三部分 判断推理

#### 一、事件排序（单项选择题，5 题，每题 1.0 分）

一、事件排序：

31、

- (1) 摔倒 (2) 遗留废料
- (3) 提起诉讼 (4) 上班
- (5) 道路施工

- A. 4-2-1-5-3 B. 5-2-4-1-3
- C. 4-3-2-1-5 D. 4-5-2-3-1

【答案】B

【所属考试模块】判断推理

【题型】事件排序

【考点】首尾排序、逻辑排序



【难度系数】较易

【解析】根据选项发现只有④和⑤为开头，回到题干信息中进行进一步对比，根据逻辑关系，发现⑤应该在④之前，即应该先有道路施工留下废料，才会有后续一系列事件的发生，而选项中只有 B 项为该逻辑顺序，因此选择 B 项。

32、

- (1) 被竞争对手起诉
- (2) 产品投放市场
- (3) 和对手谈判
- (4) 受到很大损失
- (5) 得知商标被抢注

A. 2-5-3-4-1 B. 2-1-5-3-4  
C. 5-2-4-1-3 D. 5-4-3-1-2

【答案】B

【所属考试模块】判断推理

【题型】事件排序

【考点】首尾排序、逻辑排序、相邻排序

【难度系数】较易

【解析】根据选项发现，只有②和⑤可以作为开头，根据逻辑关系，应该是先投放市场再发现商标被抢注，因此排除以⑤开头的 C 和 D 项。再对比 A 和 B 项，发现②和①的逻辑关系更为紧密，因此，选择 B 项。

33、

- (1) 受到群众举报
- (2) 警察对抢劫银行案件进行立案侦查
- (3) 银行被劫匪抢劫
- (4) 警察追问劫匪赃款去向
- (5) 犯罪分子逃脱

A. 1-2-4-3-5 B. 3-4-1-2-5  
C. 3-5-1-2-4 D. 3-5-2-1-4

【答案】D



【所属考试模块】判断推理

【题型】事件排序

【考点】首尾排序、逻辑排序

【难度系数】较易

【解析】根据选项发现只有④和⑤可以做结尾，对比发现，以④结尾更加符合事件逻辑，因此排除 A、B 两项；再根据对比发现，②应该在①之前，因此，选择 D 项。

34、

(1) 责令店主停业整顿

(2) 追查熟食加工点

(3) 举行婚礼

(4) 出现多人食物中毒

(5) 核查各种菜品

A. 3-5-4-2-1 B. 4-3-2-5-1

C. 3-4-5-2-1 D. 3-4-1-5-2

【答案】D

【所属考试模块】判断推理

【题型】事件排序

【考点】首尾排序、相邻排序

【难度系数】较易

【解析】根据选项发现，只有③和④可以作为开头，对比发现以③开头更为合适，因此排除 B；再对比 A、C、D 发现，只有①和②可以做结尾，对比发现以②作为结尾更合适。因此，选择 D 项。

35、

(1) 日本大和奴隶制国家兴起

(2) 朝鲜半岛出现高句丽奴隶制国家

(3) 日本大化改新

(4) 新罗统一朝鲜

(5) 日本幕府政治建立

A. 2-1-5-3-4 B. 2-1-3-4-5



B. 2-5-1-3-4 D. 5-3-4-2-1

【答案】B

【所属考试模块】判断推理

【题型】事件排序


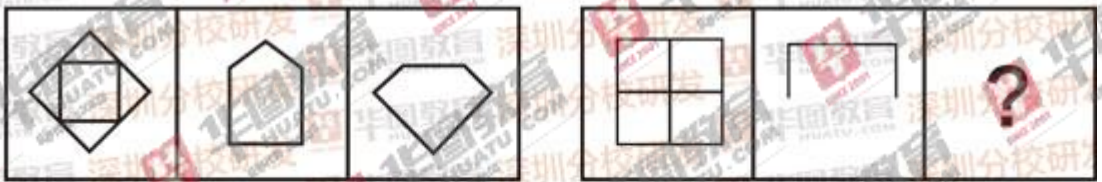
【考点】时间排序

【难度系数】中等

【解析】此题主要考察历史事件的时间顺序，如果考生对每件事的时间并不是都十分了解的话，可以根据首尾法进行排除。根据选项发现，只有②、和⑤可以做开头，②“朝鲜半岛出现高句丽奴隶制国家”的时间是公元前，而⑤日本幕府政治建立的时间是在1192年，显然晚于②，因此排除了D选项；再根据选项发现只有④和⑤为结尾，④“新罗统一朝鲜”的时间是公元676年，要早于⑤，因此选择B项。

## 二、图形推理（单项选择题，5题，每题1.0分）

36、



【答案】B

【所属考试模块】判断推理

【题型】图形推理

【考点】样式运算

【难度系数】较易

【解析】本题考查的是样式运算里的相减，根据第一组图可知，第一个图形完全减去第二个图形，剩下的部分即是第三个图形。第二组图也是同样的规律，即第一个图形减去第二个图形，因此选择B项。



38、



A B C D

【答案】D

【所属考试模块】判断推理


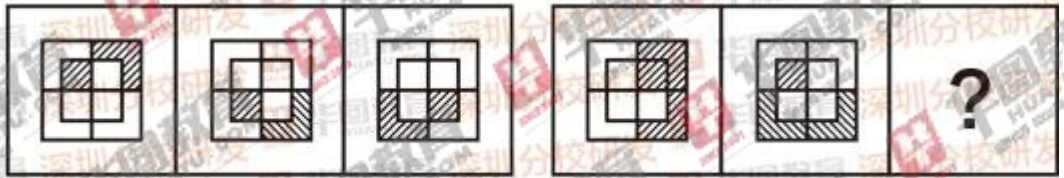
【题型】图形推理

【考点】其他规律

【难度系数】中等

【解析】本题考查的是两组图形结构的一一对应，即第一组图中的每个图形在结构上都与第二组的每个图形有一一对应的规律。通过对四个选项的对比发现，只有D项最符合该规律，因此，选择D项。

39、



A B C D

【答案】C

【所属考试模块】判断推理

【题型】图形推理


【考点】旋转

【难度系数】较易



【解析】本题考查的是位置类的旋转。观察第一组图形可知，较大的阴影区域每次顺时针旋转九十度，小的阴影方块每次逆时针旋转九十度。第二组图形也同样符合该规律，因此选择 C 项。

40、



【答案】C

【所属考试模块】判断推理

【题型】图形推理

【难度系数】较易

【解析】本题考查的是数量类里线的个数问题。通过观察发现，第一组图形中每个图形中的得直线个数与曲线个数是相同的。所以第二组图中也应该是相同的规律，因此选择 C 项。

三、演绎推理：每题给出一段陈述，这段陈述被假设是正确的，不容置疑的。要求你根据这段陈述，选出一个答案。注意，正确的答案应与所给的陈述相符合。（单项选择题，10 题，每题 1.0 分）

41、指定代理是指代理人根据人民法院或者指定机关的指定而进行的代理。

下列属于指定代理的是：

- A 小宋被指定为公司采购生产所需要的大豆
- B 杨某为某品牌电脑在辽宁的指定销售商。
- C 某区人民法院指定小李担任某经济案件庭审的书记员
- D 8 岁孤儿小明住所地的居民委员会指定高某为小明的民事侵权诉讼代理人。

【答案】D

【所属考试模块】判断推理

【题型】定义判断



【考点】主体排除法

【难度系数】较易

【解析】根据题干，定义中的关键信息包括代理人、人民法院、指定机构，根据主体排除法可知，A、B两项中的“公司”和“某品牌”不是人民法院等代理机关，因此排除。C项中的“书记员”不是代理人，因此排除。所以，选择D项。

42、甲(男)、乙(男)、丙(女)、丁(女)、戊(女)五个人有亲戚关系，其中凡有一个及以上兄弟姐妹并且有一个及以上儿女的人总说真话，凡只有一个及以上兄弟姐妹或者只有一个及以上儿女的人，所说的话真假交替，凡没有兄弟姐妹，也没有儿女的人总说假话，他们各说了以下的话：

甲：丙是我的妻子，乙是我的儿子，戊是我的姑姑。

乙：丁是我的姐妹，戊是我的母亲，戊是甲的姐妹。

丙：我没有兄弟姐妹，甲是我的儿子，甲只有一个儿子。

丁：我没有儿女，丙是我的姐妹，甲是我的兄弟。

戊：甲是我的侄子，丁是我的侄女，丙是我的女儿。

根据题干给定的条件，能够推出为真的一项是：

A、乙说的话真假交替，他的母亲是戊

B、甲说的都是真话，丙是他的妻子

C、丁说的都是真话，他是甲的姐妹。

D、戊说的都是真话，丙是他的姐妹。

【答案】B

【所属考试模块】判断推理

【题型】分析推理

【考点】假设思维

【难度系数】难

【解析】本题是分析推理题，题干信息量大，没有切入点；这种情况下，一般都会选择代入排除法。D项代入戊说的是真话，戊说丙是我的女儿，跟选项丙是她的姐妹，所以不成立；C项代入，丁说的是假话，意味着丁没有儿女、没有兄弟姐妹；而选项C说她是甲的姐妹，所以不成立；A项代入，乙是真假交替，意味着乙的第二句话是假的，而选项的第二句话说戊是母亲，B项代入无问题。因此，答案为B项。



44、在获得诺贝尔奖后，马尔克斯居然还能写出《一桩事先张扬的凶杀案》这样的一个叙述紧凑、引人入胜的故事，一部真正的悲剧作品，实在令人吃惊。

上述评论所依据的假设是：

- A 马尔克斯在获得诺贝尔文学奖之前，写出了许多优秀的作品
- B 作家在获得诺贝尔文学奖之后，他的所有作品都会令人惊讶。
- C 马尔克斯在获得诺贝尔文学奖之后，所写的作品仍然想当引人入胜。
- D 作家在获得诺贝尔文学奖之后，几乎不能再写出引人入胜的作品。

【答案】D

【所属考试模块】判断推理

【题型】论证类

【考点】加强前提

【难度系数】较易

【解析】本题考查的是加强论证的加强前提，题干中的论点是马尔克斯在获奖之后又写出一步巨作是令人吃惊的。很显然，这个观点的隐含意思就是在获得诺贝尔奖之后很难再有建树。这就是该论证的前提假设，观察选项可知，只有D项符合题意，因此选择D项。

45、莎士比亚在《威尼斯商人》中写道，富家少女鲍西娅品貌双全，贵族子弟，公子王孙纷纷向她求婚。鲍西娅按照其父遗嘱，由求婚者猜盒订婚。鲍西娅有金、银、铅三个盒子，分别刻有三句话，其中只有一个盒子，放有鲍西娅肖像。求婚者中谁能通过这三句话，猜中鲍西娅的肖像放在哪个盒子里，鲍西娅就嫁给谁。

三个盒子上刻的三句话分别是：

- 1、金盒子：“肖像不在此盒中。”
- 2、银盒子：“肖像在铅盒中。”
- 3、铅盒子：肖像不在此盒中。

鲍西娅告诉求婚者，上述上句话中，最多只有一句话是真的，则放有鲍西娅肖像的盒子是：

- A 金盒子
- B 银盒子
- C 铅盒子
- D 要么金盒子要么银盒子

【答案】A

【所属考试模块】判断推理

【题型】真假推理



【考点】矛盾关系

【难度系数】较易

【解析】本题考查的是真假推理中的矛盾关系，通过观察发现，②和③是一组矛盾关系，则题干中唯一的真话就包含在这一组矛盾关系中，则①的话就是假话。由此可知，肖像在金盒子中。因此，选择A项。

46、某国际会议中，s和k代表团都没有出席，事前，d和k代表团公开宣布，如果t代表团参加了这个会议，这两国中的一个或两个都会不出席会议，d和k政府是强烈反对t的联盟。与此相应，s代表团公开宣布，如果d和k代表团都不出席的话，s代表团就一定出席会议。

如果上面陈述为真，且所有的代表团都信守其公开声明，则下面一定为真的是：

- A d代表团参加了会议
- B d代表团没有参加会议
- C s政府没有强烈地反对t
- D t代表团没有参加会议

【答案】A

【所属考试模块】判断推理

【题型】翻译推理

【考点】充分条件、逆否命题

【难度系数】中等

【解析】本题考查的是翻译推理。根据题干“S和K都没有出席”可知S没有出席，即 $\neg S$ 。再由题干“如果D与K都不出席的话，S代表团就一定出席会议。”可知 $\neg(D \wedge K) \rightarrow S$ ；根据逆否命题，否后必否前可知 $\neg S \rightarrow \neg D$ 或 $\neg K$ ，因此，选择A项。

47、桔子维生素c的含量极高。单桔子性温，当多吃桔子后产生的大量热量不能及时转化为脂肪储存，人体活动的需求又消耗不掉时，就会造成体能热量供过于求的状况，引起机体功能的絮乱而出现舌燥、咽喉痛、便秘等现象，也就是人们常说的“上火”。由此，有人得出结论：桔子虽然含有大量维C，但还是避免食用，以免身体上火。

以下选项如果为真，最能削弱上述结论的是：

- A 据研究，每天吃1~2个桔子，就能满足一个人一天对维C的需求，且不会使人体上火。
- B 桔子中含有大量糖分，吃1千克桔子就能产生1400卡的热量。
- C 多吃桔子可以提高肝脏解毒能力，加速胆固醇转化，防止动脉硬化。
- D 一项最新研究显示，每天吃1个桔子可以使人们避免某些癌症的侵袭。



【答案】A

【所属考试模块】判断推理

【题型】论证类

【考点】削弱论证

【难度系数】较易

【解析】本题的论点是“桔子虽然含有大量维C，但是还是应该避免使用，以免上火。”A选项针对该论点给出了直接证据进行了反驳，说明吃桔子还是可以食用的。B、C、D项都与题干讨论的话题不一致，属于无关选项。因此，选择A项。

48 人们通常认为，赞助人向博物馆赠送展品，是对博物馆的一种财政上的支持，事实上，对捐赠品的日常管理和保护是笔昂贵的开支。这笔开支的累积，甚至很快就会超过该捐赠品的市场价。因此，这些捐赠品事实上加剧而非减轻了博物馆的财政负担。

以下选项都能对上述观点形成支持，除了：

A 博物馆对藏品的保管和维护费用，因藏品的等级而异

B 博物馆一般只接受允许并易于出售的赠品

C 博物馆的开支，主要由国家财政负担。

D 捐赠品中包括珍贵的历史文物。

【答案】B

【所属考试模块】判断推理

【题型】论证类

【考点】加强论证

【难度系数】较易

【解析】本题的论点是这些捐赠牌事实上是加剧而非减轻了博物馆的财政负担。A、C、D项都从不同角度对论点进行了支持。只有B项讨论的主题与论点不一致，属于无关选项，因此，选择B项。

49、股票市场分析家总将股市的暴跌归咎于国内或国际的一些政治事件的影响，根据是二者显示出近似的周期性。如果这种见解能够成立的话，我们完全有理由认为，股市的起落和月球的运转周期有关，正式它同事也造成周期性的政局动乱和世界事务的紧张，如同它引起周期性的潮汐一样。

作者最可能持有的观点是：

A 股市的起落和月球的运转周期的关系的揭示，是重大的科学成果

B 股票市场分析家将股市跌落和政治事件的关系过于简单化



- C 股票市场分析家在两种没有关系的现象之间人为地建立因果联系  
D 股市的跌落和政治事件之间近似的周期性，是股票市场分析家的一种错觉。

【答案】D

【所属考试模块】判断推理

【题型】归纳推理

【考点】

【难度系数】较易

【解析】本题考查的是归纳推理，根据题干表述可知，作者对股票分析家的这种做法是不认同的。即股票的波动于政治事件之间没有必然的联系。只有 B、D 两项提到的这一点。但是作者并没有谈到股票分析家建立了股票与政治之间的因果练习，对比发现，D 项表述的更加客观全面。因此，选择 D 项。

50、一项研究报告表明，随着经济的发展和改革开放，我国与种植、养殖有关的单位几乎都有从外国引进物种的项目，不过，我国华东等地作为饮料引进的空心莲子草，沿海省区为护滩引进的大米草等，很快蔓延疯长，侵入草场、林区和荒地，形成单种优势群落，导致原有植物群落的衰退。新疆引进的意大利黑蜂迅速扩散到野外，使原有的优良蜂种伊犁黑蜂几乎灭绝，因此\_\_\_\_\_。

以下可以最合乎逻辑地完成上面论述的是：

- A 引进国外物种可能会对我国的生物多样性造成巨大危害  
B 应该设法控制空心莲子草、大米草等植物的蔓延。  
C 从国外引进物种是为了提高经济效益  
D 我国 34 个省市自治区都有外来物种。

【答案】A

【所属考试模块】判断推理

【题型】归纳推理

【考点】

【难度系数】较易

【解析】本题考查的是归纳推理。根据题干描述可知，主要讨论的是引进外来物种之后造成的一系列负面影响，因此最后的总结性观点应该是对以上负面影响的概括。观察选项可知，只有 A 项符合，其他选项均不是题干讨论的问题。因此，选择 A 项。

#### 第四部分 资料分析

一、统计图：根据下面的每一个统计图，分部回答它后面的 5 道题目。（单项选择题，10 道题，每题 1.0 分）



2006年某地区全年财政收入来源统计（全年财政收入为2000万元）



A代表第一季度；B代表第二季度；C代表第三季度；D代表第四季度

51、在全年财政收入中占比最大的季度是（ ）。  
A 第一季度    B 第二季度    C 第三季度    D 第四季度

【答案】D

【所属考试模块】资料分析

【题型】图形材料

【考点】简单读数

【难度系数】简单

【解析】直接饼图中查找各季度数据，第四季度为30.0%最大，答案选D。

52、全年财政收入中来自第二产业的为（ ）。

A 524.0 万元    B 668.5 万元    C 587.5 万元    D 743.0 元

【答案】C

【所属考试模块】资料分析

【题型】图形材料

【考点】简单计算

【难度系数】较难



【解析】从三角形图中可看出，第二产业在四个季度的比重分别为：4/8、3/8、1/8、2/8，则  $(20\% \times 4/8 + 22.5\% \times 3/8 + 27.5\% \times 1/8 + 30\% \times 2/8) \times 2000 \approx 587.5$ ，答案选 C。

53、第三季度财政收入中来自第一产业的为（ ）

A 137.5 万元      B 110.0 万元      C 135.5 万元      D 206.2 万元

【答案】A

【所属考试模块】资料分析

【题型】图形材料

【考点】简单计算

【难度系数】中等

【解析】直接计算， $(27.5\% \times 2/8) \times 2000 \approx 137.5$ ，答案选 A。

54、第二季度和第一季度相比，来自第三产业的收入额增加了（ ）

A 150 万元      B 100 万元      C 125.0%      D 75.5%

【答案】C

【所属考试模块】资料分析

【题型】图形材料

【考点】简单计算

【难度系数】中等

【解析】第二季度来自第三产业的收入 =  $(4/8 \times 22.5\%) \times 2000 = 225$ ，第一季度来自第三产业的收入 =  $(2/8 \times 20\%) \times 2000 = 100$ ，则  $(225 - 100) / 100 \times 100\% = 125\%$ ，答案选 C。

55、第三产业的总收入在该地区 2006 年全年财政收入中的比重是（ ）。

A 约为 45.6%      B. 约为 37.2%      C 约为 30.7%      D 约为 26.8%

【答案】B

【所属考试模块】资料分析

【题型】图形材料

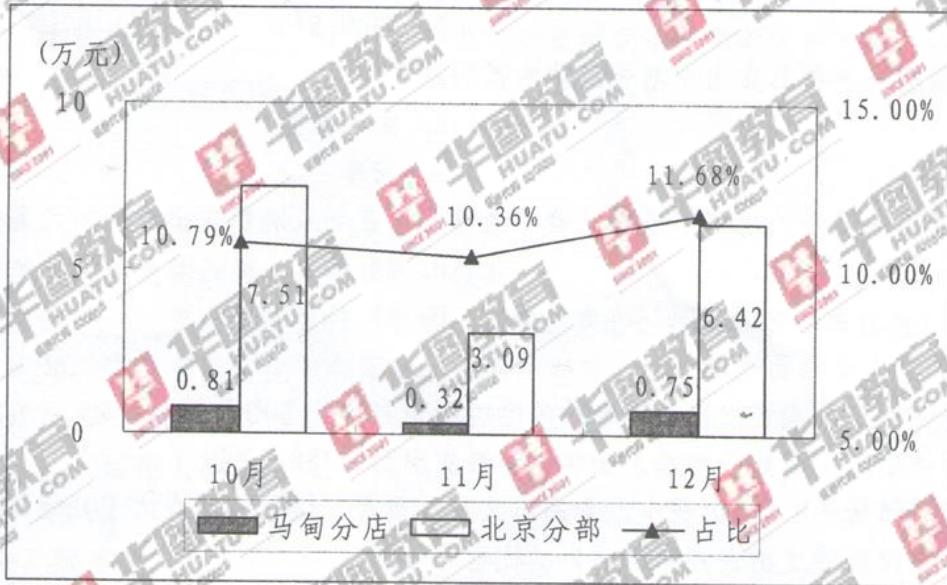
【考点】简单计算

【难度系数】中等

【解析】直接计算  $20\% \times 2/8 + 22.5\% \times 4/8 + 27.5\% \times 5/8 + 30\% \times 1/8 \approx 37.2\%$ ，答案选 B。



某商场马甸分店与北京分部的销售额比



56、10~12月份，马甸分店占北京分店销售额比重最大的月份是（ ）。

- A 12月      B 11月      C 10月      D 一样大

【答案】A

【所属考试模块】资料分析

【题型】图形材料

【考点】简单读数

【难度系数】简单

【解析】直接从图中观察数据，12月份11.68%最大，选A。

57、除马甸分店外，北京分部其他分店10月的总销售额是11月的（ ）倍。

- A 2.53      B 3.43      C 2.42      D 3.22

【答案】C

【所属考试模块】资料分析

【题型】图形材料

【考点】简单计算

【难度系数】简单

【解析】直接计算： $(7.51 - 0.81) / (3.09 - 0.32) \approx 2.42$ ，答案选C。

58、10~12月份，马甸分店销售额的平均增长率约为（ ）。

- A 2.61%      B -2.61%      C 3.78%      D -3.78%

【答案】D

【所属考试模块】资料分析

【题型】图形材料

【考点】平均增长率

【难度系数】中等

【解析】直接套用公式： $(1+r)^2 = 0.75 / 0.81$ ，平均增长率  $r \approx -3.78\%$ ，答案选D。



59、10~12 月份，马甸分店与北京分部的总销售额比是（ ）

A 11.05% B 12.37% C 13.06% D 14.38%

【答案】A

【所属考试模块】资料分析

【题型】图形材料

【考点】比重

【难度系数】中等

【解析】直接计算： $(0.81+0.32+0.75)/(7.51+3.09+6.42) \times 100\% \approx 11.05\%$ ，选 A。

二、统计文字资料：根据下面的文字资料，回答它后面的 5 道题目。（单项选择题，5 道，每道 1.0 分）

根据中国统计年鉴上的资料显示，2008 年，全国城镇居民家庭平均每人全年消费性支出为 11242.85 元，比去年多 1245.38 元。8 大类消费情况如下：全国城镇居民食品消费总支出人均 4259.81 元，比上年增长 17.4%；衣着消费支出人均 1165.91 元，增长 11.9%；文化、教育、娱乐消费支出约 1358.26 元，增长 2.2%；交通和通讯消费支出人均 1417.12 元，增长 4.4%；医疗保健消费支出人均 786.20 元，增长 12.5%；居民居住消费支出人均 1145.41 元，增长 16.6%；家庭设备品支出人均 691.83 元，增长 15.0%；其他商品支出人均 418.31 元，增长 16.9。

61、2008 年全国城镇居民家庭平均每人全年消费性支出的增长速度为（ ）

A.10.9%

B11.1%

C11.9%

D12.5%

【答案】D

【所属考试模块】资料分析

【题型】文字材料

【考点】增长率

【难度系数】中等

【解析】 $1245.38/(11242.85-1245.38) \times 100\% \approx 12.5\%$ ，选 D。

62、2007 年全国城镇居民人均食品消费总支出是（ ）

A.3762.42 元

B 3628.46 元

C.3518.61 元

D3389.81 元

【答案】B

【所属考试模块】资料分析

【题型】文字材料

【考点】求基期量

【难度系数】中等

【解析】直接计算： $4259.81/(1+17.4\%) \approx 3628.46$ ，选 B。

63、2008 年全国城镇居民消费总支出中增长最快的类别是（ ）

A、食品

B 医疗保健

C 交通和通讯

D 衣着



【答案】A

【所属考试模块】资料分析

【题型】文字材料

【考点】简单读数

【难度系数】中等

【解析】直接读数，食品增长率17.4%最高，选A。

64、2007年全国城镇居民消费的恩格斯系数（食品消费支出占个人消费支出总额的比重）为（ ）

A. 48.7%      B 42.6%      C 36.3%      D 15.4%

【答案】C

【所属考试模块】资料分析

【题型】文字材料

【考点】恩格斯系数

【难度系数】中等

【解析】直接计算： $3628.46 / (11242.85 - 1245.38) \times 100\% \approx 36.3\%$ ，选C。

65、根据上述资料，以下说法正确的是（ ）

A 2008年全国城镇居民消费支出中增长最慢的类别是家庭设备用品

B 2007年全国城镇居民家庭平均每人全年消费性支出为12488.23元

C 2008年全国城镇居民8大类消费中，食品与文化、教育、娱乐的消费大于其他6类消费的总和

D 2007年医疗保健支出占消费总支出的比重为7.0%

【答案】D

【所属考试模块】资料分析

【题型】文字材料

【考点】综合分析

【难度系数】中等

【解析】A、B选项明显错误，C、D选项需要计算，简单着手，D选项： $786 / (1 + 12.5\%) (11242.85 - 1245.38) \times 100\% \approx 7.0\%$ ，D选项正确。

三、统计表：根据下面的统计表，回答它后面的5道题目。（单项选择题，5题，每题1.0分）

2006~2009年全国主要港口8月货运吞吐量（单位：万吨）

时间	2006年8月	2007年8月	2008年8月	2009年8月
港口				
1.沿海合计	24245	27660	32631	36516
其中：大连港	1357	1626	1804	2000
秦皇岛港	1310	1685	2154	2126
天津港	1995	2243	2759	3080
青岛港	1585	1857	2190	2503



上海港	3950	3950	4180	4590
深圳港	1306	1526	1605	1864
2.内河合计	8244	9588	11376	13944
其中：南京港	910	755	915	960
苏州港	937	1237	1448	1706
南通港	650	830	1010	1200
镇江港	375	495	675	700

66.全国港口2009年8月货运吞吐总量的同比增长率约为( )。

A.11.9%

B.14.7%

C.17.8%

D.21.5%

【答案】B

【所属考试模块】资料分析

【题型】表格材料

【考点】增长率

【难度系数】中等

【解析】直接计算： $(36516+13944-32631-11376) / (32631+11376) \times 100\% \approx 14.7\%$ ，选B。

67.与2006年同期相比，上海港2009年8月货运吨雨量占沿海港口合计吞吐量的比重约为( )。

A.增加了3.7个百分点

B.减少了3.7个百分点

C.增加了27.2%

D.减少了27.2%

【答案】B

【所属考试模块】资料分析

【题型】表格材料

【考点】比重

【难度系数】中等

【解析】 $(4590/36516-3950/24245) \times 100\% \approx -3.7\%$ ，选B。

69.与2007年8月相比，2008年同期( )港口货运吞吐量的同比增长率与沿海港口合计吞吐量的同比增长率最为接近。

A.大连

B.青岛

C.上海

D.深圳

【答案】B

【所属考试模块】资料分析

【题型】表格材料

【考点】增长率比较

【难度系数】中等

【解析】直接计算出增长率比较，沿海港口合计吞吐量的同比增长率和青岛港的铜币增长率都为18%，选B。



70. 下列说法与统计表所示数据相符的是 ( )

- A. 沿海港口合计吞吐量 2009 年 8 月的同比增长额高于 2008 年的同比增长额
- B. 2006~2009 年, 每年 8 月内河港口合计吞吐量在全国港口货运吞吐量中所占的比重逐渐降低
- C. 2009 年 8 月, 天津港在全国港口货运吞吐总量中的比重为四年以来同期最高
- D. 与 2006 年 8 月相比, 表中 2009 年 8 月货运吞吐量增长率最高的港口是一个内河港

【答案】D

【所属考试模块】资料分析

【题型】表格材料

【考点】增长率比较

【难度系数】中等

【解析】A 选项明显错误, B、C 选项计算量大, 先查看 D 选项, 内河港的货运吞吐量 2009 年 8 月的数据几乎是 2006 年 8 月数据的 2 倍、明显高于沿河地区, D 选项正确。

71. 物质的根本属性和存在方式是 ( )

- A. 运动和静止
- B. 运动
- C. 联系
- D. 发展

【答案】B

【所属考试模块】常识判断

【题型】单选

【考点】哲学

【难度系数】容易

【解析】马克思主义认为, 运动是物质的根本属性和存在方式。因此, 本题选择 B 选项。

72. 培育和弘扬社会主义核心价值观必须立足 ( )

- A. 社会道德伦理规范
- B. 中华优秀传统文化
- C. 和平发展时代主题
- D. 现代科学文化技术

【答案】B

【所属考试模块】常识判断

【题型】单选



【考点】中国特色社会主义理论体系

【难度系数】容易

【解析】培育和弘扬社会主义核心价值观必须立足中华优秀传统文化。牢固的核心价值观，都有其固有的根本。抛弃传统、丢掉根本，就等于割断了自己的精神命脉。博大精深的中华优秀传统文化是我们在世界文化激荡中站稳脚跟的根基。因此，本题选择 B 选项。

73. 在我国，凡是中央国家机关制定的法律，行政法规和其他规范性文件，除非有特殊规定，一般公布施行，就在我国（ ）。

- A.部分管辖地区生效
- B.全部管辖地区生效
- C.全部领域内发生效力
- D.部分领域内发生效力

【答案】C

【所属考试模块】常识判断

【题型】单选

【考点】法理学

【难度系数】容易

【解析】法律的空间效力，也即法律发生效力的地域范围，可分为域内效力和域外效力。在我国，凡是中央国家机关制定的法律、行政法规和其他规范性文件，除非有特殊规定，一经公布施行，就在我国的全部领域内发生效力。地方政权机关制定和颁布的规范性文件，只在其管辖的地区内有效。我国的部分法律，除了具有域内效力以外，在一定条件下还具有域外效力，如刑法中的部分规定。因此，本题选择 C 选项。

74. 一般情况下，合同于（ ）时成立。

- A.受要约人更改要约
- B.要约到达受要约的人
- C.要约通知发出
- D.承诺到达要约人

【答案】D

【所属考试模块】常识判断

【题型】单选

【考点】民法



【难度系数】容易

【解析】《中华人民共和国合同法》第二十五条规定，承诺生效时合同成立。第二十六条规定，承诺通知到达要约人时生效。承诺不需要通知的，根据交易习惯或者要约的要求作出承诺的行为时生效。因此，本题选择 D 选项。

76. ( ) 在行政管理过程中具有决定性作用，处于核心地位。

- A. 行政决策
- B. 行政执行
- C. 行政领导
- D. 行政监督

【答案】A

【所属考试模块】常识判断

【题型】单选

【考点】行政管理

【难度系数】容易

【解析】在行政管理过程中具有决定性作用，处于核心地位的是行政决策。因此，本题选择 A 选项。

77. 通报的特点不包括 ( )

- A. 典型性
- B. 教育性
- C. 权威性
- D. 说理性

【答案】D

【所属考试模块】常识判断

【题型】单选

【考点】公文

【难度系数】容易

【解析】通报的特点有典型性、教育性、时效性等，通报同时还具备公文的五大特点之一——权威性，但不具有说理性，D 符合选项要求。因此，本题选择 D 选项。

78. 2014 年为深圳证券交易所创业板成立 ( )，创业板上市公司数从最初 28 家增至 400 家，总市值超过 2.2 万亿元。

- A. 四周年
- B. 五周年



- C. 六周年
- D. 八周年

【答案】B

【所属考试模块】常识判断

【题型】单选

【考点】公文

【难度系数】容易

【解析】2009年10月23日，深圳证券交易所创业板正式启动。2014年为深圳证券交易所成立五周年，创业板上市公司数量从最初的28家，增加到400家，总市值超过了2.2万亿元。因此，本题选择B选项。

79. 2014年9月30日为中华人名共和国首个( )，这是今年以来以国家立法形式确立的第三个国家级纪念日。

- A. 卢沟桥事变纪念日
- B. 南京大屠杀死难者国家公祭日
- C. 抗日战争胜利纪念日
- D. 烈士纪念日

【答案】D

【所属考试模块】常识判断

【题型】单选

【考点】时政

【难度系数】容易

【解析】2014年9月30日是中华人民共和国首个烈士纪念日，这是今年以来以国家立法形式确立的第三个国家级纪念日。另两个分别是9月3日被确定为中国人民抗日战争胜利纪念日、12月13日被确定为南京大屠杀死难者国家公祭日。因此，本题选择D选项。

80. 2014年亚太经济合作组织(APEC)领导人非正式会议于11月10日至11日在北京举行，会议主题为“共建面向未来的亚太伙伴关系”。以下不属于此次峰会重点议题的是( )

- A. 推动区域经济一体化
- B. 促进经济创新发展，改革与增长
- C. 维护世界粮食安全
- D. 加强全方位互联互通和基础设施建设

【答案】C



【所属考试模块】常识判断

【题型】单选

【考点】时政

【难度系数】容易

【解析】2014年APEC峰会在北京怀柔雁栖湖举行，中国将“共建面向未来的亚太伙伴关系”确立为今年亚太经合组织会议的主题，并将推动区域经济一体化，促进经济创新发展、改革与增长，加强全方位基础设施和互联互通建设作为重点议题。因此，本题选择C选项。

二、多项选择题（10题，每题1.2分，每题的备选答案中，有两个或两个以上符合题意，错选、多选不得分，少选且正确的每个选项得0.3分）

81. 毛泽东思想的萌芽，具体表现在（ ）

- A. 党制定了彻底的翻地反封建民主革命纲领
- B. 提出了无产阶级在民主革命中的领导权和农民同盟军问题
- C. 阐明了中国革命的对象、动力和前途等问题
- D. 明确指出无产阶级是中国革命的领导力量
- E. 初步形成了新民主主义革命的基本思想

【答案】ABCDE

【所属考试模块】常识判断

【题型】多选

【考点】毛泽东思想概论

【难度系数】较难

【解析】从1921年党成立到1927年八七会议，是毛泽东思想的萌芽时期。1922年，中共二大制定了彻底的反帝反封建的民主革命纲领；1925年中共四大提出了无产阶级领导权与工农联盟问题；1925年，毛泽东在《中国社会各阶级的分析》一文中，明确指出无产阶级是中国革命的领导力量，阐明了中国革命的对象、动力和前途等问题，初步形成了新民主主义革命的基本思想。因此，本题选择ABCDE选项。

82. 社会主义经济制度的特征包括（ ）

- A. 以公有制为主体
- B. 以按劳分配为主体
- C. 坚持共产党的领导
- D. 坚持无产阶级专政
- E. 以上选项都正确



【答案】AB

【所属考试模块】常识判断

【题型】多选

【考点】社会主义市场经济

【难度系数】容易

【解析】社会主义市场经济的主要特征包括：(1)在所有制结构上，实行以公有制为主体，多种所有制经济共同发展的方针；(2)在分配制度上，坚持以按劳分配为主体、多种分配方式并存的分配制度，把按劳分配和按生产要素分配结合起来，坚持效率优先、兼顾公平，防止两极分化，走共同富裕的道路；(3)宏观调控上，能够把人民的当前利益和长远利益、局部利益和整体利益结合起来，更好地发挥计划和市场两种手段的长处，实现经济总量平衡、优化经济结构、调节收入分配、开展公平竞争、搞好生态平衡以及集中力量进行重点建设，实现国民经济持续、快速、健康发展，体现社会主义的优越性。因此，本题选择AB选项。

83. 可以设定行政许可的法律文件包括( )

A. 法律

B. 行政法规

C. 地方性法规

D. 政府规章

E. 部门规定

【答案】ABCD

【所属考试模块】常识判断

【题型】多选

【考点】行政法

【难度系数】较难

【解析】《中华人民共和国行政许可法》第十四条规定：本法第十二条所列事项，法律可以设定行政许可。尚未制定法律的，行政法规可以设定行政许可。必要时，国务院可以采用发布决定的方式设定行政许可。实施后，除临时性行政许可事项外，国务院应当及时提请全国人民代表大会及其常务委员会制定法律，或者自行制定行政法规。第十五条规定：本法第十二条所列事项，尚未制定法律、行政法规的，地方性法规可以设定行政许可；尚未制定法律、行政法规和地方性法规的，因行政管理的需要，确需立即实施行政许可的，省、自治区、直辖市人民政府规章可以设定临时性的行政许可。临时性的行政许可实施满一年需要继



续实施的，应当提请本级人民代表大会及其常务委员会制定地方性法规。因此，本题选择 ABCD 选项。

85. 我国政府的政治职能包括( )

- A. 抵御外敌入侵
- B. 完善各级人民代表大会制度
- C. 打击各种违法犯罪活动
- D. 加强同周边国家的睦邻友好关系
- E. 以上选项都正确

【答案】ABCDE

【所属考试模块】常识判断

【题型】多选

【考点】行政管理

【难度系数】较难

【解析】我国政府的政治职能包括军事保卫职能、外交职能、治安职能、民主政治建设职能。A 项属军事保卫职能，B 项属民主政治建设，C 项属治安职能，D 项属外交职能。因此，本题选择 ABCDE 选项。

86. 中央和地方各级国家行政机关是行政决策的( )

- A. 中枢系统
- B. 信息支持系统
- C. 参谋咨询系统
- D. 监控系统
- E. 以上说法都正确

【答案】AD

【所属考试模块】常识判断

【题型】多选

【考点】行政管理

【难度系数】较难

【解析】中央和地方各级国家行政机关能够承担决策责任和行使最后决策权，是行政决策的中枢系统；能够对行政决策和执行的情况进行监控，是行政决策的监控系统。信息支持系统是行政决策中枢系统收集、加工整理并传输信息的服务机构，比如情报部门、统计部门、档案部门等，各级行政机关不是信息支持系统。参谋咨询系统为行政决策提供必要的咨询服务。



务，俗称“智囊团”，比如各种调研中心、研究室等，各级行政机关不是参谋咨询系统。因此，本题选择AD选项。

87. 应向直接上级机关抄送的文件包括( )

- A. 向自己下级机关主送的重要文件
- B. 受双重领导的机关向其中一个领导机关主送的请示
- C. 向平级业务主管部门主送的请求批准的函件
- D. 按规定向更高层级机关主送的文件
- E. 以上说法都正确

【答案】ABD

【所属考试模块】常识判断

【题型】多选

【考点】公文

【难度系数】困难

【解析】《党政机关公文处理工作条例》规定：受双重领导的机关向一个上级机关行文，必要时抄送另一个上级机关，“受双重领导的机关向其中一个领导机关主送的请示”属于应当要抄送的情形；向下级机关行文时，重要行文应当同时抄送发文机关的直接上级机关；一般不得越级行文，特殊情况需要越级行文的，应当同时抄送被越过的机关，“按规定向更高层级机关主送的文件”，属越级行文，应当抄送直接上级机关。因此，本题选择ABD选项。

88. 为进一步加强法制社会建设，深圳市将加大( )等关系群众切身利益的重点领域的执法力度，让人民切实享受改革发展成果。

- A. 市场监管领域
- B. 环境保护领域
- C. 安全生产监管领域
- D. 道路交通领域
- E. 公共卫生领域

【答案】ABCDE

【所属考试模块】常识判断

【题型】多选

【考点】时政

【难度系数】困难



【解析】2014年11月，深圳市出台《法治政府建设工作实施方案》，其中第六项“加强重点领域执法力度”要求依照“有法必依、执法必严、违法必究”的方针，在市场监管、环境保护、安全生产、道路交通、公共卫生等关系群众切身利益的重点领域，加大执法力度，维护法治的权威，保护群众的切身利益，让人民切切实实享受改革发展成果。因此，本题选择ABCDE选项。

89. 下列名言警句和历史人物对应正确的有( )

- A. 以史为镜，可以知兴替——李世民
- B. 勿以恶小而为之，勿以善小而不为——刘备
- C. 读书破万卷，下笔如有神——韩愈
- D. 师夷长技以制夷——魏源
- E. 粉身碎骨浑不怕，要留清白在人间——海瑞

【答案】ABD

【所属考试模块】常识判断

【题型】多选

【考点】历史文化

【难度系数】较难

【解析】A项正确：《旧唐书·魏徵传》记载，魏徵去世后，李世民很悲痛，说：夫以铜为镜，可以正衣冠；以史为镜，可以知兴替；以人为镜，可以明得失。B项正确：“勿以恶小而为之，勿以善小而不为”出自三国时蜀国皇帝刘备的遗诏。C项错误：“读书破万卷，下笔如有神”，出自唐朝诗人杜甫《奉赠韦左丞丈二十二韵》。D项正确：“师夷长技以制夷”出自清朝魏源《海国图志》。E项错误：“粉身碎骨浑不怕，要留清白在人间”是明代于谦《石灰吟》中的诗句。因此，本题选择ABD选项。

90. 中国共产党第十八届中央委员会第四次全体会议于10月20日至23日在北京召开。会议通过了《中共中央关于全面推进依法治国若干重大问题的决定》，提出要增强全民法治观念、推进法治社会建设，具体为( )

- A. 推动全社会树立法治意识
- B. 推进多层次多领域依法治理
- C. 建设完备的法律服务体系
- D. 创新法治人才培养机制
- E. 健全依法维权和化解纠纷机制

【答案】ABCE



【所属考试模块】常识判断

【题型】多选

【考点】时政

【难度系数】较难

【解析】《中共中央关于全面推进依法治国若干重大问题的决定》提出“增强全民法治观念、推进法治社会建设”，具体包括推动全社会树立法治意识、推进多层次多领域依法治理、建设完备的法律服务体系、健全依法维权和化解纠纷机制四个方面。“创新法治人才培养机制”属于“加强法治工作队伍建设”的内容。因此，本题选择 ABCE 选项。

## 二、常识判断（每题 0.8 分，共 10 题）

91. 认识、掌握和利用客观规律是发挥主观能动性的必要条件。（ ）

【答案】B

【所属考试模块】常识判断

【题型】判断

【考点】哲学

【难度系数】容易

【解析】尊重客观规律是发挥主观能动性的前提和基础，发挥主观能动性是认识、掌握和利用客观规律的必要条件。因此，本题答案错误，应选择 B。

92. 科学发展观的实质是要实现社会生活开拓创新，更快的发展。（ ）

【答案】B

【所属考试模块】中特

【题型】判断

【考点】科学发展观

【难度系数】中等

【解析】本题考查科学发展观的内容。科学发展观的实质或者说根本着眼点，是实现经济社会更好更快的发展。故本题说法错误，应为 B。

93. 国徽是国家主权和民族尊严的象征。（ ）

【答案】B

【所属考试模块】法律

【题型】判断

【考点】宪法



【难度系数】易

【解析】本题考查宪法的内容。国旗是国家主权的象征，国徽是国家的标志。故本题说法错误，应为B。

95. 供求规律的内容是指市场上商品供给总量与需求总量之间以及二者同商品价格之间的相互关系。（ ）

【答案】A

【所属考试模块】经济

【题型】判断

【考点】供求规律

【难度系数】难

【解析】本题考查供求规律的内容。供求规律指商品的供求关系与价格变动之间的相互制约的必然性，它是商品经济的规律，包括以下内容：

1. 供求变动引起价格变动

供不应求，价格上涨。这种供不应求会引起价格上涨的趋势，可以在供应量不变，而需求量增加的情况下发生；也可以在需求量不变，而供应量减少的情况下发生；还可以在供应量增长赶不上需求量的增长的情况下发生。商品供过于求，价格就要下降。供过于求引起价格下降，可以在需求量不变、而供应量增加的情况下发生；也可以在需求量增长赶不上供应量增长的情况下发生。

2. 价格变动引起供求的变动

其他因素不变，市场需求量与价格成反方向变动，即价格上涨，需求减少；价格下跌，需求增加。同理，市场供给与价格成同方向变动，即价格上涨，供给增加；价格下跌，供给减少。价格的涨落会调节供求，使之趋于平衡。

题干所说商品供给总量与需求总量的关系既是供求关系。故本题说法正确，应为A。

96. 在社会主义市场经济体制下，宏观经济调控的基本手段包括经济手段、行政手段和法律手段。（ ）

【答案】A

【所属考试模块】经济

【题型】判断

【考点】宏观调控

【难度系数】较易



【解析】本题考查宏观调控的手段。在社会主义市场经济体制下，宏观经济调控的基本手段包括以下三种：(1)经济手段。经济手段是指按照客观经济规律的要求，依靠各种经济组织，实施各种经济政策和运用各种经济杠杆，来调控经济的手段。它是一种间接调控手段，而且是主要的调控手段。(2)行政手段。行政手段是指国家行政机关按照行政区划、行政系统、行政层次来对国民经济进行管理的手段。(3)法律手段。法律手段是指依靠经济立法和经济司法来监督管理经济的手段。故本题说法正确，应为A。

97. 公文汇编的密级按照所编入公文中比例最大的密级进行标注。( )

【答案】B

【所属考试模块】公文

【题型】判断

【考点】公文密级

【难度系数】较易

【解析】本题考查公文的内容。公文密级的确定应根据公文所涉及内容级别最高的来确定，而不是公文中所占比例最大的来标注。故本题说法错误，应为B。

98. 深圳的读书月为11月，是由深圳市委市政府推动创立的一项公共节庆活动。

【答案】A

【所属考试模块】时政

【题型】判断

【考点】深圳时政

【难度系数】中等

【解析】本题考查深圳时政相关内容。深圳读书月，是由深圳市委市政府于2000年创立并举办的一项大型综合性群众读书文化活动，时间为每年的11月1日至30日。深圳读书月秉承营造书香社会、实现市民文化权利的宗旨，以“阅读·进步·和谐”为总主题，着力于提升市民素质，建设学习型城市。2011年5月25日，深圳读书月荣获中华文化促进会、节庆中华协作体理事会颁发的第三届“节庆中华奖”现代节庆奖。故本题说法正确，应为A。

99. 第17届仁川亚运会于2014年10月闭幕，中国、韩国、日本分别获得仁川亚运会奖牌榜的第一名，第二名，第三名。( )

【答案】A

【所属考试模块】时政

【题型】判断

【考点】国际时政



【难度系数】中等

【解析】本题考查国际时政相关内容。2014年10月4日18:00，2014年仁川亚运会闭幕。奖牌总数中国342，韩国234，日本200，分别位居奖牌榜第一、二、三名。故本题说法正确，应为A。

100. 社会主义协商民主是中国社会主义民主政治的特有形式和独特优势。( )

【答案】A

【所属考试模块】时政

【题型】判断

【考点】十八大内容

【难度系数】中等

【解析】本题考查十八大相关内容。党的十八大报告提出了“社会主义协商民主是我国人民民主的重要形式”的论断。协商民主的基本含义是指协商主体通过自由平等的公共协商参与决策。社会主义协商民主除了具备协商民主的一般含义外，还具有不同于其他协商民主的特殊规定性，也就是在党的领导下，社会各个政党、阶层、团体、群众等，就共同关心或利益相关的问题，以适当方式进行协商，形成各方均可接受的方案，作出决策或决定，以实现整体的发展。社会主义协商民主是伴随着新中国的建立而确立起来的，改革开放以来又得到不断发展和完善。实践证明，发展社会主义协商民主，符合我国国情，符合中国特色社会主义政治制度要求，是我国所特有的民主政治形式和具有独特优势。故本题说法正确，应为A。