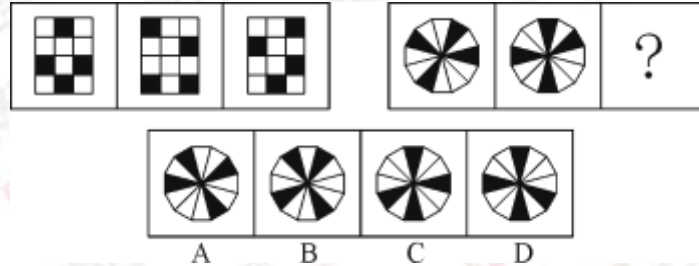


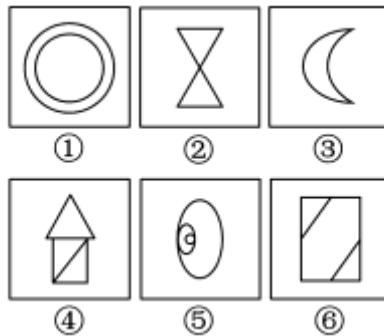
推理判断

一、图形推理

1. 从所给的四个选项中，选择最合适的一个填入问号处，使之呈现一定的规律性：

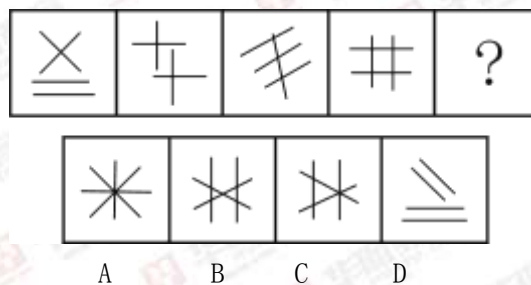


2. 把下面的六个图形分为两类，使每一类图形都有各自的共同特征或规律，分类正确的一项是：



- A. ①⑤⑥，②③④ B. ①③⑤，②④⑥
 C. ①②③，④⑤⑥ D. ①②⑥，③④⑤

3. 从所给的四个选项中，选择最合适的一个填入问号处，使之呈现一定的规律性：



二、逻辑判断

4. 夏燕，贾枢和郑薇三个同学一起去旅游。为了照相方便，每个人拿的是同学的相机，背的是另一个同学的包。如果背着郑薇包的人拿得是贾枢的相机，那么以下哪项为真：（ ）

- A. 贾枢拿的是郑薇的相机
 B. 郑薇拿的是贾枢的相机
 C. 郑薇背的是夏燕的包
 D. 贾枢背着郑薇的包

5. 某刑事人类学家在对 260 名杀人犯的外貌进行了考察后,发现他们具有一些共同的生理特征,于是得出“杀人犯具有广颧、颧骨突出、头发黑而短特征”的结论。

以下哪项与上述推理方式相同 ()

- A. 24—28 之间没有质数
- B. 八月十五云遮月, 正月十五雪打灯
- C. 植物种子经超声波处理后可增产, 所以玉米种子经超声波处理后也可增产
- D. 某高校在对全校学生进行调查后, 得出“我校同学学习态度普遍较好”的结论

6. 某调查显示: 82%的小学生每天都会上网, 84%的每天都会使用 QQ, 78%的每天都会使用 QQ 空间, 65%的每天都会使用微博。据此有人认为, 小学生已从媒介被动的受众转变为积极的参与者和传播者。如果以下各项为真, 最能削弱上述论证: ()

- A. 小学生的 QQ 好友或微博关注对象大多限于同学
- B. 大多数小学生每天上网时间被控制在半小时以内
- C. 大多数家庭的电脑中都安装了学生上网监控软件
- D. 大多数小学生使用 QQ 空间和微博只是浏览信息

三、类比推理

7. () 对于 疾病 相当于 新闻 对于 ()

- A. 细菌: 报道
- B. 病毒: 关注
- C. 药品: 直播
- D. 病房: 感动

8. 认真: 一丝不苟

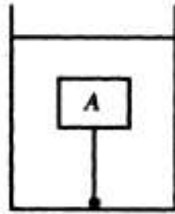
- A. 清楚: 一清二楚
- B. 正确: 分毫不差
- C. 温暖: 风和日丽
- D. 干净: 一尘不染

9. 围湖造田: 饮鸩止渴

- A. 卧薪尝胆: 学以致用
- B. 忍辱偷生: 削足适履
- C. 兢兢业业: 刻苦奋进
- D. 山穷水尽: 柳暗花明

四、科学推理

10. 如图, 重为 5N 的木块 A, 在水中处于静止状态, 此时绳子的拉力为 3N, 若绳子突然断了, 木块 A 在没有露出水面之前, 所受合力的大小和方向是 ()



- A. 5 N, 竖直向下
- B. 3 N, 竖直向上
- C. 2 N, 竖直向上
- D. 8 N, 竖直向下

11. 我国铁路大提速后，站台上的乘客与列车间的空气流速和压强也发生了变化，为了有效地防止安全事故的发生，站台的安全线距离由原来的1m变为2m。关于列车与乘客间空气流速及压强的变化，判断正确的是（ ）

- A. 空气流速变大，压强变小
- B. 空气流速变大，压强变大
- C. 空气流速变小，压强变大
- D. 空气流速变小，压强变小

12. 将一块实心物体放入盛水的烧杯中，物体静止时。若将该物体分成大小不同的两块，仍然放在盛水的烧杯中，则（ ）

- A. 大块沉入杯底，小块飘在水面上
- B. 大块、小块都沉入杯底
- C. 大块、小块都飘在水面上
- D. 大块、小块都悬浮在水中



惠州华图			
2018广东省考—全程协议班课程安排			
课程类型	日期	课表	费用
红领决胜笔试协议班	预约上课	基础+巩固提高+预测冲刺 (无限学习, 专属督学)	29800 (不过退 19000元)
红领决胜笔面直通	预约上课	基础+巩固提高+预测冲刺+面试 (无限学习, 专属督学)	31800 (笔试不过退 21000元; 面试不过 退17000元)
基础班	2017年12月28日-2018年1月20日	常识2天、言语4天、判断4天、科学推理 1天、数量6天、申论7天、模考1天	9980 (住宿费12680元)
巩固提高	2018年1月25日-2月4日	言语2天、判断(含科学推理)3天、 数量3天、申论3天	6280 (住宿费7480元)
预测冲刺	考前一周	言语1天、判断(含科学推理)2天、 数量2天、申论2天	5680 (住宿费6480元)
关于协议班制度	省考阶段：基础+提高+冲刺，学习费用是：9980+6280+5680=21940元 面试阶段：封闭特训班，学习费用是：8800元 现在：笔面直通协议班，可上完省考所有阶段的所有课程以及事业单位、教师、农信社的课程 承诺：笔试均未进面，退费21000元；笔试通过，赠送面试班，面试未上岸，退费17000元		
惠州华图：惠州市惠城区新岸路1号世贸中心10楼A 联系方式：0752-7387260 惠东华图：惠东县华侨城大道17号8楼18（大润发楼上） 联系方式：0752-8520071 课程详情可电话咨询或识别二维码咨询》》》			