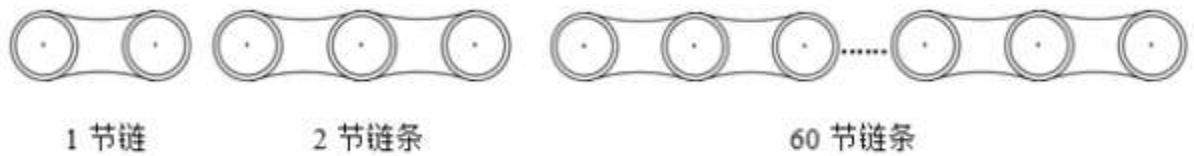


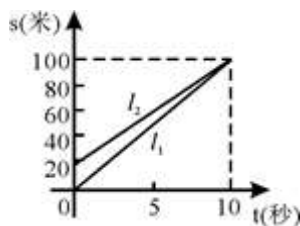
数量关系

1、如图，自行车的链条每节长为 2.5cm，每两节链条相连接部分重叠的圆的直径为 0.8cm，如果某种型号的自行车链条共有 60 节，则这根链条没有安装时的总长度为（ ）。



- A. 150 厘米
- B. 104.5 厘米
- C. 102.8 厘米
- D. 102 厘米

2、小雨和弟弟进行百米赛跑，小雨比弟弟跑得快，如果两人同时起跑，小雨肯定赢。现在小雨让弟弟先跑若干米，图中 l_1 、 l_2 分别表示两人的路程与小雨追赶弟弟的时间的关系，由图中信息可知，下列结论中正确的是（ ）。

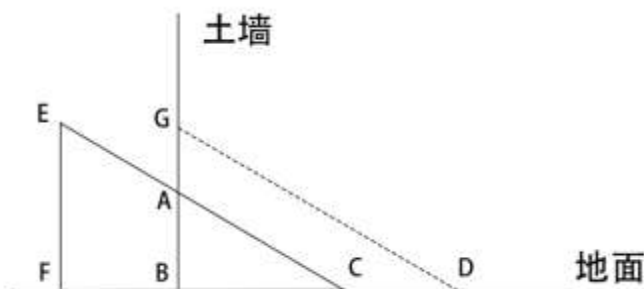


- A. 小雨先到达终点
- B. 弟弟先跑了 10 米
- C. 弟弟的速度是 10 米/秒
- D. 弟弟的速度是 8 米/秒

3、有编号为 1~13 的卡片，每个编号有 4 张，共 52 张卡片。问至少摸出多少张，就可保证一定有 3 张卡片编号相连？

- A. 27 张
- B. 29 张
- C. 33 张
- D. 37 张

4、土质房屋的墙壁底部有一个三棱主体的孔，其纵截面 ABC 如下图所示。房主用一个纵截面为三角形的木楔塞住这个孔。为了塞进孔洞，他用锤子敲击木楔，使木楔移动了 4 厘米（CD）且其底部 EF 与孔洞表面 BG 重合，此时孔的高度增加了 3 厘米（AG）。已知木楔底部 EF 高 8 厘米，问孔的纵截面积增加了多少平方厘米？



- A. 26
- B. 30
- C. 32
- D. 36

5、一个游泳池，甲管注满水需 6 小时，甲、乙两管同时注水，注满要 4 小时。如果只用乙管注水，那么注满水需（ ）小时。

- A. 14
- B. 12
- C. 10
- D. 8

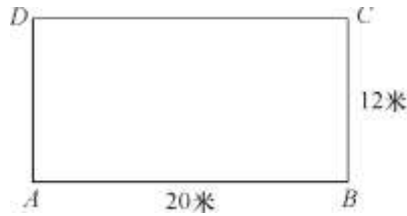
6、某年份的 2 月有五个星期天，问下一年的五一劳动节是星期几？

- A. 星期六
- B. 星期天
- C. 星期一
- D. 星期五

7、某单位职工 24 人中，有女性 11 人，已婚的有 16 人。在已婚的 16 人中有女性 6 人。问这个单位的未婚男性有多少人？

- A. 1
- B. 3
- C. 9
- D. 12

8、如图、在长方形跑道上，甲乙两人分别从 A、C 处同时出发，按顺时针方向延跑道匀速奔跑，已知甲乙两人的速度分别是 5 米/秒、4.5 米/秒。则当甲第一次追上乙时，甲沿长方形跑道跑过的圈数是：



- A. 4
- B. 4.5
- C. 5
- D. 5.5

9、一个由边长 25 人和 15 人组成的矩形方阵，最外面两圈人数总和为：

- A. 232
- B. 144
- C. 165
- D. 196

10、木材原来的水分含量为 28%，由于挥发，现在的水分含量为 10%，则现在这些木材的重量是原来的：

- A. 50%
- B. 60%
- C. 70%
- D. 80%

惠州华图—2018年广东省考课程计划

【公告时间】预计3月13日

【笔试时间】预计4月15日，再不准备就晚啦！

决胜协议班优势：

性价比高：2018年11月30日之前，**省考、事业单位、教师、金融等课程**无限学

灵活性高：在职&应届，缺课随时可以补，1次不会可以学2次，从基础到提高多次上课

专有督学和服务：报名后领取课前学习包，建立学习档案，每日晨读，课后学习包，模考

优惠：老学员优惠

惠州华图：惠城区新岸路1号世贸中心10楼（人人乐旁），0752-7387260

惠东华图：惠东县华侨城大道17号8楼（大润发楼上），0752-8520071

课程班次	开课时间	课程学费	内容
红领决胜笔面直通班 无限学	18年市考、省考、事业单位、教师招聘、金融笔试课程无限上课；进入面试赠送封闭班面试课程	31800（笔试不过退21000；面试不过退17000）	从基础到提高、无限学
红领决胜协议班 无限学	18年市考、省考、事业单位、教师招聘、金融笔试课程无限上课；	29800（笔试不过退19000元）	从基础到提高、无限学
基础提升班	3月9日-3月26日（18天16晚）	8980（住宿费10880）	以点带题，建立系统知识体系
周末班-在职人士的最爱 基础	3月10-11日，17-18日，24-25日，31日-4月1日（8天5晚）	2999（住宿费3799）	做题方法和技巧
题海决胜班 提高	3月10日-3月20日（11天）	6280（住宿7480）	以题带点，分模块系统刷题
考前预测集训营 冲刺	7天（出公告后定）	5680（住宿6480）	重难点、高频考点梳理讲解
好课程+好老师+好学生			