

知识点回顾

2009年某省各类产品产量情况

	产量（万吨）	同比增长率（%）
水产品	702.81	3.3
其中：海洋捕捞	152.75	-0.7
海水养殖	234.62	5.2
淡水捕捞	12.65	1.3
淡水养殖	302.79	4.0

【例1】2009年，海水养殖业产量占水产品养殖业的比重为（ ）

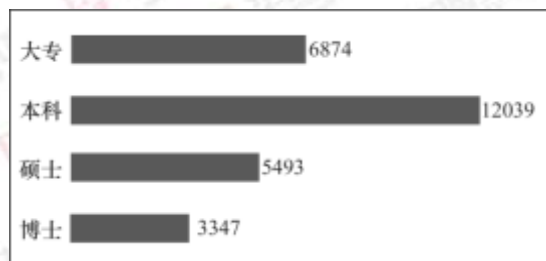
- A. 77.5% B. 33.4%
 C. 60.8% D. 43.7%

【例2】2013年二季度，我国税收月收入同比增速逐步提高，分别为7.9%、8.3%和12.9%。截至2013年6月，全国税收总收入完成59260.61亿元，同比增长7.9%，较上年同期回落1.9个百分点。

2012年1~6月全国税收总收入为（ ）

- A. 52973.28亿元 B. 54921.79亿元
 C. 56938.68亿元 D. 63942.19亿元

【例3】下图显示了某市大专及以上学历的人才数量，请问图中四种人才数量之和为多少人？（ ）



- A. 25353 B. 26353
 C. 27753 D. 28353

某市 2009 年旅游部门主要财务情况

单位：万元

指标	宾馆、酒店	旅行社	景点	其他旅游企业
经营利润：	214594	25735	101714	445
管理费用	184995	18426	64509	8715
财务费用	22382	345	13299	3663

【例 4】2009 年，该市旅游部门经营利润中管理费用约是财务费用的多少倍？（ ）

- A. 4
- B. 5
- C. 6
- D. 7

【例 5】2014 年 1—5 月，我国软件和信息技术服务业实现软件业务收入 13254 亿元，同比增长 20.9%。5 月份完成收入 2968 亿元，同比增长 20.6%。1—5 月，软件业实现出口 182 亿美元，同比增长 14.8%，增速比去年同期高 4.7 个百分点。

2014 年 1—5 月，软件业出口额比两年前增长的比例在以下哪个范围之内？（ ）

- A. 低于 20%
- B. 20%—30%之间
- C. 30%—40%之间
- D. 高于 40%

【例 6】2011 年，G 省交通运输生产持续平稳增长。全年客运总量 522002.45 万人，比上年增长 11.8%，增幅同比回落 2.9 个百分点。

2009 年客运量总量约为（ ）万人。

- A. 407068
- B. 428748
- C. 455102
- D. 479340

【例 7】2011 年底，全国拥有水上运输船舶 17.92 万艘，比上年末增长 0.5%；净载重量 21264.32 万吨，增长 17.9%；平均净载重量增长 17.3%；集装箱箱位 147.52 万 TEU，增长 11.4%；船舶功率 5949.66 万千瓦，增长 11.6%。

截至 2010 年底，全国拥有水上运输船舶多少万艘？（ ）

- A. 11.95
- B. 12.05
- C. 17.07
- D. 17.83

【例 8】2012 年，某地区农作物播种总面积达到 1625.55 万亩，同比增长 4.6%。粮食作物中，小麦 295.61 万亩，同比增长 67.7%；玉米 93.77 万亩，同比增长 3.1%；大豆 21.51 万亩，同比增长 76.6%；水稻 32.66 万亩，同比下降 7.7%。蔬菜播种面积中，番茄 65.48 万亩，同比增长 60.7%；辣椒 21.27 万亩，同比下降 0.7%。

2012 年水稻播种面积比 2011 年大约少多少万亩？（ ）

- A. 2.21
- B. 2.33
- C. 2.72
- D. 2.88

2010年主要农副产品产量

指标	产量（万吨）	比上年增长（%）
粮食	115.7	-7.3
蔬菜	303.0	-4.5
肉类	46.3	-2.0
禽蛋	15.1	-1.7
水产品	6.3	9.0
牛奶	64.1	-4.9
干鲜果品	85.4	-5.5

【例9】该市主要农副产品与上年相比，产量变化绝对值最小的是（ ）。

- A. 肉类 B. 禽蛋
C. 水产品 D. 牛奶

套题精讲

资料一：

2013年6月，社会消费品零售总额18827亿元，同比增长13.3%。其中，限额以上企业（单位）消费品零售额9764亿元，增长11.5%。1—6月社会消费品零售总额110764亿元，同比增长12.7%。

按经营单位所在地分，6月城镇消费品零售额16245亿元，同比增长13.0%；乡村消费品零售额2582亿元，增长15.1%。1—6月城镇消费品零售额95789亿元，增长12.5%；乡村消费品零售额14975亿元，增长14.3%。

按消费形态分，6月餐饮收入2059亿元，同比增长9.5%；商品零售16768亿元，增长13.8%。1—6月餐饮收入11795亿元，增长8.7%；商品零售98969亿元，增长13.2%。

在商品零售中，限额以上企业（单位）6月商品零售额9100亿元，同比增长12.5%。1—6月限额以上企业（单位）商品零售额51508亿元，增长11.7%。

1. 关于 2013 年上半年的社会消费品零售额，能够从上述资料中推出的是（ ）。
- A. 乡村消费品零售额占社会消费品零售额的比重低于上年同期水平
 - B. 6 月的乡村消费品零售额比上年同期增长了 200 多亿元
 - C. 6 月的餐饮收入占同期社会消费品零售总额的一成以上
 - D. 限额以上企业（单位）商品零售额超过社会消费品零售总额的一半
2. 2013 年 6 月，限额以上企业（单位）消费品零售额占社会消费品零售总额的比重约为（ ）。
- A. 52% B. 58%
 - C. 64% D. 46%
3. 如保持 2013 年 6 月的同比增量不变，到哪一年的 6 月，限额以上企业（单位）商品零售额将首次超过 1.5 万亿元？（ ）
- A. 2017 年 B. 2018 年
 - C. 2019 年 D. 2016 年
4. 2013 年 6 月，城镇消费品零售额约比当年 1—5 月的平均值高多少亿元？（ ）
- A. 336 B. 398
 - C. 474 D. 280
5. 2012 年上半年，商品零售额约是同期餐饮收入的多少倍？（ ）
- A. 7 B. 8
 - C. 9 D. 6

资料二：

据统计，2012年1—10月我国农产品出口总额1414.48亿美元，较上年同期（下同）增长16.27%。其中，出口500.52亿美元，增长4.49%，进口913.96亿美元，增长23.92%。

2012年1—10月我国八类主要农产品进出口情况

	出口				进口			
	金额 (亿美元)	金额同 比(%)	数量 (万吨)	数量同 比(%)	金额 (亿美元)	金额 同比 (%)	数量(万 吨)	数量 同比 (%)
谷物	5.37	-9.92	88.39	-6.61	42.67	181.64	1255.14	212.77
——稻谷 产品	2.31	-13.25	24.78	-28.63	9.58	184.30	200.07	283.88
——小麦 产品	1.23	-4.87	23.29	-12.77	10.64	212.55	357.40	246.72
——玉米 产品	0.98	118.17	25.02	89.36	15.00	373.13	455.72	285.32
食用油籽	13.38	22.33	78.66	10.38	304.52	21.29	5111.74	18.56
——大豆	2.01	54.67	23.76	38.23	283.40	19.02	4833.68	16.61
食用植物 油	1.47	-21.29	8.09	-26.35	84.86	19.41	733.10	19.66
食糖	0.37	-15.18	4.03	-21.22	20.25	46.40	335.12	67.02
水产品	149.33	6.62	302.52	-4.28	64.28	-2.93	325.04	-7.89
畜产品	51.63	10.56	110.73	-2.54	88.11	21.68	381.22	12.71
蔬菜	77.80	-18.88	724.53	-9.68	3.34	31.21	18.28	33.60
水果	36.99	11.45	315.04	2.20	31.69	24.72	288.10	1.33

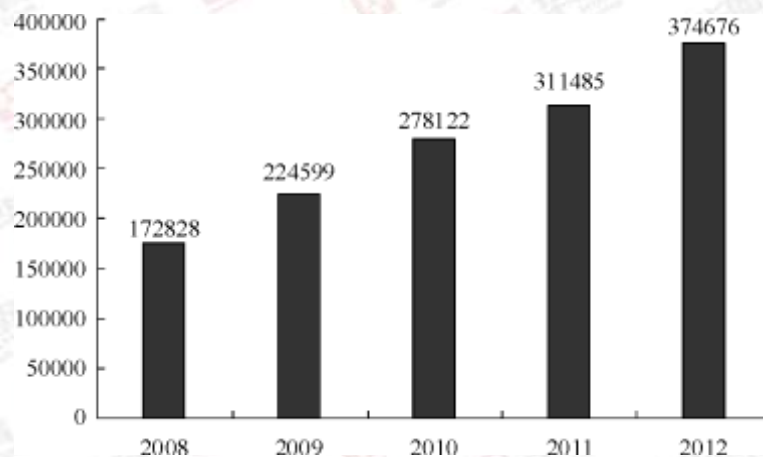
6. 2012年1—10月我国八类主要农产品中，进口数量最多的三类是（ ）。
- A. 食用油籽、畜产品、食用植物油 B. 蔬菜、水果、水产品
C. 食用油籽、谷物、食用植物油 D. 蔬菜、畜产品、水产品
7. 2011年1—10月我国小麦产品的出口量约比大豆（ ）。
- A. 少0.5万吨 B. 少3.5万吨
C. 多3.5万吨 D. 多9.5万吨
8. 2011年1—10月我国农产品约实现（ ）。
- A. 贸易逆差413亿美元 B. 贸易逆差259亿美元
C. 贸易顺差413亿美元 D. 贸易顺差259亿美元
9. 与上年同期相比，2012年1—10月我国蔬菜和水果的平均出口单价（ ）。
- A. 均有所提高 B. 均有所下降
C. 只有蔬菜价格提高 D. 只有水果价格提高
10. 下列关于我国2012年1—10月八类主要农产品进出口状况的描述与资料相符的是（ ）。
- A. 有7类主要农产品的出口量同比下降
B. 大豆进口量与食用油籽占总进口量的比重不足9成
C. 玉米产品进口金额的同比增速高于稻谷产品和小麦产品
D. 食用植物油的平均进口单价高于水产品

资料三：

2012年1—12月，全国固定资产投资(不含农户)364835亿元，同比增长20.6%。

2012年1—12月全国固定资产投资状况(不含农户)

	金额 (亿元)	同比增速 (%)	增速比1—11月累计 相比 (百分点)
第一产业	9004	32.2	1.7
第二产业	158672	20.2	-0.9
其中：工业	154636	20.0	-1.1
其中：采矿业	13129	11.8	-0.4
制造业	124971	22.0	-0.8
电力、热力、燃气 及水的生产和供应业	16536	12.8	-3.4
第三产业	197159	20.6	0.2



2008—2012年全国固定资产投资额(含农户)

11. 2012年全国农户固定资产投资额为多少亿元？（ ）

- A. 9539 B. 9603
C. 9685 D. 9841

12. 2009—2012年，全国固定资产投资额(含农户)同比增速超过20%的年份有几个？（ ）

- A. 1 B. 2
C. 3 D. 4

13. 表中 2012 年 1—12 月，工业固定资产投资约比上一年度增加多少万亿元？
()

- A. 2.6 B. 2.7
- C. 2.9 D. 3.1

14. 以下不同产业或行业按照 2012 年 1—11 月固定资产投资额同比增速从高到低排序正确的是 ()。

- A. 第一产业，第二产业，第三产业
- B. 第一产业，第三产业，第二产业
- C. 采矿业，制造业，电力、热力、燃气及水的生产和供应业
- D. 制造业，采矿业，电力、热力、燃气及水的生产和供应业

15. 关于 2012 年全国固定资产投资状况，能够从上述资料中推出的是 ()。

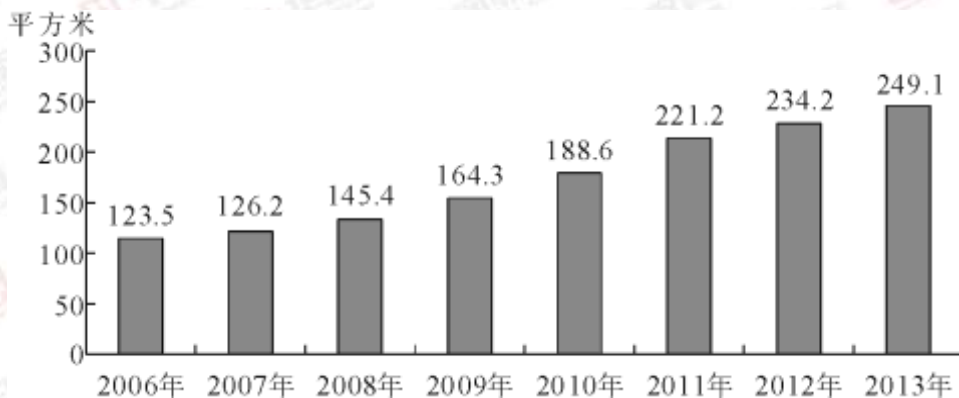
- A. 第一产业同比增长超过 3000 亿元
- B. 总投资额同比增量为 4 年以来最高
- C. 制造业投资额占第二产业的八成以上
- D. 第二产业投资额同比增量高于第三产业

资料四：

2013 年末全国共有群众文化机构 44260 个，比上年末增加 384 个。其中乡镇文化站 34343 个，增加 242 个。年末群众文化机构从业人员 164355 人，比上年末增加 8127 人。群众文化机构实际使用房屋建筑面积 3389.4 万平方米，比上年末增长 6.9%。年末群众文化机构共有馆办文艺团体 6022 个，演出 15.13 万场，观众 6569 万人次。

2013 年全国群众文化机构开展活动情况

项目	活动次数（万次）	增速（%）	参加人数（万人次）	增速（%）
展览	13.82	20.4	9245	3.2
文艺活动	74.06	7.6	31379	-1.8
公益性讲座	2.36	13.5	441	20.5
训练班	39.08	0.9	3105	12.9
总计	129.32	6.8	44170	0.3



2006~2013 年全国平均每万人群众文化设施建筑面积

16. 2013 年末全国群众文化机构数量同比约增长了（ ）

- A. 8% B. 3%
C. 0.9% D. 0.4%

17. 2013 年每个馆办文艺团体平均每月演出约多少场（ ）

- A. 25 B. 12
C. 5 D. 2

18. 2013 年群众文化机构开展的活动中，平均每次活动参加人数最多的是（ ）
- A. 展览 B. 文艺活动
C. 公益性讲座 D. 训练班
19. 2007~2013 年间，平均每万人群众文化设施建筑面积同比增速高于 10% 的年份有几个（ ）
- A. 5 B. 4
C. 3 D. 2
20. 能够从上述资料中推出的是（ ）
- A. 2013 年文艺活动的参加人数约是公益性讲座的 50 倍
B. 2012 年末全国群众文化机构共有从业人员 16 万多人
C. 2013 年全国人均群众文化设施建筑面积比 2006 年翻了一番
D. 2013 年乡镇文化站占群众文化机构总数的比重高于上年水平

惠州华图			
2018广东省考—全程协议班课程安排			
课程类型	日期	课表	费用
红领决胜笔试协议班	预约上课	基础+巩固提高+预测冲刺 (无限学习, 专属督学)	29800 (不过退 19000元)
红领决胜笔面直通	预约上课	基础+巩固提高+预测冲刺+面试 (无限学习, 专属督学)	31800 (笔试不过退 21000元; 面试不过 退17000元)
基础班(第二期)	2018年1月7日-1月30日	常识2天、言语4天、判断4天、科学推理 1天、数资5天、申论7天、模考1天	9980 (住宿费12680元)
基础班(第三期)	2018年1月19日-2月11日		
巩固提高	2018年2月1日-2月11日	言语2天、判断(含科学推理)3天、 数资3天、申论3天	6280 (住宿费7480元)
预测冲刺	考前一周	言语1天、判断(含科学推理)2天、 数资2天、申论2天	5680 (住宿费6480元)
关于协议班制度	省考阶段: 基础+提高+冲刺, 学习费用是: 9980+6280+5680=21940元 面试阶段: 封闭特训班, 学习费用是: 8800元 现在: 笔面直通协议班, 可上完省考所有阶段的所有课程以及事业单位、教师、农信社的课程 承诺: 笔试均未进面, 退费21000元; 笔试通过, 赠送面试班, 面试未上岸, 退费17000元		