

## 2014年四川（上半年）《行测》真题

## 一、常识判断

1. 关于3D打印技术，下列说法正确的是：

- A. 该技术的思想起源于英国
- B. 该技术尚不能打印建筑、骨骼等庞大或特殊的物品
- C. 打印所使用的材料可为金属粉末、陶瓷粉末、塑料等
- D. 打印的过程通常是进行预先切片，然后进行三维设计，再打印成品

【知识点】 近现代重大科技成就

【答案】 C

【解析】 3D打印，即快速成型技术的一种，它是一种以数字模型文件为基础，运用粉末状金属或塑料等可粘合材料，通过逐层打印的方式来构造物体的技术。3D打印技术的核心制造思想最早起源于19世纪末的美国，到20世纪80年代后期3D打印技术发展成熟并被广泛应用。

3D技术起源于美国，而非英国，A项错误；

3D技术目前可以打印建筑、骨骼等庞大或特殊的物品，B项错误；

打印所使用的材料可为金属粉末、陶瓷粉末、塑料等。C项正确；

打印的过程通常是先进行三维设计，然后进行切片处理，再完成打印，D项错误。

所以选C。

2. 下列说法正确的是：

- A. 雨后想看到彩虹必须面对太阳
- B. 光的三原色和颜料的三原色都是红绿蓝
- C. 光在空气中的传播速度慢于在水中的传播速度
- D. 警告类标示一般用红色是因为红色波长最长、传播最远

【知识点】 物理

【答案】 D

【解析】 彩虹的形成是太阳光在水分子发生反射和折射形成的，只要空气中有水滴，而阳光正在观察者的背后以低角度照射，便可能观察到彩虹。因此想要观察雨后彩虹应当背对太阳，A项错误。

光的三原色是红、绿、蓝，因为这三种色光无法被分解。颜料的三原色是红、黄、蓝，因为使用这三种颜色可以最大限度地配出最多的颜色，B项错误。

光在空气中的传播速度约为299,552,816 m/s，光在水中的传播速度约为空气传播速度的四分之三，因此C项错误。

红色的波长最长，波长越长传播越远，因此警告类标示一般使用红色，D项正确。

所以选D。

3. 下列做法正确的是：

- A. 油锅起火后立即用水扑灭，并迅速熄灭炉火
- B. 电路保险丝（片）熔断，用铜线代替以保护电器
- C. 身上着火，就地打滚，或用厚重衣物覆盖压灭火苗
- D. 停电的夜晚发现煤气泄漏后，点燃蜡烛查找泄漏原因

【知识点】 生活常识

【答案】 C

【解析】 油锅起火后千万不能用水灭火，因为冷水遇到高温热油会形成“炸锅”，正确的做法应该是迅速利用锅盖、抹布等覆盖物隔绝油锅中的空气，A项错误。

使用保险丝的目的是当电流过大时，保险丝熔断可以保护电器和人的安全。因此保险丝一般用铝镉合金等低熔点合金制成，而铁和铜的熔点较高，不能作为保险丝的替代品，B项错误。

身上着火后就地打滚或利用厚重的衣物、被子等物体覆盖压灭火苗，有助于隔绝空气，熄灭身上的火苗，C项正确。

煤气泄漏后应绝对禁止一切能够引起火花的行为，因为火花会引起煤气的燃烧，造成火灾，所以煤气泄漏后点燃蜡烛是十分危险的行为，D项错误。

所以选C。

4. 现代火炮按弹道特征可分为榴弹炮、迫击炮和加农炮，其中迫击炮弹道的特征是：

- A. 初速小，弹道比较弯曲
- B. 初速小，弹道比较平直
- C. 初速大，弹道比较平直

D. 初速大，弹道比较弯曲

【知识点】 物理

【答案】 A

【解析】 迫击炮弹道初速小，且较为弯曲。在迫击炮发射时由于是仰角射击，受重力和弹药量的限制，初速度较小；由于迫击炮弹有尾翼（炮弹不旋转，靠尾翼控制方向），在下落阶段弹道几乎是垂直，与抛物线斜方向下落是不一样的，炮弹几乎是垂直下落，炮弹的弹道弯曲，弹片可以360度，几乎没有死角全方位炸开，给敌人地面目标以有效杀伤力。故选A。

5. 生活中常见的条形码是将宽度不等的多个黑条和白条，按一定的编码规则排列，用以表达一组信息的图形标示符。下列关于条形码的表述不正确的是：

A. 日本人最早使用了条形码

B. 要将条形码转换成有意义的信息，需要扫描和译码

C. 条形码有输入速度快、采集信息量大、可靠性高等优点

D. 通用商品条形码一般由前缀部分、制造厂商代码、商品代码和校验码组成

【知识点】 近现代重大科技成就

【答案】 A

【解析】 条形码起源于20世纪20年代的美国，1949年获得了美国专利，A项说法错误。

条形码转换成有意义的信息，需要经历扫描和译码两个过程：当条形码扫描器光源发出的光在条形码上反射后，反射光照射到条码扫描器内部的光电转换器上，光电转换器根据强弱不同的反射光信号，转换成相应的电信号，所以B项说法正确。

条形码是迄今为止最为经济实用的识别方式，具有可靠准确、数据输入速度快，经济便宜，灵活实用，使用简单等优势，C项说法正确。

标准版商品条码所表示的代码由13位数字组成，结构如下：前3位数字为前缀码，第4到7位数字为厂商代码，第8到12位数字为商品项目代码，第13位数字为校验码。D项说法正确。

本题选择A项。

6. 关于生活常识，下列表述不正确的是：

A. 打呵欠是一种深呼吸动作，吸入大量氧气，呼出二氧化碳

B. 唐三彩由于斑斓的釉色常常被误认为是瓷器，其实它是陶器

C. 向日葵从发芽到花盘盛开之前，其叶子和花盘在白天追随太阳从东转向西

D. 海水对光的吸收使得大海呈绿色或蓝色，海水深时是绿色，浅时是蓝色

【知识点】 物理

【答案】 D

【解析】 打呵欠是一种深呼吸动作，哈欠开始时，由于口腔和咽喉部肌肉强烈收缩，使口腔强制开大，与此同时胸腔扩展，双肩抬高，使肺能吸入较平常为多的氧气。呼气时，大量二氧化碳也随之被排出。A项说法正确。

唐三彩是一种低温铅釉陶器，在色釉中加入不同的金属氧化物，经过焙烧，便形成浅黄、赭黄、浅绿、深绿、天蓝、褐红、茄紫等多种色彩，但多以黄、赭、绿三色为主。B项说法正确。

向日葵在阳光的照射下，其背光一面的生长素含量升高，刺激背光面细胞拉长，从而慢慢地向太阳转动，因此向日葵从发芽到花盘盛开之前，其叶子和花盘在白天追随太阳从东转向西，C项说法正确。

海水能吸收波长较长的红、橙、黄光线，而较少吸收波长较短的蓝、紫色光，所以蓝、紫光能透射到很深的海里，容易被海水分子散射出来，因此海水越深颜色越蓝。而海水较浅时，浅海海底的绿色海藻让海水显示绿色，D项说法错误。

本题选择D项。

7. 根据《中华人民共和国公务员法》，下列有关公务员制度的说法不正确的是：

A. 公务员工资由其职务决定

B. 我国实行公务员职位分类制度

C. 公务员职务实行选任制和委任制

D. 挂职锻炼是公务员交流的方式之一

【知识点】 行政法

【答案】 A

【解析】 《中华人民共和国公务员法》第七十三条规定，公务员实行国家统一的职务与级别相结合的工资制度。公务员工资制度贯彻按劳分配的原则，体现工作职责、工作能力、工作实绩、资历等因素，保持不同职务、级别之间的合理工资差距。国家建立公务员工资的正常增长机制。故选项A不正确。

《中华人民共和国公务员法》第十四条规定，国家实行公务员职位分类制度。公务员职位类别按照公务员职位的性质、特点和管理需要，划分为综合管理类、专业技术类和行政执法类等类别。国务院根据本法，对于具有职位特殊性，需要单独管理的，可以增设其他职位类别。各职位类别的适用范围由国家另行规定。故选项B正确。

《中华人民共和国公务员法》第三十八条，公务员职务实行选任制和委任制。领导成员职务按照国家规定实行任期制。故选项C正确。

《中华人民共和国公务员法》第六十三条，国家实行公务员交流制度。公务员可以在公务员队伍内部交流，也可以与国有企业事业单位、人民团体和群众团体中从事公务的人员交流。交流的方式包括调任、转任和挂职锻炼。故选项D正确。

故本题选A。

8. 以下案件不是由人民检察院立案侦查的是：

- A. 某市副市长贪污受贿案
- B. 某法官徇私枉法案
- C. 某公司骗取出口退税案
- D. 王某告公安机关刑讯逼供案

【知识点】 刑法

【答案】 C

【解析】 《中华人民共和国刑事诉讼法》第18条规定，刑事案件的侦查由公安机关进行，法律另有规定的除外。贪污贿赂犯罪，国家工作人员的渎职犯罪，国家机关工作人员利用职权实施的非法拘禁、刑讯逼供、报复陷害、非法搜查的侵犯公民人身权利的犯罪以及侵犯公民民主权利的犯罪，由人民检察院立案侦查。A选项是贪污犯罪，B选项是国家工作人员的渎职犯罪，D选项是刑讯逼供犯罪，A、B、D三项均由人民检察院立案侦查。

《最高人民法院、最高人民检察院、公安部、国家安全部、司法部、全国人大常委会法制工作委员会关于刑事诉讼法实施中若干问题的规定》对于涉税等案件由公安机关管辖，公安机关应当立案侦查，人民检察院不再受理。任何不符合刑事诉讼法关于案件管辖分工规定的文件一律无效。所以骗取出口退税罪不属于检察院立案侦查范围而是属于公安机关立案侦查范围。

故本题选C。

9. 2013年5月15日，北极理事会部长级会议在瑞典宣布，接受中国、印度、意大利、日本、韩国和新加坡6国称为理事会正式观察员。

下列表述正确的是：

- A. 北极是北半球最寒冷的地区，温度比南极更低
- B. 北极圈埋藏着全世界80%尚未开采的石油资源
- C. 北极理事会正式观察员没有投票权，但有权参加理事会各种会议和活动
- D. 北极航道主要有两条：一条是美国沿岸的“西北航道”，一条是西伯利亚沿岸的“东北航道”

【知识点】 地理国情

【答案】 C

【解析】 世界上温度最低的地方在南极洲，A项错误。

北极地区约有八百亿桶的原油产量，约占全球未开采石油13%，B项错误。

北极航道是指穿过北冰洋，连接大西洋和太平洋的海上航道。现拥有两条航道，分别是大部分航段位于俄罗斯北部沿海的“东北航道”，以及大部分航段位于加拿大北极群岛水域的“西北航道”，因此D项错误。

为防止各国围绕北极资源的争夺失控，北极理事会近年来开始积极探索各国在北极的行为准则。该组织的观察员不具投票权，也无权在年会上发言，但在北极议题上具有合法的权利。C项正确。

故本题选C。

10. 以下有关经济指标的说法正确的是：

- A. CPI指数越大，表明居民的就业率越高
- B. 恩格尔系数越大，说明一个家庭越富裕
- C. 货币供应量越大，说明居民的消费水平越高
- D. 基尼系数的数值越接近0，表明收入分配越公平

【知识点】 热点经济词汇

【答案】 D

【解析】 CPI是指消费者物价指数，反映与居民生活有关的衣服、食品、住房、水、电、交通、医疗、教育等商品及

劳务价格统计出来的物价变动指标，通常作为观察通货膨胀水平的重要指标，A项错误。

恩格尔系数食品支出总额占个人消费支出总额的比重，用以衡量一个国家和地区人民生活水平的状况，系数越大，说明生活水平越低，因此B项错误。

货币供应量过大，容易引起通货膨胀，物价上涨可能导致居民的消费水平降低，C项错误。

基尼系数是判断收入分配公平程度的指标，用来综合考察居民内部收入分配差异状况的一个重要分析指标。基尼系数越小，收入分配越平均，D项正确。

故本题选D。

11. 中国人民银行下调金融机构人民币存贷款基准利率的政策属于：

- A. 紧缩性财政政策
- B. 紧缩性货币政策
- C. 扩张性财政政策
- D. 扩张性货币政策

【知识点】 宏观经济

【答案】 D

【解析】 本题考察的是货币政策。

题干中中国人民银行调整基准利率属于货币政策。货币政策，指中央银行为实现既定的经济目标（稳定物价，促进经济增长，实现充分就业和平衡国际收支），运用各种工具调节货币供给和利率，进而影响宏观经济的方针和措施的总和。

货币政策的类型包括：（1）扩张性的货币政策：降低基准利息率、降低存款准备金率、降低再贴现率；（2）紧缩性的货币政策：提高利息率、提高存款准备金率、提高再贴现率；（3）稳健的货币政策。故选项D中下调基准利率是扩张性的货币政策。

故本题选D。

12. 随着城市化、现代化的快速发展，我国许多大城市面临“垃圾围城”的问题，地方政府必须采取多种办法解决垃圾问题。这是因为，垃圾处理是一项：

- A. 基础公共服务
- B. 经济公共服务
- C. 社会公共服务
- D. 公共安全服务

【知识点】 管理

【答案】 C

【解析】 公共服务可以根据其内容和形式分为基础公共服务，经济公共服务，社会公共服务和公共安全服务。（1）基础公共服务是指那些通过国家权力介入或公共资源投入，为公民及其组织提供从事生产、生活、发展和娱乐等活动都需要的基础性服务，如提供水、电、气，交通与通讯基础设施，邮电与气象服务等。（2）经济公共服务是指通过国家权力介入或公共资源投入为公民及其组织即企业从事经济发展活动所提供的各种服务。（3）社会公共服务则是指通过国家权力介入或公共资源投入为满足公民的社会发展活动的直接需要所提供的服务。社会发展领域包括教育、科学普及、医疗卫生、社会保障以及环境保护等领域。（4）公共安全服务是指通过国家权力介入或公共资源投入为公民提供的安全服务，如军队、警察和消防等方面的服务。

垃圾处理是保护环境的表现，属于社会公共服务。故本题选C。

13. 下列古代典籍中，哪一部不是以年号命名的？

- A. 《昭明文选》
- B. 《太平广记》
- C. 《永乐大典》
- D. 《康熙字典》

【知识点】 中国古代史

【答案】 A

【解析】 《昭明文选》是中国现存最早的一部诗文总集，由南朝萧统组织文人共同编选。萧统死后谥“昭明”，所以他组织编选的这部诗文总集称作《昭明文选》，显然昭明是谥号不是年号；

《太平广记》是我国第一部规模巨大、内容丰赡的古代文言小说总集，由李昉、徐铉等人编纂，成书于宋代太平兴国三年（公元978年），太平是宋太宗时期的年号；



《永乐大典》，编撰于明代永乐年间，是中国最大的一部类书，永乐是明成祖时期的年号；  
 《康熙字典》，由清代张玉书、陈廷敬等主编，康熙是清圣祖玄烨的年号；  
 故本题选A。

14. 我国四大名亭是因古代文人雅士的诗歌文章而闻名的景点。它们分别是：

- A. 湖心亭、醉翁亭、兰亭、枫叶亭
- B. 揽月亭、醉翁亭、兰亭、爱晚亭
- C. 湖心亭、醉翁亭、陶然亭、爱晚亭
- D. 鹤归亭、陶然亭、醉翁亭、爱晚亭

【知识点】 建筑

【答案】 C

【解析】 四大名亭，是我国古代因文人雅士的诗歌文章而闻名的景点。它们分别是：安徽滁州的醉翁亭，北京的陶然亭，湖南长沙的爱晚亭和杭州西湖的湖心亭。

醉翁亭坐落在安徽滁州市西南琅琊山麓，是安徽省著名古迹之一，宋代大散文家欧阳修的传世之作《醉翁亭记》描写的就是此亭。

陶然亭取自白居易《与梦得沽酒闲饮且约后期》中“更待菊黄家酿熟，与君一醉一陶然”诗意，为亭题名“陶然”。

爱晚亭，位于湖南省岳麓山下清风峡中，名字来源于杜牧《山行》“停车坐爱枫林晚，霜叶红于二月花”。

湖心亭位于杭州西湖湖心，曾有胡来朝作《湖心亭柱铭》：“四季笙歌，尚有穷民悲月夜；六桥花柳，浑无隙地种桑麻”。

故本题选C项。

15. 以下是我国历史上比较著名的文学作品，将其按产生年代排序正确的是：

- A. 《两都赋》、《西游记》、《红楼梦》、《西厢记》、《阿房宫赋》
- B. 《西厢记》、《红楼梦》、《阿房宫赋》、《西游记》、《两都赋》
- C. 《西游记》、《阿房宫赋》、《两都赋》、《红楼梦》、《西游记》
- D. 《两都赋》、《阿房宫赋》、《西厢记》、《西游记》、《红楼梦》

【知识点】 文学

【答案】 D

【解析】 《两都赋》由东汉班固所著；

《阿房宫赋》由晚唐杜牧所写；

《西厢记》是元代王实甫所写的杂剧；

《西游记》是明代吴承恩的作品；

《红楼梦》由清代曹雪芹所著。

因此本题正确的排序是《两都赋》、《阿房宫赋》、《西厢记》、《西游记》、《红楼梦》，

故本题选D。

16. 以下对中国绘画艺术家的表述不正确的是：

- A. 唐代的吴道子被称为“画圣”
- B. 当代作家徐悲鸿最擅长画马
- C. “扬州八怪”之一郑板桥擅长画竹
- D. 吴冠中创作了巨幅国画《江山如此多娇》

【知识点】 艺术

【答案】 D

【解析】 吴道子，唐代画家，精于佛道、人物绘画，被后世尊称为“画圣”，因此A项说法正确。

徐悲鸿，被称为中国现代美术教育的奠基者，尤以奔马享名于世，代表作品《八骏图》。因此B项说法正确。

郑板桥，清代著名书画家，擅画兰、竹、石、松、菊等植物，其中画竹已五十余年，成就最为突出。因此C项说法正确。

《江山如此多娇》是1959年9月，值新中国成立10周年，傅抱石与关山月合作的大型山水画，并不是吴冠中所作。

因此D项说法错误。

故本题选D

17. 下列剧种与其代表作对应正确的是：

- A. 昆曲——《天仙配》
- B. 豫剧——《空城记》

- C. 京剧——《霸王别姬》  
 D. 黄梅戏——《梁山伯与祝英台》

【知识点】 艺术

【答案】 C

【解析】 本题考查中国串通文化中各剧种的代表作。

A项，昆曲的代表作有《牡丹亭》、《长生殿》、《桃花扇》等；《天仙配》是黄梅戏的代表作。本项错误。

B项，黄梅戏的代表作是《天仙配》。《梁山伯与祝英台》是越剧的代表作。本项错误。

C项，京剧的代表作之一是《霸王别姬》，本项正确。

D项，豫剧的代表作有《花木兰》、《大祭桩》、《五世请缨》、《打金枝》、《打銮驾》等。《空城记》是京剧的代表作之一。本项错误。

所以选C。

18. 下列中国名花与其美称对应正确的是：

- A. 牡丹——花魁  
 B. 杜鹃——花中君子  
 C. 月季——花中皇后  
 D. 荷花——凌波仙子

【知识点】 中国传统文化

【答案】 C

【解析】 本题考查中国传统文化中关于花的别称。

A项，牡丹——花中之王，花中魁首——梅花，本项对应错误；

B项，杜鹃——花中西施，花中君子——兰花，本项对应错误；

C项，月季——花中皇后，本项对应正确；

D项，荷花——水中芙蓉，凌波仙子——水仙，本项对应错误。

所以选C。

19. 四川青城山、江西龙虎山、安徽齐云山与湖北武当山合称道教四大名山。四大名山中属于中国丹霞地貌且被列入《世界遗产名录》的是：

- A. 青城山  
 B. 龙虎山  
 C. 齐云山  
 D. 武当山

【知识点】 地理国情

【答案】 B

【解析】 A项，青城山位于成都市都江堰市西南，古称“洞天福地”、“神仙都会”。该山属于中国丹霞地貌，但未被正式列入《世界遗产名录》。本项错误。

B项，龙虎山位于江西省鹰潭市南郊16公里处，自古以“神仙都所”“人间福地”而闻名天下，是我国道教发源地和历史悠久的道教名山。该山属于中国丹霞地貌，且被正式列入《世界遗产名录》。本项正确

C项，齐云山位于安徽省黄山市休宁县城西十五公里处，此山属于中国丹霞地貌，但未被正式列入《世界遗产名录》。本项错误。

D项，武当山位于湖北省西北部的十堰市丹江口市境内，属丹霞地貌。但列入《世界遗产名录》的是湖北的武当山古建筑群。本项错误。

所以选B。

20. 下列国家和首都对应正确的是：

- A. 新西兰——惠灵顿  
 B. 意大利——米兰  
 C. 加拿大——蒙特利尔  
 D. 澳大利亚——悉尼

【知识点】 地理国情

【答案】 A

【解析】 惠灵顿是新西兰的首都，A项正确。

意大利的首都是罗马，B项错误。

加拿大的首都是渥太华，C项错误。

澳大利亚的首都是堪培拉，D项错误。  
所以选A。

## 二、言语理解与表达

21. 如果有人断言，如果中医不能\_\_\_\_\_，随着老一代中医纷纷故去，中国将只能成为教科书上的“中医故乡”。
- A. 前仆后继  
B. 生生不息  
C. 薪火相传  
D. 继往开来

【知识点】 成语辨析

【答案】 C

【解析】 根据语义可知，文段想要表达的意思是：如果老一代中医故去而中医这项技艺没有流传下去，中国只能成为“中医故乡”。薪火相传古时候比喻形骸有尽而精神不灭；后人用来比喻学问和技艺代代相传。所以填入薪火相传最能体现这层意思。

22. 当我们历经艰难终于抵达故乡的时候，突然发现，眼前的村镇与记忆中的故乡相去甚远，“家”已经面目模糊，\_\_\_\_\_的老人和年幼孩子等着归人，这让已经适应大城市的人们由此觉得故乡越显\_\_\_\_\_。
- A. 衰弱 凋敝  
B. 怯弱 陌生  
C. 孱弱 萧瑟  
D. 羸弱 疏离

【知识点】 实词辨析

【答案】 A

【解析】 从第一空入手，和老人搭配“衰弱”最恰当，意为衰老体弱，而“孱弱”、“羸弱”都是指的身体瘦小虚弱，搭配范围更广，可以指一切身体不好的人。而“怯弱”意为胆小，不符语义。

23. 美国爆发金融危机，必然\_\_\_\_\_欧元国家的金融投资，使欧元区的金融机构蒙受重大损失，并在一段较长的时期逐渐暴露出来，引发一次次的金融\_\_\_\_\_。
- A. 打击 风暴  
B. 重创 恐慌  
C. 影响 危机  
D. 波及 动荡

【知识点】 实词辨析

【答案】 B

【解析】 本题突破口为第一空，虽然四个词语都能表达出美国金融危机对欧元国家金融投资有影响，但这四个词的轻重程度不同，从文段中“必然”、“重大损失”等词可知第一空应填入一个语气最重的词语，即“重创”。故本题选择B选项。

24. “文化搭台，经济唱戏”的最大危害，是将文化仅仅看作是经济的工具和仆佣，\_\_\_\_\_文化本身的价值，由此将文化完全\_\_\_\_\_为商品。
- A. 忽视 贬低  
B. 疏忽 等同  
C. 无视 异化  
D. 漠视 降格

【知识点】 实词辨析

【答案】 C

【解析】 从文段“仅仅”一词可以看出，文段强调的是我们对文化本身价值的的不重视，而“疏忽”表示的是因粗心大意没有看到，无法体现出不重视之意，由此排除B项。再看第二个空格，文段并没有将文化和商品进行比较，如果填入“贬低”或“降格”，则意为文化比商品高端，不符合文意，排除A、D两项。而“异化”表示逐渐变得不同，填入此处合适，故本题选择C项。

25. 2012年新修改的民事诉讼法增加了对公益诉讼制度的规定，这是环境公益诉讼在程序方面的进步，但仍然缺少具体规



定来\_\_\_\_\_，而在司法实践中，由于相关法律条文的缺失，导致法院不受理环保诉讼的情况\_\_\_\_\_。

- A. 支撑 屡屡发生
- B. 解释 不足为奇
- C. 支持 时有发生
- D. 指导 屡见不鲜

【知识点】 实词与成语综合考查

【答案】 A

【解析】 根据文段意思，第一个空前说明修改后的法律条文还比较空泛，具体规定还有所欠缺的意思，因此第一个空填入“支撑”比较合适，缺少法律支撑是常用搭配。再看第二个空，“屡屡发生”和“时有发生”都指经常发生的意思，与“不足为奇”和“屡见不鲜”相比语意更轻，因此符合文意，因此本题答案为A选项。

26. 今天，我们就要离开大学了，退回用旧的学生证，提着行李回头一望、空空荡荡的宿舍、行色匆匆的同学，校园时光，就这样结束了。青春总有不舍，但无需\_\_\_\_\_，4年前，我们相逢，共同拥有一段美好时光，如今，不如\_\_\_\_\_地挥手道别，祝福彼此，勇敢奔赴前程！

- A. 遗憾 潇洒
- B. 沮丧 洒脱
- C. 后悔 淡然
- D. 惋惜 淡定

【知识点】 实词辨析

【答案】 A

【解析】 首先看第一个空，告别大学生活，“后悔”可以排除，在看第二个空，空后“挥手告别，祝福彼此，勇敢奔赴前程”可以根据词语意思来选择所填词语。“潇洒”是指行为举止自然大方，不呆板，不拘束，与文段挥手道别搭配。“洒脱”指潇洒自然，不拘束，多用于形容诗文。因此该题答案为A选项。

27. 对一个领导而言，要想使事业获得成功，必须学会\_\_\_\_\_，就是要敏锐、全面地观察和分析，正确估计发展方向和力度，这样才会在具体的管理行为中\_\_\_\_\_，选择恰当的时机与人选来完成任务。

- A. 因势利导 一举两得
- B. 高屋建瓴 游刃有余
- C. 审时度势 有的放矢
- D. 统筹兼顾 全力以赴

【知识点】 成语辨析

【答案】 C

【解析】 本题属于成语辨析。第一空是后对前的提示，正确答案与提示性信息“敏锐、全面地观察和分析，正确估计发展方向和力度”表达意思相同，“因势利导”强调引导，“高屋建瓴”强调的是在高处，均与提示性信息不符，因此排除AB；再看第二空，仍是后对前的提示，提示性信息为“选择恰当的时机与人选”，强调的是“针对性”，并没有强调“全部力量”，排除D。因此答案选C。

28. 像徜徉在夏天夜晚的星空下，为那壮丽的景色而\_\_\_\_\_，我真的是无限\_\_\_\_\_于我赖以思考和交往的中国文字，并\_\_\_\_\_于它的再生活力和奇特魅力。

- A. 陶醉 偏爱 惊讶
- B. 迷醉 钟情 震惊
- C. 痴迷 倾心 震撼
- D. 沉迷 垂青 惊叹

【知识点】 实词辨析

【答案】 B

【解析】 本题属于实词辨析。第一空，从表达倾向来看，材料中“徜徉”、“壮丽的景色”表达积极色彩，因此第一空也应填积极倾向的词，而“沉迷”和“痴迷”具有消极倾向，排除CD。再从第二空看，要与“于”搭配，而“偏爱”是及物动词，不能与“于”搭配，排除A，第三个空格填入“震惊”一词很好的体现出了作者对于中国文字的喜爱。因此正确答案选B。

29. 在食品安全治理上，公众监督很有必要。但从监督治理的\_\_\_\_\_来看，公众监督不应该成为监管部门卸责的借口，食品安全\_\_\_\_\_太多的专业领域，公众不是专家，不具有科学的\_\_\_\_\_手段和方法。

- A. 路径 涉及 检测
- B. 途径 涉及 检验

- C. 途径 牵扯 检验  
 D. 路径 牵扯 检测

【知识点】 实词辨析

【答案】 A

【解析】 本题属于实词辨析。第一空，路径和途径是近义词，不容易排除答案；本题解题点从第二空入手，“涉及”强调的是事物的关联性，而“牵扯”有牵连拉扯的意思，牵扯填入材料并不符合原文，因此排除CD；再看第三空，“检验”强调检查验证，而“检测”强调检验检测，适用于各种范畴的质量评定，从材料“食品安全”这一范畴，可以判定选择“检测”，而非“检验”，因此正确答案选B。

30. 唐朝社会的各色人物在唐朝文人笔下\_\_\_\_，活灵活现，世界名著中有著名的四大吝啬鬼形象，即阿巴贡、泼留希金、夏洛克和葛朗台，而唐朝文人笔下的吝啬和贪婪之人亦\_\_\_\_。这些生活在社会各阶层的人，被唐代文人刻划得\_\_\_\_，读来呼之欲出，令人不禁莞尔。

- A. 惟妙惟肖 不相上下 绘声绘色  
 B. 跃然纸上 大相径庭 酣畅淋漓  
 C. 栩栩如生 毫不逊色 入木三分  
 D. 引人入胜 风格各异 活灵活现

【知识点】 成语辨析

【答案】 C

【解析】 本题属于成语辨析。第一空，要与“活灵活现”并列，“引人入胜”意为十分吸引人的，使人沉醉的优美的境界，多指山水风景或文艺作品吸引人，该词不能体现生动之意，排除D；第二空，提示性信息“亦”，表示前后相关很大，“大相径庭”表示相关很大，因此排除B；再看第三个空，从搭配范围来看，第三空要与“刻划”搭配，则“入木三分”更优，而“绘声绘色”更多与“描绘”相搭配。因此正确答案选C。

31. 逆境可以增长人的见解，改善人的心地、锻炼人的体质，使一个青年能够担当起生活的重任，同时能够知道怎样享受人生，这些财富都是一帆风顺者很难获得的。最能表达这段话意思的是：

- A. 逆境出人才  
 B. 挫折使人成长  
 C. 穷人的孩子早当家  
 D. 历经风雨才能见彩虹

【知识点】 主旨概括

【答案】 B

【解析】 本题属于主旨概括题。材料中“同时”表并列，强调“逆境”对人的作用，即可以使人成长，而“逆境”可以同义替换为“挫折”，因此正确答案为B。

32. 瓷器原是一大俗之物，是日常生活用品，最初脱胎于陶器。历经数千年，它才终于摆脱最初的粗陋面目，登堂入室，成了大雅的艺术品。但是用于日常生活的瓷器器皿还是用于日常生活，并未因成了价值连城的艺术品而失去世俗性。世俗是瓷器厚实而庞大的艺术基础，在这个基础上，它才一步步登高，越来越好，艺无止境，美无止境。可见大雅寓于大俗之中，无俗也就无雅，雅俗其实是一体的。

这段文字意在强调：

- A. 日常生活需求是瓷器艺术发展的动力  
 B. 瓷器艺术的发展经历了由俗变雅的漫长过程  
 C. 瓷器艺术的俗与雅之间是相互依存，辩证统一的关系  
 D. 粗陋的生活用品在演变成精美艺术品的同时仍保持着世俗性

【知识点】 意图判断

【答案】 C

【解析】 本题是一道意图判断题。文段是典型的分总结构，前半段叙述瓷器的发展过程，最后通过“可见”引导结论，得出文段的观点“大雅寓于大俗之中，无俗也就无雅，雅俗是一体的”可知在瓷器的发展过程中雅俗是并存的、统一的关系，进而得出C项。故本题选择C项。

33. 文学有宣传的作用，但宣传不能代替文学；文学有教育的作用，但教育不能代替文学。文学作品能产生潜移默化、塑造灵魂的效果，当然也会做出腐蚀心灵的坏事，但这二者都离不开读者的生活经历和他们所受的教育。经历、环境、教育等等都是读者身上、心上的积累，他们能抵抗作品的影响，也能帮助读者理解作品。读者对每一本书都是“各取所需”。只有日积月累、不断接触，才能在不知不觉间受到影响，发生变化。这段文字意在说明：

- A. 文学的影响常是潜移默化的  
 B. 文学的教育作用常为人们所忽视  
 C. 文学作品的影响力受读者背景的影响

D. 文学作品的宣传作用并非天然产生的

【知识点】 意图判断

【答案】 C

【解析】 本题是一道意图判断题。文段首先简要介绍了文学的作用，接着通过转折关联词引出文段的重点，即文学作品的作用受读者教育、经历、环境等因素的影响，C项是对该内容的同意替换，故本题选择C项。

34. 是否构成抄袭，要结合主观动机和客观结果两方面来判断：主观上是有意还是无意，有没有欺诈的成分；客观上自己是否从中获利，是否对原作者造成伤害。当人们依这一标准再度审视古往今来那些有着抄袭倾向的“借鉴”时，怎样的行为应该收到舆论谴责，渐渐明朗。比如文学创作领域，早在17世纪，莎士比亚就曾经身陷“抄袭门”，其作品中的很多句子均与前人作品雷同。绝大多数的人默许了莎翁的“抄袭”，甚至坚定不移地将其奉为文坛巨匠，这是因为在他所处的时代，这样的借鉴有利于传播知识、惠及大众，而对原作者不构成实质性的伤害或者伤害几可忽略不计。下列陈述符合作者观点的是：

A. 句子雷同是判定是否为抄袭的重要标准

B. 为传播知识的“借鉴”会得到读者赞同

C. 时代局限使得抄袭行为不能被明确界定

D. 在特定时代，对原作者造成实质侵害的抄袭才会被谴责

【知识点】 态度理解

【答案】 D

【解析】 此题为隐含观点的题目，作者首先提出判断是否构成抄袭的两方面标准，然后以莎士比亚为例，说到了莎翁得到默许是因为他所处的时代及其他借鉴传播了指示，却对原作者不构成任何实质性的伤害。完整涵盖此意的只有D项。

35. 随着私人权力越来越受到重视，夫妻之间以契约方式设定彼此权利义务的情况越来越多。这些协议大都有共同的特点，即身份权与财产权紧密结合，并常常以财产利益归属作为协议的最终法律后果。现代婚姻变得如此脆弱，山盟海誓已经让人没有了安全感，人们更加倾向于以契约方式来维护婚姻的安全，来保障婚姻破裂后自己的财产权益。这段文字主要谈论婚姻中夫妻间契约的：

A. 出现背景

B. 存在条件

C. 主要功能

D. 法律效力

【知识点】 主旨概括

【答案】 A

【解析】 本题属于主旨概括题。文段第一句话引出了夫妻间存在契约关系的情况，后面两句话进一步说明了这种契约关系的特点以及出现的原因。因此正确答案选A。

36. 金融危机之后，美国众多企业家纷纷呼吁“重新回归制造业”。他们为美托“再工业化”开出的药方是：由人工智能、机器人和数字化制造武装美国企业，以使美国制造可以和中国劳工竞争。中国恐怕要早做筹谋，缔造新的竞争优势。

下列最适合做这段文字标题的是：

A. 机器人挑战中国制造

B. 美国重回制造业

C. 美国缔造新竞争优势

D. 中国制造前景堪忧

【知识点】 标题选择

【答案】 A

【解析】 本题是一道标题选择题。标题选择其实是主旨概括的变形，标题往往是对主旨的提炼和归纳。文段重点阐述了美国企业家希望通过人工智能、机器人、数字化的方法使美国重新回归制造业，而这要求中国要缔造新的竞争优势。全文着重分析的是美国在工业中运用人工智能、机器人、数字化对中国制造业的挑战，A项涵盖了此内容。故本题选择A项。

37. 现收藏于陕西省博物馆的八棱金杯，是唐代比较有代表性的作品，1970年发掘出土。此杯为国家一级文物，高6.4厘米，侈口八角，圈足。八个面之间以连珠式图案相分割，分别装饰有拍板、吹箫、弹奏琵琶等人物浮雕图案，人物形象高鼻深目，明显是当时的西域胡人形象。此外，还有忍冬纹、卷草纹，以及山石、飞鸟、蝴蝶等装饰图案。这件文物对研究唐代金属工艺、造型艺术、文化交流、歌舞音乐以及服装穿戴等社会现象都有极大帮助。

下列说法与原文不相符的是：

- A. 唐代时已有萧、琵琶等音乐器具
- B. 当时西域与唐王朝有一定文化交流
- C. 八棱金杯是唐王朝赠送给西域的礼品
- D. 金杯的八个面之间以连珠式图案相分割

【知识点】 细节理解

【答案】 C

【解析】 A对应文段中“分别装饰有拍板、吹箫、弹奏琵琶等人物浮雕图案”B对应文段中“明显是当时的西域胡人形象”D对应文段中“八个面之间以连珠式图案相分割”，C选项在文中并无体现，为无中生有，文段提问为不正确的是，故答案选C。

38. 一个重公德、讲卫生有礼貌的文明社会或文明城市，并不是靠“五讲四美”的群众运动或制定诸如吐痰罚款等措施所能建立起来的。倘使每个公民没有发自内心的需要，认为讲公德和自己的利益休戚相关，倘使没有这种公民意识的自觉，那么，无论依靠多么严厉的强制手段，也是无济于事的。

对这段文字的主旨概括最准确的是：

- A. 建设文明社会不能靠强制手段
- B. 公民意识对建设文明社会至关重要
- C. 公德与私利对于建设文明社会同等重要
- D. 参与公共事务是建设文明社会的重要途径

【知识点】 主旨概括

【答案】 B

【解析】 文段首句提出观点，依靠惩罚和群众运动不能建成文明社会或文明城市，后一句通过反面论证来论证建设文明社会或文明城市必须靠公民内心和自觉。故答案为B。

39. 一个极有想象力，经济价值极高的创意，很可能被用于道德上非常坏的目的，甚至被用来破坏人类文明乃至毁灭人类，一直以来的一个错误观念是，一个能赚钱的创意就是一个好的创意，现在必须改变观念：

填入划横线部分最恰当的一句是：

- A. 创意的好坏是无法用金钱来衡量的
- B. 人文价值应该渗透到产业和经济中
- C. 想象力才是评价一个创意价值的重要标准
- D. 一个好的创意应该是一个有益于人类文明的创意

【知识点】 语句填空

【答案】 D

【解析】 文段最后一句得出文段的结论，前文讲述只靠经济来评价想象力是错误的，即好的想象力应对人类有意思。故答案为D。

40. 有位投资者重点考察了A城和B城。在A城，他坐在街头擦皮鞋，擦皮鞋大婶先把他的一只鞋的鞋带解开，擦完等他付了钱才系上。这个细节让他不得不怀疑这个城市市民的道德水准——一定是有人擦完鞋没付钱跑掉过。在B城，他搭了5次出租车，下车前，5位司机都提示：先生，请带好您的随身物品。最终，他把企业办在了B城，B城因此有5000人上岗就业，B城的税务部门每年也因此获得了上亿元的税收——这就是一位擦鞋大婶和几位出租车司机的影响力。

这段文字旨在说明：

- A. 我们每个人都有各自的影响力
- B. 投资者选址时会更看重居民的道德水准
- C. 人的影响力是稳定的，细心的人才能发现
- D. 某人不经意的行为会影响他人的重大决定

【知识点】 主旨概括

【答案】 A

【解析】 解答的关键是先找到文段的主旨句，然后在主旨句的基础上适当延伸得到答案。文段列举了一位投资者对A、B两城考察的情况，根据A城擦皮鞋大婶的行为，他得出该城市民素质不高的结论，而B城出租车司机的行为让他得出相反的结论，所以他将企业办在了B城，根据这个结果作者引出了文段的重点内容——每个人都有一定影响力。

41. 作为石油的伴侣，天然气的生成条件要比石油更为多样化，石油要达到一定的埋藏深度才能大量生成，而天然气则从浅到深都可，浅的也许只有几百米，深的则有上万米。就物质来源说，石油以水中浮游的动植物有机质为主，而天然气还可以有高等植物等有机质。对于成因，目前地质科学界绝大多数的转接都赞成有机说，认为石油和天然气就是由



远古时代死去的各种生物体转化而成。

不能从这段文字中得知的是：

- A. 石油比天然气埋藏深
- B. 石油大多由水生生物转化而成
- C. 石油和天然气都是由各种生物体转化的
- D. 水中浮游的动植物有机质也是天然气的来源

【知识点】 细节理解

【答案】 A

【解析】 本题是一道细节理解题。文段中涉及到埋藏深度的语句只有第一句话，“石油要达到一定的埋藏深度才能大量生成，而天然气则从浅到深都可，浅的也许只有几百米，深的则有上万米。”可知，文段中只是说石油要达到一定的深度才能形成，而天然气深浅都可以，但是并没有涉及两者的比较，故本题选择A项。

42. 在位于美国洛杉矶市中心的汉考克公园里，有一连串的沥青坑，被叫做“拉布雷亚沥青坑”。几万年来，天然沥青不断地从地下裂缝中汩汩而出，在公园里形成池塘。这种沥青池塘的表面常常覆盖着一层水，动物走进去饮水，被陷在里面，最终溺死。其他食肉动物看到被陷动物，企图捕食，结果也被陷在里面无力自拔。最终，它们都变成一堆化石保存下来，由此形成了动物墓地。

下列说法与原文相符的是：

- A. 动物墓地形成于几万年前
- B. 动物墓地的化石是食肉动物形成的
- C. 汉考克公园的池塘是由沥青构成的
- D. 动物墓地的形成源于沥青池塘的构造

【知识点】 细节查找

【答案】 D

【解析】 根据提问方式可以判断这是一道细节理解题。A选项“形成于几万年前”，文段“几万年来”属于时态偷换；B选项“动物墓地的化石是食肉动物形成的”，文段“动物走进去饮水，被陷在里面，最终溺死。其他食肉动物看到被陷动物，企图捕食，结果也被陷在里面无力自拔。最终，它们都变成一堆化石保存下来”文段不仅有食肉动物，还有其他动物，属于偷换范围。C选项文段“这种沥青池塘的表面常常覆盖着一层水”C选项由“沥青”构成不对。因此，本题答案为D选项。

43. 很多人都认为癌症是“现代病”，因为“从前听都没听说过”。最近，貌似又有些研究支持这一观点。近日，英国《每日邮报》一则报道被引入国内，并引起了很多人的关注：两位科学家通过研究木乃伊，发现古人无癌，癌症是“人造现代病”，甚至说“工业革命以来，人类的死亡率开始急速飙升”。对医学史以及癌症稍有了解的人大概都会觉得这个结论非常怪异，“人类的死亡率”从来都是100%，何来“飙升”；自然界中的各种致癌因素，比如紫外线、环境毒素、霉变食物、致癌病毒等，也都古已有之，不过，报道所描述的研究倒是真实存在的，相关论文发表于最新一期《自然癌症综述》。

作者认为：

- A. 癌症与工业化关系密切
- B. 现代人患癌症的比例增大
- C. 癌症应归咎于环境污染
- D. 癌症从古到今都是存在的

【知识点】 细节理解

【答案】 D

【解析】 根据提问方式可以判断这是一道态度观点题。作者的观点出现在最后一句话“对医学史以及癌症稍有了解的人大概都会觉得这个结论非常怪异，‘人类的死亡率’从来都是100%，何来‘飙升’；自然界中的各种致癌因素，比如紫外线、环境毒素、霉变食物、致癌病毒等，也都古已有之，不过，报道所描述的研究倒是真实存在的，相关论文发表于最新一期《自然癌症综述》”。A、B、C三个选项体现不出来。

44. 在互联网时代，因为要证明自己的存在，所以人们在数字世界里不断分享，不断交流。但事实上，这种对联系的渴望，与其说是一种治疗方法，还不如说是一种病症。它表达着我们害怕孤独的焦虑，但并不能解决问题，相反它使我们与外界更为隔绝。同时我们已经失去独处的能力，而这种独处才能让我们集中注意力思考问题，找到自我，在找到自我的同时，才可能与他人产生更好的联系。

这段文字意在说明：

- A. 只有独处才能找到自我
- B. 在现代社会人们更加害怕孤独
- C. 要学会独处，否则会更为孤独
- D. 现代数字媒体让人们失去独处的能力



【知识点】 意图判断

【答案】 C

【解析】 本题是一道意图判断题，首句是一个背景，接着用转折关联词“但是”提出一个问题，最后通过“学会独处，让我们集中思考，找到自我，才能产生与他人更好的联系”这样一个必要条件句引出解决问题的对策，C项是对该对策的替换。故本题正确答案为C。

45. 其实，正如新文化运动不可能完全动摇儒学在中国文化中的牢固地位一样，时下的“注水”文章与满天飞的概念也不会将清代朴学的实证精神彻底扼杀。好大喜功，虚无缥缈，跟在西方所谓脚后跟搬弄几个名词，只会产生出一堆文字垃圾，既不能长久立足，也会为西方的学术界所不齿，相反，如果我们不丢弃自己的学术传统，扎扎实实做学问，反而可以在西方人面前建立一个强有力的对立面。

通过这段文字，作者想要表达的主要观点是：

- A. 坚守我国学术传统方能大有可为  
 B. 虚浮的学术氛围使我国学术难有成就  
 C. 我国的传统学术研究可与西方并驾齐驱  
 D. 当下，做学术应强化清代朴学的实证精神

【知识点】 意图判断

【答案】 A

【解析】 本题是一道意图判断题，需在主旨句的基础上判断文段意图。前两句举“儒学”与“清代朴学”的例子，说明好大喜功、盲目学习西学会带来一系列恶果。分析问题后，最后一句反面论证给出重点，即只有坚守我国学术传统，扎实做学问，才可能建立一个强有力的对立面，选项A吻合。

46. 一个小孩拿起石头，打碎了商店的窗玻璃。做错了事情的孩子跑掉了，商店老板自认倒霉，拿出一笔钱去买玻璃重新安上；这下，玻璃店有了生意，赚到了一笔小钱；玻璃店店主用这笔钱去面包店买了面包，面包店又有活干了；面包店老板又去农民那里买进了几斤面粉……仅仅碎了一块玻璃，却带动了社会上许多行业的发展，甚至创造了就业机会，这可真是坏事变成好事的绝佳案例！这个虚拟的案例正是经济学中一个著名的理论——破窗理论。根据破窗理论，下列说法正确的是：

- A. 按照破窗理论，打碎玻璃有助于社会经济的发展  
 B. 用于买玻璃的钱也能通过其他途径促进经济发展  
 C. 如果玻璃不被打碎，商店老板也可能主动更换玻璃  
 D. 打碎玻璃的损失及卖出玻璃的收益都促进了经济的增长

【知识点】 细节理解

【答案】 A

【解析】 这是一道主旨化的细节理解题，需理解何为“破窗理论”。小孩打破玻璃，商店重买玻璃，玻璃店获益；玻璃店用此收益买面包，面包店获益……打破玻璃带来了一系列连锁购买，带动了诸多行业的发展，促进了社会经济的发展，只有D符合这一意思。

47. ①如果说，人生是一部越写越快的书，那么，一场病便是一个句号，一段承前启后的空白  
 ②病中，其实是阅读和思考的大好季节  
 ③因为病，你被甩出了正常的生活轨道，那么你就可以更从容更客观更冷静地审视自己，反思病前的生活，设计病后的日子  
 ④读书疲劳时，你还可以读画册、画报、乃至小人书，学学当年鲁迅的“聊借画图怡倦眼”  
 ⑤当抗生素、生理盐水、氨基酸和葡萄糖水点点滴滴注入你的血管时，你的灵魂也同时得以洗涤和净化  
 ⑥因为静卧，你可以听新闻、听音乐，读你平时想读又来不及读的许多好书

将以上句子重新排列，语序正确的是：

- A. ①②③⑥⑤④  
 B. ③①②⑤⑥④  
 C. ②⑥④⑤③①  
 D. ②③⑥①④⑤

【知识点】 语句排序

【答案】 C

【解析】 语句排序题。可依据“少数服从多数”原则判断出首句，将A、D项排除。由第四句“读书疲劳时，你还可以读……”可知，前面一句应与“读书”相关，第六句与之相吻合，故选B。

48. ①笑是一种复杂的神经反射作用，当外界的一种笑料变成信号，通过感官传入大脑皮层，大脑皮层接到信号，就会立刻指挥肌肉动作起来  
 ②小则嫣然一笑，笑容可掬，这不过是一种轻微的肌肉动作

- ③笑，是心情愉快的表现，对于健康是有益的  
 ④捧腹大笑，手舞足蹈，甚至全身肌肉、骨骼都动员起来了  
 ⑤一般的微笑，就是这样  
 ⑥大则是爽朗的笑，放声的笑，不仅脸部肌肉在动作，就是发声器官也动作起来
- 将以上6个句子重新排列，语序正确的是：

- A. ①⑤②⑥④③  
 B. ③①②⑤⑥④  
 C. ①③②⑤④⑥  
 D. ③①⑤②④⑥

【知识点】 语句排序

【答案】 B

【解析】 本题是一道语句排序题。第二句讲什么是“小笑”，第五句进一步解释说明，故2、5应连接；第六句讲什么是“大笑”，第四句进一步解释说明，故6、4应连接。按这一思路，只有B选项符合。

49. 网络时代，个别知识分子因公共表达而遭受攻击，一度感到委屈，他们在自我辩护的过程中经常提及其主张的知识依据。在与大众互动的过程中，他们单纯依靠知识权威。殊不知，如互联网这样的公共平台，并非单一的学术交流场域，一种观点所受到的褒贬不仅取决于它与学术权威的距离，大众情感、历史传统等因素同样会产生影响。社会精英如果一味踏空置虚，势必与民众渐行渐远。

这段文字意在说明：

- A. 现在知识分子凭知识难以进行自我辩护  
 B. 社会精英要认同大众情感并遵循历史传统  
 C. 社会精英应避免因推崇知识与理性而于大众对立  
 D. 大众情感、历史传统决定着个人观点能否被接纳

【知识点】 意图判断

【答案】 B

【解析】 这是一道意图判断题。前两句阐述了个别知识分子在与大众互动中，证明其主张时单纯依据知识权威的现象。第三句表明了作者观点，说明一种观点所受到的褒贬更多取决于“大众情感、历史传统等因素”，否则会“与民众渐行渐远”。由此可以看出，文段意在说明知识分子必须认同那些更重要、且被其忽略的“大众情感、历史传统等因素”，B项正是此意。故本题选择B选项。

50. 大脑是生物体内结构和功能最复杂的器官，同时也是高超、精巧和完善的信息处理系统。人类大脑的神经细胞总数约为1012个，相当于整个银河系星体的总数。此外，还有比神经细胞多10到50倍的神经胶质细胞。大脑掌管着人类的语言、思维、感觉、情绪、运动等高级活动，这些都与大脑网络的神经元之间或者神经元集群之间的拓扑结构密切相关，它从本质上决定力整个大脑的功能。

这段文字旨在说明（ ）

- A. 大脑的结构精巧完善，功能强大复杂  
 B. 大脑含有丰富的神经细胞和神经胶质细胞  
 C. 大脑网络的拓扑结构决定了整个大脑功能  
 D. 大脑的生理结构为其处理复杂信息提供了基础

【知识点】 主旨概括

【答案】 C

【解析】 本题是一道主旨概括题，需要找原文主旨句。前两句举例说明大脑结构复杂，功能强大；最后一句“这些”指代前文内容，说明上文所述现象与大脑网络的拓扑结构密切相关；最后说明“它”——大脑网络的拓扑结构决定了整个大脑的功能，最后一句是全文主旨句，从行文脉络看本段为“分—总”结构，只有C选项与主旨句吻合。

### 三、数量关系

51. 盒子里有红、黄、绿三种颜色的大小相等的球，其中红球有7个，黄球有5个。从盒中任意拿出一个球，拿到黄球的可能性为1/3，问拿到绿球的可能性是多少？
- A. 1/3  
 B. 1/4

C. 1/5

D. 1/7

【知识点】 基础计算型

【答案】 C

【解析】 黄球有5个，拿到黄球的可能性为 $1/3$ ，即盒子里球总共有15个，则绿球共有 $15-7-5=3$ 个，拿出一个球时绿球的可能性为 $3/15=1/5$ ，因此，本题答案选择C项。

52. 甲、乙两辆型号不同的挖掘机同时挖掘一个土堆，连续挖掘8小时即可将土堆挖平。现在先由甲单独挖，5小时后乙也加入挖掘队伍，又过了5小时土堆被挖平。已知甲每小时比乙能多挖35吨土，则如果土堆单独让乙挖，需要多少个小时？

A. 10

B. 12

C. 15

D. 20

【知识点】 列方程求解

【答案】 D

【解析】 解析一：用甲、乙分别表示各自每小时的工作效率，则总工作量 $=8 \times (\text{甲} + \text{乙}) = 5 \times \text{甲} + 5 \times (\text{甲} + \text{乙})$ ，解得甲：乙 $=3:2$ 。又已知甲每小时比乙多挖35吨土，则甲 $-$ 乙 $=35$ ，解得：甲 $=105$ 、乙 $=70$ 。设乙单独挖需要 $t$ 小时，则总工作量 $=8 \times (\text{甲} + \text{乙}) = \text{乙} \times t$ ，解得： $t=20$ 小时。

解析二：甲乙二人合作需要8天，而乙速较慢，则乙独做需要多于16天。因此，本题答案选择D项。

53. 某钢铁厂生产一种特种钢材，由于原材料价格上涨，今年这种特种钢材的成本比去年上升了20%。为了推销该种钢材，钢铁厂仍然以去年的价格出售，这种钢材每吨的盈利下降40%，不过销售量比去年增加了80%，那么今年生产该种钢材的总盈利比去年增加了多少？

A. 4%

B. 8%

C. 20%

D. 54%

【知识点】 利润率折扣类

【答案】 B

【解析】 用赋值法设去年的成本为100，则今年的成本为120；设去年的销售量为100，则今年的销售量为180。再设去年的售价为 $X$ ，若今年的售价与去年相同，每吨的盈利下降40%，即 $(X-100) \times (1-40\%) = X-120$ ，解得： $X=150$ 。则今年生产这种钢材的总盈利比去年增加了

$$\frac{(150-120) \times 180}{(150-100) \times 100} - 1 = 8\%$$

$=8\%$ ，因此，本题答案选择B项。

54. 五名工人按甲—乙—丙—丁—戊的顺序轮流值夜班，每人值班1天休息4天。某日乙值夜班，问再过789天该谁值班？

A. 甲

B. 乙

C. 丙

D. 戊

【知识点】 周期给定类

【答案】 A

【解析】 五名工人轮流值班，周期为5，也符合每个人夜班1天休息4天的描述。可知 $789 \div 5 = 157 \dots 4$ ，即再过789天相当于再过4天，应该由甲再值班，因此，本题选A。

55. 某游乐园提供打折的团体门票。当团队人数低于50时，票价为10元/人；团队人数在51-100时，票价为8元/人；团队人数超过100时，票价为5元/人。某校甲班有50多人，乙班不足50人，如果以班为单位分别购买门票，两个班一共应付944元；如果两个班联合起来作为一个团体购票，一共要付530元。问乙班有多少人？

A. 46

B. 47

C. 48

D. 49

【知识点】 二元一次方程组

【答案】 C

【解析】 两个班合在一起买票共付款530元，若票价为8元/人，则总人数为 $530 \div 8 = 66.2$ 人，人数应该为整数，不合题意，若票价为5元/人，则总人数为 $530 \div 5 = 106$ 人，满足题意；设甲班的人数为甲，乙班的人数为乙，则 $8\text{甲} + 10\text{乙} = 944$

44. 甲+乙=106, 解得: 甲=58, 乙=48, 因此, 本题答案选择C项。

56. 速算比赛, 小李全对的概率为95%, 小杨全对的概率为92%, 问这次比赛两人中只有一个人全对的概率为:

- A. 0.046  
 B. 0.076  
 C. 0.122  
 D. 0.874

【知识点】 分类分步类

【答案】 C

【解析】 分类, 两人中只有一人全对的情况分为两种: 一种为小李全对小杨没有全对, 另一种为小杨全对小李没有全对, 满足条件的概率为  $95\% \times (1 - 92\%) + 92\% \times (1 - 95\%) = 0.122$ , 因此, 本题答案选择C项。

57. 数字3、5至少都出现一次的三位数有多少个?

- A. 48  
 B. 52  
 C. 54  
 D. 60

【知识点】 分类讨论型

【答案】 B

【解析】 分类完成, 当第三个数为0时, 0、3、5可以组成的三位数有  $C_2^1 \times A_2^2$

=4种; 当第三个数为3或者5时, 3、3、5

或者3、5、5可以组成的三位数有  $2 \times C_3^1$

=6种; 当第三个数为1、2、4、6、7、8、9时

, 可以组成的三位数有  $7 \times A_3^3$

=42种; 则数字3、5至少都出现一次的三位数有  $4+6+42=52$ 种, 因此, 本题答案选择B项。

58. 在一场篮球比赛中, 甲、乙、丙、丁共得125分, 如果甲再多得4分, 乙再少得4分, 丙的分数除以4, 丁的分数乘以4, 则四人得分相同。问甲在这场比赛中得了多少分?

- A. 24  
 B. 20  
 C. 16  
 D. 12

【知识点】 一元一次方程

【答案】 C

【解析】 设四人得分相同时的分数为X, 则甲=X-4、乙=X+4、丙=4×X、丁=X/4, 即: 甲+乙+丙+丁=(X-4)+(X+4)+(4×X)+(X/4)=125, 解得: X=20, 则甲=20-4=16, 因此, 本题答案选择C项。

59. 将2万本书籍分给某希望小学9个班的学生。在9个班中, 其中1个班有学生32人, 其余8个班人数相同且在40到50人之间。如每名学生分到的书本数相同, 问每人分到了多少本书?

- A. 40  
 B. 50  
 C. 60  
 D. 80

【知识点】 其他平均数问题

【答案】 B

【解析】 9个班共有学生总数为  $40 \times 8 + 32 = 352$ 人到  $50 \times 8 + 32 = 432$ 人之间。当学生总数为432人时, 20000本书平均每人最多可以分得46本书; 当学生总数为352人时, 20000本书平均每人最多可以分得56本书, 即20000本书每人分得的数应该在46本到56本之间, 因此, 本题答案选择B项。

60. 某宾馆有6个空房间, 3间在一楼, 3间在二楼。现有4名客人要入住, 每人都住单间, 都优先选择一楼房间。问宾馆共有多少种安排?

- A. 24  
 B. 36  
 C. 48  
 D. 72

【知识点】 分步计算型

【答案】 D

$A_4^3$ 种；第二步再安排到二楼的房间，让剩下的一名客人住进二楼3个房间中的一个，共 $A^1_3$ 种；即宾馆共有 $A^3_4 \times A^1_3 = 72$   
 [解析二]：分步，4人选1人住2楼 $C^1_4$ ，2楼3房间选1， $C^1_3$ ，剩下3人在1楼全排列， $A^3_3$ ，共 $4 \times 3 \times 6 = 72$ 种  
 因此，本题答案选择D项。

61. 学校体育部采购一批足球和篮球，足球和篮球的定价分别为每个80元和100元。由于购买数量较多，商店分别给予足球25%、篮球20%的折扣，结果共少付了22%。问购买的足球与篮球的数量之比是多少？

A. 4: 5

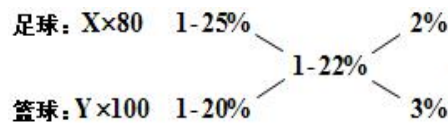
B. 5: 6

C. 6: 5

D. 5: 4

【知识点】 利润率折扣类

【答案】 B



【解析】 利用十字交叉法解题，即  $\frac{80X}{100Y} = \frac{2\%}{3\%}$ ，解得： $\frac{X}{Y} = \frac{5}{6}$

，因此，本题答案选择B项。

62. 沿一个平面将长、宽和高分别为8、5和3厘米的长方体切割为两部分，问两部分的表面积之和最大是多少平方厘米？

A. 206

B. 238

C.  $158 + 16\sqrt{34}$

D.  $158 + 10\sqrt{73}$

【知识点】 面积计算

【答案】 C

【解析】 两部分的表面积之和应该等于原来长方体的表面积加上2个切面的面积，显然以棱长3与5这个面的对角线，沿着棱长8这个面切可以保证切面的面积最大，则切面

的面积为  $\sqrt{3^2 + 5^2} \times 8 = 8\sqrt{34}$ ，即两部分的表面积之和为  $2 \times (3 \times 5 + 5 \times 8 + 8 \times 3 + 8\sqrt{34}) = 158 + 16\sqrt{34}$

平方厘米，因此，本题答案选择C项。

63. 8个人比赛国际象棋，约定每两人之间都要比赛一局，胜者得2分，平局得1分，负的不得分。在进行了若干局比赛之后，发现每个人的分数都不一样。问最多还有几局比赛没比？

A. 3

B. 7

C. 10

D. 14

【知识点】 比赛问题

【答案】 D

【解析】 8个人中每两人之间比赛一局，共可以比赛  $C^2_8$

=28场，每场比赛产生2分，共有 $28 \times 2 = 56$ 分，要比赛的场次最少，即8个人现有的分数之和要尽可能的少，且每个人的分数为都不一样的整数，可以构造出一个尽可能小的数列为：0、1、2、3、4、5、6、7，现有总分共有 $0+1+2+3+4+5+6+7=28$ 分，为2的倍数，满足题目条件，则最多还有 $(56-28) \div 2 = 14$ 局比赛没有比，因此，本题答案选择D项。

64. 小明和小华计算甲、乙两个不同自然数的积（这两个自然数都比1大）。小明把较大的数字的个位数错看成了一个更大的数字，其计算结果为144，小华却把乘号看成了加号，其计算结果为28。问两个数的差为：（ ）

A. 16

B. 12

C. 8

D. 4



【知识点】 直接代入类

【答案】 A

【解析】 设较大的数为X，较小的数为Y，则 $X+Y=28$ 。

代入A选项，若 $X-Y=16$ ，解得： $X=22$ 、 $Y=6$ ，而 $144 \div 6=24$ ，大于22，满足题目条件，因此，本题答案选择A项。

65. 甲、乙、丙三个工厂承接A和B两批完全相同的加工订单，如果甲厂和乙厂负责A订单而丙厂负责B订单，则丙厂要比甲厂和乙厂晚15天完成；如果在上述条件下甲厂分配 $1/3$ 的生产资源或者乙厂分配 $1/5$ 的生产资源用于B订单的生产，则A、B两个订单同时完成。问如果合并三个工厂的生产能力，第几天可以完成A订单的生产任务？

A. 22

B. 24

C. 25

D. 26

【知识点】 列方程求解

【答案】 D

【解析】 设三个工厂的效率分别为甲、乙、丙，则 $丙+甲 \times (1/3) = 甲 \times (2/3) + 乙$ ， $丙+乙 \times (1/5) = 甲+乙 \times (4/5)$ ，解得： $甲/乙=3/5$ ，若赋值：甲=3、乙=5，则丙=6，设甲乙两厂合作T天可以完成A订单，则丙厂需要(T+15)天可以完成B订单，则有 $(3+5) \times T = 6 \times (T+15)$ ，解得： $T=45$ ，即订单的工作量 $A=B=6 \times (45+15)=360$ ，则三个工厂合作完成A订单需要的时间为 $360 \div (3+5+6)=25.7$ 天，因此，本题答案选择D项。

#### 四、判断推理

66. 从所给的四个选项中，选择一个填入问号处，使之呈现一定的规律性：



A. 如上图所示

B. 如上图所示

C. 如上图所示

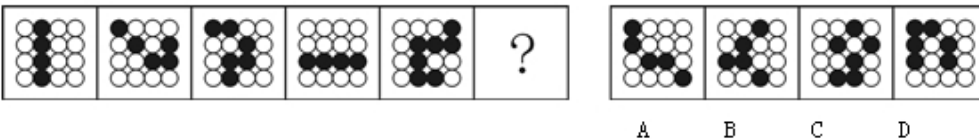
D. 如上图所示

【知识点】 对称性

【答案】 B

【解析】 本题考查的是样式类中的对称轴问题。题干中的4个图形都是对称图形，选项中只有B项的图形是对称图形。因此，本题答案为B选项。

67. 从所给的四个选项中，选择一个填入问号处，使之呈现一定的规律性：



A. 如上图所示

B. 如上图所示

C. 如上图所示

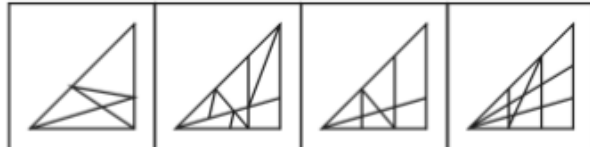
D. 如上图所示

【知识点】 其他位置

【答案】 A

【解析】 本题考查的是位置类中的其他位置问题。题干中4个图形中的白色圆圈都被黑色圆圈连成的线分割成了两部分，选项中只有A选项满足这一条件。因此，本题答案为A选项。

68. 从所给的四个选项中，选择一个填入问号处，使之呈现一定的规律性：




- A. 如上图所示
- B. 如上图所示
- C. 如上图所示
- D. 如上图所示

【知识点】 面个数

【答案】 C

【解析】 本题考查的是数量类中的面的个数问题。第一段题干中3个图形的面的个数分别为6、7、8，第二段题干中的第1个图形的面的个数为6，第2个图形的面的个数为7，选项中只有C选项满足面的个数为8这一条件。因此，本题答案为C选项。

69. 从所给的四个选项中，选择一个填入问号处，使之呈现一定的规律性：



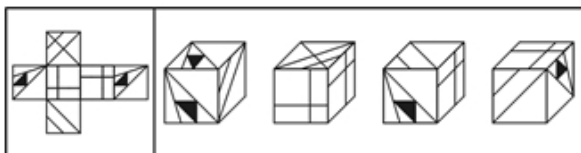
- A. 如上图所示
- B. 如上图所示
- C. 如上图所示
- D. 如上图所示

【知识点】 运算

【答案】 B

【解析】 本题考查的是样式类中的黑白叠加问题。得出的规律为黑+白=黑，黑+黑=白，白+白=白，白+黑=黑。第三行前两个图形左上角是白，根据白+白=白，只有B选项满足，因此，本题答案为B选项。

70. 下图左边给定的是纸盒的外表面，下面哪一项能由它折叠而成？



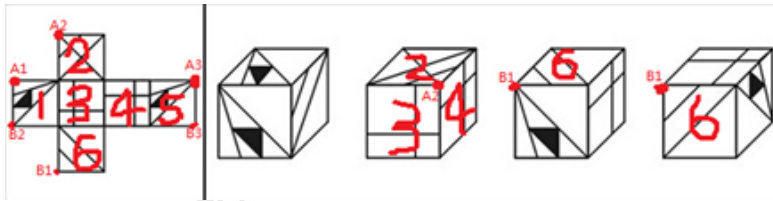
A B C D

- A. 如上图所示
- B. 如上图所示
- C. 如上图所示
- D. 如上图所示

【知识点】 相邻关系

【答案】 A

【解析】



B项点A2是平面2, 3, 4的公共点, 平面展开图中, 点A2是平面1, 2, 5的公共点(点A1、A2、A3是重合的点), 排除; C项点B1引出的直线有两条, 平面展开图中, 点B1引出的直线只有一条(B1、B2、B3是公共点), 矛盾, 排除; D项点B1是平面3、6或者平面4、6的公共点, 平面展开图中, 点B1是平面1, 5, 6的公共点, 矛盾, 排除; 综上, 答案选A。

71. 试图控制他人对自己印象的形成过程被称为印象管理, 根据上述定义, 下列行为不属于印象管理的是:
- 在面试时, 考生小李有意附和主考官的言论
  - 小赵上课迟到了, 向老师道歉, 解释迟到原因
  - 小周年龄不大就秃顶了, 他每次见客户都戴上帽子
  - 老孙在工作中兢兢业业, 勤勤恳恳, 吃苦在前, 享受在后

【知识点】 心理学类

【答案】 D

【解析】 本题给出的定义关键词是“控制他人对自己印象形成的过程”。D项“兢兢业业, 勤勤恳恳”并不是在某人的面前刻意的表现, 不涉及对任何人的印象管理。

72. 行政法律关系根据行政权力的作用范围不同分为外部行政法律关系和内部行政法律关系。行政机关与公民、法人与其它组织之间作为管理和被管理关系的是外部行政法律关系; 双方当事人作为上下级的从属关系是内部行政法律关系。根据上述定义, 下列行为属于内部行政法律关系的是:
- 某企业到税务局纳税
  - 某大学对违纪学生进行处罚
  - 某卫生局检查所辖范围内的餐饮企业
  - 某省公安厅表彰省交警大队的“英模干警”

【知识点】 法律法规类

【答案】 D

【解析】 本题要求选择的是属于内部行政法律关系的, 题干中给出两个概念, 外部行政法律关系关键词是“管理和被管理关系”, 内部行政法律关系关键词是“上下级的从属关系”。D选项, 省公安厅和省交警大队是属于上下级的从属关系, 是内部行政法律关系。故选D。

73. 语言规划是指政府或社会团体对语言文字及其使用进行的有组织、有目的、有计划的人工干预与管理, 主要包括语言地位规划、语言本体规划。根据上述定义, 下列不属于语言规划的是:
- 立法推广普通话
  - 制定简化字总表
  - 国家语委规范网络用语
  - 大学发展语言教育产业

【知识点】 社会学类

【答案】 D

【解析】 语言规划的关键词是“政府或社会团体”、“有组织、有目的、有计划”、“人工干预与管理”、“语言地位规划”、“语言本体规划”。D项“大学发展语言教育产业”并不会对语言文字进行“干预和管理”。故选D。

74. 社会支持系统通常是指来自社会各方面包括父母、亲戚、朋友等给予个体的精神或物质上的帮助和支持的系统, 它的目标是使个体重新恢复到和谐的心理状态和优良的生活。根据上述定义, 下列不属于社会支持系统的是:
- 小陈高考失败, 父母对其进行安慰
  - 张某因为失恋, 心情不好, 找朋友倾诉
  - 小赵心情不好时, 就听自己偶像的歌曲缓解情绪
  - 平时工作压力很大, 李某就经常和同事出去唱歌吃饭

【知识点】 社会学类

【答案】 C

【解析】 社会支持系统关键词是“来自社会各方面包括父母、亲戚、朋友等”、“给予个体的精神或物质上的帮助和支持”。C项“听自己偶像的歌曲”不涉及到父母、亲戚、朋友等具体人的帮助和支持, 是自我调节, 不属于社会支持系统。故选C。

75. 私德是指人们在不直接涉及对社会整体的义务和责任的私人生活和私人交往中应当遵循的道德准则，主要包括个人生活习惯、行为风度、性格特点以及处理爱情、婚姻、家庭问题的道德等。

根据上述定义，下列不属于私德的是：

- A. 王某是个公务员，他和邻居相处得很好
- B. 刘某个性张扬，喜欢穿戴各种新潮服饰
- C. 张某遵纪守法，从没干过违法犯罪的事情
- D. 李某很勤快，家里所有家务活都是他做的

【知识点】 社会学类

【答案】 C

【解析】 私德是指“人们在不直接涉及对社会整体的义务和责任的私人生活和私人交往中应当遵循的道德准则”。C项“张某遵纪守法，从没干过违法犯罪的事情”不属于道德层面，属于法律层面。故选C。

76. 习得性无助是指将多次失败无条件地归因于自身因素的个体，会习得一种自我失控感，认为自己的一切努力都是无效的，因此会放弃努力，被动屈从，变得淡漠而毫无激情。

根据上述定义，下列不属于习得性无助的是：

- A. 小红因弹钢琴出错屡遭母亲训斥，她认为自己没有音乐天分，不再愿意练习钢琴了
- B. 小张大学所学的专业相对冷门，在多次求职无果后，他便不再对外出工作抱有热情
- C. 小王工作中粗心大意，常出现失误，被领导批评几次后工作细致了许多，近期再没被领导批评过
- D. 小李曾交往过好几个女朋友，但都以分手告终，于是他认为自己没有魅力，再也不敢和女孩交往了

【知识点】 心理学类

【答案】 C

【解析】 习得性无助关键词是“将多次失败无条件地归因于自身因素”、“认为自己的一切努力都是无效的”、“放弃努力，被动屈从”、“变得淡漠而毫无激情”。C项“小王被领导批评几次后工作细致了许多”不仅没有放弃努力，反而工作更加细致，不属于习得性无助。故选C。

77. 定金是指根据约定一方向对方给付一定数额的金钱作为债权担保的担保方式。债务人履行债务后，定金应当抵作价款或者收回。给付定金的一方不履行约定的债务的，无权要求返还定金；收受定金的一方不履行约定的债务的，应当双倍返还定金。

根据上述定义，下列属于定金的是：

- A. 小张订婚时按照双方的商定送给女方5万元的礼金
- B. 由于车源紧张，小陈在买车时为了能立即提车而同意向4S店多支付1万元
- C. 某公司为了确保员工在下一年继续在该公司上班，扣留部分工资至第二年发放
- D. 小李在看中某二手房后向房东支付了2万元，双方约定，在一周内房东将此房出售给小李

【知识点】 法律法规类

【答案】 D

【解析】 定金的关键词是“一方向对方付一定数额的金钱”、“作为债权担保”。D选项向二手房东支付2万元，约定此房出售给小李，是小李向房东支付一定数额的金钱，他们之间形成了担保关系。因此符合该定义，所以选择D选项。

78. 对比效应是一种社会知觉偏见，指评价一个人或一件事时，受到最近接触到的其他人或事的影响，导致对这个人或这件事的评价发生歪曲，作出不客观的评价。

根据上述定义，下列属于对比效应的是：

- A. 实验表明，模拟审判团对形象差的被告判的刑期更长
- B. 和很多人一样，老王也认为理想的家庭应该是“男主外，女主内”
- C. 小李认为自己能进入某知名外企工作是由于自身优秀，而小罗只是运气好
- D. 面试时如果前一个考生表现平平，考官往往会给其后面的考生偏高的分数

【知识点】 心理学类

【答案】 D

【解析】 对比效应关键词是“一种社会知觉偏见”、“受到最近接触到的其他人或事的影响”、“评价发生歪曲，作出不客观的评价”。D项“前一个考生表现平平，考官往往会给其后面的考生偏高的分数”，考官受到了前一个考生的影响，导致其对后面的考生给的分数偏高。故选D。

79. 公共产品也被称为“公共物品”，系指一种非排他性的物品或者服务。

根据上述定义，下列属于公共产品的是：

- A. 社区治安
- B. 经济适用房
- C. 高速公路
- D. 牧民草地

【知识点】 经济学类

【答案】 A

【解析】 公共产品的关键词是“公共物品、非排他性的物品或者服务”。A选项“社区治安”是警察对公民的一种服务，并不具有排他性。故选A。

80. 正强化，又叫积极强化，是采用鼓励的方法来肯定某种行为，使个体感到有利，从而愿意保持自己的积极行为。

根据上述定义，下列属于正强化的是：

- A. 甲上课发言受到老师公开表扬，他后来发言的次数明显增多了
- B. 乙有一次上班迟到碰到领导，他以后再也不敢迟到了
- C. 丙的办公室失窃了，从此他每次离开办公室都要检查门窗
- D. 丁发现在英语角没有人嘲笑他的口语发音，他以后就经常去英语角。

【知识点】 心理学类

【答案】 A

【解析】 正强化的关键词是“采用鼓励的方法来肯定某种行为”、“使个体感到有利”、“从而愿意保持自己的积极行为”。A项“受到老师公开表扬，发言的次数明显增多”符合正强化的定义。故选A。

81. 国会：议员

- A. 论坛：网民
- B. 监狱：犯人
- C. 法院：法官
- D. 企业：工会

【知识点】 其他类比

【答案】 A

【解析】 议员在国会发表意见，网民在论坛发表意见，并且议员和网民都是指人。故选A。

82. 树木：煤炭

- A. 汽油：石油
- B. 象牙：大象
- C. 树脂：琥珀
- D. 太阳：能源

【知识点】 其他类比

【答案】 C

【解析】 树木经过上亿年的沉淀变化形成煤炭，树脂经过成长时间的沉淀变化形成琥珀，前者都可以转化为后者。故选C。

83. 电：手机

- A. 风：风车
- B. 水：船
- C. 光：植物
- D. 螺旋桨：直升机

【知识点】 条件关系

【答案】 A

【解析】 电是手机能够使用的动力来源；风是风车能够运转的动力来源。因此，本题答案为A选项。

84. 唐诗：七律

- A. 曲艺：越剧
- B. 自行车：汽车
- C. 瓷器：茶杯
- D. 哺乳动物：老虎



【知识点】 包含关系

【答案】 C

【解析】 唐诗和七律是交叉关系。A项曲艺是说唱艺术的统称，越剧是戏剧的一种，没有交叉关系，所以排除，B项自行车和汽车是并列关系，所以排除；D项哺乳动物和老虎是种属关系，所以选择C。

85. 家用电器：洗衣机

- A. 游戏厅：游戏机
- B. 台式电脑：笔记本
- C. 交通工具：大巴车
- D. 北京大学：中文系

【知识点】 包含关系

【答案】 C

【解析】 洗衣机是一种家用电器，大巴车是一种交通工具，两者都是包含关系。因此，本题答案为C选项。

86. 见异思迁：忠贞不二

- A. 汗马功劳：汗牛充栋
- B. 刚愎自用：刚正不阿
- C. 一饭千金：忘恩负义
- D. 厝火积薪：扬汤止沸

【知识点】 反义

【答案】 C

【解析】 见异思迁和忠贞不二是一组反义词，一饭千金和忘恩负义是一组反义词。注意：一饭千金讲的是韩信知恩图报的典故。因此，本题答案为C选项。

87. 邀请：拒绝：接受

- A. 问候：咒骂：感谢
- B. 道歉：真诚：虚伪
- C. 威胁：妥协：报警
- D. 建议：反对：接纳

【知识点】 谓宾关系

【答案】 D

【解析】 拒绝邀请和接受邀请都是谓宾关系，并且拒绝和接受是一组反义词。因此，本题答案为D选项。

88. 白丁：布衣：百姓

- A. 冠军：亚军：季军
- B. 须眉：手足：男子
- C. 总角：垂髫：小孩
- D. 学士：硕士：博士

【知识点】 同一关系

【答案】 C

【解析】 白丁、布衣、百姓是全同关系，总角、垂髫、小孩是全同关系。因此，本题答案为C选项。

89. 士兵：军队：保卫

- A. 鲜花：花园：休闲
- B. 衣服：商场：消费
- C. 教室：学校：研究
- D. 建筑：城市：旅游

【知识点】 条件关系

【答案】 A

【解析】 军队由士兵组成，军队的作用是保卫，花园由鲜花组成，花园的作用是休闲。因此，本题答案为A选项。

90. ( ) 对于 教师 相对于 ( ) 对于 树木

- A. 学生 小鸟
- B. 校长 小草
- C. 医生 鲜花
- D. 学校 森林

【知识点】 并列关系

【答案】 C

【解析】 医生和教师是一组并列关系，都是一种职业，鲜花和树木是一组并列关系，都是一种植物。因此，本题答案为C选项。

91. 老王对老李说：“除非你在今天之内按照合同要求支付货款，否则我们法庭上见。”

以下哪项判断的含义与上述判断不同？

- A. 只有老李今天按照合同的要求支付货款，老王才不会将他告上法庭
- B. 如果老李今天按照合同的要求支付货款，那么老王不会将他告上法庭
- C. 如果老李今天不按照合同的要求支付货款，那么老王就会将他告上法庭
- D. 如果老王没有将老李告上法庭，那么老李在今天按照合同的要求支付货款

【知识点】 充分条件

【答案】 B

【解析】 本题考查的是翻译推理，逆否等价命题。翻译“除非P否则不Q”是后推前， $Q \rightarrow P$ ，题干“除非你在今天之内按照合同要求支付货款，否则我们法庭上见。”逻辑关系翻译为：不会告上法庭 $\rightarrow$ 今天按照合同要求支付货款。B选项“如果P那么Q”是前推后， $P \rightarrow Q$ ，今天按照合同要求支付货款 $\rightarrow$ 不会告上法庭，对于由题干得到的逻辑关系，属于肯后，肯后推不出必然结论，因此B选项是不同的。

92. 某所高中调查学生参加社团的情况，发现在象棋社社员中，只要是高二（3）班学生，则其一定也是校篮球队的队员。

由此可以推出：

- A. 甲是象棋社社员，且甲是篮球队队员，则甲是高二（3）班学生
- B. 乙是象棋社社员，且乙不是篮球队队员，则乙不是高二（3）班学生
- C. 丙不是象棋社社员，且丙不是篮球队队员，则丙不是高二（3）班学生
- D. 丁是高二（3）班学生，且丁是篮球队队员，则丁是象棋社社员

【知识点】 充分条件

【答案】 B

【解析】 本题可翻译为象棋社社员且高二学生 $\rightarrow$ 篮球队队员，否后否前，一篮球队队员 $\rightarrow$ 一象棋社社员或一高二学生，根据或关系的推理规则，否定一肢则肯定另外一肢，B选项完全正确。因此，本题的答案为B选项。

93. 某些公务员是行政管理专业的。因此，某些行政管理专业的人做管理工作。

上述推理如果成立，必须补充以下哪项作为前提？

- A. 所有公务员都做管理工作
- B. 某些公务员不是做管理工作的
- C. 某些行政管理专业的人不是公务员
- D. 所有行政管理专业的人都是公务员

【知识点】 单观点

【答案】 A

【解析】 此题属于翻译推理集合模态结合论证加强类题目，论据是某些公务员是行政管理专业的，翻译为有的公务员是行政管理专业的，集合推理换位为：有的行政管理专业的是公务员，要想得到结论，某些行政管理专业的人做管理工作成立，论据和论点之间缺少的是公务员和管理工作之间的关系。A.

所有公务员都做管理工作，公务员 $\rightarrow$ 做管理工作，搭桥加强。

94. 研究人员对年龄在40岁至70岁的990人的电话采访和实验室化验结果进行分析发现：乐观者“坏”胆固醇（即低密度脂蛋白）高的可能性较低，而“好”胆固醇（即高密度脂蛋白）较高，这对心脏有保护作用，有助于抵消“坏”胆固醇

醇。因此，研究认为这是心理健康与身体健康息息相关的又一证据，乐观的性情可能对人体健康有一些实实在在的好处。

以下哪项如果为真，最能支持上述研究结论？

- A. 目前该研究尚未发现乐观程度和总的胆固醇水平之间产生联系的原因
- B. 乐观者的生活方式更为健康，这使得他们血液中的脂类与其他人群有差别
- C. 被采访的乐观者中有大量运动爱好者，经常锻炼能使其患心脏病的风险降低
- D. 实验中，乐观程度得分每增加5分，每100毫升血液中的高密度脂蛋白就增加1毫克，这意味着罹患心脏病的风险降低3%

【知识点】 单观点

【答案】 D

【解析】 由提问以下哪项如果为真，最能支持上述研究结论？本题为论证加强类。论据：乐观者“坏”胆固醇（即低密度脂蛋白）高的可能性较低，而“好”胆固醇（即高密度脂蛋白）较高，这对心脏有保护作用，有助于抵消“坏”胆固醇。论点：研究认为这是心理健康与身体健康息息相关的又一证据，乐观的性情可能对人体健康有一些实实在在的好处。D. 实验中，乐观程度得分每增加5分，每100毫升血液中的高密度脂蛋白就增加1毫克，这意味着罹患心脏病的风险降低3%，增加一个正面的论据，加强论点。故选D。

95. 全球变暖在大多数人看来已经是一个不争的事实，但某气候变化研究机构却发表数据称，从1997年年初至2012年8月，全球总体气温变化仅为0℃。该机构据此认为，全球变暖趋势已经中止。

下列哪项如果为真，不能质疑该研究机构的结论？

- A. 气候趋势所选择的时间起点和终点十分关键，否则会扭曲研究结论
- B. 对研究全球气候变化而言，十几年的数据只是一个短期数据，并不能说明问题
- C. 最新研究结果显示，相比于人类活动，全球气候变化更多受地球自身运动的影响
- D. 目前全球气温记录所依赖的电脑模型存在缺陷，真实的气候变化远比其反映的要复杂

【知识点】 单观点

【答案】 C

【解析】 由提问以下哪项如果为真，不能质疑该研究机构的结论？确定题型削弱类，注意题干“不能质疑”则可以质疑的不选。论据：但某气候变化研究机构却发表数据称，从1997年年初至2012年8月，全球总体气温变化仅为0℃。论点：该机构据此认为，全球变暖趋势已经中止。C. 最新研究结果显示，相比于人类活动，全球气候变化更多受地球自身运动的影响。论点论据都在论证气候变暖的趋势是否变暖。变暖的原因并没有提到，C与论点无关，无关选项。故选C。

96. 调查显示，选择多种方式投资的人往往比只从事本职工作的人更富有，因此，选择多种方式投资有助于人们获得财富。

下列哪项如果为真，最能反驳上述观点？

- A. 能进行多种方式投资的人的学历普遍较高
- B. 选择多种方式投资的风险比只从事本职工作大
- C. 人们只有拥有一定财富后才会选择多种方式投资
- D. 有些只从事本职工作的人比选择多种方式投资的人更富有

【知识点】 单观点

【答案】 C

【解析】 由提问下列哪项如果为真，最能反驳上述观点？本题为论证削弱类。论据：选择多种方式投资的人往往比只从事本职工作的人更富有。论点：选择多种方式投资有助于人们获得财富。意思是选择了多种投资方式导致人们获得财富。C人们只有拥有一定财富后才会选择多种方式投资。意思是拥有财富导致人们选择多种投资方式。因果倒置，最强削弱。故选C。

97. 今天的美国人比1965年的美国人运动量减少了32%，预计到2030年将减少46%；在中国，与1991年相比，人们运动量减少45%，预计到2030年将减少51%，缺少运动已经成为一个全球性问题。

一下哪项如果为真，最能支持上述观点？

- A. 其他国家人们的运动量情况和中国、美国大致相同
- B. 人们保持健康的方式日益多样性，已不仅局限于运动
- C. 中国和美国都是运动量缺乏这一问题较为严重的国家
- D. 在运动量方面，中国和美国分别是亚洲和美洲最有代表性的国家

【知识点】 单观点

【答案】 A

【解析】 根据提问以下哪项如果为真，最能支持上述观点？确定本题为论证削弱类。论据：今天的美国人比1965年的美国人运动量减少了32%，预计到2030年将减少46%；在中国，与1991年相比，人们运动量减少45%，预计到2030年

将减少51%。论点：缺少运动已经成为一个全球性问题。A. 其他国家人们的运动量情况和中国、美国大致相同。论据只采用了“美国”和“中国”的数据，要从这两个国家得出全球性的结论，只能是其他国家的情况和中国、美国大致相同。A补充论据，加强论点。可以支持。故选A。

98. 近年来，猫成为A国野生动物的最大威胁，这些猫（包括宠物猫和流浪猫、野猫、农场猫等无主猫）每年捕杀动物的数量达上百亿，有动物慈善机构建议可以给猫佩戴有铃铛的项圈。带有项圈的猫比其它猫的猎捕成功率至少降低三分之一，捕杀数量也将因此而大幅减少。

以下哪项如果为真，最能对该建议形成质疑？

- A. 猫进行捕杀时，并不会顾及铃铛的响声
- B. 这一举措将导致猫食物链的断裂，可能导致该国猫的大量死亡
- C. 有数据显示，近年来死于车辆碾压，中毒的野生动物数量在急剧上升
- D. 给“无主猫”戴上项圈难度很大，而绝大部分动物由“无主猫”捕杀

【知识点】 单观点

【答案】 D

【解析】 根据提问以下哪项如果为真，最能对该建议形成质疑？本题属于论证类削弱。论据：猫成为A国野生动物的最大威胁，这些猫（包括宠物猫和流浪猫、野猫、农场猫等无主猫）每年捕杀动物的数量达上百亿。有动物慈善机构建议可以给猫佩戴有铃铛的项圈。论点：带有项圈的猫比其他猫的猎捕成功率至少降低三分之一，捕杀数量将因此而大幅减少。D. 给“无主猫”戴上项圈难度很大，而绝大部分动物由“无主猫”捕杀。给猫佩戴有铃铛的项圈无论结果如何，但是前提是猫是可以把项圈带上的。D直接否定前提，最强削弱。

99. 心理学家德威克用10年时间对400名五年级小学生进行实验，发现被夸聪明的孩子更容易放弃、缺乏自信、不敢冒险。后来她重复实验时把不同社会阶段都纳入了自己的实验，都发现了相同的结果，不论男女。连学龄前的孩子也未能幸免被表扬后带来的负面效应。

以下哪项如果为真，最能支持上述研究结论？

- A. 表扬并不一定都具有积极作用，效果因表扬的具体内容和形式而有天壤之别
- B. 一份关于表扬的综合调查结果显示，被表扬的学生变得更倾向于规避风险和缺乏独立精神
- C. 一项对积极表扬组合无表扬组的学生们的学习成绩对比研究显示，他们的学习成绩差异不显著
- D. 研究发现，表扬对最聪明的女孩影响最大，她们大部分在一项“失败反应”的测试中都崩溃了

【知识点】 单观点

【答案】 B

【解析】 由提问以下哪项如果为真，最能支持上述研究结论？，本题为论证加强类。论据：发现被夸聪明的孩子更容易放弃、缺乏自信、不敢冒险。后来她在重复实验时把不同社会阶层都纳入了自己的实验，论点：不论男女。连学龄前的孩子也未能幸免被表扬后带来的负面效应。B. 一份关于表扬的综合调查结果显示，被表扬的学生变得更倾向于规避风险和缺乏独立精神。增加正向论据，加强论点。正确。

100. “万夫一力，天下无敌”说的就是团结。团结出凝聚力，出生产力，出战斗力，团结可以战胜艰难险阻，创造人间奇迹。一个组织的成员只有团结一致。这个组织才能高效率的运作；一个组织的成员如果能团结一致，也就一定能产生超出各个体之和的整体效益。

由此可以推出：

- A. 只有团结一致，才能战胜各种艰难险阻
- B. 一个高效率运作的组织其成员之间一定是团结一致的
- C. 一个组织的成员若不团结一致，就会相互内耗，影响整体效益
- D. 一个组织只有高效率的运作，才能产生超出各个体之和的整体效益

【知识点】 充分条件

【答案】 B

【解析】 本题属于翻译推理题型，一个组织的成员只有团结一致。这个组织才能高效率的运作。只有P才Q，翻译形式Q→P，高效率的运作→团结一致。一个组织的成员如果能团结一致，也就一定能产生超出各个体之和的整体效益。如果P就Q，P→Q，团结一致→整体效益。逻辑关系递推，高效率的运作→团结一致，团结一致→整体效益，高效运作→整体效益。B. 一个高效率运作的组织其成员之间一定是团结一致的。高效运作→整体效益。与题干符合，正确。



## 五、资料分析

## 材料(一)

2014-四川—AA. 根据海关统计, 2011年1~9月, 某省实现进出口总额293.8亿美元, 比上年同期增长59.4%, 增速比上年同期提升5.5个百分点, 高出全国进出口增速34.8个百分点。其中, 出口150.5亿美元, 增长28.8%, 高出全国出口增速6.1个百分点。进口143.3亿美元, 增长1.1倍, 高出全国进口增速85.8个百分点。

1~9月, 全省超亿美元贸易伙伴达36个, 比上年同期增加6个, 其中, 德国、印度等国后来居上, 超过日本、韩国成为全省主要贸易伙伴。对美国实现进出口30.3亿美元, 增长93.1%, 位居次席。对韩国、马来西亚和日本分别实现进出口7.0亿美元, 6.0亿美元和5.4亿美元, 分别增长41.5%, 2.9%和7.4%, 分列五、六、七位。

受上年基数较大影响, 全省对东盟双边贸易进出口呈现下降趋势。1~9月, 全省对东盟实现进出口15.1亿美元, 下降4.9%。

101. 2009年1~9月, 该省进出口总额约为多少亿美元?

- A. 100  
B. 120  
C. 150  
D. 180

【知识点】基期量计算

【答案】B

【解析】间隔基期量计算, 2011年1~9月, 某省实现进出口总额293.8亿美元, 比上年同期增涨59.4%, 增速比上年同期提升5.5个百分点, 所以2010年1~9月同比增长  $59.4\% + 53.9\% + 59.4\% \times 53.9\% \approx 113.3\% + 59.4\% \times \frac{1}{2} \approx 143\%$ ,

59.4% - 5.5% = 53.9%, 所以2011年1~9月

比2009年1~9月增长, 所以2009年1~9月为  $\frac{293.8}{1+143\%} = \frac{293.8}{2.43}$

, 首两位12, 因此, 本题答案选择B选项。

102. 2010年1~9月, 该省对美国进出口贸易额是对韩国进出口贸易额的多少倍?

- A. 4.3  
B. 3.8  
C. 3.2  
D. 2.5

【知识点】倍数计算

【答案】C

【解析】2010年1~9月, 该省对美国进出口贸易额为  $\frac{30.3}{1+93.1\%}$

, 2010年1~9月, 该省对韩国进出口贸易额为  $\frac{7.0}{1+41.5\%}$

$$\text{所以倍数为 } \frac{\frac{30.3}{1+93.1\%}}{\frac{7.0}{1+41.5\%}} = \frac{30.3}{193.1} \times \frac{141.5}{7.0} \approx \frac{30.3}{193.1} \times 20 \approx \frac{30.3}{10} \approx 3$$

。因此, 本题答案选择C选项。

103. 2011年1~9月, 该省进出口贸易状况为:

- A. 顺差7.2亿美元  
B. 逆差7.2亿美元  
C. 顺差8.2亿美元  
D. 逆差8.2亿美元

【知识点】简单计算

【答案】A

【解析】顺差逆差计算, 顺差=出口额-进口额=150.5-143.3=7.2亿美元。因此, 本题答案选择A选项。



104. 将2011年1~9月间该省贸易伙伴按进出口总额从高到低排序不正确的是：（ ）。

- A. 韩国，日本
- B. 美国，东盟
- C. 东盟，韩国
- D. 马来西亚，德国

【知识点】 读数排序

【答案】 D

【解析】 由题意，美国、韩国、马来西亚、日本、东盟的进出口总额分别为30.3、7.0、6.0、5.4、15.1亿美元，而德国的进出口总额材料中没有告知，但通过表述可知比韩国高，所以肯定比马来西亚高，因此D项错误。

105. 能够从上述资料中推出的是（ ）。

- A. 2011年1~9月，该省对日贸易占全省对外贸易比重同比上升
- B. 2011年1~9月，该省进口额占同期全国进口额比重同比上升
- C. 2011年1~9月，全国进出口贸易同比增速超过三成
- D. 2010年1~9月，该省对东盟贸易额不足20亿美元

【知识点】 综合分析

【答案】 B

【解析】 A选项，对日进出口增长率小于整个进出口增长率，该省对日贸易占全省对外贸易比重同比下降，A选项错误；

B选项，进口143.3亿美元，增长1.1倍，高出全国进口增速85.8个百分点。即该省进口增长率大于全国进口增长率，所以该省进口额占同期全国进口额比重同比上升，B选项正确；

C选项，2011年1~9月，某省实现进出口总额293.8亿美元，比上年同期增涨59.4%，高出全国进出口增速34.8个百分点。所以全国进出口增长率为 $59.4\% - 34.8\% < 30\%$ ，C选项错误；

D选项，2011年1~9月，全省对东盟实现进出口15.1亿美元，下降24.9%，所以2010年1~9月，全省对东盟实现进出口额为首位可以上2，所以大于20亿美元，D选项错误。

因此，本题答案选择B选项。

## 材料(二)

某市 2012 年主要行业工业废水排放情况

行业名称	工业总产值 (亿元)	工业新鲜 用水量 (万吨)	工业重复 用水量 (万吨)	工业废水 排放量 (万吨)
全市合计	3290.8	325132.3	247781.0	21103.3
其中：纺织业	41.8	6469.8	343.0	5321.4
黑色金属冶炼及压延加工业	144.6	1297.7	6687.7	1039.1
造纸及纸制品业	169.5	2744.4	3428.2	1926.6
食品、饮料、烟草制造业及农副食品加工业	465.8	6271.9	14485.1	1018.0
化学原料及化学制品制造业	521.1	1945.8	12380.0	951.0
电气机械及器材制造业、通讯设备、计算机及其他电子设备制造业	328.9	2437.8	26017.6	1388.8
电力、热力的生产和供应业	107.7	247768.9	32605.2	1101.1
石油加工、炼焦及核燃料加工业	455.2	2391.5	51298.5	535.3
金属制品业	33.5	619.5	36.1	423.0
橡胶制品业	17.9	295.2	682.7	263.3
非金属矿物制品业	52.7	1153.1	10760.5	149.9
医药制造业	77.3	300.0	1231.4	241.4

106. 表中工业重复用水量从多到少排名第5的行业是：（ ）。

- A. 纺织业
- B. 造纸及纸制品业
- C. 石油加工、炼焦及核燃料加工业
- D. 化学原料及化学制品制造业

【知识点】 读数排序

【答案】 D

【解析】 直接读数，排第5的是化学原料及化学制品制造业。因此，本题答案选择D选项。

107. 表中工业总产值排名第2的行业，其工业新鲜用水量占全市工业新鲜用水总量的比重约为：（ ）

- A. 0.2%
- B. 0.7%
- C. 1.9%
- D. 5.5%

【知识点】 比重计算

【答案】 C

【解析】 表中工业总产值排名第2的行业是食品、饮料、烟草制造业及农副食品加工业，其工业新鲜用水量占全市工业新鲜用水总量的比重为  $\frac{6271.9}{325132.3}$ ，首位1，

因此，本题答案选择C选项。

108. 将表中各行业按照万元产值工业废水排放量从低到高排列，以下排序正确的是：

- A. 黑色金属冶炼及压延加工业，化学原料及化学制品制造业
- B. 电力、热力的生产和供应业，非金属矿物制品业
- C. 石油加工业、炼焦及核燃料加工业，橡胶制品业
- D. 纺织业，金属制品业

【知识点】 平均数大小比较

【答案】 C

【解析】

【解析】比较万元产值工业废水排放量，就是比较  $\frac{\text{工业废水排放量}}{\text{工业总产值}}$ ，

A选项，黑色金属冶炼及压延加工业为  $\frac{1039}{144.6}$ ，化学原料及化学制品制造业为  $\frac{951}{521}$ ，很

明显  $\frac{1039}{144.6} > \frac{951}{521}$ ，A选项是从高到低，错误；

B选项，电力、热力的生产和供应业为  $\frac{1101}{107}$ ，非金属矿物制品业为  $\frac{149.9}{52.7}$ ，很明显

$\frac{1101}{107} > \frac{149.9}{52.7}$ ，B选项是从高到低，错误；

C选项，石油加工业、炼焦及核燃料加工业为  $\frac{535}{445}$ ，橡胶制品业为  $\frac{263.3}{17.9}$ ，很明显

$\frac{535}{445} < \frac{263.3}{17.9}$ ，C选项是从低到高，正确；

D选项，纺织业为  $\frac{5321.4}{41.8}$ ，金属制品业为  $\frac{423}{33.5}$ ，很明显  $\frac{5321.4}{41.8} > \frac{423}{33.5}$ ，D选项是从

高到低，错误。

因此，本题答案选择C选项。

109. 表中工业重复用水量高于工业新鲜用水量的行业有几个？

- A. 8
- B. 9
- C. 10
- D. 11

【知识点】 读数比较

【答案】 B

【解析】 直接读数，数一下可知工业重复用水量高于工业新鲜用水量的行业有9个。因此，本题答案选择B选项。

110. 能够从上述资料中推出的是：

- A. 全市工业新鲜用水量超过工业废水排放量的20倍
- B. 表中有4个行业的工业产值超过该市工业总产值的10%
- C. 造纸及纸制品业的单位工业产值工业新鲜用水量高于纺织业
- D. 工业新鲜用水量最高的行业废水排放量高于工业重复用水量最高的行业

【知识点】 读数比较

【答案】 D

【解析】 A选项，全市工业新鲜用水量是工业废水排放量的倍数为  $\frac{3251323}{211033} < 20$ ，A选项错误；

B选项，该市工业总产值的10%为329.08，大于329.08的行业只有3个，B选项错误；

C选项，造纸及纸制品业的单位工业产值工业新鲜用水量为  $\frac{2744.4}{1695}$

，纺织业的单位工业产值工业新鲜用水量为  $\frac{6469.8}{418}$

，很明显  $\frac{2744.4}{1695} < \frac{6469.8}{418}$ ，C选项错误；

D选项，工业新鲜用水量最高的行业是电力、热力的生产和供应业，其废水排放量为1101.1万吨，工业重复用水量最高的行业是石油加工、炼焦及核燃料加工业，其废水排放量为535.3万吨，1101.1>535.3，D选项正确。

因此，本题答案选择D选项。

## 材料(三)

2014-四川--AA .2012年，A省完成港口货物吞吐量13.3亿吨，同比增长14.2%，其中外贸货物吞吐量2.0亿吨，增长24.5%。港口货物吞吐量中，集装箱吞吐量达878.0万标准集装箱，增长3.1%。

2012年末，全省公路里程14.2万公里，新增1071.1公里。年末高速公路里程3755公里。铁路营业里程1642.1公里，铁路正线延展长度2381.8公里。

2012年末，全省民用汽车保有量458.1万辆，净增84.9万辆，分别增长22.8%和97.5%。年末私人汽车保有量338.2万辆，净增74.9万辆，分别增长28.5%和106%。其中私人轿车保有量216.5万辆，净增56.4万辆，分别增长35.2%和59.3%。

各种运输方式完成运输量

	货物周转量		货运量		旅客周转量		客运量	
	绝对数(亿吨公里)	比上年增长(%)	绝对数(万吨)	比上年增长(%)	绝对数(亿人公里)	比上年增长(%)	绝对数(万人次)	比上年增长(%)
总计	5154.5	8.5	160966.8	9.2	1423.3	8.1	201262.9	9.5
铁路	323.9	-6.2	6137.4	19.9	311.3	-2.4	9167.2	3.6
公路	971.1	9.7	104002.0	8.8	1058.0	11.2	191001.0	9.8
水路	3372.1	10.1	42016.0	9.1	1.4	85.6	686.5	9.7
民航	0.6	-3.6	4.4	-5.1	52.7	15.4	408.2	16.3
管道	486.8	6.4	8807.0	8.8				

111. 2011年，A省完成港口货物吞吐量约为多少亿吨？（ ）

- A. 10.8  
B. 11.6  
C. 13.3  
D. 15.5

【知识点】基期量计算

【答案】B

【解析】A省完成港口货物吞吐量13.3亿吨，同比增长14.2%，所以2011年，A省完成港口货物吞吐量为，首两位11，因此

$$\frac{133}{1+14.2\%} = \frac{133}{1.142} \approx 114.2$$

114.2，本题答案选择B选项。

112. 2011年末，该省除私人轿车之外的私人汽车保有量为多少万辆？（ ）

- A. 103.2  
B. 109.9  
C. 121.7  
D. 140.2

【知识点】其他计算

【答案】A

【解析】2012年末，私人汽车保有量338.2万辆，净增74.9万辆，其中私人轿车保有量216.5万辆，净增56.4万辆，所以2011年末，私人汽车保有量为338.2-74.9=263.3万辆，私人轿车保有量为216.5-56.4=160.1万辆，所以2011年末，该省除私人轿车之外的私人汽车保有量为263.3-160.1=103.2万辆。因此，本题答案选择A选项。

113. 2012年，A省下列各项同比增长最快的是（ ）。

- A. 铁路货运量  
B. 公路货物周转量  
C. 水路货运量  
D. 民航货物周转量

【知识点】读数排序

【答案】A

【解析】直接读数，增长率最大的是铁路货运量。因此，本题答案选择A选项。

114. 表中的4种客运方式中，2012年平均每人次运输距离高于2011年水平的有几种？（ ）

- A. 1  
B. 2  
C. 3  
D. 4

【知识点】平均数大小比较

【答案】B

【解析】平均每人次运输距离为  $\frac{\text{周转量}}{\text{客运量}}$

，要2012年高于2011年，只需周转量的增长率大于客运量的增长率，只有公路和水路满足。因此，本题答案选择B选项。

115. 关于该省交通运输状况，能够从上述资料中推出的是（ ）。

- A. 2012年末，高速公路里程占全省公路总里程比重超过3%  
B. 2012年该省客运平均每人次运输距离超过100公里  
C. 2012年管道货物周转量超过货物周转总量的一成  
D. 2010年末，全省民用汽车保有量超过300万辆

【知识点】比重大小比较

【答案】D

【解析】A选项，2012年末，高速公路里程占全省公路总里程比重为  $\frac{0.3755}{14.2} < 3\%$ ，A选项错误；

B选项，2012年该省客运平均每人次运输距离为  $\frac{1423.3 \text{亿人公里}}{201262 \text{万人次}} < 100$  公里，B选项错误；

C选项，2012年管道货物周转量为486.8亿吨公里，货物周转总量为5154.5亿吨公里，不到10%，C选项错误；

D选项，计算复杂，但A、B、C都错误。因此，本题答案选择D选项。

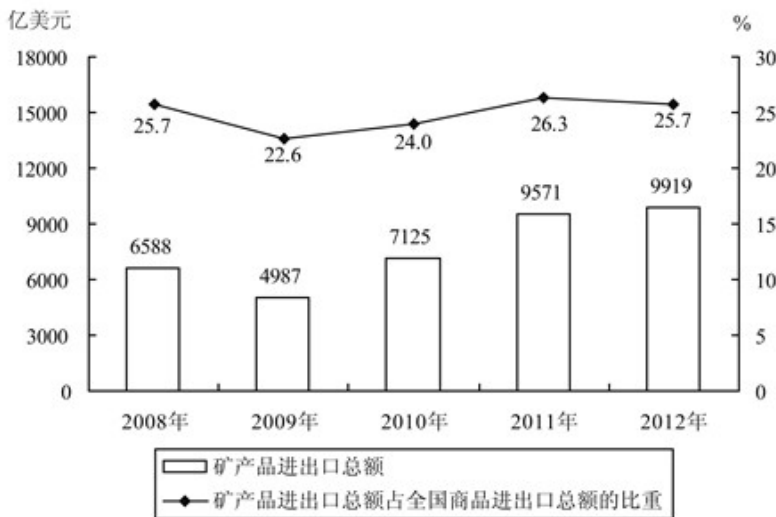
#### 材料(四)

2014-四川--AA. 2012年，我国矿产品对外贸易活跃，进出口额9919亿美元，同比增长3.6%，其中，进口额同比增长1.4%，出口额同比增长7.6%。



2011~2012年重要矿产品进口量

矿产品	进口量(万吨)	
	2011年	2012年
煤炭	22228	28851
原油	25378	27102
铁矿砂及精矿	68584	74355
锰矿砂及精矿	1297	1237
铬矿砂及精矿	944	929
铜矿砂及精矿	638	783
铝矿砂及精矿	4484	3961
镍矿砂及精矿	4806	6245
硫磺	953	1120
氯化钾	642	636



2008-2012年我国矿产品进出口贸易额变化情况

116. 2011年我国矿产品进口总额约是出口总额的多少倍?

- A. 1.5
- B. 1.8
- C. 2.1
- D. 2.5

【知识点】 倍数计算

【答案】 B

【解析】 十字交叉法，进口增长率、出口增长率、进出口增长率三个增长率十字交叉相减，差值之比等于进出口基期之比，进口 **1.4%** **4**

**3.6%**

出口 **7.6%** **2.2**

所以2011年我国矿产品进口总额与出口总额之比为4%/2.2%=1.8，因此，本题答案选择B选项。

117. 图中矿产品进出口总额占全国商品进出口总额比重最低的年份，当年全国商品进出口总额约为多少万亿美元?

- A. 2.2
- B. 2.6

C. 3.0

D. 3.6

【知识点】 比重计算

【答案】 A

【解析】

】先读图，矿

产品进出口总额占全国商品进

出口总额比重最低是2009年，当年全国商品进出口总额为 **4987****22.6%**，首两位22，因此，本题答案选择A选项。

118. 表中2012年进口量与上年相比增幅超过10%的矿产品有几类？

A. 2

B. 3

C. 4

D. 5

【知识点】 增长率大小比较

【答案】 C

【解析】 2012年进口量与上年相比增幅超过10%就是要  $\frac{2012年-2011年}{2011年} > 10\%$ ，只需  $2012年-2011年 > \frac{2011年}{10}$ 

，有4类。因此，本题答案选择C选项。

119. 2012年铁矿砂及精矿进口量约占黑色金属（铁、锰、铬）矿砂及精矿进口总量的：

A. 52%

B. 80%

C. 97%

D. 99%

【知识点】 比重计算

【答案】 C

【解析】 2012年铁

矿砂及精矿进口量约占黑色金属（铁、

锰、铬）矿砂及精矿进口总量的比重为

$$\frac{74355}{74355+1237+929} \approx \frac{74355}{76500}$$

，首两位97，因此，本题答案选择C选项。

120. 关于我国矿产品进出口贸易，能够从上述资料中推出的是：

A. 2008~2012年间矿产品进出口总额年复合增长率约为50%

B. 2012年是近4年来矿产品进出口总额同比增幅最高的一年

C. 2011~2012年硫磺月均进口量超过100万吨

D. 2011~2012年原油总体进口量高于煤炭

【知识点】 直接读数

【答案】 D

【解析】 A选项，计算复杂，跳过；

B选项，读图可知，2012年增长量小，基期大，增长率较小。B选项错误；

C选项，2011~2012年硫磺月均进口量为  $\frac{953+1120}{24} = \frac{2073}{24} < 100$ 

，C选项错误；

D选项，2011~2012年原油总体进口量为25378+27012=52000+，煤炭为22228+28851=51000+，2011~2012年原油总体进口量大于煤炭，D选项正确。

因此，本题答案选择D选项。