



山西华图

<http://sx.huatu.com>



# 公务员之路 从华图起步



## 行测难题、易错题笔记



山西华图行测教研组编制



## 目录

第一部分 常识判断.....	3
第二部分 言语理解与表达.....	31
第三部分 数量关系.....	66
第四部分 判断推理.....	91





## 第一部分 常识判断

【题目 1】“少年安能长少年，海波尚变为桑田”和“少小离家老大回，乡音无改鬓毛衰”这两句诗包含的共同哲理是（ ）。

- A. 动中有静、静中无动      B. 运动是物质的唯一特性  
C. 世界上存在无物质的运动      D. 运动是物质的根本属性和存在方式

【答案】D

【解析】“少年安能长少年，海波尚变为桑田”主要体现出运动。因为运动是物质的固有属性和存在方式，运动是永恒的、绝对的和无条件的，客观实在性是物质的唯一特性，静止是运动的特殊状态。

【易错点拨】这个题的难度在于理解题干中这句话的意思，并能够分析出这句话所反映出来的哲学原理，然后分别对选项加以判断和对应即可。

【题目 2】2013 年棉花价格持续走低，主要产棉大区的棉农们反映，今年种棉只能保本。于是，这些地区的棉农把适合种棉花的土地改种粮食。面对这一现象，业内专家认为，受供大于求、需求不景气等因素影响，短期内棉价难有起色，长期来看对棉农弃棉种粮可能引起的价格周期性反弹须警惕。这一现象说明（ ）。

- ①人在自然面前是无能为力的      ②种植业是没有规律可循的  
③必须用发展的眼光看问题      ④规律是普遍的、客观的  
A. ①②      B. ①③  
C. ②④      D. ③④

【答案】D

【解析】人们根据市场价格的走向适时地调整耕种作物，体现出了用发展的眼光看问题，而市场供求关系的变化则体现了规律的普遍性与客观性。人们可以认识规律，利用规律，所以在规律面前不是无能为力的。

【易错点拨】这个题的难点在能够从题干中分析得出所体现出来的哲学原理是关于规律，而规律是客观的，规律又是普遍的，因为它的客观性，人们只能是认识和利用客观规律，所以对选项加以分析即可。

【题目 3】爱因斯坦曾经说过：“哲学要是不同科学接触，就会变成一个空架子；科学要是



没有哲学，就是原始的混乱的东西”。对此下列解释说明正确的是（ ）。

- A. 哲学是世界观，具体科学是方法论
- B. 哲学是百科全书、哲学是科学之科学
- C. 哲学与具体科学的关系是系统与要素的关系
- D. 哲学以具体科学为基础，又对具体科学起指导作用

**【答案】D**

**【解析】**哲学与具体科学是一般与个别、共性与个性，二者既相互区别又相联系，哲学是具体科学的指导，具体科学是哲学的基础。

**【易错点拨】**该题的难度在于理解哲学和具体科学之间的关系，哲学是在具体科学的基础之上总结出来的一般的规律，它们不是包含和被包含的关系，而是个性和共性的关系。

**【题目 4】** 十八届三中全会发布的公告多次涉及民生问题，这一问题被置于经济社会发展的突出位置，人民最关心的、最直接的、最现实的就业和教育问题成为焦点，得到了高度关注。这体现的唯物辩证法道理是（ ）。

- A. 认识是无限的、上升的、反复的
- B. 要坚持两点论与重点论的统一
- C. 世界是物质的，物质是运动的
- D. 矛盾是对立统一的、不能解决的

**【答案】B**

**【解析】**将民生问题置于经济社会的突出位置，体现了坚持两点论，反对一点论，坚持重点论反对均衡论，坚持两点论中的重点论，重点论以两点论为基础，坚持两点论与重点论的统一。

**【易错点拨】**此题的难点在于分析题干所强调的是重要问题是民生问题，民生问题中重要的人民关注的焦点问题，能够看出是众多问题中的主要问题，主要问题的主要方面。

**【题目 5】** 中国共产党建党 90 多年的历史在一定程度说是马克思主义中国化的发展过程，“马克思主义中国化”概念的最早提出者是（ ）。

- A. 陈独秀
- B. 毛泽东
- C. 周恩来
- D. 邓小平

**【答案】B**

**【解析】**1938 年 10 月，毛泽东在中共六届六中全会的政治报告《论新阶段》中指出：“离



开中国特点来谈马克思主义，只是抽象的空洞的马克思主义。因此，马克思主义的中国化，使之在每一表现中带着必须有的中国的特性。”

**【易错点拨】**马克思主义中国化的第一次提出是在毛泽东时期，这个概念一直到现在依然在用，而中国特色社会主义则是邓小平提出，所以要学会区分这两个概念。

**【题目 6】**在自然界，没有上，就无所谓下；在社会中，没有前进，就无所谓落后；在意识中，没有正确，就无所谓错误。

这说明（ ）。

- A. 矛盾双方是相互排斥的
- B. 矛盾双方是相互渗透的
- C. 矛盾双方是相互转化的
- D. 矛盾双方是相互依存的

**【解析】**没有上，就没有下，没有前进就没有落后，没有正确就没有错误，这是讲的互相离不开，就是矛盾双方相互依存。

**【易错点拨】**这个题的关键在于能够根据矛盾的基本概念来判断出题干中所描述的是矛盾双方的关系。

**【题目 7】**下列说法正确的是（ ）。

- A. 墨子是墨家的创始人，墨子名翟
- B. 春秋三传是《左传》、《孟子转》、《公羊传》
- C. 《诗经》是我国第一部诗歌总集，分风、雅、颂三类
- D. 史称“三曹”的是曹操、曹丕、曹冲

**【答案】**C

**【解析】**这是对文学常识的考察，墨子名翟，春秋三传是《左传》、《公羊传》和《谷梁传》，“三曹”指的是曹操、曹丕、曹植。故选 C。

**【易错点拨】**这个题的难点在于对中国古代文学的了解与掌握，以及不同时期里的文学作品归类 and 了解，需要考生有一定的语文常识。

**【题目 8】**下列搭配正确的是（ ）。

- A. 但丁——《十日谈》
- B. 安徒生——《卖火柴的小女孩》



- C. 密茨凯维支——《草叶集》
- D. 泰戈尔——《镀金时代》

**【答案】**B

**【解析】**《十日谈》是薄伽丘写的；密茨凯维支是波兰杰出诗人，有《青春颂》，《草叶集》是惠特曼写的，《镀金时代》是马克吐温著。所以搭配正确的选B。

**【易错点拨】**对外国文学的考查，对不同国家知名作者及其代表作需要一定的认识与掌握。

**【题目 9】**第二次世界大战结束后，欧洲各国保守战火蹂躏，经济低迷，为了帮助欧洲经济复兴，与前苏联抗衡，美国提出了（ ）。

- A. 艾森豪威尔计划
- B. 马歇尔计划
- C. 巴巴罗莎计划
- D. 杜鲁门计划

**【答案】**B

**【解析】**二战后，欧洲经济遭受重创，于是美国为了与前苏联抗衡，向欧洲提供了大量经济援助，帮助欧洲经济复兴，这被称作“马歇尔计划”。由于当时的美国总统是杜鲁门，因此这项计划属于所谓“杜鲁门主义”政策的一部分，但并不存在“杜鲁门主义”之说。巴巴罗莎计划则指的是二战时的莫斯科保卫战。艾森豪威尔在1947年也已经不是美国总统。所以本题选B。

**【易错点拨】**这个题的难点在于二战后冷战时期里美国所采取的对欧政策，主要是扶持欧洲来与苏联进行抗衡，需要对二战后的世界格局有一定的掌握。

**【题目 10】**一般来说，工厂的厂长、公司的董事长是（ ）。

- A. 法人
- B. 法人代表
- C. 法定代表人
- D. 法定代理人

**【答案】**C

**【解析】**本题考查的是法律常识中的法定代表人。法人代表和法定代表人是两个不同的法律概念。法人代表一般是指根据法人的内部规定担任某一职务或由法定代表人指派代表法人对外依法行使民事权利和义务的人，它不是一个独立的法律概念。法人代表依法定代表人的授权而产生



生，没有法定代表人的授权，就不能产生法人代表。作为民事权利主体的法人，其法人代表可以有多个。法定代表人是指依法代表法人行使民事权利，履行民事义务的主要负责人（如：工厂的厂长、公司的董事长等）。法定代理人是指根据法律规定，在特定条件下，通过一定手续或外在表现形式，其行为视为法人的行为，如法人终止时的清算组。所以选择 C 选项。

**【易错点拨】**这个题的难度在于考生容易对法定代表人和法人代表产生混淆，法定代表人不用专门授权，法人代表执行法人职能需要法人的委托程序，任何人经过委托都可以是法人代表，这也是考生容易出错的知识点。

**【题目 11】**公民的隐私权属于（ ）。

- A. 人格权
- B. 身份权
- C. 名誉权
- D. 荣誉权

**【答案】**A

**【解析】**本题考查法律常识。人格权是社会个体生存和发展的基础，是整个法律体系中的一种基础性权利。现代世界各国宪法均将人格权的保护放在重要位置，民法中也有特别人格权或一般人格权的规定。人格权大致上包含两项权利：公开宣传的权利——拒绝自己的影像或其他类似的代表性物件未经同意或签约就被作为商业用途的权利，类似商标的权利；隐私的权利——拒绝自己身份未经同意就被公开的权利，例如隐私权。所以，选择 A 选项。

**【易错点拨】**这个题的难度在于考生容易在选择的时候选择身份权，这是没有理解清楚人格权和身份权的区别，人格权是每个人都拥有的基本权利，而身份权是基于特定的资格而拥有的权利。

**【题目 12】**匾额是中国古建筑的重要组成部分，显示建筑物的性质，下列匾额与建筑物对应正确的一组是（ ）。

- A. 明镜高悬——贡院
- B. 万世师表——关帝庙
- C. 还我河山——武侯祠
- D. 正大光明——乾清宫

**【答案】**D





**【解析】**“明镜高悬”比喻官员判案公正廉洁，执法严明。一般旧时府衙挂“明镜高悬”，贡院，是古代会试的考场，A项不正确；“万世师表”一般挂于孔庙，“关帝庙”的匾额以“忠义”之意偏多，B项不正确；“还我河山”应挂在岳王庙，C项不正确；乾清宫挂“正大光明”是正确的，D项为正确选项。

**【易错点拨】**这个题的难点在于对历史人物及其生平事迹的熟悉，考查的主要是中国古代祠庙与匾额的基本常识。

**【题目 13】**下列说法中正确的是（ ）。

- A. 2013 年 10 月 15 日的新西兰，秋风送爽，是人们外出旅游的圣地
- B. 《诗经》里记载的“七月流火”，是形容夏季气候极为炎热
- C. 低碳，意指较低（更低）的温室气体（一氧化碳为主）排放
- D. 水晶和沙子虽然外表差别很大，但它们的主要成分是一样的

**【答案】**D

**【解析】**选项 A 中悉尼在南半球，气候与我们所在的北半球气候相反，故 9 月 15 日的时候，悉尼并不是“秋风送爽”，而应是“春意盎然”；选项 B 中《诗经》那个时代的七月相当于我们今天的 8、9 月，所以，“七月流火”并不是指炎热的天气，而是指天气逐渐转凉；选项 C 中温室气体主要指的是二氧化碳，不是一氧化碳。D 是正确答案，水晶和沙子的主要成分都是硅。

**【易错点拨】**这个题的难点在于对很多考生对于生活中的基本地理常识了解不深，一知半解，容易凭主观臆测来答题。

**【题目 14】**炎炎夏日，一阵雷雨过后，人们往往会感到户外的空气特别清新，产生这种感觉的主要原因是（ ）。

- A. 雷雨过后，空气的湿度明显增加
- B. 雷雨导致气温快速下降
- C. 雷雨过程中，雷电导致空气中的臭氧分子增加
- D. 雷雨导致空气中的悬浮颗粒大量减少

**【答案】**C

**【解析】**因为在闪电时，发生的化学变化会使空气中的氧气有些变成了臭氧。它能净化空气，使空气清新。人们感到空气特别清新是因为臭氧分子增多的原因，故选 C。臭氧是已知可利用的最强的氧化剂之一，在实际使用中，臭氧呈现出突出的杀菌、消毒、降解农药的作用，是一种高





效广谱杀菌剂。

**【易错点拨】**这个题的难点在于需要了解臭氧分子的主要作用及用途，四个选项本身都有一定的道理，但需要从中寻找最基本的原因。

**【题目 15】**为了避免日期上的混乱，1884 年国际经度会议规定了一条国际日期变更线，这条变更线位于太平洋中的 180° 经线上，作为地球上“今天”和“昨天”的分界线，如果一个人（ ）越过国际日期变更线时，钟表的时刻不变，但日期应加一天。

- A. 自西向东
- B. 自东向西
- C. 自南向北
- D. 自北向南

**【答案】B**

**【解析】**国际日期变更线是由北到南的一条折线，自西向东越过此线，日期应减一天；自东向西越过此线，日期应加一天，故正确答案为 B。

**【易错点拨】**这个题的难点在于需要考生对地球自转导致的时差有一定的了解，由于地球是自西向东旋转，故从国际日期变更线为起点，向西时间逐渐递减。

**【题目 16】**三位路人抓住了正在行窃的赵某，为实施惩罚，将其双手捆绑，并让其跪地示众，此行为侵犯了赵某的（ ）。

- A. 人身自由权
- B. 人格尊严
- C. 控告检举权
- D. 国家赔偿权

**【答案】B**

**【解析】**《刑事诉讼法》第 63 条规定：“对于有下列情形的人，任何公民都可以立即扭送公安机关、人民检察院或者人民法院处理：（一）正在实行犯罪或者在犯罪后即时被发觉的；（二）通缉在案的；（三）越狱逃跑的；（四）正在被追捕的。”题干中“三位路人抓住了正在行窃的赵某，并将其双手捆绑”的行为是合法的。人格尊严，是指公民所具有的自尊心以及应当受到社会和他人最起码的尊重的权利。《民法通则》第 101 条规定：“公民、法人享有名誉权，公民的人格尊严受法律保护，禁止用侮辱、诽谤等方式损害公民、法人的名誉。”三位路人让赵某跪地示众，侵犯了赵某的人格尊严。本题正确答案为 B。

**【易错点拨】**这个考点考生容易在 A 和 B 众产生混淆，认为普通群众没有权利去抓捕犯罪嫌



疑人，如果对犯罪嫌疑人动用暴力并控制其人身有可能涉嫌侵犯宪法赋予公民的人身自由权，其实不然，公民对犯罪嫌疑人或者犯罪人的身体控制权时法律赋予的，合法的，符合法律的规定。

**【题目 17】** 根据我国《宪法》规定，下列对国家主席的表述正确的是（ ）。

- A. 国家主席同国务院结合行使国家元首的职权
- B. 国家主席由全国人大及其常委会选举产生
- C. 国家主席每届任期为五年
- D. 国家主席统一领导地方各级人民政府的工作

**【答案】** C

**【解析】** A 项错误，在我国，国家元首的职权由全国人民代表大会及其常务委员会和中华人民共和国主席联合行使。B 项错误，根据《宪法》第 79 条第 1 款的规定，中华人民共和国主席、副主席由全国人民代表大会选举。D 项错误，根据《宪法》第 89 条第 4 项的规定，国务院行使统一领导地方各级国家行政机关的工作的职权。C 项正确，《宪法》第 79 条第 3 款规定，中华人民共和国主席、副主席每届任期同全国人民代表大会每届任期相同，连续任职不得超过两届。该法第 60 条第 1 款规定，全国人民代表大会每届任期 5 年。故本题正确答案为 C。

**【易错点拨】** 本题考点考查考生对国家主席这个国家机构的了解，最容易产生混淆的选项 B，选项 B 很多考生错误的认为国家主席由全国人大及其常委会选举产生，其实国家主席、副主席的产生都是有全国人民代表大会选举产生的，常委会没有这个职权。

**【题目 18】** “杀鸡给猴看”体现了法的（ ）。

- A. 指引作用
- B. 评价作用
- C. 教育作用
- D. 强制作用

**【答案】** C

**【解析】** 本法的规范作用分为五个方面：第一，指引作用。这是指法律对个体行为的指引作用，包括确定的指引、有选择的指引。确定指引一般是规定义务的规范所具有的作用，有选择的指引一般是规定权利的规范所具有的作用。第二，评价作用。这是法作为尺度和标准对他人的行为的作用。第三，预测作用。这是对当事人双方之间的行为的作用。第四，强制作用。这是对违法犯罪者的行为的作用。第五，教育作用。因此，本题选择 C 选项。

**【易错点拨】** 本题考查的知识点是法理学法的作用，其中容易给考生产生混淆的是这是对一般人对法的作用理解只想到正面的引导作用，其实法的教育作用包括正面教育和反面教育。“杀



鸡给猴看”，比喻用惩罚一个人的办法来警告别的人，属于反面的教育作用。故本题正确答案为C。

**【题目 19】** 关于权利能力和行为能力，表述正确的是（ ）。

- A. 公民的权利能力和行为能力，始于出生，终于死亡
- B. 法人的权利能力和行为能力，同时产生，同时丧失
- C. 公民具有权利能力必须首先具有行为能力
- D. 我国境内的企业都具有权利能力和行为能力

**【答案】** B

**【解析】** 《民法通则》第9条规定，公民从出生时起到死亡时止，具有民事权利能力，依法享有民事权利，承担民事义务。该法第10条规定，公民的民事权利能力一律平等。但是，公民的民事行为能力因情况而定，该法第11条至第14条具体规定了完全民事行为能力人、限制民事行为能力人、无民事行为能力人的情形。故A、C项说法均错误。根据《民法通则》第36条的规定，法人是具有民事权利能力和民事行为能力，依法独立享有民事权利和承担民事义务的组织。法人的民事权利能力和民事行为能力，从法人成立时产生，到法人终止时消灭。故B项正确。《最高人民法院关于贯彻执行〈中华人民共和国民法通则〉若干问题的意见》第184条规定，外国法人以其注册登记地国家的法律为其本国法，法人的民事行为能力依其本国法确定。外国法人在我国领域内进行的民事活动，必须符合我国的法律规定。故D项错误。本题正确答案为B。

**【易错点拨】** 在这里考生易错的地方会是A选项，很多考生会把“公民的权利能力，始于出生，终于死亡。”这句话记错，错误的选择A选项，其实公民至于权利能力是始于出生终于死亡，行为能力不是。

**【题目 20】** 依法行政的核心是（ ）。

- A. 规范行政权
- B. 坚持依法治国的理念
- C. 转变政府职能
- D. 建设和谐社会

**【答案】** A

**【解析】** 依法行政是依法治国方略的关键环节和必然要求，是正确行使行政权的基本准则，是建立廉洁高效政府的根本保障。从依法行政的本质来看，依法行政的核心是监督规范行政权，是保障维护公民的合法权益；依法行政的关键是依法治官而不是依法治民，是依法治权而不是依法治事。推进依法行政，就是要对行政权进行全方位的规范：在事前的权力授予上，做到授予有



据；在事中的权力行使上，做到行使有规；在事后的权力监督上，做到监督有效。本题正确答案为 A。

**【易错点拨】**本题很多考生可能会错误的选择 B 选项，原因就是没有弄清楚何为依法行政，依法行政的主体是谁。其实依法行政的主体是主要是行政机关，那么为了保证依法行政前提必须保证规范行政权力。

**【题目 21】** 中国儒家的主要经典著作作为“四书五经”，其中“四书”指的是（ ）。

- A. 《史记》、《中庸》、《论语》、《春秋》
- B. 《孟子》、《大学》、《中庸》、《论语》
- C. 《礼记》、《大学》、《汉书》、《孟子》
- D. 《大学》、《中庸》、《汉书》、《孟子》

**【答案】** B

**【解析】**四书五经是中国儒家经典的书籍。四书指的是《论语》《孟子》《大学》和《中庸》；而五经指的是《诗经》《尚书》《礼记》《周易》《春秋》，《四书五经》是南宋以后儒学的基本书目，儒生学子的必读之书。所以本题选 B

**【易错点拨】**《论语》是记载孔子及其学生言行的一部书，由其学生和再传学生编辑而成；《孟子》是记录了战国时期思想家孟子的治国思想和政治策略，是孟子和他的弟子记录并整理而成的；《诗经》《尚书》《礼记》《周易》《春秋》加《乐经》是为“六经”，《乐经》后来亡佚了，就只剩下了五经。另外，《史记》、《汉书》成书于汉朝，是史书，ACD 排除；《春秋》、《礼记》是“五经”，也可排除 ACD

**【题目 22】** 下列哪项不属于第三产业？（ ）。

- A. 教育
- B. 社会福利
- C. 邮电通信
- D. 航天

**【答案】** D

**【解析】**第三产业指服务业，教育、社会福利、邮电通信都属于服务业，所以是第三产业。初级产品进行再加工的部门称为第二产业。航天产业直接生产物质产品，如卫星、火箭等，是制造业，属第二产业范畴。因此，本题选择 D 选项



**【易错点拨】**三次产业：根据社会生产活动历史发展的顺序对产业结构的划分，产品直接取自自然界的部门称为第一产业，初级产品进行再加工的部门称为第二产业，为生产和消费提供各种服务的部门称为第三产业

我国三次产业划分范围如下

第一产业是指农、林、牧、渔业

第二产业是指采矿业、制造业、电力、燃气及水的生产和供应业、建筑业

第三产业是指除第一、二产业以外的其他行业。第三产业包括：交通运输、仓储和邮政业，信息传输、计算机服务和软件业，批发和零售业，住宿和餐饮业，金融业，房地产业，租赁和商务服务业，科学研究、技术服务和地质勘查业，水利、环境和公共设施管理业，居民服务和其他服务业，教育，卫生、社会保障和社会福利业，文化、体育和娱乐业，公共管理和社会组织，国际组织。流通部门、为生产和生活服务的部门、为提高科学文化水平和居民素质服务的部门、为社会公共需要服务的部门都属于第三产业

**【题目 23】** 以下属于人文景观的是（ ）。

- A. 甘肃莫高窟
- B. 江西庐山
- C. 四川九寨沟
- D. 吉林长白山天池

**【答案】** A

**【解析】**人文景观是指历史形成的、与人的社会性活动有关的景物构成的风景画面，它包括建筑、道路、摩崖石刻、神话传说、人文掌故等。甘肃莫高窟俗称千佛洞，被誉为 20 世纪最有价值的文化发现，坐落在河西走廊西端的敦煌，以精美的壁画和塑像闻名于世。它始建于十六国的前秦时期，历经十六国、北朝、隋、唐、五代、西夏、元等历代的兴建，形成巨大的规模，现有洞窟 735 个，壁画 4.5 万平方米、泥质彩塑 2415 尊，是世界上现存规模最大、内容最丰富的佛教艺术圣地。江西庐山、四川九寨沟、吉林长白山天池都属于自然景观。因此，本题选择 A 选项

**【易错点拨】**（一）人文景观可以分为四类：（1）文物古迹，比如北京故宫、西安兵马俑、长城、洛阳龙门石窟等；（2）革命活动地，比如江西井冈山、鲁迅故居、延安宝塔山等；（3）



现代经济、技术、文化、艺术、科学活动场所形成的景观，比如世博园、农业观光园等。（4）地区和民族的特殊人文景观，比如傣族的泼水节、彝族的火把节等

（二）自然景观：天然景观和人为景观的自然方面的总称

中国著名自然景观举例

五岳：东岳山东泰山、西岳陕西华山、北岳山西恒山、中岳河南嵩山，南岳湖南衡山

四大佛教名山：山西五台山（文殊菩萨道场，有“清凉佛国”之称）、四川峨眉山（普贤菩萨道场，三大奇观：日出、云海、佛光，“峨眉天下秀”“雄秀西南”）、安徽九华山（地藏菩萨道场，称“莲花佛国”“佛国仙城”）、浙江普陀山（观音菩萨道场，称“海天佛国”）

四大道教名山：湖北武当山（道教第一名山）、四川青城山（青城天下幽）、安徽齐云山（乾隆誉为江南第一名山）、江西龙虎山（道教正一派发源地）

其他：山东蓬莱、江苏太湖、浙江杭州西湖、浙江温州雁荡山、福建与江西交界处的武夷山（世界自然与人文双重遗产）、福建厦门鼓浪屿、江西庐山、云南西双版纳、四川卧龙自然保护区、云南迪庆香格里拉、四川阿坝九寨沟（世界自然遗产）、广西桂林山水、海南五指山、海南三亚、河北承德（世界文化遗产）、云南大理、安徽黄山、湖北神农架、三峡、新疆吐鲁番、新疆阿勒泰喀纳斯湖、新疆天山、西藏雅鲁藏布江大峡谷、黑龙江齐齐哈尔扎龙（丹顶鹤之乡）、吉林长白山、台湾日月潭、台湾阿里山

**【题目 24】** 下列行为属于金融诈骗的是（ ）。

- A. 恶意透支信用卡
- B. 倒卖船票、车票
- C. 伪造、自制他人的注册商标
- D. 非法出售增值税发票

**【答案】** A

**【解析】**《刑法》第三章第五节“金融诈骗罪”共包括 8 个具体金融诈骗犯罪：集资诈骗罪、贷款诈骗罪、票据诈骗罪、金融凭证诈骗罪、信用证诈骗罪、信用卡诈骗罪、有价证券诈骗、保险诈骗（分别见《刑法》第 192-198 条）。A 选项，“恶意透支”属于信用卡诈骗犯罪行为，因此属于金融诈骗。B 选项，“倒卖车票、船票”见《刑法》第 227 条，属于扰乱市场秩序罪。C 选项，“伪造、自制他人的注册商标”见《刑法》第 215 条，属于“非法制造、销售非法制造的





注册商标标识罪”，因此属于侵犯知识产权罪。D选项，“非法出售增值税发票”见《刑法》第207条，属于危害税收征管罪。因此，本题选择A选项

**【易错点拨】**（一）对于金融诈骗罪，《刑法》第199条规定：犯集资诈骗罪、票据诈骗罪、金融凭证诈骗罪、信用证诈骗罪，数额特别巨大并且给国家和人民利益造成特别重大损失的，处无期徒刑或者死刑，并处没收财产；第200条规定：单位犯集资诈骗罪、票据诈骗罪、金融凭证诈骗罪、信用证诈骗罪，对单位判处罚金，并对其直接负责的主管人员和其他直接责任人员，处刑罚。

（二）扰乱市场秩序罪，见《刑法》第221条-231条，包括损害商业信誉、商品声誉罪，虚假广告罪，串通投标罪，合同诈骗罪，组织、领导传销活动罪，非法经营罪，强迫交易罪，伪造、倒卖伪造和有价票证罪，倒卖车票、船票罪，非法转让、倒卖土地使用权罪，提供虚假证明文件罪，出具证明文件重大失实罪，逃避商检罪。

（三）侵犯知识产权罪，见《刑法》第213-220条，包括假冒注册商标罪，销售假冒注册商标的商品罪，非法制造、销售非法制造的注册商标标识罪，假冒专利罪，侵犯著作权罪，销售侵权复制品罪，侵犯商业秘密罪。

（四）危害税收征管罪，见《刑法》第201-212条，包括逃税罪；抗税罪；逃避追缴欠税罪；骗取出口退税罪、偷税罪；虚开增值税专用发票、用于骗取出口退税、抵扣税款发票罪；伪造、出售伪造的增值税专用发票罪；非法出售增值税专用发票罪；非法购买增值税专用发票、购买伪造的增值税专用发票罪；虚开增值税专用发票罪、出售伪造的增值税专用发票罪、非法出售增值税专用发票罪；非法制造、出售非法制造的用于骗取出口退税、抵扣税款发票罪；非法制造、出售非法制造的发票罪；非法出售用于骗取出口退税、抵扣税款发票罪；非法出售发票罪；盗窃（发票）罪、诈骗（发票）罪。

**【题目 25】**下列不属于具体行政行为的是（ ）。

- A. 医院开具《死亡医学证明》
- B. 工商局吊销营业执照
- C. 交警开具违章罚单
- D. 民政局颁发《社团登记证书》

**【答案】**A





**【解析】**具体行政行为包括三个构成要件：第一是主体要件：具体行政行为的主体必须是合法存在的行政主体，包括国家行政机关，法律、法规、规章授权的组织，行政机关委托的组织。第二是功能要件：即具体行政行为能强制性地直接导致行政法律关系的产生、变更和消灭。第三是客观要件：即行政主体客观上实施了运用行政职权或职责的行为。

医院不是行政机关，也不是法律、法规、规章授权的组织、行政机关委托的组织，不具主体要件；《死亡医学证明》是医院在执业范围内从事诊疗活动中出具的依据自然科学知识，从医学角度说明居民死亡及其原因的医学证明文件，开具《死亡医学证明》的行为不能强制性地直接导致行政法律关系的产生、变更和消灭，所以不具功能要件；医院开具《死亡医学证明》是居于执业权利，即医疗权利而出具的，并非居于行政职权或职责，该证明不具客观要件。综上，医院开具《死亡医学证明》不是具体行政行为。B、C和D三个选项都满足具体行政行为的三个构成要件，因而是具体行政行为。因此，本题选择A选项

**【易错点拨】**具体行政行为 and 抽象行政行为是热门考点

(一) 行政行为以其对象是否特定为标准，分为具体行政行为和抽象行政行为

(二) 具体行政行为，是指行政主体针对特定行政管理对象实施的行为

特征：(1) 是法律行为，(2) 是对特定人与特定事项的处理，(3) 是单方行政职权行为，(4) 是外部性处理

表现形式：行政命令、行政征收、行政许可、行政确认、行政监督检查、行政处罚、行政强制、行政给付、行政奖励、行政裁决、行政合同、行政指导、行政赔偿等。

成立要件：(1) 必须是行政主体，(2) 必须有明确的意思表示，(3) 必须送达当事人

有效要件：(1) 主体合法，(2) 没有滥用职权，(3) 适用法律法规正确，(4) 证据确凿，

(5) 程序合法

生效时间：(1) 送达之日起，(2) 在预定的期限到来时，(3) 即时生效（紧急情况下）

效力包括公定力、确定力、拘束力、执行力

我国行政诉讼的客体是具体行政行为，而非抽象行政行为

(三) 抽象行政行为，是指国家行政机关针对不特定管理对象实施的制定法规、规章和有普遍约束力的决定、命令等行政规则的行为，其行为形式体现为行政法律文件，其中包括规范文件和非规范文件。

特点：(1) 是国家行政机关实施的行为，(2) 是一种制定规则的行为



行政规则是抽象行政行为的活动结果。行政法规、部门规章、地方政府规章和有普遍约束力的行政决定命令，构成行政规则体系，不可对抽象行政行为提请行政诉讼。

**【题目 26】**马克思主义政治经济学研究的出发点是（ ）。

- A. 社会生产关系
- B. 物质资料生产
- C. 商品
- D. 社会总产品

**【答案】**B

**【解析】**物质资料生产是政治经济学研究的出发点。物质资料生产是指人们以一定方式结合起来，运用劳动资料，使劳动对象发生预定变化，创造物质财富的活动。因为物质资料生产是人类社会存在和发展的基础。

**【易错点拨】**物质资料一方面，人类要生存和发展就必须有衣、食、住、行所需的物质资料，而这些物质资料只有通过生产才能取得，离开物质资料生产，人类就无法生存。另一方面，物质资料生产是人类从事其他活动的先决条件。

**【题目 27】**劳动力成为商品是货币转化为资本的前提条件，这是因为（ ）。

- A. 资本家购买的是劳动力的价值
- B. 劳动力商品具有价值和使用价值
- C. 货币所有者购买的劳动力能够带来剩余价值
- D. 劳动力自身的价值能够在消费过程中转移到新的商品中去

**【答案】**C

**【解析】**人的劳动是价值的源泉，劳动过程中能够产生比劳动力更大的价值，货币所有者通过这种方式获得剩余价值，货币也就转化为资本。因此，本题的正确选项应为 C。

**【易错点拨】**人的劳动可以分为抽象劳动和具体劳动，所谓的抽象劳动便是凝结在人类无差别的劳动，这便是衡量价值的标准。

**【题目 28】**政府为了保护农业生产者，对部分农业产品规定了保护价格。为了实施这种价格政策，应采取的相应措施是（ ）。

- A. 当市场上出现农产品过剩时进行收购
- B. 对城镇居民实行粮食配给制



- C. 取消农业税
- D. 扩大农民家电消费

**【答案】**A

**【解析】**政府为了保障农民的利益，实行了各种政策，其中就是收购市场上多余的农产品，来更好的保障农民生产出来的产品有好的销路。

**【易错点拨】**政府通过收购剩余农产品的形式来缓解农业中存在的一些问题，保障农民收入的稳定增长，激发农民种地积极性，从而调整市场农产品的配置问题。

**【题目 29】**（ ）是指在某一既定时期一个国家内生产的全部社会最终产品和劳务价值的总和，包括消费、投资、政府购买和净出口四个部分。

- A. 国民生产总值
- B. 国内生产总值
- C. 国民收入
- D. 社会总产值

**【答案】**B

**【解析】**国内生产总值是指在一定时期内（一个季度或一年），一个国家或地区的经济中所生产出的全部最终产品和劳务的价值，常被公认为衡量国家经济状况的最佳指标。它不但可反映一个国家的经济表现，更可以反映一国的国力与财富。一般来说，国内生产总值共有四个不同的组成部分，包括消费、投资、政府购买和净出口。

**【易错点拨】**这是对经济学中基本概念的考察，要区分国内生产总值和国民生产总值的区别。

**【题目 30】**公共财政的核心是（ ）。

- A. 实现收支平衡
- B. 满足社会公共需要
- C. 扩大财政收支规模
- D. 消除债务风险

**【答案】**B

**【解析】**公共财政是指在市场经济条件下，以政府为主体从社会上取得收入、并将收入用于满足社会公共需要而进行的收支活动。公共财政的核心是满足社会公共需要，其本质要求是要由公众参与决策、参与管理、参与监督。



**【易错点拨】**现代国家公共财政收入主要形式有：1、税收收入。2、债务收入。3、国有资产收益。4、政府费收入。我国现阶段政府费收入主要有5类：①规费收入；②共产使用费；③特别课征；④各种摊牌性费用；⑤特许金。5、其他收入形式。指上述几种收入之外的政府各项杂项收入，常见的有：①罚没收入；②对政府的捐赠；③“通货膨胀税”。公共财政支出形式：按与市场关系分类主要有：购买性支出和转移性支出。购买性支出和转移性支出。

**【题目 31】** 下列选项中三国典故与哲学论断对应错误的是（ ）。

- A. 士别三日，当刮目相看——用发展的眼光看问题
- B. 草船借箭——人可以认识并利用规律
- C. 张飞醉酒失徐州，借酒破张郃——矛盾是对立统一的
- D. 望梅止渴——理性认识依赖于感性认识

**【答案】** D

**【解析】** 题干中“士别三日，当刮目相看”是说一个人如果三天没见，便发现有了较大的变化，它所体现出来的是发展的原理，B项说的草船借箭，是利用风向来“借箭”，体现出来的正是认识并且利用规律的原理，C项中张飞的醉酒后，或得或失，这正是事物的两面，体现出来的矛盾的对立统一，D项说的望梅止渴，看到梅子嘴里可以分泌出唾液来解渴，体现的是物质和意识的关系。所以选D。

**【易错点拨】** 这个题的难度在于理解每个选项的意思，并能够分析出这句话所反映出来的哲学原理，直译每句话的意思，对应原理即可。

**【题目 32】** 生活中我们发现，当一个人穿上竖条衣服时，给人收缩管，显得稍瘦，穿上横条衣服时，给人扩张感，显得稍胖。不同纹路的衣饰产生不同视觉效果表明（ ）。

- A. 错觉实际上是一种假象
- B. 感性认识易变、不可靠
- C. 感性认识受到客观因素的制约
- D. 认识的根本任务是透过现象把握本质

**【答案】** C

**【解析】** 题干中人的胖瘦是客观的，因为穿的衣服条纹不同而给人以不同的视觉效果，所以可以看出人的感性认识是要受到客观因素的制约，故选C。

**【易错点拨】** 这个题的难点在于对认识的理解，首先错觉不等同于假象，错觉是感官器官



所引起，它并不能够反映本质，题中所强调的偏重于人的主观认识受到客观“衣服条纹”的影响和制约。

**【题目 33】** 下列经济指标与衡量对象对应关系正确的是（ ）。

- A. 赤字率——财政风险
- B. 恩格尔系数——收入分配差距
- C. 基尼系数——居民生活水平
- D. 生产者物价指数——货币供应量

**【答案】** A

**【解析】** 恩格尔系数是衡量居民生活水平的，它体现出来的是食品支出占居民生活支配中的比重，基尼系数是衡量收入分配差距，表现的是不平均分配的数量占总数量的比重，生产者物价指数是衡量工业企业出厂价格变动趋势和变动程度的指数，反映了某一时期生产领域价格变动的情况。故选 A。

**【易错点拨】** 该题考查的是经济领域中常见的经济指数，是需要考生能够分清每一个指数的内在含义以及所反映出来的社会经济现象。

**【题目 34】**《国家“十二五”时期文化改革发展规划纲要》提出要加大政府对文化事业建设的投入力度，下列属于政府投入保障政策的是（ ）。

- A. 支持文化企业在海外投资、招标、营销、参展和宣传等活动
- B. 继续完善文化市场的准入政策，吸引社会资本投资文化产业
- C. 文化内容创意生产、非物质文化遗产项目经营享受税收优惠
- D. 通过政府购买服务的方式，鼓励社会力量提供公共文化产品

**【答案】** D

**【解析】** 题干中问题是属于“政府投入”保障政策，主体是政府，而题干中 B、C 的投入主体为企业，主体不符不能选，C 中享受的是税收优惠，是政府收入政策，而非投入，故选 D。

**【易错点拨】** 此题的难点在于题干中要求的是政府投入的相关政策，作为政府投入是以政府作为主体，对文化方面实现的再分配，所以按照主体分可以排除两个选项，而税收方面的政策应该属于政府的收入而非支出。

**【题目 35】** 毛泽东思想作为马克思列宁主义基本原理与中国具体实际相结合的理论成果，被正式确立为中国共产党的指导思想是在（ ）。



- A. 中共一大      B. 中共三大  
C. 中共七大      D. 中共八大

**【答案】**C

**【解析】** 中国共产党第七次全国代表大会于 1945 年在延安召开，毛泽东《论联合政府》的政治报告是这次大会的中心议题，七大确立毛泽东思想为党的指导思想，从而使全党有了在思想上工作上取得一致的牢固的理论基础。

**【易错点拨】** 在党的发展过程中，有几次非常重要的会议，对中国革命的发展起着关键性指导意义，是需要牢记，也是考试中常考点。

**【题目 36】** 下列关于“四化”同步发展说法不正确的是（ ）。

- A. 信息化和工业化深度融合  
B. 工业化和城镇化良性互动  
C. 城镇化和农业现代化相互协调  
D. 信息化和农业现代化相互促进

**【答案】**D

**【解析】** 十八大报告提出了，坚持走中国特色新型工业化、信息化、城镇化和农业现代化的道路，这是“新四化”，确定了信息化和工业现代化相互促进的内容。

**【易错点拨】** 十八大报告是每次考试几乎都会涉及到的，报告当中会有一些关键词，尤其是新的提法是要关注的。

**【题目 37】** 我们党最大政治优势（ ）。

- A. 密切联系群众    B. 集中力量办大事    C. 理论联系实际    D. 民主与集中相结合

**【答案】**A

**【解析】** 江泽民同志在“五三一”重要讲话中指出，我们党的最大政治优势是善于组织群众、宣传群众、联系群众，党执政后的最大危险是脱离群众。

**【易错点拨】** 本题考点考查考生对党的性质考察。

**【题目 38】** 中国共产党是中国特色社会主义建设事业的领导核心，下列关于当代中国共产党的表述正确的是（ ）。

- A. 当代中国共产党仍然是工人阶级先锋队，性质的内涵没有扩大  
B. 加强党的建设，首要的、第一位的是加强党的作风建设





- C. 加强和改善党的领导，关键在于加强党的自身建设
- D. 要坚持以人民民主带动党内民主，发展党内民主

**【答案】**C

**【解析】**在新的历史条件下，把党的阶级性、先进性、群众性更加紧密地结合了起来，把对党的组成成份的要求与对党的路线纲领的要求更加紧密地融合了起来，从而进一步深化了党的性质的内涵，故 A 错误；加强党的建设，首要第一位的应该是思想建设，故 B 错误；在民主政治建设上，要坚持以党内民主带动人民民主，排除 D。

**【易错点拨】**这是对党的性质和地位的考察。

**【题目 39】**党的十八大明确提出，加快转变经济发展方式的主攻方向是（ ）。

- A. 推进经济结构战略性调整
- B. 实施创新驱动发展战略
- C. 全面提高开放型经济水平
- D. 全面深化经济体制改革

**【答案】**A

**【解析】**加快转变经济发展方式的主攻方向是，坚持把经济结构战略性调整作为加快转变经济发展方式的主攻方向，是中央审时度势，准确把握经济发展的阶段性特征，尤其是后金融危机时期，各种风险和不确定性因素增多的情况下，适应国内外发展形势的新变化，所作出的战略部署。

**【易错点拨】**了解报告当中的关键性词汇。

**【题目 40】**“一个党、一个国家、一个民族，如果一切从本本出发，思想僵化，迷信盛行，那它就不能前进，它的生机就停止了，就要亡党亡国。”这段话深刻阐明了（ ）。

- A. 恢复实事求是思想路线的极端重要性
- B. 坚持解放思想的极端重要性
- C. 坚持与时俱进的极端重要性
- D. 坚持求真务实的极端重要性

**【答案】**B

**【解析】**题干当中不能本本主义，不能思想僵化，重在说明要解放思想，因实际情况的不同而随机做出不同的举措或是方针。

**【易错点拨】**读懂题干中强调的是什么，主要是强调思想解放的重要性。

**【题目 41】**王某为精神病人，下列不能作为王某监护人的有（ ）。





- A. 王某的配偶                      B. 王某的父亲  
C. 其他近亲属                      D. 王某的女儿

**【答案】D**

**【解析】**《民法通则》第十七条规定了【精神病人的监护人】无民事行为能力或者限制民事行为能力精神病人，由下列人员担任监护人：（一）配偶；（二）父母；（三）成年子女；（四）其他近亲属；（五）关系密切的其他亲属、朋友愿意承担监护责任，经精神病人的所在单位或者住所地的居民委员会、村民委员会同意的。所以，选择D选项。

**【易错点拨】**本题考查精神病人的监护人，很多考生选择C选项，认为其他近亲属肯定没有其他选项的人关系亲近，其实是考生在作出选择的时候忽略了对精神病人的监护人必须是成年的子女才可以，如果题目中没有明确交代是成年子女，这个选项就是错误的。

**【题目 42】**行政机关对当事人进行处罚时不使用罚款、没收财务单据或者使用非法部门制发的罚款、没收财务单据的，当事人（  ）。

- A. 应先接受处罚，然后再依法申请行政复议或提起行政诉讼  
B. 应先接受处罚，然后可以向上级行政机关进行检举  
C. 有权拒绝处罚  
D. 应当接受处罚

**【答案】A**

**【解析】**《行政复议法》第二十一条 【执行停止事由】行政复议期间具体行政行为不停止执行。

**【易错点拨】**本题考查具体行政行为的公定力概念，行政法中的公定力是指行政机关作出具体行政行为以后，相对人必须服从并执行，如果相对人认为其具体行政行为侵犯了其权利可以提起行政复议，但是复议期间不停止执行。一般考生会认为既然已经在行政复议了就应该停止执行具体的行政决定，这种理解是错误的。

**【题目 43】**国家工作人员甲利用职务上的便利为某单位谋取利益。随后，该单位的经理送给甲一张价值 2 万元的购物卡，被甲拒绝了。事后该经理将此购物卡送给了甲的妻子，甲后来知道妻子收受了购物卡，但未作表示。

关于甲的行为，下列哪一项选项是正确的（  ）。

- A. 甲的行为不构成受贿罪              B. 甲的行为构成受贿（既遂）



C. 甲的行为构成受贿（未遂） D. 甲的行为构成受贿（预备）

**【答案】B**

**【解析】**受贿罪，是指国家工作人员利用职务上的便利，索取他人财物的，或者非法收受他人财物，为他人谋取利益的行为。甲的妻子与甲是共犯，共犯的结果及于共同犯罪所有的人。所以，选择 B 选项。

**【易错点拨】**本题考查受贿罪的构成，很多考生认为甲没有收购物卡，不构成受贿罪，但是，忽视了其妻子收了购物卡的事实，其妻子收卡后，甲知道，并且未作表示，说明甲是有主观上的故意的，是受贿罪的共同犯罪。

**【题目 44】**按照我国有关的法律规定，遗产继承的第一顺序继承人为（ ）。

- A. 配偶子女父母
- B. 兄弟配偶子女
- C. 子女父母兄弟
- D. 父母兄弟配偶

**【答案】A**

**【解析】**法定继承是指依照继承人范围、继承的顺序以及遗产分配原则，按照法律规定处理的继承方式，又称无遗嘱继承。①法定继承人包括：第一顺序法定继承人：配偶、子女、父母；第二顺序法定继承人：兄弟姐妹、祖父母、外祖父母。所以，选择 A 选项。

**【易错点拨】**本题考查法定继承的顺序，很多考生会错误的选择 C 选项，认为兄弟也应该是第一顺序继承人，是对法定继承顺序的记忆不清和理解错误。

**【题目 45】**我国现行《宪法》规定，行使国家立法权的机关是（ ）。

- A. 全国人民代表大会
- B. 省人民代表大会
- C. 国务院
- D. 省政府

**【答案】A**

**【解析】**《宪法》第五十八条**【国家立法权的行使】**全国人民代表大会和全国人民代表大会常务委员会行使国家立法权。

**【易错点拨】**本题考查国家立法权的知识点，很多考生会错误的选择 C 选项，认为行使国家



立法权的应该是国务院，这种理解是错误的全国人大行使最高的立法权，国务院是最高国家权力机关的执行机关，只享有行政立法权。

**【题目 46】**下列不属于抽象行政行为的是（ ）。

- A. 行政法规
- B. 地方政府规章
- C. 部门规章
- D. 地方性法规

**【答案】D**

**【解析】**抽象行政行为是指国家行政机关针对不特定管理对象实施的制定法规、规章和有普遍约束力的决定、命令等行政规则的行为，其行为形式体现为行政法律文件。所以，选择 D 选项。

**【易错点拨】**本题考查抽象行政行为的知识点，很多考生会错误的选择 C 选项，其实，地方性法规是地方人大及其常委会颁布的法律文件，而抽象行政行为作出的主体首先必须是行政机关，人大及其常委会不是国家行政机关，所以地方人大及人大常委会作出的法律文件不抽象行政行为。

**【题目 47】**下列属于行政处罚中的声誉罚的是（ ）。

- A. 行政拘留
- B. 罚款
- C. 警告
- D. 吊销营业执照

**【答案】C**

**【解析】**行政处罚，是指行政机关或法律、法规授权的其他行政主体依照法定职权和程序，对违反行政法律规范尚未构成犯罪的公民、法人或其他组织给予的一种以惩戒违法行为为目的的具有制裁性的具体行政行为。行政处罚中的声誉罚是警告。所以，选择 C 选项。

**【易错点拨】**本题考查具体行政行为的知识点，很多考生会错误的选择 A 选项，其实，行政处罚的种类与形式：声誉罚：警告；财产罚：罚款、没收违法所得、没收非法财物；行为罚：责令停产停业，暂扣和吊销许可证、执照；人身自由罚：行政拘留，只要理解的去记忆考生就不会错了。



【题目 48】下列说法正确的是（ ）。

- A. 某县卫生局对某饭店进行了两次罚款
- B. 某县卫生局派一个人对某饭店进行检查
- C. 某县卫生局对某饭店当场进行了 2000 元的罚款
- D. 某执法机关对某个人当场进行了 20 元罚款

【答案】D

【解析】《行政处罚法》规定：【一事不再罚原则】对当事人的同一个违法行为，不得给予两次以上罚款的行政处罚。【当场处罚的适用条件】违法事实确凿并有法定依据，对公民处以五十元以下、对法人或者其他组织处以一千元以下罚款或者警告的行政处罚的，可以当场作出行政处罚决定。【调查程序及方式】行政机关在调查或者进行检查时，执法人员不得少于两人，应当向当事人或者有关人员出示证件。所以，选择 D 选项。

【易错点拨】本题考查行政法的知识点，很多考生会错误的选择 B 选项，其实是对行政处罚法中检查与调查规定的不熟悉，只要能够清楚的记住行政处罚的几个基本条文就不会选择错了。

【题目 49】下列涉及地理位置的说法错误的是（ ）。

- A. 东北亚是指亚洲的东北部地区，就是整个环太平洋地区
- B. 中欧全称欧洲中部包括德国、波兰、捷克、斯洛伐克、匈牙利、奥地利、列支敦士登和瑞士 8 国
- C. 北美通常指的是美国、加拿大和格陵兰岛，与北美洲是两个概念
- D. 亚太地区包括亚洲和环太平洋地区，连美洲自由贸易区也算在内

【答案】A

【解析】东北亚，是指亚洲的东北部地区，包括俄罗斯联邦的东部地区，中华人民共和国的东北和华北地区，日本国，大韩民国，朝鲜民主主义人民共和国以及蒙古国，并不是整个环太平洋地区。

【易错点拨】对地理区划的基本考查，需要考生熟悉世界地理行政区划的范围。

【题目 50】“人们自己创造自己的历史”，这句话表明（ ）。

- A. 人自身决定历史发展的方向
- B. 人是研究社会历史的出发点
- C. 人的发展是历史的原动力
- D. 人是社会历史的主体

【答案】D



**【解析】**题干中所说的意思是重在强调我们人类的历史是由自己创造出来的，人是社会的主体。故选D。

**【易错点拨】**考察的是马克思的历史唯物主义，他所提出来人是社会的主体。

**【题目 51】** 下列搭配中错误的是（ ）。

- A. 五岳之首——泰山
- B. 人间仙境——蓬莱
- C. 东海旖旎——雁荡山
- D. 秀出东南——黄山

**【答案】**D

**【解析】**庐山以雄、奇、险、秀闻名于世，具有极高的科学价值和旅游观赏价值，素有“匡庐奇秀甲天下”之美誉，“秀出东南”代指庐山。

**【易错点拨】**对山川代称的考查，需要具备一定的旅游知识，在生活中需要加强对知名景点及景观的了解与熟知。

**【题目 52】** 关于《四库全书》，下列说法错误的是（ ）。

- A. 编修于乾隆时期
- B. 反映了清代图书的全貌
- C. 在编纂过程中纪晓岚贡献突出
- D. 分经、史、子、集四目

**【答案】**B

**【解析】**这本书是在乾隆皇帝在文字狱的背景下亲自组织的中国历史上一部规模最大的丛书，经10年编成。丛书分为经、史、子、集四部。纪晓岚是总纂官。

**【易错点拨】**四库全书保存了中国历代大量文献，但在编纂的过程中，其中不利于清朝统治的书籍被大批销毁、篡改，考察的是历史文化常识。

**【题目 53】**康有为的维新思想吸收了西方资本主义政治学说的内容，其中最主要的是（ ）。

- A. 民主共和思想
- B. 三权分立学说
- C. 君主立宪思想
- D. 天赋人权学说



【答案】C

【解析】光绪帝受康有为建议进行戊戌变法，并未消除皇权，应为君主立宪思想。

【易错点拨】这是对历史知识的考察，戊戌变法代表的是民族资产阶级，他们开始主张要改变清政府的制度，开始提出学习西方先进制度的想法，他们所提出的是君主立宪制，但是历史证明在中国行不通，而民主共和的思想则是代表大资产阶级的孙中山等人提出来的。

【题目 54】中国产品要增强国际竞争力，实现由“中国制造”向“中国‘智’造”转变，其关键是（ ）。

- A. 制定正确的经营战略
- B. 引进国外先进技术
- C. 树立良好的信誉和形象
- D. 提高自主创新能力

【答案】D

【解析】“中国制造”是指以前中国制造的产品主要是来料加工，完全按照国外的生产工艺来制造，没有自有的科学技术。

【易错点拨】由“中国制造”到“中国智造”一字之差，表明中国在实践中认识到科学技术的重要性，已经有自己的科学技术，自主创新能力提高了。所以本题选 D。

【题目 55】中共中央、国务院于 2014 年 1 月 10 日上午在北京隆重举行国家科学技术奖励大会，此次荣获最高科学技术奖的是（ ）。

- A. 谢家麟 吴良镛
- B. 孙家栋 谷超豪
- C. 张存浩 程开甲
- D. 师昌绪 王振义

【答案】C

【解析】中共中央、国务院 2014 年 1 月 10 日上午在北京隆重举行国家科学技术奖励大会，中共中央总书记、国家主席、中央军委主席习近平首先向获得 2013 年度国家最高科学技术奖的张存浩和程开甲院士颁发奖励证书，并同他们热情握手，向他们表示祝贺。所以本题选 C。

【易错点拨】科技奖项常为考点，需要大家关注

【题目 56】2013 年 12 月 26 日，中共中央总书记习近平在毛泽东同志诞辰 120 周年纪念大会上发表讲话：指出毛泽东同志是马克思主义中国化的伟大（ ）。

- A. 开拓者
- B. 民族英雄
- C. 爱国主义者
- D. 英雄主义者

【答案】B





**【解析】**2013年12月26日，中共中央总书记习近平在毛泽东同志诞辰120周年纪念大会上发表讲话：毛泽东同志是马克思主义中国化的伟大开拓者。所以本题选A。

**【易错点拨】**名人伟人的重要纪念日，需要注意

**【题目57】**邓小平指出：“一个党，一个国家，一个民族，如果一切从本本出发，思想僵化，那他就不能前进，它的生机就停止了，就要亡党亡国哦。”这段话，形象地说明了（ ）。

- A. 反对教条主义的重要性
- B. 改革开放的重要性
- C. 破除迷信的重要性
- D. 解放思想的重要性

**【答案】**D

**【解析】**一切从实际出发就要亡党亡国体现了反对教条主义的重要性，反对教条主义就要解放思想。邓小平的这段话说明了解放思想的重要性，更符合题意。所以本题选D。

**【易错点拨】**邓小平活的灵魂便是提出解放思想。

**【题目58】**今年是甲午年，被中国人称作全面深化改革的开局之年，在公开场合讲话中，习近平两提“甲午”，其中在2014年6月9日中国科学院和中国工程院院士大会上，强调坚定不移走（ ）。

- A. 科技强国之路
- B. 可持续发展之路
- C. 人才强国之路
- D. 科教兴国之路

**【答案】**A

**【解析】**在6月9日召开的两院院士大会上，习近平说，回首我国近代史，中华民族遭受的苦难之重、付出的牺牲之大，在世界历史上是罕见的。习近平强调，要实现中华民族伟大复兴的目标，我们就必须坚定不移贯彻科教兴国战略和创新驱动发展战略，坚定不移走科技强国之路。该题选择A项。

**【易错点拨】**甲午中日战争在历史上影响较大，也算重要事件。

**【题目59】**按照《党政机关公文格式》的规定，公文中的结构层次序数是（ ）。

- A. “首先”、“其次”、“再次”
- B. “第一”、“第二”、“第三”
- C. “此其一”“此其二”“此其三”
- D. “一、”“（一）”“1.”“（1）”

**【答案】**D





**【解析】**《党政机关公文格式》(7.3.3 正文：公文首页必须显示正文。一般用3号仿宋体字，编排于主送机关名称下一行，每个自然段左空二字，回行顶格。文中结构层次序数依次可以用“一、”“(一)”“1.”“(1)”标注；一般第一层用黑体字、第二层用楷体字、第三层和第四层用仿宋体字标注。所以选择D选项。

**【易错点拨】**公文考试中常会考到一些明文规定但比较细致的考点，需要复习时格外留意。

**【题目 60】**2009年，中央政府为了支持香港发展人民币业务，以巩固香港的国际金融中心的地位，决定在香港发行60亿元人民币国债，为此，财政部与香港特别行政区政府联合发文，这份文件应选用的文种是( )。

- A. 公告
- B. 决定
- C. 通知
- D. 命令

**【答案】**B

**【解析】**决定。适用于对重要事项作出决策和部署、奖惩有关单位和人员、变更或者撤销下级机关不适当的决定事项。

**【易错点拨】**准确区分各文种的用途。



## 第二部分 言语理解与表达

**【题目 1】**1941 年，美国正式参加了反法西斯战争，大批美国士兵来到英国。美国和英国都是使用英语的国家，美军与英国军民的接触没有语言障碍。但是随着双方接触的增加，逐渐发生了一些摩擦。英国人指责美国人没有礼貌，少教养，喜欢表现自己，待人接物太随便。美国人则责备英国人自高自大，自以为是。这种情况使英美关系有些紧张。在盟军即将进行诺曼底登陆，攻占欧洲大陆的情况下，这显然是一个不利因素。

“这显然是一个不利因素”的“这”指的是（ ）。

- A. 大批美国士兵来到英国
- B. 美国人英国人互相指责
- C. 英美之间关系有些紧张
- D. 盟军即将攻占欧洲大陆

**【答案】**C

**【解析】**“这”为指示代词，往往在文中做宾语。根据就近指代原则，“这显然是一个不利因素，的‘这’应指代前面一句话的宾语，即“英美关系有些紧张”。因此，本题答案为 C 选项。

**【易错点拨】**这道题目很多同学会误选 D，直接根据就近指代原则，认为就近一句“在盟军即将进行诺曼底登陆，攻占欧洲大陆的情况下”为“这”指代的内容。需要注意的是，“在盟军即将进行诺曼底登陆，攻占欧洲大陆的情况下”，表示时间状态，做的是状语，而非“这”应指代的宾语，因而考生在做此类题目时应注意不同代词指代的成分各不相同。

**【题目 2】**有位投资者重点考察了 A 城和 B 城。在 A 城，他坐在街头擦皮鞋，擦皮鞋大婶先把他的一只鞋的鞋带解开，擦完等他付了钱才系上。这个细节让他不得不怀疑这个城市市民的道德水准——一定是有人擦完鞋没付钱跑掉过。在 B 城，他搭了 5 次出租车，下车前，5 位司机都提示：先生，请带好您的随身物品。最终，他把企业办在了 B 城，B 城因此有 5000 人上岗就业，B 城的税务部门每年也因此获得了上亿元的税收——这就是一位擦鞋大神和几位出租车司机的影响力。

这段文字旨在说明（ ）。

- A. 我们每个人都有各自的影响力
- B. 投资者选址时会更看重居民的道德水准
- C. 人的影响力是稳定的，细心的人才能发现



D. 某人不经意的行为会影响他人的重大决定

**【答案】**A

**【解析】**本题是一道主旨概括题。文段列举了一位投资者对 A、B 两城考察的情况，根据 A 城擦皮鞋大婶的行为，他得出该城市民素质不高的结论，而 B 城出租车司机的行为让他得出相反的结论，所以他将企业办在了 B 城，根据这个结果作者引出了文段的重点内容——每个人都有一定影响力，A 项正是此意。故本题选择 A 项。

**【易错点拨】**B 项未谈到“影响力”这个重点内容，排除；C 项“细心”文段未体现，排除；文段重点论述的并非人们行为的不经意，而是这些行为所具有的影响力，D 项错误。

**【题目 3】**在互联网时代，因为要证明自己的存在，所以人们在数字世界里不断分享，不断交流。但事实上，这种对联系的渴望，与其说是一种治疗方法，还不如说是一种病症。它表达着我们害怕孤独的焦虑，但并不能解决问题，相反它使我们与外界更为隔绝。同时我们已经失去独处的能力，而这种独处才能让我们集中注意力思考问题，找到自我，在找到自我的同时，才可能与他人产生更好的联系。

这段文字意在说明（ ）。

- A. 只有独处才能找到自我
- B. 在现代社会人们更加害怕孤独
- C. 要学会独处，否则会更为孤独
- D. 现代数字媒体让人们失去独处的能力

**【答案】**C

**【解析】**本题是一道意图判断题，首句是一个背景，接着用转折关联词“但是”提出一个问题，最后通过“学会独处，让我们集中思考，找到自我，才能产生与他人更好的联系”这样一个必要条件句引出解决问题的对策，C 项是对该对策的替换。故本题正确答案为 C。

**【易错点拨】**B、D 项不是对策，非文段重点容易排除。而 A 项是本题最大的干扰项，A 项只提到了独处和找到自我并未谈到加强联系这个结果，表述错误，排除。

**【题目 4】**其实，正如新文化运动不可能完全动摇儒学在中国文化中的牢固地位一样，时下的“注水”文章与满天飞的概念也不会将清代朴学的实证精神彻底扼杀。好大喜功、虚无缥缈，跟在西方所谓脚后跟搬弄几个名词，只会产生出一堆文字垃圾，既不能长久立足，也会为西方的



学术界所不齿。相反，如果我们不丢弃自己的学生传统，扎扎实实做学问，反而可以在西方人面前建立一个强有力的对立面。

通过这段文字，作者想要表达的主要观点是（ ）。

- A. 坚守我国学术传统方能大有可为
- B. 虚浮的学术氛围使我国学术难有成就
- C. 我国的传统学术研究可与西方并驾齐驱
- D. 当下，做学术应强化清代朴学的实证精神

**【答案】**A

**【解析】**本题是一道意图判断题，需在主旨句的基础上判断文段意图。前两句举“儒学”与“清代朴学”的例子，说明好大喜功、盲目学习西学会带来一系列恶果。分析问题后，最后一句反面论证给出重点，即只有坚守我国学术传统，扎实做学问，才可能建立一个强有力的对立面，选项A吻合。

**【易错点拨】**D选项为干扰项，“清代朴学”为文段所举事例中一部分，文段意在以此说明好大喜功、盲目学习西学不妥，故D应排除。

**【题目5】**解决科技与经济结合的问题始终是科技体制改革的核心。以往的改革从技术商品化、科技运行机制、组织结构、人事制度等方面采取了一系列措施，主要着力在微观组织层面。改革进程发展到今天，需要更多地从宏观管理层面思考问题。换句话说，改革已经改到了推动科技体制改革的政府管理者自己头上。政府科技资源配置的理念需不需要转变？对科技活动管理的模式需不需要改变？管理科技活动的组织机构需不需要调整？回答了这三个问题，才有可能解决科技、经济“两张皮”的问题。

这段文字意在说明（ ）。

- A. 应从政府管理角度思考科技体制改革问题
- B. 进行国家科技体制的深层次改革迫在眉睫
- C. 明确政府职责是科技体制改革的重要前提
- D. 科技与经济相脱节是我国科技体制的弊端

**【答案】**文段是通过关键词“换句话说”找到主题句的。文段开头提出科技体制改革的问题，接着说以往角度不能解决现有问题了，现在需要从宏观角度着手，宏观角度就是要从政府管理角



度着手，因此文段的意思也就是说，要科技体制改革要从政府管理角度着手，A项即是对主题句的同义替换。

**【易错点拨】**政府管理角度是科技体制改革的对策，是文段的主题，B、C、D均与文段主题不一致，故排除。

**【题目6】**数字图书馆是计算机技术、多媒体技术、网络技术和其他相关技术发展的产物，有着传统图书馆无法比拟的优势和特征，其服务的范围大大超出图书馆的围墙。凡网络所联之地，均可使用，可实现全天候、全自动、智能化的服务。近年来，数字图书馆的建设和研究在国内取得了很大的发展，包括公共图书馆、高校图书馆及各类情报机构等，相继开展了各类不同规模的数字图书馆建设，为用户提供形式多样的服务。

对这段话概括最准确的一项是（ ）。

- A. 数字图书馆代表了未来图书馆的发展方向
- B. 数字图书馆具有很多优势，在国内发展很快
- C. 国内数字图书馆的建设和研究取得了很大发展
- D. 数字图书馆具有传统图书馆无法比拟的优势和特征

**【答案】**B

**【解析】**文段前两句主要讲数字图书馆的优势和特征。第三句表述的是数字图书馆在国内的发展情况。将这三句进行总结归纳可知B项正确。

**【易错点拨】**A项并非文段提及的内容，属于推论性表述，与题意不符，并非概括的一项。C项没有提到数字图书馆的优势和特征，因此表述不全面。D项只提到了数字图书馆的优势和特征，没有说明其发展情况。

**【题目7】**今年，11名高考“状元”因面试成绩不理想被香港大学拒之门外。这与内地高校追逐高分考生、为招收到“状元”而津津乐道、各地大捧高考“状元”等现象形成了鲜明的对比。此举引来轩然大波，媒体纷纷将矛头指向“应试教育”。笔者认为，香港大学招生和“素质教育”并没有太大的直接关系，他们只是按照自己的要求录取学生，这种标准只是香港的标准，至于是否最优抑或是否适合内地情形，那就是见仁见智了。

作者支持的观点是（ ）。

- A. 香港大学的录取标准并不是挑选学生的最佳标准
- B. 香港大学有自主招生的权利，媒体不应过多批评



- C. 香港大学选择学生的标准并不与内地现有情形相符
- D. 香港大学不录取“状元”的原因是他们不符合该校的录取标准

**【答案】**D

**【解析】**文中由“笔者认为”引出作者的观点，作者论点即“香港大学招生……只是香港的标准”，对于后半句“至于是否……那就是见仁见智了”作者并未作出评论，即作者观点认为香港大学不招收“状元”是因为其不符合香港大学的招收标准，因此D项正确。

**【易错点拨】**作者并没有对香港大学的招生标准做以评论，因此A项和C项的表述无从得出。文中提到“媒体”时只是陈述一个客观现象，并没有质疑其对与错，因此B项表述不妥。

**【题目8】**20世纪60年代以前，世界各国普遍注重防洪的工程措施，即通过修建大堤、水库等水利设施对洪水进行控制。但在60年代以后，世界各国在防洪规划中越来越重视非工程措施的运用，即通过洪水预警、灾情评估、洪灾保险等多种手段，结合各种工程措施，从而尽可能减少洪灾对人类经济、环境和社会发展的影响。

这段文字主要谈的是（ ）。

- A. 世界各国防洪理念的转变
- B. 世界各国控制洪水的新途径
- C. 单纯重视防洪工程不能有效控制洪水
- D. 非工程措施逐渐成为防洪规划的主导

**【答案】**A

**【解析】**文段通过举例说明问题，20世纪60年代前注重工程措施，然后通过转折性引导词“但”提出60年代后的转变，即重视非工程措施的综合运用。因此综合归纳可知，整个文段谈论的是世界各国防洪理念的转变。因此，本题答案为A选项。

**【易错点拨】**该题的干扰选项在于D项，很多考生看到第二句出现了转折连词“但”之后往往会认为重点在后半句，进而选出答案为D，但该题前后两句皆为举例证明，D项表述属于例子选项，应当排除。

**【题目9】**汽车是对环境影响较大的商品，汽车厂商支持环保事业、进行环保宣传，似乎是理所应当的。环保应当是汽车企业在发展中必须认真考虑的因素，但要求汽车企业没有利润甚至亏损来做环保，显然是不现实的，而且也不会持久。汽车企业在发展的同时采取新的技术措施，尽量减少对环境的污染，符合社会发展大趋势，才是长久之策。





这段文字的核心观点是（ ）。

- A. 环保与实现企业利润存在矛盾
- B. 发展环保事业应该注重从实际出发
- C. 技术革新是解决汽车影响环境问题的关键
- D. 汽车企业应在发展的同时充分重视环境保护

**【答案】**C

**【解析】**文段首先提出汽车企业应该重视环保，同时指出没有利润，环保也不能持久，从而提出问题所在即如何解决汽车企业在保持利润的前提下重视环保，最后提出解决问题的办法即“在发展的同时采取新的技术措施，尽量减少对环境的污染”一句，“才是长久之策”的“才”表示必要条件关系，可见解决问题的语句就是本文的核心观点，即“技术革新是汽车行业环保的关键所在”。因此，本题答案为C选项。

**【易错点拨】**D项具有一定的迷惑性，但D项只提到了汽车企业应该环保，但没有说明如何重视，没有提到解决问题的根本所在，因此不是正确答案。

**【题目 10】**费孝通在反思一生学术研究时，提出“文化自觉论”。他说：“生活在一定文化中的人对其文化有‘自知之明’，明白它的来历、形成的过程、所具有的特色和它发展的趋向，自知之明是为了加强文化转型的自主能力，取得决定适应新环境、新时代文化选择的自主地位。”

根据这段文字，“文化自觉”的主要作用是（ ）。

- A. 使文化的发展方向更为可控
- B. 使人们能更加适应不断发展的文化
- C. 使人们更深刻地了解文化的来源和特点
- D. 使不同文化之间的融合和转变更为容易

**【答案】**A

**【解析】**文段首先援引了费孝通的话，来解释说明叫做“文化自觉”，接着由“为了”引导出目的状语从句，实际上就是“文化自觉”的作用所在，即“为了加强文化转型的自主能力，取得决定适应新环境、新时代文化选择的自主地位”一句，也就是说“文化自觉”的主要作用就是“加强自主能力”和“取得自主地位”，换言之即“使文化的发展方向更为可控”。因此，本题答案为A选项。





**【易错点拨】**B项有一定的迷惑性，然而仔细比较B项与原文的表述会发现，文中“文化自觉”的作用是主动取得的，而B项的表述则是被动适应的，因而与文义不符予以排除。

**【题目 11】**对于个体和一个国家来说，人的生存是首先要解决的头等大事，虽然环境保护已越来越多地被提及和关注，但比起解决“吃饭”问题，始终要屈居第二的。这也是发展中国家为什么多重复走发达国家先污染后治理的老路的原因，并非看不到教训，而是谋求发展的艰巨任务使得各国不得不走捷径，优先选择煤炭这种低廉可靠、提高贫困人口生活水平还能促进就业的发展型能源。

这段文字的主要意思是（ ）。

- A. 环境保护和经济发展同样重要
- B. 发展中国家为了生存和发展不得不先污染后治理
- C. 解决温饱问题比保护环境更重要
- D. 发展中国家谋求发展忽略了环境保护

**【答案】**B

**【解析】**根据文段中“人的生存是首先要解决的头等大事”、“比起解决‘吃饭’问题，始终要屈居第二的”、“发展中国家为什么多重复走发达国家先污染后治理的老路的原因，并非看不到教训，而是谋求发展的艰巨任务使得各国不得不走捷径”可知，文段主要在讲“生存问题”是发展中国家的头等大事。由此可知本题的正确答案为B。

**【易错点拨】**选项AC脱离了“发展中国家”这个文段主体，所以排除。选项D中不是“忽略”环保，而是被迫、不得不“先发展、污染后治理”，所以表述与文意不吻合，排除。

**【题目 12】**城墙是古代城市的标志，也是研究城市发展的独特角度。对中国城墙的描述，自古以来就大量出现在正史、方志、文学作品或绘图绘画中，并且是都城学、规划学、军事学等多门学科的重要研究对象，这说明城墙并非一堵“墙”那么简单。可以说，每一座古城墙，都是一本厚重的大书，每一块城砖、每一座城门、每一段护城河，都是这本大书中的一行一页。面对如此厚重的中国城墙，我们当心存敬畏。

这段文字意在说明（ ）。

- A. 应对古城墙的文化遗产价值予以重视
- B. 古城墙的文化价值远高于其商业价值
- C. 亟须对现存古城墙开展保护和研究



D. 城墙为研究城市发展提供了独特视角

**【答案】**A

**【解析】**文段从文化角度讲述遗留的古城墙的重要性，那么应对古城墙的文化遗产予以重视才对。

**【易错点拨】**该题的干扰选项为 CD，文段未提到古城墙收到破坏，故不需要呼吁对其保护，D 选项主体扩大，应为“古城墙”而非“城墙”。

**【题目 13】**在中国，所有公民都在宪法的庇护之下，相反，在穷人得不到充分保护的资源语境下奢谈“保护富人”是相当危险而诡异的——它很可能对“贫富关系”造成舆情上的断裂与伤害。某种意义上说，在中国市场经济的舞台上，以企业家为代表的“富人”群体的逐利本性与穷人的挣扎生存相比，似乎更值得我们警惕。

作者通过这段文字想表达的观点是（ ）。

- A. 奢谈保护富人是错误的
- B. 保护穷人利益是根本
- C. 要遏制为富不仁的现象
- D. 要在公平的前提下讨论贫富问题

**【答案】**A

**【解析】**“奢谈，危险”可看出，作者对保护富人不赞同。文段第一句指出所有公民都受到宪法保护，紧接着说“如果穷人还没有得到充分保护就谈保护富人的危害”，破折号后是列举危害。故 A 项正确。

**【易错点拨】**该题的干扰选项为 BC，文段论述主体是富人，与穷人对比进一步体现出保护保护富人的不合理性，但奢谈保护富人不合理并不意味着要削弱其已有财产，故排除。

**【题目 14】**解决城市交通可以尝试一种新机制：公交因为承担着为低收入者、环保人士等提供社会公益性服务的职能，由政府购买公交服务，低价提供给公众；个体自行车出行或纳入到政府购买体系，或推行自行车优先措施；出租车因为价格的高低并不会影响需求者对出租车这种出行方式的选择，所以自然由开放的竞争市场来提供相应服务；对小汽车的使用者可以征收道路使用费，使交通拥堵的外部性内化。这种机制的实施，还要求有配套措施：比如完善公交优先基础设施、鼓励拼车行为、恢复或建设自行车道、制定针对绿色出行的政策法规，引导和鼓励绿色出行方式等。



对文中的“新机制”最恰当的概括是（ ）。

- A. “主体—配套”机制  
B. “多元—环保”机制  
C. “保障—市场”机制  
D. “公平—高效”机制

**【答案】**C

**【解析】**新机制后冒号对其解释，分为四个并列机构，公交、自行车、出租车、小汽车。分别由政府、政府、市场竞争、收费方式解决，前两者可归为政府保障，后两者可归为市场解决，故选C。

**【易错点拨】**该题的干扰选项为A。分号的指代范围到句号截止。第一句后“这种机制的实施，还要求有……”并非对其的概括。

**【题目 15】**对一项科学工作的评价不能简单地归结为一个数字的大小，任何数字都不能取代同行评议及对该工作科学意义的具体分析和历史检验。然而，不好的评价指标有可能误导评审人员，导致错误的结果；而好的评价指标可以提供更准确的信息，使相应的评审更加客观和公正。

这段文字意在强调，对科学工作的评价（ ）。

- A. 应该是主观评价和客观评价的统一  
B. 关键在于建立科学的评价指标体系  
C. 不应以数字结论作为主要参考依据  
D. 需要综合考虑多种因素才能实现公正

**【答案】**B

**【解析】**转折关联词“然而”后是重点，并列结构，不好的评价指标带来错误，好的评价指标带来益处，故而应该建立好的评价指标。

**【易错点拨】**该题的干扰选项为A，原文仅仅提到要建立好的评价指标，但并未提及何为好何为不好，不可有先入为主的思维。

**【题目 16】**“早教”最早起源于德国，是让孩子在游戏和与父母的交往过程中获得身体、情感、智力、人格、精神等多方面的协调发展与健康成长的互动式活动。简单说就是一种用亲子互动的方式，旨在促进孩子成长的活动。中国家庭的“早教”却是另一番样子。在一项针对“早教”的调查中发现，幼儿阶段的超前教育主要集中在识字、阅读、计算机和英语口语等。除了不少幼儿园在特色班里已有涉及，家长更多的则是花时间带孩子参加业余培训班，在语文、英语和数学上下工夫。



这段文字意在说明（ ）。

- A. 中国“早教”更注重知识学习
- B. “早教”在中国已经偏离本源
- C. 中国“早教”不利于孩子成长
- D. 中国“早教”与德国的不同点

**【答案】**B

**【解析】**第一句讲早教起源时如何，之后为在中国早教出现改变，故选择B。

**【易错点拨】**该题的干扰选项为AD。学生容易受固定思维影响，将中国的文化教育理解为学习，而忽视学习不止有文化教育一种，游戏也是学习的另一种方式，排除A。早教虽然起源于德国，但并不意味着德国还保持原样，故排除D。

**【题目 17】**古希腊学者亚里斯多德在《政治学》中指出，在埃及，医师依成法处方，如果到第四日而不见疗效，他就可以改变药剂，只是他倘使在第四日之前急于改变成法，这要由他自己负责。从同样的理由来论证，完全按照成文法律统治的政体不会是最优良的政体，但也必须注意到一个统治者的心中仍然是存在通则的，而且凡是不凭感情因素治事的统治者总比感情用事的人们较为优良，法律恰正是全没有感情的，人类的本性却是谁都难免有感情。

通过这段文字，作者想表达的观点是（ ）。

- A. 法治优于人治
- B. 人性决定政治
- C. 法律是过滤了情感的通则
- D. 最优良的政体是不存在的

**【答案】**A

**【解析】**亚里士多德的话引出观点——法制不是最好的，然后转折词“但”后出现转折，转折后“并且”表递进，说明法虽不是最好，但是总比人制好。

**【易错点拨】**该题的干扰选项为D，关联词、同意转换过多，理解较困难。

**【题目 18】**

- ①据此，洪堡提出了青藏高原“热岛效应”理论
- ②这不符合常理
- ③早在18世纪末，德国科学家洪堡就发现，赤道附近的高山雪线，比中纬度的青藏高原许



多高山雪线低 200 米左右

④故其热量较同纬度、同海拔高度的其他地区高得多，甚至比赤道附近的同海拔地区也要高得多

⑤对流层大气的主要直接热源是地面，青藏高原由于下垫面大面积提升，相当于把“火炉”升高了

⑥由于赤道地区热量较高，高山雪线通常应该从赤道向两极递降，到极地附近降至海平面  
将以上 6 个句子重新排列，语序正确的是（ ）。

A. ③②⑥①⑤④

B. ③①⑤④②⑥

C. ⑥②③①⑤④

D. ⑥②③⑤④①

【答案】A

【解析】首先观察选项首句。比较⑥③，根据③“早在 18 世纪末”时间状语，并且这一句是交代了一个背景——即德国科学家洪堡发现的理论，适合做首句；而⑥句为很明显的结论性语句，不适合做首句，故排除 C/D。

再比较 A/B，对比②和①谁适合跟在③后，显然科学家洪堡发现的理论不符合常理。②的这就是指代前面所说的理论。而直接跟①不符合逻辑，不可能刚说完一个现象立马提出一个理论。因此应当选择 A

【易错点拨】该题的干扰选项为 B，一个原因是不明白赤道地区的雪线比中纬度地区低是一个很不符合常理的现象，应先分析清楚才能得出结论，而非直接得出。

【题目 19】叶圣陶、郑振铎等都是江浙人，有着江浙知识分子特有的理性和宽容。他们像朱自清一样，都是新文学的热心鼓吹者，写的一手漂亮的白话散文。他们接受过五四新文化运动的洗礼，\_\_\_\_\_，无论对中西之学，都取平和的一视同仁态度。

填入横线最恰当的是（ ）。

A. 传统文化的根基也很深

B. 大概都不曾出洋留学

C. 都有一般自由知识分子那种精英气

D. 与土地的关系比较密切

【答案】A

【解析】划线处之后提道“无论对中西之学，都取平和的一视同仁态度”前文“新文学、白





话散文、五四新文化运动”都是收到西学影响，依据前后照应原则，应添加表现“中学”的语句，故选 A

**【易错点拨】**该题的干扰选项为 B，由于文段涉及人文知识较深，故不易理解。

**【题目 20】**清末学者康有为在《广艺舟双楫》中将晚清书法衰微的现象归咎为传统书法范本面目失真，这是承袭了清代中叶学者对书法范本的认识，与书法史的真实状况并不十分吻合，与书法史发展的实际趋势也多有出入。当代书法家启功先生则在《论书绝句》提出，这种令人生厌的“馆阁书”与朝廷在科举考试中标举卷面书写“黑大光圆”密不可分。那么，在不能废除“馆阁书”书写要求的前提下，士人即便有条件取法摹刻精良的书法范本，也不能从根本上改掉“馆阁书”的书写习惯，这在康氏写成《广艺舟双楫》之后的时代中得到了验证。

对这段文字的主旨概括最准确的是（ ）。

- A. 批评康有为书法研究中存在的误区
- B. 探讨晚清书法艺术衰微不振的原因
- C. 强调科举考试对书法艺术的负面影响
- D. 分析书写模式与创作风气之间的关系

**【答案】**C

**【解析】**本题属于主旨概括题。文段的第一句话是第一部分。后面的第二、三句是第二部分。第一部分康有为说，晚清书法衰微的原因是传统书法范本面目失真，接着在第二部分现代书法家启功认为科举考试的书法要求导致传统书法无法得到传承，最后又说这在康有为写出《广艺舟双楫》以后的时代中得到验证。也就是说康有为说法有误，启功的说法是对其错误说法的纠正，那么文段的重点应该是在第二部分——科举考试对其后世书法的影响。当然这种影响是负面。故选 C。

**【易错点拨】**B 选项干扰性很强。但是文段不是一种总分总的关系，首尾不是相互呼应的。文段的重点不仅仅在于晚清书法衰微的原因，而在于从晚清一直到现代的书法都受到了科举制的影响，导致传统书法无法得到如实传承。因此 B 项“晚清”这个时间就有问题。故排除 B 选项。

**【题目 21】**星云是由星际空间的气体和尘埃结合成的雾状天体。星云里的物质密度是很低的，若拿地球上的标准来衡量的话，有些地方是真空的。可是星云的体积十分庞大，常常方圆达几十光年。星云和恒星有着“血缘”关系，恒星抛出的气体将成为星云的部分，星云物质在引力作用下压缩成为恒星。在一定条件下，星云和恒星是能够互相转化的。





下列说法与这段文字相符的是（ ）。

- A. 星云与恒星相距遥远
- B. 星云与恒星均为气状物天体
- C. 星云的质量和状态都非常稳定
- D. 星云与恒星的构成物质是相似的

**【答案】**D

**【解析】**本题属于细节理解题。A项的内容在文段中未提及，是无中生有。文中只在首句提到了星云是云雾状天体，没有说恒星也是，因此B项错误。文中提到“星云和恒星之间有血缘关系”、“能够互相转化”，可知二者的物质构成上必然相近，因此D项内容与文段相符，所以选择D选项。

**【易错点拨】**结合文段中对于星云的描述“星云和恒星能够相互转化”可知，星云的质量和状态不可能是稳定的。C项说法有误。

**【题目 22】**在南美洲安第斯高原海拔 4000 多米人迹罕至的地方，生长着一种花，名叫普雅花，花期只有两个月，花开之时极为绚丽。然而，谁会想到，为了两个月的花期，它竟然等了 100 年。100 年中，它只是静静伫立在高原上，栉风沐雨，用叶子采集太阳的光辉，用根汲取大地的养料……就这样默默等待着，等待着 100 年后生命绽放的惊天一刻，等待着攀登者身心俱疲时的眼前一亮。

以下最适合做上文题目的一项是（ ）。

- A. 美丽的坚持
- B. 沉默的力量
- C. 百年的等待
- D. 迟到的辉煌

**【答案】**A

**【解析】**这是一个标题填入题。文体是散文，标题既要概括文段要表达的意思，还需和文章整体语言风格相符。断首和段尾讲述的是普雅花的美丽，中间部分表达的等待时间的漫长，可以凝练为一种坚持不懈的精神，“美丽的坚持”符合。

**【易错点拨】**C项是强干扰选择。但选择C意味着将文段另一层文段极力表达的“美丽”忽略了，而且标题文字一般要避免与文段文字重复。

**【题目 23】**我磕磕绊绊地走在村庄里，似乎仅仅听到了自己的脚步声和喘息。两堵泥墙的夹缝偶尔闪出一条窄窄的小巷，光滑的石板路笔直地伸入纵深之后一折绕走了，巷子尽头的泥墙



有一扇小小的石窗，窗内乌黑一片。沿途遇见了若干倒塌的院落，阳光之下芳草萋萋，几堵孤立的残墙缄默不语，两扇开始朽烂的门板黯然歪倒在地。随行的朋友从路上捡起一根竹条，说下一个路口的几条狗十分凶悍。话音未落，一群大大小小的黄狗雄赳赳地冲出来，拥挤在路口伸长脖子狂吠，仿佛他们才是这些房子的真正主人。

这段文字最合适的标题是（ ）。

- A. 孤独的村庄
- B. 原始的村庄
- C. 宁静的村庄
- D. 落寞的村庄

**【答案】D**

**【解析】**这是一个标题填入题。文体是散文。这个村庄有两大特点，一是没有人，让人感觉这是一个“寂寞”“宁静”的村庄；二是村庄已经败落，到处是倒塌的院落、孤立的残墙和朽烂的门板，让人感觉这是一个“败落”的村庄。结合这两点，只有“落寞”一词能体现出文段的这两层含义，故选D。

**【易错点拨】**散文类的标题填入题难点就在于“概括性”，所以要注意多次出现的同类关键词，通过比较优选“概括性”和“一致性”最好的。比较选项，我们可以发现D项要比A项概括的更全面。

**【题目 24】**从我国古代文献看，商代甲骨文中已有“稻”字出现，在《诗经》中已将黍、稻并提。春秋以前，因我国北方种稻量少，水稻被列为五谷之末，如“禾、稷、菽、麦、稻”；而至宋代，便因种植数量多而升至五谷之首了，民间更流传着“苏湖熟，天下足”的说法；到了明代，更有天下谷类“稻居什七”之说，稻米成为我国的主要粮食。

下列说法与原文相符的是（ ）。

- A. 水稻从商代开始种植
- B. 春秋时期北方不产水稻
- C. 宋代人以稻米为主要粮食
- D. 水稻在我国古代长期为五谷之一

**【答案】D**



**【解析】**从文段可看出，“春秋以前，水稻即被列为五谷之末……至宋代，水稻便因种植数量多而升至五谷之首了”可知从春秋到宋代这一千多年时间里水稻都属于五谷之一，故选择D答案。

**【易错点拨】**C为本题干扰项，考生易从文段中“种植数量多而升至五谷之首，民间更流传着“苏湖熟，天下足”的说法”认为宋代人以稻米为主要粮食，但一个地方种植水稻多并不意味着当地必然以稻米为主要粮食。在历史上，宋代南方人以米饭为主食，但随着战乱后大量北方人的南迁，面食在南方主食中比重也非常大。

**【题目 25】**语言文字功底扎实，大致意思是要求学者能较好地掌握研读经典和撰写论文所需要的语言文字。这一点具有普适性，而对于研究传统文化或西方文化、印度文化的学者来说尤其重要。没有扎实的古文字功底，不熟练掌握英语、梵文等外语，仅从白话本、汉译本这些第二手资料入手来做学问，固然也可以取得一定的学术成果，但不大可能成为学术大家。

这段文字意在说明（ ）。

- A. 掌握古文字和外语是搞好学术研究的前提
- B. 占有第一手资料才能取得突出的学术成果
- C. 正确解读语言文字是文化研究的关键所在
- D. 语言文字功底影响学术研究的深度与水平

**【答案】**D

**【解析】**文段是一个总分结构，第一句是主旨句。第二句做一个补充说明，第三句是反面论证。A、D两项内容来自于反面论证部分，非重点，排除。D项是主旨句基础上的引申，故选D。

**【易错点拨】**C项是强干扰选项，但文段的主体是“语言文字功底”，C项主体错误，排除。D项的主体是与文段的主体一致的。主体排除法是我们排除强干扰选项时比较有效的好方法。

**【题目 26】**所谓声誉，实际上是企业利益相关者对企业过去在市场交易中的表现的评价。声誉良好的企业，意味着在与利益相关者交易的历史中，扮演着可以信赖的伙伴角色。个人或者组织选择自己的交易对象，\_\_\_\_\_。因此，那些有着良好信用记录的企业，将更多地获得利益相关方的青睐，而且彼此的交易更倾向于继续发展下去，而不是“一锤子买卖”。

填入划横线部分最恰当的一句是（ ）。

- A. 往往取决于企业在行业中的地位和影响力
- B. 是凭借自己或者他人的交易经验来进行判断的



- C. 需要考虑双方企业发展的切实需要
- D. 合作对象的知名度是其首要考虑的因素

**【答案】**B

**【解析】**这是一个语句衔接题，应根据上下文提示信息选择答案。通过文段我们可看出横线后为结论句，应依据结论推导原因。结论中，递进关联词“而且”后是表达的重点，即什么情况下“彼此的交易更倾向于继续发展下去，而不是“一锤子买卖”。通过常理可知，已经经过一次交易后，再继续交易就会凭借彼此间的交易经验来判断对方是否值得信赖，故选择B。

**【易错点拨】**A、D为干扰项。要明白结论句中的递进关联词“而且”后表达的才是重点，若当双方没有交易经历时，靠的是对方的名气和声誉，已经有了交易经验这些就不重要了，而是交易经验更重要。

**【题目 27】**怎么才能让老板给自己加薪？职场上最纠结的事情莫过于此。可是偏偏就有人\_\_\_\_\_，幽默地给我们做出了榜样。漫画《老板，求加薪》中给我们列出了加薪三十六计，从借刀杀人到\_\_\_\_\_，书中的妙计连连，让人忍俊不禁。虽然都是些\_\_\_\_\_的招式，但或许你的加薪之道就在其中。

依次填入划横线部分最恰当的一项是（ ）。

- A. 知难而上 两面三刀 出人意料
- B. 激流勇进 刀头舔蜜 出奇制胜
- C. 游刃有余 代人捉刀 鸡鸣狗盗
- D. 举重若轻 笑里藏刀 剑走偏锋

**【答案】**D

**【解析】**我们首先解决第一空。第一空前有表示转折的关联词“可是”，并且前后文有比较大的对比反差，一方面是“职场上最纠结的事情”，一方面却是“幽默地给我们做出了榜样”。第一空选择的成语要能体现出前后文语义上的巨大对比反差，也就是说“能很轻松地把一些很难地事情完成”，比较四个选项，D项“举重若轻”正是这样一个意思。

**【易错点拨】**成语“举重若轻”自身地结构中也包含着前后强对比：“重”和“轻”，也就是说“重”对应的是“职场上最纠结的事情”，“轻”对应的是“幽默地给我们做出了榜样”。



**【题目 28】**明代工艺品的名字大都先强调年号，然后再强调东西本身。但景泰蓝不是在景泰年间出现，而是在元代就出现了。到了景泰年间，皇家的重视使它，因此有了今天这样一个通俗易懂且带有文学色彩的名字——景泰蓝。

填入划横线部分最恰当的一项是（ ）。

- A. 如日中天
- B. 声名鹊起
- C. 享誉中外
- D. 名声大噪

**【答案】**B

**【解析】**根据语境可知，景泰蓝在元代就出现了，但知名度并不高，是在景泰年间由于皇家的重视而知名度突然迅速提高的。B项中“声名鹊起”比喻名声突然大振，知名度迅速提高。置于此处符合语境。因此，本题答案为B选项。

**【易错点拨】**A项“如日中天”指好像太阳正在天顶；比喻事物正发展到十分兴盛的阶段。D项“名声大噪”指由于名声高而引起人们的极大关注。二者都无法体现“名声突然大振”之意，故A、D项错误。C项“享誉中外”指在国内外都有很高的赞誉，文段语境中没有体现，故C项错误。

**【题目 29】**莫里哀曾说：“喜剧的责任，就是通过娱乐来纠正人的缺点。”近年来的法国轻喜剧，尤其擅长\_\_\_\_\_，用淡淡的笑声拆解社会难题的九连环，具有较高的思想价值和现实意义。

填入划横线部分最恰当的一项是（ ）。

- A. 举重若轻
- B. 借古讽今
- C. 微言大义
- D. 振聋发聩

**【答案】**A

**【解析】**第一空后“用淡淡地笑声拆解社会难题地九连环”对第一空有解释说明地作用。法国轻喜剧擅长地就是这样地事情：能很轻松地解决难题——也就是“举重若轻”的意思。“重”对应地是“社会难题的九连环”，“轻”对应的是“淡淡地笑声”。因此，“举重若轻”的文意与前后文匹配。



**【易错点拨】**当然，“借古讽今”中有古和今的强对比，“微言大义”中有大和小的强对比，但因为与文段的意思不相符，故不选。正确的选项是A项“举重若轻”。

**【题目 30】**近年的欧洲连续经历严寒的冬天，这似乎与全球气候变暖的说法相左。但在不少专家看来，异常寒冷事件并未说明气候变暖趋势，相反，这是气候变暖大背景下全球极端天气愈加频发的。

依次填入划横线部分最恰当的一项是（ ）。

- A. 偏转 表现            B. 逆转 缩影  
C. 倒转 象征            D. 反转 预兆

**【答案】**B

**【解析】**第一空前的转折关联词“但”说明异常寒冷事件并非说明气候变暖趋势发生了改变。B项“趋势逆转”为固定搭配，第二空“缩影”说明异常寒冷事件是极端天气中的一种，因此，本题答案为B选项。

**【易错点拨】**A项“偏转”表示“偏离方向”，与变暖趋势搭配不当。C项第二空“象征”指借助某人某物的具体形象，以表现某种抽象的概念、思想和情感，如“百合花”象征“纯洁”，异常寒冷事件并不能代表“全球极端天气愈加频发”。D项“预兆”指事情发生前显露出来的迹象，“全球极端天气愈加频发”已经发生，时态不一致。

**【题目 31】**20年市场经济改革，把中国经济送上了持续增长的快车道，把在现代化道路上艰苦跋涉的中国人推上了一个高峰。然而，\_\_\_\_\_，我们一刻也不曾忘记发展中那些“不平衡、不协调、不可持续”的风险隐患；\_\_\_\_\_，“发展起来以后的问题不比不发展时少”。

依次填入划横线部分最恰当的一项是（ ）。

- A. 夕惕若厉            如履薄冰  
B. 防患未然            戒骄戒躁  
C. 常备不懈            未雨绸缪  
D. 居安思危            喜中有忧

**【答案】**D

**【解析】**本题第一空前也有一个表示转折的关联词“然而”，前后也有强对比，一方面是“中国经济持续增长……推上了一个高峰”，一方面是“那些……不平衡、不协调、不可持续的风险隐患”，正好对应了“居安思危”中的“安”和“危”。D选项是最佳选项。





**【易错点拨】**A、B、C选项中的第一个成语均有提前做好准备或提前预防的意思，文中虽提到“不忘记……风险隐患”，但仅停留在意识层面，即要意识到有风险，尚未提到要做好准备的动作层面。第二空与“发展起来以后的问题不比不发展时少”形成解释关系，“发展”是一件值得高兴的事情，但是问题却不少，对应成语应为“喜中有忧”。且第一空和第二空为并列关系，应意思相近，D选项亦符合，因此，本题答案为D选项。

**【题目 32】**在金属的发展史上，从陨铁的锻制到人工冶铁的出现，这一演进绝不是\_\_\_\_的，而是经历了长达 600 年以上的 \_\_\_\_。

填入横线部分最恰当的一项是（ ）。

- A. 一蹴而就 摸索      B. 自然而然 努力  
C. 一朝一夕 改进      D. 轻而易举 发展

**【答案】**A

**【解析】**“而是经历了长达 600 年以上”表示时间长难度大，第一空应填入表示时间短的词语，排除 B，第二空中，“摸索”表示从无到有的过程，金属发展是一个从无到有的过程，只有 A 选项符合。

**【易错点拨】**该题的干扰选项为 CD。“改进”和“发展”，都表示本身就有基础，不符合金属发展这一从无到有的历程。

**【题目 33】**国际电信世界大会上，审议具有 24 年历史的《国际电信规则》是一个巨大的挑战，因为要确保它能\_\_\_\_，适应新一代信息通信技术用户的需求和全球化、激烈竞争和创新不断加深的技术环境。

填入划横线部分最恰当的一项是（ ）。

- A. 与时俱进      B. 推陈出新  
C. 破旧立新      D. 精益求精

**【答案】**A

**【解析】**文段填入的词语是对横线后面的语句的解释。从“适应”一词可以判断填入的词语的语意是要能跟随信息通信技术的变化，适应时代新的需要。A 项的“与时俱进”最为能表达这一语意。“与时俱进”：观念、行动和时代一起进步，从而发生一些改变。故本题选 A。

**【易错点拨】**B、C 两项中“推陈出新”和“破旧立新”都提到“旧（陈）”和“新”，但文段并不能体现这一点。推陈出新：去掉旧事物的糟粕，取其精华，并使它向新的方向发展。多



指继承文化遗产。破旧立新：破除旧的，建立新的。多用来形容思想、观念等。“精益求精”和文段的语意不符。精益求精：事物已经非常出色了，却还要追求更加完美，好了还求更好。在本题中前后强对比的“推陈出新”和“破旧立新”作为干扰项出现，文段在文意上也没有前后的强对比，所以也没有选择这两项。

**【题目 34】**“不负众望”与“不孚众望”，仅一字之差，但其义，作为公益型国企的石油石化、电网、通信服务等，一定要心系国家利益和人民利益，并把国家利益和人民利益放在首位，做到“”，切忌“”。

依次填入划横线部分最恰当的一项是（ ）。

- A. 泾渭分明 不孚众望 不负众望      B. 大相径庭 不孚众望 不负众望  
C. 迥然不同 不负众望 不孚众望      D. 天差地别 不负众望 不孚众望

**【答案】**C

**【解析】**不孚众望中“孚”是“信服”之意，整个成语的意思是“不能使大家信服”；“不负众望”意为“不辜负大家的期望”。要做到不负众望，切忌不孚众望，排除 AB，天差地别形容两种或多种事物之间的差距很大，就像天和地之间的距离一样。迥然不同形容相差得远，很明显不一样。故选择 C。考生易选择 D。

**【题目 35】**龙马负图、神龟载书，远古时代河图洛书的传说，数千年来被认为是中华传统文化的源头。河图出于河南洛阳市的孟津县，人们对它已是\_\_\_\_\_，而洛书出于何处，一直\_\_\_\_\_，没有定论。

依次填入画横线部分最恰当的一项是（ ）。

- A. 无可厚非 莫衷一是      B. 了然于胸 疑窦重重  
C. 如数家珍 扑朔迷离      D. 妇孺皆知 影影绰绰

**【答案】**B

**【解析】**我们首先要结合文段的意思，“人们”和“妇孺皆知”构成表意重复。妇孺皆知的意思是妇女和小孩都知道，指某件事物众所周知，流传得很广。也就是说妇孺皆知本身已经包含了“人们”专业一个主体。“无可厚非”的意思是说虽然有一些问题和缺点，但不值得过分的责难。

**【易错点拨】**通过第一空我们排除了 AD 两项后，我们再观察第二空。“疑窦重重”是说有许多许多疑点产生，十分怀疑而产生不信任。“扑朔迷离”是说事物错综复杂，不容易看清真相。



结合文意，文段的意思应对于洛书出于何处，有很多不同的观点，但都有一些疑问和问题，故选“疑窦重重”，而“扑朔迷离”则更强调错综复杂，表意较重，不符合文意。故选B。

**【题目 36】**互联网并非、整齐划一的技术革命的产物，而是在各种混乱、争论和复杂的利益纠葛中发展成今天的规模和影响力，正是一个个小的草根网络，最终汇集成一个的大潮流。

填入画横线部分最恰当的一项是（ ）。

- A. 一呼百应 铺天盖地 B. 自上而下 不可逆转  
C. 有条不紊 举世瞩目 D. 运筹帷幄 波涛汹涌

**【答案】**B

**【解析】**第一空根据“互联网并非...而是...”，可知前后表意相反，下文“正是一个个小的草根网络，最终汇集成一个...”可知互联网是一个自下而上的发展过程，应填入与之相反的“自上而下”。

**【易错点拨】**该题发现细微对应关系较难，考生往往无从下手，易选择C。

**【题目 37】**互联网怎样影响了我们的社会和生活，这看上去好像是个\_\_\_\_\_的话题，每个人都能说上几句。但事实上，有几个人能把这个问题说清楚，说细致，说出点儿新意，说出点儿可意会不可言传的\_\_\_\_\_？

依次填入划横线部分最恰当的一项是（ ）。

- A. 见仁见智 理由 B. 众说纷纭 道理  
C. 历久弥新 独见 D. 老生常谈 妙处

**【答案】**D

**【解析】**根据第二空后“每个人都能说上几句”可知，老生常谈（老书生经常说的话，比喻人们听惯了的没有新鲜意思的话）合适。

**【易错点拨】**该题的干扰选项为A、B，“见仁见智、众说纷纭”强调观点不统一，并非“每个人都能说上几句”。

**【题目 38】**越来越多的年轻观众对京剧缺乏了解，不懂得欣赏京剧的美；还有一部分人对舶来品，认为都比国内的好，对于自己国家的传统艺术，却认为是老土的、过时的东西，而。

依次填入划横线部分最恰当的一项是（ ）。

- A. 刮目相看 嗤之以鼻 B. 一见钟情 充耳不闻  
C. 另眼相看 不屑一顾 D. 青眼有加 不足挂齿

**【答案】C**

**【解析】**“刮目相看”表示用新的眼光看待，侧重于新旧的对比。“一见钟情”表示男女之间一见就产生了爱情。“青眼有加”表示眼珠正面看人，侧重表达对人的赏识和喜爱。以上三个成语与文段的意思不相符。“另眼相看”表示用针对不同的对象，用另一种眼光看待，结合第一空后“认为都比国内的好，对于自己国家的传统艺术，却认为是老土的、过时的东西”，可知第一空应该选择“另眼相看”。

**【易错点拨】**“刮目相看”表示对同一个对象，从不同的时间点观察有完全不同的看法，侧重时间上的比较。而“另眼相看”侧重于对于不同的对象有完全不同的看法——对于国内的京剧不看好，对于国外的则很喜欢。C选项与文意相符。

**【题目 39】**捐赠制度对美国社会的每一个人和企业都至关重要，因为美国政府是通过税收的方式来\_\_\_\_\_慈善的。倘若个人或企业将受益的部分或全部捐赠给非营利机构，那么它的计税标准就会降低。不过，对于捐赠者来讲，把钱捐给任何非营利机构都是一样的，这就让教育机构和文化机构之间形成了类似市场竞争的关系，这有助于社会资源的合理分配，让慈善事业和文化产业也能\_\_\_\_\_。

依次填入划横线部分最恰当的一项是（ ）。

- A. 鼓励 优胜劣汰 B. 提倡 互惠互利  
C. 推广 取长补短 D. 刺激 百家争鸣

**【答案】A**

**【解析】**本题属于实词和成语辨析。此题可以从第二个空入手，由语境“这就让教育机构和 文化机构之间形成了类似市场竞争的关系，这有助于社会资源的合理分配”可知，A 选项“优胜劣汰”最能和“市场竞争关系”形成对应，“优胜劣汰”是指生物在生存竞争中适应力强的保存下来，适应力差的被淘汰。由此得知 A 项为最合理的答案。所以选择 A 选项。

**【易错点拨】**文段中“互惠互利”、“取长补短”和“百家争鸣”三个词都体现不出这种竞争的态势，所以和文段的意思是不相符的。

**【题目 40】**在西方近代史上，德意志民族似乎在很多事情上都比较\_\_\_\_\_，哲学领域也是如此。当有培根肇始的英国经验论和由笛卡尔创立的大陆唯理论之间的激烈争论形成了西方近代哲学的第一次高潮时，德国的哲学讲坛依然被早已腐朽不堪的经院哲学\_\_\_\_\_着。

依次填入划横线部分最恰当的一项是（ ）。



- A. 迟缓 统治                      B. 特别 左右  
C. 落后 控制                      D. 独特 笼罩

**【答案】A**

**【解析】**本题属于实词辨析题。第一空根据后文“当……时……依然被早已腐朽不堪的……”说明不可能是“特别”、“独特”排除 BD，而且文段中的经院哲学作为一种哲学类别，其实无所谓“先进”“落后”之别，只不过是发展得慢一点，应该选择“迟缓”，排除 C，第二空，被经验哲学“统治”着符合题意。所以选择 A 选项。

**【易错点拨】**本题的难点在于 A、C 两项的区分。到底是选择“迟缓”还是“落后”？关键就在于对于学术的发展，我们主要比较发展速度快与慢，而不是先进和落后。

**【题目 41】**元代的方回，论诗颇有眼力，而对朱熹的诗却抬举过分，事出反常。这里除了有乡里私心的原因之外，很可能与方“穆德彰闻，依托道学”的隐曲有关，文人既心存依附之舍，势必，再如，中国古代文论的作者，常常自己就兼作家身份，“文章得失寸心知”，发而为论，时有取长补短或的隐衷。

依次填入划横线部分最恰当的一项是（ ）。

- A. 进退维谷 才短思塞      B. 随波逐流 博采众长  
C. 进退失据 扬长避短      D. 骑虎难下 避实就虚

**【答案】C**

**【解析】**“进退维谷”表示处境艰难，进退两难。强调这种两难的境地，但文意中没有难在何处的意思。因此与文意不符。“随波逐流”表示没有坚定的立场，缺乏判断是非的能力。“骑虎难下”表示不能继续又不能停止，只能硬着头皮干下去。这两个成语均与文意不符。“进退失据”表示前进和后退都失去了依据，把握不好分寸。文段中的意思是说因为心存依附，所以以前文论的“依据”就无效了，势必就会失去了依据，因此第一空就应该选择 C 项“进退失据”。第二个空应该选择一个与“取长补短”意思相近的成语，而“扬长避短”符合这样的要求。

**【易错点拨】**此题的突破口就在于“进退失据”的“据”字，与文意相符。

**【题目 42】**尽管诗歌绝无翻译的可能，却大有翻译介绍的必要。有多位前辈时贤对诗歌翻译理论不乏鞭辟入里的。然而，何谓诗歌翻译的理想形式却。

依次填入划横线部分最恰当的一项是（ ）。

- A. 不易之论 各持己见      B. 远见卓识 众说纷纭





C. 真知灼见 各执一端 D. 不刊之论 见仁见智

**【答案】**D

**【解析】**首先分析第二个空。“各持己见”和“各执一端”两个成语，一个“持”，一个“执”，强调了每个人都在坚持自己的意见。但文中并未涉及谁对谁错，没有强调对象坚持自己的意见不作改变，所以排除。然后看第一个空，选择的词语应该体现出“鞭辟入里”的深度，因为“远见卓识”强调的是远大的眼光和着眼的见识，不如“不刊之论”更加符合文段的意思。故选D。

**【易错点拨】**文段的第二空要结合文段意思分析，应该选择一个表示各方有各方不同的意见这样的意思。第二个空应该选择一个形容意见比较有深度的成语。

**【题目 43】**可以毫不夸张地说，每一个老字号背后都是道不尽，数不清的传奇风流。但是有的地方的老字号或者消失或者，唯独广州的中药老字号不仅数量多，而且各个越活越年轻，这其实与广州人对中医药文化的推崇。

依次填入划横线部分最恰当的一项是（ ）。

- A. 人生百态 朝不保夕 息息相通
- B. 辛酸无奈 岌岌可危 休戚相关
- C. 沧海桑田 危在旦夕 休戚与共
- D. 苦心孤诣 奄奄一息 息息相关

**【答案】**D

**【解析】**我们注意到第一空前“道不尽的，数不清的传奇风流”句式一致，所以第一空应该选择一个和“传奇风流”类似的词。传奇风流是一个积极倾向富含感情的褒义词。“人生百态”，人生的各种形态。它和“沧海桑田”、“心酸无奈”都属于中性词，感情倾向有问题，故不选A、B、C。“苦心孤诣”表示用心良苦，造诣极其深，褒义词，和文段的感情倾向是相符的，带入文段以后文意也相符。故选D。

**【易错点拨】**文段的第二空和第三空都比较难以突破，相对来说第一空更加容易突破一下。我们在做题时要坚持“从易原则”，从最简单的空入手。

**【题目 44】**尽管人工培育和种植可以在很大程度上弥补市场需求的缺口，起到保护野生中草药的效果，但是这种做法并非\_\_\_\_\_，因为有的品种可以实现人工种植，但仍有很多草药品种





无法实现这一突破。面对越来越多野生中草药濒危的现状，启动对野生中草药资源的大规模普查\_\_\_\_\_。

依次填入划横线部分最恰当的一项是（ ）。

- A. 无可厚非 为期不远
- B. 一劳永逸 势在必行
- C. 事半功倍 任重道远
- D. 万无一失 恰中要害

**【答案】B**

**【解析】**由第一空前的“并非”即可排除A、C两项，“无可厚非”表示虽有缺点，但是可以原谅。“事半功倍”意为只用一半的功夫，而收到加倍的功效。形容用力小而收效大。文段对“人工培育和种植”是持肯定态度的。填入“无可厚非”和“事半功倍”就是对“人工培育和种植”的否定。再看第二空，填入的词语意在说明对野生中草药资源实行大规模普查的必要性。“恰中要害”指批评恰到事物的紧要处。文段并无批评之意。故本题正确选项为B。

**【易错点拨】**文段中第一空后是“因为”引导的，是对前方内容的原因解释，我们可以利用因果关系分析。

**【题目 45】**读书时对感兴趣的东西深钻细研，无疑有助于我们更全面、系统、深入地了解这些东西。但不感兴趣的东西，有的也可能恰恰是我们所\_\_\_\_\_的。这不仅因为兴趣本身有一定的局限性，而且因为在特定领域浸染日久，往往会\_\_\_\_\_这种兴趣，形成越不感兴趣越排斥的恶性循环，导致短板更短。

依次填入划横线部分最恰当的一项是（ ）。

- A. 需要 泛化
- B. 忽视 僵化
- C. 欠缺 固化
- D. 提倡 弱化

**【答案】C**

**【解析】**本题根据第一空可首先排除D项。从该空前后的句子可知，这里意在说明在特定领域浸染时间太长，就会越来越强化自己的兴趣，而不是弱化。“泛化”强调指范围的扩大，这一



词意与文段语意不符。排除 A 项。再看第一空的 B、C 两项。“不感兴趣”即有“忽视”之意，如果填“忽视”则会语意重复，且不能正确表达文意。

**【易错点拨】**结合文段第一句话，第一空所在的语句是要说明不感兴趣的东西有些时候对我们也很重要，是我们所需要的，但由于不感兴趣，反而是我们所缺失的。故本题正确选项为 C。

**【题目 46】**当然，想象并不是凭空\_\_\_\_\_的。丰富的想象来源于知识的广博和平时对生活深入、细致的观察。观察就要用专业的角度去关注、\_\_\_\_\_周围的事物，有意识地汲取、思索、分析，看在眼里，记在心里。

依次填入画横线部分最恰当的一项是（ ）。

- A. 杜撰 体验 B. 虚构 体味  
C. 捏造 体会 D. 臆造 体察

**【答案】**D

**【解析】**分析第一空，我们可以首先排除 B 选项。B 选项“虚构”的意思是凭空捏造。这样就与前面的“凭空”一词造成了表意重复。分析第二空，因为文中提到“细致的观察”、“看在眼里”，所以比较体验、体会和体察三个词后选择“体察”一次。与前后文的内容达成了一种呼应。故选 D。

**【易错点拨】**所谓“表意重复”是行文之中前后相关的内容在语义上有重复。这是一种比较典型的语病问题，但这样的问题如果不提高警惕性，就很容易发生。因此，在历年的公务员考试中在逻辑填空题和语病题目中时常有相应的考查内容。

**【题目 47】**别看王老师日常穿着不修边幅，他其实是很有\_\_\_\_\_的人，而且在授课时语言\_\_\_\_\_，不带冗余，是一位深受学生欢迎的老师。

在空格处选填最恰当的字是（ ）。

- A. 品位 简捷  
B. 品位 简洁  
C. 品味 简捷  
D. 品味 简洁

**【答案】**B

**【解析】**第一空需要对词性进行辨析。“品位”：名词，指对事物有分辨与鉴赏的能力。“品味”：动词，尝试滋味，引申为仔细体会，玩味。第一空需要的是一个名词。第二空考察词语搭



配，“简洁”指简明扼要，没有多余的内容，常与语言、行动等搭配。“简捷”指直截了当，简便快捷。这里是和语言搭配，因此应填入“简洁”。综上所述选择 B

**【易错点拨】**对易混词进行分辨时，词性的分析也是一个可以注意的方面。本题中的“品位”和“品味”，表面看来含义接近，其实词性是不同的。此外，易混词的区分还需要注意词语的搭配对象。

**【题目 48】**战争文化研究运用了多种学科、多种理论和多种研究方法来解释战争与社会文化之间的互动关系，远比运用单一学科解释要\_\_\_\_\_得多，可以修正过去一些错误或存在\_\_\_\_\_的观点，也可以对历史进行另外一种角度的解释或观察。

填入画横线处最恰当的一项是（ ）。

- A. 合理 偏差
- B. 科学 误会
- C. 深刻 误差
- D. 客观 分歧

**【答案】**A

**【解析】**本题突破点在第二空。填入的词应与前文语境中的“错误”表意一致且程度较轻，“偏差”指偏离了事物原本的面貌，符合语境要求。第一空，根据语境，既然可以修正过去一些错误的观点，说明这样的解释要更为“合理”，也符合文义表达。因此，本题答案为 A 选项

**【易错点拨】**B 项中的“误会”指误解对方的意思或对对方意思的误解，与文义不符。C 项中“误差”多用来形容一些具体数字，置于第二空处于“观点”搭配不当。D 项中的“分歧”指两个主体间的思想、意见、记载等不一致，有差别，文中没有对比之意，故 D 项错误

**【题目 49】**10 年过去了，1997 年泰铢大幅贬值诱发的东南亚金融危机给整个地区带来的痛楚和无奈似乎还\_\_\_\_\_。发生在泰国的危机竟然波及整个东南亚地区，对泰铢汇率的“矫正”迅速\_\_\_\_\_为地区金融危机，至今仍让人\_\_\_\_\_。

填入划横线部分最恰当的一项是（ ）。

- A. 记忆犹新 蔓延 扼腕叹息
- B. 恍如昨日 扩展 谈虎色变
- C. 历历在目 演变 心存余悸
- D. 历久弥新 衍生 不寒而栗



【答案】C

【解析】本题突破点在第三空。文段语境强调亚洲金融危机虽然已经过去了，但人们回想起来还是害怕；“心存余悸”指危险的事情虽然过去了，回想起来心里还害怕；置于此处符合语境。第一空，形容“给整个地区带来的痛楚和无奈”还很清楚的记得；“历历在目”指过去的事情清清楚楚地重现在眼前；置于此处符合语境。第二空，由“对泰铢汇率的矫正演变为地区金融危机”，意为发展变化，置于此处搭配恰当且符合语境。因此，本题答案为C选项。

【易错点拨】A项中“扼腕叹息”形容十分激动地发出长叹的情态；词义与第三空语境不符。B项“谈虎色变”比喻一提到自己害怕的事就情绪紧张起来；D项“不寒而栗”形容非常恐惧；二者填入第三空均语义过重。

【题目 50】苏州建城有 2500 年之久，它已经\_\_\_\_\_。无怪乎七年前初次\_\_\_\_\_的时候它是那样疲劳，那样忧伤，那样强颜欢笑。失修的名胜与失修的城市，以及市民失修的心灵似乎都在\_\_\_\_\_苏州自身的存在。苏州，还是苏州吗？

依次填入划横线部分最恰当的一项是（ ）。

- A. 千疮百孔 拜访 置疑
- B. 未老先衰 探访 质疑
- C. 老气横秋 寻访 质问
- D. 老态龙钟 造访 怀疑

【答案】D

【解析】第一空，由文段中的“2500 年之久”可知苏州城年岁已老，填入“老态龙钟”符合语境；后文提到“苏州，还是苏州吗？”是人们对苏州的怀疑，第三空应填入“怀疑”一词，因此，本题答案为D选项。

【易错点拨】从后面的“疲劳”“忧伤”“强颜欢笑”可以看出苏州城所呈现出的没落的现状，而“老气横秋”主要用来形容某个人老练而自负的神态，文段中不能体现出苏州城“自负”这一点；“质疑”和“置疑”程度过重，不符合语境。

【题目 51】诺贝尔文学奖得主埃利亚斯·卡内提的杰作《群众与权力》是一部分析不同族群特征的最具影响力的著作。该著作从不同角度解剖群众的形象，首先是按国别、地缘、族群来展开，并去分析每个国家特殊的文化背景。由于作者没有从经济层面展开分析，在国别分析中范围仅限于欧洲，因此，本文尝试\_\_\_\_\_。



填入划横线部分最恰当的一句是（ ）。

- A. 从经济层面来谈谈欧洲族群特征研究对我国的启示
- B. 从文化层面来谈谈特殊文化背景对欧洲族群的影响
- C. 从文化层面来谈谈欧洲文化背景对日本族群的影响
- D. 从经济层面来谈谈中国和日本的族群特征及其启示

**【答案】**D

**【解析】**语句衔接题。根据“由于作者没有从经济层面展开分析，在国别分析中范围仅限于欧洲，因此……”可知，作者将从经济层面分析非欧洲国家的族群特征，含有这两方面内容的只有D项。

**【易错点拨】**需要明白的是，“尝试”意味着前人没有从这方面涉及，既然作者没有从经济层面展开分析，在国别分析中范围仅限于欧洲，那么从作者没有涉及的经济层面和欧洲以外的地方展开才称得上“尝试”

**【题目 52】**我 10 岁的时候，就辍学回家当了农民，当时我做梦也没有想到几十年后，我竟然成了一个以写小说为职业的人，我在农村度过了漫长的青少年时期，在这期间，我把周围几个村子里那几本书读完之后，就与书本脱离了关系。我的知识基本上是用耳朵听来的，就像诸多作家都从老祖母讲述的故事里涉及了最初的文学灵感一样，我也有一个很会讲故事的祖母，还有一个会讲故事的爷爷，还有一个比我的爷爷更会讲故事的大爷爷——我爷爷的哥哥，村子里凡是上了点岁数的人，都是满肚子的故事，我在与他们相处的几十年里，从他们嘴巴里听说过的故事实在是难以计数。

这段文字的关键词是（ ）。

- A. 耳朵 阅读 回忆
- B. 耳朵 阅读 灵感
- C. 阅读 故事 灵感
- D. 阅读 故事 回忆

**【答案】**C

**【解析】**其他类题目。本文主要提到作者如何从一个农民，得到文学灵感，成为作家。这一过程中主要涉及两点，一是自己阅读，二是从亲人那里听来故事。故关键词有阅读、故事、灵感，选C。

**【易错点拨】**遇到这类比较特别的题型，可参考主旨概括题的思路，即重点句围绕展开的话题就是文段的关键词。



**【题目 53】**19. 通常人们认为, 废旧的老式电视机显像管(阴极射线管) 是一种包含有毒物质的废料。但一项新研究显示, 这种废料也许有用。研究人员在放射性活度 800 万亿贝克勒尔的钴放射源和测量辐射剂量的仪器之间放置阴极射线管玻璃的碎屑, 以测定其屏蔽放射线的能力。分析结果表明, 即使对阴极射线管的玻璃碎屑不进行任何加工, 55 厘米厚的玻璃碎屑就能使辐射剂量下降至原来的 1%, 这相当于约 9 厘米厚的铅板的屏蔽能力, 而铅被认为是迄今为止吸收、屏蔽核辐射能力最强的物质。如是将玻璃碎屑和粉碎阴极射线管产生的玻璃粉混合到一起, 那么约 40 厘米厚就能达到上述效果。

关于阴极射线管的玻璃碎屑, 以下说法正确的是 ( )。

- A. 吸收核辐射的能力和铅不相上下
- B. 厚度增加, 其屏蔽核辐射的能力也会提高
- C. 其包含有毒物质的观点受到质疑
- D. 对其加工的精细程度会影响屏蔽核辐射的能力

**【答案】**D

**【解析】**原文中“部分碎屑变为玻璃粉, 厚度下降了, 但是吸收辐射能力相当,”说明加工的精细程度会影响屏蔽核辐射的能力, D 表述正确。

**【易错点拨】**A 选项, 55 厘米厚的玻璃碎屑与 9 厘米厚铅吸收辐射能力相同, 不能说明二者能力相当, 排除; B 选项不容易判断, 因为在文中出现了“55 厘米厚度的阴极显像管玻璃碎屑和经过加工的 40 厘米显像管玻璃碎屑吸收辐射的能力是一样的”, 有干扰, 不过将玻璃碎屑和粉碎阴极射线管产生的玻璃粉混合到一起更说明加工精心程度的不同对其屏蔽核辐射的能力影响很大。

**【题目 54】**如今, 电脑、手机风行于世, “键盘手”、“拇指族”便与日俱增。如此这般之下, 出现年轻一代“提笔忘字”的现象, 也就越来越寻常了。平素里总以为轻轻松松就能打出来的字, 怎么换了用笔去写就要抓耳挠腮呢? 有关专家对此已是见怪不怪, 并给出了一个专业术语, 叫做“电脑失写症”。有病就应该去医治, 可颇让人担忧的是, 这种一时忘记了几个字该如何去写的“病症”, 是否真能迅速引起全社会的足够重视, 又有多少人愿意未雨绸缪地敏锐警觉起来。这种“时髦”的微恙小症, 会不会异变为一种“文化断层病”?

文章中的“文化断层病”指的是 ( )。

- A. 键盘拼写汉字代替用笔写字





- B. 汉字文化传承中出现裂痕
- C. “提笔忘字”的“电脑失写症”
- D. 年轻一代不再习惯用笔写字

**【答案】**B

**【解析】**词语理解题。“文化断层病”出现在最后一句话，原句是“这种时髦的微恙小症，会不会异变为一种文化断层病？”可见，“文化断层病”应该是比文段大篇幅介绍的“电脑失写症”更为严重的文化问题，故选择B。

**【易错点拨】**C为干扰选项，要注意“异化”一词，说明已经脱离原有的问题、现象，性质变的更为严重。

**【题目 55】**目前，国内增值税的征税范围仅包括除建筑业外的第二产业和第三产业中的商品批发和零售以及加工、修理修配业，对第三产业的大部分行业则课征营业税。而营业税对服务业的营业额全额征税，不可避免地会产生重复征税，并会导致服务生产内部化，不利于服务业的专业化分工和服务外包的发展；又由于在出口时无法进行退税，导致服务含税出口，使得中国的服务出口在国际竞争中处于劣势，因此，\_\_\_\_\_。

填入画横线部分最合适的一项是（ ）。

- A. 扩大增值税的征税范围被提上了日程
- B. 取消营业税可以减轻第三产业的负担
- C. 增值税与营业税的分立对服务业的发展造成了不利影响
- D. 调整增值税的征收范围有利于提高中国服务业的国际竞争力

**【答案】**C

**【解析】**结语题应根据上文中原因表述的观点信息，即增值税和营业税并行征收，下文应该提到增值税和营业税，所以本题选C

**【易错点拨】**B选项为干扰项，但其不符合“营改增”的税改常识。



**【题目 56】**历史上，语言在世界上的分布反映了世界权力的分配。使用最广泛的语言，如英语、西班牙语、法语、阿拉伯语和俄语，都是或曾是帝国的语言，这些帝国曾积极促进其他民族使用它们的语言。权力分配的变化产生了语言使用的变化，英国和法国都曾坚持在其殖民地使用自己的语言，但大部分前殖民地独立后，都在不同程度上努力用本土语言代替帝国语言，并取得了不同程度的成功。

这段文字意在说明（ ）。

- A. 本土语言是民族独立的重要标志
- B. 语言使用是政治权利的某种表现
- C. 利用权力推行语言是无法持续的
- D. 殖民统治对语言分布有深刻影响

**【答案】**B

**【解析】**文段首先提出话题，接着举例论述；最后点明观点：权力分配的变化产生了语言使用，然后继续举例论证历史上殖民统治对于语言使用的影响以及殖民地独立后语言使用也有了变化，即随着政治权力的变化，语言的使用也会改变，语言使用时政治权力的体现。只有选项 B 与之吻合。

**【易错点拨】**A 项过度引申，文段没有体现本土语言是民族独立重要标志的意思；C 项是对文段的错误理解；D 项不是文段谈论的重点。

**【题目 57】**生命是如此的复杂，以至于几乎每一位生物学家都只能在一个很小的领域进行探索。尽管在每一个领域都产生了大量的描述性数据，但是科学家能够从这些海量的数据中得出一个整体的概念吗？例如，生物是如何运作的？系统生物学这门正在形成的科学为回答这些问题提供了一些希望。它试图把生物学的各个分支联系起来，利用数学、工程和计算机科学的方法让生物学研究更加量化。不过，现在还无法得知这些方法是否能够最终让科学家理解生物运作的整体图景。

这段文字意在说明（ ）。

- A. 获取描述性数据是生物研究的必要条件
- B. 系统生物学为解开生命之谜提供了可能
- C. 如何从生物学数据中得到生命全景还是未知
- D. 对生物运作的整体图景进行科学解释即将成为现实



**【答案】**C

**【解析】**文段属于分—总结构，前面提出问题“都只能在很小的领域……能够得出……整体的概念吗？”后面回答道“现在还无法得知……能否理解整体图景”。最后一句是主旨句。只有C项准确复述了这一主旨。故正确答案为C。

**【易错点拨】**A项“描述性数据”不是文段集中论述的问题。B项错在文中没有提到“解开生命之谜”。D项错在“即将成为现实”。

**【题目 58】**木版年画曾是我国民间最普及的艺术品之一，如今，随着生活方式的改变，具有浓郁乡土气息的传统年画几乎已无迹可寻。这些改变，不仅使年节少了许多味道，也使木版年画的手工技巧面临生存的危机。如果其不能应世而变，终将成为博物馆里的标本。但从文化遗产的角度看，木版年画又不应在商业化过程中肆意改变，

那么与社会适应又不失人文内涵就成了新的课题。

这段文字想要传递的信息是（ ）。

- A. 年画的传统功能减弱但文化价值依然存在
- B. 传统技艺如何在市场竞争中保护其生命力
- C. 木版年画需要在保留传统的同时进行创新
- D. 生活方式的变化导致木版年画正逐渐衰退

**【答案】**C

**【解析】**文段重点在尾句，转折词“但”之后是重点“但从文化遗产的角度看，木版年画又不应在商业化过程中肆意改变，那么与社会适应又不失人文内涵就成了新的课题”。木版年画“与社会适应又不失人文内涵就成了新的课题”，作者是在强调木板年画如何更好地进行传承与创新。选项C为文段主要意思的同义替换。因此，C为正确答案

**【易错点拨】**A项是转折之前的内容，不是文段强调的重点；B项是说“传统技艺”的问题，文段主要讲的是“木版年画”，根据主体排除法可予以排除。D项主要是说木版年画衰退的原因，是提出问题，而非解决问题，所以排除D项

**【题目 59】**在中国传统观念中，雕塑一直未被看作是与绘画同等的艺术形式；在中国传统学术中，也只有“画学”而没有“雕塑学”。历史上的这种不重视，造成19世纪末20世纪初，大量具有极高史料研究价值的石雕作品流失海外。而今天，新兴收藏家们的目光也只停留在艺术品的财富表象上，因此使得元、明、清、三代的铜鑿金佛像价格一路飞涨，而面对那些真正体现



中国雕塑文化及历史风貌的高古石雕时，他们表现得却有些畏畏缩缩、举棋不定，这难免让人觉得遗憾。

这段文字主要谈论的是（ ）。

- A. 观念上重视雕塑艺术的意义
- B. 目前雕塑收藏家不成熟的心态
- C. 高古石雕在中国不受重视的原因
- D. 雕塑收藏品价格与价值背离的状况

**【答案】**C

**【解析】**文段前半部分，通过中国传统观念和中国传统学术中雕塑的地位，说明历史上对石雕作品的重视。紧接着述说当今石雕亦未受重视的原因。“因此”因果关联词引出文段主旨即真正体现中国雕塑文化及历史风貌的高古石雕不受重视，让人遗憾。C项，“高古石雕在中国不受重视的原因”是对原文因果关系文段的凝练概括，为正确选项。

**【易错点拨】**A项为无中生有，B项未抓住文段重点，文段重点并非谈雕塑艺术家的心态而是分析高古石雕在中国不受重视的原因。D项亦非文段重点内容。

**【题目 60】**目前我国并不缺乏好的设计，人才也不少，但如何与生活、市场结合，让设计成为产业，其间还有不少障碍。一是艺术家与生产厂家缺少交流的渠道，二是设计师闭门造车的不少，三是厂家对设计缺乏兴趣。许多专家认为，对设计的现代认知应该推广到所有企业，让企业舍得投资。只有明白了设计是未来竞争的主要资本，是国际社会衡量产品的主要标准，是消费者购买天平中的主要砝码，企业才能拥有重视设计的战略眼光。

从这段文字可以推出（ ）。

- A. 设计者与企业沟通不畅制约着设计的市场化进程
- B. 国内企业对设计水平的评价与国际标准存在差异
- C. 企业不愿在设计环节投资造成大批设计人才流失
- D. 企业对设计的漠视阻碍了我国设计的产业化发展

**【答案】**D

**【解析】**文段主要说的是如何让设计成为产业的问题。从“对设计的现代认知应该推广到所有企业，让企业舍得投资”以及“只有明白了设计是……企业才能拥有重视设计的战略眼光”，可以推断：目前我国企业不重视设计，这阻碍了我国设计的产业化发展。因此选D。A项“设计



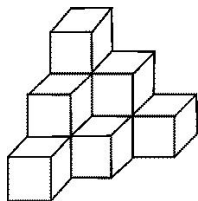
者与企业沟通不畅”只是问题的一个方面，并且“设计的市场化进程”也与文段的“让设计成为产业”的表述不符。B项“对设计水平的评价”文段中没有体现。C项，文段只是说，专家认为要“让企业舍得投资”，并没有提到企业不愿投资导致“大批设计人才流失”的问题。

**【易错点拨】**A项比较有迷惑性，但是除了表述片面、“设计的市场化进程”表述与原文不符之外这两个问题之外，A项还偏离了文段的主体：A项的主体是“设计者与企业”，而文段的主体是“企业”。由此可以排除A项。



### 第三部分 数量关系

**【题目 1】**木工师傅为如图所示的 3 层模具刷漆，每层模具分别由 1、3、6 个边长 1 米的正方体组成。如果用一公斤漆可以刷 20 平方米的面积。那么为这个 3 层模具的所有外表面上色，需要几公斤漆？（ ）。



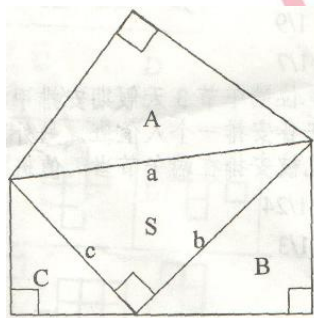
- A. 1.8      B. 1.6      C. 1.5      D. 1.2

**【答案】**A

**【解析】**从前面看到的面共有 18 个面，从左侧、后侧以及下方各可以看到 6 个面，而每个面面积为 1 个平方米，故共有 36 个平方米需要刷漆，那么共需要  $36/20=1.8$  公斤，故选择 A。

**【易错点拨】**本题的难度在于考察考生的空间想象和构造的能力，属于几何构造类题目，也是近几年对于考生的更高要求。

**【题目 2】**如图所示，A、B、C 是三个等腰直角三角形，其中 A 的面积大于 B 的面积、B 的面积大于 C 的面积，它们的三条斜边 a、b、c 恰好构成一个直角三角形 S。已知 a 为定值，下列推论正确的是（ ）。



- A. S 的周长为定值  
B. S 的面积为定值  
C. A、B、C 面积之和为定值  
D. B、C 面积之和大于 A 面积

**【答案】**C

**【解析】**设 A 的直角边长为  $x$ ，B 的直角边长为  $y$ ，C 的直角边长为  $z$ ，因为勾股定理可知





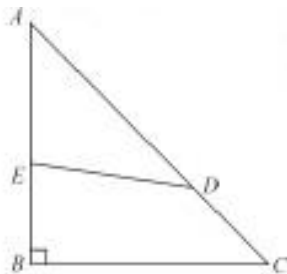
$$x^2 + x^2 = a^2, y^2 + y^2 = b^2, z^2 + z^2 = c^2, b^2 + c^2 = a^2,$$

$$\text{得到 } x^2 = \frac{1}{2}a^2, y^2 = \frac{1}{2}b^2, z^2 = \frac{1}{2}c^2,$$

则 A、B、C 面积之和为  $\frac{1}{2}(x^2 + y^2 + z^2) = \frac{1}{4}(a^2 + b^2 + c^2) = \frac{1}{2}a^2$ ，故选择 C。

**【易错点拨】**本题的难度在于考察考生对于公式的熟练应用和化简，根据选项要求来化简才能够尽可能快的找到正确答案。

**【题目 3】**如右图所示， $\triangle ABC$  是等腰直角三角形， $AB=12$ ，AD 的长度是 CD 的 2 倍，四边形 EBCD 与  $\triangle AED$  的面积之比为 3:2，问 AE 的长度是多少？（ ）。



- A. 6.9    B. 7.1    C. 7.2    D. 7.4

**【答案】**C

**【解析】**根据题意，三角形 ADE 与三角形 ABC 的面积之比为 2:5， $AD:AC=2:3$ 。而三角形 ADE 的面积为： $(AE \times AD \times \sin A) / 2$ ，三角形 ABC 的面积为： $(AB \times AC \times \sin A) / 2$ ，两者相比再代入前面的条件可得  $AE:AB=3:5$ ，那么  $AE=12 \times 3/5=7.2$ 。

**【易错点拨】**本题要求考生对于三角形求解的特殊公式能够熟练应用，它的难度也正在与此。

**【题目 4】**某调查公司对甲、乙、丙散步电影的收看情况向 125 人进行调查，有 89 人看过甲片，有 47 人看过乙片，有 63 人看过丙片，其中有 24 人三部电影全看过，20 人一部电影也没有看过，则只看过其中两部电影的人数是（ ）。

- A. 69                                    B. 65                                    C. 57                                    D. 46

**【答案】**D

**【解析】**设只看过甲、乙的是  $x$ ，只看过甲、丙的是  $y$ ，只看过乙、丙的是  $z$ ，根据三集合基本公式： $甲+乙+丙-甲 \cap 乙-甲 \cap 丙-乙 \cap 丙+甲 \cap 乙 \cap 丙=总数-不满足$ ，不难看出， $甲 \cap 乙 = x+甲 \cap 乙 \cap 丙$ ， $甲 \cap 丙=y+甲 \cap 乙 \cap 丙$ ， $乙 \cap 丙=z+甲 \cap 乙 \cap 丙$ ；所以可以得出变形公式：甲



+乙+丙- $(x+y+z)$ -2甲 $\cap$ 乙 $\cap$ 丙, 这样代入数字,  $89+47+63-(x+y+z)-2\times 24=125-20$ , 得出  $x+y+z=46$

**【易错点拨】**本题也是典型的容斥原理题目, 但要注意基本题型和变形题型的关系。

**【题目 5】**某高校对一些学生进行问卷调查。在接受调查的学生中, 准备参加注册会计师考试的有 63 人, 准备参加英语六级考试的有 89 人, 准备参加计算机考试的有 47 人, 三种考试都准备参加的有 24 人, 准备选择两种考试参加的有 46 人, 不参加其中任何一种考试的有 15 人。问接受调查的学生共有多少人? ( )。

- A. 120                      B. 144                      C. 177                      D. 192

**【答案】**A

**【解析】**本题属于三集合容斥原理。参加注会、英语六级、计算机考试分别看做三个集合, 最后求的是总人数, 这里要注意准备选择两种考试参加的有 46 人, 利用公式得出:

$X-15=63+89+47-46-2\times 24$ , 解得  $X=120$ , 所以选择 A。

**【易错点拨】**对于三集合容斥原理的新题型, 遇到此类型我们采用的方法主要是公式法。所以对于一些必要的公式一定要熟记, 方便大家解题。

**【题目 6】**某服装厂生产出来的一批衬衫中大号和小号各占一半。其中 25% 是白色的, 75% 是蓝色的。如果这批衬衫总共有 100 件, 其中大号白衬衫有 10 件, 问小号蓝衬衫有多少件? ( )。

- A. 15                      B. 25                      C. 35                      D. 40

**【答案】**C

**【解析】**这是一种新题型, 该种题型直接从求解出发, 将所求答案设为两者都满足的情况, 将小号 and 蓝色分别看做两个事件 A 和 B, 小号占 50%, 蓝色占 75%, 代入两集合标准容斥原理公式, 可得  $100-10=50+75-X$ , 解得  $X=35$ , 选 C。

**【易错点拨】**对于两集合容斥原理题, 注意区分这种新题型, 并加以熟练运用。

**【题目 7】**A、B 两位同学参加同一次竞赛考试, 如果 A 答对的题目占题目总数的  $\frac{3}{4}$ , B 答对了 25 道题, 他们两人都答对的题目占题目总数的  $\frac{2}{3}$ , 那么两人都没有答对的题目共有 ( )。

- A. 5 道                      B. 6 道                      C. 7 道                      D. 8 道

**【答案】**D



**【解析】**设题目总数为  $X$  道，根据题意可得，有  $X > 25$  且  $\frac{2}{3}X < 25$ ，即  $25 < X < 37.5$ 。根据 A 答对的题目为  $\frac{3}{4}X$ ，两人都答对的题目为  $\frac{2}{3}X$ ，可得  $X$  能被 12 整除，则  $X=36$ 。则 A 答对的题目为 27 道，两人都答对的题目为 24 道，两人都答对的题目有  $36 - (27 + 25 - 24) = 8$  道。因此选 D。

**【易错点拨】**很多同学看到这道题目不知该如何下手，但是如果试着往两集合容斥原理这部分考虑，那么就要容易的多。

**【题目 8】**某市有甲、乙、丙三个工程队，工作效率比为 3:4:5。甲队单独完成 A 工程需要 25 天，丙队单独完成 B 工程需要 9 天。现由甲队负责 B 工程，乙队负责 A 工程，而丙队先帮甲队工作若干天后转去帮助乙队工作。如希望两个工程同时开工同时竣工，则丙队要帮乙队工作多少天？（ ）。

A. 6

B. 7

C. 8

D. 9

**【答案】**B

**【解析】**根据题意可以赋值甲、乙、丙的效率分别为 3、4、5，那么 A 工程的工作总量为  $25 \times 3 = 75$ ，B 工程的工作总量为  $5 \times 9 = 45$ ，A、B 两个工程的总量为  $75 + 45 = 120$ ，三个工程队完成 120 个量需要 10 天的时间。现在乙队负责 A 工程，在 10 天的时间里乙队能够完成 40 个量，剩下的 35 个量需要丙队协助完成，需要 7 天的时间。

**【易错点拨】**解决该题目最关键的是要理解，虽然丙队一边帮助甲队一边帮助乙队，但是在这个过程中丙队没有休息，所以本质上两个工程还是由三个工程队共同完成的，需要 10 天的时间。另外还要注意，最后乙队负责的是 A 工程，如果不注意这点，很容易错选成 D 选项。

**【题目 9】**某商店花 10000 元进了一批商品，按期望获得相当于进价 25% 的利润来定价，结果只销售了商品总量的 30%，为尽快完成资金周转，商店决定打折销售，这样卖完全部商品后，亏本 1000 元，问商店是按定价打几折销售的？（ ）。

A. 九折

B. 七五折

C. 六折

D. 四八折

**【答案】**C

**【解析】**设打折  $x$ ，本题采用赋值法，假定 10000 元总成本来自于 100 的单价和 100 的数量相乘，根据题意定价就是 125，卖了 30 个之后开始打折，最后亏本 1000，也就是最后的售价是 9000，得出等式： $125 \times 30 + 125x \times 70 = 9000$ ，得出  $x = 0.6$



**【题目 10】**小明在一个环形跑道练习跑步，跑道一圈 400 米，他的速度为 4 米/秒。小明的哥哥想给小明送一瓶矿泉水，哥哥的速度为 6 米/秒。哥哥来到跑道起点的时候，小明已经从起点出发跑了 70 米。如果哥哥想沿着跑道把矿泉水递给小明，至少需要多长时间？（ ）。

- A. 33 秒                      B. 34 秒  
C. 35 秒                      D. 36 秒

**【答案】**A

**【解析】**如果哥哥和弟弟的跑步方向相同，则是追击问题，追及时间为路程差除以速度差， $70 \div (6-4) = 35$  秒；如果哥哥和弟弟的跑步方向相反，是相遇问题，相遇时间等于路程和除以速度和， $330 \div (4+6) = 33$  秒，所以最少需要 33 秒的时间可以将矿泉水递给弟弟。

**【易错点拨】**本题很容易错算 C 选项，因为很多考生只会考虑哥哥与弟弟跑步的方向相同这一种情况，但是环形跑到上，哥哥反方向跑同样能够把矿泉水送给弟弟，所以对于环形跑道上的相遇和追及问题需要考生尤其留意。

**【题目 11】**有一些信件，把它们平均分成三份后还剩 2 封，将其中两份平均三等分还多出 2 封，问这些信件至少有多少封？（ ）。

- A. 20                              B. 26  
C. 23                              D. 29

**【答案】**B

**【解析】**带入排除法，问最小就从最小开始带，20 平均分成 3 份剩 2 份，每份是 6 个，那么其中两份就是 12 个，再平均分成 3 份，整除了，不符合题意；接着带入 23，平均分成 3 份剩下 2 份，然后其中两份是 14 个，平均分成 3 份还剩下 2 份，满足题意，所以选择 C。

**【题目 12】**某儿童艺术培训中心有 5 名钢琴教师和 6 名拉丁舞教师，培训中心将所有的钢琴学员和拉丁舞学员共 76 人分刚平均地分给各个老师带领，刚好能够分完，且每位老师所带的学生数量都是质数。后来由于学生人数减少，培训中心只保留了 4 名钢琴教师和 3 名拉丁舞教师，但每名教师所带的学生数量不变，那么目前培训中心还剩下学员多少人？（ ）。

- A. 36                              B. 37  
C. 39                              D. 41

**【答案】**D

**【解析】**数字特性，设每个老师带  $x$  个钢琴学员， $y$  个拉丁舞学员，因为学生数都是质数，





地后又立即向 B 地走去;乙到达 A 地后立即往回走,回到 B 地后立即返回 A 地,如此往复,行走的速度不变。若两人第一次迎面相遇的地点距 A 地 500 米,第二次迎面相遇地点距 B 地 700 米,则 A、B 两地的距离是 ( )。

- A. 1300 米      B. 1120 米      C. 1000 米      D. 800 米

**【答案】D**

**【解析】**设 A、B 之间距离是 S, 第一次相遇甲乙分别行驶的距离, 甲: 500, 乙: S-500; 第二次相遇的时候甲乙分别行驶的距离, 甲: S+700, 乙: 2S-700, 根据时间相同, 路程的比值

等于速度的比值, 而两人的速度比值是一定的, 所以得出:  $\frac{500}{S-500} = \frac{S+700}{2S-700}$ , 经计算 S=800

**【易错点拨】**比例行程问题, 要注意基本公式的变形。

**【题目 16】**四名运动员参加 4×100 米接力, 他们 100 米速度分别为  $v_1$ 、 $v_2$ 、 $v_3$ 、 $v_4$ , 不考虑其他影响因素, 他们跑 400 米全程的平均速度为 ( )。

A.  $\frac{4}{v_1} + \frac{4}{v_2} + \frac{4}{v_3} + \frac{4}{v_4}$

B.  $\frac{4}{\frac{1}{v_1} + \frac{1}{v_2} + \frac{1}{v_3} + \frac{1}{v_4}}$

C.  $\frac{1}{4} (v_1 + v_2 + v_3 + v_4)$

D.  $\frac{4}{v_1 + v_2 + v_3 + v_4}$

**【解析】**这道题属于行程问题中的求平均速度类型的题目。那么我们知道, 在行程问题这一部分: 路程=速度×时间, 那么 平均速度 =  $\frac{\text{总路程}}{\text{总时间}}$ , 在这到题中, 总路程为 400, 总时间为

4 个人所用时间之和, 即  $\frac{100}{V_1} + \frac{100}{V_2} + \frac{100}{V_3} + \frac{100}{V_4}$ , 所以  $\bar{V} = \frac{400}{\frac{100}{V_1} + \frac{100}{V_2} + \frac{100}{V_3} + \frac{100}{V_4}}$ , 整理

该式得到  $\bar{V} = \frac{4}{\frac{1}{V_1} + \frac{1}{V_2} + \frac{1}{V_3} + \frac{1}{V_4}}$ , 所以选择 B 选项。

**【易错点拨】**这道题很多考生没有搞清楚平均速度与速度的平均值的概念, 所以容易错误的

计算:  $\bar{V} = \frac{400}{V_1 + V_2 + V_3 + V_4}$ , 这样计算出的速度是速度的平均值, 而不是平均速度。





【题目 17】一列长 280 米的火车，速度为 20 米/秒，经过 2800 米的大桥，火车完全通过这座桥，需要多长时间？（ ）。

- A. 48 秒                      B. 2 分 20 秒                      C. 2 分 28 秒                      D. 2 分 34 秒

【解析】这道题属于典型的火车过桥问题， $T = (280 + 2800) \div 20 = 154$  秒，合 2 分 34 秒。

【易错点拨】这种类型的题目，很多考生虽然知道路程=速度 $\times$ 时间，但是很多考生容易忽略这里的路程应该是：桥长+车身长度，所以这道题总路程应该是 3080 米，而不再是 2800 米，这一点大家需要注意。

【题目 18】公路上有三辆同向行驶的汽车，其中甲车的时速为 63 公里，乙、丙两车的时速均为 60 公里，但由于水箱故障，丙车每连续行驶 30 分钟后必须停车 2 分钟。早上 10 点，三车到达同一位置，问 1 小时后，甲、丙两车最多相距多少公里（ ）。

- A. 5    B. 7  
C. 9    D. 11

【答案】B

【解析】这是一道典型的行程问题，首先确定甲车在一个小时内行车路程为 63 公里，但是丙车在行驶过程中，由于水箱故障，丙车每连续行驶 30 分钟后必须停车 2 分钟，且这道题目里问的是“甲、丙两车最多相距多少公里”，要想体现最多相距，就意味着丙车行驶路程最少，即所用时间最少为 56 分钟，那么丙车所走路程为 56 公里，即甲、丙两车最多相距 7 公里。

【易错点拨】容易忽略丙车行驶距离应该最少才能体现两车相距最多，也就是丙车先停 2 分钟，再行驶 30 分钟，再停 2 分钟，再行驶，即所用时间达到最少 56 分钟。

【题目 19】甲、乙两辆清洁车执行东、西城间的公路清扫任务。甲车单独清扫需要 6 小时，乙车单独清扫需要 9 小时，两车同时从东、西城相向开出，相遇时甲车比乙车多清扫 15 千米，问东、西两城相距多少千米？（ ）。

- A. 60 千米    B. 75 千米                      C. 90 千米                      D. 135 千米

【答案】B



【解析】设相遇时间为  $t$ ，距离为  $s$ ，根据已知条件，甲乙二人的速度分别是： $\frac{s}{6}$  和  $\frac{s}{9}$ ，两

人相遇公式： $s = (\frac{s}{6} + \frac{s}{9})t$ ，另外相遇的时候甲比乙多清扫 15，得出： $(\frac{s}{6} - \frac{s}{9})t = 15$ ，两个等式

作比即可得出  $s=75$

【易错点拨】此题注意和工程问题区别开来。

【题目 20】施工队要在一东西长 600 米的礼堂顶部沿东西方向安装一排吊灯，根据施工要求，必须在距西墙 375 米处安装一盏，并且各吊灯在东西墙之间均匀排列（墙角不能装灯）。该施工队至少需要安装多少盏吊灯？（ ）。

- A. 6  
B. 7  
C. 8  
D. 9

【答案】B

【解析】相当于单边楼间植树问题，应该用总长除以间隔再减去 1，间距为 225 和 375 的最大公约数为 75，所以答案应该是  $600 \div 75 - 1 = 7$ 。

【易错点拨】因为墙角不能装灯，所以相当于单边楼间植树问题。再加上距西墙 375 米安装一盏灯，相当于将 600 米的长度分成两个部分，一部分是 375，一部分是 225，间距为他们的最大公约数。

【题目 21】一个金鱼缸，现已注满水。有大、中、小三个假山，第一次把小假山沉入水中，第二次把小假山取出，把中假山沉入水中，第三次把中假山取出，把小假山和大假山一起沉入水中。现知道每次从金鱼缸中溢出水量的情况是：第一次是第二次的  $\frac{1}{3}$ ，第三次是第二次的 2 倍。问三个假山的体积之比是多少？（ ）。

- A. 1:3:5  
B. 1:4:9  
C. 3:6:7  
D. 6:7:8

【答案】B

【解析】第二次把中假山放入水里的时候，浴缸水不满，缺少的部分恰好是第一次加入小假山溢出的水，也就是小假山的体积。已知第一次溢出的水是第二次溢出的水的  $\frac{1}{3}$ ，即小假山的体积： $(中假山体积 - 小假山体积) = 1:3$ ，可以推导出小假山与中假山体积比为 1:4。



**【易错点拨】**此题的解题关键是理解第二次溢出的水量再加上第一次溢出的水量为中假山的体积，然后根据第一次溢水量和第二次溢水量的比值计算即可。

**【题目 22】**某年级有 4 个班，不算甲班其余三个班的总人数是 131 人；不算丁班其余三个班的总人数是 134 人；乙、丙两班的总人数比甲、丁两班的总人数少 1 人，问这四个班共有多少人？（ ）。

A. 177

B. 176

C. 266

D. 265

**【答案】**A

**【解析】**本题属于和差倍比问题，主要的解题方法是利用一下数字特性里面的奇偶性解题。问题问的是四个班的总人数，找一下题中发现乙丙两班的人数和比甲丁两班的人数和少 1，而这两个数加起来就是四个班的总人数。根据奇偶性推论一，和差同性原则。两数的差是 1 个奇数，则这两个数的和必然也是奇数。所以判断一下选项能够拍出 B 和 C。我们根据“先排除再代入”的做题原则，代入 177 即可验证 A 选项为正确选项。

**【易错点拨】**本题难点在于同学们容易受惯常思维影响，认为四个班的总人数就是四个数相加，从而设了四个未知数来求解，实际上本题属于和差问题，只需要通过数字特性验证一下选项即可。是将四个班的总人数分成了两个，而不是四个数。

**【题目 23】**某城市有 A、B、C、D 四个区，B、C、D 三区的面积之和是 A 的 14 倍，A、C、D 三区的面积之和是 B 的 9 倍，A、B、D 三区的面积之和是 C 区的 2 倍，则 A、B、C 三区的面积之和是 D 区的（ ）。

A. 1 倍

B. 1.5 倍

C. 2 倍

D. 3 倍

**【答案】**A

**【解析】**本题同样属于和差倍比问题，只不过与上题不同的是本题说的是倍数问题，而且说的是部分与部分的倍数问题。所以对于这类题型有个固定的思路，那就是要将部分与部分之间的倍数关系转化成与整体的倍数关系，因为整体是不变的量。根据第一个条件我们设 A 是 1 份的话，那么 B+C+D 是 14 份，那么总数一共是 15 份，则 A 等于总面积的  $\frac{1}{15}$ 。同理我们可以得到 B 等于总面积的  $\frac{1}{10}$ ，C 等于总面积的  $\frac{1}{3}$ 。那么 D 就等于总面积的  $\frac{1}{2}$ ，所以 A、B、C 三区的面积之和是 D 区的 1 倍。



**【易错点拨】**本题的难点在于，由于部分量相互组合的不同，造成不同的倍数关系，同时学生容易按照惯性思维同样设了4个未知数来求解之间的关系，造成了不必要的麻烦。所以我们在做数学题的时候有个最基本的原则是“根据不变的量来做题”，整道题不变的量就是整体量是不变的，故研究每一部分与整体的比例关系就可以了。

**【题目 24】**某条公交线路共有 10 个车站，一辆公交车在始发站上了 12 个人，在随后每一站上车的人数都比上一站少 1 人。到达终点站时，所有乘客均下了车。如果每个车站下车乘客数相同，那么有多少人在终点站下车？（ ）。

- A. 7                      B. 9                      C. 10                      D. 8

**【答案】**B

**【解析】**本题属于等差数列问题。一共有 9 个车站上车下车。中位数为第 5 站， $a_1=12$ ， $d=-1$   $a_5=8$ ，中位数=平均数，所以答案为 8。

**【易错点拨】**本题的难度在于考生在处理问题时易忽略等差数列中位数的应用，导致思考时间过长。

**【题目 25】**一副扑克牌有 52 张，最上面一张是红桃 A，如果每次把最上面的 10 张移到最下面而不改变它们的顺序及朝向，那么，至少经过多少次移动，红桃 A 会出现在最上面？（ ）。

- A. 27                      B. 26  
C. 35                      D. 24

**【答案】**B

**【解析】**本题属于最小公倍数类问题。只需求出 52 和 10 的最小公倍数，即 260，所以挪动 260 张牌后又重新回到初始状态，需移动  $260/10=26$  次，所以选择 B 选项。

**【易错点拨】**本题的难度在于考察考生易忽略本题的移动次数必须是 52 的倍数。

**【题目 26】**环形跑道周长是 500 米，甲、乙两人从起点顺时针方向同时出发。甲每分钟跑 120 米，乙每分钟跑 100 米，两人都是每跑 200 米停下来休息一分钟。那么甲第一次追上乙需要多少分钟？（ ）。

- A. 25                      B. 49                      C. 79                      D. 55

**【答案】**D



**【解析】**这道题属于间歇性运动型行程问题。由题意甲和乙均为跑 200 米休息一分钟，那么首先需要计算出甲乙两人的运动周期，甲每跑  $200 \div 120 = 5/3$  分钟，然后休息 1 分钟，乙每跑  $200 \div 100 = 2$  分钟，然后休息 1 分钟，那么两人分别以  $5/3 + 1 = 8/3$  分钟和  $2 + 1 = 3$  分钟为周期，而我们知道  $8/3$  和 3 的最小公倍数是 24，所以 24 分钟是他们的共同周期。

24 分钟的时候，甲 9 个周期，乙 8 个周期，说明甲比乙多跑了 200 米；同理，48 分钟的时候，甲比乙多跑了 400 米，72 分钟的时候多跑了 600 米。而甲追上乙需要多跑 500 米，所以排除了 A 和 C。48 分钟的时候已经多跑了 400 米，还需要再多跑 100 米，显然 1 分钟是远远不够的，所以不能选 B，只能选 D。

**【易错点拨】**这道题中很多考生容易在计算甲乙两人运动周期的时候出现问题，也就是  $8/3$  和 3 的最小公倍数是多少的时候，容易搞不清楚，其实对于分数而言，两个分数先化成同分母，然后对两分子求最小公倍数，以这个最小公倍数做分子，原同分母做分母，形成的新分数就是原始两个分数的最小公倍数。

**【题目 27】**一支部队排成长度为 800 米的队列行军，速度是 80 米/分钟，在队首通讯员以 3 倍于行军的速度跑到队尾，花 1 分钟传达首长命令后，立即以同样的速度跑回队首，在其往返过程中通讯员共花费的时间为（ ）。

- A. 7.5 分钟      B. 8 分钟      C. 8.5 分钟      D. 10 分钟

**【答案】**C

**【解析】**通讯员速度为  $80 \times 3 = 240$  (米/分钟)，总时间为  $\frac{800}{240 + 80} + 1 + \frac{800}{240 - 80} = 8.5$ (分钟)，所以选择 C 选项。

**【易错点拨】**这道题的核心在于在了解，通讯员从队尾走到队首是追及问题，相应的，从队首走到对尾是相遇问题。那么根据我们讲的追及问题应该是两人速度之差，相遇问题是两人速度之和。

**【例 28】**某市园林部门计划对市区内 30 处绿化带进行补栽，每处绿化带补栽方案可从甲、乙两种方案中任选其中一方案进行。甲方案补栽阔叶树 80 株，针叶树 40 株；乙方案补栽阔叶树 50 株，针叶树 90 株。现有阔叶树苗 2070 株，针叶树苗 1800 株，为最大限度利用这批树苗，甲、乙两种方案应各选（ ）。

- A. 甲方案 19 个、乙方案 11 个      B. 甲方案 20 个、乙方案 10 个



C. 甲方案 17 个、乙方案 13 个

D. 甲方案 18 个，乙方案 12 个

**【答案】**D

**【解析】**本题属于一道统筹问题，要求最优方案，也就是买的树苗要最大限度利用，那么就剩下树苗尽可能少。本题使用代入排除法验证即可。A 选项可计算出共使用阔叶树苗 2070 株，针叶树苗 1750 株，最后剩下 50 株树苗。B 选项可计算出阔叶树苗要用 2100 株，超过了最大值，不符合实际。C 选项可计算出针叶树苗要用 1850 株，也超过了最大值，不符合实际。D 选项计算出要用阔叶树苗 2040 株，针叶树苗 1800 株，最后还剩下 30 株。D 方案剩下的最少，为最优方案。故答案为 D。

**【易错点拨】**本题为统筹问题，要选最优方案。同学们拿到这道题很可能都想从正面突破，实际上本题从正面走是比较难的，这时候就需要转化思维，从反面突破，也就是从选项入手，验证哪个选项为最优选项即可。故使用代入排除法做本题。

**【例 29】**某种密码锁的界面是一组汉字键，只有不重复并且不遗漏地依次按下界面上的汉字才能打开，其中只有一种顺序是正确的。要使得每次对密码锁进行破解的成功率在万分之一以下，则密码锁的界面至少要设置多少个汉字键？（ ）。

A. 5

B. 6

C. 7

D. 8

**【答案】**D

**【解析】**本题为一道排列组合题目。要使破解的成功率在万分之一以下，也就意味着必须可以组合出超过一万种不同的密码。那么哪个数字的全排列能够达到 10000 以上呢，经验证，最小的全排列能够到一万以上的数字是 8。也就是至少要设置 8 个汉字键，其全排列下来能够有上万种不同的密码。所以本题的答案为 D 选项。

**【题目 30】**两个相同的瓶子装满某种化学溶液，一个瓶子中溶质与水的体积比是 3:1，另一个瓶子中溶质与水的体积比是 4:1，若把两瓶化学溶液混合，则混合后的溶质和水的体积之比是（ ）。

A. 31:9

B. 7:2

C. 31:40

D. 20:11

**【答案】**A

**【解析】**本题属于溶液问题。根据两个相同的瓶子装满某种化学溶液，可知两个瓶子体积相





同，又根据第一次瓶子中溶质与水的体积比是 3:1，可知这个瓶子的体积是 3 的倍数，同时另一个瓶子中溶质与水的体积比是 4:1，可知这个瓶子的体积是 4 的倍数，综上所述，这个瓶子的体积既是 3 的倍数又是 4 的倍数，可以对瓶子的体积赋值 20（即满足两个瓶子分别是 4 和 5 的公倍数），那么就可以知道第一个瓶子中溶质和水分别为 15 和 5，第二个瓶子中溶质和水分别为 16 和 4，则混合后的溶质与水分别为 31 和 9，即体积比是 31:9，所以选择 A。

**【易错点拨】**没有考虑到两个瓶子体积是相同的，本题会误选 B。

**【题目 31】**一杯溶液，每次加同样多的水，第一次加水后浓度比为 15%；第二次加入后浓度比为 12%；问第三次加水后浓度为多少？（ ）。

A. 8%

B. 9%

C. 10%

D. 11%

**【答案】**C

**【解析】**本题属于溶液问题。通过阅读，我们可以看出题目中只给了百分比，并没有告知其他条件，为了求出浓度，我们得知道溶质和溶液就可以求出。这时我们可以采用赋值的方法进行解题，根据题意，溶质是不变量，因此我们可以对溶质这个不变量赋值 60，那么就可以知道第一次的溶液是 400，第二次的溶液是 500，意味着第三次也要加 100 的水，浓度为  $60/600=10\%$ ，所以选择 C。

**【易错点拨】**没有考虑到两个溶质是相同的，本题会误选 B。

**【题目 32】**某天办公桌上台历显示的是一周前的日期，将台历的日期翻到当天，正好所翻页的日期加起来是 168，那么当天是几号？（ ）。

A. 20

B. 21

C. 27

D. 28

**【答案】**D

**【解析】**日期为等差数列，已知翻的 7 天的日期和为 168，根据等差数列中，中位数=平均数= $168/7=24$ ，所以第四天为 24 号，第七天为 27 号，当天为 28 号。

**【易错点拨】**首先理解这是一道等差数列求和问题，根据公式将中间的那一天的日期算出来。但是最关键的是要理解题目中所求的“当天”是哪一天，因为七天的日期已经翻过去了，所以显示在我们面前的是第八天的日期。

**【题目 33】**箱子中有编号为 1-10 的 10 个小球，每次从中抽出 1 个记下编号后放回，如果是重复 3 次，则 3 次记下的小球编号乘积是 5 的倍数的概率是多少？（ ）。



- A. 43.2%                      B. 48.8%  
C. 51.2%                      D. 56.8%

**【答案】**B

**【解析】**抽一次小球编号不是5的倍数的概率为0.8，乘积为5的倍数的概率=1-乘积不是5的倍数的概率。乘积不是5的倍数的概率=3次抽出小球概率不为5的倍数的概率之积=0.8×0.8×0.8=0.512，所以所求概率=1-0.512=0.488。

**【易错点拨】**概率问题，难度比较高。这里主要掌握反向思维，在概率问题中经常会运用到反向思维，就是一道题目从正面求解越复杂，那么从反面求解越简单。

**【题目 34】**水果店运来一批石榴和苹果，其中苹果的重量占重量的 $\frac{9}{20}$ ，苹果比石榴少200千克，运来石榴（ ）千克

- A. 2000    B. 1800  
C. 1100    D. 900

**【答案】**C

**【解析】**苹果占总重量的 $\frac{9}{20}$ ，所以石榴就占总重量的 $\frac{11}{20}$ ，由倍数特性得知，石榴个数应该是11的倍数，得出C。

**【易错点拨】**熟练运用 $\frac{A}{B} = \frac{m}{n}$ （m、n互质），A就是m的倍数，B就是n的倍数。

**【题目 35】**某公司为客户出售货物，收取3%的服务费；代客户购置设备，收取2%的服务费。某客户委托该公司出售自产的某种物品并为其代购新设备。已知该公司共收取该客户服务费200元，客户收支恰好平衡，则自产的物品价格是多少元？（ ）。

- A. 3880    B. 4080  
C. 3920    D. 7960

**【答案】**B

**【解析】**设客户卖的产品价格是A，买的产品价格是B，那么客户出售货物后扣去服务费的价格： $(1-3\%) \times A$ ，买回产品加上服务费的价格： $(1+2\%) \times B$ ，因为达到了收支平衡，所以 $(1-3\%)$



$\times A = (1+2\%) \times B$ , 这样得出  $\frac{A}{B} = \frac{102}{97}$ , 根据倍数特性, A 就是 102 的倍数, 所以选择 B

**【易错点拨】** 关键是弄清楚两个产品在分别销售和购买之后的价格是多少。

**【题目 36】** 饭店购进三种蔬菜, 其中白菜的重量占  $\frac{2}{7}$ , 黄瓜的重量和其他两种蔬菜之和的比是 2:3, 黄瓜比白菜多 12 千克。共购进蔬菜 ( ) 千克?

A. 35

B. 75

C. 105

D. 150

**【答案】** C

**【解析】** 白菜的重量占  $\frac{2}{7}$ , 所以总重应该是 7 的倍数, 排除 B、D, 带入 A 选项, 若总重是 35, 那么白菜就是 10, 黄瓜就是 22, 不符合题目中关于黄瓜的重量和其他两种蔬菜之和的比是 2:3 的描述, 所以排除 A, 选择 C。

**【易错点拨】** 注意方法的选定, 避免陷入计算困境。

**【题目 37】** 一件工程, 甲乙合作 15 天完成。甲乙合作 10 天后, 乙单独工作 6 天, 最后还剩下工程总量的  $\frac{1}{10}$ , 问甲单独完成这件工程需要多少天? ( )。

A. 40

B. 38

C. 36

D. 32

**【答案】** C

**【解析】** 设甲、乙的效率分别是  $x$ 、 $y$ , 甲乙合作 10 天后剩下的乙单独工作 6 天, 再加上总量的  $\frac{1}{10}$ , 就应该是甲乙合作的那 5 天完成的量, 所以得出等式:  $5(x+y) = 6y + 1.5(x+y)$  得出

$x$  和  $y$  的关系,  $\frac{x}{y} = \frac{5}{7}$ , 赋值二者的效率分别是 5 和 7, 那么总量就是 180, 甲单独做的话就是

36 天。

**【易错点拨】** 注意甲乙二者效率的表示方法。

**【题目 38】** 三个容积相同的瓶子里装满了酒精溶液, 酒精与水的比分别是 2: 1, 3: 1, 4: 1。



当把三瓶酒精溶液混和后，酒精与水的比是多少？（ ）。

A. 133: 47

B. 131: 49

C. 33: 12

D. 3: 1

**【答案】**A

**【解析】**设三个瓶子里装的酒精溶液体积是 60，那么根据比例关系三个瓶子当中的酒精和谁的体积分别是：40 和 20, 45 和 15, 48 和 12，混合之后酒精体积是 133，水是 47，所以答案是 A。

**【易错点拨】**避免误认为比例直接做加减。

**【题目 38】**姐弟俩出游，弟弟先走一步，每分钟走 40 米，走了 80 米后姐姐去追他。姐姐每分钟走 60 米，姐姐带的小狗每分钟跑 150 米。小狗追上了弟弟又转去找姐姐，碰上了姐姐又转去追弟弟，这样跑来跑去，直至姐弟相遇小狗才停下来。问小狗共跑了多少米？（ ）。

A. 600 米

B. 800 米

C. 1200 米

D. 1600 米

**【答案】**A

**【解析】**小狗跑的时间恰好是姐姐追弟弟所需要的时间，所以需要追及时间  $t$ ， $80=(60-40)t$ ， $t=4$ 。则小狗跑了 4 分钟，根据基本公式  $s=vt$ ， $s=150 \times 4=600$ 。

**【易错点拨】**关键是小狗跑的时间如何表示。

**【题目 39】**某连锁企业在 10 个城市共有 100 家专卖店，每个城市的专卖店数量都不同。如果专卖店数量排名第 5 多的城市有 12 家专卖店，那么专卖店数量排名最后的城市，最多有几家专卖店？（ ）。

A. 2

B. 3

C. 4

D. 5

**【答案】**C

**【解析】**设排名最后的城市有  $x$  家专卖店，根据要求得出： $16+15+14+13+12+(x+4)+(x+3)+ (x+2)+(x+1)+x=100$ ， $x=4$

**【易错点拨】**数列构造要抓住问题的本质要求排名最后的城市专卖店最多，也就是让前九名的专卖店最少。

**【题目 40】**有 4 支队伍进行 4 项体育比赛，每项比赛的第一、第二、第三、第四名分别得到



5, 3, 2, 1 分。每队的 4 项比赛的得分之和算作总分, 如果已知各队的总分不相同, 并且 A 队获得了三项比赛的第一名, 问总分最少的队伍最多得多少分? ( )。

- A. 7  
B. 8  
C. 9  
D. 10

**【答案】**B

**【解析】**设总分最少是  $x$ , 要想让  $x$  最多, 就要求别的队得分最少, 本次比赛一共产生 44 分, 已知有一队已经得 15 分, 那么它第四次比赛得末一名最合适, 这样第一名就已经得了 16 分, 另外三队“瓜分”另外的 28 分, 所得式子:  $(x+2) + (x+1) + x = 28$ ,  $x = 8.3$ , 所以选择 B。

**【易错点拨】**一个是本次比赛产生的总分数, 一个是已经有一队拿了三项第一。

**【题目 41】**某停车场按以下办法收取停车费: 每 4 小时收 5 元, 不足 4 小时按 5 元收, 每晚超过零时加收 5 元并且每天上午 8 点重新开始计时, 某天下午 15 时小王将车停入该停车场, 取车时缴纳停车费 65 元, 小王停车时间  $t$  为 ( )。

- A.  $41 < t \leq 44$  小时  
B.  $44 < t \leq 48$  小时  
C.  $32 < t \leq 36$  小时  
D.  $37 < t \leq 41$  小时

**【答案】**D

**【解析】**小王停车的费用如下: 当日 15 时-次日 8 时:  $5 \times 4 + 5 = 25$ ; 次日 8 时-第三日 8 时:  $5 \times 6 + 5 = 35$ , 总共 65, 所以小王停车最多是 41 小时。

**【易错点拨】**注意不足 2 小时按 5 小时收, 超过零时加收 5 元这两点。

**【题目 42】**甲、乙两个科室各有 4 名职员, 且都是男女各半。现从两个科室中选出 4 人参加培训, 要求女职员比重不得低于一半, 且每个科室至少选一人。问有多少种不同的选法? ( )。

- A. 67  
B. 63  
C. 53  
D. 51

**【答案】**D

**【解析】**分情况讨论, 第一种情况: 4 个女生 0 个男生: 1 种; 第二种情况 3 个女生 1 个男生  $C_4^3 C_4^1 = 16$ ; 第三种情况 2 个女生 2 个男生  $C_4^2 C_4^2 - 2 = 34$ ; 总数是 51。

**【易错点拨】**注意第三种情况把两男两女都出自于一个部门的情况减掉。

**【题目 43】**某高校从 E、F 和 G 三家公司购买同一设备的比例分别为 20%、40% 和 40%, E、









C. 25 米/秒

D. 30 米/秒

**【答案】**A

**【解析】**设客车和货车的速度分别是  $5x$  和  $3x$ ,  $(5x+3x) \times 15=600$ , 得出  $x=5$ , 那么客车和货车的速度分别是 25 和 15, 相差 10。

**【易错点拨】**题目本身的意思就好比两个人距离 600, 同时出发相向而行的相遇问题。

**【题目 48】**有一食品店某天购进了 6 箱食品, 分别装着饼干和面包, 重量分别为 8, 9, 16, 20, 22, 27 公斤, 该店当天只卖出一箱面包, 在剩下的 5 箱中饼干的重量是面包的两倍, 则当天食品店购进了 ( ) 公斤面包。

A. 44

B. 45

C. 50

D. 52

**【答案】**D

**【解析】**六箱食品的总重量是 102, 是 3 的倍数, 该店卖出一箱面包之后, 剩下的饼干是面包的两倍, 说明剩下的 5 箱食品也是 3 的倍数, 所以卖掉的哪项面包必须是 3 的倍数, 可能是 9 或者 27, 代入验证, 如果是 9 的话, 不满足题意, 如果是 27 的话, 剩下的总重就是 75, 16 和 9 构成 25, 8、20 和 22 构成 50, 符合题意。

**【易错点拨】**本题的难点在于 3 的倍数。

**【题目 49】**有一批 5 种颜色的彩灯, 任取 3 个排成一行, 表示各种信号, 在 300 个信号中至少有 ( ) 个信号完全相同。

A. 2

B. 3

C. 4

D. 5

**【答案】**B

**【解析】**从 5 种颜色的彩灯中选 3 个排成一行一共有  $5^3=125$ , 那么让前 125 个信号灯各设置一次, 从 126 到 250 个再轮一次, 最后的 50 轮第三次, 所以最少是 2 个相同

**【题目 50】**小赵在一场篮球比赛中得到了 36 分, 均为两分球和三分球所得。已知其三分球投进的数目多于两分球, 那么这场比赛中小赵的由三分球所得分数至少比两分球所得分数多多少分? ( )。

A. 0

B. 12

C. 6

D. 24

**【答案】**B

**【解析】**设三分球和两分球各投中  $x$  和  $y$  个, 列等式:  $3x+2y=36$ , 因为  $3x$  和 36 都有 3 因子, 所以  $2y$  必须有 3 因子, 那么  $y$  就可能是 3、6, 对应的  $x$  就是 10、8, 所以最少多出 12。



**【题目 50】**一个口袋中装有大小相同的小球共 40 个，其中红色小球 7 个，黄色小球 8 个，黑色小球 10 个，白色小球 5 个。那么至少需要从袋中任意摸出多少个小球，才能保证摸出的球中同时含有红色和黄色小球？（ ）。

- A. 17                      B. 27                      C. 34                      D. 24

**【答案】**C

**【解析】**最不利原则，要求同时含有黄色和红色小球，先把其他所有颜色的小球取完，是 25 个，另外再去黄色（因为黄色的多），再加 1 个，34 个。

**【题目 51】**早上 8 点，甲、乙两人分别驾车从 A、B 两市出发，沿同一条公路相向而行。途中有一座加油站，两人 4 小时后同时到达该加油站加油，之后两人继续保持之前的速度继续前行，甲于下午 3 点抵达 B 地。那么乙到达 A 地的时间为（ ）。

- A. 18 点整                      B. 18 点 40 分                      C. 19 点整                      D. 17 点 20 分

**【答案】**D

**【解析】**乙从 B 地到加油站需要 4 个小时，甲从加油站去 B 地需要 3 个小时，所以甲乙二人的时间比是 3: 4，那么甲从 A 地到加油站需要 4 小时，根据比例乙就需要  $\frac{16}{3}$ ，所以总共需要 7 个小时 20 分钟。

**【题目 52】**张老师和李老师讨论他俩的年龄，张老师说：“我今年年龄的各位数字和为 5 的倍数。”李老师说：“我今年年龄的各位数字之和也恰好是 5 的倍数”。已知张老师比李老师大 4 岁，且年龄均不到 60。那么张老师今年最多多少岁？（ ）。

- A. 41                      B. 46                      C. 50                      D. 55

**【答案】**C

**【解析】**根据“张老师说出的我今年年龄的各位数字和为 5 的倍数”，所以排除 C，张老师比李老师大四岁，那么就是说张老师的年龄减去 4 之后也应该保证数字之和是 5 的倍数，所以选 C。

**【题目 53】**一个水池装有 A、B 两个排水管和 C 进水管，A 管单独开 3 小时可将一池水排空，B 管单独开 8 小时可将一池水排空，C 管单独开 4 小时可将空池注满。现在按 A、B、C、A、B、C… 的顺序轮流各开 1 小时。那么经过多长时间，可将装满水的水池第一次排空？（ ）。

- A. 15 小时 50 分                      B. 9 小时 40 分                      C. 12 小时 30 分                      D. 10 小时 20 分

**【答案】**D



**【解析】**设总量是24，A管的效率是8，B管的效率是3，C管效率是6。把三管各留一个小时看成一个整体，一个整体可以流出5，那么三个整体之后（9个小时）就流了15，接着第16个小时流进8，这时就差1个量，还需要B管流20分钟，所以选择D

**【易错点拨】**注意C管是反方向。

**【题目 54】**某班做广播体操时所有同学排成了一列，从一开始报数，该班除了小明外其余人报的数之和减去小明所报之数恰好等于999。那么该班可能有多少名同学？（ ）。

- A. 44                      B. 46                      C. 22                      D. 47

**【答案】**B

**【解析】**设班级人数是n，小明所报的数字是x，那么根据题意： $\frac{(1+n)n}{2} - 2x = 999$ ，移项， $\frac{(1+n)n}{2} = 2x + 999$ ，等号右边确定是一个奇数，那么 $\frac{(1+n)n}{2}$ 就应该是一个奇数，代入验证，B选项符合条件。

**【题目 55】**假设地球上某种人类生产生活必需的资源生成速度是一定的，经人们测算，该种资源可供150亿人使用50年，或者供120亿人使用80年。那么，为了保持人类世代的生存繁衍与发展，那么就该种资源来看，地球上最多可以养活多少亿人？（ ）。

- A. 30                      B. 45                      C. 60                      D. 70

**【答案】**D

**【解析】**根据牛吃草公式： $Y = (150 - x) \times 50$ ， $Y = (120 - x) \times 80$ ； $x = 70$ ， $Y = 4000$ ，可持续发展意味着人数和资源增长速度一样，所以答案应该是D。

**【题目 55】**某公司女员工人数是男员工人数的60%，新招入24名女员工且男员工有两人离职后，该公司女员工数比男员工多12.5%。则该公司现在共有多少名员工？（ ）。

- A. 102                      B. 110                      C. 85                      D. 127

**【答案】**A

**【解析】**新招入24名，离职2名，也就是进入22名，根据60%，原来的总数8是8的倍数，也就是代入选项，减去22是8的倍数，排除C和D，而且现在的人数应该是17的倍数，所以选择A。

**【题目 56】**有黑、白、灰三种颜色的袜子各6双，装在一个不透明的袋子里，从袋子里任意



取出袜子来, 为了保证至少有两双不同颜色的袜子, 至少要取出多少只袜子? ( )。

- A. 10                      B. 12                      C. 13                      D. 15

**【答案】**D

**【解析】**最不利原则, 先确定最倒霉情况的数字: 14 (某一种颜色的袜子全部取完, 另外两种颜色的袜子各取一只), 再加 1, 即可。

**【题目 57】**某企业销售人员是行政人员的 4 倍, 制造人员是研发人员的 5 倍还多 22 个。若该企业研发、制造、销售、行政人员共 112 人, 而研发人员占 5% 以上, 那么销售人员的人数有 ( ) 个。

- A. 10                      B. 12                      C. 24                      D. 36

**【答案】**B

**【解析】**设行政人员是  $x$ , 那么销售人员就是  $4x$ , 设研发人员是  $y$ , 那么制造人员就是  $5x+22$ , 得:  $5x+6y=90$ , 根据奇偶特性,  $x$  是偶数, 销售人员还是 4 的倍数, 排除 A, 代入其它选项验证, 要求研发人员占 5% 以上, 所以 B 满足。

**【题目 58】**甲、乙两人在长 30 米的泳池内游泳, 甲每分钟游 37.5 米, 乙每分钟游 52.5 米, 两人同时分别从泳池的两端出发, 触壁后原路返回, 如是往返。如果不计转向的时间, 则从出发开始计算的 1 分 50 秒内两人共相遇了多少次? ( )。

- A. 2                      B. 3                      C. 4                      D. 5

**【答案】**B

**【解析】**两人第一次相遇路程和是 30, 第二次路程和是 90, 第三次路程和是 150, 所以相遇

3 次, 根据  $(37.5+52.5) \times \frac{11}{6} = 165$ , 得出两人在指定时间内路程和是 165. 所以是 3 次。

**【题目 59】**一个三位数除以 6 余 2, 除以 4 余 3, 请问这样的三位数有几个? ( )。

- A. 75                      B. 150                      C. . 225                      D. 不存在

**【答案】**D

**【解析】**三位数如果除以 6 余 2, 说明是一个偶数; 如果除以 4 余 3, 说明是一个奇数, 所以不存在。

**【题目 60】**现有边长 1 米的一个木质正方体, 已知将其放入水里, 将有 0.6 米浸入水中, 如果将其分割成边长 0.25 米的小正方体, 并将所有的小正方体都放入水中, 直接和水接触的表面



积总量为 ( )。

A. 3.4 平方米

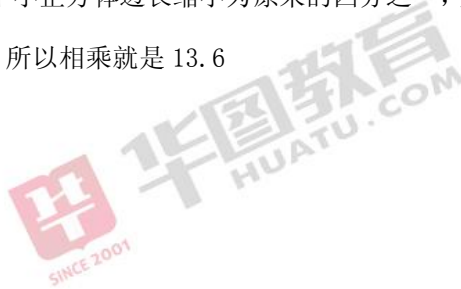
B. 9.6 平方米

C. 13.6 平方米

D. 16 平方米

**【答案】**C

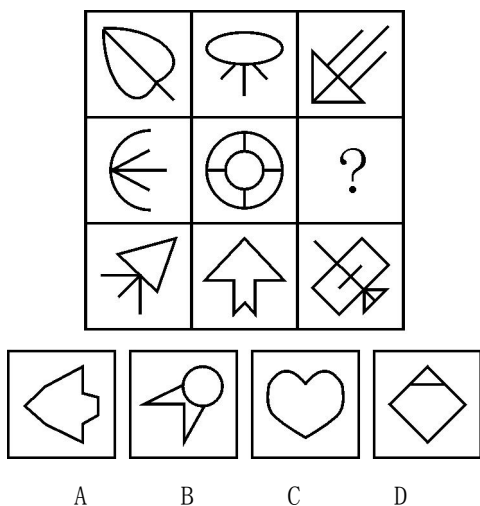
**【解析】**原来的正方体接触到水面的表面积是  $1+0.6 \times 4=3.4$ ，将其切割成若干个小正方体之后等于是在等比例缩小，每个小正方体边长缩小为原来的四分之一，那么表面积就缩小为原来的十六分之一，一共有 64 个，所以相乘就是 13.6





## 第四部分 判断推理

【题目 1】从所给的四个选项中，选择最合适的一个填入问号处，使之呈现一定的规律性（ ）。



【答案】A

【解析】本题是一道图形推理题。本题主要考察图形的属性类中对称性。主要命题形式为九宫格的图形推理题，每幅图都是轴对称图形，并且每一行中图形的对称轴方向各不相同，在对每幅图的对称轴连接之后，构成了一个米字型，因此，在问号处应该补充一个对称轴为横轴的图形，故此，本题答案为 A 选项。

【易错点拨】本题的难度就在于对九宫格的命题形式观察规律的路径的掌握程度，在对九宫格观察时可以横向、纵向、S 型、O 型、斜线等方式进行观察；在考察图形的内在属性时主要分为对称性、曲直性和封闭性。对称性可分为轴对称和中心对称，轴对称的考察可以涉及到方向和数量。本题主要考查方向。在做题过程中，一定要注意所填对称轴为横向。B 项的对称轴为斜着，C、D 项对称轴为竖向。

【题目 2】克山病是一种原因未明的地方性心肌病，山东省两次克山病流行均发生在病区居民生活困难时期，此时居民饮食结构单一，营养缺乏。1978 年以后，由于农村经济体制的改革，病区居民生活逐渐好转，营养结构趋向合理，克山病新发病人越来越少，达到基本控制标准。一些研究者据此推测，营养缺乏可能是克山病发病的重要因素。

如果以下各项为真，哪项不能质疑上述推论？（ ）。

A. 1978 年前农村生活水平普遍较低，但克山病仅在个别地方出现



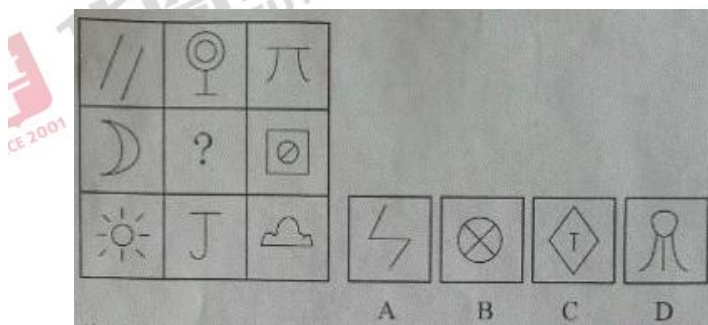
- B. 原来克山病病区的土壤、水质在几十年中发生了较大变化
- C. 一些生活水平高的地区，也出现过克山病病例
- D. 通过调整饮食结构，无法治愈克山病

**【答案】D**

**【解析】**本题是一道削弱论证类的题目。本题综合运用了多种削弱方式题干观点进行削弱。本题的论点为营养缺乏可能是克山病发病的重要原因；论据为（1）1978年前，居民生活困难，饮食结构单一，容易患克山病；（2）1978年后，生活好转，营养结构趋于合理，克山病病例减少。D项中说通过调整饮食结构，无法治愈克山病，题干中强调的是克山病的发病原因，与治愈克山病无关，因此D项不能对一些人的推测进行削弱，故此，本题答案为D选项。

**【易错点拨】**本题的难度就在对于选项ABC的分析：A项指出1978年前农村生活水平普遍较低，但克山病仅在个别地方出现，说明克山病是个别病例，对论据（1）进行否定，属于增加反向论据；而B项的迷惑性较大，B项指出克山病病区的土壤和水质发生很大的变化，说明土壤和水质与人体健康密切相关，而这些因素发生变化，克山病下降，说明这些因素有可能是克山病的发病原因，属于另有他因的削弱。C项指出一些生活水平高的地区，也出现过克山病病例，说明克山病与营养无关，是对论据（2）的削弱。

**【题目3】**观察下图，选择最合适的一个填入问号处，使之呈现一定的规律性（ ）。



**【答案】D**

**【解析】**此题考点比较新颖，从性质和数量的角度都没法找出正确答案，考点为图形的直线和曲线的交点数，直线和曲线的交点数每一行的数量和都为3。所以答案选择D

**【易错点拨】**本题是对交点的考察，难点在于学生受习惯思维的影响，在短时间内很难看出，所以建议考生以后要加强自己的观察能力，不要受传统思维的局限于束缚。

**【题目4】**德国经济在席卷全球的金融危机当中受到的冲击与其他发达国家相比较小，主要



原因是德国经济建立在先进制造业的基础上，德国的机械装备和汽车制造业保持了很强的竞争力。一些人根据德国的例子得出结论：只有具备强大的制造业竞争水平，一个国家的经济才有高度的稳定性。

如果以下各项为真，哪项能够质疑上述结论？（ ）。

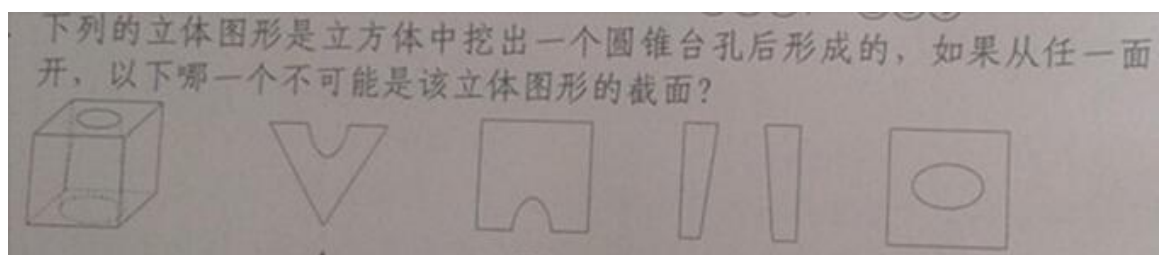
- A. 某国制造业不发达，该国经济一直动荡不安
- B. 有些制造业不发达的国家在金融危机中受影响较小
- C. 有些国家保持长期经济稳定，却没有发达的制造业
- D. 有些国家制造业很发达，但经济并没有长期保持稳定

**【答案】**C

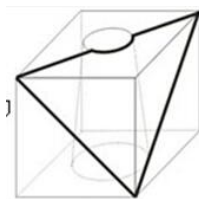
**【解析】**本题是一道削弱论证类的题目。题目的论点由逻辑关联词连接，属于形式推理在论证中的应用。题中的论点：只有具备强大的制造业竞争水平，一个国家的经济才有高度的稳定性。论据：德国在经济危机中受到冲击小，原因是德国经济建立在先进的制造业的基础上，制造业竞争力强大。利用翻译规则，将论点翻译为：经济的高度稳定性→具备强大的制造业。C项说有些国家保持长期经济稳定，却没有发达的制造业，是题干论点的矛盾命题，直接对论点进行了否定，因此，本题答案为C项

**【易错点拨】**本题的难度就在对于分析论点，论点由逻辑关联词连接，可用翻译规则进行翻译，而找出其矛盾命题，对论点进行直接否定即可。A项指出制造业不发达，则经济动荡，是论点经过翻译后的逆否形式，属于对论点的加强；B项指出有些制造业不发达的国家受到金融危机的影响较小，是举反例对论据进行削弱，但是削弱力度小于C项；D项说经济不稳定，但是制造业发达，根据翻译规则，属于论点的否前形式，否前得到的是可能性结论，可以否后也可以肯后，因此也不能进行质疑。

**【题目 5】**下列的立体图形是立方体中挖出一个圆锥台孔后形成的，如果从任一面剖开，以下哪一个不可能是该立体图形的截面？（ ）。

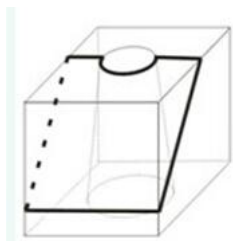


**【答案】**C

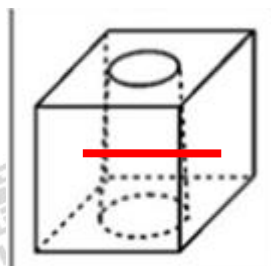


【解析】A项截面图得到的方式为：

，B项截面图得到的方式为



；C项截面图得到的方式为：



，所以答案选择C。

【易错点拨】本题考察学生的空间思维能力，此类题目在公务员考试中陆续出现，但是大多数同学平常不注意培养自己此方面的能力，造成选择错误或者选不出答案。

【题目6】某单位每逢年底会针对全体员工进行评优，评优奖项有5个，分别是最佳敬业奖、最佳创意奖、最佳协作奖、最佳写作奖、年度明星奖。其中如果评选了年度明星奖则不能再评选最佳创意奖和最佳敬业奖；如果评选了协作奖就不能在获得协作奖；如果选了敬业奖，则不能再获得协作奖。每个人最多获得两个奖项，综合科共3位员工，囊括了所有奖项，每个人都获奖，但奖项各不相同。已知员工甲获得了明星奖，员工乙和丙二人之间有人获得了写作奖。

由此可知，下列推测一定正确的是（ ）。

- A. 如果乙获得了写作奖，则其还获得敬业奖
- B. 如果乙获得了协作奖，则乙和丙各获得两个奖项
- C. 如果丙获得了协作奖，则乙一定不能获得敬业奖
- D. 如果乙获得了写作奖和创意奖，则甲一定只获得了一个奖项

【解析】本题属于翻译推理，答案选择B。题中出现了如果……那么……这个关联词，根据上述翻译推理的基本知识，可知题干可翻译为：明星→非创意且非敬业；协作→非写作；敬业→非协作；B项中说乙获得了协作奖，则根据推理规则知，其不能获得写作奖（原命题推理，肯前必肯后），且不能获得敬业奖（逆否命题推理，否后必否前）。有题干指出“员工乙和丙二人之间有人获得了写作奖”，所以得丙必然获得了写作奖。还已知员工甲获得了明星奖，则其不能再获得创意奖和敬业奖，又题目要求每个人都获奖，但奖项各不相同，所以甲只能获得明星奖，有题目要求综3位员工要囊括所有5个奖项，因此，如果乙获得了协作奖，则乙和丙各获得两个奖项。



**【易错点拨】**本题的难点在于涉及到的对象和奖项较多，因此做题过程中容易混淆，需考生对这部分内容有扎实的掌握方可能在短时间之内解出本题。

**【题目 7】**所有的战争和混乱都是在没有协商、无理可讲的时候发生的，讲理和协商都离不开语言，然而，并非有语言的地方就自动会有说理，有语言的地方必须有自由才能有说理。

由此可以推出（ ）。

- A. 有语言和自由的地方就一定不会发生战争
- B. 所有的战争和混乱都是因为没有自由而发生的
- C. 如果没有自由，不能讲理，就可能发生战争和混乱
- D. 并非所有的战争和混乱都是在不可以协商和不可以讲理的时候发生的

**【解析】**本题属于翻译推理。答案选择 C。战争和混乱→无协商无理，讲理协商→语言，说理→语言自由；A 战争混乱→没有自由，题中“战争和混乱→无协商无理”无协商无理推不出任何事情，A 错；B 说法和题目原话完全相反，错。D 语言自由→无战争，题中“语言自由”推不出任何事情，错。C 无自由→无理，无理推不出必然有战争，但可能有战争，正确。而且，课堂上强调过，“有‘可能’的选项一般是正确选项”，据此，此题秒杀。因此本题选择 C 选项。

**【易错点拨】**本题考察翻译推理中否前和肯后不能得出确定结论，但是能得到可能性结论的知识点，部分考生因为对此不熟悉或者不了解，而造成了答题错误。

**【题目 8】**心理记账是人们在心理上对结果进行分类、编码、估价和预算等的过程，消费者在决策时可能根据不同的任务进行相应的心理记账。

根据上述定义，下列不属于典型心理记账的是（ ）。

- A. 损失 10 元钱给人心理带来的痛苦要比获得 10 元奖金带来的高兴更强烈
- B. 王某出差常选星级酒店，因为它比旅馆更能提供免费网络和自助早餐
- C. 相比丢了 10 元钱的人，丢了电影票的人更不可能掏钱买票去看电影
- D. 工会发放福利时，不再发实物而改发购物卡以使职工有更多的自由选择

**【答案】D**

**【解析】**心理记账的主体是人们，行为是分类、编码、估价和预算。D 选项的主体是工会，是一个组织，而且未体现分类、估价、预算等行为，只是让职工选择多样化。A 比较了损失 10 元钱和获得 10 元奖金的不同，是一种分类、估价。B 体现了估价与预算，认为星级酒店更划算。C 选项比较了丢失 10 元钱和丢电影票的不同，是一种分类和估价。





**【易错点拨】**本题各个选项比较接近，容易造成迷惑，所以提醒考生要注意平常技巧与方法的掌握，比如本题用主体法便一目了然。

**【题目 9】**量尺：厘米

- A. 时间：小时                      B. 天平：千克  
C. 电话：号码                      D. 显微镜：细胞

**【解析】**本题属于类比推理。考查考查对应关系，前者是测量的工具，后者是测量的单位。因此，本题选择 B 选项。

**【易错点拨】**本题容易粗心而选择 A 项。但是仔细观察便可以发现，题干中的量尺属于测量工具，B 的天平也是测流工具，考生要注意类比题目一定要选择最为贴切才能作为正确答案。

**【题目 10】**番茄红素存在于番茄、西瓜等一些红色果蔬中。研究人员用脂肪含量极高的食物喂养实验鼠，然后从它们身上提取脂肪组织，与番茄红素进行接触。结果发现，番茄红素具有脂溶性特点，可以抑制脂肪细胞分泌蛋白质。而脂肪细胞大量分泌蛋白质会引起慢性炎症，从而诱发肥胖，由此引发一些相关疾病，例如 II 型糖尿病、高血压等。因此，研究人员认为番茄红素有助于预防这些与肥胖有关的疾病。

以下哪项如果为真，最能质疑上述结论？（ ）。

- A. 此前的研究已经证实，番茄红素具有良好的抗氧化功效  
B. 番茄红素结构稳定，经过高温烹调后其营养价值也不会受到损害  
C. 食用番茄后，番茄红素在消化系统中结构和营养价值会发生改变  
D. 其它条件相同的情况下，那些每天多吃两个生番茄的人体更轻

**【答案】**C.

**【解析】**削弱质疑型。题干中的结论是番茄红素有助于预防肥胖有关的疾病论点——番茄红素有助于预防这些与肥胖有关的疾病。A 项，具有抗氧化功能是否有助于肥胖没有定论，无关论述，排除。B 项，番茄红素稳定，营养价值发生改变，那么到底番茄红素有没有破坏不得而知，无法确定，不能质疑，排除。C 项，与 B 选项想法，番茄红素在消化系统中结构和营养价值发生了改变，所以无法说明论点，因此选 C。D 项，其他条件相同，多吃番茄的人体重更轻，说明番茄对消耗脂肪有作用，属于加强，排除。

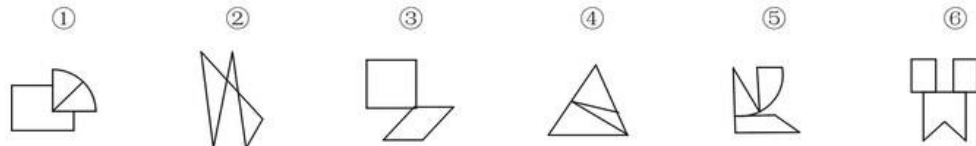
**【易错点拨】**本题的难度就在对于论点的分析，看是否能定位好论点。

**【题目 11】**



**82 (单选题)**

把下面的六个图形分为两类，使每一类图形都有各自的共同特征或规律，分类正确的一项是：



A. ①④⑥, ②③⑤

B. ①②③, ④⑤⑥

C. ①③⑥, ②④⑤

D. ①④⑤, ②③⑥

**【答案】**A

**【解析】**本题是一道图形推理题。本题主要考察图形的最新的考察形式，点连接和线连接。所谓点连接就是两个图形的位置关系是由点来连接起来的，而线连接就是两个图形的位置关系是由线连接在一起的且有公共的交线，本题的命题形式主要为分组分类的形式，根据点线连接的规律，把题中点连接的 235 分为一组，把线连接的 146 分为一组，因此，故此，本题答案为 A 选项。

**【易错点拨】**本题的难度就在于对图形的整体掌握和对每一个图形中位置关系连接方式的观察。由于第 5 个图形的迷惑性较强，一般不会被认为是点连接，所以在考试中还应当记住切点连接。本题主要考查点线连接。在做题过程中，一定要注意点线连接的方式。A 项为正确选项。

**【题目 12】** ( ) 对于织物相当于彩陶对于 ( )

- A. 刺绣, 陶器                      B. 染料, 彩绘  
C. 丝绸, 岩画                      D. 织机, 图案

**【答案】**A

**【解析】**考查的是种属关系。刺绣是一种织物，彩陶是一种陶器。因此选 A。

**【易错点拨】**本题容易混淆的是 c 选项，学生容易把丝绸和织物的关系混淆。

**【题目 13】**比赛：裁判

- A. 歌唱：指挥                      B. 诉讼：法官  
C. 驾驶：司机                      D. 考试：监考

**【答案】**B。

**【解析】**裁判是比赛胜负的决定者，法官是诉讼胜负的决定者。



**【易错点拨】**这道题目容易选错成 d, 裁判在比赛中起到监督的作用, 监考在考试过程中起到监督的作用。但是比较而言的话, 裁判有决定作用, 但是监考没有决定作用。

**【题目 14】**( ) 对于轿车相当于牡丹对于 ( )

- A. 吉普：雪花  
B. 卡车：菊花  
C. 动车：梅花  
D. 轮船：浪花

**【答案】**B

**【解析】**本题考查反对关系, 卡车和轿车是反对关系, 牡丹和菊花也是反对关系, 所以选 B 选项。

**【易错点拨】**本题容易错选成 C 选项。动车和轿车也是反对关系, 但是进一步剖析它们之间的关系会发现轿车和卡车都是在公路上行驶, 而动车是在轨道上行驶。所以 B 选项是更为贴切的一个选项。

**【题目 15】**扩大论题和缩小论题在辩论赛中很常见。在相互的辩驳中, 辩手们常常故意扩大对方的论题, 将对方的论题推到荒谬的地步, 以利于本方的反驳和进攻; 同时为了利于本方立论与防守, 辩手们又常常故意缩小本方的论题。

根据上述定义, 下列采用了扩大论题的是 ( )。

- A. 将论题“中学生异性交往弊大于利”解释成“中学生异性过分密切交往必定弊大于利”  
B. 将论题“人性本恶”解释成“人具有与生俱来的本能和欲望, 因此人性是恶的”;  
C. 将论题“德国人很严谨”解释成“所有德国人都很严谨”;  
D. 将论题“人性本善”解释成“没有人不是善的”;

**【答案】**D

**【解析】**本题是一道定义判断题, 根据题中要求可知扩大论题的关键点在于: (1) 扩大对方的论题; (2) 将对方的论题推到荒谬的地步”。选项 A, 属于缩小论题。选项 B, 第二句话是对“人性本恶”原因的补充解释。选项 C 的两句话是等价关系。选项 D, “人性本善”说的是人性本源是善良的, 而“没有人不是善的”, 对象是“人”, 是对人性的扩大; “善”是对“本善”的扩大。故进行了论题的双重扩大, 且很荒谬。因此, 本题答案为 D 选项。

**【易错点拨】**本题的难度就在对于定义中关键点的掌握, 扩大论题主要是对对方的论题进行扩大, 而且将对方论题推到荒谬的地步, AB 项可以简单的排除, C 项的迷惑性比较强, 我们在日



常生活中，说某国人一般都是说所有的某国人，故 C 项其实为等价关系，而并没有把德国人进行扩大。而 D 项则是把人性扩大为人，故答案选 D 项。

**【题目 16】**某市以生产加工“工艺品”出口到欧盟国家著称。去年以来，受到欧洲债务危机影响，该市对欧盟工艺品出口锐减。鉴于市场的变化，作为该市最大的工艺品生产企业 A 公司，必须在以后两年的时间里提高 5% 的生产率，否则它就会破产。根据该市外经贸局的研究，A 公司按照目前的生产状况和经管结构，如果能提高 5% 的生产率，就能增加 10% 的生产利润。

如果上述陈述为真，以下选项必然为真的是（ ）。

- A. 如果 A 公司不能达到提高 10% 利润的目标，它就会破产
- B. A 公司的生产率两年内必须提高 10%，否则它就会破产
- C. 只要经济形势好转，A 公司不提高生产率，也不会破产
- D. A 公司生产状况和经管结构两年不变，利润才能提高 10%

**【答案】**A

**【解析】**题干的推理模式是：一破产→两年里提高 5% 的生产率→增加 10% 的生产利润，A 项通过否后必否前，推理正确；B、C、D 三项均不符合推理规则，排除。所以选 A 选项。

**【易错点拨】**“... 否则...” 这个逻辑关联词在翻译的时候容易出错，需要先把“... 否则...” 转换成“... 否则不...” 的形式，把“... 否则不...” 看成一个整体，也就是说“否则它就会破产” 转换成“否则不破产”，所以翻译之后是“一破产→两年里提高 5% 的生产率” 而不是“破产→两年里提高 5% 的生产率”。

**【题目 17】**研究发现，试管婴儿的出生缺陷率约为 9%，自然受孕婴儿的出生缺陷率约为 6.6%。这两部分婴儿的眼部缺陷比例分别为 0.3% 和 0.2%，心脏异常比例分别为 5% 和 3%，生殖系统缺陷的比例分别为 1.5% 和 1%。因而可以说明，试管婴儿技术导致试管婴儿比自然受孕婴儿出生缺陷率高。

以下哪项如果为真，最能质疑该结论？（ ）。

- A. 试管婴儿要经过体外受精和胚胎移植过程，人为操作都会加大受精卵受损的风险
- B. 选择试管婴儿技术的父母大都有生殖系统功能异常，这些异常会令此技术失败率增加
- C. 试管婴儿在体外受精阶段可以产生很多受精卵，只有最优质的才被拣选到母体进
- D. 试管婴儿的父母比自然受孕婴儿的父母年龄大很多，父母年龄越大，新生儿出生缺陷率越

高



【答案】D

【解析】本题是一道削弱论证类的题目。本题题干中的论点是“试管婴儿技术导致试管婴儿比自然受孕婴儿出生缺陷率高”。D项属于另有他因，说明“试管婴儿比自然受孕婴儿出生缺陷率高”的不是“试管婴儿技术”的原因，而是“父母年龄大”。故此，本题答案为D选项。

【易错点拨】本题的难度就在对于找到论点，判定题型再运用正确方法进行解题。而另有他因削弱方式。另有他因经常在因果类论点中考查。论点为很明显的因果关系，“A导致B”形式。但是本题论点没有体现出明显的因果关系。所以，无论题目中有无明显的因果关系，对于论证方法都可以使用。A项“人为操作都会加大受精卵受损的风险”，举例子说明试管婴儿技术会导致婴儿出生缺陷率高，加强作用，排除。B项说明试管婴儿技术失败率增加，论点是婴儿出生缺陷率高，排除。C项“试管婴儿技术挑选最优质的受精卵”，话题不一致，排除。故D项为正确选项。

【题目18】法国总统萨科奇正式宣布竞选连任，打出了“强盛法国”的竞选口号，承诺带领法国走出经济危机。巴黎街头萨科奇竞选广告上写着：“只有强盛的法国才能保护你的家庭。”

根据此竞选口号的推理方式，下列选项为真的是（ ）。

- A. 虚弱的法国保护不了你的家庭
- B. 强盛的法国可以保护你的家庭
- C. 法国虚弱是因为没有保护家庭
- D. 家庭得到保护，法国就能强盛

【答案】A

【解析】题干中的推理形式为：强盛的法国←保护你的家庭，A项否前否后，推理为真，所以选A选项。

【易错点拨】误选D项，D项说“法国就能强盛”是一个趋势，也就是说还没有变得强盛，而题干中说“强盛的法国”是一个状态。

【题目19】文化自觉是指生活在一定文化中的人，对自己的文化有“自知之明”，即明白它的来历、形成过程、特色和发展趋向，从而增强自身文化转型的能力，并获得在新的时代条件下进行文化选择的能力和地位。此外，文化自觉还表现为应具有世界眼光，能够理解别的民族的文化，增强与不同文化之间接触、对话、相处的能力。

根据上述定义，下列选项属于文化自觉的是（ ）。



- A. 经谈判，中方同意增加美国电影进入中国市场的配额
- B. 为保护贵州梭嘎苗族文化习俗建立了梭嘎生态博物馆
- C. 赵武灵王的“胡服骑射”与北魏拓跋氏的“禁断胡语”
- D. 湖北省襄樊市与河南省南阳市都自称是“诸葛亮故里”

**【答案】**C

**【解析】**本题属于定义判断类题目。C项“胡服骑射”和“禁断胡语”都体现了人们对自己的文化有“自知之明”，从而进行了文化转型，符合定义。因此，本题选择C选项。

**【易错点拨】**此题难在不容易抓住题干中的关键词。

**【题目 20】**公司有人建议，只要员工都在承诺书上签字承诺不迟到，公司就取消上下班打卡制度，如果有人迟到，那么所有员工的当月奖金均全部被扣除，公司采纳了建议，结果还是有员工迟到，员工小刘仍拿到了当月奖金。

从这段文字可以推出（ ）。

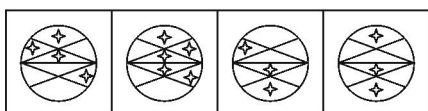
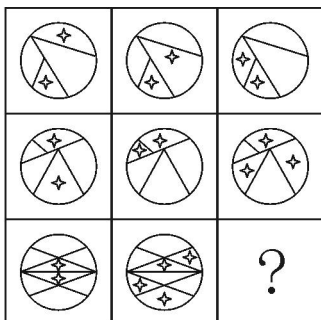
- A. 小刘从未迟到过
- B. 其他员工没有拿到奖金
- C. 公司有人没在承诺书上签字
- D. 迟到的人不是该公司的正式员工

**【答案】**C

**【解析】**本题属于翻译推理类题目。题干中的文字翻译成逻辑语言为：承诺签字不迟到→取消打卡制度；有人迟到→所有员工奖金扣除。现在的实际情况是：有员工迟到了，且拿到了当月奖金，根据十字真言中“否后必否前”，

**【易错点拨】**此题难在在看选项的时候容易遗忘题干的结论是什么。

**【题目 21】**从所给的四个选项中，选择最合适的一个填入问号处，使之呈现一定的规律性（ ）。



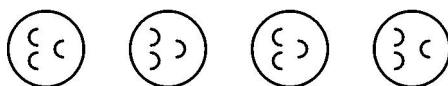

ABCD

【答案】A

【解析】本题考查黑白叠加。横向看，第一横行得出：星+星=星，星+白=白，白+星=白。第二横行也遵循此规律。根据此规律得出第三横行问号处是选择A选项。

【易错点拨】本题容易出错的地方就是把这道题目看成是位置类的题目，第一横行很容易误导大家，但是具体再看第二横行的时候发现第三个图形里面是3个五角星。明显比前两个图形多了1个，不符合位置类的题型。

【题目 22】从所给的四个选项中，选择最合适的一个填入问号处，使之呈现一定的规律性（ ）。



ABCD

【答案】C

【解析】本题考查的是位置类中的旋转和翻转知识点。观察第一横行发现嘴巴在逆时针旋转 90 度，并且第二个到第三个图形旋转之后还进行了翻转，第二横行也遵循此规律，依次可以





排除 AD, 再观察眼睛, 第二个图形到第三个图形是逆时针旋转 90 度, 因此本题选择 C 选项。

**【易错点拨】**容易错的地方就是没有注意到嘴巴第二个到第三个图形旋转之后还进行了翻转。

**【题目 23】**( ) 对于 吉祥 相当于 狼烟 对于 ( )

- A. 和平 战争  
B. 麒麟 信号  
C. 盛世 烽火  
D. 凤凰 入侵

**【答案】**D

**【解析】**本题考查象征意义, 凤凰是吉祥的预兆, 狼烟是入侵的信号。因此本题选择 D 选项。

**【易错点拨】**这道题目容易错选 B。麒麟也是吉祥的预兆。但是 B 选项后半句是信号, 与吉祥不对应, 如果把吉祥改成与预兆的话 B 选项就对了。

**【题目 24】**有一个大家庭, 父母共养有 7 个子女, 从大到小分别是 ABCDEFG, 这 7 个孩子的情况是这样的: (1) A 有 3 个妹妹; (2) B 有 1 个哥哥; (3) C 是老三, 她有 2 个妹妹; (4) E 有 2 个弟弟。从以上情况可以得出, 这 7 个孩子的性别分别是 ( )。

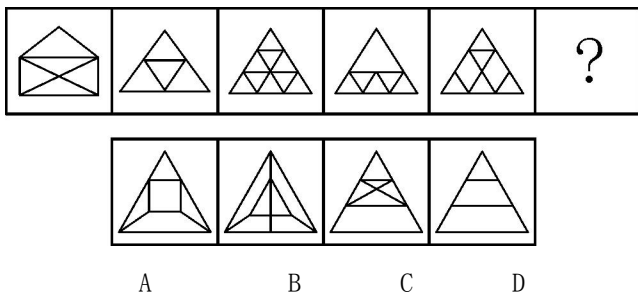
- A. A 男, B 女, C 女, D 女, E 男, F 男, G 男  
B. A 男, B 男, C 女, D 女, E 男, F 女, G 男  
C. A 男, B 男, C 女, D 女, E 女, F 男, G 男  
D. A 男, B 女, C 男, D 女, E 女, F 男, G 男

**【答案】**C

**【解析】**此题属于分析推理, 运用排除法。根据选项可知这 7 个子女中有 4 男 3 女。由 (1) 句可知 A 是男的, 由 (3) 可知 C 是女的, 排除 D。还可推知 DEFG 中, 有 2 男 2 女, 由 (4) 可知 E 是女的, 排除 AB 两个选项。

**【易错点拨】**此题难在考生难以找到选项与题干的联系, 选项是我们题干的一部分。

**【题目 25】**从所给的四个选项中, 选择最合适的一个填入问号处, 使之呈现一定的规律性 ( )。



【答案】C

【解析】 本题考查一笔画问题。所有图形均可一笔画成。所以选择 C 选项。

【易错点拨】 看到这道题目很多考生会想不到考我们一笔画的问题，可能会去数线，数面，这道题目给出的图形也很难断定是否可以一笔画。一笔画的图形必须满足两个条件，一必须是连通图，二奇点数为 0 或者 2。第一、五个图形的奇点是 2 个，第二、三、四个图形的奇点数为 0 个，所以都是可以一笔画的。四个选项中只有 C 是可以一笔画的。

【题目 26】 一场超级篮球赛即将进入比赛最后阶段，4 支球队将为最后名次展开激烈拼杀。行家们根据各球队以往战绩及现场表现，对比赛结果做出了 3 项预测：(1) 天空队、大地队都不能进入前两名；(2) 如果江河队获得第一，那么海洋队将获得第二；(3) 如果天空队获得第三，那么大地队将进入前两名。比赛结束后，发现行家们的预测只有一项是正确的。

据此，可以推出 ( )。

- A. 江河队获得第一                      B. 海洋队获得第二  
C. 天空队获得第三                      D. 大地队获得第四

【答案】A

【解析】 本题属于真假推理类题目。这道题需要我们对 (1)、(2)、(3) 项猜测依次进行翻译，即 (1) 翻译成：天空队非前两名且大地队非前两名；(2) 翻译成：江河队第一→海洋队第二；(3) 翻译成：天空队非前两名→大地队前两名。(1) (3) 构成“ $A \rightarrow B$ ”与“ $A$ 且非 B”的矛盾。矛盾关系的特性是：矛盾之中必有一真必有一假，其余信息告诉我们“预测只有一项是正确的”，那么这“一真”一定在 (1) (3) 之间，那么 (2) 就为假。那么 (2) 的矛盾命题即为真。(2) 的矛盾命题为“江河队第一且非海洋队第二”，选择 A。

【易错点拨】 本题的难点在于不能识别“ $A \rightarrow B$ ”与“ $A$ 且非 B”这组矛盾表现形式，并且不能很快的认识到“天空队获得第三”就是“天空队非前两名”。题干中鲜少提到第三名的信息，更多的是“前两名”，所以对信息的转化非常重要。



【题目 27】有人认为“巨额的国家预算赤字必然会导致巨额的国家贸易逆差”，如果这样的话，那么世界上预算赤字最大的国家必然会有相应的最大的贸易逆差；但我们知道，世界上预算赤字最大的国家是美国，而美国的贸易总的来说是顺差而不是逆差（因为尽管其货物贸易亏本，但其技术和服务贸易却赚得非常多）。

由此可以推出（ ）。

- A. 巨额的国家预算赤字必然不会导致巨额的国家贸易逆差
- B. 巨额的国家贸易逆差必然不会导致巨额的国家预算赤字
- C. 巨额的国家预算赤字可能不会导致巨额的国家贸易逆差
- D. 巨额的国家预算赤字可能会导致巨额的国家贸易逆差

【答案】C

【解析】本题属于形式推理型。本题考查模态命题。美国是一个特殊的反例，否定“必然”，也就是考查“必然”的矛盾命题，那么它就等价于“可能不”，所以选择 C 选项。

【易错点拨】本题容易范错的地方就是混淆模态命题的矛盾形式：“必然 P”的矛盾形式是“可能不 P”，“必然不 P”的矛盾形式是“可能 P”。

【题目 28】黄金：铂金：金属

- A. 北京：纽约：首都 B. 河流：黄河：长江
- C. 本科生：研究生：学生 D. 民法：宪法：母法

【答案】C

【解析】本题考查的是反对关系及种属关系，黄金和铂金同属于金属，本科生和研究生同属于学生。因此，正确答案选 C。

【易错点拨】本题误选 A 或者 D 项，A 选项误认为纽约是美国的首都。D 项不懂什么是母法，宪法是母法，其他的法律都是子法。

【题目 29】张、王、李、赵 4 人分别会钢琴、竖琴、长笛、小号四种乐器中的两种。他们有 3 个人擅长钢琴，但没有一种乐器是 4 人都擅长的，并且知道：张吹小号，而王不擅长，但能演奏同一种乐器；李不吹长笛，但张和赵擅长的不同乐器，李也擅长；没有人既会小号又会竖琴；没有一种乐器是王、李、赵都擅长的。

根据题干条件，以下哪项是 4 人分别擅长的两种乐器？（ ）。

- A 张擅长钢琴、小号，王擅长钢琴、竖琴，李擅长钢琴、长笛，赵擅长竖琴、长笛



- B 张擅长钢琴、小号，王擅长钢琴、竖琴，李擅长钢琴、竖琴，赵擅长竖琴、长笛  
C 张擅长钢琴、长笛，王擅长钢琴、小号，李擅长钢琴、竖琴，赵擅长竖琴、长笛  
D 张擅长钢琴、长笛，王擅长钢琴、竖琴，李擅长长笛、竖琴，赵擅长钢琴、小号

**【答案】**B

**【解析】**这道题目运用“排除法”，在有效信息当中，“张吹小号，而王不擅长”根据这句话我们可以排除C选项，因为C选项中王擅长小号，与题干矛盾；根据“李不吹长笛”可排除AD两个选项，因为这两个选项中出现了李擅长长笛的情况。

**【易错点拨】**题干中还提到“没有一种乐器是王、李、赵都擅长的”从这句话我们可看出B选项也是不满足题干条件的，因为B选项中让王李赵都擅长竖笛。

如果考场上遇到了这样的题目，我们根据排除法选择出B选项就可以了，因为公考考察的更多的是思维和方法。命题人可能也是一时疏忽，选项与题干信息出现了偏差。

**【题目30】**药品：药房：药方

- A. 旅行：飞机：机票      B. 桌餐：饭店：菜单  
C. 存款：银行：银行卡      D. 电影：影院：电影票

**【答案】**B

**【解析】**题干中的逻辑关系是：药房中有药品，人们可以不用药方去药房买药。只有B选项符合这样的逻辑关系。饭店中有桌餐，人们可以不用菜单去饭店定桌餐。

**【易错点拨】**很多考生考虑不到“人们可以不用药方去药房买药”，认为题干中的逻辑关系是“人们用药方去药房买药品”，这样理解的话，D选项也满足，就是“人们可以凭电影票去影院看电影”。我们的考试基本都是单选题，所以只能选择一个选项。在做题时，应该开阔思路。

**【题目31】**真皮：标志

- A. 模拟：通信      B. 噪声：范围  
C. 火车：车厢      D. 中国：邮票

**【答案】**B

**【解析】**题干中的逻辑关系是：真皮都有标志，来保护消费者的权益。只有B选项符合这样的逻辑关系。噪声需要有范围，以保护人们的健康。

**【易错点拨】**不易联想到后面的关系，保护消费者的权益，保护人们的健康。

**【题目 32】**滥用市场支配地位，是指在相关市场内具有能够控制商品价格、数量或者其他



交易条件，或者能够阻碍、影响其他经营者进入相关市场的经营者，利用其市场支配地位危害竞争，损害竞争对手和社会公共利益及其他私人利益的行为。

根据上述定义，下列行为构成滥用市场支配地位行为的是（ ）。

A. 甲公司通过取得股权或者资产方式取得对其他很多经营者的控制权，使自己该地的市场占有率达 50% 以上

B. 在某地食用油市场占有率达 55% 的甲公司，要求当地某超市在购物车上为其免费做广告，遭到超市拒绝，甲公司停止向该超市供货

C. 某市电力公司称很多用户的电表不准，要求用户必须购买该公司指定的几种品牌的电表，经查，电力公司与指定品牌的生产厂家并无利益关系

D. 在某市打火机市场占有率达 70% 的甲乙二厂，为缓解由于经济不景气而导致的销售量严重下降，就限定生产数量和销售价格达成协议，造成很多小厂家破产

**【答案】D.**

**【解析】**解题的关键在于“利用市场支配地位，危害竞争对手和社会公共利益及其他私人利益”。A、B、C 选项均没有危害他人利益。D 选项是通过利用市场支配地位限定生产数量和销售价格，损害其他小厂的利益。所以选择 D 选项。

**【易错点拨】**本题的难度就在对于题目的分析，关键词的勾画。

**【题目 33】**手术刀：外科医生

A. 渔网：渔民 B. 讲台：教师

C. 打火机：抽烟者 D. 望远镜：科学家

**【答案】A**

**【解析】**本题属于对应关系。手术刀是外科医生的工具，渔网是渔民的工具。且外科医生和渔民同属职业。选项 C 中抽烟者非职业；选项 D 错误之处在于科学家范围过于广泛。所以选择 A 选项。

**【易错点拨】**本题容易混淆的是 D 选项，学生容易把科学家的范围混淆。

**【题目 34】**一个外地品牌为进入本地市场进行广告宣传效果的调查。结果显示，在用电视广告宣传时，当地每百人有 15 人知晓该品牌，而后选用报纸广告，每百人有 26 人表示对其有印象。据此，为提高该品牌的知晓率，该公司决定将全部广告资金投入报纸广告。

以下如果为真，最能削弱该公司决定的是（ ）。



- A. 电视是当地人获取信息的最主要途径
- B. 报纸广告容易给观众留下“产品过于廉价”的负面印象
- C. 若不采用报纸广告而继续采用电视广告宣传，相同时间后，每百人有 45 人知晓该品牌
- D. 通过电视知晓该品牌的人中，八成有购买意愿，而通过报纸广告知晓者，仅两成有此意愿

**【答案】C。**

**【解析】** 本题属于削弱论证型。前提是“用电视广告宣传时，每百人有 15 人知晓该品牌；后选用报纸广告，每百人有 26 人表示对其有印象”结论是“将全部广告资金投入报纸广告可提高知晓率”。A、B、D 选项没对“提高知晓率”做出削弱；C 选项说明在相同的时间内电视广告对提高知晓率的效果强于报纸广告，削弱了结论。所以选择 C 选项。

**【易错点拨】** A 选项电视是当地人获取信息的最主要途径，这并不能说明报纸是不会死人们获取信息的途径

**【题目 35】** 某煤矿发生了一起严重的安全事故。关于事故原因，甲、乙、丙、丁四位负责人有如下断定：甲：如果造成事故的直接原因是设备故障，那么肯定有人违反操作规程。乙：确实有人违反操作规程，但造成事故的直接原因不是设备故障。丙：造成事故的直接原因确实是设备故障，但并没有人违反操作规程。丁：造成事故的直接原因是设备故障。如果上述断定中只有一个人的断定为真，则以下断定哪一项为真？（ ）。

- A. 甲的断定为真，有人违反了操作规程
- B. 甲的断定为真，但没有人违反操作规程
- C. 乙的断定为真
- D. 丙的断定为真

**【答案】B**

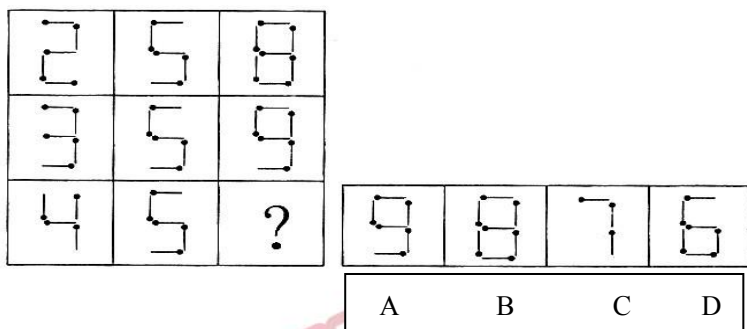
**【解析】** 本题属于真假推理类题目。这道题需要我们对甲、乙、丙、丁四个人的话依次进行翻译，即甲翻译成：设备故障→有人违反操作规程；乙翻译成：有人违反操作规程且不是设备故障；丙翻译成：设备故障且没人违反操作规程；丁翻译成：设备故障。甲丙构成“A→B”与“A且非B”的矛盾。矛盾关系的特性是：矛盾之中必有一真必有一假，其余信息告诉我们“上述断定中只有一个人的断定为真”，那么这“一真”一定在甲丙之间，那么乙丁就为假。丁说造成事故的直接原因是设备故障，如果丁是假话，那么说明造成事故的直接原因就不是设备故障，即说明丙是错误的，甲是正确的，排除 CD。乙也是假的，那么乙的矛盾命题即为真。乙的矛盾命题为“有人违反操作规程→设备故障”，已知不是设备故障，运用推理规则“否后必否前”，可知没有人违反操作规程，选择 B。





**【易错点拨】**本题的难点在于不能识别“A→B”与“A且非B”这组矛盾表现形式。

**【题目 36】**从所给的四个选项中，选择最合适的一个填入问号处，使之呈现一定的规律性（ ）。



**【答案】**A

**【解析】**本题属于图形推理样式类，答案选择A。本题考察的是样式中外在形状运算的叠加类，即九宫格每一行的第一个图形和第二个图形叠加之后得到第三幅图，故本题答案选择A。

**【易错点拨】**本题在作答的过程中，考生容易受到惯性思维的影响，把它当做数量类的题目数线段的数目，因此造成该题最终无法解出或者解答错误。

**【题目 37】**我国生产婴幼儿配方奶粉的企业有 130 多家，而美国只有 4 家企业，相比之下美国吃配方奶粉的婴幼儿数量则远高于我国。“设想一下，如果只有 4 家企业生产配方奶粉，企业会倍加珍惜自己的品牌价值，不断加强食品安全意识，任何可能的食品安全风险都是企业自身无法容忍的，发生三聚氰胺这样的问题是不可想象的。”

以下哪项为真最能削弱上述观点？（ ）。

- A. 我国生产婴幼儿配方奶粉的企业太多，品牌价值对于企业并不重要，所以这些企业敢在奶粉中添加三聚氰胺
- B. 某国的婴幼儿配方奶粉生产商家有 90 多家，它们之中大多数企业生产出的奶粉均未查出过三聚氰胺
- C. 某公司是我国生产奶制品的著名企业，其品牌价值很高，但是在其生产的奶制品中查出了三聚氰胺
- D. 某企业是美国婴幼儿配方奶粉的著名生产商，在他们生产的某品牌配方奶粉中查出了三聚氰胺

**【答案】**D



**【解析】**本题属于削弱论证，答案选择D。题中的观点是如果企业的数量少，则企业就会珍视自己的品牌，从而避免发生三聚氰胺类似的时间。故要削弱此观点，即要表明，即使企业少，也不一定就能避免类似三聚氰胺的问题发生，答案D项，通过一个反面的论据说明了这个观点，从而起到了对于原观点的削弱作用。

**【易错点拨】**本题部分考生会误选A，题目要讨论的是企业少的时候是否会珍惜品牌，A说企业多的时候，因此是无关选项。

**【题目 38】**2 亿年前，在恐龙统治地球之时，一小撮夜行性的远古爬行动物在不知不觉中找到了一条生存策略，并最终走向了大脑的进化之路。科学家从与原始哺乳动物及其类似的远古爬行动物的头骨化石中得出结论，正是嗅觉的发展促进了远古爬行动物大脑的进化。

以下哪项如果为真，最能支持上述结论？（ ）。


- A. 许多早期哺乳动物由于自然选择进化出了更小的身体，而它们的脑却未能按比例缩小
- B. 研究人员分析了爬行动物犬齿龙类化石，其与早期哺乳动物摩根兽亲缘关系很近，但摩根兽的大脑比犬齿龙要大一半，其中处理嗅觉的区域明显增大
- C. 早期夜行性哺乳动物进化出更大的脑是为了促进它们的听觉，因为视觉在夜晚并不能起到很大作用
- D. 研究表明，与现存哺乳动物关系最近的巨颅兽，其大脑容量和鼻腔所占空间都要比早期爬行动物大一些

**【答案】**B

**【解析】**本题属于加强支持型，论点为嗅觉的发展促进了远古爬行动物的进化，B项对比了进化程度较高的哺乳动物的大脑容量和嗅觉的区域比较，支持了论点。因此，本题选择B选项。

**【易错点拨】**本题容易粗心而选择D项。但是D所描述的是鼻腔所占的空间，与嗅觉是两个概念。

**【题目 39】**从所给的四个选项中，选择最合适的一个填入问号处，使之呈现一定的规律性（ ）。

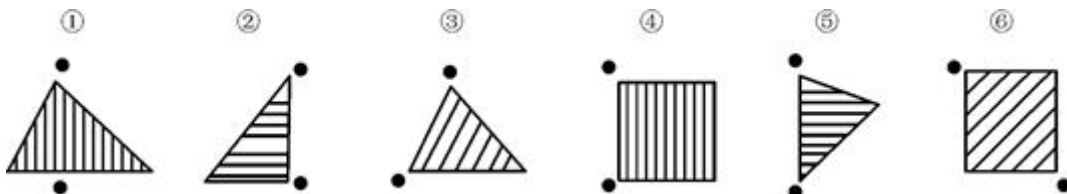


【答案】C

【解析】本题是一道图形推理题。本题主要考察图形的动态位置类的旋转和翻转。主要命题形式为九宫格的图形推理题，每幅图都是经过了逆时针旋转九十度，并且每一行中图形的眼睛和嘴巴的变化有一定的规律，从第一幅图到第二幅图眼睛进行了翻转而嘴巴不动，从第二幅图到第三幅图眼睛不动而嘴巴发生翻转，第二行验证规律，也是一样，因此，在问号处应该眼睛不动嘴巴翻转的笑脸，故此，本题答案为C选项。

【易错点拨】本题的难度就在于对图形的整体掌握和对每一个图形中笑脸的变化的细节问题的观察。由于每个图形大致相同，所以不经过思考直接观察，会晕头转向，所以应当将图形中的每一个笑脸画出来，才能发现其中的规律。本题主要考查翻转。在做题过程中，一定要注意发生了几次翻转。C项为正确选项。

【题目40】把下面的六个图形分为两类，使每一类图形都有各自的共同特征或规律，分类正确的一项是（ ）。



A. ①③⑥, ②④⑤

B. ①③⑤, ②④⑥

C. ①③④, ②⑤⑥

D. ①⑤⑥, ②③④

【答案】C



**【解析】**本题是一道图形推理题。本题主要考察图形中的功能信息类的题目。内容是功能信息中小黑点的方向，观察题干给出的图形，功能元素小黑点间的连线标定与三角形内部的直线呈垂直方向还是水平方向，根据这一规律把小黑点连线与三角形内部直线呈垂直方向的分为一组，把小黑点连线与三角形内部直线呈水平方向的分为一组，因此本题答案是C选项。

**【易错点拨】**本题的难度就在对于对功能信息的考察方式的掌握，对于功能信息主要有三种考察方式，考察小黑点的方位、方向和空间。本题出现了两个小黑点，这时应当对其建立联系，所以把两个小黑点连接起来，观察其与图形的关系，发现134小黑点的连线与图形中的直线是平行的关系，而256小黑点的连线与图形的直线是垂直的关系。故答案选C项

**【题目41】**据某知名房产中介机构统计，2010年9月份第二周全国十大城市的商品房成交量总体呈上涨趋势，并且与8月第二周相比上涨幅度更明显。如果没有其他因素抑制，按照这种趋势发展，9月份或将创新政以来成交量最高水平。虽然现在还不能确认楼市完全回暖，但未来楼价调控的压力还是很大的。

下列最有可能是上述论证前提假设的是（ ）。

- A. 炒房者将资金大量投入楼市
- B. 国家对楼价的调控手段不足
- C. 消费者对房子的购买热情没有减退
- D. 楼市成交量的增长会带动楼价的上涨

**【答案】**D

**【解析】**本题是一道加强论证类的题目。本题综合运用了多种削弱方式题干观点进行削弱。本题的论点为未来楼价调控压力还是很大的；论据为成交量上涨。D项中说楼市成交量的增长会带动楼价的上涨，是对论点和论据建立了联系，因此D项为非因果类加强中最强的加强方法，故此，本题答案为D选项。

**【易错点拨】**本题的难度就在对于找到论点，论点不能根据引导词找到，需要根据首尾句原则找到，而在选择选项时有两项都是加强，但是通过强度比较选择正确选项。A项指出炒房者讲大量资金投入楼市，只提到了成交量的问题，故与论题无关，属于无关项；B项指出国家对楼价的调控手段不足，属于加强了论据；C项说消费者购买热情的问题，与题干无关；D项说成交量上涨会带动楼价上涨，是对论点和论据建立了联系，因此是BD比较，D项的强度最强，故D项可以成为其前提假设。



【题目 42】某市要建花园或修池塘，有下列 4 种假设：修了池塘就要架桥；架了桥就不能建花园；建花园必须植树；植树必须架桥。

据此不可能推出的是（ ）。

- A. 最后有池塘
- B. 最后一定有桥
- C. 最后可能有花园
- D. 池塘和花园不能同时存在

【答案】C

【解析】本题属于翻译推理。先做翻译：花园或池塘；池塘→架桥；架桥→¬花园；花园→植树；植树→架桥。进行连锁推理得知：花园→植树→架桥→¬花园。最后就得知：花园→¬花园。这样的话一定是没有花园的。

【易错点拨】 $A \rightarrow \neg A$ ， $\neg A$ 一定为真。

【题目 43】某国一足球杂志报道说，30 年来该国足球甲级联赛的冠军都是通过假球决出来的。该杂志还给出证据说，有一位不愿透露姓名的参赛队员告诉记者，他和他的队友曾收取了 20 万美元的贿赂，于是他们在一场关键性的比赛中踢假球，最终让另一支球队获胜。但是，该国足球联赛主席对这则报道进行了反驳。

以下各项如果为真，最能对该主席予以支持的是（ ）。

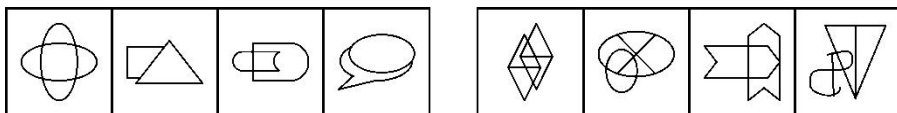
- A. 该足球杂志曾数次刊发不实报道
- B. 该国足联赛对踢假球行为处罚极重，所以一般不会出现踢假球事件
- C. 即使那场比赛中踢假球事件是真的，也不能断定甲级联赛的冠军是通过假球决出来的，否则联赛也不会举办 30 年
- D. 通过近期一次全国性的调查，并没有发现足够影响冠军归属的假球案件

【答案】C

【解析】本题属于加强支持型。支持主席，就是反驳“30 年来该国足球甲级联赛的冠军都是通过假球决出来的”这一论点。C 选项是绕开论据，直接反驳论点。手法是用“30 年通过假球决冠军→不会办 30 年；举办了 30 年这一事实，可以得到没有 30 年通过假球决冠军”。A 选项诉诸人格攻击，B 选项与论题关系不大，D 选项没发现不等于不存在，反驳力度要弱。所以选择 C 选项。

**【易错点拨】**容易错的地方就是弄不清楚论点的具体的内容。还有就是不会灵活应用翻译推理的知识点和论证的结合。

**【题目 44】**从 A、B、C、D 四个图形中选出最合适的一个，使得它保持左边四个图形所呈现的规律性（ ）。

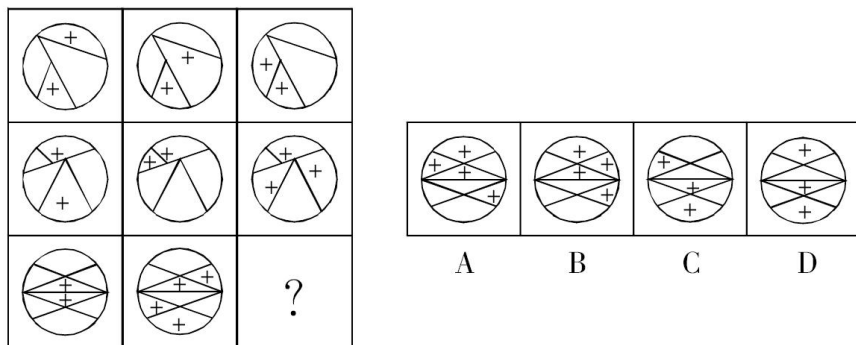


**【答案】**C

**【解析】**一笔画成规律，题干中的四个图形都可以一笔画成，四个选项中只有 C 项可以一笔画成，故本题正确答案为 C。

**【易错点拨】**这道题目容易错数交点的个数。

**【题目 45】**从所给的四个选项中，选择最合适的一个填入问号处，使之呈现一定的规律性（ ）。



**【答案】**A

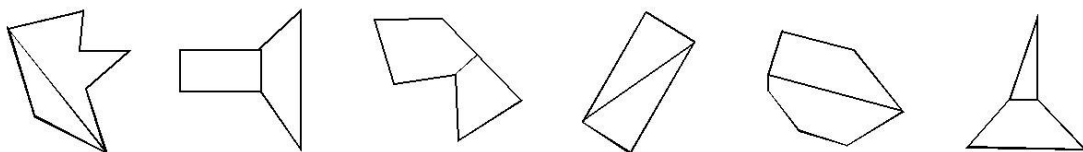
**【解析】**A。本题考查样式类中的同一位置处图案的叠加。为黑白叠加的一种演变题型，叠加规律为：加号+空白=空白，空白+加号=空白，加号+加号=加号，空白+空白=加号。只有 A 项符合。

**【易错点拨】**本题在作答的过程中，考生容易将其误判为位置类的题型，从而导致不能得出答案。

**【题目 46】**把下面的六个图形分为两类，使每一类图形都有各自的共同特征或规律，分类正确的一项是（ ）。

- ①                      ②                      ③                      ④                      ⑤                      ⑥





- A. ①③⑥, ②④⑤      B. ①②⑤, ③④⑥  
C. ①②⑥, ③④⑤      D. ①④⑤, ②③⑥

**【答案】D**

**【解析】**本题考查交线的长短。题干的每幅图形都可以看成是由两个图形相交而成，而根据交线的长短可将图形分为两类，D项分类正确。

**【易错点拨】**本题考察图形之间的连接关系，为近几年来图形题目的一种新的考查方式，因为考生对这一考点不熟悉从而导致不能得出答案。

**【题目 47】**“翻异别勘”是宋代为防止冤假错案而规定的复审制度，是指犯人如果在录问或行刑时提出申诉，案件必须重新审理。宋代的“翻异别勘”分为原审机关的“移司别勘”和“差官别勘”两种形式。“移司别勘”是指由原审机关将案子交给另一个同级的司法机关复审。“差官别勘”是指原审机关将案子申报到上级机关，由上级机关负责差派与原审机关不相干的另外一个机关的官员重新审理。这种情况下，往往或者是差派上级机关的官员前往原审机关主审，或者将案子移往上级机关复审。

根据上述定义，下列不属于“翻异别勘”的是（ ）。

- A. 宋代中央司法机关刑部分左、右两厅，对其中一厅审理的案件，若犯人提出申诉，则由另一厅重审  
B. 宋代地方司法机关从上至下分为路、州、县三级，对由县上诉至州的案件作出判决后，若犯人提出申诉，则由州发回县重审  
C. 犯人对州县审理的案件提出申诉，可以将案件移交至州县的上级——路的长官进行重审  
D. 犯人对州县审理的案件提出申诉，州县的上级——路的长官可以亲至州县对案件进行重审

**【答案】B**

**【解析】**“翻异别勘”的要件是交给另一个同级的司法机关复审或者申报到上级机关。B项中，案件已由州的司法机关作出判决，若犯人提出申诉，应当交给与该州同级的司法机关复审或者申报到路的司法机关。“发回县重审”不符合定义的要件。



**【易错点拨】**本题考察到的翻译别勘包含两种形式，而由于本题干过长，不少考生在做题时候抓不住关键词，或者只看到了两种形式中的一种，造成了做题错误。

**【题目 48】**相关研究发现，每天睡眠不足 7 小时的人普遍比睡眠时间更长的人胖。这是因为睡眠不足影响了新陈代谢功能，使刺激食欲的荷尔蒙增加，同时使产生饱胀感的荷尔蒙水平降低。

由此不能推出（ ）。

- A. 胖人的食欲比体重正常的人好
- B. 睡眠状况影响新陈代谢
- C. 荷尔蒙水平影响食欲
- D. 胖人的荷尔蒙水平可能异于常人

**【答案】**A

**【解析】**本题属于隐性结论型。B 选项可由题干中“睡眠不足影响了新陈代谢功能”推出；C 选项可由题干中“刺激食欲的荷尔蒙”以及“产生饱腹感的荷尔蒙”推出；D 选项可由“睡眠不足影响荷尔蒙，睡眠不足的人更胖”推出。所以选择 A 选项。

**【易错点拨】**A 选项是一个易错选项，出现了敏感词汇，表示比较的“比”。

**【题目 49】**一天晚上，某商店被盗。公安机关通过侦查，得出如下判断：（1）盗窃者或是甲，或是乙；（2）如果甲是盗窃者，那么作案时间就在零点之前；（3）零点时该商店的灯光灭了，而此时甲已经回家；（4）如果乙的供述不属实，那么作案时间就不在零点之前；（5）只有零点时该商店的灯光未灭，乙的供述才属实。

由此可以推出本案的盗窃者是（ ）。

- A. 甲
- B. 乙
- C. 甲或乙
- D. 甲和乙

**【答案】**B

**【解析】**本题属于翻译推理类题目。这道题需要我们对五个小标依次进行翻译，即（1）翻译成：甲或乙；（2）翻译成：甲是盗窃者→作案时间在零点之前；（3）翻译成：零点灯灭且甲已经回家；（4）翻译成：乙供述不属实→作案不在零点之前；（5）翻译成：乙供述属实→零点时灯未灭。由于（1）（2）（4）（5）都是假设关系，不能作为切入点，所以我们只能选择（3）“零点灯灭且甲已经回家”这句确定的信息入手。涉及灯是否灭的是（5），所以观察（5）和（3），发现（3）否定了（5）的箭头的后半部分，运用推理规则“否后必否前”，我们知道了乙的供述不



属实。涉及到乙的供述是否属实的还有(4)，乙的供述不属实等于肯定了(4)箭头的前半部分，运用推理规则“肯前必肯后”，我们知道了作案不在零点之前，而涉及作案时间的剩下的只有(2)，作案时间不在零点之前等于否定了(2)箭头的后半部分，依然运用“否后必否前”的推理规则，可以知道甲不是盗窃者。既然(1)已经告诉我们盗窃者或者是甲或者是乙，那么不是甲只能是乙了，所以选择B。

**【易错点拨】**本题的难点在于不能快速准确的找到入手点。一般当题干信息不确定时，我们通常找确定信息作为切入点。

**【题目 50】**某公司所有的销售人员都是男性，所有的文秘都是女性，所有的已婚者都是文秘，公司的总经理尚未结婚。

据此，我们可以知道（ ）。

- A. 总经理是男性
- B. 已婚者中有男性
- C. 女员工中可能有未婚者
- D. 销售人员中有的已经结婚

**【答案】**C

**【解析】**本题属于翻译推理型。题干可翻译为销售人员→男性；已婚→文秘→女性；由充分条件命题特点否定后件可以否定前件知男性都未婚，排除B、D选项；由充分条件命题否定前件不能否定后件，所以总经理未婚不能推出总经理是男性，A选项错误。所以选择C选项。

**【易错点拨】**本题容易错的选项是A选项，容易从日常的思维方式出发认为经理一般是男的。

**【题目 51】**据史料记载，唐贞观十九年，玄奘从印度取经归来后，亲自设计建造了大雁塔，用以供奉带回的佛经、金银佛像、舍利等宝物。但直到现在，玄奘所带回的珍宝到底藏在哪里，却无人知晓。考古专家认为，就像法门寺古塔下面存在千年地宫一样，大雁塔地下肯定也藏有地宫，只是尚未发掘而已，并由此推测，大雁塔下的地宫里极有可能藏有玄奘当初带回的珍宝。

以下哪项如果为真，最不能质疑上述推测？（ ）。

- A. 玄奘所画的大雁塔图纸上没有地宫
- B. 已发掘的其他几座古塔下的地宫中并没有发现宝物
- C. 考古学家已经在其他地点发现了玄奘带回的佛经
- D. 根据史籍记载，玄奘带回的宝物已全部进献到皇宫

**【答案】B**

**【解析】** 本题属于削弱论证型。题干的论证为大雁塔的地宫可能藏有玄奘带回的珍宝。A选项中大雁塔图纸上没有地宫，那么大雁塔很可能没有地宫，也就不可能藏珍宝，削弱了题干的论证；C选项考古学家在其他地点发现了玄奘带回的佛经，说明玄奘带回的珍宝很可能在其他地点，而不在大雁塔里，削弱了题干的论证；D选项宝物已献到皇宫，说明不在大雁塔里，削弱了题干的论证。所以选择B选项。

**【易错点拨】** B选项其他古塔地宫没有发现宝物，不能推出大雁塔地宫没有宝物，不能削弱题干的论证。

**【题目 52】** 北京市为缓解交通高压实行机动车辆现行政策，每辆机动车周一到周五都要限行一天，周末不限行。某公司有A、B、C、D、E五辆车，保证每天至少有四辆车可以上路行驶。已知：E车周四限行，B车昨天限行，从今天算起，A、C两车连续四天都能上路行驶，E车明天可以上路。

由此可知，下列推测一定正确的是（ ）。

- A. 今天是周六                      B. 今天是周四  
C. A车周三限行                    D. C车周五限行

**【答案】B**

**【解析】** 本题是一道分析推理类的题目。本题主要考察的是分析推理中选项信息不充分的解题技巧和突破口，主要是选项代入法和假设法。如果选项A正确，则A、C两车周一周二都能行驶，B车周五限行，由此推出A、C两车都周三限行，与题目已知保证每天至少有四辆车可以上路行驶不符，因此A选项错误。如果B选项正确，则A、C在一，二限行，B车周三限行，符合题意，并且此时CD选项全部不满足，所以选择B选项。

**【易错点拨】** 本题的难度就在于对分析推理方法的运用，此题难度较大，如果从题干入手浪费大量时间，从选项入手进行假设则能快速得出答案。将选项带入，若A项正确，则A、C两车在周一和周二都可以上路行驶，那么与题干的信息矛盾，故A项错误。若B项正确，则符合题意，在考试过程中，已得到了正确答案，直接涂卡，迅速进入下一题，不需要纠结CD的正确与否。故B项为正确选项。

**【题目 53】** 2008年上半年原油期货价格一度上涨到每桶147美元，是2000年同期价格的4.2倍，年均增长20%，而同期世界经济年均增长率在5%左右，世界石油消费需求并没有出现跳



跃式的、急剧的增长。这说明原油价格的迅速攀升并不是由于世界石油供求关系的变化引起的，而是国际投机资本在石油期货市场进行疯狂投机的结果。

如果以下各项为真，哪项不能质疑上述推论？（ ）。

- A. 2000 年至 2008 年，各国政府普遍加大了石油的战略储备量
- B. 较小的经济增长率总带来较大的石油需求增长率
- C. 石油需求变化率和石油价格变化率并不对等
- D. 即便对于国际投机资本来说，投资石油期货也是风险巨大

**【答案】**D

**【解析】**本题属于削弱质疑型题。本题的论点是原油价格急涨不是供求关系引起的，而是国际投机资本炒作的结果。论据是两项在 2000~2008 期间的年均增长率的不同。A 选项说明战略储备影响了供求关系，削弱的论点；B 选项解释了数据差异产生的原因，因而削弱了原论点；C 选项说明两个数据间并不是对等出现的，因而有差异是正常的，所以也能削弱原论点。D 选项想否定投机行为，但风险与投机是共存的，是必然的，因而不能质疑原论点。

**【易错点拨】**本题的难度就在对于题干论据和论点的分析，找到论点和论据之后再结合选项选择那项最不能质疑的。A 选项指出战略储备影响供求关系，直接对论点进行了否定。B 选项指出较小的经济增长率总带来较大的石油需求增长率，是对论据的真实性进行了质疑，C 项指出石油需求变化率和价格变化不对等是对论点的直接否定，而 D 项指出风险巨大，与题干的论点无关，故答案选 D 项

**【题目 54】**研究人员对四川地区出土的一批恐龙骨骼化石进行分析后发现，骨骼化石内的砷、钡、铬、铀、稀土元素等含量超高，与现代陆生动物相比，其体内的有毒元素要高出几百甚至上千倍。于是一些古生物学家推测这些恐龙死于慢性中毒。

如果以下各项为真，不能质疑上述推测的是（ ）。

- A. 恐龙化石附近土壤中的有毒元素会渗进化石
- B. 恐龙化石内还有很多相应的解毒元素
- C. 这批恐龙化石都是老年恐龙，属于自然死亡
- D. 在恐龙化石附近的植物化石里，有毒元素含量很少

**【答案】**D





**【解析】**本题属于削弱质疑型，但问法是让我们找一个最不能质疑的。论点是：出土的恐龙死于慢性中毒。论据是化石内有毒元素比现在动物高出几百倍甚至上千倍。A选项说毒素来自死后；B选项说有解毒元素，指出可能不会中毒；C选项说死亡是因为年老该死亡，不是中毒。D选项与本题无关，它想间接指出恐龙的食物含有毒元素少，进而不会中毒。但它忽略了有毒元素积累问题，因而不能削弱。

**【易错点拨】**本题的难度就在对于对题干中设问方式的理解，题干中问到“一下各项为真，不能质疑上述推测的是”。考生容易将不能质疑当成加强型的论证题目来考虑，那么不能质疑的意思其实也是质疑型题目，只是有三项可以质疑而一项不能质疑，这一项可能为支持项可能为无关项。在此题中A项指出，恐龙化石附近土壤中的有毒元素会渗进化石，表明恐龙的毒素可能来自死后；B项指出恐龙化石内还有很多相应的解毒元素，指出恐龙可能不会中毒；C项说这批恐龙化石都是老年恐龙，属于自然死亡，直接否定了论点；D项说在恐龙化石附近的植物化石里，有毒元素含量很少，属于无关选项，故D项为正确选项。

**【题目55】**质检部门对ABCDE五种不同品牌的32寸平板电视机进行检测，发现：A的耗电量低于B，B的耗电量不比C高，D的耗电量不如E低，E的耗电量不如B低，其中两种品牌电视机的耗电量是相同的。

以下论述肯定与以上事实不符的一项是（ ）。

- A. B和C的耗电量相同                      B. A和C的耗电量相同  
C. A的耗电量低于D                        D. E的耗电量不如C高

**【答案】**B

**【解析】**由题干我们可以得到： $A < B \leq C$ ， $B < E < D$ ，故A、C不可能相同。

**【易错点拨】**A与C大部分同学，在紧张的心态下，无法发现这个知识点。

**【题目56】**甲乙丙丁四人的车分别为白色、银色、蓝色和红色。在问到他们各自车的颜色时，甲说：“乙的车不是白色。”乙说：“丙的车是红色的。”丙说：“丁的车不是蓝色的。”丁说：“甲、乙、丙三人中有一个人的车是红色的，而且只有这个人说的是实话。”

如果丁说的是实话，那么以下说法正确的是（ ）。

- A. 甲的车是白色的，乙的车是银色的  
B. 乙的车是蓝色的，丙的车是红色的  
C. 丙的车是白色的，丁的车是蓝色的





D. 丁的车是银色的，甲的车是红色的

**【答案】**C

**【解析】**题干中，乙的车不是红色的，因为乙车为红色话，他说的是实话，与丙的车是红色相矛盾。丙的车也不能是红色的，若丙的车是红色的话，乙说的就是假话，即丙的车不是红色的，相矛盾的。所以只能是甲的车是红色的，乙的车就不是白色，丙的车就不是红色的，丁的车就是蓝色的，所以选择C。

**【易错点拨】**看到这个题目，首先不会想到用假设法去做题

**【题目57】**某大学寝室有8个人，3个是广东人，1个是北京人，有2个是北方人，1个保送生，3个是贫困生。假设上述介绍涉及该寝室的所有同学，则下列关于该寝室同学的判断与题干有矛盾的是（ ）。

- A. 保送的学生来自北方 B. 北京人既不是保送生也不是贫困生  
C. 有两个贫困生是广东人 D. 没有一个来自黑龙江的学生

**【答案】**C

**【解析】**如果有两个贫困生是广东人的话，总人数是：3（广东人）+2（北方人）+1（保送生）+1（贫困生）=7人。与题干总共有8个人相矛盾。

**【易错点拨】**容易忽略寝室中总共有8个人这个要点。

**【题目58】**素数是指只含有两个因子的自然数(即只能被自身和1整除)。孪生素数，是指两个相差为2的素数。比如，3和5，17和19等。所谓的孪生素数猜想，是由希腊数学家欧几里得提出的，意思是存在着无穷对孪生素数。该论题一直未得到证明。近期，美国一位华人讲师的最新研究表明，虽然还无法证明存在无穷多个之差为2的素数对，但存在无穷多个之差小于7000万的素数对。有关方面认为，如果这个结果成立，那么将是数论发展的一项重大突破。

以下哪项如果为真，最能支持有关方面的观点？（ ）。

- A. 这位华人讲师长期从事数学领域的相关教学和科研工作  
B. 关于孪生素数猜想的证明需要一个漫长的、逐步推进的过程  
C. 这是第一次有人正式证明存在无穷多组间距小于定值的素数对  
D. 7000万这个数字很大，离孪生素数猜想给出的2还有很大距离

**【答案】**C

**【解析】**A项 长期从事数学领域的工作与论点无关；B项 证明过程漫长，而题干论据证明



过程是否漫长和逐步推进未知，与题干无关；D项 7000 万与 2 还有很大距离，认为证明结果不是重大突破，削弱论点。

**【易错点拨】**本题比较难的一点是考生对于论点的把握，做论证题最主要的是把握论点，此题的论点是“此结果的成立，将是数论发展的一项重大突破”。要支持此论点，只要强调是突破历史就可以，与难，慢无关系。

**【题目 59】**《天天快报》报社组织拓展训练，最后一天对所有参加拓展的员工进行考核。如果考核结果达到 3 分或 3 分以上，记为优秀。在考核之前，有几个人就成绩讨论起来。

陈东说：“小军、小霞身体素质都不错，他们俩至少有一个优秀。”

牛力说：“训练的时间太短，大家练习都不够，这次没有人能得优秀。”

马方说：“怎么可能呢？有人以前就参加过训练，他们一定能得优秀。”

假设这三个人只有一个人的猜测得到了验证，那么一定可以推出以下哪项结论？（ ）。

- A. 牛力说的对，参加拓展的报社成员没有人得优秀
- B. 没法确定对错，但所有训练成员都得到优秀
- C. 马方说的对，有人获得了优秀，但也有人没优秀
- D. 陈东说的不对，小霞没有得到优秀

**【答案】**D

**【解析】**题干中牛力所说为“所有的人都没能得优秀”，马方所说为“有的人一定能得优秀”，二人所说内容为矛盾关系，满足“必有一真必有一假”，条件指出三个人中只有一个人猜测为真，可以推出陈东所说为假，即可推出小军、小霞都没有优秀。因此，本题答案为 D 选项。

**【易错点拨】**此题考生都能推导出陈东说法是错误的，正确的表述是：小军和小霞没有一个优秀的，但是他两并不能得出所有人都没能得到优秀，大部分考生都是在这里出错了。

**【题目 60】**大雁一般排成整齐的人字形或一字形飞行，这是集群本能的表现。因为这样有利于防御敌害。雁群总是有经验的老雁当形队长”，飞在队伍的最前面。在飞行中，带队的大雁体力消耗得很厉害，因而它常与别的大雁交换位置。幼鸟和体弱的鸟，总是插在队伍的中间。因此，飞行时它们不会受到敌害的攻击。

以下哪项如果为真，可以成为得出上述结论所需的前提？（ ）。

- A. 大雁的飞行队形兼具防守和攻击两种功能
- B. 体弱的鸟不可能成为带队的大雁



- C. 飞行时敌害不会攻击大雁飞行队列的中间
- D. 雁群中需要有不只一只带队的大雁

**【答案】**C

**【解析】**本题为前提假设论证类题型。论点是：“因此，飞行时它们不会受到敌害的攻击。”论据是：“幼鸟和体弱的鸟，总是插在队伍的中间。”要想让论证成立，那必须建立论据与论点之间的联系，因此，只有敌害不会攻击处于队列中间位置的大雁，才能得出处于中间位置的幼鸟和体弱的鸟不受敌害攻击。因此，本题答案为C选项。

**【易错点拨】**此题难点在论点不好找。



华图教育  
HUATU.COM



华图教育  
HUATU.COM



华图教育  
HUATU.COM