

2018 年天津市事业单位考试《行政职业能力测试》

第一部分 数量关系

(共 25 题, 参考时限 30 分钟)

本部分包括两种类型的试题:

一、数字推理: 共 10 题, 给出一个数列, 但其中缺少一项, 要求你仔细观察数列的排列规律, 然后从四个供选择的选项中选出你认为最合理的一项, 来填补空缺项。

请开始答题:

1. 8, 20, 44, 92, ()

A. 188

B. 190

C. 186

D. 184

2. 2, 3, 6, 15, ()

A. 20

B. 24

C. 32

D. 42

3. 0, 2, 4, 36, ()

A. 42

B. 160

C. 720

D. 1600

4. 1, 0, -1, -2, ()

A. -8

B. -9

C. -4

D. 3

5. 1, 32, 81, 64, 25, ()

A. 4

B. 6

C. 8

D. 10

6. 2, 3, 11, 124, ()

A. 16367

B. 15943

C. 15387

D. 14269

7. 2, 4, 9, 23, 64, ()

A. 92

B. 124

- C. 156
D. 186
8. 14, 38, 87, 167, 248, ()
A. 384
B. 412
C. 416
D. 456
9. 108, 122, 143, 165, ()
A. 176
B. 188
C. 192
D. 206
10. 28, 16, 12, 4, 8, ()
A. -8
B. 6
C. -4
D. 2

二、数学运算：共 15 题。你可以在草稿纸上运算，遇到难题，可以跳过去不做，待有时间再返回解决它。

请开始答题：

11. 假设 5 个相异正整数的平均数是 19，中位数是 21，则此 5 个正整数中的最大数可能是多少？
A. 38
B. 44
C. 49
D. 52
12. 整数 64 具有可被它的个位数字所整除的性质。试问在 10 和 50 之间有多少个整数具有这种性质？
A. 15
B. 16
C. 17
D. 18
13. 甲乙两地有公共汽车行驶。每隔三分钟，就从两地各发一辆汽车，30 分钟驶完全程。如果车速是均匀的，一个人坐上午 9 点钟从甲地开往乙地的汽车，途中将碰上几辆迎面开来的汽车？
A. 15 辆
B. 18 辆
C. 19 辆
D. 20 辆
14. 在一块直角三角形绿地的周边上植树，共植了 12 棵树，如果树间距为一米，绿地面积是 6 平方米，问在绿地的斜边上最多能植多少棵树？
A. 8
B. 7
C. 6
D. 5

15. 有甲乙两个工程队，乙队任务临时加重时，从甲队抽调了四分之一的队员支援乙队。此后甲队任务也有所加重，于是又从乙队现有人员中调回了十分之一的人员，此时甲乙两队人数相等。由此可以得出结论：
- A. 甲队原有 16 人，乙队原有 11 人 B. 甲乙两队原有人数比为 16:11
C. 甲队原有 11 人，乙队原有 16 人 B. 甲乙两队原有人数比为 11:16
16. 桌上有 47 本书，其中 27 本是小说，32 本是黄色封面，6 本既不是小说也不是黄色封面。问桌子上有多少本带黄色封面的小说（ ）？
- A. 22 本 B. 20 本
C. 18 本 D. 15 本
17. 一会展中心有大小三个会议室。小会议室可容纳 303 人，中会议室容纳的人数是会展中心可容纳人数的五分之一，大会议室容纳的人数是会展中心可容纳人数的七分之若干。问该会展中心三个会议室可同时接纳多少人？（ ）
- A. 4115 B. 3825
C. 3535 D. 2585
18. A、B 两个盒子共有棋子 108 颗，先从 A 盒子中取出 $\frac{1}{4}$ 棋子放入 B 盒，再从 B 盒中取出 $\frac{1}{4}$ 棋子放入 A 盒，这时两盒的棋子数相等。问 A 盒中原有棋子是多少？
- A. 40 颗 B. 48 颗
C. 52 颗 D. 60 颗
19. 假定每天的天气按晴天、阴天划分，那么一周的时间，晴天和阴天的变化可能有多少种情况？
- A. 32 种 B. 64 种
C. 128 种 D. 256 种
20. 将 A、B、C 三个水管打开向水池放水，水池 12 分钟可以灌满；将 B、C、D 三个水管打开向水池放水，水池 15 分钟可以灌满；将 A、D 两个水管打开向水池放水，水池 20 分钟可以灌满。如果将 A、B、C、D 四个水管打开向水池放水，水池须多少分钟可以灌满？（ ）
- A. 25 B. 20
C. 15 D. 10
21. 黎明对张传说：当我的岁数是你现在的岁数时，你是 4 岁；张传对黎明说：当我的岁数是你现在的岁数时，你是 67 岁。问黎明、张传现在多少岁？（ ）

第二部分 言语理解与表达

(共 35 题, 参考时限 35 分钟)

本部分包括两种类型的题目:

一、段落阅读: 共 20 道题。每道题包含一段短文, 短文后面是一个不完整的陈述, 要求你从四个选项中选出一项来完成这一陈述。注意: 供选择的答案有时可能是短文内容的一个复述, 有时则满足了陈述中其他方面的要求, 你的选择应与所提要求最相符合。

请开始答题:

26. 数学界引以为傲的是: 在现代科学中, 只有一种统一的数学符号系统, 不同民族的数学家可以很方便地交流成果。从最基本的阿拉伯数字到最复杂最深奥的公式。尽管各国的读法不同, 然而意义却是互通的。而语言界则完全相反, 古今中外各种语言多样性恰恰是他们研究的主要对象。

这段话主要支持了这样一种观点, 即

- A. 数学界比语言界自豪
- B. 语言学与数学是差距甚大的两门学科
- C. 数学符号系统的读音有别, 然而意义相通
- D. 各种语言的多样性, 是语言学家的主要研究领域

27. 农村工业化和城市化的同步发展, 将从根本上解决欠发达地区农村剩余劳动力转移问题。经济发展的进程表明, 农业发展和流入城市的农民所积累的资金, 成为发展乡镇企业的启动资金, 乡镇企业的发展使位置优越、交通便利的城镇规模不断扩大, 而使农村的小镇逐步发展为小城市, 小城市则发展成为中等城市。城市化步伐的加快又进一步促进乡镇企业的发展。如此相辅相成, 也就为农村工业化、乡村城镇化铺平了道路。

这段话主要支持了这样一种论点, 即:

- A. 乡镇企业将发展成为农村的小城市
- B. 农村工业化和城市化的同步发展是相辅相成的举措
- C. 应当坚持农村工业化和城市化的同步发展
- D. 城市化步伐的加快将促进乡镇企业的进一步发展

28. 文学家既克隆了一个时代横断面的风景线, 也就同时克隆了自己人生的风景线, 因此,

品察他们的克隆，富有双重意义：一是品察他们在时代的变换中凸现出来的人文景观；二是品察他们在变换的时代场景中所流露出来的自身人格取向。

这段文字所表明的中心是：

- A. 文学家肩负着反映时代和展示人生的双重任务
- B. 表现时代和展示人生，是文学创作的双重目的
- C. 文学作品有认识时代和文学家人格的双重意义
- D. 文学作品可以使读者了解文学家们的社会人格

29. 中国历史上曾出现过多次所谓盛世。盛世的出现是和法制的相对健全分不开的，法制是推动盛世出现的条件，又是盛世的外在标志。从来没有无法制的盛世，也从来没有盛世而法制衰微的现象。即使是入主中原的少数民族，在立定脚跟之后也急于立法，以适应统治广大汉族地区的需要。

对这段话正确理解的一项是：

- A. 中国历史上曾出现过多次盛世
- B. 盛世需要法制，法制促成盛世，这是一条必然规律
- C. 少数民族在入主中原之后，总会受到汉文化的熏陶
- D. 中国历史上出现的盛世是与法制的健全分不开的

30. 生态环境保护与人们的现实经济利益之间往往存在着矛盾。退耕还林、野生动植物保护等方面的政策或措施从长远来看是符合人类利益的，但常常需要牺牲一部分人的现实利益，_____。

填入横线部分最恰当的是：

- A. 因此人们应当以生态环境为重。
- B. 因此人们要有长远眼光。
- C. 因此人们要有自我牺牲精神。
- D. 因此矛盾不可避免。

31. 正如人类长期呼吸和接触空气，但直到 18 世纪才通过科学实验认识空气一样，信息也是在科学技术发展到一定阶段，特别是在人类发明和运用计算机之后，才通过科学实验认识它。

对这段话最准确的复述是：

- A. 人类是采用先进的科学技术，通过科学实验认识信息的。
- B. 信息直到 18 世纪才跟空气一样被人类科学家实验所证实。

C. 在人类发明和运用计算机之后，才出现信息。

D. 科学技术的发展对于认识信息具有重要作用。□

32. 长期困扰生物学家的是，为什么还有为数不多的十几种鱼类，它们不顾高温新陈代谢热能的大量消耗，顽固地进化为热血动物。

上述可以理解为哪一项？

A. 生物学家一直被长期困扰着。

B. 有些鱼类进化为热血动物。

C. 几十种鱼类进化为热血动物是一种不由自主的行为。

D. 鱼类进化为热血动物的问题，是生物研究领域的难题。

33. 科学家追求的普遍性不同于自然现象的普遍性，**它的真理性植根于外部世界**，科学家和整个人类只是这个外部世界的一个组成部分。艺术家追求的普遍真理性也是外**在的**，**它植根于整个人类**，没有时间和空间的界限。尽管科学的普遍性和艺术的普遍性在**这一点**上不相同，它们仍然有着很强的关联。

对文中黑体字出现的两个“它”与“这一点”依次指代的是：

A. 科学的普遍性，艺术的普遍性，植根的基础。

B. 科学家追求的普遍性，艺术家追求的普遍性，时间和空间的界限。

C. 普遍性，普遍真理性，植根的基础与时空界限。

D. 科学家追求的普遍性，艺术家追求的普遍性，普遍性植根的基础。

34. 读书时，即使书中的字都认得了，话全懂了，也未必就知道作书人的意思。意思是离不开语言的，但有些是语言文字所不能完全表达出来的。如果仅局限于语言文字，死抓住语言文字不放，那就成为死读书了。语言文字是帮助了解书的意思的拐杖。这就是古人所说的“得意忘言”，在读书中，就是要过河拆桥。

对文中“得意忘言”一词的含义，理解正确的一项是：

A. 明白了文句的字面意思，就要忘记文句。

B. 明白了文句精神实质，就要忘掉文句。

C. 懂得了文句精神实质，就不拘泥于文句。

D. 懂得了文句的字面意思，就不受文句限制。

35. 除了书本上的知识之外，我们更要明白“常识”的重要。只有学问而无常识，与人谈话时，会缺少轻松平易的话题。有你在座，空气即会紧张严肃，你就成为不受欢迎的人物。所谓常识，包罗万象，一切都该去留神知道，才可使你活泼风趣，谈起话来左右逢源。

这段话的主要意思是说：

- A. 没有常识的人是没有价值的人。
- B. 书本以外的知识才是常识。
- C. 常识比起学问更重要。
- D. 缺乏常识的人很难与人相处。

36. 作为一种社会现象，失信已经侵蚀到社会的各个层面。例如，假话、假新闻满天飞；假冒伪劣产品畅通无阻；合同协议拒不执行；欠款不还等等。现在，人们对这个问题认识还不够。

这段话主要支持了这样一种观点：

- A. 改革开放必须要有实事求是的精神。
- B. 失信使社会各个阶层的人都受到损害。
- C. 建立和完善社会信用刻不容缓。
- D. 社会上各个阶层的人都对失信造成的问题负有责任。

37. 建国以来，高等教育机制几经变动，但基本上是由政府统包统办和直接管理。改革开放以来，高教体制改革迈出了重要步伐，取得了很大成绩。但从总体上看，仍然滞后于经济体制改革进程和社会发展。

这段话主要支持了这样一种论点：

- A. 改革以来，我国高等教育体制改革已经取得了很大的成就。
- B. 建国以来，我国的高等教育体制发生过多次变动。
- C. 原来的高等教育体制从来就没有适应社会发展的需要。
- D. 高等教育体制需要进行配套改革以适应经济体制改革和社会发展。

38. 能源技术是第一次技术革命和第二次技术革命时期的带头技术。虽然能源技术在当代已失去先导技术的地位，但作为现代工业技术基石的能源技术仍然举足轻重，尤其在当今石化能源逐渐短缺的条件下，其发展对整个人类社会的发展是至关重要的。

这段话主要支持了这样一种论点，即能源技术：

- A. 是科技革命的带头技术。
- B. 已经失去以前的先导作用。
- C. 对人类社会的发展至关重要。
- D. 有广阔的发展前景。

39. 医学专家宣布：他们经过临床实验发现，普通的感冒病毒可以杀死癌细胞，有多名自愿

的患者在接受这项治疗后，身上的癌细胞都成萎缩状。专家们指出，要运用基因工程的办法研究出能引起感冒的病毒有机体，让含有易变基因的癌细胞染上感冒。而这项新技术，估计每年可望挽救十万名癌症病人的生命。

上面文字传达的最重要的一条信息是：

- A. 目前，正在开展的用感冒病毒治疗癌症的实验取得了可喜的成果。
 - B. 目前，癌细胞在感冒病毒作用下萎缩这一事实引起医学界的重视。
 - C. 今后，将日益广泛地推广用感冒病毒治疗癌症这一新方法。
 - D. 今后要攻克运用基因工程让癌细胞染上感冒的新技术。
40. 人的世界观形成有一定的轨迹，人的一切言行总是一定“轨迹”的体现。资产阶级的唯我主义的形成是圆内半径运行轨迹的结果。这个“圆”的圆心就是“我”，“半径”则是个人的利害得失。

对文字中画线句子理解正确的一项是：

- A. 资产阶级世界观的表现是自我标榜。
 - B. 资产阶级世界观的形成是唯物主义的表现。
 - C. 资产阶级世界观的表现是“唯我”，一切利害得失均以“我”为核心。
 - D. 资产阶级世界观是由总以“我”为核心去处理利害得失而形成的。
41. “先老”即人口年龄结构的迅速变化，意味着我们的要素禀赋发生了变化，劳动力变得昂贵了，意味着我们会丧失原来在劳动密集型产业中的比较优势。“未富”则意味着，我们并不会在非常短的时间内，一下子在资本密集型和技术密集型产业中得到足够显著的比较优势。因此，这个阶段就比较优势来说，我们处于相对尴尬的境地，也可以不准确地讲，我们面临着“比较优势真空”。

这段文字要表达的核心观点是：

- A. “未富先老”的局面会制约我国经济的发展。
 - B. 过去的发展方式会使我们丧失比较优势，不能支撑经济持续增长。
 - C. 中国面临的挑战，集中表现为如何应对“未富先老”的困境。
 - D. “未富先老”是经济发展的阶段性特征。
42. “被边缘化”大多是一种主观感受，而非客观事实。有的单位被赋予的任务已足够重要，有的干部被委派的工作已属量才适用，但这些单位和干部依然觉得被重视得不够。抱怨和不满，在很多情况下，不过是期望得到更多的同情和关注。然而，这种负面的心态不仅得不到同情与关注，反而会在怨天尤人中消磨工作热情和奋斗意志，自己把自己边缘

化了，甚至最终出局。不排除确有被忽视的情况，但从根本上说，命运还是掌握在自己手里，奋斗和业绩是走向成功最好的通行证。

这段文字表达的主要观点是：

- A. “被边缘化”往往并非客观事实。
 - B. 抱怨和不满的情绪只会对工作产生消极影响。
 - C. 没有边缘的岗位，谨防自己把自己边缘化。
 - D. 摒弃“被边缘化”的消极思想，要以积极的行动掌控自己的命运。
43. 哲学家说，幸福是一种感觉，上午和下午感受都不一样。很多时候，也需要自我调试和社会调整。沿着这种思路，哲学家赵汀阳就认为，现代消费主义的宣传（比如消费广告刺激了大家的无限欲望），造就了“难以满足”的欲望。另一些心理学者说，很多幸福感就流失在“对比”之中，就如调查所验证的，收入分配是否“公平合理”成了影响幸福的重要因素——而不是收入是否“充足”。

这段文字表达的主要意思是：

- A. 幸福的感觉因人而异，需要个人自我调适。
 - B. 幸福是一种心理感觉，调节好自己的心态有利于获得幸福感。
 - C. 要想获得幸福，首先要降低自己的期望。
 - D. 哲学家和心理学家对幸福有着不同的理解。
44. 古人说过，“读书当用三余”。其中一“余”便是“岁余”。江南四大才子之一的文征明有诗云，“人家除夕正忙时，我自挑灯拣旧诗”。鲁迅过年时最喜欢上书市购书。他的日记载有：1913年春节，他曾四去书市购书60册；1915年正月初二“补春节休息，买《说文系统第一图》拓本”；1925年除夕“往琉璃厂买石印《王荆公百家唐诗选》一部六本”。鲁迅买书都是要读的，这也是他别开生面的一种过年方式。

这段文字要表达的深层涵义是：

- A. 读书可以给人们的心灵以温暖、快乐和充实。
 - B. 春节长假最适合读书。
 - C. 古代人喜欢读书过年。
 - D. 读书过年，更富文化内涵和精神品味。
45. 公众层面的现象与专业层面的表现，看似相距甚远，实则紧密相连。不从事专业研究的社会公众固然不会参与科学技术前沿的创新，但实际上，公众素养是科技发展的土壤。离开了这个群众基础，即使我们凭借少数科技精英的努力能够实现“上天入地”，也很

难持续不断地推动创新，真正迈入创新型国家的行列。

这段文字的核心观点是：

- A. 提高全民科学素质势在必行。
- B. 科技发展是公民科学素养的“软实力”。
- C. 中国公民的科学素养亟待提高。
- D. 科技的发展依赖于公众素养的同步提高。

二、文章阅读：共 15 题。给出三篇小文章，每篇文章后都提出几个问题，每个问题后面都给出了四个选项，要求你从四个选项中选出一个来回答问题。注意：供选择的答案有时可能是对文章部分或者整个内容的一个复述，有时则满足了问题中其他方面的要求，你选择应与所提的问题最相符合。

请开始答题：

阅读下文，回答 46—50 题：

由于人脑的信息处理能力已经达到极限，因此人类永远不会变得比今天聪明得多。英国东部伊普斯威奇市的英国电信公司实验室的科学家称，由于人脑中神经元的大小和数量与为它们提供营养的血管之间存在微妙的平衡关系，因此根本的改善是不可能的。

这些研究人员称，我们的信息处理能力已经达到最大限度，即充其量达到处理能力的 20% 之内。他们的研究成果在《新科学家》杂志上作了报道。

脑的体积不是一个好的衡量智能的指数，但是神经元的数量和它们之间的联系是极为重要的。在这个基础上，人类的脑子在动物王国中是最复杂的，具有多达 1000 亿个神经元，同 100 万亿个联点，即突触相连接。动物中的复杂性可以与人相比的只有鲸和海豚。英国电信公司高级应用和技术部的彼得·科克伦和他的同事，对人脑用于开展处理更多信息或提高工作效率的不同方法作了研究。他们判断，有一个大一些的脑子在理论上是可能的。但是要使处理能力大大提高的话，类似电缆的神经细胞轴突将必须加宽，才能使得它们传输信号的速度加快。反过来，这就要求沿着轴突增加绝缘材料的数量和更好的血液供应，这样将要占据额外的空间并使得有较少的空间容纳更多的轴突。此外，对脑子的设计使之尽可能快地把化学信号从一条神经传递到另一条神经。脑子长得越大，效率变得越低。英国电信公司小组的成员克赖斯特·温特对《新科学家》杂志说：“对于脑子，没有递增改进的道路，这使得生长很困难。”

46. 本文主要的观点：

-
- A.人类不会变得比今天聪明
B.没有递增改进脑子的途径
C.脑子长得越大，效率变得越低
D.人脑处理信息的能力已达极限
47. 第一段“由于人脑中神经元……是不可能的”一句话意思是：
A.人脑中的神经元不可能变大变多
B.人脑的神经元与血管不可能共同有大的改善
C.人脑的神经元与血管不可能单方面改善
D.脑血管不可能变粗变强
48. 符合文意的一项是：
A.人类、鲸、海豚有着同样复杂的脑子
B.科学家有能力使人的脑子变得大一些
C.血管为神经元提供营养，神经元与血管在大脑中存在微妙的平衡
D.脑容量大的人反而比脑容量小的人工作效率低
49. 文中“对脑子的设计”指的是：
A.对人脑处理更多信息的研究 B.增加血液供应
C.加宽神经细胞轴突 D.沿轴突增加绝缘材料
50. 下列对于人脑的评价有误的一项是：
A.人脑的体积不是一个好的衡量智能的指数
B.人脑在动物王国中是最复杂的
C.要增强人脑的处理能力，必须加宽神经细胞轴突
D.神经元的数量及其之间的联系至关重要

阅读下文，回答 51—55 题

不像诸如行星的运动、光的进行等物理现象，有生命的东西的行为从未归纳为严格的自然规律，也许永远不会。有许多人坚持，对人类行为的研究不可能成为一门真正的科学，也就是说不能在普通的自然规律的基础上来解释和判断任何给定情势的人类行为。但是，生命并不是不受自然规律支配的例外情况，生物的行为也是完全可以理解的，假如所有的因素都知道的话，难处就在后面那个短语所说的。所有的因素都知道是不可能的，因素太多了，太复杂了。然而，人类能够了解自己，对此无需绝望。在获得对人类自己的复杂精神的更好知识方面存在着广阔的天地，即使我们绝不会到达这一道路的终点，我们还渴望沿着它走很长

一段路程。

不仅因为问题特别复杂，而且对于这一问题的研究时间也不长。现代物理学出现于 1600 年，化学出现于 1775 年，而“实验心理学”这一更为复杂的研究仅仅从 1879 年开始，德国生物学家冯德在这一年建立了第一个对人类的行为进行科学研究的实验室。冯德先生主要感兴趣的是感觉以及人感知周围世界的细节的方式。

几乎在此时，兴起了应用于一个特定方面的人类行为的研究——在这种研究中把人当成一种工业齿轮。1881 年美国工程师泰勒开始测量做某一特定工作所需要的时间。泰勒是头一个“效率专家”（像所有效率专家一样，倾向于看不见停表之外的价值），在工人当中是不受欢迎的。

51. 文中“生命并不是不受自然规律支配的例外情况”，这句话的意思是：
- A. 生命只是在例外情况下不受自然规律支配
 - B. 生命只在例外情况下受自然规律支配
 - C. 生命不受自然规律支配
 - D. 生命受自然规律支配
52. 文中“后面那个短语”指的是：
- A. 生命的行为也是完全可以理解的
 - B. 假如所有的因素都知道的话
 - C. 所有的因素都知道是不可能的
 - D. 因素太多了，太复杂了
53. 泰勒在工人们当中是不受欢迎的原因是：
- A. 他的研究忽视了人类行为的其他方面，因此，只把人当成一种工业齿轮。
 - B. 对某一特定工作所需要的时间测量不准确，影响了工人的利益。
 - C. 单纯追求工作效率，加大了工人的劳动强度。
 - D. 减少了所需要的工作时间，造成大量工人失业。
54. 下面对文章观点的概括不符合作者见解的一项是：
- A. 对人类行为的研究不可能成为一门真正的科学。
 - B. 生命的行为从未归纳为严格的自然规律。
 - C. 人类对自身不如对自然现象的了解那样多的原因，一是因素太多、太复杂，二是研究的历史也不长。
 - D. 生物的行为有可能得到合理的解释并归纳为严格的自然规律

55. 文章第二段主要想说明的是:

- A. 对人类行为的研究这一问题研究的时间很短。
- B. 实验心理学从 1879 年开始研究的。
- C. 冯德建立了第一个人类行为研究的实验室。
- D. 冯德对人类行为的研究很感兴趣。

阅读下文，回答 56-60 题:

不能说生活有条理就产生记忆，但是，可以大大提高记忆效果。譬如想记住某些数字、名称或一个故事，必须选择一定的顺序，然后始终按照顺序去记忆。

在回忆时，仍然必须按照同样的顺序。如果每天养成把经常用的东西放在一个固定地方的习惯，能避免浪费时间!井井有条是我们在复杂的日常生活中最基本、最不可缺少的优点之一，人人都应该知道这一点。

然而，随着人变老，许多高龄人有严重的精神错乱趋向。这是因为，老年人和疲劳过度的人感知迟钝，脑子不好使;思维活动困难，很难集中注意力，思考能力及判断能力差。另外，他们还在时间和空间概念上出现局部定向障碍，表现冷漠或情感不一致，甚至大脑出现某种迟钝现象。由于上述情况，记忆力必然受到严重影响。

专家界有许多记忆能手。了解这些杰出的人物如何取得惊人的记忆效果非常有益。例如，伊诺迪是最著名的记忆专家之一，他研制出一张很大的方格数字表，把提的问题同方格中某一点联系起来，从而能够立即回答有关规则最难的问题。

亨利·埃曾在他的一本关于记忆的论著中讲到了这些记忆能手的一系列奇迹，其中出类拔萃的是吕克博士(C·E 米勒的研究对象)。这位专家只听一遍，经过一百六十七秒钟的“沉思”，能重复出一串六十位的数字。他只思考一百三十七秒钟，就能倒背出一串五十二位数字。他本人解释记忆数字的诀窍，例如，回忆 86219 数字时，他立即想到 219 是 73 的三倍，而 13 的对数则是 1.86。因此，这些记忆专家运用事先背得滚瓜烂熟的有条理的规则，怀着对这类活动的极大兴趣，并不断训练这种独特的高超技艺，从而取得了丰硕的成果。

应该指出，正如亨利·埃所说，这些记忆奇才在智力发育正常的人中间极为罕见，并使人目瞪口呆，而对智力发育迟缓的人来说则更是难以想象。

亨利·埃在他的著作中列举了一系列的病例，有些人的智力程度低得吓人，以致被视为傻瓜和白痴。

因此，人的记忆程度与智力之间不存在的任何关系。但是，各种思维活动，尤其是记忆，绝对需要井井有条，要养成有条理的习惯，并且始终如一。

能使用我们上面讲的记忆方法吗?当然能。但要充分认识到,这仅仅是一种方法,无论怎样,这种训练方法对提高敏捷的思维能力绝对不会产生任何作用。

56. 为什么说“井井有条”是人们的一大优点?选出理解不当的一项:
- A. 生活中养成“井井有条”能节省时间。
 - B. “井井有条”可以大大提高记忆的效率。
 - C. “井井有条”便于回忆或记住某些该记的东西。
 - D. 生活有条理可以产生记忆力。
57. 下列说法不正确的是:
- A. 第三段的例子是为了说明,老年人记忆力差,而“井井有条”则有助于记忆。
 - B. 一位老人出门买菜,回家时找不到家门了,如果没有其他原因,很可能是他在时空概念上出现了局部定向力障碍。
 - C. 伊诺迪、亨利·埃、吕克这三位都是记忆能手。
 - D. 倒数第二段的“智力”实际上指的是人的逻辑思维能力、形象思维能力以及适合判断能力等。
58. 第4、5两段的例子不能说明的一项是:
- A. 记忆需要井井有条
 - B. 记忆需要训练并有其独特的训练方法
 - C. 记忆的艺术神奇高妙
 - D. 记忆与智力有关
59. 下列不符合文意的一项是:
- A. 井井有条的习惯的培养对任何人都是有好处的。
 - B. 井井有条的训练方法对提高思维能力不会产生任何副作用。
 - C. 无论是正常人还是白痴,他们的记忆程度与智力并无关系。
 - D. 记忆有条理的规则、保持兴趣、不断训练,是记忆专家成功的秘诀。
60. 根据全文提供的信息,以下理解不正确的是:
- A. 生活有条理可以大大提高记忆效果。
 - B. 高龄的人产生的精神错乱趋向,是因为其感知迟钝,思考能力及判断能力差。
 - C. 有条理的思维习惯并不是后天才形成的。
 - D. 记忆专家运用事先熟知的有条理的规则并不断训练,从而取得了丰硕的成果。

第三部分判断推理

(共 35 题, 参考时限 35 分钟)

一、事件排序: 共 15 题, 在回答问题时, 要根据自己的一般知识和对事件间逻辑关系的理解做些补充或者合理的假设, 以填补欠缺的信息, 每道题给出五个事件, 每个事件是以简短语句表述的, 接着给出四种假定发生顺序的四个数字序列, 请你选择其中最合乎逻辑的一种事件顺序。注意, 要以最少的假设来联系和安排这五个事件的发生顺序。

请开始答题:

61. (1) 得到人们的赞扬 (2) 小孩落水呼救 (3) 小孩被救上岸
(4) 恰好经过 (5) 奋不顾身跳入水中
A. 4-3-5-1-2 B. 2-4-5-3-1 C. 3-1-5-2-4 D. 3-1-2-5-4
62. (1) 修改 (2) 获奖 (3) 发表 (4) 体验生活 (5) 写作
A. 4-5-1-3-2 B. 3-2-4-5-1 C. 3-1-5-2-4 D. 3-1-4-2-5
63. (1) 宏观调控 (2) 通货膨胀 (3) 投资减少 (4) 物价回落 (5) 经济过热
A. 2-5-3-1-4 B. 2-3-5-1-4 C. 3-1-5-2-4 D. 5-2-1-3-4
64. (1) 党员站出来 (2) 穿好消防衣 (3) 石油井喷
(4) 冒火前进 (5) 终于关上闸门
A. 3-4-2-1-5 B. 5-2-1-4-3 C. 3-1-5-2-4 D. 3-1-2-4-5
65. (1) 支付违约金 (2) 提起诉讼 (3) 法庭判决 (4) 签订合同 (5) 单方违约
A. 4-2-1-3-5 B. 2-5-3-1-4 C. 4-2-3-1-5 D. 4-5-2-3-1
66. (1) 盖楼 (2) 装修 (3) 贷款 (4) 楼市 (5) 乔迁
A. 1-3-4-2-5 B. 1-4-3-2-5 C. 4-1-3-2-5 D. 3-1-2-4-5
67. (1) 打伤管理员 (2) 偷伐林木 (3) 搬运下山 (4) 森林管理管理员制止
(5) 公安部门关押案犯
A. 4-3-5-1-2 B. 2-3-4-1-5 C. 3-1-5-2-4 D. 3-1-2-5-4
68. (1) 接受批评 (2) 按要求去做 (3) 分派任务 (4) 出现失误 (5) 改进工作
A. 4-1-2-5-3 B. 2-5-3-4-1 C. 3-2-4-1-5 D. 2-3-5-4-1
69. (1) 体格检查 (2) 政治审查 (3) 报名参军 (4) 欢送大会 (5) 新兵训练
A. 4-3-1-2-5 B. 2-5-3-1-4 C. 3-2-1-4-5 D. 3-1-4-2-5
70. (1) 整理材料 (2) 汇报工作 (3) 撰写提纲 (4) 起草文件 (5) 搜集资料
A. 5-1-3-4-2 B. 2-5-3-1-4 C. 5-1-3-2-4 D. 4-3-5-1-2
71. (1) 商家承认错误 (2) 向消费者协会投诉 (3) 商店拒不赔偿 (4) 购买到假冒商品 (5) 消费

者协会受理

A. 4-2-1-3-5 B. 4-3-2-1-5 C. 4-3-2-5-1 D. 2-5-1-4-3

72. (1) 发现套牌车 (2) 车速过快挂倒路人 (3) 张大爷拨打 110

(4) 警察拦车 (5) 司机小王感到莫名其妙

A. 2-3-4-5-1 B. 2-3-5-1-4 C. 3-1-5-2-4 D. 1-2-3-4-5

73. (1) 机构改革 (2) 竞争上岗 (3) 转岗培训

(4) 人员分流 (5) 岗位减少

A. 1-5-3-2-4 B. 2-3-5-1-4 C. 1-5-2-3-4 D. 1-5-4-3-2

74. (1) 受到领导的批评 (2) 昨晚小莉被母亲狠狠说了一顿 (3) 接待工作态度
很生硬 (4) 李老师向老同学告状 (5) 李老师为退休问题来机关咨询

A. 4-1-2-5-3 B. 5-3-4-1-2 C. 2-5-3-4-1 D. 2-3-5-4-1

75. (1) 种子公司将种子卖给农民 (2) 小麦产量下降 (3) 相互推脱责任 (4) 小贩收购假种

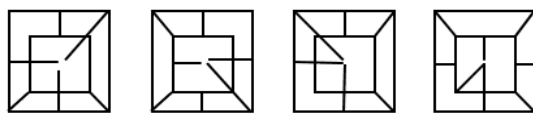
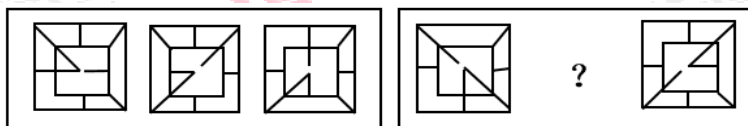
(5) 电视台记者采访

A. 1-2-3-4-5 B. 2-5-3-1-4 C. 2-1-5-2-4 D. 4-1-2-5-3

二. 图形推理, 共 10 题。每道题包含两套图形和可供选择的四个图形, 这两套图形具有某种相似性, 也存在某种差异, 要求你从四个选项中选择你认为最适合取代问号的一个, 正确的答案应不仅使两套图形表现出最大的相似性, 而且使第二套图形也表现出自己的特征。

请开始答题:

76.



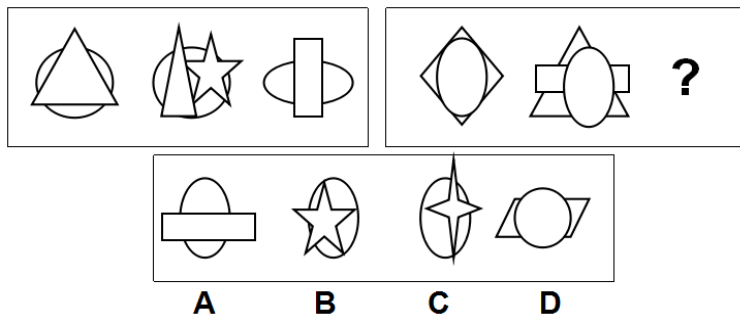
A

B

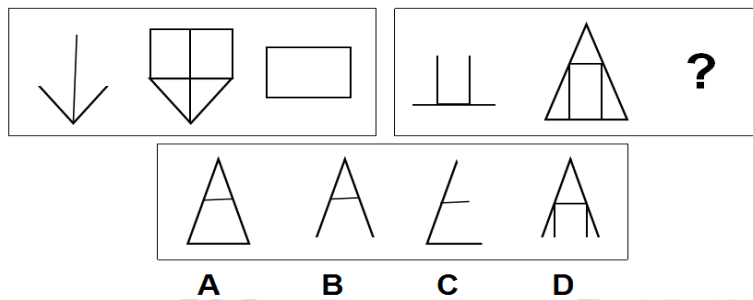
C

D

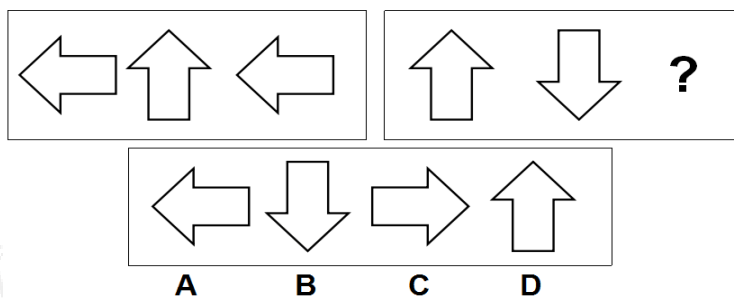
77.



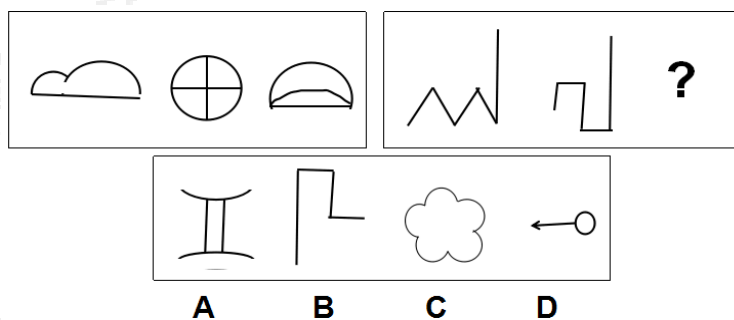
78.



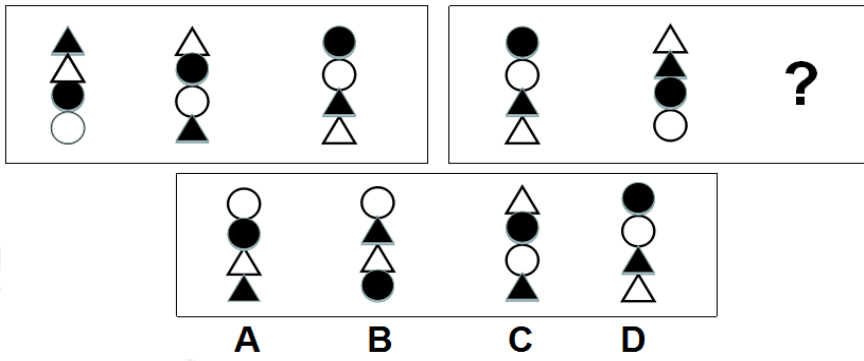
79.



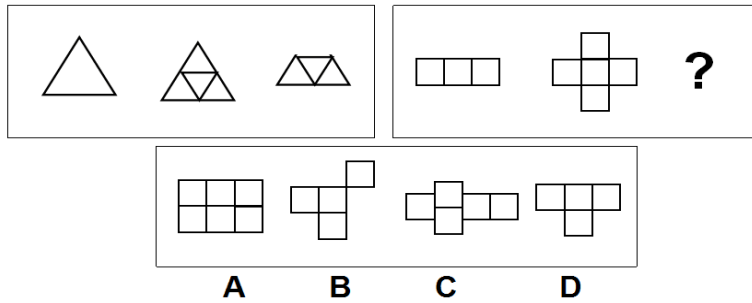
80.



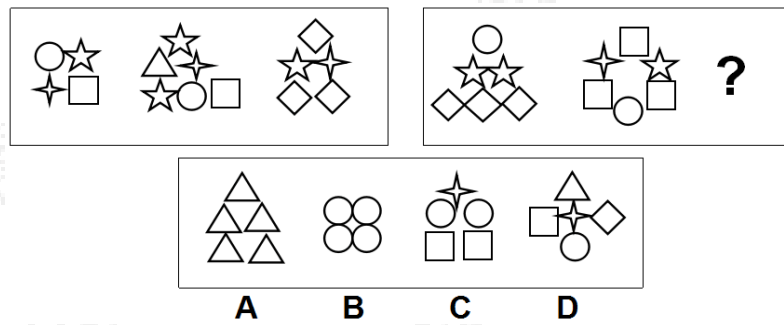
81.



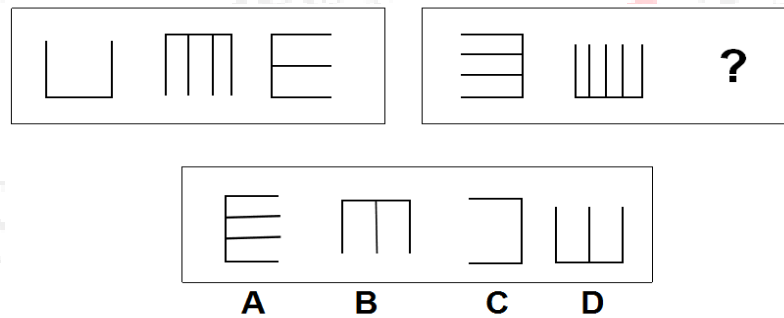
82.



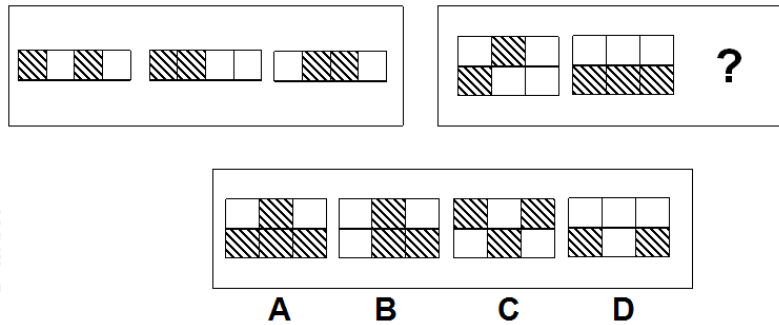
83.



84.



85.



三. 演绎推理，共 10 题。每题给出一段陈述，这段陈述被假设是正确的，不容置疑的。要求你根据这段陈述，选择一个答案。注意，正确的答案应与所给的陈述相符合，不需要任何附加说明即可以从陈述中直接推出。

请开始答题：

86. 某出版公司的张兰英、王起玲和刘红利分别会说俄语、法语、日语，会说法语的人唱歌比刘红利强，刘红利是会说俄语的人的表哥，王起玲的工作作风比会说法语的细致。请问谁会说法语（ ）

- A. 刘红利 B. 张兰英 C. 王起玲 D. 王起玲或张兰英

87. 生态系统构成要素应有足够的数量保证与各要素之间优化协调关系或各构成要素的不可缺少性，实际上构成了生态系统的平衡与稳定。而生态平衡或生态稳定又是生态生产的必要形式，只有在这种形式或形态下，生态生产才具有最大生产力合乎最高生产产量。由此可知：

- A 破坏了生态平衡，经济增长就会停滞。
 B 要想扩大生态生产的数量并提高其质量，必须维护生态系统的平衡与稳定。
 C 在高科技的今天，人类可以凭借先进的技术手段从自然界获得所需的东西，而不会破坏生态平衡。
 D 生态系统一般有“自稳定机制”，其系统的平衡与稳定经过若干年之后可以实现自身的良性循环。

88. 个体总是生活在一定的制度安排中。中国传统儒家制度安排大多是非正式的，强调行为规则的内在过程，不重视外在强制约束，具有较高的灵活性。因此：

- A. 在儒家制度安排下，个体可以随心所欲，不受任何约束
 B. 在国家制度安排下，个体能获得最大的自由
 C. 在国家制度安排下，个体能以自我对制度规则的理解来灵活的调整自己的行为规则
 D. 儒家制度具有现代性

89. 人文社会科学与自然科学在更高层次上具有统一性和共同性。在我国人文社会科学领域，许多伪劣产品是在人文社会科学与自然科学的学术规范不同的借口之下生产出来、甚至受到好评的。因此：
- A. 人文社会科学要引入自然科学的学术规范
 - B. 尽管人文社会科学与自然科学有区别，但更重要的是寻找两者都必须遵守的共同的学术规范
 - C. 自然科学要引入人文社会科学的学术规范
 - D. 人文社会科学学术规范与自然科学学术规范之间是“井水不犯河水”的关系。
90. 统计显示，对人的健康威胁最大的三种慢性疾病，按其在人口中的发病率排列，依次是乙型肝炎，关节炎和高血压。其中关节炎和高血压的发病率随着年龄的增長而增加，而乙型肝炎在各个年龄段的发病率没有明显的不同。我国人口的平均年龄在 1998 年至 2010 年之间将呈明显上升态势而逐渐进入老龄化社会，依题意，下列哪项结论最为恰当？
- A. 到 2010 年，发病率最高的将是关节炎
 - B. 到 2010 年发病率最高的仍将是乙型肝炎
 - C. 在 1998 年至 2010 年之间，乙型肝炎患者的平均年龄将增大
 - D. 到 2010 年，乙型肝炎的老年患者将多于非老年患者
91. 当前，对党内腐败现象要进行适当的舆论抨击，但要实事求是，不要以偏概全，也不能无中生有。惩治腐败一靠教育，二靠监督，三靠法治，四靠干部自身廉洁奉公，这是反腐倡廉的根本。如果编串话来讽刺党内的腐败现象，党员不解释，不正确引导，反而跟着瞎说，非但不能增强反腐斗争的力度，而且让人觉得腐败是普遍的，可见：
- A. 腐败是个别现象，不是普遍现象
 - B. 某一些舆论对腐败现象的报道有失实的现象
 - C. 对广大干部进行反腐败教育还不够
 - D. 反腐力度还不够
92. 尽管资本是价值创造过程中的重要手段，其积累的确是经济增长必不可少的物质条件。但作为物化劳动或死劳动，它不可能自己创造自己。离开了人的劳动，它只能是一堆不能增值的一般等价物而已。其二，资本并非个人努力的产物，而是集体或社会劳动的结果，从生理学的角度来看，每个人的劳动能力并不存在巨大差别，仅靠占有和积累自己的剩余劳动是不可能暴富的，所以说：

-
- A. 资本是剩余价值的表现
- B. 暴富只有占有别人的剩余价值才能实现
- C. 在一定的条件下，资本也可以创造价值
- D. 不少个体户靠个人奋斗和资本积累也可以发家致富
93. 自然界是人的生命发展和延续的环境。同时，作为人与自然物质交换过程中介的生产劳动，是人类社会关系和发展的起点；人们在加工自然的劳动中，才结成了人与人的关系——生产关系，并由此形成民族的、阶级的、家庭的等复杂的社会关系，可见：
- A. 人在自然面前只有被动地适应，才能生存并发展
- B. 人与人、人与社会的关系，是建立在人与自然的关系的基础之上
- C. 人的社会关系具有其内在的发展规律，可以独立地存在和发展
- D. 人是自然界的一部分，因为人也是动物
94. 从文化本身来看，经济利益和道德标准代表着两个不同的向度。一般而言，经济与道德在同一文化格局中被要求共同发展，但现实生活本身变化不定，且人类社会的经济文化又处于极不平衡之中。因此：
- A. 在追求经济利益与维护道德规范之间经常发生矛盾
- B. 经济目的与道德要求是统一的
- C. 人类永远不可能使经济与道德相统一
- D. 只要追求合理的经济利益，可以不管这是否符合道德规范
95. 赵、钱、孙三个地质工作者在辨认一块矿石，赵说：“这不是铁，也不是铅。”钱说：“这不是铁，而是铜。”孙说：“这不是铜，而是铁。”已知他们当中，有一个人判断对了，有一个人判断错了，有一个人只说对了一半。
- 根据上述情况，以下哪项是真的？
- A. 这块矿石是银矿。 B. 这块矿石是铜矿。
- C. 这块矿石是铁矿。 D. 这块矿石是铅矿。

第四部分 资料分析

(共 15 题, 参考时限 20 分钟)

本部分包括文字、图示和表格三种类型的题目, 你应根据提供的资料信息进行分析、比较、计算、处理。

请开始答题:

一、根据下面文字资料, 回答 96-100 题:

2014 年, 我国南方某旅游城市接待外国游客、华侨、港澳同胞 93.7 万人, 比上年增长 42.5%, 并高于全国 38% 的增长速度。在游客中, 来自世界 158 个国家和地区的外国游客达 74 万人, 占全部游客总量的 79%。一些主要客源国来旅游的增势不衰, 如日本游客 2013 年为 17.3 万人, 2014 年比上年增加了 10.3 万人, 美国游客增长 18.1%, 英国增长 50%, 德国游客增长了 55%, 不仅如此, 游客停留的时间也由上年的平均 4.6 天延长到 5.2 天。

96. 2013 年, 我国南方某旅游城市接待外国游客、华侨、港澳同胞共 () 万人。

- A. 27.9
B. 65.8
C. 64.7
D. 42.9

97. 2014 年, 主要客源国来旅游的游客增加速度最快的国家是: ()。

- A. 美国
B. 日本
C. 德国
D. 英国

98. 2014 年, 我国南方某旅游城市接待华侨、港澳同胞 () 万人?

- A. 25.2
B. 14.6
C. 19.7
D. 23

99. 2014 年, 日本游客占当年游客总量的百分之多少? ()

- A. 30%
B. 27.5%
C. 21.8%
D. 18.5%

100. 2014 年, 游客增加速度最快的比增加速度较慢的国家多多少? ()

- A. 36.9 个百分点
B. 35.9%
C. 41.4 个百分点
D. 31.9%

二、根据下表提供的数据, 回答 101-105 题:

