

2018 年天津选调生招录考试《综合知识》试卷

第一部分 客观题

(一) 行政职业能力倾向测验

本部分包括 10 部分（共计 50 题，每小题 1 分，共 50 分）

一、数字推理：共 5 题。给出一个数列，但其中缺少一项，要求你仔细观察数列排列规律，然后从四个选项中选择你认为最合理的一项，填补空缺项。

请开始答题：

1. 101, 203, 210, 250, 310, ()

A.324

B.353

C.306

D.410

2. -1, 0, 1, 2, 9, ()

A.11

B.82

C.120

D.730

3. 1, 196, 27, 144, 25, 100, ()

A.7

B.8

C.9

D.11

4. 2, 3, 11, 124, ()

A.16367

B.15943

C.15387

D.14269

5. 0, 0, 2, 12, ()

A.8

B.36

C.12

D.32

二、数学运算：共 5 题。你可以在草稿纸上运算，遇到难题，可以跳过不做，待有时间再返回解决它。

请开始答题：

6. 在一块直角三角形绿地的周边上植树，共植了 12 棵树，如果树间距为一米，绿底面积是 6 米，问在绿地的斜边上最多能植多少棵树？

A.7

B.5

C.6

D.8

7.一个停车场有 50 辆汽车，其中红色轿车 35 辆，夏利轿车 28 辆，既不是红色轿车又不是夏利轿车 8 辆，问停车场有红色夏利轿车多少辆？

A.14 辆

B.21 辆

C.15 辆

D.22 辆

8.某职业大学的 750 名学生或上计算机课，或上规划设计课，或两门都上。如果有 489 名学生上计算机课，606 名学生上规划设计课，问两门都上的学生是多少？

A.118 人

B.114 人

C.261 人

D.345 人

9.三个游泳运动员一起练习，当甲游 1 圈时，乙正好超过甲半圈，丙超过甲 $\frac{1}{4}$ 圈，按此速度三人共游了 15 圈。问丙游了多少圈？

A.7 圈

B.6 圈

C.5 圈

D.4 圈

10.一个边长为 8 的正立方体，由若干个边长为 1 的立方体组成，现在要将大立方体的表面涂成黄色，问一共有多少个小立方体涂上了黄色？

A.384

B.328

C.324

D.296

三、选词填空：共 5 题。要求你从四个选项中选出一个填空，使句子的意思表达最准确。

请开始答题：

11.题目缺失。

12.题目缺失。

13.各级政府主管部门和财政机关不再把企业置于直接管理之下，并不等于完全放弃对企业经营活动的_____和_____。

A. 领导 控制

B. 引导 控制

C. 管理 限制

D. 引导 制约

(争议题) 14. 我们要认真_____、_____、_____考试的内容和形式，使它逐步完善起来。

A.研究 实验 改进

B.试验 改进 研究

C.改进 试验 研究

D.试验 研究 改进

15. 保持前四个短语的协调，依次填入横线处的词语，恰当的一组是：有应变的_____，有_____的竞争性，有_____的兼容性，有继承的创造性——这些都是新世纪青年人必备的品质要素。

- A.灵活性 协作 个性
B.适应性 节制 宽泛
C.灵活性 节制 宽泛
D.适应性 协作 个性

四、语句表达：共 5 题。要求你从语气、语序、语法结构等方面对有关语句做出判断。

请开始答题：

16. 找出下列句子中有语病的一句：

- A.上山的路和下山的路一样难走。
B.两位老人走得很缓慢，以致于让人感到他们的衰老是那样的明显。
C.全明星比赛中一些年轻队员得到了锻炼。
D.工作的时候和休息的时候他都很用心地去投入工作。

17. 从给出的几句话中选出没有语病的一句：

- A.运动员成功的关键，在于能否持之以恒。
B.为了尽快发展文教卫生事业，应该大力提高专业技术人员的业务水平。
C.无论干部和群众，毫无例外，都必须遵守社会主义法制。
D.南瓜子、西瓜子和花生果等炒货，都是小学生们深受喜爱的食品。

18. 下列句子中，习惯用语使用正确的一项是：

- A.感谢贵方邀请，届时鄙人一定光临。
B.我们一定提供一流的服务，欢迎各位光顾。
C.你们的态度很好，下一次我们一定惠顾。
D.明天我到贵府拜访，你可要在家恭候哟。

19. 选出下列运用修辞方法不当的一句：

- A.一个没有远大理想的人就像一台没有马达的机器，一只没有翅膀的小鸟，一个没有钨丝的灯泡。
B.知识如同砂石下面的泉水，掘得越深就越清澈。
C.人家那些打仗的人，谁又没有家，没有老人呢？人家肯为国家献身，我就应当去打仗！
D.天虽然还有些冷，蒲公英却已经开花了，柔弱的茎上顶着一朵小花，雄赳赳地站在野地里。

20. 下列标点符号使用正确的一句是：

- A.我国月球探测工程将分三步实施：一是“绕”，即卫星绕月；二是“落”，即探测装置登上月球；三是“回”，即采集月壤样品返回地球。

B.我国第一座自主设计、自行建造的国产化商业核电站“秦山第二核电厂”的2号机组核反应堆首次临界试验获得成功，将于年内并网发电。

C.近年来，随着经济的发展，城市的扩大，人口的猛增和生活质量的提高，城市垃圾不断增加，“城市垃圾处理”已成为环境保护的一大难题。

D.《地质灾害防治条例》正式确立了：“自然因素造成的地质灾害，由各级政府负责治理；人为因素引发的地质灾害，谁引发谁治理”的原则。

五、段落阅读：共5题。每道题包含一段短文，短文后面是一个不完整的陈述，要求你从四个选项中选出一项来完成这一陈述。注意：供选择的答案有时可能是短文内容的一个复述，有时则满足了陈述中其他方面的要求，你的选择应与所要求最相符合。

请开始答题：

21.我们的一些科普文章常常激不起公众的兴趣，原因之一便是枯燥。要把科普文章写得“郁郁乎文哉”，就需要作家的笔。科学的飞速发展，为文学写作提供了一座富矿。相信有眼光的文学家一旦领略科学题材的广阔富饶，便会陶醉在它的无限风光中乐而忘返。

这段文字谈论的是（ ）。

- A. 科普文章对作家的依赖
- B. 科学和文学的互相依赖的关系
- C. 科学和文学互相激励作用
- D. 科学发展为文学提供了丰富的素材

22.科学家研究发现，唯有传统中药枸杞其“固本、温平、无毒”的特性能担当“换一种方式补肾”的重任，几千年来人们对枸杞情有独钟。

这段文字中应当删去的一个词是：

- A.“科学家研究发现”的“发现”
- B.“唯有传统中药枸杞”的“唯有”
- C.“唯有传统中药枸杞”的“传统”
- D.“其‘固本、温平、无毒’的特性”的“其”

23.从事写作的人，应当像追求真理一样去追求语言，应当把语言大量储存起来。应当经常把你的语言放在纸上，放在你的心里，用纸的砧，心的锤来锤炼它们。要熟悉你的语言，像熟悉你的军队，一旦用兵，你就知道谁可以担任什么角色，连战连捷。写作，实际上就是检阅你的军队，把那些无用的，在战场上不活跃分子，当场抹去他的名字，叫能行的来代替吧。所谓要慎重，就是指这个。

对文中画线句子的含义，理解正确的一项是：

- A.锤炼语言离不开写作实践
- B.锤炼语言离不开积极思考

C.锤炼语言离不开写作实践中的积极思考

D.锤炼语言离不开写作实践和积极思考

24. 在现代社会中，当一个人追求幸福生活时不应忽略接受教育方面的需求。如果没有对于人类在科学、文学和艺术等方面的成就的欣赏能力并从这种欣赏中获得满足，那么一个人就算不上获得了真正的生活，只不过是生存而已。这段话主要支持了这样一种观点，即教育（ ）。
- A. 可以使人获得维持生活的基本能力。
- B. 可以使人更充分地享受生活的乐趣。
- C. 主要教授有关科学、文学和艺术方面的内容。
- D. 并不关注于某些具体的内容。
25. 文化中心的嬗变和逆转是一个发人深省的话题，成为一个难解的文化之谜。下列理解最恰当的一项是：
- A. 发人深省的话题就会变成为文化之谜。
- B. 文化中心的嬗变和逆转往往成为一个难解的文化之谜。
- C. 表明了关于文化中心的建设问题。
- D. 说明了当前文化的困惑。

六、阅读理解：共 5 题。给出一篇小文章，文章后提出问题，每个问题后面都给出了四个选项，要求你从四个选项中选出一个来回答问题。注意：供选择的答案有时可能是对文章某部分或整个内容的一个复述，有时则满足了陈述中其他方面的要求，你的选择应与所要求最相符合。

请开始答题：

①艺术接触者掌握艺术语言的内涵，并不容易，主体的感觉与判断虽是由客体的特定形态所引起的，但客体自身的特殊内容既未直接说出，它对观赏主体来说就带有模糊性。

②四川民谣里的“扯倒叶叶藤藤动”和成语“一叶知秋”相似，当作局部与全局的关系的一种生动概括来理解，当作对于复杂得多的社会现象的一种比喻来理解，不能否认这些用语有模糊性。

③那么为什么它能普遍流行为人们所乐于应用而富于概括作用？这是因为社会经验有个性的主体。拥有特殊的主观条件，在接触这些带一般性的语言时，结合着自己的特殊感受，经过或迟或速的思索，领悟其中的深刻意蕴。因为它的意蕴可能普遍作用于广大的语言接触者的领悟，所以说它的意蕴有广泛的社会作用。

④习惯语中的“不假思索”，其实有片面性。不论接受者多么聪明，当他掌握对象的内在意义时，也不能没有即使短暂得不曾自觉的思索。所谓审美的敏感，也是以有所思索引起来

的。

⑤大家都承认，白居易的语言形式通俗。通俗得不识字的老妪都能听懂，但是老妪所能听懂的诗意，对诗意的深度的掌握，是否能和更有理解能力的读者的理解深度相等同？

⑥当然不能。即使同样熟悉诗词的知识分子，对白居易的名作《草》的意蕴的理解也有矛盾。例如其中诗句“野火烧不尽，春风吹又生”，有人把这些原上草当作卑鄙小人的象征来理解，有人却认为这是对战斗者的顽强意志的比喻。为什么同一客体可能引起这种对立的理

解？这种理解的审美个性的差别，主要是以不同主体在社会生活中形成的感受个性为条件的。

26.文中所说的客体系指：

- A.白居易
- B.艺术
- C.诗词
- D.四川民谣。

27.以下不能作为“它（艺术客体）对观赏主体来说就带有模糊性”的依据的一项是：

- A. 观赏主体是有个性的、有社会经验的，且拥有特殊的主观条件。
- B. 观赏主体在社会生活中，所形成的感受个性常常是千差万别的。
- C. 观赏主体掌握艺术客体的内在意义时，会有哪怕是短暂的思考。
- D. 观赏主体在接触艺术客体的时候，结合着自己的特殊的感受。

28.⑤⑥段中引用白居易诗句的例子想要说明的一项是：

- A. 熟悉诗词的知识分子，比不识字的老妪对诗歌的理解要深刻得多。
- B. 不同主体在社会生活中形成的感受个性，决定了审美个性的差别。
- C. 白居易诗歌语言通俗，内容贴近生活，就连不识字的老妪都能听懂。
- D. 对同一艺术客体的理解可能是完全对立的，而这正是其魅力之所在。

29.下列说法不符合原文意思的一项是：

- A. 全文是讲审美主体对同一客体理解的模糊性及消除模糊性的方法。
- B. “扯倒叶叶藤藤动”这类艺术语言生动，富有概括性，能够普遍地流行。
- C. 造成艺术语言的模糊性的根本原因在于它未能直接说出客体自身的特殊内容。
- D. 有所思索才能引起审美的敏感，“不假思索”的说法有片面性。

30.根据原文所给的信息，以下推断不正确的一项是：

- A. 古人说的“以我之眼观世界，则世界著我之色彩”，正体现了艺术鉴赏中的感受个性。
- B. “主观条件”，“特殊感受”，“有所思索”是领悟所有艺术客体意蕴的先决条件。
- C. 凡是具有广泛社会作用的艺术意蕴，都是因为它能使广大语言接触者有所领悟。
- D. 如果观赏主体具备了审美的敏感性，那么就有可能改变由观赏客体带来的模糊性。

七、类比推理：共5题。试题给出一对相关的词，要求你在备选答案中找出一对与之在逻辑关系上最为贴近或相似的词。

请开始答题：

31.军装：士兵

- A.套装：女人 B.服装：场合 C.警服：警察 D.制服：邮递员

32.跳跃：动作

- A.富豪：奢侈 B.风俗：习惯 C.大楼：木屋 D.蜡笔：图画

33.焊接工：护目镜

- A.水生物：鲸鱼 B.技工：扳手 C.妇女：泼妇 D.骑士：盾牌

34.紫竹：植物学家

- A.电影：影迷 B.页岩：地质学者 C.昆虫学家：昆虫 D.瓷砖：镶嵌

35.义务警员：警察

- A.小偷：扒手 B.踏板：自行车 C.肖像：装饰 D.刑罚：死刑

八、演绎推理：共 5 题。每题给出一段陈述，这段陈述被假设是正确的，不容置疑的，要求你根据这段陈述，选择一个答案。注意，正确的答案应与所给的陈述相符合，不需要任何附加说明即可以从陈述中直接推出。

请开始答题：

36.有一天，甲、乙、丙、丁、戊五个外国商人坐在一起聊天。甲说：“我们五人中有一人在撒谎”；乙说：“我们五人中有两个人在撒谎”；丙说：“我们五人中有三个人在撒谎”；丁说：“我们五人中有四个人在撒谎”；戊说：“我们五人中全都在撒谎”。

由此，可推出他们之中说真话的是：

- A.甲和戊 B.丁 C.乙和丙 D.戊

37.在一次摩托车比赛中，有五名运动员的名次可能是这样的（每个名次只能一个人）(1)赵爱武第二，钱堂江第三；(2)钱堂江第一，孙达胜第四；(3)李积红第三，周关群第五(4)赵爱武第二，孙达胜第四；(5)周关群第一，李积红第二。比赛结果证明，上述各有一句是正确的。由此可知，冠军是谁？

- A.赵爱武 B.钱塘江 C.孙达胜 D.李积红

38.桌上放着红桃、黑桃和梅花三种牌，共二十张。①桌上至少有一种花色的牌少于 6 张；②桌上至少有一种花色的牌多于 6 张；③桌上任意两种花色的牌的总数不超过 19 张。

以上论述中正确的是：

- A.①② B.②③ C.①③ D.①②③

39、某机关要编辑论文集，共收录十五篇论文，各篇论文的页数分别是一页、二页、三页、四页、五页、六页、七页、八页、九页、十页、十一页、十二页、十三页、十四页、十五页稿纸。如果这些论文按某种顺序装订成册，并统一编上页码，则每篇文章的第一页是偶数页码的最多篇数是：

- A.5 篇 B.6 篇 C.7 篇 D.8 篇

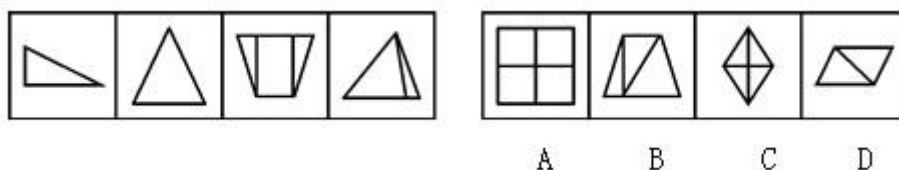
40、四个人正在打桥牌。已知其中一个人手上的 13 张牌四种花色样样都有，且各种花色的牌的张数不一样，红桃和方块合起来有 5 张，红桃和黑桃合起来有 6 张，梅花有 3 张，问此人手上哪种花色最少？

- A.黑桃 B.方块 C.梅花 D.红桃

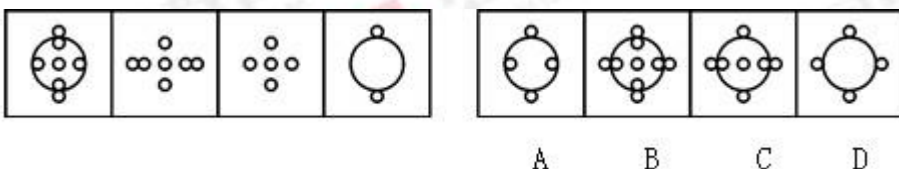
九、图形推理：共 5 题。每道试题左边的四个图形呈现一定的规律性，右边也有四个可供选择的图形，要求你从右边的四个图形中选出最适合的一个图形，此图与左边的四个图形呈现完全一致的规律，则该图形即为正确答案。

请开始答题：

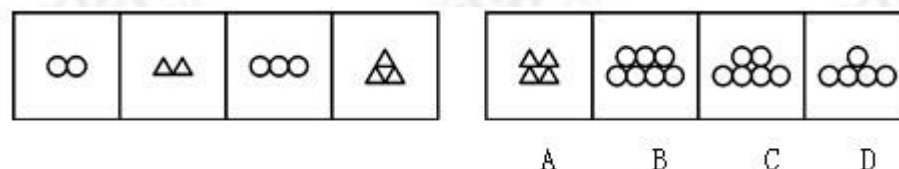
41.



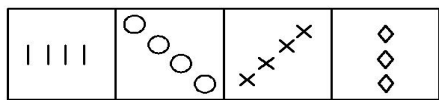
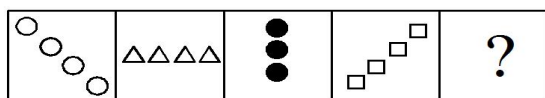
42.



43.

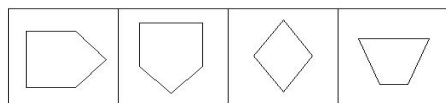
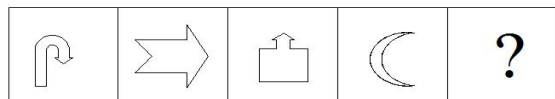


44.



A B C D

45.



A B C D

十、资料分析：共5题。根据下面的统计表回答46-50题。

请开始答题：

指标	2014年末数	比重（%）	2015年末数	比重（%）
地区总人口	4256	100	4306	100
其中：城镇	1830	43	1908	44.3
乡村	2426	57	2398	55.7
其中：男性	2192	51.5	2243	52.1
女性	2064	48.5	2063	47.9
其中：0-15岁	864	20.3	784	18.2
16-25岁	919	21.6	835	19.4
26-35岁	856	20.1	887	20.6
36-50岁	821	19.3	891	20.7
51-65岁	468	11	556	12.9
66岁以上	328	7.7	353	8.2

46.某地区城镇人口自然增长率是多少？

- A. 1.2%
- B. 2.6%
- C. 3.1%
- D. 4.3%

47.某地区城镇人口增长的幅度比乡村人口增长的幅度多几个百分点？

- A. 5.5 百分点
- B. 5.3 百分点
- C. 4.6 百分点
- D. 3.1 百分点

48.从人口的年龄结构分析，出现负增长的有几个年龄段？

- A. 1个 B. 2个
C. 3个 D. 4个

49.根据人口年龄段的划分，哪一年龄段人口增长的幅度最大？

- A. 26-35 B. 36-50
C. 51-65 D. 66岁以上

50.增长最多和最少的两个年龄段的人口数占总人口的百分之多少？

- A. 18% B. 25%
C. 31% D. 34%

(二) 公共基础知识

一、单项选择题下列各题只有一个正确答案，请将所选答案的字母，在答题卡上的相应位置，用2b铅笔涂黑。（共50题，每题0.4分，共20分）

请开始答题：

51.董仲舒认为“古之天下，亦今之天下；今之天下，亦古之天下”这属于（ ）观点。

- A.唯物论观点 B.唯心论观点 C.辩证法观点 D.形而上学观点

52.主张“世界上除了运动着的物质之外，什么也没有”的观点，属于（ ）。

- A.否认意识存在的自然唯物主义
B.主张世界统一于物质的辩证唯物主义
C.否认时间与空间存在性的唯心主义
D.把人的意识理解为某种特殊的“精细物质”的机械唯物主义

53.“没有革命的理论，就没有革命的行动”这句话说明的哲学道理是（ ）

- A.理论高于实践活动
B.科学理论对实践有指导作用
C.理论是革命工作的出发点
D.理论对实践起决定作用

54.黑格尔说：“割下来的手就不是真正的人手了。”这句话表达的哲学道理是（ ）。

- A.承认世界的统一性
B.承认世界的本原是物质的
C.否认联系的形而上学观点

D.承认普遍联系的辩证法观点

55.我国社会主义初级阶段实行以公有制为主体、多种所有制经济共同发展的基本经济制度，促进了生产力的发展，说明实行这种制度，遵循了（ ）。

A.生产力决定生产关系的原理。

B.经济基础决定上层建筑的人。

C.社会存在决定社会意识的原理。

D.经济制度决定生产力状况的原理。

56.法律调整是一种()

A.个别调整 B.规范性调整 C.习惯性调整 D.具体性调整。

57.甲将其电脑借给乙使用，乙却将该电脑卖给丙，依据我国《合同法》的规定，下列关于乙丙之间买卖电脑的合同效力的表述，正确的是()

A.无效 B.有效 C.效力待定 D.可变更可撤销。

58.在行政诉讼中，人民法院认为规章之间不一致的，应该报请（ ）作出解释或者裁决。

A.全国人民代表大会及其常务委员会 B.国务院

C.最高人民法院 D.司法部

59.我国继承法规定，继承人对于被继承人生前的合法债务()

A.应当负责全额偿还

B.可以负责全额偿还

C.可以不负责偿还

D.应当在遗产的实际价值范围内负责清偿。

60.国家工作人员在国内公务活动或者对外交往中接受礼物，依照国家规定应当交公而不交公且数额较大的，应以（ ）定罪处罚。

A.受贿罪 B.贪污罪 C.职务侵占罪 D.徇私枉法罪。

61.在社会主义市场经济条件下，我国宏观经济调控的主要手段是()

A.计划手段 B.行政手段 C.法律手段 D.经济手段。

62.现代企业制度的基本特征是()

A.自主经营，自负盈亏，自我发展，自我约束

B.产权清晰，权责明确，政企分开，科学管理

C.政企分开，宏观管住，微观开放，

D.面向市场，自由经营，自由发展。

63. 当社会总需求大于社会总供给时，一般不宜采取（ ）

- A.均衡的货币政策
- B.趋紧的货币政策
- C.宽松的货币政策
- D.松紧搭配的货币政策。

64. 转变政府职能的关键是()

- A.处理好中央和地方的关系
- B.处理好计划和市场的关系
- C.处理好国家和企业的关系
- D.政企职能分开。

65--75. 缺失

76. 习近平总书记指出把培育和弘扬社会主义核心价值观作为凝魂聚气、强基固本的基础工程，做为一项根本任务，切实抓紧抓好（ ）。

- A.八荣八耻
- B.社会主义核心价值观
- C.社会主义核心价值观体系
- D.中华优秀传统文化

77.关于我国的国家制度，下列说法错误的是（ ）。

- A.我国是人民民主专政的社会主义国家
- B.我国人民行使国家权力的机关是各级人民政府
- C.我国的国家机构实行民主集中制原则
- D.我国经济制度的基础，是全民所有制和劳动群众集体所有制。

78.近年来，实名认证的政务机构微博越来越多，“微博问政”已成为新趋势，政府通过微博受群众质询，推动政府积极解决市民关心的问题，对此，下列哪一项说法是不正确的（ ）？

- A.社会主义法制是“治权之治”，微博问政有利于强化人民群众对官员的监督
- B.微博问政体现了高效便民的原则
- C.微博问政是公民对国家机关及工作人员监督的有效法律手段
- D.微博问政有助于引导市民规范有序地参与国家和社会事务管理

79. 党的十八大从国家、社会、个人三个层面对社会主义核心价值观作了阐述，从个人层面倡导的是（ ）。

- A.富强、民主、文明、和谐
- B.自由、平等、公正、法治
- C.爱国、敬业，诚信、友善
- D.和平、发展、合作、共赢

80.下列事件按时间先后顺序排列正确的是：

- ①十一届三中全会召开
- ②家庭联产承包责任制确立

③开始设立经济特区 ④提出“一个中心，两个基本点”

A.①②③④ B.②①③④ C.①③②④ D.①④②③

81.由我国天文学家南仁东于 1994 年提出构想，历时 22 年建成，于 2016 年 9 月 25 日落成启用的 FAST 工程，是由中国科学院国家天文台主导建设，具有我国自主知识产权。世界最大单口径，最灵敏的射电望远镜，也被称为天眼工程，因为（ ）。

A.感光快 B.建设快 C.世界最大望远镜 D.500 米口径球面射电望远镜

82.现在实施的国际急救指南，心肺复苏按压通气比为()

A.15:1 B.15:2 C.30:1 D.30:2

83.狂犬病是一种人兽共患的病毒性传染病，死亡率很高。主要经过()传染给人。

A.血液 B.唾液 C.毛发 D.呼吸

84.2017 年 8 月，强台风“天鸽”吹袭我国，部分城市相继出现了城市内涝，造成人员伤亡及财产损失，()采用了“上流截流、中流蓄洪、下流拓渠”，减少了灾害损失，重为许多城市学习的榜样。

A.深圳 B.广州 C.香港 D.台北

85.古希腊数学家，在 2000 多年前，确定了一种美的标准，被誉为“巧妙的比例”，我们称这个比例为()。

A.勾股定理 B.比正态分布 C.形式美 D.黄金分割。

86.标志着中国新民主主义革命开端的是()。

A.新文化运动 B.中国共产党的诞生 C.五四运动 D.辛亥革命

87.下列哪次会议的决议案确立了党对军队的绝对领导原则？()

A. 八七会议 B.古田会议 C.遵义会议 D.瓦窑堡会议

88.中国进入社会主义社会的主要标志是：()

A.中华人民共和国的成立

B.过渡时期总路线的提出

C.第一届全国人民代表大会的召开

D.社会主义三大改造的完成

89.马克思主义中国化理论成果的精髓是：()

A.解放思想

B.实事求是

C.群众路线

D.独立自主

90.新时代中国特色社会主义思想，明确中国特色社会主义最本质的特征是：()

A.“五位一体”总体布局

- B.建设中国特色社会主义法治体系
- C.中国共产党领导
- D.人民利益为根本出发点

(有争议)91.下列不属于公文附件标记范围的选项是 (答案拿不准)

- A. 附件标题
- B.附件件数
- C.附件注释
- D.附件份数

92. 用于向上级有所呈请, 请求给予答复的文种是()。
- A.函
 - B.报告
 - C.请示
 - D.批复
- 93.要求下级机关办理或者执行的事项, 用: ()
- A.命令
 - B.批复
 - C.通告
 - D.通知
- 94.国务院发布行政法规, 采用: ()
- A.逐级行文
 - B.越级行文
 - C.直达行文
 - D.直接行文
- 95.计划的最显著特点是: ()
- A.预见性
 - B.可行性
 - C.理论性
 - D.指导性
- 96.中国共产党与世界政党高层对话会 2017 年 11 月 30 日至 12 月 3 日在北京举行, 会议主题是: ()
- A.携手建设更加美好的世界
 - B.汇聚构建人类命运共同体的强大力量
 - C.在世界政党间架起桥梁并培养相互间的伙伴关系文化
 - D.构建人类命运共同体, 共同建设美好世界, 政党的责任
- 97.下列属于 2018 年 1 月 1 日开始实施的法律是: ()
- A.《中华人民共和国环境保护税法》
 - B.《中华人民共和国野生动物保护法》
 - C.《中华人民共和国国防交通法》
 - D.《中华人民共和国中医药法》
- 98.党的十九大报告指出, 建设现代化经济体系, 必须把发展经济的着力点放在()上, 把提高供给体系质量作为主攻方向, 显著增强我国经济质量优势。
- A. 国有经济
 - B.实体经济
 - C.公有制经济
 - D.国民经济
- 99.2017 年 11 月 24 日, () 顺利通过联合国教科文组织世界记忆工程国际咨询委员会的评审, 成功入选《世界记忆名录》
- A.《本草纲目》
 - B.甲骨文
 - C.《黄帝内经》
 - D.南京大屠杀档案

100.2017年，国务院扶贫办《科技扶贫行动方案》，动员全社会科技资源投身服务于脱贫攻坚，在科技系统实施科技扶贫“百千万”工程：即在贫困地区建设“一百个”科技园区，星创天地等平台载体，动员组织高校、院所、园区、企业等与贫困地区建立“一千个”科技扶贫帮扶结对，实现“一万个”贫困村（ ）全覆盖。

- A.帮扶责任人 B.驻村工作队 C.科技特派员 D.帮扶责任单位

二、多项选择题：下列各题的四个选项中，有2个或2个以上符合题意，请将所选答案的字母，在答题卡上的相应位置，用2B铅笔涂黑。错选、多选、未选均不得分，少选按比例得分。（共15题，每题1分，共15分）

请开始答题：

101.辩证唯物主义关于物质和意识关系的全面看法（ ）

- A.物质第一性 意识第二性
B.物质决定意识 意识是人脑的机能
C.物质决定意识 意识反作用于物质
D.物质是意识的根源，意识是对物质的反映

102.下列选项中体现量变引起质变这一哲学道理的有（ ）

- A.千里之堤，溃于蚁穴 B.水滴石穿，绳锯木断
C.近朱者赤，近墨者黑 D.不积细流，无以成江海

103.关于宪法的效力，下列选项说法不正确的有（ ）

- A.对于在美国居住的华裔，也要适用我国宪法
B.只有中华人民共和国公民才能适用我国宪法
C.宪法同等的适用于居住在我国境内的美国人
D.我国宪法的效力及于包括台湾在内的所有中国领土。

104.相对人的参与权是一种程序权利体系，下列属于相对人的参与权的有（ ）

- A.获得通知权 B.陈述权 C.申辩权 D.申请权

105.在市场经济条件下，对于资源配置起基础性作用的手段有（ ）。

- A.供求关系 B.价格竞争 C.宏观调控 D.竞争机制

106.以下部门中，属于第三产业的有（ ）。

- A.商业 B.畜牧业 C.金融保险业 D.制造业

107.同一经济现象或措施，产生的效果是复杂的，下列选项之间具有双刃剑作用的是（ ）。

- A.增加国家财政收入 B.合理的收入差距
C.增加货币发行 D.优化经济结构

108.下列关于价值规律的正确表述是()。

- A.价值规律是商品经济的客观规律
B.价值规律的表现形式是价格围绕价值上下波动
C.价格围绕价值上下波动，是对价值规律的否定
D.价值规律会引起和促进优胜劣汰

109. 缺失

110.以下人员中不属于公务员法管理范围的是 ()。

- A.中国共产党机关工作人员
B.民主党派机关工作人员
C.政府机关里的工勤人员
D.进行公共事务管理的事业单位中的工作人员

111.戊戌变法和辛亥革命都是中国近代史上重大运动，两者的共同点有 ()。

- A.是爱国救亡的政治运动，
B.主张在中国建立资本主义制度
C.主张改良君主专制的制度
D.未提出彻底的反帝反封建的纲领

112.室内空气污染主要是由 () 等造成的。

- A.室外空气污染 B.室内装修 C.室内物品 D.生活燃气

113.今年年初，墨子号量子科学实验卫星，在我国和奥地利之间首次实现距离达 7600 公里的洲际量子密钥分发，并利用共享密钥实现 ()。该成果标志着量子号已具备实现洲际量子保密通讯的能力。

- A.加强数据传输 B.加密技术共享 C.加密 NN 算法共识 D.加密视频通讯

114.党的十九大报告指出，加大生态系统保护力度，完成 () 三条控制线划定工作。

- A.生态保护红线 B.永久基本农田 C.城镇开发边界 D.空气安全质量底线

115.党的十九大报告指出，要尊崇党章，严格执行新形势下党内政治生活若干准则，增强党内政治生活的 ()，自觉抵制商品交换原则对党内生活的侵蚀，营造风清气正的良好政治生态。

- A.政治性 B.时代性 C.原则性 D.战斗性

三、判断题：判断下列各题的正误，正确的请将“A”涂黑，错误的将“B”涂黑。填涂“C、D”无效。（共 25 题，每题 0.2 分，共 5 分）

请开始答题：

- 116.马克思主义是真理，因而可以利用它来作为判断认识对错的标准。
- 117.量变是质变的必然结果，质变是量变的必要准备。
- 118.法律上的权利是指法律所允许的权利人为了满足自己的利益而采取的，由他的法律义务所保证的一种资格和能力。
- 119--129 缺失
- 130.现代公务员制度的基础是选任制
- 131.实现两个一百年奋斗目标，实现中华民族伟大复兴的中国梦，不断提高人民生活水平，必须坚持、必须坚定不移把 MI 改革作为党执政兴国的第一要务。
- 132.银行以存款、贷款等形式提供的，以货币形式为主要的信用称为国家信用。
- 133.2018 年中央一号文件提出，加强农村专业队伍建设，推行乡村教师“乡管校聘”。
- 134.2018 年 2 月，国务院办公厅印发，关于，推进《关于推进社会公益事业建设领域政府信息公开的意见》。
- 135.5G 这一技术是为通讯发展提供新动力。
- 136.青藏高原是我国水土流失最严重和生态环境最为严峻的地区之一。
- 137.《导游管理办法》于 2018 年 2 月 1 日正式施行。
- 138.第 24 届冬季奥林匹克运动会，简称平昌冬奥会，于 2018 年 2 月 9 日---25 日，在平昌举行。
- 139.新修订的《中华人民共和国反不正当竞争法》，于 2017 年 1 月 1 日实行。
- 140.2018 年 2 月 28 日，雄安新区首个重大交通项目——北京至雄安城际铁路正式开工建设。

第二部分 主观题

辨析题：先判断下列各题内容是否正确，然后简要说明理由（共 4 题，每题 2.5 分，共 10 分）

- 1.有一种观点认为，在革命战争年代应当提倡“斗争哲学”，在和平建设时期则应提倡“和谐哲学”。

2.资本主义生产过程是劳动过程与价值形成过程的统一。

3.上海海关拟招录 8 名公务员，上海市公务员局组织了这次招录工作。

4.民事诉讼程序规定，在法院执行过程中，当事人不可以达成和解协议。