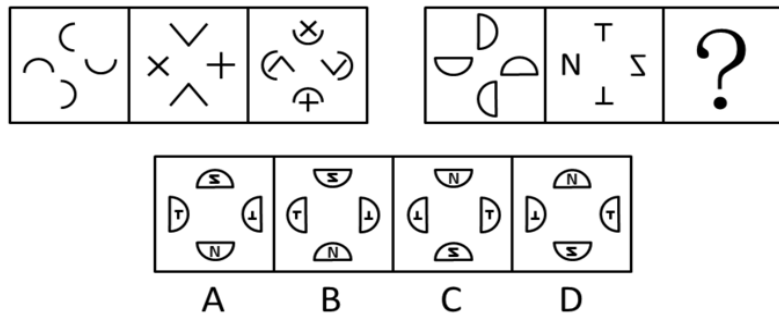



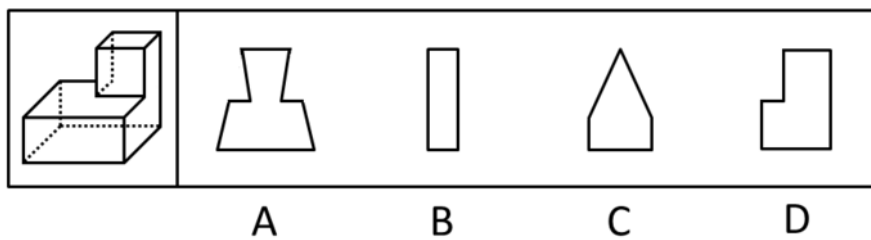
1. 左边给定的是纸盒的外表面，不能由左侧立体纸盒拆成的是？



2. 从所给的四个选项中，选择最合适的一个填入问号处，使之呈现一定的规律性：



3. 从所给的四个选项中，选择最合适的一个填入问号处，使之呈现一定的规律性：



4. 企业信息化是指企业利用现代技术，通过深化开发和广泛利用资源，不断提高生产、经营、管理、决策效率和水平的过程。

根据上述定义，下列**不属于**企业信息化的是：

- A. 学校建立计算机网络平台使校内信息资源得到充分利用
- B. 将全部企业业务乃至全部企业管理实现信息化的计算机集成制造系统
- C. 将离散型和流程型生产的质量、设施、控制、数据和通信等结合起来，实现广泛的管理信息集成

D. 制定原材料零部件采购加工计划，以保证能在规定的时间、地点得到需要的物料数量，并引进计算机进行辅助管理

5. 角色混同指的是将自己所具有的不同角色相混淆，而发生的导致背离角色期待和角色规范的行为。

根据上述定义，下列哪项属于角色混同：

A. 老李是某局局长，对于儿子提出的要求，他常常不自觉地说：“这事得和其他同志研究研究”。为此，他多次受到妻子的批评

B. 小王是个游戏迷，他常常将工作中的同事假想成游戏中的玩家，也常常将游戏中的玩家想象成自己的某个同事

C. 庄周梦见自己变成蝴蝶，醒过来之后惊惶不已，庄周不知自己梦中变成了蝴蝶，还是蝴蝶梦中变成了自己

D. 到北京来打工的某外省青年有时不自觉地说起家乡话，常常弄得同事莫名其妙

6. 攻击：发动

A. 注释：文档

B. 前进：勇敢

C. 披荆：斩棘

D. 工作：开展

7. 军队：命令

A. 乐队：指挥

B. 游客：向导

C. 志愿者：号召

D. 学生：教导

8. 如果阿根廷参加联盟，则巴西和智利将抵制联盟。如果巴西和智利有一国抵制联盟，那么联盟就会名存实亡。而联盟没有名存实亡。

从这段文字可以推出：

A. 巴西没有参加联盟

- B. 巴西参加联盟
- C. 智利或巴西至少有一国没有参加联盟
- D. 阿根廷没有参加联盟

9. 关于某商务宾馆前台的 15 名服务员，有如下三个判断：

- I. 有人会熟练地说英语；
- II. 有人不会熟练地说英语；
- III. 新来的小刘不会熟练地说英语。

若这三个判断中只有一句为真，以下哪项也一定为真？

- A. 15 名服务员都会熟练地说英语
- B. 15 名服务员都不会熟练地说英语
- C. 仅有一人会熟练地说英语
- D. 仅有一人不会熟练地说英语

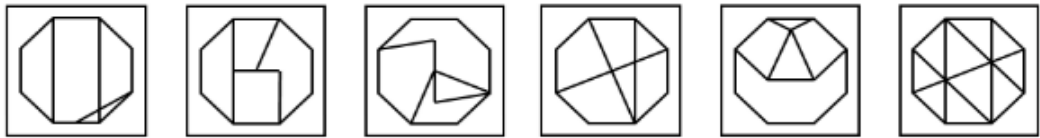
10. 某届“纪录片金镜头奖”评选结束后，甲厂的《黄河》获得最佳纪录片奖，乙厂的《武夷山》获得最佳摄影奖，丙厂的《南海》获得最佳音乐奖。新闻学院请三家厂长到校介绍经验。在休息室里，甲厂的导演说：“真有趣得很，我们三个人的姓分别是片名的第一个字。”“但是，我们每个人的姓同自己所拍片子的第一个字又不一樣。”这时，一个姓武的导演补充说。“真是这样！”甲厂导演表示赞同。

如果上述的陈述都是真的，那么下列哪项是正确的？

- A. 甲厂导演姓南，乙厂导演姓武，丙厂导演姓黄
- B. 甲厂导演姓黄，乙厂导演姓武，丙厂导演姓南
- C. 甲厂导演姓南，乙厂导演姓黄，丙厂导演姓武
- D. 甲厂导演姓武，乙厂导演姓黄，丙厂导演姓南

11. 把下面的六个图形分为两类，使每一类图形都有各自的共同特征或规律，分类正确的一项是：

- ① ② ③ ④ ⑤ ⑥



- A. ①②③, ④⑤⑥
- B. ①③④, ②⑤⑥
- C. ①③⑥, ②④⑤
- D. ①④⑥, ②③⑤

12. 把下面的六个图形分成两类, 使每一类图形都有各自的共同特征或规律, 分类正确的一项是:




- A. ①②③, ④⑤⑥
- B. ①③⑤, ②④⑥
- C. ①②⑤, ③④⑥
- D. ①③⑥, ②④⑤

13. 从所给的四个选项中, 选择最合适的一个填入问号处, 使之呈现一定的规律性:



A B C D

14. 把下面的六个图形分为两类, 使每一类图形都有各自的共同特征或规律, 分类正确的一项是:



- A. ①②③, ④⑤⑥
- B. ①②④, ③⑤⑥
- C. ①③⑤, ②④⑥

D. ①⑤⑥, ②③④

15. 敌意性归因偏差是指在情景不明的情况下, 会将对方的动机或意图视为有敌意的倾向。

根据上述定义, 下列属于敌意性归因偏差的是:

A. 领导看到小张在晋升前的民主评议中得票很低, 就断定他人品不好, 打消了提升他的念头

B. 小刘在社团主席竞选中败得很惨, 当小王劝他再参加学生会将要进行的主席选举时, 他觉得小王是故意来挖苦他的

C. 王老师班上的学生陈强一向表现平平, 却在最近的学科竞赛上获得了全校最好成绩, 王老师觉得陈强在竞赛中存在作弊行为

D. 某公司赵总一直不同意李总提出的年底奖金分配方案, 李总多次与之沟通收效甚微, 李总认为赵总过于维护自己部门的利益

参考答案：

1. 【答案】D

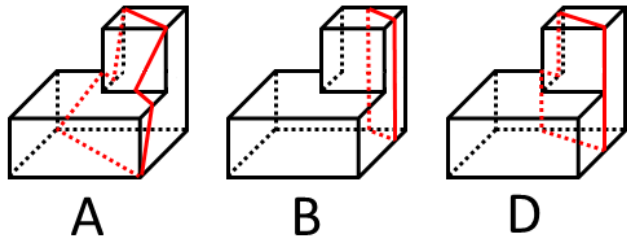
【讲授说明】旋转。第一幅图形是沿逆时针旋转，第二幅图形是顺时针旋转，然后进行叠加得出第三幅图形。在第二段图形中，按照上述的规律，因此，得出本题答案D。

2. 【答案】D

【讲授说明】每行第一个图形顺时针旋转 90° ，然后与第二个图去同存异，得到第三个图。因此，本题答案为D选项。

3. 【答案】C

【讲授说明】A、B、D项均能够切出。C项中，与上半部分三角形的两条边相连的两条



垂直竖线切不出来。因此答案是C。

4. 【答案】A

【考点】主体

【讲授说明】学校不是“企业”，主体不符合，不符合定义，故选A。D选项，考生易错误认为企业没有提到“利用现代信息技术”，后半句提及“引进计算机”，属于现代信息技术。因此，选择A。

5. 【答案】A

【考点】客体

【讲授说明】定义的客体是“自己具有的不同角色”。A项老李具有父亲和局长两个角色，在儿子面前却摆出一副局长的样子，背离了妻子和儿子对于他父亲角色的期待，属于角色混同。B项是对别人的角色进行混淆，而不是对自己的角色，客体不符；C项庄周只是做梦，角色只有一个，也没有做出背离角色期待和规范的行为；D项不自觉的说家乡话并不代表不同的角色，某外省青年只有一个角色。因此，选择A。

6. 【答案】D

【讲授说明】动宾关系。发动攻击，开展工作。因此，选择D。

7. 【答案】A

【讲授说明】主宾关系。军队服从命令，乐队服从指挥，并且军队和乐队都是集体概念。因此，选择A。

8. 【答案】D

【讲授说明】本题考查的是翻译推理中的充分条件。题干的推理形式是：①阿根廷参加联盟→巴西和智利将抵制联盟；②巴西和智利有一国抵制联盟→联盟就会名存实亡。因为联盟没有名存实亡，是对②后项的否定，否后必否前，推出巴西和智利都没有抵制联盟，所以阿根廷没参加联盟。因此，选择D。

9. 【答案】A

【讲授说明】根据题干可知：①有的人会说英语；②有的人不会说英语；③小刘不会说英语。根据两个有的“可以同真不能同假”可知，①②中至少有一个为真，即可以判断③为假，由此可以判断“小刘会说英语”为真，即可知“有人会说英语”为真，即①为真②为假，则②的矛盾命题“所有人都会说英语”为真。因此，选择A。

10. 【答案】C

【讲授说明】排除法。根据题干已知信息可知，甲厂的导演不姓黄，乙厂的导演不姓武，丙厂的导演不姓南，可以排除A、B、D项。因此，选择C。

11. 【答案】D

【参考解析】图形组成不同，属性无明显规律，考虑数量规律。面很多，但数面无规律；线也很多，数线也无规律。再观察发现，题干中线条交叉的图形较多，考虑数交点。①④⑥为10个交点，②③⑤为11个交点。故正确答案为D。

12. 【答案】B

【参考解析】本题考查静态位置。观察图形可以发现，每一幅图都有4个元素组成，其中有两个元素样式相同，①③⑤两个相同元素都处于相邻位置，②④⑥两个相同元素都处于对角线的位置。因此，本题答案为B选项。

13. 【答案】C

【参考解析】曲线。曲线条数为1、2、3、4，故本题答案为C选项。

14. 【答案】C

【参考解析】①③⑤图形中的箭头相对，②④⑥中的箭头首位相接。

15. 【答案】B

【参考解析】定义的关键词，“情景不明”“视为有敌意的倾向”，A项断定人品不好、C项作弊行为、D项维护自己部门的利益并不是有敌意的倾向，不符合定义要求，故此题答案为B。



关注“天津华图”微信公众号：tjhuatu

后台回复“时政”可获取最新时政信息

【2019 国考估分密卷】



【新大纲】2019国考 估分密卷 距离国考只有10天，11月21日停售！已连续两次押中考题！考前抢分就这一...



扫描或长按识别二维码