

行测练习题（二）

资料分析演练题(一)

一、根据以下资料，回答以下问题。

2010年上半年，全国原油产量为9848万吨，同比增长5.3%，上年同期为下降1%。进口原油11797万吨(海关统计)，增长30.2%。原油加工量20586万吨，增长17.9%，增速同比加快16.4个百分点。成品油产量中，汽油产量增长6%，增速同比减缓7.9个百分点；柴油产量增长28.1%，增速同比加快15.8个百分点。

据行业统计，2010年上半年成品油表观消费量10963万吨，同比增长12.5%。其中，一、二季度分别增长16.3%和9.2%。

2010年6月份，布伦特原油平均价格为75.28美元/桶，比上月回落1.75美元/桶，同比上涨10.4%。结合国际市场油价变化情况，国家于6月1日将汽油、柴油批发价格分别下调230元/吨和220元/吨。

2010年上半年，全国天然气产量459亿立方米，同比增长10.8%，增速同比加快3.2个百分点。国家于6月1日将国产陆上天然气出厂基准价上调了230元/千立方米。

2010年1~5月，石油石化行业实现利润1645亿元，同比增长76.4%，上年同期为下降35.4%。其中，石油天然气开采业利润1319亿元，同比增长1.67倍，上年同期为下降75.8%；炼油行业利润326亿元，同比下降25.7%，上年同期为增长1.8倍。

1. 2010年上半年全国原油产量比2008年同期约增长了：（ ）
A.1.8% B.4.2%
C.6.3% D.9.6%
2. 2010年上半年，全国成品油表观消费量同比增加了约多少万吨？（ ）
A.1009 B.1218
C.1370 D.1787
3. 2010年5月份，布伦特原油的平均价格约为每桶多少美元？（ ）
A.68.19 B.73.53
C.75.28 D.77.03
4. 2009年1~5月，石油天然气开采业利润占石油石化行业实现利润的比重约为：（ ）

A.53% B.66%

C.80% D.91%

5. 能够从上述资料中推出的是：()

A.2009 年上半年，全国原油进口量高于原油产量

B.2009 年上半年，全国汽油产量同比增长率高于柴油

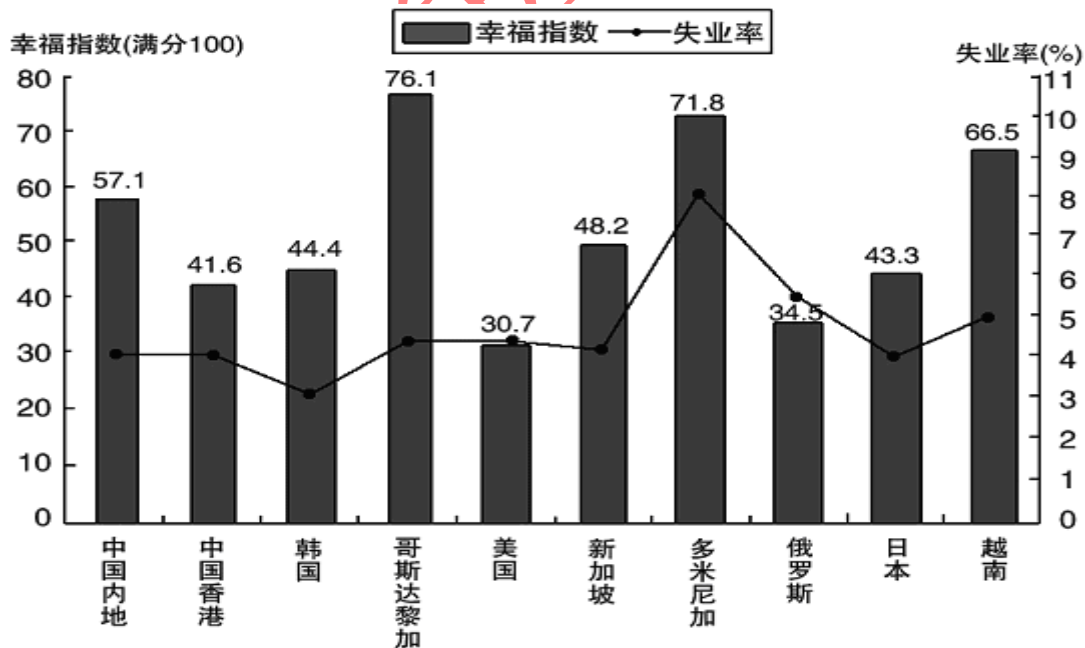
C.2009 年一季度，全国成品油表观消费量高于二季度

D.2009 年上半年，全国天然气产量同比增长 14%

二、根据以下资料，回答以下问题。

表：2007 年部分国家(地区)国民生产总值

国家(地区)	人均国民生产总值(美元)	国民生产总值(亿美元)
中国内地	2360	32801
中国香港	31610	2067
韩国	19690	9698
哥斯达黎加	5560	252
美国	46040	138112
新加坡	32470	1613
多米尼加	3550	367
俄罗斯	7560	12910
日本	37670	43767
越南	790	712



2007 年部分国家(地区)幸福指数与失业率

6. 2007 年，下列国家(地区)中人口最少的是()

- A.中国香港
B.哥斯达黎加
C.新加坡
D.多米尼加
7. 资料中失业率最高与最低的国家(地区), 其幸福指数相差()
- A.22.1
B.28.5
C.27.4
D.31.4
8. 资料中人均国民生产总值和幸福指数均排名前五的国家(地区)有几个?()
- A.1
B.2
C.3
D.4
9. 能够从上述资料中推出的是()。
- A.资料中只有一个亚洲国家(地区)的失业率高于美国
B.美国的失业人口少于俄罗斯
C.人均国民生产总值排名第二的国家(地区), 幸福指数排名第八
D.资料中人均国民生产总值越高的国家失业率越低
10. 下列说法与资料相符的有几个?()
- I.国民生产总值小于 1000 亿美元的国家(地区), 幸福指数均高于其他国家(地区)
II.人口过亿的国家(地区)失业率越低, 幸福指数越高
III.比中国内地失业率低的国家(地区), 幸福指数均低于中国内地
IV.人均国民生产总值超过 2 万美元的国家(地区), 幸福指数均低于其他国家地区
- A.0
B.1
C.2
D.3

三、根据下列统计资料回答问题

2011 年某省接待过夜游客总量再次实现突破, 达到 3001.34 万人次, 同比增长 16.0%, 实现旅游收入 324.04 亿元, 同比增长 25.8%。12 月份宾馆平均开房率为 74.02%。同比增长 0.06%; 全年累计宾馆平均开房率为 62.37%。同比增长 2.0%。

该省 2011 年 12 月及全年接待过夜旅客人数

项目	12 月份(万人 次)	同比增长(%)	全年(万人次)	同比增长(%)
接待过夜旅游者总计	333.50	24.3	3001.34	16.0
(一)过夜境内旅游者	322.96	23.5	2919.88	15.5
1.旅游饭店接待过夜人次	235.27	18.32	2123.51	14.33
2.社会旅馆接待过夜人次	87.69	39.8	796.37	20.0
(二)过夜入境旅游者	10.54	56.1	81.46	22.8

2010年，机电产品进口额达到6603.1亿美元，同比增长34.4%，高新技术产品进口额达到4126.7亿美元，同比增长33.2%。

2010年我国进出口贸易情况

项目		出口		进口	
		金额(亿美元)	同比增速(%)	金额(亿美元)	同比增速(%)
总值		15779.3	31.3	13948.3	38.7
贸易 方式	一般贸易	7207.3	36.0	7679.8	43.7
	加工贸易	7403.4	26.1	4174.3	29.5
	其它方式贸易	1168.6	37.7	2094.2	40.2
企业 性质	国有企业	2343.6	22.7	3875.5	34.3
	外商投资企业	8623.1	28.3	7380.0	35.3
	其它企业	4812.7	42.2	2692.8	56.7

16. 2009年我国进出口贸易总额约为多少万亿美元?()
- A.1.6 B.2.2
C.2.6 D.3.0
17. 2010年高新技术产品出口额占出口总额的比重与上年相比约:
- A.增加了10个百分点 B.减少了10个百分点
C.增加了0.1个百分点 D.减少了0.1个百分点
18. 在2010年我国进出口贸易中，下列哪一项的同比增长金额最高?()
- A.机电产品出口 B.高新技术产品出口
C.机电产品进口 D.高新技术产品进口
19. 下列关于2010年净出口额(出口额减进口额)的关系表述正确的是：()
- A.加工贸易 > 一般贸易 B.其他方式贸易 > 一般贸易
C.国有企业 > 外商投资企业 D.国有企业 > 其他企业
20. 下列关于2010年我国进出口贸易的表述正确的是：()
- A.高新技术产品逆差约为800亿美元
B.国有企业进出口总额同比增速为28.5%
C.机电产品出口额占出口总额的一半以上
D.船舶出口同比增长金额高于汽车零部件

资料分析演练题(二)

一、根据下列统计资料回答问题

2009年世界天然气贸易量达8768.5亿立方米，较2005年增长7.7%。其中管道天然气

贸易量为 6337.7 亿立方米；液化天然气贸易量为 2427.7 亿立方米。

俄罗斯是世界最大的管道天然气出口国，占管道天然气总出口量的 27.8%，出口量为 1764.8 亿立方米，较 2008 年增长 14.3%；俄罗斯天然气全部出口到欧洲国家，主要有德国(315 亿立方米)、意大利(208 亿立方米)、土耳其(172.6 亿立方米)等。加拿大是世界第二大管道天然气出口国，出口量达 922.4 亿立方米，较 2008 年下降 10.6%，全部出口到美国。

美国、德国、意大利、法国、俄罗斯是世界五大管道天然气进口国，2009 年进口量占世界总量的 50.0%。美国是世界最大的管道天然气进口国，进口量达 1044.1 亿立方米，较 2008 年下降 10.9%。

液化天然气主要出口国为卡塔尔、马来西亚、印度尼西亚等。日本为世界最大的液化天然气进口国，进口量达 859 亿立方米，其次为韩国、西班牙和法国，进口量分别占世界总量的 14.1%、11.1% 和 5.4%。

2009 年世界天然气价格普遍都有不同程度的下降。在亚洲，日本进口液化气的平均价为 9.06 美元/百万英热单位(MBtu)，较 2008 年减少 3.49 美元/MBtu；美国天然气的进口价由上年的 8.85 美元/MBtu 下降至 3.89 美元/MBtu。

- 2009 年世界液化天然气贸易量占天然气贸易总量的比重为()。
A.17.5%
B.22.2%
C.27.7%
D.38.3%
- 2009 年俄罗斯管道天然气出口较上年增长了多少亿立方米?()
A.110
B.221
C.332
D.443
- 韩国 2009 年液化天然气进口量大约是法国的多少倍?()
A.2.1
B.2.3
C.2.6
D.3
- 2009 年美国天然气的均价比上年下降了()。
A.62%
B.56%
C.50%
D.44%
- 以下能从资料中推出的是()。
A.2009 年加拿大是美国最大的管道天然气进口来源地
B.2009 年日本进口液化气的均价比上年下降了 6 成以上
C.2009 年世界天然气贸易量比 2005 年增长 1000 多亿立方米
D.出口土耳其的管道天然气占 2009 年俄罗斯对欧洲管道天然气总出口量的 1 成以上

二、根据下面的数据，回答 6—10 题。

2009 年度全国旅行社营业收入为 1806.53 亿元，同比增长 8.64%；毛利润总额为 134.36 亿元，毛利率为 7.44%；净利润总额为 11.48 亿元，净利率为 0.64%。

2009 年度全国旅行社的旅游业务营业收入为 1745.59 亿元，同比增长 8.87%；旅游业务毛利润为 120.27 亿元，旅游业务毛利率为 6.89%；实缴税金为 12.69 亿元，同比增长 12.37%；外汇结汇 10.51 亿美元，同比减少 11.24%；全国促销费支出为 6.76 亿元，同比增长 13.87%。

2009 年度全国旅行社旅游业务营业收入表

	营业收入(亿元)	同比增长(%)	毛利润(亿元)	同比增长(%)
入境旅游收入	222.15	-1.21	18.69	4.72
国内旅游业务	1139.10	11.79	76.33	16.64
出境旅游业务	384.34	6.92	25.25	28.99

6. 2008 年度全国旅行社入境旅游业务营业收入约为多少亿元?()
- A.185
B.210
C.225
D.235
7. 2009 年全国旅行社非旅游业务的毛利率约为:
- A.8%
B.11%
C.17%
D.23%
8. 下列各项中，占当年全国旅行社的旅游业务营业收入比重最大的是:
- A.2009 年国内旅游
B.2008 年国内旅游
C.2009 年入境旅游
D.2008 年入境旅游
9. 下列各项中，2009 年毛利率最低的是:
- A.国内旅游业务
B.入境旅游业务
C.出境旅游业务
D.总体旅游业务
10. 关于 2009 年全国旅行社营业状况，从资料中可以推出的结论是:
- A.三类旅游业务的毛利率均比上年有所增长
B.国内旅游业务的毛利润比上年增加近 8 亿元
C.全国旅行社旅游业务的外汇结汇比上年减少近 1 亿美元
D.全国旅行社促销费用占其旅游业务营业收入的比例比上年有所下降

三、根据下面的数据，回答 11—15 题

2009 年，我国 973 计划(含重大科学研究计划)新立和在研项目共 547 项，其中新立项目

123 项，在研项目 424 项。国家财政共投入 26 亿元。

973 计划(含重大科学研究计划)新立和在研项目数量及研究经费按领域分布情况

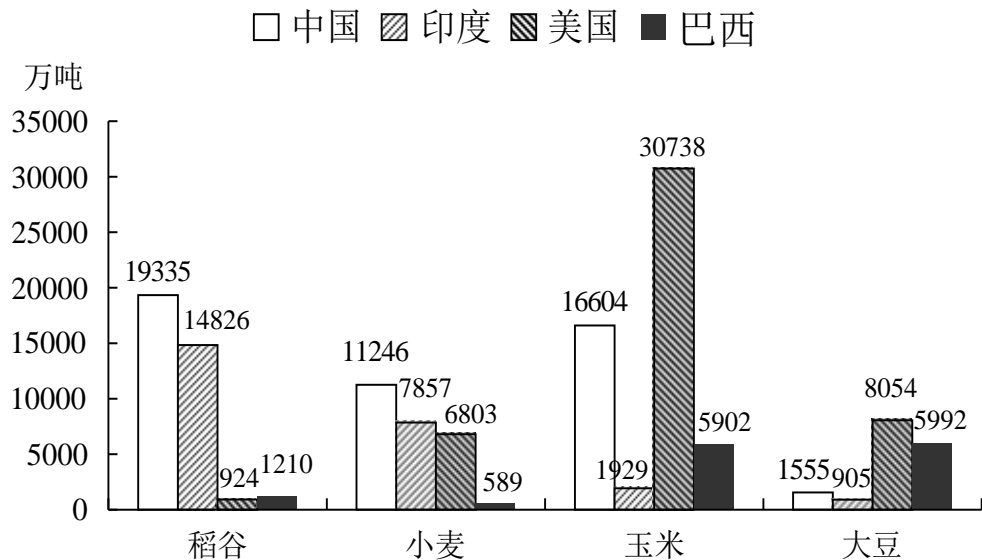
领域	项目数量 (项)	占项目总数的 比重(%)	项目经费 (亿元)	占有研究经费 的比重(%)
农业	42	7.7	2.29	8.8
能源	41	7.5	2.40	9.2
信息	41	7.5	2.03	7.8
资源环境	42	7.7	2.37	9.1
人口与健康	74	13.5	3.20	12.3
材料	41	7.5	2.13	8.2
综合交叉	61	11.1	2.35	9.1
重要科学前沿	49	9.0	2.22	8.6
蛋白质研究	37	6.8	1.55	5.9
量子调控研究	26	4.7	1.25	4.8
纳米研究	54	9.9	2.40	9.2
生育与生殖研究	39	7.1	1.81	7.0

11. 2009 年我国 973 计划(含重大科学研究计划)中,有几个领域的投入经费超过 2 亿元?()
- A.7
B.8
C.9
D.10
12. 2009 年我国 973 计划(含重大科学研究计划)中,项目总数最多的三个领域占有项目总数的比重约为()。
- A.32%
B.35%
C.38%
D.41%
13. 2009 年我国 973 计划(含重大科学研究计划)中,平均每个农业项目的投入经费约为多少万元人民币?()
- A.501
B.545
C.592
D.653
14. 平均每个项目投入经费高于所有项目平均水平的领域有多少个?()
- A.3
B.4
C.5
D.6
15. 以下关于 2009 年我国 973 计划(含重大科学研究计划)的描述,与资料相符的是()。
- A.在研项目占项目总数的比重超过 80%
- B.项目经费最高的领域,其项目经费比最低者的 3 倍还多
- C.平均每个领域的新立项目数量不足 10 个

D.项目经费最低的领域，其项目总数也是最少的

四、根据下面的材料，回答 16—20 题

2008 年世界稻谷总产量 68501.3 万吨，比 2000 年增长 14.3%；小麦总产量 68994.6 万吨，比 2000 年增长 17.8%；玉米总产量 82271.0 万吨，比 2000 年增长 39.1%；大豆产量 23095.3 万吨，比 2000 年增长 43.2%。



2008 年部分国家各种谷物产量

2008 年与 2000 年相比各种谷物产量增长率(%)

国家	稻谷	小麦	玉米	大豆
中国	1.9	12.9	56.4	0.9
印度	16.3	2.9	60.2	71.4
美国	6.7	12.0	22.0	7.3
巴西	9.1	254.2	85.1	83.0

16. 下列四种谷物中，2008 年与 2000 年相比全世界增产量最多的是：
- A. 稻谷 B. 小麦
- C. 玉米 D. 大豆
17. 将每个国家的四种谷物按 2008 年的产量分别排序，哪个国家产量排名第一的谷物与 2000 年相比产量增长率最高?()
- A. 中国 B. 美国
- C. 印度 D. 巴西
18. 2000 年，中国稻谷产量占世界稻谷总产量的比重约为：

- A.20%
- B.24%
- C.28%
- D.32%

19. 2000 年，表中所列四国玉米的最高产量约是最低产量的多少倍?()

- A.11
- B.16
- C.21
- D.26

20. 能够从上述资料中推出的是:

- A.2008 年，美国是世界最大的大豆产地
- B.2008 年，巴西玉米产量占世界总产量的比重比 2000 年略有下降
- C.与 2000 年相比，2008 年中国小麦增产 900 多亿吨
- D.2008 年，印度稻谷产量是其小麦产量的 2 倍以上

资料分析演练题(三)

一、根据以下资料，回答 1~5 题。

2011 年前十一个月，某省高新技术产业完成总产值 3763.00 亿元，实现增加值 896.31 亿元。增加值同比增长 30.74%，比规模以上工业增加值高 11.64 个百分点，占规模以上工业增加值的比重达到 25.32%。高新技术产业各领域的增加值如下图所示：

高新技术产业各领域增加值饼形图(单位：亿元)



1. 2011 年前十一个月，该省规模以上工业增加值同比增长约为多少?()

- A.11.64%
- B.19.10%
- C.30.74%
- D.42.38%

2. 2010 年前十一个月，该省规模以上工业增加值约为多少亿元?()

- A.2972
- B.3540
- C.3865
- D.4373

3. 2011 年前十一个月，光机电一体化领域实现增加值与生物医药和医疗器械领域、新材料领域、电子信息领域增加值总和的比约为:

- A.3:5
- B.3:4

C.5:6

D.9:10

4. 若该省高新技术产业增加值保持同样的增长速度。则 2012 年前十一个月高新技术产业增加值比 2010 年同期约增加多少亿元?()

A.210.7

B.486.3

C.275.5

D.685.6

5. 关于该省高新技术产业各领域增加值情况，下列说法错误的是：

A.生物医药和医疗器械领域的增加值超过全省高新技术产业增加值的 1/6

B.光机电一体化领域与新材料领域增加值之和大约是全省高新技术产业增加值的 1/2

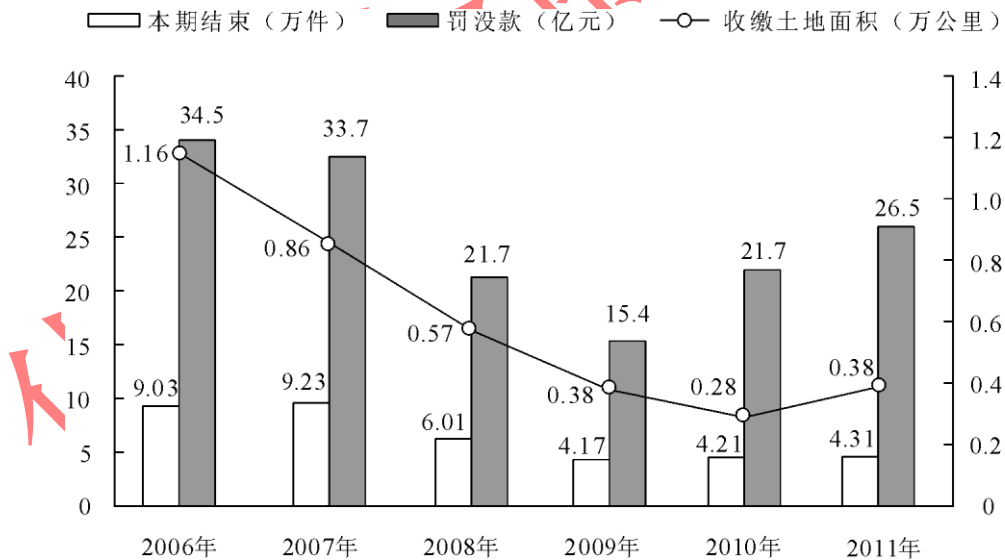
C.航空航天领域实现的增加值可能不到全省高新技术产业增加值的 1/3

D.生物医药和医疗器械领域与电子信息领域增加值之和不到全省高新技术产业增加值的 1/4

二、根据以下资料，回答 6—10 题。

2011 年发现违法用地行为 7.0 万件，涉及土地 5.0 万公顷(耕地 1.8 万公顷)，同比分别上升 5.8%、11.0%(耕地下降 2.4)，立案查处违法用地案件 4.2 万件，涉及土地 4.4 万公顷(耕地 1.5 万公顷)，同比分别上升 2.5%、11.4%(耕地下降 5.7 万公顷)。依法拆除违法构筑物 1289.8 万平方米，收回土地 3791.2 公顷(耕地 1064.7 公顷)，罚没款 26.5 亿元。

2006—2011 年我国违法用地案件查处情况(一)



2006—2011 年我国违法用地案件查处情况(二)

年度	本期发现违法			本期立案			本期结案		
	件数	涉及土地面积	其中耕地面积	件数	涉及土地面积	其中耕地面积	件数	涉及土地面积	其中耕地面积
2006 年	131077	92237	43408	96133	84082	38680	90340	69559	34331
2007 年	123343	99069	43739	95937	89847	39382	92347	80873	36708
2008 年	100266	57660	21518	60399	46672	17579	60077	50430	19963
2009 年	72940	37973	17039	41623	31086	13868	41662	31851	14182

2010年	66373	45124	18030	40795	39279	15833	42140	39330	16230
2011年	70212	50074	17596	41806	43756	14935	43149	46064	15358

6. 与2006年相比,2011年全国收缴土地面积约减少了:
- A.52% B.110%
- C.67% D.205%
7. 2011年结案的案件中,平均每个案件的罚没款约为多少万元?()
- A.0.56 B.1.13
- C.3.78 D.6.14
8. 2011年,发现违法但未立案的违法用地行为占发现违法用地行为总数的比重约为多少?()
- A.59.5% B.40.5%
- C.38.5% D.61.5%
9. 下列年份中,本期结案中涉及的耕地面积占结案涉及土地面积比重最高的是:
- A.2006年 B.2008年
- C.2010年 D.2011年
10. 能够从上述资料中推出的是:
- A.2006—2011年,违法用地案件查处中收缴土地面积逐年减少
- B.2006—2011年,违法用地案件查处中罚没款的变化趋势与收缴土地面积变化趋势完全一致
- C.2011年发现违法用地行为涉及土地面积中非耕地面积同比上升约为20%
- D.2006年立案涉及的土地面积略小于2010年与2011年立案涉及土地面积之和

三、根据以下资料,回答11—15题。

截至2011年4月21日22时,沪深两市已有534家上市公司第一季度财报。这534家公司实现营业总收入4572.78亿元,同比增长30.74%;实现净利润336.7亿元,同比增长30.52%。不过,一季度销售收入和净利润环比则有所下降,其中营业总收入环比下降12%,净利润环比下降25%。这534家公司2011年一季度存货6167.68亿元,较上年年末增长10%。

已公布一季报的创业板公司有71家,实现营业收入80.08亿元,同比增长73.60%;实现净利润13.16亿元,同比增长80%。已公布一季报的中小企业板公司有202家,实现营业收入789.97亿元,同比增长36%;实现净利润73.25亿元,同比增长25%。

25 家已公布一季报的房地产公司一季度实现营业收入 193.68 亿元，同比增长 9%；实现将利润 29.97 亿元，同比增长 31%；存货 2892.18 亿元，同比增长 10%。

已公布一季报的的 6 家钢铁公司一季度存货为 322 亿元，实现营业收入 493.39 亿元，同比略有降低，环比下降 20%；实现净利润 12.65 亿元，同比增长 62%，环比表现更好、这 6 家公司 2010 年四季度净亏损 3.77 亿元。

建筑机械类公司持续了之前的景气度，有 4 家公司公布一季报，实现营业总收入 15.90 亿元，同比增长 39%；实现净利润 1.18 亿元，同比增长 47.5%。

11. 已公布一季报的 534 家公司，平均每家在 2010 年第四季度实现营业收入约多少亿元?()

- A.0.63
B.7.54
C.8.56
D.9.73

12. 这 534 家公司中，平均每家中小板公司在 2011 年第一季度的净利润约是创业板公司的：

- A.2 倍
B.3 倍
C.4 倍
D.5 倍

13. 已公布 2011 年一季报的房地产公司中，平均每家的存货比上年同期增长了约多少亿元?()

- A.5
B.11
C.51
D.105

14. 已经公布一季报的钢铁板块公司 2010 年第四季度的净利润(净利润比营业收入)约为：

- A.2.57%
B.1.80%
C.-0.96%
D.-0.61%

15. 关于这 534 家公司在 2011 年第一季度营业状况的打桩与资料相符的是：

- A.所有公司净利润之和比 2010 年第四季度有所上升
B.超过 1/4 的净利润来自中小板公司
C.平均每家钢铁板块公司的存货高于 534 家公司的平均水平
D.平均每家建筑机械类公司的营业收入高于 534 家公司的平均水平

四、根据以下资料，回答 16—20 题。

2011 年全国农民工总量达到 25278 万人，比上年增长 1055 万人，增长 4.4%。农民工从

业仍以制造业、建筑业和服务业为主，从事建筑业的比重明显提高。从农民工的就业地区来看，2011年在东部地区务工的农民工16537万人，比上年增加324万人；在中部地区务工的农民工4438万人，比上年增加334万人，增长8.1%；在西部地区务工的农民工4215万人，比上年增加370万人，增长9.6%。

2008年—2011年农民工从事的主要行业分布

单位：%

	2008年	2009年	2010年	2011年
制造业	37.2	36.1	36.7	36.0
建筑业	13.8	15.2	16.1	17.7
交通运输、仓储和邮政业	6.4	6.8	6.9	6.6
批发零售业	9.0	10.0	10.0	10.1
住宿餐饮业	5.5	6.0	6.0	5.3
居民服务和其他服务业	12.2	12.7	12.7	12.2

2011年农民工在不同地区从事的主要行业分布

单位：%

	全国	东部地区	中部地区	西部地区
制造业	36.0	44.8	23.0	15.4
建筑业	17.7	13.4	24.7	27.4
交通运输、仓储和邮政业	6.6	5.5	8.1	9.3
批发零售业	10.1	8.7	13.1	12.5
住宿餐饮业	5.3	4.5	5.9	7.3
居民服务和其他服务业	12.2	12.3	11.4	12.2

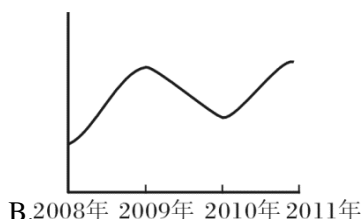
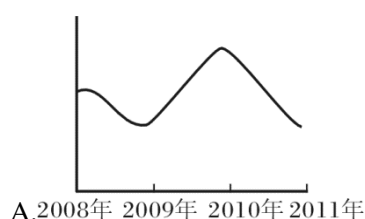
16. 与上一年相比，2011年在东部地区务工的农民工人数增长率约为：

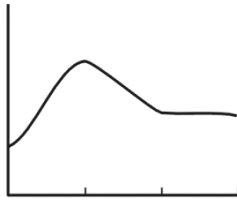
- A. 2.0%
- B. 4.4%
- C. 5.2%
- D. 8.1%

17. 2008—2011年从事建筑业、批发零售业，居民服务和其他服务业的农民工人数总和超过从事制造业的农民工人数的年份有：

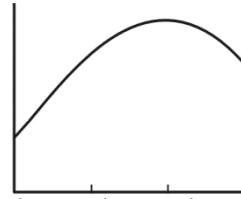
- A. 1个
- B. 2个
- C. 3个
- D. 4个

18. 2008—2011年农民工从事交通运输，仓储和邮政业的比重变化趋势符合：





C.2008年 2009年 2010年 2011年



D.2008年 2009年 2010年 2011年

19. 2011 年在中部地区务工的农民工占农民工总人数的比重，较上一年的约增加：
- A.0.6% B.3.7%
- C.6.2% D.12.5%
20. 能够从上述资料中推出的是：
- A.2008—2011 年我国从事住宿餐饮业的农民工比重持续上升
- B.2010 年在东部地区务工的农民工人数超过西部和中部总和的两倍
- C.2008 年农民工从事交通运输、仓储和邮政业的人数多于批发零售业
- D.2011 年农民工在中部地区从事建筑业、批发零售业、居民服务和其他服务业的比重均超过全国平均水平

言语理解与表达

1. 我们虽然不难从中国的政治文化中找到“引咎辞职”的历史渊源，但目前我们推选的引咎还是受到现代西方政治文明影响的结果。这段文字主要表明（ ）
- A. 中国政治文化中很早就存在“引咎辞职”
- B. 中西的“引咎辞职”之间存在很大差异
- C. 目前的“引咎辞职”与古代完全不同
- D. 中国的政治受到现代西方政治文明的影响
2. 人文教育从表面上看，好像只是传授文史哲方面的知识，尤其是在现在的学科体制下，一切教育似乎都可以量化为客观知识和能力，如英语等级考试。实际上人文教育是通过文史哲的学习，通过对人类千百年积累下来的成果的吸纳和认同，使学生有独立的人格意识，有丰富的想象力和创造力，有健全的判断能力和价值取向，有高尚的趣味和情操，有良好的修养和同情心，对个人、家庭、国家、天下有一种责任感，对人类的命运有一种担待。这段话表达的主要观点是（ ）
- A.英语等级考试是为大众所熟知的一种人文教育
- B.人文教育的主要内容是传授文史哲方面的知识
- C.在目前的学科体制下，人文教育可以量化为客观知识和能力
- D.人文教育的目的包括人性境界提升、人格塑造以及个人与社会价值实现
3. 传统的动物资源保护措施主要是划分保护区或建立保种基地。这些措施能很好地保护物种的多样性，但也存在一些缺点：保护区面积大，偷猎现象屡禁不止；建立良种基地保护地方品种投资大，时间长，容易出现近亲繁殖、物种衰退等现象。试管、克隆、冷冻保存等生物技术新成果的问世，为动物遗传资源的保护和利用开辟了新途径，建造“动物诺亚方舟”不再是天方夜谭。这段文字主要介绍了（ ）。
- A.生物技术的进步为动物资源保护开辟了新天地
- B.动物资源保护促进了生物技术新成果的诞生

- C.保护动物物种多样性所取得的突破性进展
- D.传统资源保护措施所遇到的困难和取得的进步
4. 相关产业的担忧。近年来，贸易保护主义价廉物美的中国商品令世界各国的消费者感到欣喜，也引起某些“经济爱国主义者”对本国在一些国家呈抬头之势，“反倾销”大棒频频挥向中国商品。然而，人们似乎忽视了这样一个基本事实：中国绝非贸易增长的惟一受益者，跨国公司和世界各国的广大消费者同样是“最大的赢家”。这段文字主要阐述
- A.中国外销商品有多方受益者
- B.“反倾销”大棒挥向中国出口商品
- C.国外的贸易保护主义
- D.中国的贸易增长引起争议
5. 法国语言学家梅耶说：“有什么样的文化，就有什么样的语言。”所以，语言的工具性本身就有文化性。如果只重视听、说、读、写的训练或语言、词汇和语法规则的传授，以为这样就能理解英语和用英语进行交际，往往会因为不了解语言的文化背景，而频频出现语词歧义、语用失误等令人尴尬的现象。这段文字主要说明（ ）
- A.语言兼具工具性和文化性
- B.语言教学中文化教学的特点
- C.语言教学中文化教学应受到重视
- D.交际中出现各种语用错误的原因
6. 公众是环境最大的利益相关人，拥有保护环境的最大动机，只要有合适的渠道，就能释放出巨大能量。中国公众日前的环保参与程度还很低，原因不是公众环保意识淡漠，而是缺乏参与渠道。在中国目前的国情下，良性的公众参与不仅能补政府力量之不足，还能大大提高公众对政府政策的认同度，更能提升国民的公共道德素质。这段话的中心意思是：
- A. 政府有保障公众参与环保的义务
- B. 中国目前公众环保参与意识淡漠
- C. 公众参与环保有利于提高道德素质
- D. 目前公众参与环保的渠道不畅通
7. 行业收入差异反映了行业壁垒的存在，其给予社会的直接影响就是个人的价值可能是无用的。在市场经济社会，最有价值的本是人才，一个人只要有能力，在不同的行业都应该能够得到社会的承认，但是在行业壁垒存在的现实中，个人的价值让位于行业的价值，个人的价值由行业的价值体现，而不是由个人体现，当然此种情况行业的发展也将受到制约。同时，由于进入行业的机制并不是自由竞争，行业收入差异还将让人们看到公平的缺失和缺位——那些没有能力但有关系进入高收入行业者，他们仅仅因为能够进入而成为了更有价值的人。这段文字旨在说明：
- A.行业壁垒的存在体现了用人机制的不公
- B.个人价值的高低不应该由行业价值来评估
- C.行业收入差异使人们对个人价值的评判发生扭曲
- D.行业壁垒使得真正的人才往往被拒之门外
8. 爱、敬畏、献身精神、同情心、辨别善恶的能力以及将理想付诸行动的执行力，这些素质反映了一个人的品格。过去，孩子们是从他们所处的文化中、生活的内容里接受了这些品质。现在我们却目睹了所有这些品质在世界大部分地方崩溃。如果不想让孩子们失去培养这些人类宝贵品质的机会，就必须有意识地依靠教育来培养他们。这段文字强调的是（ ）

- A. 教育对培养品格的重要性
 B. 人类品质的崩溃对孩子的影响
 C. 孩子们是如何学会人类品质的
 D. 人类的诸多品质已渐渐崩溃
9. ①上个世纪 30 年代，徽州的一些文献陆续流往杭州、南京等地②抗战结束之初，历史学家方豪在南京购得一批徽州文书，于上世纪 70 年代撰写并发表了十几篇论文，这是目前所知学术界对徽州文书的第一次收集③徽州文书是徽州民众在日常生活、商业活动和其他社会活动中形成的原始档案④目前所知从徽州外流最早的文书，是现藏于美国哈佛大学燕京图书馆的明代歙县方氏信函 700 通。这批尺牍在晚清光绪以前就已流入日本⑤随着时代的变迁，这些文书档案逐渐散落出来⑥它们原先主要保存在私人手中，还有的保存于祠堂、文会等各类基层组织的管理者手中。将以上 6 个句子重新排列，语序正确的是（ ）
- A. ②③⑥⑤④①
 B. ②③⑤④⑥①
 C. ③①⑥⑤④②
 D. ③⑥⑤④①②
10. ①无论从事什么职业，处于什么岗位②思维能力在人的成功过程中起着举足轻重的作用③著名科学家霍金说过：有一个聪明的大脑，你会比别人更接近成功④没有思维活动的参与，人类的任何发明创造都是根本不可能完成的⑤都是快速走向成功的有利资本⑥拥有较高的智商、活跃的思维上述句子按语序排列组合，最连贯的一项是（ ）
- A. ②①⑥⑤④③
 B. ②⑥①⑤③④
 C. ③②④①⑥⑤
 D. ③④⑥①⑤②
11. ①在这里，人们已经从浮躁的、高速的城市发展中沉淀下来，希望获得内在的平②二十多年来，从外表上看，那里的变化并不是非常巨大③整个城市显得平得恬静④每年，我仍旧有机会飞往硅谷，参加各种年会⑤包括节能减排的新举措⑥但是生活在那里的人正在源源不断地为它注入各种生机对上述语句排序正确的一项是：
- A. ④②⑥⑤①③
 B. ②④⑤⑥①③
 C. ②④①③⑤⑥
 D. ④①③②⑥⑤
12. ①认为玛雅文明和中国古代文明是同一祖先的后代在不同时代、不同地点发展的结果②主要根据是《梁书》中关于五世纪时中国僧人慧深飘洋过海到达“扶桑国”的故事，认为“扶桑”即墨西哥③日前，著名人类学家张光直教授提出了一个“玛雅—中国文化连续体”的假设④遗憾的是，这些说法至今还没有得到考古学的明确证实⑤后来又有了“殷人东渡说”，是说商朝时的中国人横渡太平洋将文明带到美洲⑥长期以来，不少人认为玛雅文明的源头是古代的中国文明，最早提出这种观点的是“扶桑国”说对上述语句排序正确的一项是：
- A. ③⑥①②⑤④
 B. ③①④⑥②⑤
 C. ⑥③②⑤①④
 D. ⑥②⑤③①④

逻辑填空题

13. (1) 在微利亚，有一个人，名叫哥尼流，他是个虔诚的人，多多（ ）百姓，常常祷告神。(2) 鼓励价值投资、摒弃垃圾股，本是监管层还原一个健康、可持续发展的资本市场的美好愿景。无奈，有形之手太长，最终恐怕会（ ）
- A. 周济 事与愿违
 B. 救济 雪上加霜
 C. 周济 雪上加霜
 D. 救济 事与愿违

14. 1) 这些建议能否真正落到实处或许还有待考察, 但交通问题及其解决方案, 已经连续多年成为市人代会和政协会议关注的() (2) 食品安全虽与每个人密切相关, 却是专业性非常高的领域, 来不得半点()
- A.核心 粗心大意
B.焦点 粗枝大叶
C.核心 粗枝大叶
D.焦点 粗心大意
15. (1) 昨天, “故宫宫廷园艺研究中心” 在北院区揭牌, 同时, “故宫文物保护修复工作室” 也宣布落户这里-这使故宫北院区的雏形初露() (2) 从遏制舌尖上的腐败, 到堵住会所里的歪风, 从剔除月饼中的“礼尚往来”, 到清扫挂历里的铺张浪费, 改作风()、久久为功。
- A.端倪 不厌其详
B.开端 细不大捐
C.端倪 细不大捐
D.开端 不厌其详
16. (1) 这是中国继 1979 年后时隔 36 年再次对这一群体进行最高规格的(), 目的是弘扬劳模精神, 弘扬劳动精神, 弘扬中国工人阶级和广大劳动群众的伟大品格。(2) 县处级领导配备专职秘书并不符合有关规定, 但长期以来似乎()
- A.奖励 司空见惯
B.表彰 屡见不鲜
C.奖励 屡见不鲜
D.表彰 司空见惯
17. (1) 如果“铁打的营盘”北大和浙大的校长都是“流水的兵”, 那么北大和浙大的改革与发展大计就() 不稳定, 从而严重影响北大和浙大迈向世界一流大学。(2) 有观点认为, 美国不配再自称“自由的灯塔”, 一向热衷于对别人人权状况指指点点的美国应该() 了。
- A.不免 反射自省
B.难免 反射自责
C.难免 反射自省
D.不免 反射自责
18. (1) 在中东地区, 每当爆发大规模反西方抗议示威时, 一些西式餐馆, 例如麦当劳, 都() 成为人们发泄的目标 (2) 历史人物之所以伟大, 正在于我们可以因他而深刻地意识到自身的存在; 在存在方式的选择中间, 我们根本不愿() 他的灵魂的参与。
- A. 首当其冲 拒绝
B. 战战兢兢 谢绝
C. 如临大敌 婉拒
D. 如履薄冰 回绝

关联词搭配:

把握各分句之间的关联关系

熟悉各种关联词的固定搭配

辨别不同的关联词所表达的关联关系

19. 我们中华民族有悠久的历史 and 优秀的文化传统, 有丰富的文化遗产, 中国文化是世界上最古老的文化之一, _____, 我们的文化不同于其他古代文化的一个特点是, 几千

年来它一直没有中断,我们丰硕的文化遗产_____可以丰富我国人民_____可以丰富世界人民的精神文明的宝库。

依次填入划横线部分最恰当的一项是()

- A. 同时 不仅 而且
- B. 但是 不仅 而且
- C. 于是 既 也
- D. 同时 既 也

20. 咬文嚼字有时是一个坏习惯,_____这个成语的涵义通常不很好,但是在文学,无论阅读或写作,我们_____有一字不肯放松的谨严,文学借文字_____思想感情;文字上面有含糊,就显得思想还没有_____,情感还没有凝练,咬文嚼字,在表面上像只是斟酌文字的分量,在实际上就是_____思想和情感,从来没有一句话换一个说法而意味仍完全不变。

依次填入划横线部分最恰当的一项是()

- A. 虽然 必需 表示 精确 调动
- B. 所以 必需 表示 透彻 调整
- C. 虽然 必须 表现 精确 调动
- D. 所以 必须 表现 透彻 调整

21. 有人认为,_____投资规模与国力相适应的资金运用的调控,_____能体现出投资规模宏观效益的大趋势,_____不能判断宏观规模收益究竟能够达到什么样的水平,_____不能揭示投资规模大小与投资全局收益率高低之间存在什么样的内在联系。这种看法是成问题的。

填入划横线部分最恰当的一项是()。

- A. 研究 如果 但 而且
- B. 了解 即使 也 还
- C. 进行 虽然 但 也
- D. 通过 只要 就 也

22. 从社会主义公有制已经显示的优越性和这种优越性还未充分发挥可以看出,目前许多国有企业存在的某些弊端,_____公有制自身问题,_____其表现的具体形式问题,而是经济体制问题。

填入划横线部分最恰当的一项是()。

- A. 既是 也是 B. 确定 不是
- C. 不是 而是 D. 不是 也不是

23. 一名较为称职的管理者应该_____有理论,_____有实践经验。这实践经验_____指能管理好自己_____指会利用相关管理学的知识,管理好他人,对整个工作有个系统、长远的安排。

填入划横线部分最恰当的一项是()。

- A. 既 又 不但 反而
- B. 不仅 而且 不是 而是
- C. 既 也 不是 而
- D. 又 又 不仅 还

24. _____今天的人类居住在一个空间探索和虚拟现实的完全现代化的世界里,但他们的活动和石器时代的狩猎者的活动基于_____的智力本质。例如:在受到威胁时进行对抗的

本能，以及交换信息和分享秘密的动力。

- A. 其实 不同 B. 尽管 同样
C. 虽然 不同 D. 尽管 类似
25. 由于古人视彗星为不祥，_____ 对其非常重视，几乎每一次出现都有比较_____ 的记录。
A. 因此 隐晦
B. 加之 准确
C. 故而 详细
D. 反而 迷信
26. 为什么语言要学，_____要用很大的气力去学呢？_____语言这东西，_____随便可以学好的，非下苦功不可。我们还要多多吸收外国的新鲜东西。_____要吸收他们的进步道理，而且要吸收他们的新鲜用语。
填入划横线部分最恰当的一项是 ()
A. 而且 所以 不是 不单
B. 并且 所以 怎么 不但
C. 并且 因为 不是 不但
D. 而且 因为 怎么 不单
27. 刚从事遥感考古工作的同志，_____希望能验证一下自己的成果，_____希望在验证过程中获取经验与教训，_____有误，_____可以弄清失误的原因，找到正确的方向。
填入横线部分最恰当的一项是：
A、即使 也 不但 更
B、也 更 即使 不但
C、不但 更 即使 也
D、更 也 不但 即使
28. _____家长自己艰苦朴素、尊老爱幼、和睦邻里、乐于助人，_____会使孩子耳濡目染，久而久之便留下深刻的烙印。这时，稍加言教点拨，就能收到事半功倍的效果。_____，如果家长自己言行不一、碌碌无为、不孝敬长辈、见利忘义，_____难以使自己的言教有说服力，_____会为孩子树立坏的“榜样”。
填入横线部分最恰当的一项是：
A、只有 才 相反 因为 所以
B、只要 就 同时 既 又
C、既然 就 可见 不仅 还
D、如果 就 反之 不但 而且

病句的几种类型

29. 选出没有语病的一项是：
A. 为了防止这类交通事故不再发生，我们加强了交通安全教育和管理。
B. 不管气候条件和地理环境都极端不利，登山队员仍然克服了困难，胜利攀登到峰顶。
C. 该市有人不择手段仿造伪劣产品，对这种坑害顾客骗取钱财的不法行为，应给予严厉打击。
D. 马教授领导的科研组研制出能燃用各种劣质煤并具有节煤作用的劣质煤稳燃器，为节能作出了具大的贡献。
30. 下列各句中，没有语病的一句是：
A. 这次网络培训班的学员，除北大本校人没外，还有来自清华大学等 15 所高校的老师，学

生和科技工作者也参加了学习。

B.我们的报刊、杂志、电视和一切出版物，更有责任作出表率，杜绝用字不规范的现象，增加使用语言文字的规范意识。

C.在新的千年时，中华民族这条巨龙一定会昂首腾飞于无垠的天际，创造出令世界惊异的奇迹来。

D.这家工厂虽然规模不大，但曾两次荣获省科学大会奖，三次被授予优质产品称号，产品远销各地和东南亚地区。

31. 下列语句中数量表示有误的是：

A.他差一个月才满十七岁。

B.水泥生产的窖外分解法可发节约能源三分之一以上。

C.从价格上看，煤可比石油便宜一倍，而且运输、使用都很方便。

D.我们厂要求今年比去年压缩烧油 1000 吨左右。

32. 下列各句没有语病的一句是

()

A. 他们谩骂法庭执法人员，殴打执行公务的干警，这实属是藐视国家法律尊严与权威的 违法行为

B. 大会期间，代表们认真学习领会《公民道德规范》的精神实质，提出了许多具有建设性的意见和建议

C. 尽管克隆技术引发的多方面问题仍有许多难以明确给予定论，但对生殖性克隆人实验 应当严格禁止

D. 从大量观测到的事实中告诉我们，要掌握天气的连续变化，最好每小时都进行观察

33. 下列各句有语病的一句是：

A.卫国战争中，苏联红军在海战战绩上乏善可陈，立下了赫赫战功。

B.剑桥市非常小，骑自行车 40 分钟之内就能到达城市的任何一个地方

C.少儿读物体现着一个民族的文化创新发展能力，其社会功能非同一般

D.6 月下旬的秘鲁喜气洋洋，不同民族、不同城市的节日在全国依次铺开，其中最有名的莫过于 6 月 24 日开始的太阳节