



中国建设银行考前预测密押卷

考试说明：

- 1、考试时间 150 分钟。考试内容为行测及专业知识和英语等。
- 2、请在题本规定位置填写姓名和准考证号。
- 3、考试结束考生不能讲题本带出考场。

第一部分：行测及专业知识（本部分行测 40 道题，专业知识 85 道题，共 125 道题，分单选和多选两种题型）

一、单选题（行测 40 道，专业知识 65 道，共 105 道）

1. 坐车系安全带，看似是一件小事，一种习惯，却能反映出一个人的意识和修养。俗话说，针眼大的孔，能透过斗大的风。自觉遵纪守法，从一点一滴做起。只要从自己做起，并且养成一种习惯，我们的社会就会向着更加文明的时代进发。

对画线的文字理解正确的是（ ）。

- A.就是再小的缝隙，风也能穿过
- B.风是自然存在的，它无所不至
- C.良好的生活习惯需要从点滴做起
- D.从生活习惯上可以看出一个人的品质

2. 依次填入下列横线处的词语，最恰当的一组是（ ）。

广州战略性新兴产业的产品有的是按国家标准生产，尚未与国际标准_____，与国际同类相关产品技术不_____，导致这些产品只能销往国内市场。

- A.对接，兼容
- B.接轨，兼容
- C.接轨，融合
- D.对接，融合

3. 项羽，中国军事史上“实力派”和“勇战派”的代表人物，有着_____之勇。和汉高祖刘邦相比，更多人认为项羽是_____的英雄。

依次填入划横线处最恰当的一项是（ ）。

- A.锐不可当 举世无双
- B.万夫不当 当之无愧
- C.无所畏惧 虚有其表
- D.威武不屈 独一无二

4. 市场经济最神奇也最让人_____之处，就是市场中不同的主体通过自发的博弈与_____而各得其所。对所谓完美、超然、成熟改革方案的渴望与膜拜，其实仍然是典型的计划思维，指望用一套方案打遍天下更是南辕北辙、_____。

依次填入划横线处最恰当的一项是（ ）。

- A. 奇特 取舍 刻舟求剑
- B. 惊喜 碰撞 离题万里
- C. 赞叹 磨合 缘木求鱼
- D. 佩服 交汇 天壤之别

5. 这种技术装置的进一步_____，将可以用来自动控制宇宙飞船下降阶段的制导。填入划横线部分最恰当的一项是（ ）。

- A. 完备
- B. 改善
- C. 完善
- D. 改正

6. 下列依次填入横线处的词语，恰当的一组是（ ）。

我几乎说不出秋比冬为什么更好，也许因为那枝头的几片黄叶，或是那篱畔的几朵残花，在那些上边，是比较冬天更显示了生命，不然，是在那些上面，更使我忆起了生命吧，一只黄叶，一片残英，那在联系着过去与将来吧。它们将更使人_____，更使人_____，更使人_____及_____一些关于生活的事吧。

- A. 凝视 深思 遐想 希冀
- B. 凝望 沉思 遐想 期冀
- C. 凝望 深思 怀想 期冀
- D. 凝视 沉思 怀想 希冀

7. 科学选择新兴战略性产业非常重要，选对了就能跨越发展，选错了将会（ ）时机。

- A. 蹉跎
- B. 耽搁
- C. 延长
- D. 贻误

8. 下列各句中，有语病的是（ ）。

- A. 夜深人静，想起今天发生的一连串事情，我怎么也睡不着
- B. 生活在中国的人们在 2003 年获得的成就感，很可能是联合国 191 个会员国中最强的
- C. 从一种语言的俚语里，我们往往可以窥探该民族造词的心理过程以及文化程度
- D. 神舟五号载人飞船的成功发射与回收，标志着中国航天科学技术水平达到了新的高度

9. 英国保守党党魁亲自在广告中招揽年轻人，工党设有青年工党全国委员会，并在 2005 年修订的党章中指出，要争取年轻人对工党理念和主张的共鸣；自由民主党甚至放松年龄，连 12 岁的儿童都可以加入其青年组织。这也推动了政党领袖的年轻化趋势，给英国政界带来了活力；前工党首相布莱尔 44 岁就上任，现任首相卡梅伦 39 岁就当了保守党领袖。

这段文字意在说明（ ）。

- A. 英国鼓励育年从政的文化和环境俱佳
- B. 英国的三大政党都重视吸收年轻成员
- C. 英国年轻人有着较强的参政意识
- D. 英国政党领袖年轻化的趋势日趋明显

10. ①这种教育地位的提高是由经济发展而催生的，并非是因为教育自身的贡献或价值的充分彰显而实现的。

②换言之，它是被动的依附于经济活动的，其背后蕴含着淡化教育实体性地位，弱化教育相对独立性的危险。

③教育经济主义思潮通过对人力资本生产价值的分析使教育的地位日益凸显。

④而且，由于过分强调经济功能，教育规模扩大的同时，教育质量却难以得到保证。

⑤不过，其背后也隐藏着一种忧患。

⑥教育经费和规模由此得到了前所未有的增长和扩张，这是令人欣喜的。

将以上 6 个句子重新排列，语序正确的是：（ ）。

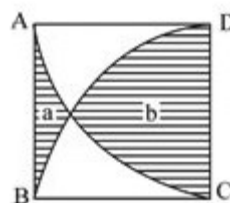
- A. ⑥⑤③②①④
- B. ⑥③②⑤①④
- C. ③⑤①⑥②④
- D. ③⑥⑤①②④

11. 一个边长为 80 厘米的正方形，依次连接四边中点得到第二个正方形，这样继续下去可得到第三个、第四个、第五个、第六个正方形，问第六个正方形的面积是多少平方厘米？（ ）

- A. 128 平方厘米
- B. 162 平方厘米
- C. 200 平方厘米
- D. 242 平方厘米

12. 如下图所示，正方形 ABCD 的边长 5cm，AC、BD 分别是点 D 和点 C 为圆心，5cm 为半径的圆弧，问阴影部分 a 比阴影部分的面积 b 的面积小多少？（ ）

- A. 13.75 平方厘米
- B. 14.25 平方厘米
- C. 14.75 平方厘米
- D. 15.25 平方厘米



13. 某公司计划购买一批灯泡，11w 的普通节能灯泡耗电 110 度/万小时，单价 20 元；5w 的 LED 灯泡耗电 50 度/万小时，售价 110 元，若两种灯泡使用寿命均为 5000 小时，每度电价格为 0.5 元，则每万小时 LED 灯泡的总使用成本是普通节能灯泡的多少倍？（ ）

- A. 1.23
- B. 1.80
- C. 1.93
- D. 2.58

14. 一支车队共有 20 辆大拖车，每辆车的车身长 20 米，两辆车之间的距离是 10 米，行进的速度是 54 千米/小时。这支车队需要通过长 760 米的桥梁（从第一辆车头上桥到最后一辆车

尾离开桥面计时），以双列队通过与以单列队通过花费的时间比是（ ）。

- A.7 : 9
- B.29 : 59
- C.3 : 5
- D.1 : 2

15. 某羽毛球赛共有 23 支队伍报名参赛，赛事安排 23 支队伍抽签两两争夺下一轮的出线权，没有抽到对手的队伍轮空，直接进入下一轮。那么，本次羽毛球赛最后共会遇到多少次轮空的情况？（ ）

- A.1
- B.2
- C.3
- D.4

16. 从 1 到 500 的所有自然数中，不含有数字 4 的自然数有多少个？（ ）

- A.323
- B.324
- C.325
- D.326

17. $2356 - \{3946 + (5/6) \times [1054 \times 1.2 - 1800] - 2644\} + 36 = ()$ 。

- A.5000
- B.-5426
- C.1536
- D.5236

18. 有 4 支队伍进行 4 项体育比赛，每项比赛的第一、第二、第三、第四名分别得到 5, 3, 2, 1 分。每队的 4 项比赛的得分之和算作总分，如果已知各队的总分不相同，并且 A 队获得了三项比赛的第一名，问总分最少的队伍最多得多少分？（ ）

- A.7
- B.8
- C.9
- D.10

19. 往返 A 市和 B 市的长途汽车以同样的发车间隔从两个城市分别发车，以每小时 40 公里的速度前往目标城市。上午 9 点多，李先生以每小时 50 公里的速度开车从 A 市长途汽车站前往 B 市长途汽车站，路途中总共追上了 3 辆从 A 市开往 B 市的长途汽车。问他在路途中最多能迎面遇到多少辆从 B 市开往 A 市的长途汽车？（ ）

- A.27
- B.25
- C.36
- D.34

20. 两个容器中各盛有 540 升水，一个容器每分钟流出 25 升水，另一个容器每分钟流出 15

升水，请问几分钟后，一个容器剩下的水是另一个容器剩下的 6 倍？（ ）

- A.15 分钟
- B.20 分钟
- C.25 分钟
- D.30 分钟

（一）根据以下资料，回答 21-25 题。

2013 年，某省工业企业全年实现主营业务收入 37864 亿元，税金 1680 亿元，利润 2080 亿元，分别增长 19.1%，19.4%，26.4%，分别高出全国 7.9、8.4、14.2 个百分点。该省工业企业主营业务收入占全国工业的 3.7%，比上年提高 0.3 个百分点，百户重点企业主营业务收入、税金、利润分别增长 10.2%、11.1%、20.8%，分别占全省工业的 29.5%、51%、27.6%。

2013 年，汽车工业实现主营业务收入 4538 亿元，增长 23.1%；实现利润 416.6 亿元，增长 19.9%；税金 225.3 亿元，增长 50%。销售利润率(利润占主营业务收入的比重)攀升至 9.2%。

食品(含烟草)实现主营业务收入 6359 亿元，增长 20.8%，增速同比放缓 9.2 个百分点，实现利润 398 亿元，增长 34.5%；工业税金 506.2 亿元，增长 11.4%。

钢铁行业实现主营业务收入 3510 亿元，增长 1.8%，利润总额 34.6 亿元，增长 18.8%。行业销售利润率仅为 1%。

石化行业实现营业收入 5138 亿元，增长 18.8%；实现利润 204.2 亿元，增长 38.1%。子行业中，石油加工业净亏损 0.2 亿元，同比减亏 13.6 亿元；化工行业全年利润增长 31.6%，扭转上半年利润下降局面；石油开采业净亏损 8.6 亿元，橡胶塑料行业利润增长 29.1%。

建材行业实现主营业务收入 2412 亿元，增长 27.1%；实现利润 167.2 亿元，增长 51.6%。

机械行业实现主营业务收入 3886 元，增长 26.6%；实现利润 191.6 亿元，增长 23.8%。其中，电气机械(家电)利润增长 38.5%，专用设备利润增长 22.1%，船舶行业利润增长 18.9%。

21. 2013 年全国工业企业主营业务收入约为多少万亿元（ ）。

- A.84
- B.90
- C.97
- D.102

22. 2013 年全国工业企业的税金增速比利润增速（ ）。

- A.低 1.2 个百分点
- B.低 5.8 个百分点
- C.高 7.0 个百分点
- D.高 8.4 个百分点

23. 2013 年该省以下行业利润增速从高到低排序正确的是（ ）。

- A.石化行业，建材行业，机械行业
- B.建材行业，石化行业，机械行业
- C.汽车行业，食品(含烟草)行业，钢铁行业
- D.食品(含烟草)行业，钢铁行业，汽车行业

24. 2013 年该省工业企业的哪项信息，能够从上述资料中直接推出（ ）。

- A.工业企业利润占全国工业企业利润总额的比重
 B.船舶行业主营业务收入占机械行业的比重
 C.橡胶塑料行业工业企业实现利润额
 D.百户重点企业的总体销售利润率
25. 能够从上述资料中推出的是（ ）。
- A.2012 年该省食品(含烟草)行业主营业务收入同比增速为 11.6%
 B.2012 年该省工业企业税金总额中，汽车行业所占比重超过 15%
 C.2013 年该省建材行业的销售利润率高于 2012 年水平
 D.2012 年该省石油加工业净亏损 13.4 亿元

(二) 根据以下资料，回答 26-30 题。

某市 2014 年全年实现农业增加值 124.3 亿元，比上年下降 1.6%。粮食播种面积 22.3 万公顷，比上年减少 0.3 万公顷；粮食产量 115.7 万吨，比上年下降 7.3%。

全市农业观光园 1303 个，比上年增加 9 个；观光园总收入 17.8 亿元，比上年增长 16.7%，民俗旅游实际经营户 7979 户，比上年减少 726 户；民俗旅游总收入 7.3 亿元，增长 20.7%。种业收入 14.6 亿元，比上年增长 13.5%。设施农业总面积 18323 公顷，比上年下降 2.3%；实现收入 40.7 亿元，增长 20.1%。

2014 年主要农副产品产量		
指标	产量 (万吨)	比上年增长 (%)
粮食	115.7	-7.3
蔬菜	303.0	-4.5
肉类	46.3	-2.0
禽蛋	15.1	-1.7
水产品	6.3	9.0
牛奶	64.1	-4.9
干鲜果品	85.4	-5.5

26. 该市 2013 年全年实现农业增加值约（ ）。
- A.124 亿元
 B.126 亿元
 C.129 亿元
 D.132 亿元
27. 该市 2014 年粮食平均产量约为每公顷（ ）。
- A.4.6 吨
 B.5.2 吨

- C.5.8 吨
D.6.5 吨
28. 该市主要农副产品与上年相比，产量变化绝对值最小的是（ ）。
- A.肉类
B.禽蛋
C.水产品
D.牛奶
29. 该市种业收入增长速度（ ）。
- A.高于观光园总收入增长速度
B.高于设施农业收入增长速度
C.低于民俗旅游总收入增长速度
D.低于设施农业占地面积增长速度
30. 以下说法与资料相符的是（ ）。
- A.2014 年该市粮食产量不到蔬菜产量的 1/3
B.2014 年该市主要农副产品产量均有所下降
C.2013 年该观光园数量为 1312 个
D.2014 年该市单位面积粮食产量比上年有所下降
- 31.（ ）年，中国建设银行在上海证券交易所成功上市。
- A.2003 年
B.2004 年
C.2005 年
D.2007 年
32. 2016 中国银行业论坛暨 2016 中国商业银行竞争力排名颁奖典礼于 2016 年 9 月 24 日在湖北省武汉市举行。在现场公布了“2016 中国商业银行竞争力排名”和“2016 年老百姓最喜欢的银行”票选结果。建设银行获得“最佳商业银行”、“老百姓最喜欢的银行”、“核心竞争力第 2 名”（ ）等四项荣誉。
- A.全国性商业银行财务评价第 1 名
B.盈利能力最强商业银行
C.核心竞争力第 1 名
D.安全性最高商业银行
33. 2016 年 9 月 1 日，中国建设银行首批推出（ ）产品，再次领跑移动支付行业。
- A.Vivo Pay
B.米 Pay
C.苹果 Pay
D.联想 Pay
34. 7 月 20 日，中国建设银行隆重推出（ ），携手 Visa 和万事达卡国际组织，融汇境外优质商户资源，为国内出境旅行客户提供出行、购物、休闲旅游、海淘等优质消费体验及超值优惠。

- A.全球卡
B.海购卡
C.全球热购信用卡
D.全球热购借记卡
35. 6月21日，“中国建设银行跨境联动业务推进会”暨“中国建设银行泛亚跨境金融中心”揭牌仪式在（ ）举行。
- A.昆明
B.上海
C.北京
D.杭州
36. 中国建设银行成立的时间为（ ）。
- A.1954
B.1949
C.1912
D.1984
37. 中国建设银行的经营理念是（ ）。
- A.以市场为导向，以客户为中心
B.诚实 公正 稳健 创造
C.客户至上 注重细节
D.勤奋严谨 求真务实
38. 中国建设银行的客服电话为（ ）。
- A.95519
B.95588
C.95595
D.95533
39. 中国建设银行的缩写是（ ）。
- A.ABC
B.BC
C.ICBC
D.CCB
40. 中国建设银行荣获2016年《亚洲银行家》（ ）奖项。
- A.中国最佳大型零售银行奖
B.中国最佳银行
C.最佳金融创新奖
D.最具国际视野奖
41. 8月6日0时22分，我国在西昌卫星发射中心用长征三号乙运载火箭，成功发射了（ ），被誉为“中国版的海事卫星”。
- A.天通一号01星

- B. 嫦娥一号
C. 月宫一号
D. 天通一号 02 星
42. 当地时间 8 月 7 日上午，在里约奥林匹克射击中心举行的女子 10 米气手枪决赛中，中国选手（ ）以 199.4 环的成绩夺得冠军，这是中国体育代表团在里约奥运会上收获的首枚金牌。
- A. 杜丽
B. 张梦雪
C. 易思玲
D. 舍勒
43. 国际能源署最近预计（ ）2016 年将超越日本，成为全球第三大原油消费国，在 2040 年前，（ ）将是全球原油需求增长最快的国家。
- A. 中国
B. 韩国
C. 印度
D. 美国
44. 7 月 15 日，在土耳其伊斯坦布尔举行的联合国教科文组织世界遗产委员会第四十届会议上，中国左江花山岩画文化景观顺利列入世界遗产名录。我国的世界遗产总数已达到 49 处，继续保持世界第（ ）的领先地位。
- A. 一
B. 二
C. 三
D. 四
45. 2017 年“东亚文化之都”评选活动终审工作 7 月 25 日在京举行。经评审委员会评审，（ ）市当选 2017 年“东亚文化之都”。
- A. 北京
B. 上海
C. 杭州
D. 长沙
46. 政府为了扶持农业，对农产品实行支持价格。但政府为了维持这个高于均衡价格的支持价格，就必须（ ）。
- A. 实行农产品配给制
B. 收购过剩的农产品
C. 增加对农产品的税收
D. 给农民补贴
47. 下列商品中，需求价格弹性最大的是（ ）。
- A. 服装
B. 化妆品

C.金银首饰

D.食盐

48. 若无差异曲线上的任意一点的斜率为 $1/2$ ，这意味着消费者有更多 x 的时，他更愿意放弃（ ）单位 x 而获得一单位 y 。

A.0.5

B.2

C.1

D.1.5

49. 关于短期总成本曲线的说法，正确的是（ ）。

A.总成本曲线不随产量的变动而变动

B.总成本曲线从纵轴一个截点即产量为零时总成本等于可变成本的那个点开始，随产量的增加而逐步上升

C.总成本曲线从原点开始，随产量的增加而逐步上升

D.总成本曲线从纵轴一个截点即产量为零时总成本等于固定成本的那个点开始，随产量的增加而逐步上升

50. 完全竞争市场上，单个企业的需求曲线的是（ ）。

A.与整个行业的需求曲线一致

B.是向右下方倾斜的

C.是与横轴平行的

D.不影响市场价格

51. 劳动力从无限供给到短缺的转变，称为“刘易斯拐点”。一旦庞大的廉价劳动力出现市场短缺，对于中国经济的挑战将是巨大的。我国应对“刘易斯拐点”的根本途径是（ ）。

A.以人为本，提高劳动者素质

B.改革户籍制度，打破城乡限制，统筹协调发展

C.调整计划生育政策，弥补劳动力紧缺

D.提高劳动生产效率，转变经济发展方式

52. “搭便车现象”是指没有为商品生产或购买做出贡献，却仍然可以免费享受这种商品带来的好处。如海上每一艘过往船只都可以享受到灯塔发出的灯光，不管它是否付费。因此这类商品总是出现供给不足。解决这个问题的办法应当是（ ）。

A.提高技术识别水平，只为付费者服务

B.将类似商品承包给私人管理，靠市场化运作实现供需平衡

C.政府通过征税获得必要的资金来提供类似的公共服务

D.采取法律手段，惩罚不付费的搭便车者

53. 衡量经济增长的宏观经济指标是国内生产总值（GDP），下列是对 GDP 的表述，正确的是（ ）。

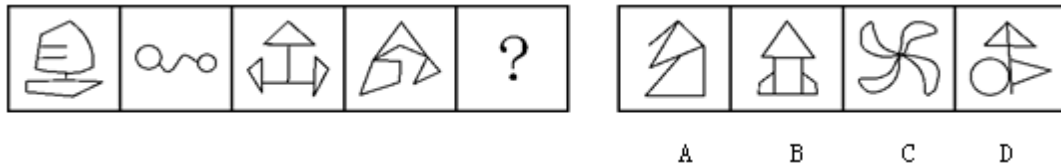
A.GDP 是指一国（或地区）所有公民在一定时期内生产活动的最终成果

B.GDP 是指在一国领土范围内，本国居民和外国居民在一定时期内所生产的、以市场价格表示的产品和劳务总值

- C.GDP 增长率是反映一定时期内一国经济发展绝对水平的指标
- D.GDP 是指在一国领土范围内，本国居民和外国居民在一定时期内所生产的产品和劳务的总数量
54. 关于边际储蓄倾向 MPS，下列说的正确的是（ ）。
- A.MPS>1
- B.MPS<0
- C. $0 \leq \text{MPS} \leq 1$
- D. $0 < \text{MPS} < 1$
55. 作为调节社会经济运行的一种重要经济杠杆，提高税率通常将（ ）。
- A.提高政府的财政收入
- B.抑制投资，有利于防止经济过热
- C.刺激消费
- D.提高税收管理的效率
56. 投资者将钱存入中国建设银行的活期存款账户，此时货币行使的是（ ）职能。
- A.支付手段
- B.财富贮藏
- C.价值尺度
- D.交易媒介
57. 公式“借贷资金的需求=货币需求的该变量+投资量”表示的是（ ）。
- A.可贷资金利率理论
- B.古典利率理论
- C.流动性偏好理论
- D.期限偏好理论
58. 使交易者面临潜在损失无限大的金融期权的交易策略是（ ）。
- A.买进看涨期权
- B.卖出看涨期权
- C.买入看跌期权
- D.卖出看跌期权
59. 再贴现业务是中央银行对存款货币银行的（ ）。
- A.主要短期信贷
- B.主要借款
- C.主要债抵押放款
- D.主要现金调拨
60. 下列国际收支调节政策中，能起到迅速改善国际收支作用的是（ ）。
- A.财政政策
- B.货币政策
- C.汇率政策
- D.直接管制

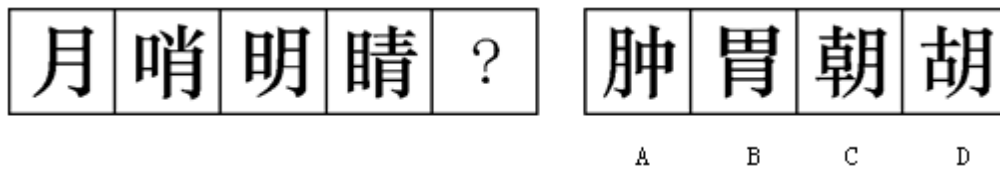


61. 从所给的四个选项中，选择最合适的一个填入问号处，使之呈现一定的规律性（ ）。



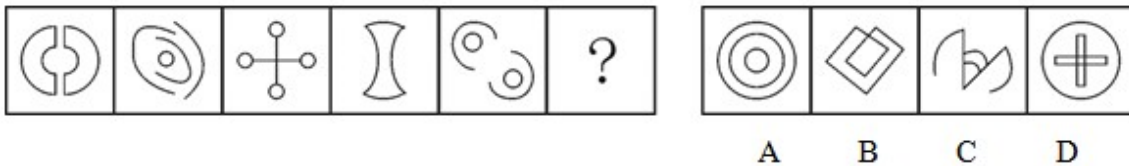
- A.如上图所示
- B.如上图所示
- C.如上图所示
- D.如上图所示

62. 从所给的四个选项中，选择最合适的一个填入问号处，使之呈现一定的规律性（ ）。



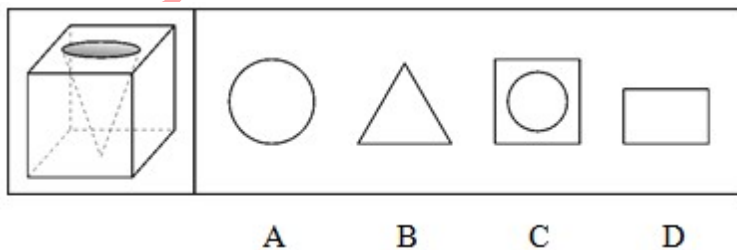
- A.如上图所示
- B.如上图所示
- C.如上图所示
- D.如上图所示

63. 从所给的四个选项中，选择最合适的一个填入问号处，使之呈现一定的规律性（ ）。



- A.如上图所示
- B.如上图所示
- C.如上图所示
- D.如上图所示

64. 一立方体如图所示从中挖掉一个圆锥体，然后从任意面剖开，下面哪一项不可能是该立方体的截面？（ ）




- A.如上图所示
- B.如上图所示
- C.如上图所示
- D.如上图所示

65. 把下面的六个图形分为两类，使每一类图形都有各自的共同特征或规律，分类正确的一项是（ ）。



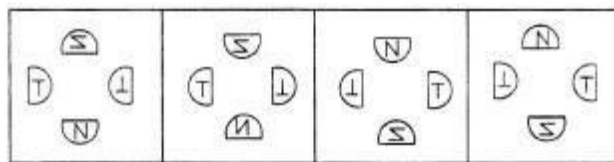
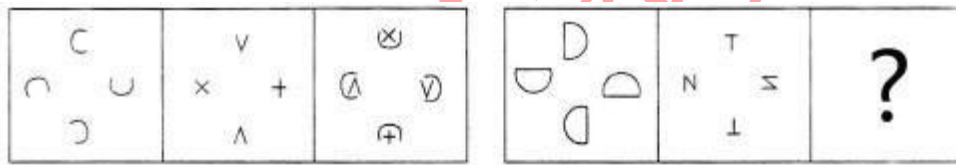
- A. ①③⑥, ②④⑤
- B. ①②⑤, ③④⑥
- C. ①④⑥, ②③⑤
- D. ①④⑤, ②③⑥

66. 把下面的六个图形分为两类，使每一类图形都有各自的共同特征或规律，分类正确的一项是（ ）。



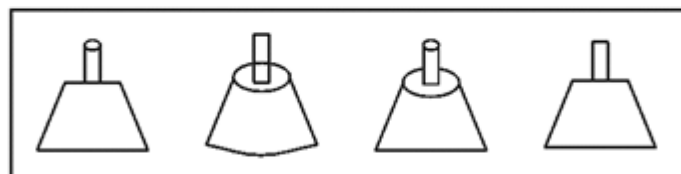
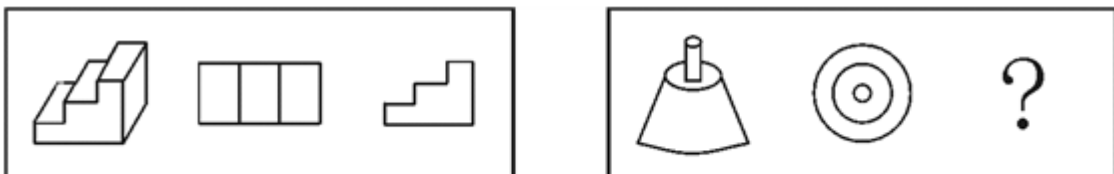
- A. ①②④, ③⑤⑥
- B. ①③⑥, ②④⑤
- C. ①③⑤, ②④⑥
- D. ①②③, ④⑤⑥

67. 从所给的四个选项中，选择最合适的一个填入问号处，使之呈现一定的规律性（ ）。



- A. 如上图所示
- B. 如上图所示
- C. 如上图所示
- D. 如上图所示

68. 从所给的四个选项中，选择最合适的一个填入问号处，使之呈现一定的规律性（ ）。



- A
- B
- C
- D

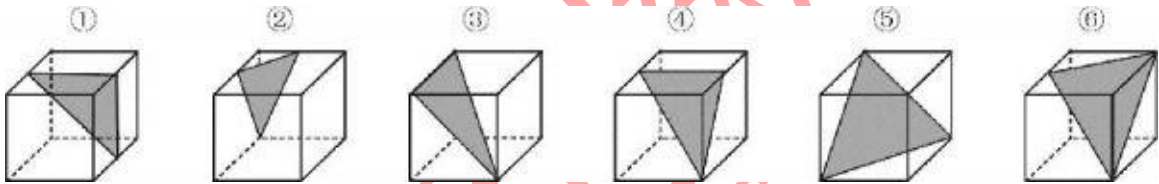
- A.如上图所示
- B.如上图所示
- C.如上图所示
- D.如上图所示

69. 把下面的六个图形分为两类，使每一类图形都有各自的共同特征或规律，分类正确的一项是（ ）。



- A.①②⑥，③④⑤
- B.①④⑤，②③⑥
- C.①②⑤，③④⑥
- D.①②③，④⑤⑥

70. 把下面的六个图形分为两类，使每一类图形都有各自的共同特征或规律，分类正确的一项是（ ）。



- A.①②④，③⑤⑥
- B.①③④，②⑤⑥
- C.①④⑥，②③⑤
- D.①⑤⑥，②③④

71. 制度的反功能指的是该制度实现了系统的某些功能之后而产生的副作用，诸如破坏该系统的内部协调、稳定关系，造成系统内部冲突，对系统良性运行产生破坏作用等现象。根据上述定义，下列涉及制度的反功能的是（ ）。

- A.某校实行绩效考核，实行一段时间后引发了教师争抢上课、乱发文章等一系列问题
- B.某售楼处规定销售额可以提成，结果某销售员一个月卖房近50套
- C.一对夫妻新婚后实行家庭消费AA制，一段时间后觉得不方便就取消了
- D.某部门实行人性化管理，结果上班迟到现象反而比实行考勤制度时减少了

72. 组织控制是指组织用各种规章制度和奖惩手段来约束组织成员行为，以保证组织的决策和指令能够有效地贯彻执行，维护组织的各项秩序。

根据上述定义，下列最能体现组织控制的是（ ）。

- A.某高校不断加强对外交流，派遣访问学者的名额逐年增加
- B.某外企实行上班打卡制，如果员工去见客户可以不用打卡，但须在前一天向上级报告
- C.某公司每年举办新人入职会，以便让新加入团队的成员尽快熟悉环境
- D.某生产厂商为了提高员工生产积极性，薪酬计算由原来的计时绩效改为计件绩效



73. 正惩罚是指当个体发出某种行为后，引发外部对其行为的某种反应，导致令该个体不愉快的后果，使个体今后发出此行为的可能性降低。负惩罚是指当个体发出某种行为后，撤销令个体愉快的后果，使个体今后发出此行为的可能性降低。

根据上述定义，下列属于正惩罚的是（ ）。

- A. 禁烟标识贴出后，在办公室吸烟的人明显减少
- B. 母亲要求小明不写完作业不得出去玩
- C. 某人因酒驾被处罚后，再没有酒驾
- D. 冰棍解暑，所以夏天冰棍很畅销

74. 优势富集效应是一种起点发展理论，是指起点上的微小优势经过关键过程的级数放大，产生更大级别的优势积累。根据上述定义，下列不属于优势富集效应的是（ ）。

- A. 某名牌大学建校时间很早，文化传统悠久，并拥有政策、资金等多方面支持，全国许多优秀的学生填写高考志愿时都选择了该校
- B. 上海的金茂大厦楼体高度略微超过“东方明珠”电视塔，被誉为“中华第一高楼”，因此吸引了众多游客和广告商，各类会议也常在此举办，呈现后来居上的态势
- C. 某教育培训机构为了拓展业务，也像别的培训机构那样，通过发送宣传单来进行宣传，后来随着规模不断扩大，服务质量也更上一层楼，成为业内的典范
- D. 某服装品牌设立之初，最先提出要做“夹克之王”的理念，并通过电视媒体进行推广，后来这个概念逐渐被人们认可，许多人都认为买夹克就应该买这个品牌的

75. 行政指令是指行政主体依靠行政组织的权威，运用行政手段，包括行政命令、指示、规定、条例及规章制度等措施，按照行政组织的系统和层次进行行政管理活动的方法。根据上述定义，下列描述不属于行政指令的是（ ）。

- A. 体育局局长签发嘉奖令，表彰在全运会上取得优异成绩的运动员和教练员
- B. 消费者协会同中国家用电器协会正式发布《太阳能热水器选购指南》
- C. 市教育局紧急电话通知，要求全市中小学、幼儿园加强校园安全管理
- D. 市消防大队对未经消防设计备案擅自施工的违法工程下发《责令改正通知书》

76. 根据企业会计准则的规定，下列有关收入和利得的表述中，正确的是（ ）。

- A. 收入源于日常活动，利得也可能源于日常活动
- B. 收入会影响利润，利得也一定会影响利润
- C. 收入源于日常活动，利得源于非日常活动
- D. 收入会导致所有者权益的增加，利得不一定会导致所有者权益的增加

77. 下列关于会计计量属性的表述中，不正确的是（ ）。

- A. 历史成本反映的是资产过去的价值
- B. 重置成本是取得相同或相似资产的现行成本
- C. 现值是取得某项资产在当前需要支付的现金或其他等价物
- D. 公允价值是公平交易中熟悉情况的交易双方自愿进行资产交换或者债务清偿的金额

78. 下列各项中，企业应将其确认为一项资产的是（ ）。

- A. 盘亏的存货
- B. 以经营租赁方式租入的一项固定资产

- C.融资租入的固定资产
D.约定未来购入的存货
79. 下列说法错误的是（ ）。
- A.管理会计侧重于服务企业内部的使用者
B.财务会计侧重于服务企业外部的使用者
C.财务会计有统一的会计准则予以规范和约束
D.财务会计和管理会计均有统一的会计准则予以规范和约束
80. 下列交易或事项中，能够引起资产和所有者权益同时发生增减变动的是（ ）。
- A.分配现金股利
B.接受所有者投入的货币资金
C.收回应收账款
D.财产清查中的库存现金盘盈
81. 下列各项会计信息质量要求中，对相关性和可靠性起着制约作用的是（ ）。
- A.可比性
B.谨慎性
C.及时性
D.实质重于形式
82. 下列各项中，会引起现金流量表“经营活动产生的现金流量净额”项目增减变动的是（ ）。
- A.偿还借款支付的现金
B.取得子公司的现金净额
C.分配股利
D.支付行政人员差旅费
83. 下列说法中正确的是（ ）。
- A.资产负债表的编制格式为报告式
B.资产负债表是根据资产、负债和所有者权益的期末余额填列
C.应收账款项目是根据应收账款的期末余额填列
D.长期借款是根据长期借款的期末余额填列
84. 下列说法中正确的是（ ）。
- A.财产清查按照清查的范围划分分为定期和不定期
B.银行存款清查使用的方法是与对账单进行核对
C.应收账款采用的清查方法是实地盘点法
D.财产清查解决的是账证核对的问题
85. 下列说法中正确的是（ ）。
- A.原始凭证保管 15 年
B.固定资产总账保管 5 年
C.年度财务报告保管 25 年
D.月度财务报告保管 5 年

86. 保护本地主机，对 Applet 安全限制中正确的是（ ）。
- A.Applet 可加载本地库或方法
 - B.Applet 可读、写本地计算机的文件系统
 - C.Applet 可向 Applet 之外的任何主机建立网络连接
 - D.Applet 不能运行任何本地可执行程序
87. Java 对 I/O 访问所提供的同步处理机制是（ ）。
- A.字节流
 - B.过滤流
 - C.字符流
 - D.压缩文件流
88. 以下合法的 VB 变量名是（ ）。
- A._X
 - B.2y
 - C.a#b
 - D.x_1_x
89. 项目管理器窗口的“数据”选项卡用于显示和管理（ ）。
- A.数据库、视图和查询
 - B.数据库、自由表和查询
 - C.数据库、视图、自由表和查询
 - D.数据库、表单和查询
90. 在数据库设计过程中,如果表 A 和表 B 之间是一对多联系。下列进行的数据库设计方法中,最合理的是（ ）。
- A.将表 A 的主关键字字段添加到表 B 中
 - B.将表 B 的主关键字字段添加到表 A 中
 - C.创建一个新表,该表包含表 A 和表 B 的主关键字
 - D.将表 A 和表 B 合并,这样可以减少表的个数,便于管理和维护
91. 下列链表中，其逻辑结构属于非线性结构的是（ ）。
- A.二叉链表
 - B.循环链表
 - C.双向链表
 - D.带链的栈
92. 软件按功能可以分为：应用软件、系统软件和支撑软件(或工具软件)，下面属于应用软件的是（ ）。
- A.编译程序
 - B.操作系统
 - C.教务管理系统
 - D.汇编程序
93. 下面叙述中错误的是（ ）。

- A.软件测试的目的是发现错误并改正错误
B.对被调试的程序进行“错误定位”是程序调试的必要步骤
C.程序调试通常也称为 Debug
D.软件测试应严格执行测试计划，排除测试的随意性
94. 在软件开发中，需求分析阶段可以使用的工具是（ ）。
- A.N-S 图
B.DFD 图
C.PAD 图
D.程序流程图
95. 下列选项属于“计算机安全设置”的是（ ）。
- A.定期备份重要数据
B.不下载来路不明的软件及程序
C.停掉 Guest 帐号
D.安装杀(防)毒软件
96. 中华人民共和国国务院的各部、委、局可依法制定（ ）。
- A.基本法律
B.行政法规
C.行政规章
D.自治条例
97. 某个国家根据一定的原则和标准划分的本国同类规范性法律文件的总称是（ ）。
- A.部门法
B.法律渊源
C.法律体系
D.法律历史类型
98. 近年来，随着计算机应用的普及，网络犯罪现象从无到有，逐年递增，人民法院对于网络犯罪科以刑罚。这说明（ ）。
- A.法律促进了科技的进步
B.科技进步改善了法律的调整机制
C.科技优先发展的战略地位需要法律确认
D.对科技成果的非道德使用造成的社会危害法律会加以制裁
99. 下列有关社会主义法律与社会主义道德一致性的叙述中，错误的是（ ）。
- A.两者都是社会主义经济基础的产物
B.两者都是由国家强制力保证实施的
C.两者都是调整人们相互关系的行为规范
D.两者都是工人阶级和广大人民群众意志和利益的体现
100. 法律关系是由主体、客体和内容三种要素构成的，其中法律关系的内容要素是指（ ）。
- A.法律权利和法律义务
B.法律后果和法律责任

C.法律事件和法律行为

D.法律制裁和法律监督

101. 地方各级人民代表大会代表，有的是由下一级人民代表大会选举产生，有的是由选民直接选举产生。下列选项中由选民直接选举产生的人民代表大会代表是（ ）。

A.省人民代表大会代表

B.直辖市人民代表大会代表

C.设区的市人民代表大会代表

D.市辖区人民代表大会代表

102. 在诉讼活动中，承办案件的审判人员和法律规定的其他人员，如与案件有利害关系或其他特殊关系，可能影响案件公正审理的，依照法定程序不能参与该案中的审理活动。这是诉讼法基本原则中（ ）。

A.回避原则的要求

B.合议制原则的要求

C.保障诉讼参与人诉讼权利原则的要求

D.公民在适用法律上一律平等原则的要求

103. 《中华人民共和国行政处罚法》规定，行政处罚由违法行为发生地的（ ）。

A.人民法院管辖

B.人民检察院管辖

C.县级以上地方人民代表大会管辖

D.县级以上地方人民政府中具有行政处罚权的行政机关管辖

104. 下列选项中属于国家宏观调控方面的法律是（ ）。

A.《中华人民共和国农业法》

B.《中华人民共和国广告法》

C.《中华人民共和国保险法》

D.《中华人民共和国公司法》

105. 税法依其调整的具体经济关系的不同可分为税收征收法和税收管理法。下列规范性法律文件中属于税收管理法的是（ ）。

A.《中华人民共和国增值税暂行条例》

B.《中华人民共和国消费税暂行条例》

C.《中华人民共和国营业税暂行条例》

D.《中华人民共和国税收征收管理法实施细则》

二、多选题（专业知识 20 道）

1. 下列关于会计信息质量要求的表述中，正确的是（ ）。

A.在物价上涨期间，采用先进先出法计量发出存货的成本体现了谨慎性会计信息质量要求

B.避免企业出现提供会计信息的成本大于收益体现了重要性会计信息质量要求

C.企业会计政策不得随意变更体现了可比性会计信息质量要求

D.企业提供的信息应清晰明了的反映其财务状况和经营成果体现了相关性会计信息质量要求

2. 下列说法中正确的是（ ）。

- A.不能导致经济利益流入企业的资源不属于企业资产
- B.处置无形资产净收益不属于企业收入，而是计入损益的利得
- C.意外灾害导致的存货净损失不属于企业费用，而是直接计入所有者权益的损失
- D.直接计入所有者权益的利得和损失，不属于企业的收入

3. 下列关于费用与损失的表述中，正确的是（ ）。

- A.损失是由企业非日常活动所发生的、会导致所有者权益减少，与向所有者分配利润无关的经济利益的流出
- B.费用和损失都是经济利益的流出并最终导致所有者权益的减少
- C.费用和损失的主要区别在于是否计入企业的当期损益
- D.企业发生的损失在会计上应计入营业外支出

4. 三栏式明细账适用的账户有（ ）。

- A.管理费用
- B.应收账款
- C.主营业务收入
- D.银行存款日记账

5. 库存现金清查时涉及的会计科目有（ ）。

- A.待处理财产损溢
- B.库存现金
- C.营业外收入
- D.营业外支出

6. 下述因素或事件可能导致旅行车价格上升的有（ ）。

- A.计划生育政策放松，人们决定多生孩子
- B.钢铁工人罢工提高了钢铁的价格
- C.工程师成功研发了用于旅行车生产的新的自动化机器
- D.客货两用汽车价格的上升
- E.股市崩盘导致人们的财富缩水

7. 在存在逆向选择的保险市场上，最可能发生的情况有（ ）。

- A.高风险的人将不愿意购买保险
- B.低风险的人将不愿意购买保险
- C.市场均衡将实现帕累托最优
- D.高风险的人在均衡将购买过多的保险

8. 以下关系正确的是（ ）。

- A. $GDP=C+I+G+(X-M)$
- B.实际GDP=名义GDP/GDP折算指数
- C.国内生产净值=个人收入-个人所得税

D. $GDP = \text{工资} + \text{利息} + \text{租金} + \text{利润} + \text{间接税和企业转移支付} + \text{折旧}$

9. 下列哪两个属于财政政策工具的有（ ）。

- A. 税收
- B. 法定准备金率
- C. 政府支出
- D. 汇率政策

10. 在劳动力市场均衡的情况下，仍有可能存在（ ）

- A. 摩擦性失业
- B. 季节性失业
- C. 非自愿失业
- D. 自愿失业
- E. 强制失业

11. 根据我国相关法律，以下经济主体具有在我国境内发行债券资格的有（ ）。

- A. 股份有限公司
- B. 外商独资企业
- C. 中外合作企业
- D. 国有独资企业

12. 融资租赁的当事人有（ ）。

- A. 出租人
- B. 出卖人
- C. 承租人
- D. 受益人

13. 商业银行进行证券投资业务的主要目的有（ ）。

- A. 实现对企业的股权控制
- B. 分散风险
- C. 获取收益
- D. 增强流动性
- E. 通过投机获取高收益

14. 影响经济主体对货币需求量的主要因素有（ ）。

- A. 一定时期居民收入水平
- B. 利率高低
- C. 居民收入结构
- D. 企业的货币收支流量

15. 下列几项中属于信用风险监管指标的是（ ）。

- A. 不良资产率和不良贷款率
- B. 单一集团客户授信集中度
- C. 流动性缺口比例
- D. 单一客户贷款集中度



16. 结构化程序设计的基本原则包括（ ）。

- A.多态性
- B.自顶向下
- C.模块化
- D.逐步求精

17. 下列不属于软件设计中模块划分应遵循的准则是（ ）。

- A.低内聚低耦合
- B.高内聚低耦合
- C.低内聚高耦合
- D.高内聚高耦合

18. 下面属于软件测试实施步骤的是（ ）。

- A.集成测试
- B.回归测试
- C.确认测试
- D.单元测试

19. 下列属于虚拟机执行过程的特点的是（ ）。

- A.多线程
- B.动态连接
- C.异常处理
- D.代码安全检查

20. 要想作者名字出现在所有的幻灯片中，加入到（ ）中不会实现。

- A.幻灯片母版
- B.标题母版
- C.备注母版
- D.讲义母版

第二部分：英语（本部分 5 道单选题，2 篇文章，每篇 5 道题，共 15 道题）

1. It's already 10 o'clock I wonder how it () that she was two hours late on such a short trip.

- A.came over
- B.came out
- C.came about
- D.came up

2. Team members must understand that the project they have () will demand all of their time and energy.



- A.removed
B.completed
C.undertaken
D.overheard
3. I need one more stamp before my collection () .
A.has completed
B.completes
C.has been completed
D.is completed
4. Professor Gamst is on a leave of absence from Eastlea University () he completes a re-search project in China.
A.while
B.what
C.such
D.during
5. The apple trees have lots of big apples()them. And some birds are singing()the trees.
A.in; on
B.at; in
C.on; in
D.with; through

Reading Comprehension

Directions:

Read the following two texts. Answer the questions below each text by choosing A, B, C or D.

Mark your answers.

Passage 1

Questions 6 to 10 are based on the following passage.

Francis Thompson
Vice President of Operations
Collins Shipping Service Inc.
May 5, 2006

Attention Regional Directors,

Here at Collins Shipping Service Inc. (CSS), we've built a reputation as a trustworthy and efficient national corporation that always puts the needs of the customer first. The key to this success has been the careful organization of our regional and local divisions, which has enabled us to communicate effectively. However, our recent expansions have caused some problems with this system.

In order to maintain our communicative ability, the CEO has decided to reorganize all of the



corporation's divisions. As regional directors, you are requested to submit detailed status reports on your divisions, focusing on any new service areas you are responsible for.

Next month, you will attend a conference to be held at CSS headquarters in Vancouver. There, you will participate in meetings to finalize the new organizational plans. You all will have the opportunity to voice your suggestions, concerns, and opinions, so please be prepared.

Attached is a schedule of events for the conference. To arrange your travel and lodging needs, please contact Martin O'Flynn in the headquarters' personnel department at 604-555-0924.

Collins Shipping Service Inc. is committed to preserving its excellent reputation and continuing its success. Please assist us in achieving this goal.

Very truly yours,
Francis Thompson

National Conference on Organization and Communication
Collins Shipping Service Inc.

Dates: June 12-17

Location: CSS Headquarters, Vancouver

This conference will allow us to incorporate all feedback before finalizing a new organizational plan.

Date	Time	Event
June 12	3:00p.m.	Welcome and introductions from the CEO
June 13-14	8:00a.m.-5:00p.m	Inter-regional discussion meetings
June 15	8:00a.m.-5:00p.m	Presentation of the newly created organizational plan
June 16	10:00a.m.	Final Q&A session with the Vice President of ODeration
June 17	9:30a.m	Closing comments and thanks from the CEO

6. What is the main purpose of the letter?

- A.To describe a change in the company's customer policy.
- B.To announce the use of new communications technology.
- C.To inform executives of a professional gathering.
- D.To notify employees of the company s expansion.

7. What has CSS recently undergone?

- A.An alteration to its organizational structure.
- B.The relocation of its headquarters.
- C.A change in national leadership.
- D.The addition of new service areas.

8. What does Mr. Thompson not ask regional directors to do?

- A.Call a representative from the personnel department.
- B.Be ready to participate in the conference discussions.
- C.Provide in depth information about their divisions.
- D.Submit proposals for the company's reorganization.



9. When will the organizational plan officially be announced?

- A. June 12th
- B. June 14th
- C. June 15th
- D. June 16th

10. At what time of day will Mr. Thompson lead an event?

- A. 8:30 a.m.
- B. 9:30 a.m.
- C. 10:00 a.m.
- D. 3:00 p.m.

Passage 2

Questions 11 to 15 are based on the following passage.

We all know that lack of sleep affects our memory, along with other cognitive abilities. Sitting in the office, sleep deprived, it's difficult to remember your own name, let alone the ever-lengthening to-do list.

But now new research shows that not getting enough sleep increases the chances your mind will actually create false memories. The study, published in *Psychological Science*, allowed one group of participants to get a full night's sleep, while another had to stay up all night. In the morning they were given a series of photos that were supposed to show a crime being committed. Next, both groups were given some eyewitness statements about the crime. Like many witness statements in real-life crimes, the details were different to those shown in the photographs. For example, in one instance the photo showed a thief putting a wallet in his jacket, but in the witness statement it said he put it in his pants (that's 'trousers' for British people, not his underwear!). Afterwards, they were asked what they had seen in the original photographs. The results showed that those who'd missed out on their sleep were the most likely to regurgitate the false eyewitness statements they'd just read, rather than remembering the 'true' crime-scene photos they'd been shown moments beforehand.

The lack of sleep had messed with their heads to the extent that all the evidence-right and wrong-had got mixed up.

One of the study's authors, Kimberly Fenn, said, "People who repeatedly get low amounts of sleep every night could be more prone in the long run to develop these forms of memory distortion. It's not just a full night of sleep deprivation that puts them at risk." Indeed, a preliminary study they carried out found that getting just five hours sleep was enough to cause people to start manufacturing false memories.

11. Which of the following statements is true according to the article?

- A. A full night of sleep deprivation puts people on the risk of false memory.
- B. Deprivation of sleep fails to have impact on the ability to memorize list.
- C. Short-term lack of sleep is more likely to result in memory distortion.

D>Your own name will not escape you no matter how long you sleep.

12. What is the independent variable in the study?

- A.The memory distortion
- B.The short-term memory
- C.The amount of sleep
- D.The ability to recall long list

13. What is the dependent variable in the study?

- A.Creation of false memories
- B.Crime being created
- C.Memory deprivation
- D.Different details shown

14. What does the underlined word “regurgitate” (paragraph 2) mean?

- A.repeat
- B.feed
- C.pour back
- D.remix

15. What is best title of this article?

- A.Sleep and Photographic Memory
- B.Sleep and Cognitive of Human Beings
- C.Lack of Sleep Leading to Crimes
- D.Lack of Sleep Producing False Memory



华图教育
HUATU.COM

金融培训
jinrong.huatu.com

热线：4006-01-9999

华图教育