

2018 交通银行秋招模拟试题

考试说明：

- 1、考试时间 分钟。考试内容为英语、行测和综合知识等。
- 2、题型为单选题。
- 3、请在题本规定位置填写姓名和准考证号。
- 4、考试结束考生不能将题本带出考场。

第一部分 英语

一、单项选择题（本部分 道题，共 分）

1. The relations between my mother and brother were getting worse as my brother grew older and more ().
A realistic
B racial
C recycled
D rebellious
2. To keep health, we have to keep () hours.
A reliable
B regular
C reluctant
D religious
3. The cowboy looked () in that strange-looking hat.
A residential
B remote
C risky
D ridiculous
4. The teacher was not () with my history report. She asked me to rewrite it.
A sacred
B rubbish
C secret
D satisfied
5. Mr. White always wears sunglasses because his eyes are () to light.
A self-evident

- B seldom
C sentimental
D sensitive
6. The boy was () about everything he saw.
A. fake
B. casual
C. gentle
D. curious
7. With temperature () so rapidly, we could not go with the experiment.
A. fall
B. falling
C. fallen
D. to fall
8. Written in a hurry, () how can it be satisfactory?
A. they found many mistakes in the report.
B. Sam made lots of mistakes in the report.
C. there are plenty of mistakes in the report.
D. the report is full of mistakes.
9. Mike's father, as well as his mother, commanded that he () home.
A. stayed
B. could stay
C. stay
D. has stayed
10. () is not only what you do, but also how you do it that makes the difference.
A. There
B. This
C. That
D. It
11. Fill in the blanks with articles where () .
A. necessary
B. necessarily
C. is necessary
D. it necessary
12. Your niece is very strict and () worth teaching, but your nephew is not. Look, he is now () asleep in class.
A. well; fast
B. much; very
C. very; fast

- D. well; very
13. So confused () that he didn't know how to start his lecture.
- A. since he became
B. would he become
C. that he became
D. did he become
14. Nowhere else in Europe () people who invite complete strangers to their homes for coffee or dinner.
- A. you will find
B. will you find
C. you have found
D. have you found
15. —Have you moved into your new flat?
—No, I haven't. It () at present.
- A. will be decorated
B. was decorated
C. is decorating
D. is being decorated
16. Mrs. White became a teacher in 1985. She () for twenty years by next summer.
- A. will teach
B. would have taught
C. has been teaching
D. will have been teaching
17. On her next birthday, Ann () married for twenty years.
- A. is
B. has been
C. will be
D. will have been
18. —Don't you think Carl was brave to go wingsuit flying?
—Personally, I think he was (). He shouldn't have risked his life to do so.
- A. as mad as brave
B. madder than braver
C. more mad than brave
D. brave rather than mad
19. Recently stock prices have been falling () because of the influence of the global financial crisis.
- A. sharply

- B. absolutely
C. narrowly
D. universally
20. —What was the party like?
—Wonderful. It's years () I enjoyed myself so much.
A. before
B. after
C. since
D. when
21. Ever since my brother graduated from the university, he () in the present company for 15 years and he is now chief engineer of the company.
A. worked
B. has been working
C. is working
D. works
22. Nervous and anxious, Jill failed () a good impression at the job interview.
A. to have made
B. making
C. to make
D. having made

二、阅读理解 (本部分 道题, 共 分)

Reading Comprehension

Directions:

Read the following five texts. Answer the questions below each text by choosing A, B, C or D. Mark your answers.

Passage 1

In 1901, H. G. Wells, an English writer, wrote a book describing a trip to the moon. When the explorers landed on the moon, they discovered that the moon was full of underground cities. They expressed their surprise to the "moon people" they met. In turn, the "moon people" expressed their surprise. "Why," they asked, "are you traveling to outer space when you don't even use your inner space?"

H. G. Wells could only imagine travel to the moon. In 1969, human beings really did land on the moon. People today know that there are no underground cities on the moon. However, the question that the "moon people" asked is still an interesting one. A growing number of scientists are seriously thinking about it.

Underground systems are already in place. Many cities have underground car parks. In some cities, such as Tokyo, Seoul and Montreal, there are large underground shopping areas. The “Chunnel”, a tunnel (隧道) connecting England and France, is now complete.

But what about underground cities? Japan’s Taisei Corporation is designing a network of underground systems, called “Alice Cities.” The designers imagine using surface space for public parks and using underground space for flats, offices, shopping, and so on. A solar dome (太阳能穹顶) would cover the whole city.

Supporters of underground development say that building down rather than building up is a good way to use the earth’s space. The surface, they say, can be used for farms, parks, gardens, and wilderness. H. G. Wells’ “moon people” would agree. Would you?

23. The explorers in H. G. Wells’ story were surprised to find that the “moon people” ().
- A. lived in so many underground cities
 - B. knew so much about the earth
 - C. understood their language
 - D. were ahead of them in space technology
24. What does the underlined word “it” refer to?
- A. Discovering the moon’s inner space.
 - B. Traveling to outer space.
 - C. Meeting the “moon people” again.
 - D. Using the earth’s inner space.
25. What sort of underground systems are already here with us?
- A. Tunnels, car parks, shopping areas.
 - B. Offices, shopping areas, power stations.
 - C. Gardens, car parks, power stations.
 - D. Tunnels, gardens, offices.
26. What would be the best title for the text?
- A. Alice Cities—cities of the future.
 - B. Space travel with H. G. Wells.
 - C. Building down, not up.
 - D. Enjoy living underground.

Passage 2

Teenagers at one German school are learning how to achieve happiness alongside other traditional subjects such as math and languages.

The class sit in a circle with their eyes shut and they count from one to ten: someone starts, the next voice comes from the far right, a third from the other side.

The aim of the game is to listen for an opportunity to shout out the number without clashing (冲突) with another voice or leaving a pause. On the first try, most of the young Germans try to be first, while a few are too shy to join in, but by the fifth time round, they develop a rhythm. The

message: give other people space but also confidently claim your own. This is a requirement for social well-being.

The Willy Hellpach School in Heidelberg is the first in the nation to develop a happiness course. It is intended for students preparing for university entrance exams.

"The course isn't there to make you happy," Ernst Fritz -Schubert, the school principal, warned pupils, "but rather to help you discover the ways to become happy."

Cooking a meal together is one of the class exercises. Improving body language under the guidance of two professional actresses is another.

The course is taught for three periods a week. Despite the happy subject, the pupils themselves insist it is no laughing matter.

"In the first period, we had to each say something positive about another member of the class and about ourselves. No laughing at people." said Fanny, 17.

Research by the school shows it is not the first to start happiness classes: they also exist at some U. S. universities, mainly based on positive thinking, using findings from studies of depression.

27. What's the writing purpose of this passage?

- A. To help students struggle against being sad.
- B. To describe all the traditional courses.
- C. To arouse the readers' interest in happiness.
- D. To introduce the happiness course.

28. The game intended for the students in the 2nd paragraph is mainly to () .

- A. try their best to get opportunities for themselves
- B. practice how to speak in front of people
- C. equip them with required social skills
- D. confidently speak out one's opinions

29. According to the passage, the happiness course is () .

- A. to help students discover the ways to happiness
- B. to make all the students happy all the time
- C. required to be taken by the first year students
- D. created by the Willy Hellpach School

30. It can be inferred from the passage that () .

- A. the students can certainly become happy after the course
- B. the students just took the course as a laughing matter
- C. the students' self-respect can also improve happiness
- D. the students waste time learning something without value

Passage 3

On countless mornings over the past year, I stood with my son, James, in our driveway, watching our neighbor hurry off to kindergarten. My wife and I wanted to give James the best

education, but that meant we'd have to change our jobs and spend less time with our kid. I asked myself, "Would this trade-off be worth it?" When I look at the research on child development, I think it might not. Where our kids go to school might matter less than most American parents think.

Social scientists have long tried to determine why some children grow up to be successful. In a 2001 study, Greg Duncan, a professor of education at the University of California, measured the influence that the people in a child's life have on how well the child does in school. Duncan and his team found almost no relationship between how students did on the test and whom they sat beside in class, whom they hung out with after school and who lived in their block. The only meaningful link they found was between siblings (兄弟姐妹) and twins in particular.

For a long time, scholars thought that a family's income heavily affected how well kids did in life. But that might not be the case. When Susan Mayer at the University of Chicago looked at the relationship between family income and lifetime achievement, she ran a series of experiments to measure it, finding such outcomes weren't caused by income. She argued that the things that make a difference are relatively inexpensive: the number of books a kid has or how often his family goes to museums.

Lareau, another scholar began one of the most in-depth observations of American parenting. He concluded that success is much more related to the amount of time parents spend with their children. He said "Many parents I interviewed are anxious about their children's futures. But they have exaggerated the sense of the risks involved if they don't give their children 'the best' of everything. "

So at last, we decided to leave things as it were. More time with our kid is the best we can provide.

31. The first paragraph is intended to () .
- A. introduce the topic of the passage
 - B. confirm the result of a research
 - C. stress the importance of good education
 - D. support a research on child development
32. From the passage we know that most American parents () .
- A. spend a lot of time with their children
 - B. like to buy a variety of books for their children
 - C. think children's achievement largely depends on schools
 - D. believe their income cannot afford children's education
33. Who believes children's brothers and sisters may influence their academic performance?
- A. Lareau.
 - B. Greg Duncan.
 - C. Susan Mayer.
 - D. James.

34. Which of the following can be the best title of the passage?
- A. Parents' time matters to children's future.
 - B. School education determines children's future.
 - C. Family income counts to children's achievements.
 - D. Less education means more risks for children's success.

Passage 4

If English means endless new words, difficult grammar and sometimes strange pronunciation, you are wrong. Haven't you noticed that you have become smarter since you started to learn a language?

According to a new study by a British university, learning a second language can lead to an increase in your brain power, Researchers found that learning other languages changes grey matter. This is the area of the brain which processes information. It is similar to the way that exercise builds muscles.

The study also found the effect is greater, the younger people learn a second language.

A team led by Dr. Andrea Mechelli, from University College London, took a group of Britons who only spoke English. They were compared with a group of "early bilinguals" who had learnt a second language before the age of five, as well as a number of later learners.

Scans showed that grey matter density(密度)in the brain was greater in bilinguals than in people without a second language. But the longer a person waited before mastering a new language, the smaller the difference.

"Our findings suggest that the structure of the brain is changed by the experience of learning a second language," said the scientists.

It means that the change itself increases the ability to learn.

Professor Dylan Vaughan Jones of the University of Wales has researched the link between bilingualism and maths skills. "Having two languages gives you two windows on the world and makes the brain more flexible," he said. "You are actually going beyond language and have a better understanding of different ideas."

The findings were matched in a study of native Italian speakers who had learned English as a second language between the ages of 2 and 34. Reading, writing, and comprehension were all tested. The results showed, that the younger they started to learn, the better. "Studying a language means you get an entrance to another world," explained the scientists.

35. The main subject talked about in this passage is ().

- A. language can help brain power
- B. man's ability of learning a second language
- C. science on learning a second language
- D. language learning and maths study

36. In the second paragraph, the writer mentions "exercise" in order to ().

- A. say language is also a kind of physical labor

- B. make people believe language learning helps grey matter work well
C. show the importance of using the language when you learn the language
D. prove that one needs more practice when he/she is learning a language
37. The underlined word “bilinguals” in Paragraph 4 probably means () .
A. people who can speak two languages
B. second language learners
C. researchers on language learning
D. active language learners
38. We may know from the scientific findings that () .
A. the experience of learning a second language has bad effect on people’s brain
B. there is no difference between a later second language learner and one who doesn’t know a second language
C. the earlier you start to learn a second language, the higher the grey matter density is
D. the ability of learning a second language is changing all the time
39. In the last two paragraphs, the author wants to tell us that () .
A. learning a second language is the same as studying math
B. Italian is the best choice for you as a second language
C. you’d better choose the ages between 2 and 34 to learn a second language
D. early learning of a second language helps you a great deal in studying other subjects

Passage 5

I hear many parents saying that their teenage children are rebellion. I wish it were so. At your age you ought to be growing away from your parents. You should be learning to stand on your own two feet. But take a good look at the present rebellion. It seems that teenagers are all taking the same way of showing that they disagree with their parents. Instead of striking out bravely on their own, most of them are trying to seize at one another’s hands for safety.

They say they want to dress as they please. But they all wear the same clothes. They set off in new directions in music. But somehow reason for thinking or acting in thus-and-such a way is that the crowd is doing it. They have come out of their cocoon—into a larger cocoon.

It has become harder and harder for a teenager to stand up against the popularity wave and to go his or her own way. Industry has firmly opened up a teenage market. These days every teenager can learn from newspapers and TV what a teenager should have and be. And many of today’s parents have come to award high marks for the popularity of their children. All this adds up to great difficulty for the teenager who wants to find his or her own path.

But the difficulty is worth getting over. The path is worth following. You may want to listen to classical music instead of going to a party. You may want to collect rocks when everyone else is collecting records. You may have some thoughts that you don’t care to share at once with your classmates. Well, go to it. Find yourself. Be yourself. Popularity will come—with the people who respect you for who you are. That’s the only kind of popularity that really counts.

40. The writer's purpose in writing this passage is to tell ().
- A. readers how to be popular in the world
 - B. parents how to control and guide their children
 - C. teenagers how to learn to decide things for themselves
 - D. people how to understand and respect each other
41. According to the writer, many teenagers think they are brave enough to act on their own, but, in fact, most of them ().
- A. are not sure of themselves
 - B. have much difficulty in understanding each other
 - C. dare not do things
 - D. are very much afraid of getting lost
42. During the teenage years, one should learn to ().
- A. become different from others in as many ways as possible
 - B. find one's real self
 - C. get into the right reason and become popular
 - D. rebel against parents

第二部分 行政能力测试

一、单项选择题 (本部分 道题, 共 分)

43. 世界高新技术革命的浪潮已经把经济竞争从物质资源竞争推向人力人力资源的竞争, 人力资源的开发、利用和管理将成为人类社会经济发展的关键因素, 在这个过程中需要大量的人力资源信息, 必然离不开人力资源会计。在人口众多、人口素质相对较差的我国, 建立和推行人力资源会计制度更具备必要性。这段文字主要表述的是 ()。
- A. 我国发展人力资源会计的必要性
 - B. 世界高新技术革命的浪潮影响巨大
 - C. 我国的人口众多且人口素质相对较差
 - D. 人力资源竞争成了社会发展的关键因素
44. 一个重公德、讲卫生有礼貌的文明社会或文明城市, 并不是靠“五讲四美”的群众运动或制定诸如吐痰罚款等措施所能建立起来的。倘使每个公民没有发自内心的需要, 认为讲公德和自己的利益休戚相关, 倘使没有这种公民意识的自觉, 那么, 无论依靠多么严厉的强制手段, 也是无济于事的。对这段文字的主旨概括最准确的是 ()。
- A. 建设文明社会不能靠强制手段
 - B. 公民意识对建设文明社会至关重要
 - C. 公德与私利对于建设文明社会同等重要

D.参与公共事务是建设文明社会的重要途径

45. 作为石油的伴侣，天然气的生成条件要比石油更为多样化，石油要达到一定的埋藏深度才能大量生成，而天然气则从浅到深都可，浅的也许只有几百米，深的则有上万米。就物质说，石油以水中浮游的动植物有机质为主，而天然气还可以有高等植物等有机质。对于成因，目前地质科学界绝大多数的转接都赞成有机说，认为石油和天然气就是由远古时代死去的各种生物体转化而成。

不能从这段文字中得知的是（ ）。

- A.石油比天然气埋藏深
- B.石油大多由水生生物转化而成
- C.石油和天然气都是由各种生物体转化的
- D.水中浮游的动植物有机质也是天然气的

46. 微电网又称微网，是包含本地化半自主运行的电源、负荷和电热储能设施的集群。相对于大电网，它自成一体，单独控制，可以与大电网连接并网运行，也可以断开连接以“孤岛模式”自行运行。微网作为具有向参与者和传统电网提供双向效益的特点，体现了分布式电力系统的的发展方向，也为电网的发展开辟了一条崭新路径。

下列说法与原文相符的是（ ）。

- A.大电网可能因与微电网并行而受益
- B.微电网是与传统电网并行的集群
- C.微电网的出现分散了传统电网的效益
- D.微电网是以“孤岛模式”运行的本地化电网

47. 有科学实验表明，大多数人并没有同时处理多项任务的能力。只要一上网，人们的工作记忆就会严重超载，导致大脑额叶难以聚精会神地关注任何一件小事。同时，由于神经通路具有可塑性，上网越多，对大脑适应精力分散状态的训练就越多。这也是为什么习惯上网的人，只要离开互联网，就会感到无所适从。大脑的全面发展要求我们既能迅速解析各种信息，又能无拘无束的沉思冥想；既要能在互联网数字世界中积极工作，又要能隐退到田园中静思遐想。今天的问题在于，我们正在丧失在两种截然不同的思想状态之间保持平衡的能力。

根据上述文字，下列说法正确的一项是（ ）。

- A.网络限制了人类大脑的全面发展能力
- B.网络使人们处理多项任务的能力衰退
- C.上网会使人的记忆力下降，精力分散
- D.人类原本具备自由转换思想状态的能力

48. 学术规范，学术著述必须得有注释，而引证和注释也是力求克服主观性，努力追求学术见解的公允性、合理性、可被接受性的重要途径之一，其本身也是正文论证部分所展开的学术对话的附随性表现。但有必要认识的是，引证与注释的规范要求不是独立的，也不仅仅只是一套技术，而是与学术论证的规范要求是一致的。

这段文字意在强调（ ）。

- A.学术论著要体现出客观性
- B.学术论著注释要克服主观性

C.论著注释必须符合学术规范

D.学术论著正文与注释同等重要

49. 公共舆论是各种社会意见的集合，在不同意见表象的背后都有着其内在的理性认知逻辑。再简单的意见内容都会有其“道理”的存在，并非只是人们情绪化的反映，情绪往往是伴随一定的认知逻辑出现的。就政府形象舆论而言，影响人们对政府评价的意见，除了个体的利益诉求和直接体验外，在很大的程度上是基于人们对社会的基本认知态度和价值选择，这就构成了人们对政府形象认知的基础逻辑。当人们从自身的认知逻辑出发，能够对政府的行政作为进行合理的逻辑构架时，就可以得出积极的、肯定性的意见评价；而当人们无法从认知逻辑上对政府决策及其管理行为加以合理解释时，自然就会形成消极的、否定性的意见评价。这段文字主要谈论（ ）。

A.应从理性逻辑层面解读公共舆论

B.公共舆论的形成有其内在逻辑基础

C.应引导大众理性分析政府行政决策

D.个体认知逻辑决定了对政府形象认知的差异

50. 哥伦比亚大学的心理学教授罗伯特·海尔曾经做过实验，喜欢虐待、生性残忍的人在辨识富有情感意涵的词汇与一般词汇时，脑波无明显差异，而普通人的脑波则表现出不同。进一步的研究说明，前者负责辨识字的语言皮质以及负责赋予字义的边缘系统的连接出了问题。正因如此，他们的情感较常人淡薄，在面对痛苦时不会引发焦虑，甚至对于恐惧没有感受。犯罪心理学研究表明，那些暴力犯罪者，通常是这种缺乏同理心的人，他们无法为人设身处地着想或同情别人，亦很难受到良心谴责。

下列说法与原文相符的是（ ）。

A.喜欢虐待、生性残忍的人没有同理心

B.普通人与暴力犯罪者的脑波有所不同

C.暴力犯罪者在辨别文字时往往存在困难

D.难以受到良心谴责是缺乏同理心者的特征之一

51. 瓷器原是一大俗之物，是日常生活用品，最初脱胎于陶器。历经数千年，它才终于摆脱最初的粗陋面目，登堂入室，成了大雅的艺术品。但是用于日常生活的瓷器器皿还是用于日常生活，并未因成了价值连城的艺术品而失去世俗性。世俗是瓷器厚实而庞大的艺术基础，在这个基础上，它才一步步登高，越来越好，艺无止境，美无止境。可见大雅寓于大俗之中，无俗也就无雅，雅俗其实是一体的。

这段文字意在强调（ ）。

A.日常生活需求是瓷器艺术发展的动力

B.瓷器艺术的发展经历了由俗变雅的漫长过程

C.瓷器艺术的俗与雅之间是相互依存，辩证统一的关系

D.粗陋的生活用品在演变成精美艺术品的同时仍保持着世俗性

52. 文学有宣传的作用，但宣传不能代替文学；文学有教育的作用，但教育不能代替文学。文学作品能产生潜移默化、塑造灵魂的效果，当然也会做出腐蚀心灵的坏事，但这二者都离不开读者的生活经历和他们所受的教育。经历、环境、教育等等都是读者身上、心上的积累，

他们能抵抗作品的影响，也能帮助读者理解作品。读者对每一本书都是“各取所需”。只有日积月累、不断接触，才能在不知不觉间受到影响，发生变化。

这段文字意在说明 ()

- A.文学的影响常是潜移默化的
- B.文学的教育作用常为人们所忽视
- C.文学作品的影响力受读者背景的影响
- D.文学作品的宣传作用并非天然产生的

53. 2.3, 4.8, 8.24, 16.51, 32.89, ()

- A.64.138
- B.64.136
- C.128.138
- D.128.136

54. 3, $\sqrt{11}$, 4, $2\sqrt{6}$, $\sqrt{35}$, ()

- A. $\sqrt{51}$
- B.7
- C.6
- D. $3\sqrt{2}$

55. $\frac{1}{4}$, $\frac{1}{2}$, $\frac{3}{2}$, 6, 30 ()

- A.90
- B.180
- C.150
- D.210

56. $\frac{1}{4}$, $\frac{1}{2}$, $\frac{5}{8}$, $\frac{7}{10}$, $\frac{3}{4}$, ()

- A, $\frac{14}{9}$
- B. $\frac{11}{14}$
- C. $\frac{13}{14}$
- D. $\frac{17}{16}$

57. 3, 4, 6, 9, 14, 22, 35, ()。

- A.47
- B.49
- C.53
- D.56

58. 两同学需托运行李。托运收费标准为 10 公斤以下 6 元 / 公斤，超出 10 公斤部分每公斤收费标准略低一些。已知甲乙两人托运费分别为 109.5 元、78 元，甲的行李比乙重 50%。那么，超出 10 公斤部分每公斤收费标准比 10 公斤以内的低了多少元?

- A.1.5 元
- B.2.5 元
- C.3.5 元

D.4.5 元

59. 某餐厅设有可坐 12 人和可坐 10 人两种规格的餐桌共 28 张, 最多可容纳 332 人同时就餐, 问该餐厅有几张 10 人桌?

A.2

B.4

C.6

D.8

60. 一环形跑道上画了 100 个标记点, 已知相邻任意两个标记点之间的跑道距离相等。某人在环形跑道上跑了半圈, 问他最多能经过几个标记点?

A.49

B.50

C.51

D.100

61. A 工程队的效率是 B 工程队的 2 倍, 某工程交给两队共同完成需要 6 天。如果两队的工作效率均提高一倍, 且 B 队中途休息了 1 天, 问要保证工程按原来的时间完成, A 队中途最多可以休息几天?

A.4

B.3

C.2

D.1

62. 某地居民用水价格分二级阶梯, 户年用水量在 0~180 (含) 吨的水价 5 元/吨; 180 吨以上的水价 7 元/吨。户内人口在 5 人以上的, 每多 1 人, 阶梯水量标准增加 30 吨。老张家 5 人, 老李家 6 人, 去年用水量都是 210 吨。问老李家的人均水费比老张家少约多少元?

A.12

B.35

C.47

D.60

63. 某企业原有职工 110 人, 其中技术人员是非技术人员的 10 倍。今年招聘后, 两类人员的人数之比未变, 且现有职工中技术人员比非技术人员多 153 人。问今年新招非技术人员多少名?

A.7

B.8

C.9

D.10

64. 在九宫格内依次填入数字 1~9, 现从中任取两个数, 要求取出的两个数既不在同一行也不在同一列, 共有多少种不同取法?

A.9

B.18

C.36

D.45

65. 1, 2, 6, 15, 40, 104, ()

A.273

B.329

C.185

D.225

66. 7, 7, 9, 17, 43, ()

A.119

B.117

C.123

D.121

67. (), $-\frac{1}{4}$, $-\frac{3}{8}$, $-\frac{5}{16}$

A.-1

B. $-\frac{1}{2}$

C. $\frac{1}{2}$

D.1

68. 2, 7, 14, 25, 38, ()

A.54

B.55

C.57

D.58

69. -7, -5, -1, 5, (), 23

A.10

B.11

C.13

D.20

70. 某电器工作功耗为 370 瓦, 待机状态下功耗为 37 瓦。该电器周一从 9: 30 到 17: 00 处于工作状态, 其余时间断电。周二从 9: 00 到 24: 00 处于待机状态, 其余时间断电。问其周一的耗电量是周二的多少倍?

A.5

B.6

C.8

D.10


71. 某政府机关内甲、乙两部门通过门户网站定期向社会发布消息,甲部门每隔2天、乙部门每隔3天有一个发布日,节假日无休。问甲、乙两部门在一个自然月内最多有几天同时为发布日?

- A.2
- B.3
- C.5
- D.6

72. 某单位组建兴趣小组,每人选择一项参加。羽毛球组人数是乒乓球组人数的2倍,足球组人数是篮球组人数的3倍,乒乓球组人数的4倍与其他3个组人数的和相等。则羽毛球组人数等于: ()。

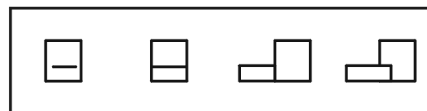
- A.足球组人数的1.5倍
- B.篮球组人数的3倍
- C.足球组人数与篮球组人数之和
- D.乒乓球组人数与足球组人数之和

73. 从所给的四个选项中,选择最合适的一个填入问号处,使之呈现一定的规律性: ()。



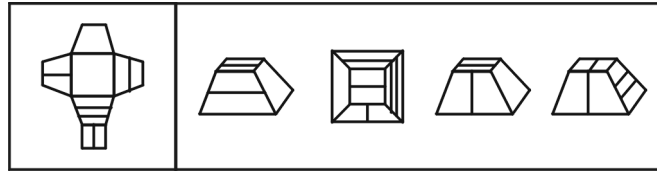
- A
- B
- C
- D

74. 从所给的四个选项中,选择最合适的一个填入问号处,使之呈现一定的规律性: ()。



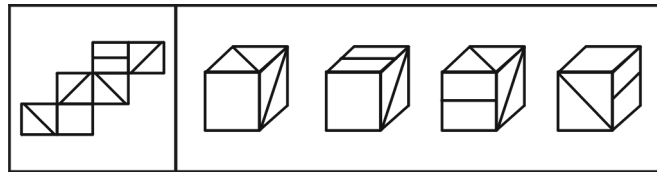
- A
- B
- C
- D

75. 左边给定的是纸盒的外表面,下面哪一项能由它折叠而成?



A B C D

76. 左边给定的是纸盒的外表面，下面哪一项能由它折叠而成？



A B C D

77. 差别比例税率是指一种税设两个或两个以上的税率，不同纳税人按不同比例计算应纳税额的税率。累进税率是指随着征税对象的数额由低到高逐级累进，所适用的税率也随之逐级提高的税率。

下列各项中所提到的税率，属于差别比例税率的是（ ）。

- A. 对于某企业来说，需缴纳 25% 的企业所得税，还需缴纳 5% 的营业税
- B. 我国自 2009 年 1 月 1 日起实施成品油税费改革，将成品油价内征收的汽油消费税单位税额每升提高 0.8 元，即由每升 0.2 元提高到 1 元
- C. 我国个人所得税中对工资薪金所得适用的税率随工资薪金所得增多而逐渐增多，从 5% 到 45% 共分为九档
- D. 2009 年 1 月 20 日至 12 月 31 日，我国对 1.6 升及以下排量的乘用车按 5% 征收车辆购置税，对 1.6 升以上排量乘用车按 10% 征收车辆购置税

78. 角色模糊是指个人所体验到的工作角色定位的不确定性，包括工作职责的不确定、工作目标的不确定等，因此常造成工作流程上的混乱和工作效率的低下。

根据上述定义，下列属于角色模糊的是（ ）。

- A. 小陈刚当上小学老师，想跟学生做朋友，尽管她现在跟学生的关系很亲密，可她发现学生们不怕她，不听话，甚至作业也不交
- B. 小张刚参加工作，满怀热情，一心想在工作岗位上充分发挥自己的专业特长，但却不得不经常做些与其专业无关的工作，他因此觉得心理落差很大
- C. 张大夫身兼数职，是某医院骨科主任，同时又担任该医院的副院长、该地区医学学会委员等，工作繁忙使他日渐憔悴
- D. 苏丽刚升任客服部的副总监，有些事务她不知道是否该自己处理，如果处理了是否会超出目前的权限，也不知道去问谁，对于这些事务她通常就不处理

79. 美国社会学家默顿将社会功能划分为显功能和潜功能两个层次。显功能是有助于系统的调整和适应的客观后果，这种适应和调整是系统中的参与者所期望达到或能预料、认识到的。潜功能是没有被预料也没有被认识的客观后果。

下列选项不包含对潜功能描述的一项是（ ）。

- A. 电视剧《渴望》播放期间，万人空巷，社会治安明显好转

- B.来自偏远山区的小刘为了摆脱贫困，让父母过上好日子，从小刻苦学习，做事认真，没几年功夫就成为一家大型企业的负责人，也使自己成为家乡父老教育孩子的榜样
- C.张某根据自己的家庭收入状况，贷款 30 万买了一套房子，由于利率上升，自己的生活变得捉襟见肘
- D.为抵御外族入侵，秦始皇修筑了长城，客观上促进了我国民间建筑工艺的发展

80. 宜家效应是指劳动会增加人们对劳动成果的感情，当人们自己动手制作东西时，他们都会觉得自己的创作特别有价值。

根据上述定义，下列最能体现宜家效应的是（ ）。

- A.某公司为方便人们制作蛋糕，推出方便蛋糕粉，使蛋糕的制作非常简单
- B.让人们亲手做折纸，然后连同他人做的折纸放在一起竞价，结果大家都愿意为自己做的折纸出更高的价钱
- C.学校鼓励学生自己动手制作各种教具，不仅锻炼了学生的动手能力，还节约了教学成本
- D.某家具生产商生产的家具需要顾客买回家后，按照产品说明书来完成家具的拼装组合工作

81. 生态入侵是指人们有意识或无意识地把某种生物带入适宜其栖息和繁衍的地区，使得该生物种群不断扩大，分布区不断稳定地扩展，从而危害当地的生产和生活，改变当地生态环境的过程。

根据上述定义，下列属于生态入侵的是（ ）。

- A.某地发生大面积放射性核素泄漏，使某种植物发生变异，其繁殖力超强，逐渐取代了该地域内的其他植物
- B.某实验室由于管理不当将试验用的致病性结核菌株散播了出去，造成结核病在周围居民中流行
- C.产于南美洲的凤眼莲花朵艳丽，曾经作为观赏植物被我国引进，致使云南滇池因为凤眼莲的疯狂蔓延而鱼虾绝迹
- D.美国科学家将从我国引进的野生大豆与当地品种杂交，培育出抗大豆萎黄病的优良品种，该品种现已彻底取代了美国传统大豆

82. （ ） 对于 大脑 相当于 资料 对于 （ ）

- A.学习 阅读
- B.细胞 图书馆
- C.智力 书籍
- D.记忆 硬盘

83. （ ） 对于 建筑 相当于 计划 对于 （ ）

- A.材料 战略
- B.施工 目标
- C.图纸 工作
- D.设计 成果

84. 海洋中珊瑚的美丽颜色来自于其体内与之共存的藻类生物，其中虫黄藻是最重要的一类单细胞海藻。二者各取所需，相互提供食物。全球气候变暖造成的海水升温导致虫黄藻等藻类大量死亡，进而造成珊瑚本身死亡，引发珊瑚礁白化现象。然而研究发现，珊瑚能通过选

择耐热的其他藻类生物等途径，来应对气候变暖带来的挑战。

以下哪项如果为真，将削弱这一研究发现？

- A. 有些藻类耐热性的形成需要一个长期的过程
- B. 一些虫黄藻能够比耐热的其他藻类耐受更高的海水温度
- C. 有些已白化的珊瑚礁中也发现了死去的耐热藻类生物
- D. 有些虫黄藻逐渐适应了海水温度的升高并存活下来

85. 甲乙丙丁四人的车分别为白色、银色、蓝色和红色。在问到他们各自车的颜色时，甲说：“乙的车不是白色。”乙说：“丙的车是红色的。”丙说：“丁的车不是蓝色的。”丁说：“甲、乙、丙三人中有一个人的车是红色的，而且只有这个人说的是实话。”

如果丁说的是实话，那么以下说法正确的是（ ）。

- A. 甲的车是白色的，乙的车是银色的
- B. 乙的车是蓝色的，丙的车是红色的
- C. 丙的车是白色的，丁的车是蓝色的
- D. 丁的车是银色的，甲的车是红色的

86. 在一次考古发掘中，考古人员在一座唐代古墓中发现多片先秦时期的夔文（音 kui，一种变体的龙文）陶片。对此，专家解释说，由于雨水冲刷等原因，这些先秦时期的陶片后来被冲至唐代的墓穴中。

以下哪项如果为真，最能质疑上述专家的观点？

- A. 这座唐代古墓保存完好，没有漏水、毁塌迹象
- B. 在这座唐代古墓中还发现多件西汉时期的文物
- C. 唐代的墓葬风俗是将墓主生前喜爱的物品随同墓主一同下葬
- D. 并非只有先秦时期才使用夔文，唐代文人以书写夔文为能事

87. 有医学研究显示，吃维生素和矿物质补充剂对人体没有显著帮助，有时甚至会对人体造成伤害。一些医生给出劝告，不要再吃维生素和矿物质补充剂了，而应该通过均衡的饮食来补充人体所需的维生素和矿物质。

以下哪项如果为真，最能削弱上述研究结果？

- A. 一项对 3 万名妇女进行的 7 年追踪调查发现，服用维生素 D 加上钙补充剂并没有给她们的身体造成伤害
- B. 一项对 1 万名男性展开的 8 年追踪调查显示，不服用维生素和矿物质补充剂并没有增加他们患病的风险
- C. 一项对 1 万名发达地区和欠发达地区老年人的对照调查显示，他们的健康状况差异不显著
- D. 一项对 2 万名儿童展开的 3 年追踪调查显示，不服用维生素和矿物质补充剂的儿童，营养缺乏症的发生率较高

88. 以下是一则广告：

本网络文学培训班有着其他同类培训班所没有的特点，除了传授高超的写作技巧、帮助同学打开认识世界的多维视角和宏观视野、丰富学员的文化知识和艺术涵养外，还负责向毕业班学员提供切实有效的就业咨询。去年进行咨询的毕业班学员，100%都找到了工作。为了在网络文学创作事业上开创一片天地，欢迎加入我们的行列。

为了确定该广告的可信性，以下相关问题必须询问清楚的是（ ）。

- I. 去年共举办了多少期这类培训班，共有多少学员毕业？
- II. 去年有多少毕业班学员进行了就业咨询？
- III. 对于找到工作的学员，就业咨询究竟起到了什么作用？
- IV. 咨询者找到的是否都是网络文学创作工作？

- A. I、II、III和IV
- B. II、III和IV
- C. I、II和III
- D. III和IV

89. 茶壶：紫砂：雕刻

- A. 马路：柏油：铺设
- B. 房门：木材：油漆
- C. 电线：金属：生产
- D. 夹克：布料：制作

90. 骨骼 对于 （ ） 相当于 （ ） 对于 房屋

- A. 肌肉 电梯
- B. 上肢 窗户
- C. 人体 梁柱
- D. 关节 钢筋

91. 在由发展中国家向经济发达国家前进的过程中，大量资本支持是必不可少的条件，而高储蓄率是获得大量资本的必要条件。就目前来说，中国正处于经济起飞时期，因此，储蓄率高是当前经济发展中的一种正常而合理的现象。

由此可以推出（ ）。

- A. 如果没有高储蓄率，就不能实现向发达国家的转变
- B. 有了高储蓄率，就可以获得大量的资本支持
- C. 如果没有获得大量的资本支持，说明储蓄率不高
- D. 有了大量的资本支持，就可以实现由发展中国家向发达国家的跨越

92. 当代知名的动漫设计大师，绝大部分还没从动漫设计学校毕业就已经离开学校，开始自己的动漫设计生涯。因此，有人认为动漫设计的专业学习对学生们今后的职业发展并没能提供有力的帮助。

以下哪项如果为真，能够最有力地反驳上述推论？

- A. 知名动漫公司在招聘设计师时，很看重应聘人员的毕业院校
- B. 动漫设计大师都承认，他们学习了动漫设计学校的基础课程
- C. 在动漫设计行业中职业发展比较好的从业者，基本都毕业于动漫设计学校
- D. 调查显示，动漫设计学校毕业生的平均年收入要显著高于同类院校其他专业的毕业生

根据材料，回答下列问题。

2015年1~3月，国有企业营业总收入103155.5亿元，同比下降6%。其中，中央企业收入63191.3亿元，同比下降7%。地方国有企业收入39964.2亿元，同比下降4.2%。

1~3月，国有企业营业总成本100345.5亿元，同比下降5.1%，其中销售费用、管理费用和财务费用同比分别下降29%、增长2.3%和增长7.3%。其中，中央企业成本60216.5亿元，同比下降6.4%；地方国有企业成本40129亿元，同比下降3.1%。

1~3月，国有企业利润总额4997.3亿元，同比下降8%。国有企业应交税金9383亿元，同比增长0.13%。

3月末，国有企业资产总额1054875.4亿元，同比增长12%；负债总额685766.3亿元，同比增长11.9%；所有者权益合计369109.1亿元，同比增长12.2%。其中，中央企业资产总额554658.3亿元，同比增长10.9%；负债总额363304亿元，同比增长10.4%；所有者权益为191354.4亿元，同比增长10.7%。地方国有企业资产总额500217.1亿元，同比增长13.8%；负债总额322462.3亿元，同比增长13.7%；所有者权益为177754.7亿元，同比增长13.9%。

93. 2014年1~3月，国有企业营业总收入最接近：（ ）。

- A. 10.5万亿元
- B. 11万亿元
- C. 11.5万亿元
- D. 12万亿元

94. 2015年1~3月，在销售费用、管理费用和财务费用，占国有企业营业总成本的比重同比上升的有几项？

- A. 0
- B. 1
- C. 2
- D. 3

95. 2015年3月末，中央企业所有者权益占国有企业资产总额比重比上年同期约：（ ）。

- A. 下降了0.7个百分点
- B. 下降了1.5个百分点
- C. 上升了0.7个百分点
- D. 上升了1.5个百分点

96. 2015年3月末，中央企业的资产负债率（负债总额÷资产总额）约在以下哪个范围内？

- A. 50%以下
- B. 50%~60%
- C. 60%~70%
- D. 70%以上

97. 能够从上述资料中推出的是：（ ）。

- A. 2015年1~3月，中央和地方国有企业营业成本均低于同期营业收入
- B. 2014年1~3月，国有企业应交税金占同期营业总收入的一成以上
- C. 2015年3月末，国有企业资产总额同比增长不到12万亿元
- D. 2015年3月末，地方国有企业资产负债率高于上年同期水平

根据材料，回答下列问题。

2014年1~11月我国货物运输情况

	11 月	同比增速 (%)	1~11 月	同比增速 (%)
货物运输总量 (亿吨)	39.3	7.1	393.2	7.3
其中：铁路 (亿吨)	3.2	-6.5	35.0	-3.2
公路 (亿吨)	30.7	8.6	303.6	8.8
水运 (亿吨)	5.4	7.6	54.5	6.8
民航 (万吨)	55.5	3.4	538.0	5.7
货物周转总量 (亿吨公里)	16409.2	8.6	164873.0	10.1
其中：铁路 (亿吨公里)	2354.4	-6.4	25200.7	-5.2
公路 (亿吨公里)	5833.0	10.4	55448.0	9.8
水运 (亿吨公里)	8204.1	12.5	84056.0	16.0
民航 (亿吨公里)	17.6	8.5	168.7	8.8

98. 2014 年 1~10 月我国货物运输总量为多少亿吨?

- A. 340.2
- B. 353.9
- C. 366.5
- D. 393.2

99. 2013 年 1~10 月我国货物运输总量最大的领域是：()。

- A. 公路
- B. 民航
- C. 铁路
- D. 水运

100. 2013 年 11 月我国货物周转总量中，水运周转量占比在以下哪个范围之内?

- A. 低于 40%
- B. 40%~50%
- C. 50%~60%
- D. 高于 60%

101. 哪些运输方式在 2014 年 11 月的货物运输量占当月货物运输总量的比重超过上年同期水平?

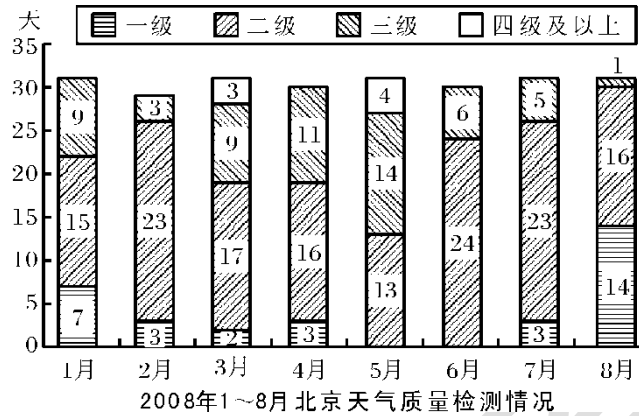
- A. 仅铁路
- B. 仅公路
- C. 铁路和民航
- D. 公路和水运

102. 关于 2014 年 1~11 月我国货物运输状况，能够从上述资料中推出的是：()。

- A. 月均货物运输量约为 33 亿吨
- B. 每吨货物平均运输距离为 500 多公里
- C. 铁路货运量占总体比重低于其货物周转量占总体比重
- D. 公路货物周转量同比增量高于水运货物周转量同比增量

根据材料，回答下列问题。

在 2008 年 8 月 8 日至 24 日奥运会期间, 北京市的空气质量不仅天天达标, 而且有 10 天达到一级, 全面兑现了对奥运会空气质量的承诺。下图是 2008 年 1~8 月北京市大气质量检测情况, 图中一、二、三、四级是空气质量等级。一级空气质量最好, 一级和二级都是质量达标天气。2008 年北京市的空气质量控制目标是全年达标天数累计达 256 天。



103. 1~8 月空气合格天数超过 20 天的月份有多少个?
 A. 4
 B. 5
 C. 6
 D. 7
104. 1~8 月间, 月平均空气质量合格天数约为多少天?
 A. 22
 B. 24
 C. 26
 D. 28
105. 若将空气质量达标任务平均分配到各月, 截至 8 月末, 全年 256 天空气质量达标的计划完成情况的 ()。
 A. 完成进度较慢
 B. 完成进度正常
 C. 完成进度提前
 D. 无法判断
106. 第二季度与第一季度相比, 空气达标天数的比重 ()。
 A. 上升了 3.3%
 B. 下降了 3.3%
 C. 上升了 12%
 D. 下降了 12%
107. 下列关于 2008 年 1~8 月间北京空气质量的描述, 不正确的是 ()。
 A. 3~5 月的空气质量较差
 B. 各月份空气质量相差不大
 C. 8 月是空气质量最好的一个月

D.有一个月的空气质量达标天数少于 15 天

根据材料，回答下列问题。

2006 年全国农村外出从业劳动力流向及从业情况统计表

(单位：%)

	全国	东部地区	中部地区	西部地区	东北地区
外出从业劳动力从业地区构成					
乡外县内	19.2	29.9	13.5	15.2	26.9
县外市内	13.8	18.4	9.9	12.4	31.5
市外省内	17.7	33.1	9.0	12.8	24.2
省外	49.3	18.6	67.6	59.6	17.4
外出从业劳动力产业构成					
第一产业	2.8	2.5	2.2	3.6	4.2
第二产业	56.7	55.8	57.1	58.4	44.3
第三产业	40.5	41.7	40.7	38.0	?

2006 年，全国农村外出从业劳动力中，男性劳动力 8434 万人，占 64%。从年龄构成上看，20 岁以下占 16.1%，21~30 岁占 36.5%；31~40 岁占 29.5%；41~50 岁占 12.8%；51 岁以上占 5.1%。从文化程度看，文盲占 1.2%；小学文化程度占 18.7%；初中文化程度占 70.1%；高中文化程度占 8.7%；大专及以上文化程度占 1.3%。

108. 全国农村外出从业的女性劳动力约有多少万人？

- A.4744
- B.5397
- C.9901
- D.13178

109. 表中“？”处的数值应为（ ）。

- A.41.6
- B.42.5
- C.51.5
- D.52.4

110. 假设不同性别劳动力会在三大产业间均匀分布，则全国男性农村外出从业劳动力从事第二产业的约有多少万人？

- A.3416
- B.3736
- C.4342
- D.4782

111. 关于农村外出从业劳动力的描述，无法从上述资料中推出的是（ ）。

- A.外出劳动力大多从事第二产业
- B.各地区的劳动力流向主要取决于本地的生活习惯
- C.东部和东北地区的劳动力大部分会留在省内
- D.不同地区劳动力对从业地区选择的倾向性差异很大

112. 关于农村外出从业劳动力的描述，能够从上述资料中推出的是（ ）。
- A. 超过 7500 万男性劳动力为高中以下文化程度
 - B. 东北地区劳动力对从业地的选择差异最小
 - C. 中西部地区劳动力大部分流向东部和东北地区
 - D. 大专及以上学历文化程度仅占 1.3%，说明高学历的劳动力多数都在家从业

第三部分 综合知识

一、单项选择题（本部分 道题，共 分）

113. 在生产可能性曲线以内的任何一点都表示（ ）。
- A. 资源没有得到充分利用
 - B. 资源得到了充分利用
 - C. 可以利用的资源稀缺
 - D. 现有条件下无法实现的生产组合
114. 生产 VCD 机的技术水平提高，将导致 VCD 机的（ ）。
- A. 供给减少
 - B. 供给增加
 - C. 需求增加
 - D. 需求减少
115. 两种互补品中的一种商品的价格下降，将导致另一种商品的（ ）上升。
- A. 需求量
 - B. 需求
 - C. 价格
 - D. 均衡价格
116. 某企业有房屋、设备等固定资产 1000 万元，折旧率 6%；银行长期贷款 100 万元，年利率 5%；生产工人工资总额 120 万元；管理人员工资 10 万元；原料、材料、动力费用 1500 万元。则其总固定成本为（ ）。
- A. 60
 - B. 75
 - C. 1000
 - D. 1100
117. 随着产出的增加，当企业的平均变动成本下降时，企业的的边际成本必定（ ）。
- A. 上升
 - B. 下降
 - C. 不变
 - D. 以上都有可能

118. 外部影响是指, 某一经济主体的经济行为对社会上其他人的福利造成了影响, 但却并没有为此而承担后果。外部影响的分类中, 不包括 ()。

- A. 垄断
- B. 生产的外部经济
- C. 生产的外部不经济
- D. 消费的外部经济

119. 假设人们预期通货膨胀率为 3%, 而实际上物价上升了 5%, 这种未被预期到的通货膨胀会使以下主体中可能受益的是 ()。

- A. 在企业上班靠挣工资养家糊口的工人
- B. 签订了长期房屋出租协议的房主
- C. 各级政府及政府部门
- D. 将资金大量投资于政府证券的某大学基金会

120. 根据菲利普斯曲线, 降低通货膨胀率的方法是 ()。

- A. 减少货币供给量
- B. 降低失业率
- C. 提高失业率
- D. 增加工资

121. 某公司生产某种商品, 去年生产的商品大受欢迎, 因而招纳大量人力资源扩大生产, 但今年继续投入人力后发现虽然生产产量依旧在上升, 但增长速度大不如前, 这是由于 ()。

- A. 替代效应
- B. 收入效应
- C. 边际报酬递减规律
- D. 边际替代递减规律

122. 货币市场利率的变化影响证券价格的变化, 如果市场利率上升超过未到期公司债券利率, 则 ()。

- A. 债券价格下跌, 股票价格上涨
- B. 债券价格上涨, 股票价格下跌
- C. 债券价格下跌, 股票价格下跌
- D. 债券价格上涨, 股票价格上涨

123. 封闭式基金交易价格由 () 决定。

- A. 基金总资产
- B. 基金净资产
- C. 供求关系
- D. 基金单位净资产值

124. 以下关于准货币描述准确的是 ()。

- A. 准货币包括活期存款和储蓄存款
- B. 准货币的流动性相对较弱
- C. 当 M1/M2 的值趋于减少, 则表明准货币在减少

- D.当 M1/M2 的值趋于变大, 则表明货币供给的流动性减弱
125. 美元等同于黄金, 实行可调整的固定汇率制度, 是 () 的特征。
- A.布雷顿森林体系
B.国际金本位制
C.牙买加体系
D.国际金块—金汇兑本位制
126. 对我国期货结算机构进行监管的金融监管机构是 () 。
- A.中国人民银行
B.中国证监会
C.中国保监会
D.中国银监会
127. 从经济意义上看, 信用的条件是 () 。
- A.合约
B.还本付息
C.诚实守信
D.期权
128. 商业银行的长期资金融业务主要是指 () 。
- A.发行金融债券
B.向中央银行借款
C.从国际金融市场借款
D.同业拆借
129. 下列关于国际收支平衡表的说法错误的是 () 。
- A.包括经常项目和资本项目
B.资本项目, 是国际收支中最基本、最主要的项目
C.净误差与遗漏是一个人为的平衡项目
D.金融项目记录的是一国对外资产和负债的所有权变动的所有交易
130. 我国金融机构体系的主体是 () 。
- A.中央银行
B.商业银行
C.投资银行
D.政策性银行
131. 以下关于我国金融资产管理公司, 说法不正确的是 () 。
- A.设立时以最大限度保全资产、减少损失为主要经营目标
B.我国四家金融资产管理公司组织形式上的发展方向是实行股份制改造
C.我国四家金融资产管理公司业务上的发展方向是实行完全的政策性经营
D.1999 年我国成立的四家金融资产管理公司分别是信达资产管理公司、长城资产管理公司、东方资产管理公司和华融资产管理公司
132. 下列不属于开放式基金的特点的是 () 。

- A.无固定规模
 - B.无固定存续期限
 - C.投资者可随时赎回
 - D.全部资金用于长期投资
133. 房地产企业向居民以分期付款方式销售住房，这属于（ ）。
- A.银行信用
 - B.商业信用
 - C.消费信用
 - D.国家信用
134. 商业银行的被动负债是（ ）。
- A.发行债券
 - B.吸收存款
 - C.同业拆借
 - D.向中央银行借款
135. SHIBOR 是指（ ）。
- A.新加坡同业拆放利率
 - B.上海银行间同业拆放利率
 - C.纽约同业拆放利率
 - D.香港同业拆放利率
136. 商业银行的利息税=利息×20%，其年利息率为 2.25%，某人存款于商业银行一年后全部取出，向银行支付利息税 36 元，某储户取出一年到期的本金及利息，则银行付给储户的现金为（ ）元。
- A.8344
 - B.8144
 - C.8000
 - D.8036
137. 流动性最大的金融资产是（ ）。
- A.政府债券
 - B.企业债券
 - C.货币
 - D.企业股票
138. 我国人民币的主币是（ ）。
- A.元
 - B.角
 - C.分
 - D.厘
139. 承担支持进出口贸易融资任务的政策性银行是（ ）。
- A.国家开发银行

- B.中国农业发展银行
- C.中国进出口银行
- D.中国银行

140. 在套利操作中，套利者通过即期外汇交易买入高利率货币，同时做一笔远期外汇交易，卖出与短期投资期限相吻合的该货币，这种用来防范汇率风险的方法被称为（ ）。

- A.掉期交易
- B.货币互换
- C.货币期权交易
- D.福费廷

141. 中央银行对市场进行政策调节时，效果最为强烈的金融工具是（ ）。

- A.法定存款准备金率
- B.再贴现率
- C.银行再贷款率
- D.存款利息率

142. 在下列指标中，能够反映上市公司股东财富最大化目标实现程度的最佳指标是（ ）。

- A.总资产报酬率
- B.净资产收益率
- C.每股市价
- D.每股收益

143. 某公司从本年度起每年年末存入银行一笔固定金额的款项，若按复利用最简便算法计算第 n 年末可以从银行取出的本利和，则应选用的时间价值系数是（ ）。

- A.复利终值系数
- B.复利现值系数
- C.普通年金终值系数
- D.普通年金现值系数

144. 在其它因素不变的情况下，下列各项中会使现金比率上升的是（ ）。

- A.货币资金增加
- B.交易性金融资产减少
- C.赊销商品，导致应收账款增加
- D.赊购商品，导致应付账款增加

145. 2017 年达沃斯国际会议中心世界经济论坛年会，习近平发表题为（ ）的主旨演讲，强调要坚定不移推进经济全球化，引导好经济全球化走向。

- A.共担时代责任 共促全球发展
- B.应势而为、勇于担当”
- C.团结协作、开放包容、建设安全稳定、发展繁荣的共同家园
- D.直面全球化与自由贸易的未来

146. 2017 年 6 月 9 日，上海合作组织成员国元首理事会第十七次会议在哈萨克斯坦首都阿斯塔纳举行。习近平在会上发表（ ）重要讲话，再次重申以“互信、互利、平等、协商、尊

重多样文明、谋求联合发展”为基本内容的“上海精神”。

- A. 共担时代责任 共促全球发展
- B. 应势而为、勇于担当
- C. 团结协作、开放包容、建设安全稳定、发展繁荣的共同家园
- D. 直面全球化与自由贸易的未来

147. 博鳌亚洲论坛秘书长周文重 1 月 9 日在北京宣布, 博鳌亚洲论坛 2017 年年会将于 3 月 23 日至 26 日在海南博鳌召开, 主题为 ()。

- A. 正面全球化与自由贸易的未来
- B. 共同迎接全球化的未来
- C. 携手共创全球化与自由贸易的新未来
- D. 直面全球化与自由贸易的未来

148. 2017 年政府工作报告中提到推动中国—东盟自贸区升级议定书全面生效实施, 早日结束区域全面经济伙伴关系协定谈判, 推进 () 建设。继续与有关国家和地区商谈投资贸易协定。

- A. 亚投行
- B. 亚太自贸区
- C. 亚太经济合作组织
- D. 亚太商会

149. 2017 年第一届一带一路高峰论坛会议在北京召开, 这次会议提出了和平合作、开放包容、互学互鉴、互利共赢的 () 精神。

- A. 丝绸
- B. 丝滑
- C. 带路
- D. 丝路

150. 国家主席习近平主持金砖五国领导人会晤。南非总统祖马、巴西总统特梅尔、俄罗斯总统普京、印度总理莫迪出席。五国领导人围绕 () 的主题, 就当前国际形势、全球经济治理、金砖合作、国际和地区热点问题等深入交换看法。

- A. 共担时代责任 共促全球发展
- B. 应势而为、勇于担当
- C. 开放包容、合作共赢
- D. 深化金砖伙伴关系, 开辟更加光明未来

151. 中国最新研制的时速 400 公里的高铁是 ()。

- A. 复兴号
- B. 希望之星
- C. 和谐 2 号
- D. 和谐 5 号

152. 第 41 届联合国教科文组织世界遗产委员会会议(世界遗产大会)上获准列入世界文化遗产名录。成为中国第 52 处世界遗产的是 ()。目前中国总数排名世界第二。

- A.可可西里藏羚羊保护区
- B.扎龙湿地自然保护区
- C.福建鼓浪屿
- D.阴山岩画

153. 2017年3月5日，习近平参加全国人大上海代表团审议时指出，适应和引领经济发展新常态，推进供给侧结构性改革，根本要靠（ ）。

- A.协调
- B.创新
- C.开放
- D.共享

154. 台湾新选举的国民党主席是（ ）。

- A.张召忠
- B.洪秀柱
- C.梁振英
- D.吴敦义

155. 2017年诺贝尔物理学奖的主要贡献是在（ ）方面。

- A.黑洞辐射
- B.超新星爆炸
- C.引力波
- D.宇宙黑暗森林理论

156. 2017年诺贝尔文学奖获得者是（ ）。

- A.石黑一雄
- B.胖虎
- C.大雄
- D.莫言

157. 2017年诺贝尔和平奖获得者是（ ）。

- A.奥巴马
- B.特朗普
- C.国际废除核武器运动组织
- D.金正恩

158. 2017年度诺贝尔经济学奖9日揭晓，美国经济学家（ ）凭借在行为经济学领域的卓越贡献而摘取这一奖项。他的理论是“通过探索有限理性、社会偏好以及缺乏自制的后果，他展示了这些人性特征如何系统性地影响个体决策以及市场结果。”

- A.理查德·塞勒
- B.雅克·杜博歇
- C.约阿希姆·弗兰克
- D.理查德·亨德森

159. 国务院常务会议决定，从7月1日起，将增值税税率由四档减至（ ）、（ ）和

6%三档，取消（ ）这一档税率；将农产品、天然气等增值税税率从13%降至11%。同时，对农产品深加工企业购入农产品维持原扣除力度不变，避免因进项抵扣减少而增加税负。

- A. 7%、8%、12%
- B. 17%、11%、13%
- C. 15%、12%、3%
- D. 16%、17%、12%

华图教育

答案与解析

第一部分 英语

1. 【答案】D。随着哥哥年纪渐长也更叛逆，他与母亲的关系变得更糟。
2. 【答案】B。为了保持健康，我们必须生活有规律。
3. 【答案】D。那位牛仔戴着怪模怪样的帽子，看起来很可笑。
4. 【答案】D。老师对我的历史报告并不满意。她要求我重写。
5. 【答案】D。be sensitive to 对……敏感。White 先生总是戴着太阳眼镜，因为他的眼睛对光敏感。
6. 【答案】D。句意：那男孩对所见的一切都感到好奇。
7. 【答案】B。非谓语动词考查题。fall 与其逻辑主语 temperature 为主动关系，故用现在分词形式作宾补。句意：由于温度下降我们无法进行试验。
8. 【答案】D。状语为 Written 要和它的逻辑主语构成动宾关系，只有 D 选项符合条件。
9. 【答案】C。考查：command 后跟从句，用虚拟语气 (should)+do 形式，句意：不仅迈克的母亲而且父亲要求他呆在家里。所以选 C。
10. 【答案】D。考查的是强调句型。It is+被强调的部分+that，题中强调的是 not only what you do, but also how you do it，填上 it。句意：就是不仅你做什么，而且你怎样做会有所不同。
11. 【答案】A。考查省略。where necessary = "where" it is necessary，故选 A。
12. 【答案】A。这题考查副词：第一空填 well 修饰 worth，意为：“很值得”第二空填 fast，修饰 be asleep，意为：“很快睡着了”。
13. 【答案】D。“so+adj. / adv.”位于句首时，其后用部分倒装；
14. 【答案】B。否定词位于句首，部分倒装。
15. 【答案】D。你搬到你的新家了吗？还没有，那里正在被装修。Flat 和 decorate 之间的关系是被动，句子强调进行时，所以选择 D。
16. 【答案】D。语境中的时间信息：by next summer 到明年夏天，提示该题应为将来时，故排除 B、C。根据句意：怀特夫人自 1985 年成为教师，到明年夏天就将教书 20 年了。因此，只有将来完成进行时才能表示这个将来某时前一直进行的动作。故选择 D。
17. 【答案】D。On her next birthday 表示时间是将来，结婚 20 年是一个从过去开始持续到未来的状态，使用将来完成时。
18. 【答案】C。本题中的固定搭配 more...than...与其说...还不如说...；句义：—难道你不认为 Carl 足够勇敢去进行翼装飞行？—在我看来，与其说他勇敢，还不如说他疯了。他本不应该冒着失去生命的危险去这样做的。故 C 正确。
19. 【答案】A。受全球经济危机的影响，最近股票价格急剧下跌。A. 锋利地，敏锐地，急剧地；B. 绝对地；C 狭窄地，勉强地；D. 全体地，无一例外地。根据题干中“global financial crisis”可知，此处指股票下跌。
20. 【答案】C。it is/has been+一段时间+since+一般过去时。

21. 【答案】B。表示从过去发生持续到现在，现在仍在进行而且未来还可能延续下去的动作，用现在完成进行时。
22. 【答案】C。固定搭配 fail to do sth 未能做某事；不定式的完成式 to have done 表示在谓语动作之前就完成的动作。句意：因为紧张也很焦虑，Jill 没有在面试中给人留下好的印象。根据句义可知本句没有比赛已经完成的动作，就使用不定式的一般式。故 C 正确。
23. 【答案】A。细节题：根据 When the explorers landed on the moon, they discovered that the moon was full of underground cities. They expressed their surprise to the “moon people” they met. In turn, the “moon people” expressed their surprise. “Why,” they asked, “are you traveling to outer space when you don’t even use your inner space?” 可知 H. G. Wells 故事中的探险家吃惊的发现月球上的人住在许多地下城市，故选 A。
24. 【答案】D。理解题：根据 However, the question that the “moon people” asked is still an interesting one. A growing number of scientists are seriously thinking about it. 以及 they asked, “are you traveling to outer space when you don’t even use your inner space?” 可知“it”指的是使用地球的内部空间，故选 D。
25. 【答案】A。细节题：根据 Underground systems are already in place. Many cities have underground car parks. In some cities, such as Tokyo, Seoul and Montreal, there are large underground shopping areas. The “Chunnel”, a tunnel (隧道) connecting England and France, is now complete. 可知我们现在已有的地下系统有：隧道，停车场，购物区，故选 A。
26. 【答案】C。主旨题：根据 Supporters of underground development say that building down rather than building up is a good way to use the earth’s space. The surface, they say, can be used for farms, parks, gardens, and wilderness. H. G. Wells’ “moon people” would agree. Would you? 可知这篇文章最好的题目是向下建造，而不是向上，故选 C。
27. 【答案】D。推理判断题。文章开头提出在德国的一家学校孩子们学习如何获得快乐的课程，然后在下文中对此进行了详细的介绍，由此判断文章的目的是要介绍这门课程，故答案选 D。
28. 【答案】C。推理判断题。文章第二段介绍这种获得快乐的方法，然后在第三段对此进行细致的讲解，根据 This is a requirement for social well-being. 可以判断游戏的目的是让孩子获得一些社交技能，故答案选 C。
29. 【答案】A。细节理解题。根据文章第一段和第五段内容 "The course isn't there to make you happy," "but rather to help you discover the ways to become happy." 可知这种课程是为了帮助学生发现快乐的方法，故答案选 A。
30. 【答案】C。推理判断题。根据文章倒数第二段可知不嘲笑人，给自己说积极鼓励的话，也是课程的一方面，由此判断增加学生自信也会提高他们快乐的感觉，故答案选 C。
31. 【答案】A。推断题：根据第一自然段内容可以看出，通过我的例子，引出了教育这个话题，故选 A。
32. 【答案】D。细节理解题：根据 Where our kids go to school might matter less than most American parents think. 可知大多数美国父母认为孩子们的成功很多程度上取决于学校，故选 C。

33. 【答案】B。细节题: 根据可知 Greg Duncan 认为孩子们的兄弟姐妹可能会影响他们的学业成绩, 故选 B。
34. 【答案】A。主旨题: 通过阅读全文以及主题句 So at last, we decided to leave things as it were. More time with our kid is the best we can provide. 可知这篇文章主要讲了父母的时间影响孩子的未来。故选 A。
35. 【答案】A。主旨大意题。从第一段的句子: Haven't you noticed that you have become smarter since you started to learn a language? 可知文章讲述的正是学习另外一门语言可以让人更加聪明, 可帮助提升脑力。选 A。
36. 【答案】B。推理题。从第二段的句子: learning a second language can lead to an increase in your brain power, Researchers found that learning other languages changes grey matter. This is the area of the brain which processes information. 可知作者提到锻炼, 说明使读者相信语言学习可以增强肌肉, 而学习外语可以提高智力, 故 B 正确。
37. 【答案】A。猜测词义题。根据划线词的下文可知这里的 bilingual 是指 who had learnt a second language before the age of five 可知他是能讲两种语言的人, 故 A 正确。
38. 【答案】C。推理题。根据文章第五段 But the longer a person waited before mastering a new language, the smaller the difference. 可知越早学习一门外语, 灰白质的密度越高, C 正确。
39. 【答案】D。细节题: 从文章最后一段的句子: The results showed, that the younger they started to learn, the better. "Studying a language means you get an entrance to another world," explained the scientists. 可知作者想要告诉我们早期学习一门外语对其他科目的学习也是有好处的。选 D。
40. 【答案】C。推断题: 根据 You should be learning to stand on your own two feet. But take a good look at the present rebellion. It seems that teenagers are all taking the same way of showing that they disagree with their parents. Instead of striking out bravely on their own, most of them are trying to seize at one another's hands for safety. 可知作者写这篇文章的目的是告诉青少年怎样自己决定事情, 故选 C。
41. 【答案】A。理解题: 根据 It seems that teenagers are all taking the same way of showing that they disagree with their parents. Instead of striking out bravely on their own, most of them are trying to seize at one another's hands for safety. 以及 It has become harder and harder for a teenager to stand up against the popularity wave and to go his or her own way. 可知作者看来, 许多青少年认为他们足够勇敢做出自己的决定, 但事实上, 他们中的大多数对于自己不确定, 故选 A。
42. 【答案】B。细节题: 根据 Well, go to it. Find yourself. Be yourself. Popularity will come---with the people who respect you for who you are. That's the only kind of popularity that really counts. 可知在青少年时代, 一个人应该学会发现自我, 故选 B。

第二部分 行政能力测试

43. 【答案】A。文段首句叙述了一个背景, 即: 高新技术革命带来的影响, 接下来在第二句

中用了一个指示代词“这个过程”进行总结并引出文段的重点“必然离不开人力资源会计”。最后一句举出我国的例子进行论证，因此正确选项是 A。

44. 【答案】B。本题是一道主旨概括题，原文首句叙述了背景，接着通过“倘使”引导的反面论证揭示出文段重点，对假设部分做正面判定即可得出答案，文中两个“倘使”所强调的“公民发自内心的需要”与“公民意识”都是意识层面的内容，B 项是对该内容的同义替换。

45. 【答案】A。本题是一道细节理解题。文段中涉及到埋藏深度的语句只有第一句话，“石油要达到一定的埋藏深度才能大量生成，而天然气则从浅到深都可，浅的也许只有几百米，深的则有上万米。”可知，文段中只是说石油要达到一定的深度才能形成，而天然气深浅都可以，但是并没有涉及两者的比较，故本题选择 A 项。B 选项可以通过“石油以水中浮游的动植物有机质为主”推出；C 选项可以通过“石油以水中浮游的动植物有机质为主，而天然气还可以有高等植物等有机质”；D 选项可以通过“石油和天然气就是由远古时代死去的各种生物体转化而成”推出。

46. 【答案】A。“微网作为具有向参与者和传统电网提供双向效益的特点”可以得出大电网可以从微电网获益，而两者之间的纽带就是并网运行，故选 A。根据“可以与大电网连接并网运行，也可以断开连接以“孤岛模式”自行运行”可以排除 BD，C 在原文中没有提到。

47. 【答案】A。文段中提到“大脑的全面发展要求我们既能……又能……，既要……又要。今天的问题在于，我们正在丧失在两种截然不同的思想状态之间保持平衡的能力”，这里的“今天”是指“网络普及的今天”，其中隐含着“网络正阻碍了大脑的全面发展”，故 A 选项符合文意。因此，本题答案为 A 选项

48. 【答案】C。本题可用主体排除法，文段的主体是“注释”，而非“学术论著”，排除 AD。文段两句话每句都提到了“学术规范”，所以它就是关键词。而且尾句的转折“但有必要认识的是，引证与注释的规范要求不是独立的，也不仅仅只是一套技术，而是与学术论证的规范要求是一致的”也是强调这点，故选 C。

49. 【答案】B。文段一开始就提出公共舆论是如何构成的——在于其背后有内在认知逻辑。之后的两句话都再次强调人们对政府的公共舆论构架是基于一定的认知逻辑基础。最后一句列出了两种具体的公共舆论形成的方式和结果。本文段属于总分结构，同义替换后可确定答案为 B 项。A 项干扰性较强，本文并未强调要从如何解读公共舆论，只是在客观描述公共舆论是如何形成的。

50. 【答案】D。根据题干让我们选择一个与文意一致的选项。A 项中喜欢虐待、生性残忍的人没有同理心属于无中生有，排除。文段第一句指出“喜欢虐待、生性残忍的人”和“普通人”对于词汇表现不同，B 项偷换成了“暴力犯罪者”属于偷换概念的选项排除。C 项也是属于无中生有，文段没有提到选项中的问题，排除。D 项是对于尾句的同意替换，故正确答案为 D 项。

51. 【答案】C。本题是一道意图判断题。文段是典型的分总结构，前半段叙述瓷器的发展过程，最后通过“可见”引导结论，得出文段的观点“大雅寓于大俗之中，无俗也就无雅，雅俗是一体的”可知在瓷器的发展过程中雅俗是并存的、统一的关系，进而得出 C 项。故本题选择 C 项。

52. 【答案】C。本题是一道意图判断题。文段首先简要介绍了文学的作用，接着通过转折关

联词引出文段的重点，即文学作品的作用受读者教育、经历、环境等因素的影响，C项是对该内容的同意替换，故本题选择C项。

53. 【答案】A。小数数列。考查机械分组。整数部分为2, 4, 8, 16, 32, (64)，为等比数列。小数部分，做差一次得5, 16, 27, 48, (59)为公差为11的等差数列，故空缺项小数部分为138。所以，空缺项为64.138。

54. 【答案】B。根式数列。原数列变形，根式下数字为9、11、16、24、35，做差一次得，2、5、8、11、(14)为等差数列，因此空缺项为7。

55. 【答案】B。做除法，得到的商是2, 3, 4, 5，后面应该是6，所以答案是180，选择B。

56. 【答案】B。反约分 $\frac{1}{2}=\frac{3}{6}$, $\frac{3}{4}=\frac{9}{12}$ ，分子是1, 3, 5, 7, 9, ()，后面是11，分母是4, 6, 8, 10, 12, ()，后面是14，所以答案选择 $\frac{11}{14}$ 。

57. 【答案】D。原数列两两做差得1, 2, 3, 5, 8, 13，构成一个新的递推和数列，前两项之和等于第三项，故空缺项为 $35+13+8=56$ 。故D选项正确。

58. 【答案】A。设乙超出10公斤部分的重量为x，超出18元，则乙的总重量为 $10+x$ ，甲的总重量为 $1.5(10+x)=15+1.5x$ ，超出部分为 $5+1.5x$ ，超出49.5元，进而可以得到： $x:(5+1.5x)=18:49.5$ ，得到 $x=4$ ，进而得到超出部分的单价为 $18\div4=4.5$ ，即低了 $6-4.5=1.5$ 。答案选择A。

59. 【答案】A。解法一：方程法。设坐12人的桌子有x张，坐10人的桌子有y张，则 $x+y=28$ ， $12x+10y=332$ ，解得 $x=26$ ， $y=2$ 。所以该餐厅有2张10人桌。

解法二：鸡兔同笼法。假设28张桌子都是10人桌，则应有280人，现有332人，差了52人，说明有 $52\div2=26$ 张12人桌，所以有2张10人桌。

60. 【答案】C。在环形跑道中，100个标记点将跑道分成100段；走了一半，意味着走了50段，50段最多走过51个点。

61. 【答案】A。赋值A工程队效率为2，B工程队效率为1，总工程量为 $(2+1)\times6=18$ 。效率提高一倍之后，A工程队效率为4，B工程队效率为2；假设A休息了x天，则 $18=4\times(6-x)+2\times(6-1)$ ，解得 $x=4$ 天。

62. 【答案】C。老张家5口人，基用水量180吨，超出30吨，共计需要水费： $180\times5+(210-180)\times7=1110$ 元，人均222元；老李家6口人，基础用水量210吨，共计需要水费 $210\times5=1050$ 元，人均175元；人均水费相差 $222-175=47$ 元。

63. 【答案】A。共有110人，两者比例为10:1，因此技术人员为100，非技术人员为10人；招聘人数仍然为10:1，且多153人，因此技术人员现有170人，非技术人员有17人；多招收了 $17-10=7$ 人。

64. 【答案】B。方法一：若第一次选取中间的数字，第二次可以选择四个角落上的数字，共有 $1\times4=4$ 种；若第一次选择四个角落(例如左上角)位置数字，第二次可以选择对应位置(右下方)上的4个数字，共有 $4\times4=16$ 种；若第一次选择四条边中间位置的数，第二次有4种选择，共计 $4\times4=16$ 种；共计 $4+16+16=36$ 种，但是以上的情况中，每种数值都统计了两次，因此共计 $36\div2=18$ 种。

方法二：任意从9个数字中选2个，共计，任意选择其中一个位置的数值，第二次选择时，必然有4个是同行同列，4个是非同行同列的，两者之间的比例为1:1，所以必然有18种是非同行同列的。

65. 【答案】A。多级数列。先作差，得到 1.4.9.25.64，即 12.22.32.52.82，底数组成的数列 1.2.3.5.8 是和递推数列，即第三项为前两项之和，于是可以求出 () = 169 + 104 = 273。故本题选 A。
66. 【答案】C。三级数列，做两次差后，为 2, 6, 18，是一个公比为 3 的等比数列。
67. 【答案】C。分数数列。分组。分子 -1, -3, -5 组成公差为 -2 的等差数列，分母 4, 8, 16 组成公比为 2 的等比数列，故括号中为 $(1/2)$ ，答案为 C 选项。
68. 【答案】B。基础数列。数列变化幅度较小且呈递增趋势，优先考虑作差。作差后得到新数列：5、7、11、13、(17)，为连续质数列，下一项为 17。则题干所求项得：38 + 17 = 55。故正确答案为 B。
69. 【答案】C。做差数列。原数列后一项减去前一项，分别为 2, 4, 6, 8, 10，因此，空缺项为 23 - 10 = 13。
70. 【答案】A。耗电量 = 功耗 × 时间，由题意可知周一工作状态时间为 7.5 小时，对应工作功耗为 370 瓦；周二待机时间为 15 小时，对应待机功耗为 37 瓦，则周一是周二的 $7.5 \text{ 小时} \times 370 \text{ 瓦} / 15 \times 37 = 5$ 倍。因此，本题选 A。
71. 【答案】B。“每隔 n 天”即为“每 n + 1 天”，所以甲每 3 天、乙每 4 天发布一次，则甲、乙的最小公共发布周期为 12 天，一个月里面只能有两个 12 天。考虑“最多”，只要在一个自然月的前六天中共同发布一次，就能保证共同发布日达到 3 天。因此，本题选 B。
72. 【答案】C。羽 = 2 乒①，足 = 3 篮②，4 乒 = 羽 + 足 + 篮③，其中①③联立容易化简，所求为羽毛球，将①代入③，可得 2 羽 = 羽 + 足 + 篮，即羽 = 足 + 篮。因此，本题选 C。
73. 【答案】B。本题所给图形呈现的规律是存在相同元素。第一行中三个图形里都含有圆形这一相同的元素，第二行中三个图形里都含有三角形。观察第三行中的图形，前两个图形里都含有平行四边形，选项中只有 B 项含有平行四边形，因此可以确定正确答案为 B。
74. 【答案】B。本题规律是从不同角度观察图形所能得到的各种形状。第一组图形的第二、三个图形分别是第一个图形的俯视图和平视图。第二组图形的问号处应是第一个图形的平视图，B 选项正确。
75. 【答案】C。给定的图形是一个棱体。上底面是带有横线的一面，下底面是白面。动手折叠一下可知 C 选项正确。
76. 【答案】A。由给定的外表面可以看出，白面和画横线的一面是正方体相对的两面，由此排除 B、D 项。与含对角斜线的两个面都相邻的只能是空白面，排除 C 项。
77. 【答案】D。差别比例税率定义的关键词是“一种税”和“不同的纳税人”。A 选项的企业所得税和营业税是两种税，错误。B 选项的汽油消费税是针对所有的纳税人，错误。C 选项的个人所得税是累进税。D 选项是针对不同纳税人的车辆购置税，符合定义。
78. 【答案】D。角色模糊定义的关键词是“个人”、“工作角色定位的不确定性”和“工作流程上的混乱和工作效率的低下”。A 选项所述的结果是关于“学生”而非“小陈”的，不正确。B 选项没有涉及小张的工作流程和工作效率，不正确。C 选项中张大夫是由于职务多、而非工作角色定位的不确定性造成的不良后果。D 选项符合定义。
79. 【答案】C。潜功能定义的关键词是“没有被预料”、“没有被认识”和“客观后果”。C 选项中张某“自己的生活变得捉襟见肘”是主观感受，而非客观后果，因此不符合潜功能的定义。

80. 【答案】B。宜家效应定义的关键词是“对劳动成果的感情”、“自己动手制作东西”。只有B选项体现了这两方面。
81. 【答案】C。生态入侵定义的关键词是“某种生物”、“生物种群不断扩大”、“危害”、“改变当地生态环境”。C选项符合这一定义。A选项是核素泄露带来的危害，B选项危害的是人类的健康而非生态环境，D选项的结果是“优良品种”而非“危害”。
82. 【答案】D。大脑可以储存记忆，硬盘可以储存资料。
83. 【答案】D。先进行设计，才能最后完成建筑；同样，必须先有计划，才能有最后的成果。
84. 【答案】C。题干给出的研究结果是珊瑚能通过选择耐热的藻类生物而存活下来，若C项“有些已白化的珊瑚礁中也发现了死去的耐热藻类生物”为真，则这些珊瑚无法与耐热藻类共生，从而削弱了结论。
85. 【答案】C。采用代入排除法。若A项正确，“乙的车是银色的”，则甲的话正确，而由丙的话可知，说实话的人的车是红色的，前后矛盾，予以排除；若B项正确，“丙的车是红色的”，则乙的话也正确，不符合事实；若C项正确，“丙的车是白色的，丁的车是蓝色的”，则乙和丙说的都是假话，故甲说真话，推出甲的车是红色，乙的车是银色，符合要求；继续验证，若D项正确，“丁的车是银色的”，则丙的话正确，因此丙的车应该是红色的，与结论矛盾。
86. 【答案】A。题干专家的观点是：与墓葬不同时期的文物是被雨水冲刷进入墓穴的。而A项则直接指出，古墓保存完好，没有漏水，即不可能有雨水进入墓穴，因此更不可能把陶片冲入墓穴，从而否定了专家的观点。
87. 【答案】D。题干给出的结论是：日常饮食可以提供人体所需的足够的维生素和矿物质，因此不需要再吃维生素和矿物质补充剂。A项削弱了这一结论，但D项指出，不吃维生素和矿物质补充剂的儿童健康状况不佳，因此削弱力度最大。故选D。
88. 【答案】B。广告提出结论：参加网络培训班能提高写作技巧且参加网络文学培训班毕业班咨询的学员100%都找到了工作，因此网络文学培训班效果好，要证明这一命题，必须回答三个问题：学员参加就业咨询的人是否是够多（否则，样本太少难以判断咨询是否有效）；就业咨询是否对学员找工作起到作用（否则，显不出就业咨询的价值）；咨询者找到的工作是否也是网络文学领域的（如果不是，则网络文学班的第一个作用就显不出来），故选B。
89. 【答案】B。雕刻是紫砂烧制成茶壶的过程中的一道工艺，不是主要的加工工作。符合此种关系的只有B项。
90. 【答案】C。骨骼对于人体起支柱作用，同样，梁柱对于房屋也起支柱作用。
91. 【答案】A。由题干，高储蓄率是获得资本的必要条件，而大量资本是发展中国家向发达国家前进的必要条件。因此，如果高储蓄率这一必要条件不存在，就无法推出其后的结论，A项正确。
92. 【答案】B。题干的推论是：绝大多数知名的动漫设计大师都是没有毕业就开始设计生涯，因此，学校的专业学习对动漫设计这一职业没有帮助。B项指出，动漫设计师们虽然可能没有毕业于专业学校，但都学习了动漫基础课程，因此专业学习对职业发展是有帮助的，从而反驳了推论。故选B。

93. 【答案】B。2015年1~3月国有企业总收入为100345.5亿元，增长率为-6%，求2014年同期，即为求基期量。 $\frac{103155.5}{1-6\%} \approx 103155 + 103155 \times 6\% \approx 103155 + 6186 \approx 109341 \approx 11$ 万

94. 【答案】D。现期国有企业营业总成本的增长率为-5.1%，三项的增长率分别为-2.9%，23%，7.3%都大于-5.1%，所以比重都上升，有三项。

95. 【答案】A。中央企业所有者权益额191354.4亿元，同比增长率为10.7%，国有企业所有者权益合计369109.1亿元，同比增长12.2%。求比重变化大小，部分增长率小于整体增长率，

比重下降，变化值等于现期比重-基期比重= $\frac{191354}{369109.1} - \frac{\frac{191354}{1.107}}{\frac{369109.1}{1.122}} \approx 0.7\%$

96. 【答案】C。中央企业的资产负债总额363304亿元，资产总额554658.3亿元，

负债率= $\frac{\text{负债总额}}{\text{资产总额}} = \frac{363364}{554658}$ ，首位上6，选C。

97. 【答案】C。A项2015年1~3月地方国有企业营业成本高于同期，选项错误。B项2014年1~3月国有企业应交税金= $\frac{9383}{1+0.13\%} \approx 9383$ 亿元。第106题中算的同期营业总收入为11万亿元，所以不到11万亿元的一成1.1万，错误。C选项已知现期量1054875.4亿元，增长率为12%，求增长量= $1054875 \times \frac{12\%}{1+12\%}$ ，增长率越大，增长量大，所以

$1054875 \times \frac{12\%}{1+12\%} < 1054875 \times \frac{12.5\%}{1+12.5\%} = \frac{1054875}{9} < 12$ 万，C正确。D选项中属于部分的地方负债总额增长率为13.7%小于属于整体的地方国有企业资产总额增长率13.8%，比重下降，应该低于，D选项错误。

98. 【答案】B。我国货物运输总量2014年1~10月等于2014年1~11月值减去2014年11月的值。 $393.2 - 39.3 = 350$ ，选B。

99. 【答案】A。求2013年1~10月基期值等于2013年1~11月减去2013年11月的值。根据表格中的数据公路类303亿吨远大于铁路的35亿吨和水运的54亿吨，民航的单位为万吨，一定最小。所以此题最大的一定为公路，选A。

100. 【答案】B。占比为2013年11月水运周转量的值÷同期我国货物周转量= $\frac{8204}{16409} \times \frac{1.086}{1.125} \approx 50\% \times 0.9$ 在40%到50%之间，选B。

101. 【答案】D。判断比重变化，只要判断部分与整体增长率即可。部分增长率>整体增长率，比重超过上年。2014年11月货物运输总量的整体增长率为7.1%，增长率大于7.1%的为公路的8.6%和水运的7.6%，所以D选项正确。

102. 【答案】C。A估算月均货物运输量为 $\frac{393.2}{11}$ 约为36亿吨，错误

B估算每吨货物平均运输距离为 $\frac{164873}{393.2} < 500$ 公里，所以错误

C选项中铁路货运量占总体比重 $\frac{35}{393}$ 与其周转量占总体比重 $\frac{25200}{164873} \approx \frac{25}{165}$ 比较，前一个分数明显不到10%，后一个分数明显大于10%，正确。

D 选项增长量比较，看现期量与增长率，公路的现期量与增长率都小于水运的，所以公路增量应该低于，错误。

103. 【答案】B。空气合格天数分别为：1 月（22 天），2 月（26 天），3 月（19 天），4 月（19 天），5 月（13 天），6 月（24 天），7 月（26 天），8 月（30 天），其中，3、4、5 月未超过 20 天，故正确答案为 B。

104. 【答案】A。 $(22+26+19+19+13+24+26+30) \div 8 = 179 \div 8 \approx 22$ （天）。

105. 【答案】C。按计划 8 月末达标天数应有 $256 \times \frac{8}{12} \approx 171$ 天 < 179 天，故完成进度提前。

106. 【答案】D。第一季度达标天数为 67 天，第二季度达标天数为 56 天，两个季度天数均为 91 天，故 $(67-56) \div 91 \approx 12\%$ ，下降幅度为 12%。

107. 【答案】B。B 项明显错误，各月份空气质量相差很大，A、C、D 项正确。

108. 【答案】A。由“2006 年，全国农村外出从业劳动力中，男性劳动力 8434 万人，占 64%”知，全国农村外出从业劳动力为 $8434 \div 64\% \approx 13178$ 万人，女性劳动力占 $1 - 64\% = 36\%$ ， $13178 \times 36\% \approx 4744$ 万人，故本题正确答案为 A。

109. 【答案】C。外出从业劳动力产业构成：东北地区第一产业 4.2%，第二产业 44.3%，第三产业 $= 1 - 4.2\% - 44.3\% = 51.5\%$ ，故本题正确答案为 C。

110. 【答案】D。全国男性农村外出从业劳动力从事第二产业占 56.7%，又由“2006 年，全国农村外出从业劳动力中，男性劳动力 8434 万人”知，全国男性农村外出从业劳动力从事第二产业的有 $8434 \times 56.7\% \approx 4782$ 万人，故本题正确答案为 D。

111. 【答案】B。全国农村外出从业劳动力从事第二产业占 56.7%，A 项正确；东部和东北地区的劳动力在省外的只占 18.6% 和 17.4%，C 项正确；由 C 项知，D 项正确，B 项无法推出，故本题正确答案为 B。

112. 【答案】B。男性劳动力为高中以下文化程度无法推出，A 项错误；中西部地区劳动力并不一定大部分流向东部和东北地区，也可以是中西部地区之间流动，C 项错误；“大专及以上学历仅占 1.3%，说明高学历的劳动力多数都在家从业”，明显错误；故本题正确答案为 B。

第三部分 综合知识

113. 【答案】A。本题考查的是微观经济学的研究对象、目标和问题。在生产可能性曲线以内的任何一点都表示资源没有得到充分利用；在生产可能性曲线上的任何一点都表示资源得到了充分利用；在生产可能性曲线以外的任何一点都表示现有条件下无法实现的生产组合。

114. 【答案】B。本题考查的是供给理论。技术水平影响供给，技术水平的提高，会使厂商增加供给。

115. 【答案】B。互补品指必须搭配起来使用的两种商品。两种商品互为互补品，则一种商品价格下降，会引起另一种商品需求的上升。

116. 【答案】B。在给定的条件下，由于固定资产并非一次消耗，长期贷利息短期不变，管理人员相对稳定，企业每年的固定投入是折旧费、利息和管理人员工资，共计 75 万元。

117. 【答案】D。企业的平均成本下降只能说明边际成本低于平均变动成本，但边际成本可能上升、下降或不变。
118. 【答案】A。外部影响是指，某一经济主体的经济行为对社会上其他人的福利造成了影响，但却并没有为此而承担后果。外部影响的分类中，不包括垄断。包括：生产的外部经济、生产的外部不经济、消费的外部经济和消费的外部不经济。
119. 【答案】C。本题考查的是通货膨胀。这种未预期到的通货膨胀帮助了政府，因为未预期的通货膨胀有利于债务人，政府的债务负担减轻了。
120. 【答案】C。本题考查的是失业与通货膨胀。菲利普斯曲线是用来表示失业率与通货膨胀率之间交替关系的曲线。通货膨胀率高时，失业率低；通货膨胀率低时，失业率高。由于失业率和通货膨胀率之间存在着交替关系，因此可以用较高的通货膨胀率来换取较低的失业率，也可以运用较高的失业率来换取较低的通货膨胀率。
121. 【答案】C。在短期生产中，在其他条件不变的前提下，随着一种可变要素投入量的不断增加，它所带来的边际产量先增加后递减，这是边际报酬递减规律的定义。
122. 【答案】C。债券股票等有价值证券的价格与利率价格成反比，市场利率上升，未到期的公司债券利率相对降低，因此债券的价格下跌，同时由于市场利率上升，货币市场的投资比资本市场的投资旺盛，因此股票价格也下跌。答案选择 C。
123. 【答案】C。由于封闭式基金在证券交易所的交易采取竞价的方式，因此交易价格受到市场供求关系的影响而并不必然反映基金的净资产值，即相对其净资产值，封闭式基金的交易价格有溢价、折价现象。
124. 【答案】B 准货币= $M2-M1$ ，即银行的定期存款和储蓄存款。其流动性相对于 M1 比较弱，当 $M1/M2$ 的值变小，则意味着 M2 增加，因此准货币增加；当 $M1/M2$ 的值变大，则意味着 M2 变小，因此流动性增强
125. 【答案】A 布雷顿森林体系下人为规定金平价。即美元按照每盎司黄金 35 美元的官价与黄金挂钩，其他国家的货币与美元挂钩。此外，还人为规定实行可调整的固定汇率制度。
126. 【答案】B 中国证监会监管证券期货经营机构、证券投资基金管理公司、证券登记结算公司、期货结算机构、证券期货投资咨询机构、证券资信评级机构。
127. 【答案】B 从经济意义上看，信用的含义是以借贷为特征的经济行为，它以还本付息为条件，反映的是债权债务关系。
128. 【答案】A。BCD 均为短期借债，满足临时性资金需求。
129. 【答案】B。经常项目是国际收支中最基本、最主要的项目。
130. 【答案】B。商业银行是我国金融机构体系的主体，中央银行是我国金融机构体系的核心。
131. 【答案】C。C 选项中，我国四家金融资产管理公司业务上的发展方向是商业化经营，而不是完全的政策性经营。
132. 【答案】D。开放式基金是指基金管理公司在设立基金时，发行的基金单位总份数不固定，基金总额亦不封顶，可视经营策略和实际需要连续发行，投资者可随时购买和转卖给基金管理公司。考虑到投资者随时可能会赎回自己的基金份额，所以基金管理公司会保留一部分资金供投资者赎回。

133. 【答案】C。消费信用是工商企业、银行及其他金融机构向消费者个人提供的直接用于生活消费的信用形式。主要方式有：延期付款，分期付款，消费贷款。
134. 【答案】B。存款是商业银行的被动负债，借款是商业银行的主动负债。
135. 【答案】B。上海银行间同业拆放利率（Shanghai Interbank Offered Rate，简称 Shibor），以位于上海的全国银行间同业拆借中心为技术平台计算、发布并命名，是由信用等级较高的银行组成报价团自主报出的人民币同业拆出利率计算确定的算术平均利率，是单利、无担保、批发性利率。
136. 【答案】B。利息=36/20%=180，根据公式：利息=本金×利率，本金=180/2.25%=8000
 银行付给储户现金=本金+利息-利息税=8000+180-36=8144。
137. 【答案】C。金融资产包括一切提供到金融市场上的金融工具。流动性，指金融工具迅速变为货币而不致蒙受损失的能力。流动性与偿还期成反比，即偿还期越长，流动性越低，反之亦然；它与债务人信誉成正比，即债务人信誉越高，流动性越大，反之亦然。
138. 【答案】A。人民币主币是元，辅币是角分。
139. 【答案】C。A 选项中，国家开发银行承担国家重点建设项目融资的任务；B 选项中，中国农业发展银行承担农业政策性贷款的任务；C 选项中，中国进出口银行承担支持进出口贸易融资的任务。D 选项中，中国银行不是政策性银行。
140. 【答案】A。掉期外汇交易指外汇交易者在外汇市场买进（或卖出）某种外汇时，同时卖出（或买进）相等金额，但期限不同的同一种外汇的外汇交易活动。掉期外汇交易的特点是同时做买进和卖出，而且买进和卖出的币种相同、数量相等；一买一卖交易方向相反且交割日不同。
141. 【答案】A。法定存款准备金率很微小的调整，也会对商业银行的超额存款准备金及货币乘数造成很大的影响，因此是一剂“猛药”，不宜经常使用。
142. 【答案】C。股东财富最大化是指企业财务管理以实现股东财富最大为目标。在上市公司，股东财富是由其所拥有的股票数量和股票市场价格两方面决定的。在股票数量一定时，股票价格达到最高，股东财富也就达到最大。所以本题的正确选项应该是 C 选项。
143. 【答案】C。普通年金终值是指普通年金最后一次收付时的本利和，题目已知条件符合普通年金终值的定义，所以选项 C 是正确的。
144. 【答案】A。现金比率=（货币资金+交易性金融资产）/流动负债，货币资金增加，则现金比率上升，所以选项 A 是正确答案。
145. 【答案】A。
146. 【答案】C。
147. 【答案】D。
148. 【答案】B。
149. 【答案】D。
150. 【答案】D。
151. 【答案】A。
152. 【答案】C。
153. 【答案】B。

154. 【答案】D。
155. 【答案】C。
156. 【答案】A。
157. 【答案】C。
158. 【答案】A。
159. 【答案】B。国务院常务会议决定，从7月1日起，将增值税税率由四档减至17%、11%和6%三档，取消13%这一档税率；将农产品、天然气等增值税税率从13%降至11%。同时，对农产品深加工企业购入农产品维持原扣除力度不变，避免因进项抵扣减少而增加税负。

华图教育