

2018 中国银行秋招模拟试题

考试说明:

- 1、考试时间 分钟。考试内容为英语、行测和综合知识等。
- 2、题型为单选题、多选题。
- 3、请在题本规定位置填写姓名和准考证号。
- 4、考试结束考生不能将题本带出考场。

第一部分 英语

一、单项选择题 (本部分 道题, 共 分)

1. RDA Ltd. () applications for the position of System Coordinator. For a detailed position announcement, please visit our website.
A. incites
B. infringes
C. instills
D. invites
2. Alice Lillian Ellis, born on September 11, 1907 in Boston, was () of nine children.
A. the third oldest
B. the third old
C. the third older
D. the oldest third
3. Following the () of a new Chief Executive last spring, there is a sense of fresh direction and energy in our corporation.
A. appointed
B. appointee
C. appointing
D. appointment
4. The party () since the new year .
A. has been planned
B. had been planned
C. was planed
D. is planned

5. —Ye Shiwen got the championship in the women's 400 meter individual medley at London Olympics.
—She fully deserves the title. She () for it for years.
- A. is preparing
B. was preparing
C. has prepared
D. had been preparing
6. It looks () you are ill. You should go to see the doctor.
- A. as
B. as though
C. which
D. whether
7. —What happened to Bill?
—He () really fast when suddenly he ran into a parked car.
- A. had run
B. was running
C. has run
D. has been running
8. Wuhan lies () the Changjiang River and the Han River meets.
- A. where
B. wherever
C. that
D. what
9. I have to go on, () difficulties I will meet.
- A. whatever
B. however
C. whoever
D. what
10. Jack wasn't saying anything, but the teacher smiled at him () he had done something very clever.
- A. as if
B. in case
C. while
D. though
11. Not until (), () the difficult problem.
- A. did he return; we settled
B. he returned; we settled
C. did he return; did we settle

- D. he returned; did we settle.
12. Only by introducing scientific management, I suppose, () our company to a bright future and make more profits in the next years.
- A. can we bring
B. we have brought
C. we can bring
D. have we brought
13. It is the second time you () such a mistake.
- A. will make
B. have made
C. made
D. had made
14. —I don't know how to deal with it.
—Well. I recommend that you () some professional advice.
- A. would get
B. will get
C. get
D. can get
15. —I think he is selfish.
— (), he is very noble and generous.
- A. In other words
B. You are right.
C. Don't mention it.
D. On the contrary
16. Don't believe him. What he said just now was () .
- A sacred
B rubbish
C secret
D satisfied
17. () that he runs the fastest in his class.
- A. It is no doubt
B. It is doubtless
C. There is no doubt
D. I don't doubt about
18. The () on his face suggested that he was a little nervous.
- A. instruction
B. expression
C. attitude

- D. behaviour
19. Having concentrated for a long time he () his work, made some coffee and talked with his colleagues.
- A. put on
 - B. put aside
 - C. put off
 - D. put back
20. My parents () getting up early on weekdays
- A. used to
 - B. be used to
 - C. was used to
 - D. are used to
21. Most doctors of the Colonial period believed () was caused by an imbalance of humors in the body.
- A. in disease
 - B. that disease
 - C. of disease
 - D. about disease
22. After the mutiny, the captain of the merchant ship was left behind in some () island in the Pacific Ocean.
- A residential
 - B remote
 - C risky
 - D ridiculous
23. In 1976 Sarah Caldwell became () at the Metropolitan Opera House in New York City.
- A. she was the first woman to conduct
 - B. the first woman conductor
 - C. the woman was first conducting
 - D. the woman conducts first
24. On January 7, 1955, Marian Anderson became () to sing a major role at New York City's Metropolitan Opera House.
- A. the first African American
 - B. the first African American was
 - C. she was the first African American
 - D. when the first African American
25. Perhaps the most significant postwar trend was the decentralization of cities throughout the United States, () when massive highway-building programs permitted greater suburban growth.

- A. and accelerated a phenomenon
B. a phenomenon that accelerated
C. accelerating a phenomenon which,
D. the acceleration of which phenomenon
26. Ronald Reagan had served two terms as governor of California before () President.
A. he became
B. when becoming
C. became
D. did he become
27. In instrumentalist philosophy, ideas and knowledge are exclusively functional processes: they are of significance only () instrumental in the development of experience.
A. as they are
B. are they
C. there are
D. are
28. () either by cooling or by depriving the fire of oxygen, and most do both.
A. Working fire extinguishers
B. Fire extinguishers that work
C. Fire extinguishers work
D. The work of fire extinguishers
29. The introduction of mass-production methods enabled many people () and gave them an unprecedented amount of mobility.
A. to purchase their own automobiles
B. their own to purchase automobiles
C. to their own purchase automobiles
D. own their automobiles to purchase
30. There has been a lot of () prejudice in American .
A. realistic
B. racial
C. recycled
D. rebellious
31. Tom goes to that pub every night to have a bottle of beer. He is a () customer.
A reliable
B regular
C reluctant
D religious
32. Tim doesn't like to eat beef, so his wife () makes steak.
A self-evident

- B seldom
C sentimental
D sensitive
33. Albert Einstein, the author of the Theory of Relativity, made a () contribution to physics in the twentieth century. .
A. separated
B. separate
C. significant
D. severe
34. Register early if you would like to attend next Tuesday's () on project management.
A. seminar
B. reason
C. policy
D. scene
35. () news that the national football team was disqualified for the next World Cup finals came as no () surprise at all.
A. /; a
B. The; /
C. A; a
D. The; a
36. I'll () the matter as soon as possible. Just have a little patience.
A. divide up
B. look into
C. take its place
D. look at
37. Luckily, Smith brought a map, () we would have got lost.
A. that
B. of which
C. without which
D. which
38. You can't find such a good place () we visited the other day.
A. that
B. which
C. where
D. as
39. Without () participation of so many people, the completion of such a project in a short period would be out of () question.
A. a; /

- B. the; /
C. a; the
D. the; the
40. He apologized for ().
A. his not being able to come
B. his being not able to come
C. his being able not to come
D. him not being able to come
41. It's the ability to do the job () matters not where you come from or what you are.
A. one
B. that
C. what
D. it
42. —Is Bob still performing?
—I'm afraid not. He is said () the stage already as he has become an official.
A. to have left
B. to leave
C. to have been left
D. to be left
43. Marty as well as his parents () to the opening ceremony the other day.
A. has invited
B. have invited
C. was invited
D. were invited
44. —What will the weather be like tomorrow?
—I think it will be () as it was yesterday.
A. so a sunny day
B. so sunny a day
C. as sunny a day
D. as a sunny day
45. In 1963 we moved to New York, () my grandparents lived.
A. which
B. where
C. why
D. What
46. I'm sure Wang Lin is () to come to my aid this afternoon.
A. possible
B. likely

- C. probable
D. maybe
47. Neither the museum nor the library () attractive to her.
A. are
B. have
C. seems
D. seem
48. () the risk of a shark attack, you should follow these suggestions.
A. Reduced
B. To reduce
C. To reducing
D. Reduce
49. The little boy has never been to Beijing, () he?
A. haven't
B. don't
C. has
D. does
50. She () in Zhuzhou for ten years.
A. will work
B. work
C. was working
D. has worked

二、阅读理解 (本部分 道题, 共 分)

Reading Comprehension

Directions:

Read the following twelve texts. Answer the questions below each text by choosing A, B, C or D. Mark your answers.

Passage 1

Although in the 17th century in the United States fine art and folk art had similar qualities, a difference between them began to appear as time went on in the 18th and 19th centuries artists with ambition studied abroad and came back to paint portraits(肖像) of upper-class families in American society. The less ambitious or less fortunate artists traveled around their own areas and created pictures of countryside society. Anyway, artists got trained and those simple creations improved a lot.

Around 1930, folk art began to take on a new meaning and was considered as an expression of a small cultural class. Folk art is never the product of art movements, but comes out of craft

traditions. This art is based not on measurements or calculations and rarely goes with the standards of realism. It goes straight to the bases of art which the folk artists feel naturally.

The period 1930~ 1960 was the time when folk artists began to receive recognition. They often began their art careers late in life and used art as an outlet (出口) for their energy. Their materials were cheap and simple, their subjects were different, but their creativity flowed. Doing their own things became the norm (标准), and was what made folk art so desirable.

Although it is hard to define folk art, one thing is certain — it touches us in a special way because the artists show us how he or she brought beauty into their everyday life. Since folk artists come from all walks of life, each piece of art created is one of a kind, emphasizing color, simplicity of line and brave, simple form. Most importantly, it exemplifies (作为...的例子) the history of American life.

51. What similar qualities did folk art and fine art probably have in the 17th century?

- A. They were both simple creations.
- B. The artists of both focused on family life.
- C. The artists of both came from the lower class.
- D. They were both gifted creations by trained artists.

52. What was folk art around 1930 based on according to the second paragraph?

- A. The traditions of the upper class.
- B. The progress of art in that period.
- C. The standards of realism.
- D. The feelings of the artists.

53. Which of the following statements can be used to describe the works of folk artists?

- A. They are difficult to understand.
- B. They help artists let out their energy.
- C. They show pictures of unreal life.
- D. They are similar to one another.

54. Why did folk art become popular during the period from 1930 to 1960?

- A. It offered artists the freedom of expression.
- B. Artists didn't need to spend much on materials.
- C. Other kinds of art couldn't express the beauty of life.
- D. Artists could express their dissatisfaction towards society.

55. The author's purpose in writing the text is to ().

- A. speak highly of folk art
- B. compare folk art and fine art
- C. explain the history and characteristics of folk art in America
- D. explain the development and changes of American art

Passage 2

For the British, the home is a private place in which he or she goes to hide away from the troubles of life. It is very seldom that one would be invited to a British person's home. It is rude to knock on a person's door if you are not invited. If you are invited, don't ask to see more than the downstairs that your British host invites you into. Never ask how much the house or any of the items in it cost.

To the American, most of them want their home to be a place where they can entertain and share their lives with their friends. They may be delighted to give you a full tour of their houses. They may also be pleased when you show your interest and pleasure in their houses.

Both British and American people will engage in quite a bit of chat and a drink or two before the meal is served. After the first mouthful, you should say how delicious the food is and ask something about it. Remember, never eat with your mouth open and make very little noise while eating. It would be nice of you to help your host in any way. Maybe offer to pour some drinks or clear up after the meal.

56. British people () invite friends to their home.

- A. often
- B. always
- C. seldom
- D. never

57. If your British friend invites you to his home, you can () .

- A. see anything you like
- B. ask how much his house is
- C. ask the cost of any of the items in it
- D. only see the downstairs that you are invited into

58. What's the main idea of the passage?

- A. Some manners on visiting British and American people's home.
- B. Different table manners between British and American people.
- C. Different ideas about the home between British and American people
- D. Different ideas about how to get along well with neighbors between British and American people.

Passage 3

I was reading these interesting stories behind a group of great logos in the world. Personally Nike is my favorite one—it's so simple. And I liked the stories behind them, which made me forget all other things. McDonald's, Apple, Mercedes Benz and Adidas own great logos as well, and they are among my favorites.

Nike

In the Greek myth, Nike is the goddess of victory and the source of inspiration for soldiers. This logo represents the wing in the famous statue of the Greek goddess. Nike's logo was designed by Carolyn Davidson in 1971 for \$ 35, and was registered as a trademark in 1995.

McDonald's

The logo was designed in 1962 by Jim Schindler to resemble the archshaped(拱形的) signs on the side of the company's then walk-up hamburger stand. Later on, the two golden arches were combined together to form the M. The McDonald's name was added to the logo in 1968.

Apple

There are different stories behind Apple's logo. The first logo was a reference to the religious story of Adam and Eve, in which the apple represented the fruit of the Tree of Knowledge. One year later, the second logo was designed in 1977 by Steven Jobs and Ronald Wayne, and it described Sir Isaac Newton sitting under an apple tree. This logo didn't stay long. One year later it was replaced almost immediately by graphic designer Rob Janoff's "rainbow apple", a rainbow-colored silhouette(轮廓) of an apple with a bite taken out of it. And then the rainbow-colored apple was replaced by the one-colored logo in 1998. It has not been changed so far.

Mercedes Benz

The Mercedes Benz logo, which was originally created by Gottlieb Daimler in 1909, consists of a simple description of a three-pointed star that represents its rule of the land, the sea and the air. The company was founded by Gottlieb Daimler and Wilhelm Maybach. Mercedes is the name of Maybach's elder daughter, while Benz came as a result of a combination with Benz, Cie. and DMG in 1926.

59. What does the author think of the stories of the great logos?

- A. They are boring
- B. They are out of date.
- C. They are attractive
- D. They are practical

60. What does Nike's logo stand for?

- A. The goddess of victory
- B. The source of inspiration for soldiers
- C. The statue of the Greek goddess
- D. The wing of the Greek goddess

61. We can learn that Apple's present logo is ().

- A. the religious story of Adam and Eve
- B. a bitten apple with only one color
- C. Newton's sitting under an apple tree
- D. the rainbow-colored bitten apple

62. Which of the following time orders describes the births of the great logos?

- A. Mercedes Benz – McDonald's – Nike – Apple.
- B. Nike – McDonald's – Apple – Mercedes Benz.
- C. Mercedes Benz – Apple – Nike – McDonald's.
- D. Nike – Mercedes Benz – McDonald's – Apple.

Passage 4

Several recent studies have found that being randomly assigned to a roommate of another race can lead to increased tolerance but also to a greater likelihood of conflict.

Recent reports found that lodging with a student of a different race may decrease prejudice and compel students to engage in more ethnically diverse friendships.

An Ohio State University study also found that black students living with a white roommate saw higher academic success throughout their college careers. Researchers believe this may be caused by social pressure.

In a New York Times article, Sam Boakye – the only black student on his freshman year floor – said that "if you're surrounded by whites, you have something to prove."

Researchers also observed problems resulting from pairing interracial students in residences.

According to two recent studies, randomly assigned roommates of different races are more likely to experience conflicts so strained that one roommate will move out.

An Indiana University study found that interracial roommates were three times as likely as two white roommates to no longer live together by the end of the semester.

Grace Kao, a professor at Penn said she was not surprised by the findings. "This may be the first time that some of these students have interacted, and lived, with someone of a different race," she said.

At Penn, students are not asked to indicate race when applying for housing.

"One of the great things about freshman housing is that, with some exceptions, the process throws you together randomly," said Undergraduate Assembly chairman Alec Webley. "This is the definition of integration."

"I've experienced roommate conflicts between interracial students that have both broken down stereotypes and reinforced stereotypes," said one Penn resident advisor (RA). The RA of two years added that while some conflicts "provided more multicultural acceptance and melding," there were also "jarring cultural confrontations."

The RA said that these conflicts have also occurred among roommates of the same race.

Kao said she cautions against forming any generalizations based on any one of the studies, noting that more background characteristics of the students need to be studied and explained.

63. What can we learn from some recent studies?

- A. Conflicts between students of different races are unavoidable.
- B. Students of different races are prejudiced against each other.
- C. Interracial lodging does more harm than good.
- D. Interracial lodging may have diverse outcomes.

64. What does Sam Boakye's remark mean?

- A. White students tend to look down upon their black peers.
- B. Black students can compete with their white peers academically.
- C. Black students feel somewhat embarrassed among white peers during the freshman year.

- D. Being surrounded by white peers motivates a black student to work harder to succeed.
65. What does the Indiana University study show?
- A. Interracial roommates are more likely to fall out.
- B. Few white students like sharing a room with a black peer.
- C. Roommates of different races just don't get along.
- D. Assigning students' lodging randomly is not a good policy.
66. What does Alec Webley consider to be the "definition of integration"?
- A. Students of different races are required to share a room.
- B. Interracial lodging is arranged by the school for freshmen.
- C. Lodging is assigned to students of different races without exception.
- D. The school randomly assigns roommates without regard to race.
67. What does Grace Kao say about interracial lodging?
- A. It is unscientific to make generalizations about it without further study.
- B. Schools should be cautious when making decisions about student lodging.
- C. Students' racial background should be considered before lodging is assigned.
- D. Experienced resident advisors should be assigned to handle the problems.

Passage 5

Global warming is causing more than 300,000 deaths and about \$125 billion in economic losses each year, according to a report by the Global Humanitarian Forum, an organization led by Annan, the former United Nations secretary general.

The report, to be released Friday, analyzed data and existing studies of health, disaster, population and economic trends. It found that human-influenced climate change was raising the global death rates from illnesses including malnutrition and heat-related health problems.

But even before its release, the report drew criticism from some experts on climate and risk, who questioned its methods and conclusions.

Along with the deaths, the report said that the lives of 325 million people, primarily in poor countries, were being seriously affected by climate change. It projected that the number would double by 2030.

Roger Pielke Jr., a political scientist at the University of Colorado, Boulder, who studies disaster trends, said the Forum's report was "a methodological embarrassment" because there was no way to distinguish deaths or economic losses related to human-driven global warming amid the much larger losses resulting from the growth in populations and economic development in vulnerable regions. Dr. Pielke said that "climate change is an important problem requiring our utmost attention." But the report, he said, "will harm the cause for action on both climate change and disasters because it is so deeply flawed."

However, Soren Andreasen, a social scientist at Dalberg Global Development Partners who supervised the writing of the report, defended it, saying that it was clear that the numbers were

rough estimates. He said the report was aimed at world leaders, who will meet in Copenhagen in December to negotiate a new international climate treaty.

In a press release describing the report, Mr. Annan stressed the need for the negotiations to focus on increasing the flow of money from rich to poor regions to help reduce their vulnerability to climate hazards while still curbing the emissions of the heat-trapping gases. More than 90% of the human and economic losses from climate change are occurring in poor countries, according to the report.

68. What is the finding of the Global Humanitarian Forum?
- A. Global temperatures affect the rate of economic development.
 - B. Rates of death from illnesses have risen due to global warming.
 - C. Malnutrition has caused serious health problems in poor countries.
 - D. Economic trends have to do with population and natural disasters.
69. What do we learn about the Forum's report from the passage?
- A. It was challenged by some climate and risk experts.
 - B. It aroused a lot of interest in the scientific circles.
 - C. It was warmly received by environmentalists.
 - D. It caused a big stir in developing countries.
70. What does Dr. Pielke say about the Forum's report?
- A. Its statistics look embarrassing.
 - B. It is invalid in terms of methodology.
 - C. It deserves our closest attention.
 - D. Its conclusion is purposely exaggerated.
71. What is Soren Andreasen's view of the report?
- A. Its conclusions are based on carefully collected data.
 - B. It is vulnerable to criticism if the statistics are closely examined.
 - C. It will give rise to heated discussions at the Copenhagen conference.
 - D. Its rough estimates are meant to draw the attention of world leaders.
72. What does Kofi Annan say should be the focus of the Copenhagen conference?
- A. How rich and poor regions can share responsibility in curbing global warming.
 - B. How human and economic losses from climate change can be reduced.
 - C. How emissions of heat-trapping gases can be reduced on a global scale.
 - D. How rich countries can better help poor regions reduce climate hazards.

Passage 6

The internet has led to a huge increase in credit-card fraud. Your card information could even be for sale in an illegal Website. Websites offering cheap goods and services should be regarded with care Online shoppers who enter their credit-card information may never receive the goods they thought they bought.

The thieves then go shopping with your card number-or sell the information over the Internet.

Computer hackers have broken down security system, raising questions about the safety of card holder information.

Several months ago, 25,000 customers of a CD universe, an online music retailer, were not lucky. Their names, addresses and credit-card numbers were posted on a Website after the retailer refused to pay US \$ 157,828 to get back the information.

Credit-card firms are now fighting against online fraud. Master-card is working on plans for Web only credit-card, with a lower credit limit. The card could be used only for shopping online. However, there are a few simple steps you can take to keep from being cheated.

Ask about your credit-card firm's online rules: under British law, cardholders are responsible for the first US\$ 78 of any fraudulent spending. And shop only at secure sites: send your credit-card information only if the Website offers advanced secure system.

If the security is in place, a letter will appear in the bottom right-hand corner of your screen. The Website address may also start http://--the extra "s" stands for secure. If in doubt, give your credit-card information over the telephone.

Keep your password safe: most online sites require a user name and password before placing an order. Treat your password with care.

73. According to this passage most people worry about shopping on the Internet because ().

- A. a great number of stolen credit-cards are sold on the Internet every day
- B. fraud on the Internet happens very often
- C. many Websites break down every day
- D. there are too many illegal Websites on the Internet

74. Thieves usually get the information of the credit-card ().

- A. because many customers lost their cards
- B. by paying money for people working in the information companies
- C. because of the carelessness of the customers
- D. by stealing the information from Websites

75. If the passwords of your credit-cards are not probably kept, ().

- A. the bank and the shop will suffer great losses
- B. you will not be able to get back your information
- C. you might suffer great losses
- D. the bank will answer for your loss

76. What's the best title of the passage?

- A. How to Beat Online Credit-card Thieves
- B. How to Shop on the Internet
- C. Never Use Credit-card Without an Advanced Computer
- D. Why Thieves Steal Credit-card Information

Passage 7

You know how wonderful you are, and you know that others know how wonderful you are, but what do you do when admiration crosses over the line into jealousy? For most teens there will come a day when you realize that one of your friends is jealous and that this jealousy is hurting your friendship. When this happens it can seem like there is nothing that you can do, but the good news is that there is. Don't let jealousy spoil your relationships. Tackle it head-on and you might be back to normal much sooner than you think.

It can be hard to walk up to a friend and ask them what the problem is, but if you want to save your friendship you'll have to do just that. Don't approach them and ask why they are jealous of you (unless of course you want to appear totally conceited), just take some time alone with them and let them know that you've been feeling like there's been something coming between you. If they refuse to respond, then use the opportunity to explain how you have been feeling. Chances are that something you say will strike a nerve and your friend will open up as well.

When you figure out what is annoying your friend, ask him or her what she thinks would make the situation better. If, for example, she says that she feels like she doesn't get to spend any time with you because of your being off with your new friends from the swim team then maybe you could invite her along the next time or block off one day a week for just the two of you. Remember, though, that whatever solution you decide on should be a compromise. Don't limit your own talents or opportunities simply because your friend is unhappy. Try instead to include him or her in your new life and see how that works out.

Even the best of friendships can be tinged by jealousy. This destructive emotion is rarely productive and can turn best friends into worst enemies. Before taking extreme action, chat with your jealous friend to see if the two of you can work out a compromise. If you can't, be prepared to know exactly how far you will go to keep your friend and how far you won't.

77. According to the author, the jealousy emotion is () .

- A. normal
- B. productive
- C. destructive
- D. extreme

78. Which of the following is NOT mentioned as a way to confront your friend when jealousy happens?

- A. Walking up to him/her and asking him/her why he/she is jealous of you.
- B. Walking up to him/her and asking him/her what the problem is.
- C. Spending some time with him/her and letting him/her know how you feel.
- D. Spending some time with him/her and letting him/her know you think there's something between you.

79. The underlined "in" the first paragraph refers to () .

- A. friendship
- B. relationship

C. admiration

D. jealousy

80. What can be inferred from the last two paragraphs?

A. There's always a solution to solve the problem of jealousy.

B. Jealousy can turn best friends into worst enemies.

C. You may lose a friend to keep your own gifts, chances or self-development.

D. You should go a long way with your friend to work out a solution

81. The purpose of the passage is () .

A. to explain what causes jealousy

B. to offer some advice on making friends

C. to introduce the way to cope with a jealous friend

D. to explain how destructive the jealous emotion is

Passage 8

Do American children still learn handwriting in school? In the age of the keyboard, some people seem to think handwriting lessons are on the way out. 90% of teachers say they are required to teach hand writing. But studies have yet to answer the question of how well they are teaching it. One study published this year found that about three out of every four teachers say they are not prepared to teach handwriting. Some teachers are teaching handwriting by providing instruction for 10 15 minutes a day, and then other teachers who basically teach it for 60 to 70 minutes a day-which really for handwriting is pretty much.

Many adults remember learning that way - by copying letters over and over again.

Today's thinking is that short periods of practice are better. Many experts also think handwriting should not be taught by itself. Instead, they say it should be used as a way to get students to express ideas. After all, that is why we write.

Handwriting involves two skills. One is legibility, which means forming the letters so they can be read. The other is fluency-writing without having to think about it. Fluency continues to develop up until high school.

But not everyone masters these skills. Teachers commonly report that about one fourth of their kids have poor handwriting. Some people might think handwriting is not important anymore because of computers and voice recognition programs.

But Steve Graham at Vanderbilt says word processing is rarely done in elementary school, especially in the early years. American children traditionally first learn to print, and then to write in cursive, which connects the letters. But guess what we learned from a spokeswoman for the College Board, which administers the SAT college admission test. More than 75 percent of students choose to print their essay on the test rather than write in cursive.

82. We can learn () from Paragraph 1.

A. teaching handwriting is a basic requirement in teaching job

B. most teachers prefer to teach handwriting

- C. teachers spend little time in teaching handwriting
D. a keyboard has taken the place of the handwriting entirely
83. Which of the following is WRONG for traditional handwriting in the USA?
A. The students are taught by practicing a long period.
B. The letters are repeated many times.
C. Handwriting includes two skills.
D. To write in cursive is taught first.
84. The underlined word “legibility” in Paragraph 3 means () .
A. easy to read
B. complex
C. unexpected
D. unreadable
85. The best title for the passage is () .
A. How to improve handwriting in school
B. Right or wrong: the death of handwriting
C. Handwriting involves two skills
D. Handwriting lessons are on the way out
86. The author’s attitude towards whether still to learn handwriting in school is () .
A. negative
B. objective
C. critical
D. optimistic

Passage 9

When a consumer finds that an item she or he bought is faulty or in some other way does not live up to the manufacturer’s claims, the first step is to present the warranty, or any other records which might help, at the store of purchase. In most cases, this action will produce results. However, if it does not, there are various means the consumer may use to gain satisfaction. A simple and common method used by many consumers is to complain directly to the store manager. In general, the “higher up” his or her complaint, the faster he or she can expect it to be settled. In such a case, it is usually settled in the consumer’s favor, assuming he or she has a just claim. Consumers should complain in person whenever possible, but if they cannot get to the place of purchase, it is acceptable to phone or write the complaint in a letter.

Complaining is usually most effective when it is done politely but firmly, and especially when the consumer can demonstrate what is wrong with the item in question. If this cannot be done, the consumer will succeed best by presenting specific information as to what is wrong, rather than by making general statements. For example, “The left speaker does not work at all and the sound coming out of the right one is unclear” is better than “This stereo does not work”. The store manager may advise the consumer to write to the manufacturer. If so, the consumer should

do this, stating the complaint as politely and firmly as possible. If a polite complaint does not achieve the desired result, the consumer can go to a step further. She or he can threaten to take the seller to court or report the seller to a private or public organization responsible for protecting consumer's rights.

87. When a consumer finds that his or her in it, the first thing he or she should do is to () .
- A. complain personally to the manager
 - B. threaten to take the matter to court
 - C. write a firm letter of complaint to the store of purchase
 - D. show some written proof of the purchase to the store
88. How can a consumer make his or her complaint more effective, according to the passage?
- A. Explain exactly what is wrong with the item.
 - B. Threaten to take the seller to court.
 - C. Make polite and general statements about the problem.
 - D. Avoid having direct contact with the store manager.
89. According to the passage, which of the following is suggested as the last alternative that consumers may turn to?
- A. Complain to the store manager in person.
 - B. Complain to the manufacturer.
 - C. Write a complaint letter to the manager.
 - D. Turn to the Consumers' Rights Protection Organization for help.
90. The phrase "live up to" (paragraph 1, line 2) in this context means () .
- A. meet the standard of
 - B. realize the purpose of
 - C. fulfill the demands of
 - D. keep the promise of
91. The passage tells us () .
- A. how to settle a consumer's complaint about a faulty item
 - B. how to make an effective complaint about a faulty item
 - C. how to avoid buying a faulty item
 - D. how to deal with complaints from customers

Passage 10

Merchant and passenger ships are generally required to have a life preserver for every person aboard and in many cases, a certain percentage of smaller sizes for children. According to United States requirements, life preservers must design, reversible capable of being quickly adjusted to fit the uninitiated individual, and must be so designed as to support the wearer in the water in an upright or slightly backward position.

Sufficient buoyancy(浮力) to support the wearer should be retained by the life preserver after 48 hours in the water, and it should be reliable even after long period of storage. Thus it should be

made of materials resistant to sunlight, gasoline, and oils, and it should be not easily set on fire. The position in which the life preserver will support a person who jumps or falls into the water is most important, as is its tendency to turn the wearer in the water from a face-down position to an upright or slightly backward position, with his face clear of the water, even when the wearer is exhausted or unconscious.

The method of adjustment to the body should be simple, and self-evident to uninitiated persons even in the dark under the confused conditions, which follow a disaster. Thus, the life be reversible that it is nearly impossible to get it on wrong. Catches, straps, and ties should be kept to a minimum. In addition, the life preserver must be adjustable to the wide variety of shapes and sizes of wearers, since this greatly affects the position of floating and the self-righting qualities. A suitable life also be comfortable to wear at all times, in and out of the water, not so heavy as to encourage to take it off on shipboard while the ship is in danger, nor so burdensome that it hinders a person in the water while trying to swim.

92. The passage is mainly about () .
- A. the uses of life preservers
 B. the design of life preservers
 C. the materials for life preservers
 D. the buoyancy of life preservers
93. According to the passage, a life be first of all () .
- A. adjustable
 B. comfortable
 C. self-evident
 D. self-righting
94. United States Coast Guard does NOT require the life preserver to be made () .
- A. with as few strings as possible
 B. capable of being worn on both sides
 C. according to each wearer's size
 D. comfortable and light to wear
95. By "the uninitiated individual" (Para.1, Line.4) the author refers to the person () .
- A. who has not been instructed how to use a life preserver
 B. who has a little experience in using a life preserver
 C. who uses a life preserver without permission
 D. who becomes nervous before a disaster
96. What would happen if a person were supported by the life preserver in a wrong position?
- A. The waves would move him backwards.
 B. The water would choke him.
 C. He would immediately sink to the bottom.
 D. He would be exhausted or unconscious.

Passage 11

Dear Mr. Lincoln,

We are very sorry to hear that you have been experiencing problems with your new laptop. While we do ask that our customers contact their dealer in the event of a problem, we recognize that, in your case, it would be impossible. Therefore, if you will carefully package the unit in its original carton and send it to us, our “doctors” will put it through an examination to determine the source of the problem.

If the problem turns out to be a minor adjustment, we shall make the repair and be sure to return the laptop to you within thirty days. If our determination is that the unit is defective, we will send you an immediate replacement.

Again, we are very sorry that you experienced this difficulty and wish to thank you for your patience and for purchasing our products.

Sincerely,
Dennis Sayles Green House Technology

97. What problem does Mr. Lincoln currently have?
- A. Serious disease
 - B. Air conditioner problem
 - C. Computer problem
 - D. Motorcycle problem
98. What does Mr. Lincoln need to do to fix his problem?
- A. Contacting the dealer
 - B. Purchasing new laptop
 - C. Seeing a doctor
 - D. Sending the laptop

Passage 12

To: Hank Martin <hmartin@solarwattage.com>
From: Anna Sabiani <asabiani@solarwattage.com>
Date: August 28 11:47
Subject: Promotional opportunity

Hi Hank,

I am forwarding the press release about the Solar Trophy that I mentioned to you this morning.

I met Bill Bradley, the race coordinator, at the solar energy conference in Manila where he was giving a presentation about the event. I understand from him that the first race was a huge success and generated enormous media coverage both in traditional media and on the Internet.

For the next edition of the race he is expecting applications from as many as twenty yachts from seven different countries, including Japan.

He suggested that we might like to sponsor one of the crews especially as we are already supplying marine versions of our solar panels to a number of boatyards in Europe and Asia. He particularly recommended that we contact Sven Hadrada of SailYard boats as they are apparently considering entering the race.

We've both worked with SailYard on several occasions. Do you think you could contact them as soon as possible and set up a meeting to explore ways of working together on this?

Best regards

Anna

99. What is the Solar Trophy?

- A. A competition for road vehicles
- B. A solar energy research award
- C. A boat race
- D. A shipping company

100. Which type of craft can enter the Solar Trophy?

- A. Ocean liners
- B. Inflatable boats
- C. Sailboats
- D. Solar-powered yachts

第二部分 行政能力测试

101. 木版年画曾是我国民间最普及的艺术品之一,如今,随着生活方式的改变,具有浓郁乡土气息的传统年画几乎已无迹可寻。这些改变,不仅使年节少了许多味道,也使木版年画的手工技巧面临生存的危机。如果其不能应世而变,终将成为博物馆里的标本。但从文化遗产的角度看,木版年画又不应在商业化过程中肆意改变,那么与社会适应又不失人文内涵就成了新的课题。

这段文字想要传递的信息是: ()。

- A. 年画的传统功能减弱但文化价值依然存在
- B. 传统技艺如何在市场竞争中保护其生命力
- C. 木版年画需要在保留传统的同时进行创新
- D. 生活方式的变化导致木版年画正逐渐衰退

102. 语言文字功底扎实,大致意思是要求学者能较好地掌握研读经典和撰写论文所需要的语言文字。这一点具有普适性,而对于研究传统文化或西方文化、印度文化的学者来说尤其重要。没有扎实的古文字功底,不熟练掌握英语、梵文等外语,仅从白话本、汉译本这些二手资料入手来做学问,固然也可以取得一定的学术成果,但不大可能成为学术大家。

这段文字意在说明: ()。

- A. 掌握古文字和外语是搞好学术研究的前提
- B. 占有第一手资料才能取得突出的学术成果

C.正确解读语言文字是文化研究的关键所在

D.语言文字功底影响学术研究的深度与水平

103. 城墙是古代城市的标志，也是研究城市发展的独特角度，对中国城墙的描述，自古以来就大量出现在正史、方志、文学作品或绘画中，并且是都城学、规划学、军事学等多门学科的重要研究对象，这说明城墙并非一堵“墙”那么简单，可以说，每一座古城墙，都是一本厚重的大书，每一块城砖、每一座城门、每一段护城河，都是这本大书中的一行一页，面对如此厚重的中国城墙，我们当心存敬畏。

这段文字意在说明（ ）。

A.应对古城墙的文化遗产价值予以重视

B.古城墙的文化价值远高于其商业价值

C.亟须对现存的古城墙开展保护和研究

D.城墙为研究城市发展提供了独特视角

104. “90后”一代拥有一个网络童年，信息技术革命带来的社会变迁在他们身上打下了深深的烙印，他们中的不少人使用“火星文”，装扮怪异，喜欢动漫，照毕业照时不会正襟危坐，而要追求“古灵精怪”的效果……假如舆论的关注点和兴奋点都集中在这些个性行为上，关于“90后”的刻板印象就会悄然形成，从而导致对这个群体的认知偏差。

这段文字未暗示的信息是（ ）。

A.舆论过分关注“90后”的个性行为

B.“90后”身上也蕴含着优秀的品格

C.社会应以包容的心态看待“90后”

D.“90后”受到网络文化的巨大影响

105. 童话故事《木偶奇遇记》中，木偶人皮诺曹一撒谎，鼻子就会变长，谎话显而易见，现实生活中，虽然说谎话时我们的鼻子不会变长，但我们身体确实也会产生一些细微的生理变化，有的通过肉眼就可以观察到，有的则要通过精密的测谎仪器才测试出来，日前，美国犹他州大学的科学家研发出一款新型的眼球测谎仪，通过追踪眼球运动来判断被测试人有没有说谎。

作者接下来最有可能讲述的是（ ）。

A.眼球测谎仪如何识别撒谎

B.眼球测谎仪市场前景广阔

C.目前市场上测谎仪的种类

D.眼球测谎仪未来发展趋势

106. 在陈列馆里，有一只名为“西班牙公主”的船舶模型上雕刻着这样的文字：本船共计航行50年，其中11次遭遇冰川，有6次遭海盗抢掠，有9次与另外的船舶相撞，有21次发生故障抛锚搁浅。陈列馆的一面墙上，是对上千年来造船厂的所有出厂的船舶的概述；造船厂出厂的近10万只船舶当中，有6000只在大海中沉没，有9000只因为受伤严重不能再进行修复航行，有6万只船舶都遭遇过20次以上的大灾难，没有一只船从下海那一天开始没有过受伤的经历……

与这段文字主旨无关的名言是（ ）。

- A.对于不屈不挠的人来说，没有失败这回事
- B.对勇气的最大考验，就是看一个人能否做到败而不馁
- C.人的一生就是进行尝试，尝试得越多，生活就越美好
- D.人生的光荣，不在永不失败.而在于能够屡仆屡起

107. 元代的方回，论诗颇有眼力，而对朱熹的诗却抬举过分，事出反常。这里除了有乡里私心的原因之外，很可能与方“秽德彰闻，依托道学”的隐曲有关，文人既心存依附之含，势必_____，再如，中国古代文论的作者，常常自己就兼作家身份，“文章得失寸心知”，发而为论，时有取长补短或_____的隐衷。

依次填入划横线部分最恰当的一项是（ ）。

- A.进退维谷 才短思塞
- B.随波逐流 博采众长
- C.进退失据 扬长避短
- D.骑虎难下 避实就虚

108. 尽管诗歌绝无翻译的可能，却大有翻译介绍的必要。有多位前辈时贤对诗歌翻译理论不乏鞭辟入里的_____。然而，何谓诗歌翻译的理想形式却_____。

依次填入划横线部分最恰当的一项是（ ）。

- A.不易之论 各持己见
- B.远见卓识 众说纷纭
- C.真知灼见 各执一端
- D.不刊之论 见仁见智

109. 在伦敦的日子里，我每天乘着红色的双层巴士在大街上_____，每天都有新发现。一次，在皮卡迪利广场，我又看到读小说的乞丐。在慵懒的夕阳下，那乞丐穿戴齐整，_____地坐在马路旁，面前放着一个供路人扔硬币的碗。他把书放在碗旁的地面上，低着头，用手指指着页面，一行一行地读着。他读得那样认真，身边的车水马龙，周遭的一切_____，似乎都不复存在。

依次填入划横线部分最恰当的一项是（ ）。

- A.穿梭 神情自若 喧嚣
- B.穿行 泰然自若 喧闹
- C.踟蹰 置若罔闻 喧腾
- D.徘徊 旁若无人 喧哗

110. 做学问首先是有一说一，实事求是，尊重原始实验数据的真实性。在诚实做研究的前提下，对具体实验结果的分析、理解有_____甚至错误是很常见的，这是科学发展的正常过程。可以说，许多学术论文的分析、结论和讨论者存在不同程度的_____，越是_____的科学研究，越容易出现错误理解和错误结论。

依次填入划横线部分最恰当的一项是（ ）。

- A.异议 弱点 复杂
- B.偏差 瑕疵 前沿
- C.意见 局限 真实

D. 争议 错误 严谨

111. 公众层面的现象与专业层面的表现，看似相距甚远，实则紧密相连。不从事专业研究的社会公众固然不会参与科学技术前沿的创新，但实际上，公众素养是科技发展的土壤。离开了这个群众基础，即使我们凭借少数科技精英的努力能够实现“上天入地”，也很难持续不断地推动创新，真正迈入创新型国家的行列。

这段文字的核心观点是（ ）。

- A. 提高全民科学素质势在必行
- B. 科技发展是公民科学素养的“软实力”
- C. 中国公民的科学素养亟待提高
- D. 科技的发展依赖于公众素养的同步提高

112. 国家提高个税起征点，本意是照顾弱势群体，而其他公共政策如果以未缴纳税为由损害弱势群体的正当利益，不仅会使税收区别对待政策失去本来的意义，还会形成更大的社会不公。因此，国家一方面应该提高起征点以保护低收入群体的正当利益，另一方面需要大力更新观念，把税收作为公民的一种奉献而不是一种交换条件。只有这样，照顾绝大多数低收入群体的税收政策才会起到真正作用。

这段文字意在表明（ ）。

- A. 如果以税收扣缴情况作为区别对待人群的先决条件，就会使弱势群体失去更多权益
- B. 个人所得税政策提高起征点后，容易形成更大的社会不公
- C. 当国家的税收政策与社会公平机制有所脱节时，就会引起社会的敏感反应
- D. 个税政策的调整不应仅限于要提高起征点，还有许多问题需要完善

113. 哲学家说，幸福是一种感觉，上午和下午感受都不一样。很多时候，也需要自我调试和社会调整。沿着这种思路，哲学家赵汀阳就认为，现代消费主义的宣传（比如消费广告刺激了大家的无限欲望），造就了“难以满足”的欲望。另一些心理学者说，很多幸福感就流失在“对比”之中，就如调查所验证的，收入分配是否“公平合理”成了影响幸福的重要因素——而不是收入是否“充足”。

这段文字表达的主要意思是（ ）。

- A. 幸福的感受因人而异，需要个人自我调适
- B. 幸福是一种心理感觉，调节好自己的心态有利于获得幸福感
- C. 要想获得幸福，首先要降低自己的期望
- D. 哲学家和心理学家对幸福有着不同的理解

114. 随着市场经济潮流的冲击和社会不良风气的影响，有些人开始注重名和利，而学术则变成了谋取名利的工具。为了能够尽早地脱颖而出，有些学人甚至完全放弃学术之追求真理性认识的本然功能，将学术批判变成自我彰显的“噱头”，于是，专批名人、伟人，借助媒体虚造声势，以致钻进为批判而批判的死胡同。不难想象，当这种现象泛化为普遍之时，必将是学术死亡之日。

这段文字意在表明（ ）。

- A. 当学术批判发展为普遍之时，将是学术死亡之日
- B. 学术批判会被别有用心的人利用，转而演变成政治斗争的工具
- C. 只有经过全面调查和研究，才能使批判真正做到“有的放矢”
- D. 唯有坚持真理取向的学术批判才能真正促进学术的繁荣

115. 目前正在向世界各地全面拓展的汉语国际推广活动，必须将海外华人群体文化的现状考虑在内，以全面促进汉语国际推广，弘扬中华文化来发展软实力是一回事，支持海外华人文化从中华文化的母体脱胎而出，成为当地社会的族群文化又是另一回事。如果以前者来取代后者，就会混淆华人学习母语与学习一种外国语的界限，混淆配合海外华人构建自己的族群文化与弘扬中华文化的界限，对维护和发展华人与中国的政策关系是不利的。

这段文字强调的是（ ）。

- A. 应注意维护和发展海外华人与中国的正常关系
- B. 发展中华文化软实力应与支持海外华人群体文化齐头并进
- C. 海外华人文化应与中华文化巧妙融合，同时保有自身的特色
- D. 汉语国际推广活动的前提之一是支持海外华人构建自己的族群文化

116. 由于竞选活动需要雇用工作人员、制作竞选标语和招贴画、布置演讲场地、发布广播和电视广告等，因此花费高昂，这是近代民主政治的普遍现象。而在美国，总统选举从党内初选到两党全国代表大会再到最后投票历时至少一年，选举费用更是_____。

填入划横线部分最恰当的一项是（ ）。

- A. 事随境迁
- B. 水涨船高
- C. 居高不下
- D. 居高临下

117. 在职称评审过程中，各级评审组织几乎无法看到申报人的艺术实践能力，只能看到表格栏目里的论文和项目。在唯论文是重的标准下，音乐理论的教师还能体现一些真才实学，而表演艺术的教师则只能扬短避长、_____。

填入划横线部分最恰当的一项是（ ）。

- A. 滥竽充数
- B. 削足适履
- C. 委曲求全
- D. 弄虚作假

118. 国家助学贷款，是解决贫困家庭学生入学难的重要_____之一，是贫困家庭学生享受平等教育的重要_____。

填入划横线部分最恰当的一项是（ ）。

- A. 措施 条件
- B. 政策 保障

C.途径 体现

D.途径 保障

119. 那么国产电影市场需不需要职业导演? 这是_____的。一个健康的市场, 应该以职业导演打底, 非职业导演_____。今年非职业导演崛起, 说到底是电影市场在用一种艺高胆大的方式洗牌。

填入划横线部分最恰当的一项是 ()。

A.见仁见智 登堂入室

B.显而易见 精益求精

C.毋庸置疑 锦上添花

D.毋庸置疑 雪中送碳

120. 餐厅经理表示, 五一期间, 到后海游玩的市民和外地游客挺多。昨天餐厅从 11 点开始就一直处于“客满”状态, 前来购买外卖的市民更是_____, 这让店里每天下午都难以打烊, 出现了就餐人群从午饭时间一直_____到晚饭时间的火爆场面。

填入划横线部分最恰当的一项是 ()。

A.川流不息 继续

B.源源不断 连续

C.络绎不绝 延续

D.连绵不断 陆续

121. 某机关 20 人参加百分制的普法考试, 及格线为 60 分, 20 人的平均成绩为 88 分, 及格率为 95%。所有人得分均为整数, 且彼此得分不同。问成绩排名第十的人最低考了多少分?

A.89

B.88

C.91

D.90

122. 小王步行的速度比跑步慢 50%, 跑步的速度比骑车慢 50%。如果他骑车从 A 城去 B 城, 再步行返回 A 城共需要 2 小时。问小王跑步从 A 城到 B 城需要多少分钟?

A.45

B.48

C.56

D.60

123. 甲、乙、丙三个工程队的效率比为 6: 5: 4, 现将 A、B 两项工作量相同的工程交给这三个工程队, 甲队负责 A 工程, 乙队负责 B 工程, 丙队参与 A 工程若干天后转而参与 B 工程, 两项工程同时开工, 耗时 16 天同时结束, 问丙队在 A 工程中参与施工多少天?

A.6

B.7

C.8

D.9

124. 甲、乙两人在长 30 米的泳池内游泳，甲每分钟游 37.5 米，乙每分钟游 52.5 米。两人同时分别从泳池的两端出发，触壁后原路返回，如是往返。如果不计转向的时间，则从出发开始计算的 1 分 50 秒内两人共相遇了多少次？

- A.2
- B.3
- C.4
- D.5

125. 某公司去年有员工 830 人，今年男员工人数比去年减少 6%，女员工人数比去年增加 5%，员工总数比去年增加 3 人，问今年男员工有多少人？

- A.329
- B.350
- C.371
- D.504

126. 受原材料涨价影响，某产品的总成本比之前上涨了 $\frac{1}{15}$ ，而原材料成本在总成本中的比重提高了 25 个百分点。问原材料的价格上涨了多少？

- A. $\frac{1}{9}$
- B. $\frac{1}{10}$
- C. $\frac{1}{11}$
- D. $\frac{1}{12}$

127. 某商店花 10000 元进了一批商品，按期望获得相当于进价 25% 的利润来定价，结果只销售了商品总量的 30%。为尽快完成资金周转，商店决定打折销售，这样卖完全部商品后，亏本 1000 元。问商店是按定价打几折销售的？

- A.九折
- B.七五折
- C.六折
- D.四八折

128. 甲、乙两个科室各有 4 名职员，且都是男女各半。现从两个科室中选出 4 人参加培训，要求女职员比重不得低于一半，且每个科室至少选 1 人。问有多少种不同的选法？

- A.67
- B.63
- C.53
- D.51

129. 小赵、小钱、小孙一起打羽毛球，每局两人比赛，另一人休息。三人约定每一局的输方下一局休息。结束时算了一下，小赵休息了 2 局，小钱共打了 8 局，小孙共打了 5 局。则参加第 9 局比赛的是（ ）。

- A.小钱和小孙
- B.小赵和小钱
- C.小赵和小孙

D.以上皆有可能

130. 某市对 52 种建筑防水卷材产品进行质量抽检, 其中有 8 种产品的低温柔度不合格, 10 种产品的可溶物含量不达标, 9 种产品的接缝剪切性能不合格, 同时两项不合格的有 7 种, 有 1 种产品这三项都不合格。则三项全部合格的建筑防水卷材产品有多少种?

A.37

B.36

C.35

D.34

131. 用一个平面将一个边长为 1 的正四面体切分为两个完全相同的部分, 则切面的最大面积为 ()。

A.1/4

B.

C.

D.1/2

132. 某单位共有 A、B、C 三个部门, 三部门人员平均年龄分别为 38 岁、24 岁、42 岁。A 和 B 两部门人员平均年龄为 30 岁, B 和 C 两部门人员平均年龄为 34 岁。该单位全体人员的平均年龄为多少岁?

A.34

B.36

C.35

D.37

133. 同时打开游泳池的 A、B 两个进水管, 加满水需 1 小时 30 分钟, 且 A 管比 B 管多进水 180 立方米。若单独打开 A 管, 加满水需 2 小时 40 分钟。则 B 管每分钟进水多少立方米?

A.6

B.7

C.8

D.9

134. 某城市共有 A、B、C、D、E 五个区, A 区人口是全市人口的 $\frac{5}{17}$, B 区人口是 A 区人口的 $\frac{2}{5}$, C 区人口是 D 区和 E 区人口总数的 $\frac{5}{8}$, A 区比 C 区多 3 万人。全市共有多少万人?

A.20.4

B.30.6

C.34.5

D.44.2

135. 某城市 9 月平均气温为 28.5 度, 如当月最热日和最冷日的平均气温相差不超过 10 度, 则该月平均气温在 30 度及以上的日子最多有多少天?

A.24

B.25

C.26

D.27

136. 一个班的学生排队, 如果排成 3 人一排的队列, 则比 2 人一排的队列少 8 排; 如果排成 4 人一排的队列, 则比 3 人一排的队列少 5 排。这个班的学生如果按 5 人一排来排队的话, 队列有多少排?

- A.9
- B.10
- C.11
- D.12

137. 5, 12, 21, 34, 53, 80, ()

- A.121
- B.115
- C.119
- D.117

138. 7, 7, 9, 17, 43, ()

- A.119
- B.117
- C.123
- D.121

139. 1, 9, 35, 91, 189, ()

- A.361
- B.341
- C.321
- D.301

140. $0, \frac{1}{6}, \frac{3}{8}, \frac{1}{2}, \frac{1}{2}, ()$

- A. $\frac{5}{13}$
- B. $\frac{7}{13}$
- C. $\frac{5}{12}$
- D. $\frac{7}{12}$

141. 明天不必然地震, 以下哪个选项断定与上述断定的意思最为相近?

- A.明天必然不地震
- B.明天可能地震
- C.明天可能不地震
- D.明天不可能地震

142. 每道题给出五个事件, 每个事件是以简短语句表述的, 接着给出四种假定发生顺序的四个数字序列, 请你选择其中最合乎逻辑的一种事件顺序。正确答案为 ()。

- (1) 一个人进了电影院

- (2) 久等不见人来
- (3) 一个人在旁边坐了下来
- (4) 约好去看电影
- (5) 正看得精彩

- A.2-1-4-3-5
- B.4-1-2-5-3
- C.3-5-1-4-2
- D.4-2-1-5-3

143. 每道题给出五个事件，每个事件是以简短语句表述的，接着给出四种假定发生顺序的四个数字序列，请你选择其中最合乎逻辑的一种事件顺序。正确答案为（ ）。

- (1) 计划买一套西服
- (2) 星期天去上街
- (3) 改变了主意
- (4) 看见了写着国际助残日的标牌
- (5) 高兴的回到家里

- A.1-2-4-3-5
- B.2-1-3-4-5
- C.2-1-4-3-5
- D.4-1-2-3-5

144. 最近，一些儿科医生声称，狗最倾向于咬 13 岁以下的儿童。他们的论据是：被狗咬伤而前来就医的大多是 13 岁以下的儿童。他们还发现，咬伤患儿的狗大多是雄性德国牧羊犬。以下哪一项陈述为真，能最严重地削弱儿科医生的结论？

- A.被狗咬伤并致死的大多数人，其年龄都在 65 岁以上
- B.被狗咬伤的 13 岁以上的人大多数不去医院就医
- C.许多被狗严重咬伤的 13 岁以下儿童都是被雄性德国牧羊犬咬伤的
- D.许多 13 岁以下被狗咬伤的儿童就医时病情已经恶化了

145. 人类与疟疾已经进行了几个世纪的斗争，但一直是“治标不治本”——无法阻断疟疾传染源。日前研究者培育出一种经过基因改造的蚊子，它具备了不再感染疟疾的能力，并且能妨碍野生蚊子繁衍，从而有效切断人与蚊子的疟疾传播途径，假以时日，就能根绝疟疾这个顽症。

以下哪项如果为真，最能支持上述结论？

- A.转基因蚊子的体质比野生蚊子差，一旦被放到野外很容易死亡
- B.转基因蚊子只在疟疾存在时才有生存优势，当生存环境中没有疟疾时，它们和野生蚊子的存活率是相同的
- C.转基因蚊子的生殖能力在繁衍了 9 代后显著增加，可能带来野生蚊子种群的灭亡
- D.转基因蚊子与野生蚊子交配产下的后代并不都具有抗疟疾基因，但在基因层面上都会产生突变，形成新型蚊子

146. 9 月初大学入学报到时，有多家手机运营商到某大学校园进行产品销售宣传，有好几家

运营商推出了免费套餐服务。但是其中一家运营商推出了价格优惠的套餐，同时其业务员向学生宣传说：其他运营商所谓的“免费”套餐是通过出售消费者的身份信息来获得运营费用的。以下哪项如果为真，最能质疑该业务员的宣传？

- A. 有法律明确规定，手机运营商不得出售消费者的身份信息
- B. 很难保证价格优惠的运营商不会同样出售消费者的身份信息
- C. 免费套餐运营商所提供的手机信号质量很差
- D. 免费套餐运营商是通过广告来获得运营费用的

147. 某大型晚会的导演组在对节日进行终审时，有六个节目的尚未确定是否通过，这六个节目分别是歌曲 A、歌曲 B、相声 C、相声 D、舞蹈 E 和魔术 F。综合考虑各种因素，导演组确定了如下方案：

- (1) 歌曲 A 和歌曲 B 至少要上一个；
- (2) 如果相声 C 不能通过或相声 D 不能通过，则歌曲 A 也不能通过；
- (3) 如果相声 C 不能通过，那么魔术 F 也不能通过；
- (4) 只有舞蹈 E 通过，歌曲 B 才能通过。

导演组最终确定舞蹈 E 不能通过。

由此可以推出：（ ）。

- A. 无法确定论述 F 是否能通过
- B. 歌曲 A 不能通过
- C. 无法确定两个相声节目是否能通过
- D. 歌曲 B 能通过

148. 在防治癌症方面，橙汁有多种潜在的积极作用，尤其由于它富含橙皮素和柚苷素等类黄酮抗氧化剂。研究证据已经表明，橙汁可以减少儿童患白血病的风险，并有助于预防乳腺癌、肝癌和结肠癌。根据研究结果，橙汁的生物效应在很大程度上受到其成分的影响，而其成分的变化又依赖于气候、土壤、水果成熟度以及采摘后的存储方法等条件。

由此可以推出（ ）。

- A. 并非所有的橙汁都有相同的防癌功效
- B. 过度饮用橙汁会给身体健康造成不良影响
- C. 相对于健康儿童而言，白血病患儿的橙汁饮用量较小
- D. 生长于良好的气候土壤条件下、成熟并避光保存的橙子最有功效

149. 碎片化时代人们的注意力很难持久，让用户在邮件页面停留更长时间已经成为了营销者不断努力的方向。随着富媒体化的逐步流行，邮件逐步从单一静态向动态转变，个性化邮件的特性也逐步凸显。GIF 制作简单，兼容性强，在邮件中可以增加视觉冲击力。因此，在邮件中插入 GIF 动态图片，更能吸引用户的目光，增加用户的点击率。

以下哪项如果为真，最能支持上述结论？

- A. 如果针对特定用户群而制定个性化营销邮件，那么销售机会会增加 20%
- B. 过去没有插入 GIF 动态图片的个性化营销邮件，也为很多企业带来了成功
- C. 上世纪 70 年代出生的人习惯于电子邮件的静态界面，不喜欢花里胡哨的东西
- D. 插入 GIF 动态图片的个性化营销邮件，比普通发送的邮件给企业带来的收入多 18 倍

150. 一个旅行者要去火车站，早上从旅馆出发，到达一个十字路口，十字路口分别通向东南西北四个方向，四个方向上分别有饭店、旅馆、书店和火车站，书店在饭店的东北方，饭店在火车站的西北方。

该旅行者要去火车站，应当往哪个方向走？

- A.东
- B.南
- C.西
- D.北

151. 由于一种新的电池技术装置的出现，手机在几分钟内充满电很快就会变成现实。这种新装置是一种超级电容器，它储存电流的方式是通过让带电离子聚集到多孔材料表面，而非像传统电池那样通过化学反应储存这些离子。因此这种超级电容器能在几分钟内储满电，研究人员认为这种技术装置将会替代传统电池。

以下哪项如果为真，不能支持上述结论？

- A.超级电容器能够储存大量电能，保证长时间正常运行
- B.超级电容器能循环使用数百万次，相比之下传统电池只能使用数千次
- C.超级电容器可嵌入汽车底盘为汽车提供动力，可更方便地进行无线充电
- D.超级电容器充电时所耗电能比传统电池少 90%，但供电时间比后者长 10 倍

152. “有好消息，也有坏消息。”无论是谈起什么主题，这样的开场白都顿时让人觉得一丝寒意传遍全身。接着这句话，后边往往是这样一个问题：你想先听好消息还是坏消息？一项新的研究表明，你可能想先听坏消息。

如果以下各项为真，最能削弱上述论证的是（ ）。

- A.若消息是来自一个你信任的人，那么你想先听好坏消息的顺序会不同
- B.研究发现，若由发布消息的人来决定，那么结果往往总是先说好消息
- C.心理学家发现，发布好坏消息的先后顺序很可能改变人们对消息的感觉
- D.心理评估结果证明先听到坏消息的学生比先听到好消息的学生焦虑要小

153. 张女士特别爱美，多年来喜欢在冬天穿裙子以显示她婀娜多姿的身材。从去年冬天起，每到阴冷天，她都感觉到膝关节疼痛。后经医生诊断，她得了关节炎。于是张女士认为，阴冷天穿得少是导致关节炎的原因。

以下哪项如果为真，最能质疑张女士的观点？

- A.日本一些年轻女士喜欢冬天穿裙子，却并没有因为阴冷天穿得少而患上关节炎
- B.现代医学研究表明导致关节炎的根本原因是劳损、感染或创作，阴冷天穿得少关节谈易发作
- C.张女士的姐姐和她生活在一个城市，多年来也喜欢在冬天穿裙子，但没得关节炎
- D.阴冷天穿得多的人群中也有很多得了关节炎，而且以中老年人居多

154. 某刑事人类学家在对 260 名杀人犯的外貌进行了考察后，发现他们具有一些共同的生理特征，于是得出“杀人犯具有广颧、颧骨突出、头发黑而短特征”的结论。

以下哪项与上述推理方式相同？

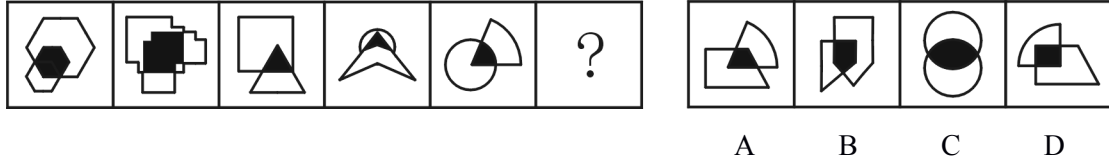
- A.24—28 之间没有质数

B.八月十五云遮月，正月十五雪打灯

C.植物种子经超声波处理后可增产，所以玉米种子经超声波处理后也可增产

D.某高校在对全校学生进行调查后，得出“我校同学学习态度普遍较好”的结论

155. 从所给的四个选项中，选择最合适的一个填入问号处，使之呈现一定的规律性：()。



根据材料，回答下列问题。

2009年5月全国邮电业务基本情况

	单位	5月		比去年同期增长(%)	
		累计(1~5月)	当月	累计	当月
邮电业务总量	亿元	10722.8	4274.2	11.4	11.6
邮政业务总量	亿元	630.1	133.0	12.7	16.4
电信业务总量	亿元	10092.7	2141.2	11.3	11.4
函件总数	万件	311389.3	62864.3	1.7	2.8
包裹	万件	2912.7	625.0	-15.8	-5.3
快递	万件	67468.0	14829.1	18.1	21.9
汇票	万笔	10825.3	2487.6	3.4	3.0
订销报纸累计数	万份	668388.1	137278.6	-0.1	-1.5
订销杂志累计数	万份	42900.2	8916.3	-0.5	-4.3
邮政储蓄期末余额	亿元	—	22788.8	—	20.5
固定传统长途电话通话时长	亿分钟	352.1	72.4	-4.6	-0.8
移动电话通话时长合计(含本地)	亿分钟	13770.2	2961.3	17.6	16.4
移动电话长途通话时长	亿分钟	895.2	200.6	28.4	24.0IP
电话通话时长	亿分钟	500.0	103.9	-16.8	-20.3
移动短信业务量	亿条	3195.4	643.2	11.2	10.4

156. 2009年1~5月，邮电系统平均每月订销报纸、杂志约多少亿份?

- A.13.7
- B.14.2
- C.14.6
- D.17.8

157. 按2009年5月业务同比增长率从高到低排列，以下正确的是()。

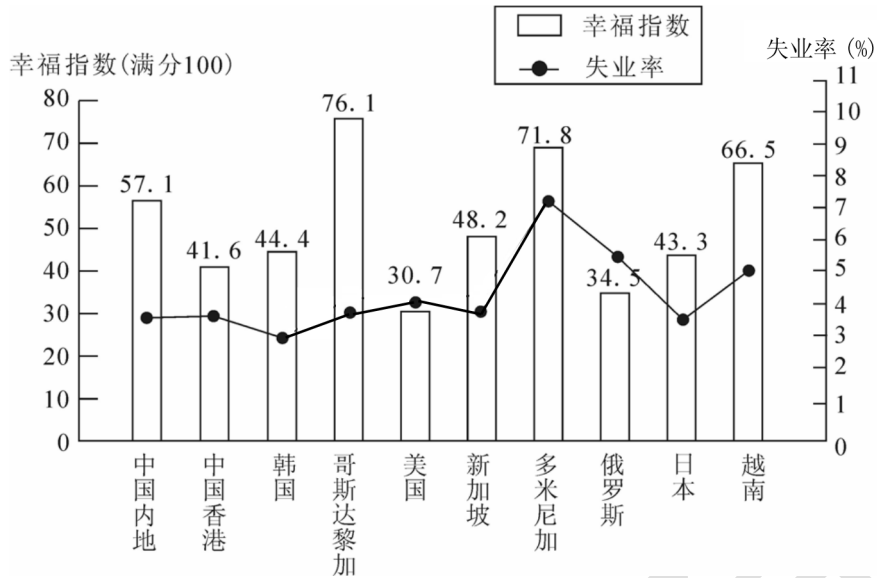
- A.函件—包裹—快递
- B.汇票—包裹—快递
- C.快递—汇票—函件
- D.函件—汇票—包裹

158. 2008 年 1~5 月，移动电话长途通话时长约是固定传统长途电话通话时长的多少倍？
- A.3.4
B.2.5
C.1.9
D.0.5
159. 假如平均每条移动短信的业务费用为 0.1 元，则 2009 年 5 月移动短信业务总量占当月电信业务总量的比重约为（ ）。
- A.2.8%
B.3.0%
C.3.2%
D.6.4%
160. 能够从上述资料中推出的是（ ）。
- A.2009 年 5 月，各项电信业务与去年同期相比均有所增长
B.2009 年 5 月，各项邮政业务营业状况均好于 1~4 月平均水平
C.2009 年 5 月，移动电话长途通话占移动电话通话总时长的 10%以上
D.2009 年 1~5 月，电信业务同比增长率高于邮政业务

根据材料，回答下列问题。

2007 年部分国家（地区）国民生产总值

国家（地区）	人均国民生产总值（美元）	国民生产总值（亿美元）
中国内地	2360	32801
中国香港	31610	2067
韩国	19690	9698
哥斯达黎加	5560	252
美国	46040	138112
新加坡	32470	1613
多米尼加	3550	367
俄罗斯	7560	12910
日本	37670	43767
越南	790	712



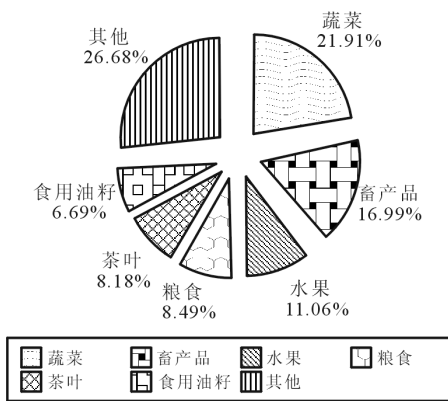
2007年部分国家(地区)幸福指数与失业率

161. 2007年, 下列国家(地区)中人口最少的是()。
- A. 中国香港
B. 哥斯达黎加
C. 新加坡
D. 多米尼加
162. 资料中失业率最高与最低的国家(地区), 其幸福指数相差()。
- A. 27.4
B. 22.1
C. 31.4
D. 28.5
163. 资料中人均国民生产总值和幸福指数均排名前五的国家(地区)有几个?
- A. 4
B. 3
C. 2
D. 1
164. 能够从上述资料中推出的是()。
- A. 美国的失业人口少于俄罗斯
B. 资料中人均国民生产总值越高的国家失业率越低
C. 人均国民生产总值排名第二的国家(地区), 幸福指数排名第八
D. 资料中只有一个亚洲国家(地区)的失业率高于美国
165. 下列说法与资料相符的有几个?
- ①国民生产总值小于1000亿美元的国家(地区), 幸福指数均高于其他国家(地区)
②人口过亿的国家(地区)失业率越低, 幸福指数越高
③比中国内地失业率低的国家(地区), 幸福指数均低于中国内地
④人均国民生产总值超过2万美元的国家(地区), 幸福指数均低于其他国家(地区)

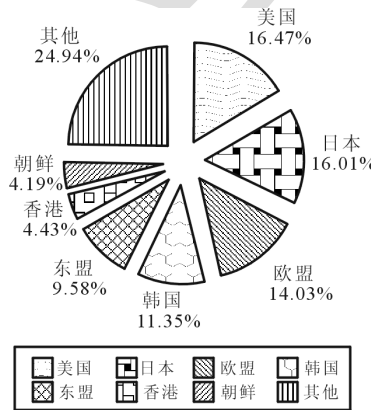
- A.3
- B.2
- C.1
- D.0

根据材料，回答下列问题。

2008年，某省农产品进出口贸易总额为7.15亿美元，比上年增长25.2%。其中，出口额为5.02亿美元，增长22.1%；进口额为2.13亿美元，增长33.2%。农产品进出口贸易额占全省对外贸易总额的4.5%。出口额居前5位的产品为蔬菜、畜产品、水果、粮食和茶叶，而绿茶出口额占茶叶出口额的四分之三。全省农产品对东欧、非洲、拉美等国家和地区的市场进一步开拓，出口额比上一年进一步增长。其中，对美国的出口额增长16.0%；对日本的出口额增长7.3%；对韩国的出口额增长59.8%；对东盟的出口额增长58.6%。



2008年某省
出口农产品结构图



2008年某省农产品
出口市场分布情况图

166. 2008年，该省的对外贸易总额约为多少亿美元？
- A. 79.25
 - B. 91.78
 - C. 134.66
 - D. 158.89
167. 2008年，该省的绿茶出口额约为多少万美元？
- A. 1307
 - B. 2255
 - C. 3080
 - D. 4387
168. 2008年，该省农产品外贸顺差比上年增长了多少（ ）。
- A. 5%
 - B. 15%
 - C. 25%
 - D. 35%
169. 与2007年相比，2008年该省出口韩国的农产品总额约增加了多少万美元？
- A. 2100

- B.3200
- C.4500
- D.5100

170. 能够从上述资料中推出的是 ()。

- A.2008 年, 该省出口日本的农产品总额接近 8000 万美元
- B.2008 年, 该省的粮食出口额比上年有所增长
- C.2008 年, 该省蔬菜的出口额超过 1 亿美元
- D.2007 年, 该省对东亚及东南亚地区的农产品出口占总出口额的一半以上

第三部分 综合知识

一、单项选择题 (本部分 道题, 共 分)

171. 青年大学生刚刚入职收入较低的时候会选择购买 A 商品, 当他们工作日久收入提升之后会减少对 A 商品的购买转而选择 B 商品, 那么 A 商品的类型是 ()。

- A.奢侈品
- B.正常商品
- C.低档品
- D.互补品

172. 关于吉芬商品说法正确的是 ()。

- A.替代效应与价格同方向变动
- B.收入效应与价格呈反方向变动
- C.总效应与价格呈同方向变动
- D.需求曲线向右下方倾斜

173. 在一个两部门经济中, 如与收入水平无关的消费为 50 亿美元, 投资为 30 亿美元, 边际储蓄倾向为 0.2, 则均衡收入为 ()。

- A.80 亿美元
- B.400 亿美元
- C.150 亿美元
- D.120 亿美元

174. 某一条无差异曲线由 $XY=60$ 表示, 下列哪种商品组合是处于同一条无差异曲线上的 ()。

- A. $X=12, Y=5; X=8, Y=6$
- B. $X=12, Y=4; X=10, Y=6$
- C. $X=10, Y=6; X=7.5, Y=8$
- D. $X=15, Y=4; X=7.5, Y=6.4$

175. 长期生产和短期生产的最根本划分标准在于 ()。

- A.以 1 年为时间界限

- B.生产效率的高低
C.生产要素投入的多少
D.是否可以变动全部生产要素
176. 如果某厂商增加一单位劳动使用量能够减少 5 单位资本, 能保持产量不变, 则劳动对资本的边际技术替代率为 ()。
- A. 1/5
B. 5
C. 1
D. -1
177. 在很多时候, 某个人的一项经济活动会给社会上其他成员带来好处, 但他自己却不能由此而得到补偿。此时, 这个人从其活动中得到的 ()。
- A. 私人收益小于社会收益
B. 私人收益大于社会收益
C. 私人成本小于社会成本
D. 私人成本大于社会成本
178. 下列 () 项命题不正确。
- A. 国内生产净值 (NDP) 减所得税等于国民收入 (NI)
B. 国内生产净值 (NDP) 加资本消耗 (折旧) 等于 GDP
C. 总投资等于净投资加折旧
D. 个人收入等于个人可支配收入加所得税
179. 国家纸币从性质上讲是一种凭 () 流通的货币。
- A. 国家信用
B. 国家强制力
C. 国家法律
D. 国家财务抵押
180. 在银行发放借款的情况下, 货币作为价值运动的独立形式从银行单方面转移到借款人, 这时货币执行的职能是 ()。
- A. 价值尺度
B. 支付手段
C. 流通手段
D. 贮藏手段
181. 关于货币层次, 下列说法中错误的是 ()。
- A. 从数量上看, $M_0 < M_1 < M_2$
B. M_1 是狭义货币, M_2 是广义货币
C. M_0 包括银行的库存现金
D. 在我国, 准货币包括定期存款、储蓄存款和其他存款
182. 甲公司同意乙公司以分期付款的方式偿还所欠贷款, 这种信用属于 ()。
- A. 直接信用

- B.国家信用
- C.银行信用
- D.消费信用

183. 下列经济行为中属于间接融资的是（ ）。

- A.公司之间的货币借贷
- B.国家发行公债
- C.商品赊销
- D.银行发放贷款

184. 下列利率决定理论中，（ ）理论强调投资与储蓄对利率的决定作用。

- A.马克思的利率论
- B.流动偏好论
- C.可贷资金论
- D.实际利率论

185. 在多种利率并存的情况下起决定作用的利率是（ ）。

- A.差别利率
- B.实际利率
- C.公定利率
- D.基准利率

186. 下列关于金融市场分类错误的是（ ）。

- A.按照交易的阶段划分可以分为发行市场和流通市场
- B.按照交易活动是否在固定场所进行可以分为场内市场和场外市场
- C.按照金融工具的具体类型划分可分为债券市场、股票市场、外汇市场、保险市场等
- D.按照金融工具上所约定的期限长短划分可以分为现货市场和期货市场

187. 在货币市场流动性最高、几乎所有的金融机构都参与交易的金融工具是（ ）。

- A.股票
- B.长期商业票据
- C.短期政府债券
- D.长期政府债券

188. 一张差半年到期的面额为 2000 元的票据，到银行得到 1900 元的贴现金额，则年贴现率为（ ）。

- A.5%
- B.10%
- C.2.56%
- D.5.12%

189. 我国金融机构体系的主体是（ ）。

- A.中央银行
- B.商业银行
- C.投资银行

D.政策性银行

190. 再贴现业务是中央银行对存款货币银行的（ ）。

- A.主要短期信贷
- B.主要借款
- C.主要债抵押放款
- D.主要现金调拨

191. 商业银行经营与管理三大原则的首要原则是（ ）。

- A.安全性原则
- B.盈利性原则
- C.流动性原则
- D.效益性原则

192. 下列不属于中央银行的业务范围的是（ ）。

- A.收取并保管银行存款准备金
- B.为财政部开设财政收支帐户
- C.为大型国有企业提供贷款
- D.在债券市场上购进国债

193. 以下业务属于商业银行资产业务的是（ ）。

- A.银行同业拆借
- B.回购协议
- C.票据贴现
- D.信托业务

194. 不构成我国政策性金融机构资金来源的是（ ）。

- A.财政拨款
- B.金融债券
- C.开户企业存款
- D.社会公众存款

195. 20 世纪 70 年代以来国际金融创新发展的最主要产品是（ ）。

- A.金融远期
- B.金融期货
- C.金融期权
- D.金融互换

196. 商业银行通过（ ）职能实现资本的融通。

- A.支付中介
- B.信用中介
- C.信用创造
- D.效益

197. 在下列控制经济中货币总量的各个手段中，中央银行不能完全自主操作的是（ ）。

- A.公开市场业务

- B.再贴现政策
- C.信贷规模控制
- D.法定准备金率

198. 根据《中华人民共和国中国人民银行法》的规定，我国货币政策的最终目标是（ ），并以此促进经济增长。

- A.保持货币币值稳定
- B.实现充分就业
- C.保持物价稳定
- D.保持利率稳定

199. 中央银行为控制通货膨胀风险，如果提高法定存款准备金率，将（ ）。

- A.可能迫使存款类金融机构降低贷款利率
- B.可能迫使存款类金融机构收紧信贷
- C.使企业得到成本更低的贷款
- D.可能迫使存款类金融机构提高存款利率

200. 国际收支出现大量顺差时会导致下列哪种经济现象？

- A.本币汇率上浮，出口增加
- B.本币汇率上浮，出口减少
- C.本币汇率下浮，出口增加
- D.本币汇率下浮，出口减少

201. 下列关于国际收支平衡表的说法错误的是（ ）。

- A.包括经常项目和资本项目
- B.资本项目，是国际收支中最基本、最主要的项目
- C.净误差与遗漏是一个人为的平衡项目
- D.金融项目记录的是一国对外资产和负债的所有权变动的所有交易

202. 设伦敦外汇市场即期汇率为 1 英镑=1.4608 美元，3 个月美元远期外汇升水 0.51 美分，则 3 个月美元远期汇率为（ ）。

- A.1.4659
- B.1.9708
- C.1.4557
- D.0.9508

203. 在众多的金融风险分类中靠分散投资无法避免的是（ ）。

- A.系统性风险
- B.非系统性风险
- C.利率风险
- D.汇率风险

204. 风险管理的最基本要求是（ ）。

- A.风险计量
- B.风险监测

C.风险识别

D.风险控制

205. 我国实行的监管体制是（ ）。

A.综合监管体制

B.混合监管体制

C.分业监管体制

D.分部分监管体制

206. 《巴塞尔协议 III》规定，截至 2015 年 1 月，全球各商业银行的一级资本充足率下限调低至（ ），由普通股构成的核心一级资本占银行风险资产的下限提高至（ ）。

A.4% 4%

B.5% 4.5%

C.6% 4.5%

D.6% 4%

207. 国务院常务会议决定，从 7 月 1 日起，将增值税税率由四档减至（ ）、（ ）和 6%三档，取消（ ）这一档税率；将农产品、天然气等增值税税率从 13%降至 11%。同时，对农产品深加工企业购入农产品维持原扣除力度不变，避免因进项抵扣减少而增加税负。

A.7%、8%、12%

B.17%、11%、13%

C.15%、12%、3%

D.16%、17%、12%

208. 2017 年 3 月 5 日，习近平参加全国人大上海代表团审议时指出，适应和引领经济发展新常态，推进供给侧结构性改革，根本要靠（ ）。

A.协调

B.创新

C.开放

D.共享

209. 2017 年是香港回归 20 周年，香港特首是（ ）。

A.何厚铨

B.崔世安

C.梁振英

D.林郑月娥

210. 2017 年诺贝尔物理学奖的主要贡献是在（ ）方面。

A.黑洞辐射

B.超新星爆炸

C.引力波

D.宇宙黑暗森林理论

211. 2017 年上半年中国国内生产总值（GDP）381490 亿，同比增长（ ）。

A.6.5%

B.6.7%

C.6.8%

D.6.9%

212. 2017 年达沃斯国际会议中心世界经济论坛年会，习近平发表题为（ ）的主旨演讲，强调要坚定不移推进经济全球化，引导好经济全球化走向。

- A. 共担时代责任 共促全球发展
- B. 应势而为、勇于担当
- C. 团结协作、开放包容、建设安全稳定、发展繁荣的共同家园
- D. 直面全球化与自由贸易的未来

213. 博鳌亚洲论坛秘书长周文重 1 月 9 日在北京宣布，博鳌亚洲论坛 2017 年年会将于 3 月 23 日至 26 日在海南博鳌召开，主题为（ ）。

- A. 正面全球化与自由贸易的未来
- B. 共同迎接全球化的未来
- C. 携手共创全球化与自由贸易的新未来
- D. 直面全球化与自由贸易的未来

214. 2017 年第一届一带一路高峰论坛会议在北京召开，这次会议提出了和平合作、开放包容、互学互鉴、互利共赢的（ ）精神。

- A. 丝绸
- B. 丝滑
- C. 带路
- D. 丝路

215. 中国最新研制的时速 400 公里的高铁是（ ）。

- A. 复兴号
- B. 希望之星
- C. 和谐 2 号
- D. 和谐 5 号

216. 2016 年，我国对全球经济增长的贡献率超过了（ ）。

- A. 25%
- B. 30%
- C. 35%
- D. 40%

217. 中国银行成立于（ ）年，由孙中山先生批准成立。

- A. 1908
- B. 1912
- C. 1918
- D. 1922

218. （ ）年 6 月、7 月，中国银行先后在香港联交所和上海证券交易所成功挂牌上市，成为国内首家“A+H”发行上市的中国商业银行。

A.2001

B.2003

C.2005

D.2006

219. 中国银行的核心价值观是（ ）。

A.追求卓越，诚信 绩效 责任 创新 和谐

B.追求完美，诚信 绩效 责任 创新 和谐

C.客户至上，诚信 绩效 责任 创新 和谐

D.卓越追求，诚信 绩效 责任 创新 和谐

220. 中国银行的战略目标（ ）。

A.担当社会责任，做最好的银行

B.承担社会责任，勇于进取

C.做客户满意的一流银行

D.做负责的好银行

221. 中国银行的客服电话是（ ）。

A.95566

B.95577

C.95588

D.95599

222. 中国银行 29 日宣布在（ ）成立亚洲债券承分销中心，中心成立后将为区域内企业提供全面的债券承分销服务，以及向区域内企业介绍中国境内债券市场，为其提供“熊猫债”承销服务。

A.香港

B.澳门

C.新加坡

D.珠海

223. 今年是中银香港成立（ ）周年，近日中银香港在香港举行中期业绩发布会，中银香港副董事长兼总裁岳毅表示，中银香港百年纪念钞很快会推出，是一款“有历史感，在很小的图片上展示很多信息”的纪念钞。

A.90

B.100

C.110

D.120

224. 2017 年中行中报显示，2017 上半年，中行实现税后利润 1105 亿元，同比增长（ ）；实现本行股东应享税后利润 1037 亿元，同比增长 11.45%

A.2%

B.4%

C.3.02%

D.5%

225. 2007 年第 4 届东博会起, 东博会开始推出主题国机制, 每届确定一个东盟国家为主题国, 目前已有 10 个国家担任。2017 年第 14 届东博会, () 担任主题国。

- A.越南
- B.文莱
- C.不丹
- D.菲律宾

226. 继首单“债券通”熊猫债成功发行后, 银行间债券市场迎来了首单主权熊猫债。7 月 26 日, 中国银行作为联席主承销商及牵头簿记管理人, 协助 () 在中国银行间债券市场成功发行 3 年期人民币债券 10 亿元。

- A.匈牙利
- B.奥地利
- C.利比亚
- D.芬兰

二、多项选择题 (本部分 道题, 共 分)

227. 为了研究国民收入在国民之间的分配, 美国统计学家 M.O.洛伦兹提出了著名的洛伦兹曲线。一般来说, 它反映了收入分配的不平等程度。弯曲程度 (), 收入分配程度 (); 反之亦然。

- A.越大, 越不平等
- B.越大, 越平等
- C.越小, 越不平等
- D.越小, 越平等

228. 需求、供给和价格的关系是 ()。

- A.需求大于供给, 价格就趋于上升
- B.需求小于供给, 价格就趋于上升
- C.需求大于供给, 价格就趋于下降
- D.需求小于供给, 价格就趋于下降

229. 下列哪些是完全竞争行业的特点?

- A.厂商数量众多
- B.厂商生产同质产品, 相互之间可以完全替代
- C.行业竞争对手之间有剧烈的价格竞争
- D.厂商自由进出这一行业

230. 常用的宏观经济指标有 ()。

- A.国内生产总值
- B.消费者物价指数
- C.生产者物价指数

- D. 股票指数
231. 严重通货膨胀对经济的影响包括（ ）。
- A. 促进经济发展
 - B. 生产萎缩
 - C. 生产繁荣
 - D. 流通混乱
232. 我国货币制度规定人民币具有以下的特点（ ）。
- A. 人民币是可兑换货币
 - B. 人民币与黄金没有直接联系
 - C. 人民币是信用货币
 - D. 人民币具有无限法偿力
 - E. 人民币具有有限法偿力
233. 下列选项中，属于原生的金融工具的有（ ）。
- A. 存单
 - B. 货币
 - C. 远期
 - D. 股票
 - E. 债券
234. 按市场工具划分，资本市场包括（ ）。
- A. 商业票据市场
 - B. 股票市场
 - C. 债券市场
 - D. 投资基金市场
235. 由中国银监会统一监督管理的金融机构是（ ）。
- A. 财务公司
 - B. 金融资产管理公司
 - C. 政策性银行
 - D. 证券公司
 - E. 农村信用社
236. 我国商业银行控制贷款资产风险的主要措施有（ ）。
- A. 增强风险防范意识
 - B. 提高担保抵押贷款的比重
 - C. 严格贷款审批制度
 - D. 推行贷款五级分类管理
237. 中央银行对金融机构的信用进行直接控制时通常采用下哪些手段？
- A. 信用配额
 - B. 规定商业银行的流动性比率
 - C. 直接干预

- D.规定存贷款利率高限
E.优惠利率
238. 目前, 国际货币主要有美元, 此外还有 ()。
- A. 马克
B. 日元
C. 欧元
D. 人民币
E. 英镑
239. 根据股东权利范围不同, 可以把股票分为 ()。
- A. 记名股
B. 优先股
C. 不记名股
D. 新股
E. 普通股
240. 商业银行操作风险的表现包括 ()。
- A. 内部欺诈
B. 业务中断和系统失灵
C. 外部欺诈
D. 实物资产损坏
241. 国际上通行的“骆驼评级制度”的主要内容是 ()。
- A. 流动性
B. 盈利水平
C. 负债能力
D. 资产质量
E. 资本充足率
242. 2017 年我国新申请的世界自然遗产有哪些?
- A. 可可西里自然保护区
B. 厦门鼓浪屿
C. 乐山大佛
D. 福建武夷山
243. 2017 年 6 月 9 日, 上海合作组织成员国元首理事会第十七次会议在哈萨克斯坦首都阿斯塔纳举行。这次会议接收了几个新的成员。这些国家包括 ()。这是上合组织 2001 年成立以来首次扩大。
- A. 印度
B. 巴基斯坦
C. 哈萨克斯坦
D. 日本
244. 十九大报告提到了“双支柱”的调控框架, 这两大支柱是什么?

- A. 货币政策
- B. 宏观审慎政策
- C. 经济政策
- D. 文化政策

245. GPI 的中文全称是“全球支付创新平台”，是环球同业银行金融电讯协会（SWIFT）组织联合全球各家大型银行推出的支付创新项目。作为国际化程度最高的中资银行，中国银行是国内首批加入 GPI 项目的银行，并在此基础上推出“中银全球智汇”（BOC-GPI）产品，产品亮点有（ ）。

- A. 快速到账
- B. 全程追踪
- C. 费用透明
- D. 信息完整

246. 中国银行成为北京 2022 年冬奥会和冬残奥会官方银行合作伙伴，冬奥会在哪几个城市举行？

- A. 北京
- B. 张家口
- C. 天津
- D. 大连

247. 中国银行在“一带一路”中有几个首创，下列属于首创的有（ ）。

- A. 首创“一带一路”的主题债券，以“一带一路”为主题的债券发行 3 次，一共发行了 76 亿美元。
- B. 首创了“一带一路”高级金融研修班，通过非官方渠道为一些国家做培训。
- C. 首创中小企业跨境撮合服务。
- D. 首创“一带一路”人民币汇率指数。

248. 中国银行遵循“适中型”的风险偏好，并按照“（ ）”的原则处理风险和收益的关系。

- A. 理性
- B. 稳健
- C. 审慎
- D. 激进

249. 中国银行发挥商业银行整合社会资源的优势，利用公益理念、“互联网+”思维，借助市场力量、政府支持、金融科技，开发了“公益中行”精准扶贫平台。平台主要分为四大模块，包括（ ）。

- A. 大爱超市
- B. 善源商场
- C. 善源公益
- D. 善源集采

250. “中银信贷工厂”有哪些特点？

- A. 坚持统一经营，集约管理。

- B.实现“机构专营”，突破了传统的“部门银行”设置，将原来分散在各个部门、涉及小企业信贷的职能逻辑集中，从上至下设立独立的小企业信贷专职机构，实现业务运作的专业化。
- C.打造“流程银行”，以满足客户需求和改善客户体验为立足点。
- D.借鉴“工厂化”运作模式，重塑信贷流程和管理体制，为各个岗位和环节制定标准化操作规范，加强过程管理，开发决策工具，提高服务效率与水平。

华图教育

答案与解析

第一部分 英语

1. 【答案】D。invite application 为正式提出请求之意。
2. 【答案】A。the+序数词+最高级固定搭配。
3. 【答案】D。定冠词后面加名词，表达要任命的是人，所以选择 D。
4. 【答案】A。since 表示自从，常接完成时。表示这个晚会从新年就开始策划了，是从过去发生一直持续到现在的动作，用现在完成时，主语 the party 与动词 plan 的关系为被动，所以选择 A。
5. 【答案】D。她完全应该得到冠军，她之前已经为此准备了好几年了。因获得冠军这一动作发生在过去，而准备的动作发生在过去的过去，故应该使用过去完成时。
6. 【答案】B。as though，好像。你看起来好像生病了，你应该去看医生。
7. 【答案】B。句意：—Bill 怎么啦？—他跑得很快，突然撞到了一辆停着的车子上。根据 when suddenly he ran into a parked car 可知他奔跑是在过去一段时间里正在发生的动作，所以使用过去进行时。故 B 正确。
8. 【答案】A。根据题意可知，这里空格的词引导的是地点状语从句，that what 不属于状语从句的连接词，排除 CD；A 表示特指，某个地方；B 表示泛指，相当于 no matter where；根据题意选 A。
9. 【答案】A。whatever 修饰名词，引导让步状语从句。
10. 【答案】A。考查状语从句。根据句意，空格处需要填入“好像，仿佛”。故选 A。句意：Jack 什么也没说，但老师向他笑了笑，好像他做了件聪明的事情一样。
11. 【答案】D。not until 否定意义词在句首，需要部分倒装。
12. 【答案】A。only 在句首，部分倒装，选择 A。
13. 【答案】B。考查固定句型。It is the first/second time that 从句（完成时）。句意：这是我第二次犯这样的错误。应该是第二次犯了错以后才这样说，所以使用完成时。
14. 【答案】C。考查虚拟语气。recommend that sb (should) do sth 建议...；should 可以省略。
15. 【答案】D。考查交际用语。根据上下文可知前后两个人的意见相反。句意：—我认为他很自私。—恰恰相反，他很慷慨很高尚。
16. 【答案】B。不要相信他。他刚刚说的都是废话。
17. 【答案】C。考查句型。There is no doubt 意为毫无疑问。句意为毫无疑问他是班级里跑的最快的。
18. 【答案】B。本题的含义是从他脸上的表情可以看出他有一点儿紧张，expression 可以表示表情的意思，故本题选 B。
19. 【答案】B。短语辨析。A. 穿上 B. 撇开 C. 延迟 D. 推迟。句意：由于已经紧张了很长时间，他撇开了工作，弄了点咖啡和他的同事们谈起了话。故选 B。
20. 【答案】D。be used to doing 表示习惯于某事。我的父母习惯在周末早起。

21. 【答案】B。动词 believe 的用法：直接加 that 引导的宾语从句。这里 that 为连接 adv，在句中不作任何成分，其后接完整句。大多数殖民时期的医生认为疾病来源人体内不平衡的体液。
22. 【答案】B。发生叛变事件后，商船的船长被丢弃在太平洋上的某偏远荒岛。
23. 【答案】B。缺宾语，答案中只有 BD 可以作宾语，但 D 的语序不对。1976 年，Sarah Caldwell 成为在第一个在纽约 Metropolitan Opera House 演出的演奏家。
24. 【答案】A。1955 年 1 月 7 号，Marian Anderson 成为在第一个在纽约 Metropolitan Opera House 担任主唱的美籍黑人。Become 系动词，后面需要表语，此空格为名词属性，所以选择 A。
25. 【答案】B。考察同位语结构，a phenomenon 是 the decentralization of cities throughout the United States 的同位语。A 中 and 为 conj.，后面应该连接一个完整的句子，但缺主语，错；C 中语序混乱，错；D 中 of which 作为介词宾语，后面应该接一个完整句，但只有一个 phenomenon 主语，句子不完整，错。可能战后最重大的趋势就是美国城市的分散化，当大规模高速公路建设项目容许了更大程度的发展郊区，这个现象更被促进了。
26. 【答案】A。before 为状语从句引导词 conj，后面一般引导一个完整的句子。B 同时出现两个状语从句引导词，错；C 缺主语；D 应该为正常语序，选项中使用了倒装句式，错。
27. 【答案】A。两个谓语需要有一个连词来连接。在乐器演奏家的哲学里面，思想和知识是专有排外性的功能性的过程。他们的重要意义仅限于在经验发展的过程中，用于乐器演奏。
28. 【答案】C。空格中缺主语谓语，A 中没有谓语；B 中 that 多余，因为句中只有一个谓语；D 也没有谓语。灭火器的通过冷却或者减少火中的氧气的方法工作的，大多数时候两个方法都会用到。
29. 【答案】A。enable sb to do sth. 固定搭配。规模生产方法的产生，使得人们能够买自己的车，并获得了空前的灵活性。
30. 【答案】B。racial prejudice 种族偏见。
31. 【答案】B。Tom 每晚都去那家酒吧喝瓶啤酒。他是常客。
32. 【答案】B。Tim 不喜欢吃牛肉，所以他老婆很少煮牛排。
33. 【答案】C。爱因斯坦-相对论的作者，对二十世纪的物理学有极重大的贡献。
34. 【答案】A。作为 if 从句中谓语动词 attend 的宾语，最合适的就是选项 A。seminar“研讨会”。
35. 【答案】B。考查冠词，第一空填 the，是特指“这个消息”，第二空不填，这里 surprise 是抽象名词，不加冠词，句意：国家足球队没有参加下一届世界杯的资格的消息一点都不令人惊讶。选 B。
36. 【答案】B。根据后一句说到要求对方在有耐心，所以这里用 look into，意思是调查。
37. 【答案】C。考查定语从句。Which 指代先行词 map 作为 without 的宾语。句意：幸运的是 Smith 买了一张地图，没有它我们会迷路。
38. 【答案】D。考查定语从句。当先行词前面有 such/so/as many/as much 修饰时，关系代词用 as，as 指代先行词，做 visit 的宾语。句意：你不可能找到像我们前几天参观的好地方。

39. 【答案】D。考查冠词。第一空是特指；意为：没有人参加；out of the question 不可能。句意：没有太多的人参加，在短期内完成这项工作是不可能的。
40. 【答案】A。考查动名词复合结构。For 是介词，后面接动名词。动名词复合结构中 not 放在 doing 前面，所有格放在 not 前。句意：因为没有能来他向我道歉。
41. 【答案】B。考查强调句型。句意：重要的是你做工作的能力而不是你来自那里或者你是做什么的。
42. 【答案】A。考查固定结构。Be said to do sth 据说要做某事；be said to have done sth 据说做了某事；句意：—Bob 还在表演吗？—恐怕不了。据说他已经离开了舞台，因为他已经成了官员。
43. 【答案】C。考查主谓一致和语态。名词 1+as well as+名词 2 做主语，谓语动词与名词 1 保持一致。句意：Marty 和她的父母被邀请去参加开幕式。
44. 【答案】C。考查 as 用法。as/so 是副词，后面要接形容词或者副词，排除 D；B 项用于否定句。句意：—你认为明天的天气会怎么样？—我认为天气会和昨天一样晴朗。
45. 【答案】B。考查定语从句关系词的选择。根据句子结构可知 my grandparents lived 是非限制性定语从句。先行词 New York 在从句中做地点状语，故选择 where=in which
46. 【答案】B。考查形容词辨析。当主语是 sb 的时候，表示某人可能会干某事只能选择 likely，即 sb be likely to do sth。
47. 【答案】C。考查主谓一致。Neither... Nor... 后面的谓语动词要用就近原则，句子意思为无论是博物馆还是图书馆看起来都不能吸引她。根据句意可知用 seems 表示看起来。
48. 【答案】B。考查非谓语动词。根据句子结构可知 to reduce the risk of a shark attack 作目的状语，reduced 表示被动或者已经发生。CD 不能做状语。句意为为了降低鲨鱼袭击的危险，你应当遵循这些建议。
49. 【答案】C。考查反义疑问句。反义疑问句根据主句来选择，主句是否定 never 所以反义疑问句中用肯定，主句用 has never been，反义疑问句用 has。
50. 【答案】D。考查时态。根据 for ten years 可知，句意为她已经不在株洲工作 10 年了。用现在完成时。
51. 【答案】A。推理题：从第一段的句子：Anyway, artists got trained and those simple creations improved a lot. 可知在 17 世纪，民间艺术和美术的创作都很简单，选 A。
52. 【答案】D。细节题：从第二段的句子：It goes straight to the bases of art which the folk artists feel naturally. 可知民间艺术家的作品来自艺术家的感觉，选 D。
53. 【答案】B。细节题：从第三段的句子：They often began their art careers late in life and used art as an outlet (出口) for their energy. 可知民间艺术帮助艺术家释放精力，选 B。
54. 【答案】A。细节题：从第三段的句子：Their materials were cheap and simple, their subjects were different, but their creativity flowed. Doing their own things became the norm (标准), and was what made folk art so desirable. 可知 20 世纪 30-60 年代民间艺术受欢迎是因为它们提供艺术家展示的空间。选 A。
55. 【答案】C。主旨题：文章第一段比较民间艺术和美术之间的差别，后面几段重点讲的是民间艺术的历史和特点。选 C。

56. 【答案】C。细节理解题 根据第一段的第二句“*It is very seldom that one would be invited to a British person’s home.*”可知。
57. 【答案】D。细节理解题 根据第一段的倒数第二句“*If you are invited, don’t ask to see more than the downstairs that your British host invites you into.*”可知。
58. 【答案】A。主旨大意题。本文介绍了拜访英国或者美国朋友需要注意的问题。
59. 【答案】C。细节理解题。*I was reading these interesting stories behind a group of great logos in the world. Personally Nike is my favorite one – it’s so simple. And I liked the stories behind them, which made me forget all other things.* 句子的意思是: 在世界上每一个伟大的理念背后都有着有趣的故事, 就我个人来说, 耐克是我最喜欢的, 我喜欢这些品牌背后的故事, 他使我忘记所有其它的事情, 从本句来看这些故事是很吸引人的。故答案应为 C。
60. 【答案】D。细节理解题。*This logo represents the wing in the famous statue of the Greek goddess.* 耐克这个品牌符号所代表的是希腊女神雕塑的翅膀。由此句可知答案为 D。
61. 【答案】B。细节推理题。从第四段的句子: *a rainbow- colored silhouette (轮廓) of an apple with a bite taken out of it. And then the rainbow- colored apple was replaced by the one- colored logo in 1998. It has not been changed so far.* 可知苹果符号的设计理念被改变了很多次, 彩虹颜色的苹果被一种颜色的咬过的苹果所替代, 故答案应为 B。
62. 【答案】A。综合排序题。*Nike’s logo was designed by Carolyn Davidson in 1971 for \$ 35* 意思为: Nike 的理念是在 1971 年由 Carolyn Davidson 设计出来; *The logo was designed in 1962 by Jim Schindler* 麦当劳的理念设计于 1962 年; *And then the rainbow-colored apple was replaced by the one-colored logo in 1998. It has not been changed so far.* 苹果的理念是在 1998 年确定下来, 直到现在没有改变; *Benz came as a result of a combination with Benz, Cie and DMG in 1926.* 1926 年设计出了奔驰的符合。所以答案应为 A。
63. 【答案】D。问题提问从最近的研究中我们可以了解到什么? 第一段第一句中 *Several recent studies found that...* 与题干对应, 由此可知 *that* 后的就是 *recent studies* 的内容, 即 *being randomly assigned to a roommate of another race can lead to increased tolerance but also to a greater likelihood of conflict*。其中“*being randomly assigned to a roommate of another race*”对应了选项 D 中的“*interracial lodging*”, “*can... but also...*”说明了 *interracial lodging* 是有利有弊的。因此 D 选项符合文意。而 C 选项“弊大于利”不符合文意, A“不同种族学生之间的争执是不可避免的”选项与 B“不同种族的学生相互存在偏见”原文中没有明确提及。
64. 【答案】D。问题提问 Sam Boakye 的话是什么意思? 通过定位可以找到 Sam Boakye 的那段话, 即 *if you’re surrounded by whites, you have something to prove.* 这句话前面的插入语 *-the only black student on his freshman year floor-* 介绍了 Sam Boakye 作为黑人学生的背景, 帮助我们理解之前那句话: 如果你的周围都是白人, 那么一定会去证明些什么, 言下之意就是选项 D“白人同伴的存在会激励黑人学生更加努力地去取得成功”。而选项 A, B, C 在文中没有明确提及。本题选项 C 有个干扰信息“*the freshman year*”, 在原文中出现。
65. 【答案】A。问题提问 Indian University 的研究显示了什么? 通过定位可以发现研究结果显示 *Interracial roommate were three times as likely as two white roommates to no longer live together*, 与选项 A 中的 *more likely to fall out* 对应, 因此选择 D。此处, *fall out* 应该理解

为“散伙，分开”。

66. 【答案】D。通过定位找到人名，人名后出现“This is the definition of integration”，由“this”可知人名前就是我们要找的答案，即 the process throws you together randomly, “throw you together randomly”与“randomly assign”对应。意思与选项 D 符合。因此，此处选择 D。

67. 【答案】A。题干中出现的人名 Grace Kao 以及 generalizations 提示答案定位在文章最后一段。根据最后一段意思：要得出 Interracial lodging 的一般规律，需要对学生的背景特征有更多的研究，与选项 A 的意思相同。而选项 BCD 在文中没有明确提及。

68. 【答案】B。在文章的第一段，第一行，我们看到“... 300,000 deaths and about \$ 125 billion ...”，根据这里，我们可以把答案锁定在选项 A (economic) 和选项 B (Rates of death)，然后我们接着往下看，可以发现，第二段就没有再提到金钱方面了，而都是在讲死亡和疾病的话题，如第二段的第三行“... death rates from illnesses ...”。所以，最后正确的选项是 B。

69. 【答案】A。根据顺序原则，我们在接下来的第三段里就找到了本题的答案。第三段的第一行就讲到“the report drew criticism from some experts on climate and risk”，这和 A 选项是完全相一致的，challenged 是 criticism 的同义替换。B 选项中的“interest”表示“兴趣”，主要用于好的事物，这里讲的都是对 the Forum's report 的批评，显然就不合适了。C 选项表达的意思跟原文正好相反，这个是肯定要排除的。然后，有的同学可能会选到 D 选项，可能是受到文中第四段“... primarily in poor countries, were being seriously effected ...”这句话的影响。但是 D 选项中“a big stir”“一阵巨大的骚乱”文中是完全没有提到的。

70. 【答案】B。在第五段，我们可以很快找到 Pielke，然后找到他说的话，第二行“the Forum's report was ‘a methodological embarrassment’”，然后在第六行“but the report, he said ‘will harm the ... it is so deeply flawed’”。根据这两句话，选项中 invalid 是 flawed 的同义替换。

71. 【答案】D。在第六段的第二行和第三行，可以看到“the number were rough estimates. He said the report was aimed at world leaders ...”，根据这两句话，我们就能较轻松地将正确答案锁定在 D 选项。

72. 【答案】D。最后一段是 Kofi Annan 说的一段话。我们在最后一段的第二行，focus on 后面“... from rich to poor regions to help reduce ...”后面的内容就无需再花时间去看了，因为他 focus (关注) 的地方，在此就已经陈述清楚了，正确答案就是 D。

73. 【答案】B。Fraud on the Internet happens very often. 根据文章可知现在的信用卡犯罪非常普遍，所以很多人担心自己的网购行为。

74. 【答案】D。You might suffer great losses. 根据第二段 The thieves then go shopping with your card number or sell the information over the Internet. 可知你会遭受损失。

75. 【答案】C。推理题，根据第三段例子可知信用卡诈骗给很多人带来了损失，因此选择 C。

76. 【答案】A。主旨大意题，本篇讨论的话题是信用卡诈骗，文章最后三段告诉我们如何预防信用卡诈骗，因此 A 正确。

77. 【答案】C。

78. 【答案】A。细节理解题。由第二段第二句 Don't approach them and ask why they are jealous of you 可知。

79. 【答案】D。细节理解题。由文章第一段可知。

80. 【答案】C。推理判断题。
81. 【答案】C。作者意图题。通读全文可知，本文写作目的是介绍处理有嫉妒心朋友的方法。
82. 【答案】A。推理判断题。根据第一段中“90% of teachers say they are required to teach handwriting”可知书法教学是基本的教学要求，A 项为正确推论。根据“One study published this year found that about three out of every four teachers say they are not prepared to teach handwriting”可知，很多老师不愿意教书法课，B 项错误；根据第一段末句可知 C 项错误；根据全段判断，只是说键盘普及使一些人认为书法渐渐过时了，D 项错误。
83. 【答案】D。细节题。根据第二段可知，传统的书法教学重复很多遍并且持续时间长，因此 A、B 两项内容正确。根据第三段第一句可知 C 项内容正确；根据最后一段第二句可知 D 项内容错误。
84. 【答案】A。推测词义题。根据下文“which means forming the letters so they can be read”可推测画线词的意思是“清楚，易读”。
85. 【答案】B。标题归纳题。作者对美国书法教学的现状作了叙述，没有自己的主观评论，故选择 B。A 项没有涉及，C 项只是其中一部分内容，D 项只是一部分人的观点。
86. 【答案】B。态度判断题。根据全文的叙述，作者只是将美国书法教学的现状和不同人的观点呈现出来，并没有发表自己的见解，因此作者持客观的态度。
87. 【答案】D。当顾客发现自己所购买的商品有问题时，他所做的第一件事就是出示在商场购物的凭据。事实辨析题。文章第一段指明，顾客购买了有瑕疵的商品后，首先应出示在某商场购买某商品的相关记录或证明。故选项 D 正确。
88. 【答案】A。为了使投诉更加有效，应当指出商品的问题所在。事实辨析题。根据第四段第一句话，最有效的投诉方式是指出所购商品的具体问题，故选项 A 正确。
89. 【答案】D。文章表明：消费者最后的处理方向就是向消费者权益保护组织求助。事实辨析题。文章最后一段指出，顾客购买了有瑕疵的商品后，可以向销售者或生产者投诉，如得不到满意答复，可以进一步向消费者权益保护组织反映。故选项 D 正确。
90. 【答案】A。达到标准。词汇题。文中“does not live up to the manufacturer’s claims”中的 live up to 意为“没有达到...的标准”。故选项 A 正确。
91. 【答案】B。文章告诉我们怎样对有瑕疵的商品进行有效投诉。主旨题。本文主要说明顾客在购买了有瑕疵的商品后如何进行最有效的投诉，故选项 B 正确。
92. 【答案】B。文章主要讲述了救生衣的设计。间接题型段首主旨题。C 项和 D 项都是对救生衣设计中设计材料的说明。A 项为陷阱，指救生衣的用途，尽管开头提到，但范围不着边际。故只有 B 是正确选项。
93. 【答案】D。根据文章，救生衣首先会自动扶正。事实细节题。本文第三段主要讨论救生衣落水位置，应设计的能“自动扶正”，或稍向后仰。B 项是对材料的描述，范围太窄，而 A 和 C 不合题意，因此 D 是正确答案。
94. 【答案】C。美国海岸巡逻队不需要救生衣根据穿戴者的尺寸生产。事实细节题。A 项和 B 项都涉及 method，其相关部分见最后一段第三句，A，B，D 三项都是文章中提及的，C 项与本题无关的内容，因此应该选 C。
95. 【答案】A。“the uninitiated individual”作者指的是不知道怎么使用救生衣的人。语义指

代题。根据文章最后一段第一句, 我们可推出“the uninitiated individual”就是指的那些不知道如何使用救生衣的人。故 A 是正确选项。

96. 【答案】D。如果一个人没有正确使用救生衣, 就会发生什么? 细节辨别题。第三段第一句后半句中 a face-down position 和本题中的 in a wrong position 相对应。因此选项 D“他可能太累了或者是已经失去知觉”是正确答案。

97. 【答案】C。原文中提到 We are very sorry to hear that you have been experiencing problems with your new laptop. Laptop 即为笔记本电脑

98. 【答案】D。文章第一段写 if you will carefully package the unit in its original carton and send it to us, our “doctors” will put it through an examination to determine the source of the problem. 所以选择 D 选项。

99. 【答案】C。题目问 Solar Trophy 是什么? 信中多次提到 race, 表明作者在谈论一个比赛。

100. 【答案】D。题目问什么样的作品可以进入太阳奖杯比赛, 提到 Bill Bradley 在 the solar energy conference in Manila 中 was giving a presentation about the event, 所以这场赛事与太阳能有关。后面提到这家公司 sponsor one of the crews, 理由是这家公司 already supplying marine versions of our solar panels to a number of boatyards in Europe and Asia。因此答案为 D。

第二部分 行政能力测试

101. 【答案】C。文段重点在尾句, 转折词“但”之后是重点“但从文化遗产的角度看, 木版年画又不应在商业化过程中肆意改变, 那么与社会适应又不失人文内涵就成了新的课题”。木版年画“与社会适应又不失人文内涵就成了新的课题”, 作者是在强调木板年画如何更好地进行传承与创新。选项 C 为文段主要意思的同义替换。因此, C 为正确答案。

102. 【答案】D。文段为总—分结构, 首句指出语言文字功底的重要性, 后面举例子传统文化、印度文化、西方文化来论证第一句, 接着从反面来进一步进行解释说明。可见作者意在强调语言文字功底影响学术的深度和水平。所以本题选择 D 项。

103. 【答案】A。文段首先介绍了城墙的历史价值, 接着引出了作者观点: 城墙并非一堵墙那么简单, 我们要对城墙的文化遗产价值予以重视。所以本题选择 A。

104. 【答案】B。文段首先列举了“90”后的一系列个性行为, 接着指出不要过分关注这些个体行为, 以免形成刻板印象, 导致认知偏差。文段只是说不要对 90 后形成刻板印象, 并没有暗示出“90 后”身上有优秀品质, 所以本题选择 B 项。由“90 后”一代拥有一个网络童年可知 D 项正确; 由最后一句“假如舆论的关注点和兴奋点都集中在这些个性行为上, 关于“90”后的刻板印象就会悄然形成, 从而导致对这个群体的认知偏差”可知 A、C 两项正确。因此答案为 B 项。

105. 【答案】A。文段首先通过一个童话故事引出要说的内容: 现实生活中撒谎也可以通过精密仪器来测试。接着进一步引出美国科学家研发的新型测谎仪。很显然, 接下来文段应该介绍这种新型测谎仪如何识别撒谎。所以本题选择 A 项。

106. 【答案】C。文段以船比喻人生, 用并列的几个例子来说明每一只在航行的历程中都有过受伤的经历, 人生也是这样, 会经历不断的磨难, 文段的主题是“失败”, 选项 A、B 和

D 的主题是“不屈不挠”、“败而不气馁”、“屡仆屡起”，讲的都是“直面失败”，与文义相符。选项 C 的主题是“尝试”，与文段主旨无关。因此选择 C 项。

107. 【答案】C。文段前面提到方回对朱熹的诗抬举过分，接着剖析产生此现象的原因，在第一空由“势必”引导出结论，因此第一空因与“抬举过分”构成前后照应的关系，只有“进退失据”，含有前进和后退都失了依据，把握不好尺度之义，第二空前有“或”字，表面前后应为并列关系，因此“扬长避短”与“取长补短”构成并列。因此，本题选择 C 选项。

108. 【答案】D。第一空前有限定词“鞭辟入里”，所填词语要与限定词搭配，鞭辟入里侧重“里”，形容分析透彻深入，切中要害，B 项“远见卓识”侧重“远”，形容远大的眼光和卓越的见解，“里”与“远”不搭配，排除 B 项。再看第二空，“然而”一词表示转折，意为前后语义相对或相反，前半句强调“多位前辈时贤对诗歌翻译理论都有自己深刻的见解”，然后话题一转，后半句强调“对诗歌翻译的理想形式却都有自己的见解”，因此此处要填一个各有各见解的词语，D 项“见仁见智”对同一个问题，不同的人从不同的立场或角度有不同的看法，符合题意。“各持己见”、“各执一端”指每个人都坚持自己的意见，重在“执”，文中仅在说明各有不同见解，并没有涉及到坚持论谁对谁错，因此 A、C 项排除，答案为 D 项。

109. 【答案】A。“踟蹰”与“徘徊”都有在一个地方来回地走，比喻犹豫不决，也比喻事物在某个范围内来回浮动、起伏的意思，两词的动作侧重于“走”，与题目中“乘着红色的双层巴士”不符，所以排除 C、D 两项。再看第二空，“神情自若”与“泰然自若”看似相同，却有区别，“神情自若”指神情态度仍和原来一样，而“泰然自若”形容在紧急情况下沉着镇定，不慌不乱，文段中“在慵懒的夕阳下，那乞丐穿戴齐整”一幅很祥和的景象，并没有紧急情况，因此选择“神情自若”，答案为 A 项。

110. 【答案】B。“甚至”表示递进关系，第一空应与“错误”是近义词且程度较“错误”轻，排除“意见”，排除 C 选项。“存在弱点”搭配不当，排除 A 选项。“越严谨的科学研究”理应会减少出现错误的可能性，不应该越容易出现错误，与后文的文意不相符合，排除 D 选项。所以正确选项为 B 选项。

111. 【答案】D。文段主题句是第二句，通过转折词“但实际上”引导的一句话“公众素养是科技发展的土壤”，即强调公众素养和科技发展之间的关系，D 项是对主题句的同义替换。文段主要强调的是科技发展依赖公众素养，并未说全民科学素质低，所以谈不上势在必行和亟待提高，A、C 两项与主题不符；B 项理解有误，按照文段意思，公民科学素养应该是科技发展的“软实力”。本题答案选 D。

112. 【答案】D。文段首先谈到了国家提高个税起征点本意是好的，但是会存在一些问题。紧接着文段第二句以结论词“因此”引出解决问题的具体对策，一方面是提高个税起征点保护低收入群体的正当利益，另一方面要更新观念。对应四个选项，只有 D 选项概括了文段所提的具体对策，前半句是对文段中第一项对策的同义替换，后半句“还有许多问题需要完善”也就是说，我们需要在政策的制定实施方面应该更新观念。因此，正确选项为 D

113. 【答案】D。文段一开始引用哲学家的话，引出本文段讨论的话题“幸福需要自我调试和社会调整”。接下来分别从哲学家和心理学家两个角度来谈论对幸福的理解。哲学家从自身难以满足的欲望来阐发幸福，强调的是幸福需要自我调试；心理学家从社会上人与人之间收

入分配是否公平而非自身收入是否充足来阐发幸福，强调幸福需要社会调整。故本题答案为 D。A 项表述片面；B 项的“心态”在文段中没有提及；C 项表述无中生有，文段并没有讲述幸福获取的途径首先要降低自己的期望。

114. 【答案】D。文段首句阐述了一种不良的学术背景，接着说明了在这种背景下，学术批判变成了有些学人自我彰显的“噱头”，学术存在一种为了批判而批判的问题，最后总结为“当这种现象泛化为普遍之时，必将是学术死亡之日”，言下之意就是不能这样做，即要求我们坚持“学术之追求真理性认识的本然功能”，而不能去为了批判而批判。观察四个选项，只有 D 项是文段意在说明的。A 项曲解文意，由文段末句可知，“当这种现象泛化为普遍之时，必将是学术死亡之日”，这种现象是指为了批判而批判的现象，而不是包含了所有的学术批判；B 项属无中生有，文段中并没有体现“政治斗争”；C 项在文段中没有体现。本题答案选 D。

115. 【答案】D。文段为总分结构。主要论述汉语国际推广活动在世界各地如何全面拓展开来，文段首句即给出了对策，“必须将海外华人族群文化的现状考虑在内”，接下来正反两方面的内容进行展开论述。都在论述汉语国际推广活动必须将海外华人族群文化的现状考虑在内。也就是汉语国际推广活动的前提之一是支持海外华人构建自己的族群文化。因此，答案为 D。

116. 【答案】C。文中语义为体现费用高，居高不下形容某种情况保持在较高的水平或者状态，没有下降的趋势，符合语境，因此选择 C 项。

117. 【答案】B。顿号连接两个意义相近的词语，空格处所填之词应和“扬短避长”所表达的意思相近。“扬短避长”在这里有舍本逐末，强迫自己做自己不擅长的事情的意思，选项中 B 项的“削足适履”最为接近。“削足适履”比喻不合理地迁就凑合。因此，本题答案为 B 选项。

118. 【答案】D。先看第一空，“政策”是国家或者政党为了实现一定历史时期的路线和任务而制定的国家机关或者政党组织的行动准则。“国家助学贷款”与“政策”搭配不当，排除 B 项。再看第二空，“国家助学贷款”不能“体现”贫困家庭学生享受平等教育，排除 C 项；“国家助学贷款”是贫困家庭学生享受平等教育的“保障”而不能是“条件”，排除 A 项。故本题答案选 D。

119. 【答案】C。第一处，见仁见智：比喻因个体差异，对事物就会有不同的看法，毋庸置疑：事实明显或理由充分，不必怀疑，根本就没有怀疑的余地，显而易见：形容事情或道理很明显，极容易看清楚，文中语义为需要职业导演这一观点明确，排除见仁见智。第二处，锦上添花：比喻好上加好，美上添美，登堂入室：比喻学问或技能从浅到深，达到很高的水平，精益求精：好了还求更好，雪中送炭：比喻在别人急需时给以物质上或精神上的帮助，文中非职业导演作为副体，其作用使用锦上添花表示更恰当。

120. 【答案】C。第一处，对市民修饰，川流不息、络绎不绝均有形容行人连续不断语义，排除源源不断、连绵不断。第二处，需要填入动作，延续符合语境，排除继续。

121. 【答案】A。由及格率为95%可知，19个人及格，1个人不及格。要求成绩排名第10的人最低考了多少分，必须使排名在前9的人的分数尽可能高，不及格的人的分数也尽可能高。取不及格的分数为59，高分取100，99，98，97，96，95，94，93，92，这10个人的总分数为923，剩余10人的总分数为837。设第10名的成绩为 x ，要使 x 最小，则第11~19名的成绩要尽可能接近 x 且各不相等。则这10个人成绩的和最大可为 $x+(x-1)+(x-2)+\dots+(x-9)=10x-45$ ，实际总分数为837，且 x 必须为整数。先代入88，可得 $10x-45=835$ ，要使实际和为837，必须在后面9个人成绩里面加2分，不合舍去；代入89，可得 $x-45=845$ ，从后面9个人成绩里减去8分即可；代入90，可得 $10x-45=855$ ，从后面9个人成绩里减去18分即可……依此规律，符合条件的最低分为89。

122. 【答案】B。设小王步行的速度为 x ，A城到B城之间的距离为 y ，则跑步的速度为 $2x$ ，骑车的速度为 $4x$ ，根据题意有： $(y/4x) + (y/x) = 2 \rightarrow y/x = 85$ ，小王跑步从A城到B城需要的时间为： $y/2x = 1/2 \times 85 = 42.5$ （小时）=48（分钟）。B项正确。

123. 【答案】A。设丙队在A工程中参与施工 x 天，甲、乙、丙三个工程队的效率分别是6，5，4，根据题意有： $6 \times 16 + 4x = 5 \times 16 + 4 \times (16-x) \rightarrow x = 6$ （天）。故A项正确。

124. 【答案】B。分析题意，甲乙第一次相遇时两人共游了30米，此后两人每共游一个来回即60米时再次相遇。1分50秒内两人共游了 $(37.5+52.5) \times 11/6 = 165$ （米），故应相遇了3次，分别在30米、90米和150米时，答案选B。

125. 【答案】A。设今年男员工有 x 人，则女员工有 $(833-x)$ 人，根据题意有： $x \div (1-6\%) + (833-x) \div (1+5\%) = 830 \rightarrow x = 329$ （人）。故本题正确答案为A。

126. 【答案】A。设原材料的价格为 x ，上涨之前的总成本为15，原材料价格上涨了1，则上涨之后的原材料价格为： $x+1$ ，上涨之后的总成本为： $15 \times (1+1/15) = 16$ ，根据题意有： $(1+x) \div 16 - x \div 15 = 2.5\% \rightarrow x = 9$ 。故原材料的价格上涨了 $1 \div 9 = 1/9$ ，A项正确。

127. 【答案】C。设商店是按定价打 x 折销售的，则 $10000 \times 30\% \times (1+25\%) + 10000 \times (1-30\%) \times (1+25\%) = 10000 - 1000 \rightarrow x = 6$ ，故本题正确答案为C。

128. 【答案】D。由“要求女职员比重不得低于一半”可知，选拔可分为三种情况：(1) 2男2女，这种情况下需先从4个女职员中选两个，再从4个男职员中选两个，最后减去4个职员都从一个科室中选出的2种情形，即 $\times - 2 = 34$ （种）；(2) 1男3女， $\times = 16$ （种）；(3) 0男4女，这种情况下只有1种选法。故 $34+16+1=51$ （种），D项正确。

129. 【答案】B。由“小赵休息了两局”可知，小钱和小孙打了2局，小钱和小赵打了 $8-2=6$ （局），小孙和小赵打了 $5-2=3$ （局），则三人共打了 $2+6+3=11$ （局）。由“小孙共打了5局”可知，小孙休息了 $11-5=6$ （局），由“每一局的输方下一局休息”可知，小孙不可能连续休息，故小孙必是休息一局打一局，到第9局时小孙休息，小赵和小钱打球。故本题正确答案为B。

130. 【答案】D。根据题意可知，不合格的产品共有： $8+10+9-7-1 \times 3+1=18$ （种），则三项全部合格的建筑防水卷材产品有： $52-18=34$ （种）。D项正确。

131. 【答案】B。根据题意可知，要分为两个完全相同的部分，最大的切面应是一个底边为1，腰为 $\sqrt{2}$ 的等腰三角形，其面积为： $\frac{1}{2} \times 1 \times \sqrt{2}$ ，B项正确。

132. 【答案】C。设A、B、C三个部门的人数分别为 x 、 y 、 z ，则， $30(x+y) = 38x+24y \rightarrow x : y = 3 : 4$ ； $34(y+z) = 24y+42z \rightarrow y : z = 4 : 5$ ，故A、B、C三个部门的人数之比为3:4:5。则该单位全体人员的平均年龄为： $(38 \times 3 + 24 \times 4 + 42 \times 5) \div (3+4+5) = 35$ （岁），C项正确。

133. 【答案】B。设B管每分钟进水 x 立方米，根据题意可知， $180 \div 90 = 2$ （立方米），则A管每分钟进水 $(x+2)$ 立方米。则有 $90[x + (x+2)] = 160(x+2) \rightarrow x=7$ （立方米）。故本题正确答案为B。

134. 【答案】D。设全市共有 x 万人，C区人口占全市人口的比例为： $(1 - 5/17 - 5/17 \times 2/5) \times 5/13 = 50/221$ ，根据题意有： $5/17 \cdot x - 50/221 \cdot x = 3 \rightarrow x = 44.2$ （万人）。故本题应选D。

135. 【答案】B。设该月的日平均气温在30度及以上的日子为 x 天，要使其最多，则最热日的气温应尽可能地接近30度，故可假设最热日的气温都是30度，最冷日的气温都是20度，根据题意可知， $855 - 30x \geq 20(30 - x)$ ，得 $10x \leq 255$ 。故本题正确答案为B。

136. 【答案】C。由题意可知，3人一排比2人一排时少8排，4人一排比3人一排时少5排，则2人一排比4人一排时多13排。考虑最理想情况——两种排法队尾均排满，可求得班级总人数为 $13 \times 4 = 52$ （人），则5人一排共11排，4人一排共13排，3人一排共18排，2人一排共26排，满足所有已知条件，故正确答案为C。

137. 【答案】D。本题是一个三级等差数列，括号处为 $8+2+27+80=117$ 。

138. 【答案】C。本题是一个差后等比数列，两次两两做差后，新数列是一个公比为3的等比数列。

139. 【答案】B。本题是一个三级等差数列，两次两两做差后为一个等差数列，括号处为 $42+12+98+189=341$ 。

140. 【答案】C。通分得： $\frac{0}{5}, \frac{1}{6}, \frac{3}{8}, \frac{6}{12}, \frac{10}{20}$ ，分子：0, 1, 3, 6, 10为二级等差数列，所求数分子为15；分母：5, 6, 8, 12, 20为差后等比数列，所求数分母为36，故括号处应为 $\frac{15}{36} = \frac{5}{12}$ 。

141. 【答案】C。本题考查模态命题。明天不（必然地震），将“不”带入括号内，“必然”换成“可能”，“地震”换成“不地震”，得到明天可能不地震，选择C项。

142. 【答案】D。本题按照时间先后进行排序，先约定去看电影，然后一个人去看，最后身边坐下一个人，选择D项。

143. 【答案】C。本题按照时间先后进行排序，先上街计划买媳妇，然后看到标牌改变主意，最后回家，选择C项。

144. 【答案】B。B项说明出现“被狗咬伤而前来就医的大多是13岁以下的儿童”这一现象，是因为“被狗咬伤的13岁以上的人大多数不去医院就医”，医生的论据有误，从而削弱了结论。A、C、D三项都是无关项。

145. 【答案】C。本题属于形式论证中的单观点加强题型。题干论点为：研究者培育出经过基因改在的蚊子，具备不再感染疟疾的能力，能妨碍野生蚊子繁衍，切断人与蚊子的疟疾传播途径，从而根绝疟疾。C项，表述为转基因蚊子可能带来野生蚊子种群的灭亡，属于加强论据。A项，转基因蚊子体质比野生蚊子差，放到野外容易死亡，有削弱论点的作用；B项，转基因蚊子在生存环境没有疟疾时与野生蚊子的存活率相同，属于论题不一致；D项，转基因蚊子与野生蚊子交配后可能形成新型蚊子，不能说明转基因蚊子是否能够根绝疟疾，属于论题不一致。

146. 【答案】D。题干中该业务员的宣传为：其他运营商的“免费”套餐是通过出售消费者的

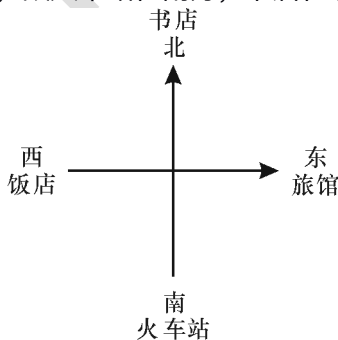
身份信息来获得运营费用的。D项，说明免费套餐运营商是通过广告来获得运营费用，不是通过出售消费者的身份信息，属于直接否定论点，有效质疑该业务员的宣传。A项，法律明确规定，手机运营商不得出售消费者的身份信息，并不能说明手机运营商会不会出售消费者信息，所以不能支持也不能削弱业务员的宣传。B项和C项都属于论题不一致，所以不能选择。

147. 【答案】A。本题考查翻译推理。将题干信息翻译为：①A或B；②-C或-D→-A；③-C→-F；④B→E。题干确定信息为，E不能通过，则为-E；否定命题④的后件，则为-E→-B；根据命题①，-B→A；否定命题②后件，得到C且D。否定命题③的前件，不能得到确定性结论，因此F是否能通过无法确定。根据题干可以推出，歌曲A能够通过，两个相声节目C和D都能通过，歌曲B不能通过，因此，B、C、D选项表述错误。

148. 【答案】A。题干中主要谈的是橙汁的防癌作用，最后强调橙汁的生物效应受环境等因素的影响，由此可以推知，不同橙汁的生物效应可能不同，进而其防癌功效也可能不同。A项强调并不是所有橙汁的防癌功效都相同，符合从弱原则，可由题干中推出。B项，过度饮用橙汁会不会出现不良影响，题干中并没有提到，故排除。C项，题干中并没有对健康儿童与白血病患儿的橙汁饮用量进行比较，故排除。D项，题干中虽然提到了橙汁的生物效应与环境等因素有关，但没有说明怎样的条件下“最有功效”，故排除。

149. 【答案】D。题干中的论据为“GIF制作简单，兼容性强，在邮件中可以增加视觉冲击力”，论点为“在邮件中插入GIF动态图片，更能吸引用户的目光，增加用户的点击率”。D项通过列举“插入GIF动态图片的邮件给企业带来的收入增多”这一事实，支持了题干中的论点。A项只提到了个性化营销邮件，并没有提到是否插入GIF动态图片，属于无关选项，故排除；B项指出没有插入GIF动态图片的邮件，同样给企业带来成功，属于削弱选项，故排除；C项指出上世纪70年代出生的人偏好静态邮件，说明GIF动态图片可能无法吸引这部分用户，有一定的削弱作用，故排除。

150. 【答案】B。题干中两次出现了“饭店”，从最大信息优先的角度首先考虑“饭店”的位置。根据题干中的“书店在饭店的东北方”可知，饭店只能在南方或西方；根据“饭店在火车站的西北方”可知，饭店只能在西方，故火车站在南方，书店在北方，旅馆在东方。如图所示：



因此，旅行者到达十字路口后再要去火车站就应该往南方走。答案选B。

151. 【答案】C。本题通过“超级电容器储存电流的方式比传统电池更有效，故充电时间更短”这一论据，得到结论“这项技术装置将会替代传统电池”。要求选择不能支持的选项。C项指出这种超级电容器可以嵌入汽车底盘，强调的是这种技术装置对汽车的作用，与题干中的电池应用主体——手机无关，不能支持结论。A项指出超级电容器储存量大、运行时间长；B

项强调超级电容器循环使用次数多；D项强调超级电容器充电过程损耗电能少但供电时间长。三个选项均属于补充论据，对题干论点具有加强作用。

152. 【答案】A。题干中的论点是：你可能想先听坏消息。A项说明，先听好坏消息的顺序跟消息发布者有关，即不一定想先听坏消息，削弱了题干论证。B项讲的是发布消息一方的倾向，而题干中讲的是听消息一方的倾向，属无关项；C项说的是好坏消息发布顺序影响人们听到消息的感觉，而题干谈论的是人们希望先听到哪种消息，属无关项；D项说的是好坏消息的先后顺序对学生的影响，同样属无关项。故本题正确答案为A。

153. 【答案】B。张女士的观点是一个因果关系：阴冷天穿的少导致关节炎。A项，日本的年轻女士冬天穿的少，却没有得关节炎，属于有因无果的削弱。B项，导致关节炎的根本原因是劳损、感染或创伤，和阴冷天气无关，阴冷天气只是一个表象，属于另有他因的削弱。C项张女士的姐姐冬天穿的少，并没有得关节炎，属于有因无果的削弱。D项，阴冷天穿得多也会得关节炎，属于无因有果的削弱，并且后面提到中老年人居多，说明得关节炎还和年龄因素有关，属于另有他因的削弱。综合比较四个选项，选项A、C、D中的范围较小，A说的是日本一个国家的情况，C项只提到她姐姐一个人，D项带有“很多”二字，和B项相比削弱力度较弱，因此选择B项。

154. 【答案】B。题干是通过对260名的杀人犯个体推出了杀人犯整体的共性特征，属于不完全归纳推理，选项中只有B项反映根据已出现的天气现象，推断出天气规律。也属于不完全归纳推理。本题正确答案为B。

155. 【答案】B。所给图形中，两个图形相交部分呈现的黑色阴影形状与原图形中的一个形状相同。符合这一规律的只有B选项。

156. 【答案】B。 $(668388.1+42900.2) \div 5=142257.66$ （万份），约为14.2亿份。答案为B。

157. 【答案】C。快递同比增长率为21.9%，汇票同比增长率为3.0%，函件同比增长率为2.8%，包裹同比增长率为-5.3%，故答案为C。

158. 【答案】C。2009年1~5月移动电话长途通话时长是895.2亿分钟，固定传统长途电话通话时长352.1亿分钟， $[895.2 \div (1+28.4\%)] \div [352.1 \div (1-4.6\%)] \approx 1.889$ （倍）。

159. 【答案】B。 $0.1 \times 643.2 \div 2141.2 \times 100\% \approx 3.0\%$ 。

160. 【答案】B。从图表中可知A、C、D项错误，故选B项。

161. 【答案】B。中国香港： $2067 \div 31610 \times 10^8 \approx 6.539 \times 10^6$ （人），哥斯达黎加： $252 \div 5560 \times 10^8 \approx 4.532 \times 10^6$ （人），新加坡： $1613 \div 32470 \times 10^8 \approx 4.968 \times 10^6$ （人），多米尼加： $367 \div 3550 \times 10^8 \approx 1.0338 \times 10^7$ （人）。经比较可知哥斯达黎加的人口最少。

162. 【答案】A。由第二个统计图知失业率最高的国家是多米尼加，其幸福指数是71.8，失业率最低的国家是韩国，其幸福指数是44.4，二者的幸福指数之差为27.4。

163. 【答案】D。人均国名生产总值前五名的国家是美国、日本、新加坡、中国香港、韩国，幸福指数排名前五名的国家是哥斯达黎加、多米尼加、越南、中国内地、新加坡。则人均国民生产总值和幸福指数均排名前五的国家（地区）只有新加坡。

164. 【答案】D。美国人口： $138112 \div 46040 \times 10^8 \approx 2.9999 \times 10^8$ ，俄罗斯人口： $12910 \div 7560 \times 10^8 \approx 1.708 \times 10^8$ ，且美国的失业率约为4.5%，俄罗斯的失业率约为4.7%，所以美国的失业人口多于俄罗斯。资料中人均国民生产总值越高的国家（地区），其失业率并不是越低。人均国民生产总

值排名第二的国家是日本, 日本幸福指数排名第七。资料中失业率高于美国的亚洲国家(地区)只有越南。D项正确。

165. 【答案】B。国民生产总值低于1000亿美元的国家是哥斯达黎加、多米尼加、越南, 这些国家的幸福指数分别是76.1、71.8、66.5, 均高于其他国家(地区), 故①相符。人口过亿的国家(地区)是中国内地、美国、俄罗斯、日本, 但美国的失业率与幸福指数都低, 故②不符。比中国内地失业率低的国家(地区)是韩国、日本, 这两个国家的幸福指数也均比中国内地低, 故③相符。人均国民生产总值超过2万美元的国家(地区)是美国、日本、新加坡、中国香港, 但俄罗斯的幸福指数只比美国高, 故④不符。答案为B。

166. 【答案】D。 $7.15 \div 4.5\% \approx 158.89$ (亿美元)。答案选D。

167. 【答案】C。 $5.02 \times 8.18\% \times 0.75 \approx 0.3079$ (亿美元), 约为3080万美元。答案选C。

168. 【答案】B。2008年的农产品外贸顺差为 $5.02 - 2.13 = 2.89$ (亿美元), 2007年的农产品外贸顺差为 $5.02 \div (1+22\%) - 2.13 \div (1+33.2\%) \approx 2.52$ (亿美元), $(2.89 - 2.52) \div 2.52 = 14.68\%$ 。答案选B。

169. 【答案】A。 $5.02 \times 11.35\% - 5.02 \times 11.35\% \div (1+59.8\%) \approx 0.21322$ (亿美元), 即2132.2万美元。答案选A。

170. 【答案】C。2008年, 该省出口日本的农产品总额 $5.02 \times 16.01\% = 0.803702$ (亿美元), 即8037.02 (万美元), 超过8000万美元, A项错误。上年粮食出口额从材料中无法得知, B项错误。2008年, 该省蔬菜的出口额 $5.02 \times 21.91\% = 1.099882$ (亿美元), 超过1亿美元, C项正确。D项从材料中无法得出。

第三部分 综合知识

一、单项选择题

171. 【答案】C。该题主要考察低档品的定义, 它是指随着收入增加, 其消费数量随之减少的一类商品。

172. 【答案】C。吉芬商品是一种特殊的低档品, 其替代效应跟正常商品一样与价格呈反向变动关系, 故A项错误; 作为低档商品其收入效应与价格正相关, 故B项错误; 由于收入效应大于替代效应, 故总效应与价格同向变动, C项正确; 需求曲线反映总效应, 故需求曲线形状为向右上方倾斜, 选项D错误。

173. 【答案】B。本题考察的是两部门经济的收入决定。均衡收入为与计划总支出相等的收入。在两部门经济下, c 为消费, i 为投资。根据凯恩斯的消费理论, c_0 为自发性消费, 为边际消费倾向。将两个公式联立, $c = c_0 + c_1 Y$, $i = i_0 + i_1 Y$ 。则 $c = i$ 。所以选择B选项。

174. 【答案】C。因一条无差异曲线表示一个相同的效用水平, 当 $X=10, Y=6$; $X=7.5, Y=8$ 时, 效用均为60。

175. 【答案】D。在经济学中的长短期与金融学上的概念不同, 金融学中, 小于或等于1年为短期, 1年以上视为长期; 经济学中, 短期生产至少有一种生产要素是固定不变的, 而在

长期全部生产要素都是可变的，两者之间的本质区别在于是否可以变动全部生产要素，正确答案为 D。

176. 【答案】B。劳动对资本的边际技术替代率等于负的资本的增量与劳动增量的比值。代入题目当中的数值，答案为 B。

177. 【答案】A。在很多时候，某个人的一项经济活动会给社会上其他成员带来好处，但他自己却不能由此而得到补偿。这种性质的外部影响被称为“外部经济”。此时，这个人从其活动中得到的私人收益小于社会收益。

178. 【答案】A。国民收入指按生产要素报酬计算的收入。从国内生产总值中扣除间接税和企业转移支付加政府补助金，就得到一国生产要素在一定时期内提供生产性服务所得报酬的国民收入。A 项不正确。

179. 【答案】A。不兑现的纸币也叫信用货币，是以信用为保证，通过一定的信用程序发行的。这里的信用保证即是国家信用。

180. 【答案】B 支付手段是随着商品赊账买卖的产生而出现的。在赊销赊购中，货币被用来支付债务。后来，它又被用来支付地租、利息、税款、工资等。

181. 【答案】C。Mo 是指流通中的现金，即银行体系外流通的现金。不包括银行的库存现金。

182. 【答案】A。商业信用是企业之间相互提供的与商品交易直接联系的信用，如赊销赊购商品、预付货款、分散付款、延期付款、经销、代销等形式，是直接信用。

183. 【答案】D。ABC 都是直接融资。D 银行发放贷款属于间接融资。

184. 【答案】D。实际利率理论强调非货币因素在利率决定中的作用，认为利率由投资和储蓄的均衡所决定。可贷资金理论认为利率是由可贷资金的供求关系决定的。

185. 【答案】D。基准利率在多种利率并存的情况下起着决定作用。

186. 【答案】D。按照金融工具的期限长短，金融市场可划分为货币市场和资本市场，现货市场和期货市场是按成交后是否立即交割划分的。

187. 【答案】C。短期政府债券因其回报稳定，风险小，成为货币市场流动性最高、几乎所有的金融机构都参与交易的金融工具。A、B、D 不属于货币市场工具。同时 A 选项股票并非所有金融机构都允许参与交易。

188. 【答案】B。年贴现率 = $(2000 - 1900) \div 2000 = 10\%$ 。

189. 【答案】B。商业银行是我国金融机构体系的主体，中央银行是我国金融机构体系的核心。

190. 【答案】A。再贴现是金融机构为了取得资金，将未到期的已贴现商业汇票再以贴现的方式向中央银行转让的票据行为，是中央银行对商业银行的短期信贷。

191. 【答案】A。安全性原则被视为商业银行经营管理三大原则之首。

192. 【答案】C。中央银行只面向商业银行与其他金融机构，不与企业直接联系。

193. 【答案】C。A 和 B 是商业银行的负债，D 是商业银行的中间业务，只有 C 是资产业务。

194. 【答案】D。政策性银行不吸收公众存款，以财政拨款和发行金融债券为主要筹资方式。

195. 【答案】C。20 世纪 70 年代以来国际金融创新发展的最主要产品金融期权。

196. 【答案】B。信用中介是指商业银行充当借贷关系的中介，融资金。

197. 【答案】C。商业银行对信贷规模起主要作用。
198. 【答案】A。我国货币政策的最终目标是保持货币币值稳定，并以此促进经济增长。
199. 【答案】B。央行提高法定存款准备金率，直接的后果是商业银行等金融机构可用于进行贷款业务的货币量减少，所以可能迫使存款类金融机构收紧信贷规模。
200. 【答案】B。国际收支顺差，本币升值，出口减少。
201. 【答案】B。经常项目是国际收支中最基本、最主要的项目。
202. 【答案】C。间接标价法下，升水=即期汇率-远期汇率。因此，三个月远期汇率=1.4608-0.0051=1.4557。
203. 【答案】A。按照金融风险的性质分主要分为系统性金融风险和非系统性的金融风险，前者是无法通过分散投资来避免的，后者可以通过分散投资来避免。
204. 【答案】C。有效识别风险是风险管理的最基本要求。
205. 【答案】C。我国目前的监管体制是分业监管体制。即证券业由证监会监管，银行业由银监会监管，保险业由保监会监管。
206. 【答案】C。《巴塞尔协议 III》规定，截至 2015 年 1 月，全球各商业银行的一级资本充足率下限调至 6%，由普通股构成的核心一级资本占银行风险资产的下限提高至 4.5%。
207. 【答案】B。国务院常务会议决定，从 7 月 1 日起，将增值税税率由四档减至 17%、11% 和 6% 三档，取消 13% 这一档税率；将农产品、天然气等增值税税率从 13% 降至 11%。同时，对农产品深加工企业购入农产品维持原扣除力度不变，避免因进项抵扣减少而增加税负。
208. 【答案】B。
209. 【答案】D。
210. 【答案】C。
211. 【答案】D。
212. 【答案】A。
213. 【答案】D。
214. 【答案】D。
215. 【答案】A。
216. 【答案】B。
217. 【答案】B。
218. 【答案】D。
219. 【答案】A。
220. 【答案】A。
221. 【答案】A。
222. 【答案】C。
223. 【答案】B。
224. 【答案】C。
225. 【答案】B。
226. 【答案】A。

二、多项选择题

227. 【答案】AD。为了研究国民收入在国民之间的分配，美国统计学家 M.O. 洛伦兹提出了著名的洛伦兹曲线。一般来说，它反映了收入分配的不平等程度。弯曲程度越大，收入分配程度越不平等；反之亦然。
228. 【答案】AD。本题考查的是市场均衡以及应用。当需求大于供给，此时产品供不应求，价格就趋于上升；需求小于供给，此时产品供过于求，价格就趋于下降。故正确答案为 AD。
229. 【答案】ABD。本题考查的是完全竞争市场。完全竞争行业的厂商是价格接受者，不存在价格竞争。
230. 【答案】ABC。本题考查的是宏观经济学的研究对象和目标。国内生产总值、消费者物价指数、生产者物价指数都属于宏观经济指标。股票指数只针对股票市场，是金融市场的—个子类，不属于宏观经济指标。
231. 【答案】BD。严重通货膨胀会导致金融市场混乱、流通混乱和市场萎缩，对经济产生破坏性影响，不会促进经济发展和市场繁荣。
232. 【答案】BCD。可兑现货币指的是可以直接代表金属货币流通，而人民币已经与黄金没有直接的联系。
233. 【答案】ABDE。原生的金融工具一般是指股票、债券、存单、货币等，而金融衍生工具在形式上均表现为合约。目前较为流行的金融衍生工具合约主要有远期、期货、期权和互换。
234. 【答案】BCD。资本市场又称长期资金市场，是相对于货币市场(短期资金市场)而言的一种金融市场，通常是指 1 年以上的金融工具交易的场所，包括股票市场、债券市场和投资基金市场等。投资基金市场是指进行投资基金交易的场所，是证券市场的一部分。
235. 【答案】ABCE。银监会统一监管商业银行、城市信用合作社、农村信用合作社、政策性银行等银行业金融机构，以及金融资产管理公司、信托投资公司、财务公司、金融租赁公司和由中国银监会批准设立的其他金融机构。
236. 【答案】BCD。贷款资产风险控制的主要措施有：降低信用贷款的比重，提高担保抵押贷款的比重；严格贷款审批制度，控制信贷风险；全面推行贷款五级分类管理。
237. 【答案】ABCD。中央银行对金融机构的信用进行直接控制时通常采用信用配额、规定商行流动性比率、直接干预和规定存贷款利率最高限等手段。
238. 【答案】BCDE。目前，国际货币主要有美元，此外还有日元、欧元、英镑和人民币。2017 年，国际货币基金组织正式宣布人民币为世界第五大国际货币。
239. 【答案】BE。根据股东权利范围不同，可以把股票分为普通股和优先股。二者均具有收取股息的权利，但是优先股股东不能过问公司管理和经营。
240. 【答案】ABCD。商业银行操作风险的七种表现形式：内部欺诈，外部欺诈，聘用员工做法和工作场所安全性有问题，客户、产品及业务做法有问题，实物资产损坏，业务中断和系统失灵，执行、交割及流程管理不完善。
241. 【答案】ABDE。骆驼评级法：这套评级制度包括五个基本项目，即：资本充足率(Capical Adequacy)；资产质量(Asses qualiy)；管理能力(Managemen)；盈利性(Earning)；流动性(Liquidiy)。

- 242. 【答案】 AB。
- 243. 【答案】 AB。
- 244. 【答案】 AB。
- 245. 【答案】 ABCD。
- 246. 【答案】 AB。
- 247. 【答案】 ABCD。
- 248. 【答案】 ABC。
- 249. 【答案】 ABCD。
- 250. 【答案】 ABCD。

华图教育