



编号：309

云南省 2017 年中央特岗计划教师招考试卷 (中学地理)

座次号	
-----	--

满分：120 分 考试时间：150 分钟

总分		题号	一	二	三	四	五	六
核分人		题分	20	20	45	15	10	10
复查人		得分						

专业基础知识部分

得分	评卷人	复查人

一、单项选择题（在每小题的 4 个备选答案中，选出一个符合题意的正确答案，并将其代码填写在题干后括号内。本大题共 20 小题，每小题 1 分，共 20 分）

- 对宇宙与天体的正确表述是 ()
 - A. 现有的仪器已能够观察到远离地球 300 亿光年的空间
 - B. 银河系是一个包括 1000 多亿个恒星的星系
 - C. 已知的宇宙总体称为星系群
 - D. 凭肉眼观察到的天体，大部分是行星
 - 对太阳表述正确的是 ()
 - A. 太阳公转的周期是 5×10^8 年
 - B. 太阳表面的温度达 1000°K
 - C. 在宇宙中，太阳属于较大的恒星
 - D. 太阳的平均密度比地球小
- 读图 1，回答第 3 小题
- 对地球的形态及其意义表述正确的是 ()
 - A. 图中的小圆，表示地球的实际形态
 - B. 图中的虚线，表示大地水准面
 - C. 图中的实线，表示地球的实际形态
 - D. 如果把地球缩小到水果一样大，地球就是个“梨形体”
 - 地球公转轨道的近日点准确位置在 ()
 - A. 夏至日后一点
 - B. 冬至日后一点
 - C. 夏至日
 - D. 冬至日
 - 不同纬度上经度 1° 的弧长公式是 ()
 - A. $L = 111.2 \times \cos\varphi (km)$
 - B. $L = 111.2 \times \cos\lambda (km)$
 - C. $L = 111.2 \times \sin\varphi (km)$
 - D. $L = 111.2 \times \sin\lambda (km)$

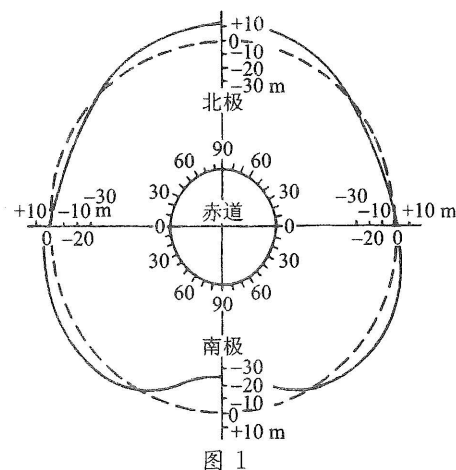


图 1

- 板块构造学说中，最早出现的理论是 ()
 - A. 海底扩张说
 - B. 大陆漂移说
 - C. 古地磁学
 - D. 转换断层学说
- 从地质历史上看，人类出现于 ()
 - A. 太古代
 - B. 古生代
 - C. 中生代
 - D. 新生代

读图 2，回答第 8、9 小题


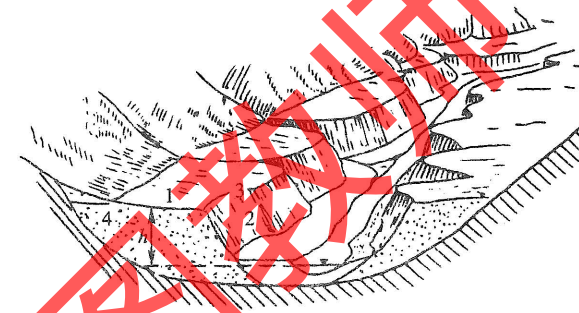


图 2

- 对 1—3 过程的正确表述是 ()
 - A. 海上气压低，湿度大
 - B. 降水类型属于对流雨
 - C. 降水类型属于地形雨
 - D. 大气属于干绝热增温
- 对 3—4 过程的正确表述是 ()
 - A. 过山的大气已没有了水分
 - B. 大气越过山峰后气温下降
 - C. 大气越过山峰后下沉，带来焚风效应
 - D. 峰面雨带来了焚风效应

读图 3，回答第 10、11 小题



河流阶地
图 3

- 河流两侧一般首先出现的是 ()
 - A. 河流一级阶地
 - B. 河流二级阶地
 - C. 边滩或河漫滩
 - D. 江心洲
 - 图中 2 的地物名称是 ()
 - A. 阶地面
 - B. 阶地前缘
 - C. 阶地高度
 - D. 阶地坡
- 读图 4，回答第 12 小题
- 上海在蓬塔阿雷纳斯的 ()
 - A. 西北
 - B. 东北
 - C. 东南
 - D. 西南

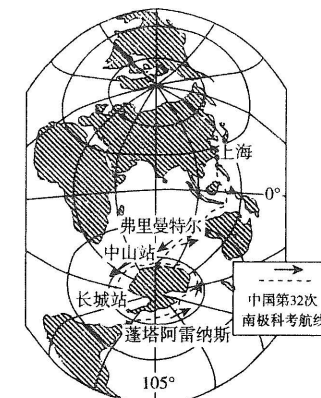


图 4



26. 图中 1、4 表示的滑坡专业名称是 ()
 A. 滑坡裂缝 B. 滑坡洼地 C. 滑坡阶地 D. 滑坡体

分析下表，回答第 27 题

世界前十位最大城市	
1955 年	东京、纽约、大阪、伦敦、巴黎、上海、布宜诺斯艾利斯、莫斯科、芝加哥、洛杉矶
2015 年	东京、德里、上海、圣保罗、孟买、墨西哥城、北京、大阪、开罗、纽约

27. 关于世界最大城市变化及原因叙述正确的是 ()
 A. 世界最大城市增长趋势由发展中国家转向发达国家
 B. 北京由于是首都，所以跻身其中
 C. 北京由于大量外来人口涌入而跻身其中
 D. 城市过大会带来交通拥挤，就业困难等问题

读图 10，回答第 28 题

28. 制约新疆红色作物大面积普遍分布的两个因素是 ()

- A. 劳动力
 B. 科学技术
 C. 水资源
 D. 地形地貌



图 10

读图 11：我国南部沿海某发电厂附近某时刻地面二氧化硫浓度分布图，回答第 29 题

29. P 地二氧化硫浓度呈周期性变化的原因是 ()
 A. 近海洋流流向呈周期性变化
 B. 该区风向呈周期性变化
 C. 一天当中二氧化硫浓度较高的时刻是 6 时
 D. 一天当中二氧化硫浓度较高的时刻是 14 时

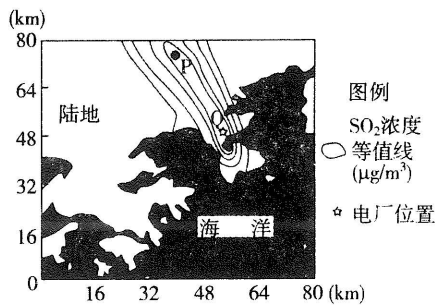


图 11

读图 12：东北三江平原示意图，回答第 30 题

30. 对三江平原正确的表述有 ()
 A. 三江平原多沼泽的形成是由于地势低平排水不畅等原因
 B. 三江平原多河流、高蒸发
 C. 排干沼泽有利于扩大耕地面积，利大于弊
 D. 沼泽具有涵养水源、调节气候等生态功能

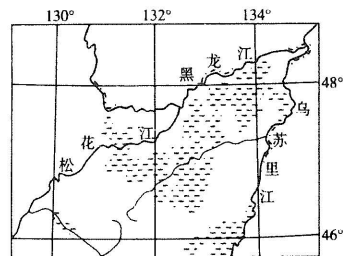
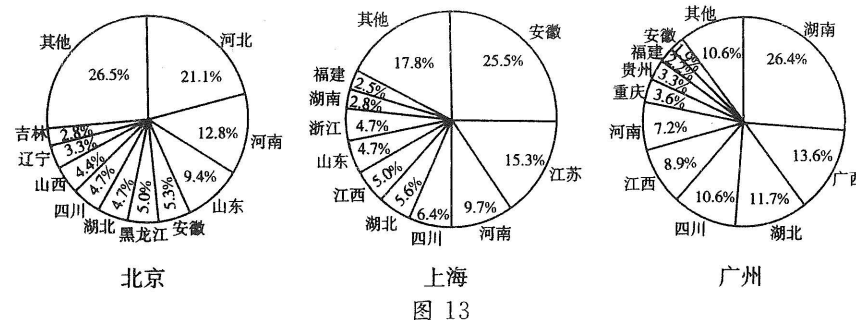


图 12

得分	评卷人	复查人

三、综合题 (本大题共 5 小题，其中 31、33、34、35 题各 10 分，32 题 5 分，共 45 分)

31. 读图 13：2010 年三城市外来人口统计图，回答下列问题 (10 分)



- (1) 归纳北京、上海、广州 3 个城市外来人口来源的共同特点。(4 分)

- (2) 分析河南、四川、湖北 3 省在北上广外来人口占比例较大的原因。(3 分)

- (3) 北上广这样的超大城市是否应该限制外来人口？请说明理由。(3 分)

