

版权所有  
复制必究

## 2019 年度考试录用公务员 《行政职业能力测验》模拟试卷

### 重要提示：

为维护您的个人权益，确保公务员考试的公平公正，请您协助我们监督考试实施工作。

本场考试规定：监考老师要向本考场全体考生展示题本密封情况，并邀请 2 名考生代表验封签字后，方能开启试卷袋。

仅限华图教育内部教学使用！

二〇一八年



条  
形  
码

请将此条形码揭下，  
贴在答题卡指定位置。

准考证号

姓名



# 第一部分 常识判断

(共 20 题, 参考时限 15 分钟)

根据题目要求, 在四个选项中选出一个最恰当的答案。

请开始答题:

1. 上海合作组织青岛峰会于 2018 年 6 月 9 日至 10 日召开, 这是上合扩员后首次召开的峰会, 也是规模最大、级别最高, 历届峰会成果最多的一次。青岛峰会的成果超出预期, 是上合组织发展进程中一座新的里程碑。下列关于上合峰会说法不正确的是 ( )。

- A. “共商、共建、共享、尊重多样文明, 谋求共同发展” 是 “上海精神”
- B. 安全合作是上海合作组织发展的前提和基石
- C. 经济合作是上海合作组织发展的物质基础和原动力
- D. 人文交流是上海合作组织发展的民意基础和社会基础

2. 2018 年俄罗斯世界杯是国际足联世界杯足球赛事。比赛于 2018 年 6 月 14 日至 7 月 15 日在俄罗斯举行, 下列关于世界杯说法错误的是 ( )。

- A. 国际足联世界杯首届举办国是乌拉圭
- B. 巴西是夺得该项荣誉最多的球队, 共获得 5 次世界杯冠军
- C. 世界杯分为预选赛阶段和决赛阶段, 预选赛阶段将决出 16 支队伍参加决赛阶段
- D. 美国、墨西哥、加拿大取得了 2026 年世界杯的联合申办权

3. 下列关于春秋五霸说法错误的是 ( )。

- A. 楚子使与齐桓公言曰: “君处北海, 寡人处南海, 唯是风马牛不相及也”
- B. 雍季献计于晋文公: “竭泽而渔, 岂不获得? 而明年无鱼”
- C. 楚庄王对臣下说: “楚京有大鸟, 三年不飞, 一飞冲天; 三年不鸣, 一鸣惊人”
- D. 秦穆公说: “仁义之师, 不推人于险, 不迫人于阨”

4. 下列选项中的诸子百家思想流派与其他三项不同的是 ( )。

- A. 治大国, 若烹小鲜
- B. 圣人常无心, 以百姓心为心
- C. 公生明, 偏生暗
- D. 夫唯不争, 故天下莫能与之争

5. 下列诗句中描写人物不是李白的是 ( )。

- A. 痛饮狂歌空度日, 飞扬跋扈为谁雄
- B. 天子呼来不上船, 自称臣是酒中仙
- C. 归来长安弄明月, 从此不复朝金阙
- D. 独有工部称全美, 当日诗人无拟论

6. 下列选项符合历史常识的是 ( )。

- A. “朔气传金柝, 寒光照铁衣” 写于霍去病征讨匈奴时期
- B. 曹操面对东汉末年的军阀割据, 以 “白骨露于野, 千里无鸡鸣” 批判社会现实
- C. 在 “熙宁变法” 失败后, 王安石不禁感叹: “萧瑟秋风今又是, 换了人间”
- D. 戚继光在抗倭时, 以 “落红不是无情物, 化作春泥更护花” 勉励部下

7. 下列历史排序正确的是 ( )。

- A. 兵马俑——麦积山石窟——赵州桥——十三陵
- B. 西域都护府——北庭都护府——安西都护府——伊犁将军
- C. 《搜神记》——《聊斋志异》——《西游记》——《封神演义》

D.五胡乱华——靖康之变——嘉定三屠——靖难之役

8.以下关于我国海军的常识说法错误的是（ ）。

A.我国海军成立于 1949 年 4 月 23 日

B.我国出访舰艇编队到达被访国时，被访国的海军舰艇一般要悬挂满旗表示欢迎

C.驱逐舰、护卫舰以大、中城市命名；船坞登陆舰、坦克登陆舰均以“山”命名，补给舰以河流命名

D.我国第一艘航空母舰是辽宁舰

9.下列关于蛋白质说法错误的是（ ）。

A.蛋白质中一般含有碳、氢、氧、氮元素

B.平时饮食中蛋白质主要存在于瘦肉、蛋类、豆类及鱼类中

C.蛋白质是以氨基酸为基本单位构成的生物高分子

D.蛋白质如果摄取过量的话也会在体内转化成脂肪，造成脂肪堆积

10.中国是一个水资源短缺、水灾害频繁的国家，水资源总量居世界第六位，人均占有量只有 2500 立方米，约为世界人均水量的 1/4，在世界排第 110 位，已被联合国列为 13 个贫水国家之一。下列关于水污染说法错误的是（ ）。

A.水俣病是由于河流中的铅超标所致

B.骨痛病是由于河流中的重金属镉超标所致

C.水污染主要包括工业污染源，农业污染源和生活污染源三大部分

D.水体的富营养化是由于水体中“氮、磷、钾”等营养物质过多所致

11.2018 年 5 月 5 日，天际间上演了美丽的宝瓶座 η 流星雨，并在 5 月 6 日凌晨 4 点达到极值，下列关于流星雨说法错误的是（ ）。

A.一些流星体体积较大，在大气层中来不及全部烧为灰烬，落到地面即为陨星

B.大批流星群闯入地球大气层造成的电离效应可能使远距离电讯发生异常

C.我国关于流星雨最早的记录见于《左传》

D.流星雨是很高级的天文观测，没有望远镜是不能完成的

12.下列关于地球自转说法错误的是（ ）。

A.地球绕地轴自西向东转动，从北极点看呈顺时针旋转，从南极点看呈逆时针旋转

B.地球自转的角速度不变，线速度随纬度的增加而减少

C.地球自转导致地球上任意方向水平运动的物体，都会与其运动的最初方向发生偏离

D.地球自转的地理意义在于东西半球发生昼夜更替，以及同一纬度不同地区出现时差

13.下列关于我国四大盆地说法错误的是（ ）。

A.塔里木盆地中的塔里木河是我国最长的内流河

B.准噶尔盆地多风蚀地貌，其中以魔鬼城最为出名

C.柴达木盆地是世界地势最高盆地，有“聚宝盆”之称

D.四川盆地土壤多以红色为主，因此也称为“红色盆地”

14.下列关于世界地理说法错误的是（ ）。

A.世界上最大的沙漠为撒哈拉大沙漠，其面积大约与我国国土面积相同

B. 两河流域指幼发拉底河与底格里斯河，诞生了古埃及文明  
C. 里海是世界上最大的湖泊，位于欧洲和亚洲的交界处，同时也是世界上接壤最多国家的湖

D. 霍尔木兹海峡所处区域以热带沙漠气候为主

15. 2018 年我国进行了第五次修宪，下列关于历次修宪内容排序正确的是（ ）。

- 多党合作和政治协商制度
- 爱国统一战线中增加“社会主义建设者”
- 爱国统一战线中加入“致力于中华民族伟大复兴的爱国者”

A. □□□                      B. □□□                      C. □□□                      D. □□□

16. 下列关于《反不正当竞争法》说法错误的是（ ）。

A. 国务院建立反不正当竞争工作协调机制，研究决定反不正当竞争重大政策，协调处理维护市场竞争秩序的重大问题

B. 抽奖式的有奖销售，最高奖的金额不得超过十万元

C. 经营者违反本法规定，应当承担民事责任、行政责任和刑事责任，其财产不足以支付的，优先用于承担民事责任

D. 当事人对监督检查部门作出的决定不服的，可以依法申请行政复议或者提起行政诉讼

17. 王某(75 岁)携带 2 万元现金乘地铁时被张三盗走，情急之下王某心脏病发作时死亡。关于本案的分析，正确的是（ ）。

- A. 张三构成盗窃罪和故意杀人罪
- B. 张三构成盗窃罪和过失致人死亡罪
- C. 王某的死亡不属于盗窃罪的构成要件结果
- D. 王某的死亡是认定张三构成盗窃罪的危害结果

18. 下列世界著名建筑与国家对应错误的是（ ）。

- A. 圣保罗大教堂——英国
- B. 先贤祠——法国
- C. 科隆大教堂——德国
- D. 布尔格斯大教堂——意大利

19. 下列对经济概念的理解，不正确的是（ ）。

- A. CPI 通常作为观察通货膨胀水平的重要指标
- B. PPP 模式鼓励私营企业、民营资本与政府进行合作，参与公共基础设施的建设
- C. 若一国的赤字占 GDP 不超过 5%，则该国并不具备财政风险
- D. 如果张三预订了一张电影票，已经付了票款且不能退票，则电影票的价钱构成了张三的沉没成本

20. 按市场竞争或垄断的程度，划分为四个类型：完全竞争市场、垄断竞争市场、寡头垄断市场和完全垄断市场，石油工业属于以上哪种市场类型？（ ）

- A. 完全竞争市场
- B. 垄断竞争市场
- C. 寡头垄断市场
- D. 完全垄断市场

※※※ 第一部分结束，请继续做第二部分！ ※※※



SINCE 2001

华图教育  
HUATU.COM

华图教育

## 第二部分 言语理解与表达

(共 40 题, 参考时限 35 分钟)

本部分包括表达与理解两方面的内容。请根据题目要求, 在四个选项中选出一个最恰当的答案。

请开始答题:

21. 一个国家出现天敌, 似乎不是好事情。但是战败国\_\_\_\_\_, 这种另类案例在世界史上确有多起发生。发生在 19 世纪末叶的中日甲午战争就是这样一种结果。

填入画横线部分最恰当的一项是 ( )。

- A. 否极泰来                      B. 因祸得福  
C. 咸鱼翻身                      D. 物极必反

22. 唐高祖太原起兵之际, 遣使密诏平阳公主夫妇援助, 公主\_\_\_\_\_, 积极招募军队, “发家财招南山亡命, 得数百人以应帝”。在平阳公主率领下的这支军队, \_\_\_\_\_, 连续攻占了周至、武功、始平等地, 队伍也不断扩大, 形成“勒兵七万、威震关中”之势。

填入画横线部分最恰当的一项是 ( )。

- A. 临危受命 望风披靡              B. 临危授命 势不可当  
C. 临危受命 势如破竹              D. 临危授命 所向披靡

23. 急功近利是网络文学健康发展的一大短板。网络文学创作者、网文 IP 的运营者和投资者, 尤其需要摆脱\_\_\_\_\_的狭隘界限。网络盗版侵权是网络文学\_\_\_\_\_的问题。

填入画横线部分最恰当的一项是 ( )。

- A. 欲壑难填 层出不穷              B. 唯利是图 屡禁不止  
C. 唯利是图 遍地开花              D. 欲壑难填 屡见不鲜

24. 这些年, 文坛上出现了一个很特殊的人物。他生长在中国南部的一个偏僻的山区, 从小没爱过什么正规教育。他当过兵, 当过流浪汉, 一个人在世上闯荡。尽管他没有受过正规教育, 可他的小说却富有修养, 使整个文坛\_\_\_\_\_。

填入画横线部分最恰当的一项是 ( )。

- A. 耳目一新                      B. 修葺一新  
C. 改头换面                      D. 痛自创艾

25. 观看者的参与性审美受到了媒介技术的影响, 因为弹幕有一定的字数限制, 且其滚动播放的方式, 观看者难以书写和阅读较长的弹幕信息, 所以弹幕多是\_\_\_\_\_, 语言呈现碎片化形态。而碎片化显示出反语境的特点, 要旨在于让信息脱离所赖以产生的具体情境, 从而赋予新的意义。从这个意义上讲, \_\_\_\_\_的弹幕语言并不必然意味着审美价值的缺失, 可以通过精巧的写作实现别具特色的审美。

填入画横线部分最恰当的一项是 ( )。

- A. 片纸只字 切中时弊              B. 只言片语 语重心长  
C. 三言两语 切中时弊              D. 只言片语 言简意赅

26. 认真生活的人一定对生活抱有很高的\_\_\_\_\_, 否则生活也一定会辜负他。并且终有一天, 你的认真会变成他人的\_\_\_\_\_。

依次填入划横线部分最恰当的一项是 ( )。

- A. 敬意 望尘莫及                      B. 尊敬 望洋兴叹  
C. 敬佩 瞠乎其后                      D. 崇敬 高不可攀

27.近日，朋友圈里都在讨论江歌案——一件发生在日本的刑事案件，引来国内舆论广泛关注，这个案件法律事实还不尽明了，但道德层面的是非曲直却也值得\_\_\_\_\_，道德评判与道德审判的\_\_\_\_\_在哪？

依次填入划横线部分最恰当的一项是（ ）。

- A.讨论 界限 B.谈论 界线  
C.商讨 底线 D.商议 边界

28.“第一份工作”对人意味着什么？有人认为一定要“入对行”，\_\_\_\_\_；不找到可心的工作绝不就业。而有人则认为，应该\_\_\_\_\_：先找到一个，后续遇上更好的再换。

填入划横线部分最恰当的一项是（ ）。

- A.宁缺毋滥 骑驴找马 B.先入为主 一心一意  
C.寻寻觅觅 心无旁骛 D.滥竽充数 一丝不苟

29.倘若你只是想象将来有一天能够伟大、超脱或快乐，而现在却是委琐、钻营或\_\_\_\_\_，则我敢断定你不会成功。作为一种生活的态度，理想是\_\_\_\_\_，而不是将来时。

填入划横线部分最恰当的一项是（ ）。

- A.愉悦 过去时 B.痛苦 未来时  
C.苦恼 进行时 D.幸福 完成时

30.因为天真的理想主义者虽然顽强，但依然\_\_\_\_\_。他们不明白，在这世界上很多事情你可以不理解，却必须接受。只有真正了解这个世界，被现实打击，被痛苦折磨，遍体鳞伤、\_\_\_\_\_，却依然微笑着，坚定前行的人，才是真正的勇者。

填入划横线部分最恰当的一项是（ ）。

- A.软弱 体无完肤 B.坚强 步履维艰  
C.脆弱 完好无缺 D.固执 潜藏匿迹

31.2018年6月15日，美国政府发布了加征关税的商品清单，将对从中国进口的约500亿美元商品加征25%的关税，其中对约340亿美元商品自2018年7月6日起实施加征关税措施，同时对约160亿美元商品加征关税开始征求公众意见。美方这一措施违反了世界贸易组织相关规则，有悖于中美双方经贸\_\_\_\_\_已达成的共识，严重\_\_\_\_\_我方合法权益，损害我国国家和人民的利益。

填入画横线部分最恰当的一项是（ ）。

- A.商量 侵害 B.磋商 侵犯  
C.协商 侵害 D.商量 侵犯

32.随着国际经贸格局的调整，美国在全球的竞争力有所下降，推行单边主义和贸易保护主义成为其实施“美国优先”战略的先手棋。在此背景下，中美经贸难免出现\_\_\_\_\_，充满变数地谈谈打打也会成为常态，但这并不意味着一方可以背信弃义、\_\_\_\_\_地发动贸易战。

填入画横线部分最恰当的一项是（ ）。

- A.隔阂 一意孤行 B.摩擦 为所欲为  
C.隔阂 为所欲为 D.摩擦 一意孤行

33.足球比赛的本质固然是给人带来快乐，但其也\_\_\_\_\_着国家、联赛、俱乐部的荣耀和人们的情感寄托。因此，足球比赛最重要的是必须保证公平、\_\_\_\_\_。当然，我们尊重赛场上裁判的权威性，他们负责掌控比赛的一切。但不能否认的是，裁判毕竟不是“机器”，必然会有错判的事情发生。所以引进先进技术来提升公平、公正特性，就显得尤为重要。

填入画横线部分最恰当的一项是（ ）。



- A.传承 公正  
C.承载 公正
- B.承袭 公正  
D.承载 正当

34.一般来说,高考作弊“产业链”分为不同的端口,在明处的可能是一些二级代理商来“操作”,比如向师生、家长兜售试题,或者\_\_\_\_\_他们使用作弊器材等等。从既往情况看,这种“推广”过程有时依赖线下的联系,有时干脆就在网上发布帖子,或者打小广告,来吸引一些潜在的“客户”。有些人在\_\_\_\_\_的心思下,上了他们的圈套,自己也走上了违法之路。

填入画横线部分最恰当的一项是( )。

- A.诱导 追名逐利  
C.利诱 因势利导
- B.诱导 急功近利  
D.利诱 急功近利

35.近两年来,不少地区在实践中尝试打破“一考定终身”的“魔咒”,通过考试科目的调整、录取模式的变化,赋予学生更大的选择余地,给学校创造更多\_\_\_\_\_的空间。比如上海、浙江推出的“3+3”新高考模式,在数学、语文、英语三门选定学科之外,学生可以在其它科目中自由选择三个感兴趣且擅长的科目参加考试,最终计入总分。这不仅突破了文理分科的禁锢,也让学习和考试具有更广泛的灵活性,不失为有益的尝试和\_\_\_\_\_。

填入画横线部分最恰当的一项是( )。

- A.对号入座 探索  
C.对号入座 遐想
- B.因材施教 探索  
D.因材施教 思索

36.自2016年在全国铺开之后,特色小镇在2017年进入了发展高潮,但在如火如荼的建设过程中,也有不少问题浮出水面。一是概念不清,定位不准。一些地方把特色小镇当成一个筐,什么都往里装,而且越到基层越明显。二是盲目发展,质量不高。一些地区大干快上,层层加码;有些地方用地粗放,重增量的扩张,轻存量的改造,引发新一轮用地冲动。三是同质化严重,特色不鲜明。一些地区简单模仿,确定的特色小镇形态和功能脱离实际。四是政府主导倾向明显,市场化不足。五是重物不重人,搞形象工程。比如有些地区重产业轻配套,强调发展高大上的产业,忽视环境营造和生活配套,缺乏对人才特别是高端人才的吸引力等。六是盲目举债,积累财政风险。七是房企过度参与。有些房地产企业以特色小镇之名,变相搞房地产开发。

这个文段的主旨是( )。

- A.特色小镇建设定位不准,质量不高  
B.特色小镇进入发展高潮  
C.应着重解决特色小镇建设中的问题  
D.特色小镇建设过程中存在一系列问题

37.暑期旅游旺季即将到来,而针对导游推销、诱导游客购物的投诉也层出不穷。日本、泰国、越南等地成为投诉重灾区。业内人士指出,随着出境游市场的不断发展,针对中国游客的购物欺诈也随之出现增长态势。但相较于境内,境外购物游客维权难度更高。

这段文字意在说明( )。

- A.中国游客的购物欺诈出现增长态势  
B.应帮助我国游客解决境外购物维权难度高的问题  
C.境外购物维权难度高  
D.应避开旅游旺季出游

38.近年来,国内关于用户隐私信息被窃取的事件时有发生。网络黑色产业链已经呈现低成本、高技术、高回报的爆发性增长态势,越来越多的网络黑产分子通过拖库、撞库盗取

用户个人信息，给网民造成了金融资产和个人信息安全等多方面的危害。

这个文段主要论述的是（ ）。

- A.关于用户隐私信息被窃取的事件经常发生
- B.应警惕网络黑色产业链
- C.网络黑产分子给网民造成了多方面的危害
- D.网络黑产分子盗取个人信息手段多样化

39.科学家已经发现，会议和经常约会是生产效率的敌人。当一个人有一个即将到来的工作约会，这一事件会妨碍进展，让他无法保持高产。来自俄亥俄州立大学费希尔商学院的研究人员表示，我们在会议或其他工作约会即将到来前的工作效率是最低的。这是因为当一次会议即将到来时，我们感觉自己不应该开始某个大项目，相反会花上长达一个小时的时间回复电子邮件或闲着。

这段文字意在说明（ ）。

- A.在会议或其他工作约会即将到来前的工作效率是最低的
- B.当一次会议即将到来时我们会感到焦虑
- C.会议和经常约会对生产效率不利
- D.应取消一些不合理不必要的会议和约会

40.一直以来，高考作文题都是反映时代主题的一面镜子。有人说，高考作文既是一道语文考题，也是一道政治考题，大概就是因为既有“论”又有“政”。高考作文是对一个人综合能力的考察，从“论政”中也可洞察一个人的家国情怀。高考是人生的重要转折点，许多人由此进入大学，并成长为社会精英。他们具有怎样的家国情怀、怀揣怎样的梦想抱负，关乎国家的发展未来。从这个意义上说，“论政”是必须的。这既是一种结果考察，也是一种方向引导——既引导学生走进社会，关注国家大事，拉紧个体与国家的关系；  
\_\_\_\_\_，坚定信念、树立信心，用智慧的目光透析时代变化。

SI填入横线部分最恰当的一项是（ ）。

- A.而且引导学生坚定信念
- B.而且能帮助学生树立正确的三观
- C.又引导学生正确看待国家发展
- D.又能弘扬主旋律

41.仔细考察中国流行音乐史，正统的唱片发行作为固定盈利模式的黄金时代本就极其短暂。上世纪80年代末到90年代初，在双轨制和市场化大潮下，被砸了铁饭碗的大量音乐人才从一开始就是以青歌赛、晚会、走穴、歌舞厅等方式谋生，再加上独特的版权制度，可以说港台和欧美流行音乐那种比较稳固的唱片工业形态从来都没有在大陆确立过。如今音乐选秀的大行其道就部分源于这笔奇特的“遗产”。在这种背景下，流水线标准化唱片工业，还未被中国人完全接受，就被抛弃了。一个连带的结果就是，那些独立音乐人梦寐以求的高端细分市场也不容易形成。

下列选项与原文内容相符的是（ ）。

- A.上世纪80年代初到90年代末音乐人才以晚会等方式谋生
- B.比较稳固的版权制度形态未在大陆确立过
- C.流水线标准化唱片工业没能在中国发展
- D.追求梦想的音乐人生活陷入窘境

42.将以下6个句子重新排列组合最连贯的是（ ）。

- 美联儲QE的缩减和退出，无疑是横在各大经济体面前的一道坎，特别是新兴市场将

面临更大风险。

□当前，全球经济复苏尽管看起来趋于乐观，但仍风险重重。

□而这是新兴市场股基连续第 20 周出现资金净流出，创下了有统计以来的最长周期。

□实际上，权威报告显示，尽管全球股票基金在一周内出现高达 91 亿美元的资金净流入，但是全球新兴市场股基却出现超过 40 亿美元的资金净流出。

□但市场所面临的风险正在上升，各国需要做好准备。

□亚洲开发银行最新发布的《亚洲债券监测》警告称，尽管新兴东亚地区的本币债券市场已成功渡过了近来的市场波动

A.□□□□□□

B.□□□□□□

C.□□□□□□

D.□□□□□□

43.近日，国家立法鼓励高校等机构的图书馆向社会公众开放，就是希望更多图书馆降低门槛，使人们可以借助书籍获得精神上的滋养与升华。然而高校公共图书馆真正做到对社会开放还存在很多阻力，比如文献资料不便外借，专业藏书不适合通俗阅读等，这不仅对相关管理者提出了更高的要求，也是对其管理智慧与服务意识的考量。在许多高校将包容、自由、开放作为校训的背景下，在大学精神与知识分子情怀被屡屡呼唤的感召中，以及面对开放高校图书馆在法律层面的鼓励，各高校除须积极响应之外，还应通过自身改革和创新来真正推动校图书馆面向公众开放。只有这样，越来越多社会资源才能被公众共享，所有人都将从中受益，这是良性循环，是全社会之福。

对这段话概括最准确的是（ ）。

A.高校应通过自身改革与创新推动校图书馆面向公众开放

B.国家立法鼓励高校等机构的图书馆向社会公众开放

C.高校图书馆对社会开放可以推动更多社会资源被公众共享

D.目前高校图书馆对社会开放存在诸多困难

44.在今年的“天猫双 11”期间，天猫将成为服装设计师品牌集中展示的大舞台。据统计，目前已有数以千计的设计师在天猫平台上开店，而且这一数字还在快速增长中。在传统的设计师品牌成长过程中，很难找到精准的目标客户，但天猫的大数据分析让这种精准定位成为可能。通过对用户做整体细分，天猫找到“把服装作为情感表达”“对潮流有深入见解”并且“对个性服饰需求高”的用户群体，使众多设计师品牌高效地找到目标客户，快速完成原本线下需要长时间积累的品牌启动和发展过程。

这段文字意在说明（ ）。

A.有很多设计师在天猫通过开网店的方式销售产品

B.潮流服饰在网络上销售产品将成为大势所趋

C.天猫将成为服装设计师品牌展示的舞台

D.天猫大数据分析让定位目标客户更精准

45.科技进步的最大意义，是为了让群众生活得更美好。把经费、设备等作为科技不能及时应用的理由，很难让人信服。很多时候，不是缺少经费、设备和技术，而是缺少与先进技术相匹配的先进管理思想。如果管理者有与之匹配的先进思想，那么既可节约社会成本，提高工作效率，又能有效检验科技的“含金量”，增强人民群众的获得感。

这段文字意在说明（ ）。

A.科学技术进步的价值在于服务人民群众

B.科技可提升社会生产力增强群众获得感

C.科技需要经过实践检验才能让群众受益

D.管理者的思想应该跟上技术进步的脚步

46.回首伟大历程，从党的十一届三中全会出发，中国人民用40年众志成城，40年砥砺奋进，40年春风化雨的艰苦奋斗，书写了国家和民族发展的壮丽史诗，将中国变为世界第二大经济体、第一大工业国、第一大货物贸易国。这是中国人民艰苦奋斗、顽强拼搏，上下求索、锐意奋进的结果，更是与时俱进、一往无前，敞开胸襟、拥抱世界的成就。放眼世界，面对开放还是封闭，前进还是后退的重大抉择，习近平主席站在历史与未来的“交汇点”，观大势、谋大局，精准标定了“和平合作、开放融通、变革创新”“三个滚滚向前”的时代潮流，深刻指出了世界互联互通、融合发展不可阻挡、不可逆转的趋势；而五个“面向未来”的提出，更彰显了中国努力构建人类命运共同体，共创和平、安宁、繁荣、开放、美丽的亚洲和世界的博大胸怀与包容心态。

划线句子中的“这”指的是（ ）。

- A.中国领导人向世界描绘出持续经济改革、继续对外开放的中国形象
- B.中国人民40年众志成城，40年砥砺奋进，40年春风化雨的艰苦奋斗
- C.书写了国家和民族发展的壮丽史诗
- D.中国变为世界第二大经济体、第一大工业国、第一大货物贸易国

47.习近平曾在十八届中央纪委第五次全体会议上的讲话说：“我在地方工作时，逢年过节都得值班，生怕出了什么事。”很多地方和部门的负责同志一到节假日就不见了，到外地去休假了。跑到那么远的地方怎么放得下心？一旦有个什么事怎么办？当领导干部就要有强烈的责任感，节假日尤其要自觉坚守岗位。没有说不让休息，但关键是如何休息、在哪儿休息，有没有考虑到自己肩负的职责。大部分领导干部在这个问题上做得是好的，节假日都能自觉坚守岗位。

这段文字主要表达了（ ）。

- A.我们在地方工作时，逢年过节都得值班
- B.作为领导干部就要有强烈的责任感，节假日尤其要自觉坚守岗位
- C.很多地方和部门的负责同志一到节假日就不见了，到外地去休假了
- D.领导干部要懂得如何休息、在哪儿休息，考虑到自己肩负的职责

48.6月13日，“绿色回收公益基金成立仪式暨高校闲置物资绿色回收活动”在中国人民大学举办。“绿色回收公益基金”由噢啦回收平台联合中华环境保护基金及中国物资再生协会电子产品回收利用分会共同发起成立，旨在全国高校及城市社区组织、推广、执行闲置物资。尤其是废弃电器电子产品的回收示范活动，并开展团体标准制定，以推动闲置物资的绿色公共回收渠道建设，提高公众环保意识。

对于上段文字的理解，“绿色回收公益基金”的宗旨是（ ）。

- A.中国人民环保意识较强，成立绿色回收公益基金
- B.主要是废弃电器电子产品的回收示范活动
- C.开展团体标准制定
- D.成立绿色回收公益基金旨在全国高校及城市社区组织、推广、执行闲置物资

49.我国居民生活垃圾还有一个突出特点，厨余垃圾占比较大、含水率高、易腐烂发臭。厨余垃圾热值偏低，在焚烧时需要添加助燃剂，不仅导致焚烧成本增高，而且不利于焚烧过程中污染物的控制。在许多城市，由于源头未分类，大量的厨余垃圾混入生活垃圾一同被填埋或焚烧，不仅无法获得最佳效果，还容易造成二次污染。

这段文字意在说明（ ）。

- A.厨余垃圾占比大，我们应该把“湿垃圾”分出来
- B.大量的厨余垃圾混入生活垃圾一同被填埋或焚烧，不仅无法获得最佳效果，还容易造

成二次污染

C.厨余垃圾热值偏低，在焚烧时需要添加助燃剂

D.居民生活垃圾还有一个突出特点，厨余垃圾占比较大、含水率高、易腐烂发臭

50.□而智能处于初级阶段，又使他们把神秘而又令人恐惧的观念渗入到审美的意识中

□原始人的生活极其困难

□但还不可能获得和谐感和自由感

□他们在审美活动中获得了满足感愉快感

□因此，他们的美感既受到物质需要的束缚，又受到精神观念的束缚

□生活迫使他们把动物当作主要的审美对象

将以上六个句子重新排列，语序正确的是（ ）。

A.□□□□□□

B.□□□□□□

C.□□□□□□

D.□□□□□□

### 阅读文章，回答 51-55 题

我曾经改写过前人所作的一首《浣溪沙》小词，写为断句，说：“师弟恩情逾骨肉，书生志意托讴吟，只应不负岁寒心”。老师与学生之间的这种情谊，有时甚至比骨肉更亲近。因为骨肉是天生的，是血缘关系，在个人的精神、思想上并没有一种自我的选择；而师生的情谊，则是他们理想和志意的一种传承。所以很多人都觉得师生情谊更为可贵，是“师弟恩情逾骨肉”。“书生志意托讴吟”，我们讲授古典诗歌，我们的理想和志意都寄托在其中，也透过古人的诗歌，把他们的品格、理想，他们的志意、怀抱，他们的情操、修养，传递给学生。

关于中国古典诗词，曾有人问我：现在没有人喜欢古诗，大多数人也不赞成吟诵，那么中国诗歌会灭亡吗？中国古人作诗，是带着感情而写的；他们把内心的感动写出来，千百年后再读其诗作，依然能够受到同样的感动，这就是中国诗歌的生命。所以说，\_\_\_\_\_。只要有感觉、有感情、有修养的人，就一定能够读出诗词中所蕴含的、真诚的、生命的感动，这种感动是生生不息的。

真正的精神和文化方面的价值，并不是由眼前物欲的得失所能加以衡量的。上世纪以来西方资本主义过分重视物质的结果，也已经引起了西方人的忧虑。在我看来，学习中国古典诗歌的用处，也就在其可以唤起人们一种善于感发、富于联想、更富于高瞻远瞩之精神的不死的心灵。如果把中国古典诗歌放在世界文学的大背景中看，更会发现中国古典诗歌是以这种兴发感动为其特质的，所以《论语》说“诗可以兴”，这正是中国诗歌的一种宝贵传统。

我从事古典诗词的教学工作已近 70 年，不仅仅是出于追求学问知识的用心，更是出于古典诗词中所蕴含的对生命的感发，令我感动，召唤于我。这一份感发生命，蓄积了古代伟大之诗人的所有心灵、智慧、品格、襟抱和修养。所以中国传统一直有“诗教”之说。我一生历经许多苦难不幸，却一直保持乐观、平静的态度，正是与我热爱古典诗词有很大关系。现在，一些青年人竟因为被一时短浅的功利和物欲所蒙蔽，不再能认识诗歌对人的心灵和品质提升的功用，是件极遗憾的事情。我坚信，中国古典诗词的内在精神和兴发感动的生命不会中断，而中华文化的长流也一定能够绵延不绝，沾泽未来的世世代代。

51.原文第一段举作者改写《浣溪沙》的例子是为了（ ）。

A.说明师生情谊比血缘关系重要

B.讴歌老师和学生之间的情谊

C.说明古典诗歌能够传情达意

D.把自己的理想和志意寄托诗歌

52.填入原文第二段中，最合适的句子是（ ）。

- A.中国诗歌绝对不会灭亡
- B.中国诗歌是蕴含生命的
- C.中国诗歌一直流传下来
- D.中国古人的感动刻在诗歌里

53.原文第三段文字意在说明（ ）。

- A.文化的价值不能用物欲的得失来衡量
- B.中国古典诗歌的重要作用
- C.学习中国古典诗歌可以唤起人们不死的心灵
- D.“诗可以兴”是中国古典诗歌的宝贵传统

54.下列陈述与第四段内容无关的一项是（ ）。

- A.作者对于一些青年人读诗而被物欲蒙蔽的现实感到惋惜
- B.作者从中国古典诗歌中汲取了力量，才能保持乐观和平静
- C.中国古典诗词的内在精神是中国文化和精神的重要组成部分
- D.中国传统有“诗教”之说是因为学习诗歌的人多，诗歌盛行

55.最适合做这篇文章的标题的是（ ）。

- A.中国诗歌的力量
- B.从诗歌中看意志
- C.诗可以兴
- D.在诗歌里感受“不死的心灵”

#### 阅读文章，回答 56-60 题

农历九月初九，是我国传统的重阳节。重阳节的习俗有登高远眺、赏菊花、插茱萸、吃重阳糕、饮菊花酒等，因此，重阳节也叫“登高节”、“茱萸节”、“菊花节”。1989年，我国政府将农历九月初九正式定为“中国老人节”、“敬老节”，重阳节又成为一个尊老、敬老、爱老、助老的节日。那么，为什么将重阳节定为敬老节呢？

在中国古老的《易经》中，把“六”定为阴数，把“九”定为阳数，又为“极数”，指天之高为“九重”。日与月皆逢九，是双九，故曰“重九”，同时又是两个阳数合在一起，故称“重阳”，所以这一天为重阳日。□因为“九九”重阳与“久久”谐音，九在数字中又是最大数，有长久长寿的含意，寄托着人们对老人健康长寿的祝福，因此，重阳节寓意深远，自古以来，人们就对重阳节怀有特殊的感情。□重阳节的起源，可追溯到先秦之前。《吕氏春秋·季秋纪》记载，季秋九月，“命冢宰，农事备收，举五种之要。藏帝籍之收於神仓，祇敬必饬……大飨帝，尝牺牲，告备于天子”。可见，那时已有在秋九月农作物丰收之时祭天帝、祭祖，以谢天帝、祖先恩德的习俗。□而重阳节的求寿之俗，据考始于汉代。汉代《西京杂记》中记载：“九月九日，佩茱萸，食蓬饵，饮菊花酒，云令人长寿”。□

重阳节登高的风俗历史悠久，其由来大致有三。其一是登高避灾，其二是\_\_\_\_\_，其三是登高“辞青”。登高避灾源于汉代，有汝南人桓景在九月九日登高以避灾的故事。桓景是东汉汝南人，南朝梁吴均《续齐谐记》记载，汝南桓景随费长房游学累年，长房谓曰：“九月九日，汝家中当有灾。宜急去，令家人各作绛囊，盛茱萸，以系臂，登高饮菊花酒，此祸可除”。第二种观点是，登高其实是源于古人对山岳的崇拜。古代先民生存环境极其艰

苦，大多依靠采集和狩猎谋生。大山中生长的各种植物、隐栖的飞禽走兽以及潺潺溪流，使人类才得以生存繁衍。如果逢高温干旱，山间密林可避高温炙烤；洪水袭来，攀上高山可躲灭顶之灾。崇拜之“崇”原本就是对山岳而言，因为“山”即高山，“宗”为神圣。以“宗”喻“山”或以“山”喻“宗”，都蕴含有尊崇、敬畏之意。而登高“辞青”的说法则源于大自然中的节气。重阳为秋节，节后天气渐凉，草木开始凋零，重阳节登山“辞青”与古人在阳春三月春游“踏青”相对应。

56.文章第二段，划线的“这一天”是指哪一天（ ）。

- A.六月初六
- B.九月初九
- C.六月初九
- D.九月初六

57.下面这个段落最适合放在文中的哪个位置（ ）。

春秋战国时期，屈原在《远游》诗中也有“集重阳入帝宫兮，造旬始而观清都”的诗句。

不过，这里的“重阳”是指九月九日那一天，当时还不是节日。

- A.□
- B.□
- C.□
- D.□

58.作者举桓景的例子是为了说明（ ）。

- A.重阳节的起源
- B.古代人对山的崇拜
- C.重阳节登高的原因
- D.登高避灾的由来

59.填入文中划线部分，最恰当的一句是（ ）。

- A.古人的山岳崇拜
- B.山中有丰富的资源
- C.登高狩猎采摘谋生
- D.登高具有重要作用

60.这篇文章主要谈论的是（ ）。

- A.重阳节为什么又被称为敬老节
- B.重阳节在传统节日中的地位
- C.重阳节的习俗有哪些
- D.重阳节的历史和登高习俗的原因

※※※ 第二部分结束，请继续做第三部分！ ※※※

### 第三部分 数量关系

(共15题, 参考时限15分钟)

在这部分试题中, 每道试题呈现一段表述数字关系的文字, 要求你迅速、准确地计算出答案。

请开始答题:

61.  $(2017 \times 2017 + 2018) - 2015 \times 2015 = ( \quad )$

- A. 126784  
B. 8544  
C. 10082  
D. 1440715

62. 张大爷遛狗, 匀速前进, 在狗颈上戴上计步器, 显示狗走了 3800 步, 2.5 千米, 消耗热量 150 千卡。则一天想消耗 900 千卡的热量, 它还得继续走多少步? (假设狗每走一步, 消耗的热量保持不变) ( )

- A. 3800  
B. 7600  
C. 11400  
D. 19000

63. 商场进行年度大促销, 一件衬衫打八折销售, 利润为进价的 60%, 如打七折出售, 利润为 50 元。则这件衬衫的原价是多少元? ( )

- A. 250  
B. 240  
C. 210  
D. 200

64. 小张、小红和小亮三人共同投资一个项目, 按照投入多少进行分红, 小红最终收益额占总收益的  $\frac{1}{3}$ , 小张的收益额是小亮的 2 倍, 而小红获得的收益比小亮多 2 万元。则小张应得的收益为多少万元? ( )

- A. 6  
B. 7  
C. 8  
D. 9

65. 甲比乙大 8 岁, 甲的年龄是丙年龄的 3 倍, 9 年前乙的年龄是丙年龄的 4 倍。则几年后甲的年龄是丙年龄的 2 倍? ( )

- A. 10  
B. 13  
C. 16  
D. 19

66. 现在手里有红白两种球共 10 个, 从中随机选出 2 个球, 选出的 2 球全为白球的概率正好为  $\frac{1}{3}$ 。则如果选出 3 个球, 全是白球的概率在以下哪个范围内? ( )

- A. 低于 15%  
B. 15%到 20%之间  
C. 20%到 25%之间  
D. 高于 25%

67. 某房产中介共有职工 100 多人, 其中, 房屋出售人员与房屋出租人员的人数之比为 4:5, 而三年以下工作经验的员工与三年以上的之比为 3:5。已知房屋出售人员不能由三年以下经验人员担任, 则该企业不是房屋出售人员和三年以下工作经验的职工有多少人? ( )

- A. 20  
B. 30  
C. 24  
D. 26

68. 某种含青色素的染料浓度为 20%, 由 A、B 和青色素浓度为 10%的 C 按 1:3:1 的比例调制而成。已知 B 浓度是 A 的一半, 则 A 青色素的浓度是? ( )



A.36% B.30%

C.24% D.18%

69.某项工程由 A 和 B 二队负责，两人如一同工作 4 天，剩下工作量 A 需要 6 天，或 B 需要 3 天完成。现 A 和 B 共同工作了 5 天，则剩下的工作由 A 单独完成还需要几天？（ ）

A.2 B.3

C.4 D.5

70.若将一个长为 8 米、宽为 6 米的长方形塑料薄膜盖在一个三角型花坛上，两个图形重叠部分的面积占三角花坛的三分之二，占塑料薄膜面积的一半。则这个花坛的面积为多少平方米？（ ）

A.64 B.24

C.48 D.36

71.刘雯负责运输玻璃吸管到各大店铺。按照规定，每送到 1 只完整无损的玻璃吸管，可得运费 0.1 元；若有破损，不仅得不到该运费，每破损一只玻璃吸管还要赔偿 0.4 元。小明 10 月份共运送玻璃吸管 25000 只，获得运费 2480 元。那么，在运送的过程中，玻璃吸管破损了多少只？（ ）

A.20 只 B.30 只

C.40 只 D.50 只

72.某大学对 8 个学院的毕业生进行 10 场就业讲座，每个学院都安排且最多 2 场，那么有多少种安排方式？（讲座内容都一样）（ ）

A.38 B.56

C.12 D.28

73.社团活动印发传单，需要效率相当的三台打印机 8 天才能完成；打印完成 50%时，一台打印机被借走了，其余的由剩下的两台继续完成至 75%，又有一台坏了，传单由最后剩下的那台完成。那么，整个周期一共用了多少天？（ ）

A.10 B.11

C.12 D.13

74.小兰问小红出生日期，小红说的月份乘以 29，日期乘以 24，所得的两个值加起来刚好等于 900。问小红的出生日期？（ ）

A.6 月 23 日 B.8 月 25 日

C.3 月 28 日 D.12 月 23 日

75.有 A、B 两市分别建在河流的上游和下游，中间有个防洪水闸，船分别从 A、B 出发前往水闸。水闸与 A 市的距离比其与 B 的距离远 10 公里。从 B 市的船出发后经过 4 小时到达水闸，从 A 市走的船可提前 1 小时到达。已知两船在静水中的速度都是 32 公里/小时，问河水流速是多少公里/小时？（ ）

A.4 B.5

C.6 D.7

※※※ 第三部分结束，请继续做第四部分！ ※※※

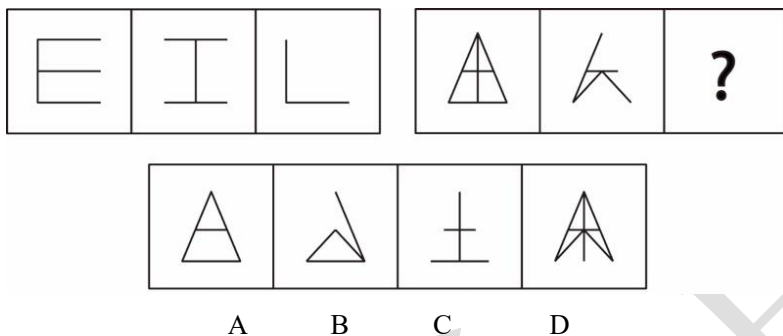
## 第四部分 判断推理

(共 40 题, 参考时限 35 分钟)

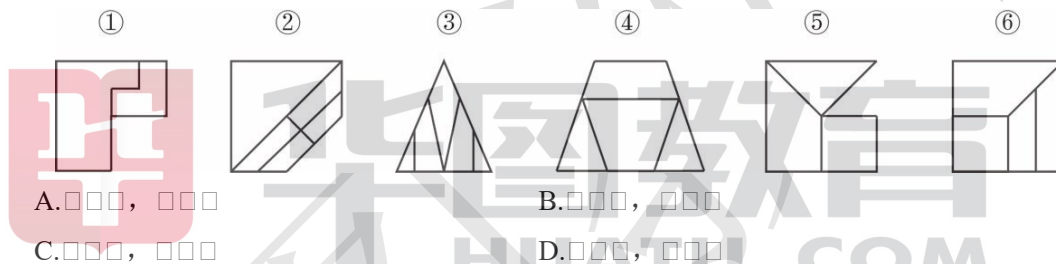
一、图形推理: 共 10 题。请按每道题的答题要求作答。

请开始答题:

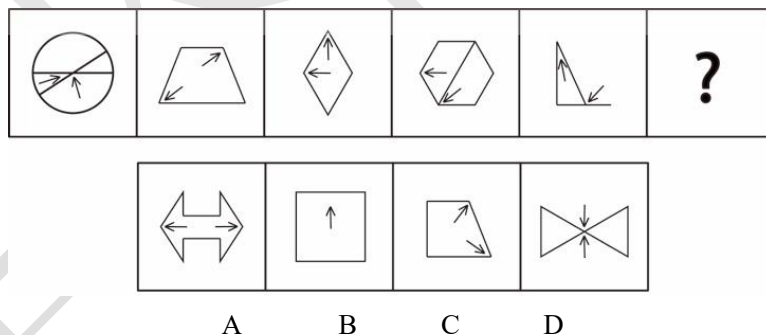
76. 从所给出的四个选项中, 选择最合适的一项填入问号, 使之呈现一定的规律性( )。



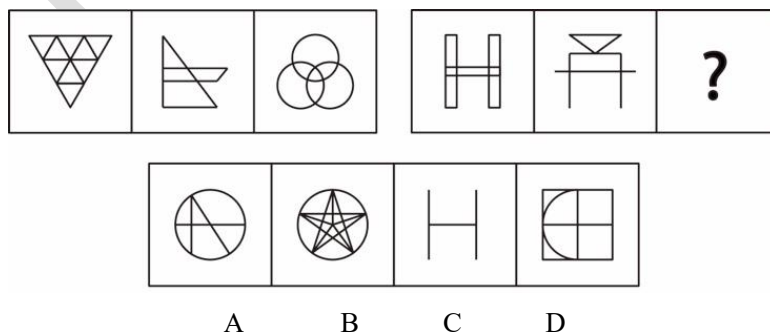
77. 把下面的六个图分成两类, 使每一类图形都有各自的共同特征或规律, 分类正确的一项是( )。



78. 从所给出的四个选项中, 选择最合适的一项填入问号, 使之呈现一定的规律性( )。

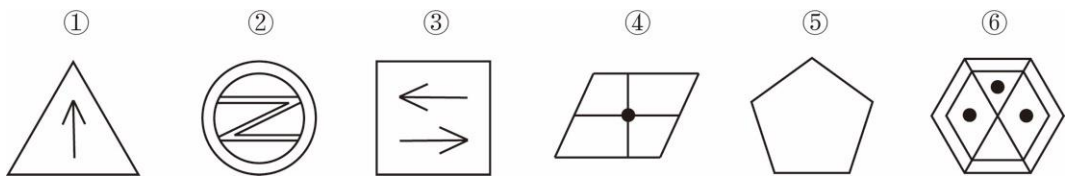


79. 从所给出的四个选项中, 选择最合适的一项填入问号, 使之呈现一定的规律性( )。



80. 把下面的六个图分成两类, 使每一类图形都有各自的共同特征或规律, 分类正确的

一项是 ( )。



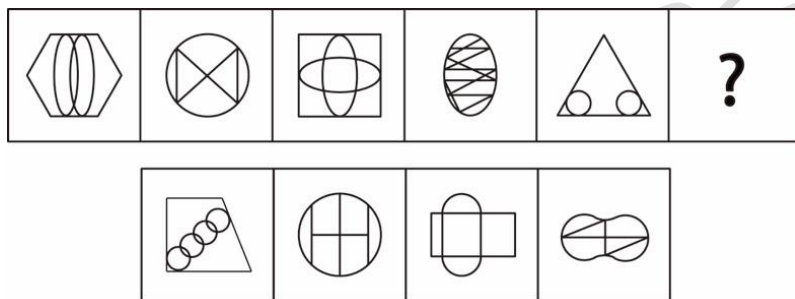
A. □□□, □□□

B. □□□, □□□

C. □□□, □□□

D. □□□, □□□

81. 从所给出的四个选项中, 选择最合适的一项填入问号, 使之呈现一定的规律性 ( )。



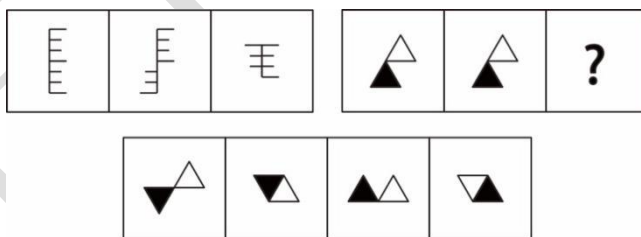
A B C D

82. 从所给出的四个选项中, 选择最合适的一项填入问号, 使之呈现一定的规律性 ( )。



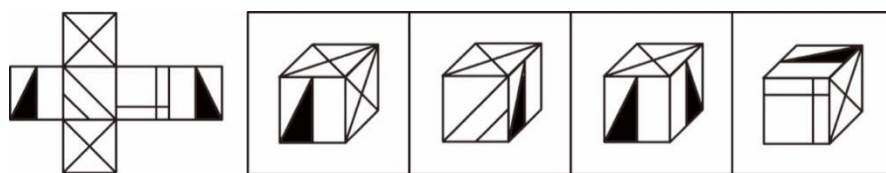
A B C D

83. 从所给出的四个选项中, 选择最合适的一项填入问号, 使之呈现一定的规律性 ( )。



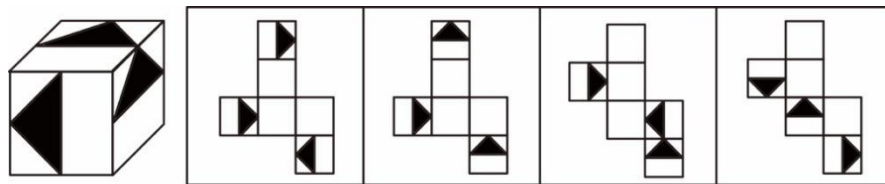
A B C D

84. 左边给定的是纸盒的外表面, 下面哪项能由它折叠而成 ( )。



A B C D

85. 左边给定的是纸盒的立体图形，下面哪项是它的外表面平面展开图（ ）。



A B C D

二、定义判断：共 10 题。每道题先给出定义，然后列出四种情况，要求你严格依据题目要求作答。注意：假设这个定义是正确的，不容置疑的。

请开始答题：

86. 暗示是指人或环境以非常自然的方式向个体发出信息，个体无意中接受了这种信息，从而做出相应的反应的一种心理现象。

下列属于暗示的是（ ）。

- A. 幼儿园王老师给表现好的小朋友发小红花，以激励其他小朋友也好好表现。
- B. 小张高考前一天紧张的难以入睡，家长用维 C 片代替安眠药让其服下从而安然入睡。
- C. 小李大学期间沉迷于游戏导致多门功课挂科，辅导员找到他进行谈心。
- D. 业务员小刘在销售产品时私下告诉客户可以给予优惠从而促成交易。

87. 逆向歧视是指弱势群体（如少数民族、女性等）成员得到相对优惠的待遇，而以强势群体（如汉族、男性等）的成员利益为代价。

下列属于逆向歧视的是（ ）。

- A. 未满十四周岁，其任何行为不用承担刑事责任。
- B. 很多企业的招聘信息明确写着只招收男性。
- C. 少数民族的考生享有高考加分的优惠政策。
- D. 打扮成残疾人的乞丐往往能博得更多人的同情。

88. 双微问政被称为“指尖上的对话”，指相关政府部门通过微博或微信与民众互动，讨论社会公共话题，征询意见。

下列属于双微问政的是（ ）。

- A. 某市环保局开通微信公众号，定期推送城市空气质量报告。
- B. 某大学教授开通微博发表个人看法，引起众多学生的追捧。
- C. 某市工商局建立微信工作群，很大程度上提高了沟通效率。
- D. 某市政府开通官方微博，定期与网民互动，收集改善民生的意见。

89. 软瘾是指那些强迫性的习惯、行为或回复性的情绪。表面上看获得暂时的满足与短时的快感，实际上却被榨取大量的精力，财力或者更多，事后或许会有些后悔，但当时却难以摆脱。

根据上述定义，下列符合软瘾现象的是（ ）。

- A. 甲某过度沉迷于网购，结果导致每个月都入不敷出。
- B. 乙某习惯于喝止咳糖浆，不喝就会觉得浑身不自在。

C.丙某因工作压力大导致每晚必须吃安眠药才能入睡。

D.丁某因喜爱美食，会在朋友圈发一些美食图片。

90.网络协同效应是指两种或两种以上的物质，如企业个体、网民个体或者某种技术的相互协同等，它们之间在互联网平台上相互作用后所产生的效果。

根据以上定义，下列不属于网络协同效应的是（ ）。

A.某明星每天都更新微博宣传自己参演的影片。

B.某公司采取网络视频的方式与客户签订协议。

C.某科研小组成员通过网络分享各自研究成果。

D.某电子商务网站推出了一款限量商品引来大量顾客抢购。

91.服务是指为他人做事，并使他人从中受益的一种有偿或无偿的活动，不以或很少以实物形式而以提供活劳动的形式满足他人某种特殊需要。

根据以上定义，以下不涉及服务的是（ ）。

A.周女士每周末都会去美甲店美甲。

B.钱医生每周末都为农民上门治疗。

C.张警官每周末都会加班整理案件。

D.赵律师每周末都会解答客户咨询。

92.水平一体化物流是指通过同一行业中各企业之间物流方面的合作，以获得整体上的规模经济，从而提高了物流效率。从企业经济效益上看，它降低了企业物流成本；从社会效益来看，它减少了社会物流过程的重复劳动。

根据上述定义，下列属于水平一体化物流的是（ ）。

A.某玩具厂要求产品批发商使用指定的物流公司。

B.某食品厂将多种产品一起运输送往一百多家零售店。

C.某商城多家服装商店签订协议，指定同一家物流公司承担送货业务。

D.某连锁超市设置物流中心，统筹安排各类货物的发送工作。

93.经验法则是指人们在日常生活中体验和总结出来的规律，是一种适用于大多数情况的、简单的、经验性的但不甚准确的规律。

根据上述定义，下列没有运用到经验法则的是（ ）。

A.卖肉的商贩用手掂掂就知道肉有几斤几两。

B.银行员工仅用手摸就可以甄别人民币的真伪。

C.经济学家凭经验判断项目的持续时间或预算。

D.气象局根据卫星云图发布灾害性天气的警报。

94.反应性相倚是指在沟通过程中，沟通双方都以对方的行为作为自己行为的依据，做出相应的反应，而并不按照原来的计划进行沟通。

根据上述定义，下列属于反应性相倚的是（ ）。

A.销售员向进店的客户推销商品，但看到客户由晴转阴的表情便放弃了推销。

B.经理在宣读公司制度时，虽有员工表示反对，但还是宣读完整个制度。

C.教师授课过程中遇到学生提问，为保证课程的进行示意学生课后解答。

D.编辑通知某作者按照要求对文稿进行修改,但是该作者明确表示拒绝。

95.代理是指一人在法定或者约定的权限内,以他人的名义进行法律行为,而法律行为的结果却归属他人的行为。无权代理则是指在没有代理权的情况下以他人名义实施的民事行为的现象。

根据上述定义,下列构成无权代理的是( )。

- A.甲某对快递员说是小王的邻居,代收了小王的快递。
- B.乙某去公司前台帮同事肖某取回了一封挂号信。
- C.丙某冒用同学的姓名从某出版社领取了其稿酬并据为己有。
- D.丁公司董事长超越权限以本公司名义为某有限公司提供担保。

三、类比推理:共10题。每道题先给出一组相关的词,要求你在备选答案中找出一组与之在逻辑关系上最为贴近、相似或匹配的词。

请开始答题:

96.赵武灵王□胡服骑射( )

- A.周幽王□开创造官制度
- B.秦始皇□焚书坑儒
- C.王莽□托古改制
- D.杨坚□千金一笑

97.李子□水果□红色( )

- A.蔬菜□辣椒□白菜
- B.菊花□植物□黄色
- C.鼻子□脑袋□呼吸
- D.白醋□调料□酸

98.端午节□中秋节( )

- A.面包□饼干
- B.羊毛□毛线
- C.清明□谷雨
- D.莲雾□雾霾

99.衣服□衣柜( )

- A.钥匙□钥匙包
- B.灯泡□台灯
- C.葡萄□葡萄架
- D.红绿灯□交通

100.锻炼□健康体魄( )

- A.跑步□高肺活量
- B.播种□收获
- C.火车□运输
- D.液晶□眼镜

101.松鼠□坚果( )

- A.耗子药□老鼠
- B.猫□鱼
- C.骨头□狗
- D.树叶□树

102.教师□教室□授课( )

- A.猴子□果树□金丝猴
- B.森林□煤炭□树木
- C.工人□工厂□生产产品
- D.塑料□塑料袋:蔬菜

103.冰箱□冷藏( )

- A.遮阳伞□遮阳
- B.轮胎□装饰
- C.煎蛋□煮蛋器
- D.薯条□番茄酱

104.暖瓶□暖瓶塞( )

A.咖啡□咖啡杯

B.钢笔□笔帽

C.申论□稿纸

D.毛笔□宣纸

105.报警□救援（ ）

A.违章□罚款

B.毕业□就业

C.消费□生产

D.手术□住院

**四、逻辑判断：共 10 道。每道题给出一段陈述，这段陈述被假设是正确的，不容置疑的。要求你根据这段陈述选择一个答案。注意：正确的答案应与所给的陈述相符合，不需要任何附加说明，即可从陈述中直接推出。**

**请开始答题：**

106.人类与瘟疫斗争了几个世纪，但是全球一直受瘟疫的折磨。目前，研究者培育出一种经过基因改造的中草药，它能有效的治疗瘟疫并且在瘟疫初期可以起到预防的作用，研究者宣称：“假以时日，就能消灭瘟疫这个危害人类几个世纪的顽症。”以下哪项如果为真，最能支持上述结论？（ ）

A.转基因中草药需要的环境非常严格，一旦环境发生变化死亡率极高

B.许多专家一直在对这种草药进行研究

C.转基因中草药在治疗瘟疫方面疗效非常稳定，能够药到病除

D.转基因中草药在杂交之后，形成了新的植物品种

107.李老师说：“你们这些学生要么外语分低，要么数学分低。外语分高了，数学分这么低”如果李老师说为真，则以下哪项与上述论证的结构最为相似？（ ）

A.最近新播出的电视剧看的最多的要么是扶摇，要么是芸汐传；大家都在看扶摇，所以没看芸汐传

B.世界杯期间球迷要么在家看球，要么在饭店看球，球迷都没在家看球，所以是在饭店看的球

C.院子里中的或者是菠菜或者是香菜；没种香菜，一定种的是菠菜

D.研究院开会或者小王去或者小张去；小王去了，所以小张没去

108.教研组分为甲、乙两组。统计表明，甲组教研任务出现问题多，乙组教研任务出现的问题少，因此，乙组比甲组做教研任务认真。以下哪项最能反驳上述论证？（ ）

A.乙组做教研任务仔细认真

B.甲组做的教研任务比乙组多的多

C.甲组所做教研任务都来自北京总部的任务

D.教研组甲组都是常年授课教师，更适合讲课

109.国考笔试结束后，班里对于小王、小张、小刘、小李是否能考上有如下讨论：

小王说：如果我能考上，那么小张也会考上

小张说：小王能考上，但我考不上

小刘说：我没复习，肯定考不上

小李说：我觉得题挺简单，应该能考上

以上只有一句是真的，谁能一定能考上？（ ）

- A.小张
- B.小李
- C.小王
- D.小刘

110.有调查显示,在中国部分学生在接受新鲜事物时更注重模仿。研究者认为,这是因为学生在学习过程更多的是老师讲解例题,然后根据相似例题的知识点逐渐综合。但是学生在做相似例题做不好时,就会被认为是“笨”。这就导致学生在接受新鲜事物时尽量模仿。这项调查最能支持论断的是:( )

- A.教育方式会影响学生接受新事物的方式
- B.做相似例题做不好的学生就是笨
- C.模仿可以让学生快速学会知识
- D.日本学生在接受新鲜事物时尽量模仿

111.近几年,松原地区每年平均地震的次数由3、4次上升至5、6次。与此同时,松原地区一直在进行石油开采。有人据此认为,松原进行石油开采导致松原地震次数的增加。以下哪项如果为真,不能削弱上述结论?( )

- A.地震类型多样,松原地区进行石油开采和地震次数并没有明显变化
- B.松原进行石油开采是由于松原地区地区地震次数的增加
- C.大庆进行石油开采之后地震次数就会增加
- D.从松原的地质结构看,所有的地震都和当地石油挖掘没有关系

112.有人说:“要想考上公务员,要么聪明,要么运气好。”小明运气很好,以下能够推出的是?(2001)

- A.小明考上公务员成功的概率为55%
- B.小明聪明,所以一定能考上公务员
- C.小明考上公务员是因为运气好
- D.小明可能考上了公务员

113.对于长班型的老师安排如下:

- (1) 申论和数量至少有一个上
- (2) 如果判断不能上或言语不能上,则申论也不能上
- (3) 如果判断不能上,那么常识也不能上
- (4) 只有开班仪式开始了,数量才能开始上课

最终经过讨论,由于时间紧急,开班仪式取消,由此可以推出( )

- A.无法确定是否上常识
- B.不上申论
- C.无法确定是否上判断和言语
- D.上数量

114.某研究机构研究,喝咖啡与身体健康的关系,招募一批志愿者做试验,志愿者分为两组,试验期为3个月,在其他标准相同的情况下。第一组试验者试验期每天都喝咖啡,第



二组志愿者每周喝一次咖啡。试验结果显示第一组试验者健康程度强于第二组。由此研究人员得出结论：咖啡内含有咖啡因使人的免疫力加强。以下哪项最能削弱研究人员的结论？

( )

- A. 所招募的志愿者即使在各种标准相同的情况下，身体的应激反应也有所差异
- B. 实行喝咖啡期间，志愿者的感冒时间缩短了
- C. 志愿者在做试验之前身体健康不好，试验之后健康程度明显提升
- D. 第二组实验者对试验持有怀疑态度

115. 一家社会评价机构为评价人们对电视娱乐节目的喜欢程度进行了社会调查，调查表明，跑男的收视率要超过快乐大本营的收视率，由此这家社会评价机构断言：跑男受欢迎程度要高于快乐大本营。以下哪项最能反驳上述论证？ ( )

- A. 收视率只是对电视剧喜欢程度的一个标准
- B. 对娱乐节目喜欢程度与人们受教育程度层次有关
- C. 转播跑男的电视台远远多于转播快乐大本营的电视台
- D. 喜欢快乐大本营的大多数都是中老年人



※※※ 第四部分结束，请继续做第五部分！ ※※※

HUATU.COM

## 第五部分 资料分析

(共 20 题, 参考时限 20 分钟)

所给出的图、表、文字或综合性资料均有若干个问题要你回答。你应根据资料提供的信息进行分析、比较、计算和判断处理。

请开始答题:

一、根据下列统计资料, 回答 116-120 问题。

2015 年全年, 全国吸收外商直接投资新设立企业 26575 家, 同比增长 11.8%; 实际使用外资金额 7813.5 亿元, 同比增长 6.4%。其中从“一带一路”沿线国家吸收外商直接投资新设立企业 2164 家, 增长 18.3%; 实际使用外商直接投资金额 526 亿元, 增长 25.3%。

2015 年全国吸收外商直接投资状况

行业	新设立企业数量(家)	同比增速(%)	直接投资金额(亿元)	同比增速(%)
总计	26575	11.8	7813.5	6.4
其中: 农、林、牧、渔业	609	-15.3	94.8	1.4
制造业	4507	-13	2452.3	0.0
电力、燃气及水生产和供应业	264	26.9	139.4	3.1
交通运输、仓储及邮政业	449	19.4	259.7	-5
信息传输, 计算机服务和软件业	1311	33.6	237.1	40.1
批发和零售业	9156	14.8	744.0	28.0
房地产业	387	-13.2	1789.8	-15.9
租赁和商务服务业	4465	12.7	623.3	-18.8
居民服务和其他服务业	217	19.9	44.4	0.8

116. 2015 年全国吸收外商投资金额增长的行业有 ( ) 个?

- A.2  
B.3  
C.4  
D.5

117. 下列选项中, 2014 年全国吸收外商直接投资金额最多的行业为 ( )。

- A. 农、林、牧、渔业  
B. 制造业  
C. 房地产业  
D. 租赁和商务服务业

118. 2015 年, 制造业新设立企业数量约是房地产的 ( ) 倍。

- A. 10.1  
B. 11.6  
C. 13.8  
D. 15.4

119. 2015 年, 一带一路沿线国家平均每家设立企业平均投资金额为 ( ) 万。

- A. 0.294  
B. 2940  
C. 0.243  
D. 2430

120. 根据 2014-2015 年全国吸收外商直接投资状况, 能够从上述资料中推出的是 ( )。

A. 2015 年全国吸收外商直接投资新设立企业数量增长最快的是电力、燃气及水生产和供应业;

B. 2015 年全国吸收外商直接投资新设立企业数量增长最多的是制造业;

C.2015 年“一带一路”沿线国家吸收外商直接投资新设立企业数量占全国吸收外商直接投资新设立企业数量的比重与上年同期相比下降了；

D.2014 年信息传输、计算机服务和软件业外商直接投资金额约为 169 亿元。

## 二、根据下列统计资料，回答 121-125 问题。

2015 年国家自然科学基金委全年共接收 173017 项各类申请，同比增长约 10%，择优资助各类项目 40668 项，比上年增加 1579 项，资助直接费用 218.8 亿元，各项工作取得新进展新成效。在研究项目系列方面，面上项目资助 16709 项，比上年增加 1709 项，占总项数的 41%，直接费用 102.41 亿元，平均资助率(资助项目占接收申请项目的比重)22.9%，同比下降 2.5 个百分点。重点项目资助 625 项，同比增长约 3.3%，直接费用 17.88 亿元。重大项目资助 20 项，直接费用 3.18 亿元。在人才项目系列方面，青年科学基金资助 16155 项，比上年减少 266 项，占总项数的 40%，直接费用 31.95 亿元，平均资助率 24.6%，同比下降 0.7 个百分点。地区科学基金资助 2829 项，比上年增加 78 项，直接费用 10.96 亿元，有力推进了欠发达区域人才稳定与培养。优秀青年科学基金资助 400 人，国家杰出青年科学基金资助 198 人，新资助创新研究群体项目 38 项，促进了优秀人才和团队成长。

121.2014 年择优资助各类项目数约为 ( )。

A.40668 项

B.1579 项

C.39089 项

D.42247 项

122.2015 年面上项目择优资助的平均资助强度是多少万元？(资助直接费用与资助项数的比值) ( )。

S1A.4.7 2001

B.70.2

C.61.3

D.53.8

123.2015 年国家自然科学基金委全年共接收各类项目比上年增加了 ( )。

A.17828 项

B.15728 项

C.18153 项

D.16832 项

124.2014 年下列选项项目数最多的是 ( )。

A.青年科学基金资助

B.地区科学基金资助

C.面上项目资助

D.重点项目资助

125.能从上述资料中推出的是 ( )。

A.2015 年在人才项目系列方面，青年科学基金平均资助强度最大

B.2014 年国家自然科学基金委全年共接收各类申请 17301.7 项

C.2014 年面上项目的平均资助率高于青年科学基金项目

D.2015 年重大项目平均资助强度小于重点项目

## 三、根据下列统计资料，回答 126-130 问题。

2016 年 6 月份，我国社会消费品零售总额 26857 亿元，同比增长 10.6%，环比增长 0.92%。其中，限额以上单位消费品零售额 13006 亿元，同比增长 8.1%。2016 年 1—6 月份，我国社

会消费品零售总额 156138 亿元，同比增长 10.3%。其中，限额以上单位消费品零售额 71075 亿元，同比增长 7.5%。按经营单位所在地分，2016 年 6 月份，城镇消费品零售额 23082 亿元，同比增长 10.5%；乡村消费品零售额 3775 亿元，同比增长 11.2%。1—6 月份，城镇消费品零售额 134249 亿元，同比增长 10.2%；乡村消费品零售额 21889 亿元，同比增长 11.0%。按消费类型分，2016 年 6 月份，餐饮收入 2907 亿元，同比增长 11.1%；商品零售 23951 亿元，同比增长 10.6%。1—6 月份，餐饮收入 16683 亿元，同比增长 11.2%；商品零售 139455 亿元，同比增长 10.2%。2016 年 1-6 月份，全国网上零售额 22367 亿元，同比增长 28.2%。其中，实物商品网上零售额 18143 亿元，同比增长 26.6%。

2016 年 6 月份商品零售总额部分数据

指标	6月		1~6月	
	绝对量 (亿元)	同比增长 (%)	绝对量 (亿元)	同比增长 (%)
商品零售	23951	10.6	139455	10.2
其中：限额以上单位商品零售	12262	8.2	66857	7.6
家用电器和音像器材	841	12.3	1076	7.3
家具	248	13.4	1249	15.6
通讯器材	356	12.1	1829	14.9
石油及制品	1653	-0.5	8815	-1.3
汽车	3309	9.5	18270	7.7
建筑及装潢材料	296	14.2	1445	15.6

126.2015 年 6 月份，全国社会消费品零售总额约为（ ）。

- A.24594 亿
- B.24283 亿
- C.26512 亿
- D.27104 亿

127.2016 年 6 月份，以下选项中，商品零售同比增速最快的是（ ）。

- A.通讯器材
- B.石油及制品
- C.家用电器和音响器材
- D.汽车

128.2016 年 6 月份，乡村消费品零售额比上年同期增加（ ）。

- A.380 亿元
- B.2169 亿元
- C.1193 亿元
- D.2193 亿元

129. 从下列四个选项中，2016 年 6 月商品零售额增长最多的是（ ）。

- A.家用电器和音响器材
- B.家具
- C.通讯器材
- D.石油及制品

130.关于社会消费品零售情况，能够从上述资料中推出的是（ ）。

- A.2016 年 1-5 月，我国社会消费品零售总额同比增长 12%
- B.2016 年 1-6 月，城镇消费品零售额占我国社会消费品零售总额的比重与上年同期相比上升了
- C.2016 年 6 月商品零售额绝对量最多的一类为石油及制品
- D.2016 年 6 月城镇消费品零售额约是乡村消费品零售额的 6 倍

