

云南统考事业单位公开招聘 2016 年 曲靖事业单位考试试卷及答案解析

《职业能力倾向测验（A类）》试卷及解析

《职业能力倾向测验（B类）》试卷及解析

《职业能力倾向测验（C类）》试卷及解析

【课程咨询电话】0871-65521259

【地址】昆明华图教育：昆明市学府路 178 号莲花宾馆斜对面

【课程咨询电话】0871-65521259

【地址】昆明华图教育：昆明市学府路 178 号莲花宾馆斜对面

目 录

云南统考事业单位公开招聘 2016 年曲靖事业单位考试综合管理类《职业能力倾向测验（A 类）》试卷	5
第一部分 常识判断	5
第二部分 言语理解	7
第三部分 数量关系	17
第四部分 判断推理	19
第五部分 资料分析	28
云南统考事业单位公开招聘 2016 年曲靖事业单位考试综合管理类（A 类）《职业能力倾向测验（A 类）》试题解析	29
第一部分 常识判断答案及解析	30
第二部分 言语理解答案及解析	32
第三部分 数量关系答案及解析	37
第四部分 逻辑判断答案及解析	38
第五部分 资料分析答案及解析	41
云南统考事业单位公开招聘 2016 年曲靖事业单位考试社会科学专技类《职业能力倾向测验（B 类）》试卷	43
第一部分 常识判断	43
第二部分 言语理解	45
第三部分 数量关系	55
第四部分 判断推理	57
第五部分 综合分析	66
云南统考事业单位公开招聘 2016 年曲靖事业单位考试社会科学专技类《职业能力倾向测验（B 类）》解析	69
第一部分 常识判断答案及解析	69
第二部分 言语理解答案及解析	70
第三部分 数量关系答案及解析	74
第四部分 逻辑判断答案及解析	76
第五部分 综合分析答案及解析	79
云南统考事业单位公开招聘 2016 年曲靖事业单位考试自然科学专技类《职业能力倾向测验（C 类）》试卷	81
第一部分 常识判断	82
第二部分 言语理解	86
第三部分 判断推理	96
第四部分 综合分析	105
云南统考事业单位公开招聘 2016 年曲靖事业单位考试自然科学专技类《职业能力倾向测验（C 类）》解析	108
第一部分 常识判断答案及解析	108
第二部分 言语理解答案及解析	111
第三部分 逻辑判断答案及解析	116
第四部分 综合分析答案及解析	119

【课程咨询电话】0871-65521259

【地址】昆明华图教育：昆明市学府路 178 号莲花宾馆斜对面

【课程咨询电话】0871-65521259

【地址】昆明华图教育：昆明市学府路 178 号莲花宾馆斜对面

云南统考事业单位公开招聘 2016 年曲靖事业单位考试综合 管理类《职业能力倾向测验（A 类）》试卷

（参考时限 90 分钟，满分 150 分）

说 明

这项测验共有 5 个部分，共 90 道小题，总分 150 分，时限 90 分钟。

请在答题卡上严格按照要求填写自己的姓名、报考部门，涂写准考证号。请仔细阅读下面的注意事项，这对你获得成功非常重要。

1. 题目应在答题卡上作答，不要在试题本上作任何记号。
2. 监考老师宣布考试开始时，你才可以开始答题。
3. 监考老师宣布考试结束时，你应立即放下铅笔，将试题本、答案卡和草稿纸留在桌上，然后离开。
4. 在这项测试中，可能有一些试题较难，因此你不要在每道题上思考时间太久，遇到不会答的题目，可先跳过去，如果有时间再去思考。否则，你可能没有时间完成后面的题目。
5. 试题答错不倒扣分。
6. 特别提醒你注意，涂写答案时一定要认准题号。

严禁折叠答题卡。

第一部分 常识判断

（共 10 题，参考时限 10 分钟）

根据题目要求，在四个选项中选出一个最恰当的答案。

请开始答题：

1. 甲单位招聘乙作为行政人员，下列哪一做法符合法律规定？

- A. 甲单位在乙入职三个月后，与乙签订书面劳动合同
- B. 甲单位与乙签订期限为两年的劳动合同，约定二个月试用期
- C. 乙在试用期内的工资为劳动合同约定工资的百分之五十
- D. 在试用期内，甲单位将乙解聘，未向乙说明理由

2. 某市安全生产监督管理局在进行全市煤矿企业安全情况大检查时，发现甲企业在安全生产方面存在巨大隐患，责令该企业停产停业进行整顿，该企业对此决定不服，该企业（ ）。

- A. 可以向该市安全生产管理局申请行政复议

【课程咨询电话】0871-65521259

【地址】昆明华图教育：昆明市学府路 178 号莲花宾馆斜对面

- B. 只能向该市人民政府申请行政复议
- C. 可以直接向人民法院提起行政诉讼
- D. 应该先向该市人民政府申请行政复议，若不服复议决定，再向人民法院提起行政诉讼
3. 国务院积极推进()建设，以期最大限度地减少城市开发建设对生态环境的影响，提出力争到 2020 年，城市建成区 20%以上的面积达到将 70%的降雨就地消纳和利用。
- A. 智慧城市 B. 海绵城市 C. 弹性城市 D. 土壤城市
4. 宋朝著名画家张择端的《清明上河图》描绘的景象现位于我国哪个城市？()
- A. 洛阳 B. 西安 C. 天津 D. 开封
5. 物联网中物体通过信息传感设备，与互联网相连接，进行信息交换和通信。下列不具备信息传感功能的设备是()。
- A. 激光扫描器 B. 红外感应器
- C. 普通数码相机 D. 射频标签
6. 下列说法错误的是()。
- A. 山梨酸钾是一种食物添加剂，可用于增加食品的风味
- B. 高浓度糖液破坏微生物细胞结构，可延长食品保存期
- C. 茶多酚能够抑制自由基的活性，可以作为食品防腐剂
- D. β -胡萝卜素可以作为食用性色素，可以用于食品调色
7. 下列保健食品广告用语符合国家有关规定的是：()。
- A. 某双歧软胶囊广告：快速治疗慢性腹泻，根除结肠炎
- B. 某三七袋泡茶广告：坚持服用，治疗高血压、脂肪肝
- C. 某螺旋藻片广告：增强免疫力，调理肠胃，调节血脂
- D. 某灵芝孢子油胶囊广告：高效抗肿瘤，呵护肿瘤患者
8. 甲、乙、丙、丁按份共有一栋房屋，份额相同。为提高该房屋使用价值，甲向乙、丙、丁提议将房屋翻新。在共有人之间未就该事项作出明确约定的情况下，下列表述符合物权法规定的是：
- A. 即使乙、丙、丁不同意，甲仍可以将房屋翻新

【课程咨询电话】0871-65521259

【地址】昆明华图教育：昆明市学府路 178 号莲花宾馆斜对面

- B. 只有乙、丙、丁均同意，甲才可以将房屋翻新
- C. 只要乙、丙、丁中有一人同意，甲就可以将房屋翻新
- D. 只有乙、丙、丁中二人以上同意，甲才可以将房屋翻新
9. “国五条”，是指国务院常务会议 2013 年 2 月 20 日确定的五项加强房地产市场调控的政策措施。以下关于“国五条”的内容，错误的是（ ）。
- A. 坚决抑制投机投资性购房
- B. 增加商品房和土地供应
- C. 加快保障性安居工程规划建设
- D. 完善稳定房价工作责任制
10. 经过春秋时期的争霸战争，至战国时，诸侯国数目已大量减少，强弱分化明显，当时最有实力的七个诸侯国被称为“战国七雄”，这七个国家分别为（ ）。
- A. 齐、赵、越、秦、晋、韩、魏
- B. 齐、秦、韩、鲁、魏、燕、赵
- C. 齐、楚、燕、赵、秦、韩、魏
- D. 齐、秦、越、韩、魏、赵、燕

第二部分 言语理解与表达

（共 30 题，参考时限 30 分钟）

本部分包括表达与理解两方面的内容。请根据题目要求，在四个选项中选出一个最恰当的答案。

请开始答案：

11. 纵观中西文化交流史，启蒙时期的中西文化交流，实质上是传统中国与正经历着一场大变革的西方文明的第一次大接触、大_____，是双方的初步相识阶段。在此期间，一个传统的中国面对一个_____的欧洲：传统中国仍在王朝统治的夕阳余晖中鹅行鸭步，步履蹒跚；山雨欲来的欧洲却在阔大步地走出中世纪，一路上_____。

依次填入画横线部分最恰当的一项是（ ）。

- A. 融合 开放 披荆斩棘 B. 碰撞 张扬 血雨腥风
- C. 冲击 进取 趾高气扬 D. 传播 现代 栉风沐雨

【课程咨询电话】0871-65521259

【地址】昆明华图教育：昆明市学府路 178 号莲花宾馆斜对面

12. 读书改变命运，曾经是农村寒门子弟_____的信条，如今，这一信条正受到很大的挑战与_____。教育“高投入、低产出”，读书改变命运这条路越来越窄，也越来越_____。读书改变命运越来越难，其他向上通道越来越窄，寒门真的再难出贵子了吗？

依次填入画横线部分最恰当的一项是（ ）。

- A. 持守 置疑 曲折 B. 坚守 质疑 崎岖
C. 恪守 颠覆 陡峭 D. 谨守 反思 艰险

13. 在通常的理解中，“停止”似乎总带有某种消极、贬抑的色彩，不怎么讨人喜欢。然而停止却是宇宙间的节奏。停止是当下生活的_____，同时也潜伏了新生的可能性。从自然物事到社会人生，停止划出了一道分界线，分隔开两种明显区别甚至是极端_____的状态。停止每每意味着变化，至少是变化的_____。停止的落脚点是在新与旧的结合处，充满了辩证法的精神。

依次填入画横线部分最恰当的一项是（ ）。

- A. 终止 矛盾 征兆 B. 中止 对立 前夕
C. 结束 冲突 前提 D. 停顿 排斥 机会

14. 然而读书人如同游山客，既_____了砥平的大路，又要对荆棘交错的小径皱眉，我们喜欢适当的宽度，适当的坡度，喜欢惊起的小鸟而不喜欢扑出的老虎，喜欢每五分钟有一处景观，每十分钟有一处供水，这样，我们在下山后，说到今天又去哪里哪里，才能拥有既_____，又阅历十足，那种令人羡慕的口吻。

依次填入画横线部分最恰当的一项是（ ）。

- A. 喜欢 安然无恙 B. 厌烦 行若无事
C. 喜爱 回味无穷 D. 厌恶 惊险不已

15. 我并不完全排斥热闹，热闹也可以是有内容的。但是，热闹总归是外部活动的特征。而任何外部活动倘若没有一种精神追求为其动力，没有一种精神价值为其目标，那么，不管表面上多么轰轰烈烈，_____，本质上必定是_____和空虚的。

依次填入画横线部分最恰当的一项是（ ）。

- A. 博大精深 乏味 B. 形神兼备 贫困
C. 绘声绘色 枯竭 D. 有声有色 贫乏

【课程咨询电话】0871-65521259

【地址】昆明华图教育：昆明市学府路178号莲花宾馆斜对面

16. 赵本山现在不仅是一个人的名字，也是生意场的一个品牌。他用自己的名字作为商业品牌来进行谋利，只要不违背法律和公序良俗，_____。不过提醒一下，一个艺人成就自己的名气不易，千万不可忽视社会评价。

填入画横线部分最恰当的一项是（ ）。

- A. 无可厚非
- B. 无可非议
- C. 完美无缺
- D. 可圈可点

17. 纯新盘低价入市不仅抢夺了大量的购房者，还间接地树立起所在区域的房价标尺，这让占据新盘市场大部分份额的老项目后期处于相当尴尬的境地，于是，各种的促销花招又开始_____。

填入画横线部分最恰当的一项是（ ）。

- A. 层出不穷
- B. 天花乱坠
- C. 司空见惯
- D. 眼花缭乱

18. 言论自由的边界在不同地域、族群和文化习俗中也有所不同，并非美国的先例就是_____。此外，哪些需经司法程序，哪些交付言论市场，仍然大不相同，我的个人观点是在当下中国，更多地经由司法解决，符合国民_____，有助于权利与责任意识的普及。

填入画横线部分最恰当的一项是（ ）。

- A. 不刊之论 权利
- B. 金科玉律 心态
- C. 清规戒律 期望
- D. 不易之论 权力

19. ①究竟采用哪个方案更有利于完成任务，他不能不_____。

②去上海看世博会，对我来说简直就是一种_____。

③经过这次打击，他终于_____了：不能游戏人生。

- A. 思考 盼望 领悟
- B. 思想 渴望 感悟
- C. 沉思 期望 觉悟
- D. 深思 奢望 醒悟

20. 爱尔兰总理肯尼对欧盟内部的_____设置讲述自己的评价。台上，62岁的他翘着二郎腿，_____地介绍该国相对成功的经验。“那么多页纸，那么多条规定，欧洲的监管机构更清晰、果断和鼓舞人心。”

填入画横线部分最恰当的一项是（ ）。

【课程咨询电话】0871-65521259

【地址】昆明华图教育：昆明市学府路178号莲花宾馆斜对面

- A. 繁冗 煞有介事 B. 冗长 推心置腹
C. 冗长 矫揉造作 D. 繁冗 发自肺腑

21. 核心价值观是一个民族区别于其他民族的文化性格，是一个民族团结全体成员的凝聚力量，是一个民族生存与发展的精神支柱。每当社会变革和转型的时期，文化价值观念的重建就会被提出和凸显出来。文学作为文化中的“尖端”、“重器”，更需要反思和建构自己的核心价值观念。而这一根本性问题，我们过去并没有理论上的自觉，更谈不到实践上的自觉。因此我们要旗帜鲜明地提出：把核心价值观念这一概念，引入文学创作和文学理论，使它成为文学的“尺度”和“灵魂”。

这段文字意在强调（ ）。

- A. 核心价值观对于一个民族的重要意义
B. 文学创造和文学理论应建构自己的核心价值观念
C. 建构文化的核心价值观念的重要性
D. 核心价值观念是文学的“尺度”和“灵魂”

22. 拖延是病吗？有人认为拖延跟抑郁症、强迫症、多动症、药物成瘾等诸多疾病有关，它应该是病；而另一些人则认为，拖延只是上述疾病所引起的症状。关于拖延症与大脑中负责动机和情绪区域的研究正在进行，但好像并没有清晰的结论出现。这些研究结论显示，目前，以及可期的将来，尚不会出现针对拖延的特效药物。研究者更倾向于把拖延叫作“典型的自律障碍”。

对于“拖延是否是病”这一问题，作者的观点是（ ）。

- A. 作者认为拖延是病 B. 作者认为拖延不是病
C. 作者对于这一问题未发表意见 D. 作者认为应视情况而定

23. 有观点认为早上吃水果最容易吸收，而晚上吃水果的吸收最差。这种观点过于想当然了。事实上，人体的消化吸收能力和进食的时间并没有多大关系。消化吸收的能力主要与消化液的分泌状况和胃肠蠕动的能力有关。进食以后，健康人的消化系统都会分泌消化液、增强蠕动来促进消化吸收，这些与进食的早晚并没有直接联系，而与年龄有一定关系，通常老年人的消化液分泌会减少、消化功能会减退。也就是说，不管是早上还是晚上，消化系统对水果的吸收其实没有区别。

这段文字意在强调（ ）。

【课程咨询电话】0871-65521259

【地址】昆明华图教育：昆明市学府路178号莲花宾馆斜对面

- A. 人们应该分时间段吃水果
- B. 人体的消化吸收能力和进食的时间关系不大
- C. 人体对于水果的消化吸收能力不受进食时间的影响
- D. 人体的消化吸收能力与年龄有一定关系

24. 乾隆以后，景泰蓝急剧衰退，为什么呢？国家的经济衰退直接体现在奢侈品上。景泰蓝在所有工艺品中成本最高，它以铜做胎。铜在历史上是制钱的原材料，使多少铜，就等于使多少钱。也就是说，抛开它复杂工艺所带来的成本，仅是原材料成本就非常高。所以清代中叶以后，景泰蓝迅速衰退。

根据这段文字，下列说法错误的是（ ）。

- A. 景泰蓝在乾隆时期属于奢侈品
- B. 清代中叶以后，景泰蓝迅速衰退的根本原因是其以铜做胎
- C. 乾隆时期的钱币以铜为原材料
- D. 景泰蓝在乾隆时期所有工艺品中成本最高

25. 在西方学术界，学术批评是常规，能够在学术上提出批评的朋友，被认为是有价值的好朋友；而对个人人身的批评，特别是背后议论是少见的，学术批评如果带有个人情绪，则被认为不妥。国内学术界有一个现象，就是公开的学术批评较少、私下的个人攻讦较多，缺乏对于学术观点公开的、客观的批评，而过多地在背后私下议论，甚至是进行人身攻击。这对于中国学术界的整体发展和跻身世界一流都是非常有害的。

这段文字意在强调的是（ ）。

- A. 国内学术界亟需正常的学术批评
- B. 能够在学术上提出批评的朋友才是有价值的好朋友
- C. 国内学术界人身攻击多过公开的学术批评
- D. 国内学术界应向西方学术界学习

26. 就电子行业看，跨国公司在中国还是从事单纯的产品制造居多，有的又是以组装、代工为主，附加值高的产品设计、研发等环节还是以在国外为主。以 iPhone 为例，苹果凭借原创设计拿走了利润的最大部分，其他国外公司凭借核心技术也获得了可观利润，而中国的制造环节利润则少得可怜。因此，我国的电子企业必须在设计研发、掌握核心技术上增强实力，否则只能处于产业价值链的中低端，既难以获得丰厚回报，也很

【课程咨询电话】0871-65521259

【地址】昆明华图教育：昆明市学府路 178 号莲花宾馆斜对面

难长期站得住脚。

对这段文字概括最准确的是（ ）。

- A. 中国的电子行业以从事单纯的产品制造居多
- B. 中国的电子行业利润少得可怜
- C. 中国的电子行业发展重在掌握核心的研发技术
- D. 中国的电子行业难以长期发展

27. 在夹缝中艰难求生的文学期刊，面临着网络的冲击、数字阅读的兴起，还有娱乐方式的多样化，如果完全依靠自有力量，要活得有声有色，已经越来越不现实了。而另一方面，要鼓励作者写作，要坚持杂志的高品位，多年来处于低端水平的作者稿费，也不得不提高。这是文学期刊所面临的巨大尴尬。在这种情形下，来自政府的资助就显得弥足珍贵了。

这段文字接下来最可能探讨的是（ ）。

- A. 文学期刊当前面临的巨大困境
- B. 文学期刊应如何借助政府资助继续发展
- C. 文学期刊在夹缝中艰难生存的现状
- D. 文学期刊需要提高稿费以坚持高品位

28. 幸福指数涉及到两个主要因素：一是消费；二是闲暇。通常我们会认为，随着自身消费水平的提高，幸福感会上升。事实上，消费水平的上升与闲暇是有冲突的。利用闲暇，我们可以去听听音乐，逛逛街，陪陪家人，可以看着蓝天放松自己的身心等，这都是幸福感。但是当我们追求更高的消费的时候，往往需要通过增加劳动、延长工作时间来获得更高的收入，由此我们的闲暇被挤占了。所以当我们工作越来越辛苦，收入越来越高的时候，幸福指数可能是在下降。因此，GDP 提高了并不代表我们的幸福指数一定提高了。

这段文字意在告诉我们（ ）。

- A. 应正确认识 GDP 与幸福指数之间的关系
- B. 消费水平的高低与闲暇的多少存在冲突
- C. 工作越辛苦，收入越高，幸福指数越低
- D. 应多利用闲暇时间，提高自己的幸福指数

【课程咨询电话】0871-65521259

【地址】昆明华图教育：昆明市学府路 178 号莲花宾馆斜对面

29. ①一方面，网络购物可以让你足不出户就能买到自己心仪的产品
②于此同时，却也带来了一些隐患
③怎么解决这个问题呢？
④二十一世纪前十年，网络购物的普及，给人们的生活带来了巨大的改变
⑤一方面，网络购物毕竟不是现实，不可能一手交款一手交货，存在一定的风险
⑥相关法律法规的出台将有效的规范网络购物市场

将以上 6 个句子重新排列，语序正确的是（ ）。

- A. ④②①⑤③⑥
B. ⑥⑤①②③④
C. ③①⑤④②⑥
D. ④③②⑤①⑥

30. 孔子之所以成为中国的文化符号，是历史的必然选择。历史上不乏抬升甚至无限拔高孔子的时代，但是也有贬低、丑化甚至妖魔化孔子的时代。这些起起伏伏丝毫没有影响孔子作为中华民族精神导师、作为中国传统文化象征的崇高地位。中国传统文化不仅仅是儒学，还包括诸子百家在内的诸多思想与精神。孔子作为一个文化符号，代表的就是中国优秀的传统文化。

这段文字主要谈的是（ ）。

- A. 孔子是中国传统文化的代表
B. 孔子是中华民族伟大的精神导师
C. 孔子代表着中国优秀的传统文化
D. 人们在不同时代对孔子有着不同的认识

31. 很长一段时间以来，“择校”成为无数家长心中的痛。择校，归根到底争抢的是优质教育资源。优质义务教育资源稀缺导致待价而沽的状况，根本原因在于基础教育长期投入不足和不均。经过改革开放，一些公办重点学校过多地占有了社会的资源，一方面它们可以大量使用纳税人的钱，一方面又可以招收高价生，可以说把计划经济的好处、市场经济的好处全都集于一身，这显然很不公平。

这段文字意在说明（ ）。

- A. 我国优质义务教育资源稀缺
B. 一些公办重点学校过多地占用了社会资源，需要整顿
C. “择校”现象存在的根本原因是优质教育资源不均
D. 应相对平均地分配优质教育资源

32. 清明节作为人们悼念逝去亲人的节日，已被国家定为了法定节假日，可见中央

【课程咨询电话】0871-65521259

【地址】昆明华图教育：昆明市学府路 178 号莲花宾馆斜对面

政府对老百姓真正的是从以人为本的角度出发的。那么，在这个特殊的节日里，我们除了悼念亲人外，我想更应该给清明节赋予新的内涵，那就是把追忆逝世的伟人和先烈作为一项重要的爱国主义教育内容在全国来展开，在全国形成一个“记住历史，珍惜今天，报效国家”的爱国主义氛围。

这段文字的关键词是（ ）。

- A. 清明节 悼念 节日
- B. 悼念 特殊 爱国主义
- C. 清明节 内涵 爱国主义
- D. 悼念 教育 氛围

33. 遏制“屡教不改”，需要从多方面入手。对一再重犯的问题企业，不能简单地整改了事，要对相关负责人依法依规问责，纪委、监察、司法、公安等部门都要依法介入。有的企业是“你审你的计，我犯我的规”，甚至怀揣着“犯了再改、改了又犯”的心态，如果仅仅“罚酒三杯”，相关负责人就不可能长记性。同时要建立事后追究制度，有的负责人违规操作了，但还没审计出来问题，就走人挪新窝，对这样的负责人同样需要追究责任。

这段文字主要表达的是（ ）。

- A. 要从根本上遏制问题企业“屡教不改”的现象
- B. 建立负责人事后追究制度比依法依规问责更重要
- C. 治理问题企业，需要各个部门通力配合，并对相关责任人严惩不贷
- D. 问题企业不能简单整改了事，需要依法依规问责和建立负责人事后追究制度

34. 兰花的种子十分细小，很多比人的头发丝还细。种子的外种皮内部还具有许多充满空气的腔室，进一步减轻了重量。凭借轻巧的身子，种子一出果荚就可以随风飘荡到离母株很远的地方。种子的外围包裹了一层致密的细胞，可以防止水分快速渗透。这样，种子还可以借助水流、动物皮毛等“走”到更远的地方。

对这段文字的主旨概括最准确的是（ ）。

- A. 介绍兰花种子所具有的特点
- B. 说明兰花种子能够远距离传播的原因
- C. 揭示兰花种子远距离传播的途径
- D. 阐述兰花种子所具有的强大的生存能力

35. 将来的固然重要，因为有跨到那里的一天；但是现在的至少与将来的同样地重

【课程咨询电话】0871-65521259

【地址】昆明华图教育：昆明市学府路178号莲花宾馆斜对面

要，因为已经立足在这里了。本与末固然重要，因为它们与正干分不开；但是正干至少与本末同样重要，没有正干，本末又有什么意义呢？不懂得前一义的人无异教徒，以现世为不足道，心向天堂佛土，其实只是一种极贫俭枯燥的生活而已。不懂得后一义的人犹如吃甘蔗只取根部与末梢，却把中段丢在垃圾箱里，这岂不是无比的傻子。

这段文字意在说明（ ）。

- A. 一味憧憬未来和舍本逐末都是不可取的
- B. 现在与将来、正干与本末同样重要
- C. 只有懂得现在和正干的重要性才不会成为教徒和傻子
- D. 要懂得把握现在、重视过程

36. 2010年4月份以来的气温是1961年以来气温最低值，全国平均气温为8.7℃，较常年同期的10℃偏低1.3℃。除了在西藏、青海西南部、云南、西南地区较常年偏高1℃到4℃之外，其他地区都偏低2℃到4℃。大范围来看，2010年是1971年以来比较严重的低温年份。从全球的角度来看，这种情况不是孤立的：同一时间段，在北半球、美国、欧洲，也都出现暴雪天气。这是气候波动幅度增加的结果，是在现阶段全球变暖的背景下发生的极端天气气候事件。

这段文字意在表明（ ）。

- A. 2010年出现气温最低值是不正常的现象
- B. 多种因素导致2010年出现气温最低值
- C. 全球气候变暖的趋势并没有停止
- D. 2010年出现极端天气气候事件

37. 英谚有云：“世上没有不长杂草的花园。”金无足赤，人无完人，对他人的包容，正是建立在对他人的体谅和理解之上。蔣相如对廉颇的包容，成就了“将相和”的佳话；鲍叔牙对管仲的包容，成就了“九合诸侯，一匡天下”的壮举；李世民对魏征的包容，成就了“贞观之治”的盛世；而宋朝君主对士子学人的包容，则迎来了继战国之后中国历史上第二次思想解放、文化繁荣的高潮。包容的意义，绝不仅仅停留在个人层面，它对整个社会的存在和发展，同样有着巨大的能动作用。

这段文字意在说明（ ）。

- A. 中华民族具有宽容待人的传统美德

【课程咨询电话】0871-65521259

【地址】昆明华图教育：昆明市学府路178号莲花宾馆斜对面

- B. 对人包容在个人和社会层面都有重要意义
- C. 自古到今我国宽容待人的事例不胜枚举
- D. 世上不可能有完美的人

38. 强调城市新地标要与历史文脉相协调，并不是说一味复古，不要创新，只是说创新首先要有个文化底色和基调，这个底色和基调就是中国特色、地方特点。世博中国馆的设计体现了这一思路，如国家馆的“故宫红”色调就代表了最典型的中国元素，但无论国家馆还是地区馆又都不是一味复古，而是在传统的基础上进行了大胆的革新，从而体现了传统和现代完美结合，以及国家地区的和谐一致。

这段文字主要说明（ ）

- A. 城市地标建设要在体现文化特色的基础上进行创新
- B. 世博中国馆的设计体现了浓厚的中国特色
- C. 历史文脉在城市建设中具有举足轻重的作用
- D. 创新应成为城市建设的首要考虑

39. 当你背一个英文单词的时候，这个单词的含义信息被储存在大脑中，留下“记忆的痕迹”。“记忆的痕迹”是神经科学家们研究记忆时经常提起的一个基本概念，但是，它究竟仅仅是一种比方，还是物理上由一些神经元组成的真实存在？科学家对这个问题的研究可以追溯到近一个世纪之前，而新近的成果则提供了更为确切的线索。

这段文字接下来最可能讨论的是（ ）。

- A. “记忆的痕迹”在神经学上的基本涵义
- B. 科学家对“记忆的痕迹”的研究历史
- C. 有关“记忆的痕迹”的新近研究成果
- D. “记忆的痕迹”是否在物理上真实存在

40. 每个人拥有的时间长度是固定的，跟金钱、朋友和“粉丝”数不同，我们无法通过更努力地工作或更广的人脉获得更多时间。不管我们如何组织、安排或缩减手头的事务，我们拥有的时间资源总是有限的：一天只有 24 小时。但现在一些研究提出，时间是一种比我们想象的要更加灵活的资产，虽然我们不能让每一天多出几个小时，但我们可以让自己感到时间更充裕。这些发现肯定了人类学家、心理学家和经济学家们长期以来的观点：_____。

【课程咨询电话】0871-65521259

【地址】昆明华图教育：昆明市学府路 178 号莲花宾馆斜对面

填入文段划线处最恰当的一项是（ ）。

- A. 每个人拥有的时间长度是可以变化的
- B. 我们可以控制我们对时间的感觉
- C. 时间是一种灵活的资产
- D. 我们可以使自己的时间变得更长

第三部分 数量关系

(共 10 题，参考时限 10 分钟)

在这部分试题中，每道题呈现一段表述数字关系的文字，要求你迅速、准确地计算出答案。

请开始答题：

41. 单独完成某项工作，甲需要 16 小时，乙需要 12 小时，如果按照甲、乙、甲、乙……的顺序轮流工作，每次 1 小时，那么完成这项工作需要多长时间（ ）？

- A. 13 小时 40 分钟
- B. 13 小时 45 分钟
- C. 13 小时 50 分钟
- D. 14 小时

42. 小王从家开车上班，行驶 10 分钟后发生了故障，小王从后备箱中取出自行车继续赶路，由于自行车的车速只有汽车的 $\frac{3}{5}$ ，小王比预计时间晚了 20 分钟到达单位，如果汽车再多行驶 6 公里，他就能少迟到 10 分钟，从小王家到单位的距离是（ ）公里。

- A. 12
- B. 14
- C. 15
- D. 16

43. 把一个正四面体的每个表面都分成 9 个相同的等边三角形。用任意颜色给这些小三角形上色，要求有公共边的小三角形颜色不同，问最多有多少个小三角形颜色相同（ ）？

- A. 12
- B. 15
- C. 16
- D. 18

44. 某人银行账户今年底余额减去 1500 元后，正好比去年底余额减少了 25%，去年底余额比前年底余额的 120% 少 2000 元。则此人银行账户今年底余额一定比前年底余额：（ ）

- A. 少 10%
- B. 多 10%
- C. 少 1000 元
- D. 多 1000 元

45. 三位专家为 10 幅作品投票，每位专家分别都投出了 5 票，并且每幅作品都有专家投票。

【课程咨询电话】0871-65521259

【地址】昆明华图教育：昆明市学府路 178 号莲花宾馆斜对面

如果三位专家都投票的作品列为 A 等，两位专家投票的列为 B 等，仅有一位专家投票的作品列为 C 等，则下列说法正确的是：（ ）

- A. A 等和 B 等共 6 幅
- B. B 等和 C 等共 7 幅
- C. A 等最多有 5 幅
- D. A 等比 C 等少 5 幅

46. 60 名员工投票从甲、乙、丙三人中评选最佳员工，选举时每人只能投票选举一人，得票最多的人当选。前 30 张选票中，甲的 15 票，乙得 10 票，丙得 5 票，问在上未统计的选票中，甲至少再得多少票就一定当选（ ）？

- A. 15
- B. 13
- C. 10
- D. 8

47. 某商场在进行“满百省”活动，满 100 省 10，满 200 省 30，满 300 省 50。大于 400 的消费只能折算为等同于几个 100、200、300 的加和。已知一位顾客买某款衬衫 1 件支付了 175 元，那么买 3 件这样的衬衫最少需要：（ ）。

- A. 505 元
- B. 475 元
- C. 445 元
- D. 515 元

48. 某单位招待所有若干间房间，现要安排一支考察队的队员住宿，若每间住 3 人，则有 2 人无房可住；若每间住 4 人，则有一间房间不空也不满，则该招待所的房间最多有：（ ）

- A. 5 间
- B. 4 间
- C. 6 间
- D. 7 间

49. 12 个啤酒空瓶可以免费换 1 瓶啤酒，现有 101 个啤酒空瓶，最多可以免费喝到的啤酒为：（ ）。

- A. 10 瓶
- B. 11 瓶
- C. 8 瓶
- D. 9 瓶

50. 某公司去年有员工 830 人，今年男员工人数比去年减少 6%，女员工人数比去年增加 5%，员工总数比去年增加 3 人，问今年男员工有多少人（ ）？

- A. 329
- B. 350
- C. 371
- D. 504

【课程咨询电话】0871-65521259

【地址】昆明华图教育：昆明市学府路 178 号莲花宾馆斜对面

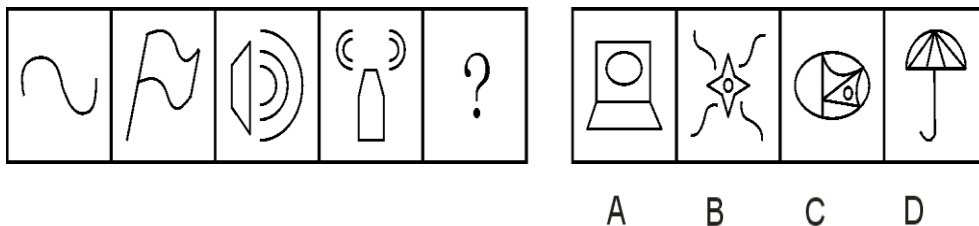
第四部分 判断推理

(共 35 题，参考时限 25 分钟)


一、图形推理。请按每道题的答题要求作答。

请开始答题：

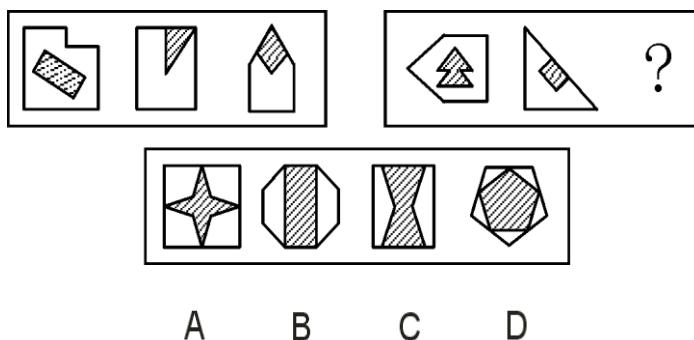
51. 从所给的四个选项中，选择最合适的一个填入问号处，使之呈现一定的规律性。



52. 从所给的四个选项中，选择最合适的一个填入问号处，使之呈现一定的规律性。



53. 从所给的四个选项中，选择最合适的一个填入问号处，使之呈现一定的规律性。

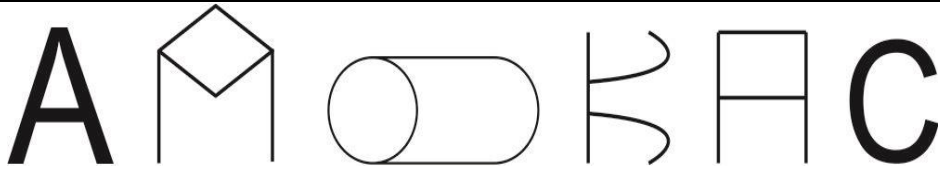


54. 把下面的六个图形分为两类，使每一类图形都有各自的共同特征或规律，分类正确的一项是 ()。

- ① ② ③ ④ ⑤ ⑥

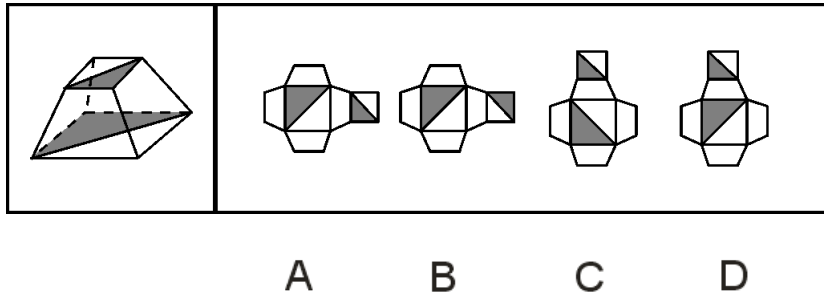
【课程咨询电话】0871-65521259

【地址】昆明华图教育：昆明市学府路 178 号莲花宾馆斜对面



- A. ①②⑥，③④⑤ B. ①③④，②⑤⑥
C. ①④⑥，②③⑤ D. ①②⑤，③④⑥

55. 左边给定的是纸盒的外表面，下面哪一项能由它折叠而成？



二、定义判断。每道题先给出定义，然后列出四种情况，要求你严格依据定义从中选出一个最符合或最不符合定义的答案。注意：假设这个定义是正确的，不容置疑的。

请开始答题：

56. 边际效应：消费者在逐次增加一个单位消费品的时候，带来的单位效用是逐渐递减的。

根据上述定义。下列属于边际效应的是（ ）。

- A. 洪某下海创业，第一年赚了六十万，第二年赚了二十万，第三年赔了钱
B. 程某第一次带孩子逛博物馆孩子非常好奇，第二次去的时候孩子还是很开心，但是第五、六次去的时候，孩子就有点厌倦的感觉了。
C. 郭某是资深集邮爱好者，前天终于集齐了他那套宝贝邮票的最后一张，那兴奋劲儿简直比抱孙子还要开心。

D. 范某请朋友吃饭，酒一瓶一瓶下去，越喝越兴奋，越喝越香

57. 抢劫罪：是指以非法占有为目的，以暴力、胁迫或者其他方法，强行劫取公私财物的行为。

根据上述定义，下列行为属于抢劫罪的是（ ）。

- A. 甲在路上放了很多铁钉，乙骑自行车路过，车胎被扎破，甲趁乙下车查看时，迅速将

【课程咨询电话】0871-65521259

【地址】昆明华图教育：昆明市学府路 178 号莲花宾馆斜对面

乙车筐里的包拿走

B. 甲伙同乙在夜间闯入丙家中，用猎枪胁迫丙拿出现金和银行卡

C. 甲见乙手上拿着手机，上前将乙的手一碰，乙的手机掉在地上，甲迅速拿起手机逃走

D. 甲对乙怀恨在心，趁天黑时将乙打昏后逃跑，后来甲返回发现乙还未醒来，又将乙的手表拿走

58. 留置权：指债务人不履行到期债务，债权人可以留置已经合法占有的债务人的动产，并有权就该动产优先受偿。

根据上述定义，下列关于行为人是否享有留置权的说法中正确的是（ ）。

A. 甲委托乙保管某件物品，乙在保管期间，发现该物品有质量问题，遂将该物品交给丙修理，修好后，甲拒付维修费用，丙无权留置该物品

B. 甲向乙借了1万元钱，偿还期已到，甲未偿还，乙对甲工厂里的机器设备享有留置权

C. 甲公司与乙某签订了一份运输合同，约定货到付款，乙某将货物运达目的地后，甲公司未付运费，乙某可以留置运输货物

D. 李某有偿委托孙某代购一批产品，孙某买到产品后，李某不支付约定的报酬，孙某无权留置该批产品

59. 恐惧症：对某种物体或某种环境的一种非理性的、不适当的恐惧感。一旦面对这种物体或环境时，尽管当时并无危险，恐惧症患者仍会产生一种极端的恐惧感。

根据上述定义，下列属于恐惧症的是（ ）。

A. 陈女士从小就胆小，一次去乡下办事经过一户农家的门口，冷不防一只体型壮硕的狼狗钻出来凶恶地盯着她，吓得她立刻尖叫着跑掉了。

B. 工程师小徐每次看到印有深海的照片时，就感觉自己像置身于深海之中，四周都是幽暗深邃的海水，感到呼吸困难、心跳加快，害怕得再也不敢看那些照片一眼

C. 晚饭后，有点醉意的老同事执意送大家回去，小李还没到小区门口就喊着要下车，因为他受不了那种害怕会出车祸的精神压力了

D. 看了一部日本恐怖片后，小钱感觉脑子里总是浮现电影里的恐怖场景，好几天都睡不着觉

60. 形式公正：指个人或权力机关对同样的事件平等对待，以及对所有人按统一标准（而不是根据个人或所从属的特殊集团的立场）施加管束。

【课程咨询电话】0871-65521259

【地址】昆明华图教育：昆明市学府路178号莲花宾馆斜对面

根据上述定义，下列属于形式公正的是（ ）。

- A. 国家录用公务员，实行“凡进必考”
- B. 通过税收杠杆对收入差距进行调节
- C. 设立保护区，保护濒临灭绝的生物
- D. 政府对某件商品设立远远低于市场价格的指导价

61. 印象管理：指人们试图管理和控制他人对自己所形成的印象的过程。通常，人们总是倾向于以一种与当前的社会情境或人际背景相吻合的形象来展示自己，以确保他人对自己做出愉快的评价。

根据上述定义，下列属于印象管理的是（ ）。

- A. 某香港明星的经纪人想尽办法让明星多参与电视娱乐节目，以此提高人气
- B. 董事长批评陈经理说，客户看到你们的办公室天天乱成这样，哪里会对公司有信心
- C. 林某听到同学偷偷说自己的坏话就忍不住上去打了他
- D. 面试前，小李在服饰、发型等方面都作了精心准备，以求一次成功

62. 在自然界，一株植物单独生长时，往往长势不旺，没有生机，甚至枯萎衰败，而当众多植物一起生长时，却能郁郁葱葱，挺拔茂盛，人们把这种植物中这种相互影响、相互促进的现象称之为“共生效应”。共生就是两者相互利用，同时有利于双方发展的现象，这种情况应不仅限于自然界，人类社会也会有。

根据上述定义，以下哪项属于共生效应？（ ）

- A. 小丑鱼会带来食物与海葵共享；而当小丑鱼遇到危险时，海葵会用自己的身体把它包裹起来，保护小丑鱼
- B. 班长组织全班同学去爬山，班里同学都积极响应
- C. 鳄鱼生性凶残，经常袭击人畜达到果腹的目的
- D. 印度犀牛视觉不好，听觉也不灵敏，自己难以发现险情

63. 所谓棘轮效应，又称制轮作用，是指人的消费习惯形成之后有不可逆性，即易于向上调整，而难于向下调整。尤其是在短期内消费是不可逆的，其习惯效应较大。这种习惯效应，使消费取决于相对收入，即相对于自己过去的高峰收入。

根据上述定义，以下哪项不属于棘轮效应？（ ）

- A. 猪肉禽蛋等原材料价格下降了，但是相应的制成品如牛肉拉面、肯德基、方便面以及

【课程咨询电话】0871-65521259

【地址】昆明华图教育：昆明市学府路178号莲花宾馆斜对面

饭店的价格不会相应地下降

B. 由俭入奢易，由奢入俭难

C. 比尔盖茨为了不让自己的孩子沾染上奢侈的习惯，决定将巨额财产用于慈善事业，只给儿女留下几百万的财产

D. 汽油价格上涨之后，出租车价格上涨，但是油价下调之后，出租车价格并不会下调

64. 区位优势指在某一地区在发展经济、科研等方面客观存在的有利条件或优越地位，主要由自然资源、劳力、工业聚焦、地理位置、交通等决定，是一个综合性概念。

下列不属于区位优势的是（ ）。

A. 知识经济时代，人的因素占主导地位，人的流动性，尤其是掌握知识、技能的人才的流动性是很大的，培育并吸引高科技人员就成为地区发展经济的关键

B. 云南向东可与珠三角、长三角经济圈相连；向南延伸，可通过建设中的泛亚铁路直达河内、曼谷、新加坡和仰光；向北可通四川和中国内陆腹地等

C. 西昌卫星发射中心纬度低，海拔高，发射倾角好；地质结构坚实，有利于发射场的总体布局；多晴好天气，“发射窗口”好

D. 广西地处我国大陆东、中、西交汇点，是华南经济圈、西南经济圈与东盟经济圈的结合部，是西南乃至西北地区最便捷的出海通道，也是连接粤港澳与西部地区的重要通道

65. 舆情：指在经过收集整理之后所分析归纳出的具有一定系统性和典型性的舆论意见、情况和信息的综合。

下列不涉及舆情的是（ ）。

A. 为进一步加强和改善房地产市场调控，国务院办公厅 2010 年 1 月 10 日下发《关于促进房地产市场平稳健康发展的通知》

B. 我国反腐工作创造了一种新方法，即借助网络技术及所引起的社会效应对执政行为的监督和对权力的约束来有效预防、遏制、惩戒腐败行为

C. 某地方政府近年来一直坚持对人事工作采取社会公示制度，在人才培养方面更具有透明度，选拔任用的干部素质不断提高

D. “新意见阶层”的网民凭借互联网“所有人对所有人的传播”优势，对中国社会发展中的种种问题畅所欲言，能在极短时间内凝聚共识，影响社会

三、类比推理。每道题先给出一组相关的词，要求你在备选答案中找出一组与之在逻辑

【课程咨询电话】0871-65521259

【地址】昆明华图教育：昆明市学府路 178 号莲花宾馆斜对面

关系上最为贴近、相似或匹配的词。

请开始答题：

66. 物质：意识

A. 发展：运动

B. 成功：勤学

C. 权利：义务

D. 劳动：懒惰

67. 尼古丁：香烟

A. 蜂蜜：饼干

B. 冰毒：毒品

C. 糖：甘蔗

D. 萝卜：蔬菜

68. () 之于 因循 相当于 陈迹 之于 ()

A. 连续 老友

B. 创造 回避

C. 遵从 往事

D. 力行 古屋

69. 嫦娥二号：探月

A. 化妆品：美容

B. 方便面：保暖

C. 咖啡：睡眠

D. 钥匙：门锁

70. 牛角：梳子

A. 钢板：矿石

B. 玉米：汽油

C. 空气：氧气

D. 鸡蛋：香油

71. 苏格拉底：柏拉图

A. 鲁迅：周作人

B. 孔子：颜回

C. 曹雪芹：吴承恩

D. 莎士比亚：萧伯纳

72. 山涧：河流：大海

A. 员工：企业：集团

B. 草：草坪：草原

C. 城市：国家：地球

D. 狂风：闪电：暴雨

73. 权力：监督：腐败

A. 驾车：饮酒：事故

B. 理想：行动：空想

C. 舆论：引导：和谐

D. 灾难：救援：恢复

74. () 对于 大纲 相当于 讽刺 对于 ()

A. 简明 漫画

B. 论文 小说

【课程咨询电话】0871-65521259

【地址】昆明华图教育：昆明市学府路178号莲花宾馆斜对面

- C. 摘要 漫画
D. 撰写 作品
75. 励精图治 对于 () 相当于 () 对于 错失良机
- A. 治国安民 时不再来
B. 横征暴敛 千钧一发
- C. 国富民强 瞻前顾后
D. 兢兢业业 争分夺秒

四、逻辑判断。每道题给出一段陈述，这段陈述被假设是正确的，不容置疑的。要求你根据这段陈述，选择一个答案。注意：正确答案应与所给的陈述相符合，不需要任何附加说明即可以从陈述中直接推出。

请开始答题：

76. 企业应事先征询气象预报，因为如果不这样，企业就不会生产出适销对路的产品。据此，可以推出 ()。

- A. 如果企业事先征询气象预报，就会生产出适销对路的产品
- B. 企业只有事先征询气象预报，才会生产出适销对路的产品
- C. 企业事先征询气象预报，一定会提高经济效益和社会效益
- D. 因人类认识的局限，目前气象预报的准确率还未达到较高水平

77. 近来西方舆论界存在一种观点认为中国经济高速发展，除污染了地球环境外，还造成了国际上石油等能源价格的暴涨。

以下最能反驳西方舆论界的观点的是 ()。

- A. 石油输出国组织的石油产量近年不断下降
- B. 去年中国经济依然高速发展，但是国际上石油等能源价格比往年低
- C. 西方发达国家的生产生活方式造成了国际上石油等能源价格的暴涨
- D. 汽车业的高速发展以及汽车的普及造成了国际上石油等能源价格的暴涨

78. 如果在橙子开花季节持续干旱，橙子产量将会受到影响。今年某地在橙子开花季节出现旱情，因此有人担心橙子价格会上涨，从而使得该地橙汁饮料厂的生产成本提高。

以下最能削弱上述论证的一项是 ()。

- A. 今年橙汁饮料的价格是历年最低的
- B. 该地的旱情并没有预计的严重
- C. 今年该地扩大了橙子的种植面积

【课程咨询电话】0871-65521259

【地址】昆明华图教育：昆明市学府路 178 号莲花宾馆斜对面

D. 该地橙汁饮料厂的原料供应大多来自外地

79. 历史的进程是后浪推前浪，没有人能够永远站在风口浪尖上，所以会有拿破仑兵败滑铁卢和许多著名的改革人物从历史的舞台上渐渐沉寂。

从上文内容不能推出的结论是（ ）。

- A. 没人能够永远站在风口浪尖上是正常的
- B. 许多著名改革人物渐渐沉寂也是正常的
- C. 历史的进程会淘汰拿破仑一样的人物
- D. 许多著名人物在改革的舞台上消失属于极不正常的情况

80. 当臭氧达到一定浓度之后，会对人体造成严重的伤害。当人们吸入臭氧之后，臭氧就会因为其强氧化作用而使呼吸道产生烧灼感，造成呼吸系统充血或发炎，儿童、老人和患有呼吸道疾病的人受到臭氧的伤害尤为严重。据专家统计，在欧洲，臭氧污染导致欧洲人的死亡率增加了 2%~12%。

据此，可以推知（ ）。

- A. 臭氧污染目前在欧洲最为严重
- B. 低浓度的臭氧并不会对人体造成伤害
- C. 臭氧的强氧化作用是其对人有害的原因
- D. 患有呼吸疾病的人对臭氧污染最为敏感

81. 有很多创造性的发明都是在战争中产生或得到实际应用的，因此，有人声称，战争是推动人类社会进步的必要环节。

以下各项如果为真，最能反驳上述观点的是（ ）。

- A. 战争会给人类带来无可挽回的伤害
- B. 战争中的创造发明在日常生活中用处不大
- C. 和平年代良好的外部条件更有利于科技交流和思想整合
- D. 和平年代良好的科技氛围更有利于创造性发明的产生和实际应用

82. 影响茶叶营养与药理品质的因素，除了微量元素含量与产茶区土壤成分外，其主要成分氨基酸的含量与气象条件密切相关。研究分析表明：鲜叶的氨基酸含量与采茶期的气温、日照呈负相关，与降水量和空气相对湿度呈正相关。

以下如果为真，最能削弱上述研究分析结论的是（ ）。

【课程咨询电话】0871-65521259

【地址】昆明华图教育：昆明市学府路 178 号莲花宾馆斜对面

- A. 我国北方大多数地区春季低温少雨，茶叶生长缓慢
- B. 高山云雾茶随着纬度的升高，氨基酸含量增加
- C. 名茶大多生长在云雾缭绕、空气湿润、气候温和的地区
- D. 夏季平川地区日照时间长、雨水充沛，鲜叶氨基酸含量增加

83. 在信息化的背景下，发展中国家和发达国家在经济全球化中的机遇和风险是相对平等的，因此，发达国家和发展中国家的经济发展差距呈现日益缩小的趋势。

以下哪项为真，能对以上结论提出最严重的质疑？（ ）

- A. 经济全球化一方面促进了各国经济快速增长，另一方面却蕴含着前所未有的风险
- B. 即使对美国这样的发达国家来说，全球化也给它带来了不利影响：过量移民、廉价商品、跨国犯罪等
- C. 据联合国的报告，1990 年到 2000 年间，世界各国中按发达程度排名的前 15 名和后 15 名的人均年收入比率从 60：1 扩大到 74：1
- D. 经济全球化为世界创造了无数的就业机会，为千百万人创造了新的发展机遇

84. 等到贝克特获得诺贝尔奖的时候，20 世纪 60 年代已接近尾声了。他的一生不是在等待，就是在被等待。作为《等待戈多》的作者，虽然最终没有出席诺贝尔奖颁奖典礼，不过，他也没有拒绝奖金，否则他就成了萨特。

根据这段文字，可以推出（ ）。

- A. 萨特没有出席颁奖典礼
- B. 萨特 20 世纪 60 年代获得诺贝尔奖
- C. 《等待戈多》写作于 20 世纪 60 年代
- D. 贝克特因《等待戈多》获得诺贝尔奖

85. 一份发行量非常大的报纸居然停刊。原因在于它拥有的读者是年龄偏大且社会经济地位低下的男性，这部分人群消费能力低下，因而广告效果十分不理想，使广告主对它失去信心。失去了广告主，它再也办不下去。

由此可以推出（ ）。

- A. 发行量不是报纸争取广告收入的唯一条件
- B. 报纸发行量对广告主没有吸引力

【课程咨询电话】0871-65521259

【地址】昆明华图教育：昆明市学府路 178 号莲花宾馆斜对面

- C. 女性比男性更喜欢广告
- D. 依赖广告收入办报不利于报业发展

第五部分 资料分析

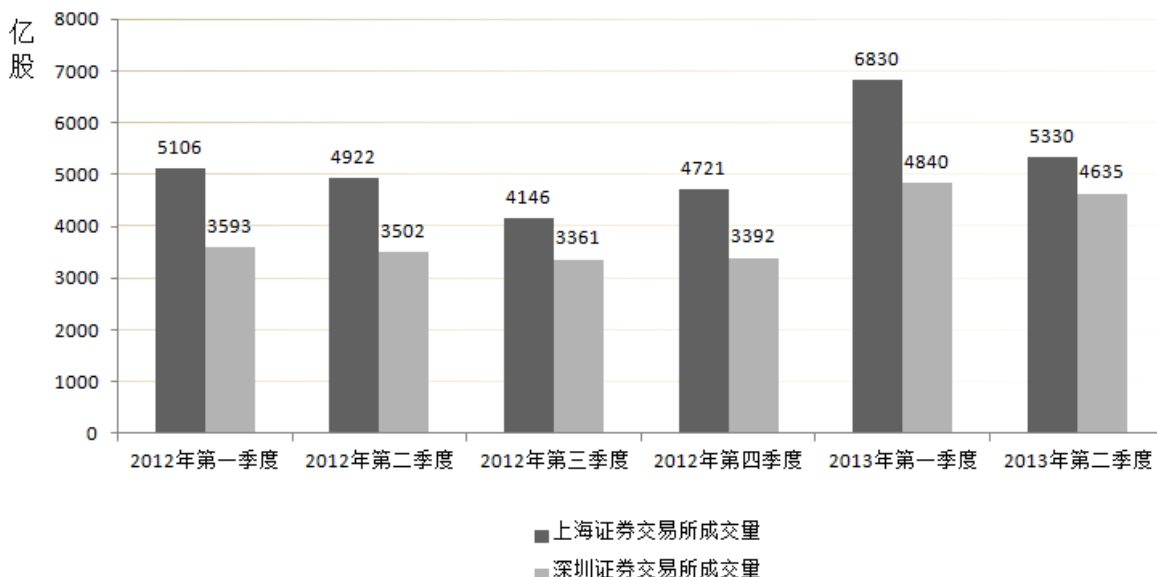
(共 5 题，参考时限 5 分钟)

所给出的图、表、文字或综合性资料均有若干个问题要你回答。你应根据资料提供的信息进行分析、比较、计算和判断处理。

请开始答题：

一、根据以下资料，回答 106~110 题。

2012 年 1 季度—2013 年 2 季度证券成交量



2013 年上半年我国证券交易成交额和成交量

	成交金额 (亿元)				成交量 (亿股)			
	上海	同比增长 (%)	深圳	同比增长 (%)	上海	同比增长 (%)	深圳	同比增长 (%)
2013 年 1 月	22600	149	20300	168.8	2670	154.5	1930	178.9
2013 年 2 月	16300	91.8	13800	-13.3	1830	-6.4	1250	-11.8
2013 年 3 月	20400	0.4	18100	-1.1	2330	10.9	1660	11.9

【课程咨询电话】0871-65521259

【地址】昆明华图教育：昆明市学府路 178 号莲花宾馆斜对面

月								
2013年4月	12800	87	12700	4.8	1500	-8.4	1150	2.8
2013年5月	20800	6.9	23700	51.1	2280	14	2090	54
2013年6月	13300	9.2	15000	26.6	1550	20.7	1390	35.5

86.以下哪个季度中上海证券交易所与深圳证券交易所成交量差值最小：（ ）

- A.2012年1季度
B.2012年3季度
C.2013年1季度
D.2013年2季度

87.2013年2季度，上海证券交易所成交量占上半年沪、深证券交易所总成交量的比重为：
（ ）

- A.21.4%
B.24.6%
C.43.8%
D.56.2%

88.2012年1-6月份，深圳证券交易所单月成交金额超过1.3万亿元的月份有几个：
（ ）

- A.1
B.2
C.3
D.4

89.2012年5月，上海证券交易所平均每股成交金额约为多少元：（ ）

- A.7.4
B.9.7
C.10.4
D.12.5

90.能够从上述材料中推出的是：（ ）

- A.2013年6月上海证券交易所成交金额同比增量低于深圳证券交易所
B.2013年4月深圳证券交易所成交量同比增速高于成交金额同比增速
C.2013年1季度上海证券交易所总成交金额低于深圳证券交易所
D.2012年两证券交易所每季度的成交量均逐季递增

云南统考事业单位公开招聘 2016 年曲靖事业单位考试综合 管理类（A类）《职业能力倾向测验（A类）》试题解析

【课程咨询电话】0871-65521259

【地址】昆明华图教育：昆明市学府路178号莲花宾馆斜对面

第一部分 常识判断答案及解析

1.本题正确答案是 B

【解析】针对综合管理类考查《劳动合同法》的内容，所以根据法律选择 B

2.本题正确答案是 C

【解析】《中华人民共和国行政复议法》第 6 条第一款规定：有下列情形之一的，公民、法人或者其他组织可以依照本法申请行政复议：对行政机关作出的警告、罚款、没收违法所得、没收非法财物、责令停产停业、暂扣或者吊销许可证、暂扣或者吊销执照、行政拘留等行政处罚决定不服的。《中华人民共和国行政诉讼法》第 11 条第一款规定：人民法院受理公民、法人和其他组织对下列具体行政行为不服提起的诉讼：对拘留、罚款、吊销许可证和执照、责令停产停业、没收财物等行政处罚不服的。因此，题干中的甲企业既可以申请行政复议，也可以提起行政诉讼。另，根据《中华人民共和国行政复议法》第 12 条第一款：对县级以上地方各级人民政府工作部门的具体行政行为不服的，由申请人选择，可以向该部门的本级人民政府申请行政复议，也可以向上一级主管部门申请行政复议。除法律、法规规定应当先向行政复议机关申请行政复议的外，申请人可直接向人民法院提起行政诉讼。所以，甲企业既可选择向该市安全生产监督管理局的上级机关(市政府或省安全生产监督管理局)申请复议，也可以直接向人民法院提起诉讼。因此，本题选择 C 项

3.考查时政题，C。

4.答案：D

解析：本题考查艺术常识。《清明上河图》描绘了北宋时期都城东京的状况，主要是汴京以及汴河两岸的自然风光和繁荣景象，位于今天的河南省开封市。因此，本题选择 D 项。

5.本题正确答案是 C，

【解析】“物联网概念”是在“互联网概念”的基础上，将其用户端延伸和扩展到任何物品与物品之间，进行信息交换和通信的一种网络概念。其定义是：通过射频识别(RFI)、红外感应器、全球定位系统、激光扫描器等信息传感设备，按约定的协议，把任何物品与互联网相连接，进行信息交换和通信，以实现智能化识别、定位、跟踪、监控和管理

【课程咨询电话】0871-65521259

【地址】昆明华图教育：昆明市学府路 178 号莲花宾馆斜对面

的一种网络概念。互联网，即广域网、局域网及单机按照一定的通讯协议组成的国际计算机网络。互联网是指将两台计算机或者是两台以上的计算机终端、客户端、服务端通过计算机信息技术的手段互相联系起来的结果，人们可以与远在千里之外的朋友相互发送邮件、共同完成一项工作、共同娱乐。信息传感设备，即可以感知外界信息，同时可以把该信息通过相应的协议和接口上送到互联网。激光扫描器：将感应到的光电信号，经放大，整形译码，变成有用信息，通过相应的接口和协议传输到主机中。故 A 对。红外感应器：将感应到的信号，经放大，整形译码，变成有用信息，通过相应的接口和通讯协议传输到主机中。故 B 对。射频标签：射频识别又称射频标签，是一种通信技术，可通过无线电讯号识别特定目标并读写和发送相关数据，比如最近流行的手机扫描二维码技术。故 D 对。普通数码相机：没有直接和网络通讯的接口，主机不能实时或定时通过相应的接口获得普通数码相机的信息，即普通相机不能和主机或其它设备建立网络信息互传。故 C 错。

6. 本题正确答案是 A，

【解析】山梨酸钾是国际粮农组织和卫生组织推荐的高效安全的防腐保鲜剂，广泛应用于食品、饮料、烟草、农药、化妆品等行业，作为不饱和酸，也可用于树脂、香料和橡胶工业。故 A 错；高浓度糖液破坏微生物细胞结构，可延长食品保存期，故 B 对；茶多酚 (Tea Polyphenols) 是茶叶中多酚类物质的总称，包括黄烷醇类、花色苷类、黄酮类、黄酮醇类和酚酸类等。其中以黄烷醇类物质 (儿茶素) 最为重要。茶多酚又称茶鞣或茶单宁，是形成茶叶色香味的主要成份之一，也是茶叶中有保健功能的主要成份之一。研究表明，茶多酚等活性物质具解毒和抗辐射作用，能有效地阻止放射性物质侵入骨髓，并可促使 ^{90}Sr 和 ^{60}Co 迅速排出体外，被健康及医学界誉为“辐射克星”，故 C 对； β -胡萝卜素 ($\text{C}_{40}\text{H}_{56}$) 是类胡萝卜素之一，也是橘黄色脂溶性化合物，它是自然界中最普遍存在也是最稳定的天然色素。许多天然食物中例如：绿色蔬菜、甘薯、胡萝卜、菠菜、木瓜、芒果。等，皆存有丰富的 β -胡萝卜素。故 D 对。

7. 本题正确答案是 C，

【解析】《广告法》第十九条：“食品、酒类、化妆品广告的内容必须符合卫生许可的事项，并不得使用医疗用语或者易与药品混淆的用语。”也就是说保健食品广告用语不能出现根治、治疗等医疗用语，其功效宣传更不能与药品功效等同。A、B、D 均违反此

【课程咨询电话】0871-65521259

【地址】昆明华图教育：昆明市学府路 178 号莲花宾馆斜对面

规定。故选 C。

8.《物权法》第九十七条：处分共有的不动产或者动产以及对共有的不动产或者动产作重大修缮的，应当经占份额三分之二以上的按份共有人或者全体共同共有人同意。所以本题选 D。

9.本题考查时政。2013年2月20日，温家宝主持召开国务院常务会议，研究部署继续做好房地产市场调控工作。会议确定了五项加强房地产市场调控的政策措施(称为“国五条”)：(1)完善稳定房价工作责任制，(2)坚决抑制投机投资性购房，(3)增加普通商品住房及用地供应，(4)加快保障性安居工程规划建设，(5)加强市场监管。本题答案为 B。

10.本题考查中国古代史。战国七雄指历史上东周(春秋时代与战国时代的合称)的战国时期七个最强的诸侯国的统称。春秋时期(前 770 年—前 476 年)无数次战争使诸侯国的数量大大减少，到战国时期(前 475 年—前 221 年)实力最强的七个诸侯国分别为齐、楚、秦、燕、赵、魏和韩，这七个国家被史学家称作“战国七雄”。综上所述，本题选择 C 选项。

第二部分 言语答案及解析

11.B.【解析】第一空，由后文的“双方的初步相识阶段”可知，此时的中西文化交流尚处于起步阶段，还谈不上“融合”，排除 A 项。第二空中，“现代”虽然与前文的“传统”相对，但是不符合史实，走出中世纪的欧洲应当是进入“近代”，而不能说是“现代”，排除 D 项。根据历史常识可知，中西文化大规模的交流 and 冲突是在地理大发现以后，伴随着欧洲的殖民扩张而进行的。“进取”的褒义色彩过浓，不符合文段的基调，而且与“趾高气扬”的感情色彩不符合，前后矛盾，故排除 C 项。B 项的“张扬”和“血雨腥风”很好地体现了欧洲在世界范围内掀起殖民狂潮的血腥情形。因此，本题选择 B 选项。

12.B.【解析】第一空，“谨守”所修饰的对象一般与个人品德有关，而文段说的是“读书改变命运”，与品德无关，排除 D 项。第二空，根据文意，“读书改变命运越来越难”并不意味着“读书改变命运”变得不可能，因此“颠覆”程度过重，排除 C 项。“置疑”和“质疑”都有怀疑的意思，但是“置疑”多用于否定，而“质疑”则偏重提出疑问，故第二空用“质疑”更为恰当。第三空，“曲折”指弯曲，“崎岖”形容山路不平。读书改变命运这条路越来越窄，越来越不平坦，寒门学子的处境越来越艰难，因此用“崎岖”来形容最为恰当。因此，本题选择 B 选项。

【课程咨询电话】0871-65521259

【地址】昆明华图教育：昆明市学府路 178 号莲花宾馆斜对面

13.B.【解析】“终止”和“结束”都有不再继续的意思，根据文意，既然潜伏了新生的可能性，那么就不能说是彻底结束、不再继续，而应该是暂时的停止，故排除 A、C 项。第二空“对立”和“排斥”较难区分，故从第三空入手。停止落脚在新与旧的结合处，这意味着停止是处于新旧交替之际，因而可以说是处于变化的前夕，“机会”一词在文段中无从体现。因此，本题选择 B 选项。

14.B.【解析】关联词“既……又……”表示并列关系，所衔接语句感情色彩相同，由“对荆棘交错的小径皱眉”可推知，对“砥平的大路”也不喜欢，故排除 A、C 两项。行若无事：指人在紧急关头，态度镇定，毫不慌乱。惊险不已：场面情景危险，使人惊奇紧张。由前文“不喜欢扑出的老虎”可知，“惊险不已”不符合文意，故用“行若无事”。因此，本题选择 B 选项。

15.D.【解析】博大精深：形容思想和学识广博高深。形神兼备：事物的外表与内涵同时具备。由“表面上”可排除 A、B 两项。“有声有色”形容说话或表演精彩生动，“绘声绘色”形容叙述或描写生动逼真。这两个词都可以填入第一个空。再看第二个空，“枯竭”的语义程度过重，应填“贫乏”。因此，本题选择 D 选项。

16.A.【解析】这是一道成语辨析题。“无可非议”指没有过错、较为完美，“完美无缺”指完善美好，没有缺点，而文段中“一个艺人成就自己的名气不易，千万不可忽视社会评价”没有体现“完美”之意，故排除 B、C 两项。“可圈可点”指表现好，值得表扬，与文意不符，故排除 D 项。“无可厚非”意为不能过分责备，指说话做事虽有缺点，但还有可取之处，应予谅解。因此，本题选择 A 选项。

17.A.【解析】这是一道成语辨析题。“天花乱坠”多指“说、表达”与文段中“促销手段”不搭配，故排除 B 项。“司空见惯”表示很常见，与文段中“促销花招又开始”不符，故排除 C 项。“眼花缭乱”指纷乱复杂辨别不清，与文中“促销手段不断变化”不符，故排除 D 项。“层出不穷”是接连不断地出现，没有穷尽的意思。因此，本题选择 A 选项。

18.B.【解析】这是一道实词析题。第二组词中，根据文中讨论司法和言论在国民之中普及的问题，没有涉及到公民的“自身利益”问题，由此可排除 AD 两项。第一组词中，“清规戒律”原指佛教徒所遵守的规则和戒条，现比喻束缚人的繁琐不合理的规章制度，多用于否定或贬义，与文段中的感情色彩不符，故排除 C 项。因此，本题选择 B 选项。

19.D.【解析】这是一道逻辑填空题。第一句中不能用名词词性的“思想”和“沉思”

【课程咨询电话】0871-65521259

【地址】昆明华图教育：昆明市学府路 178 号莲花宾馆斜对面

表示“不得不”承接的动作，排除 B、C 两项。第二句中，由修饰词“一种”可知，需要填入一个名词词性的词语，而“盼望”是动词，排除 A。因此，本题选择 D 选项。

20.A.【解析】这是一道实词辨析题。第一组词中，“冗长”指文章或演讲废话多、持续时间过长，与文段中“内部的_____设置”不能搭配使用，故排除 BC 两项。第二组词中，根据文中对于肯尼的描述“翘着二郎腿”带有一定的贬义倾向可知，与“发自肺腑”搭配不当，故排除 D 项。因此，本题选择 A 选项。

21. B.【解析】本题属于意图判断题。根据表因果关系的关联词“因此”可知文段主旨句为“把核心价值观念这一概念，引入文学创作和文学理论，使它成为文学的‘尺度’和‘灵魂’”一句，可见作者意在强调“文学创造和文学理论应建构自己的核心价值观念”。因此，本题答案为 B 选项。

22. C.【解析】本题属于态度观点题。对于文段首句提到的“拖延是病吗？”这一问题，作者提到“有人认为”、“另一些人认为”、“这些研究结论显示”、“研究者更倾向于”，均是客观地阐述，并未加入自己的主观看法。因此，本题答案为 C 选项。

23. C.【解析】本题属于意图判断题。作者先提出“早上吃水果最容易吸收，而晚上吃水果的吸收最差”这一观点过于想当然，随后用弱转折词“事实上”来解释“人体的消化吸收能力和进食的时间并没有多大关系”。尾句对上文进行总结，即“不管是早上还是晚上，消化系统对水果的吸收其实没有区别”。C 项即为对主旨句的同义替换。因此，本题答案为 C 选项。

24. B.【解析】本题属于细节理解题。B 项表述错误，根据“国家的经济衰退直接体现在奢侈品上”一句可知，景泰蓝迅速衰退的根本原因是国家的经济衰退。因此，本题答案为 B 选项。

25. A.【解析】本题属于意图判断题。文段先说在西方学术界，学术批评是很正常的，而对个人人身的批评尤其是背后议论被认为不妥。然后提出国内学术界的现象正好相反，这对于中国学术界的整体发展和跻身世界一流都是非常有害的。可见作者说话的目的和意图即是国内学术界亟需正常的学术批评。因此，本题答案为 A 选项。

26. C.【解析】本题属于主旨概括题。文段先提出“就电子行业看，跨国公司在中国还是从事单纯的产品制造居多”的现状，然后举了 iphone 的例子加以佐证，进而用由表结论的关联词“因此”引出解决问题的对策“我国的电子企业必须在设计研发、掌握核心技术上

【课程咨询电话】0871-65521259

【地址】昆明华图教育：昆明市学府路 178 号莲花宾馆斜对面

增强实力”，最后用“否则”对该观点进行反面论证。可见该对策即为文段主旨句。因此，本题答案为 C 选项。

27. B. 【解析】文段从两方面阐述了文学期刊面临的巨大困境，尾句引出重点，即“在这种情形下，来自政府的资助就显得弥足珍贵了”，强调政府资助对于文学期刊发展的重要作用。根据语言的连贯性，下文最可能谈论的即是“文学期刊应如何借助政府资助继续发展”。因此，本题答案为 B 选项。

28. A. 【解析】本题属于意图判断题。文段先用弱转折词“事实上”引出观点“消费水平的上升与闲暇是有冲突的”，进而进行解释说明，尾句用表因果关系的关联词“因此”概括总结出主旨句，即“GDP 提高了并不代表我们的幸福指数一定提高了”。可见，文段意在说明的是我们“应正确认识 GDP 与幸福指数之间的关系”。因此，本题答案为 A 选项。

29. A. 【解析】这是一道语句排序题。根据首句原则，初步锁定④句为首句，排除 B、C 两项。④句提出网络购物给人们的生活带来了巨大的改变。③句提出如何解决这一问题，很明显不能与④句做自然衔接，排除 D 选项。因此，本题选择 A 选项。

30. C. 【解析】这道题目的行文脉络是总—分—总，首句提出“孔子是中国的文化符号”这一论点，接下来对这一观点进行解释说明，最后一句又重申了观点：孔子代表着中国优秀传统文化，因而是中国的文化符号。因此综合首尾句的内容，C 项恰好是主题句，故 C 项正确。A、B、D 三项，都是对主题句的解释说明。注意 A 项，“中国传统文化”不是“中国优秀的传统文化”。所以，本题选择 C 选项。

31. D. 【解析】本题是道意图判断题。A、C 项都是文段阐述的事实，而不是“意在说明”的内容，故排除。B 项仅是文段列举的例子，并非文段重点，且其说法属于无中生有，文段没有提到对于一些公办重点学校过多地占用社会资源的现象应该如何处置，只是针对这种现象予以评价“这显然很不公平”，故排除 B 项。D 项围绕文段提及的重点——我国基础教育的现状展开，并且提出了具体的意见和措施，是文段意在说明的内容。故本题正确答案为 D。

32. C. 【解析】文段主要是围绕清明节展开的论述，应当赋予清明节新的内涵，通过爱国主义教育形成爱国主义氛围，因此文段的关键词应为“清明节”“内涵”和“爱国主义”。本题正确答案为 C 项。

33. D. 【解析】文段首先提出遏制问题企业“屡教不改”需要从多方面入手，然后分别

【课程咨询电话】0871-65521259

【地址】昆明华图教育：昆明市学府路 178 号莲花宾馆斜对面

从两个方面进行阐述，关联词“同时”之前是一方面，“同时”之后是另一方面。即既要对相关责任人依法依规问责，又要建立负责人事后追究制度，故 D 项概括最为全面。A 项只是概括说明现象本身，未能说明问题的解决方法；B 项表述有误，文段未体现二者哪个更重要的问题；C 项只提到了前一个方面，不够全面。本题选 D。

34. B. 【解析】文段可以分为两部分，第一部分说明兰花种子可以随风飘很远的原因。第二部分说明兰花种子可以借助其他途径“走”更远的原因。综合起来就是兰花种子可以远距离传播的原因，故 B 选项正确。A 项，文段介绍兰花种子的特点是为了解释兰花能够远距离传播的原因，因此 A 项并非文段主旨。C 项在文中有所提及，但非主要内容，排除。D 项在文中没有体现。本题正确答案为 B。

35. D. 【解析】文段首先说明了现在和正干的重要性，接着从反面论证了不重视现在和正干的后果，意在提醒人们要把握现在重视正干。正干在文段中即意味着过程，过程与结果、现在与将来相对应，D 选项正确。A 项说法错误，文段并未提到舍本逐末是不可取的，而是说不要一味重视本末，忽略正干。B 项为文段的主旨，并非文段意图所在。C 项说法明显错误，排除。本题正确答案为 D。

36. C. 【解析】这是一道意图判断题。文段前三句通过列举具体的数字来说明 2010 年 4 月份以来的气温出现近几十年来的最低值，第四句指出全球许多地区都同时出现暴雪天气，最后一句点明文段重点——“这是气候波动幅度增加的结果，是在现阶段全球变暖的背景下发生的极端天气气候事件”，这表明现阶段全球气候变暖的趋势仍然存在。因此，本题正确答案为 C。

37. B. 【解析】本题属于意图判断题。文段开头的“世上没有不长杂草的花园”和“金无足赤，人无完人”都是为了说明每个人都有不足，需要彼此宽容。接下来的佳话也是为了进一步说明对人宽容的重要意义。文段的最后一句为总结，指出包容对于个人和社会都有巨大作用。因此，本题的正确答案为 B 选项。

38. A. 【解析】这是一道典型的主旨概括题。全文是典型的总一分式行文脉络。主题句是首句，阐明了城市新地标的建设要在文化基础上进行创新。接着以“世博中国馆的设计”为例，表明如何既体现“中国元素”、“中国特色”，又进行“革新”。选项 A 中的“要……进行创新”是主题句中的“并不是说一味复古，不要创新”的同义替换。故正确答案为 A 选项。B 选项是用以辅助说明主旨的例子；C 选项只强调了历史文脉的作用，忽略了创新。D

【课程咨询电话】0871-65521259

【地址】昆明华图教育：昆明市学府路 178 号莲花宾馆斜对面

选项片面强调了创新的重要性，没有提到文化底色和基调，予以排除。因此，本题选择 A 选项。

39. C. 【解析】本题属于结语推断题。文段接下来要讨论的内容一定要承接文段后半部分论述的重点，文段中先提出一个疑问，即“记忆的痕迹”是否是物理上由一些神经元组成的真实存在，随后用一个递进复句强调新近的研究成果为这个疑问提供了更为确切的线索，可见接下来要论述的重点即是对“记忆的痕迹”的新近研究成果到底说明了什么。因此，本题正确答案为 C 选项。

40. B. 【解析】本题属于语句衔接题。空格处前面的冒号是解释说明的作用，可见此处填入的观点即是前文“这些发现”所能得出的观点，而“这些发现”指代的即是“我们可以让自己感到时间更充裕”，可见此处得出的观点应与该发现相一致，即“我们可以控制我们对时间的感觉”。因此，本题答案为 B 选项。

第三部分 数量关系答案及解析

41. 【解析】B。循环工程问题。假设工程总量为 48，甲的效率为 3，乙的效率为 4，一次循环完成 7，需要 7 次循环差 1 的工作量，1 由乙做需要 15 分钟，所以需要 13 小时 45 分钟。因此选择 B 选项。

42. 【解析】D。自行车和骑车速度比为 3:5，时间比为 5:3，差了 20 分钟说明，剩下那段路程开车要走 30 分钟，骑车为 50 分钟，所以全程为开车 40 分钟。多行驶 6 公里，迟到 10 分钟，根据二者时间比，可知道开车了 15 分钟，所以 6 公里相当于骑车 15 分钟的路程，骑车速度为 24 公里/小时。距离为 $24 \times \frac{2}{3} = 16$ 公里。因此选择 D 选项。

43. 【解析】B。四面体中的任何一个面的 9 个等边三角形中有 6 个三角形的颜色可以相同，因为每个面与其余 3 个面相邻，所以其余 3 个面最多有 3 个等边三角形颜色可以相同，故而答案是 $6 + 3 \times 3 = 15$ 个。因此选择 B 选项。

44. 【解析】A。设前年底余额为 a，根据题意今年年底余额为： $(1.2a - 2000) \times 0.75 + 1500 = 0.9a$ ，所以今年年底余额比前年底余额少了 10%。因此选择 A 选项。

45. 【解析】D。设 A 等为 x 件，B 等为 y 件，C 等为 z 件，则：

$$\begin{cases} x + y + z = 10 \\ 3x + 2y + z = 5 \times 3 \end{cases}, x, y, z \in N,$$

【课程咨询电话】0871-65521259

【地址】昆明华图教育：昆明市学府路 178 号莲花宾馆斜对面

$$\text{则 } (3x+2y+z)-(x+y+z)=2x+y=5$$

此时，解得：

$$\begin{cases} x=0 \\ y=5 \text{ 或} \\ z=5 \end{cases} \begin{cases} x=1 \\ y=3 \text{ 或} \\ z=6 \end{cases} \begin{cases} x=2 \\ y=1 \\ z=7 \end{cases}$$

因此选择 D 选项。

46. 【解析】B。选票越集中，竞争越激烈，在最激烈的情况下甲还能当选，那么就肯定能保证了。所以剩下的30票只给甲和乙，而且让二者票数尽量接近，到甲27票，乙也是27票，剩最后一张票给甲，也就是甲再得到13张票，剩下的票即使都给乙，甲也能当选。因此选择 B 选项。

47. 【解析】B。付 175 元，这件衬衫可能是 185 元或者 205 元，付钱最少，所以选择价格最低的 185，三件总价就是 555，价越高省钱越多，所以 555 拆成 300+255，省 50+30=80，最终付款为 555-80=475。因此选择 B 选项。

48. 【解析】A。设房间为 x ，不空也不满的房间人数为 a ，则有 $3x+2=4(x-1)+a$ ， $1 \leq a \leq 3$ ，整理解得 $3 \leq x \leq 5$ ，最大为 5。或者直接将选项代入分别验证。因此选择 A 选项。

49. 【解析】D。12 瓶=1 瓶+1 酒，也就是 11 瓶=1 酒，101 瓶可以拿出 99 瓶换 9 个酒。因此选择 D 选项。

50. 【解析】A。本题可利用整除特性。由题知，今年男员工数是去年的 $94\%=47/50$ ，故今年男员工数可被 47 整除，根据选项，只有 A 符合，因此选择 A 选项。

第四部分 逻辑判断答案及解析

51. B. 【解析】本题考查曲线的数量。题干图形中曲线的数量分别为 1, 2, 3, 4，所以下一幅图形中曲线的数量应为 5。

52. A. 【解析】本题考查元素的种类。第一行元素种类是 3，第二行为 2 种元素，第三行是 2 种元素，所以选择 A 选项。

53. C. 【解析】本题考查内外线条数的多少问题，第一组外部图形比内部问题。

54. D. 【解析】本题考查样式类。图形①②⑤都关于纵轴对称，图形③④⑥都关于横轴对称。

【课程咨询电话】0871-65521259

【地址】昆明华图教育：昆明市学府路 178 号莲花宾馆斜对面

55. A. 【解析】本题考查空间重构。两个黑色三角的直角点相连，穿过整个空间，符合的只有 A 选项。

56. B. 【解析】解题的关键在于“逐次增加一个单位消费品、单位效用是逐渐递减的”。而 A 没有体现增加一个单位的消费品，C、D 没有体现效用是递减的。所以选择 B 选项。

57. B. 【解析】解题的关键在于“以非法占有为目的、强行劫取”。而 A、C 不是强行劫取行为；D 不是以非法占有为目的，只是怀恨在心为了报复。所以选择 B 选项。

58. C. 【解析】解题的关键在于“债务人不履行到期债务，债权人留置合法占有的债务人的动产”。A 选项中甲和丙是债务人和债权人的关系，丙对该物品也不是合法占有的，因此丙有权留置该物品。B 选项中乙对甲场里的机器还没有“已经合法占有”，故乙没有留置权；C 项符合留置权的要件，乙某可以留置运输货物；D 选项中符合留置权的要件，孙某有权留置该批产品。所以选择 C 选项。

59. B. 【解析】解题的关键在于“非理性的不适当的恐惧感，无危险仍产生恐惧”。A 选项中这只体型壮硕的狼狗对陈女士是有威胁的，而不是“并无危险”，排除 A 选项；B 选项中小徐看到照片时并无危险，他的这种恐惧感是非理性的，属于恐惧症；C 项中醉酒驾车是很危险的，所以小李害怕出车祸的精神压力并不是恐惧症；D 选项中小钱的恐惧并不是“一旦面对这种环境”才出现的，不具有普遍性，排除。所以选择 B 选项。

60. A. 【解析】解题的关键在于“同样事件平等对待，统一标准”。A 选项中国家录用公务员，实行“凡进必考”对每个考生按照统一的标准录取，这是公平的，体现了形式公平；B 选项中通过“税收杠杆”，对高收入者征较多的税，对低收入者征税较少，或不征税，体现不出形式公正；C 选项中保护区和非保护区享受不同的标准，显然不是形式公正；D 选项中某件商品和其他商品的价格不同，不属于形式公正。所以选择 A 选项。

61. D. 【解析】解题的关键在于“小李在服饰、发型等方面作了精心准备，这是为了符合职业人的形象标准，以求面试时，对方能对其做出好的评价，一次面试成功，这属于印象管理。所以选择 D 选项。

62. A. 【解析】共生效应是两者互相利用，达到有利于双方共同发展的目的，小丑鱼为海葵提供食物，海葵保护小丑鱼，达到了两者共同发展，因此，本题答案为 A 选项。

63. C. 【解析】比尔盖茨只是防范于未然，他的儿女并没有奢侈的消费习惯，所以不是棘轮效应，因此，本题答案为 C 选项。

【课程咨询电话】0871-65521259

【地址】昆明华图教育：昆明市学府路 178 号莲花宾馆斜对面

64. A. 【解析】B、C、D 三项分别从工业聚焦、地理位置、交通三个方面体现出区位优势；A 项只是论述了人才的重要性，与题意无关。

65. D. 【解析】根据题干，舆情是关于舆论意见、情况和信息的综合。A、B、C 分别形成了通知、方法、制度，只有 D 只是畅所欲言，没有形成任何综合的结论。

66. C. 【解析】题干中的“物质”与“意识”是反对关系，只有 C 项符合。D 项显然错误。A、B 项为因果关系，“运动”导致“发展”，因为“勤学”所以“成功”。

67. C. 【解析】题干中，香烟中含有尼古丁，与此相符的是 C 项，甘蔗中含有糖。A 项，饼干中可能含有蜂蜜，类比程度不如 C 项。B、D 项为种属关系，与题干不符。

68. C. 【解析】本题属于对应关系。遵从因循是一对近义词，往事陈迹是一对近义词。所以选择 C 选项。

69. A. 【解析】“嫦娥二号”卫星的作用是探月，化妆品的作用是美容，因此选择 A 项。B 项显然错误。C 项咖啡的作用是提神，不是促进睡眠。D 项虽然钥匙可以用来打开门锁，但“门锁”与题干的“探月”词性不一样，因此不入选。

70. B. 【解析】本题考查原材料与制成品的关系。牛角是做梳子的一种原料，玉米是做汽油的一种原料。空气不是氧气的原料，两者是包含关系。因此选择 B 选项。

71. B. 【解析】本题属于对应关系。苏格拉底是柏拉图的老师，孔子是颜回的老师。所以选择 B 选项。

72. B. 【解析】本题属于对应关系。山涧汇集成河流，河流再汇集流入大海，是一个概念由小到大的过程；草构成草坪，草坪构成了草原，也是概念由小到大的过程。所以选择 B 选项。

73. B. 【解析】本题属于对应关系。如果不对权力进行监督就会导致腐败，B 项也可构成此种关系，理想如果不付诸行动就会成为空想。所以选择 B 选项。

74. A. 【解析】本题属于对应关系。简明是大纲的主要特点，讽刺是漫画的主要特点。所以选择 A 选项。

75. C. 【解析】因为励精图治所以才国富民强，因为瞻前顾后所以才错失良机。故本题正确答案为 C。

76. B. 【解析】由题干“如果不……就不……”可知，“事先征询气象预报”是“生产出适销对路的产品”的必要条件，而不是充分条件，能表现必要条件关系的选项只有 B。A、

【课程咨询电话】0871-65521259

【地址】昆明华图教育：昆明市学府路 178 号莲花宾馆斜对面

C 项表现的是充分条件关系，D 项是无关选项，均应排除。

77. B. 【解析】B 项是题干的矛盾命题即 $A \rightarrow B$ 的矛盾命题是 $A \wedge \neg B$ ，用事实反驳题干的观点为最强削弱。

78. D. 【解析】“该地橙汁饮料厂的原料供应大多来自外地”削弱了当地橙子减产和橙汁饮料原料供应的关系，削弱了供求关系，从而减轻了价格的敏感性。

79. D. 【解析】文中以拿破仑为例说明著名人物从历史舞台上消失的合理性，和 D 项所说相反，所以本题选择 D。

80. C. 【解析】此题为直接推导型题。由“当人们……造成……”可推知 C 为文段直接结论。文段只是说欧洲因臭氧污染导致的死亡率增加，而非最为严重，A 项排除；文段中说“当臭氧达到一定浓度之后”并没有一个固定标准，故 B 项排除；“伤害尤为严重”和“对臭氧污染最为敏感”并不等同，故 D 项排除。

81. D. 【解析】如果和平年代良好的科技氛围更有利于创造性发明的产生和实际应用为真（相比较于战争中），直接就可以推翻战争是推动人类社会进步的必要环节这一观点。

82. D. 【解析】B 选项和文中意思一样都是负相关。D 选项存在削弱作用。夏季平川地区日照时间长、雨水充沛，鲜叶氨基酸含量增加。D 选项中气温、日照都跟氨基酸含量增加成正相关，和题干相反，有削弱作用。

83. C. 【解析】本题属于削弱论证型。如果 C 项为真，则表明发达国家与发展中国家的差距越来越大了，削弱了题干的结论。其他三项没有提到发达国家和发展中国家的差距，所以选择 C 选项。

84. D. 【解析】由“不过，他也没有拒绝奖金，否则他就成了萨特”可以推出萨特拒绝了奖金，但并不知道萨特是否出席了颁奖典礼，故 A 错；题干没有提到萨特的年代和《等待戈多》的写作年代，故 B、C 均错；由题干可知贝克特本应以《等待戈多》的作者的身份出席颁奖典礼，可推出他是因《等待戈多》而获得诺贝尔奖。故本题选 D。

85. A. 【解析】第一句话体现了发行量的重要性，后面是对发行量如此大却没有争取到太多广告收入的解释。可以推出选 A。

第五部分 资料分析答案及解析

86. 【解析】D。根据图表一的柱状图，发现 2013 年 2 季度和 2012 年 3 季度两柱状的

【课程咨询电话】0871-65521259

【地址】昆明华图教育：昆明市学府路 178 号莲花宾馆斜对面

高度相对相差较少，简单相减后发现 2012 年 3 季度大于 700,2013 年 2 季度低于 700。因此选择 D 选项。

87. 【解析】B。2013 年 2 季度上海证券交易所成交量占上半年沪、深证券交易所总成交量的比重为：
$$\frac{5330}{6830+4840+5330+4635} = \frac{53}{68+48+53+46} = \frac{53}{215} = 24\%$$
。因此选择 B 选项。

88. 【解析】C。2012 年 1-6 月深圳证券交易所月成交金额分别为：

$$\frac{20300}{1+168.8\%} < 13000, \quad \frac{13800}{1-13.3\%} > 13000, \quad \frac{18100}{1-1.1\%} > 13000, \quad \frac{12700}{1+4.8\%} < 13000,$$
$$\frac{23700}{1+51.1\%} > 13000, \quad \frac{15000}{1+26.6\%} < 13000,$$
有 3 个月深圳证券交易所月成交金额大于 1.3 万亿，因此选择 C 选项。

89. 【解析】B。材料给出 2013 年 5 月的数据，求 2012 年 5 月的平均数，此题考察基期平均数的计算，带入基期平均数公式=
$$\frac{A}{B} \times \frac{1+b\%}{1+a\%} = \frac{20800}{2280} \times \frac{1+14\%}{1+6.9\%} = 9.1 \times 1^+ = 9.7。$$
因此选择 B 选项。

90. 【解析】A。A 项，根据增长量=（现期量×增长率）÷（1+增长率）可知，现期量大，增长率大，增长量也大，同时满足现期量和增长率大，增长量一定大，所以上海证券交易所成交金额 6 月的增长量明显低于深圳，正确；B 项，2013 年 4 月深圳证券交易所成交量同比增速（2.8%）明显低于成交金额同比增速（4.8%），错误；C 项，2013 年 1 季度是成交金额为 1 月、2 月、3 月之和，上海每月的成交金额都高于深圳，所以总和也应高于深圳，错误。D 项，直接读数可知，2012 年的 2、3 季度成交量都有所下降。故 D 错误。因此选择 A 选项。

【课程咨询电话】0871-65521259

【地址】昆明华图教育：昆明市学府路 178 号莲花宾馆斜对面

云南统考事业单位公开招聘 2016 年曲靖事业单位考试社会 科学专技类《职业能力倾向测验（B 类）》试卷

（参考时限 90 分钟，满分 150 分）

说 明

这项测验共有 5 个部分，共 90 道小题，总分 150 分，时限 90 分钟。

请在答题卡上严格按照要求填写自己的姓名、报考部门，涂写准考证号。请仔细阅读下面的注意事项，这对你获得成功非常重要。

1. 题目应在答题卡上作答，不要在试题本上作任何记号。
2. 监考老师宣布考试开始时，你才可以开始答题。
3. 监考老师宣布考试结束时，你应立即放下铅笔，将试题本、答案卡和草稿纸留在桌上，然后离开。
4. 在这项测试中，可能有一些试题较难，因此你不要在每道题上思考时间太久，遇到不会答的题目，可先跳过去，如果有时间再去思考。否则，你可能没有时间完成后面的题目。
5. 试题答错不倒扣分。
6. 特别提醒你注意，涂写答案时一定要认准题号。

严禁折叠答题卡。

第一部分 常识判断

（共 10 题，参考时限 10 分钟）

根据题目要求，在四个选项中选出一个最恰当的答案。

请开始答题：

1. 博鳌亚洲论坛秘书长周文重 20 日在北京宣布，博鳌亚洲论坛 2015 年年会将于 3 月 26 日至 29 日在海南博鳌召开，主题为（ ）。

- A. 亚洲新未来：寻找和释放发展新动力
- B. 革新、责任、合作：亚洲寻求共同发展
- C. 亚洲新未来：迈向命运共同体
- D. 变革中的亚洲：迈向健康与可持续发展

2. 2015 年是联合国成立（ ）周年，也是世界反法西斯战争胜利（ ）周年，联合国和世界各国都将举行一系列纪念活动。在这重要历史时刻，中国作为本月安理会轮值

【课程咨询电话】0871-65521259

【地址】昆明华图教育：昆明市学府路 178 号莲花宾馆斜对面

主席，倡议于 2 月 23 日召开主题为“维护国际和平与安全：以史为鉴，重申对《联合国宪章》宗旨和原则的坚定承诺”的公开辩论会，拉开系列纪念活动序幕。

A. 60 70 B. 65 65 C. 70 70 D. 75 65

3. 下列诗句中描述的是 24 节气中冬至的是（ ）。

A. 岸容待腊将舒柳，山意冲寒欲放梅

B. 云暗初成霰点微，旋闻蔌蔌洒窗扉

C. 甲子徒推小雪天，刺梧犹绿槿花然

D. 盘出高门行白玉，菜传纤手送青丝

4. 新疆维吾尔自治区与 8 个国家接壤，以下搭配正确的是（ ）。

A. 蒙古 哈萨克斯坦 B. 俄罗斯 缅甸

C. 印度 孟加拉国 D. 巴基斯坦 老挝

5. 以下选项属于国家一级保护动物的是（ ）。

A. 大熊猫 短尾信天翁 B. 丹顶鹤 松江鲈鱼

C. 金丝猴 小熊猫 D. 麋鹿 穿山甲

6. 四大发明，下列关于四大发明出现顺序描述正确的是（ ）。

A. 指南针、造纸术、火药、活字印刷术

B. 造纸术、火药、活字印刷术、指南针

C. 活字印刷术、指南针、火药、造纸术

D. 造纸术、活字印刷术、指南针、火药

7. 下列选项中，关于 G8 的叙述不正确的是（ ）。

A. G8 集团成员国的国家元首每年召开一次会议，即八国集团首脑会议

B. G20 集团于 2009 年已取代 G8 成为全球经济合作的主要论坛

C. G8 是八大工业国美国、英国、法国、德国、意大利、加拿大、日本，加上中国

D. G8 是由以前的七国集团（G7）演变而来

8. 下列文化常识表述错误的一项是（ ）。

A. “社稷”常用以指代国家，其中“社”指的是土地之神

B. 孟春、雨水、惊蛰、清明、冬至都是我国传统的二十四节气

C. 古诗文中“汗青”指代史册，“桑梓”指代家乡，“布衣”指代平民

【课程咨询电话】0871-65521259

【地址】昆明华图教育：昆明市学府路 178 号莲花宾馆斜对面

D. 由于“柳”和“留”谐音，古代常以折柳相赠来表示对远行人留恋之情

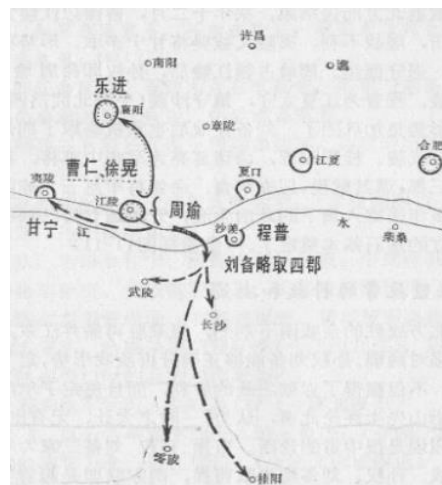
9. 根据图片信息，下列关于图片描述的这场战役的说法，不正确的一项是（ ）。

A. “东风不与周郎便，铜雀春深锁二乔”便是描述的这场战役

B. 这场战役是是三国时期“三大战役”中最为著名的一场

C. 这场战役发生在今湖南中部区域

D. 这场战役中国历史上第一次在长江流域进行的大规模江河作战



10. 以下关于核辐射的说法中，不正确的是（ ）。

A. 戴口罩、补碘、勤洗澡能有效预防核辐射

B. 宇宙射线每时每刻都在地球上引起核反应

C. 核辐射分为天然辐射和人工辐射两类

D. 核辐射存在于化学辐射性较高的物质之中

第二部分 言语理解与表达

(共 40 题，参考时限 30 分钟)

本部分包括表达与理解两方面的内容。请根据题目要求，在四个选项中选出一个最恰当的答案。

请开始答案：

11. 据说泰山是古代名匠鲁班的弟子，天资聪颖，心灵手巧，干活总是_____，但往往耽误了鲁班的事，于是惹恼了鲁班，被撵出了“班门”。

填入横线部分最恰当的一项是（ ）。

A. 巧夺天工

B. 别出心裁

C. 尽善尽美

D. 任劳任怨

12. 魏孝文帝亲政后，面对着阶级、民族矛盾日益激化的政治形势，不得不_____，推行一些改革措施，如_____俸禄制、均田制等。

【课程咨询电话】0871-65521259

【地址】昆明华图教育：昆明市学府路 178 号莲花宾馆斜对面

依次填入画横线部分最恰当的一项是（ ）。

- A. 洗心革面 实行
B. 改弦更张 颁行
C. 痛改前非 施行
D. 改弦易辙 履行

13. ①勇往直前的汨汨泉水相信，在岁月的过滤与涤荡下自己将永远一脉_____。

②由于摆脱了功利之争，田园山水诗人便有了一种恬静_____的心境。

③时间的长河无影无形，看不见摸不着，每天都在悄无声息地_____。

- A. 清莹 淡薄 流失
B. 轻盈 淡泊 流失
C. 轻盈 淡薄 流逝
D. 清莹 淡泊 流逝

14. 民主有_____，民主过头了固然危害很大，但经过几百年的实践，人类早已经解决了这个问题，即用共和、用法治来约束民主，_____民主，平衡民主，让民主没办法过头。这机制是现成的，仿佛一部精密的机器，中国人要学并不难。

填入画横线部分最恰当的一项是（ ）。

- A. 缺点 规定
B. 缺陷 规范
C. 缺点 制约
D. 缺陷 协调

15. 安全工作不能_____。要多实地察看，深入基层，查看设备运行状态、现场安全状况、安全学习情况及相关安全措施、程序、手续是否_____等等，做到心中有数，尽在掌握，加强对安全生产工作的熟悉控制。

填入画横线部分最恰当的一项是（ ）。

- A. 墨守陈规 完备
B. 按部就班 完整
C. 改弦更张 完善
D. 循序渐进 完好

16. 他擅自了_____报表上的数据，现在被查出来，他被判有期徒刑十年，真是_____。

依次填入横线处最为恰当的一项是（ ）。

- A. 篡改 自作自受
B. 窜改 自作自受
C. 窜改 自食其果
D. 篡改 自食其果

17. 当漂泊成为生活的主题，何止是中秋，端午、重阳、清明——物质丰盛的同时，传统节日文化感也在不知不觉中_____，被大城市日益浓厚的商业氛围

【课程咨询电话】0871-65521259

【地址】昆明华图教育：昆明市学府路178号莲花宾馆斜对面

C. 猫头鹰型的人的创造性通常优于百灵鸟型的人

D. 创造性思维强调直觉和综合

22. 从歌剧诞生以来，面临的最大的挑战就是如何吸引观众，今天尤其如此。话剧、戏曲、电影、电视，还有无所不在的网络……现代人们艺术欣赏的选择越来越多元，在这样的情况下，用什么力量促使其选择并喜欢上歌剧艺术呢？注重传播是解决问题的根本所在。除了采用以有视觉感的文字和图片制作宣传册这种传统的宣传手段之外，还可以制作歌剧的视频短片、音乐节选等，通过电子邮件、社交网站、户外 LED 广告等方式传播出去，同时策划专家讲座和现场演示，让观众对歌剧知识和演出信息有进一步的了解。

这段文字想要表达的是（ ）。

A. 如何吸引观众是歌剧发展至今面临的最大的难题

B. 歌剧艺术吸引观众的关键在于注重传播

C. 传播歌剧艺术应将传统与现代的宣传手段相结合

D. 艺术欣赏选择的多元性使歌剧发展出现瓶颈

23. 企业是经济活动的基本单元，是技术创新的主体，在推进产学研合作、促进科技与经济结合中处于关键环节和核心地位。科技创新只有以企业为主体，才能敏锐把握市场需求，有效整合产学研力量，加快创新成果转化应用。要建立企业主导产业技术研发创新的体制机制，完善和落实支持企业技术创新的政策措施，引导创新要素加快向企业聚集，使企业全面成为技术创新决策、研发投入、科研组织和成果转化的主体。

这段文字重在说明（ ）。

A. 企业在经济活动中的重要作用

B. 以企业为主体是科技创新的必要条件

C. 如何以企业为主体进行研发

D. 科技创新重在把握市场需求

24. 紫禁城里到处漫飘的都是红、黄两色，偌大的紫禁城，色彩是比较单一的。之所以选择这两种颜色，是由于受中国传统文化的影响。在传统文化里，红色一直被视为是一种表示喜庆的正色，寓意着庄严、幸福、吉祥。据文献资料记载，周代以后的

【课程咨询电话】0871-65521259

【地址】昆明华图教育：昆明市学府路 178 号莲花宾馆斜对面

宫殿就已经开始普遍的使用红色了。紫禁城承袭了以往宫殿的色彩美学，所以才使用了大量的红色。至于黄色正统地位的确定，源于华夏民族对文明起源的追述。华夏文明起源于黄河流域，一望无垠的黄土高原，以及奔腾不息的九曲黄河，都使得黄色深深的印入了炎黄子孙的精髓之中。到了汉代，汉武帝刘彻确立“汉居土德”，至此，黄色便成为了汉朝皇权的象征，以后历朝相沿不变，均以黄色为贵。

对这段文字的主旨概括最准确的是（ ）。

- A. 强调紫禁城色彩单一的建筑特点
- B. 解释中国传统文化中红黄两色的寓意
- C. 分析中国传统文化对于建筑色彩的影响
- D. 剖析紫禁城选择红黄两色的原因

25. 烟草燃烧是一个极为复杂的化学反应过程，由于无法控制这些反应过程，自然也就无法控制香烟中有害成分的产生。国内外烟草企业一直试图研究开发过滤材料，希望借以滤去烟气中的有毒害成分的同时让其他成分保留下来，但是鉴于烟气成分的多样性和复杂性，这种材料很难完全实现。烟草烟雾中亚硝胺、多环芳烃等致癌物的含量并不随焦油量下降而减少，因此对人体危害也没有降低。

根据这段文字，难以降低香烟对人体危害的原因是（ ）。

- A. 无法控制烟草燃烧中极为复杂的化学反应过程
- B. 无法控制香烟中有害成分的产生
- C. 难以做出能够阻隔复杂烟气成分的过滤材料
- D. 烟草烟雾中亚硝胺、多环芳烃等致癌物的含量较大

26. 文艺和民俗是传承发展更是融合创新。民俗是地域文化的沉积，承载着博大深远的文化品格和文化精神。民俗以前靠话语的口口相传，有了文字记载，才有了文艺话语载体，便有了生动鲜活、历久不衰的生命力。文艺张扬民俗，民俗在不断的社会历史变革中得到重塑和创新。这样看来，探讨文艺话语保护和传承民俗是一个问题，寻找文艺介入民俗的“有效切入点”更是一个问题。

文段中“有效切入点”是指（ ）。

- A. 文艺如何与民俗融合并对其进行创新
- B. 文艺对民俗的传承与发展

【课程咨询电话】0871-65521259

【地址】昆明华图教育：昆明市学府路 178 号莲花宾馆斜对面

C. 文艺话语载体的出现和应用

D. 保持民俗的鲜活生命力的方式

27. 将以下 6 个句子重新排列，语序正确的是（ ）。

①另一方面，如今大量的文献是通过多元方式来展示的

②在传统图书馆面临的冲击中，数字阅读的影响最大。

③有的文献从一产生就以数字资源形式存在

④因此，图书馆界以往所强调的图书借阅量，在数字时代将不再是衡量图书馆功用的唯一标准

⑤一方面，现在的“80 后”“90 后”是在信息技术飞速发展的时代成长起来的

⑥这代人已经习惯了计算机和数字阅读方式，图书馆要适应他们的需要

A. ②③⑤①④⑥

B. ③②⑤⑥①④

C. ②⑤⑥①③④

D. ③④②⑤⑥①

28. 研究表明，如果处在相同的环境中，人们每次都会一成不变地自动地行动。但如果去度假的话，行为可能会发生变化。原来穿鞋时先穿左脚那一只的，可能会不经意地先穿另外一只，因为一旦刺激改变，行为模式就会被打破。所以度假时人们感到那么放松——度假有助于打破一些习惯。因此，在度假时改变习惯往往能够取得成功。如果你想戒烟，你应该在度假时戒烟，因为所有以前的刺激和奖赏都不一样了。你就能够形成新的行为模式。

这段文字意在说明（ ）。

A. 人们在度假时行为可能会发生改变

B. 人们在度假时感到放松是因为行为模式被打破

C. 人们在度假时改变习惯较易获得成功

D. 人们应当在度假时戒烟

29. 近年来，国内许多高校都开办了国学院、国学班，一些报纸也出现了许多国学专版，甚至有些学前班的孩子也能将《三字经》、《弟子规》等国学经典倒背如流。眼见传统文化的持续升温，许多人都说“国学热”到来了。一方面，“国学热”本身是一件值得欣喜的事，最起码它证明了人们正在逐渐重视中华传统文化。但另一方面，在我们提及“国学热”到来之时，国学到底是什么，它的传承之路又在哪里，是

【课程咨询电话】0871-65521259

【地址】昆明华图教育：昆明市学府路 178 号莲花宾馆斜对面

社会各界需要认真考虑的。

根据这段文字，作者意在说明（ ）。

- A. “国学热”已成大势所趋
- B. “国学热”证明了中华传统文化的复兴
- C. 我们应利用“国学热”保持传统文化的持续升温
- D. 我们应在“国学热”到来的同时注重其本质和发展

30. 把下列句子组成语意连贯的一段文字，排序最恰当的一项是（ ）。

- ①思路不是凭空产生的，而是以客观事物为基础的
- ②把这些印象、看法、态度或感情理出个头绪，就是所谓思路
- ③作者的思路是他对客观事物怎样观察、理解、认识的反映
- ④客观事物反映在作者头脑里，经过观察、理解、认识的过程，形成了他对事物的印象、看法、态度或感情

⑤而思路是否清晰严密，又表明他对所写的客观事物是否形成鲜明的印象、看法、态度或感情

⑥人总是根据思路来结构文章的。因而，文章的结构组织形式是否清晰严密，就表明作者的思路是否清晰严密

- A. ①③②④⑤⑥
- B. ①③②④⑥⑤
- C. ③①④②⑤⑥
- D. ③①④②⑥⑤

31. 随着欧洲区域一体化的日渐深入，一些经济发展水平较低的国家，在社会福利、失业救济等方面逐渐向发达国家看齐，导致政府巨额的预算赤字。2008年美国爆发的主权债务危机，对这些国家的国民经济造成巨大冲击，这些国家逐渐失去继续借贷的资本。加上欧元区国家实行统一发行货币政策，每个成员国无权使用货币政策，通过新发债务弥补赤字。于是，主权债务危机就不可避免地爆发了。

对这段文字概括最准确的是（ ）。

- A. 主权债务危机爆发的背景
- B. 欧洲区域一体化带来的影响
- C. 美国主权债务危机对欧洲的影响
- D. 欧洲有关国家爆发主权债务危机的原因

【课程咨询电话】0871-65521259

【地址】昆明华图教育：昆明市学府路178号莲花宾馆斜对面

32. 最近的几项研究表明，气候变化对于文明的兴衰、朝代的更替很可能有着重要的影响。比如，通过对古气候资料和历史记录的分析，香港大学的章典教授等发现：在气候寒冷时期，全球战争次数是温暖时期的两倍。另外，全球超过 80% 的国家及地区，寒冷时期的战争比例都比较高。对中国来说，在过去的一千多年里，发生的战争、大范围动乱和朝代更替大都对应着特别漫长的寒冷时期。同样，针对欧洲地区的研究也发现，1550 年到 1850 年的“小冰期”与欧洲历史上发生过的猎巫事件甚至法国大革命之间都有着紧密的关系。

作者列举这些事实意在说明（ ）。

- A. 通过研究发现，在世界范围内寒冷的气候可能会引发战争
- B. 温暖湿润的气候更适宜人类生产、生活，还可以减少战乱
- C. 气候资料和历史记录显示气候变化是社会演变的主要推动力
- D. 气候变化尤其是寒冷的气候对社会变迁可能有重要的影响

33. 尽管我国目前的网络阅读人数已经超过了纸质阅读人数，但是人类最伟大的思想还处在离线状态。网络上更容易吸引眼球的是信息、广告和娱乐的内容，人类的理解，特别是人类理性的洞察力，通过网络很难获得，智慧的内容在网络上更是凤毛麟角。对人类思想的进化而言，对个人思想的发展而言，从信息到知识到智慧，就像一个金字塔，它是精神与智力逐步升级发展的过程。唯有通过书籍阅读，我们每一个人的智慧才能一步步地通往精神的“金字塔”之巅。

根据这段文字，可以看出作者的意图是（ ）。

- A. 强调人类最伟大的思想是在书籍中
- B. 推崇书籍阅读而不是网络阅读
- C. 说明书籍阅读与网络阅读的不同
- D. 说明人类思想的发展过程

34. 人们熟知的英国普通法，在发展的早期，英国人就似乎天然具有了恪守法律、严格限制王权的传统，并且，保守、改良、谈判、妥协成为了英国人很早发现的一种社会发展模式，也成为了英国人为世界贡献的一种宪政发展模式，一直影响着近代英语世界许多国家的宪政发展。在欧陆文明中，神权与王权、教皇与国王二元并立的状况，使西方人的法治建设在很早的时候便奠定了后来的优良历史传统：分权而不是集

【课程咨询电话】0871-65521259

【地址】昆明华图教育：昆明市学府路 178 号莲花宾馆斜对面

权，是西方人法治文明尤其是宪政架构成功的一个重要因素。而权力分权并多元并存这一制度传统，从文明根基上看，则萌芽于西方的文明源头上的宗教因子。

作者列举这些事实意在说明（ ）。

- A. 人类不同文明的文化源头
- B. 不同文化法治发展差异的原因
- C. 法治的发展与文明根基息息相关
- D. 西方法治发展所经历的种种模式

35. 在中国历史上，官和诗的关系一直就很密切。尽管诗歌最早来自于民间，然而从把《诗》列入“五经”之后，它就成了上层社会官宦子弟的必修课，成为官场应对交流的基本功。孔子曰：“不学诗，无以言。”魏晋以下，唐宋元明清，我们知道的大诗人基本都是各级官吏，作诗填词是他们从政为官必须具备的能力，更是他们智慧、素养和文化品位的体现。就拿诗的鼎盛时期唐朝来讲，科举考生为了求得赏识，考前要呈献自己的作品，叫做“行卷”，行卷的内容就包括古诗、律诗、词赋、骈文等。白居易的“野火烧不尽，春风吹又生”就是行卷中的诗句。

这段文字主要说明了（ ）。

- A. 古代的诗人大多同时也是一方官吏
- B. 作诗是古代的官员必备的素质和能力
- C. 历史上诗文化与官文化是息息相关的
- D. 古代诗歌的兴起、发展都离不开官吏

36. 机关幼儿园所获财政补贴逐年提高，难免令公众质疑，这是不是在维护一种“特权”。相比街道办园、乡镇政府办园、农村集体组织办园等公办幼儿园，机关幼儿园一般优先配置给单位职工子女，而不向社会开放。这种特殊照顾公职人员子女的幼儿园，从本质来说，并非完全的公共产品，而是少数人的“自留地”。拿纳税人的钱为其逐年提高财政补贴，加剧了幼教资源分配不公的状况。

这段文字最恰当的标题是（ ）。

- A. 机关幼儿园的“特权”引发质疑
- B. 纳税人的钱应该怎么花？
- C. 过度补贴机关幼儿园加剧社会不公
- D. 机关幼儿园应该特殊照顾吗？

37. 进一步改善直销行业的公众形象，是全行业正在进行的努力。而要改善行业形

【课程咨询电话】0871-65521259

【地址】昆明华图教育：昆明市学府路178号莲花宾馆斜对面

象，关键之一是改善直销员的社会公众形象。由于历史多种原因，直销行业的社会公众形象相对偏低有多种原因，其中重要根源并非是产品质量不好，而是在销售产品的方式上过于功利。直销员和保险销售人员这两个职业通常被很多人视为扰民。

对这段文字的主旨概括最准确的是（ ）。

- A. 直销行业应改善社会公众形象
- B. 直销行业的销售方式不应过于功利
- C. 改善直销行业形象的关键在于直销员形象
- D. 直销员的社会公众形象相对偏低

38. 都说学中医难，难在哪里呢？是因为太灵活而难以把握。而诊断难则是其中最重要的一个方面。中医认识和治疗疾病都是从辩证入手的，而每一个辨证都是历代医生通过长期观察而归纳出来的，因此都有着各自基本固定的标准，并不像外人所说的那么玄乎而无法把握。所以当医生面对常见的病症时都能对号入座而诊断下药。尽管中医历史悠久、文献如海，但由于医生认识疾病及历史经验的传播总是有着局限，故当医生_____，就会因为知识或经验不足而无从下手。

填入横线上最恰当的一句是（ ）。

- A. 面临不合常规的非典型症状时
- B. 平时积累太少无法把握病情时
- C. 观察和归纳病情的能力不够强时
- D. 从医的工作时间不够长时

39. 光携带了大量信息，而植物能够解读这些信息，植物是通过“研究”白色环境光（由各种颜色组成）开始解读光所携带的各种信息的。叶绿素有选择地从白光中吸收颜色或波长。绿叶能吸收大部分红光和蓝光，并通过叶片反射，传播一种被称做“远红光”的光线，这种光的波长恰好在可见光范围之内。

这段文字意在说明（ ）。

- A. “远红光”是植物解读光的信息的成果
- B. 植物解读光的信息的方式
- C. 光携带了大量信息
- D. 植物能解读光的信息

40. 天气预报涉及到数学概念混沌理论，即在天气预报中出现极其微小的错误，在长期预报过程中会慢慢累积成大错。例如，据说一只蝴蝶今天在中国扇动翅膀，两周

【课程咨询电话】0871-65521259

【地址】昆明华图教育：昆明市学府路 178 号莲花宾馆斜对面

后会在美国堪萨斯州形成龙卷风。这种所谓的蝴蝶效应显然有些夸张，但它涉及的基本概念非常简单：即使是最微小的因素也可以改变长期天气预报的结果。大部分天气预报员认为，根本无法精确预报超过未来两周时间的天气情况。现在超过 5 天到 7 天的天气预报结果都有猜测的成份，经常预报错误。

本段话主要说明了（ ）。

- A. 天气预报的蝴蝶效应是如何产生的
- B. 天气预报蝴蝶效应的定义
- C. 对很长时间内的天气情况进行预报非常困难
- D. 天气预报员在预报中的微小的错误会慢慢累积成大错

第三部分 数量关系

（共 10 题，参考时限 10 分钟）

在这部分试题中，每道题呈现一段表述数字关系的文字，要求你迅速、准确地计算出答案。

请开始答题：

41. 将 7 个大小相同的桔子分给 4 个小朋友，要求每个小朋友至少得到 1 个桔子，一共有几种分配方法（ ）？

- A. 14
- B. 18
- C. 20
- D. 22

42. 李工程师家里有 4 口人，母、妻、儿、本人。2013 年，4 人的年龄和为 152 岁，平均年龄正好比李工程师年龄小 2 岁，比妻子大 2 岁，若 2007 年时，妻子年龄正好是儿子的 6 倍，问哪一年时，母亲年龄正好是妻子年龄的 2 倍（ ）？

- A. 2004 年
- B. 2006 年
- C. 2008 年
- D. 2010 年

43. 现有 3 个箱子，依次放入 1、2、3 个球，然后将 3 个箱子随机编号为甲、乙、丙，接着在甲、乙、丙 3 个箱子里分别放入其箱内球数的 2、3、4 倍。两次共放了 22 个球。最终甲箱中球比乙箱：（ ）

- A. 多 1 个
- B. 少 1 个

【课程咨询电话】0871-65521259

【地址】昆明华图教育：昆明市学府路 178 号莲花宾馆斜对面

C. 多 2 个

D. 少 2 个

44. 一辆车从甲地开往乙地，如果提速 20%，可以比原定时间提前 1 小时到达，如果以原速行驶 120 千米后，再将速度提高 25%，则可提前 40 分钟到达。问甲乙两地相距多少千米（ ）？

A. 240

B. 250

C. 270

D. 300

45. 两个半径不同的圆柱形玻璃杯内均盛有一定量的水，甲杯的水位比乙杯高 5 厘米。甲杯底部沉没着一个石块，当石块被取出并放进乙杯沉没后，乙杯的水位上升了 5 厘米，并且比这时甲杯的水位还高 10 厘米。则可得甲杯与乙杯底面积之比为：（ ）

A. 1: 2

B. 2: 3

C. 3: 2

D. 3: 5

46. 某单位端午节 3 天假期安排甲、乙、丙、丁 4 人值班。端午节当天上、下午各安排一个人值班，另外两天每天安排一个人，每人只值班一次。则乙被安排在端午节当天值班的概率是：（ ）

A. 1/24

B. 1/12

C. 1/3

D. 1/2

47. 某公路铁路两用桥，一列动车和一辆轿车均保持匀速行驶，动车过桥只需 35 秒，而轿车过桥的时间是动车的 3 倍，已知该动车的速度是每秒 70 米，轿车的速度是每秒 21 米，这列动车的车身长是（轿车车身长忽略不计）：（ ）。

A. 120 米

B. 122.5 米

C. 240 米

D. 245 米

48. 一果农想将一块平整的正方形土地分割为四块小土地，并将果树均匀整齐地种在土地的所有边界上，且在每块土地的四个角上都种上一棵果树，该果农未经细算就购买了 60 颗果树，如果仍按上述想法种植，那他至少多买了（ ）果树。

A. 0

B. 3

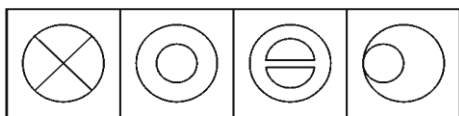
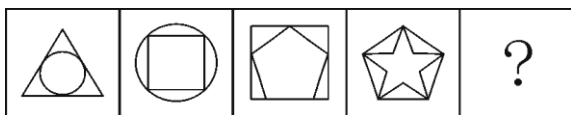
C. 6

D. 15

49. 早上 7 点两组农民开始在麦田里收割麦子，其中甲组 20 人，乙组 15 人。8 点半，甲组分出 10 人捆麦子；10 点，甲组将本组所有已割麦子捆好后，全部帮乙组捆麦子；如果乙

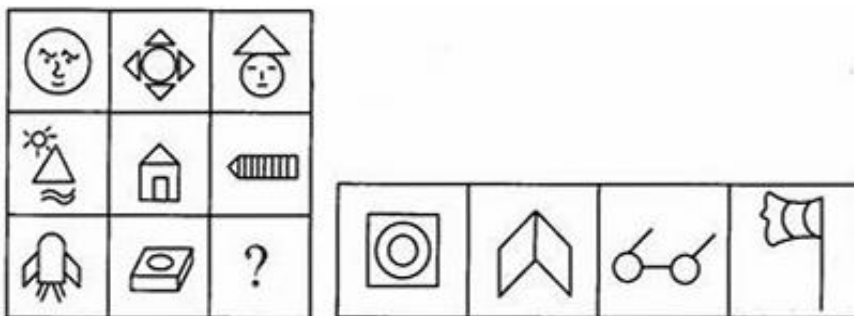
【课程咨询电话】0871-65521259

【地址】昆明华图教育：昆明市学府路 178 号莲花宾馆斜对面



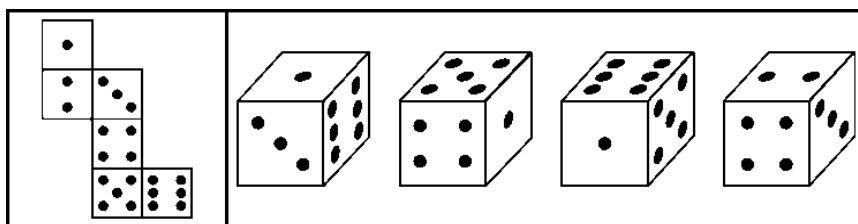
A B C D

54. 从所给的四个选项中，选择最合适的一个填入问号处，使之呈现一定的规律性。



A B C D

55. 左边给定的是纸盒的外表面，下面哪一项能由它折叠而成？



A B C D

二、定义判断。每道题先给出定义，然后列出四种情况，要求你严格依据定义从中选出一个最符合或最不符合定义的答案。注意：假设这个定义是正确的，不容置疑的。

请开始答题：

56. 精神磨损：指机器、设备等固定资产由于科学技术的进步而贬值。

下列属于精神磨损的是（ ）。

A. 某企业有一台高精度磨床，使用年限为 10 年，但是由于高效率使用，仅仅两年，一些主要部件已经需要更换

B. 找到新工作后，小陈购买了一台价格昂贵的手提电脑。仅仅过了一年，该电脑虽然保

【课程咨询电话】0871-65521259

【地址】昆明华图教育：昆明市学府路 178 号莲花宾馆斜对面

养如新，但是已经不值多少钱了

C. 老蔡是一位远近知名的质朴木匠，对于电刨、电锯，就是觉得不顺手，因此他帮人家打家具时所用的刨、锯等木工用具仍然是传统的

D. 某企业进口了一套最先进的冶炼设备，但由于技术人员积极性不高，致使这些进口设备的效率并没有充分发挥

57. 同伴教育：指利用年龄相仿、知识背景和兴趣爱好相近的同伴、朋友的意见和建议容易被采纳的特点来进行相关教育的手段。

下列属于同伴教育的是（ ）。

- A. 有着四年吸毒史的小王，在成功戒毒后被聘为戒毒中心的义务辅导员
- B. 这次晚会在大学校园举行，主办方特地请来了很多青年人喜欢的年轻艺人
- C. 韩寒的书在校园中销量非常好
- D. “粉丝”对偶像言听计从

58. 合同诈骗罪：指以非法占有为目的，在签订、履行合同过程中，采取虚构事实或者隐瞒真相等欺骗手段骗取对方财物，并且数额较大的行为。

下列不属于合同诈骗罪的是（ ）。

A. 周某使用伪造的金融票据，在签订履行合同的过程中，骗取对方当事人的信任，并骗得其财物，数额较大

B. 宋某为扩大经营，与甲公司签订合同，购买甲公司价值 50 万元的电器产品，言明款到发货。次日，宋某汇出 5 万元现金后，将汇票存根上的金额涂改为 50 万元，复印、传真给甲公司，骗取甲公司将货物全部发出

C. 吴某使用宋某的假名，分别与永安财产保险北京分公司和中华联合财产保险房山支公司签订保险代理合同，约定为该公司代销保险业务，并取得一定比例的手续费。截至当年年底，吴某共获取代收的保险费近 31.5 万元，但拒不向永安公司交付，并挥霍一空

D. 林某利用任某市工商局会计保管本单位支票之便利，私刻出纳员邓某、局长陈某的印鉴和单位公章，先后多次私自开具支票，骗取本单位资金合计 20 万元

59. 企业信息化是指企业利用现代信息技术，通过深化开发和广泛利用资源，不断提高生产、经营、管理、决策效率和水平的过程。

根据以上定义，下列不属于企业信息化的是（ ）。

【课程咨询电话】0871-65521259

【地址】昆明华图教育：昆明市学府路 178 号莲花宾馆斜对面

- A. 学校建立计算机网络平台使校内信息资源得到充分利用
- B. 将全部企业业务乃至全部企业管理实现信息化的计算机集成制造系统
- C. 将离散型和流程型生产的质量、设施、控制、数据和通信等结合起来，实现广泛的管理信息集成
- D. 制定原材料零部件采购加工计划，以保证能在规定的时间、地点得到需要的材料数量，并引进计算机进行辅助管理

60. 疑病现象：指人们将轻微的身体不适现象看成严重疾病，反复多次检查。特别是当亲友、邻居、同事因某病英年早逝和意外死亡后更容易出现这种现象。

下列属于疑病现象的是（ ）。

- A. 好友因病去世，王某情绪低落，一段时间对工作毫无积极性
- B. 由于工作压力太大，再加上亲友的去世，李某操劳过度住院了
- C. 一工友因肺病去世，由于工作于同样的环境，大家都觉得自己也患了肺病
- D. 小王在职称晋升中受阻，她怀疑单位个别同事在其中捣鬼

61. 超敏反应，是指机体接受特定抗原持续刺激或同一抗原再次刺激所致的功能紊乱和组织损伤等病理性免疫反应。

根据上述定义，下列选项不属于超敏反应的是（ ）。

- A. 一朝被蛇咬，十年怕绳索
- B. 某药物虽然对治疗胃肠疾病十分有效，但也有部分患者服后出现口干、心悸等反应
- C. 某甲因长期使用激素，停药后全身出现“虚胖”现象
- D. 某患者在进行青霉素皮试后，出现了淋巴结肿大的现象

62. 和谐经济学，是指以社会经济系统的结构和功能为研究对象，以提高这一系统的功能——生产力为目的，看到的是人与自然之间的协调与可持续发展。

根据上述定义，下列属于发展和谐经济行为的是（ ）。

A. 某国家级贫困县决定建矿开采一种稀有金属。其理由是：虽然必须砍掉 200 多亩树林，一个山涧小水库也要废掉，并因此影响 1000 多人饮水和 2000 多亩土地灌溉。但该矿建成后，对发展该县经济具有重要意义

B. 某企业为在规定时间内完成客户定单，连续五天要求工人每天加班 5 至 6 个小时，工人虽然很疲劳但对加班费还是满意的

【课程咨询电话】0871-65521259

【地址】昆明华图教育：昆明市学府路 178 号莲花宾馆斜对面

C. 某市大小采金矿有 100 多个，虽然大多企业设备老化、选矿技术落后，但是该市还是决定继续发展金矿业，因为该市财政收入主要来源于金矿

D. 某市在审查外资投资时发现，一家大型化工企业设备陈旧、能耗高，废水处理系统也很落后，于是断然决定停止引进该企业

63. 暗示效应 是指在无对抗的条件下，用含蓄、抽象诱导的间接方法对人们的心理和行为产生影响，从而诱导人们按照一定的方式去行动或接受一定的意见，使其思想、行为与暗示者期望的目标相符合。

根据上述定义，以下哪项属于暗示效应？（ ）

- A. 班主任在课后批评小李，上课总走神
- B. 张经理在项目晚上后举行部门庆功宴，在酒会上对大家的表现做了表扬
- C. 部门经理请小李吃饭，点了“炒鱿鱼”的菜，小李之后辞职
- D. 老张的儿子考上了清华大学，他高兴地大摆筵席

64. 外部不经济，指企业或个人的日常生产或生活，由于其他企业或个人的活动而受到不利的影响，但又不能从造成这些影响的企业和个人那里得到相应补偿的现象。

据此判断，下列选项中属于外部不经济的是（ ）。

- A. 张某的一项新发明被其他人使用，使用者并没有向他支付使用费
- B. 黄河上游的居民大量种草植树，自己在收获了木材的同时也改善了下游居民的水源质量，但他们并没有向下游居民收取任何费用
- C. 淮河上游的造纸厂直接向淮河排放污水，造成下游两岸农作物大量减产，造纸厂没有向受影响的农民进行赔偿
- D. 一家企业生产规模扩大之后，随着产品数量的大幅度增长，生产成本不但没有下降反而上升了，但是，这种上升的成本却无法得到补偿

65. 座右铭：本来指写出来放在座位边上用来激励、警戒、约束自己行为的格言警句，后来把一个人铭记在心或经常自我提醒的一句或少数几句格言警句也叫做座右铭。

根据以上定义，下列语句中不适合用作座右铭的是（ ）。

- A. 天若有情天亦老，人间正道是沧桑
- B. 先天下之忧而忧，后天下之乐而乐
- C. 良言一句三冬暖，恶语伤人六月寒

【课程咨询电话】0871-65521259

【地址】昆明华图教育：昆明市学府路 178 号莲花宾馆斜对面

D. 横眉冷对千夫指，俯首甘为孺子牛

三、类比推理。每道题先给出一组相关的词，要求你在备选答案中找出一组与之在逻辑关系上最为贴近、相似或匹配的词。

请开始答题：

66. 飞行器：神六

A. 互联网：信息 B. 电视机：电影

C. 奥运会：金牌 D. 政治家：曹操

67. 推荐：推选

A. 安宁：安定 B. 杂志：杂技

C. 稳定：淡定 D. 鲜艳：鲜美

68. 钢笔：笔筒

A. 墙壁：灯具 B. 壁挂：墙壁

C. 衣橱：衣柜 D. 茶杯：衣橱

69. 冷漠：关心

A. 苍白：平均 B. 草率：无知

C. 无礼：尊敬 D. 鲁莽：急躁

70. 新疆：江苏：苏州

A. 北京：南京：长江 B. 航天：航天器：航天员

C. 云南：安徽：合肥 D. 山东：辽宁：青岛

71. 概率：几率：逻辑学

A. 双胞：孪生：生物学 B. 报导：报道：物理学

C. 拒绝：接受：会学 D. 展览：战略：经济学

72. 克服：应对：危机

A. 开发：企业：产品 B. 攻克：科学：难题

C. 展望：迎接：未来 D. 登月：航天：工程

73. 克隆：绵羊：技术

A. 就业：救援：生存 B. 制定：政策：管理

C. 选择：道路：政治 D. 攀登：山峰：地形

【课程咨询电话】0871-65521259

【地址】昆明华图教育：昆明市学府路178号莲花宾馆斜对面

- A. 甲是歌唱家，乙是作家，丙是画家，丁是舞蹈家
- B. 甲是舞蹈家，乙是歌唱家，丙是作家，丁是画家
- C. 甲是画家，乙是作家，丙是歌唱家，丁是舞蹈家
- D. 甲是作家，乙是画家，丙是舞蹈家，丁是歌唱家

78. 疲劳驾驶是造成交通事故的重要原因之一，很多货车司机经常连续驾驶超过 8 个小时。因此交警在一些高速公路收费站设置检查站点，检查货车司机的疲劳状态，以减少货车司机疲劳驾驶的情况。

以下选项如果为真，最能够对交警的这一做法提出质疑的是（ ）。

- A. 人体的疲劳状态很难有一个确切的评价和对比指标
- B. 货车司机身体的疲劳状态不一定是他连续驾驶时间的反映
- C. 很多货车司机在被检查之前，并不知道会有这一检查的存在
- D. 一些货车司机会通过提前在服务站休息后再驾驶来应对交警的检查

79. 有人认为，放松对私人轿车的管制，可以推动中国汽车工业的发展，但同时会使原本紧张的交通状况更加恶化，从而影响经济和社会生活秩序。因此，中国的私人轿车在近五年内不应该有大的发展。

以下哪项如果为真，则最能支持上述观点？（ ）

- A. 交通事业能达到现在的规模，是与早期汽车工业的生产相辅相成而得来的
- B. 引起交通状况恶化的主要原因是人们没有很好地遵守交通规则
- C. 在未来的五年内，我国的交通硬件措施不可能有根本改善
- D. 现在油价上涨得厉害，比起使用成本较高的私人轿车，政府更提倡人们更多地使用廉价的公共交通工具

80. 陈先生认为吸烟与健康之间并无太大关系，原因是在其认识的人当中，好几个患有肺癌的人都是从来不吸烟的人。

以下各项如果为真，则哪项不能反驳陈先生上述观点？（ ）

- A. 癌症的起因是许多医学工作者研究的课题，目前还没有一个确定的结论
- B. 长期吸二手烟的人比起吸烟者本身更容易患上肺癌
- C. 在陈先生认识的人当中吸烟的人都是年轻小伙子，不吸烟的都是体弱病残的老人
- D. 排除患肺癌的人，在陈先生认识的人当中，吸烟者比从来不吸烟者患呼吸道类疾病的

【课程咨询电话】0871-65521259

【地址】昆明华图教育：昆明市学府路 178 号莲花宾馆斜对面

人明显要多

81. 某市一项对交谊舞爱好者的调查表明，那些称自己每周固定去跳交谊舞一至两次的人近三年来由 28%增加到 35%，而对该市大多数舞厅的调查显示，近三年来交谊舞厅的顾客人数明显下降。

以下各项如果是真的，都有助于解释上述看来矛盾的断定，除了（ ）。

- A. 不定期去舞厅的人在数量上明显减少
- B. 为了吸引更多的顾客，该市交谊舞厅普遍调低了营业价格
- C. 家庭交谊舞会逐渐流行
- D. 迪斯科舞厅的兴起抢了交谊舞厅的生意

82. 在智利环境恶劣的北部沙漠地区的卡玛罗纳斯谷，人们发现了世界上一些最为古老的木乃伊，即 Chinchorro 人的木乃伊。木乃伊毛发分析结果显示，砷含量都很高。砷这种金属元素在卡玛罗纳斯谷以及周围火山坡较为常见，砷被季节性融雪水冲入河流，而河流正是生活在下游的人的水源。这种致命毒素毒死了一直生活在沿岸几百年来的 Chinchorro 人，Chinchorro 人并未意识到他们一直在摄入这种无味并且看不见的有毒物质，他们患有皮肤癌、肺结核、膀胱癌、肾癌，并遭受因长期暴露在砷环境下导致的其他严重健康问题。

由此可以推出（ ）。

- A. 人体对砷这种有毒元素是不需要的
- B. Chinchorro 人砷中毒是慢性的
- C. Chinchorro 人存在严重健康问题的原因是饮用了含有砷的水
- D. 由于当时交通条件不好，Chinchorro 人不能走得更远，找到更好的居住地

83. 春节期间，铁路系统在某两个城市间增加了临时客车，以作为这些线路客运的补充。原来的车次要乘坐 12 个小时，临时客车比原来的车次要多乘坐 1 个小时，但是在刚实施的一段时间内，原车次的乘客拥堵现象仍未得到缓解。

那么最有说服力的原因是（ ）。

- A. 临时客车的乘坐时间太长
- B. 大多数人总喜欢乘坐固定的客车车次
- C. 一段时期内人们对新增的临时客车的停车站和运行时间都还不清楚
- D. 原车次比临时客车标价便宜得多

【课程咨询电话】0871-65521259

【地址】昆明华图教育：昆明市学府路 178 号莲花宾馆斜对面

84. 对每只股票的涨跌有各种各样的预测，但时至今日也没有哪个股评家能准确预测每支股票的涨跌情况。

根据以上信息，可以推出的是（ ）。

- A. 所有股评家都很差
- B. 没有准确预报所有股票涨跌情况的条件
- C. 所有股票都神秘莫测，不可捉摸
- D. 影响股票涨跌的不确定因素太多，股票预测很难

85. 美国的一位动物学家在黑猩猩的笼子前放了一面大镜子，观察他们的反应。它们能够从镜子中认出自己，经常久久地对着镜子寻找自己身上平时看不到的部位。作为黑猩猩近亲的大猩猩却不具备这种能力。

由此可以推出（ ）。

- A. 黑猩猩在某些方面的能力更高于大猩猩
- B. 黑猩猩和大猩猩虽然亲缘较近，但还是黑猩猩的智力更胜一筹
- C. 黑猩猩的这种能力和它所生活的环境有关
- D. 动物界还有其它动物具备这种能力

第五部分 综合分析

（共 5 题，参考时限 5 分钟）

综合分析主要测查应试人员迅速、准确地对大量的文字信息进行分析处理的能力，主要包括对信息的挖掘获取能力、理解能力、概括能力、评判能力等。常见题型有主旨概括、语段衔接、隐含信息推断等。

86. 根据以下资料回答问题：

①网络时代为我们提供了获取信息的便利，世界变得既立体又平面。所谓立体，是指信息的丰富性使我们很容易较为全面地了解事物，使我们处在一个与世界的立体联系之中；所谓平面，是指大家处于同一个获取信息的平台上，凌驾于人们之上的权威似乎在逐渐消逝。

②对于年轻人来讲，这似乎是一个无所不能的时代，也应该是一个幸福的时代。然而，事实似乎并非如此，普遍的焦虑弥漫在年轻人中间：我想知道一切，我也似乎能够知道一切，但却不知道我应该知道什么——选择的自由，使年轻人感受到了前辈们从未有过的恐慌。

③网络信息与传统出版业最大的不同，是前者较少受到社会理性的约束和过滤。网络上，

【课程咨询电话】0871-65521259

【地址】昆明华图教育：昆明市学府路 178 号莲花宾馆斜对面

越具有个人色彩的东西就越具有吸引力，越容易受到追捧，这样的东西有很大几率是“脾气”，并不具有深厚的时代文化内涵。阅读上的“羊群效应”使人产生从众心理，很多青年人在潜意识里以为通过这种“海量”阅读就可以获得知识和智慧，就可以建立“三观”，但最终，他们得到的却只有空虚和焦虑。

④经典阅读，会在潜移默化中让人习得珍贵的思维方式和价值观念，尤其是在童年、少年和青年时期。比如读四大名著，孩子首先会为故事所吸引，而这些故事本身，都深深镌刻着中国人在漫长历史过程中总结出来的思维模式和价值观念。故事的演进，会帮助孩子们辨别正邪、建立是非观念，也使他们从中感受到除暴安良的快乐，培养出坚忍不拔的精神，燃烧起追求正义的热情等等，而这些，都是生活的精神原动力。

⑤如果说小说主要作用于人的思维方式，诗词则直接作用于人的情感模式。比如小儿皆可诵的《春晓》：“春眠不觉晓，处处闻啼鸟。夜来风雨声，花落知多少。”春光美好，生命美好，不能因贪睡而错过，对春光的珍爱和对生命的珍惜已拆解不开，春光与生命、时代与生活是如此让人爱恋，人们甚至不愿放弃片刻的光阴；诗中即使含有一丝丝的伤感，也立刻在这种青春的情绪中蒸腾为对生活与生命的深情感受。爱读这些诗的孩子，一定是热爱生活的。

⑥打个比方，经典阅读带来的思维模式和情感模式，就像是我们大脑的最佳操作系统，越早安装越好，任何时候安装都不算晚。有了这个操作系统，我们就能更从容地面对海量的信息，摆脱喧哗和浮躁，消除恐惧和焦虑，在令人眼花缭乱的世界里沉静下来，知道哪些是该选择的，哪些是可以忽略的，世界因此会变得更加真实和有意义。

下面这段文字最可能位于哪两段之间？

这时候，经典阅读的重要性就显现出来了。经典是什么？经典就是永不过时的东西，它是人类按照自己的根本利益共同选择下来的文明成果，是建立正确的价值观和人生观的文化基础。

A. ①与②之间 B. ②与③之间

C. ③与④之间 D. ④与⑤之间

87. 根据这段文字，下列哪一作品最能在情感方面对读者产生直接影响？

A. 《诗经》 B. 《史记》

C. 《红楼梦》 D. 《哈姆雷特》

【课程咨询电话】0871-65521259

【地址】昆明华图教育：昆明市学府路178号莲花宾馆斜对面

88. 这篇文章针对的主要问题是：

- A. 信息时代年轻人面临阅读内容选择的困境
- B. 网络中的不良信息影响了年轻人的价值观
- C. 年轻人的阅读时间被网络强大的娱乐功能所侵占
- D. 奇特炫目的网络信息使年轻人对传统文化失去兴趣

89. 下列哪项与这段文字表达的观点最接近？

- A. 黑发不知勤学早，白首方悔读书迟（颜真卿）
- B. 腹有诗书气自华，读书万卷始通神（苏轼）
- C. 在读书上，数量并不列于首要，重要的是书的品质与所引起的思索的程度（富兰克林）
- D. 经验丰富的人读书用两只眼睛，一只眼睛看到纸面上的话，另一只眼睛看到纸的背面（歌德）

90. 下列最适合做文章标题的是：

- A. 读书与做人 B. 阅读是一生的事业
- C. 传统出版业路在何方 D. 网络时代更需经典阅读

云南统考事业单位公开招聘 2016 年曲靖事业单位考试社会科学专技类《职业能力倾向测验（B 类）》解析

第一部分 常识判断答案及解析

1. 【答案】C

【解析】博鳌亚洲论坛 2015 年年会将于 3 月 26 日至 29 日在海南博鳌召开，主题为“亚洲新未来：迈向命运共同体”。“亚洲新未来：寻找和释放发展新动力”是 2014 年博鳌亚洲论坛的主题，故 A 选项错误。“革新、责任、合作：亚洲寻求共同发展”是 2013 年博鳌论坛的主题，故 B 选项错误。“变革中的亚洲：迈向健康与可持续发展”是 2012 年博鳌论坛的主题，故 D 选项错误。

2. 【答案】C

【解析】2015 年是联合国成立 70 周年，也是世界反法西斯战争胜利 70 周年，联合国和世界各国都将举行一系列纪念活动。在这重要历史时刻，中国作为本月安理会轮值主席，倡议于 2 月 23 日召开主题为“维护国际和平与安全：以史为鉴，重申对《联合国宪章》宗旨和原则的坚定承诺”的公开辩论会，拉开系列纪念活动序幕。

3.. A. 【解析】这个题目考查的是文学常识。选项 B 出自宋朝释善珍《小雪》，选项 C 出自唐朝张登《小雪日戏题绝句》，选项 D 出自唐朝杜甫《立春诗》，故选项 B、C、D 错误。选项 A 出自杜甫的《小至》，描述的是冬至时节的景象。因此，本题的正确答案为 A 选项。

4. A. 【解析】这个题目考查的是地理常识。与新疆维吾尔自治区接壤的国家分别是蒙古、俄罗斯、哈萨克斯坦、吉尔吉斯斯坦、塔吉克斯坦、阿富汗、巴基斯坦和印度。因此，本题的正确答案为 A 选项。

5.A. 【解析】这个题目考查的是生物和法律常识。大熊猫、短尾信天翁、丹顶鹤、金丝猴和麋鹿属于国家一级保护动物，松江鲈鱼、小熊猫和穿山甲属于国家二级保护动物。因此，本题的正确答案为 A 选项。

6.A. 【解析】这个题目考查的是历史常识。指南针是战国时期发明的，造纸术是东汉蔡伦改进的，火药是隋唐时期开始运用于军事，活字印刷术到北宋由毕昇发明的。因此，

【课程咨询电话】0871-65521259

【地址】昆明华图教育：昆明市学府路 178 号莲花宾馆斜对面

本题的正确答案为 A 选项。

7.C.【解析】这个题目考查的是经济常识。G8 是八大工业国美国、英国、法国、德国、意大利、加拿大、日本，加上俄罗斯。因此，本题的正确答案为 C 选项。

8.B.【解析】这个题目考查的是文化常识。孟春并非一个节气，选项 B 错误。因此，本题的正确答案为 B 选项。

9.C.【解析】这个题目考查的是历史和地理常识。图片描述的是赤壁之战。它发生在在长江赤壁（今湖北赤壁西北）。因此，本题的正确答案为 C 选项。

10.D.【解析】这个题目考查的是物理常识。戴口罩、补碘、勤洗澡确实是防核辐射的必要措施，选项 A 错误；宇宙射线每时每刻都在地球上引起核反应，故 B 选项正确；核辐射可分为天然辐射和人工辐射，选项 C 正确；核辐射，或通常称之为放射性，存在于所有的物质之中，选项 D 错误。因此，本题的正确答案为 D 选项。

第二部分 言语理解答案及解析

11.B.【解析】题干中描述了泰山天资聪颖，心灵手巧，故空白处不能填“任劳任怨”，排除 D 选项。尽善尽美形容事物非常完美，没有缺陷，并非指追求完美，故 C 选项也予排除；相对于“巧夺天工”，“别出心裁”往往会耽误鲁班的事，故此处填“别出心裁”最为恰当，因此本题选择 B 选项。

12. B.【解析】文中指出“推行一些改革措施”，说明之前的政策或制度需要改变，据此可知第一空中填入“改弦更张”最为恰当。再验证第二空，“颁行”多用于政策，与空格后“俸禄制、均田制”搭配得当，所以正确答案为 B 项。

13. D.【解析】这是一道实词辨析题。第一组词中，“轻盈”侧重“轻”，“清莹”侧重“清”，表清澈，故排除 BC。第二组词 A 选项“淡薄”偏消极，故排除。

14. B.【解析】这是一道近义词辨析题。根据文段的语体风格为措辞严谨的书面语可排除 AC 两项：“缺点”一般常用于口语，与文段语体风格不吻合。文中第二个空格前后各分句为并列关系，根据文中“约束”、“平衡”可知，第二个空格处的词应与之意思接近但不能重复，由此可排除“协调”——与“平衡”有某种程度上的词义重复。因此，本题的正确答案为 B 选项。

【课程咨询电话】0871-65521259

【地址】昆明华图教育：昆明市学府路 178 号莲花宾馆斜对面

15. A. 【解析】这是一道实词辨析题。第二组词中，“完整”多指整体不残缺，一般用于领土或情节；“完好”，指完美、完整，没有残缺、损坏。而文中讲的是“相关安全措施、程序、手续”等，没有涉及整体是否残缺、损坏等，故排除 BD 两项。第一组词中，“改弦更张”比喻改变方针、计划和方法，以纠正偏差或错误，与文意不符合，故排除 C 项。因此，本题的正确答案为 A 选项。

16. D. 【解析】这是一道实词和成词语辨析。“窜改”指文字上的改动；“篡改”不限于文字，且手段卑劣。文段中描述的是一种不道德的事件，因此应用“篡改”，排除 B 和 C。“自食其果”指自己犯了罪，自己承担责任，罪有应得，“自作自受”则是指较轻的一种惩罚。从句子语境来看这里指的是一种较重的惩罚，因此“自食其果”较为恰当。因此，本题的正确答案为 D 选项。

17. C. 【解析】“传统节日文化感”与“灭绝”搭配不当，排除 A 项；“被……商业氛围所非议”同样属于搭配不当，排除 D 项；“消亡”再被“排斥”属于逻辑错误，应先“淡化”再被“取代”，故答案为 C。

18. A. 【解析】本题可从第二空入手，“问问你自己，你付出的够多了吗？”点出文段主旨，即说明个人付出的重要性，如果幸运没有眷顾你，要从自方找原因（不要只从他方找原因）。“自欺欺人”指欺骗自己，也欺骗别人，“自怨自艾”指悔恨自己的错误，二者都没有落到从他方找原因上，排除 BC。而“怨天尤人”指遇到挫折或出了问题，一味抱怨天，责怪别人，比“灰心丧气”更符合语境。再看第一空，成功的背后隐藏着艰辛，完美的背后掩盖的也应是因付出而带来的负面后果，用“缺憾”体现出一定的无奈之感。本题选 A。

19. B. 【解析】根据题意很显然排除 A、D 项。沉醉：大醉，比喻深深地迷恋某种事物，沉浸在某种境界里。陶醉：很满意地沉浸在某种境界或思想活动中。“沉醉”比“陶醉”意义更深刻，第一空显然用“善于”比“擅长”合适，所以选 B。

20. A. 【解析】这是一道成语辨析题。第二组词中，根据选项中各词的感情色彩，首先排除选项 C：“处心积虑”是贬义词，与文中“保驾护航、国家智囊、用良心说话”感情色彩不符。“寝食难安”是形容放心不下眼前的事，焦急到了极点，都到了睡也睡不着，吃也吃不好的地步了。与文意不符，故排除 B 项。第一组词中，“摇旗呐喊”指助威、助力的意思；而“旁征博引”指说话、写文章引用材料作为依据或例证。显然“旁征博引”与文意不符，故排除 D 项。因此，本题的正确答案为 A 选项。

【课程咨询电话】0871-65521259

【地址】昆明华图教育：昆明市学府路 178 号莲花宾馆斜对面

21. C.【解析】文段先说明两种人的思考方式不同，猫头鹰型的人擅用右脑，百灵鸟型的人擅用左脑。然后又提出通常创造性跟右脑的关系更密切。综合前后可知，作者意在说明“猫头鹰型的人的创造性通常优于百灵鸟型的人”。因此，本题答案为 C 选项。

22. B.【解析】本题属于主旨概括题。文段结构为分——总——分式，首先提出“歌剧面临的最大的挑战就是如何吸引观众”，随后提出解决对策，即“注重传播是解决问题的根本所在”。后文对这一观点展开论述。可见解决对策即为文段主旨。因此，本题答案为 B 选项。

23. B.【解析】本题属于主旨概括题。文段先提出企业在经济活动中的重要性，随后提出“科技创新只有以企业为主体，才能敏锐把握市场需求，有效整合产学研力量，加快创新成果转化应用”，强调科技创新必须“以企业为主体”。之后具体阐述如何以企业为主导。因此，本题答案为 B 选项。

24. D.【解析】本题属于主旨概括题。文段首先提出紫禁城主要选用红黄两色，随后引出主题句“之所以选择这两种颜色，是由于受中国传统文化的影响”，该句运用了“之所以……是因为……”这一因果关系的倒装句式，强调紫禁城主要选用红黄两色的原因是受到中国传统文化的影响，其后的文字均是在进一步解释这一论点。因此，本题答案为 D 选项。

25. C.【解析】本题属于细节理解题的变型题，为原因推断类。通过文段可以看出，香烟“对人体危害也没有降低”的原因是“鉴于烟气成分的多样性和复杂性，这种材料很难完全实现”，其中“这种材料”即为“滤去烟气中的有毒害成分的同时让其他成分保留下来”的过滤材料。因此，本题答案为 C 选项。

26. A.【解析】本题属于词语理解题。根据文段首句“文艺和民俗是传承发展更是融合创新”可知，尾句由“这样看来”探讨的两个问题分别与之相对应，一为“文艺对民俗的传承发展”，二为“文艺对民俗的融合创新”，且后者比前者更深一层。可见“有效切入点”对应的即是“文艺对民俗的融合创新”。因此，本题答案为 A 选项。

27. C.【解析】本题属于语句排序题。②句提出现象，然后由⑤句“一方面”和①句“另一方面”进行解释说明，故⑤应在①之前。⑥句中“这代人”指代的是⑤中的“80 后、90 后”，故⑤⑥相连。③是对①句的进一步解释，故③①相连。④句用表结论的关联词“因此”进行总结。因此，本题答案为 C 选项。

28. C.【解析】本题属于意图判断题。文段结构为分——总——分式。先阐述了人在度假时由于刺激改变，行为可能发生变化，随后由“因此”引导的因果关系复句提出文段主旨句，

【课程咨询电话】0871-65521259

【地址】昆明华图教育：昆明市学府路 178 号莲花宾馆斜对面

即“在度假时改变习惯往往能够取得成功”。最后举了戒烟的例子对主旨句加以补充论证。因此，本题答案为 C 选项。

29. D. 【解析】本题属于意图判断题。文段先通过“近年来”引出背景，阐述“国学热”现象的到来，然后提出了该现象的积极意义，进而用转折关联词“但”引出问题的另一方面，即“在我们提及‘国学热’到来之时，国学到底是什么，它的传承之路又在哪里，是社会各界需要认真考虑的”。可见，作者意在说明的即是我们应该在“国学热”到来的同时注重其本质和发展。因此，本题答案为 D 选项。

30. D. 【解析】这是一道语句排序题。②句中的“这些”指代前文的“印象、看法、态度或感情”，④②应该相连接；根据话题衔接原则⑥⑤应该相连。从整体上来理解，③句思路是什么——①④②思路是怎样产生的——⑥⑤思路清晰严密的重要性。故本题答案为 D。

31. D. 【解析】这是一道主旨概括题。文段围绕欧洲主权债务危机展开，根据主体排除法，可知答案为 D。

32. D. 【解析】这是一道意图判断题。文段属于总一分的结构：文段用并列式的论述方式，列举了一些事实和数据，意在说明气候寒冷与文明的兴衰、朝代的更替的关系。四个选项中只有选项 D 与文段的主题句吻合。因此，本题的正确答案为 D 选项。B 选项与文段无关，可以排除。A 选项的“战争”表述有些片面，因为文段还提到了“动乱和朝代更替”、“猎巫事件”等，故排除 A。C 选项表述过于绝对化，只看到了“主要推动力”这积极的一面，而文段只是说明气候变化可能与社会变迁之间存在关系。故排除 C。故本题答案为 D。

33. B. 【解析】这是一道意图判断题。文段大体属于提出问题、分析问题、提出对策的结构。文段开头提出问题：“人类最伟大的思想还处在离线状态”；文段结尾提出对策：“唯有通过书籍阅读……”由此可知，作者推崇书籍阅读，而 B 选项与文中的主题句吻合。因此，本题的正确答案为 B 选项。根据文中，强调人类最伟大的思想是在书籍中和书籍阅读与网络阅读的不同都是为了推崇书籍阅读，可排除 A 选项和 C 选项。选项 D 选项与文段内容无关，故排除 D。故本题答案为 B。

34. C. 【解析】这是一道意图判断题。文段的第一句和第二句用并列方式，列举了一些事实，意在说明不同文明的国度中，法治的发展有很大的差异。文段的最后一句点明了讲述的重点：从文明根基上看，则萌芽于西方的文明源头上的宗教因子，即与文明密切相关。A 项与文段无关，故排除。B 选项的看到不同文化法治发展差异，而没有进一步阐明差异的原

【课程咨询电话】0871-65521259

【地址】昆明华图教育：昆明市学府路 178 号莲花宾馆斜对面

因，不是文段讲述的重点，故排除。D项过于宽泛，文中只提到了英国宪政发展模式，当然也不是文段讲述的重点，故排除。因此，本题的正确答案为C选项。

35. C. 【解析】这是一道主旨概括题。文段属于总—分的结构：文段的首句就已经点明“官和诗的关系一直就很密切”，后面的举例论证都是为了论述文段的主题句的。选项A和B都出现在举例论证的部分，不是文段讲述的重点，故排除。D项中，古代诗歌最早来自于民间与官吏无关，表述错误，故排除。因此，本题的正确答案为C项——是对文段第一句话的统一替换。

36. C. 【解析】这是一道标题填入题。这是一段议论文类的材料，文段的论点很关键——文段最后一句话：拿纳税人的钱为其逐年提高财政补贴，加剧了幼教资源分配不公的状况。由此可知，选项B与文段内容无关，故排除。选项A和D并不是作者强调的主要内容，也要排除。只有C选项与文段的论点温和吻合。因此，本题的正确答案为C选项。

37. C. 【解析】本题属于主旨概括题。本文先提出改善直销行业形象的关键在于直销员，后半段再说明为什么需要改善直销员的社会公众形象，即改善直销员的社会公众形象是改善直销行业社会公众形象的关键，故答案选C。

38. A. 【解析】本题属于语句衔接题。本段文章的主旨为第一句的设问，即“学中医难在诊断”，然后阐述了其反面“当医生面对常见的病症时都能对号入座而诊断下药”，则下文若要回到主旨并且进一步进行阐述，则必须说明“当医生在什么情况下难以诊断下药”，即前句的反面情况“面对非常见的病症时无法对号入座而诊断下药”，故应选A项。

39. B. 【解析】文段的行文脉络为总—分式。文段首句提出植物能够解读光携带的大量信息，后文均在具体阐述其解读方式。因此，本题答案为B选项。

40. C. 【解析】这是一道主旨概括题。文段首句提出了一个现象，即“天气预报中出现极其微小的错误，在长期预报过程中会慢慢累积成大错”，接着使用了蝴蝶效应的例子进行解释。最后得出观点即大部分天气预报员认为天气预报在长时间内预测度不高。因此，本题的正确答案为C选项。

第三部分 数量关系答案及解析

41. 【解析】C。本题考查排列组合。7个橘子排成一列形成留个空，即在6个空中插入3个挡板，由3个挡板把橘子分成3份，共有 $C_6^3=20$ 种方法。因此选择C选项。

【课程咨询电话】0871-65521259

【地址】昆明华图教育：昆明市学府路178号莲花宾馆斜对面

42. 【解析】B。2013 年时 4 人年龄和为 152 岁，则平均年龄为 $152 \div 4 = 38$ 岁，由此可推知李工程师为 40 岁，妻子为 36 岁。因此 2007 年时妻子年龄为 $36 - 6 = 30$ 岁，由此可推知此年儿子 5 岁，则 2013 年儿子为 11 岁，母亲为 $152 - 40 - 36 - 11 = 65$ 岁。母亲与妻子年龄差为 29 岁，故在妻子 29 岁时两人年龄呈 2 倍关系，也即在 2006 年时符合要求。因此选择 B 选项。

43. 【解析】A。第一次放了 6 个球，第二次放了 16 个， $2\text{甲} + 3\text{乙} + 4\text{丙} = 16$ ，乙只能是 2，甲为 3，丙是 1。故甲箱中的球和乙箱中的球数之差为 $(3+6) - (2+6) = 1$ ，即甲箱中的球比乙箱中的多 1 个。因此选择 A 选项。

44. 【解析】C。本题考查行程问题。设原来的速度为 v ，所用时间为 t ，依题可得方程组： $S = v \cdot t$ ， $S = (1 + 20\%)v \cdot (t - 1)$ ， $S - 120 = (1 + 25\%)v \cdot (t - 2/3 - 120/v)$ ，解得： $v = 45$ ， $S = 270$ 。因此选择 C 选项。

45. 【解析】A。由题意易推出整个过程中甲玻璃杯下降了 10cm，乙玻璃杯上升了 5cm，而甲玻璃杯减少的体积与乙玻璃杯增加的体积是相等的，都等于石块的体积，高度比为 2:1，则两者底面积之比为 1:2。因此选择 A 选项。

46. 【解析】D。总共四种选择，乙安排在端午节有上午和下午两种选择，所以四选二，概率为 $1/2$ 。因此选择 D 选项。

47. 【解析】D。方程法。或者简单分析，根据速度比可知正常不考虑动车车身的话，二者的时间比为 $21:70 = 3:10$ ，轿车时间为 105，所以动车应该为 31.5 秒，现在为 35 秒，所以用了 3.5 秒走了车身的距离，车身高为 $3.5 \times 70 = 245$ 。因此选择 D 选项。

48. 【解析】B。根据题意可知，将正方形土地分割为四块小的正方形土地后，共有 9 个顶点，12 条边，则种树总数可表示为 $12n + 9$ （ n 为四块小正方形土地每边所种植的果树棵树，其取值为 $n = 0, 1, 2, \dots$ ），当 $n = 4$ 时，种树总数为 57，最接近 60，故至少多买了 3 棵树。因此选择 B 选项。

49. 【解析】B。工程问题。假设每人每小时收割效率为 1，捆绑效率为 x ，根据甲组的情况有： $1.5 \times 20 + 1.5 \times 10 = 1.5 \times 10x$ ，解得 $x = 3$ 。则假设用 t 时间可以将乙的全部困完，则有 $3 \times 15 = (60 - 15)t$ ， $t = 1$ 小时，所以 11 点就可以捆完。因此选择 B 选项。

50. 【解析】A。144 是打九折得到的，原价为 160，310 中有 270 是打九折的，还有 40 打八折，原价为 350，总共 510，一次性购买需要花费 $270 + 210 \times 0.8 = 438$ ，节省了 $454 - 438 = 16$ 元。因

【课程咨询电话】0871-65521259

【地址】昆明华图教育：昆明市学府路 178 号莲花宾馆斜对面

此选择 A 选项。

其发展，会使原本紧张的交通状况更加恶化，因此对题干起到支持作用。

第四部分 逻辑判断答案及解析

51. C. 【解析】图形封闭空间数分别为 1, 2, 3, 4, (5)。

52. D. 【解析】本题考查黑白叠加。

53. D. 【解析】本题考查一笔画问题。

54. B. 【解析】本题考查样式的求同。

55. A. 【解析】本题考查空间重构。B 选项点 1 和 4 是向对面，排除；C 选项时针方向与题干不一致，排除；D 选项点 2 和 3 的相对位置改变了，排除。所以选择 A 选项。

56. B. 【解析】A 项磨床贬值不是因为技术进步所致，C、D 不存在机器、设备贬值的问题。B 项手提电脑买时昂贵，可一年后虽然保养得很好但仍旧贬值，说明是由于技术进步所致。故正确答案为 B。

57. A. 【解析】本题的关键词是“教育的手段”，B、C、D 项并不是在对青少年进行教育，均应排除，答案为 A。

58. D. 【解析】本题的关键是抓住“在签订、履行合同过程中”这一要素，D 项很明显与合同无关，故当选。

59. A. 【解析】本体的关键信息是主体“企业”，而 A 选项是学校，不属于企业，所以选择 A 选项。

60. C. 【解析】A、D 项没有身体不适这一要素，B 项确实生病，只有 C 项符合定义要素，故应选 C。

61. A. 【解析】A 项不是“病理性免疫反应”，因此不属于超敏反应。所以，正确答案为 A。

62. D. 【解析】文段定义中的关键信息是“人与自然之间的协调与可持续发展”。A 项明显不符合定义，没有实现人与自然之间的协调与可持续发展，故排除。B 项中工人虽然在主观上对加班费满意，但是在客观上也没有实现人与自然之间的协调与可持续发展，也排除。C 项中，该市的行为与和谐经济学的要求相悖。只有 D 项符合要求，当选。

63. C. 【解析】暗示是指用含蓄、抽象的方式来对人民产生影响，只有 C 符合定义，因

【课程咨询电话】0871-65521259

【地址】昆明华图教育：昆明市学府路 178 号莲花宾馆斜对面

此，本题答案为 C 选项。

64. C. 【解析】解答本题需要抓住定义中的关键信息，即“由于其他企业或个人的活动而受到不利影响”。A 项中，张某的发明并不属于“企业或个人的日常生产或生活”的范围，所以排除；B 项中，黄河上游居民没有受到不利影响，所以也排除；D 项中的现象不是“其他企业或个人的活动”所造成的，排除。正确答案为 C。

65. A. 【解析】B、D 项能对行为起到激励作用，C 项能对行为起到警戒、约束作用。故本题选 A。

66. D. 【解析】属种关系，“神六”是“飞行器”中的一种，“曹操”是“政治家”中的一个。

67. A. 【解析】看词义，“推荐”和“推选”词义相似，“安宁”和“安定”词义相似。

68. B. 【解析】按用途，“笔筒”装“钢笔”，“墙壁”挂“壁挂”。

69. C. 【解析】反对关系，冷漠和关心是反对关系，A、B、D 三个选项都不是反对关系，所以选 C。

70. C. 【解析】前两项是并列关系的两个省级行政单位，第三项隶属于第二项，符合此规律的是 C 项。

71. A. 【解析】前两项是同义名词，都属于逻辑学概念；A 项前两个词为同义，均是生物学概念。

72. C. 【解析】前两项是动词，克服和应对危机，C 项展望和迎接未来，符合规律。

73. B. 【解析】克隆绵羊是一项新的技术，制定政策是管理的一个手段，故 B 符合规律。

74. A. 【解析】此题将选项分别代入，就会发现只有 A 选项使得两组词汇分别构成反义关系。

75. C. 【解析】手机没有信号就没法使用了，而电脑离开了程序也没法使用了。

76. A. 【解析】本题属于削弱论证型。题干中的结论为“对病人来说，当他们感到没有病时，去做医疗检查一般来说是不明智的”。A 项则指出在疾病的早期阶段尽管病人感觉不到生病，医生却能够通过仪器的帮助观察到症状，直接削弱了题干的结论，是对上述论证的最严重削弱。B、C、D 项均不能对题干论证进行削弱。所以选择 A 选项。

77. B. 【解析】运用排除法解答，由第一个条件可知甲和丙都不是歌唱家，排除 A、C 选项；根据条件二排除 C 选项，所以最后选择 B 选项。

【课程咨询电话】0871-65521259

【地址】昆明华图教育：昆明市学府路 178 号莲花宾馆斜对面

78. A. 【解析】A 项“人体的疲劳状态很难有一个确切的评价和对比指标”最能够对交警的做法提出质疑，如果疲劳状态的测定和评价方法各异，没有统一的指标，那么交警根本无法准确判断司机是否是疲劳驾驶，也就无法减少疲劳驾驶的情况。B、C 项与题干无关。D 项是应对交警的一个方法，但是客观上起到了减少疲劳驾驶的效果。故本题答案为 A。

79. C. 【解析】支持题。题干的逻辑主线是：中国的私人轿车在近五年内不应该有大的发展，原因是会使原本紧张的交通状况更加恶化。再由 C 项，在未来的五年内，我国的交通硬件措施不可能有根本改善，所以如果放松对私人轿车的管制，任其发展，会使原本紧张的交通状况更加恶化，因此对题干起到支持作用。

80. A. 【解析】反驳题，注意是要找不能反驳题干观点的选项。B 项说明烟对肺癌的影响；C 项说明年龄和体质方面的因素，但不能说明吸烟对健康没有影响；D 项说明吸烟者比从来不吸烟者患呼吸道类疾病的比例要高，也说明了吸烟对健康的影响。

81. B. 【解析】A 项说明去交谊舞厅的总人数在下降，有助于解释题干矛盾；B 项是题干中提到的“近三年来交谊舞厅的顾客人数明显下降”的一种对策，属于题干所述现象产生的结果，而不是原因；C 项可以理解为家庭交谊舞会的流行导致去交谊舞厅的人大量减少，从而导致去交谊舞厅的顾客人数下降；D 项可以理解为不定期去交谊舞厅的人现在大多都改去迪斯科舞厅，从而定期去跳交谊舞的人相对比例增多了。故本题应选 B。

82. B. 【解析】A 项，砷元素确实有毒，但文中并未指出人体一点都不需要；B 选项，Chinchorro 人并未意识到他们一直在摄入这种无味并且看不见的有毒物质，可见他们摄入砷后并不会立即中毒发作，若 Chinchorro 人喝了含有砷的河水后立即出现中毒的症状，他们便会发现是由于摄入了某些有毒物质，因此可以推出 Chinchorro 人砷中毒是慢性的。C 选项，饮用含有砷的水，会导致严重的健康问题，前者是后者的充分条件，充分条件假言命题由后件不能推出前件，即 Chinchorro 人存在严重的健康问题不一定是因为饮用了含有砷的水，C 选项错误。D 选项文中并未提到。故答案为 B。

83. C. 【解析】这道题目是解释型论证类题目。解释原车次拥堵现象没有因临时客车的出现而缓解，即还是没有一批人买临时客车车票，显然可能原因要么是人们不知道，要么是人们不愿去买。相对而言，春节期间出于价钱原因的可能性较小，所以 C 项最能解释。

84. D. 【解析】A 选项属于无由猜测。B 选项的设置在于将原文至今没有哪个股评家能准确预测每支股票的情况转换为没有此条件。C 项则做了宏观推测，犯了不完全归纳的错误。

【课程咨询电话】0871-65521259

【地址】昆明华图教育：昆明市学府路 178 号莲花宾馆斜对面

85. A. 【解析】最后一句话：作为黑猩猩近亲的大猩猩却不具备这种能力。可以推出 A. 材料直接推不出黑猩猩的智力高于大猩猩。

第五部分 综合分析答案及解析

86. 根据以下资料回答问题：

①网络时代为我们提供了获取信息的便利，世界变得既立体又平面。所谓立体，是指信息的丰富性使我们很容易较为全面地了解事物，使我们处在一个与世界的立体联系之中；所谓平面，是指大家处于同一个获取信息的平台上，凌驾于人们之上的权威似乎在逐渐消逝。

②对于年轻人来讲，这似乎是一个无所不能的时代，也应该是一个幸福的时代。然而，事实似乎并非如此，普遍的焦虑弥漫在年轻人中间：我想知道一切，我也似乎能够知道一切，但却不知道我应该知道什么——选择的自由，使年轻人感受到了前辈们从未有过的恐慌。

③网络信息与传统出版业最大的不同，是前者较少受到社会理性的约束和过滤。网络上，越具有个人色彩的东西就越具有吸引力，越容易受到追捧，这样的东西有很大几率是“脾气”，并不具有深厚的时代文化内涵。阅读上的“羊群效应”使人产生从众心理，很多青年人在潜意识里以为通过这种“海量”阅读就可以获得知识和智慧，就可以建立“三观”，但最终，他们得到的却只有空虚和焦虑。

④经典阅读，会在潜移默化中让人习得珍贵的思维方式和价值观念，尤其是在童年、少年和青年时期。比如读四大名著，孩子首先会为故事所吸引，而这些故事本身，都深深镌刻着中国人在漫长历史过程中总结出来的思维模式和价值观念。故事的演进，会帮助孩子们辨别正邪、建立是非观念，也使他们从中感受到除暴安良的快乐，培养出坚忍不拔的精神，燃烧起追求正义的热情等等，而这些，都是生活的精神原动力。

⑤如果说小说主要作用于人的思维方式，诗词则直接作用于人的情感模式。比如小儿皆可诵的《春晓》：“春眠不觉晓，处处闻啼鸟。夜来风雨声，花落知多少。”春光美好，生命美好，不能因贪睡而错过，对春光的珍爱和对生命的珍惜已拆解不开，春光与生命、时代与生活是如此让人爱恋，人们甚至不愿放弃片刻的光阴；诗中即使含有一丝丝的伤感，也立刻在这种青春的情绪中蒸腾为对生活与生命的深情感受。爱读这些诗的孩子，一定是热爱生活的。

⑥打个比方，经典阅读带来的思维模式和情感模式，就像是我们大脑的最佳操作系统，

【课程咨询电话】0871-65521259

【地址】昆明华图教育：昆明市学府路178号莲花宾馆斜对面

越早安装越好，任何时候安装都不算晚。有了这个操作系统，我们就能更从容地面对海量的信息，摆脱喧哗和浮躁，消除恐惧和焦虑，在令人眼花缭乱的世界里沉静下来，知道哪些是该选择的，哪些是可以忽略的，世界因此会变得更加真实和有意义。

下面这段文字最可能位于哪两段之间？

这时候，经典阅读的重要性就显现出来了。经典是什么？经典就是永不过时的东西，它是人类按照自己的根本利益共同选择下来的文明成果，是建立正确的价值观和人生观的文化基础。

A. ①与②之间 B. ②与③之间

C. ③与④之间 D. ④与⑤之间

答案：C

87. 根据这段文字，下列哪一作品最能在情感方面对读者产生直接影响？

A. 《诗经》 B. 《史记》

C. 《红楼梦》 D. 《哈姆雷特》

答案：A

88. 这篇文章针对的主要问题是：

A. 信息时代年轻人面临阅读内容选择的困境

B. 网络中的不良信息影响了年轻人的价值观

C. 年轻人的阅读时间被网络强大的娱乐功能所侵占

D. 奇特炫目的网络信息使年轻人对传统文化失去兴趣

答案：A

89. 下列哪项与这段文字表达的观点最接近？

A. 黑发不知勤学早，白首方悔读书迟（颜真卿）

B. 腹有诗书气自华，读书万卷始通神（苏轼）

C. 在读书上，数量并不列于首要，重要的是书的品质与所引起的思索的程度（富兰克林）

D. 经验丰富的人读书用两只眼睛，一只眼睛看到纸面上的话，另一只眼睛看到纸的背面（歌德）

答案：C

【课程咨询电话】0871-65521259

【地址】昆明华图教育：昆明市学府路178号莲花宾馆斜对面

90. 下列最适合做文章标题的是：

- A. 读书与做人 B. 阅读是一生的事业
C. 传统出版业路在何方 D. 网络时代更需经典阅读

答案：D

云南统考事业单位公开招聘 2016 年曲靖事业单位考试自然 科学专技类《职业能力倾向测验（C类）》试卷

（参考时限 90 分钟，满分 150 分）

说 明

这项测验共有 4 个部分，共 90 道小题，总分 150 分，时限 90 分钟。
请在答题卡上严格按照要求填写自己的姓名、报考部门，涂写准考证号。请仔

【课程咨询电话】0871-65521259

【地址】昆明华图教育：昆明市学府路 178 号莲花宾馆斜对面

细阅读下面的注意事项，这对你获得成功非常重要。

1. 题目应在答题卡上作答，不要在试题本上作任何记号。
2. 监考老师宣布考试开始时，你才可以开始答题。
3. 监考老师宣布考试结束时，你应立即放下铅笔，将试题本、答案卡和草稿纸留在桌上，然后离开。
4. 在这项测试中，可能有一些试题较难，因此你不要在每道题上思考时间太久，遇到不会答的题目，可先跳过去，如果有时间再去思考。否则，你可能没有时间完成后面的题目。
5. 试题答错不倒扣分。
6. 特别提醒你注意，涂写答案时一定要认准题号。

严禁折叠答题卡！

第一部分 常识判断

(共 20 题，参考时限 10 分钟)

根据题目要求，在四个选项中选出一个最恰当的答案。

请开始答题：

1. 我国目前仍是城乡发展不平衡的发展中国家，农业基础依然薄弱，农民增收的长效机制尚未真正建立起来，解决好“三农”问题任重道远，解决“三农”问题的根本途径是：
 - A. 工业反哺农业
 - B. 建设社会主义新农村
 - C. 城乡发展一体化
 - D. 建立农民增收的长效机制
2. 建设富强、民主、文明的社会主义现代化国家的政治保证是()
 - A. 四项基本原则
 - B. 党的领导
 - C. 邓小平理论
 - D. 团结全国各族人民
3. 在社会主义的发展动力问题上，强调()
 - A. 走自己的路
 - B. 坚持党的领导
 - C. 自力更生，艰苦奋斗

【课程咨询电话】0871-65521259

【地址】昆明华图教育：昆明市学府路 178 号莲花宾馆斜对面

D. 改革也是一场革命，也是解放生产力

4. 如果一国出现国际收支逆差，该国外汇供不应求，则该国本币兑外汇的汇率变动将表现为：

A. 不变

B. 上涨(本币贬值)

C. 下跌(本币升值)

D. 无法确定

5. 确定我国经济体制改革的目标，核心问题是正确认识和处理()

A. 经济体制经济制度的关系

B. 改革与发展的关系

C. 计划与市场的关系

D. 发展与稳定的关系

6. 负责全国政府信息公开工作的主管部门是()。

A. 中共中央宣传部

B. 国务院办公厅

C. 工业和信息化部

D. 国务院

7. 下列行为属于金融诈骗的是()。

A. 恶意透支信用卡

B. 倒卖船票、车票

C. 伪造、自制他人的注册商标

D. 非法出售增值税发票

8. 下列不属于具体行政行为的是()。

A. 医院开具《死亡医学证明》

B. 工商局吊销营业执照

C. 交警开具违章罚单

D. 民政局颁发《社团登记证书》

9. () 是我国第一部长篇历史章回小说。

【课程咨询电话】0871-65521259

【地址】昆明华图教育：昆明市学府路178号莲花宾馆斜对面

- A. 《水浒传》
- B. 《三国演义》
- C. 《红楼梦》
- D. 《三国志》
10. _____被人们称为“现代奥林匹克之父”，他是_____国人。
- A. 阿尔维尔 法
- B. 顾拜旦 英
- C. 阿尔维尔 美
- D. 顾拜旦 法
11. 下面的诗句中所描述的典故，发生时间最早的是（ ）。
- A. 东风不与周郎便，铜雀春深锁二乔
- B. 生当作人杰，死亦为鬼雄
- C. 只识弯弓射大雕
- D. 但使龙城飞将在，不教胡马度阴山
12. 下列不可能出现的天文现象是（ ）。
- A. 月全食
- B. 日全食
- C. 月环食
- D. 日环食
13. 下列生活方式不符合低碳经济要求的是（ ）。
- A. 建筑中使用中空玻璃
- B. 电冰箱中保持较多的霜
- C. 步行或骑自行车上班
- D. 使用太阳能热水器
14. 下列属于商业体育的是（ ）。
- A. 国际奥林匹克运动会
- B. 世界大学生运动会
- C. 英格兰足球超级联赛

【课程咨询电话】0871-65521259

【地址】昆明华图教育：昆明市学府路178号莲花宾馆斜对面

D. 世界乒乓球锦标赛

15. 下列关于我国国情的表述不正确的是（ ）。

A. 根据我国的区域协调发展战略，全国分成东部、西部、中部和南部四大经济区

B. 我国是世界上动植物种类最多的国家

C. 我国少数民族人口占全国总人口的8%左右

D. 我国大陆海岸长达1.8万公里.8万公里

16. 我国是一个统一的多民族国家，其中少数民族占全国人口的8%左右。请问下列少数民族中，人口最少的是（ ）。

A. 高山族

B. 苗族

C. 回族

D. 壮族

17. 太阳风暴是指太阳因能量增加而向空间释放出大量高速运行的（ ），它们可能对短波无线电信号的传播造成严重的影响。

A. 带电粒子流

B. 热气流

C. 电磁场

D. 陨石

18. 我国绝大部分地区所具有的大陆性气候特点的特征有（ ）。

A. 冬雨夏干，气温年较差大

B. 冬雨夏干，气温年较差小

C. 夏雨冬干，气温年较差大

D. 夏雨冬干，气温年较差小

19. 根据我国宪法的规定，下列机关中有权制定行政法规：

A. 全国人大

B. 全国人大常委会

C. 国务院

D. 国务院各部委

【课程咨询电话】0871-65521259

【地址】昆明华图教育：昆明市学府路178号莲花宾馆斜对面

20. 古代“子时”指的是（ ）。

- A. 晚上9点—晚上11点
- B. 晚上10点—晚上12点
- C. 晚上11点—凌晨1点
- D. 晚上12点—凌晨2点

第二部分 言语理解与表达

(共 30 题，参考时限 30 分钟)

本部分包括表达与理解两方面的内容。请根据题目要求，在四个选项中选出一个最恰当的答案。

请开始答案：

21. 从指纹、掌纹、静脉、虹膜、视网膜，面孔等这些基本上刻录在人类遗传中的信息，到人们的习惯所代表的行为特征，每个人都有些____的特征，都可用来验证身份。

- A. 独一无二
- B. 始终如一
- C. 一目了然
- D. 一成不变

22. 有智慧的人，一直以来都在享受每一秒，因为他们知道这一秒一旦过去就永不再来；愚痴的人，一直以来都在抱怨每一秒，总觉得这一秒不幸，下一秒才好！同样经历每分每秒，但____，天地悬隔。

- A. 泾渭分明
- B. 南辕北辙
- C. 毫厘之差
- D. 庸人自扰

23. 强硬的紧缩政策和严重的失业问题，导致意大利社会不满情绪日益_____。就在莱塔内阁在总统府宣誓就职时，总理府外上演了一起因对政府不满而引发的枪击案。作为欧元区第三大经济体，意大利若因政治局势不稳而_____债务危机再度恶化，将给欧元区乃至整个欧盟带来沉重打击。

【课程咨询电话】0871-65521259

【地址】昆明华图教育：昆明市学府路 178 号莲花宾馆斜对面

A. 累积 导致

B. 增加 造成

C. 集聚 致使

D. 高涨 促进

24. 只有把科学确立为社会的基本价值，才能使科学精神_____人们的精神血液中，_____到社会的制度规范中，_____在人们的日常生活中。

A. 渗入 落实 呈现

B. 融入 固化 体现

C. 流入 贯彻 表现

D. 溶入 凝固 展现

25. 近日媒体上有一条很吸引眼球的新闻：“美国科学家创造出史上第一个人造生命。”同时在媒体上_____的还有一些人文学者。他们有的对此推崇备至，认为它可与哥白尼、达尔文和爱因斯坦的发现媲美；有的则_____，认为为使人类健康和环境免受其害，应立即停止研究。奥巴马总统也紧急下令其生物伦理委员会_____这项研究的风险。

依次填入画横线部分最恰当的一项是（ ）。

A. 大肆渲染 惶惶不安 评价

B. 推波助澜 忧心忡忡 评估

C. 无所顾忌 提心吊胆 评论

D. 毫不在乎 若有所失 评判

26. 现阶段，东部、西部之间，城市、乡村之间，尚有很大差异。如果不顾实际情况，在_____“阶梯电价”时“一刀切”，看来确实值得_____。据了解，目前农村生活用电，大多不会超量。所以，“阶梯电价”在农村没有任何实质意义。在推行阶梯电价时强调城乡_____，实际上只是增加了中西部地区的“分母”，让这里的城市居民负担加重。

依次填入划横线部分最恰当的一项是（ ）。

A. 推行 商榷 一视同仁

B. 颁行 商量 相提并论

C. 实行 商讨 一概而论

D. 发行 商讨 厚此薄彼

【课程咨询电话】0871-65521259

【地址】昆明华图教育：昆明市学府路 178 号莲花宾馆斜对面

27. 从字面上看，登堂入室就是什么东西来到了厅堂、居室，多数人也都是这么认为和理解，许多报刊上就经常有这么用的，人们也_____，殊不知这是一个_____的错误。“过去很贵重、奢华的东西像大家电、汽车等如今登堂入室进入寻常百姓家。”这句话看起来没有什么问题，可实际上却犯了_____的错误，即错误地把“堂”、“室”当作了百姓家的“厅堂”和“居室”。

依次填入划横线部分最恰当的一项是（ ）。

- A. 习以为常 望文生义 张冠李戴
- B. 见怪不怪 由来已久 破绽百出
- C. 司空见惯 顾名思义 似是而非
- D. 将错就错 彻头彻尾 经验主义

28. 与原始人类相比，现在的人不需要再为了吃到肉而去奔跑几个小时。一个人身体的强壮程度在社会中也已经不显出突出的重要性，而聪明程度似乎更加影响一个人的生活质量和前程。许多人因而也开始十分重视_____他们的大脑。五花八门增进智商或是锻炼大脑的方法也就_____。

依次填入文段划线处最恰当的一项是（ ）。

- A. 锻炼 应运而生 B. 培养 呼之欲出
- C. 使用 浮出水面 D. 练习 脱颖而出

29. 成长才是人生永恒的主题。感受过程之美，是要在分分秒秒中感受自然的_____，感谢人生的慷慨。不应把一次的荣耀和成就当作人生关卡永远的通行证，也不能因为失意和挫败而_____。

依次填入划横线部分最恰当的一项是（ ）。

- A. 恩赐 裹足不前 B. 美妙 自怨自艾
- C. 馈赠 妄自菲薄 D. 伟大 踌躇不前

30. 作为国家话剧院“新现实主义”的经典剧目，《这是最后的斗争》在全国进行了六十余场巡演，所到之处均引发社会热议，广受追捧。该剧情节紧凑，曲折感人，能够迅速打动观众，大量取自现实生活的台词_____，幽默机智的对话令人_____。

依次填入划横线部分最恰当的一项是（ ）。

- A. 融会贯通 捧腹大笑 B. 发人深省 拍手称快

【课程咨询电话】0871-65521259

【地址】昆明华图教育：昆明市学府路178号莲花宾馆斜对面

- C. 合情合理 妙趣横生 D. 鞭辟入里 拍案叫绝

31. 提起意大利，人们立即会联想到这里曾是文艺复兴的诞生地。米开朗基罗、波提切利和十五、十六世纪其他艺术家们不仅改变了欧洲，也重塑了文化与艺术的表达方式。时至今日，我们的建筑、视觉艺术、文学甚至部分生活理念，在一定程度上仍然受到意大利文艺复兴时期在古典遗产基础上所创造的美学形式和思考方式的影响。

这段文字意在说明

- A. 古典文化遗产保护的必要性
- B. 意大利文艺复兴的重要影响
- C. 当代美学形式的历史渊源
- D. 意大利艺术家的主要成就

32. 美感有时类似于灵感，只有在特定状况下才能产生。当公式的推导终于成功，或是忽然看懂一种繁难的理论，那一刻的强烈感受不仅难以重现，也是不可转述的。晚唐的贾岛是有名的苦吟诗人，他和韩愈共同推敲“僧敲月下门”之句并结为忘年之交之事自古传为佳话。然而他还有两句诗更是苦吟了数年——“独行潭底影，数息树边身”，对于这两句诗他自称：“二句三年得，一吟双泪流。知音如不赏，归卧故山秋。”然而后世却有人认为此句稀松平常，“有何难吟”。这里自然也有文化底蕴的差别，但美感之难以传递也是极重要的原因，是以诗人自己也说“知音”方才能赏。

文中举贾岛的例子是为了说明：

- A. 欣赏诗词要有足够的文化底蕴
- B. 美感很难向他人传递
- C. 写诗就是在寻找灵感、创造美感
- D. 世上知音难觅

33. 最新研究表明，如果提高城市屋顶及道路面的反射能力，可能在成本极低的情况下降低地球大气温度。降低幅度虽然很小，但可被测量。在《环境研究报告》中有研究者表示，因为屋顶及道路占城市表面积的 60%以上，使用淡色材料能把平均反射率提高到一定程度，使得全球平均气温降低多达 0.07 摄氏度。

根据这段文字，下列理解正确的是：

- A. 新型材料能大幅降低室内温度

【课程咨询电话】0871-65521259

【地址】昆明华图教育：昆明市学府路 178 号莲花宾馆斜对面

- B. 城市路面占城市总面积的一半以上
- C. 人们在探索缓解全球变暖的新途径
- D. 深色材料的表面的反射能力强

34. 经媒体发掘而走向台前的众多“最美”事件表明：尽管当代中国社会在急剧的转型时期遭遇了道德价值层面的剧烈动荡与重构，但美德仍然流布于我们的现实生活中，流布于社会的各个角落。“最美”事件是平凡人的平凡作为，而正是这些平凡人的平凡作为，却极好的诠释了道德的实质，即人对自身生活的自主反思和自觉要求。它体现的是人的内在价值追求，而非被动地让自己的行为符合规范。这为当代中国社会的道德建设提供了有益的启示。

对这段文字的主旨概括最准确的是：

- A. “最美”出自平凡
- B. 崇尚美德永远不会过时
- C. 道德体现了人的内在价值追求
- D. “最美”事件带来的道德启示

35. 后视镜是重要的。坐在驾驶室里，不时瞥一下后视镜，可以看清已走过的路，可以看看后面有无危险。没有后视镜的驾驶过程让人心慌。但若只看后视镜，不看前方，更让人心慌，因为来自前面的冲撞，比来自后面的冲撞更猛烈，也更常见，何况前面的路正长。

下列各项与这段文字想要说明的意思最相近的是：

- A. 前事不忘，后事之师
- B. 历史是一面镜子
- C. 不忘过去，放眼未来
- D. 万事万物都有两面性

36. 18 世纪 20 年代发明的摄影机，112 年之后才成为工业产品；19 世纪 60 年代发明的无线电，花了 3 年时间，到 20 世纪初才付诸使用；而 20 世纪发明的电视只经过 12 年就被应用了，原子弹从设计到应用只花了 6 年时间，晶体管的发明到工业生产只有 3 年时间，激光器发明到应用只有不到 1 年的时间。

这段文字意在说明科技发明：

- A. 周期越来越短
- B. 水平越来越高

【课程咨询电话】0871-65521259

【地址】昆明华图教育：昆明市学府路 178 号莲花宾馆斜对面

C. 成果越来越多

D. 应用越来越快

37. 文化行业集密集型的人才、技术、知识与资本于一体，并具有鲜明的跨学科、跨专业、跨时空和跨文化特征，还将在未来的个人行为、社会生活和国家建设以及全球发展和人类食物中扮演着中心角色。1995 年的联合国教科文组织世界文化与发展委员会报告，提出文化是人类生存整体繁荣和发展的最终目标和归宿。可以说，文化的跨界特质及其重要性，对文化人才的高质量和规模化提出了根本的要求。

这段文字意在说明：

A. 文化行业在人类的社会生活中扮演着重要的角色

B. 文化人才要具备高质量和规模化

C. 文化是人类繁荣和发展的最终目标

D. 文化行业的特殊性和重要性

38. 艺术精英主义是艺术一以贯之的高雅姿态和自我意识，它强调艺术是艺术家内心经验的独特写照，具有独一无二的审美意义，消费大众的需要和欲望，一般不在它的考量视域里，而大众文化更愿意强调艺术如何在消费和接受中呈现意义，如若大众的需要和欲望发生变化，那么作为生产者的艺术家，就有必要生产出作为现代艺术普遍范式的新的大众文化产品。

这段文字意在说明（ ）

A. 自我意识是高雅艺术的灵魂

B. 艺术创造应与社会相连接

C. 艺术的发展同样受市场规律的影响

D. 艺术的本质在于其文化属性

39. 培根曾经说过：“知识就是力量。”而今在信息时代，人们可以说，信息就是力量，信息、传播信息的技术与基础设施、掌握和运用信息技术的能力，构成了全新的权力来源。遍布全球的网络基础设施、持续提升的网络传输速率、日趋完善的移动便携式互联网终端，以及高速扩张的建立在人际关系网络数字化基础上的新媒体运用，使得信息流高速、实时地实现着跨国运动。视频网站与社交网站的出现，又使得那些具有简单化、符号化、碎片化的信息流，更容易被传播、关注，也因此更容易得到响应。能够影响这种信息流动的行为体，

【课程咨询电话】0871-65521259

【地址】昆明华图教育：昆明市学府路 178 号莲花宾馆斜对面

其权力会得到增强，反之、则被削弱。

这段文字意在强调，网络信息技术与新媒体运用：

- A. 改变了现代信息传播的方式
- B. 扩大了人类获取知识的途径
- C. 推动了权力来源要素的重构
- D. 加剧了全球信息资源不均的情况

40. 罩甲是明代戎服的一种，对襟，用纽扣固定，无袖或短袖，左右两侧及后部开，衣身可缀甲片，也可纯用织物制作，底边通常缀有彩色的排穗。明代戏曲舞台上青少年武将多穿罩甲，并配上金束发冠，显得英俊威武。清之后戏曲中仍然沿用，分为排穗（须）甲与排须长马甲（坎肩）两种，与紫金冠配套。《红楼梦》里描写贾宝玉头戴束发紫金冠、身穿排穗褂子，就是将艺术造型移植了过来，体现了宝玉“将门公子”的身份。

关于罩甲，下列说法与原文相符的是：

- A. 多由青少年武将穿着
- B. 明代后期演变为戏曲服装
- C. 清代成为达官贵人的身份标识
- D. 最晚产生于明代

41. 微笑是人类表达感情的有效途径，神奇的是，如果对方是假笑，你回应以同样的微笑，你的前额脑区底部并不会变活跃，于是就会意识到对方的微笑有些不对劲，并且很快会断定，这人是在假笑，这说明，_____。

填入划横线部分最恰当的一句是：

- A. 人的前额脑区底部能控制人们的情感
- B. 人们在无意识状态下会受到对方情绪的控制
- C. 人们可以依靠本能判断对方情感真假
- D. 假笑很难达到理想的实际效果

42. 民族文化要有根基，精神文明的传承要有载体，而城市正是其集大成者，放眼世界，历史文化名城和现代国际大都市，座座堪称文化艺术宫殿、建筑博物馆，从民主城邦雅典到人文之城威尼斯，从时尚之都巴黎到音乐之城维也纳，独特的文化精神令城市历经千年，依然灿烂。

【课程咨询电话】0871-65521259

【地址】昆明华图教育：昆明市学府路178号莲花宾馆斜对面

文章接下来最可能讲：

- A. 各具文化特色的世界名城
- B. 要用文化精神来涵养和提升城市品位
- C. 城市建设和发展要彰显特色和魅力
- D. 民族文化是如何传承的

43. 市场经济本质是法制经济，市场和法制是同一硬币的两面，缺一不可。与计划经济时代不同，市场经济对资源的配置是通过竞争机制实现的，这就必须依循一套完善的规则，以实现通过市场这只“看不见的手”对经济进行调整。

这段文字主要说的是：

- A. 市场经济与计划经济的不同在于法制
- B. 市场经济的发展离不开法制与市场
- C. 市场竞争可以实现资源的合理配置
- D. 法治是市场经济良性发展的基本保障

44. 英国新经济基金会对世界 178 个国家的调查表明，新兴国家如中国，人们的幸福感反而要高于日、韩，更高于美国，当然，据荷兰伊拉斯谟大学和美国密歇根大学社会研究所的调查，自 1995 年的短暂上升后，中国人的幸福感也开始下滑。全球范围内的人们开始体认到这样一个事实，经济的增长并不等同于发展，因为后者还包含生态休闲、社会福利与公平正义等一系列指标；幸福也不仅指感官的快乐，因为它还关乎人对生命意义的积极体验和整体评价。

根据这段文字，以下说法正确的是

- A. 新兴国家对幸福感有着不同的理解
- B. 幸福感包含感官的快乐又与人对生命意义的认识有关
- C. 文化背景对国民幸福观的形成有重要的影响
- D. 幸福感与经济增长有密切的关系

45. 人类为了以后的安全或是不时之需而攒钱。但从整体来看，钱还是要花的。如今每个人都想攒钱，那么经济就无法正常运行了。_____①_____ 通过假设工作的人攒钱，退休的人花费积蓄，经济学解决的了这一问题，利率让这一问题达到了很好的平衡，_____②_____ 然而假设与现实大相径庭。一些人攒钱的欲望要比其他人强烈得多，这种人通

【课程咨询电话】0871-65521259

【地址】昆明华图教育：昆明市学府路 178 号莲花宾馆斜对面

常会集中在一个民族或一个国家，这些钱必须从这些民族或国家流动到其他民族或国家。

_____③_____否则，全球经济就无法正常运行。然而，如果资金从前者到后者的流动效率低下，那么危机就不可避免。_____④_____因为人总是本性难移，所以危机总在所难免。

“这种模式正常运行的条件是人事理性经纪人，管理其经济的制度都是相同的。”

这句话在文中最合适的位置是：

- A. ②
- B. ③
- C. ④
- D. ①

46. 在讨论留守儿童问题时，有些学者将其归咎于个体和家庭层面的因素，强调亲子分离，但无论是历史上的走西口、闯关东之类的人口国内迁移，还是下南洋形成的人口海外迁移，都曾产生大量留守儿童。明清时期，徽州商人大量外出经商，其家乡也存在大量留守儿童。而由城市化产生的留守儿童，在近代的浙北、苏北等地也早就初具规模。为什么 20 世纪 90 年代以后，留守儿童问题成为一个公共议题呢？这不仅因为其规模日益庞大，更因为乡村社会发生嬗变，从根本上改变了乡村的育人环境。在通往现代化、城市化的路途中，乡村社会完全处于劣势和被动地位，乡村文化衰落了。

对这段文字的主旨概括最准确的是()

- A. 中国乡村城市化对乡村文化的破坏是毁灭性的
- B. 乡村社会的衰落是产生留守儿童问题的主要原因
- C. 探讨留守儿童问题不能仅从个体和家庭层面找原因
- D. 历史上有留守儿童却并未产生问题

47. 无论是一个民族还是一个国家，它的文化永远不可能是静止的，而是每时每刻都在发生着变化。这种变化有时很慢，几乎让人感觉不到；但在我们这个时代，任何事情都在飞速发展，全世界的文化也正经历着快速而巨大的转变。在这样的时刻，我们面临的最重大问题仍然是：地区或国家的个性和特征是否能抵得住全球化、现代化的侵蚀？回答可以是两种：能或者不能。有的文化可能会被削弱甚至被同化，但是如果我们对这个问题保持警惕，就会减少文化的变化进而得以保存下来。

【课程咨询电话】0871-65521259

【地址】昆明华图教育：昆明市学府路 178 号莲花宾馆斜对面

根据这段文字，作者认为：

- A. 变化中的文化应该保持自己的个性
- B. 文化应该跟随世界的脚步快速转变
- C. 文化转变的趋势是不可逆转的
- D. 全球化的侵蚀使文化同化越来越严重

48. 随着科技的发展、物质的丰富，如今的娱乐形式越来越缤纷多样，如电视剧、流行音乐、网络等。它们在给人快乐、满足人的欲望方面，更加快捷方便，也有着更大的刺激性和吸引力，比诗歌有着强得多的优势，人天生是寻求快乐的动物，既然有更好的娱乐方式，可以使人迅速消除烦恼，得到快感和精神享受，那么何必还要阅读诗歌？只有一些俗世高人，他们在空暇之日或夜阑人静时，或许会悄悄打开诗集，去聆听诗人梦幻般的自言自语，分享诗人心灵的孤独。

这段文字意在说明：

- A. 快捷多元的娱乐方式导致了诗歌的衰落
- B. 如今只有少数俗世高人能够理解诗人心灵的孤独
- C. 诗歌应与时俱进，积极寻求走出困境的方式
- D. 诗歌不再是能给人带来快感和精神享受的文学样式

49. ①没有甘油，只要到市面上买瓶润肤乳液就行，它的主要成分就含有甘油

②那些节俭或喜欢动手享受家庭乐趣的朋友，可以自己动手制作家庭洗手液

③但是自制洗手液由于包装和密封条件不足，最好不要使用容易变质的牛奶或蜂蜜

④其次是加入甘油。甘油不要超过 2%，以免杀菌成分的最终浓度失衡，使杀菌力下降

⑤为适合个人喜好，还可适当加入一些美容成分，比如芦荟原汁、橄榄油等

⑥家庭洗手液主要成分是药用酒精，做法是将酒精与冷开水以 3:1 的比例调成 75% 的最终浓度

将以上 6 个句子重新排列，语序正确的是：

- A. ⑥②③⑤④①
- B. ②③⑤⑥④①
- C. ②⑥④①⑤③
- D. ⑥⑤③④①②

【课程咨询电话】0871-65521259

【地址】昆明华图教育：昆明市学府路 178 号莲花宾馆斜对面

50. 周期性经济危机发生时，往往也是生产要素重新组合的时候，个人应该利用这一时期提高自身就业能力，参加那些适合自己的培训项目，给自己补课——补就业技能、创业能力和一般性素质。通常，在一次危机之后，会迎来一个经济繁荣时期。这个新的经济繁荣是在产业结构升级的基础上形成的，因而对劳动力素质的要求会大幅度提高。谁在劳动力市场低谷时期积攒了就业能力，谁在随后的繁荣时期就能抓住机遇。这段文字的主旨概括最准确的是：

- A. 加快提升劳动者素质是摆脱经济危机的手段
- B. 劳动者不应对经济低迷时期的就业市场丧失信心
- C. 产业结构升级促使劳动者提高自身素质
- D. 经济危机时期也可以是个人提升能力的好时机

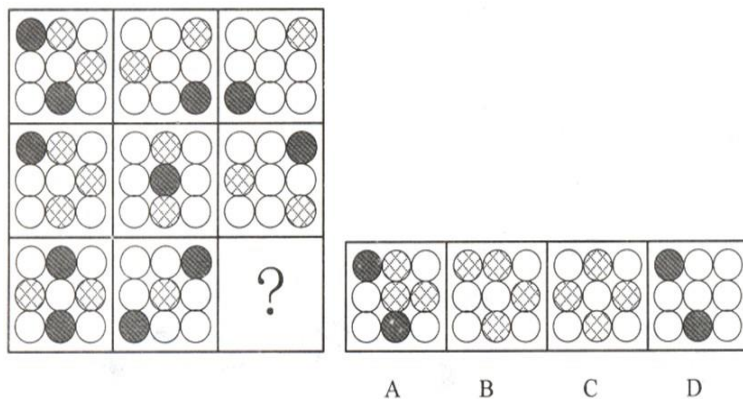
第三部分 判断推理

(共 35 题，参考时限 40 分钟)

一、图形推理。请按每道题的答题要求作答。

请开始答题：


51. 从所给的四个选项中，选择最合适的一个填入问号处，使之呈现一定的规律性。



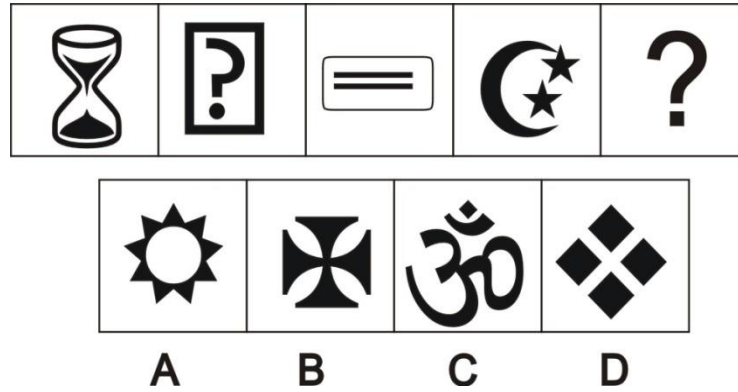
52. 从所给的四个选项中，选择最合适的一个填入问号处，使之呈现一定的规律性。

【课程咨询电话】0871-65521259

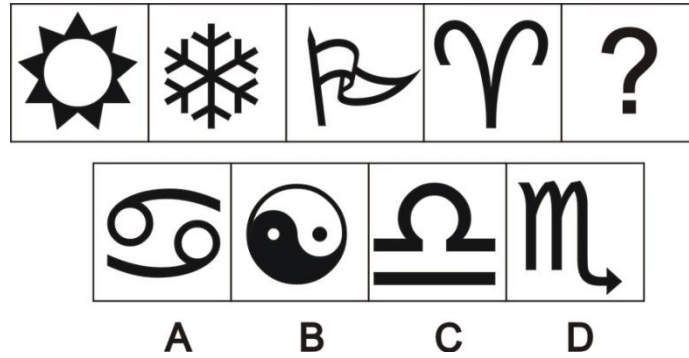
【地址】昆明华图教育：昆明市学府路 178 号莲花宾馆斜对面



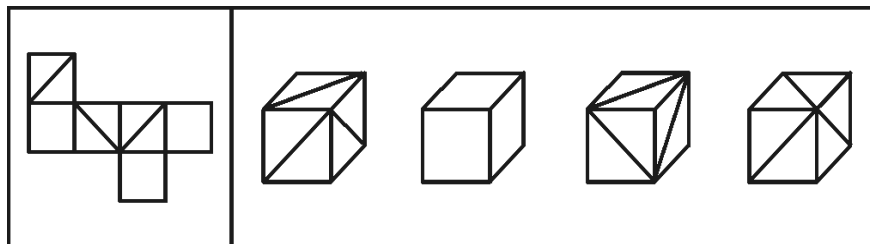
53. 从所给的四个选项中，选择最合适的一个填入问号处，使之呈现一定的规律性。



54. 从所给的四个选项中，选择最合适的一个填入问号处，使之呈现一定的规律性。



55. 左边给定的是纸盒的外表面，下面哪一项能由它折叠而成？



【课程咨询电话】0871-65521259

【地址】昆明华图教育：昆明市学府路 178 号莲花宾馆斜对面

A B C D

二、定义判断。每道题先给出定义，然后列出四种情况，要求你严格依据定义从中选出一个最符合或最不符合定义的答案。注意：假设这个定义是正确的，不容置疑的。

请开始答题：

56. 资源整合：市场主体为实现特定目的，将各种资源进行优化配置，综合利用，使之发挥良好效益的一系列措施办法。

以下不属于资源融合的是（ ）。

- A. 李大妈将沿街房屋改造装修，邻居王老伯出资，合伙开办了一家便民超市
- B. 某纺织厂与房地产公司商定，将市区厂房整体拆除，新建住宅小区，组建物业公司，安置本厂员工转岗就业
- C. 某煤矿出资，当地村民出力，将塌陷区改造成水上游乐园
- D. 某企业将闲置设备和库存物资销售，所得资金购买股票，收益不菲

57. 柔性管理：组织以人为中心，灵活运用各种管理方法，通过影响人的心理，产生良好的管理效果。

以下属于柔性管理的是（ ）。

- A. 张莉 7 岁的孩子感冒发烧，家中无人照看，只好带着上班，领导让她调休，送孩子去医院
- B. 某机关组团出国学习考察，顺道去迪斯尼乐园游玩了一天，有关领导特批报销费用
- C. 办公室主任负责考勤，无论谁迟到，考勤记录均为合格，同事关系相处很好
- D. 新员工小王试用期培训考试不合格，车间主任考虑她是副总的亲戚，破例让她转正上岗

58. 比马龙效应是指评价主体低估被评价者能力，认定被评价者是不求上进的、行为差劲的，以致被评价者将这种观念内化，促使被评价者表现不良行为。

根据上述定义，以下哪项属于比马龙效应？（ ）

- A. 上高中的小明喜欢研究编程语言，被父母批评为不务正业
- B. 小李期末考试成绩不佳，班主任老师说他不求上进
- C. 班主任老师认为小王做题不求甚解，多次批评，小王成绩越来越差

【课程咨询电话】0871-65521259

【地址】昆明华图教育：昆明市学府路 178 号莲花宾馆斜对面

D. 经理多次批评新入职的小赵做事不认真，月底总结的时候又批评了一次

59. 表达自由权：是指个人将其内在精神活动的结果或精神生活的方式。以语言，文字图书，肢体动作或者其他任何方法表达于外，而使他人或社会得以知悉其内心意念的权力。

根据上述定义，下列选项属于表达自由权的是（ ）。

- A. 某公司职员要求参加岗位培训
- B. 某作家在报纸上发表连载小说
- C. 某受害人要求侵权人赔偿经济损失
- D. 某房申请改建许可

60. 内心信念：是指人们在自我良心的审视下，对自身的行为及其动机进行善恶判断的一种精神力量，是道德评价的一种重要方式。

根据上述定义，下列选项属内心信念的是（ ）。

- A. 问心无愧
- B. 某精神病患者扬言要杀人
- C. 某幼儿拿了妈妈的钱
- D. 某人误闯入他人家门

61. 环境承载力是生态系统在维持生命机体的再生能力、适应能力和更新能力的前提下，承受有机体数量的限度。

根据上述定义，下列不属于保护环境承载力措施的是（ ）。

- A. 政府规定每平方公里草场放牧的牲畜数量
- B. 某地政府出资修缮年久失修的道路，并规定载重超过 20 吨的车辆禁止通行
- C. 为防止外人随意游牧，政府将草场划分给牧民个人并在边界安装围栏
- D. 某风景旅游区规定，每天进入景区的旅游人数不得超过 1000 人

62. 从法律规则形式特征上看，可分为规范性规则和标准性规则。规范性规则指规则的内容明确、肯定和具体，且可直接适用的规则；标准性规则则指法律规则的部分内容或全部内容（事实状态、权利、义务、后果等）具有一定伸缩性，须经解释方可使用且可适当裁量的规则。

根据上述定义，下列属于规范性规则的是（ ）。

- A. “早六点至晚六点间本街道禁止通车”
- B. “每一选民在一次选举中只有一个投票权”
- C. “民事活动应当尊重社会公德，不得损害社会公共利益”

【课程咨询电话】0871-65521259

【地址】昆明华图教育：昆明市学府路 178 号莲花宾馆斜对面

D. “行政机关作出责令停产停业、吊销许可证或者执照、较大数额罚款等行政处罚决定之前，应当告知当事人有要求举行听证的权利”

63. 财产处分行为是指直接发生财产权转移或消灭效果的行为。财产处分行为的结果是使权利的移转，权利内容的缩小或改变，权利上设定负担以及权利消灭等。

根据上述定义，下述行为中不属于财产处分行为的是（ ）。

A. 为担保一笔债务，甲公司将自己所有的房产抵押。抵押行为使甲公司对该房产的所有权受到限制

B. 乙抛弃自己的电视机。抛弃行为使乙对该电视机的所有权消灭

C. 丙与丁订立合同，出卖丙的家传古画，并约定 7 日后丙交付古画。合同行为使丙负担着 7 日后移转古画所有权的义务

D. 丁免除丙的金钱债务。免除行为使丙不必履行偿还金钱的义务

64. 立体农业是指农作物复合群体在时空上的充分利用。根据不同作物的不同特性，如高秆与矮秆、富光与耐荫、早熟与晚熟、深根与浅根、豆科与禾本科，利用它们在生长过程中的时空差，合理地实行科学的间种、套种、混种、轮种等配套种植，形成多种作物、多层次、多时序的立体交叉种植结构。

根据上述定义，下列属于立体农业的是（ ）。

A. 丙在南方某地区承包了十亩稻田，特意引种了高产的水稻新品种

B. 乙在自己承包的鱼塘不但养鱼，还种植了很多莲藕

C. 甲在自己的玉米地里种植大豆

D. 丁前年承包了一座山，他在山上种植了大量苹果树，并在山上养殖了大量蜜蜂

65. 统一指挥原则是指在正式组织里，无论什么时候，一个下属都应该接受而且只应接受一个上级的命令并向这个上级汇报自己的工作。

根据上述定义，下列选项违背了统一指挥原则的是（ ）。

A. 总经理把产品销售的责任委派给一位分管市场经营的副总经理，由其负责所在地区的经销办事处，同时总经理又要求各地区经销办事处的经理们直接向总会计师汇报每天的销售数量

B. 主任科员小张在省级政府部门工作，发现他的直接上司有索贿受贿的行为，于是就向省纪委举报其上司的违法行为

【课程咨询电话】0871-65521259

【地址】昆明华图教育：昆明市学府路 178 号莲花宾馆斜对面

C. 王大夫是某医院的外科医生，同时也是医院工会会员。有一天，王大夫接到手术安排的同时也接到了工会主席要求参加一项活动的通知，小王在向直接上司请假后参加了工会的活动

D. 某商业集团公司的刘总到公司下属某商场暗访，现场发现一些员工违反公司制度的行为，刘总并没有现场责令员工改进，而是将问题反映给了商场经理

三、类比推理。每道题先给出一组相关的词，要求你在备选答案中找出一组与之在逻辑关系上最为贴近、相似或匹配的词。

请开始答题：

66. 万水：千山

A. 四通：八达

B. 乱七：八糟

C. 五湖：四海

D. 七上：八下

67. 长城：中国：古迹

A. 开发商：银行：金融

B. 教室：学生：专家

C. 茶杯：茶壶：茶叶

D. 大脑：人体：器官

68. 秋天：季节

A. 中国人：外国人

B. 名人：英雄

C. 将军：职业

D. 节约：品德

69. 混凝土：建筑

A. 高粱米：酿酒

B. 燕窝：浸淀

C. 紫金山：天文台

D. 公务员：管理

70. 高尚：卑鄙：德行

A. 谦虚：骄傲：品质

B. 伟大：自豪：美德

C. 平凡：平庸：才华

D. 有才：有德：人才

71. 反腐：倡廉

A. 斗志：昂扬

B. 政通：人和

C. 艰苦：奋斗

D. 声东：击西

72. 学生：青年

【课程咨询电话】0871-65521259

【地址】昆明华图教育：昆明市学府路178号莲花宾馆斜对面

77. 据研究，出生时间对犯罪活动有影响。年底出生的人常犯某类罪，年中出生的人常犯某类罪。既然人的出生时间不由自己选择，犯罪人也不应当为自己所犯的罪承担责任。

以下选项如果为真，能够最有力地反驳上述推论的是（ ）。

- A. 所有的人都仅应当为自己能够控制的行为承担责任
- B. 出生时间对人的行为倾向有影响，但是否执行这一行为，却是个人选择的结果
- C. 并不是所有在同一个时间段出生的人都会犯同一种类型的罪
- D. 除出生时间外，家庭和学校教育、社会环境等都会对个人的行为选择产生影响

78. 如果有人出生于 60 年代，那么他肯定读过《毛主席语录》。李同读过《毛主席语录》，则（ ）。

- A. 李同一定出生于 60 年代
- B. 李同不可能出生在 70 年代
- C. 李同可能出生于 90 年代
- D. 李同可能出生于任何年代

79. 甲、乙、丙均为教师，其中一位是大学教师，一位是中学教师，一位是小学教师。并且大学教师比甲的学历高，乙的学历与小学教师不同，小学教师的学历比丙的低。

由此可以推出（ ）。

- A. 甲是小学教师，乙是中学教师，丙是大学教师
- B. 甲是中学教师，乙是小学教师，丙是大学教师
- C. 甲是大学教师，乙是小学教师，丙是中学教师
- D. 甲是大学教师，乙是中学教师，丙是小学教师

80. 高脂肪、高糖含量的食物有害人的健康。因此，既然越来越多的国家明令禁止未成年人吸烟和喝含酒精的饮料，那么，为什么不能用同样的方法对待那些有害健康的食品呢？应该明令禁止 18 岁以下的人食用高脂肪、高糖食品。

以下哪项如果为真，最能削弱上述建议？（ ）

- A. 许多国家已经把未成年人的标准定在 16 岁以下
- B. 烟、酒对人体的危害比高脂肪、高糖食物的危害要大
- C. 禁止有害健康的食品的生产，要比禁止有害健康的食品的食用更有效

【课程咨询电话】0871-65521259

【地址】昆明华图教育：昆明市学府路 178 号莲花宾馆斜对面

D. 高脂肪、高糖食品主要危害中年人的健康

81. 黄某说张某胖，张某说范某胖，范某和覃某都说自己不胖。如果四人陈述只有一个错，那么谁一定胖？（ ） ■

- A. 仅黄某 B. 仅张某 ■
C. 仅范某 D. 仅张某和范某 ■

82. 有人说：“只有肯花大价钱的足球俱乐部才进得了中超足球联赛。”

如果以上判断是真的，可能出现的情况是（ ）。

- ①某足球俱乐部花了大价钱，没有进中超
②某足球俱乐部没有花大价钱，进了中超
③某足球俱乐部没有花大价钱，没有进中超
④某足球俱乐部花了大价钱，进了中超

- A. ④ B. ①②③
C. ③④ D. ①③④

83. 近年来，生物燃料需要迅速增加。2000 年至 2007 年全球乙醇产量增长了两倍，到 2017 年其产量还会再翻一番，生物柴油的产量 10 年内也将增长一倍多。这些生物燃料是由玉米等谷物、糖类和油料作物生产的，因此其产量的扩大必然导致相关农作物价格的飙升。

如果上述观点正确，可能推出（ ）。

- A. 农产品价格上涨将导致生物燃料产量降低
B. 如果农产品价格下降则说明生物燃料产量没有提高
C. 如果生物燃料产量下降则说明农产品的价格提高
D. 乙醇等生物燃料产量增加是受农产品价格过低的影响

84. 5000 年来，长江流域的气候变迁幅度小于黄河流域，雨量充沛，植被恢复能力也比北方强。每次严寒袭来，北方遭受的破坏要远大于南方，因此，中国经济中心就由北方移向南方。

最能反驳这一论述的是（ ）。

- A. 自然环境并不是经济发展的主要因素
B. 并非纬度越高气候变迁的幅度越大
C. 北方并非年年遭遇严寒冬季

【课程咨询电话】0871-65521259

【地址】昆明华图教育：昆明市学府路 178 号莲花宾馆斜对面

D. 长江流域降雨并非总多于黄河流域

85. 美国俄克拉荷马州立大学教授迈克尔·卡斯帕里说，此前进行的一份调查显示，全球变暖可使蚂蚁发生变异，其身长将是变异前的三分之一。他警告说：体形变小的蚂蚁繁殖更快，更容易向外扩张它们的领地，因此在全球变暖的情况下，蚂蚁数量会剧增。

由此可以推出（ ）。

- A. 蚂蚁的繁殖与遗传和气温关系密切
- B. 小蚂蚁个体更适应气温高的环境
- C. 全球变暖会使大蚂蚁的数量变少
- D. 如果全球气温不再升高，蚂蚁的数量就不会增加

第四部分 综合分析

(共 15 题，参考时限 15 分钟)

综合分析主要测查应试人员运用自然科学的基本思想和方法分析解决问题的能力。主要包括对事物性质、关系、规律的量化、分析、归纳，找出解决问题的思路方法，选择解决问题的最优途径等。

86. 一名地质人员在勘测一块丘陵地带的海拔高度时，将每块 1×1 的面积的平均海拔高度记录下来，勘测完一块 $n \times k$ 的丘陵地带后得到了如下结果：

，现在地质人员在该丘陵地带中的随机一个位置，他每次都会在东南西北方向中选择一个海拔低于所在区域的任意一个区域进行移动，直至他不能移动为止。

以下说法中，正确的是：

- A. 该地质人员不存在遍历所有区域的可能
- B. 该地质人员无法移动时，其所处位置一定位于丘陵地带的边界
- C. 为使该地质人员所能遍历的区域最多，他每次一定会选择海拔降低幅度最小的区域进行移动
- D. 该地质人员如从 A 区域出发能经过的最大区域数，一定大于等于从 A 区域出发任一条路径途中任意区域出发所经过的最大区域数

87. 根据以下资料回答问题：

一个项目包含甲、乙、丙三个大的流程，其中甲流程包含 A、B、C 三项工作，乙流程包

【课程咨询电话】0871-65521259

【地址】昆明华图教育：昆明市学府路 178 号莲花宾馆斜对面

含 D、E、F、G 四项工作，丙流程包含 H、I、J 三项工作。每项工作所需人天数如下：

甲			乙				丙		
A	B	C	D	E	F	G	H	I	J
6	4	8	4	5	8	9	8	10	4

同时完成上述项目须满足以下条件：

条件 1：参与某项工作的人必须全程参与该项工作，且一个人在一天内只能参与一项工作。

条件 2：多项工作可以同时进行，但是乙流程必须在 A、B、C 全部完成后开始；丙流程必须在 D、E、F 和 G 四项中至少三项完成后开始。

88. 如果每项工作只能由一个人独立完成，完成整个项目最少需要多少天？

A. 25 B. 26 C. 27 D. 28

89. 如果单位安排 3 个人承担此项目，为使项目能最快完成，问乙流程中哪项工作应最后完成？

A. 工作 D B. 工作 E

C. 工作 F D. 工作 G

根据以下资料回答问题：

实验名称：绿叶在光下制造有机物实验

实验目的与要求：

1. 检验绿叶在光下制造的有机物是不是淀粉。
2. 探究光照是不是制造有机物不可或缺的条件。

实验步骤：

①把天竺葵叶片放在盛有酒精的小烧杯中，隔水加热，使叶片含有的叶绿素溶解到酒精中；

②把天竺葵放在阳光下照射；

③用黑纸片把天竺葵的上下两面遮盖起来；

④把天竺葵放在黑暗处一昼夜；

⑤把部分遮光的叶片摘下，去掉遮光的黑纸片；

⑥用清水漂洗叶片，再把叶片放到培养皿中，向叶片滴加碘酒。

【课程咨询电话】0871-65521259

【地址】昆明华图教育：昆明市学府路 178 号莲花宾馆斜对面

90. 材料中的实验步骤顺序是错误的，其正确的顺序应为：

A. ④②③①⑤⑥ B. ④③②⑤①⑥

C. ②③④⑤①⑥ D. ②④③⑤⑥①

91. 要想通过实验现象得出“绿叶在光照下产生淀粉”这一结论，需要基于以下哪一假设？

A. 淀粉与碘酒混合前后有明显的现象发生

B. 叶片中的叶绿素溶解在酒精中时有明显的现象发生

C. 遮盖叶片的黑纸片完全不透光

D. 实验所处环境温度和湿度保持基本恒定

云南统考事业单位公开招聘 2016 年曲靖事业单位考试自然科学专技类《职业能力倾向测验（C 类）》解析

第一部分 常识判断答案及解析

1【解析】 党的十八大报告明确提出，解决好农业农村农民问题是全党工作重中之重，城乡发展一体化是解决“三农”问题的根本途径。党的十八大报告还进一步明确指出了推动城乡发展一体化的基本方向和着力重点，这就是：加大统筹城乡发展力度，增强农村发展活力，逐步缩小城乡差距，促进城乡共同繁荣；坚持工业反哺农业、城市支持农村和多予少取放活方针，加大强农惠农富农政策力度，让广大农民平等参与现代化进程、共同分享现代化成果；所以，本题选 C。

2【解析】 邓小平同志在 70 年代末 80 年代初就提出，我们搞现代化建设，必须有政治保证。政治保证最重要的就是坚持四项基本原则。没有这个政治保证，经济建设和改革开放都不可能成功。故选 A。

3【解析】 邓小平理论指出，在社会主义的发展动力问题上，强调改革也是一场革命，也是解放生产力，是中国现代化的必由之路，僵化停滞是没有出路的。故本题选 D

4【解析】 如果一国出现国际收支逆差，该国外汇供不应求，外币升值，而本币贬值。本币兑外汇的汇率将上涨。故本题选 B。

5【解析】 确定我国经济体制改革目标的核心问题，是正确认识和处理计划与市场的关系。 故本题选 C。

6【解析】 《中华人民共和国政府信息公开条例》第三条：“国务院办公厅是全国政府信息公开工作的主管部门，负责推进、指导、协调、监督全国的政府信息公开工作。”因此，本题选择 B 选项

7【解析】 《刑法》第三章第五节“金融诈骗罪”共包括 8 个具体金融诈骗犯罪：集资诈骗罪、贷款诈骗罪、票据诈骗罪、金融凭证诈骗罪、信用证诈骗罪、信用卡诈骗罪、有价证券诈骗、保险诈骗（分别见《刑法》第 192-198 条）。A 选项，“恶意透支”属于信用卡诈骗犯罪行为，因此属于金融诈骗。B 选项，“倒卖车票、船票”见《刑法》第 227 条，属于扰乱市场秩序罪。C 选项，“伪造、自制他人的注册商标”见《刑法》第 215 条，属于“非法制造、销售非法制造的注册商标标识罪”，因此属于侵犯知识产

【课程咨询电话】0871-65521259

【地址】昆明华图教育：昆明市学府路 178 号莲花宾馆斜对面

权罪。D 选项，“非法出售增值税发票”见《刑法》第 207 条，属于危害税收征管罪。因此，本题选择 A 选项。

8 【解析】具体行政行为包括三个构成要件：第一是主体要件：具体行政行为的主体必须是合法存在的行政主体，包括国家行政机关，法律、法规、规章授权的组织，行政机关委托的组织。第二是功能要件：即具体行政行为能强制性地直接导致行政法律关系的产生、变更和消灭。第三是客观要件：即行政主体客观上实施了运用行政职权或职责的行为。医院不是行政机关，也不是法律、法规、规章授权的组织、行政机关委托的组织，不具主体要件；《死亡医学证明》是医院在执业范围内从事诊疗活动中出具的依据自然科学知识，从医学角度说明居民死亡及其原因的医学证明文件，开具《死亡医学证明》的行为不能强制性地直接导致行政法律关系的产生、变更和消灭，所以不具功能要件；医院开具《死亡医学证明》是居于执业权利，即医疗权利而出具的，并非居于行政职权或职责，该证明不具客观要件。综上，医院开具《死亡医学证明》不是具体行政行为。B、C 和 D 三个选项都满足具体行政行为的三个构成要件，因而是具体行政行为。因此，本题选择 A 选项。

9. 【解析】：本题考查文学常识。章回小说是长篇小说的一种，是我国古典小说的主要形式，其特点是分回标目，段落整齐，首尾完整。章回小说是由宋元讲史话本发展而来。

《三国演义》全称《三国志通俗演义》，是我国第一部长篇章回小说，也是历史演义小说的开山之作。因此，本题正确答案为 B 项。

10. 【解析】：本题考查世界史。皮埃尔·德·顾拜旦（Pierre De Coubertin）1863 年 1 月 1 日出生于法国巴黎的一个贵族家庭，1896 年至 1925 年任国际奥委会主席，他终生倡导奥林匹克精神，被誉为“现代奥林匹克之父”。因此本题选 D。

11. 【解析】：本题考查文学中国古代史。A 项出自杜牧的《赤壁》，指的是三国时期赤壁之战周瑜以少胜多的历史事件。B 项出自李清照的《夏日绝句》，最后两句是“至今思项羽，不肯过江东。”指的是秦末楚汉战争时期项羽自刎乌江的历史事件。C 项出自毛泽东《沁园春·雪》，全句是“一代天骄成吉思汗，只识弯弓射大雕。”成吉思汗是蒙古人，元代开国皇帝忽必烈的祖父。D 项出自王昌龄《出塞》，龙城飞将军是汉武帝时期的李广。按照时间排序，应当是“项羽—李广—周瑜—成吉思汗”。因此本题选 B。

12. 【解析】地球位于太阳和月球之间，且这三个天体基本上在同一直线上时，会发生

【课程咨询电话】0871-65521259

【地址】昆明华图教育：昆明市学府路 178 号莲花宾馆斜对面

月食。而地球的直径是月球的 4 倍，即使在月球轨道上，地球的本影直径仍为月球的 2.5 倍，远大于月球，挡住了阳光，因此绝不可能形成月环食。因此，本题选择 C 选项

13. 【解析】低碳经济是以低能耗、低排放、低污染为基本特征的低碳产业、低碳技术、低碳应用、低碳消费等经济形态的总称。B 选项：霜是固体，且导热性较强。霜附着在冰箱内壁，容易将外部热量导入，而且霜融化也会释放热量。这两种情况都会导致冰箱制冷效果不良，进而增加冰箱耗电量，不符合低碳经济要求。A 选项：中空玻璃由美国人于 1865 年发明，是一种良好的隔热、隔音、美观适用、并可降低建筑物自重的新型建筑材料。建筑能耗中的一半以上是通过门窗所流失的，而中空玻璃能通过限制门窗的传热系数，以此降低建筑能耗。C 选项：步行或骑自行车上班，可以减少机动车尾气排放，符合低碳经济要求；D 选项：太阳能热水器是以太阳能作为能源进行加热的热水器。太阳能是最清洁的能源之一，符合低碳经济要求。因此，本题选择 B 选项

14. 【解析】解析商业体育是指以竞技体育为主体的各类体育运动，采取商业化的运作方式，以获取最大利润作为推动和发展体育运动的杆杆。英格兰足球超级联赛是英格兰足总属下的职业足球联赛，由超级联盟负责具体运作。而 A、B、D 三项都是非营利性质的公共体育活动，因此，本题选择 C 选项

15. 【解析】：本题考查地理国情。我国的区域协调发展战略把全国分为东部、西部、中部和东北部。我国各个区域的发展都存在不同的症状，东部东区是“膨胀症”、西部地区是“落后症”、东北地区是“萧条症”。这三个地区的症状在中部地区都有体现，可以概括为“综合症”。治疗中部地区的“综合症”是解决其他区域问题的最好试验，A 项说法错误。中国有动物 10.45 万种，仅脊椎动物达 4400 多种，占世界种类总数的 10% 以上。其中，两栖类 210 种，爬行类 320 种，鸟类 1186 种，兽类 500 多种，鱼类 2200 种。中国特有或主要分布在中国的珍稀动物达 100 多种。中国有高等植物 32800 种，占世界总数的 12%，居世界第三位。我国是世界野生动植物种类最多的国家之一。B 项说法也不是很准确。中国共有 56 个民族，“少数民族”是对汉族以外的人口居少数的民族的总称，目前中国少数民族共有 55 个。2000 年第五次人口普查表明，少数民族人口为 10449 万人，占全国总人口的 8.41%（2010 年 11 月第六次人口普查结果为 8.49%），C 项说法正确。中国海岸线总长度 3.2 万公里，其中大陆海岸线 1.8 万公里，岛屿海岸线 1.4 万公里。D 项说法正确。本题最佳答案为 A 项。

【课程咨询电话】0871-65521259

【地址】昆明华图教育：昆明市学府路 178 号莲花宾馆斜对面

16.【解析】：本题考查地理国情。据 2000 年第五次全国人口普查统计，壮族约 1600 万人口，回族约 1000 万人口，苗族约 900 万人口，高山族的人口在约 40 万，因此 A 选项正确

17.【解析】：本题考查地理国情。太阳风暴指太阳在黑子活动高峰阶段产生的剧烈爆发活动。爆发时释放大量带电粒子所形成的高速粒子流，严重影响地球的空间环境，破坏臭氧层，干扰无线通信，对人体健康也有一定的危害。因此，本题选择 A 选项。

18.【解析】：地理国情。我国大陆性气候显著，在大陆性气候条件下，太阳辐射和地面辐射都很大。所以夏季温度很高，气压很低，非常炎热，且湿度较大；冬季受冷高压控制，温度很低，也很干燥。冬冷夏热，气温年变化很大。另，夏季太阳辐射强，地面加热迅速，气温急剧上升，对流上升运动增强，云量增多，常有积雨云，并伴随阵风和大风，使整个夏季雨水相对较多，湿度增大；冬季干燥，晴朗，地面辐射极强，地面冷却很快，多日照，少云量和降水。因此，本题正确答案为 C 项。

19.【解析】根据《宪法》第 89 条：“国务院行使下列职权：（一）根据宪法和法律，规定行政措施，制定行政法规，发布决定和命令……”所以选择 C 选项

20.【解析】：本题考查中国传统文化。中国古代用“十二地支”计时。十二地支按顺序分别是子、丑、寅、卯、辰、巳、午、未、申、酉、戌、亥，这样一天共分十二个时辰，每个时辰合两小时。其中子时是指晚上 11 时至凌晨 1 时，丑时是指凌晨 1 时至 3 时，其余依此类推。因此，本题答案为 C 选项。

第二部分 言语理解与表达答案及解析

21. 正确答案是 A

遗传信息到行为特征，可以用来验证身份，说明是独有的，只有 A 项，独一无二符合题意。

释义

独一无二指没有相同的或没有可以相比的。

始终如一：自始至终一个样子，指能坚持，不间断。

一目了然：形容事物、事情原委很清晰，一看就知道是怎么回事。

一成不变：指守旧不变或固守陈法，形容一点没有变化。

22. 正确答案是 C

有智慧的人享受每秒，愚昧的人抱怨每秒，但表示转折关系，横线后面是天地悬隔，说明应

【课程咨询电话】0871-65521259

【地址】昆明华图教育：昆明市学府路 178 号莲花宾馆斜对面

填入一个表示差距很大的词语。毫厘之差比喻开始相差得很小，结果会造成很大的差距，因此应该选 C 项。

释义

泾渭分明：泾河的水流入渭河时，清浊不混，比喻界限清楚或是非分明。

南辕北辙：想往南而车子却向北行，比喻行动和目的正好相反。

庸人自扰：指本来没事，自己找麻烦。

23. 正确答案是 A

可先从第一空着手，集聚指会合、聚会或者安定聚居，一般不与情绪搭配，同样不与情绪搭配的还有增加，故排除 BC。第二个空，意大利使债务危机恶化，带来不好的结果，因此不能是促进，故排除 D。本题选 A 项。

24. 正确答案是 B

根据语境，科学精神和人们的精神血液融合在一起，融入和渗入都可以，融入是不可看到的，抽象的东西，而溶入是可以见得到的、实际存在的东西。故排除 CD。一般是呈现在眼前或面前，体现在……中，故本题选 B 项。

25. 正确答案是 B

最后一个空评估风险是固定搭配。

26. 正确答案是 A

本题考查语体风格，整个文段显然是用书面语，故选择“商榷”。

27. 正确答案是 A

根据“从字面上看，登堂入室就是什么东西来到了厅堂、居室，多数人也都是这么认为和理解”可知人们只是根据字面意思理解成语，故第二个空选择“望文生义”。

28. 正确答案是 A

根据“许多人因而也开始十分重视他们的大脑”可知，最后一个空表示所以这种锻炼大脑的方法就出现了，有出现含义的词是“应运而生”

29. 正确答案是 A

根据“感谢人生的慷慨”，可知第一个空也要表示感恩、感谢的意思，故选择 A 或 C，第二个空，根据“不应把一次的荣耀和成就当作人生关卡永远的通行证，也不能因为失意和挫败……”，可知要填和“通行证”意思相反的意思，表示不通行，故选择 A。

【课程咨询电话】0871-65521259

【地址】昆明华图教育：昆明市学府路 178 号莲花宾馆斜对面

30 正确答案是 D

第一个空根据词义可排除 AC，第二个空，“拍手称快”表示的是正义得到伸张或事情的结局使人感到满意。故排除。

31. 正确答案是 B

本题属于意图判断题。文段在结构上属于分—总结构。文段第一句引入一个话题，第二句是举例部分，最后一句话是文段的主旨句，强调的是意大利文艺复兴时期对现代的影响，符合文段主要意思的答案只有 B。因此选 B。

32. 正确答案是 B

这是一道变型的主旨概括题。文段首句提出了美感是不可转述的，接着以贾岛的例子予以论证，得出结论美感是难以传递的。选项 B “难以向他人”是对文段观点的同义替换，因此选择 B。D 是过度引申。

33. 正确答案是 C

本题属于细节理解题。A 选项中的新型材料以及降低室内温度文段都没有提及，属于无中生有；B 选项的错误在于城市路面占比一半以上，文段里说的是屋顶及道路占比一半以上，属于偷换概念当中的缩小范围；D 选项的错误在于从文中我们可以得知是淡色材料的反射能力强，而不是深色。

34. 正确答案是 D

文段的重点在于最后一句话。它强调的主体是“最美事件”，说明的意思是“最美事件”带来的道德启示，所以选择 D 选项。

35. 正确答案是 C

文段的主旨有两层意思，一是需要看到过去，二是更需要往前看，所以符合这个主旨的选项就只有 C。A 选项只能对应文段的第一层意思，B 选项和 A 选项问题是一样的，D 选项和主旨无关。所以正确答案是 C 选项。

36. 正确答案是 D

这是一道意图判断题。解答的关键是文段的行文结构+选项差异。文段是并列结构，从几个分句可以得出：科技成果从被发明到应用的时间愈来愈短。所以主旨是科技发明应用的时间愈来愈短。从选项可以判断答案为 D。

37. 正确答案是 B

【课程咨询电话】0871-65521259

【地址】昆明华图教育：昆明市学府路 178 号莲花宾馆斜对面

本题属于意图判断题。文段是一个分-总的结构，首句背景介绍，介绍文化行业是什么样的行业，后面一句紧接着介绍教科文组织提出文化的重要性，最后可以得出文段的结论，即文化的重要性对人才提出了高质量和规模化的要求。因此，文段的意图是要说明文化人才应该具备什么样的素质，对应选项为 B。

38. 正确答案是 B

本题属于意图判断题。文段中的“而”表转折，意在强调艺术家有必要生产出作为现代艺术普遍范式的新的文化产品，意在说明艺术创造应与社会需要相连接。故选 B。

39. 正确答案是 C

文段先引用了培根的名言，以引出文段论述的中心。即“而”后面的这句话，信息就是力量。信息，传播信息的技术与基础措施、掌握和运用信息技术的能力，构成了全新的权利来源。将力量定位为权力，并通过后文对信息如何影响权力进行说明。文段末尾通过反面论证。再次强调信息和权力之间的关系。故答案为 C。

40. 正确答案是 D

这是一道细节题。文段说的是戏曲舞台上青少年武将多穿罩甲，A 偷换了范围。文段中表述从明到清都在戏曲舞台上使用过罩甲，而非之后才有，故 B 错误。C 项文段没有提到，故为无中生有。文段表述可知罩甲是明代服装的一种，就说明在明代已经存在，故最晚产生于明朝的说法正确。故答案是 D。

41. 正确答案是 C

这是一道语句填空题。横线处是在结尾故起到总结全文的作用。文段前面说的是微笑是表达情感的有效途径，后面对比说明如果有人假笑是很容易被意识到的。可知文段谈论的是可通过本能反应判断他人情感的真假。故选 C。

42. 正确答案是 B

这是一道结语推断题。根据做题的核心原则，分析尾句，推知下文。本文尾句谈到独特的文化精神这一全新的名词，故后面将继续论述文化精神的相关信息和内容。四个选项中，只有 B 与尾句衔接最为紧密，在形式和话题上都保持了一致。

43. 正确答案是 D

本题属于主旨概括题。文段首句提出了市场经济的本质是法制经济这一命题，接着通过对比说明市场经济需要法治。故答案为 D。

【课程咨询电话】0871-65521259

【地址】昆明华图教育：昆明市学府路 178 号莲花宾馆斜对面

44. 正确答案是 B

本题属于细节理解题。文段只是说新兴国家的幸福感高于美日韩，不能说明他们的理解有不同。A 错误。至于 C 选项的文化背景无从体现。至于幸福感与经济增长的关系文段也未曾提及。通过后半句可知，幸福不仅指——还，可知 B 选项正确。

45. 正确答案是 A，你没有回答这道题。

本题属于语句填入题。首先带入句子至空位 1 会发现“这种模式”前文们有指代，由此排除 D 选项。给定句子再带入空 2 处，会发现句子中的“正常运行条件的是理性经纪人”就指代的是前文中的“工作的人攒钱，退休的人花费积蓄”，再此验证后半句与文段后半句是否构成转折关系。验证得到句子应填入空 2 处，得答案为 A。

46. 正确答案是 B

本题为主旨概括题，文段的前半部分作者谈到了留守儿童问题在不同时代都存在但都没有成为公共议题，在文段后半部分作者通过一个设问引出了文段的主题句即当今社会留守儿童问题与乡村文化的改变有密切联系。由此答案为 B。

A 项，文段说的是“乡村文化衰落”，不等同于毁灭，故排除；C 项是第一句话的复述，概括不全面；D 项历史上有留守儿童却并未产生问题，在文中未提。

47. 正确答案是 A

本题属于态度观点题，作者的观点在文段的最后：应对全球化的问题提高警惕，减少文化的变化进而使文化得以保存下来，即作者认为在全球化过程中应保持自身文化特性的重要性。故选 A。

48. 正确答案是 A

本题属于意图判断题。前面提到多种多样的娱乐方式已经满足了人们对快感和精神享受的需求，因而忽略了或忘记了诗歌，只有少数关注，因而想表达的就是多元的娱乐方式导致了诗歌的没落，因此答案选 A。

B 项仅仅是对文段最后一句话的概括，故排除。C 项引申过度，故排除；D 项属于过度推断，诗歌只是不如新的形式好，但并不是已不能给人带来快感和精神享受了，排除。

49. 正确答案是 C

本题属于语句排序题。首句是 2-2 分布，因此比较⑥和②，②先给出家庭洗手液的概念，作为开头引出全文制作的过程，⑥应该在②之后，排除 A、D。②给出概念后，逻辑上再比较 B

【课程咨询电话】0871-65521259

【地址】昆明华图教育：昆明市学府路 178 号莲花宾馆斜对面

和 C，②句后如果跟③转折关系不明显，所以排除 B 选 C。

50. 正确答案是 D

本题属于主旨概括题。文段前半部分主要说人们应该利用经济危机时期增强自身的能力，后半部分的文字肯定了前文的观点，能够利用就经济危机时期提升能力的就能抓住机遇，所以概括全文主旨应选 D。

第三部分 逻辑判断答案及解析

51. A. 【解析】本题考每图都有三种元素。

52. B. 【解析】本题考查线段的数量。

53. C. 【解析】数量类，每幅图图形部分数都为 3 部分，因此，本题答案为 C 选项。

54. B. 【解析】属性类，考查图形的封闭性，图形分别为封闭、开放、封闭、开放间隔出现的，于是应该找一个封闭图形，因此，本题答案为 B 选项。

55. B. 【解析】本题考查空间重构。三个对角线面共点时，点出去的线条是 1，那么 A、C、D 均错，所以选择了 B 选项。

56. D. 【解析】企业将闲置设备和库存物资销售所得资金购买股票这一行为没有体现“将各种资源进行优化配置”，该行为存在很大风险。故 D 项不属于资源整合。

57. A. 【解析】B、C、D 都是管理中的不正之风，不可能会产生良好的管理效果。故本题正确答案选 A。

58. C. 【解析】题干中出现评价者和被评价者两个个体，并且被评价者会受到评价的影响，符合定义的只有 C 选项，因此，本题答案为 C 选项。

59. B. 【解析】

【解析】解题的关键在于“内在精神活动的结果或精神生活的方式以语言，文字图书，肢体动作或者其他任何方法表达于外”。A、C、D 三项都没有体现表达于外，只有 B 项将内在的精神活动以文字方式表达出来。所以选择 B 选项。

60. A. 【解析】解题的关键在于“对自身的行为及其动机进行善恶判断”。A 项正是对自身行为的判断。B、C、D 都不是对自身行为的判断，所以选择 A 选项。

61. B. 【解析】解题的关键在于“生态系统在维持生命机体的前提下”。B 项道路并不是生命机体，不属于环境承载力，所以选择 B 选项。

62. B. 【解析】解题的关键在于“内容明确、肯定和具体，且可直接适用”。A 项是交通

【课程咨询电话】0871-65521259

【地址】昆明华图教育：昆明市学府路 178 号莲花宾馆斜对面

条例，非法律规则；C、D 选项中，法律规则的部分内容具有一定伸缩性，须经解释方可使用且可适当载量的规则，属于标准性规则。只有 B 项符合规范性规则定义。所以选择 B 选项。

63. C. 【解析】C 项中合同是买卖合同，标的物交付时所有权转移，合同约定 7 日后交付，财产处分行为的结果尚未发生，所以其不属于财产处分行为。

64. C. 【解析】C 项中玉米和大豆属于不同的作物，两者符合多种作物的立体交叉种植。所以选择 C 选项。

65. A. 【解析】解题的关键在于“一个下属应该接受而且只应该接受一个上级的命令并向这个上级汇报自己的工作”。A 项中地区的销售办事处要接受副总经理的命令，还要向总会计师汇报工作，不符合统一指挥原则的要求。所以选择 A 选项。

66. C. 【解析】名词的并列关系。万水和千山都是名词，构成并列关系。五湖和四海构成名词的并列关系。

67. D. 【解析】观察题干三个词，可以提炼出模式：“长城”是“中国”的“古迹”，选项 D 也符合这一模式，即“大脑”是“人体”的“器官”。

68. D. 【解析】概念的属种关系。秋天是一个季节，节约是一种品德。

69. A. 【解析】事物及其用途。混凝土用于建筑，高粱米可以用于酿酒。

70. A. 【解析】此题题干的逻辑模式是，前两个构成反义的形容词，同时都属于修饰第三个词的形容词，即“高尚”和“卑鄙”是两种相反的“德行”。选项 A 的逻辑模式相同，即“谦虚”和“卑鄙”是两种相反的“品质”。

71. D. 【解析】词语的并列关系。反腐和倡廉是并列关系，并且“反腐”和“倡廉”本身都是动宾结构的词语。声东和击西是并列关系，并且，“声东”和“击西”本身也都是动宾结构的词语。

72. D. 【解析】概念的交叉关系。有的学生是青年，有的青年是学生；有的战士是党员，有的党员是战士。

73. B. 【解析】本题属于对应关系。电子邮件的通过网络发送，汽车在道路上行驶。所以选择 B 选项。

74. D. 【解析】将各个选项代入可知只有 D 项最符合要求，即“厂房”在“工厂”里，“教室”在“学校”里。所以，正确答案为 D 选项。

75. A. 【解析】将各个选项代入可知只有 A 项最符合要求，即“商品经济社会”需要“商

【课程咨询电话】0871-65521259

【地址】昆明华图教育：昆明市学府路 178 号莲花宾馆斜对面

品流通”，“生命肌体”需要“血液循环”，二者之间存在着类比的关系。所以，正确答案为 A。

76. D. 【解析】本题属于削弱论证型。如果 D 项成立，则说明大部分人是由于更喜欢英文字母 2 才选择的，并不是因为就是喜欢这种口味而选择的，这使得题干的论述不能成立。所以选择 D 选项。

77. B. 【解析】题目的逻辑是出生时间不由自己选择，所以犯罪人是否犯罪也不由自己选择，故犯罪人不应当为自己所犯的罪负责。B 项指出出生时间不直接决定所犯的罪，个人选择才是主要决定因素，所以犯罪人应当为自己所犯的罪承担责任。本题答案为 B。

78. C. 【解析】题干是一个充分条件的联言判断。肯定后件并不能肯定前件，即李同读过《毛主席语录》并不能推出它一定出生于 60 年代，故 A 错误；只要《毛主席语录》的出版先于或同时于李同所在的年代，李同就可能读过，因此李同可以出生在 60 年代及以后的年代，只有 C 项正确。

79. A. 【解析】分析推理，选项信息充分，考虑排除法，由“大学教师比甲的学历高”可推出甲不是大学教师，排除 C 和 D 选项；再由“乙的学历与小学教师不同”推出乙不是小学教师，排除 B 选项。所以该题选择 A 选项。

80. D. 【解析】ABC 选项均属于无关选项。D 为“没必要明令禁止 18 岁以下的人食用高脂肪、高糖食品”增加了一个论据。

81. B. 【解析】张某与范某的陈述互相矛盾，则必有一个是错的，那么黄某与谭某的陈述必是正确的，即张某胖，谭某不胖。因此四人陈述只有一个错时，张某是一定胖的。故选 B。

82. D. 【解析】肯花大价钱是进入中超的必要条件，必要条件假言命题否定前件，即否定后件，即推不出肯定的后件，排除②。因为问题问的是可能出现的情况，所以①③④都可以入选。

83. B. 【解析】题干最后一句话的意思是：只要生物燃料的产量扩大，相关农作物的价格就会飙升。这是一个充分条件关系的联言判断。充分条件关系联言判断推理规则是：肯定前件就能肯定后件，否定前件并不能否定后件；肯定后件并不能肯定前件，否定后件就能否定前件。B 项是否定后件从而否定前件的推理，是成立的。A 项肯定后件否定前件，不是正确的推理；C 项否定前件肯定后件，也不是正确的推理；D 项，题干中并未指出因为农产品

【课程咨询电话】0871-65521259

【地址】昆明华图教育：昆明市学府路 178 号莲花宾馆斜对面

价格过低才使生物燃料迅速增加，因此 D 项不正确。故本题选 B。

84. A. 【解析】题干中说中国经济中心由北向南移的原因是北方自然条件差。而 A 项的“自然环境并不是经济发展的主要因素”恰好反驳了上述论证。

85. A. 【解析】由文中“全球变暖可使蚂蚁发生变异”“因此在全球变暖的情况下，蚂蚁数量会剧增”可以直接推出。

第四部分 综合分析答案及解析

86. 一名地质人员在勘测一块丘陵地带的海拔高度时，将每块 1×1 的面积的平均海拔高度记录下来，勘测完一块 $n \times k$ 的丘陵地带后得到了如下结果：

，现在地质人员在该丘陵地带中的随机一个位置，他每次都会在东南西北方向中选择一个海拔低于所在区域的任意一个区域进行移动，直至他不能移动为止。

以下说法中，正确的是：

- A. 该地质人员不存在遍历所有区域的可能
- B. 该地质人员无法移动时，其所处位置一定位于丘陵地带的边界
- C. 为使该地质人员所能遍历的区域最多，他每次一定会选择海拔降低幅度最小的区域进行移动
- D. 该地质人员如从 A 区域出发能经过的最大区域数，一定大于等于从 A 区域出发任一条路径途中任意区域出发所经过的最大区域数

答案：D

87. 根据以下资料回答问题：

一个项目包含甲、乙、丙三个大的流程，其中甲流程包含 A、B、C 三项工作，乙流程包含 D、E、F、G 四项工作，丙流程包含 H、I、J 三项工作。每项工作所需人天数如下：

甲			乙				丙		
A	B	C	D	E	F	G	H	I	J
6	4	8	4	5	8	9	8	10	4

同时完成上述项目须满足以下条件：

条件 1：参与某项工作的人必须全程参与该项工作，且一个人在一天内只能参与一项工

【课程咨询电话】0871-65521259

【地址】昆明华图教育：昆明市学府路 178 号莲花宾馆斜对面

作。

条件 2：多项工作可以同时进行，但是乙流程必须在 A、B、C 全部完成后开始；丙流程必须在 D、E、F 和 G 四项中至少三项完成后开始。

88. 如果每项工作只能由一个人独立完成，完成整个项目最少需要多少天？

A. 25 B. 26 C. 27 D. 28

答案：B

89. 如果单位安排 3 个人承担此项目，为使项目能最快完成，问乙流程中哪项工作应最后完成？

A. 工作 D B. 工作 E

C. 工作 F D. 工作 G

答案：B

例题 3：

根据以下资料回答问题：

实验名称：绿叶在光下制造有机物实验

实验目的与要求：

1. 检验绿叶在光下制造的有机物是不是淀粉。
2. 探究光照是不是制造有机物不可或缺的条件。

实验步骤：

①把天竺葵叶片放在盛有酒精的小烧杯中，隔水加热，使叶片含有的叶绿素溶解到酒精中；

②把天竺葵放在阳光下照射；

③用黑纸片把天竺葵的上下两面遮盖起来；

④把天竺葵放在黑暗处一昼夜；

⑤把部分遮光的叶片摘下，去掉遮光的黑纸片；

⑥用清水漂洗叶片，再把叶片放到培养皿中，向叶片滴加碘酒。

90. 材料中的实验步骤顺序是错误的，其正确的顺序应为：

A. ④②③①⑤⑥ B. ④③②⑤①⑥

C. ②③④⑤①⑥ D. ②④③⑤⑥①

【课程咨询电话】0871-65521259

【地址】昆明华图教育：昆明市学府路 178 号莲花宾馆斜对面

答案：B

91. 要想通过实验现象得出“绿叶在光照下产生淀粉”这一结论，需要基于以下哪一假设？

- A. 淀粉与碘酒混合前后有明显的现象发生
- B. 叶片中的叶绿素溶解在酒精中时有明显的现象发生
- C. 遮盖叶片的黑纸片完全不透光
- D. 实验所处环境温度和湿度保持基本恒定

答案：A

事业单位课程介绍

课程	天数	课时	价格
公共基础知识	8 天	72	2380 元
综合能力测试	8 天	72	2380 元
卫生公共基础	10 天	90	2980 元
综合运用能力	6 天	54	2380
职业能力倾向测验			

【地址】

昆明华图教育：昆明市学府路 178 号莲花宾馆斜对面

有问题的同学可以联系我们

欢迎大家关注昆明华图教育的微信公众号

【课程咨询电话】0871-65521259

【地址】昆明华图教育：昆明市学府路 178 号莲花宾馆斜对面



【课程咨询电话】0871-65521259

【地址】昆明华图教育：昆明市学府路 178 号莲花宾馆斜对面