

2016年云南事业单位统考

《职业能力测试》试卷二

说 明

这项测验共有五个部分，135道题，总时限为120分钟。各部分不分别计时，但都给出了参考时限，供你参考以分配时间。

请在机读答题卡上严格按照要求填写好自己的姓名、报考部门，涂写准考证号。

请仔细阅读下面的注意事项，这对你获得成功非常重要：

1. 题目应在答题卡上作答，不要在题本上作任何记号。
2. 监考人员宣布考试开始时，你才可以开始答题。
3. 监考人员宣布考试结束时，你应立即放下铅笔，将试题本、答案卡和草稿纸都留在桌上，然后离开。

如果你违反了以上任何一项要求，都将影响你的成绩。

4. 在这项测验中，可能有一些试题较难，因此你不要在一道题上思考时间太久，遇到不会答的题目，可先跳过去，如果有时间再去思考。否则，你可能没有时间完成后面的题目。

5. 试题答错不倒扣分。

6. 特别提醒你注意，涂写答案时一定要认准题号。严禁折叠答题卡！

停！请不要往下翻！听候监考老师的指示。否则，会影响你的成绩。



云南华图微博



云南华图微信

第一部分 常识判断

(共 10 题，参考时限 15 分钟)

根据题目要求，在四个选项中选出一个最恰当的答案。

请开始答题：

1. 世界不是孤立的，中国古代也十分重视和世界的交流，下列农作物，不是在明朝传入中国的有（ ）

- A. 玉米
- B. 甘薯
- C. 马铃薯
- D. 胡椒

2. 2016 年 3 月第十二届全国人大四次会议，国家主席习近平签署第 43 号主席令公布《慈善法》，自 2016 年 9 月 1 日起施行。习近平签署主席令这一行为属于国家主席的以下哪种智能：

- A. 公布法律，发布命令
- B. 发布特赦令、宣布进入紧急状态、动员
- C. 代表国家向那些对国家有重大功勋的人授予荣誉奖章和光荣称号
- D. 代表国家，进行国事活动

3. 以下选项中最能凸显社会主义核心价值观中诚信观的是（ ）

A. 广西横县百合镇罗凤村无人售菜市场，一排菜篮子摆在摊位上，无人收钱，全凭自觉，至今已经有上百年的历史。

B. 2016 年，国家主席习近平签署第 43 号主席令公布《慈善法》，自 2016 年 9 月 1 日起施行，对于慈善团体具体行为进行有效规范，要求其定期公开收支情况。

C. 中央电视台《出彩中国人》的栏目为每一个有梦想的中国人搭建展示自我的平台，只要有梦想，就能来展示自己

D. 中国本土科学家屠呦呦数十年如一日，经得住诱惑，耐得住寂寞，进行科学研究，终成为获诺贝尔科学奖的首位华人。

4. 近年来，真人秀节目异军突起，奔跑吧兄弟，花样姐姐，极限挑战等都成为人们消遣时间的不错选择，这些老百姓喜闻乐见的节目也丰富了人们的业余文化生活。对此现象以下说法正确的是（ ）

- A. 综艺节目的蓬勃发展体现了社会主义文化建设繁荣发展
- B. 传统文化走向没落
- C. 社会主义法制需要相关法律为其保驾护航
- D. 我国的社会保障制度有待完善

5. 中国人喜欢用“三”这个数字来形容数量众多。三有时候是虚指，有时候是实际数字。下列关于“三”字的相关描述中，“三”指的是虚数的是（ ）

- A. 中国革命胜利的三大法宝
- B. 中国共产党在抗日战争时期实现的统一战线政权政策——三三制
- C. 中国古代启蒙著作三字经
- D. 白发三千丈，忧愁似个长



云南华图微博



云南华图微信

6. 改革是社会主义制度而自我完善，古代也有改革的先例，以下那些历史人物与变法无关的是（ ）

- A. 梁启超
- B. 商鞅
- C. 王安石
- D. 司马迁

7. 下列不属于发生在抗日战争中的重要战役的是（ ）

- A. 平型关大捷
- B. 台儿庄战役
- C. 百团大战
- D. 上甘岭战役

8. 下列关于我国武装以及军队的说法中错误的是（ ）

A. 1939年10月，毛泽东在《(共产党人)发刊词》一文中，总结出：统一战线，武装斗争，党的建设，是中国共产党在中国革命中战胜敌人的三个法宝

B. 1927年8月1日，“八一”南昌起义，打响武装反抗国民党反动统治的第一枪，人民军队在炮火中建立。

C. 1927年8月7日，确定了土地革命和武装斗争的总方针，毛泽东提出了“枪杆子里出政权”的著名思想。

D. 1927年三湾改编，提出了思想上建党，政治上建军。

9. 关于下列常用经济术语描述正确的是（ ）

A. 基尼系数描述的社会的公平正义程度，数字越大，代表社会越公平

B. 恩格尔系数是指食品支出占总收入的比重，也就是说，收入高，恩格尔系数一定会小

C. CPI指数指的是消费者物价指数，可以用来衡量通货膨胀率

D. GDP指的是国民生产总值

10. 随着互联网+的普及，滴滴打车这类的打车软件越来越方便人们的生活，滴滴打车在搭车人数集中车辆又少的时候，都会推出加价的服务，即在打车页面跳出加价1.5倍，2.5倍，3.5倍的提示，以起到缓解打车压力的目的，关于高峰期加价缓解交通压力的做法，下列符合经济学中的哪种说法（ ）

A. 价格由价值决定

B. 价格受供求关系影响，在价值附近上下波动

C. 商品具有价值属性

D. 价格是商品的本质属性



云南华图微博



云南华图微信

※※※第一部分结束，请继续做第二部分！※※※

第二部分 言语理解

(共 24 题，参考时限 35 分钟)

本部分包括表达与理解两方面的内容。请根据题目要求，在四个选项中选出一个最恰当的答案。

请开始答题：

11.五四运动是科学和民主的共同旗帜下兴起的中国自由主义和社会主义思潮，虽然最后____，但这并不妨碍它们对儒学形成共同的批判性立场，它们对儒学的现代命运的看法____：儒学作为一个旧时代和旧制度的思想遗产，在中国现代国家的进程中只能被抛弃或被根本改造。

- A. 南辕北辙 相差无几 B. 风格迥异 殊途同归
C. 分道扬镳 大同小异 D. 各自为政 迥然不同

12.一个城市的发达程度可以从这个城市中流行的语言种类中____，甚至不同的口音也在讲述繁荣的故事。语言使用的变化体现各类要素流通的过程。尽管某些地方由于地理和先期产业的____，不一定会因为普通话的流行而发展成大的城市。

- A. 窥见一斑 限制 B. 管窥蛙见 束缚
C. 窥斑见豹 控制 D. 略有所闻 约束

13.基于海量信息传播、生存竞争加剧、生活步入快节奏的因素叠加，一目十行、____的浅层化阅读成为国人接受信息的时尚方式。

填入划线处最恰当的一项是（ ）。

- A. 浅尝辄止 B. 一挥而就 C. 下马看花 D. 文过饰非

14.就“破烂王”持证上岗问题，各地政策____：有设置高不可攀注册门槛的，有设置学历门槛的，有开设培训班的……“破烂王”到底是否可以持证上岗，很难____，但这些政策出台前，有必要正确认识“破烂王”这一职业特征。

依次填入划线处最恰当的一项是（ ）。

- A. 不胜枚举 平心而论 B. 琳琅满目 相提并论
C. 五花八门 一概而论 D. 不一而足 混为一谈



云南华图微博



云南华图微信

15.十年寒窗读，___时。长期以来，状元被___了特别的含义，至今仍然高烧不退。人们追捧状元，表达的是一种朴素的理念，这点并无不可。但作为高校当有所___，不能为了自己的利益而加油添醋、助推状元热。理性看待高分考生，捍卫教育公平，为社会培养输送更多的人才，这才是高校真正的责任所在。

依次填入划线处最恰当的一项是（ ）。

- A.蟾宫折桂 赐予 作为 B.鹤立鸡群 予以 节制
C.衣锦还乡 给予 顾忌 D.金榜题名 赋予 克制

16.长期以来，我国的公益广告在很大程度上由政府_____, 其独立性和自主性不能得到充分体现，媒体多是因行政命令而制作发布公益广告，公益广告活力不足，未能形成广泛的社会影响力，另外，在经济利益的_____下，媒体将公益广告作为塑造形象的手段，造成公益广告与社会大众脱节。

填入文段横线处恰当的一项是：

- A.制作 诱惑 B. 主导 驱使
C.管理 引诱 D. 参与 诱导

17. 目前，流动人口虽然进入城市工作生活，但未能真正_____城市社会。制度的隔离客观上_____了人口的地缘、乡缘、亲缘关系，加剧社会分化，在城市内部出现了新的二元结构。

填入文段横线处恰当的一项是：

- A.溶入 造成 B. 潜入 形成
C.融入 强化 D. 走入 疏远

18. 填入下列横线处得词语恰当的一组是（ ）

(1) 登上山脊极目远眺，高纬度的天穹显得格外_____高远，湛蓝色的天空中飘浮着朵朵白云。

(2) _____了一整天的优雅让我们在夜晚无比自信，淡淡的疲倦让我们在慵懒中透出迷人的魅力。

- A. 辽阔 积淀 B. 寥廓 沉淀
C. 寥廓 积淀 D. 辽阔 沉淀

此题答案有误，应该为 B 选项，答案和解析已经更新。

19.东直门过去是一座往里运木材、往外运棺材的城门，城门外有一大片坟山，而城内的百姓却习惯于在夏天点着煤油灯沿街吃饭、纳凉，远远望来宛如坟堆上漂浮的鬼火，“鬼街”的叫法_____。

下列词语填入文段横线处恰当的一项是（ ）

- A.不胫而走 B.不翼而飞
C.名声大噪 D.声名鹊起

20.真正的_____, 必然是当朋友的尊严受到侵犯，作为朋友必与他一起挺身而出，而不是_____在某个角落。

填入文段中横线处恰当的一项是：

- A.义气 萎缩 B.意气 萎缩
C.义气 畏缩 D.意气 畏缩

21.我们不得不承认，大师们的作品也是_____的，某些篇章语言繁冗乏味，格调低



云南华图微博



云南华图微信

下庸俗，真让人_____。

填入文段横线处恰当的一项是：

- A.良莠不齐 不忍卒读 B.良莠不齐 不堪卒读
C.参差不齐 不忍卒读 D.参差不齐 不堪卒读

22. 社会转型期的高速新陈代谢，为文化的繁荣发展带来了前所未有的机遇，但许多文化失范现象也随之裹挟而至。这些现象的背后，是社会心理、道德逻辑、文化操守等基本底线的失守和沦陷，而归根结底，则是一些人在社会价值取向上的扭曲。最近微博上有位极其走红的人物，网名“留几手”，人称“手哥”。“留几手”之所以出名，其“特长”在于对网友照片进行恶毒点评。他的语言极尽污蔑调侃之能事，动辄用“负分”将网友之相貌贬损得“酣畅淋漓”，且常常爆出粗口，几近人身攻击。也有极少数的美女能够在“手哥”那里得到“正分”，那简直就是人生莫大的荣誉，可谓高山仰止般的“尊贵”了。

这段话的主旨是（ ）

- A. 文化失范现象在社会转折期逐渐凸显
B. 微博上文化失范现象明显增多
C. 留几手”之所以出名的原因
D. 文化失范现象产生的深层次原因

23. 近段时间以来，“标签化”解读大行其道，特别是为“被批评者说话”，常常被扣盖帽子，遭遇民意攻击。例如，有慈善家捐款，尽管初衷是好的，选择的捐款途径却遭来非议，被扣以各类“罪名”饱受谩骂。实际上，网友之间同样需要容得下“尖锐的异质声音”。在权利觉醒与教育普及的现代社会，人们思想的独立性、选择性、差异性将日益外显，社会舆论环境进入前所未有的多元生态。浩浩民意，在舆论更具“威力”下，防止“理解”被社会束之高阁，避免“理性”走入尴尬，凸显尊重自由与要求社会担当的人文关怀本色，依然是社会舆论场迈入成熟的必经阶段。

这段文字的主要观点是（ ）

- A. 尊重自由与要求社会担当的人文关怀本色是社会舆论日益成熟的前提
B. 当下社会“标签化”解读大行其道
C. 现今“理性”已经已经走入尴尬
D. 部分慈善家捐款备受非议

24. 乐视背后的危机也显露无疑。首先，股民看空，股市大跌。5月29日，复牌后的乐视网以43.8元、跌5.52%开盘，早盘一度跌逾7%，随后震荡低位徘徊，报收44.18元，收跌4.7%。有分析认为，乐视概念炒作不可持续。市场也分析认为此次风波很有可能冲击乐视网股价。万达集团董事长王思聪则在乐视网股价高涨之便指出“纯属虚高，建议做空”。其次，产品受累，出师未捷身先“痛”。作为电视基础配件，硬件的问题不容忽视。硬件出现合作问题无疑让超级电视产品存在太多的未知和疑惑，或步入坎坷前景不容乐观。最后，虚假宣传，信誉受损。无论真相如何，声明与宣传的相悖，就很难让乐视摘掉“虚假宣传”的帽子，企业信誉自然大打折扣。正如《中国青年报》发布的评论文章所说，忽悠消费者和投资者的闹剧不可原谅。一家上市企业，怎么能忘了“诚信”二字？

这段文字主要表达的是（ ）

- A. 乐视概念炒作不可持续
B. 乐视产品质量不过关



云南华图微博



云南华图微信

C. 企业想要发展必须要树立质量第一的理念

D. 诚信对于企业发展的重要意义

25. 宇宙万物都有它的性能，性能好的物品持久耐用，性能不好的物品容易耗损。只有我们的佛性亘古今而不变，历万劫而弥新。柴陵郁禅师悟道时，说了一首诗偈：我有明珠一颗，久被尘劳封锁，今朝尘尽光生，照破山河万朵。我们的心本来具有无限潜能，蕴藏无限宝藏，但是由于无明造作，追逐五欲六尘，使明镜般的清净自性不能显现应有的光明，所以明心见性就是开发自己的潜能。

对上述文字主旨概括最恰当的一项是

A. 宇宙万物都是有性能的

B. 只有佛性古今不变，历久弥新

C. 追逐五欲六尘阻碍了我们的潜能

D. 明心见性能够清净佛性，开发潜能

26. 原本许愿祈福是一种十分简单的宗教方式，不过，由于社会急功近利的人太多，加上经济大潮的驱使，很多不法商人会利用人们渴望实现心愿的焦虑来牟取暴利。例如：高考幸运符咒、状元笔等类的东西，还有高考后的旅游线路，凡此种种与高考相关的消钱、烧钱活动，许愿者必须留意、慎重地参与，要根据自己的经济实力和购买能力，不要因为心急如焚而被人利用上当被骗钱财。

上述文字意在说明（ ）

A. 许愿祈福是一种十分简单的宗教方式

B. 许多不法商人常常利用人们可望实现心愿的焦虑来牟取暴利

C. 急功近利和经济的驱使使得高考烧钱活动越来越多

D. 面对不法商人牟取暴利的行为，许愿者须慎重对待，量力而为。

27. 库尔勒香梨是新疆重要的特色水果之一，但长期以来，由于商品质量意识差，粗放管理，加之品种本身果实小、果心大、外观不佳、果形不规则等现象，果实品质出现了逐年下降的趋势。为做大做强香梨产业，保证这一优势产业长久、稳定、协调发展，寻求技术提高其品质问题成为当务之急。

这段话作者想要说明的是（ ）

A. 库尔勒香梨果实品质已变的很低

B. 香梨产业是新疆支柱产业之一

C. 香梨产业亟待提质增效的技术

D. 商品质量意识差导致了香梨品质的下降

28. 调查性报道是中国媒体刚刚开始尝试的一种报道类型，而政治的调查性报道更是稀少。它在中国面临的最现实的压力是传统信息源的崩坏，而新的信息源建立又有待时日这种局面。这是问题的一面，而问题的另一面则是，调查性报道本身并不特别依赖一般路径的信息源，所以，相反在这个转型时机，它却可能有生长的空间。换言之，调查性报道可能比其他更依赖常规信息源的报道，更具备发育与成长的机会。

这段文字主要说明（ ）。

A. 调查性报道是中国新兴的报道类型

B. 政治调查性报道面临的两个问题

C. 调查性报道所面临的的压力和其发展前景



云南华图微博



云南华图微信

D.调查性报道更具备发育与成长的机会

29.我国在能源资源研究方面与国际先进水平还有较大差距。我们常说中国“地大物博”，但如果人均分配资源，我们是贫乏的。世界上一些矿业大国矿床的勘探深度达到 2500—4000 米，而我国已有矿床的勘探深度大都小于 500 米。这是因为我国探矿技术手段与发达国家相比还有很大的差距。美国不依靠中东石油，依靠页岩气可以保证自己能源的供给，甚至可以输出页岩气的开采技术。在这方面，我国还存在一些技术瓶颈，而且不可能从美国直接购买页岩气开采技术。这不仅是因为技术昂贵，最主要的是美国页岩气开采技术需要耗费大量能源和大量水，可能不适合中国实际。

下列选项正确的是（ ）。

- A.我国无论从资源总量上和人均分配看都处于世界领先水平
- B.我国已有矿床的勘探深度为 500 米
- C.我国在页岩气开采技术方面技术发展存在问题
- D.中国下一步将大规模发展页岩气开采技术

30.余光中先生在接受采访时说：“一位作家笔下，如果只能驱遣白话文，那么他的文笔就只有一个“平面”。如果他的“文笔”里也有文言的墨水，在紧要关头，例如要求简洁、对仗、铿锵、隆重等等，就能召之即来，文言的功力可济白话的松散和浅露。一篇五千字的评论，换了有文言修养的人来写，也许三千字就够了。一篇文章到紧要关头，如能“文白相济”，其语言当有立体之感。所以我的八言座右铭是：‘_____’。”

填入横线上最恰当的一句是（ ）。

- A.文以为常，白以应变
- B.文白相济，见真求新
- C.白以为常，文以应变
- D.白话为本，力求立体

31.长大一些了，就要与父母告别，去读书，去工作，从家庭到世界上许多地方去。去读幼儿园，要跟家告别；去读小学，不仅要跟家告别，还要跟幼儿园和那里的一些小朋友告别，有些还能见到，有些就见不到了。然后去读中学，去读大学，以及出去工作，以及离开父母，跟另一个人结婚，有了新的家庭。这里每一样都意味着告别。没有告别，就无法前行。行到终点，我们就得跟世界告别。

这段文字主要想表达的是（ ）。

- A.告别是前行的条件
- B.人生中每一件事情都是一种告别
- C.只有告别才能取得成功
- D.人要一边告别，一边前行

32.黄金既是投资品又是消费品，华尔街把黄金当成投资品做空，“中国大妈”把黄金当成消费品买入，黄金的大降价刺激了黄金消费需求。华尔街做空黄金是基于投资的目的，“中国大妈”买入黄金是基于消费的目的。“中国大妈”体现了中国消费者的购买力，“华尔街卖出多少黄金，大妈们照单全收”。然而这并不能撼动国际金价的颓势，长期看，黄金的投资性会战胜其消费属性。

这段文字意在表明（ ）。

- A.黄金既是投资品又是消费品



云南华图微博



云南华图微信

- B. 华尔街与“中国大妈”之间的黄金博弈
- C. “中国大妈”具有超强的黄金购买力
- D. 黄金的投资性会战胜其消费属性

33. 美国宾夕法尼亚州伊丽莎白敦学院的研究人员日前在《美国土壤科学协会杂志》上发表论文指出，城市郊区别墅草坪的碳排放量几乎是玉米田的两倍。研究者指出，较高的土壤湿度和温度是导致私人草坪碳排放量居高不下的主要原因，而土壤湿度上升的主要原因在于城市的迅速发展，个人几乎没有什么办法显著减少自家草坪的碳排放量。

这段文字意在强调（ ）。

- A. 伊丽莎白敦学院就环保问题得出重要结论
- B. 城市的迅速发展是导致私人草坪碳排放量高的根本原因
- C. 个人在减少碳排放量面前无能为力
- D. 土壤湿度和温度在减少碳排放量上的重要作用

34. ①烹饪技艺多样，美食品种丰富，讲究健康食疗，讲究营养平衡

②主要是“以丰为贵”和“以稀为贵”两个不良习俗

③中餐文化在世界饮食文化之林中独树一帜、有口皆碑

④这不仅损害了中国文化的形象，也损害了中国人的形象

⑤“以丰为贵”，就是请客吃饭点菜宁多勿寡、宁奢勿俭；“以稀为贵”，就是盲目崇尚珍稀动植物食材

⑥然而，在赞美的同时，也有一些微词

以下排列顺序正确的是（ ）。

- A. ④⑤②①⑥③
- C. ④⑥③①②⑤

- B. ③①②⑥⑤④
- D. ③①⑥②⑤④

※※※第二部分结束，请继续做第三部分！※※※

第三部分 数量关系

（共 7 题，参考时限 15 分钟）

在这部分试题中，每道试题呈现一段表述数学关系的文字，要求你迅速、准确地计算出答案。

请开始答题：

35. 某商品原价 70 元，由于销售情况不好，店家决定将商品降价 10%，卖了一部分商品之后，为了尽快清理库存，又降价 20%。全部商品销售完毕，发现收入减少了 19%。则第



云南华图微博



云南华图微信

一次降价销售时，卖了（ ）的商品。

- A. 30%
- B. 40%
- C. 50%
- D. 60%

36. 对某单位的 100 名员工进行调查，结果发现他们喜欢打乒乓球和羽毛球、篮球。其中 58 人喜欢打乒乓球，38 人喜欢打羽毛球，52 人喜欢篮球，既喜欢打乒乓球又喜欢打羽毛球的有 18 人，既喜欢打羽毛球又喜欢打篮球的有 16 人，三种都喜欢的有 12 人，则只喜欢打羽毛球的有（ ）。

- A. 16
- B. 18
- C. 20
- D. 22

37. 甲乙两车从 A、B 两地同时匀速出发。两车相遇时距离 A 地 550 米。相遇后两车继续运动，到达 AB 地之后立即返回，第二次相遇时距离第一次相遇地点 200 米，则 AB 之间距离为（ ）米。

- A. 1000
- B. 1200
- C. 1000 或 1200
- D. 无法计算

38. 有甲、乙两个装有若干千克水量的水桶。第一次从甲中倒 $\frac{1}{4}$ 的水量给乙，第二次又从乙中倒回 $\frac{1}{10}$ 的水量给甲。此时甲与乙水量相等。由此可以得出结论（ ）。

- A. 甲桶原有 16kg，乙桶原有 11kg
- B. 甲、乙两桶水量之比为 16 : 11
- C. 甲组原有 11kg，乙组原有 16kg
- D. 甲、乙两桶水量之比为 11 : 16

39. 某商店为吸引顾客消费，推出如下优惠措施：①一次性消费不超过 100 元，不予优惠；②一次性消费超过 100 元，但不超过 300 元，给九折优惠；③一次性消费超过 300 元，其中 300 元以内给予九折优惠，超过 300 元部分八折优惠。某客人在商店消费三次分别支付了 90、216、和 360 元，若三次消费放在一起结算，可以少支付（ ）。

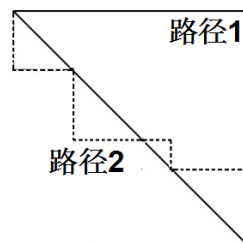
- A. 18 元
- B. 24 元
- C. 36 元
- D. 42 元

40. 甲、乙两个工程队合作修建一条长为 420 米双通道隧道，甲负责通道 A，乙负责通道 B。已知甲、乙两个工程队的效率比 7 : 5，5 天后甲比乙多修了 20 米。若甲修建完隧道 A 后立即和乙一起修建隧道 B，则甲需要帮助乙多少天才能完工？（ ）

- A. 5
- B. 6
- C. 7
- D. 8

41. 在线图中，斜线为正方形的对角线，从 A 点到达 B 点有 1、2 三条路径可以到达，路径 1 为正方形两边，路径 2 为途中虚线长度，哪一条路径能使路程最短（ ）

- A. 路线 1
- B. 路线 2
- C. 两者相同
- D. 不确定



云南华图微博



云南华图微信

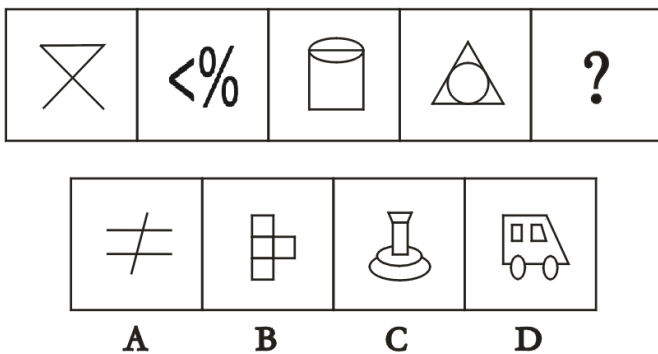
第四部分 判断推理

(共 20 题，参考时限 35 分钟)

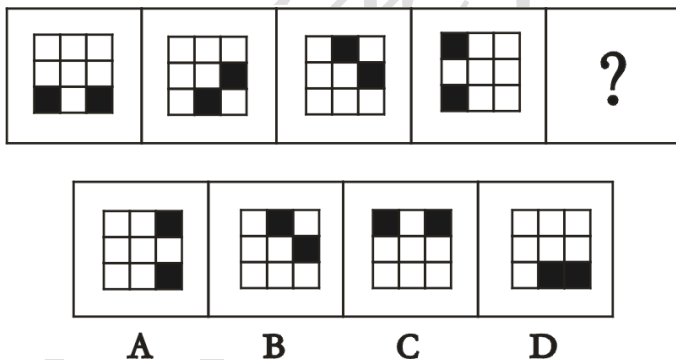
一、图形推理，请按照每道题的答题要求作答。

请开始答题：

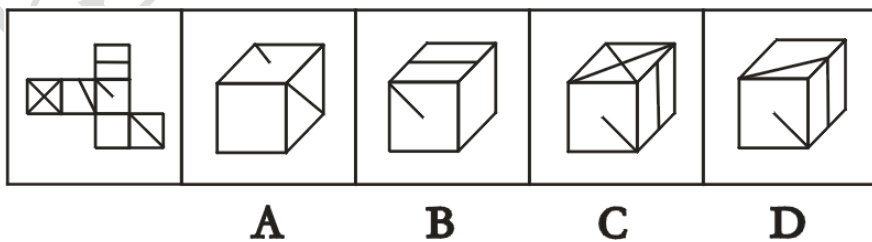
42.从所给的四个选项中，选择最合适的一个填入问号处，使之呈现一定的规律性：



43.从所给的四个选项中，选择最合适的一个填入问号处，使之呈现一定的规律性：



44.左边是正六面体的外表面，下列哪个选项可以由它折成？



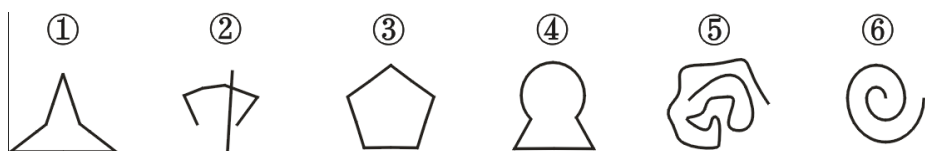
45.把下面的六个图形分成两类，使每一类图形都有各自的共同特征或规律，分类正确的一项是：



云南华图微博




云南华图微信



- A. ①④⑥, ②③⑤
 B. ①③④, ②⑤⑥
 C. ①②④, ③⑤⑥
 D. ①③⑤, ②④⑥

46.把下面的六个图形分成两类，使每一类图形都有各自的共同特征或规律，分类正确的一项是：



- A. ①③⑥, ②④⑤
 B. ①②④, ③⑤⑥
 C. ①③④, ②⑤⑥
 D. ①④⑤, ②③⑥

二、定义判断。每道题先给出定义，然后列出四种情况，要求你严格依据定义，从中选出一个最符合或最不符合该定义的答案。注意：假设这个定义是正确的，不容置疑的。

请开始答题：

47. 季节性失业是指由于某些部门的间歇性生产特征而造成的失业季节性失业是一种正常性的失业。它通过影响某些产业的生产或影响某些消费需求而影响对劳动力需求。

根据上述定义，下列属于季节性失业的是（ ）。

- A.资本主义国家隔一段时间就会爆发金融危机导致失业
 B.小张喜欢旅游，每年夏季的三个月他都会辞去工作周游全国
 C.每年农忙季节都会有大量的人去新疆采棉花，结束后这批人就失业了
 D.每年 6、7 月份大量大学生从学校毕业而要寻找工作，总会有一些人找不到工作

48. 德尔菲法又名专家意见法，是依据系统的程序，采用匿名发表意见的方式，即团队成员之间不得互相讨论，不发生横向联系，只能与调查人员发生关系，以反覆的填写问卷，以集结问卷填写人的共识及搜集各方意见，可用来构造团队沟通流程，应对复杂任务难题的管理技术。



云南华图微博



云南华图微信

根据上述定义，下列属于德尔菲法的是（ ）。

- A.主持人要求各位与会的专家就会议的议题展开讨论，然后整理大家的意见
- B.调查小组就如何治理交通拥堵的问题分别征询每位专家的意见，然后把他们的共识罗列出来
- C.在结构化面试中考官分别问每个考生相同的问题以测查他们的基本素质
- D.某歌唱比赛中既要求评委给选手的表现打分，还要求评委给出改进意见

49. 求同思维就是将在艺术创作过程中所感知到的对象、搜集到的信息依据一定的标准“聚集”起来，探求其共性和本质特征。求异思维是以思维的中心点向外辐射发散，产生多方向、多角度的捕捉创作灵感的触角。

根据上述定义，下列属于求异思维的是（ ）。

- A.将自己见过的各种荷花形象抽象出几种不同的样子画出来
- B.准备画一个农民的形象，先广泛搜集素材，自由联想，寻找创作灵感和创作契机
- C.对于同一道题目，老师要求至少利用三种不同的方法进行求解
- D.鲁班被长有小细齿的茅草划伤后，受到启示，发明了锯子

50. 抗逆力，是当个人面对逆境时能够理性的做出建设性、正向的选择和处理方法。抗逆力是个人的一种资源和资产，能够引领个人在身处恶劣环境下懂得如何处理不利的条件，从而产生正面的结果。

根据上述定义，下列体现出抗逆力的是（ ）。

- A.小张立志成为一名记者，经过大学四年不断的学习和实践，毕业后顺利进入一家知名报社做记者
- B.小赵小时候生活十分贫困，父母长期生病卧床，全靠社会的爱心救济度日
- C.小刘作为本次省运会的种子选手，在 10000 米长跑中，一路领先，只可惜最后一圈意外受伤，无奈退赛
- D.小朱天生有些口吃，但他经过无数次的训练，竟拿到了校演讲比赛的第三名

51. 转移支付，又称无偿支出，它主要是指各级政府之间为解决财政失衡而通过一定的形式和途径转移财政资金的活动，是用以补充公共物品而提供的一种无偿支出，是政府财政



云南华图微博



云南华图微信

资金的单方面的无偿转移，体现的是非市场性的分配关系。

根据上述定义，下列不属于转移支付的是（ ）。

- A. 失业补助
- B. 养老金
- C. 抚恤金
- D. 银行利息

三、类比推理。每道题先给出一组相关的词，要求你在备选答案中找出一组与之在逻辑关系上最为贴近、相似或匹配的词。

请开始答题：

52. 萝卜：白菜

- A. 木星：火星
- B. 长江：长城
- C. 印度洋：印度
- D. 理论：进化论

53. 姥爷：外公

- A. 姑妈：姑父
- B. 爷爷：孙子
- C. 母亲：妈妈
- D. 舅舅：外甥

54. 饭店：顾客

- A. 法院：法官
- B. 赛场：观众
- C. 学校：老师
- D. 冰箱：食物

55. 电器：电视机

- A. 风俗：祭祀
- B. 仪器：试验
- C. 关注：注意
- D. 清末：民初

56. 模棱两可：似是而非

- A. 周公吐哺：天下归心
- B. 螳螂捕蝉：黄雀在后
- C. 口是心非：表里如一
- D. 一石两鸟：一箭双雕



云南华图微博



云南华图微信

四、逻辑判断。每道题给出一段陈述，这段陈述被假设是正确的，不容置疑的。要求你根据这段陈述，选择一个答案。注意：正确的答案应与所给的陈述相符合，不需要任何附加说明即可以从陈述中直接推出。

请开始答题：

57.清牌和巨龙牌电脑组装的时候使用的是相同质量的显卡，并且永清牌电脑的价格更低，因此，当你购买的是永清牌电脑而非巨龙牌电脑的时候，相当于花了更低的钱买到了相同的图像质量的电脑。

上述论证还需要假设以下哪项作为前提？（ ）

- A. 电脑的图形质量主要跟电脑的售价有关
- B. 这两款电脑均属于高配置的电脑
- C. 电脑的图形质量只是由显卡的质量决定的
- D. 两款电脑在市面上的销量相差并不大

58.奥运会乒乓球单打已经进入到了半决赛阶段，中国队的甲对阵韩国队的乙，中国队的丙对阵韩国队的丁。赛前，小王预测：冠军只能在韩国队的队员中产生，小张预测：甲和乙不可能夺冠。赛后证明两人的预测都是错误的。

由此可以判断，最终夺冠的是（ ）。

- A. 甲
- B. 乙
- C. 丙
- D. 丁

59.甲、乙、丙分别来自于英国、法国和德国。已知法国人比甲年龄大，英国人和乙的年龄不同，德国人比乙的年龄大。则三个人年龄由大到小的顺序为（ ）。

- A. 英国人、法国人、德国人
- B. 法国人、德国人、英国人
- C. 德国人、法国人、英国人
- D. 英国人、德国人、法国人



云南华图微博



云南华图微信

60.某市交警队的一项调查显示，去年发生交通事故的司机中，女性司机只占到了 10% 的比例，因此女性相比男性开车更不容易发生交通事故。

以下哪项如果为真，最能支持上述结论？（ ）

- A. 该市司机中，女性占到了 30%
- B. 该市司机中，男性占到了 90%
- C. 在重大交通事故中，女性司机占到了 5%
- D. 在重大交通事故中，男性司机占到了 90%

61. 有一位“养生食疗专家”曾经提出过一个观点：吃茄子可以包治百病。对此有人认为：这一观点是有一定道理的，否则不会有很多人去尝试了。

以下哪项如果为真，最能反驳上述有关人士的观点？（ ）

- A. 养生专家的观点未必都是准确的
- B. 吃茄子包治百病暂时还没有发现理论依据
- C. 有太多的人去尝试了一些非常荒谬的事情
- D. 还有许多人没有去尝试吃茄子来治病的

※※※第四部分结束，请继续做第五部分！※※※

第五部分 资料分析

（共 10 题，参考时限 20 分钟）

所给出的图、表、文字或综合性资料均有若干个问题要你回答。你应根据资料提供的信息进行分析、比较、计算和判断处理。



云南华图微博



云南华图微信

请开始答题：

一、根据以下资料，回答 62~66 题。

2014 年北京都市型现代农业生态服务价值年值为 3434.57 亿元，比上年下降 0.4%；贴现值为 9850.36 亿元，比上年增长 4.4%。

2014 年北京都市型现代农业生态服务价值年值构成中，直接经济价值为 461.47 亿元，比上年增长 4.2%；间接经济价值为 1237.84 亿元，比上年增长 3.4%；生态与环境价值为 1735.26 亿元，比上年下降 4.1%。

2014 年全市年均降水量为 423.6 毫米，比上年减少 84.8 毫米，导致全市水面面积比上年下降 6.4%，水资源量也相应减少，全市农业生态与环境价值被相应拉低，同比下降了 4.1%。

2014 年北京都市型现代农业生态服务价值及其增长速度

指标名称	年值		贴现值	
	2014 年 (亿元)	比上年增长 (%)	2014 年 (亿元)	比上年增长 (%)
都市型现代农业生态服务价值	3434.57	-0.4	9850.36	4.4
一、直接经济价值	461.47	4.2	461.47	4.2
1、农林牧渔业总产值	420.07	-0.4	420.07	-0.4
2、供水价值	41.40	95.6	41.40	95.6
二、间接经济价值	1237.84	3.4	1237.84	3.4
1、文化旅游服务价值	630.26	5.3	630.26	5.3
2、水力发电价值	5.17	45.0	5.17	45.0
3、景观增值价值	602.41	1.2	602.41	1.2
三、生态与环境价值	1735.26	-4.1	8151.05	4.6
其中：气候调节价值	592.57	-8.5	1702.76	-15.2
水源涵养价值	150.96	-19.4	261.36	-9.0
环境净化价值	111.42	-8.8	948.62	2.9
生物多样性价值	666.02	4.7	2836.42	28.2
防护与减灾价值	206.11	2.0	1471.71	7.2
土壤保持价值	1.43	-13.3	7.43	-2.9
土壤形成价值	6.75	-46.6	141.75	-46.6

62. 2013 年北京都市型现代农业生态服务价值年值约为 () 亿元。

A. 3420

B. 3448



云南华图微博



云南华图微信

- C. 3480 D. 3515

63. 与 2013 年相比生态与环境价值在北京都市型现代农业生态服务价值中的比重()。

- A. 上升了 2 个百分点 B. 下降了 2 个百分点
C. 上升了 20 个百分点 B. 下降了 20 个百分点

64. 从材料中能够推出的是 ()

- A. 若供水价值继续保持 2014 年的增长速度，2015 年约是 2013 年的三番。
B. 2014 年贴现值最高的指标，增长率也最高。
C. 2014 年，生态环境不断改善，但是受气候因素影响，农业生态服务价值 (年值)

较上年略减。

D. 2014 年北京都市型现代农业生态服务价值中年值和贴现值相同的有 9 个指标。

65. 以下哪一个与 2014 年全市年均降水量的变化幅度相符 ()

- A. 下降 1/6 B. 上升 1/6
C. 下降 1/4 D. 上升 1/4

66. 与 2013 年相比，以下增长变化绝对值最大的是 ()

- A. 农林牧渔业总产值
B. 文化旅游服务价值
C. 景观增值价值
D. 水源涵养价值

二、根据以下资料，回答 67~71 题。

2014 年我国全社会固定资产投资 512761 亿元，比上年增长 15.3%，扣除价格因素，实际增长 14.7%。其中，固定资产投资 (不含农户) 502005 亿元，增长 15.7%，农户投资 10756 亿元，增长 2.0%。东部地区投资 206454 亿元，比上年增长 15.4%；中部地区投资 124112 亿元，增长 17.6%；西部地区投资 129171 亿元，增长 17.2%；东北地区投资 46096 亿元，增



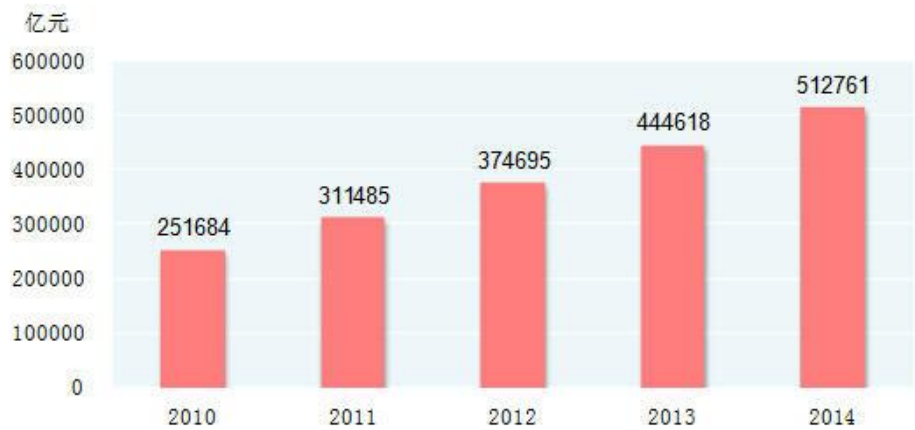
云南华图微博



云南华图微信

长 2.7%。

2010-2014年全社会固定资产投资



在固定资产投资（不含农户）中，第一产业投资 11983 亿元，比上年增长 33.9%；第二产业投资 208107 亿元，增长 13.2%；第三产业投资 281915 亿元，增长 16.8%。民间固定资产投资增长 18.1%，占固定资产投资（不含农户）的比重为 64.1%。

67. 2013 年我国全社会固定资产投资额约（ ）亿元。

- A. 59.1 万
- B. 44 万
- C. 51.3 万
- D. 60 万

68 2013 年，固定资产投资额约是农户投资的（ ）倍。

- A. 51
- B. 49



云南华图微博



云南华图微信

C. 47

D. 41

69. 2010-2014 年，全社会固定资产投资额同比增速最小的是（ ）

A. 2011 年

B.

2012

年

C. 2013 年

D. 2014 年

70. 与 2013 年相比，在固定资产投资（不含农户）中，第三产业投资额约增加了（ ）亿元。

A. 3 万

B.

4

万

C. 5 万

D. 6 万

71. 根据材料，以下能推出的是（ ）

A. 2011-2014 年，平均每年的全社会固定资产投资额超过 40 万。

B. 2014 年第一产业投资在固定资产投资中的比重与上一年相比下降了。

C. 2014 年民间固定资产投资额不到 30 万亿元。

D. 2014 年东部地区投资额的增速比中部地区低 7.8%。

※※※到此全部结束！※※※



云南华图微博



云南华图微信

2016年云南事业单位统考

《职业能力测试》试卷二答案及解析

第一部分 常识判断解析

1D【解析】胡椒胡桃等是西汉时期路上“丝绸之路”传入中国的，而其余三种都是在明朝传入我国，除此之外，烟草也是在明朝传入我国的。选择D。

2A【解析】《慈善法》是新修订的法律，国家主席用主席令的形式进行发布。选择A。

3A【解析】A体现的是人们之间的相互信任，买菜自觉付钱，体现的是自觉遵守诚信这一价值观的要求。B体现的是我国法治进程的完善，体现的是社会主义核心价值观中的法治。C是为每一个人提供公平展示自我的机会，是公正——公平正义的体现。D体现的是爱岗敬业，是敬业观的体现。选择A。

4A【解析】题中的综艺节目体现的是社会主义文化建设的发展，讲述的是与文化相关的内容，但题目中并未提及传统文化无人问津等字样，因此与传统文化无关。选择A。

5D【解析】A 1939年10月，毛泽东在《(共产党人)发刊词》一文中，总结了两次国内革命战争的经验教训，揭示了中国革命的客观规律。指出：“十八年的经验，已使我们懂得：统一战线，武装斗争，党的建设，是中国共产党在中国革命中战胜敌人的三个法宝，数字是实指。B抗日民主政权中人员的分配，共产党员大体占三分之一，左派进步分子大体占三分之一，中间分子和其他分子（不包含国民党等顽固势力）大体占三分之一，数字是实指。C三字经每个短句子都是由三个字组成的。数字是实指 D 三千丈意思是很长很长，不是实际的数字是虚指。

6D【解析】考察变法的主要领导人，A选项康有为梁启超是戊戌变法的主要领导人，B商鞅变法让秦国日渐强大，C选项北宋王安石变法中最为著名的就是“青苗法，募役法，一条鞭法”王安石也被列宁称为“中国十七世纪最伟大的改革家。D选项司马迁是《史记》的作者，而非变法知名人士。选择D。

7D【解析】A选项指的是1937年9月25日，八路军在山西省平型关附近，首次集中较大兵力对日军进行的一次成功伏击战，八路军在平型关取得首战大捷。B选项1938年3月16日开始至4月15日结束。战役由滕县战斗、临沂附近战斗、台儿庄战斗和日军的溃退，中国军队的追击作战等部分组成。是台儿庄战役。C选项百团大战是中国抗日战争中由中国



云南华图微博



云南华图微信

共产党所率领的国民革命军第十八集团军在 1940 年 8 月至 1941 年 1 月间发动的以破坏华北日军占领的交通线、矿山为目的的破袭作战。D 选项上甘岭战役，是抗美援朝战争中重要战役。选择 D

8D【解析】B 选项 1927 年 8 月 1 日，“八一”南昌起义，打响武装反抗国民党反动统治的第一枪，人民军队在炮火中建立，仍沿用国民革命军第二方面军番号，以贺龙兼代总指挥。为纪念“八一”南昌起义，将每年的八月一日定为中国人民解放军建军纪念日，以“八一”两字作为中国人民解放军军旗和军徽的主要标志。

D 选项 1927 年三湾改编，创造性地确立的“党指挥枪”、“支部建在连上”、“官兵平等”等一整套崭新的治军方略。从政治上组织上保证了党对军队的绝对领导。三湾改编是中国共产党建设新型人民军队最早的一次成功探索和实践。

1929 年古田会议，确立了人民军队建设的基本原则，核心内容党指挥枪，不是枪指挥党。思想上建党，政治上建军。新型人民军队的建设的基本原则：全心全意为人民服务是人民军队的惟一宗旨；党对军队绝对领导人民军队的根本原则；政治工作是人民军队的生命线。选择 D。

9C【解析】A 数字越小，公平正义程度越高。B 选项恩格尔系数指的是食品支出在总支出中的比重，而不是总收入，收入过不一定会导致恩格尔系数下降。D 选项 GDP 指的是国内生产总值，GNP 指的是国民生产总值。C 选项正确。选择 C。

10B【解析】题目中描述的涨价是由于供求紧张，供不应求进行涨价，选择 B。

第二部分 言语理解解析

11.C【解析】从语境“共同旗帜下”“虽然最后”可知这两种思潮原本方向一致，但后期发生了改变，能表达此意的是“分道扬镳”和“各自为政”，第二空的语境可知他们对儒家的现代命运看法是类似的，故“大同小异”更合适。

12.A【解析】第一空中，“管窥蛙见”比喻见识短浅，眼界狭窄，带贬义；“略有所闻”只能用来修饰人；故排除 B、D 项。第二空中“控制”的主语只能是人，而文段语境中主体为“地理和先期产业”，故应填入“限制”。

13.A【解析】填入的成语用来形容后文语境的“浅层化阅读”。A 项“浅尝辄止”指略微尝试一下就停止。比喻不肯下工夫深入钻研。符合浅层化阅读的特点，故选 A。B 项“一挥而就”形容才思敏捷，一动笔就写成，不能用来形容阅读，排除。C 项“下马看花”比喻停下来，深入实际，认真调查研究；为褒义词。D 项“文过饰非”指用漂亮的言词掩饰自己的过失和错误。文、饰：掩饰；过、非：错误。含贬义。文中未出现“言辞”这一信息，故排除。综上选 A。

14.C【解析】第一空修饰“政策”，冒号后即说明政策之多，“琳琅满目”比喻各种美好的东西很多（多指书籍或工艺品），为褒义词，“政策”和“美好的东西”不能形成对应关系，故排除 B 项。第二空意为各地政策不一，因而“破烂王”到底是否可以持证上岗很难用一个标准来衡量，即很难“一概而论”。综上选 C。

15.D【解析】第一空表达的是十年寒窗苦读，最后终于取得好成绩，“蟾宫折桂”“金榜题名”均比喻应考得中，引申为获得很大的成就或很高的荣誉。均符合语义。B 项“鹤立鸡群”指像鹤站在鸡群中一样。比喻一个人的仪表或才能在周围一群人里显得很突出，文段未



云南华图微博



云南华图微信

突出和其他人的比较，故 B 项不合语境。C 项“衣锦还乡”同“十年寒窗读”不能形成对应关系，排除。第二空指状元被人们给予的主观的特殊含义，因此选 D。“赐予”指双方不平等状态下，居高临下的给予对方，不符合语境。综上选 D。

16.B【解析】第一空填入“主导”照应后文“独立性和自主性”，第二空填入“驱使”和前文“经济利益”搭配得当。因此，本题答案为 B。

17.C【解析】第一空填入“融入”与后文“社会”搭配得当，第二空填入“强化”可很好的连接上下文，照应语境。因此，本题答案为 C。

18.B【解析】“辽阔”辽远广阔，宽广空旷，多指地域，如：辽阔的土地、幅员辽阔等。“寥廓”高远空旷，多指天空；如，寥廓的天空、视野寥廓等。“沉淀”多形容情感，而“积淀”多形容文化、知识、经验，此处“沉淀”和“优雅”搭配得当。因此，本体答案为 B。

19.A【解析】“不胫而走”比喻事物无需推行，就已迅速地传播开去；填入文段修饰“鬼街这一叫法”，符合文意。“不翼而飞”没有翅膀却飞走了，比喻物品忽然丢失，不符合文意；“名声大噪”和“声名鹊起”可以用来形容一个地点，如“鬼街”，而不能形容“叫法”。因此，本题答案为 A 选项。

20.A【解析】“意气”由于主观和偏激而产生的情绪；“义气”因私人关系而甘于承担风险或牺牲自己利益的气概。和“萎缩”相比，“畏缩”侧重强调“畏”，因害怕而退缩，文段中没有体现“害怕”这层意思，应填入“萎缩”，照应前文“”挺身而出。因此，本题答案为 A。

21.D【解析】“良莠不齐”形容好人坏人都有，不能形容“作品”。“不堪卒读”不堪：不能；卒：完毕，结束；指文章粗劣，使人不肯读下去；“不忍卒读”卒：尽，完，不忍心读完，常用以形容文章内容悲惨恻人。第二空应填入“不堪卒读”。因此，本题答案为 D。

22.D【解析】第二行的“但”字引出了文段一个重点内容，即“文化失范现象”的出现，紧接着，作者用一个宏观指代“这些现象”引出了出现这种负面现象的原因是“社会价值取向的扭曲”。接着，作者举出人们对于能从“手哥”那里得到“正分”而感到“人生莫大的荣誉”的例子来加以说明。

23.A【解析】第三行“实际上”引出主题句，A 项是对主题句的提炼；B 项是文段背景的陈述；C 选项与原文意思不符合，“已经”表述错误；D 项是围绕例子陈述的句子。

24.D【解析】全文是分——总结构，分由“首先”、“其次”、“最后”三层组成，叙述了乐视现在遭遇的窘况，最后一句话是对上文的总括，通过反问的句式揭示了原因——诚信的缺失，答案为 D，A、B、C 只是对“分”里的内容的概括，不够全面。

25.D【解析】主旨概括题。文段前半部分说万事万物都有性能，而佛性恒久不变，后半部分提出一个问题是人类无明造作，追逐五欲六尘阻碍了内心的潜能，最后用一个表结果的词语“所以”引导佛家的建议：明心见性能够清净佛性，开发潜能。故选 D

26.D【解析】主旨概括题。文段出现多个关联词，转折关系“不过”之后引导的是一个问题：不法商人利用人们渴望实现心愿的焦虑来牟取暴利。必要条件关联词“必须”之后引导是作者对不法行为的解决建议：许愿者必须留意、慎重地参与。必要条件引导的解决问题的对策是重点，故选 D

27.C【解析】问作者想要说明的是什么，可以看出这是一道意图推断题。文章开头用一个“但”提出了库尔勒香梨由于多种原因，品质变差，这是提出了问题，而解决问题才是作者想表达的重点所在，作者在后面紧接着说为保持香梨产业的的优势，需求技术提高其品质问



云南华图微博



云南华图微信

题成为当务之急。因此，作者想说明不是香梨品质变差的现状，而是呼吁应该重视对于香梨产业提质增效的技术的寻求。A、D都不是目的，不选，B选项很明显不对。答案选C。

28.C【解析】此题是一道主旨概括题。文段用并列结构论述了调查性新闻面临的问题的两个方面，因此文段的主旨要能够全面概括问题的两个方面。前两句话为一个层次，说明问题的一个方面是“面临传统信息源崩坏的压力”；后两句是一个层次，说明问题的另一个方面是“调查性报道可能有生长空间和机会”。综合两个层面，匹配选项可知，C项表述最为全面。A项表述是文段第1句开头内容，是为了引出话题，而非文段主旨，故排除；B项，首先文段论述主体是调查性报道，而非政治调查性报道，其次文段论述的是一个问题的两个方面，而非两个问题，B项表述错误，故排除；D项只概括了问题的一个方面，以偏概全，排除。本题答案为C项。

29.C【解析】此题是一道细节理解题。选项A定位文段第2句“但如果人均分配资源，我们是贫乏的”，可以看出我国并非在人均分配上处于世界领先水平，A为曲解文意；B项定位“500米”找到第3句，文段中说“我国已有矿床的勘探深度大都小于500米”，而B数量偷换为“深度为500米”，错误；C项即为尾句“技术昂贵，最主要是美国页岩气开采技术需要耗费大量能源和大量水，可能不适合中国实际”的替换，即“在页岩气开采技术方面技术发展存在问题”，正确；D项在文中根本没有提到，是无中生有。本题答案为C项。

30.C【解析】此题是一道语句衔接题。文段主要讲文言与白话的关系，根据“保持论述主体的一致性”原则，可排除D项。文段提到“如果不能驱遣白话文，那么他的文笔就只有一个‘平面’、‘文言的功力可济白话的松散和浅露’，可知“文言”是在“白话”的基础上起应变的作用。本题答案为C项。

31.A【解析】此题是一道意图判断题。文段第1、2、3句为举例论证，分别从人生的不同阶段举例说明告别无处不在。第4句进行总结，为文段的中心句，强调：没有告别，就无法前行。为必要条件的变形形式，即“没有A就没有B”形式，强调A是B的必要条件，即告别是前行的必要条件。第5句再次举例补充。A项正确。B项，“人生中每一件事情”表述过于绝对，排除；C项内容文段并未涉及，无中生有，排除；D项“一边……一边……”为并列结构，而文段中强调告别是前行的条件，故排除。本题答案为A项。

32.D【解析】此题是一道意图判断题。文段首先提出“黄金既是投资品又是消费品”，进而论述黄金的这两种特性是怎样体现在华尔街和“中国大妈”炒黄金事件中的，最后“然而”引导转折，阐明作者观点和结论“黄金的投资性会战胜其消费属性”。A项表述是文段引入话题的内容，并非作者主要想表达的，排除；B、C两项中的“中国大妈”和华尔街均是在说明黄金两种属性是的举例说明，不是主要内容，排除。本题答案为D项。

33.B【解析】此题是一道意图判断题。文段第1句引出话题。第2句运用搭桥法说明“城市迅速发展——较高的土壤湿度和温度——草坪碳排放量居高不下”。根据搭桥法解题技巧可知，重点强调两端，即城市迅速发展导致草坪碳排放量居高不下，匹配选项可知，B项为正确答案。A项表述是为了引出话题，非主要强调内容，排除。C项，文段中说的是“几乎”，是可能性表述，而选项中为确定性表述，排除。D项显然是将重点放在了搭桥的中间项上，排除。本题答案为B项。

34.D【解析】此题是一道语句排序题。首先观察选项，判断首句。③句是背景介绍，而④句以代词“这”开头，根据首句特点，句子开头是代词一般不适合放在首句，因此排除A、C两项。观察①句之后适合跟②句还是⑥句，①句说的是好的方面，而②句已经在说“不良



云南华图微博



云南华图微信

习俗”了，因此中间应当先说⑥句转折“然而，在赞美的同时，也有一些微词”，本题答案为D项。

第三部分 数量关系解析

35.C【解析】设有100件商品，第一次销售 x 件，则 $100 \times 70 \times (1-19\%) = 63x + 50.4 \times (100-x)$ ，解得 $x=50$ ，所以占比50%。选择C

36.A【解析】根据题意，只喜欢打乒乓球和羽毛球的有 $18-12=6$ 个，只喜欢打羽毛球和篮球的有 $16-12=4$ 个，因此只喜欢打羽毛球的有 $38-6-12-4=16$ 个。选择A。

37.C【解析】设乙车第一次相遇走了 S 米，则乙两车从第一次相遇点到第二次相遇走了 $2S$ 米。 $2S=550 \times 2+200$ 或 $2S=550 \times 2-200$ ，解得 $S=650$ 或 450 ，那么全程则等于1000米或者1200米。选择C。

38.B【解析】首先题目中午任何具体量，因此两桶水中的水量只需要满足比例关系；其次甲中的原有水量能被4整除，综合两个条件即可。选择B。

39.D【解析】放在一起结算，少支付的钱来源于一起结算之后，能打更多的折扣。因此第一次支付钱90，如果一起支付可以打八折，能节省 $90 \times 0.2=18$ 元；第二次支付216元放在一起支付，原先打9折，现在能打8折，因此减少了1折的费用，能节省 $216/9=24$ 元；共计节省 $18+24=42$ 元。选择D。

40.A【解析】设甲每天修建 $7a$ ，乙每天修建 $5a$ ，则 $(7a-5a) \times 5=20$ ，解得甲每天修建14米，乙每天修建10米，当甲修完时，B通道还剩120米待修，因此甲乙合作需要 $120/24=5$ 天。选择A。

41.C【解析】路径2的横向的边和纵向的边合在一起均为正方形的边长，因此两条路径相同。选择C。

第四部分 判断推理解析

一、图形推理

42.D【解析】题干中的四个图形分别包含1、2、3、4个封闭空间，故“？”处图形包含5个封闭空间。因此，本题答案为D选项。

43.A【解析】题干中的两个黑块每次分别逆时针移动1、2、3格，“？”处图形，在第四个图基础上继续逆时针移动4格。因此，本题答案为A选项。

44.A【解析】B项和C项犯了相对面错误，D项中正侧面线条应该经过公共顶点。因此，本题答案为A选项。

45.B【解析】①③④中的图形均为封闭图形，②⑤⑥中的图形均为开放图形。因此，本题答案为B选项。

46.B【解析】①②④中的图形既包含直线也包含曲线，③⑤⑥中的图形只包含直线。因



云南华图微博



云南华图微信

此，本题答案为 B 选项。

二、定义判断

47.C【解析】A 项中，金融危机可能有一定的周期，但并不是因些部门的间歇性生产特征而导致的，排除 A；B 项中，小张每年夏季都失业，是因自身需求导致的；C 项中，由于农业收割的特征，使得除了农忙季节需求大量的劳动力，而其余时间需求很少，由此而导致的许多人在非农忙季节失业，属于季节性失业；D 项中，一些大学生才刚刚找工作，暂时没有找到工作，属于自然失业。因此，本题答案为 C 选项。

48.B【解析】A 项中各位专家互相讨论，有横向的联系，排除；B 项中，专家只与调查人员发生关系，属于德尔菲法；C 项中，结构化面试的目的并不是收集各位考生或者各个专家的意见；D 项中，也不是单独搜集每位评委的意见的。因此，本题答案为 B 选项。

49.B【解析】定义中提到的求同思维和求异思维都是在艺术创作中的，排除 C 和 D 项；A 项中，是对自己见过的荷花形象进行筛选、归纳、概括的过程，属于求同思维；B 项则是由一个农民形象进行广泛联想，从多个角度捕捉创作灵感，属于求异思维。因此，本题答案为 B 选项。

50.D【解析】A 项中体现不出“面对逆境”，B 项中，只谈到了小赵遇到的客观困难，并看不出他所做的选择；C 项中，小刘遇到了逆境，但“退赛的结果”也不能算是“正面的结果”，排除；D 项中，小刘面对自身的缺陷，最终克服苦难，取得了一些成就，体现出了其抗逆力。因此，本题答案为 D 选项。

51.D【解析】失业补助、养老金和抚恤金都是由政府支出的，均属于转移支付；D 项中的，银行利息是由银行支出的，属于财产性收入。因此，本题答案为 D 选项。

三、类比推理

52.A【解析】“萝卜”和“白菜”是并列关系，A 项中的“木星”和“火星”也是并列关系；因此，本题答案为 A 选项。

53.C【解析】题干中的“姥爷”和“外公”是指的是同一个人，选项中，只有 C 项中的“母亲”和“妈妈”是同一个人。因此，本题答案为 C 选项。

54.B【解析】场所与消费者的对应。饭店里的消费者是顾客，赛场里的消费者观众，观



云南华图微博



云南华图微信

众花钱买票进入的。因此，本题答案为 B 选项。

55.A【解析】本题考查种属关系。电视机是一种电器，祭祀是一种风俗。因此，本题答案为 A 选项。

56.D【解析】“模棱两可”和“似是而非”是近义词，“一石双鸟”和“一箭双雕”是近义词。因此，本题答案为 D 选项。

四、逻辑判断

57.C【解析】论点：相同的图像质量的电脑；论据：使用的是相同质量的显卡。

论据和论点之间有跳跃，隐含的前提就是二者之间的联系，即“显卡决定着电脑的图像质量”。因此，本题答案为 C 选项。

58.A【解析】根据小王的预测错误，可知，冠军只能是甲或丙；根据小张的预测错误，可知，冠军必定是甲或乙。两个条件结合，冠军只能是甲。因此，本题答案为 A 选项。

59.C【解析】根据“英国人和乙的年龄不同，德国人比乙的年龄大”可知，“法国人是乙”，故“甲 < 法国人（乙） < 德国人”。因此，本题答案为 C 选项。

60.A【解析】论点：女性相比男性开车更不容易发生交通事故；论据：发生交通事故的司机中，女性司机只占到了 10% 的比例。

缺乏总体的情况，故需要补充司机中男女司机的比重如何。加入女性的比重高于 10%，则就能说明女性相比男性开车更不容易发生交通事故。因此，本题答案为 A 选项。

61.C【解析】论点：吃茄子可以包治百病的观点是有一定道理的；论据：很多人去尝试了。题干中本身有诉诸主观的逻辑错误。

A 项，“未必”的说法不明确；B 项中“暂时还没有发现”并不意味着就没有道理；C 项切断了论据和论点之间的联系，削弱力度最大；D 项中，另外一些人的做法也是“诉诸主观”的错误。因此，本题答案为 C 选项。

第五部分 资料分析解析

62【解析】基期量计算。列式有， $\frac{3434.57}{1-0.4\%} \approx 3448$ 。选择 B。



云南华图微博



云南华图微信

63【解析】比重变化。 $-4.1\% < -0.4\%$ ，所以比重下降。列式有， $\frac{1735.26}{3434.57} \times \frac{-4.1\%+0.4\%}{1-4.1\%} = 0.019 \approx$

2个百分点。选择 B。

64【解析】A 选项，2013 年的值为 $\frac{41.4}{1+95.6\%} \approx 21.2$ ；2015 年的值为 $41.4 \times (1+95.6\%) \approx 80.6$ 。2015 年约为 2013 年的两番，A 错误；B 选项，直接读数，增长率最高的是供水价值，错误；C 选项，2014 年全市年均降水量减少，导致全市水面面积比上年下降 6.4%，水资源量也相应减少，全市农业生态与环境价值被相应拉低，下降了 4.1%，正确；D 选项，直接读书，错误。选择 C。

65【解析】增长率计算。列式有 $\frac{84.8}{423.6+84.8} \approx 16.7\% = 1/6$ 。选择 A。

66【解析】增长量比较。现期量大增长率大，增长量大。选择 C。

67【解析】基期量计算。列式有 $\frac{512761}{1+15.3\%} \approx 444718$ 亿元，选择 B。

68【解析】基期倍数计算。列式有 $\frac{502005}{10756} \times \frac{1+2\%}{1+15.7\%} = 41$ 。选择 D。

69【解析】增长率比较。这四年增速分别约为： $\frac{311-251}{251} = \frac{60}{251}$ ； $\frac{375-311}{311} = \frac{64}{311}$ ； $\frac{445-375}{375} = \frac{70}{375}$ ； $\frac{513-445}{445} = \frac{68}{445}$ 。用分数性质即可比较出，增速最小的是 2014 年。选择 D。

70【解析】增长量计算。 $281915 \times \frac{16.8\%}{1+16.8\%} \approx 40693$ 亿元。选择 B。

71【解析】A 选项，注意时间段。正确；B 选项，明显观察出 2014 年第一产业投资在固定资产投资中的比重与上一年相比上升了，错误；C 选项，比重计算，超过 30 万；D 选项，应表示为 7.8 个百分点。选择 A。



云南华图微博



云南华图微信