

# 冲刺密卷（一）

## 第一部分 常识判断

（共 20 题，参考时限 15 分钟）

根据题目要求，在四个选项中选出一个最恰当的答案。

请开始答题：

1. 下列关于我国在 2016 年取得的成就，说法错误的是（ ）
  - A. 经济运行缓中趋稳、稳中向好，国内生产总值达到 74.4 万亿元，增长 6.7%，名列世界前茅，对全球经济增长的贡献率超过 30%
  - B. 就业增长超出预期，全年城镇新增就业 1314 万人。年末城镇登记失业率 4.02%，为多年来最低
  - C. 经济结构加快调整，消费在经济增长中发挥主要拉动作用，服务业增加值占国内生产总值比重首次超过 50%
  - D. 成功举办 2016 年 20 国集团领导人杭州峰会，峰会主题为“构建创新、活力、联动、包容的世界经济”
2. 今年两会通过的《民法总则》在原来《民法通则》的基础进行了大量的修改，也使得我国民法典的出台迈出了重要的一步，下列关于《民法总则》新修改的内容说法错误的是（ ）
  - A. 《民法总则》将无民事行为能力人的年龄由 10 周岁下调至 8 周岁
  - B. 《民法总则》规定自然人的个人信息也是一项重要民事权利受法律保护
  - C. 《民法总则》将普通诉讼时效由两年延长为三年
  - D. 《民法总则》取消了胎儿作为民事主体的资格，保留了胎儿在遗产继承中权利
3. 下列做法不符合《慈善法》规定的是（ ）
  - A. 对违法募集的财产，责令退还捐赠人，难以退还的，由民政部门予以收缴
  - B. 欺捐、诈捐对组织或个人处两万元以上二十万元以下罚款
  - C. 如果捐赠人公开承诺捐赠后经济状况显著恶化也要无条件按照要求履行捐赠义务
  - D. 慈善募捐信息和慈善活动需要向公众公开
4. “十三五”期间，要持续增加农业投入，逐步扩大“绿箱”补贴规模和范围，调整改进“黄箱”政策。下列选项关于“绿箱”“黄箱”说法错误的是（ ）
  - A. 对于“绿箱”补贴，任何国家均可免除削减义务
  - B. 政府对于农产品生产中的种子补贴属于“黄箱”补贴

- C. 政府帮助农民治理环境属于“黄箱”补贴的一种表现形式
- D. “黄箱”补贴中的休耕补贴，是农民不种地
5. 中国大陆“四纵四横”客运专线是指省会城市及大中城市间的长途高速铁路，下面有关“四纵四横”的涉及到的线路说法错误的是（ ）
- A. 武广高铁（武汉-长沙-广州）是中国大陆第一条 350 公里每小时高铁
- B. 沪昆高铁（上海-昆明）是中国东西向线路里程最长、经过省份最多的高速铁路，2016 年底全线开通运营
- C. 郑徐高铁，是我国“十三五”期间开通运营的首条高铁
- D. 京沪高铁，是中国第一条具有自主知识产权、运营速度世界最快的高速铁路
6. 西汉初年出现“文景之治”的治世局面，主要原因在于当时统治者采用（ ）学派的思想，与民休息，轻徭薄赋。
- 儒家                      B. 法家                      C. 墨家                      D. 道家
7. 下列国际组织对应说法正确的是（ ）



- A. ①是世界上最大的粮食组织
- B. ②是一个区域性的官方经济论坛
- C. ③是世界上一体化程度最高的区域政治经济集团组织
- D. ④有着“经济联合国”之称
8. 下列诗句所描写的时间根据先后顺序排列正确的是（ ）
- ①接天莲叶无穷碧，映日荷花别样红 ②停车坐爱枫林晚，霜叶红于二月花
- ③忽如一夜春风来，千树万树梨花开 ④清明时节雨纷纷，路上行人欲断魂
- A. ④①②③                      B. ③④①②                      C. ④③①②                      D. ③①②④
9. 2016 年，在土耳其伊斯坦布尔举行的联合国教科文组织世界遗产委员会第 40 届会议上，广西崇左“左江花山岩画文化景观”、（ ）成功列入世界自然遗产名录，中国世界遗产项目已达 50 个，居世界第二。

- A. 福建土楼 B. 湖北神农架  
C. 平遥古城 D. 红河哈尼梯田
10. 2016年，西安某高校举办“中意文化交流项目”，下列那组人物和作品可能出现在这项活动上（ ）
- A. 但丁、米开朗琪罗、伽利略、《蒙娜丽莎》  
B. 普希金、契科夫、列宁、《战争与和平》  
C. 雨果、大仲马、巴尔扎克、《论法的精神》  
D. 莎士比亚、罗曼·罗兰、牛顿、《鲁兵逊漂流记》
11. 英国通过发动鸦片战争叩开了中国的大门，与清政府签订了第一个不平等条约《南京条约》，在南京条约的内容上哪一款最能体现英国发动这场不正义战争的目的（ ）
- 割让香港岛  
B. 赔款 2100 万银元  
C. 五口通商  
D. 关税协定
12. 根据血型遗传规律，下列说法不正确的是（ ）
- A. 如果父母都是 O 型血，生下来的子女也一定是 O 型血  
B. 如果父亲是 AB 型血，母亲是 B 型血，生下来的子女不可能是 O 型血  
C. 如果父母都是 AB 型血，生下来的子女不可能是 O 型血  
D. 如果父母都是 A 型血，生下来的子女也一定是 A 型血
13. 辛弃疾《永遇乐·京口北固亭怀古》中写道：“千古江山，英雄无觅，孙仲谋处。舞榭歌台，风流总被，雨打风吹去。斜阳草树，寻常巷陌，人道寄奴曾住。想当年，金戈铁马，气吞万里如虎。”此阙中涉及到两个著名的历史人物，分别是（ ）。
- A. 三国孙权，南朝刘裕  
B. 三国孙权，西汉班固  
C. 三国孙策，战国廉颇  
D. 三国孙策，北魏拓跋珪
14. 古人常用“学富五车”来形容学问渊博，但也反映出当时书写工具的落后。那么在古代的中国，从什么时候开始，读书人外出游学时，不用带五大车的竹简，也可以达到“学富五车”呢？（ ）
- A. 西周  
B. 秦朝  
C. 汉代  
D. 唐代
15. 关于航天知识，下列说法不正确的是（ ）
- A. 世界上首次实现载人航天飞行的国家是前苏联



## 2017 年常识冲刺押题（二）

### 第一部分 常识判断

1. 台北故宫博物院南院于 11 月 14 日上午将安放于主建筑外广场的 12 生肖兽首复制品拆除、封存，这些兽首系香港知名艺人成龙捐赠，此事引发两岸舆论热烈关注。十二兽首作为中国古代艺术的瑰宝，流失海外多年。这些铜像被劫是在（ ）
- A. 1840 年第一次鸦片战争  
B. 1900 年八国联军侵华  
C. 1894 年甲午中日战争  
D. 1860 年英法联军侵华
2. 2016 年是中国共产党 95 周年纪念，2017 年又将迎来党的十九大召开，关于党历史上历次党代会说法正确的是（ ）
- A. 中共一大确立了两个纲领，两步走的战略目标  
B. 中共三大的胜利召开标志了国共两党正式合作的形成  
C. 中国六大是唯一一个在国外召开的党代会  
D. 中共八大把毛泽东思想确立为党的指导思想
3. 孔子说过：“道之以政，齐之以刑，民免而无耻。道之以德，齐之以礼，有耻且格。”孔子的话对我们今天的借鉴意义是（ ）。
- A. 必须把社会主义精神文明建设和物质文明建设协调发展  
B. 必须坚持依法治国和以德治国相结合  
C. 必须努力培养一批德才兼备的优秀干部  
D. 必须将道德建设作为社会主义民主政治建设的核心
4. 下调金融机构人民币存款准备金率，以保持银行体系流动性合理充裕，引导货币借贷平稳适度增长。这一决定对实体经济的传导机制是（ ）。
- A. 货币供给增加——利率下降——投资和消费增加——实际产出增加  
B. 货币需求减少——利率下降——投资和消费增加——实际产出增加  
C. 货币供给增加——利率上升——投资和消费减少——实际产出减少  
D. 货币供给减少——利率上升——投资和消费减少——实际产出减少

5. 2016年12月21日，李某驾驶福田瑞沃变型拖拉机沿S102线由东向西行驶，当行至C市新城区建新路口处时，将由北向南过马路正常行走的行人连某碰倒，造成被害人连某当场死亡。事故发生后李某驾驶车辆逃逸，后于2015年3月19日到C市公安局交警支队新城区大队投案。经尸检，被害人连某系因交通工具作用致颅脑及胸腹腔脏器严重损伤而死亡。经C市公安局交通警察支队新城区大队认定，被告人李某承担事故的全部责任。根据案情，李某的行为构成（ ）。

- A. 故意杀人罪
- B. 故意伤害致人死亡罪
- C. 交通肇事罪
- D. 过失致人死亡罪

6. 甲去朋友乙家做客，不慎将手机遗忘在乙家，乙发现后没有通知甲，而是自用。1周后，乙将手机丢失，后来甲得知此事，要求乙返还手机，乙不愿返还，为此引起纠纷。以下说法正确的是（ ）

- A. 甲无权请求赔偿，因为乙是无因管理
- B. 甲无权请求赔偿，因为乙是善意占有人
- C. 甲无权请求赔偿，因为乙是保管人
- D. 甲有权请求赔偿，因为乙是恶意占有人

7. 古诗云：“眼处欣生句自神，暗中摸索总非真。画图临出秦川景，亲到长安有几人？”下列选项中与此诗所蕴含的哲理相同的是（ ）。

- A. 纸上得来终觉浅，绝知此事要躬行
- B. 竹外桃花三两枝，春江水暖鸭先知
- C. 近水楼台先得月，向阳花木易为春
- D. 日出江花红胜火，春来江水绿如蓝

8. 我国有悠久的酒文化，在长期的发展过程中，酿造出多种被誉为“神品”、“琼浆”的酒类珍品，下列关于各类酒的作用说法错误的是（ ）

- A. 白酒有杀菌、去腥、防腐作用，可用于医药
- B. 啤酒具有清心、提神的作用，可减少过度兴奋和紧张情绪
- C. 红酒有助于防动脉硬化，还可减少骨质疏松的危险
- D. 黄酒有助于通经络、厚胃肠、养脾扶肝、增进食欲、消除疲劳

9. 关于下面这幅画作说法错误的是（ ）



- A. 作者毕加索是典型的立体派绘画的大师
- B. 画作跟第一次世界大战有关
- C. 这是一幅油画
- D. 画作名叫《格尔尼卡》，是西班牙的一个小城市
10. 下列有关夏令时说法不正确的是（ ）
- A. 由于夏季太阳升起时间明显比冬季早，夏令时确实起到节省照明时间的作用
- B. 低纬度地区的国家比如说新加坡没有实行夏令时的必要
- C. 世界各个国家采取的夏令时是有所差别的
- D. 夏令时是在原有时间的基础上减一小时
11. 下列纪念日与其由来对应错误的是（ ）
- A. 建军节：南昌起义
- B. 教师节：孔子诞辰
- C. 中国航天日：东方红一号发射成功
- D. 中华慈善日：特里萨修女逝世（同国际慈善日）
12. 蜜蜂载着花蜜飞行时，翅膀平均每秒振动 300 次；不载花蜜时，平均每秒振动 440 次，有经验的养蜂人能辨别出蜜蜂是飞出去采蜜，还是采了蜜飞回来。养蜂人的依据是翅膀振动发出声音的（ ）
- A. 音色不同      B. 响度不同      C. 音节不同      D. 音调不同
13. 古人信奉“五德终始说”，认为朝代与金、木、水、火、土五行相对应，朝代更替源于五行相克。周朝尚红色、属火，那么秦朝尚黑色、属（ ）。
- A. 金      B. 木      C. 水      D. 土

14. 近 3500 年来，我国经历了三个气候温暖湿润时期和三次大规模的变冷时期。每次气候变冷，北方游牧民族政权南部疆域的版图都必须扩大，如果不能扩大，这些游牧民族政权就会灭亡。由此可以得知，( ) 时期出现了气候变冷的情况。

- A. 战国                      B. 西汉                      C. 隋唐                      D. 魏晋

15. 对于夏季防雷常识，下列选项中论述正确的是 ( )。

- A. 遇到雷雨时，人们应尽快进入室内，打开窗户通风，并尽快通过电视、电脑或收音机了解此次雷雨的相关信息
- B. 汽车金属外壳易导电，所以在汽车上遇到雷雨时，应尽可能跑出汽车避雷
- C. 在游泳池或河边遇到雷雨时，可以跳入水中，因为有水的保护，雷难以直接打到人身上，所以在水中较为安全
- D. 切勿站在山顶、楼顶，不宜把羽毛球拍、高尔夫球杆等扛在肩上

16. 夏天，从冰箱里拿出冰冻的啤酒发现啤酒瓶外面“出汗”，以下对这种现象解释正确的是 ( )

- A. 酒从瓶中渗出                      B. 空气中水蒸气汽化
- C. 啤酒瓶上水汽化                      D. 空气中水蒸气遇冷液化

17. 下列关于生活中的化学常识，说法正确的是 ( )。

- A. 现在，方便的小包装食品已被广泛接受，为了防止中秋月饼等高脂食品氧化变质，延长食品的保质期，在包装袋中常常放入生石灰
- B. 现在用的清洁能源主要有两类：一类是压缩天然气，另一类是液化石油气，它们属于碳氢化合物
- C. 福尔马林是一种良好的杀毒剂，可用于消毒自来水
- D. 保护加酶洗衣粉的洗涤效果，应先在 60 摄氏度以上的热水中溶解洗衣粉

18. 地球，我们共同的家园，江上如画，景象万千。下列说法正确的是 ( )

- A. “夜来南风起，小麦覆陇黄”，风向因素决定小麦的成熟
- B. “春江潮水连海平，海上明月共潮生”，潮起潮落与月球密切相关
- C. “月下檐西，日出篱东”，日月星辰东升西落，绕地球运动周期相同
- D. “山下桃花山上雪，山前山后两重天”，南坡暖北坡寒是世界各地都存在的现象

19. 西欧有一句名谚：“中国人的头，阿拉伯人的口，法兰西人的手。”结合对古代科技史的理解，下列说法不正确的是 ( )。



- A. 中国人的智慧创造了领先世界的科技成就
- B. 古代欧洲的科技成就比中国的科技成就更高
- C. 欧洲吸收和借鉴中国科技成就，形成近代科学
- D. 阿拉伯人在东方文化交流中起到了桥梁作用

20. 苏轼在《赤壁赋》中写到：“壬戌之秋，七月既望，苏子与客泛舟游于赤壁之下。”在一阕《水调歌头》的序中说：“丙辰中秋，欢饮达旦，大醉，作此篇，兼怀子由。”文中所述的“夜游赤壁”和“中秋夜饮”（ ）。

- A. “夜游赤壁”发生在前
- B. “中秋夜饮”发生在前
- C. 两者同年发生
- D. 两者发生时间相隔了四年

## 第二部分 言语理解与表达

(共 40 题，参考时限 35 分钟)

本部分包括表达与理解两方面的内容。请根据题目要求，在四个选项中选出一个最恰当的答案。

请开始答题：

21. 随着政府整治化工企业政策的出台，处于水源地上游的企业主对自身的处境感到了\_\_\_\_\_。搬迁或者关停是必然的结果，但要在短短一个月的时间结束当地经营多年的企业，着实令很多化工企业\_\_\_\_\_。

填入划横线部分最恰当的一项是（ ）

- A. 忧虑 左右为难
- B. 伤感 不堪重负
- C. 担心 举棋不定
- D. 担忧 措手不及

22. 中国书法博大精深，玄妙无比，字的结体变化微妙，形态不一，\_\_\_\_\_。因此，能够掌握书法的奥义而有所成就者，才可称为方家。高菲，不但是一位笔法娴熟的大师，他对书法的领悟和理解也有独到之处。尤为人们所称赞的便是他那一手古朴、大气的左手书法，在当今书法界可谓\_\_\_\_\_。

填入划横线部分最恰当的一项是（ ）

- A. 异曲同工 自成一派
- B. 千变万化 别具匠心
- C. 妙趣横生 另成一派

D. 意趣迥异 独树一帜

23. 生活并不公平。很多苦恼都来源于追求绝对的公平，现实往往\_\_\_\_，于是种种不快随之而来。其实要想快乐，首先便是接受这是一个不公平的世界。世界不会过多关注你，喝彩的背后必然要经历无人问津的\_\_\_\_；不因无人关注而\_\_\_\_，不因一时失败而放弃，获得成功只是早晚的问题。

填入划横线部分最恰当的一项是（ ）

- A. 事与愿违 孤独 气馁
- B. 事倍功半 寂寞 放弃
- C. 针锋相对 落寞 消极
- D. 南辕北辙 孤单 泄气

24. 春节过后，大街小巷，烟摊酒行，不少地方都悬挂着“高价礼品回收”的招牌，虽然工商注册从来没有“礼品回收”这一项，但大家的生意还是做得\_\_\_\_、热闹非凡。据说一个中等规模的烟酒行在“礼品回收”上获得的\_\_\_\_，可以轻松超一百万。

填入划横线部分最恰当的一项是（ ）

- A. 如火如荼 营利
- B. 风生水起 盈利
- C. 方兴未艾 盈利
- D. 声名鹊起 营利

25. 一部经典作品是要连贯性的情绪来阅读的，要有耐心进入作家描写的世界，感受那离我们比较遥远的过去的生活气息，替那些与我们\_\_\_\_的人物悲伤和欢笑，为他们的命运揪心，这种丰富的情感体验，会成就我们的人生，使我们变得通情达理。而在网络和微博上，只能把你培养成一个\_\_\_\_、充满戾气的、顽固不化的愤青。

填入划横线部分最恰当的一项是（ ）

- A. 毫不相干 与世对立
- B. 息息相关 愤世嫉俗
- C. 遥不可及 与世隔绝

D. 各奔东西 感恩戴德

26. 科技的迅猛发展,造成的市场魅惑、人群的喧嚣、精神的分裂和萎缩、内心的平庸化和对作家及作品失去的敬畏感,让人们与文学这个\_\_\_\_\_我们民族几千年的文化伴侣渐行渐远。作家\_\_\_\_\_,陷入欲罢不忍、欲行无路的行业危机之中。

填入划横线部分最恰当的一项是( )

- A. 影响 犹豫不决
- B. 陪伴 无所适从
- C. 伴随 手足无措
- D. 展现 措手不及

27. 其实,教育是一种缓慢的艺术,是一种\_\_\_\_\_的艺术,正如叶圣陶先生所说,“教育是农业而不是工业”。所以,男孩的父母们一定要摒弃\_\_\_\_\_的心态,铭记“十年树木,百年树人”的教育真理。

填入划横线部分最恰当的一项是( )

- A. 奔跑 守株待兔
- B. 等待 急功近利
- C. 期待 孤注一掷
- D. 欣赏 争强好胜

28. 当成功成为考量人的重要指标,当快速成功成为普遍追求,彷徨与迷茫也就\_\_\_\_\_了。年轻人捧读着各类成功学书籍,拜金主义、官本位思想\_\_\_\_\_,价值观开始扭曲,择业观就变得越来越狭窄。

填入画横线部分最恰当的一项是( )

- A. 应运而生 泛滥成灾
- B. 顺理成章 蔚然成风
- C. 在所难免 乘虚而入
- D. 油然而生 根深蒂固

29. 随着国共第二次合作的形成和抗日战争的不断深入，共产党在国统区由完全秘密转为公开；人民的抗日爱国运动亦日益高涨，\_\_\_\_\_。1938年春，蒋介石借口抗日战争时期国难当头，为了防止日谍汉奸活动，提高工作效率，\_\_\_\_\_抗战力量，在3月29日召开的国民党临时全国代表大会上决定把原有的国民政府军事委员会调查统计局改组，扩大成为3个公开的特务组织。

依次填入划横线部分最恰当的一项是（ ）

- A. 大势所趋 增加
- B. 势如破竹 增强
- C. 势不可挡 增强
- D. 来势迅猛 增加

30. 对于解决沿海岛屿、交通不便的边远地区、地广人稀的草原牧场，以及远离电网的农村、边疆等地方的生产和生活用电问题，风力发电有着\_\_\_\_\_的作用，正是在这样的情况下，风力发电迎来了发展的春天。从20世纪70年代开始，世界各国加快了研究风力发电和建设大中型风力发电场的努力。

填入划横线部分最恰当的一项是（ ）。

- A. 不容忽视
- B. 日行千里
- C. 立竿见影
- D. 振聋发聩

31. 就拜厄特浓笔重彩描画的英国19世纪、20世纪之交的历史而言，有人则认为拜厄特丰富细致的名物描写将读者“直接运送”到一个\_\_\_\_\_的时空，但我并不认为“被移送”到了“不熟悉”的世界。

依次填入划横线部分最恰当的一项是（ ）

- A. 大相径庭
- B. 截然不同
- C. 天差地别
- D. 天壤之别

32. 遗憾的是，对于成人身上的价值观错位，人们通常无视，因为人们已对这种功利主义的

价值观\_\_\_\_\_。反而，当一个小孩子表现出错误的价值观时，人们一下子受不了。一些人认为只要抓紧对孩子的教育引导，他长大后就能形成正确的价值观。这显然是回避了问题的实质——当社会流行一种错误价值观时，小孩子怎么可能\_\_\_\_\_；成年人默认“我有钱”很重要，怎么能期待小孩子无动于衷。

填入划横线部分最恰当的一项是：

- A. 不以为然 自得其乐
- B. 麻木不仁 置之度外
- C. 司空见惯 洁身自爱
- D. 习以为常 独善其身

33. 雨过天晴，云开雾散，我不但“官”复原职，而且还加官晋爵，又开始了一段辉煌。原来是\_\_\_\_\_，现在又是\_\_\_\_\_。你若问我有什么想法没有，想法当然是有的，一个忽而上天堂，忽而下地狱，又忽而重上天堂的人，哪能没有想法呢？我想的是世态炎凉，古今如此。

填入划横线部分最恰当的一组是（ ）

- A. 门庭若市 门可罗雀
- B. 门可罗雀 宾客盈门
- C. 门庭冷落 络绎不绝
- D. 门可罗雀 熙熙攘攘

34. 每个人的层次、趣味都不尽相同，如果单纯以个人喜好来挑选拍品、安排专场，就有些\_\_\_\_\_、一叶障目了，那么所谓对艺术的推广和引导也注定有些狭隘。商业活动也必须有自己的性格，不过分\_\_\_\_\_市场需求是对的，但既然多元化客观存在，有时候也要让自己的审美习惯“\_\_\_\_\_”。

填入划横线部分最恰当的一项是（ ）

- A. 以点带面 满足 求新思变
- B. 断章取义 降低 革故鼎新
- C. 以偏概全 迎合 与时俱进
- D. 管中窥豹 适应 推陈出新

35. 眉目可以传情，足见眉毛在人的面部起着\_\_\_\_\_的作用，追求完美的女人总会追求迷人双眸与眉部最和谐、最完美的结合，然而却常常\_\_\_\_\_。

填入划横线部分最恰当的一项是（ ）

- A. 不容忽视 背道而驰
- B. 举足轻重 事与愿违
- C. 举重若轻 截然相反
- D. 不可磨灭 南辕北辙

36. 唐宋以来，很多人都把杜甫当作受苦受难的\_\_\_\_，以为他大半生都处于饥寒交迫状态。刻画在人们脑海中的杜甫，无不是一个苦大仇深、穷愁潦倒的清癯老人的形象。这种认识和形象，跟实际情况\_\_\_\_\_。历史上的杜甫，没有人们想象的那么穷苦。

填入划横线部分最恰当的一项是（ ）

- A. 典范 迥然不同
- B. 例子 天差地别
- C. 代表 截然不同
- D. 典型 大相径庭

37. 近日，云南腾冲因旧城改造引发大量市民进入道路施工场地昼夜挖掘玉石，吸引了大量围观群众。腾冲市政府表示，部分民众携带挖掘工具私自进入施工场地内实施挖掘行为，违反施工现场安全管理规定，存在安全\_\_\_\_\_。仅凭施工路段存在昔日翡翠商人留下来的残玉，就引起“全民挖玉”，个中原因令人费解。虽说并没有安全事故发生，但其背后人们对“一夜暴富”的\_\_\_\_\_亟待一次全方位的破解。

填入划横线部分最恰当的一项是：

- A. 漏洞 梦想
- B. 盲区 天真
- C. 隐患 幻想
- D. 隐忧 思维

38. 责任感和责任心不仅是做好工作的行为准则，也是一种人格品质和工作态度的表现。生命相托，使命所系，责任重于泰山。医学，自古以来就是高尚、文明、受世人尊敬的职业。医务人员不只是\_\_\_\_\_的机械操作手，更是人文、情感与高超技术的\_\_\_\_\_，甚至是美丽的使者；既然选择了这种高尚的职业，就应该为此全身心地付出，不是应付、做完了事，而是责任使然，使命使然。

填入划横线部分最恰当的一项是（ ）

- A. 墨守成规 结合                      B. 固步自封 融汇  
C. 循规蹈矩 接合                      D. 按部就班 融合

39. 近年来，以世界文化遗产为主要卖点的线路开始\_\_\_\_\_。明年春节，春秋国旅的柬埔寨吴哥窟、老挝的“第一古都”琅勃拉邦、拥有六大世界文化遗产的尼泊尔加德满都、印度的粉红琥珀城堡斋普尔和阿格拉泰姬陵等“世界文化遗产之旅”都非常热销，一些市民已不满足过去那种“\_\_\_\_\_”式的旅游，而更愿意以“慢游”的心态，细细品味各种世界文化精髓景观。

填入划横线部分最恰当的一项是（ ）

- A. 风生水起 浮光掠影  
B. 卷土重来 蜻蜓点水  
C. 异军突起 走马观花  
D. 重整旗鼓 浅尝辄止

40. 我国粮食生产开创了“十连增”的历史佳绩，但增产的背后，耕地质量问题也日益\_\_\_\_\_。复种指数高、化肥投放量大、连年耕种\_\_\_\_\_地力，承载 13 亿人饭碗的耕地，在爬上粮食总产 12039 亿斤高峰后，已经略显疲态。

依次填入划横线部分最恰当的一项是（ ）。

- A. 产生 消耗                      B. 凸显 透支  
C. 产生 透支                      D. 凸显 消耗

41. 著名歌星孙楠全家人都有一副好嗓子，但最初孙楠却决心不走唱歌这条路，结果干什么都没有成就。走过了许多弯路之后，他重新面对自己，选择了唱歌。后来在唱歌道路上，他比较顺利地取得了他人须付出数倍努力才能取得的成就。

与这个故事寓意最相符的是（ ）。

- A. 只要功夫深，铁杵磨成针                      B. 因人制宜，因地制宜  
C. 近朱者赤，近墨者黑                      D. 金无足赤，人无完人

42. 举家高飞、出境过年。今年春节，赴境外旅游人数增多。据国家旅游局出境游团队系统统计，春节黄金周团队出境旅游人数 472.5 万人次，同比增长逾 18%。值得关注的是，我国出境旅游焦点的旅游文明工作有效推进，中国游客的形象也越来越好。不过，在国内很多地方也出现了不少不文明行为。细细思量，这病根可不是过年才得下的，要想改，也得在平时留心、入手，只有时时有约束、处处皆谨慎，我们才能过好日子、过好年。

这段文字意在说明（ ）

- A. 由于旅游文明工作的有效推进，中国游客的形象越来越好
- B. 相对于国外，国内的旅游不文明行为更甚
- C. 要从根本上改变旅游不文明的行为需要平时的约束
- D. 赴境外旅游人数增多导致旅游乱象的增多

43. 减少雾霾伤害与源头治霾并非对立。从国外的治理经验看，治霾必然是一项跨度长，涉及面广的系统工程。源头治理固然要摆在极端重要的位置上，但在这个过程中，如何使雾霾的伤害降到最低，也是不应该回避的问题。无论是从公平还是人本的角度，给室外工作者发放适当的补贴，提供必要的防霾装备，甚至根据雾霾天气灵活调整工作安排，都是必要的应对之举。这段文字主要表述的是（ ）

- A. 治理雾霾应该重视源头的处理
- B. 治霾工作时间长，任务重
- C. 减少雾霾的伤害不容忽视
- D. 治霾工作要考虑公平和人本

44. 现实中，为情所困带来的“荒废学业”、“嫉妒”、“自残”等各种问题，无不暴露出当下大学教育尤其是德育本身的缺位。一些传统的德育、心理课程大多是站在道德制高点上的理论呼吁，考试也以死记硬背的教条为主，未能真正尊重学生心理需求，帮助学生走出道德困境。此时将恋爱列为一门选修课，对学生的恋爱价值观进行正确的引导，无疑是一场“及时雨”。这段文字重在说明（ ）

- A. 目前大学心理教育存在诸多不足
- B. 情感问题是大学生需要关注的心理问题
- C. 大学心理课程形同虚设，毫无实际意义



D. 恋爱选修课的设置有利于学生情感问题的解决

45. 礼的最高标准是什么？孔子所倡导的礼，是规范人们言行举止的礼仪制度，最高标准是和谐。他所说的“臣事君以忠，君待臣以礼”，其实质就是和谐。他的学生有子进一步说明：“礼之用，和为贵。”就是说礼应该讲究一切恰到好处，不能过也不能不及，最可贵的是和谐。而要做到和谐，就必须讲礼让，“君君臣臣”也好，“父父子子”也罢，只强调一方的道理而忽视另一方的感受，缺乏礼让，争强好胜甚至以势压人，就有失偏颇，难以做到和谐了。

这段文字主要说明（ ）

- A. 和谐是礼的最高标准
- B. 礼让是和谐的必要条件
- C. 孔子学生的想法与孔子不谋而合
- D. 君臣与父子之道都不能缺乏礼让

46. “家风是什么”，不仅普通公众，特别是身为领导干部者，更得沉下心来好好思索一下这个问题。家风与政风有着很紧密的联系，很多贪腐分子的堕落起点，正是始于家庭这道“防火墙”完全无效所致。家风不正的人，不可能有一心为公的情怀；家风不正的社会，也不可能健康良好的民风与政风。

这段文字强调的是（ ）

- A. 家风与政风密不可分
- B. 家风对于个人、社会都意义重大
- C. 家风应该是领导干部要认真思考的问题
- D. 家风不正，领导干部极有可能贪污腐败

47. 契约精神，是指在任何国家的民法典里，合同都必须基于“平等双方真实的意思表示”，更需要符合公序良俗的要求。之所以要守护契约精神，不仅因为倾斜的天平无法度量公正的权利，更因权利的失衡终将诱发市场的扭曲，从而危及契约自由，最终损害市场本身。

这段话重在说明（ ）

- A. 契约精神的实质
- B. 守护契约精神的原因

- C. 违背契约精神的后果
- D. 企业应守护契约精神

48. 年度图书评选可以有效引导阅读，然而，几十家年度书榜密集在年末发布，上榜图书涉及上百种，也让人眼花缭乱。对此，聂震宁提出，由于年度书榜具有社会阅读推广的作用，因此评选的导向性尤其重要。“上榜图书应具有典型性，是一年中比较突出的图书；同时文本价值要高，就是说这些书的文本要经得起推敲，能对业界的写作和编辑质量有所促进。除此之外，上榜图书还应在社会导向、文化导向等方面有更高的要求，切忌被其他功利因素主导，要力避商业味。”

这段文字意在强调( )

- A. 年度图书评选有其重要意义
- B. 年度图书评选应重点考察典型性和文本价值
- C. 年度图书评选应注重图书的导向性
- D. 年度图书评选不能太过功利化

49. 去年以来，民企闯荡能源界已小有成果：国家先后取消企业投资开发新油田、新气田项目核准；批准新奥在浙江建立首个民营 LNG 接收站；浙江天禄和中际化工获得原油仓储牌照；即将建设的新粤浙管道将成为国内首条“代输”形式运输天然气的长输主干管道，并同时向沿途所经地区社会资本开放；而在去年，广汇能源跨境天然气管道获批，先后两轮面向全社会的页岩气招标；中石油向社会资本开放上游区块。由此可见，在非油气矿业投资资源领域内，民资占比正逐步上升等等。但是，民资进能源目前仍存在“价格门”、“审批门”和“实力门”三大障碍。

以下各项不符合文意的是( )

- A. 新奥在全国建立首个民营 LNG 接收站
- B. 民企闯荡能源界仍存在障碍
- C. 国内首条“代输”形式运输天然气的长输主干管道即将建设
- D. 在非油气矿业投资资源领域内，民资占比正逐步上升

50. 在我国现有的体制框架内，并非没有腐败信息举报搜集的机制。这些机制之所以难以发

挥作用，根本原因就在于绝大多数信息举报给纪检监察机关之后，无法及时得到实质性的回应。而且还有些时候，还可能会承担造谣诬陷的风险。正因为如此，公民更愿意通过互联网发布信息，形成强大的社会舆论监督氛围，从而使自己“被置于”公众舆论的保护之下，即使举报信息部分内容失实，也不会受到追究。从这个角度来说，我们应该透过网络反腐，深刻反思我国现有的反腐渠道，尽快建立更加透明的信息搜集系统。

这段文字想要传递的信息是（ ）

- A. 应积极推进网络反腐，推进我国的反腐机制
- B. 强调网络时代忽略了对信息举报搜集的重要性
- C. 呼吁反思现有反腐渠道，加快建立信息搜集系统
- D. 强调网络反腐不需要承担许多风险

51. 家庭是中国传统社会中最重要的一环，因此，\_\_\_\_\_，是过年最重要的内容之一。比如怀念祖先，把他们的贡献用特殊的意识重现，以此继承他们的精神，激励现在的人们要更热爱家庭。再比如向老人行礼，是对他们奉献的一种继承，更能体现下一辈感恩的心情。而给孩子压岁钱，有鼓舞年轻人、给予某种寄托的意味，激励孩子来年更加努力。所有这一切，使家庭能够在这个时候做一个过渡性的调整，并且处在一个圆满的氛围之中，身在其中的人感到与平常完全不同温暖的感受。

填入划横线部分最恰当的一项是（ ）

- A. 合家团圆，欢聚一堂
- B. 总结和调整家庭关系，让家庭在未来更趋和谐
- C. 用中国传统的方式度过新年
- D. 营造和谐的家庭氛围

52. 相对应计划经济管制的日子，上海的文化也出现了衰弱的迹象。回想当年的老上海，写有鲁迅，影有阮玲玉、唱有周璇……但是随着巴金、陈逸飞、谢晋等久居上海的文化巨人的相继离世，征兆着上海文化的荒漠时代即将全面来临。有人曾痛心海派文化的没落，说这是因为上海土著在上海的现代化进程中被不断边缘化。我痛心着他的痛心，但却对这一原因深不以为然。虽然上海土著对海派文化的发展起着不小的作用，但你很难说，鲁迅、胡风、田汉、萧红萧军是上海土著，他们只是“沪漂族”，但他们却成为了海派文化的发展基因。所以可

以大胆地说，海派文化的没落，并不是上海土著的被边缘化，而是开放的被边缘化。是上海丢掉了自己昔日的包容与接纳。

这段文字主要想表达的是（ ）

- A. 海派文化的没落，并不是上海土著的被边缘化
- B. 海派文化随着计划经济的到来没落了
- C. 海派文化的没落是因为上海包容与接纳的边缘化
- D. “沪漂族”是海派文化的发展基因

53. 每一批漂洋回国的海归都会遇到属于自己的“史上最难就业季”。恨不得跟你搭乘一班飞机回国的同龄人中有一半都是竞争对手，更不用说祖国还有数以百万即将踏出校门的本土人才，这就让手中那已经接近超重的行李箱显得更加沉重。申请季紧挨着毕业季，越来越多的人在思考“一两年花费数十万，我在大洋彼岸究竟学到了什么”。异国文化中收获的感悟如何转变为招聘单位认可的能力？知名学府中训练出的学习方式能否扩展到社会工作中需要的工作方式？不少海归在就业的抢滩登陆战中发挥不利，错过招聘季、失去应届生身份后便宅在家里，成为长期“海待”。

文中的“史上最难就业季”指的是（ ）

- A. 刚回国的海归面对国内外的竞争在就业的登陆战中厮杀的季节
- B. 中国历年来最难就业的季节
- C. 由于经济、企业招录、毕业生源等各方面原因造成的难就业的季节
- D. 回国的海归找工作的季节

54. ①从怀苏亭起，步步高升，层楼重阁，小院回廊，花圃清池，佛殿明堂，绿树奇花，翠竹修墓，通幽曲径，花木禅房，处处逸致可掬，令人难忘。

②但是，山上建筑却很有特点，在非常有限的地面上，“五步一楼，十步一阁，廊腰绳回，檐牙高啄，各抱地势，钩心斗角。”

③但是，我从来也没有敢梦想，自己能够亲履其地。今天竟能于无意中来到这里，真正像做梦一般，用金圣叹的笔调来表达，就是“岂不快哉！”

④幼时读苏东坡《石钟山记》，爱其文章奇诡，绘声绘色，大为钦佩，爱不释手，往复诵读，至今犹能背诵，只字不遗。

⑤石钟山海拔只有五十多米，摆在巍峨的庐山旁边，实在是小巫见大巫。

⑥今天又修饰得金碧辉煌，美仑美奂。从山下向上爬，显得十分复杂。

将以上 6 个句子重新排序，语序正确的是（ ）。

- A. ①⑥④③⑤②
- B. ④③⑤②⑥①
- C. ④⑤②①⑥③
- D. ⑤②⑥①③④

55. 学术层面和专业领域的意见，放置于公共讨论之中，存在局限性是必然的。但并不能因为这种局限性，就成为攻击谩骂的对象。应该理性地看到，他们只是公共意见的表达者，是公共议题讨论的参与者，而不是决策者，更不是为利益群体背书、侵犯公共利益的那群人。他们的意见也许会有偏颇，但只要立场是中正的，就应该得到尊重。

这段文字意在说明（ ）

- A. 学术、专业的意见一定存在局限性
- B. 我们应该尊重表达公共意见的学者
- C. 应该将矛头指向公共利益的侵犯者
- D. 要积极参与公共议题的讨论

56. 当今背景下，鉴别信息内容的真假，是一个现代人必备的基本生活技巧，而很多人是很缺乏这一技巧的。比如，在微博或微信朋友圈中，就经常会看到一些媒体人一眼就分辨出的假信息。培养这种鉴别能力，民间性质的互帮互助固然可以解决一些问题，但是组织化的教育更为重要。高钢教授曾在文章中介绍，“时至今日，诸如英国、加拿大、澳大利亚、日本、韩国等国家都已经把媒介素养教育列入国民教育体系，在中小学设计了相关的教育课程和训练环节。我国的台湾和香港地区也已经制定媒介素养教育的相关政策，推进媒介素养教育的实施。”在一个人人都可以进行公共发言的时代，必要的媒介素养教育更加不可或缺。

这段文字意在说明（ ）

- A. 鉴别真假信息的能力是现代生活必备技巧
- B. 人们普遍缺乏鉴别真假的能力
- C. 民间教育可以提升媒介素养

D. 亟待加强媒介素养的组织化教育

57. 舆论引导工作事关国家安全和社会稳定,舆论引导能力是党执政能力在动员力和组织力方面的重要体现。面对意识形态领域斗争深刻复杂,国家物质力量和精神力量都需要增强的新形势,面对互联网、手机等新兴媒体迅猛发展带来的新挑战,如何及时有效地进行舆论引导,更好地聚集科学发展、加快发展的正能量,促进地方经济科学发展、加快发展,成为宣传思想领域特别是基层宣传工作中的一项十分现实又十分迫切的课题。

这段文字接下来最有可能谈论的是( )

- A. 舆论引导工作的重要性
- B. 如何做好基层宣传工作
- C. 新兴媒体时代带来挑战
- D. 如何加强舆论引导工作

58. 互联网行业的人很意气风发,到处叫嚷着用互联网思维颠覆传统行业。可传统行业发展了这么多年,自有其独特的行业发展规律和限制,岂是你互联网行业想抹杀就可以抹杀的?碎片化的认知、浅阅读的习惯,往往导致在这个快速发展的我们浅尝辄止,很多人并没有深刻理解互联网思维的真谛,就开始四处鼓吹,而把互联网思维片面地理解为免费、口碑、用户至上等,这都无异于阉割传统行业在现代经济发展的决定性作用。

从这段文字中可以看出,作者对互联网所持的态度是( )

- A. 肯定
- B. 否定
- C. 肯中有否
- D. 未置可否

59. 孝老敬老是中华民族的优良美德,是我们民族生生不息的精神基因。但是当代社会竞争激烈,人们生活节奏加快,很多人觉得现在的年轻人越来越没有孝心,也越来越不善于表达孝敬之情。真的是这样吗?这个问题,实际上是一个当下人们尤其年轻人“孝观念”是否淡化的问题。当前年轻人的“孝观念”和老一辈人相比,应该说是有所变化的,用一句话概括就是“总体尚好,问题不少”。

这段文字主要表达的观点是 ( )

- A. 孝老敬老是中华民族的优良美德
- B. 现在青少年的孝老敬老观念有淡化的趋势
- C. 年轻人越来越没孝心是由于当代社会环境的影响
- D. 当下年轻人“孝观念”发生了变化,但总体尚好

60. 以下 6 句话排列正确的一项是 ( )

- ①英国科学家研发了一个“友好的”机器人,它能够通过展现出多种表情与人类交流。
- ②研究员们试图根据人类的互动与人际关系,为欧文添加“特点”和“个性”,并就此对人类与机器人的关系进行研究。
- ③欧文是英国默里博士的研究成果。它能与人类交流,并在交流中表达 5 种基本情绪。
- ④默里希望,这一研究的成果最终能够帮助儿童,尤其是有孤独症等发育障碍的儿童理解感情行为。
- ⑤这个机器人的名字叫欧文(Erwin),是智能网络情感机器人(Emotional Robot with Intelligent Network)的简称。研究人员通过欧文来研究人类如何形成与机器的关系。
- ⑥默里称,当两个不同的人首次交流的时候,如果他们的个性彼此吸引,就会形成关系。但由于机器人缺乏特点和个性,人类与机器人之间难以发展出关系

- A. ①⑤③⑥②④
- B. ⑤①③⑥②④
- C. ③①⑤⑥②④
- D. ①⑤⑥③②④

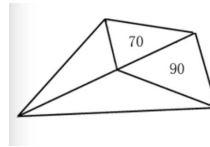
## 第三部分 数量关系

(共 10 题,参考时限 15 分钟)

在这部分试题中,每道题呈现一段表示数字关系的文字,要求你迅速、准确地计算出答案。

请开始答题:

61. 如图所示,公园有一块四边形的草坪,由四块三角形的小草坪组成。已知四边形草坪的面积为 480 平方米,其中两个小三角形草坪的面积分别为 70 平方米和 90 平方米,则四块三角形小草坪中最大的一块面积为多少平方米?



- A. 120                                      B. 150  
C. 180                                      D. 210

62. 小王到某单位办事，只有一个窗口在办理业务，小王排在第 6 位，第一位客户开始办理业务的时间为 9:02。假如每单业务的办理时间为 6 分钟，而且排在小王前面的人不会提前离开。那么小王在什么时候可以开始办理业务？

- A. 9:32                                      B. 9:38  
C. 9:45                                      D. 9:52

63. 现有一批零件，甲师傅单独加工需要 4 小时，乙师傅单独加工需要 6 小时。两人一起加工这批零件的 50%需要多少个小时？

- A. 0.6                                      B. 1  
C. 1.2                                      D. 1.5

64. 老林和小陈绕着周长为 720 米的小花园匀速散步，小陈比老林速度快。若两人同时从某一起点同向出发，则每隔 18 分钟相遇一次；若两人同时从某一起点相反方向出发，则每隔 6 分钟相遇一次。由此可知，小陈绕小花园散步一圈需要多少分钟？

- A. 6                                      B. 9  
C. 15                                      D. 18

65. 在公司年会表演中，有甲、乙、丙、丁四个部门的员工参演。已知甲、乙两部门共有 16 名员工参演，乙、丙两部门共有 20 名员工参演，丙、丁两部门共有 34 名员工参演。且各部门参演人数从少到多的顺序为：甲<乙<丙<丁。由此可知，丁部门有多少人参演？

- A. 16                                      B. 20  
C. 23                                      D. 25

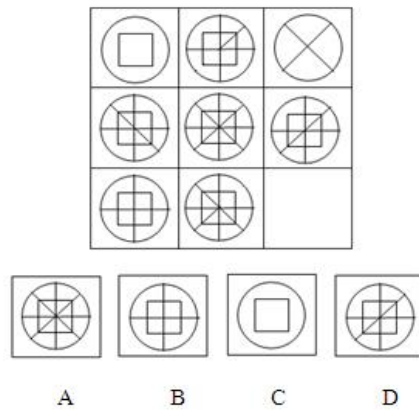
66. 现有浓度为 15%和 30%的盐水若干，如要配出 600 克浓度为 25%的盐水，则分别需要浓度 15%和 30%的盐水多少克？

- A. 100、300                                      B. 200、400  
C. 300、600                                      D. 400、800

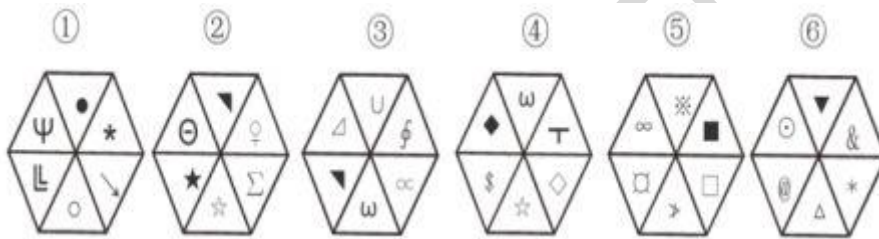
67. 某单位有 107 名职工为灾区捐献了物资，其中 78 人捐献衣物，77 人捐献食品。该单位既捐献衣物，又捐献食品的职工有多少人？





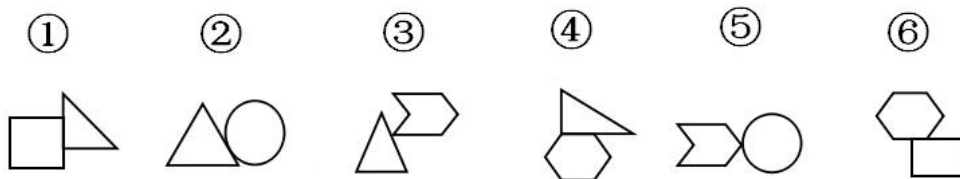


73. 把下面的六个图形分为两类，使每一类图形都有各自的共同特征或规律，分类正确的一项是（ ）。



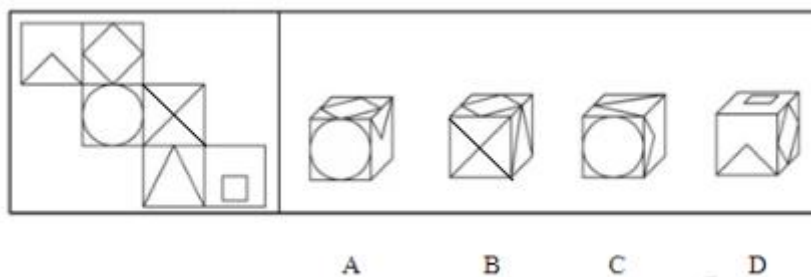
- A. ①②⑥, ③④⑤      B. ①④⑥, ②③⑤  
C. ①②⑤, ③④⑥      D. ①③⑤, ②④⑥

74. 把下面的六个图形分为两类，使每一类图形都有各自的共同特征或规律，分类正确的一项是（ ）。



- A. ①⑤⑥, ②③④      B. ①④⑤, ②③⑥  
C. ①③⑥, ②④⑤      D. ①④⑥, ②③⑤

75. 左边给定的是纸盒的外表面，下列哪一项能由它折叠而成（ ）。



二、定义判断。每道题先给出定义，然后列出四种情况，要求你严格根据定义，从中选出一个最符合或最不符合该定义的答案。注意：假设这个定义是正确的，不容置疑的。

请开始答题：

76. 破格录取是指初试成绩未达到参加复试的基本要求，但业务能力强、专业成绩相对突出，只是总分或某一单科成绩略低于复试要求（一般在5分之内的）考生。

根据上述定义，下列属于破格录取的是（ ）。

- A. 某高校破格录取江西夺刀救人考生
- B. 丁某在报考大学时，数学成绩略低，但因中英文成绩特优，被清华大学外文系破格录取
- C. 李同学因为考试成绩都是满分，校方破格接收了比同届学生小两岁的她
- D. 学生因雅思成绩一直未能达到该专业的入学要求，但陈丹枫老师反复与学校沟通争取，突出学生双语教学的经历，香港浸会大学最终破格录取王同学

77. 趋避冲突又称正负冲突，是心理冲突的一种，指同一目标对于个体同时具有趋近和逃避的心态。这一目标可以满足人的某些需求，但同时又会构成某些威胁，既有吸引力又有排斥力，使人陷入进退两难的心理困境。

根据上述定义，下列不属于趋避冲突的是（ ）。

- A. 大学生既想担任学生干部使自己得到实际锻炼，又怕占时太多
- B. 喜欢吃糖又担心长胖
- C. 想看鬼片又担心晚上做噩梦睡不着
- D. 小明打算每天坚持踢足球保持身体健康

78. 诉诸人身是指用论证者自身或别人在人身即人格或处境上的优势作为论据来论证某一命题的真理性：论题和论据之间只具有心理上的相关性，并不具有逻辑上的相关性。

根据上述定义，下列属于诉诸人身的是（ ）。

- A. 我是你的上级，难道你还不相信我的话吗？
- B. “地心说”是不能怀疑的，因为亚里士多德就是这么认为的
- C. 小王品格高尚，他的话可信
- D. 鬼是存在的，因为没有人能够证明鬼是不存在的

79. 基多夫定理是指最好的想法如果提出的时机选择不当，也会招致失败，即一个决策正确与否不能离开具体的地点、时间、条件，如果脱离这些基本前提条件，真理就有可能成

为谬误。

根据上述定义，下列不符合基多夫定理的是（ ）。

- A. 甲公司原总裁对其继任者说：在没有获得全部事实根据前，你不应做出任何决策
- B. 许多厂商纷纷报名参加在某市举办的机床博览会，而乙机床厂经理在收到邀请函时，就明确表示拒绝参加
- C. 20 世纪 80 年代，世界爆发了严重的石油危机，丙汽车公司的董事长抓住这一时机，作出了汽车转型决策
- D. 近年，众多热水器厂在广告投入过大，导致价涨量滞，处于行业领先的丁公司立刻采取了降价政策

80. 顶层设计是指统筹考虑系统各层次和各要素，追根溯源，统揽全局，在最高层次上寻求问题的系统解决之道。

根据上述定义，下列选项不符合顶层设计的是（ ）。

- A. 某市政府在有关园林绿化决策执行效果的检查过程中发现问题，有关领导指示对北区绿化方案进行优化
- B. 某公司董事会就公司扩大经营范围，在海外收购项目等问题召集相关专家起草方案，在论证后董事会进行表决
- C. 某岛屿具有不冻不淤的深水港口与沙白滩阔等条件，辖区政府为利用好这些资源，组织海内外专家研究岛屿开发方案
- D. 软件公司在开发大型软件时，就软件的框架召集专家进行论证，在充分吸收专家意见的基础上，确立了软件设计思路

81. 逆向选择是指由于交易双方信息不对称和市场价格下降产生的劣质品驱逐优质品，进而出现市场交易产品平均质量下降的现象。信息不对称是指信息在相互对应的经济个体之间呈不均匀、不对称的分布状态，即一些人对某些事情的信息比另外一些人掌握得多。

根据以上定义，下列属于逆向选择的是（ ）。

- A. 旧车交易市场，买方对车子质量浑然不知，就尽量杀价，导致好车最终退出市场
- B. X 品牌的洗衣机比 Y 品牌贵，但是性能却不如 Y 品牌，但是最终的销量却是 Y 品牌高于 X 品牌
- C. 甲毕业于 211 院校，乙毕业于非 211 院校，但是甲的工资比乙的低。
- D. 小李就业于国有企业，小张就业于私企，故小李比小张的发展前景好

82. 宜斯策略是指生物为生存和繁衍而采取的一种比较稳定的策略。即如果种群的大部分成员采用某种策略,而这种策略的好处是其他策略所比不上的,则这种策略就是进化上的稳定策略,或称宜斯策略。

根据上述定义,下列属于宜斯策略的是( )。

- A. 母狼为虎崽哺乳
- B. 通过人工授粉提高苹果产量
- C. 狼群中出现的争夺头领的战争
- D. 幼小的羚羊见到狮子拔腿就跑

83. 行政确认是指行政主体依法对行政相对人的法律地位、法律关系或有关法律事实进行甄别,给予确定、认定、证明(或否定)并予以宣告的具体行政行为。

根据以上定义,下列不属于行政确认的是( )。

- A. 社会报销行政部门作出的工伤认定
- B. 居委会对土地使用权的认定
- C. 交通部作出的交通事故认定
- D. 民政局颁发的结婚证

84. 互动式教学,就是通过营造多边互动的教学环境,在教学双方平等交流探讨的过程中,达到不同观点碰撞交融,进而激发教学双方的主动性和探索性,从而提高教学效果的一种教学方式。

根据上述定义,以下属于互动式教学的是( )。

- A. 某学院通过文化讲座向外国留学生介绍儒家思想
- B. 王老师带领教育专业的学生进行课堂教学模拟实验
- C. 小王觉得自己英语不好,报名参加课外一对一辅导
- D. 学生和老师就某一个问題展开课堂辩论

85. 员工沉默分作三类:漠视性沉默、人际恐惧沉默和默许性沉默。漠视性沉默是指员工由于对组织管理水平、待遇,特别是价值取向存在异议而消极保留观点,这意味着对组织漠不关心。人际恐惧性沉默是指员工为了自身的“安全”而采取的更为主动的、有意识的自我保护,尽量不得罪人,对别人和和气气,不坚持己见,担心惹事生非,抱多一事不如少一事的思想。默许性沉默是指员工由于顺从或屈从,有意地隐瞒有关的意见观点或信息而保持沉默。

根据以上定义，下列属于漠视性沉默的是（ ）。

- A. 人在曹营心在汉                      B. 各扫门前雪  
C. 事不关己高高挂起                  D. 三缄其口

三、类比推理。共 10 题，每道题先给出一组相关的词，要求你在备选答案中找出一组与之在逻辑关系上最为贴近、相似或匹配的词。

请开始答题：

86. 武汉：热干面

- A. 河南：烩面                              B. 兰州：拉面  
C. 灵宝：肉夹馍                          D. 云南：过桥米线

87. 水：生命

- A. 下雨：地湿                              B. 化妆：漂亮  
C. 光：光合作用                          D. 银行卡：密码

88. 仓颉：造字

- A. 嫦娥：奔月                              B. 洪福：齐天  
C. 伏羲：八卦                              D. 雨打：芭蕉

89. ( ) 对于 运动 相当于 手术 对于 ( )

- A. 学习 健康                              B. 锻炼 急救  
C. 足球 治疗                              D. 懒惰 药物

90. 刻舟求剑：墨守成规

- A. 买椟还珠：本末倒置                  B. 郑人买履：融会贯通  
C. 叶公好龙：一往情深                  D. 缘木求鱼：瓮中捉鳖

91. 雾霾：污染：治理

- A. 风扇：电器：使用                      B. 粳米：粮食：调查  
C. 信息：报纸：阅读                      D. 报告：文件：审批

92. 经济发展：民生改善：社会进步

- A. 植被破坏：水土流失：民工进城  
B. 地球自转：四季分明：五谷丰登  
C. 河水污染：鱼虾死亡：渔民失业  
D. 贸易保护：重商主义：金银流入

93. 净水器：过滤

- A. 图书馆：藏书
- B. 手机：通讯
- C. 冰箱：制冷剂
- D. 保温：保温杯

94. 校规：学生：警告

- A. 法规：公民：遵守
- B. 交规：司机：扣分
- C. 规章：经理：降级
- D. 乐队：乐谱：指挥

95. 《西厢记》：王实甫

- A. 《三重门》：郭敬明
- B. 《幻城》：韩寒
- C. 《天龙八部》：金庸
- D. 《平凡的世界》：孙少安

**四、逻辑判断。共 10 题，每道题给出一段陈述，这段陈述被假设是正确的，不容置疑的，要求你根据这段陈述，选择一个答案。注意：正确的答案应与所给的陈述相符合，不需要任何附加说明即可以从陈述中直接推出。**

**请开始答题：**

96. 薛明一定是一名高校教师，因为他不仅拥有 985 高校的博士学位，而且拥有海外某研究机构一年以上的研究经历。

以下哪项如果为真，最能支持上述论断（ ）。

- A. 除非是高校教师，否则不能同时拥有 985 高校的博士学位和海外研究机构一年以上的研究经历
- B. 近年来，高校教师都要求有海外研究经历
- C. 除非是博士，并且有海外一年以上的研究经历，否则不能成为高校教师
- D. 近几年，高校教师都必须拥有博士学位才能被聘用

97. 某航空公司的客机若没有发生故障，且没有被恐怖组织劫持，则一定是被导弹击落了。如果客机被导弹击落，就会被卫星发现；只要卫星发现客机被导弹击落，就会向媒体公布。

现要得到“飞机被恐怖组织劫持了”这一结论，需要补充以下哪项（ ）。

- A. 客机没有被导弹击落
- B. 没有导弹击落客机的报道，客机也没有发生故障
- C. 客机没有发生故障
- D. 客机发生了故障，没有导弹击落客机

98. 在某种程度上，挣的钱越多就能让人越快乐。但是 W 大学研究机构发现，反过来也是如此，快乐的人能挣更多的钱。W 大学研究人员在对一万多名德国人进行研究后发现，那些情绪积极、在成长过程中对生活感到更满意的人，在达到 29 岁的年龄时其收入也更高。

以下哪项如果为真，最能质疑 W 大学的研究结论（ ）。

- A. 在比较富裕的家庭中成长起来的年轻人对生活大都持消极态度
- B. 除了情绪，专业化程度和工作能力也会直接影响收入水平
- C. 对生活感到更满意的年轻人大都出生于比较富裕的家庭，而且都具有良好的职业背景
- D. 如果调查人们 22 岁时对自己的人生满意度，结果可能会有所不同

99. 某饭局上有四个商人在谈生意，他们分别是北京人、山东人、广西人和河南人。他们做的生意分别是食品加工、食品批发和食品零售。其中：

- (1) 河南人单独做食品批发
- (2) 广西人不做食品加工
- (3) 北京人和另外某人同做一种生意
- (4) 山东人不和北京人同做一种生意
- (5) 每个人只做一种生意

从以上条件可以推出北京人所做的生意是（ ）。

- A. 食品加工
- B. 食品批发
- C. 食品零售
- D. 无法确定

100. 某班级的几位同学一起议论他们今年暑假出游的去向，每位同学去了一个地方。

- A 说：“如果李明没有去青海，那一定会去北京。”
- B 说：“侯玲去了郑州。”
- C 说：“如果林群没有去西安，那么，王红会去青岛。”
- D 说：“李明没有去青海，也没有去北京。”
- E 说：“侯玲去了苏州。”
- F 说：“王红没有去青岛。”

事后了解，这次议论中，有两个人说的与事实不相符。根据上述情况，以下哪项必定是正确的（ ）。

- A. 李明没有去青海，但是去了北京。



- B. 林群去了西安，李明可能去了青海。
- C. 侯玲去了郑州，王红没有去青岛
- D. 李明没有去北京，林群去了西安。

101. 一份针对山区先天性唇裂患者的调查统计表明，大部分患者都出生在冬季。专家们指出，其原因很可能是那些临产的孕妇营养不良，因为在这一年最寒冷的季节中，人们很难买到新鲜食品。

以下哪项如果为真，最能支持上述结论（ ）。

- A. 在唇裂患者中，先天性患者只占很小的比例。
- B. 调查中相当比例的患者有家族史
- C. 与引起唇裂有关的大脑区域的发育，大部分发生在产前一个月
- D. 新鲜食品与腌制食品中的营养成分对大脑发育的影响相同

102. 上海某航空公司经理说：“新开发的避撞系统，虽然还未经全面测试以发现潜在的问题，但也必须马上在客机上安装，因为这个系统的机械报警装置可以使飞行员避免撞机事故。”该公司飞行员说：“飞行员不能驾驶一架避撞系统未经全面测试的飞机，因为有故障的避撞系统将会误导飞行员，造成撞机。”

以下哪项如果为真，最能加强飞行员的反对意见（ ）。

- A. 机械设备总是有可能出故障
- B. 喷气式发动机在第一次投入使用之前也未经彻底测试，但是其性能与安全记录却是有目共睹的
- C. 虽然避撞系统能使飞行员避免一些相撞事故，但是未经测试的避撞系统的潜在问题可能会造成更多的撞机事故
- D. 许多撞机事故是由于飞行员过度疲劳造成的

### 材料题

甲、乙、丙、丁、戊 5 位摄影专业大学生为参加毕业摄影大赛分赴黑龙江、西藏、云南、福建、江苏 5 地摄影采风。他们 5 人各有偏爱的摄影题材：人物、花卉、风景、野生动物、古建筑，这次采风他们相约就上述题材每人各拍一种。已知：

- (1) 如果甲去黑龙江，乙就去江苏；
- (2) 只有丙去福建，丁才去云南；
- (3) 或者乙去江苏拍古建筑，或者戊去福建拍人物；

- (4) 去江苏拍古建筑的大学生临行前曾与乙、丁话别。
103. 根据以上信息, 可以得出以下哪项 ( )。
- A. 甲不去江苏  
B. 乙不去西藏  
C. 丙不去黑龙江  
D. 丁不去云南
104. 如果丙去西藏, 则可以得出以下哪项 ( )。
- A. 甲去江苏  
B. 乙去福建  
C. 丁去云南  
D. 戊去黑龙江
105. 如果乙去黑龙江拍风景, 而去云南的只拍花卉, 则可以得出以下哪项 ( )。
- A. 甲去云南拍花卉  
B. 丙去江苏拍古建筑  
C. 丁去西藏拍野生动物  
D. 戊去福建拍古建筑

## 第五部分 资料分析

(共 20 题, 参考时限 15 分钟)

针对下列图、表或文字回答问题。你应根据资料提供的信息进行分析、比较、计算、处理。你可以在题本上运算。

请开始答题:

一、根据以下资料, 回答 106~110 题。

2011 年全国全年粮食种植面积 11057 万公顷, 比上年增加 70 万公顷; 棉花种植面积 504 万公顷, 增加 19 万公顷; 油料种植面积 1379 万公顷, 减少 10 万公顷; 糖料种植面积 195 万公顷, 增加 4 万公顷。

全年粮食产量 57121 万吨, 比上年增加 2473 万吨, 增产 4.5%。其中, 夏粮产量 12627 万吨, 增产 2.5%, 早稻产量 3276 万吨, 增产 4.5%; 秋粮产量 41218 万吨, 增产 5.1%。

全年棉花产量 660 万吨, 比上年增产 10.7%。油料产量 3279 万吨, 增产 1.5%。糖料产量 12520 万吨, 增产 4.3%。茶叶产量 162 万吨, 增产 9.9%。

全年肉类总产量 7957 万吨，比上年增长 0.4%。其中，猪肉产量 5053 万吨，下降 0.4%；牛肉产量 648 万吨，下降 0.9%；羊肉产量 393 万吨，下降 1.4%。年末生猪存栏 46767 万头，增长 0.7%；生猪出栏 66170 万头，下降 0.8%。禽蛋产量 2811 万吨，增长 1.8%。牛奶产量 3656 万吨，增长 2.2%。

全年水产品产量 5600 万吨，比上年增长 4.2%。其中，养殖水产品产量 4026 万吨，增长 5.2%；捕捞水产品产量 1574 万吨，增长 1.9%。

106. 2011 年全国全年粮食、棉花平均亩产量与 2010 年相比 ( )。

- A. 粮食有所提高，棉花有所降低
- B. 粮食有所降低，棉花有所提高
- C. 两者均有所降低
- D. 两者均有所提高

107. 2011 年末全国生猪存栏比 2010 年末多 ( )。

- A. 330 万头
- B. 327 万头
- C. 325 万头
- D. 323 万头

108. 2011 年全国全年夏粮和秋粮的产量比 2010 年平均增产 ( )。

- A. 4.5%
- B. 3.8%
- C. 3.4%
- D. 2.9%

109. 对 2011 年全国全年肉类总产量增量影响程度最小的是 ( )。

- A. 猪肉产量
- B. 牛肉产量
- C. 羊肉产量
- D. 其他肉类产量

110. 下列判断不正确的有 ( )。

- (1) 2011 年全国全年养殖水产品产量占全年水产品产量的比重比 2010 年有所提高。
- (2) 2011 年全国全年其他肉类增产 4.3%。
- (3) 2010 年全国全年牛奶产量 3577 万吨。

- A. 0 个
- B. 1 个
- C. 2 个
- D. 3 个

二、根据以下资料，回答 111~115 题。



- A. 大学本科及以上                      B. 高中及大专  
C. 中专                                      D. 初中及以下

115. 以下关于这次调查的说法，推论正确的有（ ）。

- (1) 月收入在 4000 元以上的受访者占大部分；  
(2) 在所有受访者中，第三大受访群体是学生；  
(3) 20-44 岁的受访者占了受访者总体的半壁江山；  
(4) 离退休人员中有 3.8% 的人没有收入。

- A. 1 个                                      B. 2 个  
C. 3 个                                      D. 4 个

三、根据材料，回答 116-120 题

据统计，2015 年上半年全国渔业产值 4152.56 亿元，同比增长 5.91%；渔业增加值 2260.05 亿元，同比增长 5.92%，高出农林牧渔业增加值的增幅 2.2 个百分点。

2015 年上半年全国水产品产量 2700.09 万吨，同比增长 3.20%，其中养殖水产品产量 2114.38 万吨，同比增长 4.13%。

2015 年上半年全国水产品进出口总量 383.08 万吨，同比下降 7.48%，进出口总额 137.28 亿美元，同比下降 4.67%。其中，出口量 189.28 万吨，出口额 95.81 亿美元，同比分别增长 1.52% 和 -2.39%。主要出口国家和地区中，对美国、欧盟、东盟、日本、中国香港、韩国和中国台湾的出口额分别增长 -2.49%、-5.04%、31.26%、-1.37%、-18.94%、-11.67% 和 4.43%。进口量 193.80 万吨，进口额 41.47 亿美元，同比分别下降 14.84% 和 9.57%，其中鱼粉进口量、进口额同比分别下降 43.06% 和 20.80%。

116. 2015 年上半年，非养殖水产品产量与上年同期相比的变化最接近以下哪个数字？

- A. -20%                                      B. 0%  
C. 5%                                         D. 10%

117. 与上年同期相比，2015 年上半年全国农林牧渔业增加值增幅为：

- A. 1.85%                                      B. 3.72%  
C. 5.91%                                      D. 8.12%

118. 2015 年上半年我国水产品进出口贸易状态为：

- A. 逆差 4 亿多美元                      B. 顺差 4 亿多美元  
C. 逆差 50 多亿美元                      D. 顺差 50 多亿美元

119. 材料中所列水产品主要出口国家和地区中, 2015 年上半年我国对其出口额同比降幅最大的是:

- A. 东盟                                      B. 韩国  
C. 中国香港                                D. 日本

120. 根据上述资料, 下列说法中正确的是:

- A. 2015 年上半年平均每吨水产品的出口价格比上年同期低  
B. 2015 年上半年我国水产品进口量和进口额均高于上年同期水平  
C. 2015 年上半年出口的水产品占全国水产品产量的一成多  
D. 水产品主要出口国家和地区中, 2015 年上半年我国对其出口额同比上升的国家(地区)有 1 个

四、根据以下资料, 回答 121~125 题。

2011 年, 全国教育经费总投入为 23869.29 亿元, 比上年增长 22.02%。2012 年, 全国教育经费总投入比上年增长 3826.68 亿元。2013 年, 全国教育经费总投入比上年增长 9.64%, 比 2009 年翻了一番。2014 年, 全国教育经费总投入 32806.46 亿元。2015 年 1—9 月, 全国财政教育支出累计同比增长 16.5%。

2015 年, 全国普通本专科院校招生人数约为 737 万人, 其中普通本科院校招生人数 389 万人, 比普通专科院校多 41 万人; 在校人数约为 2626 万人, 其中, 普通本科院校约 1577 万人, 普通专科院校约 1049 万人; 毕业人数约为 1000 万人, 其中普通本科院校约占 68.1%, 普通专科院校约占 31.9%。

#### 2015 年部分省(市)普通本专科院校学生情况



- 
- B. 2015 年，河南省普通本专科院校招生总人数位列全国第一
  - C. 除北京市外，其他省（市）普通本专科院校在校总人数均超过 100 万
  - D. 上表所列省（市），普通本科院校在校人数均大于该省（市）普通专科院校在校人数

华图教育