

冲刺密卷（二）

第一部分 常识判断

（共 20 题，参考时限 15 分钟）

根据题目要求，在四个选项中选出一个最恰当的答案。

请开始答题：

1. 台北故宫博物院南院于 11 月 14 日上午将安放于主建筑外广场的 12 生肖兽首复制品拆除、封存，这些兽首系香港知名艺人成龙捐赠，此事引发两岸舆论热烈关注。十二兽首作为中国古代艺术的瑰宝，流失海外多年。这些铜像被劫是在（ ）

A. 1840 年第一次鸦片战争

B. 1900 年八国联军侵华

C. 1894 年甲午中日战争

D. 1860 年英法联军侵华

2. 2016 年是中国共产党 95 周年纪念，2017 年又将迎来党的十九大召开，关于党历史上历次党代会说法正确的是（ ）

A. 中共一大确立了两个纲领，两步走的战略目标

B. 中共三大的胜利召开标志着国共两党正式合作的形成

C. 中国六大是唯一一个在国外召开的党代会

D. 中共八大把毛泽东思想确立为党的指导思想

3. 孔子说过：“道之以政，齐之以刑，民免而无耻。道之以德，齐之以礼，有耻且格。”孔子的话对我们今天的借鉴意义是（ ）。

A. 必须把社会主义精神文明建设和物质文明建设协调发展

B. 必须坚持依法治国和以德治国相结合

C. 必须努力培养一批德才兼备的优秀干部

D. 必须将道德建设作为社会主义民主政治建设的核心

4. 下调金融机构人民币存款准备金率，以保持银行体系流动性合理充裕，引导货币借贷平稳适度增长。这一决定对实体经济的传导机制是（ ）。

A. 货币供给增加——利率下降——投资和消费增加——实际产出增加

B. 货币需求减少——利率下降——投资和消费增加——实际产出增加

C. 货币供给增加——利率上升——投资和消费减少——实际产出减少

D. 货币供给减少——利率上升——投资和消费减少——实际产出减少

5. 2016年12月21日，李某驾驶福田瑞沃变型拖拉机沿S102线由东向西行驶，当行至C市新城区建新路口处时，将由北向南过马路正常行走的行人连某碰倒，造成被害人连某当场死亡。事故发生后李某驾驶车辆逃逸，后于2015年3月19日到C市公安局交警支队新城区大队投案。经尸检，被害人连某系因交通工具作用致颅脑及胸腹腔脏器严重损伤而死亡。经C市公安局交通警察支队新城区大队认定，被告人李某承担事故的全部责任。根据案情，李某的行为构成（ ）。

- A. 故意杀人罪
- B. 故意伤害致人死亡罪
- C. 交通肇事罪
- D. 过失致人死亡罪

6. 甲去朋友乙家做客，不慎将手机遗忘在乙家，乙发现后没有通知甲，而是自用。1周后，乙将手机丢失，后来甲得知此事，要求乙返还手机，乙不愿返还，为此引起纠纷。以下说法正确的是（ ）

- A. 甲无权请求赔偿，因为乙是无因管理
- B. 甲无权请求赔偿，因为乙是善意占有人
- C. 甲无权请求赔偿，因为乙是保管人
- D. 甲有权请求赔偿，因为乙是恶意占有人

7. 古诗云：“眼处欣生句自神，暗中摸索总非真。画图临出秦川景，亲到长安有几人？”下列选项中与此诗所蕴含的哲理相同的是（ ）。

- A. 纸上得来终觉浅，绝知此事要躬行
- B. 竹外桃花三两枝，春江水暖鸭先知
- C. 近水楼台先得月，向阳花木易为春
- D. 日出江花红胜火，春来江水绿如蓝

8. 我国有悠久的酒文化，在长期的发展过程中，酿造出多种被誉为“神品”、“琼浆”的酒类珍品，下列关于各类酒的作用说法错误的是（ ）

- A. 白酒有杀菌、去腥、防腐作用，可用于医药
- B. 啤酒具有清心、提神的作用，可减少过度兴奋和紧张情绪
- C. 红酒有助于防动脉硬化，还可减少骨质疏松的危险
- D. 黄酒有助于通经络、厚胃肠、养脾扶肝、增进食欲、消除疲劳

9. 关于下面这幅画作说法错误的是（ ）



- A. 作者毕加索是典型的立体派绘画的大师
 - B. 画作跟第一次世界大战有关
 - C. 这是一幅油画
 - D. 画作名叫《格尔尼卡》，是西班牙的一个小城市
10. 下列有关夏令时说法不正确的是（ ）
- A. 由于夏季太阳升起时间明显比冬季早，夏令时确实起到节省照明时间的作用
 - B. 低纬度地区的国家比如说新加坡没有实行夏令时的必要
 - C. 世界各个国家采取的夏令时是有所差别的
 - D. 夏令时是在原有时间的基础上减一小时
11. 下列纪念日与其由来对应错误的是（ ）
- A. 建军节：南昌起义
 - B. 教师节：孔子诞辰
 - C. 中国航天日：东方红一号发射成功
 - D. 中华慈善日：特里萨修女逝世（同国际慈善日）
12. 蜜蜂载着花蜜飞行时，翅膀平均每秒振动 300 次；不载花蜜时，平均每秒振动 440 次，有经验的养蜂人能辨别出蜜蜂是飞出去采蜜，还是采了蜜飞回来。养蜂人的依据是翅膀振动发出声音的（ ）
- A. 音色不同
 - B. 响度不同
 - C. 音节不同
 - D. 音调不同
13. 古人信奉“五德终始说”，认为朝代与金、木、水、火、土五行相对应，朝代更替源于五行相克。周朝尚红色、属火，那么秦朝尚黑色、属（ ）。
- A. 金
 - B. 木
 - C. 水
 - D. 土

14. 近 3500 年来，我国经历了三个气候温暖湿润时期和三次大规模的变冷时期。每次气候变冷，北方游牧民族政权南部疆域的版图都必须扩大，如果不能扩大，这些游牧民族政权就会灭亡。由此可以得知，() 时期出现了气候变冷的情况。

- A. 战国 B. 西汉 C. 隋唐 D. 魏晋

15. 对于夏季防雷常识，下列选项中论述正确的是 ()。

- A. 遇到雷雨时，人们应尽快进入室内，打开窗户通风，并尽快通过电视、电脑或收音机了解此次雷雨的相关信息
- B. 汽车金属外壳易导电，所以在汽车上遇到雷雨时，应尽可能跑出汽车避雷
- C. 在游泳池或河边遇到雷雨时，可以跳入水中，因为有水的保护，雷难以直接打到人身上，所以在水中较为安全
- D. 切勿站在山顶、楼顶，不宜把羽毛球拍、高尔夫球杆等扛在肩上

16. 夏天，从冰箱里拿出冰冻的啤酒发现啤酒瓶外面“出汗”，以下对这种现象解释正确的是 ()

- A. 酒从瓶中渗出 B. 空气中水蒸气汽化
- C. 啤酒瓶上水汽化 D. 空气中水蒸气遇冷液化

17. 下列关于生活中的化学常识，说法正确的是 ()。

- A. 现在，方便的小包装食品已被广泛接受，为了防止中秋月饼等高脂食品氧化变质，延长食品的保质期，在包装袋中常常放入生石灰
- B. 现在用的清洁能源主要有两类：一类是压缩天然气，另一类是液化石油气，它们属于碳氢化合物
- C. 福尔马林是一种良好的杀毒剂，可用于消毒自来水
- D. 保护加酶洗衣粉的洗涤效果，应先在 60 摄氏度以上的热水中溶解洗衣粉

18. 地球，我们共同的家园，江上如画，景象万千。下列说法正确的是 ()

- A. “夜来南风起，小麦覆陇黄”，风向因素决定小麦的成熟
- B. “春江潮水连海平，海上明月共潮生”，潮起潮落与月球密切相关
- C. “月下檐西，日出篱东”，日月星辰东升西落，绕地球运动周期相同
- D. “山下桃花山上雪，山前山后两重天”，南坡暖北坡寒是世界各地都存在的现象

19. 西欧有一句名谚：“中国人的头，阿拉伯人的口，法兰西人的手。”结合对古代科技史的理解，下列说法不正确的是 ()。

- A. 中国人的智慧创造了领先世界的科技成就
B. 古代欧洲的科技成就比中国的科技成就更高
C. 欧洲吸收和借鉴中国科技成就，形成近代科学
D. 阿拉伯人在东方文化交流中起到了桥梁作用
20. 苏轼在《赤壁赋》中写到：“壬戌之秋，七月既望，苏子与客泛舟游于赤壁之下。”在一阕《水调歌头》的序中说：“丙辰中秋，欢饮达旦，大醉，作此篇，兼怀子由。”文中所述的“夜游赤壁”和“中秋夜饮”（ ）。
- A. “夜游赤壁”发生在前 B. “中秋夜饮”发生在前
C. 两者同年发生 D. 两者发生时间相隔了四年

第二部分 言语理解与表达

(共 40 题，参考时限 35 分钟)

本部分包括表达与理解两方面的内容。请根据题目要求，在四个选项中选出一个最恰当的答案。

请开始答题：

21. 《小蝌蚪找妈妈》(1961)，上海美术电影制片厂花费巨大人力物力，以齐白石李可染程十发等著名画家的画意为基础，精心制作，逐帧完成。作品_____，臻于化境。在 20 世纪 60 年代之初的_____背景下，可以想象这部站在“不切实际”的审美之上的艺术至上主义的片子诞生之不易。

依次填入划横线部分最恰当的一项：

- A. 吹毛求疵 青涩 B. 精益求精 饥荒
C. 抱残守缺 贫穷 D. 淋漓尽致 最初

22. 水墨动画片制作成本畸高，制作周期漫长，远不及电脑动画来得方便迅速；而欣赏水墨动画的多是有着此类偏好的成年人，真正的儿童观众往往会被更加炫目的电脑动画所_____。这是水墨动画作为一种_____的艺术品，在为了艺术而艺术的制作氛围里得以偶现却不能长久在市场中游刃有余的根本性原因。

依次填入划横线部分最恰当的一项：

- A. 包围 下里巴人 B. 感动 道近易从
C. 绑架 水清无鱼 D. 挟持 曲高和寡

23. 汤用彤先生长期_____北京大学哲学系，后还担任过北京大学副校长，然而他晚年的北大生涯并不算十分顺利，一是精神上的，在思想改造中的_____；二是身体上的，因中风而饱受病痛折磨。

依次填入划横线部分最恰当的一项：

- A. 执掌 无所适从 B. 把持 不知所措
C. 秉持 择善而从 D. 执导 胸有成竹

24. 贬损英雄、怀疑光荣、颠覆正见、消解崇高的历史虚无主义，对青少年的危害尤其巨大。青少年的价值观、人生观尚未_____，他们对“新鲜”的思潮和观点充满好奇，却又缺乏足够的定力和辨别是非对错的能力，会在不知不觉中被_____错误的信息，从而形成扭曲的历史观和不正确的价值观。

填入划横线部分最恰当的一项是：

- A. 成熟 教导 B. 定型 灌输
C. 成型 传递 D. 确定 疏导

25. 地底的湿气、病害、盗墓者的无礼，早让壁画_____。它们需要经历漫长的救治与调理，直至基本健康，才能上岗工作。

依次填入划横线部分最恰当的一项：

- A. 苟延残喘 B. 奄奄一息
C. 危在旦夕 D. 朝不保夕

26. “盗墓分子怀疑背后有暗龛，挖开看了，结果没有。反倒把那幅画_____了。”陕西历史博物馆壁画保护部保护修复中心主任王佳对南方周末记者说，语气甚是_____。

依次填入划横线部分最恰当的一项：

- A. 破损 惭愧 B. 戕害 遗憾
C. 破坏 痛心 D. 损坏 无奈

27. 他所处的时代正是中国最具历史风雨骤变的时刻，中国文化千翻万复的变化令人

_____目不暇接，他正像个“活化石”一样_____浓缩着历史发展的脉络，印证着文化轨迹的变迁，更为后人提供了可资借鉴的经验和教训。

依次填入划横线部分最恰当的一项：

- A. 目不转睛 记录 B. 目不暇接 浓缩
C. 目瞪口呆 见证 D. 应接不暇 刻画

28. 那些在文学星空中熠熠闪烁的大家，不仅把作品留给大众，而且留下令人_____的人文景观。如鲁迅故居鲁迅亲手栽植的丁香、郭沫若纪念馆的银杏树、茅盾故居的白杨树、老舍故居的柿子树等等，都是几代读者_____的人文风景。

依次填入划横线部分最恰当的一项：

- A. 心向往之 魂飞魄散 B. 心照不宣 魂不守舍
C. 心驰神往 魂牵梦绕 D. 心旷神怡 魂不附体

29. 移动终端的爆发_____，将推动移动互联网与新技术的不断_____，_____出许多新的业务形态和消费产品。

依次填入划横线部分最恰当的一项：

- A. 提高 整合 衍生 B. 增长 融合 催生
C. 增高 聚合 产生 D. 提升 契合 诞生

30. 经济发展必然会有新旧动能_____的过程，当传统动能由强变弱时，需要新动能的_____和传统动能的转型，形成新的“双引擎”，才能推动经济持续增长，跃上新台阶。

依次填入划横线部分最恰当的一项：

- A. 转换 崭露头角 B. 更替 异军突起
C. 改革 势不可挡 D. 传承 脱颖而出

31. 在评论方面，作者是行家里手，评论_____，深刻独到，有一家之言，极富研究与史学价值。当然，这也是作者多年来_____深入研究的_____与结晶。

依次填入划横线部分最恰当的一项：

- A. 价值 呕心沥血 作品 B. 准确 绞尽脑汁 后果

- C. 深刻 孜孜不倦 结果 D. 精准 矻矻穷年 成果

32. _____, 构建体系。随着国内研究公众史学的学者日渐增多, 亦有学者论及中国公众史学学科问题, 但在理论上仍缺少_____系统的理论来引导这一研究走向更深层次, 《中国公众史学通论》则_____了此项空白。

依次填入划横线部分最恰当的一项:

- A. 远见卓识 宏伟 弥补 B. 高屋建瓴 宏观 填补
C. 高瞻远瞩 微观 填充 D. 目光如炬 精准 补充

33. 历史不是死去的过往, 它以某种潜流的方式活在并形塑当下, _____新的成果、认识和进展, 并保持对现实的关注, 既会_____我们对历史的兴趣和热情, 也能_____我们对历史的认知和理解。

依次填入划横线部分最恰当的一项:

- A. 补充 激发 加深 B. 创造 赢得 增强
C. 开辟 促进 改善 D. 形成 提高 削弱

34. 大约 30 年前, 虚拟现实曾_____, 想走进普罗大众的生活, 但时机未到, 随后_____。

依次填入划横线部分最恰当的一项:

- A. 方兴未艾 偃旗息鼓 B. 初始稚步 一蹶不振
C. 跃跃欲试 销声匿迹 D. 星星之火 悄无声息

35. 选择在党代会前公布泄密邮件是普京与特朗普阵营_____, 故意破坏, 因为他们二人之间_____, 而普京却仇视希拉里的强势领导。

依次填入划横线部分最恰当的一项:

- A. 孤军奋战 志同道合 B. 里应外合 惺惺相惜
C. 里通外国 离心离德 D. 孤注一掷 道貌岸然

36. 会场外, 来自各地的桑德斯支持者们针对希拉里的抗议声浪_____, 反倒难觅希拉里支持者的_____。

- A. 认真 完美无缺 商量
- B. 端正 天衣无缝 商议
- C. 严谨 无懈可击 商榷
- D. 严肃 求全责备 商讨

41. 在新媒体环境下，传统媒体面临的压力巨大。一些传统媒体人出走新媒体，出走泛媒介化的公司，尤其是互联网、新闻客户端和各种公司的 PR 部门。我不知道他们内心深处的真切感受，也许有些东西的丢掉可能还会更轻松。但在我看来，载体可以变，但传承不能丢掉，必须唤回报人传统。

这段话主要是说：

- A. 媒体人应该自觉承担媒体人的职责
- B. 新体会加剧传统媒体的生存压力
- C. 在信息传播媒介的变化中，要注重传统的继承
- D. 新媒体环境下，传统媒体人需要丢掉包袱才能获得轻松

42. 中国的初创企业，尤其是科技领域的企业，不仅没有采纳这一建议，还让员工更长时间地工作。这些公司不仅提供夜宵，据称，白山云科技等公司甚至还为员工提供简易床，便于员工在白天小憩，或者加班太晚时在公司过夜。许多初创企业从阿里巴巴等科技巨头那里得到启示，阿里巴巴在年终大促的准备阶段员工会在公司地上扎帐篷；华为在其初创阶段以其所谓的“褥子文化”而闻名，工程师会在桌子底下放一个铺盖卷儿，以便在加班到太晚时使用。

这段文字主要强调的是（ ）。

- A. 员工普遍加班得到了越来越多企业的推崇
- B. 现代科技巨头会中存在着所谓的“褥子文化”
- C. 这些初创企业会为员工提供加班后住宿的条件
- D. 我国初创企业员工加班情况普遍且越演越烈

43. 据美国《华尔街日报》网站 6 月 17 日报道，发表于本周出版的《科学》周刊的这份报告是由中美两国研究人员共同撰写，报告认为，中国的生态系统已经变得更健康，抵御

沙尘暴和洪水等灾害的能力也更强了。作者认为，这在一定程度上归功于旨在重建自然生态的、全世界规模最大的政府支持行动——自 2000 年以来，中国政府在这方面投入巨资。

作者的观点是（ ）。

- A. 我国生态系统已经恢复到原来的状况
- B. 对生态系统健康发展表示乐观
- C. 大力肯定了政府在生态环保上的积极努力
- D. 未来中国政府在生态环保上会加大投资

44. 实际上，一切真实的人类情感都被包含在中国汉字“仁”当中，假若要用意义最为接近的欧洲言语，用基督教的话语来说，那便是神性。因为它是人类和神灵最为类似的品质，用当前的话来形容，那便是人性，或者说是人性的爱。

根据材料，文中加下划线的“它”指的是（ ）。

- A. 仁
- B. 人类情感
- C. 神性
- D. 欧洲语言

45. 研究人员调查发现，虽然手机铃声不断，让人有朋友多、人缘好、生意好的感觉，但是，手机常响的人不如能关掉手机的人快乐。随时开机的被调查者表示，他们不关机是“一种责任”。但研究结果显示，随时开机的人丧失了独处的时间和乐趣，无法独处，就没办法反省、为未来定计划，也没办法摆脱生活的压力。

上述语段中加点的词“一种责任”的内涵是（ ）。

- A. 保持忧患意识，把握竞争机遇
- B. 广纳天下英才，确保利益最大
- C. 言而有信，抓住各种商机
- D. 联系畅通，维持社会关系

46. 年华似流水，勤奋者_____，_____；懒惰者随波逐流，终成碌碌无为的流浪者。

这段文字划线处的句子应选的是（ ）。

- A. 披荆斩棘，誓作积极开拓的引领
- B. 跋山涉水，争做开拓进取的领路人
- C. 一往无前，甘做创新奋斗的建设者
- D. 乘风破浪，勇作大有可为的弄潮儿

47. 有个教授做过一个实验，12年前，他要求他的学生进入一个宽敞的大礼堂，并自由找座位坐下。反复几次后，教授发现有的学生总爱坐前排，有的则盲目随意，四处都坐，还有一些人似乎特别钟情后面的座位。教授分别记下他们的名字。10年后，教授的追踪调查结果显示：爱坐前排的学生中，成功的比例高出其他两类学生很多。

下列选项最适合作为这则材料的关键词的是（ ）。

- A. 教授 坐前排
- B. 位置 成功
- C. 坐前排 后面的位置
- D. 实验 追踪

48. 流控全称流量控制，类似于地面拥堵时段实行的交通限行。如果说地面交通通过交警指挥，那么空中航路的指挥协调由空管委实现。随着中国民航业的发展，航班量近年来持续大量增多，但中国向民航开放的空域资源又是有限的。飞机不能像汽车一样一直停在空中等待，空管委于是就使用提前发布流量控制这一做法，对民航班机空中飞行进行管理。

对这段文字概括最全面的是（ ）。

- A. 流控的定义和实行的原因
- B. 民航所持空域资源有限
- C. 实施流控的原因
- D. 流控是为了避免空中拥堵实行的

49. 我国非物质文化遗产保护工作已经进行了10年。这10年来，人们对非物质文化遗产从比较陌生到逐步了解，虽然经历了一个艰难的过程，但这无疑是中国传统文化之举。当前，随着城镇化的发展和工业文明的冲击，许多农耕时代形成的非物质文化遗产开始呈现片段化、碎片化状态，致使一些专家感慨“偌大的城市里，已经容不下一张童年的灶王像！”对于这样的感慨，我们不妨追问一句：有必要在城市里制造炉灶、恢复祭灶的习俗吗？即使炉灶有了，祭灶的习俗就能在城市里复活吗？

这段文字的主要观点是（ ）。

- A. 非物质文化遗产保护工作面临严峻挑战
- B. 农耕时代的非物质文化遗产终将退出历史舞台
- C. 并非所有的非物质文化遗产都需要“复活”

D. 非物质文化遗产保护工作对于延续中国传统文化具有重要意义

50. 现代“影子银行”始于上世纪 70 年代的美国。80 年代发生在美国的储蓄和贷款机构危机实际上就是一场“影子银行”危机。二十国集团(G20)建立的金融稳定委员会(FSB)在金融危机后发布《全球影子银行预测报告》，提供了全球影子银行的规模、构成、金融风险等数据，令人忧心忡忡，但是世界各国并没有从中汲取经验教训。“影子银行”规模不断扩大，功能越来越全。全球“其他金融中介机构”(影子银行)总资产持续攀升，已达全球 GDP 的 128%。其中，包括中国在内的新兴市场经济体的“影子银行”增速最快。

这段文字想要说明：

- A. 现代“影子银行”发展迅猛
- B. 新兴市场经济体的“影子银行”增速最快
- C. “影子银行”增速加快各国需警惕
- D. 全球“其他金融中介机构”迅猛发展令人忧心忡忡

51. 一天，夏丏尊拜访弘一法师。看到他吃饭时，只有一道咸菜，夏丏尊忍不住问：“难道你不嫌这咸菜太咸吗？”弘一法师回答说：“咸有咸的味道。”吃完饭后，弘一法师倒了一杯白开水喝。夏丏尊又问：“有菜叶吗？怎么喝这平淡的开水？”弘一法师笑着说：“开水虽淡，但淡也有淡的味道。”这话很妙，人生咸淡两由之，个人滋味应该人去品味。

这段文字最适合的标题是（ ）。

- A. 人生的滋味
- B. 咸淡皆有味
- C. 品味咸淡
- D. 咸与淡

52. 沉默经常是一种令对手害怕的威胁方式和压制对手的震慑手段。美国人类学家吉色南曾记下一位械斗者的话：“他什么都不说，沉默真叫人害怕。”什么都不说往往比大声谩骂、肆意宣泄更为可怕，即所谓的“暴风雨前夕的宁静”。具有攻击性的集体（如军队、秘密警察）为了保护震慑和威吓的势能，都一定会有严格的噤声保密纪律。

这段文字的中心是（ ）。

- A. 攻击性集体必须遵守噤声纪律
- B. 沉默可以起到震慑对手的作用
- C. 沉默是一种噤声纪律
- D. 沉默比大声谩骂更可怕

53. 欧洲婚礼的神圣与不容侵犯的约束力来自教会，但是关于约束力的威信，教会声称是源于上帝。可是，我也已经说过，这只是表面上的、形而上的外在约束力。婚姻的不容侵犯的真实的、真正的、内在的约束力（如同我们在缺少教会宗教的一切国家所发现的那样）却是名誉感，是男人与女人的一种君子之道。人的道德感是让道德行为准则的义务得以遵守的真正威信，也就是所谓的君子之道。

根据材料，下列各项说法中正确的是（ ）。

- A. 欧洲婚礼的约束力的威信源于教会
- B. 名誉感是一种表面上的形式上的外在约束力
- C. 道德行为的真正威信在于其行为准则
- D. 君子之道是婚姻不容侵犯的真正能力

54. 世界气候专家说，过高的温度会造成植物提前发芽甚至长出新叶，打乱植物生长节奏，如果春天并未来临，一些植物可能死亡。由于气温升高，这个冬季很多候鸟没有飞走越冬，而暖冬之后突然降临的寒潮会对它们造成巨大的威胁。

上述材料意在说明：

- A. 非正常暖冬可能造成动植物死亡
- B. 非正常暖冬造成植物提前发芽
- C. 候鸟的留存与植物生长密切相关
- D. 寒潮会造成动植物大量的死亡

55. 承认推行户籍法的难度，并不意味着可以无限期地搁置制定这部法律。法治社会的要义，就是通过法律来解决问题、协调矛盾，而不能等到所有的问题都解决了，所有的矛盾都消失了，才平平安安地推出一部迟到的法律。一些政策的推行，固然可以为法律的实施铺平道路、扫除障碍，然而政策终究不能替代法律，没有法律支撑的正常有悖法治精神。

这段文字意在强调：

- A. 推行户籍法势在必行
- B. 法治社会需要立法先行
- C. 法治社会中，政策不能替代法律
- D. 法律制定要突出问题导向

56. 越来越多的人为了应聘而去迎合招聘方的价值观，认为颜值最重要，能力次之。如果招聘方缺乏对应聘者的能力考究，颜值高确实容易取得优势，但颜值不是在应聘竞争中胜出的绝对因素。应聘者最核心的竞争优势还是包含业务能力、情商、素养等内在的综合素质。过分的在意形象，会让应聘者走到一个极端，只怕会适得其反。就此而言，迷恋个人包装，可能会给招聘企业带来短暂的好感，但长此以往，是无法给自己增加竞争的砝码的。

通过这段文字，作者想要表达的观点是（ ）。

- A. 应聘中颜值不是最关键的因素
- B. 应聘的竞争优势主要是内在综合素质
- C. 外在的自我包装只能带来短时利益
- D. 不宜为应聘者过度自我包装

57. 有资料表明，目前我国城镇化率离发达国家尚有不少距离，如何推进有序的城镇化，人员的管理。劳动者权利与义务的对等获取等，是一个必须解决的问题。随着居住制度的逐步试水，越来越多的外来人口或将淡化“独在异乡为异客”的疏离感，并强化“此心安处是吾乡”的获得感。

通过这段文字，作者想表达的主要意思是（ ）。

- A. 居住制度的推行将有助于城镇化的深层推进
- B. 居住制度对外来人口意义深远
- C. 居住制度将改变外来人口的存在感
- D. 居住制度的推行大有裨益

58. 承认警权在当下所遭遇的信任危机，并不意味着对于所有警察个体的否定。警察职业的工作强度和辛苦程度不必多言，他们的职业状况、职业权益，也依然需要引起社会的重

视与关注。如果警察的执法规范和应有执法权威不能得到重塑，警权的信任危机得不到及时的缓解，就难免引发“误伤”并演化为整体性的群体对立。

这段文字，作者意在表达：

- A. 重塑警权信任尤为急迫
- B. 警察职业的辛苦应得到关注和重视
- C. 警权的信任危机会伤及无辜
- D. 警察的职业权益需要得到切实保障

59. ①茅盾从 1974 年至 1981 年间在此工作生活和写作，粉碎“四人帮”后，茅盾在这里度过了他晚年最忙碌和充实的日子

②乌镇茅盾故居是文学巨匠诞生的地方，而北京后圆恩寺胡同 13 号的茅盾故居是茅盾长长一生的终点。

③那时，在这四合院门口，虽没有车水马龙权贵盈门，但四合院内常常高朋满座

④在这座小四合院门口，有两棵挺拔的白杨树，像卫士一样，守护着这座古宅

⑤国外的文学研究者来了，国内的文学爱好者来了，劫后重逢，几十年不见的老朋友也来了。

将以上 5 个句子重新排列，语序正确的是（ ）。

- A. ④②⑤①③
- B. ②④⑤①③
- C. ②④①③⑤
- D. ④①③②⑤

60. 即使看起来不必要的购买力外流，包括一些国人在国外表现出来的“买买买”状态，可以进行消费探讨，但不要动辄简单地置于“爱国”框架下审视。现在有一种观点，认为到日本或其他一些国家大肆采购的人，没有文化自觉和文化自信，是一种“消费不爱国主义”，在消费主义时代，把一个人的消费行为与爱国情怀简单对接，不仅简单狭隘，而且背离文明。

通过这段文字，作者想表达的主要观点是（ ）。

- A. 应对国人加强爱国主义教育
- B. 国人需要对不必要的购买力外流进行反思

- C. 消费不爱国主义有其存在的原因
- D. 不能将境外消费等同于不爱国

第三部分 数量关系

(共 10 题, 参考时限 15 分钟)

在这部分试题中, 每道题呈现一段表示数字关系的文字, 要求你迅速、准确地计算出答案。

请开始答题:

61. 面包房购买一包售价为 15 元/千克的白糖, 取其中的一部分加水溶解形成浓度为 20% 的糖水 12 千克, 然后将剩余的白糖全部加入后溶解, 糖水浓度变为 25%, 问购买白糖花了多少元钱?

- A. 45
- B. 48
- C. 36
- D. 42

62. 某人出生于 20 世纪 70 年代, 某年他发现从当年起连续 10 年自己的年龄均与当年年份数字之和相等 (出生当年算 0 岁)。问他在以下哪一年时, 年龄为 9 的整数倍?

- A. 2006 年
- B. 2007 年
- C. 2008 年
- D. 2009 年

63. 为维护办公环境, 某办公室四人在工作日每天轮流打扫卫生, 每周一打扫卫生的人给植物浇水。7 月 5 日周五轮到小玲打扫卫生, 下一次小玲给植物浇水是哪天?

- A. 7 月 15 日
- B. 7 月 22 日
- C. 7 月 29 日
- D. 8 月 5 日

64. 某超市购入每瓶 200 毫升和 500 毫升两种规格的淋浴露各若干箱, 200 毫升淋浴露生箱 20 瓶, 500 毫升淋浴露每箱 12 瓶, 定价分别为 14 元/瓶和 25 元/瓶。货品卖完后, 发现两种规格淋浴露销售收入相同, 那么这批淋浴露中, 200 毫升的最少有几箱?

- A. 3
- B. 8
- C. 10
- D. 15

65. 某次知识竞赛试卷包括 3 道每题 10 分的甲类题, 2 道每题 20 分的乙类题以及 1 道 30 分的丙类题。参赛者赵某随机选择其中的部分试题作答并全部答对, 其最终得分为 70 分。问赵某未选择丙类题的概率为多少?

- A. 1/3
- B. 1/5


第四部分 判断推理

(共 35 题, 参考时限 30 分钟)

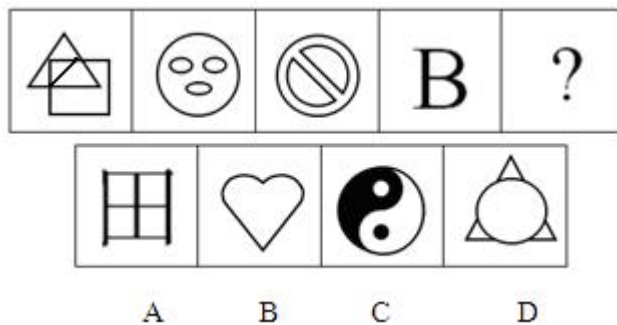
一、图形推理。请按照各题要求作答。

请开始答题:

71. 从所给的四个选项中, 选择最合适的一个填入问号处, 使之呈现一定的规律性()。



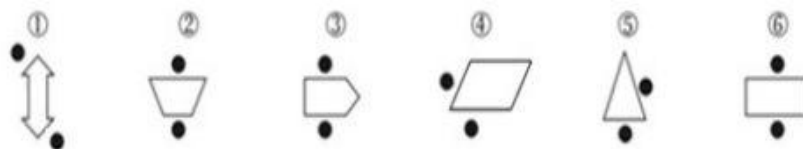
72. 从所给的四个选项中, 选择最合适的一个填入问号处, 使之呈现一定的规律性()。



73. 从所给的四个选项中, 选择最合适的一个填入问号处, 使之呈现一定的规律性()。

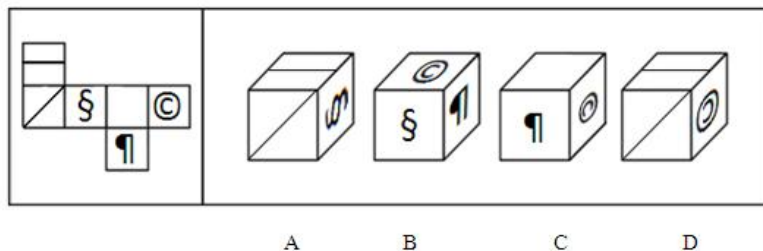


74. 把下面的六个图形分为两类, 使每一类图形都有各自的共同特征或规律, 分类正确的一项是()。



- A. ①④⑤, ②③⑥
 B. ①②⑥, ③④⑤
 C. ①②③, ④⑤⑥
 D. ①③⑥, ②④⑤

75. 左边给定的是纸盒的外表面, 下列哪一项能由它折叠而成 ()。



二、定义判断。每道题先给出定义, 然后列出四种情况, 要求你严格根据定义, 从中选出一个最符合或最不符合该定义的答案。注意: 假设这个定义是正确的, 不容置疑的。

请开始答题:

76. 自愿失业指由于工人所要求得到的实际工资超过了其边际生产率, 或在现行的工作条件能够就业、但不愿接受此工作条件而未被雇佣所造成的失业。

根据上述定义, 下列属于自愿失业的是 ()。

- A. 舞蹈专业的小王大学毕业后一直找不到工作, 而小王生活的城市房地产和金融业一直存在较大的人才缺口
- B. 在外打工的钱某, 听取了父母的意见, 准备回家过年后就不再回来了, 于是他辞职了
- C. 大学毕业生小李在一家私企工作, 无奈公司每个月发的薪水还不够其缴纳房租, 于是他选择辞职
- D. 孙师傅所在的工厂购置了新的设备, 提高了生产效率更高, 孙师傅的岗位被裁撤, 导致孙师傅失业

77. 短命政策: 指地方政府制定的事关群众权益却无法得到社会公众认可或受到普遍反对, 一出台很快就被迫终止的政策措施。

下列不属于短命政策的是 ()。

- A. 某市交管部门出台“闯黄灯视为违反交规, 记 6 分”政策, 在社会上引起了强烈反响,

5 天后该部门举行发布会宣布“暂时不予执行”

B. 某市推出购房新政：毕业未满 5 年的高校毕业生在市区购房实行“零首付”。因为不符合有关政策，几天后就被上级紧急叫停

C. 南方某城市推出在市区范围内的“禁摩令”后，大批快递员集体离职，摩的司机纷纷上访。很快，这一政策被宣布“暂缓执行”

D. 北方某市交通局宣布某风景优美的县级公路设卡收费，消息传出后，舆论一片哗然。没到月底，这一收费政策就寿终正寝

78. 干扰主要有两种情况，即前摄干扰和倒摄干扰。前摄干扰是指之前学习过的材料对保持和回忆以后学习的材料的干扰作用；倒摄干扰是指后学习的材料对先学习的材料的干扰作用。

根据以上定义，下列属于倒摄干扰的是（ ）。

A. 回忆英语单词时，错把以前学习过的法语单词 *psychologie* 当做英语单词 *Psychology*

B. 学习英语单词时，以前学习过的汉语拼音对记忆的干扰

C. 温故而知新

D. 在用汉语交流时，总是掺杂着后学习的英语

79. 不正当低价销售行为是指经营者以排挤竞争对手为目的，以低于成本的价格销售商品的行为。但是销售鲜活商品、处理即将到期的商品、季节性降价和因清偿债务、转产、歇业降价销售商品的除外。

根据以上定义，下列属于不正当低价销售行为的是（ ）。

A. 波司登夏天五折销售羽绒服

B. 低于成本价格销售鲫鱼

C. AKZO 向 ECS 的用户以使人不可理解的低价提供产品，对自己的老客户则涨价 60%

D. 投标公司以竞标方式选择竞标者

80. 知觉防御是指人们保护自己的一种思想方法倾向。这种倾向使人比较容易注意观察能满足需要的那些事物，而对那些与满足需要无关的事物视而不见，听耳不闻。个体表现出对恐惧或感到威胁的刺激倾向于回避、阻滞或反应缓慢。

根据上述定义，下列属于知觉防御的是（ ）。

A. 交通事故的惨状，会引起某些人（特别是妇女，儿童）产生拒绝

B. 蜈蚣在蜕皮的时候，遇到蚂蚁没有任何的反抗能力

- C. 黄鼠狼总能扑捉到鸡
- D. 小明看到蛇总是撒腿就跑

81. 海外游客指来我国探亲访友、观光、度假、就医疗养、购物、参加会议或从事经济、文化、体育、宗教活动的外国人、华侨、港澳台同胞。海外游客可划分为海外旅游者和海外一日游游客。海外旅游者是指在我国大陆旅游住宿设施内停留至少一夜的海外游客。

根据以上定义，下列属于我国海外旅游者的是（ ）。

- A. 降落于某个国家航空班机上的过境乘客
- B. 应邀来华访问的政府部长以上官员及随从人员
- C. 回大陆定居的华侨、港澳台同胞
- D. 在我国大陆观光且停留三日的港澳台同胞

82. 系统抽样是指将总体单位按某一标志排序，然后按一定的间隔抽取样本单位的抽样方法。

根据上述定义，下列属于系统抽样的是（ ）。

- A. 在全国取样，先按行政区域划分组，再在组内依照一定的性质进行归类。然后从各类中随机抽取样本
- B. 将被调查者按某种编号排好序，先从前 5 个号中随机抽一个，再以此为起点，隔 4 个号抽一个
- C. 先将被调查人群按年龄分为若干层次，再从各层次中随机抽取若干受测者
- D. 将被调查人群分为许多个群，然后随机抽取若干群，对被抽中的各群内的所有单位登记调查

83. 信息成瘾是指在信息爆炸时代，由于人们信息吸收成平方数增长，但人类思维模式还没有调整到可以接受如此大量信息的阶段，由此导致了一系列自我强迫和紧张的表现。

根据上述定义，下列不属于信息成瘾的是（ ）。

- A. 小王工作很清闲，只有不停浏览信息的时候，才有充实的感觉，一停下来就不知道要干什么
- B. 小李在复习公务员考试，看到许多自己做过的题依然做错，自己恨不得把书吃了
- C. 小张和朋友们在聊明星们的八卦，其中有一个小细节自己不知道，顿时感到焦虑和不安
- D. 小赵喜欢用手机刷微博、看新闻，不愿意漏掉任何一条哪怕是毫无意义的信息

84. 鱼缸法则：鱼缸是玻璃做的，透明度很高，不论从哪个角度观察，里面的情况都一清二楚。鱼缸法则运用到政府单位管理中，就是要求领导者增加单位各项工作的透明度。单位的各项工作有了透明度，领导者的行为就会置于全体下属的监督之下，就会有效地防止领导者享受特权、滥用权力，从而强化领导者的自我约束机制。

以下属于鱼缸法则运用的是（ ）。

A. 小明装修新家，感觉室内不是很亮，因此打通了一些装饰墙，换成了钢化玻璃，屋子更加明亮

B. 某市政务服务大厅，全部采用钢化玻璃进行装修，大厅全透明，方便群众解决问题，看清办理业务的流程

C. 某行政单位增加新的管理制度，优化工作的方式方法和报销制度，所有工作人员包括领导在内，都必须遵守，按照流程报销，每月都在单位内部公开报销金额

D. 某市开通领导热线，所有行政单位领导公开自己的手机号和办公室电话，接受监督，帮助群众解决问题，更加透明和公开

85. 三维归因理论，指的是个体在归因时同时考虑三方面信息：特异性信息（行为主体的反应方式是否只针对某一刺激客体做出反映）、共同性信息（不同的行为主体对同一刺激的反应是否相同）、一致性信息（行为主体在不同背景下做出的反应是否一致），从以上三方面信息的协变中得出结论。如果特异性低、共同性低、一致性高，那么更有可能做出内部因素的归因。

玛丽看小丑表演时，以下哪种情况能做出内部因素的归因（ ）。

A. 玛丽没有对其他小丑的表演笑，每个人都对这个小丑的表演笑，玛丽总是对这个小丑的表演笑

B. 玛丽对小丑的表演总是笑，别人几乎对这个小丑的表演不笑，玛丽总是对这个小丑的表演笑

C. 玛丽没有对别的小丑的表演笑，别人几乎不对这个小丑的表演笑，玛丽以前从未对这个小丑的表演笑过

D. 玛丽对小丑的表演总是笑，每个人都对这个小丑的表演笑，玛丽以前从未对这个小丑的表演笑过

三、类比推理。共 10 题，每道题先给出一组相关的词，要求你在备选答案中找出一组与之在逻辑关系上最为贴近、相似或匹配的词。

请开始答题：

86. 西湖：太湖

- A. 都会：议会
B. 电脑：人脑
C. 男生：女生
D. 加法：除法

87. 买票：乘机：抵达

- A. 生产：流通：消费
B. 相识：相恋：结婚
C. 调研：调查：总结
D. 申报：评审：得奖

88. 明星：人大代表

- A. 教师：农民
B. 青年：公务员
C. 儿童：幼儿园
D. 小学：学校

89. 不入虎穴：焉得虎子

- A. 你若安好：便是晴天
B. 选举权：十八周岁
C. 不经历风雨：怎能见彩虹
D. 功夫深：铁杵磨成针

90. 煤炭：树木：燃烧

- A. 丝绸：棉布：保暖
B. 琥珀：树脂：药用
C. 手机：金属：通信
D. 红枣：枸杞：保健

91. 春色满园关不住：《游园不值》：温庭筠

- A. 人间四月芳菲尽：《望庐山瀑布》：叶绍翁
B. 乱花渐欲迷人眼：《钱塘湖春行》：白居易
C. 不破楼兰终不还：《从军行》：岑参
D. 日照香炉生紫烟：《大林寺桃花》：李白

92. 实数：自然数

- A. 文具：橡皮
B. 战争：战役
C. 海洛因：毒品
D. 墙体：开关

93. 西安：长安

- A. 东京：开封
B. 台湾：新罗
C. 洛阳：洛邑
D. 广州：羊城

94. 山路：索道

- A. 汽车：卡车
B. 客轮：渔船

C. 陶瓷：盘子 D. 楼梯：电梯

95. 水：冻：冰

A. 牛：耕：田 B. 纸张：书写：书籍

C. 单身：结婚：已婚 D. 衣服：缝制：布

四、逻辑判断。共 10 题，每道题给出一段陈述，这段陈述被假设是正确的，不容置疑的，要求你根据这段陈述，选择一个答案。注意：正确的答案应与所给的陈述相符合，不需要任何附加说明即可以从陈述中直接推出。

请开始答题：

96. 一项市场调查表明，在价格战中，名牌手机的降价幅度不超过 10%，所以华为手机的降价幅度也不超过 10%。

以下哪项如果为真，最能削弱上述结论（ ）。

- A. 去年华为手机没有降价
- B. 许多手机的降价幅度超过 10%
- C. 华为手机不是名牌手机
- D. 华为手机的市场占有率提高了 10%

97. 某航空公司为了增加效益，吸引更多的乘客，决定有条件地将票价下调，条件是，享受优惠票价者必须恰好提前航程两天订票。该公司的这一决策是有失周全的，因为航班乘客很多是因公出差，他们本来可以支付全额票价，现在却支付了优惠价，从而减少了航空公司的收入。

以哪项如果为真，能够最有力的削弱上述论证（ ）。

- A. 统计数据表明，在航运旅客中，因公出差者占航运总数的 50% 左右
- B. 因公出差者并非全都不在乎票价的高低
- C. 在航运旅客中，因公出差者，无论在绝对量还是在相对比上，都有下降趋势
- D. 因公出差者必须提前二天以上安排出差事宜，包括订票

98. 李丽和王佳是好朋友，同在一家公司上班，常常在一起喝下午茶，她们发现带去喝下午茶的人或者喜欢红茶，或者喜欢花茶，或者喜欢绿茶，李丽喜欢绿茶，王佳不喜欢花茶。

根据以上陈述，以下哪项必定为真（ ）。

- I. 王佳如果喜欢红茶，就不喜欢绿茶。
- II. 王佳如果不喜欢绿茶，就一定喜欢红茶

III. 常去喝下午茶的人如果不喜欢红茶，就一定喜欢绿茶或花茶。

IV. 常去喝下午茶的人如果不喜欢绿茶，就一定喜欢红茶和花茶。

- A. 仅 II 和 IV
- B. 仅 II、III 和 IV
- C. 仅 III
- D. 仅 II 和 III

99. 牛奶的包装盒设计成方形，是因为方形比圆形的包装盒更节约储存牛奶所需的冷藏空间，这样一个冷藏柜中可以摆放更多的牛奶，可乐的瓶子设计成圆形是因为该形状更容易随手拿取和携带。

如果以上的观点是正确的，那么必须以下列哪项为前提（ ）。

- A. 储存牛奶的冷藏空间比储存可乐的空间小
- B. 可乐不需要冷藏而牛奶需要
- C. 产品的包装设计以实用为主要目的
- D. 人们无法接受圆形的牛奶盒和方形的可乐瓶

100. 某市私家车泛滥，加重了该市的空气污染，并且在早高峰期和晚高峰期间常常造成多个路段出现严重的拥堵现象。为了解决这一问题，该市政府决定对私家车实行全天候单、双号限行，即奇数日只允许尾号为单数的私家车出行，偶数日只允许尾号为双数的私家车出行。

以下哪项最能质疑该市政府的决定（ ）。

- A. 该市有一家大型汽车生产企业，限行令必将影响该企业的汽车销售
- B. 该市私家车拥有者一般都有两辆或者两辆以上的私家车
- C. 该市正在大力发展轨道交通，这将有助于克服拥堵现象
- D. 私家车的运行是该市的税收来源之一，税收减少将影响公共交通的进一步改善

101. 湖队是不可能进入决赛的。如果湖队进入决赛，那么太阳就从西边出来了。

以下哪项与上述论证方式最相似（ ）。

- A. 今天天气不冷。如果不冷，湖面怎么结冰了？
- B. 语言是不能创造财富的。若语言能创造财富，则夸夸其谈的人就是世界上最富有的了。
- C. 草木之生也揉脆，其死也枯槁。故坚强者也死之徒，柔弱者生之徒。

D. 天上是不会掉馅饼的。如果你不相信这一点，那上当受骗是迟早的事。

102. 英国有家小酒馆采取客人吃饭付费“随便给”的做法，即让顾客享用葡萄酒、蟹柳及三文鱼等美食后自己决定付账金额。大多数顾客均以公平或慷慨的态度结账，实际金额比那些酒水菜肴本来的价格高出 20%。该酒馆老板另有 4 家酒馆，而这 4 家酒馆每周的利润与付账“随便给”的酒馆相比少 5%。这位老板因此认为，“随便给”的营销策略很成功。

以下哪项如果为真，最能解释老板营销策略的成功（ ）。

- A. 部分顾客希望自己看上去有教养，愿意掏足够甚至更多的钱
- B. 如果客人支付低于成本价格，就会受到提醒而补足差价
- C. 客人常常不知道酒水菜肴的实际价格，不知道该付多少钱
- D. 对于过分吝啬的客，酒馆老板常常也无可奈何

103. 为冬天的节日制作烧烤的食品是一种传统，这可以找到很好的医学根据。在冬天，白天的时间较短，许多人由于缺少阳光而患一种季节性抑郁症，糖和淀粉这两种碳水化合物可以增加大脑中有助于改善人的情绪的血清素含量，从这个角度说，碳水化合物扮演着与某些抗抑郁药物同样的角色。所以，吃节日烤制的甜饼可以为自我疗法提供一种有效的方式。

以下哪项可以适当地从上文中推出（ ）。

- A. 季节性抑郁症是所有抑郁症中最容易治疗的一种
- B. 缺少阳光会降低大脑中血清素的含量水平
- C. 人们在仲冬比在一年中的任何其他时间都更易于得抑郁症
- D. 有些抗抑郁药物是通过改变大脑中血清素的含量水平而起作用的

104. 最新研究发现，恐龙腿骨化石都有一定的弯曲度，这意味着恐龙其实并没有人们想象的那么重，以前根据其腿骨为圆柱形的假定计算动物体重时，会使得计算结果比实际体重高出 1.42 倍。科学家由此认为，过去那种计算方式高估了恐龙腿部所能承受的最大身体重量。

以下哪项如果为真，最能支持上述科学家的观点（ ）。

- A. 恐龙腿骨所能承受的重量比之前人们所认为的要大
- B. 恐龙身体越重，其腿部骨骼也越粗壮
- C. 圆柱形腿骨能承受的重量比弯曲的腿骨大
- D. 与陆地上的恐龙相比，翼龙的腿骨更接近圆柱形

105. 近日国外一项调查研究发现，肥胖与较差的社会经济地位之间存在着内在的关系，

那些社会经济地位较差的人大多比较肥胖，甚至越穷越胖。研究者解释，这是因为社会经济地位较差的人更容易选择高热量低营养的快餐食品，而摄入这些食品很容易导致肥胖。

下列哪项如果为真，最能削弱研究者的上述解释（ ）。

- A. 高热量低营养食品的摄入虽是一些人的饮食习惯，但却容易造成营养不良
- B. 刚富起来的人更容易沉迷于高热量食品，而有些穷人对快餐食品只能偶尔尝鲜
- C. 穷人没有足够的金钱和时间去锻炼身体，富人却更有能力在身体健康上投入
- D. 现在高热量低营养的快餐食品变得越来越廉价，而健康的低卡路里食品变得越来越

昂贵

第五部分 资料分析

(共 20 题，参考时限 15 分钟)

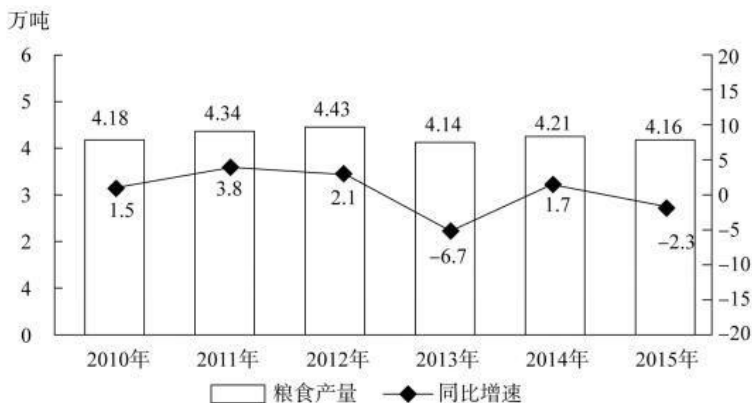
针对下列图、表或文字回答问题。你应根据资料提供的信息进行分析、比较、计算、处理。你可以在题本上运算。

请开始答题：

一、根据以下资料，回答 106~110 题。

某市 2015 年全年粮食总产量 4.16 万吨，同比下降 2.3%；甘蔗产量 0.57 万吨，下降 23.6%；油料产量 0.12 万吨，增长 32.4%；蔬菜产量 15.79 万吨，下降 3.4%；水果产量 7.84 万吨，增长 7.4%。

全年水产品产量 29.16 万吨，同比增长 3.6%，其中海洋捕捞 1.09 万吨，与上年持平；海水养殖 6.07 万吨，增长 89.5%；淡水捕捞 0.18 万吨，增长 1.1%；淡水养殖 21.81 万吨，下降 7.9%。



106. 2014 年该市蔬菜产量比水果产量的高多少万吨？

- A. 9
- B. 8

C. 7

D. 6

107. “十二五”期间，该市粮食总产量在以下哪个范围？

A. 23~24 万吨之间

B. 22~23 万吨之间

C. 21~22 万吨之间

D. 20~21 万吨之间

108. 按照 2015 年水产品产量从多到少，以下排序正确的是（ ）。

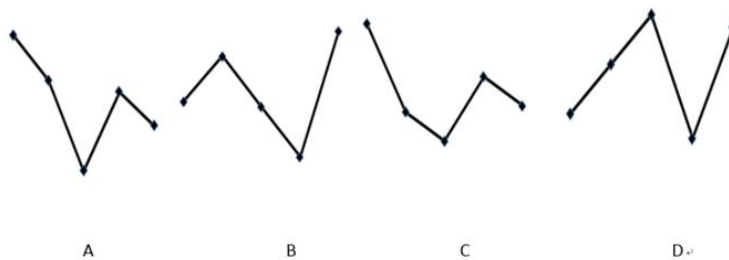
A. 海洋捕捞、海水养殖、淡水捕捞，淡水养殖

B. 淡水养殖、海水养殖、海洋捕捞、淡水捕捞

C. 淡水捕捞、淡水养殖、海洋捕捞、海水养殖

D. 淡水养殖、海洋捕捞、海水养殖、淡水捕捞

109. 以下哪张线图能准确反映 2011~2015 年间，该市粮食生产同比增量的变化趋势？



110. 能够从上述资料中推出的是（ ）。

A. 2014 年油料产量超过 1000 吨

B. 除淡水养殖之外，其余类型的水产品 2015 年产量占水产品总量的比重均高于上年

C. 2014~2015 年甘蔗累计产量不到 1 万吨

D. 2010~2015 年，粮食产量同比上升的年份多于同比下降的年份

二、根据以下资料，回答 111~115 题。

截至 2014 年末，我国共有博物馆 3658 个，占文物机构总数的 43.5%。全国文化机构拥有文物藏品 4063.58 万件，比上年末增加 222.77 万件。其中，博物馆文物藏品 2929.97 万件，文物商店文物藏品 770.00 万件。文物藏品中，一级文物 9.82 万件，二级文物 68.82 万件，三级文物 340.51 万件。

2014 年全国文物机构共安排基本陈列 9996 个，比上年增长 19.1%；举办临时展览

11174 个，增长 15.8%；接待观众 84256 万人次，增长 12.8%，其中博物馆接待观众 71774 万人次，占文物机构接待观众总人次的 85.2%。

2008~2014 年我国文物机构工作相关情况统计

年份	从业人员数 (人)	文物机构数 (人)	参观人数 (万人次)	未成年人参观人数 (万人次)
2008	92060	4437	35436	9075
2009	101986	4842	43248	12203
2010	102471	5207	52098	13541
2011	111338	5728	56687	14021
2012	125155	6124	57059	17326
2013	137173	7737	74706	20237
2014	148095	8418	84256	22403

111. 2014 年，我国文物机构相关指标同比增速最快的是（ ）。

- A. 从业人员数
- B. 参观人数
- C. 文物机构数
- D. 未成年人参观人数

112. 2014 年末，我国一、二、三级文物总量占全部文物藏品的比重最接近以下哪个数字？

- A. 8%
- B. 10%
- C. 14%
- D. 54%

113. 2014 年，平均每家博物馆接待观众人次数约是其他文物机构的多少倍？

- A. 2
- B. 4.5
- C. 7.5
- D. 11

114. 2008~2014 年间，文物机构参观者中未成年人占比超过三成的年份有几个？

- A. 1
- B. 2
- C. 3
- D. 4

115. 能够从上述资料中推出的是（ ）。

- A. 2014 年末，我国平均每家博物馆文物藏品超过 1 万件
- B. 2013 年，我国全部文物机构日均接待参观者 200 多万人次
- C. 2014 年平均每家文物机构安排的基本陈列数低于上年水平
- D. 2010~2012 年，文物机构接待成年参观者人次数逐年上升

三、根据以下资料，回答 116~120 题。

2015 年我国钟表全行业实现工业总产值约 675 亿元，同比增长 3.2%，增速比上年同期提高 1.7 个百分点。

全行业全年生产手表 10.7 亿只，同比增长 3.9%，完成产值约 417 亿元，同比增长 4.3%，增速提高 1.9 个百分点；生产时钟(含钟心)5.2 亿只，同比下降 3.7%，完成产值 162 亿元，同比下降 4.7%，降幅扩大 1.3 个百分点；钟表零配件、定时器及其他计时仪器产值 96 亿元，同比增长 14.3%，增速基本保持上年水平。

2015 年我国钟表行业规模以上工业企业主营业务收入 365.8 亿元，同比增长 8.7%；实现利润 23.4 亿元，与上年相比下降 1.5%，而 2015 年轻工行业主营业务利润率(利润/主营业务收入)的平均水平为 7.57%。

2015 年我国钟表行业海关进出口总额为 92.5 亿美元，同比增长 4%，完成出口总额为 57.7 亿美元，同比增长 8.3%，进口额 34.8 亿美元。出口总额中加工贸易额占 47%，较上年缩小 2 个百分点。

116. 2015 年我国钟表全行业生产时钟(含钟心)的产值与 2013 年相比约：

- A. 上升了 11%
- B. 下降了 11%
- C. 上升了 8%
- D. 下降了 8%

117. 2015 年钟表全行业平均每制造一只手表，能实现约多少元的产值？

- A. 36
- B. 39
- C. 42
- D. 63

118. 2015 年我国钟表行业规模以上工业企业主营业务利润率比轻工行业平均水平：

- A. 低 3 个百分点
- B. 高 3 个百分点
- C. 低 1.2 个百分点
- D. 高 1.2 个百分点

119. 2014 年我国钟表行业贸易顺差约为多少亿美元？

- A. 27
- B. 25
- C. 23
- D. 18

120. 能够从上述资料中推出的是 ()。

- A. 2014 年手表产值同比增速低于钟表全行业工业总产值增速
- B. 2015 年时钟(含钟心)产值达到手表产值的一半以上
- C. 2015 年钟表零配件、定时器及其他计时仪器产值比 2013 年增长 20%以上
- D. 2015 年钟表行业海关出口总额中加工贸易额占进出口总额的 40%以上

四、根据以下资料，回答 121~125 题。

中国新能源汽车产业各类技术专利申请情况表

单位：件

年份	整车制造	电动机制造	储能装置制造	零部件配件制造	供能装置制造
2000	179	41	134	31	45
2001	225	53	143	30	67
2002	215	91	199	57	88
2003	345	156	272	81	137
2004	424	195	330	134	178
2005	554	323	524	282	267
2006	833	399	841	445	368
2007	994	474	1021	585	391
2008	1317	550	1422	745	462
2009	1389	585	1769	768	410
2010	1854	821	2497	1029	653
2011	2597	1088	3437	1553	831
2012	2603	1176	3277	1564	867
2013	2487	1162	3156	1618	797
2014	2035	807	2326	1232	745
2015	769	303	848	377	315

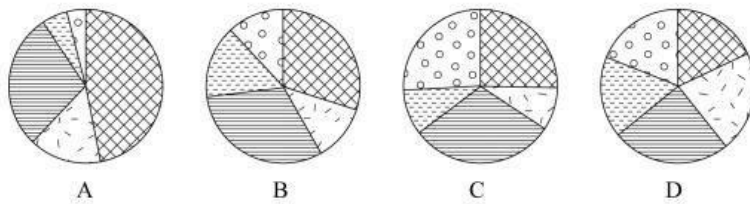
121. 表中新能源汽车产业零部件配件制造技术专利申请数增速最快的年份为：

- A. 2005 年
- B. 2002 年
- C. 2014 年
- D. 2010 年

122. “十二五”期间整车制造专利申请总数约是“十五”期间总数的多少倍？

- A. 2
- B. 4
- C. 6
- D. 8

123. 能够正确描述 2015 年新能源汽车产业五种专利申请数占比的统计图是（ ）。



124. 2001~2015 年间，新能源汽车五种技术专利申请数均高于上年的年份有多少个？

- A. 7
- B. 8
- C. 9
- D. 10

125. 能够从上述资料中推出的是（ ）。

- A. 2000~2015 年间，五种技术专利中申请数年均增速最快的是零部件配件制造
- B. 2011~2015 年间，储能装置制造专利申请数均超过电动机制造的 3 倍
- C. 2010 年供能装置制造专利申请数比 2005 年翻了两番

D. 2001~2015 年间，储能装置制造专利申请数增加最多的年份是 2010

