

## 第一部分 常识判断

(共 20 题, 参考时限 15 分钟)

在这部分试题中, 本部分只有一个正确选项, 请根据题目要求做出正确选项。

请开始答题:

1. 坚持党的领导是实现我国社会主义现代化建设的根本要求, 下列有关党的重大会议的表述不正确的是 ( )。

- A. 中共三大 (1923 年) 制定了革命统一战线方针, 展开了第一次国共合作
- B. 遵义会议 (1935 年) 纠正了王明的左倾错误, 确立了毛泽东在中央的领导
- C. 中共十二大 (1982 年) 形成了邓小平为核心的党的第二代领导集体
- D. 中共十八大 (2012 年) 把科学发展观确立为党的指导思想

2. “古今之成大事业、大学问者, 必经过三种之境界: ‘昨夜西风凋碧树, 独上高楼, 望尽天涯路。’ 此第一境也。‘衣带渐宽终不悔, 为伊消得人憔悴。’ 此第二境也。‘众里寻他千百度, 蓦然回首, 那人却在灯火阑珊处。’ 此第三境也。” 以下表述不正确的是 ( )。

- A. “昨夜西风凋碧树, 独上高楼, 望尽天涯路。”——晏殊《蝶恋花》
- B. “衣带渐宽终不悔, 为伊消得人憔悴。”——欧阳修《蝶恋花》
- C. “众里寻他千百度, 蓦然回首, 那人却在, 灯火阑珊处。”——辛弃疾《青玉案》
- D. 喻做学问、成大事业, 须“上下求索”, 以达豁然贯通

3. 司马迁编写的《史记》是我国历史上第一部记传体史书。作为“二十四史”之首, 有关它的评价也很多。下列名人评价中不是针对《史记》的是? ( )

- A. 郭沫若: “功业追尼父, 千秋太史公。”
- B. 周树人: “史家之绝唱, 无韵之离骚。”
- C. 王鸣盛: “此天地间必不可无之书, 亦学者必不可不读之。”
- D. 梁启超: “千古之绝作”

4. 下列诗句与其写作方法不对应的 ( )。

- A. 比喻: 飞流直下三千尺, 疑是银河落九天
- B. 反衬: 已是悬崖百丈冰, 犹有花枝俏
- C. 双关: 东边日出西边雨, 道是无晴却有晴

D.对比：两个黄鹂鸣翠柳，一行白鹭上青天

5.下列选项中，有关我国文化风俗的表述错误的是（ ）。

A.我国最早的茶叶专著是陆羽的《茶经》。

B.中国的八大菜系中鲁菜最具特色的是宫廷菜。

C.春节、清明节与中秋节是中国的三大传统节日。

D.古人常用的与年龄有关的称谓中“弱冠”是男子二十岁。

6.下列选项中，关于我国四大卫星发射基地与其所对应的气候类型不相符合的是（ ）。

A.酒泉：高原高山气候

B.西昌：亚热带季风气候

C.太原：温带季风气候

D.文昌：热带季风气候

7.下列选项中对于生活现象中的物理解释错误的是（ ）。

A.冬天水管“粘手”——手表面水分遇冷凝固

B.白炽灯变黑——钨丝升华后凝华

C.汽车后视镜——凹面镜成像扩大视野

D.雨后见彩虹——水滴经过多次折射

8.中华优秀传统文化，是中华文明成果根本的创造力，是民族历史上道德传承、各种文化思想、精神观念形态的总体。习近平总书记在国际国内的发言讲话中屡屡旁征博引，文史知识如数家珍，反映出党和国家对于中华优秀传统文化的重视与传承。下列总书记引用过的诗词歌赋中作品与作者搭配错误的是（ ）。

A.位卑未敢忘忧国——陆游

B.腹有诗书气自华——苏轼

C.些小吾曹州县吏，一枝一叶总关情——郑板桥

D.但愿苍生俱饱暖，不辞辛苦出山林——杜甫

9.雾霾天气是当前尤为重视的灾害性天气。关于雾霾,下列说法错误的是（ ）。

A.雾霾，是雾和霾的组词。通常使目标物的水平能见度降低到 1000 米以内，就将悬浮在近地面空气中的水汽凝结（或凝华）物的天气现象称为雾。空气中的灰尘、硫酸、硝酸等颗粒物组成的气溶胶系统造成视觉障碍的叫霾，其造成的水平能见度小于 10000 米

B.雾霾主要由二氧化硫、氮氧化物和可吸入颗粒物这三项组成，它们与雾气结合在一起，让天空瞬间变得阴沉灰暗

C.与雾相比，霾对人的身体健康的危害更大。霾影响最大的是人的心脑血管系统

D.减少污染源，削减大气污染物是解决雾霾的根本之道，比如减少燃油机动车使用量

10.下列原理与相应现象对应有误的是（ ）。

A.破窗效应——某明星演唱会上，小明随手向场馆角落扔了个饮料瓶，没有人制止，垃圾也未被及时清理，他离开时发现那个角落堆满了各种垃圾

B.鲶鱼效应——传统出租车行业困境丛生，有公司推出“滴滴打车”、“快的打车”等，这些“互联网+出租车”的新业态让越来越多的人重新选择出租车这一出行方式

C.塔西佗困境——某国政府颁行的政策总是考虑富人利益，对弱势群体的考虑甚少，导致少部分人富可敌国，国家的整体生活水平总是上不去

D.木桶效应——我国公务员的任用原则是“德才兼备，以德为先”，如此强调“德”是因为历史上很多身居官位之人，虽然才华横溢，但却因为德行修养的不足，不但没有任何对国对民的贡献，反而祸国殃民

11.钙质是人体必备的微量元素，以下关于补钙的说法正确的是（ ）。

A.长期补钙会引起肾结石或胆结石

B.钙补得太多会补成骨质增生

C.补钙会造成“胎盘老化”

D.补钙要坚持“少量多次”原则

12.中国古代科技遥遥领先于世界，明朝之前，世界 70%的科技创造都源自中国。下列关于我国古代科技的说法不正确的是（ ）。

A.唐朝：僧一行：制定《大衍历》世界首次实测子午线长度

B.北宋时：沈括创制先进、合理的历法“十二气历”，著有《梦溪笔谈》

C.元朝：郭守敬编制的《授时历》是我国古代最精确的历法

D.东汉：《九章算术》标志我国古代数学体系的形成。二进位值制，中国最早使用

13.2017 年是我国高考恢复 40 周年，以下关于我国教育制度说法有误的一项是（ ）。

A.科教兴国是我国的基本国策，首次被正式提出是在 1995 年

B.主管教育事业和语言文字工作的国务院组成部门是教育部

C.教育活动必须符合国家社会公共利益，教育与宗教相分离

D.根据《义务教育法》规定，国家实行十二年义务教育制度

14.“3 年搬 700 个西湖”，截至 2017 年 6 月 9 日，南水北调东线中线一期工程已累计输水达到 100 亿立方。我国南水北调中线工程的引水点是丹江口水库，以下我国的四大道教名

山中，与丹江口水库位于同一省份的是（ ）。

- A.青城山
- B.齐云山
- C.龙虎山
- D.武当山

15.2017年中国杯国际足球锦标赛在广西南宁举行，北京时间1月10日19点35分，中国对阵冰岛的开幕式比赛开始。在英国伦敦留学的小王也观看了这场比赛，他观看比赛的当地时间更接近于以下哪个时间？（ ）

- A.1月10日11点35分
- B.1月10日23点35分
- C.1月09日11点35分
- D.1月09日23点35分

16.2017年5月24日，中科院国家天文台FAST（500米口径球面射电望远镜）数据中心正式落户贵州。以下关于FAST的说法，错误的是（ ）。

A.FAST是目前世界最大单口径射电望远镜，于2016年9月25日在贵州省平塘县落成启用，被誉为“中国天眼”

B.建成启用后的FAST，在探测宇宙中的遥远信号和物质方面，将成为对脉冲星、类星体等各种暗弱辐射源进行精密观测的利器

C.除了单向接收宇宙信号之外，FAST也具备提供星际间的深空通讯能力。如果有人类航天器飞到远至太阳系外缘行星，仍然能够通过FAST和地球联系上

D.FAST由中国科学院国家天文台主导建设，是具有我国引进世界先进技术、世界最大单口径、最灵敏的射电望远镜

17.2017年5月5日，由中国商飞研发的首款国产大飞机C919进行下线后的首次飞行，地点位于上海浦东机场。民航飞机的生产技术是一个国家的航空发展水平的重要反映，以下不属于民航飞机型号的是？（ ）

- A.波音747
- B.空中客车A380
- C.达索幻影2000
- D.伊尔-96

18.下列关于《公务员法》的说法，错误的是（ ）。

- A.公务员经批准可以在机关外兼职，但不得领取报酬
- B.公务员新录用的试用期为一年，期间必须接受培训
- C.公职的考核内容为德能勤绩廉，公职考核以绩为重
- D.公职的奖励等级含嘉奖、二等功、一等功、特等功

19.2015年12月27日第十二届全国人民代表大会常务委员会第十八次会议通过《反家庭暴力法》。2016年3月1日起实施。关于《反家暴法》下列选项错误的是（ ）。

- A.反家庭暴力工作遵循预防为主，教育、矫治与惩处相结合原则
- B.法律援助机构应当依法为家庭暴力受害人提供法律援助
- C.申请人身安全保护令只能以书面方式提出
- D.人身安全保护令由人民法院以裁定形式作出

20.宪法规定了国家的根本制度和根本任务，是国家的根本法，具有最高的法律效力。

下列关于宪法中对公民财产权利的保护表述不正确的一项是（ ）。

- A.公民的合法的私有财产不受侵犯
- B.国家为了公共利益的需要，可以依照法律规定对公民的私有财产实行征收或者征用并予以补偿
- C.国家依照法律规定保护公民的私有财产权和继承权
- D.公民的私有财产神圣不可侵犯

※※※第一部分结束，请继续做第二部分※※※

## 第二部分 言语理解与表达

(共 40 题，参考时限 35 分钟)

本部分包括表达与理解两方面的内容。请根据题目要求，在四个选项中选出一个最恰当的答案。

请开始答题：

21. 当时的胡愈之（笔名化鲁）撰文说，自从冰心女士在《晨报副刊》上发表她的《繁星》后，小诗便\_\_\_\_\_。那时，许多人都学着冰心写小诗，包括宗白华、苏雪林、巴金等，形成了一个“小诗运动”。甚至有人将陆续发表的《繁星》，\_\_\_\_\_起来，最后用宣纸装裱成一个立轴，希望将它献给冰心女士，以表示对她的热爱和敬意。

填入画线部分最恰当的一项是：

- A. 蜚声中外 汇集
- B. 流行一时 收集
- C. 风靡一时 混合
- D. 声名鹊起 辑录

22. 估计很多人都认为世界上最\_\_\_\_\_的物质，无非是钻石、玛瑙、黄金，这些罕有的东西，毕竟物以稀为贵。\_\_\_\_\_在地球上这些物质的确稀有，价格自然也是比较贵重。但是，还有比这几种物质更加珍贵的稀有物种，其单价接近黄金的 70 万倍，只需 1g 就可以卖 3000 万美金。

填入画线部分最恰当的一项是：

- A. 珍贵 不容置疑                      B. 可贵 无可挑剔  
C. 贵重 毋庸置疑                      D. 值钱 不容置喙

23. 看名校，考名校，参观者中最多的还是带着小孩子来的家长，背后折射的是普遍的名校情结。从体验教育的角度看，一次成功的体验，可能胜过十次无效的说教。通过带着孩子\_\_\_\_\_名校风采，激发他们的学习热情和斗志，这与其说是名校迷信，不如说是一种正常的文化心理需求，是人之常情，也\_\_\_\_\_。

填入画线部分最恰当的一项是：

- A. 体验 无可非议                      B. 感悟 不容置喙  
C. 感觉 毋庸置疑                      D. 感受 无可厚非

24. 2015 年，泛亚危机\_\_\_\_\_，这场涉案金额高达 430 亿元，涉及 22 万投资者骗局被官方定性为非法集资，实际控制人单九良等主要犯罪嫌疑人被逮捕。在泛亚高达 20 多万的投资者中，有很多人完全是被高回报率所吸引，即使没有专家们的推荐，也会跌入陷阱之中。但是，也还有很多人对泛亚的模式\_\_\_\_\_，而专家们出来为泛亚站台，打消了这部分人群的疑虑，使其最终成为泛亚的受害者，对于这部分人而言，专家们还是\_\_\_\_\_。

填入画线部分最恰当的一项是：

- A. 浮出水面 将信将疑 难辞其咎      B. 应运而生 半信半疑 难推责任  
C. 横空出世 深信不疑 难逃罪责      D. 接踵而至 毫不怀疑 不可推卸

25. 我第一次看《天使爱美丽》，是中考前的那个暑假。后来重温过几遍已不记得，但每次看，都\_\_\_\_\_，电影中的艾米莉童心未泯、奇妙又孤独、善良又缺少点勇气，这些情绪特质，几乎能够让一个姑娘从十三岁到三十岁的每一年，把心事交给这部电影。

填入画线部分最恰当的一项是：

- A. 兴高采烈                              B. 完美无瑕  
C. 兴趣盎然                              D. 引人入胜

26. 普通人的阅读速度基本在一分钟 200-300 字左右，一分钟 500 字的较少，一分钟 1000 字以上的更是\_\_\_\_\_。而在快速阅读课程当中，有加快阅读速度的方法和对脑、眼的训练方法。掌握了快速阅读的技巧和方法，一分钟 1000 字以上是很\_\_\_\_\_的一件事。

填入画线部分最恰当的一项是：

- A. 少之又少 轻松                      B. 寥寥无几 放松  
C. 九牛一毛 容易                      D. 凤毛麟角 方便

27. 后来小龙虾的风潮也席卷到了北京，于是有了“麻小”这种北方派的代表做法。只不过原本在南方是量产食材，谁想到进了京便身价倍增，\_\_\_\_\_，甚至论只销售，于是兴致就减了不少。北京只有“麻小”长期一枝独秀，以至于几年后终于有餐馆愿意尝试其他的味道，但无论是十三香还是卤味，在北京吃起来总是觉得欠缺了点什么。尤其是当每只价格

都明码标价的时候，如果吃完一只并没有觉得足够过瘾，便会觉得扫兴，最后还得回归“麻小”，任由口舌辣到吐火，一只接一只地机械地刺激味觉，像宿醉般\_\_\_\_\_，着实不妙。

填入画线部分最恰当的一项是：

- A. 价值连城 饥不择食                      B. 无价之宝 扬汤止沸  
C. 价格不菲 饮鸩止渴                      D. 远近闻名 不能自己

28. 新版条例的\_\_\_\_\_，体现在简化了建设项目环评审批流程，监管覆盖面更全、违法处罚力度更大、责任主体更加明确，并提出对建设项目环评不收取任何费用。通过源头预防、过程监管、违法严惩等措施充分发挥\_\_\_\_\_作用，有效遏制环境违法行为发生。

填入画线部分最恰当的一项是：

- A. 颁布 重要                                      B. 变化 震慑  
C. 颁发 威慑                                      D. 改变 约束

29. 北京人说：“春脖子短”。南方来的人觉着这个“脖子”\_\_\_\_\_，冬天刚过去，夏天就来到眼前了。最激烈的意见是：“哪里有什么春天，只见起风、起风，成天刮土、刮土，眼睛也睁不开，桌子一天擦一百遍……”

填入画线部分最恰当的一项是：

- A. 有名无实                                      B. 空洞无物  
C. 名过其实                                      D. 夸大其词

30. 时代在发展，如今，当我们不再从战火和铁血的角度看待紧张的时候，紧张便有了更多探讨的意义。短时间的紧张，很好。会让我们焕发出非凡的爆发力。不过，世界上的事情，\_\_\_\_\_的，肯定有，但终是有限。大量的成功孕育在日积月累的跋涉中。紧张是一百米短跑，成长则是马拉松比赛。长久的紧张如同长久的鞭策一样，是不能维持的，它会导致反应的\_\_\_\_\_，紧张可以应对一时，紧张却无法达至永恒。

填入画线部分最恰当的一项是：

- A. 一蹴而就 迟缓                              B. 一帆风顺 迟钝  
C. 一帆风顺 迟缓                              D. 一蹴而就 迟钝

31. 有一些擅长生活的人，用自己的巧手装点生活，他们慷慨分享生命中\_\_\_\_\_的味道记忆，也让我们一窥他们的家居生活、情趣爱好、多姿多彩的生活方式，让人感叹生活原来还可以这样，人生远比我们身边的\_\_\_\_\_更富有诗意。

填入画线部分最恰当的一项是：

- A. 不可或缺 一成不变                      B. 至关重要 一帆风顺  
C. 引人入胜 亘古不变                      D. 津津有味 一蹴而就

32. 近日，陕西榆林的一位产妇，在分娩时无法忍受疼痛并多次提出剖宫产未果的情况下，选择跳楼结束了自己的生命。这一悲剧，引发了人们对产妇、家属、医院三方角色的\_\_\_\_\_。围绕“谁拒绝了剖宫产要求”这一问题，医院与家属\_\_\_\_\_。截至目前，官方

权威调查尚未公布，相关事实有待澄清。

填入画线部分最恰当的一项是：

- A. 争论 各执一端                      B. 评论 不刊之论  
C. 讨论 各执一词                      D. 评价 不易之论

33. 宽泛地说,园林是一种围合而成的人工化自然。但它的模拟自然,再造自然,与纯粹的物质空间又\_\_\_\_\_,似乎已经约定俗成地指向一种文化属性,如《园冶》作者计成所谓的“别壶天地”,或者米芾所说的“城市山林”。针对唐代白居易倡导的“中隐”,宋人杨万里提出山居的两难——“城市山林难两兼”,米芾则以“城市山林”的匾额,直接将这种两难转化为乐观的两兼。从此,将山林的自然带入城市的起居,成为后人造园的旨趣。\_\_\_\_\_中国园林的演变,就是一个将幻梦带入真实的过程。

填入画线部分最恰当的一项是：

- A. 迥然不同 回顾                      B. 截然不同 回溯  
C. 迥然不同 回溯                      D. 截然不同 回顾

34. 离开北京前的夜晚, \_\_\_\_\_打算走一整条环线,看要用多长时间。在复兴门上车的时候,人流呼啦啦涌上去,进去以后才发现其实还有好些空间可以站立——但,也许有个座位对许多人来说是件重要事情吧。列车猛然停住时,我\_\_\_\_\_着下意识地揪住了面前某个陌生男人的衣襟,这很像某个浪漫故事的开始,在那瞬间里,有些记忆如同深海里游弋的鱼儿般浮出水面,让我想起许久以前,在最初每天都要坐地铁的岁月里,曾经有那么一个人,他说:你抓住我就好了。

填入画线部分最恰当的一项是：

- A. 灵机一动 蹒跚                      B. 心血来潮 趑趄  
C. 灵机一动 趑趄                      D. 心血来潮 蹒跚

35. “柔和”这个词,细想起来挺有意思的。先说“和”字,由禾苗和口两部分组成,那涵义大概就是有了生长着的禾苗,嘴里的食物就有了保障,人就该气定神闲,和和气了。这个规律,在农耕社会或许是\_\_\_\_\_的。那时只要人的温饱得到解决,其他的都好说。随着社会和科技的发达进步,人的较低层次需要得到满足之后,单是手中有粮,就无法抚平\_\_\_\_\_的灵魂了。中国有句俗语,叫做“吃饱了撑的——没事找事”。可见胃充盈了之后,就有新的问题滋生,起码无法达到完全的心平气和。

填入画线部分最恰当的一项是：

- A. 颠扑不破 激荡                      B. 滴水不漏 回荡  
C. 颠扑不破 回荡                      D. 滴水不漏 激荡

36. 我不去想是否能够成功,既然选择了远方,便只顾风雨兼程。我不去想能否赢得爱情,既然钟情于玫瑰,就勇敢地\_\_\_\_\_真诚。我不去想身后会不会\_\_\_\_\_寒风冷雨,既然目标是地平线,留给世界的只能是背影。我不去想未来是平坦还是泥泞,只要热爱生命,一切,



都在意料之中。

填入画线部分最恰当的一项是：

- A. 吐露 袭来  
B. 流露 涌来  
C. 吐露 涌来  
D. 流露 袭来

37. 生命的年轮一圈圈加厚，世界的本来面目像琥珀中的甲虫，越发\_\_\_\_\_\_\_，需要 we 们更勇敢地凝视。我已知觉的人生第一要素不是“善”而是“真”。有的人总是说谎，那不是“谎言三叶草”的问题，而简直是荒谬的茅草屋了。对这种人，我们并不因为自己也说过慌而\_\_\_\_\_\_\_他们。偶尔一说和家常便饭地说，还是有区别的。

填入画线部分最恰当的一项是：

- A. 纤毫毕现 原谅  
B. 一目了然 原谅  
C. 纤毫毕现 谅解  
D. 一目了然 谅解

38. 他的话我似懂非懂，但从此我开始注意以前\_\_\_\_\_\_\_了的烟灰。烟灰，尤其是那些优质香烟燃烧后的烟灰，非常松散，几乎没有重量和形状，真一个大象无形。它们懒洋洋地趴在那里，好像在冬眠。其实，在烟灰的内部，栖息着高度警觉和机敏的鸟群，任何一阵微风掠过，哪怕只是极轻微的叹息，它们都会\_\_\_\_\_\_\_地腾空而起驭风而行。它们的力量来自放松，来自一种飘扬的本能。

填入画线部分最恰当的一项是：

- A. 忽视 不失时机  
B. 忽视 时不我待  
C. 忽略 时不我待  
D. 忽略 不失时机

39. 对于我们自己，社交、共鸣、沟通，宵夜\_\_\_\_\_\_\_了更进一步的功能，需要在夜晚来临时，在工作与家以外的空间\_\_\_\_\_\_\_。“吃宵夜，意味着可以晚回家，有一定的经济能力，这是年轻人成长的标志。”不需要各种仪式感，宵夜是青少年进入成人世界的速成诀窍。

填入画线部分最恰当的一项是：

- A. 承载 寻觅  
B. 承接 寻找  
C. 承载 寻找  
D. 承接 寻觅

40. 真不想离开这个生机勃勃的世界：阳光穿过宽宽大大的玻璃\_\_\_\_\_\_\_而下，孩子们的欢歌笑语填满整个空间。但上课的铃声总会敲响，老师总会把学生们拢到一起来。送孩子的家人还在做最后的照顾和指导，重新扣好孩子扣错的纽扣，然后\_\_\_\_\_\_\_地走开。我多想留在那里，看着孩子们在讨论天气和世界时脸上写满的好奇。

填入画线部分最恰当的一项是：

- A. 倾泻 念念不忘  
B. 倾注 依依不舍  
C. 倾注 念念不忘  
D. 倾泻 依依不舍

41. 校园贷在高校泛滥成灾，一方面是市场有需求，如今的大学生消费观念较为超前，乐于接受“先消费后还钱”的消费模式；另一方面是校园贷普遍门槛低、到账速度快，很多

---

校园贷只需要身份证和学生证就可以了，比许多正规途径贷款方便多了。

对这段文字概括最准确的一项是：

- A. 大学生消费观念较为超前
- B. 校园贷门槛低、到账速度快
- C. 校园贷比正规途径贷款方便
- D. 校园贷在高校泛滥成灾的原因

42. 如今，越来越多的工薪家庭选择送孩子去留学，动辄数百万元的花费是个不小的负担，在留学之前很有必要算算经济账，要量力而为。再看看“为什么”。如果是希望回国找一份高薪工作，那么，太多“留学文凭贬值”的报道已足以打破这种幻想。只有理性地对待留学，才能理性地看待如今的海归就业市场。

这段文字重在说明：

- A. 留学费用过高，家长有必要算算经济账
- B. 主流媒体经常报道“留学文凭贬值”的新闻
- C. 理性看待海归就业市场的前提是理性对待留学
- D. 越来越多的工薪家庭选择送孩子出国留学

43. 无论是上海交警出手制服抱小孩妇女，还是安徽警方行政拘留在微信群中辱骂正在执行公务的警察的当事人，这些事情虽然引发了舆论争议，但也释放了一个信号，那就是警方正在以更加坚决的态度和更加强硬的手段维护执法的权威，捍卫法律的尊严。在这种情况下，公众也必须增强法律意识，从尊法守法的角度上审视自己的行为，自觉配合警方的执法工作。

这段文字意在强调：

- A. 警察对妨碍公务执行者采取行动引发舆论争议
- B. 公众需要增强法律意识，尊法守法
- C. 媒体应该在新闻报道中做到客观真实
- D. 警方正努力维护执法权威，捍卫法律尊严

44. 在我国教育史上，私塾的确扮演了重要角色。在古代，私塾是孩童受启蒙的场所。义塾的出现，更是满足了平民子弟有学可上的愿望。基于这种历史背景，国人对私塾抱有一些想象乃至向往，也在情理之中。但是，当下我国义务教育不断完善、均衡发展，美化私塾教育甚至非私塾不上，恰是对孩子不负责任。

这段文字的中心思想是：

- A. 盲目追求私塾教育是对孩子的不负责任
- B. 私塾在中国教育史上扮演了重要角色
- C. 义塾满足了平民子弟有学可上的愿望
- D. 私塾比义务教育更能影响孩子的成长

45. 车位价格的上涨有很多客观因素，地价涨了房价涨了自然会带动车位的上涨；对违

法停车的处罚严格了，自然会影响到车位的需求，车位紧俏了，价格也就会往上升。可是在这些因素之外，还有开发商的贪婪。一些开发商，眼瞅着房价审批严格，就在监管不是那么严格的车位售价上打主意，给车位开出了几十万甚至上百万元一个的天价。一些开发商，楼盘都交付了，车位却迟迟不开卖，一直等到车位暴涨才开闸。而大多数开发商将只售不租挂在嘴边，哪怕车位闲置，留着积灰，也不肯租给业主，人为干预、扭曲了车位市场。

这段文字意在强调：

- A. 车位价格上涨的客观因素都有那些
- B. 开发商的贪婪是车位涨价的另一原因
- C. 开发商宁肯让车位闲置，也不租给业主
- D. 开发商在监管不严格的车位售价上打主意

46. 线粒体是一种半自主细胞器，除了为细胞供能，还参与诸如细胞分化、细胞信息传递和细胞凋亡等过程，并拥有调控细胞生长和细胞周期的能力。线粒体通常会因机体衰老过程而受损，而受损线粒体更容易堆积在大脑、肌肉或其他器官。当人体无法清除受损线粒体时，它们会产生毒素，并导致多种与衰老有关的疾病。

对原文理解正确的一项是：

- A. 线粒体是一种自主细胞器，可为细胞供能
- B. 线粒体一定会因机体衰老过程而受损
- C. 线粒体容易堆积在大脑、肌肉或其他器官
- D. 线粒体拥有调控细胞生长和细胞周期的能力

47. 海马体在记忆、学习和保持身体平衡方面起着重要作用。这一区域会随着年龄老化而萎缩，会受阿尔茨海默氏症等疾病影响。通常情况下，70岁以后，大脑中负责记忆的区域每年会萎缩1%，从而引起健忘、方向感差、痴呆症等问题。海马体是为数不多的可再生的大脑区域之一，能够预防甚至逆转萎缩。

以下与原文相符的一项是：

- A. 海马体对人们的阅读能力有帮助
- B. 海马体可能会随着年龄老化而萎缩
- C. 海马体能够预防甚至逆转萎缩
- D. 海马体是唯一可再生的大脑区域

48. 快递员素质良莠不齐，暴露出快递公司管理失范、约束机制失灵等问题，更深层次的问题则是我国快递业在“野蛮”生长过程中陷入发展迷失。比如有人总结出快递业遭遇四大痛点：低价竞争成风，成本居高不下；末端配送现难题，“最后一公里”难题待解；上市弯道超车，草莽发展成隐患；高峰用工荒，难摆脱低效形象。

这段文字意在说明：

- A. 快递公司管理失范

- B. 快递业遭遇四大痛点
- C. 快递业陷入发展迷失
- D. 快递员素质良莠不齐

49. 最近一段时间，各地加快了推进“无人超市”落地的步伐。北京、上海、杭州、成都等地都出现了“无人超市”“无人便利店”。这里的“无人”指的是没有售货员和收银员，顾客可以自主地完成购物的所有流程。在解放劳动力方面，“无人超市”可谓做到了极致。然而，“无人超市”从概念成为现实后，很快有人质疑，称不善于使用手机支付的中老年人将在技术时代被淘汰，认为只能扫码支付的无人超市缺乏人文关怀。这种观点不仅是想当然的陈词滥调，而且低估了技术不断革新、不断降低门槛的潜力。

作者对于“无人超市缺乏人文关怀”这种观点的态度是：

- A. 认同 B. 不认同
- C. 中立 D. 未表态

50. 卫星容量其实就像公路一样，原来通信卫星的C频段以及Ku频段容量最多只能容纳两辆车同时前进，所能运载的货物，也就是信息数据是有限的。但是Ka频段的卫星容量则要大很多，它可以同时在公路上行驶10辆或者更多的汽车，所能运载的信息数据量也远超其它频段。这项技术的突破，意味着未来通过通信卫星可以随时随地实现宽带上网，特别是在地面通信网络无法覆盖的地区，以及飞机、高铁、轮船等交通工具上，都可以实现宽带通信。

以下哪项与原文不相符：

- A. Ka频段的卫星容量比C频段以及Ku频段的大很多
- B. 现在可以通过通信卫星随时随地实现宽带上网
- C. Ka频段所能运载的信息数据量远远超过其它频段
- D. 未来，飞机、高铁等交通工具上，都能实现宽带通信

51. 共有产权房是新生事物——虽然已在不少城市进行试点，但终究尚属“非主流”，目前只能算是房地产市场的补充，对其作用既要客观看待，也要理性期待。楼市主要应以市场配置资源的方式，政策手段主要用于纠偏微调，而不会过度干预市场。推共有产权，应当结合当地房地产市场的具体情况有序推进，并重点解决三大问题。

文段接下来最有可能讲的是：

- A. 重点解决的三大问题是什么
- B. 客观看待共有产权房的作用
- C. 共有产权房尚属“非主流”
- D. 政策手段不会过度干预市场

52. 当下中国的电视剧产业不可谓不“繁荣”：年发行量居高不下，多种题材百花齐放，收看渠道趋于多元，多方资本进入行业。但剧集过长、内容注水、剧本抄袭、片酬畸形、播放量造假等乱象屡遭诟病，有数量缺质量、有高原没高峰的现象依然存在。其中，老戏骨纷

纷“痛批”行业弊端就是乱象的一个缩影：成龙痛批演员不敬业，冯小刚痛批演员耍大牌，张光北痛批频繁使用替身，张志坚痛批“小鲜肉”不背台词……激愤的声音折射出个体对不良态势无能为力的焦虑。

在这个文段中作者想表达的是：

- A. 当下中国的电视剧产业很繁荣
- B. 个体对电视剧产业的不良态势无能为力
- C. 电视剧行业“盛世其表，冰火其里”
- D. 老戏骨“痛批”行业弊端是乱象的缩影

53. 10日，由上海微技术工业研究院建设的8英寸“超越摩尔”研发中试线正式启动，填补了我国微机电系统智能传感器领域缺乏小批量中间性试验生产线的空白。随着硅的工艺发展趋近于其物理瓶颈以及成本制约，业内专家认为，“超越摩尔”时代已经来临，传统摩尔定律或将面临颠覆，将不再局限于依靠尺寸改变去推进集成电路制程节点，材料、工艺、结构等多维度的创新更加重要。

给文段拟定标题，最恰当的一项是：

- A. “超越摩尔”时代已经来临
- B. 传统摩尔定律或将面临颠覆
- C. “超越摩尔”研发中试线改变生活
- D. 上海启动8英寸“超越摩尔”研发中试线

54. 城市治理就好比一个内外兼修的课程。如果说高楼大厦是“面子”，是看得见、摸得着的硬件设施，那么管理水平就是“里子”，虽看不见，却是起基础性作用的软件系统，二者不可偏废其一，\_\_\_\_\_，里子出了问题，面子自然上不去。国内一些城市重面子、轻里子的粗放式管理，自然会造成民生痛点。

填入文中横线处最恰当的一项是：

- A. 甚至“里子”比“面子”更重要
- B. 顾了“里子”丢了“面子”
- C. 人们经常忽视软件系统
- D. 硬件设施也应该被重视

55. 将下列6个句子进行排序，正确的一项是：

- ①地处长江中下游的江西虽是一个内陆省份，不沿边、不靠海，却从不封闭
- ②因此“海上丝绸之路”又被称为“海上陶瓷之路”，景德镇瓷器也因此成为江西走向世界的一张靓丽名片
- ③开放是江西的与生俱来的特质
- ④12世纪以来，一艘艘满载瓷器的商船从景德镇扬帆起航
- ⑤把精美的景德镇瓷器带到世界各地

⑥早在郑和下西洋 70 多年前，江西南昌人汪大渊就远航到了澳洲和非洲，促进了中国同亚非各国的友好往来

- A. ②⑥④⑤③① B. ③①⑥④⑤②  
C. ②③①④⑤⑥ D. ③⑤①⑥④②

\*\*\*第二部分结束，请继续做第三部分！\*\*\*

### 第三部分 数量关系

(共 15 题，参考时限 15 分钟)

在这部分试题中，每道题呈现一段表述数字关系的文字，要求你迅速、准确地计算出答案。

请开始答题：

56. 在打扑克时，三张数字相同的牌称为“轰”，四张数字相同的牌称为“炸”，在两副扑克牌中，分别要至少要取出多少张牌，才能保证摸到“轰”和“炸”？（ ）

- A. 27; 40 B. 29; 42  
C. 27; 42 D. 29; 40

57. 十月份刘师傅需要加工两种零件，要完成的小零件数量是大零件数量的 6 倍，如果只加工大零件，需要 8 天做完；如果只加工小零件，需要 20 天做完，但如果每天多加工 6 个，16 天就可以完工。问刘师傅十月一共要加工多少个零件？（ ）

- A. 420 B. 480  
C. 560 D. 620

58. 某公司为庆祝中秋节举行撕名牌游戏，所有员工都参加，有三种颜色的衣服可供选择，绿色是主色，选择绿色的员工不能再选其他颜色的衣服，还有红、蓝两色的衣服可供选择，有 30% 的员工选择了绿色衣服，有 10% 的员工选择了两种颜色的衣服，只选择红色的是不选择红色的人的 1.5 倍，有（ ）的员工只选择蓝色衣服？

- A. 6% B. 8%  
C. 9% D. 24%

59. 用 0、1、2、3、4 五个数组成一个五位数，数字可以重复，问至少有三个连续的 1 的数有多少个？（ ）

- A. 42 B. 45  
C. 48 D. 65

60. 给一个半径和深度都是 2 米的游泳池刷漆，只刷墙体不刷地面，某工程队承包这项任务需要 2 天完成，如果游泳池半径翻两番，深度减一半，该工程队还想要按原定时间完成任务，则效率需要（ ）。

- A. 保持不变 B. 提高 50%  
C. 提高 80% D. 提高 100%

61.有一个汽车站，由于节日高峰期拥堵了一批客人，而客流量还在匀速增加，为了缓解压力，调度决定增开 8 辆车，这样 24 分钟可以缓解压力，如果增开 10 辆车，12 分钟可以缓解压力，问如果增开 9 辆车，( ) 分钟可以缓解压力？

- A. 16  
B. 18  
C. 20  
D. 22

62.小杨所在的部门要在未来四天组织出去旅游，已知每天晴天的概率都为 70%，如果有两天及以上天数下雨，旅游就会取消，问小杨能去旅游的概率在 ( ) 范围？

- A. 60%-70%  
B. 70%-80%  
C. 80%-90%  
D. 90%-100%

63.一种溶液，蒸发掉一定量的水后，含水量为 90%；再蒸发掉一些水后，溶液的含水量变为 88%；第三次蒸发掉一些水后，溶液的含水量将变为 85%；问这三次溶液的质量比为 ( )

- A. 6: 5: 4  
B. 9: 8: 5  
C. 9: 8: 4  
D. 6: 4: 3

64.小赵有 3 位同事，他 3 位同事的年龄刚好是连续的质数，且最大的和最小的相差 10 岁，他们 4 个人的平均年龄为 24 岁，问小赵多少岁？

- A. 23  
B. 24  
C. 25  
D. 26

65.某市计划在一条新建的道路两旁植树，道路长 300 米，开始时，规划每隔 10 米种一株柏树，后来，为了增加绿化面积，决定减小植树间隔，重新规划后，发现有 22 株柏树规划前后位置不变（规划前后端点的树不动），问新规划后这条路最少植树多少株？

- A. 96  
B. 102  
C. 162  
D. 202

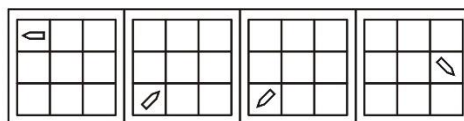
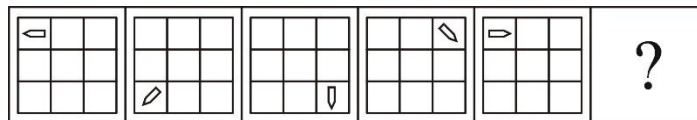
## 第四部分 判断推理

(共 40 题，参考时限 35 分钟)

一、图形推理，请按照每道题的答题要求作答。

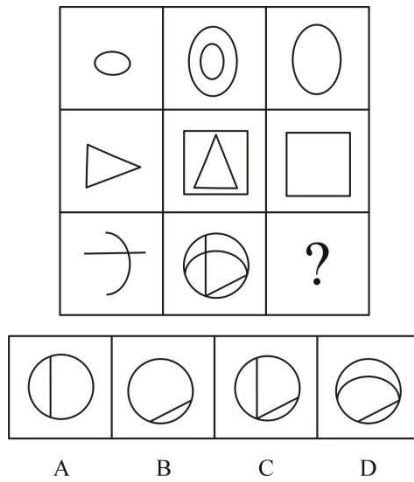
请开始答题：

66. 从所给的四个选项中，选择最合适的一个填入问号处，使之呈现一定的规律性：

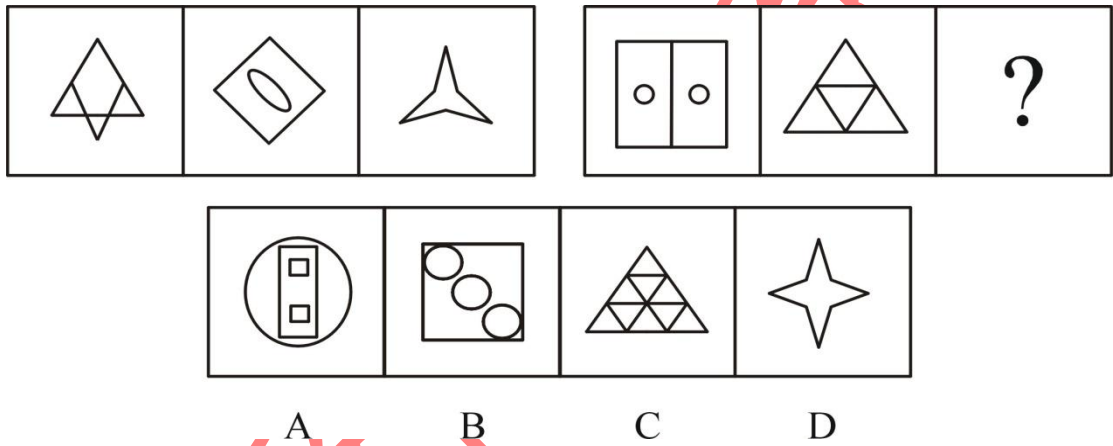


- A B C D

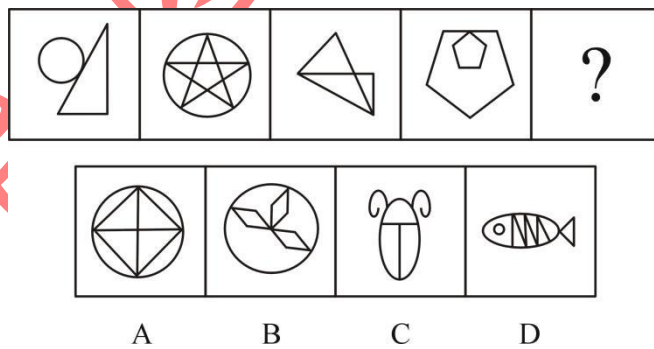
67. 从所给四个选项中，选择最合适的一个填入问号处，使之呈现一定规律性：



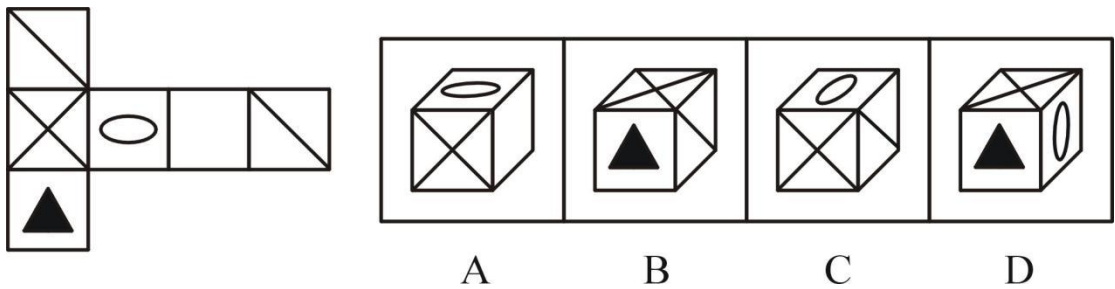
68. 从所给四个选项中，选择最合适的一个填入问号处，使之呈现一定规律性：



69. 从所给的四个选项中，选择最合适的一个填入问号处，使之呈现一定的规律性：



70. 左边给定的是纸盒的外表面，下列哪一项能由它折叠而成？





**二、定义判断。每道题先给出一个定义，然后列出四种情况，要求你严格依据定义，从四个备选项中选出一个最符合或最不符合该定义的答案。注意：假设这个定义是正确的，不容置疑的。**

**请开始答题：**

71.“互联网+”是互联网思维的进一步实践成果，推动经济形态不断地发生演变，从而带动社会经济实体的生命力，为改革、创新、发展提供广阔的网络平台。通俗的说，“互联网+”就是“互联网+各个传统行业”，但这并不是简单的两者相加，而是利用信息通信技术以及互联网平台，让互联网与传统行业进行深度融合，创造新的发展生态。

根据上述定义，下列不属于“互联网+”的是：

- A. 小李使用手机预约顺风车，半小时后，司机准时来接小李开往目的地
- B. 小张去超市购物从来不带钱包，基本都是使用手机通过网上支付平台结账
- C. 小明天天沉迷网络游戏无法自拔
- D. 小王家住山村，交通不便，他通过网络平台将家乡的特产销往全国各地

72.文言文句式总分两大类:固定句式、特殊句式。其特殊句式又可分为:倒装句、被动句、省略句、判断句四大类。倒装句:指为了强调某一句子成分而改变其结构顺序的句式。被动句:指主语与谓语之间的关系是被动关系,也就是说,主语是谓语动词所表示的行为的被动者、受害者,而不是主动者、实施者。省略句:按照语法的分析,句子应该具备的成分,有时出于修辞上的需要,在句中并不出现,这种句式叫做省略句;判断句:是以名词、代词或名词性短语为谓语对主语进行判断的句式。

根据上述定义,下列文言文中属于“倒装句”的是:

- A.陈胜者,阳城人也
- B.其后楚日以削,数十年,竟为秦所灭
- C.一鼓作气,再而衰,三而竭
- D.何陋之有

73.一级能源是指可以从自然界取得的能源,如原油,煤炭,天然气。二级能源是指需要依靠其他能源(一级能源)的能量间接制取的能量,如电能。利用物理,化学,生物技术等方式利用一次能源制取二次能源的过程称为能源转化。

根据上述定义,下列涉及“能源转化”的是:

- A. 在北方的冬季,人们通过烧煤炭的方式取暖
- B. 为了降低煤炭燃烧对环境的污染,某煤企将生产出的煤炭经过洗煤脱硫后再向市场销售
- C. 鉴于电力便于运输的特点,部分煤矿采取在煤矿附近建电厂的方式,将煤炭就地燃烧发电,直接对外供电
- D. 为了减少汽车烧油对环境造成的污染,某市政府决定将市内所有出租车全部换成电动汽车

74.“小确幸”这个名词,是出自村上春树的随笔,由翻译家林少华直译而进入现代汉语。它的意思是微小而确实存在的感受到的幸福,并且是无意识的,突然的,“小确幸”的感觉在于小,每一枚“小确幸”持续的时间3秒至一整天时间不等。

根据上述定义,下列哪项不属于“小确幸”的是:

- A.电话响了,拿起电话发现是刚才想念的那个人打电话过来了
- B.某天洗衣服,掏口袋,突然发现口袋里竟然有200元现金

C.小明每天过着循规蹈矩的生活，上班的时候认真的上班，下班的时候工作之余去健身房健身，这样的生活状态日复一日、年复一年

D.毕业多年，某天浏览期刊浏览目录时，发现目录出现自己的名字和文章，瞬间欣喜

75. 隐形材料是用来控制光线及物体周围其他的电磁射线，让这些光线和射线给人“隐身”的感觉，就像是隐藏在太空的黑洞里一样。它既非自然界中的材料，也并非来自哈利·波特的魔法学校。

根据上述定义，以下选项中不属于隐形材料的是：

A.反可见光侦察隐形衣可使着装者的轮廓产生变形，其细碎的图案与周围环境完全融合，即使目标在运动也不易被发现

B.反红外侦察隐形衣与周围自然景物反射的红外光波大致相似，颜色效果更接近大自然的色彩环境，以此迷惑敌人的视觉和干扰红外侦察器材

C.量子隐形材料制作成衣服，这种材料能令光线弯曲，躲过人们的视线或是夜视镜，可以使得穿着这种衣服的人达到隐形的效果

D.歼-20 的外形具备一定的隐形能力，在飞行中遇到涡流或猛烈的逆风时，机翼中的材料能迅速变形，并带动机翼改变形状，从而消除涡流或逆风的影响，使歼-20 仍能平稳地飞行

76.在文学创作上，白描是一种表现方法：指用最简练的笔墨，不加烘托，描绘出鲜明生动的形象。《湖心亭看雪》中“雾凇沆砀，天与云与山与水，上下一白，湖上影子，惟长堤一痕、湖心亭一点、与余舟一芥、舟中人两三粒而已。”运用白描手法描绘出了一幅鲜明生动的雪景图，令人称道。

根据上述定义，下列属于白描手法的是：

A.时候既然是深冬，渐近故乡时，天气又阴晦了，冷风吹进船舱中，呜呜的响，从篷隙向外一望，苍黄的天底下，远近横着几个萧索的荒村，没有一些活气

B.站在柳丝轻拂的西湖边放眼远眺，只见湖的南北西三面是层层叠叠、连绵起伏的山峦，一山绿，一山青，一山浓，一山淡，真像一幅优美的山水画

C.泪光点点，娇喘微微。娴静时如姣花照水，行动处似弱柳扶风。心较比干多一窍，病如西子胜三分

D.希望本是无所谓有，无所谓无的。这正如地上的路，其实地上本没有路，走的人多了，也便成了路

77. 鸟类种类繁多，分布全球，生态多样。它是两足、恒温、卵生的脊椎动物，体表被覆羽毛，一般前肢变成翼。并且鸟类没有牙齿，是一种体温恒定的卵生动物。

根据上述定义，下列中哪一个不是鸟类？

A. 蝙蝠

B. 麻雀

C. 家鸡

D. 鸵鸟

78. 科研项目，即开展科学技术研究的一系列独特的、复杂的并相互关联的活动，这些活动有着一个明确的目标或目的，必须在特定的时间、预算、资源限定内，依据规范完成。项目参数包括项目范围、质量、成本、时间、资源等。

根据以上定义，下列各项不属于科研项目的是：

A.某工业企业承担的省战略性新兴产业项目——航空用关键材料研发

B.某大学地质系李教授牵头承担的国家 863 计划

C.某企业中标高新技术开发区科技大楼改建项目

D.某企业在生产过程中遇到技术难题，委托外部研究所解决该问题，并给予一定经费，该研究所针对该技术难题进行立项

79. 药物不良反应指正常剂量的药物用于预防、诊断、治疗疾病或者调节生理机能时出现的有害的或与用药目的无关的反应。

根据以上定义，下列不属于药物不良反应的是：

- A. 3 名患者使用某公司生产的双黄连注射液后发生不良反应
- B. 某科技公司生产的狂犬疫苗质量不过关出现患者心率不齐的症状
- C. 一对父母由于按照成人的剂量给其一岁的女儿服用感冒药，结果出现呕吐的症状
- D. 某品牌的减肥药虽然减肥效果非常好，但是会对肝脏造成损伤

80. 遗传一般是指亲子之间以及子代个体之间性状存在相似性，表明性状可以从亲代传递给子代。而性状是生物体所表现出来的形态结构特征、生理特征和行为方式特征。

根据以上定义，下列选项中不属于遗传的是：

- A. 龙生龙，凤生凤，老鼠的儿子会打洞
- B. 姚明的父亲会打篮球，姚明也会打篮球
- C. 种瓜得瓜，种豆得豆
- D. 父母是单眼皮，孩子一定是单眼皮

**三、类比推理。每道题先给出一组相关的词，要求你在四个备选项中找出一组与之在逻辑关系上最为贴近、相似或匹配的词。**

**请开始答题：**

- 81. 芝麻：香油
  - A. 面粉：面包
  - B. 纸张：本
  - C. 干冰：二氧化碳
  - D. 手指：手
- 82. 子男：五爵
  - A. 姐妹：六亲
  - B. 牛马：五牲
  - C. 青白：五色
  - D. 嘴眼：六根
- 83. 阴晴：天气
  - A. 高低：温度
  - B. 男女：性别
  - C. 东南西北：方向
  - D. 生死：存亡
- 84. 粗心：一丝不苟
  - A. 实践：身体力行
  - B. 马虎：囫囵吞枣
  - C. 创新：墨守成规
  - D. 无奈：黔驴技穷
- 85. 舞步：舞蹈：爵士舞
  - A. 美声：歌曲：音乐

- B. 稀土：矿产：金属  
C. 蘑菇：菌类：平菇  
D. 画面：影视：电影
86. 否极泰来：坏：好  
A. 喜新厌旧：新：旧  
B. 苦尽甘来：苦：甘  
C. 眼高手低：高：低  
D. 柳暗花明：暗：明
87. 陶艺人：窑炉：陶瓷  
A. 教师：粉笔：板书  
B. 厨师：炒锅：饭菜  
C. 木匠：树根：根雕  
D. 程序员：软件：代码
88. 煤炭：云朵：黑白  
A. 质子：电子：正负  
B. 事实：真相：对错  
C. 纬度：经度：纵横  
D. 丰满：苗条：胖瘦
89. 马铃薯 对于 ( ) 相当于 荷花 对于 ( )  
A. 食物 菊花  
B. 土豆 菡萏  
C. 地瓜 植物  
D. 山药 香味
90. 脊梁骨 对于 ( ) 相当于 ( ) 对于 手段  
A. 身体；伎俩  
B. 支柱；膝盖  
C. 短处；手腕  
D. 关节；目的

**四、逻辑判断。**每道题给出一段陈述，这段陈述被假设是正确的，不容置疑的。要求你根据这段陈述，选择一个答案。注意：正确的答案应与所给的陈述相符合，不需要任何附加说明即可以从陈述中直接推出。

**请开始答题：**

91. 有时候当我们感到疲累时，体内产生许多的二氧化碳。当二氧化碳过多时，必须再增加氧气来平衡体内所需，于是就打起呵欠来。打呵欠是一种深呼吸动作，它会让我们比平常更多地吸进氧气和排出二氧化碳，还做到消除疲劳的作用呢。

由此可以推出：

- A. 二氧化碳会损害身体健康  
B. 打呵欠促进新陈代谢，达到缓解疲劳的目的  
C. 我们不应该感到疲累  
D. 我们感到疲累的时候就会打呵欠

92. 一名学生要去网吧，中午放学后从学校出发，到达一个十字路口，十字路口分别通向东南西北四个方向，四个方向上分别有 KTV、学校、书店和网吧，书店在 KTV 的西南，KTV 在网吧的东南。该学生要去网吧，应当往哪个方向走？

- A. 东 B. 西  
C. 南 D. 北

93. 现代社会当中，电视广告作为一种重要的产品推销方式已经变得越来越重要。有些业内人士认为，请明星拍摄广告，容易引起观众的注意，进而加深观众对该产品的印象。

以下哪项如果为真，最能支持上述结论？

- A. 90%的观众表示并不会因为明星的出现而增加对广告的关注度  
B. 事实证明好的广告词更能引起观众的注意  
C. 明星属于公众人物，所以当观众看到明星之后会不自觉的提高注意力  
D. 目前比较红的明星都不愿意接拍广告

94. 过去科学家们，猜测生物体内含有磁性物质，行为会受到地球磁场的影响。因此，科学家对蜜蜂进行了为期半个月的观察和实验，观察到蜜蜂筑巢喜欢南北向，飞舞的方式也受周围磁场影响，另外做过实验，将蜜蜂关在黑盒子，用汽车送至三四千米外释放，蜜蜂仍可以找回蜂巢；但是如果在蜜蜂身上绑磁铁，就扰乱了蜜蜂的判断力，据此有科学家说明，蜜蜂通过感应地球磁场来辨别方向的。

以下哪项如果为真，最能反驳该科学家观点的是：

- A. 《蜜蜂总动员》是一部根据事实依据科幻电影，在电影中提及到一群蜜蜂是通过地球磁场的引力挽救整个蜜蜂族的世界  
B. 蜜蜂是群居性动物，一般蜜蜂会跟着蜜蜂王进行集体采摘出行活动  
C. 对于蜜蜂通过地球磁场来辨别方向性的实验调查时间较短，缺乏一定的科学性和有效的说服力

D. 蜜蜂是通过太阳来识别方向的，即使在阴天时，蜜蜂也可以通过云层散射的偏振光来辨别太阳的位置，但是太阳落山了，蜜蜂就不行动了，如果没来得及回巢，就在外面过夜

95. 在锂硫电池的电化学性能研究中，硫基正极材料的研究进展相对滞后，制约了锂硫电池性能提高以及商业化生产。研究者们采用了多种方法来提高硫基正极材料的电化学性能。因此，研究合成高性能正极材料成为这一领域的研究重点。

以下哪项如果为真，不能支持上述结论？

- A. 正极材料能够对反应中间产物进行有效地吸附或限制，提高有效利用率  
B. 正极材料应具有较短的电子与锂离子传输路径，以保证较高的电化学反应动力学速率，使材料具有高容量和高功率  
C. 正极材料若与电解液发生反应，就说明化学稳定性不足  
D. 正极材料具有足够的多余空间与良好的结构稳定性，能够适应充放电过程中的体积变化，以保持电池结构的稳定

96. 科学家试图创造出梦幻机，它可以把人的思维电波取出，取出的自主思维可以输入到梦幻机里，电脑根据此人的思维定势进行创作编辑，形成人工思维，再反向通过脑电波输入回人脑。此时人工思维电波能与新生的自主思维互相糅合，形成了新的混合思维电波，科学家认为，这种电波能使人能产生共鸣的梦幻世界，犹如自己在梦幻世界之中。

那么上述结论的成立需要补充以下哪项作为前提？

- A. 人工思维都会带来精神的享受，使人产生在梦幻世界的错觉  
B. 人工思维的创作编辑是电脑根据思维定势编辑的，形成的混合思维电波具有随机性  
C. 混合思维电波会影响人的感官和精神享受，从而产生在梦幻世界的错觉  
D. 感官感受到的东西可能是虚假的电波

97. 2008年中国奶制品是中国一起食品安全事故，事故起因是因为三鹿奶粉里含有三聚氰胺导致食用儿童患有肾结石，安全事故之后也在多家中国奶制品企业发现三聚氰胺，至此中国奶粉的市场受到了很大的冲击。中国许多奶制品企业为了赢回市场，扩大市场份额，

一方面加大研发力度提高奶粉品质，另一方面加大宣传，并适当降低奶粉价格。但是过了很长时间，市场份额没有升高反而降低。

如果以下为真，最能解释上述现象？

- A. 其他国家的奶粉宣传力度更大
- B. 大力宣传对市场份额并没有起到任何作用
- C. 消费者通常认为便宜没好货
- D. 消费者对中国制造的奶粉还抱有怀疑态度

98. 某啤酒公司的一个研究小组最新研究发现，啤酒花含有的苦味成分  $\alpha$  酸具有缓解实验鼠老年痴呆症的作用。研究人员给患病实验鼠投喂含有 0.05% 的  $\alpha$  酸的食物 3 个月，发现吃了这种食物的患病实验鼠和对照组实验鼠相比，脑内  $\beta$  淀粉样蛋白的蓄积量要少 30% 至 50%。因此相关专家认为，适当饮用啤酒有助于预防老年痴呆症。

如果以下各项为真，最能削弱上述专家观点的是：

- A. 研究人员还发现， $\alpha$  酸能增强脑内负责清除废弃物的“小神经胶质细胞”的活性，从而减少了  $\beta$  淀粉样蛋白在脑内的蓄积
- B. 适当饮用啤酒的老年人得老年痴呆症的概率很低
- C.  $\alpha$  酸可以改善皮肤角化、毛孔阻塞、青春痘、毛孔角化、以及光老化现象，常被用于美容治疗。 $\alpha$  酸在药品中出现于多种场合，如：维  $\alpha$  酸，异维  $\alpha$  酸
- D. 一般而言，在较低温（低于  $10^{\circ}\text{C}$ ）的情况下  $\alpha$  酸的成分会比较稳定， $\alpha$  酸在温度高于  $10^{\circ}\text{C}$  的条件下成分和性能都会发生变化

99. 近期《战狼 2》上映未满 7 日就收获接近 17 亿元的票房，而同期上映的《建军大业》累计票房不到 3 亿元。因此人们普遍更加喜欢刺激精彩的动作片。

以下哪项如果为真，最能削弱上述论证？

- A. 票房的收入反映了人们对于一部电影的喜欢程度
- B. 《变形金刚》内地票房收入仅为 15.5 亿元
- C. 能去电影院购票看电影的多为年轻人，而上了年纪的人群并不喜欢动作片
- D. 《战狼 2》在某网络论坛的评分为 7.5，其实并不算高

100. 一个欺骗消费者的企业也许能获得一时的利益，但没有一个不诚信经营的企业，能成为百年老店。

以下除了哪项，均可以推出：

- A. 一个企业要想成为百年老店，必须要诚信经营
- B. 一个诚信经营的企业，一定能成为百年老店
- C. 凡是百年老店的企业，都是诚信经营的企业
- D. 除非诚信经营，否则不能成为百年老店

**※※※第四部分结束，请继续做第五部分！※※※**

## 第五部分 资料分析

(共 20 题，参考时限 20 分钟)

所给出的图、表、文字或综合性资料均有若干个问题要你回答。你应根据资料提供的

信息进行分析、比较、计算和判断处理。

请开始答题：

一、根据所给资料，回答 101~105 题。

国家统计局对一套表联网直报平台 16 个行业门类的 93 万多家企业法人单位调查显示，全部一套表平台被调查单位就业人员年平均工资为 53615 元，同比名义增长 7.3%。其中，中层及以上管理人员 115474 元，增长 5.2%；专业技术人员 70981 元，增长 7.4%；办事人员和有关人员 50972 元，增长 7.3%；商业、服务业人员 44277 元，增长 8.9%；生产、运输设备操作人员及有关人员 45346 元，增长 5.7%。

表 1 2015 年分地区分岗位就业人员年平均工资 单位：元

地区	就业人员	中层及以上 管理人员	专业技 术人员	办事人员和有 关人员	商业、服务 业人员	生产、运输设备操 作人员及有关人员
合计	53615	115474	70981	50972	44277	45346
东部	58564	133040	81321	56421	49842	47327
中部	44851	83193	54347	41392	35568	41221
西部	49885	98649	61234	46322	37562	45430
东北	46023	92747	55452	45414	36953	40516

101.2015 年全部一套表平台被调查单位就业人员中，平均工资最高的岗位工资约是平均工资最低岗位的多少倍？（ ）

- A. 2.6  
B. 2.8  
C. 2.2  
D. 2.4

102.四大区域中，岗位平均工资最高与最低差距最大的地区是（ ）。

- A. 东部地区  
B. 中部地区  
C. 西部地区  
D. 东北地区

103.2015 年就业人员年平均工资增长量最多的岗位是（ ）。

- A. 生产、运输设备操作人员及有关人员  
B. 办事人员和有关人员  
C. 中层及以上管理人员  
D. 专业技术人员

104.与 2014 年相比，分岗位合计工资与全部就业人员年平均工资的比值有所上升的有（ ）个。

- A. 2  
B. 3  
C. 4  
D. 5

105.以下说法不正确的是（ ）。

- A. 各地区中层及以上管理人员平均工资均为最高  
B. 中部地区各分岗位平均工资均较其他地区低  
C. 商业、服务业人员平均工资最低，约是全部就业人员平均水平的 83%  
D. 办事人员和有关人员平均工资与全部就业人员平均工资的比值近两年保持不变

二、根据所给资料，回答 106~110 题。

2015 年 1-7 月份，全国房地产开发投资 52562 亿元，同比增长 4.3%，增速比 1-6 月份回落 0.3 个百分点，回落幅度比 1-6 月份减缓 0.2 个百分点。其中，住宅投资 35380 亿元，同比增长 3.0%，增速比 1-6 月份回升 0.2 个百分点，为 2014 年以来的首次回升。

1-7 月份，全国商品房销售面积 59914 万平方米，同比增长 6.1%，增速比 1-6 月份提高 2.2 个百分点；销售额 41171 亿元，增长 13.4%，增速提高 3.4 个百分点。

今年以来，全国商品房销售市场持续好转，表现出以下特点：

一是部分热点城市销售火爆。1-7 月份，深圳、宁波、杭州销售面积增速超过 50%，销售额增速超过 70%，带动 40 个重点城市销售市场表现明显好于非重点城市。1-7 月份重点城市商品房销售面积增长 8.2%，增速比 1-6 月份提高 2.7 个百分点，比非重点城市高 3.5 个百分点；销售额增长 18.6%，增速比 1-6 月份提高 4.5 个百分点，比非重点城市高 11.3 个百分点。

二是住宅销售增长较快。1-7 月份，住宅销售面积 53009 万平方米，销售额 34884 亿元，比 1-6 月份分别增长 6.9% 和 16.8%，大大高于办公楼等其他用途商品房销售增速。

106. 2015 年 1-6 月份全国房地产开发投资增速为 ( )。

- A. 4.0%
- B. 4.3%
- C. 4.6%
- D. 4.8%

107. 2015 年 1-7 月，住宅投资占全国房地产开发投资的比重较上年同期有所 ( )。

- A. 上升
- B. 不变
- C. 下降
- D. 无法确定

108. 与去年同期相比，2015 年 1-7 月份单位面积商品房的销售额较上年增长了 ( )。

- A. 7.3%
- B. 6.88%
- C. 5.34%
- D. 8.1%

109. 2014 年 1-7 月，全国单位销售面积商品房的销售额为 ( ) 万元/平方米。

- A. 0.55
- B. 0.64
- C. 0.73
- D. 0.68

110. 能够给从上述资料中推出的是 ( )。

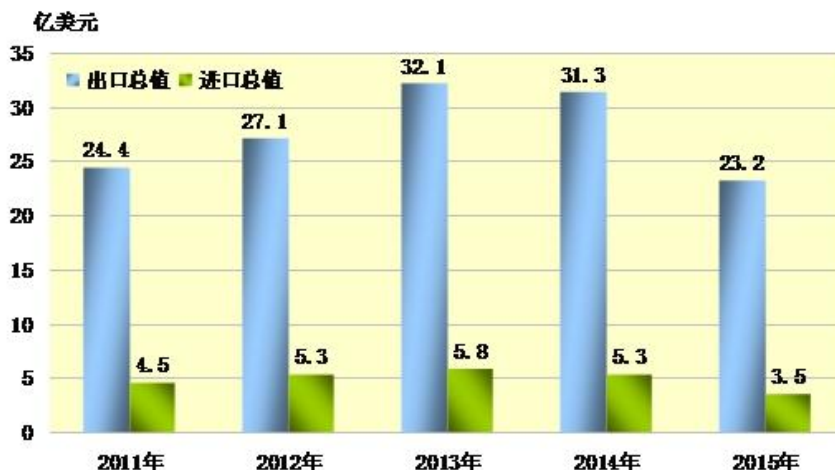
- A. 2015 年 7 月份，全国房地产开发投资同比增长幅度大于 4.3%
- B. 2015 年 1-7 月份，非重点城市销售额增速为 14.1%
- C. 2014 年 1-7 月，我国住宅投资约为 34350 亿元
- D. 2014 年至 2015 年上半年住宅投资均为负增长

三、根据所给资料，回答 111~115 题。

2015 年某市全社会固定资产投资首破千亿大关，达到 1129.5 亿元，比 2010 年增长 1.4 倍，年均增长 18.8%，年均增速快于全省 4.5 个百分点。

消费对经济增长贡献明显提升。消费结构升级带动居民消费潜力有序释放，消费成为拉动经济增长的重要动力。2011-2015 年，该市消费品零售总额连续跨越 400 亿、500 亿和 600 亿元大关，五年累计消费达 2457.3 亿元，2015 年达到 606.4 亿元，比 2010 年增加 288.5 亿元，年均增长 13.8%。

2011-2015 年进出口总值







保定市	1.9	22.46	0.50
沧州市	1.5	30.39	0.47
衡水市	0.7	9.39	0.46
邢台市	1.2	9.59	0.47
邯郸市	4.9	81.92	1.28

116.2012年，全省共投入的研究与试验发展（R&D）经费较上年同期增长了（ ）。

- A. 22.1%   B. 28.6%  
 C. 21.2%   D. 24.2%

117.各类经费支出中，按增速从高到低排序正确的是（ ）？

- A. 应用研究、试验发展、政府属研究机构、高等学校  
 B. 应用研究、试验发展、高等学校、政府属研究机构  
 C. 政府属研究机构、高等学校、应用研究、试验发展  
 D. 政府属研究机构、应用研究、试验发展、高等学校

118.2012年河北省财政支出总额为（ ）？

- A. 4064   B. 4917  
 C. 4427   D. 4664

119.2012年，沧州市财政科技支出额占河北省总财政科技支出额的比重与上年同期相比，下降了约（ ）个百分点。

- A. 0.1   B. 1  
 C. 0.4   D. 4

120.以下说法正确的是（ ）。

- A. 财政科技支出额最高的城市，其增长率也最高  
 B. 财政科技支出额增长率最大的城市，其占财政支出总额的比重也最高  
 C. 2012年，按研究与试验发展人员（全时工作量）计算的人均经费支出增速约为11.8%  
 D. 2011年，全省研究与试验发展（R&D）经费投入强度（与地区生产总值之比）为0.82%