

## 2018 省考万人模考第六季(答案版)

### 【砖题库】



## 常识判断

1、2017 年 3 月 15 日通过的《中华人民共和国民法总则》，对民事责任作了进一步的规范，标志着我国民商事法律制度的研究水准达到了新高度。下列说法错误的是：

- A、因正当防卫造成损害的，不承担民事责任
- B、因紧急避险造成损害的，由引起险情发生的人承担民事责任
- C、因自愿实施紧急救助行为造成受助人损害的，救助需要承担相应的民事责任
- D、没有侵权人、侵权人逃逸或者无力承担民事责任，受害人请求补偿的，受益人应当给予适当补偿

【答案】C

【解析】本题是选非题，考查《民法总则》。C 说法错误。《民法总则》第一百八十四条规定：“因自愿实施紧急救助行为造成受助人损害的，救助人不承担民事责任。”A 说法正确。《民法总则》第一百八十一条规定：“因正当防卫造成损害的，不承担民事责任……”B 说法正确。《民法总则》第一百八十二条规定：“因紧急避险造成损害的，由引起险情发生的人承担民事责任……”D 说法正确。《民法总则》第一百八十三条规定：“因保护他人民事权益使自己受到损害的，由侵权人承担民事责任，受益人可以给予适当补偿。没有侵权人、侵权人逃逸或者无力承担民事责任，受害人请求补偿的，受益人应当给予适当补偿。”因此，选择 C 选项。

2、84 个字、37 小节的国歌——《义勇军进行曲》可以说是中国的“第一声音”。下列说法正确的是：

- A、《义勇军进行曲》诞生于 1937 年中华民族生死存亡的危急关头
- B、2004 年国歌被写入宪法，从而确立了国歌的宪法地位
- C、国庆节、国际劳动节等重要的国家法定节日、纪念日，各级广播电台、电视台应当按照国务院广播电视主管部门规定的时点播放国歌
- D、在公共场合，故意篡改国歌歌词、曲谱，以歪曲、贬损方式奏唱国歌，或者以其他方式侮辱国歌的，一律追究刑事责任

【答案】B

【解析】本题考查国歌知识。B 说法正确。2004 年国歌被写进《宪法》第一百三十六条，即“……中华人民共和国国歌是《义勇军进行曲》。”A 说法错误。《义勇军进行曲》诞生于 1935 年。C 说法错误。《国歌法》第十三条规定：“国庆节、国际劳动节等重要的国家法定节日、纪念日，中央和省、自治区、直辖市的广播电台、电视台应当按照国务院广播电视主管部门规定的时点播放国歌。”由此可知，并非各级广播电台、电视台都应播放。D 说法错误。《国歌法》第十五条规定：“在公共场合，故意篡改国歌歌词、曲谱，以歪曲、贬损方式奏唱国歌，或者以其他方式侮辱国歌的，由公安机关处以警告或者十五日以下拘留；构成犯罪的，依法追究刑事责任。”因此，选择 B 选项。

3、小周今年 9 周岁，用自己的压岁钱购买了一台价值 2000 元的游戏机，在未征得父母同意之前，该行为属于：

- A、无效的行为
- B、效力待定行为
- C、有效行为
- D、可撤销行为

【答案】B

【解析】本题考查民事行为的效力。《民法总则》第一百四十五条规定：“限制民事行为能力人实施的纯获利益的民事法律行为或者与其年龄、智力、精神健康状况相适应的民事法律行为有效；实施的其他民事法律行为经法定代理人同意或者追认后有效。”根据《民法总则》第十九条规定，八周岁以上的未成年人为限制民事行为能力人。小周今年 9 周岁为限制民事行为能力人，购买 2000 元游戏机的行为超出能力范围之外，在未征得父母同意之前，该行为属于效力待定行为。因此，选择 B 选项。

4、下列各项情形构成正当防卫的是：

过关才是硬道理！

A、甲经过仇人乙的门前，见乙拿着刀，以为要杀自己，遂捡起砖头将乙拍成重伤，后经证明乙根本没有看见甲

B、乙看见邻居正在被人抢劫，抓起木棍将抢劫者打成重伤

C、丙见到自己朋友参与一场斗殴中，自己帮助朋友将对手打伤

D、丁盗窃被发现后，在躲避失主追逐时，骑走了路人的摩托车

【答案】B

【解析】本题考查正当防卫。根据《刑法》第二十条规定，为使国家、公共利益、本人或者其他他人的人身、财产和其他权利免受正在进行中的不法侵害，而采取的制止不法侵害的行为，对不法侵害人造成损害的，属于正当防卫，不负刑事责任。正当防卫明显超过必要限度造成重大损害的，应当负刑事责任，但是应当减轻或者免除处罚。对正在进行行凶、杀人、抢劫、强奸、绑架以及其他严重危及人身安全的暴力犯罪，采取防卫行为，造成不法侵害人伤亡的，不属于防卫过当，不负刑事责任。B 项正确。乙为了保护邻居的合法权益，将抢劫者打成重伤，属于正当防卫，不用负刑事责任。A 项错误。甲构成假想防卫。假想防卫是指行为人由于主观认识上的错误，误认为有不法侵害的存在，实施防卫行为结果造成损害的行为。C 项错误。丙是参与斗殴，没有防卫意图。D 项错误。丁属于违法行为。因此，选择 B 选项。

5、下列关于《慈善法》的说法错误的是：

A、《慈善法》将每年 9 月 5 日定为“中华慈善日”

B、《慈善法》将互联网发布募捐信息明确划入了公开募捐的范围

C、捐赠人与慈善组织约定捐赠财产受益人时，不得指定捐赠人的利害关系人作为受益人

D、具有募捐资格的慈善组织，年度管理费用不得超过当年总支出的 20%

【答案】D

【解析】本题是是非题，考查《慈善法》。D 说法错误。根据《慈善法》第六十条规定，慈善组织年度管理费用不得超过当年总支出的百分之十，特殊情况下，年度管理费用难以符合前述规定的，应当报告其登记的民政部门并向社会公开说明情况。A 说法正确。《慈善法》第七条规定：“每年 9 月 5 日为‘中华慈善日’。”B 说法正确。《慈善法》第二十三条规定：“开展公开募捐，可以采取下列方式：（一）在公共场所设置募捐箱；（二）举办面向社会公众的义演、义赛、义卖、义展、义拍、慈善晚会等；（三）通过广播、电视、报刊、互联网等媒体发布募捐信息；（四）其他公开募捐方式。”由此可知，通过互联网发布募捐信息属于公开募捐。C 说法正确。《慈善法》第四十条规定：“捐赠人与慈善组织约定捐赠财产的用途和受益人时，不得指定捐赠人的利害关系人作为受益人。”因此，选择 D 选项。

6、现代生活中，电能无处不在，电已经是人类生活和发展的必需品。下列关于电的说法不正确的是：

A、电磁感应俗称磁生电，多应用于发电机

B、电流是带电粒子定向移动产生的

C、自然界只存在两种电荷，正电荷和负电荷

D、摩擦起电是摩擦产生的热能转化为电能

【答案】D

【解析】本题是是非题，考查物理知识。D 说法错误。摩擦起电是电子由一个物体转移到另一个物体的结果，是电荷的转移，得到电子的带负电，失去电子的带正电。A 说法正确。电磁感应现象是指放在变化磁通量中的导体，会产生电动势。此电动势称为感应电动势或感生电动势，若将此导体闭合成一回路，则该电动势会驱使电子流动，形成感应电流。电磁感应多用于发电机。B 说法正确。导体中的自由电荷在电场力的作用下做有规则的定向运动就形成了电流。C 说法正确。自然界只存在两种电荷，正电荷和负电荷。人们规定用丝绸摩擦过的玻璃棒带的是正电荷，用毛皮摩擦过的橡胶棒带的是负电荷。因此，选择 D 选项。

7、基因分为显性基因和隐性基因。已知双眼皮为显性基因 A，单眼皮为隐性基因 a。若父母双方均为双眼皮，则后代：

A、出现双眼皮的几率一定大于出现单眼皮的几率

B、出现双眼皮的几率可能等于出现单眼皮的几率

C、出现双眼皮的几率可能小于出现单眼皮的几率

D、一定是双眼皮

【答案】A

【解析】本题考查生物知识。父母双方均为双眼皮，双眼皮为显性基因，则父母双方的基因有 AA 和 Aa 两种可能，无论父母双方的基因是何种组合，后代出现 AA 和 Aa 的几率一定大于双隐性基因 aa。即使父母双方基因均为 Aa，则后代有 AA、Aa、Aa、aa 四种组合，出现显性基因的概率为 75%，隐性基因概率为 25%。BCD 选项错误。因此，选择 A 选项。

8、物质由一种状态变成另一种状态叫物态变化，物态变化过程中会有吸热或者放热现象。下列关于物态变化和吸热放热对应错误的是：

A、空气中水蒸气遇到冷空气变成雪——凝华放热

B、天然气充入罐体以液态形式贮存——液化放热

C、化雪的时候感觉比下雪时候更冷——溶化吸热

D、被水蒸气烫伤比开水烫伤更严重——汽化吸热

【答案】D

【解析】本题是选非题，考查物态变化。D 说法错误。被水蒸气烫伤比开水烫伤更严重是因为水蒸气液化时放热，比同温度的开水放出的热量更多。A 说法正确。凝华是物质直接由气态变为固态的现象，凝华放热，霜、雪的形成都是凝华的过程。B 说法正确。液化是物质由气态变化为液态的现象，液化放热，使气体液化的好处是便于储存运输，如液化天然气。C 说法正确。溶化是物质由固态变化为液态的现象，溶化吸热，化雪时水由固态变成液态就是溶化的现象。因此，选择 D 选项。

9、下列关于环境污染说法正确的是：

A、PM2.5 被认为是造成雾霾天气的“元凶”，PM2.5 是指空气动力学当量直径大于等于 2.5 微米的颗粒物

B、水体富营养化是指水体中氮、磷等营养盐含量过多造成的水质污染现象，会使水中的鱼类中毒死亡

C、土壤污染问题的产生具有明显的隐蔽性和滞后性等特点，因此土壤污染问题一般都不容易受到重视

D、温室效应主要是由于现代化工业社会过多燃烧煤炭、石油和天然气而产生含有二氧化硫的气体进入大气造成的

【答案】C

【解析】本题考查环境污染。C 说法正确。大气污染、水污染和废弃物污染等问题一般都比较直观，通过感官就能发现。而土壤污染往往要通过土壤样品进行分析化验和农作物的残留检测，甚至通过研究对人畜健康状况的影响才能确定。因此，土壤污染问题的产生具有明显的隐蔽性和滞后性等特点，土壤污染问题一般都不容易受到重视。A 说法错误。PM2.5 是指空气动力学当量直径小于等于 2.5 微米的颗粒物，而不是大于等于。B 说法错误。水体富营养化会使水体中藻类疯狂繁殖，使整个水生生态系统逐渐走向灭亡，而不是使鱼类中毒死亡。D 说法错误。温室气体主要有二氧化碳、甲烷、臭氧、一氧化二氮、氟里昂以及水汽等，不包括二氧化硫。因此，选择 C 选项。

10、下列关于湖泊的说法错误的是：

A、里海是世界上面积最大的湖泊且为咸水湖

B、苏必利尔湖是世界上最深的淡水湖

C、鄱阳湖是我国面积第二大湖

D、长白山天池是我国最深的湖泊

【答案】B

【解析】本题是选非题，考查自然地理。B 说法错误。贝加尔湖是世界上蓄水量最大、最深的淡水湖。苏必利尔湖是世界上面积最大的淡水湖。A 说法正确。里海位于欧洲和亚洲的内陆交界处，是世界上面积最大的湖泊且为咸水湖。C 说法正确。鄱阳湖是我国面积第二大的湖泊，也是我国面积最大的淡水湖。我国面积最大的湖泊为青海湖，也是面积最大的咸水湖。D 说法正确。长白山天池位于我国吉林，是一座休眠火山，火山口积水成湖，是我国最深的湖泊。因此，选择 B 选项。

11、“汉武帝即位之初，从匈奴人口中得知，过去匈奴破月氏，以月氏王头颅为溺器，月氏深恨匈奴，武帝遂悬赏征募使者出使月氏，希望联合月氏夹击匈奴。当时有汉中人张骞应

募。……由于所经均汉人未到之地，史称‘张骞凿室’”。下列说法正确的是：

- A、陆上丝绸之路早于海上丝绸之路
- B、陆上丝绸之路起点为我国东南沿海
- C、陆上丝绸之路最具代表性的货物是瓷器
- D、汉武帝派张骞出使西域的最初目的是为了联合大月氏攻打匈奴

【答案】D

【解析】本题考查古代史。D 说法正确。由材料可知，汉武帝派张骞出使西域的最初目的是为了联合大月氏攻打匈奴。A 说法错误。陆上丝绸之路起于西汉汉武帝时期，海上丝绸之路起于秦汉之际，因此陆上丝绸之路晚于海上丝绸之路。B 说法错误。陆上丝绸之路起点为西安，而不是东南沿海。C 说法错误。陆上丝绸之路最具代表性的货物为丝绸，海上丝绸之路最具代表性的货物为瓷器。因此，选择 D 选项。

12、下列元曲四大家及其作品对应错误的是：

- A、关汉卿—《救风尘》
- B、马致远—《汉宫秋》
- C、郑光祖—《梧桐雨》
- D、白朴—《墙头马上》

【答案】C

【解析】本题是选非题，考查文学常识。C 对应错误。《梧桐雨》全名《唐明皇秋夜梧桐雨》，中国十大古典悲剧之一，为白朴所作。A 对应正确。《救风尘》全名《赵盼儿风月救风尘》，为关汉卿所作。B 对应正确。《汉宫秋》全名《破幽梦孤雁汉宫秋》，为马致远所作。D 对应正确。《墙头马上》是元代著名戏曲家白朴的作品。因此，选择 C 选项。

13、下列诗句按其所描写节日的先后顺序，排列正确的是：①轻汗微微透碧纨，明朝端午浴芳兰②至今不会天中事，应是嫦娥掷与人③借问酒家何处有，牧童遥指杏花村④听烧爆竹童心在，看换桃符老兴偏

- A、④③①②
- B、④③②①
- C、④①③②
- D、③①②④

【答案】A

【解析】本题考查中国传统文化。“轻汗微微透碧纨，明朝端午浴芳兰”出自苏轼的《浣溪沙·端午》，对应端午节；“至今不会天中事，应是嫦娥掷与人”出自皮日休的《天竺寺八月十五日夜桂子》，对应中秋节；“借问酒家何处有，牧童遥指杏花村”出自杜牧的《清明》，对应清明节；“听烧爆竹童心在，看换桃符老兴偏”出自宋代王安石《元日》，对应春节。相应的顺序为春节—清明节—端午节—中秋节，即④③①②。因此，选择 A 选项。

14、下列近代历史事件按时间先后排序正确的是：①太平天国运动②《南京条约》的签订③武昌起义④洋务运动

- A、②④①③
- B、①④②③
- C、②④③①
- D、②①④③

【答案】D

【解析】本题考查中国近代史。①太平天国运动（1851—1864）；②《南京条约》的签订（1842）；③武昌起义（1911）；④洋务运动（19 世纪 60 到 90 年），按时间排序为②①④③。因此，选择 D 选项。

15、下列关于党史说法不正确的是：

- A、1927 年南昌起义打响了武装反抗国民党反动统治的第一枪
- B、1927 年八七会议上，毛泽东提出“枪杆子里出政权”的著名论断
- C、1935 年遵义会议开始确立了以毛泽东为代表的新的中央正确领导

D、1937 年洛川会议决定建立抗日民族统一战线

【答案】D

【解析】本题是选非题，考查党史。D 说法错误。1937 年洛川会议决定把党的工作重心放在战区和敌后，建立敌后抗日根据地。因此，选择 D 选项。

16、下列关于亚投行的表述错误的是：

A、亚投行正式成立并开业，将有效增加亚洲地区基础设施投资

B、亚投行的治理结构分股东会、董事会、管理层三层

C、金立群当选亚投行首任行长

D、设立亚投行可以推动“一带一路”的建设与发展

【答案】B

【解析】本题是选非题，考查时政。B 说法错误。亚投行的治理结构分理事会、董事会、管理层三层，而不是股东会。A 说法正确。亚投行正式成立并开业，将有效增加亚洲地区基础设施投资，多渠道动员各种资源特别是私营部门资金投入基础设施建设领域，推动区域互联互通和经济一体化进程。C 说法正确。金立群 2015 年 1 月 16 日任亚投行首任行长。D 说法正确。以基础设施建设为核心的“一带一路”没有亚投行推动无法实施，设立亚投行可以推动“一带一路”的建设与发展。因此，选择 B 选项。

17、李克强总理在今年的政府报告中指出，2017 年国内经济继续实施积极的财政政策和稳健的货币政策。下列说法错误的是：

A、我国积极财政政策的重心在于减税降费和以 PPP 的方式推动基础设施投资

B、我国当前应将财政政策的重心转向解决结构性失衡、培育新的竞争优势

C、我国应在区间调控基础上加强定向调控、相机调控，提高预见性、精准性和有效性

D、积极的财政政策适用于经济过热时期

【答案】D

【解析】本题是选非题，考查宏观经济。D 说法错误。积极的财政政策适用于经济衰退时期。我国的积极财政政策主要围绕供给侧结构性改革的“三去一降一补”五大任务展开，其重心在于减税降费和以 PPP 的方式推动基础设施投资；我国当前应将财政政策的重心转向解决结构性失衡、培育新的竞争优势。李克强强调：今年要继续实施积极的财政政策和稳健的货币政策，在区间调控基础上加强定向调控、相机调控，提高预见性、精准性和有效性，注重消费、投资、区域、产业、环保等政策的协调配合，确保经济运行在合理区间。因此，选择 D 选项。

18、下列美称与景点对应正确的是：

A、天下第一寺——少林寺

B、天下第一奇山——泰山

C、天下第一关——嘉峪关

D、天下第一泉——趵突泉

【答案】D

【解析】本题考查地理知识。D 说法正确。趵突泉列济南 72 名泉之首，被历代名士誉为“天下第一泉”，康熙和乾隆两位皇帝也均正式册封趵突泉为“天下第一泉”。A 说法错误。天下第一寺为洛阳白马寺。B 说法错误。天下第一奇山为安徽黄山，泰山被誉为“天下第一山”。C 说法错误。天下第一关为河北省秦皇岛山海关。因此，选择 D 选项。

19、上海合作组织成员国中与中国接壤的有几个：

A、4 个

B、5 个

C、6 个

D、7 个

【答案】C

【解析】本题考查地理知识。上海合作组织的成员国有：哈萨克斯坦、中华人民共和国、吉尔吉斯斯坦、俄罗斯、塔吉克斯坦、乌兹别克斯坦、巴基斯坦、印度。其中只有乌兹别克斯坦不与中国接壤，故与我国接壤的国家有 6 个。因此，选择 C 选项。

20、随着社会的发展，家电的种类越来越多，给人们生活带来很多便利。下列关于家电的说法不正确的是：

- A、电水壶的三脚插头，可以防止漏电和触电事故的发生
- B、夏天将冰箱门打开，可以起到快速降低室温的作用
- C、为了让饭菜熟得更快，可以使用高压锅煮饭
- D、微波炉利用电能转化为电磁能，再将电磁能转化为内能

【答案】B

【解析】本题是选非题，考查生活常识。B 项说法错误。打开冰箱门后，可以暂时凉快一会儿，但是热空气进入冰箱后，冰箱为了降温要增加功率，制冷的压缩机将散发更多的热量。A 项说法正确。三脚插座有一根接地线，漏电和触电时电流可以直接传导给大地，从而避免事故发生。C 项说法正确。水的沸点受气压影响，气压越高，沸点越高。高压锅通过液体在较高气压下沸点会提升这一物理现象，提高水的沸点，使饭菜熟的更快。D 项说法正确。微波炉的加热原理是将电能转化为电磁能，再将电磁能转化为内能。因此，选择 B 选项。

## 言语理解

21、志愿填报，是高考升学最重要的环节之一，学校和老师有责任和义务帮助考生收集信息，分析利弊，制订方案。在这一过程中，最重要的是度的把握，老师的作用应该是指导、参谋，不是诱劝、说服，甚至\_\_\_\_\_。学生在填报志愿时，应该享受到完全和客观的信息，完全遵从他们的个人意愿。填入划横线处最恰当的一项是：

- A、鸠占鹊巢
- B、越俎代庖
- C、威逼利诱
- D、放任自流

【解析】B

【解析】鸠占鹊巢，斑鸠不会做窠，常强占喜鹊的窠。比喻强占别人的住屋或位置，引申为将别人的东西强行据为己有。用在这里，语义不符，排除 A。威逼利诱，指用软硬兼施的手段，企图使人屈服。这个成语用在这里，语义过重，且和前面的“诱劝、说服”语义重复，排除 C。放任自流，听凭自然的发展，不加领导或过问。用在这里，语义不符，排除 D。越俎代庖，主祭的人跨过礼器去代替厨师办席。比喻超出自己业务范围去处理别人所管的事。用在这里，正好构成递进。选择 B。

22、如今，中国媒体借力海外华文媒体、脸书、推特等积极“走出去”，可以说，中国的对外传播从来没有像今天这样好的条件。然而，中国的对外传播也从来没有像今天这样遇到前所未有的\_\_\_\_\_。当中国在阔步走向世界的同时，“失语挨骂”的问题\_\_\_\_\_。“中国威胁论”“中国崩溃论”这些老眼也被翻来覆去炒作，境外部分媒体和有关人士不时有误解、歪曲、攻击中国的言论和谣言。依次填入横线处的词语，最恰当的一组是：

- A、困难接踵而至
- B、障碍浮出水面
- C、挑战如影随形
- D、机遇屡屡发生

【解析】C

【解析】第一空，根据“然而”可知，前后呈转折关系，前后感情倾向应相反。“然而”前“好的条件”是积极倾向，那么，该空应填入略含有消极倾向的词汇，对比选项，排除 D。第二空，根据“同时”可知，该空应体现后者伴随前者而出现的意思，对比选项，A 项“接踵而至”强调后者紧接前者而出现，与“同时”语境不符，排除 A。B 项“浮出水面”，从水下漂浮到水面上来，比喻事物显露出来，排除 B。C 项“如影随形”指像影子跟着身体一样，比喻两个事或人关系非常密切，符合语境。选择 C。

23、无论是接地气的政策解读、生动详实的事例分析，还是\_\_\_\_\_的讲评、专业准确的问答，“面对面”聚焦热点、直面问题、娓娓道来，再次证明，理论回应现实、对接民意，就能\_\_\_\_\_出令人信服的强大生机与活力。填入划横线部分最恰当的一项是：

- A、深入浅出迸发
- B、栩栩如生创造
- C、绘声绘色表现
- D、温声细语爆发

【解析】A

【解析】第一空“栩栩如生”形容作品、画作生动逼真，就像活的一样。多指人工制造的艺术品，不能跟“讲评”搭配，排除 B。“温声细语”指用温和的声音轻轻地说话；声音温和而委婉，不符合语境，排除 D。第二空由前文可知，应填入积极词汇，且与“令人信服的强大生机与活力”搭配，“强大”代表语义程度偏重，“表现”语义程度低于“迸发”，“迸发活力”也是常见搭配，排除 C。选择 A。

24、在农村劳动力转移就业不多时，“家家包地、户户种田”的经营方式，就能\_\_\_\_\_农村的活力，但随着城镇化的进一步深入，农业副业化、农户兼业化、农民老龄化问题逐渐浮出水面，培育懂农村、有闯劲且留得住的新型农业经营主体和服务主体，就成了一个\_\_\_\_\_的问题。依次填入横线处的词语，最恰当的一组是：

- A、带动势在必行
- B、激发迫在眉睫
- C、充盈亟待解决
- D、增长刻不容缓

【解析】B

【解析】第一空，该空与“活力”相搭配，C 项“充盈”、D 项“增长”均不能与“活力”搭配，排除 C 和 D。第二空，该空与“问题”搭配，A 项“势在必行”不能做“问题”的修饰语，“势在必行”通常的用法是“……势在必行”，排除 A。选择 B。

25、近日，有数据显示，2017 年上半年，上海市送餐外卖行业发生伤亡交通事故共 76 起，“饿了么”和“美团”各占 26%。透过上海一地的数据，“速度与激情”背后的安全漏洞\_\_\_\_\_。难怪有人说，外卖小哥是在“拿生命送餐”。填入横线处的词语，最恰当的一组是：

- A、不言而喻
- B、可见一斑
- C、了然于胸
- D、暴露无遗

【解析】B

【解析】第一空，根据“上海一地”可知，该空应体现通过上海一地的数据可以窥测整体情况的意思。对比选项，A 项“不言而喻”指不用说就能够明白，一般用来形容道理很明显，C 项“了然于胸”指心里对某件事情非常明白，两者均与语境不符，排除 A 和 C。B 项“可见一斑”比喻见到事物的一小部分就能推知事物的整体，恰与“上海一地”相呼应，符合语境，D 项“暴露无遗”指完全显现出来，语义太重，排除 D。选择 B。

26、网络空间既是美丽新世界，也充满未知新变数。在互联网技术创新、社会应用及产业发展\_\_\_\_\_的同时，国际互联网发展不平衡、规则不健全、秩序不合理的基本态势没有变。不同国家和地区信息\_\_\_\_\_不断拉大，现有网络空间治理规则难以反映大多数国家意愿和利益。同一个网络，不同的命运，正是网络空间命运共同体要解决的紧迫问题。依次填入横线处的词语，最恰当的一组是：

- A、高歌猛进鸿沟
- B、勇往直前差异
- C、日新月异差距
- D、如火如荼界限

【解析】A

【解析】第一空，根据后文“国际互联网发展不平衡、规则不健全、秩序不合理”可知，这里想表达的意思是，在互联网产业发展状态良好的同时，国际互联网发展中的一些问题始终存在，该空应体现发展状态良好的意思，辨析选项，B 项“勇往直前”一般用于人，C 项“日新月异”强调的是变化之快，两者均不符合语境，排除 B 和 C。A 项“高歌猛进”指在前进的道路上充满乐观精神，D 项“如火如荼”指气氛旺盛、热烈，两者均能表示发展的状态良好，符合语境。第二空，该空与“拉大”搭配，D 项“界限”不能与“拉大”相搭配，界限应该是越来越明显，排除 D。A 项“鸿沟”能与“拉大”搭配。选择 A。

27、吟诵传承最好从娃娃抓起，这是提高民族文化素质的百年大计。继承和发扬吟诵，既需要认真对待，又不能\_\_\_\_\_。如果仅仅为了吸引更多人注意而过分宣扬似是而非的“吟诵”，乃至将其变成一种才艺表演，那只会混淆视听，最终反而\_\_\_\_\_。依次填入划横线处最恰当的一项是：

- A、敷衍了事大相径庭
- B、揠苗助长针锋相对
- C、急功近利适得其反
- D、锱铢必较背道而驰



**【解析】C**

**【解析】**先看第一空。敷衍了事，指办事马马虎虎，只求应付过去就算完事。用在这里，和上文“认真对待”语义重复，排除 A。锱铢必较，形容非常小气，很少的钱也一定要计较。也比喻气量狭小，很小的事也要计较。这个成语形容的对象是人，用在这里，张冠李戴，排除 D。急功近利，指贪图眼前的成效和利益。“揠苗助长”，把苗拔起，帮助其生长，后用来比喻违反事物的发展规律，急于求成，反而坏事。这两个成语，填入第一空都可以。再看第二空。针锋相对，比喻双方在策略、论点及行动方式等方面尖锐对立。用在这里，语义不符，排除 B。适得其反，恰恰得到与预期相反的结果。填入第二空正合适。选择 C。

28、好的教育，应该让孩子们\_\_\_\_\_自己的天性、探索心中的好奇、绘出眼中的多彩。教育最主要的目的，其实是引燃孩子们持续一生的学习热情，而不是让他们为了某些现实的利益\_\_\_\_\_自己追求快乐的冲动。依次填入划横线处最恰当的一项是：

- A、挖掘抑制  
B、解放受制  
C、释放压抑  
D、开拓压制

**【解析】C**

**【解析】**先看第一空，挖掘通常和潜力搭配，开拓通常和市场搭配，这两个动词都不能带“天性”做宾语。因此，排除 A 和 D。再看第二空。受制，受他人辖制。用在这里，语义不符，排除 B。选择 C。

29、近年来，我国部分地区和行业出现弃风弃光问题，不仅\_\_\_\_\_资源浪费，而且影响着风电、光电产业的长远发展，解决弃风弃光问题\_\_\_\_\_。风电、光电发展与现行电力体制不匹配、技术不成熟、跨区域消纳风电和光电的难度大、需求侧尚未形成大规模消纳风电和光电的能力则是引发弃风弃光问题的根本原因。依次填入划横线处最恰当的一项是：

- A、导致燃眉之急  
B、带动刻不容缓  
C、加大迫不及待  
D、造成迫在眉睫

**【解析】D**

**【解析】**先看第一空，从后文“浪费资源”来看，这里应该填一个消极的词汇。而“带动”是个表示积极涵义的词。据此，排除 B。再看第二空。这里所填成语充当谓语。燃眉之急，火烧眉毛那样紧急。形容事情非常急迫。这个成语通常做宾语，据此，排除 A。迫不及待，急迫得不能等待。形容心情急切。这个成语用在这里，语义不符，据此，排除 C。选择 D。

30、一个基层共产党员的一生也许\_\_\_\_\_，但是作为基层共产党人，必须持之以恒做好每一件事，怀着一份“工匠精神”，不断\_\_\_\_\_功夫，成为基层工作的“手艺人”，才能在自己平凡的工作岗位上，收获最踏实最饱满的人生价值。依次填入划横线处最恰当的一项是：

- A、碌碌无为修炼  
B、命途多舛苦练  
C、平淡无奇磨炼  
D、默默无闻打磨

**【解析】C**

**【解析】**先看第一空。根据后文的“在自己平凡的工作岗位上”，可知，平淡无奇、默默无闻这两个词可选。而碌碌无为、命途多舛这两个词带有消极意味，语义过重，据此，排除 A 和 B。再看第二空。打磨，本意擦拭，引申磨练意志、本领等。用在这里，动宾搭配不当。据此，排除 D。选择 C。

31、相比过去，现在的孩子无疑是幸福的，生活条件是优越的，但无疑也是辛苦的。很多孩子在起跑线上“你追我赶”，他们的业余时间被“管控”，甚至连爱好、特长、人生都已经被规划、被定制——于是，忙碌“打压”了童真，忧虑\_\_\_\_\_着童趣，童年也已经跟自由自在、无忧无虑\_\_\_\_\_。填入文段划线处准确的是：

- A、打压迥然不同  
B、挤压南辕北辙  
C、挤占相去甚远  
D、侵占截然相反

**【解析】C**

**【解析】**第一空显然不能填“打压”，因为如果第一空的打压一词没有双引号，语义就与第一空前一句不能构成句式一致，语义相关的并列，排除 A；第二空南辕北辙多用来比喻行动和目的正好相反，与语义不符，排除 B；D 项中的截然相反语义过重，与客观实际情况不符，排除 D。选择 C。

32、企业自发创造的“节日”“庆祝日”，来\_\_\_\_\_消费、引起消费者对品牌的关注

度，市场上出现了造节营销，造节营销的\_\_\_\_\_当数天猫，其成功将每年的 11 月 11 日打造成一场购物狂欢节，近些年，家居行业中许多企业也加入造节营销的行列中。填入文段划线处准确的是：

- A、带动标志
- B、刺激典范
- C、增加榜样
- D、促进象征

【解析】B

【解析】第二空因后面跟有“其成功”，故第二空应该选择感情倾向积极的词，即典范和榜样，故可排除 A 和 D；第一空考查习惯用法，刺激消费是常用语，属习惯用法；增加消费搭配不当，故排除 C。选择 B。

33、无论时代发展到什么时候，无论科技进步到什么地步，大到国家民族、小到生命个体，文化创造力和想象力都是不可或缺的。作为媒体人，不仅应有提高语文素养、\_\_\_\_\_低俗粗劣网络语言的自觉，更应积极行动起来，用担当大义的良知、以身作则的表率、\_\_\_\_\_的坚守，为民族文化遗产出一份力，为语言环境净化尽一份功。填入文段划线处准确的是：

- A、规避涅磐重生
- B、反抗重振旗鼓
- C、反对柳暗花明
- D、抵制薪尽火传

【解析】D

【解析】本题的突破口在第二空，第二空后紧跟了一句对第二空成语的解释说明，即“为民族文化传承出一份力”，在四个选项中只有“薪尽火传”含有传承之意；且第一空“抵制低俗粗劣的网络用语”也是一常见搭配。选择 D。

34、其实，以“骚扰”为由畏惧公开，就会导致后续沟通效果不理想，最终结果\_\_\_\_\_、两败俱伤。群众的烦心事、唠叨话，在亲民领导听来\_\_\_\_\_，在官僚干部看来却是不堪其扰。不愿意主动公开自己的有效电话，暴露出一些地方领导“不愿为、不担当、不作为”的衙门作风，实质仍是偏离了为民服务的宗旨，也是为什么有些领导电话总是难打通的根源所在。填入文段划线处准确的是：

- A、事与愿违不厌其烦
- B、南辕北辙不胜其烦
- C、一塌糊涂不厌其详
- D、出其不意苦不堪言

【解析】A

【解析】第一空由“、”所引导的并列关系和后面的“两败俱伤”可知，第一空应该填入一个不好的结果，故“出其不意”不符合，因为结果不一定坏，排除 D；第二空考查转折关系，应该与后文的“不堪其扰”语义相反，应该是一个积极的词，故排除“不胜其烦”，排除 B；“不厌其详”是指不嫌详细，指越详细越好，语义不符，排除 C。选择 A。

35、“技术工人不算人才”的观念在社会上\_\_\_\_\_，短期内还难以改变。社会上普遍更看重的是高学历人才，企业更关心管理人员和工程技术人员，客观上把人们的学习热情\_\_\_\_\_到追求学历文凭上，一些技术工人也因此缺乏学习技术的主动性、积极性和创造性，影响了“精心打磨、专心雕琢”的“工匠精神”。填入文段划线处准确的是：

- A、坚不可摧带领
- B、根深蒂固引导
- C、积重难返领导
- D、雷打不动吸引

【解析】B

【解析】第一空后面紧跟了对这个成语的解释说明，即“短期内还难以改变”，但不代表改变不了，故 A 项中的“坚不可摧”与 D 项中的“雷打不动”语义过重，排除 A 和 D；第二空考查词语搭配，应该是“引导”学习热情而不是“领导”学习热情，故排除 C。选择 B。

36、正是\_\_\_\_\_这样的时代大势，怀着追求和平发展的共同愿望，金砖合作\_\_\_\_\_，五国走到一起，成长为世界经济的新亮点。依次填入横线处的词语，最恰当的一组是：

- A、回应横空出世
- B、响应大行其道
- C、顺应应运而生
- D、遵循风生水起

【解析】C

【解析】文段第一空后面的宾语是“时代大势”，可以排除 A 和 B。第二空讲的是金砖合作的出现，“应运而生”刚好对应了前面提到的“时代大势”，“风生水起”强调事情做得有生气，蓬勃兴

旺，没有提到和时代大势的关系，排除 D。选择 C。

37、当前，各行各业的业态创新、管理创新、模式创新\_\_\_\_\_，但怎样才能坚守住最根本的出发点，值得深思。强化企业自律是一方面，全社会也需要始终对食品安全保持高压态势，持续追问，\_\_\_\_\_。依次填入横线处的词语，最恰当的一组是：

- A、汗牛充栋推本溯源                      B、层出不穷刨根问底  
C、源源不断锲而不舍                      D、推陈出新寻根究底

【解析】B

【解析】第一空讲的是各行各业的模式不断出现的意思，排除 A。“汗牛充栋”强调藏书很多，“推陈出新”指去掉旧事物的糟粕，取其精华，并使它向新的方向发展（多指继承文化遗产），放在此处语义不符，排除 D。再看第二空，讲的是社会继续追问食品安全问题，第二空前面的“持续追问”解释了第二空。选择 B。

38、从国破家亡到\_\_\_\_\_，从一穷二白到一鸣惊人，七十多年的时间里，中国以胜利者的姿态，\_\_\_\_\_了一个个不断胜利的中国故事。一个饱经风霜的国家正在崭露头角，一个浴火重生的民族正在冉冉升起，这是不忘初心的力量，这是指向未来的决心。依次填入横线处的词语，最恰当的一组是：

- A、国泰民安书写                              B、国富民强抒写  
C、歌舞升平记叙                              D、天下太平续写

【解析】A

【解析】文段第一空和“国破家亡”词义相反，“国富民强”强调国家富裕，文段是要强调国家局势稳定，排除 B，“歌舞升平”形容把社会黑暗混乱的状况掩饰成太平的景象，词性偏消极，排除 C。第二空后面的宾语是“中国故事”，“书写”是对客观事情的客观记录，不含有任何人的任何感情色彩，文段中的中国故事是客观的记录；“续写”是继续之前的内容，文段中没有提到之前的情况，排除 D，“书写”更合适。选择 A。

39、我们希望各市场利益相关方都有更具操作性的监管规定出台，\_\_\_\_\_，形成监管合力。同时，对违规操作进行曝光并严加惩处，\_\_\_\_\_，让保险资金早日扯掉“野蛮人”的尴尬标。依次填入横线处的词语，最恰当的一组是：

- A、缘木求鱼杀鸡儆猴                      B、按图索骥惩前毖后  
C、正本清源以儆效尤                      D、寻根究底防微杜渐

【解析】C

【解析】根据文意，第一空应填入积极词汇，或者一个对策性的词语，“缘木求鱼”比喻方向或办法不对头，不可能达到目的，消极色彩，不符合语境，排除 A。“按图索骥”指按照图上画的样子去寻找好马，比喻按照线索寻找，也比喻办事机械、死板，不符合语境，排除 B。第二空，D 项“防微杜渐”指在坏思想、坏事或错误刚冒头时，就加以防止、杜绝，不让其发展下去，与前文“对违规操作进行曝光并严加惩处”不符，排除 D。选择 C。

40、“待产包”是一种变相的“索贿红包”。如今，在纠正医疗部门不正之风的当下，医生索要红包的\_\_\_\_\_行为有所收敛。但他们“曲径通幽”地又以“待产包”的形式搞强行买卖。强卖“待产包”虽然不是直接索要“红包”，但实际上就是索取“红包”，不过是给“红包”找了一个\_\_\_\_\_的理由，在“被自愿”的买卖中，让权力的“待产包”成为名正言顺的“小红包”。依次填入横线处的词语，最恰当的一组是：

- A、肆无忌惮大摇大摆                      B、明目张胆冠冕堂皇  
C、大张旗鼓堂而皇之                      D、无所顾忌道貌岸然

【解析】B

【解析】第一空讲的是“待产包”的强买强卖行为，这种行为是公开来做，毫无忌惮，“大张旗鼓”形容进攻的声势和规模很大。也形容群众活动声势和规模很大，也比喻公开。这是一个中性词，“明目张胆”形容公开放肆地干坏事，这是偏消极的词语，根据第一空语境，用“明目张胆”更好，排除 C，第二空讲的是找了一个看起来不错，实则有问题的道理，“大摇大摆”形容自以为了不起的傲慢神态，形容的是人，排除 A，“道貌岸然”形容故作正经，表里不一的人，排除 D，第二空用“冠冕堂皇”更合适。选择 B。

41、近日，美国麦当劳公司宣布，公司将于 2018 年起要求全球的肉鸡供应商开始逐步停止使用人类抗生素，以防止出现更多的超级细菌。但在媒体报道中，中国未出现在第一批名单中，因此备受舆论关注。对于该事件，有中国专家在微博撰文称，减少抗生素使用是大势所趋，但各国国情不同，不能一味要求快速解决。只要合理使用并遵守停药期，就不会对健康产生影响。这段话旨在强调：

- A、从 2018 年起，美国麦当劳公司出售的肉鸡将不再含有人类抗生素
- B、麦当劳公司将于 2018 年起要求除中国外的肉鸡供应商逐步停止使用人类抗生素
- C、对于抗生素，只要合理使用并遵守停药期，就不会对健康产生影响
- D、减少使用抗生素是大势所趋，但要因地制宜，不能一蹴而就

【答案】D

【解析】本题前两句通过介绍美国麦当劳公司的一个决定，引入议题：中国未出现在第一批名单中，因此备受舆论关注。然后借专家之口，抛出本文主旨“减少抗生素使用是大势所趋，但各国国情不同，不能一味要求快速解决”。四个选项中，D 项是主旨句的同义替换，为正确答案。A 项的“不再含有”与文段首句提到的“逐步停止”不符，排除 A。B 项文段没有提及，排除 B。C 项，仅是补充说明，没有抓住文段重点，排除 C。选择 D。

42、雷同，意味着单调和乏味，是艺术创作的大忌。因此，我们有必要分析现象，探究其成因。曾有论者指出，趋同的现象，反映出艺术家缺乏必要的生活体验和独特的艺术语言，也反映出其视野的狭窄和创作思路的僵化。诚然如此。但这仅仅道出了创作者主观方面的部分原因，不足以解释面貌趋同现象为何范围如此之广，程度又如此之深。深层原因，恐怕要从人才推出机制、管理机制乃至经济文化生活环境里去找。这段话意在说明：

- A、提醒艺术家要拓宽视野，增加生活体验
- B、说明雷同是艺术创作的大忌
- C、指出艺术创作趋于雷同有其深层原因
- D、强调艺术创作雷同有多方面的原因

【答案】C

【解析】文段重点句为最后一句。C 为重点句的同义替换。A 项属于过度引申，排除。B 项没有抓住重点，排除。D 项没有突出重点“深层原因”，排除。选择 C。

43、校园贷沦为“校园害”的背后，既有社会层面的问题，也有容易被忽略的教育命题。正如有人所言，我们的大学生还缺少财商教育。例如，金融被誉为“现代经济的核心和血液”，金融理财能力被称为“公民实现富裕幸福生活的基础”，金融常识这堂课应该在大学生中普及，尤其是网上借贷流行、电子支付普及的今天。试想，如果高校能够与时俱进，多一些金融常识方面的教育，在普及知识中提升学生的认识水平，在剖析案例中提升学生的防骗能力，在培养财商中提升学生的理财才能，那么学生哪怕看不穿校园贷的套路，也会有所警惕。文中作者主要表达的意思是：

- A、当下校园贷沦为“校园害”主要是因为我们的大学生缺少财商教育
- B、加强对校园贷的监管已刻不容缓
- C、目前校园贷主要问题网上借贷流行和电子支付普及
- D、校园贷沦为“校园害”既要注意社会问题也要注意教育问题

【答案】D

【解析】文段是总分结构，第一句提出观点，后面是通过举例来论证观点，对第一句同义替换，即可得到答案为 D，两个问题都有包含在内。A 项中“主要”在文段没有提及，无中生有，排除 A。B 项中监管的紧迫性在文中未提及，也是无中生有，排除 B。C 项强加了因果逻辑，文段中网上借贷流行和电子支付普及只是一个社会背景，并非校园贷的主要原因，排除 C。选择 D。

44、当下中国的电视剧产业不可谓不“繁荣”：年发行量居高不下，多种题材百花齐放，收看渠道趋于多元，多方资本进入行业。但剧集过长、内容注水、剧本抄袭、片酬畸形、播放量造假等乱象屡遭诟病，有数量缺质量、有高原没高峰的现象依然存在。其中，老戏骨纷纷“痛批”行业弊端就是乱象的一个缩影：成龙痛批演员不敬业，冯小刚痛批演员耍大牌，张光

北痛批频繁使用替身，张志坚痛批“小鲜肉”不背台词……激愤的声音折射出个体对不良态势无能为力的焦虑。有人评价电视剧行业“盛世其表，冰火其里”，《通知》的出台就是力图把表面繁荣转化为真正兴盛，可谓切中肯綮、恰逢其时。文中作者主要想说的是：

- A、当下中国的电视剧产业表面繁荣，名不副实
- B、当前中国电视剧行业的发展备受争议
- C、把电视剧行业的表面繁荣转化为真正兴盛，让其繁荣名副其实
- D、部分演员的不敬业是当前电视剧产业的主要问题

【答案】C

【解析】文段第一句是电视剧产业的行业“繁荣之景”，文段的重点在转折之后，转折之后是电视剧产业的乱象，以及政府为了解决这个乱象发出的《通知》，呼吁要解决这个表面繁荣，故作者的意图重在解决问题的对策或呼吁性声音，故本题选C。A项是文中问题的表述，非文段的重点；B和D项都是无中生有，文中没有提及，故排除。选择C。

45、环顾世界，电视剧制作水平、传播能力，已成为国家软实力的重要构成。电视剧作为大众主流意识形态的集中表现，常常关联着国家文化形象建设、文化安全、文化自信与文化活力，具有较强的意识形态属性、艺术属性和产业属性。如今，尽管我国电视剧产业取得了长足发展，但国际竞争力仍然偏弱，影响力远不及欧美日韩的影视作品，与我国文化大国的地位并不匹配。因此，如何在占据“数量高峰”的同时抵达“质量高峰”，成为电视剧产业亟待破解的现实问题。这段文字意在强调：

- A、我国电视剧产业应该与时俱进
- B、我国电视剧产业的国际竞争力不强
- C、我国电视剧制作水平已成为国家软实力的重要构成
- D、确保“量”的同时注重“质”的提升是我国电视剧产业的当务之急

【答案】D

【解析】文段前半部分讲到电视剧对国家文化的影响，接着“如今”引出现电视剧存在的问题，最后“因此”得出结论，“量和质成为电视剧产业亟待破解的现实问题”。A是对策项，但对策“与时俱进”与文段不相符，文段已明确给出对策，即D选项，B、C是对现状的描述。选择D。

46、“善之本在教，教之本在师。”在中华文化的价值排序中，教师素来处于重要位置。“曾子避席”“程门立雪”等典故，映照着尊师重道、崇学尚智的传统延续不息。也正是在一代代老师“传道授业解惑”的过程中，我们实现了知识技能的传递、文明薪火的延续。今天，社会发展日新月异，获取知识空前便利，但教师的价值并不会因此而泯灭。面对信息过载，学生更需老师帮助自己“择其善者而从之”；面对多元价值，老师更有责任引导学生“善养浩然之气”。着眼未来，教师队伍的整体水平和质量，事关学生个人发展，也事关国家的前途。这段文字意在说明：

- A、教师对学生的个人发展至关重要
- B、提高教师的整体水平和质量是重中之重
- C、教师的价值不会随着社会的发展而泯灭
- D、尊师重道是传统文化的重要组成部分

【答案】B

【解析】文段前半部分讲述教师对传递知识、文明的重要作用，接着讲到老师对学生重要性，最后文段提出教师的整体水平和质量对个人以及国家的重要性。意图题优选对策项，B项与文段主旨相符。A、C强调的是教师的重要性和价值，D尊师重道与文段强调的教师不同不一致。选择B。

47、普通高等学校举行学历继续教育，在很长一个时期里，满足了受教育者接受高等教育的需要，也给受教育者选择接受高等教育提供了多元途径。但是，普通高校举办学历继续教育，也存在诸多问题。首先，随着每年高考升学率不断提高，我国部分普通高校在统一高考中都已经无法招满学生，与之对应，我国接受学历继续教育的需求也大幅减少，一些举办学历继续教育的机构面临严重的生源危机。其次，为了抢生源，近年来，我国一些名校的学历继续教育项目，混淆学历性质，进行欺骗性招生，严重败坏高校形象。再次，普通高校的学历继续教育，被质疑为是学校贩卖文凭，从中谋利，而一些受教育者选择读学历继续教育，也只是看重

名校的学历身份，而不是提高自己的能力。下列选项与原文不相符的是：

- A、普通高校举办的学历继续教育存在诸多问题
- B、举办学历继续教育的机构将面临严重的生源危机
- C、我国一些名校的学历继续教育项目存在欺骗性招生
- D、一些受教育者选择读学历继续教育是看重名校的学历身份

【答案】B

【解析】与原文一一对应，A、C、D 选项在文段均能找到信息与之对应，A 项对应“但是，普通高校举办学历继续教育，也存在诸多问题”，C 项对应“近年来，我国一些名校的学历继续教育项目……进行欺骗性招生”D 项对应“而一些受教育者选择读学历继续教育，也只是看重名校的学历身份”。B 项中原文是“一些”，且原文是过去时，选项是将来时，属于偷换时态。选择 B。

48、网络游戏之所以能抢走青少年的时间，不仅因为技术的进步降低了游戏的门槛，更是因为游戏能够满足这些心理不成熟、不稳定，处于叛逆期的孩子们的心理需求，弥补现实生活的种种不满。学习、生活中的挫折所带来的心理压力，可以在游戏中得到释放，现实中得不到的尊重和认可可以在游戏世界中找补回来。此外，游戏还成了网络社群形成的中介，玩家可以通过游戏找到群体的归属感，获得来自群体的支持，而拒绝游戏，则可能面临无法融入群体，被孤立的危机。这段文字主要强调的是：

- A、网络游戏占据了青少年的大部分时间
- B、青少年迷上网络游戏是为了满足内心需要以及弥补对现实世界的不满
- C、青少年拒绝游戏会被同伴孤立
- D、网络游戏在青少年中的流行是由于技术进步降低了游戏进入门槛

【答案】B

【解析】文中讲的是网络游戏的流行原因，“网络游戏之所以能抢走青少年的时间，不仅因为技术的进步降低了游戏的门槛，更是因为游戏能够满足这些心理不成熟、不稳定，处于叛逆期的孩子们的心理需求，弥补现实生活的种种不满”后面的内容是继续论证孩子是如何在游戏中满足自己的需求，填补心中的空缺，文段是总分结构，而且考点是“之所以…是因为”重点是强调结果的原因，D 答案是强调递进之前的内容。选择 B。

49、由敦煌向东，穿越河西走廊可到达中原长安和洛阳；由敦煌向西南，出阳关南行，或由敦煌向西北，出玉门关北行，是丝绸之路新疆段的南北两条经典线路，翻过帕米尔高原，经过中亚，向南可到南亚古印度，向西可到古代波斯，继续西行可到地中海东岸，入地中海西行到古希腊罗马，入地中海南行可到北非古埃及。到了隋代又增加了一条道路，即越过戈壁沙漠，沿天山北麓西行的草原丝绸之路，也可到地中海的东岸。敦煌也就成为汉唐时期“丝绸之路”上总管中西交通的“咽喉之地”。在 13 世纪古代海运畅通之前，陆上通道是中国与西方交通的主要通道。因此，敦煌很长时间以来一直处于重要的战略位置。这段文字意在说明：

- A、路上通道是中西交往的主要通道
- B、敦煌长时期处于中西交通战略位置
- C、汉唐时期的“丝绸之路”很繁荣
- D、敦煌为汉唐时期中西交通做出了很大的贡献

【答案】B

【解析】文段第一句话讲的是敦煌在汉唐时期很重要，第二句话对第一句话进行了总结。第三句话说的是 13 世纪之前路上通道很重要。最后一句话由因果关系表结论引导词因此引出文段重点句，敦煌长期处于重要的战略位置。同义替换为 B 项。文段论述的主体是敦煌，故排除 AC 项。D 项，讲述汉唐时期和 13 世纪都是为了说明敦煌很重要，不是文段的重点。选择 B。

50、西方中国美术史的研究，发端于西方各大公私博物馆及个人的收藏和鉴赏。早期收藏中国古代绘画的机构主要有波士顿美术馆和华盛顿弗利尔美术馆两家，其后是纳尔逊·阿特金斯艺术博物馆和克里夫兰美术馆。纳尔逊的首任馆长史克门是西方研究中国艺术史的先驱，帮助该馆收藏了李成的《晴峦萧寺图轴》、马远的《西园雅集图》等珍贵绘画。克里夫兰美术馆由李雪曼主持中国绘画的收藏和研究，而纽约大都会博物馆作为海外拥有中国艺术品数量最大的收藏机构，到 20 世纪 50 年代构建了宋元绘画的收藏和研究体系。下列说法与原文相符的

是：

- A、早期收藏古代绘画的机构有波士顿和纽约弗利尔美术馆
- B、纽约大都会博物馆 20 世纪 50 年代构建了宋清绘画的收藏和研究体系
- C、西方中国美术史的研究，始于西方各大公私博物馆及个人的收藏和鉴赏
- D、纳尔逊·阿特金斯艺术博物馆早于华盛顿弗利尔美术馆收藏中国古代绘画

【答案】C

【解析】C 项为文段第一句话的同义替换，故 C 为正确答案。A 项偷换概念，把“华盛顿”偷换成“纽约”。B 项，偷换概念，把最后一句“宋元”偷换成“宋清”。D 项，偷换时间概念，华盛顿弗利尔美术馆早于纳尔逊·阿特金斯艺术博物馆。选择 C。

51、稍有细心就不难发现，这些德高望重、淡泊名利、一生勤俭却又为中国科学事业奠定基础和发展进步作出巨大贡献的老院士、老科学家、老教授们，几乎都是在我国国家物质经济最落后的年代，要么是舍弃国外丰厚待遇依然回归、要么是国家公派出国学成归来，均是在我国经济最困难时期依靠艰苦奋斗学习锻炼成长起来的共和国的见证者。而支撑他们把一生奉献给国家的原动力，无疑就是坚定的信仰。这段文字意在强调：

- A、老科学家们在物质经济落后的年代做出巨大贡献
- B、只要有坚定的信仰就能实现人生价值
- C、坚定的信仰是科学家们奉献自我的动力
- D、国家的发展需要无数科学工作者的无私奉献

【答案】C

【解析】文段为分总结构，首先讲述老科学家、老院士们对国家做出了奉献，最后转折提出奉献的动力来自坚定的信仰，即文段的重点句。A 项属于转折之前，B 项表述过于绝对，C 是正确的主旨项，D 项与主旨无关。选择 C。

52、网络文化产品带来文化的多元化。网络文化产品生产的开放性带来了文化的多元化，包括参与主体的多元、形式的多元、审美标准的多元、价值取向的多元等。从一定意义上说，网络文化产品井喷式的生产与传播过程，将以往被抑制的公众的文化创造力充分释放出来，同时也使以往被忽略的各种小众化甚至个性化文化需求得以满足。但是，网络文化产品总是处于不断升级之中，过于快速的变化使网络文化总是在浅层流动，难以形成深层积淀，甚至带来一些文化乱象。文段接下来最有可能讲的是：

- A、网络文化产品带来的文化乱象
- B、网络文化多元化的体现
- C、网络文化产品多元化的意义
- D、网络文化产品该何去何从

【答案】A

【解析】文段开头提到网络文化产品的多元化，接着讲了多元化的体现以及多元化的意义，最后通过“但是”一次转折，提出网络文化产品存在的问题，即带来了一些文化乱象。下文推断题重点把握文段结尾，转折之后的内容，因此 A 项符合，B、C 文段已经涉及，D 项与文段结尾不衔接。选择 A。

53、目前没有科学依据表明哪种血型更“甜”，也没有科学依据证明蚊子偏爱叮咬哪种血型的人。蚊子选择攻击对象时，大多是被人类呼出的二氧化碳和身体分泌物的气味所吸引，此外，人类汗液里的乳酸和香水、发油、除臭剂等散发出的芳香气味更是受到蚊子的喜爱。因此，爱出汗、体温偏高的人，小孩，孕妇等都是蚊子所钟爱的人群，因为这些人新陈代谢较快，汗腺发达，血液中所含的酸性物质较多，所排出的汗液使得其体表乳酸值较高，这些都对蚊子有极强的吸引力。此外，爱化妆的人也是蚊子钟爱的对象，因为大多数化妆品中都含有对蚊子有吸引力的脂肪酸。下列选项不符合原文的是：

- A、蚊子选择攻击对象时，是被人类呼出的二氧化碳和身体分泌物的气味所吸引
- B、蚊子偏爱叮咬哪种血型的人目前还没有科学数据能够证明
- C、蚊子更喜欢叮咬爱出汗、体温偏高的人
- D、许多化妆品中的脂肪酸对蚊子很有吸引力

【答案】A

【解析】文段中说的是“蚊子选择攻击对象时，大多是被人类呼出的二氧化碳和身体分泌物的气味所吸引”，A 答案讲的是“是被人类呼出的二氧化碳和身体分泌物的气味所吸引”，偷换数量。选择 A。

54、尽管当前我国中小学的安全教育已经取得了长足进步，但在实践过程中，依然面临着多重挑战与困难。学生安全教育，除了学校作为重要责任主体之外，家长的作用也至关重要。\_\_\_\_\_。《中国小学生减灾教育现状基础调研报告》显示，35.86%的家长认为安全教育“有学校教就好，不会额外关注”，36.29%的家长对安全教育“不是很关注，自身也不了解”，只有 24.16%的家长十分关心孩子安全教育问题，并会主动了解和实行。填入划横线部分最恰当的一句是：

- A、但遗憾的是，目前部分家长的安全意识还相对淡薄
- B、因此，提升广大家长的安全意识刻不容缓
- C、所以，家长要高度重视对孩子的安全教育
- D、可是，很多家长却不知道如何对孩子进行安全教育

【答案】A

【解析】横线在文段中间，所填句子应该承上启下。前文通过“除了...也...”突出家长的作用，下文谈到很多家长并没有认识到这一点，因此需填入一个转折关系的句子，A 项填入其中，符合要求。B、C、D 三项填入其中，能承上不能启下，排除。选择 A。

55、近日，上海交通大学金贤敏团队成功进行了首个海水量子通信实验，观察到了光子极化量子态和量子纠缠可在海水中保持量子特性，在国际上首次通过实验验证了水下量子通信的可行性。金贤敏指出，虽然目前只是朝水下量子通信迈出了第一步，离实用化的水下、空海一体量子通信连线和网络还有一段距离，但“最新研究证明，实现量子通信技术的上天、入地、下海的未来图景可期”。该成果发表在最新一期的《光学快报》杂志上。该段文字作为一则新闻，最适合做该段文字题目的是：

- A、水下量子通信首次获得成功
- B、基于海水的量子通信理论首次得到证实
- C、上海交大在《光学快报》杂志发表最新重大成果
- D、世界首个海水量子通信实验成功

【答案】D

【解析】从提问方式可知，本题作为新闻类的文段，标题应该是对文段首句导语的同义替换。D 项符合这一要求。A 项偷换概念，首获成功的只是实验而已，排除 A。B 项无中生有，排除 B。C 项太宽泛，排除 C。选择 D。

56、美国加州大学伯克利分校和西北大学的研究者还发现，无论是与伴侣发生争吵，还是与对方有意见分歧，都会增加伴侣在晚年出现健康隐患的风险。在争吵期间的暴怒情绪会明显增加他们患上心血管疾病的风险，而保持沉默或冷战状态会增加后背疼痛或肌肉僵硬的风险。这项研究成果表明，不同的情绪化行为会在长期内埋下健康隐患。研究还发现，如果伴侣一方失眠，那么另一方可能会在无意中加重伴侣的失眠。此外，对反复不断争吵感到疲劳的夫妇其体内的炎症标志物含量会上升。与有抑郁症的人结婚，自己患上抑郁症的风险也会上升。下面符合原文的一项是：

- A、伴侣一方失眠，另一方会在无意中加重伴侣的失眠
- B、不管是与伴侣发生争吵，还是与对方有意见分歧，都会增加伴侣出现健康隐患的风险
- C、不同的情绪化行为可能会在长时间里影响健康
- D、长期、忠诚的婚姻关系有益于夫妇的身心健康

【答案】C

【解析】A 的错误在于把文段中“如果伴侣一方失眠，那么另一方可能会在无意中加重伴侣的失眠”假设性的语气换成了肯定性语气；B“都会增加伴侣出现健康隐患的风险”，文段在讲的是“都会增加伴侣在晚年出现健康隐患的风险”偷换了概念；D 答案属于无中生有。选择 C。

57、笔者上大学之初，就有老师告诫我们，在大学里，课堂、自学和社会实践三者同等重



要、互为补充。课堂学习为知识和思考打下坚实基础，看书自学和网络学习开阔眼界，社会实践则是“用自己耳朵听、用自己头脑思考、用自己双手创造”，后者对于成长成才来讲尤为重要。文中“后者”一词理解正确的是：

- A、课堂学习
- B、社会实践
- C、看书自学和网络自学
- D、自学和社会实践

【答案】B

【解析】文段中提到了“三者”，即课堂、自学、社会实践，按照作者在后文中论述的排序，先强调了课堂学习，接着说到了看书和网络自学，最后提到了社会实践。选择 B。

58、①正因为竹子有着与众不同的特质，才受到历代文人墨客的喜爱和推崇，他们将松、竹、梅相提并论，誉为“岁寒三友”；将梅、兰、竹、菊等量齐观，誉为“花中四君子”②然而，在历代文人墨客心目中，竹子一点也不寻常，它不仅超凡脱俗③而同时被列入“三友”和“四君子”的植物，唯有竹和梅④还集种种美德于一身，其精神之高贵、文化内涵之丰富，足可抗衡任何植物⑤可见竹子在历代文人墨客心目中的地位是何等重要⑥竹子，本是最常见、最普通的植物之一，在大众眼里只是寻常之物以上句子排序正确的是：

- A、②④⑥①③⑤
- B、⑥②④①③⑤
- C、⑥②①④③⑤
- D、②⑤④①③⑥

【答案】B

【解析】首句②转折关联词显然不适合做首句，故排除 A 和 D，B 和 C 项都是⑥②，但②句里有“不仅”和④句里的“还”关联词搭配，故②和④应该在一起。选择 B。

59、“会花钱”比“不花钱”“少花钱”更重要。笔者就是一个反面案例。由于长期受“勤俭节约”的教育，在上大学期间，笔者对任何一项支出都要再三衡量是否值得，而大多数培训和考试的费用并不低廉，所以，当笔者还在反复权衡性价比的时候，较少“节俭”心理负担的同学已经完成了培训，瞄准下一个目标了。所以，\_\_\_\_\_。而判断钱花得是否值，应该看是否有利于提升自己。要尽量减少享受型消费，增加投资型消费，在量力而行的基础上，努力提升自己的理财能力、挣钱能力。填入文中划横线处正确的是：

- A、“会花钱”也是一种能力
- B、一味地要求“省钱”，压抑消费需求绝不是明智之举
- C、只有“会花钱”才是最重要的
- D、只要钱花得值，多花钱并不等于“败家”

【答案】D

【解析】空格处在文段中，需要满足承上启下，A、B、C 都能满足承接上文，但不能满足开启下文，因为下文的话题是围绕“判断花钱是否值得”，故这三项中只能选择 D；C 项表意过于绝对且不符合客观事实，故排除。选择 D。

60、①电视剧作为大众主流意识形态的集中表现，关联着国家文化形象建设②尽管我国电视剧产业目前取得了长足发展③当今世界，电视剧制作水平，已成为国家软实力的重要构成④而要解决这些问题，政府的引导、管理和监督等就极为重要⑤因此，如何提高质量，成为电视剧产业亟待破解的现实问题⑥但国际竞争力仍然偏弱，整体质量远不及欧美日韩的影视作品将以上 6 个句子重新排列，语序正确的是：

- A、①②④⑤⑥③
- B、①②⑥④③⑤
- C、③①②⑥⑤④
- D、③②⑥①④⑤

【答案】C

【解析】首先寻头，把①③两句带进来进行检查，发现都可以做首句，此路不通。接下来，进行捆

绑。观察六个句子，根据关联词的搭配和话题一致原则，可以发现“②⑥”应该前后相随。据此，排除 A。再比较④和⑤两句，根据代词指代和话题一致原则，可以发现“⑤④”前后相随。据此排除 B 和 D。选择 C。

## 数量关系

61、班长小英让一些同学去种不超过 100 棵的树苗，若每人种 7 棵，则余下 5 棵；若每人种 8 棵，则有 1 人只须种 6 棵，种树的有多少名学生？（ ）

- A、7  
B、6  
C、8  
D、9

【答案】A

【解析】方程问题。设种树的有  $x$  人，则  $7x+5=8(x-1)+6$ ，解得  $x=7$ ，选择 A 选项。

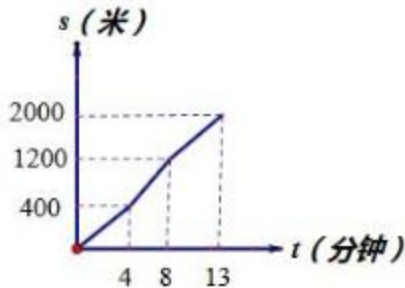
62、现从 6 名男生，5 名女生中选出 4 人参加比赛，要求至少有一名女生入选，问有多少种选法？（ ）

- A、335  
B、330  
C、325  
D、315

【答案】D

排列组合问题。本题正向思考情况较多，可以采取逆向思考，从总人数 11 人中任意选出四人的总情况数减去一个女生都没有的情况，为  $C_{11}^4 - C_6^4 = 315$ ，本题选择 D 选项。

63、小高从家骑自行车去学校上学，先走上坡路到达 A 点，再走下坡路到达 B，最后走平路到达学校，所用的时间与路程的关系如图所示。放学后，如果他沿原路返回，且走平路、上坡路、下坡路的速度分别保持和上学一致，那么他从学校到家需要的时间是多少分钟？（ ）



- A、10  
B、15  
C、20  
D、25

【答案】B

【解析】行程问题。由图可知，上坡速度是： $400 \div 4 = 100$  米/分；下坡的速度： $(1200-400) \div (8-4) = 200$  米/分；平路的速度： $(2000-1200) \div (13-8) = 160$  米/分；则回家时平路的时间和去时一样为 5 分钟，上坡时间： $(1200-400) \div 100 = 8$  分钟；下坡时间： $400 \div 200 = 2$  分钟，所以从学校到家共用  $5+8+2=15$  分钟，本题选择 B 选项。


64、某车间每个工人每天能生产 12 个螺丝栓或 18 个螺母，每个螺丝栓需要两个螺母配套，现在有 28 个人，怎样分配工人数，才能使每天产量刚好配套？（ ）

- A、12 人生产螺丝栓，16 人生产螺母  
B、10 人生产螺丝栓，18 人生产螺母  
C、16 人生产螺丝栓，12 人生产螺母  
D、18 人生产螺丝栓，10 人生产螺母

【答案】A

【解析】方程问题。设有  $x$  人生产螺丝栓，则有  $(28-x)$  人生产螺母，则有  $2 \times 12x = 18(28-x)$ ，解得  $x=12$ ， $28-x=16$ ，本题选择 A 选项。

65、已知下图中正方形内有四个半圆，正方形的边长为 5 厘米，那么下图中阴影部分的面积是（ ）平方厘米。



A. 19

B.  $25 - \frac{25}{2}\pi$

C.  $\frac{25}{2}\pi - 25$

D.  $50\pi - 25$

【答案】C

几何问题。四个半圆都通过正方形的中心，用正方形的面积减去四个空白的面积，剩下的就是阴影部分的面积，而正方形的面积减去两个半圆的面积就是两个空白的面积，所以阴影部

分的面积为： $5^2 - [5^2 - (\frac{5}{2})^2 \pi] \times 2 = \frac{25}{2}\pi - 25$ ，选择 C 选项。

66、某幼儿园小班一共 10 个小朋友站成一排照相，6 个小男孩，4 个小女孩，现要求 4 个小女孩不相邻且最左和最右都是小男孩，问站排方式有（ ）种？

A、70000-80000

B、60000-70000

C、90000-100000

D、80000-90000

【答案】D

排列组合问题。根据题意，小女孩要求不相邻，先将 6 个小男孩进行排列，之后再将小女孩进行排列，由于最左与最右侧一定是小男孩，所以小女孩在小男孩中间 5 个空中选择 4 个空

进行排列可得： $A_6^6 \times A_5^4 = 86400$ ，所以本题答案选择 D。

67、为了减少城市交通拥堵的情况，某城市拟定从 2014 年 1 月 1 日起开始试行新的限行规定，规定尾号为 1、6 的车辆周一、周二限行，尾号 2、7 的车辆周二、周三限行，尾号 3、8 的车辆周三、周四限行，尾号 4、9 的车辆周四、周五限行，尾号 5、0 的车辆周五、周一限行，周六周日不限行。由于 1 月 31 日是春节，因此，1 月 30 日和 1 月 31 日两天不限行。已知 2014 年 1 月 1 日是周三并且限行，那么 2014 年 1 月份哪一组尾号可出行的天数最少？（ ）

A、1、6

B、2、7

C、4、9

D、5、0

【答案】B

【解析】时间问题。一月份共 31 天，由于 1 月 1 日是周三，所以一月份周三、周四、周五，共五天。周一、周二，共四天。其中 1 月 30 号周四，1 月 31 号周五，所以只看周三即可。周三 2、7 以及 3、8 限行。所以本题选择 B 选项。

68、某批货物若每次运 90 箱，则运 5 次运不完，运 6 次又不够运。若每次运 75 箱，则 7 次运不完，8 次又不够运。如果每次运 28 箱，运若干次就可正好运完。那么，这批货共有多少箱？（ ）

A、532

B、504

C、498

D、465

【答案】A

【解析】基础计算。题中已知每次运 90 箱，则运 5 次运不完，运 6 次又不够运，说明货物大于  $90 \times 5 = 450$ ，小于  $90 \times 6 = 540$ ，每次运 75 箱，则 7 次运不完，8 次又不够运，说明货物大于  $75 \times 7 = 525$ ，小于  $75 \times 8 = 600$ ，所以这批货物在  $525 \sim 540$  箱，所以本题选择 A 选项。

69、有两辆汽车先后离开车站向码头开去，第一辆汽车的速度是每小时 90 千米，8 时 32 分时，第一辆汽车离车站的距离是第二辆汽车的 1.2 倍。到 9 时 20 分时，第一辆汽车离车站的距离是第二辆汽车的二倍，如果第一辆汽车是 8 时 08 分离开车站的，那么第二辆汽车每小时行多少千米？（ ）

A、25

B、28

C、30

D、32

【答案】C

【解析】行程问题。在 8:32 分时，第一辆车行驶了  $90 \div 60 \times 24 = 36$  千米，第二辆车距离车站  $36 \div 1.2 = 30$  千米。9:20，第一辆车行驶了  $90 \div 60 \times 72 = 108$  千米，第二辆车距离车站  $108 \div 2 = 54$ ，第二辆车从 8:32-9:20 共行驶了 48 分，则第二辆车每小时行驶  $(54 - 30) \div (48 \div 60) = 30$  千米。所以本题选择 C 选项。

70、一群猴子，每只猴每天早上吃两个桃，晚上吃四个桃，一堆桃，如果这群猴子吃三个早上，两个晚上，还会余下六个桃，如果吃两个早上，三个晚上，还差八个桃，则共有多少个桃？（ ）

A、110

B、104

C、100


D、96

【答案】B

【解析】基础计算。每只猴子三个早上，两个晚上共吃  $3 \times 2 + 2 \times 4 = 14$  个，每只猴子两个早上，三个晚上共吃  $2 \times 2 + 3 \times 4 = 16$  个。设有  $x$  只猴子，共有  $y$  个桃子，则  $y = 14x + 6 = 16x - 8$ ，解得  $x = 7$ ， $y = 104$ ，所以本题选择 B 选项。

## 判断推理

71、从所给的四个选项中，选择最合适的一个填入问号处，使之呈现一定的规律性：



A

B

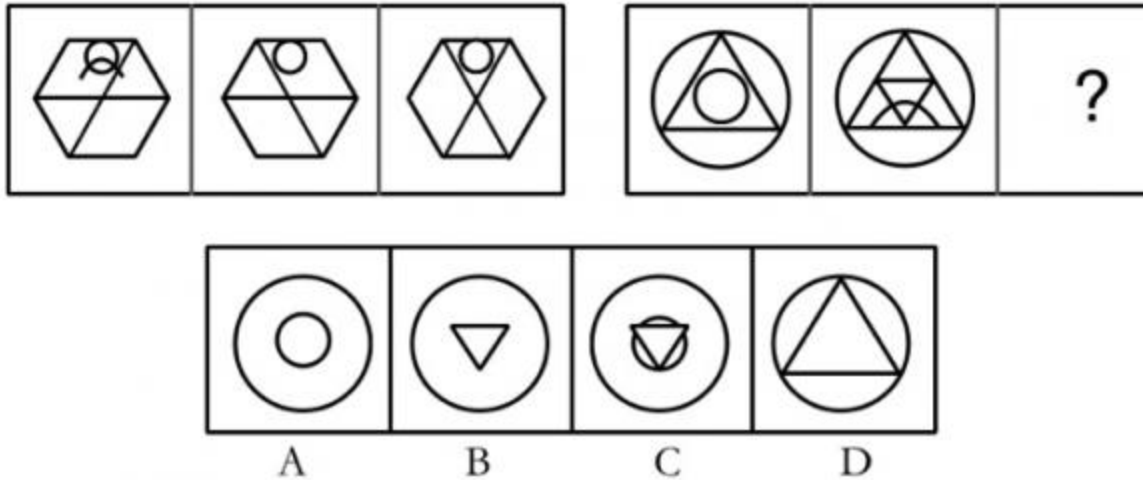
C

D

【答案】D

【解析】 本题考查数量类的面。题干中，面的个数分别为 0、1、2、3、？，问号处应该为 4 个面的图形，因此，本题选择 D 选项。

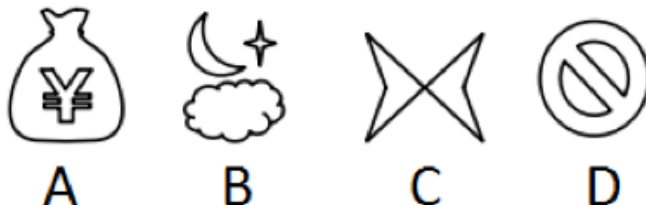

72、从所给的四个选项中，选择最合适的一个填入问号处，使之呈现一定的规律性：



【答案】 B

【解析】 样式类和属性类。先观察第一段，组成元素相似，考虑样式类规律。第一段的三个图形，外部轮廓相同，内部有直线和曲线，其中，前两个图的直线进行去同存异的运算，曲线进行去异求同的运算，得到第三个图形，将此规律应用到第二段，因此，本题选择 B 选项。

73、从所给的四个选项中，选择最合适的一个填入问号处，使之呈现一定的规律性：

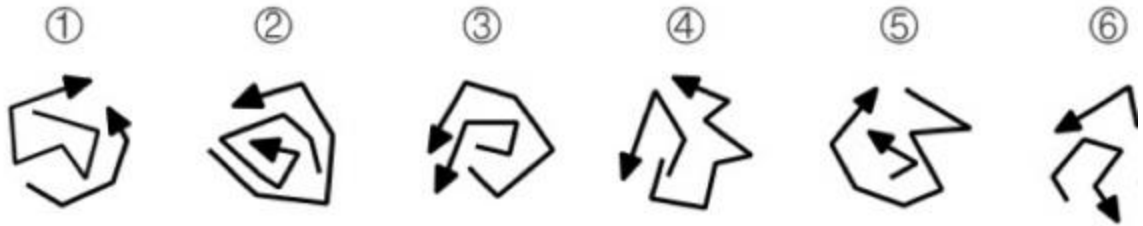


【答案】 B

【解析】 本题考查素的种类。第一行素的种类都是 1 种，第二行素的种类都是 2 种，第三行素的种类应该都是 3 种，符合 3 种素的只有 B 项。因此，本题选择 B 选项。

74、把下面的六个图形分为两类，使每一类图形都有各自的共同特征或规律，分类正确的一项是：

过关才是硬道理！

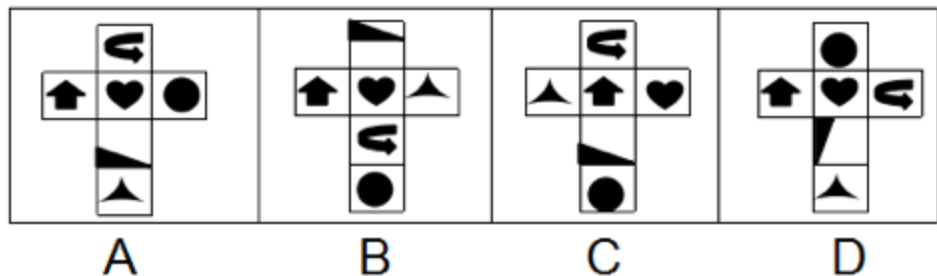
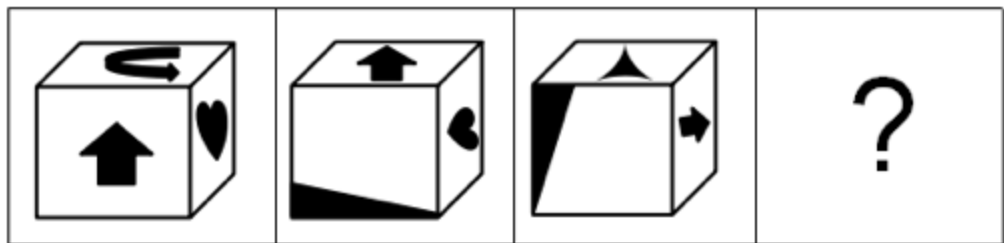


- A、①③⑤，②④⑥
- B、①②③，④⑤⑥
- C、①⑤⑥，②③④
- D、①④⑤，②③⑥

【答案】C

【解析】其他位置。观察题干，六个图形都有两条带箭头的折线，以折线箭头的末端为起点，以箭头为终点画时针，其中，①⑤⑥时针方向相反，②③④时针方向相同，因此，本题选择 C 选项。

75、从所给四个选项中，选择最合适的一个填入问号处，使之符合所给的题干所示：



【答案】C

【解析】本题考查空间重构，根据相邻面的特点，分析发现 A 选项中心形面上方的弯形箭头的相对位置错误，排除；然后根据立体图形中心形面的上方应该是画有弯箭头的面，排除 BD 选项；验证 C 选项发现没有错误，因此，本题选择 C 选项。

76、鲑鱼效应又称为“头鱼理论”。鲑鱼因个体弱小而常常群居，并以强健者为自然首领。然而，如果将一只较为强健的鲑鱼脑后控制行为的部分割除后，此鱼便失去自制力，行动也发生紊乱，但是其他鲑鱼却仍像从前一样盲目追随。根据上述定义，下面选项中不符合鲑鱼效应的是：

- A、某企业领导在金融危机中能够准确把握市场需求方向，将产品进行升级改造，带领整个公司突破重围向前发展
- B、海尔集团董事长张瑞敏发现冰箱存在质量问题时，当即召回，在众多员工的阻扰下仍然挥起锤子砸毁问题冰箱，从此以后，海尔生产出的冰箱再无质量问题
- C、当领导犯下错误时，我们应该敢于指出问题，而不是盲目跟风，造成跟严重的损失
- D、中国女排在郎平主教练的带领下顺利赢得 2016 年奥运冠军

【答案】B

【解析】本题是选非题，考查单定义。题干中抓住的关键信息为“追随” A、D 都有体现，C 选项是

通过这个效应告诉我们的一个道理，而 B 选项董事长没有盲目跟从大家的意见，按照自己的想法把冰箱砸了。因此，本题选择 B 选项。

77、最小机会损失准则简称 EOL，它是一种判别决策优劣的标准。通常指在风险型决策问题中，以损失的期望值最小为决策优劣的判别准则。根据上述定义，以下哪项最符合上述准则？

- A、舍车保帅
- B、望梅止渴
- C、塞翁失马
- D、遗簪败履

【答案】A

【解析】本题考查定义判断。最小机会损失准则“通常指在风险型决策问题中，以损失的期望值最小为决策优劣的判别准则”。A 中舍弃车，保全更重要的帅，会使损失较小，符合决策准则。B 项望梅止渴原意是梅子酸，人想吃梅子就会流涎，因而止渴。后比喻愿望无法实现，用空想安慰自己。无法体现决策时对损失的衡量。C 项塞翁失马比喻一时虽然受到损失，也许反而因此能得到好处。未涉及到决策。D 项遗簪败履比喻能勾起人们怀旧之情的故物。未涉及到决策。因此，本题选择 A 选项。

78、行政赔偿是国家赔偿的一部分，是指行政主体和行政公务人员在行使行政职权时，对因违法行政侵犯行政相对人的合法权益造成的损害，由国家承担赔偿责任的制度。行政补偿是行政主体及其工作人员在行使职权的过程中，因合法行为造成行政相对人的合法权益受到损害，由国家对其所受损失予以补偿的制度。根据上述定义，下列属于行政补偿的是：

- A、城管暴力执法，造成摊贩受伤，最后单位承担了摊贩的医疗费用并且依法给予摊贩一定的经济赔偿
- B、为了发展经济，建设美丽新农村，某村村委会组织村民对村里的大片荒山进行开垦，植树造林
- C、某村修建水利工程需要征用农民的部分农田，按照规定的标准给予农民相应的补偿
- D、一名警察在追捕小偷的过程中，征用了市民的自行车，但是把自行车弄坏了，这名警察自己花钱帮市民把车修好

【答案】C

【解析】本题属于定义判断，行政补偿的关键词为“行政主体和行政公务人员”、“在行使行政职权时”、“合法行为”、“造成行政相对人的合法权益受到损害”、“由国家对其所受损失予以补偿”。A 选项暴力执法不是合法行为，应当属于行政赔偿，排除；B 选项没有体现“造成行政相对人的合法权益受到损害”，排除；C 选项符合全部的关键词，所以属于行政补偿；D 选项这名警察自己花钱帮市民把车修好，不符合最后一个关键词，排除。因此，本题选择 C 选项。

79、同时履行抗辩权：是指无先后履行顺序的双务合同债务人在对方未履行或者未提出履行之前，拒绝履行的权利。根据上述定义，下列属于同时履行抗辩权的是：

- A、甲乙双方合同约定，甲先向乙交付机器，乙收到机器后向甲支付货款，后面甲发现乙经营状况严重恶化，有可能不能交付货款，这时，甲拒绝自己的履行，不交付机器
- B、甲乙双方合同约定，一手交钱一手交货，如果甲不交钱那么同时乙就可以不交货
- C、甲向乙借了 10 万元，约定一个月之内还款，但是甲到期之后拒绝还款，乙一怒之下把甲告上法庭
- D、甲乙双方合同约定，甲向乙支付一部分定金，乙在收到定金后十日内把货物交付给甲，甲支付定金后，乙拒绝把货物交付给甲

【答案】B

【解析】本题属于定义判断，题干中的关键词为“无先后履行顺序”、“双务合同债务人”、“在对方未履行或者未提出履行之前”、“拒绝履行的权利”。A 选项不符合第一个关键词，排除；B 选项符合所有的关键词，所以属于同时履行抗辩权；C 选项不符合第二个关键词，排除；D 选项不符合第一个关键词，排除。因此，本题选择 B 选项。



80、“跷跷板互惠原则”指人和人之间关系就像两人踩跷跷板一样，你给我力量，我就给你力量；你给我好处，我就给你好处。当他人遇到困难时我们要主动提供帮助，这样当自己遇到困难时才会有人来帮助我们；当我们接受了别人的帮助后，更要具有“滴水之恩应以涌泉相报”的精神。根据上述定义，下列未体现跷跷板互惠原则的是：

- A、一位大学教授随机挑选出一些人给他们寄去圣诞卡片。这些人回赠的节日卡片如雪花似的寄了回来
- B、在幼儿园，小朋友在选择分享玩具的对象时，都会挑那些曾经给过自己玩具的小朋友，而不是那些和自己争过玩具的小朋友
- C、彼特获得了丰厚的收入，占尽了所有的好处，成了一个高高在上的商场大亨。可是他并不快乐！总觉得生活中好像少了点什么，最后，他得了轻微的忧郁症
- D、人们对那些只知索取不知偿还的人心怀一种普遍的厌恶感，人们往往极力避免与他们为伍

【答案】C

【解析】本题属于定义判断，题干中定义表明的是互惠得到互利的结果。A 选项大学教授寄送卡片，而这些人也回赠了节日卡片，符合互惠原则；B 选项，小朋友对于跟自己分享过玩具的玩伴，也会分享自己的玩具，符合互惠原则；C 选项，彼特是明显的利己行为，而没有体现给他人提供帮助，不符合；D 选项体现了人与人之间的交往应该互帮互助，符合。因此，本题选择 C 选项。

81、（1）医者运用视觉，对人体全身和局部的一切可见征象以及排出物等进行有目的地观察，以了解健康或疾病状态，称为望诊。（2）问诊是指中医采用对话方式，向病人及其知情者查询疾病的发生、发展情况和现在症状、治疗经过等，以诊断疾病的方法。（3）叩诊是医生用手指叩击被检查者体表使之产生音响，由于人体各种组织结构的密度、弹性各异而发生不同的声音。典型例证：①医生看病时一般会询问患者基本的情况，如，年龄、当前症状的开始时间，部位，持续时间，既往史等。②人体外部和五脏六腑关系密切，中医通常可观察患者体表和耳朵、舌头等变化征象，推断内脏的变化。③医生在排除患者胸、腹部面积较广泛的病变，如大量胸腔积液、积气及大片肺实变时，常用并拢的食指、中指和无名指的掌面直接轻轻叩打（或拍）被检查部位体表。对上述典型例证与定义的关系判断正确的是：

- A、例证②①③分别与定义（3）（2）（1）相符
- B、例证②③分别与定义（3）（1）相符
- C、例证①③分别与定义（1）（2）相符
- D、例证①②③分别与定义（2）（1）（3）相符

【答案】D

【解析】本题属于定义判断。例证①是医生通过采用询问患者的方式来进行诊断，属于问诊；例证②是医生通过采用观察患者的五官功能变化特征的方式来进行诊断，属于望诊；例证③是叩诊的诊疗方法。因此，本题选择 D 选项。

82、“心本管理”就是把“心”作为根本来管理，即要由心出发，不仅要尊重人的内心感受，而且要善于影响人的心灵，从而由心灵的外在感动转化为管理者与员工心灵内在的交流与自觉。换言之就是管理者对员工从情感、思想、意志等方面进行正确引导来增强员工的凝聚力和认同感。根据上述定义，下列属于心本管理的是：

- A、小王大学毕业就进去了一家国有企业，他立志要成为公司的业务骨干
- B、公司人事部门为新员工制定了一系列业务培训计划
- C、某电商企业总裁经常去分公司去看望和慰问奔赴在一线的快递小哥
- D、某企业高层决定将削减销售人员业务提成，并增加研发经费的投入，调整现有财务预算

【答案】C

【解析】本题属于定义判断。A 项只提到小王个人的想法，没有涉及到上下级的管理问题，所以排



除。B 项“业务培训”是从员工的技能入手，和员工心理、思想、情感无关，则排除。C 项中领导慰问下属，属于思想、情感上的关怀和激励，所以符合定义。D 项调整财务预算与员工思想、情感无关。因此，本题选择 C 选项。

83、文化震惊，也称为文化冲突，它指的是生活中某一种文化中的人初次接触到另一种文化模式时所产生的思想上的混乱与心理上的压力。根据上述定义，以下哪项属于文化震惊的表现？

- A、小王虽然已经不止一次到泰国旅游了，但是他对泰国人妖还是很难接受
- B、上海人小张第一次在电视上看到广东人吃老鼠，他觉得恶心的鸡皮疙瘩都出来了
- C、海南人小李第一次去东北感受冬天的冰雕美景，对于零下几十度的气温难以适应
- D、小明第一次出国，但是他对爱尔兰的环境相当适应

【答案】B

【解析】本题属于定义判断。A 项不是第一次，不属于题干“初次”的限定。B 项体现了饮食文化方面的差异，小张难以接受，符合定义。C 项中气温与文化无关，则排除。D 项中结果是“很适应”，并未出现思想上的混乱和心理上的压力。因此，本题选择 B 选项。

84、清洁生产是指不断采取改进设计、使用清洁的能源和原料、采用先进的工艺技术与设备、改善管理、综合利用等措施，从源头削减污染，提高资源利用效率，减少或者避免生产、服务和产品使用过程中污染物的产生和排放，以减轻或者消除对人类健康和环境的危害。根据上述定义，下列不涉及清洁生产的是：

- A、某企业淘汰有毒有害的原材料，并在全部排放物和废物离开生产过程以前，尽最大可能减少它们的排放量和毒性
- B、企业采用少废、无废的生产工艺技术和高效生产设备，减少生产过程中的各种危险因素和有毒有害的中间产品
- C、企业在选择材料时其要关心再使用与可循环性，具有再使用与再循环性的材料可以通过提高环境质量和减少成本获得经济与环境收益；实行合理的材料闭环流动
- D、制定污染物排放标准，控制排污口（末端），使排放的污染物通过治理达标排放的办法

【答案】D

【解析】该定义的关键词为：采用先进的工艺技术与设备、改善管理、从源头削减污染，提高资源利用效率。AC 中的原材料符合源头削减污染，B 中的生产工艺也符合定义要求，D 中的控制排污口属于从末端上控制，不符合该定义，因此，本题选择 D 选项。

85、在物理学中，突出问题的主要方面，忽略次要因素，建立理想化的物理模型，是经常采用的一种科学研究方法，质点就是这种物理模型之一，即把待研究物体的大小形状忽略不计，可称该物体为质点。根据上述定义，下列被研究对象，可做为质点的有：

- A、研究汽车从沈阳到北京时间
- B、研究体操运动员动作是否标准
- C、研究乒乓球自身的运动状态
- D、研究火车过桥的时间

【答案】A

【解析】本题考查单定义。题干中抓的关键词为：大小形状忽略不计。A 项，汽车自身的长度相对于从沈阳到北京的距离要小很多，所以可以忽略。B 项，体操运动员；C 项，乒乓球自身的运动；D 项，火车自身的长度，相对于他们的运动都是不能忽略的。因此，选择 A 选项。

86、绿萝：文竹

- A、黄芪：中药
- C、钢琴：古筝

- B、玫瑰：干花
- D、古琴：七弦琴

【答案】C

【解析】本题考查并列关系。题干中，绿萝和文竹都是植物，彼此相互并列。A 项黄芪是中药的一种，为种属关系，排除。B 项，玫瑰可以做成干花，逻辑关系与题干不符，排除。C 项钢琴和古筝都是乐器，彼此相互并列。D 项古琴就是七弦琴，两者全同。因此，本题选择 C 选项。

87、演出对于（ ）相当于车辆对于（ ）

- A、节目；公路  
B、观看；调度  
C、演员；交警  
D、舞台；维修

【答案】B

【解析】本题考查语法关系。观看演出，调度车辆符合动宾关系，且顺序一致。A 项演出节目是动宾关系，车辆和公路是地点对应关系，前后逻辑关系不一致，排除。C 项演出一般需要演员，车辆与交警的关系与其不一致，排除。D 项演出与舞台是地点对应关系，维修车辆是动宾关系，前后逻辑关系不一致，排除。因此，本题选择 B 选项。

88、电扇：凉爽

- A、手机：通讯  
B、电脑：操作  
C、吸尘器：干净  
D、洗衣机：衣物

【答案】C

【解析】本题考查对应关系，题干中电扇能给人带来凉爽，属于功能对应关系。A 选项手机与通讯是功能对应；B 选项操作电脑，为动宾关系，与题干逻辑关系不符，排除；C 选项吸尘器能够使地面干净，也属于功能对应关系；D 选项洗衣机与衣物是主宾关系，与题干逻辑关系不一致，排除。再对比 A 选项和 C 选项，题干中凉爽是形容词，A 选项中通讯可用作名词或动词，C 选项中干净也是形容，所以 C 选项与题干逻辑关系更为贴近，因此，本题选择 C 选项。

89、教师：知识：学生

- A、警察：抓捕：小偷  
B、医生：处方：患者  
C、厨师：厨艺：学徒  
D、司机：汽车：公路

【答案】B

【解析】本题属于类比推理，教师传授知识给学生，前面构成主宾结构，学生是对象。A 选项警察抓捕小偷，构成主谓宾结构，排除；B 选项医生开处方给患者，前面构成主宾结构，患者是对象，与题干逻辑关系完全一致；C 选项厨师传授厨艺给学徒，但是学徒不一定是学厨艺的学徒，厨艺和学徒不是一一对应；D 选项司机在公路上驾驶汽车，公路是地点不是对象，排除。所以相比较而言，B 选项与题干逻辑关系最为贴近，因此，本题选择 B 选项。

90、杯弓蛇影：多疑

- A、别无长物：特长  
B、侧目而视：鄙视  
C、耳提面命：严厉  
D、得陇望蜀：贪婪

【答案】D

【解析】本题考查近义词，杯弓蛇影比喻疑神疑鬼，妄自惊慌。与多疑是近义词。A 中别无长物：指没有多余的东西，形容贫困或简朴。B 中侧目而视是指斜着眼睛看人，不敢用正眼看人，形容拘谨畏惧而又愤怒的样子。C 中耳提面命指恳切的教导。D 中得陇望蜀比喻贪得无厌，因此，本题选择 D 选项。

91、浮云：飘零

- A、乌鸦：黑暗  
B、松柏：坚贞  
C、万年青：青春  
D、黄牛：博爱

【答案】B

【解析】本题考查象征义。乌鸦象征衰败，凄凉，松柏象征坚贞，高洁，万年青象征友谊长存，黄

牛象征任劳任怨，老实忠厚，因此，本题选择 B 选项。

92、李白对于（ ）相当于李清照（ ）

- A、少陵野老；东坡居士  
B、青莲居士；易安居士  
C、香山居士；易安居士  
D、樊川居士；香山居士

【答案】B

【解析】此题考查对应关系，李白字号青莲居士，李清照字号易安居士，A 项中杜甫字号少陵野老，苏轼字号东坡居士，C 项中白居易字号香山居士。D 项中杜牧字号樊川居士。因此，本题选择 B 选项。

93、一举两得：五光十色

- A、牛骥同皂：牛鼎烹鸡  
B、三教九流：三言两语  
C、安身立命：萍踪浪迹  
D、指雁为羹：画饼充饥

【答案】B

【解析】本题考查构词方式。题干中两个成语之间并没有关系，但第一个字和第三个字都是数字，所以此题考查构词方式。A 项，“牛骥同皂”比喻不好的人与贤人同处。“牛鼎烹鸡”比喻大材小用。两个词第一个字和第三个字都不是数字，排除。B 项第一个字和第三个字都是数字，跟题干形式相同。C 项，“安身立命”、“萍踪浪迹”一个指安定，一个指飘荡，是反义词。两个词第一个字和第三个字都不是数字，排除。D 项，“指雁为羹”、“画饼充饥”是近义词，都指用空想安慰人。两个词第一个字和第三个字都不是数字，排除。因此，本题选择 B 选项。

94、变速器对于（ ）相当于（ ）对于飞机

- A、自行车；气旋  
B、变调夹；指南针  
C、变速系统；航线  
D、火车；黑匣子

【答案】D

【解析】本题考查组成关系。变速器是火车的一部分，黑匣子是飞机的一部分，前后逻辑关系相同。A 项，变速器是变速自行车的一部分，但是气旋不是飞机的组成部分，排除。B 项，变速器是用来改变来自发动机的转速和转矩的机构，变调夹一般是弹唱中常用的辅助工具，两者的逻辑关系与指南针和飞机不对应，排除。C 项，航线是指导飞机飞行的，两者的逻辑关系与变速器和变速系统不一样，排除。因此，本题选择 D 选项。

95、纸：树木：森林

- A、米：水稻：田地  
B、水：湖水：消毒  
C、砖：粘土：砖窑  
D、盐：海水：大海

【答案】D

【解析】本题考查对应关系，题干中树木是造纸的原材料，两者属于原材料的对应关系，森林由树木组成，两者构成组成关系。A 选项米是米是水稻成熟后的果实，非原材料对应，排除；B 选项水和湖水构成种属关系，排除；C 选项砖与粘土为原材料对应，但是粘土与砖窑不够成组成关系，排除；D 选项盐的原材料为海水，大海由海水组成，逻辑关系与题干完全一致。因此，本题选择 D 选项。

96、今年以来，金砖五国在经济合作方面达成 30 多项具体成果。金砖合作得到如此快速的发展，关键在于各国找准了合作之道。世界各国已经意识到，没有金砖五国参与，重大紧迫的全球性问题难以有效解决。在此背景下，各国人民更加期待全球经济发出“金砖声音”。由此，可以推出：

- A、合作是全球经济发展的至关重要因素  
B、只要有金砖五国的参与，即使问题再重大紧迫，也能得到解决  
C、倘若各国找不准合作之道，金砖合作难以快速发展  
D、只有全球经济发出“金砖声音”，才能使金砖合作越顺利

【答案】C

【解析】本题考查翻译推理。题干中可翻译为“金砖合作得到如此快速的发展→各国找准了合作之道”，“重大紧迫的全球性问题有效解决→金砖五国参与”。A项，题干中未提及合作对全球经济的影响，排除。B项，可以翻译为“金砖五国参与→解决”，肯后推不出必然性结论，B项排除。C项，可以翻译为“快速发展→找准合作之道”，与题干意思相符，可以推出，当选。D项，可以翻译为“金砖合作越顺利→发出声音”，题干中未提及声音与合作的联系，D项排除。因此，本题选择C选项。

97、安全用药基因检测服务，可以预测患儿对不同药物的疗效和不良反应程度。参考基因检测结果，医生可以在药品选择、剂量控制及联合用药等方面，提出适合每个患儿的个体化、安全用药方案。因此，安全用药基因检测服务将极大改善我国儿童用药的现状。以下哪项如果为真，最能支持上述论证？

- A、检测药物代谢基因的突变，可分析儿童常用药的代谢情况，从而帮助医生调整药剂量，将吃药的伤害降到最低
- B、安全用药基因检测服务不需要抽血，只需孩子一口唾液就能采样
- C、许多国内领先的医学检验机构，纷纷开展基于基因芯片和基因测序等技术平台的高端检验服务
- D、一款针对于儿童安全用药的基因检测试剂盒目前正在研制当中

【答案】A

【解析】本题考查加强论证。论点是“安全用药基因检测服务将极大改善我国儿童用药的现状。”。论据是“安全用药基因检测服务，可以预测患儿对不同药物的疗效和不良反应程度。参考基因检测结果，医生可以在药品选择、剂量控制及联合用药等方面，提出适合每个患儿的个体化、安全用药方案。”A项指出基因检测可以给医生控制剂量提供依据，从而降低吃药伤害，改善儿童用药，具有支持作用。B项描述基因检测服务的流程，无关选项，排除。C项描述医学检验机构的现状，无关选项，排除。D项指出基因检测试剂盒正在研制当中，它对用药的影响未说明，属于不明确的选项。因此，本题选择A选项。

98、已知过敏性疾病是多基因遗传病，并不能用遗传基因改变来解释过敏性疾病流行。科学家们提出了卫生学假说，用以解释家庭规模和卫生情况与过敏性疾病易感性呈反相关的关系。该项研究的受试者来自于同一个欧洲第一世界国家，可以观察到不同的社会群体间存在标志性差异。尤其值得注意的是，社会经济层次较低的、家庭规模较大的人群，其过敏性疾病的发病风险会降低。因此，有人认为总体微生物暴露程度高能降低过敏程度。以下哪项如果为真，最有可能是上述论证的前提：

- A、对病原体暴露的增加，可转移免疫系统对非致病性环境过敏原的注意力，从而降低过敏程度
- B、已知引起过敏性疾病的危险因素包括早期喂养、食物、感染、过敏原、空气污染和香烟
- C、研究群体中社会经济层次较低组人群的总体微生物暴露程度最高
- D、过敏性疾病发病原因复杂，与暴露微生物种类、暴露时间、剂量及过敏性疾病临床表现均有关

【答案】C

【解析】论点：总体微生物暴露程度高能降低过敏程度。论据：社会经济层次较低的、家庭规模较大的人群，其过敏性疾病的发病风险会降低。论据社会经济层次低与论点中总体微生物暴露程度高之间缺乏必然联系。A选项对病原体暴露能降低过敏程度进行解释说明，可以加强论点；B选项与论点无关，属无关选项；C选项在论据和论点之间建立联系，属于搭桥选项，加强力度比A选项强；D选项说明引发过敏性疾病的原因有哪些，属无关选项。因此，本题选择C选项。

99、浙、沪两地新高考物理学科“遇冷”。2017年高考浙江全省29.13万考生，但是选考物理的只有8万人。在上海，实行新高考改革第一年，选择物理科目的考生也仅占总人数的30%。专家认为这种局面如若持续下去，会对学生、国家和物理学科造成危害。以下哪项如果为真，最能支持上述观点？

- A、这股风气也蔓延到了今年开始实施新高考的北京，已经有不少家长在讨论“能不能不

选物理”

B、学好物理一直被认为是“高智商”的代表，相对于其他科目，物理学科比较难，所以越来越多的考生不会选择物理科目

C、很多学生和家长不选物理是因为只看到了眼前的分数，实际上人生是一场漫长的旅程，学好物理，于自己、于国家都大有裨益

D、物理教育的缺失会带来许多恶果，除了少数文科专业外，没有物理知识做基础，大学阶段很可能遇到学习阻碍；国家物理人才会出现断层；优秀的物理教师必将流失，最终将对物理学科造成毁灭性打击

【答案】D

【解析】论点：物理教育缺乏会对学生、国家和物理学科造成危害。A 选项北京有不少家长在讨论能不能不选物理，没有明确的结果，也不能证明物理教育缺失的弊端，排除；B 选项解释说明为什么学生不选择物理学科的原因，属无关选项；C 选项说明学好物理的好处有哪些，不能证明不学物理的坏处有哪些，属无关选项，排除；D 选项说明物理教育缺失对个人、国家和物理学科会带来的不良后果，属于加强项，因此，本题选择 D 选项。

100、高明、汉斯和冬强要代表班级参加校级运动会中的跳高、跳远和标枪项目的比赛，已知，每人只能参加一种比赛，冬强的比赛时间和跳高的比赛时间是相同的，高明和参加跳远比赛的人是同乡，冬强和参加跳远比赛的是不同部门的。根据上述信息，可以得出汉斯参加的比赛是：

- A、跳高
- B、标枪
- C、跳远
- D、推不出

【答案】C

【解析】题干中的最大信息是“冬强”或“跳远”，选择其中任何一个最大信息作为解题的突破口都可以。方法一：如果以“冬强”作为最大信息入手，由“冬强的比赛时间和跳高的比赛时间是相同”和“冬强和参加跳远比赛的是不同部门”可以推出冬强未参加跳高和跳远，故冬强参加的是标枪比赛，由“高明和参加跳远比赛的人是同乡”可以推出高明跳高、汉斯跳远。方法二：如果以“跳远”作为最大信息入手，由“高明和参加跳远比赛的人是同乡”和“冬强和参加跳远比赛的是不同部门的”可以推出参加跳远比赛的不是高明和冬强，所以参加跳远比赛的是汉斯。因此，本题选择 C 选项。

101、新世纪以来，我国汽车产业实现快速发展。2016 年产销量突破 2800 万辆，已连续八年位居世界第一位。汽车市场在国民经济支柱中的作用不断增强，汽车税收占全国税收比重超过 10%。但是，为抢占新一轮制高点，把握产业发展趋势和机遇，我国已启动传统能源车停产停售时间表研究。由此可以推出：

- A、在新能源汽车领域，我国已成为最大的生产和销售市场
- B、传统汽车节能减排要求越来越高，新能源汽车发展加快却对技术要求越来越高
- C、传统能源车不符合汽车产业发展的趋势，可能很快被市场淘汰
- D、2017 年我国的汽车产销量仍然位居世界第一位

【答案】C

【解析】本题考查日常推理，ABD 属于无由猜测，根据题干最后一句可以推出 C 正确，而且 C 项符合可能性优先原则，因此，本题选择 C 选项。

102、灵长类动物最早出现在约 5700 万年前的化石记录中。它们分成两个群体——湿鼻灵长类动物和干鼻灵长类动物。多年来，很多生物学家认为，所有灵长类动物的共同祖先是一种顺着细细的树枝奔跑的小型动物。不过，一块在马赛附近发现的 5200 万年前的湿鼻灵长类动物的踝骨化石，对上述想法提出了质疑。有人认为最早的灵长类动物可能是跳跃者，而非攀爬者。以下哪项如果为真，最有可能是上述论证的前提？

- A、湿鼻灵长类动物和干鼻灵长类动物拥有一些共同特征，包括能抓住东西的手和脚以及

过关才是硬道理！

指甲而非爪子，从而表明灵长类动物共同的祖先均进化出这些特征

B、这块化石是迄今发现的最原始的湿鼻灵长类动物。踝骨的形状和大小显示，是敏捷的跳跃者，能弯曲并且迅速伸出脚踝，从而向空中“飞去”

C、最近的发现表明，原始的干鼻灵长类动物也是优秀的跳跃者。在 2013 年得以描述的阿喀琉斯基猴拥有长长的后肢和短短的前肢，而这些都是跳跃类动物的特征

D、原始灵长类动物通常被认为看上去有点像今天的鼠狐猴——非常擅长操控树枝末端，以便够得到花朵、水果和昆虫

【答案】B

【解析】论点：最早的灵长类动物可能是跳跃者，而非攀爬者。论据：发现了 5200 万年前的湿鼻灵长类动物的踝骨化石。论点与论据间缺乏必然联系。A 选项说明湿鼻灵长类动物和干鼻灵长类动物拥有一些共同特征，但无法论证是否是跳跃者，属于无关选项，排除；B 选项根据发现这块化石的形状和大小可以看出属于跳跃者，建立论点与论据间的联系，属于搭桥选项；C 选项增加正向论据，属于加强选项但没有 B 选项加强力度强，排除；D 选项增加反向论据，证明灵长类动物可能是攀爬者而非跳跃者，属于削弱选项，排除。因此，本题选择 B 选项。

103、今年以来，和食品、能源行业相比，建材行业价格出现大幅下跌，虽然目前房价还没明显的下降，但是有人预测，未来一段时间建筑成本一定会下降。以下哪项为真，最能削弱上述结论？

- A、建筑成本的变动一般会在建材大幅下降以后相对较长时间才会显现
- B、今年以来，由于“用工荒”的出现，建筑工人的劳动报酬大幅提升
- C、建材行业下跌的幅度远远高于食品、能源下跌的幅度
- D、未来一段时间，因为各项限购政策的出台，买房需求会逐渐减弱

【答案】B

【解析】题干论点为建筑成本会下降。A 项说建筑成本会在一段时间后变动，和题干论点项一致，属于加强。B 项认为虽然建筑材料价格下降了，但是劳动成本却上升了，间接说明建筑成本不一定会下降，否定了论点，属于削弱。C 项将建材和食品、能源价格下降幅度作比较，对建筑成本会不会下降没有任何论证的作用，属无关选项。D 项中买房的需求下降并不能说明建筑成本上升与下降的问题，属于无关。因此，本题选择 B 选项。

104、近年来，校园暴力的事件越来越频繁的出现，有教育机构对校园暴力事件进行了统计分析，发现校园暴力的过错方有超过一半的比例来自于离异家庭。进而得出结论，认为校园暴力的主要原因是离异家庭教育的缺失。以下哪项如果为真，最能质疑上述结论？

- A、近年来，我国离婚率呈总体上升的趋势
- B、离异家庭的孩子比正常家庭的孩子更独立
- C、离异家庭单亲母亲或者单亲父亲对孩子的管教反而更加严格，甚至是苛刻
- D、离异家庭孩子出现校园暴力事件的概率没有超过百分之三十

【答案】C

【解析】题干结论是校园暴力的主要原因是离异家庭教育的缺失。A 项中提到离婚率上升，和题干校园暴力事件越来越多，起到一定程度的支持作用。B 项中“独立性”更强，和校园暴力并没有直接的联系，属于无关选项。C 项强调单亲家庭对孩子的教育反而更加严格，所以否定了论点，可以削弱。D 项中“概率没有超过百分之三十”并不能说明离异家庭和校园暴力之间有无关系，属于无关选项。因此，本题选择 C 选项。

105、任何一个公民触犯了法律，都应该受到法律的制裁，监禁是对一般罪犯的常规惩处方式，监禁的主要目的在于惩罚和教育罪犯，但是某项研究发现，在罪犯当中累犯和重犯的概率较高，所以有人认为监狱服刑的过程对罪犯的改造没有起到任何作用。以下哪项为真，最能反驳上述观点？

- A、少数罪犯法律意识淡薄，规则意识欠缺，监禁对其很难起到教育的作用
- B、大多数罪犯在接受监狱服刑以后，对法律更加畏惧，能更严格约束自己的行为

- C、监禁的过程当中，服刑人员会受到一系列的法治宣传教育活动
- D、累犯的概率越低，说明罪犯在服刑的过程中受到的改造作用越明显

【答案】B

【解析】A 项中“少数罪犯很难被改造”和题干意思相一致，有一定的支持作用。B 项举了反例，“大多数人服刑以后更严格约束自己”，否定了题干的观点，属于否定论点的削弱。C 项接受过法治宣传教育活动并不能明确的表明“是否起到改造作用”，表意不明确，不能支持也不能削弱。D 项说累犯的概率和改造的作用负相关，和题干意思一致，属于加强项。因此，本题选择 B 选项。

## 资料分析

材料 1:

2017 年 1-4 月份，基础设施投资 29789 亿元，同比增长 23.3%，增速比一季度略微低 0.2 个百分点，比去年同期提高 4.3 个百分点；占全部投资的比重为 20.6%，比去年同期提高 2.4 个百分点；对全部投资增长的贡献率为 48%，拉动投资增长 4.3 个百分点。

基础设施在短板领域的投资力度进一步加强。分行业看，生态保护和环境治理业投资增长 50.4%；公共设施管理业投资增长 28.4%；道路运输业投资增长 24.6%；水利管理业投资增长 16.1%。

分地区看，中、西部地区基础设施投资占据半壁江山。1-4 月份，中、西部地区基础设施投资增长 24.8%，增速比一季度提高 0.5 个百分点；占全部基础设施投资的比重为 56.8%，比去年同期提高 0.7 个百分点。

106、2016 年 1-4 月份，基础设施投资的同比增长率为（ ）

- A. 23.5%
- B. 23.3%
- C. 20%
- D. 19%

【答案】D

【解析】“2017 年 1-4 月份，基础设施投资 29789 亿元，同比增长 23.3%，增速比一季度略微低 0.2 个百分点，比去年同期提高 4.3 个百分点”，提问的是 2016 年 1-4 月份，所以是和去年同期期间的关系， $23.3\% - 4.3\% = 19\%$ 。

107、2017 年 1-4 月份，基础设施投资同比增长（ ）亿元。

- A. 6619
- B. 5957
- C. 5629
- D. 4965

【答案】C

“2017 年 1-4 月份，基础设施投资 29789 亿元，同比增长 23.3%”，代入增长量公式

$$= \frac{29789}{1+23.3\%} \times 23.3\% \approx 5629, \text{ 选择 C 选项。}$$

108、2016 年 1-4 月份，中、西部地区基础设施投资（ ）亿元。

- A. 16920
- B. 13554
- C. 16711
- D. 13723

【答案】B

“1-4 月份，中、西部地区基础设施投资增长 24.8%，占全部基础设施投资的比重为 56.8%，比去年同期提高 0.7 个百分点。”可得 2016 年 1-4 月份，中、西部地区基础设施投资占比为  $56.8\% - 0.7\% = 56.1\%$ 。“2017 年 1-4 月份，基础设施投资 29789 亿元，同比增长 23.3%”可得 2016 年 1-4 月份，基础设施投资为  $\frac{29789}{1+23.3\%} \approx 24160$  亿元，所以答案应为  $24160 \times 56.1\% \approx 13554$  亿元。

- 109、2017 年 1-4 月份，全部投资同比增长（ ）亿元。  
 A. 11727  
 B. 11258  
 C. 14298  
 D. 14894

【答案】A

由第 2 题可知，2017 年 1-4 月份，基础设施投资增长 5629 亿元，资料中“对全部投资增长的贡献率为 48%”，所以  $\frac{5629}{48\%} \approx 11727$ 。

- 110、2017 年 1-4 月份，基础设施投资比 2015 年 1-4 月份增长（ ）  
 A. 42.32%  
 B. 44.65%  
 C. 46.73%  
 D. 49.72%

【答案】C

【解析】“2017 年 1-4 月份，基础设施投资 29789 亿元，同比增长 23.3%，增速比一季度略微低 0.2 个百分点，比去年同期提高 4.3 个百分点；”可知 2017 年 1-4 月份基础设施投资的增长率为 23.3%，2016 年 1-4 月份的增长率为 19%，代入间隔增长率公式  $= 23.3\% + 19\% + 23.3\% \times 19\% = 46.73\%$ 。

材料 2:

2017 年 1-4 月份，制造业投资 45379 亿元，同比增长 4.9%，增速比一季度低 0.9 个百分点；制造业对全部投资的增长的贡献率为 17.9%，拉动投资增长 1.6 个百分点。制造业投资结构优化持续推进。

一是制造业投资行业内部结构持续改善。1-4 月份，装备制造业投资同比增长 7.9%，增速比全部制造业投资高 3 个百分点；占全部制造业投资的比重为 43.3%，比去年同期提高 1.2 个百分点。消费品制造业投资增长 5.7%，增速比全部制造业投资高 0.8 个百分点；占全部制造业投资的比重为 27.4%，比去年同期提高 0.2 个百分点。高耗能制造业投资仍呈下降态势，降幅较一季度扩大 0.1 个百分点；占全部制造业投资的比重为 21.8%，比去年同期回落 1.5 个百分点。

二是制造业领域新动能投资快速增长，活力彰显。1-4 月份，高技术制造业投资 6595 亿元，同比增长 22.6%，增速比全部制造业投资高 17.7 个百分点，比全部投资高 13.7 个百分点；占全部制造业投资的比重为 14.5%，比去年同期提高 1.9 个百分点。

三是制造业改造升级投资运行态势良好。1-4 月份，制造业中技改投资增长 7.9%，增速比全部制造业投资高 3 个百分点；占全部制造业投资的比重为 44.2%，比去年同期提高 1.3 个百分点。制造业中设备投资增长 10.8%，增速比全部制造业投资高 5.9 个百分点；占全部制造业投资的比重为 36.3%，比去年同期提高 1.9 个百分点。

- 111、2017 年 1-4 月份，装备制造业投资为（ ）亿元。  
 A. 19649  
 B. 21328  
 C. 22689  
 D. 24746



【答案】A

【解析】“2017 年 1-4 月份，制造业投资 45379 亿元”，“1-4 月份，装备制造业投资同比增长 7.9%，增速比全部制造业投资高 3 个百分点；占全部制造业投资的比重为 43.3%”，可得  $45379 \times 43.3\% = 19649$

112、2016 年 1-4 月份，消费品制造业投资占全部制造业投资的比重比高耗能制造业投资的（ ）

- A. 低 3.9 个百分点
- B. 高 3.9 个百分点
- C. 低 5.6 个百分点
- D. 高 5.6 个百分点

【答案】B

【解析】“消费品制造业投资增长 5.7%，增速比全部制造业投资高 0.8 个百分点；占全部制造业投资的比重为 27.4%，比去年同期提高 0.2 个百分点。”可知，2016 年 1-4 月份，消费品制造业投资占全部制造业投资的比重为  $27.4\% - 0.2\% = 27.2\%$ 。“高耗能制造业投资仍呈下降态势，降幅较一季度扩大 0.1 个百分点；占全部制造业投资的比重为 21.8%，比去年同期回落 1.5 个百分点。”可知，2016 年 1-4 月份，高耗能制造业投资占全部制造业投资的比重为  $21.8\% + 1.5\% = 23.3\%$ ，所以  $27.2\%$  比  $23.3\%$  高 3.9 个百分点。

113、对于下列各项投资的增长率，排列顺序正确的是（ ）

- A. 2017 年 1-3 月制造业投资 > 2017 年 1-4 月消费品制造业投资 > 2017 年 1-4 月设备投资
- B. 2017 年 1-4 月消费品制造业投资 > 2017 年 1-4 月设备投资 > 2017 年 1-3 月制造业投资
- C. 2017 年 1-4 月设备投资 > 2017 年 1-3 月制造业投资 > 2017 年 1-4 月消费品制造业投资
- D. 2017 年 1-4 月设备投资 > 2017 年 1-4 月消费品制造业投资 > 2017 年 1-3 月制造业投资

【答案】C

【解析】“2017 年 1-4 月份，制造业投资 45379 亿元，同比增长 4.9%，增速比一季度低 0.9 个百分点”所以一季度的为  $4.9\% + 0.9\% = 5.8\%$ 。“消费品制造业投资增长 5.7%”“设备投资增长 10.8%”可知 C 选项正确。

114、2016 年 1-4 月份，技改投资比设备投资高（ ）亿元

- A. 3857
- B. 3584
- C. 3417
- D. 3677

【答案】D

“2017 年 1-4 月份，制造业投资 45379 亿元，同比增长 4.9%”可得 2016 年 1-4 月份制造业投资为  $\frac{45379}{1+4.9\%} = 43259$ 。“制造业中技改投资占全部制造业投资的比重为 44.2%，比去年同期提高 1.3 个百分点”可得 2016 年 1-4 月份占比为  $44.2\% - 1.3\% = 42.9\%$ ；“制造业中设备投资占全部制造业投资的比重为 36.3%，比去年同期提高 1.9 个百分点”可得 2016 年 1-4 月份占比为  $36.3\% - 1.9\% = 34.4\%$ 。2016 年 1-4 月份，技改投资比设备投资高  $43259 \times (42.9\% - 34.4\%) = 3677$ 。

115、下列说法正确的是（ ）

- A. 2017 年 1-4 月份全部投资同比增长 4.9%
- B. 2017 年 1-3 月份高耗能制造业投资同比增长 -0.8%
- C. 2016 年 1-4 月份装备制造业投资占全部制造业投资的比重为 44.5%
- D. 2017 年 1-4 月份，制造业投资同比增长约 2120 亿元

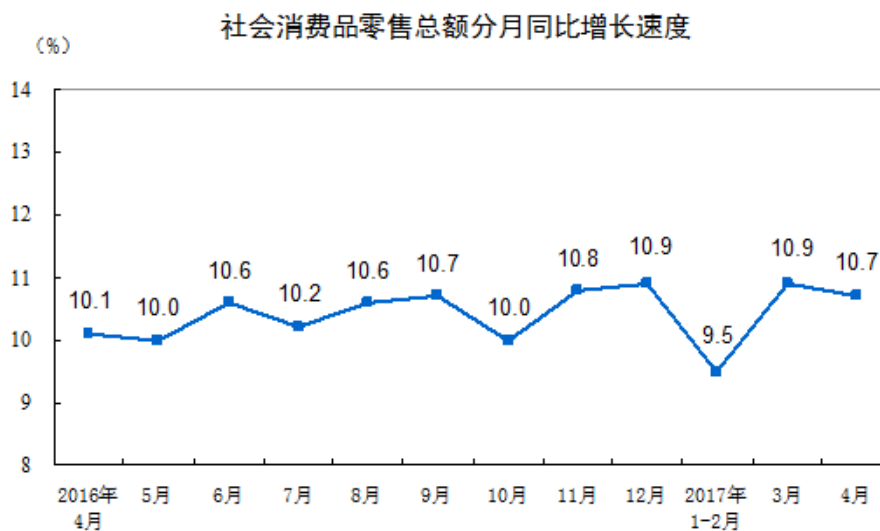
【答案】D

【解析】A 选项，“1-4 月份，高技术制造业投资 6595 亿元，同比增长 22.6%，增速比全部制造业投资高 17.7 个百分点，比全部投资高 13.7 个百分点”，可求得全部投资的同比增长率为  $22.6\% - 13.7\% = 8.9\%$ 。错误。B 选项，“高耗能制造业投资仍呈下降态势，降幅较一季度扩大 0.1 个百分点”但并没给出 2017 年 1-4 月份的增长率，所以无法求出。错误。C 选项，“1-4 月份，装备制造业投资占全部制造业投资的比重为 43.3%，比去年同期提高 1.2 个百分点”，可知 2016 年 1-4 月份装备制造业投资占全部制造业投资的比重为  $43.3\% - 1.2\% = 42.1\%$ 。错误。D 选项，“2017 年 1-4 月份，制造业投资 45379 亿元，同比增长 4.9%”，代入增长量的计算公式得  $45379 \div (1 + 4.9\%) \times 4.9\% \approx 2120$  亿元。正确。

材料 3:

2017 年 4 月份，社会消费品零售总额 27278 亿元，同比增长 10.7%，环比增长 0.79%。其中，限额以上单位消费品零售额 12253 亿元，增长 9.2%。

2017 年 1-4 月份，社会消费品零售总额 113102 亿元，同比增长 10.2%。其中，限额以上单位消费品零售额 49765 亿元，增长 8.2%。



按经营单位所在地分，4 月份，城镇消费品零售额 23483 亿元，同比增长 10.4%；乡村消费品零售额 3795 亿元，增长 12.6%。1-4 月份，城镇消费品零售额 96881 亿元，同比增长 9.9%；乡村消费品零售额 16221 亿元，增长 12.1%。

按消费类型分，4 月份，餐饮收入 2886 亿元，同比增长 11.1%；商品零售 24393 亿元，增长 10.6%。1-4 月份，餐饮收入 12082 亿元，同比增长 10.9%；商品零售 101020 亿元，增长 10.1%。

在商品零售中，4 月份，限额以上单位商品零售 11532 亿元，同比增长 9.3%。1-4 月份，限额以上单位商品零售 46832 亿元，同比增长 8.3%。

2017 年 1-4 月份，全国网上零售额 19180 亿元，同比增长 32.0%。其中，实物商品网上零售额 14617 亿元，增长 25.9%，占社会消费品零售总额的比重为 12.9%；在实物商品网上零售额中，吃、穿和用类商品分别增长 19.3%、18.4%和 29.5%。

116、2017 年 4 月份，限额以下单位消费品零售额同比增长 ( )

- A. 8.5%
- B. 8.9%
- C. 9.2%
- D. 12%

【答案】D

【解析】“2017 年 4 月份，社会消费品零售总额 27278 亿元，同比增长 10.7%，环比增长 0.79%。其中，限额以上单位消费品零售额 12253 亿元，增长 9.2%。”具体计算会比较繁琐，根据混合增长率的特征，应该在两个组成部分增长率之间，所以 10.7%应该在 9.2%和所求增长率之间，结合选项选择 D。

117、2016 年 1-4 月份，社会消费品零售总额为 ( ) 亿元。

- A. 9872  
C. 102633
- B. 9964  
D. 110285

【答案】C

【解析】“2017 年 1-4 月份，社会消费品零售总额 113102 亿元，同比增长 10.2%”。代入基期量计算公式得  $113102 \div (1+10.2\%) = 102633$  亿元。

- 118、2016 年 4 月-2017 年 4 月，社会消费品零售总额每月同比增速高于上月的有 ( )
- A. 7 个  
C. 5 个
- B. 6 个  
D. 4 个

【答案】C

【解析】具体数据在图中，同比增速高于上月的有 2016 年 6、8、9、11、12 月，共 5 个，因此选择 C。

- 119、2017 年 1-4 月份，城镇消费品零售额增长 ( ) 亿元。
- A. 8727  
C. 8518
- B. 8639  
D. 8409

【答案】A

“1-4 月份，城镇消费品零售额 96881 亿元，同比增长 9.9%”，代入增长量计算公式得

$$\frac{96881}{1+9.9\%} \times 9.9\% \approx 8727$$

。或代入简化公式，9.9%与10%十分接近，可近似看成 $\frac{1}{10}$ ，所以

$$\frac{96881}{10+1} \approx 8807$$

，选最接近的 A 选项。

120、下列说法错误的是 ( )

- A. 2017 年 4 月份，限额以上单位商品零售占商品零售的比重比上年同期有所下降
- B. 2017 年 1-4 月份，限额以上单位商品零售占商品零售的比重比上年同期有所下降
- C. 2017 年 1-4 月份，实物商品网上零售额占全国网上零售额的比重比上年同期有所上升
- D. 2017 年 1-4 月份，实物商品网上零售额占社会消费品零售总额的比重比上年同期有所上升

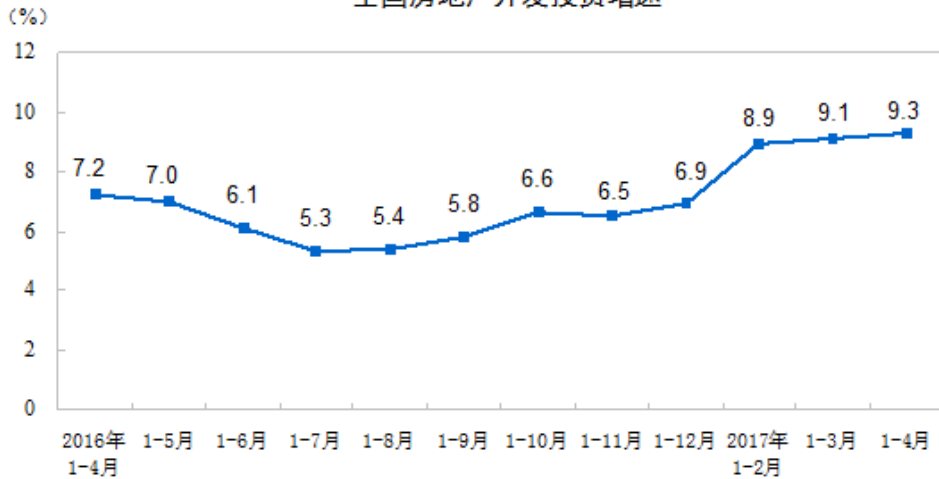
【答案】C

【解析】A 选项，“4 月份，商品零售 24393 亿元，增长 10.6%”，“在商品零售中，4 月份，限额以上单位商品零售 11532 亿元，同比增长 9.3%”，9.3%小于 10.6%，部分增长率小于整体增长率，所以比重下降。正确。B 选项，“1-4 月份，商品零售 101020 亿元，增长 10.1%”，“1-4 月份，限额以上单位商品零售 46832 亿元，同比增长 8.3%”，8.3%小于 10.1%，部分增长率小于整体增长率，所以比重下降。正确。C 选项，两期比重比较的考点。“2017 年 1-4 月份，全国网上零售额 19180 亿元，同比增长 32.0%。其中，实物商品网上零售额 14617 亿元，增长 25.9%”，25.9%小于 32.0%，部分增长率小于整体增长率，所以比重下降。错误。D 选项，两期比重比较的考点。“2017 年 1-4 月份，社会消费品零售总额 113102 亿元，同比增长 10.2%”“实物商品网上零售额 14617 亿元，增长 25.9%”，25.9%大于 10.2%，部分增长率大于整体增长率，所以比重上升。正确。

材料 4:

2017 年 1-4 月份，全国房地产开发投资 27732 亿元，同比增长 9.3%，增速比 1-3 月份提高 0.2 个百分点。其中，住宅投资 18671 亿元，增长 10.6%，增速回落 0.6 个百分点。住宅投资占房地产开发投资的比重为 67.3%。

全国房地产开发投资增速

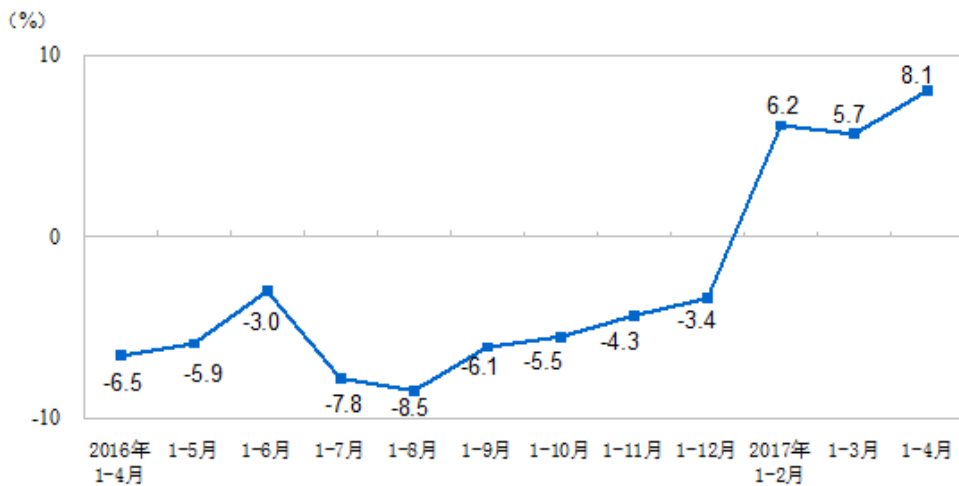


1-4 月份，东部地区房地产开发投资 15437 亿元，同比增长 8.7%，增速与 1-3 月份持平；中部地区投资 5755 亿元，增长 16.8%，增速提高 1.9 个百分点；西部地区投资 5794 亿元，增长 7.7%，增速提高 0.2 个百分点；东北地区投资 747 亿元，下降 13.7%，降幅扩大 4.9 个百分点。

1-4 月份，房地产开发企业房屋施工面积 654054 万平方米，同比增长 3.1%，增速与 1-3 月份持平。其中，住宅施工面积 445657 万平方米，增长 2.5%。房屋新开工面积 48240 万平方米，增长 11.1%，增速回落 0.5 个百分点。其中，住宅新开工面积 34800 万平方米，增长 17.5%。房屋竣工面积 28174 万平方米，增长 10.6%，增速回落 4.5 个百分点。其中，住宅竣工面积 20109 万平方米，增长 8.0%。

1-4 月份，房地产开发企业土地购置面积 5528 万平方米，同比增长 8.1%，增速比 1-3 月份提高 2.4 个百分点；土地成交价款 2104 亿元，增长 34.2%，增速提高 17.5 个百分点。

全国房地产开发企业土地购置面积增速



121、2016 年 1-4 月份，全国房地产开发投资 ( ) 亿元。

- A. 25372
- B. 22361
- C. 19396
- D. 16881

【答案】A

“2017 年 1-4 月份，全国房地产开发投资 27732 亿元，同比增长 9.3%”，代入基期量计算公式

$$\text{式} \frac{27732}{1+9.3\%} \approx 25372 \text{ 亿元。}$$

122、2017 年 1-4 月份，住宅投资比 2015 年 1-4 月份增长（）

- A. 22%
- B. 23%
- C. 24%
- D. 25%

【答案】B

【解析】“2017 年 1-4 月份，住宅投资 18671 亿元，增长 10.6%，增速回落 0.6 个百分点”，可得 2016 年 1-4 月份住宅投资的增长率为  $10.6\% + 0.6\% = 11.2\%$ ，代入间隔增长率公式  $10.6\% + 11.2\% + 10.6\% \times 11.2\% \approx 23\%$ 。

123、2017 年 1-4 月份，中部地区投资占全国房地产开发投资的比重比上年（）

- A. 上升 13 百分点
- B. 下降 13 百分点
- C. 上升 1.3 百分点
- D. 下降 1.3 百分点

【答案】C

【解析】“2017 年 1-4 月份，全国房地产开发投资 27732 亿元，同比增长 9.3%”“中部地区投资 5755 亿元，增长 16.8%”，16.8% 大于 9.3%，部分增长率大于整体增长率，所以比重上升，上升的数值应该小于  $16.8\% - 9.3\% = 7.5$  个百分点，结合选项选择 C。

124、2016 年 1-4 月份，住宅施工面积占房地产开发企业房屋施工面积的比重为（）

- A. 56.39%
- B. 60.28%
- C. 64.25%
- D. 68.54%

【答案】D

“1-4 月份，房地产开发企业房屋施工面积 654054 万平方米，同比增长 3.1%，增速与 1-3 月份持平。其中，住宅施工面积 445657 万平方米，增长 2.5%”，代入基期比重公式  $\frac{445657}{654054} \times \frac{1+3.1\%}{1+2.5\%} \approx 68.54\%$ 。虽是基期比重，但因两个增长率十分接近，所以所得结果与现期比重数值十分接近。

125、下列说法错误的是（）

- A. 2017 年 1-4 月份，东部地区房地产开发投资大于其他地区之和
- B. 2017 年 1-4 月份，住宅竣工面积占房屋竣工面积的 71.37%
- C. 2017 年 1-3 月份，房地产开发企业土地购置面积同比增长 10.5%
- D. 2017 年，全国房地产开发企业土地购置面积 4 月增速大于 3 月增速

【答案】C

【解析】A 选项，“2017 年 1-4 月份，全国房地产开发投资 27732 亿元”“1-4 月份，东部地区房地产开发投资 15437 亿元”，其他地区总和为  $27732 - 15437 = 12295$ ，正确。B 选项，“房屋竣工面积 28174 万平方米，增长 10.6%，增速回落 4.5 个百分点。其中，住宅竣工面积 20109 万平方米，增长 8.0%”，可得  $20109 \div 28174 = 71.37\%$ 。正确。C 选项，“1-4 月份，房地产开发企业土地购置面积 5528 万平方米，同比增长 8.1%，增速比 1-3 月份提高 2.4 个百分点”可得  $8.1\% - 2.4\% = 5.7\%$ ，错误。D 选项，数据在最后的图中，考点是混合增长率。2017 年 1-2 月的增速为 6.2%，1-3 月的增速为 5.7%，1-2 月和 3 月组成 1-3 月，5.7% 小于 6.2%，所以 3 月的增速一定小于 5.7%；同理可知 4 月的增速一定大于 8.1%，正确。