

2018 省考万人模考第七季

【华图在线】

过关才是硬道理！



常识判断

1. 2017 年 5 月，第一届“一带一路”国际合作高峰论坛在（ ）举行。
 - A. 上海
 - B. 北京
 - C. 杭州
 - D. 西安

2. 下列行为构成犯罪中止的是：
 - A. 甲深夜潜入 A 家中偷得文物花瓶，后因惧怕处罚于第二天送回
 - B. 乙拿着装满子弹的枪支向 B 射击，一击未中，因害怕引来他人而携枪逃跑
 - C. 丙向 C 投毒后离开，后心生悔意去救 C，发现 C 已被他人送往医院并脱离危险
 - D. 丁与 D 合谋抢劫银行，后丁因害怕失败而半路返回，D 一人抢劫成功

3. 下列有关垄断竞争市场的表述不正确的是：
 - A. 垄断竞争是一种介于完全竞争和完全垄断之间的市场组织形式
 - B. 垄断竞争市场既存在着激烈的竞争，又具有垄断的因素
 - C. 垄断竞争市场既不是完全竞争又不是完全垄断的市场
 - D. 垄断竞争市场竞争程度较小，垄断程度较大

4. 下列有关全国人大常委会的表述不正确的是：
 - A. 全国人大常委会，在全国人民代表大会闭会期间行使最高国家权力
 - B. 全国人大常委会由委员长，副委员长若干人，秘书长，委员若干人组成
 - C. 全国人大常务委员会拥有宪法修改权和监督权
 - D. 全国人大常委会的任期与全国人大相同，委员长、副委员长连续任职不得超过两届

5. 科举是历代封建王朝通过考试选拔官吏的一种制度。最早设置进士科的是：
 - A. 隋文帝
 - B. 隋炀帝
 - C. 唐玄宗
 - D. 武则天

6. 下列哲学家与名言对应不正确的是：
 - A. 笛卡尔——我思故我在
 - B. 黑格尔——合理的就是现实的，现实的就是合理的
 - C. 亚里士多德——吾爱吾师，吾更爱真理
 - D. 恩格斯——哲学家们只是用不同的方式解释世界，问题在于改变世界

7. 对于战国七雄及其都城描述正确的是：

- A. 齐国的国都在济南，济南位于今山东济南
- B. 魏国的国都在大梁，大梁即今河南开封
- C. 赵国的国都在新郑，新郑即今河南新郑
- D. 楚国的国都在彭城，彭城即今湖北省江陵县附近

8. 下列各项与“锲而舍之，朽木不折；锲而不舍，金石可镂”出自同一人的是：

- A. 水则载舟，水则覆舟
- B. 士志于道，而耻恶衣恶食者，未足与议也
- C. 乐民之乐者，民亦乐其乐；忧民之忧者，民亦忧其忧
- D. 忘其肝胆，遗其耳目，芒然彷徨乎尘垢之外，逍遥乎无事之业，是谓为而不恃，长而不宰

9. 下列诗人与作品对应正确的是：

- A. 白居易——《长恨歌》
- B. 刘禹锡——《泊秦淮》
- C. 欧阳修——《念奴娇·赤壁怀古》
- D. 苏轼——《别董大》

10. 下列战争发生在晋代的是：

- A. 长平之战
- B. 牧野之战
- C. 淝水之战
- D. 官渡之战

11. 下列历史人物与其擅长的领域对应错误的是：

- A. 卫青、李广——军事
- B. 蔡邕、张旭——书法
- C. 张仲景、华佗——医学
- D. 徐霞客、张衡——天文

12. 下列成语或俗语中反映的物理现象与其他选项不同的是：

- A. 坐井观天
- B. 立竿见影
- C. 一叶障目
- D. 镜花水月

13. 下列有关宋词的描述不正确的是：

- A. 宋词是宋代盛行的一种中国文学体裁，历来与唐诗并称双绝
- B. 因宋词是合乐的歌词，故又称“曲子词”“长短句”“绝句”等
- C. 宋词句子有长有短，便于歌唱，是一种相对于古体诗的新体诗歌之一
- D. 宋词标志着宋代文学的最高成就，并产生了大批成就突出的词人

14. 下列选项位于我国第二级阶梯上的是：

- A. 云贵高原
- B. 青藏高原
- C. 东北平原
- D. 东南丘陵

15. 下列关于我国主要岛屿的说法不正确的是：

- A. 台湾岛是我国与太平洋地区各国海上联系的重要交通枢纽
- B. 海南岛是我国的第二大岛，仅次于台湾岛
- C. 崇明岛地处长江口，是世界上最大的河口冲积岛，世界上最大的沙岛
- D. 舟山岛是舟山群岛的主岛，是我国第三大岛

16. 下列四幅图片所表现的地貌对应正确的是：



①



②



③



④

- A. ①-雅丹地貌，②-丹霞地貌，③-冰川地貌，④-喀斯特地貌
- B. ①-雅丹地貌，②-冰川地貌，③-丹霞地貌，④-喀斯特地貌
- C. ①-喀斯特地貌，②-丹霞地貌，③-冰川地貌，④-雅丹地貌
- D. ①-喀斯特地貌，②-雅丹地貌，③-冰川地貌，④-丹霞地貌

17. 细胞是生物体基本的结构和功能单位。下列有关细胞的表述不正确的是：

填入画横线部分最恰当的一项是：

- A. 远离 踏实
B. 贴近 浮躁
C. 远离 浮躁
D. 贴近 踏实

24. 在老挝的崇山峻岭中，全长 414 公里、_____老挝全境的交通大动脉——中老铁路正在抓紧施工。中老铁路是两党、两国最高领导人亲自决策和推动的重大战略合作项目，也是落实“一带一路”倡议的重大工程。参与建设的中国公司开山凿岭，铺路架桥，_____中老友谊新篇章。

填入画横线部分最恰当的一项是：

- A. 渗透 书写
B. 渗透 谱写
C. 贯穿 谱写
D. 贯穿 书写

25. 前段时间，《外卖，正在毁掉我们的下一代》刷屏，外卖虽爽，制造的大量包装垃圾却难以_____，造成垃圾围城。快递又何尝不是如此呢？想想每次拆开快递时撕下的一层又一层包装胶带，扔进垃圾桶的大大小的纸盒、塑料，这些日常动作制造了大量“棕色”垃圾，对环境的威胁_____。

填入画横线部分最恰当的一项是：

- A. 消除 无足挂齿
B. 消灭 一文不值
C. 清除 不值一提
D. 消解 不容小觑

26. “今年是中国新诗一百年纪念，但古典诗歌基因依然流淌在我们的血脉之中。古诗和新诗，不能断然切割，其间有着_____的联系和传承。”上海作家协会副主席、散文家、诗人赵丽宏一上台便_____。

填入画横线部分最恰当的一项是：

- A. 千头万绪 开宗明义
B. 千丝万缕 开门见山
C. 千头万绪 开门见山
D. 千丝万缕 开宗明义

27. 作为我国首部脱贫攻坚主题电视剧，《索玛花开》以真实的彝寨农村现状为背景，通过_____王敏、木呷等鲜明的人物形象，_____了当下彝寨人民在党的精准扶贫政策推动和政府的积极领导下，靠勤劳脱掉贫困帽子，实现幸福生活故事。

填入画横线部分最恰当的一项是：

- A. 塑造 讲述
B. 营造 论述
C. 塑造 记录
D. 营造 记叙

28. 当然，我们不要_____了百合润肤的功效，近年来，以添加百合为天然植物配方的美肤产品也是越来越多。做点百合甜汤经常服用，虽然不会有_____的效果，但长期食用的人皮肤不干燥，皱纹减弱确是不争的事实。

填入画横线部分最恰当的一项是：

- A. 忽视 显而易见
B. 忽视 立竿见影
C. 忽略 立竿见影
D. 忽略 显而易见

29. 近年来，随着地方特色小吃商业价值被充分_____，经营地方特色小吃的商家越来越多，由此引发地方特色小吃野蛮生长，致使不少地方特色小吃失去原本浓郁的自身特色而_____。

填入画横线部分最恰当的一项是：

- A. 挖掘 名副其实
B. 开发 徒有虚名
C. 发现 名副其实
D. 挖掘 徒有虚名

30. 在日本，井盖已经成为_____的城市名片，人们将它设计得_____，有的采用市花、市树作为图案，有的用当地特产或手工艺品，有的还会把名胜或历史故事画上去。

填入画横线部分最恰当的一项是：

- A. 鲜明 五花八门
B. 明显 光怪陆离
C. 鲜明 天马行空
D. 明显 奇形怪状

31. 三亚市两家海鲜店欺客宰客，被工商部门实行“一次性死亡”吊销了营业执照。此举在一定程度上_____了商家的欺客宰客行为，值得肯定和点赞。然而，在吊销证照和取缔不法商家后，要_____其另起炉灶，才能从根本上_____欺客宰客的不法行径。

填入画横线部分最恰当的一项是：

- A. 遏止 谨防 改变
B. 遏止 防止 改变
C. 遏制 谨防 扭转
D. 遏制 防止 扭转

32. 漆艺是东亚国家人民_____的工艺美术品种和审美创造。几千年来，漆器在东方人的生活中扮演了_____的角色，深入人们饮食起居的各个方面。

填入画横线部分最恰当的一项是：

- A. 独特 举足轻重
B. 独特 举重若轻
C. 特别 举重若轻
D. 特别 举足轻重

33. 随着创新创业教育成为全球应对产业转型升级的一剂良方，彼此突破围墙，进行不同文化与科学技术的交叉_____，也成为全球高等教育培育创新创业人才_____之举。

填入画横线部分最恰当的一项是：

- A. 汇合 异曲同工
B. 会和 不约而同
C. 结合 大同小异
D. 融合 不谋而合

34. 新世纪以来，音乐创作在作品数量、技术技巧、表现方式等方面有了很大突破，问题也开始浮现，一些创作者无心观照时代，无力回应人民需求，只顾一己悲欢、_____，没有彰显伟大时代音乐创作应有的气象，而“任何一个时代的文艺，只有同国家和民族紧紧维系、_____，才能发出_____的声音”。

填入画横线部分最恰当的一项是：

- A. 曲高和寡 休戚相关 震耳欲聋
B. 孤芳自赏 休戚与共 振聋发聩
C. 曲高和寡 息息相关 振聋发聩
D. 孤芳自赏 唇亡齿寒 震耳欲聋

35. 殴打！推倒！强灌芥末！这是亲子园还是虐子园？但凡看了视频中孩子无辜受虐的情景，不独孩子的家长_____，任何有恻隐之心的人恐怕都会_____。这样的事情发生在大都市，发生在大企业，发生在打造法治社会的今天，委实_____。

填入画横线部分最恰当的一项是：

- A. 怒不可遏 愤怒 出人意料
B. 怒发冲冠 愤懑 莫名其妙
C. 怒不可遏 愤懑 不可思议
D. 怒发冲冠 愤怒 叹为观止

36. 从治理现代化的视角来看，家委会有助于_____教育者和受教育者的权责边界，有利于学校推进现代治理。但家委会发挥正向功能的前提，乃是家长和学校各归其位，不能_____。

填入画横线部分最恰当的一项是：

- A. 理清 牝鸡司晨
B. 理清 越俎代庖
C. 厘清 牝鸡司晨
D. 厘清 越俎代庖

37. “挖矿”与“找矿”一字之差，其价值却有_____：前者只能_____、挖别人剩下的贫矿，后者不但掌握优先采矿权，还能专挑含金量高的富矿。当然，从难度上看，两者也_____：“找矿”者需要极大的勇气，不仅要经历千难万险，还要经受败多胜少的考验。

填入画横线部分最恰当的一项是：

- A. 千差万别 标新立异 截然不同
B. 天壤之别 标新立异 截然相反
C. 千差万别 拾人牙慧 截然相反
D. 天壤之别 拾人牙慧 截然不同

38. 晒名校学历、海归背景、高管职位，比车、比房、比资源……近日，上海一所小学某班级家委会竞选引发_____。残酷的竞争、激烈的措辞，_____着家长们的焦虑情绪，也促人审视家委会这一沟通平台，思考家校之间的关系问题。

填入画横线部分最恰当的一项是：

- A. 热议 映照
B. 争论 反映

C. 争议 折射

D. 争执 映衬

39. 这两天，美国总统特朗普首次访华备受_____。尤其为大家_____的是特朗普用平板电脑向习近平主席夫妇展示外孙女阿拉贝拉的中文秀：用中文演唱《我们的田野》等歌曲，背诵《三字经》和唐诗《望庐山瀑布》《早发白帝城》。阿拉贝拉的中文才艺令人_____，她也因此成为中美友好的小使者。

填入画横线部分最恰当的一项是：

A. 关注 津津有味 赞赏

B. 瞩目 津津乐道 赞赏

C. 瞩目 津津有味 赞美

D. 关注 津津乐道 赞美

40. 即便是相比于当前的中国网球，中国高尔夫也是一个容易被人忽略乃至_____的领域。说起网球，人们会不自觉地讲出李娜、郑洁、晏紫等人的名字，但提到高尔夫，人们更多的感受则是拿不出太像样的成绩，至于有点影响的球员就更是_____。

填入画横线部分最恰当的一项是：

A. 抛弃 凤毛麟角

B. 遗忘 屈指可数

C. 舍弃 沧海一粟

D. 忽视 寥寥无几

41. 近年来，随着中国国际交往日益繁密，以更加平等的、平常心的“朋友思维”在海外开展文化交流的做法渐成日常。例如，中国每年在海外举办文化节庆、艺术活动，不断开拓文化机构、机制、平台、渠道，与各国民众分享中国语言、文化、故事和产品。一大批中国优秀作品正走进海外市场并获得好评，成为各国民众特别是年轻人关注的新焦点。

这段文字主要说明的是：

A. 最近几年，中国国际交往越来越频繁

B. 中国在海外开展文化交流常用“朋友思维”

C. 中国每年在海外举办文化节庆、艺术活动

D. 一大批中国优秀作品受到各国民众的欢迎

42. 近年来，以非法改装、超载超速为特征的“飙车族”，成为道路交通安全的一大隐患，整治起来却存在发现难、取证难、查获难等一系列困难。如果没有发生交通事故，即便被抓“现行”，通常的处罚方式在力度和效果上都十分有限。消除安全隐患，除了强化路面巡查执法、严厉查处飙车行为外，还应多管齐下整治飙车、改装车问题。

这段文字的主要意思是：

A. 消除安全隐患应强化路面巡查执法、严厉查处飙车行为

B. 对于“飙车族”的处罚方式在力度和效果上都十分有限

C. 消除安全隐患应多管齐下整治飙车、改装车问题

D. “飙车族”，成为道路交通安全的一大隐患

43. 农村赌博之风，应该引起各级党委和政府的重视，相关部门要加强管理，进一步加大打击力度。另外，村民赌博之风盛行，也暴露了农村文化生活的匮乏，应该在丰富农村文化生活方面多想办法、多下功夫。比如，建设阅报长廊，打造农家书屋等，让村民多学习；建设文化活动室，增加体育运动设施，开展有意思的集体活动，丰富农闲生活等。

这段文字意在说明的是：

A. 农村文化生活的匮乏是村民赌博之风盛行的主因

B. 解决农民赌博问题，需要加强管理并丰富农村文化生活

C. 建设阅报长廊和文化活动室可以丰富农村文化生活

D. 由于各级党委和政府不够重视导致村民赌博之风盛行

44. 我国目前主要的海洋科技研究仍然与近海和海岸带相关，注重维护海洋生态系统的服务功能。但我们也要意识到，与远洋深海相关的重要资源能源、环境效应和生命过程问题已成为海洋科技研究的新焦点。发展海洋经济、建设海洋强国，必须发展与远洋深海相关的海洋科技，这是未来的大趋势。

这段文字作者想表达的是：

- A. 我国的海洋科技研究与近海和海岸带相关
- B. 我国在海洋科技研究领域落后于其他国家
- C. 发展与远洋深海相关的海洋科技是大势所趋
- D. 我国需要发展海洋经济、建设海洋强国

45. 对于媒体或者基层医疗机构而言，不能按照国外的模式来宣传家庭医生。我们的家庭医生不同于欧美国家的私人医生，家庭医生不是私人医生，不能像外卖员一样随叫随到。在人力、设备不能很好地满足百姓需求的时候，如果宣传“一个电话，医生到家”，而现实服务却跟不上，老百姓自然要吐槽。

文段的主要意思是：

- A. 媒体或基层医疗机构应如实宣传
- B. 对家庭医生的宣传不宜参照国外模式
- C. 家庭医生和欧美国家的私人医生不同
- D. 家庭医生的服务遭到老百姓吐槽

46. 据《南方日报》报道，广州中山眼科医院眼肌屈光科主任林小铭教授表示，弱视与近视不是同一种病。近视多发于学龄期人群，是睫状肌过度紧张或遗传因素等造成的“看远不清楚，看近清楚”的眼病。通常情况下，近视患者戴眼镜后，矫正视力可恢复正常。弱视则多见于学龄前儿童，是一种通过戴眼镜也无法矫正视力的眼病，常伴有斜视、高度屈光不正、看远看近视力都不好等症状。

关于这段文字，以下理解正确的是：

- A. 弱视与近视属于同一种病
- B. 近视是睫状肌过度紧张造成的
- C. 弱视不能通过戴眼镜矫正视力
- D. 近视是一种看远看近都不好的眼病

47. 酒精的代谢主要在肝脏中进行，大部分酒精会在肝脏中通过乙醇脱氢酶作用生成乙醛，而乙醛具有毒性和致癌性，如果在体内过量积聚就会对许多器官尤其是肝脏造成严重危害。如果长期过量喝酒，可能会导致酒精性脂肪肝、酒精性肝炎，甚至酒精性肝硬化和肝癌。

关于这段文字，以下理解不正确的是：

- A. 乙醛具有毒性和致癌性
- B. 体内过量积聚乙醛对肝脏不好
- C. 长期过量喝酒就会导致肝癌
- D. 酒精的代谢主要在肝脏中进行

48. 据《中国教育报》报道，无人机植树系统由前美国宇航局工程师劳伦所在的生物碳工程公司开发而成。在进行植树任务时，无人机植树系统首先会对地势展开勘察，利用地形数据，画出需要再造树林的高分辨率 3D 地图，同时画出播种路线图，设定播种的最优路线。接着，无人机会在播种范围内飞行并进行“精密的植树活动”，利用空气压力把顶部发芽的种子射进土壤里。同时，种子会被包进一个荚里，许多营养物质也会被压缩进荚里，以保证树种的成活率。完成播种后，无人机还可以监测后期的植被效果，甚至植株的健康状况等。

关于这段文字，下列说法符合的是：

- A. 无人机植树系统由前美国宇航局工程师劳伦开发而成
- B. 在进行植树任务时，无人机植树系统首先会画出 3D 地图
- C. 无人机进行“精密的植树活动”时不必考虑播种范围
- D. 无人机可以监测后期的植被效果，甚至植株的健康状况等

49. _____。古丝绸之路跨越埃及文明、巴比伦文明、印度文明、中华文明的发祥地，跨越不同国度和肤色人民的聚居地。不同文明求同存异、开放包容，共同绘就了人类文明繁荣的壮丽篇章。古丝绸之路的历史实践，成为人类历史上文明交流、文明互鉴、文明共存的典范。

填入横线处最恰当的一项是：

- A. 有人将古丝绸之路比作人类文明交流互鉴最耀眼的舞台

- B. 有人认为古丝绸之路的出现极大地促进了经济的繁荣发展
- C. 不同文明共同绘就了人类文明繁荣的壮丽篇章
- D. 不同文明求同存异、开放包容、和谐共存

50. 10月14日—22日，第十九届世界青年学生联欢节在俄罗斯索契举行。全球180多个国家、近3万名优秀青年代表应邀参加了联欢和交流活动。中国为此次活动派出200余人的代表团，这个群英荟萃的青年代表团，由青年企业家、医生、优秀大学生和艺术界人士组成，他们在活动的各个环节倾情参与，展现出新时代中国青年的动人风采。

给这则新闻拟定标题，最恰当的一项是：

- A. 全球180多个国家参加世界青年学生联欢节
- B. 中国派出代表团参加世界青年学生联欢节
- C. 中国代表团在世界青年学生联欢节上展风采
- D. 俄罗斯索契举行第十九届世界青年学生联欢节

51. “单身狗”最初的自我戏谑，其实夹杂着焦虑与苦涩。日前，一项针对大学生感情状态的调查结果显示，大学生没有“脱单”的比例为69%，而其中68%有“脱单”意愿。真的有这么迫切吗？在恋爱的季节被落下了，心里自然不是好滋味。_____。

填入横线处最恰当的一项是：

- A. 所以在“单身狗”面前秀恩爱会对他们造成很大的伤害
- B. 所以很多大学生希望在上学期收获一份美好的爱情
- C. 所以我们要给予“单身狗”更多的关心与照顾
- D. 所以大部分人害怕的其实不是独身一人，而是由此带来的挫败感

52. 古往今来，贫困从来就是人类发展进步的拦路虎，脱贫之战亦是一个世界级的难题。当今世界最发达的欧美诸国，也仍然存在着数量以千百万计的贫困人口。那么，在世界最大的发展中国家中国，脱贫攻坚的奇迹是如何实现的？

作者接下来最有可能讲述的是：

- A. 中国脱贫攻坚的具体做法
- B. 各国脱贫攻坚的不同做法
- C. 脱贫攻坚面临的现实困境
- D. 脱贫攻坚的重要意义

53. 不久前施行的《互联网群组信息服务管理规定》，不仅明确互联网群组信息服务提供者落实信息内容安全管理主体责任，也对群组建立者、管理者包括群组成员列明规矩、画出红线。但有些人对此表示不解，认为互联网群组是私人之间的交流空间，不属于公共空间，因而不应受到法律约束。这种认识显然是片面的。

作者对“有些人的认识”的态度是：

- A. 认同
- B. 反对
- C. 中立
- D. 未表态

54. ①为了平复些许紧张的情绪，我从随身携带的书包中掏出这本小书《从希腊到中国》

②喜欢它，因为它是中国最早翻译介绍阿富汗宗教考古美术的小书

③这是我深爱的一本小书

④也是上个世纪译介阿富汗最好的一本半通俗读物

⑤在飞往阿富汗喀布尔的飞机上，我的思维一直随着气流和机身抖动而颠簸着

⑥小书不大不厚、32开大小，印刷装帧都是上个世纪的特色，在阳光下泛黄的书页显得格外温馨

将以上六个句子重新排列组合，语序正确的是：

- A. ②④③⑥⑤①
- B. ③④⑥⑤①②

- C. ⑤③①⑥②④
D. ⑤①③⑥②④

55. ①倘若任由投机取巧者获利，诚信经营者吃亏
②刷单，本质上属于商业欺诈
③会造成网络经济的“信任危机”，“劣币驱逐良币”的恶果显而易见
④更破坏了电商信用评价机制，扰乱市场竞争秩序
⑤既剥夺了消费者对商家信誉和商品质量的知情权，损坏消费者切身利益
⑥但由于“刷单”操作隐蔽、流程在线、分工细化，识别难度大等原因，一直未能得以有效治理

将以上六个句子重新排列组合，语序正确的是：

- A. ②⑤④①③⑥
B. ⑥④①③②⑤
C. ②⑤④③①⑥
D. ⑥②⑤③①④

数量关系

56. 蛋糕店每天准备 300 份糕点出售，已知一份蛋糕的成本是 3 元，售价是 4.5 元。在 10 天中，蛋糕店前 7 天都能全部卖出，后三天每天正价卖出 230 份，余下的打 8 折出售，也能全部销售掉准备的糕点。10 天中，蛋糕店共盈利（ ）元。

- A. 4275 元
B. 4311 元
C. 4419 元
D. 4561 元

57. 某水库存有一定量的水，河水也每天以均匀的速度入库，若 10 台抽水机匀速抽水，20 小时能够抽干。若 15 台抽水机匀速抽水，10 小时能够抽干。若 25 台抽水机匀速抽水，抽干水库的水需要（ ）小时。

- A. 6 小时
B. 5 小时
C. 4 小时
D. 3 小时

58. 一列火车经过一座长 600 米的桥梁需要 18 秒。若以同样的速度从站立的小明身边经过需要 3 秒（小明身体的宽度忽略不计）。那么火车的车速是（ ）米/秒。

- A. 35 米/秒
B. 40 米/秒
C. 45 米/秒
D. 50 米/秒

59. 学校组织全校学生站成一个实心方阵，最外层站男生，从外往内每层按男生、女生相间站队。已知最外圈站了 108 个男生，那么全校共有女生（ ）人。

- A. 360 人
B. 364 人
C. 372 人
D. 376 人

60. 小朋友分糖果，若每人分 4 粒则多 9 粒；若每人分 5 粒则少 6 粒。请问一共有（ ）粒糖。

- A. 67
B. 68
C. 69
D. 70

61. 商店运来一批苹果。如果每千克卖 1 元 2 角，就要赔 20 元；如果每千克卖 1 元 5 角，就可以赚

40 元。现在想不赔也不赚，每千克苹果应该卖（ ）元钱。

- A. 1.1
- B. 1.2
- C. 1.3
- D. 1.4

62. 临近寒假，学校组织学生去滑雪，师生一共有 200 人参加。目前学校有 12 座以及 35 座两种校车若干辆，如果正好坐满，需要出动 12 座以及 35 座校车各（ ）辆。

- A. 10, 2
- B. 5, 4
- C. 6, 3
- D. 3, 5

63. 已知三角形三边长分别为 5, 10, X, 若 X 为 1 到 20 之间（包括 1 和 20）的正整数，则 X 能组成三角形的概率是（ ）。

- A. 1/5
- B. 3/4
- C. 9/20
- D. 11/20

64. 临近寒假，班主任组织班级同学扫雪，将学生分为甲、乙两组。甲组上午扫 4 小时可以完成任务的 1/3，乙组下午扫雪，同样时间可以完成剩余任务的 3/5，问如果甲、乙合作一起扫雪，需要（ ）小时可以完成任务。

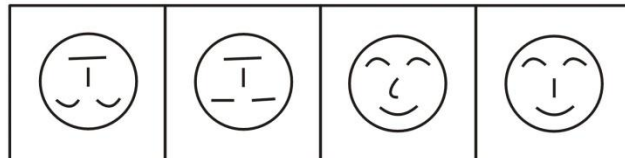

- A. 30/7
- B. 4.5
- C. 60/11
- D. 5

65. 将 150 千克浓度为 95% 的酒精加入一些水稀释成浓度为 75% 的消毒酒精时，酒精重量为（ ）千克。

- A. 40
- B. 190
- C. 120
- D. 160

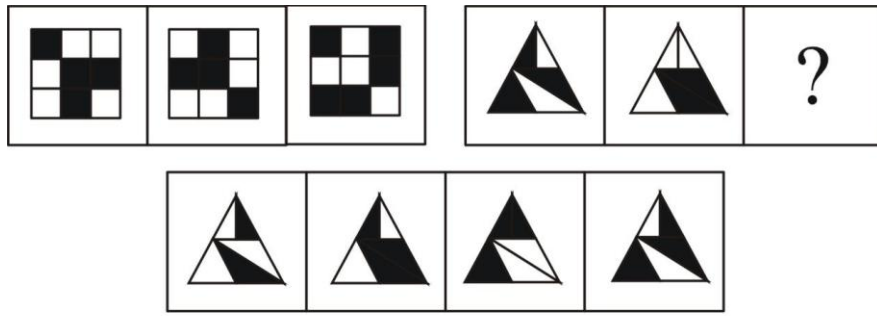
判断推理

66. 从所给的四个选项中，选择最合适的一个填入问号处，使之呈现一定的规律性：

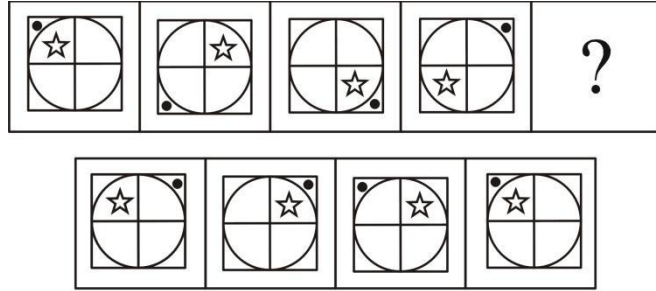


A B C D

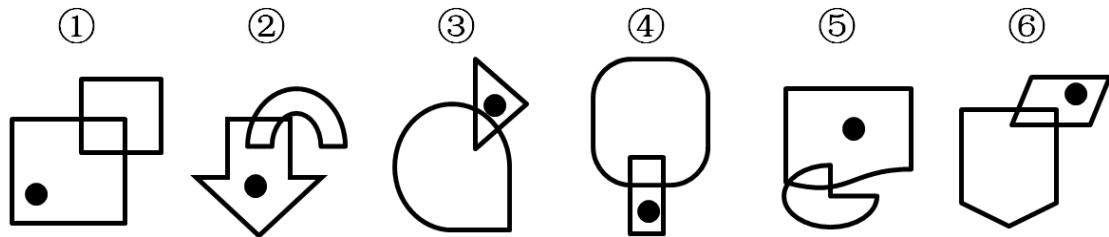
67. 从所给的四个选项中，选择最合适的一个填入问号处，使之呈现一定的规律性：



68. 从所给的四个选项中，选择最合适的一个填入问号处，使之呈现一定的规律性：

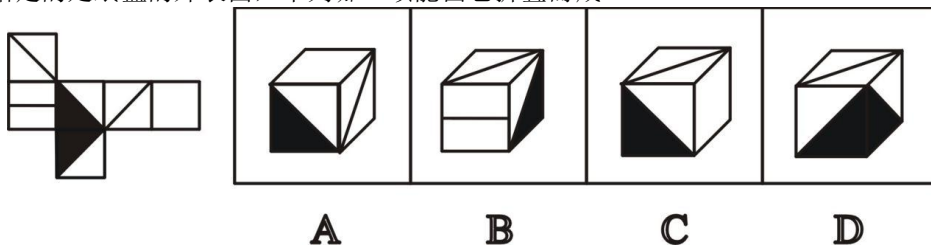


69. 把下面的六个图形分为两类，使每一类图形都有各自的共同特征或规律，分类正确的一项是：



- A. ①②⑥，③④⑤
- B. ①②⑤，③④⑥
- C. ①③④，②⑤⑥
- D. ①③⑤，②④⑥

70. 左边给定的是纸盒的外表面，下列哪一项能由它折叠而成？



71. 半途效应是指在激励过程中达到半途时，由于心理因素及环境因素的交互作用而导致的对于目标行为的一种负面影响。

根据上述定义，以下属于半途效应的是：

- A. 小李原本负责的一项工程，由于调离原来的岗位，被迫停止工程
- B. 小王承接了一项招标项目，但越做越感觉自己能力有限，加之经费紧张，在项目完成一半之际，虽有领导之前的鼓励，但还是放弃了该项目
- C. 小林一次偶然的机会认识了小张，在小张的诱导下一起倒卖黄金，刚开始他并不愿意，但在得手几次后他尝到了甜头
- D. 小攀的房子挡了要新修的路，政府要求拆迁，小攀以影响风水为由不肯拆迁

72. 技术转移可分为横向技术转移和纵向技术转移。横向技术转移一种跨越技术研发主体的技术转移,是指技术从一种背景转移到另一个背景的过程,是指技术在不同背景的水平移动;纵向技术转移是指从研发到技术应用这一研究与发展全过程运行方向的转移,简单的说就是技术在不同阶段中的转移。

根据上述定义,下列符合纵向技术转移的是:

- A. A 国研发了一种新型军工材料, A 国将生产该材料的技术有偿的转让给了 B 国
- B. B 大学正在研发一种新的半导体材料,完成初级阶段试验后,转移到物理实验室进行了中期阶段实验
- C. D 研究员将其对研究项目的经验和技能传授给了新来的研究人员
- D. E 省将其在电力领域的新技术转让给了 F 省

73. 行政处罚是一种由行政机关或法律法规授权的组织实施的一种具体行政行为,其种类分为:警告、罚款、没收违法所得以及非法财物、责令停产停业等。

根据上述定义,以下不属于行政处罚的是:

- A. 张某闯红灯被罚款 200 元
- B. 某食品厂因为生产存在安全问题的食品被吊销营业执照
- C. 吴某因为与人打架被治安警告
- D. 钱某的个人信用记录不良而被银行列为黑名单

74. 石油地质学是地质学的分支学科,是研究石油和天然气在地壳中生成、运移和聚集规律的学科,石油地质学包括油气田地质学、地球物理学和地球化学的原理和方法,以及油气田开发的地质学原理和工艺技术等内容。

根据上述定义,下列不属于石油地质学研究内容的是:

- A. 致密油运移机理
- B. 天然气聚集成藏主控因素
- C. 石墨物理性质及化学组成
- D. 天然气成因及化学组成

75. 技术竞争情报是指能给组织的竞争地位带来重大影响的外部科技信息及其获取、监控、分析、前瞻和预警过程,是竞争情报理论和方法在技术领域中的应用。技术竞争情报是一种产品,也是一个过程。产品是指通过技术竞争情报工作将收集到的情报信息经过处理分析得到的技术竞争情报产品,过程是指在庞大的信息中搜寻收集信息、分析信息、预测与预警的过程。

根据上述定义,下列不属于“技术竞争情报”的是:

- A. 英国物理学家 R. V. Jones 专门分析德国的“新式武器-导航炸弹”,并采取了对应技术措施,有效地防范了德国飞弹威胁
- B. 韩国成立国家技术交易所,为企业提供技术成果收集、分析评价、发布;促进信息技术沟通与分享等服务
- C. A 公司分析整合了产品部门和研发部门的技术信息,研发制造了一种新型产品,在短短三个月之内占领了整个市场
- D. 摩托罗拉公司通过收集分析日本竞争企业的相关技术信息,做出了从电视产业转型收集产业的决定,并成为了世界最大的手机制造企业之一

76. 对于动物个体有两种代谢方式:基础代谢和活动代谢。前者是指动物维持生命的所有器官所需要的最低能量需要,对于人体是指在 18~25℃室温下,空腹、平卧并处于清醒、安静的状态称为基础状态。此时,维持心跳、呼吸等基本生命活动所必需的最低能量代谢;后者是指动物活动中的代谢能量。对于人来说,活动代谢主要是靠肌肉,是指各种运动、劳动所需的代谢量。

根据上述定义,下列属于基础代谢的是:

- A. 冬冬周三下午翘课打了一下午的篮球
- B. 文文周末睡了个懒觉
- C. 小明昨天睡梦中,爬起来把上铺的被子给扯掉了
- D. 家教老师工作太辛苦了,周末躺在床上静静地思考自己的职业规划

77. 初级群体由美国著名社会学库利提出,是指由面对面的互动所形成的,具有亲密的人际关系的社会群体。它具有如下特征:成员有限一般指 2 人到 30 人的小群体;成员之间有直接的、经常的面对面互动;成员的交往富于感情;成员难以代替,任何一个成员的缺失对于其他成员都会造成巨大的心理

震动；群体整合程度高，彼此熟悉，关系极为复杂而亲密；群体控制依靠非正式手段。

根据上述定义，下列选项不属于初级群体的是：

- A. 家庭成员
- B. 密友圈子
- C. 军营战士
- D. 大学舍友

78. 短期借款是指企业向银行或其他金融机构等借入的期限在 1 年以下（含 1 年）的各种款项。

根据上述定义，下列属于短期借款的是：

- A. 某川菜馆应该支付给其蔬菜供应商的一年内的货款
- B. 某大型超市，为给其酸奶供货商支付货款，向中国银行借入两年期的贷款
- C. 某公司应该支付给其职工的当月工资
- D. 某刚成立的小微企业，因投资需要向中国银行借入的为期一年的贷款

79. 变革型领导是指领导者通过让员工意识到所承担任务的重要意义和责任，激发下属的高层次需要或扩展下属的需要和愿望，使下属为团队、组织和更大的政治利益超越个人利益。交易型领导是指领导者和被领导者总是进行着不断的交换，在交换的过程中领导者的资源奖励和被领导者对领导者的服从作为交换的条件，双方在一种“默契契约”的约束下完成获得满足的过程。

根据上述定义，下列选项属于变革型领导的是：

- A. E 公司李总监认为自己亲提拔的下属必须对自己忠诚
- B. Q 公司吴董事长认为只有让在上高中的儿子明白对家族企业要承担的责任，家族企业才能兴盛不衰
- C. M 公司陈经理认为满足员工自我实现的需求是组织发展的前提
- D. P 公司人力经理认为员工就是拿多少钱干多少活

80. 生活噪音是除了工业噪音、交通噪音、建筑噪音之外的噪音，比方说娱乐场所噪音、早市喧闹声、店铺叫卖的高音喇叭声、邻居传来的吵闹声、电视音响声等等统称为生活噪音。

根据上述定义，下列哪个选项不属于生活噪音？

- A. 小明家的邻居经常半夜吵架，惹得小明一家无法入睡
- B. 小王在上班的路上经过 2 元店，由于叫卖声太高，漏接了客户的电话
- C. 钢材加工厂的机器轰鸣声很大，常常遭到周围居民的投诉
- D. 某广场离居民区很近，跟着音乐跳广场舞的大妈们经常挨骂

81. 愉悦：笑逐颜开

- A. 热闹：门可罗雀
- B. 雷同：千篇一律
- C. 愤怒：心平气和
- D. 惬意：心旷神怡

82. 相声：魔术

- A. 曲艺：评书
- B. 金属：黄金
- C. 绘画：音乐
- D. 天台：高楼

83. 电灯：照明

- A. 电脑：编程
- B. 手机：通话
- C. 冰箱：冷藏
- D. 空调：制冷

84. 凤凰：吉祥

- A. 荷花：芙蓉
- B. 李白：李太白

- C. 春天：夏天
- D. 乌龟：长寿
- 85. 童年：青年：老年
- A. 挑选：购买：付款
- B. 上涨：持平：下跌
- C. 警戒：抵抗：放弃
- D. 出生：衰老：死亡

- 86. 教师：黑板：知识
- A. 工人：工厂：工资
- B. 科学家：学术：论文
- C. 观众：电视：节目
- D. 作者：博客：观点

- 87. 牡丹：郁金香：桫欂
- A. 油画：国画：素描
- B. 茅台：伏特加：料酒
- C. 拳击：摔跤：马术
- D. 月饼：饺子：春卷

- 88. 交流：增进：隔阂
- A. 运动：加强：减肥
- B. 绘画：学习：品味
- C. 卫生：保持：疾病
- D. 毒品：拒绝：健康

- 89. 高雅 对于 (), 相当于 () 对于 下里巴人
- A. 意兴阑珊；活泼
- B. 曲高和寡；偏远
- C. 高山流水；哀伤
- D. 阳春白雪；通俗

- 90. () 对于 双凫一雁，相当于 相聚 对于 ()
- A. 送别；雨恨云愁
- B. 离别；连珠合璧
- C. 惜别；悲欢合散
- D. 挽留；欢聚一堂

91. 某调查机构近 5 年的数据显示，双方离异家庭孩子的犯罪率是一般家庭孩子的 2 倍。因此，该机构声称，家庭离异是造成大城市孩子犯罪的首要原因。

以下哪项为真，最能削弱该调查机构的结论？

- A. 没有诸如子女教育方面等原因的影响
- B. 离异家庭的孩子比较爱玩网络暴力游戏
- C. 经调查发现，由于家庭离异导致孩子出现心理问题的比例约为 78%
- D. 该调查机构研究的数据仅来自大城市，对中小城市的家庭并未采集相关数据

92. 某毕业班的所有同学中，所有擅长数量的都擅长资料分析，有些擅长判断的不擅长申论，有些擅长言语的人不擅长判断，所有擅长判断的人都擅长言语，有的擅长资料分析的人不擅长言语。

由此可以推出：

- A. 有些擅长申论的人不擅长判断
- B. 有些擅长言语的人不擅长申论
- C. 有些擅长资料的人擅长判断
- D. 所有擅长言语的人都擅长判断

93. “三江”指长江、黄河和澜沧江，近年来，“三江”环境严重恶化，为了改善脆弱的生态环境，国务院批准“三江”自然保护区为国家级自然保护区。因此，“三江”的自然环境将会得到明显的改善。

以下哪项如果为真，不能支持上述论证：

- A. 被列为国家级自然保护区的地方，自然环境都会得到明显的改善
- B. 当地的居民以及来游玩的游客已经注意对于“三江”自然环境的保护
- C. “三江”的污染过于严重，治理起来需要大量的资金与人力
- D. 今年，“三江”的环境治理工程已经获得了很大的成果

94. 目前洗衣液已经遍布世界各个城市，周住牌洗衣液是一款去渍效果很好的洗衣液，所以周住牌洗衣液已经遍布世界各个城市。

下列选项中与上述推理最为相似的是：

- A. 只有提供健康证明才能参加马拉松比赛，因此有健康证明就一定参加马拉松比赛
- B. 如果天下雨，那么地会湿，今天没下雨，故今天地不会湿
- C. 住别墅的都是非贫困人口，因此非贫困人口都住在别墅里
- D. 现在的小孩子爱玩网络游戏，因此5岁的小明一定喜欢玩网络游戏

95. 现代学生课外阅读量越来越少，需要社会和学校共同努力引导学生改变自身的固有观点。如果要让学生增加课外阅读量，就一定要让学生了解课外增加阅读量的重要性；只有学校创新宣传方式，才能让学生了解增加课外阅读量的重要性；学生不能增加课外阅读量就不能改变自身的固有观点。

由此可以推出：

- A. 如果大学生小王了解增加课外阅读量的重要性，就一定会增加他的课外阅读量
- B. A 大学创新了宣传方式，从而改变了该学校学生自身的固有观点
- C. 如果 A 大学的学生增加了他们的课外阅读量，那么该学校创新了宣传方式
- D. 只有改变了学生自身的固有观点，才能他们了解增加课外阅读量的重要性

96. 艾滋病难以治愈，因为 HIV 病毒不仅变异快，而且藏得深。有人拿牛做实验发现，在 6 周内，牛抗体就消灭了 20% 的 HIV 病毒；到了 381 天，96% 的病毒已经被消灭了。由此有人认为，人的艾滋病治疗充满了希望。

以上各项如果为真，最能削弱上述论证的是：

- A. 这个实验结果应用到人的 HIV 病毒治疗中还有很多难题待解决
- B. 实验只针对 4 头牛进行研究，其他的牛是否也有这样的反应还不清楚
- C. 实验中的牛都是被精心照料，营养充足，生活比较好
- D. HIV 病毒感染人和牛的致病机理不一样

97. 古语说“一份耕耘一份收获”，因此成功的人一定非常努力，同时好的机遇、关注细节、洞察力也很重要，只有同时拥有这些才能获得成功。

由此可以推出：

- A. 不努力也有可能成功
- B. 就算没有机遇也一定会成功
- C. 努力过并不意味着成功
- D. 拥有机遇和洞察力的人，就算不关注细节也会成功

98. 人们常常把愤怒视为一种破坏人际关系的毁灭性情绪，但加州大学伯克利分校的心理学者 Brett Ford 认为，愤怒这样一种情绪体验可以帮助我们达成目标，从长远角度考虑可以提升人们的幸福和健康指数。

以下哪项如果为真，最能支持上述结论？

- A. 统计数据表明男性比女性更为激愤，所以他们每日情绪都很低沉
- B. 非裔美国人马尔科姆，运用愤怒的力量改变了国家的命运
- C. 好朋友之间吵架、发脾气，朋友之间最后再也不联系了
- D. 愤怒可作为一种动力，提高人的成就动机，进而让人更容易实现目标

99. 在当今这个充斥着免费服务和开源软件的高科技社会中，人们很容易忘记知识产权（IP）的保护。保护知识产权不仅能维护那些持有专利权的企业的利益，还能促进竞争，激励创新，鼓励企业将资

源投入于解决世界上最严峻难题的挑战中，进而促进经济的发展和社会的进步。因此，有专家认为，保护知识产权的直接受益者是消费者。

专家的结论还需要基于以下哪一前提？

- A. 知识产权是社会进步的助推器
- B. 当知识产权受到侵犯时，投资者就会减少用于科技研发的投入
- C. 保护知识产权促使企业将资源投入到解决困扰消费者的难题之中
- D. 应该严厉打击侵犯知识产权的行为

100. “菜鸟物流机器人”能独自执行不同的拣货任务，可以说，协同合作又独立运行，是该机器人具有高效能力的充分条件。有电是其不间断工作的基础，当机器人缺乏电力时也会自动归巢充电。菜鸟网络与合作伙伴将会在多个仓库内复制这一模式，全国多地的消费者都可以享受机器人提供的高效优质服务。

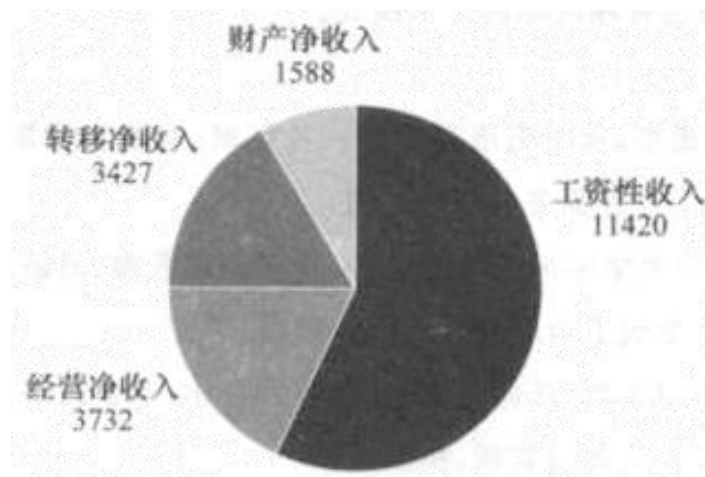
由此可以推知：

- A. 只相互协作执行同一个订单的机器人不具有高效完成任务的能力
- B. 具有高效能力的机器人可以不间断的工作
- C. 没有电的机器人，通过升级设备，就能不间断的工作
- D. 不具有高效能力的机器人，就不能相互协作或不能独立完成任务

资料分析

一、根据以下资料，回答 101--105 题。

2014 年全国居民人均可支配收入 20167 元，比上年增长 10.1%，收入来源如下图所示。按常住地分，城镇居民人均可支配收入 28844 元，比上年增长 9.0%；城镇居民按户人均可支配收入的中位数为 26635 元，增长 10.3%。农村居民按户人均可支配收入 10489 元，比上年增长 11.2%；农村居民人均可支配收入的中位数为 9497 元，增长 12.7%。全国居民人均消费支出 14491 元，比上年增长 9.6%。按常住地分，城镇居民人均消费支出 19968 元，增长 8.0%；农村居民人均消费支出 8383 元，增长 12.0%。



2014 年全国居民人均可支配收入来源 (单位: 元)

101. 2014 年城镇居民人均消费支出比农村居民人均消费支出多 ()。

- A. 2209
- B. 18355
- C. 17138
- D. 11585

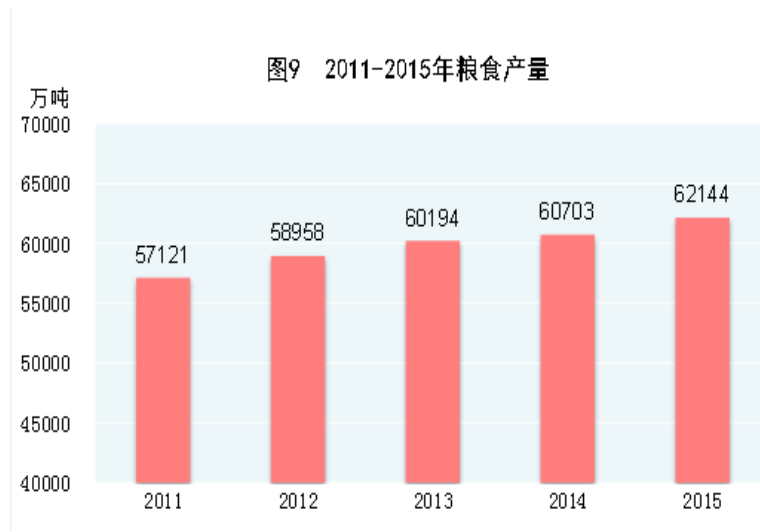
102. 2013 年城镇居民人均可支配收入为 ()。

- A. 26462
- B. 24148
- C. 18489
- D. 28844

C. 25489

D. 27390

四、根据以下资料，回答 116--120 题。



2015 年全年粮食种植面积 11334 万公顷，比上年增加 62 万公顷。棉花种植面积 380 万公顷，减少 42 万公顷。油料种植面积 1406 万公顷，增加 1 万公顷。糖料种植面积 174 万公顷，减少 16 万公顷。

全年粮食产量 62144 万吨，比上年增加 1441 万吨，增产 2.4%。其中，夏粮产量 14112 万吨，增产 3.3%；早稻产量 3369 万吨，减产 0.9%；秋粮产量 44662 万吨，增产 2.3%。全年谷物产量 57225 万吨，比上年增产 2.7%。其中，稻谷产量 20825 万吨，增产 0.8%；小麦产量 13019 万吨，增产 3.2%；玉米产量 22458 万吨，增产 4.1%。

116. 2015 年全年谷物产量中，增产量最多的谷物是（ ）。

- A. 稻谷
- B. 小麦
- C. 玉米
- D. 无法判断

117. 2015 年夏粮比 2014 年增长（ ）万吨。

- A. 360
- B. 370
- C. 490
- D. 450

118. 2014 年秋粮产量与夏粮产量的差值约为（ ）万吨。

- A. 30000
- B. 32000
- C. 27000
- D. 43000

119. 2015 年全年平均每亩粮食产量为（ ）吨。

- A. 0.643
- B. 0.390
- C. 0.365
- D. 0.456

120. 根据材料，以下说法正确的是（ ）。

- A. 2015 年，稻谷产量比上年增产约 222 万吨
- B. 2014 年，小麦产量 13019 万吨

- C. 2015 年，夏粮产量占粮食总产量的比重较上年上升
- D. 2015 年，小麦播种面积比玉米约少 5787 千公顷