

2018 省考万人模考第十季

【华图在线】

过关才是硬道理！

福



第一部分 常识判断

(共 20 题, 参考时限 15 分钟)

一. 根据题目要求, 在四个选项中选出一个最恰当的答案。请开始答题:

1. 物质由一种状态变为另一种状态的过程称为物态变化, 下列对于物态变化的说法, 正确的是:

- A. 雾凇是一种升华现象, 是物质从气态经过液态再变成固态的现象
- B. 凝华形成原因一般是急剧降温或者是由于升华现象造成
- C. 冰化成水是一种熔化现象, 熔化要放热
- D. 沸腾属于汽化现象, 它发生在液体表面, 可以在任何温度进行, 是缓慢的

2. 环境污染对人类健康的危害日益增长, 下列有关环境污染导致的疾病, 说法错误的是:

- A. 人们长期生活在 120 分贝以上的噪音环境中, 就会得“噪声病”
- B. 水俣病是指人或其他动物食用了含有机水银污染的鱼贝类, 使有机水银侵入脑神经细胞而引起的一种综合性疾病

C. 装修材料内的甲醛, 不但可以引起鼻咽癌、鼻窦癌, 还可引起白血病

D. PM2.5 微尘被吸入人体后会直接进入支气管, 干扰肺部的气体交换, 引发哮喘、支气管炎等疾病

3. 下列不属于“经济新常态”特点的是:

- A. 从高速增长转为中高速增长
- B. 经济结构不断优化升级, 第三产业消费需求逐步成为主体
- C. 从要素驱动、投资驱动转向创新驱动
- D. 经济增长更加迅速, 增长动力趋于稳定

4. “一带一路”是“丝绸之路经济带”和“21 世纪海上丝绸之路”的简称。下列有关“一带一路”的说法, 错误的是:

- A. “一带一路”建设秉承共商、共享、共建原则
- B. 21 世纪海上丝绸之路涵盖范围包括上海、福建、广东、浙江、海南、江苏 6 省市
- C. 在“一带一路”的历史背景中, 明代郑和远航的成功, 标志着海上丝路发展到了极盛时期
- D. 加强贸易畅通是丝绸之路经济带的本质内容

5. 综合管廊, 即地下城市管道综合走廊, 也就是在城市地下建造一个隧道空间, 将电力、通信, 燃气、供热、给排水等各种工程管线集于一体, 设有专门的检修口、吊装口和监测系统, 实施统一规划、统一设计、统一建设和管理, 下列有关综合管廊的说法, 错误的是:

- A. 综合管廊具有一定的防震减灾作用

- B. 综合管廊可以降低路面多次翻修的费用和工程管线的维修费用
- C. 目前我国大部分城市都建有综合管廊
- D. 城市地铁不属于综合管廊系统

6. 我国每个传统节日都会有不同的习俗，将下列节日习俗按照时间顺序排列，正确的是：

①插茱萸，赏菊花 ②放河灯，焚纸锭 ③赏满月，饮桂酒 ④赛龙舟，挂艾草 ⑤赏花灯，吃元宵

- A. ⑤④①②③
- B. ⑤④②③①
- C. ②①⑤③④
- D. ②⑤④③①

7. “三曹”是对我国古代政治诗坛三位领袖的合称，下列关于“三曹”的说法，正确的是：

- A. “三曹”生活在西汉时代
- B. “三曹”是有血缘关系的三兄弟
- C. “三曹”与“建安七子”都是建安文学的代表
- D. “三曹”中有两位在世时当过皇帝

8. 昆曲是我国最古老的剧种之一，也是中国传统文化艺术中的珍品。下列有关昆曲的说法，错误的是：

- A. 昆曲是“百戏之祖，百戏之师”
- B. 昆曲在 2001 年被联合国教科文组织列为“人类口述和非物质文化遗产代表作”
- C. 《牡丹亭》《桃花扇》是昆曲的代表剧目
- D. 昆曲起源于安徽，又称徽剧

9. 下列诗句中，没有运用历史人物典故的一项是：

- A. 可堪回首，佛狸祠下，一片神鸦社鼓
- B. 但使龙城飞将在，不教胡马度阴山
- C. 梦入神山教神姬，老鱼跳波瘦蛟舞
- D. 陈王昔时宴平乐，斗酒十千恣欢谑

10. 下列作家与其代表作对应不正确的一项是：

- A. 大仲马——《茶花女》
- B. 川端康成——《雪国》
- C. 雨果——《悲惨世界》
- D. 泰戈尔——《飞鸟集》

11. 村委会是村民自我管理、自我教育、自我服务的基层群众性自治组织。村民自治的核心内容是“四个民主”，下列选项中，不属于“四个民主”的是：

- A. 民主选举
- B. 民主管理
- C. 民主执政
- D. 民主监督

12. 下列做法中，不符合婚姻法规定的是：

- A. 小丽在分娩后第三周向法院起诉离婚
- B. 小张和小王是一对同年同月同日生的情侣，他们约定在年满 20 周岁当天登记结婚
- C. 小明父母离婚后，法院判决父亲每月支付 1000 元生活费，但小明因身体状况欠佳，又向父亲提出每月增加 500 元营养费的要求
- D. 小陈和小赵在婚后共同经营了一家公司，因经营不善导致负债，两人离婚后，小陈要求妻子小赵与其共同偿还这笔债务

13. “互联网+”是创新 2.0 下的互联网发展的新业态，是知识社会创新 2.0 推动下的互联网形态演进及其催生的经济社会发展新形态。下列有关“互联网+”的说法，错误的是：

- A. “互联网+”作为一个整体概念，其深层意义是通过传统产业的互联网化完成产业升级
- B. “互联网+”是指利用互联网的平台、信息通信技术把互联网和包括传统行业在内的各行各业结合起来，从而在新领域创造一种新生态
- C. “互联网+”是中国工业和信息化深度融合的成果与标志，也是进一步促进信息消费的重要抓手
- D. “互联网+”已经全面应用到了第三产业，但是很难与第一、第二产业相融合

14. “从旁人的角度，善意的谎言和夸奖真的可以造就一个人；从自我的角度，你认为自己是什么样的人，你就能成为什么样的人。”这句话体现了管理学中的什么效应？

- A. 晕轮效应
- B. 破窗效应
- C. 霍桑效应
- D. 墨菲定律

15. 疫苗是将病原微生物（如细菌、立克次氏体、病毒等）及其代谢产物，经过人工减毒、灭活或利用转基因等方法制成的用于预防传染病的自动免疫制剂。下列选项中，不能通过注射疫苗预防的疾病是：

- A. 子宫颈癌
- B. 小儿麻痹症
- C. 乙型病毒性肝炎

D. 糖尿病

16. 油料作物是以榨取油脂为主要用途的一类作物，下列选项中，不属于油料作物的是：

- A. 苧麻
- B. 向日葵
- C. 大豆
- D. 花生

17. 使不带电的物体获得电的过程叫做起电，起电的方法有三种，分别是摩擦起电、接触起电、感应起电。下列选项中生活现象与起电方式对应错误的一项是：

- A. 冬天脱化纤毛衣时会产生一些火花——摩擦起电
- B. 握手时两人接触的地方产生触电感——接触起电
- C. 发电机产生的电能——感应起电
- D. 下雨时云层中的雷电现象——摩擦起电

18. 下列关于针灸的说法，错误的是：

- A. 针灸疗法最早见于战国时代问世的《黄帝内经》一书
- B. 针灸是针法和灸法的总称
- C. 2006 年中国中医科学院申报针灸经相关组织列入第一批世界非物质文化遗产名录
- D. 无自制能力的人如精神病患者等忌灸

20. 抗生素主要是由细菌、霉菌或其他微生物产生的次级代谢产物或人工合成的类似物，主要用于治疗各种细菌感染或致病微生物感染类疾病。下列有关抗生素的说法，错误的是：

- A. 阿莫西林是一种抗生素
- B. 有一部分抗生素可以用于肿瘤的化疗
- C. 滥用抗生素会造成“超级细菌”的出现
- D. 抗生素对于所有病毒都有效

第二部分 言语理解与表达

(共 40 题，参考时限 35 分钟)

本部分包括表达与理解两方面的内容。请根据题目要求，在四个选项中选出一个最恰当的答案。

请开始答题：

21. 中华民族的文化自信，是从_____的历史纵深处淌出的清泉，它创造了中国历史乃至世界历史上的发展奇迹，展现出强大的精神_____和民族凝聚力，孕育了具有鲜明时代特色的思

想与精神，最终_____成为推动时代发展的强大洪流，为我们坚定道路自信、理论自信和制度自信提供了充足的理由和底气。

填入划横线部分最恰当的是：

- A. 绵延不绝 支撑 汇聚
- B. 源远流长 动力 聚集
- C. 历久弥新 支持 汇合
- D. 经久不衰 支柱 聚积

22. 大众马拉松运动，这项过去被视为极限的活动，如今已经_____，走入寻常百姓间。一夜之间，仿佛周围的人都跑起了马拉松，跑步不仅不再是令人感觉枯燥，甚至“_____”的田径项目，反而成为当今社会最为时尚和火爆的一种健身方式。

填入划横线部分最恰当的是：

- A. 司空见惯 乏味
- B. 家喻户晓 恐怖
- C. 习以为常 无聊
- D. 妇孺皆知 有趣

23. 中国山水千姿百态，可谓得天独厚，中国传统文化悠久丰厚，与山水文化_____。自然与人文的两大优势，_____出绚丽多彩的山水文化。山水文化是一种以自然山水及其与之相关事物为观照对象，体现人对山水客体认识审美等诸种反映的一种精神现象。

填入划横线部分最恰当的是：

- A. 不分伯仲 培育
- B. 相得益彰 孕育
- C. 相辅相成 养育
- D. 融会贯通 创造

24. 中国传统文化一直都蕴含着独特的价值体系，从春秋战国时期百家争鸣，到先秦乃至后期的朝代，不同学派_____，百花齐放。其中，诸如仁，义，礼，智，信等文化精神则是一直被认同_____的，同时也是中华民族几千年来文化的积淀与精髓。中国传统文化，传统道德精神一直延续至今，并成为当代中国核心价值观的重要_____。

填入划横线部分最恰当的是：

- A. 各抒己见 尊崇 基础
- B. 高谈阔论 许可 核心
- C. 百家争鸣 推崇 标准
- D. 各执己见 尊重 内容

25. 如果说“丧文化”只是小范围的调侃、个性化的设置，比如“葛优瘫”等也_____，可风气一旦_____开来，便亟需_____。

填入文段中划线部分最恰当的一项是：

- A. 无关紧要 蔓延 警戒
- B. 无伤大雅 蔓延 警惕
- C. 无关紧要 蔓延 警戒
- D. 无伤大雅 蔓延 警惕

26. 春季是_____的季节，草长莺飞，草木葱茏。在温带及高纬度地区，多数鸟类会选择在

春季开始_____。

填入文段中划线部分最恰当的一项是：

- A. 万象更新 繁殖
B. 生机盎然 生殖
C. 万象更新 生殖
D. 生机盎然 繁殖

27. 一弯残月如小船般_____在东方微明的天幕之上，闪耀银色的光辉。在弯月旁，以‘启明星’姿态现身的金星紧紧跟随，犹如一盏光亮的_____，在为月亮船导航。由于周围没有其他特别明亮的天体，这幅浪漫的画面_____很高。

填入文段中划线部分最恰当的一项是：

- A. 飘荡 航灯 清晰度
B. 摇曳 天灯 观赏性
C. 漂流 灯塔 分辨率
D. 荡漾 明灯 辨识度

28. 褪黑素是一种激素，在_____动物的昼夜节律和季节节律以及机体“睡眠—觉醒”节律方面发挥着重要作用。白天光线强，可_____褪黑素的分泌，体内褪黑素低，机体处于_____状态；夜里光线弱，能促进褪黑素的释放，机体渐渐进入睡眠状态。

填入文段中划线部分最恰当的一项是：

- A. 调节 抑制 觉醒
B. 调整 抑制 苏醒
C. 调节 抑止 苏醒
D. 调整 抑止 觉醒

29. 任何一门学说、一种社会思潮的产生都不是_____的。春秋战国时代，社会的激剧_____，思想观念的普遍更新，_____它完成了最后的飞跃。

填入文段中划线部分最恰当的一项是：

- A. 空穴来风 动乱 致使
B. 无缘无故 动荡 促使
C. 莫名其妙 转变 使得
D. 一蹴而就 变革 导致

30. 植物使大地披上绿装，从而_____了气候环境。地球的陆地面积在 4.43 亿年前开始的志留纪时迅速增加。但当时的陆地_____的，什么植物也没有，更不可能有动物。到了 4.3 亿年前的早志留世晚期，原始的裸蕨类植物开始登陆，接着动物也开始往陆地发展，从而使陆地逐渐变得_____。

填入文段中划线部分最恰当的一项是：

- A. 改善 光秃秃 欣欣向荣
B. 改变 光秃秃 日新月异
C. 改善 空荡荡 日新月异
D. 改变 空荡荡 欣欣向荣

31. 肥胖的成因太复杂，显然不只是人的不_____，管不住嘴，迈不开腿那么简单，至少是遗传、环境和后天行为方式的复合和_____，至少在肥胖上，有难以控制的先天因素。

填入划横线部分最恰当的一项是：

- A. 自在 影响
B. 自由 作用

C. 自爱 引发

D. 自律 叠加

32. 肥胖有遗传的因素，以家长在吃喝或锻炼上不自律，进而怀疑孩子也不自律作为肥胖的依据，就不录取肥胖家庭的孩子，有些_____。

填入划横线部分最恰当的一项是：

A. 胡说八道

B. 偷梁换柱

C. 牵强附会

D. 差强人意

33. 飞扬的风帆，旋转的地球——五色绘就的 2017 年金砖国家领导人会晤会标图案，既象征五国_____、破浪前行，又寓意金砖国家在世界舞台的重要作用。

填入划横线部分最恰当的一项是：

A. 永结同心

B. 扬帆起航

C. 同舟共济

D. 开拓进取

34. 王俊峰现在是强磁场科学中心磁共振生命科学部的负责人，是几位哈佛博士后中第一个回国的。王俊峰在美国呆了十几年，曾经在美国国家强磁场实验室获得博士学位。2009 年，当他听说中国也要建设强磁场科学大装置，感到非常_____：“我们终于要建设中国的强磁场装置，而且我们要建设世界第一流的、最好的强磁场装置，所以说，我就联系了这边的强磁场中心的领导。”“我跟他两个人谈了两天的时间”，中科院合肥物质科学研究院院长匡光力说，“他想着大干一场，想要在科研方面能够_____。

填入划横线部分最恰当的一项是：

A. 振奋 有所作为

B. 兴奋 无所不为

C. 激动 奋力一搏

D. 震惊 有所建树

35. 有位中部某省领导到贫困地区调研，看到各类登记表、记录表甚多，各种展板、作战图满墙挂，脸一沉：不把时间用在办实事上，搞这么多_____的东西干什么？类似这种不重_____、摆花架子的现象，在基层一些地方还较多地存在着。

填入划横线部分最恰当的一项是：

A. 巧舌如簧 才干

B. 搬弄是非 实际

C. 乱七八糟 实干

D. 花里胡哨 实绩

36. 但凡真正参加过马拉松比赛的人——全程跑完 42.195km 且在 6 小时内完赛拿到合格证书的，总会对第一次经历_____，因为那是一次_____的人生体验，是一段超棒的生命历程。从

设定目标、拟订计划、落实执行、不断进步、突破身体极限、超越自我实现_____。……全部历练下来，整个人似乎都不一样了。

填入画横线部分最恰当的是：

- A. 心存芥蒂 与众不同 提升
- B. 耿耿于怀 永生难忘 超越
- C. 意犹未尽 五味杂陈 挑战
- D. 记忆犹新 五味俱全 蜕变

37. 在当前海量信息中，_____的网络信息对“网民”提出了更高的要求。但是，我们必须认识到网络道德的规范依然还需要不断强化，尤其在原有社会组织关系日益_____，新的社会组织关系与网络紧密相连，网络信息内容存在地域性差异的情况下，更加需要强化网络道德的规范。时空的发展与_____极容易产生道德规范的缺失，对其进行不断规范尤为重要。

填入画横线部分最恰当的是：

- A. 鱼龙混杂 式微 分裂
- B. 参差不齐 衰落 裂变
- C. 良莠不齐 衰退 断裂
- D. 鱼目混珠 淡薄 前进

38. 自从产生宋诗以后，唐诗和宋诗便成为诗歌史上_____的两个典范。宋代以后的诗歌虽然还在继续发展，但再也未能超出唐宋诗的风格范围。

填入文段中划线部分最恰当的一项是：

- A. 双峰并峙
- B. 独领风骚
- C. 三足鼎立
- D. 无有其匹

39. 闭塞的自然环境、落后的交通设施，不再成为贫困地区接收先进文化的阻碍，人们通过网络平台，轻松获取外界资源，在_____中改变着自身的思想观念和行为习惯，从思想上打破贫困文化带来的_____。

填入画横线部分最恰当的是：

- A. 耳濡目染 限制
- B. 与时俱进 局限
- C. 潜移默化 束缚
- D. 沧海桑田 约束

40. 作为竞技体育项目之一，电竞职业选手偏重脑力上的_____，但为了最大限度地发挥个人和集体潜能，也需要通过科学的训练方法完成上万次的重复训练，_____肌肉习惯，提高体格、体能、心理及运动能力等方面的潜力。

填入文段中划线部分最恰当的一项是：

- A. 竞争 形成
B. 对抗 养成
C. 竞争 养成
D. 对抗 形成

41. 什么样的儿童观能产生优秀的儿童文学呢？应该是既不俯视，也不仰视，而是平视。平等地对待儿童，尊重儿童，能够从他们的角度去换位思考，也能够用自己的知识和经验去帮助他们做出正确的判断，培养他们理解事物的能力。从那些优秀的儿童文学作品中往往可以看到作家对儿童的真心认同和理解，没有对儿童的猎奇和夸张的描写，也看不到对儿童的怜悯和施舍，也没有对儿童的一味指责和说教。这样的作品总是会给人力量，助人成长。

这段文字主要表达的是：

- A. 优秀的儿童作家应该平等对待儿童
B. 平等对待儿童有助于培养理解事物的能力
C. 优秀的作品给人力量，助人成长
D. 平等的儿童观有助于优秀儿童文学的产生

42. 无疑，城市要想好好发展，就需要有源源不断的持续动力支撑。在许许多多的发展动力源中，文化产业应该是非常重要的。文化产业对资源环境的冲击力相对较小，对生活的渗透程度高，对提升生活质量大有益处。但是，文化产业如何发展好，这种软性的动力支撑源泉如何能够持续，确实是一个有待解决的大问题。

这段文字主要说明：

- A. 文化发展的动力支撑源泉持续性不足
B. 呼吁要保证文化的支撑动力源泉的持续性
C. 城市发展需要源源不断的持续性动力
D. 文化产业是推动城市发展的最佳途径

43. 实践证明，“民意”早期受到冷落，就会演变成中期的“民议”、后期的“民怨”。善于舆情研判，及时化解社会隔阂和对立情绪，是执政能力和执政艺术的重要组成部分，是避免和根除突发公共事件的关键环节。因此，要提高对媒体信息的认识、解读、研判能力，善于透过表层信息，认识其背后所蕴藏的各种因素，及时发现各种苗头性、倾向性问题和矛盾，并迅速对问题进行查处和回应。只有这样，才能确保避免小恙诱发大病、小节走向失节、小患引发大害。

这段文字主要说明：

- A. 要提高对媒体信息的认识解读能力
B. 善于研判舆情，把问题消除在萌芽状态
C. 要避免小恙诱发大病、小节走向失节
D. 及时化解矛盾是避免突发公共事件的关键

44. 分离百年，内地与香港的历史和社会制度差异导致人们在文化品位、生活习惯和审美情趣等方面存在差别。内地与香港的合拍片要想同时获得两地观众的喜爱，电影人必须在异同之间

找到一种平衡。比如《桃姐》在剧情上涉及内地生活，却又充满了浓厚的港式人情味；《春娇与志明》系列表现的是港式男女的生活与心态，却将故事的发生地挪到了内地城市。借助影像的流动和虚拟，内地与香港的时空切换，使地方性的情感完成文化空间的置换，进而制造出一种不同的观影感受。

这段文字主要说明的是：

- A. 历史背景导致内地和香港两地人们的文化品位等存在差别
- B. 在异同之间找到平衡才能同时满足内地和香港两地需求
- C. 借助影像的流动性和虚拟可以使内地和香港两地情感完成交流
- D. 内地和香港两地的差别对电影人提出了更高的要求

45. 社会工作者为社区空巢老人提供服务，离不开街道办和社区的大力支持。只有与其建立起良好的工作关系，才能有助于社会工作者了解社区工作情况，了解养老政策，发挥积极作用。与此同时，因为养老服务工作的需要，社会工作者往往会借用社区场所开展活动，这就需要社区工作人员协助安排工作，参与到社区服务工作中来。所以，_____。此外，当地行政部门有关负责人也应做到张弛有度，为社会工作者提供一定的施展空间，使其保持适当的独立性，将更利于社会工作的开展。

填入划横线部分最恰当的是：

- A. 社区工作者应积极配合社会服务工作
- B. 当地行政负责人应该重视社区工作者的作用
- C. 与社区工作人员建立良好的互动关系十分重要
- D. 养老服务离不开社区工作者的支持

46. 人类文明史的发展表明，原始人更多地追求规整、有序、确定的东西，现代人更多地追求多样化、模糊、不确定的东西。虽然追求的对象不同，动机却一样，那就是对自身生存缺陷的不满，都想填补人生的缺憾，都在运用认知欲和想象力，对当下的现实人生进行再创造。道理很简单：当世界一片黑暗，没有照明的光源时，如果人不想忍受黑暗，就得把自己变成世界的光源，用自身发出的光来照亮世界。文学创作正是填充人生缺陷、照亮人生黑暗的理想化表现。

接下来最有可能讲述的是：

- A. 如何用自身的光来照亮人生黑暗
- B. 现代人努力填补人生的缺憾
- C. 创作对人类带来的积极意义
- D. 文学创作照亮人生的具体表现

47. 改革开放以来，我们党的制度建设随着党的建设的全面推进而推进，各项规章制度逐步健全，制度执行力不断强化，保证了党的路线方针政策的贯彻落实。但也必须清醒地看到，当前党的制度建设中还存在一些问题，_____。比如，容易得罪人的制度执行起来往往“变软”，有的地方、部门及领导干部在这些制度的执行上不敢动真碰硬，回避矛盾、掩

盖问题，使制度变得灵活有余、刚性不足。

填入划横线部分最恰当的是：

- A. 这些制度问题都给部门工作带来困扰
- B. 并且有关部门也没有及时解决这些制度问题
- C. 所以必须努力解决这些制度问题
- D. 其中的一个突出表现就是制度执行力不够

48. 改革开放以来，随着我国人口非农化、城镇化、少子化、老龄化和移民化的推进，越来越多的流动人口去了异国他乡、进入大小城市打拼，其中一些老年人因为种种原因离开熟悉的家乡、来到陌生的城市甚至异乡和儿孙团聚一起生活，人口学称之为“流动老年人口”，媒体则形象地称之为“老漂族”。“老漂族”之所以引起关注，是因为在我们周遭的生活有不少这样的老年人，已经成为不可忽视的社会人口现象，既关乎老年民生、民权和民意，也关系到社会政策和公共服务的走向。

这段文字意在表明：

- A. “老漂族”的重要性引起人们对它关注
- B. “老漂族”成为影响社会稳定的重要因素
- C. “老漂族”引起了社会的广泛关注
- D. “老漂族”的由来

49. 较为恶劣的生存环境、相对贫乏的物质条件、比较固定的谋生途径、较低的经济收入，使得农民普遍形成了勤俭节约、偏爱储蓄、减少消费的生活观念。而在城市化、信息化大潮的洗礼之下，择业、就业、创业的机遇与渠道都大大增加，农民的经济收入随之得到了明显的增加，消费观念变得更为多样化。在当前农村，敢于花钱、“提前享受”、追求更为体面和优越的生活品质，已经成为具有群体性的消费趋向，这也导致近年来农村居民消费享乐的倾向明显有所抬头。

这段文字意在表明：

- A. 享乐主义在农村生活中盛行
- B. 经济收入增加导致农村消费享乐倾向抬头
- C. 对于农村居民消费要进行合理引导
- D. 缩小城乡差距是解决农村问题的最佳途径

50. 传统节日从文化内涵、节日符号载体到节日仪式活动，都是一个相互关联的有机整体，任何一个部分都缺一不可。近些年来，每当西方的圣诞节、情人节、万圣节到来时，部分中国人尤其是年轻人都表现出了极大的参与热情。相比之下，中国的传统节日似乎要过得冷清、随意得多，越来越淡的年味成为人们普遍的感受，甚至连其中的感情投入也越来越少了，一些深层次的文化内涵渐渐被人们遗忘。究其原因，正是在于我们对传统节日的重视不足，认识不够系统。

这段文字要表达的是：

- A. 西方节日在中国受到大家的欢迎

- B. 中国传统节日在人们心中地位下降
- C. 我们应该投入更多感情到传统节日中
- D. 我们应该全面认识并重视传统节日

51. 尽管我国文化软实力得到了显著提升，但与其他国家相比仍处于弱势地位，与中国经济硬实力不相匹配，具有一定的滞后性。一方面，文化软实力没有很好地展示，话语权较弱。中国对自身先进的文明理念、发展理念、崛起理念，在宣传和传播上比较落后。另一方面，在当代中国文化形象的塑造中，现代元素不足。根据国外媒体的调查，外国人对中国文化形象的感知更多是源于并且止于中国传统文化，这使得现代中国文化主题形象日益模糊不清。由此，我们在赞叹中国文化当代价值的同时，要对当下中国文化所面临的全球化格局困境保持审慎把握。

这段文字想表达的是：

- A. 我国文化软实力与其他国家存在差距
- B. 中国文化现代元素缺乏导致文化停滞不前
- C. 中国当代文化大大提高了文化软实力
- D. 我们面对当前文化格局应谨慎

52. ①随着国家大力推广 PPP（政府和社会资本合作）模式，出台了一系列配套政策，为共享单车的发展提供了良好的政治环境

②城市的交通拥堵在早晚上下班高峰期成为了一种司空见惯的现象

③但是收效甚微，治标不治本，并没有从根源上解决问题

④而共享单车作为共享经济的一种典型诠释，得到了政府有关部门的大力支持和帮助

⑤近年来，我国私家车保有量井喷式增长，给大中城市特别是北上广深一线城市带来巨大的交通压力

⑥各级政府采取了一些行政措施试图解决交通拥堵的问题

将以上句子排序，语序正确的是：

- A. ⑤②⑥③④①
- B. ②⑤④⑥①③
- C. ①④③②⑤⑥
- D. ⑥④①⑤③①

53. ①比如，欧债危机的爆发、英国的脱欧谈判使得人们对欧元的信心以及欧盟自身存续都产生了质疑

②近年来，受国际金融危机和欧债危机的双重冲击，欧洲内部的多种问题集中爆发，使得欧洲未来发展充满了不确定性

③欧洲稳定器作用的丧失对世界经济增长将不是福音

④这显然会对欧洲在世界经济中原有所起的稳定作用产生负面影响

⑤环顾其他经济体，或受经济体量所限，或受对外开放度所限，能够发挥堪比稳定器作用的

经济体还不太明显

⑥另外，欧盟面对迅速调整的世界经济格局也变得更加内向和保守

将以上句子排序，语序正确的是：

- A. ①⑥④②⑤③
- B. ④③②⑤①⑥
- C. ②①⑥④⑤③
- D. ⑤②③④①⑥

54. 据统计，目前我国共建立各种类型、不同级别的自然保护区 2740 处，覆盖了国土面积的 14.8%。自然保护区保护着我国 90.5%的生态系统类型，85%的野生动植物种类，65%的高等植物群落，300 多种重点保护的野生动物和 130 多种重点保护的野生植物。此外，自然保护区在涵养水源、保持土壤、防风固沙、调节气候上也有着重要作用。自 1956 年建立第一批自然保护区以来，我国已基本形成类型比较齐全、布局基本合理、功能相对完善的自然保护区体系。为了更好地守卫祖国的绿水青山，自然保护区近年来的建设和管理也逐步实现了从数量型向质量型、从粗放式向精细化的重大转变。

以下说法正确的是：

- A. 自然保护区将实现粗放型向集约型转变
- B. 目前的自然保护区数量占世界首位
- C. 自然保护区占用了我国大多数土地面积
- D. 1956 年以前我国没有自然保护区

55. 本报北京 9 月 18 日电 司法部今天在京举行全国知识产权公证服务示范机构授牌暨中国知识产权公证服务平台开通仪式。据介绍，司法部会同国家工商行政管理总局、国家版权局、国家知识产权局在全国范围内遴选了 20 家知识产权公证服务示范机构。今天上线的中国知识产权公证服务平台，以公证法律服务为核心，对知识产权实现从权利产生、权利确认到权利交易、纠纷解决的服务与保护全流程覆盖。

最适合做这则新闻标题的是：

- A. 20 家知识产权公众服务示范机构上线
- B. 知识产权公证服务流程全覆盖
- C. 公证法律是知识产权公证的核心
- D. 知识产权公证服务平台上线

56. 本报北京 9 月 11 日电 为期 20 天的 2017 青年汉学家研修计划（北京）今天在京开班，来自美国、英国、智利、阿尔巴尼亚、埃及、埃塞俄比亚、印度、意大利等 26 个国家的 27 位青年汉学家参加本期研修。其中，非洲的科特迪瓦、马拉维、尼日利亚等国的青年汉学家是首次参加研修。据悉，这些青年汉学家除了集中授课之外，还将赴中国社会科学院、中国艺术研究院、北京语言大学等合作单位，与对口领域的研究机构和专家学者开展专题研讨和交流。

最适合做这则新闻标题的是：

- A. 26 国青年汉学家在京研修
- B. 青年学家首次参加在京研修
- C. 青年汉学家的研修和专题交流
- D. 研究计划在京开班

57. 酒文化在我国有着源远流长的历史。然而，事物总有两面，不那么美好的“酒桌文化”也大肆流行了起来。在酒桌文化的语境里，酒不是用来品鉴、享受的，而成了一种让人们用自我伤害的方式来证明“诚意与胆量”的工具。你越是能喝、越是敢喝，就越能受到“酒桌文化”的褒奖与赞美。

最符合作者对“酒文化”观点的一项是：

- A. 酒文化在中国历史悠久
- B. 酒文化不是美好的
- C. 应该抵制酒文化
- D. 要理性对待酒文化

58. 近日，有外媒称，中国一家独大不利于乒乓球在世界的普及，乒乓球项目或将在 2020 年东京奥运会取消。对此，中国男乒负责人回应：“光一个世锦赛就有一百多个国家参加，它的群众基础需要怀疑吗？在日韩等国，即使没有本国队员参赛的重点场次，现场也有上万观众关注比赛。”

通过这段话可以知道作者的观点是：

- A. 乒乓球项目可能在东京奥运会取消
- B. 中国一家独大不影响乒乓球的发展普及
- C. 乒乓球在全世界群众基础深厚
- D. 看不出作者认同哪种观点

59. “共享经济”作为互联网时代的新经济模式，是个“好东西”，不仅顺应了市场发展，而且可以让过剩的资源得到新的释放，满足人们多样化、个性化的需求。对于新事物的成长我们需要包容，但也劝诫某些从业者们，别因为私心把这么好的“东西”玩坏了，莫让“全民共享”变成“全民笑谈”。

通过这段文字作者想强调“共享经济”：

- A. 是互联网时代很好的新经济模式
- B. 释放了过剩资源，满足了人们需求
- C. 可能会被玩坏，成为全民笑谈
- D. 从业人员不应当只顾个人利益

60. 地球表面的三分之二由海洋覆盖，想要研究完整的地球系统，三分之二的海洋区域至关

重要。人类社会的飞速发展，实质上也是加快利用地球资源的进程，海洋的探索研究对人类的发展具有重要意义。海洋蕴含着丰富矿产、油气等资源，这些资源都是人类宝贵的财富；全球的大气、气候由海洋控制，海洋温度稍微的上升或下降都可能引发全球气温翻天覆地的变化。

下列说法可以从文段当中推出的是：

- A. 海洋温度变化会引起全球气温的巨变
- B. 海洋资源是人类取之不竭的宝贵财富
- C. 海洋能够影响全世界的空气质量变化
- D. 过度利用海洋资源不利于人类的发展

第三部分 数量关系

(共 10 题，参考时限 10 分钟)

在这部分试题中，每道试题呈现一段表述数学关系的文字或者数字，要求你迅速、准确地推到和计算出答案。

请开始答题：

61、小平和小强的年龄是两个质数，且二人年龄的平方差是 21，那么二人年龄的平方和是多少？

- A. 15
- B. 29
- C. 40
- D. 74

62、某地实行阶梯电价，收费标准如下：每户每月用电不超过 100 度时，收费标准为 0.8 元/度，若用电超过 100 度，超过的部分 1 元/度，某月，小李家用电度数是小王家用电度数的 1.45 倍，且两家本月用电量总计小于 245 度，费用是小王家的 1.5 倍，求小王家该月用电多少度？

- A. 70
- B. 80
- C. 87
- D. 96

63、把一个正四面体的每条棱长扩大 3 倍之后，其体积扩大了几倍？

- A. 26
- B. 27
- C. 63
- D. 64

64、小方和小红两人约定同时从家里出发相向而行，若无其它干扰，则 40 分钟后两人可在两地中点偏向小红家 1000 米处相遇。但是实际上，出发一段时间之后小方发现自己忘记拿手机，又返回家里拿手机，60 分钟后（从一开始出发算起）两人刚好在中点相遇。假设两人的速度保持不变，问小方到小红家距离多少米？（ ）

- A. 6000
C. 5000
- B. 4000
D. 8000

65、学校组织整个年级的同学去旅游。现在有 2 种交通工具可供选择：大巴每辆租金 800 元，可以坐 45 人；中巴每辆租金 300 元，可以坐 12 人。统计的报名人数有 425 人，问最少需要车费多少钱？

- A. 8000 元
C. 7600 元
- B. 7800 元
D. 7400 元

66、某项工作由甲、乙、丙三人每人一天轮班完成。已知三人的效率之比为 3:5:2，如果从甲开始做，10 天后剩余的工作量还需甲单独做 4 天。如果由乙开始，10 天后剩余的工作量需要丙单独再做几天？（ ）

- A. 3 天
C. 5 天
- B. 4 天
D. 6 天

67、一共享单车公司对某路段停放的 1000 辆单车中脚踏板、轮圈、刹车三处的损坏情况进行统计，发现，其中有 452 辆脚踏板损坏，有 377 辆轮圈损坏，有 131 辆刹车损坏，至少 2 处损坏的有 236 辆，完好无损的单车有 321 辆，只有三处皆损坏的才需要返厂维修，请问有多少单车需要返厂维修？

- A. 45
C. 76
- B. 54
D. 112

68、照相馆给 5 对情侣照相，要求 5 对情侣站成一排，且每对情侣必须站在一起，则 5 名女生恰好互不相邻的概率是多少？

- A. $\frac{1}{2}$
C. $\frac{1}{8}$
- B. $\frac{1}{4}$
D. $\frac{1}{16}$

69、某车间举行了一场技能大赛，现有 50 个奖品要发给获得一、二、三等奖的工人，有两种发放方法：一等奖每人发 5 个奖品，二等奖每人发 4 个，三等奖每人发 2 个，刚好能够发完；一等奖每人发 6 个奖品，二等奖每人发 3 个，三等奖每人发 1 个，也刚好能够发完。则获得二等奖的有几人？（ ）

- A. 6
C. 4
- B. 5
D. 3

70、某蓄水池有一个进水口和一个出水口，空池时打开进水口关闭出水口 5 小时能注满，满池时打开出水口关闭进水口 8 小时可排空，现蓄水池内有半池水，先打开进水口且关闭出水口一小时，再打开出水口且关闭进水口一小时，如此循环，至少几个小时后可将池子注满？

- A. 7
- C. 11

- B. 9
- D. 15

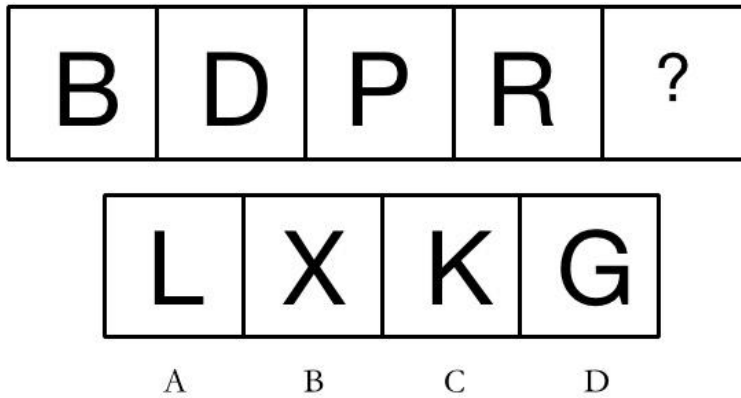
第四部分 判断推理

(共 35 题, 参考时限 35 分钟)

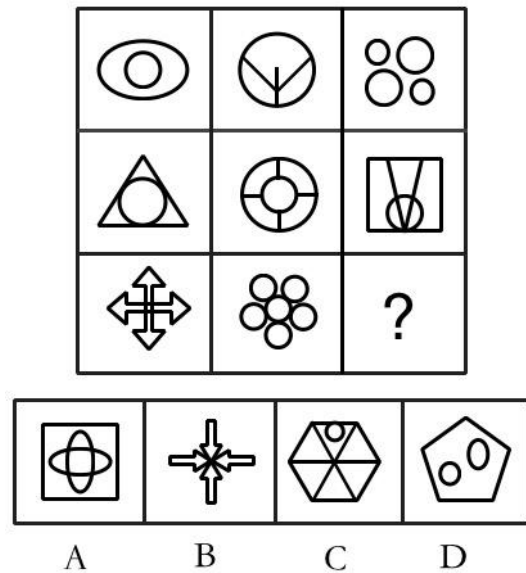
一、图形推理, 请按照每道题的答题要求作答。

请开始答题:


71. 从所给的四个选项中, 选择最合适的一个填入问号处, 使之呈现一定的规律性:



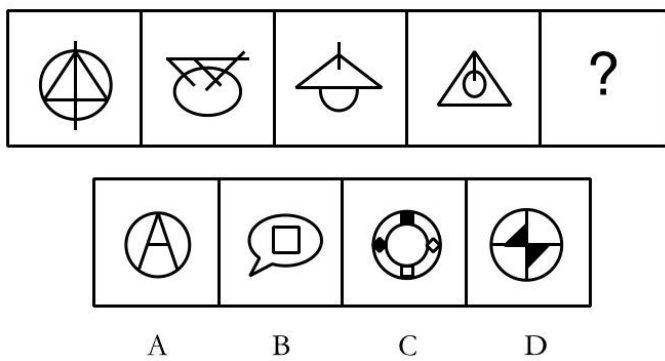
72. 从所给的四个选项中, 选择最合适的一个填入问号处, 使之呈现一定的规律性:



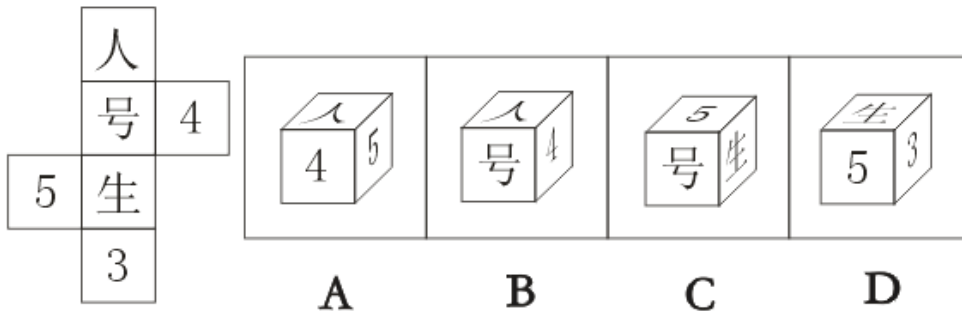
73. 从所给的四个选项中, 选择最合适的一个填入问号处, 使之呈现一定的规律性:



74. 从所给的四个选项中，选择最合适的一个填入问号处，使之呈现一定的规律性：



75. 左边给定的是纸盒的外表面，下列哪一项能由它折叠而成？



二、定义判断。每道题先给出一个定义，然后列出四种情况，要求你严格依据定义，从四个备选项中选出一个最符合或最不符合该定义的答案。注意：假设这个定义是正确的，不容置疑的。

请开始答题：

76. 依法行政，是指国家机关及其工作人员依据宪法和法律赋予的职责权限，在法律规定的职权范围内，对国家的政治、经济、文化、教育、科技等各项社会事务，依法进行管理的活动。依法行政的本质是有效制约和合理运用行政权力，它要求一切国家行政机关和工作人员都必须严格按照法律的规定，在法定职权范围内，充分行使管理国家和社会事务的行政职能，做到既不失职，又不越权，更不能非法侵犯公民的合法权益。

根据上述定义，下列哪一行为没有体现依法行政：

- A. 某县发生煤矿重大安全事故，政府部门通报了相关情况，立即赶到现场将问题依法予以处理
- B. 某市政府在招商引资过程中承诺给予优惠，因国家政策变化没有及时兑现，并将情况向相关单位进行了解释说明
- C. 某县政府因县内其他民生投资导致资金紧张，未按合同及时支付相关企业的市政工程建设款项
- D. 某区政府经过法定程序对已经公布的城建规划予以变更

77. 义务教育法中规定的保障入学是指适龄儿童、少年免试入学。地方各级人民政府应当保障适龄儿童、少年在户籍所在地学校就近入学。父母或者其他法定监护人在非户籍所在地工作或者居住的适龄儿童、少年，在其父母或者其他法定监护人工作或者居住地接受义务教育的，当地人民政府应当为其提供平等接受义务教育的条件。具体办法由省、自治区、直辖市规定。县级人民政府教育行政部门对本行政区域内的军人子女接受义务教育予以保障。

根据上述定义，下列做法中违反了义务教育法中保障入学的是：

- A. 外地打工者陈某向工作所在地教育行政部门申请，请求批准他年满 7 周岁的孩子晓宣在工作地附近的公立小学就读，却被拒绝
- B. A 区的居民王某将自己的孩子送到教育条件更好的 D 区，被 D 区拒绝
- C. 很多家长在孩子很小的时候就将其送到国外去接受教育
- D. 留守儿童在爷爷奶奶的照看下，选择就近的学校学习

78. 证券回购，即证券回购交易，是指证券买卖双方在成交同时就约定于未来某一时间以某一价格双方再行反向成交。一般而言均是商业银行、非银行金融机构以及各地的国债服务部，以国债或金融债券（其中绝大部分都是国债）作为回购的证券。

根据上述定义，符合证券回购的是：

- A. 甲将停产的化工厂转给一名外国生产电子产品的生产商
- B. 小王在向小李借钱的时候，将自己家的房产抵押给小李
- C. 某银行代为国家发行债券
- D. 某海外华侨与国内企业合作，拓展国内市场

79. 规划包括控制性详细规划和修建性详细规划。控制性详细规划以城市总体规划或分区规划为依据，确定建设地区的土地使用性质、道路位置以及空间环境等的规划要求。修建性详细规划以城市总体规划、分区规划或控制性详细规划为依据，制订用以指导各项建筑和工程设施的具体设计和施工的具体规划设计。

根据上述定义，以下说法正确的是：

- A. 市政府规划某地块属于商业用地，属于控制性详细规划
- B. 在专家和规划师共同参与下，上海 2040 年的目标愿景为创新之城、人文之城、生态之城，

属于修建性详细规划

- C. 某市规划局将城市主干道附近的建筑设计为巴洛克式风格，属于控制性详细规划
- D. 两区政府共同规划在两区交界处建跨河大桥，属于修建性详细规划

80. 人造器官在生物材料医学上是指能植入人体或能与生物组织或生物流体相接触的材料；或者说是具有天然器官组织的功能或天然器官部件功能的材料。人造器官主要有三种：机械性人造器官、半机械性半生物性人造器官、生物性人造器官。机械性人造器官是完全用没有生物活性的高分子材料仿造一个器官，并借助电池作为器官的动力。半机械性半生物性人造器官是将电子技术与生物技术结合起来。生物性人造器官则是利用动物身上的细胞或组织，“制造”出一些具有生物活性的器官或组织。生物性人造器官又分为异体人造器官和自体人造器官。

根据上述定义，以下属于机械性人造器官的是：

- A. 目前，日本科学家已利用纳米技术研制出人造皮肤和人造血管
- B. 在德国，已经有 8 位肝功能衰竭的患者接受了人造肝脏的移植，这种人造肝脏将人体活组织、人造组织、芯片和微型马达奇妙地组合在一起
- C. 在猪、老鼠、狗等身上培育人体器官的试验已经获得成功
- D. 利用患者自身的细胞或组织来培育人体器官

81. 无意识是指那种不知不觉、自己本人没有意识到、没有觉察到的心理活动。它不同言语、词和文字相联系，不能用言语表述。

根据上述定义，下列属于无意识的是：

- A. 家教很好的小明进门后随手关门
- B. 人们在下雨时的心情比天气晴朗时的心情明显低落
- C. 被桌子上落下的水杯砸到脚时，不自觉地发出“啊”的声音
- D. 运动员上场前在心里默默地为自己鼓劲

82. 病理性赌博是指频繁出现反复发作的赌博行为已占个人生活的主导地位，且对其社会、职业、财产，以及家庭价值观念与义务都造成损害。

根据上述定义，下列不属于病理性赌博的是：

- A. 小明一天不赌博，就觉得坐立不安、浑身难受，生气、暴怒的概率大大提高
- B. 老王妻子因其终日赌博欲与之离婚，老王每次都痛下决心戒赌，但总不成功
- C. 毛先生与妻子去阿拉斯加旅游，夫妻俩去赌城玩，输了 1000 元
- D. 张先生因赌博负债累累、债台高筑，周围朋友都渐渐疏远他，甚至有人准备起诉他

83. 社会安全阀制度指各个社会都存在着这样一类制度或习俗，它作为解决社会冲突的手段，能为社会或群体的成员提供某些正当渠道，将平时蓄积的敌对情绪及个人间的怨恨予以宣泄和消除，从而在维护社会和群体的生存、维持既定的社会关系中，发挥“安全阀”一样的功能。

根据上述定义，下列属于社会安全阀制度的是：

- A. “萨德”部署地周围的群众用游行示威的方式表达自己的强烈抗议情绪。
- B. 西方文明社会中曾盛行决斗，用以解决私人仇怨。
- C. 2016 年美国接连发生两起警察枪杀黑人的事件后，多地爆发反对种族歧视和警察暴力的大规模抗议
- D. 雄性动物为了争夺雌性配偶的欢心而大打出手

84. 基金会是指利用自然人、法人或者其他组织捐赠的财产，以从事公益事业为目的，按照本条例的规定成立的非营利性法人。

根据上述定义，下列不属于基金会的是：

- A. 马云联手马化腾等人捐款 128 亿成立的致力于保护净土的桃花源生态保护机构
- B. 发起一元购买智障儿童画作“小朋友”画廊活动的爱佑未来慈善机构
- C. 发起长信利息收益基金的长信基金管理机构
- D. 通过在支付宝上捐赠步数、线下支付等形式种树的阿拉善 SEE 机构

85. 表演型人格障碍是一种以过分感情用事或夸张言行以吸引他人注意为主要特点的人格障碍。常以自我表演，过分的做作和夸张的行为引人注目，不习惯于逻辑思维，言语举止和行为显得天真幼稚。

根据上述定义，下列属于表演型人格障碍的是：

- A. 小丑通过夸张的服装和化妆吸引过路人的注意力
- B. 小红跟姥姥的感情很好，在姥姥去世的半年时间里小红天天以泪洗面
- C. 小明经常在安静的课堂上发出奇怪的声音，被老师批评时还跟做鬼脸
- D. 演员李某为了达到喜剧效果，龅牙、爆炸头等奇怪妆发齐上场

三、类比推理。每道题先给出一组相关的词，要求你在四个备选项中找出一组与之在逻辑关系上最为贴近、相似或匹配的词。

请开始答题：

86. 世风日下：人心不古

- A. 流星赶月：风驰电掣
- B. 博古通今：坐井观天
- C. 漂蓬断梗：安居乐业
- D. 不以为意：不以为然

87. 民法：行政法：法律

- A. 黄糖：棉白糖：蔗糖
- B. 商品房：集资房：楼房
- C. 山地车：攀爬车：单车
- D. 米醋：酒醋：高粱

88. 电流：电阻：伏特

- A. 密度：体积：千克
- B. 功率：电压：安培
- C. 单价：数量：总价
- D. 长：宽：面积

89. 话剧：剧场：威尼斯商人
- A. 石墨：钻石：碳
B. 船：大海：客船
C. 微博：微信：电脑
D. 泰山：泰安：岱山
90. 指导：演员：片场
- A. 手机：顾客：商场
B. 打渔：渔民：湖泊
C. 教授：学生：学校
D. 快递：快递员：邮政
91. 举杯邀明月，对影成三人 之于 () 相当于 () 之于 怀才不遇
- A. 孤寂：念天地之悠悠，独怆然而涕下
B. 怀古：会当凌绝顶，一览众山小
C. 咏秋：春风不相识，何事入罗帏
D. 孤独：请君试问东流水，别意与之谁短长
92. 地生菜 之于 () 相当于 飞猫 之于 ()
- A. 生菜：哺乳动物
B. 菜籽：田鼠
C. 蔬菜：猫
D. 芥菜：复齿鼯鼠
93. 阳奉阴违：好逸恶劳
- A. 苦尽甘来：眼高手低
B. 喜新厌旧：前倨后恭
C. 扬长避短：来龙去脉
D. 冷嘲热讽：大材小用
94. 氧气：阳光：植物
- A. 氧气：高温：高锰酸钾
B. 二氧化碳：呼吸：动物
C. 阅兵：国家：武器
D. 知名度：广告：品牌
95. 眼镜：近视镜：太阳镜
- A. 人：男人：女人
B. 手：左手：右手
C. 汽车：敞篷车：跑车
D. 军舰：护卫舰：驱逐舰

四、逻辑判断。每道题给出一段陈述，这段陈述被假设是正确的，不容置疑的。要求你根据这段陈述，选择一个答案。注意：正确的答案应与所给的陈述相符合，不需要任何附加说明即可以从陈述中直接推出。

请开始答题：

96. IGOFX 是最近新出现的外汇骗局，已有 40 万人被骗 300 亿。令人心痛的是，IGOFX 的主要受害者是“怀抱发财梦想的穷人”。被骗后，大家的态度都是如果钱能拿回来，绝对不会再投

资。可往往被骗不是因为智商不够，而是由于不懂“金融常识”。除非你学习“金融常识”，否则还会继续被骗。收益与风险是对称的，高收益背后必定高风险，这是基本规律。只要一种金融产品收益高达 10%但号称风险像国债一样低，他就是骗子。

由此，可以推出的是：

- A. 一种金融产品收益高达 10%但号称风险像国债一样低，他也不一定是骗子
- B. 被骗后，如果钱能拿回来，那么他一定懂“金融常识”
- C. 如果不继续被骗，那么一定是懂“金融常识”
- D. 在懂了“金融常识”之后，一定不会再被骗

97. 身高除了跟遗传有很大关系以外，还跟教育方式有关。美国耶鲁儿童健康研究中心的一项调查研究发现，假如父母及老师经常训斥、辱骂甚至歧视、威吓、体罚孩子，可能会不同程度地影响孩子的身高发育。专家表示，孩子经常被训斥，导致精神压力过大，确实容易身材矮小。

以下哪项如果为真，最能加强专家的观点？

- A. 有些小孩身材矮小，家长买增高药，结果却适得其反
- B. 孩子经常挨骂，长期处于精神高度紧张、压抑的状态，会导致生长激素衰减，造成孩子发育不良，患上矮小症
- C. 父母突然或长期离开家去外地工作，如果处于成长发育期的孩子长时间不能适应，会导致身材矮小
- D. 经常被训斥的小孩长大后，也有身高超过 180cm 的

98. 属于 C 罗的记录会迟到，但不会缺席。10 年前的 2007 年 4 月 11 日，曼联在老特拉福德球场以 7 比 1 狂屠罗马，强势晋级欧冠四强。那场比赛，年仅 22 岁的 C 罗梅开二度，收获了自己欧冠生涯的第一和第二粒球。10 年之后，同样是欧冠 1/4 决赛，同样是梅开二度，那个当年青涩的葡萄牙少年已经将他的欧冠生涯总进球数提升至 100 粒，成为首位达成这一百球里程碑的传奇。

根据上述文字，我们能够推出：

- A. C 罗是首位在职业生涯中达到一百球的球员
- B. C 罗是最优秀的球员
- C. 进第一百粒球可以成功地反驳那些质疑 C 罗的人
- D. 在欧冠比赛中，梅西、劳尔、范尼等每个人的总进球数都少于 C 罗

99. 从 2008 年沃尔玛进入某市市场之后，进入一段高速发展时间，但是到了 2013 年沃尔玛开始在某市关闭门店，截止目前已在该市关闭 7 家门店。针对沃尔玛的持续关店，业内人士表示：租金成本上涨带来的经营压力，导致沃尔玛这样的外资超市开始水土不服，关闭门店也是必然之举。面对突如其来的关店，无论是超市的员工和顾客都感觉突然。

以下哪项如果为真，最能削弱上述论证？

- A. 沃尔玛超市关门是受电商、国内本土超市崛起的影响

- B. 沃尔玛不仅在该市闭店，在国内的其他城市也纷纷选择关闭门店
- C. 国内近年租金上涨比较快，压缩了外资超市的业绩
- D. 不仅沃尔玛、华润万家关闭了很多门店，关店名单中还有大润发、家乐福、华联等

100. 某新款手机即将上市，它的面部识别技术会将我们引入一个新的便利时代。对于消费者来说，这意味着他们只要看着手机就能够解锁。但同时也有些消费者不喜欢这一功能，他们认为这会带来新的风险，即企业会泄露用户的面部特征等个人隐私信息。

假设以下选项为真，最能加强不喜欢这一功能的消费者的理由？

- A. 手机上的特殊摄像头捕捉到的面部图像，只存储在手机上，不会反馈给企业
- B. 法律禁止商家以任何形式侵犯客户隐私权的行为
- C. 面部识别技术可让用户利用自己的脸授权与银行和零售商进行应用内交易
- D. 企业会使用面部数据库在网上和街道上识别消费者，以向他们推送广告

101. 日前，某市推出了读书节活动，相比往届，本次读书节对传统项目予以保留，同时特别融入了“家风”专题等。并在地铁中开出一列书香专列，列车上印有名人语录、名文摘录，爱好者可以在此列车上吟诗作对。有专家推测，此次读书节有助于增加本市图书的销售量。

以下哪项如果为真，不能支持上述观点？

- A. 往届读书节期间，图书的销售量都比平时高，今年举办活动的情况与往年基本相同
- B. 数据显示，今年读书节期间的图书销售量是其他月份的 2.37 倍
- C. 今年读书节中，举办了为期半个月的图书促销活动，图书半价销售，不仅吸引了很多本市市民前来购书，还有很多外市的市民通过网络购买
- D. 读书节能使人民在阅读和学习中增长本领、提高素质、提升能力

复合材料题。请根据下列材料，回答 102-105 题。

材料：某晚会有 7 个节目，4 个舞蹈节目分别为甲、乙、丙、丁，2 个小品 A 和 B，1 个唱歌节目。整场晚会从晚上 6 点开始，到 7 点 45 结束。如果你是晚会的负责人，要去安排节目的顺序，已知：

- (1) 每个节目表演时间为 15 分钟；
- (2) 舞蹈与舞蹈节目不能相邻，两个小品之间也不能相邻；
- (3) 乙组成员晚上 7 点离场，甲组成员 7 点半才能到场，丙丁两个节目的顺序在四个舞蹈节目中不能挨着；

(4) A 节目成员 7 点离场。

请结合上述条件，解答下列问题：

102. 第一个节目和最后一个节目分别是：

- A. 舞蹈和舞蹈
- B. 小品和小品
- C. 小品和唱歌
- D. 舞蹈和唱歌

103. A 节目的位置在:

- A. 甲和丁之间
- B. 乙和丁之间
- C. 丙和丁之间
- D. 在丙之后

104. 一定挨着的两个节目是:

- A. 唱歌和 B
- B. 唱歌和丁
- C. 乙和 A
- D. B 和丁

105. 只要 B 组不是 7 点离场, 丙组就不是第一个表演。现知丙组是第一个表演, 那么倒数第二个节目是:

- A. 甲
- B. A
- C. 乙
- D. 唱歌

※※※第四部分结束, 请继续做第五部分! ※※※

第五部分 资料分析

(共 20 题, 参考时限 25 分钟)

所给出的图、表、文字或综合性资料均有若干个问题要你回答。你应根据资料提供的信息进行分析、比较、计算和判断处理。

请开始答题:

根据以下资料, 回答 106~110 题。

表 1 2016 年分地区分岗位就业人员年平均工资 单位: 元

地区	全 部 就 业 人 员	中 层 以 上 管 理 人 员	专 业 技 术 人 员	办 事 人 员 和 有 关 人 员	商 业 、 服 务 人 员	生 产 、 运 输 类 有 关 人 员
合 计	57394	123926	76325	54258	46742	48005
东 部	62875	144045	87708	60379	52750	50119
中 部	47538	88500	57790	43599	37480	43385
西 部	52976	104414	65274	49119	39371	47770
东北地区	49868	98886	59448	47403	37964	44140

表 2 2016 年分行业分岗位就业人员年平均工资 单位: 元

行业	全部 就业 人员	中层以 上管理 人员	专业技 术人员	办事员 和有关 人员	商业、服 务人员	生产、运 输类 有关人员
合计	57394	123926	76325	54258	46742	48005
采矿业	57444	112451	69330	59677	41419	53300
制造业	54338	115924	74549	53650	58823	46713
电力、热力、燃气及水生产和供应业	84073	155850	97973	67590	59463	76780
建筑业	49573	93288	56139	43841	42964	45958
批发和零售业	59044	124728	74589	58608	43687	46371
交通运输、仓储和邮政业	68058	132143	104306	59879	57940	61380
住宿和餐饮业	40573	81000	46044	39692	35337	36600
信息传输、软件和信息技术服务业	120864	236476	138736	86434	83547	62913
房地产业	62428	131164	75053	54014	42099	39756
租赁和商务服务业	72855	225793	110697	66109	47742	48839
科学研究和技术服务业	99599	198308	108416	70181	52540	55377
水利、环境和公共设施管理业	49397	107405	69276	48702	35887	44087
居民服务、修理和其他服务业	41815	89634	52645	44456	34784	39093
教育	58516	108070	59073	50275	51220	46976
卫生和社会工作	62798	104263	62953	46153	43295	46013
文化、体育和娱乐业	80207	157556	116237	63041	41867	46348

106、2016 年，东部地区全部就业人员年平均工资比全国高多少？

- A. 9.55%
- B. 10.1%
- C. 10.7%
- D. 12.9%

107、2016 年，中层以上管理人员年平均工资最高的行业与最低行业之间的工资差值为：

- A. 144793
- B. 146842
- C. 155476
- D. 161227

108、2016 年，哪一个地区岗位间年平均工资差异最大（岗位平均工资最高与最低之比）？

- A. 东部
- B. 中部
- C. 西部
- D. 东北地区

109、2016 年，哪一个岗位行业间年平均工资差异最大（岗位平均工资最高与最低之比）？

- A. 中层以上管理人员
- B. 专业技术人员
- C. 办事人员和有关人员
- D. 生产、运输类有关人员

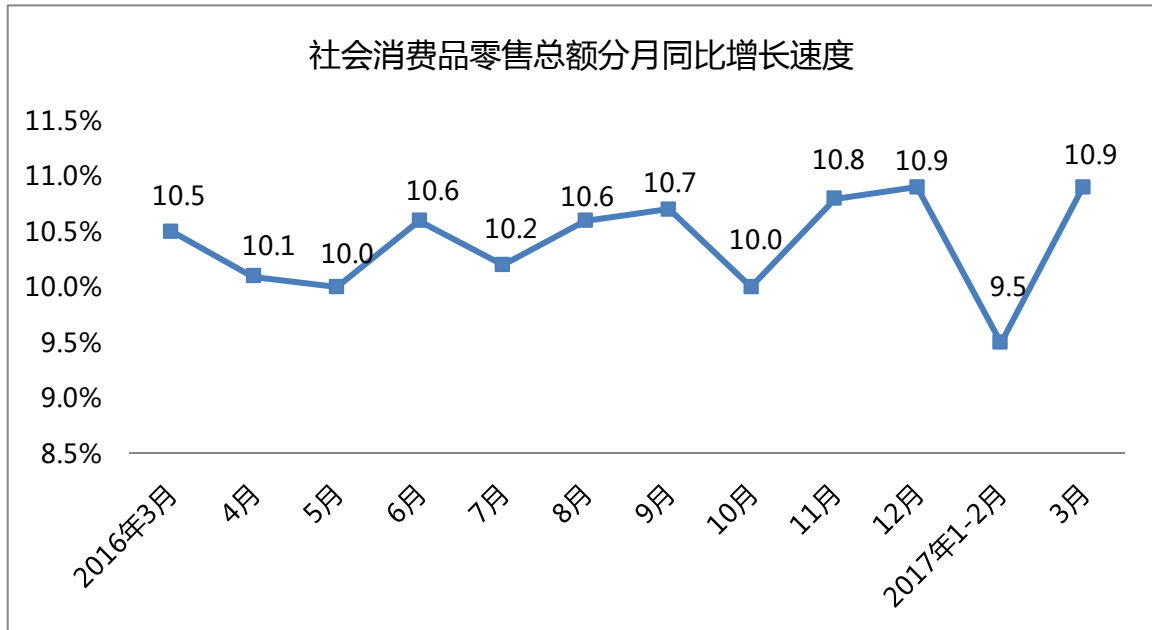
110、以下选项能够从根据中推出的是：

- A. 2016 年，所有行业商业、服务人员岗位年平均工资都低于其他岗位
- B. 2016 年，卫生和社会工作中中层以上管理人员占全部就业人员比重一定高于采矿业

- C. 2016 年，所有岗位地区之间年平均工资由高到低排序为东部>西部>东北地区>中部
- D. 2016 年，有 5 个行业专业技术人员年平均工资高于全国水平

二、根据以下资料，回答 111~115 题。

2017 年 3 月份，社会消费品零售总额 27864 亿元，同比增长 10.9%。2017 年 1~3 月份，社会消费品零售总额 85823 亿元，同比增长 10.0%。



按消费类型分，3 月份，餐饮收入 2945 亿元，同比增长 11.1%；商品零售 24919 亿元，增长 10.9%。1-3 月份，餐饮收入 9196 亿元，同比增长 10.8%；商品零售 76627 亿元，增长 9.9%。

在商品零售中，3 月份，限额以上单位商品零售 12150 亿元，同比增长 10.1%。1~3 月份，限额以上单位商品零售 35248 亿元，同比增长 7.9%。

2017 年 1~3 月份，全国网上零售额 14045 亿元，同比增长 32.1%。其中，实物商品网上零售额 10674 亿元，增长 25.8%，占社会消费品零售总额的比重为 12.4%。

111、2016 年 3 月份社会消费品零售额约为多少亿元？

- A. 23117
- B. 24189
- C. 24788
- D. 25125

112、2017 年 3 月餐饮收入同比约增加多少亿元？

- A. 248.1
- B. 271.2
- C. 294.2
- D. 307.9

113、2017 年 1~2 月限额以上单位商品零售额同比增长约为多少？

- A. 3.4%
- B. 6.8%
- C. 8.4%
- D. 11.7%

114、2016 年 1~3 月，实物商品网上零售额占社会消费品零售总额的比重为多少？

- A. 10.9%
- B. 11.8%
- C. 13.2%
- D. 15.1%

115、以下说法正确的是：

- A. 2017 年 3 月社会消费品零售总额同比增速比上年同期低 0.4 个百分点
- B. 2015 年 3 月社会消费品零售总额约为 22738 亿元
- C. 2017 年 1~3 月全国网上零售额同比增量低于餐饮收入
- D. 2017 年 1~3 月限额以下单位商品零售额占商品零售额的比重低于去年

三、根据以下资料，回答 116~120 题。

据对全国规模以上文化及相关产业 5.2 万家企业调查，2017 年 1 季度，下表中所述企业实现营业收入 19926 亿元，比上年同期增长 11.0%（名义增长未扣除价格因素），增速提高 2.4 个百分点，实现较快增长。

2017 年 1 季度全国规模以上文化及相关产业企业营业收入情况

	绝对额	比上年同期增长
	(亿元)	(%)
总计	19926	11.0
新闻出版发行服务	681	4.8
广播电视电影服务	323	-4.0
文化艺术服务	76	15.8
文化信息传输服务	1506	29.4
文化创意和设计服务	2287	5.8
文化休闲娱乐服务	276	16.8
工艺美术品的生产	3976	9.2
文化产品生产的辅助生产	2039	9.0
文化用品的生产	7733	13.0
文化专用设备的生产	1028	5.7
东部地区	14831	11.0
中部地区	3333	11.8
西部地区	1531	14.2

东北地区	232	-11.5
------	-----	-------

注：1. 表中速度均为未扣除价格因素的名义增速。

2. 表中部分数据因四舍五入的原因，存在总计与分项合计不等的情况。

116、2017 年 1 季度，全国规模以上文化及相关产业 5.2 万家企业实现营业收入是 2015 年 1 季度的多少倍？

- A. 1.1
- B. 1.2
- C. 1.3
- D. 1.4

117、2017 年 1 季度，全国规模以上文化及相关产业 5.2 万家企业实现营业收入比 2015 年同期增加多少亿元？（ ）

- A. 3396
- B. 4598
- C. 1811
- D. 5693

118、2017 年 1 季度全国规模以上文化及相关产业企业营业收入同比增长最多的是（ ）

- A. 文化信息传输服务
- B. 工艺美术品的生产
- C. 文化产品生产的辅助生产
- D. 文化用品的生产

119、分区域看，2017 年 1 季度规模以上文化及相关产业企业实现营业收入占全国比重低于上年同期水平的有几个？（ ）

- A. 0
- B. 1
- C. 2
- D. 7

120、以下说法正确的是（ ）

- A. 2016 年 1 季度，全国规模以上文化及相关产业实现营业收入不足 18000 亿元
- B. 2017 年 1 季度，文化及相关产业 10 个行业营业收入占全国的比重高于上年同期的有 6 个
- C. 2017 年 1 季度，东部地区规模以上文化及相关产业企业实现营业收入占全国比重上升
- D. 2016 年 1 季度，广播电视电影服务的营业收入是文化艺术服务的 4.25 倍

四、根据以下资料，回答 121~125 题。

2016 年，某省房地产开发完成投资 10307.80 亿元，同比增长 20.7%，增幅比前三季度提高 2.7 个百分点，比上年提高 8.9 个百分点。办公楼开发投资增幅明显。2016 年，房地产开发投资中商品住宅投资 6977.66 亿元，同比增长 18.5%，增幅比上年提高 4.9 个百分点；办公楼投资 852.07 亿元，增长 51.1%，增幅比上年提高 35.8 个百分点；商业营业用房投资 1390.28 亿元，增长 28.0%，增幅比上年提高 14.8 个百分点；其他投资 1087.79 亿元，增长 9.0%，增幅比上年提高 9.5 个百分点。

2016 年全年商品房销售面积 14611.60 万平方米，同比增长 25.1%，增幅比前三季度回落 6.9

个百分点，比上年回落 0.3 个百分点。商品房销售额 16214.61 亿元，增长 41.7%，增幅比上年提高 6.5 个百分点。其中：商品住宅销售面积和销售额分别增长 24.0%和 42.9%，分别比上年回落 4.5 个和 0.3 个百分点。

2016 年，房地产开发企业本年到位资金同比增长 24.7%，比房地产开发投资增幅高 4.0 个百分点。其中，国内贷款同比下降 0.7%；利用外资增长 13.5%，增幅比上年大幅提高 71.6 个百分点；自筹资金增长 23.2%，增幅比上年提高 17.0 个百分点；其他资金来源增长 34.2%，增幅比上年回落 14.6 个百分点。

121、2016 年房地产开发完成投资同比增长约为多少亿元？

- A. 1711
- B. 1768
- C. 1978
- D. 2062

122、2014 年房地产开发完成投资约为多少亿元？

- A. 7119.1
- B. 7341.0
- C. 7512.2
- D. 7638.7

123、2016 年商业营业用房投资占房地产开发完成投资的比重与上年相比：

- A. 上升了 0.77 个百分点
- B. 下降了 0.77 个百分点
- C. 上升了 7.3 个百分点
- D. 下降了 7.3 个百分点

124、2016 年商品住宅单位面积销售额同比增长多少？

- A. 15.2%
- B. 18.8%
- C. 21.3%
- D. 22.7%

125、以下说法正确的是：

- A. 2015 年房地产开发企业利用外资同比增速为 85.1%
- B. 2016 年商品住宅投资额同比增量超过办公楼投资额同比增量的 4 倍
- C. 2016 年商品房销售额较 2014 年约提高了 92%
- D. 2016 年第四季度商品房销售面积同比增速大于 25.1%